



GOVT. OF NCT OF DELHI
Delhi Subordinate Services Selection Board
FC-18, Institutional Area, Karkardooma, Delhi – 110092.
www.dsssb.delhigovt.nic.in

Participant ID	
Participant Name	
Test Center Name	
Test Date	05/09/2019
Test Time	8:30 AM - 10:30 AM
Subject	GRADE IV DASS JUNIOR ASSISTANT

Section : Mental Ability1

Q.1 दिए गए विकल्पों में से विषम ज्ञात करें।

- Ans 1. एकल
 2. सभा
 3. भीड़
 4. झुंड

Question ID : 54592724042

Q.2 अगला पद ज्ञात कीजिए।

8I49, 11L100, 14O169, ?

- Ans 1. 5F9
 2. 8M81
 3. 7N49
 4. 5F16

Question ID : 54592724040

Q.3 दिए गए विकल्पों में से श्रेणी में लुप्त अक्षर को ज्ञात कीजिए।

AU, BW, CY, ??

- Ans 1. BC
 2. DA
 3. MN
 4. KL

Question ID : 54592724039

Q.4 निम्नलिखित प्रश्न में, अक्षरों का एक समूह दिया गया है, संख्या 1, 2, 3, 4, 5 और 6 नीचे दिए गए हैं, इन संख्याओं के संयोजन वाले चार विकल्प दिए गए हैं। संख्याओं के उस संयोजन का चयन करें ताकि अक्षरों के अनुसार व्यवस्थित हो, एक सार्थक शब्द बनाएं।

I G N H A C
1 2 3 4 5 6

- Ans 1. 5, 2, 3, 1, 6, 4
 2. 5, 6, 4, 1, 3, 2

3. 4, 6, 5, 2, 3, 1

4. 4, 6, 3, 5, 2, 1

Question ID : 54592724050

Q.5 एक विवाह समारोह में एक महिला की ओर इशारा करते हुए, अनीता ने कहा, वह मेरी मां के पुत्र के पिता की बहन है। वह महिला, अनीता की कौन है?

- Ans
- 1. माँ
 - 2. बुआ
 - 3. बहन
 - 4. भतीजी

Question ID : 54592724055

Q.6 निम्नलिखित श्रृंखला को पूरा करें।

1326, 1723, 2192, 2739, ?

- Ans
- 1. 3765
 - 2. 3360
 - 3. 3250
 - 4. 3370

Question ID : 54592724058

Q.7 नीचे दिए गए प्रश्न में दो कथन और उसके बाद तीन निष्कर्ष दिए गए हैं। आपको दिए गए कथनों को सत्य मानना है भले ही वे सर्वज्ञात तथ्यों से भिन्न प्रतीत होते हों। सभी निष्कर्षों को पढ़िए फिर तय कीजिए कि दिए गए निष्कर्षों में से कौन सा तर्कसंगत रूप से अनुसरण करता है, चाहे सर्वज्ञात तथ्य कुछ भी हों।

कथन:
सभी गेंदबाज बल्लेबाज हैं।
कुछ बल्लेबाज विकेटकीपर हैं।

निष्कर्ष:
I. कुछ बल्लेबाज गेंदबाज हैं।
II कुछ विकेटकीपर गेंदबाज हैं।
III. कुछ विकेटकीपर बल्लेबाज हैं।

- Ans
- 1. यदि केवल निष्कर्ष II सत्य है
 - 2. यदि निष्कर्ष I और III सत्य हैं।
 - 3. यदि या निष्कर्ष I या II सत्य है
 - 4. यदि केवल निष्कर्ष I सत्य है

Question ID : 54592724056

Q.8 निम्नलिखित प्रश्न में दिए गए विकल्पों में से सम्बन्धित अक्षर/शब्द/संख्या को चुनिए।

तारा : नक्षत्र-मंडल :: क्विंटल : ?

- Ans
- 1. टन

- 2. किलोलीटर
- 3. पौंड
- 4. किलोग्राम

Question ID : 54592724045

Q.9 निम्नलिखित प्रश्न में, एक कथन के बाद दो कार्यवाही। और II है। आपको इस कथन को सत्य मान कर तय करना है कि दी गयी दो कार्यवाही में से कौन सा तार्किक रूप से सही है।

कथन:

इंटरनेट का अत्यधिक उपयोग बच्चों को शर्मसार कर रहा है।

कार्यवाहियां :

- I. बच्चों को इंटरनेट का उपयोग करने से रोकें।
- II. बच्चों द्वारा इंटरनेट के उपयोग पर नियंत्रण।

- Ans
- 1. केवल II अनुसरण करता है।
 - 2. केवल I अनुसरण करता है।
 - 3. न तो I और न ही II अनुसरण करता है।
 - 4. या तो I या II अनुसरण करता है।

Question ID : 54592724057

Q.10 किसी निश्चित कूट में, TEAM को लिखते '33' हैं और AGENCY को '26' लिखते हैं, उस कूट में WIFI कैसे लिखा जाएगा?

- Ans
- 1. 15
 - 2. 28
 - 3. 21
 - 4. 32

Question ID : 54592724048

Q.11 यदि SEMESTER 'के स्वरों को उसके पिछले अक्षर से बदल दिया जाए और व्यंजनों को उसके अगले अक्षर से बदल दिया जाए तो प्राप्त परिणाम में कितने स्वर हैं?

- Ans
- 1. दो
 - 2. एक
 - 3. तीन
 - 4. चार

Question ID : 54592724041

Q.12 यदि 'हरा' का मतलब 'साहसी', 'साहसी' का मतलब 'शॉप', 'शॉप' का मतलब 'पेड़', 'पेड़' का मतलब 'कार', कार का मतलब 'जिम' और जिम का मतलब 'रोड' है, तो रोड पर क्या चलता है?

- Ans
- 1. रोड
 - 2. दुकान
 - 3. पेड़
 - 4. जिम

Question ID : 54592724049

Q.13 अराव, भास्कर, कृष्णा, दक्ष और एमिन एक रेसिंग बाइक किराए पर लेते हैं, एक बार में, उनमें से अधिकांश दो, बाइक की सवारी कर सकते हैं। इसके अलावा, वे बाइक के तीन चक्कर लगा सकते हैं, जैसे कि कृष्णा और अराव हमेशा साथ में बाइक की सवारी करते हैं, जबकि दक्ष और भास्कर कभी भी एक साथ नहीं चलाते हैं। एमिन इसे दूसरे राउंड में और भास्कर अंतिम राउंड में चलाता है। यदि कोई भी व्यक्ति एक से अधिक बार सवारी नहीं कर सकता है, तो अकेले सवारी कौन करता है?

- Ans
- 1. कृष्णा
 - 2. दक्ष
 - 3. भास्कर
 - 4. एमिन

Question ID : 54592724054

Q.14 निम्नलिखित प्रश्न में दिए गए विकल्पों में से सम्बन्धित अक्षर/शब्द/संख्या को चुनिए।

हवाई जहाज : बेड़ा :: _____ : _____

- Ans
- 1. सैनिक: रेजिमेंट
 - 2. पहिया : बियरिंग
 - 3. पुस्तक: प्रिंटर
 - 4. शाफ्ट : बियरिंग

Question ID : 54592724046

Q.15 कुछ व्यक्तियों के जन्म की तिथि नीचे दी गई है सबसे कम उम्र के व्यक्ति की तारीख ज्ञात कीजिए।

- a. 12.08. 1901
- b. 13.09.1901
- c. 19.06.1901
- d. 20.02.1901
- e. 22.03.1901
- f. 20.01.1901

- Ans
- 1. g
 - 2. b
 - 3. c
 - 4. e

Question ID : 54592724053

Q.16 निम्नलिखित प्रश्न में, दिए गए विकल्पों में से संबंधित अक्षर / शब्द / संख्या को चुनिए।

PH : RI :: _____

- Ans
- 1. NG : DC
 - 2. TJ : VK
 - 3. XL : LG
 - 4. KM : KI

Question ID : 54592724047

Q.17 सुमन, रश्मि से उम्र में बड़ी है। गीता रश्मि से छोटी है। पिकी सुमन से बड़ी है। उनमें से सबसे बड़ा कौन है?

- Ans
- 1. सुमन
 - 2. रश्मि
 - 3. पिकी

4. गीता

Question ID : 54592724051

Q.18 निम्नलिखित प्रश्न में, कुछ निश्चित शब्द दिए गए हैं, जिनमें से एक को छोड़कर सभी जोड़े में शब्द का एक निश्चित सामान्य संबंध है। उस जोड़ी को चुनें जिसमें शब्द अलग तरह से संबंधित हैं।

- Ans
- 1. जापान: रबी
 - 2. ब्रिटेन: क्रिकेट
 - 3. संयुक्त राज्य अमेरिका : बेसबॉल
 - 4. स्पेन: बुल फाइटिंग

Question ID : 54592724043

Q.19 दिए गए विकल्पों में से विषम को चुनिए।

- Ans
- 1. PQ : SU
 - 2. BC : FG
 - 3. TU : XY
 - 4. AB : EF

Question ID : 54592724044

Q.20 सात व्यक्तियों में से प्रत्येक - अरुण , राहुल , सुनील, राजेश, कपिल, लाला और थॉमस - पेशे से अलग-अलग वकील, आईएएस, इंजीनियर, प्रोफेसर, वैज्ञानिक, पत्रकार और वास्तुकार हैं। हमारे पास उनके बारे में निम्नलिखित जानकारी भी है।

- (i) या तो अरुण या सुनील आईएएस हैं।
- (ii) न तो सुनील और न ही लाला इंजीनियर हैं।
- (iii) राहुल या तो वकील है या प्रोफेसर।
- (iv) राजेश वैज्ञानिक हैं।
- (v) कपिल या तो वास्तुकार या वकील हैं।
- (vi) थॉमस या तो आईएएस या वास्तुकार है।

निम्नलिखित में से कौन-सी व्यक्ति और उसके पेशे की सही जोड़ी है?

- Ans
- 1. लाला - पत्रकार
 - 2. कपिल - प्रोफेसर
 - 3. अरुण - वास्तुकार
 - 4. सुनील - पत्रकार

Question ID : 54592724052

Section : Mental Ability2

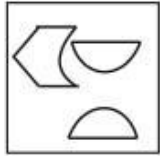
Q.1 दिए गए विकल्पों में से भिन्न संख्या को चुनें।

- Ans
- 1. 5937
 - 2. 3795
 - 3. 3745
 - 4. 9359

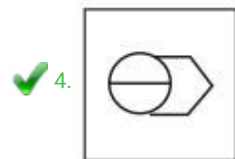
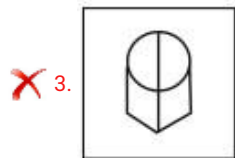
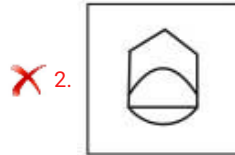
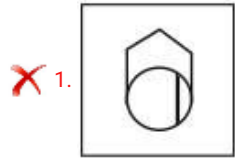
Question ID : 54592724060

Q.2 (a), (b), (c), (d) में से कौन सी आकृति, आकृति (X) से बनायीं जा सकती हैं?

प्रश्न आकृति



Ans



Question ID : 54592724076

Q.3 'P' का मतलब (×), 'Q' का मतलब (-), 'R' का मतलब (÷) और 'S' का मतलब (+) है, तो निम्नलिखित व्यंजक का मान क्या होगा?

(70 R 2) S (28 R 7)

Ans ✗ 1. 42

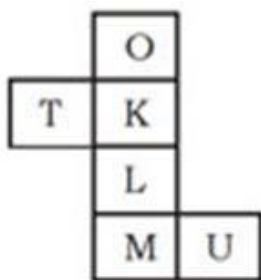
✓ 2. 39

✗ 3. 44

✗ 4. 41

Question ID : 54592724065

Q.4 नीचे दिए गए प्रश्न में, एक खुला पासा दिया गया है। विकल्पों से देखकर ज्ञात कीजिए कि कौन सा O के विपरीत होगा?



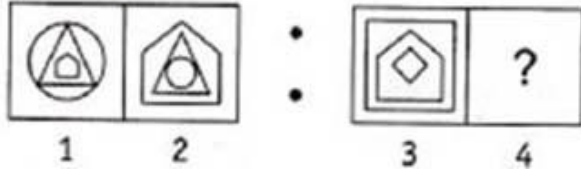
Ans

- 1. U
- 2. M
- 3. L
- 4. T

Question ID : 54592724077

Q.5 प्रश्न आकृति के पहले सेट की दूसरी आकृति, पहली आकृति से एक निश्चित सम्बन्ध रखती है। उसी प्रकार उत्तर-आकृति की दूसरी आकृति प्रश्न आकृति के दूसरे सेट के पहले आकृति सम्बन्ध रखती है। आपको उत्तर आकृति के सेट से उस आकृति का चयन करना होगा जो प्रश्न चिह्न (?) के स्थान पर आएगा।

प्रश्न आकृति



Ans

- 1.
- 2.
- 3.
- 4.

Question ID : 54592724071

Q.6 नीचे दिए गए प्रश्न में, एक कथन के बाद दो निष्कर्ष दिए गए हैं। आपको दिए गए कथन को सत्य मानना है, भले ही वे आम तौर पर ज्ञात तथ्यों के साथ विभिन्नता रखते हों और फिर तय करें कि दिए गए कथन में से कौन सा निष्कर्ष तार्किक रूप से अनुसरण करता है।

Statement:

$$J < C = T \geq U \geq R = N$$

Conclusions:

I. $N < C$

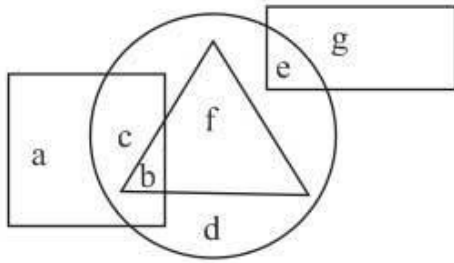
II. $U > J$

- 1. न तो निष्कर्ष I और न ही II सत्य है
- 2. केवल निष्कर्ष II सत्य है
- 3. या तो निष्कर्ष I या II सत्य है
- 4. केवल निष्कर्ष I सत्य है

Question ID : 54592724066

Q.7 In the given figure, the circle represents World, rectangle represents Ocean, and Square represents River and triangle represents island. Which set of letters represents Ocean who

are not World?



- Ans
- 1. e
 - 2. d
 - 3. g
 - 4. c

Question ID : 54592724069

Q.8 दिए गए विकल्पों में से विषम संख्या युग्म चुनिए:

- Ans
- 1. 512 : 8
 - 2. 343 : 7
 - 3. 215 : 6
 - 4. 729 : 9

Question ID : 54592724061

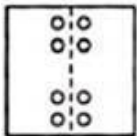
Q.9 निम्नलिखित प्रश्न में दिए गए विकल्पों में से सम्बन्धित अक्षर/शब्द/संख्या को चुनिए।

(25, 45, 55)

- Ans
- 1. (40, 72, 86)
 - 2. (40, 75, 88)
 - 3. (40, 75, 82)
 - 4. (40, 72, 88)

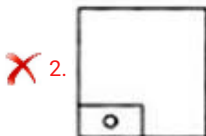
Question ID : 54592724063

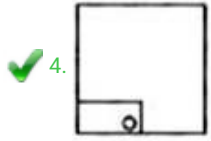
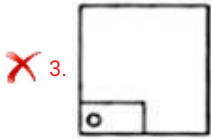
Q.10 निम्नलिखित प्रश्न में एक कागज के टुकड़े को प्रश्न आकृति में दर्शाए गए तरीके से मोड़ा गया है। कट के बाद प्राप्त पैटर्न को दर्शाने वाले उत्तर विकल्पों में से आकृति का चयन करें।



X

Ans

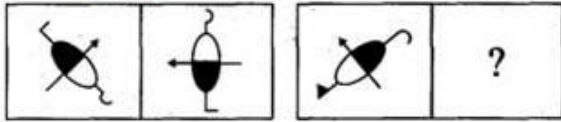




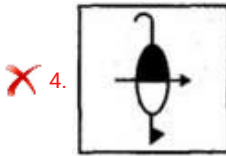
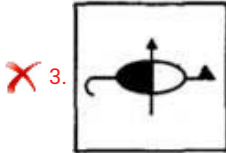
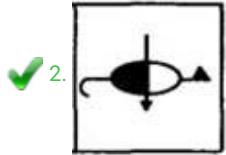
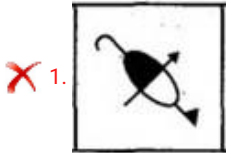
Question ID : 54592724075

Q.11 प्रश्न चिह्न (?) के स्थान पर उत्तर आकृति के रूप में एक उचित आकृति चुनें।

प्रश्न आकृति



Ans



Question ID : 54592724072

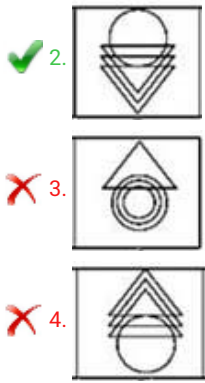
Q.12 निम्नलिखित प्रश्न में, चार चित्र प्रश्न आकृति में और चार उत्तर-आकृति में (a), (b), (c) और (d) के रूप में दिए गए हैं। प्रश्न में दिए गए चित्रों में एक निश्चित विशेषता है। उस उत्तर आकृति का चयन करें जिसमें समान विशेषता हो।

प्रश्न आकृति



Ans

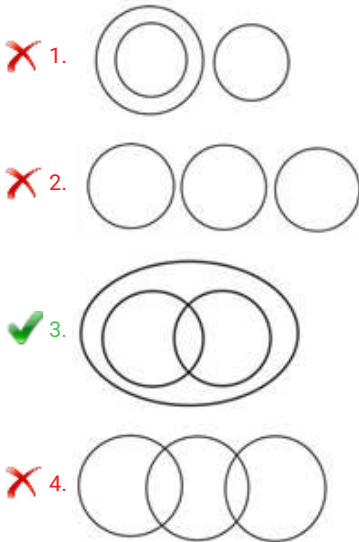




Question ID : 54592724070

Q.13 निम्नलिखित में से कौन सा चित्र दक्षिण भारत, भारत और दक्षिण-पूर्व भारत के बीच एक संबंध का सबसे अच्छा प्रतिनिधित्व करता है?

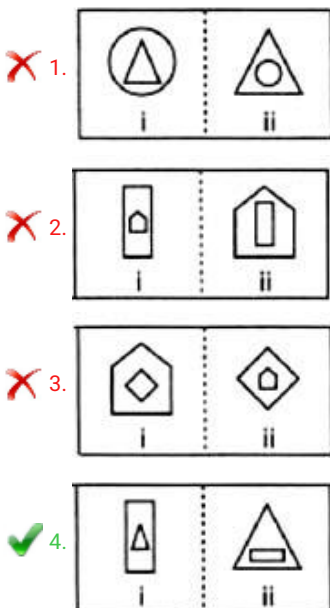
Ans



Question ID : 54592724068

Q.14 निम्नलिखित प्रश्नों में, आकृति के चारो भाग में तत्व (ii) तत्व (i) से एक निश्चित प्रकार से संबंधित है। उन आकृति जोड़ी का पता लगाएं जिनमे तत्व (ii), तत्व (i) से संबंधित नहीं है।

Ans



Q.15 दिए गए विकल्पों में से आकृति की सही पानी की छवि आकृति ज्ञात कीजिए।

U S 9 1 Q 4 M 5 3

- Ans
- 1. **U 2 9 J 0 4 W 2 3**
 - 2. **U 2 9 J Q 4 W 2 3**
 - 3. **U 2 9 1 0 4 W 2 3**
 - 4. **U S 9 J 0 4 M 5 3**

Q.16 A cube of 3cm side is divided into smaller cubes of side 1cm. Find the total number of smaller cubes.

- Ans
- 1. 9
 - 2. 3
 - 3. 31
 - 4. 27

Q.17 प्रत्येक निम्नलिखित प्रश्नों में विषम संख्या वाले युग्म / समूह को चुनिए:

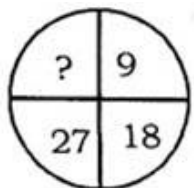
- Ans
- 1. 5, 25, 225
 - 2. 3, 9, 81
 - 3. 7, 49, 443
 - 4. 9, 81, 829

Q.18 दी गई श्रृंखला में गलत पद ज्ञात करें:

28, 54, 106, 210, 418, 832

- Ans
- 1. 210
 - 2. 54
 - 3. 832
 - 4. 28

Q.19 निम्नलिखित दिए गए विकल्पों में से लुप्त संख्या ज्ञात कीजिए।



- Ans
- 1. 36

- 2. 44
- 3. 40
- 4. 39

Question ID : 54592724064

Q.20 निम्नलिखित प्रश्न में, दिए गए विकल्पों में से संबंधित अक्षर / शब्द / संख्या को चुनिए।

5 : 125 :: 11 : ?

- Ans
- 1. 1321
 - 2. 121
 - 3. 1311
 - 4. 1331

Question ID : 54592724067

Section : General Awareness1

Q.1 चुम्बकीय दिक्पात _____ पर सबसे अधिक होता है।

- Ans
- 1. विषुवत रेखा
 - 2. उत्तरी ध्रुव
 - 3. मकर रेखा
 - 4. कर्क रेखा

Question ID : 54592724086

Q.2 आप एक ट्रेन में हैं और आप चाय पीना चाहते हैं। चूंकि आप पर्यावरण और स्वच्छता दोनों के बारे में बहुत चिंतित हैं, तो आप निम्नलिखित में से किस कप में अपनी चाय पीएंगे?

- Ans
- 1. कुल्हड़ (मिट्टी के पात्र)
 - 2. डिस्पोजेबल प्लास्टिक कप
 - 3. डिस्पोजेबल पेपर कप
 - 4. पुनः प्रयोज्य प्लास्टिक के कप जो चाय-विक्रेता को वापस करने होंगे

Question ID : 54592724089

Q.3 Which of the following is a characteristic of leucocytes?

- Ans
- 1. They are the most abundant of all the cells in blood
 - 2. These are devoid of nucleus in most of the mammals and are biconcave in shape
 - 3. These are colourless due to the lack of haemoglobin
 - 4. These have a long life span

Question ID : 54592724088

Q.4 निम्नलिखित में से कौन सा ऐसा कारक नहीं है जो समुद्र-जल के तापमान के वितरण को सीधे प्रभावित करता है?

- Ans
- 1. भूमि और पानी का असमान वितरण
 - 2. सनातन पवन

3. महासागरीय धाराएँ

4. कोरिओलिस प्रभाव

Question ID : 54592724096

Q.5 किसी राष्ट्र की सकल घरेलु उत्पाद की गणना करने के लिए निम्नलिखित में से किस विधि का उपयोग नहीं कर सकते हैं?

Ans 1. आय विधि

2. व्यय विधि

3. उत्पाद विधि

4. कर विधि

Question ID : 54592724085

Q.6 दिए गए विकल्पों में से, सिंधु नदी की सहायक नदियों की पहचान करें:

Ans 1. चंबल, बेतवा और सोन

2. पूर्णा, प्राणहिता और वर्धा

3. जस्कर, नुब्रा, श्योक और हुंज़ा

4. दिबांग और लोहित

Question ID : 54592724094

Q.7 निम्नलिखित में से कौन सा रसायन पेयजल प्राप्त करने के लिए कच्चे पानी की शुद्धि के दौरान नहीं जोड़ा जाता है?

Ans 1. ओजोन

2. कैल्शियम कार्बोनेट

3. क्लोरीन

4. सोडा ऐश

Question ID : 54592724091

Q.8 Which of the following is not a quantitative monetary policy tools?

Ans 1. Repo Rate

2. Moral Suasion

3. Cash Reserve Ratio

4. Open Market Operations

Question ID : 54592724084

Q.9 परिवर्णी शब्द WASH (UNICEF के) में H का पूर्ण रूप क्या है?

Ans 1. होम्स

2. हाउसिंग

3. हाइजीन

4. ऊष्मा

Question ID : 54592724090

Q.10 2011 की जनगणना के अनुसार, निम्नलिखित में से गलत कथन ज्ञात कीजिए।

- Ans
- 1. विश्व में सर्वाधिक जनसंख्या घनत्व भारत का है
 - 2. वर्ष 2011 में भारत की जनसंख्या का घनत्व 382 व्यक्ति प्रति वर्ग किमी था
 - 3. भारत की कुल जनसंख्या 1210.6 मिलियन है
 - 4. भारत में ('मिलियन प्लस सिटीज़') 'मिलियन से अधिक शहरों' की संख्या वर्ष 2011 से पहले ही 50 पार कर चुकी है

Question ID : 54592724098

Q.11 निम्नलिखित में से कौन सा खाद्य अपने आणविक सूत्र से सही ढंग से मिला हुआ है?

- Ans
- 1. टेबल शूगर - $C_{12}H_{22}O_{11}$
 - 2. बेकिंग सोडा - NaCl
 - 3. सिरका - $NaHCO_3$
 - 4. लवण - CH_3COOH

Question ID : 54592724087

Q.12 भारत में एफ.आर.बी.एम. अधिनियम का किस वर्ष में लागू किया गया?

- Ans
- 1. 2002
 - 2. 2001
 - 3. 2004
 - 4. 2003

Question ID : 54592724083

Q.13 निम्नलिखित में से कौन पीने के पानी के भौतिक संदूषक की श्रेणी में आएगा?

- Ans
- 1. मिट्टी
 - 2. कीटनाशक
 - 3. जीवाणु
 - 4. सीज़ियम

Question ID : 54592724092

Q.14 निम्नलिखित में से कौन से नृत्यों की जोड़ी केवल महिलाओं द्वारा की जाती है?

- Ans
- 1. गिद्धा एवं जात्रा
 - 2. दांडिया एवं घूमर
 - 3. जात्रा एवं छऊ
 - 4. गिद्धा एवं घूमर

Question ID : 54592724079

Q.15 निम्नलिखित चोटियों को उनकी ऊंचाइयों के आरोही क्रम में व्यवस्थित करें तो सही व्यवस्था कौनसी होगी?

- Ans
- 1. कंचनजंगा, गुरला मनधाता, नमचा बरवा, अन्नपूर्णा, धौलागिरी
 - 2. धौलागिरी, गुरला मनधाता, नमचा बरवा, अन्नपूर्णा, कंचनजंगा
 - 3. गुरला मनधाता, नमचा बरवा, अन्नपूर्णा, धौलागिरी, कंचनजंगा
 - 4. गुरला मनधाता, अन्नपूर्णा, नमचा बरवा, कंचनजंगा, धौलागिरी

Question ID : 54592724095

Q.16 भारतीय संगीत में "संगीत सुधाकर" एक महत्त्वपूर्ण पुस्तक है, जिसे _____ में लिखा गया है।

- Ans
- 1. 10वीं शताब्दी ई.
 - 2. 7वीं शताब्दी ई.
 - 3. 2वीं शताब्दी ई.
 - 4. 14वीं शताब्दी ई.

Question ID : 54592724080

Q.17 निम्नलिखित में से कौन सी बीमारी विषाणु के कारण होती है?

- Ans
- 1. एस.ए.आर.एस. (सार्स), मुँहासे और निन्द्रालु व्याधि
 - 2. केवल एस.ए.आर.एस. (सार्स)
 - 3. केवल निन्द्रालु व्याधि
 - 4. केवल मुँहासे

Question ID : 54592724093

Q.18 निम्न में से कौनसी मृदाओं में चूने, लौह, मैग्नीशिया तथा ऐलुमिना के तत्त्व काफी मात्रा में पाए जाते हैं, लेकिन इनमें फ़ास्फ़ोरस, नाइट्रोजन और जैव पदार्थों की कमी होती है?

- Ans
- 1. काली मृदा
 - 2. शुष्क मृदा
 - 3. जलोढ़ मृदा
 - 4. लैटराइट मृदा

Question ID : 54592724097

Q.19 निम्नलिखित में से कौन सा असम राज्य का त्योहार है?

- Ans
- 1. पोंगल
 - 2. ओणम
 - 3. रोंगाली बिहू
 - 4. छठ पूजा

Question ID : 54592724081

Q.20 लाल किले के बारे में निम्न में से गलत कथन का चयन करें।

- Ans
- 1. प्रसिद्ध मयूर सिंहासन लाल किले में रखा गया था, जिसे 1839 में नादिर शाह द्वारा हथिया लिया गया था
 - 2. शाहजहाँ ने 1618 में लाल किले की नींव रखी
 - 3. इस भवन में उत्कीर्णन है "यदि इस पृथ्वी पर कहीं स्वर्ग है तो यहीं है"।
 - 4. इसमें दीवान-ए-खास और दीवान-ए-आम है

Question ID : 54592724082

Q.1 निम्नलिखित में से कौन सा देश सिक्किम राज्य के साथ अपनी सीमाएँ साझा करता है?

- Ans 1. भूटान, नेपाल और चीन (तिब्बत)
 2. केवल चीन (तिब्बत) और भूटान
 3. केवल भूटान और नेपाल
 4. केवल नेपाल और चीन (तिब्बत)

Question ID : 54592724099

Q.2 गांधीजी ने 1931 में सविनय अवज्ञा आंदोलन बंद करने का फैसला क्यों किया?

- Ans 1. चौरी चौरा नरसंहार में हुई हिंसा के स्तर से वह दुखी थे
 2. मुख्य नेता - जवाहरलाल नेहरू, महात्मा गांधी, सुभाष चंद्र बोस को जेल में डाल दिया गया था
 3. गांधीजी ने लॉर्ड इरविन के साथ एक समझौते पर हस्ताक्षर किए थे
 4. बड़े पैमाने पर पुलिस दमन के कारण आंदोलन अपनी गति खो चुका था

Question ID : 54592724104

Q.3 (i) _____ को हाल ही में 2019 में (ii) _____ पुरस्कार से सम्मानित किया गया है।

- Ans 1. (i) नानाजी देशमुख (ii) पद्म विभूषण
 2. (i) भूपेन हजारिका (ii) भारत रत्न
 3. (i) प्रणव मुखर्जी, (ii) पद्म विभूषण
 4. (i) बलवंत मोरेश्वर पुरंदरे, (ii) भारत रत्न

Question ID : 54592724107

Q.4 (i) _____ वर्तमान में भारतीय महिलाओं की (ii) _____ टीम की कप्तान है।

- Ans 1. (i) अंजुम चोपड़ा (ii) क्रिकेट
 2. (i) रानी रामपाल (ii) फुटबॉल
 3. (i) हर्षदीप कौर (ii) हॉकी
 4. (i) वाहबिज भरूचा (ii) रग्बी

Question ID : 54592724116

Q.5 अल्फ्रेड नोबेल, वह व्यक्ति जिनके नाम पर नोबेल पुरस्कार दिया गया है, उनको _____ के आविष्कारक के रूप में भी जाना जाता है।

- Ans 1. स्टीम इंजन
 2. इलेक्ट्रिक बल्ब
 3. ऑटोमोबाइल्स
 4. डायनामाइट

Question ID : 54592724111

Q.6 फीफा विश्व कप 2018 में (i) _____ में आयोजित किया गया था और फीफा विश्व कप 2022 में (ii) _____ में आयोजित किया जाएगा।

- Ans 1. (i) रूस, (ii) कतर
 2. (i) जापान, (ii) दक्षिण अफ्रीका
 3. (i) स्पेन, (ii) कतर

✗ 4. (i)ब्राजील, (ii) रूस

Question ID : 54592724118

Q.7 निम्नलिखित में से किसे संविधान में 91 वें संवैधानिक संशोधन अधिनियम (2003) के माध्यम से पेश किया गया था?

- Ans
- ✗ 1. मतदान की उम्र 21 से घटकर 18 हुई
 - ✗ 2. संपत्ति का अधिकार मौलिक अधिकारों की सूची से हटा दिया गया।
 - ✗ 3. संविधान में भाग IX के जुड़ने से पंचायती राज की प्रस्तावना।
 - ✓ 4. मंत्रिपरिषद के सदस्यों की संख्या लोक सभा (या राज्यों के मामले में विधानसभा) की कुल संख्या से 15 प्रतिशत से अधिक नहीं होगी।

Question ID : 54592724114

Q.8 धोलावीरा का प्राचीन सिंधु घाटी स्थल निम्नलिखित में से किस राज्य में मिला?

- Ans
- ✗ 1. राजस्थान
 - ✗ 2. हरियाणा
 - ✗ 3. महाराष्ट्र
 - ✓ 4. गुजरात

Question ID : 54592724100

Q.9 भारतीय कपड़े के बारे में निम्नलिखित में से कौन सा कथन गलत है?

- Ans
- ✗ 1. 1931 में अपनाए गए भारतीय राष्ट्रीय कांग्रेस के तिरंगे झंडे के केंद्र में चरखे को रखा गया था
 - ✗ 2. भारत में पहले कपास के कारखाने की स्थापना 1854 में बॉम्बे में कताईकारखाने के रूप में की गई थी
 - ✓ 3. तांती बुनकर दक्षिण भारत के प्रसिद्ध कपड़ा-मजदूर थे
 - ✗ 4. भारतीय वस्त्र अमेरिकी बाजारों में ब्रिटिश वस्त्रों के साथ प्रतिस्पर्धा करने में विफल रहे

Question ID : 54592724102

Q.10 भारतीय समाज सुधारकों और उनके प्रमुख योगदान के बारे में निम्नलिखित में से कौन सा कथन सही है?

- Ans
- ✓ 1. हेनरी विवियन डेरोजियो युवा भारतीयों में पश्चिमी शिक्षा और विज्ञान का प्रसार करने वाले प्रथम भारतीय शिक्षकों में से एक थे
 - ✗ 2. राजा राममोहन राय ने प्राचीन ग्रंथों का उपयोग यह सुझाव देने के लिए किया कि विधवाएँ पुनर्विवाह कर सकती हैं
 - ✗ 3. ज्योतिराव फुले बंगाल में थे एवं सती प्रथा उन्मूलन के लिए काम किया
 - ✗ 4. ईश्वर चंद्र विद्यासागर ने महाराष्ट्र में लड़कियों के लिए स्कूल स्थापित किए

Question ID : 54592724103

Q.11 स्वतंत्र भारत के मंत्रिमंडल के गलत तरीके से मिलान किए गए सदस्यों को उन विभागों के साथ खोजें जो उनके पास थे।

- Ans
- ✗ 1. डॉ. बी. आर. अम्बेडकर - कानून
 - ✗ 2. जवाहरलाल नेहरू - विदेश मंत्रालय और राष्ट्रमंडल संबंध
 - ✓ 3. वल्लभ भाई पटेल - खाद्य और कृषि
 - ✗ 4. मौलाना अबुल कलाम आज़ाद - शिक्षा

Question ID : 54592724115

Q.12 भारतीय संविधान के निम्नलिखित में से कौन सा अनुच्छेद " धन विधेयक" की परिभाषा प्रदान करता है?

- Ans 1. अनुच्छेद 110
 2. अनुच्छेद 108
 3. अनुच्छेद 114
 4. अनुच्छेद 112

Question ID : 54592724112

Q.13 इस संस्था की स्थापना भारत में वर्ष 1935 में हुई थी और इसका मुख्यालय मूल रूप से कोलकाता में था, लेकिन फिर इसे मुंबई स्थानांतरित कर दिया गया। इस संस्था के वर्तमान प्रमुख कौन हैं?

- Ans 1. शक्तिकांता दास
 2. रघुराम राजन
 3. उर्जित पटेल
 4. वायरल आचार्य

Question ID : 54592724110

Q.14 नरेंद्र मोदी को 'इज़्जुदीन के शासन के आदेश' प्रस्तुत किया गया है, वह किस देश के एक विदेशी नागरिक पर सर्वोच्च सम्मान है?

- Ans 1. मॉरीशस
 2. मलेशिया
 3. मालदीव
 4. यूनाइटेड अरब अमीरात

Question ID : 54592724108

Q.15 1560 के दशक के दौरान, किस मुगल सम्राट ने आसपास के क्षेत्रों से लाये गए लाल बलुआ पत्थर के साथ आगरा के किले का निर्माण किया था?

- Ans 1. शाहजहाँ
 2. औरंगजेब
 3. बाबर
 4. अकबर

Question ID : 54592724101

Q.16 बच्चों को निः शुल्क और अनिवार्य शिक्षा का अधिकार (आरटीई) अधिनियम, 2009 के संबंध में निम्नलिखित में से सही कथन चुनें।

- Ans 1. इसने भारतीय संविधान में अनुच्छेद 21A डाला
 2. यह वर्ष 2012 में लागू हुआ
 3. 'अनिवार्य शिक्षा', उत्तरदायी सरकार और स्थानीय अधिकारियों पर एक दायित्व डालती है
 4. यह 18 वर्ष आयु वर्ग के सभी

बच्चों को निः शुल्क और अनिवार्य शिक्षा के लिए प्रवेश, उपस्थिति और समापन प्रदान करता है

Question ID : 54592724113

Q.17 भारत में निम्नलिखित में से किस खेल का आविष्कार किया गया था?

- Ans
- 1. फुटबॉल
 - 2. हॉकी
 - 3. क्रिकेट
 - 4. शतरंज

Question ID : 54592724117

Q.18 निम्नलिखित में से कौन सी पुस्तक का मिलान अपने लेखक से सही ढंग से किया गया है?

- Ans
- 1. द एडवेंचर्स ऑफ टॉम सॉयर - मार्क ट्वेन
 - 2. रॉबिन्सन क्रूसो - चार्ल्स डिकेंस
 - 3. द डा विंची कोड - रॉबर्ट फ्रॉस्ट
 - 4. ओलिवर ट्विस्ट - डैनियल डेफो

Question ID : 54592724109

Q.19 निम्नलिखित विकल्पों में से वह व्यक्ति चुनें जो भारत में एक प्रसिद्ध पत्रकार है।

- Ans
- 1. प्रणय रॉय
 - 2. तसलीमा नसरीन
 - 3. हरमनप्रीत कौर
 - 4. कैलाश विजयवर्गीय

Question ID : 54592724106

Q.20 भारतीय राष्ट्रीय आंदोलन में निम्नलिखित में से कौन सी घटना उस वर्ष के साथ मेल नहीं खाती है जिसमें वे हुए थे?

- Ans
- 1. असहयोग कार्यक्रम को कांग्रेस ने अपनाया- 1920
 - 2. साइमन कमीशन भारत में आया - 1927
 - 3. लॉर्ड इरविन ने भविष्य के संविधान पर चर्चा के लिए एक गोलमेज सम्मेलन का प्रस्ताव दिया - 1929
 - 4. महात्मा गांधी ने प्रस्तावित रौलट एक्ट के खिलाफ एक राष्ट्रव्यापी सत्याग्रह शुरू करने का फैसला किया - 1919

Question ID : 54592724105

Section : Arithmetic Ability1

Q.1 एक दुकानदार पहली शर्ट पर 35 प्रतिशत की छूट देता है। दूसरे शर्ट पर, वह पहले 25 प्रतिशत की छूट देता है और जब ग्राहक जोर देता है, तो वह अतिरिक्त 5 प्रतिशत की छूट देता है। यदि प्रति शर्ट अंकित मूल्य ₹.780 है, तो दो शर्टों के विक्रय मूल्य में क्या अंतर है?

- Ans
- 1. ₹.44
 - 2. ₹.49.25
 - 3. ₹.42.5
 - 4. ₹.48.75

Question ID : 54592724130

Q.2 एक मशीन को दो भागों A और B के साथ निर्माण किया जाता है। A की लागत मशीन की कुल लागत का 40 प्रतिशत है और B की लागत मशीन की कुल लागत का 25 प्रतिशत है। मशीन को कुल लागत का 60 प्रतिशत

लाभ पर बेचा जाता है। यदि भाग A की लागत 12.5 प्रतिशत अधिक है और भाग B की लागत 30 प्रतिशत अधिक है, जबकि विक्रय मूल्य समान रहता है, तो लाभ प्रतिशत क्या होगा?

- Ans
- 1. 33.33 प्रतिशत
 - 2. 49.66 प्रतिशत
 - 3. 47.44 प्रतिशत
 - 4. 42.22 प्रतिशत

Question ID : 54592724136

Q.3 निम्नलिखित प्रश्नों में प्रश्नवाचक चिन्ह (?) के स्थान पर क्या मान आएगा?

$$\sqrt{0.081 \times 0.324 \times 0.4096} = ?$$

- Ans
- 1. 0.192
 - 2. 0.103
 - 3. 0.175
 - 4. 0.205

Question ID : 54592724120

Q.4 जब गेहूं की कीमत प्रति किलो 25 प्रतिशत बढ़ जाती है, तो एक परिवार अपनी खपत को इस तरह से कम कर देता है कि गेहूं पर कुल खर्च केवल 20 प्रतिशत बढ़ जाता है। यदि मूल्य वृद्धि से पहले परिवार द्वारा गेहूं की खपत 30 किलोग्राम है तो परिवार के गेहूं की वर्तमान खपत क्या होगी?

- Ans
- 1. 26.4 किग्रा
 - 2. 25.2 किग्रा
 - 3. 27.5 किग्रा
 - 4. 28.8 किग्रा

Question ID : 54592724132

Q.5 निम्नलिखित में से कौन सी संख्या 72 से विभाजित है?

- Ans
- 1. 12968
 - 2. 11244
 - 3. 11448
 - 4. 11458

Question ID : 54592724128

Q.6 निम्नलिखित प्रश्न में प्रश्नवाचक चिन्ह (?) के स्थान पर क्या आना चाहिए?

$$3\frac{1}{2} + 1\frac{3}{4} + 1\frac{5}{8} = ?$$

- Ans
- 1. $7\frac{1}{8}$
 - 2. $6\frac{5}{8}$
 - 3. $5\frac{7}{8}$

✓ 4. $6\frac{7}{8}$

Question ID : 54592724121

Q.7 एक व्यक्ति अपने तीनों बेटों सुमित, सुंदर और श्याम को 180 चॉकलेट बांटना चाहता था। वह चाहता था कि चॉकलेट को सुमित, सुंदर और श्याम के बीच 15: 11: 10. के अनुपात में वितरित किया जाए। गलती से वह 4: 5: 6 के अनुपात में वितरित हो गया। सुंदर द्वारा प्राप्त अतिरिक्त चॉकलेट का पता लगाएं।

- Ans
- ✗ 1. 6
 - ✗ 2. 4
 - ✓ 3. 5
 - ✗ 4. 3

Question ID : 54592724138

Q.8 निर्देश: निम्नलिखित प्रश्न में प्रश्नवाचक चिन्ह (?) के स्थान पर क्या आना चाहिए?

$$\frac{34 \times 4 - 12 \times 8}{6^2 + \sqrt{196} + 11^2} = ?$$

- Ans
- ✗ 1. $\frac{40}{121}$
 - ✓ 2. $\frac{40}{171}$
 - ✗ 3. $\frac{14}{171}$
 - ✗ 4. $\frac{36}{171}$

Question ID : 54592724119

Q.9 गलती से एक दुकानदार उत्पाद को लागत मूल्य से 10 प्रतिशत ऊपर चिह्नित करता है और अपने ग्राहक को 40 प्रतिशत छूट देता है तो उसे कुछ नुकसान होता है। यदि सही अंकित मूल्य लागत मूल्य से 40 प्रतिशत अधिक है और सही छूट 10 प्रतिशत है, तो वह कुछ लाभ प्राप्त करता है। यदि लाभ से नुकसान रु.240 अधिक है, तो उत्पाद की लागत मूल्य क्या है?

- Ans
- ✓ 1. रु.3000
 - ✗ 2. रु.2400
 - ✗ 3. रु.2800
 - ✗ 4. रु.2000

Question ID : 54592724137

Q.10 पेट्रोल की कीमत में दो बार 25 प्रतिशत की बढ़ोतरी हुई है। अगर पेट्रोल की कीमत पहले 10 प्रतिशत बढ़ जाती है, फिर 18 प्रतिशत बढ़ जाती है, और फिर 22 प्रतिशत बढ़ जाती है, तो दो मामलों में परिणामी कीमतों में क्या अंतर (लगभग) है यदि पेट्रोल की शुरुआती कीमत रु.120 / ली है,?

- Ans
- ✓ 1. रु.2.5
 - ✗ 2. रु.3.2
 - ✗ 3. रु.1.8
 - ✗ 4. रु.1

Question ID : 54592724133

Q.11 न्यूनतम और अधिकतम 3 अंकों की संख्याओं का योग जो कि 24 और 36 से बिल्कुल विभाज्य है:

- Ans 1. 576
 2. 792
 3. 692
 4. 144

Question ID : 54592724125

Q.12 वह छोटी से छोटी प्राकृतिक संख्या ज्ञात करें जिसे 26177 में जोड़ने पर प्राप्त संख्या 8 से पूरी तरह विभाजित हो?

- Ans 1. 5
 2. 3
 3. 1
 4. 7

Question ID : 54592724127

Q.13 कक्षा A के छात्रों का औसत अंक 96 है। कक्षा A के कुछ छात्र जिनके औसत अंक भी 96 हैं, उन्हें कक्षा B में स्थानांतरित किया जाता है और समान संख्या में छात्रों को B से A में स्थानांतरित किया जाता है, जिनके औसत अंक 48 हैं। परिणामस्वरूप कक्षा A के छात्रों का औसत अंक 80 हो जाता है। कक्षा A के छात्रों का कितना भाग स्थानान्तरण होता है?

- Ans 1. $\frac{1}{3}$
 2. $\frac{1}{4}$
 3. $\frac{1}{5}$
 4. $\frac{1}{2}$

Question ID : 54592724129

Q.14 एक दुकानदार तीन उत्पादों A, B और C बेचता है। A, B और C के विक्रय मूल्य क्रमशः 6: 8: 9 के अनुपात में हैं। वह क्रमशः A, B और C बेचने पर $28\frac{4}{7}\%$ लाभ, $33\frac{1}{3}\%$ लाभ और 35% लाभ कमाता है। यदि तीन उत्पादों को बेचने पर कुल लाभ रु.85 है तो कुल विक्री क्या है?

- Ans 1. रु.345
 2. रु.260
 3. रु.415
 4. रु.320

Question ID : 54592724135

Q.15 कार A का वर्तमान मूल्य कार A और कार B के कुल वर्तमान मूल्य का 67.5 प्रतिशत है। मूल्यहास की गणना कार A और कार B पर क्रमशः 12 प्रतिशत और 15 प्रतिशत की दर से प्रतिवर्ष की जानी है। दो वर्षों के अंत में मूल्यहास की कुल राशि कुल वर्तमान मूल्य का कितना प्रतिशत (लगभग) है?

- Ans 1. 25.5 प्रतिशत

- 2. 23.5 प्रतिशत
- 3. 21.8 प्रतिशत
- 4. 24.25 प्रतिशत

Question ID : 54592724134

Q.16 निम्नलिखित प्रश्न में प्रश्नवाचक चिन्ह (?) के स्थान पर क्या आना चाहिए?

$$225 + 63 \times 25 \div 5 - 8 = ?$$

- Ans
- 1. 1290
 - 2. 1297
 - 3. 1298
 - 4. 1295

Question ID : 54592724123

Q.17 निम्नलिखित प्रश्न में प्रश्नवाचक चिन्ह (?) के स्थान पर क्या आना चाहिए?

$$2000 + 5000 - 600 (2 \times 5) = ? \times 500$$

- Ans
- 1. 3
 - 2. 5
 - 3. 6
 - 4. 2

Question ID : 54592724124

Q.18 निम्नलिखित प्रश्न में प्रश्नवाचक चिन्ह (?) के स्थान पर क्या आना चाहिए?

$$8 + 2\frac{1}{2} - 5\frac{1}{2} + \frac{3}{2}$$

- Ans
- 1. $\frac{11}{2}$
 - 2. $\frac{11}{5}$
 - 3. $\frac{13}{2}$
 - 4. $\frac{13}{4}$

Question ID : 54592724122

Q.19 एक आम, एक केला, एक नारंगी और एक पपीता का औसत मूल्य एक आम, एक केला और एक नारंगी के औसत मूल्य से रु.3 अधिक और एक आम और एक केले के औसत मूल्य से रु. 5 अधिक है। एक नारंगी और पपीते की औसत कीमत और एक नारंगी की कीमत के बीच का अंतर है?

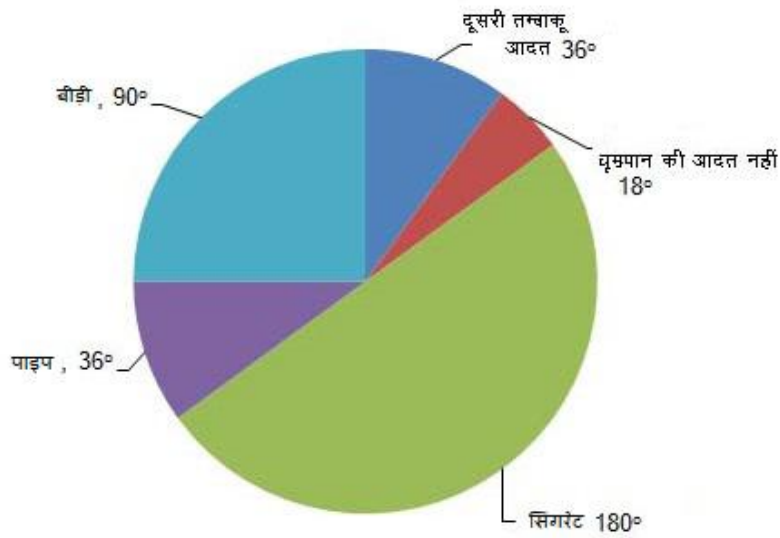
- Ans
- 1. रु.1
 - 2. रु.8
 - 3. रु.16
 - 4. रु.4

Q.20 540 के कुल अभाज्य गुणनखंडों की संख्या है:

- Ans
- 1. 21
 - 2. 24
 - 3. 16
 - 4. 15

Section : Arithmetic Ability2

Q.1 पाई-चार्ट में तम्बाकू का सेवन करने से संबद्ध 123060 लोगों के सर्वेक्षण से प्राप्त परिणाम को दर्शाया गया है। पाई-चार्ट का अध्ययन कीजिए और प्रश्नों के उत्तर दीजिए।



सर्वेक्षण के अधीन ऐसे लोगों का प्रतिशत क्या है जिन्हें किसी भी प्रकार के धूम्रपान की आदत नहीं है?

- Ans
- 1. 7.5 प्रतिशत
 - 2. 5.2 प्रतिशत
 - 3. 10 प्रतिशत
 - 4. 5 प्रतिशत

Q.2 विजय ने साधारण ब्याज पर दो बैंकों A और B से रु.7500 उधार लिए। बैंक A के लिए, उसने दो साल के लिए 5 प्रतिशत प्रति वर्ष की दर पर ब्याज का भुगतान किया। और बैंक B के लिए, उसने दो साल के लिए 7 प्रतिशत प्रति वर्ष की दर पर ब्याज दिया। दो साल के लिए उसने कुल ब्याज रु.825 दिया। A से उधार लिया गया धन B से कितने प्रतिशत अधिक है?

- Ans
- 1. 33.33 प्रतिशत
 - 2. 300 प्रतिशत
 - 3. 25 प्रतिशत
 - 4. 200 प्रतिशत

Q.3 X पुरुष 120 दिनों में एक काम पूरा कर सकते हैं। अगर 10 आदमी और अधिक होते तो काम को पूरा करने में 20 दिन समय कम लगता। X का मान ज्ञात करें।

- Ans 1. 60
 2. 90
 3. 50
 4. 75

Question ID : 54592724147

Q.4 9 सेमी और 4 सेमी त्रिज्या के दो वृत्त एक दूसरे को बाहरी रूप से स्पर्श करते हैं। उनकी सीधी सामान्य स्पर्शरेखा की लंबाई ज्ञात कीजिए।

- Ans 1. 15 सेमी
 2. 12 सेमी
 3. 20 सेमी
 4. 18 सेमी

Question ID : 54592724152

Q.5 अनिल और भरत एक कार्य क्रमशः 20 दिन और 30 दिन में कर सकते हैं। यदि अनिल, भरत और चेतन समान कार्य को 10 दिनों में पूरा करते हैं, तो अनिल और चेतन कार्य को कितने दिनों में पूरा कर सकते हैं?

- Ans 1. 9
 2. 12
 3. 15
 4. 10

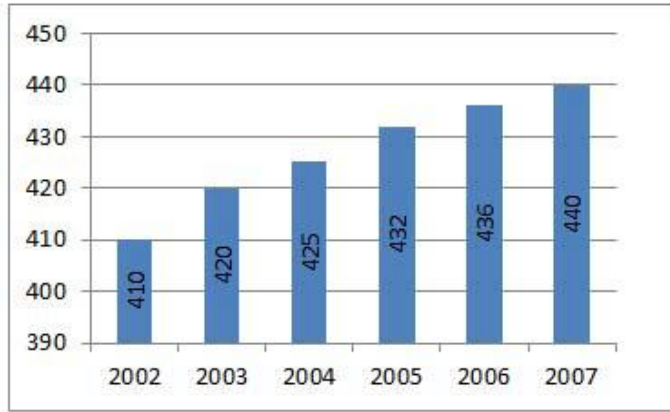
Question ID : 54592724149

Q.6 एक साल पहले A और B के अंकों का अनुपात 2 : 3 था। A और B के मामले में पिछले साल के अंकों का अनुपात इस वर्ष के अंकों से क्रमशः 3 : 4 और 5 : 7 हैं। यदि इस वर्ष उनके अंकों में अंतर 115 है, इस वर्ष B के अंक क्या हैं?

- Ans 1. 210
 2. 315
 3. 259
 4. 350

Question ID : 54592724139

Q.7 निम्नलिखित प्रश्नों का उत्तर देने के लिए सावधानी पूर्वक ग्राफ का अध्ययन करें।
निम्नलिखित ग्राफ दिए गए वर्षों में राज्य की जनसँख्या (हजार में) को दर्शाता है।



सभी वर्षों में राज्य की कुल जनसंख्या का लगभग औसत क्या है?

- Ans
- 1. 527304
 - 2. 425202
 - 3. 62803
 - 4. 427167

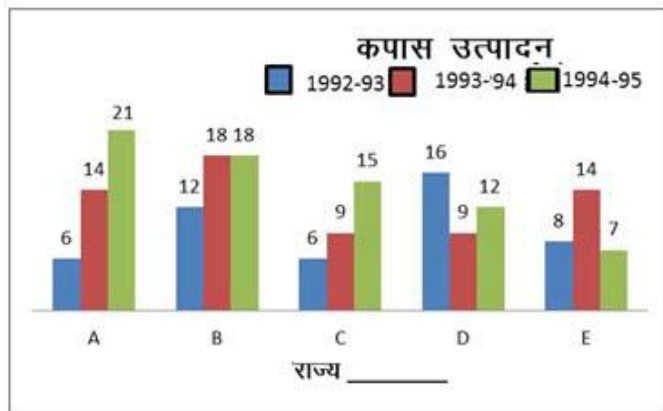
Question ID : 54592724158

Q.8 नितेश ने सालाना चक्रवृद्धि ब्याज पर 15 प्रतिशत प्रति वर्ष की दर से रु.24000 का निवेश किया। रवि ने साधारण ब्याज पर 18 प्रतिशत प्रति वर्ष की दर से बराबर राशि का निवेश किया। तीन साल बाद रवि से नितेश को कितना कम मिला?

- Ans
- 1. रु.412
 - 2. रु.459
 - 3. रु.492
 - 4. रु.463

Question ID : 54592724141

Q.9 दिए गये ग्राफ को ध्यान पूर्वक पढ़कर उत्तर दें:



राज्य D का वर्ष 1992-93 का उत्पादन, वर्ष 1994-95 के उत्पादन का कितने गुना है।

- Ans
- 1. 0.56
 - 2. 1.77
 - 3. 0.75

✓ 4. 1.33

Question ID : 54592724156

Q.10 दो संख्याएँ m और n हैं। यदि 4 को m से जोड़ा जाता है और 13 को n से घटाया जाता है, तो m और n का अनुपात 7: 4 हो जाता है। यदि 2 को m से घटाया जाता है और 8 को n में जोड़ दिया जाता है, तो अनुपात 5: 11. हो जाता है। $m: n$ क्या है?

Ans ✓ 1. 17 : 25

✗ 2. 19 : 29

✗ 3. 15 : 23

✗ 4. 11 : 15

Question ID : 54592724140

Q.11 20 प्रतिशत प्रति वर्ष की दर से चक्रवृद्धि ब्याज पर वार्षिक गणना से निवेश की जाने वाली राशि तीन वर्षों में रु.24600 हो जाती है। चक्रवृद्धि ब्याज की समान दर पर दो साल बाद यह क्या हो जाती है?

Ans ✗ 1. रु.19200

✗ 2. रु.18600

✓ 3. रु.20500

✗ 4. रु.21300

Question ID : 54592724142

Q.12 एक बेलनाकार कैन जिसके आधार का व्यास 8 से.मी. और उंचाई 14 से.मी. है। एक घनाभय डिब्बा जिसके वर्गाकार आधार की भूजाएँ 8 से.मी. है और उसकी उंचाई कैन के समान है, तो उनके आयतन के बीच का अंतर कितना है?

Ans ✓ 1. 192 सेमी³

✗ 2. 216 सेमी³

✗ 3. 200 सेमी³

✗ 4. 196 सेमी³

Question ID : 54592724150

Q.13 दो बकरियों में, प्रत्येक को 28 मीटर के चौकोर भूखंड के दो समीपवर्ती कोनों में 14 मीटर लंबी रस्सियों से बांधा जाता है। बकरियों द्वारा भूखंड का नहीं चरने वाला क्षेत्रफल ज्ञात कीजिए।

Ans ✗ 1. 460 sq.m.

✓ 2. 476 sq.m.

✗ 3. 490 sq.m.

✗ 4. 450 sq.m.

Question ID : 54592724151

Q.14 नीचे दिये गए डेटा तालिका के आधार पर निम्नलिखित प्रश्न का उत्तर दें।

	वजन (किलोग्राम)	ऊँचाई (मीटर)
(अर्चिता)	67	1.63
(अर्पणा)	67	1.51
(अर्पिता)	57	1.56
(अरुन्धती)	73	1.59

वजन और ऊँचाई का अनुपात किसका सबसे कम है?

- Ans
- 1. अरुन्धती
 - 2. अर्पणा
 - 3. अर्पिता
 - 4. अर्चिता

Question ID : 54592724154

Q.15 एक राफ्ट स्थिर पानी में 12 किमी प्रति घंटा की गति से यात्रा करता है जबकि बहने वाले पानी की गति 4 किमी प्रति घंटा होती है। अनुप्रवाह(धारा की विपरीत दिशा में) में 15 मिनट में राफ्ट द्वारा तय की गयी दूरी ज्ञात करें।

- Ans
- 1. 2 किमी
 - 2. 4 किमी
 - 3. 2.4 किमी
 - 4. 3 किमी

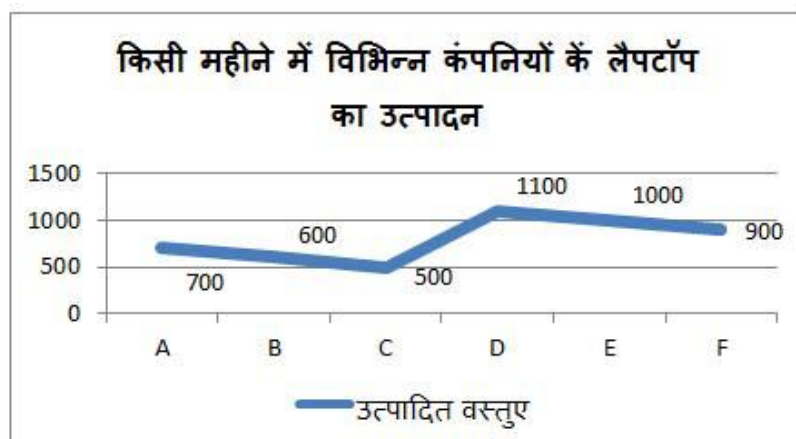
Question ID : 54592724146

Q.16 X और Y के बीच की दूरी 1440 किमी है। दो व्यक्ति A और B एक साथ X से Y की ओर चलते हैं। B को Y पहुँचने में A से 6 घंटे कम समय लगा। उसके उपरान्त, यदि A अपनी गति से दुगुनी गति से यात्रा करता है, तो वह B से 6 घंटे पहले Y पहुँचता है। B की गति (किमी प्रति घंटे में) ज्ञात करें।

- Ans
- 1. 80 किमी/घंटा
 - 2. 64 किमी/घंटा
 - 3. 60 किमी/घंटा
 - 4. 56 किमी/घंटा

Question ID : 54592724145

Q.17 निम्नलिखित ग्राफ का ध्यान से अध्ययन कर नीचे दिए गए प्रश्नों के उत्तर दीजिये।



सभी कंपनियों के द्वारा कुल उत्पादन का औसत क्या है?

- Ans
- 1. 725
 - 2. 720
 - 3. 900
 - 4. 800

Question ID : 54592724157

Q.18 पुरुषों का एक समूह एक दीवार बना रहा है। आधी दीवार बन जाने के बाद, मूल समूह से दोगुने लोग जुड़ते हैं। दीवार निर्धारित समय से 6 दिन पहले पूरी हो जाती है। दीवार को पूरा करने के लिए पुरुषों के प्रारंभिक समूह ने कुल कितने दिनों का समय लिया होगा?

- Ans
- 1. 12
 - 2. 18
 - 3. 16
 - 4. 14

Question ID : 54592724148

Q.19 यदि अमर 60 किमी प्रति घंटे की रफ्तार से यात्रा करता है, तो वह शाम 7 बजे अपने गंतव्य स्थान पर पहुंचता है। और यदि वह अपनी गति को 80 किमी प्रति घंटे तक बढ़ाता है तो वह एक घंटे पहले पहुंचता है। ज्ञात कीजिये उसे अपने गंतव्य स्थान तक पहुंचने में कितनी दूरी तय करनी पड़ेगी?

- Ans
- 1. 180 किमी
 - 2. 480 किमी
 - 3. 240 किमी
 - 4. 120 किमी

Question ID : 54592724144

Q.20 निम्नलिखित प्रश्नों का उत्तर देने के लिए सावधानीपूर्वक निम्नलिखित तालिका का अध्ययन करें।

दिए गए वर्षों में 6 राज्यों की जनसंख्या हजार में						
वर्ष	राज्य					
	A	B	C	D	E	F
1992	125	210	85	150	98	138
1995	135	225	89	170	110	152
1998	142	240	93	180	130	160
2001	148	250	99	215	140	175
2004	155	270	105	230	145	190
2007	160	290	110	240	160	198

2001 से 2004 तक जनसंख्या में किस राज्य की सर्वोच्च वृद्धि हुई थी?

- Ans
- 1. F
 - 2. C
 - 3. B
 - 4. D

Section : General English1

Q.1 The following sentence has been divided into three parts. One of them may be incorrect. Choose the INCORRECT part from the given options. If you don't find any error, mark 'No error' as your answer.

Chennai's hope to be a global / economic hub appears to be / considerable weak as it struggles to find water.

- Ans
- 1. considerable weak as it struggles to find water.
 - 2. Chennai's hope to be a global
 - 3. No error
 - 4. economic hub appears to be

Question ID : 54592724163

Q.2 Select the most appropriate option to substitute the underlined segment in the given sentence. If there is no need to substitute it, select option No substitution required.

The two dozen species of crocodiles alive today inhabit lakes, rivers, and occasionally seashores, where it most feeds at meat and fish.

- Ans
- 1. its most feed on
 - 2. they mostly feed at
 - 3. No substitution required
 - 4. they mostly feed on

Question ID : 54592724168

Q.3 The following sentence has been divided into three parts. One of them may be incorrect. Choose the INCORRECT part from the given options. If you don't find any error, mark 'No error' as your answer.

The State governments at partnership / with the Centre, must use the funds / to transform primary health care.

- Ans
- 1. to transform primary health care.
 - 2. No error
 - 3. The State governments at partnership
 - 4. with the Centre, must use the funds

Question ID : 54592724159

Q.4 Select the most appropriate option to substitute the underlined segment in the given sentence. If there is no need to substitute it, select option No substitution required.

These teeth belong to animals that feed on plants, the leaves, branches, and stems which often require a lot of chewing before they can be digested.

- Ans
- 1. that often requires a
 - 2. No substitution required
 - 3. often require an

4. which often requires a

Question ID : 54592724167

Q.5 Select the most appropriate word to fill in the blank.

Hazardous waste has many sources, and a long history _____ dangerous pollution.

- Ans 1. of
 2. for
 3. at
 4. to

Question ID : 54592724175

Q.6 Select the most appropriate word to fill in the blank.

In the era of global warming and climate change, Norway _____ the charge towards renewable energy.

- Ans 1. has led
 2. have lead
 3. is lead
 4. had been lead

Question ID : 54592724173

Q.7 Select the most appropriate word to fill in the blank.

The bigger mouths and fangs of the snake help them eat larger prey _____ their siblings.

- Ans 1. include
 2. inclusive
 3. included
 4. including

Question ID : 54592724172

Q.8 Select the most appropriate option to substitute the underlined segment in the given sentence. If there is no need to substitute it, select option No substitution required.

The Superfund program was launched at response off a series of high-profile toxic waste cases in the 1970s.

- Ans 1. No substitution required
 2. response to
 3. in response to
 4. in response of

Question ID : 54592724166

Q.9 Rearrange the following sentences in their correct order to form a meaningful paragraph.

A: Now, in a surprise to paleontologists, it seems they shared their domain with an enormous bird that was almost 12 feet tall.

B: The discovery, described today represents the first giant flightless bird known to have lived in the Northern Hemisphere.

C: Almost two million years ago, giant hyenas, saber-toothed cats, and camels roamed across the European continent.

D: The extinct animal, weighed in at a whopping 990 pounds—almost three times as much as its closest living relative, the ostrich.

- Ans 1. CABD
 2. BADC
 3. CADB
 4. BACD

Question ID : 54592724177

Q.10 Select the most appropriate word to fill in the blank.

In recent years an impressive number of start-ups and innovators _____ new technologies.

- Ans 1. have employed
 2. employs
 3. employ
 4. has employed

Question ID : 54592724174

Q.11 Select the most appropriate word to fill in the blank.

The state of Uttar Pradesh declared a mining ban _____ its rivers can recharge their sandy principal.

- Ans 1. yet
 2. for
 3. until
 4. since

Question ID : 54592724170

Q.12 Select the most appropriate word to fill in the blank.

Toxic waste can harm people, animals, and plants, _____ it ends up in the ground, in streams, or even in the air.

- Ans 1. whether
 2. even
 3. as
 4. if

Question ID : 54592724176

Q.13 A sentence has four parts, rearrange the given parts so as to form a meaningful sentence.

- A: sometimes winning.
- B: to a clean environment—and
- C: kids are claiming a right
- D: From Colombia to Pakistan to the Netherlands,

- Ans
- 1. DBCA
 - 2. CBAD
 - 3. CBDA
 - 4. DCBA

Question ID : 54592724178

Q.14 Select the most appropriate word to fill in the blank.

The right to a healthy environment is now considered legally _____ around the world.

- Ans
- 1. establishing
 - 2. establish
 - 3. establishes
 - 4. established

Question ID : 54592724169

Q.15 Select the most appropriate word to fill in the blank.

As night falls, the sky _____, giving stargazers a glimpse of infinity and beyond.

- Ans
- 1. lit up
 - 2. lights up
 - 3. lits up
 - 4. light up

Question ID : 54592724171

Q.16 Select the most appropriate option to substitute the underlined segment in the given sentence. If there is no need to substitute it, select option No substitution required.

A common hazardous waste facility is one that stores the material in sealed containers of the ground.

- Ans
- 1. seal containers off the ground
 - 2. sealed containers at the ground
 - 3. No substitution required
 - 4. sealed containers on the ground

Question ID : 54592724165

Q.17 The following sentence has been divided into three parts. One of them may be incorrect. Choose the INCORRECT part from the given options. If you don't find any error, mark 'No error' as your answer.

The report tells us that / at the end of the year 2016, / there were 4, 33,033 people in prison.

- Ans
- 1. there were 4, 33,033 people in prison.
 - 2. at the end of the year 2016,
 - 3. The report tells us that
 - 4. No error

Question ID : 54592724162

Q.18 The following sentence has been divided into three parts. One of them may be incorrect. Choose the **INCORRECT** part from the given options. If you don't find any error, mark 'No error' as your answer.

At the end of the day, / cinema ought to helped us / recognize characters as fellow human beings.

- Ans
- 1. No error
 - 2. At the end of the day,
 - 3. recognize characters as fellow human beings.
 - 4. cinema ought to helped us

Question ID : 54592724161

Q.19 Select the most appropriate option to substitute the underlined segment in the given sentence. If there is no need to substitute it, select option No substitution required.

When you combine smart thinking with even smarter technology to make big changes - good things happen.

- Ans
- 1. good things happens
 - 2. good things happening
 - 3. No substitution required
 - 4. good things happened

Question ID : 54592724164

Q.20 The following sentence has been divided into three parts. One of them may be incorrect. Choose the **INCORRECT** part from the given options. If you don't find any error, mark 'No error' as your answer.

The failure to get an antibiotic / if you have a bacterial infection / can hurt you very bad.

- Ans
- 1. if you have a bacterial infection
 - 2. can hurt you very bad.
 - 3. No error
 - 4. The failure to get an antibiotic

Question ID : 54592724160

Q.1 Select the wrongly spelt word.

- Ans 1. Beneficiel
 2. Vacancies
 3. Parallel
 4. Laborious

Question ID : 54592724186

Q.2 Select the meaning of the given idiom.

Jump on the bandwagon

- Ans 1. In a hurried manner
 2. To take a risk
 3. Follow the trend
 4. To be careless

Question ID : 54592724189

Q.3 Select the word which means the same as the group of words given.

To have unlimited power

- Ans 1. Autonomous
 2. Autocracy
 3. Indelible
 4. Omnipotent

Question ID : 54592724191

Q.4 Select the word which means the same as the group of words given.

An account of someone's life written by someone else.

- Ans 1. Bibliography
 2. Autobiography
 3. Biography
 4. Calligraphy

Question ID : 54592724193

Q.5 Select the antonym of the given word.

Adamant

- Ans 1. Accurate
 2. Lenient
 3. Generous
 4. Disciple

Question ID : 54592724181

Q.6 Select the synonym of the given word.

Commencement

- Ans
- 1. Composition
 - 2. Beginning
 - 3. Dissimilarity
 - 4. Contrast

Question ID : 54592724180

Q.7 Select the synonym of the given word.

Deceptive

- Ans
- 1. Misleading
 - 2. Esteemed
 - 3. Conventional
 - 4. Biased

Question ID : 54592724182

Q.8 Select the word which means the same as the group of words given.

Impossible to believe

- Ans
- 1. Incredible
 - 2. Inconsistent
 - 3. Indelible
 - 4. Illegible

Question ID : 54592724192

Q.9 Select the meaning of the given idiom.

Go down in flames

- Ans
- 1. Lack in concentration
 - 2. To arrive early
 - 3. To be in short supply
 - 4. To fail spectacularly

Question ID : 54592724190

Q.10 Select the antonym of the given word.

Consent

- Ans
- 1. Approval
 - 2. Dissent

3. Prominence

4. Concealed

Question ID : 54592724183

Q.11 Rearrange the following sentences in their correct order to form a meaningful paragraph.

A: The experts at the center thought the bird didn't have a chance to survive.

B: In January, an anonymous source delivered a very sick golden eagle to the Montana Raptor Center.

C: The young male eagle was in bad shape, barely breathing, curled up, talons clenched.

D: The centre, in Billings is renowned for its rehabilitation of injured birds.

Ans 1. BDCA

2. BCAD

3. BCDA

4. BDAC

Question ID : 54592724179

Q.12 Select the wrongly spelt word.

Ans 1. Persistant

2. Eliminate

3. Inability

4. Unpleasant

Question ID : 54592724185

Q.13 Select the meaning of the given idiom.

Run like the wind

Ans 1. Lacking support

2. To be inconsistent

3. In a short time

4. To run very fast

Question ID : 54592724188

Q.14 Select the wrongly spelt word.

Ans 1. Pamphlet

2. Unforgettable

3. Conceivable

4. Exhaustion

Question ID : 54592724187

Q.15 Select the synonym of the given word.

Serene

- Ans
- 1. Unfamiliar
 - 2. Precise
 - 3. Upright
 - 4. Peaceful

Question ID : 54592724184

Comprehension:

Answer the questions based on the following passage.

Education has become one of the clearest indicators of life outcomes such as employment, income and social status, and is a strong predictor of attitudes and wellbeing.

Education is often used by people to shape their 'social identity', framing their understanding of themselves and their relationships with other people. A positive, affirming social identity is associated with a range of positive outcomes in life, such as increased wellbeing, health, social trust and political engagement.

However, the emphasis on education in today's society makes it much harder for people with low levels of education to develop a positive social identity. This can negatively affect self-esteem and wellbeing.

The research project Identity, Socioeconomic Status and Wellbeing, which is funded by the Economic and Social Research Council's (ESRC) Secondary Data Analysis Initiative, has investigated the psychological effect of differences in education. This study is the first to compare the strength and stability of the 'education effect' on a wide range of outcomes over time.

The researchers analysed data from the British Social Attitudes Survey, the British Household Panel Survey and the International Social Survey Programme. Findings indicated a clear association between education and wellbeing.

The results suggest that higher education levels are associated with higher levels of political interest, social trust, health and wellbeing, and lower levels of political cynicism and hostile attitudes towards immigrants. These effects were found to be relatively stable over time. Most of the positive effects of education are linked to the benefits associated with achieving a university education.

SubQuestion No : 16

Q.16 From among the given options choose the most appropriate antonym of the word 'cynicism' as used in the last paragraph of the passage:

- Ans
- 1. Hostility
 - 2. Relevance
 - 3. Mistrust
 - 4. Optimism

Question ID : 54592724197

Comprehension:

Answer the questions based on the following passage.

Education has become one of the clearest indicators of life outcomes such as employment, income and social status, and is a strong predictor of attitudes and wellbeing.

Education is often used by people to shape their 'social identity', framing their understanding of themselves and their relationships with other people. A positive, affirming social identity is associated with a range of positive outcomes in life, such as increased wellbeing, health, social trust and political engagement.

However, the emphasis on education in today's society makes it much harder for people with low levels of education to develop a positive social identity. This can negatively affect self-esteem and wellbeing.

The research project Identity, Socioeconomic Status and Wellbeing, which is funded by the Economic and Social Research Council's (ESRC) Secondary Data Analysis Initiative, has investigated the psychological effect of differences in education. This study is the first to compare the strength and stability of the 'education effect' on a wide range of outcomes over time.

The researchers analysed data from the British Social Attitudes Survey, the British Household Panel Survey and the International Social Survey Programme. Findings indicated a clear association between education and wellbeing.

The results suggest that higher education levels are associated with higher levels of political interest, social trust, health and wellbeing, and lower levels of political cynicism and hostile attitudes towards immigrants. These effects were found to be relatively stable over time. Most of the positive effects of education are linked to the benefits associated with achieving a university education.

SubQuestion No : 17

Q.17 Which of the following statements is/are not true according to the passage?

- Ans
- 1. Higher education levels is associated with hostile attitudes towards immigrants.
 - 2. Education plays a role in shaping people's 'social identity'.
 - 3. Higher education levels are associated with lower levels of political cynicism.
 - 4. Education has an impact on income and social status.

Question ID : 54592724198

Comprehension:

Answer the questions based on the following passage.

Education has become one of the clearest indicators of life outcomes such as employment, income and social status, and is a strong predictor of attitudes and wellbeing.

Education is often used by people to shape their 'social identity', framing their understanding of themselves and their relationships with other people. A positive, affirming social identity is associated with a range of positive outcomes in life, such as increased wellbeing, health, social trust and political engagement.

However, the emphasis on education in today's society makes it much harder for people with low levels of education to develop a positive social identity. This can negatively affect self-esteem and wellbeing.

The research project Identity, Socioeconomic Status and Wellbeing, which is funded by the Economic and Social Research Council's (ESRC) Secondary Data Analysis Initiative, has investigated the psychological effect of differences in education. This study is the first to compare the strength and stability of the 'education effect' on a wide range of outcomes over time.

The researchers analysed data from the British Social Attitudes Survey, the British Household Panel Survey and the International Social Survey Programme. Findings indicated a clear association between education and wellbeing.

The results suggest that higher education levels are associated with higher levels of political interest, social trust, health and wellbeing, and lower levels of political cynicism and hostile attitudes towards immigrants. These effects were found to be relatively stable over time. Most of the positive effects of education are linked to the benefits associated with achieving a university education.

SubQuestion No : 18

Q.18 According to the given passage, what can negatively affect an individual's self-esteem and wellbeing?

- Ans 1. Low levels of education
 2. Attitude towards life
 3. Social Identity
 4. Income and social status

Question ID : 54592724196

Comprehension:

Answer the questions based on the following passage.

Education has become one of the clearest indicators of life outcomes such as employment, income and social status, and is a strong predictor of attitudes and wellbeing.

Education is often used by people to shape their 'social identity', framing their understanding of themselves and their relationships with other people. A positive, affirming social identity is associated with a range of positive outcomes in life, such as increased wellbeing, health, social trust and political engagement.

However, the emphasis on education in today's society makes it much harder for people with low levels of education to develop a positive social identity. This can negatively affect self-esteem and wellbeing.

The research project Identity, Socioeconomic Status and Wellbeing, which is funded by the Economic and Social Research Council's (ESRC) Secondary Data Analysis Initiative, has investigated the psychological effect of differences in education. This study is the first to compare the strength and stability of the 'education effect' on a wide range of outcomes over time.

The researchers analysed data from the British Social Attitudes Survey, the British Household Panel Survey and the International Social Survey Programme. Findings indicated a clear association between education and wellbeing.

The results suggest that higher education levels are associated with higher levels of political interest, social trust, health and wellbeing, and lower levels of political cynicism and hostile attitudes towards immigrants. These effects were found to be relatively stable over time. Most of the positive effects of education are linked to the benefits associated with achieving a university education.

SubQuestion No : 19

Q.19 The subject matter of the given passage deals with:

- Ans 1. Social identity
 2. Self-esteem & well-being
 3. The wellbeing effect of education
 4. Emphasis on education

Question ID : 54592724195

Comprehension:

Answer the questions based on the following passage.

Education has become one of the clearest indicators of life outcomes such as employment, income and social status, and is a strong predictor of attitudes and wellbeing.

Education is often used by people to shape their 'social identity', framing their understanding of themselves and their relationships with other people. A positive, affirming social identity is associated with a range of positive outcomes in life, such as increased wellbeing, health, social trust and political engagement.

However, the emphasis on education in today's society makes it much harder for people with

low levels of education to develop a positive social identity. This can negatively affect self-esteem and wellbeing.

The research project Identity, Socioeconomic Status and Wellbeing, which is funded by the Economic and Social Research Council's (ESRC) Secondary Data Analysis Initiative, has investigated the psychological effect of differences in education. This study is the first to compare the strength and stability of the 'education effect' on a wide range of outcomes over time.

The researchers analysed data from the British Social Attitudes Survey, the British Household Panel Survey and the International Social Survey Programme. Findings indicated a clear association between education and wellbeing.

The results suggest that higher education levels are associated with higher levels of political interest, social trust, health and wellbeing, and lower levels of political cynicism and hostile attitudes towards immigrants. These effects were found to be relatively stable over time. Most of the positive effects of education are linked to the benefits associated with achieving a university education.

SubQuestion No : 20

Q.20 The researchers analyzed data from:

- Ans
- 1. The International Social Survey Programme
 - 2. All of the above
 - 3. The British Social Attitudes Survey
 - 4. The British Household Panel Survey

Question ID : 54592724199

Section : General Hindi1

Q.1 निम्नलिखित में से कौन-सा तत्सम शब्द है?

- Ans
- 1. हँसी
 - 2. नेह
 - 3. लोक
 - 4. काम

Question ID : 54592724201

Q.2 वर्षा शब्द का उचित बहुवचन चुनिए।

- Ans
- 1. वर्षाओं
 - 2. वर्षागण
 - 3. वर्षा
 - 4. वर्षाएँ

Question ID : 54592724216

Q.3 "चलायमान रहने वाली सम्पत्ति" के लिए एक शब्द का चयन करें।

- Ans
- 1. अचल सम्पत्ति
 - 2. चल सम्पत्ति
 - 3. अविचल सम्पत्ति
 - 4. अस्थिर सम्पत्ति

Question ID : 54592724209

Q.4 अजगर का पर्यायवाची शब्द है:

- Ans
- 1. दैत्य
 - 2. रीढ़ा
 - 3. वाहस
 - 4. अटवी

Question ID : 54592724205

Q.5 सार्थक खण्ड वाले शब्द क्या कहलाते है?

- Ans
- 1. संगम
 - 2. रूढ़
 - 3. योगरूढ़
 - 4. यौगिक

Question ID : 54592724212

Q.6 'चौराहा' में कौन-सा समास है?

- Ans
- 1. द्विगु समास
 - 2. द्वंद्व समास
 - 3. कर्मधारय समास
 - 4. तत्पुरुष समास

Question ID : 54592724202

Q.7 मोहन प्रकाशजी _____ हिन्दी पढ़ाते हैं इस वाक्य में रिक्त स्थान की पूर्ति अन्यपुरुषवाचक सर्वनाम से करें।

- Ans
- 1. हमें
 - 2. तुम्हें
 - 3. मुझे
 - 4. उन्हें

Question ID : 54592724217

Q.8 निम्नलिखित शब्द-युग्म के सही अर्थ-भेद का चयन कीजिए।

अंस - अंश - ?

- Ans
- 1. किनारा-भाग
 - 2. हिस्सा-कुल
 - 3. परिवार-भाग
 - 4. कंथा-हिस्सा

Question ID : 54592724211

Q.9 समास का विलोम शब्द है:

- Ans
- 1. प्रलय

- 2. व्यास
- 3. नरक
- 4. व्यक्ति

Question ID : 54592724206

Q.10 यर्थाथ का विलोम शब्द है।

- Ans
- 1. पूर्ण
 - 2. कल्पित
 - 3. शान्ति
 - 4. बूढ़ा

Question ID : 54592724213

Q.11 वाच्य कितने प्रकार के होते है?

- Ans
- 1. छः
 - 2. पाँच
 - 3. तीन
 - 4. चार

Question ID : 54592724219

Q.12 इनमें से किस वाक्य में संबंधबोधक अव्यय का प्रयोग हुआ है?

- Ans
- 1. ऐसा काम मत करो।
 - 2. वाह! मैं नहीं जाऊँगा।
 - 3. मैं काम के पीछे आया था।
 - 4. मैं पीछे आया था।

Question ID : 54592724200

Q.13 कवि का स्त्रीलिंग रूप क्या होगा?

- Ans
- 1. कवीत्री
 - 2. कवयित्री
 - 3. लेखिका
 - 4. कवित्रि

Question ID : 54592724215

Q.14 दिए गए वाक्य के लिए एक शब्द का चयन करें।

जो जिन के मत को माने।

- Ans
- 1. जैनी
 - 2. सर्वोदयी
 - 3. शाक्त
 - 4. बौद्ध

Question ID : 54592724207

Q.15 शायद कमरे में कोई छिपा हुआ है इस वाक्य में रेखांकित शब्द है:

- Ans
- 1. सम्बंधबोधक सर्वनाम
 - 2. प्रश्नवाचक सर्वनाम
 - 3. सम्बंधवाचक सर्वनाम
 - 4. अनिश्चयवाचक सर्वनाम

Question ID : 54592724204

Q.16 'अत्यन्त' में कौन-सा उपसर्ग है?

- Ans
- 1. 'अति'
 - 2. आ
 - 3. 'अ'
 - 4. अन्त

Question ID : 54592724203

Q.17 दिए गए शब्दों में शुद्ध वर्तनी वाले शब्द का चयन करें।

- Ans
- 1. वास्तविकता
 - 2. वास्ताविकता
 - 3. वास्तविकता
 - 4. वास्ताविकता

Question ID : 54592724208

Q.18 निर्देश: दिए गए विकल्पों में से शुद्ध शब्द का चयन करें।

- Ans
- 1. पैतृक
 - 2. विद्धन
 - 3. प्रयश्चित
 - 4. नीपत

Question ID : 54592724214

Q.19 काल के बोध का सम्बंध किससे होता है?

- Ans
- 1. संज्ञा
 - 2. क्रिया
 - 3. अव्यय
 - 4. वचन

Question ID : 54592724218

Q.20 धूप का पर्यायवाची शब्द है:

- Ans
- 1. सर
 - 2. ईश
 - 3. आतप

✗ 4. वासर

Question ID : 54592724210

Section : General Hindi2

Q.1 "खुशामदी टट्टू" मुहावरे का क्या अर्थ है?

- Ans
- ✗ 1. बहुत छाती होना
 - ✗ 2. झमेले में पड़ना
 - ✓ 3. बड़ाई करने वाला
 - ✗ 4. बड़ा काम करना

Question ID : 54592724232

Q.2 जहाँ वाक्य की गति अन्तिम रूप ले ले, विचार के तार एकदम टूट जाएँ, वहाँ किस चिन्ह का प्रयोग किया जाता है?

- Ans
- ✗ 1. अल्प विराम
 - ✗ 2. उद्धरण चिन्ह
 - ✓ 3. पूर्ण विराम
 - ✗ 4. योजक

Question ID : 54592724227

Q.3 लोकोक्ति "ठंडा लोहा गर्म लोहे को काटता है" का अर्थ है:

- Ans
- ✗ 1. ठंडा लोहा गर्म लोहे को जल्दी काट देता है।
 - ✗ 2. एक क्रोधी को दूसरा क्रोधी ही जल्द समझा सकता है।
 - ✓ 3. क्रोधी को नम्र शांत कर देता है।
 - ✗ 4. दिखावा कुछ और गुण कुछ नहीं।

Question ID : 54592724234

Q.4 एक ही वाक्य या वाक्यांश में एक ही तरह के पद, शब्द, पदबन्ध या वाक्यांश एक साथ आने पर _____ लगाया जाता है।

- Ans
- ✓ 1. अल्प विराम
 - ✗ 2. विस्मयादिबोधक
 - ✗ 3. पूर्ण विराम
 - ✗ 4. अर्द्धविराम

Question ID : 54592724229

Q.5 उपवाक्य और वाक्य में अंतर है _____।

- Ans
- ✗ 1. कोई अंतर नहीं होता है।
 - ✓ 2. वाक्य का स्वतंत्र प्रयोग होता है: किन्तु उपवाक्य का नहीं।
 - ✗ 3. उपवाक्य स्वतंत्र रूप से प्रयुक्त होता है, वाक्य नहीं
 - ✗ 4. उपवाक्य सर्वथा वाक्य से अलग रहता है।

Question ID : 54592724224

Q.6 लोकोक्ति "तू डाल-डाल, मैं पात-पात" का अर्थ है:

- Ans
- 1. एक नाव पर सवार होना
 - 2. परिणाम कुछ भी नहीं
 - 3. तुम चालाक तो मैं भी चालाक
 - 4. अपने किए का फल पाना

Question ID : 54592724230

Q.7 वाक्य 'चोर ने अपने बचाव का कोई उपाय नहीं देखा' का मिश्रवाक्य क्या होगा?

- Ans
- 1. चोर के पास उसके बचाव का कोई उपाय नहीं है।
 - 2. चोर ने देखा कि उसके बचाव का कोई उपाय नहीं है।
 - 3. चोर ने स्वयं के बचाव का कोई उपाय नहीं देखा
 - 4. चोर ने अपने बचाव का उपाय नहीं देखा

Question ID : 54592724226

Q.8 शुद्ध वाक्य का चयन करे।

- Ans
- 1. न्यायालय ने उसको निर्दोषी ठहराया।
 - 2. निरपराधी को दंड देना उचित नहीं।
 - 3. न्यायालय ने उसको निर्दोष ठहराया।
 - 4. न्यायालय ने उसको अपराधी ठहराया।

Question ID : 54592724222

Q.9 'राम ने लंका का राज्य विभीषण को दे दिया' वाक्य का कर्मवाच्य क्या होगा?

- Ans
- 1. विभीषण को लंका का राज्य राम से प्राप्त।
 - 2. राम ने लंका का राज्य विभीषण को दे दिया'
 - 3. राम के द्वारा लंका का राज्य विभीषण को दे दिया गया।
 - 4. राम ने लंका का राज्य विभीषण को दिया होगा।

Question ID : 54592724221

Q.10 निर्देश: नीचे दिये गये प्रश्न को चार भागों में बाँटा गया है (A), (B), (C) और (D) क्रमांक दिए गए हैं। आपको यह देखना है कि वाक्य के किस भाग में व्याकरण, भाषा, वर्तनी, शब्दों के गलत प्रयोग या इसी तरह की कोई त्रुटि तो नहीं है। यदि त्रुटि होगी तो वाक्य के किसी एक भाग में ही होगी। उस भाग का क्रमांक ही आपका उत्तर है।

श्याम ने यह प्रण कर लिया है (A)/ कि वह विद्या समाप्त (B)/ करने के पश्चात् ही (C)/ नौकरी के लिए आवेदन करेगा। कोई त्रुटि नहीं (d)

- Ans
- 1. B
 - 2. D
 - 3. A
 - 4. C

Question ID : 54592724225

Q.11 "काफूर होना" मुहावरे का क्या अर्थ है?

- Ans
- 1. भाग जाना
 - 2. निर्णय न होना
 - 3. चुगली करना
 - 4. अलग रहना

Question ID : 54592724228

Q.12 निम्नलिखित में निषेधार्थक वाक्य कौन-सा है?

- Ans
- 1. क्या सिंह बड़ा ताकतवर जानवर है
 - 2. अरे, सिंह बड़ा ताकतवर जानवर है
 - 3. सिंह बड़ा ताकतवर जानवर है
 - 4. सिंह से बढ़कर ताकतवर जानवर कोई नहीं है

Question ID : 54592724220

Q.13 वाक्यों का वर्गीकरण कितने आधारों पर किया गया है?

- Ans
- 1. तीन
 - 2. पाँच
 - 3. दो
 - 4. चार

Question ID : 54592724223

Q.14 जब दो शब्दों में एक सार्थक और दूसरा निरर्थक हो तब वहाँ लगाया जाता है।

- Ans
- 1. विस्मयादिबोधक चिन्ह
 - 2. उद्धरण चिन्ह
 - 3. योजक चिन्ह
 - 4. प्रश्नवाचक चिन्ह

Question ID : 54592724231

Q.15 जहाँ पर अल्प विराम के प्रयोग से भ्रान्ति होने की सम्भावना हो, वहाँ पर किस चिन्ह का प्रयोग अनिवार्य हो जाता है?

- Ans
- 1. योजक
 - 2. प्रश्नवाचक
 - 3. विस्मयादिबोधक
 - 4. अर्द्धविराम

Question ID : 54592724233

Comprehension:

नीचे दिये गये अपठित गद्यांश को पढ़िए और प्रश्न के उत्तर दीजिए।

उत्साह की गिनती अच्छे गुणों में होती है। किसी भाव के अच्छे या बुरे होने का निश्चय अधिकतर उसकी प्रवृत्ति के शुभ या अशुभ परिणाम के विचार से होता है। वही उत्साह जो कर्तव्य कर्मों के प्रति इतना सुन्दर दिखाई पड़ता है। अकर्तव्य कर्मों की ओर होने पर वैसा श्लाघ्य नहीं प्रतीत होता। आत्मरक्षा पर रक्षा, देश रक्षा, आदि के निमित्त साहस की जो उमंग देखी जाती है उसके सौन्दर्य तक परपीड़न, डकैती आदि कर्मों का साहस कभी नहीं पहुँच सकता। यह बात होते हुए भी विशुद्ध उत्साह या साहस की प्रशंसा संसार में थोड़ी बहुत सी होती ही है। अत्याचारियों या डाकुओं के शौर्य और साहस की कथाएँ की भी लोग तारीफ करते हुए सुनते हैं। अब तक उत्साह का प्रधान रूप ही हमारे सामने रहा जिसमें साहस का पूरा योग

रहता है। पर कर्म मात्र के सम्पादन में जो तत्परतापूर्ण आनन्द देखा जाता है, यह भी उत्साह ही कहा जाता है। सब कर्मों में साहस अपेक्षित नहीं होता, पर थोड़ा-बहुत आराम, विश्राम, सुभीते इत्यादि का त्याग सबमें करना पड़ता है और कुछ नहीं तो उठकर बैठना, खड़ा होना या दस-पाँच कदम चलना कही पड़ता है। जब तक आनन्द का लगाव किसी क्रिया व्यापार या उसकी भावना के साथ नहीं दिखाई पड़ता तब तक उसे उत्साह की संज्ञा प्राप्त नहीं होती। यदि किसी प्रिय मित्र के आने का समाचार पाकर हम चुपचाप ज्यों के त्यों आनन्दित होकर बैठे रह जाएँ या थोड़ा हँस भी दें तो हमारा उत्साह नहीं कहा जाएगा। हमारा उत्साह तभी कहा जाएगा, जब हम अपने मित्र का आगमन सुनते ही उठ खड़े होंगे। उससे मिलने के लिए दौड़ पड़ेंगे और उसके ठहरने आदि के प्रबंध में प्रसन्नमुख इधर-उधर आते-जाते दिखाई देंगे। प्रयत्न और कर्म-संकल्प उत्साह नामक आनन्द के नित्य लक्षण है।

SubQuestion No : 16

Q.16 गद्यांश का उचित शीर्षक है:

- Ans
- 1. सद्गुण
 - 2. उत्साह का स्वरूप
 - 3. साहस
 - 4. कर्तव्यपरायणता

Question ID : 54592724240

Comprehension:

नीचे दिये गये अपठित गद्यांश को पढ़िए और प्रश्न के उत्तर दीजिए।

उत्साह की गिनती अच्छे गुणों में होती है। किसी भाव के अच्छे या बुरे होने का निश्चय अधिकतर उसकी प्रवृत्ति के शुभ या अशुभ परिणाम के विचार से होता है। वही उत्साह जो कर्तव्य कर्मों के प्रति इतना सुन्दर दिखाई पड़ता है। अकर्तव्य कर्मों की ओर होने पर वैसा श्लाघ्य नहीं प्रतीत होता। आत्मरक्षा पर रक्षा, देश रक्षा, आदि के निमित्त साहस की जो उमंग देखी जाती है उसके सौन्दर्य तक परपीड़न, डकैती आदि कर्मों का साहस कभी नहीं पहुँच सकता। यह बात होते हुए भी विशुद्ध उत्साह या साहस की प्रशंसा संसार में थोड़ी बहुत सी होती ही है। अत्याचारियों या डाकुओं के शौर्य और साहस की कथाएँ की भी लोग तारीफ करते हुए सुनते हैं। अब तक उत्साह का प्रधान रूप ही हमारे सामने रहा जिसमें साहस का पूरा योग रहता है। पर कर्म मात्र के सम्पादन में जो तत्परतापूर्ण आनन्द देखा जाता है, यह भी उत्साह ही कहा जाता है। सब कर्मों में साहस अपेक्षित नहीं होता, पर थोड़ा-बहुत आराम, विश्राम, सुभीते इत्यादि का त्याग सबमें करना पड़ता है और कुछ नहीं तो उठकर बैठना, खड़ा होना या दस-पाँच कदम चलना कही पड़ता है। जब तक आनन्द का लगाव किसी क्रिया व्यापार या उसकी भावना के साथ नहीं दिखाई पड़ता तब तक उसे उत्साह की संज्ञा प्राप्त नहीं होती। यदि किसी प्रिय मित्र के आने का समाचार पाकर हम चुपचाप ज्यों के त्यों आनन्दित होकर बैठे रह जाएँ या थोड़ा हँस भी दें तो हमारा उत्साह नहीं कहा जाएगा। हमारा उत्साह तभी कहा जाएगा, जब हम अपने मित्र का आगमन सुनते ही उठ खड़े होंगे। उससे मिलने के लिए दौड़ पड़ेंगे और उसके ठहरने आदि के प्रबंध में प्रसन्नमुख इधर-उधर आते-जाते दिखाई देंगे। प्रयत्न और कर्म-संकल्प उत्साह नामक आनन्द के नित्य लक्षण है।

SubQuestion No : 17

Q.17 किसी मित्र से मिलने के लिए दौड़ पड़ना कहलाता है:

- Ans
- 1. उत्साह
 - 2. सदाचार
 - 3. अच्छे गुण
 - 4. औपचारिकता

Question ID : 54592724239

Comprehension:

नीचे दिये गये अपठित गद्यांश को पढ़िए और प्रश्न के उत्तर दीजिए।

उत्साह की गिनती अच्छे गुणों में होती है। किसी भाव के अच्छे या बुरे होने का निश्चय अधिकतर उसकी प्रवृत्ति के शुभ या अशुभ परिणाम के विचार से होता है। वही उत्साह जो कर्तव्य कर्मों के प्रति इतना सुन्दर दिखाई पड़ता है। अकर्तव्य कर्मों की ओर होने पर वैसा श्लाघ्य नहीं प्रतीत होता। आत्मरक्षा पर रक्षा, देश रक्षा, आदि के निमित्त साहस की जो उमंग देखी जाती है उसके सौन्दर्य तक परपीड़न, डकैती आदि कर्मों का साहस कभी नहीं पहुँच सकता। यह बात होते हुए भी विशुद्ध उत्साह या साहस की प्रशंसा संसार में थोड़ी बहुत सी होती ही है। अत्याचारियों या डाकुओं के शौर्य और साहस की कथाएँ की भी लोग तारीफ करते हुए सुनते हैं। अब तक उत्साह का प्रधान रूप ही हमारे सामने रहा जिसमें साहस का पूरा योग रहता है। पर कर्म मात्र के सम्पादन में जो तत्परतापूर्ण आनन्द देखा जाता है, यह भी उत्साह ही कहा जाता है। सब कर्मों में साहस अपेक्षित नहीं होता, पर थोड़ा-बहुत आराम, विश्राम, सुभीते इत्यादि का त्याग सबमें करना पड़ता है और कुछ नहीं तो उठकर बैठना, खड़ा होना या दस-पाँच कदम चलना कही पड़ता है। जब तक आनन्द का लगाव किसी क्रिया व्यापार या उसकी भावना के साथ नहीं दिखाई पड़ता तब तक उसे उत्साह की संज्ञा प्राप्त नहीं होती। यदि किसी प्रिय मित्र के आने का समाचार पाकर हम चुपचाप ज्यों के त्यों आनन्दित होकर बैठे रह जाएँ या थोड़ा हँस भी दें तो हमारा उत्साह नहीं कहा

जाएगा। हमारा उत्साह तभी कहा जाएगा, जब हम अपने मित्र का आगमन सुनते ही उठ खड़े होंगे। उससे मिलने के लिए दौड़ पड़ेंगे और उसके ठहरने आदि के प्रबंध में प्रसन्नमुख इधर-उधर आते-जाते दिखाई देंगे। प्रयत्न और कर्म-संकल्प उत्साह नामक आनन्द के नित्य लक्षण है।

SubQuestion No : 18

Q.18 कर्म सम्पादन में देखा गया तत्परतापूर्ण आनन्द क्या कहलाता है?

- Ans
- 1. वीरता
 - 2. उत्साह
 - 3. साहस
 - 4. शौर्य

Question ID : 54592724238

Comprehension:

नीचे दिये गये अपठित गद्यांश को पढ़िए और प्रश्न के उत्तर दीजिए।

उत्साह की गिनती अच्छे गुणों में होती है। किसी भाव के अच्छे या बुरे होने का निश्चय अधिकतर उसकी प्रवृत्ति के शुभ या अशुभ परिणाम के विचार से होता है। वही उत्साह जो कर्तव्य कर्मों के प्रति इतना सुन्दर दिखाई पड़ता है। अकर्तव्य कर्मों की ओर होने पर वैसा श्लाघ्य नहीं प्रतीत होता। आत्मरक्षा पर रक्षा, देश रक्षा, आदि के निमित्त साहस की जो उमंग देखी जाती है उसके सौन्दर्य तक परपीड़न, डकैती आदि कर्मों का साहस कभी नहीं पहुँच सकता। यह बात होते हुए भी विशुद्ध उत्साह या साहस की प्रशंसा संसार में थोड़ी बहुत सी होती ही है। अत्याचारियों या डाकुओं के शौर्य और साहस की कथाएँ की भी लोग तारीफ करते हुए सुनते हैं। अब तक उत्साह का प्रधान रूप ही हमारे सामने रहा जिसमें साहस का पूरा योग रहता है। पर कर्म मात्र के सम्पादन में जो तत्परतापूर्ण आनन्द देखा जाता है, यह भी उत्साह ही कहा जाता है। सब कर्मों में साहस अपेक्षित नहीं होता, पर थोड़ा-बहुत आराम, विश्राम, सुभीते इत्यादि का त्याग सबमें करना पड़ता है और कुछ नहीं तो उठकर बैठना, खड़ा होना या दस-पाँच कदम चलना कही पड़ता है। जब तक आनन्द का लगाव किसी क्रिया व्यापार या उसकी भावना के साथ नहीं दिखाई पड़ता तब तक उसे उत्साह की संज्ञा प्राप्त नहीं होती। यदि किसी प्रिय मित्र के आने का समाचार पाकर हम चुपचाप ज्यों के त्यों आनन्दित होकर बैठे रह जाएँ या थोड़ा हँस भी दें तो हमारा उत्साह नहीं कहा जाएगा। हमारा उत्साह तभी कहा जाएगा, जब हम अपने मित्र का आगमन सुनते ही उठ खड़े होंगे। उससे मिलने के लिए दौड़ पड़ेंगे और उसके ठहरने आदि के प्रबंध में प्रसन्नमुख इधर-उधर आते-जाते दिखाई देंगे। प्रयत्न और कर्म-संकल्प उत्साह नामक आनन्द के नित्य लक्षण है।

SubQuestion No : 19

Q.19 उपरोक्त गद्यांश के अनुसार जब तक _____ का लगाव किसी क्रिया व्यापार या उसकी भावना के साथ नहीं दिखाई पड़ता तब तक उसे उत्साह की संज्ञा प्राप्त नहीं होती।

- Ans
- 1. कार्य
 - 2. क्रोध
 - 3. आनन्द
 - 4. मित्र

Question ID : 54592724236

Comprehension:

नीचे दिये गये अपठित गद्यांश को पढ़िए और प्रश्न के उत्तर दीजिए।

उत्साह की गिनती अच्छे गुणों में होती है। किसी भाव के अच्छे या बुरे होने का निश्चय अधिकतर उसकी प्रवृत्ति के शुभ या अशुभ परिणाम के विचार से होता है। वही उत्साह जो कर्तव्य कर्मों के प्रति इतना सुन्दर दिखाई पड़ता है। अकर्तव्य कर्मों की ओर होने पर वैसा श्लाघ्य नहीं प्रतीत होता। आत्मरक्षा पर रक्षा, देश रक्षा, आदि के निमित्त साहस की जो उमंग देखी जाती है उसके सौन्दर्य तक परपीड़न, डकैती आदि कर्मों का साहस कभी नहीं पहुँच सकता। यह बात होते हुए भी विशुद्ध उत्साह या साहस की प्रशंसा संसार में थोड़ी बहुत सी होती ही है। अत्याचारियों या डाकुओं के शौर्य और साहस की कथाएँ की भी लोग तारीफ करते हुए सुनते हैं। अब तक उत्साह का प्रधान रूप ही हमारे सामने रहा जिसमें साहस का पूरा योग रहता है। पर कर्म मात्र के सम्पादन में जो तत्परतापूर्ण आनन्द देखा जाता है, यह भी उत्साह ही कहा जाता है। सब कर्मों में साहस अपेक्षित नहीं होता, पर थोड़ा-बहुत आराम, विश्राम, सुभीते इत्यादि का त्याग सबमें करना पड़ता है और कुछ नहीं तो उठकर बैठना, खड़ा होना या दस-पाँच कदम चलना कही पड़ता है। जब तक आनन्द का लगाव किसी क्रिया व्यापार या उसकी भावना के साथ नहीं दिखाई पड़ता तब तक उसे उत्साह की संज्ञा प्राप्त नहीं होती। यदि किसी प्रिय मित्र के आने का समाचार पाकर हम चुपचाप ज्यों के त्यों आनन्दित होकर बैठे रह जाएँ या थोड़ा हँस भी दें तो हमारा उत्साह नहीं कहा जाएगा। हमारा उत्साह तभी कहा जाएगा, जब हम अपने मित्र का आगमन सुनते ही उठ खड़े होंगे। उससे मिलने के लिए दौड़ पड़ेंगे और उसके ठहरने आदि के प्रबंध में प्रसन्नमुख इधर-उधर आते-जाते दिखाई देंगे। प्रयत्न और कर्म-संकल्प उत्साह नामक आनन्द के नित्य लक्षण है।

SubQuestion No : 20

Q.20 किस प्रकार के कर्म करने से उत्साह सुन्दर प्रतीत होता है?

- Ans
- 1. अकर्तव्य
 - 2. कर्तव्य
 - 3. सरल
 - 4. कठिन

Question ID : 54592724237