



GOVT. OF NCT OF DELHI
Delhi Subordinate Services Selection Board
FC-18, Institutional Area, Karkardooma, Delhi - 110092.
www.dsssb.delhigovt.nic.in

Participant ID	
Participant Name	
Test Center Name	iON Digital Zone iDZ 2 GT Karnal Road
Test Date	27/08/2019
Test Time	8:30 AM - 10:30 AM
Subject	Stenographer Gr II

Section : Mental Ability1

Q.1 दिए गए विकल्पों में से, तीन एक निश्चित तरीके से समान हैं। हालाँकि, एक विकल्प अन्य तीन की तरह नहीं है। उस विकल्प का चयन करें जो बाकी से अलग है।

- Ans 1. PNL
 2. GDA
 3. KHE
 4. YVS

Question ID : 54592714347

Q.2 दिए गए विकल्पों में से, तीन एक निश्चित तरीके से समान हैं। हालाँकि, एक विकल्प अन्य तीन की तरह नहीं है। उस विकल्प का चयन करें जो बाकी से अलग है।

- Ans 1. हृदय
 2. यकृत
 3. पेट
 4. आंखे

Question ID : 54592714346

Q.3 निम्नलिखित संख्या श्रृंखला को पूरा करें।

15, 20, 18, 23, 21, 26, ____

- Ans 1. 28
 2. 33
 3. 24
 4. 31

Question ID : 54592714362

Q.4 अमन, प्रणॉय, रहमान, जैवसीस, साहिद और ज़ैनब एक पंक्ति में बैठे हैं। साहिद और ज़ैनब केंद्र में हैं। अमन और प्रणॉय दोनों छोर पर हैं। रहमान अमन के बाईं ओर बैठा है। प्रणॉय के दाएँ में कौन है?

- Ans 1. अमन

- 2. जेनद
- 3. सहीद
- 4. ज़ैक्सीस

Question ID : 54592714355

Q.5 दिए गए विकल्पों में से अक्षरों की एक जोड़ी को ज्ञात करें, जो दिए गए जोड़े के अनुरूप है।

PFA : RHC

- Ans
- 1. EDC : ORI
 - 2. UHN : PSJ
 - 3. TGV : JGP
 - 4. QTK : SVM

Question ID : 54592714351

Q.6 एक निश्चित कोड भाषा में "TEARS" को "23-8-4-21-22" लिखा जाता है, फिर "SMILE" को इस प्रकार लिखा जाएगा:

- Ans
- 1. 22-15-11-14-8
 - 2. 19-12-8-11-5
 - 3. 19-13-9-12-5
 - 4. 22-16-12-15-8

Question ID : 54592714353

Q.7 एक प्रदर्शनी में विभिन्न कंपनियों की सात गाड़ियां, अमेज़, फिएट, मारुति 800, मर्सिडीज, बलेनो और फिगो पूर्व की ओर मुंह किए खड़े हैं। क्रेटा फिगो के बगल में दाईं तरफ है। फिगो, फिएट के दाईं ओर चौथे स्थान पर है। मारुति 800, अमेज़ और बलेनो के बीच है। फिएट जो अमेज़ के बाईं ओर से तीसरी है, एक छोर पर है। क्रेटा के दाईं ओर कौन सी गाड़ी है?

- Ans
- 1. मर्सिडीज
 - 2. अमेज़
 - 3. बलेनो
 - 4. फिगो

Question ID : 54592714356

Q.8 एक निश्चित कॉलेज में प्रवेश के लिए प्रतीक्षा सूची रखी गई है। उस सूची में तीन दोस्त अजॉय, बिजॉय और छोटू हैं। अजॉय और बिजॉय के बीच सात व्यक्ति और बिजॉय और छोटू के बीच आठ व्यक्ति हैं। अगर छोटू से आगे तीन व्यक्ति और अजॉय के पीछे 21 व्यक्ति थे और तीन छोटू में से पहला व्यक्ति है तो प्रतीक्षा सूची में न्यूनतम संख्या क्या हो सकती है?

- Ans
- 1. 39
 - 2. 45
 - 3. 36
 - 4. 42

Question ID : 54592714357

Q.9 निम्नलिखित अक्षर श्रृंखला में लुप्त पद को ज्ञात करें।

XOXXXX, XXOXXX, XXXOXX, XXXXOX, XXXXXO, ?

- Ans
- 1. XXXXOX
 - 2. OXXXX
 - 3. OXXXXX
 - 4. XOXXX

Question ID : 54592714345

Q.10 प्रश्न में दो कथन दिए गए हैं, इसके बाद दो निष्कर्ष I और II दिए गए हैं। आपको कथनों को सत्य मानना है, भले ही यह सामान्य रूप से ज्ञात तथ्यों से भिन्न हो। आपको यह तय करना है कि दिए गए कथनों में से कौन सा निष्कर्ष, यदि कोई है, का अनुसरण करता है।

कथन 1: कुछ आम सेब हैं।
कथन 2: कुछ अंगूर आम हैं।

निष्कर्ष I: कुछ आम अंगूर हैं।
निष्कर्ष II: सभी अंगूर सेब हैं।

- Ans
- 1. केवल निष्कर्ष II अनुसरण करता है
 - 2. I और II दोनों अनुसरण करते हैं
 - 3. केवल निष्कर्ष I अनुसरण करता है
 - 4. ना तो I न ही II अनुसरण करता है

Question ID : 54592714361

Q.11 दिए गए विकल्पों में शब्दों की 3 जोड़ियाँ समान रूप से संबंधित हैं, और एक जोड़ी अलग तरह से संबंधित है। उस जोड़ी को ज्ञात करें जो अलग तरह से संबंधित है।

- Ans
- 1. गर्म : नम
 - 2. लंबा : छोटा
 - 3. ऊपर : नीचे
 - 4. सफेद : काला

Question ID : 54592714348

Q.12 एक निश्चित कोडिंग भाषा में, यदि GO = 105 और SHE = 760 है, तो BAIT किस बराबर होगा?

- Ans
- 1. 400
 - 2. 420
 - 3. 380
 - 4. 360

Question ID : 54592714352

Q.13 निम्नलिखित में से कौन सा शब्द दिए गए शब्द के अक्षरों का उपयोग करके नहीं बनाया जा सकता?

MODULARITY

- Ans
- 1. TRADE
 - 2. TRIAD
 - 3. AUDIO
 - 4. MURAL

Question ID : 54592714343

Q.14 उस विकल्प का चयन करें जो तीसरे पद से उसी प्रकार से संबंधित है जिस प्रकार से दूसरा पद पहले पद से संबंधित है।

सांड : गाय :: मक्खी : ?

- Ans 1. बत्तख
 2. बोना
 3. हरिणी
 4. मौली

Question ID : 54592714350

Q.15 यदि किसी महीने की 6 तारीख शुक्रवार को है, तो उस महीने की 29 तारीख सप्ताह के के किस दिन होगा?

- Ans 1. रविवार
 2. गुरुवार
 3. बुधवार
 4. शनिवार

Question ID : 54592714359

Q.16 दिए गए कथन और निष्कर्ष को ध्यान से पढ़ें और निर्णय लें कि कथन में से कौन सा निष्कर्ष तार्किक रूप से अनुसरण करता है।

कथन:

जो शिक्षित हैं उन्हें फायदा है, उन पर जो नहीं हैं।

निष्कर्ष:

- I. कुछ लोगों के लिए शिक्षा लोगों के विभिन्न समूहों के लिए असमान अवसर पैदा करती है।
II. शिक्षा की अवधारणा से पहले समाज के लोगों के विभिन्न समूहों के लिए समान अवसर थे।

- Ans 1. केवल निष्कर्ष II अनुसरण करता है
 2. केवल निष्कर्ष I अनुसरण करता है
 3. I और II दोनों अनुसरण करते हैं
 4. न तो I न ही II अनुसरण करता है

Question ID : 54592714360

Q.17 निम्नलिखित अक्षर श्रृंखला में लुप्त पद को ज्ञात करें।

KJ, PO, UT, ZY, ED, ?

- Ans 1. JI
 2. IH
 3. HI
 4. IJ

Question ID : 54592714344

Q.18 यदि CLENCH का कोड है LCNEHC तो PHYSICAL का कोड क्या है?

- Ans 1. LACISYHP
 2. HPYSCILA
 3. HPSYICLA
 4. HPSYCILA

Question ID : 54592714354

Q.19 एक श्रृंखला दी गई है, जिसमें एक शब्द लुप्त है। दिए गए विकल्पों में से सही विकल्प चुनें जो श्रृंखला को पूरा करेगा।

Doctor, Tornado, Adorable, Blender, ?

- Ans
- 1. Adopted
 - 2. Derivate
 - 3. Blemish
 - 4. Torment

Question ID : 54592714358

Q.20 उस विकल्प का चयन करें जो तीसरे पद से उसी प्रकार से संबंधित है जिस प्रकार से दूसरा पद पहले पद से संबंधित है।

JGN : HEL :: KQC : ?

- Ans
- 1. HNZ
 - 2. IOA
 - 3. MSE
 - 4. LRD

Question ID : 54592714349

Section : Mental Ability2

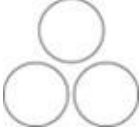


Q.1 दिए गए विकल्पों में से, तीन एक निश्चित तरीके से समान हैं। हालाँकि, एक विकल्प अन्य तीन की तरह नहीं है। उस विकल्प का चयन करें जो बाकी से अलग है।

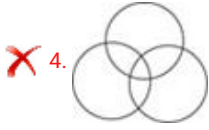
- Ans
- 1. 37
 - 2. 57
 - 3. 67
 - 4. 47

Question ID : 54592714367

Q.2 निम्न में से कौन सा वेन आरेख हाथियों, हिरणों और मांसाहारियों के बीच के संबंध को सबसे अच्छा दर्शाता है?

Ans

- 1. 
- 2. 
- 3. 



Question ID : 54592714373

Q.3 दिए गए विकल्पों में शब्दों की 3 जोड़ी समान रूप से संबंधित हैं, और एक जोड़ी अलग तरह से संबंधित है। उस जोड़ी को ज्ञात करें जो अलग तरह से संबंधित है।

- Ans
- 1. 67, 32
 - 2. 37, 63
 - 3. 58, 41
 - 4. 28, 71

Question ID : 54592714366

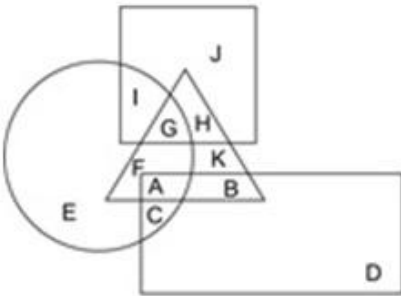
Q.4 नीचे दिए गए समीकरण को गणितीय रूप से सही बनाने के लिए, किन दो चिन्हों को परस्पर स्थानांतरित करना चाहिए?

$$72 \times 3 + 8 \div 4 - 6 = 50$$

- Ans
- 1. -, x
 - 2. -, +
 - 3. +, ÷
 - 4. x, ÷

Question ID : 54592714369

Q.5 निम्नलिखित आकृति में, वर्ग पायलटों को दर्शाता है, त्रिकोण साइकिल चालकों को दर्शाता है, वृत्त गायकों को दर्शाता है और आयत चीनी को दर्शाता है। अक्षरों का कौन सा सेट पायलटों को दर्शाता है जो साइकिल चालक हैं?



- Ans
- 1. AB
 - 2. AC
 - 3. FG
 - 4. GH

Question ID : 54592714372

Q.6 उस विकल्प का चयन करें जो तीसरी संख्या से उसी प्रकार से संबंधित है जिस प्रकार से दूसरी संख्या पहली संख्या से सम्बंधित है संबंधित है।

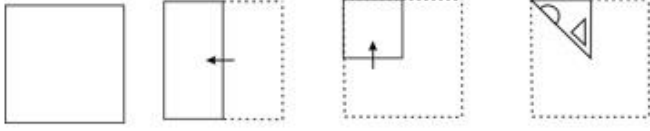
$$216 : 124 :: 256 : ?$$

- Ans
- 1. 154

- 2. 144
- 3. 134
- 4. 164

Question ID : 54592714368

Q.7 प्रश्न आकृति में नीचे दिखाए अनुसार पेपर के टुकड़े को मोड़कर उसमें छेद किए गए हैं। दी गई उत्तर आकृतियों से, इंगित करें कि इसे खोले जाने पर यह कैसा दिखाई देगा।



Ans

- 1.
- 2.
- 3.
- 4.

Question ID : 54592714381

Q.8 L और M एक ही बिंदु से साइकिल चलाना शुरू करते हैं। L 23 km उत्तर में साइकिल चलाती है, फिर अपने दाईं ओर मुड़ती है और 3 km साइकिल चलाती है। इस बीच M 7 km पूर्व में साइकिल चलाता है, फिर दक्षिण की ओर मुड़ता है और 10 km साइकिल चलाता है, फिर दाएं मुड़ता है और 4 km साइकिल चलाता है। L, M की स्थिति के संबंध में अब कहां है?

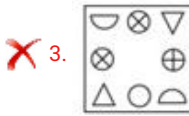
- 1. 33 km उत्तर
- 2. 16 km दक्षिण
- 3. 33 km दक्षिण
- 4. 16 km उत्तर

Question ID : 54592714374

Q.9 चार विकल्पों में से तीन एक निश्चित तरीके से समान हैं और एक अलग है। वह अलग विकल्प खोजें।

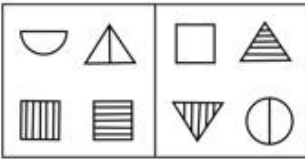
Ans

- 1.

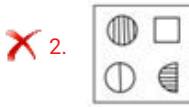


Question ID : 54592714376

Q.10 प्रश्न में दी गई दो आकृतियां एक निश्चित तरीके से समान हैं। विकल्पों में से केवल एक आकृति, उसी तरह से प्रश्न में दी गई दो आकृतियों के समान है। उस आकृति को ज्ञात करें।



Ans



Question ID : 54592714378

Q.11 नीचे दिए गए समीकरण को गणितीय रूप से सही बनाने के लिए किन दो संख्याओं को परस्पर स्थानांतरित किया जाना चाहिए?

$$22 + 88 \div 11 - 2 \times 4 = 7$$

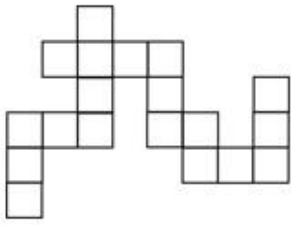
Ans ✗ 1. 4,11

✗ 2. 2,22

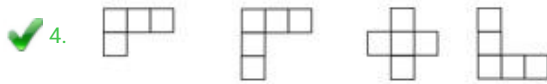
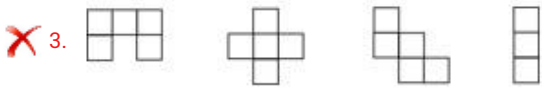
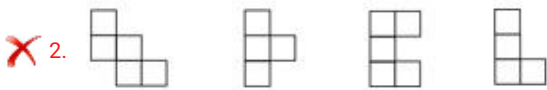
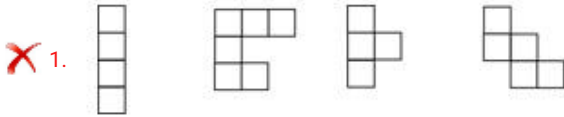
✓ 3. 11,22

✗ 4. 4,22

Q.12 प्रश्न आकृति में दिए गए पैटर्न को बनाने के लिए कौन से विकल्प जोड़े जा सकते हैं?



Ans



Question ID : 54592714382

Q.13 दिए गए विकल्पों में से, तीन एक निश्चित तरीके से समान हैं। हालाँकि, एक विकल्प अन्य तीन की तरह नहीं है। उस विकल्प का चयन करें जो बाकी से अलग है।

- Ans
- ✗ 1. 100
 - ✓ 2. 1000
 - ✗ 3. 900
 - ✗ 4. 400

Question ID : 54592714363

Q.14 यदि $5\#2 = 70$, $2\#2 = 40$, $1\#9 = 100$ तो $2\#3 = ?$, का मूल्य ज्ञात करें?

- Ans
- ✗ 1. 60
 - ✗ 2. 10
 - ✓ 3. 50
 - ✗ 4. 70

Question ID : 54592714370

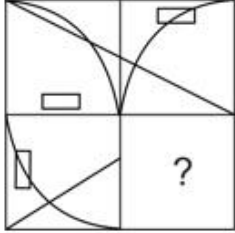
Q.15 यदि एक घन को तीन आसन्न साइड को पीले रंग से रंगा जाता है और अन्य तीन तरफ लाल रंग से और उसे 64 छोटे घनों में काट दिया जाता है, तो ऐसे कितने छोटे घन में एक तरफ लाल और एक तरफ पीले और किसी भी अन्य साइड पर कोई पेंट नहीं होगा?

Ans

- 1. 8
- 2. 16
- 3. 9
- 4. 12

Question ID : 54592714379

Q.16 निम्नलिखित में से कौन सी उत्तर आकृति, प्रश्न आकृति में दर्शाए गए पैटर्न को पूरा करती है?



Ans

- 1.
- 2.
- 3.
- 4.

Question ID : 54592714380

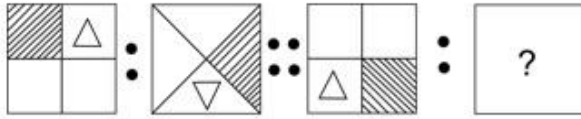
Q.17 दी गई श्रृंखला में लुप्त संख्या ज्ञात करें।

10, 8, 5, 1, ?, -10, -17

- 1. 4
- 2. -5
- 3. 5
- 4. -4

Question ID : 54592714365

Q.18 उस छवि का चयन करें जो तीसरी छवि से उसी प्रकार से संबंधित है जिस प्रकार से दूसरी छवि पहली छवि से संबंधित है।



Ans

- 1.
- 2.
- 3.
- 4.

Question ID : 54592714377

Q.19 दी गई श्रृंखला में गलत संख्या ज्ञात करें।

6, 12, 24, 52, 96

- Ans
- 1. 12
 - 2. 24
 - 3. 96
 - 4. 52

Question ID : 54592714364

Q.20 एक इंजीनियर एक भूमि का सर्वेक्षण कर रहा है। उसका मुँह दक्षिण-पूर्व दिशा में है। वह घड़ी की दिशा में 180 डिग्री, फिर वामावर्त दिशा में 90 डिग्री और फिर बाईं ओर 90 डिग्री मुड़ जाता है। उसका मुँह अब किस दिशा में है?

- Ans
- 1. उत्तर-पश्चिम
 - 2. उत्तर-पूर्व
 - 3. दक्षिण-पश्चिम
 - 4. दक्षिण-पूर्व

Question ID : 54592714375

Section : General Awareness1

Q.1 _____ को 'रिवेरिन सॉइल' के नाम से भी जाना जाता है क्योंकि यह मुख्य रूप से नदी घाटियों पर पाई जाती है।

- Ans
- 1. लैटेराइट मिट्टी
 - 2. कछार की मिट्टी

3. लाल मिट्टी

4. काली मिट्टी

Question ID : 54592714400

Q.2 देवप्रयाग में गंगा नदी दो नदियों _____ और अलकनंदा के संगम से बनती है।

Ans 1. महानदी

2. भागीरथी

3. सिंधु

4. ब्रह्मपुत्र

Question ID : 54592714398

Q.3 निर्गुणी लावणी आमतौर पर प्रकृति में _____ है।

Ans 1. दार्शनिक

2. कामुक

3. सामाजिक

4. ऐतिहासिक

Question ID : 54592714384

Q.4 माउंट एल्बर्ट _____ का उच्चतम बिंदु है।

Ans 1. एटलस

2. पूर्वी घाट

3. एल्ब्रुज

4. रॉकीज़

Question ID : 54592714399

Q.5 जिक किस प्रकार का अयस्क है?

Ans 1. हालिड अयस्क

2. कार्बोनेट अयस्क

3. सल्फाइड

4. ऑक्साइड

Question ID : 54592714391

Q.6 कोलकली _____ से जुड़ा एक प्रसिद्ध नृत्य है।

Ans 1. त्रिपुरा

2. लक्षद्वीप

3. मेघालय

4. मणिपुर

Question ID : 54592714383

Q.7 चारमीनार मक्का मस्जिद के साथ _____ नदी के पूर्वी तट पर स्थित है।

- Ans
- 1. कृष्णा
 - 2. महानदी
 - 3. मूसी
 - 4. ताप्ती

Question ID : 54592714385

Q.8 पेंच राष्ट्रीय उद्यान _____ में स्थित है।

- Ans
- 1. असम
 - 2. मध्य प्रदेश
 - 3. उत्तर प्रदेश
 - 4. तमिल नाडु

Question ID : 54592714397

Q.9 काप्रा एगाग्रोस हिरकस _____ का वैज्ञानिक नाम है।

- Ans
- 1. कुत्ता
 - 2. गाय
 - 3. गधा
 - 4. बकरी

Question ID : 54592714392

Q.10 बरमूडा त्रिभुज _____ महासागर में स्थित है।

- Ans
- 1. अटलांटिक
 - 2. उत्तरध्रुवीय
 - 3. प्रशांत
 - 4. हिंद

Question ID : 54592714401

Q.11 2001 में ही वित्त मंत्री यशवंत सिन्हा ने इस प्रथा को बदल दिया और बजट _____ पेश किया जाने लगा।

- Ans
- 1. 4 अपराह्न
 - 2. 9 पूर्वाह्न
 - 3. 11 पूर्वाह्न
 - 4. 6 अपराह्न

Question ID : 54592714387

Q.12 2019-20 के फसल मौसम के लिए धान का न्यूनतम समर्थन मूल्य _____ रूपए प्रति क्विंटल है।

- Ans
- 1. 1815
 - 2. 1825
 - 3. 1845
 - 4. 1835

Question ID : 54592714388

Q.13 फूल का वह भाग जो परागण के दौरान पराग कणों को प्राप्त करता है, वह _____ है।

- Ans
- 1. स्तिग्मा
 - 2. पत्ती
 - 3. रंध्र
 - 4. क्लोरोफिल

Question ID : 54592714393

Q.14 पौधे का वह हिस्सा जो केसर मसाला देता है, वह _____ है।

- Ans
- 1. तना
 - 2. स्तिग्मा
 - 3. बीज
 - 4. छाल

Question ID : 54592714394

Q.15 भारत में पहला बैंक _____ था।

- Ans
- 1. भारतीय स्टेट बैंक
 - 2. जनरल बैंक ऑफ इंडिया
 - 3. सेंट्रल बैंक ऑफ इंडिया
 - 4. बैंक ऑफ बॉम्बे

Question ID : 54592714389

Q.16 मानक पल्स दर क्या है?

- Ans
- 1. 70 पल्स/ मिनट
 - 2. 69 पल्स/ मिनट
 - 3. 75 पल्स/ मिनट
 - 4. 72 पल्स/ मिनट

Question ID : 54592714396

Q.17 नेपाल अपनी सीमा पांच भारतीय राज्यों - सिक्किम, पश्चिम बंगाल, बिहार, उत्तर प्रदेश और _____ के साथ साझा करता है।

- Ans
- 1. असम
 - 2. ओडिशा
 - 3. उत्तराखंड
 - 4. मध्य प्रदेश

Question ID : 54592714402

Q.18 निम्नलिखित में से किसे पीले त्यौहार के रूप में भी जाना जाता है?

- Ans
- 1. बसंत पंचमी
 - 2. लोसर
 - 3. महा शिवरात्रि

4. पोंगल

Question ID : 54592714386

Q.19 कौन से नियम में कहा गया है कि गैसों के प्रसार की दर तापमान और दबाव की समान स्थितियों के तहत उनके घनत्व के वर्गमूल के विपरीत आनुपातिक हैं?

- Ans
- 1. केप्लर का नियम
 - 2. बॉयल का नियम
 - 3. ग्राहम का नियम
 - 4. चार्ल्स का नियम

Question ID : 54592714390

Q.20 MSWM का संक्षिप्तीकरण _____ है।

- Ans
- 1. म्युनिसिपल सॉलिड वेस्ट मैनेजमेंट
 - 2. म्युनिसिपल एंड सैनिटेशन ऑफ़ वेस्ट मैनेजमेंट
 - 3. मैनेजमेंट ऑफ़ सैनिटेशन एंड वेस्ट म्युनिसिपैलिटी
 - 4. म्युनिसिपल सॉलिड वेस्ट मैनेज

Question ID : 54592714395

Section : General Awareness2

Q.1 कोंकणी, मणिपुरी और नेपाली को 71 वें संशोधन के _____ अनुसूची में भाषाओं के रूप में जोड़ा गया है।

- Ans
- 1. 7 वें
 - 2. 8 वें
 - 3. 10 वें
 - 4. 9 वें

Question ID : 54592714418

Q.2 फ़तुहत-ए-फ़िरोजशाही _____ की आत्मकथा है।

- Ans
- 1. मोहम्मद खान
 - 2. फ़िरोज शाह तुगलक
 - 3. मुहम्मद तुगलक
 - 4. गियासुद्दीन तुगलक

Question ID : 54592714409

Q.3 21वीं राष्ट्रमंडल टेबल टेनिस चैम्पियनशिप _____ में हुई थी।

- Ans
- 1. नई दिल्ली
 - 2. ओडिशा
 - 3. गुजरात
 - 4. मुंबई

Question ID : 54592714422

Q.4 चंद्रगुप्त I का उत्तराधिकारी कौन था?

- Ans 1. समुद्रगुप्त
 2. विक्रमादित्य
 3. अशोक
 4. बल्लाल सेन

Question ID : 54592714408

Q.5 बैरकपुर में 1857 के महान विद्रोह के नेता कौन थे?

- Ans 1. रानी लक्ष्मीबाई
 2. मंगल पांडे
 3. अमर सिंह
 4. अब्दुल अली खान

Question ID : 54592714407

Q.6 अनुच्छेद 171 के अनुसार, किसी राज्य की विधान परिषद में कुल सदस्य किसी भी स्थिति में _____ से कम नहीं होंगे।

- Ans 1. 40
 2. 60
 3. 70
 4. 35

Question ID : 54592714419

Q.7 भारत में कपास का सबसे बड़ा उत्पादक _____ है।

- Ans 1. पश्चिम बंगाल
 2. असम
 3. गुजरात
 4. केरल

Question ID : 54592714403

Q.8 एशिया-प्रशांत क्षेत्र में सबसे बड़ी घरेलू संचार प्रणाली _____ है।

- Ans 1. इनसैट
 2. इसरो
 3. इग्नू
 4. आइ.पी.डी.सी.

Question ID : 54592714415

Q.9 द श्री मस्किटर्स _____ द्वारा लिखी गई है।

- Ans 1. चार्ल्स डिक्केस
 2. जूलस वर्न
 3. डैनियल डेफॉ

✓ 4. अलेक्जेंडर डुमास

Question ID : 54592714414

Q.10 हिंदू विधवा पुनर्विवाह अधिनियम कब पारित किया गया था?

- Ans
- ✓ 1. 1856
 - ✗ 2. 1862
 - ✗ 3. 1839
 - ✗ 4. 1852

Question ID : 54592714406

Q.11 _____ द्वारा द 'एक्सीडेंटल प्राइम मिनिस्टर' लिखा गया है।

- Ans
- ✗ 1. अंजलि जोसेफ
 - ✗ 2. साइरस मिस्त्री
 - ✓ 3. संजय बारू
 - ✗ 4. उदया तारा नायर

Question ID : 54592714412

Q.12 अखिल भारतीय मजदूर संघ काँग्रेस की स्थापना किसने की?

- Ans
- ✗ 1. भगत सिंह और रे चौधरी
 - ✗ 2. लाला लाजपत राय और रे चौधरी
 - ✓ 3. एन. एम. जोशी और एन एम रे चौधरी
 - ✗ 4. मोतीलाल नेहरू और रे चौधरी

Question ID : 54592714404

Q.13 किसे नरेंद्र के नाम से भी जाना जाता है?

- Ans
- ✗ 1. महात्मा गांधी
 - ✓ 2. स्वामी विवेकानंद
 - ✗ 3. जवाहरलाल नेहरू
 - ✗ 4. सुभाष चंद्र बोस

Question ID : 54592714410

Q.14 किसी कारखाने में रोजगार के लिए न्यूनतम आयु सीमा क्या है?

- Ans
- ✗ 1. 18 वर्ष
 - ✗ 2. 10 वर्ष
 - ✓ 3. 14 वर्ष
 - ✗ 4. 16 वर्ष

Question ID : 54592714417

Q.15 परमवीर चक्र विजेता या उसके परिजनों को महीने में _____ का मासिक मुआवजा मिलता है।

- Ans
- ✗ 1. 30,000 रूपए

- 2. 25,000 रुपए
- 3. 60,000 रुपए
- 4. 20,000 रुपए

Question ID : 54592714411

Q.16 इंडोनेशिया ओपन BWF टूर सुपर 1000 टूर्नामेंट किसने जीता?

- Ans
- 1. शेन लोरी
 - 2. साइना नेहवाल
 - 3. अकाने यामागुची
 - 4. पी.वी. सिंधु

Question ID : 54592714420

Q.17 अनुच्छेद 170 के अनुसार, प्रत्येक राज्य की विधान सभा में सीटों की संख्या _____ से अधिक नहीं होनी चाहिए।

- Ans
- 1. 500
 - 2. 525
 - 3. 450
 - 4. 600

Question ID : 54592714416

Q.18 अकबर के दरबार में वित्त सलाहकार कौन था?

- Ans
- 1. अबुल फैजी
 - 2. टोडर मल
 - 3. मियाँ तानसेन
 - 4. बीरबल

Question ID : 54592714405

Q.19 विश्व युद्ध I के बाद शांति बनाए रखने के लिए राष्ट्र संघ की स्थापना _____ में की गई थी।

- Ans
- 1. 1905
 - 2. 1921
 - 3. 1919
 - 4. 1902

Question ID : 54592714413

Q.20 अंतर्राष्ट्रीय क्रिकेट परिषद ने _____ को यह सुनिश्चित करने में विफल रहने के लिए निलंबित कर दिया कि खेल के संचालन में कोई सरकारी हस्तक्षेप न हो।

- Ans
- 1. ज़िम्बाब्वे
 - 2. इंग्लैंड
 - 3. नीदरलैंड
 - 4. अफ़ग़ानिस्तान

Question ID : 54592714421

Section : Arithmetic Ability1

Q.1 40/12, 36/20 और 32/18 का महत्तम समापवर्तक ज्ञात करें।

- Ans 1. 1/45
 2. 1/72
 3. 72
 4. 45

Question ID : 54592714427

Q.2 एक ग्राहक 70 रुपए प्रति लीटर पेट्रोल खरीदता है। उसे अपने क्रेडिट कार्ड पर 10 प्रतिशत की छूट और 2 प्रतिशत का इनाम मिलता है। वह कितने प्रतिशत पेट्रोल का भुगतान करता है?

- Ans 1. 90 प्रतिशत
 2. 62.50 प्रतिशत
 3. 75 प्रतिशत
 4. 88 प्रतिशत

Question ID : 54592714438

Q.3 40, 55, 60, 42 का महत्तम समापवर्तक ज्ञात करें।

- Ans 1. 3
 2. 2
 3. 1
 4. 4

Question ID : 54592714432

Q.4 यदि किसी वर्ग का भाग दोगुना कर दिया जाता है, तो क्षेत्रफल में प्रतिशत वृद्धि = ?

- Ans 1. 200 प्रतिशत
 2. 300 प्रतिशत
 3. 800 प्रतिशत
 4. 400 प्रतिशत

Question ID : 54592714437

Q.5 रोहित ने 80 गेंदों में 96 रन बनाए। यदि 4 गेंदों में 24 रन बनाए गए, तो शेष गेंदों में कुल रनों में से कितने प्रतिशत रन बने?

- Ans 1. 75 प्रतिशत
 2. 70 प्रतिशत
 3. 72.50 प्रतिशत
 4. 77.50 प्रतिशत

Question ID : 54592714436

Q.6 सबसे बड़ी संख्या क्या है, जो क्रमशः 79, 96 और 65 को विभाजित करके शेष 4, 6 और 5 छोड़ सकती है?

- Ans 1. 15
 2. 17
 3. 19
 4. 13

Question ID : 54592714424

Q.7 निम्नलिखित तीन संख्या में से किस का लघुत्तम समापवर्तक 144 और महत्तम समापवर्तक 12 है?

- Ans 1. (18,30,36)
 2. (24,30,36)
 3. (24,30,42)
 4. (24,48,36)

Question ID : 54592714431

Q.8 सरल करें: $\sqrt{121} + \sqrt{(110+\sqrt{36}+\sqrt{25})} = ?$

- Ans 1. 22
 2. 21
 3. 19
 4. 20

Question ID : 54592714426

Q.9 सरल करें: $(3.5 \times 4.25) \div (2.75 \times 3.375) = ?$

- Ans 1. 136/235
 2. 476/297
 3. 238/145
 4. 140/337

Question ID : 54592714423

Q.10 X का मूल्य ज्ञात करें यदि: $7 \div x + (3 \times 3) - 5 = 5$

- Ans 1. 7
 2. 7/3
 3. 7/2
 4. 7/4

Question ID : 54592714429

Q.11 प्रथम चार, तीन अंक अभाज्य संख्याओं का औसत ज्ञात करें।

- Ans 1. 100
 2. 105
 3. 110
 4. 120

Question ID : 54592714433

Q.12 एक दुकानदार 450 प्रति kg रुपए मूंगफली खरीदता है और इसे 50 g के पैकेट में बेचता है। प्रत्येक पैकेट पर अतिरिक्त लागत 0.5 रुपए लगाता है। 10 प्रतिशत लाभ कमाने के लिए उसे मूंगफली के प्रत्येक पैकेट को किस मूल्य पर बेचना चाहिए?

- Ans
- 1. 23 रुपए
 - 2. 21 रुपए
 - 3. 27.5 रुपए
 - 4. 25.3 रुपए

Question ID : 54592714440

Q.13 सरल करें: $1 \{1 \times 1 + 2 \times (2 + 3) \times 4 + 4 \times \sqrt{4}\} = ?$

- Ans
- 1. 108
 - 2. 112
 - 3. 96
 - 4. 54

Question ID : 54592714430

Q.14 यदि a, b, c, d अनुपातिक हैं, और $(a + b) : a :: (a + c) : d$, d ज्ञात करें?

- Ans
- 1. $d = a + b$
 - 2. $d = a$
 - 3. $d = a - b$
 - 4. $d = b$

Question ID : 54592714442

Q.15 राम ने प्रति पेन एक रुपए के हिसाब से 10 पेन बेचे। दिन के अंत में, उसने 10 रुपए में 8 पेन बेचे दिए, जबकि 4 पेन मुफ्त में दिए। उसकी औसत बिक्री मूल्य ज्ञात करें?

- Ans
- 1. 0.82 रुपए
 - 2. 0.91 रुपए
 - 3. 0.88 रुपए
 - 4. 0.94 रुपए

Question ID : 54592714435

Q.16 तीन वृत्त का क्षेत्रफल क्रमशः 4π , 9π और 25π sq cm का है। उनकी औसत त्रिज्या ज्ञात करें?

- Ans
- 1. 3.33 cm
 - 2. 4.66 cm
 - 3. 5 cm
 - 4. 5.54 cm

Question ID : 54592714434

Q.17 एक कार 1,00,000 रुपए में खरीदी गई थी और 10,000 रुपए मरम्मत पर खर्च किया गया था। कार तब 1,32,000 रुपए में बेची गई थी। शुद्ध लाभ प्रतिशत ज्ञात करें?

- Ans
- 1. 25 प्रतिशत

2. 32 प्रतिशत

3. 16 प्रतिशत

4. 20 प्रतिशत

Question ID : 54592714439

Q.18 $4/3$, $5/2$, और $6/13$ के लघुत्तम समापवर्तक ज्ञात करें?

Ans 1. $1/60$

2. $1/78$

3. 78

4. 60

Question ID : 54592714425

Q.19 एक भोजनालय में बर्गर 50 रुपए और ठंडा पेय 40 रुपए में बेचा जाता है। यदि दुकानदार एक पैकेज में दोनों 80 रुपये में बेचता है, तो कॉम्बो बेचने में उसका नुकसान का प्रतिशत कितना है?

Ans 1. 11.11 प्रतिशत

2. 15 प्रतिशत

3. 10 प्रतिशत

4. 12.50 प्रतिशत

Question ID : 54592714441

Q.20 X और Y 2 दो ऐसे अंक हैं, जिनका अनुपात 2:3 है और उनका महत्तम समापवर्तक 10 है। संख्याओं का लघुत्तम समापवर्तक ज्ञात करें?

Ans 1. 50

2. 40

3. 60

4. 70

Question ID : 54592714428

Section : Arithmetic Ability2

Q.1 तालिका वर्ष के दौरान एक कारखाने में आवश्यक दैनिक मजदूरों की संख्या और उनकी दैनिक वेतन (रुपये में) को दर्शाता है। किस महीने में कारखाना मजदूरी पर अधिकतम खर्च करता है?

महीने	मजदूरों की संख्या	प्रति श्रम दैनिक वेतन
जनवरी	120	90
फरवरी	110	95
मार्च	150	75
अप्रैल	80	150
मई	90	145
जून	70	160
जुलाई	50	170
अगस्त	40	180
सितंबर	30	190
अक्टूबर	110	90
नवंबर	120	85
दिसंबर	130	75

- Ans
- 1. मार्च
 - 2. जून
 - 3. मई
 - 4. नवंबर

Question ID : 54592714459

Q.2 14 cm व्यास और 5 cm ऊंचाई वाले सिलेंडर के आयतन को ज्ञात करें।

- Ans
- 1. 577.5 cu cm
 - 2. 635.25 cu cm
 - 3. 770 cu cm
 - 4. 385 cu cm

Question ID : 54592714454

Q.3 50 km/h की औसत गति से दौड़ने पर 1 मिनट में चीता कितनी दूरी तय कर सकता है?

- Ans
- 1. 866.66 m
 - 2. 900 m
 - 3. 833.33 m
 - 4. 800 m

Question ID : 54592714449

Q.4 राम लैपटॉप की मरम्मत 5 घंटे में पूरा कर सकते हैं। राम की तुलना में श्याम 20 प्रतिशत अधिक कुशल हैं। यदि राम और श्याम एक साथ काम करते हैं, तो उनकी कार्यक्षमता 10 प्रतिशत बढ़ जाती है। यदि 16 समान लैपटॉप की मरम्मत करने की आवश्यकता है, तो राम और श्याम को एक साथ कितने घंटे की आवश्यकता होगी?

- Ans
- 1. 10
 - 2. 9
 - 3. 8
 - 4. 12

Question ID : 54592714453

Q.5 50,000 रुपए का कर्ज 1.5 वर्ष में 60,000 रुपए चुकाया गया। साधारण ब्याज की दर ज्ञात करें?

- Ans
- 1. 13.33 प्रतिशत
 - 2. 14.44 प्रतिशत
 - 3. 11.11 प्रतिशत
 - 4. 12.22 प्रतिशत

Question ID : 54592714447

Q.6 A और B क्रमशः 42 और 21 दिनों में अकेले काम पूरा कर सकते हैं। यदि वे वैकल्पिक दिनों में काम करती हैं तो काम पूरा करने के लिए कितना समय चाहिए?

- Ans
- 1. 35 दिन
 - 2. 28 दिन
 - 3. 21 दिन
 - 4. 14 दिन

Question ID : 54592714452

Q.7 एक कंपनी अपनी बिक्री को बढ़ावा देने के लिए विज्ञापन के विभिन्न तरीकों पर पैसा खर्च करती है। यदि कंपनी अपनी बिक्री का 12 प्रतिशत बढ़ाने के लिए कुल 100000 रुपए खर्च करती है तो केवल अखबारों के विज्ञापन द्वारा बिक्री कितने प्रतिशत बढ़ा है? ग्राफ विज्ञापन के प्रत्येक तरीकों द्वारा किए गए योगदान को दर्शाता है।



STN1_HIN_Q31

- Ans
- 1. 4.60 प्रतिशत
 - 2. 4.20 प्रतिशत
 - 3. 3.60 प्रतिशत
 - 4. 3.20 प्रतिशत

Question ID : 54592714457

Q.8 4000 रुपए का ऋण आंशिक रूप से 5 प्रतिशत और आंशिक रूप से 6 प्रतिशत साधारण ब्याज पर 2 साल के लिए उधार दिया गया था। यदि अर्जित ब्याज 430 रुपए है तो 6 प्रतिशत पर उधार दी गई राशि ज्ञात करें?

- Ans
- 1. 3000 रुपए
 - 2. 2000 रुपए
 - 3. 2500 रुपए

✓ 4. 1500 रूपए

Question ID : 54592714446

Q.9 तालिका देखकर मूल्यांकन करें कि किस वर्ष में वर्षा सबसे अधिक हुई (सभी शहरों के लिए कुल) जब तापमान 25°C से अधिक हो?

सात	अस्था ($^{\circ}\text{C}$)	वर्षा (सेमी में)			
		दिल्ली	कोलकाता	मुंबई	चेन्नई
2015	28	100	120	140	60
2016	23	90	110	130	50
2017	25	80	100	120	50
2018	24	70	90	110	50
2019	27	60	80	100	50

Ans ✓ 1. 2015

✗ 2. 2018

✗ 3. 2019

✗ 4. 2016

Question ID : 54592714460

Q.10 यदि एक ट्रेपेज़ियम के दो समानांतर साइड की लंबाई 6 cm और 10 cm है और इसका क्षेत्रफल 80 sq cm है तो इसके समानांतर पक्षों के बीच की दूरी ज्ञात करें।

Ans ✗ 1. 12 cm

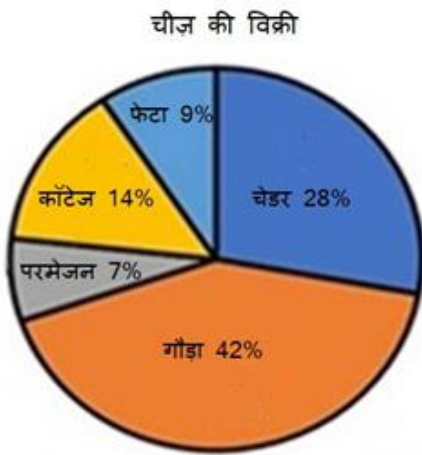
✓ 2. 10 cm

✗ 3. 8 cm

✗ 4. 6 cm

Question ID : 54592714456

Q.11 एक दुकान द्वारा बेचे गए 5 विभिन्न प्रकार के चीज़ को दर्शाते हुए चार्ट देखें। यदि 5 प्रतिशत चेंडर चीज़ की बिक्री मूल्य 2850 रूपए है तो कॉटेज चीज़ की कुल बिक्री मूल्य क्या है?



Ans ✗ 1. 25,500 रूपए

✗ 2. 30,500 रूपए

✓ 3. 28,500 रूपए

✗ 4. 32,500 रूपए

Question ID : 54592714458

Q.12 एक पक्षी 20 km/h की औसत गति से उड़ सकती है। 2.5 घंटे के लिए उड़ान भरने के बाद, इसकी गति 10 प्रतिशत कम हो गई, और 0.5 घंटे तक उड़ान भरने के बाद, पक्षी ने 1 घंटे के लिए आराम किया। इसने फिर से उड़ान भरना शुरू किया और 2.5 घंटे में 45 km की उड़ान भरी। उस दिन के, पक्षी की औसत गति क्या है?

- Ans
- ✗ 1. 18 km/h
 - ✓ 2. 16 km/h
 - ✗ 3. 20 km/h
 - ✗ 4. 19 km/h

Question ID : 54592714450

Q.13 15 महिलाओं ने 6 घंटे काम करके 225 kg चाय की पतियों जमा की। 8 घंटे में 12 महिलाओं द्वारा कितनी चाय जमा की जा सकती है?

- Ans
- ✓ 1. 240 kg
 - ✗ 2. 250 kg
 - ✗ 3. 230 kg
 - ✗ 4. 220 kg

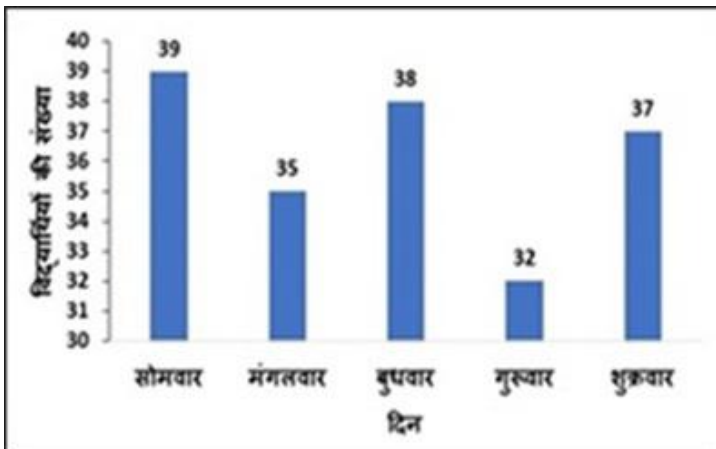
Question ID : 54592714451

Q.14 पहले दो दोगुने अंक अविभाज्य संख्याओं के योग और उत्पाद के बीच का अनुपात ज्ञात करें।

- Ans
- ✗ 1. 12 : 143
 - ✓ 2. 24 : 143
 - ✗ 3. 21 : 13
 - ✗ 4. 11 : 13

Question ID : 54592714443

Q.15 ग्राफ़ को देखें और ज्ञात करें कि किस दिन 40 छात्रों की कक्षा में उपस्थिति सबसे अधिक है?



- Ans
- ✗ 1. शुक्रवार
 - ✓ 2. सोमवार
 - ✗ 3. बुधवार
 - ✗ 4. बृहस्पतिवार

Question ID : 54592714462

Q.16 $2\sqrt{3}$ cm के किनारे वाले घन के आयतन की गणना करें।

- Ans
- 1. 54 cu cm
 - 2. 72 cu cm
 - 3. $36\sqrt{3} \text{ cu cm}$
 - 4. $24\sqrt{3} \text{ cu cm}$

Question ID : 54592714455

Q.17 एक यात्री रेलगाड़ी और एक एक्सप्रेस रेलगाड़ी 350 km की दूरी पर स्थित अपने स्टेशनों से एक दूसरे की ओर प्रस्थान करती हैं। जब वे बीच में मिलते हैं, तो एक्सप्रेस ट्रेन 200 km की दूरी तय करती है। उनकी गति का राशन क्या है?

- Ans
- 1. 2 : 3
 - 2. 1 : 2
 - 3. 1.5 : 4
 - 4. 3 : 4

Question ID : 54592714448

Q.18 रेखा ने शुरुआत के 3 साल तक प्रत्येक वर्ष 1000 रुपए निवेश किए। 3 साल के बाद उसे 3600 रुपए प्राप्त हुए, प्रति वर्ष साधारण ब्याज की दर क्या है?

- Ans
- 1. 6 प्रतिशत
 - 2. 12 प्रतिशत
 - 3. 8 प्रतिशत
 - 4. 10 प्रतिशत

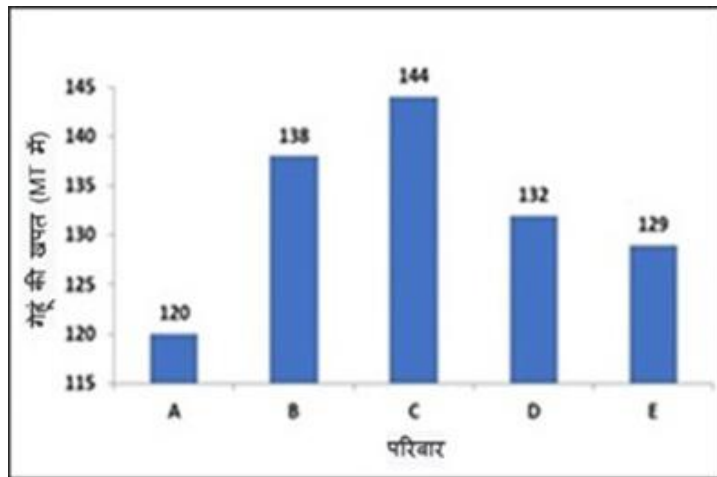
Question ID : 54592714445

Q.19 यदि एक वर्ग और वृत्त का एक ही साइड और त्रिज्या है, तो उनके क्षेत्र के अनुपात की गणना करें?

- Ans
- 1. 44 : 49
 - 2. 49 : 44
 - 3. 3.14 : 1
 - 4. 1 : 3.14

Question ID : 54592714444

Q.20 निम्नलिखित चार्ट एक महीने में परिवारों द्वारा गेहूं (MT में) की कुल खपत को दर्शाता है। परिवार A की तुलना में कितने परिवार 15 प्रतिशत या अधिक गेहूं का उपभोग करते हैं?



- Ans
- 1. 1
 - 2. 4
 - 3. 3
 - 4. 2

Question ID : 54592714461

Section : General English1

Q.1 The sentence below has been divided into three parts. Select the part of the sentence that has an error. If the sentence has no error, select the option 'No Error'.

The medicine the doctor / prescribed has unpleasant / side effects.

- Ans
- 1. prescribed has unpleasant
 - 2. side effects.
 - 3. The medicine the doctor
 - 4. No Error

Question ID : 54592714463

Q.2 The sentence below has been divided into three parts. Select the part of the sentence that has an error. If the sentence has no error, select the option 'No Error'.

My dad shouted / at me because I was rude / to the guests.

- Ans
- 1. My dad shouted
 - 2. No Error
 - 3. at me because I was rude
 - 4. to the guests.

Question ID : 54592714467

Q.3 Select the word segment that substitutes (replaces) the bracketed word segment correctly and completes the sentence meaningfully.

(Please wait) for a moment, Kiara is talking to Mary.

- Ans
- 1. No correction required

- 2. Please waiting
- 3. Please waits
- 4. Please to wait

Question ID : 54592714471

Q.4 Select the word that fills in the blank correctly and completes the sentence meaningfully.

The maid _____ the garbage into the dustbin yesterday.

- Ans
- 1. tossed
 - 2. tost
 - 3. tosses
 - 4. toss

Question ID : 54592714473

Q.5 The sentence below has been divided into three parts. Select the part of the sentence that has an error. If the sentence has no error, select the option 'No Error'.

History reminded us/ that events repeat / themselves.

- Ans
- 1. themselves.
 - 2. History reminded us
 - 3. No Error
 - 4. that events repeat

Question ID : 54592714464

Q.6 Select the word that fills in the blank correctly and completes the sentence meaningfully.

Please _____ silence in the library.

- Ans
- 1. maintained
 - 2. maintain
 - 3. maintains
 - 4. maintaining

Question ID : 54592714480

Q.7 Select the word segment that substitutes (replaces) the bracketed word segment correctly and completes the sentence meaningfully.

The Rajdhani Express (leaves from Delhi Station on) seven in the morning.

- Ans
- 1. leaving from Delhi Station on
 - 2. leaves from Delhi Station in
 - 3. No correction required
 - 4. leaves from Delhi Station at

Question ID : 54592714470

Q.8 Select the word that fills in the blank correctly and completes the sentence meaningfully.

Grandma loved sitting _____ her new rocking chair.

Ans

- 1. upon
- 2. under
- 3. on
- 4. in

Question ID : 54592714477

Q.9 The sentences of a paragraph have been jumbled up, and labelled P, Q, R and S. Select the option that gives the correct sequence in which these sentences should be rearranged to form a meaningful paragraph.

P: Finally thanks for reading, do let me know if there any good resources I could use to find my birth family.

Q: I think the name I have for my mother is correct and know someone still living in Calcutta.

R: I have very few details, from what I know I came from St Catherine's Orphanage.

S: Hi, I was adopted in Barrackpore in 1991.

- Ans
- 1. SPRQ
 - 2. RQPS
 - 3. RQSP
 - 4. SRQP

Question ID : 54592714481

Q.10 Select the word segment that substitutes (replaces) the bracketed word segment correctly and completes the sentence meaningfully.

Read the (follows instructions) carefully and act accordingly.

- Ans
- 1. followed instructions
 - 2. following instructions
 - 3. follow instructions
 - 4. No correction required

Question ID : 54592714468

Q.11 The sentence below has been divided into three parts. Select the part of the sentence that has an error. If the sentence has no error, select the option 'No Error'.

Mrs. Thakur was not quite / satisfied from the exam results of / both her children.

- Ans
- 1. both her children.
 - 2. No Error
 - 3. Mrs. Thakur was not quite
 - 4. satisfied from the exam results of

Question ID : 54592714466

Q.12 Select the word that fills in the blank correctly and completes the sentence meaningfully.

He has the experience necessary for _____ advertised software job.

- Ans
- 1. the
 - 2. a
 - 3. an
 - 4. No article

Question ID : 54592714474

Q.13 Select the word that fills in the blank correctly and completes the sentence meaningfully.

The school bus driver _____ rashly on most days.

- Ans
- 1. drives
 - 2. driven
 - 3. drived
 - 4. driving

Question ID : 54592714478

Q.14 The sentence below has been divided into three parts. Select the part of the sentence that has an error. If the sentence has no error, select the option 'No Error'.

Kiran was dreaming for / becoming a famous / scientist one day.

- Ans
- 1. No Error
 - 2. Kiran was dreaming for
 - 3. becoming a famous
 - 4. scientist one day.

Question ID : 54592714465

Q.15 The sentences of a paragraph have been jumbled up, and labelled P, Q, R and S. Select the option that gives the correct sequence in which these sentences should be rearranged to form a meaningful paragraph.

P: "Breakup" is commonly termed "dumping [someone]" in slang when it is initiated by one partner.

Q: A relationship breakup, often referred to simply as a breakup, is the termination of an intimate relationship by any means other than death.

R: The term is less likely to be applied to a married couple, where a breakup is typically called a separation or divorce.

S: When a couple engaged to be married breaks up, it is typically called a "broken engagement"

- Ans
- 1. SRPQ
 - 2. PQRS
 - 3. QPRS
 - 4. PRSQ

Question ID : 54592714482

Q.16 Select the word that fills in the blank correctly and completes the sentence meaningfully.

There were many children in _____ sandpit at _____ park

- Ans
- 1. the, the
 - 2. an, the
 - 3. a, an
 - 4. a, a

Question ID : 54592714479

Q.17 Select the word that fills in the blank correctly and completes the sentence meaningfully.

The kids told ghost stories _____ the night.

- Ans
- 1. on
 - 2. from
 - 3. during
 - 4. for

Question ID : 54592714476

Q.18 Select the word that fills in the blank correctly and completes the sentence meaningfully.

The sailors walked _____ the ship.

- Ans
- 1. top of
 - 2. on
 - 3. aboard
 - 4. under

Question ID : 54592714475

Q.19 Select the word segment that substitutes (replaces) the bracketed word segment correctly and completes the sentence meaningfully.

(What were you does) when the courier arrived?

- Ans
- 1. No correction required
 - 2. What you doing
 - 3. What were you doing
 - 4. What were you does

Question ID : 54592714472

Q.20 Select the word segment that substitutes (replaces) the bracketed word segment correctly and completes the sentence meaningfully.

(Does Shyam writing) novels or short stories?

- Ans
- 1. Do Shyam write
 - 2. Does Shyam writes
 - 3. Does Shyam write
 - 4. No correction required

Question ID : 54592714469

Section : General English2

Q.1 Select the option that best expresses the meaning of the idiom or phrase given below.

'Back against the wall'

- Ans
- 1. Be in a difficult situation from where escape is difficult.
 - 2. To do something badly or cheaply.
 - 3. Running away from tricky situations.
 - 4. When you're really in need, you think of creative solutions to your problems.

Question ID : 54592714493

Q.2 Select the word that is opposite in meaning ANTONYM to the word given below.

BENEVOLENT

- Ans
- 1. Malignant
 - 2. Miserly
 - 3. Agrarian
 - 4. Urbanised

Question ID : 54592714487

Q.3 Select the option that best expresses the meaning of the idiom or phrase given below.

'Bite off more than you can chew'

- Ans
- 1. to fiddle or meddle with something
 - 2. to break relationships with others
 - 3. to try to do something that is too difficult for you
 - 4. to be able to predict the future

Question ID : 54592714492

Q.4 Select the option that best expresses the meaning of the idiom or phrase given below.

'A chip off the old block'

- Ans
- 1. to describe exactly what is causing a situation or problem
 - 2. similar to someone in the generation before you
 - 3. to flatter someone
 - 4. to have some secret information about someone

Question ID : 54592714494

Q.5 Four words are given, out of which only one word is spelt correctly. Choose the correctly spelt word.

- Ans
- 1. Pressbytarian
 - 2. Presbaterian
 - 3. Presbyterian
 - 4. Presbuyterian

Question ID : 54592714491

Q.6 Select the most appropriate 'one word ' for the expressions given below.

Someone who criticizes or attacks cherished ideas and beliefs

- Ans
- 1. Lexicographer
 - 2. Composer
 - 3. Iconoclast
 - 4. Dictator

Q.7 Select the correct word HOMONYM that fills in the blank and makes the sentence meaningful.

Mom could not pick up my sister because the _____ of the car was punctured.

- Ans
- 1. tier
 - 2. tire
 - 3. tyer
 - 4. tyre

Question ID : 54592714486

Q.8 Select the most appropriate 'one word ' for the expressions given below.

To persuade by flattery or coaxing

- Ans
- 1. Callous
 - 2. Juvenile
 - 3. Epoch
 - 4. Cajole

Question ID : 54592714496

Q.9 Four words are given, out of which only one word is spelt correctly. Choose the correctly spelt word.

- Ans
- 1. Allegence
 - 2. Allegance
 - 3. Allegiance
 - 4. Alegiance

Question ID : 54592714490

Q.10 Select the most appropriate 'one word ' for the expressions given below.

To influence someone in a deceptive way

- Ans
- 1. Ethereal
 - 2. Delirious
 - 3. Pluviophile
 - 4. Beguile

Question ID : 54592714495

Q.11 Four words are given, out of which only one word is spelt correctly. Choose the correctly spelt word.

- Ans
- 1. Bourgeoisie
 - 2. Bourgieoise
 - 3. Bourgeoisie
 - 4. Borgwasy

Question ID : 54592714489

Q.12 Select the correct word HOMONYM that fills in the blank and makes the sentence meaningful.

Kashyap _____ away on his motorcycle in a huff.

- Ans
- 1. rowed
 - 2. road
 - 3. rode
 - 4. roed

Question ID : 54592714485

Q.13 Select the word that is closest in meaning SYNONYM to the word given below.

GENRE

- Ans
- 1. Category
 - 2. Alluring
 - 3. Ignorance
 - 4. Upsurge

Question ID : 54592714488

Q.14 Select the word that is closest in meaning SYNONYM to the word given below.

ACUMEN

- Ans
- 1. Ignorance
 - 2. Temerity
 - 3. Brilliance
 - 4. Condemn

Question ID : 54592714484

Q.15 The sentences of a paragraph have been jumbled up, and labelled P, Q, R and S. Select the option that gives the correct sequence in which these sentences should be rearranged to form a meaningful paragraph.

P: that the ability to be alone is an essentially healthy sign of emotional development and maturity. Once a child has obtained closeness and attachment by his early caregivers, he or she is able to develop emotional development and maturity.

Q: if children have not introjected the good and protective qualities of their parents,

R: they will fear separation and break-ups.

S: Kamer K Rueckert argues with the works of Donald Winnicott

- Ans
- 1. PSRQ
 - 2. SPQR
 - 3. SQRP
 - 4. PQRS

Question ID : 54592714483

Comprehension:

Read the passage below and answer the questions that follow.

Air India is the flag carrier airline of India, headquartered at New Delhi. It is owned by Air India Limited, a government-owned enterprise, and operates a fleet of Airbus and Boeing aircraft serving 94 domestic and international destinations. The airline has its hub at Indira Gandhi International Airport, New Delhi, alongside several focus cities across India. Air India is the

largest international carrier out of India with an 18.6 प्रतिशत market share. Over 60 international destinations are served by Air India across four continents. The airline became the 27th member of Star Alliance on 11th July 2014.

The airline was founded by J. R. D. Tata as Tata Airlines in 1932; Tata himself flew its first single-engine de Havilland Puss Moth, carrying air mail from Karachi to Bombay's Juhu aerodrome and later continuing to Madras (currently Chennai). After World War II, it became a public limited company and was renamed as Air India. On 21 February 1960, it took delivery of its first Boeing 707 named Gauri Shankar and became the first Asian airline to induct a jet aircraft in its fleet.

Air India's mascot is the Maharajah (high King). It was created by Bobby Kooka, the then-commercial director of Air India, and Umesh Rao, an artist with J. Walter Thompson Limited in 1946. Kooka stated that, "We call him a Maharajah for want of a better description. But his blood isn't blue. He may look like royalty, but he isn't royal". Air India adopted the Maharajah as its mascot in 1946. It was used in promoting it although initially designed only for the airline's memo-pads.

SubQuestion No : 16

Q.16 According to the passage, J.R.D.Tata carried air mail from _____.

- Ans
- 1. Mumbai to Kerala
 - 2. Karachi to Chennai
 - 3. Chennai to China
 - 4. Mumbai to Karachi

Question ID : 54592714503

Comprehension:

Read the passage below and answer the questions that follow.

Air India is the flag carrier airline of India, headquartered at New Delhi. It is owned by Air India Limited, a government-owned enterprise, and operates a fleet of Airbus and Boeing aircraft serving 94 domestic and international destinations. The airline has its hub at Indira Gandhi International Airport, New Delhi, alongside several focus cities across India. Air India is the largest international carrier out of India with an 18.6 प्रतिशत market share. Over 60 international destinations are served by Air India across four continents. The airline became the 27th member of Star Alliance on 11th July 2014.

The airline was founded by J. R. D. Tata as Tata Airlines in 1932; Tata himself flew its first single-engine de Havilland Puss Moth, carrying air mail from Karachi to Bombay's Juhu aerodrome and later continuing to Madras (currently Chennai). After World War II, it became a public limited company and was renamed as Air India. On 21 February 1960, it took delivery of its first Boeing 707 named Gauri Shankar and became the first Asian airline to induct a jet aircraft in its fleet.

Air India's mascot is the Maharajah (high King). It was created by Bobby Kooka, the then-commercial director of Air India, and Umesh Rao, an artist with J. Walter Thompson Limited in 1946. Kooka stated that, "We call him a Maharajah for want of a better description. But his blood isn't blue. He may look like royalty, but he isn't royal". Air India adopted the Maharajah as its mascot in 1946. It was used in promoting it although initially designed only for the airline's memo-pads.

SubQuestion No : 17

Q.17 According to the passage, who among these is the mascot for Air India?

- Ans
- 1. Rai Bhadur
 - 2. Kuwarsa
 - 3. Maharajah
 - 4. Thakur

Question ID : 54592714502

Comprehension:

Read the passage below and answer the questions that follow.

Air India is the flag carrier airline of India, headquartered at New Delhi. It is owned by Air India Limited, a government-owned enterprise, and operates a fleet of Airbus and Boeing aircraft serving 94 domestic and international destinations. The airline has its hub at Indira Gandhi International Airport, New Delhi, alongside several focus cities across India. Air India is the

largest international carrier out of India with an 18.6 प्रतिशत market share. Over 60 international destinations are served by Air India across four continents. The airline became the 27th member of Star Alliance on 11th July 2014.

The airline was founded by J. R. D. Tata as Tata Airlines in 1932; Tata himself flew its first single-engine de Havilland Puss Moth, carrying air mail from Karachi to Bombay's Juhu aerodrome and later continuing to Madras (currently Chennai). After World War II, it became a public limited company and was renamed as Air India. On 21 February 1960, it took delivery of its first Boeing 707 named Gauri Shankar and became the first Asian airline to induct a jet aircraft in its fleet.

Air India's mascot is the Maharajah (high King). It was created by Bobby Kooka, the then-commercial director of Air India, and Umesh Rao, an artist with J. Walter Thompson Limited in 1946. Kooka stated that, "We call him a Maharajah for want of a better description. But his blood isn't blue. He may look like royalty, but he isn't royal". Air India adopted the Maharajah as its mascot in 1946. It was used in promoting it although initially designed only for the airline's memo-pads.

SubQuestion No : 18

Q.18 According to the passage, which among these was the first Boeing 707 for Air India?

- Ans
- 1. Shiv Shankar
 - 2. Gauri Shankar
 - 3. Gauri Parvat
 - 4. Gauri Sinha

Question ID : 54592714500

Comprehension:

Read the passage below and answer the questions that follow.

Air India is the flag carrier airline of India, headquartered at New Delhi. It is owned by Air India Limited, a government-owned enterprise, and operates a fleet of Airbus and Boeing aircraft serving 94 domestic and international destinations. The airline has its hub at Indira Gandhi International Airport, New Delhi, alongside several focus cities across India. Air India is the largest international carrier out of India with an 18.6 प्रतिशत market share. Over 60 international destinations are served by Air India across four continents. The airline became the 27th member of Star Alliance on 11th July 2014.

The airline was founded by J. R. D. Tata as Tata Airlines in 1932; Tata himself flew its first single-engine de Havilland Puss Moth, carrying air mail from Karachi to Bombay's Juhu aerodrome and later continuing to Madras (currently Chennai). After World War II, it became a public limited company and was renamed as Air India. On 21 February 1960, it took delivery of its first Boeing 707 named Gauri Shankar and became the first Asian airline to induct a jet aircraft in its fleet.

Air India's mascot is the Maharajah (high King). It was created by Bobby Kooka, the then-commercial director of Air India, and Umesh Rao, an artist with J. Walter Thompson Limited in 1946. Kooka stated that, "We call him a Maharajah for want of a better description. But his blood isn't blue. He may look like royalty, but he isn't royal". Air India adopted the Maharajah as its mascot in 1946. It was used in promoting it although initially designed only for the airline's memo-pads.

SubQuestion No : 19

Q.19 According to the passage, Air India was founded by whom?

- Ans
- 1. J.R.D Tata
 - 2. Ratan Tata
 - 3. Dadabhai Tata
 - 4. Sohrabji Tata

Question ID : 54592714501

Comprehension:

Read the passage below and answer the questions that follow.

Air India is the flag carrier airline of India, headquartered at New Delhi. It is owned by Air India Limited, a government-owned enterprise, and operates a fleet of Airbus and Boeing aircraft serving 94 domestic and international destinations. The airline has its hub at Indira Gandhi International Airport, New Delhi, alongside several focus cities across India. Air India is the

largest international carrier out of India with an 18.6 प्रतिशत market share. Over 60 international destinations are served by Air India across four continents. The airline became the 27th member of Star Alliance on 11th July 2014.

The airline was founded by J. R. D. Tata as Tata Airlines in 1932; Tata himself flew its first single-engine de Havilland Puss Moth, carrying air mail from Karachi to Bombay's Juhu aerodrome and later continuing to Madras (currently Chennai). After World War II, it became a public limited company and was renamed as Air India. On 21 February 1960, it took delivery of its first Boeing 707 named Gauri Shankar and became the first Asian airline to induct a jet aircraft in its fleet.

Air India's mascot is the Maharajah (high King). It was created by Bobby Kooka, the then-commercial director of Air India, and Umesh Rao, an artist with J. Walter Thompson Limited in 1946. Kooka stated that, "We call him a Maharajah for want of a better description. But his blood isn't blue. He may look like royalty, but he isn't royal". Air India adopted the Maharajah as its mascot in 1946. It was used in promoting it although initially designed only for the airline's memo-pads.

SubQuestion No : 20

Q.20 According to the passage, which among these is the flag carrier airline of India?

- Ans
- 1. Air India
 - 2. Jet Airways
 - 3. Maharaja Airlines
 - 4. Indian Airlines

Question ID : 54592714499

Section : General Hindi1

Q.1 निम्नलिखित प्रश्न में, चार विकल्पों में से, उस विकल्प का चयन करें जो देशज शब्द का सही विकल्प हो।

- Ans
- 1. नीलाम
 - 2. जनाब
 - 3. पों-पों
 - 4. गोश्त

Question ID : 54592714504

Q.2 निम्नलिखित प्रश्न में, चार विकल्पों में से, उस विकल्प का चयन करें जो दिए गए शब्द के विलोम शब्द का सही विकल्प है।

विपुल

- Ans
- 1. अनुकूल
 - 2. न्यून
 - 3. बढ़ोत्तरी
 - 4. अथाह

Question ID : 54592714512

Q.3 निम्नलिखित प्रश्न में, चार विकल्पों में से, उस विकल्प का चयन करें जो दिए गए शब्द के पर्यायवाची शब्द का सही विकल्प नहीं है।

हाथी

- Ans
- 1. मतंग
 - 2. द्विप
 - 3. द्विरद

✓ 4. पाणि

Question ID : 54592714510

Q.4 निम्नलिखित प्रश्न में, चार विकल्पों में से, उस सही विकल्प का चयन करें जो रिक्त स्थान के लिए उपयुक्त शब्द का सही विकल्प है।

हमारी देह भीग _____ है।

- Ans
- ✗ 1. गया
 - ✗ 2. गए
 - ✓ 3. गई
 - ✗ 4. ग्या

Question ID : 54592714517

Q.5 निम्नलिखित प्रश्न में, चार विकल्पों में से, उस विकल्प का चयन करें जो शुद्ध शब्द का सही विकल्प है।

- Ans
- ✗ 1. यथासमराथ्य
 - ✗ 2. यथासामर्थ्य
 - ✓ 3. यथासामर्थ्य
 - ✗ 4. यथासमार्थाया

Question ID : 54592714518

Q.6 निम्नलिखित प्रश्न में, चार विकल्पों में से, उस सही विकल्प का चयन करें जो रिक्त स्थान के लिए उचित विकल्प हो।

मेरे मित्र के पास _____ का खिलौना है।

- Ans
- ✗ 1. कष्ट
 - ✗ 2. काट
 - ✓ 3. काठ
 - ✗ 4. कात

Question ID : 54592714515

Q.7 निम्नलिखित प्रश्न में, चार विकल्पों में से, उस विकल्प का चयन करें जो दिए गए शब्द के समानार्थी शब्द का विकल्प नहीं है।

मुनि

- Ans
- ✗ 1. तापस
 - ✓ 2. पयोद
 - ✗ 3. अवधूत
 - ✗ 4. भिक्षु

Question ID : 54592714516

Q.8 निम्नलिखित प्रश्न में, चार विकल्पों में से, उस विकल्प का चयन करें जो दिए गए वाक्य के लिए अव्यय के भेद का सही विकल्प हो।

दादी कहानी सुना रही हैं तथा बच्चे कहानी सुन रहे हैं।

- Ans
- ✓ 1. समानाधिकरण समुच्चयबोधक अव्यय

- 2. व्यधिकरण समुच्चयबोधक अव्यय
- 3. कालवाचक क्रियाविशेषण अव्यय
- 4. परिमाणवाचक क्रियाविशेषण अव्यय

Question ID : 54592714508

Q.9 निम्नलिखित प्रश्न में, चार विकल्पों में से, उस विकल्प का चयन करें जो क्रिया के भेद वाला सही विकल्प हो।

दीपा ने भागकर बस पकड़ी।

- Ans
- 1. नामधातु
 - 2. संयुक्त क्रिया
 - 3. पूर्वकालिक क्रिया
 - 4. प्रेरणार्थक क्रिया

Question ID : 54592714507

Q.10 निम्नलिखित प्रश्न में, चार विकल्पों में से, उस विकल्प का चयन करें जो दिए गए वाक्यांश के लिए एक शब्द का सही विकल्प है।

छिपकर टोह लेने वाला

- Ans
- 1. गुप्तचर
 - 2. एकतंत्र
 - 3. गोपनीय
 - 4. एकांगी

Question ID : 54592714514

Q.11 निम्नलिखित प्रश्न में, चार विकल्पों में से, उस सही विकल्प का चयन करें जो दिए गए शब्द-युग्म के अर्थ का सही विकल्प हो।

ज़ाया-जाया

- Ans
- 1. बहस और पत्नी
 - 2. व्यर्थ और बहस
 - 3. पत्नी और कवच
 - 4. व्यर्थ और पत्नी

Question ID : 54592714513

Q.12 निम्नलिखित प्रश्न में, चार विकल्पों में से, उस विकल्प का चयन करें जो दिए गए शब्द के विलोम शब्द का सही विकल्प है।

स्वकीया

- Ans
- 1. विलास
 - 2. परकीया
 - 3. परमार्थ
 - 4. सुलभ

Question ID : 54592714511

Q.13 निम्नलिखित प्रश्न में, चार विकल्पों में से, उस विकल्प का चयन करें जो दिए गए शब्द के लिए सही संप्रदान

तत्पुरुष समास के विग्रह का विकल्प हो।

सत्याग्रह

- Ans 1. सत्य के लिए आग्रह
 2. सत्य से आग्रह
 3. सत्य द्वारा आग्रह
 4. सत्य को आग्रह

Question ID : 54592714506

Q.14 निम्नलिखित प्रश्न में, चार विकल्पों में से, उस विकल्प का चयन करें जो कोष्ठक में दिए गए शब्द के अनुसार अन्य पुरुष वाचक सर्वनाम का सही विकल्प हो।

- Ans 1. (तुम्हें) कुछ भी बोलने से पहले सोच लेना चाहिए।
 2. (हम) क्या करें कुछ समझ में नहीं आ रहा।
 3. (वे लोग) आज किसी भी समय आ सकते हैं।
 4. (तुम) मेरा भला चाहते हो कि दूसरों का?

Question ID : 54592714523

Q.15 निम्नलिखित प्रश्न में, चार विकल्पों में से, उस विकल्प का चयन करें जो दिए गए शब्द के पर्यायवाची शब्द का सही विकल्प नहीं है।

स्त्री

- Ans 1. कामिनी
 2. रमणी
 3. वनिता
 4. वाणी

Question ID : 54592714509

Q.16 निम्नलिखित प्रश्न में, चार विकल्पों में से, उस विकल्प का चयन करें जो सदा एकवचन शब्द का सबसे अच्छा विकल्प है।

- Ans 1. प्रजाजन
 2. भैंसें
 3. कीड़ें
 4. जनता

Question ID : 54592714521

Q.17 निम्नलिखित प्रश्न में, चार विकल्पों में से, उस विकल्प का चयन करें जो दिए गए शब्द का स्त्रीलिंग शब्द वाला विकल्प है।

विधाता

- Ans 1. विधाती
 2. विधात्री
 3. विधातराइन
 4. विधात्रिन

Question ID : 54592714520

Q.18 निम्नलिखित प्रश्न में, चार विकल्पों में से, उस विकल्प का चयन करें जो विदेशी शब्द का सही विकल्प नहीं हो।

- Ans
- 1. मीटिंग
 - 2. सर-सर
 - 3. अजीब
 - 4. बेगम

Question ID : 54592714505

Q.19 निम्नलिखित प्रश्न में, चार विकल्पों में से, उस विकल्प का चयन करें जो सदा पुल्लिंग वाला शब्द है।

- Ans
- 1. छलनी
 - 2. कुटुंब
 - 3. मजदूरी
 - 4. कड़ाई

Question ID : 54592714519

Q.20 निम्नलिखित प्रश्न में, चार विकल्पों में से, उस विकल्प का चयन करें जो दिए गए शब्द के बहुवचन शब्द का सबसे अच्छा विकल्प है।

वधू

- Ans
- 1. वधुएँ
 - 2. वधुएँ
 - 3. वधुओ
 - 4. वधुओं

Question ID : 54592714522

Section : General Hindi2

Q.1 निम्न विकल्पों में से निर्देशानुसार वाक्य परिवर्तन का विकल्प चुनिए।

बच्चा खाना नहीं खाता (भाववाच्य)

- Ans
- 1. खाना बच्चे से नहीं खाया जाता
 - 2. बच्चा नहीं खाता खाना
 - 3. बच्चे से खाना नहीं खाया जाता
 - 4. खाना नहीं खाता बच्चा

Question ID : 54592714527

Q.2 निम्नलिखित प्रश्न में, चार विकल्पों में से, उस विकल्प का चयन करें जो दिए गए वाक्य के लिए वृत्ति के भेद का सबसे अच्छा विकल्प है।

संभव है आज विद्यालय की छुट्टी हो।

- Ans
- 1. संदेहार्थ
 - 2. संभावनार्थ
 - 3. निश्चयार्थ
 - 4. विध्यर्थ

Question ID : 54592714525

Q.3 निम्नलिखित प्रश्न में, चार विकल्पों में से, उस विकल्प का चयन करें जो दिए गए मुहावरे के लिए सही अर्थ वाला विकल्प है।

आँखों पर चढ़ना

- Ans
- 1. क्रोधित होना
 - 2. अप्रिय लगना
 - 3. प्रेम तथा भरोसा होना
 - 4. पसंद न आना

Question ID : 54592714535

Q.4 निम्नलिखित प्रश्न में, चार विकल्पों में से, उस विकल्प का चयन करें जो सही वाक्य भेद का विकल्प हो।

सभी जानते हैं कि रीया बहुत अच्छी लड़की है।

- Ans
- 1. संयुक्त वाक्य
 - 2. संदेहवाचक वाक्य
 - 3. संकेतवाचक वाक्य
 - 4. मिश्र वाक्य

Question ID : 54592714529

Q.5 निम्नलिखित प्रश्न में, चार विकल्पों में से, उस विकल्प का चयन करें जो विराम चिह्न युक्त वाक्य का सही विकल्प हो।

- Ans
- 1. जब हम, घर से निकले, वर्षा हो, रही थी।
 - 2. जब हम घर से निकले, वर्षा हो रही थी।
 - 3. जब हम घर से निकले! वर्षा हो रही थी।
 - 4. जब हम घर से निकले, वर्षा हो रही थी?

Question ID : 54592714531

Q.6 निम्नलिखित प्रश्न में, चार विकल्पों में से, उस विकल्प का चयन करें जो सही वाक्य भेद का विकल्प हो।

हमारे शिक्षक बहुत अच्छे हैं।

- Ans
- 1. सरल वाक्य
 - 2. मिश्र वाक्य
 - 3. निषेधवाचक वाक्य
 - 4. संयुक्त वाक्य

Question ID : 54592714528

Q.7 निम्नलिखित प्रश्न में, चार विकल्पों में से, उस विकल्प का चयन करें जो दिए गए वाक्य के लिए पक्ष के भेद का सबसे अच्छा विकल्प है।

पृथ्वी अपने अक्ष पर घूमती है।

- Ans
- 1. सातप्यबोधक
 - 2. आरंभद्योतक
 - 3. नित्यताद्योतक

4. प्रगतिद्योतक

Question ID : 54592714526

Q.8 निम्नलिखित प्रश्न में, चार विकल्पों में से, उस सही विकल्प का चयन करें जो दी गई लोकोक्ति के लिए सही अर्थ वाला विकल्प है।

जिन ढूँढा तिन पाइया, गहरे पानी पैठ

- Ans
- 1. बहुत दिनों बाद किसी से मिलना
 - 2. पूरी शक्ति से किसी को ढूँढना
 - 3. परिश्रम का फल अवश्य मिलता है
 - 4. बैठ कर काम करना

Question ID : 54592714538

Q.9 निम्नलिखित प्रश्न में, चार विकल्पों में से, उस विकल्प का चयन करें जो दी गई लोकोक्ति के लिए सही अर्थ वाला विकल्प है।

घर फूंक तमाशा देखना

- Ans
- 1. किसी का घर संवारना
 - 2. काना-फूसी करना
 - 3. अपना ही नुकसान कर खुश होना
 - 4. मज़ा करना

Question ID : 54592714537

Q.10 निम्नलिखित प्रश्न में, चार विकल्पों में से, उस विकल्प का चयन करें जो दिए गए वाक्य के काल के भेद का सही विकल्प हो।

मछली जल में तैरती है।

- Ans
- 1. सामान्य वर्तमानकाल
 - 2. अपूर्ण भूतकाल
 - 3. आसन्न भूतकाल
 - 4. हेतुहेतु मद भूतकाल

Question ID : 54592714524

Q.11 निम्नलिखित प्रश्न में, चार विकल्पों में से, उस विकल्प का चयन करें जो दिए गए मुहावरे के लिए सही अर्थ वाला विकल्प है।

अपना राग अलापना

- Ans
- 1. गाना गाना
 - 2. दूसरों की न सुनकर अपनी ही बात कहना
 - 3. गायन का अभ्यास करना
 - 4. अपना काम निकलवाना

Question ID : 54592714533

Q.12 निम्नलिखित प्रश्न में, चार विकल्पों में से, उस विकल्प का चयन करें जो दिए गए मुहावरे के लिए सही अर्थ वाला विकल्प है।

आँखें बंद कर लेना

- Ans
- 1. अनसुना करना
 - 2. शांत रहना
 - 3. सो जाना
 - 4. ध्यान न देना

Question ID : 54592714534

Q.13 निम्नलिखित प्रश्न में, चार विकल्पों में से, उस विकल्प का चयन करें जो विराम चिह्न युक्त वाक्य का सही विकल्प हो।

- Ans
- 1. हम पेड़ पर पत्थर मारते है! वह हमें, फल देता है।
 - 2. हम पेड़ पर पत्थर मारते है; वह हमें फल देता है।
 - 3. हम पेड़ पर; पत्थर मारते है; वह हमें, फल देता है।
 - 4. हम पेड़ पर पत्थर मारते है वह हमें फल देता है

Question ID : 54592714532

Q.14 निम्नलिखित प्रश्न में, चार विकल्पों में से, उस विकल्प का चयन करें जो सही वाक्य भेद का विकल्प हो।

दीपा ने खाना बनाया और मीना ने बरतन धोया।

- Ans
- 1. संयुक्त वाक्य
 - 2. मिश्र वाक्य
 - 3. सरल वाक्य
 - 4. विधानवाचक वाक्य

Question ID : 54592714530

Q.15 निम्नलिखित प्रश्न में, चार विकल्पों में से, उस विकल्प का चयन करें जो दी गई लोकोक्ति के लिए सही अर्थ वाला विकल्प है।

कहने से कुम्भार गधे पर नहीं चढ़ता

- Ans
- 1. भरोसा न करना
 - 2. दूसरों की न सुनकर अपनी इच्छा से काम करना
 - 3. जिद्दी व्यक्ति
 - 4. किसी की भी एक न सुनना

Question ID : 54592714536

Comprehension:

नीचे दिए गए गद्यांश को ध्यानपूर्वक पढ़ें और दिए गए प्रश्न के सर्वोत्तम उत्तर चुनें।

शीलयुक्त व्यवहार मनुष्य की प्रकृति और व्यक्तित्व को उद्घाटित करता है। उत्तम, प्रशंसनीय और पवित्र आचरण ही शील है। शीलयुक्त व्यवहार प्रत्येक व्यक्ति के लिए हितकर है। इससे मनुष्य की ख्याति बढ़ती है। शीलवान व्यक्ति सबका हृदय जीत लेता है। शीलयुक्त व्यवहार से कटुता दूर भागती है। इससे आशंका और संदेह की स्थितियाँ कभी उत्पन्न नहीं होतीं। इससे ऐसे सुखद वातावरण का सृजन होता है, जिसमें सभी प्रसन्नता का अनुभव करते हैं। शीलवान व्यक्ति अपने संपर्क में आने वाले सभी लोगों को सुप्रभावित करता है। शिक्षार्थी यदि शील का अभाव है तो वह अपने शिक्षक से वांछित शिक्षा प्राप्त नहीं कर सकता। शीलवान अधिकारी या कर्मचारी में आत्मविश्वास की वृद्धि स्वतः ही होने लगती है और साथ ही उनके व्यक्तित्व में शालीनता आ जाती है। इस अमूल्य गुण की उपस्थिति में अधिकारी वर्ग और अधीनस्थ कर्मचारियों के बीच, शिक्षकगण और विद्यार्थियों के बीच तथा शासक और शासित के बीच मधुर एवं प्रगाढ़ संबंध स्थापित होते हैं और प्रत्येक वर्ग की कार्यकुशलता में वृद्धि होती है। इस गुण के माध्यम से छोटे-से-छोटा व्यक्ति बड़ों की सहानुभूति अर्जित कर लेता है।

SubQuestion No : 16

Q.16 शिक्षार्थी में यदि शील का अभाव है तो क्या होता है?

- Ans
- 1. कार्यकुशलता में वृद्धि
 - 2. वांछित शिक्षा प्राप्त करता है
 - 3. प्रभुत्वपूर्ण वातावरण
 - 4. शिक्षा से वंचित

Question ID : 54592714542

Comprehension:

नीचे दिए गए गद्यांश को ध्यानपूर्वक पढ़ें और दिए गए प्रश्न के सर्वोत्तम उत्तर चुनें।

शीलयुक्त व्यवहार मनुष्य की प्रकृति और व्यक्तित्व को उद्घाटित करता है। उत्तम, प्रशंसनीय और पवित्र आचरण ही शील है। शीलयुक्त व्यवहार प्रत्येक व्यक्ति के लिए हितकर है। इससे मनुष्य की ख्याति बढ़ती है। शीलवान व्यक्ति सबका हृदय जीत लेता है। शीलयुक्त व्यवहार से कटुता दूर भागती है। इससे आशंका और संदेह की स्थितियाँ कभी उत्पन्न नहीं होतीं। इससे ऐसे सुखद वातावरण का सृजन होता है, जिसमें सभी प्रसन्नता का अनुभव करते हैं। शीलवान व्यक्ति अपने संपर्क में आने वाले सभी लोगों को सुप्रभावित करता है। शिक्षार्थी में यदि शील का अभाव है तो वह अपने शिक्षक से वांछित शिक्षा प्राप्त नहीं कर सकता। शीलवान अधिकारी या कर्मचारी में आत्मविश्वास की वृद्धि स्वतः ही होने लगती है और साथ ही उनके व्यक्तित्व में शालीनता आ जाती है। इस अमूल्य गुण की उपस्थिति में अधिकारी वर्ग और अधीनस्थ कर्मचारियों के बीच, शिक्षकगण और विद्यार्थियों के बीच तथा शासक और शासित के बीच मधुर एवं प्रगाढ़ संबंध स्थापित होते हैं और प्रत्येक वर्ग की कार्यकुशलता में वृद्धि होती है। इस गुण के माध्यम से छोटे-से-छोटा व्यक्ति बड़ों की सहानुभूति अर्जित कर लेता है।

SubQuestion No : 17

Q.17 शीलयुक्त व्यवहार से किसकी स्थिति उतपन्न नहीं होती है?

- Ans
- 1. प्रशंसनीय
 - 2. आशंका और संदेह
 - 3. प्रसन्नता का अनुभव
 - 4. सुखद वातावरण

Question ID : 54592714541

Comprehension:

नीचे दिए गए गद्यांश को ध्यानपूर्वक पढ़ें और दिए गए प्रश्न के सर्वोत्तम उत्तर चुनें।

शीलयुक्त व्यवहार मनुष्य की प्रकृति और व्यक्तित्व को उद्घाटित करता है। उत्तम, प्रशंसनीय और पवित्र आचरण ही शील है। शीलयुक्त व्यवहार प्रत्येक व्यक्ति के लिए हितकर है। इससे मनुष्य की ख्याति बढ़ती है। शीलवान व्यक्ति सबका हृदय जीत लेता है। शीलयुक्त व्यवहार से कटुता दूर भागती है। इससे आशंका और संदेह की स्थितियाँ कभी उत्पन्न नहीं होतीं। इससे ऐसे सुखद वातावरण का सृजन होता है, जिसमें सभी प्रसन्नता का अनुभव करते हैं। शीलवान व्यक्ति अपने संपर्क में आने वाले सभी लोगों को सुप्रभावित करता है। शिक्षार्थी में यदि शील का अभाव है तो वह अपने शिक्षक से वांछित शिक्षा प्राप्त नहीं कर सकता। शीलवान अधिकारी या कर्मचारी में आत्मविश्वास की वृद्धि स्वतः ही होने लगती है और साथ ही उनके व्यक्तित्व में शालीनता आ जाती है। इस अमूल्य गुण की उपस्थिति में अधिकारी वर्ग और अधीनस्थ कर्मचारियों के बीच, शिक्षकगण और विद्यार्थियों के बीच तथा शासक और शासित के बीच मधुर एवं प्रगाढ़ संबंध स्थापित होते हैं और प्रत्येक वर्ग की कार्यकुशलता में वृद्धि होती है। इस गुण के माध्यम से छोटे-से-छोटा व्यक्ति बड़ों की सहानुभूति अर्जित कर लेता है।

SubQuestion No : 18

Q.18 इस अनुच्छेद का कोई उपयुक्त शीर्षक-

- Ans
- 1. प्रभुत्वपूर्ण वातावरण
 - 2. मनुष्य और प्रकृति
 - 3. शिक्षक और शिक्षार्थी
 - 4. शालीनता सबसे अच्छा आचरण

Question ID : 54592714544

Comprehension:

नीचे दिए गए गद्यांश को ध्यानपूर्वक पढ़ें और दिए गए प्रश्न के सर्वोत्तम उत्तर चुनें।

शीलयुक्त व्यवहार मनुष्य की प्रकृति और व्यक्तित्व को उद्घाटित करता है। उत्तम, प्रशंसनीय और पवित्र आचरण ही शील है।

शीलयुक्त व्यवहार प्रत्येक व्यक्ति के लिए हितकर है। इससे मनुष्य की ख्याति बढ़ती है। शीलवान व्यक्ति सबका हृदय जीत लेता है। शीलयुक्त व्यवहार से कटुता दूर भागती है। इससे आशंका और संदेह की स्थितियाँ कभी उत्पन्न नहीं होतीं। इससे ऐसे सुखद वातावरण का सृजन होता है, जिसमें सभी प्रसन्नता का अनुभव करते हैं। शीलवान व्यक्ति अपने संपर्क में आने वाले सभी लोगों को सुप्रभावित करता है। शिक्षार्थी में यदि शील का अभाव है तो वह अपने शिक्षक से वांछित शिक्षा प्राप्त नहीं कर सकता। शीलवान अधिकारी या कर्मचारी में आत्मविश्वास की वृद्धि स्वतः ही होने लगती है और साथ ही उनके व्यक्तित्व में शालीनता आ जाती है। इस अमूल्य गुण की उपस्थिति में अधिकारी वर्ग और अधीनस्थ कर्मचारियों के बीच, शिक्षकगण और विद्यार्थियों के बीच तथा शासक और शासित के बीच मधुर एवं प्रगाढ़ संबंध स्थापित होते हैं और प्रत्येक वर्ग की कार्यकुशलता में वृद्धि होती है। इस गुण के माध्यम से छोटे-से-छोटा व्यक्ति बड़ों की सहानुभूति अर्जित कर लेता है।

SubQuestion No : 19

Q.19 मनुष्य की प्रकृति और व्यक्तित्व कैसे उद्घाटित होता है?

- Ans
- 1. अनाचरण से
 - 2. भावनाओं
 - 3. ख्याति से
 - 4. शीलयुक्त व्यवहार से

Question ID : 54592714540

Comprehension:

नीचे दिए गए गद्यांश को ध्यानपूर्वक पढ़ें और दिए गए प्रश्न के सर्वोत्तम उत्तर चुनें।

शीलयुक्त व्यवहार मनुष्य की प्रकृति और व्यक्तित्व को उद्घाटित करता है। उत्तम, प्रशंसनीय और पवित्र आचरण ही शील है। शीलयुक्त व्यवहार प्रत्येक व्यक्ति के लिए हितकर है। इससे मनुष्य की ख्याति बढ़ती है। शीलवान व्यक्ति सबका हृदय जीत लेता है। शीलयुक्त व्यवहार से कटुता दूर भागती है। इससे आशंका और संदेह की स्थितियाँ कभी उत्पन्न नहीं होतीं। इससे ऐसे सुखद वातावरण का सृजन होता है, जिसमें सभी प्रसन्नता का अनुभव करते हैं। शीलवान व्यक्ति अपने संपर्क में आने वाले सभी लोगों को सुप्रभावित करता है। शिक्षार्थी में यदि शील का अभाव है तो वह अपने शिक्षक से वांछित शिक्षा प्राप्त नहीं कर सकता। शीलवान अधिकारी या कर्मचारी में आत्मविश्वास की वृद्धि स्वतः ही होने लगती है और साथ ही उनके व्यक्तित्व में शालीनता आ जाती है। इस अमूल्य गुण की उपस्थिति में अधिकारी वर्ग और अधीनस्थ कर्मचारियों के बीच, शिक्षकगण और विद्यार्थियों के बीच तथा शासक और शासित के बीच मधुर एवं प्रगाढ़ संबंध स्थापित होते हैं और प्रत्येक वर्ग की कार्यकुशलता में वृद्धि होती है। इस गुण के माध्यम से छोटे-से-छोटा व्यक्ति बड़ों की सहानुभूति अर्जित कर लेता है।

SubQuestion No : 20

Q.20 इनमें से कौन - सा शालीनता का पर्यायवाची नहीं है?

- Ans
- 1. शासित
 - 2. नम्रता
 - 3. सुशीलता
 - 4. शिष्टता

Question ID : 54592714543