

Multi Tasking (Non-Technical) Staff Examination 2019

Roll No.	
Registration No.	
Name	
Test Venue	
Test Time	12:30 PM - 2:00 PM
Test Date	02/08/2019

Section : General English

Q.1 Choose the word that can substitute the given sentence.
A building where an audience sits

- Ans
- 1. Aisle
 - 2. Hanger
 - 3. Gymnasium
 - 4. Auditorium

Question ID : 23908747
Status : Answered
Chosen Option : 4

Q.2 Select the most appropriate option to fill in the blank.
He _____ his portrait in the main hall.

- Ans
- 1. had hanged
 - 2. hung
 - 3. hang
 - 4. hanged

Question ID : 23908734
Status : Answered
Chosen Option : 2

Q.3 Choose the correctly spelt word.

- Ans
- 1. Anthusiasm
 - 2. Enthusiesm
 - 3. Enthusiasm
 - 4. Entheusiasm

Question ID : 23908749
Status : Answered
Chosen Option : 3

Q.4 Choose the word that can substitute the given sentence.
A book of names and addresses

- Ans
- 1. Diary
 - 2. Directory
 - 3. Dictionary
 - 4. Journal

Question ID : 23908748
Status : Answered
Chosen Option : 3

Q.5 Select the most appropriate synonym of the given word.
Misfortune

- Ans
- 1. Benefit
 - 2. Calamity
 - 3. Support
 - 4. Miracle

Question ID : 23908741
Status : Answered
Chosen Option : 2

Q.6 Select the most appropriate synonym of the given word.
Capable

- Ans
- 1. Competent
 - 2. Conceited
 - 3. Complacent
 - 4. Consistent

Question ID : 23908742
Status : Answered
Chosen Option : 1

Q.7 Select the most appropriate option to substitute the underlined segment in the given sentence. If there is no need to substitute it, select No Improvement.
Mohan is pleased at the news yesterday.

- Ans
- 1. No Improvement
 - 2. was pleased
 - 3. had being pleased
 - 4. has been pleased

Question ID : 23908732
Status : Answered
Chosen Option : 2

Q.8 Select the most appropriate antonym of the given word.
Comic

- Ans
- 1. Tickle
 - 2. Happy
 - 3. Tragic
 - 4. Jubilant

Question ID : 23908744
Status : Answered
Chosen Option : 3

Q.9 Select the most appropriate option to substitute the underlined segment in the given

sentence. If there is no need to substitute it, select No Improvement.
The doctor has reassure me that the operation was a routine one.

- Ans
- 1. No Improvement
 - 2. had reassured me
 - 3. is reassured me
 - 4. reassure me

Question ID : 23908731
Status : Answered
Chosen Option : 2

Q.10 In the following question, out of the given four alternatives, select the alternative which best expresses the meaning of the Idiom/Phrase.
Over my dead body

- Ans
- 1. Opposing something fiercely
 - 2. Inheriting to fortune
 - 3. Erecting a grave stone
 - 4. Threatening to kill oneself

Question ID : 23908745
Status : Answered
Chosen Option : 1

Q.11 A sentence has been given with a blank to be filled with an appropriate word. Choose the correct alternative.
The bullet struck a wall and was _____ from its course.

- Ans
- 1. reflected
 - 2. twisted
 - 3. deflected
 - 4. crashed

Question ID : 23908751
Status : Answered
Chosen Option : 2

Q.12 Find the part of the given sentence that has an error in it. If there is no error, choose 'No error'.
My aunt/sold her boutique/to a billionaire.

- Ans
- 1. to a billionaire
 - 2. sold her boutique
 - 3. My aunt
 - 4. No error

Question ID : 23908728
Status : Answered
Chosen Option : 1

Q.13 In the following question, out of the given four alternatives, select the alternative which best expresses the meaning of the Idiom/Phrase.
To end in smoke

- Ans
- 1. To do one's duty well
 - 2. To not agree to something

- 3. To be the cause of a quarrel
- 4. To come to nothing

Question ID : 23908746
Status : Answered
Chosen Option : 3

Q.14 Find the part of the given sentence that has an error in it. If there is no error, choose 'No error'.
All the students/is done/better this year.

- Ans
- 1. All the students
 - 2. is done
 - 3. No error
 - 4. better this year

Question ID : 23908727
Status : Answered
Chosen Option : 2

Q.15 Find the part of the given sentence that has an error in it. If there is no error, choose 'No error'.
Rakesh is foolish/to said/such things.

- Ans
- 1. to said
 - 2. No error
 - 3. such things
 - 4. Rakesh is foolish

Question ID : 23908729
Status : Answered
Chosen Option : 1

Q.16 Choose the correctly spelt word.

- Ans
- 1. Finacialy
 - 2. Financially
 - 3. Finantially
 - 4. Finencially

Question ID : 23908750
Status : Answered
Chosen Option : 2

Q.17 Select the most appropriate antonym of the given word.
Inexpensive

- Ans
- 1. Dear
 - 2. Reasonable
 - 3. Popular
 - 4. Liberal

Question ID : 23908743
Status : Answered
Chosen Option : 4

Q.18 Select the most appropriate option to fill in the blank.
My teacher is the _____ of all.

Ans 1. kindest

2. kind

3. kinder

4. kindly

Question ID : 23908733

Status : Answered

Chosen Option : 1

Comprehension:

In the following passage some words have been deleted. Fill in the blanks with the help of the alternatives given. Select the most appropriate option for each blank.

Sanitation refers to public health conditions (1)_____ to clean drinking water and adequate treatment and disposal (2)_____ human waste and sewage. (3)_____ human contact with faeces is part of sanitation. Sanitation system (4)_____ to protect human health by providing a clean environment (5) _____ will stop the transmission of disease.

SubQuestion No : 19

Q.19 Select the most appropriate option for blank No. 1.

Ans 1. relate

2. relation

3. related

4. relates

Question ID : 23908736

Status : Answered

Chosen Option : 4

Comprehension:

In the following passage some words have been deleted. Fill in the blanks with the help of the alternatives given. Select the most appropriate option for each blank.

Sanitation refers to public health conditions (1)_____ to clean drinking water and adequate treatment and disposal (2)_____ human waste and sewage. (3)_____ human contact with faeces is part of sanitation. Sanitation system (4)_____ to protect human health by providing a clean environment (5) _____ will stop the transmission of disease.

SubQuestion No : 20

Q.20 Select the most appropriate option for blank No. 2.

Ans 1. of

2. for

3. with

4. in

Question ID : 23908737

Status : Answered

Chosen Option : 1

Comprehension:

In the following passage some words have been deleted. Fill in the blanks with the help of the alternatives given. Select the most appropriate option for each blank.

Sanitation refers to public health conditions (1)_____ to clean drinking water and adequate treatment and disposal (2)_____ human waste and sewage. (3)_____ human contact with faeces is part of sanitation. Sanitation system (4)_____ to protect human health by providing a clean environment (5) _____ will stop the transmission of disease.

SubQuestion No : 21

Q.21 Select the most appropriate option for blank No. 3.

- Ans 1. Preventing
 2. Hampering
 3. Prohibiting
 4. Facilitating

Question ID : 23908738

Status : Answered

Chosen Option : 1

Comprehension:

In the following passage some words have been deleted. Fill in the blanks with the help of the alternatives given. Select the most appropriate option for each blank.

Sanitation refers to public health conditions (1)_____ to clean drinking water and adequate treatment and disposal (2)_____ human waste and sewage. (3)_____ human contact with faeces is part of sanitation. Sanitation system (4)_____ to protect human health by providing a clean environment (5) _____ will stop the transmission of disease.

SubQuestion No : 22

Q.22 Select the most appropriate option for blank No. 4.

- Ans 1. ignores
 2. paves
 3. aims
 4. directs

Question ID : 23908739

Status : Answered

Chosen Option : 3

Comprehension:

In the following passage some words have been deleted. Fill in the blanks with the help of the alternatives given. Select the most appropriate option for each blank.

Sanitation refers to public health conditions (1)_____ to clean drinking water and adequate treatment and disposal (2)_____ human waste and sewage. (3)_____ human contact with faeces is part of sanitation. Sanitation system (4)_____ to protect human health by providing a clean environment (5) _____ will stop the transmission of disease.

SubQuestion No : 23

Q.23 Select the most appropriate option for blank No. 5.

- Ans 1. that
 2. who
 3. whom
 4. these

Question ID : 23908740

Status : Answered

Chosen Option : 2

Q.24 A sentence has been given with a blank to be filled with an appropriate word. Choose the correct alternative.

I am _____ of winning the competition.

- Ans 1. resistant
 2. confident

3. pertinent

4. reliant

Question ID : 23908752

Status : Answered

Chosen Option : 2

Q.25 Select the most appropriate option to substitute the underlined segment in the given sentence. If there is no need to substitute it, select No Improvement.

Who can prevent you from getting married now that you are within age?

Ans 1. in

2. of

3. No Improvement

4. on

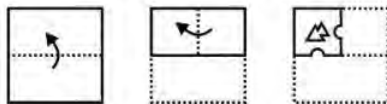
Question ID : 23908730

Status : Answered

Chosen Option : 1

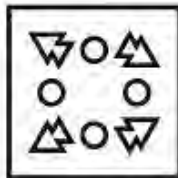
Section : General Intelligence & Reasoning

Q.1 एक कागज को नीचे दी गयी प्रश्न आकृतियों में दिखाए अनुसार मोड़कर काटा गया है। खोलने के बाद वह किस उत्तर आकृति जैसा दिखाई देगा?



Ans

1.



2.



3.



4.



Question ID : 239087304

Status : Answered

Chosen Option : 3

Q.2 एक कूट भाषा में, 'PRINT' को '96512' लिखा जाता है और 'FROM' को '8603' लिखा जाता है। उसी कूट भाषा में 'PROMPT' का कोड क्या होगा?

- Ans
- 1. 960398
 - 2. 960392
 - 3. 980392
 - 4. 960395

Question ID : 239087287

Status : Answered

Chosen Option : 2

Q.3 निम्नलिखित विकल्पों में से उस शब्द को चुनिए जो निम्नलिखित श्रृंखला में तीसरे शब्द से उसी तरह से संबंधित है जिस तरह से दूसरा शब्द पहले शब्द से संबंधित है।

गुफा : शेर :: अस्तबल : ?

- Ans
- 1. घोड़ा
 - 2. कार
 - 3. बाघ
 - 4. पक्षी

Question ID : 239087282

Status : Answered

Chosen Option : 1

Q.4 दिए गए पैटर्न का ध्यानपूर्वक अध्ययन करें और उस आकृति को चुनें जो प्रश्न चिह्न (?) के स्थान पर आएगी?



- Ans
- 1.
 - 2.
 - 3.
 - 4.

Question ID : 239087301

Status : Answered

Chosen Option : 1

Q.5 निम्नलिखित विकल्पों में से उस अक्षर युग्म को चुनिए जो निम्नलिखित श्रृंखला में तीसरे अक्षर युग्म से उसी तरह से संबंधित है, जिस तरह से दूसरा अक्षर युग्म पहले अक्षर युग्म से संबंधित है।

PB : UW :: JT : ?

- Ans
- 1. NO

✓ 2. 00

✗ 3. MO

✗ 4. PP

Question ID : 239087284

Status : Answered

Chosen Option : 2

Q.6 उस आरेख को चुनिए जो नीचे दिए गए वर्गों के बीच के संबंध को सही प्रकार से दर्शाता है।

कार, लकड़ी, चूहा

Ans



Question ID : 239087305

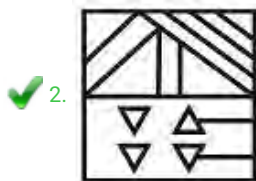
Status : Answered

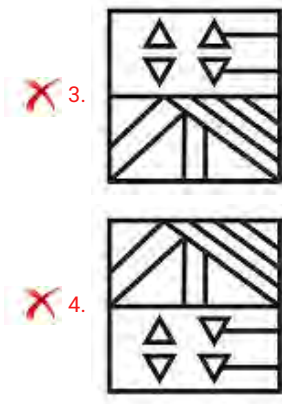
Chosen Option : 2

Q.7 जब एक दर्पण को AB रेखा पर रखा जाता है, तो नीचे दी गई आकृति की सही दर्पण छवि को चुनिए?



Ans





Question ID : 239087303
Status : Answered
Chosen Option : 2

Q.8 एक कूट भाषा में, 'TAN' को '33' लिखा जाता है और 'PAM' को '28' लिखा जाता है। उसी कूट भाषा में 'BUG' का कोड क्या होगा?

- Ans
- 1. 32
 - 2. 29
 - 3. 28
 - 4. 30

Question ID : 239087288
Status : Answered
Chosen Option : 3

Q.9 नीचे दिए विकल्पों में से उस संख्या को चुनिए जो निम्नलिखित श्रृंखला में प्रश्न चिह्न (?) के स्थान पर आएगी।
43, 31, 74, 105, 179, ?

- Ans
- 1. 279
 - 2. 284
 - 3. 294
 - 4. 263

Question ID : 239087294
Status : Answered
Chosen Option : 3

Q.10 यदि दो चिह्नों, 'x तथा ÷' को आपस में बदल दिया जाता है तो निम्नलिखित में से कौन सा समीकरण सही होगा?

- Ans
- 1. $14 + 62 \times 13 \div 31 = 38$
 - 2. $14 + 9 \div 23 \times 3 = 83$
 - 3. $11 \times 12 \div 48 + 6 = 40$
 - 4. $63 + 59 \div 4 \times 8 = 171$

Question ID : 239087299
Status : Answered
Chosen Option : 2

Q.11

दिए गए पैटर्न का ध्यानपूर्वक अध्ययन करें और उस संख्या को चुनें जो प्रश्न चिह्न (?) के स्थान पर आएगी।

4 11 19
5 6 0
9 13 3
18 30 ?

- Ans
- 1. 20
 - 2. 24
 - 3. 18
 - 4. 22

Question ID : 239087297

Status : Answered

Chosen Option : 4

Q.12 नीचे दिए विकल्पों में से उस अक्षर युग्म को चुनिए जो निम्नलिखित श्रृंखला में प्रश्न चिह्न (?) के स्थान पर आएगा।

KP, HM, EJ, BG, ?

- Ans
- 1. XC
 - 2. YD
 - 3. ZE
 - 4. YC

Question ID : 239087281

Status : Answered

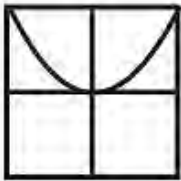
Chosen Option : 2

Q.13 दिए गए विकल्पों में से उस उत्तर आकृति को चुनिए जिसमें नीचे दी गई आकृति अन्तर्निहित है। (आकृति को घुमाने की अनुमति नहीं है)

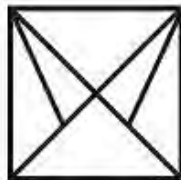


Ans

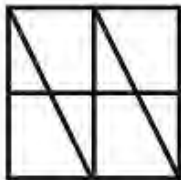
1.



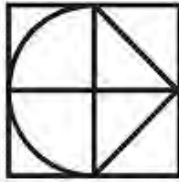
2.



3.



✓ 4.




Question ID : 239087302

Status : Answered

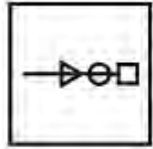
Chosen Option : 2

Q.14 दिए गए विकल्पों में से उस आकृति को चुनिए जो निम्नलिखित श्रृंखला में अगले स्थान पर आएगी।



Ans

✗ 1.



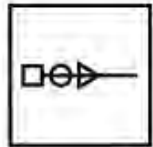
✗ 2.



✗ 3.



✓ 4.



Question ID : 239087300

Status : Answered

Chosen Option : 4

Q.15 एक कूट भाषा में, 'GREAT' को 'ALYUN' लिखा जाता है। उसी कूट भाषा में 'RAPID' का कोड क्या होगा?

Ans

✓ 1. LUJCX

✗ 2. SWLEZ

✗ 3. LVJCX

✗ 4. RVKDY

Question ID : 239087285

Status : Answered

Chosen Option : 1

Q.16 पाँच किताबें - B, G, N, P तथा T एक के ऊपर एक रखी गई हैं (जरूरी नहीं कि वे इसी क्रम में हों)। N तथा G के मध्य केवल एक किताब रखी गयी है। B, P के ठीक ऊपर है। B, N के ऊपर है। G, N के ऊपर नहीं है। सबसे ऊपर कौन सी किताब है?

Ans

✓ 1. B

- 2. G
- 3. T
- 4. P

Question ID : 239087291
Status : Answered
Chosen Option : 1

Q.17 नीचे दिए गए कथनों और उनके निष्कर्षों को ध्यान से पढ़िए। कथनों में दी गई जानकारी को सत्य मानते हुए, चाहे वे सामान्य रूप से ज्ञात तथ्यों से भिन्न लगते हों, निर्णय कीजिए कि दिए गए कौनसा/से निष्कर्ष, कथनों का तार्किक रूप से अनुसरण करता/करते हैं।

कथन:

- I. कुछ K, M हैं।
- II. कोई T, M नहीं है।

निष्कर्ष:

- I. कुछ T, K हैं।
- II. कुछ M, K हैं।

- Ans
- 1. दोनों निष्कर्ष I तथा II अनुसरण करते हैं।
 - 2. केवल निष्कर्ष I अनुसरण करता है।
 - 3. कोई भी निष्कर्ष अनुसरण नहीं करता है।
 - 4. केवल निष्कर्ष II अनुसरण करता है।

Question ID : 239087293
Status : Answered
Chosen Option : 4

Q.18 उस शब्द युग्म का चयन कीजिए जिसके दोनों शब्द आपस में उसी प्रकार संबंधित है जिस प्रकार नीचे दिए गए शब्द युग्म के दोनों शब्द आपस में संबंधित है।

वृत्त : आकृति

- Ans
- 1. खिलौना : खेलना
 - 2. कार : चालक
 - 3. शार्पनर : लेखन-सामग्री
 - 4. कृतक : सरीसृप

Question ID : 239087283
Status : Answered
Chosen Option : 3

Q.19 पाँच व्यक्ति - F, J, N, R तथा V केन्द्र की ओर मुख करके एक वृत्ताकार मेज के इर्द-गिर्द बैठे हुए हैं (जरूरी नहीं कि वे इसी क्रम में हों)। J, F के तुरंत बायीं ओर बैठा है। N, F के बायीं ओर दूसरे स्थान पर है। V, J के बायीं ओर दूसरे स्थान पर है। J के दायीं ओर दूसरे स्थान पर कौन बैठा हुआ है?

- Ans
- 1. R
 - 2. N
 - 3. F
 - 4. V

Question ID : 239087290
Status : Answered
Chosen Option : 1

Q.20 नीचे दिए गए कथनों और उनके निष्कर्षों को ध्यान से पढ़िए। कथनों में दी गई जानकारी को सत्य मानते हुए,

चाहे वे सामान्य रूप से ज्ञात तथ्यों से भिन्न लगते हों, निर्णय कीजिए कि दिए गए कौनसा/से निष्कर्ष, कथनों का तार्किक रूप से अनुसरण करता/करते हैं।

कथन:

कुछ बर्तन दीये हैं।
सभी दीये पेड़ हैं।
कोई पेड़ शाखा नहीं है।

निष्कर्ष:

I. कुछ बर्तन शाखाएँ हैं।
II. कुछ पेड़ दीये हैं।
III. कुछ शाखाएँ दीये हैं।

- Ans
- 1. निष्कर्ष I और III अनुसरण करते हैं।
 - 2. केवल निष्कर्ष III अनुसरण करता है।
 - 3. केवल निष्कर्ष II अनुसरण करता है।
 - 4. निष्कर्ष I और II अनुसरण करते हैं।

Question ID : 239087292

Status : Answered

Chosen Option : 3

Q.21 एक कूट भाषा में, 'STEALH' को 'UXGENL' लिखा जाता है। उसी कूट भाषा में 'ROBNRT' का कोड क्या होगा?

- Ans
- 1. TSERTX
 - 2. UTESUY
 - 3. TSDRTX
 - 4. UTFSUY

Question ID : 239087286

Status : Answered

Chosen Option : 3

Q.22 निम्नलिखित विकल्पों में से उस संख्या को चुनिए जो निम्नलिखित श्रृंखला में तीसरी संख्या से उसी तरह से संबंधित है जिस तरह से दूसरी संख्या पहली संख्या से संबंधित है।

36 : 109 :: 25 : ?

- Ans
- 1. 72
 - 2. 76
 - 3. 74
 - 4. 78

Question ID : 239087296

Status : Answered

Chosen Option : 2

Q.23 नीचे दिए विकल्पों में से उस संख्या को चुनिए जो निम्नलिखित श्रृंखला में प्रश्न चिह्न (?) के स्थान पर आएगी।

69, 109, 159, 219, 289, ?

- Ans
- 1. 349
 - 2. 359
 - 3. 369
 - 4. 379

Question ID : 239087295

Status : Answered

Chosen Option : 3

Q.24 छह मित्र - C, E, G, I, K तथा M केन्द्र की ओर मुख करके एक वृत्ताकार मेज के इर्द-गिर्द बैठे हुए हैं और वे सभी एक - दूसरे से बराबर दूरी पर हैं (जरूरी नहीं कि वे इसी क्रम में हों)। E, C के दायीं ओर पर दूसरे स्थान पर है। K, G के तुरंत दायीं ओर पर है। G तथा I एक दूसरे की तरफ आमने-सामने मुंह किये हुए हैं। के बायीं ओर से चलते हुए, I तथा M के मध्य कितने मित्र बैठे हुए हैं?

Ans 1. 3

2. 1

3. 0

4. 2

Question ID : 239087289

Status : Answered

Chosen Option : 3

Q.25 यदि अंक 2 और अंक 1 को परस्पर बदल दिया जाता है तो निम्नलिखित समीकरण का मान क्या होगा?

$$9 + 6 \div 4 \times 21 - 5 = ?$$

Ans 1. 22

2. 23

3. 29

4. 24

Question ID : 239087298

Status : Answered

Chosen Option : 1

Section : Numerical Aptitude

Q.1 यदि $U + V = 80$ तथा $U : V = 5 : 3$ है, तो $U - V$ का मान कितना है?

Ans 1. 20

2. 15

3. 30

4. 25

Question ID : 239087417

Status : Answered

Chosen Option : 1

Q.2 $A = \frac{3}{4}$ तथा $\frac{9}{16}$ का महत्तम समापवर्तक (एच सी एफ)

$B = \frac{16}{5}$ तथा $\frac{4}{25}$ का लघुत्तम समापवर्तक (एल सी एम)

$A + B$ का मान कितना है?

Ans 1. $\frac{250}{81}$

2. $\frac{70}{23}$

✓ 3. $\frac{271}{80}$

✗ 4. $\frac{260}{71}$

Question ID : 239087406

Status : Answered

Chosen Option : 3

Q.3 किसी वस्तु को 25% लाभ तथा 37.5% हानि पर बेचने से विक्रय मूल्य का अंतर ₹1250 है। जब इसे 12.5% लाभ पर बेचा जाता है तो इसका विक्रय मूल्य कितना होगा?

Ans ✗ 1. ₹1800

✗ 2. ₹2500

✗ 3. ₹2400

✓ 4. ₹2250

Question ID : 239087414

Status : Answered

Chosen Option : 4

Q.4 49, 62, 37, 55 तथा x का औसत 53 है। x का मान कितना है?

Ans ✗ 1. 56

✗ 2. 68

✗ 3. 76

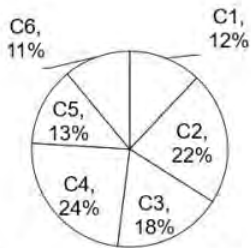
✓ 4. 62

Question ID : 239087409

Status : Answered

Chosen Option : 4

Q.5 नीचे दिया गया वृत्त-आरेख, छह अलग-अलग कंपनियों द्वारा किसी कार्यालय में प्रदत्त लैपटॉप की संख्या को, लैपटॉपों की कुल संख्या के प्रतिशत के रूप में दर्शाता है। वृत्त-आरेख में प्रदर्शित केंद्रीय कोण किसी चयनित पैमाने के अनुसार नहीं है।



कंपनी C6 द्वारा प्रदत्त लैपटॉपों का संगत केंद्रीय कोण (दशमलव के एक स्थान तक) कितनी डिग्री का है?

Ans ✗ 1. 51.7°

✗ 2. 45.1°

✓ 3. 39.6°

✗ 4. 52.8°

Question ID : 239087430

Status : Answered

Chosen Option : 3

Q.6 किसी वस्तु का अंकित मूल्य ₹2500 है। उसे क्रमशः 12% तथा 10% की दो क्रमिक छूटों पर बेचा जाता है। विक्रय मूल्य कितना है?

- Ans
- 1. ₹1870
 - 2. ₹2090
 - 3. ₹1760
 - 4. ₹1980

Question ID : 239087411

Status : Answered

Chosen Option : 4

Q.7 महेश का वेतन सुमित के वेतन से ₹12000 अधिक है। यदि महेश तथा सुमित के वेतन का अनुपात 7 : 4 है, तो सुमित का वेतन कितना है?

- Ans
- 1. ₹16000
 - 2. ₹12000
 - 3. ₹18000
 - 4. ₹20000

Question ID : 239087418

Status : Answered

Chosen Option : 1

Q.8 $7 \div 2 - [3 \text{ of } 7 \div 4 \div \{(2 \div 5) \times (25 \div 8) \div (5 \div 2)\}]$

का मान कितना है?

- Ans
- 1. -8
 - 2. -7
 - 3. -1
 - 4. -9

Question ID : 239087408

Status : Answered

Chosen Option : 2

Q.9 DD.MM के रूप में लिखित, वर्ष 2019 की माध्यिका-तिथि (मीडियन डेट) है:

- Ans
- 1. 01.07
 - 2. 30.06
 - 3. 02.07
 - 4. 03.07

Question ID : 239087412

Status : Answered

Chosen Option : 1

Q.10 एक कार 6 मिनट में 300 मीटर की दूरी तय कर सकती है। उसकी औसत गति km/h में कितनी है?

- Ans
- 1. 50
 - 2. 3
 - 3. 12
 - 4. 6

Question ID : 239087423

Status : Answered

Chosen Option : 2

Q.11 एक व्यक्ति अपने वेतन का 10% भोजन पर खर्च करता है। वह शेष भाग का 20% ईंधन पर खर्च करता है। यदि उसके पास ₹4680 शेष है, तो उसका वेतन कितना है?

- Ans
- 1. ₹6000
 - 2. ₹5000
 - 3. ₹6500
 - 4. ₹5500

Question ID : 239087413

Status : Answered

Chosen Option : 3

Q.12 शांत जल में एक नाव की गति 8 km/h है। यदि धारा की गति 2 km/h है, तो धारा के प्रतिकूल जाते हुए 2 घंटे में नाव कितनी दूरी तय करेगी?

- Ans
- 1. 16 km
 - 2. 14 km
 - 3. 20 km
 - 4. 12 km

Question ID : 239087424

Status : Answered

Chosen Option : 4

Q.13 किसी समचतुर्भुज की परिमाप 20 cm है। इसके एक विकर्ण की लम्बाई 6 cm है। दूसरे विकर्ण की लम्बाई कितनी है?

- Ans
- 1. 10 cm
 - 2. 8 cm
 - 3. 9 cm
 - 4. 6 cm

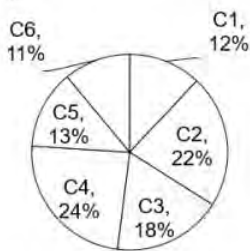
Question ID : 239087426

Status : Answered

Chosen Option : 2

Q.14

नीचे दिया गया वृत्त-आरेख, छह अलग-अलग कम्पनियों द्वारा किसी कार्यालय में प्रदत्त लैपटॉप की संख्या को, लैपटॉपों की कुल संख्या के प्रतिशत के रूप में दर्शाता है। वृत्त-आरेख में प्रदर्शित केंद्रीय कोण किसी चयनित पैमाने के अनुसार नहीं है।



कंपनी C1 तथा कंपनी C3 के लैपटॉपों की संख्या का अनुपात कितना है?

- Ans
- 1. 2 : 1
 - 2. 12 : 11
 - 3. 2 : 3
 - 4. 6 : 11

Question ID : 239087428

Status : Answered

Chosen Option : 2

Q.15 कोई व्यक्ति 2 वर्षों के लिए ₹500, 5 वर्षों के लिए ₹600 तथा 6 वर्षों के लिए ₹1000 सभी को साधारण ब्याज की समान दर पर जमा करता है। यदि वह कुल ₹1000 का साधारण ब्याज प्राप्त करता है, तो प्रति वर्ष ब्याज की दर कितनी है?

- Ans
- 1. 15%
 - 2. 5%
 - 3. 10%
 - 4. 20%

Question ID : 239087419

Status : Answered

Chosen Option : 3

Q.16 8 सोने के सिक्कों का औसत भार 20 g प्रति सिक्का है। चाँदी के 12 सिक्कों का औसत भार 35 g प्रति सिक्का है। 20 सिक्कों के लिए प्रति सिक्का औसत भार कितना है?

- Ans
- 1. 25 g
 - 2. 29 g
 - 3. 21 g
 - 4. 31 g

Question ID : 239087410

Status : Answered

Chosen Option : 2

Q.17 किसी वस्तु को 15% लाभ पर ₹1725 में बेचा जाता है। यदि इसे 15% की हानि पर बेचा जाता है तो विक्रय मूल्य कितना होगा?

- Ans
- 1. ₹1275
 - 2. ₹1475

3. ₹1025

4. ₹1325

Question ID : 239087415

Status : Answered

Chosen Option : 1

Q.18

एक वर्ग की भुजा 6 cm है। वर्ग के अंदर बनने वाले सबसे बड़े वृत्त का क्षेत्रफल कितना है? ($\pi = \frac{22}{7}$ लें)

Ans 1. $\frac{198}{7} \text{ cm}^2$

2. $\frac{318}{7} \text{ cm}^2$

3. $\frac{252}{7} \text{ cm}^2$

4. $\frac{156}{7} \text{ cm}^2$

Question ID : 239087425

Status : Answered

Chosen Option : 1

Q.19

A अकेला किसी कार्य को 30 दिन में कर सकता है। B अकेला उसी कार्य को 40 दिन में कर सकता है। यदि A से शुरुआत करके वे एकांतर दिनों (अल्टरनेट डेज़) में काम करते हैं, तो कार्य कितने दिनों में (दशमलव के दो स्थानों तक) पूरा हो जाएगा?

Ans 1. 34.25

2. 32.33

3. 16.33

4. 17.25

Question ID : 239087422

Status : Answered

Chosen Option : 1

Q.20

यदि कोई राशि चक्रवृद्धि ब्याज (वार्षिक संयोजित) की समान दर से दो वर्ष पश्चात ₹4000 तथा चार वर्ष पश्चात ₹6000 हो जाती है, तो राशि कितनी है?

Ans 1. ₹2888.88

2. ₹2666.66

3. ₹2777.77

4. ₹2866.66

Question ID : 239087420

Status : Not Answered

Chosen Option : --

Q.21

$\frac{3}{4}$ of $\left(\frac{1}{3} \div \frac{1}{2}\right) + \left(2 - \frac{2}{5}\right) \times \frac{3}{2} + \frac{2}{3}$ का मान कितना है?

Ans 1. $\frac{107}{30}$

2. $\frac{101}{6}$
3. $\frac{109}{17}$
4. $\frac{103}{25}$

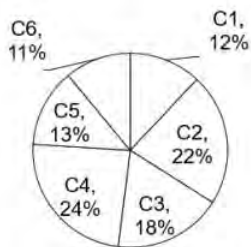
Question ID : 239087407
Status : Answered
Chosen Option : 1

Q.22 A तथा B मिलकर किसी कार्य को 20 दिन में कर सकते हैं। B तथा C मिलकर उसी कार्य को 25 दिन में कर सकते हैं। C तथा A मिलकर उसी कार्य को 15 दिन में कर सकते हैं। A अकेला उस कार्य को कितने दिनों में कर सकता है?

- Ans
1. $\frac{600}{17}$
2. $\frac{600}{23}$
3. $\frac{1200}{23}$
4. $\frac{1200}{17}$

Question ID : 239087421
Status : Answered
Chosen Option : 2

Q.23 नीचे दिया गया वृत्त-आरेख, छह अलग-अलग कंपनियों द्वारा किसी कार्यालय में प्रदत्त लैपटॉप की संख्या को, लैपटॉपों की कुल संख्या के प्रतिशत के रूप में दर्शाता है। वृत्त-आरेख में प्रदर्शित केंद्रीय कोण किसी चयनित पैमाने के अनुसार नहीं है।



कार्यालय में यदि लैपटॉपों की कुल संख्या 3800 है तो कंपनी C2 तथा C5 के लैपटॉपों की संख्या में अंतर कितना है?

- Ans
1. 382
2. 362
3. 342
4. 322

Question ID : 239087429
Status : Answered
Chosen Option : 3

Q.24 किसी घनाभ की लम्बाई, चौड़ाई और ऊंचाई क्रमशः 15 cm, 12 cm तथा 11 cm है। लम्बाई को $6\frac{2}{3}\%$ घटा दिया जाता है और चौड़ाई को $8\frac{1}{3}\%$ बढ़ा दिया जाता है जबकि ऊंचाई को अपरिवर्तित रखा जाता है। घनाभ के (लम्बाई और चौड़ाई से बने आयत को आधार मानते हुए) चार पार्श्व-फलकों के कुल क्षेत्रफल में कितना परिवर्तन है?

- Ans
1. 22 cm² की कमी

2. 22 cm² की वृद्धि
 3. कोई परिवर्तन नहीं
 4. 33 cm² की वृद्धि

Question ID : 239087427
Status : Answered
Chosen Option : 3

Q.25 यदि $x + y + z = 400$ तथा $x : y : z = 1 : 1 : 2$ है, तो z का मान कितना है?

- Ans 1. 100
 2. 150
 3. 120
 4. 200

Question ID : 239087416
Status : Answered
Chosen Option : 4

Section : General awareness

Q.1 उपभोक्ता संरक्षण विधेयक, 2018 ने उपभोक्ता संरक्षण अधिनियम का स्थान ले लिया है जिसे _____ में लागू किया गया था।

- Ans 1. 1988
 2. 1984
 3. 1986
 4. 1989

Question ID : 239087165
Status : Not Answered
Chosen Option : --


Q.2 गनमेटल (Gunmetal) किस मिश्र धातु से निर्मित है?

- Ans 1. कॉपर, टिन, जिंक
 2. कॉपर, लेड, सिल्वर
 3. कॉपर, जिंक, लेड
 4. कॉपर, आयरन, निकेल

Question ID : 239087173
Status : Answered
Chosen Option : 4

Q.3 भारतीय संविधान में निम्नलिखित में से कौन-सी विशेषता को सोवियत सोशलिस्ट रिपब्लिक (USSR) से लिया गया था?

- Ans 1. मौलिक अधिकार
 2. पंचवर्षीय योजना
 3. प्रस्तावना

 4. समवर्ती सूची

Question ID : 239087167
Status : Answered
Chosen Option : 1

Q.4 डुगोंग किस जैवमंडल संरक्षण क्षेत्र का प्रमुख जीव है?

- Ans  1. सिमलीपाल
 2. मन्नार की खाड़ी
 3. मानस
 4. ग्रेट रण ऑफ कच्छ

Question ID : 239087175
Status : Answered
Chosen Option : 1

Q.5 निम्नलिखित में से कौन-सी नोबल गैस अचेतन-शून्य करने के लिये उपयोग की जाती है?

- Ans  1. ज़ीनों
 2. आर्गन
 3. नियॉन
 4. हीलियम

Question ID : 239087174
Status : Answered
Chosen Option : 2

Q.6 गुरजीत कौर का निम्नलिखित में से किस खेल से संबंध है?

- Ans  1. हॉकी
 2. कुश्ती
 3. भारोत्तोलन
 4. तैराकी

Question ID : 239087160
Status : Answered
Chosen Option : 1

Q.7 निम्नलिखित में से कौन-सा त्योहार ओडिशा में मनाया जाता है?

- Ans  1. बोनालु
 2. छप्पड़ मेला
 3. बाली तृतीय
 4. हॉर्नबिल

Question ID : 239087158
Status : Not Answered
Chosen Option : --

Q.8 बेरीबेरी _____ की कमी के कारण होता है।

- Ans  1. विटामिन B3

- 2. विटामिन B6
- 3. विटामिन B1
- 4. विटामिन B12

Question ID : 239087171
Status : Answered
Chosen Option : 3

Q.9 आईन-ए-अकबरी' के लेखक कौन थे?

- Ans
- 1. खाफी खां
 - 2. अबुल फजल
 - 3. अकबर
 - 4. भीमसेन

Question ID : 239087178
Status : Answered
Chosen Option : 2

Q.10 गोल गुम्बज भारत के किस राज्य में स्थित है?

- Ans
- 1. आंध्रप्रदेश
 - 2. कर्नाटक
 - 3. महाराष्ट्र
 - 4. केरल

Question ID : 239087157
Status : Answered
Chosen Option : 3

Q.11 निम्नलिखित में से कौन-सा नृत्य गोवा का लोक नृत्य है?

- Ans
- 1. फगुआ
 - 2. फुगड़ी
 - 3. बिहू
 - 4. मांच

Question ID : 239087156
Status : Answered
Chosen Option : 1

Q.12 निम्नलिखित में से कौन-सा स्टेडियम विश्व का सबसे बड़ा क्रिकेट स्टेडियम है?

- Ans
- 1. पर्थ स्टेडियम
 - 2. लॉर्ड्स क्रिकेट स्टेडियम
 - 3. इंडन गार्डन
 - 4. मेलबर्न क्रिकेट ग्राउंड

Question ID : 239087159
Status : Answered
Chosen Option : 2

Q.13

निम्नलिखित में से कौन-सा कोशिका अंगक(Cell Organelles) आत्महत्या की थैली (Suicide Bag) के रूप में जाना जाता है?

- Ans
- 1. गॉल्जी तंत्र
 - 2. सूत्रकणिका
 - 3. लयनकाय
 - 4. अन्तः प्रद्रव्यी जालिका

Question ID : 239087172
Status : Answered
Chosen Option : 3

Q.14 सूरजकुंड झील निम्नलिखित राज्यों में से किस राज्य में स्थित है?

- Ans
- 1. हरियाणा
 - 2. गुजरात
 - 3. पंजाब
 - 4. राजस्थान

Question ID : 239087177
Status : Answered
Chosen Option : 1

Q.15 भारत के मुख्य न्यायाधीश की नियुक्ति कौन करता है?

- Ans
- 1. प्रधान मंत्री
 - 2. लोकसभा अध्यक्ष
 - 3. उपराष्ट्रपति
 - 4. राष्ट्रपति

Question ID : 239087169
Status : Answered
Chosen Option : 4

Q.16 'अमुक्त मल्यादा' का लेखन किसने किया था?

- Ans
- 1. कृष्णदेव राय
 - 2. ब्रह्मदेव राय
 - 3. बुक्का राय
 - 4. हरिहर राय

Question ID : 239087162
Status : Not Answered
Chosen Option : --

Q.17 ए प्राइम मिनिस्टर टू रिमेम्बर- मेमोरीज ऑफ़ ए मिलिट्री चीफ़' नामक पुस्तक का लेखन किस पूर्व मुख्य नौसेना एडमिरल ने किया है?

- Ans
- 1. सुशील कुमार
 - 2. अरुण प्रकाश
 - 3. देवेन्द्र कुमार
 - 4. निर्मल कुमार

Question ID : 239087163

Status : Answered

Chosen Option : 4

Q.18 मोहम्मद गौरी और पृथ्वीराज चौहान के बीच कौन-सी लड़ाई हुई थी?

- Ans 1. तराइन की लड़ाई
 2. खानवा का युद्ध
 3. प्लासी की लड़ाई
 4. बक्सर का युद्ध

Question ID : 239087180

Status : Answered

Chosen Option : 1

Q.19 नाइट्रोजन निर्धारण के लिए कौन-सा सहजीवी जीवाणु जिम्मेदार है?

- Ans 1. राइजोबियम
 2. स्ट्रेप्टोमोनास
 3. लैक्टोबैसिलस
 4. एजोटोबैक्टर

Question ID : 239087170

Status : Not Answered

Chosen Option : --

Q.20 जीएसटी (GST) परिषद में कितने सदस्य हैं?

- Ans 1. 33
 2. 35
 3. 25
 4. 23

Question ID : 239087166

Status : Answered

Chosen Option : 1

Q.21 जून 2019 तक की स्थिति के अनुसार, भारत का कौन-सा नाभिकीय ऊर्जा संयंत्र अधिकतम ऊर्जा का उत्पादन करता है?

- Ans 1. रावतभाटा
 2. कुडनकुलम
 3. कैगा
 4. काकरापार

Question ID : 239087176

Status : Answered

Chosen Option : 3

Q.22 भारत में कम्युनिस्ट पार्टी का गठन किस वर्ष हुआ था?

- Ans 1. 1925
 2. 1922

3. 1927

4. 1930

Question ID : 239087179

Status : Answered

Chosen Option : 1

Q.23 द साइलेंट क्राई के लेखक/लेखिका कौन हैं?

Ans 1. हारुकी मुराकामी

2. केन्ज़ाबुरो ओए

3. जॉन मिल्टन

4. माइकल मधुसूदन दत्त

Question ID : 239087161

Status : Not Answered

Chosen Option : --

Q.24 भारतीय राष्ट्रीय कांग्रेस के 19वें सत्र के अध्यक्ष कौन थे?

Ans 1. गोपाल कृष्ण गोखले

2. सर हेनरी कॉटन

3. लाल मोहन घोष

4. सुरेन्द्रनाथ बनर्जी

Question ID : 239087168

Status : Answered

Chosen Option : 3

Q.25 राजकोषीय घाटा का अर्थ क्या है?

Ans 1. सरकार द्वारा एकत्रित कुल राजस्व

2. सरकार के कुल राजस्व और कुल व्यय के बीच अंतर

3. सरकार का कुल व्यय

4. सरकार द्वारा ली गयी कुल उधार राशि

Question ID : 239087164

Status : Answered

Chosen Option : 4

Multi Tasking (Non-Technical) Staff Examination 2019

Roll No.	
Registration No.	
Name	
Test Venue	
Test Time	12:30 PM - 2:00 PM
Test Date	05/08/2019

Section : General English

Q.1 Select the most appropriate option to fill in the blank.
I congratulated him _____ his promotion.

- Ans
- 1. because of
 - 2. to
 - 3. due to
 - 4. on

Question ID : 239087111
Status : Answered
Chosen Option : 3

Q.2 Select the most appropriate meaning of the given idiom.
Come to light

- Ans
- 1. To be well lit-up
 - 2. To be obscure
 - 3. To be known publicly
 - 4. To pry a secret

Question ID : 239087123
Status : Answered
Chosen Option : 2

Q.3 Select the most appropriate option to substitute the underlined segment in the given sentence. If there is no need to substitute it, select No Improvement.
Applications are invite to eligible candidates for the post of Vice Principal in a reputed school.

- Ans
- 1. No Improvement
 - 2. invited by
 - 3. inviting from
 - 4. invited from

Question ID : 239087109
Status : Answered
Chosen Option : 2

Q.4 Select the most appropriate synonym of the given word.
Lavish

- Ans
- 1. Scarce
 - 2. Bountiful
 - 3. Simple
 - 4. Austere

Question ID : 239087119
Status : Not Answered
Chosen Option : --

Q.5 Select the most appropriate antonym of the given word.

Hidden

- Ans
- 1. Concealed
 - 2. Covered
 - 3. Veiled
 - 4. Apparent

Question ID : 239087121

Status : Answered

Chosen Option : 2

Q.6 Choose the most appropriate word that can substitute the given group of words.
Full of criticism and mockery

- Ans
- 1. Cliché
 - 2. Praise
 - 3. Satire
 - 4. Eulogy

Question ID : 239087126

Status : Not Answered

Chosen Option : --

Q.7 Select the most appropriate option to fill in the blank.
Teachers would like _____ a long holiday.

- Ans
- 1. having been
 - 2. to have
 - 3. have
 - 4. having for

Question ID : 239087112

Status : Answered

Chosen Option : 3

Q.8 Select the most appropriate option to substitute the underlined segment in the given sentence. If there is no need to substitute it, select No Improvement.
If he would tried he would have succeeded.

- Ans
- 1. was tried
 - 2. No Improvement
 - 3. had tried
 - 4. is tried

Question ID : 239087108

Status : Answered

Chosen Option : 1

Q.9 Choose the most appropriate word that can substitute the given group of words.
Group of singers

- Ans
- 1. Jury
 - 2. Choir
 - 3. Orchestra
 - 4. Council

Question ID : 239087125

Status : Answered

Chosen Option : 2

Q.10 Find the part of the given sentence that has an error in it. If there is no error, choose 'No error'.

The doctor with his interns are due to arrive here by noon. /No error

- Ans 1. interns are due
 2. No error
 3. The doctor with his
 4. to arrive here by noon

Question ID : 239087107
 Status : Answered
 Chosen Option : 3

Q.11 Select the most appropriate option to fill in the blank.
 The wonderful performance of the maestro left the audience _____.

- Ans 1. puzzled
 2. sleepy
 3. hungry
 4. entranced

Question ID : 239087130
 Status : Answered
 Chosen Option : 1

Comprehension:

In the following passage some words have been deleted. Fill in the blanks with the help of the alternatives given. Select the most appropriate option for each blank.

Obesity is a condition where the body stores excess fat leading to a considerable 1.____ in the body weight. It is increasing 2.____ a fast pace in our country. It has 3.____ adverse health effects and can even 4.____ to pre-mature death. The basic cause of obesity is 5.____ imbalance between energy intake and energy expenditure.

SubQuestion No : 12

Q.12 Select the most appropriate option for blank No. 1.

- Ans 1. decrease
 2. decline
 3. raise
 4. increase

Question ID : 239087114
 Status : Answered
 Chosen Option : 1

Comprehension:

In the following passage some words have been deleted. Fill in the blanks with the help of the alternatives given. Select the most appropriate option for each blank.

Obesity is a condition where the body stores excess fat leading to a considerable 1.____ in the body weight. It is increasing 2.____ a fast pace in our country. It has 3.____ adverse health effects and can even 4.____ to pre-mature death. The basic cause of obesity is 5.____ imbalance between energy intake and energy expenditure.

SubQuestion No : 13

Q.13 Select the most appropriate option for blank No. 2.

- Ans 1. on
 2. at
 3. by
 4. with

Question ID : 239087115

Status : **Answered**
Chosen Option : 2

Comprehension:

In the following passage some words have been deleted. Fill in the blanks with the help of the alternatives given. Select the most appropriate option for each blank.

Obesity is a condition where the body stores excess fat leading to a considerable 1.____ in the body weight. It is increasing 2.____ a fast pace in our country. It has 3.____ adverse health effects and can even 4.____ to pre-mature death. The basic cause of obesity is 5.____ imbalance between energy intake and energy expenditure.

SubQuestion No : 14**Q.14 Select the most appropriate option for blank No. 3.**

- Ans 1. little
 2. many
 3. few
 4. much

Question ID : **239087116**
Status : **Answered**
Chosen Option : 3

Comprehension:

In the following passage some words have been deleted. Fill in the blanks with the help of the alternatives given. Select the most appropriate option for each blank.

Obesity is a condition where the body stores excess fat leading to a considerable 1.____ in the body weight. It is increasing 2.____ a fast pace in our country. It has 3.____ adverse health effects and can even 4.____ to pre-mature death. The basic cause of obesity is 5.____ imbalance between energy intake and energy expenditure.

SubQuestion No : 15**Q.15 Select the most appropriate option for blank No. 4.**

- Ans 1. take
 2. point
 3. lead
 4. start

Question ID : **239087117**
Status : **Answered**
Chosen Option : 2

Comprehension:

In the following passage some words have been deleted. Fill in the blanks with the help of the alternatives given. Select the most appropriate option for each blank.

Obesity is a condition where the body stores excess fat leading to a considerable 1.____ in the body weight. It is increasing 2.____ a fast pace in our country. It has 3.____ adverse health effects and can even 4.____ to pre-mature death. The basic cause of obesity is 5.____ imbalance between energy intake and energy expenditure.

SubQuestion No : 16**Q.16 Select the most appropriate option for blank No. 5.**

- Ans 1. no
 2. a
 3. one
 4. the

Question ID : **239087118**
Status : **Answered**
Chosen Option : 1

Q.17 Select the most appropriate option to substitute the underlined segment in the given

sentence. If there is no need to substitute it, select No Improvement.
The terrorist was arrested for the first time in December, 2001.

- Ans
- 1. for first timing
 - 2. No Improvement
 - 3. in the first time
 - 4. for one times

Question ID : 239087110
Status : Answered
Chosen Option : 3

Q.18 Select the most appropriate synonym of the given word.
Accountable

- Ans
- 1. Blameless
 - 2. Slack
 - 3. Unreliable
 - 4. Answerable

Question ID : 239087120
Status : Not Answered
Chosen Option : --

Q.19 Select the most appropriate meaning of the given idiom.
Above one's head

- Ans
- 1. Intimate and personal
 - 2. Beyond one's understanding
 - 3. To be very tall
 - 4. Overhead expenses

Question ID : 239087124
Status : Not Answered
Chosen Option : --

Q.20 Select the most appropriate option to fill in the blank.
The little puppy was _____ by a speeding car.

- Ans
- 1. run away
 - 2. run into
 - 3. run over
 - 4. run at

Question ID : 239087129
Status : Answered
Chosen Option : 1

Q.21 Choose the correctly spelt word.

- Ans
- 1. Dilema
 - 2. Dilemma
 - 3. Dillema
 - 4. Dielema

Question ID : 239087127
Status : Answered
Chosen Option : 4

Q.22 Select the most appropriate antonym of the given word.
Goodwill

- Ans
- 1. Felicity
 - 2. Insanity
 - 3. Hostility
 - 4. Facility

Question ID : 239087122
Status : Answered
Chosen Option : 3

Q.23 Choose the correctly spelt word.

- Ans
- 1. Allert
 - 2. Exceed
 - 3. Emfasize
 - 4. Equipped

Question ID : 239087128
Status : Not Answered
Chosen Option : --

Q.24 Find the part of the given sentence that has an error in it. If there is no error, choose 'No error'.

The people in my office are smarter than other offices. /No error

- Ans
- 1. No error
 - 2. my office are
 - 3. smarter than other offices
 - 4. The people in

Question ID : 239087105
Status : Answered
Chosen Option : 3

Q.25 Find the part of the given sentence that has an error in it. If there is no error, choose 'No error'.

Mukherjee is a famous politician who is love by most people. /No error

- Ans
- 1. Mukherjee is a
 - 2. famous politician who
 - 3. No error
 - 4. is love by most people

Question ID : 239087106
Status : Not Answered
Chosen Option : --

Section : General Intelligence & Reasoning

Q.1 निम्नलिखित विकल्पों म.से उस संख्या को चुनिए जो निम्नलिखित पृंखला में तीसरी संख्या से उसी तरह से संबंधित है जिस तरह से दूसरी संख्या पहली संख्या से संबंधित है।

101 : 10202 :: 107 : ?

- Ans
- 1. 12449
 - 2. 11450
 - 3. 12550
 - 4. 11447

Question ID : 239087371

Status : **Answered**
Chosen Option : 1

Q.2 एक कूट भाषा में, 'ROGER' को '5' लिखा जाता है और 'MOULDS' को '6' लिखा जाता है। उसी कूट भाषा में 'PIN' का कोड क्या होगा ?

- Ans
- 1. 2
 - 2. 4
 - 3. 8
 - 4. 3

Question ID : **239087362**
Status : **Answered**
Chosen Option : 4

Q.3 नीचे दिए विकल्पों में से उस संख्या को चुनिए जो निम्नलिखित ढुंखला में प्रश्न चिह्न (?) के स्थान पर आएगी।

37, 33, 29, 25, ?

- Ans
- 1. 19
 - 2. 20
 - 3. 21
 - 4. 22

Question ID : **239087369**
Status : **Answered**
Chosen Option : 3

Q.4 पाँच लडकियाँ D, L, N, O तथा Q एक पंक्ति में दक्षिण की ओर मुख करके बैठी हुई हैं (जरूरी नहीं कि इसी क्रम में हो)। L, O के दायीं ओर दूसरे स्थान पर बैठी हुई है। Q, D के तुरंत दायीं ओर बैठी हुई है। Q तथा N के मध्य दो लडकियाँ बैठी हुई हैं। D के दायीं ओर कितनी लडकियाँ बैठी हुई हैं ?

- Ans
- 1. 3
 - 2. 1
 - 3. 2
 - 4. 4

Question ID : **239087364**
Status : **Answered**
Chosen Option : 2

Q.5 नीचे दिए विकल्पों में से उस अक्षर समूह को चुनिए जो निम्नलिखित ढुंखला में प्रश्न चिह्न (?) के स्थान पर आएगा।

RAB, TDG, VGL, ?, ZMV

- Ans
- 1. YKR
 - 2. XKQ
 - 3. XJQ
 - 4. YLR

Question ID : **239087356**
Status : **Answered**
Chosen Option : 2

Q.6 छः व्यक्ति L, M, N, P, Q तथा R एक पंक्ति में उत्तर की ओर मुख करके बैठे हुए हैं (जरूरी नहीं कि इसी क्रम में हो)। P तथा M के मध्य तीन व्यक्ति हैं। P किसी भी एक छोर पर नहीं है। L तथा Q के मध्य केवल तीन

व्यक्ति हैं। N, R के बायीं ओर है। L किसी एक छोर पर है। M, P के दायीं ओर है।
N के बायीं ओर कितने व्यक्ति बैठे हुए हैं?

- Ans 1. 2
 2. 1
 3. 4
 4. 3

Question ID : 239087365
 Status : Answered
 Chosen Option : 1

Q.7 उस शब्द युग्म का चयन कीजिए जिसके दोनों शब्द आपस में उसी प्रकार संबंधित है जिस प्रकार नीचे दिए गए शब्द युग्म के दोनों शब्द आपस में संबंधित है।

बासी : ताजा

- Ans 1. गहरा : सख्त
 2. गर्मी : सूर्य
 3. निर्माण करना : बल्ला
 4. अंतिम : आरंभिक

Question ID : 239087357
 Status : Answered
 Chosen Option : 4

Q.8 दिए गए पैटर्न का ध्यानपूर्वक अध्ययन करें और उस संख्या को चुनें जो इसमें प्रश्न चिह्न (?) के स्थान पर आएगी।

3 4 9 17
 7 2 5 15
 6 8 3 ?

- Ans 1. 20
 2. 28
 3. 18
 4. 16

Question ID : 239087372
 Status : Answered
 Chosen Option : 3

Q.9 छः कुसिद्धों J, K, P, R, S तथा T एक के ऊपर एक रखी गयी हैं (जरूरी नहीं कि वे इसी क्रम में हों)। R, केवल P तथा S के ऊपर है। J तथा S के मध्य चार कुसिद्धों हैं। K, P से तीन स्थान ऊपर हैं। यदि हम इन कुसिद्धों को ऊपर से नीचे तक वर्णानुक्रम में व्यवस्थित करें, तो कितनी कुसिद्धों का स्थान (J को छोड़कर) बदल जाएगा?

- Ans 1. 2
 2. 1
 3. 3
 4. 0

Question ID : 239087366
 Status : Answered
 Chosen Option : 1

Q.10 नीचे दिए गए कथनों और उनके निष्कर्षों को ध्यान से पढ़िए। कथनों में दी गई जानकारी को सत्य मानते हुए, चाहे वे सामान्य रूप से ज्ञात तथ्यों से भिन्न लगते हों, निम्न कीजिए कि दिए गए कौनसा/से निष्कर्ष/कथनों का ताकिक रूप से अनुसरण करता/करते हैं।

कथन:

- I. सभी T, M हैं।
II. कोई T, P नहीं है।

निष्कर्षः

- I. कोई P, M नहीं है।
II. कुछ M, T हैं।

- Ans 1. दोनों निष्कर्ष I तथा II अनुसरण करते हैं।
 2. केवल निष्कर्ष II अनुसरण करता है।
 3. कोई भी निष्कर्ष अनुसरण नहीं करता है।
 4. केवल निष्कर्ष II अनुसरण करता है।

Question ID : 239087368

Status : Answered

Chosen Option : 4

Q.11 नीचे दिए विकल्पों में से उस संख्या को चुनिए जो निम्नलिखित संख्या में प्रश्न चिह्न (?) के स्थान पर आएगी।

72, 69, 64, ?, 48

- Ans 1. 59
 2. 54
 3. 55
 4. 57

Question ID : 239087370

Status : Answered

Chosen Option : 4

Q.12 निम्नलिखित समीकरण को सही बनाने के लिए किन दो चिह्नों को आपस में बदलना होगा ?

$14 \times 16 \div 8 + 2 - 1 = 17$

- Ans 1. - तथा +
 2. + तथा +
 3. \times तथा -
 4. + तथा \times

Question ID : 239087373

Status : Answered

Chosen Option : 4

Q.13 नीचे दिए गए कथनों और उनके निष्कर्षों को ध्यान से पढ़िए। कथनों में दी गई जानकारी को सत्य मानते हुए, चाहे वे सामान्य रूप से ज्ञात तथ्यों से भिन्न लगते हों, निराश्रय कीजिए कि दिए गए कौनसा/से निष्कर्ष कथनों का ताकिक रूप से अनुसरण करता/करते हैं।

कथन:

- I. कुछ बाइक कार हैं।
II. कुछ कार ट्रक हैं।

निष्कर्षः

- I. कुछ ट्रक बाइक हैं।
II. कोई बाइक ट्रक नहीं है।

- Ans 1. या तो निष्कर्ष I या निष्कर्ष II अनुसरण करता है।
 2. केवल निष्कर्ष I अनुसरण करता है।
 3. केवल निष्कर्ष II अनुसरण करता है।

4. दोनों निष्कषण तथा II अनुसरण करते हैं।

Question ID : 239087367

Status : Answered

Chosen Option : 2

Q.14 निम्नलिखित विकल्पों में से उस विकल्प को चुनिए जो निम्नलिखित पंखला में तीसरे अक्षर समूह से उसी तरह से संबंधित है जिस तरह से दूसरा अक्षर समूह पहले अक्षर समूह से संबंधित है।

RAT : UXW :: TOG : ?

Ans 1. WLJ

2. XLC

3. WLC

4. XMD

Question ID : 239087359

Status : Answered

Chosen Option : 1

Q.15 दिए गए पैटर्न का ध्यानपूर्वक अध्ययन करें और उस आकृति को चुनें जो प्रश्न आकृति में दिए गए पैटर्न को पूरा करेगी।



Ans



Question ID : 239087376

Status : Answered

Chosen Option : 4

Q.16 एक कूट भाषा में, 'EMPTYD' को 'CJNQWA' लिखा जाता है। उसी कूट भाषा में 'VACANT' का कोड क्या होगा ?

Ans 1. UYBYMR

2. TXBXLQ

3. UYAMYR

4. TXAXLQ

Question ID : 239087361

Status : Answered

Chosen Option : 2

Q.17 एक कूट भाषा में, 'ALERT' को '11251820' लिखा जाता है और 'HERD' को '85184' लिखा जाता है। उसी कोड भाषा में 'CLOTH' का कोड क्या होगा ?

Ans 1. 31215208

2. 38152014

3. 31512207

4. 31215218

Question ID : 239087363
Status : Answered
Chosen Option : 1

Q.18 यदि + तथा - को परस्पर बदल दिया जाता है तो निम्नलिखित समीकरण का मान क्या होगा?

$$72 - 91 \div 13 \times 12 + 6 = ?$$

Ans 1. 144

2. 150

3. 140

4. 156

Question ID : 239087374
Status : Answered
Chosen Option : 2

Q.19 एक कूट भाषा में, 'PAPER' को 'UFUJW' लिखा जाता है। उसी कूट भाषा में 'MOURN' का कोड क्या होगा ?

Ans 1. SUBXT

2. SUAXT

3. RTAWS

4. RTZWS

Question ID : 239087360
Status : Answered
Chosen Option : 4

Q.20 जब एक दर्पण को AB रेखा पर रखा जाता है, तो नीचे दी गई आकृति की सही दर्पण छवि को चुनिए?



Ans

1.



2.



3.



4.



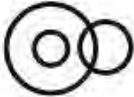
Question ID : 239087378
 Status : Answered
 Chosen Option : 2

Q.21 उस आरेख को चुनिए जो नीचे दिए गए वर्गों के बीच के संबंध को सही प्रकार से दर्शाता है।

कार, बाइक, ट्रक

Ans


1.



2.



3.



4.




Question ID : 239087380
 Status : Answered
 Chosen Option : 4

Q.22 एक कागज के टुकड़े को आकृतियों में दिखाए अनुसार क्रम में मोड़ा गया है और फिर उस मोड़े हुए कागज के टुकड़े को नीचे दी आकृतियों में दिखाए अनुसार ही काटा गया है। इस कागज के टुकड़े को वापिस खोलने पर यह कैसा दिखाई देगा?



Ans


1.



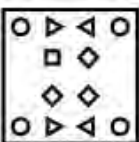
2.



3.



4.





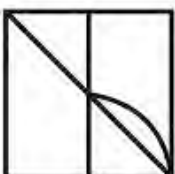
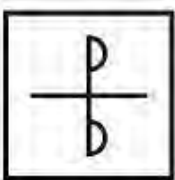
Question ID : 239087379

Status : **Answered**
Chosen Option : 1

Q.23 दिए गए विकल्पों में से उस उत्तर आकृति को चुनिए जिसमें नीचे दी गई आकृति अन्तर्निहित है।

P

Ans





- 1. 
- 2. 
- 3. 
- 4. 

Question ID : **239087377**
Status : **Answered**
Chosen Option : 4

Q.24 दिए गए विकल्पों में से उस आकृति को चुनिए जो निम्नलिखित श्रृंखला में अगले स्थान पर आएगी।

L R V J N T	V L T R J N	T V N L R J	N T J V L R	?
-------------------	-------------------	-------------------	-------------------	---

Ans

- 1. 
- 2. 
- 3. 
- 4. 

Question ID : **239087375**

Status : **Answered**
Chosen Option : 2

Q.25 निम्नलिखित विकल्पों में से उस शब्द को चुनिए जो निम्नलिखित पृंखला में तीसरे शब्द से उसी तरह से संबंधित है जिस तरह से दूसरा शब्द पहले शब्द से संबंधित है।

छूना : धकेलना :: बोलना : ?

- Ans
- 1. अपराध
 - 2. वृष्टि
 - 3. उदास
 - 4. चिल्लाना

Question ID : **239087358**
Status : **Answered**
Chosen Option : 4

Section : Numerical Aptitude

Q.1 a, b तथा c का औसत 9 है। b तथा c का औसत 10 है। a का मान कितना है?

- Ans
- 1. 7
 - 2. 8
 - 3. 9
 - 4. 6

Question ID : **239087484**
Status : **Answered**
Chosen Option : 1

Q.2 दूध और पानी के 60 लीटर मिश्रण में दूध एवं पानी की मात्रा का अनुपात 3 : 2 है। यदि हम दूध और पानी की मात्रा का अनुपात 1 : 1 करना चाहते हैं, तब मिश्रण में कितना और पानी मिलाया जाना चाहिए?

- Ans
- 1. 10 लीटर
 - 2. 14 लीटर
 - 3. 16 लीटर
 - 4. 12 लीटर

Question ID : **239087493**
Status : **Answered**
Chosen Option : 1

Q.3 किसी घनाभ की लंबाई अपनी चौड़ाई की दोगुनी है तथा उसकी ऊँचाई, उसकी चौड़ाई की आधी है। यदि घनाभ की ऊँचाई 2 cm है, तब किसी घन का कोर (एज) कितना होगा जिसका आयतन उक्त घनाभ के समान है?

- Ans
- 1. 8 cm
 - 2. 7.2 cm
 - 3. 4 cm
 - 4. 6.4 cm

Question ID : **239087501**
Status : **Answered**
Chosen Option : 1

Q.4 A किसी निश्चित दूरी को तीन भिन्न गतियों के साथ तय करता है; पहली 3 km की दूरी 9 km/h की गति के साथ, दूसरी 6 km की दूरी 15 km/h की गति के साथ, और तीसरी 9 km की दूरी 18 km/h की गति के साथ तय करता है। A की पूरी यात्रा की औसत गति कितनी है?

Ans

1. $\frac{480}{37} \text{ km/h}$

2. $\frac{540}{37} \text{ km/h}$

3. $\frac{460}{37} \text{ km/h}$

4. $\frac{660}{37} \text{ km/h}$

Question ID : 239087498

Status : Not Answered

Chosen Option : --

Q.5 यदि $A = 7 \times 3 \div (2 + 4) + 4 - 2$, $B = 3 \div 6 \times 4 + 2 - 2$ of 3 तथा

$C = 6 \div 2 + 4 \times 3 - 2$ है। तब $(A + B - C)$ का मान कितना है?

Ans

1. $\frac{16}{3}$

2. $\frac{-16}{3}$

3. $\frac{19}{2}$

4. $\frac{-19}{2}$

Question ID : 239087483

Status : Not Answered

Chosen Option : --

Q.6 पाइप A किसी खाली टैंक को 11 घंटे में पूर्ण रूप से भर सकता है। पाइप B इस पूर्ण रूप से भरे गए टैंक को 15 घंटे में खाली कर सकता है। यदि दोनों पाइपों को एक साथ खोला जाता है, तो खाली टैंक कितने समय में भरेगा?

Ans

1. 41 घंटे 15 मिनट

2. 47 घंटे 30 मिनट

3. 39 घंटे 15 मिनट

4. 49 घंटे 45 मिनट

Question ID : 239087497

Status : Not Answered

Chosen Option : --

Q.7 36 छात्रों के समूह की औसत आयु 23 वर्ष है। 22 वर्ष की औसत आयु वाले 4 छात्र समूह छोड़ देते हैं। नए समूह की औसत आयु वर्षों में (एक दशमलव स्थान तक) कितनी है?

Ans

1. 24.4

2. 24.5

3. 23.8

4. 23.1

Question ID : 239087485

Status : Answered

Chosen Option : 4

Q.8 एक रेलगाड़ी 900 मीटर लंबे प्लेटफॉर्म को 300 सेकण्ड में पार करती है। यदि रेलगाड़ी की लंबाई 600 मीटर है, तब वह एक स्थिर खंभे (स्टेशनरी पोल) को कितने समय में पार कर सकती है?

Ans

1. 2 मिनट

2. 5 मिनट

3. 3 मिनट

4. 4 मिनट

Question ID : 239087499

Status : Answered

Chosen Option : 3

Q.9 किसी ठोस अर्ध-गोले का व्यास 35 cm है। उसका कुल तल क्षेत्रफल कितना है। ($\pi = \frac{22}{7}$ लें)

Ans 1. 2198.5 cm²

2. 3163 cm²

3. 2981 cm²


4. 2887.5 cm²

Question ID : 239087500

Status : Answered

Chosen Option : 2

Q.10 नीचे दिया गया दण्ड आरेख किसी शहर के विभिन्न मासों में 10 भिन्न दिनों के अधिकतम तापमान (°C) को दर्शाता है।



दस दिनों के लिए दिए गए डाटा से रिकॉर्ड किए गए उच्चतम और न्यूनतम अधिकतम तापमानों के बीच कितना अंतर (डिग्री सेल्सियस में) है?

Ans 1. 28.0

2. 27.1

3. 26.1

4. 28.1

Question ID : 239087505

Status : Answered

Chosen Option : 4

Q.11 यदि $x : y : z = 3 : 4 : 5$ और $x + y + z = 96$ है, तो z का मान कितना है?

Ans 1. 40

2. 42

3. 32

4. 36

Question ID : 239087491

Status : Answered

Chosen Option : 3

Q.12 $36 \div 8 \times 4 + 2 \div 4 - 1 + 5 \text{ of } 3 \div (4 \times 2 - 3) - 3$ का मान कितना है?

Ans

✓ 1. $\frac{35}{2}$

✗ 2. 16

✗ 3. $\frac{31}{2}$

✗ 4. 18

Question ID : 239087482

Status : Answered

Chosen Option : 2

Q.13 किसी वस्तु के अंकित मूल्य तथा विक्रय मूल्य का अनुपात 12 : 7 है। छूट प्रतिशत कितना है?

Ans ✓ 1. 41.67

✗ 2. 42.33

✗ 3. 37.5


✗ 4. 39.33

Question ID : 239087486

Status : Answered

Chosen Option : 4

Q.14 नीचे दिया गया दण्ड आरेख किसी शहर के विभिन्न मासों में 10 भिन्न दिनों के अधिकतम तापमान ($^{\circ}\text{C}$ में) को दर्शाता है।



D5 का तापमान, D3 के तापमान से कितने प्रतिशत अधिक है?

Ans ✓ 1. 16.67%

✗ 2. 21.07%

✗ 3. 24.57%

✗ 4. 23.01%

Question ID : 239087504

Status : Answered

Chosen Option : 1

Q.15 एक वर्ग की भुजा को पहले 10% बढ़ाया गया और फिर उसे 20% कम किया गया। क्षेत्रफल में कुल प्रतिशत परिवर्तन कितना है?

Ans ✗ 1. 18.24% की वृद्धि

✗ 2. 22.56% की वृद्धि

✗ 3. 18.24% की गिरावट

✓ 4. 22.56% की गिरावट

Question ID : 239087488

Status : Not Answered

Chosen Option : --

Q.16 किसी गोले की त्रिज्या, एक लंबवृत्तीय बेलन (सिलेंडर) के आधार की त्रिज्या तथा ऊंचाई के बराबर है। गोले की पृष्ठीय क्षेत्रफल (सर्फेस एरिया) तथा बेलन (सिलेंडर) के वक्र पृष्ठ के क्षेत्रफल का अनुपात कितना है?

- Ans
1. 2 : 3
2. 1 : 2
3. 1 : 1
4. 2 : 1

Question ID : 239087502

Status : Not Answered

Chosen Option : --

Q.17 वस्तु A और वस्तु B के लागत मूल्य क्रमशः ₹1200 एवं ₹1600 हैं। वस्तु A का विक्रय मूल्य ₹1380 है तथा दोनों वस्तुओं को बेचने पर कुल लाभ 25% है। वस्तु B को बेचने पर लाभ प्रतिशत कितना है?

- Ans
1. 35.5
2. 27.5
3. 29.5
4. 32.5

Question ID : 239087489

Status : Answered

Chosen Option : 3

Q.18 निश्चित साधारण ब्याज दर पर ₹500 की राशि 2 वर्ष में ₹600 हो जाती है। यदि ब्याज दर को आधा कर दिया जाता है, तो ₹500 की राशि 2 वर्ष में कितनी होगी?


- Ans
1. ₹520
2. ₹500
3. ₹550
4. ₹560

Question ID : 239087494

Status : Answered

Chosen Option : 3

Q.19 नीचे दिया गया दण्ड आरेख किसी शहर के विभिन्न मासों में 10 भिन्न दिनों के अधिकतम तापमान (°C में) को दर्शाता है।



दिए गए दस दिनों के लिए प्रतिदिन शहर का औसत अधिकतम तापमान कितना है?

- Ans
1. 35.96 °C
2. 44.96 °C
3. 33.96 °C
4. 32.96 °C

Question ID : 239087503

Status : Answered

Chosen Option : 1

Q.20 A ने किसी वस्तु को 15% लाभ पर ₹1495 में बेचा। उसने एक अन्य वस्तु खरीदी जिसका लागत मूल्य पहले खरीदी गई वस्तु के बराबर है। उसने इस नई वस्तु को 10% के लाभ पर बेचा। A ने कुल कितना लाभ कमाया?

- Ans
1. ₹325
2. ₹375
3. ₹425
4. ₹450

Question ID : 239087490

Status : Answered

Chosen Option : 1

Q.21 A किसी कार्य को अकेले 10 दिन में कर सकता है। A तथा B उसी कार्य को मिलकर 20/3 दिनों में कर सकते हैं। A, B तथा C उसी कार्य को मिलकर 40/7 दिनों में कर सकते हैं। B तथा C उसी कार्य को मिलकर कितने दिनों में कर सकते हैं?

- Ans
1. $\frac{40}{3}$
2. $\frac{44}{3}$
3. $\frac{20}{3}$
4. $\frac{44}{7}$

Question ID : 239087496

Status : Answered

Chosen Option : 3

Q.22 दिये गए आँकड़े का बहुलक कितना है?

4, 3, 4, 3, 2, 2, 2, 5, 5, 3, 4, 6, 4, 3, 3

- Ans
1. 2
2. 5
3. 4
4. 3

Question ID : 239087487

Status : Answered

Chosen Option : 2

Q.23 A वह तीन अंकों की सबसे छोटी संख्या है, जो 3, 4 तथा 5 से विभाजित करने पर क्रमशः 1, 2 तथा 3 शेषफल देती है। A के अंको का योग कितना है?

- Ans
1. 8
2. 6
3. 10
4. 11

Question ID : 239087481

Status : Answered

Chosen Option : 2

Q.24 किसी विद्यालय में 150 छात्र हैं। यदि लड़के तथा लड़कियों की संख्या का अनुपात 4 : 1 है, तो विद्यालय में लड़कों और लड़कियों की संख्या के बीच मध्यानुपात कितना है?

- Ans
- 1. 50
 - 2. 60
 - 3. 40
 - 4. 30

Question ID : 239087492
Status : Answered
Chosen Option : 4

Q.25 वार्षिक रूप से संयोजित किसी राशि को चक्रवृद्धि ब्याज पर निवेश किया जाता है, जो 3 वर्षों के बाद बढ़कर ₹1000 तथा 4 वर्षों के बाद ₹1100 हो जाती है। प्रति वर्ष ब्याज की दर कितनी है?

- Ans
- 1. 10%
 - 2. 20%
 - 3. 12.5%
 - 4. 15%

Question ID : 239087495
Status : Not Answered
Chosen Option : --

Section : General awareness

Q.1 निम्नलिखित में से किस अखबार का सम्पादन दादाभाई नरोजी ने किया था?

- Ans
- 1. संवाद कौमुदी
 - 2. शोम प्रकाश
 - 3. रास्त गोफ्तार
 - 4. महरत्ता

Question ID : 239087253
Status : Answered
Chosen Option : 2

Q.2 2011 की जनगणना के अनुसार, निम्नलिखित राज्यों में से किस राज्य में सर्वाधिक ग्रामीण आबादी है?

- Ans
- 1. उत्तर प्रदेश
 - 2. महाराष्ट्र
 - 3. पंजाब
 - 4. मध्य प्रदेश

Question ID : 239087239
Status : Answered
Chosen Option : 1

Q.3 निम्नलिखित में से उत्पादन के कारक में क्या शामिल नहीं है?

- Ans
- 1. भूमि
 - 2. पूंजी
 - 3. कर
 - 4. श्रम

Question ID : 239087240
Status : Answered

Chosen Option : 3

Q.4 भारत में राष्ट्रीय आन्दोलन के सन्दर्भ में, पूना समझौता पर हस्ताक्षर कब हुए थे?

Ans 1. 1932 2. 1933 3. 1922 4. 1923

Question ID : 239087254

Status : Not Answered

Chosen Option : --

Q.5 भारत के निम्नलिखित में से किस राज्य में सबसे लंबी तटरेखा है?

Ans 1. ओडिशा 2. गुजरात 3. केरल 4. महाराष्ट्र

Question ID : 239087252

Status : Answered

Chosen Option : 2

Q.6 पोषण के स्वपोषी रूप के लिये _____ आवश्यक होता है।

Ans 1. क्लोरोफिल और ऑक्सीजन 2. कार्बन मोनोऑक्साइड और पानी 3. कार्बन डाइऑक्साइड, पानी, क्लोरोफिल और सूर्यका प्रकाश 4. मीथेन

Question ID : 239087250

Status : Answered

Chosen Option : 3

Q.7 निम्नलिखित में से भारत के किस वैज्ञानिक का संबंध क्रिस्कोग्राफ के आविष्कार से है?

Ans 1. सत्येन्द्रनाथ बोस 2. मेघनाद साहा 3. जगदीशचंद्र बोस 4. होमी जे भाभा

Question ID : 239087246

Status : Not Answered

Chosen Option : --

Q.8 निम्नलिखित में से कौन-सा एक द्वितीयक प्रदूषक है?

Ans 1. कार्बन मोनो ऑक्साइड (CO) 2. फ्लोई ऐश 3. कार्बोनायड ऑक्साइड 4. स्मॉग

Question ID : 239087248

Status : Not Answered

Chosen Option : --

Q.9 नेशनल डायमंड इंस्टिट्यूट _____ में स्थित है।

- Ans 1. सूरत
 2. गांधीनगर
 3. वडोदरा
 4. वापी

Question ID : 239087251
 Status : Answered
 Chosen Option : 1

Q.10 Which of the following statements about the Lok Sabha is NOT correct?

- Ans 1. The Union Council of Ministers is collectively responsible to the Lok Sabha
 2. If the question arises whether a bill is a money bill or not, the decision of the leader of the opposition shall be final
 3. A money bill can be introduced only in the Lok Sabha
 4. No-confidence motion against the Council of Ministers can only be moved in Lok Sabha

Question ID : 239087244
 Status : Answered
 Chosen Option : 2

Q.11 स्लोवाकिया की पहली महिला राष्ट्रपति कौन है?

- Ans 1. बेंटी मिलर
 2. जैरी मॉक
 3. जुजाना कैपुतोवा
 4. वेलनटीना तेरेश्कोवा

Question ID : 239087237
 Status : Answered
 Chosen Option : 2

Q.12 मासऑबिटर मिशन का लांच वाहन _____ था।

- Ans 1. PSLV C-25
 2. PSLV C-46
 3. PSLV C-45
 4. PSLV C-42

Question ID : 239087249
 Status : Not Answered
 Chosen Option : --

Q.13 The _____ is vested with the responsibility of conducting monetary policy.

- Ans 1. Central Government
 2. Reserve Bank of India
 3. SEBI
 4. Different Banks

Question ID : 239087241
 Status : Answered
 Chosen Option : 2

Q.14 Which of the following is NOT matched correctly?

- Ans 1. Mohiniattam - Odisha
 2. Garba - Gujarat
 3. Yakshagana - Karnataka
 4. Kuchipudi - Andhra Pradesh

Question ID : 239087233
 Status : Answered
 Chosen Option : 4

Q.15 Which of the following rivers is NOT an east flowing river?

- Ans 1. Vamsadhara
 2. Vaigai
 3. Mahi
 4. Subarnarekha

Question ID : 239087245
 Status : Not Answered
 Chosen Option : --

Q.16 2019 ऑस्ट्रेलियन ओपन में पुरुषों का एकल खिताब किसने जीता?

- Ans 1. राफेल नडाल
 2. नोवाक जोकोविच
 3. रोजर फेडरर
 4. एंडी मरे

Question ID : 239087234
 Status : Not Answered
 Chosen Option : --

Q.17 राष्ट्रपति द्वारा कितनी बार देश में राष्ट्रीय आपातकाल की घोषणा की गयी है?

- Ans 1. चार बार
 2. एक बार
 3. तीन बार
 4. दो बार

Question ID : 239087243
 Status : Answered
 Chosen Option : 4

Q.18 ब्रिटिश ईस्ट इंडिया कंपनी ने भारत में निम्नलिखित में से कौन-सा पहला किला बनवाया था?

- Ans 1. फोर्ट सेंट जॉर्ज
 2. फोर्ट विलियम
 3. सेवरी फोर्ट
 4. मसूलिपटनम

Question ID : 239087255
 Status : Answered
 Chosen Option : 2

Q.19 फेमिना मिस इंडिया 2019 कौन है?

- Ans 1. अनुकृति वास

2. पोया शंकर
3. मानुषी छिल्लर
4. सुमन राव

Question ID : 239087238
Status : Answered
Chosen Option : 3

Q.20 लेंस की क्षमता की SI यूनिट क्या है?

- Ans 1. वॉट
2. के डब्ल्यू एच
3. जुल
4. डायोप्टर

Question ID : 239087247
Status : Answered
Chosen Option : 4

Q.21 The book 'Every child matters' is written by:

- Ans 1. Jawaharlal Nehru
2. Chetan Bhagat
3. Arun Shauri
4. Kailash Satyarthi

Question ID : 239087236
Status : Answered
Chosen Option : 1

Q.22 आर. प्रागनानंदा किस खेल से संबंधित हैं?

- Ans 1. टेनिस
2. गोल्फ
3. बैडमिंटन
4. शतरंज

Question ID : 239087235
Status : Not Answered
Chosen Option : --


Q.23 Congregational Singing of 'Shabad' is related to:

- Ans 1. Buddha Purnima
2. Guru Purab
3. Mahavir Jayanti
4. Muharram

Question ID : 239087232
Status : Answered
Chosen Option : 4

Q.24 लोक संगीत 'मांड' किस राज्य से संबंधित है?

- Ans 1. राजस्थान
2. उत्तर प्रदेश
3. मध्य प्रदेश

 4. मणिपुर

Question ID : 239087231
Status : Answered
Chosen Option : 4

Q.25 जून 2019 तक की स्थिति के अनुसार, जल शक्ति मंत्री कौन है?

- Ans  1. गर्जेन्द्र सिंह शेखावत
-  2. महेंद्र नाथ पांडे
-  3. मुख्तार अब्बास नकवी
-  4. प्रकाश जावड़ेकर

Question ID : 239087242
Status : Answered
Chosen Option : 2

Multi Tasking (Non-Technical) Staff Examination 2019

Roll No.	
Registration No.	
Name	
Test Venue	
Test Time	4:00 PM - 5:30 PM
Test Date	05/08/2019

Section : General English

Q.1 Find the part of the given sentence that has an error in it. If there is no error, choose 'No error'.

He did not have few hopes when he contested the election. /No error

- Ans
- 1. He did not have
 - 2. few hopes when he
 - 3. contested the election
 - 4. No error

Question ID : 239087901
Status : Answered
Chosen Option : 2

Q.2 Select the most appropriate option to substitute the underlined segment in the given sentence. If there is no need to substitute it, select No Improvement.

The housing problem in Mumbai becomes more serious day by day.

- Ans
- 1. No Improvement
 - 2. become
 - 3. had become
 - 4. is becoming

Question ID : 239087902
Status : Answered
Chosen Option : 4

Q.3 Choose the most appropriate word that can substitute the given group of words.

The art of creating and arranging dances

- Ans
- 1. Geology
 - 2. Choreography
 - 3. Seismology
 - 4. Calligraphy

Question ID : 239087920
Status : Answered
Chosen Option : 2

Q.4 Select the most appropriate antonym of the given word.

Current

- Ans
- 1. General
 - 2. Modern
 - 3. Past
 - 4. Present

Question ID : 239087916
Status : Answered
Chosen Option : 3

Q.5 Select the most appropriate option to fill in the blank.

I am always ___ for good books.

- Ans
- 1. looking out
 - 2. looking down
 - 3. looking after
 - 4. looking into

Question ID : 239087923
Status : Answered
Chosen Option : 1

Q.6 Select the most appropriate option to fill in the blank.

My mother is the ___ inspiration in my life.

- Ans
- 1. big
 - 2. bigger
 - 3. biggest
 - 4. most biggest

Question ID : 239087905
Status : Answered
Chosen Option : 3

Q.7 Select the most appropriate synonym of the given word.

Courteous

- Ans
- 1. Optional
 - 2. Arrogant
 - 3. Polite
 - 4. Meritorious

Question ID : 239087913
Status : Answered
Chosen Option : 2

Q.8 Find the part of the given sentence that has an error in it. If there is no error, choose 'No error'.

Sterling is only twenty four but have achieved so much in his professional football career.

- Ans
- 1. but have achieved so much
 - 2. in his professional football career

- 3. No error
- 4. Sterling is only twenty four

Question ID : 239087899
Status : Answered
Chosen Option : 4

Q.9 Select the most appropriate meaning of the given idiom.

To feel at home

- Ans 1. To feel comfortable
- 2. To miss one's home
 - 3. To feel out of place
 - 4. To be rarely at home

Question ID : 239087918
Status : Answered
Chosen Option : 1

Q.10 Choose the correctly spelt word.

- Ans 1. Foreign
- 2. Eddition
 - 3. Forrward
 - 4. Enfluence

Question ID : 239087922
Status : Answered
Chosen Option : 1

Q.11 Select the most appropriate synonym of the given word.

Infuriate

- Ans 1. Endow
- 2. Enhance
 - 3. Enrage
 - 4. Engage

Question ID : 239087914
Status : Answered
Chosen Option : 2

Q.12 Select the most appropriate antonym of the given word.

Familiar

- Ans 1. Usual
- 2. Common
 - 3. Known
 - 4. Strange

Question ID : 239087915
Status : Answered

Chosen Option : 4

Q.13 Select the most appropriate option to substitute the underlined segment in the given sentence. If there is no need to substitute it, select No Improvement.

Not only the parents but also the children were sad at leaving the house.

- Ans
- 1. as also
 - 2. so even
 - 3. and also
 - 4. No Improvement

Question ID : 239087903
Status : Answered
Chosen Option : 4

Q.14 Choose the correctly spelt word.

- Ans
- 1. Extravagant
 - 2. Extrawagant
 - 3. Extravagent
 - 4. Extrevagant

Question ID : 239087921
Status : Answered
Chosen Option : 1

Q.15 Select the most appropriate option to fill in the blank.

I _____ blood in the hospital tomorrow.

- Ans
- 1. have donated
 - 2. was donating
 - 3. will donate
 - 4. had donated

Question ID : 239087906
Status : Answered
Chosen Option : 3

Q.16 Choose the most appropriate word that can substitute the given group of words.

A violent windstorm

- Ans
- 1. Temperate
 - 2. Drought
 - 3. Draught
 - 4. Tempest

Question ID : 239087919
Status : Answered
Chosen Option : 1

Comprehension:

In the following passage some words have been deleted. Fill in the blanks with the help of the alternatives given. Select the most appropriate option for each blank.

Education makes a person self-reliant. An (1)___ person is well equipped to take important decisions (2)___ life. He is the master of his (3)___ and fortune. On the other hand an illiterate person (4)___ help and guidance at every step. He feels helpless (5)___ is at the mercy of others.

SubQuestion No : 17

Q.17 Select the most appropriate option for blank No. 1.

- Ans
- 1. illiterate
 - 2. educated
 - 3. wise
 - 4. learned

Question ID : 239087908

Status : Answered

Chosen Option : 2

Comprehension:

In the following passage some words have been deleted. Fill in the blanks with the help of the alternatives given. Select the most appropriate option for each blank.

Education makes a person self-reliant. An (1)___ person is well equipped to take important decisions (2)___ life. He is the master of his (3)___ and fortune. On the other hand an illiterate person (4)___ help and guidance at every step. He feels helpless (5)___ is at the mercy of others.

SubQuestion No : 18

Q.18 Select the most appropriate option for blank No. 2.

- Ans
- 1. to
 - 2. in
 - 3. at
 - 4. on

Question ID : 239087909

Status : Answered

Chosen Option : 2

Comprehension:

In the following passage some words have been deleted. Fill in the blanks with the help of the alternatives given. Select the most appropriate option for each blank.

Education makes a person self-reliant. An (1)___ person is well equipped to take important decisions (2)___ life. He is the master of his (3)___ and fortune. On the other hand an illiterate person (4)___ help and guidance at every step. He feels helpless (5)___ is at the mercy of others.

SubQuestion No : 19

Q.19 Select the most appropriate option for blank No. 3.

- Ans
- 1. fate
 - 2. luck
 - 3. chance
 - 4. lot

Question ID : 239087910

Status : Answered

Chosen Option : 1

Comprehension:

In the following passage some words have been deleted. Fill in the blanks with the help of the alternatives given. Select the most appropriate option for each blank.

Education makes a person self-reliant. An (1)___ person is well equipped to take important decisions (2)___ life. He is the master of his (3)___ and fortune. On the other hand an illiterate person (4)___ help and guidance at every step. He feels helpless (5)___ is at the mercy of others.

SubQuestion No : 20

Q.20 Select the most appropriate option for blank No. 4.

- Ans
- 1. has needed
 - 2. is needing
 - 3. need
 - 4. needs

Question ID : 239087911
Status : Answered
Chosen Option : 4

Comprehension:

In the following passage some words have been deleted. Fill in the blanks with the help of the alternatives given. Select the most appropriate option for each blank.

Education makes a person self-reliant. An (1)___ person is well equipped to take important decisions (2)___ life. He is the master of his (3)___ and fortune. On the other hand an illiterate person (4)___ help and guidance at every step. He feels helpless (5)___ is at the mercy of others.

SubQuestion No : 21

Q.21 Select the most appropriate option for blank No. 5.

- Ans
- 1. and
 - 2. unless
 - 3. though
 - 4. but

Question ID : 239087912
Status : Answered
Chosen Option : 1

Q.22 Find the part of the given sentence that has an error in it. If there is no error, choose 'No error'.

It is easier to preach than to follow. /No error

- Ans
- 1. to preach
 - 2. It is easier
 - 3. then to follow
 - 4. No error

Question ID : 239087900
Status : Answered
Chosen Option : 3

Q.23 Select the most appropriate option to substitute the underlined segment in the given sentence. If there is no need to substitute it, select No Improvement.

The train pass over the long dark tunnel.

- Ans
- 1. passes into

- 2. pass across
- 3. No Improvement
- 4. passed through

Question ID : 239087904
Status : Answered
Chosen Option : 4

Q.24 Select the most appropriate meaning of the given idiom.

Go getter

- Ans 1. A real achiever
- 2. One who does the right thing
 - 3. One who runs away
 - 4. A greedy person

Question ID : 239087917
Status : Answered
Chosen Option : 2

Q.25 Select the most appropriate option to fill in the blank.

Young people from disadvantaged homes look for ____ in government jobs.

- Ans 1. utility
- 2. capability
 - 3. ability
 - 4. stability

Question ID : 239087924
Status : Answered
Chosen Option : 4

Section : General Intelligence & Reasoning

Q.1 उस विकल्प का चयन कीजिए जो तीसरे पद से उसी प्रकार संबंधित है जिस प्रकार दूसरा पद पहले पद से संबंधित है।

NPRT : OQSU :: HJLN : ?

- Ans 1. IKMO
- 2. IKNO
 - 3. IMKO
 - 4. KINO

Question ID : 2390871037
Status : Answered
Chosen Option : 1

Q.2 किसी विशिष्ट कूट भाषा में, 'BOTANY' को 'CQWBPB' लिखा जाता है। उसी कूट भाषा में 'INSECT' का कोड क्या होगा?

- Ans 1. JPVFEW
- 2. JPUFEW

3. KQWGFY

4. KRWGFY

Question ID : 239087653

Status : Answered

Chosen Option : 1

Q.3 किसी विशिष्ट कूट भाषा में, 'RIP' को '42' लिखा जाता है और 'MOL' को '39' लिखा जाता है। उसी कोड भाषा में 'GAN' का कोड क्या होगा?

Ans 1. 21

2. 22

3. 23

4. 20

Question ID : 239087656

Status : Answered

Chosen Option : 1

Q.4 नीचे दिए विकल्पों में से उस संख्या को चुनिए जो निम्नलिखित श्रृंखला में प्रश्न चिन्ह (?) के स्थान पर आएगी।

279, 277, 273, 267, ?

Ans 1. 259

2. 261

3. 257

4. 263

Question ID : 239087662

Status : Answered

Chosen Option : 1

Q.5 यदि नीचे दी गयी दो संख्याओं को आपस में बदल दिया जाता है तो निम्नलिखित में से कौन सा समीकरण सही होगा?

3 तथा 5

Ans 1. $1 + 9 \div 3 + 5 = 9$

2. $3 + 5 - 4 \times 2 = -1$

3. $6 + 5 \times 2 - 3 = 7$

4. $3 + 4 - 1 \times 5 = 2$

Question ID : 239087666

Status : Answered

Chosen Option : 3

Q.6 नीचे दिए गए कथनों और उनके निष्कर्षों को ध्यान से पढ़ें। कथनों में दी गई जानकारी को सत्य मानें, चाहे वे सामान्य रूप से ज्ञात तथ्यों से भिन्न लगती हों। सभी निष्कर्ष पढ़ें और फिर निर्धारित करें कि दिए गए कौन-से/सा निष्कर्ष, कथनों का तार्किक रूप से अनुसरण करता/करते हैं।

कथन:

I. सभी P, Q हैं।

II. कुछ Q, Z हैं।

III. कुछ Z, T हैं।

निष्कर्ष:

I. कुछ T, P हैं।

II. कुछ P, Z हैं।

III. कोई T, Z नहीं हैं।

Ans

- 1. केवल निष्कर्ष II अनुसरण करता है।
- 2. दोनों निष्कर्ष II तथा III अनुसरण करते हैं।
- 3. केवल निष्कर्ष I अनुसरण करता है।
- 4. कोई भी निष्कर्ष अनुसरण नहीं करता है।

Question ID : 239087660

Status : Answered

Chosen Option : 4

Q.7 नीचे दिए गए कथनों और उनके निष्कर्षों को ध्यान से पढ़ें। कथनों में दी गई जानकारी को सत्य मानें, चाहे वे सामान्य रूप से ज्ञात तथ्यों से भिन्न लगती हों। सभी निष्कर्ष पढ़ें और फिर निर्धारित करें कि दिए गए कौन सा/से निष्कर्ष, कथनों का तार्किक रूप से अनुसरण करता/करते हैं।

कथन:

I. कुछ लकड़ी कुर्सियां हैं।

II. सभी कुर्सियां चटाई हैं।

निष्कर्ष:

I. कुछ चटाई लकड़ी हैं।

II. कुछ कुर्सियां लकड़ी हैं।

III. सभी लकड़ी चटाई हैं।

Ans

- 1. दोनों निष्कर्ष II तथा III अनुसरण करते हैं।
- 2. कोई भी निष्कर्ष अनुसरण नहीं करता है।
- 3. दोनों निष्कर्ष I तथा II अनुसरण करते हैं।
- 4. केवल निष्कर्ष I अनुसरण करता है।

Question ID : 239087661

Status : Answered

Chosen Option : 3

Q.8 दो कथन और उसके बाद दो निष्कर्ष I और II दिए गए हैं। आपको कथनों को सत्य मानते हुए विचार करना है, भले ही वे सामान्यतः ज्ञात तथ्यों से भिन्न प्रतीत होते हों, निर्णय करें कि कौन से निष्कर्ष कथनों का तार्किक रूप से अनुसरण करते हैं।

कथन

क. सभी सेब अंगूर हैं।

ख. सभी अंगूर बेरी हैं।

निष्कर्ष

I. सभी सेब बेरी हैं।

II सभी अंगूर सेब हैं।

Ans

- 1. केवल निष्कर्ष I अनुसरण करता है।
- 2. या तो निष्कर्ष I या II अनुसरण करता है।
- 3. न तो निष्कर्ष I और न ही निष्कर्ष II अनुसरण करता है।
- 4. केवल निष्कर्ष II अनुसरण करता है।

Question ID : 2390871036

Status : Answered

Chosen Option : 1

Q.9 नीचे दिए गए विकल्पों में से प्रश्नचिह्न के स्थान पर आने वाली संख्या ज्ञात कीजिए।

49 86 104

65 70 88

27 66 78
87 90 ?

- Ans
- 1. 74
 - 2. 192
 - 3. 114
 - 4. 84

Question ID : 2390871040
Status : Answered
Chosen Option : 3

Q.10 नीचे दिए विकल्पों में से उस अक्षर युग्म को चुनिए जो निम्नलिखित श्रृंखला में प्रश्न चिन्ह (?) के स्थान पर आएगा।

MR, NU, OX, PA, ?

- Ans
- 1. RE
 - 2. QC
 - 3. RC
 - 4. QD

Question ID : 239087649
Status : Answered
Chosen Option : 4

Q.11 उस विकल्प का चयन कीजिए जो तीसरी संख्या से उसी प्रकार संबंधित है जिस प्रकार दूसरी संख्या पहली संख्या से संबंधित है।

9 : 162 :: 13 : ___

- Ans
- 1. 290
 - 2. 330
 - 3. 390
 - 4. 338

Question ID : 2390871038
Status : Answered
Chosen Option : 4

Q.12 छः कार D, F, H, J, L तथा N केन्द्र की ओर मुख करके एक वृत्ताकार पथ के इर्द - गिर्द खड़ी की गयी हैं (जरूरी नहीं कि वे इसी क्रम में हों)। H, N के दायीं ओर तीसरी है। J, D के तुरंत बायीं ओर है। F, N के बायीं ओर दूसरी है। D, F के बायीं ओर दूसरी है। कौन-सी कार H के दायीं ओर दूसरे स्थान पर खड़ी है?

- Ans
- 1. F
 - 2. J
 - 3. L
 - 4. N

Question ID : 239087657
Status : Answered
Chosen Option : 3

Q.13 उस विकल्प का चयन करें जो तीसरे शब्द से उसी तरह से संबंधित है जैसे दूसरा शब्द पहले शब्द से संबंधित है।

खड : पेंसिल :: कुर्सी : ?

- Ans
- 1. बैठना
 - 2. लकड़ी
 - 3. मेज
 - 4. प्लास्टिक

Question ID : 239087651

Status : Answered

Chosen Option : 1

Q.14 छः अभिनेता C, E, G, I, K तथा M केन्द्र की ओर मुख करके एक वृत्ताकार मेज के इर्द - गिर्द बैठे हुए हैं (जरूरी नहीं कि वे इसी क्रम में हो)। M, G के बायीं ओर दूसरा है। E, C के दायीं ओर दूसरा है। K, M के तुरंत बायीं ओर है। E के तुरंत दायीं ओर कौन बैठा हुआ है?

- Ans
- 1. G
 - 2. I
 - 3. K
 - 4. M

Question ID : 239087658

Status : Answered

Chosen Option : 1

Q.15 निम्नलिखित विकल्पों में से उस अक्षर युग्म को चुनिए, जिनमें वही संबंध है, जो नीचे दिए गए अक्षर युग्म में है।

GOM : JSR :: ?

- Ans
- 1. COB : FSG
 - 2. LAP : OFU
 - 3. MOP : PSV
 - 4. RAT : UFY

Question ID : 239087652

Status : Answered

Chosen Option : 1

Q.16 उस शब्द युग्म का चयन कीजिए जिसके दोनों शब्द आपस में उसी प्रकार संबंधित है जिस प्रकार नीचे दिए गए शब्द युग्म के दोनों शब्द आपस में संबंधित है।

गबन करना : दुरूपयोग

- Ans
- 1. दोषी ठहराना : फंसाना
 - 2. दुराचार : व्यापार
 - 3. पछताना : अपराध
 - 4. निर्दोषी ठहराना : दण्ड देना

Question ID : 2390871035

Status : Answered

Chosen Option : 3

Q.17 नीचे दिए विकल्पों में से उस संख्या को चुनिए जो निम्नलिखित श्रृंखला में प्रश्न चिन्ह (?) के स्थान पर आएगी।

8, 8, 16, 48, ?

- Ans
- 1. 192

- 2. 190
- 3. 196
- 4. 216

Question ID : 239087663
Status : Answered
Chosen Option : 1

Q.18 उस सही विकल्प का चयन कीजिए जो श्रृंखला को पूरा करेगा।

72, 83, 95, 108, ___

- Ans
- 1. 120
 - 2. 122
 - 3. 121
 - 4. 123

Question ID : 2390871039
Status : Answered
Chosen Option : 2

Q.19 पाँच विषय R, T, V, X तथा Z (जरूरी नहीं कि वे इसी क्रम में हों) सोमवार से शुक्रवार तक पढ़ाये जाते हैं। एक दिन में केवल एक ही विषय पढ़ाया जाता है। R से पहले केवल Z पढ़ाया जाता है। X से पहले T पढ़ाया जाता है। T बुधवार को नहीं पढ़ाया जाता है। V से पहले कितने विषय पढ़ाये जाते हैं?

- Ans
- 1. 1
 - 2. 3
 - 3. 0
 - 4. 2

Question ID : 239087659
Status : Answered
Chosen Option : 4

Q.20 दिए गए पैटर्न का ध्यानपूर्वक अध्ययन करें और उस संख्या को चुनें जो इसमें प्रश्न चिन्ह (?) के स्थान पर आएगी।

3 4 7
6 4 2
3 2 5
15 12 ?

- Ans
- 1. 41
 - 2. 31
 - 3. 37
 - 4. 43

Question ID : 239087665
Status : Answered
Chosen Option : 3

Q.21 निम्नलिखित समीकरण को सही बनाने के लिए किन दो संख्याओं को आपस में बदलना होगा?

$$5 \times 8 + 7 - 3 = 14$$

- Ans
- 1. 3 तथा 7
 - 2. 8 तथा 5

 3. 7 तथा 8

 4. 8 तथा 3

Question ID : 239087667

Status : Answered

Chosen Option : 4

Q.22 उस विकल्प का चयन करें जो तीसरी संख्या से उसी तरह से संबंधित है जैसे दूसरी संख्या पहली संख्या से संबंधित है।

17 : 289 :: 31 : ?

Ans  1. 1021

 2. 941

 3. 1089

 4. 961

Question ID : 239087664

Status : Answered

Chosen Option : 4

Q.23 उस विकल्प का चयन करें जो तीसरे शब्द से उसी तरह से संबंधित है जैसे दूसरा शब्द पहले शब्द से संबंधित है।

कपडा : मिल :: फसल : ?

Ans  1. मक्का

 2. प्रैस

 3. फैक्टरी

 4. खेत

Question ID : 239087650


Status : Answered

Chosen Option : 4

Q.24 किसी विशिष्ट कूट भाषा में, 'PLANTS' को 'QNBPUU' लिखा जाता है। उसी कूट भाषा में 'KIDNEY' का कोड क्या होगा?

Ans  1. LKEPFA

 2. LKFPFA

 3. MLEQGE

 4. MLFQGB

Question ID : 239087654

Status : Answered

Chosen Option : 1

Q.25 किसी विशिष्ट कूट भाषा में, 'POLE' को '48' लिखा जाता है और 'ROG' को '40' लिखा जाता है। उसी कोड भाषा में 'TIP' का कोड क्या होगा?

Ans  1. 48

 2. 45

 3. 35

 4. 44

Question ID : 239087655

Status : Answered

Chosen Option : 2

Section : Numerical Aptitude

Q.1 किसी कार्य को 10 पुरुष प्रतिदिन 8 घंटों तक कार्य कर 30 दिनों में पूरा कर सकते हैं। 12 पुरुष प्रतिदिन 4 घंटे कार्य कर उसी कार्य को कितने दिनों में पूरा करेंगे?

- Ans
- 1. 30 दिन
 - 2. 50 दिन
 - 3. 40 दिन
 - 4. 60 दिन

Question ID : 239087789

Status : Answered

Chosen Option : 2

Q.2 एक समबाहु त्रिभुज की भुजा 4 cm है। उसका क्षेत्रफल कितना है?

- Ans
- 1. $8\sqrt{3} \text{ cm}^2$
 - 2. $6\sqrt{3} \text{ cm}^2$
 - 3. $9\sqrt{3} \text{ cm}^2$
 - 4. $4\sqrt{3} \text{ cm}^2$

Question ID : 239087794

Status : Answered

Chosen Option : 4

Q.3 एक समान चौड़ाई वाले किसी रिटबन, जिसकी लंबाई l है, को एक लंब वृत्तीय बेलन (सिलेंडर) के वक्र पृष्ठ (कर्व्ड सरफेस) पर पूर्ण रूप से कवर करने के लिए लपेटा जाता है। यदि बेलन (सिलेंडर) के आधार की परिधि c है, तो बेलन (सिलेंडर) पर रिटबन को निम्न में से कितनी बार लपेटा गया:

- Ans
- 1. $\frac{l}{4c}$
 - 2. $\frac{l}{c}$
 - 3. $\frac{l}{2c}$
 - 4. $\frac{2l}{c}$

Question ID : 239087793

Status : Answered

Chosen Option : 2

Q.4 एक मिश्रण में दूध तथा पानी (मात्रा में) का अनुपात 4 : 3 है। यदि इसमें 4 लीटर पानी मिलाया जाए तो अनुपात 1 : 1 हो जाता है। शुरुआती मिश्रण में दूध की मात्रा कितनी थी?

- Ans
- 1. 16 लीटर

- 2. 20 लीटर
- 3. 18 लीटर
- 4. 12 लीटर

Question ID : 239087786
Status : Answered
Chosen Option : 1

Q.5 4 अंकों की सबसे बड़ी संख्या कौन सी है, जो 32, 40, 36 तथा 48 से विभाज्य है?

- Ans
- 1. 9220
 - 2. 8820
 - 3. 8640
 - 4. 9120

Question ID : 239087774
Status : Answered
Chosen Option : 3

Q.6 एक बैग में 1 रुपये, 50 पैसे तथा 25 पैसे के सिक्कों की संख्या का अनुपात 1 : 2 : 4 है। यदि बैग में कुल धन ₹225 है, तो उसमें 50 पैसे के कितने सिक्के हैं?

- Ans
- 1. 150
 - 2. 125
 - 3. 175
 - 4. 200

Question ID : 239087784
Status : Answered
Chosen Option : 1

Q.7 15 छात्रों के एक समूह का गणित में औसत अंक 87 है। फिर अन्य 25 छात्र शामिल होते हैं और कुल औसत अंक 79.5 हो जाता है। दूसरे समूह के 24 छात्रों का औसत 74 है। दूसरे समूह के 25 वें छात्र द्वारा प्राप्त अंक है:

- Ans
- 1. 82
 - 2. 99
 - 3. 76
 - 4. 89

Question ID : 2390871056
Status : Answered
Chosen Option : 2

Q.8 एक लंब वृत्तीय शंकु का आयतन 1232 cm^3 है तथा उसकी ऊँचाई 24 cm है। उसका वक्र पृष्ठ क्षेत्रफल कितना है?
($\pi = \frac{22}{7}$ लीजिए)

- Ans
- 1. 354 cm^2
 - 2. 550 cm^2
 - 3. 430 cm^2

4. 604 cm^2

Question ID : 239087795
Status : Answered
Chosen Option : 2

Q.9 किसी निश्चित राशि पर 20% प्रतिवर्ष की ब्याज दर से दो वर्षों का साधारण ब्याज ₹250 है। समान ब्याज दर पर समान अवधि के लिए समान राशि पर चक्रवृद्धि ब्याज (वार्षिक रूप से संयोजित) कितनी है?

- Ans 1. ₹275
 2. ₹900
 3. ₹550
 4. ₹750

Question ID : 239087787
Status : Answered
Chosen Option : 1

Q.10 $\frac{3 \text{ of } 24 \div 8 \times 3 + 4 \div 2 - 4 \times 5}{36 \div 12 \times 4 \div 2 + 5 \times (6-4)}$ का मान कितना है?

- Ans 1. $\frac{8}{15}$
 2. $\frac{9}{16}$
 3. $\frac{3}{10}$
 4. $\frac{3}{4}$

Question ID : 239087775
Status : Answered
Chosen Option : 2

Q.11 ₹2000 की राशि को चक्रवृद्धि ब्याज (वार्षिक रूप से संयोजित) पर निवेश किया जाता है। यदि ब्याज की दर 10% प्रतिवर्ष है, तो 30 माह के बाद मिश्रधन कितना होगा?

- Ans 1. ₹2538
 2. ₹2524
 3. ₹2541
 4. ₹2532

Question ID : 239087788
Status : Answered
Chosen Option : 3

Q.12 दिए गए आँकड़ों की माध्यिका क्या है?

6, 2, 3, 5, 9, 4, 8, 7

- Ans 1. 5.5
 2. 5

3. 6

4. 6.5

Question ID : 239087780

Status : Answered

Chosen Option : 1

Q.13 $\frac{\frac{3}{4} \div \frac{9}{32} + \frac{4}{3} \times \frac{2}{3} \text{ of } \frac{27}{16}}{\frac{1}{2} \times \left(\frac{8}{3} - 2\right) \div \frac{4}{9} + \left(\frac{1}{3} + \frac{1}{6}\right)}$ का मान कितना है?

Ans 1. $\frac{13}{2}$

2. $\frac{10}{3}$

3. $\frac{25}{2}$

4. $\frac{31}{2}$

Question ID : 239087776

Status : Answered

Chosen Option : 2

Q.14 एक रेलगाड़ी किसी स्थिर खंभे (स्टेशनरी पोल) को पार करने में 1 मिनट का समय लेती है। किसी पुल, जिसकी लंबाई रेलगाड़ी की लंबाई से दोगुनी है, को पार करने में रेलगाड़ी को कितना समय लगेगा (सेकंड में)?

Ans 1. 150

2. 90

3. 120

4. 180

Question ID : 239087792

Status : Answered

Chosen Option : 4

Q.15 किसी वस्तु को 10% और 20% की दो क्रमिक छूटों पर बेचा जाता है। यदि विक्रय मूल्य ₹1080 है, तो अंकित मूल्य कितना है?

Ans 1. ₹1500

2. ₹1600

3. ₹1400

4. ₹1300

Question ID : 239087779

Status : Answered

Chosen Option : 1

Q.16 A, B और C किसी कार्य को अकेले-अकेले कर उसे क्रमशः 12, 24 और 36 दिनों में पूरा कर सकते हैं। वे मिलकर उसी कार्य को पूरा कर ₹3850 प्राप्त करते हैं। B तथा C के हिस्से की राशियों में कितना अंतर है?

Ans 1. ₹350

- 2. ₹1400
- 3. ₹1050
- 4. ₹700

Question ID : 239087790
Status : Answered
Chosen Option : 1

Q.17 किसी वस्तु को 22.5% के लाभ पर बेचा गया। लागत मूल्य तथा विक्रय मूल्य का अनुपात कितना है?

- Ans
- 1. 31 : 57
 - 2. 39 : 69
 - 3. 40 : 49
 - 4. 34 : 63

Question ID : 239087782
Status : Answered
Chosen Option : 3

Q.18 माता तथा पिता की औसत आयु 28 वर्ष है। माता, पिता तथा उनके बच्चे की औसत आयु 20 वर्ष है। बच्चे की आयु कितनी है?

- Ans
- 1. 4 वर्ष
 - 2. 3 वर्ष
 - 3. 6 वर्ष
 - 4. 5 वर्ष

Question ID : 239087778
Status : Answered
Chosen Option : 1

Q.19 A तथा B की मासिक आय का अनुपात 3 : 4 है तथा उनके मासिक व्यय का अनुपात 2 : 3 है। यदि प्रत्येक ₹4000 प्रति माह बचाता है, तो B की आय कितनी है?

- Ans
- 1. ₹20000
 - 2. ₹14000
 - 3. ₹16000
 - 4. ₹12000

Question ID : 239087785
Status : Answered
Chosen Option : 3

Q.20 40 लीटर खाद्य तेल में 10% मिलावट है। इस 40 लीटर में कितना खाद्य तेल मिलाना जरूरी है जिससे अशुद्धता घटकर 5% हो जाए?

- Ans
- 1. 50 लीटर
 - 2. 10 लीटर
 - 3. 20 लीटर

✓ 4. 40 लीटर

Question ID : 2390871058

Status : Answered

Chosen Option : 4

Q.21 एक कार की औसत गति 600 मीटर/मिनट है। कोई धावक, जो 9.6 सेकंड में 100 मीटर की दूरी तय करता है, की तुलना में कार कितनी धीमी गति (मीटर/सेकंड में) से चलती है?

Ans

✗ 1. $\frac{5}{24}$

✗ 2. $\frac{1}{2}$

✗ 3. $\frac{7}{12}$

✓ 4. $\frac{5}{12}$

Question ID : 239087791

Status : Answered

Chosen Option : 4

Q.22 वस्तु 1 को ₹180 में बेचा गया। वस्तु 2 को ₹240 में बेचा गया। वस्तु 1 पर लाभ 20% है और वस्तु 2 पर हानि 20% है। दोनों वस्तुओं के लागत मूल्यों का योग कितना है?

Ans

✓ 1. ₹450

✗ 2. ₹480

✗ 3. ₹520

✗ 4. ₹400

Question ID : 239087783

Status : Answered

Chosen Option : 1

Q.23 A, B से 20% अधिक है। B, C से 25% अधिक है। C, A से कितने प्रतिशत कम है?

Ans

✓ 1. 33.33%

✗ 2. 37.5%

✗ 3. 50%

✗ 4. 66.66%

Question ID : 239087781

Status : Answered

Chosen Option : 3

Q.24 किसी वस्तु की कीमत ₹10,000 थी। इसे तीन क्रमिक छूटों के बाद ₹7866 में किसी खुदरा विक्रेता को बेच दिया गया, जिसमें से पहली दो छूट 10% और 8% थी। तीसरी छूट का प्रतिशत कितना था?

Ans

✓ 1. 5

✗ 2. 3

✗ 3. 6.5

✗ 4. 4.5

Question ID : 2390871057

Status : Answered

Chosen Option : 1

Q.25 4 संख्याओं का औसत 9 है। यदि एक और संख्या 14 को भी शामिल किया जाए, तो नया औसत कितना है?

- Ans
- 1. 9.5
 - 2. 10.5
 - 3. 9
 - 4. 10

Question ID : 239087777

Status : Answered

Chosen Option : 4

Section : General awareness

Q.1 मुगल काल में संस्कृत से फारसी में अनूदित महाभारत को _____ नाम से जाना जाता है।

- Ans
- 1. तूलीनामा
 - 2. शाहनामा
 - 3. रज़मनामा
 - 4. बादशाहनामा

Question ID : 239087547

Status : Answered

Chosen Option : 3

Q.2 लॉन्ग वॉक टू फ्रीडम' किसकी आत्मकथा है?

- Ans
- 1. कोफ़ी अन्नान
 - 2. जॉन एफ कैनेडी
 - 3. नेल्सन मंडेला
 - 4. अब्राहम लिंकन

Question ID : 239087529

Status : Answered

Chosen Option : 3

Q.3 निम्नलिखित में से कौन 15वीं शताब्दी के दौरान असम में वैष्णव संप्रदाय के मुख्य समर्थकों में से एक था?

- Ans
- 1. जयदेव
 - 2. घासीदास
 - 3. रायदास
 - 4. शंकरदेव

Question ID : 239087546

Status : Answered

Chosen Option : 2

Q.4 2019 में निम्नलिखित में से किस स्तूप को 'राष्ट्रीय महत्व का संरक्षित क्षेत्र' घोषित किया है?

- Ans
- 1. चौखंडी स्तूप

- 2. धमेख स्तूप
- 3. केसरिया स्तूप
- 4. रामभर स्तूप

Question ID : 239087524
Status : Answered
Chosen Option : 1

Q.5 निम्नलिखित में से किस राज्य सरकार ने जून 2019 में कारखाना अधिनियम 1948 में संशोधन को मंजूरी दी है?

- Ans 1. गोवा
- 2. महाराष्ट्र
 - 3. गुजरात
 - 4. केरल

Question ID : 239087535
Status : Answered
Chosen Option : 3

Q.6 भारतीय संविधान के किस अनुच्छेद में अस्पृश्यता उन्मूलन के विषय में उल्लेख किया गया है?

- Ans 1. अनुच्छेद 16
- 2. अनुच्छेद 21
 - 3. अनुच्छेद 25
 - 4. अनुच्छेद 17

Question ID : 239087536
Status : Answered
Chosen Option : 4

Q.7 2018 तक की स्थिति के अनुसार, कोको बीज का सबसे बड़ा उत्पादक _____ है।

- Ans 1. ब्राजील
- 2. क्यूबा
 - 3. इंडिया
 - 4. आइवरी कोस्ट

Question ID : 239087543
Status : Answered
Chosen Option : 1

Q.8 भारत की उस एकमात्र मादा ऑरंगुटन का नाम क्या था जिसकी मृत्यु ओडिशा के चिड़ियाघर में हुआ था?

- Ans 1. पिन्नी
- 2. टिन्नी
 - 3. बिन्नी
 - 4. गिन्नी

Question ID : 239087540
Status : Answered
Chosen Option : 3

Q.9 2018 में निम्नलिखित में से आँख के किस भाग को वैज्ञानिकों द्वारा 3D मुद्रित किया गया है?

- Ans
- 1. आइरिस
 - 2. लेंस
 - 3. रेटिना
 - 4. कॉर्निया

Question ID : 239087542
Status : Answered
Chosen Option : 2

Q.10 निम्नलिखित में से कौन-सा बल्लेबाज 20,000 अंतरराष्ट्रीय रन बनाकर सबसे तेज गति से रन बनाने वाला बल्लेबाज बन गया?

- Ans
- 1. विराट कोहली
 - 2. रोहित शर्मा
 - 3. शिखर धवन
 - 4. एम.एस धोनी

Question ID : 239087527
Status : Answered
Chosen Option : 1

Q.11 मध्यकालीन भारत के संदर्भ में, निम्नलिखित युग में से कौन-सा युग सही है?

- Ans
- 1. मार्को पोलो - मोरोक्को
 - 2. अल-बिरूनी - तुर्की
 - 3. फ्रांस्वा बर्नियर - स्पेन
 - 4. दुआर्ते बारबोसा - पुर्तगाल

Question ID : 239087548
Status : Answered
Chosen Option : 1

Q.12 एक हॉर्सपावर में कितने वॉट होते हैं?

- Ans
- 1. 766 वॉट
 - 2. 746 वॉट
 - 3. 756 वॉट
 - 4. 736 वॉट

Question ID : 239087541
Status : Answered
Chosen Option : 2

Q.13 भारतीय संविधान में न्यायिक पुनरावलोकन की शक्ति और न्यायपालिका की स्वतंत्रता का प्रावधान किस देश से लिया गया है?

- Ans
- 1. ऑस्ट्रेलिया
 - 2. जर्मनी
 - 3. जापान
 - 4. अमेरिका

Question ID : 239087537
Status : Answered
Chosen Option : 4

Q.14 धातुओं के साथ जलमिश्रित अम्लों की अभिक्रिया होने पर कौन-सी गैस उत्पन्न होती है?

- Ans
- 1. नाइट्रोजन
 - 2. हाइड्रोजन
 - 3. कार्बन डायऑक्साइड
 - 4. ऑक्सीजन

Question ID : 239087538
Status : Answered
Chosen Option : 2

Q.15 जून 2019 तक की स्थिति के अनुसार, भारतीय ओलंपिक संघ के अध्यक्ष कौन हैं?

- Ans
- 1. राजीव मेहता
 - 2. नारायण रामचंद्रन
 - 3. अभय सिंह चौटाला
 - 4. नरेंद्र बत्रा

Question ID : 239087528
Status : Answered
Chosen Option : 4

Q.16 केन्द्रीय बजट 2019 के अनुसार, सोना और अन्य मूल्यवान धातु पर सीमाशुल्क 10% से बढ़ाकर _____ कर दिया गया है।

- Ans
- 1. 0.105
 - 2. 0.11
 - 3. 0.12
 - 4. 0.125

Question ID : 239087533
Status : Answered
Chosen Option : 2

Q.17 निम्नलिखित में से कौन-सा पौधा ब्रायोफाइट है?

- Ans
- 1. मॉस
 - 2. एलगी
 - 3. फर्न
 - 4. साइकस

Question ID : 239087539
Status : Answered
Chosen Option : 1

Q.18 निम्नलिखित में से कौन भारत रत्न से सम्मानित नहीं है?

- Ans
- 1. मोरारजी देसाई
 - 2. एम.जी. रामाचंद्रन

3. श्याम प्रसाद मुखर्जी

4. विनोबा भावे

Question ID : 239087530

Status : Answered

Chosen Option : 3

Q.19 निम्नलिखित में से किस नदी पर 'नागार्जुन सागर बांध' स्थित है?

Ans 1. गोदावरी

2. कृष्णा

3. कावेरी

4. महानदी

Question ID : 239087545

Status : Answered

Chosen Option : 2

Q.20 निम्नलिखित में से _____ पूर्वी घाट की सबसे ऊंची चोटी है।

Ans 1. डोड्डाबेट्टा

2. महेन्द्रगिरि

3. कोलारिबेट्टा

4. अनाइमुडी

Question ID : 239087544

Status : Answered

Chosen Option : 2

Q.21 निम्नलिखित में से कौन-सी पुस्तक चेतन भगत द्वारा लिखित नहीं है?

Ans 1. रेवोलुशन 2020

2. मेकिंग इंडिया ऑसम

3. वाइज एंड अदरवाइज़

4. वन इंडियन गर्ल

Question ID : 239087531

Status : Answered

Chosen Option : 1

Q.22 बैंक ऑफ बड़ौदा का मुख्यालय कहाँ स्थित है?

Ans 1. पुणे

2. कोलकाता

3. वडोदरा

4. मुंबई

Question ID : 239087532

Status : Answered

Chosen Option : 4

Q.23 यूको बैंक की टैगलाइन क्या है?

Ans

- 1. वेयर एवरी इंडिविजिअल इज़ कमिटिड
- 2. फेथफुल एंड फ्रेन्डली
- 3. ऑनर्स योर ट्रस्ट
- 4. गुड पीपल टू बैंक विद

Question ID : 239087534

Status : Answered

Chosen Option : 3

Q.24 निम्नलिखित में से कौन बांसुरी वादक है?

Ans 1. हरिप्रसाद चौरसिया

2. जाकिर हुसैन

3. शिव कुमार शर्मा

4. रवि शंकर

Question ID : 239087525

Status : Answered

Chosen Option : 1

Q.25 भारत के किस राज्य में माओत्सु उत्सव मनाया जाता है?

Ans 1. त्रिपुरा

2. पश्चिम बंगाल

3. नागालैंड

4. असम

Question ID : 239087526

Status : Answered

Chosen Option : 4

Multi Tasking (Non-Technical) Staff Examination 2019

Roll No.	
Registration No.	
Name	
Test Venue	
Test Time	9:00 AM - 10:30 AM
Test Date	06/08/2019

Section : General English

Q.1 Choose the most appropriate word that can substitute the given group of words.

The highest point

- Ans 1. Horizon
 2. Paradise
 3. Zenith
 4. Nadir

Question ID : 239087946
Status : Not Answered
Chosen Option : --

Q.2 Select the most appropriate meaning of the given idiom.

Out of date

- Ans 1. Being careless
 2. Something old fashioned
 3. A worthless fellow
 4. A date seed

Question ID : 239087944
Status : Answered
Chosen Option : 2

Q.3 Select the most appropriate antonym of the given word.

Cautious

- Ans 1. Discreet
 2. Negligent
 3. Prudent
 4. Alert

Question ID : 239087941
Status : Answered
Chosen Option : 2

Q.4 Select the most appropriate option to fill in the blank.

There is no _____ in the container for the water to flow.

- Ans 1. link

2. outlet

3. room

4. escape

Question ID : 239087950

Status : Answered

Chosen Option : 4

Q.5 Select the most appropriate option to fill in the blank.

The incident made a ____ impression on Karan.

Ans 1. factual

2. rounded

3. perfect

4. deep

Question ID : 239087949

Status : Answered

Chosen Option : 3

Comprehension:

In the following passage some words have been deleted. Fill in the blanks with the help of the alternatives given. Select the most appropriate option for each blank.

The quick thinking of an animal lover saved (1)____ life of a turtle who had (2)____ a fishing hook and a safety pin. The female turtle was (3)____ on the streets of Mumbai by the animal lover, (4)____ took it to a vet. An X-ray (5)____ the presence of sharp objects in its stomach. The turtle was operated upon successfully.

SubQuestion No : 6

Q.6 Select the most appropriate option for blank No. 1.

Ans 1. one

2. the

3. an

4. a

Question ID : 239087934

Status : Answered

Chosen Option : 2

Comprehension:

In the following passage some words have been deleted. Fill in the blanks with the help of the alternatives given. Select the most appropriate option for each blank.

The quick thinking of an animal lover saved (1)____ life of a turtle who had (2)____ a fishing hook and a safety pin. The female turtle was (3)____ on the streets of Mumbai by the animal lover, (4)____ took it to a vet. An X-ray (5)____ the presence of sharp objects in its stomach. The turtle was operated upon successfully.

SubQuestion No : 7

Q.7 Select the most appropriate option for blank No. 2.

Ans 1. absorbed

2. feasted

3. drowned

4. swallowed

Question ID : 239087935

Status : Not Answered

Chosen Option : --

Comprehension:

In the following passage some words have been deleted. Fill in the blanks with the help of the alternatives given. Select the most appropriate option for each blank.

The quick thinking of an animal lover saved (1)___ life of a turtle who had (2)___ a fishing hook and a safety pin. The female turtle was (3)___ on the streets of Mumbai by the animal lover, (4)___ took it to a vet. An X-ray (5)___ the presence of sharp objects in its stomach. The turtle was operated upon successfully.

SubQuestion No : 8

Q.8 Select the most appropriate option for blank No. 3.

- Ans
- 1. finds
 - 2. find
 - 3. finding
 - 4. found

Question ID : 239087936

Status : Answered

Chosen Option : 4

Comprehension:

In the following passage some words have been deleted. Fill in the blanks with the help of the alternatives given. Select the most appropriate option for each blank.

The quick thinking of an animal lover saved (1)___ life of a turtle who had (2)___ a fishing hook and a safety pin. The female turtle was (3)___ on the streets of Mumbai by the animal lover, (4)___ took it to a vet. An X-ray (5)___ the presence of sharp objects in its stomach. The turtle was operated upon successfully.

SubQuestion No : 9

Q.9 Select the most appropriate option for blank No. 4.

- Ans
- 1. who
 - 2. whose
 - 3. whom
 - 4. which

Question ID : 239087937

Status : Answered

Chosen Option : 1

Comprehension:

In the following passage some words have been deleted. Fill in the blanks with the help of the alternatives given. Select the most appropriate option for each blank.

The quick thinking of an animal lover saved (1)___ life of a turtle who had (2)___ a fishing hook and a safety pin. The female turtle was (3)___ on the streets of Mumbai by the animal lover, (4)___ took it to a vet. An X-ray (5)___ the presence of sharp objects in its stomach. The turtle was operated upon successfully.

SubQuestion No : 10

Q.10 Select the most appropriate option for blank No. 5.




- Ans
- 1. revealed
 - 2. covered
 - 3. protected

 4. concealed

Question ID : 239087938
Status : Answered
Chosen Option : 1

Q.11 Select the most appropriate option to fill in the blank.





He is a descendant _____ the Mughal royalty.

- Ans
-  1. for
 -  2. of
 -  3. in
 -  4. to

Question ID : 239087932
Status : Answered
Chosen Option : 4

Q.12 Select the most appropriate option to substitute the underlined segment in the given sentence. If there is no need to substitute it, select No Improvement.

Only me can solve the problem.

- Ans
-  1. Only I can
 -  2. Me can only
 -  3. No Improvement
 -  4. Only me could

Question ID : 239087928
Status : Answered
Chosen Option : 1





Q.13 Choose the correctly spelt word.

- Ans
-  1. Jelousy
 -  2. Corupt
 -  3. Intrest
 -  4. Miniature

Question ID : 239087948
Status : Answered
Chosen Option : 2

Q.14 Select the most appropriate synonym of the given word.

Obvious

- Ans
-  1. Vague
 -  2. Various
 -  3. Flexible
 -  4. Evident

Question ID : 239087939
Status : Answered
Chosen Option : 4

Q.15 Choose the most appropriate word that can substitute the given group of words.

One who can't speak

- Ans
- 1. Bevy
 - 2. Quiet
 - 3. Orphan
 - 4. Dumb

Question ID : 239087945

Status : Not Answered

Chosen Option : --

Q.16 Select the most appropriate synonym of the given word.

Optimist

- Ans
- 1. Critic
 - 2. Distinct
 - 3. Pessimist
 - 4. Idealist

Question ID : 239087940

Status : Not Answered

Chosen Option : --

Q.17 Select the most appropriate option to substitute the underlined segment in the given sentence. If there is no need to substitute it, select No Improvement.

When the little girl loses her doll, she began to cry.

- Ans
- 1. loss her doll
 - 2. No Improvement
 - 3. losing her doll
 - 4. lost her doll

Question ID : 239087929

Status : Answered

Chosen Option : 1

Q.18 Choose the correctly spelt word.

- Ans
- 1. Peirce
 - 2. Individual
 - 3. Extract
 - 4. Luxuries

Question ID : 239087947

Status : Answered

Chosen Option : 3

Q.19 Find the part of the given sentence that has an error in it. If there is no error, choose 'No error'.

Pallavi is the cleverest of the two sisters. /No error

Ans

- 1. of the two sisters
- 2. Pallavi is
- 3. the cleverest
- 4. No error

Question ID : 239087926
Status : Answered
Chosen Option : 1

Q.20 Find the part of the given sentence that has an error in it. If there is no error, choose 'No error'.

Either of the two books will met my requirement. /No error

- Ans
- 1. Either of the
 - 2. No error
 - 3. will met my requirement
 - 4. two books

Question ID : 239087927
Status : Answered
Chosen Option : 3

Q.21 Select the most appropriate meaning of the given idiom.

As a matter of fact

- Ans
- 1. Actually as it happens
 - 2. To seize a good opportunity
 - 3. To forgive and forget
 - 4. Just at the last moment

Question ID : 239087943
Status : Answered
Chosen Option : 1

Q.22 Select the most appropriate antonym of the given word.

Tranquil

- Ans
- 1. Calm
 - 2. Peaceful
 - 3. Cool
 - 4. Stormy

Question ID : 239087942
Status : Answered
Chosen Option : 4

Q.23 Select the most appropriate option to fill in the blank.

He _____ done it.

- Ans
- 1. should have been
 - 2. shouldn't have

- 3. should had not
- 4. should not had

Question ID : 239087931
Status : Answered
Chosen Option : 2

Q.24 Select the most appropriate option to substitute the underlined segment in the given sentence. If there is no need to substitute it, select No Improvement.

Mr. Kansal has been living in Delhi since 10 years.

- Ans
- 1. until
 - 2. for
 - 3. No Improvement
 - 4. from

Question ID : 239087930
Status : Answered
Chosen Option : 3

Q.25 Find the part of the given sentence that has an error in it. If there is no error, choose 'No error'.

My brother brought a few rice while coming from the market. /No error

- Ans
- 1. No error
 - 2. My brother brought
 - 3. a few rice while
 - 4. coming from the market

Question ID : 239087925
Status : Answered
Chosen Option : 2

Section : General Intelligence & Reasoning

Q.1 नीचे दिए विकल्पों में से उस संख्या को चुनिए जो निम्नलिखित श्रृंखला में प्रश्न चिह्न (?) के स्थान पर आएगी।

3, 7, 22, 89, ?

- Ans
- 1. 452
 - 2. 446
 - 3. 448
 - 4. 440

Question ID : 239087687
Status : Answered
Chosen Option : 2

Q.2 छः टुक K, M, O, Q, S तथा U केन्द्र की ओर मुख करके एक वृत्ताकार पथ के इर्द-गिर्द खड़े किए गये हैं (जरूरी नहीं कि वे इसी क्रम में हो)। Q, U के बायीं ओर दूसरा है। S, M के तुरंत बायीं ओर है। K, O के दायीं ओर दूसरा है। O, Q के तुरंत दायीं ओर है। O के बायीं ओर दूसरे स्थान पर कौन सा टुक खड़ा किया गया है?

- Ans
- 1. M
 - 2. K

3. S

4. U

Question ID : 239087683

Status : Not Answered

Chosen Option : --

Q.3 नीचे दिए गए प्रश्न में कुछ कथन और उनके बाद उन कथनों पर आधारित कुछ निष्कर्ष दिए गए हैं। दिए गए कथनों को सही मानते हुए, चाहे वे सामान्य रूप से ज्ञात तथ्यों से भिन्न प्रतीत होते हों, सभी निष्कर्षों को पढ़िए और फिर निर्धारित कीजिए कि दिए गए कौन-से/सा निष्कर्ष, कथनों का तार्किक रूप से अनुसरण करता/करते हैं।

कथन:

- I. कोई साइकिल हैंडल नहीं है।
II. कुछ हैंडल टायर हैं।

निष्कर्ष:

- I. कोई टायर साइकिल नहीं हैं।
II. कुछ टायर हैंडल हैं।
III. कुछ साइकिल हैंडल हैं।

- Ans 1. दोनों निष्कर्ष II तथा III अनुसरण करते हैं।
 2. दोनों निष्कर्ष I तथा II अनुसरण करते हैं।
 3. केवल निष्कर्ष III अनुसरण करता है।
 4. केवल निष्कर्ष II अनुसरण करता है।

Question ID : 239087685

Status : Answered

Chosen Option : 2

Q.4 एक विशिष्ट कूट भाषा में, 'RIGHT' को '98653' लिखा जाता है, 'CLERK' को '04297' लिखा जाता है। उसी कूट भाषा में 'GREET' का कोड क्या होगा?

- Ans 1. 69223
 2. 69227
 3. 69330
 4. 69332

Question ID : 239087680

Status : Answered

Chosen Option : 1

Q.5 निम्नलिखित विकल्पों में से उस अक्षर युग्म को चुनिए, जिनमें वही संबंध है, जो नीचे दिए गए अक्षर युग्म में है।

RP : SQ :: ?

- Ans 1. JL : IK
 2. KG : LH
 3. MA : NZ
 4. RV : QW

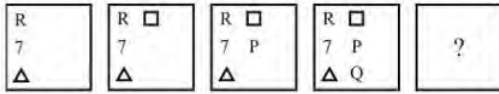
Question ID : 239087677

Status : Answered

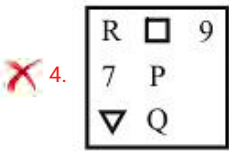
Chosen Option : 2

Q.6

निम्नलिखित प्रश्न में, दिए गए विकल्पों में से प्रश्न चिह्न (?) के स्थान पर आने वाली आकृति को चुनिए।



Ans



Question ID : 239087693

Status : Answered

Chosen Option : 1

Q.7 नीचे दिए गए प्रश्न में, कुछ कथन और उनके बाद उन कथनों पर आधारित कुछ निष्कर्ष दिए गए हैं। दिए गए कथनों को सही मानते हुए, चाहे वे सामान्य रूप से ज्ञात तथ्यों से भिन्न प्रतीत होते हों, सभी निष्कर्षों को पढ़िए और फिर निर्धारित कीजिए कि दिए गए कौन से/सा निष्कर्ष, कथनों का तार्किक रूप से अनुसरण करता/करते हैं।

कथन:

- I. कुछ भूमि सख्त है।
 - II. कोई सख्त गर्म नहीं है।
- निष्कर्ष:

- I. कुछ गर्म भूमि है।
- II. कुछ सख्त भूमि हैं।

Ans

- ✓ 1. केवल निष्कर्ष II अनुसरण करता है।
- ✗ 2. कोई भी निष्कर्ष अनुसरण नहीं करता है।
- ✗ 3. केवल निष्कर्ष I अनुसरण करता है।
- ✗ 4. दोनों निष्कर्ष I तथा II अनुसरण करते हैं।

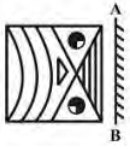
Question ID : 239087686

Status : Answered

Chosen Option : 2

Q.8

यदि एक दर्पण को AB रेखा पर रखा जाए, तो दी गई उत्तर आकृतियों में से कौन सी आकृति प्रश्न आकृति की सही छवि होगी?



Ans

- 1.
- 2.
- 3.
- 4.

Question ID : 239087696

Status : Answered

Chosen Option : 2

Q.9 वह आरेख चुनिए जो नीचे दिए गए वर्गों के बीच के संबंध का सही निरूपण करता है।

रंग, लाल, पीला

Ans

- 1.
- 2.
- 3.



Question ID : 239087698

Status : Answered

Chosen Option : 3

Q.10 नीचे दिये गए चिह्नों को परस्पर बदलने पर, $16 + 19 \times 51 \div 153 - 12$ का मान क्या होगा?

× तथा ÷

Ans 1. 57

2. 61

3. 51

4. 63

Question ID : 239087691

Status : Not Answered

Chosen Option : --

Q.11 उस विकल्प का चयन करें जो तीसरे शब्द से उसी तरह से संबंधित है जैसे दूसरा शब्द पहले शब्द से संबंधित है।

अध्याय : किताब :: हैंडल : ?

Ans 1. ब्रेक

2. साइकिल

3. पैडल

4. गोल

Question ID : 239087675

Status : Answered

Chosen Option : 2

Q.12 Select the option that is related to the third term in the same way as the second term is related to the first term.

Office : Clerk :: Site : ?

Ans 1. Servant

2. Shopkeeper

3. Teacher

4. Engineer

Question ID : 239087676

Status : Answered

Chosen Option : 1

Q.13 एक विशिष्ट कूट भाषा में, 'GARAGE' को 'JEUEJI' लिखा जाता है। उसी कूट भाषा में 'OFFICE' का कोड क्या होगा?

Ans 1. JKJNGJ

2. RKIMFI

3. JLJNGJ

✓ 4. RJIMFI

Question ID : 239087678
Status : Answered
Chosen Option : 4

Q.14 दिए गए पैटर्न का ध्यानपूर्वक अध्ययन कीजिए और उस आकृति को चुनिए जो प्रश्न आकृति में दिये गए पैटर्न को पूरा करेगी।



Ans

- 1.
- 2.
- 3.
- 4.

Question ID : 239087694
Status : Answered
Chosen Option : 3

Q.15 नीचे एक श्रृंखला दी गयी है, जिसमें से एक अक्षर युग्म नहीं दिया गया है। दिए गए विकल्पों में से वह सही विकल्प चुनिए, जो श्रृंखला को पूरा करे।

ML, RQ, WV, BA, ?

- Ans
- 1. HE
 - 2. GF
 - 3. GE
 - 4. HF

Question ID : 239087674
Status : Answered
Chosen Option : 2

Q.16 निम्नलिखित प्रश्न में, दिए गए विकल्पों में से उस संख्या को चुनें जो प्रश्न चिह्न (?) के स्थान पर आएगी।

7 8 4 18
2 3 9 13
5 6 8 ?

- Ans
- 1. 15
 - 2. 18
 - 3. 17
 - 4. 21

Question ID : 239087690

Status : **Answered**
Chosen Option : 2

Q.17 एक विशिष्ट कूट भाषा में, 'FOSSIL' को 'KHRNE' लिखा जाता है। उसी कूट भाषा में 'FUNGAL' का कोड क्या होगा?

- Ans 1. KZFMTE
 2. KAFMTE
 3. LAGMUF
 4. LAGNUF

Question ID : 239087679
Status : **Not Answered**
Chosen Option : --

Q.18 उस विकल्प का चयन करें जो तीसरी संख्या से उसी तरह से संबंधित है जैसे दूसरी संख्या पहली संख्या से संबंधित है।

18 : 323 :: 38 : ?

- Ans 1. 1339
 2. 1443
 3. 1449
 4. 1331

Question ID : 239087689
Status : **Answered**
Chosen Option : 2

Q.19 छः अध्यापक A, D, G, J, M तथा P केन्द्र की ओर मुख करके एक वृत्ताकार मेज के इर्द-गिर्द बैठे हुए हैं (जरूरी नहीं कि वे इसी क्रम में हों)। M, G के बायीं ओर तीसरा है। D, J के तुरंत बायीं ओर है। A, M के तुरंत बायीं ओर है।

यदि हम P से घड़ी की सूई की दिशा में गणना करते हैं, तो P तथा J के मध्य कितने अध्यापक बैठे हुए हैं?

- Ans 1. 4
 2. 2
 3. 1
 4. 3

Question ID : 239087682
Status : **Not Answered**
Chosen Option : --

Q.20 नीचे दिए गए दो चिह्नों को परस्पर बदलने पर निम्नलिखित में से कौन सा समीकरण सही होगा?

× तथा +

- Ans 1. $13 - 12 \times 5 + 11 = 46$
 2. $4 + 9 \times 11 \div 3 = 37$
 3. $11 \times 6 \div 18 + 54 = 29$
 4. $6 \times 11 + 13 \div 11 = 17$

Question ID : 239087692
Status : **Not Answered**
Chosen Option : --

Q.21 पाँच वस्तुएँ A, K, P, R तथा T एक के ऊपर एक रखी गयी हैं (जरूरी नहीं कि वे इसी क्रम में हों)। K तथा P के मध्य केवल T है। P, K के नीचे है। R, P के ठीक नीचे है। A, T से तीन स्थान नीचे है। कौन सी वस्तु सबसे नीचे है?

- Ans
- 1. T
 - 2. P
 - 3. R
 - 4. A

Question ID : 239087684

Status : Answered

Chosen Option : 4

Q.22 नीचे दी गयी प्रश्न आकृतियों में दिखाए अनुसार कागज के एक टुकड़े को मोड़ा जाता है और छेद किया जाता है। जब इसको खोला जाएगा तो वह दी गयी उत्तर आकृतियों में से किसके जैसा दिखाई देगा?



Ans

- 1.
- 2.
- 3.
- 4.

Question ID : 239087697

Status : Answered

Chosen Option : 4

Q.23 एक विशिष्ट कूट भाषा में, 'POEM' को '1351516' लिखा जाता है, 'ROB' को '21518' लिखा जाता है। उसी कूट भाषा में 'MAID' का कोड क्या होगा?

- Ans
- 1. 13195
 - 2. 49113
 - 3. 59146
 - 4. 13194

Question ID : 239087681

Status : Answered

Chosen Option : 4

Q.24 नीचे दिए विकल्पों में से उस संख्या को चुनिए जो निम्नलिखित श्रृंखला में प्रश्न चिह्न (?) के स्थान पर आएगी।

307, 303, 299, 295, ?

Ans 1. 291

2. 293

3. 287

4. 289

Question ID : 239087688

Status : Answered

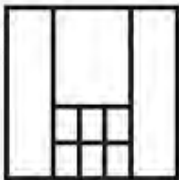
Chosen Option : 1

Q.25 दी गई उत्तर आकृतियों में से, उस उत्तर आकृति को चुनिए जिसमें नीचे दी गई प्रश्न आकृति समाहित/अन्तर्निहित है।




Ans

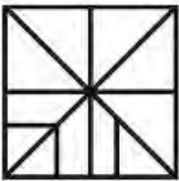
1.




2.



3.



4.



Question ID : 239087695

Status : Answered

Chosen Option : 1

Section : Numerical Aptitude

Q.1 किसी वर्ग की अंतःत्रिज्या (inradius) तथा परिव्रिज्या (circumradius) का अनुपात कितना है?

Ans 1. 1 : 2

2. $\sqrt{2} : 3$

3. 1 : 3

4. 1 : $\sqrt{2}$

Question ID : 239087820
Status : Not Answered
Chosen Option : --

Q.2 यदि $x + y = 52$ तथा $x - y = 20$ है, तो $x : y$ का मान कितना है?

- Ans
- 1. 3 : 2
 - 2. 3 : 4
 - 3. 9 : 4
 - 4. 7 : 5

Question ID : 239087809
Status : Answered
Chosen Option : 3

Q.3 $\frac{7}{16}, \frac{21}{32}$ तथा $\frac{49}{8}$ का महत्तम समापवर्तक (एच सी एफ) कितना है?

- Ans
- 1. $\frac{7}{64}$
 - 2. $\frac{147}{32}$
 - 3. $\frac{147}{8}$
 - 4. $\frac{7}{32}$

Question ID : 239087799
Status : Answered
Chosen Option : 4

Q.4 A तथा B की मासिक आय क्रमशः ₹12000 तथा ₹8000 है। उनके मासिक व्यय का अनुपात 5 : 3 है। यदि वे प्रति माह समान राशि बचाते हैं, तो उनमें से प्रत्येक हर माह कितनी राशि बचाता है?

- Ans
- 1. ₹2000
 - 2. ₹1500
 - 3. ₹800
 - 4. ₹1000

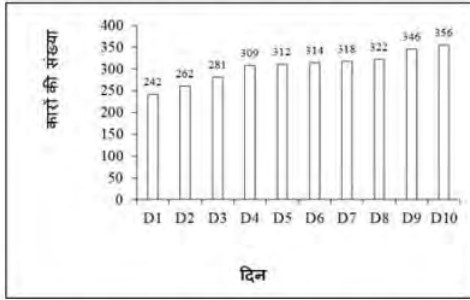
Question ID : 239087811
Status : Answered
Chosen Option : 1

Q.5 यदि $x + y + z = 360$ तथा $x : y : z = 4 : 3 : 2$ है, तो $y + z - x$ का मान कितना है?

- Ans
- 1. 80
 - 2. 60
 - 3. 30
 - 4. 40

Question ID : 239087810
Status : Answered

Q.6 नीचे दिया गया दंड आरेख किसी पार्किंग क्षेत्र में दस अलग-अलग दिनों में खड़ी कारों की संख्या को दर्शाता है।



D3 तथा D8 में खड़ी कारों की संख्या का अंतर कितना है?

- Ans
- 1. 41
 - 2. 45
 - 3. 37
 - 4. 33

Question ID : 239087823

Status : Answered

Chosen Option : 1

Q.7 किसी मूलधन पर 5% वार्षिक ब्याज की दर से 2 वर्षों के साधारण ब्याज तथा चक्रवृद्धि ब्याज का अंतर ₹25 है। मूलधन कितना है?

- Ans
- 1. ₹10000
 - 2. ₹15000
 - 3. ₹12000
 - 4. ₹5000

Question ID : 239087812

Status : Answered

Chosen Option : 1

Q.8 किसी वस्तु को 20% लाभ पर तथा 18% हानि पर बेचने पर विक्रय मूल्य का अंतर ₹570 है। यदि इसे 12% हानि पर बेचा जाए, तो वस्तु का विक्रय मूल्य कितना होगा?

- Ans
- 1. ₹1760
 - 2. ₹1540
 - 3. ₹1320
 - 4. ₹1650

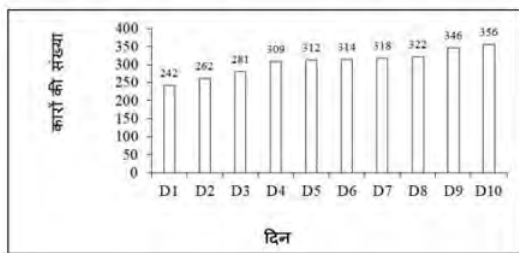
Question ID : 239087807

Status : Not Answered

Chosen Option : --

Q.9

नीचे दिया गया दंड आरेख किसी पाकिंग क्षेत्र में दस अलग-अलग दिनों में खड़ी कारों की संख्या को दर्शाता है।



पाकिंग क्षेत्र में सभी 10 दिनों में खड़ी कारों की कुल संख्या कितनी है?

- Ans
- 1. 3882
 - 2. 3462
 - 3. 3062
 - 4. 3862

Question ID : 239087822

Status : Answered

Chosen Option : 3

Q.10 X किसी कार्य को अकेला 15 दिन में कर सकता है। Y उसी कार्य को अकेला 30 दिन में कर सकता है। X, Y तथा Z एक साथ मिलकर उस कार्य को 9 दिन में कर सकते हैं। Z उस कार्य को अकेला कितने दिन में कर सकता है?

- Ans
- 1. 120
 - 2. 90
 - 3. 45
 - 4. 60

Question ID : 239087815

Status : Answered

Chosen Option : 2

Q.11 ₹3000 की राशि को 20% प्रतिवर्ष के चक्रवृद्धि ब्याज दर (वार्षिक रूप से संयोजित) पर निवेश किया गया है। 2 वर्षों का चक्रवृद्धि ब्याज कितना है?

- Ans
- 1. ₹1360
 - 2. ₹1200
 - 3. ₹1320
 - 4. ₹1440

Question ID : 239087813

Status : Answered

Chosen Option : 3

Q.12 किसी बेलन (सिलेंडर) का वक्र पृष्ठ क्षेत्रफल 25344 cm^2 है तथा उसकी ऊँचाई 32 cm है। उस बेलन (सिलेंडर) का आयतन कितना है जिसकी धारिता दिए गए बेलन (सिलेंडर) के आयतन की $\frac{\pi}{792}$ गुनी है?

- Ans
- 1. 3168 cm^3
 - 2. 6336 cm^3
 - 3. 1584 cm^3

4. 9504 cm^3

Question ID : 239087818

Status : Not Answered

Chosen Option : --

Q.13 $\frac{39 \div 26 + 22 \div 11 \times 2 + 4 \times 3}{2 \text{ of } 5 - 3(7 + 10 \div 2 - 3 \times 3)}$ का मान कितना है?

- Ans
- 1. $\frac{61}{2}$
 - 2. $\frac{49}{2}$
 - 3. $\frac{39}{2}$
 - 4. $\frac{35}{2}$

Question ID : 239087801

Status : Not Answered

Chosen Option : --

Q.14 किसी वस्तु का लागत मूल्य ₹1800 है। यदि लाभ 32% है, तो विक्रय मूल्य कितना है?

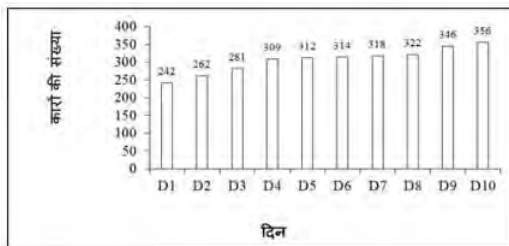
- Ans
- 1. ₹2288
 - 2. ₹2376
 - 3. ₹2456
 - 4. ₹2496

Question ID : 239087808

Status : Answered

Chosen Option : 2

Q.15 नीचे दिया गया दंड आरेख किसी पार्किंग क्षेत्र में दस अलग-अलग दिनों में खड़ी कारों की संख्या को दर्शाता है।



D10 में खड़ी कारों की संख्या, D1 में खड़ी कारों की संख्या से कितनी प्रतिशत (दो दशमलव स्थान तक) अधिक है?

- Ans
- 1. 57.11%
 - 2. 52.11%
 - 3. 42.11%
 - 4. 47.11%

Question ID : 239087821

Status : Answered

Chosen Option : 3

Q.16 नीचे दिए गए आँकड़े में छक्कों की संख्या तथा उन्हें जड़ने वाले बल्लेबाजों की संख्या को दिखाया गया है।

छक्कों की संख्या	बल्लेबाजों की संख्या
1	2
2	3
3	1
4	3
5	2

छक्कों की संख्या की माध्यिका कितनी है?

- Ans
- 1. 3
 - 2. 5
 - 3. 4
 - 4. 4.5

Question ID : 239087805
Status : Answered
Chosen Option : 1

Q.17 किसी वस्तु पर 20% की छूट देने के पश्चात् कोई दुकानदार 30% का लाभ कमाता है। अंकित मूल्य, लागत मूल्य का कितना प्रतिशत है?

- Ans
- 1. 122.5%
 - 2. 137.5%
 - 3. 150%
 - 4. 162.5%

Question ID : 239087804
Status : Answered
Chosen Option : 2

Q.18 एक वर्ग का विकर्ण 24 cm है। उसका परिमाण कितना है?

- Ans
- 1. 28 cm
 - 2. $48\sqrt{2}$ cm
 - 3. $36\sqrt{2}$ cm
 - 4. $46\sqrt{2}$ cm

Question ID : 239087819
Status : Answered
Chosen Option : 2

Q.19 $(24 + 16 \times 5 - 8 \text{ of } 4) \div 84 \times 48 \div 24 \times 6 + 4 + 3$ का मान कितना है?

- Ans
- 1. $\frac{139}{3}$
 - 2. $\frac{156}{5}$

✓ 3. $\frac{121}{7}$

✗ 4. $\frac{56}{3}$

Question ID : 239087800

Status : Answered

Chosen Option : 1

Q.20 A, B से 15% अधिक है। B, A से कितने प्रतिशत कम (दशमलव के दो स्थान तक) है?

Ans ✗ 1. 9.17%

✗ 2. 16.14%

✓ 3. 13.04%

✗ 4. 6.14%

Question ID : 239087806

Status : Answered

Chosen Option : 2

Q.21 नाव की अनुप्रवाह (डाउनस्ट्रीम) गति 14 km/h है। नाव की ऊर्ध्वप्रवाह (अपस्ट्रीम) गति 10 km/h है। वह नाव शांत जल में 72 km की दूरी कितने समय में तय कर सकती है?

Ans ✗ 1. 8 घंटे

✓ 2. 6 घंटे

✗ 3. 4 घंटे

✗ 4. 12 घंटे

Question ID : 239087816

Status : Answered

Chosen Option : 4

Q.22 एक कार 24 मिनट में 18 km की दूरी तय कर सकती है। किसी बस की गति कार की दुगुनी है। बस 135 km की दूरी कितने मिनट में तय कर सकती है?

Ans ✗ 1. 48 मिनट

✓ 2. 90 मिनट

✗ 3. 50 मिनट

✗ 4. 75 मिनट

Question ID : 239087817

Status : Answered

Chosen Option : 2

Q.23 (P,Q) ; (Q,R) ; (R,P) की औसत आयु क्रमशः 13, 14 तथा 12 वर्ष है। Q की आयु कितनी है?

Ans ✗ 1. 13 वर्ष

✓ 2. 15 वर्ष

✗ 3. 12 वर्ष

4. 11 वर्ष

Question ID : 239087803

Status : Answered

Chosen Option : 1

Q.24 A किसी कार्य को अकेला 30 दिन में कर सकता है। B उसी कार्य को अकेला 60 दिन में कर सकता है। यदि वे 5 दिन तक एक साथ कार्य करते हैं, तो कार्य का कितना हिस्सा शेष रह जाएगा?

Ans

1. $\frac{2}{3}$

2. $\frac{1}{2}$

3. $\frac{3}{4}$

4. $\frac{5}{6}$

Question ID : 239087814

Status : Not Answered

Chosen Option : --

Q.25 14 बच्चों का औसत वजन 22 kg है। यदि अध्यापक का वजन भी मिला लिया जाए तो औसत वजन 23 kg हो जाता है। अध्यापक का वजन कितना है?

Ans

1. 34 kg

2. 37 kg

3. 35 kg

4. 36 kg

Question ID : 239087802

Status : Answered

Chosen Option : 2

Section : General awareness

Q.1 वर्ष 1817 में _____ ने समान गुणों वाले तत्वों को समूहों में क्रमबद्ध करने का प्रयास किया।

Ans

1. एम्मी नोयथर

2. हेनरी मूसली

3. डॉबर्नियर

4. मैन्डेलीव

Question ID : 239087567

Status : Answered

Chosen Option : 3

Q.2 दुर्गन्धनाशक (antiperspirant deodorant) में निम्नलिखित में से कौन-सा तत्व मौजूद होता है?

Ans

1. एल्युमिनियम

2. आयरन

3. कॉपर

 4. सोडियम

Question ID : 239087563
Status : Answered
Chosen Option : 3

Q.3 पानीपत की तीसरी लड़ाई निम्नलिखित में से किसके बीच लड़ी गई थी?

- Ans  1. मराठा साम्राज्य और दुर्रानी साम्राज्य
 2. पृथ्वीराज चौहान और मोहम्मद गौरी
 3. सिख और मुगल
 4. अकबर और हेम चंद्र विक्रमादित्य


Question ID : 239087572
Status : Answered
Chosen Option : 2

Q.4 निम्नलिखित में से किस नदी का उदगम मध्य प्रदेश से होता है?

- Ans  1. महानदी
 2. ताप्ती
 3. कृष्णा
 4. गोदावरी

Question ID : 239087569
Status : Answered
Chosen Option : 2

Q.5 निम्नलिखित में से किस ग्रह पर नासा ने क्यूरियोसिटी रोवर भेजा है?

- Ans  1. बृहस्पति
 2. चांद
 3. मंगल
 4. शनि

Question ID : 239087565
Status : Answered
Chosen Option : 3

Q.6 गांधी शांति पुरस्कार 2018 किसने जीता?

- Ans  1. मनमोहन सिंह
 2. योहेई सासाकावा
 3. अक्षय पात्र
 4. जॉन ह्यूम

Question ID : 239087554
Status : Answered
Chosen Option : 1

Q.7 निम्नलिखित राज्यों में से भारत के किस राज्य में मानस राष्ट्रीय उद्यान स्थित है?

- Ans  1. पश्चिम बंगाल

2. ओडिशा
 3. असम
 4. सिक्किम

Question ID : 239087568
Status : Answered
Chosen Option : 3

Q.8 फ्रीडम इन एक्जाइल' के लेखक कौन हैं?

- Ans 1. दलाई लामा
 2. अब्दुल कलाम आज़ाद
 3. नेल्सन मंडेला
 4. शशि थरूर

Question ID : 239087556
Status : Not Answered
Chosen Option : --

Q.9 हेपेटाइटिस किसके कारण होता है?

- Ans 1. परजीवी
 2. बैक्टीरिया
 3. वायरस
 4. फुंगी

Question ID : 239087566
Status : Answered
Chosen Option : 2

Q.10 मार्च 2019 तक, भारतीय संविधान में कितने संशोधन किये गए हैं?

- Ans 1. 99
 2. 101
 3. 105
 4. 103

Question ID : 239087561
Status : Answered
Chosen Option : 3

Q.11 निम्नलिखित में से किस राज्य में उगादी त्योहार को महत्वपूर्ण समझा जाता है?

- Ans 1. छत्तीसगढ़
 2. नागालैंड
 3. अरुणाचल प्रदेश
 4. कर्नाटक

Question ID : 239087550
Status : Not Answered
Chosen Option : --

Q.12

मानव विकास सूचकांक 2018 के अनुसार, निम्नलिखित में से कौन-सा देश सबसे अल्पविकसित देश है?

- Ans
- 1. डेनमार्क
 - 2. फिनलैंड
 - 3. कंबोडिया
 - 4. साइप्रस

Question ID : 239087557
Status : Answered
Chosen Option : 3

Q.13 किस अधिनियम को मॉर्टेग्यु-चेम्सफोर्ड सुधार के नाम से भी जाना जाता है?

- Ans
- 1. भारतीय स्वतंत्रता अधिनियम 1947
 - 2. भारतीय शासन अधिनियम 1919
 - 3. पिट्स इंडिया एक्ट 1784
 - 4. चार्टर एक्ट 1813

Question ID : 239087560
Status : Answered
Chosen Option : 3

Q.14 मयूर का वैज्ञानिक नाम क्या है?

- Ans
- 1. पसिटकुला एउपटरआ (psittacula eupartia)
 - 2. पावो क्रिस्टेटस (Pavo Cristatus)
 - 3. यूडोनमिसिस स्कोलोपेकस (Eudynamis scolopaccus)
 - 4. मोलपेस्ट्स कैफ़र (Molpastes Cafer)

Question ID : 239087564
Status : Not Answered
Chosen Option : --

Q.15 प्रथम लोक सभा का गठन कब हुआ था?

- Ans
- 1. 1950
 - 2. 1948
 - 3. 1952
 - 4. 1951

Question ID : 239087562
Status : Answered
Chosen Option : 2

Q.16 लाला लाजपत राय निम्नलिखित में से किस बैंक के संस्थापक थे?

- Ans
- 1. यूनियन बैंक ऑफ इंडिया
 - 2. स्टेट बैंक ऑफ इंडिया
 - 3. बैंक ऑफ बड़ौदा
 - 4. पंजाब नेशनल बैंक

Question ID : 239087558
Status : Answered

Chosen Option : 4

Q.17 खो-खो में कितने खिलाड़ी होते हैं?

- Ans
- 1. 7
 - 2. 8
 - 3. 10
 - 4. 12

Question ID : 239087552

Status : Answered

Chosen Option : 4

Q.18 प्रणति नायक निम्नलिखित में से किस खेल से संबंधित है?

- Ans
- 1. जिमनास्टिक
 - 2. गोल्फ
 - 3. बॉक्सिंग
 - 4. स्केटिंग

Question ID : 239087553

Status : Answered

Chosen Option : 1

Q.19 निम्नलिखित में से किसने चारमीनार बनवायी थी?

- Ans
- 1. कुली कुतुब शाह
 - 2. इल्तुतमिश
 - 3. कुतुबुद्दीन ऐबक
 - 4. अलाउद्दीन खिलजी

Question ID : 239087551

Status : Answered

Chosen Option : 3

Q.20 गुरु शिखर निम्नलिखित पर्वतशृंखलाओं में से किसका सर्वोच्च शिखर है?

- Ans
- 1. अरावली पर्वतशृंखला
 - 2. विंध्य पर्वतशृंखला
 - 3. दक्कन का पठार
 - 4. सतपुड़ा पर्वतशृंखला

Question ID : 239087570

Status : Answered

Chosen Option : 1

Q.21 प्रधानमंत्री आवास योजना- ग्रामीण का लक्ष्य _____ तक 'सभी के लिये आवास' उपलब्ध कराना है।

- Ans
- 1. 2021
 - 2. 2022
 - 3. 2023
 - 4. 2024

Question ID : 239087559

Status : Answered

Chosen Option : 1

Q.22 अशरफ गनी निम्नलिखित में से किस देश के राष्ट्रपति हैं?

Ans

- 1. ईरान
- 2. बांग्लादेश
- 3. अफगानिस्तान
- 4. कुवैत

Question ID : 239087555

Status : Answered

Chosen Option : 2

Q.23 जागोई नृत्य किस राज्य का नृत्य-रूप है?

Ans

- 1. ओडिशा
- 2. मणिपुर
- 3. आंध्र प्रदेश
- 4. असम

Question ID : 239087549

Status : Answered

Chosen Option : 2

Q.24 12वीं सदी के कर्नाटक में, वीरशैव _____ के अनुयायी थे।

Ans

- 1. बसवन्ना
- 2. अन्दल
- 3. रामानुज
- 4. करईकल अमईयर

Question ID : 239087571

Status : Answered

Chosen Option : 3

Q.25 प्राचीन भारत में कितने शक्तिशाली महाजनपद मौजूद थे?

Ans

- 1. 14
- 2. 12
- 3. 18
- 4. 16

Question ID : 239087573

Status : Answered

Chosen Option : 4

Multi Tasking (Non-Technical) Staff Examination 2019

Roll No.	
Registration No.	
Name	
Test Venue	
Test Time	12:30 PM - 2:00 PM
Test Date	06/08/2019

Section : General English

Q.1 Choose the most appropriate word that can substitute the given group of words.

A group of Lions

- Ans 1. Pack
 2. Pride
 3. Herd
 4. Flock

Question ID : 239087971
Status : Answered
Chosen Option : 1

Q.2 Select the most appropriate meaning of the given idiom.

Pull up your socks

- Ans 1. To lose one's temper
 2. To put in extra effort
 3. To play a joke on someone
 4. To suspect some foul play

Question ID : 239087969
Status : Answered
Chosen Option : 4

Q.3 Select the most appropriate option to substitute the underlined segment in the given sentence. If there is no need to substitute it, select No Improvement.

It is danger to cross the road unmindfully.

- Ans 1. It is dangerous
 2. It is full of dangerous
 3. There is danger
 4. No Improvement

Question ID : 239087956
Status : Answered
Chosen Option : 1

Q.4 Choose the most appropriate word that can substitute the given group of words.

A person pretending to be somebody he isn't

Ans

- 1. Aristocrat
- 2. Hypocrite
- 3. Conservative
- 4. Bureaucrat

Question ID : 239087972
Status : Answered
Chosen Option : 2

Q.5 Find the part of the given sentence that has an error in it. If there is no error, choose 'No error'.

The 91 year old lady have been a fan of cricket for decades. /No error

- Ans
- 1. of cricket for decades
 - 2. No error
 - 3. The 91 year old lady
 - 4. have been a fan

Question ID : 239087951
Status : Answered
Chosen Option : 1

Q.6 Choose the correctly spelt word.

- Ans
- 1. Ignorence
 - 2. Interupt
 - 3. Thriller
 - 4. Colaborate

Question ID : 239087973
Status : Answered
Chosen Option : 3

Q.7 Choose the correctly spelt word.

- Ans
- 1. Knowledge
 - 2. Patner
 - 3. Lisence
 - 4. Neice

Question ID : 239087974
Status : Answered
Chosen Option : 1

Q.8 Select the most appropriate option to substitute the underlined segment in the given sentence. If there is no need to substitute it, select No Improvement.

You need have brought your umbrella as it is a cloudy day.

- Ans
- 1. can have
 - 2. could has
 - 3. should have
 - 4. No Improvement

Question ID : 239087954
Status : Answered
Chosen Option : 3

Q.9 Select the most appropriate meaning of the given idiom.

Eye wash

- Ans 1. A problem
 2. A fact
 3. A solution
 4. A deception

Question ID : 239087970
Status : Answered
Chosen Option : 4

Q.10 Select the most appropriate synonym of the given word.

Benevolent

- Ans 1. Miser
 2. Cruel
 3. Malevolent
 4. Generous

Question ID : 239087965
Status : Answered
Chosen Option : 4

Comprehension:

In the following passage some words have been deleted. Fill in the blanks with the help of the alternatives given. Select the most appropriate option for each blank.

Buffer stock refers to a (1)_____ of a commodity that is used to offset price fluctuations (2)_____ unforeseen emergencies. Buffer stock is generally (3)_____ for essential commodities and necessities like food grains, pulses, etc. The Cabinet Committee (4)_____ Economic Affairs (5)_____ the minimum buffer stock on a quarterly basis.

SubQuestion No : 11

Q.11 Select the most appropriate option for blank No. 1.

- Ans 1. reservation
 2. reserved
 3. reserve
 4. reserves

Question ID : 239087960
Status : Answered
Chosen Option : 3

Comprehension:

In the following passage some words have been deleted. Fill in the blanks with the help of the alternatives given. Select the most appropriate option for each blank.

Buffer stock refers to a (1)_____ of a commodity that is used to offset price fluctuations (2)_____ unforeseen emergencies. Buffer stock is generally (3)_____ for essential commodities and necessities like food grains, pulses, etc. The Cabinet Committee (4)_____ Economic Affairs (5)_____ the minimum buffer stock on a quarterly basis.

SubQuestion No : 12

Q.12 Select the most appropriate option for blank No. 2.

- Ans
- 1. if
 - 2. and
 - 3. also
 - 4. even

Question ID : 239087961
Status : Answered
Chosen Option : 2

Comprehension:

In the following passage some words have been deleted. Fill in the blanks with the help of the alternatives given. Select the most appropriate option for each blank.

Buffer stock refers to a (1)_____ of a commodity that is used to offset price fluctuations (2)_____ unforeseen emergencies. Buffer stock is generally (3)_____ for essential commodities and necessities like food grains, pulses, etc. The Cabinet Committee (4)_____ Economic Affairs (5)_____ the minimum buffer stock on a quarterly basis.

SubQuestion No : 13

Q.13 Select the most appropriate option for blank No. 3.

- Ans
- 1. maintains
 - 2. maintaining
 - 3. maintained
 - 4. maintain

Question ID : 239087962
Status : Answered
Chosen Option : 4

Comprehension:

In the following passage some words have been deleted. Fill in the blanks with the help of the alternatives given. Select the most appropriate option for each blank.

Buffer stock refers to a (1)_____ of a commodity that is used to offset price fluctuations (2)_____ unforeseen emergencies. Buffer stock is generally (3)_____ for essential commodities and necessities like food grains, pulses, etc. The Cabinet Committee (4)_____ Economic Affairs (5)_____ the minimum buffer stock on a quarterly basis.

SubQuestion No : 14

Q.14 Select the most appropriate option for blank No. 4.

- Ans
- 1. in
 - 2. for
 - 3. to
 - 4. at

Question ID : 239087963
Status : Answered
Chosen Option : 2

Comprehension:

In the following passage some words have been deleted. Fill in the blanks with the help of the alternatives given. Select the most appropriate option for each blank.

Buffer stock refers to a (1)_____ of a commodity that is used to offset price fluctuations

(2)_____ unforeseen emergencies. Buffer stock is generally (3)_____ for essential commodities and necessities like food grains, pulses, etc. The Cabinet Committee (4)_____ Economic Affairs (5)_____ the minimum buffer stock on a quarterly basis.

SubQuestion No : 15

Q.15 Select the most appropriate option for blank No. 5.

- Ans
- 1. forces
 - 2. guides
 - 3. fixes
 - 4. rules

Question ID : 239087964
Status : Answered
Chosen Option : 3

Q.16 Select the most appropriate option to fill in the blank.

They sat by the river bank with their legs _____ in the water.

- Ans
- 1. remaining
 - 2. swimming
 - 3. washing
 - 4. dangling

Question ID : 239087975
Status : Answered
Chosen Option : 4

Q.17 Select the most appropriate antonym of the given word.

Linger

- Ans
- 1. Quicken
 - 2. Stop
 - 3. Wait
 - 4. Defer

Question ID : 239087968
Status : Answered
Chosen Option : 1

Q.18 Select the most appropriate option to fill in the blank.

A twelve year old boy drowned in a pit ____ up for the coastal road project.

- Ans
- 1. dig
 - 2. digs
 - 3. digging
 - 4. dug

Question ID : 239087958
Status : Answered
Chosen Option : 4

Q.19 Select the most appropriate option to fill in the blank.

She had a bandage _____ round her finger.

- Ans
- 1. covered
 - 2. twisted
 - 3. wrapped
 - 4. bound

Question ID : 239087976
Status : Answered
Chosen Option : 3

Q.20 Select the most appropriate option to substitute the underlined segment in the given sentence. If there is no need to substitute it, select No Improvement.

He made multiple attempts at securing a government job.

- Ans
- 1. attempt in
 - 2. No Improvement
 - 3. attempt for
 - 4. attempts through

Question ID : 239087955
Status : Answered
Chosen Option : 1

Q.21 Select the most appropriate option to fill in the blank.

We cannot quote a price _____ we are allowed to examine the sample.

- Ans
- 1. except
 - 2. unless
 - 3. because
 - 4. whether

Question ID : 239087957
Status : Answered
Chosen Option : 4

Q.22 Find the part of the given sentence that has an error in it. If there is no error, choose 'No error'.

It would take up few of my time to explain to you the whole case. /No error

- Ans
- 1. few of my time to
 - 2. No error
 - 3. explain to you the whole case
 - 4. It would take up

Question ID : 239087952
Status : Answered
Chosen Option : 1

Q.23 Select the most appropriate antonym of the given word.

Jovial

- Ans
- 1. Hesitant

2. Gloomy

3. Cheerful

4. Tired

Question ID : 239087967

Status : Answered

Chosen Option : 2

Q.24 Find the part of the given sentence that has an error in it. If there is no error, choose 'No error'.

He always stood up for the rights of the oppressed. /No error

Ans 1. No error

2. He always stood up

3. of the oppressed

4. for the rights

Question ID : 239087953

Status : Not Answered

Chosen Option : --

Q.25 Select the most appropriate synonym of the given word.

Harass

Ans 1. Molest

2. Assist

3. Comfort

4. Scare

Question ID : 239087966

Status : Answered

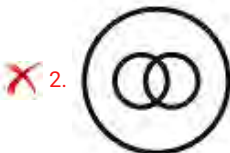
Chosen Option : 1

Section : General Intelligence & Reasoning

Q.1 Identify the diagram that best represents the relationship among the given classes.

Lawyer, Profession, Client

Ans





Question ID : 239087723

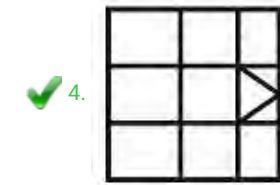
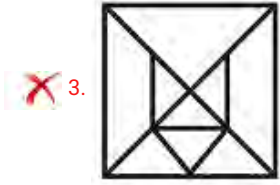
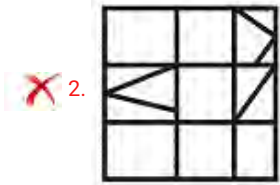
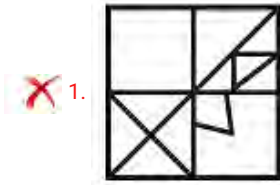
Status : Answered

Chosen Option : 3

Q.2 दी गई उत्तर आकृतियों में से, उस उत्तर आकृति को चुनिए जिसमें नीचे दी गई प्रश्न आकृति में समाहित/अन्तर्निहित है।(आकृति को घुमाने की अनुमति नहीं है)



Ans



Question ID : 239087720

Status : Answered

Chosen Option : 4

Q.3 एक विशिष्ट कूट भाषा में, 'FRAUD' को '6181214' लिखा जाता है, 'RING' को '189147' लिखा जाता है। उसी कूट भाषा में 'GLOBE' का कोड क्या होगा?

Ans

1. 7525121

2. 7125125

3. 7131525

4. 7121525

Question ID : 239087705

Status : Answered

Chosen Option : 4

Q.4 निम्नलिखित विकल्पों में से उस शब्द युग्म को चुनिए, जिनमें वही संबंध है, जो नीचे दिए गए शब्द युग्म में है।

भोजन : रसोइया :: ?

- Ans
- 1. किसान : फसल
 - 2. फर्नीचर : लकड़ी
 - 3. दर्जी : वस्त्र
 - 4. गहने : सुनार

Question ID : 239087701

Status : Answered

Chosen Option : 4

Q.5 नीचे दिए विकल्पों में से उस संख्या को चुनिए जो निम्नलिखित श्रृंखला में प्रश्न चिह्न (?) के स्थान पर आएगी।

63, 82, 102, 123, 145, ?

- Ans
- 1. 168
 - 2. 178
 - 3. 167
 - 4. 159

Question ID : 239087712

Status : Answered

Chosen Option : 1

Q.6 किन दो संख्याओं को परस्पर बदलने पर समीकरण सही हो जाएगा?

$$9 - 2 \times 4 \div 6 = -3$$

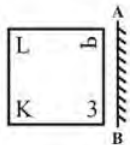
- Ans
- 1. 2 तथा 4
 - 2. 6 तथा 2
 - 3. 4 तथा 9
 - 4. 6 तथा 9

Question ID : 239087717


Status : Answered

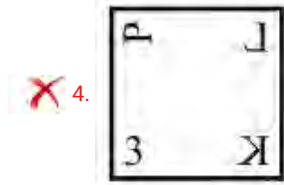
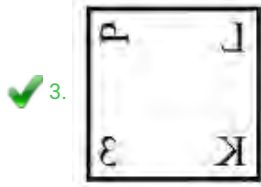
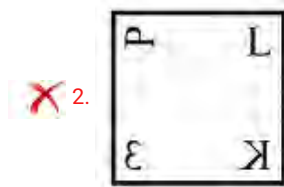
Chosen Option : 2

Q.7 यदि एक दर्पण को AB रेखा पर रखा जाए, तो दी गई उत्तर आकृतियों में से कौन सी आकृति प्रश्न आकृति की सही प्रतिबिंब होगी?



Ans





Question ID : 239087721
Status : Answered
Chosen Option : 3

Q.8 एक विशिष्ट कूट भाषा में, 'LIP' को '40' लिखा जाता है, 'GILT' को '51' लिखा जाता है। उसी कोड भाषा में 'ROPE' का कोड क्या होगा?

- Ans 1. 57
 2. 56
 3. 51
 4. 54

Question ID : 239087706
Status : Answered
Chosen Option : 1

Q.9 नीचे एक श्रृंखला दी गयी है, जिसमें से एक अक्षर समूह नहीं दिया गया है। दिए गए विकल्पों में से वह सही विकल्प चुनिए, जो श्रृंखला को पूरा करेगा।

ROD, XUJ, DAP, JGV, ?

- Ans 1. QNC
 2. PNB
 3. QMB
 4. PMB

Question ID : 239087699
Status : Answered
Chosen Option : 2

Q.10 निम्नलिखित प्रश्न में, दिए गए विकल्पों में से उस संख्या को चुनिए जो प्रश्न चिह्न (?) के स्थान पर आएगी।

6 3 8 20
9 5 1 ?
11 4 7 26

- Ans 1. 20
 2. 17

3. 19

4. 14

Question ID : 239087715

Status : Answered

Chosen Option : 3

Q.11 पाँच फिल्मों K, L, M, N तथा P (जरूरी नहीं कि वे इसी क्रम में हो) को सोमवार से शुक्रवार तक दिखाया जाता है। एक दिन में केवल एक ही फिल्म दिखाई जाती है। प्रत्येक फिल्म केवल एक ही बार दिखाई जाती है। फिल्म K सोमवार को दिखाई जाती है। N तथा P के मध्य दो फिल्में दिखाई जाती हैं। L, P के ठीक एक दिन बाद दिखाई जाती है। M से पहले कितनी फिल्में दिखाई जाती हैं?

Ans 1. 2

2. 4

3. 1

4. 3

Question ID : 239087709

Status : Answered

Chosen Option : 4

Q.12 नीचे दिए गए प्रश्न में, कुछ कथन और उनके बाद उन कथनों पर आधारित कुछ निष्कर्ष दिए गए हैं। दिए गए कथनों को सही मानते हुए, चाहे वे सामान्य रूप से ज्ञात तथ्यों से भिन्न प्रतीत होते हों, सभी निष्कर्षों को पढ़िए और फिर निर्धारित कीजिए कि दिए गए कौन से/सा निष्कर्ष, कथनों का तार्किक रूप से अनुसरण करता/करते हैं।

कथन:

I. सभी फोटो फोन हैं।

II. कुछ फोन पीले हैं।

III. कोई पीला लाल नहीं है।

निष्कर्ष:

I. कुछ लाल फोटो हैं।

II. कुछ पीले फोन हैं।

III. कोई लाल फोटो नहीं है।

Ans 1. केवल निष्कर्ष I अनुसरण करता है।

2. कोई भी निष्कर्ष अनुसरण नहीं करता है।

3. केवल निष्कर्ष II अनुसरण करता है।

4. केवल निष्कर्ष III अनुसरण करता है।

Question ID : 239087710

Status : Answered

Chosen Option : 3

Q.13 नीचे दिए गए प्रश्न में, कुछ कथन और उनके बाद उन कथनों पर आधारित कुछ निष्कर्ष दिए गए हैं। दिए गए कथनों को सही मानते हुए, चाहे वे सामान्य रूप से ज्ञात तथ्यों से भिन्न प्रतीत होते हों, सभी निष्कर्षों को पढ़िए और फिर निर्धारित कीजिए कि दिए गए कौन-से/सा निष्कर्ष, कथनों का तार्किक रूप से अनुसरण करता/करते हैं।

कथन:

I. सभी T, P हैं।

II. कुछ P, Q हैं।

निष्कर्ष:

I. कुछ Q, P हैं।

II. कुछ P, T हैं।

Ans 1. केवल निष्कर्ष II अनुसरण करता है।

2. केवल निष्कर्ष। अनुसरण करता है।
 3. दोनों निष्कर्ष। तथा II अनुसरण करते हैं।
 4. कोई भी निष्कर्ष अनुसरण नहीं करता है।

Question ID : 239087711
Status : Answered
Chosen Option : 3

Q.14 नीचे दिए विकल्पों में से उस संख्या युग्म को चुनिए जो निम्नलिखित श्रृंखला में प्रश्न चिह्नों (?) के स्थान पर आएगी।

16, 17, 23, 18, 19, 26, 20, 21, 29, 22, ?, ?

- Ans 1. 23, 32
 2. 25, 36
 3. 32, 23
 4. 36, 25

Question ID : 239087713
Status : Answered
Chosen Option : 1

Q.15 छः चिकित्सक E, G, I, K, M तथा O एक पंक्ति में उत्तर की ओर मुख करके खड़े हुए हैं (जरूरी नहीं कि वे इसी क्रम में हों)। M, E के तुरंत दायीं ओर खड़ा हुआ है। K, O के दायीं ओर दूसरे स्थान पर खड़ा हुआ है। I तथा M के मध्य दो चिकित्सक खड़े हुए हैं। K, G के बायीं ओर है। K के तुरंत दायीं ओर कौन खड़ा हुआ है?

- Ans 1. I
 2. G
 3. E
 4. M

Question ID : 239087707
Status : Answered
Chosen Option : 3

Q.16 निम्नलिखित प्रश्न में, दिए गए विकल्पों में से संबंधित अक्षर युग्म को चुनिए।

TIR : VKT :: ?

- Ans 1. RAP : TCS
 2. LOD : NMF
 3. GEM : IGO
 4. GAR : IYT

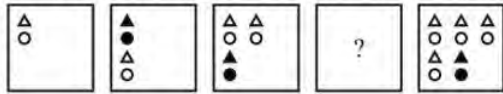
Question ID : 239087702
Status : Answered
Chosen Option : 3

Q.17 एक विशिष्ट कूट भाषा में, 'SOLVED' को 'OSVLDE' लिखा जाता है। उसी कूट भाषा में 'CREATE' का कोड क्या होगा?

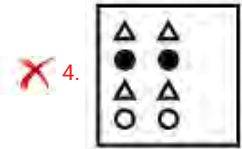
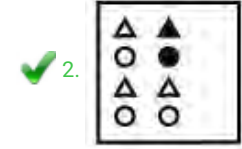
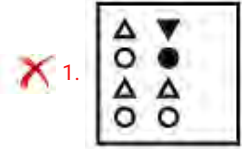
- Ans 1. RCAETE
 2. RCEAET
 3. RCTAEE

Question ID : 239087703
Status : Answered
Chosen Option : 4

Q.18 निम्नलिखित प्रश्न में, दिए गए विकल्पों में से प्रश्न चिह्न (?) के स्थान पर आने वाली आकृति को चुनिए।

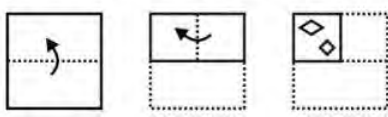


Ans

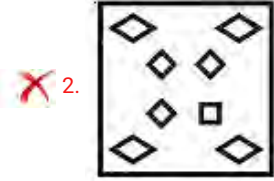


Question ID : 239087718
Status : Answered
Chosen Option : 3


Q.19 नीचे दी गयी प्रश्न आकृतियों में दिखाए अनुसार कागज के एक टुकड़े को मोड़ा जाता है और छेद किया जाता है। जब इसको खोला जाएगा तो वह दी गयी उत्तर आकृतियों में से किसके जैसा दिखाई देगा?



Ans



3.



4.



Question ID : 239087722

Status : Answered

Chosen Option : 4

Q.20 उस विकल्प का चयन करें जो तीसरे शब्द से उसी तरह से संबंधित है जैसे दूसरा शब्द पहले शब्द से संबंधित है।

ईट : दीवार :: स्वर्ण : ?

Ans 1. गहने

2. धातु

3. पीला

4. सख्त

Question ID : 239087700

Status : Answered

Chosen Option : 1

Q.21 उस विकल्प का चयन करें जो तीसरी संख्या से उसी तरह से संबंधित है जैसे दूसरी संख्या पहली संख्या से संबंधित है।

31 : 54 :: 43 : ?

Ans 1. 74

2. 64

3. 66

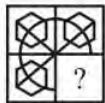
4. 76

Question ID : 239087714

Status : Answered

Chosen Option : 4

Q.22 दिए गए पैटर्न का ध्यानपूर्वक अध्ययन कीजिए और उस आकृति को चुनिए जो प्रश्न आकृति में दिये गए पैटर्न को पूरा करेगी।



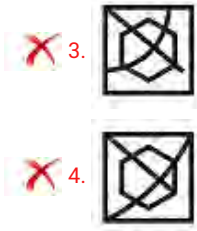
Ans

1.



2.





Question ID : 239087719

Status : Answered

Chosen Option : 1

Q.23 छः कर्मचारी L, N, P, R, T तथा V केन्द्र की ओर मुख करके एक वृत्ताकार मेज के इर्द - गिर्द बैठे हुए हैं (जरूरी नहीं कि वे इसी क्रम में हों)। V, N के बायीं ओर दूसरा है। L, P के तुरंत बायीं ओर है। R, P के बायीं ओर दूसरा है। P, N के दायीं ओर तीसरा है। V के तुरंत दायीं ओर कौन बैठा हुआ है?

- Ans
- 1. P
 - 2. N
 - 3. T
 - 4. R

Question ID : 239087708

Status : Answered

Chosen Option : 3

Q.24 एक विशिष्ट कूट भाषा में, 'RAPID' को 'LUJCX' लिखा जाता है। उसी कूट भाषा में 'STARE' का कोड क्या होगा?

- Ans
- 1. MNULY
 - 2. NOULY
 - 3. MMULY
 - 4. NPULY

Question ID : 239087704

Status : Answered

Chosen Option : 1

Q.25 किन दो चिह्नों को परस्पर बदलने पर समीकरण सही हो जाएगा?

$$19 + 63 \div 7 - 8 \times 12 = 79$$

- Ans
- 1. \div तथा $-$
 - 2. \times तथा $+$
 - 3. $-$ तथा \times
 - 4. \times तथा \div

Question ID : 239087716

Status : Answered

Chosen Option : 3

Section : Numerical Aptitude

Q.1 वह सबसे बड़ी संख्या कौन सी है जो 460, 491 तथा 553 को विभाजित करती है तो प्रत्येक मामले में 26 शेष रहता है?

- Ans
- 1. 27

2. 35
 3. 33
 4. 31

Question ID : 239087824
Status : Answered
Chosen Option : 4

Q.2 यदि लाभ, विक्रय मूल्य का 20% है, तो लाभ, लागत मूल्य का कितना प्रतिशत है?

- Ans 1. 15%
 2. 25%
 3. 22.5%
 4. 20%

Question ID : 239087833
Status : Answered
Chosen Option : 2

Q.3 यदि ₹12000 को 20% प्रति वर्ष की दर से चक्रवृद्धि ब्याज (वार्षिक रूप से संयोजित) पर 2 वर्ष के लिए निवेश किया गया है, तो ब्याज कितनी है?

- Ans 1. ₹5280
 2. ₹4280
 3. ₹4800
 4. ₹5640

Question ID : 239087838
Status : Answered
Chosen Option : 1

Q.4 a तथा b का औसत 36 है। b तथा c का औसत 42 है। c तथा a के बीच कितना अंतर है?

- Ans 1. 18
 2. 12
 3. 16
 4. 14

Question ID : 239087828
Status : Answered
Chosen Option : 2

Q.5 $(3 \times 4 \text{ of } 12 \div 2) \div 9 \times 4 + 4 \div 8 + 3 \times 2$ का मान कितना है?

- Ans 1. $\frac{89}{3}$
 2. $\frac{37}{2}$
 3. $\frac{94}{3}$

✓ 4. $\frac{77}{2}$

Question ID : 239087825

Status : Answered

Chosen Option : 4

Q.6 59, 63, 68, 77, 74 तथा 73 का औसत कितना है, जब प्रत्येक संख्या को 23 से विभाजित किया जाता है?

Ans

✗ 1. $\frac{63}{23}$

✗ 2. $\frac{67}{23}$

✓ 3. 3

✗ 4. 46

Question ID : 239087827

Status : Answered

Chosen Option : 3

Q.7 यदि ₹1000 को 12.5% प्रति वर्ष की दर से साधारण ब्याज पर 2 वर्ष के लिए निवेश किया गया है, तो मिश्रधन कितना है?

Ans

✗ 1. ₹1125

✓ 2. ₹1250

✗ 3. ₹1325

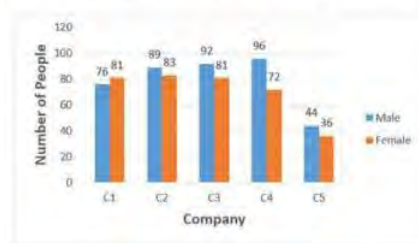
✗ 4. ₹1275

Question ID : 239087837

Status : Answered

Chosen Option : 2

Q.8 नीचे दिया गया टंड आरेख पाँच विभिन्न कंपनियों में कार्य करने वाले पुरुषों तथा महिलाओं की संख्या को दर्शाता है।



C2 तथा C3 कंपनियों में कार्य करने वाले पुरुषों की कुल संख्या तथा C1 तथा C5 कंपनियों में कार्य करने वाली महिलाओं की कुल संख्या का अनुपात कितना है?

Ans

✓ 1. 181 : 117

✗ 2. 182 : 119

✗ 3. 183 : 124

✗ 4. 171 : 136

Question ID : 239087848

Status : Answered

Chosen Option : 1

Q.9 नीचे दिए गए आँकड़े विभिन्न छात्रों द्वारा प्राप्त अंकों को प्रदर्शित करते हैं।

अंक	छात्रों की संख्या
10 - 12	6
12 - 14	8
14 - 16	5
16 - 18	7
18 - 20	4

दिये गए आँकड़े का माध्य अंक (दो दशमलव स्थान तक) कितना है?

- Ans
- 1. 13.67
 - 2. 13.33
 - 3. 14.67
 - 4. 15.33

Question ID : 239087830
Status : Answered
Chosen Option : 3

Q.10 A का 26% = 832 है। A के 31% का मान कितना है?

- Ans
- 1. 968
 - 2. 876
 - 3. 854
 - 4. 992

Question ID : 239087831
Status : Answered
Chosen Option : 4

Q.11 यदि $X : Y : Z = 1 : 2 : 3$ तथा $X^2 + Y^2 + Z^2 = 224$ है, तो $X + Y + Z$ का मान कितना है?

- Ans
- 1. 48
 - 2. 32
 - 3. 36
 - 4. 24

Question ID : 239087835
Status : Answered
Chosen Option : 4

Q.12 14 cm की त्रिज्या वाले किसी ठोस अर्धगोले का सम्पूर्ण पृष्ठ क्षेत्रफल तथा वक्र पृष्ठ क्षेत्रफल कितना है?

- Ans
- 1. $5544 \text{ cm}^2, 1848 \text{ cm}^2$

✓ 2. 1848 cm^2 , 1232 cm^2

✗ 3. 924 cm^2 , 616 cm^2

✗ 4. 2772 cm^2 , 1848 cm^2

Question ID : 239087843

Status : Answered

Chosen Option : 2

Q.13 स्टूडियो A के 5 तकनीशियन किसी कार्य को 30 दिनों में कर सकते हैं। स्टूडियो B के 8 तकनीशियन उसी कार्य को 15 दिनों में कर सकते हैं। स्टूडियो A के 1 तकनीशियन और स्टूडियो B के 1 तकनीशियन मिलकर उसी कार्य को कितने दिनों में कर सकते हैं।

Ans

✗ 1. $\frac{190}{3}$

✓ 2. $\frac{200}{3}$

✗ 3. $\frac{250}{9}$

✗ 4. $\frac{220}{9}$

Question ID : 239087839

Status : Answered

Chosen Option : 2

Q.14 A किसी कार्य को अकेला 20 दिनों में कर सकता है। A तथा B मिलकर उसी कार्य को 15 दिनों में कर सकते हैं। B तथा C मिलकर उसी कार्य को $\frac{75}{2}$ दिनों में कर सकते हैं। कार्य करने की दृष्टि से A, B तथा C की दक्षता का अनुपात कितना है?

Ans

✗ 1. 5 : 3 : 1

✗ 2. 10 : 4 : 1

✗ 3. 5 : 4 : 3

✓ 4. 15 : 5 : 3

Question ID : 239087840

Status : Answered

Chosen Option : 4

Q.15 वस्तु 1 का लागत मूल्य, उसे SP1 पर बेचने से हुए लाभ का 6 गुना है। वस्तु 2 का लागत मूल्य, उसे SP2 पर बेचने से हुई हानि का 3 गुना है। यदि दोनों वस्तुओं का लागत मूल्य समान है, तो SP1 तथा SP2 का अनुपात कितना है?

Ans

✓ 1. 7 : 4

✗ 2. 4 : 3

✗ 3. 6 : 5

✗ 4. 7 : 5

Question ID : 239087832

Status : Answered

Chosen Option : 1

Q.16

एक वस्तु का अंकित मूल्य ₹2800 है। वस्तु का विक्रय मूल्य ₹2408 है। छूट प्रतिशत कितना है?

- Ans
- 1. 18%
 - 2. 24%
 - 3. 16%
 - 4. 14%

Question ID : 239087829

Status : Answered

Chosen Option : 4

Q.17 किसी लंब वृत्तीय बेलन (सिलेंडर) की त्रिज्या 7 cm है। उसकी ऊँचाई उसकी त्रिज्या की दोगुनी है। बेलन (सिलेंडर) का वक्र पृष्ठ क्षेत्रफल कितना है?

$(\pi = \frac{22}{7} \text{ लें})$

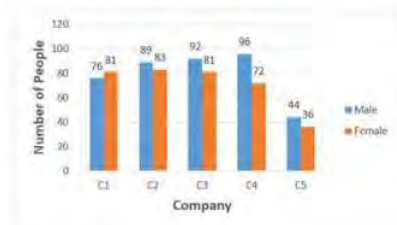
- Ans
- 1. 476 cm²
 - 2. 1232 cm²
 - 3. 616 cm²
 - 4. 896 cm²

Question ID : 239087844

Status : Answered

Chosen Option : 3

Q.18 नीचे दिया गया दंड आरेख पाँच विभिन्न कंपनियों में कार्य करने वाले पुरुषों तथा महिलाओं की संख्या को दर्शाता है।



इन पांच कंपनियों में कार्य करने वाले पुरुषों की कुल संख्या, इन पांच कंपनियों में कार्य करने वाली महिलाओं की कुल संख्या से (लगभग) कितना प्रतिशत अधिक है?

- Ans
- 1. 12.46%
 - 2. 9.67%
 - 3. 8.52%
 - 4. 14.67%

Question ID : 239087846

Status : Answered

Chosen Option : 1

Q.19 कोई रेलगाड़ी किसी स्थिर खंभे (स्टेशनरी पोल) को 3 मिनट में पार करती है। वह 600 मीटर लंबे प्लेटफॉर्म को 5 मिनट में पार करती है। रेलगाड़ी की लंबाई तथा गति कितनी है?

- Ans
- 1. 3600 m, 18 km/h
 - 2. 900 m, 18 km/h

3. 900 m, 15 km/h

4. 1200 m, 15 km/h

Question ID : 239087841

Status : Answered

Chosen Option : 2

Q.20 एक व्यक्ति A से B तक 30 km/h की गति से जाता है। वह B से A तक 20 km/h की गति से वापस लौट आता है। पूरी यात्रा में उसकी औसत गति कितनी है?

Ans 1. 26.5 km/h

2. 24 km/h

3. 25 km/h

4. 27.5 km/h

Question ID : 239087842

Status : Answered

Chosen Option : 2

Q.21 तीन कक्षाओं में विद्यार्थियों का अनुपात 3 : 4 : 5 है। यदि प्रत्येक कक्षा में 20 छात्र बढ़ा दिये जाते हैं तो अनुपात बदलकर 4 : 5 : 6 हो जाता है। तीनों कक्षाओं को मिलाकर उनमें छात्रों की आरंभिक संख्या कितनी है?

Ans 1. 280

2. 240

3. 320

4. 300

Question ID : 239087834

Status : Answered

Chosen Option : 2

Q.22 किसी षटभुज की भुजा 4 cm है। किसी वर्ग की भुजा $4\sqrt{2}$ cm है। उनके क्षेत्रफल का अनुपात कितना है?

Ans 1. $3\sqrt{3} : 2$

2. $2\sqrt{3} : 1$

3. $3\sqrt{3} : 4$

4. $\sqrt{3}/2 : 1$

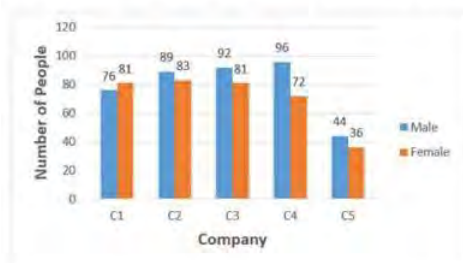
Question ID : 239087845

Status : Answered

Chosen Option : 3

Q.23

नीचे दिया गया टंड आरेख पाँच विभिन्न कंपनियों में कार्य करने वाले पुरुषों तथा महिलाओं की संख्या को दर्शाता है।



कार्य करने वाली महिलाओं की प्रति कंपनी औसत संख्या कितनी है?

- Ans
- 1. 71.8
 - 2. 74.6
 - 3. 72.2
 - 4. 70.6

Question ID : 239087847

Status : Answered

Chosen Option : 4

Q.24 यदि $A = 8 \div 4 \times (3 - 1) + 6 \times 3 \div 2 of 3$ तथा $B = 4 \div 8 \times 2 + 7 \times 3$ है, तो $A + B$ का मान कितना है?

- Ans
- 1. 29
 - 2. 31
 - 3. 33
 - 4. 35

Question ID : 239087826

Status : Answered

Chosen Option : 1

Q.25 दो संख्याओं का योग 77 है तथा उनका अनुपात 6 : 5 है। उनका अंतर कितना है?

- Ans
- 1. 4
 - 2. 6
 - 3. 7
 - 4. 5

Question ID : 239087836

Status : Answered

Chosen Option : 3

Section : General awareness

Q.1 जुलाई 2019 में, निम्नलिखित में से किस शहर को यूनेस्को (UNESCO's) की विश्व विरासत सूची में सम्मिलित किया गया है?

- Ans
- 1. ओरछा
 - 2. अहमदाबाद
 - 3. हैदराबाद

✓ 4. जयपुर

Question ID : 239087574
Status : Answered
Chosen Option : 4

Q.2 15वें वित्त आयोग की अध्यक्षता किसने की?

- Ans
- 1. वाई वी रेड्डी
 - 2. एन के सिंह
 - 3. अमिताभ कांत
 - 4. उर्जित पटेल

Question ID : 239087584
Status : Answered
Chosen Option : 2

Q.3 निम्नलिखित में से कौन-सा युग्म सही है?

- Ans
- 1. केवलादेव घना राष्ट्रीय उद्यान-असम
 - 2. गिर राष्ट्रीय उद्यान-महाराष्ट्र
 - 3. नंदादेवी राष्ट्रीय उद्यान-उत्तर प्रदेश
 - 4. ग्रेट हिमालयन राष्ट्रीय उद्यान-हिमाचल प्रदेश

Question ID : 239087593
Status : Marked For Review
Chosen Option : 3

Q.4 निम्नलिखित में से किसको 'वेदांत' कहा जाता है?

- Ans
- 1. वेदांग
 - 2. ब्राह्मण
 - 3. उपनिषद
 - 4. अरण्यक

Question ID : 239087598
Status : Marked For Review
Chosen Option : 3

Q.5 निम्नलिखित में से किस राज्य में भारत की सबसे लंबी तट रेखा है?

- Ans
- 1. महाराष्ट्र
 - 2. गोवा
 - 3. आंध्र प्रदेश
 - 4. तमिलनाडु

Question ID : 239087595
Status : Answered
Chosen Option : 3

Q.6 Who is the Leader of the House in the Seventeenth Lok Sabha?

- Ans
- 1. Amit Shah
 - 2. Rajnath Singh

3. Narendra Modi

4. Sushil Kumar Shinde

Question ID : 239087585
Status : Answered
Chosen Option : 3

Q.7 निम्नलिखित में से भारत की कौन-सी भाषा अनुसूचित भाषा नहीं है?

Ans 1. राजस्थानी

2. सिंधी

3. मणिपुरी

4. बोडो

Question ID : 239087587
Status : Marked For Review
Chosen Option : 1

Q.8 राष्ट्रवादी कांग्रेस पार्टी का गठन किस वर्ष में किया गया था?

Ans 1. 1999

2. 1992

3. 1980

4. 1984

Question ID : 239087596
Status : Marked For Review
Chosen Option : 3

Q.9 मोहनजोदड़ो किस नदी के तट पर स्थित है?

Ans 1. सरस्वती

2. रावी

3. घग्गर

4. सिंधु

Question ID : 239087597
Status : Answered
Chosen Option : 4

Q.10 द्रोणाचार्य पुरस्कार किस क्षेत्र से संबंधित है?

Ans 1. शिक्षा

2. नृत्य

3. संगीत

4. खेल

Question ID : 239087578
Status : Answered
Chosen Option : 4

Q.11 निम्नलिखित विकल्पों में से कौन-सा धातु नहीं है?

- Ans
- 1. कॉपर
 - 2. आयर्न
 - 3. टिन
 - 4. सेलेनियम

Question ID : 239087589
Status : Answered
Chosen Option : 4

Q.12 निम्नलिखित में से किस देश की सीमा भारत के साथ नहीं लगती है?

- Ans
- 1. नेपाल
 - 2. ईरान
 - 3. म्यांमार
 - 4. बांग्लादेश

Question ID : 239087594
Status : Answered
Chosen Option : 2

Q.13 हिंदू पौराणिक कथाओं के संदर्भ, निम्नलिखित में से कौन-सा विकल्प भगवान विष्णु के दस अवतारों में से एक नहीं है?

- Ans
- 1. गरुड़
 - 2. मत्स्य
 - 3. कूर्म
 - 4. वाराह

Question ID : 239087575
Status : Answered
Chosen Option : 3

Q.14 विश्व एड्स दिवस कब मनाया जाता है?

- Ans
- 1. 8 मार्च
 - 2. 1 दिसंबर
 - 3. 5 जून
 - 4. 1 नवंबर

Question ID : 239087590
Status : Answered
Chosen Option : 2

Q.15 भारत में पंचवर्षीय योजना किस वर्ष में शुरू की गई थी?

- Ans
- 1. 1958
 - 2. 1951
 - 3. 1955
 - 4. 1947

Question ID : 239087582
Status : Answered

Chosen Option : 2

Q.16 निम्नलिखित में से किसे 'लोकनायक' के नाम से जाना जाता है?

- Ans
- 1. अटल बिहारी वाजपेयी
 - 2. जयप्रकाश नारायण
 - 3. ए. पी. जे. अब्दुल कलाम
 - 4. राजीव गांधी

Question ID : 239087579

Status : Answered

Chosen Option : 2

Q.17 Which organization publishes 'World Development Report'?

- Ans
- 1. United Nations Development Programme (UNDP)
 - 2. World Economic Forum
 - 3. International Monetary Fund (IMF)
 - 4. World Bank

Question ID : 239087583

Status : Marked For Review

Chosen Option : 1

Q.18 Which award is often referred to as the 'Nobel Prize of architecture'?

- Ans
- 1. Pritzker prize
 - 2. Jawaharlal Nehru prize
 - 3. Ramon Magsaysay
 - 4. Abel prize

Question ID : 239087581

Status : Answered

Chosen Option : 4

Q.19 संविधान का कौन-सा भाग संविधान - संशोधनों से संबंधित है?

- Ans
- 1. भाग XV
 - 2. भाग X
 - 3. भाग VIII
 - 4. भाग XX

Question ID : 239087586

Status : Not Answered

Chosen Option : --

Q.20 निम्नलिखित में से किस भारतीय को नोबल पुरस्कार से सम्मानित नहीं किया गया है?

- Ans
- 1. महात्मा गांधी
 - 2. कैलाश सत्यार्थी
 - 3. हरगोबिंद खुराना
 - 4. रबींद्रनाथ टैगोर

Question ID : 239087580

Status : **Marked For Review**

Chosen Option : 1

Q.21 निम्नलिखित में से किस व्यक्ति को सबसे कम आयु में नोबेल पुरस्कार से सम्मानित किया गया था?

- Ans 1. विलियम लॉरेंस ब्रैग
 2. जेम्स वाटसन
 3. मेरी क्यूरी
 4. केनेथ एरो

Question ID : 239087592

Status : **Not Answered**

Chosen Option : --

Q.22 प्रसिद्ध तेराक माइकल फेलप्स _____ से संबंधित है।

- Ans 1. ऑस्ट्रेलिया
 2. नॉर्वे
 3. स्विट्ज़रलैंड
 4. अमेरिका

Question ID : 239087577

Status : **Answered**

Chosen Option : 4

Q.23 The branch of medical science that deals with kidneys is known as:

- Ans 1. Ophthalmology
 2. Cardiology
 3. Otorhinolaryngology
 4. Nephrology

Question ID : 239087591

Status : **Answered**

Chosen Option : 4

Q.24 हमारा राष्ट्रगान 'जन गण मन' किस भाषा से अपनाया गया है?

- Ans 1. हिन्दी
 2. मराठी
 3. असमिया
 4. बांग्ला

Question ID : 239087576

Status : **Answered**

Chosen Option : 4

Q.25 सोने का प्रतीक क्या है?

- Ans 1. Mg
 2. Hg
 3. Ag

✓ 4. Au

Question ID : 239087588

Status : Answered

Chosen Option : 4

Multi Tasking (Non-Technical) Staff Examination 2019

Roll No.	
Registration No.	
Name	
Test Venue	
Test Time	4:00 PM - 5:30 PM
Test Date	09/08/2019

Section : General English

Q.1 Select the synonym of the given word.

Slender

- Ans
- 1. Sturdy
 - 2. Slippery
 - 3. Slim
 - 4. Strong

Question ID : 2390872056

Status : Answered

Chosen Option : 2

Q.2 Select the word which means the same as the group of words given.

A person who wastes his money on luxury

- Ans
- 1. Monarch
 - 2. Expensive
 - 3. Frugal
 - 4. Extravagant

Question ID : 2390872061

Status : Answered

Chosen Option : 4

Q.3 Select the meaning of the given idiom.

To pour oil in troubled water

- Ans
- 1. To calm a dispute
 - 2. To create tension
 - 3. To light a fire
 - 4. To raise a controversy

Question ID : 2390872060

Status : Answered

Chosen Option : 4

Q.4 Select the most appropriate option to fill in the blank and make a grammatically correct sentence.

I was determined not to stay in hospital for any longer ____ was strictly necessary.

Ans

- 1. when
- 2. than
- 3. then
- 4. that

Question ID : 2390872053
Status : Answered
Chosen Option : 4

Q.5 Identify the segment in the sentence which contains the grammatical error from the given options.

Put off the air conditioner unless you will catch a cold

- Ans
- 1. you will
 - 2. Put off the air conditioner
 - 3. unless
 - 4. catch a cold

Question ID : 2390872041
Status : Answered
Chosen Option : 2

Q.6 Identify the segment in the sentence which contains the grammatical error from the given options.

It's important for media to be more responsibly and careful.

- Ans
- 1. It's important
 - 2. for media to be
 - 3. more responsibly
 - 4. and careful

Question ID : 2390872042
Status : Answered
Chosen Option : 1

Q.7 Select the most appropriate option to substitute the underlined segment in the given sentence. If there is no need to substitute it, select option 'No substitution required'.

The interview was broadcast on the same day he was sworn in as President.

- Ans
- 1. had broadcast
 - 2. broadcast
 - 3. was broadcasted
 - 4. No substitution required

Question ID : 2390872044
Status : Answered
Chosen Option : 4

Q.8 Identify the segment in the sentence which contains the grammatical error from the given options.

The company has invested a great deal of time and effort to setting up new training schemes.

Ans

- 1. The company has
- 2. time and effort to setting up
- 3. invested a great deal of
- 4. new training schemes

Question ID : 2390872043
Status : Answered
Chosen Option : 3

Q.9 Select the correctly spelt word.

- Ans
- 1. Elimantry
 - 2. Elementary
 - 3. Eleantry
 - 4. Elimentary

Question ID : 2390872063
Status : Answered
Chosen Option : 3

Q.10 Select the most appropriate option to fill in the blank and make a grammatically correct sentence.

The bodies ____ identified as those of two suspected drug dealers.

- Ans
- 1. were
 - 2. had
 - 3. have
 - 4. was

Question ID : 2390872054
Status : Answered
Chosen Option : 1

Q.11 Select the most appropriate option to substitute the underlined segment in the given sentence. If there is no need to substitute it, select option 'No substitution required'.

The trainee hand a copy of his appointment letter to the HR head.

- Ans
- 1. No substitution required
 - 2. handed over a copy
 - 3. hand over the copy
 - 4. handed of a copy

Question ID : 2390872046
Status : Answered
Chosen Option : 1

Q.12 Select the antonym of the given word.

Hopeful

- Ans
- 1. Optimistic
 - 2. Pessimistic
 - 3. Cheerful

4. Healthy

Question ID : 2390872058
Status : Answered
Chosen Option : 1

Q.13 Select the word which means the same as the group of words given.

One who works very hard

- Ans 1. Labourer
 2. Industrious
 3. Exploited
 4. Exhausted

Question ID : 2390872062
Status : Answered
Chosen Option : 2

Q.14 Select the synonym of the given word.

Apparent

- Ans 1. Obsolete
 2. Objective
 3. Obvious
 4. Obscure

Question ID : 2390872055
Status : Answered
Chosen Option : 4

Q.15 Select the meaning of the given idiom.

Fair's fair

- Ans 1. Fair complexion
 2. Just treatment
 3. Disappointed
 4. White supremacy

Question ID : 2390872059
Status : Answered
Chosen Option : 4

Comprehension:

In the following passage some words have been deleted. Fill in the blanks with the help of the alternatives given. Select the most appropriate option for each blank.

Louis Braille was a French educator and inventor (1)____ a system of reading and writing for the visually impaired. His system (2)____ virtually unchanged to date and is known worldwide simply as 'braille'. Blinded (3)____ both eyes as a result of an early childhood (4)____, Braille mastered his disability while still a boy. He (5)____ at school and received a scholarship to the Royal Institute for Blind Youth.

SubQuestion No : 16

Q.16 Select the most appropriate option to fill in blank No.1.

- Ans 1. from

2. of

3. by

4. in

Question ID : 2390872048

Status : Answered

Chosen Option : 2

Comprehension:

In the following passage some words have been deleted. Fill in the blanks with the help of the alternatives given. Select the most appropriate option for each blank.

Louis Braille was a French educator and inventor (1)____ a system of reading and writing for the visually impaired. His system (2)____ virtually unchanged to date and is known worldwide simply as 'braille'. Blinded (3)____ both eyes as a result of an early childhood (4)____, Braille mastered his disability while still a boy. He (5)____ at school and received a scholarship to the Royal Institute for Blind Youth.

SubQuestion No : 17

Q.17 Select the most appropriate option to fill in blank No.2.

Ans 1. leaves

2. rests

3. preserves

4. remains

Question ID : 2390872049

Status : Answered

Chosen Option : 4

Comprehension:

In the following passage some words have been deleted. Fill in the blanks with the help of the alternatives given. Select the most appropriate option for each blank.

Louis Braille was a French educator and inventor (1)____ a system of reading and writing for the visually impaired. His system (2)____ virtually unchanged to date and is known worldwide simply as 'braille'. Blinded (3)____ both eyes as a result of an early childhood (4)____, Braille mastered his disability while still a boy. He (5)____ at school and received a scholarship to the Royal Institute for Blind Youth.

SubQuestion No : 18

Q.18 Select the most appropriate option to fill in blank No.3.

Ans 1. in

2. with

3. to

4. on

Question ID : 2390872050

Status : Answered

Chosen Option : 3

Comprehension:

In the following passage some words have been deleted. Fill in the blanks with the help of the alternatives given. Select the most appropriate option for each blank.

Louis Braille was a French educator and inventor (1)____ a system of reading and writing for the visually impaired. His system (2)____ virtually unchanged to date and is known worldwide simply as 'braille'. Blinded (3)____ both eyes as a result of an early childhood (4)____, Braille mastered his disability while still a boy. He (5)____ at school and received a scholarship to the Royal Institute for Blind Youth.

SubQuestion No : 19

Q.19 Select the most appropriate option to fill in blank No.4.

- Ans 1. plan
 2. accident
 3. provision
 4. occasion

Question ID : 2390872051
Status : Answered
Chosen Option : 3

Comprehension:

In the following passage some words have been deleted. Fill in the blanks with the help of the alternatives given. Select the most appropriate option for each blank.

Louis Braille was a French educator and inventor (1)___ a system of reading and writing for the visually impaired. His system (2)___ virtually unchanged to date and is known worldwide simply as 'braille'. Blinded (3)___ both eyes as a result of an early childhood (4)___, Braille mastered his disability while still a boy. He (5)___ at school and received a scholarship to the Royal Institute for Blind Youth.

SubQuestion No : 20

Q.20 Select the most appropriate option to fill in blank No.5.

- Ans 1. excelled
 2. talented
 3. skilled
 4. recorded

Question ID : 2390872052
Status : Answered
Chosen Option : 2

Q.21 Select the most appropriate word to fill in the blank and make a meaningful sentence.

She seemed _____ about the plan as she did not react much .

- Ans 1. uninterested
 2. enthusiastic
 3. excited
 4. interested

Question ID : 2390872065
Status : Answered
Chosen Option : 2

Q.22 Select the antonym of the given word.

Attract

- Ans 1. Lure
 2. Allure
 3. Repel
 4. Invite

Question ID : 2390872057

Status : **Answered**
Chosen Option : 3

Q.23 Select the correctly spelt word.

- Ans 1. Modern
 2. Moddern
 3. Modrran
 4. Modren

Question ID : 2390872064
Status : **Answered**
Chosen Option : 1

Q.24 Select the most appropriate word to fill in the blank and make a meaningful sentence.

The author touched the _____ of her career with her second novel which won the Pulitzer Prize.

- Ans 1. peek
 2. nadir
 3. base
 4. peak

Question ID : 2390872066
Status : **Answered**
Chosen Option : 2

Q.25 Select the most appropriate option to substitute the underlined segment in the given sentence. If there is no need to substitute it, select option 'No substitution required'.

Despite spending six years in politics, he are still regard by many as the new kid on the block.

- Ans 1. he is still regard
 2. he are still regarding
 3. No substitution required
 4. he is still regarded

Question ID : 2390872045
Status : **Answered**
Chosen Option : 2

Section : General Intelligence & Reasoning

Q.1 नीचे दिए गए प्रश्न में, कुछ कथन और उनके बाद उन कथनों पर आधारित कुछ निष्कर्ष दिए गए हैं। दिए गए कथनों को सही मानते हुए, चाहे वे सामान्य रूप से ज्ञात तथ्यों से भिन्न प्रतीत होते हों, सभी निष्कर्षों को पढ़िए और फिर निर्धारित कीजिए कि दिए गए कौन से /सा निष्कर्ष, कथनों का तार्किक रूप से अनुसरण करता /करते हैं।

कथन:

- I. सभी H, B हैं।
II. सभी R, B हैं।

निष्कर्ष:

- I. कुछ H, R हैं।
II. कोई H, R नहीं है।
III. कुछ B, R हैं।

Ans

✓ 1. निष्कर्ष III और निष्कर्ष I या II अनुसरण करता है।

✗ 2. केवल निष्कर्ष II अनुसरण करता है।

✗ 3. केवल निष्कर्ष I अनुसरण करता है।

✗ 4. दोनों निष्कर्ष II तथा III अनुसरण करते हैं।

Question ID : 2390871902

Status : Answered

Chosen Option : 4

Q.2 निम्नलिखित विकल्पों में से उस शब्द युग्म को चुनिए जो निम्नलिखित श्रृंखला में तीसरे शब्द युग्म से उसी तरह से संबंधित है जिस तरह से दूसरा शब्द युग्म पहले शब्द युग्म से संबंधित है।

ROL : URO :: TAG : ?

Ans ✗ 1. WEJ

✗ 2. XEL

✓ 3. WDJ

✗ 4. XEK

Question ID : 2390871893

Status : Answered

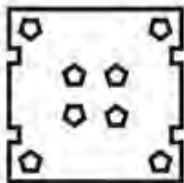
Chosen Option : 3

Q.3 नीचे दी गयी प्रश्न आकृतियों में दिखाए अनुसार कागज के एक टुकड़े को मोड़ा गया है और छेद किया गया है। जब इसको खोला जाएगा तो वह दी गयी उत्तर आकृतियों में से किसके जैसा दिखाई देगा?

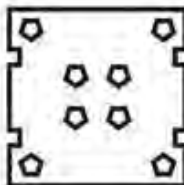


Ans

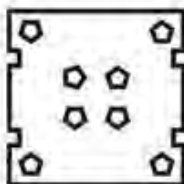
✗ 1.



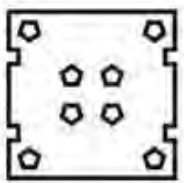
✗ 2.



✗ 3.



✓ 4.



Question ID : 2390871913

Status : Answered

Chosen Option : 1

Q.4 एक विशिष्ट कोड भाषा में, 'REASON' को 'SDBRPM' लिखा जाता है। इस कोड भाषा में 'ENGLISH' का कोड क्या है?

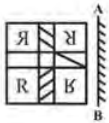
- Ans
- 1. PGMUIH
 - 2. OEMHTG
 - 3. OFMHTG
 - 4. PGNIUH

Question ID : 2390871895

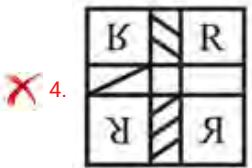
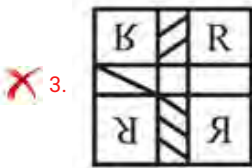
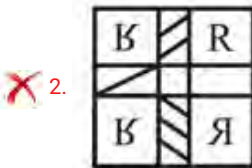
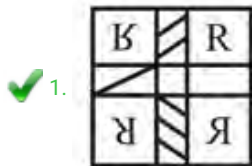
Status : Answered

Chosen Option : 3

Q.5 यदि एक दर्पण को AB रेखा पर रखा जाए, तो दी गई उत्तर आकृतियों में से कौन-सी आकृति प्रश्न आकृति की सही प्रतिबिम्ब होगी?



Ans



Question ID : 2390871912

Status : Answered

Chosen Option : 4

Q.6 छह लड़के P, Q, R, S, T तथा G केन्द्र की ओर मुख करके एक वृत्ताकार मेज के इर्द-गिर्द बैठे हुए हैं (जरूरी नहीं की इसी क्रम में हो)। P, G के तुरंत दायीं ओर है। Q, T के बायीं ओर दूसरा है। R, S के बायीं ओर दूसरा है। G, S के दायीं ओर दूसरा है।

R तथा T के मध्य कितने लड़के बैठे हुए हैं?

- Ans
- 1. 3

- 2.1
 3.2
 4.0

Question ID : 2390871899
Status : Answered
Chosen Option : 3

Q.7 निम्नलिखित चार में से तीन संख्या-युग्म एक निश्चित तरीके से एकसमान हैं और एक असमान है। उस असमान संख्या-युग्म का चयन कीजिए।

- Ans 1. 18 : 306
 2. 63 : 3906
 3. 15 : 210
 4. 37 : 1331

Question ID : 2390871905
Status : Answered
Chosen Option : 4

Q.8 नीचे दिए विकल्पों में से उस संख्या को चुनिए जो निम्नलिखित श्रृंखला में प्रश्न चिह्न (?) के स्थान पर आएगी।

36, 73, 147, 295, ?

- Ans 1. 691
 2. 591
 3. 621
 4. 581

Question ID : 2390871904
Status : Answered
Chosen Option : 2

Q.9 निम्नलिखित पैटर्न का अध्ययन करें और दिए गए विकल्पों में से लुप्त संख्या ज्ञात करें।

6 13 72
4 7 24
9 11 ?

- Ans 1. 20
 2. 90
 3. 31
 4. 16

Question ID : 2390871906
Status : Answered
Chosen Option : 2

Q.10 नीचे दिए विकल्पों में से उस अक्षर युग्म को चुनिए जो निम्नलिखित श्रृंखला में प्रश्न चिह्न (?) के स्थान पर आएगा।

MOND, RUUL, WABT, BGIB, ?

- Ans 1. GMPJ

- 2. HNPS
- 3. HNQJ
- 4. GMQJ

Question ID : 2390871890
Status : Answered
Chosen Option : 1

Q.11 छह बेंच N1, N2, N3, N4, N5 तथा N6 एक के ऊपर एक रखी गयी है (जरूरी नहीं की इसी क्रम में हो)। N4, केवल N3 तथा N5 के ऊपर है। N1 तथा N5 के मध्य चार बेंच है। N2, N3 से तीन स्थान ऊपर है। निम्नलिखित में से कौन-सा कथन सही नहीं है?

- Ans
- 1. N2, N6 के ठीक ऊपर हैं।
 - 2. N5 सबसे नीचे वाले छोर पर है।
 - 3. N1, N6 तथा N2 के मध्य में है।
 - 4. N3 तथा N2 के मध्य दो बेंच है।

Question ID : 2390871900
Status : Answered
Chosen Option : 3

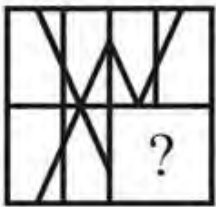
Q.12 किन दो चिह्नों को आपस में परस्पर बदलने पर समीकरण सही हो जाएगा?

$$5 - 9 + 16 \times 91 \div 13 = -98$$

- Ans
- 1. + तथा ÷
 - 2. + तथा -
 - 3. ÷ तथा -
 - 4. × तथा -

Question ID : 2390871907
Status : Answered
Chosen Option : 2

Q.13 कौन-सी उत्तर आकृति प्रश्न आकृति के पैटर्न को पूरा करेगी?



- Ans
- 1.
 - 2.
 - 3.



Question ID : 2390871910

Status : Answered

Chosen Option : 2

Q.14 छह दर्जी G1, G2, G3, G4, G5 तथा G6 केन्द्र की ओर मुख करके एक वृत्ताकार मेज के इर्द-गिर्द बैठे हुए हैं (जरूरी नहीं की इसी क्रम में हो)। G6, G3 के बायीं ओर दूसरा है। G2, G1 के दायीं ओर दूसरा है। G5, G6 के तुरंत बायीं ओर है। कौन-सा दर्जी G3 के दायीं ओर दूसरे स्थान पर बैठा हुआ है?

- Ans
- 1. G1
 - 2. G6
 - 3. G5
 - 4. G4

Question ID : 2390871898

Status : Answered

Chosen Option : 2

Q.15 एक विशिष्ट कोड भाषा में, 'PRO' को '48' लिखा जाता है, 'BAL' को '14' लिखा जाता है। इस कोड भाषा में 'COH' का कोड क्या है?

- Ans
- 1. 27
 - 2. 26
 - 3. 24
 - 4. 25

Question ID : 2390871896

Status : Answered

Chosen Option : 4

Q.16 एक विशिष्ट कोड भाषा में, 'VERBAL' को '225182112', लिखा जाता है, 'CURANT' को '3211811420' लिखा जाता है। इस कोड भाषा में 'SOLVER' का कोड क्या है?

- Ans
- 1. 19151123518
 - 2. 19151222518
 - 3. 19151122518
 - 4. 19152412518

Question ID : 2390871897

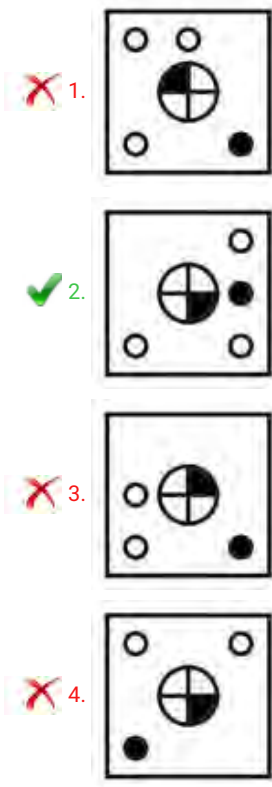
Status : Answered

Chosen Option : 3

Q.17 निम्नलिखित प्रश्न में दिए गए विकल्पों में से प्रश्न चिन्ह (?) के स्थान पर आने वाली आकृति को चुनिए।



Ans



Question ID : 2390871909
Status : Answered
Chosen Option : 2

Q.18 नीचे दिए विकल्पों में से उस संख्या को चुनिए जो निम्नलिखित श्रृंखला में प्रश्न चिह्न (?) के स्थान पर आएगी।

1107, 1127, 1167, 1227, 1307, ?

- Ans 1. 1407
 2. 1397
 3. 1427
 4. 1417

Question ID : 2390871903
Status : Answered
Chosen Option : 1

Q.19 निम्नलिखित विकल्पों में से उस शब्द को चुनिए जो निम्नलिखित श्रृंखला में तीसरे शब्द से उसी तरह से संबंधित है जिस तरह से दूसरा शब्द पहले शब्द से संबंधित है।

प्लेट : बर्तन :: कार : ?

- Ans 1. ड्राइवर
 2. वाहन
 3. टायर
 4. बाइक

Question ID : 2390871892
Status : Answered
Chosen Option : 2

Q.20

दी गई उत्तर आकृतियों में से, उस उत्तर आकृति को चुनिए जिसमें नीचे दी गई प्रश्न आकृति समाहित/अन्तर्निहित है।

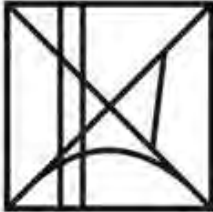


Ans

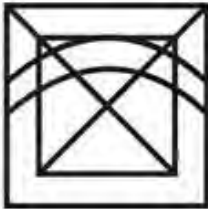
1.



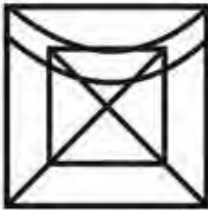
2.



3.



4.



Question ID : 2390871911

Status : Answered

Chosen Option : 3

Q.21 नीचे दिए गए प्रश्न में, कुछ कथन और उनके बाद उन कथनों पर आधारित कुछ निष्कर्ष दिए गए हैं। दिए गए कथनों को सही मानते हुए, चाहे वे सामान्य रूप से ज्ञात तथ्यों से भिन्न प्रतीत होते हों, सभी निष्कर्षों को पढ़िए और फिर निर्धारित कीजिए कि दिए गए कौन से/सा निष्कर्ष, कथनों का तार्किक रूप से अनुसरण करता/करते हैं।

कथन:

- I. कुछ फूल मुलायम हैं।
- II. कोई सख्त मुलायम नहीं है।

निष्कर्ष:

- I. कुछ सख्त फूल हैं।
- II. कुछ मुलायम फूल हैं।

Ans

1. कोई भी निष्कर्ष अनुसरण नहीं करता है।

2. केवल निष्कर्ष II अनुसरण करता है।

3. केवल निष्कर्ष I अनुसरण करता है।

4. दोनों निष्कर्ष I तथा II अनुसरण करते हैं।

Question ID : 2390871901

Status : Answered

Q.22 + तथा * ' दो चिह्नों को आपस में बदलने के पश्चात्, नीचे दिए गए समीकरण का मान क्या होगा?

$$6 \times 8 \div 32 + 64 - 11 = ?$$

- Ans
- 1. 13
 - 2. 11
 - 3. 14
 - 4. 10

Question ID : 2390871908





Status : Answered

Chosen Option : 2

Q.23 उस वेन आरेख को चुनिए जो नीचे दिए गए वर्गों के बीच के संबंध को सही प्रकार से दर्शाता है।

मेज, कुर्सी, रेफ्रिजरेटर

Ans

- 1. 
- 2. 
- 3. 
- 4. 

Question ID : 2390871914

Status : Answered

Chosen Option : 2

Q.24 एक विशिष्ट कोड भाषा में, 'MODERN' को 'JLABOK' लिखा जाता है। इस कोड भाषा में 'NUMBER' का कोड क्या है?

- Ans
- 1. LTKZCP
 - 2. LSKZCP
 - 3. KRJYBO
 - 4. KRKYBO

Question ID : 2390871894

Status : Answered

Chosen Option : 3

Q.25 निम्नलिखित विकल्पों में से उस शब्द को चुनिए जो निम्नलिखित श्रृंखला में तीसरे शब्द से उसी तरह से संबंधित है जिस तरह से दूसरा शब्द पहले शब्द से संबंधित है।

चाप : वृत्त :: ?

- Ans
- 1. घड़ी : सुई
 - 2. घर : कमरा
 - 3. ब्लेड : सोफा
 - 4. टायर : बाइक

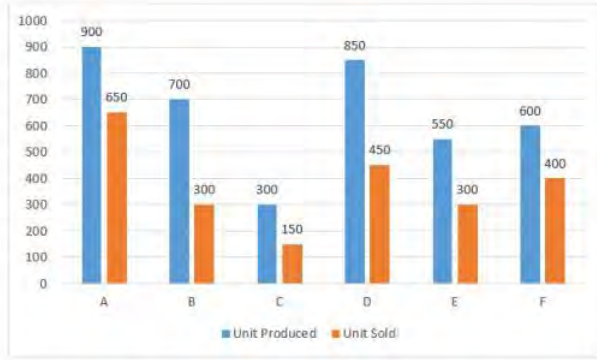
Question ID : 2390871891

Status : Answered

Chosen Option : 4

Section : Numerical Aptitude

Q.1 दंड आरेख विभिन्न कंपनियों A, B, C, D, E & F की एक माह में मोबाइल हैंडसेट के उत्पादन और बिक्री को दर्शाता है।



कंपनी A, B और C द्वारा कुल मिलाकर बिक्री की गई यूनिटें, कंपनी A, B और C द्वारा मिलाकर उत्पादित कुल यूनिटों का लगभग कितना प्रतिशत है (निकटतम पूर्णांक तक)?

- Ans
- 1. 58
 - 2. 50
 - 3. 76
 - 4. 62

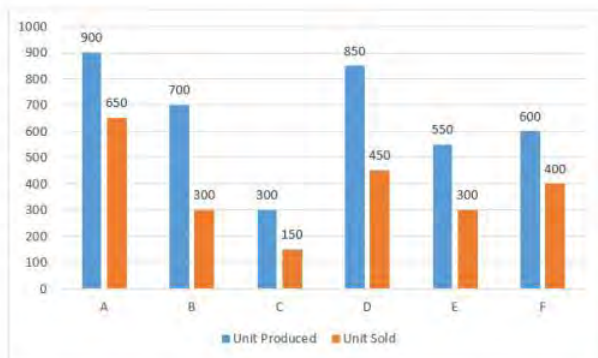
Question ID : 2390871939

Status : Answered

Chosen Option : 1

Q.2

दंड आरेख विभिन्न कंपनियों A, B, C, D, E & F की एक माह में मोबाइल हैंडसेट के उत्पादन और बिक्री को दर्शाता है।



सभी कंपनियों को मिलाकर उत्पादित यूनिटों की औसत संख्या कितनी है?

- Ans
- 1. 625
 - 2. 675
 - 3. 650
 - 4. 600

Question ID : 2390871938

Status : Answered

Chosen Option : 3

Q.3 किसी मद्र पर 20% छूट की पेशकश की गई है। एक प्रोमो कोड का प्रयोग कर कृषि 4% नकद वापस प्राप्त करता है। समतुल्य एकल छूट कितनी है?

- Ans
- 1. 22.60%
 - 2. 33%
 - 3. 24%
 - 4. 23.20%

Question ID : 2390871920

Status : Answered

Chosen Option : 4

Q.4 612 km की यात्रा करने के लिए ट्रेन B की तुलना में, ट्रेन-A 9 घंटे अधिक समय लेती है। यदि ट्रेन A की गति को दोगुना किया जाता है, तो वह ट्रेन B की तुलना में 3 घंटे का समय कम लेती है। ट्रेन B की गति (km/h में) है:

- Ans
- 1. 51 km/h
 - 2. 1.2 km/h
 - 3. 40.8 km/h
 - 4. 30.6 km/h

Question ID : 2390871932

Status : Answered

Chosen Option : 1

Q.5 शिव ने एक मेज ₹135000 में खरीदी और उसे ₹110000 में बेच दिया, हानि प्रतिशत क्या है?

- Ans
- 1. $\frac{500}{27}$ %

2. 30%
3. $\frac{270}{22}$ %
4. $\frac{2200}{27}$ %

Question ID : 2390871923

Status : Answered

Chosen Option : 1

Q.6 तीन श्रेणी के कर्मचारी A, B और C 1 : 2 : 3 के अनुपात में मजदूरी प्राप्त करते हैं, यदि वे क्रमशः 5%, 10% एवं 15% की वेतन-वृद्धि प्राप्त करते हैं। उनकी मजदूरियों का नया अनुपात क्या होगा?

- Ans 1. 21 : 44 : 69
2. 7 : 22 : 23
3. 21 : 22 : 23
4. 7 : 21 : 23

Question ID : 2390871927

Status : Answered

Chosen Option : 1

Q.7 रमेश ने 13% प्रतिवर्ष साधारण ब्याज की दर से ₹12000 उधार लिए। रमेश उधार चुकता करने के लिए 5 वर्षों में कितनी राशि का भुगतान करेगा?

- Ans 1. ₹18800
2. ₹20000
3. ₹19800
4. ₹18600

Question ID : 2390871928

Status : Answered

Chosen Option : 4

Q.8 दो संख्याओं p तथा q का महत्तम समापवर्तक (एच सी एफ) एवं लघुत्तम समापवर्तक (एल सी एम) क्रमशः A तथा B हैं, यदि $A + B = p + q$ है, तो $A^3 + B^3$ का मान है:

- Ans 1. p^3
2. q^3
3. $p^3 + q^3$
4. $p^3 - q^3$

Question ID : 2390871915

Status : Answered

Chosen Option : 3

Q.9 ₹6000 की राशि 3 वर्ष में कितने प्रतिशत प्रतिवर्ष पर ₹7986 हो जाएगी, यदि ब्याज वार्षिक रूप से संयोजित की जाती है?

- Ans 1. 10%

- 2. 8%
- 3. 12.5%
- 4. 11%

Question ID : 2390871929
Status : Answered
Chosen Option : 1

Q.10 $(x^5 \div x^4)^3 \div x^2 = ?$

- Ans
- 1. x^2
 - 2. x^3
 - 3. x^{-1}
 - 4. x

Question ID : 2390871916
Status : Answered
Chosen Option : 4

Q.11 2, 2, 3, 3, 5, 5, 5, 7, 8, 8, 9, 10 का बहुलक है:

- Ans
- 1. 3
 - 2. 5
 - 3. 6
 - 4. 2

Question ID : 2390871921
Status : Answered
Chosen Option : 2

Q.12 मेट्रो ट्रेन के दैनिक टिकट का मूल्य ₹120 है और मासिक पास का मूल्य ₹3276 है। यदि सोहन मासिक पास खरीदता है और महीने में 30 दिन यात्रा करता है, तो उसकी कितनी प्रतिशत बचत होगी?

- Ans
- 1. 15%
 - 2. 12%
 - 3. 9%
 - 4. 18%

Question ID : 2390871922
Status : Answered
Chosen Option : 3

Q.13 एक रेलगाड़ी किसी स्थिर वस्तु (स्टेशनरी ऑब्जेक्ट) को 25 सेकंड में पार करती है। यदि रेलगाड़ी की गति 25 m/s है तो रेलगाड़ी की लंबाई कितनी है?

- Ans
- 1. 625 m
 - 2. 500 m
 - 3. 300 m

4. 620 m

Question ID : 2390871933

Status : Answered

Chosen Option : 1

Q.14 दो कक्षाओं M तथा N के औसत अंक क्रमशः 25 तथा 40 हैं, और प्राप्त समय औसत 30 है। कक्षा M और N के छात्रों का अनुपात है:

- Ans 1. 2 : 1
 2. 5 : 6
 3. 1 : 2
 4. 5 : 3

Question ID : 2390871919

Status : Answered

Chosen Option : 3

Q.15 एक लड़ाकू विमान 1440 km/h की गति से चलता है। एक सेकंड में वह कितने मीटर की दूरी तय करता है?

- Ans 1. 394
 2. 385
 3. 374
 4. 400

Question ID : 2390871931

Status : Answered

Chosen Option : 4

Q.16 a और b दो संख्याएँ हैं जिनका माध्य अनुपात 6 और तृतीय अनुपात 48 है। a और b का मान कितना है?

- Ans 1. 3,12
 2. 3,6
 3. 6,6
 4. 6,12

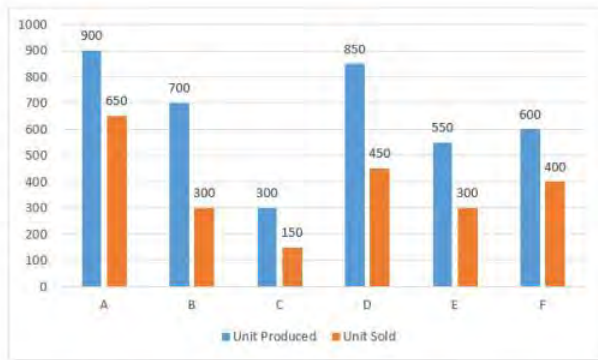
Question ID : 2390871925

Status : Answered

Chosen Option : 1

Q.17

दंड आरेख विभिन्न कंपनियों A, B, C, D, E & F की एक माह में मोबाइल हैंडसेट के उत्पादन और बिक्री को दर्शाता है।



किस कंपनी की बिक्री का प्रतिशत, उसके उत्पादन के संदर्भ में, सबसे अधिक है?

- Ans
- 1. B
 - 2. A
 - 3. E
 - 4. D

Question ID : 2390871937

Status : Answered

Chosen Option : 1

Q.18 किसी समकोण त्रिभुज का कर्ण 39 cm है और अन्य दो भुजाओं का अंतर 21 cm है, तो त्रिभुज का क्षेत्रफल है:

- Ans
- 1. 360 cm²
 - 2. 270 cm²
 - 3. 280 cm²
 - 4. 540 cm²

Question ID : 2390871936

Status : Answered

Chosen Option : 2

Q.19 एक व्यापारी किसी वस्तु को ₹2400 पर बेचकर 25% लाभ प्राप्त करता है। यदि उसने वस्तु को ₹2160 में बेचा होता, तो उसका लाभ या हानि प्रतिशत कितना था?

- Ans
- 1. 12½% हानि
 - 2. 15% हानि
 - 3. 12½% लाभ
 - 4. 15% लाभ

Question ID : 2390871924

Status : Answered

Chosen Option : 3

Q.20 एक 25 मीटर लंबे तथा 15 मीटर चौड़े माप के भवन के साथ 3.5 मीटर एकसमान चौड़ाई का मार्ग है। ₹25.50 प्रति वर्ग मीटर की दर से मार्ग की फ्लोरिंग लागत है:

- Ans
- 1. ₹8389.5
 - 2. ₹4186.50
 - 3. ₹8146.50
 - 4. ₹9149.50

Question ID : 2390871935
Status : Answered
Chosen Option : 2

Q.21 X, किसी कार्य को पूरा करने में Y की तुलना में 10 दिन का कम समय लेता है। X और Y दोनों मिलकर कार्य को 12 दिन में पूरा कर सकते हैं। Y कितने दिनों में अकेले कार्य को पूरा करेगा?

- Ans
- 1. 22.5 दिन
 - 2. 25 दिन
 - 3. 30 दिन
 - 4. 30 दिन

Question ID : 2390871930
Status : Answered
Chosen Option : 1

Q.22 180000 का $33\frac{1}{3}\%$ का 0.15% है:

- Ans
- 1. 9
 - 2. 90
 - 3. 150
 - 4. 900

Question ID : 2390871917
Status : Answered
Chosen Option : 2

Q.23 एक बैग में 3 : 2 : 3 के अनुपात में 1 रुपये, 50 पैसे और 10 पैसे के रूप में ₹25.8 की राशि है। बैग में 50 पैसे के कितने सिक्के हैं?

- Ans
- 1. 18
 - 2. 3
 - 3. 36
 - 4. 12

Question ID : 2390871926
Status : Answered
Chosen Option : 3

Q.24 20 अवलोकनों का माध्य 85 था, परंतु बाद में यह पाया गया कि 97 को गलती से 79 पढ़ लिया गया था। सही माध्य है:

- Ans
- 1. 85.8
 - 2. 85.7

3. 85.6

4. 85.9

Question ID : 2390871918

Status : Answered

Chosen Option : 4

Q.25 यदि किसी वर्ग की भुजा की लंबाई किसी वृत्त के व्यास के बराबर है, तब वर्ग तथा वृत्त के क्षेत्रफल का अनुपात है:

($\pi = \frac{22}{7}$ ले)

Ans 1. 14 : 11

2. 28 : 11

3. 11 : 14

4. 11 : 7

Question ID : 2390871934

Status : Answered

Chosen Option : 4

Section : General awareness

Q.1 फीफा (FIFA) की स्थापना _____ में हुई थी।

Ans 1. इटली

2. फ्रांस

3. इंग्लैंड

4. स्पेन

Question ID : 2390871269

Status : Answered

Chosen Option : 2

Q.2 हवा, पानी और जलवायु की क्रिया द्वारा चट्टानों के टूटने की प्रक्रिया को _____ कहा जाता है।

Ans 1. भूस्खलन

2. अपक्षयण / अपक्षय

3. अपक्षरण

4. मृदासर्पण (सॉलीफ्लोकेशन)

Question ID : 2390871284

Status : Answered

Chosen Option : 1

Q.3 न्यूनतम समर्थन मूल्य _____ द्वारा घोषित किया जाता है।

Ans 1. वित्त मंत्रालय

2. कृषि मंत्रालय

3. आर्थिक मामलों की मंत्रिमंडलीय समिति

4. चैंबर ऑफ कॉमर्स

Question ID : 2390871275

Status : Answered

Chosen Option : 3

Q.4 निम्नलिखित में से किसने दलित वर्ग संघ (Depressed classes Association) की स्थापना की?

- Ans
- 1. बाबू जगजीवन राम
 - 2. महात्मा गांधी
 - 3. डॉ. बी. आर. अम्बेडकर
 - 4. सरदार वल्लभभाई पटेल

Question ID : 2390871289

Status : Answered

Chosen Option : 2

Q.5 नमक का रासायनिक नाम क्या है?

- Ans
- 1. मैग्नीशियम डाइऑक्साइड
 - 2. कैल्शियम क्लोराइड
 - 3. सोडियम सल्फेट
 - 4. सोडियम क्लोराइड

Question ID : 2390871279

Status : Answered

Chosen Option : 4

Q.6 पेंटिंग 'माई मदर' किसने बनाया था?

- Ans
- 1. नंदलाल बोस
 - 2. अबनिंद्रनाथ टैगोर
 - 3. देबेंद्रनाथ टैगोर
 - 4. बंकिम चंद्र चटर्जी

Question ID : 2390871267

Status : Answered

Chosen Option : 2

Q.7 घाघरा और सोन किस नदी की सहायक नदियाँ हैं?

- Ans
- 1. चंबल
 - 2. यमुना
 - 3. गंगा
 - 4. ब्रह्मपुत्र

Question ID : 2390871286

Status : Answered

Chosen Option : 3

Q.8 मानव शरीर में प्रवेश करने वाले कीटाणुओं के खिलाफ रक्त का कौन-सा घटक लड़ता है?

- Ans
- 1. हीमोग्लोबिन
 - 2. लाल रक्त कोशिकाएं
 - 3. बिम्बाणु (प्लेटलेट्स)
 - 4. सफेद रक्त कोशिकाएं

Question ID : 2390871281

Status : Answered

Chosen Option : 4

Q.9 भारत के केंद्रीय बजट और रेलवे बजट का किस वर्ष में विलय किया गया था?

- Ans
- 1. 2017
 - 2. 2016
 - 3. 2018
 - 4. 2015

Question ID : 2390871274

Status : Answered

Chosen Option : 1

Q.10 पुरातात्विक स्थल इनामगाँव कहाँ स्थित है?

- Ans
- 1. कर्नाटक
 - 2. उत्तर प्रदेश
 - 3. गुजरात
 - 4. महाराष्ट्र

Question ID : 2390871288

Status : Answered

Chosen Option : 4

Q.11 2018 में फिलिस्तीन के सर्वोच्च पुरस्कार "ग्रैंड कॉलर ऑफ फिलिस्तीन" से किसे सम्मानित किया गया था?

- Ans
- 1. बेंजामिन नेतन्याहू
 - 2. नरेंद्र मोदी
 - 3. डोनाल्ड ट्रम्प
 - 4. व्लादिमीर पुतिन

Question ID : 2390871271

Status : Answered

Chosen Option : 2

Q.12 पत्रिका 'केसरी' की शुरूआत किसने की?

- Ans
- 1. लाला लाजपत राय
 - 2. बाल गंगाधर तिलक
 - 3. दादाभाई नौरोजी
 - 4. बिपिन चंद्र पाल

Question ID : 2390871287

Status : Answered

Chosen Option : 2





Q.13 मौमा दास किस खेल से संबंधित है?

- Ans
- 1. शूटिंग
 - 2. टेबल टेनिस
 - 3. हॉकी

 4. तीरंदाजी





Question ID : 2390871268
Status : Answered
Chosen Option : 2

Q.14 निम्नलिखित में से कौन-सा विकल्प सही है?

- Ans
-  1. मुंशी उसे कहा जाता था जो अरबी पढ़, लिख और सीखा सकता था।
 -  2. भित्तिचित्र हेंगिंग रॉक पेंटिंग है।
 -  3. गुलफरोशन फूलों का त्योहार है।
 -  4. औरंग एक प्रकार की घोड़ागाड़ी थी।

Question ID : 2390871266
Status : Answered
Chosen Option : 4

Q.15 लद्दाख _____ के बीच स्थित है।

- Ans
-  1. शिवालिक और ज़ांस्कर पर्वत
 -  2. काराकोरम श्रृंखला और ज़ांस्कर पर्वत
 -  3. मध्य हिमालय और शिवालिक
 -  4. वृहत हिमालय और शिवालिक

Question ID : 2390871285
Status : Answered
Chosen Option : 4

Q.16 सूफी संत के मकबरे को _____ कहा जाता है।

- Ans
-  1. कल-दे-सक (Cul-de-Sac)
 -  2. ईदगाह
 -  3. दरगाह
 -  4. खानकाह

Question ID : 2390871265
Status : Answered
Chosen Option : 3

Q.17 शरीर में किस हार्मोन की कमी के कारण 'घेंगा (गोइटर)' होता है?

- Ans
-  1. थाइरॉक्सिन
 -  2. एड्रिनैलिन
 -  3. टेस्टोस्टेरोन
 -  4. एस्ट्रोजेन

Question ID : 2390871282
Status : Answered
Chosen Option : 1

Q.18 भारत का आर्थिक सर्वेक्षण किसके मार्गदर्शन में तैयार किया जाता है?

- Ans
-  1. वित्त आयोग

- 2. वित्त मंत्री
- 3. आरबीआई के गवर्नर
- 4. मुख्य आर्थिक सलाहकार

Question ID : 2390871273
Status : Answered
Chosen Option : 3

Q.19 शेर की पूँछ जैसे (Lion Tailed) मैकाक को _____ भी कहा जाता है।

- Ans
- 1. सिल्वर लंगूर
 - 2. बियर्ड लंगूर
 - 3. ब्लैक लंगूर
 - 4. होउलेर लंगूर

Question ID : 2390871280
Status : Answered
Chosen Option : 4

Q.20 भारतीय संविधान का कौन-सा अनुच्छेद जीवन की रक्षा और वैयक्तिक स्वतंत्रता की गारंटी देता है?

- Ans
- 1. अनुच्छेद 21A
 - 2. अनुच्छेद 20
 - 3. अनुच्छेद 21
 - 4. अनुच्छेद 22

Question ID : 2390871276
Status : Answered
Chosen Option : 1

Q.21 73वें संवैधानिक संशोधन अधिनियम ने भारतीय संविधान में कौन-सा भाग जोड़ा गया है?

- Ans
- 1. भाग IX
 - 2. भाग IX - B
 - 3. भाग IX - A
 - 4. भाग X

Question ID : 2390871277
Status : Answered
Chosen Option : 3

Q.22 सुनील अरोड़ा को भारत के 23 वें _____ के रूप में नियुक्त किया गया है।

- Ans
- 1. मुख्य चुनाव आयुक्त
 - 2. सँ प्रमुख
 - 3. मुख्य आर्थिक सलाहकार
 - 4. नियंत्रक और महालेखापरीक्षक

Question ID : 2390871270
Status : Answered
Chosen Option : 1

Q.23

संविधान की प्रारूप समिति की अध्यक्षता किसने की?

- Ans 1. डॉ. बी. आर. अम्बेडकर
 2. जवाहरलाल नेहरू
 3. वी. पी. मेनन
 4. सरदार वल्लभभाई पटेल

Question ID : 2390871278
Status : Answered
Chosen Option : 1

Q.24 निम्नलिखित में से कौन-सा राज्य और मुख्यमंत्री का युग्म सही है?

- Ans 1. छत्तीसगढ़ - भूपेश बघेल
 2. राजस्थान - गोपीनाथ मुंडे
 3. गोवा - निर्मला सीतारमण
 4. मध्य प्रदेश - ज्योतिरादित्य सिंधिया

Question ID : 2390871272
Status : Answered
Chosen Option : 1

Q.25 मनुष्यों में निम्नलिखित में से किस विटामिन की कमी के कारण बेरी बेरी होती है?

- Ans 1. विटामिन D
 2. विटामिन A
 3. विटामिन C
 4. विटामिन B1

Question ID : 2390871283
Status : Answered
Chosen Option : 4

Multi Tasking (Non-Technical) Staff Examination 2019

Roll No.	
Registration No.	
Name	
Test Venue	
Test Time	9:00 AM - 10:30 AM
Test Date	13/08/2019

Section : General English

Q.1 Select the most appropriate option to substitute the underlined segment in the given sentence. If there is no need to substitute it, select No improvement.

Rashi hasn't eaten everything from yesterday.

- Ans 1. anything since
 2. something for
 3. nothing along
 4. No improvement

Question ID : 2390873031
Status : Answered
Chosen Option : 2

Q.2 Select the correctly spelt word.

- Ans 1. Essentail
 2. Essencial
 3. Essential
 4. Essensial

Question ID : 2390873050
Status : Answered
Chosen Option : 3

Q.3 Select the most appropriate option to fill in the blank and make a grammatically correct sentence.

The vase broke _____ pieces when Simran dropped it.

- Ans 1. from
 2. in
 3. among
 4. into

Question ID : 2390873034
Status : Answered
Chosen Option : 4

Q.4 Select the most appropriate antonym of the word.

Confront

- Ans 1. Avoid

- 2. Oppose
- 3. Encounter
- 4. Meet

Question ID : 2390873045
Status : Answered
Chosen Option : 1

Q.5 Select the most appropriate antonym of the word.

Quell

- Ans 1. Agitate
- 2. Deny
 - 3. Reduce
 - 4. Entire

Question ID : 2390873044
Status : Answered
Chosen Option : 1

Q.6 Select the most appropriate word to fill in the blank and make a meaningful sentence.

Be careful not to drop this glass case; it's very _____.

- Ans 1. fragile
- 2. rigid
 - 3. smooth
 - 4. hard

Question ID : 2390873052
Status : Answered
Chosen Option : 1

Q.7 Select the most appropriate synonym of the given word.

Fundamental

- Ans 1. Trivial
- 2. Extra
 - 3. Secondary
 - 4. Basic

Question ID : 2390873043
Status : Answered
Chosen Option : 4

Q.8 Select the most appropriate meaning of the given idiom.

Cry over spilt milk

- Ans 1. cry too much over a petty issue
- 2. regret about something that happened and cannot be changed
 - 3. unnecessarily worry about the future
 - 4. complain about being forced to drink milk

Question ID : 2390873046

Status : Answered

Chosen Option : 2

Q.9 Select the most appropriate option to substitute the underlined segment in the given sentence. If there is no need to substitute it, select No improvement.

The new traffic signals is not clear visible from a distance

- Ans
- 1. No improvement
 - 2. are not clearly
 - 3. is not clearly
 - 4. are not clear

Question ID : 2390873033

Status : Answered

Chosen Option : 2

Comprehension:

In the following passage some words have been deleted. Fill in the blanks with the help of the alternatives given. Select the most appropriate option for each blank.

Rama was a naughty boy (1)_____ lived in the village of Tenali. His mother did not (2)_____ what to do with him since he (3)_____ to study or do any work. One day (4)_____ took him to see a Guru. She told the (5)_____ man that she wanted him to take Rama under his guardianship.

SubQuestion No : 10

Q.10 Select the most appropriate option to fill in blank No.1.

- Ans
- 1. who
 - 2. which
 - 3. he
 - 4. that

Question ID : 2390873037

Status : Answered

Chosen Option : 1

Comprehension:

In the following passage some words have been deleted. Fill in the blanks with the help of the alternatives given. Select the most appropriate option for each blank.

Rama was a naughty boy (1)_____ lived in the village of Tenali. His mother did not (2)_____ what to do with him since he (3)_____ to study or do any work. One day (4)_____ took him to see a Guru. She told the (5)_____ man that she wanted him to take Rama under his guardianship.

SubQuestion No : 11

Q.11 Select the most appropriate option to fill in blank No.2.

- Ans
- 1. knowing
 - 2. know
 - 3. knew
 - 4. knows

Question ID : 2390873038

Status : Answered

Chosen Option : 2

Comprehension:

In the following passage some words have been deleted. Fill in the blanks with the help of the alternatives given. Select the most appropriate option for each blank.

Rama was a naughty boy (1)_____ lived in the village of Tenali. His mother did not (2)_____ what to do with him since he (3)_____ to study or do any work. One day (4)_____ took him to see a Guru. She told the (5)_____ man that she wanted him to take Rama under his guardianship.

SubQuestion No : 12

Q.12 Select the most appropriate option to fill in blank No.3.

- Ans
- 1. wished
 - 2. reminded
 - 3. refused
 - 4. denied

Question ID : 2390873039

Status : Answered

Chosen Option : 4

Comprehension:

In the following passage some words have been deleted. Fill in the blanks with the help of the alternatives given. Select the most appropriate option for each blank.

Rama was a naughty boy (1)_____ lived in the village of Tenali. His mother did not (2)_____ what to do with him since he (3)_____ to study or do any work. One day (4)_____ took him to see a Guru. She told the (5)_____ man that she wanted him to take Rama under his guardianship.

SubQuestion No : 13

Q.13 Select the most appropriate option to fill in blank No.4.

- Ans
- 1. her
 - 2. they
 - 3. she
 - 4. he

Question ID : 2390873040

Status : Answered

Chosen Option : 3

Comprehension:

In the following passage some words have been deleted. Fill in the blanks with the help of the alternatives given. Select the most appropriate option for each blank.

Rama was a naughty boy (1)_____ lived in the village of Tenali. His mother did not (2)_____ what to do with him since he (3)_____ to study or do any work. One day (4)_____ took him to see a Guru. She told the (5)_____ man that she wanted him to take Rama under his guardianship.

SubQuestion No : 14

Q.14 Select the most appropriate option to fill in blank No.5.

- Ans
- 1. lonely
 - 2. lazy
 - 3. learned
 - 4. lively

Question ID : 2390873041

Status : **Answered**
Chosen Option : **3**

Q.15 Select the most appropriate meaning of the given idiom.

Far cry from

- Ans 1. To be very different from
 2. To be sad about past things
 3. To be away from dear ones
 4. To cry over small things

Question ID : **2390873047**
Status : **Answered**
Chosen Option : **4**

Q.16 Select the most appropriate synonym of the given word.

Detain

- Ans 1. Delay
 2. Advance
 3. Permit
 4. Allow

Question ID : **2390873042**
Status : **Answered**
Chosen Option : **3**

Q.17 Select the most appropriate option to substitute the underlined segment in the given sentence. If there is no need to substitute it, select No improvement.

Shakiba is a smallest of the two girls.

- Ans 1. the smaller
 2. the small
 3. more small
 4. No improvement

Question ID : **2390873032**
Status : **Answered**
Chosen Option : **1**

Q.18 Select the most appropriate word to fill in the blank and make a meaningful sentence.

The development of real estate has _____ impacted the environment.

- Ans 1. narrowly
 2. positively
 3. conveniently
 4. adversely

Question ID : **2390873053**
Status : **Answered**
Chosen Option : **4**

Q.19 Select the most appropriate option to fill in the blank and make a grammatically correct sentence.

London is ____ European city.

- Ans 1. a
 2. No article
 3. an
 4. the

Question ID : 2390873035
Status : Answered
Chosen Option : 1

Q.20 Select the most appropriate word for the given group of words.

A large bundle bound for storage or transport

- Ans 1. Bunch
 2. Bale
 3. Bevy
 4. Barrel

Question ID : 2390873049
Status : Answered
Chosen Option : 2

Q.21 Identify the segment in the sentence which contains the grammatical error.

Grandmother was knitting a sweater for his grand-daughter.

- Ans 1. sweater for his
 2. Grandmother was
 3. grand-daughter
 4. knitting a

Question ID : 2390873029
Status : Answered
Chosen Option : 1

Q.22 Identify the segment in the sentence which contains the grammatical error.

They have been living in Boston from ten years.

- Ans 1. in Boston
 2. been living
 3. They have
 4. from ten years

Question ID : 2390873030
Status : Answered
Chosen Option : 4

Q.23 Select the most appropriate word for the given group of words.

One who studies the evolution of mankind

- Ans 1. Sociologist

- 2. Archaeologist
- 3. Dermatologist
- 4. Anthropologist

Question ID : 2390873048
Status : Answered
Chosen Option : 4

Q.24 Select the correctly spelt word.

- Ans
- 1. Scienctific
 - 2. Scientific
 - 3. Scientefic
 - 4. Sceintific

Question ID : 2390873051
Status : Answered
Chosen Option : 2

Q.25 Identify the segment in the sentence which contains the grammatical error.

Sakshi is as smarter as any other child in the class.

- Ans
- 1. in the class
 - 2. as smarter as
 - 3. Sakshi is
 - 4. any other child

Question ID : 2390873028
Status : Answered
Chosen Option : 2

Section : General Intelligence & Reasoning

Q.1 यदि किसी कूट भाषा में 'HACB' को '8132' के रूप में लिखा जाता है, तो उसी कूट भाषा में 'DEFA' को कैसे लिखा जाएगा?

- Ans
- 1. 4561
 - 2. 4156
 - 3. 5641
 - 4. 4651

Question ID : 2390873135
Status : Answered
Chosen Option : 1

Q.2 कर्मचारी B, R, G, A और M के वेतन की तुलना एक दूसरे के संबंध में दी गयी है:
M को A और G से अधिक वेतन मिलता है।
R का वेतन तीन व्यक्तियों से कम है।
B का वेतन सबसे कम है।
दूसरा न्यूनतम वेतन किसका है?

- Ans
- 1. M
 - 2. R

3. A

4. G

Question ID : 2390873139

Status : Answered

Chosen Option : 2

Q.3 'मोमबत्ती' शब्द 'बाती' से उसी तरह संबंधित है जिस तरह 'पेन' ' _____ ' से संबंधित है।

Ans 1. पेंसिल

2. निब

3. दवात

4. प्रकाश

Question ID : 2390873131

Status : Answered

Chosen Option : 2

Q.4 नीचे दिए गए कथनों के बाद दो निष्कर्ष I और II दिए गए हैं यह मानते हुए कि कथनों में दी गई जानकारी सत्य हैं भले ही वह सर्वज्ञात तथ्यों से भिन्न प्रतीत होते हो, यह निर्णय करें की कौन सा/ से निष्कर्ष तार्किक रूप से और निश्चित रूप से कथन में दी गयी जानकारी का अनुसरण करता है/करते हैं।

कथन:

I. कुछ कप ग्लास हैं।

II. कोई भी प्लेट ना ही कप है ना ही ग्लास है।

निष्कर्ष:

I. कुछ कप प्लेटें हैं।

II. सभी ग्लास प्लेटें नहीं हैं।

Ans 1. केवल निष्कर्ष II अनुसरण करता है

2. न तो निष्कर्ष I और न ही निष्कर्ष II अनुसरण करता है।

3. केवल निष्कर्ष I अनुसरण करता है

4. या तो निष्कर्ष I या निष्कर्ष II अनुसरण करता है।

Question ID : 2390873140

Status : Answered

Chosen Option : 1

Q.5 छह मित्र A, B, C, D, E और F एक पंक्ति में उत्तर दिशा की ओर मुख करके खड़े हैं। B, F और D के ठीक बीच में खड़ा है। E, A और C के ठीक बीच में खड़ा है। A, D और F का पड़ोसी नहीं है। C, D का पड़ोसी नहीं है, लेकिन F के बिल्कुल दायें है। C निम्नलिखित में से किसके बीच खड़ा है ?

Ans 1. A और E

2. D और F

3. E और F

4. E और B

Question ID : 2390873137

Status : Answered

Chosen Option : 3

Q.6 यदि किसी कूट भाषा में 'RUN' को '202316' के रूप में लिखा जाता है और 'PEN' को '18716' के रूप में लिखा जाता है, तो उसी भाषा में 'RANSOM' को कैसे कूटबद्ध किया जाएगा?

Ans 1. 18114191315

2. 20316211715

3. 20114131915

4. 1841491315

Question ID : 2390873136

Status : Answered

Chosen Option : 2

Q.7 यदि 'LEMON' को 'NCOM' के रूप में कूटबद्ध किया जाता है, तो 'MANGO' को _____ के रूप में कूटबद्ध किया जाएगा।

Ans 1. NDRHP

2. OZRDS

3. RZPES

4. OYPEQ

Question ID : 2390873134

Status : Answered

Chosen Option : 4

Q.8 उस सही विकल्प का चयन करें जो रिक्त स्थान की पूर्ति करेगा और श्रृंखला को पूरा करेगा।

10, 17, 26, 37, _____

Ans 1. 54

2. 50

3. 52

4. 49

Question ID : 2390873142

Status : Answered

Chosen Option : 2

Q.9 यदि दो चिह्नों, '÷' और '×' और दो संख्याओं '2 और 8' को आपस में बदला जाता है, तो निम्नलिखित समीकरण का मान क्या होगा?

$4 \times 8 \div 2 = ?$

Ans 1. 14

2. 15

3. 16

4. 8

Question ID : 2390873147

Status : Answered

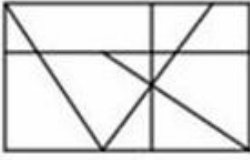
Chosen Option : 3

Q.10 नीचे दिए गए विकल्पों में से उस विकल्प को चुनिए जिसमें नीचे दी गई आकृति सन्निहित है। (आकृति को घुमाने की अनुमति नहीं है)

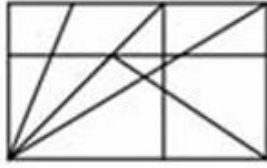


Ans

✗ 1.



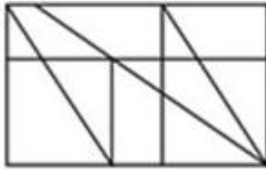
✗ 2.



✗ 3.



✓ 4.



Question ID : 2390873150

Status : Answered

Chosen Option : 4

Q.11 नीचे दिए गए कथनों और निष्कर्षों को ध्यानपूर्वक पढ़ें और निर्णय करें कि कौन सा/से निष्कर्ष तार्किक रूप से कथनों का अनुसरण करता है/करते हैं।

कथन:

माना जाता है कि सामवेद 200 ईसा पूर्व के आसपास लिखा गया था।

निष्कर्ष:

I. इतिहास में साम वेद सबसे पुरानी पुस्तकों में से एक है।

II. इतिहास में साम वेद सबसे पुरानी पुस्तक है।

Ans

✗ 1. केवल निष्कर्ष II अनुसरण करता है।

✓ 2. केवल निष्कर्ष I अनुसरण करता है।

✗ 3. न तो निष्कर्ष I और न ही निष्कर्ष II अनुसरण करता है।

✗ 4. या तो निष्कर्ष I या निष्कर्ष II अनुसरण करता है।

Question ID : 2390873141

Status : Answered

Chosen Option : 3

Q.12 निम्नलिखित समीकरण को सही बनाने के लिए कौन-से दो चिह्नों को आपस में बदला जाए।

$$6 \div 5 + 12 \times 4 - 7 = 26$$

Ans

✓ 1. \div और \times

✗ 2. $+$ और $-$

✗ 3. \div और $-$

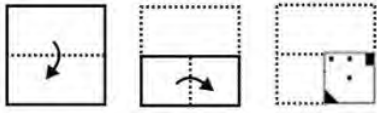
✗ 4. $+$ और \times

Question ID : 2390873146

Status : Answered

Chosen Option : 1

Q.13 एक कागज को नीचे दी गयी प्रश्न आकृतियों में दिखाए गए अनुसार मोड़ा और काटा गया है। नीचे दी गई उल्टर आकृतियों से चयन कीजिए, इसे खोले जाने पर यह कैसा दिखाई देगा?



Ans


1.



2.



3.



4.



Question ID : 2390873152

Status : Answered

Chosen Option : 3

Q.14 नीचे दिए विकल्पों में से उस संख्या को चुनिए जो निम्नलिखित श्रृंखला में प्रश्न चिह्न (?) के स्थान पर आएगी।

423, 407, 439, 391, 455, ?

Ans 1. 360

2. 365

3. 375

4. 420

Question ID : 2390873143

Status : Answered

Chosen Option : 3

Q.15

नीचे दिए गए विकल्पों में से प्रश्नवाचक चिह्न (?) स्थान पर आने वाली संख्या जात करें।

6 13 51

4 7 29

19 11 ?

Ans 1. 61

2. 71

3. 17

4. 16

Question ID : 2390873145

Status : Answered

Chosen Option : 1

Q.16 कौन-सा अक्षर निम्नलिखित श्रृंखला में प्रश्नवाचक चिह्न (?) के स्थान पर आएगा?

FLO, H?Q, JPS, LRU

Ans 1. P

2. M

3. N

4. I

Question ID : 2390873129

Status : Answered

Chosen Option : 3

Q.17 उस विकल्प का चयन करें जो चौथे पद से उसी तरह से सम्बंधित है जिस प्रकार पहला पद दूसरे पद से सम्बंधित है।

DFIM : CEHL :: ? : KMPT

Ans 1. LNQU

2. JLOS

3. LNUQ

4. UVWL

Question ID : 2390873132

Status : Answered

Chosen Option : 1

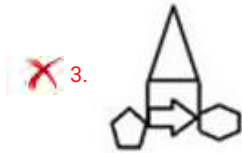
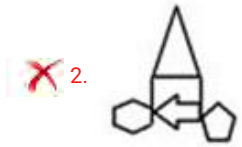
Q.18 उस विकल्प का चयन करें जो नीचे दी गई आकृति की दर्पण छवि से बहुत ज्यादा मिलता-जुलता है जब दर्पण को दायें तरफ रखा जाता है।



Ans

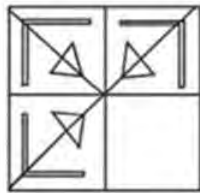
1.



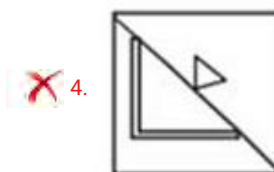
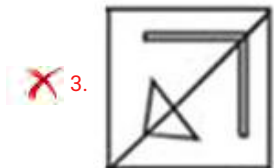


Question ID : 2390873151
Status : Answered
Chosen Option : 4

Q.19 नीचे दिए गए पैटर्न का ध्यानपूर्वक अध्ययन करें और उस आकृति को चुनें जो प्रश्न आकृति में दिए गए पैटर्न को पूरा करेगी?

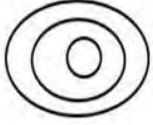


Ans



Question ID : 2390873149
Status : Answered

Q.20 उन वर्गों के सेट का चयन करें जो दिए गए वेन आरेख का सबसे अच्छा प्रतिनिधित्व करते हैं।



- Ans
- 1. पानी, नदी, बांध
 - 2. भारत, मुंबई, दिल्ली
 - 3. राज्य, समुद्र, जिला
 - 4. एशिया, भारत, पुणे

Question ID : 2390873153

Status : Answered

Chosen Option : 4

Q.21 'फ़र्नीचर' शब्द 'बढ़ई' से उसी तरह संबंधित है जैसे 'वस्त्र' '_____' से संबंधित है।

- Ans
- 1. कसाई
 - 2. मोची
 - 3. दर्जी
 - 4. लौहार

Question ID : 2390873130

Status : Answered

Chosen Option : 3

Q.22 उस विकल्प का चयन करें जो चौथे पद से उसी तरह से सम्बंधित है जिस प्रकार पहला पद दूसरे पद से सम्बंधित है।

16 : 272 :: ? : 380

- Ans
- 1. 17
 - 2. 23
 - 3. 21
 - 4. 19

Question ID : 2390873144

Status : Answered

Chosen Option : 4

Q.23 आठ लड़के P, Q, R, S, T, U, V और W एक गोलाकार मेज़ के इर्द-गिर्द बैठे हैं।

P और Q एक दूसरे के सामने बैठे हैं।

S, P के दायें से दूसरे स्थान पर बैठा है और V, Q के दायें से दूसरे स्थान पर बैठा है।

T और W एक दूसरे के सामने बैठे हैं।

R, P और V के बीच में बैठा है।

U और V के बीच कितने लड़के बैठे हैं, जब U के दाईं ओर से गिना जाता है?

- Ans
- 1. पाँच
 - 2. दो

3. तीन

4. चार

Question ID : 2390873138

Status : Answered

Chosen Option : 2

Q.24 एक कूट भाषा में, यदि 'CLASSIFY' शब्द को 'XOZHHRUB' के रूप में कूटबद्ध किया जाता है, तो उसी भाषा में 'MODIFY' शब्द को कैसे कूटबद्ध किया जाएगा?

Ans 1. NLWRUB

2. RUBNLW

3. RUBNWL

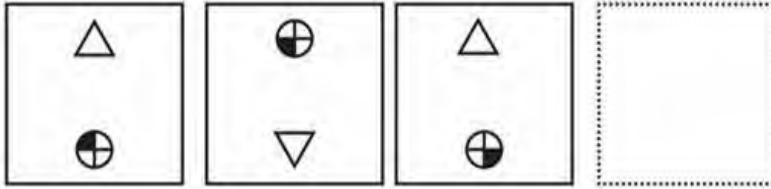
4. NLRUBW

Question ID : 2390873133

Status : Answered

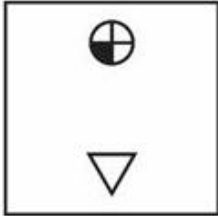
Chosen Option : 1

Q.25 निम्न में से कौन सी उत्तर आकृति प्रश्न आकृति की श्रृंखला को पूरा करेगी?

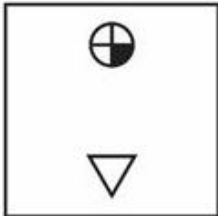


Ans

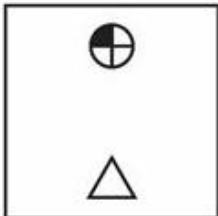
1.



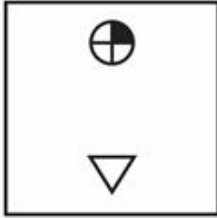
2.



3.



✓ 4.



Question ID : 2390873148

Status : Answered

Chosen Option : 4

Section : Numerical Aptitude

Q.1 पाइप A किसी टैंक को 36 मिनट में भर सकता है और पाइप B उसे 45 मिनट में खाली कर सकता है। यदि दोनों पाइपों को एक साथ खोल दिया जाता है, तो टैंक की आधी क्षमता को भरने में लगने वाला समय (घंटों में) है:

- Ans
- 1. 2
 - 2. 1.5
 - 3. 1.25
 - 4. 1.75

Question ID : 2390872738

Status : Answered

Chosen Option : 2

Q.2 The value of x in the given equation

$$23^2 + \sqrt{x} = 625$$

- Ans
- 1. 9576
 - 2. 9124
 - 3. 9216
 - 4. 9028

Question ID : 2390872724

Status : Answered

Chosen Option : 3

Q.3 यदि दो संख्याओं का लघुत्तम समापवर्त्य 231 है, दोनों संख्याओं का महत्तम समापवर्तक 11 है तथा पहली संख्या 77 है, तो दूसरी संख्या है:

- Ans
- 1. 47
 - 2. 37
 - 3. 57
 - 4. 33

Question ID : 2390872723

Status : Answered

Chosen Option : 4

Q.4

किसी वस्तु का लागत मूल्य ₹480 है। यदि उसे 12.5% के लाभ पर बेचा जाता है, तो वस्तु का विक्रय मूल्य कितना होगा?

- Ans
- 1. ₹500
 - 2. ₹560
 - 3. ₹540
 - 4. ₹492.5

Question ID : 2390872732

Status : Answered

Chosen Option : 3

Q.5 10 बच्चों में कुल 57 मिठाइयाँ इस प्रकार बाँटी गई कि प्रत्येक लड़की को 6 मिठाइयाँ और प्रत्येक लड़के को 5 मिठाइयाँ मिलीं। लड़कों की संख्या है:

- Ans
- 1. 3
 - 2. 6
 - 3. 4
 - 4. 5

Question ID : 2390872727

Status : Answered

Chosen Option : 1

Q.6 यह तालिका छह बैंकों (H, I, J, K, L, M) में किसी पद हेतु साक्षात्कार में शामिल होने वाले उम्मीदवारों की संख्या तथा योग्य पाए जाने वाले उम्मीदवारों के प्रतिशत को दर्शाती है।

Banks	Candidates Appearing	% of Candidates Qualifying
H	1500	14
I	2200	26
J	3000	17
K	980	20
L	1200	28
M	2500	21

बैंक K में योग्य नहीं पाए गए उम्मीदवारों की संख्या, बैंक I में योग्य नहीं पाए गए उम्मीदवारों की संख्या का लगभग कितना प्रतिशत (निकटतम पूर्णांक में) है?

- Ans
- 1. 42
 - 2. 48
 - 3. 44
 - 4. 51

Question ID : 2390872745

Status : Answered

Chosen Option : 2

Q.7 $\frac{1}{2}, \frac{2}{7}, \frac{3}{4}, \frac{1}{3}, \frac{5}{8}$ दिए गए डाटा की माध्यिका है:

- Ans
- 1. $\frac{3}{4}$
 - 2. $\frac{2}{7}$

3. $\frac{1}{3}$
4. $\frac{1}{2}$

Question ID : 2390872729
Status : Answered
Chosen Option : 4

Q.8 यदि $4A = 6B = 5C$; तो $A : B : C$ है-

- Ans 1. 20:15:24
2. 15:10:12
3. 15:20:24
4. 24:20:15

Question ID : 2390872733
Status : Answered
Chosen Option : 2

Q.9 यदि $A:B = 3:4$, $B:C = 2:3$ है, तो $A + B : B + C : C + A$ का मान है:

- Ans 1. 5:6:7
2. 7:10:9
3. 7:5:6
4. 3:4:6

Question ID : 2390872735
Status : Answered
Chosen Option : 2

Q.10 यह तालिका छह बैंकों (H, I, J, K, L, M) में किसी पद हेतु साक्षात्कार में शामिल होने वाले उम्मीदवारों की संख्या तथा योग्य पाए जाने वाले उम्मीदवारों के प्रतिशत को दर्शाती है।

Banks	Candidates Appearing	% of Candidates Qualifying
H	1500	14
I	2200	26
J	3000	17
K	980	20
L	1200	28
M	2500	21

बैंक H, J तथा L में कुल मिलाकर साक्षात्कार में शामिल होने वाले उम्मीदवारों की औसत संख्या कितनी थी?

- Ans 1. 1900
2. 1500
3. 1800
4. 2000

Question ID : 2390872747
Status : Answered

Chosen Option : 1

Q.11 3 वर्षों के अंत में ₹2,800 की किसी राशि पर साधारण ब्याज ₹420 है। इसी दर और इतनी ही अवधि के लिए ₹3200 पर साधारण ब्याज कितना होगा?

- Ans 1. ₹480
 2. ₹560
 3. ₹440
 4. ₹640

Question ID : 2390872736

Status : Answered

Chosen Option : 1

Q.12 A एक वाटर कूलर कुछ मूल्य पर खरीदता है और उसे 20% लाभ पर B को बेच देता है। B इसे 10% लाभ पर C को बेच देता है। यदि C ने उसे ₹6666 में खरीदा, तो B का लागत मूल्य है:

- Ans 1. ₹5400
 2. ₹6060
 3. ₹5600
 4. ₹6400

Question ID : 2390872731

Status : Answered

Chosen Option : 2

Q.13 108 km/h की गति से चल रही कोई ट्रेन किसी खंभे को 32 सेकंड में पार करती है। ट्रेन की लंबाई (m में) है:

- Ans 1. 960
 2. 1024
 3. 1200
 4. 1240

Question ID : 2390872741

Status : Answered

Chosen Option : 1

Q.14 किसी शंकु की त्रिज्या 20 cm तथा ऊंचाई 21 cm है, शंकु का कुल पृष्ठ क्षेत्रफल (cm² में) है:

$$\left(\pi = \frac{22}{7} \text{ लें}\right)$$

- Ans 1. 3080
 2. 3160
 3. 2920
 4. 3240

Question ID : 2390872742

Status : Answered

Chosen Option : 3

Q.15

$\left(2\frac{1}{6} + 1\frac{13}{18} - \frac{1}{6}\right) \times 16 \div 4$ का मान है:

- Ans
- 1. 42
 - 2. $41\frac{1}{72}$
 - 3. $\frac{134}{9}$
 - 4. 63

Question ID : 2390872725
Status : Answered
Chosen Option : 3

Q.16 प्रिज्म का आयतन 288 cm^3 और ऊंचाई 24 cm है। प्रिज्म के आधार का क्षेत्रफल (cm^2 में) है:

- Ans
- 1. 10
 - 2. 12
 - 3. 15
 - 4. 14

Question ID : 2390872743
Status : Answered
Chosen Option : 2

Q.17 A उपन्यास लिखने में B से दोगुना दक्ष है। वे एक साथ मिलकर 24 दिनों में एक उपन्यास लेखन का कार्य पूरा कर सकते हैं। A कितने दिनों में उपन्यास अकेले लिख सकता है?

- Ans
- 1. 24
 - 2. 18
 - 3. 32
 - 4. 36

Question ID : 2390872739
Status : Answered
Chosen Option : 4

Q.18 5.6 kg का कितना प्रतिशत 140 gram है?

- Ans
- 1. 2.5
 - 2. 1.8
 - 3. 2
 - 4. 1.5

Question ID : 2390872730
Status : Answered
Chosen Option : 1

Q.19 किसी वस्तु पर लागत मूल्य से 37.5% अधिक कीमत अंकित किया जाता है। यदि 9.09% की छूट दी जाती है तो लाभ प्रतिशत (निकटतम पूर्णांक में) है:

- Ans
- 1. 25

- 2. 15
- 3. 10
- 4. 20

Question ID : 2390872728
Status : Answered
Chosen Option : 1

Q.20 एक आदमी 12 किमी/घंटा की गति से चल रहा है। प्रत्येक किलोमीटर के बाद, वह 4 मिनट आराम करता है। 8 किलोमीटर की दूरी तय करने में वह कितना समय (मिनट में) लेगा?

- Ans 1. 68
- 2. 64
 - 3. 60
 - 4. 72

Question ID : 2390872740
Status : Answered
Chosen Option : 1

Q.21 एक घनाभ की लंबाई, चौड़ाई और ऊंचाई क्रमशः 18 cm, 24 cm और 4 cm है। घन का आयतन दिए गए घनाभ के आयतन के बराबर है। घन की भुजा है:

- Ans 1. 9 cm
- 2. 16 cm
 - 3. 12 cm
 - 4. 8 cm

Question ID : 2390872744
Status : Answered
Chosen Option : 3

Q.22 अठहत्तर को दो भागों में इस प्रकार विभाजित किया जाता है कि पहले भाग के चौगुना और दूसरे भाग के पांच गुना का अनुपात 14:15 है। पहला भाग है:

- Ans 1. 42
- 2. 36
 - 3. 30
 - 4. 48

Question ID : 2390872734
Status : Answered
Chosen Option : 1

Q.23

यह तालिका छह बैंकों (H, I, J, K, L, M) में किसी पद हेतु साक्षात्कार में शामिल होने वाले उम्मीदवारों की संख्या तथा योग्य पाए जाने वाले उम्मीदवारों के प्रतिशत को दर्शाती है।

Banks	Candidates Appearing	% of Candidates Qualifying
H	1500	14
I	2200	26
J	3000	17
K	980	20
L	1200	28
M	2500	21

बैंक H में योग्य पाए गए उम्मीदवारों की संख्या और बैंक L में योग्य पाए गए उम्मीदवारों की संख्या का संबंधित अनुपात कितना था?

- Ans
- 1. 2 : 5
 - 2. 3 : 7
 - 3. 5 : 8
 - 4. 5 : 6

Question ID : 2390872746
Status : Answered
Chosen Option : 3

Q.24 ₹5120 की राशि पर 12.5% की दर से 3 वर्षों का चक्रवृद्धि ब्याज (वार्षिक रूप से संयोजित) कितना होगा?

- Ans
- 1. ₹2280
 - 2. ₹1960
 - 3. ₹2120
 - 4. ₹2170

Question ID : 2390872737
Status : Answered
Chosen Option : 3

Q.25 पाँच वर्ष पहले 4 लड़कियों की औसत आयु 7 वर्ष थी। एक नई लड़की के शामिल होने पर वर्तमान औसत आयु 13 वर्ष हो जाती है। नई लड़की की वर्तमान आयु है:

- Ans
- 1. 14 वर्ष
 - 2. 19 वर्ष
 - 3. 16 वर्ष
 - 4. 17 वर्ष

Question ID : 2390872726
Status : Answered
Chosen Option : 4

Section : General awareness

Q.1 मशहूर लिंगराज मंदिर किस शहर में स्थित है?

- Ans
- 1. भोपाल
 - 2. भुवनेश्वर
 - 3. कोलकाता

4. उज्जैन

Question ID : 2390872874
Status : Answered
Chosen Option : 2

Q.2 निम्नलिखित में से कौन एक संक्रामक रोग नहीं है?

- Ans 1. मधुमेह
 2. यक्ष्मा (टी.बी.)
 3. चेचक
 4. हैज़ा

Question ID : 2390872887
Status : Answered
Chosen Option : 1

Q.3 मानव शरीर से नाइट्रोजनी-अपशिष्ट (Nitrogenous waste) को हटाने के लिए कौन-सा अंग जिम्मेदार है?

- Ans 1. जिगर
 2. गुर्दा
 3. फेफड़े
 4. अग्न्याशय

Question ID : 2390872891
Status : Answered
Chosen Option : 2

Q.4 प्रसिद्ध कार्टूनिस्ट आर के लक्ष्मण ने किस कंपनी के लिये 'गट्टू' नामक कार्टून बनाया था?

- Ans 1. ओनिडा
 2. निरमा
 3. एशियन पैन्ट्स
 4. अमूल

Question ID : 2390872881
Status : Answered
Chosen Option : 4

Q.5 संवेग (Momentum) की SI मात्रक क्या है?

- Ans 1. एम्पेयर
 2. Kg m/sec
 3. जूल
 4. Kg m

Question ID : 2390872888
Status : Answered
Chosen Option : 2

Q.6 भारत के उच्चतम न्यायालय द्वारा दिए गए निर्णय _____ पर बाध्यकारी हैं।

- Ans 1. किसी राज्य के क्षेत्र

- 2. जम्मू और कश्मीर को छोड़कर सभी राज्यों और केन्द्र शासित प्रदेशों
- 3. केवल जिला न्यायालयों
- 4. भारत में सभी न्यायालयों

Question ID : 2390872885
Status : Answered
Chosen Option : 4

Q.7 इल्तुतमिश के शासनकाल के दौरान, विशेष गुलामों को सैन्य सेवा के लिए खरीदा जाता था, जिन्हें _____ के नाम से जाना जाता था।

- Ans
- 1. सामंत
 - 2. बन्दगान
 - 3. इक्तादार
 - 4. मुक्तिस

Question ID : 2390872896
Status : Answered
Chosen Option : 2

Q.8 1857 के विद्रोह के बाद, ब्रिटिश सरकार द्वारा भारत में निम्नलिखित में से कौन-सा परिवर्तन नहीं किया गया था?

- Ans
- 1. भारत का सेक्रेटरी ऑफ़ स्टेट नियुक्त किया गया
 - 2. ब्रिटिश सेना में भारतीय सैनिकों की संख्या बढ़ाई गयी
 - 3. ईस्ट इंडिया कंपनी के अधिकार ब्रिटिश साम्राज्य के हाथ में सौंप दिए
 - 4. भारत का गवर्नर-जनरल भारत का वायसराय बन गया

Question ID : 2390872895
Status : Answered
Chosen Option : 4

Q.9 किस अनुच्छेद के तहत भारत के प्रत्येक नागरिक को स्वास्थ्य का अधिकार दिया गया है?

- Ans
- 1. अनुच्छेद 19
 - 2. अनुच्छेद 20
 - 3. अनुच्छेद 21-A
 - 4. अनुच्छेद 21

Question ID : 2390872884
Status : Answered
Chosen Option : 4

Q.10 आईएफएफआई 2018 में किस फिल्म ने गोल्डन पीकॉक अवार्ड जीता?

- Ans
- 1. डॉनबेस
 - 2. सील्ड लिप्स
 - 3. वॉल्किंग विथ द विंड
 - 4. तुम्हारी सुलु

Question ID : 2390872880
Status : Answered
Chosen Option : 4

Q.11 निम्नलिखित में से कौन-सी नदी हिमालय अपवाह तंत्र (Drainage system) का हिस्सा नहीं है?

- Ans 1. गोदावरी
 2. सिंधु
 3. ब्रह्मपुत्र
 4. गंगा

Question ID : 2390872893
Status : Answered
Chosen Option : 1

Q.12 मुक्केबाजी में निम्नलिखित में से कौन-सा भार विभाजन नहीं है?

- Ans 1. अंडरवेट
 2. हैवी वेट
 3. मिडलवेट
 4. लाइट वेट

Question ID : 2390872877
Status : Answered
Chosen Option : 4

Q.13 मार्च 2019 में, किस भारतीय अभिनेता को 'फोन पे' के ब्रांड एंबेसडर के रूप में नियुक्त किया गया है?

- Ans 1. सलमान खान
 2. अमिताभ बच्चन
 3. शाहरुख खान
 4. आमिर खान

Question ID : 2390872878
Status : Answered
Chosen Option : 1

Q.14 केंद्रीय बजट 2019-20 में महात्मा गांधी राष्ट्रीय ग्रामीण रोजगार गारंटी (मनरेगा) स्कीम के लिए कितनी राशि आवंटित की गयी है?

- Ans 1. ₹70000 करोड़
 2. ₹80000 करोड़
 3. ₹50000 करोड़
 4. ₹60000 करोड़

Question ID : 2390872882
Status : Answered
Chosen Option : 4

Q.15 बेहद कम घनत्व वाली गैस को बहुत ही कम तापमान पर ठंडा करने पर बने पदार्थ की अवस्था को क्या कहते हैं?

- Ans 1. ठोस
 2. प्लाज़्मा
 3. तरल
 4. बोस-आइंस्टाइन संघनन

Question ID : 2390872890

Status : **Answered**
Chosen Option : 3

Q.16 धार्मिक ग्रन्थ, त्रिपिटक किस धर्म से संबंधित है?

- Ans
- 1. यहूदी धर्म
 - 2. बौद्ध धर्म
 - 3. इस्लाम
 - 4. जैन धर्म

Question ID : 2390872875
Status : **Answered**
Chosen Option : 2

Q.17 निम्नलिखित में से कौन-से स्तंभ शैलकर्तित स्तंभों को दर्शाते हैं?

- Ans
- 1. अकामिनियन स्तंभ
 - 2. गोथिक स्तंभ
 - 3. मौर्य स्तंभ
 - 4. फ़ारसी स्तंभ

Question ID : 2390872873
Status : **Not Answered**
Chosen Option : --

Q.18 भारत में सबसे बड़ा अपीलिय न्यायालय (Court of Appeal) कौन-सा है?

- Ans
- 1. उच्च न्यायालय
 - 2. जिला न्यायालय
 - 3. उच्चतम न्यायालय
 - 4. उपभोक्ता न्यायालय

Question ID : 2390872886
Status : **Answered**
Chosen Option : 3

Q.19 किस शिक्षा आयोग ने यह तर्क दिया था कि यूरोपीय शिक्षा से भारतीयों के नैतिक चरित्र का उत्थान होगा?

- Ans
- 1. लिनलिथगो कमीशन
 - 2. रामसे मैकडोनाल्ड पुरस्कार
 - 3. वुड का नीतिपत्र (वुड्स डिस्पैच)
 - 4. इरविन रिपोर्ट

Question ID : 2390872897
Status : **Answered**
Chosen Option : 3

Q.20 भारत की भौतिक विशिष्टताओं के संदर्भ में, कायल (Kayal) क्या होता है?

- Ans
- 1. उत्तर पूर्व में जलोढ़ बाढ़ के मैदान
 - 2. टेक्टोनिक गतिविधि द्वारा बनी झील
 - 3. अप्रवाही जल
 - 4. ग्लेशियल क्ले का मोटा जमाव

Question ID : 2390872892

Status : Answered

Chosen Option : 2

Q.21 ओलंपिक रिंग में निम्नलिखित में से कौन-सा रंग नहीं होता है?

- Ans 1. गुलाबी
 2. हरा
 3. नीला
 4. लाल

Question ID : 2390872876

Status : Answered

Chosen Option : 1

Q.22 माउंट मकालू पर सफलतापूर्वक चढ़ने वाली पहली भारतीय महिला कौन है?

- Ans 1. कामी रीता शेरपा
 2. गौरी सावंत
 3. भावना कंठ
 4. प्रियंका मोहिते

Question ID : 2390872879

Status : Answered

Chosen Option : 4

Q.23 मानव श्वसन तंत्र का कौन-सा हिस्सा गैसों के आदान-प्रदान के लिए स्थान प्रदान करता है?

- Ans 1. श्वसनी (Bronchi)
 2. श्वासनली (Trachea)
 3. श्वासनलिका (Bronchioles)
 4. कूपिका (Alveoli)

Question ID : 2390872889

Status : Answered

Chosen Option : 4

Q.24 Pricing Policy of Minimum Support Price follows which approach?

- Ans 1. Cost plus approach
 2. Investment plus approach
 3. Land plus approach
 4. Loan plus approach

Question ID : 2390872883


Status : Answered

Chosen Option : 1

Q.25 भारत के किस भाग में उष्णकटिबंधीय सदाबहार वन नहीं पाए जाते हैं?

- Ans 1. पूर्वी घाट
 2. अंडमान और निकोबार

 3. उत्तर पूर्वी क्षेत्र

 4. पश्चिमी घाट

Question ID : **2390872894**

Status : **Answered**

Chosen Option : **3**

Multi Tasking (Non-Technical) Staff Examination 2019

Roll No.	
Registration No.	
Name	
Test Venue	
Test Time	9:00 AM - 10:30 AM
Test Date	14/08/2019

Section : General English

Q.1 Select the correctly spelt word.

- Ans
- 1. Priorety
 - 2. Jelous
 - 3. Disgise
 - 4. Nourish

Question ID : 2390872167

Status : Answered

Chosen Option : 4

Q.2 Select the most appropriate option to substitute the underlined segment. If there is no need to substitute it, select No improvement.

One of the factor for her failure is the lack of concentration in studies.

- Ans
- 1. one of the factors
 - 2. each of the factors
 - 3. one of a factor
 - 4. No improvement

Question ID : 2390872149

Status : Answered

Chosen Option : 1

Q.3 Select the most appropriate option to substitute the underlined segment. If there is no need to substitute it, select No improvement.

If I was you I would not sign the document.

- Ans
- 1. No improvement
 - 2. If I were you
 - 3. if I have been you
 - 4. if I had been you

Question ID : 2390872150

Status : Answered

Chosen Option : 2

Q.4 Select the most appropriate word to fill in the blank and make a meaningful sentence.

There are some dates or periods of time in the history of the world that are so _____ that everyone knows and remembers them.

Ans

- 1. trivial
- 2. representative
- 3. significant
- 4. momentary

Question ID : 2390872170
Status : Answered
Chosen Option : 1

Q.5 Select the most appropriate option to fill in the blank and make a grammatically correct sentence.

If children spend too much time watching television, they can create health problems for _____

- Ans
- 1. oneself
 - 2. themselves
 - 3. himself
 - 4. itself

Question ID : 2390872157
Status : Answered
Chosen Option : 2

Q.6 Select the most appropriate word to fill in the blank and make a meaningful sentence.

Mother _____ some food for the old beggar woman.

- Ans
- 1. set up
 - 2. set out
 - 3. set aside
 - 4. set in

Question ID : 2390872169
Status : Answered
Chosen Option : 3

Q.7 Identify the segment in the sentence which contains the grammatical error. If there is no error, select 'no error'

I don't think I meet him before

- Ans
- 1. No error
 - 2. him before
 - 3. I meet
 - 4. I don't think

Question ID : 2390872147
Status : Answered
Chosen Option : 3

Q.8 Select the most appropriate meaning of the given idiom.

A needle in a haystack

- Ans
- 1. To be of minor importance

- 2. To be involved in unnecessary activity
- 3. To create a state of confusion
- 4. Something that is very difficult to locate

Question ID : 2390872163
Status : Answered
Chosen Option : 1

Q.9 Select the most appropriate synonym of the given word.

Revive

- Ans
- 1. Repeat
 - 2. Review
 - 3. Ruin
 - 4. Recover

Question ID : 2390872160
Status : Answered
Chosen Option : 4

Q.10 Identify the segment in the sentence which contains the grammatical error. If there is no error, select 'no error'

The climate of Dehradun is better than Meerut.

- Ans
- 1. is better
 - 2. The climate of Dehradun
 - 3. no error
 - 4. than Meerut

Question ID : 2390872145
Status : Answered
Chosen Option : 4

Q.11 Select the most appropriate synonym of the given word.

Engage


- Ans
- 1. Dismiss
 - 2. Settle
 - 3. Occupy
 - 4. Release

Question ID : 2390872159
Status : Answered
Chosen Option : 2

Q.12 Select the most appropriate antonym of the word.

BOISTEROUS

- Ans
- 1. Stormy
 - 2. Loud
 - 3. Noisy

 4. Peaceful

Question ID : 2390872162
Status : Answered
Chosen Option : 4

Q.13 Select the most appropriate word for the given group of words.





A list of names or things in a special order

- Ans  1. Atlas
 2. Catalogue
 3. Dictionary
 4. Directory

Question ID : 2390872166
Status : Answered
Chosen Option : 2

Q.14 Identify the segment in the sentence which contains the grammatical error.





She misplaced her spectacles and now finding it difficult to read.

- Ans  1. her spectacles
 2. difficult to read
 3. and now finding it
 4. She misplaced

Question ID : 2390872146
Status : Answered
Chosen Option : 3

Q.15 Select the most appropriate option to fill in the blank and make a grammatically correct sentence.

Susan finally arrived at the party at midnight, but by then, most of the guests _____.

- Ans  1. having left
 2. have left
 3. had left
 4. left

Question ID : 2390872158
Status : Answered
Chosen Option : 3

Comprehension:

In the following passage some words have been deleted. Fill in the blanks with the help of the alternatives given. Select the most appropriate option for each blank.

Every Monday, on his way back from work, Bepin Choudhury would drop in at Kalicharan's bookshop in New Market to buy books. He (1)_____ to buy at least five at a time to last him through the week. He lived alone, was not a good mixer, had few friends, and (2)_____ like spending time in (3)_____ chat. Today, (4)_____ Kalicharan's, Bepin Babu had the feeling that someone was (5)_____ him from close quarters.

SubQuestion No : 16

Q.16 Select the most appropriate option to fill in blank No.1.

Ans

- 1. having
- 2. have
- 3. had
- 4. has

Question ID : 2390872152

Status : Answered

Chosen Option : 3

Comprehension:

In the following passage some words have been deleted. Fill in the blanks with the help of the alternatives given. Select the most appropriate option for each blank.

Every Monday, on his way back from work, Bepin Choudhury would drop in at Kalicharan's bookshop in New Market to buy books. He (1)_____ to buy at least five at a time to last him through the week. He lived alone, was not a good mixer, had few friends, and (2)_____ like spending time in (3)_____ chat. Today, (4)_____ Kalicharan's, Bepin Babu had the feeling that someone was (5)_____ him from close quarters.

SubQuestion No : 17

Q.17 Select the most appropriate option to fill in blank No.2.

Ans 1. didn't

2. don't

3. do

4. did

Question ID : 2390872153

Status : Answered

Chosen Option : 1

Comprehension:

In the following passage some words have been deleted. Fill in the blanks with the help of the alternatives given. Select the most appropriate option for each blank.

Every Monday, on his way back from work, Bepin Choudhury would drop in at Kalicharan's bookshop in New Market to buy books. He (1)_____ to buy at least five at a time to last him through the week. He lived alone, was not a good mixer, had few friends, and (2)_____ like spending time in (3)_____ chat. Today, (4)_____ Kalicharan's, Bepin Babu had the feeling that someone was (5)_____ him from close quarters.

SubQuestion No : 18

Q.18 Select the most appropriate option to fill in blank No.3.

Ans 1. empty

2. idle

3. active

4. free

Question ID : 2390872154

Status : Answered

Chosen Option : 2

Comprehension:

In the following passage some words have been deleted. Fill in the blanks with the help of the alternatives given. Select the most appropriate option for each blank.

Every Monday, on his way back from work, Bepin Choudhury would drop in at Kalicharan's bookshop in New Market to buy books. He (1)_____ to buy at least five at a time to last him through the week. He lived alone, was not a good mixer, had few friends, and (2)_____ like

spending time in (3)_____ chat. Today, (4)_____ Kalicharan's, Bepin Babu had the feeling that someone was (5)_____ him from close quarters.

SubQuestion No : 19

Q.19 Select the most appropriate option to fill in blank No.4.

- Ans
- 1. in
 - 2. at
 - 3. on
 - 4. by

Question ID : 2390872155
Status : Answered
Chosen Option : 4

Comprehension:

In the following passage some words have been deleted. Fill in the blanks with the help of the alternatives given. Select the most appropriate option for each blank.

Every Monday, on his way back from work, Bepin Choudhury would drop in at Kalicharan's bookshop in New Market to buy books. He (1)_____ to buy at least five at a time to last him through the week. He lived alone, was not a good mixer, had few friends, and (2)_____ like spending time in (3)_____ chat. Today, (4)_____ Kalicharan's, Bepin Babu had the feeling that someone was (5)_____ him from close quarters.

SubQuestion No : 20

Q.20 Select the most appropriate option to fill in blank No.5.

- Ans
- 1. recognizing
 - 2. chasing
 - 3. looking
 - 4. observing

Question ID : 2390872156
Status : Answered
Chosen Option : 4

Q.21 Select the most appropriate antonym of the word.

FEASIBLE

- Ans
- 1. Profitable
 - 2. Implausible
 - 3. Attainable
 - 4. Achievable

Question ID : 2390872161
Status : Answered
Chosen Option : 4

Q.22 Select the correctly spelt word.

- Ans
- 1. Recommend
 - 2. Repitition
 - 3. Referance
 - 4. Reciept

Question ID : 2390872168

Status : Answered
Chosen Option : 1

Q.23 Select the most appropriate word for the given group of words.

The branch of science concerned with the bodily structure of humans, animals, and other living organisms

- Ans 1. Anatomy
 2. Astronomy
 3. Botany
 4. Gastronomy

Question ID : 2390872165
Status : Answered
Chosen Option : 4

Q.24 Select the most appropriate option to substitute the underlined segment. If there is no need to substitute it, select No improvement.

Hardly he had entered the station, when the train whistled.

- Ans 1. hardly he entered
 2. hardly had he entered
 3. No improvement
 4. he hardly had entered

Question ID : 2390872148
Status : Answered
Chosen Option : 2

Q.25 Select the most appropriate meaning of the given idiom.

Butterflies in one's stomach

- Ans 1. To be angry at something
 2. To be hungry
 3. To be feeling unwell
 4. A feeling of nervousness

Question ID : 2390872164
Status : Answered
Chosen Option : 4

Section : General Intelligence & Reasoning

Q.1 दर्पण को आकृति के दाईं ओर रखे जाने पर दी गई आकृति के सही दर्पण प्रतिबिंब का चयन करें।



Ans



✓ 2.



✗ 3.



✗ 4.



Question ID : 2390872318

Status : Answered

Chosen Option : 2

Q.2 एक कूटभाषा में, यदि 'PARTY' को '161182025' लिखा जाता है, तो उसी कूटभाषा में 'CAMERA' को किस प्रकार लिखा जाएगा?

Ans

✗

1. 31451926

✗

2. 24116126

✗

3. 32116181

✓

4. 31135181

Question ID : 2390872302

Status : Answered

Chosen Option : 4

Q.3 निम्नलिखित में से कौन सा अक्षर समूह दी गई श्रृंखला को पूरा करने के लिए प्रश्नवाचक चिह्न (?) के स्थान पर आएगा?

KUCJ, NRFG, QOID, ?

Ans

✗

1. ULKA

✓

2. TLLA

✗

3. TKLB

✗

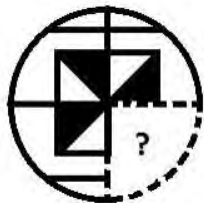
4. ULLA

Question ID : 2390872296

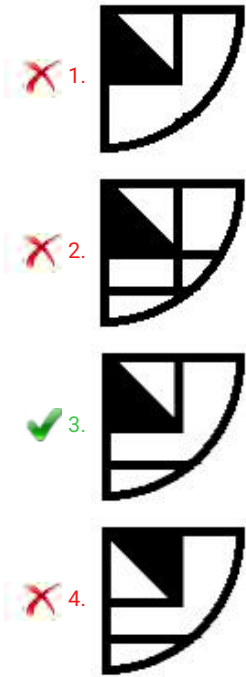
Status : Answered

Chosen Option : 2

Q.4 निम्न में से कौन-सी विकल्प आकृति. नीचे दी गई आकृति में दर्शाये गए पैटर्न को पूरा करेगी?



Ans



Question ID : 2390872316

Status : Answered

Chosen Option : 3

Q.5 दो कथन और उसके बाद तीन निष्कर्ष I, II और III दिए गए हैं। आपको कथनों को सत्य मानते हुए विचार करना है, भले ही वे सामान्यतः ज्ञात तथ्यों से भिन्न प्रतीत होते हों, निर्णय कीजिए कि कौन से निष्कर्ष कथनों का तार्किक रूप से अनुसरण करते हैं।

कथन:

- I. सभी पोस्टर पैम्फलेट हैं।
- II. सभी लिफाफे पैम्फलेट हैं।

निष्कर्ष:

- I. सभी पैम्फलेट लिफाफे हैं।
- II. कुछ पैम्फलेट पोस्टर हैं।
- III. कुछ पोस्टर लिफाफे हैं।

- Ans
- 1. केवल निष्कर्ष III अनुसरण करता है।
 - 2. निष्कर्ष I और II अनुसरण करते हैं।
 - 3. निष्कर्ष II और III अनुसरण करते हैं।
 - 4. केवल निष्कर्ष II अनुसरण करता है।

Question ID : 2390872307

Status : Answered

Chosen Option : 4

Q.6 दिए गए समीकरण को सही करने के लिए कौन-सी दो संख्याओं को आपस में बदलना होगा?

$$55 + 32 - 4 \times (1 \times 12) + (16 \div 4) = 31$$

- Ans
- 1. 16 और 32
 - 2. 55 और 32
 - 3. 12 और 32
 - 4. 12 और 16

Question ID : 2390872314

Status : Answered

Chosen Option : 1

Q.7 दिए गए समीकरण को सही करने के लिए कौन-से दो चिह्नों को आपस में बदलना होगा?

$$52 + 64 - 16 \div 36 \times 6 = 20$$

- Ans
- 1. \div और +
 - 2. - और \div
 - 3. \times और \div
 - 4. + और \times

Question ID : 2390872313

Status : Answered

Chosen Option : 3

Q.8 उस विकल्प का चयन करें, जिसका तीसरे अक्षर-समूह के साथ वही संबंध है, जो दूसरे अक्षर-समूह का पहले अक्षर-समूह से है।

KSJ : MUL :: RCU : ?

- Ans
- 1. TDV
 - 2. TEV
 - 3. UEW
 - 4. TEW

Question ID : 2390872299

Status : Answered

Chosen Option : 4

Q.9 उस शब्द-युग्म का चयन करें, जिसके दोनों शब्दों के बीच वही संबंध है, जो निम्नलिखित शब्द-युग्म के दोनों शब्दों के बीच है।

विषदार मेंढक : उभयचर

- Ans
- 1. घोंघा : उभयचर
 - 2. केकड़ा : उभयचर
 - 3. गिलहरी : सरीसृप
 - 4. कछुआ : सरीसृप

Question ID : 2390872298

Status : Answered

Chosen Option : 2

Q.10 एक कूटभाषा में, 'EARNING' को 'SBFOHOJ' लिखा जाता है, तो उसी कूटभाषा में 'AUDIBLE' को किस प्रकार लिखा जाएगा?

- Ans
- 1. EVBJFMC
 - 2. FVBJFNC
 - 3. EUBKFMC
 - 4. DVBJFMC

Question ID : 2390872300

Status : Answered

Chosen Option : 1

Q.11 एक कूटभाषा में, 'DEVELOP' को 'POLEVED' लिखा जाता है, तो उसी कूटभाषा में 'SCRIBBLE' को किस प्रकार लिखा जाएगा?

- Ans
- 1. ELBBIRCS
 - 2. ELBBISCR
 - 3. CSIRBBEL
 - 4. RCSIBELB

Question ID : 2390872301

Status : Answered

Chosen Option : 1

Q.12 उस विकल्प आकृति का चयन करें, जिसमें आकृति X उसके एक भाग के रूप में सन्निकित है। (आकृति को घुमाने की अनुमति नहीं है)



Ans

- 1.
- 2.
- 3.
- 4.

Question ID : 2390872317

Status : Answered

Chosen Option : 2

Q.13 उस समूह का चयन करें, जिसमें दी गई संख्याओं के बीच वही संबंध है, जो निम्नलिखित समूह की संख्याओं के बीच है।

46, 92, 69

- Ans
- 1. 56, 78, 60
 - 2. 50, 88, 59
 - 3. 48, 82, 63
 - 4. 34, 72, 53

Question ID : 2390872312

Status : Answered

Chosen Option : 4

Q.14 निम्नलिखित में से कौन सी संख्या, दी गई श्रृंखला में प्रश्नवाचक चिह्न (?) के स्थान पर आएगी?

65, 67, 69, 81, 93, ?

- Ans
- 1. 117
 - 2. 123
 - 3. 113
 - 4. 137

Question ID : 2390872309

Status : Answered

Chosen Option : 3

Q.15 आठ दोस्त A, B, C, D, E, F, G और H विद्यालय में प्रार्थना के दौरान चार-चार के हिसाब से दो पंक्तियों में खड़े हैं। H, D के बाद है। C, A के बिलकुल पहले है। E, B के बाद है। C और G दोनों पंक्तियों में एकदम आगे हैं। F, G और B के बीच में है। दोनों पंक्तियों में तीसरे स्थान पर कौन-से दो खड़े हैं?

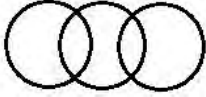
- Ans
- 1. B और H
 - 2. D और F
 - 3. B और F
 - 4. D और B

Question ID : 2390872304

Status : Answered

Chosen Option : 1

Q.16 उस वर्ग-सेट का चयन करें, जो निम्न वेन आरेख द्वारा सर्वोत्तम ढंग से प्रदर्शित होता हो।



- Ans
- 1. डॉक्टर, माताएं, महिलाएं
 - 2. लड़कियां, बच्चे, इंसान
 - 3. बढई, डॉक्टर, पुरुष
 - 4. पिता, बेटे, इंजीनियर

Question ID : 2390872320

Status : Answered

Chosen Option : 3

Q.17 कुछ खिलाड़ी एक पंक्ति में खड़े हैं। वीर सामने से 15वें स्थान पर खड़ा है। संकेत पंक्ति में एकदम पीछे से 20वें स्थान पर खड़ा है। आर्यन, वीर के पीछे है लेकिन उसके और वीर के बीच में दो खिलाड़ी खड़े हैं। संकेत एकदम से आर्यन के बाद खड़ा है। पंक्ति में कुल कितने खिलाड़ी खड़े हैं?

- Ans
- 1. 37
 - 2. 39
 - 3. 38
 - 4. 36

Question ID : 2390872305

Status : Answered

Chosen Option : 3

Q.18 उस विकल्प का चयन करें, जिसका तीसरी संख्या के साथ वही संबंध है, जो दूसरी संख्या का पहली संख्या से है।

10 : 1010 :: 11 : ?

- Ans 1. 1342
 2. 1351
 3. 1352
 4. 1331

Question ID : 2390872311
Status : Answered
Chosen Option : 1

Q.19 'रचनात्मक' का 'अभिनव' से वही संबंध है, जो 'स्पष्ट' का '_____ ' से है।

- Ans 1. अस्पष्ट
 2. पारदर्शी
 3. सहज
 4. आवृत

Question ID : 2390872297
Status : Answered
Chosen Option : 2

Q.20 तीन कथन और उसके बाद तीन निष्कर्ष I, II और III दिए गए हैं। आपको कथनों को सत्य मानते हुए विचार करना है, भले ही वे सामान्यतः ज्ञात तथ्यों से भिन्न प्रतीत होते हों, निर्णय कीजिए कि कौन से निष्कर्ष कथनों का तार्किक रूप से अनुसरण करते हैं।

कथन:

- I. कुछ आभूषण हीरे हैं।
II. कुछ हीरे हार हैं।
III. सभी हार अंगूठियां हैं।

निष्कर्ष:

- I. कुछ अंगूठियां हीरे हैं।
II. कुछ अंगूठियां हार हैं।
III. कोई भी अंगूठी हीरा नहीं है।

- Ans 1. निष्कर्ष I और II अनुसरण करते हैं।
 2. केवल निष्कर्ष II अनुसरण करता है।
 3. या तो निष्कर्ष I, नहीं तो निष्कर्ष III अनुसरण करता है।
 4. निष्कर्ष I और III अनुसरण करते हैं।

Question ID : 2390872308
Status : Answered
Chosen Option : 1

Q.21 5 लोगों ने एक दौड़ में भाग लिया। कार्तिक ने प्रभजोत के एकदम पीछे ही दौड़ पूरी की। फराज ने लक्ष्य से एकदम पहले दौड़ पूरी की। अनिल ने फराज के एकदम पहले दौड़ पूरी की। अनिल तीसरे स्थान पर आया। इनमें से कौन दौड़ में दूसरे स्थान पर रहा?

- Ans 1. कार्तिक
 2. फराज
 3. लक्ष्य
 4. प्रभजोत

Question ID : 2390872306

Status : Answered

Chosen Option : 1

Q.22 एक कूटभाषा में, यदि 'CITRUS' को '982154' लिखा जाता है, 'YOU' को '365' लिखा जाता है, तो उसी कूटभाषा में 'SURITY' को किस प्रकार लिखा जाएगा?

- Ans
- 1. 481623
 - 2. 451823
 - 3. 451923
 - 4. 651832

Question ID : 2390872303

Status : Answered

Chosen Option : 2

Q.23 दी गई संख्या श्रृंखला में एक संख्या गलत है। गलत संख्या ज्ञात कीजिए।

120, 143, 168, 196, 224

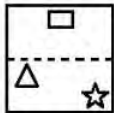
- Ans
- 1. 168
 - 2. 120
 - 3. 196
 - 4. 224

Question ID : 2390872310

Status : Answered

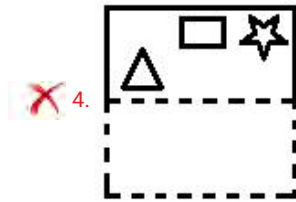
Chosen Option : 3

Q.24 एक पैटर्न-युक्त पारदर्शी शीट की आकृति नीचे दी गई है। नीचे दिए गए चार विकल्पों में से उस विकल्प का चयन कीजिए जो पारदर्शी शीट को बिंदु रेखा (डॉटेड लाइन) पर मोड़ने पर उस पैटर्न जैसा दिखाई देगा।




Ans

- 1.
- 2.
- 3.

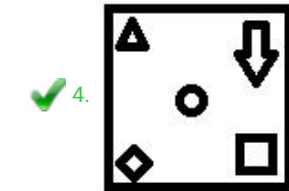
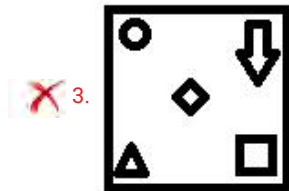
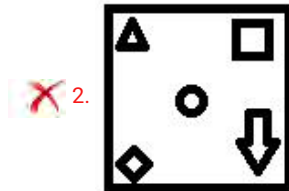
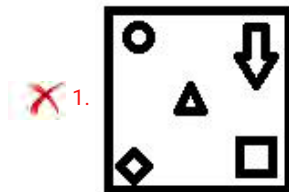


Question ID : 2390872319
Status : Answered
Chosen Option : 3

Q.25 उस आकृति का चयन करें, जो निम्नलिखित आकृति श्रृंखला में अगले स्थान पर आएगी।



Ans



Question ID : 2390872315
Status : Answered
Chosen Option : 4

Section : Numerical Aptitude

Q.1 $7 \times 7 \text{ of } 3 \div 3 - 14 \times x = 7$, तो x का मान कितना है?

- Ans
- 1. 1
 - 2. 2
 - 3. 3

 4. 4

Question ID : 2390872372

Status : Answered

Chosen Option : 3

Q.2 एक लंबवृत्तीय बेलन, जिसकी ऊंचाई और व्यास क्रमशः 10 cm और 8 cm हैं, के बक्र पृष्ठ का क्षेत्रफल (cm^2 में) कितना है?

- Ans
-  1. 20π
 -  2. 80π
 -  3. 160π
 -  4. 40π

Question ID : 2390872392

Status : Answered

Chosen Option : 2

Q.3 यदि चक्रवृद्धि ब्याज दर 20% प्रतिवर्ष है, अर्ध वार्षिक रूप से संयोजित, तो ₹100000 के मूलधन पर दो वर्षों का ब्याज कितना होगा?

- Ans
-  1. ₹46,410
 -  2. ₹44,000
 -  3. ₹21,000
 -  4. ₹33,100

Question ID : 2390872385

Status : Answered

Chosen Option : 1

Q.4 कोई संख्या X से 50% कम है और अन्य संख्या X से 20% कम है। दोनों संख्याओं का अनुपात कितना है?





- Ans
-  1. 5 : 8
 -  2. 2 : 3
 -  3. 3 : 8
 -  4. 3 : 5

Question ID : 2390872382

Status : Answered

Chosen Option : 1

Q.5 यदि $a : b = 2 : 5$, $b : c = 4 : 7$ और $c : d = 9 : 14$, तो $a : b : c : d$ कितना है?

- Ans
-  1. 72 : 180 : 245 : 490
 -  2. 72 : 180 : 315 : 490
 -  3. 72 : 144 : 315 : 490
 -  4. 36 : 180 : 315 : 490

Question ID : 2390872381

Status : Answered

Chosen Option : 2

Q.6 तालिका में 2014-2018 के दौरान किसी फर्म द्वारा विभिन्न शीर्षों में किए गए वार्षिक खर्चों को दर्शाया गया है। 2016 के प्रति शीर्ष का औसत व्यय कितना है?

वर्ष	विशिष्ट				
	कच्चा माल	मजदूरी	प्रशासन	वितरण	वित्त
2014	50000	15000	40000	20000	20000
2015	90000	20000	40000	25000	25000
2016	45000	22500	47500	25000	25000
2017	60000	20000	40000	25000	40000
2018	75000	25000	50000	30000	45000

- Ans
- 1. ₹27,000
 - 2. ₹33,000
 - 3. ₹29,000
 - 4. ₹31,000

Question ID : 2390872394
Status : Answered
Chosen Option : 2

Q.7 दो हवाई जहाजों की गतियों का अनुपात 11:18 है। यदि पहला हवाई जहाज 3 घंटों में 1650 km की दूरी तय करता है, तो दूसरे हवाई जहाज की गति (m/s में) कितनी है?

- Ans
- 1. 270
 - 2. 200
 - 3. 225
 - 4. 250

Question ID : 2390872389
Status : Answered
Chosen Option : 4

Q.8 कोई कार 7 h में 420 km की दूरी तय कर सकती है। दूरी को 6 h में तय करने के लिए गति कितनी बढ़ानी होगी?

- Ans
- 1. 7.5 km/h
 - 2. 10 km/h
 - 3. 8 km/h
 - 4. 5 km/h

Question ID : 2390872388
Status : Answered
Chosen Option : 2

Q.9 20% के प्रत्येक 4 क्रमिक छूटों की प्रभावी छूट क्या है?

- Ans
- 1. 64%
 - 2. 59.04%
 - 3. 40.96%
 - 4. 48%

Question ID : 2390872376

Status : Answered
Chosen Option : 2

Q.10 दो संख्याओं का महत्तम समापवर्तक और लघुत्तम समापवर्तक क्रमशः 20 और 120 है। यदि एक संख्या दूसरी संख्या से 50% अधिक है, तो छोटी संख्या कौन सी है।

- Ans
- 1. 20
 - 2. 60
 - 3. 40
 - 4. 80

Question ID : 2390872371
Status : Answered
Chosen Option : 3

Q.11 किसी ट्रांजेक्शन पर एक दुकानदार लागत पर 400% मुनाफा कमाता है। यदि लागत 100% बढ़ जाती है और विक्रय मूल्य में परिवर्तन नहीं होता है, तो नए लाभ और विक्रय मूल्य के बीच का अनुपात है।

- Ans
- 1. 1 : 3
 - 2. 2 : 5
 - 3. 3 : 5
 - 4. 1 : 2

Question ID : 2390872380
Status : Answered
Chosen Option : 4

Q.12 A set of data is given. The mean of the set is 35 while the median is set as 60. Find the mode of the data.

- Ans
- 1. 25
 - 2. 30
 - 3. 20
 - 4. 110

Question ID : 2390872377
Status : Answered
Chosen Option : 4

Q.13 उस दो-अंकीय अभाज्य संख्या, जिसकी इकाई और दहाई के स्थानों में संख्याएँ बराबर हैं, के अंकों का योग कितना है?

- Ans
- 1. 18
 - 2. 10
 - 3. 2
 - 4. 6

Question ID : 2390872373
Status : Answered
Chosen Option : 3

Q.14 एक रबड़ का मूल्य ₹3 है। 20 रबड़ों का मूल्य तीन कलमों के मूल्य के बराबर है। एक कलम का मूल्य दो पेंसिल के मूल्य के बराबर है और छह पेंसिल का मूल्य पांच मार्कर के मूल्य के बराबर है। एक मार्कर का मूल्य कितना है?

- Ans
- 1. ₹9

2. ₹12

3. ₹13.50

4. ₹15

Question ID : 2390872383

Status : Answered

Chosen Option : 2

Q.15 यदि लोहे से निर्मित प्रत्येक 10 mm की भुजावाले 2 क्युब को 1 ऐसे डिब्बे में डाला जाता है, जिसमें 200 c.c. पानी है, तो डिब्बे की सामग्री का आयतन (ml में) क्या होगा?

Ans 1. 201

2. 202

3. 200002

4. 200001

Question ID : 2390872391

Status : Answered

Chosen Option : 2

Q.16 किसी व्यक्ति को स्वयं के वजन के बारे में अनुमान लगाने के लिए कहा गया। उसने अनुमान लगाया कि उसका वजन 70 kg से अधिक लेकिन 80 kg से कम है। उसके दोस्त ने उसके वजन का अनुमान 74 kg से अधिक लेकिन 84 kg से कम लगाया। उसकी माता ने कहा कि उसका वजन 78 kg से कम है। यह मानते हुए कि वजन एक पूर्णांक संख्या है और तीनों ने सही अनुमान लगाया था, तो संभावित वजनों का औसत कितना है?

Ans 1. 76.5 kg

2. 76 kg

3. 77 kg

4. 75 kg

Question ID : 2390872374

Status : Answered

Chosen Option : 2

Q.17 कोई मूलधन चक्रवृद्धि ब्याज के साथ 2 वर्षों में 21% बढ़ जाता है। ₹1000 पर समान ब्याज दर से 4 वर्षों में साधारण ब्याज कितना होगा?

Ans 1. ₹320

2. ₹400

3. ₹360

4. ₹420

Question ID : 2390872384

Status : Answered

Chosen Option : 2

Q.18 एक स्कूटर ₹30000 में खरीदा गया और उसकी मरम्मत के लिए ₹3000 खर्च किए गए। उसे ₹39600 रुपए में बेच दिया गया। लाभ प्रतिशत कितना था?

Ans 1. 15

2. 25

✓ 3. 20

✗ 4. 10

Question ID : 2390872379

Status : Answered

Chosen Option : 3

Q.19 एक ठोस घन, जिसका प्रत्येक सतह (फेस) विकर्ण $128\sqrt{2}$ cm है, को घनाभ बनाने के लिए मोल्ड किया गया। घनाभ की लंबाई और चौड़ाई क्रमशः 512 cm और 160 cm है। घनाभ की ऊँचाई कितनी है?

Ans ✓ 1. 25.6 cm

✗ 2. 16 cm

✗ 3. 20.8 cm

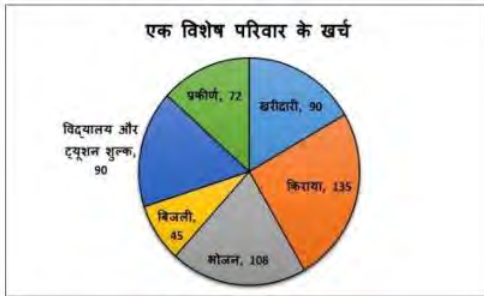
✗ 4. 16.4 cm

Question ID : 2390872390

Status : Answered

Chosen Option : 1

Q.20 वृत्त आरेख विशेष रूप से किसी परिवार के एक माह के विभिन्न प्रकार के खर्चों को दर्शाता है। एक माह में शैक्षिक शुल्क के रूप में खर्च की गई राशि ₹18000 है। परिवार का कुल मासिक व्यय कितना है? वृत्त आरेख में व्यय के विभिन्न शीर्षों के सामने दर्शाए गए आंकड़े केंद्रीय कोणों को नहीं दर्शाते हैं।



Ans ✓ 1. ₹1,08,000

✗ 2. ₹72,000

✗ 3. ₹90000

✗ 4. ₹36,000

Question ID : 2390872393

Status : Answered

Chosen Option : 1

Q.21 निम्नलिखित दंड आरेख में भारत द्वारा 2014-2018 के दौरान आयात की गई किसी विशेष मद के आयातों की मात्रा (मिलियन kg में) दर्शाया गया है। दी गई अवधि के दौरान उक्त मद की आयात की गई मात्रा, आयातों की समग्र औसत से कितने वर्ष कम है?



- Ans
- 1. 4
 - 2. 2
 - 3. 1
 - 4. 3

Question ID : 2390872395
Status : Answered
Chosen Option : 2

Q.22 A किसी कार्य को अकेले 30 दिनों में पूरा कर सकता है। उसने आधा कार्य करके छोड़ दिया। यदि B अकेले पूरे कार्य को 16 दिनों में कर सकता है, तो B को शेष कार्य को पूरा करने में कितने दिन लगेंगे?

- Ans
- 1. 9
 - 2. 12
 - 3. 6
 - 4. 8

Question ID : 2390872387
Status : Answered
Chosen Option : 4

Q.23 उत्पाद का विक्रय मूल्य उसके लागत मूल्य के 50% के बराबर था। उत्पाद पर दो क्रमिक छूट की पेशकश की गई। यदि पहली छूट 20% थी, तो दूसरी छूट कितनी थी?

- Ans
- 1. 37.5%
 - 2. 33.33%
 - 3. 30%
 - 4. 25%

Question ID : 2390872378
Status : Answered
Chosen Option : 1

Q.24 C किसी कार्य को 120 दिनों में अकेले कर सकता है। B, C से दोगुना कुशल है और A, B से तिगुना कुशल है। वे एक साथ मिलकर कार्य को कितने दिनों में पूरा कर सकते हैं?

- Ans
- 1. 13.33
 - 2. 16.67
 - 3. 12.5
 - 4. 15

Question ID : 2390872386
Status : Answered
Chosen Option : 1

Q.25 50 लोगों के लिए एक पार्टी का आयोजन उन्हीं के खर्च पर किया गया। उनमें से 48 लोगों ने, प्रत्येक ने, ₹950 का भुगतान किया, जबकि अन्य दो ने समूह के औसत व्यय से ₹1200 अधिक का भुगतान किया। खर्च किया गया कुल व्यय था:

- Ans
- 1. ₹75,000
 - 2. ₹40,000

3. ₹25,000

4. ₹50,000

Question ID : 2390872375

Status : Answered

Chosen Option : 4

Section : General awareness

Q.1 ब्रिटिश भारत के किस प्रांत में राजस्व एकत्रित करने की रैयतवाड़ी प्रणाली लागू की गई थी?

Ans 1. उत्तरी भारत

2. दक्षिणी भारत

3. पश्चिमी भारत

4. पूर्वी भारत

Question ID : 2390872245

Status : Answered

Chosen Option : 1

Q.2 2018 में 'चैंपियन ऑफ़ अर्थ' पुरस्कार से किसे सम्मानित किया गया था?

Ans 1. शी जिनपिंग

2. नरेंद्र मोदी

3. व्लादिमिर पुतिन

4. डॉनल्ड ट्रम्प

Question ID : 2390872226

Status : Answered

Chosen Option : 2

Q.3 भारतीय संविधान के निर्माताओं ने स्वतंत्रता, समता और बंधुता के सिद्धांतों को किस संविधान से लिया था?

Ans 1. फ्रांसीसी संविधान

2. कनाडा के संविधान

3. ब्रिटिश संविधान

4. आयरलैंड के संविधान

Question ID : 2390872232

Status : Answered

Chosen Option : 4

Q.4 निम्नलिखित में से कौन-सा कार्बन का अपरूप नहीं है?

Ans 1. ग्रेफाइट

2. मीथेन

3. हीरा

4. C-60 बकमिनस्टर फुलरीन

Question ID : 2390872239

Status : Answered

Chosen Option : 2

Q.5 Which of the following is NOT a Grand Slam in Tennis?

- Ans
- 1. Australian Open
 - 2. Wimbledon
 - 3. Roland Garros
 - 4. Indian Open

Question ID : 2390872224
Status : Answered
Chosen Option : 4

Q.6 Which of the following is NOT a capital good?

- Ans
- 1. Tools
 - 2. Food and Clothing
 - 3. Machines
 - 4. Truck

Question ID : 2390872230
Status : Answered
Chosen Option : 4

Q.7 उत्पादक क्षमता बढ़ाने वाले व्यय किस प्रकार के व्यय के उदाहरण हैं?

- Ans
- 1. राजस्व व्यय
 - 2. उत्पादन व्यय
 - 3. निवेश व्यय
 - 4. पूंजीगत व्यय

Question ID : 2390872229
Status : Answered
Chosen Option : 3

Q.8 किस जीव के कारण कालाजार होता है?

- Ans
- 1. इशरीकिया कोली
 - 2. ऐंज़ोटोबेक्टर
 - 3. क्लोस्ट्रीडियम
 - 4. लीशमैनिया

Question ID : 2390872237
Status : Answered
Chosen Option : 3

Q.9 'हड़प नीति' (डॉक्ट्रिन ऑफ लैप्स) किसने दिया था?

- Ans
- 1. लॉर्ड कार्नवालिस
 - 2. लॉर्ड बेंटिक
 - 3. लॉर्ड डलहौजी
 - 4. लॉर्ड कैनिंग

Question ID : 2390872243
Status : Answered

Chosen Option : 3

Q.10 प्रोटीन के पाचन के लिए जिम्मेदार अग्न्याशयी रस में कौन-सा एंजाइम मौजूद होता है?

- Ans 1. ट्रिप्सिन
 2. पेप्सिन
 3. एमाइलेस
 4. उपेस

Question ID : 2390872238

Status : Answered

Chosen Option : 1

Q.11 केशिकागुच्छ (Glomerulus) और बोमैन्स कैप्सूल (Bowman's capsule) शरीर के किस अंग के भाग हैं?

- Ans 1. दिल
 2. गुर्दा
 3. फेफड़े
 4. जिगर

Question ID : 2390872235

Status : Not Answered

Chosen Option : -

Q.12 एना बर्न्स को किस उपन्यास के लिए बुकर पुरस्कार 2018 दिया गया था?

- Ans 1. वाशिंगटन ब्लैक
 2. मिल्कमैन
 3. द मास रूम
 4. नॉर्मल पीपल

Question ID : 2390872227

Status : Answered

Chosen Option : 2

Q.13 _____ का अध्ययन एवं मूल्यांकन करने के लिए विजय केलकर समिति का गठन किया गया था।

- Ans 1. सार्वजनिक-निजी भागीदारी मॉडल
 2. चीनी की मिलों की स्थिति
 3. एअर इंडिया का निजीकरण
 4. भारत में गरीबी

Question ID : 2390872231

Status : Answered

Chosen Option : 4

Q.14 निम्नलिखित में से किस राज्य में द्विसदनी विधानमंडल है?

- Ans 1. पंजाब
 2. गोवा
 3. बिहार
 4. सिक्किम

Question ID : 2390872233

Status : Answered

Chosen Option : 3

Q.15 निम्नलिखित में से किस देश ने 2019 का सुल्तान अजलान शाह कप जीता था?

Ans

- 1. भारत
- 2. कनाडा
- 3. मलेशिया
- 4. दक्षिण कोरिया

Question ID : 2390872225

Status : Answered

Chosen Option : 4

Q.16 दिल्ली की मोती मस्जिद किस मुगल शासक ने बनायी थी?

Ans

- 1. अकबर
- 2. हुमायूं
- 3. औरंगज़ेब
- 4. शाहजहाँ

Question ID : 2390872221

Status : Answered

Chosen Option : 4

Q.17 निम्नलिखित में से कौन-सा युग्म सही रूप से मेल खाता है?

Ans

- 1. कथक - केरल
- 2. कुचिपुड़ी - ओडिशा
- 3. भरतनाट्यम - तमिलनाडु
- 4. कथकली - उत्तर प्रदेश

Question ID : 2390872223

Status : Answered

Chosen Option : 3

Q.18 1799 की श्रीरंगपट्टणम् की लड़ाई में अंग्रेजों ने किसे हराया था?

Ans

- 1. नजीब जंग
- 2. टीपू सुल्तान
- 3. सिराज-उद-दौला
- 4. पेशवा

Question ID : 2390872244

Status : Answered

Chosen Option : 2

Q.19 त्वचा निम्नलिखित में से किस प्रकार की झिल्ली है?

Ans

- 1. सिरोज़ झिल्ली
- 2. क्यूटेनियस झिल्ली
- 3. सायनोवियल झिल्ली

 4. म्यूकस झिल्ली




Question ID : 2390872236
Status : Answered
Chosen Option : 2

Q.20 हौज़-ई-सुल्तानी एक _____ है।

- Ans  1. मीनार
 2. बड़ा जलाशय
 3. महल
 4. मस्जिद

Question ID : 2390872222
Status : Answered
Chosen Option : 3

Q.21 कौन-सी भारतीय अभिनेत्री संयुक्त राष्ट्र के वैश्विक "गर्ल अप" अभियान का हिस्सा है?

- Ans  1. प्रियंका चोपड़ा
 2. करीना कपूर
 3. कटरीना कैफ
 4. ऐश्वर्या राय बच्चन

Question ID : 2390872228
Status : Answered
Chosen Option : 1

Q.22 73 वें संवैधानिक संशोधन अधिनियम के अनुसार पंचायत का कार्यकाल कितना होता है?

- Ans  1. 4 वर्ष
 2. 3 वर्ष
 3. 6 वर्ष
 4. 5 वर्ष

Question ID : 2390872234
Status : Answered
Chosen Option : 4

Q.23 पृथ्वी सतह की सबसे ऊपरी परत को क्या कहा जाता है?

- Ans  1. मैटल
 2. कोर
 3. मैग्मा
 4. क्रस्ट

Question ID : 2390872240
Status : Answered
Chosen Option : 4

Q.24 नदी डेल्टा बनना किस प्रक्रिया का परिणाम है?

- Ans  1. क्षरण

2. निक्षेपण

3. वाष्पीकरण

4. अवसादन

Question ID : 2390872241

Status : Answered

Chosen Option : 4

Q.25 निम्नलिखित में से कौन-सी एक ठंडी महासागरीय धारा है?

Ans 1. गल्फ स्ट्रीम

2. अगुलहास धारा

3. लैब्राडोर धारा

4. अलास्का धारा

Question ID : 2390872242

Status : Answered

Chosen Option : 1

Multi Tasking (Non-Technical) Staff Examination 2019

Roll No.	
Registration No.	
Name	
Test Venue	
Test Time	12:30 PM - 2:00 PM
Test Date	16/08/2019

Section : General English

Q.1 Select the correctly spelt word.

- Ans
- 1. Godess
 - 2. Villian
 - 3. Obedient
 - 4. Truely

Question ID : 2390872921
Status : Answered
Chosen Option : 3

Q.2 Select the most appropriate word for the given group of words.

A hollow space in a wall for a statue or ornament

- Ans
- 1. Niche
 - 2. Cornice
 - 3. Nook
 - 4. Slot

Question ID : 2390872918
Status : Answered
Chosen Option : 1

Q.3 Select the most appropriate option to substitute the underlined segment in the given sentence. If there is no need to substitute it, select No improvement

Rajesh didn't know my address.

- Ans
- 1. didn't known
 - 2. don't knew
 - 3. No improvement
 - 4. didn't knew

Question ID : 2390872902
Status : Answered
Chosen Option : 3

Q.4 Select the most appropriate synonym of the given word.

INTRICATE

- Ans
- 1. Complicated

- 2. Simple
- 3. Plain
- 4. Straightforward

Question ID : 2390872912
Status : Answered
Chosen Option : 1

Q.5 Select the most appropriate synonym of the given word.

FEROCIOUS

- Ans
- 1. Gentle
 - 2. Domesticated
 - 3. Tame
 - 4. Fierce

Question ID : 2390872913
Status : Not Answered
Chosen Option : -

Q.6 Select the most appropriate word to fill in the blank and make a meaningful sentence.

As a goodwill _____, I took some colleagues out for a meal.

- Ans
- 1. gesture
 - 2. reminder
 - 3. token
 - 4. indication

Question ID : 2390872923
Status : Answered
Chosen Option : 1

Q.7 Select the most appropriate option to substitute the underlined segment in the given sentence. If there is no need to substitute it, select No improvement

I don't remember exactly when did I go to Shimla last year.

- Ans
- 1. when I was going
 - 2. when I went
 - 3. when I go
 - 4. No improvement

Question ID : 2390872903
Status : Answered
Chosen Option : 2

Q.8 Select the most appropriate meaning of the given idiom.

Know something inside out



- Ans
- 1. To know something from a distance
 - 2. To know something superficially
 - 3. To have only a slight idea about something

 4. To know everything about something

Question ID : 2390872916
Status : Answered
Chosen Option : 4

Q.9 Select the most appropriate word for the given group of words.

A specialist who treats diseases of the nervous system

- Ans  1. Neurologist
 2. Orthopaedic
 3. Gynaecologist
 4. Paediatrician

Question ID : 2390872919
Status : Answered
Chosen Option : 1

Q.10 Select the most appropriate antonym of the word.





HARMONY

- Ans  1. Strife
 2. Accord
 3. Consensus
 4. Agreement

Question ID : 2390872914
Status : Marked For Review
Chosen Option : 3

Q.11 Select the most appropriate meaning of the given idiom.

Throw in the towel

- Ans  1. To take a shower
 2. To decide firmly
 3. To provoke someone
 4. To admit defeat or failure

Question ID : 2390872917
Status : Marked For Review
Chosen Option : 2

Q.12 Select the most appropriate option to fill in the blank and make a grammatically correct sentence.

Kevin lives by the sea and he's got a boat, so he often _____ sailing.

- Ans  1. is going
 2. go
 3. has gone
 4. goes

Question ID : 2390872910

Status : Answered
Chosen Option : 4

Q.13 Select the most appropriate option to substitute the underlined segment in the given sentence. If there is no need to substitute it, select No improvement

The two thieves divided the loot among themselves.

- Ans 1. between themselves
 2. with them
 3. No improvement
 4. among them

Question ID : 2390872901
Status : Answered
Chosen Option : 1

Q.14 Select the most appropriate option to fill in the blank and make a grammatically correct sentence.

Although I had never seen her before, I _____ her from a photograph.

- Ans 1. am recognizing
 2. recognize
 3. recognized
 4. have recognized

Question ID : 2390872911
Status : Answered
Chosen Option : 3

Q.15 Select the most appropriate antonym of the word.

FACILITATE

- Ans 1. Ease
 2. Encourage
 3. Aid
 4. Hinder

Question ID : 2390872915
Status : Marked For Review
Chosen Option : 4

Q.16 Identify the segment in the sentence which contains the grammatical error.

Due to a last minute snag, the mission on a moon had to be cancelled.

- Ans 1. on a moon
 2. Due to a last minute snag
 3. the mission
 4. had to be cancelled

Question ID : 2390872900
Status : Marked For Review
Chosen Option : 1

Q.17 Identify the segment in the sentence which contains the grammatical error.

The priest request all the wealthy men to donate money for building a new temple.

- Ans
- 1. for building a new temple
 - 2. The priest request
 - 3. to donate money
 - 4. all the wealthy men

Question ID : 2390872898
Status : Answered
Chosen Option : 4

Q.18 Select the correctly spelt word.

- Ans
- 1. Agression
 - 2. Appearence
 - 3. Assasination
 - 4. Assimilate

Question ID : 2390872920
Status : Answered
Chosen Option : 2

Q.19 Select the most appropriate word to fill in the blank and make a meaningful sentence.

The two friends were too _____ to admit that they were wrong.

- Ans
- 1. satisfied
 - 2. stubborn
 - 3. voluntary
 - 4. reasonable

Question ID : 2390872922
Status : Answered
Chosen Option : 1

Comprehension:

In the following passage some words have been deleted. Fill in the blanks with the help of the alternatives given. Select the most appropriate option for each blank.

The interior of the Earth has three chief layers. (1)_____are known as the crust, the mantle and the core. There is a thick layer of soil (2)_____ the outer crust. It is found only in (3)_____ parts of the Earth. It consists of disintegrated rock and (4)_____ organic matter called humus. It is this soil which is indispensable for the plant (5)_____.

SubQuestion No : 20

Q.20 Select the most appropriate option to fill in blank No.1

- Ans
- 1. Those
 - 2. It
 - 3. This
 - 4. These

Question ID : 2390872905
Status : Answered
Chosen Option : 4

Comprehension:

In the following passage some words have been deleted. Fill in the blanks with the help of the alternatives given. Select the most appropriate option for each blank.

The interior of the Earth has three chief layers. (1)_____are known as the crust, the mantle and the core. There is a thick layer of soil (2)_____ the outer crust. It is found only in (3)_____ parts of the Earth. It consists of disintegrated rock and (4)_____ organic matter called humus. It is this soil which is indispensable for the plant (5)_____.

SubQuestion No : 21

Q.21 Select the most appropriate option to fill in blank No.2

- Ans 1. on
 2. to
 3. for
 4. in

Question ID : 2390872906
Status : Answered
Chosen Option : 1

Comprehension:

In the following passage some words have been deleted. Fill in the blanks with the help of the alternatives given. Select the most appropriate option for each blank.

The interior of the Earth has three chief layers. (1)_____are known as the crust, the mantle and the core. There is a thick layer of soil (2)_____ the outer crust. It is found only in (3)_____ parts of the Earth. It consists of disintegrated rock and (4)_____ organic matter called humus. It is this soil which is indispensable for the plant (5)_____.

SubQuestion No : 22

Q.22 Select the most appropriate option to fill in blank No.3

- Ans 1. certain
 2. any
 3. many
 4. more

Question ID : 2390872907
Status : Answered
Chosen Option : 1

Comprehension:

In the following passage some words have been deleted. Fill in the blanks with the help of the alternatives given. Select the most appropriate option for each blank.

The interior of the Earth has three chief layers. (1)_____are known as the crust, the mantle and the core. There is a thick layer of soil (2)_____ the outer crust. It is found only in (3)_____ parts of the Earth. It consists of disintegrated rock and (4)_____ organic matter called humus. It is this soil which is indispensable for the plant (5)_____.

SubQuestion No : 23

Q.23 Select the most appropriate option to fill in blank No.4

- Ans 1. composed
 2. collapsed
 3. corroded
 4. decomposed

Question ID : 2390872908

Status : Answered
Chosen Option : 1

Comprehension:

In the following passage some words have been deleted. Fill in the blanks with the help of the alternatives given. Select the most appropriate option for each blank.

The interior of the Earth has three chief layers. (1)_____are known as the crust, the mantle and the core. There is a thick layer of soil (2)_____ the outer crust. It is found only in (3)_____ parts of the Earth. It consists of disintegrated rock and (4)_____ organic matter called humus. It is this soil which is indispensable for the plant (5)_____.

SubQuestion No : 24

Q.24 Select the most appropriate option to fill in blank No.5

- Ans
- 1. increase
 - 2. hike
 - 3. rise
 - 4. growth

Question ID : 2390872909
Status : Answered
Chosen Option : 4

Q.25 Identify the segment in the sentence which contains the grammatical error.

Rita was a model so she would starve herself to maintain their body weight.

- Ans
- 1. so she would starve herself
 - 2. their body weight
 - 3. Rita was a model
 - 4. to maintain

Question ID : 2390872899
Status : Answered
Chosen Option : 2

Section : General Intelligence & Reasoning

Q.1 यदि किसी कूटभाषा में 'APPLES' को '123456' और 'CANCEL' को '918954' के रूप में कूटबद्ध किया गया है, तो नीचे दिए गए शब्द के लिए सही कूट कौन-सा है।
'CLEANESS'

- Ans
- 1. 89214634
 - 2. 45399824
 - 3. 94518566
 - 4. 98263332

Question ID : 2390873060
Status : Answered
Chosen Option : 3

Q.2 नीचे दिए विकल्पों में से उस संख्या को चुनिए जो निम्नलिखित श्रृंखला में प्रश्न चिह्न (?) के स्थान पर आएगी।

1500, 745, 370, 180, 87.5, ?

- Ans
- 1. 38.5
 - 2. 38.75

3. 36.25

4. 36.5

Question ID : 2390873067

Status : Answered

Chosen Option : 2

Q.3 यदि एक निश्चित तरीके में, $3 + 4 = 25$ है और $7 + 24 = 625$ है, तो $9 + 40 = ?$ ज्ञात कीजिए।

Ans 1. 1709

2. 2048

3. 1681

4. 1649

Question ID : 2390873072

Status : Answered

Chosen Option : 3

Q.4 दिए गए कथन और निष्कर्षों को ध्यानपूर्वक पढ़े और निर्णय करें कि कौन सा/से निष्कर्ष तार्किक रूप से कथन का अनुसरण करता है/करते हैं।

कथन:

ध्वनि, निर्वात (वैक्यूम) में संचरण नहीं कर सकती।

निष्कर्ष:

I. हम निर्वात (वैक्यूम) में विस्फोट की आवाज नहीं सुन सकते हैं।

II. हम वातावरण में विस्फोट की आवाज नहीं सुन सकते हैं।

Ans 1. या तो निष्कर्ष I या निष्कर्ष II अनुसरण करता है।

2. न तो निष्कर्ष I और न ही निष्कर्ष II अनुसरण करता है।

3. केवल निष्कर्ष II अनुसरण करता है।

4. केवल निष्कर्ष I अनुसरण करता है।

Question ID : 2390873066

Status : Answered

Chosen Option : 2

Q.5 निम्नलिखित जानकारी का ध्यानपूर्वक अध्ययन करें और नीचे दिए गए प्रश्नों के उत्तर दें।

(i) आठ लड़के P, Q, R, S, T, U, V और W एक वृत्ताकार मेज़ पर बैठे हुए हैं।

(ii) P और Q एक दूसरे के सामने बैठे हैं।

(iii) S, P के दायें से दूसरे स्थान पर बैठा है और V, Q के दायें से दूसरे स्थान पर बैठा है।

(iv) T और W एक दूसरे के सामने बैठे हैं।

(v) R, P और V के बीच में बैठा है।

Q के संबंध में T की स्थिति क्या है?

Ans 1. बायें ओर तीसरा

2. दायें ओर तीसरा

3. बायें ओर दूसरा

4. दायें ओर दूसरा

Question ID : 2390873063

Status : Answered

Chosen Option : 1

Q.6 नीचे दिए गए कथनों के बाद दो निष्कर्ष I और II दिए गए हैं यह मानते हुए कि कथनों में दी गई जानकारी सत्य है

भले ही वह सर्वज्ञात तथ्यों से भिन्न प्रतीत होते हो, यह निर्णय करें की कौन सा/ से निष्कर्ष तार्किक रूप से और निश्चित रूप से कथन में दी गयी जानकारी का अनुसरण करता हैं/करते हैं।

कथन:

- I. कुछ एकाउंटेंट प्रबंधक हैं।
- II. कुछ एकाउंटेंट कैशियर हैं।

निष्कर्ष:

- I. सभी कैशियर एकाउंटेंट हैं।
- II. कुछ मैनेजर एकाउंटेंट हैं।

- Ans
1. केवल निष्कर्ष II अनुसरण करता है।
 2. केवल निष्कर्ष I अनुसरण करता है।
 3. निष्कर्ष I और II दोनों अनुसरण करते हैं।
 4. या तो निष्कर्ष I या निष्कर्ष II अनुसरण करता है।

Question ID : 2390873065

Status : Answered

Chosen Option : 1

Q.7 यदि 'x' का अर्थ '+', '-' का अर्थ 'x', '÷' का अर्थ '+' और '+' का अर्थ '-' है तो

$$(3 - 15 \div 11) \times 8 + 7 = ?$$

- Ans
1. 8
 2. 1
 3. 4
 4. 0

Question ID : 2390873071

Status : Answered

Chosen Option : 4

Q.8 निम्न आकृति (A) देखें और सही आकृति की पहचान करें यदि आकृति (A) को बिंदुदार रेखा (डॉटेड लाइन) पर मोड़ा जाता है।

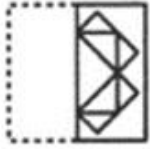
आकृति (A)



Ans

- 1.
- 2.
- 3.

✓ 4.



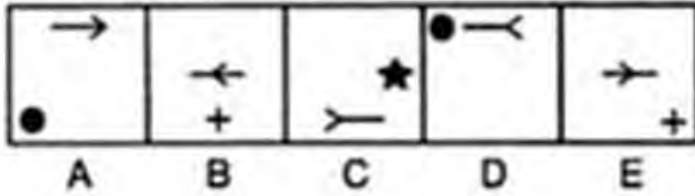
Question ID : 2390873077

Status : Answered

Chosen Option : 3

Q.9 उस आकृति का चयन करें जो निम्नलिखित श्रृंखला में आगे आएगी।

प्रश्न आकृति



Ans

✓ 1.



✗ 2.



✗ 3.



✗ 4.



Question ID : 2390873073

Status : Not Attempted and Marked For Review

Chosen Option : -

Q.10 निम्नलिखित पैटर्न का अध्ययन कीजिए और नीचे दिए गए विकल्पों में से प्रश्नवाचक चिह्न (?) के स्थान पर आने वाली संख्या ज्ञात कीजिए।

24	61	49
56	94	66
32	?	61

Ans

✓ 1. 77

✗ 2. 58

 3. 94

 4. 82

Question ID : 2390873070

Status : **Not Attempted and Marked For Review**

Chosen Option : -

Q.11 निम्नलिखित विकल्पों में से उस शब्द को चुनिए जो निम्नलिखित श्रृंखला में तीसरे शब्द से उसी तरह से संबंधित है जिस तरह से दूसरा शब्द पहले शब्द से संबंधित है।

ऑस्ट्रिया : विएना :: जॉर्डन : ?

Ans  1. लेबनान

 2. अमान

 3. सीरिया

 4. अरब

Question ID : 2390873056

Status : **Answered**

Chosen Option : 1

Q.12 उस पद का चयन करें, जो निम्नलिखित श्रृंखला में आगे आएगा।

ELFA, GLHA, ILJA, _____, MLNA

Ans  1. OLPA

 2. KLMA

 3. KLLA

 4. LLMA


Question ID : 2390873054

Status : **Answered**

Chosen Option : 3

Q.13 एक कूटभाषा में, 'PHYSICS' को 'CHIPSSY' के रूप में लिखा जाता है। उसी कूटभाषा में 'HISTORY' को कैसे लिखा जाएगा?

Ans  1. HIORTSY

 2. HIOSRTY

 3. HIORSTY

 4. HIORSYT

Question ID : 2390873058

Status : **Not Attempted and Marked For Review**

Chosen Option : -

Q.14 यदि किसी कूटभाषा में 'FLY' को '285' और 'ACCESS' को '399711' के रूप में कूटबद्ध किया गया है, तो नीचे दिए गए शब्द के लिए सही कूट कौन-सा है।
'CYCLE'

Ans  1. 95987

 2. 98597

 3. 95897

4. 95978

Question ID : 2390873061
Status : Answered
Chosen Option : 1

Q.15 निम्नलिखित विकल्पों में से उस अक्षर समूह को चुनिए जो निम्नलिखित श्रृंखला में तीसरे अक्षर समूह से उसी तरह से संबंधित है जिस तरह से दूसरा अक्षर समूह पहले अक्षर समूह से संबंधित है।

AhbH : HbhA :: YfgT : ?

- Ans
- 1. TfgY
 - 2. TgfY
 - 3. YfgT
 - 4. YgfT

Question ID : 2390873057
Status : Answered
Chosen Option : 2

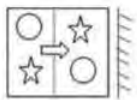
Q.16 नीचे दिए विकल्पों में से उस संख्या को चुनिए जो निम्नलिखित श्रृंखला में प्रश्न चिह्न (?) के स्थान पर आएगी।

3, 7, 15, 31, 63, ?

- Ans
- 1. 127
 - 2. 92
 - 3. 115
 - 4. 131

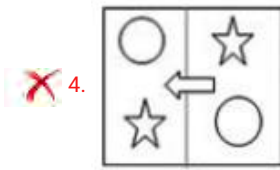
Question ID : 2390873068
Status : Answered
Chosen Option : 1

Q.17 उस विकल्प चयन करें जो दर्पण को दाईं ओर रखे जाने पर दी गई आकृति की दर्पण छवि से बहुत ज्यादा मिलता-जुलता है।



Ans

- 1.
- 2.
- 3.



4.

Question ID : 2390873076

Status : Answered

Chosen Option : 2

Q.18 निम्नलिखित विकल्पों में से उस संख्या को चुनिए जो निम्नलिखित श्रृंखला में तीसरी संख्या से उसी तरह से संबंधित है जिस तरह से दूसरी संख्या पहली संख्या से संबंधित है।

9 : 28 :: 56 : ?

Ans 1. 112

2. 3

3. 18

4. 169

Question ID : 2390873069

Status : Answered

Chosen Option : 4

Q.19 छह मित्र A, B, C, D, E और F एक पंक्ति में खड़े हैं। B, F और D के ठीक बीच में है। E, A और C के बीच में खड़ा है। A, D और F का पड़ोसी नहीं है। C, D का पड़ोसी नहीं है किन्तु F के निकटतम दाएं ओर है। F निम्नलिखित जोड़ियों में से किस जोड़ी के बीच खड़ा है?

Ans 1. B और C

2. C और A

3. B और A

4. B और D

Question ID : 2390873062

Status : Not Attempted and Marked For Review

Chosen Option : -

Q.20 किसी कूट में 'TABLE' को 'IPFEX' के रूप में लिखा जाता है। उसी कूट में 'SCRAP' को कैसे लिखा जाएगा?

Ans 1. TEVGV

2. RBQZO

3. TDSBQ

4. VAUDM

Question ID : 2390873059

Status : Not Attempted and Marked For Review

Chosen Option : -

Q.21 उन वर्गों के सेट का चयन करें जो दिए गए वेन आरेख का सबसे अच्छा प्रतिनिधित्व करते हैं।



- Ans
- 1. डॉक्टर, नर्स, रोगी
 - 2. घरेलू पशु, कुत्ता, भैंस
 - 3. सूर्य, चंद्रमा, जल
 - 4. मानव, समुद्र, पर्वत

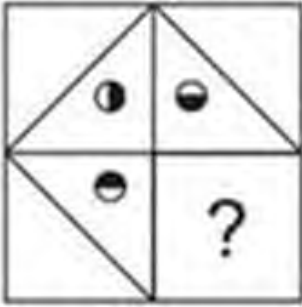
Question ID : 2390873078

Status : Answered

Chosen Option : 2

Q.22 निम्न पैटर्न को पूरा करने के लिए सही विकल्प का चयन करें।

प्रश्न आकृति



Ans

- 1.
- 2.
- 3.
- 4.

Question ID : 2390873074

Status : Answered

Chosen Option : 3

Q.23 उस विकल्प का चयन करें जो नीचे दिए गए शब्दों के सेट के समकक्ष है।

? : संगीत :: कैलकुलेटर : गणना

Ans 1. तुरही (ट्रम्पेट)

2. पक्षी

3. नोटबुक

4. फोन

Question ID : 2390873055

Status : Answered

Chosen Option : 1

Q.24 6 व्यक्तियों में A, B, C, D, E और F, यह ज्ञात है कि; A कम से कम 3 व्यक्तियों की तुलना में लंबा है। C, B से लंबा है, जो कि ठीक 1 व्यक्ति से लंबा है। D, C से छोटा नहीं है। E, A से लंबा है और D, A से छोटा है। उन सब में से चौथा सबसे छोटा व्यक्ति कौन है?

Ans 1. D

2. A

3. C

4. F

Question ID : 2390873064

Status : Not Answered

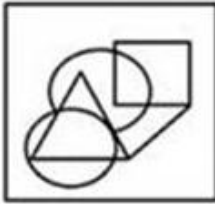
Chosen Option : -

Q.25 उस विकल्प चयन करें जो दर्पण को दाईं ओर रखे जाने पर दी गई आकृति की दर्पण छवि से बहुत ज्यादा मिलता-जुलता है।



Ans

1.



2.



3.



4.



Question ID : 2390873075

Status : Answered

Chosen Option : 1

Section : Numerical Aptitude

Q.1 ₹640 के मूलधन को 2.5% वार्षिक साधारण व्याज दर से ₹768 का मिश्रधन बनने में कितना समय लगेगा?

Ans 1. 10 साल

2. 8 साल

3. 9 साल

4. 11 साल

Question ID : 2390872611

Status : Answered

Chosen Option : 2

Q.2 यदि किसी बेलन (सिलेंडर) की त्रिज्या को दोगुना किया जाता है और ऊँचाई को 50% कम किया जाता है, तो आयतन में कितने प्रतिशत वृद्धि/ गिरावट होती है?

Ans 1. 100% वृद्धि

2. 66.67% गिरावट

3. 75% वृद्धि

4. 50% गिरावट

Question ID : 2390872619

Status : Answered

Chosen Option : 1

Q.3 एक कंपनी ने ₹40000 में एक मशीन खरीदी और ₹10000 उसकी मरम्मत पर खर्च किए। कुछ समय बाद, मशीन को ₹45000 में बेच दिया गया। कितनी छूट की पेशकश की गई?

Ans 1. 5%

2. $\frac{100}{9}$ %

3. 10%

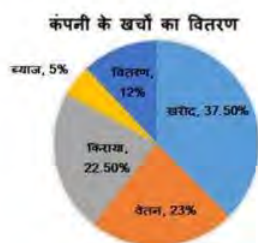
4. $7\frac{1}{2}$ %

Question ID : 2390872603

Status : Answered

Chosen Option : 3

Q.4 वृत्त आरेख में विशेष रूप से किसी कंपनी के खर्चों के लिए राजस्व के आवंटन को दर्शाया गया है। यदि कंपनी की विक्री ₹4000000 है और राजस्व का 75% खर्चों के लिए आवंटित किया जाता है, तो मजदूरी और प्रदेय (डिलीवरी) पर खर्च की गई कुल राशि कितनी है?



- Ans
- 1. ₹7,00,000
 - 2. ₹14,00,000
 - 3. ₹8,75,000
 - 4. ₹10,50,000

Question ID : 2390872620

Status : Not Answered

Chosen Option : -

Q.5 किसी वस्तु को ₹500 में बेचा गया। यदि विक्रय मूल्य 10% कम रहता, तो लाभ 12.5% होता। वस्तु का लागत मूल्य कितना है?

- Ans
- 1. ₹360
 - 2. ₹480
 - 3. ₹400
 - 4. ₹420

Question ID : 2390872607

Status : Answered

Chosen Option : 3

Q.6 एक छात्र ने 32% अंक प्राप्त किए और 6 अंकों से फेल हो गया रहा। यदि उसने 36% अंक प्राप्त किए होते, तो वह 2 अंकों से उत्तीर्ण हो गया होता। उत्तीर्ण अंक (स्कोर) कितना है?

- Ans
- 1. 66
 - 2. 75
 - 3. 80
 - 4. 70

Question ID : 2390872605

Status : Answered

Chosen Option : 4

Q.7 यदि $(28 \div 4 \times 7) + (44 \div 4 \times 7) - (12 \times x) = 18$ है, तो x का मान है:

- Ans
- 1. 3
 - 2. 12
 - 3. 9

4. 6

Question ID : 2390872600

Status : Answered

Chosen Option : 3

Q.8 दो संख्याओं के घनों का अंतर 999 है। संख्याएँ 4 : 3 के अनुपात में हैं। छोटी संख्या का वर्ग कितना है?

- Ans
- 1. 49
 - 2. 81
 - 3. 64
 - 4. 100

Question ID : 2390872610

Status : Answered

Chosen Option : 2

Q.9 ₹10000 की राशि पर 2 वर्ष के लिए 20% वार्षिक दर पर चक्रवृद्धी ब्याजों में क्या अंतर है, जब ब्याजों को क्रमशः अर्ध-वार्षिक और वार्षिक रूप से संयोजित किया जाता है?

- Ans
- 1. ₹440
 - 2. ₹241
 - 3. ₹441
 - 4. ₹240

Question ID : 2390872612

Status : Answered

Chosen Option : 2

Q.10 एक घन, जिसकी भुजा 7.5 cm है, का आयतन कितना है?

- Ans
- 1. 421.875 cm^3
 - 2. 759.375 cm^3
 - 3. 631.81 cm^3
 - 4. 210.94 cm^3

Question ID : 2390872618

Status : Answered

Chosen Option : 1

Q.11 निम्नलिखित वृत्त आरेख निर्यातक देशों की बाजार हिस्सेदारी को दर्शाता है। यदि देश X की हिस्सेदारी दूसरे देशों की 40% हिस्सेदारी के बराबर है और देश B के निर्यात की मात्रा ₹15 मिलियन है, तो देश X द्वारा निर्यात की गई मात्रा है:



- Ans
- 1. ₹2 मिलियन
 - 2. ₹1.6 मिलियन
 - 3. ₹8 मिलियन
 - 4. ₹4 मिलियन

Question ID : 2390872621

Status : Not Attempted and Marked For Review

Chosen Option : -

Q.12 A, B और C अकेले किसी कार्य को क्रमशः 40, 120 और 36 दिनों में कर सकते हैं। A और B एक साथ मिलकर 20 दिनों तक कार्य कर उसे अधूरा छोड़ देते हैं। C कार्य को आगे बढ़ाता है और उसे अकेले पूरा करता है। कार्य पूरा करने में C को कितने दिन लगे?

- Ans
- 1. 12
 - 2. 18
 - 3. 20
 - 4. 16

Question ID : 2390872614

Status : Answered

Chosen Option : 1

Q.13 A और B मिलकर किसी कार्य को 21 दिनों में पूरा कर सकते हैं। यदि A कार्य पूरा अकेले करने में 42 दिन लेता है, तो B को उसी कार्य को अकेले पूरा करने में कितने दिन लगेंगे?

- Ans
- 1. 32
 - 2. 36
 - 3. 42
 - 4. 27

Question ID : 2390872613

Status : Answered

Chosen Option : 3

Q.14 3, 4, 5 और 6 द्वारा विभाजित होने वाली सबसे बड़ी 6-अंकीय संख्या के अंकों का योग कितना है?

- Ans
- 1. 45
 - 2. 39
 - 3. 48
 - 4. 42

Question ID : 2390872598

Status : Answered

Chosen Option : 4

Q.15 $2 \times 2 + 4 \times 4 + 2 \times \text{of } 3 \times 6 - 7 \times (5 + 4 \div 2)$ का मान है:

- Ans
- 1. 5

✓ 2. 7

✗ 3. 4

✗ 4. 6

Question ID : 2390872599

Status : Not Attempted and Marked For Review

Chosen Option : -

Q.16 प्रथम 7 अभाज्य संख्याओं की माध्यिका है:

Ans ✓ 1. 7

✗ 2. 13

✗ 3. 5

✗ 4. 11

Question ID : 2390872604

Status : Answered

Chosen Option : 1

Q.17 किसी परिवार में दो दादा-दादी, दो माता-पिता और चार बच्चे हैं। दो साल पहले, दादा-दादी की औसत आयु 72 वर्ष थी। एक साल पहले, माता-पिता की औसत आयु 36 वर्ष थी। वर्तमान में, बच्चों की औसत आयु 12 वर्ष है। परिवार की वर्तमान औसत आयु कितनी है?

Ans ✗ 1. 32 वर्ष

✓ 2. 33.75 वर्ष

✗ 3. 32.75 वर्ष

✗ 4. 33 वर्ष

Question ID : 2390872601

Status : Not Answered

Chosen Option : -

Q.18 निम्नलिखित दंड आरेख 2013-2018 के दौरान किसी देश द्वारा निर्यात किए गए अनाज की मात्रा (मिलियन kg में) दर्शाता है। दी गई अवधि में अधिकतम निर्यात न्यूनतम निर्यात से कितना प्रतिशत अधिक है?



Ans ✓ 1. 100%

✗ 2. 50%

✗ 3. 75%

✗ 4. 66.67%

Question ID : 2390872622

Status : Not Answered

Chosen Option : -

Q.19 A, B, C और D को 4 : 8 : 11 : 15 के अनुपात में लाभ बांटना है। यदि न्यूनतम और अधिकतम अनुपातों के बीच ₹22000 का अंतर है, तो अन्य 2 अनुपातों का योग क्या है?

- Ans
- 1. ₹39900
 - 2. ₹37050
 - 3. ₹36100
 - 4. ₹38000

Question ID : 2390872609

Status : Answered

Chosen Option : 4

Q.20 दो हवाई जहाजों की गतियों का अनुपात 7 : 15 है। यदि पहला हवाई जहाज 3 घंटों में 1050 km की दूरी तय करता है, तो दूसरे हवाई जहाज की गति कितनी है?

- Ans
- 1. 720 km/h
 - 2. 675 km/h
 - 3. 900 km/h
 - 4. 750 km/h

Question ID : 2390872615

Status : Answered

Chosen Option : 4

Q.21 यदि $0.8 : X :: 5 : 8$, तो X किसके बराबर है?

- Ans
- 1. 1.28
 - 2. 1.16
 - 3. 1.32
 - 4. 1.24

Question ID : 2390872608

Status : Answered

Chosen Option : 1

Q.22 किसी बेलन (सिलेंडर) के आयतन (cm^3 में) तथा बक्र पृष्ठ क्षेत्रफल (cm^2 में) के बीच अनुपात संख्यात्मक रूप से 14 : 1 है। यदि बेलन (सिलेंडर) की ऊँचाई 50 cm है, तो बेलन का आयतन कितना है? (Take $\pi = \frac{22}{7}$)

- Ans
- 1. 61600 cm^3
 - 2. 92400 cm^3
 - 3. 123200 cm^3
 - 4. 184800 cm^3

Question ID : 2390872617

Status : Answered

Chosen Option : 1

Q.23 यदि किसी उत्पाद के विक्रय मूल्य को 2 से गुणा करने पर परिणामी लाभ मूल लाभ का 6 गुणा होता है। मूल लाभ प्रतिशत कितना है?

- Ans
- 1. 25
 - 2. 20
 - 3. 10
 - 4. 15

Question ID : 2390872606
Status : Answered
Chosen Option : 1

Q.24 6 पेंसिल का मूल्य ₹30 और 12 कलमों का मूल्य ₹120 है। 50 पेंसिल और 50 कलमों का औसत मूल्य कितना है?

- Ans
- 1. ₹6.75
 - 2. ₹7.5
 - 3. ₹5
 - 4. ₹5.75

Question ID : 2390872602
Status : Answered
Chosen Option : 2

Q.25 एक आदमी यात्रा पर निकलता है। उसने कुल 16 घंटों की यात्रा की। दूरी का पहला आधा भाग उसने 40 km/h और दूसरा आधा भाग 60 km/h की गति से तय किया। उसने कुल कितनी दूरी तय की?

- Ans
- 1. 384 km
 - 2. 768 km
 - 3. 576 km
 - 4. 960 km

Question ID : 2390872616
Status : Answered
Chosen Option : 1

Section : General awareness

Q.1 ललित कला अकादमी किस क्षेत्र का एक शीर्षस्थ सांस्कृतिक सरकारी संस्थान है?

- Ans
- 1. नाट्यशाला (थिएटर)
 - 2. दृश्य कला (विसुअल आर्ट्स)
 - 3. प्रदर्शन कलाएँ (परफार्मिंग आर्ट्स)
 - 4. गायन (म्यूजिक)

Question ID : 2390872750
Status : Answered
Chosen Option : 4

Q.2 कलिम्पोंग हिल स्टेशन कहाँ स्थित है?

- Ans
- 1. पश्चिम बंगाल
 - 2. सिक्किम

3. जम्मू और कश्मीर

4. अरुणाचल प्रदेश

Question ID : 2390872769

Status : Answered

Chosen Option : 2

Q.3 74 वें संशोधन अधिनियम 1992 ने भारतीय संविधान में कौन-सा भाग जोड़ा है?

Ans 1. IX A

2. IX

3. IX C

4. IX B

Question ID : 2390872759

Status : Answered

Chosen Option : 4

Q.4 पुस्तक "फाइव पॉइंट समवन" किसने लिखी है?

Ans 1. गुरुचरण दास

2. विधु विनोद चोपड़ा

3. चेतन भगत

4. अमीष त्रिपाठी

Question ID : 2390872754

Status : Answered

Chosen Option : 3

Q.5 स्टेनलेस स्टील के निर्माण में निम्नलिखित में से किसका उपयोग नहीं किया जाता है?

Ans 1. कार्बन

2. सल्फर

3. निकेल

4. क्रोमियम

Question ID : 2390872763

Status : Answered

Chosen Option : 2

Q.6 2019 में संयुक्त अरब अमीरात (UAE) के सर्वोच्च नागरिक सम्मान 'जायद मेडल' से किसे सम्मानित किया गया?

Ans 1. इमरान खान

2. नरेंद्र मोदी

3. व्लादिमिर पुतिन

4. बेंजामिन नेतन्याहू

Question ID : 2390872755

Status : Answered

Chosen Option : 2

Q.7 टायफाइड और टीबी किस प्रकार के रोग हैं?

Ans

1. जीवाण्विक

2. विषाणुजनित

3. प्रोटोजोआ

4. कवकीय

Question ID : 2390872762

Status : Answered

Chosen Option : 1

Q.8 कौन-सा कोशिकांगक (Cell Organelles) किसी भी बाहरी पदार्थ तथा ख़राब कोशिकांगक (Cell Organelles) को पचाकर कोशिका को साफ़ रखने में मदद करता है?

Ans 1. गोलगी एपरेटस

2. माइटोकॉन्ड्रिया

3. प्लास्टीदस

4. लाइसोसोम

Question ID : 2390872766

Status : Answered

Chosen Option : 2

Q.9 मानव शरीर में गतिविधि और हाथ-आँख समन्वय के लिए कौन-सा अंग जिम्मेदार है?

Ans 1. कलेजा

2. गुर्दा

3. मस्तिष्क

4. हृदय

Question ID : 2390872765

Status : Answered

Chosen Option : 3

Q.10 गुडंडी राष्ट्रीय उद्यान कहाँ स्थित है?

Ans 1. आंध्र प्रदेश

2. तेलंगाना

3. तमिलनाडू

4. हिमाचल प्रदेश

Question ID : 2390872768

Status : Answered

Chosen Option : 3

Q.11 नील नदी निम्नलिखित में से किस देश में बहने वाली नदी नहीं है?

Ans 1. केन्या

2. मिस्र

3. अल्जीरिया

4. तंजानिया

Question ID : 2390872767

Status : Answered

Chosen Option : 2

Q.12 अप्रैल 2019 तक की स्थिति के अनुसार आईपीएल टीम, चेन्नई सुपर किंग्स के प्रमुख कोच कौन है?

- Ans
- 1. गैरी किस्टन
 - 2. स्टीफन फ्लेमिंग
 - 3. जैक कैलिस
 - 4. महेला जयवर्धने

Question ID : 2390872751

Status : Answered

Chosen Option : 2

Q.13 कार्यस्थल की चोट और रीढ़ पर अग्रणी शोध के लिये किस भारतीय मूल के वैज्ञानिक को कनाडा का सर्वश्रेष्ठ नागरिक पुरस्कार, "द आर्डर ऑफ़ कनाडा" से सम्मानित किया गया था?

- Ans
- 1. श्रवण कुमार
 - 2. रवि बैचवल
 - 3. भारत अग्निहोत्री
 - 4. जीत औलख

Question ID : 2390872753

Status : Answered

Chosen Option : 3

Q.14 मुद्रास्फीति को नियंत्रित करने के लिए आरबीआई द्वारा निम्नलिखित में से किस मौद्रिक नीति उपकरण का उपयोग किया जाता है?

- Ans
- 1. राजकोषीय कर्षण
 - 2. मितव्ययिता उपाय
 - 3. रेपो दर
 - 4. राजकोषीय बढ़ावा

Question ID : 2390872757

Status : Answered

Chosen Option : 3

Q.15 नेटल इंडियन कांग्रेस (एनआईसी) की स्थापना किस भारतीय ने की थी?

- Ans
- 1. जवाहर लाल नेहरू
 - 2. गोविंद रानाडे
 - 3. महात्मा गांधी
 - 4. बाल गंगाधर तिलक

Question ID : 2390872772

Status : Answered

Chosen Option : 1

Q.16 सरकार के कार्यकाल के दौरान उत्पन्न होने वाली रिक्ति को भरने के लिए किसी राजनीतिक संसदीय/विधानसभा क्षेत्र में होने वाले चुनाव को क्या कहा जाता है?

- Ans
- 1. उप चुनाव
 - 2. परिषद् चुनाव
 - 3. सूक्ष्म चुनाव

 4. त्रि-चुनाव

Question ID : 2390872760
Status : Answered
Chosen Option : 1

Q.17 यदि आरबीआई रेपो दर बढ़ाता है, तो भारतीय अर्थव्यवस्था पर इसका क्या प्रभाव पड़ सकता है?

- Ans  1. महंगाई घटेगी
-  2. महंगाई बढ़ेगी
-  3. प्रतिवर्ती रेपो दर घटेगी
-  4. कर्ज सस्ता हो जाएगा


Question ID : 2390872756
Status : Answered
Chosen Option : 1

Q.18 निम्नलिखित में से किस नेता को बंदी बनाकर प्रसिद्ध यूनेस्को विश्व धरोहर स्थल, रोबेन आइलैंड में रखा गया था?

- Ans  1. आंग सान सू की
-  2. हो-चि मिन्ह
-  3. मार्टिन लूथर किंग जूनियर
-  4. नेल्सन मंडेला

Question ID : 2390872761
Status : Answered
Chosen Option : 3

Q.19 निम्नलिखित में से कौन-सा राज्य-त्योहार युग्म सही नहीं है?

- Ans  1. गुड़ी पड़वा - महाराष्ट्र
-  2. बैसाखी - उत्तर प्रदेश
-  3. छठ पूजा - बिहार
-  4. दुर्गा पूजा - पश्चिम बंगाल


Question ID : 2390872748
Status : Answered
Chosen Option : 1

Q.20 भारतीय मौद्रिक नीति समिति में कितने सदस्य हैं?

- Ans  1. 6
-  2. 5
-  3. 21
-  4. 3

Question ID : 2390872758
Status : Answered
Chosen Option : 2

Q.21 भारत की पुरानी मुद्राप्रणाली में 'एक आना' एक रुपए का कौन-सा हिस्सा होता था?

- Ans  1. रुपए का 16वां हिस्सा

- 2. रुपए का 20वां हिस्सा
- 3. रुपए का 10वां हिस्सा
- 4. रुपए का छठा हिस्सा

Question ID : 2390872771
Status : Answered
Chosen Option : 4

Q.22 भौतिकी में, हबल नियतांक (Hubble constant) क्या है?

- Ans
- 1. विद्युत चुम्बकीय विकिरणों की कुल ऊर्जा
 - 2. रिक्त स्थान में विद्युतशीलता (permittivity)
 - 3. माप की इकाई जो ब्रह्माण्ड के विस्तार की व्याख्या करती है।
 - 4. निर्वात में प्रकाश की गति

Question ID : 2390872764
Status : Answered
Chosen Option : 3

Q.23 भारतीय मुक्केबाज मैरी कोम किस उत्तर पूर्वी राज्य से है?

- Ans
- 1. मिजोरम
 - 2. त्रिपुरा
 - 3. मेघालय
 - 4. मणिपुर

Question ID : 2390872752
Status : Answered
Chosen Option : 1

Q.24 निम्नलिखित में से भारत के किस राज्य में उदवाडा शहर में इरानशाह अताश बेहराम स्थित है?

- Ans
- 1. महाराष्ट्र
 - 2. छत्तीसगढ़
 - 3. राजस्थान
 - 4. गुजरात

Question ID : 2390872749
Status : Answered
Chosen Option : 1

Q.25 18 वीं सदी के स्वतंत्रता सेनानी वीरापांड्या कट्टाबोम्मन किस वर्तमान राज्य से थे?

- Ans
- 1. केरल
 - 2. तमिलनाडु
 - 3. तेलंगाना
 - 4. कर्नाटक

Question ID : 2390872770
Status : Answered
Chosen Option : 2

Multi Tasking (Non-Technical) Staff Examination 2019

Roll No.	
Registration No.	
Name	
Test Venue	
Test Time	4:00 PM - 5:30 PM
Test Date	16/08/2019

Section : General English

Q.1 Select the most appropriate antonym of the word.

AFFLUENCE

- Ans 1. Prosperity
 2. Luxury
 3. Poverty
 4. Richness

Question ID : 2390872940

Status : Answered

Chosen Option : 1

Q.2 Select the most appropriate meaning of the given idiom.

Get a foot in the door

- Ans 1. To have a chance to do something
 2. To block the path
 3. To be injured
 4. To be lucky

Question ID : 2390872943

Status : Answered

Chosen Option : 4

Q.3 Select the most appropriate option to fill in the blank and make a grammatically correct sentence.

A babysitter is somebody who looks _____ other people's children.

- Ans 1. for
 2. on
 3. over
 4. after

Question ID : 2390872937

Status : Answered

Chosen Option : 4

Q.4 Select the most appropriate word for the given group of words.

A person who rides in horse races, especially as a profession

Ans

- 1. Jockey
- 2. Chauffer
- 3. Champion
- 4. Cowboy

Question ID : 2390872944
Status : Answered
Chosen Option : 4

Q.5 Select the most appropriate option to substitute the underlined segment. If there is no need to substitute it, select No improvement

The child smile on her mother.

- Ans
- 1. No improvement
 - 2. smiled at
 - 3. is smiling over
 - 4. smiles on

Question ID : 2390872929
Status : Answered
Chosen Option : 1

Q.6 Select the most appropriate option to fill in the blank and make a grammatically correct sentence.

The car-park was full, so we _____ to look for another place to park.

- Ans
- 1. having
 - 2. had
 - 3. has
 - 4. have

Question ID : 2390872936
Status : Answered
Chosen Option : 4

Comprehension:

In the following passage some words have been deleted. Fill in the blanks with the help of the alternatives given. Select the most appropriate option for each blank.

Venus is the planet closest to the Earth. It shines very (1)_____ in the night sky. The surface temperature (2)_____ Venus is about 400 degrees Celsius. The atmosphere (3)_____ very dense. Its surface cannot be observed directly (4)_____ the planet is permanently covered with a thick (5)_____ of clouds. Venus has active volcanoes and mountains higher than the Everest.

SubQuestion No : 7

Q.7 Select the most appropriate option to fill in blank No.1.

- Ans
- 1. loudly
 - 2. heavily
 - 3. brightly
 - 4. cheerfully

Question ID : 2390872931
Status : Answered

Comprehension:

In the following passage some words have been deleted. Fill in the blanks with the help of the alternatives given. Select the most appropriate option for each blank.

Venus is the planet closest to the Earth. It shines very (1)_____ in the night sky. The surface temperature (2)_____ Venus is about 400 degrees Celsius. The atmosphere (3)_____ very dense. Its surface cannot be observed directly (4)_____ the planet is permanently covered with a thick (5)_____ of clouds. Venus has active volcanoes and mountains higher than the Everest.

SubQuestion No : 8

Q.8 Select the most appropriate option to fill in blank No.2.

- Ans
- 1. around
 - 2. over
 - 3. on
 - 4. above

Question ID : 2390872932

Status : Answered

Chosen Option : 1

Comprehension:

In the following passage some words have been deleted. Fill in the blanks with the help of the alternatives given. Select the most appropriate option for each blank.

Venus is the planet closest to the Earth. It shines very (1)_____ in the night sky. The surface temperature (2)_____ Venus is about 400 degrees Celsius. The atmosphere (3)_____ very dense. Its surface cannot be observed directly (4)_____ the planet is permanently covered with a thick (5)_____ of clouds. Venus has active volcanoes and mountains higher than the Everest.

SubQuestion No : 9

Q.9 Select the most appropriate option to fill in blank No.3.

- Ans
- 1. was
 - 2. is
 - 3. are
 - 4. were

Question ID : 2390872933

Status : Answered

Chosen Option : 2

Comprehension:

In the following passage some words have been deleted. Fill in the blanks with the help of the alternatives given. Select the most appropriate option for each blank.

Venus is the planet closest to the Earth. It shines very (1)_____ in the night sky. The surface temperature (2)_____ Venus is about 400 degrees Celsius. The atmosphere (3)_____ very dense. Its surface cannot be observed directly (4)_____ the planet is permanently covered with a thick (5)_____ of clouds. Venus has active volcanoes and mountains higher than the Everest.

SubQuestion No : 10

Q.10 Select the most appropriate option to fill in blank No.4.

- Ans
- 1. because
 - 2. so
 - 3. though

 4. but

Question ID : 2390872934
Status : Answered
Chosen Option : 1





Comprehension:

In the following passage some words have been deleted. Fill in the blanks with the help of the alternatives given. Select the most appropriate option for each blank.

Venus is the planet closest to the Earth. It shines very (1)_____ in the night sky. The surface temperature (2)_____ Venus is about 400 degrees Celsius. The atmosphere (3)_____ very dense. Its surface cannot be observed directly (4)_____ the planet is permanently covered with a thick (5)_____ of clouds. Venus has active volcanoes and mountains higher than the Everest.

SubQuestion No : 11

Q.11 Select the most appropriate option to fill in blank No.5.

- Ans  1. slab
 2. folds
 3. layer
 4. pads

Question ID : 2390872935
Status : Answered
Chosen Option : 3

Q.12 Select the most appropriate word to fill in the blank and make a meaningful sentence.





The children _____ over the property of their father.

- Ans  1. quarrelled
 2. approved
 3. confiscated
 4. enjoyed

Question ID : 2390872949
Status : Answered
Chosen Option : 1

Q.13 Identify the segment in the sentence which contains the grammatical error.

Each of these players have been warned not to repeat the silly mistakes.

- Ans  1. Each of these players
 2. the silly mistakes
 3. warned not to repeat
 4. have been

Question ID : 2390872925
Status : Answered
Chosen Option : 3

Q.14 Select the most appropriate word to fill in the blank and make a meaningful sentence.

She gave important evidence and I found her to be a sensible and _____ witness.

- Ans  1. credible

- 2. imposing
- 3. conclusive
- 4. unlikely

Question ID : 2390872948
Status : Answered
Chosen Option : 3

Q.15 Select the most appropriate meaning of the given idiom.

By and large

- Ans
- 1. All inclusive
 - 2. By choice
 - 3. In general
 - 4. In short

Question ID : 2390872942
Status : Answered
Chosen Option : 2

Q.16 Select the most appropriate option to substitute the underlined segment. If there is no need to substitute it, select No improvement

He is living in this house for the past fifteen years before he shifted abroad.

- Ans
- 1. has been living
 - 2. No improvement
 - 3. had been living
 - 4. was lived

Question ID : 2390872928
Status : Answered
Chosen Option : 3

Q.17 Select the most appropriate option to substitute the underlined segment. If there is no need to substitute it, select No improvement

She told the children not to stop the work.

- Ans
- 1. don't stop
 - 2. not stop
 - 3. No improvement
 - 4. not stopping

Question ID : 2390872927
Status : Answered
Chosen Option : 1

Q.18 Identify the segment in the sentence which contains the grammatical error.

We have been staying at the hotel since the last ten days.

- Ans
- 1. since the
 - 2. We have been
 - 3. last ten days

4. staying at the hotel

Question ID : 2390872924
Status : Answered
Chosen Option : 4

Q.19 Select the correctly spelt word.

- Ans
- 1. Surrender
 - 2. Priviledge
 - 3. Fasinate
 - 4. Desperate

Question ID : 2390872946
Status : Answered
Chosen Option : 2

Q.20 Select the most appropriate word for the given group of words.

Policy of racial discrimination

- Ans
- 1. Inequality
 - 2. Segregation
 - 3. Apartheid
 - 4. Supremacy

Question ID : 2390872945
Status : Not Answered
Chosen Option : --

Q.21 Identify the segment in the sentence which contains the grammatical error.

A soyabean processing unit is going to set up soon in our village.

- Ans
- 1. A soyabean processing unit
 - 2. is going
 - 3. to set up
 - 4. soon in our village

Question ID : 2390872926
Status : Answered
Chosen Option : 4

Q.22 Select the most appropriate antonym of the word.

ILLICIT

- Ans
- 1. Prohibited
 - 2. Lawful
 - 3. Illegal
 - 4. Illegible

Question ID : 2390872941
Status : Answered
Chosen Option : 3

Q.23 Select the most appropriate synonym of the given word.

BENEFICIAL

- Ans
- 1. Worthless
 - 2. Harmful
 - 3. Advantageous
 - 4. Adverse

Question ID : 2390872938
Status : Answered
Chosen Option : 3

Q.24 Select the correctly spelt word.

- Ans
- 1. Tendency
 - 2. Tyeranny
 - 3. Twelth
 - 4. Tommorow

Question ID : 2390872947
Status : Answered
Chosen Option : 1

Q.25 Select the most appropriate synonym of the given word.


DUBIOUS

- Ans
- 1. Certain
 - 2. Doubtful
 - 3. Definite
 - 4. Sure

Question ID : 2390872939
Status : Answered
Chosen Option : 1


Section : General Intelligence & Reasoning

Q.1 निम्नलिखित पैटर्न को पूरा करने के लिए सही विकल्प का चयन करें।



Ans

- 1.



Question ID : 2390873174
Status : Answered
Chosen Option : 4

Q.2 नीचे दिए गए समीकरण को सही बनाने के लिए कौन-सी दो संख्याओं को आपस में बदलना होगा?

$$128 \div 4 - 3 \times 12 + 6 = 26$$

- Ans
- 1. 4, 12
 - 2. 12, 6
 - 3. 3, 6
 - 4. 3, 12

Question ID : 2390873171
Status : Answered
Chosen Option : 2

Q.3 यदि किसी कूट भाषा में 'TAMIL' को 'WZPHO' के रूप में लिखा जाता है, तो उसी कूट भाषा में 'MATHS' को कैसे लिखा जाएगा?

- Ans
- 1. PZHWV
 - 2. ZWGPV
 - 3. LBSHV
 - 4. PZWGV

Question ID : 2390873158
Status : Answered
Chosen Option : 4

Q.4 उस विकल्प का चयन करें जो चौथे पद से उसी तरह से सम्बंधित है जिस प्रकार पहला पद दूसरे पद से सम्बंधित है।

भट्टा : ईटें :: ? : ब्रेड

- Ans
- 1. बेकरी
 - 2. शराब बनाने का स्थान (डिस्टिलरी)
 - 3. दुकान
 - 4. डेयरी

Question ID : 2390873155
Status : Answered

Q.5 यदि 'FEVER' को '98283' के रूप में कूटबद्ध किया जाता है और 'REVOLVE' को '3825128' के रूप में कूटबद्ध किया जाता है, तो 'ROVER' को किस रूप में कूटबद्ध किया जाएगा?

- Ans
- 1. 38253
 - 2. 35832
 - 3. 32538
 - 4. 35283

Question ID : 2390873160

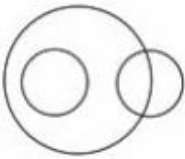
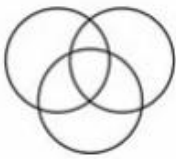

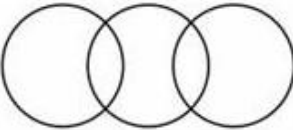
Status : Answered

Chosen Option : 4

Q.6 उस वेन आरेख का चयन करें जो दिए गए वर्गों के समूह को सर्वोत्तम ढंग से दर्शाता है?

पक्षी, कीड़े, जानवर

Ans

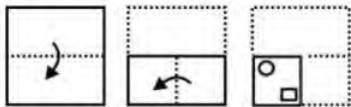
- 1. 
- 2. 
- 3. 
- 4. 

Question ID : 2390873178

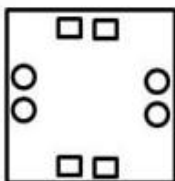
Status : Answered

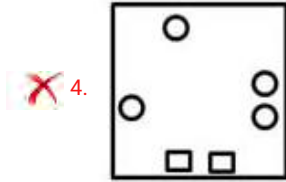
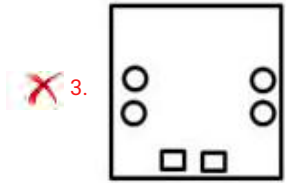
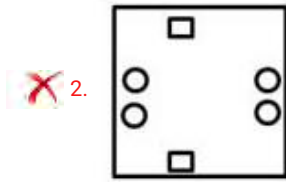
Chosen Option : 2

Q.7 एक कागज को नीचे दी गयी प्रश्न आकृतियों में दिखाए गए अनुसार मोड़ा और काटा गया है। नीचे दी गई उत्तर आकृतियों से चयन कीजिए, इसे खोले जाने पर यह कैसा दिखाई देगा?



Ans

- 1. 

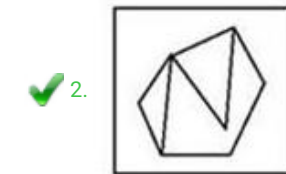


Question ID : 2390873177
Status : Answered
Chosen Option : 1

Q.8 उस विकल्प का चयन जिसमें नीचे दी गई आकृति सन्निहित है। (घुमाने की अनुमति नहीं है)



Ans



Question ID : 2390873175
Status : Answered

Q.9 उस विकल्प का चयन करें जो तीसरे पद से उसी तरह से सम्बंधित है जिस प्रकार दूसरा पद पहले पद से सम्बंधित है।

6 : 2 :: 8 : ?

- Ans 1. 3
 2. 5
 3. 7
 4. 1

Question ID : 2390873169

Status : Answered

Chosen Option : 1

Q.10 नीचे दिए गए समीकरण को सही बनाने के लिए कौन-से दो चिह्नों को आपस में बदलना होगा?

$36 \div 2 + 15 \times 5 - 18 = 57$

- Ans 1. $\div, +$
 2. $+, -$
 3. \div, \times
 4. $\times, -$

Question ID : 2390873172

Status : Answered

Chosen Option : 3

Q.11 नीचे दी गई श्रृंखला में गलत पद ज्ञात करें:

80, 70, 55, 35, 10, -20, -50

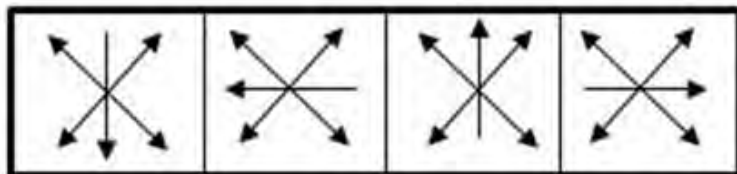
- Ans 1. -50
 2. -20
 3. 70
 4. 10

Question ID : 2390873168

Status : Answered

Chosen Option : 1

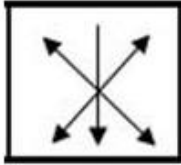
Q.12 उस आकृति का चयन करें जो निम्न श्रृंखला में आगे आएगी।



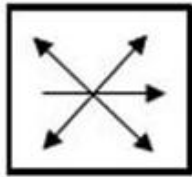
Ans

- 1.

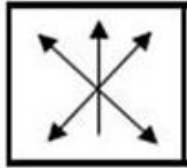
✓ 2.



✗ 3.



✗ 4.



Question ID : 2390873173

Status : Answered

Chosen Option : 2

Q.13 यदि HA = 8 है और CAT = 60 है, तो HEN = ?

Ans ✗ 1. 564

✓ 2. 560

✗ 3. 542

✗ 4. 524

Question ID : 2390873161

Status : Answered

Chosen Option : 3

Q.14 छह लड़के एक गोलाकार मेज के इर्द-गिर्द केंद्र की ओर मुख करके बैठे हैं। M, K जोकि F के सामने बैठा है, के दायें से दूसरे स्थान पर बैठा है। L और O एक दूसरे के सामने बैठे हैं। F के समीप न तो L और न ही R बैठा है। R के सामने कौन बैठा है?

Ans ✗ 1. K

✗ 2. F

✗ 3. O

✓ 4. M

Question ID : 2390873163

Status : Answered

Chosen Option : 1

Q.15 उत्तर की ओर मुख करके एक पंक्ति में पाँच व्यक्ति बैठे हैं।

C, M के बाएं से चौथे स्थान पर है और दोनों का केवल एक ही पड़ोसी है। B पंक्ति के ठीक मध्य में बैठा है। N, M के बिल्कुल बायें बैठा है।

V एक अन्य व्यक्ति है। V के संबंध में N का क्या स्थान है?

Ans ✗ 1. बायें से दूसरा

✗ 2. बिल्कुल बायें

3. बिल्कुल दायें

4. दायें से दूसरा

Question ID : 2390873162

Status : Answered

Chosen Option : 4

Q.16 उस विकल्प का चयन करें जो तीसरे शब्द से उसी तरह से सम्बंधित है जिस प्रकार दूसरा शब्द पहले शब्द से सम्बंधित है।

दर्जी : सिलाई मशीन :: किसान : ?

Ans 1. फसलें

2. खेत

3. हल

4. बीज

Question ID : 2390873156

Status : Answered

Chosen Option : 3

Q.17 उस पद का चयन करें, जो निम्नलिखित श्रृंखला में आगे आएगा।

BY, CX, EV, HS, _____

Ans 1. PK

2. JQ

3. MN

4. LO

Question ID : 2390873154

Status : Answered

Chosen Option : 4

Q.18 नीचे दिए गए कथनों के बाद दो निष्कर्ष I और II दिए गए हैं यह मानते हुए कि कथनों में दी गई जानकारी सत्य हैं भले ही वह सर्वज्ञात तथ्यों से भिन्न प्रतीत होते हो, यह निर्णय करें की कौन सा/ से निष्कर्ष तार्किक रूप से और निश्चित रूप से कथन में दी गयी जानकारी का अनुसरण करता है/करते हैं।

कथन:

I. कुछ चमगादड़ बिल्लियाँ हैं।

II. सभी बिल्लियाँ डार्ट हैं।

निष्कर्ष:

I. सभी चमगादड़ डार्ट हैं।

II. कुछ चमगादड़ डार्ट हैं।

Ans 1. या तो निष्कर्ष I या II अनुसरण करता है।

2. केवल निष्कर्ष I अनुसरण करता है।

3. केवल निष्कर्ष II अनुसरण करता है।

4. न तो निष्कर्ष I न ही निष्कर्ष II अनुसरण करता है।

Question ID : 2390873165

Status : Answered

Chosen Option : 3

Q.19 नीचे दिए गए कथन के बाद दो निष्कर्ष I और II दिए गए हैं। यह मानते हुए कि कथनों में दी गई जानकारी सत्य हैं भले ही वह सर्वज्ञात तथ्यों से भिन्न प्रतीत होते हो, यह निर्णय करें की कौन सा/ से निष्कर्ष तार्किक रूप से और

निश्चित रूप से कथन में दी गयी जानकारी का अनुसरण करता है/करते हैं।

कथन:

बारिश का पानी, जल का शुद्धतम रूप है।

निष्कर्ष:

- I. बारिश के पानी में अशुद्धियाँ होती हैं।
- II. बारिश के पानी में कम मात्रा में अशुद्धियाँ होंगी।

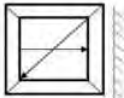
- Ans
- 1. केवल निष्कर्ष II अनुसरण करता है।
 - 2. केवल निष्कर्ष I अनुसरण करता है।
 - 3. निष्कर्ष I और निष्कर्ष II दोनों अनुसरण करते हैं।
 - 4. या तो निष्कर्ष I या निष्कर्ष II अनुसरण करता है।

Question ID : 2390873166

Status : Answered

Chosen Option : 4

Q.20 उस विकल्प का चयन करें जो नीचे दी गई आकृति की दर्पण छवि से बहुत ज्यादा मिलता-जुलता है जब दर्पण को दायें ओर रखा जाता है।



Ans

- 1.
- 2.
- 3.
- 4.

Question ID : 2390873176

Status : Answered

Chosen Option : 1

Q.21 उस सही विकल्प का चयन करें जो नीचे दी गई श्रृंखला को पूरा करेगा।

26, 51, 176, 801, ?

- Ans
- 1. 3926
 - 2. 2441

3. 3625

4. 2854

Question ID : 2390873167

Status : Answered

Chosen Option : 2

Q.22 35 बच्चों की कक्षा में, आरव का रैंक शीर्ष से छठे स्थान पर है। रॉनी, आरव से सात रैंक नीचे है। नीचे से रॉनी का रैंक क्या है?

Ans 1. 30वां

2. 23वां

3. 20वें

4. 22वां

Question ID : 2390873164

Status : Answered

Chosen Option : 2

Q.23 यदि 'LANE' को 'KZOF' के रूप में कूटबद्ध किया जाता है, तो 'MASK' को _____ रूप में कूटबद्ध किया जाएगा।

Ans 1. NZTM

2. LZSK

3. LZTL

4. NBTL

Question ID : 2390873159

Status : Answered

Chosen Option : 3

Q.24 उस विकल्प का चयन करें जो तीसरे पद से उसी तरह से सम्बंधित है जिस प्रकार दूसरा पद पहले पद से सम्बंधित है।

GP : NH :: ET : ?

Ans 1. JJ

2. JL

3. JK

4. HJ

Question ID : 2390873157

Status : Answered

Chosen Option : 2

Q.25 निम्न विकल्पों में से वह संख्या ज्ञात कीजिए जो प्रश्नवाचक चिह्न (?) के स्थान पर आएगी।

37 142 87

5 27 18

27 88 ?

Ans 1. 39

2. 71

3. 51

4. 45

Question ID : 2390873170

Status : Answered

Chosen Option : 3

Section : Numerical Aptitude

Q.1 30 दर्जन अखरोट (नट) ₹14400 में खरीदे गए और 32 पैकेट अखरोट (प्रत्येक पैकेट में 20 अखरोट) ₹57600 में खरीदा गया। यदि अखरोटों को मिलाकर एक पैकेट में पांच के हिसाब से 432 रुपए में बेचा गया, तो लाभ प्रतिशत कितना था?

Ans 1. 10%

2. 15%

3. 20%

4. 25%

Question ID : 2390872631

Status : Answered

Chosen Option : 4

Q.2 पांच विषयों पर एक परीक्षा आयोजित की गई जहाँ प्रत्येक विषय के लिए अधिकतम अंक 100 थे। X ने 4 विषयों में क्रमशः 82, 97, 88 और 91 अंक प्राप्त किए। यदि उसके कुल अंक 90% थे, तो पांचवें विषय में उसने कितने अंक प्राप्त किए?

Ans 1. 92

2. 94

3. 89

4. 79

Question ID : 2390872630

Status : Answered

Chosen Option : 1

Q.3 किसी राशि पर 7% प्रतिवर्ष की दर से पांच वर्षों के लिए साधारण ब्याज ₹700 है। तो मूलधन कितना है?

Ans 1. ₹1800

2. ₹1600

3. ₹2000

4. ₹2100

Question ID : 2390872636

Status : Answered

Chosen Option : 3

Q.4

नीचे दिए गए वृत्त आरेख में किसी फर्म के पिछले वित्तीय वर्ष के अनुमानित राजस्व और विभिन्न खर्चों को दर्शाया गया है। यदि आगामी वित्तीय वर्ष के लिए लाभ मार्जिन 20% अनुमानित है, तो अनुमानों के अनुसार मार्जिन में कितना प्रतिशत परिवर्तन होगा?



- Ans
- 1. 50% गिरावट
 - 2. 50% वृद्धि
 - 3. 100% वृद्धि
 - 4. 75% वृद्धि

Question ID : 2390872645

Status : Answered

Chosen Option : 3

Q.5 प्रथम 20 पूर्ण संख्याओं का माध्य कितना है?

- Ans
- 1. 10.5
 - 2. 9
 - 3. 9.5
 - 4. 10

Question ID : 2390872629

Status : Answered

Chosen Option : 1

Q.6 एक संख्या को तीन भागों में इस प्रकार विभाजित किया जाता है कि पहला भाग का तीन गुणा, दूसरे भाग का छह गुणा और तीसरे भाग का आठ गुणा बराबर है। यदि पहला भाग ₹1600 है, तो तीसरा भाग कितना है?

- Ans
- 1. ₹450
 - 2. ₹900
 - 3. ₹600
 - 4. ₹750

Question ID : 2390872633

Status : Answered

Chosen Option : 3

Q.7

नीचे दिए गए दंड आरेख में वर्ष 2011-2018 के दौरान किसी बड़े फार्म के गेहूं उत्पादन (टन में) को दर्शाया गया है। अवधि के औसत उत्पादन की तुलना में दिए गए कितने वर्षों में गेहूं उत्पादन अधिक था?



- Ans
- 1. 4
 - 2. 2
 - 3. 3
 - 4. 5

Question ID : 2390872646
Status : Answered
Chosen Option : 1

Q.8 कोई नाव 20 km/h की गति से ऊर्ध्वप्रवाह (अपस्ट्रीम) और 30 km/h की गति से अनुप्रवाह (डाउनस्ट्रीम) चलती है। स्थिर जल (स्टिल वाटर) में नाव की गति कितनी है?

- Ans
- 1. 26 km/h
 - 2. 24 km/h
 - 3. 25 km/h
 - 4. 22.50 km/h

Question ID : 2390872641
Status : Answered
Chosen Option : 2

Q.9 नवंबर माह में एक कला प्रदर्शनी आयोजित की गई। सप्ताह के कार्यदिवसों (वीकडेज) और सप्ताहांत (वीकएंड) पर आने वाले आगंतुकों की औसत संख्या क्रमशः 750 और 450 थी। यदि माह का पहला दिन सोमवार था, तो माह में आगंतुकों की औसत संख्या कितनी थी?

- Ans
- 1. 520
 - 2. 530
 - 3. 510
 - 4. 540

Question ID : 2390872627
Status : Answered
Chosen Option : 4

Q.10 $(0.4 \text{ of } 50 \times 6 \div 8) \div (12 \times 10 \div 16) + 5 \times 0.2 - 0.01 \times 10^2$ का मान कितना है?

- Ans
- 1. 1
 - 2. 4
 - 3. 2
 - 4. 3

Question ID : 2390872625

Status : Answered

Chosen Option : 3

Q.11 यदि किसी लंब वृत्तीय बेलन (सिलेंडर) की ऊँचाई 10 cm है और उसका बक्र पृष्ठ क्षेत्रफल 440 cm² है, तो उसकी त्रिज्या कितनी है?

- Ans
- 1. 17.5 cm
 - 2. 10.5 cm
 - 3. 14 cm
 - 4. 7 cm

Question ID : 2390872642

Status : Answered

Chosen Option : 4

Q.12 एक व्यक्ति ने ₹1000 में एक कमीज और ₹2000 में एक जोड़ी पतलून खरीदी। कमीज और पतलून पर दी गई छूट क्रमशः 20% और 50% थी। कुल मिलाकर, उसे कितनी छूट दी गई?

- Ans
- 1. 25%
 - 2. 40%
 - 3. 60%
 - 4. 45%

Question ID : 2390872628

Status : Answered

Chosen Option : 1

Q.13 एक बाइक का मालिक लगातार 3 वर्षों तक क्रमशः ₹64, ₹80 और ₹320 प्रति लीटर के हिसाब से पेट्रोल खरीदता है। यदि वह पेट्रोल खरीदने में हर वर्ष ₹32000 खर्च करता है, तो पेट्रोल का प्रति लीटर औसत मूल्य कितना है?

- Ans
- 1. ₹120
 - 2. ₹84
 - 3. ₹108
 - 4. ₹96

Question ID : 2390872626

Status : Answered

Chosen Option : 4

Q.14 A, B और C किसी कार्य को 16 दिनों में कर सकते हैं, जबकि A और B उसी कार्य को 40 दिनों में कर सकते हैं। C उस कार्य को अकेले कितने दिनों में कर सकता है?

- Ans
- 1. 26.67
 - 2. 25
 - 3. 23.33
 - 4. 30

Question ID : 2390872639

Status : Answered

Chosen Option : 1

Q.15 दो संख्याओं का योग और अंतर क्रमशः 27 और 3 है। दो संख्याओं का अनुपात कितना है?

- Ans
- 1. 5 : 3
 - 2. 2 : 1
 - 3. 4 : 7
 - 4. 5 : 4

Question ID : 2390872635
Status : Answered
Chosen Option : 4

Q.16 A किसी कार्य को अकेले 96 दिनों में पूरा कर सकता है। B, A से तीन गुना कुशल है। A ने 24 दिनों तक अकेले कार्य किया जिसके बाद B उससे जुड़ गया। वे एक साथ मिलकर शेष कार्य को कितने दिनों में पूरा करेंगे?

- Ans
- 1. 18
 - 2. 16
 - 3. 21
 - 4. 14

Question ID : 2390872638
Status : Answered
Chosen Option : 1

Q.17 कोई मूलधन साधारण ब्याज दर पर पांच वर्षों में 50% बढ़ जाता है। समान ब्याज दर के साथ ₹20000 पर 3 वर्षों के लिए चक्रवृद्धि ब्याज कितना होगा?

- Ans
- 1. ₹6620
 - 2. ₹3310
 - 3. ₹5760
 - 4. ₹2880

Question ID : 2390872637
Status : Answered
Chosen Option : 1

Q.18 किसी गोले और किसी लंबवृत्तीय बेलन (सिलेंडर) का आयतन समान है। गोला और बेलन की त्रिज्या क्रमशः 21 cm और 14 cm है। बेलन की ऊँचाई कितनी है?

- Ans
- 1. 63 cm
 - 2. 56 cm
 - 3. 42 cm
 - 4. 49 cm

Question ID : 2390872644
Status : Answered
Chosen Option : 2

Q.19

नीचे दिए गए दंड आरेख में वर्ष 2010-2018 के दौरान किसी कंपनी के लाभ (हजार रुपए के गुणक में) को दर्शाया गया है। वर्ष 2015-2017 का औसत लाभ 2012 के लाभ से कितना प्रतिशत अधिक है?

वर्ष	फर्म का लाभ
2010	7500
2011	7000
2012	8000
2013	8500
2014	9500
2015	11000
2016	8000
2017	11000
2018	11500

- Ans
- 1. 33.33
 - 2. 25
 - 3. 50
 - 4. 12.5

Question ID : 2390872647

Status : Answered

Chosen Option : 2

Q.20 $(2 \text{ of } 14 \div 7 \times 3) + (44 \div 11 \times 8) - (12 \times 9 \div 3)$ का मान कितना है?

- Ans
- 1. 9
 - 2. 6
 - 3. 8
 - 4. 7

Question ID : 2390872624

Status : Answered

Chosen Option : 3

Q.21 किसी घन का कुल पृष्ठ क्षेत्रफल 864 cm^2 है। उसका आयतन (cm^3 में) कितना है?

- Ans
- 1. 216
 - 2. 1728
 - 3. 729
 - 4. 512

Question ID : 2390872643

Status : Answered

Chosen Option : 2

Q.22 कोई रेलगाड़ी एक कार से 50% तेजी से चलती है। दोनों एक ही बिंदू से चलना शुरू करते हैं और 360 km की यात्रा के बाद आपस में मिलते हैं। यात्रा के बीच रेलगाड़ी इंजन में खराबी के कारण किसी स्टेशन पर कुछ घंटों के लिए रुक जाती है। रेलगाड़ी की गति कितनी है?

- Ans
- 1. 80 km/h
 - 2. 60 km/h

3. 72 km/h

4. 90 km/h

Question ID : 2390872640

Status : Answered

Chosen Option : 2

Q.23 दो संख्याओं के बीच का अंतर 15 है और उनका महत्तम समापवर्तक (एच सी एफ) और लघुत्तम समापवर्तक (एल सी एम) क्रमशः 3 और 108 है। उनके व्युत्क्रमों (रिसिप्रोकल्स) के बीच अंतर ज्ञात कीजिए।

Ans

1. $\frac{5}{54}$

2. $\frac{5}{108}$

3. $\frac{5}{81}$

4. $\frac{5}{112}$

Question ID : 2390872623

Status : Answered

Chosen Option : 1

Q.24 दो बाइक प्रत्येक की लागत ₹40000 है। उनमें से एक को ₹48000 में बेचा गया। दूसरी बाइक को कितने में बेचा जाए ताकि 25% का समग्र लाभ प्राप्त किया जा सके?

Ans

1. ₹60000

2. ₹48000

3. ₹52000

4. ₹50000

Question ID : 2390872632

Status : Answered

Chosen Option : 3

Q.25 दो संख्याएं किसी तीसरी संख्या से क्रमशः 80% और 35% बड़ी हैं। दो संख्याओं का अनुपात कितना है?

Ans

1. 4 : 3

2. 17 : 6

3. 8 : 5

4. 8 : 3

Question ID : 2390872634

Status : Answered

Chosen Option : 1

Section : General awareness

Q.1 किस फिल्म ने 2019 में सर्वश्रेष्ठ फिल्म के लिए ऑस्कर पुरस्कार जीता था?

Ans

1. द फेवरेट

2. बोहेमियन राप्सोडी

3. रोमा
 4. ग्रीन बुक

Question ID : 2390872778
Status : Answered
Chosen Option : 4

Q.2 भारत में नियंत्रक और महालेखापरीक्षक की नियुक्ति कौन करता है?

- Ans 1. प्रधान मंत्री
 2. राष्ट्रपति
 3. भारत का मुख्य न्यायधीश
 4. उच्चतम न्यायालय

Question ID : 2390872785
Status : Answered
Chosen Option : 2

Q.3 भारत में निम्नलिखित में से कौन-सा एक राष्ट्रीयकृत बैंक है?

- Ans 1. ऐक्सिस बैंक
 2. स्टेट बैंक ऑफ इंडिया
 3. आईसीआईसीआई बैंक
 4. येस बैंक

Question ID : 2390872782
Status : Answered
Chosen Option : 2

Q.4 पृथ्वी की सतह पर पहाड़ का निर्माण किस प्रकार के बल का परिणाम है?

- Ans 1. चुंबकीय बल
 2. गुरुत्वाकर्षण बल
 3. बहिर्जात बल
 4. अंतर्जात बल

Question ID : 2390872793
Status : Answered
Chosen Option : 2

Q.5 निम्नलिखित में से कौन-सा स्मारक - स्थान युग्म सही है?

- Ans 1. अलाई दरवाजा - तंजावुर
 2. ताजमहल - मेरठ
 3. गोलकोंडा किला - हैदराबाद
 4. लाल किला - जयपुर

Question ID : 2390872775
Status : Answered
Chosen Option : 3

Q.6 इंटरपोल के नवंबर 2018 में चुने गए अध्यक्ष किस देश के हैं?

Ans

- 1. बांग्लादेश
- 2. दक्षिण कोरिया
- 3. पाकिस्तान
- 4. श्रीलंका

Question ID : 2390872779
Status : Answered
Chosen Option : 2

Q.7 Which part of Human ear collects sound from its surrounding?

- Ans 1. Pinna
- 2. Anvil
 - 3. Cochlea
 - 4. Hammer

Question ID : 2390872789
Status : Answered
Chosen Option : 2

Q.8 "अर्थशास्त्र" पुस्तक किसने लिखी है?

- Ans 1. कौटिल्य
- 2. अबुल फज़ल
 - 3. भास्कर
 - 4. विक्रम सेठ

Question ID : 2390872780
Status : Answered
Chosen Option : 1

Q.9 किस कोशिकांगक को 'सेल का पावरहाउस' भी कहा जाता है?

- Ans 1. लाइसोसोम
- 2. माइटोकॉन्ड्रिया
 - 3. गोल्जी एपरेटस
 - 4. प्लास्टिडस

Question ID : 2390872791
Status : Answered
Chosen Option : 2

Q.10 Who takes over the office of President when there is a Vacancy by reasons of death, resignation, removal by impeachment or otherwise?

- Ans 1. Chairman of Rajya Sabha
- 2. Speaker of Lok Sabha
 - 3. Deputy Chairman of Rajya Sabha
 - 4. Deputy Speaker of Lok Sabha

Question ID : 2390872786
Status : Answered
Chosen Option : 1

Q.11 'जलियांवाला बाग' नरसंहार के बाद किसने अपनी नाइटहुड (Knighthood) की उपाधि लौटा दी थी?

- Ans
- 1. डॉ. बी.आर. अम्बेडकर
 - 2. रबिन्द्रनाथ टैगोर
 - 3. महात्मा गांधी
 - 4. बाल गंगाधर तिलक

Question ID : 2390872797

Status : Answered

Chosen Option : 2

Q.12 महाद्वीपीय द्रव्यमान का मुख्य खनिज घटक क्या है?

- Ans
- 1. ऑक्सीजन और ऐलुमिना
 - 2. मैग्नीशियम और सिलिका
 - 3. ऐलुमिना और मैग्नीशियम
 - 4. सिलिका और ऐलुमिना

Question ID : 2390872792

Status : Answered

Chosen Option : 2

Q.13 रण उत्सव किस राज्य में मनाया जाता है?

- Ans
- 1. महाराष्ट्र
 - 2. मध्य प्रदेश
 - 3. गुजरात
 - 4. राजस्थान

Question ID : 2390872774

Status : Answered

Chosen Option : 3

Q.14 Which act of the Parliament set targets for the government to reduce fiscal deficits in India?

- Ans
- 1. RBI Act
 - 2. FRBM Act
 - 3. FEMA Act
 - 4. POSCO Act

Question ID : 2390872783

Status : Answered

Chosen Option : 1

Q.15 महात्मा गांधी ने किस तटीय शहर में 'नमक कानून' को तोड़ा था?

- Ans
- 1. अहमदाबाद
 - 2. दांडी
 - 3. साबरमती
 - 4. सूरत

Question ID : 2390872795

Status : **Answered**
Chosen Option : 3

Q.16 फूड पैकेजिंग उद्योग में चिप्स को ऑक्सीकृत होने से रोकने के लिए किस गैस का उपयोग किया जाता है?

- Ans 1. नाइट्रोजन
 2. हाइड्रोजन
 3. हीलियम
 4. कार्बन

Question ID : **2390872788**
Status : **Answered**
Chosen Option : 3

Q.17 निम्नलिखित में से एमनेस्टी इंटरनेशनल किससे संबंधित है?

- Ans 1. मानवाधिकार
 2. सांस्कृतिक विरासत संरक्षण
 3. वन संरक्षण
 4. पशु अधिकार

Question ID : **2390872784**
Status : **Answered**
Chosen Option : 1

Q.18 Bats search out prey and fly in dark night by emitting and detecting reflections of which type of Sound Waves?

- Ans 1. Sonic Waves
 2. Hypersonic Waves
 3. Subsonic Waves
 4. Ultrasonic Waves

Question ID : **2390872790**
Status : **Answered**
Chosen Option : 4

Q.19 सुनील क्षेत्री किस खेल में भारत का प्रतिनिधित्व करते हैं?

- Ans 1. बास्केटबॉल
 2. फुटबॉल
 3. क्रिकेट
 4. हॉकी

Question ID : **2390872777**
Status : **Answered**
Chosen Option : 2





Q.20 विष्णु शर्मा द्वारा रचित पशुओं पर आधारित नीतिकथाओं के प्रसिद्ध संग्रह का नाम क्या है?

- Ans 1. हितोपदेश
 2. कथासरितासागर
 3. पंचतंत्र

 4. जातक

Question ID : 2390872773
Status : Answered
Chosen Option : 3

Q.21 निम्नलिखित में से कौन-सा संयोजन अभिक्रिया (Combination Reaction) का प्रकार नहीं है?

- Ans  1. अनबुझा चूना (quick lime) में पानी मिलाना
 2. चूना पत्थर का गरम होना
 3. पानी का बनना
 4. कोयले का जलना

Question ID : 2390872787
Status : Answered
Chosen Option : 3

Q.22 किस टीम ने इंडियन प्रीमियर लीग 2019 ट्रॉफी जीती है?

- Ans  1. रॉयल चैलेंजर्स बैंगलोर
 2. दिल्ली कैपिटल्स
 3. मुंबई इंडियंस
 4. चेन्नई सुपर किंग्स

Question ID : 2390872776
Status : Answered
Chosen Option : 3

Q.23 भारत में स्थापित राजवंशों का निम्नलिखित में से कौन-सा क्रम सही है?

- Ans  1. खिलजी - सैय्यद - लोदी - तुगलक
 2. तुगलक - खिलजी - लोदी - सैय्यद
 3. खिलजी - तुगलक - सैय्यद - लोदी
 4. लोदी - सैय्यद - तुगलक - खिलजी

Question ID : 2390872796
Status : Answered
Chosen Option : 2

Q.24 किस फसल के लिए न्यूनतम समर्थन मूल्य के बजाय उचित और लाभकारी मूल्य की घोषणा की जाती है?

- Ans  1. चावल
 2. गन्ना
 3. दालें
 4. गेहूँ

Question ID : 2390872781
Status : Answered
Chosen Option : 4

Q.25 Which of the following landforms does NOT depict the youthful Stage of rivers?

- Ans  1. V-Shaped Valleys
 2. Delta

 3. Rapids

 4. Gorge

Question ID : **2390872794**

Status : **Answered**

Chosen Option : **2**

Multi Tasking (Non-Technical) Staff Examination 2019

Roll No.	
Registration No.	
Name	
Test Venue	
Test Time	12:30 PM - 2:00 PM
Test Date	19/08/2019

Section : General English

Q.1 **Select the most appropriate antonym of the word.**

TREACHEROUS

- Ans
- 1. Deceitful
 - 2. Disloyal
 - 3. Faithful
 - 4. Dangerous

Question ID : 2390873018

Status : Answered

Chosen Option : 3

Q.2 **Select the most appropriate option to fill in the blank and make a grammatically correct sentence.**

Our neighbours threatened to call the police if we _____ stop the noise.

- Ans
- 1. didn't
 - 2. hasn't

- 3. don't
- 4. haven't

Question ID : 2390873014
Status : Answered
Chosen Option : 1

Q.3 **Identify the segment in the sentence which contains the grammatical error. If no error then select 'No error'.**

She wanted to bake a cake for both her brothers.

- Ans 1. No error
- 2. to bake a cake
 - 3. for both her brothers
 - 4. She wanted

Question ID : 2390873004
Status : Answered
Chosen Option : 3

Comprehension:

In the following passage some words have been deleted. Fill in the blanks with the help of the alternatives given. Select the most appropriate option for each blank.

A century ago the process

of choosing a career was a (1)_____ matter than it is today. A boy often (2)_____ in his father's footsteps. A girl learned (3)_____ household skills that helped her to (4)_____ a good wife and mother. Now-a-days (5)_____ people grow up in a much freer society where they enjoy unlimited career opportunities.

SubQuestion No : 4

Q.4 **Select the most appropriate option to fill in blank No.1.**

- Ans
- 1. simplest
 - 2. more simpler
 - 3. simple
 - 4. simpler

Question ID : 2390873009

Status : Answered

Chosen Option : 1

Comprehension:

In the following passage some words have been deleted. Fill in the blanks with the help of the

alternatives given. Select the most appropriate option for each blank.

A century ago the process of choosing a career was a (1)_____ matter than it is today. A boy often (2)_____ in his father's footsteps. A girl learned (3)_____ household skills that helped her to (4)_____ a good wife and mother. Now-a-days (5)_____ people grow up in a much freer society where they enjoy unlimited career opportunities.

SubQuestion No : 5

Q.5

Select the most appropriate option to fill in blank No.2.

Ans

- 1. chose
- 2. followed
- 3. chased
- 4. worked

Question ID : 2390873010

Status : Answered

Chosen Option : 2

Comprehension:

In the following passage some words have been deleted. Fill in the blanks with the help of the alternatives given. Select the most appropriate option for each blank.

A century ago the process of choosing a career was a (1)_____ matter than it is today. A boy often (2)_____ in his father's footsteps. A girl learned (3)_____ household skills that helped her to (4)_____ a good wife and mother. Now-a-days (5)_____ people grow up in a much freer society where they enjoy unlimited career opportunities.

SubQuestion No : 6

Q.6

Select the most appropriate option to fill in

blank No.3.

Ans  1. the

 2. a

 3. each

 4. an

Question ID : 2390873011

Status : Answered

Chosen Option : 3

Comprehension:

In the following passage some words have been deleted. Fill in the blanks with the help of the alternatives given. Select the most appropriate option for each blank.

A century ago the process of choosing a career was a (1)_____ matter than it is today. A boy often (2)_____ in his father's footsteps. A girl learned (3)_____ household skills that helped her to (4)_____ a good wife and mother. Now-a-days (5)_____ people grow up in

a much freer society where they enjoy unlimited career opportunities.

SubQuestion No : 7

Q.7 **Select the most appropriate option to fill in blank No.4.**

- Ans
- 1. become
 - 2. becoming
 - 3. becomes
 - 4. became

Question ID : 2390873012

Status : Answered

Chosen Option : 1

Comprehension:

In the following passage some words have been deleted. Fill in the blanks with the help of the alternatives given. Select the most appropriate option for each blank.

A century ago the process of choosing a career was a (1)_____ matter than it is today. A boy often (2)_____ in his father's footsteps. A

girl learned (3)_____ household skills that helped her to (4)_____ a good wife and mother. Now-a-days (5)_____ people grow up in a much freer society where they enjoy unlimited career opportunities.

SubQuestion No : 8

Q.8 **Select the most appropriate option to fill in blank No.5.**

- Ans
- 1. old
 - 2. sensible
 - 3. young
 - 4. mature

Question ID : 2390873013

Status : Answered

Chosen Option : 3

Q.9 **Select the most appropriate word to fill in the blank and make a meaningful sentence.**

He had his own line of thinking and would defend his views with _____.

- Ans
- 1. conversion
 - 2. conviction

- 3. conversation
- 4. convention

Question ID : 2390873026
Status : Answered
Chosen Option : 3

Q.10 **Select the most appropriate synonym of the given word.**

ANTHOLOGY

- Ans
- 1. Inheritance
 - 2. Collection
 - 3. Legacy
 - 4. Currency

Question ID : 2390873017
Status : Answered
Chosen Option : 1

Q.11 **Select the most appropriate option to substitute the underlined segment. If there is no need to substitute it, select No improvement**

I courteously asked her where was she going but she did not reply.

- Ans
- 1. she was going
 - 2. was she gone
 - 3. No Improvement
 - 4. will she go

Question ID : 2390873007
Status : Answered
Chosen Option : 1

Q.12 **Select the most appropriate option to substitute the underlined segment. If there is no need to substitute it, select No improvement**

Emperor Ashoka have conquered Kalinga before he embraced Buddhism.

- Ans
- 1. had conquered
 - 2. was conquering
 - 3. No Improvement
 - 4. has conquered

Question ID : 2390873006
Status : Answered
Chosen Option : 1

Q.13 **Select the most appropriate meaning of the given idiom.**

Get the ball rolling

- Ans
- 1. To spin the ball
 - 2. To cheer someone up
 - 3. To start doing something
 - 4. To have an active lifestyle

Question ID : 2390873021
Status : Answered
Chosen Option : 3

Q.14

Select the most appropriate antonym of the word.

ABUNDANT

- Ans
- 1. Copious
 - 2. Plentiful
 - 3. Scarce
 - 4. Ample

Question ID : 2390873019
Status : Answered
Chosen Option : 3

Q.15

Select the most appropriate option to substitute the underlined segment. If there is no need to substitute it, select No improvement

Whom you think, will be selected as the Head Boy of the school?

- Ans
- 1. Which you thought
 - 2. Who do you think
 - 3. Whom you thinking
 - 4. No Improvement

Question ID : 2390873005
Status : Answered
Chosen Option : 3

Q.16

Select the correctly spelt

word.

- Ans
- 1. Posibility
 - 2. Pompus
 - 3. Potantial
 - 4. Possession

Question ID : 2390873025
Status : Answered
Chosen Option : 4

Q.17 **Select the most appropriate word for the given group of words.**

A person who is recovering after an illness or medical treatment.

- Ans
- 1. Athlete
 - 2. Convalescent
 - 3. Senile
 - 4. Altruist

Question ID : 2390873022
Status : Answered
Chosen Option : 2

Q.18 **Select the most appropriate word for the given group of words.**

The fear of being enclosed in a small space or room

- Ans
- 1. Hydrophobia
 - 2. Acrophobia
 - 3. Claustrophobia
 - 4. Aerophobia

Question ID : 2390873023
Status : Answered
Chosen Option : 3

Q.19 **Identify the segment in the sentence which contains the grammatical error.**

Platinum is costlier than any other metals found on earth.

- Ans
- 1. costlier than
 - 2. Platinum is
 - 3. found on earth
 - 4. any other metals

Question ID : 2390873002
Status : Answered
Chosen Option : 4

Q.20 **Select the most appropriate synonym of the given word.**

ABSOLVED

- Ans
- 1. Scolded
 - 2. Pardoned
 - 3. Punished
 - 4. Boycotted

Question ID : 2390873016
Status : Answered
Chosen Option : 2

Q.21 **Select the most appropriate meaning of the**

given idiom.

A change of heart

- Ans
- 1. To have a heart transplant
 - 2. To fail to fulfil a promise
 - 3. To have a second opinion
 - 4. A change in one's opinion

Question ID : 2390873020
Status : Not Answered
Chosen Option : --

Q.22 Identify the segment in the sentence which contains the grammatical error.

He sat in his stool and shut his eyes to recollect what work he had for the day.

- Ans
- 1. he had for the day
 - 2. to recollect what work
 - 3. He sat in his stool
 - 4. and shut his eyes

Question ID : 2390873003
Status : Answered
Chosen Option : 2

Q.23 Select the most appropriate option to fill in the blank and make a grammatically correct sentence.

I was annoyed because the decision _____ without my knowledge.

- Ans
- 1. were made
 - 2. was made
 - 3. was make
 - 4. had made

Question ID : 2390873015
Status : Answered
Chosen Option : 4

Q.24 Select the correctly spelt word.

- Ans
- 1. Occassion
 - 2. Ommision
 - 3. Occurrence
 - 4. Occupasion

Question ID : 2390873024
Status : Answered
Chosen Option : 3

Q.25 Select the most appropriate word to fill in the blank and make a meaningful sentence.

He was physically strong and became a _____ climber of high rocky cliffs.

- Ans
- 1. timid
 - 2. fearful
 - 3. unwilling
 - 4. daring

Question ID : 2390873027
Status : Answered

Section : General Intelligence & Reasoning

Q.1 यदि HE = 41, COMA = 76 है,
तो HERE बराबर होगा:

- Ans
- 1. 58
 - 2. 72
 - 3. 56
 - 4. 62

Question ID : 2390873111

Status : Answered

Chosen Option : 2

Q.2 Select the option that is
related to the Fourth term
in the same way as the first
term is related to the
second term.

Pinna : Ears :: ? : Eyes

- Ans
- 1. Cornea
 - 2. Anvil
 - 3. Vision
 - 4. Corns

Question ID : 2390873105

Status : Answered

Chosen Option : 1

Q.3 गणितीय चिह्नों का कौन-सा क्रम
नीचे दिए गए समीकरण में * के
स्थान पर आ सकता है:

8 * 5 * 9 * 31

- Ans 1. x, -, =
 2. =, x, -
 3. -, =, x
 4. -, x, =

Question ID : 2390873122
Status : Answered
Chosen Option : 1

Q.4 उस सही विकल्प का चयन करें जो श्रृंखला को पूरा करेगा।

15, 31, ?, 127, 255

- Ans 1. 47
 2. 63
 3. 89
 4. 51

Question ID : 2390873118
Status : Answered
Chosen Option : 2

- Q.5 (i) पांच लड़के A, B, C, D, E एक पार्क में एक घेरे में बैठे हैं।
(ii) A दक्षिण-पश्चिम दिशा की ओर मुख करके बैठा है और D दक्षिण-पूर्व दिशा की ओर मुख करके बैठा है।
(iii) B और E क्रमशः A और D के ठीक सामने बैठे हैं।

(iv) C, D और B के बीच समान दूरी पर बैठा है।

C का मुख किस दिशा की ओर है?

- Ans
- 1. उत्तर
 - 2. पश्चिम
 - 3. दक्षिण
 - 4. पूर्व

Question ID : 2390873112

Status : Answered

Chosen Option : 4

Q.6 उस सही विकल्प का चयन करें जो श्रृंखला को पूरा करेगा।

900, 450, 90, 45, 9, ?

- Ans
- 1. 6
 - 2. 2.5
 - 3. 4.5
 - 4. 3

Question ID : 2390873117

Status : Answered

Chosen Option : 3

Q.7 किसी कूट भाषा में, 'CERTAIN' को 'XVIGZRM' के रूप में लिखा जाता है। उसी कूट भाषा में 'ACQUIRE' को किस रूप में लिखा जाएगा?

- Ans
- 1. ZXJFRVI

2. ZXJRFIV

3. ZXJFRIV

4. ZXJFIRV

Question ID : 2390873109

Status : Answered

Chosen Option : 3

Q.8 किसी कूट भाषा में, 'FAIL' को 'IFLA' लिखा जाता है और 'SOUL' को 'USLO' लिखा जाता है। उसी कूट भाषा में DUST को कैसे लिखा जाएगा?

Ans 1. STDU

2. STUD

3. SDUT

4. SDTU

Question ID : 2390873108

Status : Answered

Chosen Option : 4

Q.9 नीचे दिए विकल्पों में से उस अक्षर समूह को चुनिए जो निम्नलिखित श्रृंखला में प्रश्न चिह्न (?) के स्थान पर आएगा।

ACZ, EGV, HJS, JLQ, ?

Ans 1. KNO

2. LNO

3. LMO

4. KMP

Question ID : 2390873104

Status : Answered

Chosen Option : 4

नीचे दिए गए कथन और निष्कर्षों को ध्यान से पढ़ें और निर्णय लें कि कथन में से कौन-से निष्कर्ष तार्किक रूप से अनुसरण करते हैं।

कथन:

बहुत बड़ी संख्या में छात्र कक्षा में पढ़ने के बजाय बारिश में नाचना पसंद करते हैं।

निष्कर्ष:

I: बारिश छात्रों को स्वस्थ रखती है।

II: नृत्य करना एक अच्छा व्यायाम है।

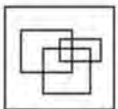
- Ans
- 1. केवल निष्कर्ष I अनुसरण करता है
 - 2. न तो निष्कर्ष I न ही निष्कर्ष II अनुसरण करता है
 - 3. केवल निष्कर्ष II अनुसरण करता है
 - 4. दोनों निष्कर्ष I और II अनुसरण करते हैं

Question ID : 2390873116

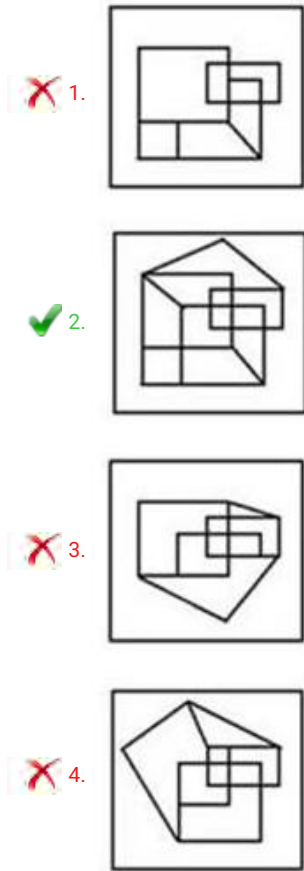
Status : Answered

Chosen Option : 2

Q.11 उस विकल्प का चयन कीजिए जिसमें नीचे दी गई आकृति सन्नहित है। (आकृति को घुमाने की अनुमति नहीं है)



Ans



Question ID : 2390873125
Status : Answered
Chosen Option : 2

Q.12 'Eraser' is related to the 'Stationery' in the same way as 'Saucer' is related to _____.

- Ans
- 1. Football
 - 2. Table
 - 3. Tea
 - 4. Crockery

Question ID : 2390873106
Status : Answered
Chosen Option : 4

Q.13 सात बच्चे M, N, O, P, Q, R और S एक पंक्ति में उत्तर दिशा की ओर मुख करके खड़े हैं।

S, P के बिल्कुल दायें और N के बिल्कुल बायें खड़ा है। M, O के बिल्कुल दायें खड़ा है। M और P ने अपने बीच में एक बच्चे को खड़ा किया है। Q और N ने अपने बीच में दो बच्चों को खड़ा किया है। P और R ने भी अपने बीच में दो बच्चों को खड़ा किया है।

पंक्ति के बिल्कुल मध्य में कौन खड़ा है?

- Ans
- 1. M
 - 2. P
 - 3. O
 - 4. S

Question ID : 2390873113

Status : Answered

Chosen Option : 2

Q.14 उस विकल्प का चयन करें जो तीसरे पद से उसी तरह से सम्बंधित है जिस प्रकार दूसरा पद पहले पद से सम्बंधित है।

AJET : CHGR :: GKQN : ?

- Ans
- 1. IILS
 - 2. IISL
 - 3. SIIL

4. ISIL

Question ID : 2390873107

Status : Answered

Chosen Option : 2

Q.15 किसी कूट भाषा में, 'BREAK' को '23615455' के रूप में लिखा जाता है। उसी कूट भाषा में 'XEROX' को किस रूप में लिखा जाता है?

Ans 1. 24105460120

2. 2410546024

3. 2410546012

4. 24154610

Question ID : 2390873110

Status : Answered

Chosen Option : 1

Q.16 निम्न प्रश्न में, सही समीकरण प्राप्त करने के लिए किन दो चिह्नों को परस्पर बदला जाएगा?

$$119 - 21 \div 7 + 117 \times 3 = 11$$

Ans 1. ÷ और ×

2. ÷ और +

3. - और ×

4. - और +

Question ID : 2390873121

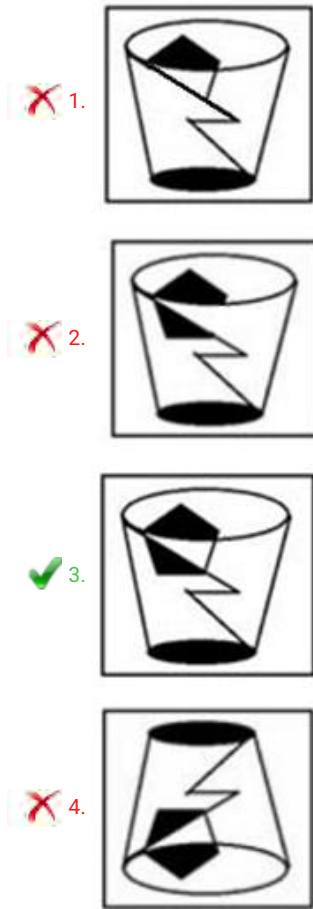
Status : Answered

Chosen Option : 1

Q.17 उस विकल्प का चयन करें जो नीचे दी गई आकृति की दर्पण छवि से बहुत ज्यादा मिलता-जुलता है जब दर्पण को नीचे दर्शाई गई छवि के अनुसार रखा जाता है।



Ans



Question ID : 2390873126

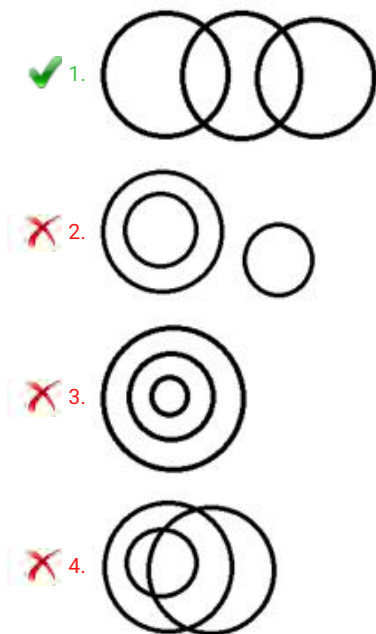
Status : Answered

Chosen Option : 3

Q.18 उस वेन आरेख का चयन करें जो नीचे दिए गए वर्गों के समूह को सर्वोत्तम ढंग से दर्शाता है?

चांदी, सोना, आभूषण

Ans



Question ID : 2390873128

Status : Answered

Chosen Option : 1

Q.19

A, B, C, D और E में प्रत्येक अलग-अलग वजन के हैं, D, A और E से अधिक वजन का है, जबकि B, C जोकि E से कम वजन का है, से कम वजन का है। उनमें से सबसे अधिक वजन किसका है?

- Ans
- 1. A
 - 2. D
 - 3. C
 - 4. B

Question ID : 2390873114
Status : Answered
Chosen Option : 3

Q.20 यदि P का अर्थ '+' है, Q का अर्थ 'x' है, R का अर्थ '÷' है और S का अर्थ '-' है, तो नीचे दिए गए समीकरण का मान क्या है?

$$100 S 12 P 72 R 6 Q 5 = ?$$

- Ans
- 1. 140
 - 2. 134
 - 3. 105
 - 4. 104

Question ID : 2390873120
Status : Answered
Chosen Option : 4

Q.21 नीचे दिए गए कथनों के बाद दो निष्कर्ष I और II दिए गए हैं। यह मानते हुए कि कथनों में दी गई जानकारी सत्य हैं भले ही वह सर्वज्ञात तथ्यों से भिन्न प्रतीत होते हो, यह निर्णय करें कि कौन सा/

से निष्कर्ष तार्किक रूप से और निश्चित रूप से कथनों में दी गयी जानकारी का अनुसरण करता है/ करते हैं।

कथन:

- I. सभी माँद, मुर्गियाँ हैं।
- II. सभी पेन, मुर्गियाँ हैं।
- III. सभी येन, मुर्गियाँ हैं।

निष्कर्ष:

- I. कुछ पेन, माँद हैं।
- II. कुछ येन, माँद हैं।

- Ans
- 1. या तो निष्कर्ष I या II अनुसरण करता है।
 - 2. केवल निष्कर्ष II अनुसरण करता है।
 - 3. केवल निष्कर्ष I अनुसरण करता है।
 - 4. न तो निष्कर्ष I और न ही निष्कर्ष II अनुसरण करता है।

Question ID : 2390873115

Status : Answered

Chosen Option : 4

Q.22

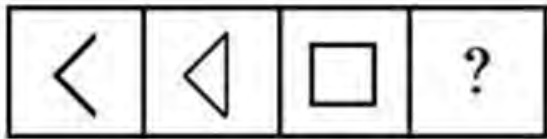
उस विकल्प का चयन करें जो तीसरे पद से उसी तरह से सम्बंधित है जिस प्रकार दूसरा पद पहले पद से सम्बंधित है।

4 : 60 :: 5 : ?

- Ans
- 1. 110
 - 2. 116
 - 3. 115
 - 4. 120

Question ID : 2390873119
Status : Answered
Chosen Option : 4

Q.23 उस आकृति का चयन करें जो निम्नलिखित श्रृंखला में आगे आएगी।

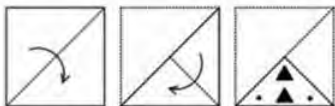


Ans

- 1.
- 2.
- 3.
- 4.

Question ID : 2390873123
Status : Answered
Chosen Option : 3


Q.24 एक पैटर्न के साथ एक वर्गाकार पारदर्शी शीट दी गई है। बिंदुदार रेखा पर पारदर्शी शीट को मोड़ने पर और दिए गए अनुसार छिद्रित करने पर पैटर्न कैसा दिखाई देगा?




Ans

- 1.


✓ 2.



✗ 3.



✗ 4.



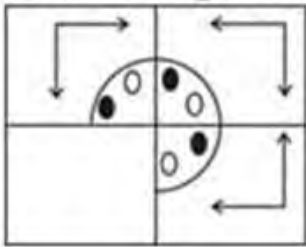
Question ID : 2390873127

Status : Answered

Chosen Option : 2

Q.25 कौन-सी उत्तर आकृति, प्रश्न आकृति में पैटर्न को पूरा करेगी?

Question Figure:

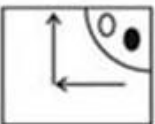


Ans

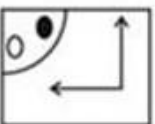
✓ 1.



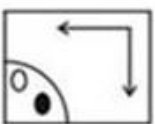
✗ 2.



✗ 3.



✗ 4.



Question ID : 2390873124

Status : Answered

Chosen Option : 1

Section : Numerical Aptitude

Q.1 1440 के 30% के 12.5% का मान कितना है?

- Ans
- 1. 64
 - 2. 44
 - 3. 50
 - 4. 54

Question ID : 2390872705

Status : Answered

Chosen Option : 4

Q.2 A किसी कार्य को अकेला 10 दिन में कर सकता है। B उसी कार्य को अकेला 15 दिन में कर सकता है। वे एक साथ मिलकर कार्य शुरू करते हैं परंतु B कार्य आरंभ होने के 2 दिन बाद कार्य छोड़ देता है तथा A शेष कार्य को अकेला पूरा करता है। कार्य को पूरा होने में कुल कितने दिन लगेंगे?

- Ans
- 1. $\frac{17}{3}$
 - 2. $\frac{31}{3}$
 - 3. $\frac{26}{3}$
 - 4. $\frac{13}{3}$

Question ID : 2390872713

Status : Answered

Chosen Option : 3

Q.3 A तथा B के लागत मूल्यों का योग ₹1200 है। A तथा B के विक्रय मूल्यों का योग ₹1390 है। यदि A तथा B पर क्रमशः 10% तथा 20% लाभ कमाया जाता है, तो A तथा B के लागत मूल्यों का अनुपात कितना है?

- Ans
- 1. 5 : 7
 - 2. 5 : 9
 - 3. 7 : 13
 - 4. 6 : 11

Question ID : 2390872706

Status : Answered

Chosen Option : 1

Q.4 A ने किसी वस्तु को ₹1400 में खरीदा। उसने उसे B को 25% लाभ पर बेच दिया। B ने उसे C को 20% लाभ पर बेच दिया। C ने उसे D को 15% हानि पर बेच दिया। D का क्रय मूल्य कितना है?

- Ans
- 1. ₹1785
 - 2. ₹2025
 - 3. ₹1900
 - 4. ₹1665

Question ID : 2390872707

Status : Answered

Chosen Option : 1

Q.5 निम्नलिखित आँकड़ों के माध्य तथा माध्यिका के बीच कितना अंतर है:

5, 7, 8, 13, 12, 14, 9, 2, 26, 10 ?

Ans

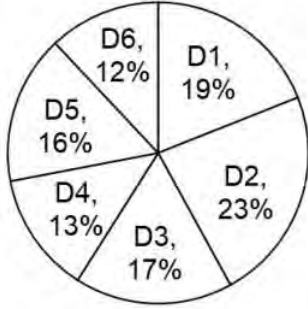
- 1. 0.4
- 2. 1.8
- 3. 2.3
- 4. 1.1

Question ID : 2390872704

Status : Answered

Chosen Option : 4

Q.6 नीचे दिया गया वृत्त आरेख किसी कंपनी के विभिन्न विभागों द्वारा किये खर्चों को दर्शाता है। प्रत्येक खर्च को कंपनी के कुल व्यय के प्रतिशत के रूप में दर्शाया गया है। वृत्त आरेख में दर्शाए गए केंद्रीय कोण किसी चयनित पैमाने के अनुसार नहीं हैं।



विभाग D1 द्वारा किया गया खर्चा, विभाग D6 द्वारा किये गए खर्च का लगभग कितना प्रतिशत है?

- Ans
- 1. 148.33%
 - 2. 168.33%
 - 3. 138.33%
 - 4. 158.33%

Question ID : 2390872722

Status : Answered

Chosen Option : 4

Q.7 आदित्य किसी कार्य को अकेला 24 दिन में पूरा कर सकता है। रमन उसी कार्य को अकेला 45 दिन में पूरा कर सकता है। वे दोनों मिलकर कार्य को कितने दिन में पूरा कर सकते हैं?

- Ans
- 1. $\frac{720}{13}$
 - 2. $\frac{1080}{43}$
 - 3. $\frac{360}{23}$
 - 4. $\frac{960}{33}$

Question ID : 2390872714

Status : Answered

Chosen Option : 3

Q.8 एक कार की गति 20 m/s है। कार 2.5 घंटे में कितनी दूरी (km में) तय करेगी?

- Ans
- 1. 108
 - 2. 180
 - 3. 144
 - 4. 72

Question ID : 2390872716

Status : Answered

Chosen Option : 2

Q.9 35 cm, 84 cm तथा 91 cm भुजाओं वाले किसी त्रिभुज का क्षेत्रफल कितना है?

- Ans
- 1. 2160 cm²
 - 2. 1530 cm²
 - 3. 1470 cm²
 - 4. 1880 cm²

Question ID : 2390872718

Status : Answered

Chosen Option : 3

Q.10 किसी राशि को राम तथा रहीम के बीच 3 : 2 के अनुपात में बाँटा जाता है। यदि राम का हिस्सा ₹36000 है, तो कुल राशि कितनी है?

- Ans
- 1. ₹60000
 - 2. ₹40000
 - 3. ₹90000
 - 4. ₹72000

Question ID : 2390872708

Status : Answered

Chosen Option : 1

Q.11 13 विद्यार्थियों तथा उनके अध्यापक का औसत वजन 24.5 kg है। यदि अध्यापक का वजन 31 kg है, तो 13 विद्यार्थियों का औसत वजन कितना है?

- Ans
- 1. 23.5 kg
 - 2. 23 kg
 - 3. 24 kg
 - 4. 25 kg

Question ID : 2390872701

Status : Answered

Chosen Option : 3

Q.12 चक्रवृद्धि ब्याज पर निवेशित ₹3600, 2 वर्ष में ₹4900 हो जाता है (ब्याज वार्षिक रूप से संयोजित)। प्रतिवर्ष ब्याज दर कितनी है?

- Ans
- 1. $18\frac{1}{3}\%$
 - 2. $17\frac{1}{3}\%$
 - 3. $15\frac{2}{3}\%$
 - 4. $16\frac{2}{3}\%$

Question ID : 2390872712

Status : Answered

Chosen Option : 4

Q.13

एक वस्तु का अंकित मूल्य उसके क्रय मूल्य का $\frac{7}{5}$ है। यदि अंकित मूल्य पर 20% की छूट दी जाती है, तो लाभ प्रतिशत कितना है?

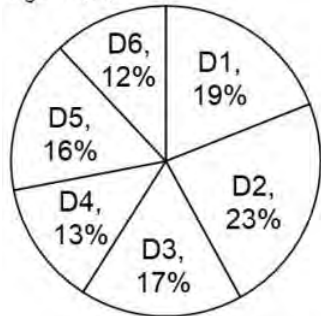
- Ans
- 1. 22%
 - 2. 12%
 - 3. 18%
 - 4. 15%

Question ID : 2390872703

Status : Answered

Chosen Option : 2

Q.14 नीचे दिया गया वृत्त आरेख किसी कंपनी के विभिन्न विभागों द्वारा किये खर्चों को दर्शाता है। प्रत्येक खर्च को कंपनी के कुल व्यय के प्रतिशत के रूप में दर्शाया गया है। वृत्त आरेख में दर्शाए गए केंद्रीय कोण किसी चयनित पैमाने के अनुसार नहीं हैं।



यदि कंपनी के कुल खर्च ₹20 लाख हैं, तो D2, D4 तथा D5 विभागों पर किया गया कुल खर्चा कितना है?

- Ans
- 1. ₹12,60,000
 - 2. ₹9,00,000
 - 3. ₹10,60,000
 - 4. ₹10,40,000

Question ID : 2390872721

Status : Answered

Chosen Option : 4

Q.15 यदि किसी घन का पार्श्व (lateral) पृष्ठ क्षेत्रफल 144 cm^2 है, तो उसकी भुजा की लंबाई कितनी है?

- Ans
- 1. 4 cm
 - 2. 8 cm
 - 3. 5 cm
 - 4. 6 cm

Question ID : 2390872717

Status : Answered

Chosen Option : 4

Q.16 एक नाव 7 घंटे में 10 km. ऊर्ध्वप्रवाह (अपस्ट्रीम) तथा 20 km. अनुप्रवाह (डाउनस्ट्रीम) चल सकती है। वह 11 घंटे में 20 km. ऊर्ध्वप्रवाह (अपस्ट्रीम) तथा 10 km. अनुप्रवाह (डाउनस्ट्रीम) चल सकती है। स्थिर जल में नाव की गति कितनी है?

- Ans
- 1. 2 km/h
 - 2. 8 km/h
 - 3. 6 km/h
 - 4. 4 km/h

Question ID : 2390872715

Status : Answered
Chosen Option : 3

Q.17 यदि $u + v = 84$ तथा $u - v = 4$ है, तो $u : v$ किसके बराबर है?

- Ans
- 1. 11 : 10
 - 2. 10 : 11
 - 3. 10 : 9
 - 4. 9 : 10

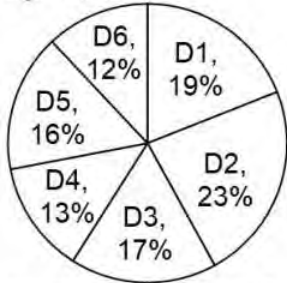
Question ID : 2390872709
Status : Answered
Chosen Option : 1

Q.18 किसी लंब वृत्तीय शंकु की ऊँचाई तथा त्रिज्या क्रमशः 4 cm तथा 3 cm है। शंकु का कुल पृष्ठ क्षेत्रफल कितना है?

- Ans
- 1. $12 \pi \text{cm}^2$
 - 2. $24 \pi \text{cm}^2$
 - 3. $7 \pi \text{cm}^2$
 - 4. $16 \pi \text{cm}^2$

Question ID : 2390872719
Status : Answered
Chosen Option : 2

Q.19 नीचे दिया गया वृत्त आरेख किसी कंपनी के विभिन्न विभागों द्वारा किये खर्चों को दर्शाता है। प्रत्येक खर्च को कंपनी के कुल व्यय के प्रतिशत के रूप में दर्शाया गया है। वृत्त आरेख में दर्शाए गए केंद्रीय कोण किसी चयनित पैमाने के अनुसार नहीं हैं।



वृत्तखण्ड D2 तथा D3 द्वारा बनाये गए केंद्रीय कोणों के बीच क्या अंतर (0.1 डिग्री के लगभग) है?

- Ans
- 1. 15.3°
 - 2. 24.2°
 - 3. 18.6°
 - 4. 21.6°

Question ID : 2390872720
Status : Answered
Chosen Option : 4

Q.20 a तथा b का औसत 10 है, b तथा c का औसत 12 है और c तथा a का औसत 15 है। a, b और c का औसत कितना है?

- Ans
- 1. $\frac{37}{3}$
 - 2. $\frac{74}{3}$
 - 3. 74
 - 4. 37

Question ID : 2390872702

Status : Answered

Chosen Option : 1

Q.21 $\frac{(1-\frac{3}{4})+\frac{1}{2} \text{ of } \frac{6}{10}}{\frac{2}{3} \div \frac{4}{10} + (1-\frac{1}{5}) \text{ of } \frac{25}{16}}$ का मान कितना है?

- Ans
- 1. $\frac{33}{175}$
 - 2. $\frac{49}{115}$
 - 3. $\frac{29}{175}$
 - 4. $\frac{47}{115}$

Question ID : 2390872700

Status : Answered

Chosen Option : 1

Q.22 $3 \div 3 \text{ of } 3 + 2 \div 4 + (4 \times 2 - 2) \div 12 + 4$ का मान कितना है?

- Ans
- 1. $\frac{12}{5}$
 - 2. $\frac{16}{3}$
 - 3. $\frac{14}{3}$
 - 4. $\frac{17}{6}$

Question ID : 2390872699

Status : Answered

Chosen Option : 2

Q.23 किसी राशि को साधारण ब्याज पर निवेशित किया जाता है। यदि ब्याज दर 20% प्रतिवर्ष है, तो कितने समय में राशि दुगुनी हो जाएगी?

- Ans
- 1. 10 वर्ष
 - 2. 8 वर्ष
 - 3. 4 वर्ष
 - 4. 5 वर्ष

Question ID : 2390872711

Status : Answered

Chosen Option : 4

Q.24 20, 250 तथा 120 का महत्तम समापवर्तक (एच सी एफ) कितना है?

- Ans
- 1. 15
 - 2. 10
 - 3. 25
 - 4. 20

Question ID : 2390872698

Status : Answered

Chosen Option : 2

Q.25 दी गई दो संख्याओं का अनुपात 9 : 7 है। यदि प्रत्येक संख्या में 6 जोड़कर उसे बढ़ा दिया जाए तो अनुपात 21 : 17 हो जाता है। दी गई दो संख्याओं के बीच क्या अंतर है?

- Ans
- 1. 4
 - 2. 16
 - 3. 8
 - 4. 12

Question ID : 2390872710

Status : Answered

Chosen Option : 3

Section : General awareness

Q.1 आत्मसम्मान आंदोलन की शुरुआत किसने की?

- Ans
- 1. ई. वी. रामास्वामी नायकर
 - 2. ज्योतिबा फुले
 - 3. डॉ. बी.आर. अम्बेडकर
 - 4. महात्मा गांधी

Question ID : 2390872872

Status : Answered

Chosen Option : 1

Q.2 मार्च 2019 में बंगलौर की आईटी कम्पनी, माइंडट्री को किस कंपनी ने खरीदने का प्रयास किया था?

- Ans
- 1. इन्फोसिस
 - 2. जेनपैक्ट
 - 3. लार्सन एंड टूब्रो
 - 4. विप्रो

Question ID : 2390872857

Status : Not Answered

Chosen Option : --

Q.3 किस धर्म के भिक्षुओं के लिए चैत्य और विहारों का निर्माण

किया गया था?

- Ans
- 1. यहूदी धर्म
 - 2. ईसाई धर्म
 - 3. बौद्ध धर्म
 - 4. हिन्दू धर्म

Question ID : 2390872850
Status : Answered
Chosen Option : 3

Q.4 निम्नलिखित में से कौन-सा विषय समवर्ती सूची में शामिल नहीं है?

- Ans
- 1. रक्षा
 - 2. शिक्षा
 - 3. वन
 - 4. व्यापार

Question ID : 2390872860
Status : Answered
Chosen Option : 1

Q.5 "मिसाइल मैन ऑफ इंडिया" के रूप में किसे जाना जाता है?

- Ans
- 1. डॉ. ए.पी.जे. अब्दुल कलाम
 - 2. डॉ. राजेंद्र प्रसाद
 - 3. डॉ. एस. राधाकृष्णन
 - 4. होमी भाभा

Question ID : 2390872855
Status : Answered
Chosen Option : 1

Q.6 जिन पौधों के पृथक बनावट रूप नहीं होते, उन्हें _____ कहा जाता है।

- Ans
- 1. अनावृतबीजी (जिमिनोस्पर्म)
 - 2. ब्रायोफाइट
 - 3. थैलोफाइट

 4. कवक





Question ID : 2390872865
Status : Not Answered
Chosen Option : --

Q.7 'छत्रक शिला' किस प्रकार के प्राकृतिक भूगोल-संबंधी क्षेत्र में पाई जाती हैं?

- Ans  1. मरुस्थल
 2. पहाड़
 3. तटीय मैदान
 4. पठार

Question ID : 2390872868
Status : Not Answered
Chosen Option : --

Q.8 भारतीय रिज़र्व बैंक वाणिज्यिक बैंकों को किस दर पर ऋण देता है?

- Ans  1. रेपो दर (Repo rate)
 2. प्रतिवर्ती रेपो दर (Reverse Repo rate)
 3. दंड दर (Penal rate)
 4. बैंक दर (Bank rate)

Question ID : 2390872858
Status : Answered
Chosen Option : 1

Q.9 भारत के किस शहर में भगवान ब्रह्मा का एकमात्र मंदिर स्थित है?

- Ans  1. जयपुर
 2. दिल्ली
 3. उदयपुर
 4. पुष्कर

Question ID : 2390872848
Status : Not Answered
Chosen Option : --

Q.10 प्रो कबड्डी लीग 2018 किसने जीती?

- Ans
- 1. पटना पाइरेट्स
 - 2. हरियाणा स्टीलर्स
 - 3. बेंगलुरु बुल्स
 - 4. दबंग दिल्ली केसी

Question ID : 2390872851
Status : Answered
Chosen Option : 3

Q.11 1757 का विख्यात प्लासी का युद्ध वर्तमान भारत के किस क्षेत्र में लड़ी गयी थी?

- Ans
- 1. राजस्थान
 - 2. पंजाब
 - 3. लद्दाख
 - 4. पश्चिम बंगाल

Question ID : 2390872870
Status : Answered
Chosen Option : 4

Q.12 किस कोशिकान्गक के स्वयं के डीएनए व राइबोसोम होते हैं?

- Ans
- 1. अवर्णी लवक (ल्यूकोप्लास्ट)
 - 2. वर्ण लवक (क्रोमोप्लास्ट)
 - 3. कोशिका धानी (वकुओलेस)
 - 4. सूत्रकणिका (माइटोकॉन्ड्रिया)

Question ID : 2390872864
Status : Answered
Chosen Option : 4

Q.13 निम्नलिखित में से कौन-सी पहाड़ियाँ भारतीय प्रायद्वीपीय पठार में नहीं पाई जाती है?

- Ans
- 1. जावडी पहाड़ियाँ

- 2. लुशाई पहाड़ियाँ
- 3. वेलिकोंदा पहाड़ियाँ
- 4. नल्लामाला पहाड़ियाँ

Question ID : 2390872867
Status : Not Answered
Chosen Option : --

Q.14 किस वाइसराय के शासनकाल के दौरान में 'दांडी यात्रा' हुई थी?

- Ans
- 1. लॉर्ड बेंटिक
 - 2. लॉर्ड चेम्सफोर्ड
 - 3. लॉर्ड इरविन
 - 4. लॉर्ड मेटकाफ़

Question ID : 2390872871
Status : Answered
Chosen Option : 2

Q.15 पेमेंट (भुगतान) बैंक के बारे में निम्नलिखित में से कौन-सा विकल्प सही नहीं है?

- Ans
- 1. प्राथमिकता क्षेत्र ऋण देना अनिवार्य नहीं है
 - 2. सीआरआर / एसएलआर आवश्यकताओं को पूरा किया जाना चाहिए
 - 3. क्रेडिट कार्ड जारी किए जा सकते हैं
 - 4. कोई एनआरआई जमा नहीं

Question ID : 2390872856
Status : Not Answered
Chosen Option : --

Q.16 प्रकाश संश्लेषण प्रक्रिया _____ की उपस्थिति में होती है।

- Ans
- 1. सल्फर
 - 2. क्लोरोफिल और सूर्य का प्रकाश
 - 3. नाइट्रोजन
 - 4. कैडमियम

Question ID : 2390872862
Status : Answered
Chosen Option : 2

Q.17 किस खेल से 'वज़ीर', 'घोडा', 'राजा' और 'रानी' शब्द संबंधित हैं?

- Ans
- 1. बैडमिंटन
 - 2. बिलियर्ड्स
 - 3. शतरंज
 - 4. टेनिस

Question ID : 2390872852

Status : Answered

Chosen Option : 3

Q.18 जब किसी वस्तु की गति ध्वनि की गति से अधिक हो जाती है, तो उसे कहा जाता है कि वह _____ से चल रही है।

- Ans
- 1. ध्वनिक गति
 - 2. पराध्वनिक गति
 - 3. अवध्वनिक गति
 - 4. 1 मैक की गति

Question ID : 2390872863

Status : Answered

Chosen Option : 2

Q.19 आगरा का किला किस मुगल सम्राट ने बनवाया था?

- Ans
- 1. जहांगीर
 - 2. शाहजहाँ
 - 3. अकबर
 - 4. औरंगजेब

Question ID : 2390872849

Status : Answered

Chosen Option : 2

Q.20 किस सरीसृप के चार हृदयी कक्ष

होते है?

- Ans
- 1. कछुआ
 - 2. किंग कोबरा
 - 3. गिरगिट
 - 4. मगरमच्छ

Question ID : 2390872866
Status : Answered
Chosen Option : 4

Q.21 निम्नलिखित में से कौन-सा शहर गंगा नदी के तट पर स्थित नहीं है?

- Ans
- 1. वाराणसी
 - 2. इलाहाबाद
 - 3. कानपुर
 - 4. जयपुर

Question ID : 2390872869
Status : Not Answered
Chosen Option : --

Q.22 ऑस्कर पुरस्कार 2019 में सर्वश्रेष्ठ निर्देशक का पुरस्कार किस निर्देशक ने जीता था?

- Ans
- 1. एडम मैके
 - 2. स्पाइक ली
 - 3. योर्गोस लैंथिमोस
 - 4. अल्फांसो क्वारोन

Question ID : 2390872853
Status : Answered
Chosen Option : 4

Q.23 निम्नलिखित में से कौन-सी पुस्तक जवाहरलाल नेहरू द्वारा नहीं लिखी गई है?

- Ans
- 1. एन ऑटोबायोग्राफी

- 2. द ब्लोकन विंग
- 3. ए बंच ऑफ़ ओल्ड लेटर्स
- 4. द डिस्कवरी ऑफ़ इंडिया

Question ID : 2390872854
Status : Not Answered
Chosen Option : --

Q.24 प्रत्येक संसदीय बैठक का पहला घंटा _____ के लिए होता है।

- Ans
- 1. व्यवस्था का प्रश्न
 - 2. धन विधेयक पर चर्चा
 - 3. प्रश्नकाल
 - 4. शून्य काल

Question ID : 2390872859
Status : Answered
Chosen Option : 3

Q.25 भारतीय संविधान के किस अनुच्छेद के तहत, किसी राज्य में राष्ट्रपति शासन लागू किया जाता है?

- Ans
- 1. अनुच्छेद 368
 - 2. अनुच्छेद 356
 - 3. अनुच्छेद 350
 - 4. अनुच्छेद 325

Question ID : 2390872861
Status : Answered
Chosen Option : 2

Multi Tasking (Non-Technical) Staff Examination 2019

Roll No.	
Registration No.	
Name	
Test Venue	
Test Time	9:00 AM - 10:30 AM
Test Date	20/08/2019

Section : General English

Q.1 Identify the segment in the sentence which contains the grammatical error.

Zainab was played with / her friends in the park / when she noticed Disha / walking away with a stranger.

- Ans 1. Zainab was played with
 2. walking away with a stranger
 3. when she noticed Disha
 4. her friends in the park

Question ID : 2390873736
Status : Not Answered
Chosen Option : --

Q.2 Select the most appropriate option to substitute the underlined segment. If there is no need to substitute it, select No improvement.

I will not be able to leave for home until my boss arrived in the office.

- Ans 1. until my boss arrives at the office
 2. No improvement
 3. until my boss has arrive to the office
 4. until my boss is arrived in the office

Question ID : 2390873737
Status : Answered
Chosen Option : 2

Q.3 Select the most appropriate option to fill in the blank and make a grammatically correct sentence.

_____ he plays well he has not been selected in the team.

- Ans 1. Though
 2. Because
 3. Since
 4. Unless

Question ID : 2390873740
Status : Answered
Chosen Option : 1

Q.4 Select the correctly spelt word.

Ans

1. Feudal

2. Feudel

3. Fuedal

4. Fudal

Question ID : 2390873756

Status : Answered

Chosen Option : 3

Q.5 Select the most appropriate antonym of the given word.

DEFICIT

Ans 1. Scarcity

2. Manifold

3. Abundance

4. Shortage

Question ID : 2390873751

Status : Answered

Chosen Option : 1

Q.6 Select the most appropriate synonym of the given word.

HUMDRUM

Ans 1. Synchronic

2. Musical

3. Monotonous

4. Noisy

Question ID : 2390873748

Status : Not Answered

Chosen Option : --

Q.7 Select the most appropriate word to fill in the blank and make a meaningful sentence.

The CEO went against the advisory committee's _____.

Ans 1. Introduction

2. Information

3. Recommendation

4. Response

Question ID : 2390873758

Status : Answered

Chosen Option : 3


Q.8 Identify the segment in the sentence which contains the grammatical error.

She was the best singer / on the country / who had sung / more than 5,000 songs.

Ans 1. who had sung

2. on the country

3. She was the best singer

 4. more than 5,000 songs

Question ID : 2390873734
Status : Answered
Chosen Option : 2





Q.9 Select the most appropriate option to substitute the underlined segment. If there is no need to substitute it, select No improvement.

The students stood up no sooner the Principal entered the class.

- Ans
-  1. no soon
 -  2. as soon as
 -  3. No improvement
 -  4. soon

Question ID : 2390873738
Status : Answered
Chosen Option : 2





Q.10 Select the correctly spelt word.

- Ans
-  1. Exhoustive
 -  2. Exaustive
 -  3. Exhostive
 -  4. Exhaustive

Question ID : 2390873757
Status : Answered
Chosen Option : 4

Q.11 Select the most appropriate meaning of the given idiom.




A bull in a China shop

- Ans
-  1. An extremely awkward, clumsy person
 -  2. A very disciplined and systematic person
 -  3. A brave person in a group of cowards
 -  4. To be a rude and aggressive person

Question ID : 2390873752
Status : Answered
Chosen Option : 4

Q.12 Select the most appropriate meaning of the given idiom.

Hang up your boots

- Ans
-  1. To be rejected
 -  2. To take retirement
 -  3. To dry your shoes
 -  4. To hang upside down

Question ID : 2390873753
Status : Answered
Chosen Option : 2

Comprehension:

In the following passage some words have been deleted. Fill in the blanks with the help of the alternatives given. Select the most appropriate option for each blank.

The students (1)_____ listening to their teacher. He (2)_____ a line on the black-board and asked the students, "How can you make this line smaller?". (3)_____ of the students thought it was a very simple (4)_____. They said, "We can erase a part of the line and (5)_____ it smaller."

SubQuestion No : 13

Q.13 Select the most appropriate option to fill in blank No.1.

- Ans
- 1. was
 - 2. were
 - 3. is
 - 4. are

Question ID : 2390873743

Status : Answered

Chosen Option : 2

Comprehension:

In the following passage some words have been deleted. Fill in the blanks with the help of the alternatives given. Select the most appropriate option for each blank.

The students (1)_____ listening to their teacher. He (2)_____ a line on the black-board and asked the students, "How can you make this line smaller?". (3)_____ of the students thought it was a very simple (4)_____. They said, "We can erase a part of the line and (5)_____ it smaller."

SubQuestion No : 14

Q.14 Select the most appropriate option to fill in blank No.2.

- Ans
- 1. drew
 - 2. put
 - 3. started
 - 4. painted

Question ID : 2390873744

Status : Answered

Chosen Option : 1

Comprehension:

In the following passage some words have been deleted. Fill in the blanks with the help of the alternatives given. Select the most appropriate option for each blank.

The students (1)_____ listening to their teacher. He (2)_____ a line on the black-board and asked the students, "How can you make this line smaller?". (3)_____ of the students thought it was a very simple (4)_____. They said, "We can erase a part of the line and (5)_____ it smaller."

SubQuestion No : 15

Q.15 Select the most appropriate option to fill in blank No.3.

- Ans
- 1. Every
 - 2. No
 - 3. Any
 - 4. Most

Question ID : 2390873745

Status : **Answered**
Chosen Option : 4

Comprehension:

In the following passage some words have been deleted. Fill in the blanks with the help of the alternatives given. Select the most appropriate option for each blank.

The students (1)_____ listening to their teacher. He (2)_____ a line on the black-board and asked the students, "How can you make this line smaller?". (3)_____ of the students thought it was a very simple (4)_____. They said, "We can erase a part of the line and (5)_____ it smaller."

SubQuestion No : 16

Q.16 Select the most appropriate option to fill in blank No.4.

- Ans
- 1. line
 - 2. thing
 - 3. drawing
 - 4. object

Question ID : **2390873746**
Status : **Answered**
Chosen Option : 2

Comprehension:

In the following passage some words have been deleted. Fill in the blanks with the help of the alternatives given. Select the most appropriate option for each blank.

The students (1)_____ listening to their teacher. He (2)_____ a line on the black-board and asked the students, "How can you make this line smaller?". (3)_____ of the students thought it was a very simple (4)_____. They said, "We can erase a part of the line and (5)_____ it smaller."

SubQuestion No : 17

Q.17 Select the most appropriate option to fill in blank No.5.

- Ans
- 1. rub
 - 2. reduce
 - 3. make
 - 4. cut

Question ID : **2390873747**
Status : **Answered**
Chosen Option : 3

Q.18 Select the most appropriate word for the given group of words:

A person motivated by irrational enthusiasm

- Ans
- 1. Infidel
 - 2. Fanatic
 - 3. Atheist
 - 4. Polytheist

Question ID : **2390873755**
Status : **Not Answered**
Chosen Option : --

Q.19 Select the most appropriate option to substitute the underlined segment. If there is no need to substitute it, select No improvement.

Patel played every game that was played in the school.

- Ans
- 1. that has been playing
 - 2. that was playing
 - 3. that is being played
 - 4. No improvement

Question ID : 2390873739
Status : Answered
Chosen Option : 3

Q.20 Select the most appropriate option to fill in the blank and make a grammatically correct sentence.

Rachna was angry with her father because he did not take her to the zoo as he _____.

- Ans
- 1. promise
 - 2. promises
 - 3. had promised
 - 4. is promising

Question ID : 2390873741
Status : Answered
Chosen Option : 3

Q.21 Identify the segment in the sentence which contains the grammatical error.

Rashmi and me are / planning to go on / a road trip to Manali / next summer.

- Ans
- 1. Rashmi and me are
 - 2. planning to go on
 - 3. a road trip to Manali
 - 4. next summer

Question ID : 2390873735
Status : Answered
Chosen Option : 4

Q.22 Select the most appropriate synonym of the given word.

OBTAIN

- Ans
- 1. Achieve
 - 2. Suppress
 - 3. Inspire
 - 4. Lessen

Question ID : 2390873749
Status : Answered
Chosen Option : 1

Q.23 Select the most appropriate word for the given group of words:

An introduction to a literary work

- Ans
- 1. Prologue

- 2. Blurb
- 3. Epilogue
- 4. Sequel

Question ID : 2390873754
Status : Not Answered
Chosen Option : --

Q.24 Select the most appropriate antonym of the given word.

AWESOME

- Ans 1. Amazing
- 2. Awful
 - 3. Awkward
 - 4. Absurd

Question ID : 2390873750
Status : Answered
Chosen Option : 2

Q.25 Select the most appropriate word to fill in the blank and make a meaningful sentence.

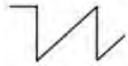
Mahesh is very happy because the value of his shares has ____.

- Ans 1. diminished
- 2. complimented
 - 3. applauded
 - 4. appreciated

Question ID : 2390873759
Status : Answered
Chosen Option : 1

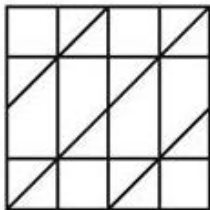
Section : General Intelligence & Reasoning

Q.1 नीचे दिए गए विकल्पों में से उस विकल्प का चयन कीजिए जिसमें नीचे दी गई आकृति सन्निहित है। (आकृति को घुमाने की अनुमति नहीं है)

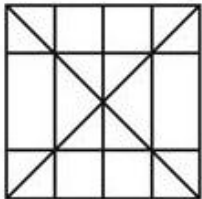


Ans

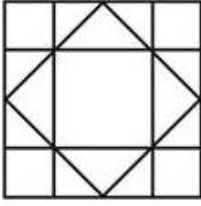
1.



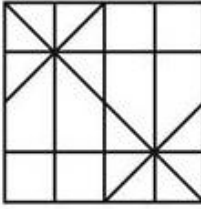
2.



3.



4.



Question ID : 2390873705

Status : Answered

Chosen Option : 1

Q.2 नीचे दिए गए समीकरण को सही बनाने के लिए कौन-से दो चिह्नों को आपस में बदलना होगा?

$$75 \div 5 \times 15 - 3 + 10 = 60$$

Ans 1. -, ÷

2. -, x

3. x, ÷

4. -, +

Question ID : 2390873701

Status : Answered

Chosen Option : 1

Q.3 यदि B = 2 और P = 16, और BAT = 23 है, तो CRICKET = _____

Ans 1. 69

2. 60

3. 63

4. 65

Question ID : 2390873690

Status : Answered

Chosen Option : 1

Q.4 निम्नलिखित संख्या श्रृंखला में दो संख्याओं को कोष्ठक के भीतर रखा गया है। श्रृंखला का ध्यानपूर्वक अध्ययन करें और श्रृंखला के संबंध में सही विकल्प का चयन करें।

1, 9, 25, (36), 81, 121, (169), 225

Ans 1. कोष्ठक में रखी दोनों संख्याएँ गलत हैं।

2. पहली कोष्ठक संख्या (बाएं से) सही है और दूसरी गलत है।

3. कोष्ठक में रखी दोनों संख्याएँ सही हैं।

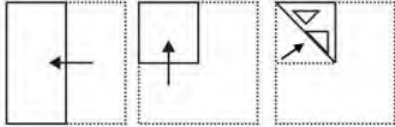
4. पहली कोष्ठक संख्या (बाएं से) गलत है और दूसरी सही है।

Question ID : 2390873698

Status : Answered

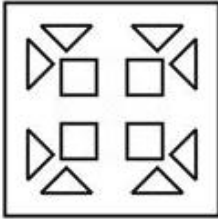
Chosen Option : 4

Q.5 एक कागज को नीचे दी गयी प्रश्न आकृतियों में दिखाए गए अनुसार मोड़ा और काटा गया है। नीचे दी गई उत्तर आकृतियों से चयन कीजिए, इसे खोले जाने पर यह कैसा दिखाई देगा?



Ans


✓ 1.



✗ 2.



✗ 3.



✗ 4.



Question ID : 2390873707

Status : Answered

Chosen Option : 1

Q.6 तीन कथन और उसके बाद चार निष्कर्ष I, II, III और IV दिए गए हैं। आपको कथनों को सत्य मानते हुए विचार करना है, भले ही वे सामान्यतः ज्ञात तथ्यों से भिन्न प्रतीत होते हों, और निर्णय कीजिए कि कौन से निष्कर्ष दिए गए कथनों का तार्किक रूप से पालन अनुसरण करते हैं।

कथन:

1. सभी लड़के विशेषज्ञ हैं।
2. कुछ विशेषज्ञ यात्री हैं।
3. सभी यात्री विदेशी हैं।

निष्कर्ष:

- I. कुछ विदेशी विशेषज्ञ हैं।
- II. कुछ विदेशी लड़के हैं।
- III. कोई भी विदेशी लड़का नहीं है।
- IV. सभी यात्री विशेषज्ञ हैं।

Ans ✗ 1. निष्कर्ष IV और निष्कर्ष II या III में से कोई अनुसरण करता है।

✓ 2. निष्कर्ष I और निष्कर्ष II या III में से कोई अनुसरण करता है।

✗ 3. सभी निष्कर्ष अनुसरण करते हैं।

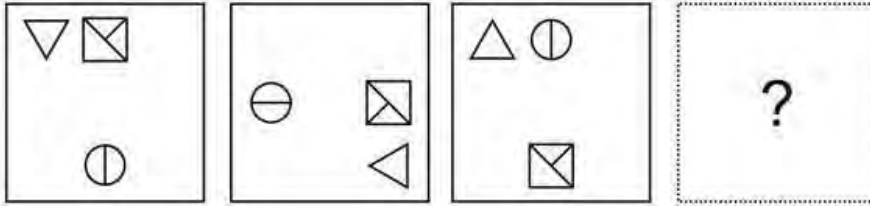
✗ 4. निष्कर्ष I, II और IV अनुसरण करते हैं।

Question ID : 2390873696

Status : Answered

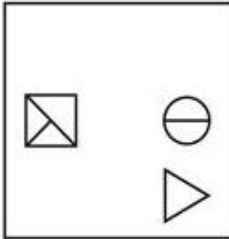
Chosen Option : 2

Q.7 निम्न में से कौन सी उत्तर आकृति श्रृंखला को पूरा करती है?

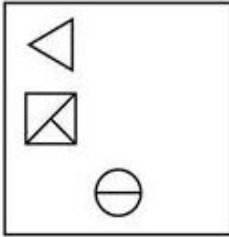


Ans

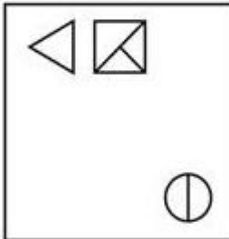
✓ 1.



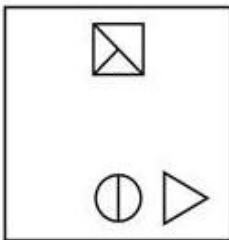
✗ 2.



✗ 3.



✗ 4.



Question ID : 2390873703

Status : Not Attempted and Marked For Review

Chosen Option : --

Q.8 नीचे दिए गए समीकरण को सही बनाने के लिए कौन-सी दो संख्याओं को आपस में बदलना होगा?

$$3 \times 6 + 72 \div 8 - 24 = 12$$

- Ans 1. 6,8
 2. 72,24
 3. 24,3
 4. 3,8

Question ID : 2390873702
Status : Answered
Chosen Option : 1

Q.9 उस विकल्प का चयन करें जो तीसरे अक्षर-समूह से उसी प्रकार से संबंधित है जिस प्रकार से दूसरा अक्षर-समूह पहले अक्षर-समूह से संबंधित है।

DBZ : WUS :: PNL : ?

- Ans 1. IGE
 2. JHF
 3. IFC
 4. JIG

Question ID : 2390873687
Status : Answered
Chosen Option : 1

Q.10 निम्न में से कौन सी उत्तर आकृति प्रश्न आकृति में पैटर्न को पूरा करेगी? (आकृति को घुमाने की अनुमति नहीं है)



- Ans 1.
- 2.
- 3.
- 4.

Question ID : 2390873704
Status : Answered
Chosen Option : 1

Q.11 Select the option that is related to the third word in the same way as the second word is related to the first word.

Orange : Saffron :: Blue : ?

- Ans 1. Olive
 2. Turquoise
 3. Violet

 4. Lavender

Question ID : 2390873686
Status : Answered
Chosen Option : 3

Q.12 सोमवार से शुरू होकर शनिवार को समाप्त होने वाले सप्ताह के 6 दिनों में छह नाटकों A, B, C, D, E और F का मंचन किया जाना है। नाटक D का मंचन मंगलवार को किया जाता है। नाटक A, C, F का मंचन इसी क्रम में एक के बाद एक किया जाता है। सोमवार या बुधवार को नाटक E का मंचन नहीं किया जाता है। सोमवार और बुधवार को क्रमशः कौन-से नाटकों का मंचन किया गया है?

- Ans  1. B और A
 2. A और F
 3. B और C
 4. C और E



Question ID : 2390873694
Status : Answered
Chosen Option : 1

Q.13 निम्न विकल्पों में से वह संख्या ज्ञात कीजिए जो प्रश्नवाचक चिह्न (?) के स्थान पर आएगी।

7 5 144

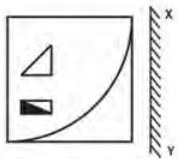
9 4 169

8 6 ?

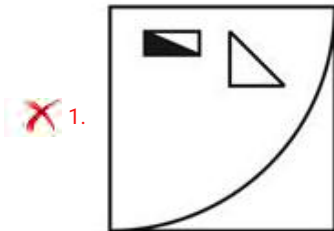
- Ans  1. 196
 2. 225
 3. 176
 4. 256

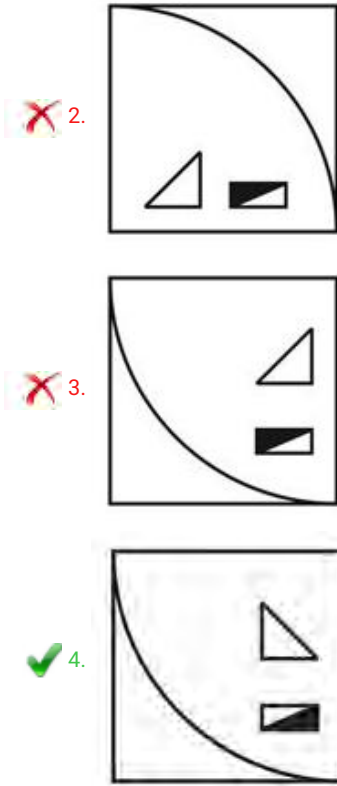
Question ID : 2390873700
Status : Answered
Chosen Option : 1

Q.14 यदि एक दर्पण को XY रेखा पर रखा जाता है, तो दी गई उत्तर आकृतियों में से कौन सी आकृति नीचे दी गई आकृति का सही दर्पण प्रतिबिम्ब होगी?



Ans





Question ID : 2390873706
Status : Answered
Chosen Option : 4

Q.15 कौन-सी संख्या निम्नलिखित श्रृंखला में प्रश्नवाचक चिह्न (?) के स्थान पर आएगी?

12, 14, 17, 22, 29, 40, ?

- Ans
- 1. 47
 - 2. 38
 - 3. 53
 - 4. 51

Question ID : 2390873697
Status : Answered
Chosen Option : 3

Q.16 किसी कूट भाषा में, 'GUN' को 'JXQ' लिखा जाता है। उसी कूट भाषा में 'RIFLE' का कोड क्या होगा?

- Ans
- 1. ULIOH
 - 2. WMIPH
 - 3. WLJQH
 - 4. UKIOE

Question ID : 2390873689
Status : Answered
Chosen Option : 1

Q.17 किसी कूटभाषा में, DOCTOR को ALZQL लिखा जाता है। उसी कूटभाषा में NURSE को किस प्रकार लिखा जाएगा?

- Ans
- 1. LQNOA

2. KROPB

3. LROPC

4. KSPQC

Question ID : 2390873688

Status : Answered

Chosen Option : 2

Q.18 दिए गए विकल्पों में से उस शब्द को चुनें जो दिए गए शब्दों के समान है और इसलिए उसी समूह से संबंधित है।

बिल्ली, कुत्ता, बकरी

Ans 1. शेर

2. तेंदुआ

3. गाय

4. चीता

Question ID : 2390873685

Status : Answered

Chosen Option : 3

Q.19 B, I, J, T, A और D एक गोलकार मेज के इर्द-गिर्द केंद्र की तरफ मुँह करके बैठे हैं। D, I के दाईं ओर बैठा है, जो T के सामने है। B, J के बगल में नहीं है, जो T के दाईं ओर बैठा है। A के बाईं ओर कौन बैठा है?

Ans 1. J

2. I

3. T

4. D

Question ID : 2390873693

Status : Answered

Chosen Option : 1

Q.20 मित्रों का एक समूह, A, B, C, D और E एक पंक्ति में बैठे हैं। D, B के बिल्कुल दायें ओर बैठा है। C, E के बिल्कुल बायें बैठा है और एक छोर पर है। यदि A दोनों में से किसी भी छोर पर नहीं बैठा है तो इन दोस्तों में से कौन क्रम के दो छोरों पर बैठे हैं।

Ans 1. B और C

2. B और E

3. D और E

4. D और C

Question ID : 2390873692

Status : Answered

Chosen Option : 4

Q.21 नीचे दिए गए कथनों और उनके निष्कर्षों को ध्यान से पढ़िए। कथनों में दी गई जानकारी को सत्य मानते हुए, चाहे वे सामान्य रूप से ज्ञात तथ्यों से भिन्न लगते हों, निर्णय कीजिए कि दिए गए कौन-से निष्कर्ष, कथनों का तार्किक रूप से अनुसरण करते हैं।

कथन:

I. सभी गोदाम भंडारगृह हैं।

II कुछ भंडारगृह भवन हैं।

निष्कर्ष:

I. कोई भी भवन भंडारगृह नहीं हैं।
II कुछ गोदाम भवन हैं।

- Ans
- 1. केवल निष्कर्ष I अनुसरण करता है।
 - 2. दोनों निष्कर्ष I और II अनुसरण करते हैं।
 - 3. केवल निष्कर्ष II अनुसरण करता है।
 - 4. न तो निष्कर्ष I और न ही निष्कर्ष II अनुसरण करता है।

Question ID : 2390873695

Status : Answered

Chosen Option : 4

Q.22 उस विकल्प का चयन करें जो तीसरी संख्या से उसी प्रकार से संबंधित है जिस प्रकार दूसरी संख्या पहली संख्या से संबंधित है।

7 : 42 :: 9 : ?

- Ans
- 1. 49
 - 2. 72
 - 3. 90
 - 4. 81

Question ID : 2390873699

Status : Answered

Chosen Option : 2

Q.23 किसी कूट भाषा में, 'JACKET' को '8-25-1-9-3-18' लिखा जाता है। उसी कूट भाषा में 'SWEATER' का कूट क्या होगा?

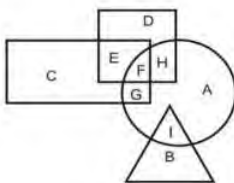
- Ans
- 1. 17-21-3-25-18-3-16
 - 2. 19-22-4-26-17-4-17
 - 3. 19-23-5-27-20-5-17
 - 4. 17-20-2-24-18-3-16

Question ID : 2390873691

Status : Answered

Chosen Option : 1

Q.24 निम्न आकृति में, आयत कलाकारों को दर्शाता है, त्रिकोण लेखकारों को दर्शाता है, वृत्त सामाजिक कार्यकर्ताओं को दर्शाता है और वर्ग पिता को दर्शाता है। कौन-सा अक्षरों का समूह सामाजिक कार्यकर्ताओं को दर्शाता है जो पिता नहीं हैं?



- Ans
- 1. GFH
 - 2. IGF
 - 3. DEB
 - 4. GAI

Question ID : 2390873708

Status : **Answered**
Chosen Option : 4

Q.25 Select the term that will come next in the following series.

Bdf, Gik, LNp, _____.

- Ans 1. QSu
 2. QTu
 3. QTv
 4. QSU.

Question ID : 2390873684
Status : **Answered**
Chosen Option : 1

Section : Numerical Aptitude

Q.1 A और B की आय का योग ₹165000 है। A अपनी आय का 70% और B अपनी आय का 80% खर्च करते हैं। यदि A की बचत, B की तुलना में 25% अधिक है, तो उनकी आय में कितना अंतर है?

- Ans 1. ₹12,000
 2. ₹18,000
 3. ₹15,000
 4. ₹10,000

Question ID : 2390873792
Status : **Answered**
Chosen Option : 1

Q.2 If the rate of interest is 20% per annum, compounded yearly and the interest on a certain sum in the second year is ₹250, then what will be the interest on the same sum in the fifth year?

- Ans 1. ₹518
 2. ₹400
 3. ₹360
 4. ₹432

Question ID : 2390873799
Status : **Answered**
Chosen Option : 2

Q.3 A किसी कार्य को 30 दिनों में कर सकता है। उसने 40% कार्य पूरा कर उसे छोड़ दिया। B ने शेष कार्य 21 दिनों में पूरा किया। एक साथ मिलकर कार्य करते हुए, A और B उसी कार्य का 65% कितने दिनों में पूरा करेंगे?

- Ans 1. 13 दिन
 2. 10 दिन
 3. $10\frac{1}{2}$ दिन
 4. $13\frac{1}{2}$ दिन

Question ID : 2390873800

Status : **Answered**
Chosen Option : 3

Q.4 एक कक्षा में लड़के और लड़कियों की संख्या का अनुपात 2 : 3 है और कक्षा में सभी छात्रों के गणित में औसत प्राप्तांक 54 है। लड़कों का औसत प्राप्तांक लड़कियों के औसत प्राप्तांक से 50% अधिक है। लड़कियों का औसत प्राप्तांक कितना है?

- Ans
- 1. 50
 - 2. 42
 - 3. 45
 - 4. 40

Question ID : 2390873789
Status : **Not Answered**
Chosen Option : --

Q.5 A और B एक ही समय पर क्रमशः 10 km/h और 20 km/h की गति से एक दूसरे की ओर चलना शुरू करते हैं और उनके बीच की दूरी 49 km है। आपस में मिलने से 5 मिनट पहले, उनके बीच की दूरी, m में, कितनी है?

- Ans
- 1. 1600
 - 2. 1800
 - 3. 2500
 - 4. 2000

Question ID : 2390873803
Status : **Answered**
Chosen Option : 1

Q.6 A और B की वर्तमान आयु का अनुपात 5 : 3 है। 9 वर्ष पहले, उनकी आयु का अनुपात 23 : 12 था। अब से 15 वर्ष बाद उनकी आयु का अनुपात क्या होगा?

- Ans
- 1. 35 : 24
 - 2. 7 : 5
 - 3. 34 : 25
 - 4. 3 : 2

Question ID : 2390873797
Status : **Answered**
Chosen Option : 1

Q.7 मान लीजिए कि x, 25.6 और 32.4 का मध्यानुपाती है और y, 32 एवं 48 का तृतीयानुपाती

है। तब $3x : 2y =$ _____.

- Ans
- 1. 5 : 3
 - 2. 3 : 5
 - 3. 4 : 5
 - 4. 5 : 4

Question ID : 2390873796
Status : **Not Answered**
Chosen Option : --

Q.8 यदि वस्तुओं का दो-तिहाई हिस्सा 25% लाभ पर, 20% हिस्सा 20% की हानि पर और शेष हिस्सा 20% के लाभ पर बेचा जाता है, तो ₹3,312 का लाभ होता है। वस्तुओं का लागत मूल्य है:

- Ans
- 1. ₹18,600
 - 2. ₹21,400
 - 3. ₹21,600
 - 4. ₹20,000

Question ID : 2390873793

Status : Answered

Chosen Option : 1

Q.9 एक पाइप 56 घंटों में किसी टैंक को भर सकता है, लेकिन इसकी तली में रिसाव के कारण उसे भरने में 16 घंटे अधिक समय लगता है। मात्र रिसाव टैंक के $83\frac{1}{3}\%$ हिस्से को कितने समय (घंटों में) में खाली कर सकता है?

- Ans
- 1. 126
 - 2. 210
 - 3. 252
 - 4. 105

Question ID : 2390873801

Status : Answered

Chosen Option : 3

Q.10 यदि एक लंब वृत्तीय शंकु की विज्या को 10% कम किया जाता है और उसकी ऊँचाई को 40% बढ़ाया जाता है, तब उसके आयतन में कितने प्रतिशत की वृद्धि या गिरावट होती है?

- Ans
- 1. 13.4% की गिरावट
 - 2. 1.34% की गिरावट
 - 3. 1.34% की वृद्धि
 - 4. 13.4% की वृद्धि

Question ID : 2390873805

Status : Answered

Chosen Option : 2

Q.11 एक वृत्ताकार पार्क का क्षेत्रफल एक ऐसे त्रिभुजाकार मैदान जिसकी भुजाएं 110 m, 600 m और 610 m हैं, के क्षेत्रफल के $\frac{7}{15}$ (seven-fifteenths) के लगभग बराबर है। पार्क का व्यास कितना है?

$$\left(\pi = \frac{22}{7} \text{ लें}\right)$$

- Ans
- 1. 160 m
 - 2. 120 m
 - 3. 150 m
 - 4. 140 m

Question ID : 2390873804

Status : Not Answered

Chosen Option : --

Q.12 अम्ल और पानी के 729 लीटर विलयन में अम्ल और पानी का अनुपात 7 : 2 है। ऐसा विलयन प्राप्त करने के लिए उसमें कितने लीटर पानी मिलाया जाना चाहिए, जिसमें अम्ल और पानी का अनुपात 5 : 3 हो?

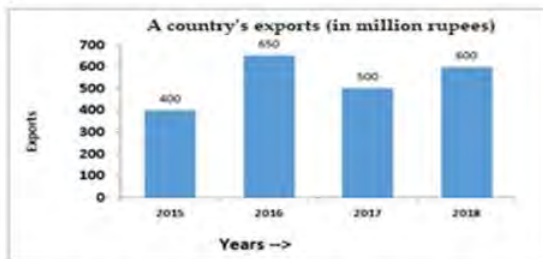
- Ans
- 1. 180.4
 - 2. 178.2
 - 3. 182.4
 - 4. 187.2

Question ID : 2390873795

Status : Answered

Chosen Option : 2

Q.13 दिया गया दंड आरेख (बार ग्राफ) 2015-2018 के दौरान किसी देश के निर्यात (मिलियन रुपये में) को दर्शाता है, और इसके बाद दी गई तालिका एक वर्ष में निर्यात किए गए वस्तुओं के विवरण को दर्शाती है।



एक वर्ष में निर्यात की गई वस्तुओं का विवरण

कंप्यूटर	24%
परिधान (गारमेंट्स)	28%
कपड़े	25%
सौंदर्य प्रसाधन (कोस्मेटिक)	15%
आभूषण	8%

चार वर्ष में सौंदर्य प्रसाधनों का कुल निर्यात, 2015 और 2018 में परिधानों और आभूषणों के कुल निर्यात से लगभग कितने प्रतिशत कम है?

- Ans
- 1. 12.2
 - 2. 10.4
 - 3. 9.8
 - 4. 11.6

Question ID : 2390873808

Status : Answered

Chosen Option : 1

Q.14 सुजाता ने ₹1,250 में 25 वस्तुएं बेची और उसे 10% की हानि हुई। उसे ₹2,600 में कितनी वस्तुएं बेचनी चाहिए, ताकि वह 17% का लाभ कमा सके?

- Ans
- 1. 26
 - 2. 40
 - 3. 25
 - 4. 42

Question ID : 2390873794

Status : Not Answered

Chosen Option : --

Q.15 $27 \times 6 \div 24 + 6 \div 2$ of $3 + 30 \div 24 \times 18 - 9 \div 54$ of 3×216 का मान है:

- Ans
- 1. -77.75
 - 2. 18.25
 - 3. -69.75
 - 4. 26.25

Question ID : 2390873786

Status : Not Answered

Chosen Option : --

Q.16 किसी वस्तु का अंकित मूल्य उसके लागत मूल्य से 20% अधिक है। अंकित मूल्य पर x% छूट देने के बाद दुकानदार को 10% की हानि होती है। x का मान कितना है?

- Ans
- 1. 30
 - 2. 28
 - 3. 20
 - 4. 25

Question ID : 2390873790

Status : Answered

Chosen Option : 1

Q.17 किसी व्यक्ति ने 8% वार्षिक साधारण ब्याज पर एक राशि उधार ली और 8 वर्षों में, प्राप्त ब्याज ₹5,490 था, जो उधार की राशि से कम था। यह राशि थी:

- Ans
- 1. ₹15,500
 - 2. ₹15,250
 - 3. ₹14,280
 - 4. ₹15,600


Question ID : 2390873798

Status : Answered

Chosen Option : 1

Q.18

दिया गया दंड आरेख (बार ग्राफ) 2015-2018 के दौरान किसी देश के निर्यात (मिलियन रुपये में) को दर्शाता है, और इसके बाद दी गई तालिका एक वर्ष में निर्यात किए गए वस्तुओं के विवरण को दर्शाती है।



एक वर्ष में निर्यात की गई वस्तुओं का विवरण

कंप्यूटर	24%
परिधान (गारमेंट्स)	28%
कपड़े	25%
सौंदर्य प्रसाधन (कोस्मेटिक्स)	15%
आभूषण	8%

2015, 2016 और 2018 में आभूषणों का कुल निर्यात, 2017 और 2018 में कपड़ों के कुल निर्यात का कितना प्रतिशत है?

- Ans
- 1. 50
 - 2. 45
 - 3. 48
 - 4. 42

Question ID : 2390873809

Status : Not Answered

Chosen Option : --

Q.19 एक ठोस धातु के बेलन (सिलेंडर), जिसकी आधार त्रिज्या 4 cm और ऊंचाई $5\frac{1}{3}$ cm है, को पिघलाकर एक गोले के रूप में परिवर्तित किया जाता है। गोले का पृष्ठ क्षेत्रफल, cm^2 में, कितना है।

- Ans
- 1. 64π
 - 2. 96π
 - 3. 80π
 - 4. 40π


Question ID : 2390873806

Status : Not Answered

Chosen Option : --

Q.20

दिया गया दंड आरेख (बार ग्राफ) 2015-2018 के दौरान किसी देश के निर्यात (मिलियन रुपये में) को दर्शाता है, और इसके बाद दी गई तालिका एक वर्ष में निर्यात किए गए वस्तुओं के विवरण को दर्शाती है।



एक वर्ष में निर्यात की गई वस्तुओं का विवरण

कंप्यूटर	24%
परिधान (गारमेट्स)	28%
कपड़े	25%
सौंदर्य प्रसाधन (कोस्मेटिक)	15%
आभूषण	8%

2015 और 2017 में कंप्यूटरों के कुल निर्यात और 2015 एवं 2018 में सौंदर्य प्रसाधनों के कुल निर्यात का अनुपात क्या है?

- Ans
- 1. 27 : 20
 - 2. 8 : 5
 - 3. 36 : 25
 - 4. 3 : 2

Question ID : 2390873807

Status : Not Answered

Chosen Option : --

Q.21 मान लीजिए कि x और y , 3-अंकों की ऐसी संख्याएँ हैं कि उनका अंतर 729 और महत्तम समापवर्तक (एच सी एफ) 81 है। $(x + y)$ का मान ज्ञात कीजिए?

- Ans
- 1. 1053
 - 2. 891
 - 3. 1539
 - 4. 1377

Question ID : 2390873785

Status : Not Answered

Chosen Option : --

Q.22 यहाँ चार अलग-अलग संख्याएँ दी गई हैं। पहली तीन संख्याओं का औसत चौथी संख्या का चार गुणा अधिक है और सभी चार संख्याओं का औसत 87.75 है। पहली तीन संख्याओं का औसत कितना है?

- Ans
- 1. 90
 - 2. 108
 - 3. 100
 - 4. 96

Question ID : 2390873788

Status : Not Answered

Q.23 निम्नलिखित आंकड़ों (डाटा) के लिए:

वर्ग	बारंबारता
160-170	20
170-180	110
180-190	130
190-200	80
200-210	60

माध्यिका है:

- Ans
- 1. 183.6
 - 2. 185.4
 - 3. 176.2
 - 4. 182.8

Question ID : 2390873791

Status : Not Answered

Chosen Option : --

Q.24 एक नाव को 3 km ऊर्ध्वप्रवाह (upstream) और $4\frac{1}{2}$ km अनुप्रवाह (downstream) दूरी तय करने में 45 मिनट लगते हैं, जबकि वह 3.6 km ऊर्ध्वप्रवाह (upstream) और 2.4 km अनुप्रवाह (downstream) दूरी 39 मिनट में तय कर लेती है। नाव की अनुप्रवाह(downstream) चलने की गति (km/h में) है।

- Ans
- 1. 12
 - 2. 16
 - 3. 9
 - 4. 10

Question ID : 2390873802

Status : Not Answered

Chosen Option : --

Q.25 $\frac{1}{7}$ of $1\frac{2}{5} \div \left\{ 5\frac{1}{2} - \left(\frac{5}{32} + \frac{3}{5} \times 1\frac{7}{8} \div 1\frac{1}{3} \text{ of } \frac{3}{16} \right) \right\}$ का मान है:

- Ans
- 1. $\frac{32}{135}$
 - 2. $\frac{27}{32}$
 - 3. $\frac{27}{160}$
 - 4. $\frac{6}{27}$

Question ID : 2390873787

Status : Not Answered

Section : General awareness

Q.1 फ्लोएम पौधों में किस के परिवहन के लिए जिम्मेदार है?

- Ans 1. खाद्य पदार्थ
 2. कार्बन डाइऑक्साइड
 3. पानी
 4. खनिज पदार्थ

Question ID : 2390873775

Status : Answered

Chosen Option : 3

Q.2 किसी वस्तु की अतिरिक्त एक इकाई के उपभोग के कारण कुल उपयोगिता में होने वाले परिवर्तन को क्या कहा जाता है?

- Ans 1. सीमांत उपयोगिता
 2. अधिकतम उपयोगिता
 3. न्यूनतम उपयोगिता
 4. बदलाव उपयोगिता

Question ID : 2390873770

Status : Not Answered

Chosen Option : --

Q.3 निम्नलिखित में से किसे वैध मुद्रा नहीं माना जाता है?

- Ans 1. सोना
 2. डिमांड ड्राफ्ट
 3. मुद्रा
 4. सिक्का

Question ID : 2390873768

Status : Answered

Chosen Option : 2

Q.4 Who implements Model Code of conduct for elections in India?

- Ans 1. Parliament
 2. Supreme Court
 3. Returning Officer
 4. Election Commission

Question ID : 2390873773

Status : Answered

Chosen Option : 4

Q.5 _____ विशिष्ट आवश्यकताओं और प्रक्रियाओं के लिए सुप्रीम कोर्ट द्वारा निर्धारित दिशा-निर्देश हैं, जिनका पालन पुलिस को किसी भी व्यक्ति को गिरफ्तार करने, हिरासत में लेने और पूछताछ करने के लिए करना पड़ता है।

- Ans 1. के.सी. रॉबर्ट्स दिशानिर्देश

2. डी.के. बसु दिशानिर्देश

3. मनेका दिशानिर्देश

4. विशाखा दिशानिर्देश

Question ID : 2390873771

Status : Not Answered

Chosen Option : --

Q.6 Actor Prakash Raj contested from which of the following constituencies in Lok Sabha Elections 2019?

Ans 1. Bellary

2. Mangalore City North

3. Bengaluru Central

4. Mandya

Question ID : 2390873772

Status : Answered

Chosen Option : 3

Q.7 विश्व कप में चार शतक बनाने वाला प्रथम भारतीय बल्लेबाज़ कौन है?

Ans 1. के. एल. राहुल

2. रोहित शर्मा

3. शिखर धवन

4. विराट कोहली

Question ID : 2390873763

Status : Answered

Chosen Option : 2

Q.8 निम्नलिखित में से कौन-सी शैली भारत में मंदिर स्थापत्य शैली नहीं है?

Ans 1. वेसर शैली

2. नागर शैली

3. द्रविड़ शैली

4. गोथिक शैली

Question ID : 2390873760

Status : Not Answered

Chosen Option : --

Q.9 जलोढ़ मृदाएँ भारत के कुल क्षेत्रफल के लगभग _____ प्रतिशत में फैली हुई हैं।

Ans 1. 50

2. 30

3. 40

4. 25

Question ID : 2390873780

Status : Answered

Chosen Option : 3

Q.10 'सत्य के प्रयोग' पुस्तक किसके जीवन पर आधारित है?

- Ans 1. मोहनदास करमचन्द गांधी
 2. सुभाष चंद्र बोस
 3. जवाहर लाल नेहरू
 4. लाला लाजपत राय

Question ID : 2390873767
Status : Answered
Chosen Option : 1

Q.11 1983 का क्रिकेट विश्व कप जीतने वाली भारतीय क्रिकेट टीम की कप्तानी किसने की थी?

- Ans 1. नवजोत सिंह सिद्धू
 2. चेतन शर्मा
 3. कपिल देव
 4. सुनील गावस्कर

Question ID : 2390873764
Status : Answered
Chosen Option : 3

Q.12 निम्नलिखित में से कौन-सी एक उपधातु नहीं है?

- Ans 1. बोरॉन
 2. कार्बन
 3. आर्सेनिक
 4. सिलिकॉन

Question ID : 2390873777
Status : Answered
Chosen Option : 2

Q.13 किस स्वतंत्रता सेनानी ने भारत को ब्रिटिश शासन से मुक्त करने के लिए "आज़ाद हिंद फ़ौज" की स्थापना की थी?

- Ans 1. भगत सिंह
 2. सुभाष चंद्र बोस
 3. चन्द्रशेखर आज़ाद
 4. वीर सावरकर

Question ID : 2390873784
Status : Answered
Chosen Option : 3

Q.14 First full time female Finance Minister of India is _____.

- Ans 1. Sarojini Naidu
 2. Maneka Gandhi
 3. Nirmala Sitharaman
 4. Indira Gandhi

Question ID : 2390873766

Status : **Answered**
Chosen Option : 3

Q.15 यूनेस्को द्वारा किस शहर को "सिटी ऑफ म्यूजिक" घोषित किया है?

- Ans
- 1. दिल्ली
 - 2. वाराणसी
 - 3. जयपुर
 - 4. मुंबई

Question ID : 2390873762
Status : **Answered**
Chosen Option : 1

Q.16 कौन-से मानव अंग के क्षतिग्रस्त हो जाने या ठीक से काम न करने की स्थिति में रोगी को डायलिसिस की सलाह दी जाती है?

- Ans
- 1. गुर्दा
 - 2. कलेजा
 - 3. पेट
 - 4. हृदय

Question ID : 2390873776
Status : **Answered**
Chosen Option : 2

Q.17 निम्नलिखित में से कार्बन के किस प्रकारात्मक समूह में ऑक्सीजन नहीं होती है?

- Ans
- 1. ऐल्कोहॉल
 - 2. हैलोजन
 - 3. ऐल्डिहाइड
 - 4. कीटोन

Question ID : 2390873778
Status : **Answered**
Chosen Option : 2

Q.18 समुद्रों और महासागरों जैसे दो बड़े जलाशयों को जोड़ने वाले पानी के एक संकीर्ण मार्ग को _____ कहा जाता है।

- Ans
- 1. लगून
 - 2. स्थलडमरूमध्य
 - 3. जलडमरूमध्य
 - 4. खाड़ी

Question ID : 2390873781
Status : **Answered**
Chosen Option : 3

Q.19 महात्मा गांधी ने "करो या मरो" का नारा किस राष्ट्रीय आंदोलन के दौरान दिया था?

- Ans
- 1. स्वदेशी आंदोलन
 - 2. भारत छोड़ो आंदोलन
 - 3. असहयोग आंदोलन

 4. सविनय अवज्ञा आंदोलन

Question ID : 2390873783
Status : Answered
Chosen Option : 3

Q.20 शत्रु से अप्रत्यक्ष मुकाबले की स्थिति में प्रदान किया जाने वाला वीरता पुरस्कार कौन-सा है?

- Ans  1. अशोक चक्र
 2. वीरता चक्र
 3. परम वीर चक्र
 4. शौर्य चक्र

Question ID : 2390873765
Status : Answered
Chosen Option : 4

Q.21 निम्नलिखित में से कौन-सा स्मारक-स्थान युग्म सही है?

- Ans  1. हवा महल - पंजाब
 2. विक्टोरिया मेमोरियल - पश्चिम बंगाल
 3. नालंदा - असम
 4. लाल किला - उत्तर प्रदेश

Question ID : 2390873761
Status : Answered
Chosen Option : 2

Q.22 भारत में कौन-सा केंद्रीय संस्थान कृषि ऋण की निगरानी और विनियमन करता है?

- Ans  1. सेबी
 2. नाबार्ड
 3. आईआरडीए
 4. आरबीआई

Question ID : 2390873769
Status : Answered
Chosen Option : 2

Q.23 भारत में किस खदान में सोने के भंडार पाए जाते हैं?

- Ans  1. जादुगुडा
 2. नोआमुंडी
 3. कोलार
 4. सिंहभूम

Question ID : 2390873779
Status : Answered
Chosen Option : 3

Q.24 निम्नलिखित में से कौन-सा रोग जल-जनित नहीं है?

- Ans  1. हेपेटाइटिस A

2. खसरा

3. हैज़ा

4. टायफ़ायड

Question ID : 2390873774

Status : **Answered**

Chosen Option : 1

Q.25 बारदोली सत्याग्रह में निम्नलिखित में से किसने प्रमुख भूमिका निभाई?

Ans 1. सरदार वल्लभ भाई पटेल

2. तिलका माँझी

3. चंद्र शेखर आजाद

4. सुभाष चंद्र बोस

Question ID : 2390873782

Status : **Not Answered**

Chosen Option : --

Multi Tasking (Non-Technical) Staff Examination 2019

Roll No.	
Registration No.	
Name	
Test Venue	
Test Time	12:30 PM - 2:00 PM
Test Date	20/08/2019

Section : General English

Q.1 Select the most appropriate option to fill in the blank and make a grammatically correct sentence.

For many, The Lion King is _____ as a childhood memory.

- Ans
- 1. invested
 - 2. deposited
 - 3. treasured
 - 4. inherited

Question ID : 2390874112
Status : Answered
Chosen Option : 4

Q.2 Select the correctly spelt word.

- Ans
- 1. Nocturenal
 - 2. Nocturnal
 - 3. Nocternal
 - 4. Nocturnel

Question ID : 2390874111
Status : Answered
Chosen Option : 2

Q.3 Select the most appropriate synonym of the given word
Encumbrance

- Ans
- 1. Destroy
 - 2. Despair
 - 3. Obstacle
 - 4. Stimulant

Question ID : 2390874102
Status : Answered
Chosen Option : 4

Q.4 Select the most appropriate word for the given group of words.
A gentle song sung to put a child to sleep.

- Ans
- 1. Lullaby
 - 2. Lyre

- 3. Lyric
- 4. Laurel

Question ID : 2390874108
Status : Answered
Chosen Option : 1

Q.5 Select the most appropriate meaning of the given idiom
Jump on the bandwagon

- Ans
- 1. To take a long ride
 - 2. To insult someone
 - 3. To join a popular trend
 - 4. To trust someone blindly

Question ID : 2390874106
Status : Answered
Chosen Option : 3

Q.6 Identify the segment in the sentence which contains the grammatical error.
The robbers broke in the house at night.

- Ans
- 1. at night
 - 2. the house
 - 3. The robbers
 - 4. broke in

Question ID : 2390874090
Status : Answered
Chosen Option : 4

Q.7 Select the most appropriate antonym of the word
Fickle

- Ans
- 1. Constant
 - 2. Hasty
 - 3. Feeble
 - 4. Mild

Question ID : 2390874104
Status : Answered
Chosen Option : 1

Q.8 Select the most appropriate option to substitute the underlined segment in the given sentence. If there is no need to substitute it, select No improvement.

Vivek was astonished at his failure in the exam.

- Ans
- 1. at his failing
 - 2. in his failing
 - 3. No improvement
 - 4. in his failure

Question ID : 2390874093
Status : Answered

Chosen Option : 3

Q.9 Select the most appropriate meaning of the given idiom
Strike while the iron is hot

- Ans
- 1. To wait for someone
 - 2. To act at the right time
 - 3. To do something unimportant
 - 4. To cry all the time

Question ID : 2390874107
Status : Answered
Chosen Option : 2

Q.10 Select the most appropriate word for the given group of words.
Friendly and welcoming to visitors.

- Ans
- 1. Hostile
 - 2. Hostel
 - 3. Hospital
 - 4. Hospitable

Question ID : 2390874109
Status : Answered
Chosen Option : 4

Q.11 Select the correctly spelt word.

- Ans
- 1. Address
 - 2. Address
 - 3. Addres
 - 4. Adress

Question ID : 2390874110
Status : Answered
Chosen Option : 2

Q.12 Select the most appropriate option to fill in the blank and make a grammatically correct sentence.

People tend to turn a blind eye ____ crime against women.

- Ans
- 1. to
 - 2. at
 - 3. on
 - 4. in

Question ID : 2390874094
Status : Answered
Chosen Option : 1

Q.13 Identify the segment in the sentence which contains the grammatical error.
If I knew about him before I will have recommended him.

- Ans
- 1. If I knew
 - 2. recommended him

3. about him before

4. I will have

Question ID : 2390874088

Status : Answered

Chosen Option : 4

Q.14 Identify the segment in the sentence which contains the grammatical error.
Jaya asked Sushmita to reminds her about the meeting.

Ans 1. Sushmita to reminds

2. Jaya asked

3. the meeting

4. her about

Question ID : 2390874089

Status : Answered

Chosen Option : 1

Comprehension:

In the following passage some words have been deleted. Fill in the blanks with the help of the alternatives given. Select the most appropriate option for each blank.

Scarcity is not created by war; (1)_____ is a permanent characteristic of all human (2)_____ and has been faced by the whole human (3)_____. It springs from the fact that the material resources of the world are (4)_____ and that our ability to make use of those resources is even more limited (5)_____ our ignorance.

SubQuestion No : 15

Q.15 Select the most appropriate option to fill in blank No.1.

Ans 1. there

2. these

3. those

4. it

Question ID : 2390874097

Status : Answered

Chosen Option : 1

Comprehension:

In the following passage some words have been deleted. Fill in the blanks with the help of the alternatives given. Select the most appropriate option for each blank.

Scarcity is not created by war; (1)_____ is a permanent characteristic of all human (2)_____ and has been faced by the whole human (3)_____. It springs from the fact that the material resources of the world are (4)_____ and that our ability to make use of those resources is even more limited (5)_____ our ignorance.

SubQuestion No : 16

Q.16 Select the most appropriate option to fill in blank No.2.

Ans 1. behaviour

2. cities

3. nations

4. societies

Question ID : 2390874098

Status : Answered

Comprehension:

In the following passage some words have been deleted. Fill in the blanks with the help of the alternatives given. Select the most appropriate option for each blank.

Scarcity is not created by war; (1)_____ is a permanent characteristic of all human (2)_____ and has been faced by the whole human (3)_____. It springs from the fact that the material resources of the world are (4)_____ and that our ability to make use of those resources is even more limited (5)_____ our ignorance.

SubQuestion No : 17

Q.17 Select the most appropriate option to fill in blank No.3.

- Ans 1. space
 2. race
 3. kingdom
 4. beings

Question ID : 2390874099

Status : Answered

Chosen Option : 4

Comprehension:

In the following passage some words have been deleted. Fill in the blanks with the help of the alternatives given. Select the most appropriate option for each blank.

Scarcity is not created by war; (1)_____ is a permanent characteristic of all human (2)_____ and has been faced by the whole human (3)_____. It springs from the fact that the material resources of the world are (4)_____ and that our ability to make use of those resources is even more limited (5)_____ our ignorance.

SubQuestion No : 18

Q.18 Select the most appropriate option to fill in blank No.4.

- Ans 1. increased
 2. limited
 3. restricted
 4. declined

Question ID : 2390874100

Status : Answered

Chosen Option : 2

Comprehension:

In the following passage some words have been deleted. Fill in the blanks with the help of the alternatives given. Select the most appropriate option for each blank.

Scarcity is not created by war; (1)_____ is a permanent characteristic of all human (2)_____ and has been faced by the whole human (3)_____. It springs from the fact that the material resources of the world are (4)_____ and that our ability to make use of those resources is even more limited (5)_____ our ignorance.

SubQuestion No : 19

Q.19 Select the most appropriate option to fill in blank No.5.

- Ans 1. of
 2. by
 3. for
 4. from

Question ID : 2390874101

Status : Answered

Chosen Option : 4

Q.20 Select the most appropriate option to substitute the underlined segment in the given sentence. If there is no need to substitute it, select No improvement.

Rashmi is not only smart but very beautiful.

Ans

- 1. but beautiful
- 2. No improvement
- 3. very beautiful
- 4. but also very beautiful

Question ID : 2390874092

Status : Answered

Chosen Option : 4

Q.21 Select the most appropriate option to substitute the underlined segment in the given sentence. If there is no need to substitute it, select No improvement.

I'll be at the parlour near 5 p.m.

Ans

- 1. along
- 2. No improvement
- 3. till
- 4. unless

Question ID : 2390874091

Status : Answered

Chosen Option : 3

Q.22 Select the most appropriate synonym of the given word
Recently

Ans

- 1. Lately
- 2. Normally
- 3. Immediately
- 4. Usually

Question ID : 2390874103

Status : Answered

Chosen Option : 1

Q.23 Select the most appropriate option to fill in the blank and make a grammatically correct sentence.

Simran was reading a book ____ waiting for the bus.

Ans

- 1. while
- 2. from
- 3. during
- 4. at

Question ID : 2390874095

Status : Answered

Chosen Option : 1

Q.24 Select the most appropriate antonym of the word Vile

- Ans 1. Crafty
 2. decent
 3. Horrid
 4. Evil

Question ID : 2390874105
Status : Answered
Chosen Option : 2

Q.25 Select the most appropriate option to fill in the blank and make a grammatically correct sentence.

Seema gave her teacher a beautiful _____ of pink roses on Teachers' Day.

- Ans 1. grove
 2. reed
 3. bouquet
 4. wreath

Question ID : 2390874113
Status : Answered
Chosen Option : 3

Section : General Intelligence & Reasoning

Q.1 यदि 'F' का अर्थ '+', 'P' का अर्थ 'x' है, 'T' का अर्थ '÷' और 'K' का अर्थ '-' है तो

40 T 8 F 16 P 4 K 13 = ?

- Ans 1. 75
 2. 56
 3. 69
 4. 78

Question ID : 2390874610
Status : Answered
Chosen Option : 2

Q.2 A, F जोकि तीन व्यक्तियों से छोटा है, से लंबा है। C, D जोकि सबसे लंबा है, से छोटा है। B, E से लंबा है। C न तो F से छोटा है न ही A से लंबा है। निम्न दिए गए व्यक्तियों में से दूसरा सबसे छोटा व्यक्ति कौन है?

- Ans 1. E
 2. B
 3. C
 4. A

Question ID : 2390874603
Status : Answered
Chosen Option : 2

Q.3

एक कागज को नीचे दी गयी प्रश्न आकृतियों में दिखाए गए अनुसार मोड़ा और काटा गया है। नीचे दी गई उत्तर आकृतियों से चयन कीजिए, इसे खोले जाने पर यह कैसा दिखाई देगा?



Ans

- 1.
- 2.
- 3.
- 4.

Question ID : 2390874616

Status : Answered

Chosen Option : 4

Q.4 उस सही विकल्प का चयन करें जो श्रृंखला को पूरा करेगा।

1, 3, 9, 31, ____, 651

- Ans 1. 97
2. 129
3. 109
4. 127

Question ID : 2390874606

Status : Not Answered

Chosen Option : -

- Q.5 (i) K, L, M, N, O, P और Q केंद्र की ओर मुख करके एक वृत्ताकार मेज़ के इर्द-गिर्द बैठे हैं।
(ii) L, N और O के बीच में बैठता है।
(iii) K, O के बाएं से तीसरे स्थान पर बैठता है।
(iv) Q, M जोकि P के एकदम बायें बैठा है, के बाएं से दूसरे स्थान पर बैठा है।

निम्नलिखित युग्मों में से किस युग्म में पहला व्यक्ति दूसरे व्यक्ति के बिल्कुल बाएं ओर बैठा है?

- Ans 1. MK
2. LN
3. LO

 4. QN





Question ID : 2390874601

Status : Not Answered

Chosen Option : -

Q.6 किसी कूटभाषा में 'HAMMER' को '8#66\$*' के रूप में कूटबद्ध किया गया है और 'DISTRICT' को '7&51*&21' के रूप में कूटबद्ध किया गया है, तो नीचे दिए गए शब्द के लिए सही कूट कौन-सा है।

'MERCY'

- Ans  1. 6#*24
 2. 6\$*24
 3. 6\$*2&
 4. 6#*21

Question ID : 2390874597

Status : Answered

Chosen Option : 3

Q.7 यदि '+' का अर्थ '÷', '-' का अर्थ 'x', 'x' का अर्थ '+' और '÷' का अर्थ '-' है, तो $7 - 2 \times 14 \div 96 + 12$ का मान क्या होगा?

- Ans  1. 8
 2. -8
 3. 36
 4. 20

Question ID : 2390874611

Status : Answered

Chosen Option : 4

Q.8 उस विकल्प का चयन करें जो तीसरे पद से उसी तरह से सम्बंधित है जिस प्रकार दूसरा पद पहले पद से सम्बंधित है।

35 : 34 :: 76 : ?

- Ans  1. 85
 2. 80
 3. 42
 4. 62

Question ID : 2390874608

Status : Answered

Chosen Option : 1

Q.9 नीचे दिए गए दो कथनों के बाद दो निष्कर्ष I और II दिए गए हैं यह मानते हुए कि कथनों में दी गई जानकारी सत्य हैं भले ही वह सर्वज्ञात तथ्यों से भिन्न प्रतीत होते हो, यह निर्णय करें की कौन-से निष्कर्ष तार्किक रूप से कथनों का अनुसरण करते हैं।

कथन

- क. कुछ ड्राइवर रेसर हैं।
ख. कुछ रेसर पायलट हैं।

निष्कर्ष

- I. कुछ पायलट ड्राइवर हैं।
II कोई भी पायलट ड्राइवर नहीं हैं।

- Ans
- 1. या तो निष्कर्ष I या II अनुसरण करता है।
 - 2. केवल निष्कर्ष I अनुसरण करता है।
 - 3. न तो निष्कर्ष I और न ही निष्कर्ष II अनुसरण करता है।
 - 4. केवल निष्कर्ष II अनुसरण करता है।

Question ID : 2390874605

Status : Answered

Chosen Option : 1

Q.10 6 व्यक्ति P, Q, R, S, T, U उत्तर दिशा की ओर मुख करके एक सीधी रेखा में बैठे हैं लेकिन इसी क्रम में नहीं बैठे हैं। P और T के बीच में दो व्यक्ति बैठे हैं। S, P के बिल्कुल दायीं ओर बैठा है। R दायें ओर अंत में है। Q, P के बायें ओर दूसरे स्थान पर बैठा है। U, Q और P के बीच में बैठा है। बायें ओर अंत में कौन बैठा है?

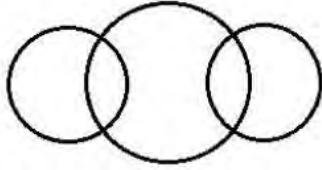
- Ans
- 1. Q
 - 2. T
 - 3. P
 - 4. S

Question ID : 2390874602

Status : Not Answered

Chosen Option : -

Q.11 उस वेन आरेख का चयन करें जो दिए गए वर्गों के समूह को सर्वोत्तम ढंग से दर्शाता है?



- Ans
- 1. लड़का, लड़की, दूल्हा
 - 2. पानी, नमक, सोडा
 - 3. पुरुष, शिक्षक, औजार
 - 4. प्राचार्य, पुरुष, महिला

Question ID : 2390874617

Status : Answered

Chosen Option : 4

Q.12 यदि किसी कूटभाषा में 'AETP' को 'DGHWS' के रूप में कूटबद्ध किया जाता है, और 'GVMN' को 'JYPQ' के रूप में लिखा जाता है, उसी कूट में 'DTPQUV' को कैसे लिखा जाएगा?

- Ans
- 1. GSQTYX
 - 2. GWSTXY
 - 3. GQSTYX
 - 4. GQRTXY

Question ID : 2390874598

Status : Answered

Chosen Option : 2

Q.13 नीचे दिए गए कथनों के बाद दो निष्कर्ष I और II दिए गए हैं यह मानते हुए कि कथनों में दी गई जानकारी सत्य हैं भले ही वह सर्वज्ञात तथ्यों से भिन्न प्रतीत होते हों, यह निर्णय करें कि कौन सा/से निष्कर्ष तार्किक रूप से और निश्चित रूप से कथन में दी गयी जानकारी का अनुसरण करता है/करते हैं।

कथन:

- I. सभी फूल पेड़ हैं।
- II. सभी पेड़ फल हैं।

निष्कर्ष:

- I. कुछ फल फूल हैं।
- II. सभी फूल फल हैं।

- Ans
- 1. निष्कर्ष I और II दोनों अनुसरण करते हैं।
 - 2. केवल निष्कर्ष I अनुसरण करता है।
 - 3. या तो निष्कर्ष I या II अनुसरण करता है।
 - 4. केवल निष्कर्ष II अनुसरण करता है।

Question ID : 2390874604

Status : Answered

Chosen Option : 1

Q.14 किसी कूट भाषा में 'STAY' को '19403100' के रूप में लिखा जाता है। उसी कूट भाषा में 'HOUR' को कैसे लिखा जाएगा?

- Ans
- 1. 8456372
 - 2. 8456478
 - 3. 8306072
 - 4. 8306372

Question ID : 2390874599

Status : Answered

Chosen Option : 4

Q.15 'मवेशी' शब्द 'झुंड' से उसी तरह संबंधित है जैसे 'खिलाड़ी' '_____ ' से संबंधित है।

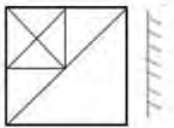
- Ans
- 1. टीम
 - 2. टूर्नामेंट
 - 3. गैंग
 - 4. मेडल

Question ID : 2390874594

Status : Answered

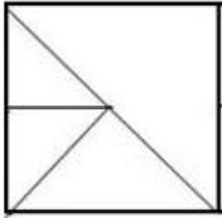
Chosen Option : 1

Q.16 उस विकल्प का चयन करें जो दर्पण को दाईं ओर रखे जाने पर दी गई आकृति की दर्पण छवि से बहुत ज्यादा मिलता-जुलता है।

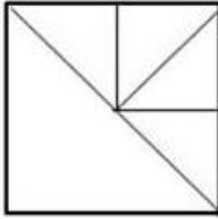


Ans

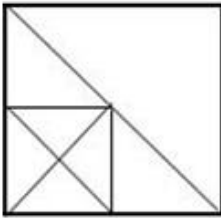
✗ 1.



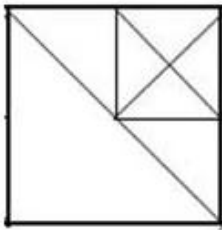
✗ 2.



✗ 3.



✓ 4.

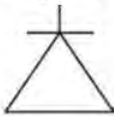


Question ID : 2390874615

Status : Answered

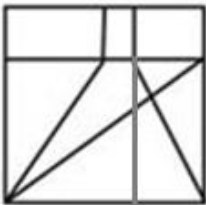
Chosen Option : 4

Q.17 नीचे दिए गए विकल्पों में से उस विकल्प का चयन कीजिए जिसमें नीचे दी गई आकृति सम्मिलित है। (आकृति को घुमाने की अनुमति नहीं है)

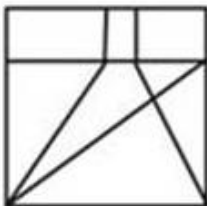


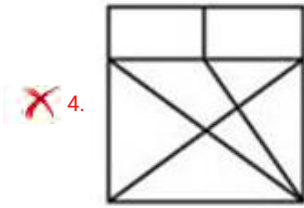
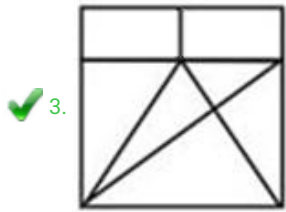
Ans

✗ 1.



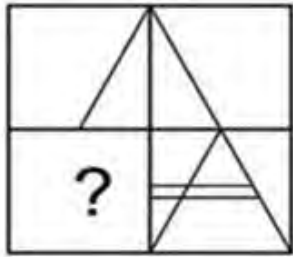
✗ 2.



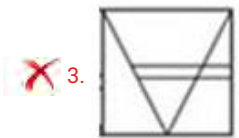
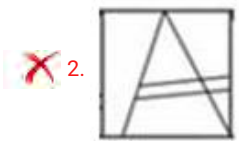
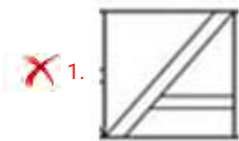


Question ID : 2390874614
Status : Answered
Chosen Option : 3

Q.18 निम्न पैटर्न को पूरा करने के लिए सही विकल्प का चयन करें।



Ans



Question ID : 2390874613
Status : Answered
Chosen Option : 4

उस विकल्प का चयन करें जो तीसरे पद से उसी तरह से सम्बंधित है जिस प्रकार दूसरा पद पहले पद से सम्बंधित है।

SHOW : OWHS :: FOUL : ?

- Ans
- 1. UFOL
 - 2. ULFO
 - 3. ULOF
 - 4. UOFL

Question ID : 2390874595
Status : Answered
Chosen Option : 3

Q.20 नीचे दिए विकल्पों में से उस संख्या को चुनिए जो निम्नलिखित श्रृंखला में प्रश्न चिह्न (?) के स्थान पर आएगी।

4, 2, 2, 3, 6, ?

- Ans
- 1. 15
 - 2. 3
 - 3. 12
 - 4. 6

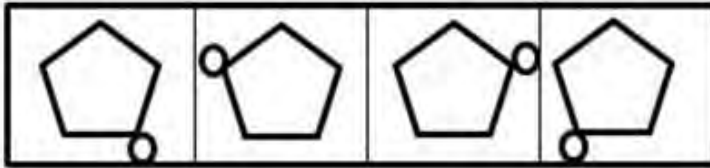
Question ID : 2390874607
Status : Answered
Chosen Option : 2

Q.21 यदि A = 1 और ANT = 105 है, तो ASK = ?

- Ans
- 1. 99
 - 2. 96
 - 3. 93
 - 4. 91

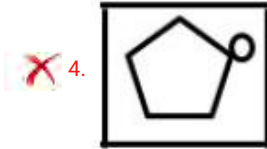
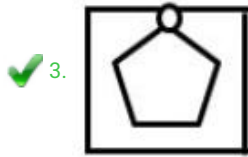
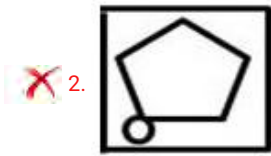
Question ID : 2390874600
Status : Answered
Chosen Option : 3

Q.22 उस आकृति का चयन करें जो निम्न श्रृंखला में आगे आएगी।



Ans

- 1.



Question ID : 2390874612
Status : Answered
Chosen Option : 3

Q.23 उस विकल्प का चयन करें जो तीसरे पद से उसी तरह से सम्बंधित है जिस प्रकार दूसरा पद पहले पद से सम्बंधित है।

Eea : aEE :: Ppb : ?

- Ans 1. ppp
 2. BBp
 3. bPP
 4. EEA

Question ID : 2390874596
Status : Answered
Chosen Option : 3

Q.24 उस पद का चयन करें, जो निम्नलिखित अक्षर श्रृंखला को पूरा करेगा।

QN, RP, TS, WW, ____, FH


- Ans 1. YC
 2. AB
 3. AC
 4. XB

Question ID : 2390874593
Status : Answered
Chosen Option : 2

Q.25 उस समूह का चयन करें, जिसमें दी गई संख्याओं के बीच वही संबंध है, जो संबंध निम्नलिखित समूह की संख्याओं के बीच है।

(4, 9, 37)





- Ans 1. (7, 15, 62)
 2. (6, 13, 51)
 3. (9, 19, 77)

 4. (5, 12, 46)

Question ID : 2390874609
Status : Not Answered
Chosen Option : -

Section : Numerical Aptitude

Q.1 पाइप A और B क्रमशः 8 और 12 घंटे में एक पूरी तरह से भरे टैंक को खाली कर सकते हैं। C भरने वाला पाइप है। इन तीनों पाइपों को एक ही समय पर खोल दिया गया और एक घंटे में उस टैंक का छठवां भाग एक घंटे में खाली हो गया। C अकेले टैंक को कितने समय में भर सकता है?

- Ans
-  1. 25 घंटे
 -  2. 20 घंटे
 -  3. 30 घंटे
 -  4. 24 घंटे

Question ID : 2390873901
Status : Answered
Chosen Option : 4

Q.2 एक निश्चित राशि को $\frac{x}{3}$ वर्षों के लिए प्रति वर्ष x% साधारण ब्याज की दर से उधार दिया जाता है। राशि का साधारण ब्याज, राशि के एक तिहाई के बराबर है। x का मान कितना है?

- Ans
-  1. 12
 -  2. 10
 -  3. 9
 -  4. 6

Question ID : 2390873898
Status : Answered
Chosen Option : 2

Q.3 एक आयत की लंबाई, उसकी चौड़ाई से 6 cm अधिक है और उसका परिमाण 100 cm है। यदि इस आयत का क्षेत्रफल एक वृत्त के क्षेत्रफल के निकटतम बराबर है, तो उस वृत्त की परिधि कितनी है?

($\pi = \frac{22}{7}$ लें)

- Ans
-  1. 88 cm
 -  2. 110 cm
 -  3. 132 cm
 -  4. 66 cm

Question ID : 2390873904
Status : Answered
Chosen Option : 1

Q.4 यदि $(2x - y) : (5x + 3y) = 3 : 8$ है, तो $(x^2 + y^2) : (x^2 - y^2) = ?$ का मान ज्ञात कीजिए।

- Ans
-  1. 145 : 144
 -  2. 257 : 255
 -  3. 144 : 143

4. 133 : 122

Question ID : 2390873896

Status : Answered

Chosen Option : 1

Q.5 एक व्यापारी किसी वस्तु को बेचकर वर्तमान में 17% लाभ कमाता है। यदि वह वस्तु के मूल्य को ₹33.60 बढ़ा देता है तो उसका लाभ प्रतिशत बढ़कर 29% हो जाता है। वस्तु का लागत मूल्य कितना है?

- Ans
- 1. ₹320
 - 2. ₹280
 - 3. ₹300
 - 4. ₹240

Question ID : 2390873894

Status : Answered

Chosen Option : 2

Q.6 एक ठोस बेलन (सिलेंडर) का कुल पृष्ठ क्षेत्रफल 1155 cm^2 है। उसका वक्र पृष्ठ क्षेत्रफल, उसके कुल पृष्ठ क्षेत्रफल के $\frac{2}{5}$ के बराबर है। बेलन (सिलेंडर) की ऊंचाई (cm में) कितनी है?
($\pi = \frac{22}{7}$ लें)

- Ans
- 1. 7
 - 2. 5
 - 3. 6
 - 4. 10.5

Question ID : 2390873905

Status : Answered

Chosen Option : 3

Q.7 सोनू ने अपनी मासिक आय का 12% एक धर्मार्थ ट्रस्ट को दान देने का फैसला किया। दान देने के दिन, उसने अपना निर्णय बदल दिया और ₹2160 का दान दिया, जो उसके द्वारा पूर्व में दान देने के फैसले की राशि के 125% के बराबर है। सोनू की मासिक आय कितनी है?

- Ans
- 1. ₹11200
 - 2. ₹9600
 - 3. ₹14400
 - 4. ₹12800

Question ID : 2390873892

Status : Answered

Chosen Option : 3

Q.8 A की दो बार चलने की गति B के तीन बार चलने की गति के बराबर है। किसी दूरी को तय करने में A को B की तुलना में समान दूरी तय करने में 42 मिनट कम समय लगता है। B को समान दूरी तय करने में कितना समय (मिनटों में) लगता है?

- Ans
- 1. 135
 - 2. 126
 - 3. 120

 4. 96

Question ID : 2390873902

Status : Answered

Chosen Option : 2

Q.9 दो रेलगाड़ियां विपरीत दिशा में चलते हुए एक दूसरे को 12 सेकंड में पार करती हैं, और समान दिशा में चलने पर वे 60 सेकंड का समय लेती हैं। दोनों रेलगाड़ियों की संभावित गतियां (m/sec में) हो सकती हैं:

- Ans
-  1. 18, 40
 -  2. 15, 45
 -  3. 20, 30
 -  4. 15, 30

Question ID : 2390873903

Status : Not Answered

Chosen Option : -

Q.10 जब 5, 6, 8, 9 और 12 को सबसे छोटी संख्या x से विभाजित किया जाता है, तो प्रत्येक मामले में 1 शेष प्राप्त होता है, किंतु x , 13 से विभाज्य है। जब x को 31 से विभाजित किया जाएगा तो प्राप्त शेष कितना होगा?

- Ans
-  1. 1
 -  2. 5
 -  3. 3
 -  4. 0

Question ID : 2390873885

Status : Not Answered

Chosen Option : -

Q.11 The average of 21 numbers is 44. The average of first 11 numbers is 48 and that of last 11 numbers is 42. If 11th number is excluded, What is the average of the remaining numbers?





- Ans
-  1. 43
 -  2. 42
 -  3. 42.9
 -  4. 43.5

Question ID : 2390873888

Status : Not Answered

Chosen Option : -

Q.12 A, B, और C, एक कार्य को क्रमशः 36 दिनों, 54 दिनों और 108 दिनों में पूरा कर सकते हैं। उन्होंने एक साथ कार्य करना शुरू किया, लेकिन कार्य शुरू होने के 9 दिनों के बाद A ने कार्य करना छोड़ दिया और कार्य पूरा होने के 3 दिन पहले B ने भी कार्य करना छोड़ दिया। C ने कितने दिन कार्य किया?

- Ans
-  1. 29
 -  2. 33
 -  3. 31
 -  4. 30

Question ID : 2390873900

Status : Answered
Chosen Option : 1

Q.13 10% प्रति वर्ष चक्रवृद्धि ब्याज दर पर निवेशित कोई राशि 3 वर्ष में ₹19965 हो जाती है। यही राशि समान ब्याज दर पर $2\frac{2}{3}$ वर्षों में ₹ x हो जाएगी। यदि दोनों ही मामलों में ब्याज को वार्षिक रूप से संयोजित किया जाता है, तो x का मान कितना है?

- Ans
- 1. 18855
 - 2. 18768
 - 3. 18867
 - 4. 18876

Question ID : 2390873899
Status : Not Answered
Chosen Option : -

Q.14 अभिनव और रेखा की मासिक आय 6 : 5 के अनुपात में है, जबकि उनके मासिक व्यय 9 : 8 के अनुपात में हैं। यदि अभिनव की आय, रेखा के व्यय से दोगुनी है, तब अभिनव और रेखा की बचत का अनुपात है:

- Ans
- 1. 21 : 16
 - 2. 23 : 18
 - 3. 5 : 3
 - 4. 3 : 2

Question ID : 2390873897
Status : Not Answered
Chosen Option : -

Q.15 एक कक्षा में 90 छात्र हैं, जिसमें से 60% लड़कियां हैं और बाकी लड़के हैं। लड़कों का अंग्रेजी में औसत प्राप्तांक (स्कोर), लड़कियों की तुलना में 30% अधिक है। यदि अंग्रेजी में सभी छात्रों का औसत प्राप्तांक 56 है, तो अंग्रेजी में केवल लड़कियों का औसत प्राप्तांक कितना है?

- Ans
- 1. 62
 - 2. 48
 - 3. 65
 - 4. 50

Question ID : 2390873889
Status : Not Answered
Chosen Option : -

Q.16 किसी वस्तु का अंकित मूल्य ₹ x है। अंकित मूल्य पर 20% की छूट देने के बाद भी दुकानदार को ₹40 का लाभ होता है। यदि लाभ $11\frac{1}{9}\%$ होता है तब x का मान कितना है?

- Ans
- 1. 500
 - 2. 360
 - 3. 450
 - 4. 400

Question ID : 2390873890
Status : Answered
Chosen Option : 3

Q.17 $\frac{1}{4} \times \frac{3}{4} \div 1 \frac{1}{4} \text{ of } \frac{2}{5} - \left[\frac{1}{6} \div \left\{ \frac{3}{7} \text{ of } \frac{14}{5} \times 1 \frac{2}{3} - \left(3 \frac{1}{2} - 2 \frac{1}{6} \right) \right\} \right]$ का मान कितना है?

- Ans
- 1. $\frac{3}{8}$
 - 2. $\frac{1}{8}$
 - 3. $\frac{2}{3}$
 - 4. $\frac{1}{3}$

Question ID : 2390873887

Status : Not Answered

Chosen Option : -

Q.18 निम्न तालिका एक कंपनी द्वारा छह वर्षों के दौरान उत्पादित और बेचे गए उत्पाद की यूनिटों की संख्या दर्शाती है।

वर्ष	यूनिटों की संख्या (हजार में)	
	उत्पादित	बेची गईं
2012	320	220
2013	338	328
2014	432	380
2015	256	242
2016	504	470
2017	680	630

2013 और 2015 में बेची गई उत्पाद के यूनिटों की कुल संख्या तथा 2015 और 2016 में उत्पादित यूनिटों की संख्या का अनुपात ज्ञात कीजिए?

- Ans
- 1. 14 : 19
 - 2. 29 : 38
 - 3. 7 : 9
 - 4. 3 : 4

Question ID : 2390873907

Status : Answered

Chosen Option : 1

Q.19 लकड़ी के बने 6 cm त्रिज्या के एक ठोस गोले से, अधिकतम संभावित परिमाण (वॉल्यूम) के एक घन को हटाया जाता है। घन की भुजा ज्ञात कीजिए।

- Ans
- 1. $4\sqrt{3}$ cm
 - 2. $3\sqrt{3}$ cm
 - 3. $6\sqrt{3}$ cm
 - 4. $2\sqrt{3}$ cm

Question ID : 2390873906

Status : Answered

Chosen Option : 1

Q.20

निम्न तालिका में 20 छात्रों के वजन को दर्शाया गया है-

वजन (kg में)	48	51	60	53	56
छात्रों की संख्या	6	3	2	4	5

उपरोक्त आँकड़ों का क्रमशः बहुलक और माध्यिका क्या हैं?

- Ans
- 1. 53 और 56
 - 2. 60 और 53
 - 3. 51 और 48
 - 4. 48 और 53

Question ID : 2390873891

Status : Not Answered

Chosen Option : -

Q.21 एक दुकानदार जब किसी वस्तु को ₹230 में बेचता है तो उसे 20% की हानि होती है। यदि वह उस वस्तु को ₹339.25 में बेचता है तो उसे कितने प्रतिशत का लाभ होगा?

- Ans
- 1. 20
 - 2. 18
 - 3. 12
 - 4. 15

Question ID : 2390873893

Status : Not Answered

Chosen Option : -

Q.22 एक व्यक्ति एक निश्चित राशि को अपने तीन पुत्रों में 2 : 3 : 8 के अनुपात में बाँटता है। यदि उसने इस राशि को $\frac{1}{2} : \frac{1}{3} : \frac{1}{8}$ के अनुपात में बाँटा होता, तो जिस पुत्र को सबसे कम राशि प्राप्त हुई थी, उसे ₹2200 अधिक प्राप्त होते। कुल राशि (₹ में) कितनी थी ?

- Ans
- 1. 5980
 - 2. 6556
 - 3. 6578
 - 4. 5940

Question ID : 2390873895

Status : Not Answered

Chosen Option : -

Q.23 $4 \times 2 \div 4$ of $(4 + 4 \div 4$ of $4) - (4 \div 4$ of $2 \times 4)$ का मान कितना है?

- Ans
- 1. -1
 - 2. $6\frac{1}{2}$

✓ 3. $\frac{26}{17}$

✗ 4. $4\frac{1}{4}$

Question ID : 2390873886

Status : Not Answered

Chosen Option : -

Q.24 निम्न तालिका एक कंपनी द्वारा छह वर्षों के दौरान उत्पादित और बेचे गए उत्पाद की यूनिटों की संख्या दर्शाती है।

वर्ष	यूनिटों की संख्या (हजार में)	
	उत्पादित	बेची गई
2012	320	220
2013	338	328
2014	432	380
2015	256	242
2016	504	470
2017	680	630

2016 में बेची गई उत्पाद के यूनिटों की संख्या, 2012 से लेकर 2016 तक उत्पादित औसत यूनिटों की संख्या से लगभग कितने प्रतिशत अधिक है?

- Ans
- ✗ 1. 24
 - ✗ 2. 32
 - ✗ 3. 21
 - ✓ 4. 27

Question ID : 2390873908

Status : Not Answered

Chosen Option : -

Q.25 निम्न तालिका एक कंपनी द्वारा छह वर्षों के दौरान उत्पादित और बेचे गए उत्पाद की यूनिटों की संख्या दर्शाती है।

वर्ष	यूनिटों की संख्या (हजार में)	
	उत्पादित	बेची गई
2012	320	220
2013	338	328
2014	432	380
2015	256	242
2016	504	470
2017	680	630

किस वर्ष में, उत्पाद की यूनिटों का उत्पादन 2017 में बेची गई यूनिटों की तुलना में लगभग 31.4% कम है?

- Ans
- ✓ 1. 2014
 - ✗ 2. 2013
 - ✗ 3. 2012
 - ✗ 4. 2016

Question ID : 2390873909

Status : Not Answered

Chosen Option : -

Section : General awareness

Q.1 कोसी नदी का प्राचीन नाम क्या है?

- Ans 1. कौशिकी
 2. कान्हापेन्ना
 3. कुभा
 4. करनाली

Question ID : 2390874312
Status : Answered
Chosen Option : 1

Q.2 पर्यावरण संरक्षण अधिनियम कब पारित किया गया था?

- Ans 1. 1972
 2. 1986
 3. 1982
 4. 1992

Question ID : 2390874311
Status : Answered
Chosen Option : 1

Q.3 निर्मला सीतारमण ने बजट 2019 पेश करते हुए खिलाड़ियों के विकास के लिए राष्ट्रीय खेल शिक्षा बोर्ड को _____ के तहत स्थापित करने की घोषणा की थी।

- Ans 1. खेलो और बढ़ो
 2. खेलो और पढ़ो
 3. खेलो इंडिया
 4. खेल इंडिया खेल

Question ID : 2390874303
Status : Answered
Chosen Option : 3

Q.4 सिस्टर निवेदिता का वास्तविक नाम क्या है?

- Ans 1. अग्नेसे गोंकशे बोजशियु
 2. आइलीन मैथ्यू
 3. मागरिट एलिजाबेथ नोबल
 4. मैडेलीन स्लेड

Question ID : 2390874300
Status : Answered
Chosen Option : 3

Q.5 निम्नलिखित में से किस नृत्य में महिलाएं तोते की भांति नृत्य करती हैं?

- Ans 1. जवारा
 2. तेराताली
 3. भगोरिया
 4. सुवा

Question ID : 2390874295
Status : Answered

Chosen Option : 2

Q.6 'अनब्रेकेबल' किसकी आत्मकथा है?

- Ans 1. मैरी कॉम
 2. सानिया मिर्जा
 3. वसीम अकरम
 4. क्रिस गेल

Question ID : 2390874298

Status : Answered

Chosen Option : 1

Q.7 निम्नलिखित में से कौन-सा संगीत उत्तर प्रदेश से सम्बंधित नहीं है?

- Ans 1. टप्पा
 2. बिरहा
 3. कजरी
 4. रसिया

Question ID : 2390874293

Status : Answered

Chosen Option : 1

Q.8 नागरिकता अधिनियम कब पारित किया गया?

- Ans 1. 1952
 2. 1955
 3. 1960
 4. 1965

Question ID : 2390874304

Status : Answered

Chosen Option : 1

Q.9 निम्नलिखित में से कौन-सी फिशोरेशन (Physisorption) की विशिष्टता नहीं है?

- Ans 1. यह अपरिवर्तनीय है।
 2. यह आमतौर पर कम तापमान पर होता है।
 3. यह बहु-आणविक परत बनाता है।
 4. इसके लिए किसी सक्रियण ऊर्जा की आवश्यकता नहीं होती है।

Question ID : 2390874308

Status : Not Answered

Chosen Option : -

Q.10 Car moving on a straight road is an example of _____ motion.

- Ans 1. periodic
 2. curvilinear
 3. rectilinear
 4. random

Question ID : 2390874307

Status : Answered

Chosen Option : 1

Q.11 किसी अर्थव्यवस्था के वित्तीय संसाधनों को _____ द्वारा नहीं जुटाया जा सकता है।

- Ans
- 1. सार्वजनिक बचत
 - 2. निजी बचत
 - 3. कराधान
 - 4. मुद्रास्फीति

Question ID : 2390874302

Status : Answered

Chosen Option : 4

Q.12 लॉरियस वर्ल्ड स्पोर्ट्स अवार्ड्स 2019 में स्पोर्ट्समैन ऑफ द ईयर पुरस्कार किसने प्राप्त किया?

- Ans
- 1. नाओमी ओसाका
 - 2. टाइगर वुड्स
 - 3. नोवाक जोकोविच
 - 4. क्लो किम

Question ID : 2390874297

Status : Answered

Chosen Option : 3

Q.13 निम्नलिखित में से कौन ब्रायोफाइट का उदाहरण नहीं है?

- Ans
- 1. फ्यूनेरिया
 - 2. मार्शेटिया
 - 3. चरा
 - 4. रिकेशिया

Question ID : 2390874310

Status : Not Answered

Chosen Option : -

Q.14 किराने के सामान की डिलीवरी करने वाली नोएडा की कंपनी 'वेजी इंडिया' को किस अन्य कंपनी ने खरीद लिया है?

- Ans
- 1. बिग बास्केट
 - 2. मिल्कबास्केट
 - 3. गोदरेज नेचर्स बास्केट
 - 4. ग्रोफेर्स

Question ID : 2390874301

Status : Not Answered

Chosen Option : -

Q.15 किसने महाबलीपुरम के भव्य 'रथ' गुफा मंदिरों का निर्माण करवाया था?

- Ans
- 1. महाराणा प्रताप सिंह
 - 2. नरसिंह

3. अशोक

4. अकबर

Question ID : 2390874294

Status : Answered

Chosen Option : 2

Q.16 बाल गंगाधर तिलक द्वारा होम रूल लीग कब शुरू किया गया था?

Ans 1. 1922

2. 1916

3. 1912

4. 1920

Question ID : 2390874317

Status : Answered

Chosen Option : 2

Q.17 भारत के संविधान में मूलतः कितने अनुच्छेद थे?

Ans 1. 440

2. 395

3. 310

4. 442

Question ID : 2390874305

Status : Answered

Chosen Option : 2

Q.18 परमवीर चक्र से सम्मानित होने वाले भारतीय वायु सेना के एकमात्र अधिकारी कौन हैं?

Ans 1. करम सिंह

2. सोमनाथ सिंह

3. योगेंद्र सिंह यादव

4. निर्मल जीत सिंह सेखों

Question ID : 2390874299

Status : Answered

Chosen Option : 2

Q.19 ओलंपिक स्वर्ण पदक के साथ कितने ग्रैंड स्लैम टूर्नामेंट जीतने वाले खिलाड़ी को गोल्डन स्लैम से पुरस्कृत किया जाता है?

Ans 1. तीन

2. पाँच

3. चार

4. दो

Question ID : 2390874296

Status : Answered

Chosen Option : 2

Q.20 _____ के शासन में कैप्टन हॉकिन्स और सर थॉमस रो ने भारत का दौरा किया था।

- Ans
- 1. हुमायूँ
 - 2. अकबर
 - 3. जहांगीर
 - 4. बाबर

Question ID : 2390874316
Status : Answered
Chosen Option : 3

Q.21 श्रीलंका की सबसे ऊंची चोटी निम्नलिखित में से कौन-सी है?

- Ans
- 1. रीतिगाला
 - 2. पिदुरुथालागाला
 - 3. मिहितले
 - 4. नमुनुकुला

Question ID : 2390874313
Status : Not Answered
Chosen Option : -

Q.22 किस संशोधन के तहत 6 से 14 वर्ष की आयु के बच्चों को मुफ्त और अनिवार्य शिक्षा का प्रावधान किया गया है?

- Ans
- 1. 86 वें
 - 2. 52 वें
 - 3. 91 वें
 - 4. 74 वें

Question ID : 2390874306
Status : Answered
Chosen Option : 1

Q.23 _____ को सिंधु घाटी सभ्यता की सबसे पुरानी खोज की गई माना जाता है।

- Ans
- 1. भिरड़ाणा
 - 2. मोहनजोदड़ो
 - 3. राखीगढ़ी
 - 4. अल्लाहदीनो

Question ID : 2390874315
Status : Answered
Chosen Option : 2

Q.24 The mouth of Mollusca contains a file-like rasping organ for feeding which is called _____.

- Ans
- 1. chitinous
 - 2. radula
 - 3. parapodia
 - 4. coelomate

Question ID : 2390874309
Status : Not Answered
Chosen Option : -

Q.25 लैटेराइट मृदा आयरन और _____ से भरपूर है।

- Ans
- 1. पोटेशियम
 - 2. चूना
 - 3. एल्यूमिनियम
 - 4. नाइट्रोजन

Question ID : 2390874314

Status : Answered

Chosen Option : 1

Multi Tasking (Non-Technical) Staff Examination 2019

Roll No.	
Registration No.	
Name	
Test Venue	
Test Time	4:00 PM - 5:30 PM
Test Date	20/08/2019

Section : **General English**

Q.1 Select the most appropriate synonym of the given word
Artful

- Ans 1. Artistic
 2. Naïve
 3. Crafty
 4. Creative

Question ID : **2390874128**
 Status : **Answered**
 Chosen Option : **3**

Q.2 Identify the segment in the sentence which contains the grammatical error.
One of the friends were doubtful that the plan would work.

- Ans 1. that the plan
 2. were doubtful
 3. would work
 4. One of the friends

Question ID : **2390874114**
 Status : **Answered**
 Chosen Option : **2**

Q.3 Select the most appropriate meaning of the given idiom
Last straw

- Ans 1. Final problem in the series
 2. Last cookie on the plate
 3. Last person in the queue
 4. Final decision

Question ID : **2390874132**
 Status : **Answered**
 Chosen Option : **4**

Q.4 Identify the segment in the sentence which contains the grammatical error.
Nisha rejected the job offer as a salary offered was too low

- Ans 1. as a salary offered
 2. Nisha rejected
 3. was too low
 4. the job offer

Question ID : **2390874116**
 Status : **Answered**
 Chosen Option : **1**

Q.5 Select the most appropriate option to fill in the blank and make a grammatically correct sentence.

A word can have a different _____ in different contexts.

- Ans 1. connotation
 2. constellation
 3. contention
 4. confrontation

Question ID : 2390874138
Status : Answered
Chosen Option : 3

Q.6 Select the most appropriate antonym of the word
Obstinate

- Ans 1. Stern
 2. Stubborn
 3. Flexible
 4. Adamant

Question ID : 2390874131
Status : Answered
Chosen Option : 3

Q.7 Select the correctly spelt word.

- Ans 1. Patrimoney
 2. Patremoney
 3. Patrimony
 4. Patremony

Question ID : 2390874136
Status : Answered
Chosen Option : 1

Q.8 Select the most appropriate option to substitute the underlined segment in the given sentence. If there is no need to substitute it, select No improvement.

Simran is more intelligent than any other girl in the class.

- Ans 1. No improvement
 2. most intelligent
 3. the more intelligent
 4. much intelligent

Question ID : 2390874117
Status : Answered
Chosen Option : 1

Q.9 Select the most appropriate meaning of the given idiom
Cut the mustard

- Ans 1. To be pessimistic
 2. To succeed
 3. To take shortcuts
 4. To be angry

Question ID : 2390874133
Status : Answered
Chosen Option : 2

Q.10 Select the most appropriate option to substitute the underlined segment in the given sentence. If there is no need to substitute it, select No improvement.

The student's knowing of the subject astonished the teacher.

- Ans
- 1. students knowing
 - 2. student's knowledge
 - 3. students knowledge
 - 4. No improvement

Question ID : 2390874119
Status : Answered
Chosen Option : 2

Q.11 Select the most appropriate word for the given group of words.
A person who is recovering from an illness

- Ans
- 1. Invalid
 - 2. Cartographer
 - 3. Convalescent
 - 4. Senator

Question ID : 2390874135
Status : Answered
Chosen Option : 3

Q.12 Select the most appropriate option to fill in the blank and make a grammatically correct sentence.

The blind man needed ____ to cross the street.

- Ans
- 1. guards
 - 2. assistance
 - 3. cooperation
 - 4. porters

Question ID : 2390874139
Status : Answered
Chosen Option : 2

Q.13 Select the most appropriate word for the given group of words.
An institution for the care of people who are mentally ill

- Ans
- 1. Aviary
 - 2. Apiary
 - 3. Arsenal
 - 4. Asylum

Question ID : 2390874134
Status : Answered
Chosen Option : 4

Q.14 Select the most appropriate option to fill in the blank and make a grammatically correct sentence.

Your need is certainly greater than ____.

- Ans
- 1. I
 - 2. my
 - 3. mine
 - 4. me

Question ID : 2390874121
Status : Answered
Chosen Option : 3

Q.15 Select the most appropriate antonym of the word Harsh

- Ans
- 1. Honest
 - 2. Dirty
 - 3. Gentle
 - 4. Rough

Question ID : 2390874130
Status : Answered
Chosen Option : 3

Q.16 Identify the segment in the sentence which contains the grammatical error. To escape floods, a tigress took refuge at a vegetable garden

- Ans
- 1. took refuge
 - 2. at a vegetable garden
 - 3. a tigress
 - 4. To escape floods,

Question ID : 2390874115
Status : Answered
Chosen Option : 2

Q.17 Select the most appropriate option to substitute the underlined segment in the given sentence. If there is no need to substitute it, select No improvement.

Pratham will not go the party if he is personally invited.

- Ans
- 1. unless
 - 2. No improvement
 - 3. even
 - 4. because

Question ID : 2390874118
Status : Answered
Chosen Option : 1

Q.18 Select the correctly spelt word.

- Ans
- 1. Luminescent
 - 2. Luminscent
 - 3. Lumeniscent
 - 4. Luminascent

Question ID : 2390874137
Status : Answered
Chosen Option : 1

Q.19 Select the most appropriate synonym of the given word Morbid

- Ans
- 1. Nasty
 - 2. Prompt
 - 3. Pretty
 - 4. Lively

Question ID : **2390874129**
 Status : **Answered**
 Chosen Option : **3**

Q.20 Select the most appropriate option to fill in the blank and make a grammatically correct sentence.

Timely alerts about floods in Bhutan _____ a blessing to Indian villages.

- Ans 1. are proved
 2. have proved
 3. is proved
 4. has proved

Question ID : **2390874120**
 Status : **Answered**
 Chosen Option : **1**

Comprehension:

In the following passage some words have been deleted. Fill in the blanks with the help of the alternatives given. Select the most appropriate option for each blank.

Arabia is mostly a desert. It is (1)_____ to walk over it during (2)_____ day. Occasionally, one may (3)_____ a fertile patch called an oasis (4)_____ springs and tall fig and palm trees. The Arabs are nomads (5)_____ live in tents and travel in caravans.

SubQuestion No : 21

Q.21 Select the most appropriate option to fill in blank No.1.

- Ans 1. impossible
 2. absurd
 3. hopeless
 4. useless

Question ID : **2390874123**
 Status : **Answered**
 Chosen Option : **1**

Comprehension:

In the following passage some words have been deleted. Fill in the blanks with the help of the alternatives given. Select the most appropriate option for each blank.

Arabia is mostly a desert. It is (1)_____ to walk over it during (2)_____ day. Occasionally, one may (3)_____ a fertile patch called an oasis (4)_____ springs and tall fig and palm trees. The Arabs are nomads (5)_____ live in tents and travel in caravans.

SubQuestion No : 22

Q.22 Select the most appropriate option to fill in blank No.2.

- Ans 1. one
 2. the
 3. a
 4. an

Question ID : **2390874124**
 Status : **Answered**
 Chosen Option : **2**

Comprehension:

In the following passage some words have been deleted. Fill in the blanks with the help of the alternatives given. Select the most appropriate option for each blank.

Arabia is mostly a desert. It is (1)_____ to walk over it during (2)_____ day. Occasionally, one may (3)_____ a fertile patch called an oasis (4)_____ springs and tall fig and palm trees. The Arabs are nomads (5)_____ live in tents and travel in caravans.

SubQuestion No : 23

Q.23 Select the most appropriate option to fill in blank No.3.

- Ans 1. come across
 2. come up
 3. come out
 4. come away

Question ID : **2390874125**
 Status : **Answered**
 Chosen Option : **1**

Comprehension:

In the following passage some words have been deleted. Fill in the blanks with the help of the alternatives given. Select the most appropriate option for each blank.

Arabia is mostly a desert. It is (1)_____ to walk over it during (2)_____ day. Occasionally, one may (3)_____ a fertile patch called an oasis (4)_____ springs and tall fig and palm trees. The Arabs are nomads (5)_____ live in tents and travel in caravans.

SubQuestion No : 24

Q.24 Select the most appropriate option to fill in blank No.4.

- Ans 1. in
 2. on
 3. for
 4. with

Question ID : **2390874126**
 Status : **Answered**
 Chosen Option : **1**

Comprehension:

In the following passage some words have been deleted. Fill in the blanks with the help of the alternatives given. Select the most appropriate option for each blank.

Arabia is mostly a desert. It is (1)_____ to walk over it during (2)_____ day. Occasionally, one may (3)_____ a fertile patch called an oasis (4)_____ springs and tall fig and palm trees. The Arabs are nomads (5)_____ live in tents and travel in caravans.

SubQuestion No : 25

Q.25 Select the most appropriate option to fill in blank No.5.

- Ans 1. whom
 2. who
 3. what
 4. which

Question ID : **2390874127**
 Status : **Answered**
 Chosen Option : **2**

Section : **General Intelligence & Reasoning**

Q.1 यदि PLAIN को NJYGL के पँ म.कूटब किया जाता है, तो MUG को _____ के प में कूटब किया जाएगा।

- Ans 1. LTF
 2. JPE
 3. JPF
 4. KSE

Question ID : **2390874473**
 Status : **Answered**
 Chosen Option : **4**

Q.2 उस विक का चयन करें जो तीसरे पद से उसी तरह से संबंधित है जिस कार दूसरा पद पहले पद से संबंधित है।

अर : श :: वा : ?

- Ans
- 1. अंक
 - 2. सोएँ
 - 3. अनुेद
 - 4. समीकरण

Question ID : 2390874470

Status : Answered

Chosen Option : 3

Q.3 उस आकृति का चयन करें जो निम्नलिखित श्रृंखला में आगे आएगी।

T	B	C	U	G
↑	↓	B	C	U

Ans

- 1.
- 2.
- 3.
- 4.

Question ID : 2390874487

Status : Answered

Chosen Option : 4

Q.4 नीचे दिए गए कथन और निष्कर्ष को इनपुर्वक पढ़ें और निर्णय करें कि कौन से निष्कर्ष तार्किक प से कथन का अनुसरण करते हैं।

कथन:

पौधों के वैज्ञानिक अयन को वनति विान के प में जाना जाता है।

निष्कर्ष :

- I. वनति विान हमें मानव वहार को समझने में मदद करता है।
- II. वनति विान पशु शरीर को समझने में हमारी मदद करता है।

Ans 1. या तो निष्कर्ष I या निष्कर्ष II अनुसरण करता है।

2. केवल निषर्ण ॥ अनुसरण करता है।
3. न तो । और न ही ॥ अनुसरण करता है।
4. केवल निषर्ण । अनुसरण करता है।

Question ID : 2390874480
Status : Answered
Chosen Option : 3

Q.5 किसी कूट भाषा में "LANDMARK" को "1311811121144" के प में लिखा जाता है। उसी कूट भाषा में "NOTEBOOK" को किस प में लिखा जाएगा?

- Ans 1. 21515111415205
2. 21515101415205
3. 21510111415205
4. 14152052151511

Question ID : 2390874474
Status : Answered
Chosen Option : 1

Q.6 किसी कूट भाषा में, BHOPAL श को DKTWLY के प में लिखा जाता है, तो उसी कूट भाषा में MHOW श को कैसे कूटब किया जाएगा?




- Ans 1. DTOK
2. OKDT
3. OKTD
4. TDKO

Question ID : 2390874472
Status : Answered
Chosen Option : 3

Q.7 नीचे दी गई उत्तर आकृतियों से, उस आकृति का चयन करें जिसमें प्रश्न आकृति छिपी/सन्निहित है। (घुमाने की अनुमति नहीं है)

P

Ans

1. 
2. 
3. 

4.



Question ID : 2390874489

Status : Answered

Chosen Option : 2

Q.8 यदि '\$' का अर्थ 'x' है, '#' का अर्थ '/' है, '*' का अर्थ '+' और '@' का अर्थ '-' है, तो निलिखत समीकरण का मान ज्ञात कीजिए?

$$95 \# 19 \$ 11 @ 28 * 17 = ?$$

Ans 1. 34

2. 46

3. 35

4. 44

Question ID : 2390874485

Status : Answered

Chosen Option : 4

Q.9 उस विकल्प का चयन करें जो तीसरे पद से उसी तरह से संबंधित है जिस कार दूसरा पद पहले पद से संबंधित है।

BDF : GIK :: MOQ : ?

Ans 1. RTV

2. RTU

3. QPR

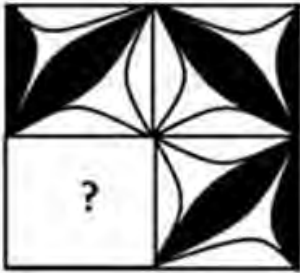
4. RSV

Question ID : 2390874471

Status : Answered

Chosen Option : 1

Q.10 निम्नलिखित पैटर्न को पूरा करने के लिए सही विकल्प का चयन करें।



Ans

1.



2.



3.



4.



Question ID : 2390874488

Status : Answered

Chosen Option : 3

Q.11 सात बने A, B, C, D, E, F और G एक पंक्ति में ऊपर से नीचे खड़े हैं। E पांचवे स्थान पर है। केवल C, A और B के बीच में है। G सबसे नीचे है। B, F के तीन स्थान पीछे है। ऊपर से D का स्थान कौनसा है?

Ans 1. छठा

2. चौथा

3. दूसरा

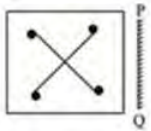
4. अंतिम

Question ID : 2390874476

Status : Answered

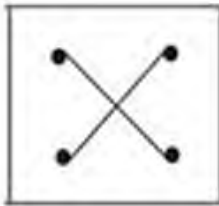
Chosen Option : 2

Q.12 उस विकल्प का चयन करें जो नीचे दी गई आकृति की दर्पण छवि से बहुत ज्यादा मिलता-जुलता है जब दर्पण को दायरे तरफ रखा जाता है।

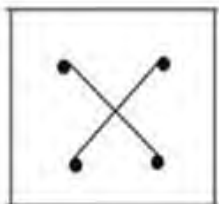


Ans

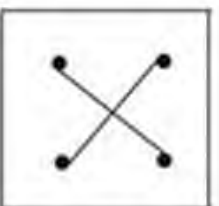
1.



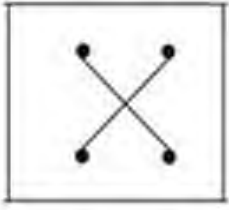
2.



3.



4.



Question ID : 2390874490

Status : Answered

Chosen Option : 3

Q.13 उस विक का चयन करें जो तीसरे पद से उसी तरह से संबंधित है जिस कार दूसरा पद पहले पद से संबंधित है।

शकोश : श :: मानचावली : ?

Ans 1. ना

2. फ़ोन नंबर

3. तारीखें

4. खा वुएं

Question ID : 2390874469

Status : Answered


Chosen Option : 1

Q.14 उस वेन आरेख का चयन करें जो दिए गए वर्गों के समूह को सर्वोत्तम ढंग से दर्शाता है?

हार्ड बेड, सोफा, फर्नीचर

Ans


1.




2.



3.



4.



Question ID : 2390874492

Status : Answered

Chosen Option : 2

Q.15 या , दिनेश, माही, चेतन, जय, िवो , अमित और आलोक केंद्र की ओर मुख करके एक दायरे में बैठे हैं। िवो माही के दाहिने से तीसरे और आलोक के बाएं से दूसरे थान पर है। चेतन, माही या आलोक का निकटतम पड़ोसी नहीं है। जय, या जोकि अमित के दायें ओर दूसरे थान पर है, के बि ल दाहिनी

ओर है।

आलोक के बिंदु ल दाहिने ओर कौन बैठा है?

- Ans
- 1. लवो
 - 2. यिा
 - 3. माही
 - 4. चेतन

Question ID : 2390874477

Status : Answered

Chosen Option : 2

Q.16 उस सही विक का चयन करें जो ढूँखला को पूरा करेगा।

7, 22, 52, 97, 157, ?

- Ans
- 1. 257
 - 2. 232
 - 3. 222
 - 4. 254

Question ID : 2390874482

Status : Answered

Chosen Option : 2

Q.17 नीचे दी गई ढूँखला में गलत पद ात करें:

17, 22, 29, 36, 49, 62

- Ans
- 1. 29
 - 2. 49
 - 3. 22
 - 4. 36

Question ID : 2390874481

Status : Answered

Chosen Option : 4

Q.18 नीचे दिए गए कथनों के बाद दो निष्कर्ष और II दिए गए हैं यह मानते ए कि कथनों में दी गई जानकारी स है भले ही वह सर्वात तो ंसे भि तीत होते हो, यह निर्णय करें की कौन सा/ से निष्कर्ष तार्किक प से और निति प से कथन में दी गयी जानकारी का अनुसरण करता है /करते हैं।

कथन:

कुछ मेज़, कान हैं।
सभी कान, च मच हैं।
कुछ च मच, गिलास हैं।

निर्कर्ष:

I. कुछ गिलास, मेज़ हैं।
II. कुछ गिलास, कान हैं।

- Ans
- 1. न निर्कर्ष। न ही निष्कर्ष II अनुसरण करता है
 - 2. केवल निर्कर्ष II अनुसरण करता है
 - 3. केवल निर्कर्ष I अनुसरण करता है
 - 4. दोनों निर्कर्ष अनुसरण करते हैं

Question ID : 2390874479

Status : Answered

Chosen Option : 1

Q.19 नीचे दिए गए पैटर्न का अयन कीजिए और दिए गए विको ंसे वाचक चि (?) के थान पर आने वाली सां ात कीजिए।

8 25 76

5 16 49

7 22 ?

- Ans
- 1. 90
 - 2. 79
 - 3. 64
 - 4. 67

Question ID : 2390874484

Status : Answered

Chosen Option : 4

Q.20 उस विक का चयन करें जो तीसरे पद से उसी तरह से स ंधित है जिस कार दूसरा पद पहले पद से स ंधित है।

342 : 18 :: 156 : ?

- Ans
- 1. 12
 - 2. 14
 - 3. 5
 - 4. 11

Question ID : 2390874483

Status : Answered

Chosen Option : 1

Q.21 उस पद का चयन करें, जो निलिखत ़खला में वाचक चि (?) के थान पर आएगा?

MN, NOP, PQRS, STUVW, ?

- Ans
- 1. WXYZAB
 - 2. WXYZ
 - 3. WXYZA
 - 4. XYZABC

Question ID : 2390874468

Status : Answered

Chosen Option : 1

Q.22 यदि RACK = 9; TOP = 5; है, तो MAPLE = ?

- Ans
- 1. 28
 - 2. 12
 - 3. 10
 - 4. 7

Question ID : 2390874475

Status : Answered

Chosen Option : 1

Q.23 नि समीकरण को सही करने के लिए कौन-से दो चि ं को आपस में बदलना होगा?

96 - 16 ÷ 4 × 2 + 8 = 6

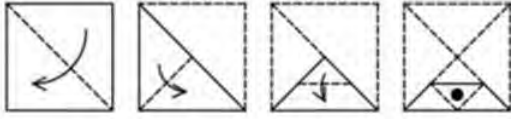
- Ans
- 1. + and +
 - 2. + and ×
 - 3. × and +
 - 4. - and ÷

Question ID : 2390874486

Status : Answered


Chosen Option : 4

Q.24 एक कागज को नीचे दी गयी प्रश्न आकृतियों में दिखाए गए अनुसार मोड़ा और काटा गया है। नीचे दी गई उत्तर आकृतियों से चयन कीजिए, इसे खोले जाने पर यह कैसा दिखाई देगा?




Ans


✓ 1.




✗ 2.



✗ 3.



✗ 4.



Question ID : 2390874491

Status : Answered

Chosen Option : 1

Q.25 राधिका को किसी परी में शीर्ष से सोलहवां और नीचे से तेरहवां रैंक आ है। का में कितने छा हैं?

Ans ✗ 1. 30

✗ 2. 27

✗ 3. 29

✓ 4. 28

Question ID : 2390874478

Status : Answered

Chosen Option : 4

Section : Numerical Aptitude

Q.1 किसी आदमी, जिसके कार्यालय का समय प्रातःकाल 9 बजे से सायंकाल 5 बजे के बीच है, के कार्यालय घंटों का माध्यिका समय क्या है?

Ans ✗ 1. 12:30

2. 12:00

3. 13:00

4. 13:30

Question ID : 2390873916

Status : Answered

Chosen Option : 3

Q.2 उस उपहार पर छूट की दर प्रतिशत क्या है जिसके अंकित मूल्य पर ₹60 की कमी के बाद उसका बिक्री मूल्य ₹420 है?

Ans 1. 10.5

2. 12.5

3. 14.5

4. 13.5

Question ID : 2390873915

Status : Answered

Chosen Option : 2

Q.3 किसी आईटी कंपनी में 44 कर्मचारियों के समूह का औसत वजन 55 kg है। यदि किसी नवनियुक्त के वजन को शामिल किया जाए, तो औसत वजन 250 g बढ़ जाता है। नवनियुक्त का वजन (kg में) क्या है?

Ans 1. 66.25

2. 64.25

3. 62.25

4. 60.25

Question ID : 2390873917

Status : Answered

Chosen Option : 1

Q.4 एक रेलगाड़ी जिसकी औसत गति 54 km/h है, किसी दूरी को 200 मिनट में तय करती है। यात्रा समय को कम कर 90 मिनट करने हेतु रेलगाड़ी को किस गति (km/h में) से चलना चाहिए?

Ans 1. 120

2. 60

3. 180

4. 220

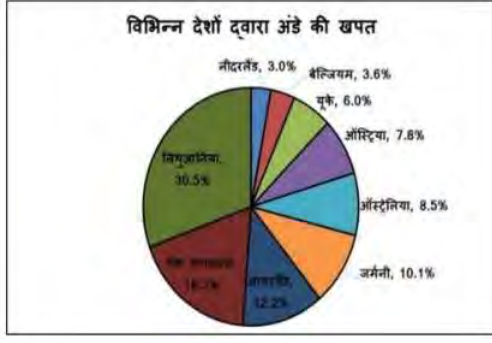
Question ID : 2390873928

Status : Answered

Chosen Option : 1

Q.5

नीचे दिया गया वृत्त आरेख नौ भिन्न देशों द्वारा किए गए अंडों के कुल उपभोग के संदर्भ में, अंडों के उपभोग के प्रतिशत आंकड़ों को दर्शाता है। लिथुआनिया के लिए वृत्तखंड का केंद्रीय कोण (0.1 डिग्री के निकटतम) क्या है?



- Ans
- 1. 119.8
 - 2. 109.8
 - 3. 129.8
 - 4. 99.8

Question ID : 2390873933
Status : Answered
Chosen Option : 2

Q.6 भिन्न $\frac{4}{9}$ के अंश तथा हर प्रत्येक में कौन-सी संख्या घटाई जानी चाहिए जिससे भिन्न को $\frac{1}{6}$ के बराबर बनाया जा सके?

- Ans
- 1. 3
 - 2. 7
 - 3. 2
 - 4. 5

Question ID : 2390873920
Status : Answered
Chosen Option : 1

Q.7 दो गोलों का आयतन 64 : 125 के अनुपात में हैं तो उनके पृष्ठ क्षेत्रफलों का अनुपात है:

- Ans
- 1. 4/25
 - 2. 4/5
 - 3. 16/25
 - 4. 25/16

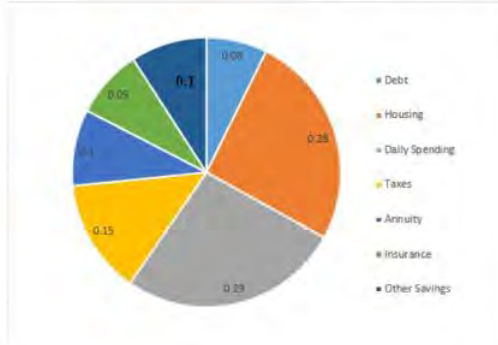
Question ID : 2390873930
Status : Answered
Chosen Option : 3

Q.8 21 साइकिलों की कीमत 20 साइकिलों के विक्रय मूल्य के बराबर है। एक साइकिल के विक्रय में हानि या लाभ प्रतिशत कितना है?

- Ans
- 1. लाभ 20%
 - 2. हानि 20%
 - 3. हानि 5%
 - 4. लाभ 5%

Question ID : 2390873919
Status : Answered
Chosen Option : 4

Q.9 नीचे दिया गया वृत्त आरेख अनुराग द्वारा किसी वर्ष में किए गए व्यय के विभिन्न शीर्षों के आंकड़ों को दर्शाता है। उसके द्वारा टैक्स पर किए गए व्यय की तुलना में कितने शीर्षों में उसके व्यय कम हैं?



- Ans
1. 2
2. 1
3. 4
4. 3

Question ID : 2390873934

Status : Answered

Chosen Option : 3

Q.10 कोई इनलेट पाइप 2 घंटे में किसी टंकी को भर सकता है और एक आउटलेट पाइप 3 घंटे में पूरी भरी हुई टंकी को खाली कर सकता है। यदि इनलेट और आउटलेट पाइपों को एक साथ खोल दिया जाता है, तो खाली टंकी कितने समय में भर जाएगी?

- Ans
1. 2 h
2. $\frac{3}{2}$ h
3. 3 h
4. 6 h

Question ID : 2390873926

Status : Answered

Chosen Option : 4

Q.11 6 पुरुष किसी सड़क की मरम्मत 14 घंटों में कर सकते हैं। 4 घंटों में सड़क की मरम्मत करने के लिए कितने पुरुषों की आवश्यकता होगी?

- Ans
1. 21
2. 7
3. 28
4. 14

Question ID : 2390873925

Status : Answered

Chosen Option : 1

Q.12 18 cm व्यास वाले किसी गोले का (दो दशमलव स्थानों तक) आयतन (cm^3 में) क्या है? ($\pi = \frac{22}{7}$ लें)

- Ans
1. 3504.58
2. 4503.86
3. 4530.58
4. 3054.86

Question ID : 2390873929

Status : Answered

Chosen Option : 4

Q.13 यदि x , 8 और 27 निरंतर अनुपात में हैं, तो x का मान क्या है?

- Ans
1. $\frac{2}{3}$
2. $\frac{8}{3}$
3. $\frac{4}{3}$
4. $\frac{64}{27}$

Question ID : 2390873921

Status : Answered

Chosen Option : 4

Q.14 मधु द्वारा चार विषयों में प्राप्त औसत अंक 64 है और पांचवें विषय में उसने 69 अंक हासिल किए। मधु द्वारा पांच विषयों में प्राप्त अंकों का नया औसत क्या है?

- Ans
1. 66
2. 67
3. 65
4. 64

Question ID : 2390873913

Status : Answered

Chosen Option : 3

Q.15 एक वर्ष पहले किसी गाँव की जनसंख्या 72,000 थी। प्रवास के कारण यह 8% प्रति वर्ष की दर से घट जाती है। उसकी वर्तमान जनसंख्या कितनी है?

- Ans
1. 68138
2. 60940
3. 66240
4. 61098

Question ID : 2390873924

Status : Answered

Chosen Option : 3

Q.16 30 cm त्रिज्या वाले किसी वृत्त के वृत्तखंड के केंद्रीय कोण की माप 210° है। दिए गए वृत्तखंड का क्षेत्रफल (cm^2 में) क्या है? ($\pi = \frac{22}{7}$ लें)

- Ans
1. 1650
2. 1645
3. 1649
4. 1647

Question ID : 2390873931

Status : Answered

Chosen Option : 1

Q.17 20 मानों का औसत 27 है। यदि प्रत्येक मान को 3 से गुणा किया जाता है, तो नया औसत है:

- Ans
- 1. 91
 - 2. 61
 - 3. 81
 - 4. 71

Question ID : 2390873914
Status : Answered
Chosen Option : 3

Q.18 वह न्यूनतम संख्या क्या है जिसे 12, 18, 24 और 28 से विभाजित करने पर प्रत्येक दशा में शेष 5 बचता है।

- Ans
- 1. 89
 - 2. 504
 - 3. 84
 - 4. 509

Question ID : 2390873910
Status : Answered
Chosen Option : 4

Q.19 What is the value of :

$$26 - [(2 \text{ of } 6 \div 3) - 93 - \{17 - (14 - 2)\}]$$

- Ans
- 1. 100
 - 2. 120
 - 3. 110
 - 4. 90

Question ID : 2390873911
Status : Answered
Chosen Option : 2

Q.20 अभय ने अपनी कार 30% की हानि पर बेच दी। यदि उसने उसे ₹950 अधिक में बेचा होता तो उसको 8% का लाभ प्राप्त होता। लागत मूल्य क्या है?

- Ans
- 1. ₹2500
 - 2. ₹3500
 - 3. ₹2000
 - 4. ₹1500

Question ID : 2390873918
Status : Answered
Chosen Option : 1

Q.21 $\frac{2}{3}, \frac{3}{4}$ के म. स. तथा $\frac{5}{6}, \frac{7}{8}$ के ल.स. का ल. स. क्या है?

- Ans
- 1. $\frac{1}{2}$
 - 2. $\frac{35}{2}$
 - 3. $\frac{1}{12}$

4. $\frac{35}{12}$

Question ID : 2390873912
Status : Answered
Chosen Option : 2

Q.22 किसी समानुपात के प्रथम, द्वितीय और तृतीय पद 24, 32, 48 हैं। चौथा पद क्या है?

- Ans
1. 54
2. 84
3. 64
4. 72

Question ID : 2390873922
Status : Answered
Chosen Option : 3

Q.23 The Pie chart given below presents the figures of different heads of expenditure made in a year by Anurag. If his total annual income is ₹1,20,000, then how much did he spend on Housing?



- Ans
1. ₹36600
2. ₹31600
3. ₹30600
4. ₹33600

Question ID : 2390873932
Status : Answered
Chosen Option : 4

Q.24 यदि किसी साइकिल का पहिया 1.8 km की दूरी तय करने में 160 चक्कर लगाता है, तो उसकी त्रिज्या (m में) क्या है?

- Ans
1. $\frac{45}{8\pi}$
2. $\frac{4.5}{4\pi}$
3. $\frac{15}{8\pi}$
4. $\frac{45}{4\pi}$

Question ID : 2390873927
Status : Answered
Chosen Option : 1

Q.25

पंकज किसी राशि को विभाजित कर तीन अलग-अलग योजनाओं A, B और C में क्रमशः 10%, 12% और 15% प्रति वर्ष ब्याज दर पर निवेश करता है, और एक वर्ष में संचित कुल ब्याज ₹3200 है। योजना A, B और C में निवेश की गई राशि 8 : 5 : 12 के अनुपात में है। योजना B में वह कितनी राशि का निवेश करता है?

- Ans
- 1. ₹5500
 - 2. ₹4500
 - 3. ₹5000
 - 4. ₹4000

Question ID : 2390873923
Status : Answered
Chosen Option : 3

Section : General awareness

Q.1 1967 में भारत के संविधान में राजभाषाओं की सूची में निलिखत में से कौन-सी भाषा को शामिल किया गया था?

- Ans
- 1. बंगाली
 - 2. सिंधी
 - 3. तेलुगू
 - 4. तमिल

Question ID : 2390874330
Status : Answered
Chosen Option : 2

Q.2 Octopus is an the example of Phylum _____.

- Ans
- 1. Echinodermata
 - 2. Hemichordata
 - 3. Arthropoda
 - 4. Mollusca

Question ID : 2390874334
Status : Answered
Chosen Option : 1

Q.3 निलिखत में से किस त में सबसे कम विद्युत्-ऋणाकता है?

- Ans
- 1. ओयम
 - 2. I सियम
 - 3. हाइड्रोजन
 - 4. टंगन

Question ID : 2390874333
Status : Answered
Chosen Option : 3

Q.4 निलिखत में से किस दाथ pH मान शू के सबसे करीब है?

- Ans
- 1. सा हाइड्रोरक अ [HCL]
 - 2. बेकिंग सोडा
 - 3. अमोनिया
 - 4. शू पानी

Question ID : 2390874336
Status : Answered
Chosen Option : 1

Q.5 'इंडिया: द चर इज नाउ' किसके द्वारा लिखी गई है?

- Ans
- 1. नटवर सिंह
 - 2. अंधति राय
 - 3. शशि थर
 - 4. अमिश पिठी

Question ID : 2390874323

Status : Not Answered

Chosen Option : --

Q.6 गांधी द्वारा साहस सभा की थापना कब की गई थी?

- Ans
- 1. 1912
 - 2. 1922
 - 3. 1925
 - 4. 1919

Question ID : 2390874342

Status : Not Answered

Chosen Option : --

Q.7 रविंद्र संगीत लोकगीतों का एक समूह है जिसे किस राज्य के ओहारो और अनुानो के दौरान गाया जाता है?

- Ans
- 1. हिमाचल प्रदेश
 - 2. महाराष्ट्र
 - 3. पश्चिम बंगाल
 - 4. बिहार

Question ID : 2390874318

Status : Not Answered

Chosen Option : --

Q.8 बांग्लादेश की निलिखत नदियों में से किसे बराक नदी के नाम से भी जाना जाता है?

- Ans
- 1. ती
 - 2. रायडेक
 - 3. सुरमा
 - 4. आघी

Question ID : 2390874337

Status : Not Answered

Chosen Option : --

Q.9 केरल के थम नियम को कौन-से नियम के रूप में जाना जाता है?

- Ans
- 1. दीर्घवृत्त (इलि)
 - 2. हामनिज
 - 3. गति (मोशन)
 - 4. समान क्षेत्र (इल एरयाज)

Question ID : 2390874332

Status : Answered

Chosen Option : 3

Q.10 मार्च 2019 में, हुंडई मोटर कंपनी और कीया मोटर्स कॉरपोरेशन ने कैब एग्रीमेंट पर टैटफॉर्मओला में कितनी राशि का निवेश करना तय किया है?

- Ans 1. 300 मिलियन अमरीकी डॉलर
 2. 100 मिलियन अमरीकी डॉलर
 3. 150 मिलियन अमरीकी डॉलर
 4. 200 मिलियन अमरीकी डॉलर

Question ID : 2390874326
 Status : Not Answered
 Chosen Option : --

Q.11 ऋ षेदिक काल में आर्यनी किस की देवी है?

- Ans 1. उषाकाल
 2. वन
 3. पवन
 4. पृी

Question ID : 2390874340
 Status : Answered
 Chosen Option : 1

Q.12 किस संशोधन ने मंषिरषद के आकार को सदन के कुल आकार के 15% तक सीमित कर दिया?

- Ans 1. 74वें
 2. 86वें
 3. 91वें
 4. 61वें

Question ID : 2390874331
 Status : Answered
 Chosen Option : 3

Q.13 यूरोप के लोगों ार ाील ंका के किस पर्वत का नाम बाइबल रॉक रखा गया है?

- Ans 1. गोंगाला
 2. नमुनुकुला
 3. हसगिरया
 4. बटालेगला

Question ID : 2390874338
 Status : Not Answered
 Chosen Option : --

Q.14 इंटरनेशनल शूटिंगोट र्फेडरेशन (आईएसएसएफ) की ओर से दिया जाने वाला सबसे बड़ा सान कौन-सा है?

- Ans 1. ढैकॉस
 2. रेडॉस
 3. ढूॉस
 4. वाइटॉस

Question ID : 2390874322
 Status : Answered
 Chosen Option : 3

Q.15 किसे भारत के लौह पुष के नाम से जाना जाता है?

- Ans 1. बाल गंगाधर तिलक
 2. राजा राममोहन रॉय

3. वभभाई पटेल

4. जवाहरलाल नेह

Question ID : 2390874325

Status : Answered

Chosen Option : 3

Q.16 मलाला युसुफ़ज़ई से पहले कौन नोबेल पुरार से सानित होने वाले सबसे युवा कौन थे?

Ans 1. विलियम लॉरेंस ब्रेग

2. फ्रेडरिक पासी

3. मैरी क्यूरी

4. जीन हेनरी ने

Question ID : 2390874324

Status : Not Answered

Chosen Option : --

Q.17 ओडिशा का बाघ नाच किस हिंदू माह में किया जाता है?

Ans 1. फाुन

2. भा

3. चैत्र

4. बैशाख

Question ID : 2390874320

Status : Answered

Chosen Option : 2

Q.18 किस महल को डच पैलेस के प में जाना जाने लगा?

Ans 1. मनचैरी महल

2. हवामहल

3. मैसूर महल

4. लेह महल

Question ID : 2390874319

Status : Answered

Chosen Option : 3

Q.19 अखल भारतीय फुटबॉल महासंघ (AIFF) 14 मई 2019 मे पुषों की वर रा्रीय फुटबॉल टीम के मु कोच के प में किसे नियु किया गया है?

Ans 1. बॉब हॉटन

2. इगोरीमाक

3. सुखविंदर सिंह

4. म अकरमोव

Question ID : 2390874321

Status : Not Answered

Chosen Option : --

Q.20 लाहौर में बादशाही मद का निर्माण किसने करवाया था?

Ans 1. शाहजहाँ

2. मायूँ

3. औरंगज़ेब

4. अकबर

Question ID : 2390874341
Status : Not Answered
Chosen Option : --

Q.21 चीड़ _____ का उदाहरण हैं।

- Ans
- 1. टेरडोफाइट
 - 2. एकबीजपी
 - 3. अनावृतबीजी
 - 4. आवृतबीजी

Question ID : 2390874335
Status : Answered
Chosen Option : 3

Q.22 _____ is a type of direct Tax which is levied at the time of sale/purchase of securities through the Indian Stock Exchanges.

- Ans
- 1. Stamp Duty
 - 2. Shares and Securities Tax
 - 3. Stamp and Securities Tax
 - 4. Securities Transaction Tax

Question ID : 2390874327
Status : Not Answered
Chosen Option : --

Q.23 भारतीय संविधान कौन-सी अनुसूची नगरपालिकाओ से संबंधित है?

- Ans
- 1. 11वीं
 - 2. 10वीं
 - 3. 9वीं
 - 4. 12वीं

Question ID : 2390874329
Status : Answered
Chosen Option : 4

Q.24 Khadar and Bhangar are types of _____ soil.

- Ans
- 1. Red
 - 2. Alluvial
 - 3. Laterite
 - 4. Black

Question ID : 2390874339
Status : Answered
Chosen Option : 2

Q.25 कौन बजट 2019 के अनुसार, ई-कर निर्धारण के लिए किन दो काड का एक-दूसरे के थान पर योग किया जा सकता है?

- Ans
- 1. ड्राइविंग लाइसेंस और आधार कार्ड
 - 2. पैन कार्ड और आधार कार्ड
 - 3. आधार कार्ड और मतदाता पहचान प
 - 4. पैन कार्ड और मतदाता पहचान प

Question ID : 2390874328
Status : Answered

Multi Tasking (Non-Technical) Staff Examination 2019

Roll No.	
Registration No.	
Name	
Test Venue	
Test Time	9:00 AM - 10:30 AM
Test Date	21/08/2019

Section : General English

Q.1 Select the most appropriate meaning of the given idiom
Off the cuff

- Ans
- 1. To be in a hurry
 - 2. To be lazy
 - 3. Without preparation
 - 4. Without any loss

Question ID : 2390874005
Status : Not Answered
Chosen Option : --

Q.2 Select the correctly spelt word.

- Ans
- 1. Welfare
 - 2. Wellfare
 - 3. Wellfair
 - 4. Welfair

Question ID : 2390874009
Status : Answered
Chosen Option : 1

Q.3 Identify the segment in the sentence which contains the grammatical error.

Diksha has been in a grumpy mood from she got up.

- Ans
- 1. from she got up
 - 2. Diksha has
 - 3. grumpy mood
 - 4. been in a

Question ID : 2390873986
Status : Not Answered
Chosen Option : --

Q.4 Select the most appropriate option to substitute the underlined segment in the given sentence. If there is no need to substitute it, select No improvement.

Bhawna will visited the Eiffel Tower during her trip.

- Ans
- 1. will visit
 - 2. will visiting
 - 3. would visiting
 - 4. No improvement

Question ID : 2390873991
Status : Answered

Q.5 Select the most appropriate option to fill in the blank and make a grammatically correct sentence.

One must keep ____ promise.

- Ans
- 1. ones
 - 2. one's
 - 3. its
 - 4. the

Question ID : 2390873993

Status : **Not Answered**

Chosen Option : --

Q.6 Select the correctly spelt word.

- Ans
- 1. Individual
 - 2. Indivisual
 - 3. Inividual
 - 4. Inviduel

Question ID : 2390874008

Status : **Answered**

Chosen Option : 1

Q.7 Select the most appropriate antonym of the word
Vanity

- Ans
- 1. Nobility
 - 2. Honour
 - 3. Conceit
 - 4. Modesty

Question ID : 2390874003

Status : **Not Answered**

Chosen Option : --

Q.8 Select the most appropriate synonym of the given word
Persuade

- Ans
- 1. Halt
 - 2. Deplete
 - 3. Coax
 - 4. Impose

Question ID : 2390874001

Status : **Not Answered**

Chosen Option : --

Q.9 Select the most appropriate synonym of the given word
Inclination

- Ans
- 1. Aptitude
 - 2. Indifference
 - 3. Repulsion
 - 4. Aversion

Question ID : 2390874000

Status : **Not Answered**

Chosen Option : --

**Q.10 Select the most appropriate word for the given group of words.
Government not connected with religious or spiritual matters**

- Ans
- 1. Socialist
 - 2. Republic
 - 3. Sovereign
 - 4. Secular

Question ID : 2390874007

Status : Not Answered

Chosen Option : --

Q.11 Identify the segment in the sentence which contains the grammatical error.

No sooner did I reach the station when the train left.

- Ans
- 1. I reach the
 - 2. the train left
 - 3. No sooner did
 - 4. station when

Question ID : 2390873987

Status : Not Answered

Chosen Option : --

Q.12 Select the most appropriate option to substitute the underlined segment in the given sentence. If there is no need to substitute it, select No improvement.

Her dance teacher have come twice a week but there is no improvement in her dance.

- Ans
- 1. No improvement
 - 2. will be coming
 - 3. has been coming
 - 4. were coming

Question ID : 2390873989

Status : Not Answered

Chosen Option : --

Comprehension:

In the following passage some words have been deleted. Fill in the blanks with the help of the alternatives given. Select the most appropriate option for each blank.

To have food of our choice anywhere and anytime (1)_____ one of the best luxuries that anyone could (2)_____. However, each of us is different and (3)_____ our food choices too are (4)_____. With travel becoming accessible for all, tour operators work (5)_____ providing the most homely experience.

SubQuestion No : 13

Q.13 Select the most appropriate option to fill in blank No.1.

- Ans
- 1. are
 - 2. were
 - 3. has
 - 4. is

Question ID : 2390873995

Status : Answered

Chosen Option : 3

Comprehension:

In the following passage some words have been deleted. Fill in the blanks with the help of the alternatives given. Select the most appropriate option for each blank.

To have food of our choice anywhere and anytime (1)_____ one of the best luxuries that anyone could (2)_____. However, each of us is different and (3)_____ our food choices too are (4)_____. With travel becoming accessible for all, tour operators work (5)_____ providing the most homely experience.

SubQuestion No : 14

Q.14 Select the most appropriate option to fill in blank No.2.

- Ans
- 1. afford
 - 2. offer
 - 3. spend
 - 4. enjoy

Question ID : 2390873996

Status : Answered

Chosen Option : 1

Comprehension:

In the following passage some words have been deleted. Fill in the blanks with the help of the alternatives given. Select the most appropriate option for each blank.

To have food of our choice anywhere and anytime (1)_____ one of the best luxuries that anyone could (2)_____. However, each of us is different and (3)_____ our food choices too are (4)_____. With travel becoming accessible for all, tour operators work (5)_____ providing the most homely experience.

SubQuestion No : 15

Q.15 Select the most appropriate option to fill in blank No.3.

- Ans
- 1. since
 - 2. hence
 - 3. because
 - 4. although

Question ID : 2390873997

Status : Not Answered

Chosen Option : --

Comprehension:

In the following passage some words have been deleted. Fill in the blanks with the help of the alternatives given. Select the most appropriate option for each blank.

To have food of our choice anywhere and anytime (1)_____ one of the best luxuries that anyone could (2)_____. However, each of us is different and (3)_____ our food choices too are (4)_____. With travel becoming accessible for all, tour operators work (5)_____ providing the most homely experience.

SubQuestion No : 16

Q.16 Select the most appropriate option to fill in blank No.4.

- Ans
- 1. varied
 - 2. contrary
 - 3. alike
 - 4. similar

Question ID : 2390873998

Status : Not Answered

Chosen Option : --

Comprehension:

In the following passage some words have been deleted. Fill in the blanks with the help of the alternatives given. Select the most appropriate option for each blank.

To have food of our choice anywhere and anytime (1)_____ one of the best luxuries that anyone could (2)_____. However, each of us is different and (3)_____ our food choices too

are (4)____. With travel becoming accessible for all, tour operators work (5)_____ providing the most homely experience.

SubQuestion No : 17

Q.17 Select the most appropriate option to fill in blank No.5.

- Ans 1. towards
 2. from
 3. along
 4. through

Question ID : 2390873999
Status : Not Answered
Chosen Option : --

Q.18 Select the most appropriate antonym of the word Startle

- Ans 1. Shock
 2. Soothe
 3. Amaze
 4. Agitate

Question ID : 2390874002
Status : Not Answered
Chosen Option : --

Q.19 Select the most appropriate word for the given group of words.
A critical judge of any art and craft

- Ans 1. Connoisseur
 2. Curator
 3. Crusader
 4. Cynic

Question ID : 2390874006
Status : Not Answered
Chosen Option : --

Q.20 Select the most appropriate option to fill in the blank and make a grammatically correct sentence.

Working together gave us a chance to _____ about old times.

- Ans 1. reminisce
 2. reproduce
 3. recreate
 4. reminding

Question ID : 2390874010
Status : Not Answered
Chosen Option : --

Q.21 Select the most appropriate option to fill in the blank and make a grammatically correct sentence.

Anand Kumar is ___ unique teacher.

- Ans 1. no article
 2. an
 3. the
 4. a

Question ID : 2390873992

Status : Answered

Chosen Option : 2

Q.22 Select the most appropriate option to substitute the underlined segment in the given sentence. If there is no need to substitute it, select No improvement.

The little girl fall off from the terrace.

- Ans
- 1. fell below from
 - 2. fell under
 - 3. fell from
 - 4. No improvement

Question ID : 2390873990

Status : Not Answered

Chosen Option : --

Q.23 Identify the segment in the sentence which contains the grammatical error.

Preeti is absent from the meeting due to she is out of station.

- Ans
- 1. Preeti is absent
 - 2. due to she is
 - 3. from the meeting
 - 4. out of station

Question ID : 2390873988

Status : Not Answered

Chosen Option : --

Q.24 Select the most appropriate meaning of the given idiom
Best thing since sliced bread

- Ans
- 1. To take on a task that is way too big
 - 2. To present a counter argument
 - 3. To perform satisfactorily
 - 4. Most useful innovation in a long time

Question ID : 2390874004

Status : Not Answered

Chosen Option : --

Q.25 Select the most appropriate option to fill in the blank and make a grammatically correct sentence.

The cost turned out to be higher than _____.

- Ans
- 1. excepted
 - 2. anticipated
 - 3. accepted
 - 4. emancipated

Question ID : 2390874011

Status : Not Answered

Chosen Option : --

Section : General Intelligence & Reasoning

Q.1 उस विकल्प का चयन करें जो तीसरे अक्षर से उसी प्रकार से संबंधित है जिस प्रकार से पहला अक्षर दूसरे अक्षर से संबंधित है।

ACE : IKM :: QSU : ?

- Ans
- 1. YZB
 - 2. YAB
 - 3. YBD
 - 4. YAC

Question ID : 2390874421
Status : Answered
Chosen Option : 4

Q.2 उस विकल्प का चयन करें जो तीसरे शब्द से उसी प्रकार से संबंधित है जिस प्रकार से पहला शब्द दूसरे शब्द से संबंधित है।

राजा : महल :: शेर : ?

- Ans
- 1. वन
 - 2. गुफा
 - 3. शेरनी
 - 4. शावक

Question ID : 2390874419
Status : Answered
Chosen Option : 2


Q.3 दिए गए समीकरण को सही बनाने के लिए किन दो संख्याओं को परस्पर बदलना होगा?

$$144 + 108 \div 12 - 16 \times 6 = 24$$

- Ans
- 1. 12, 6
 - 2. 108, 6
 - 3. 108, 144
 - 4. 12, 16

Question ID : 2390874436
Status : Not Answered
Chosen Option : --


Q.4 नीचे के प्रश्न आकृतियों में दिखाए अनुसार कागज को मोड़कर छेदने तथा खोलने के बाद वह किस उत्तर आकृति जैसा दिखाई देगा?



Ans

- 1.
- 2.

✓ 3.



✗ 4.



Question ID : 2390874441

Status : Answered

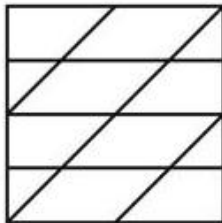
Chosen Option : 1

Q.5 दिए गए विकल्पों में से उस आकृति को चुनिए जिसमें नीचे दी गई आकृति अन्तर्निहित है। (आकृति को घुमाने की अनुमति नहीं है)

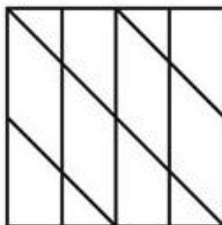


Ans

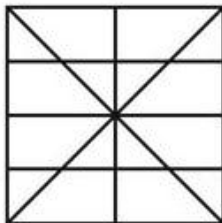
✗ 1.



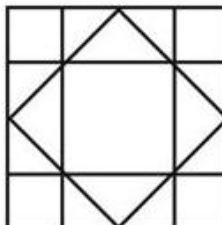
✗ 2.



✗ 3.



✓ 4.



Question ID : 2390874439

Status : Answered

Chosen Option : 4

Q.6 दिए गए शब्दों को उस क्रम में व्यवस्थित करें जिसमें वे शब्दकोश में होते हैं।

1. radiance
2. rainbow
3. radical
4. radiology
5. railing

- Ans
- 1. 54231
 - 2. 13452
 - 3. 15234
 - 4. 21534

Question ID : 2390874428
Status : Answered
Chosen Option : 2

Q.7 नीचे दिए गए कथनों और उनके निष्कर्षों को ध्यान से पढ़िए। कथनों में दी गई जानकारी को सत्य मानते हुए, चाहे वे सामान्य रूप से ज्ञात तथ्यों से भिन्न लगते हों, निर्णय कीजिए कि दिए गए कौन-सा/से निष्कर्ष, कथनों का तार्किक रूप से अनुसरण करता/करते हैं।

कथन:

- I. सभी जहाज पानी के पात्र हैं।
- II कुछ नावें जहाज हैं।

निष्कर्ष:

- I. सभी नावें पानी के पात्र हैं।
- II सभी पानी के पात्र, जहाज हैं।

- Ans
- 1. दोनों निष्कर्ष I और II अनुसरण करते हैं।
 - 2. केवल निष्कर्ष I अनुसरण करता है।
 - 3. केवल निष्कर्ष II अनुसरण करता है।
 - 4. न तो निष्कर्ष I और न ही निष्कर्ष II अनुसरण करता है।

Question ID : 2390874429
Status : Answered
Chosen Option : 3

Q.8 यदि O = 1 और E = 17, और OPEN = 46 है, तो PAINTER = ____ क्या होगा?

- Ans
- 1. 84
 - 2. 85
 - 3. 92
 - 4. 89

Question ID : 2390874424
Status : Not Answered
Chosen Option : --

Q.9 V, W, X, Y और Z एक पंक्ति में उत्तर की ओर मुख करके बैठे हैं। V और X के बीच W है। Y, Z के बाईं ओर है। Z एक सिरे पर है। X पंक्ति के केंद्र में बैठा है। X के दाईं ओर कौन है?

- Ans
- 1. W
 - 2. Y
 - 3. V
 - 4. Z

Question ID : 2390874426
Status : Answered
Chosen Option : 1

Q.10 एक कूट भाषा में, 'TIGER' को '18-7-5-3-16' लिखा जाता है। उसी कूट भाषा में 'LEOPARD' का कोड क्या होगा?

Ans

- 1. 8-3-13-12-23-14-2
- 2. 10-3-13-14-25-16-2
- 3. 8-3-10-12-25-16-2
- 4. 10-2-12-14-25-15-2

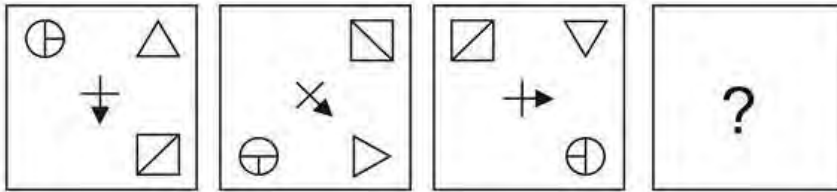
Question ID : 2390874425
Status : Answered
Chosen Option : 2

Q.11 L, M, N, O, P और Q एक गोल मेज के चारों ओर केंद्र की तरफ मुख करके बैठे हैं। P, Q के सामने है। Q, L के बाईं ओर है। O, N के बगल में नहीं है। N, L के सामने है। M के दाईं ओर कौन है?

- Ans
- 1. N
 - 2. P
 - 3. L
 - 4. Q

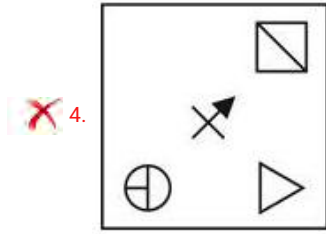
Question ID : 2390874427
Status : Answered
Chosen Option : 1

Q.12 निम्नलिखित में से कौन-सी उत्तर आकृति श्रृंखला को पूरा करती है?



Ans

- 1.
- 2.
- 3.



Question ID : 2390874437

Status : Answered

Chosen Option : 3

Q.13 निम्नलिखित श्रृंखला में दो संख्याओं को कोष्ठक के भीतर रखा गया है। श्रृंखला का ध्यानपूर्वक अध्ययन करें और श्रृंखला के संबंध में सही विकल्प का चयन करें।

5, 11, 18, (25), 35, (45), 56

- Ans
- 1. बाएं से पहली कोष्ठक संख्या सही है और दूसरी गलत है।
 - 2. बाएं से पहली कोष्ठक संख्या गलत है और दूसरी सही है।
 - 3. कोष्ठक में रखी दोनों संख्याएँ सही हैं।
 - 4. कोष्ठक में रखी दोनों संख्याएँ गलत हैं।

Question ID : 2390874432

Status : Not Answered

Chosen Option : --

Q.14 दिए गए समीकरण को सही बनाने के लिए किन दो चिह्नों को परस्पर बदलना होगा?

$$60 - 4 \times 12 \div 3 + 8 = 88$$

- Ans
- 1. +, x
 - 2. +, ÷
 - 3. -, +
 - 4. x, ÷

Question ID : 2390874435

Status : Answered

Chosen Option : 1

Q.15 निम्नलिखित संख्या श्रृंखला को पूरा करें:

529, 441, 361, 289, ____

- Ans
- 1. 225
 - 2. 256
 - 3. 220
 - 4. 235

Question ID : 2390874431

Status : Not Answered

Chosen Option : --

Q.16 दिए गए विकल्पों में से लुप्त संख्या ज्ञात करें।

6 7 169
8 3 ?
10 9 361

- Ans
- 1. 121
 - 2. 111
 - 3. 101
 - 4. 144

Question ID : 2390874434

Status : Not Answered

Chosen Option : --

Q.17 उस विकल्प का चयन करें जो तीसरी संख्या से उसी प्रकार से संबंधित है जिस प्रकार दूसरी संख्या पहली संख्या से संबंधित है।

2.5 : 0.0025 :: 3.6 : ?

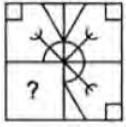
- Ans
- 1. 0.036
 - 2. 0.0036
 - 3. 0.36
 - 4. 0.00036

Question ID : 2390874433

Status : Answered

Chosen Option : 2

Q.18 कौन-सी उत्तर आकृति प्रश्न आकृति के पैटर्न को पूरा करेगी? (आकृति को घुमाने की अनुमति नहीं है)



- Ans
- 1.
 - 2.
 - 3.
 - 4.

Question ID : 2390874438

Status : Answered

Chosen Option : 2

Q.19 उस पद का चयन करें जो निम्नलिखित श्रृंखला में अगला आएगा।

aaCee, gglkk, mmOqq, _____

- Ans
- 1. ssUww
 - 2. sSuww.
 - 3. rrTww
 - 4. ssTww

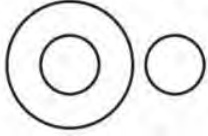
Question ID : 2390874418

Status : Answered

Chosen Option : 1

Q.20

प्रश्न में दिया गया वेन आरेख निम्नलिखित में से किस विकल्प में दी गई वस्तुओं के बीच के संबंध को दर्शाता है?



Ans

- 1. सेब, फल और सब्जियां
- 2. पृथ्वी, ग्रह और बृहस्पति
- 3. टेबल, कुर्सियाँ और फर्नीचर
- 4. खेल, क्रिकेट और टेनिस

Question ID : 2390874442

Status : Answered

Chosen Option : 1

Q.21 एक कूट भाषा में, 'CITY' को 'BHSX' लिखा जाता है। उसी कूट भाषा में 'CAPITAL' का कोड क्या होगा?

Ans

- 1. EAPHTZM
- 2. BXMHSYK
- 3. BZOHSZK
- 4. EZOJUAL

Question ID : 2390874423

Status : Answered

Chosen Option : 3

Q.22 एक कूट भाषा में, 'HISTORY' को 'IJTUPSZ' लिखा जाता है। उसी कूट भाषा में 'ENGLISH' का कोड क्या होगा ?

Ans

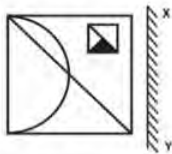
- 1. FOGMJSI
- 2. DNHMHTI
- 3. FOHMJTI
- 4. DMFKHRG

Question ID : 2390874422

Status : Answered

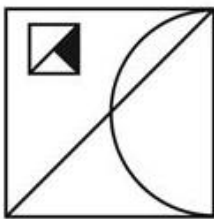
Chosen Option : 4

Q.23 यदि एक दर्पण को रेखा XY पर रखा गया है, तो कौन सी उत्तर आकृति दी गई आकृति का सही दर्पण प्रतिबिंब होगी?

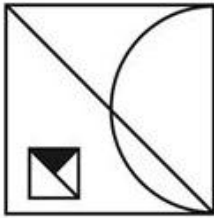


Ans

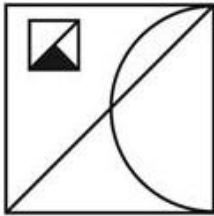
- 1.



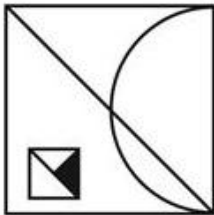
2.



3.



4.



Question ID : 2390874440

Status : Answered

Chosen Option : 3

Q.24 दिए गए कथनों और निष्कर्षों को ध्यानपूर्वक पढ़ें और तय करें कि कौन-सा / से निष्कर्ष तार्किक रूप से कथनों का अनुसरण करता है / करते हैं।

कथन:

सभी दार्शनिक बुद्धिमान हैं। राकेश एक दार्शनिक हैं।

निष्कर्ष:

I. राकेश बुद्धिमान नहीं है।

II. राकेश बुद्धिमान है।

Ans



1. निष्कर्ष I और II दोनों अनुसरण करते हैं।



2. केवल निष्कर्ष I अनुसरण करता है।



3. केवल निष्कर्ष II अनुसरण करता है।



4. न तो निष्कर्ष I और न ही निष्कर्ष II अनुसरण करता है।

Question ID : 2390874430

Status : Answered

Chosen Option : 3

Q.25 उस विकल्प का चयन करें जो तीसरे शब्द से उसी प्रकार से संबंधित है जिस प्रकार से पहला शब्द दूसरे शब्द से संबंधित है।

पासा : घन :: पृथ्वी : ?

Ans



1. ब्रम्हांड



2. चांद



3. गोला



4. सूर्य

Question ID : 2390874420

Status : Answered

Chosen Option : 3

यदि दो संख्याओं का अनुपात 7 : 11 है और उनका म. स. 13 है, तो उनका ल. स. है:

- Ans
- 1. 101
 - 2. 1001
 - 3. 143
 - 4. 234

Question ID : 2390873835
Status : Answered
Chosen Option : 4

Q.2 यदि किसी वृत्त का क्षेत्रफल 154 वर्ग cm है, तो उस वृत्त की परिधि और 21 cm त्रिज्या वाले किसी दूसरे वृत्त की परिधियों का अनुपात है:

- Ans
- 1. 1 : 3
 - 2. 2 : 3
 - 3. 2 : 1
 - 4. 1 : 2

Question ID : 2390873855
Status : Not Answered
Chosen Option : --

Q.3 किसी वर्ग की भुजा a cm है, इसके विकर्ण और इसकी भुजा का अनुपात है:

- Ans
- 1. $\sqrt{2} : 1$
 - 2. 1 : 2
 - 3. $1 : \sqrt{2}$
 - 4. 2 : 1

Question ID : 2390873854
Status : Answered
Chosen Option : 1

Q.4 यहाँ दिया गया वृत्त आरेख 2012 से 2016 तक किसी परीक्षा में चयनित उम्मीदवारों के प्रतिशत को दर्शाता है।

चयनित अभ्यर्थियों की कुल संख्या = 720



वर्ष 2012 तथा 2014 को मिलाकर, चयनित उम्मीदवारों की कुल संख्या है:

- Ans
- 1. 250
 - 2. 180
 - 3. 252
 - 4. 144

Question ID : 2390873858
Status : Answered
Chosen Option : 3

Q.5 कोई व्यक्ति ₹16 में एक वस्तु खरीदता है। यदि उसे एक दर्जन वस्तुएं खरीदनी होतीं तो उसे ₹160 की कुल राशि का भुगतान करना पड़ता। एक दर्जन वस्तुएं खरीदने पर उसे मिलने वाली छूट लगभग कितनी प्रतिशत (निकटतम पूर्णांक में) होती?

- Ans
- 1. 10%
 - 2. 17%
 - 3. 12%
 - 4. 22%

Question ID : 2390873840

Status : Answered

Chosen Option : 2

Q.6 किसी व्यक्ति ने ₹70 प्रति वस्तु की दर से 15 वस्तुएं, ₹60 प्रति वस्तु की दर से 13 वस्तुएं और ₹65 प्रति वस्तु की दर से 12 वस्तुएं खरीदीं। प्रति वस्तु औसत मूल्य (₹ में) है:

- Ans
- 1. 65.25
 - 2. 63.25
 - 3. 65.00
 - 4. 65.75

Question ID : 2390873839

Status : Not Answered

Chosen Option : --

Q.7 संख्या-समूह 2, 9, 7, 21, 43, 35, 33, 36, 58, 47 की माध्यिका है:

- Ans
- 1. 34
 - 2. 23
 - 3. 22
 - 4. 21

Question ID : 2390873841

Status : Answered

Chosen Option : 1

Q.8 सप्ताह के पहले तीन दिनों का औसत तापमान 23°C है और अगले तीन दिनों का औसत तापमान 24°C है और पूरे सप्ताह का औसत तापमान 23.5°C है। सप्ताह के अंतिम दिन का तापमान है:

- Ans
- 1. 22.5°C
 - 2. 21.5°C
 - 3. 24.5°C
 - 4. 23.5°C

Question ID : 2390873838

Status : Answered

Chosen Option : 4

Q.9 यदि $a : b = 2 : 3$, तो $\frac{3a+4b}{4a+5b}$ बराबर है:

- Ans
- 1. 6 : 7
 - 2. 20 : 23
 - 3. 19 : 23
 - 4. 18 : 23

Question ID : 2390873847

Status : Answered

Chosen Option : 4

Q.10 एक कैमरे का क्रय मूल्य उसके विक्रय मूल्य का 90% है। लाभ प्रतिशत है:

- Ans
- 1. $11 \frac{1}{9}\%$
 - 2. 10%
 - 3. 12%
 - 4. $9 \frac{1}{11}\%$

Question ID : 2390873843

Status : Answered

Chosen Option : 1

Q.11 यदि शिवान 19 km/h की गति से चलता है, तो 665 m की दूरी तय करने में उसे कितना समय (मिनट में) लगेगा?

- Ans
- 1. 3
 - 2. $2 \frac{1}{10}$
 - 3. $1 \frac{1}{2}$
 - 4. 2

Question ID : 2390873852

Status : Not Answered

Chosen Option : --

Q.12 A तथा B किसी कार्य को क्रमशः 20 दिनों तथा 30 दिनों में पूरा कर सकते हैं। A पूरे समय कार्य करता है जबकि B आधे समय कार्य करता है। पूरा कार्य कितने दिनों में समाप्त हो जाएगा?

- Ans
- 1. 9 दिन
 - 2. 15 दिन
 - 3. 12 दिन
 - 4. 10 दिन

Question ID : 2390873851

Status : Answered

Chosen Option : 2

Q.13 सत्यम और शिवम किसी कार्य को क्रमशः 10 दिनों और 15 दिनों में कर सकते हैं। दोनों साथ कार्य मिलकर शुरू करते हैं। 4 दिन बाद सत्यम कार्य करना छोड़ देता है। शेष कार्य शिवम को पूरा करना है। पूरा कार्य कितने दिनों में समाप्त हो जाएगा?

- Ans
- 1. 9
 - 2. 12
 - 3. 10
 - 4. 6

Question ID : 2390873850

Status : Answered

Chosen Option : 1

Q.14

10% प्रति वर्ष साधारण ब्याज की दर से कोई धन कितने वर्षों में स्वयं का तीन गुना हो जाएगा?

Ans

1. 25

2. 20

3. 15

4. 18

Question ID : 2390873848

Status : Answered

Chosen Option : 2

Q.15 भाजक तथा शेषफल का अनुपात 3 : 2 है और भाजक तथा भागफल का अनुपात 7 : 12 है। यदि शेषफल 14 है, तो भाज्य को 9 से विभाजित करने पर प्राप्त शेषफल है:

Ans

1. 3

2. 6

3. 4

4. 5

Question ID : 2390873845

Status : Not Answered

Chosen Option : --

Q.16 दो वस्तुएं समान कीमत पर खरीदी जाती हैं। एक वस्तु को 20% लाभ पर बेचा जाता है और दूसरे को 10% हानि पर बेचा जाता है। कुल लाभ/हानि प्रतिशत है:

Ans

1. 5% हानि

2. 5% लाभ

3. 10% लाभ

4. 10% हानि

Question ID : 2390873844

Status : Answered

Chosen Option : 2

Q.17 दिए गए समीकरण $(5)^2 + (6)^2 + (30)^2 = (x)^2$ में x का मान है:

Ans

1. 53

2. 37

3. 41

4. 31

Question ID : 2390873836

Status : Answered

Chosen Option : 4

Q.18 $56 + (4)^3 - 3 \times (3)^2$ का मान है:

Ans

1. 93

2. 79

3. 76

4. 83

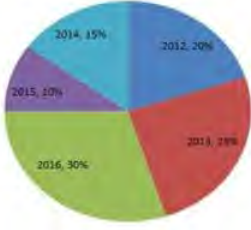
Question ID : 2390873837

Status : Answered

Chosen Option : 4

Q.19 यहाँ दिया गया वृत्त आरेख 2012 से 2016 तक किसी परीक्षा में चयनित उम्मीदवारों के प्रतिशत को दर्शाता है।

चयनित उम्मीदवारों की कुल संख्या = 720



किस वर्ष में चयनित उम्मीदवारों की संख्या, वर्ष 2012 तथा 2015 को एक साथ मिलाकर चयनित उम्मीदवारों की कुल संख्या के बराबर है?

- Ans
- 1. 2014
 - 2. 2016
 - 3. 2013
 - 4. 2012

Question ID : 2390873859

Status : Answered

Chosen Option : 2

Q.20 15 cm त्रिज्या वाले पीतल के एक ठोस गोले को 6 mm व्यास के तार में खींचा जाता है। तार की लंबाई (cm में) है:

- Ans
- 1. 50000
 - 2. 60000
 - 3. 55000
 - 4. 45000

Question ID : 2390873856

Status : Not Answered

Chosen Option : --

Q.21 रमेश, सुरेश से तीन गुना बड़ा है। दो वर्ष बाद रमेश, सुरेश से दोगुना बड़ा होगा। रमेश की वर्तमान आयु (वर्षों में) है:

- Ans
- 1. 4
 - 2. 6
 - 3. 3
 - 4. 2

Question ID : 2390873846

Status : Answered

Chosen Option : 1

Q.22 20 m/sec की गति से चल रही 180 m लम्बी एक रेलगाड़ी 10 m/sec की गति से उसी दिशा में चल रहे एक बच्चे को पार करने में कितना समय (sec में) लेगी?

- Ans
- 1. 12
 - 2. 36
 - 3. 15
 - 4. 18

Question ID : 2390873853

Status : Answered

Chosen Option : 4

Q.23 यदि चक्रवृद्धि ब्याज वार्षिक रूप से संयोजित किया जाता है, तो 8% वार्षिक चक्रवृद्धि ब्याज की दर से कितनी राशि 2 वर्ष में ₹24494.40 हो जाएगी?

Ans

1. ₹21200

2. ₹22400

3. ₹21000

4. ₹22000

Question ID : 2390873849

Status : Not Attempted and Marked For Review

Chosen Option : --

Q.24 यहाँ दिया गया वृत्त आरेख 2012 से 2016 तक किसी परीक्षा में चयनित उम्मीदवारों के प्रतिशत को दर्शाता है।

चयनित अभ्यर्थियों की कुल संख्या = 720



2015 में चयनित कुल उम्मीदवार, 2013 में चयनित कुल उम्मीदवारों से कितने प्रतिशत कम है?

Ans

1. 45%

2. 60%

3. 50%

4. 40%

Question ID : 2390873857

Status : Answered

Chosen Option : 2

Q.25 किसी बक्से में 780 केले हैं जिनमें से 130 केले सड़े हुए हैं और शेष अच्छी गुणवत्ता वाले हैं। अच्छी गुणवत्ता वाले केलों का प्रतिशत (दशमलव के दो स्थान तक) है:

Ans

1. 71.12%

2. 65.35%

3. 83.33%

4. 53.33%

Question ID : 2390873842

Status : Answered

Chosen Option : 3

Section : General awareness

Q.1 भौतिकी के क्षेत्र में नोबेल पुरस्कार प्राप्त करने वाले पहले व्यक्ति कौन थे?

- Ans
- 1. जीन हेनरी डुनैट
 - 2. वंगारी मथाई
 - 3. विलहम कॉनरैड रॉटजन
 - 4. लिनस पॉलिंग

Question ID : 2390874249
Status : Not Answered
Chosen Option : --

Q.2 जून 2019 तक की स्थिति के अनुसार, ग्रेजुएट मैनेजमेंट एडमिशन काउंसिल (जीएमएसी) के अध्यक्ष और सीईओ का नाम क्या है?

- Ans
- 1. विरल आचार्य
 - 2. राम रमेश
 - 3. संगीत चौफला
 - 4. जगदीश सेठ

Question ID : 2390874248
Status : Not Answered
Chosen Option : --

Q.3 निम्नलिखित प्रसिद्ध व्यक्तियों में से भूदान और सर्वोदय आंदोलन के लिए किसे जाना जाता है?

- Ans
- 1. सैयद अहमद खान
 - 2. श्यामा प्रसाद मुखर्जी
 - 3. आचार्य विनोबा भावे
 - 4. अरविन्द घोष

Question ID : 2390874250
Status : Not Answered
Chosen Option : --

Q.4 1527 ई. में खानवा के युद्ध में राणा साँगा को किसने हराया?

- Ans
- 1. बाबर
 - 2. जहांगीर
 - 3. हुमायूँ
 - 4. अकबर

Question ID : 2390874266
Status : Not Answered
Chosen Option : --

Q.5 _____ को अक्सर प्राणी जगत के उभयचरों के रूप में जाना जाता है।

- Ans
- 1. धैलोफाइटा
 - 2. फनेरोगमाए
 - 3. ब्रायोफाइटा
 - 4. टेरेडोफाइटा

Question ID : 2390874260
Status : Not Answered
Chosen Option : --

Q.6 राष्ट्रमंडल खेल 2018 _____ में आयोजित किया गया था।

- Ans
- 1. कनाडा
 - 2. यूनाइटेड किंगडम

✓ 3. ऑस्ट्रेलिया

✗ 4. चीन

Question ID : 2390874246

Status : Answered

Chosen Option : 2

Q.7 पुर्तगाली खोजकर्ता, वास्को दी गामा की मृत्यु 1524 में कहाँ हुई थी?

Ans ✓ 1. कोच्चि

✗ 2. त्रिवेंद्रम

✗ 3. मंगलौर

✗ 4. श्रीरंगापत्नाम

Question ID : 2390874267

Status : Answered

Chosen Option : 1

Q.8 करमा पूजा के त्योहार के दौरान करमा नृत्य किया जाता है, यह त्योहार _____ में मनाया जाता है।

Ans ✗ 1. वसंत ऋतु

✗ 2. ग्रीष्म ऋतु

✗ 3. शीत ऋतु

✓ 4. पतझड़ ऋतु

Question ID : 2390874245

Status : Not Answered

Chosen Option : --

Q.9 गुजरात के उस आखिरी हिन्दू राजवंश का नाम क्या था जिसका शासन 1244 से 1304 तक चला?

Ans ✗ 1. गुज्जर राजवंश

✗ 2. जनपद राजवंश

✓ 3. वाघेला राजवंश

✗ 4. नंदा राजवंश

Question ID : 2390874265

Status : Not Answered

Chosen Option : --

Q.10 वस्तु एवं सेवा कर के संबंध में निम्नलिखित में से कौन-सा कथन असत्य है?

Ans ✗ 1. यह कर के दूरगामी प्रभाव को समाप्त करता है।

✓ 2. इसकी कोई अनुपालन लागत नहीं है।

✗ 3. यह वस्तुओं और सेवाओं के वर्गीकरण से संबंधित विवाद को हल करता है।

✗ 4. वस्तु एवं सेवा कर पंजीकृत खुदरा विक्रेताओं के लिए एक लागत नहीं होगी इसलिए इसमें कोई छिपा कर नहीं होगा।

Question ID : 2390874252

Status : Answered

Chosen Option : 2

Q.11 निम्नलिखित में से कौन-सी नदी गोदावरी की एक सहायक नदी नहीं है?

Ans ✗ 1. सरबरी

✗ 2. इंद्रावती

✗ 3. मंजीरा

✓ 4. बराकर

Question ID : 2390874262
Status : Not Answered
Chosen Option : --

Q.12 निम्नलिखित में से किस तत्व में सबसे अधिक घनत्व होता है?

- Ans 1. हाइड्रोजन
 2. टंगस्टन
 3. ओस्मियम
 4. फ्लोरिन

Question ID : 2390874257
Status : Not Answered
Chosen Option : --

Q.13 प्राचीन पंजाब के लोक गीतों से उत्पन्न, _____ में अक्सर एक प्रेमी की व्यथा को दर्शाया जाता है।

- Ans 1. टप्पा
 2. जुगनी
 3. भांगड़ा
 4. झोड़ा

Question ID : 2390874243
Status : Not Answered
Chosen Option : --

Q.14 बैंकिंग विनियमन अधिनियम, 1934 के तहत 1935 में रिज़र्व बैंक की स्थापना ₹ _____ की पूंजी के साथ की गई थी।

- Ans 1. 5 करोड़
 2. 4 करोड़
 3. 3 करोड़
 4. 2 करोड़

Question ID : 2390874251
Status : Not Answered
Chosen Option : --

Q.15 जनप्रतिनिधित्व अधिनियम कब पारित किया गया?

- Ans 1. 1951
 2. 1949
 3. 1955
 4. 1945

Question ID : 2390874255
Status : Not Answered
Chosen Option : --

Q.16 वित्त मंत्री निर्मला सीतारमण ने बजट 2019 पेश करते समय जल संसाधनों और जल आपूर्ति के प्रबंधन को एकीकृत व समग्र रूप से देखने के लिए नए _____ की स्थापना की घोषणा की।

- Ans 1. हर बूंद जल मंत्रालय
 2. जल शक्ति मंत्रालय
 3. जल जीवन मंत्रालय
 4. हर घर जल मंत्रालय

Question ID : 2390874253

Status : **Answered**
Chosen Option : 2

Q.17 निम्नलिखित पहाड़ियों में से किसको ब्लू पर्वत के नाम से जाना जाता है?

- Ans
- 1. खासी पहाड़ियाँ
 - 2. नीलगिरि पहाड़ियाँ
 - 3. इलायची पहाड़ियाँ
 - 4. अन्नामलाई पहाड़ियाँ

Question ID : 2390874263
Status : **Answered**
Chosen Option : 2

Q.18 निम्नलिखित में से कौन रज्जुकी (CHORDATES) की विशेषता नहीं है?

- Ans
- 1. केंद्रीय तंत्रिका तंत्र पृष्ठीय, खोखला और एकल है
 - 2. एक पशु-गुदा भाग (पूंछ) मौजूद है
 - 3. नोटकोर्ड अनुपस्थित होता है
 - 4. हृदय उदरस्थ होता है

Question ID : 2390874259
Status : **Not Answered**
Chosen Option : --

Q.19 _____ मृदा को सर्वग्राही समूह के नाम से भी जाना जाता है।

- Ans
- 1. काली
 - 2. रेगिस्तानी
 - 3. लाल
 - 4. लैटेराइट

Question ID : 2390874264
Status : **Not Answered**
Chosen Option : --

Q.20 निम्नलिखित प्रदूषकों में से कौन-सा द्वितीयक प्रदूषक है?

- Ans
- 1. ओजोन
 - 2. नाइट्रोजन ऑक्साइड
 - 3. कार्बन मोनोऑक्साइड
 - 4. सल्फर डाइऑक्साइड

Question ID : 2390874261
Status : **Not Answered**
Chosen Option : --

Q.21 _____ को अम्बा विलास के नाम से भी जाना जाता है।

- Ans
- 1. सांची स्तूप
 - 2. लेह महल
 - 3. मैसूर महल
 - 4. हवामहल

Question ID : 2390874244
Status : **Not Answered**
Chosen Option : --

Q.22

भारतीय संविधान का जनक किसे माना जाता है?

- Ans
- 1. राजेंद्र प्रसाद
 - 2. बाल गंगाधर तिलक
 - 3. जवाहरलाल नेहरू
 - 4. भीम राव अंबेडकर

Question ID : 2390874254
Status : Answered
Chosen Option : 4

Q.23 एशियाई महिला रग्बी चैम्पियनशिप 2019 में भारतीय महिला रग्बी टीम ने किस टीम को हराकर महिलाओं की पहली अंतर्राष्ट्रीय जीत दर्ज की?

- Ans
- 1. चीन
 - 2. सिंगापुर
 - 3. रूस
 - 4. जापान

Question ID : 2390874247
Status : Not Answered
Chosen Option : --

Q.24 निम्नलिखित में से किसकी कमी के कारण पेलाग्रा रोग होता है?

- Ans
- 1. विटामिन B5
 - 2. विटामिन B2
 - 3. रिबोफ्लेविन
 - 4. नियासिन

Question ID : 2390874258
Status : Not Answered
Chosen Option : --

Q.25 किस संवैधानिक संशोधन अधिनियम के तहत संविधान की प्रस्तावना को संशोधित किया गया था।

- Ans
- 1. 52 वें
 - 2. 56 वें
 - 3. 44 वें
 - 4. 42 वें

Question ID : 2390874256
Status : Not Answered
Chosen Option : --

Multi Tasking (Non-Technical) Staff Examination 2019

Roll No.	
Registration No.	
Name	
Test Venue	
Test Time	12:30 PM - 2:00 PM
Test Date	21/08/2019

Section : General English

Q.1 Select the most appropriate word for the given group of words.

One who collects stamps

- Ans
- 1. Curator
 - 2. Geologist
 - 3. Philatelist
 - 4. Conjuror

Question ID : 2390873224

Status : Answered

Chosen Option : 1

Q.2 Select the most appropriate option to substitute the underlined segment in the given sentence. If there is no need to substitute it, select No improvement.

It has been announcing that the bus will be late by an hour.

- Ans
- 1. No improvement
 - 2. It is announcing
 - 3. It has announced
 - 4. It has been announced

Question ID : 2390873207

Status : Answered

Chosen Option : 2

Q.3 Select the most appropriate word to fill in the blank and make a meaningful sentence.

The diamond necklace is too _____ for me.

- Ans
- 1. luscious
 - 2. insufficient
 - 3. extravagant
 - 4. austere

Question ID : 2390873228

Status : Answered

Chosen Option : 1

Q.4 Select the most appropriate option to substitute the underlined segment in the given sentence. If there is no need to substitute it, select No improvement.

Greyhounds do not make good watchdogs but they are very gentle with children.

Ans 1. No improvement

2. very gentler with

3. more gentle to

4. much gentle with

Question ID : 2390873208

Status : Answered

Chosen Option : 3

Q.5 Identify the segment in the sentence which contains the grammatical error.

Seema was sprinkled the cashews over the pie to garnish it.

Ans 1. over the pie

2. Seema was sprinkled

3. the cashews

4. to garnish it

Question ID : 2390873206

Status : Answered

Chosen Option : 3

Q.6 Identify the segment in the sentence which contains the grammatical error.

The travel agent is making the arrangements from my trips.

Ans 1. the arrangements

2. is making

3. from my trips

4. The travel agent

Question ID : 2390873204

Status : Answered

Chosen Option : 3

Comprehension:

In the following passage some words have been deleted. Fill in the blanks with the help of the alternatives given. Select the most appropriate option for each blank.

Bacteria are extremely (1)_____ living things. While we measure our own sizes in inches or centimetres, bacterial size is measured in (2)_____. One micron is a thousandth of a millimetre, a pinhead is about a millimetre (3)_____. Rod shaped bacteria are usually from two to four microns (4)____, while rounded ones are generally one micron in (5)_____.

SubQuestion No : 7

Q.7 Select the most appropriate option to fill in blank No.1.

Ans 1. small

2. dirty

3. clean

4. ugly

Question ID : 2390873213

Status : Not Answered

Chosen Option : --

Comprehension:

In the following passage some words have been deleted. Fill in the blanks with the help of the alternatives given. Select the most appropriate option for each blank.

Bacteria are extremely (1)_____ living things. While we measure our own sizes in inches or centimetres, bacterial size is measured in (2)_____. One micron is a thousandth of a millimetre, a pinhead is about a millimetre (3)_____. Rod shaped bacteria are usually from two to four microns (4)____, while rounded ones are generally one micron in (5)_____.

SubQuestion No : 8

Q.8 Select the most appropriate option to fill in blank No.2.

- Ans
- 1. kilometres
 - 2. feet
 - 3. metres
 - 4. microns

Question ID : 2390873214

Status : Not Answered

Chosen Option : --

Comprehension:

In the following passage some words have been deleted. Fill in the blanks with the help of the alternatives given. Select the most appropriate option for each blank.

Bacteria are extremely (1)_____ living things. While we measure our own sizes in inches or centimetres, bacterial size is measured in (2)_____. One micron is a thousandth of a millimetre, a pinhead is about a millimetre (3)_____. Rod shaped bacteria are usually from two to four microns (4)____, while rounded ones are generally one micron in (5)_____.

SubQuestion No : 9

Q.9 Select the most appropriate option to fill in blank No.3.

- Ans
- 1. Aside
 - 2. Beside
 - 3. Beneath
 - 4. Across

Question ID : 2390873215

Status : Not Answered

Chosen Option : --

Comprehension:

In the following passage some words have been deleted. Fill in the blanks with the help of the alternatives given. Select the most appropriate option for each blank.

Bacteria are extremely (1)_____ living things. While we measure our own sizes in inches or centimetres, bacterial size is measured in (2)_____. One micron is a thousandth of a millimetre, a pinhead is about a millimetre (3)_____. Rod shaped bacteria are usually from two to four microns (4)____, while rounded ones are generally one micron in (5)_____.

SubQuestion No : 10

Q.10 Select the most appropriate option to fill in blank No.4.

- Ans
- 1. tall
 - 2. short
 - 3. deep
 - 4. long

Question ID : 2390873216

Status : Answered

Comprehension:

In the following passage some words have been deleted. Fill in the blanks with the help of the alternatives given. Select the most appropriate option for each blank.

Bacteria are extremely (1)_____ living things. While we measure our own sizes in inches or centimetres, bacterial size is measured in (2)_____. One micron is a thousandth of a millimetre, a pinhead is about a millimetre (3)_____. Rod shaped bacteria are usually from two to four microns (4)____, while rounded ones are generally one micron in (5)_____.

SubQuestion No : 11

Q.11 Select the most appropriate option to fill in blank No.5.

- Ans 1. depth
 2. diameter
 3. weight
 4. height

Question ID : 2390873217

Status : Not Answered

Chosen Option : --

Q.12 Select the most appropriate antonym of the word.

Attract

- Ans 1. Charm
 2. Repel
 3. Praise
 4. Lure

Question ID : 2390873221

Status : Answered

Chosen Option : 1

Q.13 Select the most appropriate synonym of the given word.

Impious

- Ans 1. Irreligious
 2. Devout
 3. Skilled
 4. Loyal

Question ID : 2390873219

Status : Answered

Chosen Option : 3

Q.14 Select the most appropriate option to substitute the underlined segment in the given sentence. If there is no need to substitute it, select No improvement.

Tommy's eyes grew wide on a sight of the new bicycle.

- Ans 1. at the sight of
 2. at a sight of
 3. on the sight of
 4. No improvement

Question ID : 2390873209
Status : Answered
Chosen Option : 3

Q.15 Select the most appropriate synonym of the given word.

Prodigy

- Ans
- 1. Anger
 - 2. Tranquil
 - 3. Genius
 - 4. Plight

Question ID : 2390873218
Status : Answered
Chosen Option : 3

Q.16 Select the most appropriate word to fill in the blank and make a meaningful sentence.

The ISRO team is working round the clock to _____ Chandrayaan-2.

- Ans
- 1. navigate
 - 2. introduce
 - 3. launch
 - 4. steer

Question ID : 2390873229
Status : Not Answered
Chosen Option : --

Q.17 Select the most appropriate word for the given group of words.

A large number of fish swimming together

- Ans
- 1. Pack
 - 2. Shoal
 - 3. Horde
 - 4. Herd

Question ID : 2390873225
Status : Answered
Chosen Option : 2

Q.18 Select the most appropriate option to fill in the blank and make a grammatically correct sentence.

It was _____ honour for Seema to be selected as a teacher trainer.

- Ans
- 1. the
 - 2. No article
 - 3. an
 - 4. a

Question ID : 2390873211
Status : Answered
Chosen Option : 3

Q.19 Select the most appropriate option to fill in the blank and make a grammatically correct sentence.

There was a heated discussion _____ two members of the club.

- Ans
- 1. among
 - 2. of
 - 3. in
 - 4. between

Question ID : 2390873210
Status : Answered
Chosen Option : 3

Q.20 Select the most appropriate antonym of the word.

Glee

- Ans
- 1. Joy
 - 2. Woe
 - 3. Fun
 - 4. Mirth

Question ID : 2390873220
Status : Not Answered
Chosen Option : --

Q.21 Select the most appropriate meaning of the given idiom.

Too close to call

- Ans
- 1. A very narrow margin
 - 2. Huddled together
 - 3. very close to heart
 - 4. Winning a competition

Question ID : 2390873222
Status : Not Answered
Chosen Option : --

Q.22 Select the correctly spelt word.

- Ans
- 1. Ninetteen
 - 2. Nineteen
 - 3. Ninteen
 - 4. Ninneteen

Question ID : 2390873227
Status : Answered
Chosen Option : 2

Q.23 Select the most appropriate meaning of the given idiom.

Get someone's goat

- Ans
- 1. To cheat someone

- 2. To hurt someone
- 3. To irritate someone
- 4. To abuse someone

Question ID : 2390873223
Status : Not Answered
Chosen Option : --

Q.24 Select the correctly spelt word.

- Ans 1. Reverence
- 2. Reverense
 - 3. Revernce
 - 4. Revernece

Question ID : 2390873226
Status : Answered
Chosen Option : 2

Q.25 Identify the segment in the sentence which contains the grammatical error.

Pallavi was relaxing in the beach at this time yesterday.

- Ans 1. beach at this
- 2. Pallavi was
 - 3. time yesterday
 - 4. relaxing in the

Question ID : 2390873205
Status : Not Answered
Chosen Option : --

Section : General Intelligence & Reasoning

Q.1 उस विकल्प का चयन करें जो तीसरे पद से उसी तरह से सम्बंधित है जिस प्रकार दूसरा पद पहले पद से सम्बंधित है।

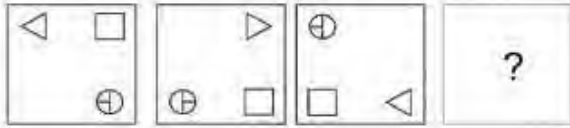
कॉकरोच: निम्फ़ :: भेड़: ?

- Ans 1. बछड़ा
- 2. लार्वा
 - 3. घोड़े का बच्चा
 - 4. मेमना

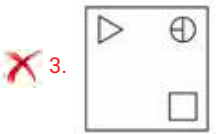
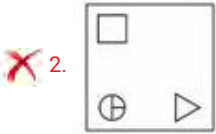
Question ID : 2390873436
Status : Answered
Chosen Option : 4

Q.2

निम्न में से कौन सी उत्तर आकृति श्रृंखला को पूरा करती है?



Ans



Question ID : 2390873453

Status : Answered

Chosen Option : 1

Q.3 नीचे दिए गए समीकरण को सही बनाने के लिए कौन-सी दो संख्याओं को आपस में बदलना होगा?

$$16 \times 1792 \div 7 + 9 - 15 = 778$$

Ans ✗ 1. 16,15

✗ 2. 16,9

✗ 3. 15,9

✓ 4. 16,7

Question ID : 2390873451

Status : Not Answered

Chosen Option : --

Q.4 साहिबा, त्रिशला, लक्ष्य, वंशिका और मनीष एक बेंच पर बैठे हैं। मनीष, त्रिशला और लक्ष्य के बिल्कुल बीच में बैठा है। लक्ष्य, वंशिका के बाईं ओर बैठा है जो छोर पर नहीं है। साहिबा के बाईं ओर कौन बैठा है?

Ans ✓ 1. वंशिका

✗ 2. त्रिशला

✗ 3. मनीष

✗ 4. लक्ष्य

Question ID : 2390873442

Status : Answered

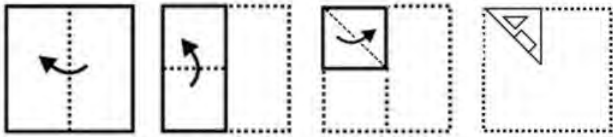
Chosen Option : 1

Q.5 छह कलाकार आकाश, विशाल, निशा, दिशा, ईशा और फ़िरोज़ सोमवार से शुरू होकर शनिवार को समाप्त होने वाले सप्ताह के छह दिनों में एक-एक दिन कला का कला-प्रदर्शन करेंगे। निशा मंगलवार को प्रदर्शन करेगी। आकाश, फ़िरोज़ और विशाल उसी क्रम में एक के बाद एक कला-प्रदर्शन करेंगे। दिशा, सोमवार या बुधवार को प्रदर्शन नहीं करेगी। आकाश के बाद कितने कलाकार कला का प्रदर्शन करेंगे।

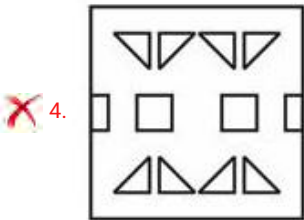
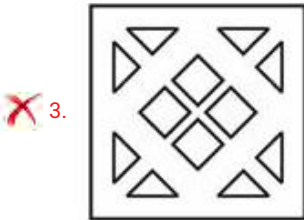
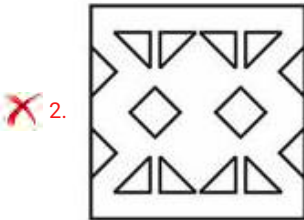
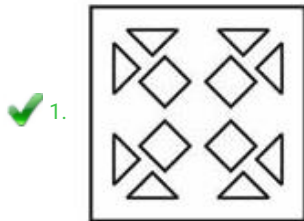
- Ans
- 1. 1
 - 2. 2
 - 3. 4
 - 4. 3

Question ID : 2390873444
Status : Answered
Chosen Option : 2

Q.6 एक कागज को नीचे दी गयी प्रश्न आकृतियों में दिखाए गए अनुसार मोड़ा और काटा गया है। नीचे दी गई उत्तर आकृतियों से चयन कीजिए, इसे खोले जाने पर यह कैसा दिखाई देगा?



Ans



Question ID : 2390873457
Status : Answered
Chosen Option : 1

उस विकल्प का चयन करें जो तीसरे पद से उसी तरह से सम्बंधित है जिस प्रकार दूसरा पद पहले पद से सम्बंधित है।

CIN : GMR :: LUV : ?

- Ans
- 1. QXY
 - 2. PYZ
 - 3. SZA
 - 4. RZA

Question ID : 2390873437

Status : Answered

Chosen Option : 3

Q.8 पांच व्यक्ति एक पंक्ति में उत्तर दिशा की ओर मुख करके खड़े हैं। अंतिम छोर पर खड़े दो व्यक्तियों में से एक चित्रकार है और दूसरा एक बास्केटबॉल खिलाड़ी है। एक वकील, छात्र की दाईं ओर खड़ा है। एक डांसर, बास्केटबॉल खिलाड़ी के बाईं ओर खड़ा है। बाएं ओर से वकील का स्थान क्या है?

- Ans
- 1. 4थां
 - 2. 2रां
 - 3. 5वां
 - 4. 3रां

Question ID : 2390873443

Status : Answered

Chosen Option : 4

Q.9 निम्न विकल्पों में से वह संख्या ज्ञात कीजिए जो प्रश्नवाचक चिह्न (?) के स्थान पर आएगी।

11 11 11

27 9 ?

4 6 9

- Ans
- 1. 9
 - 2. 6
 - 3. 5
 - 4. 3

Question ID : 2390873450

Status : Answered

Chosen Option : 4

Q.10 उस सही विकल्प का चयन करें जो नीचे दी गई श्रृंखला को पूरा करेगा।

8, 27, 64, 125, _____

- Ans
- 1. 343
 - 2. 280
 - 3. 216
 - 4. 250

Question ID : 2390873447

Status : Answered

Chosen Option : 3

Q.11 किसी कूट भाषा में, 'PARROT' को 'RYTPQR' लिखा जाता है। उसी कूट भाषा में 'BEHOLD' को कैसे कूटबद्ध किया जाएगा?

- Ans
- 1. DCJMNB
 - 2. EDTNOC
 - 3. EDTMNB
 - 4. DESNOC

Question ID : 2390873438
Status : Answered
Chosen Option : 1

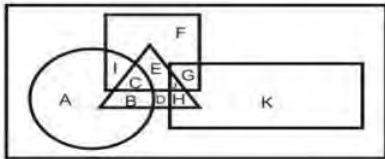
Q.12 उस सही विकल्प का चयन करें जो नीचे दी गई श्रृंखला को पूरा करेगा।

7, 25, 79, 241, _____

- Ans
- 1. 652
 - 2. 380
 - 3. 727
 - 4. 439

Question ID : 2390873448
Status : Answered
Chosen Option : 3

Q.13 निम्नलिखित आकृति में, त्रिकोण शिखरों का प्रतिनिधित्व करता है, वर्ग पिता का प्रतिनिधित्व करता है, वृत्त कवियों का प्रतिनिधित्व करता है और आयत अमेरिकियों का प्रतिनिधित्व करता है। अक्षरों का कौन-सा समूह पिता जो कवि नहीं है का प्रतिनिधित्व करता है?



- Ans
- 1. ICEFGJ
 - 2. GEJ
 - 3. EFGJ
 - 4. BDGF

Question ID : 2390873458
Status : Answered
Chosen Option : 3

Q.14 उस विकल्प का चयन करें जो तीसरे पद से उसी तरह संबंधित है जैसे दूसरा पद पहले पद से संबंधित है।

52 : 65 :: 76 : ?

- Ans
- 1. 115
 - 2. 105
 - 3. 95
 - 4. 85

Question ID : 2390873449
Status : Answered
Chosen Option : 2

Q.15 उस पद का चयन करें, जो निम्नलिखित श्रृंखला में आगे आएगा।

GN, MT, SZ, ____

Ans 1. YF

2. ZG

3. XE

4. WD

Question ID : 2390873434

Status : Answered

Chosen Option : 1

Q.16 नीचे दिए गए समीकरण को सही बनाने के लिए कौन-से दो चिह्नों को आपस में बदलना होगा?

$$27 - 3 \times 2 \div 13 + 9 = 14$$

Ans 1. -, ÷

2. ÷, +

3. -, x

4. x, ÷

Question ID : 2390873452

Status : Not Answered

Chosen Option : --

Q.17 यदि DBFEI को 33568 के रूप में कूटबद्ध किया जाता है, तो EFIBB का कोड _____ है।

Ans 1. 12358

2. 41325

3. 47831

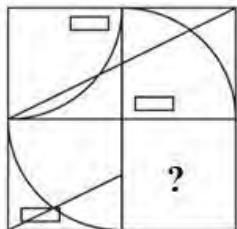
4. 65112

Question ID : 2390873440

Status : Answered

Chosen Option : 4

Q.18 निम्न में से कौन सी उत्तर आकृति प्रश्न आकृति में पैटर्न को पूरा करेगी?



Ans

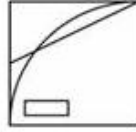
1.



✓ 2.



✗ 3.



✗ 4.



Question ID : 2390873454

Status : Answered

Chosen Option : 4

Q.19 उस विकल्प का चयन करें जो तीसरे पद से उसी तरह से सम्बंधित है जिस प्रकार दूसरा पद पहले पद से सम्बंधित है।

दिन: रात :: सवेरा : ?

Ans

✗ 1. सूर्योदय

✗ 2. सुबह

✗ 3. सूर्यास्त

✓ 4. संध्या

Question ID : 2390873435

Status : Answered

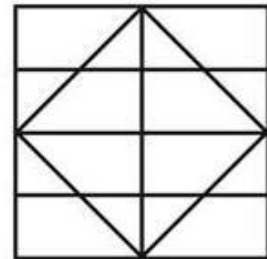
Chosen Option : 3

Q.20 नीचे दिए गए विकल्पों में से उस विकल्प का चयन कीजिए जिसमें नीचे दी गई आकृति सम्मिलित है। (आकृति को घुमाने की अनुमति नहीं है)

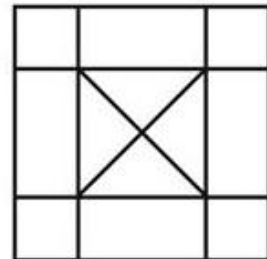


Ans

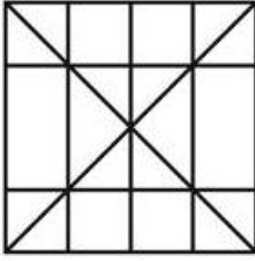
✗ 1.



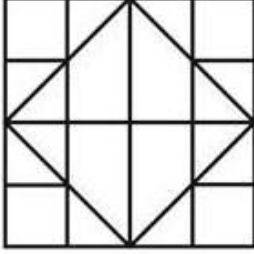
✗ 2.



3.



4.



Question ID : 2390873455

Status : Answered

Chosen Option : 3

Q.21 नीचे दिए गए कथनों और उनके निष्कर्षों को ध्यान से पढ़िए। कथनों में दी गई जानकारी को सत्य मानते हुए, चाहे वे सामान्य रूप से ज्ञात तथ्यों से भिन्न लगते हों, निर्णय कीजिए कि दिए गए कौन-से निष्कर्ष कथनों का तार्किक रूप से अनुसरण करते हैं।

कथन:

सभी जलयान तितलियाँ हैं।

कुछ वायुयान तितलियाँ हैं।

निष्कर्ष:

I. सभी जलयान वायुयान हैं।

II. कुछ तितलियाँ जलयान हैं।

Ans

✓ 1. केवल निष्कर्ष II अनुसरण करता है।

✗ 2. दोनों निष्कर्ष I और II अनुसरण करते हैं।

✗ 3. न तो निष्कर्ष I और न ही निष्कर्ष II अनुसरण करता है।

✗ 4. केवल निष्कर्ष I अनुसरण करता है।

Question ID : 2390873445

Status : Answered

Chosen Option : 1

Q.22 किसी कूट भाषा में, 'FLAG' को 'KQFL' लिखा जाता है। उसी कूट भाषा में 'TRUCK' को कैसे कूटबद्ध किया जाएगा?

Ans

✗ 1. XWAJR

✗ 2. YWAHR

✗ 3. VWXLR

✓ 4. YWZHP

Question ID : 2390873439

Status : Not Answered

Chosen Option : --

Q.23 एक कूट भाषा में, '98563' को '32896' लिखा जाता है। उसी कूट भाषा में '72104' को कैसे कूटबद्ध किया जाएगा?

- Ans
- 1. 15495
 - 2. 21362
 - 3. 24650
 - 4. 15437

Question ID : 2390873441

Status : Answered

Chosen Option : 2

Q.24 नीचे दिए गए कथनों और उनके निष्कर्षों को ध्यान से पढ़िए। कथनों में दी गई जानकारी को सत्य मानते हुए, चाहे वे सामान्य रूप से ज्ञात तथ्यों से भिन्न लगते हों, निर्णय कीजिए कि दिए गए कौन-से निष्कर्ष कथनों का तार्किक रूप से अनुसरण करते हैं।

कथन:

सभी मोर हंस हैं।

सभी तोते हंस हैं।

निष्कर्ष I: कुछ तोते मोर हैं।

निष्कर्ष II: कुछ हंस मोर हैं।

निष्कर्ष III: कुछ हंस तोते हैं।

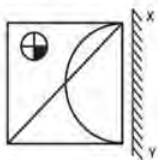
- Ans
- 1. केवल निष्कर्ष I और II अनुसरण करता है।
 - 2. केवल निष्कर्ष I और III अनुसरण करते हैं।
 - 3. सभी निष्कर्ष I, II और III अनुसरण करते हैं।
 - 4. केवल निष्कर्ष II और III अनुसरण करते हैं।

Question ID : 2390873446

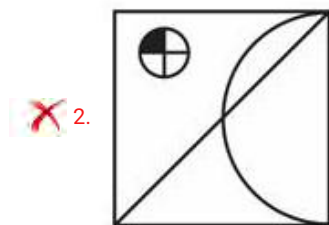
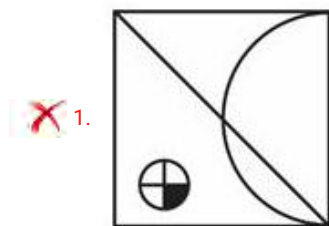
Status : Answered

Chosen Option : 3

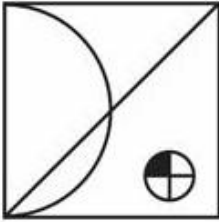
Q.25 यदि एक दर्पण को XY रेखा पर रखा जाता है, तो दी गई उत्तर आकृतियों में से कौन सी आकृति नीचे दी गई आकृति का सही दर्पण प्रतिबिम्ब होगी?



Ans



3.



4.



Question ID : 2390873456

Status : Answered

Chosen Option : 4

Section : Numerical Aptitude

Q.1 343 cm x 49 cm x 7 cm के किसी ठोस धात्विक घनाभ को पिघलाकर 7 cm भुजा वाले घन निर्मित किए जाते हैं। सभी निर्मित घनों के कुल पृष्ठ क्षेत्रफलों (cm² में) का योग है:

- Ans 1. 16807
 2. 10842
 3. 120506
 4. 100842

Question ID : 2390873555

Status : Not Answered

Chosen Option : --

Q.2 $\sqrt{3\frac{1}{16} + \frac{1}{2} - \frac{3}{4}}$ का मान है:

- Ans 1. $1\frac{3}{4}$
 2. 1
 3. $1\frac{1}{2}$
 4. $1\frac{1}{4}$

Question ID : 2390873535

Status : Answered

Chosen Option : 3

Q.3 यदि a : b = 2 : 3 और b : c = 2 : 3, तो $(3a^2+b^2+c^2) : (a^2 + 2b^2+ c^2)$ का मान क्या है?

- Ans 1. 169 : 165
 2. 165 : 169

3. 7 : 5

4. 5 : 7

Question ID : 2390873544

Status : Answered

Chosen Option : 2

Q.4 A तथा B को एक साथ मिलकर $\frac{13}{15}$ भाग कार्य करना है और B तथा C को मिलकर $\frac{11}{20}$ भाग कार्य करना है। यदि A तथा C की मजदूरी का अंतर ₹7600 है, तो A तथा C की कुल मजदूरी है:

Ans 1. ₹24000

2. ₹18000

3. ₹36000

4. ₹56000

Question ID : 2390873550

Status : Not Answered

Chosen Option : --

Q.5 किसी घनाभ की लंबाई, चौड़ाई और ऊंचाई क्रमशः 6 cm, 8 cm और 10 cm है। इसका आयतन (cm^3 में) है:

Ans 1. 128

2. 256

3. 960

4. 480

Question ID : 2390873554

Status : Answered

Chosen Option : 4

Q.6 किसी व्यक्ति ने ₹500000 में एक बाइक और एक कार खरीदी। उसने बाइक को 20% लाभ पर और कार को 10% हानि पर बेच दिया और इस प्रकार पूरे सौदे में उसे 5% का लाभ प्राप्त हुआ। बाइक की कीमत (₹ में) है:

Ans 1. 180000

2. 250000

3. 200000

4. 150000

Question ID : 2390873543

Status : Not Answered

Chosen Option : --

Q.7 किसी वस्तु के अंकित मूल्य से ₹20 कम भुगतान करने पर कोई व्यक्ति 25% छूट प्राप्त करता है। उसने कुल कितनी राशि (₹ में) का भुगतान किया:

Ans 1. 20

2. 80

3. 50

4. 60

Question ID : 2390873539

Status : Answered

Chosen Option : 1

Q.8 कोई खुदरा विक्रेता 22 kg चावल ₹35 प्रति kg की दर से खरीदा और 13 kg चावल ₹30 प्रति kg के दर से खरीदा। जब उसने दोनों किस्मों को मिश्रित कर ₹40 प्रति kg की दर से बेच दिया तो उसने कितना लाभ (निकटतम पूर्णांक में) प्राप्त किया?

- Ans
- 1. 20
 - 2. 21
 - 3. 25
 - 4. 18

Question ID : 2390873542

Status : Not Answered

Chosen Option : --

Q.9 नीचे दी गई तालिका चार अलग-अलग बैंकों (एसबीआई, आईसीआईसीआई, एचडीएफसी और ऐक्सिस) के एटीएम में तीन अलग-अलग मूल्यवर्गों के नोटों की संख्या को दर्शाती है।

बैंक एटीएम	2000 के नोट्स की संख्या	500 के नोट्स की संख्या	200 के नोट्स की संख्या
एसबीआई	250	300	150
आईसीआईसीआई	225	200	175
एचडीएफसी	200	150	100
ऐक्सिस	100	150	250

सभी चार बैंकों को मिलाकर, 200 मूल्यवर्ग के नोटों की कुल संख्या, 2000 मूल्यवर्ग के नोटों की संख्या से कितनी कम है?

- Ans
- 1. 175
 - 2. 100
 - 3. 150
 - 4. 125

Question ID : 2390873557

Status : Not Answered

Chosen Option : --

Q.10 30 छात्रों का औसत अंक 65 है, 36 छात्रों का 35 और 34 छात्रों का 45 है तो सभी छात्रों का औसत अंक है:

- Ans
- 1. 45.3
 - 2. 46.4
 - 3. 45.7
 - 4. 47.4

Question ID : 2390873537

Status : Not Answered

Chosen Option : --

Q.11 एक व्यक्ति 75 km की यात्रा 25 km/h की गति से, अगली 60 km की यात्रा 20 km/h की गति से और उसके बाद 90 km की यात्रा 15 km/h की गति से तय करता है। उसकी औसत गति है:

- Ans
- 1. 25.5 km/h
 - 2. 18.75 km/h

3. 20.25 km/h

4. 15 km/h

Question ID : 2390873552

Status : Not Answered

Chosen Option : --

Q.12 नीचे दी गई तालिका चार अलग-अलग बैंकों (एसबीआई, आईसीआईसीआई, एचडीएफसी और ऐक्सिस) के एटीएम में तीन अलग-अलग मूल्यवर्गों के नोटों की संख्या को दर्शाती है।

बैंक एटीएम	2000 के नोट्स की संख्या	500 के नोट्स की संख्या	100 के नोट्स की संख्या
एसबीआई	250	300	150
आईसीआईसीआई	225	250	175
एचडीएफसी	200	150	100
ऐक्सिस	100	150	250

ऐक्सिस बैंक एटीएम में 500 मूल्यवर्ग की राशि, 2000 मूल्यवर्ग की कुल राशि का कितना प्रतिशत है?

Ans 1. 42%

2. 32.5%

3. 35%

4. 37.5%

Question ID : 2390873558

Status : Not Answered

Chosen Option : --

Q.13 9 पुस्तकों के पृष्ठों की औसत संख्या 400 है। यदि प्रथम पांच पुस्तकों के पृष्ठों की औसत संख्या 430 और अंतिम पांच पुस्तकों की 380 है, तो पांचवीं पुस्तक के पृष्ठों की संख्या कितनी है?

Ans 1. 430

2. 440

3. 420

4. 450

Question ID : 2390873538

Status : Answered

Chosen Option : 4

Q.14 एक बस 10 km की दूरी 12 मिनट में तय करती है। यदि उसकी गति 25 km/h कम कर दी जाए, तो उसी दूरी को तय करने में बस को कितना समय (मिनट में) लगेगा?

Ans 1. 36

2. 13

3. 15

4. 24

Question ID : 2390873551

Status : Answered

Chosen Option : 4

Q.15 किसी संख्या का तीन गुना उसकी एक-तिहाई से 24 अधिक है। संख्या क्या है:

- Ans 1. 9
 2. 15
 3. 12
 4. 8

Question ID : 2390873545
Status : Answered
Chosen Option : 4

Q.16 यदि किसी संख्या के $\frac{2}{5}$ का 40% 24 है, तो संख्या है:

- Ans 1. 136
 2. 148
 3. 150
 4. 154

Question ID : 2390873541
Status : Answered
Chosen Option : 3

Q.17 दिए गए आँकड़े 2, 5, 5, 7, 2, 6, 8, 6, 9, 6 का बहुलक है:

- Ans 1. 7
 2. 6
 3. 2
 4. 5

Question ID : 2390873540
Status : Answered
Chosen Option : 2

Q.18 वह राशि कितनी है जो 5% साधारण ब्याज की दर से 4 वर्षों में ₹1440 हो जाएगी?

- Ans 1. ₹1180
 2. ₹1080
 3. ₹1200
 4. ₹1240

Question ID : 2390873547
Status : Not Answered
Chosen Option : --

Q.19 किसी राशि पर 20% वार्षिक दर से 2 वर्ष के चक्रवृद्धि ब्याज तथा साधारण ब्याज दर का अंतर ₹200 है। राशि है:

Ans

1. ₹3000

2. ₹4500

3. ₹4000

4. ₹5000

Question ID : 2390873548

Status : Answered

Chosen Option : 3

Q.20 A, B तथा C किसी कार्य को क्रमशः 12, 15 तथा 20 दिनों में कर सकते हैं। एक साथ मिलकर वे उसी कार्य को कितने दिनों में पूरा करेंगे?

Ans 1. 5 दिन

2. 4 दिन

3. 7.5 दिन

4. 6 दिन

Question ID : 2390873549

Status : Answered

Chosen Option : 1

Q.21 किसी वृत्त की त्रिज्या किसी आयत की लंबाई के बराबर है। वृत्त की परिधि और आयत की चौड़ाई क्रमशः 132 cm और 20 cm है। आयत का विकर्ण है:

$$\left(\pi = \frac{22}{7} \text{ लें}\right)$$

Ans 1. 28 cm

2. 29 cm

3. 25 cm

4. 27 cm

Question ID : 2390873553

Status : Not Answered

Chosen Option : --

Q.22 $(4488 \div 11.01 - 7.98) \div 15.99$ का अनुमानित मान है:

Ans 1. 2.5

2. 26

3. 25

4. 2.6

Question ID : 2390873536

Status : Answered

Chosen Option : 2

Q.23 नीचे दी गई तालिका चार अलग-अलग बैंकों (एसबीआई, आईसीआईसीआई, एचडीएफसी और एंक्सिस) के एटीएम में तीन भिन्न मूल्यवर्गों के नोटों की संख्या को दर्शाती है।

बैंक एटीएम	2000 के नोट्स की संख्या	500 के नोट्स की संख्या	200 के नोट्स की संख्या
एसबीआई	250	300	150
आईसीआईसीआई	225	200	175
एचडीएफसी	200	150	100
एंक्सिस	100	150	250

आईसीआईसीआई बैंक के एटीएम में 500 मूल्यवर्ग की कुल राशि और आईसीआईसीआई बैंक के एटीएम में 200 मूल्यवर्ग की कुल राशि का अनुपात क्या है?

- Ans
- 1. 10 : 7
 - 2. 20 : 17
 - 3. 10 : 3
 - 4. 20 : 7

Question ID : 2390873556

Status : Answered

Chosen Option : 2

Q.24 दो संख्याओं का महत्तम समापवर्तक और लघुत्तम समापवर्तक क्रमशः 37 और 444 है। यदि पहली संख्या 111 है तो दूसरी संख्या है:

- Ans
- 1. 333
 - 2. 74
 - 3. 148
 - 4. 111

Question ID : 2390873534

Status : Answered

Chosen Option : 3

Q.25 किसी माता और उसके पुत्र की वर्तमान आयु का अनुपात 4 : 1 है। आज से 14 वर्षों के बाद उनकी आयु का अनुपात 2 : 1 हो जाएगा। माता की वर्तमान आयु (वर्षों में) है:

- Ans
- 1. 36
 - 2. 24
 - 3. 32
 - 4. 28

Question ID : 2390873546

Status : Answered

Chosen Option : 1

Section : General awareness

Q.1 फलो से निर्मित, मनपसंद पेय रूहअफज़ा' के निर्माता कौन है?

- Ans
- 1. डाबर इंडिया
 - 2. ग्लैक्सोस्मिथक्लाइन फार्मास्यूटिकल्स लिमिटेड
 - 3. नेस्ले इंडिया
 - 4. हमदर्द लैबोरेटरीज (भारत)

Question ID : 2390873343

Status : Answered

Chosen Option : 1

Q.2 समतल दर्पण द्वारा बनाया गया प्रतिबिम्ब हमेशा _____ होता है।

- Ans 1. आभासी तथा सीधा
 2. वास्तविक तथा सीधा
 3. वास्तविक तथा परिवर्तित
 4. आभासी तथा परिवर्तित

Question ID : 2390873349

Status : Answered

Chosen Option : 3

Q.3 उसैन बोल्ट का संबंध किस खेल से है?

- Ans 1. बॉक्सिंग
 2. जिमनास्टिक
 3. एथलेटिक्स
 4. कैनो स्प्रिंट

Question ID : 2390873337

Status : Answered

Chosen Option : 4

Q.4 विश्व में बास्केटबॉल को प्रशासित करने वाले अंतर्राष्ट्रीय संगठन का नाम क्या है?

- Ans 1. एफआईबीए
 2. एनबीए
 3. आईबीए
 4. आरबीए

Question ID : 2390873338

Status : Answered

Chosen Option : 1

Q.5 लोकसभा में 'अविश्वास प्रस्ताव' पारित होने पर किसे इस्तीफा देना पड़ता है?

- Ans 1. लोकसभा अध्यक्ष
 2. विपक्ष का नेता
 3. मंत्री परिषद्
 4. राष्ट्रपति

Question ID : 2390873347

Status : Answered

Chosen Option : 1

Q.6 शोषण के विरुद्ध अधिकार एक _____ है।

- Ans 1. संवैधानिक अधिकार
 2. विधि

3. मौलिक अधिकार

4. विधिक अधिकार

Question ID : 2390873346

Status : Answered

Chosen Option : 3

Q.7 कंधुरी उत्सव' भारत के किस राज्य में मनाया जाता है?

Ans 1. तेलंगाना

2. तमिलनाडु

3. कर्नाटक

4. केरल

Question ID : 2390873336

Status : Answered

Chosen Option : 2

Q.8 अंग्रेजी शिक्षा अधिनियम 1835 किस आयोग की रिपोर्ट पर आधारित था?

Ans 1. थॉमस बैबिंगटन

2. मैकॉले का मिनट

3. वुड्स डिस्पैच

4. हेनरी कोलब्रुक

Question ID : 2390873356

Status : Answered

Chosen Option : 2

Q.9 संविधान के अनुच्छेद 21 के तहत जीवन के अधिकार के भाग के रूप में आजीविका का अधिकार किस मामले के कारण बरकरार किया गया था?

Ans 1. शंकर प्रसाद केस

2. ओल्गा टेलिस बनाम बॉम्बे नगर निगम

3. मेनका गांधी बनाम विओआई केस

4. एन. नागराज बनाम विओआई केस

Question ID : 2390873345

Status : Answered

Chosen Option : 3

Q.10 "किसी तरल माध्यम (गैस या द्रव) में आंशिक या पूर्णतः डूबी हुई वस्तु पर लगने वाला उत्प्लावन बल उस वस्तु द्वारा विस्थापित तरल के भार के बराबर होता है।" वह सिद्धांत कौन-सा है?

Ans 1. न्यूटन का दूसरा गति-नियम

2. बॉयल का सिद्धांत

3. आर्कमिडीज का सिद्धांत

4. चार्ल्स का सिद्धांत

Question ID : 2390873351

Status : Answered

Chosen Option : 3

Q.11 "अ कंपैरिजन बिटवीन वीमेन एंड मेन" _____ द्वारा लिखी गई थी।

- Ans
- 1. ताराबाई शिंदे
 - 2. बेगम रुक्म्या सखावत हुसैन
 - 3. पंडिता रामाबाई
 - 4. ज्योतिबा फुले

Question ID : 2390873339
Status : Answered
Chosen Option : 1

Q.12 कौन-सी केंद्रीय एजेंसी केंद्र और राज्य सरकार के सार्वजनिक ऋण का प्रबंधन करती है?

- Ans
- 1. एफआईसीसीआई
 - 2. आईआरडीए
 - 3. सेबी
 - 4. आरबीआई

Question ID : 2390873344
Status : Answered
Chosen Option : 4

Q.13 भूमि, वायु और जल के बीच संपर्क का संकीर्ण क्षेत्र _____ कहलाता है।

- Ans
- 1. स्थलमंडल
 - 2. जीवमंडल
 - 3. वायुमंडल
 - 4. जलमंडल

Question ID : 2390873355
Status : Answered
Chosen Option : 1

Q.14 किसानों को लाभ पहुंचाने के लिए कृषि उपज के सहकारी विपणन को बढ़ावा देने के लिए कौन-सी केंद्रीय एजेंसी जिम्मेदार है?

- Ans
- 1. एफसीआई
 - 2. आरबीआई
 - 3. सेबी
 - 4. नेफेड

Question ID : 2390873342
Status : Answered
Chosen Option : 1

Q.15 11-डिग्री चैनल निम्नलिखित में से किस द्वीपों के समूह को विभाजित करता है?

- Ans
- 1. मिनिकोय और लक्षद्वीप
 - 2. अंडमान और निकोबार
 - 3. मालदीव और लक्षद्वीप
 - 4. अमीनीदीव और कन्नानोर

Question ID : 2390873354

Status : **Answered**
Chosen Option : 3

Q.16 सारनाथ में पाए जाने वाले मौर्य स्तंभ शीर्ष को _____ के नाम से जाना जाता है।

- Ans
- 1. बैल स्तम्भशीर्ष
 - 2. हाथी स्तम्भशीर्ष
 - 3. घोड़ा स्तम्भशीर्ष
 - 4. सिंहचतुर्मुख स्तम्भशीर्ष

Question ID : 2390873334
Status : **Answered**
Chosen Option : 2

Q.17 पंजाब के मार्शल डांस का रूप _____ है।

- Ans
- 1. बागा
 - 2. दागा
 - 3. लागा
 - 4. पांगा

Question ID : 2390873335
Status : **Answered**
Chosen Option : 4

Q.18 मानव हृदय के किस कोष्ठ को फेफड़ों से प्रचुर-ऑक्सीजन युक्त रक्त प्राप्त होता है?

- Ans
- 1. बायाँ निलय
 - 2. बायाँ अलिंद
 - 3. दायीं निलय
 - 4. दायीं अलिंद

Question ID : 2390873350
Status : **Answered**
Chosen Option : 2

Q.19 किस लड़ाई के बाद, ईस्ट इंडिया कंपनी ने भारतीय राज्यों में निवासी (residents) नियुक्त करना शुरू किया था?

- Ans
- 1. हल्दीघाटी की लड़ाई
 - 2. बक्सर की लड़ाई
 - 3. प्लासी की लड़ाई
 - 4. पानीपत की तीसरी लड़ाई

Question ID : 2390873358
Status : **Answered**
Chosen Option : 2

Q.20 विंग्स ऑफ फायर' _____ की आत्मकथा है।

- Ans
- 1. डॉ. ए. पी. जे. अब्दुल कलाम
 - 2. भगत सिंह
 - 3. जवाहर लाल नेहरू
 - 4. महात्मा गांधी

Question ID : 2390873341

Status : Answered

Chosen Option : 3

Q.21 निम्नलिखित में से भारत की बारहमासी नदी प्रणाली कौन-सी है?

Ans 1. तापो

2. सिंधु

3. कृष्णा

4. तापी

Question ID : 2390873353

Status : Answered

Chosen Option : 3

Q.22 कौन-सा मच्छर मलेरिया के परजीवी का वहन करता है?

Ans 1. मादा एनोफ़ेलीज़

2. नर एनोफ़ेलीज़

3. नर एडीज एजिप्टी

4. मादा एडीज एजिप्टी

Question ID : 2390873348

Status : Answered

Chosen Option : 1

Q.23 प्रथम फिलिप कोटलर राष्ट्रपति पुरस्कार से किसे सम्मानित किया गया था?

Ans 1. राजनाथ सिंह

2. अरुण जेटली

3. अमित शाह

4. नरेंद्र मोदी

Question ID : 2390873340

Status : Answered

Chosen Option : 2

Q.24 भारत में पहला मुगल सम्राट कौन था?

Ans 1. बाबर

2. शाहजहाँ

3. हुमायूँ

4. अकबर

Question ID : 2390873357


Status : Answered


Chosen Option : 1

Q.25 मूत्र त्याग करने से पहले वह मानव शरीर के उत्सर्जन तंत्र के किस भाग में संग्रहीत होता है?

Ans 1. मूत्रवाहिनी

2. बोमैन्स कैप्सूल

 3. मूत्रमार्ग

 4. मूत्राशय

Question ID : 2390873352

Status : **Answered**

Chosen Option : 1

Multi Tasking (Non-Technical) Staff Examination 2019

Roll No.	
Registration No.	
Name	
Test Venue	
Test Time	4:00 PM - 5:30 PM
Test Date	21/08/2019

Section : General English

Q.1 Select the most appropriate synonym of the given word.

Judicious

- Ans 1. Prudent
 2. Dull
 3. Foolish
 4. Unfair

Question ID : 2390873950
Status : Answered
Chosen Option : 1

Q.2 Select the most appropriate antonym of the word.

Pompous

- Ans 1. Arrogant
 2. Calm
 3. Impatient
 4. Humble

Question ID : 2390873951
Status : Answered
Chosen Option : 2

Q.3 Identify the segment in the sentence which contains the grammatical error. If there is no error then select 'No error'.

I have got my Master's degree in 2005.

- Ans 1. I have got
 2. my Master's degree
 3. in 2005
 4. No error

Question ID : 2390873936
Status : Answered
Chosen Option : 2

Q.4 Select the most appropriate meaning of the given idiom.

Miss the boat

- Ans
- 1. To miss someone you love
 - 2. To lose something important
 - 3. To forget something at home
 - 4. To miss an opportunity

Question ID : 2390873954
Status : Answered
Chosen Option : 4

Q.5 Select the most appropriate antonym of the word.

Refined

- Ans
- 1. Cruel
 - 2. Crude
 - 3. Fierce
 - 4. Smooth

Question ID : 2390873952
Status : Answered
Chosen Option : 3

Q.6 Select the correctly spelt word.

- Ans
- 1. Inqisitive
 - 2. Inqstive
 - 3. Inqisitive
 - 4. Inquisitive

Question ID : 2390873958
Status : Answered
Chosen Option : 1

Q.7 Select the correctly spelt word.

- Ans
- 1. Ettiquete
 - 2. Etiquete
 - 3. Etiquette
 - 4. Ettiquette

Question ID : 2390873957
Status : Answered
Chosen Option : 4

Q.8 Select the most appropriate option to substitute the underlined segment in the given sentence. If there is no need to substitute it, select No improvement.

The meeting will start when the manager is arriving.

- Ans
- 1. arrives
 - 2. No improvement
 - 3. arrived
 - 4. was arrived

Question ID : 2390873939

Status : Answered

Chosen Option : 4

Q.9 Identify the segment in the sentence which contains the grammatical error.

After the match, every player of the team went back to its house.

- Ans
- 1. team went back
 - 2. After the match
 - 3. to its house
 - 4. every player of the

Question ID : 2390873937

Status : Answered

Chosen Option : 1

Q.10 Select the most appropriate option to fill in the blank and make a grammatically correct sentence.

His clothes were way over _____ top for a sombre occasion.

- Ans
- 1. the
 - 2. no article
 - 3. an
 - 4. a

Question ID : 2390873942

Status : Answered

Chosen Option : 1

Q.11 Select the most appropriate synonym of the given word.

Chaste

- Ans
- 1. Pure
 - 2. Lustful
 - 3. Fascinating
 - 4. Loyal

Question ID : 2390873949

Status : Answered

Chosen Option : 1

Q.12 Select the most appropriate meaning of the given idiom.

A penny for your thoughts

- Ans
- 1. Start something all over again
 - 2. Be glad to see someone leave
 - 3. Way of asking what someone is thinking
 - 4. To make a bad situation worse

Question ID : 2390873953

Status : Answered

Chosen Option : 2

Q.13 Select the most appropriate option to fill in the blank and make a grammatically correct sentence.

Shailesh finally decided to take a back seat and let his son _____ the family business.

- Ans
- 1. running
 - 2. to run
 - 3. will run
 - 4. run

Question ID : 2390873941
Status : Answered
Chosen Option : 2

Q.14 Select the most appropriate option to substitute the underlined segment in the given sentence. If there is no need to substitute it, select No improvement.

The student asked the teacher if he can come in.

- Ans
- 1. No improvement
 - 2. could come
 - 3. will come
 - 4. can came

Question ID : 2390873940
Status : Answered
Chosen Option : 2

Q.15 Select the most appropriate option to fill in the blank and make a grammatically correct sentence.

Megha is attending a teachers' _____ in London.

- Ans
- 1. connection
 - 2. combination
 - 3. connotation
 - 4. convention

Question ID : 2390873959
Status : Answered
Chosen Option : 1

Q.16 Identify the segment in the sentence which contains the grammatical error.

The recently announcement about various government schemes impacted the society positively.

- Ans
- 1. about various government
 - 2. the society positively
 - 3. schemes impacted
 - 4. The recently announcement

Question ID : 2390873935
Status : Answered
Chosen Option : 4

Comprehension:

In the following passage some words have been deleted. Fill in the blanks with the help of the alternatives given. Select the most appropriate option for each blank.

A recent study (1)_____ by an independent organisation reported that only 15 percent (2)_____ college bound women would consider an (3)_____ girls college. It is clear (4)_____ women's colleges must become co-educational in order (5)_____ survive.

SubQuestion No : 17

Q.17 Select the most appropriate option to fill in blank No.1.

- Ans 1. conducted
 2. surveyed
 3. interested
 4. happened

Question ID : 2390873944
Status : Answered
Chosen Option : 3

Comprehension:

In the following passage some words have been deleted. Fill in the blanks with the help of the alternatives given. Select the most appropriate option for each blank.

A recent study (1)_____ by an independent organisation reported that only 15 percent (2)_____ college bound women would consider an (3)_____ girls college. It is clear (4)_____ women's colleges must become co-educational in order (5)_____ survive.

SubQuestion No : 18

Q.18 Select the most appropriate option to fill in blank No.2.

- Ans 1. in
 2. with
 3. of
 4. at

Question ID : 2390873945
Status : Not Answered
Chosen Option : --

Comprehension:

In the following passage some words have been deleted. Fill in the blanks with the help of the alternatives given. Select the most appropriate option for each blank.

A recent study (1)_____ by an independent organisation reported that only 15 percent (2)_____ college bound women would consider an (3)_____ girls college. It is clear (4)_____ women's colleges must become co-educational in order (5)_____ survive.

SubQuestion No : 19

Q.19 Select the most appropriate option to fill in blank No.3.

- Ans 1. every
 2. each
 3. all
 4. any

Question ID : 2390873946
Status : Not Answered
Chosen Option : --

Comprehension:

In the following passage some words have been deleted. Fill in the blanks with the help of the alternatives given. Select the most appropriate option for each blank.

A recent study (1)_____ by an independent organisation reported that only 15 percent (2)_____ college bound women would consider an (3)_____ girls college. It is clear (4)_____ women's colleges must become co-educational in order (5)_____ survive.

SubQuestion No : 20

Q.20 Select the most appropriate option to fill in blank No.4.

- Ans 1. whether
 2. if
 3. that
 4. this

Question ID : 2390873947
Status : Not Answered
Chosen Option : --

Comprehension:

In the following passage some words have been deleted. Fill in the blanks with the help of the alternatives given. Select the most appropriate option for each blank.

A recent study (1)_____ by an independent organisation reported that only 15 percent (2)_____ college bound women would consider an (3)_____ girls college. It is clear (4)_____ women's colleges must become co-educational in order (5)_____ survive.

SubQuestion No : 21

Q.21 Select the most appropriate option to fill in blank No.5.

- Ans 1. in
 2. to
 3. with
 4. of

Question ID : 2390873948
Status : Not Answered
Chosen Option : --

Q.22 Select the most appropriate option to substitute the underlined segment in the given sentence. If there is no need to substitute it, select No improvement.

Manish has not been attending the class for last month.

- Ans 1. since last
 2. No improvement
 3. from last
 4. throughout later

Question ID : 2390873938
Status : Answered
Chosen Option : 2

Q.23 Select the most appropriate word for the given group of words.

A set of twenty

- Ans 1. Dozen
 2. Score
 3. Quarter

 4. Decade

Question ID : 2390873956
Status : Answered
Chosen Option : 4

Q.24 Select the most appropriate word for the given group of words.

A person who rules without consulting the opinion of others.

- Ans  1. Aristocrat
 2. Arbitrator
 3. Atheist
 4. Autocrat

Question ID : 2390873955
Status : Answered
Chosen Option : 2

Q.25 Select the most appropriate option to fill in the blank and make a grammatically correct sentence.





Surendra tries to ____ his opponents in all the matches.

- Ans  1. intimidate
 2. impersonate
 3. intimate
 4. initiate

Question ID : 2390873960
Status : Answered
Chosen Option : 3

Section : General Intelligence & Reasoning





Q.1 किसी कूट भाषा में, 'GLOBE' को 'EJMZC' लिखा जाता है। उसी कूट भाषा में 'WATCH' का कूट क्या होगा?

- Ans  1. UYRAF
 2. VYRBF
 3. UYSBF
 4. UYRBE

Question ID : 2390874572
Status : Answered
Chosen Option : 3

Q.2 नीचे दिए गए समीकरण को गणित के अनुसार सही बनाने के लिए कौन-सी दो संख्याओं को आपस में बदलना होगा?

$$15 - 5 + 75 \div 30 \times 2 = 35$$

- Ans  1. 5,15
 2. 30,15
 3. 2,5
 4. 5,30

Question ID : 2390874586
Status : Answered
Chosen Option : 4

Q.3 किसी कूट भाषा में, 'GYM' को 'FXL' लिखा जाता है। उसी कूट भाषा में 'TRAINER' का कूट क्या होगा ?

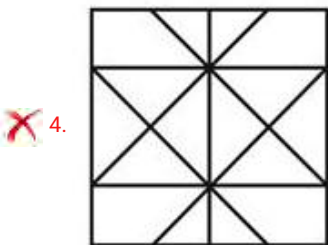
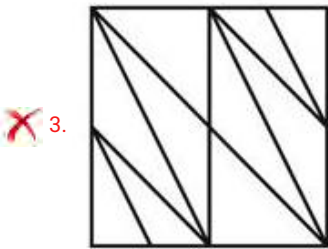
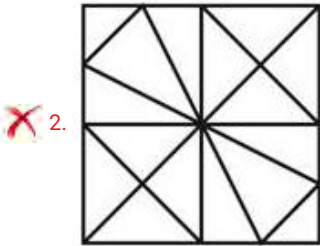
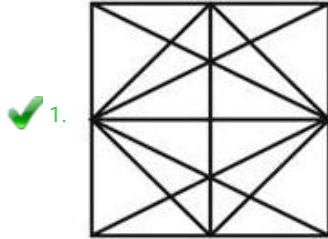
- Ans
- 1. POZHLCQ
 - 2. SQZHMDQ
 - 3. POYFMDQ
 - 4. SQAJMES

Question ID : 2390874573
Status : Answered
Chosen Option : 2

Q.4 नीचे दिए गए विकल्पों में से उस विकल्प का चयन कीजिए जिसमें नीचे दी गई आकृति सन्निकित है। (आकृति को घुमाने की अनुमति नहीं है)

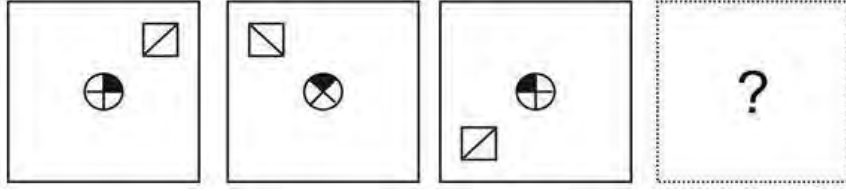


Ans



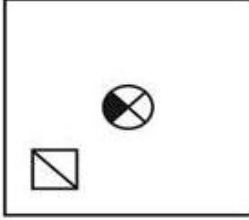
Question ID : 2390874589
Status : Answered
Chosen Option : 1

Q.5 निम्न में से कौन-सी उत्तर आकृति प्रश्न आकृति की श्रृंखला को पूरा करती है?

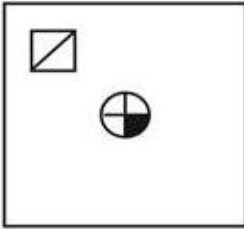


Ans

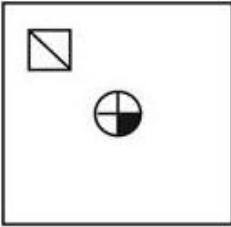
1.



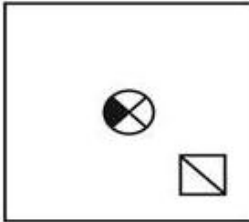
2.



3.



4.



Question ID : 2390874587

Status : Answered

Chosen Option : 4

Q.6 निम्नलिखित शब्दों को उस क्रम में व्यवस्थित कीजिए जिस तरह वे शब्दकोश में दिखाई देते हैं।

1. lacunae
2. laminar
3. lacquer
4. lampoon
5. laggard

Ans 1. 45312

2. 54132

3. 31425

4. 31524

Question ID : 2390874578

Status : Answered

Chosen Option : 4

Q.7 किसी कूट भाषा में, 'DINNER' को '5-10-15-15-6-19' लिखा जाता है। उसी कूट भाषा में 'SNACKS' का कूट क्या होगा ?

Ans 1. 20-15-2-4-12-20

2. 20-16-2-5-12-20

3. 19-14-2-4-11-19

4. 19-5-1-3-12-19

Question ID : 2390874575

Status : Answered

Chosen Option : 4

Q.8 निम्नलिखित संख्या श्रृंखला में दो संख्याओं को कोष्ठक के भीतर रखा गया है। श्रृंखला का ध्यानपूर्वक अध्ययन करें और श्रृंखला के संबंध में सही विकल्प का चयन करें।

4, 5, 6, 16, (24), 36, (60), 125, 216

Ans 1. पहली कोष्ठक संख्या (बाएं से) सही है और दूसरी गलत है।

2. पहली कोष्ठक संख्या (बाएं से) गलत है और दूसरी सही है।

3. कोष्ठक में रखी दोनों संख्याएँ सही हैं।

4. कोष्ठक में रखी दोनों संख्याएँ गलत हैं।

Question ID : 2390874582

Status : Not Answered

Chosen Option : --

Q.9 उस विकल्प का चयन करें जो तीसरे शब्द से उसी तरह से सम्बंधित है जिस प्रकार दूसरा शब्द पहले शब्द से सम्बंधित है।

चम्मच : कांटा :: प्लेट : ?

Ans 1. कुकर

2. कड़ाही

3. चूल्हा

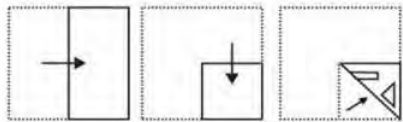
4. कटोरा

Question ID : 2390874570

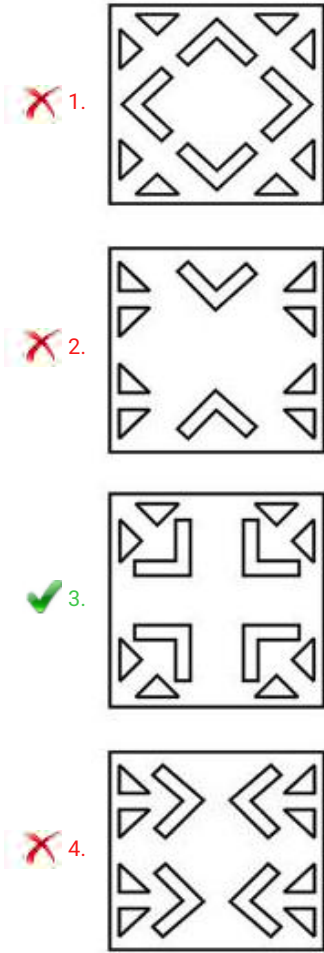
Status : Answered

Chosen Option : 4

Q.10 एक कागज को नीचे दी गयी प्रश्न आकृतियों में दिखाए गए अनुसार मोड़ा और काटा गया है। नीचे दी गई उत्तर आकृतियों से चयन कीजिए, इसे खोले जाने पर यह कैसा दिखाई देगा?



Ans



Question ID : 2390874591

Status : Answered

Chosen Option : 3

Q.11 उस पद का चयन करें, जो निम्नलिखित श्रृंखला में आगे आएगा।

YVS, ROL, KHE, _____

- Ans
- 1. DBZ
 - 2. EBY
 - 3. DAX
 - 4. DAY

Question ID : 2390874568

Status : Answered

Chosen Option : 3

Q.12 नीचे दिए गए कथनों और उनके निष्कर्षों को ध्यान से पढ़िए। कथनों में दी गई जानकारी को सत्य मानते हुए, चाहे वे सामान्य रूप से ज्ञात तथ्यों से भिन्न लगते हों, निर्णय कीजिए कि दिए गए कौन-से निष्कर्ष, कथनों का तार्किक रूप से अनुसरण करते हैं।

कथन:

- I. सभी पति पुत्र हैं।
- II कुछ बेटे पिता हैं।

निष्कर्ष:

- I. कुछ बेटे पति हैं।
- II कुछ पति पिता हैं।

Ans 1. केवल निष्कर्ष I अनुसरण करता है।

2. न तो निष्कर्ष I और न ही निष्कर्ष II अनुसरण करता है।

3. केवल निष्कर्ष II अनुसरण करता है।

4. दोनों निष्कर्ष I और II अनुसरण करते हैं।

Question ID : 2390874579

Status : Answered

Chosen Option : 4

Q.13 F1, F2, F3, F4 और F5 एक बेंच पर बैठे हैं। F4, F2 के बिल्कुल बायें ओर बैठा है। F3, F5 के बिल्कुल दायें ओर बैठा है। F1 एक सिरे पर बैठा है और F2 का केवल एक पड़ोसी है। तो इन मित्रों में से, प्रत्येक तरफ दो मित्रों के साथ बीच में कौन बैठा है?

Ans 1. F2

2. F3

3. F5

4. F4

Question ID : 2390874576

Status : Answered

Chosen Option : 3

Q.14 R, N, O, W, Q और C एक गोलकार मेज के इर्द-गिर्द केंद्र की तरफ मुँह करके बैठे हैं। R, W के बाईं ओर है, जो O के सामने है, O, N के बाईं ओर बैठा है। C, W के बगल में नहीं है। Q के बाईं ओर कौन बैठा है?

Ans 1. O

2. W

3. R

4. C

Question ID : 2390874577

Status : Answered

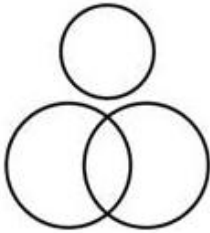
Chosen Option : 4

Q.15 निम्न वेन आरेखों में से उस वेन आरेख का चयन कीजिए जो नीचे दिए गए वर्गों के बीच के संबंध को सर्वोत्तम रूप में दर्शाता है?


महिलाओं, डॉक्टरों, कवियों

Ans

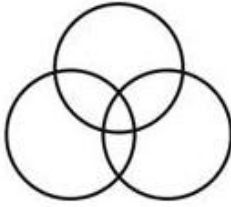
1.



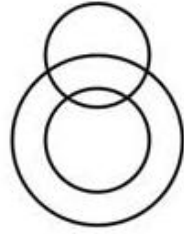
2.



✓ 3.



✗ 4.



Question ID : 2390874592

Status : Answered

Chosen Option : 2

Q.16 नीचे दिए गए समीकरण को गणित के अनुसार सही बनाने के लिए कौन-से दो चिह्नों को आपस में बदलना होगा?

$$64 \times 2 + 24 \div 3 - 8 = 96$$

Ans ✗ 1. -, x

✗ 2. +, ÷

✓ 3. x, ÷

✗ 4. -, +

Question ID : 2390874585

Status : Answered

Chosen Option : 3

Q.17 निम्न विकल्पों में से वह संख्या ज्ञात कीजिए जो प्रश्नवाचक चिह्न (?) के स्थान पर आएगी।

7 13 84

4 19 72

8 14 ?

Ans ✓ 1. 104

✗ 2. 112

✗ 3. 96

✗ 4. 108

Question ID : 2390874584

Status : Not Answered

Chosen Option : --

Q.18 दिए गए विकल्पों में से उस शब्द को चुनें जो दिए गए शब्दों के समान है और इसलिए उसी समूह से संबंधित है।

खीरा, कद्दू, गाजर

Ans ✗ 1. आम

✗ 2. सेब

✗ 3. चेरी

✓ 4. आलू

Question ID : 2390874569

Status : Answered

Chosen Option : 4

Q.19 उस विकल्प का चयन करें जो तीसरे अक्षर-समूह से उसी प्रकार से संबंधित है जिस प्रकार से दूसरा अक्षर-समूह पहले अक्षर-समूह से संबंधित है।

ZB : AY :: HJ : ?

- Ans
- 1. QN
 - 2. SP
 - 3. QP
 - 4. SQ

Question ID : 2390874571

Status : Answered

Chosen Option : 2

Q.20 निम्नलिखित संख्या श्रृंखला को पूरा करें:

620, 670, 722, 776, ____

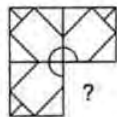
- Ans
- 1. 850
 - 2. 841
 - 3. 859
 - 4. 832

Question ID : 2390874581

Status : Answered

Chosen Option : 4

Q.21 निम्न में से कौन सी उत्तर आकृति प्रश्न आकृति में पैटर्न को पूरा करेगी? (आकृति को घुमाने की अनुमति नहीं है)



- Ans
- 1.
 - 2.
 - 3.
 - 4.

Question ID : 2390874588

Status : Answered

Chosen Option : 2

Q.22 यदि L = 7 और A = 22, और JAIL = 38, तो THIEF = ____

- Ans
- 1. 54
 - 2. 46
 - 3. 48
 - 4. 49

Question ID : 2390874574

Status : Answered

Chosen Option : 3

Q.23 दिए गए कथनों और निष्कर्षों को ध्यानपूर्वक पढ़ें और निर्णय करें कि कौन-से निष्कर्ष तार्किक रूप से कथनों का अनुसरण करते हैं।

कथन:

अनुपस्थिति हृदय को स्नेहशील बनाती है।

निष्कर्ष:

I. उपस्थिति दिल की स्नेहशीलता को कम करती है।

II. दो लोगों के बीच की दूरी उन्हें अनुपस्थित व्यक्ति के लिए तरसाती है।

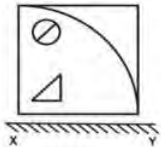
- Ans
- 1. केवल निष्कर्ष I अनुसरण करता है।
 - 2. केवल निष्कर्ष II अनुसरण करता है।
 - 3. न तो निष्कर्ष I और न ही निष्कर्ष II अनुसरण करता है।
 - 4. दोनों निष्कर्ष I और निष्कर्ष II अनुसरण करते हैं।

Question ID : 2390874580

Status : Not Answered

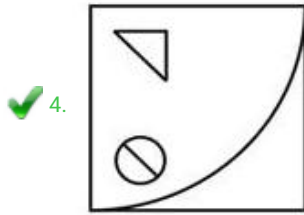
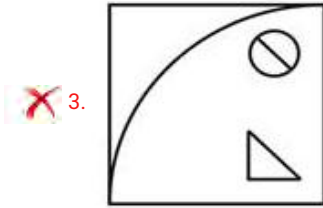
Chosen Option : --

Q.24 यदि एक दर्पण को XY रेखा पर रखा जाता है, तो दी गई उत्तर आकृतियों में से कौन सी आकृति नीचे दी गई आकृति का सही दर्पण प्रतिबिम्ब होगी?



Ans

- 1.
- 2.



Question ID : 2390874590

Status : Answered

Chosen Option : 4

Q.25 उस विकल्प का चयन करें जो तीसरी संख्या से उसी प्रकार से संबंधित है जिस प्रकार दूसरी संख्या पहली संख्या से संबंधित है।

625 : 529 :: 1225 : ?

- Ans
- ✗ 1. 1155
 - ✗ 2. 1156
 - ✗ 3. 1190
 - ✓ 4. 1089

Question ID : 2390874583

Status : Answered

Chosen Option : 4

Section : Numerical Aptitude

Q.1 एक कक्षा के अनुभाग A और B में लड़कों की संख्या का अनुपात 2 : 3 है तथा अनुभाग A और B में लड़कों और लड़कियों की कुल संख्या का अनुपात 3 : 4 है। यदि B में लड़कियों की संख्या, B में लड़कों की संख्या की 50% है, तो A और B में लड़कियों की संख्या का अनुपात कितना होगा?

- Ans
- ✗ 1. 2 : 3
 - ✓ 2. 11 : 12
 - ✗ 3. 3 : 5
 - ✗ 4. 5 : 6

Question ID : 2390873820

Status : Answered

Chosen Option : 2

Q.2 एक कक्षा में, लड़कियों की संख्या लड़कों की संख्या से 60% अधिक है। लड़कियों की तुलना में लड़कों का औसत वजन 2.6 kg अधिक है। यदि सभी लड़कों और लड़कियों का औसत वजन 50 kg है, तो लड़कियों का औसत वजन (kg में) कितना है?

- Ans
- ✗ 1. 48.8
 - ✗ 2. 49.2
 - ✓ 3. 49

4. 48

Question ID : 2390873814

Status : Answered

Chosen Option : 4

Q.3 किसी कार्य को A, 20 दिनों में पूरा कर सकता है और B उसे $22\frac{1}{2}$ दिनों में पूरा कर सकता है। वे दोनों मिलकर 6 दिनों तक एक साथ कार्य करते हैं और शेष कार्य को C द्वारा 26 दिनों में पूरा किया गया है। तीनों एक साथ मिलकर उसी कार्य को कितने दिनों में पूरा करेंगे?

- Ans
- 1. 8 दिन
 - 2. 9 दिन
 - 3. 12 दिन
 - 4. 10 दिन

Question ID : 2390873825

Status : Answered

Chosen Option : 1

Q.4 6.25% वार्षिक चक्रवृद्धि व्याज की दर से 3 वर्ष में देय ₹14739 की राशि का आज का मान कितना है?

- Ans
- 1. ₹12184
 - 2. ₹12288
 - 3. ₹12473
 - 4. ₹12148

Question ID : 2390873824

Status : Not Answered

Chosen Option : --

Q.5 नीचे दिया गया दंड आरेख 2013-2017 के दौरान सीमेंट के लक्षित और वास्तविक उत्पादन (हजार टन में) को दर्शाता है।



वर्ष 2014 और 2016 में सीमेंट के कुल लक्षित उत्पादन और 2013, 2016 तथा 2017 में कुल वास्तविक उत्पादन का अनुपात है:

- Ans
- 1. 9 : 10
 - 2. 7 : 9
 - 3. 4 : 5
 - 4. 3 : 4

Question ID : 2390873833

Status : Answered

Chosen Option : 3

Q.6 नीचे दी गई तालिका एक निश्चित सामूहिक आँकड़ों के आवृत्ति वितरण को दर्शाती है:

वर्ग	0-	25-	50-	75-	100-
अन्तराल	25	50	75	100	125
आवृत्ति	2	7	6	3	8

एक परंपरा के रूप में, न्यून परिसीमा को हमेशा क्लास इंटरवल (CI) में शामिल किया जाता है; और प्रत्येक CI, अंतिम को छोड़कर, से ऊपरी परिसीमा को हटा दिया जाता है।

दिए गए आँकड़ों के लिए, x मॉडल क्लास की ऊपरी परिसीमा है और y माध्यिका क्लास की निचली परिसीमा है। तब $(2x - 5y)$ का मान कितना है?

- Ans
- 1. 0
 - 2. -25
 - 3. 25
 - 4. -50

Question ID : 2390873816

Status : Not Answered

Chosen Option : --

Q.7 मान लीजिए कि x , 4 अंकों की सबसे बड़ी संख्या है, जिसे 7, 8 और 11 से विभाजित करने पर क्रमशः 4, 5 और 8 शेष बचता है। जब x को $(7 + 8 + 11)$ से विभाजित किया जाता है, तब शेष होगा:

- Ans
- 1. 23
 - 2. 25
 - 3. 21
 - 4. 19

Question ID : 2390873810

Status : Not Answered

Chosen Option : --

Q.8 किसी वस्तु का मूल्य प्रतिवर्ष 15% बढ़ जाता है। यदि तीसरे वर्ष और चौथे वर्ष के अंत में उसके मूल्यों का अंतर ₹193.20 है, तो दूसरे वर्ष के अंत में उसके मूल्य का 90% निम्न में से कौन सा था:

- Ans
- 1. ₹1008
 - 2. ₹1120
 - 3. ₹1064
 - 4. ₹896

Question ID : 2390873817

Status : Not Answered

Chosen Option : --

Q.9

नीचे दिया गया दंड आरेख 2013-2017 के दौरान सीमेंट के लक्षित और वास्तविक उत्पादन (हजार टन में) को दर्शाता है।



दिए गए 5 वर्षों में से किन वर्षों में सीमेंट का लक्षित उत्पादन, सीमेंट के वास्तविक औसत उत्पादन से 22.5% अधिक था?

- Ans
- 1. 2014, 2016
 - 2. 2015, 2016
 - 3. 2015, 2017
 - 4. 2014, 2015

Question ID : 2390873832

Status : Not Answered

Chosen Option : --

Q.10 किसी वस्तु का अंकित मूल्य उसके लागत मूल्य से 42% अधिक था। यदि वस्तु को बेचने पर 20.7% का लाभ होता है, तो वस्तु के अंकित मूल्य पर दी गई छूट का प्रतिशत है:

- Ans
- 1. 15.6
 - 2. 16
 - 3. 15
 - 4. 14.3

Question ID : 2390873815

Status : Answered

Chosen Option : 3

Q.11 ट्रेन A और B की लंबाइयों का अनुपात 5 : 3 है और उनकी गतियों का अनुपात 2 : 3 है। विपरीत दिशा में चलते हुए, ट्रेन A द्वारा B को पार करने में $2\frac{1}{2}$ मिनट का समय लगा। एक स्थिर स्तंभ (स्टेशनरी पोल) को पार करने में A द्वारा लिया गया समय (मिनट में) है:

- Ans
- 1. 2
 - 2. 3
 - 3. $\frac{125}{32}$
 - 4. $\frac{25}{16}$

Question ID : 2390873828

Status : Not Answered

Chosen Option : --

Q.12 पाइप A और B एक भरे टैंक को क्रमशः 20 घंटे और 15 घंटे में खाली कर सकते हैं, जबकि उसी टैंक को पाइप C अकेले x घंटों में भर सकता है। तीनों पाइप एक साथ खोल दिए गए और उन्होंने टैंक के 1/18 (one-eighteenth) भाग को खाली करने में 40 मिनट का समय लिया। x का मान है:

- Ans
- 1. 21
 - 2. 30
 - 3. 26
 - 4. 24

Question ID : 2390873826
Status : Not Answered
Chosen Option : --

Q.13 यदि ₹28000 की राशि पर 3 वर्षों में किसी दर पर साधारण ब्याज, ₹27000 की राशि पर 3 वर्षों में उसी दर की साधारण ब्याज से ₹225 अधिक है, तो उसी दर पर ₹35500 पर $2\frac{3}{5}$ वर्षों की साधारण ब्याज कितनी होगी?

- Ans
- 1. ₹6966.50
 - 2. ₹6922.50
 - 3. ₹6953.00
 - 4. ₹6723.50

Question ID : 2390873823
Status : Not Answered
Chosen Option : --

Q.14 एक व्यक्ति 390 km की दूरी 3.25 घंटों में तय करता है। उसकी गति, m/sec में, है:

- Ans
- 1. $33\frac{1}{3}$
 - 2. 24
 - 3. $30\frac{2}{3}$
 - 4. 25

Question ID : 2390873827
Status : Answered
Chosen Option : 3

Q.15

नीचे दिया गया दंड आरेख 2013-2017 के दौरान सीमेंट के लक्षित और वास्तविक उत्पादन (हजार टन में) को दर्शाता है।



2013 से 2017 तक सीमेंट के कुल लक्षित उत्पादन का कितना प्रतिशत, 2014, 2015 और 2017 में कुल वास्तविक उत्पादन है? (दशमलव के एक स्थान तक)

- Ans
- 1. 52.2
 - 2. 51.4
 - 3. 53.2
 - 4. 52.8

Question ID : 2390873834

Status : Not Answered

Chosen Option : --

Q.16 15 संख्याओं का औसत 45 है। प्रथम छह संख्याओं का औसत 42 है और अंतिम छह संख्याओं का औसत 43 है। 7वीं संख्या, 8वीं संख्या की दोगुनी है, लेकिन 9वीं संख्या से 5 अधिक है। तो 7वीं और 9वीं संख्याओं का औसत कितना है?

- Ans
- 1. 65.5
 - 2. 64
 - 3. 55.5
 - 4. 65

Question ID : 2390873813

Status : Answered

Chosen Option : 1

Q.17 मान लें कि, $y > 0$, यदि $5 : 15 :: x : 90$ और $162 : y :: y : 128$ है, तब $8x : y$ किसके बराबर है:

- Ans
- 1. 5 : 3
 - 2. 10 : 7
 - 3. 3 : 2
 - 4. 4 : 3

Question ID : 2390873822

Status : Not Answered

Chosen Option : --

Q.18 $7 \div 14 \text{ of } 2 - 7 \times 7 \div 49 + \frac{1}{3} \text{ of } (14 \div 7 + 7) + 7 - 14 \div 2$ का मान है:

Ans

- 1. 3
- 2. $2\frac{1}{4}$
- 3. $-1\frac{1}{4}$
- 4. $4\frac{1}{4}$

Question ID : 2390873811

Status : Answered

Chosen Option : 2

Q.19 2541 गोलाकार धातुमय गेंदों, जिनकी प्रत्येक की विज्या 1 cm है, को पिघलाकर एक घन बनाया जाता है। घन का पृष्ठ क्षेत्रफल (वर्ग cm में) निकटतम रूप में होगा:

- Ans
- 1. 1936
 - 2. 2904
 - 3. 2992
 - 4. 3168

Question ID : 2390873831

Status : Not Answered

Chosen Option : --

Q.20 निम्न का मान कितना है

$$6\frac{1}{8} \div \left(5\frac{1}{4} \div \frac{3}{7} \text{ of } \frac{1}{2}\right) - 8 \times \frac{2}{3} \div \frac{4}{5} \text{ of } 1\frac{2}{3} ?$$

- Ans
- 1. $\frac{15}{4}$
 - 2. 3
 - 3. -3
 - 4. $-\frac{15}{4}$

Question ID : 2390873812

Status : Not Answered

Chosen Option : --

Q.21 एक सब्जी विक्रेता ने कुछ आम खरीदे और उनमें से $33\frac{1}{3}\%$ को 22.5% लाभ पर, 25% को 25% हानि पर और शेष को 3% हानि पर बेच दिया। उसका समय लाभ या हानि है:

- Ans
- 1. कोई लाभ या हानि नहीं
 - 2. $3\frac{1}{3}\%$ का लाभ
 - 3. $5\frac{1}{2}\%$ की हानि
 - 4. $3\frac{1}{3}\%$ की हानि

Question ID : 2390873819

Status : Answered
Chosen Option : 4

Q.22 सोनू ने अपनी बाइक को 13.5% हानि पर बेचा। अगर वह उसे ₹8900 अधिक में बेचता तो उसे 31% लाभ मिलता। अगर उसने उसे ₹20740 में बेचा होता, तो उसका लाभ या हानि होता:

- Ans
- 1. 3.9% का लाभ
 - 2. 3.7% का लाभ
 - 3. 3.2% की हानि
 - 4. 3.7% की हानि

Question ID : 2390873818
Status : Answered
Chosen Option : 2

Q.23 ₹6859 की राशि को A, B, C और D के बीच इस प्रकार विभाजित किया जाता है कि A और B के अंशों का अनुपात 4 : 3 होता है, B और C के अंशों का अनुपात 5 : 4 होता है और C और D के अंशों का अनुपात 6 : 5 है। B का अंश कितना है?

- Ans
- 1. ₹1805
 - 2. ₹1444
 - 3. ₹2508
 - 4. ₹2407

Question ID : 2390873821
Status : Answered
Chosen Option : 3

Q.24 एक बेलनाकार (सिलेंडरिकल) बाल्टी, जिसकी ऊंचाई 27 cm और आधार त्रिज्या 48 cm है, को रेत (सैंड) से भरा जाता है। जब बाल्टी को जमीन पर खाली किया जाता है और 54 cm त्रिज्या का एक शंकुकार ढेर बन जाता है। ढेर की ऊंचाई (cm में) कितनी है?

- Ans
- 1. 32
 - 2. 56
 - 3. 54
 - 4. 64

Question ID : 2390873830
Status : Answered
Chosen Option : 3

Q.25 किसी वृत्ताकार मैदान का क्षेत्रफल, किसी ऐसे त्रिभुजाकार मैदान, जिसकी भुजाएं 400m, 420 m और 580 m हैं, के क्षेत्रफल के $73\frac{1}{3}\%$ के लगभग बराबर है। वृत्ताकार मैदान की परिधि (m में) कितनी है? ($\pi = \frac{22}{7}$ मानें)

- Ans
- 1. 880 m
 - 2. 440 m
 - 3. 1056 m
 - 4. 528 m

Question ID : 2390873829

Status : **Not Answered**
Chosen Option : --

Section : **General awareness**

Q.1 निम्नलिखित में से कौन भारतीय संविधान के प्रारूपण के लिए जिम्मेदार संविधान सभा का हिस्सा नहीं था?

- Ans 1. महात्मा गांधी
 2. सरदार वल्लभभाई पटेल
 3. जवाहर लाल नेहरू
 4. डॉ. बी.आर. अम्बेडकर

Question ID : **2390874230**
Status : **Answered**
Chosen Option : **3**

Q.2 सोमनाथ मंदिर किस राज्य के तट पर स्थित है?

- Ans 1. महाराष्ट्र
 2. गोवा
 3. तमिलनाडु
 4. गुजरात

Question ID : **2390874218**
Status : **Answered**
Chosen Option : **1**

Q.3 नॉकडाउन और नॉकआउट किस खेल से जुड़े हुए शब्द हैं?

- Ans 1. हॉकी
 2. बॉक्सिंग
 3. क्रिकेट
 4. बैडमिंटन

Question ID : **2390874221**
Status : **Answered**
Chosen Option : **4**

Q.4 शिवाजी पर पेशवाओं की विजय के बाद मराठा साम्राज्य की राजधानी _____ बन गई थी।

- Ans 1. नागपुर
 2. उज्जैन
 3. बड़ौदा
 4. पूना

Question ID : **2390874240**
Status : **Answered**
Chosen Option : **2**

Q.5 कौन-सी प्रक्रिया जड़ों से पत्तियों तक पानी और खनिजों के अवशोषण और उपरिमुखी गति में मदद करती है?

- Ans 1. अवसादन
 2. संघनन

3. संचय
 4. वाष्पोत्सर्जन

Question ID : 2390874234
Status : Answered
Chosen Option : 2

Q.6 जलियांवाला बाग नरसंहार के लिए कौन-सा ब्रिटिश अधिकारी जिम्मेदार था?

- Ans 1. जनरल डायर
 2. जनरल इरविन
 3. जनरल क्लाइव
 4. जनरल सॉन्डर्स

Question ID : 2390874241
Status : Answered
Chosen Option : 1

Q.7 मानव पेशी कोशिकाओं में, ऑक्सीजन के अभाव में ग्लूकोज के विखंडन से किस रासायनिक यौगिक का निर्माण होता है?

- Ans 1. लैक्टिक अम्ल
 2. मेथेनॉल
 3. कार्बन डाइऑक्साइड
 4. एथेनॉल

Question ID : 2390874236
Status : Answered
Chosen Option : 1

Q.8 कांग्रेस के किस अधिवेशन में असहयोग आंदोलन को अपनाया गया था?

- Ans 1. बॉम्बे अधिवेशन 1921
 2. नागपुर अधिवेशन 1920
 3. मद्रास अधिवेशन 1927
 4. लाहौर अधिवेशन 1916

Question ID : 2390874242
Status : Answered
Chosen Option : 2

Q.9 निम्नलिखित में से कौन-सी पुस्तक ज्योतिबा फुले द्वारा लिखी गई थी?

- Ans 1. गुलामगिरी
 2. डिस्कवरी ऑफ़ इंडिया
 3. विंग्स ऑफ़ फायर
 4. माई एक्सपेरिमेंट्स विद टूथ

Question ID : 2390874223
Status : Answered
Chosen Option : 4

Q.10 भारत के किस क्षेत्र में शुष्क मृदा पायी जाती है?

- Ans
- 1. गंगा के मैदान
 - 2. छोटानागपुर पठार
 - 3. राजस्थान
 - 4. नीलगिरि पहाड़ियों

Question ID : 2390874237
Status : Answered
Chosen Option : 1

Q.11 हुन्डरु जलप्रपात किस नदी पर स्थित है?

- Ans
- 1. सुवर्णरेखा नदी
 - 2. कृष्णा नदी
 - 3. गोदावरी नदी
 - 4. कावेरी नदी

Question ID : 2390874239
Status : Answered
Chosen Option : 1

Q.12 मांग के नियम के अनुसार, यदि अन्य सभी वस्तुएं सामान रहें तो किसी वस्तु की मांग तथा उसकी कीमत में क्या सम्बन्ध होता है?

- Ans
- 1. नकारात्मक
 - 2. कोई सम्बन्ध नहीं
 - 3. सकारात्मक या नकारात्मक हो सकता है
 - 4. सकारात्मक

Question ID : 2390874226
Status : Answered
Chosen Option : 4

Q.13 इंदिरा साहनी और अन्य बनाम वी.ओ.आई. मामला किस विषय से संबंधित है?

- Ans
- 1. पंचायत चुनाव
 - 2. आरक्षण
 - 3. कार्यस्थल पर महिला उत्पीड़न
 - 4. पुलिस सुधार

Question ID : 2390874231
Status : Answered
Chosen Option : 3

Q.14 किस त्यौहार के दौरान खासी-आदिवासी लोगों द्वारा नोंगक्रेम नृत्य किया जाता है?

- Ans
- 1. वंगाला
 - 2. जतारा
 - 3. चेरव
 - 4. बिहु

Question ID : 2390874219
Status : Answered

Chosen Option : 3

Q.15 किस भारतीय अर्थशास्त्री को 15 मार्च 2019 को प्रतिष्ठित बोडले मेडल से सम्मानित किया गया था?

- Ans
- 1. रघुराम राजन
 - 2. अमर्त्य सेन
 - 3. मनमोहन सिंह
 - 4. उर्जित पटेल

Question ID : 2390874225

Status : Answered

Chosen Option : 2

Q.16 आईएसएसएफ ब्लू क्रॉस ऑनर पाने वाले पहले भारतीय कौन हैं?

- Ans
- 1. सानिया मिर्जा
 - 2. अभिनव बिंद्रा
 - 3. सचिन तेंडुलकर
 - 4. राहुल द्रविड़

Question ID : 2390874224

Status : Answered

Chosen Option : 3

Q.17 _____ की स्वीकृति प्राप्त होने के बाद ही संसद द्वारा पारित कोई अधिनियम कानून बनता है।

- Ans
- 1. कानून मंत्री
 - 2. राष्ट्रपति
 - 3. उच्चतम न्यायालय
 - 4. प्रधानमंत्री

Question ID : 2390874229

Status : Answered

Chosen Option : 2

Q.18 मानव शरीर में पाचन तंत्र का सबसे लंबा हिस्सा कौन-सा है?

- Ans
- 1. अग्न्याशयी वाहिनी
 - 2. छोटी आंत
 - 3. बड़ी आंत
 - 4. ग्रसिका

Question ID : 2390874235

Status : Answered

Chosen Option : 4

Q.19 भारत में स्टॉक मार्केट के विनियमन के लिए कौन-सी केंद्रीय एजेंसी जिम्मेदार है?

- Ans
- 1. आरईआरए
 - 2. नाबार्ड
 - 3. आईआरडीए
 - 4. सेबी

Question ID : 2390874227

Status : Answered

Chosen Option : 1

Q.20 हाइड्रोजन बम किस नाभिकीय अभिक्रिया पर आधारित है?

- Ans 1. ताप नाभिकीय संलयन
 2. भारी जल अभिक्रिया
 3. ताप नाभिकीय विखंडन
 4. द्रुत प्रजनक अभिक्रिया

Question ID : 2390874232

Status : Answered

Chosen Option : 3

Q.21 निम्नलिखित में से कौन-सा राज्य-लोक कला युग्म सही नहीं है?

- Ans 1. मधुबनी चित्रकारी - बिहार
 2. तंजौर कला - राजस्थान
 3. पट्टचित्र - ओडिशा
 4. कालमेजुथु - तमिलनाडु

Question ID : 2390874220

Status : Answered

Chosen Option : 1

Q.22 ओलंपिक के इतिहास में किस खिलाड़ी ने सर्वाधिक स्वर्ण पदक जीते हैं?

- Ans 1. माइकल फेल्प्स
 2. लारिसा लात्यनीना
 3. उसेन बोल्ट
 4. मुहम्मद अली

Question ID : 2390874222

Status : Answered

Chosen Option : 3

Q.23 विश्व का सबसे ऊँचा पठार कौन-सा है?

- Ans 1. तिब्बती पठार
 2. मेघालय पठार
 3. छोटा नागपुर पठार
 4. दक्कन पठार

Question ID : 2390874238

Status : Answered

Chosen Option : 1

Q.24 नाभिकीय संलयन अभिक्रिया निम्नलिखित में से किस समीकरण पर आधारित है?

- Ans 1. $E = mc^2$
 2. $E = m2c$
 3. $C2 = em$

 4. $E_2 = mc$

Question ID : 2390874233


Status : Answered

Chosen Option : 4

Q.25 निम्नलिखित में से कौन-सा विकल्प भारत सरकार द्वारा जारी किए जाने वाले राजकोषीय बिल का एक प्रकार नहीं है?

Ans  1. 728 दिन

 2. 91 दिन

 3. 182 दिन

 4. 364 दिन

Question ID : 2390874228

Status : Answered

Chosen Option : 2