



**Delhi Development Authority  
(Recruitment Cell)  
Advertisement No. 01/2020/ Rectt.Cell.**

Participant ID	<a href="http://www.HaryanaJobs.in">www.HaryanaJobs.in</a>
Participant Name	
Test Center Name	Ion Digital Zone IDZ2
Test Date	11/11/2020
Test Time	8:30 AM - 10:30 AM
Subject	Patwari

Section : **General Awareness**

**Q.1** निम्न में से किस शहर में संत आदिनाथ को समर्पित मध्यकालीन युग का जैन चौमुखा मंदिर (चार मुख वाला मंदिर) स्थित है?

- Ans**  1. रणकपुर  
 2. कानपुर  
 3. उज्जैन  
 4. कुरुक्षेत्र

Question ID : **59445921469**

Status : **Answered**

Chosen Option : **1**

Q.2 स्वेज नहर भूमध्य सागर को किससे जोड़ती है?

- Ans
- 1. एड्रियाटिक सागर
  - 2. लाल सागर
  - 3. ईजियन सागर
  - 4. काला सागर

Question ID : 59445921470

Status : Answered

Chosen Option : 2

Q.3 फोबोस और डीमोस किस ग्रह के प्राकृतिक उपग्रह हैं?

- Ans
- 1. मंगल
  - 2. शनि
  - 3. यूरेनस
  - 4. बृहस्पति

Question ID : 59445921476

Status : Not Answered

Chosen Option : --

Q.4 निम्न में से कौन-सा हड़प्पा सभ्यता स्थल भारत में नहीं है?

- Ans
- 1. सुरकोटदा
  - 2. रोजड़ी
  - 3. नागेश्वर
  - 4. कुल्ली

Question ID : 59445921460

Status : Answered

Chosen Option : 4

Q.5 निम्न में से किस राज्य में वन्यजीव अभयारण्यों की संख्या सबसे अधिक है?

- Ans
- 1. केरल
  - 2. मध्य प्रदेश
  - 3. आंध्र प्रदेश
  - 4. महाराष्ट्र

Question ID : 59445921471

Status : Answered

Chosen Option : 2

Q.6 In 1876, Surendranath Banerjea and Ananda Mohan Bose established a nationalist political group in Bengal. The group was named:

- Ans
- 1. Landholder's Society
  - 2. Indian League
  - 3. Indian Association
  - 4. British India Society

Question ID : 59445921461

Status : Answered

Chosen Option : 3

Q.7 मुंबाडाला इन्वेस्टमेंट कंपनी कहाँ स्थित है, जिसने एक भारतीय कंपनी में 1.85 प्रतिशत हिस्सेदारी खरीदने की घोषणा की?

- Ans
- 1. सिंगापुर
  - 2. अबू धाबी
  - 3. ताइवान
  - 4. न्यूयॉर्क

Question ID : 59445921472

Status : Not Answered

Chosen Option : --

Q.8 मई 2020 में, वाइस एडमिरल विनय बधवार ने भारतीय जलराशिकी (हाइड्रोग्राफी) और पूरे हिंद महासागर क्षेत्र में अपने उत्कृष्ट योगदान के लिए \_\_\_\_\_ पुरस्कार प्राप्त किया।

- Ans
- 1. वर्ष के हाइड्रोग्राफर (Hydrographer of the Year)
  - 2. व्लादिमीर हर्ज़ोग (Vladimir Herzog)
  - 3. अलेक्जेंडर डेलरिम्पल (Alexander Dalrymple)
  - 4. लेनका फ्रैनोलिक (Lenka Franulic)

Question ID : 59445921457

Status : Not Answered

Chosen Option : --

Q.9 भारतीय संविधान के अनुच्छेद 1 में भारत का वर्णन करने के लिए निम्न में से किस उक्ति का उपयोग किया गया है?

- Ans
- 1. कॉन्फ़ेडरेशन ऑफ़ स्टेट
  - 2. यूनियन ऑफ़ स्टेट्स
  - 3. कॉन्फ़ेडरेशन ऑफ़ स्टेट्स एंड टेरिटीरियस
  - 4. फेडरेशन ऑफ़ स्टेट्स

[www.HaryanaJobs.in](http://www.HaryanaJobs.in)

Question ID : 59445921462

Status : Answered

Chosen Option : 2

Q.10 In May 2020, Indian Railways operationalized a 12,000 Horsepower locomotive engine. The engine was manufactured by:

- Ans
- 1. Rail Vikas Nigam Ltd.
  - 2. Pipavav Railway Corporation Ltd.
  - 3. Madhepura Electric Locomotive Pvt. Ltd.
  - 4. Chittaranjan Locomotive Works

Question ID : 59445921459

Status : Answered

Chosen Option : 2

Q.11 भारतीय बैंकिंग परिचालन के संदर्भ में, CIBIL स्कोर पद का उपयोग क्या मापने के लिए किया जाता है?

- Ans
- 1. बैंक की ऋण-वसूली दर के संदर्भ में इसका प्रदर्शन।
  - 2. एक व्यक्ति की ऋण प्राप्ति योग्यता।
  - 3. बैंक की ऋण वृद्धि के मामले में उसके प्रदर्शन।
  - 4. एक कंपनी की ऋण प्राप्ति योग्यता।

Question ID : 59445921473

Status : Answered

Chosen Option : 2

Q.12 अंतरराष्ट्रीय स्तर पर, खिलाड़ी दीपा करमाकर किस खेल में भारत का प्रतिनिधित्व करती हैं?

- Ans
- 1. जिमनास्टिक्स
  - 2. बैडमिंटन
  - 3. क्रिकेट
  - 4. निशानेबाजी

Question ID : 59445921465

Status : Answered

Chosen Option : 1

Q.13 निम्न में से किस शहर की लोकप्रिय नृत्य का नाम अहिरी है, जो इसकी संस्कृति का एक महत्वपूर्ण हिस्सा है?

- Ans
- 1. मुंबई
  - 2. पुणे
  - 3. ग्वालियर
  - 4. लखनऊ

Question ID : 59445921468

Status : Not Answered

Chosen Option : --

Q.14 बौद्ध मान्यताओं के अनुसार, निम्न में से किस स्थान पर बुद्ध सोने की सीढ़ी से स्वर्ग से उतरे थे?

- Ans
- 1. वैशाली
  - 2. राजगीर
  - 3. संकिसा
  - 4. कुशीनगर

Question ID : 59445921467

Status : Not Answered

Chosen Option : --

Q.15 निम्न में से किस कंपनी ने भारत में ऑनलाइन शिक्षण और अध्यापन के प्रति अनुकूलन को बढ़ावा देने के लिए 'PC पाठशाला' नामक एक पहल प्रारंभ करने के लिए टाइम्स ऑफ इंडिया के साथ भागीदारी की है?

- Ans
- 1. इंटेल (Intel)
  - 2. माइक्रोसॉफ्ट (Microsoft)
  - 3. गूगल (Google)
  - 4. रिलायंस जियो (Reliance Jio)

Question ID : 59445921458

Status : Not Answered

Chosen Option : --

Q.16 केंद्र सरकार की PM स्वनिधि योजना का उद्देश्य किनको किफायती ऋण प्रदान करना है?

- Ans
- 1. सीमांत किसानों
  - 2. स्वयं-सहायता समूहों
  - 3. बेरोजगार स्नातकों
  - 4. स्ट्रीट वेंडरों (फेरीवालों)

Question ID : 59445921474

Status : Answered

Chosen Option : 1

Q.17 बुंदेसलिगा नामक फुटबॉल टूर्नामेंट कौन-सा देश आयोजित करता है?

- Ans  1. जर्मनी  
 2. फ्रांस  
 3. स्पेन  
 4. ऑस्ट्रिया

Question ID : 59445921466  
Status : Not Answered  
Chosen Option : --

Q.18 अशोक मेहता समिति ने 1978 में निम्न में से किस विषय पर अपनी रिपोर्ट प्रस्तुत की थी?

- Ans  1. मौलिक कर्तव्य  
 2. नागरिकता  
 3. केंद्र-राज्य संबंध  
 4. पंचायती राज संस्था

Question ID : 59445921464  
Status : Answered  
Chosen Option : 1

Q.19 निम्न में से किस पोषक तत्व की कमी से बच्चों में मानसिक विकलांगता उत्पन्न होती है?

- Ans  1. आयोडीन  
 2. आयरन (लौह तत्व)  
 3. विटामिन B-1  
 4. कैल्शियम

Question ID : 59445921475  
Status : Answered  
Chosen Option : 1

Q.20 भारतीय संविधान का कौन-सा अनुच्छेद प्रेस की स्वतंत्रता की गारंटी देता है?

- Ans
- 1. अनुच्छेद 19 (1)(c)
  - 2. अनुच्छेद 19 (1)(b)
  - 3. अनुच्छेद 19 (1)(a)
  - 4. अनुच्छेद 19 (1)(d)

Question ID : 59445921463

Status : Not Answered

Chosen Option : --

Section : General Intelligence & Reasoning Ability

Q.1 यदि '!' का अर्थ गुणा, '\$' का अर्थ जोड़, '#' का अर्थ घटाना और '@' का अर्थ भाग है, तो निम्न का मान क्या होगा?

56@16 ! 8 \$5 # 2

- Ans
- 1. 40
  - 2. 31
  - 3. 35
  - 4. 29

Question ID : 59445921483

Status : Answered

Chosen Option : 2



Q.2 विषम युग्म की पहचान करें।

- Ans  1. 7 : 64  
 2. 20 : 441  
 3. 18 : 400  
 4. 14 : 225

Question ID : 59445921481

Status : Answered

Chosen Option : 3

Q.3 एक भाषा में, सोमवार को बुधवार लिखा जाता है, मंगलवार को गुरुवार लिखा जाता है, बुधवार को शुक्रवार लिखा जाता है और इसी तरह बाकी क्रम भी जारी रहता है। यदि कैलेंडर के अनुसार 20 मार्च को शनिवार है, तो इस भाषा में 15 अप्रैल को कौन सा दिन होगा?

- Ans  1. गुरुवार  
 2. रविवार  
 3. शनिवार  
 4. सोमवार

Question ID : 59445921496

Status : Answered

Chosen Option : 3

Q.4 एक तस्वीर की ओर इशारा करते हुए, राकेश ने बताया कि यह मेरे इकलौते भाई राजेश के पिता हैं। राजेश कविता के ससुर हैं। कविता की बेटी सुधा के पिता राजेश के बेटे हैं। तस्वीर वाले व्यक्ति का सुधा से क्या संबंध है?

- Ans
- 1. दादा//नाना
  - 2. पिता
  - 3. परदादा/परनाना
  - 4. दादा ससुर

[www.HaryanaJobs.in](http://www.HaryanaJobs.in)

Question ID : 59445921482

Status : Answered

Chosen Option : 3

Q.5 यदि 'GOLD' को 19 लिखा जाता है, 'DUST' को 32 लिखा जाता है, तो 'MONDAY' को क्या लिखा जाएगा?

- Ans
- 1. 27
  - 2. 72
  - 3. 36
  - 4. 64

Question ID : 59445921495

Status : Answered

Chosen Option : 3

Q.6 दी गई श्रृंखला को पूरा करें।

omn, omnn, oomnn, \_\_\_\_\_, ooomnnn

- Ans
- 1. oomnnn
  - 2. oomnn
  - 3. oommnnn
  - 4. ooomnn

Question ID : 59445921479

Status : Answered

Chosen Option : 1

Q.7 विषम ज्ञात कीजिए।

- Ans
- 1. ग्रासनली (एसोफैगस)
  - 2. ग्रसनी (फैरिक्स)
  - 3. मलाशय (रेक्टम)
  - 4. नाड़ीग्रन्थि (गैंग्लिऑन)

Question ID : 59445921477

Status : Answered

Chosen Option : 3

Q.8 Find the odd one:

- Ans
- 1. Lake
  - 2. Sea
  - 3. Lagoon
  - 4. Ocean

Question ID : 59445921486

Status : Answered

Chosen Option : 3

Q.9 निम्न में से कौन-सा विकल्प तीसरे पद से ठीक उसी तरह संबंधित है, जिस प्रकार दूसरा पद पहले पद से संबंधित है?

कठोर परिश्रम : सफलता :: अपराध: ?

- Ans  1. प्रोत्साहन  
 2. दंड  
 3. इनाम  
 4. फिटनेस

Question ID : 59445921491

Status : Answered

Chosen Option : 2

Q.10 सुरेखा के पास एक टोकरी में तीन कैडी, कुछ जेली और कुछ सेब हैं। सेब की संख्या जेली की संख्या का 25 प्रतिशत है। यदि कुल चीजें 33 हैं, तो उसके पास कितनी जेलियां हैं?

- Ans  1. 2  
 2. 18  
 3. 24  
 4. 8

Question ID : 59445921493

Status : Answered

Chosen Option : 3

Q.11 व्यक्ति के एक समूह का औसत वजन 58 kg है। समूह के 67 kg और 56 kg वजन वाले दो व्यक्तियों को 69 kg और 54 kg वजन वाले दो व्यक्तियों से प्रतिस्थापित कर दिया गया। 21 व्यक्तियों वाले इस समूह का प्रतिस्थापन के बाद औसत वजन क्या होगा?

- Ans  1. 58  
 2. 58.5  
 3. 62  
 4. 61

Question ID : 59445921489  
Status : Answered  
Chosen Option : 1

Q.12 चार वर्ष पहले, मोहित की आयु राहुल की आयु की चार गुना थी। यदि दोनों की आयु का योग 58 है, तो राहुल की वर्तमान आयु क्या है?

- Ans  1. 44  
 2. 14  
 3. 40  
 4. 10

Question ID : 59445921485  
Status : Answered  
Chosen Option : 2

Q.13 विषम ज्ञात कीजिए।

- Ans  1. VZ  
 2. KN  
 3. XB  
 4. ZD

Question ID : 59445921492  
Status : Answered  
Chosen Option : 2

Q.14 एक भाषा में GRAPHIC को EKJRCTI के रूप में कोड किया जाता है, तो उसी भाषा में DROUGHT को कैसे कोड किया जाएगा?

- Ans  1. VJIWQTF  
 2. VJIPVSE  
 3. UJIWQTF  
 4. VJIVQTF

Question ID : 59445921480  
Status : Answered  
Chosen Option : 1

Q.15 विषम ज्ञात कीजिए।

- Ans  1. ओटावा  
 2. बेयरूत  
 3. सिडनी  
 4. काहिरा

Question ID : 59445921487  
Status : Answered  
Chosen Option : 3

Q.16 एक गोल मेज के चारों ओर पांच व्यक्ति P, H, R, S और J एक दूसरे के सम्मुख बैठे हुए हैं। H और J एक साथ नहीं बैठे हैं। S, R के एकदम बाएं बैठा है, जो H के बाएं तीसरे स्थान पर बैठा है। R के दाएं चौथे स्थान पर कौन बैठा है?

- Ans  1. S  
 2. J  
 3. H  
 4. R

Question ID : 59445921494

Status : Answered

Chosen Option : 1

Q.17 एक घन की प्रत्येक भुजा की लंबाई 10 cm है, जिसे 5 cm भुजा वाले घनों में काटा जाता है, तो ऐसे कितने छोटे घन बनाए जा सकते हैं?

- Ans  1. 25  
 2. 8  
 3. 4  
 4. 64

Question ID : 59445921484

Status : Answered

Chosen Option : 2

Q.18 विषम ज्ञात कीजिए।

- Ans  1. NRV  
 2. HLP  
 3. SWA  
 4. VZC

Question ID : 59445921478

Status : Answered

Chosen Option : 4

Q.19 यदि निम्न अक्षरों को उन्हें निर्दिष्ट अंकों के अनुक्रम में व्यवस्थित किया जाता है, तो निम्न में से कौन-सा एक सार्थक शब्द के निर्माण हेतु सही विकल्प होगा?

T	H	R	I	S	E	S	G	N	B
0	1	2	3	4	5	6	7	8	9

- Ans  1. 1023579846  
 2. 6345978210  
 3. 9237018564  
 4. 9237108564

[www.HaryanaJobs.in](http://www.HaryanaJobs.in)

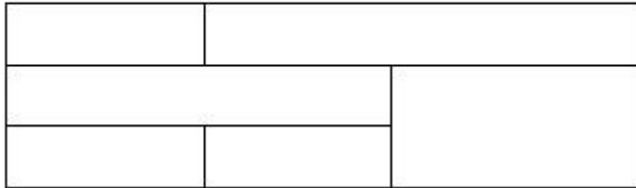
Question ID : 59445921490

Status : Answered

Chosen Option : 4



Q.20 दी गई आकृति में कुल कितने आयत हैं?



- Ans
- 1. 12
  - 2. 11
  - 3. 10
  - 4. 7

Question ID : 59445921488  
 Status : Answered  
 Chosen Option : 2

Section : Arithmetical & Numerical Ability

Q.1 15 इकाई भुजा वाले एक घन में उत्कीर्ण किए जा सकने वाले विकर्ण की अधिकतम लंबाई क्या होगी?

- Ans
- 1.  $15\sqrt{2}$
  - 2. 15
  - 3.  $15\sqrt{3}$
  - 4.  $15\sqrt{5}$

Question ID : 59445921505  
 Status : Answered  
 Chosen Option : 3

Q.2 एक मंदिर में रविवार को औसतन 520 आगंतुक और अन्य दिनों में 250 आगंतुक आते हैं। 5 रविवार वाले 30 दिनों के एक महीने में प्रतिदिन आगंतुकों की औसत संख्या कितनी है?

- Ans
- 1. 320
  - 2. 250
  - 3. 295
  - 4. 520

Question ID : 59445921498

Status : Answered

Chosen Option : 3

Q.3 रु. 12000 की धनराशि पर दो वर्ष के लिए 10 प्रतिशत वार्षिक ब्याज दर पर, वार्षिक तौर पर गणना किए गए चक्रवृद्धि ब्याज और साधारण ब्याज का योग कितना होगा?

- Ans
- 1. रु. 4940
  - 2. रु. 4290
  - 3. रु. 4920
  - 4. रु. 4220

Question ID : 59445921504

Status : Answered

Chosen Option : 3

Q.4 कांतिलाल एक बेईमान दुकानदार है। वह A1 ग्रेड चावल की 8 kg मात्रा को C ग्रेड चावल की Y kg मात्रा के साथ मिश्रित करता है और इस मिश्रित चावल को 100 रुपये प्रति kg की दर से बेचता है। जिसके परिणामस्वरूप, कांतिलाल को 20 प्रतिशत लाभ अर्जित होता है। यदि कांतिलाल ने A1 ग्रेड चावल को रु. 120 प्रति kg की दर से खरीदा है और C ग्रेड चावल को रु. 80 प्रति kg की दर से खरीदा है, तो y का मूल्य निर्धारित करें।

- Ans  1. 88  
 2. 90  
 3. 100  
 4. 8

Question ID : 59445921516

Status : Answered

Chosen Option : 1

Q.5 यदि रु. 20000 की एक वस्तु पर 20 प्रतिशत की छूट या 15 प्रतिशत और 5 प्रतिशत की दो क्रमिक छूट दी जाती हैं, तो दोनों छूटों के बीच कितने रुपये का अंतर होगा?

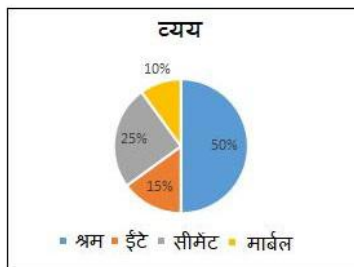
- Ans  1. रु. 150  
 2. रु. 0  
 3. रु. 100  
 4. रु. 200

Question ID : 59445921503

Status : Answered

Chosen Option : 1

Q.6 एक घर के निर्माण में किए गए रु. 20000 के व्यय से जुड़ी निम्न जानकारी पाई चार्ट में दी गई है:



श्रम पर किये गए खर्च का और ईंटों पर हुए खर्च का अनुपात पता लगाए।

- Ans
- 1. 2 : 1
  - 2. 2 : 5
  - 3. 10 : 3
  - 4. 5 : 3

Question ID : 59445921509

Status : Answered

Chosen Option : 3

Q.7 एक टैंक पानी से पूरा भरा हुआ है। पानी की पूरी मात्रा का उपयोग करके, 20 कैन या 4 बैरल भरे जा सकते हैं। लेकिन रिसाव के कारण 20 प्रतिशत पानी बाहर फैल गया है। शेष पानी का उपयोग करके, 5 कैन और कुछ बैरल भरे जाते हैं। कुल कितने बैरल भरे गए हैं?

- Ans
- 1. 2 पूर्ण बैरल और एक बैरल 30 प्रतिशत भरा
  - 2. 2 पूर्ण बैरल और एक बैरल 20 प्रतिशत खाली
  - 3. 3 पूर्ण बैरल और एक बैरल 20 प्रतिशत भरा
  - 4. 2 पूर्ण बैरल और एक बैरल 80 प्रतिशत खाली

Question ID : 59445921513

Status : Answered

Chosen Option : 4

Q.8 एक दुकानदार एक वस्तु पर समान प्रतिशत की दो क्रमागत छूट प्रदान करता है। यदि उस वस्तु का अंतिम विक्रय मूल्य रु. 1620 और अंकित मूल्य रु. 2000 है, तो छूट का प्रतिशत क्या है?

- Ans
- 1. 11
  - 2. 12
  - 3. 14
  - 4. 10

Question ID : 59445921502

Status : Answered

Chosen Option : 4

Q.9 3 मूर्तिकार X, Y और Z हैं, जो एक साथ काम करते हुए 4 घंटे में 216 मूर्तियां बना सकते हैं। एक घंटे में Z, Y से उतनी ही अधिक मूर्तियां बना सकता है, जितनी एक घंटे में ही Y, X से अधिक बना सकता है। उनमें से प्रत्येक मूर्तिकार एक घंटे में कितनी मूर्तियां बनाता है?

- Ans
- 1. X=20, Y=17, Z=18
  - 2. X=16, Y=17, Z=20
  - 3. X=15, Y=18, Z=21
  - 4. X=15, Y=21, Z=18

Question ID : 59445921506

Status : Answered

Chosen Option : 3

Q.10 X एक पलंग को रु. 40000 में खरीदता है और इसे 5% के लाभ पर Y को बेच देता है। Y अब इसे Z को 10% लाभ पर बेच देता है और Z इसे W को 5% की हानि पर बेच देता है। W ने इस पलंग के लिए कितना भुगतान किया है?

- Ans
- 1. रु. 43800
  - 2. रु. 43400
  - 3. रु. 43980
  - 4. रु. 43890

Question ID : 59445921501

Status : Answered

Chosen Option : 4

Q.11 एक कार एक बाइक की तुलना में 25% तेजी से चल सकती है। दोनों एक ही समय पर बिंदु A से चलना शुरू करती हैं और A से 75 Km की दूरी पर स्थित बिंदु B तक एक ही समय पर पहुंचती हैं। हालांकि, रास्ते में ईंधन भरवाने के लिए कार को 7.5 मिनट ठहरना पड़ा था। बाइक की चाल कितनी है?

- Ans
- 1. 100 Km/h
  - 2. 90 Km/h
  - 3. 120 Km/h
  - 4. 130 Km/h

[www.HaryanaJobs.in](http://www.HaryanaJobs.in)

Question ID : 59445921507

Status : Answered

Chosen Option : 3

Q.12 6 के पहले 50 गुणनफलों का औसत ज्ञात कीजिए।

- Ans
- 1. 80
  - 2. 124
  - 3. 153
  - 4. 1036

Question ID : 59445921514

Status : Answered

Chosen Option : 3

Q.13 एक कॉलेज में अध्यक्ष पद के लिए चुनाव आयोजित किया जाता है, जहां HOD द्वारा 2 उम्मीदवारों को चुना जाता है और चुनाव में 68 वोट अवैध घोषित किए गए हैं, जीतने वाले उम्मीदवार को 52 प्रतिशत वोट मिलते हैं और 86 वोटों से जीत हासिल करता है, अवैध घोषित मतों को हटाकर, डाले गए कुल मतों की संख्या कितनी है?

- Ans
- 1. 2150
  - 2. 3250
  - 3. 2700
  - 4. 1520

Question ID : 59445921497

Status : Answered

Chosen Option : 1

Q.14 दो संख्याओं  $m$  और  $n$  का अनुपात  $5 : 2$  है।

$\frac{10m+20n}{m-n}$  का मान ज्ञात करें।

Ans  1. 30

2. 28

3. 42

4. 36

Question ID : 59445921511

Status : Answered

Chosen Option : 1

Q.15 10 वर्ष पूर्व 4 सदस्यों वाले एक परिवार की औसत आयु 22 वर्ष थी। 2 वर्ष की आयु अंतराल पर दो बच्चे पैदा हुए हैं, लेकिन परिवार की वर्तमान औसत आयु में कोई परिवर्तन नहीं हुआ है। सबसे छोटे बच्चे की वर्तमान आयु क्या होगी?

Ans  1. 1 वर्ष

2. 2 वर्ष

3. 4 वर्ष

4. 3 वर्ष

Question ID : 59445921499

Status : Answered

Chosen Option : 2



Q.16 राजेश ने तीन स्थानों पर अपनी धनराशि को 2 : 3 : 5 के अनुपात में निवेश किया है। उसे पहले निवेश पर 5 प्रतिशत लाभ, दूसरे निवेश पर 8 प्रतिशत लाभ और तीसरे निवेश पर 12 प्रतिशत हानि होती है। पूरे निवेश पर उसका लाभ या हानि का प्रतिशत क्या है?

- Ans
- 1. 3.6
  - 2. 2.8
  - 3. 1.6
  - 4. 2.6

Question ID : 59445921500

Status : Answered

Chosen Option : 4

Q.17 एक साइकिल चालक ने एक निश्चित दूरी एक निश्चित चाल से तय की है। यदि पैदल चलने वाला एक व्यक्ति दोगुने समय में इसकी आधी दूरी तय करता है, तो पैदल चलने वाले व्यक्ति की चाल का साइकिल चालक की चाल से अनुपात क्या होगा?

- Ans
- 1. 4 : 1
  - 2. 1 : 4
  - 3. 2 : 1
  - 4. 1 : 2

Question ID : 59445921508

Status : Answered

Chosen Option : 2

Q.18 एक परिवार में पांच सदस्य A, B, C, D और E हैं। A और B की वर्तमान आयु का अनुपात 3 : 2, C और D की वर्तमान आयु का अनुपात 5 : 4, तथा A और E की वर्तमान आयु का अनुपात 1 : 2 है। यदि छह वर्ष के बाद, A और D की आयु का अनुपात 4 : 1 होगा, और C की आयु 11 वर्ष होगी, तो E की वर्तमान आयु क्या है?

- Ans
- 1. 18 वर्ष
  - 2. 100 वर्ष से अधिक
  - 3. 68 वर्ष
  - 4. 84 वर्ष

Question ID : 59445921512

Status : Answered

Chosen Option : 3

Q.19 राज एक दुकानदार है। उसने एक कारखाने से रु. 10 की दर से दवाई खरीदी। कुछ दिनों के बाद, जब दवा की मांग बढ़ गई, तो उसने अधिक आय के लालच में दवा के विक्रय मूल्य को सामान्य विक्रय मूल्य से दो गुना कर दिया। इसके कारण उसने जो लाभ अर्जित किया, वह विक्रय मूल्य को बदले बिना होने वाले अर्जित लाभ का चार गुना है। दवा की बिक्री के माध्यम से राज को होने वाले लाभ के प्रतिशत की गणना करें, यदि उसने विक्रय मूल्य में कोई परिवर्तन नहीं किया होता।

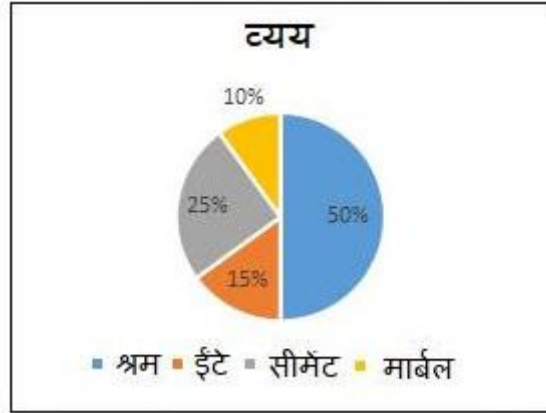
- Ans
- 1. 50 प्रतिशत
  - 2. 60 प्रतिशत
  - 3. 120 प्रतिशत
  - 4. 100 प्रतिशत

Question ID : 59445921515

Status : Answered

Chosen Option : 1

Q.20 नीचे दिए गए पाई आरेख के केंद्र में कौन सा व्यय 90 डिग्री का कोण बनाएगा?



- Ans
- 1. मार्बल
  - 2. ईटें
  - 3. सीमेंट
  - 4. श्रम

Question ID : 59445921510

Status : Answered

Chosen Option : 3

Section : Hindi Language & Comprehension

Q.1 'मिश्र वाक्य' के सन्दर्भ में कौन सा कथन उचित है?

- Ans
- 1. मिश्र वाक्य में सदैव एक ही आश्रित उपवाक्य होता है
  - 2. मिश्र वाक्य में एकाधिक मुख्य वाक्य रहते हैं
  - 3. मिश्र वाक्य में मुख्य उपवाक्य एक ही रहता है
  - 4. मिश्र वाक्य में आश्रित उपवाक्य नहीं रहता

Question ID : 59445921525

Status : Answered

Chosen Option : 1

Q.2 विषम स्रोतीय शब्दों से निर्मित शब्द नहीं है:

- Ans
- 1. टिकटघर
  - 2. रेलगाड़ी
  - 3. चीनांशुक
  - 4. सिनेमाघर

[www.HaryanaJobs.in](http://www.HaryanaJobs.in)

Question ID : 59445921528

Status : Answered

Chosen Option : 3

Q.3 'अनाज' का पर्यायवाची शब्द है:

- Ans
- 1. हय
  - 2. धान्य
  - 3. धन्य
  - 4. धन

Question ID : 59445921523

Status : Answered

Chosen Option : 2

Q.4 'अद्भुत' का पर्यायवाची नहीं है:

- Ans
- 1. अनूठा
  - 2. विलक्षण
  - 3. अनूप
  - 4. विचित्र

Question ID : 59445921530

Status : Answered

Chosen Option : 4

Q.5 'तारा' का पर्यायवाची शब्द है:

- Ans
- 1. मिति
  - 2. भृत्य
  - 3. खद्योत
  - 4. उपानह

Question ID : 59445921524

Status : Answered

Chosen Option : 2

Q.6 जिन शब्दों के स्रोत का पता नहीं होता, उन्हें कहा जाता है:

- Ans
- 1. समस्रोतीय शब्द
  - 2. तत्सम शब्द
  - 3. विषम स्रोतीय शब्द
  - 4. देशज शब्द

Question ID : 59445921531

Status : Answered

Chosen Option : 4

Q.7 'क्षत' का विलोमार्थ है:

- Ans
- 1. विक्षिप्त
  - 2. विक्षत
  - 3. अक्षत
  - 4. अक्षम्य

Question ID : 59445921527

Status : Answered

Chosen Option : 3

Q.8 'तुम अभी इसी गली के पास घूम रहे हो' में 'इसी' है:

- Ans
- 1. विशेषण
  - 2. क्रियाशब्द
  - 3. कालबोधक संज्ञा
  - 4. सर्वनाम

Question ID : 59445921529

Status : Answered

Chosen Option : 4

Q.9 'तुरुप' है:

- Ans
- 1. विदेशी शब्द
  - 2. तद्भव शब्द
  - 3. देशज शब्द
  - 4. तत्सम शब्द

Question ID : 59445921520

Status : Answered

Chosen Option : 3

Q.10 'जागरण' का विलोमार्थी शब्द नहीं है:

- Ans
- 1. नींद
  - 2. अनिद्रा
  - 3. सुषुप्ति
  - 4. निद्रा

Question ID : 59445921521  
Status : Answered  
Chosen Option : 2

Q.11 निम्नोक्त में अर्ध-तत्सम शब्द नहीं है:

- Ans
- 1. मर्म
  - 2. किशन
  - 3. धरम
  - 4. करम

Question ID : 59445921519  
Status : Answered  
Chosen Option : 1

Q.12 निम्नोक्त में किस वाक्य में प्रविशेषण का उचित उपयोग हुआ है?

- Ans
- 1. वह निहायत बुरा आदमी है
  - 2. उसे अधिक दुःख है
  - 3. उसमें बहुत खानापीना है
  - 4. वह आदमी निपट है

Question ID : 59445921526  
Status : Answered  
Chosen Option : 1

Q.13 'वे अभी उसी जगह खड़े है' में 'अभी' है:

- Ans
- 1. प्रविशेषण
  - 2. विशेषण
  - 3. सार्वनामिक विशेषण
  - 4. क्रियाविशेषण

Question ID : 59445921517

Status : Answered

Chosen Option : 1

Q.14 'मूढ़' का विलोमार्थ है:

- Ans
- 1. ज्ञानी
  - 2. मंडित
  - 3. अचेत
  - 4. मृदु

Question ID : 59445921522

Status : Answered

Chosen Option : 1

Q.15 'नायक' का संधि - विच्छेद है:

- Ans
- 1. नै + अक
  - 2. ना + यक
  - 3. न + आक
  - 4. न + याक

Question ID : 59445921518

Status : Answered

Chosen Option : 1



**Comprehension:**

दिए गये गद्यांश के आधार पर प्रश्न के उत्तर दीजिए।

भाषा और समाज आपस में एक दूसरे के पूरक ही नहीं अपितु निर्माता और सृष्टा भी हैं। भाषा समाज के कारखाने में ही निर्मित होती है और समाज भाषा के ही आईने में दृश्यमान होता है। बगैर भाषा समाज की संज्ञा भी संभव नहीं है, सामाजिक संबंधों के आत्मसातीकरण को तो भूल ही जाईये। समाज का कण-कण भाषा पर निर्भर है। इसीलिए जो लोग भाषा और समाज को दो अलग इकाईयां मानकर चलने के आदि होते हैं वो ये बुनियादी भूल करते हैं कि देह और आत्म को भिन्न माना जाये। जिस तरह शरीर आत्मा के बगैर शव है उसी तरह आत्म बगैर शरीर के भूत अतः कहने का अभिप्राय है कि भाषा और समाज के संबंधों को समझते समय इन्हें दो भिन्न इकाईयां मानकर चलने से बचना चाहिए।

**SubQuestion No : 16**

**Q.16** 'जन्मदाता' का पर्यायवाची नहीं है:

- Ans**
- 1. सृजनकर्ता
  - 2. पूरक
  - 3. निर्माता
  - 4. सृष्टा

Question ID : **59445921537**

Status : **Answered**

Chosen Option : **2**

**Comprehension:**

दिए गये गद्यांश के आधार पर प्रश्न के उत्तर दीजिए।

भाषा और समाज आपस में एक दूसरे के पूरक ही नहीं अपितु निर्माता और सृष्टा भी हैं। भाषा समाज के कारखाने में ही निर्मित होती है और समाज भाषा के ही आईने में दृश्यमान होता है। बगैर भाषा समाज की संज्ञा भी संभव नहीं है, सामाजिक संबंधों के आत्मसातीकरण को तो भूल ही जाईये। समाज का कण-कण भाषा पर निर्भर है। इसीलिए जो लोग भाषा और समाज को दो अलग इकाईयां मानकर चलने के आदि होते हैं वो ये बुनियादी भूल करते हैं कि देह और आत्म को भिन्न माना जाये। जिस तरह शरीर आत्मा के बगैर शव है उसी तरह आत्म बगैर शरीर के भूत अतः कहने का अभिप्राय है कि भाषा और समाज के संबंधों को समझते समय इन्हें दो भिन्न इकाईयां मानकर चलने से बचना चाहिए।

**SubQuestion No : 17**

**Q.17** भाषा के अभाव में समाज की संज्ञा भी संभव नहीं है। वाक्य अर्थ की दृष्टि है:

- Ans**  1. निषेधवाचक  
 2. संकेतार्थक  
 3. आज्ञार्थक  
 4. प्रश्नार्थक

Question ID : **59445921535**

Status : **Answered**

Chosen Option : **2**

**Comprehension:**

दिए गये गद्यांश के आधार पर प्रश्न के उत्तर दीजिए।

भाषा और समाज आपस में एक दूसरे के पूरक ही नहीं अपितु निर्माता और सृष्टा भी हैं। भाषा समाज के कारखाने में ही निर्मित होती है और समाज भाषा के ही आईने में दृश्यमान होता है। बगैर भाषा समाज की संज्ञा भी संभव नहीं है, सामाजिक संबंधों के आत्मसातीकरण को तो भूल ही जाईये। समाज का कण-कण भाषा पर निर्भर है। इसीलिए जो लोग भाषा और समाज को दो अलग इकाईयां मानकर चलने के आदि होते हैं वो ये बुनियादी भूल करते हैं कि देह और आत्म को भिन्न माना जाये। जिस तरह शरीर आत्मा के बगैर शव है उसी तरह आत्म बगैर शरीर के भूत अतः कहने का अभिप्राय है कि भाषा और समाज के संबंधों को समझते समय इन्हें दो भिन्न इकाईयां मानकर चलने से बचना चाहिए।

**SubQuestion No : 18**

**Q.18** बगैर शब्द है:

- Ans**  1. देशज  
 2. तन्द्रव  
 3. विदेशी  
 4. तत्सम

Question ID : **59445921536**

Status : **Answered**

Chosen Option : **2**

**Comprehension:**

दिए गये गद्यांश के आधार पर प्रश्न के उत्तर दीजिए।

भाषा और समाज आपस में एक दूसरे के पूरक ही नहीं अपितु निर्माता और सृष्टा भी हैं। भाषा समाज के कारखाने में ही निर्मित होती है और समाज भाषा के ही आईने में दृश्यमान होता है। बगैर भाषा समाज की संज्ञा भी संभव नहीं है, सामाजिक संबंधों के आत्मसातीकरण को तो भूल ही जाईये। समाज का कण-कण भाषा पर निर्भर है। इसीलिए जो लोग भाषा और समाज को दो अलग इकाईयां मानकर चलने के आदि होते हैं वो ये बुनियादी भूल करते हैं कि देह और आत्म को भिन्न माना जाये। जिस तरह शरीर आत्मा के बगैर शव है उसी तरह आत्म बगैर शरीर के भूत अतः कहने का अभिप्राय है कि भाषा और समाज के संबंधों को समझते समय इन्हें दो भिन्न इकाईयां मानकर चलने से बचना चाहिए।

**SubQuestion No : 19**

**Q.19** 'देह और आत्म को भिन्न माना जाये' वाक्य का विधानवाचक शब्द है:

- Ans**  1. भिन्न  
 2. आत्म  
 3. जाये  
 4. देह

Question ID : **59445921533**

Status : **Answered**

Chosen Option : **1**

**Comprehension:**

दिए गये गद्यांश के आधार पर प्रश्न के उत्तर दीजिए।

भाषा और समाज आपस में एक दूसरे के पूरक ही नहीं अपितु निर्माता और सृष्टा भी हैं। भाषा समाज के कारखाने में ही निर्मित होती है और समाज भाषा के ही आईने में दृश्यमान होता है। बगैर भाषा समाज की संज्ञा भी संभव नहीं है, सामाजिक संबंधों के आत्मसातीकरण को तो भूल ही जाईये। समाज का कण-कण भाषा पर निर्भर है। इसीलिए जो लोग भाषा और समाज को दो अलग इकाईयां मानकर चलने के आदि होते हैं वो ये बुनियादी भूल करते हैं कि देह और आत्म को भिन्न माना जाये। जिस तरह शरीर आत्मा के बगैर शव है उसी तरह आत्म बगैर शरीर के भूत अतः कहने का अभिप्राय है कि भाषा और समाज के संबंधों को समझते समय इन्हें दो भिन्न इकाईयां मानकर चलने से बचना चाहिए।

**SubQuestion No : 20**

**Q.20** निम्नोक्त में कौन तत्सम शब्दावली नहीं है?

- Ans**  1. भूल  
 2. शव  
 3. आत्मा  
 4. सृष्टा

[www.HaryanaJobs.in](http://www.HaryanaJobs.in)

Question ID : **59445921534**

Status : **Answered**

Chosen Option : **1**

Section : **English Language & Comprehension**

**Q.1** Select the most appropriate option to fill in the blank.

His reforms have no longer \_\_\_\_\_ support of the people.

- Ans**  1. an  
 2. the  
 3. no article  
 4. a

Question ID : **59445921546**

Status : **Answered**

Chosen Option : **2**

**Q.2 Select the most appropriate antonym of the given word.**

**MISERY**

- Ans  1. Pleasure  
 2. Calmness  
 3. Spendthrift  
 4. Relief

Question ID : **59445921541**  
Status : **Answered**  
Chosen Option : **1**

**Q.3 Select the most appropriate synonym of the given word.**

**RELY**

- Ans  1. depend  
 2. admire  
 3. believe  
 4. adore

Question ID : **59445921538**  
Status : **Answered**  
Chosen Option : **1**

**Q.4 Arrange parts of the sentence in meaningful order.**

- (A) more pollution
- (B) increase in traffic
- (C) implies
- (D) more roads and

- Ans**
- 1. CBDA
  - 2. BCDA
  - 3. BDAC
  - 4. DACB

Question ID : **59445921552**

Status : **Answered**

Chosen Option : **2**

**Q.5 Arrange parts of the sentence in meaningful order.**

- (A) an immediate share issue
- (B) circumstances have conspired
- (C) to make
- (D) an unattractive option

- Ans**
- 1. DABC
  - 2. BDCA
  - 3. BCAD
  - 4. ABCD

Question ID : **59445921551**

Status : **Answered**

Chosen Option : **2**

**Q.6 Select the most appropriate option to fill in the blank**

I tried to reason \_\_\_\_\_ her, but without success.

- Ans
- 1. by
  - 2. for
  - 3. with
  - 4. of

Question ID : **59445921549**  
Status : **Answered**  
Chosen Option : **2**

**Q.7 Select the most appropriate option to fill in the blank**

Geniuses tend to be rather \_\_\_\_\_.

- Ans
- 1. Childlike
  - 2. Childish
  - 3. Innocent
  - 4. Babyish

Question ID : **59445921542**  
Status : **Answered**  
Chosen Option : **2**



**Q.8 Select the most appropriate word for the given group of words.**

**Extend beyond or above a surface.**

- Ans
- 1. Promote
  - 2. Stretch
  - 3. Protrude
  - 4. Poke

Question ID : 59445921545

Status : Answered

Chosen Option : 2

**Q.9 Arrange parts of the sentence in meaningful order.**

- (A) like this
- (B) that someone would try
- (C) to pull a stunt on me
- (D) it seems absolutely ridiculous

- Ans
- 1. ABCD
  - 2. ADCB
  - 3. DBCA
  - 4. CBAD

Question ID : 59445921550

Status : Answered

Chosen Option : 3

**Q.10** Select the most appropriate synonym of the given word.

**BACKFIRE**

- Ans  1. rebound  
 2. recover  
 3. retreat  
 4. restore

Question ID : **59445921539**  
Status : **Answered**  
Chosen Option : **3**

**Q.11** Select the most appropriate option to fill in the blank.

It is not difficult to see why Edward \_\_\_\_\_ her.

- Ans  1. is enamoured by  
 2. enamours  
 3. could enamour  
 4. have been enamored

Question ID : **59445921547**  
Status : **Answered**  
Chosen Option : **1**

**Q.12** Select the most appropriate option to fill in the blank

He had the strong impression that someone \_\_\_\_\_ him.

- Ans
- 1. was watched
  - 2. was watching
  - 3. watched
  - 4. is watching

Question ID : **59445921548**  
Status : **Answered**  
Chosen Option : **2**

**Q.13** Select the most appropriate antonym of the given word.

**REJOICE**

- Ans
- 1. Complain
  - 2. reject
  - 3. frighten
  - 4. lament

Question ID : **59445921540**  
Status : **Answered**  
Chosen Option : **4**

**Q.14 Select the most appropriate option to fill in the blank**

There were \_\_\_\_\_ large number of excellent performers in this year's competition.

- Ans
- 1. an unconventionally
  - 2. gleefully
  - 3. a magnificently
  - 4. an unusually

Question ID : 59445921544

Status : Answered

Chosen Option : 4

**Q.15 Select the most appropriate options to fill in the blank**

It was \_\_\_\_\_ of a telephone conversation with a mysterious person that I accidentally heard.

- Ans
- 1. odds and ends
  - 2. bits and pieces
  - 3. by and large
  - 4. ins and outs

Question ID : 59445921543

Status : Answered

Chosen Option : 3

**Comprehension:**

Read the passage below and answer the following questions.

The word, "hacker," is usually used in relation to cyber criminals, but a hacker can actually be anyone, regardless of intentions, who utilizes his knowledge of computer software and hardware to break down and bypass security measures on a computer, device or network. Hacking itself is not an illegal activity unless the hacker is getting into the system without the owner's permission. Many companies and government agencies in fact employ hackers to help them secure their systems.

Hackers are generally categorized as "white hat" and "black hat". The terms come from old western movies, where the bad guy wears a black cowboy hat, and the good guy wears a white hat. Black hat hackers breaking into computer networks usually for personal or financial gain. The aim is to steal data, financial information, personal information and login credentials. Not only do black hat hackers steal data, they often modify or destroy data as well. White hat hackers choose to use their powers for good rather than evil. White hat hackers employ the same methods of hacking as black hats, with one exception- they do it with permission from the owner of the system. This makes it legal. The intention is to test the security systems and find out the weak and vulnerable sections in the system through data can be stolen by an outsider. They hack with the intention to test and strengthen computer security systems. Therefore this form is also called ethical hacking.

**SubQuestion No : 16**

**Q.16 What are two things that differentiate a white hat from a black hat hacker?**

- Ans
- 1. Hacking expertise and legality issues
  - 2. Hacking expertise and the intention behind hacking
  - 3. Intention behind hacking and legality issues
  - 4. Hacking expertise and permission to hack

Question ID : **59445921556**

Status : **Answered**

Chosen Option : **4**

**Comprehension:**





Read the passage below and answer the following questions.

The word, "hacker," is usually used in relation to cyber criminals, but a hacker can actually be anyone, regardless of intentions, who utilizes his knowledge of computer software and hardware to break down and bypass security measures on a computer, device or network. Hacking itself is not an illegal activity unless the hacker is getting into the system without the owner's permission. Many companies and government agencies in fact employ hackers to help them secure their systems.

Hackers are generally categorized as "white hat" and "black hat". The terms come from old western movies, where the bad guy wears a black cowboy hat, and the good guy wears a white hat. Black hat hackers breaking into computer networks usually for personal or financial gain. The aim is to steal data, financial information, personal information and login credentials. Not only do black hat hackers steal data, they often modify or destroy data as well. White hat hackers choose to use their powers for good rather than evil. White hat hackers employ the same methods of hacking as black hats, with one exception- they do it with permission from the owner of the system. This makes it legal. The intention is to test the security systems and find out the weak and vulnerable sections in the system through data can be stolen by an outsider. They hack with the intention to test and strengthen computer security systems. Therefore this form is also called ethical hacking.

**SubQuestion No : 17**

**Q.17 Who is a 'white hat hacker'?**

- Ans  1. Who uses his skills to identify security loopholes
-  2. Who can bypass security to get into a system
-  3. Who wears a white hat
-  4. A person from old western movies

Question ID : **59445921555**

Status : **Answered**

Chosen Option : **1**

**Comprehension:**

Read the passage below and answer the following questions.

The word, "hacker," is usually used in relation to cyber criminals, but a hacker can actually be anyone, regardless of intentions, who utilizes his knowledge of computer software and hardware to break down and bypass security measures on a computer, device or network. Hacking itself is not an illegal activity unless the hacker is getting into the system without the owner's permission. Many companies and government agencies in fact employ hackers to help them secure their systems.

Hackers are generally categorized as "white hat" and "black hat". The terms come from old western movies, where the bad guy wears a black cowboy hat, and the good guy wears a white hat. Black hat hackers breaking into computer networks usually for personal or financial gain. The aim is to steal data, financial information, personal information and login credentials. Not only do black hat hackers steal data, they often modify or destroy data as well. White hat hackers choose to use their powers for good rather than evil. White hat hackers employ the same methods of hacking as black hats, with one exception- they do it with permission from the owner of the system. This makes it legal. The intention is to test the security systems and find out the weak and vulnerable sections in the system through data can be stolen by an outsider. They hack with the intention to test and strengthen computer security systems. Therefore this form is also called ethical hacking.

**SubQuestion No : 18**

**Q.18 Which word in the text has the following meaning?**

**A document proving a person's identity or qualification.**

- Ans**
- 1. Ethics
  - 2. Credentials
  - 3. Permissions
  - 4. Login

Question ID : **59445921558**

Status : **Answered**

Chosen Option : **1**

**Comprehension:**





Read the passage below and answer the following questions.

The word, "hacker," is usually used in relation to cyber criminals, but a hacker can actually be anyone, regardless of intentions, who utilizes his knowledge of computer software and hardware to break down and bypass security measures on a computer, device or network. Hacking itself is not an illegal activity unless the hacker is getting into the system without the owner's permission. Many companies and government agencies in fact employ hackers to help them secure their systems.

Hackers are generally categorized as "white hat" and "black hat". The terms come from old western movies, where the bad guy wears a black cowboy hat, and the good guy wears a white hat. Black hat hackers breaking into computer networks usually for personal or financial gain. The aim is to steal data, financial information, personal information and login credentials. Not only do black hat hackers steal data, they often modify or destroy data as well. White hat hackers choose to use their powers for good rather than evil. White hat hackers employ the same methods of hacking as black hats, with one exception- they do it with permission from the owner of the system. This makes it legal. The intention is to test the security systems and find out the weak and vulnerable sections in the system through data can be stolen by an outsider. They hack with the intention to test and strengthen computer security systems. Therefore this form is also called ethical hacking.

**SubQuestion No : 19**

**Q.19 Which of these is not true of ethical hacking?**

- Ans  1. Hack with the knowledge of the owner
-  2. Hack for personal gains
-  3. Test a computer security system
-  4. Identify weak and vulnerable sections

Question ID : **59445921557**

Status : **Answered**

Chosen Option : **2**



**Comprehension:**

Read the passage below and answer the following questions.

The word, "hacker," is usually used in relation to cyber criminals, but a hacker can actually be anyone, regardless of intentions, who utilizes his knowledge of computer software and hardware to break down and bypass security measures on a computer, device or network. Hacking itself is not an illegal activity unless the hacker is getting into the system without the owner's permission. Many companies and government agencies in fact employ hackers to help them secure their systems.

Hackers are generally categorized as "white hat" and "black hat". The terms come from old western movies, where the bad guy wears a black cowboy hat, and the good guy wears a white hat. Black hat hackers breaking into computer networks usually for personal or financial gain. The aim is to steal data, financial information, personal information and login credentials. Not only do black hat hackers steal data, they often modify or destroy data as well. White hat hackers choose to use their powers for good rather than evil. White hat hackers employ the same methods of hacking as black hats, with one exception- they do it with permission from the owner of the system. This makes it legal. The intention is to test the security systems and find out the weak and vulnerable sections in the system through data can be stolen by an outsider. They hack with the intention to test and strengthen computer security systems. Therefore this form is also called ethical hacking.

**SubQuestion No : 20**

[www.HaryanaJobs.in](http://www.HaryanaJobs.in)

**Q.20 Who can be called a hacker?**

- Ans**
- 1. Someone who legally breaks into a system
  - 2. Someone who are employed to help in securing computer systems
  - 3. Someone who writes financial and personal data from a computer
  - 4. Someone who can break into a system bypassing security measures

Question ID : **59445921554**

Status : **Answered**

Chosen Option : **4**

Section : **Basic Computer Knowledge**

Q.1 निम्न में से कौन-सा फ़ाइल सिस्टम, माइक्रोसॉफ्ट विंडोज ऑपरेटिंग सिस्टम (Microsoft Windows operating system) द्वारा समर्थित है?

- Ans  1. फाइल एलोकेशन टेबल (FAT)  
 2. एप्पल फाइल सिस्टम (APFS)  
 3. ग्लोबल फाइल सिस्टम (GFS)  
 4. हाइरार्किकल फाइल सिस्टम (HFS)

Question ID : 59445921565

Status : Not Answered

Chosen Option : --

Q.2 प्रोग्राम निष्पादन के दौरान निम्न में से कौन-सा CPU द्वारा सीधे एक्सेस किया जाता है?

- Ans  1. ROM  
 2. RAM  
 3. मैग्नेटिक डिस्क  
 4. मैग्नेटिक टेप

Question ID : 59445921560

Status : Answered

Chosen Option : 2

Q.3 MS-पॉवरपॉइंट में इन्सर्ट टैब का निम्न में से कौन-सा विकल्प आयत, वृत्त आदि जैसी पहले से निर्मित आकृति ऑब्जेक्टों को इन्सर्ट करने के लिए उपयोग किया जाता है?

- Ans  1. SmartArt (स्मार्टआर्ट)  
 2. ClipArt (क्लिपआर्ट)  
 3. WordArt (वर्डआर्ट)  
 4. Shapes (शेप्स)

Question ID : 59445921575

Status : Answered

Chosen Option : 2

Q.4 MS-पॉवरपॉइंट में प्रिंट प्रिव्यू व्यू (Print Preview View) के लिए शॉर्टकट की क्या है?

- Ans  1. Ctrl+F2  
 2. Ctrl+Q  
 3. Ctrl+F1  
 4. Ctrl+Z

Question ID : 59445921576

Status : Answered

Chosen Option : 3

Q.5 निम्न में से कौन-सा विकल्प कथनों की सच्चाई का सबसे अच्छा वर्णन करता है?

- (i) ROM एक प्रकार की वोलेटाइल (परिवर्तनशील) मेमोरी है।  
(ii) ROM को आकस्मिक रूप से बदला नहीं जा सकता है।

- Ans  1. (i) गलत, (ii) सही  
 2. (i) गलत, (ii) गलत  
 3. (i) सही, (ii) सही  
 4. (i) सही, (ii) गलत

Question ID : 59445921563

Status : Answered

Chosen Option : 4

Q.6 MS-एक्सेल में फॉर्मूले में सेल रेफरेंस \$A\$1 के संदर्भ में निम्न में से कौन-सा सही है?

- Ans  1. कॉपी करने पर रो में कोई परिवर्तन नहीं होगा।  
 2. कॉपी किए जाने पर कॉलम और रो में कोई परिवर्तन नहीं होगा।  
 3. कॉपी करने पर कॉलम में कोई परिवर्तन नहीं होगा।  
 4. कॉपी करते ही कॉलम और रो बदल जाएगा।

Question ID : 59445921572

Status : Not Answered

Chosen Option : --

Q.7 निम्न में से कौन-सा, डेस्कटॉप कंप्यूटर सिस्टम के लिए उपयोग किए जाने वाले ऑपरेटिंग सिस्टम का एक उदाहरण है?

- Ans
- 1. एप्पल iOS (Apple iOS)
  - 2. मेकOS (MacOS)
  - 3. ब्लैकबेरी (BlackberryOS)
  - 4. गूगल एंड्रॉयड (Google Andriod)

Question ID : 59445921567

Status : Answered

Chosen Option : 2

Q.8 MS-वर्ड डॉक्यूमेंट में वर्तनी की त्रुटियों को रेखांकित करने के लिए निम्न में से किसका उपयोग किया जाता है?

- Ans
- 1. लाल रेखा
  - 2. हरी रेखा
  - 3. पीली रेखा
  - 4. नीली रेखा

Question ID : 59445921570

Status : Answered

Chosen Option : 1

Q.9 ऑपरेटिंग सिस्टम का निम्न में से कौन-सा फंक्शन आसान नेविगेशन और उपयोग के लिए निर्देशिकाओं में डेटा को व्यवस्थित कर देता है?

- Ans
- 1. डिवाइस मैनेजमेंट
  - 2. प्रोसेस मैनेजमेंट
  - 3. फाइल मैनेजमेंट
  - 4. मेमोरी मैनेजमेंट

Question ID : 59445921568

Status : Answered

Chosen Option : 3

Q.10 MS-वर्ड डॉक्यूमेंट में किसी एक शब्द को सेलेक्ट करने के लिए निम्न में से किसका उपयोग किया जा सकता है?

- Ans
- 1. उस शब्द पर कहीं भी डबल-क्लिक करें, जिसे आप सेलेक्ट करना चाहते हैं।
  - 2. Ctrl की दबाए रखें और शब्द पर कहीं भी क्लिक करें।
  - 3. शब्द की शुरुआत पर क्लिक करें।
  - 4. Alt दबाए रखें, माउस बटन को क्लिक करें और दबाए रखें, और शब्द पर ड्रैग करें।

Question ID : 59445921569

Status : Answered

Chosen Option : 1

Q.11 निम्न में से कौन-सा कार्यालय और औद्योगिक सेटिंग्स (स्थापना) के लिए एक मल्टी-टास्क (बहु कार्य) सूचना कियोस्क है और इसका उपयोग प्रिंट, स्कैन, कॉपी और ईमेल के लिए किया जाता है?

- Ans
- 1. एनवायरो आउटडोर कियोस्क (Enviro Outdoor kiosk)
  - 2. फ्रीस्टैंडिंग कियोस्क (Freestanding Kiosk)
  - 3. डॉक्यूमेंट कियोस्क (The Document Kiosk)
  - 4. पेडस्टल कियोस्क (The Pedestal Kiosk)

Question ID : 59445921578

Status : Not Answered

Chosen Option : --

Q.12 निम्न में से किस प्रकार का ROM पराबैंगनी प्रकाश में प्रकट होने से मित (इरेज हो) जाता है?

- Ans
- 1. PROM
  - 2. EEPROM
  - 3. आच्छादित (मॉस्क्ड) ROM
  - 4. EPROM

[www.HaryanaJobs.in](http://www.HaryanaJobs.in)

Question ID : 59445921564

Status : Not Answered

Chosen Option : --

Q.13 भारतीय IT अधिनियम के निम्न में से किस भाग में 'SECURE ELECTRONIC RECORDS AND SECURE ELECTRONIC SIGNATURE (सुरक्षित इलेक्ट्रॉनिक रिकॉर्ड और सुरक्षित इलेक्ट्रॉनिक हस्ताक्षर)' शामिल हैं?

- Ans
- 1. अध्याय III
  - 2. अध्याय I
  - 3. अध्याय VII
  - 4. अध्याय V

Question ID : 59445921577

Status : Not Answered

Chosen Option : --

Q.14 MS-वर्ड में पेज ब्रेक का विकल्प निम्न में से किस टैब में पाया जाता है ?

- Ans
- 1. पेज लेआउट (Page Layout)
  - 2. रेफरेंस (References)
  - 3. इन्सर्ट (Insert)
  - 4. रिव्यू (Review)

Question ID : 59445921571

Status : Answered

Chosen Option : 1

Q.15 कंप्यूटर विशेषताओं के संदर्भ में निम्न का मिलान करें।

(i) बहुविजता (वर्सटिलटी)	(A) डेटा के समान सेट के लिए सुसंगत परिणाम प्रदान करना।
(ii) सटीकता	(B) विभिन्न प्रकार के कार्य निष्पादित करने की क्षमता।
(iii) परिश्रमशीलता/तत्परता (Diligence)	(C) त्रुटि रहित गणना करना
(iv) विश्वसनीयता	(D) लाखों कार्यों या गणनाओं को निष्पादित करना

- Ans  1. (i)-(B), (ii)-(C), (iii)-(D), (iv)-(A)  
 2. (i)-(B), (ii)-(A), (iii)-(D), (iv)-(C)  
 3. (i)-(B), (ii)-(C), (iii)-(A), (iv)-(D)  
 4. (i)-(A), (ii)-(C), (iii)-(B), (iv)-(D)

Question ID : 59445921559

Status : Answered

Chosen Option : 1

Q.16 निम्न में से MS-एक्सेल का कौन-सा वैशिष्ट्य एक सेल के सारे कन्टेंट (सामग्री) को कई लाइनों पर प्रदर्शित करके दृश्य बनाता है?

- Ans  1. एलाइनमेंट (Alignment)  
 2. फॉर्मेट एज़ टेबल (Format as table)  
 3. रैप टेक्स्ट (Wrap text)  
 4. मर्ज एंड सेंटर (Merge and Centre)

Question ID : 59445921574

Status : Answered

Chosen Option : 3



Q.17 कंप्यूटर स्पीड और पावर की सामान्य माप के लिए निम्न में से किसका संक्षिप्त नाम MIPS (एमआईपीएस) है?

- Ans
- 1. मिलियन इंस्ट्रक्शंस पर सेकंड (Million Instructions per Second)
  - 2. मैक्सिमम इंस्ट्रक्शंस पर सर्वर (Maximum Instructions per Server)
  - 3. मोर इंस्ट्रक्शंस पर सेकंड (More Instructions per Second)
  - 4. मिलियन इंस्ट्रक्शंस पर सर्वर (Million Instructions per Server)

Question ID : 59445921561

Status : Answered

Chosen Option : 1

Q.18 निम्न में से कौन-सा ओपन सोर्स सॉफ्टवेयर का एक उदाहरण है?

- Ans
- 1. यूनिक्स (Unix)
  - 2. विंडोज़ (Windows)
  - 3. लिनक्स (Linux)
  - 4. ऐडोब (Adobe)

Question ID : 59445921566

Status : Not Answered

Chosen Option : --

Q.19 निम्न में से कौन-सी एक छोटी और तेज (फास्टर) मेमोरी है, जो अक्सर उपयोग किए जाने वाले मेन मेमोरी स्थानों से डेटा की प्रतियां संग्रहीत करती है?

- Ans
- 1. कैश
  - 2. हार्ड डिस्क
  - 3. मैग्नेटिक टेप
  - 4. ROM

Question ID : 59445921562

Status : Answered

Chosen Option : 3

Q.20 निम्न में से कौन-सा MS-एक्सेल में लॉजिकल फॉर्मूलों की श्रेणी में आता है?

- Ans
- 1. CHAR
  - 2. DATE
  - 3. ABS
  - 4. NOT

[www.HaryanaJobs.in](http://www.HaryanaJobs.in)

Question ID : 59445921573

Status : Answered

Chosen Option : 3