

Join Telegram Group "HaryanaJobs.in"

Catalog

DSSSB TGT Hindi (Male) Question Paper 18 September 2021 1st Shift.....	1
DSSSB TGT Hindi (Male) Question Paper 18 September 2021 2nd Shift.....	51
DSSSB TGT Sanskrit (Female) Question Paper 18 September 2021 3rd Shift.....	100

www.HaryanaJobs.in

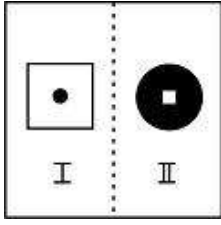
DSSSB TGT Hindi (Male) Question Paper 2021

Participant ID	Join Telegram Group "HaryanaJobs.in"
Participant Name	
Test Center Name	
Test Date	18/09/2021
Test Time	8:30 AM - 10:30 AM
Subject	TGT Hindi-(Male)

Section : General Ability

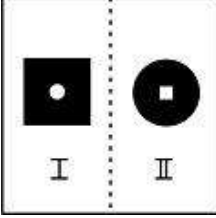
www.HaryanaJobs.in

Q.1 प्रश्न आकृति में स्थित जोड़ी के समान जोड़ी का चयन करें।

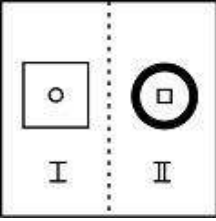


Ans

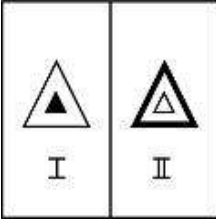
✗ A.



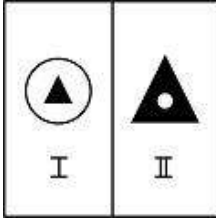
✗ B.



✗ C.



✓ D.



www.HaryanaJobs.in

Question ID : 60092912795

Q.2 इस प्रश्न में, तीन कथन दिए गए हैं, जिसके बाद दो निष्कर्ष I और II दिए गए हैं। यह मानते हुए कि कथन में सभी जानकारी सत्य है, दो निष्कर्षों का एक साथ विश्लेषण करें और निर्धारित करें कि क्या कथन में दी गई जानकारी में से कोई भी तार्किक रूप से और निश्चित रूप से अनुसरण करता/करते है।

कथन I: कुछ मुद्दे तर्क हैं।
कथन II: कुछ तर्क डेटा हैं।
कथन III: कुछ डेटा समाचार हैं।

निष्कर्ष I: सभी मुद्दे समाचार हैं।
निष्कर्ष II: कुछ डेटा मुद्दा हैं।

Ans

✗ A. केवल I अनुसरण करता है

✗ B. I और II दोनों अनुसरण करते हैं

✓ C. न तो I और न ही II अनुसरण करता है

✗ D. केवल II अनुसरण करता है

Question ID : 60092912788

Q.3 IIT बॉम्बे की कंप्यूटर विज्ञान शाखा में सीट पाने के लिए एक छात्र को

- 12वीं बोर्ड में 85% से ऊपर अंक प्राप्त किए होने चाहिए।
- जी एडवांस परीक्षा में 90 शतमक से अधिक अंक प्राप्त किए होने चाहिए।
- जी मेन्स परीक्षा में 85 शतमक से अधिक अंक प्राप्त किए होने चाहिए।
- 20/06/21 तक 25 वर्ष से अधिक की आयु नहीं होनी चाहिए।

निम्नलिखित अपवाद लागू होते हैं:

- A. यदि कोई उम्मीदवार उपरोक्त 3 को छोड़कर अन्य सभी मानदंडों को पूरा करता है, तो उम्मीदवार को संस्थान के संकायाध्यक्ष (डीन) को संदर्भित किया जाना चाहिए।
- B. एक उम्मीदवार जिसने 12वीं बोर्ड की परीक्षा में 85% से कम अंक प्राप्त किए हैं, लेकिन गणित, भौतिकी, रसायन विज्ञान में से किसी एक में पूर्ण अंक प्राप्त किए हैं, तो उसे प्रतीक्षा सूची में स्थानांतरित कर दिया जाएगा।

सिमरन का जन्म 15/01/2000 को हुआ था। उसने अपने 12वीं बोर्ड में 90% अंक प्राप्त किए और जी मेन्स और जी एडवांस परीक्षा दोनों को उत्तीर्ण किया। उसने जी एडवांस में 93 शतमक और जी मेन परीक्षा में 90 शतमक हासिल किए।

सिमरन के लिए क्या निर्णय लिया जाना चाहिए?

Ans A. प्रतीक्षा सूची में स्थानान्तरित किया जाना चाहिए।

B. प्रवेश नहीं दिया जाना चाहिए।

C. संकायाध्यक्ष (डीन) को संदर्भित किया जाना चाहिए।

D. प्रवेश दिया जाना चाहिए।

Question ID : 60092912787

Q.4 एक चित्र की ओर इशारा करते हुए, शुभम ने कहा, "यह महिला मेरी माता की माता के पति के इकलौते पुत्र की पत्नी है"। वह महिला सुभम से कैसे संबंधित है?

Ans A. नानी

B. माता

C. बहन

D. मामा की पत्नी

Question ID : 60092912786

Q.5 उस विकल्प का चयन करें जो तीसरे पद से उसी प्रकार से संबंधित है जिस प्रकार से दूसरा पद पहले पद से संबंधित है।

355 : 466 :: 284 : ?

Ans A. 395

B. 432

C. 359

D. 234

Question ID : 60092912791

Q.6 एक निश्चित कोड भाषा में, यदि REFRIGERATOR को ERRFGIRETARO के रूप में कोडित किया गया है, तो MACHINES को कैसे कोडित किया जाएगा?

Ans A. AMHCNISE

B. AMCHSIHE

C. AMCHNSIE

D. AMHCNIES

Question ID : 60092912784

Q.7 उस विकल्प का चयन करें जो तीसरे पद से उसी प्रकार से संबंधित है जिस प्रकार से दूसरा पद पहले पद से संबंधित है।

स्पीकर : ध्वनि :: हीटर : ?

- Ans
- A. ठंडी
 - B. भोजन
 - C. रसायन
 - D. ऊष्मा

Question ID : 60092912782

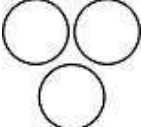
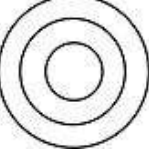


Q.8 दिए गए विकल्पों में से तीन एक निश्चित तरीके से समान हैं। हालाँकि, एक विकल्प अन्य तीन की तरह नहीं है। उस विकल्प का चयन करें जो अन्य से अलग है।

- Ans
- A. किरचॉफ का दूसरा नियम
 - B. संघठन के बुनियादी नियम
 - C. केप्लर का नियम
 - D. गति के नियम

Question ID : 60092912781

Q.9 निम्नलिखित में से कौन सा वेन आरेख कपास, रेशम और नायलॉन के बीच के संबंध को सबसे अच्छा दर्शाता है?

Ans

- A. 
- B. 
- C. 
- D. 

Question ID : 60092912792

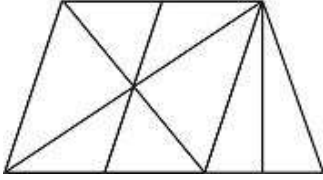
Q.10 निम्नलिखित श्रृंखला में लुप्त पद ज्ञात करें।

H9J, K12M, _____, Q18S, T21V

- Ans
- A. N15F
 - B. N7F
 - C. N15P
 - D. N8P

Question ID : 60092912779

Q.11 आकृति में त्रिभुजों की कुल संख्या ज्ञात करें।



- Ans A. 17
 B. 16
 C. 18
 D. 15

Question ID : 60092912797

Q.12 उस विकल्प का चयन करें जो तीसरे पद से उसी प्रकार से संबंधित है जिस प्रकार से दूसरा पद पहले पद से संबंधित है।

घृणा: प्रेम:: मंद : ?

- Ans A. उज्ज्वल
 B. सुस्त
 C. अंधेरा
 D. काला

Question ID : 60092912783

Q.13 निम्नलिखित अक्षर श्रंखला में लुप्त पद ज्ञात करें।

MOQ, SUW, _____, EGI, KMO

- Ans A. YAC
 B. YNC
 C. YBC
 D. YSG

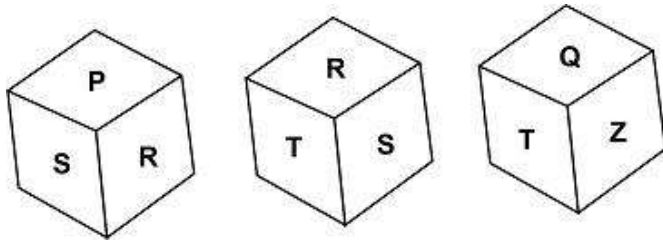
Question ID : 60092912778

Q.14 एक निश्चित कोड में यदि '742' का अर्थ है 'fan be tay', '843' का अर्थ है 'say fan ok', और '902' का अर्थ है 'no be told', तो 'tay' का कोड क्या होगा?

- Ans A. 2
 B. 9
 C. 4
 D. 7

Question ID : 60092912785

Q.15 एक ही पासे की तीन विभिन्न स्थितियाँ नीचे दी गई हैं। P के सामने स्थित अक्षर ज्ञात करें?



- Ans
- A. R
 - B. S
 - C. Q
 - D. T

Question ID : 60092912796

Q.16 निम्नलिखित में से कौन सा वेन आरेख कुरआन, गीता और बाइबिल के बीच के संबंध को सबसे अच्छा दर्शाता है?

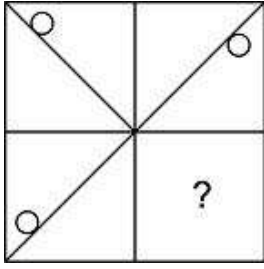
Ans

- A.
- B.
- C.
- D.

www.HaryanaJobs.in

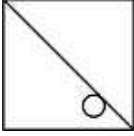
Question ID : 60092912793

Q.17 निम्नलिखित में से कौन सी उत्तर आकृति प्रश्न आकृति को पूरा करती है?

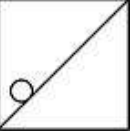


Ans

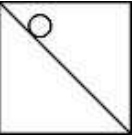
✓ A.



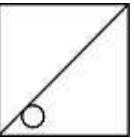
✗ B.



✗ C.



✗ D.



Question ID : 60092912794

Q.18 निम्नलिखित संख्या श्रृंखला में लुप्त पद ज्ञात करें।

58, 65, 79, 100, _____

Ans ✗ A. 114

✓ B. 128

✗ C. 107

✗ D. 121

Question ID : 60092912790

Q.19 दिए गए विकल्पों में से तीन एक निश्चित तरीके से समान हैं। हालाँकि, एक विकल्प अन्य तीन की तरह नहीं है। उस विकल्प का चयन करें जो अन्य से अलग है।

Ans ✗ A. CF

✗ B. PS

✓ C. TV

✗ D. HK

Question ID : 60092912780

Q.20 इस प्रश्न में, एक कथन दिया गया है, जिसके बाद दो तर्क I और II दिए गए हैं। आपको तय करना है कि कौन सा तर्क मजबूत है।

कथन: क्या देश का रक्षा बजट कम किया जाना चाहिए?
तर्क:

I. नहीं, देश की सुरक्षा सबसे महत्वपूर्ण चीज है।

II. हाँ। हमें सुरक्षा प्रदान करने के लिए हम अपने सहयोगी राष्ट्रों पर निर्भर हो सकते हैं और इस प्रकार हमें अपनी रक्षा पर अधिक खर्च करने की आवश्यकता नहीं है।

- Ans
- A. केवल II मजबूत है
 - B. केवल I मजबूत है
 - C. न तो I और न ही II मजबूत है
 - D. I और II दोनों मजबूत हैं

Question ID : 60092912789

Section : General Awareness

Q.1 निम्नलिखित में से किस पुरातात्विक स्थल पर डिकिनसोनिया जीवाश्म पाए गए थे?

- Ans
- A. हिर बेनाकाल
 - B. भिरडाना
 - C. भीमबेटका
 - D. एडक्कल

Question ID : 60092912807

Q.2 फरवरी 2019 में, भारतीय अर्धसैनिक बलों पर पुलवामा हमले का दावा इनमें से किस आतंकवादी समूह ने किया था?

- Ans
- A. जैश-ए-मोहम्मद
 - B. जैश उल-अद्ल
 - C. अल-कायदा
 - D. लश्कर-ए-तैयबा

Question ID : 60092912812

Q.3 लोक संगीत का निम्नलिखित में से कौन सा रूप कश्मीर के लिए पारंपरिक और मूल है?

- Ans
- A. दादरा
 - B. सोरथा
 - C. दोहरे
 - D. चकरी

Question ID : 60092912798

Q.4 निम्नलिखित में से किस योजना ने प्रस्तावित किया कि वायसराय की कार्य-परिषद के सभी सदस्य, वायसराय और प्रधान सेनापति को छोड़कर, भारतीय होंगे?

- Ans
- A. मार्ले-मिन्टो सुधार, 1909
 - B. वैवेल योजना, 1945
 - C. सारजेंट योजना, 1944
 - D. माउण्टबैटन योजना, 1947

Question ID : 60092912814

Q.5 भारतीय उपमहाद्वीप में सबसे पहले होमिनिन जीवाश्म इनमें से किस स्थल पर पाए जा सकते हैं?

- Ans
- A. नर्मदा घाटी
 - B. अमरावती
 - C. मेहरगढ़
 - D. बलूचिस्तान पहाड़

Question ID : 60092912808

Q.6 अगस्त 2019 में भारत के साथ द्विपक्षीय व्यापार को निलंबित करने का पाकिस्तान का निर्णय निम्नलिखित में से किस कारण से था?

- Ans
- A. सिंधु और उसकी सहायक नदियों के जल बंटवारे पर विवाद।
 - B. शल्य अन्तर्वेधन (सर्जिकल स्ट्राइक) के दौरान पाकिस्तानी सैनिकों के मारे जाने पर आक्रोश।
 - C. आयात शुल्क में वृद्धि के कारण।
 - D. अनुच्छेद 370 के संशोधन द्वारा जम्मू और कश्मीर का पुनर्गठन।

Question ID : 60092912811

Q.7 स्वतंत्र भारत का पहला वित्त मंत्री कौन था?

- Ans
- A. जवाहरलाल नेहरू
 - B. लियाक़त अली
 - C. आर. के. शनमुखम चेट्टी
 - D. जॉन मथाई

Question ID : 60092912801

Q.8 भारतीय पुरुष टेबल टेनिस टीम किस वर्ष में एशियाई खेलों में पहला पदक (कांस्य) जीत पायी थी?

- Ans
- A. 2010 ग्वांगझोउ
 - B. 2006 दोहा
 - C. 2014 इंचियोन
 - D. 2018 जकार्ता

Question ID : 60092912817

Q.9 अपर्णा घोष को बास्केटबॉल के खेल में उनके योगदान के लिए निम्नलिखित में से किस सम्मान से सम्मानित किया गया है?

- Ans A. ध्यानचंद पुरस्कार
 B. द्रोणाचार्य पुरस्कार
 C. राजीव गांधी खेल रत्न पुरस्कार
 D. अर्जुन पुरस्कार

Question ID : 60092912810

Q.10 कश्मीर के निम्नलिखित में से कौन सा नृत्य विशेष रूप से महिलाओं द्वारा किया जाता है?

- Ans A. बच्चा नगमा
 B. भांड
 C. कुद
 D. रऊफ

Question ID : 60092912799

Q.11 विश्वनाथन आनंद निम्नलिखित में से किस पुरस्कार के पहले प्राप्तकर्ता थे?

- Ans A. ध्यानचंद पुरस्कार
 B. राजीव गांधी खेल रत्न पुरस्कार
 C. द्रोणाचार्य पुरस्कार
 D. अर्जुन पुरस्कार

Question ID : 60092912809

Q.12 12 जुलाई, 2021 को जम्मू और कश्मीर के किस जिले में 11 लोगों को आकस्मिक बाढ़ से बचाया गया?

- Ans A. कठुआ
 B. पुलवामा
 C. डोडा
 D. कुलगाम

Question ID : 60092912813

Q.13 कैथोड किरण नलिका इनमें से किस उपकरण का अभिन्न अंग है?

- Ans A. टेलीविज़न
 B. रेडियो
 C. वातानुकूलन
 D. माइक्रोवेव

Question ID : 60092912802

Q.14 निम्नलिखित में से किस प्रतियोगिता में कबड्डी को पहली बार अंतरराष्ट्रीय स्तर पर पहचान मिली?

- Ans A. 1940 टोक्यो ओलंपिक
 B. एशियाई खेल 1982
 C. 1936 बर्लिन ओलंपिक
 D. एशियाई खेल 1951

Question ID : 60092912816

Q.15 भारत में लाइसेंस राज शब्द निम्नलिखित में से किस अवधि के दौरान सरकार की आर्थिक नीतियों को संबोधित करने के लिए प्रयोग किया जाता है?

- Ans A. 1956-1985
 B. 1951-1990
 C. 1966-1985
 D. 1947-1980

Question ID : 60092912800

Q.16 प्रागैतिहासिक बसे हुए जीवन के पहले लक्षण भारतीय उपमहाद्वीप के निम्नलिखित में से किस क्षेत्र में उभरे?

- Ans A. तिरुवल्लुर, तमिल नाडु
 B. मेहरगढ़ नवपाषाण संस्कृति
 C. भीमबेटका शैलाश्रय
 D. सरस्वती नदी के किनारे

Question ID : 60092912806

Q.17 पटकाई पर्वत श्रृंखला में निम्नलिखित में से किस देश के साथ भारत की सीमा पर पहाड़ियाँ स्थित हैं?

- Ans A. म्यान्मार
 B. भूटान
 C. चीन
 D. पाकिस्तान

Question ID : 60092912804

Q.18 मनुष्य उन ध्वनियों का पता लगा सकता है जो इनमें से किस आवृत्ति रेंज में आती हैं?

- Ans A. 10Hz-10kHz
 B. 20Hz-20kHz
 C. 30Hz-30kHz
 D. 50Hz-50kHz

Question ID : 60092912803

Q.19 बराक घाटी निम्नलिखित में से किस उत्तर-पूर्वी राज्य में मौजूद है?

- Ans A. अरुणाचल प्रदेश
 B. नागालैंड
 C. त्रिपुरा
 D. असम

Question ID : 60092912805

Q.20 बंगाल सती विनियमन अधिनियम _____ वर्ष में पारित किया गया था।

- Ans A. 1829
 B. 1806
 C. 1826
 D. 1819

Question ID : 60092912815

Section : Arithmetic Ability

Q.1 नीरव और मेहुल ने 2.5 वर्षों के लिए x% प्रति वर्ष की दर से क्रमशः 4000 रुपए और 5000 रुपए उधार लिए। मेहुल ने नीरव से 125 रुपए अधिक ब्याज का भुगतान किया। x ज्ञात करें।

- Ans A. 6
 B. 8
 C. 5
 D. 4

Question ID : 60092912828

Q.2 निम्नलिखित प्रश्न में प्रश्नवाचक चिन्ह (?) के स्थान पर क्या मान आना चाहिए?

$$18(1/3) + 9(2/3) - 10(1/3) = 1(2/3) + ?$$

- Ans A. 10
 B. 15
 C. 16
 D. 18

Question ID : 60092912818

Q.3 एक खिलौने का बेलनाकार आधार होता है जिसमें अर्धगोलाकार शीर्ष है। अर्धगोले की त्रिज्या 7 cm है। यदि बेलनाकार आधार की ऊंचाई 3 cm है तो खिलौने का आयतन ज्ञात करें। ($\pi = 22/7$ का प्रयोग करें)

- Ans A. 1265.4 cu. cm
 B. 778.6 cu. cm
 C. 1368.8 cu. cm
 D. 1181 cu. cm

Question ID : 60092912833

Q.4 एक धनराशि को साधारण ब्याज के तहत रखा गया है, 4 वर्ष के बाद प्राप्त राशि, धनराशि का 4 गुना है। कितने वर्षों में हमें उसी दर पर मूल धनराशि का 6 गुना राशि प्राप्त होगी?

- Ans
- A. 7 वर्ष
 - B. 5 वर्ष
 - C. 20/3 वर्ष
 - D. 20/7 वर्ष

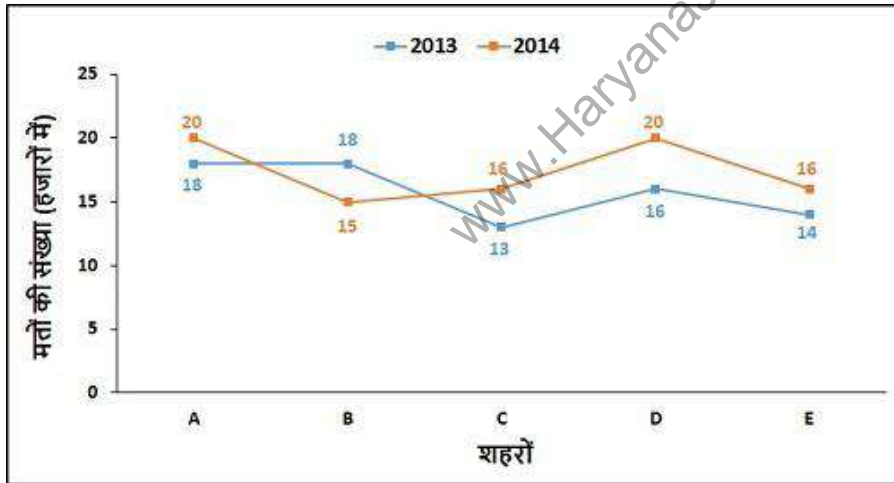
Question ID : 60092912827

Q.5 आठ वर्ष पहले, मारिया की आयु उसके इकलौते पुत्र और इकलौती पुत्री की वर्तमान आयु के योग के बराबर थी। दस वर्ष बाद, उसकी पुत्री और उसके पुत्र की आयु के बीच का अनुपात उस समय 6 : 5 होगा। यदि मारिया का पति उससे 8 वर्ष बड़ा है और उसकी वर्तमान आयु उसके पुत्र की वर्तमान आयु की चार गुना है, तो मारिया की पुत्री की वर्तमान आयु क्या है?

- Ans
- A. 14 वर्ष
 - B. 10 वर्ष
 - C. 15 वर्ष
 - D. 12 वर्ष

Question ID : 60092912826

Q.6 निम्नलिखित रेखा ग्राफ 5 अलग-अलग शहरों - A, B, C, D और E में दो विभिन्न वर्षों -2013 और 2014 में मतों की गिनती (हजारों में) को दर्शाता है। यदि 2013 और 2014 में केंद्र F पर मतों की संख्या इन वर्षों में केंद्र B की तुलना में क्रमशः 10% और 20% अधिक थी, तो इन दोनों वर्षों में एक साथ केंद्र F पर कुल मतों की संख्या कितनी थी?



- Ans
- A. 40000
 - B. 36900
 - C. 41000
 - D. 37800

Question ID : 60092912836

Q.7 11 सदस्यों की एक फुटबॉल टीम का कप्तान 28 वर्ष का है और गोलकीपर उससे 4 वर्ष बड़ा है। यदि इन दोनों की आयु को हटा दिया जाए, तो शेष खिलाड़ियों की औसत आयु पूरी टीम की औसत आयु से दो वर्ष कम है। टीम की औसत आयु क्या है?

- Ans A. 21 वर्ष
 B. 29 वर्ष
 C. 15 वर्ष
 D. 22 वर्ष

Question ID : 60092912820

Q.8 एक व्यक्ति ने अपने पुराने लैपटॉप को 4800 रुपए में बेचने की योजना बनाई है, उसे 20% का नुकसान होगा। 15% लाभ प्राप्त करने के लिए उसे इसे निम्न पर बेचना चाहिए:

- Ans A. 6900 रुपए
 B. 7200 रुपए
 C. 6300 रुपए
 D. 5500 रुपए

Question ID : 60092912823

Q.9 निम्नलिखित रेखा आरेख दो दिए गए वर्षों के दौरान पांच राज्यों द्वारा दलहन (टन में) के उत्पादन को दर्शाता है। 2020 से 2021 तक उत्तराखंड और पंजाब राज्य में उत्पादन में क्रमशः 20% और 40% की वृद्धि हुई। 2021 में उत्तराखंड और पंजाब राज्य का एक साथ दलहन का कुल उत्पादन कितना था?



- Ans A. 280 टन
 B. 175 टन
 C. 390 टन
 D. 470 टन

Question ID : 60092912837

Q.10 यदि 1200 रुपए के अंकित मूल्य की वस्तु को 30% और 40% की दो क्रमिक छूटों के बाद बेचा जाता है, तो दी गई वस्तु का विक्रय मूल्य क्या है?

- Ans A. 514 रुपए
 B. 604 रुपए
 C. 504 रुपए
 D. 614 रुपए

Question ID : 60092912824

Q.11 निम्नलिखित तालिका जुलाई, 2020 में पांच दुकानदारों द्वारा लैपटॉप की बिक्री वितरण को दर्शाती है। जुलाई, 2020 में सभी 5 दुकानदारों की कुल बिक्री 100% मानी गई है।
A और B द्वारा एकसाथ बेचे गए विंडोज लैपटॉप की कुल संख्या ज्ञात करें।

दुकानदार	कुल बेचा गया लैपटॉप	विंडोज लैपटॉप: मैकबुक
A	22%	7 : 11
B	24%	3 : 7
C	1350	7 : 8
D	18%	11 : 9
E	21%	9 : 5

- Ans
- A. 1481
 - B. 1344
 - C. 1418
 - D. 1814

Question ID : 60092912835

Q.12 एक खोखले गोलाकार खोल की आंतरिक और बाहरी पृष्ठीय त्रिज्या क्रमशः 5 cm और 6 cm है। इसे पिघलाकर 3 cm त्रिज्या के ठोस बेलन में ढाला गया है। बेलन की ऊँचाई (लगभग) ज्ञात करें।

- Ans
- A. 4.7 cm
 - B. 7.7 cm
 - C. 13.48 cm
 - D. 6 cm

Question ID : 60092912834

Q.13 एक व्यक्ति अपनी यात्रा का 5/11 भाग रेलगाड़ी से, 1/3 भाग बस से, 1/8 भाग कार से और शेष 23 km पैदल यात्रा करके तय करता है। व्यक्ति द्वारा तय की गई कुल दूरी ज्ञात करें।

- Ans
- A. 132 km
 - B. 180 km
 - C. 264 km
 - D. 220 km

Question ID : 60092912829

Q.14 एक फर्म ने मुद्रास्फीति के समय कर्मचारियों को 12 : 5 के अनुपात में कम कर दिया, और प्रति कर्मचारी औसत वेतन 9 : 17 के अनुपात में बढ़ गया। ऐसा करने से, फर्म ने 46,000 रुपए बचाए। फर्म का प्रारंभिक व्यय (रुपए में) क्या था?

- Ans
- A. 1,90,000 रुपए
 - B. 90,000 रुपए
 - C. 2,16,000 रुपए
 - D. 2,50,000 रुपए

Question ID : 60092912825

Q.15 रमेश ने अर्थशास्त्र में 60% और लेखा में 46% प्राप्त किया और दोनों पेपरों के अधिकतम अंक 100 हैं। यदि तीनों विषयों में 50% अंक प्राप्त होते हैं, तो उसे गणित में कितने प्रतिशत अंक प्राप्त होते हैं? गणित के पेपर के अधिकतम अंक 200 हैं।

- Ans A. 47 प्रतिशत
 B. 40 प्रतिशत
 C. 30 प्रतिशत
 D. 54 प्रतिशत

Question ID : 60092912822

Q.16 A, B से 45% अधिक कुशल है, और B एक कार्य को पूरा करने में A से 9 दिन अधिक लेता है। A उसी कार्य को पूरा करने में कितने दिन लेगा?

- Ans A. 30 दिन
 B. 24 दिन
 C. 29 दिन
 D. 20 दिन

Question ID : 60092912831

Q.17 सरलीकृत करें:

(1250 का 0.06%) - (450 का 0.08%)

- Ans A. 3.9
 B. 0.39
 C. 0.29
 D. 39

Question ID : 60092912819

Q.18 एक व्यक्ति एक निश्चित दूरी 8 km/hr से तय करता है, वह 12 मिनट की देरी से पहुंचता है। यदि वह उसी दूरी को 12 km/hr से तय करता है, तो वह केवल 2 मिनट की देरी से पहुंचता है। वह समय ज्ञात करें जिसमें उसे गंतव्य तक पहुंचना है ताकि उसे देरी न हो।

- Ans A. 28 मिनट
 B. 20 मिनट
 C. 18 मिनट
 D. 30 मिनट

Question ID : 60092912830

Q.19 एक फल विक्रेता के पास निश्चित संख्या में अनानास हैं जिनमें से 15% सड़े हुए हैं। वह शेष का 80% बेचता है और उसके पास 510 अनानास बच जाते हैं। उसके पास प्रारम्भ में कितने अनानास थे?

- Ans A. 3600
 B. 3000
 C. 5000
 D. 7000

Question ID : 60092912821

Q.20 Q की क्षमता P का 40% है। P और Q एक कार्य को 12 दिनों में पूरा कर सकते हैं। Q अकेला इसे कितने समय में कर सकता है?

- Ans A. 21 दिन
 B. 42 दिन
 C. 24 दिन
 D. 31 दिन

Question ID : 60092912832

Section : General English

Q.1 Fill in the blank with the most appropriate choice.

They executed riots within the school over specific grievances or to _____ their own power within the school population.

- Ans A. mirandize
 B. aggrandize
 C. subsidize
 D. legendize

Question ID : 60092912842

Q.2 Select the most appropriate idiom of the given meaning.

Get fired from the job

- Ans A. Get your walking papers
 B. Ivory tower
 C. Idle hands are the devil's tools
 D. Hit below the belt

Question ID : 60092912850

Q.3 Select the most appropriate 'one word' for the expressions given below.

A group of guns or missile launchers operated together at one place

- Ans A. cemetery
 B. skittery
 C. psaltery
 D. battery

Question ID : 60092912852

Q.4 Some parts of a sentence have been jumbled up, and labelled P, Q, R and S. Select the option that gives the correct sequence in which these parts can be rearranged to form a meaningful and grammatically correct sentence.

As ever, he will try

P. needs to bolster his macho

Q. and sack them whenever he

R. on his so-called editors

S. to pin the blame

style of management.

Ans A. SQRP

B. SPRQ

C. SPQR

D. SRQP

Question ID : 60092912844

Q.5 Fill in the blank with the most appropriate choice.

This may be in part because it is a younger art, and one more _____ to modern sensibilities.

Ans A. disenable

B. unamenable

C. convenable

D. amenable

Question ID : 60092912843

Q.6 The sentence below has been divided into three parts. Select the part of the sentence that has an error. If the sentence has no error, select the option 'No Error'.

Sarah told us that, "whenever Philip came/ into the room, she felt the/ radiation of a vast and unseen force."

Ans A. radiation of a vast and unseen force."

B. into the room, she felt the

C. Sarah told us that, "whenever Philip came

D. No Error

Question ID : 60092912838

Q.7 The sentence below has been divided into three parts. Select the part of the sentence that has an error. If the sentence has no error, select the option 'No Error'.

It's a marital rendezvous,/ a meeting place for Paul and/ I after one of his weeks away.

Ans A. a meeting place for Paul and

B. It's a marital rendezvous,

C. No Error

D. I after one of his weeks away.

Question ID : 60092912839

Q.8 Select the word segment that substitutes (replaces) the bracketed word segment correctly and completes the sentence meaningfully. Select the option 'no correction required' if the sentence is correct as given.

Its extreme heat and raspingly dry climate (has sent many an enterprising winemakers packing).

- Ans
- A. had sent many a enterprising winemakers packing
 - B. had sent many an enterprising winemakers packing
 - C. has sent many an enterprising winemaker packing
 - D. No correction required

Question ID : 60092912841

Q.9 Four words are given, out of which only one word is spelt incorrectly. Choose the incorrectly spelt word.

- Ans
- A. forstall
 - B. chicanery
 - C. coalesce
 - D. nuance

Question ID : 60092912848

Q.10 Select the word that is similar in meaning (SYNONYM) to the word given below.

volatile

- Ans
- A. dependable
 - B. buoyant
 - C. constant
 - D. steady

Question ID : 60092912846

Q.11 Select the most appropriate 'one word ' for the expressions given below.

Sets of principles concerned with the nature and appreciation of beauty

- Ans
- A. homiletics
 - B. aesthetics
 - C. saleratus
 - D. synthetics

Question ID : 60092912851

Q.12 Select the word that is opposite in meaning (ANTONYM) to the word given below.

whimsical

- Ans
- A. mischievous
 - B. droll
 - C. common
 - D. amusing

Question ID : 60092912845

Q.13 Four words are given, out of which only one word is spelt correctly. Choose the correctly spelt word.

- Ans**
- A. imprudence
 - B. imprudanse
 - C. imprudense
 - D. imprudence

Question ID : 60092912847

Q.14 Select the most appropriate meaning of the given idiom.

Loose cannon

- Ans**
- A. Someone who is unpredictable and can cause damage if not kept in check
 - B. To understand the details
 - C. Unable to understand
 - D. Under firm control, well managed

Question ID : 60092912849

Q.15 Select the word segment that substitutes (replaces) the bracketed word segment correctly and completes the sentence meaningfully. Select the option 'no correction required' if the sentence is correct as given.

Jane's aunt asked us, ("Where was Jane last night.")

- Ans**
- A. "Where was Jane last night?"
 - B. No correction required
 - C. where had Jane been last night.
 - D. Where Jane was last night?

Question ID : 60092912840

Comprehension:

Read the passage carefully and choose the best answer to each question out of the four alternatives.

Obesity is becoming a major problem for many people throughout the world. Obesity is caused by lack of exercise, unhealthy foods and fattening foods that are high in calories. Too much unhealthy eating can cause internal problems with your body and gives you a greater chance of catching a disease known as diabetes. This is a very bad disease which causes your teeth to fall out, also liver and heart problems. Obese people are more likely to catch this illness than fit and healthy people. A very good way to keep fit and lose weight is by exercising and doing lots of it. For example, swimming is a very good way to lose calories because it works up all your muscles. Don't worry if you are not any good at swimming because there are lots of other ways that you can exercise and keep fit in.

A very good way to do this is by using an exercise machine such as an exercise bike. If you don't have one, you can go out for a little jog. That really helps. It is recommended that you do about one to two hours of exercise a day. Having a nice little run is a simple but effective way to exercise and it works for lots of people. For those people that find it difficult to do physical exercise, they can always go on a low fat diet. This stops the build up of fat in your body.

Usually there is more fat in females and by doing a daily workout, it will go very quickly. If you are suffering from obesity, my best advice would be to do at least an hour exercise each day and preferably go on a diet until you feel that you have lost a stone or two. This is a critical issue and more and more people around the world are becoming more obese and this is not a good sign.

SubQuestion No : 16

Q.16 What is mentioned as an alternative to exercising to keep fit?

- Ans A. Low fat diet
 B. Calisthenics
 C. Meditation
 D. Yoga

Question ID : 60092912854

Comprehension:

Read the passage carefully and choose the best answer to each question out of the four alternatives.

Obesity is becoming a major problem for many people throughout the world. Obesity is caused by lack of exercise, unhealthy foods and fattening foods that are high in calories. Too much unhealthy eating can cause internal problems with your body and gives you a greater chance of catching a disease known as diabetes. This is a very bad disease which causes your teeth to fall out, also liver and heart problems. Obese people are more likely to catch this illness than fit and healthy people. A very good way to keep fit and lose weight is by exercising and doing lots of it. For example, swimming is a very good way to lose calories because it works up all your muscles. Don't worry if you are not any good at swimming because there are lots of other ways that you can exercise and keep fit in.

A very good way to do this is by using an exercise machine such as an exercise bike. If you don't have one, you can go out for a little jog. That really helps. It is recommended that you do about one to two hours of exercise a day. Having a nice little run is a simple but effective way to exercise and it works for lots of people. For those people that find it difficult to do physical exercise, they can always go on a low fat diet. This stops the build up of fat in your body.

Usually there is more fat in females and by doing a daily workout, it will go very quickly. If you are suffering from obesity, my best advice would be to do at least an hour exercise each day and preferably go on a diet until you feel that you have lost a stone or two. This is a critical issue and more and more people around the world are becoming more obese and this is not a good sign.

SubQuestion No : 17

Q.17 According to the passage which of the following is not a cause of Obesity?

- Ans A. Unhealthy foods
 B. Lack of exercise
 C. High calories fattening food
 D. Consumption of carbonized non-sugary drinks

Question ID : 60092912856

Comprehension:

Read the passage carefully and choose the best answer to each question out of the four alternatives.

Obesity is becoming a major problem for many people throughout the world. Obesity is caused by lack of exercise, unhealthy foods and fattening foods that are high in calories. Too much unhealthy eating can cause internal problems with your body and gives you a greater chance of catching a disease known as diabetes. This is a very bad disease which causes your teeth to fall out, also liver and heart problems. Obese people are more likely to catch this illness than fit and healthy people. A very good way to keep fit and lose weight is by exercising and doing lots of it. For example, swimming is a very good way to lose calories because it works up all your muscles. Don't worry if you are not any good at swimming because there are lots of other ways that you can exercise and keep fit in.

A very good way to do this is by using an exercise machine such as an exercise bike. If you don't have one, you can go out for a little jog. That really helps. It is recommended that you do about one to two hours of exercise a day. Having a nice little run is a simple but effective way to exercise and it works for lots of people. For those people that find it difficult to do physical exercise, they can always go on a low fat diet. This stops the build up of fat in your body.

Usually there is more fat in females and by doing a daily workout, it will go very quickly. If you are suffering from obesity, my best advice would be to do at least an hour exercise each day and preferably go on a diet until you feel that you have lost a stone or two. This is a critical issue and more and more people around the world are becoming more obese and this is not a good sign.

SubQuestion No : 18

Q.18 Which of the following ill effects does diabetes not cause to one's body?

- Ans
- A. Heart problems
 - B. Liver problems
 - C. Falling of teeth
 - D. Loss of bone density

Question ID : 60092912858

Comprehension:

Read the passage carefully and choose the best answer to each question out of the four alternatives.

Obesity is becoming a major problem for many people throughout the world. Obesity is caused by lack of exercise, unhealthy foods and fattening foods that are high in calories. Too much unhealthy eating can cause internal problems with your body and gives you a greater chance of catching a disease known as diabetes. This is a very bad disease which causes your teeth to fall out, also liver and heart problems. Obese people are more likely to catch this illness than fit and healthy people. A very good way to keep fit and lose weight is by exercising and doing lots of it. For example, swimming is a very good way to lose calories because it works up all your muscles. Don't worry if you are not any good at swimming because there are lots of other ways that you can exercise and keep fit in.

A very good way to do this is by using an exercise machine such as an exercise bike. If you don't have one, you can go out for a little jog. That really helps. It is recommended that you do about one to two hours of exercise a day. Having a nice little run is a simple but effective way to exercise and it works for lots of people. For those people that find it difficult to do physical exercise, they can always go on a low fat diet. This stops the build up of fat in your body.

Usually there is more fat in females and by doing a daily workout, it will go very quickly. If you are suffering from obesity, my best advice would be to do at least an hour exercise each day and preferably go on a diet until you feel that you have lost a stone or two. This is a critical issue and more and more people around the world are becoming more obese and this is not a good sign.

SubQuestion No : 19

Q.19 According to the passage, which of the following option is incorrect? Choose one option.

- Ans
- A. Obesity causes cardiovascular issues and teeth decay.
 - B. One of the major causes of diabetes is obesity
 - C. An alternative to exercising is doing Yoga.
 - D. Women generally have more fat than men.

Question ID : 60092912857

Comprehension:

Read the passage carefully and choose the best answer to each question out of the four alternatives.

Obesity is becoming a major problem for many people throughout the world. Obesity is caused by lack of exercise, unhealthy foods and fattening foods that are high in calories. Too much unhealthy eating can cause internal problems with your body and gives you a greater chance of catching a disease known as diabetes. This is a very bad disease which causes your teeth to fall out, also liver and heart problems. Obese people are more likely to catch this illness than fit and healthy people. A very good way to keep fit and lose weight is by exercising and doing lots of it. For example, swimming is a very good way to lose calories because it works up all your muscles. Don't worry if you are not any good at swimming because there are lots of other ways that you can exercise and keep fit in.

A very good way to do this is by using an exercise machine such as an exercise bike. If you don't have one, you can go out for a little jog. That really helps. It is recommended that you do about one to two hours of exercise a day. Having a nice little run is a simple but effective way to exercise and it works for lots of people. For those people that find it difficult to do physical exercise, they can always go on a low fat diet. This stops the build up of fat in your body. Usually there is more fat in females and by doing a daily workout, it will go very quickly. If you are suffering from obesity, my best advice would be to do at least an hour exercise each day and preferably go on a diet until you feel that you have lost a stone or two. This is a critical issue and more and more people around the world are becoming more obese and this is not a good sign.

SubQuestion No : 20

Q.20 Which exercise is mentioned as an all-round body exercise which involves usage of all muscles?

- Ans
- A. Biking
 - B. Weight-lifting
 - C. Jogging
 - D. Swimming

Question ID : 60092912855

Section : General Hindi

Q.1 निम्नलिखित प्रश्न में, चार विकल्पों में से, उस विकल्प का चयन करें जो शुद्ध शब्द का सही विकल्प है।

- Ans
- A. कूशालतापूर्वक
 - B. कूशालतापुर्वक
 - C. कूशालतापुर्वक
 - D. कुशालतापूर्वक

Question ID : 60092912866

Q.2 निम्नलिखित प्रश्न में, चार विकल्पों में से, उस विकल्प का चयन करें जो दिए गए वाक्य के लिए वृत्ति के भेद का सबसे अच्छा विकल्प हो।

संभव है आज मेरा मित्र आए।

- Ans
- A. निश्चयार्थक
 - B. संदेहार्थ
 - C. आज्ञार्थ
 - D. सम्भावनार्थ

Question ID : 60092912866

Q.3 निम्नलिखित प्रश्न में, चार विकल्पों में से, उस विकल्प का चयन करें जो दिए गए शब्द के लिए सही कर्मधारय समास के विग्रह का विकल्प हो।

पनचक्की

- Ans A. चक्की जो पानी में है
 B. पानी से चलने वाली चक्की
 C. पानी में चलने वाली चक्की
 D. पानी और चक्की

Question ID : 60092912864

Q.4 निम्नलिखित प्रश्न में, चार विकल्पों में से, उस विकल्प का चयन करें जो दिए गए लोकोक्ति का सही अर्थ वाला विकल्प हो।

अँधा क्या चाहे दो आँखें -

- Ans A. बहुत भीड़ होना
 B. बहुत धन मिलना
 C. अत्यंत लज्जित होना
 D. मुहमांगी वस्तु मिलना

Question ID : 60092912873

Q.5 निम्नलिखित प्रश्न में, चार विकल्पों में से, उस विकल्प का चयन करें जो सही विराम चिह्न युक्त वाक्य का विकल्प है।

- Ans A. निरंतर बढ़ते रहना ही जीवन है आलस्य मौत है ।
 B. निरंतर बढ़ते रहना ही जीवन है ; आलस्य मौत है ।
 C. निरंतर बढ़ते रहना ही जीवन है ; आलस्य मौत है
 D. निरंतर बढ़ते रहना ही जीवन है ...आलस्य मौत है ।

Question ID : 60092912870

Q.6 निम्नलिखित प्रश्न में, चार विकल्पों में से, उस विकल्प का चयन करें जो दिए गए मुहावरे का सही अर्थ वाला विकल्प हो।

गाल बजाना-

- Ans A. बहुत अधिक बोलना
 B. घना संबंध
 C. कुछ असर ना होना
 D. डर जाना

Question ID : 60092912872

Q.7 निम्नलिखित प्रश्न में, चार विकल्पों में से, उस विकल्प का चयन करें जो वाक्यांशों के लिए एक शब्द का सही विकल्प हो।

हाथ की लिखी पुस्तक ---

- Ans A. पुस्तक
 B. पांडुलिपी
 C. हस्तलिखित
 D. हस्तपुस्तक

Question ID : 60092912863

Q.8 निम्नलिखित प्रश्न में, चार विकल्पों में से, उस विकल्प का चयन करें जो सही वाक्य भेद का विकल्प है।

आज मेट्रो बंद रहेगी।

- Ans A. विधानवाचक
 B. इच्छावाचक
 C. संकेतवाचक
 D. निषेधवाचक

Question ID : 60092912867

Q.9 निम्नलिखित प्रश्न में, चार विकल्पों में से, उस विकल्प का चयन करें जो दिए गए वाक्य के लिए पक्ष के भेद का सबसे अच्छा विकल्प हो।

पृथ्वी गोल है।

- Ans A. नित्यतावोधक
 B. प्रगतिद्योतक
 C. पूर्णताद्योतक
 D. आरंभद्योतक

Question ID : 60092912869

Q.10 निम्नलिखित प्रश्न में, चार विकल्पों में से, उस विकल्प का चयन करें जो उपसर्ग से बने शब्द का सही विकल्प हो।

- Ans A. सरपंच
 B. आबादी
 C. पहाड़ी
 D. भौतिकी

Question ID : 60092912861

Q.11 निम्नलिखित प्रश्न में, चार विकल्पों में से, उस विकल्प का चयन करें जो प्रत्यय से बने शब्द का सही विकल्प हो।

- Ans A. संपादक
 B. मिलनसार
 C. प्रकार
 D. सपरिवार

Question ID : 60092912862

Q.12 निम्नलिखित प्रश्न में, चार विकल्पों में से, उस विकल्प का चयन करें जो दिए गए संधि विच्छेद की संधि का सही विकल्प हो।

मही + ईश्वर

- Ans A. महैश्वर
 B. महाश्वर
 C. महीश्वर
 D. महेश्वर

Question ID : 60092912859

Q.13 निम्नलिखित प्रश्न में, चार विकल्पों में से, उस विकल्प का चयन करें जो दिए गए संधि का सही संधि विच्छेद हो।

गंगोदक

- Ans A. गंगा +ऊदक
 B. गंगा + उदक
 C. गंगा + ओदक
 D. गंगा + औदक

Question ID : 60092912860

Q.14 निम्नलिखित प्रश्न में, चार विकल्पों में से, उस विकल्प का चयन करें जो दिए गए शब्द युग्म का सही अर्थ हो।

चपल-चपला

- Ans A. रचना ,बिजली
 B. तैयार,घड़ा
 C. चंचल,बिजली
 D. घड़ा ,घने बादल

Question ID : 60092912865

Q.15 निम्नलिखित प्रश्न में, चार विकल्पों में से, उस विकल्प का चयन करें जो दिए गए मुहावरे का सही अर्थ वाला विकल्प हो।

कफन सिर पर बाँधना -

- Ans A. मरने को तैयार रहना
 B. सिरदर्द होना
 C. वीरगति को प्राप्त करना
 D. हिम्मत टूट जाना

Question ID : 60092912871

Comprehension:

इस गद्यांश को ध्यानपूर्वक पढ़ें और चार विकल्पों में से प्रत्येक प्रश्न का सर्वोत्तम उत्तर चुनें।

तेरहवी - चौदहवी शताब्दी तक भारत में मुस्लिम सत्ता पूरी तरह स्थिर हो चुकी थी। अब वह सड़कों, इमारतों आदि के निर्माण में रुचि लेने लगी थी। इन निर्माण कार्यों में समाज के दुर्बल वर्ग ने काम किया जिससे उनकी आर्थिक स्थिति में सुधार आया। इस्लाम के धुँआधार प्रचार के कारण हिन्दुओं में अपने धर्म की सुरक्षा की चिंता हुई। इस स्थिति में दुर्बल वर्ग को समाज में प्रतिष्ठा दिलाने की तथा हिन्दू और इस्लाम के संघर्ष को मिटाने की आवश्यकता थी। पंद्रहवीं - सोलहवीं शताब्दी का उत्तर भारत का भक्ति आन्दोलन इसी माँग की उपज था। भक्ति की यहाँ लहर दक्षिण से उत्तर भारत की ओर आई और इसे रामानंद ने जन जन में लोकप्रिय बनाया।

SubQuestion No : 16

Q.16 भक्ति की लहर को उत्तर में किसने लोकप्रिय बनाया?

- Ans
- A. जायसी
 - B. रामानुज
 - C. रामानंद
 - D. संत तुलसीदास

Question ID : 60092912877

Comprehension:

इस गद्यांश को ध्यानपूर्वक पढ़ें और चार विकल्पों में से प्रत्येक प्रश्न का सर्वोत्तम उत्तर चुनें।

तेरहवी - चौदहवी शताब्दी तक भारत में मुस्लिम सत्ता पूरी तरह स्थिर हो चुकी थी। अब वह सड़कों, इमारतों आदि के निर्माण में रुचि लेने लगी थी। इन निर्माण कार्यों में समाज के दुर्बल वर्ग ने काम किया जिससे उनकी आर्थिक स्थिति में सुधार आया। इस्लाम के धुँआधार प्रचार के कारण हिन्दुओं में अपने धर्म की सुरक्षा की चिंता हुई। इस स्थिति में दुर्बल वर्ग को समाज में प्रतिष्ठा दिलाने की तथा हिन्दू और इस्लाम के संघर्ष को मिटाने की आवश्यकता थी। पंद्रहवीं - सोलहवीं शताब्दी का उत्तर भारत का भक्ति आन्दोलन इसी माँग की उपज था। भक्ति की यहाँ लहर दक्षिण से उत्तर भारत की ओर आई और इसे रामानंद ने जन जन में लोकप्रिय बनाया।

SubQuestion No : 17

Q.17 निर्माण कार्यों में किस वर्ग को लाभ पहुंचा?

- Ans
- A. उत्तर भारत को लाभ पहुंचा
 - B. मुस्लिम सत्ता को लाभ पहुंचा
 - C. समाज के दुर्बल वर्ग के लोगों को लाभ पहुंचा
 - D. समाज के उच्च वर्ग के लोगों को लाभ पहुंचा

Question ID : 60092912876

Comprehension:

इस गद्यांश को ध्यानपूर्वक पढ़ें और चार विकल्पों में से प्रत्येक प्रश्न का सर्वोत्तम उत्तर चुनें।

तेरहवी - चौदहवी शताब्दी तक भारत में मुस्लिम सत्ता पूरी तरह स्थिर हो चुकी थी। अब वह सड़कों, इमारतों आदि के निर्माण में रुचि लेने लगी थी। इन निर्माण कार्यों में समाज के दुर्बल वर्ग ने काम किया जिससे उनकी आर्थिक स्थिति में सुधार आया। इस्लाम के धुँआधार प्रचार के कारण हिन्दुओं में अपने धर्म की सुरक्षा की चिंता हुई। इस स्थिति में दुर्बल वर्ग को समाज में प्रतिष्ठा दिलाने की तथा हिन्दू और इस्लाम के संघर्ष को मिटाने की आवश्यकता थी। पंद्रहवीं - सोलहवीं शताब्दी का उत्तर भारत का भक्ति आन्दोलन इसी माँग की उपज था। भक्ति की यहाँ लहर दक्षिण से उत्तर भारत की ओर आई और इसे रामानंद ने जन जन में लोकप्रिय बनाया।

SubQuestion No : 18

Q.18 अनुच्छेद के अनुसार भारत में मुस्लिम सत्ता कब तक स्थिर हो चुकी थी?

- Ans
- A. ग्यारहवी - बारहवी
 - B. तेरहवी - चौदहवी
 - C. दसवी शताब्दी
 - D. बारहवी-तेरहवी

Question ID : 60092912875

Comprehension:

इस गद्यांश को ध्यानपूर्वक पढ़ें और चार विकल्पों में से प्रत्येक प्रश्न का सर्वोत्तम उत्तर चुनें।

तेरहवीं - चौदहवीं शताब्दी तक भारत में मुस्लिम सत्ता पूरी तरह स्थिर हो चुकी थी। अब वह सड़कों, इमारतों आदि के निर्माण में रुचि लेने लगी थी। इन निर्माण कार्यों में समाज के दुर्बल वर्ग ने काम किया जिससे उनकी आर्थिक स्थिति में सुधार आया। इस्लाम के धुँआधार प्रचार के कारण हिन्दुओं में अपने धर्म की सुरक्षा की चिंता हुई। इस स्थिति में दुर्बल वर्ग को समाज में प्रतिष्ठा दिलाने की तथा हिन्दू और इस्लाम के संघर्ष को मिटाने की आवश्यकता थी। पंद्रहवीं - सोलहवीं शताब्दी का उत्तर भारत का भक्ति आन्दोलन इसी माँग की उपज था। भक्ति की यहाँ लहर दक्षिण से उत्तर भारत की ओर आई और इसे रामानंद ने जन जन में लोकप्रिय बनाया।

SubQuestion No : 19

Q.19 इस अनुच्छेद का कोई उपयुक्त शीर्षक:

- Ans
- A. रामानंद और भक्ति
 - B. निर्गुण और सगुण भक्ति में अंतर
 - C. उत्तर में भक्ति
 - D. भक्ति आन्दोलन

Question ID : 60092912879

Comprehension:

इस गद्यांश को ध्यानपूर्वक पढ़ें और चार विकल्पों में से प्रत्येक प्रश्न का सर्वोत्तम उत्तर चुनें।

तेरहवीं - चौदहवीं शताब्दी तक भारत में मुस्लिम सत्ता पूरी तरह स्थिर हो चुकी थी। अब वह सड़कों, इमारतों आदि के निर्माण में रुचि लेने लगी थी। इन निर्माण कार्यों में समाज के दुर्बल वर्ग ने काम किया जिससे उनकी आर्थिक स्थिति में सुधार आया। इस्लाम के धुँआधार प्रचार के कारण हिन्दुओं में अपने धर्म की सुरक्षा की चिंता हुई। इस स्थिति में दुर्बल वर्ग को समाज में प्रतिष्ठा दिलाने की तथा हिन्दू और इस्लाम के संघर्ष को मिटाने की आवश्यकता थी। पंद्रहवीं - सोलहवीं शताब्दी का उत्तर भारत का भक्ति आन्दोलन इसी माँग की उपज था। भक्ति की यहाँ लहर दक्षिण से उत्तर भारत की ओर आई और इसे रामानंद ने जन जन में लोकप्रिय बनाया।

SubQuestion No : 20

Q.20 'दुर्बल' शब्द का विलोम लिखिए।

- Ans
- A. कर्मठ
 - B. निर्बल
 - C. चुस्त
 - D. सबल

Question ID : 60092912878

Section : Discipline1

Q.1 'प्रिय प्रवास' में किस रस की प्रधानता है?

- Ans
- A. रौद्र रस
 - B. करुण रस
 - C. हास्य रस
 - D. वीभत्स रस

Question ID : 60092912888

Q.2 'आर्थर कानन डायल' से हिंदी का कौन-सा उपन्यासकार प्रभावित हुआ?

- Ans A. गोपालराम गहमरी
 B. भारतेन्दु हरिश्चंद्र
 C. आचार्य चतुरसेन
 D. नरेन्द्र कोहली

Question ID : 60092912885

Q.3 'सुनंदा जैनेन्द्र' की किस कहानी का पात्र है?

- Ans A. हत्या
 B. अपना-अपना भाग्य
 C. बाहुबली
 D. पत्नी

Question ID : 60092912895

Q.4 अयोध्यासिंह उपाध्याय 'हरिऔध' की किस रचना में कृष्ण महापुरुष की तरह अंकित हुए हैं?

- Ans A. रस-कलश
 B. अधखिला फूल
 C. प्रिय प्रवास
 D. पारिजात

Question ID : 60092912899

Q.5 निम्नलिखित में से कौन-सा उपन्यास डॉ. रांगेय राघव द्वारा नहीं लिखा गया है?

- Ans A. बंदूक और बीन
 B. देवकी का बेटा
 C. पक्षी और आकाश
 D. भाग्यवती

Question ID : 60092912881

Q.6 निम्न में से कौन-सी शेखर जोशी की रचना नहीं है?

- Ans A. साथ के लोग
 B. नए पत्ते
 C. हलवाहा
 D. एक पेड़ की याद

Question ID : 60092912890

Q.7 'हिंदी में रिपोर्टाज' का जनक किसे माना जाता है?

- Ans A. शिवदान सिंह चौहान
 B. रामकुमार वर्मा
 C. उपेन्द्रनाथ अशक
 D. निर्मल वर्मा

Question ID : 60092912884

Q.8 'कुछ आपबीती कुछ जग बीती' आत्मकथा के लेखक कौन हैं?

- Ans
- A. राजेंद्र प्रसाद
 - B. गुलाब राय
 - C. चतुरसेन शास्त्री
 - D. भारतेन्दु हरिश्चंद्र

Question ID : 60092912883

Q.9 'साकेत' महाकाव्य के रचनाकार कौन हैं?

- Ans
- A. जयशंकर प्रसाद
 - B. सुमित्रानंदन पंत
 - C. श्रीधर पाठक
 - D. मैथिलीशरण गुप्त

Question ID : 60092912898

Q.10 'भाग्यवती' किस प्रकार का उपन्यास है?

- Ans
- A. बच्चों से सम्बंधित
 - B. सामाजिक
 - C. प्रकृति से सम्बंधित
 - D. तिलिस्मी

Question ID : 60092912892

Q.11 'बालाबोधिनी' नामक स्त्रीशिक्षा संबंधी पत्रिका के संपादक कौन थे?

- Ans
- A. श्रीनिवासदास
 - B. भारतेन्दु हरिश्चंद्र
 - C. रामनरेश त्रिपाठी
 - D. गौरी दत्त शुक्ल

Question ID : 60092912880

Q.12 निम्न विकल्पों में कुछ संस्मरण व उनके लेखकों के जोड़े दिए गए हैं, इनमें से गलत विकल्प को पहचानिए।

- Ans
- A. ज़्यादा अपनी कम परायी- अशक
 - B. मील के पत्थर - रामवृक्ष बेनीपुरी
 - C. साठ वर्ष : एक रेखांकन- सुमित्रानन्दन पन्त
 - D. चेतना के बिम्ब - महादेवी वर्मा

Question ID : 60092912882

Q.13 निम्न में से कौन-सा भीष्म साहनी द्वारा रचित नाटक नहीं है?

- Ans
- A. मुआवज़े
 - B. कबीरा खड़ा बाज़ार में
 - C. माधवी
 - D. पैर तले की ज़मीन

Question ID : 60092912889

Q.14 झबरा कुत्ते का वर्णन प्रेमचंद की किस कहानी में किया गया है?

- Ans A. महातीर्थ
 B. घासवाली
 C. पूस की रात
 D. नमक का दरोगा

Question ID : 60092912886

Q.15 'चीड़ों पर चॉदनी' किसका निबंध है?

- Ans A. कृष्णा सोबती
 B. निर्मल वर्मा
 C. भीष्म साहनी
 D. ममता कालिया

Question ID : 60092912891

Q.16 'मेरी जीवन यात्रा' किसकी रचना है?

- Ans A. प्रभाकर माचवे
 B. राहुल सांकृत्यायन
 C. अज्ञेय
 D. राम कुमार वर्मा

Question ID : 60092912896

Q.17 'जैनेन्द्र कुमार' के उपन्यास के सही कालक्रम का विकल्प चुनिए।

- Ans A. त्यागपत्र, परख, सुनीता, कल्याणी
 B. परख, कल्याणी, सुनीता, त्यागपत्र,
 C. परख, त्यागपत्र, कल्याणी, सुनीता
 D. परख, सुनीता, त्यागपत्र, कल्याणी

Question ID : 60092912897

Q.18 "काव्य जीवन की आलोचना है" यह किसका कथन है?

- Ans A. क्रोचे
 B. वर्ड्सवर्थ
 C. अरस्तु
 D. आर्नल्ड

Question ID : 60092912893

Q.19 'हिंदी उपन्यास' के विकास का वर्गीकरण किसे केंद्र में रखकर किया गया?

- Ans A. प्रेमचंद जी को
 B. जयशंकर प्रसाद जी को
 C. गोपालराम गहमरी जी को
 D. आचार्य रामचंद्र शुक्ल जी को

Question ID : 60092912894

Q.20 सत्रह वर्ष तक हिन्दी की प्रसिद्ध पत्रिका सरस्वती का सम्पादन कार्य करने वाले तथा हिंदी नवजागरण में महान भूमिका निभाने वाले रचनाकार कौन थे?

- Ans
- A. मुक्तिबोध
 - B. भारतेन्दु
 - C. महावीर प्रसाद द्विवेदी
 - D. हरिवंशराय बच्चन

Question ID : 60092912887

Section : Discipline2

Q.1 'भारत भारती' के रचनाकार कौन हैं?

- Ans
- A. भीष्म साहनी
 - B. महादेवी वर्मा
 - C. जैनेन्द्र कुमार
 - D. मैथिलीशरण गुप्त

Question ID : 60092912908

Q.2 निम्नलिखित में से कौन-सा सोहनलाल द्विवेदी का काव्य संग्रह नहीं है?

- Ans
- A. भैरवी
 - B. दूधबताशा
 - C. आर्द्रा
 - D. पूजागीत सेवाग्राम

Question ID : 60092912916

Q.3 भारतेन्दु जी ने अपनी कविता 'गंगा वर्णन' में किसका परिचय दिया है?

- Ans
- A. प्रकृति चित्रण का
 - B. गाँवों का
 - C. सामाजिक वातावरण का
 - D. व्यंग्य का

Question ID : 60092912907

Q.4 निम्न में से कौन-सी कविता सूर्यकांत त्रिपाठी 'निराला' की नहीं है?

- Ans
- A. अध खिला फूल
 - B. राम की शक्ति पूजा
 - C. सरोज स्मृति
 - D. बादल राग

Question ID : 60092912904

Q.5 'नवीन' उपनाम से कौन से कवि प्रसिद्ध हैं?

- Ans A. माखनलाल चतुर्वेदी
 B. बालकृष्ण शर्मा 'नवीन'
 C. नंददुलारे वाजपेयी
 D. श्यामसुंदर दास

Question ID : 60092912903

Q.6 धर्मदास किसके शिष्य थे?

- Ans A. तुलसीदास
 B. कबीर
 C. गुरुनानक देव
 D. सूरदास

Question ID : 60092912913

Q.7 भारत में आर्य भाषा का आरंभ कब हुआ है?

- Ans A. 1500 ई. पूर्व के आसपास
 B. 1600 ई. पूर्व के आसपास
 C. 1300 ई. पूर्व के आसपास
 D. 1400 ई. पूर्व के आसपास

Question ID : 60092912919

Q.8 द्वन्द्व गीत किसका काव्य संग्रह है?

- Ans A. माखनलाल चतुर्वेदी
 B. रामधारी सिंह 'दिनकर'
 C. अयोध्या सिंह उपाध्याय 'हरिऔध'
 D. भारतेंदु हरिश्चंद्र

Question ID : 60092912912

Q.9 'वीणा', 'उच्छवास' और 'ग्रंथि' जैसी कोमल कांत पदावली और माधुर्य गुण से परिपूर्ण रचनाएँ किस कवि की हैं?

- Ans A. सुमित्रानंदन पंत
 B. जयशंकर प्रसाद निराला
 C. केदारनाथ सिंह
 D. सेनापति

Question ID : 60092912905

Q.10 किस रचनाकार ने अपना जन्मदिन वसंत पंचमी के दिन मनाना घोषित किया?

- Ans A. सुमित्रानंदन पंत
 B. जयशंकर प्रसाद
 C. सूर्यकान्त त्रिपाठी 'निराला'
 D. हरिवंशराय बच्चन

Question ID : 60092912909

Q.11 "वह इष्ट देव के मंदिर की पूजा-सी, वह दीप शिखा-सी शांत भाव में लीन वह टूटे तारों की छूटी लता-सी दीन, दलित भारत की विधवा है।" किस कवि की पंक्तियाँ हैं?

- Ans
- A. सुमित्रानंदन पंत
 - B. जयशंकर प्रसाद
 - C. रामधारी सिंह 'दिनकर'
 - D. सूर्यकांत त्रिपाठी 'निराला'

Question ID : 60092912910

Q.12 'नीहार' तथा 'रश्मि' काव्य संग्रह किस रचनाकार के हैं?

- Ans
- A. सुभद्राकुमारी चौहान
 - B. सियारामशरण गुप्त
 - C. महादेवी वर्मा
 - D. सोहनलाल द्विवेदी

Question ID : 60092912911

Q.13 जापानी लोककथा पर आधारित कविता कौन सी है?

- Ans
- A. निशा निमंत्रण
 - B. झरना
 - C. असाध्य वीणा
 - D. अभिशाप

Question ID : 60092912900

Q.14 'मंजीर' काव्य संग्रह के रचयिता कौन हैं?

- Ans
- A. शम्भुनाथ सिंह
 - B. गिरिजाकुमार माथुर
 - C. भवानी प्रसाद मिश्र
 - D. भारतेंदु हरिश्चंद्र

Question ID : 60092912906

Q.15 किस कवि के बचपन का नाम रामबोला था?

- Ans
- A. कबीर
 - B. तुलसीदास
 - C. रैदास
 - D. नंददास

Question ID : 60092912917

Q.16 निम्न में से कौन-सी केशवदास जी की रचना नहीं है?

- Ans
- A. वीरसिंहदेव चरित
 - B. जहाँगीर जसचंद्रिका
 - C. नखशिख
 - D. देव माया प्रबंध

Question ID : 60092912914

Q.17 'महाराणा का महत्त्व' किसकी रचना है?

- Ans
- A. सुभद्रा कुमारी चौहान
 - B. भगवतीशरण वर्मा
 - C. जयशंकर प्रसाद
 - D. रामधारी सिंह दिनकर

Question ID : 60092912901

Q.18 "मैं कल्पना के सत्य को सबसे बड़ा सत्य मानता हूँ!" किसके विचार हैं?

- Ans
- A. सुमित्रानंदन पंत
 - B. रामविलास शर्मा
 - C. आचार्य कुंतक
 - D. श्रीनिवास दास

Question ID : 60092912915

Q.19 सुमित्रानंदन पंत का काव्य संग्रह 'पल्लव' कब प्रकाशित हुआ था?

- Ans
- A. सन् १९४०
 - B. सन् १९३०
 - C. सन् १९२८
 - D. सन् १९३८

Question ID : 60092912902

Q.20 हिंदी का संबंध किस भाषा परिवार से है?

- Ans
- A. भारोपीय परिवार से
 - B. स्कैण्डिनव परिवार से
 - C. आस्ट्रेलिया परिवार से
 - D. एशियाई परिवार से

Question ID : 60092912918

Q.1 अर्धमागधी से निकली आधुनिक भाषा कौनसी है?

- Ans A. पूर्वी हिंदी
 B. मागधी
 C. मराठी
 D. पिशाची

Question ID : 60092912926

Q.2 संस्कृत के तत्सम शब्दों के हिंदी में परिवर्तित रूप को क्या कहते हैं?

- Ans A. तदभव
 B. संयुक्त
 C. देशज
 D. रूढ़

Question ID : 60092912924

Q.3 कौनसे बादशाह ने अपनी राजमुद्राओं पर देवनागरी लिपि को समुचित स्थान दिया था?

- Ans A. औरंगजेब
 B. अकबर
 C. शेरशाह सूरी
 D. बहादुर शाह ज़फर

Question ID : 60092912934

Q.4 निम्न विकल्पों में से उस विकल्प का चयन कीजिए जो दिए गए शब्द का पर्यायवाची शब्द नहीं है।

अखंड

- Ans A. समूचा
 B. अक्षय
 C. अनंत
 D. अविभक्त

Question ID : 60092912938

Q.5 आधुनिक भारतीय आर्य भाषाओं का विकास किससे हुआ है?

- Ans A. मागधी से
 B. रोमन से
 C. द्रविड़ से
 D. अपभ्रंश से

Question ID : 60092912920

Q.6 नीचे दिए गए शब्द का सही संधि-विच्छेद वाला विकल्प पहचानिए?

अंतर्धान

- Ans A. अंतर + ध्यान
 B. अंत + ध्यान
 C. अंतर्ध + यान
 D. अंत: + ध्यान

Question ID : 60092912936

Q.7 हिंदी शब्द का संबंध संस्कृत के किस शब्द से जाना जाता है?

- Ans A. बिंदु
 B. हिन्दवी
 C. सिंधु
 D. इंदु

Question ID : 60092912923

Q.8 खड़ी बोली हिंदी का उद्भव किस अपभ्रंश से हुआ है?

- Ans A. पैशाची
 B. मागधी
 C. अर्धमागधी
 D. शौरसेनी

Question ID : 60092912922

Q.9 भाषा का निर्माण होता है:

- Ans A. मौन ध्वनियों से
 B. अव्यक्त ध्वनियों से
 C. व्यक्त ध्वनियों से
 D. मूक ध्वनियों से

Question ID : 60092912921

Q.10 अ की बारहखड़ी 'देवनागरी लिपि सुधार समिति' ने अस्वीकृत कर दी। इस समिति के अध्यक्ष कौन थे?

- Ans A. विनोबा भावे
 B. डॉक्टर राजेन्द्र प्रसाद
 C. आचार्य नरेन्द्र देव
 D. सुमित्रा नंदन पंथ

Question ID : 60092912932

Q.11 नीचे दिए गए शब्दों का सही संधि वाला विकल्प पहचानिए?

दुः + साहस

- Ans A. दूसहस
 B. दुस्साहस
 C. दुसाहस
 D. दुहसाहस

Question ID : 60092912937

Q.12 कंप्यूटर युग में देवनागरी के लिए विभिन्न फॉण्टों का प्रयोग किया गया है जिन्हें अब किस फॉण्ट के रूप में जाना जाता है?

- Ans A. अरियल फॉण्ट
 B. लिंगेसी फॉण्ट
 C. एलजीरियान फॉण्ट
 D. कालिब्री फॉण्ट

Question ID : 60092912935

Q.13 इस लिपि को पवित्राक्षर या बीजाक्षर भी कहते हैं?

- Ans A. हीरोग्लोइफिक लिपि
 B. देवनागरी लिपि
 C. दक्षिणी सामी लिपि
 D. फारसी लिपि

Question ID : 60092912931

Q.14 हिंदी की बोलियाँ कितनी हैं?

- Ans A. 17
 B. 15
 C. 20
 D. 18

Question ID : 60092912925

Q.15 देवनागरी लिपि का विकास किस लिपि से हुआ है?

- Ans A. खरोष्ठी लिपि से
 B. ब्राम्ही लिपि से
 C. चित्र लिपि से
 D. कुटिल लिपि से

Question ID : 60092912930

Q.16 देवनागरी लिपि के शब्द के ऊपर एक रेखा खिंची होती है। उसे क्या कहते हैं?

- Ans A. शिरोरेखा
 B. अर्धवृत्ताकार
 C. सरल रेखा
 D. तिरछी रेखा

Question ID : 60092912929

Q.17 भारतीय सविधान में किस लिपि को राष्ट्रीय लिपि की मान्यता दी गई है?

- Ans A. सिंधु लिपि
 B. गुप्त लिपि
 C. गुरुमुखी लिपि
 D. देवनागरी लिपि

Question ID : 60092912927

Q.18 निम्न विकल्पों में से उस विकल्प का चयन कीजिए जो दिए गए शब्द का विलोम शब्द है।

आलोक

- Ans A. विभा
 B. अनन्य
 C. काँति
 D. तिमिर

Question ID : 60092912939

Q.19 दक्षिण भारत में देवनागरी लिपि के प्रचार का समय क्या था?

- Ans A. इशा की बारहवीं सदी
 B. इशा की दसवीं सदी
 C. इशा की आठवीं सदी
 D. इशा की सातवीं सदी

Question ID : 60092912928

Q.20 ब्राह्मी लिपि की उत्पत्ति चीनी लिपि से हुई है, ऐसा किस विद्वान का विश्वास है?

- Ans A. फ्रेंच विद्वान कुपेरी
 B. डॉक्टर अल्फ्रेड मूलर
 C. गौरी शंकर ओझा
 D. डॉक्टर .प्रजिलुस्की

Question ID : 60092912933

Q.1 निम्न विकल्पों में से उस विकल्प का चयन करें जो प्रत्यय से बने शब्द का सही विकल्प नहीं है।

- Ans
- A. पुष्पित
 - B. मनौती
 - C. ललक
 - D. निर्दोष

Question ID : 60092912944

Q.2 निम्न विकल्पों में से मिश्र वाक्य को पहचानिए।

- Ans
- A. गाड़ियाँ बहुत तेज़ चल रही है।
 - B. आज यदि बारिश हो तो तुम यहीं रुक जाना।
 - C. वह घर से निकला था परन्तु वापस लौट गया।
 - D. शायद वह मान जाएगी।

Question ID : 60092912953

Q.3 निम्न विकल्पों में से उस विकल्प का चयन कीजिए जो दिए गए वाक्य के अनुसार विशेषण के भेद का सही विकल्प हो।

मेरे सूट में (साढ़े तीन मीटर) कपड़ा लगेगा।

- Ans
- A. संख्यावाचक विशेषण
 - B. गुणवाचक विशेषण
 - C. निश्चित परिमाणवाचक विशेषण
 - D. अनिश्चित परिमाणवाचक विशेषण

Question ID : 60092912949

Q.4 निम्न विकल्पों में से संयुक्त वाक्य को पहचानिए।

- Ans
- A. मैं भी आपके जैसे डॉक्टर बनना चाहता हूँ।
 - B. मीता नए कपड़े लेकर आई है।
 - C. वह शायद अभी तक नहीं पहुँचा।
 - D. रमेश ने काम खत्म किया और वह अपने घर चला गया।

Question ID : 60092912952

Q.5 निम्न विकल्पों में से उस विकल्प का चयन कीजिए जो भाववाचक संज्ञा का सही विकल्प नहीं है।

- Ans
- A. सुखदायी
 - B. घटाव
 - C. मनुष्यता
 - D. शीतल

Question ID : 60092912947

Q.6 नीचे दिए गए वाक्य में कौन-सी शब्द शक्ति है?

मोहन पढ़ रहा है।

- Ans
- A. प्रयोजनवती लक्षणा
 - B. व्यंजना शक्ति
 - C. लक्षणा शक्ति
 - D. अभिधा शक्ति

Question ID : 60092912958

Q.7 निम्न विकल्पों में से उस विकल्प का चयन करे जो 'पुनः' उपसर्ग से बना सही शब्द है।

- Ans
- A. पुनर्जीवन
 - B. पुरस्कार
 - C. पुरातन
 - D. प्रतियोगिता

Question ID : 60092912946

Q.8 निम्न विकल्पों में से उस विकल्प का चयन करें जो उपसर्ग से बने शब्द का सही विकल्प नहीं है।

- Ans
- A. प्रताप
 - B. उपाध्यक्ष
 - C. विदेश
 - D. भ्राता

Question ID : 60092912942

Q.9 निम्नलिखित विकल्पों में संकेतवाचक वाक्य का सही विकल्प चुनिए।

- Ans
- A. कृपया अपनी मदद स्वयं करिए।
 - B. माली ने आज पौधों को पानी नहीं दिया।
 - C. यदि तुम सही समय पर इलाज करते तो जल्दी ठीक हो जाते।
 - D. आज मेरा मन कुछ अच्छा खाने का है।

Question ID : 60092912951

Q.10 'खटोला' शब्द में कौन-सा प्रत्यय है?

- Ans
- A. आ
 - B. अ
 - C. ओला
 - D. ला

Question ID : 60092912945

Q.11 निम्न विकल्पों में से उस विकल्प का चयन कीजिए जो मध्यम पुरुष वाचक सर्वनाम का सही विकल्प है।

- Ans A. मुझे
 B. हमें
 C. तुम्हारे
 D. वे

Question ID : 60092912948

Q.12 जब कोई शब्द अपने मुख्यार्थ को बाधित करके अन्य अर्थ को बताए तब उसमें कौन-सी शब्द शक्ति होती है?

- Ans A. लक्षणा शब्द शक्ति
 B. व्यंजना शब्द शक्ति
 C. अभिधा शब्द शक्ति
 D. आर्थी व्यंजना शब्द शक्ति

Question ID : 60092912957

Q.13 नीचे दिए गए वाक्य के सही वाक्य भेद को पहचानिए।

हमने पानी बरसता हुआ देखा और घर में शरण ली।

- Ans A. संयुक्त वाक्य
 B. सरल वाक्य
 C. मिश्र वाक्य
 D. इच्छावाचक वाक्य

Question ID : 60092912954

Q.14 "सीधी चलते राह जो, रहते सदा निशंक।
जो करते विप्लव, उन्हें, 'हरि' का है आतंक।।" इस पंक्ति में कौन-सा अलंकार है?

- Ans A. श्लेष अलंकार
 B. विरोधाभाष अलंकार
 C. भ्रांतिमान अलंकार
 D. पुनरुक्ति अलंकार

Question ID : 60092912959

Q.15 निम्न विकल्पों में से उस विकल्प का चयन कीजिए जो दिए गए शब्द का एकार्थी शब्द है।

आधि

- Ans A. मानसिक रोग
 B. शिक्षा
 C. वात्सल्य
 D. शारीरिक रोग

Question ID : 60092912940

Q.16 जहाँ किसी वस्तु का इतना बढ़ा-चढ़ाकर वर्णन किया जाए कि सामान्य लोक सीमा का उल्लंघन हो वहाँ कौन-सा अलंकार होता है?

- Ans
- A. उत्प्रेक्षा अलंकार
 - B. उपमा अलंकार
 - C. अतिशयोक्ति अलंकार
 - D. रूपक अलंकार

Question ID : 60092912956

Q.17 निम्न विकल्पों में से उस विकल्प का चयन कीजिए जो दिए गए शब्द युग्म के सही अर्थ वाला विकल्प है।

पुष्कर-पुष्कल

- Ans
- A. जलाशय-बहुत
 - B. बहुत-आसान
 - C. कठिन-बहुत
 - D. सरस्वती- बहुत

Question ID : 60092912941

Q.18 निम्न विकल्पों में से उस विकल्प का चयन कीजिए जो दिए गए समस्तपद के सही अव्ययीभाव समास का विकल्प है।

यथासाध्य

- Ans
- A. यथा का साध्य
 - B. न साधने योग्य
 - C. जितना साधा जा सके
 - D. साधने के लिए

Question ID : 60092912943

Q.19 "संसार की समर स्थली में धीरता धारण करो" इस पंक्ति में कौन-सा अलंकार है?

- Ans
- A. अनुप्रास अलंकार
 - B. श्लेष अलंकार
 - C. यमक अलंकार
 - D. विप्सा अलंकार

Question ID : 60092912955

Q.20 निम्न विकल्पों में से उस विकल्प का चयन कीजिए जो जातिवाचक संज्ञा का सही विकल्प है।

- Ans
- A. गोदान
 - B. कोहिनूर
 - C. पंकज
 - D. मनुष्य

Question ID : 60092912950

Comprehension:

निम्नलिखित अवतरण को ध्यानपूर्वक पढ़िए और उससे सम्बंधित प्रश्नों के दिए गए बहुविकल्पों में से सही विकल्प को चुनिए।

आज की भागती दौड़ती जिन्दगी से मुस्कराहट तो न जाने कहाँ खो गई है। कुछ दशक पहले तक तो लोग एक-दूसरे को देखते ही एक सुंदर सी मुस्कराहट के साथ अभिवादन करते थे, किन्तु आज दशा यह है कि किसी पहचान वाले को देखते ही व्यस्तता को मुखौटा लगाकर अभिवादन की प्रक्रिया से स्वयं को बचाकर सुरक्षित निकलना ही बहादुरी का कार्य समझते हैं। जबकि मुस्कराहट एक ऐसी औषधि है जो मनुष्य को बिना किसी दाम के मिली है, यह उसके शारीरिक एवं मानसिक रोगों का उपचार करने में पूर्णतः सक्षम है। जो व्यक्ति मुस्कराकर दिन की शुरुआत करता है वह निश्चय ही सारे दिन ऊर्जावान रहता है, वह बिना किसी तनाव के सारे कार्य कुशलता से पूर्ण कर पुनः अगले दिन के लिए नए कार्यों को पूरा करने की कुशल रणनीति बना, निश्चिन्त हो सो जाता है। ऐसे व्यक्ति का सानिध्य सभी लोग चाहते हैं, उसकी एक छोटी सी मुस्कराहट के कारण ज्यादा से ज्यादा लोग उसके समीप आने का प्रयास करते हैं। ठीक इसके विपरीत अनायास ही खीजने वाले व्यक्ति से हर कोई दूरी बनाना पसंद करता है, हर कोई उससे बचना चाहता है। पुरानी कहावत है कि प्रसन्न वदन के दर्शन मात्र से ही समस्त कार्य पूर्ण हो जाते हैं, अतः हमारा प्रयास होना चाहिए कि स्वयं प्रसन्न रहकर दूसरों को भी खुशियाँ बाँटे।

SubQuestion No : 1

Q.1 दिए गए विकल्पों में से कौन-सा दशा का समानार्थी शब्द है?

- Ans
- A. दिखावा
 - B. दिशा
 - C. स्थिति
 - D. शामिल

Question ID : 60092912964

Comprehension:

निम्नलिखित अवतरण को ध्यानपूर्वक पढ़िए और उससे सम्बंधित प्रश्नों के दिए गए बहुविकल्पों में से सही विकल्प को चुनिए।

आज की भागती दौड़ती जिन्दगी से मुस्कराहट तो न जाने कहाँ खो गई है। कुछ दशक पहले तक तो लोग एक-दूसरे को देखते ही एक सुंदर सी मुस्कराहट के साथ अभिवादन करते थे, किन्तु आज दशा यह है कि किसी पहचान वाले को देखते ही व्यस्तता को मुखौटा लगाकर अभिवादन की प्रक्रिया से स्वयं को बचाकर सुरक्षित निकलना ही बहादुरी का कार्य समझते हैं। जबकि मुस्कराहट एक ऐसी औषधि है जो मनुष्य को बिना किसी दाम के मिली है, यह उसके शारीरिक एवं मानसिक रोगों का उपचार करने में पूर्णतः सक्षम है। जो व्यक्ति मुस्कराकर दिन की शुरुआत करता है वह निश्चय ही सारे दिन ऊर्जावान रहता है, वह बिना किसी तनाव के सारे कार्य कुशलता से पूर्ण कर पुनः अगले दिन के लिए नए कार्यों को पूरा करने की कुशल रणनीति बना, निश्चिन्त हो सो जाता है। ऐसे व्यक्ति का सानिध्य सभी लोग चाहते हैं, उसकी एक छोटी सी मुस्कराहट के कारण ज्यादा से ज्यादा लोग उसके समीप आने का प्रयास करते हैं। ठीक इसके विपरीत अनायास ही खीजने वाले व्यक्ति से हर कोई दूरी बनाना पसंद करता है, हर कोई उससे बचना चाहता है। पुरानी कहावत है कि प्रसन्न वदन के दर्शन मात्र से ही समस्त कार्य पूर्ण हो जाते हैं, अतः हमारा प्रयास होना चाहिए कि स्वयं प्रसन्न रहकर दूसरों को भी खुशियाँ बाँटे।

SubQuestion No : 2

Q.2 कैसे व्यक्तियों से लोग मिलना पसंद नहीं करते?

- Ans
- A. जो हर वक्त मिले
 - B. जो हर बात पर झुंझला जाए
 - C. जो हमेशा पीछे पड़ता रहे
 - D. जो हमेशा खुशी-खुशी मिले

Question ID : 60092912963

Comprehension:

निम्नलिखित अवतरण को ध्यानपूर्वक पढ़िए और उससे सम्बंधित प्रश्नों के दिए गए बहुविकल्पों में से सही विकल्प को चुनिए।

आज की भागती दौड़ती जिन्दगी से मुस्कराहट तो न जाने कहाँ खो गई है। कुछ दशक पहले तक तो लोग एक-दूसरे को देखते ही एक सुंदर सी मुस्कराहट के साथ अभिवादन करते थे, किन्तु आज दशा यह है कि किसी पहचान वाले को देखते ही व्यस्तता को मुखौटा लगाकर अभिवादन की प्रक्रिया से स्वयं को बचाकर सुरक्षित निकलना ही बहादुरी का कार्य समझते हैं। जबकि मुस्कराहट एक ऐसी औषधि है जो मनुष्य को बिना किसी दाम के मिली है, यह उसके शारीरिक एवं मानसिक रोगों का उपचार करने में पूर्णतः सक्षम है। जो व्यक्ति मुस्कराकर दिन की शुरुआत करता है वह निश्चय ही सारे दिन ऊर्जावान रहता है, वह बिना किसी तनाव के सारे कार्य कुशलता से पूर्ण कर पुनः अगले दिन के लिए नए कार्यों को पूरा करने की कुशल रणनीति बना, निश्चिन्त हो सो जाता है। ऐसे व्यक्ति का सानिध्य सभी लोग चाहते हैं, उसकी एक छोटी सी मुस्कराहट के कारण ज्यादा से ज्यादा लोग उसके समीप आने का प्रयास करते हैं। ठीक इसके विपरीत अनायास ही खीजने वाले व्यक्ति से हर कोई दूरी बनाना पसंद करता है, हर कोई उससे बचना चाहता है। पुरानी कहावत है कि प्रसन्न वदन के दर्शन मात्र से ही समस्त कार्य पूर्ण हो जाते हैं, अतः हमारा प्रयास होना चाहिए कि स्वयं प्रसन्न रहकर दूसरों को भी खुशियाँ बाँटे।

SubQuestion No : 3

Q.3 अनुच्छेद में जीवन की किस अनमोल औषधि के बारे में बताया गया है?

- Ans
- A. व्यस्तता
 - B. ऊर्जावान
 - C. मुस्कराहट
 - D. अभिवादन

Question ID : 60092912962

Comprehension:

निम्नलिखित अवतरण को ध्यानपूर्वक पढ़िए और उससे सम्बंधित प्रश्नों के दिए गए बहुविकल्पों में से सही विकल्प को चुनिए।

आज की भागती दौड़ती जिन्दगी से मुस्कराहट तो न जाने कहाँ खो गई है। कुछ दशक पहले तक तो लोग एक-दूसरे को देखते ही एक सुंदर सी मुस्कराहट के साथ अभिवादन करते थे, किन्तु आज दशा यह है कि किसी पहचान वाले को देखते ही व्यस्तता को मुखौटा लगाकर अभिवादन की प्रक्रिया से स्वयं को बचाकर सुरक्षित निकलना ही बहादुरी का कार्य समझते हैं। जबकि मुस्कराहट एक ऐसी औषधि है जो मनुष्य को बिना किसी दाम के मिली है, यह उसके शारीरिक एवं मानसिक रोगों का उपचार करने में पूर्णतः सक्षम है। जो व्यक्ति मुस्कराकर दिन की शुरुआत करता है वह निश्चय ही सारे दिन ऊर्जावान रहता है, वह बिना किसी तनाव के सारे कार्य कुशलता से पूर्ण कर पुनः अगले दिन के लिए नए कार्यों को पूरा करने की कुशल रणनीति बना, निश्चिन्त हो सो जाता है। ऐसे व्यक्ति का सानिध्य सभी लोग चाहते हैं, उसकी एक छोटी सी मुस्कराहट के कारण ज्यादा से ज्यादा लोग उसके समीप आने का प्रयास करते हैं। ठीक इसके विपरीत अनायास ही खीजने वाले व्यक्ति से हर कोई दूरी बनाना पसंद करता है, हर कोई उससे बचना चाहता है। पुरानी कहावत है कि प्रसन्न वदन के दर्शन मात्र से ही समस्त कार्य पूर्ण हो जाते हैं, अतः हमारा प्रयास होना चाहिए कि स्वयं प्रसन्न रहकर दूसरों को भी खुशियाँ बाँटे।

SubQuestion No : 4

Q.4 अनुच्छेद के अनुसार आज के समय में किसी पहचान वाले को देखते ही लोग क्या करते हैं?

- Ans
- A. व्यस्त होने के बावजूद मिलते हैं
 - B. हँसी-खुशी बातें करते हैं
 - C. व्यस्तता का मुखौटा लगाकर निकल जाते हैं
 - D. आदर-सत्कार करते हैं

Question ID : 60092912961

Comprehension:

निम्नलिखित अवतरण को ध्यानपूर्वक पढ़िए और उससे सम्बंधित प्रश्नों के दिए गए बहुविकल्पों में से सही विकल्प को चुनिए।

आज की भागती दौड़ती जिन्दगी से मुस्कराहट तो न जाने कहाँ खो गई है। कुछ दशक पहले तक तो लोग एक-दूसरे को देखते ही एक सुंदर सी मुस्कराहट के साथ अभिवादन करते थे, किन्तु आज दशा यह है कि किसी पहचान वाले को देखते ही व्यस्तता को मुखौटा लगाकर अभिवादन की प्रक्रिया से स्वयं को बचाकर सुरक्षित निकलना ही बहादुरी का कार्य समझते हैं। जबकि मुस्कराहट एक ऐसी औषधि है जो मनुष्य को बिना किसी दाम के मिली है, यह उसके शारीरिक एवं मानसिक रोगों का उपचार करने में पूर्णतः सक्षम है। जो व्यक्ति मुस्कराकर दिन की शुरुआत करता है वह निश्चय ही सारे दिन ऊर्जावान रहता है, वह बिना किसी तनाव के सारे कार्य कुशलता से पूर्ण कर पुनः अगले दिन के लिए नए कार्यों को पूरा करने की कुशल रणनीति बना, निश्चिन्त हो सो जाता है। ऐसे व्यक्ति का सानिध्य सभी लोग चाहते हैं, उसकी एक छोटी सी मुस्कराहट के कारण ज्यादा से ज्यादा लोग उसके समीप आने का प्रयास करते हैं। ठीक इसके विपरीत अनायास ही खीजने वाले व्यक्ति से हर कोई दूरी बनाना पसंद करता है, हर कोई उससे बचना चाहता है। पुरानी कहावत है कि प्रसन्न वदन के दर्शन मात्र से ही समस्त कार्य पूर्ण हो जाते हैं, अतः हमारा प्रयास होना चाहिए कि स्वयं प्रसन्न रहकर दूसरों को भी खुशियाँ बाँटे।

SubQuestion No : 5

Q.5 दिए गए अनुच्छेद का सटीक शीर्षक लिखिए।

- Ans
- A. तनाव पूर्ण वातावरण
 - B. खीजने वाले व्यक्ति
 - C. मुस्कराहट
 - D. व्यस्त जिन्दगी

Question ID : 60092912965

Comprehension:

निम्नलिखित काव्यांश को ध्यानपूर्वक पढ़िए और उससे सम्बंधित प्रश्नों के दिए गए बहुविकल्पों में से सही विकल्प को चुनिए।

अचल खड़े रहते जो ऊँचा शीश उठाए तूफानों में,
सहनशीलता, दृढ़ता हँसती जिनके यौवन के प्राणों में।
वही पंथ बाधा तो तोड़े बहते हैं जैसे हों निर्झर,
प्रगति नाम को सार्थक करता यौवन दुर्गमता पर चलकर।
आज देश की भावी आशा बनी तुम्हारी ही तरुणाई,
नए जन्म की श्वास तुम्हारे अंदर जगकर है लहराई।
आज विगत युग के पतझर पर तुमको नव मधुमास खिलाना,
नवयुग के पृष्ठों पर तुमको है नूतन इतिहास लिखाना।
उठो राष्ट्र के नवयौवन तुम दिशा-दिशा का सुन आमंत्रण,
जागो, देश के प्राण जगा दो नए प्रात का नया जागरण।
आज विश्व को यह दिखला दो हममें भी जागी तरुणाई,
नई किरण की नई चेतना में हमने भी ली अंगड़ाई।

SubQuestion No : 6

Q.6 नवयुवक प्रगति के नाम को कैसे सार्थक करते हैं?

- Ans
- A. दुर्गम रास्तों पर चलकर
 - B. गलत दिशा ढूँढकर
 - C. तूफानों से दूर जाकर
 - D. सुगम रास्तों पर चलकर

Question ID : 60092912967

Comprehension:

निम्नलिखित काव्यांश को ध्यानपूर्वक पढ़िए और उससे सम्बंधित प्रश्नों के दिए गए बहुविकल्पों में से सही विकल्प को चुनिए।

अचल खड़े रहते जो ऊँचा शीश उठाए तूफानों में,
सहनशीलता, दृढ़ता हँसती जिनके यौवन के प्राणों में।
वही पंथ बाधा तो तोड़े बहते हैं जैसे हों निर्झर,
प्रगति नाम को सार्थक करता यौवन दुर्गमता पर चलकर।
आज देश की भावी आशा बनी तुम्हारी ही तरुणाई,
नए जन्म की श्वास तुम्हारे अंदर जगकर है लहराई।
आज विगत युग के पतझर पर तुमको नव मधुमास खिलाना,
नवयुग के पृष्ठों पर तुमको है नूतन इतिहास लिखाना।
उठो राष्ट्र के नवयौवन तुम दिशा-दिशा का सुन आमंत्रण,
जागो, देश के प्राण जगा दो नए प्रात का नया जागरण।
आज विश्व को यह दिखला दो हममें भी जागी तरुणाई,
नई किरण की नई चेतना में हमने भी ली अंगड़ाई।

SubQuestion No : 7

Q.7 काव्य के अनुसार "विगत युग के पतझर" से क्या आशय है?

- Ans A. नए पत्तों-पौधों को देखकर
 B. अतीत के वे कार्य जो आज पुराने पड़ चुके हैं
 C. नए पीढ़ी को देखकर खुश होना
 D. कुछ समय से देश में कई उल्लेखनीय कार्य हुए हैं

Question ID : 60092912968

Comprehension:

निम्नलिखित काव्यांश को ध्यानपूर्वक पढ़िए और उससे सम्बंधित प्रश्नों के दिए गए बहुविकल्पों में से सही विकल्प को चुनिए।

अचल खड़े रहते जो ऊँचा शीश उठाए तूफानों में,
सहनशीलता, दृढ़ता हँसती जिनके यौवन के प्राणों में।
वही पंथ बाधा तो तोड़े बहते हैं जैसे हों निर्झर,
प्रगति नाम को सार्थक करता यौवन दुर्गमता पर चलकर।
आज देश की भावी आशा बनी तुम्हारी ही तरुणाई,
नए जन्म की श्वास तुम्हारे अंदर जगकर है लहराई।
आज विगत युग के पतझर पर तुमको नव मधुमास खिलाना,
नवयुग के पृष्ठों पर तुमको है नूतन इतिहास लिखाना।
उठो राष्ट्र के नवयौवन तुम दिशा-दिशा का सुन आमंत्रण,
जागो, देश के प्राण जगा दो नए प्रात का नया जागरण।
आज विश्व को यह दिखला दो हममें भी जागी तरुणाई,
नई किरण की नई चेतना में हमने भी ली अंगड़ाई।

SubQuestion No : 8

Q.8 दिए गए विकल्पों में से कौन-सा तरुणाई का पर्यायवाची शब्द नहीं है?

- Ans A. युवावस्था
 B. बुढ़ापा
 C. तारुण्य
 D. जवानी

Question ID : 60092912970

Comprehension:

निम्नलिखित काव्यांश को ध्यानपूर्वक पढ़िए और उससे सम्बंधित प्रश्नों के दिए गए बहुविकल्पों में से सही विकल्प को चुनिए।

अचल खड़े रहते जो ऊँचा शीश उठाए तूफानों में,
सहनशीलता, दृढ़ता हँसती जिनके यौवन के प्राणों में।
वही पंथ बाधा तो तोड़े बहते हैं जैसे हों निर्झर,
प्रगति नाम को सार्थक करता यौवन दुर्गमता पर चलकर।
आज देश की भावी आशा बनी तुम्हारी ही तरुणाई,
नए जन्म की श्वास तुम्हारे अंदर जगकर है लहराई।
आज विगत युग के पतझर पर तुमको नव मधुमास खिलाना,
नवयुग के पृष्ठों पर तुमको है नूतन इतिहास लिखाना।
उठो राष्ट्र के नवयौवन तुम दिशा-दिशा का सुन आमंत्रण,
जागो, देश के प्राण जगा दो नए प्रात का नया जागरण।
आज विश्व को यह दिखला दो हममें भी जागी तरुणाई,
नई किरण की नई चेतना में हमने भी ली अंगड़ाई।

SubQuestion No : 9

Q.9 कवि देश के नवयुवकों का आह्वान क्यों कर रहा है?

- Ans
- A. क्योंकि नवयुवक बहुत ज्यादा हैं
 - B. क्योंकि उनमें नए, कार्य करने का उत्साह की क्षमता की कमी है
 - C. क्योंकि नवयुवकों को सोने से जगाना है
 - D. क्योंकि उनमें नए, कार्य करने का उत्साह व क्षमता है

Question ID : 60092912969

Comprehension:

निम्नलिखित काव्यांश को ध्यानपूर्वक पढ़िए और उससे सम्बंधित प्रश्नों के दिए गए बहुविकल्पों में से सही विकल्प को चुनिए।

अचल खड़े रहते जो ऊँचा शीश उठाए तूफानों में,
सहनशीलता, दृढ़ता हँसती जिनके यौवन के प्राणों में।
वही पंथ बाधा तो तोड़े बहते हैं जैसे हों निर्झर,
प्रगति नाम को सार्थक करता यौवन दुर्गमता पर चलकर।
आज देश की भावी आशा बनी तुम्हारी ही तरुणाई,
नए जन्म की श्वास तुम्हारे अंदर जगकर है लहराई।
आज विगत युग के पतझर पर तुमको नव मधुमास खिलाना,
नवयुग के पृष्ठों पर तुमको है नूतन इतिहास लिखाना।
उठो राष्ट्र के नवयौवन तुम दिशा-दिशा का सुन आमंत्रण,
जागो, देश के प्राण जगा दो नए प्रात का नया जागरण।
आज विश्व को यह दिखला दो हममें भी जागी तरुणाई,
नई किरण की नई चेतना में हमने भी ली अंगड़ाई।

SubQuestion No : 10

Q.10 काव्यांश का उचित शीर्षक चुनिए।

- Ans
- A. नवयुवकों का भोलापन
 - B. नवयुवकों को आह्वान
 - C. नवयुवकों को नमन
 - D. नवयुवकों का समागम

Question ID : 60092912971

Q.1 छात्र के अधिगम की ताकत और कमजोरियों को बेहतर ढंग से समझने के लिए डेटा एकत्र करने की प्रक्रिया को _____ कहा जाता है।

- Ans A. आकलन अधिगम (असेसमेंट लर्निंग)
 B. हैटिक लर्निंग
 C. श्रव्य अधिगम (ऑडिटिव लर्निंग)
 D. विजुअल लर्निंग

Question ID : 60092912977

Q.2 नाटक क्या है?

- Ans A. कला प्रदर्शन
 B. कहानी प्रदर्शन
 C. नृत्य प्रदर्शन
 D. चलचित्र प्रदर्शन

Question ID : 60092912973

Q.3 किस समाज में पुरुषों और महिलाओं के मानवाधिकार समान हैं?

- Ans A. लिंग समान समाज
 B. राष्ट्रीय समाज
 C. हिंदू समाज
 D. ट्रांसजेंडर समाज

Question ID : 60092912976

Q.4 प्रकृति क्या है लेकिन प्रकृति नहीं है?

- Ans A. नाटक
 B. कहानी
 C. कला
 D. नृत्य

Question ID : 60092912981

Q.5 विकास का तात्पर्य है:

- Ans A. प्रायोगिक परिवर्तन
 B. प्रबोधक परिवर्तन
 C. गुणात्मक परिवर्तन
 D. मात्रात्मक परिवर्तन

Question ID : 60092912978

Q.6 भाषा के लक्षण, संवेगनात्मक, सामाजिक और शारीरिक विकास किस आयु में आते हैं?

- Ans A. किशोर
 B. बचपन
 C. मध्यम आयु
 D. युवा आयु

Question ID : 60092912980

Q.7 अध्यापन से ज्यादा महत्वपूर्ण क्या है?

- Ans A. ज्ञान
 B. जड़सूत्र
 C. अधिगम
 D. शिक्षा

Question ID : 60092912972

Q.8 समावेशन में सबसे बड़ी बाधा किसके कारण होती है?

- Ans A. मित्र
 B. परिवार
 C. समाज
 D. अड़ोस - पड़ोस

Question ID : 60092912979

Q.9 निर्दिष्ट पाठ्यक्रम का समानार्थी है:

- Ans A. बातिल
 B. सार (एब्स्ट्रैक्ट)
 C. मुखर (इम्प्लिसिट)
 D. अप्रत्यक्ष

Question ID : 60092912975

Q.10 किसे हमेशा अधिगम में केंद्रीय भूमिका निभाने के लिए माना जाता है?

- Ans A. लेखन
 B. भाषा
 C. आकलन
 D. अध्ययन

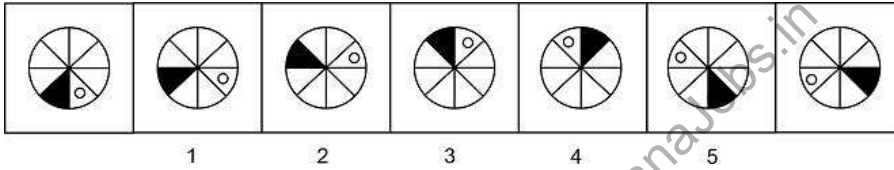
Question ID : 60092912974

DSSSB TGT Hindi (Male) Question Paper 2021

Participant ID	Join Telegram Group "HaryanaJobs.in"
Participant Name	
Test Center Name	
Test Date	18/09/2021
Test Time	12:30 PM - 2:30 PM
Subject	TGT Hindi-(Male)

Section : General Ability

Q.1 दिए गए प्रश्न में, सात आकृतियां हैं, जिनमें से पहली और अंतिम संख्याहीन हैं और शेष की संख्या 1,2,3,4 और 5 है। ये सात आकृतियां श्रृंखला बनाती हैं। हालांकि, संख्या वाली पांच आकृतियों में से एक संख्या श्रृंखला में फिट नहीं बैठती है। उस आकृति की संख्या ही उत्तर है।



- Ans
- A. 3
 - B. 5
 - C. 1
 - D. 4

Question ID : 60092912998

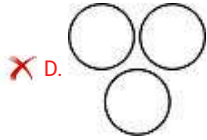
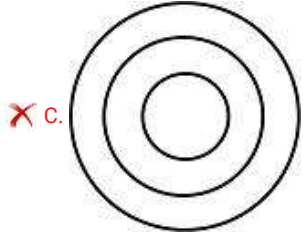
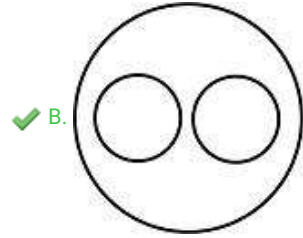
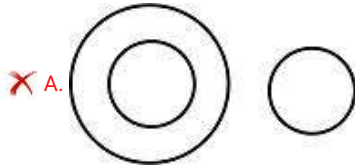
Q.2 शहर A, शहर B के उत्तर में 35 km की दूरी पर है और शहर C, शहर B के पश्चिम में 20 km की दूरी पर है। शहर A और C के बीच की सबसे छोटी दूरी ज्ञात करें।

- Ans
- A. 55 Km
 - B. 45 Km
 - C. 40 Km
 - D. 20 Km

Question ID : 60092912990

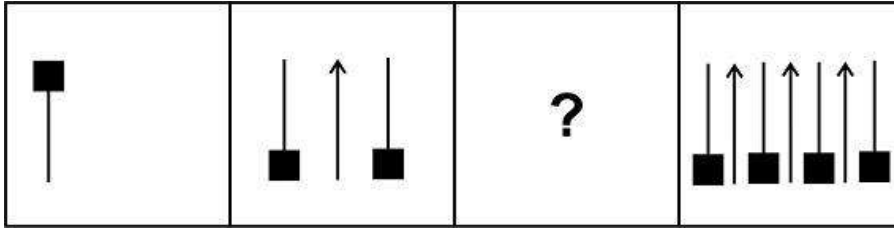
Q.3 निम्नलिखित में से कौन सा वेन आरेख नर, मादा और मनुष्यों के बीच के संबंध को सबसे अच्छा दर्शाता है?

Ans



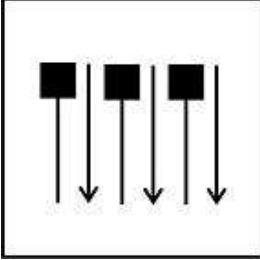
Question ID : 60092912997

Q.4 वह आकृति ज्ञात करें जो दी गई श्रृंखला में लुप्त आकृति को प्रतिस्थापित करेगी।

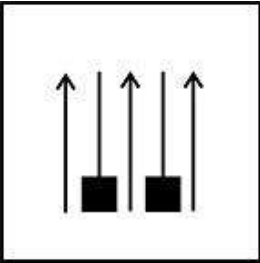


Ans

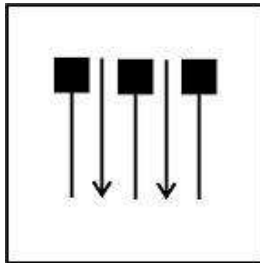
A.



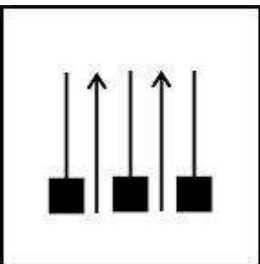
B.



C.



D.



www.HaryanaJobs.in

Question ID : 60092912999

Q.5 यदि शब्द 'KLEPTOMANIA' के अक्षरों को वर्णानुक्रम में व्यवस्थित किया जाए, तो कौन सा अक्षर गठित शब्द का पाँचवाँ अंतिम अक्षर होगा?

Ans A. T

B. N

C. P

D. M

Question ID : 60092912988

Q.6 निम्नलिखित अक्षर श्रंखला में गलत पद ज्ञात करें।

FHK, LNQ, RTW, XYZ, DFI

Ans A. LNQ

B. XYZ

C. DFI

D. FHK

Question ID : 60092912982

Q.7 उस विकल्प का चयन करें जो तीसरे पद से उसी प्रकार से संबंधित है जिस प्रकार से दूसरा पद पहले पद से संबंधित है।

73 : 110 :: 95 : ?

Ans A. 154

B. 176

C. 163

D. 137

Question ID : 60092912994

Q.8 इस प्रश्न में, तीन कथन दिए गए हैं, जिसके बाद दो निष्कर्ष I और II दिए गए हैं। यह मानते हुए कि कथन में सभी जानकारी सत्य है, दो निष्कर्षों का एक साथ विश्लेषण करें और निर्धारित करें कि क्या कथन में दी गई जानकारी में से कोई भी तार्किक रूप से और निश्चित रूप से अनुसरण करता/करते है।

कथन I: सभी आम लीची हैं।

कथन II: सभी लीची कीवी हैं।

कथन III: सभी कीवी सेब हैं।

निष्कर्ष I: सभी सेब आम हैं।

निष्कर्ष II: कुछ कीवी लीची हैं।

Ans A. केवल I अनुसरण करता है

B. केवल II अनुसरण करता है

C. न तो I और न ही II अनुसरण करता है

D. I और II दोनों अनुसरण करते हैं

Question ID : 60092912993

Q.9 निम्नलिखित संख्या श्रंखला में लुप्त पद ज्ञात करें।

___, 28, 112, 448, 1792

Ans A. 7

B. 2

C. 4

D. 6

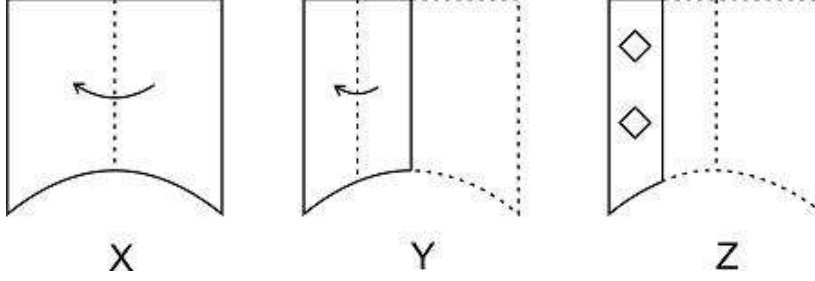
Question ID : 60092912995

Q.10 दिए गए विकल्पों में से तीन एक निश्चित तरीके से समान हैं। हालाँकि, एक विकल्प अन्य तीन की तरह नहीं है। उस विकल्प का चयन करें जो अन्य से अलग है।

- Ans A. एस्वातीनी
 B. शंघाई
 C. बेलारूस
 D. अल साल्वाडोर

Question ID : 60092912985

Q.11 चित्र में दिखाए गए अनुसार, एक कागज को मोड़ा गया है और छेद किया गया है। वह आकृति का चयन करें जो आकृति Z के नहीं मोड़े गए रूप से मेल खाती है।



Ans

- A.
 B.
 C.
 D.

Question ID : 60092913001

Q.12 उस विकल्प का चयन करें जो तीसरे पद से उसी प्रकार से संबंधित है जिस प्रकार से दूसरा पद पहले पद से संबंधित है।

रांची : झारखंड :: ग्वालियर : ?

- Ans A. महाराष्ट्र
 B. ओड़िशा
 C. उत्तर प्रदेश
 D. मध्य प्रदेश

Question ID : 60092912986

Q.13 निम्नलिखित में से कौन सा वेन आरेख माता, बहनों और विधवा के बीच के संबंध को सबसे अच्छा दर्शाता है?

- Ans A.
 B.
 C.
 D.

Question ID : 60092912996

Q.14 यदि एक दर्पण को रेखा MN पर रखा जाता है, तो उत्तर आकृति में से कौन सी दी गई आकृति की सही छवि है?

- Ans A.
 B.
 C.
 D.

Question ID : 60092913000

Q.15 दिए गए शब्दों को उस क्रम में व्यवस्थित करें जिस क्रम में वे शब्दकोश में होते हैं।

1. Hypnotize
2. Hypnosis
3. Hippopotamus
4. Hypotenuse
5. Hector

- Ans A. 35214
 B. 51432
 C. 53214
 D. 14253

Question ID : 60092912983

Q.16 अदिति एक क्रतार में खड़ी है और ऊपर से उसका स्थान 25 है और नीचे से उसका स्थान 26 है। क्रतार में खड़े लोगों की कुल संख्या ज्ञात करें।

- Ans A. 50
 B. 48
 C. 49
 D. 51

Question ID : 60092912991

Q.17 प्रश्न में एक कथन दिया गया है, जिसके बाद कार्रवाई के दो क्रम I और II दिए गए हैं। यह मानते हुए कि कथन में सभी जानकारी सत्य है, दो कार्रवाई का एक साथ विश्लेषण करें और निर्धारित करें कि क्या कथन में दी गई जानकारी में से कोई भी तार्किक रूप से और निश्चित रूप से अनुसरण करता/करते है।

कथन: एक बाघ द्वारा दिन के उजाले में एक गाँव में अपने घर के बाहर ही एक स्थानीय व्यक्ति पर हमला करने की खबर है।

कार्रवाई के क्रम:

- I) पास के वन अधिकारियों को आके और बाघ को पकड़ने के लिए सूचित किया जाना चाहिए।
- II) ग्रामीणों को स्वयं हथियार लेकर बाघ को मारना चाहिए।

- Ans A. न तो I और न ही II अनुसरण करता है
 B. केवल II अनुसरण करता है
 C. I और II दोनों अनुसरण करते हैं
 D. केवल I अनुसरण करता है

Question ID : 60092912992

Q.18 एक निश्चित कोड भाषा में, यदि पश्चिम को दक्षिण कहा गया है, दक्षिण को उत्तर पूर्व कहा गया है, उत्तर पूर्व को पूर्व कहा गया है, पूर्व को दक्षिण पूर्व कहा गया है, और दक्षिण पूर्व को उत्तर कहा गया है, तो सूर्य किस दिशा में उदय होता है?

- Ans A. दक्षिण पूर्व
 B. दक्षिण
 C. दक्षिण पश्चिम
 D. पूर्व

Question ID : 60092912989

Q.19 दिए गए विकल्पों में से तीन एक निश्चित तरीके से समान हैं। हालाँकि, एक विकल्प अन्य तीन की तरह नहीं है। उस विकल्प का चयन करें जो अन्य से अलग है।

- Ans A. पार्ले एग्री
 B. बीएमडब्लू
 C. ऑडी
 D. वॉक्सवैगन

Question ID : 60092912984

Q.20 उस विकल्प का चयन करें जो तीसरे पद से उसी प्रकार से संबंधित है जिस प्रकार से दूसरा पद पहले पद से संबंधित है।

प्राणिविज्ञान : पशु :: भूविज्ञान :

- Ans A. ग्रहों
 B. पौधे
 C. अंतरिक्ष
 D. पत्थर

Question ID : 60092912987

Section : General Awareness

Q.1 निम्नलिखित में से कौन पद्म भूषण पुरस्कार प्राप्त करने वाले पहले फिल्म हस्ती थे?

- Ans A. पृथ्वीराज कपूर
 B. बी.एन. रेड्डी
 C. सत्यजित राय
 D. नौशाद

Question ID : 60092913014

Q.2 सांप्रदायिक अधिनिर्णय, 1932 का प्रारूप निम्नलिखित में से किस ब्रिटिश प्रधान मंत्री द्वारा तैयार किया गया था?

- Ans A. एण्ड्रू बोनार ला
 B. नेविल चाम्बरलेन
 C. स्टेनली बाल्डविन
 D. रैमसे मैकडोनाल्ड

Question ID : 60092913018

Q.3 संकेत और संचार के लिए उपयोग की जाने वाली रेडियो तरंगों को निम्नलिखित में से किसके रूप में वर्गीकृत किया जा सकता है?

- Ans A. अनुप्रस्थ तरंगों
 B. विद्युतचुंबकीय तरंगों
 C. अनुदैर्घ्य तरंगों
 D. गुरुत्वाकर्षण तरंगों

Question ID : 60092913007

Q.4 पूना-समझौता निम्न के बीच एक समझौता था:

- Ans A. भारतीय राष्ट्रीय कांग्रेस - मुस्लिम लीग
 B. महात्मा गांधी- डॉ बी.आर. आम्बेडकर
 C. नरमपंथी-चरमपंथी
 D. जवाहरलाल नेहरू- सुभाष चन्द्र बोस

Question ID : 60092913019

Q.5 आँख की पुतली का फैलाव और कसना मानव शरीर पर _____ के प्रभाव के कारण होता है।

- Ans A. प्रकाश
 B. तापमान
 C. शोर
 D. दाब

Question ID : 60092913006

Q.6 निम्नलिखित में से कौन सा सूत्र चार्वाक दर्शन का केंद्रीय पाठ कहा जाता है?

- Ans A. स्मार्त सूत्र
 B. बृहस्पति सूत्र
 C. कल्पसूत्र
 D. वैशेषिकसूत्र

Question ID : 60092913012

Q.7 पनिहारी लोक संगीत किस राज्य के लिए स्वदेशीय है?

- Ans A. गुजरात
 B. उत्तराखंड
 C. राजस्थान
 D. ओड़िशा

Question ID : 60092913002

Q.8 मध्यकालीन भारत का कामरूप साम्राज्य निम्नलिखित में से किस क्षेत्र में स्थित था?

- Ans A. सिंध क्षेत्र
 B. पूर्वोत्तर, असम
 C. दक्षिणी बंगाल
 D. भारतीय प्रायद्वीप

Question ID : 60092913010

Q.9 15 जुलाई 2021 को, _____ को राज्य सभा में सदन नेता के रूप में नियुक्त किया गया था।

- Ans A. पीयूष गोयल
 B. राम चंदर जंगरा
 C. स्वपन दासगुप्ता
 D. सुरेश गोपी

Question ID : 60092913015

Q.10 सारामाती पर्वत निम्नलिखित में से किस पर्वत श्रृंखला की चोटी है?

- Ans A. लुशाई पहाड़ियाँ
 B. नागा पहाड़ियाँ
 C. जाम्पुई पहाड़ियाँ
 D. खासी पहाड़ियाँ

Question ID : 60092913009

Q.11 इन खिलाड़ियों में से किसके नाम पर टेबल टेनिस के खेल में 19 वर्ष की आयु में सबसे कम आयु के राष्ट्रीय चैंपियन बनने का रिकॉर्ड है?

- Ans A. एंथोनी अमलराज
 B. हरमीत देसाई
 C. सनिल शेट्टी
 D. सौम्यजीत घोष

Question ID : 60092913021

Q.12 निम्नलिखित में से कौन सा बजट सरकार की कराधान प्रणाली के तहत, कानूनी रूप से करों से बचने के लिए अत्यधिक लाभदायक कंपनियों को सामने लाया?

- Ans A. 2000: मिलेनियम बजट
 B. 1991: युगांतरकारी बजट
 C. 1987: गांधी बजट
 D. 1986: दाम दंड बजट (Carrot & Stick budget)

Question ID : 60092913005

Q.13 दादासाहेब फाल्के पुरस्कार निम्नलिखित में से किस समारोह में प्रदान किया जाता है?

- Ans A. फिल्मफेयर पुरस्कार
 B. कला और संस्कृति के लिए अटल बिहारी वाजपेयी राष्ट्रीय पुरस्कार
 C. राष्ट्रीय फिल्म पुरस्कार
 D. वीरता पुरस्कार

Question ID : 60092913013

Q.14 लद्दाख का वर्तमान उपराज्यपाल कौन हैं?

- Ans A. मनोज सिन्हा
 B. राधा कृष्ण माथुर
 C. मनोज मुकुंद नरवणे
 D. उमंग नरूला

Question ID : 60092913017

Q.15 नल्लमला पर्वत श्रृंखला निम्नलिखित में से किस राज्य में स्थित है?

- Ans A. केरल
 B. आंध्र प्रदेश
 C. तमिल नाडु
 D. कर्नाटक

Question ID : 60092913008

Q.16 आम आदमी पार्टी ने वर्ष _____ में सूरत नगरपालिका चुनावों में पहली बार नागरिक सीटें जीती हैं।

- Ans A. 2017
 B. 2021
 C. 2010
 D. 2015

Question ID : 60092913016

Q.17 केसरबाई केरकर, 20वीं सदी के सबसे प्रसिद्ध ख्याल गायकों में से एक, निम्नलिखित में से किस घराने की प्रतिपादक थीं?

- Ans A. किराना घराना
 B. आगरा घराना
 C. जयपुर-अतरौली घराना
 D. दिल्ली घराना

Question ID : 60092913003

Q.18 नालन्दा विश्वविद्यालय की स्थापना निम्नलिखित में से किस राजवंश द्वारा की गई थी?

- Ans A. गुप्त राजवंश
 B. पाल राजवंश
 C. नंद राजवंश
 D. मौर्य राजवंश

Question ID : 60092913011

Q.19 निम्नलिखित में से किस बजट को "जन-केंद्रित बजट" कहा गया?

- Ans A. वी.पी. सिंह का 1986 बजट
 B. वाई. बी. चव्हाण का 1973 बजट
 C. मोरारजी देसाई का 1968 बजट
 D. जॉन मथाई का १९५१ बजट

Question ID : 60092913004

Q.20 अर्जुन पुरस्कार विजेता मंडू घोष निम्नलिखित में से किस खेल से संबंधित हैं?

- Ans A. टेबल टेनिस
 B. टेनिस
 C. क्रिकेट
 D. बैडमिंटन

Question ID : 60092913020

Section : Arithmetic Ability

Q.1 एक बेलन जिसकी त्रिज्या वृत्त की त्रिज्या की $(1/7)$ है और बेलन की ऊँचाई वृत्त की त्रिज्या की दो गुना है और वृत्त का क्षेत्रफल 154 sq. cm है, तो बेलन का आयतन ज्ञात करें। ($\pi = 22/7$ का प्रयोग करें)

- Ans A. 22 cu. cm
 B. 88 cu. cm
 C. 44 cu. cm
 D. 66 cu. cm

Question ID : 60092913037

Q.2 एक दौड़ में, अशित और बरुन ने एक ही बिंदु से शुरुआत की। अशित की गति 60 km/h है और बरुन की गति 40 km/h है। दौड़ के बाद, यह पाया गया कि अशित ने बरुन को 10 मिनट से हराया। उनके द्वारा तय की गई दूरी कितनी है?

- Ans A. 25 km
 B. 50 km
 C. 20 km
 D. 40 km

Question ID : 60092913033

Q.3 धोनी ने प्रति वर्ष 12% साधारण ब्याज पर 22000 रुपए निवेश किए और प्रति वर्ष 10% चक्रवृद्धि ब्याज पर 15000 रुपए निवेश किए, तो ज्ञात करें कि 2 वर्ष के अंत में उसके द्वारा अर्जित की गई कुल राशि कितनी है।

- Ans
- A. 40000 रुपए
 - B. 45400 रुपए
 - C. 45430 रुपए
 - D. 45000 रुपए

Question ID : 60092913031

Q.4 एक विद्यालय की टीम ने पिछले वर्ष जीते गए 5 खेल के मुकाबले इस वर्ष 7 खेल जीते। प्रतिशत वृद्धि क्या है?

- Ans
- A. 30%
 - B. 50%
 - C. 25%
 - D. 40%

Question ID : 60092913025

Q.5 नीचे दिया गया बार ग्राफ पांच अलग-अलग विद्यालयों से एक अंतर-विद्यालय प्रतियोगिता में तीन अलग-अलग भीतरी गतिविधियों में भाग लेने वाले छात्रों की संख्या को दर्शाता है। विद्यालय 2 और 3 के वाष्मिता (एलोक्यूशन) में भाग लेने वाले छात्रों और विद्यालय 5 से एक्सटेम्पोर में भाग लेने वाले छात्रों के बीच क्या अंतर है?

- Ans
- A. 26
 - B. 22
 - C. 14
 - D. 27

Question ID : 60092913040

Q.6 मारिया ने 26,000 रुपए में स्कूटर खरीदा। उसने इसे 10% की हानि पर बेच दिया। उस पैसे से, उसने एक और स्कूटर खरीदा और उसे 20% के लाभ पर बेच दिया। कुल लाभ/हानि क्या है?

- Ans
- A. 3080 रुपए
 - B. 2050 रुपए
 - C. 2080 रुपए
 - D. 2090 रुपए

Question ID : 60092913027

Q.7 राम 5% वार्षिक चक्रवृद्धि ब्याज पर 50,000 रुपए उधार लेता है। प्रत्येक वर्ष के अंत में, वह 2100 रुपए का भुगतान करता है। अपने ऋणांकन को पूरा करने के लिए तीसरे वर्ष के अंत में उसे कितनी राशि का भुगतान करना चाहिए?

- Ans
- A. 53,461 रुपए
 - B. 53,481 रुपए
 - C. 54,461 रुपए
 - D. 53,361 रुपए

Question ID : 60092913032

Q.8 दो बिंदुओं X और Y के बीच की दूरी 800 m है। जब वे एक दूसरे की ओर बढ़ना शुरू करते हैं तो वे 10 सेकंड में मिलते हैं। यदि X, Y के 4 सेकंड बाद चलना शुरू करता है, तो वे 8 सेकंड में मिलते हैं। इन्हें ध्यान में रखते हुए Y की गति ज्ञात करें।

- Ans
- A. 80 m/s
 - B. 60 m/s
 - C. 40 m/s
 - D. 20 m/s

Question ID : 60092913034

Q.9 यदि सात-अंकीय संख्या $161x208$, 11 से विभाज्य है और चार-अंकीय संख्या $953y$, 9 से विभाज्य है, तो $(x + y)$ का मान क्या है?

- Ans
- A. 7
 - B. 8
 - C. 10
 - D. 12

Question ID : 60092913022

Q.10 5 वर्ष पहले, मोहित और रोहन की आयु का अनुपात 5 : 6 था। सात वर्ष बाद, उनकी आयु का अनुपात 11 : 12 होगा। रोहन की आयु ज्ञात करें।

- Ans
- A. 18 वर्ष
 - B. 17 वर्ष
 - C. 20 वर्ष
 - D. 19 वर्ष

Question ID : 60092913029

Q.11 नीचे दिया गया पाई चार्ट भिन्न अलग-अलग क्षेत्रों में 4000 छात्रों की प्राथमिकताओं को दर्शाता है। सभी क्षेत्र वरीयता में महिला से पुरुष का अनुपात 3 : 1 होगा। पसंदीदा प्रवाह के रूप में डिफेंस का चयन करने वाली महिलाओं की संख्या और विज्ञान प्रवाह को पसंदीदा प्रवाह के रूप में चयन करने वाले पुरुषों की संख्या के बीच क्या अंतर है?

- Ans
- A. 50
 - B. 90
 - C. 20
 - D. 60

Question ID : 60092913039

Q.12 90 लीटर के मिश्रण में दूध और पानी 7 : 2 के अनुपात में है। यदि मिश्रण में 10 लीटर दूध और 5 लीटर पानी मिला दिया जाए, तो पानी और दूध का नया अनुपात क्या होगा?

- Ans
- A. 5 : 16
 - B. 16 : 5
 - C. 9 : 5
 - D. 16 : 9

Question ID : 60092913030

Q.13 A 10% कार्य को 1.8 दिनों में कर सकता है। B समान कार्य को पूरा करने में A से 6 दिन अधिक लेता है। C की क्षमता A से 20% अधिक है। A एक कार्य शुरू करता है और प्रत्येक दूसरे और तीसरे दिन क्रमशः B और C उसके साथ जुड़ते हैं, तो कार्य का 80% कितने दिनों में पूरा होगा?

- Ans
- A. 7(9/10) दिन
 - B. 9(12/44) दिन
 - C. 8(35/44) दिन
 - D. 10(12/44) दिन

Question ID : 60092913035

Q.14 निम्नलिखित रेखा ग्राफ चार विभिन्न महाविद्यालयों द्वारा विभिन्न स्थान परीक्षाओं के लिए उपस्थित छात्रों की संख्या (हजारों में) दर्शाता है।
TCS कोडविटा में चयनित छात्रों की कुल संख्या परीक्षा में बैठने वाले कुल छात्रों का 62% है। यदि महाविद्यालय S के 400 छात्र, महाविद्यालय A के 250 छात्र और महाविद्यालय G के 180 छात्र चयनित हुए हैं। TCS कोडविटा में महाविद्यालय V से कितने प्रतिशत छात्रों का चयन हुआ?

- Ans
- A. 75%
 - B. 40.80%
 - C. 37.40%
 - D. 60%

Question ID : 60092913041

Q.15 अमित अपनी आय का 70% व्यय करता है और बाकी बचाता है। यदि उसके व्यय में 10% की वृद्धि और बचत में 20% की वृद्धि होती है, तो उसकी आय में प्रतिशत वृद्धि ज्ञात करें।

- Ans
- A. 11%
 - B. 32%
 - C. 13%
 - D. 15%

Question ID : 60092913026

Q.16 एक बाइक विक्रेता अंकित मूल्य पर 20% की छूट देता है और 25% का लाभ अर्जित करता है। यदि वह 6,400 रुपए का लाभ अर्जित करता है तो बाइक का अंकित मूल्य ज्ञात करें।

- Ans
- A. 46,000 रुपए
 - B. 51,000 रुपए
 - C. 40,000 रुपए
 - D. 44,000 रुपए

Question ID : 60092913028

Q.17 सरलीकृत करें:

$$3000 - (1000 \div 5) + 200 - 2500$$

- Ans
- A. 500
 - B. 200
 - C. 50
 - D. 5000

Question ID : 60092913023

Q.18 कक्षा में कुछ छात्रों का औसत भार 38 kg है, जब 4 नए छात्रों को शामिल किया जाता है, तो औसत भार 39.5 kg हो जाता है और उन 4 छात्रों का भार 46, 52, 36 और 42 kg हो जाता है। कक्षा में 4 नए विद्यार्थियों सहित कुल विद्यार्थियों की संख्या ज्ञात करें।

Ans A. 18

B. 16

C. 12

D. 22

Question ID : 60092913024

Q.19 एक सुनार 15 दिनों में एक हार बनाता है। यदि वह इसे 5 दिनों में पूरा करना चाहता है, तो उसे इसकी दक्षता में कितने प्रतिशत की वृद्धि करनी होगी?

Ans A. 200%

B. 100%

C. 150%

D. 300%

Question ID : 60092913036

Q.20 एक पहिया 880 m की दूरी तय करने में 100 चक्कर लगाता है। पहिए की त्रिज्या ज्ञात करें। ($\pi = 22/7$ का प्रयोग करें)

Ans A. 0.02 m

B. 1.4 m

C. 0.07 m

D. 0.7 m

Question ID : 60092913038

Section : General English

Q.1 Select the word segment that substitutes (replaces) the bracketed word segment correctly and completes the sentence meaningfully. Select the option 'no correction required' if the sentence is correct as given.

In March 1989 the police officer was served (with several summons alleging two offences of) assault occasioning actual bodily harm.

Ans A. on several summons alleging two offences of

B. with several summonses alleging two offences of

C. with summons alleging two offences off

D. No correction required

Question ID : 60092913044

Q.2 Fill in the blank with the most appropriate choice

Luckily enough, ostriches are not _____ animals and easily adapt to the climate in Bulgaria.

- Ans A. capricious
 B. conscious
 C. ferocious
 D. voracious

Question ID : 60092913047

Q.3 Select the most appropriate idiom of the given meaning.

To be received badly by an audience

- Ans A. Gird up the loin
 B. Go down like a lead balloon
 C. Fabian policy
 D. Crack someone up

Question ID : 60092913054

Q.4 Select the word that is opposite in meaning (ANTONYM) to the word given below

zeal

- Ans A. ardour
 B. apathy
 C. devotion
 D. gusto

Question ID : 60092913049

Q.5 The question below consist of a set of labelled sentences. Out of four options given, select the most logical order of the sentences which form a paragraph.

The building's history begins in 1792, when a public competition was held to choose a design for a presidential residence in the new capital city of Washington.

P. Labourers, including local enslaved people, were housed in temporary huts built on the north side of the premises.

Q. The structure was to have three floors and more than 100 rooms and would be built in sandstone imported from quarries along Aquia Creek in Virginia.

R. Thomas Jefferson, later the country's third president (1801–09), using the pseudonymous initials "A.Z.," was among those who submitted drawings, but Irish American architect James Hoban won the commission (and a \$500 prize) with his plan for a Georgian mansion in the Palladian style.

S. The cornerstone was laid on October 13, 1792.

They were joined by skilled stonemasons from Edinburgh, Scotland, in 1793.

- Ans A. RQPS
 B. SRQP
 C. RSPQ
 D. SPQR

Question ID : 60092913048

Q.6 Fill in the blank with the most appropriate choice

There is nothing _____ or discriminatory or even vaguely xenophobic about this.

- Ans A. pleased
 B. debased
 C. biased
 D. greased

Question ID : 60092913046

Q.7 Select the word that is similar in meaning (SYNONYM) to the word given below

verbose

- Ans A. solemn
 B. succinct
 C. diffuse
 D. concise

Question ID : 60092913050

Q.8 The sentence below has been divided into three parts. Select the part of the sentence that has an error. If the sentence has no error, select the option 'No Error'.

Nestling among the young guns, none of who/ have ever worn a kipper tie in anger,/ there lurk old school comedy relics.

- Ans A. there lurk old school comedy relics.
 B. No Error
 C. Nestling among the young guns, none of who
 D. have ever worn a kipper tie in anger,

Question ID : 60092913043

Q.9 Select the most appropriate meaning of the given idiom

A leopard can't change his spots

- Ans A. To be ready
 B. A tedious job
 C. With full devotion
 D. You cant change who you are

Question ID : 60092913053

Q.10 The sentence below has been divided into three parts. Select the part of the sentence that has an error. If the sentence has no error, select the option 'No Error'.

Large injections may cause visual effects/ such as unusually colourful sunsets and/ effect global climate mainly by cooling it.

- Ans A. effect global climate mainly by cooling it.
 B. Large injections may cause visual effects
 C. such as unusually colourful sunsets and
 D. No Error

Question ID : 60092913042

Q.11 Select the most appropriate 'one word ' for the expressions given below.

A person who writes beautiful writing

- Ans A. calligrapher
 B. stereographer
 C. philosopher
 D. typographer

Question ID : 60092913055

Q.12 Four words are given, out of which only one word is spelt correctly. Choose the correctly spelt word.

- Ans A. indefatigable
 B. indefetigable
 C. indafetigable
 D. indafatigable

Question ID : 60092913051

Q.13 Select the word segment that substitutes (replaces) the bracketed word segment correctly and completes the sentence meaningfully. Select the option 'no correction required' if the sentence is correct as given.

One of the great things about getting older is that you become less embarrassed (about your body and it's natural functions).

- Ans A. over your body but its natural functions
 B. about your body but its natural functions
 C. about your body and its natural functions
 D. No correction required

Question ID : 60092913045

Q.14 Four words are given, out of which only one word is spelt incorrectly. Choose the incorrectly spelt word.

- Ans A. misanthrope
 B. perfidy
 C. ingenuos
 D. relentless

Question ID : 60092913052

Q.15 Select the most appropriate 'one word ' for the expressions given below

The use of the fingers and hands to communicate and convey ideas

- Ans**
- A. gerontology
 - B. toxicology
 - C. dactylogy
 - D. meteorology

Question ID : 60092913056

Comprehension:

Read the passage carefully and choose the best answer to each question out of the four alternatives.

Jean spent her first few years in Hooper and her family moved to Otsego early in her life. She was only ten when her father died unexpectedly, leaving her mother to raise and support their family alone. Her mother soon went to work outside the home to provide for the family, and Jean, being one of the oldest, had to help care for her younger siblings. Although she had much responsibility at home, Jean thoroughly enjoyed school and was an excellent student. She went on to graduate 10th in her class at Otsego High School in 1953. While still in high school, Jean met a young man named Charles "Chuck" Holly, at a dance in Alamo; and they were quite taken with each other. Over the next few years, their love for each other blossomed and they were married on February 24, 1955, while Jean was still in school. At the time, Chuck was serving his country in the military, and had come home on leave to marry his sweetheart. Unfortunately, shortly thereafter, he was sent overseas to serve in Korea for the next fifteen months. Upon his discharge, the couple settled into married life together in the Plainwell, Otsego area. To help make ends meet, Jean went to work at the collection bureau in Kalamazoo for a while, before taking a job at the cheese company in Otsego. In 1964, Chuck and Jean were overjoyed with the birth of their son, Chuck, who brought great joy into their lives. Jean remembered how her mother was always gone so much working after her father died and she did not want that for her son, so she left her job to devote herself to the role of a mother.

SubQuestion No : 16

Q.16 Why did Jean quit her job after the birth of her son?

- Ans**
- A. She didn't want the same aloof childhood for her son as she had estranged from her mother.
 - B. Her husband wanted her to stay with their son and for him to grow up nurtured.
 - C. As her husband was still there, there was no need for to support her child there the same way her mother had to.
 - D. She remembered her parents working away from home and she did not want that for her son.

Question ID : 60092913062

Comprehension:

Read the passage carefully and choose the best answer to each question out of the four alternatives.

Jean spent her first few years in Hooper and her family moved to Otsego early in her life. She was only ten when her father died unexpectedly, leaving her mother to raise and support their family alone. Her mother soon went to work outside the home to provide for the family, and Jean, being one of the oldest, had to help care for her younger siblings. Although she had much responsibility at home, Jean thoroughly enjoyed school and was an excellent student. She went on to graduate 10th in her class at Otsego High School in 1953. While still in high school, Jean met a young man named Charles "Chuck" Holly, at a dance in Alamo; and they were quite taken with each other. Over the next few years, their love for each other blossomed and they were married on February 24, 1955, while Jean was still in school.

At the time, Chuck was serving his country in the military, and had come home on leave to marry his sweetheart. Unfortunately, shortly thereafter, he was sent overseas to serve in Korea for the next fifteen months. Upon his discharge, the couple settled into married life together in the Plainwell, Otsego area. To help make ends meet, Jean went to work at the collection bureau in Kalamazoo for a while, before taking a job at the cheese company in Otsego. In 1964, Chuck and Jean were overjoyed with the birth of their son, Chuck, who brought great joy into their lives. Jean remembered how her mother was always gone so much working after her father died and she did not want that for her son, so she left her job to devote herself to the role of a mother.

SubQuestion No : 17

Q.17 How long did Charles serve in Korea after marrying Jean?

- Ans
- A. ten months
 - B. fifteen months
 - C. twelve months
 - D. thirteen months

Question ID : 60092913061

Comprehension:

Read the passage carefully and choose the best answer to each question out of the four alternatives.

Jean spent her first few years in Hooper and her family moved to Otsego early in her life. She was only ten when her father died unexpectedly, leaving her mother to raise and support their family alone. Her mother soon went to work outside the home to provide for the family, and Jean, being one of the oldest, had to help care for her younger siblings. Although she had much responsibility at home, Jean thoroughly enjoyed school and was an excellent student. She went on to graduate 10th in her class at Otsego High School in 1953. While still in high school, Jean met a young man named Charles "Chuck" Holly, at a dance in Alamo; and they were quite taken with each other. Over the next few years, their love for each other blossomed and they were married on February 24, 1955, while Jean was still in school.

At the time, Chuck was serving his country in the military, and had come home on leave to marry his sweetheart. Unfortunately, shortly thereafter, he was sent overseas to serve in Korea for the next fifteen months. Upon his discharge, the couple settled into married life together in the Plainwell, Otsego area. To help make ends meet, Jean went to work at the collection bureau in Kalamazoo for a while, before taking a job at the cheese company in Otsego. In 1964, Chuck and Jean were overjoyed with the birth of their son, Chuck, who brought great joy into their lives. Jean remembered how her mother was always gone so much working after her father died and she did not want that for her son, so she left her job to devote herself to the role of a mother.

SubQuestion No : 18

Q.18 According to the passage, which of the following option is incorrect? Choose one option.

- Ans
- A. Jean was just 10 years old when her father died.
 - B. Jean met her husband in High school.
 - C. Jean was still in high school when she married Charles.
 - D. Soon after Jean's and Charles's marriage they moved to Plainwell, Otsego area.

Question ID : 60092913060

Comprehension:

Read the passage carefully and choose the best answer to each question out of the four alternatives.

Jean spent her first few years in Hooper and her family moved to Otsego early in her life. She was only ten when her father died unexpectedly, leaving her mother to raise and support their family alone. Her mother soon went to work outside the home to provide for the family, and Jean, being one of the oldest, had to help care for her younger siblings. Although she had much responsibility at home, Jean thoroughly enjoyed school and was an excellent student. She went on to graduate 10th in her class at Otsego High School in 1953. While still in high school, Jean met a young man named Charles "Chuck" Holly, at a dance in Alamo; and they were quite taken with each other. Over the next few years, their love for each other blossomed and they were married on February 24, 1955, while Jean was still in school.

At the time, Chuck was serving his country in the military, and had come home on leave to marry his sweetheart. Unfortunately, shortly thereafter, he was sent overseas to serve in Korea for the next fifteen months. Upon his discharge, the couple settled into married life together in the Plainwell, Otsego area. To help make ends meet, Jean went to work at the collection bureau in Kalamazoo for a while, before taking a job at the cheese company in Otsego. In 1964, Chuck and Jean were overjoyed with the birth of their son, Chuck, who brought great joy into their lives. Jean remembered how her mother was always gone so much working after her father died and she did not want that for her son, so she left her job to devote herself to the role of a mother.

SubQuestion No : 19

Q.19 When did Jean graduate her junior high school?

- Ans
- A. 1954
 - B. 1964
 - C. 1963
 - D. 1953

Question ID : 60092913058

Comprehension:

Read the passage carefully and choose the best answer to each question out of the four alternatives.

Jean spent her first few years in Hooper and her family moved to Otsego early in her life. She was only ten when her father died unexpectedly, leaving her mother to raise and support their family alone. Her mother soon went to work outside the home to provide for the family, and Jean, being one of the oldest, had to help care for her younger siblings. Although she had much responsibility at home, Jean thoroughly enjoyed school and was an excellent student. She went on to graduate 10th in her class at Otsego High School in 1953. While still in high school, Jean met a young man named Charles "Chuck" Holly, at a dance in Alamo; and they were quite taken with each other. Over the next few years, their love for each other blossomed and they were married on February 24, 1955, while Jean was still in school.

At the time, Chuck was serving his country in the military, and had come home on leave to marry his sweetheart. Unfortunately, shortly thereafter, he was sent overseas to serve in Korea for the next fifteen months. Upon his discharge, the couple settled into married life together in the Plainwell, Otsego area. To help make ends meet, Jean went to work at the collection bureau in Kalamazoo for a while, before taking a job at the cheese company in Otsego. In 1964, Chuck and Jean were overjoyed with the birth of their son, Chuck, who brought great joy into their lives. Jean remembered how her mother was always gone so much working after her father died and she did not want that for her son, so she left her job to devote herself to the role of a mother.

SubQuestion No : 20

Q.20 What does the passage say about Jean's academic performance?

- Ans
- A. Above Average
 - B. Poor
 - C. Excellent
 - D. Average

Question ID : 60092913059

Section : General Hindi

Q.1 निम्नलिखित प्रश्न में, चार विकल्पों में से, उस विकल्प का चयन करें जो दिए गए पर्यायवाची शब्द का सही विकल्प हो।

सलिल

- Ans A. वायु
 B. तोंय
 C. दल
 D. नखत

Question ID : 60092913069

Q.2 निम्नलिखित प्रश्न में, चार विकल्पों में से, उस विकल्प का चयन करें जो दिए गए वाक्य के लिए पक्ष के भेद का सबसे अच्छा विकल्प हो।

वह अब तक काफी खेल चुका है।

- Ans A. पूर्णताद्योतक
 B. सातप्यबोधक
 C. अभ्यासद्योतक
 D. प्रगतिद्योतक

Question ID : 60092913073

Q.3 निम्नलिखित प्रश्न में, चार विकल्पों में से, उस विकल्प का चयन करें जो दिए गए सही संधि विच्छेद की संधि का सही विकल्प हो।

हो + अन

- Ans A. हौन
 B. हान
 C. हवन
 D. होन

Question ID : 60092913063

Q.4 निम्नलिखित प्रश्न में, चार विकल्पों में से, उस विकल्प का चयन करें जो तत्सम शब्द का सही विकल्प हो।

- Ans A. अंगूरी
 B. आग
 C. कड़वा
 D. अमूल्य

Question ID : 60092913065

Q.5 निम्नलिखित प्रश्न में, चार विकल्पों में से, उस विकल्प का चयन करें जो दिए गए वाक्य के भेद का सबसे अच्छा विकल्प हो।

मैंने एक व्यक्ति देखा जो बहुत लंबा था।

- Ans
- A. विधानवाचक
 - B. सरल वाक्य
 - C. संयुक्त वाक्य
 - D. मिश्र वाक्य

Question ID : 60092913071

Q.6 निम्नलिखित प्रश्न में, चार विकल्पों में से, उस विकल्प का चयन करें जो दिए गए शब्द का विलोम शब्द हो।

एकदेशीय -

- Ans
- A. बाह्यदेशीय
 - B. अपशकुन
 - C. सर्वदेशीय
 - D. अपकर्ष

Question ID : 60092913070

Q.7 निम्नलिखित प्रश्न में, चार विकल्पों में से, उस विकल्प का चयन करें जो दिए गए संधि का सही संधि विच्छेद हो।

सख्युचित

- Ans
- A. सखी + ओचित
 - B. सखी + ऊचित
 - C. सखी + औचित्य
 - D. सखी + उचित

Question ID : 60092913064

Q.8 निम्नलिखित प्रश्न में, चार विकल्पों में से, उस विकल्प का चयन करें जो वाक्यांशों के लिए एक शब्द का सही विकल्प हो।

हानि को पूरा करना -

- Ans
- A. हानिपूर्ति
 - B. क्षतिपूर्ति
 - C. क्षतिग्रस्त
 - D. हानिग्रस्त

Question ID : 60092913067

Q.9 निम्नलिखित प्रश्न में, चार विकल्पों में से, उस विकल्प का चयन करें जो दिए गए मुहावरे का सही अर्थ वाला विकल्प हो।

तिल धरने की जगह न होना -

- Ans
- A. अपमानित करना
 - B. बहुत प्रभावी होना
 - C. अधिकाधिक उन्नति
 - D. बहुत भीड़ होना

Question ID : 60092913075

Q.10 निम्नलिखित प्रश्न में, चार विकल्पों में से, उस विकल्प का चयन करें जो सही विराम चिह्न युक्त वाक्य का विकल्प है।

- Ans
- A. हाय। बेचारा मारा गया।
 - B. हाय ,, बेचारा मारा गया।
 - C. हाय ! बेचारा मारा गया
 - D. हाय ! बेचारा मारा गया।

Question ID : 60092913074

Q.11 निम्नलिखित प्रश्न में, चार विकल्पों में से, उस विकल्प का चयन करें जो शब्द युग्म के लिए सही अर्थ का विकल्प हो।

आयत - आयात

- Ans
- A. समकोण चतुर्भुज, सूरत
 - B. काम, बाहर से आना
 - C. खान ,सूरत
 - D. समकोण चतुर्भुज, बाहर से आना

Question ID : 60092913068

Q.12 निम्नलिखित प्रश्न में, चार विकल्पों में से, उस विकल्प का चयन करें जो दिए गए लोकोक्ति का सही अर्थ वाला विकल्प हो।

नौ नकद न तेरह उधार

- Ans
- A. टाल-मटोल करना
 - B. बहुत ऊँचा होना
 - C. काफी उधार देने के स्थान पर थोड़ा नकद अच्छा है
 - D. ना किसी से लेना ना देना

Question ID : 60092913077

Q.13 निम्नलिखित प्रश्न में, चार विकल्पों में से, उस विकल्प का चयन करें जो दिए गए लोकोक्ति का सही अर्थ वाला विकल्प हो।

का बर्षा जब कृषि सुखाने

- Ans
- A. अवसर बीत जाने पर सहायता व्यर्थ है
 - B. बेईमानी बार बार नहीं फलती
 - C. कठिन काम को करने में कष्ट सहने पड़ते हैं
 - D. बेमेल वस्तुओं का एक साथ होना

Question ID : 60092913076

Q.14 निम्नलिखित प्रश्न में, चार विकल्पों में से, उस विकल्प का चयन करें जो तदभव से बने शब्द का सही विकल्प हो।

- Ans
- A. ग्रंथि
 - B. गायक
 - C. नक्षत्र
 - D. कोख

Question ID : 60092913066

Q.15 निम्नलिखित प्रश्न में, चार विकल्पों में से, उस विकल्प का चयन करें जो दिए गए वाक्य के लिए वृत्ति के भेद का सबसे अच्छा विकल्प हो।

यदि तुम पढ़ते तो पास हो जाते।

- Ans
- A. संकेतार्थ
 - B. संदेहार्थ
 - C. सम्भवनार्थ
 - D. विध्यर्थ

Question ID : 60092913072

Comprehension:

इस गद्यांश को ध्यानपूर्वक पढ़ें और चार विकल्पों में से प्रत्येक प्रश्न का सर्वोत्तम उत्तर चुनें।

पत्रों की दुनिया भी अजीबो-गरीब है और उसकी उपयोगिता हमेशा से बनी रही है। पत्र जो काम कर सकते हैं, वह संचार का आधुनिकतम साधन नहीं कर सकता है। पत्र जैसा संतोष फोन या एसएमएस का सन्देश कहाँ दे सकता है। पत्र एक नया सिलसिला शुरू करते हैं और राजनीति, साहित्य तथा कला के क्षेत्रों में तमाम विवाद और नयी घटनाओं के जड़ भी पत्र ही होते हैं। दुनिया का तमाम साहित्य पत्रों पर केन्द्रित है और मानव सभ्यता के विकास में इन पत्रों ने अनूठी भूमिका निभाई है। विश्व डाक संघ द्वारा १६ वर्ष से कम आयु वर्ग के बच्चों के लिए पत्र लेखन प्रतियोगिताओं का आयोजन १९७२ से शुरू किया गया है।

SubQuestion No : 16

Q.16 अनुच्छेद के अनुसार पत्रों की दुनिया कैसी है?

- Ans
- A. झूठी है
 - B. तिलिस्मी है
 - C. अनोखी है
 - D. काल्पनिक है

Question ID : 60092913079

Comprehension:

इस गद्यांश को ध्यानपूर्वक पढ़ें और चार विकल्पों में से प्रत्येक प्रश्न का सर्वोत्तम उत्तर चुनें।

पत्रों की दुनिया भी अजीबो-गरीब है और उसकी उपयोगिता हमेशा से बनी रही है। पत्र जो काम कर सकते हैं, वह संचार का आधुनिकतम साधन नहीं कर सकता है। पत्र जैसा संतोष फोन या एसएमएस का सन्देश कहाँ दे सकता है। पत्र एक नया सिलसिला शुरू करते हैं और राजनीति, साहित्य तथा कला के क्षेत्रों में तमाम विवाद और नयी घटनाओं के जड़ भी पत्र ही होते हैं। दुनिया का तमाम साहित्य पत्रों पर केन्द्रित है और मानव सभ्यता के विकास में इन पत्रों ने अनूठी भूमिका निभाई है। विश्व डाक संघ द्वारा १६ वर्ष से कम आयु वर्ग के बच्चों के लिए पत्र लेखन प्रतियोगिताओं का आयोजन १९७२ से शुरू किया गया है।

SubQuestion No : 17

Q.17 विश्व डाक संघ द्वारा १६ वर्ष से कम आयु वर्ग के बच्चों के लिए पत्र लेखन प्रतियोगिताओं का आयोजन कब से शुरू किया गया है?

- Ans
- A. 1976
 - B. 1951
 - C. 2001
 - D. 1972

Question ID : 60092913081

Comprehension:

इस गद्यांश को ध्यानपूर्वक पढ़ें और चार विकल्पों में से प्रत्येक प्रश्न का सर्वोत्तम उत्तर चुनें।

पत्रों की दुनिया भी अजीबो-गरीब है और उसकी उपयोगिता हमेशा से बनी रही है। पत्र जो काम कर सकते हैं, वह संचार का आधुनिकतम साधन नहीं कर सकता है। पत्र जैसा संतोष फोन या एसएमएस का सन्देश कहाँ दे सकता है। पत्र एक नया सिलसिला शुरू करते हैं और राजनीति, साहित्य तथा कला के क्षेत्रों में तमाम विवाद और नयी घटनाओं के जड़ भी पत्र ही होते हैं। दुनिया का तमाम साहित्य पत्रों पर केन्द्रित है और मानव सभ्यता के विकास में इन पत्रों ने अनूठी भूमिका निभाई है। विश्व डाक संघ द्वारा १६ वर्ष से कम आयु वर्ग के बच्चों के लिए पत्र लेखन प्रतियोगिताओं का आयोजन १९७२ से शुरू किया गया है।

SubQuestion No : 18

Q.18 किस किस की जड़ में पत्र होते हैं?

- Ans
- A. यातायात में
 - B. राजनीति, साहित्य और कला
 - C. सामग्रियों की
 - D. खेल जगत में

Question ID : 60092913080

Comprehension:

इस गद्यांश को ध्यानपूर्वक पढ़ें और चार विकल्पों में से प्रत्येक प्रश्न का सर्वोत्तम उत्तर चुनें।

पत्रों की दुनिया भी अजीबो-गरीब है और उसकी उपयोगिता हमेशा से बनी रही है। पत्र जो काम कर सकते हैं, वह संचार का आधुनिकतम साधन नहीं कर सकता है। पत्र जैसा संतोष फोन या एसएमएस का सन्देश कहाँ दे सकता है। पत्र एक नया सिलसिला शुरू करते हैं और राजनीति, साहित्य तथा कला के क्षेत्रों में तमाम विवाद और नयी घटनाओं के जड़ भी पत्र ही होते हैं। दुनिया का तमाम साहित्य पत्रों पर केन्द्रित है और मानव सभ्यता के विकास में इन पत्रों ने अनूठी भूमिका निभाई है। विश्व डाक संघ द्वारा १६ वर्ष से कम आयु वर्ग के बच्चों के लिए पत्र लेखन प्रतियोगिताओं का आयोजन १९७२ से शुरू किया गया है।

SubQuestion No : 19

Q.19 इस अनुच्छेद का कोई उपयुक्त शीर्षक:

- Ans A. पत्रों की अनूठी दुनिया
 B. पत्र
 C. चिट्ठियों का विकास
 D. विश्व संघ का पत्र जगत के प्रति अवदान

Question ID : 60092913083

Comprehension:

इस गद्यांश को ध्यानपूर्वक पढ़ें और चार विकल्पों में से प्रत्येक प्रश्न का सर्वोत्तम उत्तर चुनें।

पत्रों की दुनिया भी अजीबो-गरीब है और उसकी उपयोगिता हमेशा से बनी रही है। पत्र जो काम कर सकते हैं, वह संचार का आधुनिकतम साधन नहीं कर सकता है। पत्र जैसा संतोष फोन या एसएमएस का सन्देश कहाँ दे सकता है। पत्र एक नया सिलसिला शुरू करते हैं और राजनीति, साहित्य तथा कला के क्षेत्रों में तमाम विवाद और नयी घटनाओं के जड़ भी पत्र ही होते हैं। दुनिया का तमाम साहित्य पत्रों पर केन्द्रित है और मानव सभ्यता के विकास में इन पत्रों ने अनूठी भूमिका निभाई है। विश्व डाक संघ द्वारा १६ वर्ष से कम आयु वर्ग के बच्चों के लिए पत्र लेखन प्रतियोगिताओं का आयोजन १९७२ से शुरू किया गया है।

SubQuestion No : 20

Q.20 निम्नलिखित विकल्पों में कौन सा शब्द 'पत्र' का पर्यायवाची शब्द नहीं है?

- Ans A. सन्देश
 B. चिट्ठी
 C. पाती
 D. खत

Question ID : 60092913082

Section : Discipline 1

Q.1 "माँ की कुल शिक्षा मैंने दी, पुष्प-सेज तेरी स्वयं रची, सोचा मन में, वह शकुन्तला, पर पाठ अन्य यह, अन्य कला।"
पंक्तियों किसकी हैं?

- Ans A. प्रेमचंद
 B. सूर्यकांत त्रिपाठी 'निराला'
 C. आचार्य शुक्ल
 D. हरिवंशराय बच्चन

Question ID : 60092913103

Q.2 "सरयू पार की यात्रा" किसकी रचना है?

- Ans
- A. रामविलास शर्मा
 - B. देवकी नंदन खत्री
 - C. आचार्य शुक्ल
 - D. भारतेन्दु हरिश्चंद्र

Question ID : 60092913086

Q.3 राहुल सांकृत्यायन कृत "धुमक्कड़ शास्त्र" किस विधा में लिखा गया है?

- Ans
- A. निबंध
 - B. आलोचना
 - C. यात्रा वृतांत
 - D. काव्य

Question ID : 60092913091

Q.4 "सांध्य-काकली" किस रचनाकार की कविताओं का संग्रह है?

- Ans
- A. महावीर प्रसाद द्विवेदी
 - B. नंद दुलारे वाजपेयी
 - C. कृष्णबिहारी मिश्र
 - D. सूर्यकांत त्रिपाठी निराला

Question ID : 60092913102

Q.5 दुःखिनी बाला' नाटक की रचना किसने की थी?

- Ans
- A. बालमुकुंद
 - B. राधाकृष्ण दास
 - C. श्याम सुन्दरदास
 - D. श्रीनिवास दास

Question ID : 60092913084

Q.6 भारतेन्दु कृत "तदीय सर्वस्व" किसका अनुवाद है?

- Ans
- A. नारद भक्तिसूत्र
 - B. ऋतु संहार
 - C. मेघदूत
 - D. आँखों की किरकिरी

Question ID : 60092913085

Q.7 हजारीप्रसाद द्विवेदी का प्रथम निबंध संग्रह कौन-सा है?

- Ans
- A. कुटज
 - B. अशोक के फूल
 - C. गतिशील चिंतन
 - D. आलोक पर्व

Question ID : 60092913090

Q.8 निम्न में से कौन-सा एक निबंध बाबू गुलाबराय का नहीं है?

- Ans A. चाबुक
 B. जीवन-पशु
 C. मेरे मानसिक उपादान
 D. प्रकार प्रभाकर

Question ID : 60092913088

Q.9 निम्न में से कौन-सा किशोरीलाल गोस्वामी का नाटक है?

- Ans A. चन्द्रावली
 B. प्रेम जोगिनी
 C. मयंक मंजरी
 D. तप्ता संवरण

Question ID : 60092913096

Q.10 गाँधी जी के दक्षिण अफ़्रीकी जीवन पर आधारित उपन्यास का क्या नाम है?

- Ans A. नई पौध
 B. पहला गिरमिटिया
 C. ढाई घर
 D. कर्मभूमि

Question ID : 60092913092

Q.11 "औरंगजेब की आखिरी रात" एकांकी के लेखक कौन हैं?

- Ans A. राधाचरण गोस्वामी
 B. मुक्ति बोध
 C. अयोध्या सिंह उपाध्याय 'हरिऔध'
 D. रामकुमार वर्मा

Question ID : 60092913089

Q.12 हिंदी की पहली आत्मकथा कौन-सी है?

- Ans A. क्या भूलूँ क्या याद करूँ
 B. प्रत्याशा
 C. अर्धकथानक
 D. मेरा जीवन वृत्त

Question ID : 60092913095

Q.13 आचार्य रामचंद्र शुक्ल और हिंदी आलोचना' किसने लिखा है?

- Ans A. रामविलास शर्मा
 B. नरेश मेहता
 C. राहुल सांकृत्यायन
 D. अज्ञेय

Question ID : 60092913098

Q.14 उषा प्रियंवदा के उपन्यास 'पचपन खम्भे लाल दीवारें' की नायिका कौन है?

- Ans
- A. देवकी
 - B. प्रिया
 - C. सुषमा
 - D. मीरा

Question ID : 60092913093

Q.15 निम्न में से कौन-सा विष्णु प्रभाकर द्वारा रचित नाटक नहीं है?

- Ans
- A. हत्या के बाद
 - B. अंधी गली
 - C. डॉक्टर
 - D. नव प्रभात

Question ID : 60092913100

Q.16 मुक्तिबोध की प्रतिबंधित पुस्तक का क्या नाम था?

- Ans
- A. नई कविता का आत्मसंघर्ष तथा अन्य निबंध
 - B. नये साहित्य का सौंदर्यशास्त्र
 - C. सतह से उठता आदमी
 - D. भारत: इतिहास और संस्कृति

Question ID : 60092913094

Q.17 वस्तुओं में आध्यात्मिक छाया का भान ही छायावाद है- किस आलोचक का कथन है?

- Ans
- A. जयशंकर प्रसाद
 - B. लाला भगवानदीन
 - C. राधाकृष्णदास
 - D. नंद दुलारे वाजपेयी

Question ID : 60092913087

Q.18 हितोपदेश का भाषानुवाद किसने किया?

- Ans
- A. पद्माकर
 - B. सेनापति
 - C. श्रीपति
 - D. बोधा

Question ID : 60092913101

Q.19 जिस विधा के द्वारा लेखक अपने बीते हुए जीवन का विवरण प्रस्तुत करता है उसे क्या कहते हैं?

- Ans
- A. आत्मकथा
 - B. संस्मरण
 - C. उपन्यास
 - D. साक्षात्कार

Question ID : 60092913099

Q.20 प्रगतिशील साहित्य की समस्याएँ निबंध संग्रह के लेखक कौन हैं?

- Ans A. सियाराम शरण गुप्त
 B. रामविलास शर्मा
 C. रामदरश मिश्र
 D. जगदीश चतुर्वेदी

Question ID : 60092913097

Section : Discipline2

Q.1 किस रचनाकार की भाषा परिमार्जित खड़ी बोली है जिसमें भाषा के दो रूप प्राँजल व्यावहारिक भाषा तथा संस्कृतनिष्ठ शास्त्रीय भाषा का प्रयोग दिखाई देता है?

- Ans A. श्यामसुंदर दास
 B. श्रीधर पाठक
 C. माखनलाल चतुर्वेदी
 D. हजारी प्रसाद द्विवेदी

Question ID : 60092913112

Q.2 अमीर खुसरो की पहेलियां और मुकरियां किस भाषा में है?

- Ans A. खड़ी बोली
 B. उर्दू
 C. अवधी
 D. ब्रज

Question ID : 60092913118

Q.3 किस रचनाकार की कहानियाँ 'बादलों के घेरे' नामक संग्रह में संकलित हैं?

- Ans A. ममता कालिया
 B. आचार्य रामचंद्र शुक्ल
 C. कृष्णा सोबती
 D. प्रेमचंद्र

Question ID : 60092913111

Q.4 महादेवी वर्मा को ज्ञानपीठ पुरस्कार उनकी किस कृति के लिए मिला?

- Ans A. यामा
 B. गीतपर्व
 C. आत्मिका
 D. नीलाम्बरा

Question ID : 60092913109

Q.5 निम्न में से किस रीतिकालीन कवि ने लक्षण ग्रन्थ की रचना नहीं की?

- Ans
- A. पद्माकर
 - B. मतिराम
 - C. भूषण
 - D. बिहारी लाल

Question ID : 60092913117

Q.6 चकमक की चिंगारियाँ किस रचनाकार की कविता है?

- Ans
- A. गजानन माधव मुक्तिबोध
 - B. केदारनाथ अग्रवाल
 - C. श्रीकांत वर्मा
 - D. भवानीप्रसाद मिश्र

Question ID : 60092913113

Q.7 निम्नलिखित महाकाव्यों में से कौन-सा महाकाव्य मलिक मुहम्मद जायसी द्वारा लिखा गया है?

- Ans
- A. उर्वशी
 - B. पद्मावत
 - C. कामायनी
 - D. रामचरित मानस

Question ID : 60092913105

Q.8 "भ्रमरगीत" नाम से सूर के काव्य को किसने सम्पादित किया?

- Ans
- A. आचार्य रामचंद्र शुक्ल
 - B. डॉ. रामकुमार वर्मा
 - C. आचार्य हजारी प्रसाद द्विवेदी
 - D. डॉ. श्यामसुंदर दास

Question ID : 60092913108

Q.9 चित्राधार' किस कवि की ब्रजभाषा की प्रथम कृति है?

- Ans
- A. सियारामशरण गुप्त
 - B. अयोध्यासिंह उपाध्याय 'हरिऔध'
 - C. मलिक मुहम्मद जायसी
 - D. जयशंकर प्रसाद

Question ID : 60092913115

Q.10 "रस सिद्धांत" के लेखक कौन थे?

- Ans
- A. डॉ. नगेन्द्र
 - B. अभिनवगुप्त
 - C. भट्टनायक
 - D. आचार्य मम्मट

Question ID : 60092913104

Q.11 गौतम बुद्ध की पत्नी के उज्ज्वल चरित्र के अंकन के लिए मैथिलीशरण गुप्त ने किस ग्रन्थ की रचना की?

- Ans
- A. अर्जन
 - B. द्वापर
 - C. यशोधरा
 - D. झंकार

Question ID : 60092913116

Q.12 आचार्य रामचंद्र शुक्ल ने 'साक्षात् रसमूर्ति' किस कवि को कहा है?

- Ans
- A. घनानंद
 - B. पद्माकर
 - C. मीरा
 - D. रहीम

Question ID : 60092913120

Q.13 "राम की शक्ति पूजा" किसकी कविता है?

- Ans
- A. महादेवी वर्मा
 - B. सुमित्रानंदन पंत
 - C. ज्योतिप्रसाद अग्रवाल
 - D. सूर्यकांत त्रिपाठी 'निराला'

Question ID : 60092913121

Q.14 निम्न में से जयशंकर प्रसाद जी की कौन-सी काव्य स्मृति काव्य की श्रेणी में आती है?

- Ans
- A. चित्राधार
 - B. कानन-कुसुम
 - C. प्रेम-पथिक
 - D. आँसू

Question ID : 60092913110

Q.15 "पउमचरित" में किसका वर्णन है?

- Ans
- A. शिव
 - B. सीता
 - C. भरत
 - D. राम

Question ID : 60092913106

Q.16 श्रीधर पाठक ने कौन-सा अनुवाद ब्रज भाषा में किया है?

- Ans
- A. ऊजड ग्राम
 - B. जासूस
 - C. ऋतु संहार
 - D. रसकलश

Question ID : 60092913119

Q.17 नीचे दिए गए शब्द का सही संधि-विच्छेद वाला विकल्प पहचानिए?

जगदीश

- Ans A. ज + गदीश
 B. जगद + ईश
 C. जग + दीश
 D. जगत् + ईश

Question ID : 60092913122

Q.18 अयोध्यासिंह उपाध्याय का ग्रन्थ 'प्रिय प्रवास' किस भाषा में लिखा गया है?

- Ans A. खड़ी बोली
 B. मगधी
 C. अवधी
 D. संस्कृत

Question ID : 60092913114

Q.19 नीचे दिए गए शब्दों का सही संधि वाला विकल्प पहचानिए?

तत् + टीका

- Ans A. ततटीका
 B. तट्टीका
 C. तततिका
 D. तटीका

Question ID : 60092913123

Q.20 "पथिक" किसका काव्य संग्रह है?

- Ans A. रामनरेश त्रिपाठी
 B. जगदीश चतुर्वेदी
 C. विद्यानिवास मिश्र
 D. मैथिलीशरण गुप्त

Question ID : 60092913107

Section : Discipline3

Q.1 निम्नलिखित विकल्पों में संकेतवाचक वाक्य का सही विकल्प चुनिए।

- Ans A. राम जाकर पढ़ाई करो।
 B. भगवान तुम्हें लंबी उम्र दे।
 C. कृपया सभी बैठ जाएँ।
 D. दीपक का घर उधर है।

Question ID : 60092913137

Q.2 निम्न विकल्पों में से उस विकल्प का चयन कीजिए जो दिए गए वाक्य के अनुसार विशेषण के भेद का सही विकल्प हो।

हमारे विद्यालय में (दो सौ विद्यार्थी) पढ़ते हैं।

- Ans
- A. सार्वनामिक विशेषण
 - B. व्यक्तिवाचक विशेषण
 - C. संख्यावाचक विशेषण
 - D. गुणवाचक विशेषण

Question ID : 60092913135

Q.3 'कजरौटा' शब्द में कौन-सा प्रत्यय है?

- Ans
- A. औटा
 - B. ओटा
 - C. कज
 - D. टा

Question ID : 60092913131

Q.4 'वह तोड़ती पत्थर। देखा उसे मैंने इलाहाबाद के पथ पर।' में कौन सी शब्द शक्ति है?

- Ans
- A. लक्षणा
 - B. रूढ़ लक्षणा
 - C. अभिधा
 - D. व्यंजना

Question ID : 60092913143

Q.5 निम्न विकल्पों में से उस विकल्प का चयन करें जो उपसर्ग से बने शब्द का सही विकल्प नहीं है।

- Ans
- A. निरंजन
 - B. दिखावा
 - C. प्रतिकूल
 - D. अतिरेक

Question ID : 60092913128

Q.6 निम्न विकल्पों में से संयुक्त वाक्य को पहचानिए।

- Ans
- A. क्या उसने परीक्षा की तैयारी कर ली है?
 - B. दिन ढल गया और अँधेरा बढ़ने लगा।
 - C. मीना बहुत अच्छा गाना गाती है।
 - D. जैसे ही काम खत्म हुआ वैसे ही हम निकल गए।

Question ID : 60092913138

Q.7 "पायँ महावर देन को नाइन बेठी आय।
फिरि-फिरि जानि महावरी, एड़ी मीड़ति जाय।।" इस पंक्ति में कौन-सा अलंकार है?

- Ans
- A. अतिशयोक्ति
 - B. विभावना
 - C. विरोधाभास
 - D. भ्रंतिमान

Question ID : 60092913141

Q.8 उजड़ना शब्द में कौन-सा उपसर्ग है?

- Ans
- A. उ
 - B. उजड़
 - C. उज
 - D. ना

Question ID : 60092913132

Q.9 निम्न विकल्पों में से उस विकल्प का चयन कीजिए जो जातिवाचक संज्ञा का सही विकल्प नहीं है।

- Ans
- A. मैत्री
 - B. क्रोधी
 - C. रुलाई
 - D. शांति

Question ID : 60092913136

Q.10 निम्न विकल्पों में से उस विकल्प का चयन कीजिए जो भाववाचक संज्ञा का सही विकल्प नहीं है।

- Ans
- A. तीक्ष्णता
 - B. क्रोध
 - C. पराया
 - D. निर्बलता

Question ID : 60092913133

Q.11 निम्न विकल्पों में से उस विकल्प का चयन कीजिए जो दिए गए शब्द का पर्यायवाची शब्द नहीं है।

चातक

- Ans
- A. वनप्रिय
 - B. सारन
 - C. पपीहा
 - D. स्वातिभक्त

Question ID : 60092913124

Q.12 निम्न विकल्पों में से उस विकल्प का चयन कीजिए जो दिए गए शब्द का एकार्थी शब्द है।

जिसे कभी बुढ़ापा न आए

- Ans A. अगम्य
 B. अमर
 C. अक्षम्य
 D. अजर

Question ID : 60092913126

Q.13 "अम्बर-पनघट में डुबो रही, तारा-घट ऊषा-नागरी" में कौन-सा अलंकार है?

- Ans A. श्लेष
 B. वक्रोक्ति
 C. रूपक
 D. यमक

Question ID : 60092913142

Q.14 निम्न विकल्पों में से मिश्र वाक्य को पहचानिए।

- Ans A. तुम अगर अपना काम जल्दी पूरा कर लो तो हम घूमने जा सकते हैं।
 B. मैं भी तुम्हारे जैसा डॉक्टर बनना चाहता हूँ।
 C. रेलगाड़ी बहुत धीरे चल रही है।
 D. उसने आज गृहकार्य नहीं किया।

Question ID : 60092913139

Q.15 नीचे दिए गए वाक्य के सही वाक्य भेद को पहचानिए।

सुरेश विद्यालय जाता है और मन लगाकर पढ़ता है।

- Ans A. मिश्र वाक्य
 B. सरल वाक्य
 C. विधानवाचक वाक्य
 D. संयुक्त वाक्य

Question ID : 60092913140

Q.16 निम्न विकल्पों में से उस विकल्प का चयन कीजिए जो दिए गए शब्द युग्म के सही अर्थ वाला विकल्प है।

अग-अघ

- Ans A. आगे-पीछे
 B. आग-अँधेरा
 C. आदत-उपकार
 D. पर्वत-पाष

Question ID : 60092913127

Q.17 निम्न विकल्पों में से उस विकल्प का चयन कीजिए जो दिए गए समस्तपद के सही कर्मधारय समास का विकल्प है।

चरणकमल

- Ans
- A. कमल का चरण
 - B. चरण के समान कमल
 - C. कमल के समान चरण
 - D. चरण का कमल

Question ID : 60092913129

Q.18 निम्न विकल्पों में से उस विकल्प का चयन कीजिए जो उत्तम पुरुष वाचक सर्वनाम का सही विकल्प है।

- Ans
- A. तुम
 - B. हमारे
 - C. वे
 - D. यह

Question ID : 60092913134

Q.19 निम्न विकल्पों में से उस विकल्प का चयन करें जो प्रत्यय से बने शब्द का सही विकल्प नहीं है।

- Ans
- A. चढ़ान
 - B. बैठा
 - C. कमसिन
 - D. ठकुराई

Question ID : 60092913130

Q.20 निम्न विकल्पों में से उस विकल्प का चयन कीजिए जो दिए गए शब्द का विलोम शब्द है।

उद्यमी

- Ans
- A. व्यवसाय
 - B. आलसी
 - C. मेहनती
 - D. वित्त

Question ID : 60092913125

Section : Discipline4

Q.1 निम्नलिखित प्रश्न में, चार विकल्पों में से उस विकल्प का चयन करें जो दिए गए लोकोक्ति का सही अर्थ हो।

अकेला चना भाड नहीं फोड़ता -

- Ans
- A. अकेला मनुष्य अपने दम पर किसी बड़े काम को अंजाम नहीं दे सकता
 - B. मनचाही बात हो जाना
 - C. जहाँ मालिक मूर्ख हो वहाँ सद्गुणों का आदर नहीं होता।
 - D. शारीरिक बल और बुद्धि के बीच बुद्धि ही श्रेष्ठ होती है।

Question ID : 60092913149

Q.2 निम्नलिखित प्रश्न में, चार विकल्पों में से उस विकल्प का चयन करें जो दिए गए लोकोक्ति का सही अर्थ हो।

अपनी टांग उधारिये आपही मरिये लाज-

- Ans
- A. अपना दोष स्वयं को दिखाई नहीं देता।
 - B. कुरूप व्यक्ति का अधिक शृंगार करना।
 - C. छल की कमाई यों ही समाप्त हो जाती है।
 - D. अपने घर की बात दूसरों से कहने पर बदनामी होती है।

Question ID : 60092913155

Q.3 भोजपुरी बोली का नाम किस गाँव के आधार पर पड़ा?

- Ans
- A. भोजपुर
 - B. छत्तीसगढ़
 - C. जयपुर
 - D. किशनगढ़

Question ID : 60092913152

Q.4 पश्चिमी पहाड़ी किस उपभाषा के अंतर्गत आती है?

- Ans
- A. पहाड़ी
 - B. राजस्थानी
 - C. बिहारी
 - D. पूर्वी हिन्दी

Question ID : 60092913150

Q.5 निम्नलिखित विकल्पों में से किसे हिन्दी की शैली नहीं मानेंगे?

- Ans
- A. मसनवी
 - B. संस्कृतनिष्ठ हिन्दी
 - C. दक्खिनी
 - D. हिन्दुस्तानी

Question ID : 60092913151

Q.6 "अखिल भुवन चर-अचर सब, हरि मुख में लिख मातु।
चकित भई गद्गद बचना, विकसित दृग पुलकातु।।" पंक्ति में कौन-सा रस है?

- Ans
- A. अद्भुत रस
 - B. भयानक रस
 - C. वीभत्स रस
 - D. भक्ति रस

Question ID : 60092913146

Q.7 नीचे दिए गए वाक्य में कौन-सी शब्द शक्ति है?

'सूर्य अस्त हो गया।'

- Ans
- A. अभिधा
 - B. लक्षणा
 - C. प्रयोजनवती लक्षणा
 - D. व्यंजना

Question ID : 60092913144

Q.8 निम्नलिखित प्रश्न में, चार विकल्पों में से उस विकल्प का चयन करें जो दिए गए लोकोक्ति का सही अर्थ हो।

होनहार बिरवान के होत चीकने पात-

- Ans
- A. किसी से विवशतापूर्ण माँगना।
 - B. ऊपर से भला बनकर धोखा देना।
 - C. प्रतिभा बचपन से दिखाई देती है।
 - D. व्यर्थ में गले पड़ना।

Question ID : 60092913160

Q.9 "बीती विभावरी जाग री।
अम्बर-पनघट में डुबो रही तारा-घट ऊषा-नागरी"। इस पंक्ति में कौन-सा अलंकार है?

- Ans
- A. विभावना
 - B. रूपक
 - C. संदेह
 - D. भ्रांतिमान

Question ID : 60092913147

Q.10 निम्नलिखित प्रश्न में, चार विकल्पों में से उस विकल्प का चयन करें जो दिए गए लोकोक्ति का सही अर्थ हो।

जाके पाँव व फटी बिबाई, सो क्या जाने पीर पराई-

- Ans
- A. बिना दुःख भोगे दुःख का बोध नहीं होता
 - B. झूठ ज़्यादा दिन तक नहीं ठहरता है।
 - C. निर्लज्ज को किसी की परवाह नहीं होती।
 - D. घोर संकट में जरा सी सहायता ही काफी होती है।

Question ID : 60092913158

Q.11 विश्व हिन्दी दिवस कब मनाया जाता है?

- Ans
- A. 10 जनवरी
 - B. 21 जनवरी
 - C. 14 जनवरी
 - D. 26 जनवरी

Question ID : 60092913162

Q.12 निम्नलिखित प्रश्न में, चार विकल्पों में से उस विकल्प का चयन करें जो दिए गए मुहावरे का सही अर्थ हो।

सर पर कफन बाँधना -

- Ans A. बहुत लज्जित होना
 B. शेखी करना
 C. संकट से बचना
 D. बलिदान के लिए तैयार होना

Question ID : 60092913159

Q.13 निम्नलिखित प्रश्न में, चार विकल्पों में से उस विकल्प का चयन करें जो दिए गए मुहावरे का सही अर्थ हो।

दो से चार बनाने का गणित

- Ans A. मन में प्रकट होना
 B. धन को जल्दी- जल्दी बढ़ाने की कला
 C. उपरी बातें करना
 D. किसी धुन पर अड़े होना

Question ID : 60092913156

Q.14 नागरी लिपि को किस नाम से जाना जाता है?

- Ans A. नंदि देवीय लिपि
 B. देवलिपि
 C. दैवीय लिपि
 D. नंदिनागरी लिपि

Question ID : 60092913153

Q.15 निम्नलिखित प्रश्न में, चार विकल्पों में से उस विकल्प का चयन करें जो दिए गए मुहावरे का सही अर्थ हो।

अंधियारा मिटना-

- Ans A. अज्ञान समाप्त होना
 B. विश्वास दिलाना
 C. भेद का पता लगना
 D. हंसी उड़ाना

Question ID : 60092913157

Q.16 हा! हा!! इन्हें रोकन को टोक न लगावो तुम।" इस पंक्ति में कौन-सा अलंकार है?

- Ans A. अनुप्रास
 B. उपमा
 C. वीप्सा
 D. पुनरुक्तिवदाभास

Question ID : 60092913145

Q.17 राम को रूप निहारति जानकी कंगन के नग की परछाही।
याते सबे सुधि भूलि गइ, करटेकि रही पल टारत नाही।। पंक्ति में कौन-सा रस है?

- Ans A. हास्य रस
 B. श्रृंगार रस
 C. शांत रस
 D. करुण रस

Question ID : 60092913148

Q.18 देवनागरी लिपि कैसे लिखी जाती है?

- Ans A. दायीं से बाईं ओर
 B. नीचे से ऊपर की ओर
 C. ऊपर से नीचे की ओर
 D. बायीं से दायीं ओर

Question ID : 60092913154

Q.19 कार्यालयी हिंदी की भाषा कैसी होनी चाहिए?

- Ans A. अभिधात्मक
 B. लक्षणात्मक
 C. व्यंजनात्मक
 D. अभिधा- लक्षणा मिश्रित

Question ID : 60092913163

Q.20 'मध्यकालीन' भारतीय आर्यभाषा का सही कालक्रम है-

- Ans A. ११०० ई.पू से ३०० ई.पू
 B. १००० ई.से अब तक
 C. ५०० ई.पू १०००ई
 D. १५०० ई.पू से ५०० ई पूर्व तक

Question ID : 60092913161

Section : Discipline5

Comprehension:

निम्नलिखित अवतरण को ध्यानपूर्वक पढ़िए और उससे सम्बंधित प्रश्नों के दिए गए बहुविकल्पों में से सही विकल्प को चुनिए।

नाव गर्व से सर उठा कर नदी की लहरों पर दौड़ती चली जाती है, और पानी उसका जयकार करता हुआ उसे अपने हाथों पर उठाएँ रहता है, किंतु जब नाव डूबती है तो अपने ही छोटे से छेद के कारण जो धीरे-धीरे कब हो गया वह जान ही नहीं पाती और छेद हो जाने पर वही पानी उसे खींच कर डुबो देता है। व्यक्ति भी जब डूबता है तो अपने ही किसी छेद के कारण जिसे उसने मामूली सा समझ कर अनदेखा कर दिया था। हर विपत्ति हम पर तभी हावी होती है, जब हम ढीले पड़ जाते हैं। यदि हम प्रतिदिन सजग होकर इस बात पर दृष्टि दौड़ाते रहे कि हमारे प्रयासों में कहीं कोई कमी तो नहीं रह गई, तब हमें कोई भी पराजित नहीं कर सकता। अपने कल को कायर और निकम्मे लोग याद करके पछताते रहते हैं। जहाँ हम कल खड़े थे वही खड़े रहना अपराध है। जो कुछ और जिस रूप में हमने कोई काम कल किया था, उससे कहीं बेहतर करने का संकल्प और प्रयत्न करना हमारा धर्म होना चाहिए।

SubQuestion No : 1

Q.1 अनुच्छेद के अनुसार हमें क्या संकल्प करना चाहिए।

- Ans
- A. जहाँ थे वहीं रहने का
 - B. पहले से बेहतर काम करने का
 - C. सदा पहले की तरह ही काम करने का
 - D. चीजों को अनदेखा करने का

Question ID : 60092913167

Comprehension:

निम्नलिखित अवतरण को ध्यानपूर्वक पढ़िए और उससे सम्बंधित प्रश्नों के दिए गए बहुविकल्पों में से सही विकल्प को चुनिए।

नाव गर्व से सर उठा कर नदी की लहरों पर दौड़ती चली जाती है, और पानी उसका जयकार करता हुआ उसे अपने हाथों पर उठाएँ रहता है, किंतु जब नाव डूबती है तो अपने ही छोटे से छेद के कारण जो धीरे-धीरे कब हो गया वह जान ही नहीं पाती और छेद हो जाने पर वही पानी उसे खींच कर डुबो देता है। व्यक्ति भी जब डूबता है तो अपने ही किसी छेद के कारण जिसे उसने मामूली सा समझ कर अनदेखा कर दिया था। हर विपत्ति हम पर तभी हावी होती है, जब हम ढीले पड़ जाते हैं। यदि हम प्रतिदिन सजग होकर इस बात पर दृष्टि दौड़ाते रहे कि हमारे प्रयासों में कहीं कोई कमी तो नहीं रह गई, तब हमें कोई भी पराजित नहीं कर सकता। अपने कल को कायर और निकम्मे लोग याद करके पछताते रहते हैं। जहाँ हम कल खड़े थे वही खड़े रहना अपराध है। जो कुछ और जिस रूप में हमने कोई काम कल किया था, उससे कहीं बेहतर करने का संकल्प और प्रयत्न करना हमारा धर्म होना चाहिए।

SubQuestion No : 2

Q.2 अपने कल को याद करके कायर और निकम्मे लोग क्या करते हैं?

- Ans
- A. पछताते हैं
 - B. सबसे छिपाते हैं
 - C. लोगों को बताते हैं
 - D. सुधरते हैं

Question ID : 60092913166

Comprehension:

निम्नलिखित अवतरण को ध्यानपूर्वक पढ़िए और उससे सम्बंधित प्रश्नों के दिए गए बहुविकल्पों में से सही विकल्प को चुनिए।

नाव गर्व से सर उठा कर नदी की लहरों पर दौड़ती चली जाती है, और पानी उसका जयकार करता हुआ उसे अपने हाथों पर उठाएं रहता है, किंतु जब नाव डूबती है तो अपने ही छोटे से छेद के कारण जो धीरे-धीरे कब हो गया वह जान ही नहीं पाती और छेद हो जाने पर वही पानी उसे खींच कर डुबो देता है। व्यक्ति भी जब डूबता है तो अपने ही किसी छेद के कारण जिसे उसने मामूली सा समझ कर अनदेखा कर दिया था। हर विपत्ति हम पर तभी हावी होती है, जब हम ढीले पड़ जाते हैं। यदि हम प्रतिदिन सजग होकर इस बात पर दृष्टि दौड़ाते रहे कि हमारे प्रयासों में कहीं कोई कमी तो नहीं रह गई, तब हमें कोई भी पराजित नहीं कर सकता। अपने कल को कायर और निकम्मे लोग याद करके पछताते रहते हैं। जहाँ हम कल खड़े थे वही खड़े रहना अपराध है। जो कुछ और जिस रूप में हमने कोई काम कल किया था, उससे कहीं बेहतर करने का संकल्प और प्रयत्न करना हमारा धर्म होना चाहिए।

SubQuestion No : 3

Q.3 दिए गए अनुच्छेद का सटीक शीर्षक लिखिए।

Ans A. नदी की लहर

B. सफलता का रहस्य

C. पराजित व्यक्ति

D. नाव का छेद

Question ID : 60092913169

Comprehension:

निम्नलिखित अवतरण को ध्यानपूर्वक पढ़िए और उससे सम्बंधित प्रश्नों के दिए गए बहुविकल्पों में से सही विकल्प को चुनिए।

नाव गर्व से सर उठा कर नदी की लहरों पर दौड़ती चली जाती है, और पानी उसका जयकार करता हुआ उसे अपने हाथों पर उठाएं रहता है, किंतु जब नाव डूबती है तो अपने ही छोटे से छेद के कारण जो धीरे-धीरे कब हो गया वह जान ही नहीं पाती और छेद हो जाने पर वही पानी उसे खींच कर डुबो देता है। व्यक्ति भी जब डूबता है तो अपने ही किसी छेद के कारण जिसे उसने मामूली सा समझ कर अनदेखा कर दिया था। हर विपत्ति हम पर तभी हावी होती है, जब हम ढीले पड़ जाते हैं। यदि हम प्रतिदिन सजग होकर इस बात पर दृष्टि दौड़ाते रहे कि हमारे प्रयासों में कहीं कोई कमी तो नहीं रह गई, तब हमें कोई भी पराजित नहीं कर सकता। अपने कल को कायर और निकम्मे लोग याद करके पछताते रहते हैं। जहाँ हम कल खड़े थे वही खड़े रहना अपराध है। जो कुछ और जिस रूप में हमने कोई काम कल किया था, उससे कहीं बेहतर करने का संकल्प और प्रयत्न करना हमारा धर्म होना चाहिए।

SubQuestion No : 4

Q.4 अनुच्छेद के अनुसार व्यक्ति के डूबने का क्या कारण है?

Ans A. अपनी गलती को अनदेखा करना

B. दूसरों की नकल करना

C. सदा सही काम करना

D. गलती को सुधारना

Question ID : 60092913165

Comprehension:

निम्नलिखित अवतरण को ध्यानपूर्वक पढ़िए और उससे सम्बंधित प्रश्नों के दिए गए बहुविकल्पों में से सही विकल्प को चुनिए।

नाव गर्व से सर उठा कर नदी की लहरों पर दौड़ती चली जाती है, और पानी उसका जयकार करता हुआ उसे अपने हाथों पर उठाए रहता है, किंतु जब नाव डूबती है तो अपने ही छोटे से छेद के कारण जो धीरे-धीरे कब हो गया वह जान ही नहीं पाती और छेद हो जाने पर वही पानी उसे खींच कर डुबो देता है। व्यक्ति भी जब डूबता है तो अपने ही किसी छेद के कारण जिसे उसने मामूली सा समझ कर अनदेखा कर दिया था। हर विपत्ति हम पर तभी हावी होती है, जब हम ढीले पड़ जाते हैं। यदि हम प्रतिदिन सजग होकर इस बात पर दृष्टि दौड़ाते रहे कि हमारे प्रयासों में कहीं कोई कमी तो नहीं रह गई, तब हमें कोई भी पराजित नहीं कर सकता। अपने कल को कायर और निकम्मे लोग याद करके पछताते रहते हैं। जहाँ हम कल खड़े थे वही खड़े रहना अपराध है। जो कुछ और जिस रूप में हमने कोई काम कल किया था, उससे कहीं बेहतर करने का संकल्प और प्रयत्न करना हमारा धर्म होना चाहिए।

SubQuestion No : 5

Q.5 दिए गए विकल्पों में से कौन-सा संकल्प का समानार्थी शब्द है?

Ans A. उद्देश्य

B. कार्य

C. कोशिश

D. प्रयत्न

Question ID : 60092913168

Comprehension:

निम्नलिखित काव्यांश को ध्यानपूर्वक पढ़िए और उससे सम्बंधित प्रश्नों के दिए गए बहुविकल्पों में से सही विकल्प को चुनिए।

ऑसू से भाग्य पसीजा है, हे मित्र कहाँ इस जग में?
नित यहाँ शक्ति के आगे, दीपक जलते मग-मग में।
कुछ तनिक ध्यान से सोचो, धरती किसकी हो पाई?
बोलो युग-युग तक किसने, किसकी विरुदावलि गाई?
मधुमास मधुर रुचिकर है, पर पतझर भी आता है।
जग रंगमंच का अभिनय, जो आता सो जाता है।
सचमुच वह ही जीवित है, जिसमें कुछ बल-विक्रम है।
पल-पल घुड़दौड़ यहाँ है, बल-पौरुष का संगम है।
दुर्बल को सहज मिटाकर, चुपचाप समय खा जाता,
वीरों के ही गीतों को, इतिहास सदा दोहराता।
फिर क्या विषाद, भय चिंता जो होगा सब सह लेंगे,
परिवर्तन की लहरों में जैसे होगा बह लेंगे।

SubQuestion No : 6

Q.6 काव्य के अनुसार पतझड़ का क्या अर्थ है?

Ans A. सुख

B. दुःख

C. खुशियाँ

D. ऋतु

Question ID : 60092913171

Comprehension:

निम्नलिखित काव्यांश को ध्यानपूर्वक पढ़िए और उससे सम्बंधित प्रश्नों के दिए गए बहुविकल्पों में से सही विकल्प को चुनिए।

आँसू से भाग्य पसीजा है, हे मित्र कहाँ इस जग में?
नित यहाँ शक्ति के आगे, दीपक जलते मग-मग में।
कुछ तनिक ध्यान से सोचो, धरती किसकी हो पाई?
बोलो युग-युग तक किसने, किसकी विरुदावलि गाई?
मधुमास मधुर रुचिकर है, पर पतझर भी आता है।
जग रंगमंच का अभिनय, जो आता सो जाता है।
सचमुच वह ही जीवित है, जिसमें कुछ बल-विक्रम है।
पल-पल घुड़दौड़ यहाँ है, बल-पौरुष का संगम है।
दुर्बल को सहज मिटाकर, चुपचाप समय खा जाता,
वीरों के ही गीतों को, इतिहास सदा दोहराता।
फिर क्या विषाद, भय चिंता जो होगा सब सह लेंगे,
परिवर्तन की लहरों में जैसे होगा बह लेंगे।

SubQuestion No : 7

Q.7 काव्यांश का उचित शीर्षक चुनिए।

- Ans A. परिवर्तन की लहर
 B. दुर्बल लोग
 C. पतझड़ का समय
 D. रंगमंच

Question ID : 60092913175

Comprehension:

निम्नलिखित काव्यांश को ध्यानपूर्वक पढ़िए और उससे सम्बंधित प्रश्नों के दिए गए बहुविकल्पों में से सही विकल्प को चुनिए।

आँसू से भाग्य पसीजा है, हे मित्र कहाँ इस जग में?
नित यहाँ शक्ति के आगे, दीपक जलते मग-मग में।
कुछ तनिक ध्यान से सोचो, धरती किसकी हो पाई?
बोलो युग-युग तक किसने, किसकी विरुदावलि गाई?
मधुमास मधुर रुचिकर है, पर पतझर भी आता है।
जग रंगमंच का अभिनय, जो आता सो जाता है।
सचमुच वह ही जीवित है, जिसमें कुछ बल-विक्रम है।
पल-पल घुड़दौड़ यहाँ है, बल-पौरुष का संगम है।
दुर्बल को सहज मिटाकर, चुपचाप समय खा जाता,
वीरों के ही गीतों को, इतिहास सदा दोहराता।
फिर क्या विषाद, भय चिंता जो होगा सब सह लेंगे,
परिवर्तन की लहरों में जैसे होगा बह लेंगे।

SubQuestion No : 8

Q.8 इतिहास किसे सदैव दोहराता है?

- Ans A. चिंता को
 B. वीरों के कार्य को
 C. सभी लोगों को
 D. कमजोरों के कार्य को

Question ID : 60092913173

Comprehension:

निम्नलिखित काव्यांश को ध्यानपूर्वक पढ़िए और उससे सम्बंधित प्रश्नों के दिए गए बहुविकल्पों में से सही विकल्प को चुनिए।

आँसू से भाग्य पसीजा है, हे मित्र कहाँ इस जग में?
नित यहाँ शक्ति के आगे, दीपक जलते मग-मग में।
कुछ तनिक ध्यान से सोचो, धरती किसकी हो पाई?
बोलो युग-युग तक किसने, किसकी विरुदावलि गाई?
मधुमास मधुर रुचिकर है, पर पतझर भी आता है।
जग रंगमंच का अभिनय, जो आता सो जाता है।
सचमुच वह ही जीवित है, जिसमें कुछ बल-विक्रम है।
पल-पल घुड़दौड़ यहाँ है, बल-पौरुष का संगम है।
दुर्बल को सहज मिटाकर, चुपचाप समय खा जाता,
वीरों के ही गीतों को, इतिहास सदा दोहराता।
फिर क्या विषाद, भय चिंता जो होगा सब सह लेंगे,
परिवर्तन की लहरों में जैसे होगा बह लेंगे।

SubQuestion No : 9

Q.9 दिए गए विकल्पों में से कौन-सा विषाद का पर्यायवाची शब्द नहीं है?

- Ans A. खुशी
 B. सुस्ती
 C. अवसाद
 D. उदासी

Question ID : 60092913174

Comprehension:

निम्नलिखित काव्यांश को ध्यानपूर्वक पढ़िए और उससे सम्बंधित प्रश्नों के दिए गए बहुविकल्पों में से सही विकल्प को चुनिए।

आँसू से भाग्य पसीजा है, हे मित्र कहाँ इस जग में?
नित यहाँ शक्ति के आगे, दीपक जलते मग-मग में।
कुछ तनिक ध्यान से सोचो, धरती किसकी हो पाई?
बोलो युग-युग तक किसने, किसकी विरुदावलि गाई?
मधुमास मधुर रुचिकर है, पर पतझर भी आता है।
जग रंगमंच का अभिनय, जो आता सो जाता है।
सचमुच वह ही जीवित है, जिसमें कुछ बल-विक्रम है।
पल-पल घुड़दौड़ यहाँ है, बल-पौरुष का संगम है।
दुर्बल को सहज मिटाकर, चुपचाप समय खा जाता,
वीरों के ही गीतों को, इतिहास सदा दोहराता।
फिर क्या विषाद, भय चिंता जो होगा सब सह लेंगे,
परिवर्तन की लहरों में जैसे होगा बह लेंगे।

SubQuestion No : 10

Q.10 काव्य के अनुसार समय किसे खा जाता है?

- Ans A. जो प्रसिद्ध है
 B. जो सबल है
 C. जो दुर्बल है
 D. जो अलग है

Question ID : 60092913172

Q.1 कौन सा शब्द लैटिन शब्द 'कॉग्नोस्करे' से व्युत्पन्न है?

- Ans
- A. क्रीएटिव
 - B. कान्सेप्ट
 - C. कामिशन
 - D. करिक्वलयम

Question ID : 60092913177

Q.2 सीखना और अध्यापन के पाठ्यक्रम में सीखने के किन दृष्टिकोणों पर चर्चा की गई है?

- Ans
- A. भौतिक विज्ञान
 - B. अध्यापन विधि
 - C. मनोवैज्ञानिक और सामाजिक-सांस्कृतिक
 - D. सक्रिय शिक्षा

Question ID : 60092913176

Q.3 जिस विद्यालय में सभी छात्र एक छत के नीचे पढ़ सकते हैं उसे _____ कहा जाता है।

- Ans
- A. विशेष विद्यालय
 - B. विशेषज्ञता विद्यालय
 - C. समावेशी विद्यालय
 - D. सामान्य विद्यालय

Question ID : 60092913182

Q.4 निःशुल्क और अनिवार्य शिक्षा किस अनुच्छेद के अंतर्गत आती है?

- Ans
- A. अनुच्छेद 304
 - B. अनुच्छेद 29
 - C. अनुच्छेद 21A
 - D. अनुच्छेद 30

Question ID : 60092913179

Q.5 निर्णय का मूल्यांकन ____ को सूचित करता है।

- Ans
- A. निर्णय और विषय मूल्य
 - B. मौखिक और उद्देश्य मूल्य
 - C. दुराग्रही (अपिन्यनेटिड), व्यक्तिपरक मूल्य
 - D. भाषा, वस्तुनिष्ठ मूल्य

Question ID : 60092913181

Q.6 वृद्धि और विकास के अनुसार प्रकृति का नियम क्या है?

- Ans
- A. फिर से बनाना
 - B. रद्दोबदल (ऑल्टरेशन)
 - C. परिवर्तन
 - D. समानता

Question ID : 60092913184

Q.7 लड़के और लड़कियों की पोषण संबंधी आवश्यकताएं किस आयु तक समान होती हैं?

- Ans A. 10-12 वर्ष
 B. 7-9 वर्ष
 C. 11-13 वर्ष
 D. 4-5 वर्ष

Question ID : 60092913180

Q.8 किस प्रकार के नाटक आपदा, पीड़ा और मृत्यु जैसे गहरे विषयों का उपयोग करते हैं?

- Ans A. त्रासदी
 B. बल
 C. कॉमेडी
 D. ड्र

Question ID : 60092913185

Q.9 यदि अधिकतम सुधार के बाद व्यक्ति की दृष्टि _____ से कम है, तो उन्हें दृष्टिबाधित कहा जाता है।

- Ans A. 6/36
 B. 6/24
 C. 6/16
 D. 6/60

Question ID : 60092913183

Q.10 LAC विद्यालय और महाविद्यालय के पाठ्यक्रमों के लिए शब्द है जो छात्रों को विदेशी भाषा का अध्ययन करने की अनुमति देता है। LAC का अर्थ _____ है।

- Ans A. लैंग्वेज अक्रॉस कोचिंग
 B. लैंग्वेज अक्रॉस द करिक्यलम
 C. लैंग्वेज अक्रॉस कंटेंट
 D. लैंग्वेज अक्रॉस द क्लास

Question ID : 60092913178

DSSSB TGT Sanskrit (Female) Question Paper 2021

Participant ID	Join Telegram Group "HaryanaJobs.in"
Participant Name	
Test Center Name	
Test Date	18/09/2021
Test Time	4:30 PM - 6:30 PM
Subject	TGT Sanskrit-(Female)

Section : General Ability

Q.1 प्रश्न में, एक कथन दिया गया है, जिसके बाद दो धारणाएँ I, और II दी गई हैं। आपको उन कथनों को सत्य मानना है, भले ही यह सामान्यतः ज्ञात तथ्य से भिन्न प्रतीत हो। आपको निर्णय लेना है कि दी गई धारणाओं में से कौन-सी, यदि कोई है, निहित है।

कथन: टेलीविज़न का न केवल मनोरंजन मूल्य होता है बल्कि शैक्षिक मूल्य भी होता है।
धारणा I: लोग टेलीविज़न के शैक्षिक मूल्य की उपेक्षा करते प्रतीत होते हैं।
धारणा II: लोग टेलीविज़न को केवल मनोरंजन का साधन मानते हैं।

- Ans
- A. केवल I निहित हैं
 - B. न तो I और न ही II निहित है
 - C. I और II दोनों निहित हैं
 - D. केवल II निहित है

Question ID : 60092912587

Q.2 निम्नलिखित संख्या श्रृंखला में गलत पद ज्ञात करें।

90, 108, 126, 144, 164

- Ans
- A. 90
 - B. 144
 - C. 164
 - D. 108

Question ID : 60092912588

Q.3 दिए गए विकल्पों में से तीन एक निश्चित तरीके से समान हैं। हालाँकि, एक विकल्प अन्य तीन की तरह नहीं है। उस विकल्प का चयन करें जो अन्य से अलग है।

- Ans
- A. 1800
 - B. 2025
 - C. 900
 - D. 625

Question ID : 60092912589

Q.4 दिए गए विकल्पों में से तीन एक निश्चित तरीके से समान हैं। हालाँकि, एक विकल्प अन्य तीन की तरह नहीं है। उस विकल्प का चयन करें जो अन्य से अलग है।

- Ans A. HM
 B. RW
 C. UY
 D. SX

Question ID : 60092912579

Q.5 एक निश्चित कोड भाषा में, यदि डॉलर को पाउंड कहा गया है, पाउंड को यूरो कहा गया है, यूरो को रुपया कहा गया है, रुपया को दीनार कहा गया है, तो इटली की मुद्रा क्या है?

- Ans A. दीनार
 B. रुपया
 C. यूरो
 D. पाउंड

Question ID : 60092912583

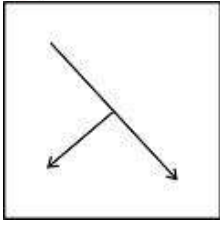
Q.6 एक निश्चित कोड भाषा में, यदि 65328918 को FECBHIAH के रूप में कोडित किया गया है, तो 6742689 को कैसे कोड किया जाएगा?

- Ans A. FJBGFHI
 B. FGDBFIH
 C. FGDBFHI
 D. FDGBHFI

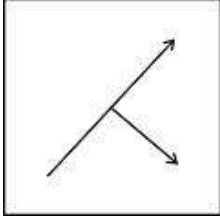
Question ID : 60092912582

Q.7 यदि एक दर्पण को रेखा MN पर रखा जाता है, तो उत्तर आकृति में से कौन सी दी गई आकृति की सही छवि है?

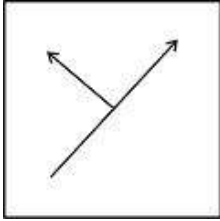
Ans A.



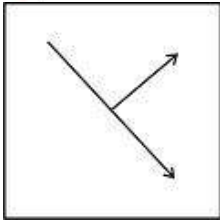
B.



C.



D.

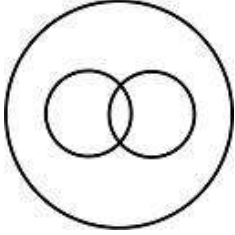


www.HaryanaJobs.in

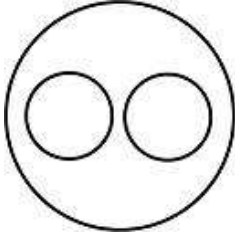
Question ID : 60092912594

Q.8 निम्नलिखित में से कौन सा वेन आरेख अभियंताओं, स्नातकों और स्नातकोत्तरों के बीच के संबंध को सबसे अच्छा दर्शाता है?

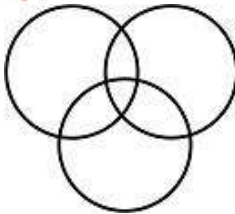
Ans A.



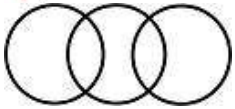
B.



C.

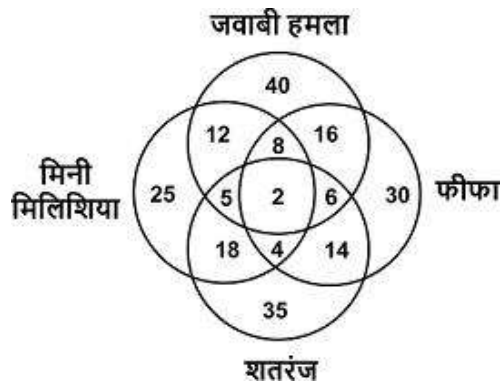


D.



Question ID : 60092912590

Q.9 महाविद्यालय में टेक फेस्ट का आयोजन किया गया। निम्नलिखित वेन आरेख चार विभिन्न खेलों में भाग लेने वाले छात्रों की संख्या को दर्शाता है। न्यूनतम तीन खेलों में भाग लेने वाले विद्यार्थियों की संख्या ज्ञात करें।



Ans A. 25

B. 20

C. 21

D. 23

Question ID : 60092912591

Q.10 दिए गए अनुक्रम में ऐसी कितनी विषम संख्याएँ हैं जो अपनी तुरंत बाद की संख्या से पूर्णतः विभाजित होती हैं?

1 3 2 4 3 7 5 2 1 7 9 3 3 1 7 9 6 8 3 6

Ans A. 3

B. 4

C. 1

D. 2

Question ID : 60092912584

Q.11 निम्नलिखित संख्या श्रृंखला में लुप्त पद ज्ञात करें।

452, 448, 456, 440, _____, 408

Ans A. 472

B. 532

C. 511

D. 435

Question ID : 60092912576

Q.12 दिए गए शब्दों को उस क्रम में व्यवस्थित करें जिस क्रम में वे शब्दकोश में होते हैं।

1. Easter
2. Emphasis
3. Euphoria
4. Ecstatic
5. Easier

Ans A. 51423

B. 14253

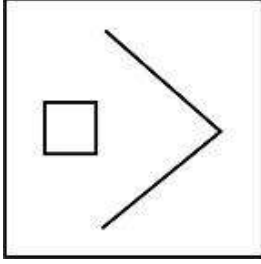
C. 25143

D. 14235


Question ID : 60092912577

Q.13 निम्नलिखित प्रश्न में, आकृति A और B के बीच एक निश्चित संबंध है। विकल्प में से वह आकृति ज्ञात करें जो आकृति C के साथ समान संबंध रखती है।

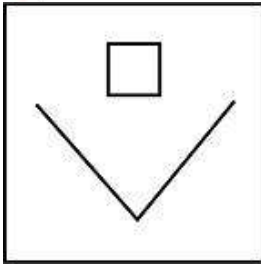
Ans A.



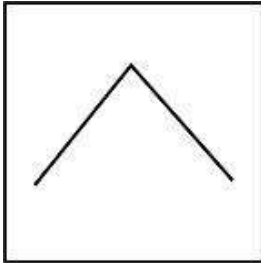
B.



C.



D.



www.HaryanaJobs.in

Question ID : 60092912593

Q.14 एक सुहावनी सुबह, आशीष एक खम्भे के सामने मुख करके खड़ा था। खम्भे की छाया आशीष के दाएं ओर गिरी। उसका मुख किस दिशा में था?

Ans A. दक्षिण

B. पूर्व

C. उत्तर

D. पश्चिम

Question ID : 60092912585

Q.15 उस विकल्प का चयन करें जो तीसरे पद से उसी प्रकार से संबंधित है जिस प्रकार से दूसरा पद पहले पद से संबंधित है।

78 : 41 :: 106 : ?

- Ans A. 64
 B. 45
 C. 60
 D. 55

Question ID : 60092912581

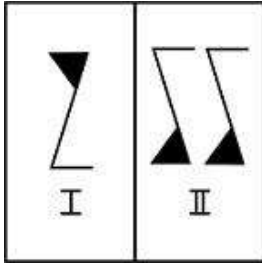
Q.16 दिए गए विकल्पों में से तीन एक निश्चित तरीके से समान हैं। हालाँकि, एक विकल्प अन्य तीन की तरह नहीं है। उस विकल्प का चयन करें जो अन्य से अलग है।

- Ans A. ध्यानरहित
 B. बेपरवाह
 C. सतर्क
 D. लापरवाह

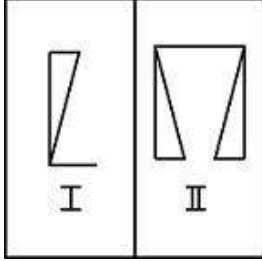
Question ID : 60092912578

Q.17 उस जोड़ी का चयन करें जो प्रश्न आकृति में स्थित जोड़ी से भिन्न है।

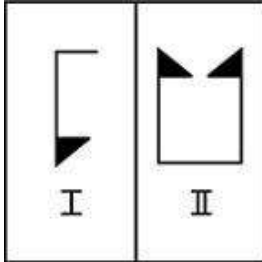
Ans A.



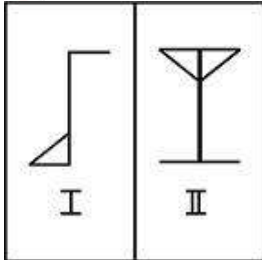
B.



C.



D.



www.HaryanaJobs.in

Question ID : 60092912592

Q.18 विकल्प में से उस जोड़ी का चयन करें जो प्रश्न में दी गई जोड़ी के समान है।

सूर्योदय : सूर्यास्त :: ?

Ans A. समुद्र : तट

B. शब्दकोश : शब्द

C. फुटपाथ : राजमार्ग

D. कलम : कागज़

Question ID : 60092912580

Q.19 इस प्रश्न में, तीन कथन दिए गए हैं, जिसके बाद दो निष्कर्ष I और II दिए गए हैं। यह मानते हुए कि कथन में सभी जानकारी सत्य है, दो निष्कर्षों का एक साथ विश्लेषण करें और निर्धारित करें कि क्या कथन में दी गई जानकारी में से कोई भी तार्किक रूप से और निश्चित रूप से अनुसरण करता/करते है।

कथन I: कुछ प्राइम नेटप्लिक्स हैं।

कथन II: सभी नेटप्लिक्स हॉटस्टार हैं।

कथन III: सभी हॉटस्टार स्पॉटिफाई हैं।

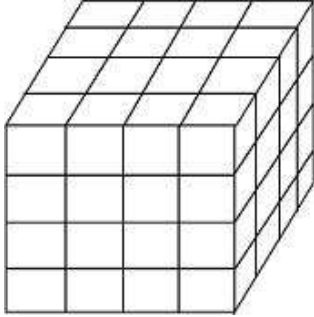
निष्कर्ष I: कुछ प्राइम स्पॉटिफाई हैं।

निष्कर्ष II: सभी स्पॉटिफाई नेटप्लिक्स हैं।

- Ans A. केवल I अनुसरण करता है
 B. न तो I और न ही II अनुसरण करता है
 C. केवल II अनुसरण करता है
 D. I और II दोनों अनुसरण करते हैं

Question ID : 60092912586

Q.20 दी गई आकृति में सबसे छोटे आकार के घनों की कुल संख्या ज्ञात करें।



- Ans A. 24
 B. 64
 C. 16
 D. 32

Question ID : 60092912595

Section : General Awareness

Q.1 जुलाई 2021 में, सेना प्रमुख एमएम नरवणे ने निम्नलिखित में से किस देश में भारतीय सैनिकों के लिए युद्ध स्मारक का उद्घाटन किया?

- Ans A. इटली
 B. यूनाइटेड किंगडम
 C. फ्रांस
 D. संयुक्त राज्य अमेरिका

Question ID : 60092912610

Q.2 निम्नलिखित में से किस लेखक ने फिक्शन के लिए पुलित्जर पुरस्कार जीता है?

- Ans A. झुम्पा लाहिड़ी
 B. अरुंधति राय
 C. अनीता देसाई
 D. चित्रा बैनर्जी दिवाकरूणी

Question ID : 60092912607

Q.3 भारतीय हॉकी टीम ने वर्ष _____ में विश्व कप जीता।

- Ans A. 1982
 B. 1975
 C. 1973
 D. 1971

Question ID : 60092912615

Q.4 निम्नलिखित में से किस अनुच्छेद के द्वारा भारतीय संविधान किसानों ने ब्रिटिश संसद द्वारा पारित पूर्व अधिनियमों को निरस्त कर दिया था?

- Ans A. अनुच्छेद 356
 B. अनुच्छेद 51A
 C. अनुच्छेद 343
 D. अनुच्छेद 395

Question ID : 60092912612

Q.5 "द रूम ऑन द रूफ" निम्न द्वारा लिखित पुस्तक है।

- Ans A. सलमान रुश्दी
 B. खुशवन्त सिंह
 C. आर. के. नारायण
 D. रस्किन बॉण्ड

Question ID : 60092912608

Q.6 एक्वा टैब में सक्रिय संघटक (पानी को शुद्ध करने वाली स्वयं घुलनशील गोलियां) हैं:

- Ans A. सोडियम डाइक्लोरोडिऑक्सायन्यूरेट (NaDCC)
 B. सोडियम ऑक्टासोल्फेट ($\text{Na}_2\text{MO}_8\text{O}_{25} \cdot 4\text{H}_2\text{O}$)
 C. सोडियम यूरेनेट (Na_2UO_4)
 D. सोडियम बिस्मूथेन (NaBiO_3)

Question ID : 60092912600

Q.7 निम्नलिखित में से कौन सी खाड़ी भारत को श्रीलंका से अलग करती है?

- Ans A. कच्छ की खाड़ी
 B. खंभात की खाड़ी
 C. बंगाल की खाड़ी
 D. मन्नार की खाड़ी

Question ID : 60092912602

Q.8 निम्नलिखित में से कौन सा रासायनिक यौगिक उर्वरक के रूप में या उर्वरकों के उत्पादन में उपयोग नहीं किया जाता है?

- Ans A. फ्लोरिन
 B. नाइट्रोजन
 C. मैग्नीशियम
 D. पोटेशियम

Question ID : 60092912601

Q.9 निम्नलिखित में से कौन 1928 में भारतीय फील्ड हॉकी टीम के कप्तान थे, जब उन्होंने ओलंपिक में पहला स्वर्ण पदक जीता था?

- Ans A. लाल शाह बुखारी
 B. ध्यान चन्द
 C. जयपाल सिंह मुंडा
 D. कृष्ण लाल

Question ID : 60092912614

Q.10 भारतीय संविधान के अनुच्छेद 36-51 निर्दिष्ट करते हैं:

- Ans A. नागरिकों के मौलिक अधिकार
 B. राज्य नीति के निर्देशक सिद्धांत
 C. संघ के संबंध में सत्ताएं और प्रावधान
 D. राज्यसभा के लिए सीटों की संख्या और चुनाव प्रक्रिया

Question ID : 60092912613

Q.11 विश्व आर्थिक मंच द्वारा एकत्रित आंकड़ों के अनुसार, 2019 तक, भारत दुनिया का _____ सबसे बड़ा उपभोक्ता बाजार है।

- Ans A. पांचवीं
 B. आठवीं
 C. सातवीं
 D. छठी

Question ID : 60092912598

Q.12 निम्नलिखित में से कौन सा सीमा कार्मिक बैठक बिंदु भारत और चीन के बीच साझा नहीं किया जाता है?

- Ans
- A. नाथुला
 - B. स्पैंगगुर गैप (Spanggur Gap)
 - C. बुम ला
 - D. बनबसा

Question ID : 60092912603

Q.13 थेय्यम उत्सव की शुरुआत निम्नलिखित में से किस राज्य में हुई थी?

- Ans
- A. तमिल नाडु
 - B. तेलंगाना
 - C. केरल
 - D. कर्नाटक

Question ID : 60092912596

Q.14 इल्लुतमिश को निम्नलिखित में से किसके निर्माण का श्रेय दिया जा सकता है:

- Ans
- A. हौज-ए-शम्सी
 - B. कुव्वत-उल-इस्लाम मस्जिद
 - C. जमात खाना मस्जिद
 - D. अलाई दरवाजा

Question ID : 60092912604

Q.15 मनसबदारी प्रणाली _____ प्रशासन की विशिष्टता थी।

- Ans
- A. गुर्जर-प्रतिहार
 - B. मुगल
 - C. दिल्ली सल्तनत
 - D. नासिरी

Question ID : 60092912606

Q.16 सांख्यिकी एवं कार्यक्रम क्रियान्वयन मंत्रालय द्वारा एकत्र किए गए आंकड़ों के अनुसार, भारतीय अर्थव्यवस्था के निम्नलिखित में से कौन सा क्षेत्र 2020-21 तक अपने GDP में सबसे अधिक योगदानकर्ता है?

- Ans
- A. निर्माण क्षेत्र
 - B. सेवा क्षेत्र
 - C. औद्योगिक क्षेत्र
 - D. कृषि क्षेत्र

Question ID : 60092912599

Q.17 निम्नलिखित में से कौन सा गिरजाघर गोवा में स्थित है?

- Ans A. से कैथेड्रल
 B. सांता क्रूज बैसिलिका
 C. सेंट एंड्रयू चर्च
 D. सेंट पॉल कैथेड्रल

Question ID : 60092912597

Q.18 भारत की केंद्र सरकार ने 6 जुलाई, 2021 को नया मंत्रालय बनाया, जो है:

- Ans A. मिनिस्ट्री ऑफ को-ऑपरेशन
 B. आयुष मंत्रालय
 C. मत्स्यपालन, पशुपालन और डेयरी मंत्रालय
 D. पूर्वोत्तर क्षेत्र के विकास मंत्रालय।

Question ID : 60092912609

Q.19 निम्नलिखित में से किस फार्मा कंपनी को भारत के औषधि महानियंत्रक द्वारा जून में मोडर्ना के कोविड-19 टीके को भारत में आपातकालीन उपयोग के लिए आयात करने की अनुमति दी गई थी?

- Ans A. कैडिला हेल्थकेयर लिमिटेड
 B. एबोट इंडिया
 C. सन फार्मा
 D. सिप्ला

Question ID : 60092912611

Q.20 मध्यकालीन भारत में घोड़ों का व्यापार मुख्य रूप से इनमें से किस केंद्र से किया जाता था?

- Ans A. सूरत
 B. काबुल
 C. बंगाल
 D. तंजावुर

Question ID : 60092912605

Section : Arithmetic Ability

Q.1 एक कक्ष की लंबाई, चौड़ाई और ऊंचाई क्रमशः 14 m, 15 m और 15 m है। कक्ष की छत और दीवारों पर रंगाई की जरूरत है। वह कौन सा क्षेत्र होगा जिस पर रंगाई की आवश्यकता है?

- Ans A. 1080 sq. m
 B. 210 sq. m
 C. 870 sq. m
 D. 960 sq. m

Question ID : 60092912632

Q.2 एक व्यक्ति 420 m त्रिज्या वाले वृत्ताकार पथ पर 4 m/s की गति से दौड़ रहा है। यदि उसकी गति पथ के प्रत्येक एक चक्कर को पूरा करने के बाद गति 1/4 से कम हो जाती है, तो पथ के दो चक्कर पूरे करने में उसे कितना समय लगेगा?

- Ans A. 1440 सेकंड
 B. 1540 सेकंड
 C. 1520 सेकंड
 D. 1340 सेकंड

Question ID : 60092912627

Q.3 एक निश्चित राशि साधारण ब्याज पर 12 वर्षों में स्वयं का तीन गुना हो जाती है। ब्याज दर ज्ञात करें।

- Ans A. 16.66 प्रतिशत
 B. 16 प्रतिशत
 C. 33.33 प्रतिशत
 D. 12.5 प्रतिशत

Question ID : 60092912626

Q.4 2500 रुपए को दो भागों में इस प्रकार विभाजित किया गया है कि यदि एक भाग को 9 प्रतिशत और दूसरे भाग को 4 प्रतिशत की दर से निवेश किया जाता है, तो दोनों राशि से अर्जित संपूर्ण वार्षिक ब्याज 150 रुपए हैं। 9 प्रतिशत पर कितना उधार दिया गया था?

- Ans A. 900 रुपए
 B. 1000 रुपए
 C. 1200 रुपए
 D. 1500 रुपए

Question ID : 60092912625

Q.5 एक विद्यालय में N छात्र हैं, इनमें से 69 प्रतिशत छात्र क्रिकेट खेलते हैं और 49 प्रतिशत छात्र हॉकी खेलते हैं और 54 छात्र क्रिकेट और हॉकी दोनों खेलते हैं। N का मान ज्ञात करें।

- Ans A. 400
 B. 300
 C. 500
 D. 600

Question ID : 60092912620

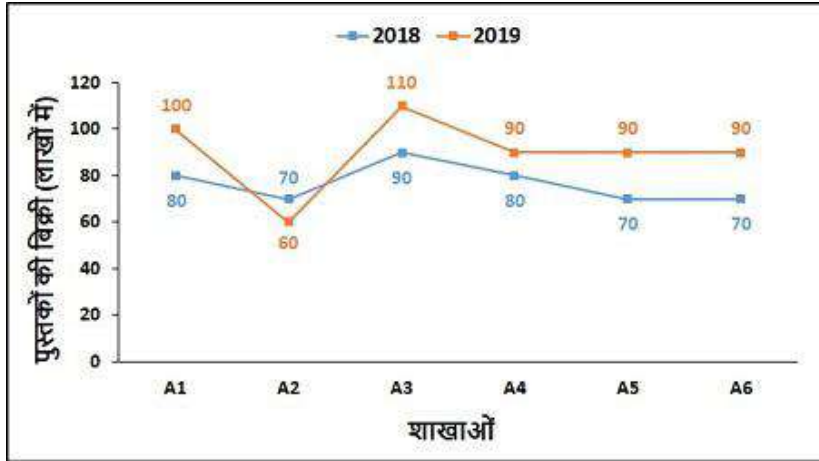
Q.6 निम्नलिखित प्रश्न में प्रश्नवाचक चिन्ह (?) के स्थान पर लगभग कितना मान आना चाहिए?

$$78 \text{ का } 50 \text{ प्रतिशत} + 90 \text{ का } ? \text{ प्रतिशत} = 161 \times 3 + \sqrt{841} \times 3$$

- Ans A. 690
 B. 570
 C. 590
 D. 550

Question ID : 60092912617

Q.7 निम्नलिखित तालिका 2018 और 2019 के दौरान प्रकाशन कंपनी की छह शाखाओं से पुस्तकों की बिक्री (लाखों में) को दर्शाती है। 2018 में शाखाओं A1 और A2 पर बेची गई पुस्तकों का 2019 में शाखाओं A3 और A5 में बेची गई पुस्तकों से अनुपात क्या है?



- Ans
- A. 6 : 7
 - B. 3 : 5
 - C. 3 : 4
 - D. 5 : 6

Question ID : 60092912634

Q.8 एक विद्यालय में लड़कों का लड़कियों से अनुपात 4:5 है। यदि उसी विद्यालय के 45 छात्र समान अनुपात में विद्यालय छोड़ देते हैं और 40 नई लड़कियां विद्यालय में आती हैं, तो लड़कों का लड़कियों से अनुपात 4 : 9 हो जाता है। विद्यालय में लड़कों की नई संख्या ज्ञात करें।

- Ans
- A. 40
 - B. 32
 - C. 48
 - D. 60

Question ID : 60092912619

Q.9 निम्नलिखित प्रश्न में प्रश्नवाचक चिन्ह (?) के स्थान पर लगभग कितना मान आना चाहिए?

$$599.99 \text{ का } 59.89 \text{ प्रतिशत} + 499.99 \text{ का } 49.79 \text{ प्रतिशत} = 329.01 - ?$$

- Ans
- A. -381
 - B. -281
 - C. 281
 - D. 381

Question ID : 60092912616

Q.10 तार के दो टुकड़े हैं जिनमें से प्रत्येक की लंबाई 56 cm है। एक टुकड़े का उपयोग करके वर्ग बनाया गया है और दूसरे टुकड़े से 7 cm, 24 cm और 25 cm भुजाओं का त्रिभुज बनाता है। त्रिभुज के क्षेत्रफल का वर्ग के क्षेत्रफल से अनुपात है:

- Ans
- A. 2 : 1
 - B. 1 : 2
 - C. 7 : 3
 - D. 3 : 7

Question ID : 60092912631

Q.11 वरुण और करुण एक कार्य को क्रमशः 18 दिन और 27 दिन में पूरा कर सकते हैं। करुण कार्य शुरू करता है और कुछ दिनों बाद वरुण उसके साथ जुड़ता है। कुल कार्य प्रारंभ से 15 दिनों में पूरा किया जाता है। वरुण कितने दिनों के बाद करुण के साथ जुड़ा?

- Ans
- A. 7 दिन
 - B. 8 दिन
 - C. 9 दिन
 - D. 6 दिन

Question ID : 60092912629

Q.12 रेलगाड़ी A और B की औसत गति 20 kmph है। रेलगाड़ी B की गति ज्ञात करें, यदि A और B द्वारा समान दूरी को तय करने में लिए गए समय का अनुपात 2:3 है।

- Ans
- A. 10 kmph
 - B. 50/3 kmph
 - C. 16 kmph
 - D. 8 kmph

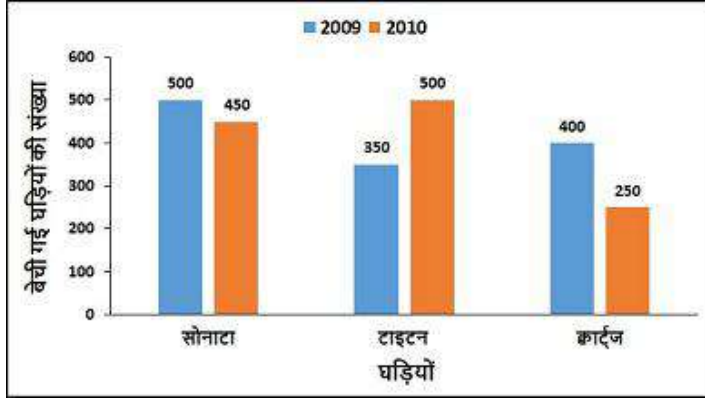
Question ID : 60092912628

Q.13 तेरह छात्रों के औसत अंक 63 थे। जाँच के बाद यह पता चला कि एक छात्र के अंक 52 के बजाय 39 दर्ज किए गए थे और दूसरे छात्र के अंक 27 के बजाय 66 दर्ज किए गए थे। सही औसत ज्ञात करें।

- Ans
- A. 61
 - B. 60
 - C. 65
 - D. 59

Question ID : 60092912618

Q.14 निम्नलिखित बार ग्राफ क्वार्ट्ज द्वारा बेची गई घड़ियों की संख्या को दर्शाता है जो पिछले वर्ष की तुलना करते समय वर्ष 2011 में 20 प्रतिशत की वृद्धि हुई है। वर्ष 2009 में क्वार्ट्ज द्वारा बेची गई घड़ियों की कुल संख्या ज्ञात करें।



- Ans
- A. 270
 - B. 320
 - C. 250
 - D. 300

Question ID : 60092912635

Q.15 तीन प्रकार की चीनी को एक साथ मिश्रित किया गया है। उनकी मात्रा 3 : 5 : 7 के अनुपात में हैं और समान मात्राओं के वजन का अनुपात 4 : 2 : 3 है। यदि मिश्रण का भार 387 kg है तो पहले प्रकार की चीनी का वजन क्या होगा?

- Ans
- A. 120 kg
 - B. 108 kg
 - C. 132 kg
 - D. 96 kg

Question ID : 60092912624

Q.16 राम को एक वस्तु के अंकित मूल्य पर 15 प्रतिशत की छूट देने के बाद 19 प्रतिशत का लाभ होता है। यदि वस्तु को बिना किसी छूट के अंकित मूल्य पर बेचा जाता है, तो उसका लाभ प्रतिशत ज्ञात करें।

- Ans
- A. 30 प्रतिशत
 - B. 20 प्रतिशत
 - C. 40 प्रतिशत
 - D. 50 प्रतिशत

Question ID : 60092912621

Q.17 A, B से दो गुना कुशल है। यदि A, B से 30 दिन कम लेता है, तो वह समय ज्ञात करें जिसमें वे एक साथ कार्य को पूरा कर सकते हैं।

- Ans
- A. 24 दिन
 - B. 20 दिन
 - C. 18 दिन
 - D. 15 दिन

Question ID : 60092912630

Q.18 तालिका पांच वर्षों की अवधि में तीन शोरूमों द्वारा बेचे गए कंप्यूटरों की संख्या को दर्शाती है। 2016 में बेचे गए कंप्यूटरों की कुल संख्या 2018 की तुलना में कितने प्रतिशत कम है?

शोरूम	वर्ष				
	2014	2015	2016	2017	2018
A	500	400	500	600	600
B	400	400	500	400	500
C	400	500	400	500	400

- Ans
- A. 13 प्रतिशत
 - B. 5 प्रतिशत
 - C. 6.67 प्रतिशत
 - D. 15 प्रतिशत

Question ID : 60092912633

Q.19 अमृता और भावना ने क्रमशः 13800 रुपए और 17250 रुपए का निवेश करके हस्तशिल्प की साझेदारी में प्रवेश किया। 4 महीने के बाद, अमृता ने और 3000 रुपए का निवेश किया जबकि भावना ने 3000 रुपए वापस ले लिए। 2 और महीनों के बाद, चंदा 12250 रुपए की पूंजी के साथ व्यवसाय में शामिल हुई। एक वर्ष बाद 446100 रुपए के कुल लाभ में से भावना का हिस्सा चंदा से कितना अधिक है ?

- Ans
- A. 118625 रुपए
 - B. 146000 रुपए
 - C. 91250 रुपए
 - D. 109500 रुपए

Question ID : 60092912622

Q.20 P, Q, और R ने अपना पैसा 9 : 7 : 8 में निवेश किया। 7 महीने के बाद, P ने पहले की तरह ही समान राशि का निवेश किया, Q और R ने प्रारंभिक निवेश का क्रमशः 3/7वां और 3/8वां हिस्सा वापस ले लिया। यदि वर्ष के अंत में कुल लाभ 20,200 रुपए हैं। R का हिस्सा क्या है?

- Ans
- A. 2700 रुपए
 - B. 5400 रुपए
 - C. 3580 रुपए
 - D. 3250 रुपए

Question ID : 60092912623

Section : General English

Q.1 Select the word that is similar in meaning (SYNONYM) to the word given below:

malign

- Ans
- A. commend
 - B. besmirch
 - C. benefit
 - D. approve

Question ID : 60092912644

Q.2 Select the word segment that substitutes (replaces) the bracketed word segment correctly and completes the sentence meaningfully. Select the option 'no correction required' if the sentence is correct as given.

No sooner (had I started mowing the lawn when) it started raining.

- Ans
- A. No correction required
 - B. did I started mowing the lawn when
 - C. did I start mowing the lawn that
 - D. had I started mowing the lawn than

Question ID : 60092912638

Q.3 Some parts of a sentence have been jumbled up, and labelled P, Q, R and S. Select the option that gives the correct sequence in which these parts can be rearranged to form a meaningful and grammatically correct sentence.

Instead, they constituted a

P. and profoundly consequential

Q. a complex pattern of

R. "global ecumene," involving

S. intermittent but numerous

contacts.

- Ans
- A. RPSQ
 - B. RQPS
 - C. RSPQ
 - D. RQSP

Question ID : 60092912642

Q.4 The sentence below has been divided into three parts. Select the part of the sentence that has an error. If the sentence has no error, select the option 'No Error'.

Hardly had the team unpacked and assembled/ their equipment that the Inspector reported/ on the radio that the dell was clear.

- Ans
- A. their equipment that the Inspector reported
 - B. No Error
 - C. Hardly had the team unpacked and assembled
 - D. on the radio that the dell was clear.

Question ID : 60092912636

Q.5 Select the most appropriate 'one word' for the expressions given below:

Incapable of making mistakes or being wrong

- Ans
- A. scullery
 - B. reticent
 - C. infallible
 - D. scapegoat

Question ID : 60092912650

Q.6 Fill in the blank with the most appropriate choice.

I kind of self-edit that out of the history, but they did _____ for quite a while.

- Ans A. vacillate
 B. assimilate
 C. articulate
 D. capitulate

Question ID : 60092912641

Q.7 Four words are given, out of which only one word is spelt correctly. Choose the correctly spelt word.

- Ans A. sedalos
 B. sedulous
 C. sedalous
 D. sedulos

Question ID : 60092912645

Q.8 Select the most appropriate 'one word' for the expressions given below:

Certain to happen

- Ans A. inevitable
 B. palimony
 C. hegemony
 D. parlance

Question ID : 60092912649

Q.9 Fill in the blank with the most appropriate choice.

What he required of us was that we avoided _____ or muddled argument.

- Ans A. atrocious
 B. specious
 C. audacious
 D. tenacious

Question ID : 60092912640

Q.10 Four words are given, out of which only one word is spelt incorrectly. Choose the incorrectly spelt word.

- Ans A. ostentanius
 B. dogma
 C. facetious
 D. hierarchical

Question ID : 60092912646

Q.11 Select the word segment that substitutes (replaces) the bracketed word segment correctly and completes the sentence meaningfully. Select the option 'no correction required' if the sentence is correct as given.

Major sea ports at Larne and Belfast carry passengers and freight (across the Great Britain and Northern Ireland).

- Ans
- A. between Great Britain and Northern Ireland
 - B. across Great Britain and the Northern Ireland
 - C. across the Great Britain and the Northern Ireland
 - D. No correction required

Question ID : 60092912639

Q.12 Select the most appropriate meaning of the given idiom:

A house divided against itself cannot stand

- Ans
- A. Avoiding the main topic, not speaking directly about the issue
 - B. Everyone involved must unify and function together or it will not work out.
 - C. To be enraged and show it.
 - D. Policy of speeding up decisions

Question ID : 60092912647

Q.13 Select the most appropriate idiom of the given meaning:

This idiom can mean living material of which people are made of, or it can refer to human nature

- Ans
- A. Against the clock
 - B. Fools' Gold
 - C. Beat a dead horse
 - D. Flesh and blood

Question ID : 60092912648

Q.14 Select the word that is opposite in meaning (ANTONYM) to the word given below:

occlude

- Ans
- A. disdain
 - B. facilitate
 - C. ineffective
 - D. abstain

Question ID : 60092912643

Q.15 The sentence below has been divided into three parts. Select the part of the sentence that has an error. If the sentence has no error, select the option 'No Error'.

Hand dryers sell you on how/ hygienic they are, if you/ usually don't need to touch them.

- Ans**
- A. hygienic they are, for you
 - B. Hand dryers sell you on how
 - C. usually don't need to touch them.
 - D. No Error

Question ID : 60092912637

Comprehension:

A passage is given with 5 questions following it. Read the passage carefully and choose the best answer to each question out of the four alternatives:

Gorillas are peaceful, gentle, sociable, and mainly plant-eating creatures. They live in family groups. A typical group is led by the biggest and strongest grown-up male gorilla. A silverback's group usually includes one or two sub-adult males and a few females and their young. Their food includes a variety of plants along with a few kinds of insects and worms. At night the animals make a nest to sleep in. Many lightweight gorillas nest in trees. The heavier ones may nest in grasses on the ground. Babies sleep with their mothers at night. Life for mountain gorillas is not always peaceful. They are found in Africa and are endangered and threatened by the civil wars in the smaller parts of Africa. Hunters kill them for food. Their forests are cut down for farmland, fuel, and housing. But many scientists, forest rangers and other concerned people are working hard to protect mountain gorillas and their habitats.

SubQuestion No : 16

Q.16 According to the passage, which of the following option is incorrect? Choose one option.

- Ans**
- A. Gorillas are social creatures.
 - B. Gorilla's diet mostly include of plants and insects and worms.
 - C. The biggest and grown-up gorilla leads the group.
 - D. Mountain gorillas have become endangered due to changing temperatures in Africa.

Question ID : 60092912652

Comprehension:

A passage is given with 5 questions following it. Read the passage carefully and choose the best answer to each question out of the four alternatives:

Gorillas are peaceful, gentle, sociable, and mainly plant-eating creatures. They live in family groups. A typical group is led by the biggest and strongest grown-up male gorilla. A silverback's group usually includes one or two sub-adult males and a few females and their young. Their food includes a variety of plants along with a few kinds of insects and worms. At night the animals make a nest to sleep in. Many lightweight gorillas nest in trees. The heavier ones may nest in grasses on the ground. Babies sleep with their mothers at night. Life for mountain gorillas is not always peaceful. They are found in Africa and are endangered and threatened by the civil wars in the smaller parts of Africa. Hunters kill them for food. Their forests are cut down for farmland, fuel, and housing. But many scientists, forest rangers and other concerned people are working hard to protect mountain gorillas and their habitats.

SubQuestion No : 17

Q.17 Which of the following is not an attribute used to describe Gorillas in the passage?

- Ans
- A. Peaceful
 - B. Sociable
 - C. Gentle
 - D. Carnivorous

Question ID : 60092912656

Comprehension:

A passage is given with 5 questions following it. Read the passage carefully and choose the best answer to each question out of the four alternatives:

Gorillas are peaceful, gentle, sociable, and mainly plant-eating creatures. They live in family groups. A typical group is led by the biggest and strongest grown-up male gorilla. A silverback's group usually includes one or two sub-adult males and a few females and their young. Their food includes a variety of plants along with a few kinds of insects and worms. At night the animals make a nest to sleep in. Many lightweight gorillas nest in trees. The heavier ones may nest in grasses on the ground. Babies sleep with their mothers at night. Life for mountain gorillas is not always peaceful. They are found in Africa and are endangered and threatened by the civil wars in the smaller parts of Africa. Hunters kill them for food. Their forests are cut down for farmland, fuel, and housing. But many scientists, forest rangers and other concerned people are working hard to protect mountain gorillas and their habitats.

SubQuestion No : 18

Q.18 According to the passage, what has caused mountain gorillas to become endangered?

- Ans
- A. Diseases
 - B. Natural Disasters
 - C. Climatic Conditions
 - D. Human Activities

Question ID : 60092912653

Comprehension:

A passage is given with 5 questions following it. Read the passage carefully and choose the best answer to each question out of the four alternatives:

Gorillas are peaceful, gentle, sociable, and mainly plant-eating creatures. They live in family groups. A typical group is led by the biggest and strongest grown-up male gorilla. A silverback's group usually includes one or two sub-adult males and a few females and their young. Their food includes a variety of plants along with a few kinds of insects and worms. At night the animals make a nest to sleep in. Many lightweight gorillas nest in trees. The heavier ones may nest in grasses on the ground. Babies sleep with their mothers at night. Life for mountain gorillas is not always peaceful. They are found in Africa and are endangered and threatened by the civil wars in the smaller parts of Africa. Hunters kill them for food. Their forests are cut down for farmland, fuel, and housing. But many scientists, forest rangers and other concerned people are working hard to protect mountain gorillas and their habitats.

SubQuestion No : 19

Q.19 Where are mountain gorilla's found?

- Ans
- A. Asia
 - B. North America
 - C. South America
 - D. Africa

Question ID : 60092912654

Comprehension:

A passage is given with 5 questions following it. Read the passage carefully and choose the best answer to each question out of the four alternatives:

Gorillas are peaceful, gentle, sociable, and mainly plant-eating creatures. They live in family groups. A typical group is led by the biggest and strongest grown-up male gorilla. A silverback's group usually includes one or two sub-adult males and a few females and their young. Their food includes a variety of plants along with a few kinds of insects and worms. At night the animals make a nest to sleep in. Many lightweight gorillas nest in trees. The heavier ones may nest in grasses on the ground. Babies sleep with their mothers at night. Life for mountain gorillas is not always peaceful. They are found in Africa and are endangered and threatened by the civil wars in the smaller parts of Africa. Hunters kill them for food. Their forests are cut down for farmland, fuel, and housing. But many scientists, forest rangers and other concerned people are working hard to protect mountain gorillas and their habitats.

SubQuestion No : 20

Q.20 How many sub-adult males does a group of silverback gorillas include?

- Ans
- A. 2 to 4
 - B. 4 to 6
 - C. 1 to 2
 - D. 6 to 8

Question ID : 60092912655

Section : General Hindi

Q.1 निम्नलिखित प्रश्न में, चार विकल्पों में से, उस विकल्प का चयन करें जो दिए गए वाक्यांशों के लिए एक शब्द का सही विकल्प हो।

जो आँखों के सामने ना हो -

- Ans
- A. परोक्ष
 - B. तटस्थ
 - C. प्रत्यक्ष
 - D. दर्शनीय

Question ID : 60092912663

Q.2 निम्नलिखित प्रश्न में, चार विकल्पों में से, उस विकल्प का चयन करें जो दिए गए शब्द युग्म का सही अर्थ का सही विकल्प हो।

जरा- ज़रा

- Ans
- A. बुढ़ापा, तनिक
 - B. इरादा, तनिक
 - C. बुढ़ापा, जोड़
 - D. तथा, जोड़

Question ID : 60092912662

Q.3 निम्नलिखित प्रश्न में, चार विकल्पों में से, उस विकल्प का चयन करें जो द्विगु समास का सही विकल्प हो।

अठन्नी

- Ans
- A. आठ और आना
 - B. आठ आनो का समूह
 - C. आनों में है जो आठ समूह
 - D. आठ आनो का मेल है जो

Question ID : 60092912659

Q.4 निम्नलिखित प्रश्न में, चार विकल्पों में से, उस विकल्प का चयन करें जो दिए गए लोकोक्ति का सही अर्थ वाला विकल्प हो।

गिरे को खरबूजे का ज़रर

- Ans
- A. कई पाप करके पवित्र होने का नाटक करना
 - B. दोनों तरफ से किसी को लाभ होना।
 - C. व्यर्थ का प्रयास करना।
 - D. दोनों तरफ से किसी को हानि होना।

Question ID : 60092912670

Q.5 निम्नलिखित प्रश्न में, चार विकल्पों में से, उस विकल्प का चयन करें जो निजवाचक सर्वनाम का सही विकल्प हो।

- Ans
- A. जिसकी लाठी उसकी भैंस
 - B. उसे आप ही बात करने दो।
 - C. किन्ही दो छात्रों को बुलाओ।
 - D. वो मेरा घर है।

Question ID : 60092912661

Q.6 निम्नलिखित प्रश्न में, चार विकल्पों में से, उस विकल्प का चयन करें जो दिए गए संधि विच्छेद की संधि का सही विकल्प हो।

सम + अनु + अय

- Ans
- A. संवय
 - B. सनावय
 - C. समन्वय
 - D. समन्वाय

Question ID : 60092912657

Q.7 निम्नलिखित प्रश्न में, चार विकल्पों में से, उस विकल्प का चयन करें जो सही विराम चिह्न युक्त वाक्य का विकल्प हो।

- Ans
- A. यहाँ कई भाषाएँ पढ़ाई जाती हैं; जैसे-अंग्रेज़ी, तमिल, मलयालम आदि।
 - B. यहाँ कई भाषाएँ पढ़ाई जाती हैं जैसे-अंग्रेज़ी, तमिल, मलयालम आदि।
 - C. यहाँ कई भाषाएँ पढ़ाई जाती हैं; जैसे-अंग्रेज़ी तमिल मलयालम आदि।
 - D. यहाँ कई भाषाएँ पढ़ाई जाती हैं; जैसे-अंग्रेज़ी, तमिल, मलयालम आदि

Question ID : 60092912668

Q.8 निम्नलिखित प्रश्न में, चार विकल्पों में से, उस विकल्प का चयन करें जो संख्यावाचक विशेषण का सही विकल्प हो।

- Ans
- A. मुझे हल्का पीला रंग पसंद है।
 - B. खीर में कम चीनी डालना।
 - C. बगीचे में बहुत-से फूल थे।
 - D. शालू का गला बहुत सुरीला है।

Question ID : 60092912660

Q.9 निम्नलिखित प्रश्न में, चार विकल्पों में से, उस विकल्प का चयन करें जो दिए गए मुहावरे का सही अर्थ वाला विकल्प हो।

कन्न में पाँव लटकना-

- Ans
- A. सब भेद खोल देना
 - B. अर्थी को कंधे पर उठाकर अन्तिम संस्कार के लिए श्मशान ले जाना
 - C. धैर्य धारण करना
 - D. वृद्ध या जर्जर हो जाना

Question ID : 60092912671

Q.10 निम्नलिखित प्रश्न में, चार विकल्पों में से, उस विकल्प का चयन करें जो दिए गए लोकोक्ति का सही अर्थ वाला विकल्प हो।

छूछा कोई न पूछा

- Ans
- A. गरीब आदमी का आदर-सत्कार कोई नहीं करता।
 - B. जब अमीर आदमी गरीब आदमी का आदर सत्कार करता है।
 - C. बुरे काम का फल अच्छा नहीं हो सकता
 - D. जब बड़ा छोटे से अधिक ऐबी हो।

Question ID : 60092912669

Q.11 निम्नलिखित प्रश्न में, चार विकल्पों में से, उस सही विकल्प का चयन करें जो रिक्त स्थान के लिए उपयुक्त शब्द का सही विकल्प हो।

स्वस्थ शरीर में _____ मस्तिष्क निवास करता है।

- Ans
- A. सशक्त
 - B. सबल
 - C. निरोगी
 - D. स्वस्थ

Question ID : 60092912664

Q.12 निम्नलिखित प्रश्न में, चार विकल्पों में से, उस विकल्प का चयन करें जो दिए गए वाक्य के पक्ष के भेद का सही विकल्प हो।

वह अब तक काफी खेल चुका है।

- Ans
- A. नित्यताद्योतक
 - B. आरम्भद्योतक
 - C. पूर्णताद्योतक
 - D. प्रगतिद्योतक

Question ID : 60092912666

Q.13 निम्नलिखित प्रश्न में, चार विकल्पों में से, उस विकल्प का चयन करें जो दिए गए शब्द के सही संधि विच्छेद का विकल्प हो।

प्रत्यागमन

- Ans
- A. प्रत्य + गमन
 - B. प्रति + आगमन
 - C. प्रति + गमन
 - D. प्रति + अगमन

Question ID : 60092912658

Q.14 निम्नलिखित प्रश्न में, चार विकल्पों में से, उस विकल्प का चयन करें जो दिए गए वाक्य के भेद का सही विकल्प हो।

गरीब को लूटने के अतिरिक्त उसने उसकी हत्या भी कर दी।

- Ans
- A. मिश्र वाक्य
 - B. संयुक्त वाक्य
 - C. प्रश्नवाचक वाक्य
 - D. सरल वाक्य

Question ID : 60092912665

Q.15 निम्नलिखित प्रश्न में, चार विकल्पों में से, उस विकल्प का चयन करें जो दिए गए वाक्य के वृत्ति के भेद का सही विकल्प हो।

कुलपति महोदय, अनुमति देना चाहें।

- Ans A. बाध्यतासूचक
 B. अनुज्ञात्मक
 C. सम्भावनार्थ
 D. संकेतार्थ

Question ID : 60092912667

Comprehension:

नीचे दिए गए गद्यांश के बाद 5 प्रश्न दिए गए हैं। इस गद्यांश को ध्यानपूर्वक पढ़ें और चार विकल्पों में से प्रत्येक प्रश्न का सर्वोत्तम उत्तर चुनें।

मानव की दो मूल प्रवृत्तियां होती हैं। एक तो यह कि लोग हमारे गुणों की कद्र करें, हमें दाद दें और हमारा आदर करें और दूसरे वे हम पर प्रेम करें, हमारा अभाव महसूस करें, उनके जीवन में हम कुछ महत्त्व रखते हैं- ऐसा अनुभव करें। आपके ज़रा से कार्य की यदि किसी ने सच्चे दिल से प्रशंसा की या कोई आपकी सलाह माँगने आता है तो आपका दिल कैसा खिल उठता है? ऊपर से कोई बड़ा आदमी कितना भी आत्मविश्वासी और आत्मसंतुष्ट क्यों ना दिखाई दे, भीतर से वह हमारी-आपकी तरह प्रशंसा का, प्रोत्साहन का, स्नेह का भूखा है। यदि आप उसे, प्रमाणिकतापूर्वक ले सकें तो आप फ़ौरन उसके हृदय के निकट पहुँच जायेंगे। दूसरों की भावनाओं को ठीक-ठाक समझना, उनकी कद्र करना, उनके साथ सच्चाई और स्नेह का व्यवहार करना यही व्यवहारकुशलता है। इसी से सामाजिक जीवन में लोकप्रियता के दरवाजे खोलने की कुंजी हाथ लगती है। इससे हमारी अपनी सुख-शांति बढ़ती है।

SubQuestion No : 16

Q.16 व्यवहारकुशलता का क्या अर्थ है?

- Ans A. दूसरों की भावनाओं को समझकर सच्चाई और स्नेह का व्यवहार करना
 B. दूसरों की भावनाओं को समझकर उसके प्रतिकूल व्यवहार करना।
 C. दूसरों को समझना एवं अपनी परेशानी बताना
 D. अपनी आवश्यकता एवं रुची के अनुसार कार्य करना

Question ID : 60092912675

Comprehension:

नीचे दिए गए गद्यांश के बाद 5 प्रश्न दिए गए हैं। इस गद्यांश को ध्यानपूर्वक पढ़ें और चार विकल्पों में से प्रत्येक प्रश्न का सर्वोत्तम उत्तर चुनें।

मानव की दो मूल प्रवृत्तियां होती हैं। एक तो यह कि लोग हमारे गुणों की कद्र करें, हमें दाद दें और हमारा आदर करें और दूसरे वे हम पर प्रेम करें, हमारा अभाव महसूस करें, उनके जीवन में हम कुछ महत्त्व रखते हैं- ऐसा अनुभव करें। आपके ज़रा से कार्य की यदि किसी ने सच्चे दिल से प्रशंसा की या कोई आपकी सलाह माँगने आता है तो आपका दिल कैसा खिल उठता है? ऊपर से कोई बड़ा आदमी कितना भी आत्मविश्वासी और आत्मसंतुष्ट क्यों ना दिखाई दे, भीतर से वह हमारी-आपकी तरह प्रशंसा का, प्रोत्साहन का, स्नेह का भूखा है। यदि आप उसे, प्रमाणिकतापूर्वक ले सकें तो आप फ़ौरन उसके हृदय के निकट पहुँच जायेंगे। दूसरों की भावनाओं को ठीक-ठाक समझना, उनकी कद्र करना, उनके साथ सच्चाई और स्नेह का व्यवहार करना यही व्यवहारकुशलता है। इसी से सामाजिक जीवन में लोकप्रियता के दरवाजे खोलने की कुंजी हाथ लगती है। इससे हमारी अपनी सुख-शांति बढ़ती है।

SubQuestion No : 17

Q.17 इनमें से कौन - सा अभाव का विलोम शब्द है?

- Ans A. प्रचुरता
 B. कमी
 C. आहार
 D. व्यापक

Question ID : 60092912676

Comprehension:

नीचे दिए गए गद्यांश के बाद 5 प्रश्न दिए गए हैं। इस गद्यांश को ध्यानपूर्वक पढ़ें और चार विकल्पों में से प्रत्येक प्रश्न का सर्वोत्तम उत्तर चुनें।

मानव की दो मूल प्रवृत्तियां होती हैं। एक तो यह कि लोग हमारे गुणों की कद्र करें, हमें दाद दें और हमारा आदर करें और दूसरे वे हम पर प्रेम करें, हमारा अभाव महसूस करें, उनके जीवन में हम कुछ महत्त्व रखते हैं- ऐसा अनुभव करें। आपके ज़रा से कार्य की यदि किसी ने सच्चे दिल से प्रशंसा की या कोई आपकी सलाह माँगने आता है तो आपका दिल कैसा खिल उठता है? ऊपर से कोई बड़ा आदमी कितना भी आत्मविश्वासी और आत्मसंतुष्ट क्यों ना दिखाई दे, भीतर से वह हमारी-आपकी तरह प्रशंसा का, प्रोत्साहन का, स्नेह का भूखा है। यदि आप उसे, प्रमाणिकतापूर्वक ले सकें तो आप फ़ौरन उसके हृदय के निकट पहुँच जायेंगे। दूसरों की भावनाओं को ठीक-ठाक समझना, उनकी कद्र करना, उनके साथ सच्चाई और स्नेह का व्यवहार करना यही व्यवहारकुशलता है। इसी से सामाजिक जीवन में लोकप्रियता के दरवाजे खोलने की कुंजी हाथ लगती है। इससे हमारी अपनी सुख-शांति बढ़ती है।

SubQuestion No : 18

Q.18 इस अनुच्छेद का कोई उपयुक्त शीर्षक -

- Ans A. मानव मन
 B. मानव की प्रवृत्तियाँ
 C. मनुष्य की चाह
 D. जीवन की आवश्यकता

Question ID : 60092912677

Comprehension:

नीचे दिए गए गद्यांश के बाद 5 प्रश्न दिए गए हैं। इस गद्यांश को ध्यानपूर्वक पढ़ें और चार विकल्पों में से प्रत्येक प्रश्न का सर्वोत्तम उत्तर चुनें।

मानव की दो मूल प्रवृत्तियां होती हैं। एक तो यह कि लोग हमारे गुणों की कद्र करें, हमें दाद दें और हमारा आदर करें और दूसरे वे हम पर प्रेम करें, हमारा अभाव महसूस करें, उनके जीवन में हम कुछ महत्त्व रखते हैं- ऐसा अनुभव करें। आपके ज़रा से कार्य की यदि किसी ने सच्चे दिल से प्रशंसा की या कोई आपकी सलाह माँगने आता है तो आपका दिल कैसा खिल उठता है? ऊपर से कोई बड़ा आदमी कितना भी आत्मविश्वासी और आत्मसंतुष्ट क्यों ना दिखाई दे, भीतर से वह हमारी-आपकी तरह प्रशंसा का, प्रोत्साहन का, स्नेह का भूखा है। यदि आप उसे, प्रमाणिकतापूर्वक ले सकें तो आप फ़ौरन उसके हृदय के निकट पहुँच जायेंगे। दूसरों की भावनाओं को ठीक-ठाक समझना, उनकी कद्र करना, उनके साथ सच्चाई और स्नेह का व्यवहार करना यही व्यवहारकुशलता है। इसी से सामाजिक जीवन में लोकप्रियता के दरवाजे खोलने की कुंजी हाथ लगती है। इससे हमारी अपनी सुख-शांति बढ़ती है।

SubQuestion No : 19

Q.19 अनुच्छेद के अनुसार मनुष्य का मन प्रसन्नता से कब भर उठता है?

- Ans A. जब हम अपने जीवन में किसी का अभाव महसूस करते हैं
 B. जब हम दूसरों की कद्र या तारीफ करते है
 C. जब वह दूसरों की मदद करता है
 D. जब दुसरे लोग उसकी प्रशंसा करते हैं, या उसकी राय माँगते हैं

Question ID : 60092912673

Comprehension:

नीचे दिए गए गद्यांश के बाद 5 प्रश्न दिए गए हैं। इस गद्यांश को ध्यानपूर्वक पढ़ें और चार विकल्पों में से प्रत्येक प्रश्न का सर्वोत्तम उत्तर चुनें।

मानव की दो मूल प्रवृत्तियां होती हैं। एक तो यह कि लोग हमारे गुणों की कद्र करें, हमें दाद दें और हमारा आदर करें और दूसरे वे हम पर प्रेम करें, हमारा अभाव महसूस करें, उनके जीवन में हम कुछ महत्त्व रखते हैं- ऐसा अनुभव करें। आपके ज़रा से कार्य की यदि किसी ने सच्चे दिल से प्रशंसा की या कोई आपकी सलाह माँगने आता है तो आपका दिल कैसा खिल उठता है? ऊपर से कोई बड़ा आदमी कितना भी आत्मविश्वासी और आत्मसंतुष्ट क्यों ना दिखाई दे, भीतर से वह हमारी-आपकी तरह प्रशंसा का, प्रोत्साहन का, स्नेह का भूखा है। यदि आप उसे, प्रमाणिकतापूर्वक ले सकें तो आप फ़ौरन उसके हृदय के निकट पहुँच जायेंगे। दूसरों की भावनाओं को ठीक-ठाक समझना, उनकी कद्र करना, उनके साथ सच्चाई और स्नेह का व्यवहार करना यही व्यवहारकुशलता है। इसी से सामाजिक जीवन में लोकप्रियता के दरवाजे खोलने की कुंजी हाथ लगती है। इससे हमारी अपनी सुख-शांति बढ़ती है।

SubQuestion No : 20

Q.20 बड़े से बड़ा आदमी भी किस चीज़ का भूखा होता है?

- Ans
- A. अथाह संपत्ति का
 - B. दूसरों को प्रोत्साहित करने का
 - C. स्नेह एवं प्रोत्साहन का
 - D. अच्छे स्वादिष्ट भोजन का

Question ID : 60092912674

Section : Discipline1

Q.1 कालिदासेन रघुवंशे 'पार्वतीपरमेश्वरौ' किमर्थं वन्दितौ?

- Ans
- A. वागर्थप्रतिपत्तये
 - B. शिवेतरक्षतये
 - C. अर्थकृते
 - D. यशसे

Question ID : 60092912697

Q.2 'भवानि' इत्यत्र कः लकारः?

- Ans
- A. लङ्
 - B. लोट्
 - C. विधिलिङ्
 - D. लट्

Question ID : 60092912686

Q.3 'द्वानवति' इति पदं कस्याः संख्यायाः कृते प्रयुज्यते?

- Ans
- A. ९९
 - B. ९०
 - C. ९२
 - D. २९

Question ID : 60092912693

Q.4 'सुनु' रूपं कुत्र सिध्यति?

- Ans
- A. सु धातोः लृटि
 - B. सु धातोः लटि
 - C. सु धातोः लोटि
 - D. सु धातोः लडि

Question ID : 60092912691

Q.5 'तोत्स्यन्ति' इति कस्य धातोः रूपम्?

- Ans
- A. तोष्
 - B. स्तोत्
 - C. तुद्
 - D. तोत्

Question ID : 60092912689

Q.6 'अत्स्यति' इत्यस्मिन् क्रियापदे कः धातुः?

- Ans
- A. अद्
 - B. अत्
 - C. अत्स्य्
 - D. अस्

Question ID : 60092912687

Q.7 'अस्' धातोः लोट्लकारे मध्यमपुरुषैकवचने किं रूपं भवति?

- Ans
- A. एधि
 - B. असि
 - C. अस्
 - D. एहि

Question ID : 60092912688

Q.8 'त्रिंशत्' इति पदं कस्याः संख्यायाः बोधकम्?

- Ans
- A. ३००
 - B. ३०००
 - C. ३०
 - D. ३

Question ID : 60092912695

Q.9 'गुरु' शब्दस्य चतुर्थीविभक्तेः एकवचनस्य शुद्धं रूपं किम्?

- Ans
- A. गुरवेः
 - B. गुरुवे
 - C. गुर्वे
 - D. गुरवे

Question ID : 60092912679

Q.10 'रघूणामन्वयं वक्ष्ये...' इत्यत्र 'अन्वयं' इति पदस्य कः अर्थः?

- Ans
- A. वयः
 - B. पदक्रमः
 - C. वंशः
 - D. शब्दसम्बन्धः

Question ID : 60092912696

Q.11 'भगवत्' शब्दस्य षष्ठीविभक्तेः बहुवचने किं रूपम्?

- Ans
- A. भगवन्नाम्
 - B. भगवतानाम्
 - C. भागवतम्
 - D. भगवताम्

Question ID : 60092912684

Q.12 'चुर' धातोः लङ्लकारे मध्यमपुरुषे एकवचने किं रूपम्?

- Ans
- A. अचोरयथाः
 - B. चोरेय
 - C. चोरये
 - D. चोरय

Question ID : 60092912690

Q.13 'तनुयात्' इति रूपं कुत्र प्राप्यते?

- Ans
- A. तन्, लोट्लकारे
 - B. तन्, लङ्लकारे
 - C. तन्, विधिलिङ्लकारे
 - D. तन्, लट्लकारे

Question ID : 60092912692

Q.14 'वधू' शब्दस्य चतुर्थीविभक्तेः एकवचनस्य रूपं किम्?

- Ans
- A. वध्वै
 - B. वध्वा
 - C. वधूने
 - D. वध्वाय

Question ID : 60092912678

Q.15 '३७' संख्यां बोधयितुं संस्कृते प्रयुक्तं पदम् अस्ति-

- Ans
- A. सप्तत्रिंशत्
 - B. त्रिसप्त
 - C. त्रिसप्तति
 - D. सप्तत्रिंशि

Question ID : 60092912694

Q.16 'पच्' धातोः लृटि मध्यमपुरुषैकवचने किं रूपं भवति?

- Ans
- A. पचिष्यसि
 - B. पक्ष्यसि
 - C. पचसि
 - D. पच्यसि

Question ID : 60092912685

Q.17 'विद्वस्' शब्दरूपमालायां किं रूपं कुत्रचिदपि न भवति?

- Ans
- A. विद्वस्
 - B. विदुषे
 - C. विदुषः
 - D. विदुषि

Question ID : 60092912680

Q.18 'अस्मद्' शब्दस्य रूपं नास्ति-

- Ans
- A. नौ
 - B. मयि
 - C. मः
 - D. नः

Question ID : 60092912682

Q.19 'गवि' इत्यस्मिन् पदे विभक्तिः का?

- Ans
- A. चतुर्थी
 - B. प्रथमा
 - C. सप्तमी
 - D. द्वितीया

Question ID : 60092912681

Q.20 'पन्थाः' इतिरूपं कुत्र भवति?

- Ans
- A. पञ्चमी, एकवचने
 - B. द्वितीया, बहुवचने
 - C. प्रथमा, एकवचने
 - D. प्रथमा, बहुवचने

Question ID : 60092912683

Section : Discipline2

Q.1 रघुवंशमहाकाव्ये कः 'महीक्षितामादयः' कथितः?

- Ans
- A. दिलीपः
 - B. रामः
 - C. रघुः
 - D. वैवस्वतमनुः

Question ID : 60092912707

Q.2 हितोपदेशस्य 'द्वे विद्ये प्रतिपत्तये' इतिवचनानुसारं 'द्वे विद्ये' के स्तः?

- Ans
- A. शस्त्रशास्त्रविद्ये
 - B. कलासंगीतविद्ये
 - C. मन्त्रतन्त्रविद्ये
 - D. त्रयीवार्ताविद्ये

Question ID : 60092912716

Q.3 'प्रणवश्छन्दसामिव' इत्यत्र कः अस्ति 'प्रणवः'?

- Ans
- A. रामः
 - B. रघुः
 - C. अजः
 - D. मनुः

Question ID : 60092912698

Q.4 'वाचां सर्वत्र वैचित्र्यं नीतिविद्यां ददाति च' अत्र कस्य ग्रन्थस्य वैशिष्ट्यं वर्णितम्?

- Ans
- A. हितोपदेशस्य
 - B. नीतिशतकस्य
 - C. रघुवंशस्य
 - D. शुकनासोपदेशस्य

Question ID : 60092912713

Q.5 रघुवंशानुसारं 'हेम्नः' विशुद्धिः श्यामिकाऽपि वा कुत्र संलक्ष्यते?

- Ans
- A. जले
 - B. वायौ
 - C. अग्नौ
 - D. स्वर्णे

Question ID : 60092912700

Q.6 रघुवंशिनः किमर्थं गृहमेधिनः भवन्ति स्म?

- Ans
- A. विद्यायै
 - B. मायायै
 - C. प्रजायै
 - D. क्षुधायै

Question ID : 60092912709

Q.7 रघुवंशमहाकाव्यस्य मंगलाचरणे कस्य स्तुतिः विहिता?

- Ans
- A. पार्वतीपरमेश्वरयोः
 - B. वागर्थयोः
 - C. राधाकृष्णयोः
 - D. सीतारामयोः

Question ID : 60092912706

Q.8 रघुवंशानुसारं दिलीपः किमर्थं बलिं गृह्णाति स्म?

- Ans
- A. संग्रहार्थम्
 - B. प्रजानामेव भूत्यर्थम्
 - C. दानार्थम्
 - D. ऐश्वर्यार्थम्

Question ID : 60092912702

Q.9 'अगृध्नुराददे सोऽर्थम्...' अत्र 'अगृध्नुः' इति पदस्य कः अर्थः?

- Ans
- A. व्याधः
 - B. काकः
 - C. लोभरहितः
 - D. लोलुपः

Question ID : 60092912710

Q.10 हितोपदेशानुसारं 'पात्रता' केन आयाति?

- Ans
- A. धनेन
 - B. सुखेन
 - C. भजनेन
 - D. विनयेन

Question ID : 60092912715

Q.11 'सहस्रगुणमुत्सष्टुमादत्ते हि रसं रविः' इयं सूक्तिः कुत्र प्राप्यते?

- Ans
- A. नैषधे
 - B. रघुवंशे
 - C. हितोपदेशे
 - D. मेघदूते

Question ID : 60092912701

Q.12 हितोपदेशस्य प्रथमे पद्ये कस्य स्तुतिः अस्ति?

- Ans
- A. वाल्मीकेः
 - B. हरेः
 - C. धूर्जटेः
 - D. बृहस्पतेः

Question ID : 60092912712

Q.13 हितोपदेशः कस्य कृतिः अस्ति?

- Ans
- A. नारायणपण्डितस्य
 - B. भास्करपण्डितस्य
 - C. अन्नम्भट्टस्य
 - D. दामोदरपण्डितस्य

Question ID : 60092912711

Q.14 हितोपदेशस्य किम् अंगं नास्ति?

- Ans
- A. सन्धिः
 - B. सुहृद्भेदः
 - C. काकोलूकीयम्
 - D. मित्रलाभः

Question ID : 60092912717

Q.15 रघुवंशस्य प्रथमपद्ये प्रयुक्तं छन्दः किम्?

- Ans
- A. अनुष्टुप्
 - B. वंशस्थम्
 - C. वसन्ततिलकम्
 - D. उपजातिः

Question ID : 60092912705

Q.16 'मणौ वज्रसमुत्कीर्णं सूत्रस्येवास्ति मे गतिः' अत्र 'मे' पदेन कः सूचितः अस्ति?

- Ans
- A. रघुः
 - B. दिलीपः
 - C. वाल्मीकिः
 - D. कालिदासः

Question ID : 60092912699

Q.17 रघुवंशमहाकाव्ये कः 'लोभादुद्बाहुरिव' वामनः?

- Ans
- A. वाल्मीकिः
 - B. कालिदासः
 - C. रघुः
 - D. दशरथः

Question ID : 60092912708

Q.18 रघुवंशमहाकाव्ये कस्य विषये कथितम् 'वृद्धत्वं जरसा विना'?

- Ans
- A. दिलीपस्य
 - B. सगरस्य
 - C. अजस्य
 - D. दशरथस्य

Question ID : 60092912704

Q.19 रघुवंशे कः 'विनयाधानाद्रक्षणाद्भरणाद् प्रजानां पिता अभूत्'?

- Ans
- A. दिलीपः
 - B. अजः
 - C. रामः
 - D. दशरथः

Question ID : 60092912703

Q.20 'गृहीत इव केशेषु मृत्युना धर्ममाचरेत्' इयं उक्तिः कुत्र प्राप्यते?

- Ans
- A. शुकनासोपदेशे
 - B. हितोपदेशे
 - C. नीतिशतके
 - D. रामायणे

Question ID : 60092912714

Section : Discipline3

Q.1 हितोपदेशानुसारं अनभ्यासे किं विषम्?

- Ans
- A. वारि
 - B. विद्या
 - C. अमृतम्
 - D. भोजनम्

Question ID : 60092912719

Q.2 'कष्टमञ्जनवर्तिसाध्यमपरम् ऐश्वर्यतिमिरान्धत्वम्' अत्र 'तिमिर' पदस्य कः अर्थः?

- Ans
- A. नेत्ररोगविशेषः
 - B. अन्धकारः
 - C. आकाशः
 - D. अन्धः

Question ID : 60092912725

Q.3 'पक्वः' इत्यत्र कः प्रत्ययः?

- Ans
- A. वः
 - B. क्त
 - C. अण्
 - D. घञ्

Question ID : 60092912736

Q.4 हिडिम्बाभीमयोः उल्लेखः कुत्र प्राप्यते?

- Ans
- A. रघुवंशे
 - B. अभिज्ञानशाकुन्तले
 - C. प्रतिमानाटके
 - D. शुकनासोपदेशे

Question ID : 60092912729

Q.5 प्रातिपदिकार्थमात्रे का विभक्तिः भवति?

- Ans
- A. चतुर्थी
 - B. सप्तमी
 - C. द्वितीया
 - D. प्रथमा

Question ID : 60092912731

Q.6 'भीत्रार्थानां भयहेतुः' अस्य सूत्रस्य उदाहरणम् अस्ति?

- Ans
- A. गृहाद् आयाति
 - B. चौराद् बिभेति
 - C. उपाध्यायाद् अधीते
 - D. वृक्षात् पतति

Question ID : 60092912730

Q.7 'दण्डेन घटः' अत्र 'दण्ड' शब्दे तृतीयाविधायकं सूत्रम् अस्ति-

- Ans
- A. साधकतमं करणम्
 - B. सहयुक्तेऽप्रधाने
 - C. हेतौ
 - D. अपवर्गे तृतीया

Question ID : 60092912735

Q.8 कर्त्ता कर्मणा यमभिप्रैति सः किं भवति?

- Ans
- A. सम्प्रदानम्
 - B. अपादानम्
 - C. करणम्
 - D. कर्म

Question ID : 60092912733

Q.9 'अपरिणामोपशमो दारुणः' कः भवति?

- Ans
- A. राज्याभिषेकः
 - B. दर्पदाहज्वरः
 - C. लक्ष्मीमदः
 - D. प्रियवियोगः

Question ID : 60092912723

Q.10 'शास्त्रजलप्रक्षालननिर्मलापि' का यौवनारम्भे कालुष्यम् उपयाति?

- Ans
- A. बुद्धिः
 - B. शक्तिः
 - C. दृष्टिः
 - D. भक्तिः

Question ID : 60092912724

Q.11 'उपान्वध्याइवसः' इत्यत्र कति उपसर्गाः उद्धृताः?

- Ans
- A. पञ्च
 - B. द्वौ
 - C. चत्वारः
 - D. त्रयः

Question ID : 60092912734

Q.12 'तथायुक्तं चानीप्सितम्' इति सूत्रेण का संज्ञा भवति?

- Ans
- A. कर्त्ता
 - B. कर्म
 - C. अपादान
 - D. अधिकरण

Question ID : 60092912732

Q.13 शुकनासः अनर्थपरम्परायां किं न परिगणयति?

- Ans
- A. अप्रतिमरूपत्वम्
 - B. अभिनवयौवनत्वम्
 - C. गर्भेश्वरत्वम्
 - D. विनयानुगतसत्त्ववृत्तम्

Question ID : 60092912726

Q.14 शुकनासः काम् 'अनार्या' इतिपदेन सम्बोधयति?

- Ans
- A. चाण्डालकन्याम्
 - B. राजप्रकृतिम्
 - C. मनोरमाम्
 - D. लक्ष्मीम्

Question ID : 60092912728

Q.15 केन हीनः मनुष्यः पशुभिः समानः भवति?

- Ans
- A. धनेन
 - B. कार्येण
 - C. धर्मेण
 - D. भोजनेन

Question ID : 60092912720

Q.16 'क्तवतु' प्रत्ययेन निर्मितं पदम् अस्ति-

- Ans
- A. विद्यावान्
 - B. पृष्टवान्
 - C. शक्तिमान्
 - D. वधूवान्

Question ID : 60092912737

Q.17 शुकनासोपदेशानुसारं 'राजप्रकृतिः' कीदृशी भवति?

- Ans
- A. राज्यविषविकारतन्द्राप्रदा
 - B. अहंकारदाहज्वरमूर्छान्धकारिता
 - C. इन्द्रियहरिणहारिणी
 - D. नवयौवनकषायितमना

Question ID : 60092912727

Q.18 सुदर्शनः नाम नरपतिः कस्मिन् ग्रन्थे उल्लिखितः वर्तते?

- Ans
- A. नीतिशतके
 - B. मेघदूते
 - C. शुकनासोपदेशे
 - D. हितोपदेशे

Question ID : 60092912718

Q.19 का खलु लब्धापि दुःखेन परिपाल्यते?

- Ans
- A. राजप्रकृतिः
 - B. भक्तिः
 - C. विद्या
 - D. लक्ष्मीः

Question ID : 60092912721

Q.20 शुकनासोपदेशे 'अभानुभेद्यमरत्नालोकच्छेद्यमप्रदीपप्रभापनेयम्' इतिविशेषणैः किं ख्यापितम्?

- Ans
- A. यौवनप्रभवं तमः
 - B. रागमलावलेपः
 - C. विषयविषास्वादमोहः
 - D. ऐश्वर्यतिमिरान्धत्वम्

Question ID : 60092912722

Section : Discipline4

Q.1 'जश्त्व सन्धिः' कुत्र नास्ति?

- Ans
- A. तल्लयः
 - B. सुबन्त
 - C. वागत्र
 - D. कृदन्त

Question ID : 60092912756

Q.2 'पेष्+ता' इत्यस्य सन्धियुक्तं रूपं किम्?

- Ans
- A. पेष्ठा
 - B. पेप्ता
 - C. पेस्ता
 - D. पेष्ठा

Question ID : 60092912755

Q.3 'कुर्वाणः' पदे कः प्रत्ययः?

- Ans
- A. आलुच्
 - B. चानश्
 - C. कानच्
 - D. शानच्

Question ID : 60092912740

Q.4 'स्नेहः पापशंकी' इति अभिज्ञानशाकुन्तलस्य चतुर्थे अंके कस्य कथनम्?

- Ans
- A. गौतम्याः
 - B. कण्वस्य
 - C. शकुन्तलायाः
 - D. प्रियंवदानुसूययोः

Question ID : 60092912740

Q.5 'लभ्+क्त्वा' इत्यनेन किं रूपं सिध्यति?

- Ans
- A. लब्ध्वा
 - B. लभेत्वा
 - C. लप्त्वा
 - D. लभित्वा

Question ID : 60092912739

Q.6 'यात्येकतोस्तिशिखरं पतिरोषधीनाम्...' इत्यत्र 'पतिरोषधीनाम्' पदेन कः उक्तः?

- Ans
- A. चन्द्रमाः
 - B. अर्कः
 - C. इन्द्रः
 - D. वरुणः

Question ID : 60092912745

Q.7 'अहो धात्रा सृष्टं भवति! हृदयं वज्रकठिनम्' अत्र 'भवति' पदेन प्रतिमानाटके का सम्बोधिता?

- Ans
- A. पृथिवी
 - B. अयोध्या
 - C. कौशल्या
 - D. कैकेयी

Question ID : 60092912751

Q.8 'अपघ्नन्तो दुरितं हृद्यगन्धैर्वेतानास्त्वां वहनयः पावयन्तु' अयं पद्यांशः कुत्र प्राप्यते?

- Ans
- A. ईशावास्योपनिषदि
 - B. ऋग्वेदे
 - C. अभिज्ञानशाकुन्तले
 - D. यजुर्वेदे

Question ID : 60092912747

Q.9 'निक्षिप्य' इत्यत्र कः प्रत्ययः प्रयुक्तः?

- Ans
- A. यत्
 - B. य
 - C. ण्यत्
 - D. ल्यप्

Question ID : 60092912738

Q.10 कः समाप्तिसूचकः अव्ययः अस्ति?

- Ans
- A. इति
 - B. चेत्
 - C. अलम्
 - D. इत्थम्

Question ID : 60092912742

Q.11 'नायोध्या तं विनायोध्या सायोध्या यत्र राघवः' इतिकस्यउक्तिःप्रतिमानाटके?

- Ans
- A. दशरथस्य
 - B. भरतस्य
 - C. सुमन्त्रस्य
 - D. लक्ष्मणस्य

Question ID : 60092912752

Q.12 कः समुच्चयबोधकः अट्ययः?

- Ans
- A. तु
 - B. च
 - C. अद्य
 - D. अथ

Question ID : 60092912743

Q.13 'आः अतिथिपरिभाविनि! ' इयम् अभिज्ञानशाकुन्तले कस्य उक्तिः अस्ति?

- Ans
- A. दुर्वाससः
 - B. प्रियंवदायाः
 - C. दुष्यन्तस्य
 - D. कण्वस्य

Question ID : 60092912744

Q.14 गुणसंज्ञाविधायकं सूत्रं किम्?

- Ans
- A. ओर्गुणः
 - B. अदेङ् गुणः
 - C. अतो गुणे
 - D. आद् गुणः

Question ID : 60092912754

Q.15 'विद्वाँल्लिखति' इत्यस्य सन्धिविच्छेदः कः?

- Ans
- A. विद्वान् + लिखति
 - B. विद्वाँन् + लिखति
 - C. विद्वान् + लिखति
 - D. विद्वाल् + लिखति

Question ID : 60092912757

Q.16 'स्मरिष्यति त्वां न स बोधितोऽपि सन्' इत्यत्र 'स' पदेन कः सूचितः?

- Ans
- A. कण्वः
 - B. इन्द्रः
 - C. दुष्यन्तः
 - D. मातलिः

Question ID : 60092912748

Q.17 'अहो क्रियामाधुर्यं पाषाणानाम्' इयं उक्तिः कुत्र प्राप्यते?

- Ans
- A. अभिज्ञानशाकुन्तले
 - B. प्रतिमानाटके
 - C. रघुवंशे
 - D. शुकनाशोपदेशे

Question ID : 60092912750

Q.18 'चि+तव्यत्' संयोगे किं रूपं सिध्यति?

- Ans
- A. चेत्यम्
 - B. चितव्याम्
 - C. चेतव्यम्
 - D. चयनीयम्

Question ID : 60092912741

Q.19 'इको यणचि' इत्यत्र 'यण्' प्रत्याहारे परिगणिताः वर्णाः सन्ति-

- Ans
- ✓ A. य व र ल
 - ✗ B. य व ल ह
 - ✗ C. य र ल श
 - ✗ D. ह य व र

Question ID : 60092912753

Q.20 अभिज्ञानशाकुन्तले 'श्लोकचतुष्टयं' कस्मिन् अंके प्राप्यते?

- Ans
- ✓ A. चतुर्थे
 - ✗ B. प्रथमे
 - ✗ C. द्वितीये
 - ✗ D. तृतीये

Question ID : 60092912746

Section : Discipline5

Q.1 'पूर्णा लुप्ता च' इति कस्य अलंकारस्य भेदौ स्तः?

- Ans
- ✗ A. विशेषोक्तेः
 - ✗ B. अपह्नुतेः
 - ✗ C. उत्प्रेक्षायाः
 - ✓ D. उपमायाः

Question ID : 60092912764

Q.2 'शब्दसाम्यं वैषम्येऽपि स्वरस्य यत्' इति कस्य अलंकारस्य लक्षणम्?

- Ans
- ✗ A. यमकस्य
 - ✗ B. श्लेषस्य
 - ✗ C. व्यतिरेकस्य
 - ✓ D. अनुप्रासस्य

Question ID : 60092912763

Q.3 'श्रित'संयोगे कः समासः भवति?

- Ans
- A. द्विगुः
 - B. द्वन्द्वः
 - C. अव्ययीभावः
 - D. तत्पुरुषः

Question ID : 60092912758

Q.4 'ध्रुवम्' इति कस्य अलंकारस्य वाचकः?

- Ans
- A. अनुप्रासस्य
 - B. उपमायाः
 - C. उत्प्रेक्षायाः
 - D. रूपकस्य

Question ID : 60092912766

Q.5 'अयमेति मन्दमन्दं कावेरीवारिपावनः पवनः' इत्यत्र कः अलंकारः?

- Ans
- A. अनुप्रासः
 - B. श्लेषः
 - C. रूपकम्
 - D. उत्प्रेक्षा

Question ID : 60092912767

Q.6 अत्र किम् 'अत्ययस्य (नाशस्य)' उदाहरणम्?

- Ans
- A. उपगंगम्
 - B. अतिनिद्रम्
 - C. निर्मक्षिकम्
 - D. अतिहिमम्

Question ID : 60092912761

Q.7 'नवपलाशपलाशवनम्' इत्यत्र कः अलंकारः?

- Ans
- A. श्लेषः
 - B. यमकम्
 - C. अनुप्रासः
 - D. रूपकम्

Question ID : 60092912765

Q.8 'अनागतम्' इत्यत्र कः समासः?

- Ans
- A. अलुक्
 - B. नञ्
 - C. द्वन्द्वः
 - D. द्विगु

Question ID : 60092912762

Q.9 'निर्गतं धनं यस्मात् सः' इत्यस्य समस्तपदं किम्?

- Ans
- A. निधनम्
 - B. निधन
 - C. निधनी
 - D. निधनः

Question ID : 60092912759

Q.10 'पितरौ' इत्यत्र कः समासः?

- Ans
- A. द्विगुगर्भद्वन्द्वः
 - B. एकशेषद्वन्द्वः
 - C. इतरेतरद्वन्द्वः
 - D. समाहारद्वन्द्वः

Question ID : 60092912760

Q.1 कौन सी नीति लिंग के बीच कोई अंतर नहीं करती है?

- Ans A. लिंग- समानता नीति
 B. लिंग-जागरूक नीति
 C. लिंग-विशिष्ट नीति
 D. लिंग-तटस्थ नीति

Question ID : 60092912768

Q.2 कक्षा में शिक्षक और छात्रों के बीच संचार को क्या कहा जाता है?

- Ans A. भाषा उपकरण
 B. भाषा प्रवचन
 C. भाषा पाठ्यक्रम
 D. भाषा अर्जन

Question ID : 60092912771

Q.3 माता-पिता के समान घुंघराले बाल वाले बच्चों में किस कारक का प्रभाव होता है?

- Ans A. मनोसामाजिक
 B. सामाजिक
 C. किफ़ायती
 D. आनुवांशिक

Question ID : 60092912777

Q.4 इनमें से कौन मास्लो का आवश्यकता पदानुक्रम नहीं है?

- Ans A. प्रतिष्ठा आवश्यकताएं
 B. मनोवैज्ञानिक (फ़ाइकोलॉजिकल) आवश्यकताएं
 C. सुरक्षा आवश्यकताएं
 D. आश्रय आवश्यकताएं

Question ID : 60092912769

Q.5 इनमें से कौन सा भाषा का स्तर नहीं है?

- Ans A. आकृतिविज्ञान
 B. वाक्यविन्यास
 C. स्वरविज्ञान
 D. अंग्रेज़ी

Question ID : 60092912772

Q.6 आकलन के मुख्य प्रकार क्या हैं?

- Ans A. वस्तुनिष्ठ और व्यक्तिपरक
 B. बहुविकल्पी प्रश्न
 C. लम्बे और छोटे प्रश्न
 D. रचनात्मक और योगात्मक

Question ID : 60092912775

Q.7 दो से अधिक भाषाओं के प्रयोग को _____ कहा जाता है।

- Ans
- A. द्विभाषिकता
 - B. चतुर्भुजभाषिकता
 - C. बहुभाषिकता
 - D. एकभाषिकता

Question ID : 60092912774

Q.8 आलोचनात्मक और रचनात्मक लेखन के लिए सहायक वातावरण बनाना सक्रिय शिक्षा को बढ़ावा देने के लिए किस रणनीति के अंतर्गत आता है?

- Ans
- A. रचनात्मक अध्ययन
 - B. दृश्य-आधारित अध्ययन
 - C. सहयोगी अध्ययन
 - D. समस्या हल

Question ID : 60092912770

Q.9 समावेशी शिक्षा किन विद्यालय और कक्षाओं के उपयोग को अस्वीकार करती है?

- Ans
- A. निजी विद्यालय
 - B. सहकारी विद्यालय
 - C. विशेष विद्यालय
 - D. सरकारी विद्यालय

Question ID : 60092912776

Q.10 निम्नलिखित में से कौनसा छात्रों में शिक्षा में नाटक और कला के उपयोग को त्वरित करता है?

- Ans
- A. शारीरिक विकास
 - B. व्यक्तित्व विकास
 - C. स्वास्थ्य विकास
 - D. भावनात्मक विकास

Question ID : 60092912773