



SSC MTS 2020

Tier -1

(Official Papers)

www.HaryanaJobs.in

(42 Sets)

(HINDI Version)

- ✓ **Join HaryanaJobs.in Telegram Channel @haryana_jobs_in**
- ✓ **(https://t.me/haryana_jobs_in) for PDFs.**

Multi Tasking Non Technical Staff Examination 2020

Participant ID	www.HaryanaJobs.in
Participant Name	www.HaryanaJobs.in
Test Center Name	Vivekananda Global University
Test Date	02/11/2021
Test Time :	4:00 PM - 5:30 PM
Subject	MTS Non Technical 2020

Section : **General English**

Q.1 Select the most appropriate ANTONYM of the given word.

DIFFERENCE

- Ans 1. Similarity
 2. Distinction
 3. Acceptance
 4. Contrast

Question ID : **65497817636**
 Chosen Option : 1

Q.2 Select the most appropriate meaning of the given idiom.

Cover up

- Ans 1. Close something forever
 2. Hide or conceal
 3. Put a carpet under
 4. Ignore insults made

Question ID : **65497817640**
 Chosen Option : 2

Q.3 Select the most appropriate meaning of the given idiom.

Make up with (someone)

- Ans 1. Pick a quarrel with (someone)
 2. Compensate the loss to (someone)
 3. Close or ignore the differences with (someone)
 4. Understand (someone)

Question ID : **65497817641**
 Chosen Option : 2

Q.4 Select the most appropriate word which means the same as the group of words given.

Confirm or support something

- Ans 1. Collaborate
 2. Corroborate
 3. Cooperate
 4. Consider

Question ID : 65497817643
Chosen Option : 2

Q.5 Select the most appropriate word to fill in the blank.

The Covid-19 pandemic has hit many industries really _____.

- Ans 1. well
 2. hardy
 3. hardly
 4. hard

Question ID : 65497817647
Chosen Option : 4

Q.6 Select the most appropriate option to substitute the underlined segment in the given sentence. If there is no need to substitute it, select 'No substitution required'.

Madhu is only a daughter of her parents.

- Ans 1. an only one
 2. only one
 3. the only
 4. No substitution required

Question ID : 65497815917
Chosen Option : 2

Q.7 Select the most appropriate ANTONYM of the given word.

ABSURD

- Ans 1. Abrupt
 2. Reasonable
 3. Adequate
 4. Appropriate

Question ID : 65497817637
Chosen Option : 2

Q.8 Select the most appropriate word which means the same as the group of words given.

Stop something from burning

- Ans 1. Prevent
 2. Extinguish
 3. Scorch
 4. Torch

Question ID : 65497817642
Chosen Option : 2

Q.9 Select the most appropriate synonym of the given word.

ESTEEM

- Ans 1. Criticise
 2. Disrespect
 3. Regard
 4. Disregard

Question ID : 65497817639
Chosen Option : 3

Q.10 Select the most appropriate synonym of the given word.

FRIGID

- Ans 1. Moderate
 2. Freezing
 3. Amicable
 4. Warm

Question ID : 65497817638
Chosen Option : 4

Q.11 Select the most appropriate option to substitute the underlined segment in the given sentence.

It's not our book; it must be theres.

- Ans 1. their
 2. their's
 3. theres'
 4. theirs

Question ID : 65497818039
Chosen Option : 4

Q.12 Choose the correctly spelt word.

- Ans 1. Kloshur
 2. Closhare
 3. Closure
 4. Klousur

Question ID : 65497817645

Chosen Option : 3

Q.13 Select the most appropriate words to fill in the blank.

Please go with _____ sister to the match.

- Ans 1. me and mine
 2. me and my
 3. I and mine
 4. I and my

Question ID : 65497817625

Chosen Option : 2

Q.14 Select the most appropriate option to substitute the underlined segment in the given sentence.

Sahana worked late last night and could be able to finish her homework.

- Ans 1. could
 2. could be
 3. can able to
 4. can finish

Question ID : 65497817633

Chosen Option : 1

Q.15 The given sentence contains a grammatical error. Identify the segment that contains the error.

Kalpana listens old Hindi film songs every evening at home.

- Ans 1. every evening
 2. at home
 3. Kalpana listens old Hindi
 4. film songs

Question ID : 65497817622

Chosen Option : 2

Q.16 Choose the correctly spelt word.

- Ans 1. Beleive
 2. Believe
 3. Bileive
 4. Bilive

Question ID : 65497817644

Chosen Option : 2

Q.17 Select the most appropriate word to fill in the blank.

The 21st Kargil Vijay Diwas (Victory Day) was _____ on 26th July across the country.

- Ans 1. celebrated
 2. concluded
 3. attended
 4. forgotten

Question ID : 65497817646

Chosen Option : 1

Q.18 The given sentence contains a grammatical error. Identify the segment that contains the error.

Judy solved the difficult problem by her own without anyone's help.

- Ans 1. Judy solved
 2. by her own
 3. the difficult problem
 4. without anyone's help

Question ID : 65497817623

Chosen Option : 2

Q.19 Select the most appropriate words to fill in the blank.

By this time next week, we _____ Shimla.

- Ans 1. shall reach
 2. would have reached
 3. will have reached
 4. would reach

Question ID : 65497817626

Chosen Option : 3

Q.20 The given sentence contains a grammatical error. Identify the segment that contains the error.

She didn't thank you for your help, but she may have done it.

- Ans
- 1. you for your help
 - 2. may have done it
 - 3. She didn't thank
 - 4. but she

Question ID : 65497817624
Chosen Option : 2

Comprehension:

In the following passage, some words have been deleted. Fill in the blanks with the help of the options given. Select the most appropriate option for each blank.

According to a news report, schools are setting up adequate facilities and taking (1)_____ to restart learning on campus hoping to reopen schools later, if not sooner. (2)_____ schools are preparing themselves to restart, most parents are still not sure of sending their (3)_____ to school. Parents of primary school children are particularly concerned about their children's (4)_____ to health risks. Parents, in general, say that they have always tried to keep their children away from (5)_____ like mobile phones and tablets, but the current Covid-19 situation has forced the children into online learning, and they spend long hours in front of the screens.

SubQuestion No : 21

Q.21 Select the most appropriate option to fill in blank no. 1.

- Ans
- 1. tests
 - 2. steps
 - 3. screening
 - 4. conditions

Question ID : 65497817628
Chosen Option : 2

Comprehension:

In the following passage, some words have been deleted. Fill in the blanks with the help of the options given. Select the most appropriate option for each blank.

According to a news report, schools are setting up adequate facilities and taking (1)_____ to restart learning on campus hoping to reopen schools later, if not sooner. (2)_____ schools are preparing themselves to restart, most parents are still not sure of sending their (3)_____ to school. Parents of primary school children are particularly concerned about their children's (4)_____ to health risks. Parents, in general, say that they have always tried to keep their children away from (5)_____ like mobile phones and tablets, but the current Covid-19 situation has forced the children into online learning, and they spend long hours in front of the screens.

SubQuestion No : 22

Q.22 Select the most appropriate option to fill in blank no. 2.

- Ans
- 1. Whether
 - 2. Because
 - 3. Despite
 - 4. While

Question ID : 65497817629
Chosen Option : 3

Comprehension:

In the following passage, some words have been deleted. Fill in the blanks with the help of the options given. Select the most appropriate option for each blank.

According to a news report, schools are setting up adequate facilities and taking (1)_____ to restart learning on campus hoping to reopen schools later, if not sooner. (2)_____ schools are preparing themselves to restart, most parents are still not sure of sending their (3)_____ to school. Parents of primary school children are particularly concerned about their children's (4)_____ to health risks. Parents, in general, say that they have always tried to keep their children away from (5)_____ like mobile phones and tablets, but the current Covid-19 situation has forced the children into online learning, and they spend long hours in front of the screens.

SubQuestion No : 23

Q.23 Select the most appropriate option to fill in blank no. 3.

- Ans
- 1. teachers
 - 2. drivers
 - 3. students
 - 4. children

Question ID : 65497817630

Chosen Option : 4

Comprehension:

In the following passage, some words have been deleted. Fill in the blanks with the help of the options given. Select the most appropriate option for each blank.

According to a news report, schools are setting up adequate facilities and taking (1)_____ to restart learning on campus hoping to reopen schools later, if not sooner. (2)_____ schools are preparing themselves to restart, most parents are still not sure of sending their (3)_____ to school. Parents of primary school children are particularly concerned about their children's (4)_____ to health risks. Parents, in general, say that they have always tried to keep their children away from (5)_____ like mobile phones and tablets, but the current Covid-19 situation has forced the children into online learning, and they spend long hours in front of the screens.

SubQuestion No : 24

Q.24 Select the most appropriate option to fill in blank no. 4.

- Ans
- 1. taking
 - 2. suffering
 - 3. exposure
 - 4. experience

Question ID : 65497817631

Chosen Option : 2

Comprehension:

In the following passage, some words have been deleted. Fill in the blanks with the help of the options given. Select the most appropriate option for each blank.

According to a news report, schools are setting up adequate facilities and taking (1)_____ to restart learning on campus hoping to reopen schools later, if not sooner. (2)_____ schools are preparing themselves to restart, most parents are still not sure of sending their (3)_____ to school. Parents of primary school children are particularly concerned about their children's (4)_____ to health risks. Parents, in general, say that they have always tried to keep their children away from (5)_____ like mobile phones and tablets, but the current Covid-19 situation has forced the children into online learning, and they spend long hours in front of the screens.

SubQuestion No : 25

Q.25 Select the most appropriate option to fill in blank no. 5.

- Ans 1. products
 2. electronics
 3. lessons
 4. devices

Question ID : 65497817632
 Chosen Option : 4

Section : **General Intelligence and Reasoning**

Q.1 छह व्यक्ति, विनय, माधव, नीलेश, सागर, अरविंद, राजेश, दो पंक्तियों में एक दूसरे के सामने खड़े हैं, और हर पंक्ति में तीन व्यक्ति हैं।
 1) नीलेश ठीक अरविंद और सागर के बीच में है।
 2) नीलेश, विनय के सामने नहीं है।
 3) माधव, अरविंद के सामने है।
 राजेश कहां खड़ा है?

- Ans 1. विनय के सम्मुख
 2. विनय और माधव के बीच
 3. विनय और अरविंद के बीच में
 4. सागर के सम्मुख

Question ID : 65497816655
 Chosen Option : 2

Q.2 विकल्पों में से उस संख्या-युग्म का चयन करें, जिसमें दी गई दोनों संख्याएं एक-दूसरे से ठीक उसी प्रकार संबंधित हैं, जिस प्रकार, इस दी गई संख्या-युग्म की संख्याएं एक-दूसरे से संबंधित हैं।

6 : 85

- Ans 1. 9 : 181
 2. 5 : 50
 3. 7 : 112
 4. 8 : 114

Question ID : 65497816640
 Chosen Option : 1

Q.3 पांच व्यक्ति, A, B, C, D, E, केंद्र की ओर अभिमुख होकर एक गोल मेज के परितः बैठे हैं।

- 1) E और D के पड़ोस में A बैठा है।
- 2) B, D के बाएं दूसरे स्थान पर बैठा है।
- B के दाएं पड़ोस में कौन बैठा है?

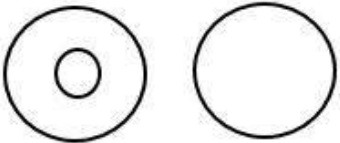
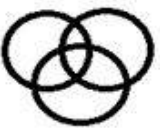


- Ans
- 1. E
 - 2. C
 - 3. D
 - 4. A

Question ID : 65497816654
Chosen Option : 2

Q.4 उस वेन-आरेख का चयन करें, जो निम्न के बीच संबंध को सर्वश्रेष्ठ रूप से निरूपित करता है।

बाघ, सरीसृप, कछुआ

Ans

- 1. 
- 2. 
- 3. 
- 4. 

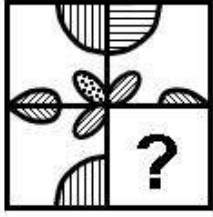
Question ID : 65497816662
Chosen Option : 1

Q.5 यदि 'DONKEY' को '88' के रूप में तथा 'SPARROW' को '79' के रूप में कूटबद्ध किया जाता है, तो 'PEGION' को किस रूप में कूटबद्ध किया जाएगा?

- Ans
- 1. 73
 - 2. 91
 - 3. 96
 - 4. 85

Question ID : 65497816647
Chosen Option : 3

Q.6 उस आकृति का चयन करें, जो दिए गए पैटर्न को पूरा करेगी।



Ans

✓ 1.



✗ 2.



✗ 3.



✗ 4.



Question ID : 65497816658

Chosen Option : 1

Q.7 दो कथन और उसके बाद दो निष्कर्ष I और II दिए गए हैं। यह मानते हुए कि कथन सत्य हैं, भले ही वे सामान्य रूप से ज्ञात तथ्यों से भिन्न प्रतीत होते हों, बताएं कि कौन सा/से निष्कर्ष दिए गए कथनों का तार्किक रूप से अनुसरण करता है/करते हैं।

कथन:

कुछ कुर्सियां खिड़कियां हैं।
सभी खिड़कियां बोर्ड हैं।

निष्कर्ष:

I. सभी कुर्सियां बोर्ड हैं।
II. सभी बोर्ड खिड़कियां हैं।

Ans

✗ 1. केवल निष्कर्ष II अनुसरण करता है।

✗ 2. निष्कर्ष I और II दोनों अनुसरण करते हैं।

✓ 3. न तो निष्कर्ष I और न ही II अनुसरण करता है।

✗ 4. केवल निष्कर्ष I अनुसरण करता है।

Question ID : 65497816652

Chosen Option : 3

Q.8 गणितीय चिह्नों के उस सही संयोजन का चयन करें, जिन्हें क्रमिक रूप से * चिह्नों के स्थान पर रखने पर समीकरण संतुलित हो जाएगा।

$$12 * 6 * 54 * 6 * 7 = 70$$

- Ans 1. ×, −, ÷, +
 2. ÷, +, ×, −
 3. ÷, +, −, ×
 4. −, +, ÷, ×

Question ID : 65497816639
Chosen Option : 1

Q.9 विकल्पों में से उस संख्या का चयन करें, जो दी गई संख्या श्रेणी में प्रश्नवाचक चिह्न (?) के स्थान पर आएगी?

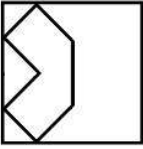
3, 13, 53, 213, ?

- Ans 1. 1065
 2. 640
 3. 853
 4. 942

Question ID : 65497816642
Chosen Option : 3


www.HaryanaJobs.in

Q.10 उस आकृति का चयन करें, जिसमें दी गई आकृति अंतःस्थापित है (घुमाने की अनुमति नहीं है)।




Ans

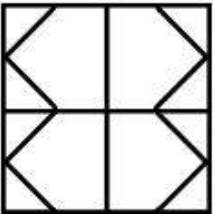
✗ 1.



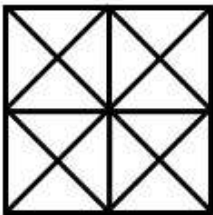
✓ 2.



✗ 3.



✗ 4.



www.HaryanaJobs.in

Question ID : 65497816659

Chosen Option : 2

Q.11 यदि दर्पण को दी गई आकृति के दाईं ओर रखा जाए, तो आकृति के दर्पण में निम्नित सही प्रतिबिंब का चयन कीजिए।

ANTONYMS

Ans

✓ 1. 2MYNOTIA

✗ 2. 2MYOITIA

✗ 3. ANTONYMS

✗ 4. ANTONYMS

Question ID : 65497816660

Chosen Option : 1

Q.12 यदि किसी कोड भाषा में 'AEROPLANE' को 'CCTMRJCLG' लिखा जाता है, तो इसी कोड भाषा में 'CHOPPER' को क्या लिखा जाएगा?

- Ans 1. EFQNRCT
 2. EFQRNCT
 3. AJMRNGP
 4. EJQRRGT

Question ID : 65497816644
 Chosen Option : 1

Q.13 दिए गए समीकरण को संतुलित करने के लिए, इनमें से किन दो चिह्नों को एक-दूसरे से प्रतिस्थापित करना होगा?

$$48 \div 12 \times 3 + 5 - 4 = 21$$

- Ans 1. - और ×
 2. - और +
 3. × और +
 4. ÷ और ×

Question ID : 65497816638
 Chosen Option : 1

Q.14 उस विकल्प का चयन करें, जो निम्न शब्दों के तार्किक और सार्थक क्रम को दर्शाता है।

1. प्यूपा
2. अंडा
3. वयस्क
4. लार्वा

- Ans 1. 4, 2, 1, 3
 2. 2, 1, 4, 3
 3. 2, 4, 1, 3
 4. 4, 2, 3, 1


Question ID : 65497816656
 Chosen Option : 1

Q.15 यदि 'CAPACITY' को '81' के रूप में तथा 'VOLUME' को '91' के रूप में कूटबद्ध किया जाता है, तो 'AMOUNT' को किस रूप में कूटबद्ध किया जाएगा?

- Ans 1. 87
 2. 85
 3. 86
 4. 84

Question ID : 65497816646
 Chosen Option : 4

Q.16 कौन-सी विकल्प आकृति, दी गई आकृति श्रेणी में प्रश्नवाचक चिह्न (?) की जगह पर आएगी?



Ans

✓ 1.



✗ 2.



✗ 3.



✗ 4.



Question ID : 65497816657

Chosen Option : 1

Q.17 विकल्पों में से उस अक्षर-समूह का चयन करें, जो दी गई श्रेणी में प्रश्नवाचक चिह्न (?) के स्थान पर आकर श्रेणी को पूरा करेगा?

ASDF, BUGJ, CWJN, ?

Ans ✗ 1. DXKO

✓ 2. DYMR

✗ 3. DXLQ

✗ 4. DYKQ

Question ID : 65497816651

Chosen Option : 2

Q.18 दो कथन और उसके बाद चार निष्कर्ष I, II, III और IV दिए गए हैं। यह मानते हुए कि कथन सत्य हैं, भले ही वे सामान्य रूप से ज्ञात तथ्यों से भिन्न प्रतीत होते हों, बताएं कि कौन सा/से निष्कर्ष दिए गए कथनों का तार्किक रूप से अनुसरण करता है/करते हैं।

कथन:

कोई भी मछली, पेन नहीं है।
सभी कुंजियां, पेन हैं।

निष्कर्ष:

- I. कोई भी कुंजी पेन नहीं है।
- II. कोई भी पेन कुंजी नहीं है।
- III. कुछ पेन कुंजियां हैं।
- IV. कुछ कुंजियां मछलियां हैं।

- Ans 1. केवल निष्कर्ष III अनुसरण करता है।
 2. केवल निष्कर्ष I अनुसरण करता है।
 3. निष्कर्ष I और II, दोनों अनुसरण करते हैं।
 4. निष्कर्ष I और IV, दोनों अनुसरण करते हैं।

Question ID : 65497816653

Chosen Option : 1

Q.19 'दाब' का जो संबंध 'पास्कल' से है, और 'विद्युत' का जो संबंध 'वाट' से है, वही संबंध 'ऊष्मा' का '_____' से है।

- Ans 1. जूल
 2. ओम
 3. बार
 4. वोल्ट

Question ID : 65497816650

Chosen Option : 1

Q.20 विकल्पों में से उस संख्या का चयन करें, जो दी गई संख्या श्रेणी में प्रश्नवाचक चिह्न (?) के स्थान पर आएगी?

2, 4, 8, 32, 256, ?

- Ans 1. 8192
 2. 2048
 3. 1024
 4. 4096

Question ID : 65497816643

Chosen Option : 1

Q.21 यदि किसी कोड भाषा में 'GOODLUCK' को 'MEWNFQQ' लिखा जाता है, तो इसी कोड भाषा में 'FORTUNE' को क्या लिखा जाएगा?

- Ans 1. HQTVOHB
 2. PGWTQVH
 3. QTHDVHJ
 4. GPWVTQH

Question ID : 65497816645

Chosen Option : 1

Q.22 'IPL' का जो संबंध 'क्रिकेट' से है, वही संबंध 'विबलडन' का ' _____ ' से है।

- Ans
- 1. फुटबॉल
 - 2. बैडमिंटन
 - 3. टेनिस
 - 4. हॉकी

Question ID : 65497816649
Chosen Option : 2

Q.23 उस विकल्प का चयन करें, जो तीसरे अक्षर-समूह से ठीक उसी प्रकार संबंधित है, जिस प्रकार दूसरा अक्षर-समूह पहले अक्षर-समूह से संबंधित है।

ABRUPT : BZUQUN :: SUDDEN : ?

- Ans
- 1. URGFJP
 - 2. TSAHJH
 - 3. URFGJP
 - 4. TSGZJH

Question ID : 65497816648
Chosen Option : 4

Q.24 दिए गए विकल्पों में से, संख्याओं के उस समुच्चय का चयन करें, जिसमें दी गई संख्याएं एक-दूसरे से ठीक उसी प्रकार संबंधित हैं, जिस प्रकार, इस दी गई संख्याओं के समुच्चय की संख्याएं एक-दूसरे से संबंधित हैं।

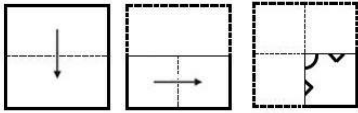
(12, 30, 204)

- Ans
- 1. (4, 12, 28)
 - 2. (15, 20, 265)
 - 3. (9, 12, 225)
 - 4. (11, 15, 236)

Question ID : 65497816641
Chosen Option : 3

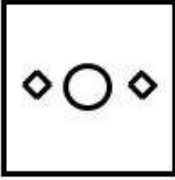
www.HaryanaJobs.in

Q.25 एक कागज को नीचे दिखाए अनुसार मोड़ा और काटा जाता है। जब इसे खोला जाएगा, तो यह कैसा दिखेगा?

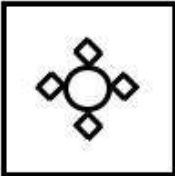


Ans

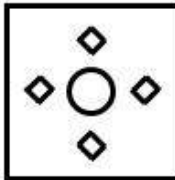
✗ 1.




✗ 2.



✓ 3.



✗ 4.



Question ID : 65497816661
Chosen Option : 3

Section : Numerical Aptitude

Q.1 ₹3,240 की राशि पर, दो वर्ष के बाद, वार्षिक रूप से चक्रवृद्धि ब्याज ₹370 है। दशमलव के बाद दो स्थानों तक ब्याज की दर की गणना करें?

Ans ✓ 1. 5.56%

✗ 2. 4.05%

✗ 3. 5.26%

✗ 4. 4.67%

Question ID : 65497817282
Chosen Option : 1

Q.2 दस संख्याओं का औसत A है। यदि दसवीं संख्या को छोड़कर प्रत्येक संख्या से c घटाया जाता है, और दसवीं संख्या से (c-1) घटाया जाता है, तो नया औसत क्या होगा?

- Ans
- 1. $A - c + 1$
 - 2. $A - c$
 - 3. $A - c + 0.1$
 - 4. $A - (0.1)c + 0.1$

Question ID : 65497817273
Chosen Option : 4

Q.3 दो इनलेट पाइप, अलग-अलग चलाने पर एक कुंड को क्रमशः 8 घंटे और 10 घंटे में पूरी तरह से भर सकते हैं। उन्हें 2 घंटे के लिए चलाया जाता है और इसके बाद दूसरा पाइप बंद कर दिया जाता है, और एक आउटलेट पाइप खोल दिया जाता है जो 20 घंटे में पूरी तरह से भरे हुए कुंड को पूरी तरह से खाली कर सकता है। आउटलेट पाइप को खोलने के तत्काल बाद से कुंड को पूरा भरने में कुल कितना समय लगेगा?

- Ans
- 1. 8 घंटे
 - 2. 7 घंटे
 - 3. 7 घंटे 20 मिनट
 - 4. 8 घंटे 40 मिनट

Question ID : 65497817270
Chosen Option : 3

Q.4 निम्न व्यंजक को सरल करें।

$$\frac{45 \div 3 \times \frac{2}{3} + 1\frac{1}{2} \text{ of } 6\frac{3}{8} - 4\frac{1}{8}}{\frac{1}{2} \left[\left(2\frac{1}{4} + 1\frac{1}{2} \right) \div \left(\frac{1}{15} + \frac{1}{3} - \frac{9}{10} \right) \right]}$$

- Ans
- 1. $-\frac{23}{6}$
 - 2. $-\frac{8}{9}$
 - 3. $\frac{68}{5}$
 - 4. $-\frac{4}{9}$

Question ID : 65497817896
Chosen Option : 1

Q.5 एक बल्लेबाज एक पारी में चार रनों से शतक से चूक गया, इस पारी में उसने छक्के, चौके, तीन, दो और एक रन के रूप में 1 : 3 : 2 : 7 : 10 के अनुपात में स्कोरिंग शॉट लगाए थे। गणना करें कि उसने एक रन के रूप में कुल कितने रन बनाए?

- Ans**
1. 16
2. 12
3. 10
4. 20

Question ID : 65497817281
Chosen Option : 4

Q.6 पाई चार्ट का अध्ययन करें और निम्न प्रश्न का उत्तर दें।

एक शहर से पासपोर्ट के लिए आवेदन करने वाले लोगों की संख्या की जांच की गई, और यह पाया गया कि 2019 के पहले पाँच महीनों के दौरान यह संख्या (सौ के गुणकों में) इस प्रकार थी: जनवरी (M1) - 248, फरवरी (M2) - 134, मार्च (M3) - 162, अप्रैल (M4) - 94, मई (M5) - 72। इन आँकड़ों को दिए गए पाई चार्ट के माध्यम से दर्शाया गया है।

एक शहर से पासपोर्ट के लिए आवेदन करने वाले लोगों की संख्या (सौ के गुणकों में) 2019 के पहले पाँच महीनों के दौरान :



यदि M2 और M5 के दौरान लोगों की संख्या पाई चार्ट में प्रस्तुत की गई संख्या की तुलना में क्रमशः 50% कम और 50% अधिक रही है, तो M5 के अनुरूप क्षेत्र का केंद्रीय कोण (निकटतम डिग्री में) क्या होगा?

- Ans**
1. 63
2. 57
3. 52
4. 65

Question ID : 65497817293
Chosen Option : 4

Q.7 प्रकाश की गति लगभग 3×10^{17} नैनोमीटर प्रति सेकंड के बराबर है। प्रकाश को चंद्रमा से पृथ्वी तक की यात्रा करने में लगभग कितना समय (सेकंड में) लगता है जबकि, इनके बीच की औसत दूरी 384000 km है?
(1 नैनोमीटर = 10^{-9} मीटर)

- Ans**
1. 38.4
2. 1.28
3. 12.8
4. 3.84

Question ID : 65497817271
Chosen Option : 2

Q.8 निम्नलिखित दस मानों वाले एक चर के वितरण का परास क्या होगा?

17, 18, 27, 11, 24, 21, 34, 21, 17, 32?

- Ans
- 1. 23
 - 2. 17
 - 3. 21
 - 4. 15

Question ID : 65497817284

Chosen Option : 1

Q.9 जब एक आयत को तीन समान भागों में विभाजित किया जाता है, तो उनमें से प्रत्येक 16 cm^2 क्षेत्रफल का एक वर्ग बन जाता है। आयत के परिमाण (cm में) की गणना करें?

- Ans
- 1. 48
 - 2. 16
 - 3. 64
 - 4. 32

Question ID : 65497817285

Chosen Option : 4

Q.10 एक लड़की का पिता उसकी माता से तीन वर्ष बड़ा है। छह वर्ष पहले, लड़की और उसके माता-पिता की औसत आयु 32 वर्ष थी, और पिता की आयु उसकी बेटी की वर्तमान आयु से दोगुनी थी। माता की वर्तमान आयु (वर्षों में) क्या होगी?

- Ans
- 1. 49
 - 2. 45
 - 3. 48
 - 4. 42

Question ID : 65497817274

Chosen Option : 2

Q.11 यदि कोई दुकानदार एक निश्चित राशि देकर निश्चित संख्या में वस्तुओं की खरीद करता है और उसी राशि में उस संख्या का कुछ भाग बेच देता है, तो उसका लाभ 300% आता है। उस भाग की गणना करें?

- Ans
- 1. $\frac{1}{2}$
 - 2. $\frac{1}{6}$
 - 3. $\frac{1}{3}$
 - 4. $\frac{1}{4}$

Question ID : 65497817277

Chosen Option : 4

Q.12 पाई चार्ट का अध्ययन करें और निम्न प्रश्न का उत्तर दें।

एक शहर से पासपोर्ट के लिए आवेदन करने वाले लोगों की संख्या की जांच की गई, और यह पाया गया कि 2019 के पहले पांच महीनों के दौरान यह संख्या (सौ के गुणकों में) इस प्रकार थी: जनवरी (M1) - 248, फरवरी (M2) - 134, मार्च (M3) - 162, अप्रैल (M4) - 94, मई (M5) - 72। इन आंकड़ों को दिए गए पाई चार्ट के माध्यम से दर्शाया गया है।

एक शहर से पासपोर्ट के लिए आवेदन करने वाले लोगों की संख्या (सौ के गुणकों में) 2019 के पहले पांच महीनों के दौरान:



M5 में लोगों की संख्या, दो महीने M3 और M4 में लोगों की कुल संख्या की कितने प्रतिशत है (दशमलव के बाद दो स्थानों तक गणना करें)?

- Ans
1. 20.12
2. 24.07
3. 28.13
4. 21.24

Question ID : 65497817292
Chosen Option : 3

Q.13 दो साइकिल चालक दो बिंदुओं क्रमशः A और B से एक साथ चलना शुरू करते हैं, उनके गंतव्य क्रमशः B और A हैं। एक दूसरे को पार करने के बाद, वे अपने गंतव्य तक पहुंचने के लिए क्रमशः 2 घंटा 33 मिनट 36 सेकंड और 1 घंटा 26 मिनट 24 सेकंड का समय लेते हैं। पहले साइकिल चालक और दूसरे साइकिल चालक की चाल के अनुपात की गणना करें?

- Ans
1. 3 : 2
2. 3 : 4
3. 2 : 3
4. 4 : 3

Question ID : 65497817272
Chosen Option : 3

Q.14 दो संख्याओं का अनुपात 4 : 5 है। यदि पहली संख्या में से एक घटाया जाता है, और दूसरी संख्या में दो जोड़ा जाता है, तो अनुपात 3 : 4 हो जाता है। यदि पहली और दूसरी संख्या में क्रमशः आठ और चार जोड़ दिया जाए, तो यह अनुपात क्या हो जाएगा?

- Ans
1. 2 : 3
2. 8 : 9
3. 1 : 5
4. 6 : 7

Question ID : 65497817280
Chosen Option : 2

Q.15 ₹720 सूची मूल्य वाली एक वस्तु पर, 20% और 10% की दो क्रमिक छूटें दी गईं। इस वस्तु को खरीदने पर ग्राहक को मिलने वाली कुल छूट राशि (₹ में) की गणना करें?

- Ans
- ✓ 1. 201.6
 - ✗ 2. 216
 - ✗ 3. 190.8
 - ✗ 4. 198

Question ID : 65497817275
Chosen Option : 1

Q.16 एक गोलार्ध का कुल पृष्ठीय क्षेत्रफल एक समबाहु त्रिभुज के क्षेत्रफल के लगभग बराबर है। त्रिभुज की भुजा गोलार्ध की त्रिज्या की कितनी गुना (लगभग) है?

- Ans
- ✗ 1. $\left(\frac{4\pi}{3}\right)^{0.5}$
 - ✗ 2. $(2\pi\sqrt{3})^{0.5}$
 - ✓ 3. $(4\pi\sqrt{3})^{0.5}$
 - ✗ 4. $\left(\frac{8\pi}{\sqrt{3}}\right)^{0.5}$

Question ID : 65497817287
Chosen Option : 3

Q.17 $120 \div \left[\frac{2}{3} \times \left(1 - \frac{2}{5} \right) \times 5 \right] + \left[\frac{9}{8} \text{ of } \frac{4}{3} \div \frac{3}{4} \text{ of } \frac{2}{3} \right]$ का मान ज्ञात करें।

- Ans
- ✗ 1. 62
 - ✗ 2. 60
 - ✓ 3. 63
 - ✗ 4. 65

Question ID : 65497815774
Chosen Option : 3

Q.18 2-अंकों वाली दो संख्याओं का म.स. (HCF) 19 है और उनका योगफल 152 है। उनके बीच के अंतर की गणना करें?

- Ans
- ✗ 1. 76
 - ✗ 2. 57
 - ✓ 3. 38
 - ✗ 4. 19

Question ID : 65497817288
Chosen Option : 4

Q.19 18, 27, 68 का चौथा समानुपाती (fourth proportional) क्या होगा?

- Ans
- 1. 170
 - 2. 204
 - 3. 102
 - 4. 136

Question ID : 65497817279

Chosen Option : 3

Q.20 CONSONANT शब्द में स्वरों की संख्या का प्रतिशत, इसमें व्यंजनों की संख्या के प्रतिशत से कितने प्रतिशत कम है?

- Ans
- 1. 200
 - 2. 33.33
 - 3. 66.67
 - 4. 50

Question ID : 65497817276

Chosen Option : 4

Q.21 एक निश्चित राशि का सात वर्षों की अवधि के लिए साधारण ब्याज पर निवेश किया गया था। छठे और सातवें वर्ष की अवधि के दौरान दोनों वर्षों का अर्जित ब्याज ₹292 था। यदि परिपक्वता राशि ₹3,942 है तो ब्याज की दर की गणना करें?

- Ans
- 1. 5
 - 2. 2
 - 3. 2.5
 - 4. 6.25

Question ID : 65497817283

Chosen Option : 1

Q.22 2 cm विज्या वाले वृत्त के विज्यखंड का क्षेत्रफल (cm^2 में) $\frac{4\pi}{3}$ है। इस भाग का केंद्रीय कोण (डिग्री में) क्या होगा?

- Ans
- 1. 36
 - 2. 60
 - 3. 75
 - 4. 72

Question ID : 65497817286

Chosen Option : 4

Q.23 एक खुदरा विक्रेता ने 250 kg अनाज खरीदा और इसे इस प्रकार बेचा कि उसे अपने द्वारा 160 kg के लिए किए गए भुगतान के बराबर लाभ प्राप्त हुआ। उसका लाभ प्रतिशत क्या होगा?

- Ans
- 1. 36
 - 2. 18
 - 3. 64
 - 4. 32

Question ID : 65497817278
Chosen Option : 3

Q.24 Y किसी काम को पूरा करने में X से पाँच दिन अधिक लेता है। एक साथ काम करते हुए, वे छह दिनों में काम पूरा कर लेते हैं। Y को अकेले इसी काम को पूरा करने में कितने दिनों का समय लगेगा?

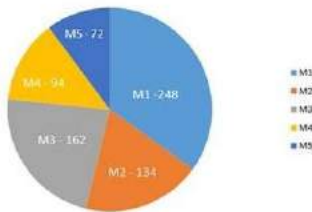
- Ans
- 1. 15
 - 2. 10
 - 3. 12
 - 4. 16

Question ID : 65497817269
Chosen Option : 1

Q.25 पाई चार्ट का अध्ययन करें और निम्न प्रश्न का उत्तर दें।

एक शहर से पासपोर्ट के लिए आवेदन करने वाले लोगों की संख्या की जांच की गई, और यह पाया गया कि 2019 के पहले पाँच महीनों के दौरान यह संख्या (सौ के गुणकों में) इस प्रकार थी: जनवरी (M1) - 248, फरवरी (M2) - 134, मार्च (M3) - 162, अप्रैल (M4) - 94, मई (M5) - 72। इन आंकड़ों को दिए गए पाई चार्ट के माध्यम से दर्शाया गया है।

एक शहर से पासपोर्ट के लिए आवेदन करने वाले लोगों की संख्या (सौ के गुणकों में) 2019 के पहले पाँच महीनों के दौरान:



M1 के अनुरूप क्षेत्र का केंद्रीय कोण (निकटतम डिग्री में) क्या होगा?

- Ans
- 1. 126
 - 2. 117
 - 3. 132
 - 4. 104

Question ID : 65497817291
Chosen Option : 2

Section : General Awareness

Q.1 भारतीय राष्ट्रीय अभिलेखागार की स्थापना निम्नलिखित में से किस वर्ष की गई थी?

- Ans
- 1. 1956
 - 2. 1991
 - 3. 1876
 - 4. 1891

Question ID : 65497817924
Chosen Option : 2

Q.2 चुटका परमाणु ऊर्जा संयंत्र निम्नलिखित में से किस राज्य में स्थित है?

- Ans
- 1. राजस्थान
 - 2. गुजरात
 - 3. हरियाणा
 - 4. मध्य प्रदेश

Question ID : 65497817920
Chosen Option : 3

Q.3 अनिल प्रकाश जोशी को _____ के क्षेत्र में उनके योगदान के लिए पद्म भूषण पुरस्कार 2020 से सम्मानित किया गया।

- Ans
- 1. सामाजिक कार्य
 - 2. कला
 - 3. लोक कार्य
 - 4. औषधि

Question ID : 65497817905
Chosen Option : 1

Q.4 निम्नलिखित में से किस वर्ष में अंग्रेजों के द्वारा बहादुर शाह II को सिंहासन से अपदस्थ कर रंगून में निर्वासित कर दिया गया था?

- Ans
- 1. 1798
 - 2. 1834
 - 3. 1698
 - 4. 1857

Question ID : 65497817923
Chosen Option : 4

Q.5 'पोवाड़ा' नृत्य शैली का संबंध निम्नलिखित में से किस राज्य से है?

- Ans
- 1. महाराष्ट्र
 - 2. पश्चिम बंगाल
 - 3. ओडिशा
 - 4. बिहार

Question ID : 65497817900
Chosen Option : 1

Q.6 भारतीय रिजर्व बैंक का राष्ट्रीयकरण निम्न में से किस वर्ष किया गया था?

- Ans
- 1. 1927
 - 2. 1965
 - 3. 1935
 - 4. 1949

Question ID : 65497817910
Chosen Option : 4

Q.7 निम्नलिखित में से कौन सी बीमारियां कवक के कारण पैदा होती हैं?

- Ans
- 1. पोलियो
 - 2. चेचक
 - 3. अतिसार
 - 4. दाद

Question ID : 65497817914
Chosen Option : 4

Q.8 भारत के संविधान का निम्नलिखित में से कौन सा अनुच्छेद भारत के नियंत्रक और महालेखा परीक्षक के कर्तव्यों और शक्तियों से संबंधित है?

- Ans
- 1. अनुच्छेद 189
 - 2. अनुच्छेद 234
 - 3. अनुच्छेद 354
 - 4. अनुच्छेद 149

Question ID : 65497817913
Chosen Option : 4

Q.9 पंजाब पुनर्गठन अधिनियम, 1966 की निम्नलिखित में से किस धारा में चंडीगढ़ को केंद्र शासित प्रदेश के रूप में परिभाषित किया गया है?

- Ans
- 1. धारा 3
 - 2. धारा 6
 - 3. धारा 1
 - 4. धारा 4

Question ID : 65497817912
Chosen Option : 1

Q.10 _____ वह पदार्थ है जिससे आपकी प्रतिरक्षा प्रणाली उसके विरुद्ध एंटीबॉडी का उत्पादन करती है।

- Ans
- 1. एंटीजन
 - 2. ग्लूकोज
 - 3. प्लेटलेट्स
 - 4. प्रोटीन

Question ID : 65497817918
Chosen Option : 1

Q.11 निम्नलिखित में से किस तारीख को अंतर्राष्ट्रीय बाघ दिवस के रूप में मनाया जाता है?

- Ans 1. 29 जुलाई
 2. 12 मई
 3. 5 नवंबर
 4. 10 जनवरी

Question ID : 65497817917
 Chosen Option : 1

Q.12 निम्नलिखित में से कौन सा भूटान का सबसे ऊंचा पर्वत है?

- Ans 1. कुला कांगड़ी
 2. जोमोल्हारी
 3. गंगखर पुनसुम
 4. गिपमोची

Question ID : 65497817921
 Chosen Option : 1

Q.13 निम्नलिखित में से किसे मई 2020 में नेशनल बैंक फॉर एग्रीकल्चर एंड रूरल डेवलपमेंट (NABARD) का अध्यक्ष नियुक्त किया गया है?

- Ans 1. जी.आर. चिंटाला
 2. शाजी के.वी.
 3. के.वी. कामथ
 4. पी.वी.एस. सूर्यकुमार

Question ID : 65497816090
 Chosen Option : 1

Q.14 पृथ्वी पर मौजूद वृक्षों की सबसे पुरानी जीवित प्रजाति कौन सी है?

- Ans 1. ब्रिसलकोन पाइन
 2. लोन साइप्रस
 3. रेडवुड ट्री
 4. ट्री ऑफ़ लाइफ

Question ID : 65497817916
 Chosen Option : 2

Q.15 अगस्त 2020 की स्थिति अनुसार भारत सरकार के मुख्य आर्थिक सलाहकार कौन थे?

- Ans 1. अतनु चक्रवर्ती
 2. अजय भूषण पांडेय
 3. कृष्णमूर्ति सुब्रमण्यन
 4. राजीव कुमार

Question ID : 65497818212
 Chosen Option : 3

Q.16 Who among the following is the author of 'Vishesh: Code To Win'?

- Ans 1. Chetan Anand
 2. Nirupama Yadav
 3. Ashis Ray
 4. Vishesh Bharguvanshi

Question ID : 65497817906
 Chosen Option : 4

Q.17 पिछोला झील निम्नलिखित में से किस राज्य में स्थित है?

- Ans 1. महाराष्ट्र
 2. सिक्किम
 3. मणिपुर
 4. राजस्थान

Question ID : 65497817919
 Chosen Option : 4

Q.18 विश्व कप विजेता गोलकीपर इकर कैसिलास ने अगस्त 2020 में फुटबॉल से संन्यास लेने की घोषणा की थी। वे निम्नलिखित में से किस देश से संबंधित हैं?

- Ans 1. फ्रांस
 2. स्पेन
 3. कनाडा
 4. ऑस्ट्रेलिया

Question ID : 65497817904
 Chosen Option : 1

Q.19 OCD (ओसीडी) का पूर्ण रूप क्या है?

- Ans 1. ओबेसिटी – कम्पल्सिव डिसऑर्डर (Obesity-Compulsive Disorder)
 2. ऑबसेशन – कंट्रोलिंग डिवाइस (Obsession-Controlling Device)
 3. ओबेसिटी – कंट्रोलिंग डिवाइस (Obesity-Controlling Device)
 4. ऑबसेसिव – कम्पल्सिव डिसऑर्डर (Obsessive-Compulsive Disorder)

Question ID : 65497817915
 Chosen Option : 2

Q.20 'नवत्रा' पर्व का संबंध निम्नलिखित में से किस देश से है?

- Ans 1. नेपाल
 2. भूटान
 3. बांग्लादेश
 4. श्रीलंका

Question ID : 65497817902
 Chosen Option : --

Q.21 जून 2020 में निम्नलिखित में से किस पूर्व भारतीय क्रिकेटर को उत्तराखंड क्रिकेट टीम का प्रमुख कोच नियुक्त किया गया था?

- Ans 1. वसीम जाफर
 2. सचिन तेंदुलकर
 3. आकाश चोपड़ा
 4. राहुल द्रविड़

Question ID : 65497817903
 Chosen Option : 1

Q.22 'काफ़ूली', निम्नलिखित में से किस राज्य का एक स्वादिष्ट व्यंजन है?

- Ans 1. उत्तराखंड
 2. सिक्किम
 3. पंजाब
 4. असम

Question ID : 65497817901
 Chosen Option : 2

Q.23 भारतीय विश्वविद्यालय आयोग की स्थापना किस वर्ष में की गई थी?

- Ans 1. 1882
 2. 1897
 3. 1909
 4. 1902

Question ID : 65497817922
 Chosen Option : 3

Q.24 भारत की प्रथम महिला कमांडो प्रशिक्षक निम्नलिखित में से कौन थी?

- Ans 1. दमयंती बेशरा
 2. अवनी चतुर्वेदी
 3. डॉ. सीमा राव
 4. रानी रामपाल

Question ID : 65497817907
 Chosen Option : 3

Q.25 सितंबर 2020 की स्थिति के अनुसार महाराष्ट्र की लोकसभा में सदस्यों की संख्या कितनी है?

- Ans 1. 48
 2. 56
 3. 39
 4. 35

Question ID : 65497817911
 Chosen Option : 1

Multi Tasking Non Technical Staff Examination 2020

Participant ID	www.HaryanaJobs.in
Participant Name	www.HaryanaJobs.in
Test Center Name	Arya College of Engineering and Information Technology
Test Date	02/11/2021
Test Time :	9:00 AM - 10:30 AM
Subject	MTS Non Technical 2020

Section : General English

Q.1 Identify the segment in the sentence which contains a grammatical error.

Avoid the puddles caused by the downpour was quite a problem while I was driving.

- Ans
- 1. while I was driving
 - 2. Avoid the puddles
 - 3. was quite a problem
 - 4. caused by the downpour

Question ID : **65497815604**
Chosen Option : **2**

Q.2 Select the most appropriate meaning of the given idiom.

Much ado about nothing

- Ans
- 1. Nothing happening without work
 - 2. Making a big fuss over a small thing
 - 3. Doing a lot and getting nothing in return
 - 4. Doing nothing in return

Question ID : **65497815620**
Chosen Option : --

Q.3 Select the most appropriate option to substitute the underlined segment in the given sentence. If there is no need to substitute it, select 'No substitution required'.

I've discussed all the options with you. There are no more options available for you.

- Ans
- 1. none more
 - 2. not more
 - 3. No substitution required
 - 4. any more

Question ID : **65497815613**
Chosen Option : **3**

Q.4 Select the most appropriate meaning of the given idiom.

He who laughs last laughs loudest

- Ans
- 1. Success in early life ensures success later also
 - 2. He who laughs last has more energy
 - 3. The person who understands the joke late laughs loudest
 - 4. He who focuses on winning in the long term is successful

Question ID : 65497815621
Chosen Option : 3

Q.5 Select the most appropriate word to fill in the blank.

In the absence _____ any evidence the police let the suspect go scot free.

- Ans
- 1. from
 - 2. in
 - 3. of
 - 4. by

Question ID : 65497815605
Chosen Option : 3

Q.6 Select the INCORRECTLY spelt word.

- Ans
- 1. Pnemonia
 - 2. Pomegranate
 - 3. Practice
 - 4. Platter

Question ID : 65497815625
Chosen Option : 1

Q.7 Select the most appropriate option to substitute the underlined segment in the given sentence. If there is no need to substitute it, select 'No substitution required'.

India's market for electronic goods is one of the large market in the world.

- Ans
- 1. one of the largest markets
 - 2. ones of the largest market
 - 3. one of the larger market
 - 4. No substitution required

Question ID : 65497814907
Chosen Option : 1

Q.8 Select the INCORRECTLY spelt word.

- Ans
- 1. Paste
 - 2. Prevelent
 - 3. Pastor
 - 4. Prudent

Question ID : 65497815624
Chosen Option : 2

Q.9 Select the most appropriate word to fill in the blank.

He was unpopular with his team as he was a scheming and _____ person.

- Ans
- 1. honest
 - 2. willing
 - 3. helpful
 - 4. conniving

Question ID : 65497815627
Chosen Option : 4

Q.10 Identify the segment in the sentence which contains a grammatical error.

The old lady finds it difficult to climb the steep steps of the train and asked for help.

- Ans
- 1. difficult to climb
 - 2. finds it
 - 3. the steep steps
 - 4. of the train

Question ID : 65497815602
Chosen Option : 4

Q.11 Select the most appropriate word to fill in the blank.

The new recruit was _____ to impress his superiors.

- Ans
- 1. cordial
 - 2. intend
 - 3. eager
 - 4. sincere

Question ID : 65497815626
Chosen Option : --

Q.12 Select the most appropriate option to substitute the underlined segment in the given sentence. If there is no need to substitute it, select 'No substitution required'.

My parents usually go for a walk before they go to bed.

- Ans
- 1. usual went
 - 2. are usually going
 - 3. No substitution required
 - 4. were usually gone

Question ID : 65497817029
Chosen Option : 2

Q.13 Select the most appropriate synonym of the given word.

FASCINATE

- Ans 1. Captivate
 2. Repel
 3. Love
 4. Reject

Question ID : 65497815618
Chosen Option : 1

Q.14 Select the most appropriate ANTONYM of the given word.

ABANDON

- Ans 1. Abolish
 2. Abhor
 3. Agree
 4. Support

Question ID : 65497815616
Chosen Option : 4

Q.15 Select the most appropriate synonym of the given word.

FOMENT

- Ans 1. Incite
 2. Ignore
 3. Inspire
 4. Imply

Question ID : 65497815619
Chosen Option : --

Q.16 Select the most appropriate word to fill in the blank.

There were many students _____ all the answers.

- Ans 1. those knew
 2. that knows
 3. who knowing
 4. who knew

Question ID : 65497815606
Chosen Option : 4

Q.17 Identify the segment in the sentence which contains a grammatical error.

Every country tries to do its good at the Olympic games as they are held in great prestige.

- Ans
- 1. tries to do
 - 2. its good
 - 3. they are held
 - 4. Every country

Question ID : 65497815603
Chosen Option : --

Q.18 Select the word which means the same as the group of words given.

A group of wolves

- Ans
- 1. Pack
 - 2. Flock
 - 3. Tribe
 - 4. Troop

Question ID : 65497815622
Chosen Option : 2

Q.19 Select the word which means the same as the group of words given.

Scientific study of the nervous system and brain

- Ans
- 1. Neuroscience
 - 2. Cardiology
 - 3. Nephrology
 - 4. Psychology

Question ID : 65497815623
Chosen Option : 1

Q.20 Select the most appropriate ANTONYM of the given word.

FARSIGHTED

- Ans
- 1. Unwise
 - 2. Careful
 - 3. Proactive
 - 4. Cautious

Question ID : 65497815617
Chosen Option : 4

Comprehension:

In the following passage some words have been deleted. Fill in the blanks with the help of the alternatives given. Select the most appropriate option for each blank.

The coronavirus (1)_____ mostly through droplets that people send (2)_____ when they talk, sneeze, or cough. These usually don't stay in the air (3)_____ and they don't go farther than six feet. But the coronavirus might also travel (4)_____ tiny aerosol particles that can linger in the air for up to three hours and travel farther away. You might also catch the coronavirus if you touch something an infected person (5)_____ and then touch your eyes, nose, or mouth.

SubQuestion No : 21

Q.21 Select the most appropriate option to fill in blank no. 1.

- Ans 1. expands
 2. spreads
 3. goes
 4. prepares

Question ID : 65497815608
Chosen Option : 2

Comprehension:

In the following passage some words have been deleted. Fill in the blanks with the help of the alternatives given. Select the most appropriate option for each blank.

The coronavirus (1)_____ mostly through droplets that people send (2)_____ when they talk, sneeze, or cough. These usually don't stay in the air (3)_____ and they don't go farther than six feet. But the coronavirus might also travel (4)_____ tiny aerosol particles that can linger in the air for up to three hours and travel farther away. You might also catch the coronavirus if you touch something an infected person (5)_____ and then touch your eyes, nose, or mouth.

SubQuestion No : 22

Q.22 Select the most appropriate option to fill in blank no. 2.

- Ans 1. out
 2. away
 3. in
 4. apart

Question ID : 65497815609
Chosen Option : 1

Comprehension:

In the following passage some words have been deleted. Fill in the blanks with the help of the alternatives given. Select the most appropriate option for each blank.

The coronavirus (1)_____ mostly through droplets that people send (2)_____ when they talk, sneeze, or cough. These usually don't stay in the air (3)_____ and they don't go farther than six feet. But the coronavirus might also travel (4)_____ tiny aerosol particles that can linger in the air for up to three hours and travel farther away. You might also catch the coronavirus if you touch something an infected person (5)_____ and then touch your eyes, nose, or mouth.

SubQuestion No : 23

Q.23 Select the most appropriate option to fill in blank no. 3.

- Ans 1. for long
 2. to long
 3. in long
 4. any longer

Question ID : **65497815610**
Chosen Option : 1

Comprehension:

In the following passage some words have been deleted. Fill in the blanks with the help of the alternatives given. Select the most appropriate option for each blank.

The coronavirus (1)_____ mostly through droplets that people send (2)_____ when they talk, sneeze, or cough. These usually don't stay in the air (3)_____ and they don't go farther than six feet. But the coronavirus might also travel (4)_____ tiny aerosol particles that can linger in the air for up to three hours and travel farther away. You might also catch the coronavirus if you touch something an infected person (5)_____ and then touch your eyes, nose, or mouth.

SubQuestion No : 24

Q.24 Select the most appropriate option to fill in blank no. 4.

- Ans 1. to
 2. for
 3. through
 4. of

Question ID : **65497815611**
Chosen Option : 3

Comprehension:

In the following passage some words have been deleted. Fill in the blanks with the help of the alternatives given. Select the most appropriate option for each blank.

The coronavirus (1)_____ mostly through droplets that people send (2)_____ when they talk, sneeze, or cough. These usually don't stay in the air (3)_____ and they don't go farther than six feet. But the coronavirus might also travel (4)_____ tiny aerosol particles that can linger in the air for up to three hours and travel farther away. You might also catch the coronavirus if you touch something an infected person (5)_____ and then touch your eyes, nose, or mouth.

SubQuestion No : 25

Q.25 Select the most appropriate option to fill in blank no. 5.

- Ans 1. is touch
 2. would be touch
 3. has touched
 4. are touching

Question ID : **65497815612**
 Chosen Option : 3

Section : **General Intelligence and Reasoning**

Q.1 दिए गए समीकरण को संतुलित करने के लिए, इनमें से किन दो चिह्नों को एक-दूसरे से प्रतिस्थापित करना होगा?

$$12 \div 2 \times 6 + 4 - 2 = 13$$

- Ans 1. \times और +
 2. + और \div
 3. + और -
 4. \times और -

Question ID : **65497815932**
 Chosen Option : 2

Q.2 निम्न संख्या श्रेणी में प्रश्नवाचक चिह्न (?) के स्थान पर कौन-सी संख्या आएगी?

5, 4, 6, 15, 56, ?

- Ans 1. 275
 2. 330
 3. 195
 4. 200

Question ID : **65497815935**
 Chosen Option : 2

Q.3 निम्न संख्या श्रेणी में प्रश्नवाचक चिह्न (?) के स्थान पर कौन-सी संख्या आएगी?

5, 7, 9, 11, 18, ?, 34, 35, 59, 67

Ans 1. 17

2. 19

3. 21

4. 27

Question ID : 65497815936

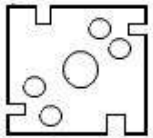
Chosen Option : --

Q.4 The sequence of folding a piece of paper and the manner in which the folded paper has been cut is shown in the three figures below. How would the paper look when unfolded?

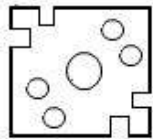


Ans

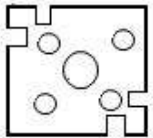
1.



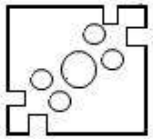
2.



3.



4.



www.HaryanaJobs.in

Question ID : 65497815954

Chosen Option : 2

Q.5 तीन कथनों के बाद तीन निष्कर्ष I, II और III दिए गए हैं। कथनों को सत्य मानते हुए, भले ही ये वास्तविक दुनिया के ज्ञान के अनुरूप न हों, निर्धारित करें कि कौन सा/से निष्कर्ष कथनों का तार्किक रूप से अनुसरण करता/करते है/हैं।

कथन:

1. कोई भी कप, प्लेट नहीं है।
2. सभी प्लेट, कटलरी हैं।
3. कोई भी कटलरी, चम्मच नहीं है।

निष्कर्ष:

- I. कुछ कटलरी, प्लेट हैं।
- II. कोई भी कटलरी, कप नहीं है।
- III. कुछ चमच्चों के कप होने की संभावना है।

- Ans 1. केवल निष्कर्ष III अनुसरण करता है।
2. केवल निष्कर्ष I और III अनुसरण करते हैं।
3. केवल निष्कर्ष II और III अनुसरण करते हैं।
4. निष्कर्ष I, II और III, सभी अनुसरण करते हैं।

Question ID : 65497815946

Chosen Option : 2

Q.6 यदि BANKER को CAMKFR लिखा जाता है, तो INDIAN को किस प्रकार लिखा जाएगा?

- Ans 1. JMCIZL
2. JNEIBN
3. JNCIBN
4. HMCIZN

Question ID : 65497815938

Chosen Option : 3

Q.7 आठ मित्र A, B, C, D, E, F, G और H वर्गाकार मेज के परितः केंद्र की ओर अभिमुख होकर बैठे हैं।

- i. B, D के सम्मुख है और E के दाईं ओर बैठा है।
- ii. F, जो कि D के पड़ोस में बैठा है, G के सम्मुख है।
- iii. C और H के बीच दो व्यक्ति बैठे हैं और H, E के सम्मुख नहीं बैठा है।

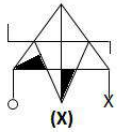
यदि C और E के बीच केवल एक व्यक्ति ही बैठा है, तो वह कौन हो सकता है?

- Ans 1. D
2. B
3. A
4. G

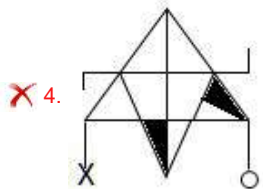
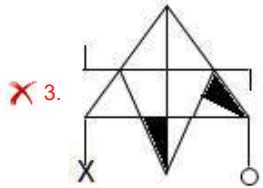
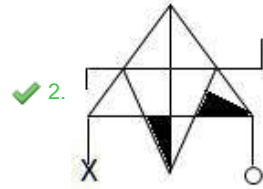
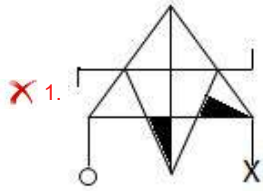
Question ID : 65497815948

Chosen Option : --

Q.8 जब दर्पण को आकृति X के दाईं ओर रखा जाता है, तो आकृति X के दर्पण में निर्मित प्रतिबिंब का चयन करें।



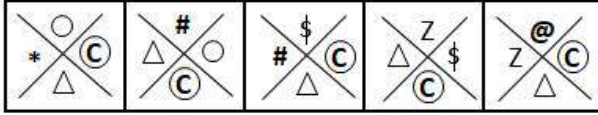
Ans



www.HaryanaJobs.in

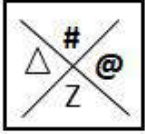
Question ID : 65497815953
Chosen Option : 2

Q.9 निम्न आकृति श्रेणी में अगले स्थान पर कौन-सी विकल्प आकृति आएगी?

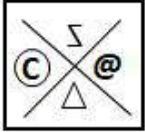


Ans

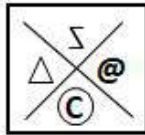
✗ 1.



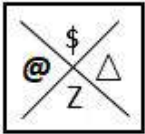
✗ 2.



✓ 3.



✗ 4.



Question ID : 65497815950
Chosen Option : 3

Q.10 उस संख्या समुच्चय का चयन करें, जो निम्न समुच्चय के समान है।

{16, 30, 36}

Ans ✗ 1. {14, 32, 48}

✓ 2. {9, 24, 25}

✗ 3. {16, 48, 64}

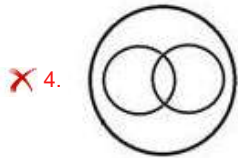
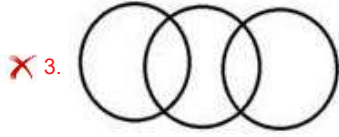
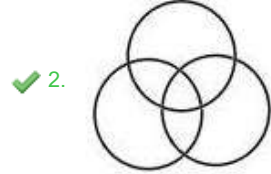
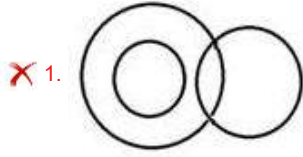
✗ 4. {12, 24, 32}

Question ID : 65497815934
Chosen Option : 2

Q.11 उस वेन-आरेख का चयन करें, जो निम्न वर्गों के बीच संबंध को सर्वोत्तम ढंग से निरूपित करता है।

काले बालों वाले लोग, लंबे व्यक्ति, भारोत्तोलक

Ans



Question ID : 65497815955

Chosen Option : 2

Q.12 कोई मेडिकल प्रतिनिधि, सोमवार से शनिवार तक डॉक्टर P, Q, R, S, T और U के पास जाता है- प्रतिदिन केवल एक डॉक्टर के पास।

- वह डॉक्टर U के पास, डॉक्टर R और T के पास जाने से किसी दिन पहले जाता है।
- वह डॉक्टर P के पास, डॉक्टर S के पास जाने से एक दिन पहले जाता है, लेकिन गुरुवार को नहीं जाता है।
- वह अंतिम दिन Q या S के पास नहीं जाता है।
- वह डॉक्टर Q के पास, ठीक डॉक्टर U के बाद जाता है, लेकिन मंगलवार को नहीं जाता है।

वह पहले दो दिन किन दो डॉक्टरों के पास जाता है?

- Ans
- ✗ 1. P और U
 - ✗ 2. U और Q
 - ✗ 3. S और U
 - ✓ 4. P और S

Question ID : 65497815949

Chosen Option : --

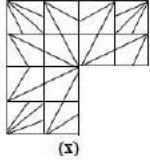
Q.13 यदि ACTOR को 86739 के रूप में कूटबद्ध किया जाता है, तो SPREAD को किस रूप में कूटबद्ध किया जाएगा?

- Ans
- 1. 819263
 - 2. 718374
 - 3. 179514
 - 4. 829485

Question ID : 65497815940

Chosen Option : 4

Q.14 Select the option figure, which when placed in the blank space of the figure marked 'X', would complete the pattern.



Ans

- 1.
- 2.
- 3.
- 4.

Question ID : 65497815951

Chosen Option : 2

Q.15 यदि STRICTURE को TSUTCIRER लिखा जाता है, तो INCULCATE को किस प्रकार लिखा जाएगा?

- Ans
- 1. CNICLUETA
 - 2. NIACLUCET
 - 3. NIUCCLAT
 - 4. NIALCCUET

Question ID : 65497815937

Chosen Option : 2

Q.16 'Entertainment' is related to 'Television' in the same way as 'Warmth' is related to _____.

- Ans
- 1. Proximity
 - 2. Temperature
 - 3. Woollens
 - 4. Day

Question ID : 65497815943
Chosen Option : 4

Q.17 यदि BANK को 32 के रूप में और BRAKE को 42 के रूप में कूटबद्ध किया जाता है, तो CLEVER को किस रूप में कूटबद्ध किया जाएगा?

- Ans
- 1. 71
 - 2. 75
 - 3. 68
 - 4. 66

Question ID : 65497815939
Chosen Option : 1

Q.18 यदि - और ÷ चिह्नों को एक-दूसरे से प्रतिस्थापित किया जाता है, तो निम्न में से कौन-सा समीकरण सही होगा?

- Ans
- 1. $4 - 8 \times 16 \div 4 = 6$
 - 2. $8 + 12 - 6 \div 3 = 9$
 - 3. $8 \times 12 - 6 \div 3 = 12$
 - 4. $12 \div 4 \times 3 - 6 = 10$

Question ID : 65497815931
Chosen Option : 4

Q.19 जिस प्रकार 'ट्रेक', 'एथलीट' से संबंधित है, उसी प्रकार 'क्लासरूम', '_____' से संबंधित है।

- Ans
- 1. शिक्षण
 - 2. छात्र
 - 3. विद्यालय
 - 4. अध्ययन

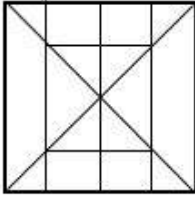
Question ID : 65497815942
Chosen Option : 2

Q.20 उस विकल्प का चयन करें, जिसमें दी गई आकृति अन्तःस्थापित है। (घुमाने की अनुमति नहीं है)

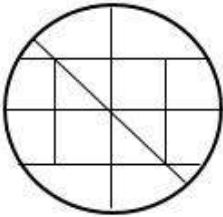


Ans

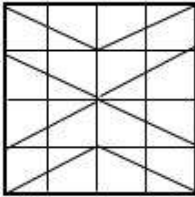
✗ 1.



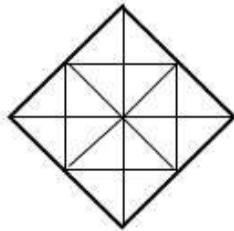
✗ 2.



✗ 3.



✓ 4.



www.HaryanaJobs.in

Question ID : 65497815952
Chosen Option : 4

Q.21 Select the option that is related to the third letter-cluster in the same way as the second letter-cluster is related to the first letter-cluster.

GILP : TPMK :: DGKP : ?

Ans ✓ 1. WRNK

✗ 2. VQMJ

✗ 3. WTPK

✗ 4. WURN

Question ID : 65497815941
Chosen Option : 1

Q.22 दो कथनों के बाद दो निष्कर्ष I और II दिए गए हैं। कथनों को सत्य मानते हुए, भले ही ये वास्तविक दुनिया के ज्ञान के अनुरूप न हों, निर्धारित करें कि कौन सा/से निष्कर्ष कथनों का तार्किक रूप से अनुसरण करता/करते है/हैं।

कथन:

1. कुछ पौधे, पेड़ हैं।
2. सभी जड़ी-बूटियां, पौधे हैं।

निष्कर्ष:

- I. कुछ पौधे, जड़ी-बूटियां हैं।
- II. सभी जड़ी-बूटियों के पेड़ होने की संभावना है।

- Ans
- 1. निष्कर्ष I और II दोनों अनुसरण करते हैं।
 - 2. न तो निष्कर्ष I और न ही II अनुसरण करता है।
 - 3. केवल निष्कर्ष I अनुसरण करता है।
 - 4. केवल निष्कर्ष II अनुसरण करता है।

Question ID : 65497815945
Chosen Option : 1

Q.23 Which letter-cluster will replace the question mark (?) in the following series?

CED, FJH, KQN, ?, AKF

- Ans
- 1. RXU
 - 2. RZV
 - 3. QZV
 - 4. SZT

Question ID : 65497815944
Chosen Option : 2

Q.24 Select the number-pair in which the two numbers are related in the same way as the two numbers of the pair given below.

10 : 24

- Ans
- 1. 48 : 99
 - 2. 70 : 120
 - 3. 50 : 80
 - 4. 140 : 165

Question ID : 65497815933
Chosen Option : 3

Q.25 छः लड़कियां उत्तर की ओर अभिमुख होकर बैठी हैं।

- नविका, सीमा के ठीक बाईं ओर पड़ोस में बैठी है, जो सबनम के पड़ोस में है।
- हीमा पंक्ति के किसी एक छोर पर बैठी हैं, लेकिन सबनम किसी भी छोर पर नहीं है।
- विनीता और नविका के बीच में रूपाली बैठी है।

पंक्ति के दूसरे छोर पर कौन सी लड़की बैठी है?

- Ans
- 1. नविका
 - 2. रूपाली
 - 3. विनीता
 - 4. सीमा

Question ID : 65497815947
Chosen Option : 2

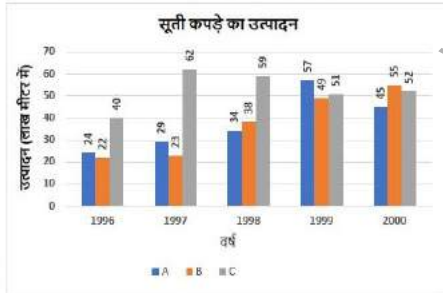
Section : Numerical Aptitude

Q.1 प्रथम सात प्राकृतिक संख्याओं के वर्गों का औसत ज्ञात करें।

- Ans
- 1. 20
 - 2. 25
 - 3. 29
 - 4. 16

Question ID : 65497817980
Chosen Option : 1

Q.2 दिया गया ग्राफ पांच वर्षों के दौरान A, B और C नामक तीन कंपनियों द्वारा सूती कपड़े का उत्पादन (लाख मीटर में) दर्शाता है।



किस वर्ष में कंपनियों का औसत उत्पादन 38 लाख मीटर से अधिक था?

- Ans
- 1. 1999
 - 2. 1997
 - 3. 1997, 1998, 1999, 2000
 - 4. 1998, 1999, 2000

Question ID : 65497818000
Chosen Option : 4

Q.3 5 वर्ष के अंत में ₹15,000 की राशि पर प्राप्त साधारण ब्याज ₹9,750 है। यदि ब्याज की दर 3% कम हो, तो ब्याज कितना होगा?

- Ans
- ✗ 1. ₹5,850
 - ✗ 2. ₹3,250
 - ✓ 3. ₹7,500
 - ✗ 4. ₹7,950

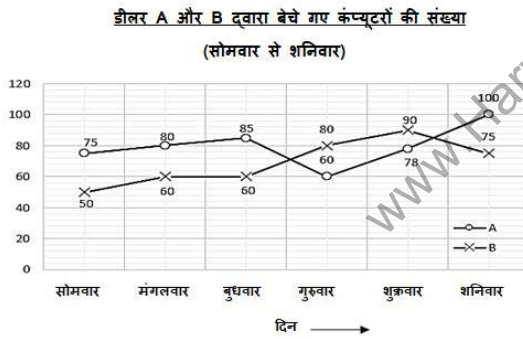
Question ID : 65497817990
Chosen Option : 3

Q.4 प्रथम चार अभाज्य संख्याओं और प्रथम चार भाज्य संख्याओं के औसतों का अनुपात ज्ञात करें।

- Ans
- ✗ 1. 13 : 10
 - ✓ 2. 17 : 27
 - ✗ 3. 17 : 19
 - ✗ 4. 11 : 27

Question ID : 65497817991
Chosen Option : 2

Q.5 निम्नांकित ग्राफ का अध्ययन करें, तथा उसके बाद पूछे गए प्रश्न का उत्तर दें।



डीलर A द्वारा सोमवार, मंगलवार और शुक्रवार को बेचे गए कंप्यूटरों की कुल संख्या तथा डीलर B द्वारा बुधवार, गुरुवार और शनिवार को बेचे गए कंप्यूटरों की कुल संख्या के बीच कितना अंतर है?

- Ans
- ✗ 1. 21
 - ✓ 2. 18
 - ✗ 3. 17
 - ✗ 4. 24

Question ID : 65497817999
Chosen Option : 2

Q.6 6 आदमी और 10 लड़के और इसी प्रकार 2 आदमी और 20 लड़के समान कार्य को 12 दिन में पूरा कर सकते हैं। 10 लड़के उसी कार्य को कितने दिन में पूरा करेंगे?

- Ans
- 1. 26
 - 2. 16
 - 3. 24
 - 4. 30

Question ID : 65497817977
Chosen Option : 4

Q.7 शेखर, 8 km/h की चाल से कोई दूरी तय करता है। वह जल्दबाजी में था, इसलिए वह वापसी की यात्रा 24 km/h की चाल से ऑटोरिक्शा से तय करता है। पूरी यात्रा के लिए उसकी औसत चाल ज्ञात करें।

- Ans
- 1. 20 km/h
 - 2. 16 km/h
 - 3. 32 km/h
 - 4. 12 km/h

Question ID : 65497817978
Chosen Option : 4

Q.8 शंकु छिन्नक के आकार वाली बाल्टी की शीर्ष और तली की त्रिज्याएं क्रमशः 20 cm और 10 cm हैं। बाल्टी की गहराई 24 cm है। बाल्टी की धारिता ज्ञात करें। ($\pi = \frac{22}{7}$ लें)

- Ans
- 1. 17000 cm³
 - 2. 13200 cm³
 - 3. 8800 cm³
 - 4. 17600 cm³

Question ID : 65497817993
Chosen Option : 4

Q.9 किसी ट्रक चालक को कुल 260 km की दूरी 4 घंटे में तय करनी है। वह पहले 75 मिनट तक 56 km/h की चाल से ट्रक चलाता है और अगले 90 km तक 60 km/h की चाल से ट्रक चलाता है। 4 घंटे में यात्रा पूरी करने के लिए उसे किस चाल (km/h) से शेष दूरी को तय करना होगा?

- Ans
- 1. 65
 - 2. 75
 - 3. 58
 - 4. 80

Question ID : 65497817979
Chosen Option : 4

Q.10 वह छोटी से छोटी संख्या ज्ञात करें, जिसे 5, 6 और 8 से विभाजित करने पर प्रत्येक स्थिति में 3 शेषफल प्राप्त होता हो।

- Ans
- 1. 792
 - 2. 243
 - 3. 117
 - 4. 123

Question ID : 65497817995
Chosen Option : 4

Q.11 किसी कंटेनर में 30 लीटर दूध है, जिसमें से 3 लीटर दूध निकाला जाता है और उसके स्थान पर पानी मिलाया जाता है। यह प्रक्रिया तीन बार की जाती है। कंटेनर में पानी और दूध का अंतिम अनुपात ज्ञात करें।

- Ans
- 1. 271 : 729
 - 2. 729 : 271
 - 3. 19 : 81
 - 4. 81 : 19

Question ID : 65497817988
Chosen Option : 4

Q.12 L आकार की आकृति बनाने के लिए, 10 cm और 5 cm भुजाओं वाले आयत को समान आकार वाले दूसरे आयत के बगल में रखा जाता है। इस प्रकार बनी आकृति का परिमाण ज्ञात करें।

- Ans
- 1. 40 cm
 - 2. 60 cm
 - 3. 100 cm
 - 4. 50 cm

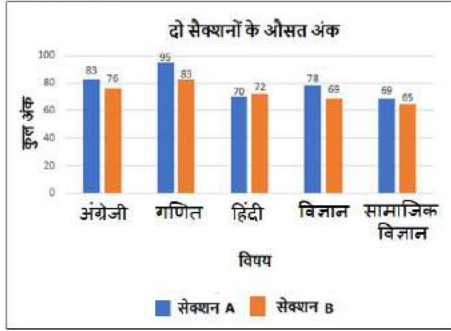
Question ID : 65497817992
Chosen Option : 4

Q.13 यदि $x : y = 5 : 7$ है, तो $(6x - y) : (5x + 3y)$ का मान ज्ञात करें।

- Ans
- 1. 1 : 2
 - 2. 1 : 4
 - 3. 4 : 1
 - 4. 11 : 2

Question ID : 65497817986
Chosen Option : 1

Q.14 निम्न बार ग्राफ में किसी विद्यालय की कक्षा XI के सेक्शन A और सेक्शन B के छात्रों द्वारा प्राप्त औसत अंकों को दर्शाया गया है।



किस विषय में दोनों सेक्शन के औसत अंकों में अंतर सबसे अधिक है?

Ans

1. अंग्रेजी
 2. सामाजिक विज्ञान
 3. विज्ञान
 4. गणित

Question ID : 65497817998

Chosen Option : 4

Q.15 किसी कमरे की लंबाई 15 ft, चौड़ाई 12 ft और ऊंचाई 10 ft है। इसमें 8 ft और 3.5 ft भुजाओं वाला एक दरवाजा है और 5 ft × 3 ft आकार की दो खिड़कियाँ हैं। ₹50 प्रति ft^2 की दर से चारों दीवारों और छत को पेंट करने की लागत ज्ञात करें।

Ans

1. ₹21,200
 2. ₹33,100
 3. ₹19,600
 4. ₹24,100

Question ID : 65497817994

Chosen Option : 2

Q.16 मुशांत, ₹8,000 का सामान खरीदता है। उसे, उस सामान पर 10% की छूट मिलती है। छूट मिलने के बाद, वह 7.5% की दर से कर का भुगतान करता है। वह राशि ज्ञात करें, जो उसे अपने आवास पर प्राप्त इस सामान के लिए चुकानी होगी, यदि दुकानदार होम डिलीवरी के लिए ₹200 लेता है।

Ans

1. ₹6,851
 2. ₹7,940
 3. ₹8,155
 4. ₹9,660

Question ID : 65497817983

Chosen Option : 2

Q.17 यदि किसी राशि में 2 वर्ष बाद 21% की वृद्धि होती है, तो ब्याज की गणना वार्षिक रूप से किए जाने पर वार्षिक चक्रवृद्धि ब्याज की दर ज्ञात करें।

- Ans
- ✓ 1. 10%
 - ✗ 2. 11.5%
 - ✗ 3. 10.5%
 - ✗ 4. 11%

Question ID : 65497817989
Chosen Option : 1

Q.18 यदि कोई आदमी किसी कार्य का $\frac{3}{7}$ भाग 6 दिन में पूरा करता है, तो शेष कार्य को पूरा करने के लिए, उसे और कितने दिन की आवश्यकता होगी?

- Ans
- ✓ 1. 8
 - ✗ 2. 9
 - ✗ 3. 7
 - ✗ 4. 14

Question ID : 65497817976
Chosen Option : 1

Q.19 किसी दुकानदार को 25% लाभ होता है, यदि वह ₹2,500 अंकित मूल्य पर 10% छूट के साथ कोई वस्तु बेचता है। उसका लाभ ज्ञात करें।

- Ans
- ✗ 1. ₹375
 - ✓ 2. ₹450
 - ✗ 3. ₹350
 - ✗ 4. ₹400

Question ID : 65497817984
Chosen Option : 2

Q.20 निम्न व्यंजक का मान ज्ञात करें।

$$108 \div 18 \times 3 - 64 \times 2 \div 32 + 80 \div 5 \text{ of } 4$$

- Ans
- ✗ 1. 62
 - ✓ 2. 18
 - ✗ 3. 2
 - ✗ 4. 78

Question ID : 65497818299
Chosen Option : 2

Q.21 कोई दुकानदार, ₹190 प्रति दर्जन की दर से 20 दर्जन पेन खरीदता है और थोक बाजार तक आने-जाने में ₹200 खर्च करता है। वह ₹22/पेन की दर से पेन बेचता है। उसका लाभ प्रतिशत ज्ञात करें।

- Ans
- 1. $38\frac{18}{19}\%$
 - 2. 32%
 - 3. 22%
 - 4. 20%

Question ID : 65497817985
Chosen Option : 2

Q.22 त्योहार के दौरान, किसी दुकान पर लगे बैनर पर लिखा था, '3 के लिए भुगतान करें और 5 पाएं'। छूट प्रतिशत ज्ञात करें।

- Ans
- 1. 40%
 - 2. $166\frac{2}{3}\%$
 - 3. $66\frac{2}{3}\%$
 - 4. 60%

Question ID : 65497817982
Chosen Option : 1

Q.23 तीन संख्याओं का औसत 45 है। पहली संख्या, दूसरी संख्या से तीन गुनी है और दूसरी संख्या, तीसरी संख्या से दोगुनी है। पहली संख्या और दूसरी संख्या के बीच अंतर ज्ञात करें।

- Ans
- 1. 60
 - 2. 15
 - 3. 45
 - 4. 75

Question ID : 65497817981
Chosen Option : 1

Q.24 $16 + [0.2 \div 0.004 + 5.2 \text{ of } 2 \div (0.7 \times 2 + 0.84 \div 0.7)]$ का मान ज्ञात कीजिए।

- Ans
- 1. 75
 - 2. 65
 - 3. 60
 - 4. 70

Question ID : 65497816078
Chosen Option : 4

Q.25 चावल की दो किस्में एक साथ मिश्रित की जाती हैं, पहली किस्म की कीमत ₹65 प्रति kg और दूसरी किस्म की कीमत ₹95 प्रति kg है। वह अनुपात ज्ञात करें, जिसमें चावल की दोनों किस्मों को मिश्रित किया जाए, ताकि मिश्रण की कीमत ₹83 प्रति kg हो जाए।

- Ans
1. 19 : 13
2. 13 : 19
3. 2 : 3
4. 3 : 2

Question ID : 65497817987
Chosen Option : 3

Section : General Awareness

Q.1 पुरावशेष और बहुमूल्य कलाकृति अधिनियम, 1972 की धारा 2 के अनुसार, 'पुरावशेष' में ऐसी 'कोई पांडुलिपि, अभिलेख या अन्य दस्तावेज शामिल हैं जो वैज्ञानिक, ऐतिहासिक, साहित्यिक या सौंदर्यमूलक हों और जो कम से कम _____ वर्षों से अस्तित्व में हों।'

- Ans
1. 150
2. 125
3. 50
4. 75

Question ID : 65497816902
Chosen Option : --

Q.2 बॉम्बे स्टॉक एक्सचेंज एशिया का _____ स्टॉक एक्सचेंज है।

- Ans
1. पहला
2. चौथा
3. दूसरा
4. तीसरा

Question ID : 65497817707
Chosen Option : 1

Q.3 तुलसीदासकृत रामचरितमानस का पहला मुद्रित संस्करण 1810 में _____ से प्रकाशित किया गया था।

- Ans
1. दिल्ली
2. कलकत्ता/कोलकाता
3. बंबई/मुंबई
4. मद्रास/चेन्नई

Question ID : 65497816897
Chosen Option : 1

Q.4 पौधे किस प्रक्रिया के द्वारा हवा में पानी छोड़ते हैं?

- Ans 1. वाष्पोत्सर्जन
 2. प्रकाश संश्लेषण
 3. दीप्तिकालिता
 4. अनुवर्तन

Question ID : 65497816905
Chosen Option : 1

Q.5 निम्नलिखित में से किस विकल्प को गलत तरीके से युग्मित किया गया है?

- Ans 1. संतरा - नागपुर
 2. केला - केरल
 3. सेब - हिमाचल प्रदेश
 4. अमरूद - तेलंगाना

Question ID : 65497816909
Chosen Option : 4

Q.6 मांडो (Mando) किस राज्य के लोकगीत का एक रूप है?

- Ans 1. मणिपुर
 2. बिहार
 3. राजस्थान
 4. गोवा

Question ID : 65497816891
Chosen Option : 2

Q.7 खिलजी राजवंश ने _____ तक दिल्ली पर शासन किया।

- Ans 1. 1414 से 1451
 2. 1290 से 1320
 3. 1320 से 1414
 4. 1206 से 1290

Question ID : 65497816912
Chosen Option : 2

Q.8 जम्मू-कश्मीर में पुरातात्विक महत्व का स्थल निम्नलिखित में से कौन सा है?

- Ans 1. वाटकल
 2. मस्की
 3. ब्रह्मगिरी
 4. बुर्जहोम

Question ID : 65497816913
Chosen Option : 4

Q.9 डाल्टन के परमाणु सिद्धांत के अनुसार, परमाणु _____ को बनाने के लिए लघु पूर्ण संख्याओं के अनुपात में संयोजित होते हैं।

- Ans
- 1. प्रोटॉनों
 - 2. अणुओं
 - 3. न्यूट्रॉनों
 - 4. यौगिकों

Question ID : 65497816906
Chosen Option : 2

Q.10 ब्रह्मपुत्र नदी के बारे में निम्नलिखित में से कौन सा कथन गलत है?

- Ans
- 1. यह तिब्बत में उद्भूत होती है।
 - 2. इसका अधिकांश मार्ग भारत के बाहर स्थित है।
 - 3. यह भारत के अरुणाचल प्रदेश में प्रवेश करती है जहाँ इसे दिबांग कहा जाता है।
 - 4. यह हिमालय के समानांतर पूर्व की ओर बहती है।

Question ID : 65497816911
Chosen Option : 4

Q.11 निम्नलिखित में से किस लोकगीत और नृत्य को 2010 में मानवता की अमूर्त सांस्कृतिक विरासत की यूनेस्को प्रतिनिधि सूची में शामिल किया गया था?

- Ans
- 1. कालबेलिया
 - 2. चरी
 - 3. गेर
 - 4. भवई

Question ID : 65497816890
Chosen Option : 1

Q.12 कोयले का जलना _____ अभिक्रिया का उदाहरण है।

- Ans
- 1. संयोजन
 - 2. अपघटन
 - 3. दोहरे विस्थापन
 - 4. विस्थापन

Question ID : 65497816908
Chosen Option : 3

Q.13 केंद्रीय बजट, 2020-21 में स्वच्छ भारत मिशन के लिए ₹ _____ करोड़ की राशि आबंटित की गई है।

- Ans
- 1. 8,200
 - 2. 12,300
 - 3. 15,700
 - 4. 3,100

Question ID : 65497816900
Chosen Option : --

Q.14 'नागर (Nagara)' मंदिरों में आमतौर पर वास्तुकला की _____ शैली होती है।

- Ans
- 1. मिश्रित
 - 2. पूर्व भारतीय
 - 3. उत्तर भारतीय
 - 4. दक्षिण भारतीय

Question ID : 65497816892
Chosen Option : 1

Q.15 मानव के कंधे का जोड़ _____ संधि का एक उदाहरण है।

- Ans
- 1. धुराग्र
 - 2. अचल
 - 3. बॉल और सॉकेट
 - 4. कोर

Question ID : 65497816907
Chosen Option : 3

Q.16 महिला एकदिवसीय अंतरराष्ट्रीय क्रिकेट में छः विकेट लेने वाली एकमात्र भारतीय स्पिनर कौन हैं?

- Ans
- 1. स्मृति मंधाना
 - 2. शेफाली वर्मा
 - 3. दीप्ति शर्मा
 - 4. पूनम यादव

Question ID : 65497816894
Chosen Option : 4

Q.17 दोहा में '6ठे कतर इंटरनेशनल कप' में भारोत्तोलन (weightlifting) के लिए स्वर्ण पदक किसने जीता?

- Ans
- 1. जेरेमी लालरिबुंगा
 - 2. मैनन लारेज़
 - 3. अनीस मिशेल
 - 4. साइखोम मीराबाई चानू

Question ID : 65497816893
Chosen Option : 1

Q.18 पाचन तंत्र का कौन सा भाग यकृत और अग्न्याशय से स्राव प्राप्त करता है?

- Ans
- 1. छोटी आँतें
 - 2. आमाशय
 - 3. पित्ताशय
 - 4. बड़ी आँतें

Question ID : 65497816904
Chosen Option : 1

Q.19 किस वर्ष में भारत के संविधान में नागरिकों के मौलिक कर्तव्यों को जोड़ा गया?

- Ans
- 1. 1967
 - 2. 1951
 - 3. 1983
 - 4. 1976

Question ID : 65497816901
Chosen Option : 4

Q.20 विली वोनका बच्चों की कहानी पुस्तक ' _____ ' का एक काल्पनिक चरित्र है।

- Ans
- 1. चार्ली एंड द चॉकलेट फैक्टरी
 - 2. शार्लोट्स वेब
 - 3. माटिल्डा
 - 4. एलिस एडवेंचर्स इन वंडरलैंड

Question ID : 65497816895
Chosen Option : --

Q.21 निम्नलिखित में से किस योजना के तहत, सूक्ष्म इकाइयों से संबंधित विकास और पुनर्वित्तपोषण गतिविधियों के लिए भारत सरकार द्वारा एक नई संस्था स्थापित की गई है?

- Ans
- 1. प्रधानमंत्री मुद्रा योजना
 - 2. प्रधानमंत्री जन धन योजना
 - 3. प्रधानमंत्री सुरक्षा बीमा योजना
 - 4. प्रधानमंत्री आयुष्मान भारत योजना

Question ID : 65497815585
Chosen Option : 4

Q.22 निम्नलिखित में से कौन, महाराष्ट्र के एक संत थे?

- Ans
- 1. भाखन
 - 2. सुंदर दास
 - 3. दादू दयाल
 - 4. चोखामेला

Question ID : 65497816896
Chosen Option : 3

Q.23 आमतौर पर, _____ मीटर से अधिक ऊँची खड़ी पहाड़ी को पर्वत के रूप में वर्गीकृत किया जाता है।

- Ans
- 1. 1000
 - 2. 500
 - 3. 800
 - 4. 600

Question ID : 65497816910
Chosen Option : 3

Q.24 चोल शिलालेखों में तिरुनामट्टुक्कानी को ' _____ ' के रूप में वर्णित किया गया है।

- Ans 1. मंदिरों को भेंट की गई जमीन
 2. गैर-ब्राह्मण किसान मालिकों की जमीन
 3. जैन संस्थाओं को दान की गई जमीन
 4. ब्राह्मणों को भेंट की गई जमीन

Question ID : 65497816914
Chosen Option : --

Q.25 भारतीय संविधान का कौन सा अनुच्छेद 'आपातकाल की उद्घोषणा' से संबंधित है?

- Ans 1. 325
 2. 235
 3. 352
 4. 253

Question ID : 65497816903
Chosen Option : 3

www.HaryanaJobs.in

Multi Tasking Non Technical Staff Examination 2020

Participant ID	www.HaryanaJobs.in
Participant Name	www.HaryanaJobs.in
Test Center Name	CLM Resources and Management
Test Date	02/11/2021
Test Time :	12:30 PM - 2:00 PM
Subject	MTS Non Technical 2020

Section : General English

Q.1 Select the most appropriate option to substitute the underlined segment in the given sentence. If there is no need to substitute it, select 'No substitution required'.

They are making a lot of noise, isn't it?

- Ans 1. aren't they
2. No substitution required
3. haven't they
4. are they

Question ID : 65497816928
Chosen Option : 1

Q.2 Select the most appropriate meaning of the given idiom.

A bolt from the blue

- Ans 1. Loud thunder and lightning
2. Sudden event that is welcome
3. Sky getting filled with blue light
4. Unexpected and surprising event

Question ID : 65497815419
Chosen Option : 4

Q.3 Identify the segment in the sentence which contains a grammatical error.

The ship was facing very stronger currents in the ocean.

- Ans 1. The ship
2. was facing
3. very stronger currents
4. in the ocean

Question ID : 65497815401
Chosen Option : 3

Q.4 Select the most appropriate option to substitute the underlined segment in the given sentence. If there is no need to substitute it, select 'No substitution required'.

The ostrich is a peculiar bird; sometimes it prefer to run around in circles.

- Ans
- 1. sometime it prefer to
 - 2. No substitution required
 - 3. sometimes it prefers to
 - 4. sometimes its prefer to

Question ID : 65497814806
Chosen Option : 3

Q.5 Select the INCORRECTLY spelt word.

- Ans
- 1. Maintainance
 - 2. Illiterate
 - 3. Confidential
 - 4. Resourceful

Question ID : 65497815423
Chosen Option : 1

Q.6 Select the word which means the same as the group of words given.

One who is mentally not sound

- Ans
- 1. Mindful
 - 2. Miserly
 - 3. Brainy
 - 4. Lunatic

Question ID : 65497815420
Chosen Option : 4

Q.7 Select the most appropriate meaning of the given idiom.

Herculean task

- Ans
- 1. Very tough task
 - 2. Very easy task
 - 3. Very old task
 - 4. Very pleasant task

Question ID : 65497815418
Chosen Option : 1

Q.8 Select the INCORRECTLY spelt word.

- Ans
- 1. Heavily
 - 2. Grammar
 - 3. Allmighty
 - 4. Confusion

Question ID : 65497815422
Chosen Option : 3

Q.9 Select the most appropriate word to fill in the blank.

There is _____ a lot to learn from nature.

- Ans
- 1. almost
 - 2. hardly
 - 3. about
 - 4. quite

Question ID : 65497815404
Chosen Option : 4

Q.10 Select the most appropriate ANTONYM of the given word.

IGNORANT

- Ans
- 1. Simple
 - 2. Innocent
 - 3. Crude
 - 4. Learned

Question ID : 65497815414
Chosen Option : 4

Q.11 Select the most appropriate ANTONYM of the given word.

PARTNER

- Ans
- 1. Associate
 - 2. Participant
 - 3. Opponent
 - 4. Friend

Question ID : 65497815415
Chosen Option : 3

www.HaryanaJobs.in

Q.12 Identify the segment in the sentence which contains a grammatical error.

The man was enjoyed the view from his terrace.

- Ans
- 1. from his terrace
 - 2. The man
 - 3. the view
 - 4. was enjoyed

Question ID : 65497815400
Chosen Option : 4

Q.13 Select the most appropriate word to fill in the blank.

I am sure there is some truth in the news. There is no smoke _____ fire.

- Ans
- 1. with
 - 2. within
 - 3. without
 - 4. where

Question ID : 65497815403
Chosen Option : 3

Q.14 Identify the segment in the sentence which contains a grammatical error.

The poster was make by the hard-working students of class nine.

- Ans
- 1. by the hard-working
 - 2. The poster
 - 3. was make
 - 4. students of class nine

Question ID : 65497815402
Chosen Option : 3

Q.15 Select the most appropriate synonym of the given word.

ANGRY

- Ans
- 1. Calm
 - 2. Enraged
 - 3. Wild
 - 4. Dull

Question ID : 65497815416
Chosen Option : 2

Q.16 Select the most appropriate word to fill in the blank.

Keeping distance from others is one of the _____ one must take to remain safe from the coronavirus.

- Ans
- 1. issues
 - 2. points
 - 3. precautions
 - 4. habits

Question ID : 65497815425
Chosen Option : 3

Q.17 Select the most appropriate word to fill in the blank.

There was once a very _____ king, Julius Caesar, who wanted to rule the whole world.

- Ans
- 1. ambitious
 - 2. adventurous
 - 3. contented
 - 4. faithful

Question ID : 65497815424
Chosen Option : 1

Q.18 Select the most appropriate synonym of the given word.

WANE

- Ans
- 1. Increase
 - 2. Decline
 - 3. Drown
 - 4. Rise

Question ID : 65497815417
Chosen Option : 2

Q.19 Select the word which means the same as the group of words given.

One who can use both hands equally well

- Ans
- 1. Ambivalent
 - 2. Ambidextrous
 - 3. Multifaceted
 - 4. Multitalented

Question ID : 65497815421
Chosen Option : 2

Q.20 Select the most appropriate option to substitute the underlined segment in the given sentence. If there is no need to substitute it, select 'No substitution required.'

During his research, the forest officer was pleasantly surprised to find that the population of tigers had increased.

- Ans
- 1. has increase
 - 2. is to increase
 - 3. No substitution required
 - 4. have increased

Question ID : 65497815411
Chosen Option : 4

Comprehension:

In the following passage some words have been deleted. Fill in the blanks with the help of the alternatives given. Select the most appropriate option for each blank.

Nawab Mir Osman Ali Khan was the last ruler of Hyderabad, the largest princely state in British India. He ascended the throne (1)_____ the age of 25 and ruled Hyderabad for 37 years. He (2)_____ on the cover of Time magazine as the (3)_____ person at the time. He was the 5th richest man in (4)_____ history of mankind and the richest Indian who ever lived. He was a (5)_____ ruler who encouraged education, science and development.

SubQuestion No : 21

Q.21 Select the most appropriate option to fill in blank no.1.

- Ans
- 1. of
 - 2. with
 - 3. to
 - 4. at

Question ID : 65497815406
Chosen Option : 4

Comprehension:

In the following passage some words have been deleted. Fill in the blanks with the help of the alternatives given. Select the most appropriate option for each blank.

Nawab Mir Osman Ali Khan was the last ruler of Hyderabad, the largest princely state in British India. He ascended the throne (1)_____ the age of 25 and ruled Hyderabad for 37 years. He (2)_____ on the cover of Time magazine as the (3)_____ person at the time. He was the 5th richest man in (4)_____ history of mankind and the richest Indian who ever lived. He was a (5)_____ ruler who encouraged education, science and development.

SubQuestion No : 22

Q.22 Select the most appropriate option to fill in blank no.2.

- Ans
- 1. have featured
 - 2. had feature
 - 3. was featured
 - 4. is feature

Question ID : 65497815407
Chosen Option : 3

Comprehension:

In the following passage some words have been deleted. Fill in the blanks with the help of the alternatives given. Select the most appropriate option for each blank.

Nawab Mir Osman Ali Khan was the last ruler of Hyderabad, the largest princely state in British India. He ascended the throne (1)_____ the age of 25 and ruled Hyderabad for 37 years. He (2)_____ on the cover of Time magazine as the (3)_____ person at the time. He was the 5th richest man in (4)_____ history of mankind and the richest Indian who ever lived. He was a (5)_____ ruler who encouraged education, science and development.

SubQuestion No : 23

Q.23 Select the most appropriate option to fill in blank no.3.

- Ans 1. richest
 2. richer
 3. rich
 4. most rich

Question ID : **65497815408**
Chosen Option : 1

Comprehension:

In the following passage some words have been deleted. Fill in the blanks with the help of the alternatives given. Select the most appropriate option for each blank.

Nawab Mir Osman Ali Khan was the last ruler of Hyderabad, the largest princely state in British India. He ascended the throne (1)_____ the age of 25 and ruled Hyderabad for 37 years. He (2)_____ on the cover of Time magazine as the (3)_____ person at the time. He was the 5th richest man in (4)_____ history of mankind and the richest Indian who ever lived. He was a (5)_____ ruler who encouraged education, science and development.

SubQuestion No : 24

Q.24 Select the most appropriate option to fill in blank no.4.

- Ans 1. the
 2. an
 3. a
 4. one

Question ID : **65497815409**
Chosen Option : 1

Comprehension:

In the following passage some words have been deleted. Fill in the blanks with the help of the alternatives given. Select the most appropriate option for each blank.

Nawab Mir Osman Ali Khan was the last ruler of Hyderabad, the largest princely state in British India. He ascended the throne (1)_____ the age of 25 and ruled Hyderabad for 37 years. He (2)_____ on the cover of Time magazine as the (3)_____ person at the time. He was the 5th richest man in (4)_____ history of mankind and the richest Indian who ever lived. He was a (5)_____ ruler who encouraged education, science and development.

SubQuestion No : 25

Q.25 Select the most appropriate option to fill in blank no.5.

- Ans** 1. benevolent
 2. cruel
 3. wicked
 4. jealous

Question ID : **65497815410**
 Chosen Option : 1

Section : **General Intelligence and Reasoning**

Q.1 उन संख्याओं का चयन करें, जो दी गई संख्या श्रेणी में प्रश्नवाचक चिह्नों (?) के स्थान पर आएंगी।

11, 12, 13, 13, 17, 16, 23, ?, ?

- Ans** 1. 25, 33
 2. 23, 27
 3. 21, 31
 4. 23, 29

Question ID : **65497816340**
 Chosen Option : 3

www.HaryanaJobs.in

Q.2 निम्न आकृति के दर्पण में निर्मित प्रतिबिंब का चयन करें (दर्पण की स्थिति पर ध्यान दें)।



Ans

✓ 1.



✗ 2.



✗ 3.



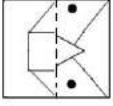
✗ 4.



www.HaryanaJobs.in

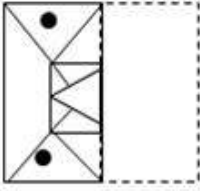
Question ID : 65497816357
Chosen Option : 1

Q.3 उस विकल्प का चयन करें, जिसमें यह दर्शाया गया है कि जब दिए गए कागज़ की पारदर्शी शीट को बिंदीदार रेखा पर मोड़ा जाता है तो यह कैसी दिखेगी।

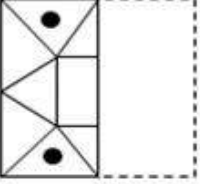


Ans

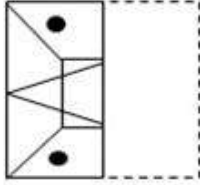
✓ 1.



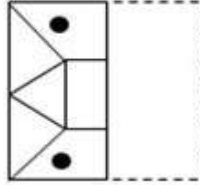
✗ 2.



✗ 3.



✗ 4.



Question ID : 65497816358

Chosen Option : 1

Q.4 वार्षिक परीक्षा में, गणित, भौतिकी, भूगोल, अर्थशास्त्र, रसायन विज्ञान, इतिहास के 6 पेपर, सप्ताह के 6 क्रमागत दिन (सोमवार से शनिवार तक) को निर्धारित किए जाते हैं।

1. गणित का पेपर रसायन विज्ञान के पेपर के बाद है, जिसमें उनके बीच 1 दिन का अंतराल है।
2. भौतिकी का पेपर सोमवार को है।
3. भूगोल का पेपर आखिरी दिन नहीं है।
4. इतिहास का पेपर, जो गणित के पेपर के पिछले दिन निर्धारित है, उसके और भौतिकी के पेपर के बीच दो दिन का अंतराल है।

उपर्युक्त विवरण में, इतिहास का पेपर, पाठ्यक्रम अपूर्ण होने के कारण रद्द कर दिया जाता है और परीक्षा पांच दिन (सोमवार से शुक्रवार तक) के लिए निर्धारित की जाती है, जिसके साथ पेपर का क्रम भी उलट जाता है।

कौन सा पेपर, गुरुवार को निर्धारित किया जाता है?

Ans

✓ 1. भूगोल

✗ 2. गणित

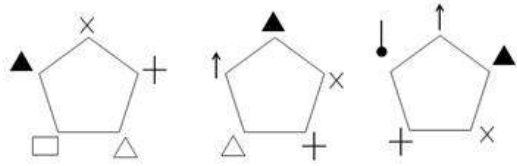
✗ 3. भौतिकी

✗ 4. रसायन विज्ञान

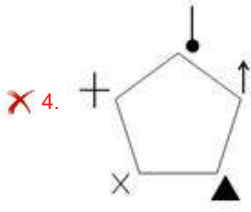
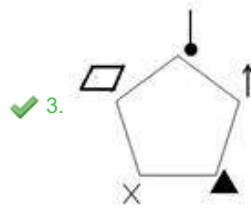
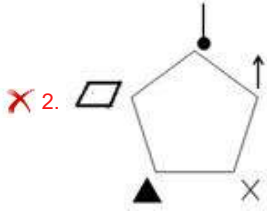
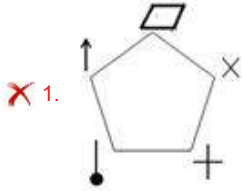
Question ID : 65497816352

Chosen Option : 2

Q.5 उस विकल्प का चयन करें, जो निम्न आकृति श्रेणी में अगले स्थान पर आएगी।



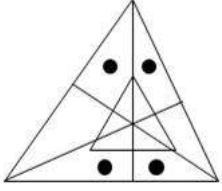
Ans



www.HaryanaJobs.in

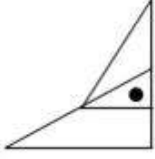
Question ID : 65497816354
Chosen Option : 4

Q.6 विकल्पों में से उस आकृति का चयन करें, जो दी गई प्रश्न आकृति में अन्तःस्थापित है।

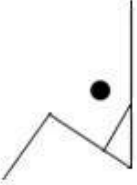


Ans

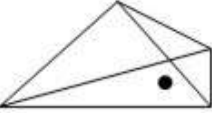
✗ 1.



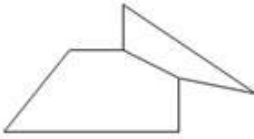
✓ 2.



✗ 3.



✗ 4.



Question ID : 65497816356

Chosen Option : 2

Q.7 वार्षिक परीक्षा में, गणित, भौतिकी, भूगोल, अर्थशास्त्र, रसायन विज्ञान, इतिहास के 6 पेपर, सप्ताह के 6 क्रमागत दिन (सोमवार से शनिवार तक) को निर्धारित किए जाते हैं।

1. गणित का पेपर रसायन विज्ञान के पेपर के बाद है, जिसमें उनके बीच 1 दिन का अंतराल है।
2. भौतिकी का पेपर सोमवार को है।
3. भूगोल का पेपर आखिरी दिन नहीं है।
4. इतिहास का पेपर, जो गणित के पेपर के पिछले दिन निर्धारित है, उसके और भौतिकी के पेपर के बीच दो दिन का अंतराल है।

कौन सा पेपर, शनिवार को निर्धारित किया जाता है?

Ans

✓ 1. अर्थशास्त्र

✗ 2. गणित

✗ 3. रसायन विज्ञान

✗ 4. इतिहास

Question ID : 65497816351

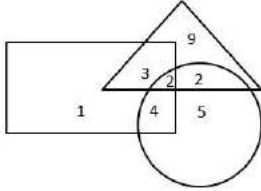
Chosen Option : 1

Q.8 किसी निश्चित कूट भाषा में, यदि storm = 15, apple = 6, virtue = 35 है, तो cupboard = ?

- Ans
- 1. 31
 - 2. 37
 - 3. 23
 - 4. 45

Question ID : 65497816344
Chosen Option : 2

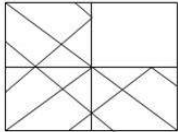
Q.9 निम्न आकृति में, त्रिभुज 'बढ़ईयाँ' को निरूपित करता है, वृत्त 'लोहारों' को निरूपित करता है और आयत 'मछुआरों' को निरूपित करता है। कितने लोग मछुआरे हैं?



- Ans
- 1. 13
 - 2. 10
 - 3. 9
 - 4. 1

Question ID : 65497816359
Chosen Option : 2

Q.10 विकल्पों में से उस आकृति का चयन करें, जिसे दी गई आकृति के रिक्त स्थान में रखने से पैटर्न पूरा होगा।



Ans

- 1.
- 2.
- 3.
- 4.

Question ID : 65497816355
Chosen Option : 3

- Q.11 पांच लोग अपनी लंबाइयों के बारे में विवरण तैयार करते हैं। उनमें से केवल एक झूठ बोलता है। विवरणों का ध्यानपूर्वक अध्ययन करें और समूह के दूसरे सबसे लंबे व्यक्ति की पहचान करें।
1. आदित्य: मैं नचिकेत से लंबा हूँ, लेकिन सानिका से छोटा हूँ।
 2. ऋषिकेश: मैं आदित्य से लंबा हूँ, लेकिन सानिका से छोटा हूँ।
 3. नचिकेत: मेरी और ऋषिकेश की लंबाई बराबर है और मैं निकिता से लंबा हूँ।
 4. सानिका: मैं सबसे लंबी हूँ।
 5. निकिता: ऋषिकेश, आदित्य से छोटा है।

- Ans
- 1. ऋषिकेश
 - 2. आदित्य
 - 3. निकिता
 - 4. नचिकेत

Question ID : 65497816353
Chosen Option : 2

- Q.12 उस अक्षर का चयन करें, जो दी गई अक्षर श्रेणी में प्रश्नवाचक चिह्न (?) के स्थान पर आएगा।

a, d, h, n, ?

- Ans
- 1. y
 - 2. a
 - 3. u
 - 4. w

Question ID : 65497816341
Chosen Option : 4

- Q.13 नीचे दिए गए प्रश्न में, दो कथनों के बाद दो निष्कर्ष दिए गए हैं। कथनों को सत्य मानते हुए, निष्कर्षों से संबंधित उचित विकल्प का चयन करें।

कथन:

- I. अमित, अच्छा क्षेत्ररक्षक है।
- II. सभी क्षेत्ररक्षकों के हाथ बड़े होते हैं।

निष्कर्ष:

1. बड़े हाथ वाले सभी लोग क्षेत्ररक्षक होते हैं।
2. अमित के हाथ बड़े हैं।

- Ans
- 1. कोई भी निष्कर्ष अनुसरण नहीं करता है।
 - 2. दोनों निष्कर्ष अनुसरण करते हैं।
 - 3. केवल निष्कर्ष 2 अनुसरण करता है।
 - 4. केवल निष्कर्ष 1 अनुसरण करता है।

Question ID : 65497816349
Chosen Option : 3

- Q.14 उस संख्या का चयन करें, जो दी गई संख्या श्रेणी में प्रश्नवाचक चिह्न (?) के स्थान पर आएगी?

146, 90, 56, 34, 22, ?

- Ans
- 1. 12
 - 2. 14
 - 3. 16
 - 4. 10

Question ID : 65497816339
Chosen Option : 1

Q.15 किसी निश्चित कूट भाषा में,
NEST को 8426 लिखा जाता है,
WISE को 6912 लिखा जाता है और
RAIN को 7859 लिखा जाता है।

अक्षर, अंकों के संगत नहीं हैं।
WANT शब्द के लिए निम्न में से कौन सा कोड हो सकता है?

- Ans
- 1. 2194
 - 2. 7894
 - 3. 6759
 - 4. 8147

Question ID : 65497816343
Chosen Option : 4

Q.16 विकल्पों में से उस नाम का चयन करें, जो किसी प्रकार दिए गए नामों के सेट के समरूप है।

बिस्मिल्लाह खान, जेआरडी टाटा, एम विश्वेश्वरैया, सचिन तेंदुलकर

- Ans
- 1. प्रणब मुखर्जी
 - 2. महात्मा गांधी
 - 3. बाबा आमटे
 - 4. विश्वनाथन आनंद

Question ID : 65497816346
Chosen Option : 1

Q.17 उस विकल्प का चयन करें, जो तीसरे शब्द से ठीक उसी प्रकार संबंधित है जिस प्रकार दूसरा शब्द पहले शब्द से संबंधित है।

चालक : एल्यूमीनियम :: विद्युतरोधी : ?

- Ans
- 1. ग्रेफाइट
 - 2. चांदी
 - 3. अभ्रक
 - 4. सिलिकॉन

Question ID : 65497816347
Chosen Option : 3

www.HaryanaJobs.in

Q.18 नीचे दिए गए प्रश्न में, तीन कथनों के बाद चार निष्कर्ष दिए गए हैं। कथनों को सत्य मानते हुए, निष्कर्षों से संबंधित उचित विकल्प का चयन करें।

कथन:

- I. सभी डॉक्टर, वकील हैं।
- II. कुछ वकील, इंजीनियर हैं।
- III. सभी इंजीनियर, ब्रोकर हैं।

निष्कर्ष:

1. कुछ इंजीनियर, डॉक्टर हैं।
2. कुछ ब्रोकर, वकील हैं।
3. कुछ ब्रोकर, डॉक्टर हैं।
4. कुछ वकील, डॉक्टर हैं।

- Ans
- 1. सभी निष्कर्ष अनुसरण करते हैं।
 - 2. कोई भी निष्कर्ष अनुसरण नहीं करता है।
 - 3. केवल निष्कर्ष 1 और 3 अनुसरण करते हैं।
 - 4. केवल निष्कर्ष 2 और 4 अनुसरण करते हैं।

Question ID : 65497816350

Chosen Option : 4

Q.19 उस संख्या-युग्म का चयन करें जो दिए गए युग्म के अनुरूप (analogous) है।

46 : 61

- Ans
- 1. 521 : 52
 - 2. 60 : 28
 - 3. 27 : 3
 - 4. 612 : 36

Question ID : 65497816337

Chosen Option : --

Q.20 किसी निश्चित भाषा में, यदि '+' का अर्थ 'घटाना', '×' का अर्थ 'भाग', '÷' का अर्थ 'जोड़' और '-' का अर्थ 'गुणा' है, तो निम्न व्यंजक का मान ज्ञात करें। (BODMAS नियम उस भाषा में लागू नहीं होता है)।

$8 \div 16 \times 4 + 2 - 3$

- Ans
- 1. 5
 - 2. 1
 - 3. 9
 - 4. 12

Question ID : 65497816335

Chosen Option : 4

Q.21 उस अक्षर संयोजन का चयन करें, जिसे दी गई श्रेणी के खाली स्थानों में क्रमिक रूप से रखने पर श्रेणी पूरी हो जाएगी।

_ c _ d d _ c a _ c b d d b _ a

- Ans
- 1. caddb
 - 2. cdaba
 - 3. abbac
 - 4. abcac

Question ID : 65497816345
Chosen Option : 3

Q.22 उस संख्या त्रिक (triad) का चयन करें जो दिए गए त्रिकों (triads) के अनुरूप (analogous) है।

(64, 8, 65), (125, 27, 89)

- Ans
- 1. (49, 36, 25)
 - 2. (83, 24, 95)
 - 3. (100, 23, 90)
 - 4. (216, 1, 81)

Question ID : 65497816338
Chosen Option : 4

Q.23 किसी निश्चित कूट भाषा में, यदि 'raghav plays hockey' को 'xfjdni rzzmo ubghzs' लिखा जाता है, तो 'arun works hard' को किस प्रकार लिखा जाएगा?

- Ans
- 1. eqxi rjsnx mvqb
 - 2. cszi rjsnx mvwb
 - 3. eqxi rlqpv mxwa
 - 4. cszi rlqpv mvqb

Question ID : 65497816342
Chosen Option : 4

Q.24 चार अक्षर-समूह दिए गए हैं, जिनमें से तीन किसी प्रकार समान हैं और एक असंगत है। उस असंगत अक्षर-समूह का चयन करें।

- Ans
- 1. kpnm
 - 2. cxve
 - 3. gtri
 - 4. dwfv

Question ID : 65497816348
Chosen Option : 4

Q.25 किसी निश्चित कूट भाषा में, यदि चिह्नों + और × को एक-दूसरे से प्रतिस्थापित किया जाता है और अंकों 3 और 8 को एक-दूसरे से प्रतिस्थापित किया जाता है, तो निम्न व्यंजक का मान ज्ञात करें।

$$6 \times 35 \div 5 + 8 - 9$$

- Ans
- 1. 31
 - 2. 101
 - 3. 48
 - 4. 44

Question ID : 65497816336
Chosen Option : 3

Section : Numerical Aptitude

Q.1 एक हवाई जहाज एक निश्चित दूरी 280 km/h की चाल से $4\frac{3}{4}$ घंटे में पूरी करता है। उसी दूरी को 7 घंटे में पूरा करने के लिए उसकी चाल (km/h में) कितनी होनी चाहिए?

- Ans
- 1. 180
 - 2. 140
 - 3. 190
 - 4. 175

Question ID : 65497817069
Chosen Option : 3

Q.2 यदि एक लम्बवृत्तीय बेलन के आधार की त्रिज्या 4 m और बेलन का वक्र पृष्ठीय क्षेत्रफल 19.5 m^2 है, तो इसका आयतन (m^3 में) कितना होगा?

- Ans
- 1. 65
 - 2. 36
 - 3. 39
 - 4. 42

Question ID : 65497817083
Chosen Option : 3

Q.3 14 cm और 10 cm की त्रिज्याओं वाले दो वृत्त एक-दूसरे को प्रतिच्छेदित करते हैं, और उनकी उभयनिष्ठ जीवा की लंबाई 16 cm है। उनके केंद्रों के बीच की दूरी (cm में) कितनी होगी?

- Ans
- 1. $6 + 5\sqrt{33}$
 - 2. $6 + 2\sqrt{33}$
 - 3. $6 + 3\sqrt{33}$
 - 4. $6 + 4\sqrt{33}$

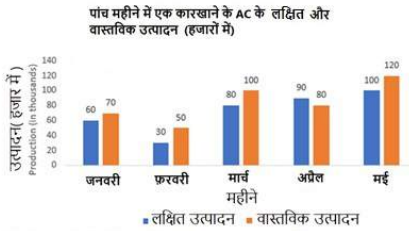
Question ID : 65497817084
Chosen Option : 2

Q.4 किसी वर्ष में एक परिवार का औसत मासिक व्यय वर्ष के पहले तीन महीनों में ₹10,000, अगले चार महीनों में ₹12,500 और अंतिम पांच महीनों में ₹13,500 था। यदि उस वर्ष उनकी बचत ₹32,500 थी, तो औसत मासिक आय का 70% कितना (₹ में) होगा?

- Ans
- 1. 15,000
 - 2. 10,500
 - 3. 11,250
 - 4. 12,250

Question ID : 65497817071
Chosen Option : 2

Q.5 दिए गये ग्राफ का अध्ययन कीजिए और उससे संबंधित प्रश्न का उत्तर दीजिए।



मई के महीने में एसी (AC) का वास्तविक उत्पादन, पांचों महीनों के औसत लक्षित उत्पादन से कितने प्रतिशत (निकटतम पूर्णांक तक सही) अधिक था?

- Ans
- 1. 69
 - 2. 50
 - 3. 67
 - 4. 51

Question ID : 65497817090
Chosen Option : 1

Q.6 A और B की आय का अनुपात 1 : 2 और उनके व्यय का अनुपात 2 : 3 है। यदि B के व्यय का 80% A की आय के बराबर है, तो B और A की बचतों का अनुपात क्या होगा?

- Ans
- 1. 9 : 2
 - 2. 7 : 3
 - 3. 2 : 9
 - 4. 3 : 7

Question ID : 65497817078
Chosen Option : --

Q.7 एक किसान ने अपने खेत में फसल उगाने के लिए साहूकार से ₹1,32,000 उधार लिए। ब्याज की दर 12.5% वार्षिक है, जिसकी गणना वार्षिक चक्रवृद्धि के आधार पर होती है। 2 वर्ष के अंत में उसने ₹1,07,062.50 और अपना स्कूटर देकर ऋण का भुगतान किया। स्कूटर की कीमत (₹ में) कितनी है?

- Ans
- 1. 50,000
 - 2. 60,000
 - 3. 45,000
 - 4. 75,000

Question ID : 65497817080
Chosen Option : 2

Q.8 एक सप्ताह में चाय के थैले के मूल्य ₹350, ₹280, ₹340, ₹270, ₹360, ₹310 और ₹300 थे। इनका परास (range) (₹ में) क्या होगा?

- Ans
- 1. 100
 - 2. 90
 - 3. 70
 - 4. 80

Question ID : 65497817082
Chosen Option : 2

Q.9 $\left(4\frac{1}{5} - 3\frac{1}{10} \text{ of } 1\frac{1}{7}\right) \div \left(6\frac{1}{3} - 3\frac{1}{5} \text{ of } 1\frac{1}{2}\right)$ का मान ज्ञात करें।

- Ans
- 1. $\frac{3}{5}$
 - 2. $\frac{5}{9}$
 - 3. $\frac{3}{7}$
 - 4. $\frac{5}{7}$

Question ID : 65497815673
Chosen Option : 3

Q.10 समान लंबाई वाली दो रेलगाड़ियां समानांतर पटरियों पर एक ही दिशा में 44 km/h और 32 km/h की चाल से चल रही हैं। तेज़ गति से चलने वाली रेलगाड़ी दूसरी रेलगाड़ी को 72 सेकंड में पार करती है। दोनों रेलगाड़ियों की लंबाई का योगफल (m में) कितना होगा?

- Ans
- 1. 240
 - 2. 190
 - 3. 250
 - 4. 200

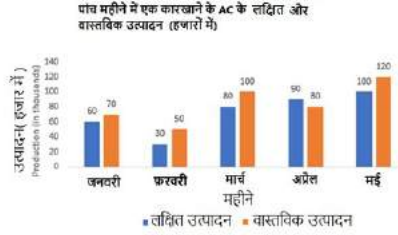
Question ID : 65497817070
Chosen Option : 1

Q.11 जब चीनी के मूल्य में 50% की वृद्धि होती है तो एक व्यक्ति चीनी पर अपने व्यय को केवल 25% बढ़ाता है। उसे चीनी के उपभोग में कितने प्रतिशत (दशमलव के दो स्थानों तक) की कमी करनी होगी?

- Ans
- ✗ 1. 15.75%
 - ✗ 2. 12.75%
 - ✗ 3. 11.54%
 - ✓ 4. 16.67%

Question ID : 65497817074
Chosen Option : 4

Q.12 दिए गये ग्राफ का अध्ययन कीजिए और उससे संबंधित प्रश्न का उत्तर दीजिए।



फरवरी और अप्रैल में एसी (AC) के वास्तविक उत्पादन का, जनवरी और अप्रैल के लक्षित उत्पादन से अनुपात क्या होगा?

- Ans
- ✓ 1. 13 : 15
 - ✗ 2. 9 : 7
 - ✗ 3. 15 : 13
 - ✗ 4. 7 : 9

Question ID : 65497817089
Chosen Option : 1

Q.13 किसी वस्तु को उसके अंकित मूल्य पर 10% छूट देने के बाद ₹450 में बेचा जाता है। यदि उस पर छूट नहीं दी जाती तो 25% लाभ प्राप्त होता। वस्तु के क्रय मूल्य का 50% कितना (₹ में) होगा?

- Ans
- ✗ 1. 250
 - ✗ 2. 150
 - ✓ 3. 200
 - ✗ 4. 175

Question ID : 65497817073
Chosen Option : 3

Q.14 एक पुस्तक की 6 प्रतियां एक निश्चित मूल्य पर खरीदी जा सकती हैं जिनका भुगतान वर्ष के अंत में करना है और उसी पुस्तक की 7 प्रतियां उसी मूल्य पर नकद भुगतान करके खरीदी जा सकती हैं। साधारण ब्याज की वार्षिक दर (दशमलब के एक स्थान तक) कितनी होगी?

- Ans
- 1. 10.9%
 - 2. 15.5%
 - 3. 16.7%
 - 4. 30.4%

Question ID : 65497817081
Chosen Option : 3

Q.15 In an examination, the ratio of the number of candidates who passed, to those who failed was 5 : 2. If the number of failed candidates had been 14 more, then the ratio of the number of passed candidates to those who failed would have been 4 : 3. How many candidates passed the examination?

- Ans
- 1. 100
 - 2. 70
 - 3. 126
 - 4. 98

Question ID : 65497817079
Chosen Option : --

Q.16 A एक वस्तु B को 12% के लाभ पर बेचता है। B इसे C को 9% की हानि पर बेचता है। यदि C इसके लिए ₹15,288 का भुगतान करता है, तो A द्वारा उस वस्तु को किस मूल्य (₹ में) पर बेचा गया?

- Ans
- 1. 14,250
 - 2. 16,800
 - 3. 15,000
 - 4. 16,000

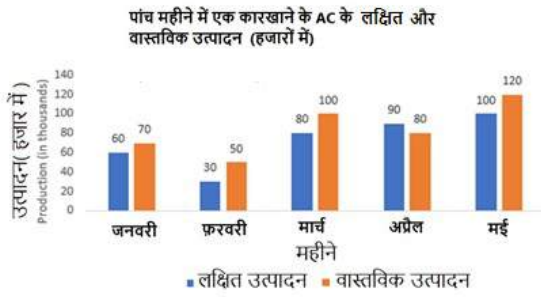
Question ID : 65497817076
Chosen Option : 3

Q.17 एक कक्षा में 100 विद्यार्थी हैं जिनमें से 70% लड़कियां हैं और शेष लड़के हैं। एक टेस्ट में लड़कियों के अंकों का औसत, लड़कों के औसत अंकों से 20% अधिक है। यदि सभी विद्यार्थियों के अंकों का औसत 57 है, तो लड़कियों के अंकों का औसत कितना है?

- Ans
- 1. 75
 - 2. 60
 - 3. 50
 - 4. 45

Question ID : 65497817072
Chosen Option : 2

Q.18 दिए गये ग्राफ का अध्ययन कीजिए और उससे संबंधित प्रश्न का उत्तर दीजिए।



किस महीने में एसी (AC) का वास्तविक उत्पादन लक्षित उत्पादन से 66% अधिक है?

- Ans
- ✓ 1. फरवरी
 - ✗ 2. मार्च
 - ✗ 3. अप्रैल
 - ✗ 4. मई

Question ID : 65497817091

Chosen Option : 1

Q.19 A अकेला किसी काम को 10 दिन में और B अकेला उसी काम को 15 दिन में कर सकता है। A और B ने ₹42,000 में उस काम को पूरा करने का ठेका लिया। C की सहायता से वे इस काम को 5 दिन में पूरा कर लेते हैं। B को कितने रुपये प्राप्त होंगे?

- Ans
- ✗ 1. 15,000
 - ✗ 2. 21,000
 - ✓ 3. 14,000
 - ✗ 4. 7,000

Question ID : 65497817068

Chosen Option : 3

Q.20 एक समलंब चतुर्भुज, जिसकी समानांतर भुजाओं की लंबाई 25 cm और 19 cm है, का क्षेत्रफल 330 cm² है। भुजाओं के बीच की दूरी (cm में) ज्ञात कीजिए।

- Ans
- ✓ 1. 15
 - ✗ 2. 10
 - ✗ 3. 30
 - ✗ 4. 12

Question ID : 65497817085

Chosen Option : 1

Q.21 एक वस्तु का क्रय मूल्य इसके विक्रय मूल्य का $\frac{7}{8}$ गुना है। लाभ/हानि प्रतिशत (दशमलव के दो स्थानों तक) ज्ञात कीजिए?

- Ans
- 1. 16.67% लाभ
 - 2. 19.54% लाभ
 - 3. 14.29% हानि
 - 4. 16.67% हानि

Question ID : 65497817075
Chosen Option : 3

Q.22 20 लोग प्रतिदिन 8 घंटे काम करके किसी काम को 15 दिनों में पूरा करते हैं। प्रतिदिन 10 घंटे काम करते हुए उसी काम को 4 दिन में पूरा करने के लिए कितने लोगों की आवश्यकता होगी?

- Ans
- 1. 60
 - 2. 55
 - 3. 75
 - 4. 80

Question ID : 65497817067
Chosen Option : 1

Q.23 $\frac{\left[\frac{3}{5} \text{ of } \left(15\frac{2}{3} - 33\frac{1}{3}\right) + \frac{1}{3} \left(18\frac{3}{4} \text{ of } 7\frac{1}{5} + 15 \times 2\right)\right] \times 5}{3^2 \times 5 + 1}$ को सरल करें।

- Ans
- 1. 83
 - 2. $-\frac{23}{5}$
 - 3. $-\frac{1}{2}$
 - 4. $-\frac{23}{54}$

Question ID : 65497817795
Chosen Option : 3

Q.24 वह बड़ी से बड़ी संख्या कौन सी है जिससे 1992 और 233 को विभाजित करने पर शेषफल क्रमशः 12 और 13 प्राप्त होते हैं?

- Ans
- 1. 220
 - 2. 242
 - 3. 186
 - 4. 246

Question ID : 65497817086
Chosen Option : 1

Q.25

यदि $x:y:z = 1:2:3$ है, तो $\left(\frac{3x^2 - 2y^2 + 4z^2}{x^2 + 2y^2 + z^2}\right)$ का मान कितना होगा?

Ans

1. $\frac{31}{21}$
2. $\frac{31}{19}$
3. $\frac{31}{16}$
4. $\frac{31}{18}$

Question ID : 65497817077

Chosen Option : 4

Section : General Awareness

Q.1 भारत के राष्ट्रपति ने जून 2020 में बैंकिंग नियमन (संशोधन) अध्यादेश, 2020 प्रख्यापित किया। इस अध्यादेश की प्रमुख विशेषता निम्नलिखित में से कौन सी है?

Ans

1. यह अनुसूचित बैंकों के बोर्ड के लिए अधिक निदेशकों की नियुक्ति के माध्यम से भारतीय रिजर्व बैंक को अधिक विनियमन शक्तियाँ प्रदान करता है।
2. यह बैंकों के लिए टियर-1 पूंजी से संबंधित मानदंडों को शिथिल करता है।
3. यह विदेशी ऋणदाता संस्थाओं को भारत में अपनी शाखाएँ स्थापित करने की अनुमति देता है।
4. यह शहरी और बहु-राज्य सहकारी बैंकों को भारतीय रिजर्व बैंक की देख-रेख में लाता है।

Question ID : 65497815081

Chosen Option : --

Q.2 भारतीय संविधान के अनुसार, हिरासत में लिए गए और गिरफ्तार किए गए प्रत्येक व्यक्ति को इस प्रकार की गिरफ्तारी के _____ घंटे की अवधि के भीतर गिरफ्तारी के स्थान से निकटतम मजिस्ट्रेट के सामने पेश किया जाएगा, इसमें गिरफ्तारी के स्थान से लेकर मजिस्ट्रेट के कोर्ट तक यात्रा करने में लगे समय की छूट दी जाती है।

Ans

1. छत्तीस
2. चौबीस
3. छह
4. बारह

Question ID : 65497815994

Chosen Option : 2

Q.3 'मिशन अंत्योदय' नामक एक मिशन प्रकार की परियोजना की परिकल्पना निम्नलिखित में से किसके द्वारा की गई है?

Ans

1. ग्रामीण विकास मंत्रालय
2. परिवहन विकास मंत्रालय
3. स्वास्थ्य विकास मंत्रालय
4. शहरी विकास मंत्रालय

Question ID : 65497815993

Chosen Option : 3

Q.4 निम्नलिखित में से किसने, मार्च 2020 में, तीसरे वार्षिक हॉकी इंडिया पुरस्कारों में प्लेयर ऑफ द ईयर (पुरुष) की श्रेणी में हॉकी इंडिया ध्रुव बत्रा पुरस्कार जीता था?

- Ans
- 1. पी.आर. श्रीजेश
 - 2. रुपिंदर पाल सिंह
 - 3. हरमनप्रीत सिंह
 - 4. मनप्रीत सिंह

Question ID : 65497815985
Chosen Option : 4

Q.5 पद्म भूषण 2020 के प्राप्तकर्ताओं में से एक जगदीश शेठ को निम्न में से किस क्षेत्र में पुरस्कार मिला है?

- Ans
- 1. सार्वजनिक मामले
 - 2. कला
 - 3. साहित्य और शिक्षा
 - 4. व्यापार और उद्योग

Question ID : 65497815987
Chosen Option : --

Q.6 निम्नलिखित में से कौन सा नृत्य रूप, हिमाचल प्रदेश में प्रचलित है?

- Ans
- 1. लाहो
 - 2. थोरा
 - 3. रोम्फ
 - 4. नाटी

Question ID : 65497815983
Chosen Option : 3

Q.7 लोथल, प्राचीन सिंधु घाटी सभ्यता का एक प्रमुख शहर, निम्नलिखित में से किस राज्य में स्थित है?

- Ans
- 1. हिमाचल प्रदेश
 - 2. गुजरात
 - 3. राजस्थान
 - 4. पंजाब

Question ID : 65497816004
Chosen Option : 2

Q.8 पंचायती राज संस्थाओं को निम्नलिखित में से किस संविधान संशोधन द्वारा संवैधानिक दर्जा प्रदान किया गया?

- Ans
- 1. 92वां संशोधन अधिनियम, 2003
 - 2. 71वां संशोधन अधिनियम, 1992
 - 3. 73वां संशोधन अधिनियम, 1992
 - 4. 86वां संशोधन अधिनियम, 2002

Question ID : 65497815992
Chosen Option : 3

Q.9 'मायोपिया (Myopia)' का दूसरा नाम क्या है?

- Ans
- 1. जरा दूरदृष्टि
 - 2. दूर दृष्टि दोष
 - 3. निकट दृष्टि दोष
 - 4. दृष्टिवैषम्य

Question ID : 65497815996
Chosen Option : 3

Q.10 मड़ई महोत्सव निम्नलिखित में से किस राज्य में मनाया जाता है?

- Ans
- 1. जम्मू और कश्मीर
 - 2. छत्तीसगढ़
 - 3. ओडिशा
 - 4. झारखंड

Question ID : 65497815981
Chosen Option : 3

Q.11 होम रूल आंदोलन निम्नलिखित में से किस वर्ष में प्रारंभ किया गया था?

- Ans
- 1. 1915
 - 2. 1917
 - 3. 1914
 - 4. 1916

Question ID : 65497816003
Chosen Option : 4

Q.12 'द अनार्की: द रिलेटेस राइज़ ऑफ द ईस्ट इंडिया कंपनी' नामक पुस्तक के/की लेखक/लेखिका निम्नलिखित में से कौन है?

- Ans
- 1. सुमित सरकार
 - 2. शशि थरूर
 - 3. विलियम डेलरिम्पल
 - 4. शोशना जुबॉफ़

Question ID : 65497815988
Chosen Option : 1

Q.13 What is the maximum amount of bank loan permissible under the Kishor scheme of the Pradhan Mantri Mudra Yojana?

- Ans
- 1. ₹5 lakh
 - 2. ₹15 lakh
 - 3. ₹10 lakh
 - 4. ₹20 lakh

Question ID : 65497815991
Chosen Option : --

Q.14 निम्नलिखित में से कौन से अर्थशास्त्री, अर्थशास्त्र के विषयों को आय, वृद्धि और उपयोगिता पर ध्यान केंद्रित करने वाले पारंपरिक दृष्टिकोणों से इतर ले गए, जिसमें व्यक्तिगत अधिकारों, क्षमताओं, स्वतंत्रता और अधिकारों पर अधिक जोर दिया गया।

- Ans
- 1. रॉबर्ट लुकास
 - 2. एडम स्मिथ
 - 3. अमर्त्य सेन
 - 4. मिल्टन फ्रीडमैन

Question ID : 65497817302
Chosen Option : --

Q.15 सुंदरबन डेल्टा _____ नदियों द्वारा निर्मित है।

- Ans
- 1. गंगा-ब्रह्मपुत्र
 - 2. गंगा-सिंधु
 - 3. सिंधु-ब्रह्मपुत्र
 - 4. गोदावरी-कृष्णा

Question ID : 65497816002
Chosen Option : 1

Q.16 निम्नलिखित में से किस अधिनियम ने भारत के साथ व्यापार के मामले में ईस्ट इंडिया कंपनी के एकाधिकार को समाप्त कर दिया?

- Ans
- 1. 1773 का रेग्युलेंटिंग अधिनियम
 - 2. 1813 का चार्टर अधिनियम
 - 3. 1833 का चार्टर अधिनियम
 - 4. 1793 का रेग्युलेंटिंग अधिनियम

Question ID : 65497816005
Chosen Option : 3

Q.17 निम्नलिखित में से किस देश ने मार्च 2020 में अपने आई.सी.सी. (ICC) टी-20 महिला विश्व कप खिताब को बरकरार रखा था?

- Ans
- 1. भारत
 - 2. न्यूजीलैंड
 - 3. इंग्लैंड
 - 4. ऑस्ट्रेलिया

Question ID : 65497815984
Chosen Option : 4

Q.18 निम्नलिखित में से किसे, मार्च 2020 में, राष्ट्रपति राम नाथ कोविंद द्वारा राज्यसभा के लिए नामित किया गया था?

- Ans
- 1. रंजन गोगोई
 - 2. दीपक मिश्रा
 - 3. टी.एस. ठाकुर
 - 4. जगदीश सिंह खेहर

Question ID : 65497815986
Chosen Option : 1

Q.19 प्रत्येक किलोग्राम पर पृथ्वी का गुरुत्वाकर्षण बल लगभग _____ होता है।

- Ans 1. 15 N
 2. 10 N
 3. 5 N
 4. 20 N

Question ID : 65497815999
 Chosen Option : 2

Q.20 निम्नलिखित में से कौन-सा कथन उर्ध्वपातन की प्रक्रिया की सर्वश्रेष्ठ व्याख्या करता है?

- Ans 1. वह प्रक्रिया जिससे हवा की जल वाष्प को तरल जल में बदल दिया जाता है।
 2. वह प्रक्रिया जिससे जल तरल अवस्था से गैस या वाष्प में परिवर्तित होता है।
 3. एक प्रक्रिया जिसके माध्यम से पादपों में जल का प्रवाह होता है तथा इनके वायवीय भागों से इसका वाष्पोत्सर्जन होता है।
 4. किसी पदार्थ का, मध्यवर्ती तरल अवस्था से गुजरे बिना, ठोस अवस्था से सीधे ही गैसीय अवस्था में परिवर्तन।

Question ID : 65497815998
 Chosen Option : 4

Q.21 निम्नलिखित में से किसने ब्रह्म संहिता लिखी थी, जो ब्रह्म समाज का आस्था कथन था और इसमें समाज के सदस्यों के लिए कर्तव्यों और दायित्वों की सूची बनाई गई थी?

- Ans 1. देबेंद्रनाथ टैगोर
 2. ईश्वर चंद्र विद्यासागर
 3. राममोहन राय
 4. केशव चंद्र सेन

Question ID : 65497815982
 Chosen Option : 3

Q.22 निम्नलिखित में से कौन-सा रोगकारक, इबोला रोग का कारण बनता है?

- Ans 1. जीवाणु
 2. कवक
 3. प्रोटोजोआ
 4. विषाणु

Question ID : 65497815995
 Chosen Option : 4

Q.23 यमुना एक्सप्रेसवे किन दो शहरों को आपस में जोड़ता है?

- Ans 1. लखनऊ - इलाहाबाद
 2. दिल्ली - जयपुर
 3. ग्रेटर नोएडा - आगरा
 4. आगरा - पानीपत

Question ID : 65497816001
 Chosen Option : 3

Q.24 वायुमंडल की ऊपरी परतों में, ऑक्सीजन के तीन परमाणुओं वाला एक अणु पाया जाता है। यह एक परत बनाता है जिसे _____ नाम से जाना जाता है।

- Ans
- 1. बहिर्मंडल
 - 2. बाह्य वायुमंडल
 - 3. मध्यमंडल
 - 4. ओज़ोन मंडल

Question ID : 65497815997

Chosen Option : 4

Q.25 दुनिया की दूसरी सबसे ऊंची पर्वत चोटी, K-2, निम्नलिखित में से किस पर्वत श्रेणी में पाई जाती है?

- Ans
- 1. पीर पंजाल श्रेणी
 - 2. काराकोरम श्रेणी
 - 3. जांस्कर श्रेणी
 - 4. लद्दाख श्रेणी

Question ID : 65497816000

Chosen Option : 2

www.HaryanaJobs.in

Multi Tasking Non Technical Staff Examination 2020

Participant ID	www.HaryanaJobs.in
Participant Name	www.HaryanaJobs.in
Test Center Name	Ram Tahal Choudhary Institute of Technology RTCIT
Test Date	05/10/2021
Test Time :	4:00 PM - 5:30 PM
Subject	MTS Non Technical 2020

Section : General English

Q.1 Select the most appropriate word to fill in the blank.

Rohan is quite popular _____ his classmates.

- Ans
- 1. along
 - 2. across
 - 3. among
 - 4. between

Question ID : 65497816009
Chosen Option : 3

Q.2 Select the most appropriate meaning of the given idiom.

Sell like hot cakes

- Ans
- 1. Sell stale cakes
 - 2. Sell very slowly
 - 3. Sell at a loss
 - 4. Sell very fast

Question ID : 65497816024
Chosen Option : 2

Q.3 Identify the segment in the sentence which contains a grammatical error.

We should focus on only one thing in the time.

- Ans
- 1. We should
 - 2. in the time
 - 3. only one thing
 - 4. focus on

Question ID : 65497816007
Chosen Option : 2

Q.4 Select the most appropriate option to substitute the underlined segment in the given sentence. If there is no need to substitute it, select 'No substitution required'.

We watched the workman to be removing the damaged tiles.

- Ans
- 1. No substitution required
 - 2. to remove
 - 3. remove
 - 4. to removing

Question ID : 65497817231
Chosen Option : 2

Q.5 Select the most appropriate one-word substitution for the given group of words.

One who reads a lot

- Ans
- 1. Witty
 - 2. Clever
 - 3. Intelligent
 - 4. Bookworm

Question ID : 65497816026
Chosen Option : 4

Q.6 Select the INCORRECTLY spelt word.

- Ans
- 1. Contractor
 - 2. Prosecutor
 - 3. Compititor
 - 4. Instructor

Question ID : 65497816029
Chosen Option : 3

Q.7 Select the most appropriate one-word substitution for the given group of words.

Make impure by adding inferior substances

- Ans
- 1. Adjudicate
 - 2. Adulterate
 - 3. Obliterate
 - 4. Obviate

Question ID : 65497816027
Chosen Option : 2

Q.8 Select the most appropriate synonym of the given word.

POTENT

- Ans
- 1. wonderful
 - 2. graceful
 - 3. powerful
 - 4. beautiful

Question ID : 65497816022
Chosen Option : 3

Q.9 Select the most appropriate word to fill in the blank.

Rohit prepared an _____ chart on the benefits of afforestation.

- Ans
- 1. elaborate
 - 2. oriental
 - 3. auspicious
 - 4. enhanced

Question ID : 65497816031
Chosen Option : 2

Q.10 Select the most appropriate meaning of the given idiom.

Break new ground

- Ans
- 1. Do or discover something new
 - 2. Dig fresh ground for sowing seeds
 - 3. Build a new house
 - 4. Break an old structure

Question ID : 65497816025
Chosen Option : 1

Q.11 Select the most appropriate ANTONYM of the given word.

COMPLEX

- Ans
- 1. knotty
 - 2. mixed
 - 3. motley
 - 4. simple

Question ID : 65497816020
Chosen Option : 4

Q.12 Select the most appropriate option to substitute the underlined segment in the given sentence. If there is no need to substitute it, select 'No substitution required.'

Please don't create panic among people during that difficult times.

- Ans 1. those
 2. these
 3. this
 4. No substitution required

Question ID : 65497815109
Chosen Option : 2

Q.13 Select the most appropriate synonym of the given word.

LIMPID

- Ans 1. obscure
 2. subtle
 3. lucid
 4. blunt

Question ID : 65497816023
Chosen Option : 3

Q.14 Identify the segment in the sentence which contains a grammatical error.

The crow held back to the piece of bread with its claws.

- Ans 1. with its claws
 2. to the piece
 3. The crow held back
 4. of bread

Question ID : 65497816008
Chosen Option : 1

Q.15 Select the INCORRECTLY spelt word.

- Ans 1. Pleasent
 2. Persistent
 3. Reluctant
 4. Accountant

Question ID : 65497816028
Chosen Option : 1

Q.16 Select the most appropriate word to fill in the blank.

He helped me with the lessons _____ I should fail.

- Ans
- 1. lest
 - 2. so that
 - 3. unless
 - 4. because

Question ID : 65497816010
Chosen Option : 3

Q.17 Identify the segment in the sentence which contains a grammatical error.

After we had ate a hearty meal, we went to sleep.

- Ans
- 1. we went
 - 2. to sleep
 - 3. After we had ate
 - 4. a hearty meal

Question ID : 65497816006
Chosen Option : 3

Q.18 Select the most appropriate option to substitute the underlined segment in the given sentence. If there is no need to substitute it, select 'No substitution required'.

The team members will meet on a airport at 7 a.m. tomorrow.

- Ans
- 1. by an airport
 - 2. at the airport
 - 3. in the airport
 - 4. No substitution required

Question ID : 65497816017
Chosen Option : 2

Q.19 Select the most appropriate word to fill in the blank.

After the trek I felt a _____ pain in my leg.

- Ans
- 1. stern
 - 2. strict
 - 3. sour
 - 4. severe

Question ID : 65497816030
Chosen Option : 4

Q.20 Select the most appropriate **ANTONYM** of the given word.

VALIANT

- Ans 1. barren
 2. worthy
 3. cowardly
 4. gallant

Question ID : **65497816021**
 Chosen Option : --

Comprehension:

In the following passage some words have been deleted. Fill in the blanks with the help of the options given. Select the most appropriate option for each blank.

We are having a great time in Darjeeling (1)_____ the temperature is hitting (2)_____ all time low this season. We did carry (3)_____ warm clothing but we completely (4)_____ our umbrellas and it has been (5)_____ ever since we got here.

SubQuestion No : 21

Q.21 Select the most appropriate option to fill in blank no. 1.

- Ans 1. until
 2. although
 3. whether
 4. before

Question ID : **65497816012**
 Chosen Option : 1

Comprehension:

In the following passage some words have been deleted. Fill in the blanks with the help of the options given. Select the most appropriate option for each blank.

We are having a great time in Darjeeling (1)_____ the temperature is hitting (2)_____ all time low this season. We did carry (3)_____ warm clothing but we completely (4)_____ our umbrellas and it has been (5)_____ ever since we got here.

SubQuestion No : 22

Q.22 Select the most appropriate option to fill in blank no. 2.

- Ans 1. a
 2. an
 3. so
 4. such

Question ID : **65497816013**
 Chosen Option : 4

Comprehension:

In the following passage some words have been deleted. Fill in the blanks with the help of the options given. Select the most appropriate option for each blank.

We are having a great time in Darjeeling (1)_____ the temperature is hitting (2)_____ all time low this season. We did carry (3)_____ warm clothing but we completely (4)_____ our umbrellas and it has been (5)_____ ever since we got here.

SubQuestion No : 23

Q.23 Select the most appropriate option to fill in blank no. 3.

- Ans 1. adequate
 2. satisfactory
 3. capable
 4. acceptable

Question ID : 65497816014
 Chosen Option : 1

Comprehension:

In the following passage some words have been deleted. Fill in the blanks with the help of the options given. Select the most appropriate option for each blank.

We are having a great time in Darjeeling (1)_____ the temperature is hitting (2)_____ all time low this season. We did carry (3)_____ warm clothing but we completely (4)_____ our umbrellas and it has been (5)_____ ever since we got here.

SubQuestion No : 24

Q.24 Select the most appropriate option to fill in blank no. 4.

- Ans 1. foiled
 2. finished
 3. forgot
 4. failed

Question ID : 65497816015
 Chosen Option : 3

Comprehension:

In the following passage some words have been deleted. Fill in the blanks with the help of the options given. Select the most appropriate option for each blank.

We are having a great time in Darjeeling (1)_____ the temperature is hitting (2)_____ all time low this season. We did carry (3)_____ warm clothing but we completely (4)_____ our umbrellas and it has been (5)_____ ever since we got here.

SubQuestion No : 25

Q.25 Select the most appropriate option to fill in blank no. 5.

- Ans 1. showering
 2. pouring
 3. slashing
 4. drenching

Question ID : 65497816016
 Chosen Option : 1

Section : General Intelligence and Reasoning

Q.1 किसी निश्चित कूट भाषा में '893' का अर्थ 'Shahid likes cakes' है, '137' का अर्थ 'cakes are delicious' है और '274' का अर्थ 'we are girls' है। इसी भाषा में, निम्न में से किस संख्या का अर्थ 'girls' होगा?

Ans 1. 3

2. 2

3. 7

4. 9

Question ID : 65497817152

Chosen Option : 2

Q.2 दो कथनों के बाद चार निष्कर्ष दिए गए हैं। यह मानते हुए कि कथन सत्य हैं, भले ही वे सामान्य रूप से ज्ञात तथ्यों से भिन्न प्रतीत होते हों, बताएं कि कौन से निष्कर्ष दिए गए कथनों का तार्किक रूप से अनुसरण करते हैं।

कथन:

1. कुछ पुरुष बंगाली हैं।
2. सभी महिलाएं बंगाली हैं।

निष्कर्ष:

- I. कोई भी बंगाली पुरुष नहीं है।
- II. कुछ महिलाएं पुरुष हैं।
- III. सभी महिलाएं पुरुष हैं।
- IV. कोई भी महिला, पुरुष नहीं है।

Ans 1. या तो निष्कर्ष II या III या फिर IV अनुसरण करता है।

2. निष्कर्ष I और IV दोनों अनुसरण करते हैं।

3. केवल निष्कर्ष I अनुसरण करता है।

4. निष्कर्ष I और II दोनों अनुसरण करते हैं।

Question ID : 65497817157

Chosen Option : 1

Q.3 उस संख्या का चयन करें, जो निम्न संख्या श्रेणी में प्रश्नवाचक चिह्न (?) के स्थान पर आएगी?

15, 19, 28, 44, ?, 105

Ans 1. 76

2. 64

3. 72

4. 69

Question ID : 65497817147

Chosen Option : 4

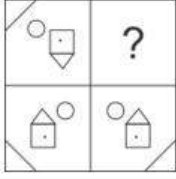
Q.4 निम्न को एक तार्किक और सार्थक क्रम में व्यवस्थित करें।

- I. कामेट
- II. कंचनजंगा
- III. नंदादेवी
- IV. साल्तोरो कांगरी

- Ans
- 1. II, I, III, IV
 - 2. III, I, IV, II
 - 3. I, III, II, IV
 - 4. III, IV, I, II

Question ID : 65497817161
Chosen Option : 3

Q.5 सही विकल्प का चयन करके, दिए गए पैटर्न के अनुपस्थित भाग को पूरा करें।



Ans

- 1.
- 2.
- 3.
- 4.

Question ID : 65497817163
Chosen Option : 3

Q.6 उस विकल्प का चयन करें, जो तीसरे अक्षर-समूह से ठीक उसी प्रकार संबंधित है, जिस प्रकार दूसरा अक्षर-समूह पहले अक्षर-समूह से संबंधित है।

HOST : JKYL :: SOLO : ?

- Ans
- 1. UKRG
 - 2. UKGR
 - 3. YKPK
 - 4. YKTK

Question ID : 65497817153
Chosen Option : 1

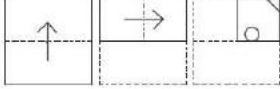
Q.7 किसी निश्चित कूट भाषा में '274' का अर्थ 'you are fool' है, '137' का अर्थ 'Rohan is fool' है और '893' का अर्थ 'Riya likes Rohan' है। इसी भाषा में निम्न में से किस संख्या का अर्थ 'is' होगा?

- Ans
- 1. 4
 - 2. 3
 - 3. 2
 - 4. 1

Question ID : 65497817151

Chosen Option : 4

Q.8 एक कागज को बिंदीदार रेखाओं पर मोड़ा जाता है, जैसा कि पहली दो आकृतियों में दिखाया गया है। और इसे तीसरी आकृति के अनुसार काटा जाता है। जब इसे खोला जाएगा, तो यह कैसा दिखेगा?



Ans

- 1.
- 2.
- 3.
- 4.

Question ID : 65497817166

Chosen Option : 1

Q.9 उस विकल्प का चयन करें, जिसमें संख्या-युग्म की संख्याएं एक-दूसरे से ठीक उसी प्रकार संबंधित नहीं हैं, जिस प्रकार दिए गए युग्म की संख्याएं एक-दूसरे से संबंधित हैं।

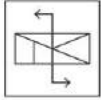
7 : 216

- Ans
- 1. 9 : 512
 - 2. 13 : 1724
 - 3. 8 : 343
 - 4. 12 : 1331

Question ID : 65497817145

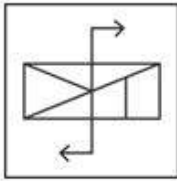
Chosen Option : 3

Q.10 यदि दर्पण को दी गई आकृति के दाईं ओर रखा जाए, तो आकृति के दर्पण में निम्नित सही प्रतिबिंब का चयन कीजिए।

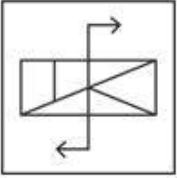


Ans

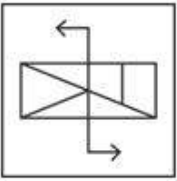
✓ 1.



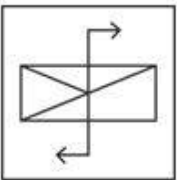
✗ 2.



✗ 3.



✗ 4.



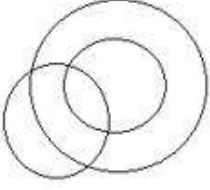
www.HaryanaJobs.in

Question ID : 65497817165
Chosen Option : 1

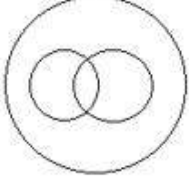
Q.11 उस वेन-आरेख का चयन करें, जो महिलाओं, लड़कियों और दुल्हनों के बीच संबंध को सर्वोत्तम ढंग से निरूपित करता है।

Ans

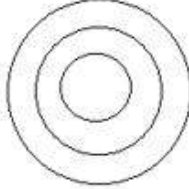
✗ 1.



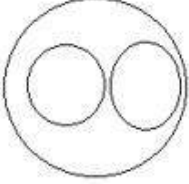
✗ 2.



✓ 3.



✗ 4.



Question ID : 65497817167
Chosen Option : 2

Q.12 दिए गए विकल्पों में से, संख्याओं के उस समुच्चय का चयन करें, जो दिए गए समुच्चय के सदृश है।

(17, 39, 11)

Ans ✓ 1. (18, 44, 13)

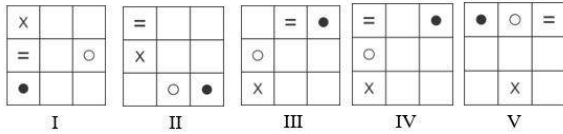
✗ 2. (15, 27, 7)

✗ 3. (13, 47, 19)

✗ 4. (11, 35, 14)

Question ID : 65497817146
Chosen Option : 1

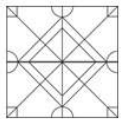
Q.13 बताएं कि किस आकृति को निकाल दिया जाए, ताकि I से शुरू करके सभी आकृतियां एक पैटर्न में फिट हो सकें।



- Ans**
- 1. IV
 - 2. V
 - 3. III
 - 4. II

Question ID : 65497817162
Chosen Option : 1

Q.14 उस आकृति का चयन करें, जो दी गई आकृति में अंतःस्थापित नहीं है (घुमाने की अनुमति नहीं है)।



- Ans**
- 1.
 - 2.
 - 3.
 - 4.

www.HaryanaJobs.in

Question ID : 65497817164
Chosen Option : 3

Q.15 अक्षरों के उस सही संयोजन का चयन करें, जिन्हें क्रमिक रूप से दी गई अक्षर श्रेणी में रिक्त स्थानों पर रखने से श्रेणी पूर्ण हो जाएगी।

c _ _ d _ k n d _ k _ d c

- Ans
- 1. knncc
 - 2. kcncn
 - 3. nkcdn
 - 4. knccn

Question ID : 65497817156

Chosen Option : 4

Q.16 एक परिसर में M, N, O, P, Q, R और S नामक सात घर पंक्ति में हैं, लेकिन वे अनिवार्य रूप से इसी क्रम में नहीं हैं। P किसी भी छोर पर नहीं है। R, P के ठीक दाएं पड़ोस में है। S, बाएं से तीसरा है। O एकदम बाएं छोर पर है। M दाईं ओर से दूसरा है। O, N के पड़ोस में नहीं है। S के दाईं ओर दूसरे स्थान पर कौन-सा घर है?

- Ans
- 1. M
 - 2. P
 - 3. Q
 - 4. R

Question ID : 65497817160

Chosen Option : --

Q.17 उस विकल्प का चयन करें, जो तीसरे शब्द से ठीक उसी प्रकार संबंधित है, जिस प्रकार दूसरा शब्द पहले शब्द से संबंधित है।

आलू : तना :: चना : ?

- Ans
- 1. फूल
 - 2. दाल
 - 3. बीज
 - 4. जड़

Question ID : 65497817154

Chosen Option : 3

Q.18 उस संख्या का चयन करें, जो दी गई संख्या श्रेणी से संबंधित नहीं है।

39, 46, 60, 82, 109, 144

- Ans
- 1. 82
 - 2. 46
 - 3. 109
 - 4. 39

Question ID : 65497817148

Chosen Option : 1

Q.19 दिए गए समीकरण को संतुलित करने के लिए, इनमें से किन दो चिह्नों को एक-दूसरे से प्रतिस्थापित करना होगा?

$$17 \times 3 \div 6 - 2 + 7 = 55$$

- Ans
- 1. + और -
 - 2. + और ×
 - 3. + और ×
 - 4. - और ×

Question ID : 65497817143
Chosen Option : 1

Q.20 यदि किसी कूट भाषा में, 'WICE' को 'DRXV' लिखा जाता है, तो इसी कूट भाषा में, 'ROPE' को क्या लिखा जाएगा?

- Ans
- 1. IXLU
 - 2. ILJV
 - 3. YXKV
 - 4. ILKV

Question ID : 65497817150
Chosen Option : 4

Q.21 दो कथनों के बाद तीन निष्कर्ष दिए गए हैं। यह मानते हुए कि कथन सत्य हैं, भले ही वे सामान्य रूप से ज्ञात तथ्यों से भिन्न प्रतीत होते हों, बताएं कि कौन से निष्कर्ष दिए गए कथनों का तार्किक रूप से अनुसरण करते हैं।

कथन:

1. कुछ लड़के कक्षा 2 में हैं।
2. शेखर कक्षा 2 में नहीं है।

निष्कर्ष:

- I. शेखर लड़का नहीं है।
- II. कक्षा 2 का कोई भी विद्यार्थी लड़का नहीं है।
- III. शेखर एक लड़का है।

- Ans
- 1. निष्कर्ष II और III, दोनों अनुसरण करते हैं।
 - 2. या तो निष्कर्ष I या III अनुसरण करता है।
 - 3. केवल निष्कर्ष II अनुसरण करता है।
 - 4. निष्कर्ष I और II, दोनों अनुसरण करते हैं।

Question ID : 65497817158
Chosen Option : 2

Q.22 गणितीय चिह्नों के उस सही संयोजन का चयन करें, जिन्हें क्रमिक रूप से * चिह्नों के स्थान पर रखने पर समीकरण संतुलित हो जाएगा।

$$11 * 4 * 3 * 3 * 7 * 8$$

- Ans
- 1. ×, -, +, ÷, =
 - 2. +, ×, ÷, -, =
 - 3. +, -, ×, ÷, =
 - 4. ×, ÷, +, -, =

Question ID : 65497817144
Chosen Option : 2

Q.23 यदि किसी कूट भाषा में, 'HOOK' को 'KUXW' लिखा जाता है, तो इसी कूट भाषा में, 'COKE' को क्या लिखा जाएगा?

- Ans
- 1. FXNH
 - 2. FRNH
 - 3. FUWH
 - 4. FUTQ

Question ID : 65497817149

Chosen Option : 4

Q.24 छह छात्र L, M, N, O, P और Q उत्तर की ओर अभिमुख होकर खड़े हैं, लेकिन जरूरी नहीं कि वे इसी क्रम में खड़े हों। L एक किनारे पर खड़ा है और Q उसके पड़ोस में है। M, P के एकदम दाएं पड़ोस में है। M, दाएं छोर से दूसरे स्थान पर है। N, Q के पड़ोस में नहीं है। Q के एकदम दाएं पड़ोस में कौन खड़ा है?

- Ans
- 1. O
 - 2. P
 - 3. M
 - 4. L

Question ID : 65497817159

Chosen Option : --

Q.25 उस विकल्प का चयन करें, जो तीसरे शब्द से ठीक उसी प्रकार संबंधित है, जिस प्रकार दूसरा शब्द पहले शब्द से संबंधित है।

मानव शरीर : दवाएं :: पौधे : ?

- Ans
- 1. उर्वरक
 - 2. सिंचाई
 - 3. बीज
 - 4. कीटनाशक

Question ID : 65497817155

Chosen Option : 4

Section : Numerical Aptitude

Q.1 किसी पुस्तकालय में, गणित की पुस्तकों और भौतिकी की पुस्तकों की संख्या का अनुपात, भौतिकी की पुस्तकों और रसायन की पुस्तकों की संख्या के अनुपात के बराबर है। यदि गणित की पुस्तकों की संख्या 144 और रसायन की पुस्तकों की संख्या 100 है, तो गणित और भौतिकी की पुस्तकों की कुल संख्या और रसायन और भौतिकी की पुस्तकों की कुल संख्या का अनुपात ज्ञात करें।

- Ans
- 1. 5 : 4
 - 2. 3 : 2
 - 3. 4 : 3
 - 4. 6 : 5

Question ID : 65497814250

Chosen Option : 4

Q.2 कुछ फल ₹100 में 11 की दर से खरीदे गए और उनसे दुगुने फल ₹100 में 8 की दर से खरीदे गए। यदि सभी फल ₹100 में 9 की दर से बेचे गए हों, तो लाभ या हानि प्रतिशत ज्ञात करें।

- Ans
- ✓ 1. $2\frac{2}{9}\%$, हानि
 - ✗ 2. $4\frac{1}{9}\%$, लाभ
 - ✗ 3. 3%, हानि
 - ✗ 4. 3%, लाभ

Question ID : 65497814248
Chosen Option : --

Q.3 कोई व्यक्ति, शांत जल में 10 km/h की चाल से नाव चला सकता है। धारा की चाल $1\frac{1}{9}$ m/sec है। उसके द्वारा धारा की विपरीत दिशा में 72 km की दूरी तय करने में लगने वाला समय (घंटे में) ज्ञात करें।

- Ans
- ✗ 1. $5\frac{1}{7}$
 - ✓ 2. 12
 - ✗ 3. 10
 - ✗ 4. $10\frac{2}{7}$

Question ID : 65497814256
Chosen Option : 2

Q.4 जब x को 55, 50, 23 और 22 में से प्रत्येक से घटाया जाता है, तो इस क्रम में प्राप्त संख्याएं, समानुपात में होती हैं। 3, 7 और x का चतुर्थानुपात (fourth proportional) ज्ञात करें।

- Ans
- ✗ 1. 40
 - ✗ 2. 27
 - ✓ 3. 35
 - ✗ 4. 30

Question ID : 65497814249
Chosen Option : 3

Q.5 The area of a parallelogram ABCD is 300 cm^2 . The distance between AB and CD is 20 cm, and the distance between BC and AD is 30 cm. What is the perimeter (in cm) of the parallelogram?

- Ans
- ✓ 1. 50
 - ✗ 2. 40
 - ✗ 3. 100
 - ✗ 4. 60

Question ID : 65497814258
Chosen Option : 1

Q.6 x, y और z का औसत z से 6 अधिक है। x और y का औसत 50 है। यदि u, z से 6 कम है, तो u और z का औसत ज्ञात करें।

- Ans
- 1. 38
 - 2. 39
 - 3. 43
 - 4. 40

Question ID : 65497814242
Chosen Option : 1

Q.7 कोई निश्चित कार्य करने के लिए, A और B की कार्य क्षमताओं का अनुपात 7 : 6 है। एक साथ कार्य करते हुए, वे उसी कार्य को 21 दिन में पूरा कर सकते हैं। अकेले B, 26 दिन में उस कार्य का कितना भाग पूरा करेगा?

- Ans
- 1. $\frac{5}{6}$
 - 2. $\frac{2}{3}$
 - 3. $\frac{4}{7}$
 - 4. $\frac{5}{8}$

Question ID : 65497814255
Chosen Option : 3

Q.8 किसी वस्तु का अंकित मूल्य ₹3,600 है। बिक्री के दौरान इस वस्तु पर x% और 15% की दो क्रमागत छूट दी जाती हैं। यदि वस्तु का विक्रय मूल्य ₹2,448 है, तो x का मान ज्ञात करें।

- Ans
- 1. 20
 - 2. 25
 - 3. 10
 - 4. 18

Question ID : 65497814244
Chosen Option : 1

Q.9 कोई रेलगाड़ी, निश्चित चाल से 108 km की दूरी तय करती है। यदि उसकी चाल में 18 km/h की वृद्धि हो, तो उसे समान दूरी को तय करने में 18 मिनट कम समय लगेगा। रेलगाड़ी की मूल चाल (km/h में) ज्ञात करें।

- Ans
- 1. 72
 - 2. 54
 - 3. 80
 - 4. 63

Question ID : 65497814257
Chosen Option : --

Q.10 माना x, 4-अंकों की वह बड़ी से बड़ी संख्या है, जो 16, 21, 24 और 28 प्रत्येक से विभाज्य है। x के अंकों का योगफल ज्ञात करें।

- Ans
- 1. 21
 - 2. 16
 - 3. 24
 - 4. 19

Question ID : 65497814239
Chosen Option : 3

Q.11 $\frac{6.25 + \frac{6}{7} \text{ of } 21 - 3}{\frac{3}{4} \text{ of } (15.8 - 3.4) + 5 \times 2.39}$ का मान ज्ञात कीजिए।

- Ans
- 1. $\frac{11}{5}$
 - 2. $\frac{17}{5}$
 - 3. 1
 - 4. 0

Question ID : 65497816381
Chosen Option : 3

Q.12 A और B किसी कार्य को क्रमशः 12 दिन और 20 दिन में पूरा कर सकते हैं। वे एक साथ 4 दिन तक कार्य करते हैं। अकेले C, शेष कार्य को 14 दिन में पूरा करता है। एक साथ B और C, उसी कार्य को कितने दिन में पूरा सकते हैं?

- Ans
- 1. 12 दिन
 - 2. 16 दिन
 - 3. 10 दिन
 - 4. 15 दिन

Question ID : 65497814254
Chosen Option : 1

Q.13 $\frac{4}{9} \div \left(\frac{3}{5} - \frac{1}{2}\right) \times \frac{9}{25} - \left(\frac{2}{3} \div \frac{3}{4} \text{ of } \frac{5}{3}\right) + \left(5\frac{1}{4} \div \frac{3}{7} \text{ of } \frac{1}{4} \times \frac{3}{35}\right)$ का मान ज्ञात करें।

Ans

1. $1\frac{3}{5}$

2. $5\frac{4}{15}$

3. $1\frac{7}{15}$

4. $2\frac{3}{5}$

Question ID : 65497814241

Chosen Option : 2

Q.14 92 छात्रों वाली किसी कक्षा में, लड़कों और लड़कियों की संख्या का अनुपात 12 : 11 है। किसी परीक्षा में, लड़कियों का औसत स्कोर लड़कों से $33\frac{1}{3}\%$ अधिक है। यदि सभी छात्रों का औसत स्कोर 80 है, तो लड़कियों का औसत स्कोर ज्ञात करें।

Ans

1. 96

2. 92

3. 84

4. 88

Question ID : 65497814251

Chosen Option : 2

Q.15 कमल, अपनी मासिक आय का $x\%$ बचाती है। जब उसकी मासिक व्यय में 20% की वृद्धि और मासिक आय में 26% की वृद्धि होती है, तो उसकी मासिक बचत में 60% की वृद्धि होती है। x का मान ज्ञात करें।

Ans

1. 12

2. 16

3. 15

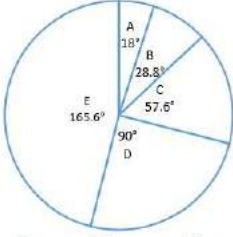
4. 18

Question ID : 65497814246

Chosen Option : --

Q.16 पाई-चार्ट का अध्ययन करें जो 2019 में कंपनी XYZ के A, B, C, D और E उत्पादों के बिक्री वितरण को दर्शाता है और नीचे दिए गए प्रश्न का उत्तर दें।

बेचे गए यूनिटों की कुल संख्या = 22500



कंपनी द्वारा बेचे गए B और D उत्पादों की यूनिटों की कुल संख्या ज्ञात करें।

- Ans
- ✓ 1. 7425
 - ✗ 2. 6800
 - ✗ 3. 7380
 - ✗ 4. 8050

Question ID : 65497814261

Chosen Option : 1

Q.17 कोई राशि 2 वर्ष में बढ़कर ₹11,816 और 3 वर्ष में बढ़कर ₹12,777.60 हो जाती है, जब ब्याज की गणना वार्षिक चक्रवृद्धि आधार पर होती है। राशि (₹ में) ज्ञात करें।

- Ans
- ✗ 1. 8,400
 - ✓ 2. 9,600
 - ✗ 3. 8,500
 - ✗ 4. 9,000

Question ID : 65497814253

Chosen Option : 2

Q.18 किसी राशि पर, 8% वार्षिक की दर से 5 वर्ष में प्राप्त साधारण ब्याज ₹3,960 है। उसी राशि पर 12% वार्षिक की दर से $6\frac{2}{3}$ वर्ष में प्राप्त साधारण ब्याज ज्ञात करें।

- Ans
- ✗ 1. ₹8,000
 - ✗ 2. ₹5,280
 - ✓ 3. ₹7,920
 - ✗ 4. ₹6,600

Question ID : 65497814252

Chosen Option : 3

Q.19 $36 \div [24 + \{30 - (60 - 60 \div 4 \times 5 \text{ of } 2)\}]$ का मान ज्ञात करें।

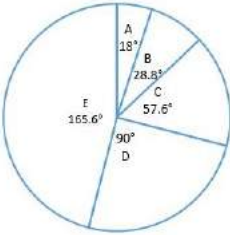
- Ans
- 1. $\frac{2}{3}$
 - 2. $\frac{1}{2}$
 - 3. $\frac{1}{3}$
 - 4. $\frac{1}{4}$

Question ID : 65497814240

Chosen Option : 4

Q.20 पाई-चार्ट का अध्ययन करें जो 2019 में कंपनी XYZ के A, B, C, D और E उत्पादों के बिक्री वितरण को दर्शाता है और नीचे दिए गए प्रश्न का उत्तर दें।

बेचे गए यूनिटों की कुल संख्या = 22500



यदि 2020 में बेचे गए उत्पादों की यूनिटों की कुल संख्या, 2019 में बेचे गए उत्पादों की यूनिटों की कुल संख्या से 20% अधिक है और सभी उत्पादों का बिक्री वितरण समान है, तो 2020 में बेचे गए E और D उत्पाद की यूनिटों की संख्या के बीच अंतर ज्ञात करें।

- Ans
- 1. 5647
 - 2. 5895
 - 3. 5745
 - 4. 5670

Question ID : 65497814263

Chosen Option : 4

Q.21 दिए गए आंकड़ों की माध्यिका और परास का माध्य ज्ञात करें।

45, 40, 38, 60, 55, 36, 31, 52, 42, 44?

- Ans
- 1. 32
 - 2. 35
 - 3. 34
 - 4. 36

Question ID : 65497814245

Chosen Option : 4

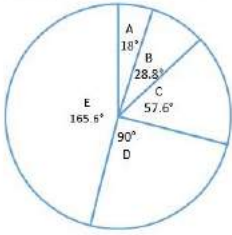
Q.22 A solid metallic sphere of radius 8.4 cm is melted and recast into a cone of height 18.9 cm. What is the radius (in cm) of the base of the cone?

- Ans**
- 1. 10.5
 - 2. 9.8
 - 3. 11.2
 - 4. 10.8

Question ID : 65497814259
Chosen Option : 3

Q.23 पाई-चार्ट का अध्ययन करें जो 2019 में कंपनी XYZ के A, B, C, D और E उत्पादों के बिक्री वितरण को दर्शाता है और नीचे दिए गए प्रश्न का उत्तर दें।

बेचे गए यूनिटों की कुल संख्या = 22500



कंपनी द्वारा बेचे गए C उत्पाद की यूनिटों की संख्या, A और B उत्पाद की यूनिटों की कुल संख्या से x अधिक है। x का मान _____ के बीच होगा।

- Ans**
- 1. 680 और 690
 - 2. 690 और 700
 - 3. 660 और 670
 - 4. 670 और 680

Question ID : 65497814262
Chosen Option : 4

Q.24 कोई वस्तु ₹270 में बेचकर, किसी दुकानदार को 20% का लाभ होता है। यदि वह इस वस्तु को ₹210 में बेचता, तो उसका लाभ या हानि प्रतिशत जात करें।

- Ans**
- 1. $6\frac{2}{3}\%$, हानि
 - 2. $6\frac{2}{3}\%$, लाभ
 - 3. $7\frac{1}{7}\%$, लाभ
 - 4. $7\frac{1}{7}\%$, हानि

Question ID : 65497814247
Chosen Option : 1

Q.25 दो अंकों वाली संख्याओं 41, $x5$, $5x$ और 44 का औसत 57 है। $(x + 5)$ और $(2x - 9)$ का औसत ज्ञात करें।

- Ans
- 1. 10
 - 2. 11
 - 3. 9
 - 4. 13

Question ID : 65497814243
Chosen Option : --

Section : General Awareness

Q.1 निम्नलिखित क्रांतिकारियों में से किसे 'मास्टर दा' के नाम से जाना जाता था?

- Ans
- 1. राम प्रसाद बिस्मिल
 - 2. सूर्य सेन
 - 3. अशफाक-उल्ला खान
 - 4. बटुकेश्वर दत्त

Question ID : 65497815397
Chosen Option : --

Q.2 Which of the following parallels of latitude represent the Tropic of Capricorn?

- Ans
- 1. $66\frac{1}{2}^\circ$ in the Southern Hemisphere
 - 2. $66\frac{1}{2}^\circ$ in the Northern Hemisphere
 - 3. $23\frac{1}{2}^\circ$ in the Northern Hemisphere
 - 4. $23\frac{1}{2}^\circ$ in the Southern Hemisphere

Question ID : 65497815395
Chosen Option : 4

Q.3 2012 के लंदन ओलंपिक खेलों में निम्नलिखित में से किस खिलाड़ी ने रजत पदक जीता था?

- Ans
- 1. गगन नारंग
 - 2. एम.सी. मैरी कॉम
 - 3. साइना नेहवाल
 - 4. सुशील कुमार

Question ID : 65497815378
Chosen Option : 4

Q.4 सूफी परंपराओं के संदर्भ में, 'समा' शब्द का अर्थ क्या है?

- Ans
- 1. आश्रम
 - 2. जादुई करतब
 - 3. पवित्र गीतों का पाठ
 - 4. शागिर्द

Question ID : 65497815398
Chosen Option : --

Q.5 निम्नलिखित में से किस खगोलीय पिंड का 'शैरन (Charon)' नामक एक प्राकृतिक उपग्रह है?

- Ans
- 1. मंगल
 - 2. हौमिया
 - 3. शनि
 - 4. प्लूटो

Question ID : 65497815393
Chosen Option : 3

Q.6 31 जुलाई 2020 तक की स्थिति के अनुसार, निम्नलिखित में से किस राज्य में राज्य विधानसभा में एक उच्च सदन था?

- Ans
- 1. पंजाब
 - 2. केरल
 - 3. असम
 - 4. कर्नाटक

Question ID : 65497815387
Chosen Option : 4

Q.7 निम्नलिखित में से कौन-सा कारक 'मैड हैटर रोग' नामक रोग के लिए जिम्मेदार है?

- Ans
- 1. विटामिन-D की कमी
 - 2. पारा विषाक्तता
 - 3. लोहे की धूल सांस में लेना
 - 4. सिलिका की धूल सांस में लेना

Question ID : 65497815391
Chosen Option : --

Q.8 निम्नलिखित में से कौन-सी नदी कर्नाटक में कुचिकल जलप्रपात बनाती है?

- Ans
- 1. वराही
 - 2. मांडवी
 - 3. उरमोडी
 - 4. काबिनी

Question ID : 65497815396
Chosen Option : 4

Q.9 रिकेट्स नामक रोग में शरीर का निम्नलिखित में से कौन-सा अंग प्रत्यक्ष तौर पर प्रभावित होता है?

- Ans
- 1. हड्डियाँ
 - 2. आंखें
 - 3. जीभ
 - 4. तिल्ली

Question ID : 65497815390
Chosen Option : 1

Q.10 अमेरिकी ऐतिहासिक संघ द्वारा 'मानद विदेशी सदस्य पुरस्कार 2019' से निम्नलिखित में से किसे सम्मानित किया गया है?

- Ans 1. रामचंद्र गुहा
 2. नयनजोत लाहिड़ी
 3. इरफान हबीब
 4. भैरबी प्रसाद साहू

Question ID : 65497815381
 Chosen Option : --

Q.11 भारतीय अर्थव्यवस्था का निम्नलिखित में से कौन सा क्षेत्र 2019-20 के दौरान भारत में प्रत्यक्ष विदेशी निवेश का दूसरा सबसे बड़ा प्राप्तकर्ता था?

- Ans 1. निर्माण
 2. कंप्यूटर सॉफ्टवेयर और हार्डवेयर
 3. ऑटोमोबाइल
 4. सेवा

Question ID : 65497815385
 Chosen Option : 4

Q.12 विकल्पों में वर्णित इकाइयों में से, अन्य की तुलना में कौन-सी इकाई सबसे बड़ी है?

- Ans 1. टेरा
 2. हेक्टो
 3. डेका
 4. गीगा

Question ID : 65497815389
 Chosen Option : 1

Q.13 भारतीय संविधान के निम्नलिखित में से किस अनुच्छेद में यह वर्णित है कि संसद के पास संघ सूची में शामिल किसी भी मामले के संबंध में कानून बनाने की विशेष शक्तियाँ हैं?

- Ans 1. अनुच्छेद 246
 2. अनुच्छेद 352
 3. अनुच्छेद 362
 4. अनुच्छेद 287

Question ID : 65497815388
 Chosen Option : 1

Q.14 उत्तराखंड की संस्कृति के संदर्भ में, 'काफुली' किसका नाम है?

- Ans 1. चित्रकला शैली
 2. भोजन
 3. लोक नृत्य
 4. त्यौहार

Question ID : 65497815376
 Chosen Option : 3

Q.15 'माई जर्नी: ट्रांसफॉर्मिंग ड्रीम्स इन टू एक्शन' नामक पुस्तक निम्न में से किसकी आत्मकथा है?

- Ans
- 1. अटल बिहारी वाजपेयी
 - 2. ए.पी.जे. अब्दुल कलाम
 - 3. प्रतिभा पाटिल
 - 4. लालकृष्ण आडवाणी

Question ID : 65497815382
Chosen Option : --

Q.16 वर्ष 2016 में साक्षी मलिक ने निम्नलिखित में से किस भार वर्ग में एक ओलंपिक पदक जीता था?

- Ans
- 1. 48 kg
 - 2. 63 kg
 - 3. 58 kg
 - 4. 53 kg

Question ID : 65497815379
Chosen Option : --

Q.17 वर्ष 1949 में _____ का राष्ट्रीयकरण किया गया था।

- Ans
- 1. भारतीय रिजर्व बैंक
 - 2. इंपीरियल बैंक ऑफ इंडिया
 - 3. यूनिनियन बैंक ऑफ इंडिया
 - 4. सेंट्रल बैंक ऑफ इंडिया

Question ID : 65497816999
Chosen Option : 2

Q.18 निम्नलिखित में से कौन सा राज्य/केंद्र शासित प्रदेश पारंपरिक रूप से एक दही-आधारित तरीदार व्यंजन से संबंध रखता है जिसे 'यखनी' के नाम से जाना जाता है?

- Ans
- 1. उत्तर प्रदेश
 - 2. मध्य प्रदेश
 - 3. जम्मू और कश्मीर
 - 4. झारखंड

Question ID : 65497815377
Chosen Option : --

Q.19 भारत के निम्नलिखित क्षेत्रों में से किस क्षेत्र में सफेद बेलदार बगुले (व्हाइट-बेलीड हेरॉन) के प्राकृतिक निवास स्थान का व्यापक वितरण है?

- Ans
- 1. उत्तर-पूर्व
 - 2. उत्तर के मैदान
 - 3. पश्चिमी तट
 - 4. दक्कन का पठार

Question ID : 65497815392
Chosen Option : --

Q.20 'तेरह ताली' नाम का लोक नृत्य निम्नलिखित में से किस राज्य के साथ पारंपरिक रूप से संबंधित है?

- Ans
- 1. असम
 - 2. राजस्थान
 - 3. महाराष्ट्र
 - 4. तेलंगाना

Question ID : 65497815375
Chosen Option : 2

Q.21 गुप्त प्रशासन के संदर्भ में, 'विधि' शब्द _____ को संदर्भित करता है।

- Ans
- 1. राजा का निजी रक्षक
 - 2. प्रशासनिक इकाई
 - 3. गजवाहक इकाई
 - 4. सैनिक

Question ID : 65497815399
Chosen Option : --

Q.22 भारत के निम्नलिखित में से किस राज्य में 'बत्री' नस्ल की भैंस मुख्य रूप से पाली जाती है?

- Ans
- 1. ओडिशा
 - 2. केरल
 - 3. पश्चिम बंगाल
 - 4. गुजरात

Question ID : 65497814778
Chosen Option : --

Q.23 31 जुलाई 2020 तक की स्थिति के अनुसार, भारत के कॉर्पोरेट मामलों के कैबिनेट मंत्री कौन थे?

- Ans
- 1. गजेंद्र सिंह शेखावत
 - 2. प्रहलाद जोशी
 - 3. महेंद्र नाथ पांडे
 - 4. निर्मला सीतारमण

Question ID : 65497815386
Chosen Option : 2

Q.24 मानविकी के लिए 2019 का इंफोसिस पुरस्कार निम्नलिखित में से किसे प्राप्त हुआ था?

- Ans
- 1. मनु वी. देवदेवन
 - 2. केसवन वेलुथत
 - 3. वाई. सुब्बारायालु
 - 4. शिरीन मूसवी

Question ID : 65497815380
Chosen Option : --

Q.25 हर पाँच साल में की जाने वाली शेरों की जनगणना के अनुसार, जून 2020 में गुजरात के गिर वन क्षेत्र में एशियाई शेरों की संख्या बढ़कर _____ हो गई है।

Ans 1. 674

2. 547

3. 598

4. 705

Question ID : 65497815394

Chosen Option : 2

www.HaryanaJobs.in

Multi Tasking Non Technical Staff Examination 2020

Participant ID	www.HaryanaJobs.in
Participant Name	www.HaryanaJobs.in
Test Center Name	Marudhar Engineering College
Test Date	05/10/2021
Test Time :	9:00 AM - 10:30 AM
Subject	MTS Non Technical 2020

Section : **General English**

Q.1 Select the most appropriate synonym of the given word.

INDULGENCE

- Ans 1. accuracy
 2. leniency
 3. diligence
 4. attentiveness

Question ID : **65497814811**
 Chosen Option : **3**

Q.2 Select the most appropriate meaning of the given idiom.

By the same token

- Ans 1. Use the same password
 2. Use the same ticket
 3. In the same way
 4. In the same bus

Question ID : **65497814813**
 Chosen Option : **2**

Q.3 Select the most appropriate option to fill in the blank.

Today, banking in a seamless world _____ a distinct reality.

- Ans 1. are
 2. was
 3. have
 4. is

Question ID : **65497814798**
 Chosen Option : **4**

Q.4 Identify the segment in the sentence which contains a grammatical error.

Have you decided what you want to become when you grown up.

- Ans 1. when you grown up
 2. to become
 3. Have you decided
 4. what you want

Question ID : 65497814794
Chosen Option : 1

Q.5 Select the most appropriate ANTONYM of the given word.

SLY

- Ans 1. thick
 2. slow
 3. honest
 4. stiff

Question ID : 65497814809
Chosen Option : 1

Q.6 Identify the segment in the sentence which contains a grammatical error.

Seldom has the discoveries of the world's greatest discoverers, like Copernicus or Galileo, been forgotten.

- Ans 1. like Copernicus or Galileo
 2. of the world's greatest discoverers
 3. been forgotten
 4. Seldom has the discoveries

Question ID : 65497814796
Chosen Option : 4

Q.7 Select the INCORRECTLY spelt word.

- Ans 1. obvious
 2. queer
 3. hesitete
 4. dealer

Question ID : 65497814816
Chosen Option : 3

Q.8 Select the INCORRECTLY spelt word.

- Ans 1. outhority
 2. condition
 3. meddle
 4. edible

Question ID : 65497814817
Chosen Option : 1

Q.9 Select the most appropriate option to fill in the blank.

The _____ for a vaccine could take up to a year.

- Ans
- 1. chase
 - 2. pursuit
 - 3. track
 - 4. search

Question ID : 65497814818
Chosen Option : 1

Q.10 Select the most appropriate option to substitute the underlined segment in the given sentence. If there is no need to substitute it, select 'No substitution required'.

I can't live at a place which is far from the sea.

- Ans
- 1. No substitution required
 - 2. hasn't lived
 - 3. can't lived
 - 4. couldn't being live

Question ID : 65497816625
Chosen Option : 1

Q.11 Select the most appropriate synonym of the given word.

PROTEST (v.)

- Ans
- 1. support
 - 2. assist
 - 3. object
 - 4. favour

Question ID : 65497814810
Chosen Option : 3

Q.12 Select the most appropriate one-word substitution for the given words.

One who interferes in the affairs of others, often for selfish reasons

- Ans
- 1. interloper
 - 2. interpreter
 - 3. foreigner
 - 4. stranger

Question ID : 65497814815
Chosen Option : 1

Q.13 Select the most appropriate ANTONYM of the given word.

NARROW

- Ans 1. wide
 2. firm
 3. tight
 4. solid

Question ID : 65497814808
Chosen Option : 1

Q.14 Select the most appropriate meaning of the given idiom.

To get on the nerves

- Ans 1. To soothe
 2. To have an illness
 3. To give medicine
 4. To irritate

Question ID : 65497814812
Chosen Option : 4

Q.15 Select the most appropriate one-word substitution for the given group of words.

Restore (someone) to health or normal life after imprisonment, addiction, or illness

- Ans 1. refurbish
 2. renovate
 3. reinstate
 4. rehabilitate

Question ID : 65497814814
Chosen Option : 4

Q.16 Select the most appropriate option to fill in the blank.

I hope your parents _____ soon.

- Ans 1. are recovering
 2. recover
 3. should recover
 4. are recover

Question ID : 65497814797
Chosen Option : 2

Q.17 Select the most appropriate option to substitute the underlined segment in the given sentence. If there is no need to substitute it, select 'No substitution required'.

There are many birds in the verandah today. Hema, please feed those.

- Ans
- 1. fed those
 - 2. No substitution required
 - 3. fed them
 - 4. feed them

Question ID : 65497814503
Chosen Option : 4

Q.18 Identify the segment in the sentence which contains a grammatical error.

We do hope you are enjoy this online course in art and craft.

- Ans
- 1. in art and craft
 - 2. you are enjoy
 - 3. We do hope
 - 4. this online course

Question ID : 65497814795
Chosen Option : 2

Q.19 Select the most appropriate option to substitute the underlined segment in the given sentence. If there is no need to substitute it, select 'No substitution required'.

During the winter months the bears go without food by nearly six to seven months.

- Ans
- 1. No substitution required
 - 2. from almost
 - 3. for almost
 - 4. for quite

Question ID : 65497814805
Chosen Option : 3

Q.20 Select the most appropriate option to fill in the blank.

Many _____ tales evoke the memory of Akbar and Birbal.

- Ans
- 1. populous
 - 2. popular
 - 3. populated
 - 4. populist

Question ID : 65497814819
Chosen Option : 2

Comprehension:

In the following passage some words have been deleted. Fill in the blanks with the help of the alternatives given. Select the most appropriate option for each blank.

One day while the magistrate was walking (1)_____ a market he saw a crowd outside a poultry shop. (2)_____ enquiring what the matter was (3)_____ learnt that a peasant had accidentally (4)_____ a heavy sack on a chicken, (5)_____ it to death.

SubQuestion No : 21

Q.21 Select the most appropriate option to fill in blank number 1.

- Ans 1. along
 2. over
 3. through
 4. aside

Question ID : 65497814800
Chosen Option : 3

Comprehension:

In the following passage some words have been deleted. Fill in the blanks with the help of the alternatives given. Select the most appropriate option for each blank.

One day while the magistrate was walking (1)_____ a market he saw a crowd outside a poultry shop. (2)_____ enquiring what the matter was (3)_____ learnt that a peasant had accidentally (4)_____ a heavy sack on a chicken, (5)_____ it to death.

SubQuestion No : 22

Q.22 Select the most appropriate option to fill in blank number 2.

- Ans 1. Whereas
 2. How
 3. On
 4. So

Question ID : 65497814801
Chosen Option : 3

Comprehension:

In the following passage some words have been deleted. Fill in the blanks with the help of the alternatives given. Select the most appropriate option for each blank.

One day while the magistrate was walking (1)_____ a market he saw a crowd outside a poultry shop. (2)_____ enquiring what the matter was (3)_____ learnt that a peasant had accidentally (4)_____ a heavy sack on a chicken, (5)_____ it to death.

SubQuestion No : 23

Q.23 Select the most appropriate option to fill in blank number 3.

- Ans 1. she
 2. he
 3. they
 4. him

Question ID : 65497814802
Chosen Option : 2

Comprehension:

In the following passage some words have been deleted. Fill in the blanks with the help of the alternatives given. Select the most appropriate option for each blank.

One day while the magistrate was walking (1)_____ a market he saw a crowd outside a poultry shop. (2)_____ enquiring what the matter was (3)_____ learnt that a peasant had accidentally (4)_____ a heavy sack on a chicken, (5)_____ it to death.

SubQuestion No : 24

Q.24 Select the most appropriate option to fill in blank number 4.

- Ans 1. selected
 2. dropped
 3. picked
 4. filled

Question ID : 65497814803
Chosen Option : 4

Comprehension:

In the following passage some words have been deleted. Fill in the blanks with the help of the alternatives given. Select the most appropriate option for each blank.

One day while the magistrate was walking (1)_____ a market he saw a crowd outside a poultry shop. (2)_____ enquiring what the matter was (3)_____ learnt that a peasant had accidentally (4)_____ a heavy sack on a chicken, (5)_____ it to death.

SubQuestion No : 25

Q.25 Select the most appropriate option to fill in blank number 5.

- Ans 1. creeping
 2. covering
 3. crushing
 4. crumbling

Question ID : 65497814804
Chosen Option : 2

Section : General Intelligence and Reasoning

Q.1 एक निश्चित कूट भाषा में, यदि SMOOTHIE को UKQMVFKC लिखा जाता है, तो उसी कूट भाषा में HEAVENLY को क्या लिखा जाएगा?

- Ans 1. FCYTCLJW
 2. JGCXGPNA
 3. JCCTGLNW
 4. FGYXCPJA

Question ID : 65497814524
Chosen Option : 3

Q.2 एक निश्चित कूट भाषा में, यदि PETITION को 75292965 के रूप में, और GERMINATE को 759495125 के रूप में कूटबद्ध किया जाता है, तो उसी भाषा में COMPLEX को किस रूप में कूटबद्ध किया जाता है?

Ans 1. 4647256

2. 3647356

3. 3536254

4. 4514776

Question ID : 65497814526

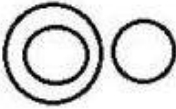
Chosen Option : 2

Q.3 दिए गये विकल्पों में से उस वेन आरेख का चयन कीजिए जो निम्नांकित वर्गों के मध्य संबंध का सर्वश्रेष्ठ निरूपण करता है।

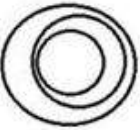
पेंसिल, शार्पनर, लेड

Ans

1.



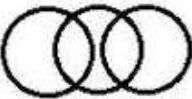
2.



3.



4.



Question ID : 65497814541

Chosen Option : 1

Q.4 'Sewing' is related to 'Tailor' in the same way as 'Painting' is related to '_____'.
 Ans 1. Painter

2. Canvas


3. Printer

4. Paint

Question ID : 65497814528

Chosen Option : 1

Q.5 उस विकल्प आकृति की पहचान कीजिए जो निम्नांकित पैटर्न को पूर्ण करेगी।



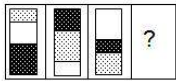
Ans






Question ID : 65497814537

Chosen Option : 1

Q.6 उस आकृति का चयन कीजिए जो निम्नांकित आकृति श्रृंखला में प्रश्नवाचक चिह्न (?) के स्थान पर आएगी।



Ans



Question ID : 65497814536

Chosen Option : 4

Q.7 दो कथन और उसके बाद दो निष्कर्ष I और II दिए गए हैं। यह मानते हुए कि कथन सत्य हैं, भले ही वे सामान्य रूप से ज्ञात तथ्यों से भिन्न प्रतीत होते हों, बताएं कि कौन सा/से निष्कर्ष दिए गए कथनों का तार्किक रूप से अनुसरण करता है/करते हैं?

कथन:
सभी कप प्लेट हैं।
कुछ प्लेट तश्तरी हैं।

निष्कर्ष:
I. सभी प्लेट कप हैं।
II. कुछ कप तश्तरी हैं।

- Ans 1. निष्कर्ष I और II दोनों अनुसरण करते हैं
 2. न तो निष्कर्ष I और न ही II अनुसरण करता है
 3. केवल निष्कर्ष II अनुसरण करता है
 4. केवल निष्कर्ष I अनुसरण करता है

Question ID : 65497814531
Chosen Option : 3

Q.8 उस संख्या-युग्म का चयन करें, जिसमें संख्याएं एक-दूसरे से ठीक उसी प्रकार संबंधित हैं जिस प्रकार निम्न संख्या-युग्म की संख्याएं एक-दूसरे से संबंधित हैं।

144 : 168

- Ans 1. 121 : 143
 2. 169 : 159
 3. 64 : 82
 4. 81 : 100

Question ID : 65497814519
Chosen Option : 1

Q.9 दिए गए विकल्पों में से गणितीय चिह्नों के उस संयोजन का चयन करें जिसे निम्न समीकरण में * के स्थान पर क्रमिक रूप से रखने पर समीकरण संतुलित हो जाएगा।

$46 * 72 * 18 * 27 * 135 = 19$

- Ans 1. -, ×, +, +
 2. +, +, ×, -
 3. +, -, +, ×
 4. ×, +, -, +

Question ID : 65497814518
Chosen Option : 2

Q.10 छः लोग ग्रुप फोटोग्राफ के लिए कैमरे के समक्ष पोज दे रहे हैं। P ठीक N और S के बीच में है, जबकि Q, N के बाईं ओर पड़ोस में है। O दाएं छोर पर है, जबकि उसके बाईं ओर पड़ोस में R है। S के दाईं ओर पड़ोस में कौन है?

- Ans 1. N
 2. Q
 3. R
 4. P

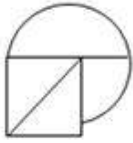
Question ID : 65497814534
Chosen Option : 3

Q.11 यदि दर्पण को दी गई आकृति के दाईं ओर रखा जाए, तो दर्पण में निर्मित सही प्रतिबिंब का चयन कीजिए।

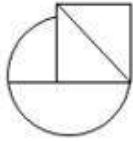


Ans

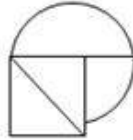
✗ 1.



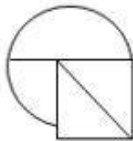
✗ 2.



✓ 3.



✗ 4.



Question ID : 65497814539
Chosen Option : 3

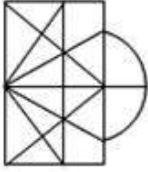
www.HaryanaJobs.in

Q.12 उस विकल्प का चयन कीजिए जिसमें दी गई आकृति अंतर्निहित है (घुमाने की अनुमति नहीं है)।

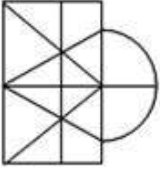


Ans

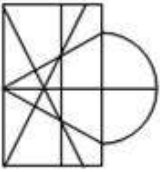
✗ 1.



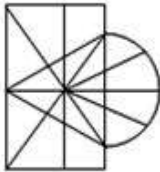
✗ 2.



✗ 3.



✓ 4.



Question ID : 65497814538

Chosen Option : 4

Q.13 उस समुच्चय का चयन करें, जिसमें संख्याएं एक-दूसरे से ठीक उसी प्रकार संबंधित हैं, जिस प्रकार निम्न समुच्चय की संख्याएं एक-दूसरे से संबंधित हैं।

(4, 3, 35)

Ans ✗ 1. (6, 9, 65)

✓ 2. (7, 12, 95)

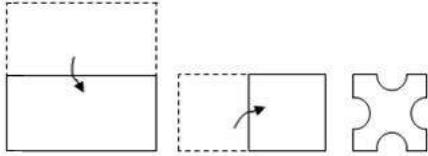
✗ 3. (8, 13, 110)

✗ 4. (9, 18, 153)

Question ID : 65497814520

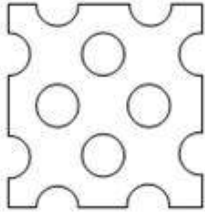
Chosen Option : 2

Q.14 एक कागज को निम्नानुसार मोड़ा और काटा गया है। इसे खोलने पर यह कैसा दिखेगा?

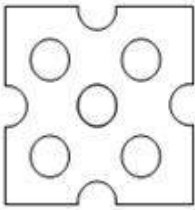


Ans

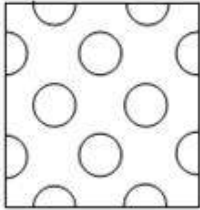
✓ 1.



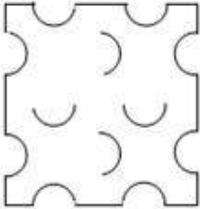
✗ 2.



✗ 3.



✗ 4.



www.HaryanaJobs.in

Question ID : 65497814540

Chosen Option : 1

Q.15 उस विकल्प का चयन कीजिए जिसका तीसरे अक्षर-समूह से वही संबंध है, जो दूसरे अक्षर-समूह का पहले अक्षर-समूह से है।

FLUIDITY : YUTLIIFD :: IMPROVISE : ?

Ans ✗ 1. VRPSOIIIME

✗ 2. PMIVORESIS

✓ 3. VSRPOMIIE

✗ 4. ORPMIESIV

Question ID : 65497814527

Chosen Option : 3

Q.16 दो कथन और उसके बाद दो निष्कर्ष I और II दिए गए हैं। यह मानते हुए कि कथन सत्य हैं, भले ही वे सामान्य रूप से ज्ञात तथ्यों से भिन्न प्रतीत होते हों, बताएं कि कौन सा/से निष्कर्ष दिए गए कथनों का तार्किक रूप से अनुसरण करता है/करते हैं?

कथन:

कुछ पैन बोटल हैं।
सभी बोटल मग हैं।

निष्कर्ष:

I. सभी मग बोटल हैं।
II. कुछ मग पैन हैं।

- Ans 1. केवल निष्कर्ष I अनुसरण करता है
 2. केवल निष्कर्ष II अनुसरण करता है
 3. न तो निष्कर्ष I और न ही II अनुसरण करता है
 4. निष्कर्ष I और II दोनों अनुसरण करते हैं

Question ID : 65497814532
Chosen Option : 2

Q.17 निम्न श्रेणी में प्रश्नवाचक चिह्न (?) के स्थान पर कौन सी संख्या आएगी?

6, 11, 18, 27, 38, ?

- Ans 1. 53
 2. 49
 3. 51
 4. 54

Question ID : 65497814522
Chosen Option : 3

Q.18 एक निश्चित कूट भाषा में, यदि FEVERISH को 29 के रूप में और COUNSEL को 98 के रूप में कूटबद्ध किया जाता है, तो उसी कूट भाषा में MUTATED को किस रूप में कूटबद्ध किया जाएगा?

- Ans 1. 80
 2. 92
 3. 48
 4. 84

Question ID : 65497814525
Chosen Option : 3

Q.19 निम्न समीकरण को संतुलित करने के लिए किन दो अंकों को परस्पर बदला जाना चाहिए?

$87 \times 2 - 65 + 182 \div 38 = 155$

- Ans 1. 6 और 2
 2. 2 और 8
 3. 8 और 6
 4. 5 और 7

Question ID : 65497814517
Chosen Option : 2

Q.20 उस विकल्प का चयन कीजिए जिसका तीसरे शब्द से वही संबंध है जो दूसरे शब्द का पहले शब्द से है।

खलनायक : नायक :: शैतान : ?

- Ans 1. सदाचारी
 2. फरिश्ता
 3. ईश्वर
 4. दिव्य

Question ID : 65497814529

Chosen Option : 2

Q.21 स्कूल की सुबह की प्रार्थना में, चंचल सामने से 8वें स्थान पर थी, जबकि प्रिंस उसी पंक्ति में पीछे से 11वें स्थान पर था। यदि वे अपने-अपने स्थान बदल लेते हैं, तो चंचल सामने से 22वें स्थान पर पहुंच जाती है। पंक्ति में विद्यार्थियों की संख्या कितनी है?

- Ans 1. 33
 2. 30
 3. 32
 4. 31

Question ID : 65497814533

Chosen Option : 3

Q.22 एक निश्चित कूट भाषा में, यदि GLOWING को GGILNOW लिखा जाता है, तो उसी कूट भाषा में OBVIOUS को क्या लिखा जाएगा?

- Ans 1. BOIVUOS
 2. IVBOSUO
 3. BIOOSUV
 4. VUSOOIB

Question ID : 65497814523

Chosen Option : 3

Q.23 निम्न श्रेणी में प्रश्नवाचक चिह्न (?) के स्थान पर कौन सी संख्या आएगी?

128, 116, 126, 118, 124, ?

- Ans 1. 118
 2. 122
 3. 124
 4. 120

Question ID : 65497814521

Chosen Option : 4

Q.24 अभय के चाचा, उसके लिए कोंकण से कुछ आम भेजते हैं। यदि वह प्रतिदिन कुछ निश्चित संख्या में आम खाता है, तो वे 60 दिन तक चलते हैं। लेकिन, अभय का चचेरा भाई राजीव उसके साथ छुट्टियां बिताने आता है और दोनों 36 दिन में आम समाप्त कर देते हैं। यदि राजीव अकेले आमों को खाता है, तो आम कितने दिनों तक चलेंगे?

- Ans
- 1. 180
 - 2. 120
 - 3. 72
 - 4. 90

Question ID : 65497814535
Chosen Option : 4

Q.25 उस विकल्प का चयन कीजिए जो अक्षर-समूह की निम्न श्रृंखला में प्रश्नवाचक चिह्न (?) के स्थान पर आएगा।

VSP, NKH, FCZ, ?

- Ans
- 1. XVS
 - 2. WTQ
 - 3. WUS
 - 4. XUR

Question ID : 65497814530
Chosen Option : 4

Section : Quantitative Aptitude

Q.1 $1\frac{4}{11} \div \left\{ \left[\frac{11}{80} \div \frac{3}{4} \left(\frac{1}{4} - \frac{1}{3} \times \frac{1}{5} \right) \div 1\frac{5}{6} \right] + \frac{9}{11} \right\}$ का मान ज्ञात करें।

- Ans
- 1. 1
 - 2. 10
 - 3. 4
 - 4. 5

Question ID : 65497815775
Chosen Option : --

Q.2 लंबवृत्तीय शंकु के आकार का एक पात्र है, जिसकी त्रिज्या और गहराई बराबर है, यह 2 mm व्यास की 128000 गोलाकार बूंदों से पूरी तरह से भर जाता है। पात्र की त्रिज्या (cm में) ज्ञात करें?

- Ans
- 1. 6
 - 2. 8
 - 3. 2
 - 4. 4

Question ID : 65497817388
Chosen Option : --

Q.3 एक विक्रेता, एक वस्तु की बिक्री को बढ़ावा देने के लिए, साधारण ब्याज के सिद्धांत को लागू करता है। वह घोषणा करता है कि नकद भुगतान करने पर वस्तु के 300 पीस तुरंत प्राप्त किए जा सकते हैं, लेकिन यदि ग्राहक एक साल तक भुगतान रोके रखता है तो उसे वस्तु के केवल 200 पीस मिल सकेंगे। कुल बिक्री पर प्रतिशत ब्याज दर की गणना करें?

- Ans
- 1. 50
 - 2. 40
 - 3. 30
 - 4. 25

Question ID : 65497817384
Chosen Option : 1

Q.4 एक ठोस लंब वृत्तीय बेलन का संपूर्ण पृष्ठीय क्षेत्रफल (total surface area) 1617 cm^2 है। यदि इसके आधार का व्यास 21 cm है, तो इसका आयतन (cm^3 में) ज्ञात करें। ($\pi = \frac{22}{7}$ लें)

- Ans
- 1. 4851
 - 2. 3971
 - 3. 5228
 - 4. 5324

Question ID : 65497817387
Chosen Option : 1

Q.5 एक संकट के कारण, राज्य A से कुछ लोग राज्य B में चले गए, और इस प्रकार दूसरे राज्य की जनसंख्या में 19.96% की वृद्धि हो गई। हालांकि, बाद में वे सभी राज्य A में वापस लौट आए तो गणना करें कि राज्य B की जनसंख्या में कितने प्रतिशत की कमी हुई (दशमलव के बाद दो स्थानों तक गणना करें)?

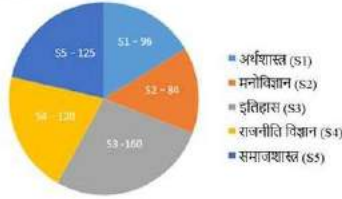
- Ans
- 1. 17.54
 - 2. 16.64
 - 3. 18.24
 - 4. 19.96

Question ID : 65497817377
Chosen Option : 2

Q.6 एक कॉलेज में 2012 में सामाजिक विज्ञान के विभिन्न क्षेत्रों में डिग्री कोर्स के प्रथम वर्ष में प्रवेश लेने वाले छात्रों की संख्या इस प्रकार थी: अर्थशास्त्र (S1) - 96, मनोविज्ञान (S2) - 84, इतिहास (S3) - 160, राजनीति विज्ञान (S4) - 120, समाजशास्त्र (S5) - 125। विभिन्न विषयों में छात्रों के वितरण को दिए गए पाई चार्ट के माध्यम से प्रस्तुत किया गया है।

पाई चार्ट का अध्ययन करें और निम्न प्रश्न का उत्तर दें।

2012 में सामाजिक विज्ञान के विभिन्न क्षेत्रों में डिग्री कोर्स के प्रथम वर्ष में प्रवेश लेने वाले छात्रों की संख्या



2013 में, समाजशास्त्र के छात्रों में से 20%, राजनीति विज्ञान के छात्रों में से 25% और अर्थशास्त्र के छात्रों में से 1/6 दूसरे कॉलेज में स्थानांतरित हो गए, और दूसरे कॉलेजों से छात्रों के इस कॉलेज में स्थानांतरित होने के कारण इतिहास के छात्रों की संख्या में 10% की वृद्धि हुई। इसके अतिरिक्त, समाजशास्त्र के शेष छात्रों में से 10% और मनोविज्ञान के शेष छात्रों में से 1/7 छात्र अर्थशास्त्र में स्थानांतरित हो गए। 2013 में वितरण का प्रतिनिधित्व करने वाले पाई चार्ट में इतिहास को निरूपित करने वाले क्षेत्र का केंद्रीय कोण (निकटतम डिग्री में) क्या होगा?

- Ans
- ✓ 1. 120
- ✗ 2. 102
- ✗ 3. 126
- ✗ 4. 112

Question ID : 65497817394

Chosen Option : --

Q.7 $\frac{\left(3 + \frac{3}{2} \div 6\frac{1}{2} \times \frac{1}{3}\right) \text{ of } 4\frac{1}{3}}{\left(-\frac{8}{3} \div 2\right)}$ को सरल करें।

- Ans
- ✓ 1. -10
- ✗ 2. 10
- ✗ 3. $\frac{40}{3}$
- ✗ 4. $-\frac{30}{13}$

Question ID : 65497817996

Chosen Option : 1

Q.8 दो पुरुष A और B, प्रत्येक दिन में 12 घंटे अकेले काम करके किसी काम को 20 दिनों में पूरा कर सकते हैं। काम को पूरा करने के लिए, यह निर्णय लिया गया कि A और B क्रमशः 8 और 6 घंटे प्रति दिन, एकांतर दिनों में, काम करेंगे जिसकी शुरुआत A से होगी, यदि काम को पूरा करने में x दिन और y घंटे लगते हैं तो (x, y) का मान क्या होगा?

- Ans
- 1. (34, 4)
 - 2. (33, 4)
 - 3. (33, 2)
 - 4. (34, 2)

Question ID : 65497817371
Chosen Option : 4

Q.9 पृथ्वी अपनी धुरी पर 135 डिग्री के कोण से घूमने में कितना समय (सेकंड में) लगाती है?

- Ans
- 1. 28800
 - 2. 21600
 - 3. 32400
 - 4. 33600

Question ID : 65497817373
Chosen Option : 3

Q.10 यदि x और y विपरीत चिहनों वाली दो संख्याएँ हैं, और $x^2 : y^2 = 16 : 81$ है, तो $\frac{3x+4y}{2x-3y}$ का मान क्या होगा?

- Ans
- 1. $-\frac{27}{40}$
 - 2. $-\frac{24}{35}$
 - 3. $\frac{12}{25}$
 - 4. $\frac{48}{35}$

Question ID : 65497817381
Chosen Option : 2

Q.11 $\triangle ABC$ में, $\angle BAC = 90^\circ$, BC पर A से एक लंब AD खींचा जाता है। BD और BC के बीच मध्यानुपाती निम्नलिखित में से कौन सा होगा?

- Ans
- 1. AD
 - 2. AC
 - 3. AB
 - 4. CD

Question ID : 65497817380
Chosen Option : 1

Q.12 किसी वस्तु का अंकित मूल्य ₹400 है। एक दुकानदार इसके अंकित मूल्य पर 12% और 20% की दो क्रमागत छूट देकर इसे बेचता है। यदि उसे 10% का लाभ होता है, तो वस्तु का क्रय मूल्य ज्ञात करें।

- Ans
- 1. ₹256
 - 2. ₹250
 - 3. ₹268
 - 4. ₹260

Question ID : 65497817376
Chosen Option : 1

Q.13 दो दोस्त, जिनमें से एक दूसरे से तीन गुना अधिक कुशल कामगार है, एक साथ काम करते हुए, 6 दिनों में एक काम पूरा कर सकते हैं। दोनों में से कम कुशलता वाला दोस्त, इस काम से दोगुने काम को कितने दिनों में पूरा कर पाएगा?

- Ans
- 1. 24
 - 2. 48
 - 3. 12
 - 4. 36

Question ID : 65497817370
Chosen Option : 2

Q.14 दो पानी में दूध और पानी के मिश्रण क्रमशः 3 : 2 और 6 : 5 के अनुपात में भरे हैं। इन मिश्रणों को किस अनुपात में मिलाया जाना चाहिए ताकि अंतिम मिश्रण में दूध और पानी का अनुपात 4 : 3 हो जाए?

- Ans
- 1. 5 : 8
 - 2. 6 : 13
 - 3. 10 : 11
 - 4. 9 : 14

Question ID : 65497817382
Chosen Option : 3

Q.15 एक फल विक्रेता एक बाजार में 1092 सेब और 3432 संतरे लाता है। वह उन्हें संतरे के ढेरों और सेब के ढेरों में इस प्रकार से व्यवस्थित करता है कि हर ढेर में फलों की संख्या अधिकतम हो। यह संख्या ज्ञात करें?

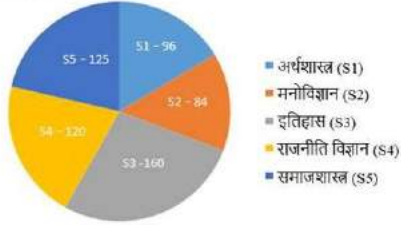
- Ans
- 1. 312
 - 2. 39
 - 3. 156
 - 4. 78

Question ID : 65497817389
Chosen Option : 2

Q.16 एक कॉलेज में 2012 में सामाजिक विज्ञान के विभिन्न क्षेत्रों में डिग्री कोर्स के प्रथम वर्ष में प्रवेश लेने वाले छात्रों की संख्या इस प्रकार थी: अर्थशास्त्र (S1) - 96, मनोविज्ञान (S2) - 84, इतिहास (S3) - 160, राजनीति विज्ञान (S4) - 120, समाजशास्त्र (S5) - 125। विभिन्न विषयों में छात्रों के वितरण को दिए गए पाई चार्ट के माध्यम से प्रस्तुत किया गया है।

पाई चार्ट का अध्ययन करें और निम्न प्रश्न का उत्तर दें।

2012 में सामाजिक विज्ञान के विभिन्न क्षेत्रों में डिग्री कोर्स के प्रथम वर्ष में प्रवेश लेने वाले छात्रों की संख्या



अर्थशास्त्र और मनोविज्ञान में छात्रों की कुल संख्या इतिहास, राजनीति विज्ञान और समाजशास्त्र में छात्रों की कुल संख्या की कितने प्रतिशत है (दशमलव के बाद दो स्थानों तक गणना करें)?

- Ans
- 1. 46.48
 - 2. 22.28
 - 3. 44.44
 - 4. 33.33

Question ID : 65497817393
Chosen Option : 3

Q.17 निम्न वितरण की माध्यिका क्या होगी?
34, 22, 13, 11, 27, 19, 25, 16

- Ans
- 1. 22
 - 2. 21.5
 - 3. 20.5
 - 4. 19

Question ID : 65497817385
Chosen Option : 3

Q.18 यदि मैं किसी वस्तु को ₹1,232 में बेचना हूँ और इस सौदे में 124% का लाभ प्राप्त करता हूँ, तो इसे ₹572 में बेचने पर मेरे लाभ या हानि प्रतिशत की गणना करें?

- Ans
- 1. 6% हानि
 - 2. 4% हानि
 - 3. 6% लाभ
 - 4. 4% लाभ

Question ID : 65497817378
Chosen Option : 4

Q.19 एक वर्ग का क्षेत्रफल S है, और दिए गए वर्ग के मध्य-बिंदुओं को जोड़कर बनने वाले वर्ग का क्षेत्रफल A है। $\frac{A}{S}$ का मान निम्न में से किसके बराबर होगा?

- Ans
- 1. 1.25
 - 2. 0.125
 - 3. 0.25
 - 4. 0.5

Question ID : 65497817386
Chosen Option : 3

Q.20 ₹6,400 की राशि का वार्षिक चक्रवृद्धि ब्याज के आधार पर निवेश किया गया और यह राशि दो वर्षों में ₹7,056 हो गई। ब्याज की प्रतिशत दर कितनी थी?

- Ans
- 1. 6.25
 - 2. 4
 - 3. 7.5
 - 4. 5

Question ID : 65497817383
Chosen Option : 4

Q.21 5 से शुरू करके दस क्रमिक विषम संख्याएं लें। पहली और दूसरी संख्या के अतिरिक्त शेष संख्याओं को तीन से गुणा करें। इस प्रकार से बनने वाली दस संख्याओं का औसत क्या होगा?

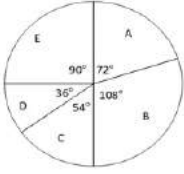
- Ans
- 1. 39
 - 2. 42
 - 3. 39.6
 - 4. 38.4

Question ID : 65497817374
Chosen Option : 3

www.HaryanaJobs.in

Q.22 निम्नांकित पाई चार्ट का अध्ययन करें, तथा उसके बाद पूछे गए प्रश्न का उत्तर दें।

पाई चार्ट में उन खिलाड़ियों का बंटन (distribution) (डिग्री-वार) दर्शाया गया है, जो पांच खेल A, B, C, D, और E खेलते हैं (यह मानते हुए कि प्रत्येक खिलाड़ी केवल एक ही खेल खेलता है)।



यदि खेल C खेलने वाले खिलाड़ियों की संख्या 162 है, तो खेल A और खेल E खेलने वाले खिलाड़ियों की कुल संख्या के बीच कितना अंतर है?

- Ans
- 1. 54
 - 2. 36
 - 3. 90
 - 4. 72

Question ID : 65497817392

Chosen Option : 1

Q.23 एक वस्तु के निर्माण की लागत ₹24,000 थी, और इसकी पैकेजिंग और एक खुदरा विक्रेता को इसकी शिपमेंट पर इसका 20% खर्च किया गया था। निर्माता ने 50% का लाभ कमाया, जबकि खुदरा विक्रेता ने 20% की हानि पर इसे ग्राहक को बेचा। खुदरा विक्रेता ने यह वस्तु किस मूल्य में (₹ में) बेची थी?

- Ans
- 1. 34,560
 - 2. 32,400
 - 3. 37,664
 - 4. 35,268

Question ID : 65497817379

Chosen Option : --

Q.24 एक तूफान के दौरान हवा की गति 10^5 mm प्रति सेकंड है। हवा में निलंबित धूल के एक कण को 1 km की यात्रा करने में कितना समय (सेकंड में) लगेगा?

- Ans
- 1. 10
 - 2. 0.1
 - 3. 0.01
 - 4. 1

Question ID : 65497817372

Chosen Option : 3

Q.25 एक खुदरा विक्रेता सप्ताह के सभी सात दिनों में अपना आउटलेट खोलता है। यह देखा गया है कि शनिवार और रविवार के दिनों के लिए उसकी कुल औसत बिक्री ₹300 होती है, और शेष पाँच दिनों के लिए कुल बिक्री का औसत ₹200 है। शनिवार से शुरू होने वाले एक महीने में, यह पाया गया कि कुल बिक्री ₹7,000 थी। वह महीना निम्नलिखित में से कौन सा हो सकता है?

- Ans**
- 1. फरवरी
 - 2. अप्रैल
 - 3. मार्च
 - 4. जनवरी

Question ID : 65497817375
Chosen Option : 1

Section : General Awareness

Q.1 निम्नलिखित में से कौन सा कथन गलत है?

- Ans**
- 1. धातुओं का गलनांक उच्च होता है।
 - 2. धातुएँ ऊष्मा की सुचालक होती हैं।
 - 3. सीसा और पारा ऊष्मा के सर्वश्रेष्ठ सुचालक हैं।
 - 4. शुद्ध धातुओं की सतह चमकती है।

Question ID : 65497816806
Chosen Option : 4

Q.2 संयुक्त राष्ट्र विकास कार्यक्रम (यूएनडीपी) द्वारा जारी मानव विकास सूचकांक-2019 में भारत का स्थान क्या था?

- Ans**
- 1. 112
 - 2. 141
 - 3. 132
 - 4. 129

Question ID : 65497817706
Chosen Option : 2

Q.3 कंपनी अधिनियम, 2013 के अनुसार, किसी कंपनी द्वारा घोषित लाभांश यदि घोषणा की तारीख से _____ दिनों के भीतर भुगतान या दावा नहीं किया गया है, उसे अप्रदत्त लाभांश खाते में अंतरित करना होता है।

- Ans**
- 1. 30
 - 2. 90
 - 3. 120
 - 4. 60

Question ID : 65497816801
Chosen Option : --

Q.4 माता-पिता और वरिष्ठ नागरिकों के भरण-पोषण और कल्याण विधेयक, 2007 द्वारा निर्धारित बच्चों की ओर से माता-पिता को देय ₹ _____ की मासिक भरण-पोषण राशि को, माता-पिता और वरिष्ठ नागरिकों का भरण-पोषण तथा कल्याण (संशोधन) विधेयक, 2019 द्वारा हटा दिया गया।

- Ans 1. 8,000
 2. 10,000
 3. 12,000
 4. 5,000

Question ID : 65497816800
 Chosen Option : --

Q.5 अंग्रेजों ने 'नवाब के कुशासन' के बहाने निम्नलिखित में से किस रियासत पर कब्जा कर लिया था?

- Ans 1. अवध
 2. उदयपुर
 3. नागपुर
 4. सतारा

Question ID : 65497816813
 Chosen Option : --

Q.6 सूर्य के प्रकाश में कितने रंग निहित हैं?

- Ans 1. दो
 2. तीन
 3. सात
 4. पाँच

Question ID : 65497816804
 Chosen Option : 3

Q.7 निम्नलिखित में से कौन सी अवधारणाएं बताती हैं कि सतत विकास को प्रगति की धारणाओं के लिए एक समग्र दृष्टिकोण रखना चाहिए और कल्याण के गैर-आर्थिक पहलुओं को समान महत्व देना चाहिए?

- Ans 1. सकल घरेलू उत्पाद (Gross Domestic Product)
 2. सकल राष्ट्रीय खुशहाली (Gross National Happiness)
 3. सकल राष्ट्रीय उत्पाद (Gross National Product)
 4. शुद्ध राष्ट्रीय उत्पाद (Net National Product)

Question ID : 65497815485
 Chosen Option : 1

Q.8 निम्नलिखित में से कौन सी पुस्तक, 1817 में स्कॉटिश अर्थशास्त्री जेम्स मिल द्वारा लिखी गई थी?

- Ans 1. ए पैसेज टू इंडिया (A Passage to India)
 2. पावर्टी एंड अन-ब्रिटिश रूल इन इंडिया (Poverty and Un-British Rule in India)
 3. द हिस्ट्री ऑफ ब्रिटिश इन इंडिया (The History of British in India)
 4. द ग्रेट म्यूटिनी (The Great Mutiny)

Question ID : 65497816811
 Chosen Option : 3

Q.9 निम्नलिखित में से कौन एक पेशेवर फुटबॉल खिलाड़ी है?

- Ans
- 1. पीटर स्विडलर
 - 2. सादियो माने
 - 3. बोरिस गेलफैंड
 - 4. मैग्रेस कार्लसन

Question ID : 65497816792
Chosen Option : 4

Q.10 स्वदेशी आंदोलन से प्रेरित होकर, _____ ने भारत माता की अपनी प्रसिद्ध छवि को चित्रित किया, जिसमें उन्हें एक तपस्विनी आकृति के रूप में चित्रित किया गया है।

- Ans
- 1. अबर्निद्रनाथ टैगोर
 - 2. ज्योतिंद्रनाथ टैगोर
 - 3. द्विजेंद्रनाथ टैगोर
 - 4. सत्येंद्रनाथ टैगोर

Question ID : 65497816795
Chosen Option : 1

Q.11 निम्नलिखित में से कौन सी बर्फ-पोषित (snow fed) नदी है?

- Ans
- 1. कावेरी
 - 2. गोदावरी
 - 3. नर्मदा
 - 4. यमुना

Question ID : 65497816809
Chosen Option : 1

Q.12 वर्ष 1878 में, ब्रिटिश भारत में निम्नलिखित में से कौन सा एक्ट अधिनियमित किया गया था?

- Ans
- 1. भारतीय संविदा अधिनियम (Indian Contract Act)
 - 2. ईस्ट इंडिया शेयर लाभांश प्रतिदान अधिनियम (East India Stock Dividend Redemption Act)
 - 3. देशी प्रेस अधिनियम (Vernacular Press Act)
 - 4. संपत्ति अंतरण अधिनियम (Transfer of Property Act)

Question ID : 65497816802
Chosen Option : --

Q.13 हाफिज़ (हाफेज़) _____ सदी के कवि थे, जिनके कविता संग्रह को 'दीवान' या 'दीवान-ए-हाफिज़' के नाम से जाना जाता है।

- Ans
- 1. 15वीं
 - 2. 17वीं
 - 3. 14वीं
 - 4. 16वीं

Question ID : 65497816796
Chosen Option : --

Q.14 निम्नलिखित में से कौन सा एक प्राकृतिक अम्ल क्षारक संकेतक नहीं है?

- Ans
- 1. पेटुनिया के फूल
 - 2. लाल गोभी के पत्ते
 - 3. ज़ीरिनियम के फूल
 - 4. अजवायन के पत्ते

Question ID : 65497816807
Chosen Option : --

Q.15 1859 में कोलकाता में पहली जूट मिल कहाँ लगाई गई थी?

- Ans
- 1. रसड़ा
 - 2. मेसरा
 - 3. श्रीरामपुर
 - 4. हावड़ा

Question ID : 65497816808
Chosen Option : --

Q.16 वह भारतीय क्रिकेट खिलाड़ी कौन सा है जिसने टेस्ट ओपनर के रूप में अपने पदार्पण मैच में लगातार दो शतक लगाए?

- Ans
- 1. रोहित शर्मा
 - 2. शिखर धवन
 - 3. विराट कोहली
 - 4. एम.एस. धोनी

Question ID : 65497816793
Chosen Option : 1

Q.17 जिंक + सल्फ्यूरिक अम्ल → जिंक सल्फेट + _____

- Ans
- 1. क्लोरीन
 - 2. कार्बन
 - 3. नाइट्रोजन
 - 4. हाइड्रोजन

Question ID : 65497816805
Chosen Option : 4

Q.18 निम्नलिखित में से कौन सी पुस्तक राजेंद्र प्रसाद द्वारा लिखी गई है?

- Ans
- 1. द डिस्कवरी ऑफ इंडिया (The Discovery of India)
 - 2. एन ऑटोबायोग्राफी: टुवर्ड्स फ्रीडम (An Autobiography: Towards Freedom)
 - 3. इंडिया डिवाइडेड (India Divided)
 - 4. ग्लिम्पसेस ऑफ वर्ल्ड हिस्ट्री (Glimpses of World History)

Question ID : 65497816794
Chosen Option : 3

Q.19 कूर्ग का कोडव समुदाय, _____ त्यौहार के दौरान हथियारों की पूजा करता है।

- Ans
- 1. थाईपुसम
 - 2. भगोरिया
 - 3. कैलपोध
 - 4. मड़ई

Question ID : 65497816791
Chosen Option : 3

Q.20 पश्चिम बंगाल में बक्सा बाघ संरक्षित क्षेत्र को वर्तमान में चल रहे _____ से खतरा है।

- Ans
- 1. हेमटाइट खनन
 - 2. मैग्नेटाइट खनन
 - 3. डोलोमाइट खनन
 - 4. तांबा (कॉपर) खनन

Question ID : 65497816810
Chosen Option : --

Q.21 निम्नलिखित में से कौन सी बीमारी प्रदूषित पानी पीने के कारण नहीं होती है?

- Ans
- 1. टाइफाइड
 - 2. मैनिजाइटिस
 - 3. कालरा
 - 4. रेबीज

Question ID : 65497816803
Chosen Option : 4

Q.22 कामाख्या मंदिर _____ में स्थित है।

- Ans
- 1. अगरतला
 - 2. गुवाहाटी
 - 3. इंफाल
 - 4. कोहिमा

Question ID : 65497816790
Chosen Option : 2

Q.23 भारतीय रिजर्व बैंक के बारे में निम्नलिखित में से कौन सा कथन गलत है?

- Ans
- 1. भारतीय रिजर्व बैंक अधिनियम वर्ष 1934 में अधिनियमित किया गया था।
 - 2. 1929 में, हिल्टन यंग कमीशन ने एक केंद्रीय बैंक की स्थापना की संस्तुति की जिसे 'भारतीय रिजर्व बैंक' कहा जाता है।
 - 3. 1931 में भारतीय केंद्रीय बैंकिंग जाँच समिति ने भारत के लिए केंद्रीय बैंक जैसे भारतीय रिजर्व बैंक की स्थापना के मुद्दे को भारतीय केंद्रीय बैंक (सेंट्रल बैंक ऑफ इंडिया) के रूप में पुनर्जीवित किया।
 - 4. भारतीय रिजर्व बैंक ने 1935 में परिचालन शुरू किया था।

Question ID : 65497816799
Chosen Option : 3

Q.24 _____, अरुणाचल प्रदेश की गालो जनजाति का एक ऐसा त्योहार है, जिसे प्रतिवर्ष अप्रैल में मनाया जाता है।

- Ans
- 1. मे दम मे फी
 - 2. डोलजात्रा
 - 3. आलि आई लिगांग
 - 4. मोपिन

Question ID : 65497816789
Chosen Option : 3

Q.25 प्लासी के युद्ध के बाद बंगाल का नवाब _____ को बनाया गया।

- Ans
- 1. अलीवर्दी खान
 - 2. मीर कासिम
 - 3. सिराजुद्दौला
 - 4. मीर ज़ाफर

Question ID : 65497816812
Chosen Option : 3

www.HaryanaJobs.in

Multi Tasking Non Technical Staff Examination 2020

Participant ID	www.HaryanaJobs.in
Participant Name	www.HaryanaJobs.in
Test Center Name	Azad Infotech
Test Date	05/10/2021
Test Time :	12:30 PM - 2:00 PM
Subject	MTS Non Technical 2020

Section : **General English**

Q.1 Select the MISSPELT word.

- Ans 1. Embroidary
 2. Interrogation
 3. Territory
 4. Fascination

Question ID : **65497814514**

Chosen Option : 1

Q.2 Select the most appropriate meaning of the given idiom.

Keep someone in the loop

- Ans 1. Take good care of them
 2. Make them do exercises regularly
 3. Save all their numbers
 4. Give them all the information

Question ID : **65497814509**

Chosen Option : 1

Q.3 Identify the segment in the sentence that contains a grammatical error.

If there had not been such a long queue I could have returned back by 11 am.

- Ans 1. If there had not been
 2. such a long queue
 3. by 11 am
 4. I could have returned back

Question ID : **65497814492**

Chosen Option : 4

Q.4 Select the most appropriate synonym of the given word.

TENSILE

- Ans 1. Anxious
 2. Worried
 3. Stretchable
 4. Relaxed

Question ID : 65497814508
Chosen Option : 3

Q.5 Select the most appropriate ANTONYM of the given word.

SLEEK

- Ans 1. Flat
 2. Easy
 3. Dull
 4. Smooth

Question ID : 65497814505
Chosen Option : 3

Q.6 Select the most appropriate option to substitute the underlined segment in the given sentence. If there is no need to substitute it, select 'No substitution required'.

The languages he can speak are English, Hindi, Marathi and Kannada.

- Ans 1. is speaking are
 2. No substitution required
 3. can speak is
 4. will speak are

Question ID : 65497814302
Chosen Option : 1

Q.7 Identify the segment in the sentence that contains a grammatical error.

I ordered an online gift for my friend at her birthday.

- Ans 1. for my friend
 2. I ordered
 3. at her birthday
 4. an online gift

Question ID : 65497814491
Chosen Option : 3

Q.8 Select the most appropriate option to fill in the blank.

Aparna said she was sorry she had _____ to bring the book I had asked for.

- Ans 1. forgotten
 2. forgets
 3. forget
 4. forgot

Question ID : 65497814494
Chosen Option : 1

Q.9 Select the MISSPELT word.

- Ans 1. Clothes
 2. Trousers
 3. Germent
 4. Ironing

Question ID : 65497814513
Chosen Option : 3

Q.10 Select the most appropriate ANTONYM of the given word.

ZEALOUS

- Ans 1. Indifferent
 2. Eager
 3. Anxious
 4. Annoyed

Question ID : 65497814506
Chosen Option : 3

Q.11 Select the most appropriate option to fill in the blank.

This is the ground which is _____ to be the highest cricket ground in the world.

- Ans 1. considered
 2. covered
 3. concealed
 4. cleared

Question ID : 65497814515
Chosen Option : 1

Q.12 Select the most appropriate option to substitute the underlined segment. If no substitution is required, select 'No substitution required'.

Once Birbal was forbidden for attending the king's free lunch.

- Ans
- 1. No substitution required
 - 2. in attending
 - 3. from attending
 - 4. to be attending

Question ID : 65497816523
Chosen Option : 2

Q.13 Select the most appropriate one-word substitution for the given words.

A person who compiles dictionaries

- Ans
- 1. Cartographer
 - 2. Cryptographer
 - 3. Calligrapher
 - 4. Lexicographer

Question ID : 65497814512
Chosen Option : 4

Q.14 Select the most appropriate synonym of the given word.

LAX

- Ans
- 1. Deprived
 - 2. Careful
 - 3. Negligent
 - 4. Needy

Question ID : 65497814507
Chosen Option : 3

Q.15 Select the most appropriate one-word substitution for the given words.

Cinema show in the afternoon

- Ans
- 1. Screening
 - 2. Movie
 - 3. Film
 - 4. Matinee

Question ID : 65497814511
Chosen Option : 4

Q.16 Select the most appropriate option to fill in the blank.

We would be grateful if you _____ let us know what medicine we should take for this ailment.

- Ans
- 1. may
 - 2. should
 - 3. could
 - 4. shall

Question ID : 65497814495
Chosen Option : 2

Q.17 Select the most appropriate option to fill in the blank.

Several peoples' homes were badly _____ during the floods.

- Ans
- 1. drained
 - 2. damaged
 - 3. deluged
 - 4. drowned

Question ID : 65497814516
Chosen Option : 2

Q.18 Select the most appropriate meaning of the given idiom.

Of the old school

- Ans
- 1. Old dilapidated building
 - 2. Old fashioned in thought
 - 3. School one attended long ago
 - 4. School in an old age home

Question ID : 65497814510
Chosen Option : 2

Q.19 Identify the segment in the sentence that contains a grammatical error.

Will you listen me when I tell you the details?

- Ans
- 1. Will you
 - 2. the details
 - 3. when I tell you
 - 4. listen me

Question ID : 65497814493
Chosen Option : 1

Q.20 Select the most appropriate option to substitute the underlined segment in the given sentence. If there is no need to substitute it, select 'No substitution required'.

The club are organising a two-day yoga and meditation camp for beginners.

- Ans
- 1. will organised
 - 2. can be organising
 - 3. No substitution required
 - 4. is organising

Question ID : 65497814502
Chosen Option : 4

Comprehension:

In the following passage, some words have been deleted. Fill in the blanks with the help of the alternatives given. Select the most appropriate option for each blank.

A poet visited Tenali Raman hoping to impress him with some poems he had written. Raman asked (1)_____ to leave the poems with him and promised to read them (2)_____. The man, however, insisted on (3)_____ out the poems to him. As the poet droned (4)_____ Raman fell asleep. When he woke up, the poet asked: "Sir, shall I read the (5)_____ again?"

SubQuestion No : 21

Q.21 Select the most appropriate option to fill in blank no. 1.

- Ans
- 1. his
 - 2. him
 - 3. her
 - 4. them

Question ID : 65497814497
Chosen Option : 2

Comprehension:

In the following passage, some words have been deleted. Fill in the blanks with the help of the alternatives given. Select the most appropriate option for each blank.

A poet visited Tenali Raman hoping to impress him with some poems he had written. Raman asked (1)_____ to leave the poems with him and promised to read them (2)_____. The man, however, insisted on (3)_____ out the poems to him. As the poet droned (4)_____ Raman fell asleep. When he woke up, the poet asked: "Sir, shall I read the (5)_____ again?"

SubQuestion No : 22

Q.22 Select the most appropriate option to fill in blank no. 2.

- Ans
- 1. later
 - 2. next
 - 3. lately
 - 4. after

Question ID : 65497814498
Chosen Option : 1

Comprehension:

In the following passage, some words have been deleted. Fill in the blanks with the help of the alternatives given. Select the most appropriate option for each blank.

A poet visited Tenali Raman hoping to impress him with some poems he had written. Raman asked (1)_____ to leave the poems with him and promised to read them (2)_____. The man, however, insisted on (3)_____ out the poems to him. As the poet droned (4)_____ Raman fell asleep. When he woke up, the poet asked: "Sir, shall I read the (5)_____ again?"

SubQuestion No : 23

Q.23 Select the most appropriate option to fill in blank no. 3.

- Ans
- 1. reciting
 - 2. recounting
 - 3. rehearsing
 - 4. reading

Question ID : **65497814499**
Chosen Option : 4

Comprehension:

In the following passage, some words have been deleted. Fill in the blanks with the help of the alternatives given. Select the most appropriate option for each blank.

A poet visited Tenali Raman hoping to impress him with some poems he had written. Raman asked (1)_____ to leave the poems with him and promised to read them (2)_____. The man, however, insisted on (3)_____ out the poems to him. As the poet droned (4)_____ Raman fell asleep. When he woke up, the poet asked: "Sir, shall I read the (5)_____ again?"

SubQuestion No : 24

Q.24 Select the most appropriate option to fill in blank no. 4.

- Ans
- 1. on
 - 2. out
 - 3. in
 - 4. up

Question ID : **65497814500**
Chosen Option : 2

Comprehension:

In the following passage, some words have been deleted. Fill in the blanks with the help of the alternatives given. Select the most appropriate option for each blank.

A poet visited Tenali Raman hoping to impress him with some poems he had written. Raman asked (1)_____ to leave the poems with him and promised to read them (2)_____. The man, however, insisted on (3)_____ out the poems to him. As the poet droned (4)_____ Raman fell asleep. When he woke up, the poet asked: "Sir, shall I read the (5)_____ again?"

SubQuestion No : 25

Q.25 Select the most appropriate option to fill in blank no. 5.

- Ans
- 1. verses
 - 2. pages
 - 3. poems
 - 4. rhymes

Question ID : **65497814501**
Chosen Option : 3

Q.1 उस सही विकल्प का चयन करें, जो किसी पुस्तक की निम्न सामग्री के तार्किक और सार्थक क्रम को निरूपित करता है।

1. प्रस्तावना
2. विषय-सूची
3. अध्याय
4. ग्रंथ-सूची
5. आवरण पृष्ठ

- Ans 1. 1, 5, 2, 3, 4
2. 5, 1, 2, 3, 4
3. 2, 1, 5, 3, 4
4. 1, 2, 5, 3, 4

Question ID : 65497817363
Chosen Option : 4

Q.2 चार अक्षर-समूह दिए गए हैं, जिनमें से तीन किसी प्रकार समान हैं जबकि एक असंगत है। उस असंगत अक्षर-समूह का चयन करें।

- Ans 1. ADI
2. EHM
3. FJN
4. DGL

Question ID : 65497817358
Chosen Option : 3

Q.3 Two statements are given followed by two conclusions numbered I and II. Assuming that the information given in the statements is true, even if it appears to be different from commonly known facts, decide which of the conclusions logically follow(s) from the statements.

Statements:

1. Some bags are covers.
2. All sheets are covers.

Conclusions:

- I. All covers are sheets.
- II. Some bags are sheets.

- Ans 1. Neither conclusion I nor II follows.
2. Both conclusions I and II follow
3. Only conclusion I follows
4. Only conclusion II follows

Question ID : 65497817359
Chosen Option : 1

www.HaryanaJobs.in

Q.4 यदि निम्न गणितीय चिह्नों को निम्नानुसार प्रतिस्थापित किया जाता है, तो उस विकल्प का चयन करें, जो सही समीकरण को निरूपित करता है।

÷ को + में बदला गया है
 × को - में बदला गया है
 + को - में बदला गया है
 - को ÷ में बदला गया है

- Ans
- 1. $26 \times 18 \div 39 + 4 - 111 = 100$
 - 2. $26 + 18 - 39 \times 4 \div 111 = 119$
 - 3. $26 - 18 + 39 \div 4 \times 111 = 40$
 - 4. $26 - 18 + 39 \times 4 \div 111 = 203$

Question ID : 65497817346
 Chosen Option : --

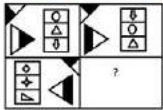
Q.5 Select the option which is related to third term in the same way as the second term is related to the first term.

Focus : Distract :: Precise : ?

- Ans
- 1. Careless
 - 2. Insufficient
 - 3. Specific
 - 4. Strict

Question ID : 65497817356
 Chosen Option : 1

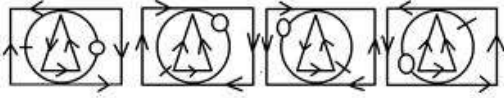
Q.6 नीचे एक पैटर्न दिया गया है, जिसमें से एक खंड काटा गया है। उस विकल्प का चयन करें, जो पैटर्न में सही ढंग से रखे जाने पर पैटर्न को पूरा करेगा।



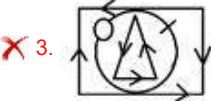
- Ans
- 1.
 - 2.
 - 3.
 - 4.

Question ID : 65497817365
 Chosen Option : 2

Q.7 उस आकृति का चयन करें, जो निम्न श्रेणी में अगले स्थान पर आएगी।



Ans



Question ID : 65497817364

Chosen Option : 1

Q.8 किसी निश्चित कूट भाषा में, EXCEL को 44 और WORD को 56 लिखा जाता है। उसी कूट भाषा में HEAVEN को किस प्रकार लिखा जाएगा?

Ans ✗ 1. 61

✗ 2. 58

✗ 3. 55

✓ 4. 49

Question ID : 65497817353

Chosen Option : 4

Q.9 किसी निश्चित कूट भाषा में, SEAT को TIJJ लिखा जाता है। उसी कूट भाषा में, TREE को किस प्रकार लिखा जाएगा?

Ans ✓ 1. UVNU

✗ 2. VUNU

✗ 3. SVNN

✗ 4. UVNV

Question ID : 65497817352

Chosen Option : 1

Q.10 आठ दोस्त P, Q, R, S, T, U, V और W एक आयताकार मेज के चारों ओर बैठे हैं। R उत्तर-पश्चिम में बैठा है। R और P विकर्णतः एक दूसरे के सम्मुख बैठे हैं, जबकि V और U विकर्णतः एक दूसरे के सम्मुख बैठे हैं। W पश्चिम दिशा की ओर अभिमुख है, Q पूर्व दिशा की ओर अभिमुख है, और S ठीक R तथा V के बीच बैठा है। T किस दिशा में बैठा है?

- Ans 1. पश्चिम
 2. दक्षिण
 3. पूर्व
 4. उत्तर

Question ID : 65497817362
 Chosen Option : 2

Q.11 उस विकल्प का चयन करें, जो तीसरे पद से ठीक उसी प्रकार संबंधित है, जिस प्रकार दूसरा पद पहले पद से संबंधित है।

BOARD : VSELX :: ENJOY : ?

- Ans 1. IHDSC
 2. HICSD
 3. FEDSE
 4. IHEAC

Question ID : 65497817355
 Chosen Option : 4

Q.12 किसी निश्चित कूट भाषा में, JET को TED और MAD को WAN लिखा जाता है। उसी कूट भाषा में, CARE को किस प्रकार लिखा जाएगा?

- Ans 1. LKBE
 2. MADE
 3. MALE
 4. MABE

Question ID : 65497817351
 Chosen Option : 4

Q.13 यदि A का अर्थ 'घटाना' है, B का अर्थ 'जोड़' है, C का अर्थ 'गुणा' है और D का अर्थ 'भाग' है, तो निम्न समीकरण का मान ज्ञात करें।

96 D 12 A 6 B 3 C 5

- Ans 1. 7
 2. 17
 3. 128
 4. 1158

Question ID : 65497817345
 Chosen Option : 2

Q.14 उस विकल्प का चयन करें, जो तीसरे शब्द से ठीक उसी प्रकार संबंधित है, जिस प्रकार दूसरा शब्द पहले शब्द से संबंधित है।

लघु : विशालकाय :: कण : ?

- Ans 1. अवपरमाणुक
 2. धूल
 3. संपूर्ण
 4. विमुखता

Question ID : 65497817357
Chosen Option : 3

Q.15 उस संख्या का चयन करें, जो निम्न पैटर्न में प्रश्नवाचक चिह्न (?) के स्थान पर आएगी?

5 6 7 8 9
115 206 ? 502 719

- Ans 1. 337
 2. 347
 3. 343
 4. 333

Question ID : 65497817350
Chosen Option : 4

Q.16 किसी निश्चित कूट भाषा में, C को 3 के रूप में और DAM को 6 के रूप में कूटबद्ध किया जाता है। उसी कूट भाषा में, HENCE को किस रूप में कूटबद्ध किया जाएगा?

- Ans 1. 5
 2. 11
 3. 12
 4. 7

Question ID : 65497817354
Chosen Option : 4


www.HaryanaJobs.in

Q.17 यदि दर्पण को दी गई आकृति के दाईं ओर रखा जाए, तो आकृति के दर्पण में निर्मित सही प्रतिबिंब का चयन कीजिए।

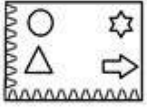


Ans

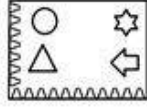
✗ 1.



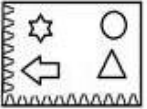
✗ 2.



✓ 3.



✗ 4.



Question ID : 65497817367

Chosen Option : 3

Q.18 आठ छात्र A, B, C, D, E, F, G और H एक गोल मेज के परितः एक दूसरे से बराबर दूरी पर बैठे हैं। यदि B उत्तर-पूर्व दिशा में बैठा है तो H किस दिशा में बैठा है?

Ans

✗ 1. उत्तर-पूर्व

✗ 2. उत्तर-पश्चिम

✓ 3. दक्षिण-पूर्व

✗ 4. दक्षिण-पश्चिम

Question ID : 65497817361

Chosen Option : 2

Q.19 उस विकल्प का चयन करें, जो चौथी संख्या से ठीक उसी प्रकार संबंधित है, जिस प्रकार पहली संख्या दूसरी संख्या से संबंधित है।

28 : 145 :: ? : 100

Ans

✗ 1. 20

✗ 2. 13

✓ 3. 19

✗ 4. 17

Question ID : 65497817347

Chosen Option : 3

Q.20 तीन कथनों के बाद तीन निष्कर्ष I, II और III दिए गए हैं। यह मानते हुए कि कथनों में दी गई जानकारी सत्य है, भले ही ये सामान्य रूप से ज्ञात तथ्यों से भिन्न प्रतीत होते हों, निर्धारित करें कि कौन से निष्कर्ष कथनों का तार्किक रूप से अनुसरण करते हैं?

कथन:

1. कोई भी जंगल, पेड़ नहीं हैं।
2. कुछ पेड़, लंबे हैं।
3. कोई भी पौधा, लंबा नहीं है।

निष्कर्ष:

- I. कुछ पौधे, पेड़ हैं।
- II. सभी पेड़, लंबे हैं।
- III. कुछ जंगल, लंबे हैं।

- Ans 1. कोई भी निष्कर्ष अनुसरण नहीं करता है।
2. निष्कर्ष I और II दोनों अनुसरण करते हैं।
3. केवल निष्कर्ष II अनुसरण करता है।
4. निष्कर्ष II और III दोनों अनुसरण करते हैं।

Question ID : 65497817360

Chosen Option : 1

Q.21 उस संख्या का चयन करें, जो निम्न श्रेणी में प्रश्नवाचक चिह्न (?) के स्थान पर आएगी?

117, 98, 80, ?, 47, 32

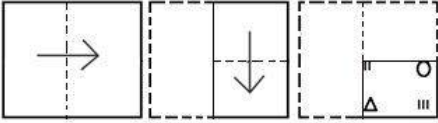
- Ans 1. 63
2. 75
3. 58
4. 55

Question ID : 65497817349

Chosen Option : 1

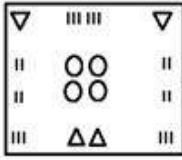
www.HaryanaJobs.in

Q.22 एक कागज़ को निम्नानुसार मोड़ा और काटा जाता है। यह खोलने पर कैसा दिखेगा?

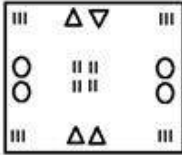


Ans

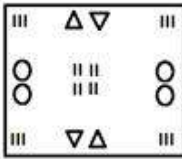
✗ 1.



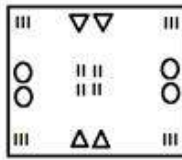
✗ 2.



✗ 3.



✓ 4.

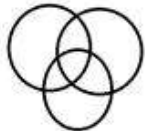


Question ID : 65497817368
Chosen Option : 4

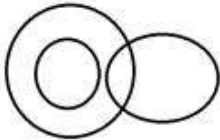
Q.23 उस वेन-आरेख का चयन करें, जो निम्न वर्गों के बीच संबंध को सर्वोत्तम ढंग से निरूपित करता है।
पुरुष, स्केटर, भूरे-बालों वाले लोग

Ans

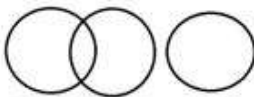
✓ 1.




✗ 2.



✗ 3.



✗ 4.



Question ID : 65497817369
Chosen Option : 3

Q.24 उस विकल्प का चयन करें, जिसमें दी गई आकृति अन्तःस्थापित है। (घुमाने की अनुमति नहीं है)



Ans

1.



2.



3.



4.



Question ID : 65497817366
Chosen Option : 2

Q.25 दिए गए पैटर्न का ध्यानपूर्वक अध्ययन करें और उस संख्या का चयन करें, जो इसमें प्रश्रवाचक चिह्न (?) के स्थान पर आएगी?

6 12 78
6 15 99
3 13 ?

Ans 1. 50

2. 45

3. 54

4. 49

Question ID : 65497817348
Chosen Option : 4

Section : Quantitative Aptitude

Q.1 किसी निश्चित वार्षिक दर पर, ₹4,800 की राशि पर $4\frac{1}{2}$ वर्ष में प्राप्त साधारण ब्याज ₹1,684.80 है। समान राशि पर साधारण ब्याज की समान दर से $6\frac{2}{3}$ वर्ष में प्राप्त मिश्रधन ज्ञात करें।

- Ans
- 1. ₹7,084
 - 2. ₹7,298
 - 3. ₹7,096
 - 4. ₹7,296

Question ID : 65497814353

Chosen Option : --

Q.2 दस संख्याओं का औसत 18.2 है। प्रथम चार संख्याओं का औसत 16.6 और अंतिम सात संख्याओं का औसत 20.8 है। यदि 4थी संख्या को निकाल दिया जाए, तो शेष संख्याओं का औसत (ठीक एक दशमलव स्थान तक) ज्ञात करें।

- Ans
- 1. 16.7
 - 2. 17.2
 - 3. 15.8
 - 4. 16.9

Question ID : 65497814343

Chosen Option : 4

Q.3 A, किसी वस्तु को 20% की हानि पर B को बेचता है और B इस वस्तु को 32% के लाभ पर C को बेचता है। C इस वस्तु को 20% की हानि पर D को बेचता है। यदि A की हानि, C की हानि से ₹35 कम है, तो B वस्तु को _____ में खरीदता है।

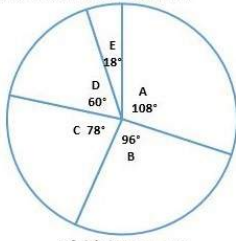
- Ans
- 1. ₹2,940
 - 2. ₹2,800
 - 3. ₹2,750
 - 4. ₹2,500

Question ID : 65497814349

Chosen Option : 4

Q.4 दिए गए पाई चार्ट का अध्ययन करें और नीचे दिए गए प्रश्न का उत्तर दें।

2019 में किसी कंपनी के A, B, C, D और E कार्यालय में कार्यरत कर्मचारियों का (डिग्री के अनुसार) वितरण



कर्मचारियों की कुल संख्या = 300

किस कार्यालय के कर्मचारियों की संख्या, A, C, D और E कार्यालय में कार्यरत कर्मचारियों की औसत संख्या से लगभग 18% अधिक है?

- Ans
- 1. D
 - 2. C
 - 3. A
 - 4. B

Question ID : 65497814362
Chosen Option : 2

Q.5 जब x को 24, 30, 36 और 46 में से प्रत्येक से घटाया जाता है, तो इस क्रम में प्राप्त संख्याएं, समानुपात में होती हैं। $(2x + 3)$ और $(3x + 2)$ के बीच मध्यानुपात (mean proportional) ज्ञात करें।

- Ans
- 1. $10\sqrt{3}$
 - 2. $12\sqrt{3}$
 - 3. 12
 - 4. 10

Question ID : 65497814350
Chosen Option : --

Q.6 कोई व्यक्ति, शांत जल में 5 m/sec की चाल से नाव चला सकता है। धारा की चाल 6 km/h है। उसके द्वारा धारा की दिशा में 76.8 km की दूरी तय करने में लगने वाला समय (घंटे में) ज्ञात करें।

- Ans
- 1. 2.8
 - 2. 3.2
 - 3. 3.5
 - 4. 2.4

Question ID : 65497814357
Chosen Option : 2

Q.7 A और B की मासिक आय का अनुपात 2 : 3 है और उनकी बचत का अनुपात 3 : 4 है। यदि A की आय B की बचत के बराबर है, तो A और B के व्यय का अनुपात ज्ञात करें।

- Ans
- 1. 4 : 5
 - 2. 3 : 4
 - 3. 2 : 3
 - 4. 1 : 2

Question ID : 65497814352
Chosen Option : 4

Q.8 $6 \times 2 \div 3$ of $12 - 3 \div 2 \times (2 - 3) \times 2 + 3 \div 2$ of 3 का मान कितना होगा?

- Ans
- 1. $\frac{19}{6}$
 - 2. $\frac{13}{6}$
 - 3. $\frac{17}{6}$
 - 4. $\frac{23}{6}$

Question ID : 65497816481
Chosen Option : 4

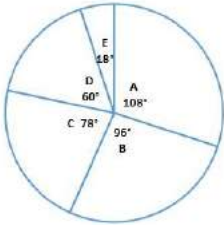
Q.9 एक व्यक्ति अपनी आय का 28% बचाता है। यदि उसकी आय में 20% की वृद्धि होती है और व्यय में 5% की कमी होती है, तो उसके बचत में x% की वृद्धि होती है। x का निकटतम मान ज्ञात करें।

- Ans
- 1. 84.3
 - 2. 54.4
 - 3. 72.5
 - 4. 45.8

Question ID : 65497814347
Chosen Option : 1

Q.10 दिए गए पाई चार्ट का अध्ययन करें और नीचे दिए गए प्रश्न का उत्तर दें।

2019 में किसी कंपनी के A, B, C, D और E कार्यालय में कार्यरत कर्मचारियों का (शिरी के अनुसार) वितरण



कर्मचारियों की कुल संख्या = 300

कार्यालय A में, 40% कर्मचारी महिला हैं और कार्यालय C में 60% कर्मचारी पुरुष हैं। कार्यालय A में पुरुष कर्मचारियों की संख्या और कार्यालय C में महिला कर्मचारियों की संख्या का अनुपात ज्ञात करें।

- Ans
- 1. 15 : 8
 - 2. 9 : 4
 - 3. 18 : 13
 - 4. 27 : 13

Question ID : 65497814364

Chosen Option : 3

Q.11 A और B की चाल का अनुपात 2 : 5 है। किसी निश्चित दूरी को तय करने में, यदि A को B से 15 मिनट अधिक समय लगता है, तो B को समान दूरी तय करने में कितना समय (मिनट में) लगेगा?

- Ans
- 1. 8
 - 2. 9
 - 3. 12
 - 4. 10

Question ID : 65497814358

Chosen Option : 4

Q.12 A, किसी कार्य को 30 दिन में कर सकता है। B, A से 25% अधिक कुशल है और C, B से 20% अधिक कुशल है। A और B एक साथ 10 दिन तक कार्य करते हैं। अकेले C शेष कार्य को x दिन में पूरा करता है। x का मान ज्ञात करें।

- Ans
- 1. 6
 - 2. 5
 - 3. 8
 - 4. 4

Question ID : 65497814356

Chosen Option : 2

Q.13 सुमन, किसी निश्चित राशि को अपनी तीन बेटियों के बीच 2 : 3 : 4 के अनुपात में विभाजित करती है। यदि वह

राशि को $\frac{1}{2} : \frac{1}{3} : \frac{1}{4}$ के अनुपात में विभाजित करती, तो पहले जिस बेटे को सबसे कम हिस्सा प्राप्त हुआ था उसे ₹3,500 अधिक प्राप्त होता। राशि ज्ञात करें।

Ans 1. ₹14,000

2. ₹14,625

3. ₹13,750

4. ₹14,500

Question ID : 65497814351

Chosen Option : 2

Q.14 13 cm ऊंचाई वाले ठोस लंबवृत्तीय बेलन का कुल पृष्ठीय क्षेत्रफल 880 cm^2 है। इसका आयतन (cm^3 में) $11k$ है।

k का मान ज्ञात करें। ($\pi = \frac{22}{7}$ लें)

Ans 1. 91

2. 104

3. 182

4. 208

Question ID : 65497814260

Chosen Option : 3

Q.15 $\frac{3}{8} + \frac{1}{7} \times 1\frac{3}{4} + \left(\frac{2}{3} \div \frac{3}{10} \text{ of } \frac{4}{9}\right) - \left(3\frac{1}{5} \div 4\frac{1}{2} \text{ of } 5\frac{1}{3}\right) \times \frac{15}{8}$ का मान ज्ञात करें।

Ans 1. $5\frac{1}{2}$

2. $10\frac{1}{2}$

3. $10\frac{1}{4}$

4. $5\frac{3}{8}$

Question ID : 65497814342

Chosen Option : 4

Q.16 A, किसी कार्य के $33\frac{1}{3}\%$ भाग को 10 दिन में कर सकता है और B उसी कार्य के 20% भाग को 9 दिन में कर सकता है। वे एक साथ 8 दिन तक कार्य करते हैं। अकेले C, शेष कार्य के 30% भाग को 10 दिन में पूरा करता है। एक साथ A और C उसी कार्य को कितने दिन में पूरा करेंगे?

Ans 1. 18 दिन

2. 20 दिन

3. 12 दिन

4. 15 दिन

Question ID : 65497814355

Chosen Option : --

Q.17 $48 \div [5 + \{19 - (16 - 16 \div 4 \times 3 \text{ of } 2)\}]$ का मान ज्ञात करें।

- Ans
- 1. $\frac{1}{2}$
 - 2. $\frac{3}{4}$
 - 3. $\frac{2}{3}$
 - 4. $\frac{3}{2}$

Question ID : 65497814341

Chosen Option : 4

Q.18 दिए गए आंकड़ों की माध्यिका और बहुलक का माध्य ज्ञात करें।

19, 20, 14, 15, 19, 16, 17, 15, 14, 13, 18, 19, 17, 13?

- Ans
- 1. 17.75
 - 2. 17.25
 - 3. 17
 - 4. 18

Question ID : 65497814346

Chosen Option : --

Q.19 किसी वस्तु का अंकित मूल्य ₹2,560 है। एक सेल के दौरान इस वस्तु पर 20% और x% की दो क्रमागत छूटें दी जाती हैं। यदि वस्तु का विक्रय मूल्य ₹1,679.36 है, तो x का मान ज्ञात करें।

- Ans
- 1. 12.5
 - 2. 16.5
 - 3. 18
 - 4. 15

Question ID : 65497814345

Chosen Option : 3

Q.20 2 अंकों वाली संख्याओं 37, 45, $6x$ और $x6$ का औसत 48 है। $(4x + 3)$ और $(x + 7)$ का औसत ज्ञात करें।

- Ans
- 1. 17.5
 - 2. 12.5
 - 3. 20
 - 4. 15

Question ID : 65497814344

Chosen Option : --

Q.21 120 m लंबे और 98 m चौड़े आयताकार प्लाट की दोनों भुजाओं की चौड़ाई से लगी हुई अर्द्ध-वृत्ताकार फुलवारी है।
₹16.50 प्रति m की दर से, प्लाट के चारों ओर बाड़ लगाने की लागत ज्ञात करें। ($\pi = \frac{22}{7}$ लें)

- Ans
- 1. ₹9,009
 - 2. ₹9,042
 - 3. ₹8,943
 - 4. ₹8,910

Question ID : 65497814359

Chosen Option : --

Q.22 किसी वस्तु को ₹820 में बेचकर, अम्बे को 18% की हानि होती है। 25.5% लाभ के लिए, उसे इस वस्तु को _____ में बेचना चाहिए।

- Ans
- 1. ₹1,255
 - 2. ₹1,260
 - 3. ₹1,250
 - 4. ₹1,275

Question ID : 65497814348

Chosen Option : 1

Q.23 वह छोटी से छोटी संख्या ज्ञात करें, जिसे 2963 से घटाने पर परिणामी संख्या को जब 9, 10 और 15 से विभाजित किया जाए, तो प्रत्येक स्थिति में 5 शेषफल प्राप्त हो?

- Ans
- 1. 82
 - 2. 39
 - 3. 78
 - 4. 41

Question ID : 65497814340

Chosen Option : --

Q.24 जब ब्याज हर 8 महीने के बाद संयोजित होता है, तो किसी निश्चित राशि पर वार्षिक 15% की दर से 2 वर्ष में प्राप्त चक्रवृद्धि ब्याज ₹3,641 है। राशि ज्ञात करें।

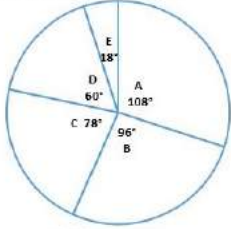
- Ans
- 1. ₹11,000
 - 2. ₹10,000
 - 3. ₹9,000
 - 4. ₹9,600

Question ID : 65497814354

Chosen Option : --

Q.25 दिए गए पाई चार्ट का अध्ययन करें और नीचे दिए गए प्रश्न का उत्तर दें।

2019 में दिल्ली कंपनी के A, B, C, D और E कार्यालय में कार्यरत कर्मचारियों का (दिवस के अनुसार) वितरण



कर्मचारियों की कुल संख्या = 300

C और E कार्यालय में कर्मचारियों की कुल संख्या, A कार्यालय में कर्मचारियों की संख्या से कितने प्रतिशत कम है?

Ans

1. $15\frac{1}{4}$
2. $16\frac{2}{3}$
3. $11\frac{1}{9}$
4. $12\frac{1}{2}$

Question ID : 65497814363

Chosen Option : 3

Section : General Awareness

Q.1 लिट्टी चोखा निम्नलिखित में से किस राज्य का प्रसिद्ध व्यंजन है?

Ans

1. महाराष्ट्र
2. गुजरात
3. बिहार
4. ओडिशा

Question ID : 65497814568

Chosen Option : 3

Q.2 22 जुलाई 2020 को, किसे अंतर्राष्ट्रीय रेलवे सुरक्षा मंच के उपाध्यक्ष के रूप में नामित किया गया था?

Ans

1. फ्रांकोइस डेविने
2. मागरिट चान
3. अरुण कुमार
4. सौम्या स्वामीनाथन

Question ID : 65497814573

Chosen Option : --

Q.3 निम्नलिखित में से कौन सी पृथ्वी की सतह की निकटतम परत है जिसमें सभी मौसमी परिवर्तन होते हैं?

- Ans
- 1. मध्यमंडल
 - 2. समतापमंडल
 - 3. क्षोभमंडल
 - 4. आयनमंडल

Question ID : 65497814588
Chosen Option : 3

Q.4 1751 ई. (AD) में 'द सीज ऑफ आर्काट (अर्काट की युद्ध घेराबंदी)' में कौन विजयी हुआ था?

- Ans
- 1. अंग्रेज
 - 2. डच
 - 3. पुर्तगाली
 - 4. फ्रांसीसी

Question ID : 65497814591
Chosen Option : --

Q.5 _____ तब होता है जब विटामिन D की कमी के कारण बच्चे की बढ़ती हड्डियाँ विकसित नहीं हो पाती है।

- Ans
- 1. सूखा रोग
 - 2. रतौंधी
 - 3. स्कर्वी
 - 4. गण्डमाला

Question ID : 65497814584
Chosen Option : 1

Q.6 चेराव नृत्य किस राज्य का एक पारंपरिक नृत्य रूप है?

- Ans
- 1. मिज़ोरम
 - 2. अरुणाचल प्रदेश
 - 3. सिक्किम
 - 4. असम

Question ID : 65497814569
Chosen Option : 1

Q.7 22 जुलाई 2020 को, अभिनेता सोनू सूद ने नौकरी खोजने और विशिष्ट नौकरी प्रशिक्षण कार्यक्रम पेश करने के लिए _____ ऐप लॉन्च किया था।

- Ans
- 1. सबका रोज़गार
 - 2. प्रवासी रोज़गार
 - 3. प्रवासी आत्मनिर्भर
 - 4. ग्रामीण रोज़गार

Question ID : 65497814572
Chosen Option : 2

Q.8 किस टीम ने तमिलनाडु को फाइनल में हराकर चौथी बार 2019-20 विजय हजारे ट्रॉफी जीती?

- Ans
- 1. बिहार
 - 2. मुंबई
 - 3. झारखंड
 - 4. कर्नाटक

Question ID : 65497814571
Chosen Option : 2

Q.9 निम्नलिखित में से कौन सा दुनिया का तीसरा सबसे ऊँचा पर्वत है?

- Ans
- 1. एवरेस्ट
 - 2. अन्नपूर्णा
 - 3. कंचनजंगा
 - 4. K2

Question ID : 65497814586
Chosen Option : 3

Q.10 ब्रिटिश वायसराय लॉर्ड कर्जन ने बंगाल का विभाजन किस वर्ष में किया था?

- Ans
- 1. 1901
 - 2. 1905
 - 3. 1907
 - 4. 1911

Question ID : 65497814590
Chosen Option : 2

Q.11 भारत के राष्ट्रीय अभिलेखागार की स्थापना किस वर्ष की गई थी?

- Ans
- 1. 1891
 - 2. 1835
 - 3. 1830
 - 4. 1840

Question ID : 65497814589
Chosen Option : 2

Q.12 ओवी, एक विशिष्ट प्रकार का लोक गीत है, जो महिलाओं के मायके और ससुराल का वर्णन करने वाले दोहों से बना होता है और सामूहिक रूप से पारंपरिक गीतों के साथ-साथ गांव की महिलाओं द्वारा गाया जाता है, यह किस राज्य से संबंधित है?

- Ans
- 1. गोवा
 - 2. महाराष्ट्र
 - 3. असम
 - 4. मिज़ोरम

Question ID : 65497814567
Chosen Option : --

Q.13 निम्नलिखित में से किस उपकरण का उपयोग विद्युत प्रवाह के मापन के लिए किया जाता है, चाहे वह दिष्ट धारा हो या प्रत्यावर्ती धारा?

- Ans
- 1. पाइरोमीटर
 - 2. वाटमीटर
 - 3. हाइग्रोमीटर
 - 4. एमीटर

Question ID : 65497814580
Chosen Option : 4

Q.14 मानव शरीर की सबसे छोटी हड्डी कौन सी होती है?

- Ans
- 1. हयूमरस
 - 2. स्टेपीज़
 - 3. पेल्विस
 - 4. फैलेंजेस

Question ID : 65497814582
Chosen Option : 2

Q.15 जुलाई 2021 तक प्राप्त जानकारी के अनुसार अंतर्राष्ट्रीय मुद्रा कोष के मुख्य अर्थशास्त्री का नाम क्या है?

- Ans
- 1. गीता गोपीनाथ
 - 2. रघुराम राजन
 - 3. कृष्ण भारद्वाज
 - 4. मोंटेक सिंह अहलूवालिया

Question ID : 65497814374
Chosen Option : 1

Q.16 'शेम' (Shame) पुस्तक के लेखक कौन है?

- Ans
- 1. रूडयार्ड किपलिंग
 - 2. चार्ल्स डिक्केस
 - 3. सलमान रुश्दी
 - 4. एरिक सेगल

Question ID : 65497814574
Chosen Option : 1

Q.17 बजट 2019-20 के अनुसार, निम्नलिखित में से कौन सा भारत सरकार की आय का एकमात्र सबसे बड़ा स्रोत है, जिसका प्रत्येक अर्जित रुपये में 21 पैसे का योगदान है?

- Ans
- 1. सीमा शुल्क
 - 2. सेवा कर
 - 3. गैर-कर राजस्व
 - 4. निगम कर

Question ID : 65497814577
Chosen Option : 2

Q.18 पठार, गारो हिल्स, खासी हिल्स और जयंतिया हिल्स में उप-विभाजित है, जिसका नाम इस क्षेत्र में रहने वाले जनजातीय समूहों के नाम पर रखा गया है।

- Ans
- 1. बघेलखण्ड
 - 2. मालवा
 - 3. मेघालय
 - 4. छोटा नागपुर

Question ID : 65497814587
Chosen Option : 1

Q.19 इक्थियोलॉजी (Ichthyology) इनमें से किससे संबंधित है?

- Ans
- 1. मछलियों का अध्ययन
 - 2. पक्षियों का अध्ययन
 - 3. सरीसृपों और उभयचरों का अध्ययन
 - 4. कीटों का अध्ययन

Question ID : 65497814581
Chosen Option : 3

Q.20 पूजा ढांडा को 2019 का अर्जुन पुरस्कार किस खेल के लिए दिया गया?

- Ans
- 1. कुश्ती
 - 2. टेनिस
 - 3. एथलेटिक्स
 - 4. मुक्केबाजी

Question ID : 65497814570
Chosen Option : --

Q.21 हड्डी के घनत्व और सामर्थ्य के हास को क्या कहा जाता है?

- Ans
- 1. फ्रैक्चर
 - 2. फाइब्रस डिस्प्लेसिया
 - 3. ऑस्टियोपोरोसिस
 - 4. एक्रोमिगेली

Question ID : 65497814585
Chosen Option : 3

Q.22 भारत के संविधान का कौन सा भाग नागरिकों के कर्तव्यों से संबंधित है?

- Ans
- 1. भाग II
 - 2. भाग X
 - 3. भाग III
 - 4. भाग IVA

Question ID : 65497814578
Chosen Option : 4

Q.23 _____ के आर्थिक सर्वेक्षण में 'थालीनॉमिक्स' (थालीशास्त्र) पेश किया गया था।

- Ans 1. 2017-18
 2. 2019-20
 3. 2018-19
 4. 2016-17

Question ID : 65497816595
Chosen Option : 2

Q.24 भारतीय संविधान का अनुच्छेद 32 किससे संबंधित है?

- Ans 1. जीवन का अधिकार
 2. वित्तीय आपातकाल
 3. संवैधानिक उपचार का अधिकार
 4. संपत्ति का अधिकार

Question ID : 65497814579
Chosen Option : 3

Q.25 निम्न में से क्या अस्थि मज्जा द्वारा बनाई गई रक्त कोशिका का एक प्रकार नहीं है?

- Ans 1. लाल रक्त कणिकाएं
 2. बिम्बाणु
 3. अस्थिशोषक
 4. श्वेत रक्त कणिकाएं

Question ID : 65497814583
Chosen Option : 2

www.HaryanaJobs.in

Multi Tasking Non Technical Staff Examination 2020

Participant ID	www.HaryanaJobs.in
Participant Name	www.HaryanaJobs.in
Test Center Name	Arya College of Engineering and Information Technology
Test Date	06/10/2021
Test Time :	4:00 PM - 5:30 PM
Subject	MTS Non Technical 2020

Section : General English

Q.1 Identify the segment in the sentence which contains a grammatical error.

Slowly the dog, Spot, went towards it and pounced up the rat.

- Ans
- 1. went towards it
 - 2. up the rat
 - 3. Slowly the dog, Spot
 - 4. and pounced

Question ID : **65497814694**
Chosen Option : 2

Q.2 Select the INCORRECTLY spelt word

- Ans
- 1. Absense
 - 2. Persuasion
 - 3. Scenic
 - 4. Erroneous

Question ID : **65497814716**
Chosen Option : 3

Q.3 Select the most appropriate option to fill in the blank.

With your new credit card, you can _____ up to ₹20,000 in a day.

- Ans
- 1. withdrew
 - 2. withdraws
 - 3. withdraw
 - 4. withdrawn

Question ID : **65497814697**
Chosen Option : 3

Q.4 Select the most appropriate option to fill in the blank.

Half-way _____ the two towns there was a mountain which had to be crossed.

- Ans
- 1. across
 - 2. around
 - 3. within
 - 4. between

Question ID : 65497814717
Chosen Option : 4

Q.5 Select the most appropriate option to substitute the underlined segment in the given sentence. If there is no need to substitute it, select 'No substitution required'.

I'm certain go to start studying from today.

- Ans
- 1. No substitution required
 - 2. certain going
 - 3. certainly go
 - 4. certainly going

Question ID : 65497816624
Chosen Option : 4

Q.6 Select the most appropriate one-word substitution for the given group of words.

A boat or ship for conveying passengers and goods, especially over a relatively short distance and as a regular service

- Ans
- 1. Freighter
 - 2. Ferry
 - 3. Submarine
 - 4. Dinghy

Question ID : 65497814713
Chosen Option : 2

Q.7 Select the most appropriate option to substitute the underlined segment in the given sentence. If there is no need to substitute it, select 'No substitution required'.

Very soon, the people find out as the snake was harmless and the boys began to tease it mercilessly.

- Ans
- 1. finds out but
 - 2. found out that
 - 3. No substitution required
 - 4. finding out so

Question ID : 65497814403
Chosen Option : 2

Q.8 Identify the segment in the sentence which contains a grammatical error.

Vijaya saw the play in a auditorium near her house.

- Ans
- 1. near her house
 - 2. the play
 - 3. in a auditorium
 - 4. Vijaya saw

Question ID : 65497814693
Chosen Option : 3

Q.9 Select the INCORRECTLY spelt word.

- Ans
- 1. Extravagent
 - 2. Decorative
 - 3. Elaborate
 - 4. Ornamental

Question ID : 65497814715
Chosen Option : 4

Q.10 Select the most appropriate ANTONYM of the given word.

FLIMSY

- Ans
- 1. strong
 - 2. clumsy
 - 3. tiny
 - 4. weak

Question ID : 65497814708
Chosen Option : 1

Q.11 Select the most appropriate ANTONYM of the given word.

DEFENCE

- Ans
- 1. offence
 - 2. security
 - 3. guard
 - 4. protection

Question ID : 65497814707
Chosen Option : 1

Q.12 Select the most appropriate option to fill in the blank.

_____ entering the hall, please turn off your mobile phones.

- Ans
- 1. Previous
 - 2. Earlier
 - 3. Before
 - 4. Ahead

Question ID : 65497814696
Chosen Option : 3

Q.13 Select the most appropriate option to fill in the blank.

They looked at each other for a moment without speaking and then fell into a _____.

- Ans
- 1. conviction
 - 2. conversion
 - 3. confidence
 - 4. conversation

Question ID : 65497814718
Chosen Option : 4

Q.14 Select the most appropriate synonym of the given word.

FLUORESCENT

- Ans
- 1. glowing
 - 2. perfumed
 - 3. elaborate
 - 4. flowery

Question ID : 65497814710
Chosen Option : 2

Q.15 Select the most appropriate meaning of the given idiom.

Copycat

- Ans
- 1. One who loves cats and dogs
 - 2. One who copies all drawings of cats
 - 3. One who imitates another closely
 - 4. One who doesn't like cats as pets

Question ID : 65497814711
Chosen Option : 3

www.HaryanaJobs.in

Q.16 Select the most appropriate one-word substitution for the given group of words.

A person who remains unmoved and unaffected by other people's opinions, suggestions

- Ans 1. Impervious
 2. Unreliable
 3. Imprudent
 4. Irresponsible

Question ID : 65497814714
Chosen Option : 3

Q.17 Select the most appropriate option to substitute the underlined segment in the given sentence. If there is no need to substitute it, select 'No substitution required'.

There were a dozen eggs in the basket, but now there will be only six.

- Ans 1. there are
 2. there been
 3. No substitution required
 4. there is

Question ID : 65497814704
Chosen Option : 1

Q.18 Select the most appropriate meaning of the given idiom.

Over the moon

- Ans 1. Very unrealistic
 2. Very ambitious
 3. Extremely happy
 4. Highly imaginative

Question ID : 65497814712
Chosen Option : 3

Q.19 Select the most appropriate synonym of the given word.

GRACEFUL

- Ans 1. dangerous
 2. pleasant
 3. elegant
 4. friendly

Question ID : 65497814709
Chosen Option : 3

Q.20 Identify the segment in the sentence which contains a grammatical error.

Obi wanted to continue on his idea of building a modern school.

- Ans
- 1. Obi wanted
 - 2. to continue on
 - 3. building a modern school
 - 4. his idea of

Question ID : 65497814695
Chosen Option : 2

Comprehension:

In the following passage, some words have been deleted. Fill in the blanks with the help of the alternatives given. Select the most appropriate option for each blank.

Long ago in China, at a time when girls (1)_____ expected to stay at home and (2)_____ household work while the boys (3)_____ to school, a girl named Zhu had a desire (4)_____ study. Her family was wealthy and Zhu was (5)_____ so she too could have had her wish, but her father did not want to go against tradition.

SubQuestion No : 21

Q.21 Select the most appropriate option to fill in blank number 1.

- Ans
- 1. were
 - 2. be
 - 3. are
 - 4. will

Question ID : 65497814699
Chosen Option : 1

Comprehension:

In the following passage, some words have been deleted. Fill in the blanks with the help of the alternatives given. Select the most appropriate option for each blank.

Long ago in China, at a time when girls (1)_____ expected to stay at home and (2)_____ household work while the boys (3)_____ to school, a girl named Zhu had a desire (4)_____ study. Her family was wealthy and Zhu was (5)_____ so she too could have had her wish, but her father did not want to go against tradition.

SubQuestion No : 22

Q.22 Select the most appropriate option to fill in blank number 2.

- Ans
- 1. make
 - 2. teach
 - 3. do
 - 4. produce

Question ID : 65497814700
Chosen Option : 3

Comprehension:

In the following passage, some words have been deleted. Fill in the blanks with the help of the alternatives given. Select the most appropriate option for each blank.

Long ago in China, at a time when girls (1) _____ expected to stay at home and (2) _____ household work while the boys (3) _____ to school, a girl named Zhu had a desire (4) _____ study. Her family was wealthy and Zhu was (5) _____ so she too could have had her wish, but her father did not want to go against tradition.

SubQuestion No : 23

Q.23 Select the most appropriate option to fill in blank number 3.

Ans 1. went

2. going

3. goes

4. go

Question ID : **65497814701**

Chosen Option : 1

Comprehension:

In the following passage, some words have been deleted. Fill in the blanks with the help of the alternatives given. Select the most appropriate option for each blank.

Long ago in China, at a time when girls (1) _____ expected to stay at home and (2) _____ household work while the boys (3) _____ to school, a girl named Zhu had a desire (4) _____ study. Her family was wealthy and Zhu was (5) _____ so she too could have had her wish, but her father did not want to go against tradition.

SubQuestion No : 24

Q.24 Select the most appropriate option to fill in blank number 4.

Ans 1. to

2. in

3. for

4. at

Question ID : **65497814702**

Chosen Option : 1

Comprehension:

In the following passage, some words have been deleted. Fill in the blanks with the help of the alternatives given. Select the most appropriate option for each blank.

Long ago in China, at a time when girls (1) _____ expected to stay at home and (2) _____ household work while the boys (3) _____ to school, a girl named Zhu had a desire (4) _____ study. Her family was wealthy and Zhu was (5) _____ so she too could have had her wish, but her father did not want to go against tradition.

SubQuestion No : 25

Q.25 Select the most appropriate option to fill in blank number 5.

Ans 1. trained

2. prepared

3. pampered

4. treated

Question ID : **65497814703**

Chosen Option : 1

Section : **General Intelligence and Reasoning**

Q.1 गणितीय चिह्नों के उस सही क्रम का चयन करें, जिससे A, B, C, D और E को क्रमिक रूप से प्रतिस्थापित करने पर दिया गया समीकरण संतुलित हो जाएगा।

$$38 A 56 B 8 C 15 D (36 E 28) = 151$$

- Ans
- 1. + + x - +
 - 2. - + + x -
 - 3. - x + + -
 - 4. x - + + -

Question ID : 65497814619
Chosen Option : 2

Q.2 यदि किसी निश्चित कूट भाषा में, HOUSE को 340 के रूप में और FOETUS को 516 के रूप में कूटबद्ध किया जाता है, तो उसी कूट भाषा में, CONSENT को किस रूप में कूटबद्ध किया जाएगा?

- Ans
- 1. 455
 - 2. 360
 - 3. 630
 - 4. 542

Question ID : 65497814627
Chosen Option : 3

Q.3 V, W, X, Y और Z पांच व्यक्ति, गोल मेज के परितः इसके केंद्र की ओर अभिमुख होकर बैठे हैं। V उस W के दाईं ओर दूसरे स्थान पर बैठा है, जो कि X के दाईं ओर दूसरे स्थान पर बैठा है। यदि Y, X के संलग्न बैठा है, तो V के बाईं ओर पड़ोस में कौन बैठा है?

- Ans
- 1. W
 - 2. Y
 - 3. Z
 - 4. X

Question ID : 65497814634
Chosen Option : 4

Q.4 जिस प्रकार 'युवा', 'आयु' से संबंधित है, उसी प्रकार 'अल्प', '_____' से संबंधित है।

- Ans
- 1. रेलगाड़ी
 - 2. छोट
 - 3. वर्षा
 - 4. अवधि

Question ID : 65497814630
Chosen Option : 4

Q.5 दो कथनों के बाद दो निष्कर्ष I और II दिए गए हैं। कथनों को सत्य मानते हुए, भले ही ये सामान्य रूप से ज्ञात तथ्यों से भिन्न प्रतीत होते हों, निर्धारित करें कि कौन सा/से निष्कर्ष कथनों का तार्किक रूप से अनुसरण करता/करते है/हैं।

कथन:
सभी चील, पतंग हैं।
सभी पतंग, गौरैया हैं।

निष्कर्ष:
I. सभी गौरैया, चील हैं।
II. सभी चील, गौरैया हैं।

- Ans 1. न तो निष्कर्ष I न ही II अनुसरण करता है।
 2. केवल निष्कर्ष II अनुसरण करता है।
 3. निष्कर्ष I और II दोनों अनुसरण करते हैं।
 4. केवल निष्कर्ष I अनुसरण करता है।

Question ID : 65497814632
Chosen Option : 2

Q.6 किसी कूट भाषा में, 12345 को 182764125 के रूप में कूटबद्ध किया जाता है। इसी भाषा में, 65428 को किस रूप में कूटबद्ध किया जाएगा?

- Ans 1. 216125747512
 2. 21512463511
 3. 149016025
 4. 216125648512

Question ID : 65497814620
Chosen Option : 4

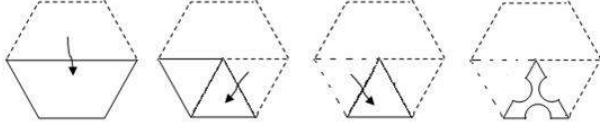
Q.7 विकल्पों में से कौन-सी संख्या, निम्न संख्या श्रेणी में प्रश्नवाचक चिह्न (?) के स्थान पर आएगी?

2, 12, 30, 56, 90, 132, ?

- Ans 1. 180
 2. 184
 3. 182
 4. 186

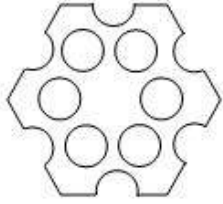
Question ID : 65497814623
Chosen Option : 3

Q.8 एक कागज़ को निम्न आकृति के अनुसार मोड़ा और काटा गया है। यह कागज़ खोलने पर कैसा दिखेगा?

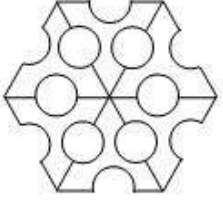


Ans

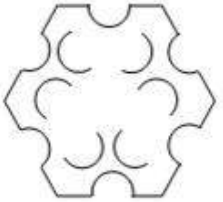
✓ 1.



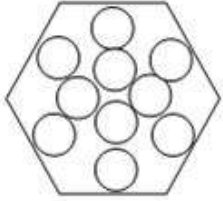
✗ 2.



✗ 3.



✗ 4.



www.HaryanaJobs.in

Question ID : 65497814641
Chosen Option : 1

Q.9 विकल्पों में से कौन-सी संख्या, निम्न संख्या श्रेणी में प्रश्नवाचक चिह्न (?) के स्थान पर आएगी?

86, 74, 84, 76, ?, 78, 80

Ans ✓ 1. 82

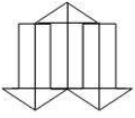
✗ 2. 84

✗ 3. 78

✗ 4. 80

Question ID : 65497814622
Chosen Option : 1

Q.10 उस विकल्प आकृति का चयन करें, जो निम्न आकृति में अन्तःस्थापित है। (घुमाने की अनुमति नहीं है)



Ans

✓ 1.



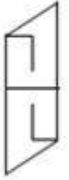
✗ 2.



✗ 3.



✗ 4.




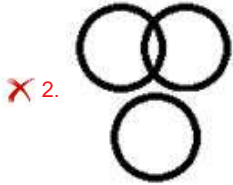
Question ID : 65497814639
Chosen Option : 4

www.HaryanaJobs.in

Q.11 उस वेन-आरेख का चयन करें, जो निम्न वर्गों के बीच संबंध को सर्वोत्तम ढंग से निरूपित करता है।

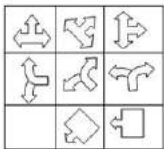
ग्रामीण व्यक्ति, शिक्षित व्यक्ति, बुद्धिमान व्यक्ति

Ans

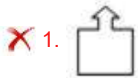


Question ID : 65497814642
Chosen Option : 4

Q.12 उस विकल्प आकृति का चयन करें, जिसको दी गई प्रश्न आकृति के रिक्त स्थान में रखने पर पैटर्न पूरा हो जाएगा।



Ans



Question ID : 65497814638
Chosen Option : 4

Q.13 दिए गए पैटर्न का ध्यान से अध्ययन करें और उस संख्या का चयन करें जो प्रश्न चिन्ह (?) के स्थान पर आ सकती है।

9 7 79
7 8 71
6 9 ?

- Ans 1. 69
 2. 71
 3. 74
 4. 66

Question ID : 65497814621
Chosen Option : 1

Q.14 बैंकिंग प्रणाली, गुणता चक्र, कार्य प्रोत्साहन, निर्णय लेने की क्षमता, समसामयिक विषयों और व्यक्तित्व विकास से संबंधित छः विशेष व्याख्यानो का आयोजन करना है। नीचे दिए गए विवरण के अनुसार, सोमवार से रविवार तक प्रत्येक दिन एक व्याख्यान आयोजित करना है:

1. 'कार्य प्रोत्साहन' का आयोजन 'निर्णय लेने की क्षमता' के तुरंत बाद किया जाना चाहिए।
2. 'गुणता चक्र' का आयोजन बुधवार को करना है और 'व्यक्तित्व विकास' के बाद नहीं किया जाना चाहिए।
3. 'निर्णय लेने की क्षमता' का आयोजन शुक्रवार को करना है और 'बैंकिंग प्रणाली' और 'समसामयिक विषयों' के बीच दो दिन का अंतराल होना चाहिए।
4. एक दिन, शनिवार के अलावा, कोई व्याख्यान नहीं होगा। 'समसामयिक विषयों' का आयोजन छुट्टी के पिछले दिन होना चाहिए।

पहले दिन (सोमवार) कौन-सा व्याख्यान आयोजित होगा?

- Ans 1. समसामयिक विषय
 2. कार्य प्रोत्साहन
 3. बैंकिंग प्रणाली
 4. व्यक्तित्व विकास

Question ID : 65497814636
Chosen Option : --

Q.15 विकल्पों में से कौन-सा अक्षर-समूह, निम्न अक्षर श्रेणी में प्रश्नवाचक चिह्न (?) के स्थान पर आएगा?

GJM, QTW, ADG, ?

- Ans 1. KOR
 2. JMP
 3. JNR
 4. KNQ

Question ID : 65497814631
Chosen Option : 4

Q.16 किसी निश्चित कूट भाषा में, यदि FINALIZE को JKRCPKDG लिखा जाता है, तो उसी कूट भाषा में, INSIGNIA को क्या लिखा जाएगा?

- Ans
- 1. KRWKKRKC
 - 2. GRWGKRGY
 - 3. MRWMKRMG
 - 4. MPTMIPMG

Question ID : 65497814625

Chosen Option : 1

Q.17 दो कथनों के बाद तीन निष्कर्ष I, II और III दिए गए हैं। कथनों को सत्य मानते हुए, भले ही ये सामान्य रूप से ज्ञात तथ्यों से भिन्न प्रतीत होते हों, निर्धारित करें कि कौन सा/से निष्कर्ष कथनों का तार्किक रूप से अनुसरण करता/करते है/हैं।

कथन:
सभी टॉम, जैरी हैं।
कुछ जैरी, मिकी हैं।


निष्कर्ष:
I. कुछ टॉम, मिकी हैं।
II. कुछ टॉम, मिकी नहीं हैं।
III. कुछ जैरी, टॉम हैं।

- Ans
- 1. निष्कर्ष II और III दोनों अनुसरण करते हैं।
 - 2. केवल निष्कर्ष I अनुसरण करता है।
 - 3. केवल निष्कर्ष III अनुसरण करता है।
 - 4. केवल निष्कर्ष II अनुसरण करता है।

Question ID : 65497814633

Chosen Option : 3

Q.18 उस विकल्प आकृति का चयन करें, जो निम्न आकृति श्रेणी में प्रश्नवाचक चिह्न (?) के स्थान पर आएगी।



Ans

- 1.
- 2.
- 3.
- 4.

Question ID : 65497814637

Chosen Option : 1

Q.19 यदि दर्पण को आकृति के दाईं ओर रखा गया हो, तो दी गई आकृति के सही दर्पण प्रतिबिंब का चयन करें।

Ù&Á?FS

Ans

✗ 1. 2E3V8U

✗ 2. SF?Á&Ù

✗ 3. SJèV8U

✓ 4. 2F?À&Ú

Question ID : 65497814640

Chosen Option : 4

Q.20 आठ छात्र दो बेंच पर बैठे हैं जिनमें से L, M, N, O सामने वाले बेंच पर बैठे हैं और P, Q, R, S अगले बेंच पर बैठे हैं, लेकिन वे इस क्रम में नहीं बैठे हैं। Q, M के ठीक पीछे बैठा है, जो कि सबसे दाईं ओर बैठा है। O और P तथा L और S विकर्णतः तिरछी स्थिति में एक-दूसरे के निकट बैठे हैं, S सबसे बाईं ओर बैठा है। N की बैठने की स्थिति बताइए।

Ans

✓ 1. R के ठीक सामने

✗ 2. R से विकर्णतः

✗ 3. O के दाईं ओर

✗ 4. L के बाईं ओर

Question ID : 65497814635

Chosen Option : 1

Q.21 उस विकल्प का चयन करें, जो तीसरे अक्षर-समूह से ठीक उसी प्रकार संबंधित है, जिस प्रकार दूसरा अक्षर-समूह पहले अक्षर-समूह से संबंधित है।

ORGANZA : LJTAMBZ :: TEMPLATE : ?

Ans

✗ 1. QBJMIXQB

✓ 2. GWNLOAGW

✗ 3. FFNQMZHV

✗ 4. GFMQLZGV

Question ID : 65497814628

Chosen Option : 2

Q.22 इनमें से कौन-से दो अंकों को आपस में बदली करने से दिया गया समीकरण संतुलित हो जाएगा?

$$76 + 108 \div 9 - 11 \times 2 = 18$$

Ans

✗ 1. 1 और 7

✗ 2. 2 और 7

✓ 3. 6 और 2

✗ 4. 8 और 7

Question ID : 65497814618

Chosen Option : 3

Q.23 किसी निश्चित कूट भाषा में, यदि HARIDWAR को FCPKBYTT लिखा जाता है, तो उसी कूट भाषा में, BIKANER को क्या लिखा जाएगा?

- Ans
- 1. AGIALCP
 - 2. ZKICLGP
 - 3. DKMCPGT
 - 4. KIBNARE

Question ID : 65497814624
Chosen Option : 2

Q.24 यदि किसी निश्चित कूट भाषा में, ORATORY को 116 के रूप में और RAVENOUS को 119 के रूप में कूटबद्ध किया जाता है, तो उसी कूट भाषा में, IRIDOLOGY को किस रूप में कूटबद्ध किया जाएगा?

- Ans
- 1. 118
 - 2. 116
 - 3. 110
 - 4. 114

Question ID : 65497814626
Chosen Option : 3

Q.25 उस विकल्प का चयन करें, जो तीसरे शब्द से ठीक उसी प्रकार संबंधित है, जिस प्रकार दूसरा शब्द पहले शब्द से संबंधित है।

कोहिमा : नागालैंड :: शिलांग : ?

- Ans
- 1. मेघालय
 - 2. उड़ीसा
 - 3. सिक्किम
 - 4. असम

Question ID : 65497814629
Chosen Option : 1

Section : Numerical Aptitude

Q.1 यदि 180 का $x\%$, $(x + 350)$ से 25% कम है, तो $(x + 50)$ का 18%, x के 12% से कितने प्रतिशत अधिक होगा?

- Ans
- 1. 80
 - 2. 72
 - 3. 60
 - 4. 75

Question ID : 65497814650
Chosen Option : 4

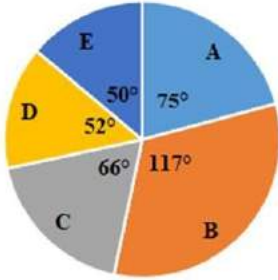
Q.2 18 संख्याओं का औसत 65 है। प्रथम 10 संख्याओं का औसत 72 है और अंतिम 9 संख्याओं का औसत 58 है। यदि 10वीं संख्या को निकाल दिया जाए, तो शेष संख्याओं का औसत ज्ञात करें (ठीक एक दशमलव स्थान तक)।

- Ans
- ✓ 1. 64.6
 - ✗ 2. 65.2
 - ✗ 3. 65.4
 - ✗ 4. 66.6

Question ID : 65497814646
Chosen Option : 1

Q.3 दिए गए पाई चार्ट का अध्ययन करें और नीचे दिए गए प्रश्न का उत्तर दें।

2019 में किसी सोसाइटी द्वारा प्रबंधित A, B, C, D और E विद्यालय में पढ़ने वाले छात्रों का बंटन (break-up)



पांच विद्यालयों में छात्रों की कुल संख्या = 5400

A, B और C विद्यालय में छात्रों की औसत संख्या, E विद्यालय में छात्रों की संख्या से कितना प्रतिशत अधिक है?

- Ans
- ✗ 1. 60%
 - ✓ 2. 72%
 - ✗ 3. 65%
 - ✗ 4. 70%

Question ID : 65497814666
Chosen Option : 2

Q.4

$$\frac{3\frac{1}{4} - \frac{4}{5} \text{ of } \frac{5}{6}}{4\frac{1}{3} \div \frac{1}{5} - \left(\frac{3}{10} + 21\frac{1}{5}\right)} - \left(2\frac{2}{3} \text{ of } 1\frac{1}{2}\right) \text{ का मान कितना है?}$$

- Ans
- ✗ 1. $12\frac{1}{2}$
 - ✗ 2. $13\frac{1}{2}$
 - ✗ 3. $9\frac{1}{2}$
 - ✓ 4. $11\frac{1}{2}$

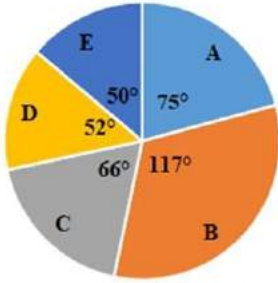
Question ID : 65497816583
Chosen Option : 4

Q.5 उस वृत्त की विज्या ज्ञात करें, जिसका क्षेत्रफल, दो विभुजों, जिनकी भुजाएँ 20 cm, 21 cm और 29 cm तथा 11 cm, 60 cm और 61 cm है, के क्षेत्रफल के योग का $2\frac{17}{30}$ गुना है। ($\pi = \frac{22}{7}$ लें)?

- Ans
- 1. 24.5
 - 2. 21
 - 3. 17.5
 - 4. 14

Question ID : 65497814662
Chosen Option : 2

Q.6 दिए गए पाई चार्ट का अध्ययन करें और नीचे दिए गए प्रश्न का उत्तर दें।
2019 में किसी सोसाइटी द्वारा प्रबंधित A, B, C, D और E विद्यालय में पढ़ने वाले छात्रों का बंटन (break-up)



पांच विद्यालयों में छात्रों की कुल संख्या = 5400

B विद्यालय में लड़कों और लड़कियों की संख्या का अनुपात 6 : 7 है और D विद्यालय के 40% छात्र लड़के हैं। B और D विद्यालय में लड़कियों की कुल संख्या ज्ञात करें।

- Ans
- 1. 1508
 - 2. 1413
 - 3. 1410
 - 4. 1503

Question ID : 65497814667
Chosen Option : 2

Q.7 कोई दुकानदार किसी वस्तु पर उसके क्रय मूल्य से 24% अधिक अंकित करता है और अंकित मूल्य पर 15% की छूट देता है। यदि वह वस्तु को बेचकर ₹27 का लाभ अर्जित करता है, तो वस्तु का विक्रय मूल्य ज्ञात करें।

- Ans
- 1. ₹508
 - 2. ₹522
 - 3. ₹517
 - 4. ₹527

Question ID : 65497814648
Chosen Option : 4

Q.8 What is the mean of the range and median of the given data?

11, 16, 14, 7, 11, 23, 10, 30, 20, 33, 19, 12, 17, 14

- Ans
- 1. 19
 - 2. 20.5
 - 3. 25.5
 - 4. 24

Question ID : 65497814649
Chosen Option : 2

Q.9 जब किसी वस्तु को ₹768 में बेचा जाता है, तो $x\%$ लाभ होता है। जब उसी वस्तु को ₹896 में बेचा जाता है, तो लाभ प्रतिशत $(x + 20)\%$ होता है। x का मान ज्ञात करें।

- Ans
- 1. 30
 - 2. 20
 - 3. 15
 - 4. 25

Question ID : 65497814651
Chosen Option : 2

Q.10 270-m लंबी रेलगाड़ी किसी खंभे को 24 सेकंड में पार करती है। यदि यह किसी सुरंग को 1 मिनट में पार करती है, तो सुरंग की लंबाई (m में) ज्ञात करें।

- Ans
- 1. 507
 - 2. 405
 - 3. 408
 - 4. 510

Question ID : 65497814661
Chosen Option : 2

Q.11 किसी निश्चित वार्षिक ब्याज की दर पर ₹5,760 की राशि 4 वर्ष में बढ़कर ₹7,200 हो जाती है और 12 वर्ष में बढ़कर ₹ x हो जाती है, जब दोनों स्थितियों में ब्याज वार्षिक रूप से चक्रवृद्धि होता है। x का मान ज्ञात करें।

- Ans
- 1. 11500
 - 2. 11250
 - 3. 12500
 - 4. 12250

Question ID : 65497814654
Chosen Option : 2

Q.12 A और B का अनुपात 2 : 3 है और B, A से 8 अधिक है। यदि किसी निश्चित संख्या k को A और B प्रत्येक में जोड़ा जाता है, तो अनुपात 7 : 9 हो जाता है। k का मान ज्ञात करें।

- Ans
- 1. 16
 - 2. 8
 - 3. 12
 - 4. 10

Question ID : 65497814655
Chosen Option : 3

Q.13 किसी पंखे को ₹2,604 में बेचने से 7% की हानि होती है। यदि इस पंखे को ₹3,094 में बेचा गया होता, तो लाभ प्रतिशत ज्ञात करें।

- Ans
- 1. 12%
 - 2. 10.5%
 - 3. 10%
 - 4. 9.5%

Question ID : 65497814652
Chosen Option : 2

Q.14 A और B बर्तन के विलयनों में अम्ल और जल का अनुपात क्रमशः 4 : 5 और 5 : 1 है। A और B से क्रमशः 5 लीटर और 4 लीटर विलयन मिश्रित कर एक नया विलयन बनाया जाता है। नए विलयन में अम्ल और जल का अनुपात ज्ञात करें।

- Ans
- 1. 50 : 31
 - 2. 9 : 4
 - 3. 15 : 8
 - 4. 25 : 16

Question ID : 65497814657
Chosen Option : 4

Q.15 पाइप A और B किसी टंकी को क्रमशः 8 घंटे और 12 घंटे में भर सकते हैं। C, निकासी पाइप है। जब एक साथ तीनों पाइप खोले जाते हैं, तो टंकी $13\frac{1}{3}$ घंटे में भर जाती है। C अकेला भरी हुई टंकी को कितने घंटे में खाली करेगा?

- Ans
- 1. $7\frac{1}{2}$ घंटे
 - 2. $6\frac{1}{2}$ घंटे
 - 3. 8 घंटे
 - 4. 6 घंटे

Question ID : 65497814659
Chosen Option : 1

Q.16 ₹3,780 की राशि को A, B और C के बीच इस प्रकार विभाजित किया जाता है कि यदि उनके हिस्सों में क्रमशः ₹130, ₹150 और ₹200 की कमी की जाती है, तो उनका अनुपात 5 : 2 : 4 होता है। C का मूल हिस्सा ज्ञात करें।

- Ans
- 1. ₹1,350
 - 2. ₹1,330
 - 3. ₹1,430
 - 4. ₹1,400

Question ID : 65497814656
Chosen Option : 4

Q.17 12 cm कोर वाले ठोस धात्विक घन को 20 cm त्रिज्या और 32 cm ऊंचाई वाले बेलनाकार बर्तन में पूरी तरह से डुबाया जाता है और बर्तन में पानी 15 cm ऊंचाई तक है। बर्तन में पानी कितनी ऊंचाई (cm में) तक (ठीक एक दशमलव स्थान तक) उठेगा?

- Ans
- 1. 1.1
 - 2. 1.2
 - 3. 0.9
 - 4. 1.4

Question ID : 65497814461
Chosen Option : --

Q.18 2-अंकों वाली संख्याओं 49, $6x$, $x4$ और 70 का औसत 65 है। $(x+8)$ और $(x+12)$ का औसत ज्ञात करें।

- Ans
- 1. 17
 - 2. 18
 - 3. 19
 - 4. 16

Question ID : 65497814647
Chosen Option : 1

Q.19 माना x , 70000 और 75000 के बीच वह छोटी से छोटी संख्या है, जिसे 225, 250 और 275 से विभाजित करने पर प्रत्येक स्थिति में शेषफल 61 प्राप्त होता है। x के अंकों का योगफल ज्ञात करें।

- Ans
- 1. 16
 - 2. 21
 - 3. 12
 - 4. 29

Question ID : 65497814643
Chosen Option : 1

Q.20 $79 - [128 - \{75 - (72 \div 16 \times 4) + (18 \div 2 \text{ of } 6) \times 4\}]$ का मान ज्ञात करें।

- Ans
- 1. 10
 - 2. 17
 - 3. 15
 - 4. 14

Question ID : 65497814644
Chosen Option : 4

Q.21 कोई व्यक्ति, $4\frac{1}{6}$ m/sec की चाल से किसी निश्चित दूरी को तय करता है और 12 km/h की चाल से आरंभिक बिंदु पर वापस आता है। उसकी औसत चाल (km/h में) ज्ञात करें।

- Ans
- 1. $13\frac{1}{2}$
 - 2. $12\frac{1}{2}$
 - 3. $10\frac{1}{3}$
 - 4. $13\frac{1}{3}$

Question ID : 65497814660
Chosen Option : 4

Q.22 84 व्यक्ति किसी कार्य को 56 दिन में पूरा करते हैं। जब एक-चौथाई कार्य पूरा हो जाता है, तो $\frac{1}{7}$ भाग श्रमिक कार्य छोड़ देते हैं। पूरे कार्य को पूरा करने में कितने दिन लगते हैं?

- Ans
- 1. 66
 - 2. 60
 - 3. 64
 - 4. 63

Question ID : 65497814658
Chosen Option : --

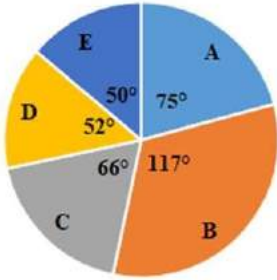
Q.23 $\frac{3}{7} + \frac{1}{14} \times 2\frac{4}{5} - \left(\frac{1}{4} \div \frac{2}{7} \text{ of } 2\frac{1}{3}\right) \times \left(5\frac{1}{5} \div 3\frac{1}{2} \times \frac{5}{13}\right)$ का मान ज्ञात करें।

- Ans
- 1. $\frac{14}{21}$
 - 2. $\frac{22}{35}$
 - 3. $\frac{29}{70}$
 - 4. $\frac{3}{14}$

Question ID : 65497814645
Chosen Option : 3

Q.24 दिए गए पाई चार्ट का अध्ययन करें और नीचे दिए गए प्रश्न का उत्तर दें।

2019 में किसी सोसाइटी द्वारा प्रबंधित A, B, C, D और E विद्यालय में पढ़ने वाले छात्रों का बंटन (break-up)



पांच विद्यालयों में छात्रों की कुल संख्या = 5400

B विद्यालय में छात्रों की संख्या तथा D और E विद्यालय में छात्रों की कुल संख्या के बीच अंतर p है। p का मान _____ के बीच होगा।

- Ans**
- 1. 200 और 210
 - 2. 230 और 240
 - 3. 210 और 220
 - 4. 220 और 230

Question ID : 65497814665

Chosen Option : 4

Q.25 $r\%$ वार्षिक साधारण ब्याज की दर पर 3 वर्ष के लिए निवेशित किसी निश्चित राशि द्वारा प्राप्त धनराशि, समान राशि पर समान दर पर 13 वर्ष में प्राप्त साधारण ब्याज के बराबर है। r का मान ज्ञात करें।

- Ans**
- 1. 16
 - 2. 8
 - 3. 12
 - 4. 10

Question ID : 65497814653

Chosen Option : 4

Section : General Awareness

Q.1 दो महाकाव्य, 'रघुवंश' और 'कुमारसंभवम' _____ द्वारा रचित कृतियां हैं।

- Ans**
- 1. रामदास
 - 2. शिवानंद
 - 3. कालिदास
 - 4. वाल्मीकि

Question ID : 65497814372

Chosen Option : 3

Q.2 यूरोपीय चैंपियंस कप या हेनेकेन कप किस खेल से संबंधित है?

- Ans 1. रग्बी
 2. हॉकी
 3. फुटबॉल
 4. क्रिकेट

Question ID : 65497814369
 Chosen Option : 3

Q.3 निम्नलिखित में से किस राज्य में कोयले के सबसे अधिक भंडार हैं?

- Ans 1. ओडिशा
 2. झारखंड
 3. पश्चिम बंगाल
 4. छत्तीसगढ़

Question ID : 65497814385
 Chosen Option : 2

Q.4 एग्राफिया (Agraphia) क्या होती है?

- Ans 1. समझने की क्षमता की हानि
 2. बोलने की क्षमता की हानि
 3. सुनने की क्षमता की हानि
 4. लिखने की क्षमता की हानि

Question ID : 65497814382
 Chosen Option : 4

Q.5 दशहरा उत्सव के दौरान किया जाने वाला 'वीरागेज (Veeragase)' नृत्य, _____ राज्य के लोक नृत्यों में एक विशेष स्थान रखता है।

- Ans 1. ओडिशा
 2. कर्नाटक
 3. असम
 4. सिक्किम

Question ID : 65497814365
 Chosen Option : 2

Q.6 भारतीय सम्राट हर्ष की जीवनी, 'हर्षचरित' (हर्ष के कार्य), _____ ने लिखी थी।

- Ans 1. वाल्मीकि
 2. रबीन्द्रनाथ टैगोर
 3. बाणभट्ट
 4. स्वामी शिवानंद

Question ID : 65497814371
 Chosen Option : 3

Q.7 निम्नलिखित में से कौन सा तत्व बेकिंग सोडा का घटक नहीं है?

- Ans 1. हाइड्रोजन
 2. कैल्शियम
 3. सोडियम
 4. ऑक्सीजन

Question ID : 65497814380
 Chosen Option : 2

Q.8 अंजुम मुदगिल को किस खेल के लिए 2019 के अर्जुन पुरस्कार से सम्मानित किया गया था?

- Ans 1. भारोत्तोलन
 2. क्रिकेट
 3. निशानेबाज़ी
 4. मुक्केबाज़ी

Question ID : 65497814368
 Chosen Option : --

Q.9 'द गोल्डन श्रेषहोल्ड' नामक पुस्तक के लेखक/लेखिका कौन थे/थी?

- Ans 1. जवाहरलाल नेहरू
 2. सरोजिनी नायडू
 3. डॉ. राजेंद्र प्रसाद
 4. जेड.ए. भट्टो

Question ID : 65497814370
 Chosen Option : 2

Q.10 राजस्व प्राप्तियाँ और नॉन-डेब्ट कैपिटल रिसिष्ट (NDCR) के योग और कुल व्यय के बीच के अंतर को क्या कहा जाता है?

- Ans 1. राजस्व घाटा
 2. राजकोषीय घाटा
 3. प्राथमिक घाटा
 4. प्रभावी राजस्व घाटा

Question ID : 65497816494
 Chosen Option : --

Q.11 पहली शताब्दी ई.पू. में गंगा नदी की बाढ़ के पानी को जोड़ने वाली जल संचयन प्रणाली किस स्थान पर थी?

- Ans 1. गोरखपुर
 2. मिर्ज़ापुर
 3. श्रृंगवेरपुर
 4. कानपुर

Question ID : 65497814386
 Chosen Option : 4

Q.12 भारत का पहला अंग्रेजी भाषा का समाचार पत्र निम्नलिखित में से कौन-सा था?

- Ans
- 1. मराठा
 - 2. द मद्रास कूरियर
 - 3. हिक्कीज़ बंगाल गजट
 - 4. द बॉम्बे हेराल्ड

Question ID : 65497814389
Chosen Option : 3

Q.13 विश्व व्यापार संगठन कब अस्तित्व में आया?

- Ans
- 1. 1995
 - 2. 1990
 - 3. 2000
 - 4. 2005

Question ID : 65497814273
Chosen Option : 1

Q.14 1885 में हैजा का टीका निम्नलिखित में से किसने विकसित किया था?

- Ans
- 1. जोनस साल्क
 - 2. जैमे फेरान
 - 3. एडवर्ड जेनर
 - 4. लियोन कैलमेट

Question ID : 65497814383
Chosen Option : 1

Q.15 भारतीय संविधान में राज्यसभा के सदस्यों के नामांकन की प्रक्रिया निम्नलिखित में से किस देश के संविधान से ली गई है?

- Ans
- 1. जर्मनी
 - 2. संयुक्त राज्य अमेरिका
 - 3. आयरलैंड
 - 4. रूस

Question ID : 65497814378
Chosen Option : 3

Q.16 भारतीय संविधान के अनुच्छेद 360 में क्या प्रावधान है?

- Ans
- 1. वित्तीय आपातकाल
 - 2. मूल कर्तव्य
 - 3. जीवन का अधिकार
 - 4. संपत्ति का अधिकार

Question ID : 65497814377
Chosen Option : 1

Q.17 1864 में वेद समाज निम्नलिखित में से किस शहर में स्थापित किया गया था?

- Ans
- 1. कालीकट
 - 2. बंबई (अब मुंबई)
 - 3. मद्रास (अब चेन्नई)
 - 4. कलकत्ता (अब कोलकाता)

Question ID : 65497814387
Chosen Option : 2

Q.18 ऑर्निथोलॉजी किससे संबंधित है?

- Ans
- 1. कीटों के अध्ययन
 - 2. सरीसृपों और उभयचरों के अध्ययन
 - 3. मछली के अध्ययन
 - 4. पक्षियों के अध्ययन

Question ID : 65497814381
Chosen Option : 4

Q.19 निम्नलिखित में से किस स्मारक को 'दक्खन का ताज' के नाम से भी जाना जाता है?

- Ans
- 1. बीबी का मक़बरा
 - 2. कुतुब मीनार
 - 3. महाबत मक़बरा
 - 4. चाँद मीनार

Question ID : 65497814367
Chosen Option : 1

Q.20 US के 40वें राष्ट्रपति रोनाल्ड रीगन ने 1981 में अपने देश के इतिहास की सबसे बड़ी टैक्स कटौती पर हस्ताक्षर किए। यह नीति किस आर्थिक सिद्धांत पर केंद्रित थी?

- Ans
- 1. लैफर कर्व
 - 2. स्वीज़ी किक्ड डिमांड कर्व
 - 3. लोरेज कर्व
 - 4. कुजनेट कर्व

Question ID : 65497814375
Chosen Option : --

Q.21 निक्टालोपिया, जिसे आम भाषा में रतौंधी के नाम से जाना जाता है, किस पोषक तत्व की कमी के कारण होती है?

- Ans
- 1. पोटैशियम
 - 2. विटामिन C
 - 3. मैग्नीशियम
 - 4. विटामिन A

Question ID : 65497814379
Chosen Option : 4

Q.22 17वीं लोकसभा की राज्यवार सूची के अनुसार लोकसभा में बिहार को कितनी सीटें आवंटित की गई हैं?

- Ans**
- 1. 78
 - 2. 60
 - 3. 48
 - 4. 40

Question ID : **65497814376**
Chosen Option : 4

Q.23 पैठणी (Paithani) साड़ी बुनाई उद्योग किस राज्य से संबंधित है?

- Ans**
- 1. महाराष्ट्र
 - 2. गुजरात
 - 3. राजस्थान
 - 4. असम

Question ID : **65497814366**
Chosen Option : 2

Q.24 निम्नलिखित में से किस राजा के शासनकाल में कोणार्क का सूर्य मंदिर बना था?

- Ans**
- 1. नरसिंह देव 1
 - 2. अनंत पद्मनाभन
 - 3. समुद्रगुप्त
 - 4. अनंतवर्मन चोडगंगा

Question ID : **65497814388**
Chosen Option : 1

Q.25 अंडमान और निकोबार द्वीप समूह को अलग करने वाले जलमार्ग की पहचान करें?

- Ans**
- 1. टेन डिग्री चैनल
 - 2. पाक जलडमरूमध्य
 - 3. डंकन मार्ग
 - 4. मलिकु कांडु

Question ID : **65497814384**
Chosen Option : 1

Multi Tasking Non Technical Staff Examination 2020

Participant ID	www.HaryanaJobs.in
Participant Name	www.HaryanaJobs.in
Test Center Name	Shri Ganesh College of IT & Management
Test Date	06/10/2021
Test Time :	9:00 AM - 10:30 AM
Subject	MTS Non Technical 2020

Section : **General English**

Q.1 Select the most appropriate synonym of the given word.

BAFFLE

- Ans 1. perplex
 2. soothe
 3. clarify
 4. comfort

Question ID : **65497815821**
 Chosen Option : 1

Q.2 Select the most appropriate word to fill in the blank.

_____ is the reason for this chaos?

- Ans 1. When
 2. What
 3. Why
 4. Whom

Question ID : **65497815807**
 Chosen Option : 2

Q.3 Identify the segment in the sentence which contains a grammatical error.

The children jumped at joy when they saw the slides in the park.

- Ans 1. when they saw
 2. The children jumped
 3. in the park
 4. at joy

Question ID : **65497815804**
 Chosen Option : 4

Q.4 Select the most appropriate meaning of the given idiom.

Close to one's heart

- Ans 1. Dear and important to oneself
 2. One who is very emotional
 3. One who treats heart problems
 4. One who is being followed

Question ID : 65497815822
 Chosen Option : 1

Q.5 Select the INCORRECTLY spelt word.

- Ans 1. Symmetry
 2. Sultry
 3. Poetry
 4. Gentry

Question ID : 65497815827
 Chosen Option : 3

Q.6 Select the INCORRECTLY spelt word.

- Ans 1. Flowerist
 2. Chemist
 3. Cyclist
 4. Tourist

Question ID : 65497815826
 Chosen Option : 1

Q.7 Select the most appropriate one-word substitution for the given group of words.

A place for keeping birds

- Ans 1. Aviary
 2. Shed
 3. Apiary
 4. Barn

Question ID : 65497815824
 Chosen Option : 1

Q.8 Identify the segment in the sentence which contains a grammatical error.

I paid the plumber for repair the pipes.

- Ans 1. the pipes
 2. I paid
 3. for repair
 4. the plumber

Question ID : 65497815805
 Chosen Option : 3

Q.9 Select the most appropriate meaning of the given idiom.

Go bonkers

- Ans 1. Become wealthy
 2. Become selfish
 3. Become crazy
 4. Become greedy

Question ID : 65497815823
Chosen Option : 3

Q.10 Select the most appropriate one-word substitution for the given group of words.

A person who pretends to be someone else to deceive others

- Ans 1. Actor
 2. Mentor
 3. Gangster
 4. Imposter

Question ID : 65497815825
Chosen Option : 4

Q.11 Select the most appropriate word to fill in the blank.

The task has been _____ to the juniors.

- Ans 1. attached
 2. hired
 3. elected
 4. assigned

Question ID : 65497815829
Chosen Option : 4

Q.12 Select the most appropriate option to substitute the underlined segment in the given sentence. If there is no need to substitute it, select 'No substitution required.'

There are very little peoples in this world who are bold enough to defy social customs.

- Ans 1. No substitution required
 2. very much peoples
 3. very few people
 4. too much people

Question ID : 65497815008
Chosen Option : 3

Q.13 Select the most appropriate ANTONYM of the given word.

STABLE

- Ans
- 1. safe
 - 2. steady
 - 3. stout
 - 4. shaky

Question ID : 65497815818
Chosen Option : 4

Q.14 Select the most appropriate option to substitute the underlined segment in the given sentence. If there is no need to substitute it, select 'No substitution required'.

He got away from punishment as there was not enough evidence against him.

- Ans
- 1. gets away from
 - 2. got out with
 - 3. No substitution required
 - 4. was getting away from

Question ID : 65497817130
Chosen Option : 3

Q.15 Identify the segment in the sentence which contains a grammatical error.

The farmer is cutting the corn which has ripen in the fields.

- Ans
- 1. which has ripen
 - 2. in the fields
 - 3. cutting the corn
 - 4. The farmer is

Question ID : 65497815806
Chosen Option : 1

Q.16 Select the most appropriate option to substitute the underlined segment in the given sentence. If there is no need to substitute it, select 'No substitution required'.

The strong wind blow off all the candles.

- Ans
- 1. blowing away
 - 2. No substitution required
 - 3. blow up
 - 4. blew out

Question ID : 65497815815
Chosen Option : 3

Q.17 Select the most appropriate ANTONYM of the given word.

EFFICIENT

- Ans 1. idle
 2. expert
 3. common
 4. clever

Question ID : 65497815819
Chosen Option : 1

Q.18 Select the most appropriate option to fill in the blank.

This lesson is _____ than the previous one.

- Ans 1. much easier
 2. easiest
 3. easy
 4. more easier

Question ID : 65497815808
Chosen Option : 1

Q.19 Select the most appropriate word to fill in the blank.

I visit my grandparents _____.

- Ans 1. regularly
 2. finally
 3. continuously
 4. unevenly

Question ID : 65497815828
Chosen Option : 1

Q.20 Select the most appropriate synonym of the given word.

DELICATE

- Ans 1. frail
 2. hearty
 3. brisk
 4. robust

Question ID : 65497815820
Chosen Option : 1

Comprehension:

In the following passage some words have been deleted. Fill in the blanks with the help of the alternatives given. Select the most appropriate option for each blank.

The judge, in a solemn manner, declared (1)_____ there was enough evidence to (2)_____ that Max had indeed (3)_____ his neighbour's cat. This was a (4)_____ crime and deserved an (5)_____ punishment.

SubQuestion No : 21

Q.21 Select the most appropriate option to fill in blank no. 1.

- Ans 1. which
 2. that
 3. so
 4. what

Question ID : 65497815810
Chosen Option : 2

Comprehension:

In the following passage some words have been deleted. Fill in the blanks with the help of the alternatives given. Select the most appropriate option for each blank.

The judge, in a solemn manner, declared (1)_____ there was enough evidence to (2)_____ that Max had indeed (3)_____ his neighbour's cat. This was a (4)_____ crime and deserved an (5)_____ punishment.

SubQuestion No : 22

Q.22 Select the most appropriate option to fill in blank no. 2.

- Ans 1. prove
 2. test
 3. result
 4. check

Question ID : 65497815811
Chosen Option : 1

Comprehension:

In the following passage some words have been deleted. Fill in the blanks with the help of the alternatives given. Select the most appropriate option for each blank.

The judge, in a solemn manner, declared (1)_____ there was enough evidence to (2)_____ that Max had indeed (3)_____ his neighbour's cat. This was a (4)_____ crime and deserved an (5)_____ punishment.

SubQuestion No : 23

Q.23 Select the most appropriate option to fill in blank no. 3.

- Ans 1. stealing
 2. stolen
 3. steal
 4. stole

Question ID : 65497815812
Chosen Option : 2

Comprehension:

In the following passage some words have been deleted. Fill in the blanks with the help of the alternatives given. Select the most appropriate option for each blank.

The judge, in a solemn manner, declared (1)_____ there was enough evidence to (2)_____ that Max had indeed (3)_____ his neighbour's cat. This was a (4)_____ crime and deserved an (5)_____ punishment.

SubQuestion No : 24

Q.24 Select the most appropriate option to fill in blank no. 4.

- Ans 1. sober
 2. serious
 3. steady
 4. stern

Question ID : 65497815813
Chosen Option : 2

Comprehension:

In the following passage some words have been deleted. Fill in the blanks with the help of the alternatives given. Select the most appropriate option for each blank.

The judge, in a solemn manner, declared (1)_____ there was enough evidence to (2)_____ that Max had indeed (3)_____ his neighbour's cat. This was a (4)_____ crime and deserved an (5)_____ punishment.

SubQuestion No : 25

Q.25 Select the most appropriate option to fill in blank no. 5.

- Ans 1. improper
 2. invisible
 3. anxious
 4. appropriate

Question ID : 65497815814
Chosen Option : 4

Section : General Intelligence and Reasoning

Q.1 गणितीय चिह्नों के उस सही क्रम का चयन करें, जिन्हें क्रमिक रूप से * के स्थान पर रखने पर समीकरण संतुलित हो जाएगा।

$$92*4*36*13*9=104$$

- Ans 1. + - + ×
 2. ÷ - + ×
 3. × + + -
 4. - ÷ × +

Question ID : 65497814316
Chosen Option : 2

Q.2 कौन-सी संख्या निम्न श्रेणी में प्रश्नवाचक चिह्न (?) के स्थान पर होगी?

11, 13, 16, 26, 41, 67, 102, ?

- Ans
- 1. 125
 - 2. 215
 - 3. 251
 - 4. 152

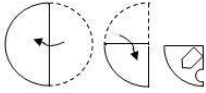
Question ID : 65497814317
Chosen Option : 4

Q.3 47 व्यक्तियों वाली पंक्ति में, X, आगे से 14वें स्थान पर है जबकि Y पीछे से 17वें स्थान पर है। यदि वे अपने स्थानों को एक-दूसरे से बदल लेते हैं, तो Y पीछे से 34वें स्थान पर आ जाता है, तो X आगे से किस स्थान पर होगा?

- Ans
- 1. 29
 - 2. 30
 - 3. 31
 - 4. 32

Question ID : 65497814331
Chosen Option : --

Q.4 एक कागज़ को निम्न आकृतियों के अनुसार मोड़ा और काटा जाता है। खोलने पर यह कागज़ कैसा दिखेगा?



Ans

- 1.
- 2.
- 3.
- 4.

Question ID : 65497814338
Chosen Option : 3

Q.5 किसी कक्षा में छह छात्र इंटरैक्टिव बोर्ड की ओर अभिमुख होकर बेंच पर बैठे हैं। A, B के दाईं ओर दूसरे स्थान पर बैठा है, जबकि F, E के दाईं ओर दूसरे स्थान पर बैठा है, यदि C, A के दाईं ओर दूसरे स्थान पर बैठा है, तो F के स्थान से D के बैठने की स्थिति क्या है?

- Ans
- 1. दाईं ओर दूसरा
 - 2. बाईं ओर पड़ोस में
 - 3. बाईं ओर दूसरा
 - 4. दाईं ओर तीसरा

Question ID : 65497814332
Chosen Option : 1

Q.6 निम्न अक्षर-श्रेणी में प्रश्नवाचक चिह्न (?) के स्थान पर कौन-सा अक्षर-समूह आएगा?

TPM, IEB, XTQ, ?

- Ans
- 1. MIF
 - 2. NJG
 - 3. MIE
 - 4. NJF

Question ID : 65497814328
Chosen Option : 1

Q.7 यदि किसी निश्चित कूट भाषा में, STAMINA को 74 के रूप में और OCTOBER को 75 के रूप में कूटबद्ध किया जाता है, तो उसी कूट भाषा में IMPOSING को किस रूप में कूटबद्ध किया जाएगा?

- Ans
- 1. 102
 - 2. 114
 - 3. 117
 - 4. 99

Question ID : 65497814323
Chosen Option : --


www.HaryanaJobs.in

Q.8 उस विकल्प का चयन करें, जिसमें निम्न आकृति अन्तःस्थापित है। (घुमाने की अनुमति नहीं है)

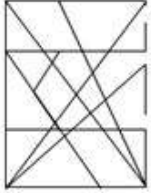
 Σ

Ans


✗ 1.



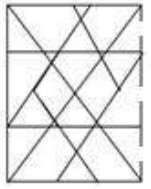
✗ 2.



✗ 3.



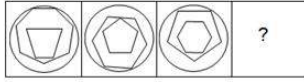
✓ 4.



Question ID : 65497814336
Chosen Option : 4

www.HaryanaJobs.in

Q.9 उस विकल्प आकृति का चयन करें, जो निम्न आकृति श्रेणी में प्रश्नवाचक चिह्न (?) के स्थान पर आएगी।



Ans

✗ 1.



✓ 2.



✗ 3.



✗ 4.



Question ID : 65497814334

Chosen Option : 2

Q.10 किसी निश्चित कूट भाषा में, यदि IRONING को OWSQKOG लिखा जाता है, तो उसी कूट भाषा में SHERIFF को किस प्रकार लिखा जाएगा?

Ans ✗ 1. YNKXOLL

✓ 2. YMIUKGF

✗ 3. YMKWLK

✗ 4. HSREFIF

Question ID : 65497814322

Chosen Option : 2

Q.11 उस विकल्प का चयन करें, जो तीसरे शब्द से ठीक उसी प्रकार संबंधित है, जिस प्रकार दूसरा शब्द पहले शब्द से संबंधित है।

मंगलवार : शनिवार :: मई : _____.

Ans ✗ 1. अप्रैल

✗ 2. अगस्त

✓ 3. सितम्बर

✗ 4. अक्टूबर

Question ID : 65497814327

Chosen Option : 4

Q.12 उस विकल्प का चयन करें, जो तीसरे अक्षर-समूह से ठीक उसी प्रकार संबंधित है जिस प्रकार दूसरा अक्षर-समूह पहले अक्षर-समूह से संबंधित है।

CONCEPT : DDFOPQU :: NARROWS : _____.

- Ans
- 1. WSRRONA
 - 2. XTSP OBS
 - 3. OBSSPXT
 - 4. BOPSSTX

Question ID : 65497814325

Chosen Option : 4

Q.13 यदि किसी निश्चित कूट भाषा में LEARNING को 82463739 के रूप में और MOBILE को 510782 के रूप में कूटबद्ध किया जाता है, तो उसी कूट भाषा में IMAGINE को किस रूप में कूटबद्ध किया जाएगा?

- Ans
- 1. 7549732
 - 2. 8317945
 - 3. 6548732
 - 4. 7206834

Question ID : 65497814324

Chosen Option : 1

Q.14 किसी निश्चित कूट भाषा में, यदि GLAMOUR को AGLMORU लिखा जाता है, तो उसी कूट भाषा में, RUTTING को किस प्रकार लिखा जाएगा?

- Ans
- 1. GNITTUR
 - 2. GNURITT
 - 3. INGTRU
 - 4. GINRTTU

Question ID : 65497814321

Chosen Option : 4

Q.15 यदि दर्पण को आकृति के दाईं ओर रखा गया हो, तो दी गई आकृति के सही दर्पण प्रतिबिंब का चयन करें।
RLKQSN

- Ans
- 1. BГKQSN
 - 2. NSQKLR
 - 3. RJKQSN
 - 4. INQKLR

Question ID : 65497814337

Chosen Option : 4

Q.16 निम्न संख्या श्रेणी में प्रश्नवाचक चिह्न (?) के स्थान पर कौन-सी संख्या आएगी?

4, 6, 9, 14, 23, 40, ?

Ans 1. 73

2. 72

3. 74

4. 71

Question ID : 65497814320

Chosen Option : 1

Q.17 यदि - को ÷ के साथ परस्पर बदली किया जाता है और + को × के साथ परस्पर बदली किया जाता है, तो निम्न में से कौन-सा समीकरण सही होगा?

Ans 1. $32 + 21 \times 9 - 184 \div 8 = 198$

2. $32 \div 21 + 9 - 184 \times 8 = 198$

3. $32 \times 21 + 9 \div 184 - 8 = 198$

4. $32 + 21 - 9 \times 184 \div 8 = 198$

Question ID : 65497814315

Chosen Option : 4

Q.18 'Truck' is related to 'Road' in the same way as 'Tram' is related to '_____':

Ans 1. Air

2. Rail

3. Rope

4. Wheels

Question ID : 65497814326

Chosen Option : 3

www.HaryanaJobs.in

Q.19 Select the Venn diagram that best illustrates the relationship between the following classes:

Playground, Stadium, Goalpost

Ans

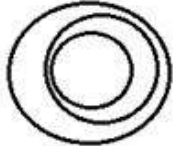
✗ 1.



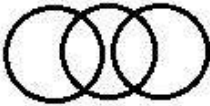
✗ 2.



✓ 3.



✗ 4.



Question ID : 65497814339

Chosen Option : 3

Q.20 Two statements are given, followed by two conclusions numbered I and II. Assuming the statements to be true, even if they seem to be at variance with commonly known facts, decide which of the conclusions logically follow(s) from the statements.

Statements:

All trees are plants.

Some plants are climbers.

Conclusions:

I. Some plants are trees.

II. Some trees are climbers.

Ans

✗ 1. Both conclusions I and II follow.

✓ 2. Only conclusion I follows.

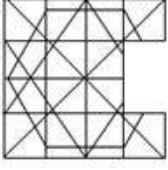
✗ 3. Only conclusion II follows.

✗ 4. Neither conclusion I nor II follows.

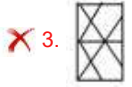
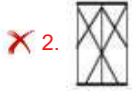
Question ID : 65497814329

Chosen Option : 2

Q.21 उस विकल्प आकृति का चयन करें, जो निम्न पैटर्न को पूरा करेगी।



Ans



Question ID : 65497814335

Chosen Option : 4

Q.22 उस विकल्प का चयन करें जो निम्न शब्दों के उस क्रम को दर्शाता है जिसमें वे अंग्रेजी शब्दकोष में आते हैं।

1. Dreamlike
2. Dreamer
3. Dreamy
4. Dreamland
5. Dreamtime

Ans ✓ 1. 2 - 4 - 1 - 5 - 3

✗ 2. 1 - 4 - 2 - 5 - 3

✗ 3. 4 - 1 - 2 - 3 - 5

✗ 4. 2 - 4 - 1 - 3 - 5

Question ID : 65497814333

Chosen Option : 1

www.HaryanaJobs.in

Q.23 Three statements are given, followed by four conclusions numbered I, II, III and IV. Assuming the statements to be true, even if they seem to be at variance with commonly known facts, decide which of the conclusions logically follow(s) from the statements.

Statements:

Some advocates are doctors.
Some doctors are players.
All players are engineers.

Conclusions:

I. Some players are doctors.
II. Some engineers are advocates.
III. All advocates are engineers.
IV. Some engineers are doctors.

- Ans**
- 1. Both conclusions I and II follow
 - 2. Both conclusions I and III follow
 - 3. Both conclusions II and IV follow
 - 4. Both conclusions I and IV follow

Question ID : 65497814330

Chosen Option : 4

Q.24 निम्न संख्या श्रेणी में प्रश्नवाचक चिह्न (?) के स्थान पर कौन-सी संख्या आएगी?

168, 168, 84, 28, ?

- Ans**
- 1. 14
 - 2. 12
 - 3. 4
 - 4. 7

Question ID : 65497814319

Chosen Option : 4

Q.25 उस विकल्प का चयन करें, जिसमें संख्याएं एक-दूसरे से ठीक उसी प्रकार संबंधित हैं, जिस प्रकार से निम्न समुच्चय की संख्याएं एक-दूसरे से संबंधित हैं।

46 : 82 : 154

- Ans**
- 1. 78 : 141 : 276
 - 2. 70 : 133 : 258
 - 3. 86 : 159 : 303
 - 4. 62 : 116 : 224

Question ID : 65497814318

Chosen Option : 4

Section : Numerical Aptitude

Q.1 किसी फर्म में 70 पुरुष और 100 महिलाएं कार्यरत हैं। एक बड़े पैमाने पर भर्ती के दौरान, पुरुषों और महिलाओं की समान संख्या में नियुक्ति होती है और उनका अनुपात 3 : 4 हो जाता है। भर्ती के बाद फर्म में कार्यरत लोगों की कुल संख्या ज्ञात करें।

- Ans
- 1. 240
 - 2. 200
 - 3. 210
 - 4. 220

Question ID : 65497815462
Chosen Option : 3

Q.2 आयताकार मैदान का परिमाण 386 m है और इसकी दो आसन्न भुजाओं के बीच अंतर 95 m है। उस वर्गाकार मैदान की भुजा ज्ञात करें, जिसका क्षेत्रफल आयताकार मैदान के क्षेत्रफल के बराबर है।

- Ans
- 1. 84 m
 - 2. 82 m
 - 3. 74 m
 - 4. 64 m

Question ID : 65497815469
Chosen Option : 1

Q.3 A, B का 120% और B, C का 65% है। यदि A, B और C का योगफल $121\frac{1}{2}$ है, तो $2C - 4B + A$ का मान ज्ञात करें।

- Ans
- 1. 12
 - 2. 9
 - 3. 10
 - 4. 15

Question ID : 65497815458
Chosen Option : 2

Q.4 तीन संख्याओं का अनुपात 2 : 3 : 4 है। उनके वर्गों का योगफल 2349 है। इन तीनों संख्याओं का औसत ज्ञात करें।

- Ans
- 1. 29
 - 2. 25
 - 3. 27
 - 4. 24

Question ID : 65497815456
Chosen Option : --

Q.5 नया बेलन बनाने के लिए, यदि किसी बेलन की त्रिज्या में 40% की कमी होती है और ऊंचाई में 60% की वृद्धि होती है, तो आयतन में हुई कमी जात करें।

- Ans**
- 1. 32.4%
 - 2. 42.4%
 - 3. 40.5%
 - 4. 41.5%

Question ID : 65497815468
Chosen Option : 2

Q.6 हिस्टोग्राम का अध्ययन करें और नीचे दिए गए प्रश्न का उत्तर दें।

दिया गया ग्राफ 2018 में किसी विद्यालय की दसवीं कक्षा की बोर्ड परीक्षा में छात्रों द्वारा प्राप्त अंकों का प्रतिशत निरूपित करता है।

छात्रों की कुल संख्या = 250



70% से कम अंक प्राप्त करने वाले छात्रों की प्रतिशतता और 80% और उससे अधिक अंक प्राप्त करने वाले छात्रों की प्रतिशतता के बीच अंतर जात करें।

- Ans**
- 1. 25%
 - 2. 24%
 - 3. 18%
 - 4. 22%

Question ID : 65497815475
Chosen Option : 4

Q.7 साधारण ब्याज पर ₹17,200 की राशि दो भागों में, क्रमशः वार्षिक 8% और 10% की दर से 2 वर्ष के लिए उधार दी जाती है। यदि दो वर्ष बाद प्राप्त कुल ब्याज ₹3,008 है, तो 8% की दर पर उधार दी गई राशि जात करें।

- Ans**
- 1. ₹9,600
 - 2. ₹12,800
 - 3. ₹9,000
 - 4. ₹10,800

Question ID : 65497815465
Chosen Option : 4

Q.8 किसी शंकु के छिन्नक (frustum) के वृत्ताकार सिरों की त्रिज्याएं 20 cm और 13 cm हैं और इसकी ऊंचाई 12 cm है। छिन्नक (frustum) की क्षमता (लीटर में) ज्ञात करें (ठीक एक दशमलव स्थान तक)। ($\pi = \frac{22}{7}$ लें)

- Ans
- 1. 10.8
 - 2. 11.4
 - 3. 11.2
 - 4. 10.4

Question ID : 65497814865
Chosen Option : 4

Q.9 यदि किसी बर्गाकार मैदान के चारों ओर स्थित मार्ग की चौड़ाई 4.5 m है और मार्ग का क्षेत्रफल 252 m² है, तो मैदान की भुजा की लंबाई ज्ञात करें।

- Ans
- 1. 9 m
 - 2. 8 m
 - 3. 9.5 m
 - 4. 8.5 m

Question ID : 65497815467
Chosen Option : --

Q.10 रमेश, सुरेश से 30% अधिक निवेश करता है। सुरेश, अरुण से 40% कम निवेश करता है, जिसने ₹8,000 निवेश किए हैं। उन सभी के द्वारा निवेशित कुल धनराशि ज्ञात करें।

- Ans
- 1. ₹19,080
 - 2. ₹19,020
 - 3. ₹18,020
 - 4. ₹19,040

Question ID : 65497815461
Chosen Option : 4

Q.11 दो क्रमागत वर्षों के बीच, मेरी आय का अनुपात 2 : 5 है और खर्चों का अनुपात 4 : 7 है। यदि दूसरे वर्ष में मेरी आय ₹75,000 है और पहले वर्ष में मेरा खर्च ₹20,000 है, तो एक साथ दो वर्षों में, मेरी कुल बचत ज्ञात करें।

- Ans
- 1. ₹50,000
 - 2. ₹60,000
 - 3. ₹55,000
 - 4. ₹40,000

Question ID : 65497815463
Chosen Option : --

Q.12 दो वस्तुओं के क्रय मूल्य का अनुपात 4 : 5 है। इन वस्तुओं को बेचते समय, दुकानदार को क्रमशः एक वस्तु पर 10% और दूसरे वस्तु पर 20% लाभ प्राप्त होता है और विक्रय मूल्य में अंतर ₹480 है। दोनों वस्तुओं का कुल क्रय मूल्य ज्ञात करें।

- Ans
- 1. ₹3,000
 - 2. ₹2,800
 - 3. ₹2,500
 - 4. ₹2,700

Question ID : 65497815460
Chosen Option : 4

Q.13 एक दुकानदार 25 वस्तुएं इस प्रकार बेचता है कि उसे 5 वस्तुओं के विक्रय मूल्य के बराबर लाभ प्राप्त होता है, उसका लाभ प्रतिशत ज्ञात कीजिए।

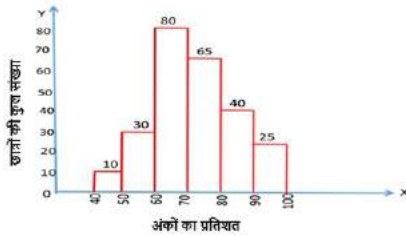
- Ans
- 1. 20%
 - 2. 30%
 - 3. 25%
 - 4. 18%

Question ID : 65497815459
Chosen Option : 3

Q.14 हिस्टोग्राम का अध्ययन करें और नीचे दिए गए प्रश्न का उत्तर दें।

दिया गया ग्राफ 2018 में किसी विद्यालय की दसवीं कक्षा की बोर्ड परीक्षा में छात्रों द्वारा प्राप्त अंकों का प्रतिशत निरूपित करता है।

छात्रों की कुल संख्या = 250



60% से कम अंक प्राप्त करने वाले छात्रों की संख्या, 70% और उससे अधिक अंक प्राप्त करने वाले छात्रों की संख्या से लगभग कितने प्रतिशत कम है?

- Ans
- 1. 69.23%
 - 2. 68%
 - 3. 68.35%
 - 4. 67.23%

Question ID : 65497815474
Chosen Option : 1

Q.15

$$\frac{2 - \left(\frac{6}{7} \text{ of } 21 + 5.25\right)}{\frac{3}{4} \text{ of } (15.8 - 3.4) + 5 \times 2.39} \text{ का मान ज्ञात कीजिए।}$$

- Ans
1. 1
2. $\frac{11}{5}$
3. -1
4. $\frac{17}{5}$

Question ID : 65497816987
Chosen Option : 3

Q.16 A किसी कार्य को 60 दिन में कर सकता है। वह इस कार्य को 15 दिन तक करता है और फिर अकेले B शेष कार्य को 30 दिन में पूरा करता है। एक साथ कार्य करते हुए A और B, उसी कार्य को कितने दिन में पूरा करेंगे?

- Ans
1. 20 दिन
2. 22 दिन
3. 24 दिन
4. 25 दिन

Question ID : 65497815452
Chosen Option : 3

Q.17 एक समान चाल से चलने वाली रेलगाड़ी, 275 km की दूरी $2\frac{1}{2}$ घंटे में तय करती है। समान चाल से चलते हुए यह रेलगाड़ी 440 km की दूरी कितने समय में तय करेगी?

- Ans
1. 4 घंटे
2. $4\frac{1}{2}$ घंटे
3. 6 घंटे
4. 5 घंटे

Question ID : 65497815453
Chosen Option : 1

Q.18 A की चाल, B की चाल से 20 km/h अधिक है। A को 300 km की दूरी तय करने में, B द्वारा 240 km की दूरी तय करने में लगने वाले समय से 2 घंटे कम समय लगता है। A की चाल (km/h में) ज्ञात करें।

- Ans
1. 50
2. 30
3. 45
4. 40

Question ID : 65497815454
Chosen Option : 1

Q.19 किसी कार्य को करने के लिए, किसी मजदूर को कुछ दिनों के लिए ₹8,500 में नियुक्त किया जाता है, लेकिन कुछ दिनों तक उसकी अनुपस्थिति के कारण, उसे केवल ₹6,050 का भुगतान किया जाता है। वह कितने दिनों तक अनुपस्थित रहा?

- Ans
- ✓ 1. 49
 - ✗ 2. 42
 - ✗ 3. 44
 - ✗ 4. 45

Question ID : 65497815470
Chosen Option : --

Q.20 यदि चक्रवृद्धि ब्याज की दर पर कोई निश्चित राशि, 4 वर्ष में 3 गुनी हो जाती है, तो समान ब्याज दर पर, यह राशि कितने वर्ष में 9 गुनी हो जाएगी?

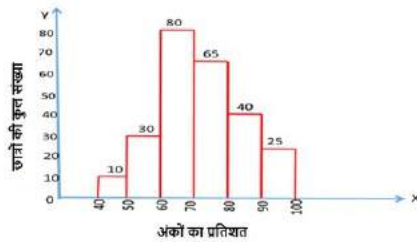
- Ans
- ✗ 1. 10 वर्ष
 - ✗ 2. 6 वर्ष
 - ✗ 3. 9 वर्ष
 - ✓ 4. 8 वर्ष

Question ID : 65497815464
Chosen Option : 4

Q.21 हिस्टोग्राम का अध्ययन करें और नीचे दिए गए प्रश्न का उत्तर दें।

दिया गया ग्राफ 2018 में किसी विद्यालय की दसवीं कक्षा की बोर्ड परीक्षा में छात्रों द्वारा प्राप्त अंकों का प्रतिशत निरूपित करता है।

छात्रों की कुल संख्या = 250



60% से कम अंक प्राप्त करने वाले छात्रों की संख्या और 80% और उससे अधिक अंक प्राप्त करने वाले छात्रों की संख्या का अनुपात ज्ञात करें।

- Ans
- ✗ 1. 7 : 11
 - ✗ 2. 8 : 15
 - ✓ 3. 8 : 13
 - ✗ 4. 7 : 13

Question ID : 65497815473
Chosen Option : 3

Q.22 यदि $x + 1$, $x + 12$, $2x + 3$ और $3x + 5$ का माध्य 21 है, तो x का मान ज्ञात करें।

- Ans
- 1. 8
 - 2. 12
 - 3. 9
 - 4. 10

Question ID : 65497815466
Chosen Option : 3

Q.23 14 आदमी किसी कार्य को 18 दिन में पूरा करते हैं। यदि 21 आदमी कार्यरत हैं, तो उस कार्य को पूरा करने के लिए आवश्यक समय ज्ञात करें।

- Ans
- 1. 10 दिन
 - 2. 15 दिन
 - 3. 14 दिन
 - 4. 12 दिन

Question ID : 65497815451
Chosen Option : 4

Q.24 आठ क्रमागत संख्याओं का औसत 10.5 है। सबसे बड़ी संख्या ज्ञात करें।

- Ans
- 1. 18
 - 2. 16
 - 3. 14
 - 4. 15

Question ID : 65497815455
Chosen Option : 3

Q.25 चीनी के मूल्य में 15% छूट के बाद, अरुणा राय ₹272 में 6 kg अधिक चीनी खरीदती हैं। प्रति kg चीनी का घटा हुआ मूल्य ज्ञात करें।

- Ans
- 1. ₹6
 - 2. ₹7.80
 - 3. ₹6.50
 - 4. ₹6.80

Question ID : 65497815457
Chosen Option : 4

Section : General Awareness

Q.1 The river Indus was called _____ by the Iranians and the Greeks about 2500 years ago.

- Ans
- 1. Vipasa
 - 2. Hindos
 - 3. Karnali
 - 4. Vitasta

Question ID : 65497816306
Chosen Option : 2

Q.2 निम्नलिखित में से कौन सी पुस्तक मुंशी प्रेमचंद ने लिखी है?

- Ans
- 1. गीतांजलि
 - 2. गोरा
 - 3. निर्मला
 - 4. चोखेर बाली

Question ID : 65497816291
Chosen Option : 3

Q.3 भारतीय संविधान का कौन सा भाग नागरिकता से संबंधित है?

- Ans
- 1. भाग 2
 - 2. भाग 3
 - 3. भाग 5
 - 4. भाग 6

Question ID : 65497816295
Chosen Option : 1

Q.4 To which of the following sectors of the economy do Basel III norms belong?

- Ans
- 1. Aviation
 - 2. Automobile
 - 3. Capital market
 - 4. Banking

Question ID : 65497815282
Chosen Option : 3

Q.5 1944 में ब्रेटन वुड्स में विश्व मौद्रिक सम्मेलन में कौन से भारतीय वित्त मंत्री भारत के प्रतिनिधि थे?

- Ans
- 1. के.सी. नियोगी
 - 2. सी.डी. देशमुख
 - 3. जॉन मथाई
 - 4. आर.के. शनमुखम चेट्टी

Question ID : 65497817404
Chosen Option : 3

Q.6 The Indian Super League (ISL) is a _____ championship.

- Ans 1. football
 2. kabaddi
 3. kho-kho
 4. cricket

Question ID : 65497816287
 Chosen Option : 2

Q.7 भारत की पूर्व प्रधान मंत्री, इंदिरा गाँधी ने निम्नलिखित में से कौन सी पुस्तक लिखी थी?

- Ans 1. विंस ऑफ फायर
 2. डिस्कवरी ऑफ इंडिया
 3. माई एक्सपेरिमेंट्स विद दुध
 4. माई दुध

Question ID : 65497816289
 Chosen Option : 4

Q.8 प्राचीन भारत में महाजनपदों के शासक अपने क्षेत्र के _____ से 'भागा' नामक कर एकत्र करते थे।

- Ans 1. किसानों
 2. चरवाहों
 3. शिकारियों और एकत्रकों
 4. शिल्पकारों

Question ID : 65497816308
 Chosen Option : --

Q.9 'Microliths' were _____ used by early humans.

- Ans 1. stone tools
 2. earthen pots
 3. clothes
 4. coins

Question ID : 65497816307
 Chosen Option : 1

Q.10 निम्नलिखित में से किस बैडमिंटन खिलाड़ी ने कभी भी अर्जुन पुरस्कार नहीं जीता है?

- Ans 1. पी.वी. सिंधु
 2. नेहा पंडित
 3. पारुल परमार
 4. अश्विनी पोनप्पा

Question ID : 65497816290
 Chosen Option : --

Q.11 _____ नवरात्रि के दसवें दिन को दशहरा या विजयदशमी के रूप में मनाया जाता है।

- Ans
- 1. माघ गुप्त
 - 2. चैत्र
 - 3. शरद
 - 4. आषाढ़ गुप्त

Question ID : 65497816286
Chosen Option : 3

Q.12 _____ एक नृत्य है जो वाक, भंगिमा और शुद्ध नृत्य का संयोजन है।

- Ans
- 1. भरतनाट्यम
 - 2. कथकली
 - 3. मोहिनीअट्टम
 - 4. कुचिपुड़ी

Question ID : 65497816285
Chosen Option : --

Q.13 26 दिसंबर 2004 को आई सुनामी से निम्नलिखित में से कौन-सा भारतीय राज्य बुरी तरह से प्रभावित हुआ था?

- Ans
- 1. महाराष्ट्र
 - 2. तमिलनाडु
 - 3. बिहार
 - 4. उत्तर प्रदेश

Question ID : 65497816303
Chosen Option : 1

Q.14 सांख्यिकी और कार्यक्रम कार्यान्वयन मंत्रालय (भारत सरकार) की एक रिपोर्ट के अनुसार, भारत ने वर्ष 2016 में प्रत्येक 1000 जीवित जन्मों में _____ की शिशु मृत्यु दर (IMR) दर्ज की है।

- Ans
- 1. 68
 - 2. 34
 - 3. 47
 - 4. 55

Question ID : 65497816294
Chosen Option : --

Q.15 निम्नलिखित में से कौन-सी, गंगा नदी की एक सहायक नदी है?

- Ans
- 1. घाघरा
 - 2. माही
 - 3. साबरमती
 - 4. भीमा

Question ID : 65497816304
Chosen Option : 2

Q.16 ज्वार के बारे में निम्नलिखित में से कौन-सा कथन असत्य है?

- Ans
- 1. पृथ्वी की सतह पर सूर्य और चंद्रमा द्वारा आपतित गुरुत्वाकर्षण खिंचाव के कारण ज्वार उत्पन्न होता है।
 - 2. निम्न ज्वार को नीप ज्वार भी कहा जाता है।
 - 3. पूर्णिमा और अमावस्या के दिन वसंत ज्वार आते हैं।
 - 4. जब चंद्रमा अपने पहले और अंतिम चतुर्थांश में होता है तो उच्च ज्वार उत्पन्न होता है।

Question ID : 65497816305
Chosen Option : 3

Q.17 भारतीय संविधान का अनुच्छेद _____ धार्मिक मामलों के प्रबंधन की स्वतंत्रता से संबंधित है।

- Ans
- 1. 56
 - 2. 26
 - 3. 51
 - 4. 21

Question ID : 65497816297
Chosen Option : 2

Q.18 ब्रायोफाइट्स के बारे में निम्नलिखित में से कौन सा कथन सत्य नहीं है?

- Ans
- 1. पादप शरीर के एक हिस्से से दूसरे हिस्से में जल और अन्य पदार्थों के प्रवाह के लिए इनमें एक विशेष उत्तक की उपस्थिति पाई जाती है।
 - 2. इनका शरीर आमतौर पर तने और पत्ती जैसी संरचनाओं का रूप लेकर विभेदित होता है।
 - 3. इन्हें पादप जगत के उभयचर कहा जाता है।
 - 4. मॉस (फुनारिया) और मर्चेटिया, ब्रायोफाइट्स के उदाहरण हैं।

Question ID : 65497816302
Chosen Option : --

Q.19 2017 में भारतीय क्रिकेट कंट्रोल बोर्ड (BCCI) में लोढ़ा सुधारों के क्रियान्वयन की देख-रेख के लिए भारत के सर्वोच्च न्यायालय द्वारा नियुक्त प्रशासकों की समिति (CoA) में निम्नलिखित में से कौन सा व्यक्ति शामिल नहीं था?

- Ans
- 1. विक्रम लिमये
 - 2. विनोद राय
 - 3. माहिम वर्मा
 - 4. रामचंद्र गुहा

Question ID : 65497816288
Chosen Option : --

Q.20 A wooden bat can be classified as a/an _____ object.

- Ans
- 1. translucent
 - 2. transparent
 - 3. lustrous
 - 4. opaque

Question ID : 65497816299
Chosen Option : 4

Q.21 यांत्रिक ऊर्जा, स्थितिज ऊर्जा और _____ ऊर्जा का योग है।

- Ans
- 1. विद्युतीय
 - 2. गतिज
 - 3. ऊष्मा
 - 4. रासायनिक

Question ID : 65497816301
Chosen Option : 2

Q.22 हम भारतीय संविधान को अपनाने के उपलक्ष्य में हर वर्ष _____ को 'संविधान दिवस' मनाते हैं।

- Ans
- 1. 26 नवंबर
 - 2. 15 सितंबर
 - 3. 15 अगस्त
 - 4. 26 जनवरी

Question ID : 65497816296
Chosen Option : 1

Q.23 हमारे भोजन में पाई जाने वाली स्टार्च और शर्करा _____ का रूप होती है।

- Ans
- 1. कार्बोहाइड्रेट
 - 2. वसा
 - 3. विटामिन
 - 4. प्रोटीन

Question ID : 65497816298
Chosen Option : 1

Q.24 _____ जयपुर में एक महल है, जिसका निर्माण सवाई प्रताप सिंह ने करवाया था।

- Ans
- 1. सज्जनगढ़ पैलेस
 - 2. उम्मेद भवन
 - 3. हवा महल
 - 4. लालगढ़ पैलेस

Question ID : 65497816284
Chosen Option : 3

Q.25 निम्नलिखित में से कौन-सा, जन्तु जगत के निडेरियन संघ के अंतर्गत आता है?

- Ans
- 1. समुद्री अर्चिन
 - 2. कोरल
 - 3. घोघा
 - 4. केंचुआ

Question ID : 65497816300
Chosen Option : --

Multi Tasking Non Technical Staff Examination 2020

Participant ID	www.HaryanaJobs.in
Participant Name	www.HaryanaJobs.in
Test Center Name	M D Infotech
Test Date	06/10/2021
Test Time :	12:30 PM - 2:00 PM
Subject	MTS Non Technical 2020

Section : **General English**

Q.1 Select the most appropriate synonym of the given word.

OUTRAGED

- Ans
- 1. Satisfied
 - 2. Content
 - 3. Absurd
 - 4. Angry

Question ID : **65497815315**
Chosen Option : 4

Q.2 Select the most appropriate meaning of the given idiom.

Pull someone up

- Ans
- 1. Drag someone
 - 2. Help someone
 - 3. Agree with someone
 - 4. Criticise someone

Question ID : **65497815318**
Chosen Option : 4

Q.3 Identify the segment in the sentence which contains a grammatical error.

Though the schools have reopened, children are not go to school and are having online lessons.

- Ans
- 1. are not go
 - 2. are having
 - 3. have reopened
 - 4. Though the schools

Question ID : **65497815300**
Chosen Option : 1

Q.4 Select the word which means the same as the group of words given.

Certain to happen

- Ans** 1. Inevitable
 2. Indelible
 3. Unbelievable
 4. Unchanging

Question ID : 65497815320
Chosen Option : 1

Q.5 Select the most appropriate word to fill in the blank.

The _____ expenses for a trip to Europe are very high.

- Ans** 1. overburdened
 2. overhead
 3. overpaid
 4. overdone

Question ID : 65497815324
Chosen Option : 2

Q.6 Identify the segment in the sentence which contains a grammatical error.

The flood situation in the eastern region of the country remain grim for the fifth day today.

- Ans** 1. remain grim
 2. The flood situation
 3. of the country
 4. for the fifth day

Question ID : 65497815301
Chosen Option : 1

Q.7 Select the most appropriate word to fill in the blank.

The management is going to change the _____ criteria for undergraduate courses.

- Ans** 1. available
 2. eligibility
 3. appearance
 4. curricular

Question ID : 65497815323
Chosen Option : 2

Q.8 Select the most appropriate meaning of the given idiom.

Turn a deaf ear

- Ans 1. Pretend to listen carefully
 2. Be hard of hearing
 3. Ignore what someone says
 4. Shout to be heard by someone

Question ID : 65497815317
Chosen Option : 3

Q.9 Select the most appropriate ANTONYM of the given word.

RIDICULOUS

- Ans 1. Noteworthy
 2. Reasonable
 3. Incredible
 4. Unbelievable

Question ID : 65497815314
Chosen Option : 1

Q.10 Select the most appropriate ANTONYM of the given word.

BLAME

- Ans 1. Praise
 2. Criticise
 3. Rebuke
 4. Shout

Question ID : 65497815313
Chosen Option : 1

Q.11 Select the most appropriate option to substitute the underlined segment in the given sentence. If there is no need to substitute it, select 'No substitution required.'

These days I like to eat nuts and seeds along with fruits as I'm conscious of my healthfulness.

- Ans 1. healthful
 2. health
 3. No substitution required
 4. healthy

Question ID : 65497815310
Chosen Option : 2

Q.12 Select the word which means the same as the group of words given.

Living or growing in water

- Ans 1. Amphibian
 2. Mammal
 3. Aquatic
 4. Submarine

Question ID : 65497815319
Chosen Option : 3

Q.13 Select the most appropriate word to fill in the blank

You _____ told me that you are planning to take up a course in photography and now you are denying it.

- Ans 1. itself
 2. ourselves
 3. themselves
 4. yourself

Question ID : 65497815302
Chosen Option : 4

Q.14 Select the most appropriate option to substitute the underlined segment in the given sentence. If there is no need to substitute it, select 'No substitution required'.

Hurry up, in case you will be late for your school.

- Ans 1. even if
 2. No substitution required
 3. so that
 4. otherwise

Question ID : 65497816927
Chosen Option : 4

Q.15 Identify the segment in the sentence which contains a grammatical error.

I was told that we would met at five in the evening but no one has turned up for the meeting so far.

- Ans 1. in the evening
 2. for the meeting
 3. we would met
 4. I was told

Question ID : 65497815299
Chosen Option : 3

Q.16 Select the most appropriate option to substitute the underlined segment in the given sentence. If there is no need to substitute it, select 'No substitution required'.

It is much more difficult to judge oneself than to judge others.

- Ans
- 1. much difficult
 - 2. more difficulty
 - 3. No substitution required
 - 4. much more difficulty

Question ID : 65497814706
Chosen Option : 3

Q.17 Select the INCORRECTLY spelt word.

- Ans
- 1. Tradition
 - 2. Aviasion
 - 3. Extension
 - 4. Explanation

Question ID : 65497815322
Chosen Option : 2

Q.18 Select the most appropriate word to fill in the blank.

The family living next door has left for France, _____ it?

- Ans
- 1. haven't
 - 2. didn't
 - 3. hasn't
 - 4. aren't

Question ID : 65497815303
Chosen Option : 3

Q.19 Select the most appropriate synonym of the given word.

ANTIQUUE

- Ans
- 1. Ancient
 - 2. Recent
 - 3. Beautiful
 - 4. Modern

Question ID : 65497815316
Chosen Option : 1

Q.20 Select the INCORRECTLY spelt word.

- Ans
- 1. Actually
 - 2. Application
 - 3. Probably
 - 4. Tripple

Question ID : 65497815321
Chosen Option : 4

Comprehension:

In the following passage some words have been deleted. Fill in the blanks with the help of the alternatives given. Select the most appropriate option for each blank.

Time is very precious and must not be wasted on petty matters that have (1)_____ value in our lives. People keep money in safes but time (2)_____ be saved in this way. Time can be saved and utilized only by being alert, (3)_____ it very carefully and being conscious of its passage. People who made the right use of time by not wasting it on worldly (4)_____ and spent it on understanding the true nature of life and its purpose have left us with a (5)_____ collection of religious books and wise thoughts.

SubQuestion No : 21

Q.21 Select the most appropriate option to fill in blank number 1.

- Ans 1. nothing
 2. none
 3. no one
 4. no

Question ID : **65497815305**
 Chosen Option : 4

Comprehension:

In the following passage some words have been deleted. Fill in the blanks with the help of the alternatives given. Select the most appropriate option for each blank.

Time is very precious and must not be wasted on petty matters that have (1)_____ value in our lives. People keep money in safes but time (2)_____ be saved in this way. Time can be saved and utilized only by being alert, (3)_____ it very carefully and being conscious of its passage. People who made the right use of time by not wasting it on worldly (4)_____ and spent it on understanding the true nature of life and its purpose have left us with a (5)_____ collection of religious books and wise thoughts.

SubQuestion No : 22

Q.22 Select the most appropriate option to fill in blank number 2.

- Ans 1. hadn't
 2. wouldn't
 3. can't
 4. wasn't

Question ID : **65497815306**
 Chosen Option : 3

Comprehension:

In the following passage some words have been deleted. Fill in the blanks with the help of the alternatives given. Select the most appropriate option for each blank.

Time is very precious and must not be wasted on petty matters that have (1)_____ value in our lives. People keep money in safes but time (2)_____ be saved in this way. Time can be saved and utilized only by being alert, (3)_____ it very carefully and being conscious of its passage. People who made the right use of time by not wasting it on worldly (4)_____ and spent it on understanding the true nature of life and its purpose have left us with a (5)_____ collection of religious books and wise thoughts.

SubQuestion No : 23

Q.23 Select the most appropriate option to fill in blank number 3.

- Ans 1. holding
 2. spending
 3. treating
 4. creating

Question ID : **65497815307**
Chosen Option : 2

Comprehension:

In the following passage some words have been deleted. Fill in the blanks with the help of the alternatives given. Select the most appropriate option for each blank.

Time is very precious and must not be wasted on petty matters that have (1)_____ value in our lives. People keep money in safes but time (2)_____ be saved in this way. Time can be saved and utilized only by being alert, (3)_____ it very carefully and being conscious of its passage. People who made the right use of time by not wasting it on worldly (4)_____ and spent it on understanding the true nature of life and its purpose have left us with a (5)_____ collection of religious books and wise thoughts.

SubQuestion No : 24

Q.24 Select the most appropriate option to fill in blank number 4.

- Ans 1. laughter
 2. pleasures
 3. chances
 4. subjects

Question ID : **65497815308**
Chosen Option : 2

Comprehension:

In the following passage some words have been deleted. Fill in the blanks with the help of the alternatives given. Select the most appropriate option for each blank.

Time is very precious and must not be wasted on petty matters that have (1)_____ value in our lives. People keep money in safes but time (2)_____ be saved in this way. Time can be saved and utilized only by being alert, (3)_____ it very carefully and being conscious of its passage. People who made the right use of time by not wasting it on worldly (4)_____ and spent it on understanding the true nature of life and its purpose have left us with a (5)_____ collection of religious books and wise thoughts.

SubQuestion No : 25

Q.25 Select the most appropriate option to fill in blank number 5.

- Ans 1. richer
 2. richest
 3. rich
 4. too rich

Question ID : **65497815309**
 Chosen Option : 3

Section : **General Intelligence and Reasoning**

Q.1 दो कथन और उसके बाद दो निष्कर्ष I और II दिए गए हैं। यह मानते हुए कि कथन सत्य हैं, भले ही वे सामान्य रूप से ज्ञात तथ्यों से भिन्न प्रतीत होते हों, बताएं कि कौन सा/से निष्कर्ष दिए गए कथनों का तार्किक रूप से अनुसरण करता है/करते हैं?

कथन:

सभी मशीनें, रेफ्रिजरेटर हैं।
 सभी रेफ्रिजरेटर, गीजर हैं।

निष्कर्ष:

- I. कुछ मशीनें, गीजर नहीं हैं।
 II. कुछ गीजर, मशीनें हैं।

- Ans 1. केवल निष्कर्ष I अनुसरण करता है।
 2. न तो निष्कर्ष I और न ही II अनुसरण करता है।
 3. केवल निष्कर्ष II अनुसरण करता है।
 4. निष्कर्ष I और II दोनों अनुसरण करते हैं।

Question ID : **65497815541**
 Chosen Option : 3

Q.2 यदि दर्पण को चित्रानुसार MN पर रखा जाए, तो दिए गए संयोजन का दर्पण में निर्मित सही प्रतिबिंब का चयन कीजिए।



Ans

1.

 2.

 3.

 4.

Question ID : 65497815549

Chosen Option : 2

Q.3 वर्गों के उस समुच्चय का चयन करें, जिनके बीच संबंध को निम्न वेन आरेख द्वारा सर्वोत्तम ढंग से निरूपित किया गया है।



Ans

1. मोटर साइकिल, वाहन, स्कूटर

 2. कार, बस, साइकिल

 3. मसाले, जीरा, धातु

 4. गन्ना, फल, दूध

Question ID : 65497815551

Chosen Option : 1

Q.4 विकल्पों में से कौन-सी संख्या, दी गई श्रेणी में प्रश्नवाचक चिह्न (?) के स्थान पर आएगी?

55, 68, 82, ?, 113, 130

Ans

1. 97

 2. 104

 3. 94

 4. 90

Question ID : 65497815531

Chosen Option : 1

Q.5 विनीता, अनीता, प्रीति और कुंजन एक वर्गाकार मेज के चारों ओर केंद्राभिमुख होकर भोजन कर रही हैं। प्रत्येक सहेली चार साइड में से एक साइड के मध्य में बैठी है। कुंजन, अनीता के बाईं ओर बैठी है। प्रीति, विनीता के दाईं ओर बैठी है। कुंजन के बाईं ओर कौन बैठी है?

- Ans
- 1. प्रीति
 - 2. अनीता
 - 3. या तो विनीता या अनीता
 - 4. विनीता

Question ID : 65497815543
Chosen Option : 1

Q.6 निम्न में से कौन-सा अक्षर-समूह दी गई श्रेणी में प्रश्नवाचक चिह्न (?) के स्थान पर आएगा?

YTM, AQQ, CNU, ?, GHC

- Ans
- 1. ELZ
 - 2. DLY
 - 3. EKX
 - 4. EKY

Question ID : 65497815540
Chosen Option : 4

Q.7 उस विकल्प का चयन करें, जो तीसरे अक्षर-समूह से ठीक उसी प्रकार संबंधित है, जिस प्रकार दूसरा अक्षर-समूह पहले अक्षर-समूह से संबंधित है।

PRANIC : SQOBDJ :: SORBID : ?

- Ans
- 1. PTCSEJ
 - 2. QTCRFJ
 - 3. PUCTEJ
 - 4. PTNSEK

Question ID : 65497815537
Chosen Option : 1

Q.8 दिए गए पैटर्न का ध्यानपूर्वक अध्ययन करें और उस संख्या का चयन करें, जो इसमें प्रश्नवाचक चिह्न (?) के स्थान पर आएगी?

445 285 80
550 332 109
655 441 ?

- Ans
- 1. 107
 - 2. 147
 - 3. 129
 - 4. 90

Question ID : 65497815530
Chosen Option : 1

Q.9 किसी निश्चित कूट भाषा में, 'PLANT' को 'OJXJO' लिखा जाता है। उसी कूट भाषा में 'FORTE' को किस प्रकार लिखा जाएगा?

- Ans 1. EMOPZ
 2. ELNPZ
 3. ENPPZ
 4. EMOQY

Question ID : 65497815533
 Chosen Option : 1

Q.10 Two statements are given followed by three conclusions numbered I, II and III. Assuming the statements to be true, even if they seem to be at variance with commonly known facts, decide which of the conclusions logically follow(s) from the statements.

Statements:

All pigeons are crows.
 No crow is a bird.

Conclusions:

- I. Some crows are pigeons.
 II. Some pigeons are birds.
 III. No pigeon is a bird.

- Ans 1. Only conclusions I and III follow.
 2. Either conclusion II or III follows.
 3. Only conclusions II and III follow.
 4. Only conclusions I and II follow.

Question ID : 65497815542
 Chosen Option : 1

Q.11 दिए गए समीकरण को संतुलित करने के लिए, इनमें से किन दो चिह्नों को एक-दूसरे से प्रतिस्थापित करना होगा?

$$32 + 14 \times 3 - 91 \div 7 = 3$$

- Ans 1. + और -
 2. + और -
 3. + और ×
 4. + और ×

Question ID : 65497815527
 Chosen Option : 1

Q.12 किसी निश्चित कूट भाषा में, 'DOSIER' को 'DEIORS' और 'LOGIC' को 'CGILO' लिखा जाता है। उसी कूट भाषा में 'CORTEX' को किस प्रकार लिखा जाएगा?

- Ans 1. DPSUFY
 2. ECROXT
 3. CEORTX
 4. CEROXT

Question ID : 65497815534
 Chosen Option : 3

Q.13 G, H, M, J, K और L छह मित्र उत्तर की ओर अभिमुख होकर सीधी रेखा में बैठे हैं। L और H के बीच G बैठा है। H, M के दाईं ओर चौथे स्थान पर बैठा है। K, H के दाईं ओर पड़ोस में बैठा है। L और M के बीच कौन बैठा है?

- Ans
- 1. G
 - 2. J
 - 3. H
 - 4. K

Question ID : 65497815544
Chosen Option : 2

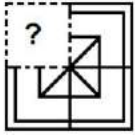
Q.14 उस विकल्प का चयन करें, जो तीसरे शब्द से ठीक उसी प्रकार संबंधित है, जिस प्रकार दूसरा शब्द पहले शब्द से संबंधित है।

गुड़हल : फूल :: पेंगुइन : ?

- Ans
- 1. पक्षी
 - 2. काला
 - 3. बर्फ
 - 4. सरीसृप

Question ID : 65497815539
Chosen Option : 1

Q.15 उस विकल्प आकृति का चयन करें, जो पैटर्न को पूरा करने के लिए नीचे दी गई आकृति में प्रश्नवाचक (?) के स्थान पर आएगी।



- Ans
- 1.
 - 2.
 - 3.
 - 4.

Question ID : 65497815547
Chosen Option : 1

Q.16 किसी निश्चित कूट भाषा में, 'BOXER' को '251224229' लिखा जाता है। उसी कूट भाषा में 'PULLY' को किस प्रकार लिखा जाएगा?

- Ans
- 1. 16211212
 - 2. 11612152
 - 3. 16615158
 - 4. 11615152

Question ID : 65497815535
Chosen Option : 2

Q.17 किसी निश्चित कूट भाषा में, 'WORSHIP' को '23418198316' और 'ROAD' को '18414' लिखा जाता है। उसी कूट भाषा में 'REDUCE' को किस प्रकार लिखा जाएगा?

- Ans
- 1. 9546035
 - 2. 1824532
 - 3. 1854735
 - 4. 1823132

Question ID : 65497815536
Chosen Option : 2

Q.18 उस विकल्प का चयन करें, जो तीसरी संख्या से ठीक उसी प्रकार संबंधित है, जिस प्रकार दूसरी संख्या पहली संख्या से संबंधित है।

20 : 421 :: 18 : ?

- Ans
- 1. 289
 - 2. 389
 - 3. 305
 - 4. 343

Question ID : 65497815529
Chosen Option : 4

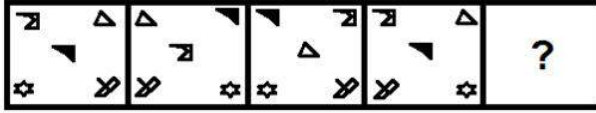
Q.19 विकल्पों में से कौन-सी संख्या, दी गई श्रेणी में प्रश्नवाचक चिह्न (?) के स्थान पर आएगी?

68, 77, 89, 105, ?, 153

- Ans
- 1. 120
 - 2. 130
 - 3. 126
 - 4. 141

Question ID : 65497815532
Chosen Option : 3

Q.20 उस विकल्प का चयन करें, जो निम्न आकृति श्रेणी में प्रश्नवाचक चिह्न (?) के स्थान पर आएगा।

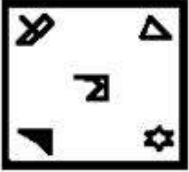


Ans

✓ 1.



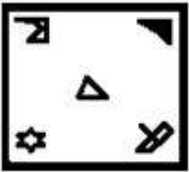
✗ 2.



✗ 3.



✗ 4.



Question ID : 65497815546

Chosen Option : 1

Q.21 दिए गए समीकरण को संतुलित करने के लिए, इनमें से किन दो संख्याओं को एक-दूसरे से प्रतिस्थापित करना होगा?

$$72 + 63 \div 9 \times 5 - 36 = 67$$

Ans ✗ 1. 72 और 36

✗ 2. 63 और 36

✓ 3. 63 और 72

✗ 4. 5 और 36

Question ID : 65497815528

Chosen Option : 3

Q.22 उस विकल्प आकृति का चयन करें, जिसमें दी गई आकृति (X) उसके भाग के रूप में अन्तःस्थापित है। (घुमाने की अनुमति नहीं है)



Ans

✗ 1.



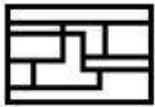
✗ 2.



✓ 3.



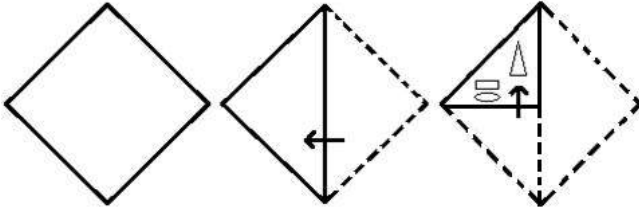
✗ 4.



Question ID : 65497815548
Chosen Option : 3

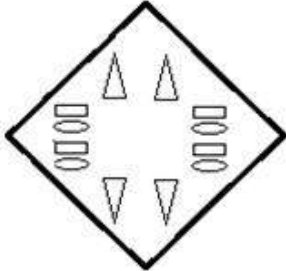
www.HaryanaJobs.in

Q.23 एक कागज को निम्नानुसार मोड़ा और काटा गया है। इसे खोलने पर यह कैसा दिखेगा?

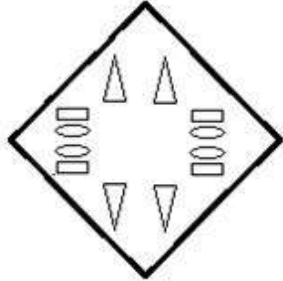


Ans

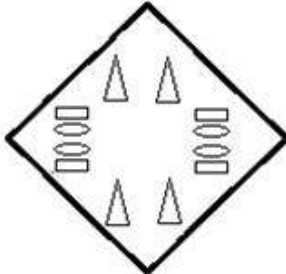
✗ 1.



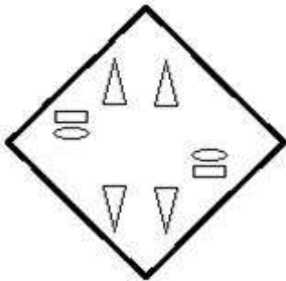
✓ 2.



✗ 3.



✗ 4.



www.HaryanaJobs.in

Question ID : 65497815550
Chosen Option : 2

Q.24 उस विकल्प का चयन करें, जो तीसरे शब्द से ठीक उसी प्रकार संबंधित है, जिस प्रकार दूसरा शब्द पहले शब्द से संबंधित है।

आलसी : परिश्रमी :: धनी : ?

- Ans
- 1. धन
 - 2. दुखी
 - 3. अमीर
 - 4. कंगाल

Question ID : 65497815538
Chosen Option : 4

Q.25 P, Q, R, S और T पांच लोहे की गेंदों में से, Q का वजन 5 kg है, जो कि P के वजन से दोगुना है। S का वजन T के वजन से आधा है। R का वजन P और Q दोनों के कुल वजन के बराबर है। T का वजन R के वजन से चार गुना है। S का वजन कितना है?

- Ans
- 1. 15 kg
 - 2. 30 kg
 - 3. 7.5 kg
 - 4. 10 kg

Question ID : 65497815545
Chosen Option : 1

Section : Numerical Aptitude

Q.1 A और B विलयन में अम्ल और जल का अनुपात क्रमशः 2 : 7 और 4 : 5 है। इन विलयनों को 4 : 3 के अनुपात में मिश्रित किया जाता है। परिणामी विलयन में अम्ल और जल का अनुपात ज्ञात करें।

- Ans
- 1. 21 : 40
 - 2. 20 : 43
 - 3. 23 : 40
 - 4. 25 : 21

Question ID : 65497814554
Chosen Option : 2

Q.2 $\frac{5}{8} \div \left(\frac{8}{11} \times 2\frac{3}{4} \div \frac{4}{9} \right) + 5\frac{1}{3} \div \left(5\frac{1}{4} \div \frac{3}{8} \times \frac{3}{7} \right)$ of $1\frac{7}{9}$ का मान ज्ञात करें।

- Ans
- 1. $\frac{1}{4}$
 - 2. $\frac{23}{36}$
 - 3. $\frac{5}{18}$
 - 4. $\frac{1}{2}$

Question ID : 65497814544
Chosen Option : 2

Q.3 किसी त्रिभुजाकार मैदान की भुजाएं 96 m, 110 m और 146 m हैं। ₹5.60 प्रति m^2 की दर से मैदान को समतल करने की लागत ज्ञात करें।

- Ans
- ✓ 1. ₹29,568
 - ✗ 2. ₹28,224
 - ✗ 3. ₹30,564
 - ✗ 4. ₹31,680

Question ID : 65497814561
Chosen Option : 1

Q.4 अनु. A और B में से प्रत्येक वस्तु को ₹4,000 में बेचती है, इस पूरे लेन-देन में उसे कोई भी हानि या लाभ नहीं होता है। यदि वस्तु A को 25% के लाभ पर बेचा गया, तो वस्तु B _____ की हानि पर बेची गई।

- Ans
- ✗ 1. 20%
 - ✗ 2. 25%
 - ✓ 3. $16\frac{2}{3}\%$
 - ✗ 4. $15\frac{1}{2}\%$

Question ID : 65497814550
Chosen Option : 3

Q.5 तीन वर्ष पहले, A, B और C की औसत आयु 29 वर्ष थी। यदि 5 वर्ष पहले B और C की औसत आयु 23 वर्ष थी, तो A की वर्तमान आयु (वर्ष में) ज्ञात करें।

- Ans
- ✗ 1. 46
 - ✗ 2. 50
 - ✗ 3. 49
 - ✓ 4. 40

Question ID : 65497814545
Chosen Option : 4

Q.6 किसी परीक्षा में A, B और C का औसत स्कोर 78 और C, D और E का औसत स्कोर 52 है। E और F का औसत स्कोर 48 और E और C का औसत स्कोर 60 है। A, B, C, D, E और F का औसत स्कोर ज्ञात करें।

- Ans
- ✗ 1. 67
 - ✗ 2. 62
 - ✓ 3. 61
 - ✗ 4. 63

Question ID : 65497814546
Chosen Option : 3

Q.7 $39 - [30 - \{33 - (19 - 4 \div 3 \text{ of } 8 \times 6)\}]$ का मान ज्ञात करें।

- Ans
- 1. 9
 - 2. 24
 - 3. 15
 - 4. 18

Question ID : 65497814543
Chosen Option : 2

Q.8 88 km/h की चाल से चलने वाली 248-m लंबी रेलगाड़ी, समान दिशा में 34 km/h की चाल से चलने वाली x m लंबी दूसरी रेलगाड़ी को 30 सेकंड में पार करती है। x का मान ज्ञात करें।

- Ans
- 1. 197
 - 2. 207
 - 3. 192
 - 4. 202

Question ID : 65497814560
Chosen Option : 4

Q.9 दिए गए पाई चार्ट का अध्ययन करें और नीचे दिए गए प्रश्न का उत्तर दें।
दिया गया पाई चार्ट किसी कॉलेज में विभिन्न खेलों को खेलने वाले छात्रों के वितरण (डिग्री के अनुसार) को दर्शाता है।



कुल छात्रों की संख्या = 600

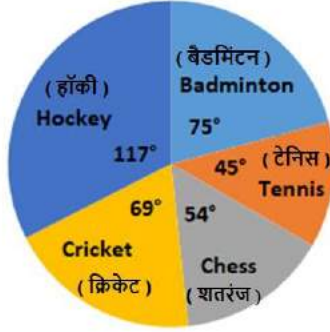
शतरंज और बैडमिंटन खेलने वाले छात्रों की संख्याओं के बीच अंतर x है। x का मान _____ के बीच होगा।

- Ans
- 1. 44 और 50
 - 2. 26 और 32
 - 3. 38 और 44
 - 4. 32 और 38

Question ID : 65497814564
Chosen Option : 4

Q.10 दिए गए पाई चार्ट का अध्ययन करें और नीचे दिए गए प्रश्न का उत्तर दें।

दिया गया पाई चार्ट किसी कॉलेज में विभिन्न खेलों को खेलने वाले छात्रों के वितरण (डिग्री के अनुसार) को दर्शाता है।



कुल छात्रों की संख्या = 600

टेनिस और हॉकी खेलने वाले छात्रों की औसत संख्या, बैडमिंटन खेलने वाले छात्रों की संख्या से कितने प्रतिशत अधिक है?

- Ans
- ✓ 1. 8
 - ✗ 2. 8.2
 - ✗ 3. 7.4
 - ✗ 4. 10

Question ID : 65497814565

Chosen Option : 1

Q.11 किसी ठोस लंबवृत्तीय शंकु के आधार का व्यास 22 cm है और इसकी ऊंचाई 60 cm है। ₹1.40 प्रति cm^2 की दर से, इसके बक्रपृष्ठ को पॉलिश करने की लागत ज्ञात करें। ($\pi = \frac{22}{7}$ लें)

- Ans
- ✓ 1. ₹2,952.40
 - ✗ 2. ₹2,807.20
 - ✗ 3. ₹3,006
 - ✗ 4. ₹2,904

Question ID : 65497814361

Chosen Option : 1

Q.12 जब कोई वस्तु ₹640 में बेची गई, तो 12% की हानि हुई। 21% लाभ के लिए, इस वस्तु को _____ में बेचना चाहिए।

- Ans
- ✗ 1. ₹770.00
 - ✗ 2. ₹774.40
 - ✗ 3. ₹828.80
 - ✓ 4. ₹880.00

Question ID : 65497814551

Chosen Option : 4

Q.13 What is the mean of the median and range of the following data?

3, 8, 7, 12, 4, 3, 16, 20, 23, 10, 9, 15, 2, 7

- Ans
- 1. 14.5
 - 2. 14.75
 - 3. 19.5
 - 4. 13.75

Question ID : 65497814548
Chosen Option : 2

Q.14 माना x वह छोटी से छोटी संख्या है, जिसे 8, 12, 15, 24, 25 और 40 से विभाजित करने पर प्रत्येक स्थिति में 7 शेषफल प्राप्त होता है। जब x को 29 से विभाजित किया जाता है, तो प्राप्त होने वाला शेषफल ज्ञात करें।

- Ans
- 1. 27
 - 2. 20
 - 3. 19
 - 4. 18

Question ID : 65497814542
Chosen Option : 1

Q.15 कोई कार, किसी निश्चित एकसमान चाल (km/h में) से 450 km की दूरी तय करती है। यात्रा में लगे घंटों की संख्या, चाल को निरूपित करने वाली संख्या का $\frac{1}{8}$ है। दूरी को तय करने में कार द्वारा लिया गया समय (घंटे में) ज्ञात करें।

- Ans
- 1. 6
 - 2. $6\frac{1}{4}$
 - 3. $7\frac{1}{2}$
 - 4. 9

Question ID : 65497814559
Chosen Option : 3

www.HaryanaJobs.in

Q.16 $\frac{8}{3} \div \frac{3}{5} \times \frac{7}{5} \div 6$ का मान कितना है?

- Ans
1. $\frac{1}{3}$
2. $\frac{1}{2}$
3. $\frac{1}{6}$
4. $\frac{1}{4}$

Question ID : 65497816582
Chosen Option : 2

Q.17 कोई विक्रेता अपनी सामग्री पर मूल्य को इस प्रकार अंकित करता है कि अंकित मूल्य पर 16% छूट देने के बाद उसको 26% का लाभ होता है। यदि सामग्री का क्रय मूल्य ₹318 है, तो सामग्री का अंकित मूल्य ज्ञात करें।

- Ans
1. ₹427
2. ₹456
3. ₹450
4. ₹477

Question ID : 65497814547
Chosen Option : 4

Q.18 X, Y से 60% अधिक कुशल है और अकेले Y किसी कार्य को 80 दिन में कर सकता है। एक साथ कार्य करते हुए, X और Y उसी कार्य के 52% भाग को कितने दिन में पूरा करेंगे?

- Ans
1. 15 दिन
2. 18 दिन
3. 16 दिन
4. 20 दिन

Question ID : 65497814558
Chosen Option : 3

Q.19 यदि $(11a^3 - 15b^3) : (10a^3 + 4b^3) = 5 : 7$ है, तो $(9a + 5b) : (5a - 3b)$, _____ के बराबर होगा।

- Ans
1. 15 : 4
2. 14 : 9
3. 10 : 7
4. 13 : 5

Question ID : 65497814552
Chosen Option : 1

Q.20 एक साथ कार्य करते हुए, A और B किसी कार्य के 45% भाग को 18 दिन में पूरा कर सकते हैं। अकेले A उसी कार्य को 60 दिन में पूरा कर सकता है। A और B एक साथ 16 दिन तक कार्य करते हैं और फिर A कार्य छोड़ देता है। अकेले B शेष कार्य को कितने दिन में पूरा करेगा?

- Ans
- 1. 80 दिन
 - 2. 60 दिन
 - 3. 75 दिन
 - 4. 72 दिन

Question ID : 65497814557
Chosen Option : 4

Q.21 कोई निश्चित राशि 2 वर्ष के लिए 5% वार्षिक दर पर, अगले 3 वर्ष के लिए 9% वार्षिक दर पर और 5 वर्ष बाद 13% वार्षिक दर पर उधार दी जाती है। यदि 10 वर्ष की अवधि में राशि पर प्राप्त साधारण ब्याज ₹8,160 है, तो राशि (₹ में) ज्ञात करें।

- Ans
- 1. 8,000
 - 2. 8,400
 - 3. 9,000
 - 4. 9,600

Question ID : 65497814555
Chosen Option : 1

Q.22 ₹4,095 की राशि को A, B, C और D के बीच इस प्रकार विभाजित किया जाता है कि A और B के हिस्सों का अनुपात 1 : 3 है, B और C के हिस्सों का अनुपात 2 : 5 है और C और D के हिस्सों का अनुपात 2 : 3 है। B और D के हिस्सों के बीच अंतर (₹ में) ज्ञात करें।

- Ans
- 1. 1,845
 - 2. 1,485
 - 3. 1,440
 - 4. 1,530

Question ID : 65497814553
Chosen Option : 2

Q.23 दिए गए पाई चार्ट का अध्ययन करें और नीचे दिए गए प्रश्न का उत्तर दें।

दिया गया पाई चार्ट किसी कॉलेज में विभिन्न खेलों को खेलने वाले छात्रों के वितरण (डिग्री के अनुसार) को दर्शाता है।



कुल छात्रों की संख्या = 600

यदि हॉकी खेलने वाले पुरुष छात्रों और महिला छात्रों की संख्याओं का अनुपात 6 : 7 है और टेनिस खेलने वाले 40% छात्र महिला हैं, तो हॉकी और टेनिस खेलने वाले पुरुष छात्रों की कुल संख्या ज्ञात करें।

- Ans
- 1. 120
 - 2. 117
 - 3. 108
 - 4. 135

Question ID : 65497814566
Chosen Option : 4

Q.24 यदि 270 का $(x + 25)\%$, 240 के $x\%$ से 20% अधिक है, तो $(x + 125)$ का 12% , x के 10% से कितने प्रतिशत अधिक है?

- Ans
- 1. 45
 - 2. 55
 - 3. 60
 - 4. 42

Question ID : 65497814549
Chosen Option : 3

Q.25 यदि ब्याज हर 8 महीने बाद संयोजित होता है, तो ₹12,000 की राशि पर, वार्षिक 18% की दर से $1\frac{1}{3}$ वर्ष में प्राप्त चक्रवृद्धि ब्याज ज्ञात करें।

- Ans
- 1. ₹4,708.80
 - 2. ₹2,980.20
 - 3. ₹3,840.40
 - 4. ₹3,052.80

Question ID : 65497814556
Chosen Option : 4

Section : General Awareness

Q.1 स्पंज, प्राणी जगत के _____ संघ से संबंध रखता है।

- Ans
- 1. मोलस्का
 - 2. इकाइनोडर्मेटा
 - 3. पोरिफेरा
 - 4. ऐस्केलमिन्थीज़

Question ID : 65497816401
Chosen Option : 1

Q.2 Which of the following is a dance form from the state of Uttarakhand?

- Ans
- 1. Therukoothu
 - 2. Kutiyattam
 - 3. Choliya
 - 4. Rouf

Question ID : 65497816386
Chosen Option : 4

Q.3 निम्नलिखित में से किस भारतीय पर्व को मनाने के दौरान, मक्खन, दही, इत्यादि से भरी मटकी को जमीन से ऊपर टांग दिया जाता है और लोग मानव पिरामिड बनाकर इसे तोड़ने का प्रयास करते हैं?

- Ans
- 1. जन्माष्टमी
 - 2. रामनवमी
 - 3. उगादी
 - 4. संक्रांति

Question ID : 65497816385
Chosen Option : 1

Q.4 भारतीय संविधान का भाग _____ संविधान संशोधन से संबंधित है।

- Ans
- 1. 10
 - 2. 18
 - 3. 13
 - 4. 20

Question ID : 65497816398
Chosen Option : 2

Q.5 भारत सरकार ने किस वर्ष संसद के एक अधिनियम द्वारा पहला म्यूचुअल फंड आरंभ किया?

- Ans
- 1. 1971
 - 2. 1963
 - 3. 1982
 - 4. 1979

Question ID : 65497817504
Chosen Option : --

Q.6 गंगा और सोन जैसी नदियाँ, प्राचीन भारत में महाजनपद _____ से होकर बहती थी।

- Ans 1. मगध
 2. कोशल
 3. कम्बोज
 4. मच्छा

Question ID : 65497816407
 Chosen Option : 1

Q.7 _____ एक उपकरण है जिसका उपयोग विद्युत सर्किट में दो बिंदुओं के बीच विद्युत विभवांतर के मापन के लिए किया जाता है।

- Ans 1. एमीटर
 2. गैल्वेनोमीटर
 3. वोल्टमीटर
 4. बोलोमीटर

Question ID : 65497816402
 Chosen Option : 3

Q.8 जनवरी 2015 से, राष्ट्रीय सांख्यिकी आयोग की सिफारिशों के अनुसार, भारत में जी.डी.पी. (GDP) श्रृंखला का आधार वर्ष 2004-05 से संशोधित कर _____ कर दिया गया था।

- Ans 1. 2011-12
 2. 2005-06
 3. 2013-14
 4. 2009-10

Question ID : 65497816395
 Chosen Option : 1

Q.9 ह्यूमस मृदा के किस भाग में पाया जाता है?

- Ans 1. सी-क्षितिज (C-horizon)
 2. बी-क्षितिज (B-horizon)
 3. तलशिला (Bedrock)
 4. ए-क्षितिज (A-horizon)

Question ID : 65497816404
 Chosen Option : --

Q.10 The United Nations Sustainable Development Goal 6 strives to _____.

- Ans 1. end hunger, achieve food security and improved nutrition and promote sustainable agriculture
 2. ensure healthy lives and promote well-being for all at all ages
 3. achieve gender equality and empower all women and girls
 4. ensure availability and sustainable management of water and sanitation for all

Question ID : 65497816403
 Chosen Option : 3

Q.11 आँख की पुतली का आकार _____ द्वारा नियंत्रित किया जाता है।

- Ans
- 1. दृष्टिपटल (retina)
 - 2. श्वेत पटल (cornea)
 - 3. अंध बिन्दु (blind spot)
 - 4. पुतली (iris)

Question ID : 65497816399
Chosen Option : 4

Q.12 प्राचीन भारतीय पांडुलिपियां आमतौर पर ताड़ पत्रों पर या हिमालय में उगने वाले _____ के पेड़ की छाल पर लिखी जाती थीं।

- Ans
- 1. भोज वृक्ष
 - 2. चिनार
 - 3. देवदार
 - 4. कामिनी

Question ID : 65497816408
Chosen Option : 3

Q.13 वनों के संबंध में निम्नलिखित में से कौन सा कथन असत्य है?

- Ans
- 1. किसी वन में, पेड़ वनस्पति की सबसे ऊपरी परत बनाते हैं।
 - 2. किसी वन में, झाड़ियाँ वनस्पति की सबसे निचली परत बनाती हैं।
 - 3. वन जलवायु, जल चक्र और वायु गुणवत्ता को प्रभावित करते हैं।
 - 4. वन मृदा का अपरदन रोकते हैं।

Question ID : 65497816400
Chosen Option : 2

Q.14 भारतीय संविधान के बारे में निम्नलिखित में से कौन सा कथन सत्य नहीं है?

- Ans
- 1. यह सभी व्यक्तियों और समुदायों को किसी भी धर्म को धारण करने, अभ्यास करने और प्रचार करने की स्वतंत्रता प्रदान करता है।
 - 2. इसके निर्माताओं ने एक धर्मनिरपेक्ष राज्य का मॉडल चुना है।
 - 3. यह राज्य को धर्म के मामलों में कोई कानून बनाने से रोकता है।
 - 4. यह धर्म के आधार पर भेदभाव पर रोक लगाता है।

Question ID : 65497816396
Chosen Option : 3

Q.15 30 जुलाई 2020 तक प्राप्त जानकारी के अनुसार भारतीय पुरुष हॉकी टीम के कप्तान का नाम बताइए।

- Ans
- 1. जरमनप्रीत सिंह
 - 2. गुरिंदर सिंह
 - 3. मनप्रीत सिंह
 - 4. हरमनप्रीत सिंह

Question ID : 65497816389
Chosen Option : 3

Q.16 क्रिकेट खिलाड़ी जहीर खान को 2020 में _____ से सम्मानित किया गया था।

- Ans
- 1. द्रोणाचार्य पुरस्कार
 - 2. अर्जुन पुरस्कार
 - 3. पद्मश्री
 - 4. पद्म भूषण

Question ID : 65497816388
Chosen Option : 3

Q.17 Which of the following statements about the city of Ahmedabad is NOT true?

- Ans
- 1. Ahmedabad is located on the banks of the river Sabarmati.
 - 2. The first mill in Ahmedabad was established in the year 1895.
 - 3. Ahmedabad was often referred to as the 'Manchester of India'.
 - 4. Ahmedabad is situated very close to cotton growing areas.

Question ID : 65497816405
Chosen Option : 4

Q.18 Which of the following is NOT a public sector insurance company?

- Ans
- 1. SBI Life Insurance
 - 2. General Insurance Corporation of India
 - 3. The New India Assurance Company Limited
 - 4. United India Insurance Company Limited

Question ID : 65497815283
Chosen Option : 3

Q.19 निम्नलिखित में से कौन सा भारत में पुरातात्विक महत्व का एक पुरापाषाण स्थल है?

- Ans
- 1. हुनासागी
 - 2. बुर्जहोम
 - 3. मेहरगढ़
 - 4. चिरांद

Question ID : 65497816409
Chosen Option : 2

Q.20 गंगा-ब्रह्मपुत्र बेसिन _____ अक्षांशों के बीच स्थित है।

- Ans
- 1. 16°N और 36°N
 - 2. 10°N और 30°N
 - 3. 14°N और 34°N
 - 4. 12°N और 32°N

Question ID : 65497816406
Chosen Option : 1

Q.21 _____, कूर्ग के कोडव समुदाय का फसल पर्व है।

- Ans
- 1. मड़ई
 - 2. थैय्यम
 - 3. पुट्टारी
 - 4. भगोरिया

Question ID : 65497816387
Chosen Option : 2

Q.22 Which of the following persons was awarded the Padma Vibhushan posthumously in 2020?

- Ans
- 1. Arun Jaitley
 - 2. Ustad Ghulam Mustafa Khan
 - 3. P Parameswaran
 - 4. Kuldip Nayar

Question ID : 65497816391
Chosen Option : 1

Q.23 भारतीय संविधान के अनुच्छेद 57 में कहा गया है कि _____।

- Ans
- 1. राष्ट्रपति अपने पद पर आसीन होने की तिथि से पाँच वर्षों के लिए पद धारण करेगा।
 - 2. राष्ट्रपति का निर्वाचन एक निर्वाचक मंडल के सदस्यों द्वारा किया जाएगा, जिसमें (a) संसद के दोनों सदनों के निर्वाचित सदस्य शामिल होंगे; और (b) राज्यों की विधान सभाओं के निर्वाचित सदस्य शामिल होंगे।
 - 3. एक व्यक्ति जो, राष्ट्रपति के पद पर है या पहले इस पद पर रह चुका है, इस संविधान के अन्य प्रावधानों के अधीन, वह इस पद पर फिर से चुनाव के लिए पात्र होगा।
 - 4. संघ की कार्यकारी शक्तियाँ राष्ट्रपति में निहित की जाएगी और इस संविधान के अनुसार सीधे उनके द्वारा या उनके अधीनस्थ अधिकारियों द्वारा इन शक्तियों का प्रयोग किया जा सकेगा।

Question ID : 65497816397
Chosen Option : 2

Q.24 Which of the following is a book by Lewis Carroll?

- Ans
- 1. The Man Who Would be King
 - 2. Rikki-Tikki-Tavi
 - 3. Alice's Adventures in Wonderland
 - 4. The Jungle Book

Question ID : 65497816390
Chosen Option : 4

Q.25 सितंबर 2020 तक प्राप्त जानकारी के अनुसार, वे एकमात्र भारतीय राष्ट्रपति कौन हैं, जिनकी मोम की प्रतिमा दिल्ली के मैडम तुसाद मोम संग्रहालय में स्थित है?

- Ans
- 1. सर्वपल्ली राधाकृष्णन
 - 2. प्रतिभा पाटिल
 - 3. राजेन्द्र प्रसाद
 - 4. ए.पी.जे. अब्दुल कलाम

Question ID : 65497816392
Chosen Option : 4

Join Telegram Group "HaryanaJobs.in"

www.HaryanaJobs.in

Multi Tasking Non Technical Staff Examination 2020

Participant ID	www.HaryanaJobs.in
Participant Name	www.HaryanaJobs.in
Test Center Name	iON Digital Zone iDZ Sallahapur
Test Date	07/10/2021
Test Time :	4:00 PM - 5:30 PM
Subject	MTS Non Technical 2020

Section : **General English**

Q.1 Identify the segment in the sentence which contains a grammatical error.

There was many people who voted for him.

- Ans
- 1. many people
 - 2. who voted
 - 3. for him
 - 4. There was

Question ID : **65497815501**
Chosen Option : 4

Q.2 Select the word which means the same as the group of words given.

One who leaves one's country to settle in another

- Ans
- 1. Foreigner
 - 2. Citizen
 - 3. Immigrant
 - 4. Emigrant

Question ID : **65497815521**
Chosen Option : 4

Q.3 Select the most appropriate option to substitute the underlined segments in the given sentence. If there is no need to substitute them, select 'No substitution required'.

The lockdowns has give many parents and grandparents the opportunity to share some of my nostalgic memories with their children and grandchildren.

- Ans
- 1. have given; of her
 - 2. No substitution required
 - 3. had gave; of his
 - 4. have given; of their

Question ID : **65497814807**
Chosen Option : 4

Q.4 Select the most appropriate synonym of the given word.

FOWL

- Ans 1. Bird
 2. Mistake
 3. Dirty
 4. Unfair

Question ID : 65497815517
Chosen Option : 4

Q.5 Select the INCORRECTLY spelt word.

- Ans 1. Further
 2. Farther
 3. Fabulus
 4. Fasting

Question ID : 65497815523
Chosen Option : 3

Q.6 Select the most appropriate ANTONYM of the given word.

CLEAR

- Ans 1. Murky
 2. Black
 3. Clean
 4. White

Question ID : 65497815516
Chosen Option : 1

Q.7 Select the most appropriate word to fill in the blank.

Going by the current pace of work, I _____ think this will finish by Sunday.

- Ans 1. don't
 2. won't
 3. couldn't
 4. shan't

Question ID : 65497815505
Chosen Option : 1

Q.8 Select the most appropriate option to substitute the underlined segment in the given sentence. If there is no need to substitute it, select 'No substitution required.'

People are slowly returning to their normal routine after opening up of the lockdown.

- Ans
- 1. closing
 - 2. closing up
 - 3. No substitution required
 - 4. opening down

Question ID : 65497815512
Chosen Option : 2

Q.9 Select the word which means the same as the group of words given.

Fear of closed spaces

- Ans
- 1. Agoraphobia
 - 2. Claustrophobia
 - 3. Aquaphobia
 - 4. Acrophobia

Question ID : 65497815522
Chosen Option : 2

Q.10 Identify the segment in the sentence which contains a grammatical error.

Sumit has decided to brought his car for the picnic.

- Ans
- 1. has decided
 - 2. to brought
 - 3. for the picnic
 - 4. his car

Question ID : 65497815503
Chosen Option : 2

Q.11 Select the most appropriate meaning of the given idiom.

Raining cats and dogs

- Ans
- 1. Worried about cats and dogs
 - 2. Facing light rain and wind
 - 3. Raining very heavily
 - 4. Having lots of pets around you

Question ID : 65497815519
Chosen Option : 3

Q.12 Select the most appropriate ANTONYM of the given word.

FRIEND

- Ans 1. Companion
 2. Helper
 3. Foe
 4. Partner

Question ID : 65497815515
Chosen Option : 3

Q.13 Select the most appropriate word to fill in the blank.

In India, people of all religions and castes live together and they are _____ in spite of cultural differences.

- Ans 1. learned
 2. shared
 3. united
 4. confused

Question ID : 65497815526
Chosen Option : 3

Q.14 Select the most appropriate word to fill in the blank.

The teacher was very _____. She never let anyone play pranks in her class.

- Ans 1. lenient
 2. jovial
 3. strict
 4. happy

Question ID : 65497815525
Chosen Option : 3

Q.15 Select the INCORRECTLY spelt word.

- Ans 1. Approachable
 2. Amiable
 3. Amicable
 4. Amanable

Question ID : 65497815524
Chosen Option : 4

Q.16 Select the most appropriate synonym of the given word.

ICONIC

- Ans 1. General
 2. Manageable
 3. Exemplary
 4. Unimportant

Question ID : 65497815518
Chosen Option : 3

Q.17 Select the most appropriate word to fill in the blank.

Remember that where there is a _____ there is a way.

- Ans 1. wills
 2. will
 3. willing
 4. willed

Question ID : 65497815504
Chosen Option : 2

Q.18 Identify the segment in the sentence which contains a grammatical error.

Since India has started doing well in hockey it had once again become a popular sport.

- Ans 1. doing well
 2. become a popular sport
 3. it had once again
 4. Since India

Question ID : 65497815502
Chosen Option : 1

Q.19 Select the most appropriate meaning of the given idiom.

How time flies!

- Ans 1. A clock going very fast
 2. Time seems to move quickly
 3. Difficult to pass time
 4. Time seems to stay still

Question ID : 65497815520
Chosen Option : 4

Q.20 Select the most appropriate option to substitute the underlined segment in the given sentence. If there is no need to substitute it, select 'No substitution required'.

I rang up an old friend of mine but she doesn't pick out the phone.

- Ans
- 1. isn't pick out
 - 2. wasn't picked up
 - 3. didn't pick up
 - 4. No substitution required

Question ID : **65497817028**
Chosen Option : 3

Comprehension:

In the following passage some words have been deleted. Fill in the blanks with the help of the alternatives given. Select the most appropriate option for each blank.

A computer programmer, sometimes (1)_____ a software developer, a programmer or more recently a coder, (2)_____ a person who creates computer software. The term 'computer programmer' can (3)_____ to a specialist in the area of computers, or to a generalist (4)_____ writes codes for many kinds of software. Some programmers who (5)_____ web programming languages add a prefix, a suffix, or both to every page's title.

SubQuestion No : 21

Q.21 Select the most appropriate option to fill in blank no. 1.

- Ans
- 1. accepted
 - 2. called
 - 3. known
 - 4. said

Question ID : **65497815507**
Chosen Option : 2

Comprehension:

In the following passage some words have been deleted. Fill in the blanks with the help of the alternatives given. Select the most appropriate option for each blank.

A computer programmer, sometimes (1)_____ a software developer, a programmer or more recently a coder, (2)_____ a person who creates computer software. The term 'computer programmer' can (3)_____ to a specialist in the area of computers, or to a generalist (4)_____ writes codes for many kinds of software. Some programmers who (5)_____ web programming languages add a prefix, a suffix, or both to every page's title.

SubQuestion No : 22

Q.22 Select the most appropriate option to fill in blank no. 2.

- Ans
- 1. is
 - 2. was
 - 3. has
 - 4. were

Question ID : **65497815508**
Chosen Option : 1

Comprehension:

In the following passage some words have been deleted. Fill in the blanks with the help of the alternatives given. Select the most appropriate option for each blank.

A computer programmer, sometimes (1)_____ a software developer, a programmer or more recently a coder, (2)_____ a person who creates computer software. The term 'computer programmer' can (3)_____ to a specialist in the area of computers, or to a generalist (4)_____ writes codes for many kinds of software. Some programmers who (5)_____ web programming languages add a prefix, a suffix, or both to every page's title.

SubQuestion No : 23**Q.23 Select the most appropriate option to fill in blank no. 3.**

- Ans 1. refer
 2. specify
 3. mean
 4. know

Question ID : 65497815509
 Chosen Option : 1

Comprehension:

In the following passage some words have been deleted. Fill in the blanks with the help of the alternatives given. Select the most appropriate option for each blank.

A computer programmer, sometimes (1)_____ a software developer, a programmer or more recently a coder, (2)_____ a person who creates computer software. The term 'computer programmer' can (3)_____ to a specialist in the area of computers, or to a generalist (4)_____ writes codes for many kinds of software. Some programmers who (5)_____ web programming languages add a prefix, a suffix, or both to every page's title.

SubQuestion No : 24**Q.24 Select the most appropriate option to fill in blank no. 4.**

- Ans 1. whom
 2. that
 3. which
 4. who

Question ID : 65497815510
 Chosen Option : 4

Comprehension:

In the following passage some words have been deleted. Fill in the blanks with the help of the alternatives given. Select the most appropriate option for each blank.

A computer programmer, sometimes (1)_____ a software developer, a programmer or more recently a coder, (2)_____ a person who creates computer software. The term 'computer programmer' can (3)_____ to a specialist in the area of computers, or to a generalist (4)_____ writes codes for many kinds of software. Some programmers who (5)_____ web programming languages add a prefix, a suffix, or both to every page's title.

SubQuestion No : 25**Q.25 Select the most appropriate option to fill in blank no. 5.**

- Ans 1. display at
 2. study with
 3. work of
 4. work with

Question ID : 65497815511
 Chosen Option : 4

Section : General Intelligence and Reasoning

Q.1 निम्न संख्या श्रेणी में प्रश्नवाचक चिह्न (?) के स्थान पर कौन-सी संख्या आएगी?

2, 3, 6, 10, 17, ?

- Ans
- 1. 30
 - 2. 25
 - 3. 27
 - 4. 28

Question ID : 65497816036
Chosen Option : 4

Q.2 यदि NATURE को MCQYMK लिखा जाता है, तो CREST को किस प्रकार लिखा जाएगा?

- Ans
- 1. CPHOY
 - 2. BTBWO
 - 3. BTHKO
 - 4. BTBOY

Question ID : 65497816039
Chosen Option : 2

Q.3 P, Q, R, S, T, U और V एक पंक्ति में खड़े हैं।

- i. T, P के ठीक पीछे खड़ा है।
- ii. V, Q के ठीक सामने खड़ा है, जो कि अंतिम व्यक्ति नहीं है।
- iii. P और R के बीच में S खड़ा है।
- iv. T और Q के बीच में एक व्यक्ति खड़ा है।

पंक्ति में सबसे पीछे कौन है?

- Ans
- 1. T
 - 2. S
 - 3. U
 - 4. Q

Question ID : 65497816049
Chosen Option : --

www.HaryanaJobs.in

Q.4 जब दर्पण को दी गई आकृति के दाईं ओर रखा जाता है, तो आकृति के दर्पण में निर्मित प्रतिबिंब का चयन करें।

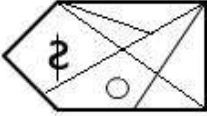


Ans

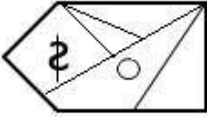
✗ 1.



✗ 2.



✗ 3.



✓ 4.



Question ID : 65497816054

Chosen Option : 4

Q.5 यदि PAYMENT को 7174552 के रूप में कूटबद्ध किया जाता है, तो YOUNGER को किस रूप में कूटबद्ध किया जाएगा?

Ans ✗ 1. 7153540

✗ 2. 2121751

✓ 3. 7635759

✗ 4. 5514758

Question ID : 65497816040

Chosen Option : 3

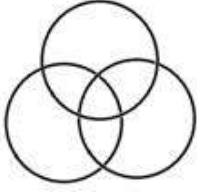
www.HaryanaJobs.in

Q.6 उस वेन-आकृति का चयन करें, जो निम्न वर्गों के बीच संबंध को सर्वोत्तम ढंग से निरूपित करता है।

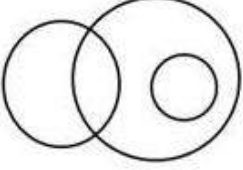
महिला, रिश्तेदार, अंकल

Ans

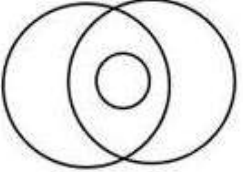
✗ 1.



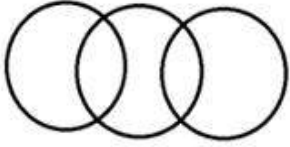
✓ 2.



✗ 3.



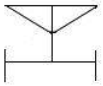
✗ 4.



Question ID : 65497816056
Chosen Option : 4

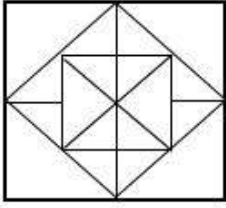
www.HaryanaJobs.in

Q.7 उस विकल्प का चयन करें, जिसमें दी गई आकृति अन्तःस्थापित है। (घुमाने की अनुमति नहीं है)

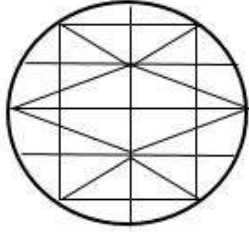


Ans

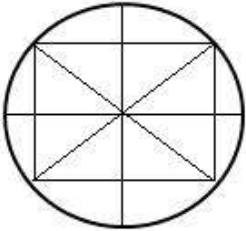
✗ 1.



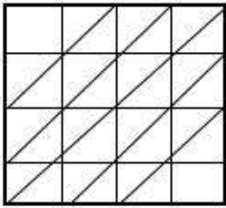
✓ 2.



✗ 3.



✗ 4.



www.HaryanaJobs.in

Question ID : 65497816053

Chosen Option : 2

Q.8 उस संख्या-युग्म का चयन करें, जिसमें दोनों संख्याएं एक-दूसरे से ठीक उसी प्रकार संबंधित हैं, जिस प्रकार नीचे दिए गए युग्म की दोनों संख्याएं एक-दूसरे से संबंधित हैं।

11 : 72

Ans ✗ 1. 9 : 48

✓ 2. 7 : 32

✗ 3. 15 : 95

✗ 4. 3 : 7

Question ID : 65497816034

Chosen Option : 3

Q.9 यदि PEARS को 101 के रूप में और CAT को 49 के रूप में कूटबद्ध किया जाता है, तो MEAL को किस रूप में कूटबद्ध किया जाएगा?

Ans 1. 73

2. 63

3. 77

4. 31

Question ID : 65497816041

Chosen Option : 2

Q.10 तीन कथनों के बाद तीन निष्कर्ष I, II और III दिए गए हैं। कथनों को सत्य मानते हुए, भले ही ये वास्तविक दुनिया के ज्ञान के अनुरूप न हों, निर्धारित करें कि कौन सा/से निष्कर्ष कथनों का तार्किक रूप से अनुसरण करता/करते है/हैं।

कथन:

1. सभी प्रबंधक, कर्मचारी हैं।
2. सभी वरिष्ठ, प्रबंधक हैं।
3. कुछ वरिष्ठ, पेंशन धारक हैं।

निष्कर्ष:

- I. कुछ पेंशन धारक, कर्मचारी हैं।
- II. कुछ कर्मचारी, पेंशन धारक हैं।
- III. सभी कर्मचारी, वरिष्ठ हैं।

Ans 1. सभी निष्कर्ष I, II और III अनुसरण करते हैं।

2. केवल निष्कर्ष I और III अनुसरण करते हैं।

3. केवल निष्कर्ष I अनुसरण करता है।

4. केवल निष्कर्ष I और II अनुसरण करते हैं।

Question ID : 65497816047

Chosen Option : 4

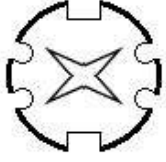
www.HaryanaJobs.in

Q.11 नीचे तीन आकृतियों में कागज के किसी टुकड़े को मोड़ने का क्रम और मुड़े हुए कागज को काटने का तरीका दर्शाया गया है। खोलने पर यह कागज कैसा दिखेगा?

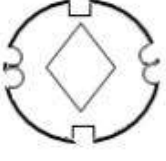


Ans

✓ 1.



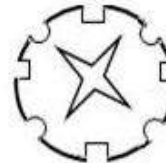
✗ 2.



✗ 3.



✗ 4.



Question ID : 65497816055

Chosen Option : 1

Q.12 दो कथनों के बाद दो निष्कर्ष I और II दिए गए हैं। कथनों को सत्य मानते हुए, भले ही ये वास्तविक दुनिया के ज्ञान के अनुरूप न हों, निर्धारित करें कि कौन सा/से निष्कर्ष कथनों का तार्किक रूप से अनुसरण करता/करते है/हैं।

कथन:

1. सभी हॉस्टल, ईमारतें हैं।
2. कुछ ईमारतें, महल हैं।

निष्कर्ष:

- I. कुछ महल, हॉस्टल हैं।
- II. कोई भी महल, हॉस्टल नहीं है।

Ans

✗ 1. केवल निष्कर्ष II अनुसरण करता है।

✗ 2. निष्कर्ष I और II दोनों अनुसरण करते हैं।

✓ 3. या तो निष्कर्ष I, या फिर II अनुसरण करता है।

✗ 4. केवल निष्कर्ष I अनुसरण करता है।

Question ID : 65497816046

Chosen Option : 3

Q.13 निम्न अक्षर-समूह श्रेणी में प्रश्नवाचक चिह्न (?) के स्थान पर कौन-सा अक्षर-समूह आएगा?

BDF, HKN, PRT, VYB, DFH, ?

- Ans 1. JMP
 2. JLN
 3. JLK
 4. KNQ

Question ID : 65497816045
 Chosen Option : 1

Q.14 'Cataract' is related to 'Ophthalmology' in the same way as 'Neurosis' is related to _____.

- Ans 1. Sociology
 2. Biology
 3. Neurology
 4. Psychology

Question ID : 65497816044
 Chosen Option : 3

Q.15 यदि HOARDING को NGQZHC FM लिखा जाता है, तो TREATISE को किस प्रकार लिखा जाएगा?

- Ans 1. SUBFJUET
 2. DQSHSZDR
 3. QSZDHSDR
 4. QSSHDZRD

Question ID : 65497816038
 Chosen Option : 3

Q.16 उस विकल्प का चयन करें, जो तीसरे अक्षर-समूह से ठीक उसी प्रकार संबंधित है, जिस प्रकार दूसरा अक्षर-समूह पहले अक्षर-समूह से संबंधित है।

SPIKE : QRHDL :: JINGO : ?

- Ans 1. MNHIJ
 2. HKOPF
 3. JIMNH
 4. KLMNE

Question ID : 65497816042
 Chosen Option : 3

Q.17 विकल्पों में से संख्याओं के उस समुच्चय का चयन करें, जो निम्न समुच्चय के समरूप है।

{12, 18, 6}

Ans 1. {16, 12, 8}

2. {18, 9, 8}

3. {15, 13, 11}

4. {9, 14, 11}

Question ID : 65497816035

Chosen Option : --

Q.18 निम्न संख्या श्रेणी में प्रश्नवाचक चिह्न (?) के स्थान पर कौन-सी संख्या आएगी?

3, 7, 22, 45, 136, ?, 820

Ans 1. 409

2. 517

3. 273

4. 293

Question ID : 65497816037

Chosen Option : 3

Q.19 दिए गए समीकरण को संतुलित करने के लिए, इनमें से किन दो चिह्नों को एक-दूसरे से प्रतिस्थापित करना होगा?

$8 + 6 \times 4 \div 2 - 10 = 6$

Ans 1. \times और $+$

2. \times और $-$

3. $+$ और \times

4. $-$ और $+$

Question ID : 65497816033

Chosen Option : 4

Q.20 जिस प्रकार 'पानी', 'फ़िल्टर' से संबंधित है, उसी प्रकार 'फिल्म', '_____' से संबंधित है।

Ans 1. प्रोड्यूसर

2. कास्टिंग

3. डायरेक्टर

4. सेंसर

Question ID : 65497816043

Chosen Option : 4

Q.21 चार लड़कियां A, B, C और D और चार लड़के P, Q, R और S, गोल मेज के परितः केंद्र की ओर अभिमुख होकर बैठे हैं।

- कोई भी दो लड़कियां या लड़के, एक दूसरे के पड़ोस में नहीं बैठे हैं।
- Q, B के ठीक बाईं ओर पड़ोस में बैठा है।
- A और D के बीच में S बैठा है और वह R की ओर अभिमुख है।

P और R के बीच में कौन बैठा/बैठी है?

- Ans
- 1. D
 - 2. B
 - 3. C
 - 4. A

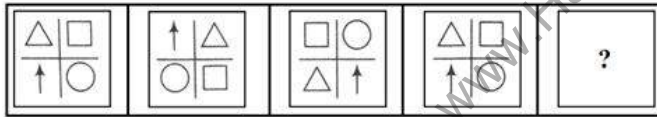
Question ID : 65497816048
Chosen Option : 3

Q.22 यदि - और + चिह्नों को एक-दूसरे से प्रतिस्थापित किया जाता है, तो निम्न में से कौन-सा समीकरण सही होगा?

- Ans
- 1. $12 + 3 \times 2 - 4 = 10$
 - 2. $9 - 6 \times 2 + 8 = 11$
 - 3. $7 \times 3 + 9 - 6 = 17$
 - 4. $10 \div 5 - 10 + 5 = 8$

Question ID : 65497816032
Chosen Option : 1

Q.23 निम्न आकृति श्रेणी में प्रश्नवाचक चिह्न (?) के स्थान पर कौन-सी आकृति आएगी।



Ans

- 1.
- 2.
- 3.
- 4.

Question ID : 65497816051
Chosen Option : 4

Q.24 सात विभिन्न रंगों वाली पुस्तकें, एक के ऊपर एक करके रखी गई हैं।

- i. लाल पुस्तक, नारंगी पुस्तक के ठीक ऊपर है।
- ii. हरी और पीली पुस्तकों के बीच में नीली पुस्तक है।
- iii. हरी और काली पुस्तकों के बीच में बैंगनी पुस्तक है।
- iv. हरी और लाल पुस्तकों के बीच में पुस्तकों की संख्या, काली और नीली पुस्तक के बीच की पुस्तकों की संख्या के बराबर है।

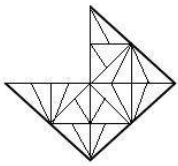
यदि पीली पुस्तक सबसे ऊपर है, तो ठीक बीच में कौन सी पुस्तक है?

- Ans
- ✓ 1. बैंगनी
 - ✗ 2. हरी
 - ✗ 3. नारंगी
 - ✗ 4. लाल

Question ID : 65497816050

Chosen Option : 1

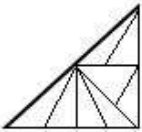
Q.25 उस विकल्प आकृति का चयन करें, जिसे आकृति X के खाली स्थान में रखने से पैटर्न पूरा हो जाएगा।



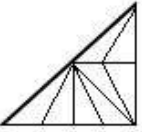
(X)

Ans

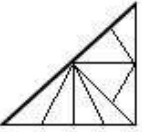
✓ 1.



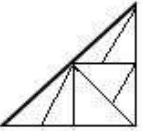
✗ 2.



✗ 3.



✗ 4.



Question ID : 65497816052

Chosen Option : 1

Section : Numerical Aptitude

Q.1 यदि एक आयत की लंबाई में 40% की वृद्धि होती है, तो क्षेत्रफल को समान बनाए रखने के लिए इसकी चौड़ाई में कितने प्रतिशत की कमी करनी पड़ेगी (दशमलव के एक स्थान तक सही)?

- Ans
- 1. 42.5%
 - 2. 33.5%
 - 3. 37.5%
 - 4. 28.6%

Question ID : 65497816882
Chosen Option : 4

Q.2 यदि किसी वृत्त की त्रिज्या में 23% की वृद्धि की जाती है, तो उसके क्षेत्रफल में कितने प्रतिशत की वृद्धि होगी?

- Ans
- 1. 41.61%
 - 2. 27.89%
 - 3. 32.85%
 - 4. 51.29%

Question ID : 65497816881
Chosen Option : 4

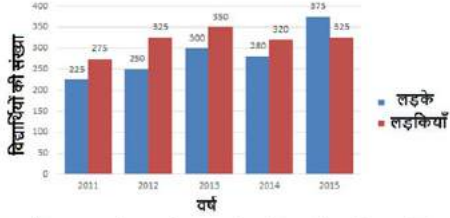
Q.3 जब संख्याओं 21, 22, 60 और 64 में से x घटाया जाता है, तो इस क्रम में प्राप्त होने वाली संख्याएँ, समानुपात में होती हैं। $(x+4)$ और $(\frac{x}{2}-1)$ के बीच का मध्यानुपाती कितना है?

- Ans
- 1. 6
 - 2. 5
 - 3. 8
 - 4. 12

Question ID : 65497816877
Chosen Option : 1

www.HaryanaJobs.in

Q.4 निम्नांकित ग्राफ का अध्ययन करें, जो एक स्कूल XYZ में विभिन्न वर्षों में, दसवीं कक्षा की परीक्षा के लिए उपस्थित होने वाले लड़कों और लड़कियों की संख्या को दर्शाता है।



2012 और 2015 में दसवीं कक्षा की परीक्षा में उपस्थित होने वाली लड़कियों की कुल संख्या का, 2012 और 2013 में दसवीं की परीक्षा में उपस्थित होने वाले लड़कों की कुल संख्या से अनुपात कितना है?

- Ans
- 1. 15 : 11
 - 2. 11 : 15
 - 3. 11 : 13
 - 4. 13 : 11

Question ID : 65497816887
Chosen Option : 4

Q.5 एक स्कूल में लड़कों और लड़कियों का अनुपात 35 : 39 है। यदि स्कूल में लड़कों और लड़कियों का औसत 740 है, तो स्कूल में लड़कों की संख्या कितनी है?

- Ans
- 1. 740
 - 2. 720
 - 3. 780
 - 4. 700

Question ID : 65497816875
Chosen Option : 4

Q.6 एक कार $5\frac{2}{3}$ m/sec की चाल से x km की दूरी तय करती है और शुरुआती बिंदु पर 5 m/sec की चाल से लौटती है। यदि कार द्वारा लिया गया कुल समय $7\frac{3}{5}$ घंटे है तो (x+3) का मान कितना होगा?

- Ans
- 1. 78
 - 2. 75
 - 3. 80
 - 4. 72

Question ID : 65497816868
Chosen Option : 2

Q.7 तीन धनात्मक संख्याओं में से किन्हीं दो संख्याओं का औसत, तीसरी संख्या में जोड़ा जाता है, तो परिणामी योगफल 154, 148 और 132 प्राप्त होते हैं। तीन आरंभिक संख्याओं का योगफल ज्ञात करें।

- Ans
- 1. 222
 - 2. 246
 - 3. 217
 - 4. 231

Question ID : 65497816869
Chosen Option : 1

Q.8 कक्षा A और B के छात्रों की कुल संख्या 72 है। कक्षा A में छात्रों की संख्या, कक्षा B में छात्रों की संख्या से 40% अधिक है। कक्षा B में छात्रों के औसत अंक, कक्षा A के छात्रों के औसत अंकों से 50% अधिक है। यदि कक्षा A और B के सभी छात्रों के औसत अंक 58 हैं, तो कक्षा A के छात्रों के औसत अंक कितने हैं?

- Ans
- 1. 58
 - 2. 50
 - 3. 48
 - 4. 72

Question ID : 65497816870
Chosen Option : 3

Q.9 जब एक वस्तु को ₹388 में बेचा जाता है, तो 3% की हानि होती है। यदि वस्तु को 18% के लाभ पर बेचा जाना हो, तो इसका विक्रय मूल्य (₹ में) कितना होगा?

- Ans
- 1. 432
 - 2. 472
 - 3. 444
 - 4. 460

Question ID : 65497816873
Chosen Option : 2

Q.10 एक चुनाव-क्षेत्र में, 60% मतदाता पुरुष हैं और शेष महिलाएं हैं। 40% पुरुष निरक्षर हैं और 25% महिलाएं साक्षर हैं। साक्षर महिलाओं की तुलना में, निरक्षर पुरुषों की संख्या कितने प्रतिशत अधिक है?

- Ans
- 1. 115%
 - 2. 125%
 - 3. 120%
 - 4. 140%

Question ID : 65497816872
Chosen Option : 4

Q.11 'A', 6 दिनों में 40% कार्य पूरा कर सकता है, जबकि 'B' उसी कार्य को $7\frac{1}{2}$ दिनों में पूरा कर सकता है। यदि वे एक साथ कार्य करते हैं, तो कार्य कितने दिनों में पूरा होगा?

- Ans
- 1. 4
 - 2. 6
 - 3. 5
 - 4. 7

Question ID : 65497816866
Chosen Option : 3

Q.12 एक धनराशि को P, Q, R और S के बीच क्रमशः 3 : 4 : 5 : 6 के अनुपात में वितरित किया जाता है। यदि R को P से ₹500 अधिक प्राप्त होते हैं, तो उन सभी के हिस्सों का योगफल (₹ में) क्या होगा?

- Ans
- 1. 6,000
 - 2. 5,000
 - 3. 4,500
 - 4. 7,500

Question ID : 65497816876
Chosen Option : 3

Q.13 एक धनराशि चक्रवृद्धि ब्याज की निश्चित दर पर 10 वर्षों में दोगुनी हो जाती है। यह धनराशि कितने वर्षों में आठ गुना हो जाएगी?

- Ans
- 1. 25
 - 2. 30
 - 3. 45
 - 4. 15

Question ID : 65497816878
Chosen Option : 2

Q.14 $0.2 \div 0.025 + 39 + 0.92 \div 0.2 \times 5 - 4.9 \div 0.07$ का मान ज्ञात करें।

- Ans
- 1. 1
 - 2. 0
 - 3. 0.15
 - 4. 0.5

Question ID : 65497815572
Chosen Option : 3

Q.15 एक वस्तु का अंकित मूल्य ₹5,450 है। यदि एक व्यक्ति, 15% की छूट देने के बाद, 15% का लाभ अर्जित करता है, तो वस्तु का क्रय मूल्य (₹ में) (निकटतम पूर्णांक तक सही) कितना है?

- Ans
- 1. 4,289
 - 2. 4,498
 - 3. 4,189
 - 4. 4,028

Question ID : 65497816871
Chosen Option : 4

Q.16 दो रेलगाड़ियों की चाल का अनुपात 5 : 8 है। यदि दूसरी रेलगाड़ी 4 घंटे में 600 km चलती है, तो पहली रेलगाड़ी की चाल (kmph में) कितनी है?

- Ans
- 1. 25.5
 - 2. 37.75
 - 3. 93.75
 - 4. 62.5

Question ID : 65497816867
Chosen Option : 3

Q.17 यदि दो संख्याओं का महत्तम समापवर्तक 6 है और इन्हीं दो संख्याओं का लघुतम समापवर्तक 54 है, तो इन संख्याओं के गुणनफल का वर्गमूल कितना होगा?

- Ans
- 1. 12
 - 2. 18
 - 3. 24
 - 4. 16

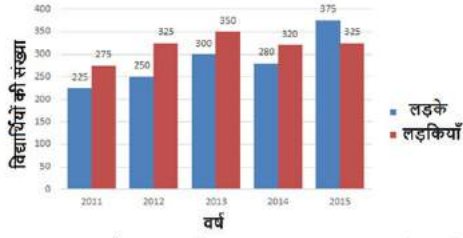
Question ID : 65497816884
Chosen Option : 2

Q.18 एक डेटा को आरोही क्रम में लिखा जाता है, अर्थात् 3,4,7,x,x+1,12,13,15। यदि इस डेटा की माध्यिका 9.5 है, तो x का मान ज्ञात कीजिए।

- Ans
- 1. 9
 - 2. 8.5
 - 3. 8
 - 4. 7.5

Question ID : 65497816880
Chosen Option : 1

Q.19 निम्नांकित ग्राफ का अध्ययन करें, जो एक स्कूल XYZ में विभिन्न वर्षों में, दसवीं कक्षा की परीक्षा के लिए उपस्थित होने वाले लड़कों और लड़कियों की संख्या को दर्शाता है।



2011, 2013 और 2015 में उपस्थित होने वाले लड़कों की संख्या का औसत, 2014 में उपस्थित होने वाली लड़कियों की संख्या से कितने प्रतिशत कम है?

- Ans
- 1. 8.15%
 - 2. 6.5%
 - 3. 6.25%
 - 4. 7.75%

Question ID : 65497816889

Chosen Option : 3

Q.20 निम्न व्यंजक को सरल करें।

$$\frac{\frac{3}{7} + 1\frac{2}{3} \times 6 - \left(3\frac{1}{2} \div \frac{3}{5} \text{ of } \frac{7}{9}\right) \text{ of } \frac{2}{3}}{\frac{1}{7} \left(4 \div \frac{1}{5} \text{ of } 10\right) - 3}$$

- Ans
- 1. 2
 - 2. -2
 - 3. $-\frac{71}{57}$
 - 4. -38

Question ID : 65497817694

Chosen Option : 2

Q.21 दो बाइकों के क्रय मूल्य का योगफल ₹50,000 है। पहली बाइक को 20% के लाभ पर और दूसरी बाइक को 20% की हानि पर बेचा गया। यदि दोनों के विक्रय मूल्य समान हैं, तो बेची गई दूसरी बाइक का क्रय मूल्य (₹ में) कितना होगा?

- Ans
- 1. 27,500
 - 2. 20,000
 - 3. 30,000
 - 4. 25,000

Question ID : 65497816874

Chosen Option : 3

Q.22 एक टैंक 25 m लंबा, 12 m चौड़ा और 6 m गहरा है। ₹10 प्रति m^2 के मूल्य पर इसकी दीवारों और तली का प्लास्टर करने की लागत (₹ में) कितनी होगी?

- Ans
- ✓ 1. 7,440
 - ✗ 2. 12,500
 - ✗ 3. 11,160
 - ✗ 4. 6,275

Question ID : 65497816883
Chosen Option : 1

Q.23 यदि साधारण ब्याज की वार्षिक दर 8% से बढ़कर $12\frac{1}{2}\%$ हो जाती है, तो एक व्यक्ति की वार्षिक आय में ₹639 की वृद्धि हो जाती है। मूलधन (₹ में) ज्ञात करें।

- Ans
- ✗ 1. 11,250
 - ✗ 2. 12,500
 - ✗ 3. 8,200
 - ✓ 4. 14,200

Question ID : 65497816879
Chosen Option : 4

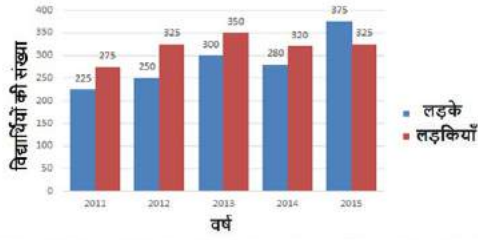
Q.24 A एक कार्य को 15 दिनों में कर सकता है और B, उसी कार्य को 20 दिनों में कर सकता है। एक साथ कार्य करते हुए, वे दोनों इस कार्य के 70% भाग को कितने दिनों में पूरा करेंगे?

- Ans
- ✗ 1. 7
 - ✓ 2. 6
 - ✗ 3. 8
 - ✗ 4. 5

Question ID : 65497816865
Chosen Option : 2

www.HaryanaJobs.in

Q.25 निम्नांकित ग्राफ का अध्ययन करें, जो एक स्कूल XYZ में विभिन्न वर्षों में, दसवीं कक्षा की परीक्षा के लिए उपस्थित होने वाले लड़कों और लड़कियों की संख्या को दर्शाता है।



2012, 2013, 2014 और 2015 में उपस्थित होने वाली लड़कियों की कुल संख्या, सभी पांच वर्षों में उपस्थित होने वाले लड़कों की संख्या से कितने प्रतिशत कम है? (दशमलव के एक स्थान तक सही)

- Ans
- ✓ 1. 7.7%
 - ✗ 2. 9.7%
 - ✗ 3. 6.6%
 - ✗ 4. 10.1%

Question ID : 65497816888
Chosen Option : 1

Section : General Awareness

Q.1 गांधीजी ने _____ को 'करो या मरो' का प्रसिद्ध भाषण दिया था।

- Ans
- ✗ 1. 23 मार्च 1942
 - ✗ 2. 24 सितंबर 1942
 - ✓ 3. 8 अगस्त 1942
 - ✗ 4. 14 जुलाई 1942

Question ID : 65497816712
Chosen Option : 3

Q.2 किस भारतीय राज्य ने दिसंबर 2019 के लिए सबसे अधिक जीएसटी (GST) राजस्व संग्रह दर्ज किया?

- Ans
- ✓ 1. महाराष्ट्र
 - ✗ 2. कर्नाटक
 - ✗ 3. पंजाब
 - ✗ 4. गुजरात

Question ID : 65497817606
Chosen Option : 4

Q.3 भारत के संविधान के भाग _____ में देश के भीतर व्यापार और वाणिज्य की स्वतंत्रता का प्रावधान है।

- Ans
- ✗ 1. 10
 - ✗ 2. 20
 - ✗ 3. 15
 - ✓ 4. 13

Question ID : 65497816699
Chosen Option : 4

Q.4 'पेंसिल' ('PENCIL') _____ के लिए एक संक्षिप्त शब्द है जो भारत सरकार द्वारा सितंबर 2017 में शुरू किया गया एक इलेक्ट्रॉनिक पोर्टल है।

- Ans
- 1. प्रोमुलगेशन ऑफ एक्जास्टिव एजुकेशन फॉर नॉर्मल एंड कंप्रिहेंसिव लर्निंग (Promulgation of Exhaustive Education for Normal & Comprehensive Learning)
 - 2. पैरॉडाइम फॉर इन्फोर्समेंट ऑफ इक्विटी फॉर नीडी चाइल्ड लेबरर्स (Paradigm for Enforcement of Equality for Needy Child Labourers)
 - 3. प्लेटफॉर्म फॉर इफेक्टिव इन्फोर्समेंट फॉर नो चाइल्ड लेबर (Platform for Effective Enforcement for No Child Labour)
 - 4. प्रोटोकॉल फॉर ईजी एजुकेशन एंड नॉवेल क्रिएटिव लर्निंग (Protocol for Easy Education & Novel Creative Learning)

Question ID : 65497816701
Chosen Option : --

Q.5 The 'Clean Note Policy' was announced by the Reserve Bank of India in the year _____.

- Ans
- 1. 1992
 - 2. 1999
 - 3. 1995
 - 4. 1997

Question ID : 65497816698
Chosen Option : 1

Q.6 साइमन आयोग के खिलाफ शांतिपूर्ण प्रदर्शन के दौरान लगी चोटों से _____ की मृत्यु हो गई।

- Ans
- 1. लाला लाजपत राय
 - 2. गोपाल कृष्ण गोखले
 - 3. बिपिन चंद्र पाल
 - 4. बाल गंगाधर तिलक

Question ID : 65497816710
Chosen Option : 1

Q.7 'बॉय: टेल्स ऑफ चाइल्डहुड' _____ की आत्मकथात्मक पुस्तक है।

- Ans
- 1. मार्क ट्वेन
 - 2. रोल्ड डाहल
 - 3. लुईस कैरोल
 - 4. रस्किन बॉन्ड

Question ID : 65497816694
Chosen Option : 4

Q.8 _____ का निरपेक्ष अपवर्तनांक 2.42 है।

- Ans
- 1. पानी
 - 2. हीरे
 - 3. हवा
 - 4. क्राउन ग्लास

Question ID : 65497816705
Chosen Option : 2

Q.9 निम्नलिखित में से कौन सी एक ओलंपिक स्पर्धा नहीं है?

- Ans
- 1. ट्रैपोलिन जिम्नास्टिक
 - 2. कलात्मक जिम्नास्टिक
 - 3. लयबद्ध जिम्नास्टिक
 - 4. करतबी जिम्नास्टिक

Question ID : 65497816692
Chosen Option : 3

Q.10 राठवा नी घेर, गुजरात की राठवा जनजाति द्वारा _____ के अवसर पर किया गया एक नृत्य है।

- Ans
- 1. दशहरा
 - 2. मकर संक्रांति
 - 3. होली
 - 4. जन्माष्टमी

Question ID : 65497816690
Chosen Option : 2

Q.11 निम्नलिखित में से कौन सा बाँध मध्य प्रदेश में स्थित है?

- Ans
- 1. कोयना
 - 2. तवा
 - 3. इसापुर
 - 4. उज्जैनी

Question ID : 65497816707
Chosen Option : 2

Q.12 _____ बेसिन का लगभग 50% भाग महाराष्ट्र में स्थित है।

- Ans
- 1. कावेरी
 - 2. महानदी
 - 3. गोदावरी
 - 4. नर्मदा

Question ID : 65497816708
Chosen Option : 3

Q.13 भारत में राष्ट्रीय जलमार्ग-1 निम्न को शामिल करता है:

- Ans
- 1. ब्रह्मपुत्र नदी का सदिया-धुबरी खंड
 - 2. बराक नदी का असम-मिज़ोरम खंड
 - 3. कोल्लम-कोट्टपुरम पश्चिम तट नहर और चंपाकरा और उद्योगमंडल नहरों का विस्तार
 - 4. गंगा-भागीरथी-हुगली नदी का हल्दिया-इलाहाबाद खंड

Question ID : 65497815484
Chosen Option : 4

Q.14 पंडित मदन मोहन मालवीय को ' _____ ' के नारे को लोकप्रिय बनाने का श्रेय जाता है।

- Ans
- 1. इंकलाब जिंदाबाद
 - 2. सत्यमेव जयते
 - 3. जय जवान जय किसान
 - 4. वंदे मातरम

Question ID : 65497816693
Chosen Option : 2

Q.15 Which of the following is NOT a part of the hind-brain?

- Ans
- 1. Medulla
 - 2. Pons
 - 3. Cerebellum
 - 4. Hypothalamus

Question ID : 65497816703
Chosen Option : 2

Q.16 निम्नलिखित में से कौन-सा कथन गलत है?

- Ans
- 1. यकृत शरीर की सबसे बड़ी ग्रंथि है।
 - 2. यकृत बाईं ओर उदर के ऊपरी हिस्से में स्थित है।
 - 3. यकृत पित्त स्रावित करता है।
 - 4. यकृत लाल भूरे रंग का होता है।

Question ID : 65497816704
Chosen Option : 2

Q.17 निम्नलिखित में से किस सूक्ष्मजीव के कारण हैजा फैलता है?

- Ans
- 1. विषाणु (वायरस)
 - 2. जीवाणु (बैक्टीरिया)
 - 3. कवक (फंगी)
 - 4. एककोशिय (प्रोटोजोआ)

Question ID : 65497816706
Chosen Option : 2

Q.18 अवध किसान सभा का गठन किस वर्ष हुआ था?

- Ans
- 1. 1924
 - 2. 1921
 - 3. 1918
 - 4. 1920

Question ID : 65497816711
Chosen Option : 3

Q.19 वर्ष 2001-2011 की अवधि के लिए भारत की चरघातांकी औसत वृद्धि दर (जनसंख्या) _____% प्रतिवर्ष थी।

- Ans
- 1. 3.82
 - 2. 0.46
 - 3. 1.64
 - 4. 2.38

Question ID : 65497816709
Chosen Option : --

Q.20 निम्नलिखित में से किस पर्यावरणविद को 2015 में स्टॉकहोम जल पुरस्कार से सम्मानित किया गया था?

- Ans
- 1. राजेंद्र सिंह
 - 2. अनादिश पाल
 - 3. वंदना शिवा
 - 4. तुलसी गौड़ा

Question ID : 65497816695
Chosen Option : 4

Q.21 माता-पिता और वरिष्ठ नागरिकों के भरण-पोषण तथा कल्याण अधिनियम, 2007 द्वारा निम्नलिखित में से _____ को बच्चों की परिभाषा में शामिल नहीं किया गया है।

- Ans
- 1. वयस्क बेटी
 - 2. वयस्क पौत्र
 - 3. अवयस्क बेटे
 - 4. वयस्क बेटे

Question ID : 65497816700
Chosen Option : 3

Q.22 _____ हर साल फरवरी में शिल्पग्राम में मनाया जाता है।

- Ans
- 1. तानसेन संगीत समारोह
 - 2. ताज महोत्सव
 - 3. नाट्यांजलि नृत्य उत्सव
 - 4. जिरो महोत्सव

Question ID : 65497816689
Chosen Option : 1

Q.23 सभी एसिड, धातुओं के साथ अभिक्रिया पर _____ गैस उत्पन्न करते हैं।

- Ans
- 1. नाइट्रोजन
 - 2. क्लोरीन
 - 3. हाइड्रोजन
 - 4. ऑक्सीजन

Question ID : 65497816702
Chosen Option : 4

Q.24 निम्नलिखित में से कौन सा महल तिरुवनंतपुरम में स्थित है?

- Ans 1. कनकक्कुन्नू पैलेस
 2. चौमहल्ला पैलेस
 3. उज्जयंता पैलेस
 4. अंबर पैलेस

Question ID : 65497816688
Chosen Option : 1

Q.25 जुलाई 2020 में इंग्लैंड की टेस्ट क्रिकेट टीम के कप्तान द्वारा निम्नलिखित में से किस क्रिकेटर को 'मिस्टर अतुल्य' बताया गया था?

- Ans 1. जेसन रॉय
 2. बेन स्टोक्स
 3. क्रिस वोक्स
 4. स्टुअर्ट ब्रॉड

Question ID : 65497816691
Chosen Option : 2

www.HaryanaJobs.in

Multi Tasking Non Technical Staff Examination 2020

Participant ID	www.HaryanaJobs.in
Participant Name	www.HaryanaJobs.in
Test Center Name	CLM Resources and Management
Test Date	07/10/2021
Test Time :	9:00 AM - 10:30 AM
Subject	MTS Non Technical 2020

Section : **General English**

Q.1 The given sentence contains a grammatical error. Identify the segment that contains the error.

Sumanth is going to school by the school bus every day.

- Ans 1. Sumanth is going
 2. by the school bus
 3. every day
 4. to school

Question ID : **65497817420**
 Chosen Option : 1

Q.2 Select the most appropriate synonym of the given word.

EVIDENT

- Ans 1. Aimless
 2. Complex
 3. Clear
 4. Confusing

Question ID : **65497817437**
 Chosen Option : 3

Q.3 The given sentence contains a grammatical error. Identify the segment that contains the error.

How many does the cricket bat cost?

- Ans 1. cost
 2. the cricket bat
 3. How many
 4. does

Question ID : **65497817421**
 Chosen Option : 3

Q.4 Select the most appropriate synonym of the given word.

CALM

- Ans 1. Disturbed
 2. Claim
 3. Quiet
 4. Excited

Question ID : 65497817436
Chosen Option : 3

Q.5 Select the most appropriate option to substitute the underlined segment in the given sentence.

I have online science classes for Wednesdays.

- Ans 1. in Wednesdays
 2. from Wednesdays
 3. at Wednesdays
 4. on Wednesdays

Question ID : 65497817431
Chosen Option : 4

Q.6 Select the correctly spelt word.

- Ans 1. Sephient
 2. Sufficient
 3. Suffusiance
 4. Safficiente

Question ID : 65497817443
Chosen Option : 2

Q.7 Select the most appropriate word to fill in the blank.

To practise yoga, I usually wake up when the sun _____.

- Ans 1. sets
 2. disappears
 3. covers
 4. rises

Question ID : 65497817444
Chosen Option : 4

Q.8 Select the most appropriate **ANTONYM** of the given word.

CONFIRM

- Ans 1. Open
 2. Accept
 3. Reject
 4. Agree

Question ID : 65497817435
Chosen Option : 3

Q.9 Select the most appropriate word that means the same as the group of words given.

The point at which the earth and the sky appear to meet

- Ans 1. Ocean
 2. Crust
 3. Horizon
 4. Rainbow

Question ID : 65497817441
Chosen Option : 3

Q.10 Select the most appropriate word to fill in the blank.

To an ordinary person, one kind of oil is as important as _____.

- Ans 1. another
 2. other
 3. anything
 4. none

Question ID : 65497817445
Chosen Option : 1

Q.11 Select the most appropriate word that means the same as the group of words given.

The application of scientific knowledge for practical purposes

- Ans 1. Engineering
 2. Technology
 3. Technicality
 4. Discovery

Question ID : 65497817440
Chosen Option : 1

Q.12 Select the correctly spelt word.

- Ans 1. Diferense
 2. Difference
 3. Deferanse
 4. Defferensce

Question ID : 65497817442

Chosen Option : 2

Q.13 Select the most appropriate option to substitute the underlined segment in the given sentence. If there is no need to substitute it, select 'No substitution required'.

The details of the menu for today's party has been worked out.

- Ans 1. have been
 2. are been
 3. is being
 4. No substitution required

Question ID : 65497815816

Chosen Option : 1

Q.14 Select the most appropriate meaning of the given idiom/phrase.

Go off

- Ans 1. Leave or disappear
 2. Continue or happen
 3. Stop working
 4. Explain something in detail

Question ID : 65497817438

Chosen Option : 1

Q.15 Select the most appropriate ANTONYM of the given word.

END

- Ans 1. Hide
 2. Show
 3. Close
 4. Start

Question ID : 65497817434

Chosen Option : 4

www.HaryanaJobs.in

Q.16 The given sentence contains a grammatical error. Identify the segment that contains the error.

Smitha was offered the job although having no qualifications.

- Ans
- 1. Smitha was offered
 - 2. no qualifications
 - 3. the job
 - 4. although having

Question ID : 65497817422
Chosen Option : 2

Q.17 Select the most appropriate word to fill in the blank.

I _____ the film we saw yesterday.

- Ans
- 1. haven't liked
 - 2. wasn't like
 - 3. didn't like
 - 4. doesn't like

Question ID : 65497817424
Chosen Option : 3

Q.18 Select the most appropriate meaning of the given idiom/phrase.

Break in

- Ans
- 1. Enter a building illegally
 - 2. End a relationship
 - 3. Be unable to control (one's) feelings
 - 4. Begin to do (something) suddenly

Question ID : 65497817439
Chosen Option : 1

Q.19 Select the most appropriate option to substitute the underlined segment in the given sentence.

If the town had been built at a lower altitude, it will be a lot warmer.

- Ans
- 1. will have been
 - 2. would be
 - 3. would have been
 - 4. should be

Question ID : 65497817938
Chosen Option : 3

Q.20 Select the most appropriate word to fill in the blank.

There _____ a big park in front of our house.

- Ans 1. is
 2. are
 3. were
 4. may be

Question ID : 65497817423
Chosen Option : 1

Comprehension:

In the following passage, some words have been deleted. Fill in the blanks with the help of the alternatives given. Select the most appropriate option for each blank.

Many reports have said that, in the context (1)_____ Covid-19 lockdown, schooling and college education are likely to be online. The reports have (2)_____ pointed out that this change will deny the students the experience of studying in a physical (3)_____. This is because they can only interact with their teachers; they will miss the (4)_____ to get to know their classmates and make real friends. Thus, the current situation has (5)_____ many boys and girls and they are waiting for things to get back to normal.

SubQuestion No : 21

Q.21 Select the most appropriate option to fill in blank no. 1.

- Ans 1. at
 2. from
 3. in
 4. of

Question ID : 65497817426
Chosen Option : 4

Comprehension:

In the following passage, some words have been deleted. Fill in the blanks with the help of the alternatives given. Select the most appropriate option for each blank.

Many reports have said that, in the context (1)_____ Covid-19 lockdown, schooling and college education are likely to be online. The reports have (2)_____ pointed out that this change will deny the students the experience of studying in a physical (3)_____. This is because they can only interact with their teachers; they will miss the (4)_____ to get to know their classmates and make real friends. Thus, the current situation has (5)_____ many boys and girls and they are waiting for things to get back to normal.

SubQuestion No : 22

Q.22 Select the most appropriate option to fill in blank no. 2.

- Ans 1. but
 2. though
 3. addition
 4. also

Question ID : 65497817427
Chosen Option : 4

Comprehension:

In the following passage, some words have been deleted. Fill in the blanks with the help of the alternatives given. Select the most appropriate option for each blank.

Many reports have said that, in the context (1)_____ Covid-19 lockdown, schooling and college education are likely to be online. The reports have (2)_____ pointed out that this change will deny the students the experience of studying in a physical (3)_____. This is because they can only interact with their teachers; they will miss the (4)_____ to get to know their classmates and make real friends. Thus, the current situation has (5)_____ many boys and girls and they are waiting for things to get back to normal.

SubQuestion No : 23

Q.23 Select the most appropriate option to fill in blank no. 3.

- Ans 1. area
 2. condition
 3. situation
 4. campus

Question ID : 65497817428
Chosen Option : 3

Comprehension:

In the following passage, some words have been deleted. Fill in the blanks with the help of the alternatives given. Select the most appropriate option for each blank.

Many reports have said that, in the context (1)_____ Covid-19 lockdown, schooling and college education are likely to be online. The reports have (2)_____ pointed out that this change will deny the students the experience of studying in a physical (3)_____. This is because they can only interact with their teachers; they will miss the (4)_____ to get to know their classmates and make real friends. Thus, the current situation has (5)_____ many boys and girls and they are waiting for things to get back to normal.

SubQuestion No : 24

Q.24 Select the most appropriate option to fill in blank no. 4.

- Ans 1. award
 2. conduct
 3. reward
 4. opportunity

Question ID : 65497817429
Chosen Option : 4

Comprehension:

In the following passage, some words have been deleted. Fill in the blanks with the help of the alternatives given. Select the most appropriate option for each blank.

Many reports have said that, in the context (1)_____ Covid-19 lockdown, schooling and college education are likely to be online. The reports have (2)_____ pointed out that this change will deny the students the experience of studying in a physical (3)_____. This is because they can only interact with their teachers; they will miss the (4)_____ to get to know their classmates and make real friends. Thus, the current situation has (5)_____ many boys and girls and they are waiting for things to get back to normal.

SubQuestion No : 25

Q.25 Select the most appropriate option to fill in blank no. 5.

- Ans 1. encouraged
 2. discouraged
 3. upset
 4. supported

Question ID : 65497817430
Chosen Option : 2

Section : **General Intelligence and Reasoning**

Q.1 किसी निश्चित कूट भाषा में, 'CLASS' को 'TTBMD' लिखा जाता है। उसी कूट भाषा में, 'DINOSOUR' को किस प्रकार लिखा जाएगा?

- Ans 1. SVPTPOJE
 2. SVPRPJKF
 3. SXOSPOJE
 4. SWPUPOJE

Question ID : 65497815635
Chosen Option : 1

Q.2 निम्न में से कौन-सी संख्या, दी गई श्रेणी में प्रश्नवाचक चिह्न (?) के स्थान पर आएगी?

50, 86, ?, 127, 136, 140, 141

- Ans 1. 99
 2. 123
 3. 111
 4. 103

Question ID : 65497815633
Chosen Option : 3

Q.3 A, B, C, D और E पांच सेल्समैन वृत्ताकार मेज के परितः एक मीटिंग में बैठे हैं। A, E के ठीक बाईं ओर पड़ोस में बैठा है। C, B के ठीक बाईं ओर पड़ोस में बैठा है। B और A के बीच में D बैठा है। E के दाईं ओर दूसरे स्थान पर कौन बैठा है?

- Ans 1. A
 2. D
 3. B
 4. C

Question ID : 65497815644
Chosen Option : 3

Q.4 उस विकल्प का चयन करें, जो तीसरे शब्द से ठीक उसी प्रकार संबंधित है, जिस प्रकार दूसरा शब्द पहले शब्द से संबंधित है।

आनंददायक : सुखद :: उत्कृष्ट : ?

- Ans
- 1. उत्तम
 - 2. संपन्न
 - 3. हास्यपूर्ण
 - 4. प्रसन्न

Question ID : 65497815640
Chosen Option : 1

Q.5 किसी निश्चित कूट भाषा में, 'FOSTER' को '36' और 'DANCE' को '25' लिखा जाता है। उसी कूट भाषा में, 'ORCHARD' को किस प्रकार लिखा जाएगा?

- Ans
- 1. 36
 - 2. 45
 - 3. 49
 - 4. 64

Question ID : 65497815636
Chosen Option : 3

Q.6 यदि दर्पण को चित्रानुसार MN पर रखा जाए, तो दिए गए चित्र के दर्पण प्रतिबिंब का चयन कीजिए।



Ans

- 1.
- 2.
- 3.
- 4.

Question ID : 65497815650
Chosen Option : 1

Q.7 दिए गए समीकरण को संतुलित करने के लिए, इनमें से किन दो संख्याओं को एक-दूसरे से प्रतिस्थापित करना होगा?

$$42 \div 7 \times 5 + 35 - 49 = 18$$

- Ans
- 1. 35 और 49
 - 2. 5 और 35
 - 3. 42 और 35
 - 4. 42 और 49

Question ID : 65497815629
Chosen Option : 3

Q.8 उस विकल्प का चयन करें, जो तीसरे अक्षर-समूह से ठीक उसी प्रकार संबंधित है जिस प्रकार दूसरा अक्षर-समूह पहले अक्षर-समूह से संबंधित है।

CANVAS : DCQZFY :: LOANER : ?

- Ans
- 1. MQDSKX
 - 2. MRDRJY
 - 3. MQDRJX
 - 4. MQERJY

Question ID : 65497815638
Chosen Option : 3

Q.9 किसी निश्चित कूट भाषा में, 'ROMAN' को 'YVTHU' लिखा जाता है। उसी कूट भाषा में, 'THING' को किस प्रकार लिखा जाएगा?

- Ans
- 1. AORSN
 - 2. APQUM
 - 3. BCPUN
 - 4. AOPUN

Question ID : 65497815634
Chosen Option : 4

Q.10 यदि A का अर्थ 'जोड़', B का अर्थ 'गुणा', C का अर्थ 'घटाना' और D का अर्थ 'भाग' है, तो निम्न व्यंजक का मान ज्ञात करें।

$$5 B 5 B 3 A 14 C (28 D 7) A 5 B (13 C 9)$$

- Ans
- 1. 112
 - 2. 105
 - 3. 45
 - 4. 95

Question ID : 65497815628
Chosen Option : 2

Q.11 निम्न में से कौन-सा अक्षर-समूह, दी गई श्रेणी में प्रश्नवाचक चिह्न (?) के स्थान पर आएगा?

FUV, IXW, LAX, ?, RGZ

Ans 1. ODY

2. PCY

3. PCX

4. OCW

Question ID : 65497815641

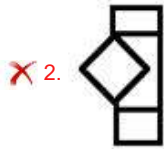
Chosen Option : 1

Q.12 Select the option figure that is embedded in the given figure (X) as its part (rotation is NOT allowed).



(X)

Ans



Question ID : 65497815649

Chosen Option : 3

Q.13 Two statements are given followed by three conclusions numbered I, II and III. Assuming the statements to be true, even if they seem to be at variance with commonly known facts, decide which of the conclusions logically follow(s) from the statements.

Statements:

Some beauticians are architects.

All architects are cashiers.

Conclusions:

I. Some architects are beauticians.

II. Some cashiers are architects.

III. Some cashiers are beauticians.

Ans 1. Only conclusions II and III follow.

2. Only conclusions I and II follow.

3. All of the conclusions follow.

4. Only conclusions I and III follow.

Question ID : 65497815643

Chosen Option : 3

Q.14 Two statements are given followed by two conclusions numbered I and II. Assuming the statements to be true, even if they seem to be at variance with commonly known facts, decide which of the conclusions logically follow(s) from the statements.

Statements:

No bowler is a batsman.
Some bowlers are fielders.

Conclusions:

I. No fielder is a batsman.
II. No batsman is a bowler.

- Ans**
- 1. Both conclusions I and II follow.
 - 2. Only conclusion I follows.
 - 3. Only conclusion II follows.
 - 4. Neither conclusion I nor II follows.

Question ID : 65497815642

Chosen Option : 3

Q.15 P, Q, R, S, T, U, V और W आठ मित्र दो पंक्तियों में बैठे हैं। प्रत्येक पंक्ति में चार मित्र बैठे हैं। दोनों पंक्तियाँ उत्तर की ओर अभिमुख हैं। पिछली पंक्ति के चार व्यक्ति, आगे वाली पंक्ति के चार व्यक्तियों के ठीक पीछे बैठे हैं। T और W के बीच में P बैठा है। Q, T के ठीक पीछे बैठा है। Q, जो कि S के ठीक बाईं ओर पड़ोस में बैठा है, वह पिछली पंक्ति में एक कोने पर बैठा है। S और U के बीच में R बैठा है। P और V के बीच में कौन बैठा है?

- Ans**
- 1. W
 - 2. U
 - 3. S
 - 4. T

Question ID : 65497815645

Chosen Option : 1

Q.16 निम्न में से कौन-सी संख्या, दी गई श्रेणी में प्रश्नवाचक चिह्न (?) के स्थान पर आएगी?

11, 22, 25, ?, 105, 630

- Ans**
- 1. 55
 - 2. 29
 - 3. 75
 - 4. 100

Question ID : 65497815632

Chosen Option : 4

Q.17 उस विकल्प का चयन करें, जो पैटर्न को पूरा करने के लिए नीचे दी गई आकृति में प्रश्नवाचक चिह्न (?) के स्थान पर आएगा।



Ans

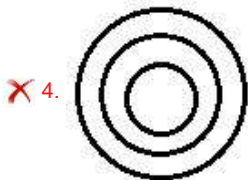
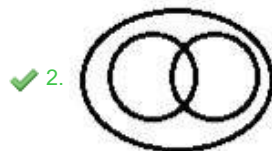
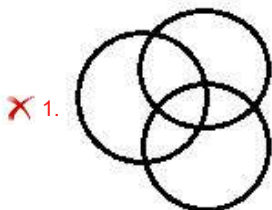


Question ID : 65497815648
Chosen Option : 4

Q.18 Select the Venn diagram that best illustrates the relationship between the following classes.

Females, Mothers, Sisters

Ans



Question ID : 65497815652
Chosen Option : 2

Q.19 दिए गए पैटर्न का ध्यानपूर्वक अध्ययन करें और उस संख्या का चयन करें, जो इसमें प्रश्नवाचक चिह्न (?) के स्थान पर आएगी?

25 24 122
31 27 143
35 29 ?

- Ans 1. 222
 2. 114
 3. 197
 4. 157

Question ID : 65497815631
Chosen Option : 4

Q.20 यदि $T > H > K > L$ और $V < K > Z = B$ है, तो निम्न में से कौन-सा निष्कर्ष सही नहीं है?

- Ans 1. $K = B$
 2. $V < T$
 3. $T > L$
 4. $H > Z$

Question ID : 65497815646
Chosen Option : 1

Q.21 उस विकल्प का चयन करें, जो तीसरे शब्द से ठीक उसी प्रकार संबंधित है, जिस प्रकार दूसरा शब्द पहले शब्द से संबंधित है।

रूपया : मुद्रा :: गर्मी : ?

- Ans 1. तापमान
 2. आर्द्रता
 3. मौसम
 4. ऊष्मा

Question ID : 65497815639
Chosen Option : 3

Q.22 उस विकल्प का चयन करें, जो तीसरी संख्या से ठीक उसी प्रकार संबंधित है, जिस प्रकार दूसरी संख्या पहली संख्या से संबंधित है।

6 : 85 :: 12 : ?

- Ans 1. 313
 2. 346
 3. 210
 4. 301

Question ID : 65497815630
Chosen Option : 2

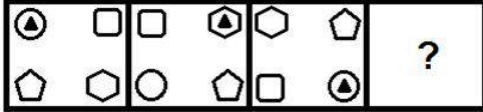
Q.23 किसी निश्चित कूट भाषा में, 'HOUSE' को '81261922' और 'INK' को '181411' लिखा जाता है। उसी कूट भाषा में, 'MISTAKE' को किस प्रकार लिखा जाएगा?

- Ans
- 1. 14901920261222
 - 2. 13181920261122
 - 3. 13181819261105
 - 4. 13091920011122

Question ID : 65497815637

Chosen Option : 2

Q.24 उस आकृति का चयन करें, जो निम्न आकृति श्रेणी में प्रश्नवाचक चिह्न (?) के स्थान पर आएगी।



Ans

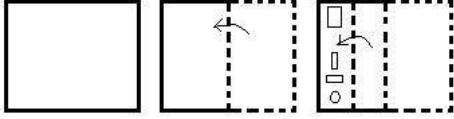
- 1.
- 2.
- 3.
- 4.

Question ID : 65497815647

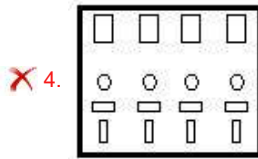
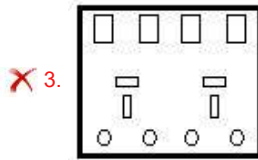
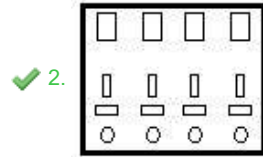
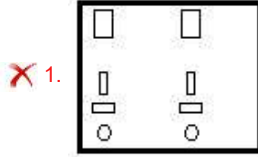
Chosen Option : 1

www.HaryanaJobs.in

Q.25 एक कागज को निम्नानुसार मोड़ा और काटा गया है। इसे खोलने पर यह कैसा दिखेगा?



Ans



Question ID : 65497815651
Chosen Option : 2

Section : Numerical Aptitude

Q.1 एक वस्तु 18% की हानि पर बेची गई। यदि उसे ₹2,475 अधिक में बेचा जाता, तो 12% लाभ हुआ होता। वस्तु का क्रय मूल्य ज्ञात कीजिए।

- Ans
- ✗ 1. ₹8,200
- ✗ 2. ₹8,000
- ✓ 3. ₹8,250
- ✗ 4. ₹8,500

Question ID : 65497816167
Chosen Option : 3

Q.2 तीन संख्याओं का योगफल 396 है। यदि पहली और दूसरी संख्या के मध्य अनुपात 7 : 11 है और दूसरी और तीसरी संख्या के मध्य अनुपात 11 : 15 है, पहली और तीसरी संख्या के बीच का अंतर कितना है?

- Ans
- 1. 96
 - 2. 94
 - 3. 85
 - 4. 86

Question ID : 65497816170
Chosen Option : 1

Q.3 चार अंकों की वह छोटी से छोटी संख्या ज्ञात कीजिये जो 18, 32 और 48 से पूर्णतः विभाज्य है?

- Ans
- 1. 1156
 - 2. 1256
 - 3. 1252
 - 4. 1152

Question ID : 65497816177
Chosen Option : 4

Q.4 यदि एक वस्तु को 22% की छूट पर और 14.5% की छूट पर बेचने पर उसके विक्रय मूल्य में ₹285 का अंतर आता है, तो उस वस्तु का अंकित मूल्य ज्ञात कीजिए।

- Ans
- 1. ₹3,500
 - 2. ₹2,800
 - 3. ₹3,800
 - 4. ₹3,400

Question ID : 65497816164
Chosen Option : 3

Q.5 48 cm × 27 cm भुजा वाली आयताकार शीट के चारों कोनों में से प्रत्येक से 3.5 cm भुजा वाला एक-एक वर्ग काट कर बॉक्स बनाया जाता है। निम्नित बॉक्स का आयतन ज्ञात कीजिए।

- Ans
- 1. $2880cm^3$
 - 2. $2870cm^3$
 - 3. $2780cm^3$
 - 4. $2860cm^3$

Question ID : 65497816174
Chosen Option : 2

Q.6 दो संख्याओं में से, पहली संख्या दूसरी संख्या की तीन-चौथाई है। यदि दोनों संख्याओं के व्युत्क्रमों का औसत $\frac{7}{72}$ है, तो दोनों संख्याओं का योगफल ज्ञात कीजिए।

- Ans
- 1. 25
 - 2. 21
 - 3. 20
 - 4. 22

Question ID : 65497816162
Chosen Option : 2

Q.7 यदि $(5 + 4^2) \div 3$ of $x - 2 \times 4 = -7$ है, तो x का मान क्या होगा?

- Ans
- 1. 7
 - 2. -7
 - 3. 5
 - 4. -3

Question ID : 65497817390
Chosen Option : 1

Q.8 ₹8,500 की धनराशि साधारण ब्याज दर पर 5 वर्षों में ₹11,900 हो जाती है। यदि ब्याज दर में 3% की वृद्धि हो जाए, तो उसी अवधि में प्राप्त होने वाली धनराशि ज्ञात कीजिए।

- Ans
- 1. ₹12,475
 - 2. ₹13,275
 - 3. ₹13,175
 - 4. ₹12,175

Question ID : 65497816172
Chosen Option : 3

Q.9 एक गोले का आयतन $65\frac{10}{21}cm^3$ है, तो इसका पृष्ठीय क्षेत्रफल ज्ञात कीजिए।

(मान लें $\pi = \frac{22}{7}$)

- Ans
- 1. $76\frac{4}{7}cm^2$
 - 2. $77\frac{4}{7}cm^2$
 - 3. $78\frac{3}{7}cm^2$
 - 4. $78\frac{4}{7}cm^2$

Question ID : 65497816175
Chosen Option : 4

Q.10 25 संख्याओं का माध्य 14 है। यदि प्रत्येक संख्या में 3 जोड़ दिया जाए, तो नया माध्य कितना होगा?

- Ans
- 1. 14
 - 2. 17
 - 3. 15
 - 4. 18

Question ID : 65497816173
Chosen Option : 2

Q.11 A, B और C तीन बॉक्स हैं जिनमें 3 : 5 : 7 के अनुपात में कंचे रखे हुए हैं और कंचों की कुल संख्या 75 है। यदि 3 कंचे B से A में स्थानांतरित कर दिए जाएं और 5 कंचे C से B में स्थानांतरित कर दिए जाएं, तो कंचों का नया अनुपात क्या होगा?

- Ans
- 1. 7 : 9 : 10
 - 2. 6 : 8 : 11
 - 3. 6 : 9 : 10
 - 4. 5 : 6 : 7

Question ID : 65497816169
Chosen Option : 3

Q.12 एक कंपनी की आय में प्रति वर्ष 25% की वृद्धि होती है। यदि वर्ष 2017 में इसकी आय ₹31,25,000 है, तो वर्ष 2015 में इसकी आय कितनी थी?

- Ans
- 1. ₹22,00,000
 - 2. ₹20,00,000
 - 3. ₹20,20,000
 - 4. ₹25,00,000

Question ID : 65497816165
Chosen Option : 2

Q.13 एक व्यक्ति 280 km की दूरी मोटरसाइकिल से 8 घंटे में तय करता है। यदि वह साइकिल की सवारी करे और उसे मोटरसाइकिल की चाल की $\frac{3}{14}$ चाल से चलाए, तो वह 2 घंटे में कितनी दूरी तय करेगा?

- Ans
- 1. 20 km
 - 2. 25 km
 - 3. 24 km
 - 4. 15 km

Question ID : 65497816160
Chosen Option : 4

Q.14 किसी ठोस धात्विक घनाभ की भुजाएं 36 cm, 54 cm और 24 cm हैं। इसे पिघलाकर समान आयतन वाले 8 घन बनाए जाते हैं। इन 8 घनों के पृष्ठीय क्षेत्रफलों का योगफल (cm^2 में) ज्ञात करें।

- Ans
- 1. 9720
 - 2. 11664
 - 3. 10368
 - 4. 15552

Question ID : 65497815169
Chosen Option : 4

Q.15 एक वस्तु अपने अंकित मूल्य के 65% पर बेची गई, और इससे उस पर 30% का लाभ प्राप्त हुआ। उसके अंकित मूल्य का, उसके क्रय मूल्य से अनुपात ज्ञात कीजिए।

- Ans
- 1. 2 : 1
 - 2. 4 : 3
 - 3. 3 : 1
 - 4. 3 : 2

Question ID : 65497816166
Chosen Option : 1

Q.16 एक व्यक्ति अपनी सामान्य चाल की $\frac{3}{5}$ चाल से चलते हुए, एक निश्चित दूरी तय करने में सामान्य चाल से उसी दूरी को तय करने में लगे समय से 1 घंटा 40 मिनट अधिक समय लेता है। उस व्यक्ति को उसी दूरी को सामान्य चाल से चलते हुए तय करने में कितना समय लगेगा?

- Ans
- 1. $\frac{5}{2}$ घंटा
 - 2. $\frac{3}{2}$ घंटा
 - 3. $\frac{7}{2}$ घंटा
 - 4. $\frac{5}{3}$ घंटा

Question ID : 65497816161
Chosen Option : 1

Q.17 एक निश्चित संख्या में कुछ व्यक्ति एक कार्य को 46 दिनों में पूरा कर सकते हैं। यदि 8 और व्यक्ति उसमें शामिल हो जाते हैं, तो वह कार्य पूरा होने में 16 दिन कम लगते हैं। आरंभ में कितने व्यक्ति थे?

- Ans
- 1. 25
 - 2. 18
 - 3. 15
 - 4. 20

Question ID : 65497816158
Chosen Option : 3

Q.18 दो संख्याओं का अनुपात 7 : 9 है। यदि उनके वर्गों का योगफल 8320 है, तो दोनों संख्याओं का योगफल ज्ञात कीजिए।

- Ans
- 1. 120
 - 2. 228
 - 3. 128
 - 4. 124

Question ID : 65497816168
Chosen Option : 3

Q.19 सात क्रमागत विषम संख्याओं का औसत 27 है। यदि अंतिम संख्या सूची से हटा दी जाए, तो शेष संख्याओं का औसत ज्ञात कीजिए।

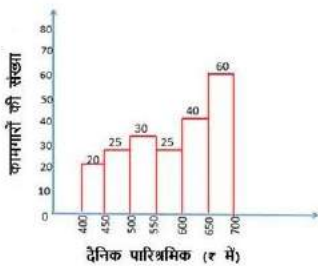
- Ans
- 1. 25
 - 2. 26
 - 3. 22
 - 4. 24

Question ID : 65497816163
Chosen Option : 2

Q.20 निम्नांकित ग्राफ का अध्ययन करें और उसके बाद दिए गए प्रश्न का उत्तर दें।

दिया गया ग्राफ दैनिक पारिश्रमिक (₹ में) पाने वाले कामगारों की संख्या को निरूपित करता है।

कामगारों की कुल संख्या = 200



₹550 से कम दैनिक पारिश्रमिक पाने वाले कामगारों की कुल संख्या, ₹550 या अधिक दैनिक पारिश्रमिक पाने वाले कामगारों की कुल संख्या से कितने प्रतिशत कम है?

- Ans
- 1. 50%
 - 2. 45%
 - 3. 60%
 - 4. 40%

Question ID : 65497816181
Chosen Option : 4

Q.21 If the area of the base of a cylinder is 346.5cm^2 and the area of the curved surface is 990cm^2 , then its height is:

(Take $\pi = \frac{22}{7}$)

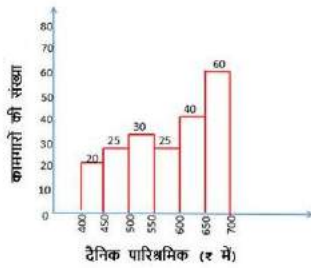
- Ans**
- 1. 10 cm
 - 2. 15 cm
 - 3. 12 cm
 - 4. 14 cm

Question ID : 65497816176
Chosen Option : 2

Q.22 निम्नांकित ग्राफ का अध्ययन करें और उसके बाद दिए गए प्रश्न का उत्तर दें।

दिया गया ग्राफ दैनिक पारिश्रमिक (₹ में) पाने वाले कामगारों की संख्या को निरूपित करता है।

कामगारों की कुल संख्या = 200



₹500 से कम दैनिक पारिश्रमिक पाने वाले कामगारों की कुल संख्या का, ₹600 या अधिक दैनिक पारिश्रमिक पाने वाले कामगारों की कुल संख्या से अनुपात ज्ञात कीजिए।

- Ans**
- 1. 9 : 20
 - 2. 12 : 17
 - 3. 9 : 15
 - 4. 8 : 15

Question ID : 65497816180
Chosen Option : 1

Q.23 ₹4,800 की धनराशि, वार्षिक रूप से चक्रवृद्धि होने वाली कितनी वार्षिक व्याज दर पर दो वर्षों में ₹5,547 हो जाएगी?

- Ans**
- 1. 8%
 - 2. 7.5%
 - 3. 8.5%
 - 4. 7%

Question ID : 65497816171
Chosen Option : 2

Q.24 A और B एक कार्य को क्रमशः 15 दिनों और 25 दिनों में कर सकते हैं। उन्होंने 5 दिन तक एक साथ कार्य किया, तथा उसके बाद B के स्थान पर C आ गया और शेष कार्य को A और C ने अगले 4 दिनों में पूरा किया। C अकेला उस कार्य को कितने दिनों में पूरा कर लेगा?

- Ans**
- 1. 24 दिन
 - 2. 20 दिन
 - 3. 15 दिन
 - 4. 25 दिन

Question ID : 65497816159
Chosen Option : 2

Q.25 Study the graph and answer the question given below.
The given graph represents the number of workers getting daily wages (in ₹).
Total number of workers = 200



What is the difference between the percentage of workers whose daily wages are less than ₹500 and the percentage of workers whose daily wages are ₹600 and above?

- Ans**
- 1. 27.5%
 - 2. 25%
 - 3. 30%
 - 4. 27%

Question ID : 65497816182
Chosen Option : 1

Section : General Awareness

Q.1 _____ व्यपगमन के सिद्धांत के कार्यान्वयन के खिलाफ 1824 में ब्रिटिश ईस्ट इंडिया कंपनी के खिलाफ सशस्त्र विद्रोह का नेतृत्व करने वाले पहले भारतीय शासकों में से एक थे।

- Ans**
- 1. किर्तूर चेत्रम्मा
 - 2. जयी राजगुरू
 - 3. पजहस्सी राजा
 - 4. तितुमिर

Question ID : 65497817520
Chosen Option : 2

Q.2 किस आयोग ने सरकारी सेवाओं के सभी स्तरों में ओबीसी उम्मीदवारों के लिए 27% आरक्षण की सिफारिश की थी?

- Ans 1. मंडल आयोग
 2. बलवंत आयोग
 3. सरकारिया आयोग
 4. कोठारी आयोग

Question ID : 65497817509
 Chosen Option : 1

Q.3 आर्थिक रूप से कमजोर वर्ग (EWS) श्रेणी के अंतर्गत केंद्र सरकार की नौकरियों में 10 प्रतिशत आरक्षण उन लोगों के लिए उपलब्ध है, जिनकी पारिवारिक आय _____ से कम है।

- Ans 1. ₹10 लाख
 2. ₹3 लाख
 3. ₹5 लाख
 4. ₹8 लाख

Question ID : 65497815888
 Chosen Option : 4

Q.4 In which of the following states is Bhiti Chitra (fresco painting) a popular art form?

- Ans 1. Nagaland
 2. Haryana
 3. Maharashtra
 4. Karnataka

Question ID : 65497817498
 Chosen Option : 2

Q.5 कर्नाटक और तमिलनाडु के बीच जल बंटवारे के पुराने मुद्दे को हल करने के उद्देश्य से 1990 के जल विवाद न्यायाधिकरण से जुड़ी नदी कौन सी है?

- Ans 1. कृष्णा
 2. कावेरी
 3. ताप्ती
 4. गोदावरी

Question ID : 65497817508
 Chosen Option : 2

Q.6 Which part of a flower is the sticky surface at the top of the pistil, it traps and holds the pollen?

- Ans 1. Ovary
 2. Sepal
 3. Stigma
 4. Style

Question ID : 65497817513
 Chosen Option : 3

Q.7 लड़कों में बढ़ते कंठ को गले के बाहर निकले हुए एक भाग के रूप में देखा जा सकता है, जिसे _____ कहा जाता है।

- Ans 1. ऐडम एप्पल
 2. श्वसनी
 3. थायराइड उपास्थि
 4. श्वास प्रणाल

Question ID : 65497817510
Chosen Option : 3

Q.8 उपभोक्ता संरक्षण अधिनियम, 2019 के प्रावधान कब से प्रभावी हैं?

- Ans 1. 30 अप्रैल 2020
 2. 12 मार्च 2020
 3. 23 जून 2020
 4. 20 जुलाई 2020

Question ID : 65497818010
Chosen Option : 4

Q.9 जुलाई 2020 की स्थिति के अनुसार, भारतीय चिकित्सा अनुसंधान परिषद (आईसीएमआर) के महानिदेशक निम्नलिखित में से कौन हैं?

- Ans 1. प्रो. सुब्रत सिन्हा
 2. डॉ. श्याम एस. चौहान
 3. डॉ. पार्थप्रसाद चट्टोपाध्याय
 4. प्रो. बलराम भार्गव

Question ID : 65497817503
Chosen Option : 1

Q.10 निम्नलिखित में से कौन सा ज्वारीय बंदरगाह है?

- Ans 1. तूतीकोरिन
 2. कांडला
 3. चेन्नई
 4. विशाखापत्तनम

Question ID : 65497817516
Chosen Option : 1

Q.11 ऑस्कर पुरस्कार पाने वाले पहले भारतीय निम्नलिखित में से कौन है?

- Ans 1. ए.आर. रहमान
 2. रेसुल पूकुट्टी
 3. सत्यजीत रे
 4. भानू अथैया

Question ID : 65497817502
Chosen Option : 3

Q.12 मणिपुर की इफाल घाटी _____ शिल्प का एक महत्वपूर्ण केंद्र है।

- Ans
- 1. बुट्टा (Butta)
 - 2. कोना (Kauna)
 - 3. मिरिजिम्स (Mirijims)
 - 4. गोदना (Godna)

Question ID : 65497817497
Chosen Option : 2

Q.13 In which year was the Treaty of Salbai signed?

- Ans
- 1. 1794
 - 2. 1799
 - 3. 1773
 - 4. 1782

Question ID : 65497817518
Chosen Option : 1

Q.14 लिटमस विलयन बैंगनी रंग का ऐसा रंजक होता है, जिसे _____ वर्ग के एक पौधे लिचेन से निकाला जाता है।

- Ans
- 1. पेटरिडोफिटा
 - 2. जिम्नोस्पर्म
 - 3. ब्रायोफाइटा
 - 4. थैलोफाइटा

Question ID : 65497817514
Chosen Option : --

Q.15 आईबीएम और कोका कोला कंपनियों ने किस वर्ष विदेशी मुद्रा विनियमन अधिनियम (Foreign Exchange Regulation Act) का पालन करने में सक्षम न होने के कारण अपने परिचालन को बंद कर दिया था जिसमें यह अधिदेशित है कि विदेशी निवेशक भारतीय उद्यमों में 40% से अधिक स्वामित्व नहीं रख सकते हैं?

- Ans
- 1. 1964
 - 2. 1981
 - 3. 1956
 - 4. 1977

Question ID : 65497817506
Chosen Option : 1

Q.16 किस समाज सुधारक ने वर्ष 1896 में पूना में एक शैक्षिक संस्थान, हिंदू विधवा गृह की स्थापना की?

- Ans
- 1. धोंडो केशव कर्वे
 - 2. पुली थेवर
 - 3. नानाजी देशमुख
 - 4. तात्या टोपे

Question ID : 65497817519
Chosen Option : 1

Q.17 'Povada dance' is a performing art from the state of _____.

- Ans 1. Gujarat
 2. Maharashtra
 3. Rajasthan
 4. Kerala

Question ID : 65497817496
 Chosen Option : 1

Q.18 भारत में दूसरा सर्वाधिक महत्वपूर्ण धातुकर्म उद्योग कौन सा है?

- Ans 1. एल्यूमीनियम
 2. आयरन
 3. कॉपर
 4. ज़िंक

Question ID : 65497817517
 Chosen Option : 3

Q.19 'द बेस्ट थिंग अबाउट यू इज यू (The Best Thing About You is You)' शीर्षक पुस्तक के लेखक कौन हैं?

- Ans 1. अनुपम खेर
 2. अन्नू कपूर
 3. अनिल कपूर
 4. अमिताभ बच्चन

Question ID : 65497817501
 Chosen Option : 2

Q.20 निम्नलिखित में से किस टीम ने इंडियन सुपर लीग 2019-2020 जीता?

- Ans 1. केरला ब्लास्टर्स
 2. एफ.सी. गोवा
 3. एटीके (ATK) फुटबॉल क्लब
 4. नॉर्थ ईस्ट युनाइटेड

Question ID : 65497817499
 Chosen Option : 3

Q.21 निम्नलिखित में से कौन, पृथ्वी के महाद्वीपीय द्रव्यमान के मुख्य खनिज घटकों में से एक है?

- Ans 1. तांबा
 2. कांस्य
 3. जिप्सम
 4. सिलिका

Question ID : 65497817515
 Chosen Option : 3

Q.22 जून 2020 में अमित पंगाल और विकास कृष्ण को बॉक्सिंग फेडरेशन ऑफ इंडिया द्वारा _____ के लिए नामित किया था।

- Ans
- 1. अर्जुन पुरस्कार
 - 2. पद्मभूषण
 - 3. पद्मश्री
 - 4. राजीव गांधी खेल रत्न पुरस्कार

Question ID : 65497817500
Chosen Option : 1

Q.23 निम्नलिखित में से किस तत्व में किसी अवयव की उच्चतम ऊष्मीय चालकता और उच्चतम प्रकाश परावर्तन होता है?

- Ans
- 1. पीतल
 - 2. चांदी
 - 3. तांबा
 - 4. एल्यूमीनियम

Question ID : 65497817512
Chosen Option : 2

Q.24 Which of the following is the largest cell in the human body?

- Ans
- 1. Osteoclast
 - 2. Ovum
 - 3. Neurons
 - 4. Sperm

Question ID : 65497817511
Chosen Option : 2

Q.25 भारतीय सेना ने गोवा को पुर्तगालियों से कब आजाद कराया और उसे केंद्रशासित प्रदेश घोषित कर दिया?

- Ans
- 1. 1967
 - 2. 1961
 - 3. 1969
 - 4. 1952

Question ID : 65497817507
Chosen Option : 2

Multi Tasking Non Technical Staff Examination 2020

Participant ID	www.HaryanaJobs.in
Participant Name	www.HaryanaJobs.in
Test Center Name	Indraprastha Public School
Test Date	07/10/2021
Test Time :	12:30 PM - 2:00 PM
Subject	MTS Non Technical 2020

Section : **General English**

Q.1 Identify the segment that contains a grammatical error. If there is no error, select 'No error'.

The breakdown in power supply was causing by a defective transformer.

- Ans
- 1. No error
 - 2. in power supply
 - 3. The breakdown
 - 4. was causing by

Question ID : **65497817018**
Chosen Option : --

Q.2 Select the most appropriate word for the given group of words.

A disease causing a person to fall unconscious involuntarily

- Ans
- 1. Senility
 - 2. Dementia
 - 3. Insomnia
 - 4. Epilepsy

Question ID : **65497817037**
Chosen Option : 4

Q.3 Select the most appropriate option to fill in the blank.

She _____ a lot about her health problems.

- Ans
- 1. suffers
 - 2. troubles
 - 3. concerns
 - 4. worries

Question ID : **65497817040**
Chosen Option : 1

Q.4 Select the most appropriate meaning of the given idiom.

Babe in the woods

- Ans
- 1. A pale and sickly person
 - 2. A foolish and stupid person
 - 3. A young defenceless person
 - 4. A wise old person

Question ID : **65497817035**
Chosen Option : 3

Q.5 Select the INCORRECTLY spelt word.

- Ans
- 1. Invalid
 - 2. Inward
 - 3. Inwoke
 - 4. Invite

Question ID : **65497817038**
Chosen Option : 3

Q.6 Select the INCORRECTLY spelt word.

- Ans
- 1. Emmigrate
 - 2. Emergency
 - 3. Eminent
 - 4. Emphasis

Question ID : **65497817039**
Chosen Option : 4

Q.7 Select the most appropriate option to fill in the blank.

Prem Chand, _____ mainly wrote about rural India, was a great Hindi writer.

- Ans
- 1. which
 - 2. who
 - 3. that
 - 4. whom

Question ID : **65497817019**
Chosen Option : 2

Q.8 Identify the segment that contains a grammatical error. If there is no error, select 'No error'.

Penguins have very shorter wings.

- Ans
- 1. wings
 - 2. Penguins have
 - 3. very shorter
 - 4. No error

Question ID : **65497817016**
Chosen Option : 1

Q.9 Select the most appropriate option to fill in the blank.

_____ he was feeling sick, he ate all the food.

- Ans 1. Although
 2. Because
 3. In case
 4. So that

Question ID : 65497817020
Chosen Option : 1

Q.10 Select the most appropriate option to substitute the underlined segment in the given sentence. If there is no need to substitute it, select 'No substitution required'.

There is no need to make changes in many part of this sentence as it is grammatically correct.

- Ans 1. No substitution required
 2. all
 3. any
 4. that

Question ID : 65497815614
Chosen Option : 3

Q.11 Select the most appropriate synonym of the given word.

ANXIETY

- Ans 1. Worry
 2. Delight
 3. Faith
 4. Calmness

Question ID : 65497817032
Chosen Option : 1

Q.12 Select the most appropriate ANTONYM of the given word.

CONTENTED

- Ans 1. Thankful
 2. Comfortable
 3. Pleased
 4. Dissatisfied

Question ID : 65497817031
Chosen Option : 4

Q.13 Select the most appropriate meaning of the given idiom.

Be all ears

- Ans 1. Not being alert
 2. Eager to listen
 3. Be content
 4. Ready to wait

Question ID : 65497817034
Chosen Option : 3

Q.14 Identify the segment that contains a grammatical error. If there is no error, select 'No error'.

He was keen set an example for others.

- Ans 1. No error
 2. He was
 3. for others
 4. keen set

Question ID : 65497817017
Chosen Option : 4

Q.15 Select the most appropriate option to substitute the underlined segment in the given sentence.

They were not surprised by the results and nor were I.

- Ans 1. was
 2. do
 3. did
 4. are

Question ID : 65497817736
Chosen Option : 1

Q.16 Select the most appropriate option to substitute the underlined segment in the given sentence. If there is no need to substitute it, select 'No substitution required'.

Switch off the television if you not watching it.

- Ans 1. No substitution required
 2. do not watching it
 3. are not watching it
 4. did not watched it

Question ID : 65497817027
Chosen Option : 4

Q.17 Select the most appropriate ANTONYM of the given word.

PROTECT

- Ans
- 1. Keep
 - 2. Cover
 - 3. Harm
 - 4. Secure

Question ID : 65497817030
Chosen Option : 3

Q.18 Select the most appropriate option to fill in the blank.

Dhyan Chand is _____ one of the greatest hockey players of all time.

- Ans
- 1. observed
 - 2. believed
 - 3. thought
 - 4. considered

Question ID : 65497817041
Chosen Option : 4

Q.19 Select the most appropriate word for the given group of words.

To run after

- Ans
- 1. Race
 - 2. Sprint
 - 3. Pursue
 - 4. Rush

Question ID : 65497817036
Chosen Option : 3

Q.20 Select the most appropriate synonym of the given word.

IMPLORE

- Ans
- 1. Plead
 - 2. Apologize
 - 3. Answer
 - 4. Refuse

Question ID : 65497817033
Chosen Option : 1

Comprehension:

In the following passage some words have been deleted. Fill in the blanks with the help of the alternatives given. Select the most appropriate option for each blank.

Soon after the visitors left the room, the artist came in. He was ready (1)_____ on the portrait. He had always hoped that (2)_____ portrait would bring him great acclaim. It (3)_____ turning out really well. A smile appeared on (4)_____ face as he thought of it. Then he (5)_____ to the canvas and uncovered it. He was shocked to see that somebody had scratched the entire painting with a knife.

SubQuestion No : 21

Q.21 Select the most appropriate option to fill in blank no. 1.

Ans 1. to work

2. worked

3. work

4. working

Question ID : 65497817022

Chosen Option : 1

Comprehension:

In the following passage some words have been deleted. Fill in the blanks with the help of the alternatives given. Select the most appropriate option for each blank.

Soon after the visitors left the room, the artist came in. He was ready (1)_____ on the portrait. He had always hoped that (2)_____ portrait would bring him great acclaim. It (3)_____ turning out really well. A smile appeared on (4)_____ face as he thought of it. Then he (5)_____ to the canvas and uncovered it. He was shocked to see that somebody had scratched the entire painting with a knife.

SubQuestion No : 22

Q.22 Select the most appropriate option to fill in blank no. 2.

Ans 1. these

2. that

3. it

4. this

Question ID : 65497817023

Chosen Option : 3

Comprehension:

In the following passage some words have been deleted. Fill in the blanks with the help of the alternatives given. Select the most appropriate option for each blank.

Soon after the visitors left the room, the artist came in. He was ready (1)_____ on the portrait. He had always hoped that (2)_____ portrait would bring him great acclaim. It (3)_____ turning out really well. A smile appeared on (4)_____ face as he thought of it. Then he (5)_____ to the canvas and uncovered it. He was shocked to see that somebody had scratched the entire painting with a knife.

SubQuestion No : 23

Q.23 Select the most appropriate option to fill in blank no. 3.

Ans 1. was

2. is

3. were

4. are

Question ID : 65497817024

Chosen Option : 1

Comprehension:

In the following passage some words have been deleted. Fill in the blanks with the help of the alternatives given. Select the most appropriate option for each blank.

Soon after the visitors left the room, the artist came in. He was ready (1)_____ on the portrait. He had always hoped that (2)_____ portrait would bring him great acclaim. It (3)_____ turning out really well. A smile appeared on (4)_____ face as he thought of it. Then he (5)_____ to the canvas and uncovered it. He was shocked to see that somebody had scratched the entire painting with a knife.

SubQuestion No : 24

Q.24 Select the most appropriate option to fill in blank no. 4.

- Ans 1. her
 2. its
 3. his
 4. their

Question ID : 65497817025

Chosen Option : 1

Comprehension:

In the following passage some words have been deleted. Fill in the blanks with the help of the alternatives given. Select the most appropriate option for each blank.

Soon after the visitors left the room, the artist came in. He was ready (1)_____ on the portrait. He had always hoped that (2)_____ portrait would bring him great acclaim. It (3)_____ turning out really well. A smile appeared on (4)_____ face as he thought of it. Then he (5)_____ to the canvas and uncovered it. He was shocked to see that somebody had scratched the entire painting with a knife.

SubQuestion No : 25

Q.25 Select the most appropriate option to fill in blank no. 5.

- Ans 1. reached
 2. appeared
 3. arrived
 4. came

Question ID : 65497817026

Chosen Option : 4

Section : **General Intelligence and Reasoning**

Q.1 A, B, C, D, E, F और G सात लड़कियां एक वृत्ताकार मेज के परितः केंद्राभिमुख होकर बैठी हैं। E ठीक D और C के बीच बैठी है। G, E के दाईं ओर दूसरे स्थान पर बैठी है। A, C के दाईं ओर तीसरे स्थान पर बैठी है। B ठीक A और D के बीच बैठी है। A, D के बाईं ओर दूसरे स्थान पर बैठी है। F के दाईं ओर तीसरे स्थान पर कौन लड़की बैठी है?

- Ans 1. D
 2. A
 3. B
 4. E

Question ID : 65497815746

Chosen Option : 4

Q.2 यदि A का अर्थ 'जोड़', B का अर्थ 'गुणा', C का अर्थ 'घटाना' और D का अर्थ 'भाग' है, तो निम्न व्यंजक का मान ज्ञात करें।

17 C 12 A (6 B 4) D 8 A 15 D 5

Ans 1. 11

2. 17

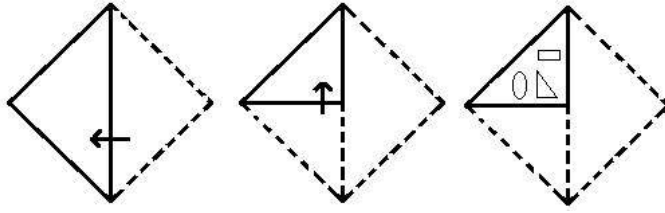
3. 21

4. 13

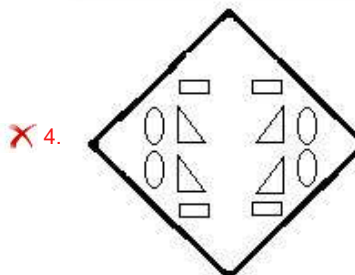
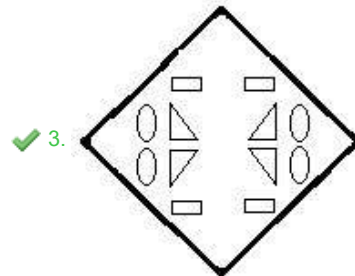
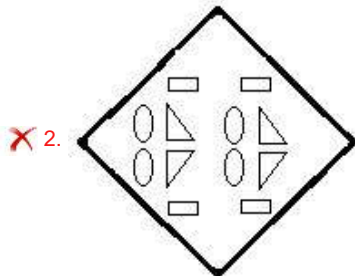
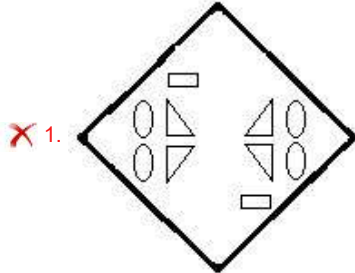
Question ID : 65497815729
Chosen Option : 1

www.HaryanaJobs.in

Q.3 एक कागज को निम्नानुसार मोड़ा और काटा गया है। इसे खोलने पर यह कैसा दिखेगा?



Ans



www.HaryanaJobs.in

Question ID : 65497815752
Chosen Option : 3

Q.4 Two statements are given followed by three conclusions numbered I, II and III. Assuming the statements to be true, even if they seem to be at variance with commonly known facts, decide which of the conclusions logically follow(s) from the statements.

Statements:

No pen is a pencil.
All pencils are chalks.

Conclusions:

I. No chalk is a pen.
II. No pencil is a pen.
III. Some chalks are pencils.

- Ans** 1. Only conclusions I and II follow.
 2. Only conclusions II and III follow.
 3. Only conclusions I and III follow.
 4. All of the conclusions follow.

Question ID : 65497815744
Chosen Option : 4

Q.5 छः मित्र पश्चिम की ओर अभिमुख होकर एक पंक्ति में बैठे हैं। गौरव, मीनल के बाईं ओर तीसरे स्थान पर बैठा है। वासु और मीनल के बीच में वरुण बैठा है। पूर्वी, वरुण के दाईं ओर तीसरे स्थान पर बैठी है। ललित, मीनल के ठीक दाईं ओर पड़ोस में बैठा है। गौरव किसी एक कोने पर बैठा है। पूर्वी के ठीक बाईं ओर कौन बैठा है?

- Ans** 1. मीनल
 2. गौरव
 3. ललित
 4. वासु

Question ID : 65497815745
Chosen Option : 3

Q.6 निम्न में से कौन-सा अक्षर-समूह, दी गई श्रेणी में प्रश्नवाचक चिह्न (?) के स्थान पर आएगा?

HQMR, IRLQ, JSKP, KTJO, ?

- Ans** 1. MUJO
 2. LUJO
 3. LUIN
 4. MUJN

Question ID : 65497815742
Chosen Option : 3

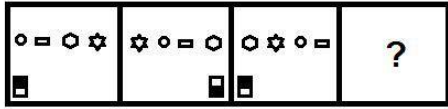
Q.7 उस विकल्प का चयन करें, जो तीसरे अक्षर-समूह से ठीक उसी प्रकार संबंधित है, जिस प्रकार दूसरा अक्षर-समूह पहले अक्षर-समूह से संबंधित है।

CROP : WVYJ :: NASTY : ?

- Ans** 1. FAZKR
 2. FAZHU
 3. GABHV
 4. ZABHO

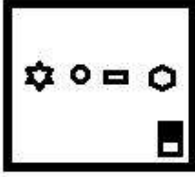
Question ID : 65497815739
Chosen Option : 2

Q.8 उस विकल्प आकृति का चयन करें, जो निम्न आकृति श्रेणी में प्रश्नवाचक चिह्न (?) के स्थान पर आएगी।



Ans

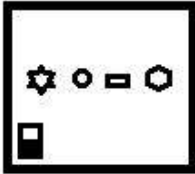
✗ 1.



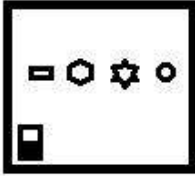
✓ 2.



✗ 3.



✗ 4.



Question ID : 65497815748
Chosen Option : 2

Q.9 उस विकल्प का चयन करें, जो तीसरे शब्द से ठीक उसी प्रकार संबंधित है, जिस प्रकार दूसरा शब्द पहले शब्द से संबंधित है।

शिक्षक : विद्यालय :: नर्स : ?

Ans ✗ 1. सर्जरी

✓ 2. अस्पताल

✗ 3. उपचार

✗ 4. दवा

Question ID : 65497815741
Chosen Option : 2

Q.10 किसी निश्चित कूट भाषा में, 'FRINGE' को '61891475' लिखा जाता है। उसी कूट भाषा में, 'PLEASE' को किस प्रकार लिखा जाएगा?

Ans ✗ 1. 111522119

✗ 2. 171512105

✗ 3. 161251095

✓ 4. 161251195

Question ID : 65497815737
Chosen Option : 4

Q.11 यदि $Q > Z = U, P = T < E, Q < D < P$ है, तो निम्न में से कौन-सा निष्कर्ष सही नहीं है?

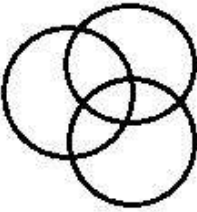
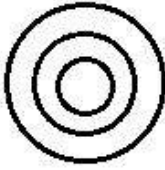
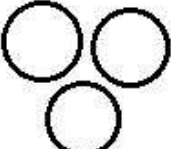

- Ans
- 1. $Z < T$
 - 2. $U > T$
 - 3. $U < D$
 - 4. $Q > U$

Question ID : 65497815747
Chosen Option : 1

Q.12 उस वेन-आरेख का चयन करें, जो निम्न वर्गों के बीच संबंध को सर्वोत्तम ढंग से निरूपित करता है।

पशु, मवेशी, गाय

Ans

- 1. 
- 2. 
- 3. 
- 4. 

Question ID : 65497815753
Chosen Option : 2

Q.13 दिए गए समीकरण को संतुलित करने के लिए, इनमें से किन दो संख्याओं को एक-दूसरे से प्रतिस्थापित करना होगा?

$$45 \div 5 \times 7 + 18 - 9 = 48$$

- Ans
- 1. 5 और 9
 - 2. 18 और 9
 - 3. 45 और 9
 - 4. 9 और 7

Question ID : 65497815730
Chosen Option : 1

Q.14 उस विकल्प का चयन करें, जो तीसरी संख्या से ठीक उसी प्रकार संबंधित है, जिस प्रकार दूसरी संख्या पहली संख्या से संबंधित है।

11 : 242 :: 14 : ?

- Ans
- 1. 289
 - 2. 288
 - 3. 392
 - 4. 882

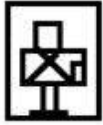
Question ID : 65497815731
Chosen Option : 3

Q.15 उस विकल्प आकृति का चयन करें, जिसमें दी गई आकृति (X) उसके भाग के रूप में अन्तःस्थापित है। (घुमाने की अनुमति नहीं है)



Ans

1.



2.



3.



4.



Question ID : 65497815750
Chosen Option : 3

Q.16 निम्न में से कौन-सी संख्या, दी गई श्रेणी में प्रश्नवाचक चिह्न (?) के स्थान पर आएगी?

21, 26, 41, 76, 141, ?

- Ans
- 1. 203
 - 2. 217
 - 3. 246
 - 4. 177

Question ID : 65497815734
Chosen Option : 3

Q.17 यदि दर्पण को चित्रानुसार MN पर रखा जाए, तो दिए गए संयोजन का दर्पण में निर्मित सही प्रतिबिंब का चयन कीजिए।

d b v y f q |
M
N

Ans

- ✗ 1. p t y ^ q p
- ✓ 2. p t y v d b
- ✗ 3. p t ^ v q b
- ✗ 4. b t y v d b

Question ID : 65497815751

Chosen Option : 2

Q.18 किसी निश्चित कूट भाषा में, 'POUR' को 'KLFI' लिखा जाता है। उसी कूट भाषा में, 'PROJECT' को किस प्रकार लिखा जाएगा?

- Ans ✗ 1. KILPUYG
- ✗ 2. KJLRVXH
- ✗ 3. KMBTIJR
- ✓ 4. KILQVXG

Question ID : 65497815736

Chosen Option : 4

Q.19 Two statements are given followed by two conclusions numbered I and II. Assuming the statements to be true, even if they seem to be at variance with commonly known facts, decide which of the conclusions logically follow(s) from the statements.

Statements:

All cars are buses.

Some cars are trucks.

Conclusions:

I. Some trucks are cars.

II. Some buses are trucks.

- Ans ✗ 1. Neither conclusion I nor II follows.
- ✗ 2. Only conclusion I follows.
- ✗ 3. Only conclusion II follows.
- ✓ 4. Both conclusions I and II follow.

Question ID : 65497815743

Chosen Option : 2

Q.20 उस विकल्प का चयन करें, जो तीसरे शब्द से ठीक उसी प्रकार संबंधित है, जिस प्रकार दूसरा शब्द पहले शब्द से संबंधित है।

पूरा : अधूरा :: हार : ?

- Ans 1. जीत
 2. शोक
 3. मंशा
 4. प्रतिद्वंद्वी

Question ID : 65497815740
 Chosen Option : 1

Q.21 दिए गए पैटर्न का ध्यानपूर्वक अध्ययन करें और उस संख्या का चयन करें, जो इसमें प्रश्नवाचक चिह्न (?) के स्थान पर आएगी?

28 45 22
 20 36 ?
 64 81 16

- Ans 1. 34
 2. 36
 3. 20
 4. 18

Question ID : 65497815732
 Chosen Option : 4

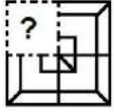
Q.22 किसी निश्चित कूट भाषा में, 'SERPENT' को 'RESPTNE' लिखा जाता है। उसी कूट भाषा में, 'CONTACT' को किस प्रकार लिखा जाएगा?

- Ans 1. MOCTTDB
 2. CPOUBDU
 3. NCOTTAD
 4. NOCTTCA

Question ID : 65497815735
 Chosen Option : 4

www.HaryanaJobs.in

Q.23 उस विकल्प का चयन करें, जो पैटर्न को पूरा करने के लिए नीचे दी गई आकृति में प्रश्नवाचक चिह्न (?) के स्थान पर आएगा।



Ans

✗ 1.



✗ 2.



✓ 3.



✗ 4.



Question ID : 65497815749

Chosen Option : 3

Q.24 किसी निश्चित कूट भाषा में, 'ROSTED' को '91282054' और 'MYSTIC' को '14282093' लिखा जाता है। उसी कूट भाषा में, 'FLARED' को किस प्रकार लिखा जाएगा?

Ans ✗ 1. 2015260954

✗ 2. 6012261854

✗ 3. 2115011754

✓ 4. 2115261854

Question ID : 65497815738

Chosen Option : 4

Q.25 निम्न में से कौन-सी संख्या, दी गई श्रेणी में प्रश्नवाचक चिह्न (?) के स्थान पर आएगी?

27, 29, 32, 37, 44, 55, 68, ?

Ans ✗ 1. 71

✗ 2. 90

✓ 3. 85

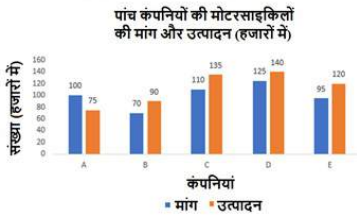
✗ 4. 80

Question ID : 65497815733

Chosen Option : 3

Section : Numerical Aptitude

Q.1 निम्नांकित ग्राफ का अध्ययन करें और उसके बाद दिए गए प्रश्न का उत्तर दें।



कंपनियों A, B और C की मोटरसाइकिलों का औसत उत्पादन, कंपनी D की मोटरसाइकिलों की मांग से कितने प्रतिशत कम है?

- Ans
- 1. 12.5%
 - 2. 18%
 - 3. 20%
 - 4. 22.5%

Question ID : 65497816584
Chosen Option : 3

Q.2 A और B की वर्तमान आयु का अनुपात 6 : 5 है। चार वर्ष पूर्व, यह अनुपात 5 : 4 था। दस वर्ष बाद, A और B की आयु का अनुपात क्या होगा?

- Ans
- 1. 17 : 15
 - 2. 11 : 15
 - 3. 15 : 17
 - 4. 15 : 11

Question ID : 65497816574
Chosen Option : 1

Q.3 निम्नांकित ग्राफ का अध्ययन करें और उसके बाद दिए गए प्रश्न का उत्तर दें।



कंपनियों B और E की मोटरसाइकिलों का कुल उत्पादन, सभी कंपनियों की मोटरसाइकिलों की कुल मांग का कितना प्रतिशत है?

- Ans
- 1. 48%
 - 2. 46%
 - 3. 40%
 - 4. 42%

Question ID : 65497816586
Chosen Option : 4

Q.4 एक 10 m लंबे और 8 m चौड़े आयताकार प्लॉट के बाहर चारों ओर एक 6 m चौड़ा रास्ता है। रास्ते का क्षेत्रफल (m² में) कितना है?

- Ans
- 1. 80
 - 2. 440
 - 3. 360
 - 4. 600

Question ID : 65497816579
Chosen Option : 3

Q.5 $1\frac{19}{21} - \left[1\frac{10}{21} + \frac{1}{2} \text{ of } \frac{1}{3} \div \frac{7}{12} - \left(\frac{2}{7} \text{ of } \frac{1}{5} \right) \right]$ का मान ज्ञात करें।

- Ans
- 1. $\frac{3}{5}$
 - 2. $\frac{2}{5}$
 - 3. $\frac{1}{10}$
 - 4. $\frac{1}{5}$

Question ID : 65497815371
Chosen Option : 4

Q.6 कक्षा A और B में कुल छात्रों की संख्या 92 है। कक्षा A में छात्रों की संख्या, कक्षा B में छात्रों की संख्या की तुलना में 30% अधिक है। कक्षा B में छात्रों का औसत वजन (kg में), कक्षा A में छात्रों के औसत वजन से 50% अधिक है। यदि कक्षा A और B में सभी छात्रों का औसत वजन 56 kg है, तो कक्षा B में छात्रों का औसत वजन (kg में) कितना है?

- Ans
- 1. 40
 - 2. 52
 - 3. 46
 - 4. 69

Question ID : 65497816566
Chosen Option : 4

Q.7 यदि एक आयत की प्रत्येक भुजा में 12% की वृद्धि की जाती है, तो उसके क्षेत्रफल में कितने प्रतिशत की वृद्धि होगी?

- Ans
- 1. 25.44%
 - 2. 18.54%
 - 3. 27.5%
 - 4. 12.65%

Question ID : 65497816578
Chosen Option : 1

Q.8 ₹832 में एक वस्तु को बेचने पर अर्जित लाभ, इस वस्तु को ₹448 में बेचे जाने पर होने वाली हानि के बराबर है। इस वस्तु पर 20% का लाभ प्राप्त करने के लिए विक्रय मूल्य (₹ में) कितना होना चाहिए?

- Ans
- 1. 704
 - 2. 640
 - 3. 768
 - 4. 720

Question ID : 65497816571
Chosen Option : 3

Q.9 A एक कार्य का एक-चौथाई भाग 5 दिनों में कर सकता है और B उसी कार्य का 2/5 भाग 10 दिनों में कर सकता है। A और B दोनों मिलकर उस कार्य को कितने दिनों में कर सकते हैं?

- Ans
- 1. $12\frac{1}{9}$
 - 2. $13\frac{1}{9}$
 - 3. $10\frac{1}{9}$
 - 4. $11\frac{1}{9}$

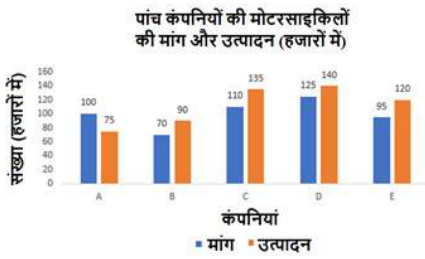
Question ID : 65497816562
Chosen Option : 4

Q.10 ₹900 की धनराशि के लिए, 4.5% वार्षिक साधारण ब्याज दर पर कितने समय (वर्षों में) में ₹81 का ब्याज प्राप्त होगा?

- Ans
- 1. 5
 - 2. 2
 - 3. 4
 - 4. 3

Question ID : 65497816576
Chosen Option : 2

Q.11 निम्नांकित ग्राफ का अध्ययन करें और उसके बाद दिए गए प्रश्न का उत्तर दें।



वह कंपनी कौन सी है जिसकी मोटरसाइकिलों का उत्पादन, मांग से लगभग 12% अधिक है?

- Ans
- 1. E
 - 2. D
 - 3. C
 - 4. B

Question ID : 65497816585
Chosen Option : 2

Q.12 स्थिर जल में एक नाव की चाल 30 km/h है और धारा-प्रवाह की चाल 6 km/h है। यह नाव धारा-प्रवाह की विपरीत दिशा में चलते हुए, 5 मिनट में कितनी दूरी (km में) तय करेगी?

- Ans
- 1. 2
 - 2. 3
 - 3. 2.5
 - 4. 4

Question ID : 65497816565
Chosen Option : 3

Q.13 $\text{र}x$ की एक राशि को A, B और C के बीच इस प्रकार विभाजित किया जाता है कि A और B के हिस्सों का अनुपात 7 : 12 है और B और C के हिस्सों का अनुपात 8 : 5 है। यदि A और C के हिस्सों में ₹219 का अंतर है, तो x का मान कितना है?

- Ans
- 1. 17,231
 - 2. 11,607
 - 3. 21,901
 - 4. 15,321

Question ID : 65497816573
Chosen Option : 2

Q.14 ₹7,500 की धनराशि, वार्षिक रूप से चक्रवृद्धि होने वाली एक निश्चित चक्रवृद्धि ब्याज दर पर 2 वर्ष बाद ₹8,748 हो जाती है। इसी धनराशि के लिए, पहले की ब्याज दर से दोगुनी दर पर, 3 वर्षों का साधारण ब्याज (₹ में) कितना होगा?

- Ans
- 1. 3,750
 - 2. 2,800
 - 3. 3,600
 - 4. 4,200

Question ID : 65497816575
Chosen Option : 3

Q.15 तीन कारों की चाल 3 : 4 : 8 के अनुपात में है। समान दूरी तय करने के लिए, इन कारों द्वारा लिए गए समय का अनुपात कितना होगा?

- Ans
- 1. 8 : 3 : 6
 - 2. 6 : 3 : 8
 - 3. 8 : 6 : 3
 - 4. 6 : 8 : 3

Question ID : 65497816572
Chosen Option : 3

Q.16 यदि x धनात्मक राशि है, तो $3x$ का मान क्या होगा, यदि $0.42\bar{3} - 0.2 \text{ of } 52.5 \div 0.84 = x^2 - (0.02\bar{1} + 12.5)$?

- Ans
- 1. 2
 - 2. 1
 - 3. $\frac{1}{4}$
 - 4. $\frac{1}{2}$

Question ID : 65497817592
Chosen Option : --

Q.17 ठहराव को छोड़कर, एक बस की चाल 60 km/h है, और ठहराव सहित बस की चाल 51 km/h है। बस प्रति घंटे कितने मिनट के लिए रुकती है?

- Ans
- 1. 10
 - 2. 8
 - 3. 9
 - 4. 12

Question ID : 65497816564
Chosen Option : 3

Q.18 एक धात्विक बेलनाकार पाइप का आयतन 1232 cm^3 है। यदि इसकी बाहरी त्रिज्या 7 cm है और मोटाई 2 cm है, तो पाइप की लंबाई (दशमलव के स्थान तक सही) (cm में) कितनी है? ($\pi = \frac{22}{7}$ लें)

- Ans
- 1. 18.5
 - 2. 16.3
 - 3. 14.2
 - 4. 17.2

Question ID : 65497816580
Chosen Option : --

Q.19 एक व्यापारी ने अंकित मूल्य पर 10% की छूट प्राप्त करके एक वस्तु खरीदी और उसे अंकित मूल्य से 20% अधिक मूल्य पर बेच दिया। लाभ प्रतिशत (निकटतम पूर्णांक तक सही) कितना है?

- Ans
- 1. 33%
 - 2. 35%
 - 3. 25%
 - 4. 28%

Question ID : 65497816568
Chosen Option : --

Q.20 15 पुरुष एक कार्य को 12 दिनों में पूरा कर सकते हैं और 18 महिलाएं उसी कार्य को 15 दिनों में पूरा कर सकती हैं। 5 पुरुषों और 3 महिलाओं को कार्य पूरा करने में कितने दिन का समय लगेगा?

- Ans
- 1. $25\frac{5}{7}$
 - 2. $23\frac{5}{7}$
 - 3. $27\frac{5}{7}$
 - 4. $28\frac{5}{7}$

Question ID : 65497816563
Chosen Option : 1

Q.21 वह छोटी से छोटी संख्या कौन-सी है जिसे 15, 25, 35, 40 से विभाजित किए जाने पर क्रमशः 10, 20, 30, 35 शेषफल बचता है?

- Ans
- 1. 4205
 - 2. 4195
 - 3. 4200
 - 4. 4210

Question ID : 65497816581
Chosen Option : 2

Q.22 एक व्यक्ति ने 7% की हानि पर एक वस्तु बेची। यदि वह इसे 10.5% के लाभ पर बेचता, तो उसे ₹105 अधिक प्राप्त होते। उसे 11% लाभ प्राप्त करने के लिए, इस वस्तु को किस मूल्य (₹ में) में बेचना चाहिए?

- Ans
- 1. 666
 - 2. 642
 - 3. 636
 - 4. 600

Question ID : 65497816570
Chosen Option : 1

Q.23 एक सामान्य असममित बंटन में, बहुलक और माध्यिका के मान क्रमशः 7.52 और 9.06 है। वितरण का माध्य कितना होगा?

- Ans
- 1. 10.23
 - 2. 8.67
 - 3. 9.83
 - 4. 9.5

Question ID : 65497816577
Chosen Option : 3

Q.24 ग्यारह संख्याओं का औसत 80 है। पहली चार संख्याओं का औसत 74.5 है और अगली चार संख्याओं का औसत 82.5 है। नौवीं संख्या, दसवीं संख्या से 6 अधिक है, और दसवीं संख्या, ग्यारहवीं संख्या से 6 कम है। नौवीं और ग्यारहवीं संख्याओं का औसत कितना है?

- Ans
- 1. 86
 - 2. 80
 - 3. 85
 - 4. 87

Question ID : 65497816567
Chosen Option : --

Q.25 A की आय, B की आय से 50% अधिक है। यदि A की आय में 40% की वृद्धि होती है और B की आय में 30% की वृद्धि होती है, तो उनकी संयुक्त आय में होने वाली प्रतिशत वृद्धि कितनी है?

- Ans
- 1. 36%
 - 2. 32%
 - 3. 40%
 - 4. 24%

Question ID : 65497816569
Chosen Option : 1

Section : General Awareness

Q.1 भारत सरकार के निम्नलिखित मंत्रालयों में से कौन सा मंत्रालय, जून 2020 में स्थापित 'गरीब कल्याण रोजगार अभियान' के लिए एक नोडल मंत्रालय है?

- Ans
- 1. आवास और शहरी मामलों का मंत्रालय
 - 2. जल शक्ति मंत्रालय
 - 3. ग्रामीण विकास मंत्रालय
 - 4. श्रम और रोजगार मंत्रालय

Question ID : 65497815587

Chosen Option : 1

Q.2 निम्नलिखित में से कौन सा विश्व का सबसे बड़ा मैंग्रोव वन है?

- Ans
- 1. गोदावरी-कृष्णा मैंग्रोव्स
 - 2. पिचावरम वन
 - 3. सुंदरवन रिज़र्व वन
 - 4. पनामा मैंग्रोव्स की खाड़ी

Question ID : 65497815597

Chosen Option : 3

Q.3 कृत्रिम फाइबर आसानी से आग पकड़ लेते हैं। परंतु, अग्निशामन कार्मिकों की वर्दी को अग्नि-प्रतिरोधी बनाने के लिए इसपर _____ प्लास्टिक की कोटिंग की जाती है।

- Ans
- 1. रेयान
 - 2. मेलामाइन
 - 3. नायलॉन
 - 4. ऐक्रेलिक

Question ID : 65497815593

Chosen Option : 3

Q.4 निम्नलिखित में से किस ग्रह का कोई चंद्रमा नहीं है?

- Ans
- 1. शुक्र ग्रह
 - 2. वरुण ग्रह (यूरेनस)
 - 3. शनि ग्रह
 - 4. बृहस्पति ग्रह

Question ID : 65497815591

Chosen Option : 1

Q.5 निम्नलिखित में से किस टीम ने 1975 में पहला क्रिकेट विश्व कप जीता?

- Ans
- 1. पूर्वी अफ्रीका
 - 2. इंग्लैंड
 - 3. वेस्ट इंडीज
 - 4. ऑस्ट्रेलिया

Question ID : 65497815580

Chosen Option : 3

Q.6 Who among the following is the author of the book 'The Testaments'?

- Ans 1. Margaret Atwood
 2. Andrew Sean Greer
 3. Jokha Alharthi
 4. Anna Burns

Question ID : 65497815582
 Chosen Option : 3

Q.7 जनसंख्या भूगोल _____ की एक शाखा है।

- Ans 1. बस्ती भूगोल
 2. सांस्कृतिक भूगोल
 3. भौतिक भूगोल
 4. मानव भूगोल

Question ID : 65497815598
 Chosen Option : 4

Q.8 भारतीय संविधान के निम्नलिखित में से किस अनुच्छेद ने 25 जनवरी 1965 के बाद भी आधिकारिक प्रयोजनार्थ अंग्रेजी के निरंतर उपयोग के लिए संसद को कानून बनाने का अधिकार दिया?

- Ans 1. अनुच्छेद 343 (2)
 2. अनुच्छेद 348 (2)
 3. अनुच्छेद 348 (3)
 4. अनुच्छेद 343 (3)

Question ID : 65497815590
 Chosen Option : 1

Q.9 व्यापार और विकास पर संयुक्त राष्ट्र सम्मेलन (UNCTAD) के अनुसार, भारत, 2019 में प्रत्यक्ष विदेशी निवेश (FDI) का _____ सबसे बड़ा प्राप्तकर्ता था।

- Ans 1. 7वाँ
 2. 10वाँ
 3. 9वाँ
 4. 8वाँ

Question ID : 65497814879
 Chosen Option : 2

Q.10 सेरिंग लैंडौल (Tsering Landol), जो पद्म भूषण 2020 पुरस्कार प्राप्त करने वालों में से एक थे, किस स्थान से संबंधित हैं?

- Ans 1. मिज़ोरम
 2. सिक्किम
 3. अरुणाचल प्रदेश
 4. लद्दाख

Question ID : 65497815584
 Chosen Option : 4

Q.11 निम्नलिखित में से कौन सा रोगकारक, एड्स के प्रसार के लिए उत्तरदायी है?

- Ans
- 1. प्रोटोजोआ
 - 2. विषाणु
 - 3. जीवाणु
 - 4. कवक

Question ID : 65497815594
Chosen Option : 2

Q.12 प्रत्येक वर्ष 29 जून को _____ की जयंती के उपलक्ष्य में भारत का सांख्यिकी दिवस मनाया जाता है।

- Ans
- 1. रघु राज बहादुर
 - 2. सी.आर. राव
 - 3. के.सी. श्रीधरन पिल्लई
 - 4. पी.सी. महालनोबिस

Question ID : 65497815583
Chosen Option : 4

Q.13 निम्नलिखित में से कौन सी नदी बंगाल की खाड़ी में गिरती है?

- Ans
- 1. सिंधु
 - 2. नर्मदा
 - 3. महानदी
 - 4. तापी

Question ID : 65497815596
Chosen Option : 3

Q.14 निम्नलिखित में से कौन से दो राष्ट्र, फीफा (FIFA) महिला विश्व कप 2023 की मेजबानी करेंगे?

- Ans
- 1. जापान और दक्षिण कोरिया
 - 2. ऑस्ट्रेलिया और न्यूजीलैंड
 - 3. नॉर्वे और स्वीडन
 - 4. यू.एस. और कनाडा

Question ID : 65497815581
Chosen Option : 2

Q.15 अखिल भारतीय मुस्लिम लीग (ऑल इंडिया मुस्लिम लीग) की स्थापना 1906 में निम्न में से किस स्थान पर हुई थी?

- Ans
- 1. ढाका
 - 2. लाहौर
 - 3. लखनऊ
 - 4. बॉम्बे

Question ID : 65497815600
Chosen Option : 2

Q.16 पक्कीमिट्टी (टेराकोटा) के मंदिरों के लिए प्रसिद्ध, बिष्णुपुर निम्नलिखित में से किस राज्य में स्थित है?

- Ans
- 1. तेलंगाना
 - 2. पश्चिम बंगाल
 - 3. गुजरात
 - 4. मेघालय

Question ID : 65497815578
Chosen Option : 2

Q.17 निम्नलिखित में से कौन-सी कोशिकीय संरचनाएँ, प्रोटीन संश्लेषण के लिए उत्तरदायी होती हैं?

- Ans
- 1. माइटोकॉन्ड्रिया
 - 2. गॉल्जीकाय
 - 3. लाइसोसोम
 - 4. राइबोसोम

Question ID : 65497815595
Chosen Option : 4

Q.18 किशोरी अमोनकर का संबंध निम्नलिखित में से किस क्षेत्र से था?

- Ans
- 1. पाश्चात्य संगीत
 - 2. भारतीय शास्त्रीय संगीत
 - 3. भारतीय शास्त्रीय वादन
 - 4. भारतीय शास्त्रीय नृत्य

Question ID : 65497815577
Chosen Option : 2

Q.19 Which of the following Union Ministries organises All India Whips' Conference to establish suitable links among the whips of various political parties at the centre and the states/union territories who are concerned with the practical working of the legislatures?

- Ans
- 1. Ministry of Information and Broadcasting
 - 2. Ministry of Home Affairs
 - 3. Ministry of Parliamentary Affairs
 - 4. Ministry of Human Resource Development

Question ID : 65497815589
Chosen Option : --

Q.20 Human Development Report is published by:

- Ans
- 1. United Nations Capital Development Fund
 - 2. United Nations Child and Education Fund
 - 3. United Nations Development Program
 - 4. United Nations Conference on Trade and Development

Question ID : 65497817100
Chosen Option : 3

Q.21 पेलोग्रा रोग विटामिन _____ की कमी से होता है।

- Ans 1. B3
 2. B12
 3. B2
 4. B6

Question ID : 65497815592
 Chosen Option : --

Q.22 भारतीय संविधान के अनुसार, ऐसे अधिकतम कितने राज्य हैं जहाँ केवल एक ही व्यक्ति को राज्यपाल नियुक्त किया जा सकता है?

- Ans 1. तीन राज्य
 2. दो राज्य
 3. एक राज्य
 4. कोई सीमा ही नहीं

Question ID : 65497815588
 Chosen Option : 4

Q.23 निम्नलिखित में से किसे वर्ष 1938 और 1939 में भारतीय राष्ट्रीय कांग्रेस के अध्यक्ष के रूप में चुना गया था?

- Ans 1. सरदार वल्लभभाई पटेल
 2. सी. राजगोपालाचारी
 3. डॉ. राजेंद्र प्रसाद
 4. सुभाष चंद्र बोस

Question ID : 65497815599
 Chosen Option : 4

Q.24 निम्नलिखित में से कौन सी लिपि, सभी आधुनिक भारतीय लिपियों की जननी मानी जाती है?

- Ans 1. हड़प्पा
 2. ब्राह्मी
 3. देवनागरी
 4. बंगाली-असमिया

Question ID : 65497815579
 Chosen Option : 3

Q.25 निम्नलिखित में से कौन सा ग्रंथ, कश्मीर के इतिहास का सबसे विस्तृत विवरण देता है?

- Ans 1. मेघदूतम्
 2. राजतरंगिणी
 3. अभिज्ञान शाकुंतलम्
 4. ऋतुसंहार

Question ID : 65497815601
 Chosen Option : 2

Multi Tasking Non Technical Staff Examination 2020

Participant ID	www.HaryanaJobs.in
Participant Name	www.HaryanaJobs.in
Test Center Name	Jaipur Engineering College
Test Date	08/10/2021
Test Time :	4:00 PM - 5:30 PM
Subject	MTS Non Technical 2020

Section : **General English**

Q.1 Select the most appropriate option to substitute the underlined segment in the given sentence. If there is no need to substitute it, select 'No substitution required.'

Our school has been issued instructions to restrict online classes to two hours towards the primary classes.

- Ans
- 1. from
 - 2. for
 - 3. into
 - 4. No substitution required

Question ID : **65497815211**
Chosen Option : 2

Q.2 Select the most appropriate word to fill in the blank.

Mother tried to _____ the child when he was crying for a toy.

- Ans
- 1. disturb
 - 2. attract
 - 3. absorb
 - 4. distract

Question ID : **65497816334**
Chosen Option : 4

Q.3 Select the most appropriate option to substitute the underlined segment in the given sentence. If there is no need to substitute it, select 'No substitution required'.

I am not use to eat spicy and oily food.

- Ans
- 1. use to eating
 - 2. used to eat
 - 3. used to eating
 - 4. No substitution required

Question ID : **65497816320**
Chosen Option : 3

Q.4 Select the most appropriate synonym of the given word.

VACANT

- Ans**
- 1. full
 - 2. used
 - 3. bare
 - 4. busy

Question ID : **65497816325**
Chosen Option : **3**

Q.5 Select the **INCORRECTLY** spelt word.

- Ans**
- 1. Recognition
 - 2. Stagnation
 - 3. Ammunition
 - 4. Defination

Question ID : **65497816332**
Chosen Option : **4**

Q.6 Select the most appropriate one-word substitution for the given group of words.

A plan of what is to be done and when

- Ans**
- 1. Meeting
 - 2. Scheme
 - 3. Schedule
 - 4. Occupation

Question ID : **65497816329**
Chosen Option : **3**

Q.7 Select the most appropriate word to fill in the blank.

Pets are good _____ for lonely people.

- Ans**
- 1. companions
 - 2. guides
 - 3. substitutes
 - 4. nurses

Question ID : **65497816333**
Chosen Option : **1**

Q.8 Identify the segment in the sentence which contains a grammatical error.

I know she is much superior from me in intelligence.

- Ans 1. superior from me
 2. in intelligence
 3. she is much
 4. I know

Question ID : 65497816311
Chosen Option : 1

Q.9 Select the most appropriate meaning of the given idiom.

Loosen the purse strings

- Ans 1. To lose a purse
 2. To reduce the expenditure
 3. To be miserly
 4. To increase the money available for expenditure

Question ID : 65497816328
Chosen Option : 4

Q.10 Identify the segment in the sentence which contains a grammatical error.

India has always believe in the value of the family system.

- Ans 1. the value of
 2. India has
 3. the family system
 4. always believe in

Question ID : 65497816309
Chosen Option : 4

Q.11 Select the most appropriate option to substitute the underlined segment in the given sentence.

Ritu goes to Singapore for her holidays last December.

- Ans 1. went to Singapore
 2. was going to Singapore
 3. had gone to Singapore
 4. has gone to Singapore

Question ID : 65497817432
Chosen Option : 3

Q.12 Select the most appropriate ANTONYM of the given word.

TARDY

- Ans 1. late
 2. early
 3. lazy
 4. slow

Question ID : 65497816324
Chosen Option : 2

Q.13 Select the most appropriate synonym of the given word.

APPEASE

- Ans 1. worsen
 2. pacify
 3. excite
 4. irritate

Question ID : 65497816326
Chosen Option : 3

Q.14 Select the most appropriate meaning of the given idiom.

Change for the better

- Ans 1. Exchange an old product for new
 2. An improvement in the situation
 3. To keep loose change
 4. Pretend to be someone else

Question ID : 65497816327
Chosen Option : 2

Q.15 Identify the segment in the sentence which contains a grammatical error.

A vacation is the time to relax and break up from the routine.

- Ans 1. break up
 2. from the routine
 3. A vacation is
 4. time to relax

Question ID : 65497816310
Chosen Option : 1

Q.16 Select the most appropriate word to fill in the blank.

Everyone was amazed _____ the young child's courage.

- Ans
- 1. of
 - 2. on
 - 3. at
 - 4. in

Question ID : 65497816312
Chosen Option : 3

Q.17 Select the most appropriate one-word substitution for the given group of words.

To fall apart as a result of decay

- Ans
- 1. Dislocate
 - 2. Dishevelled
 - 3. Disintegrate
 - 4. Discontinue

Question ID : 65497816330
Chosen Option : 3

Q.18 Select the most appropriate word to fill in the blank.

The captain, with the members of the team, _____ given a hearty welcome at the airport yesterday.

- Ans
- 1. is
 - 2. was
 - 3. are
 - 4. were

Question ID : 65497816313
Chosen Option : 2

Q.19 Select the most appropriate ANTONYM of the given word.

APPROACH

- Ans
- 1. meet
 - 2. near
 - 3. avoid
 - 4. reach

Question ID : 65497816323
Chosen Option : 3

Q.20 Select the INCORRECTLY spelt word.

- Ans 1. Allready
 2. Intend
 3. Disrupt
 4. Patient

Question ID : 65497816331
Chosen Option : 1

Comprehension:

In the following passage some words have been deleted. Fill in the blanks with the help of the alternatives given. Select the most appropriate option for each blank.

Every living species of our planet has changed or is changing. Some (1)_____, such as the pre-historic sabre-toothed tiger (2)_____ died out and some are (3)_____ dying out. Sometimes new species appear. The dog is (4)_____ species which man has caused to (5)_____ from the wolf.

SubQuestion No : 21

Q.21 Select the most appropriate option to fill in blank no. 1.

- Ans 1. species
 2. samples
 3. strains
 4. specimens

Question ID : 65497816315
Chosen Option : 1

Comprehension:

In the following passage some words have been deleted. Fill in the blanks with the help of the alternatives given. Select the most appropriate option for each blank.

Every living species of our planet has changed or is changing. Some (1)_____, such as the pre-historic sabre-toothed tiger (2)_____ died out and some are (3)_____ dying out. Sometimes new species appear. The dog is (4)_____ species which man has caused to (5)_____ from the wolf.

SubQuestion No : 22

Q.22 Select the most appropriate option to fill in blank no. 2.

- Ans 1. have
 2. having
 3. has
 4. had

Question ID : 65497816316
Chosen Option : 3

Comprehension:

In the following passage some words have been deleted. Fill in the blanks with the help of the alternatives given. Select the most appropriate option for each blank.

Every living species of our planet has changed or is changing. Some (1)_____, such as the pre-historic sabre-toothed tiger (2)_____ died out and some are (3)_____ dying out. Sometimes new species appear. The dog is (4)_____ species which man has caused to (5)_____ from the wolf.

SubQuestion No : 23

Q.23 Select the most appropriate option to fill in blank no. 3.

- Ans
- 1. regularly
 - 2. readily
 - 3. deliberately
 - 4. gradually

Question ID : **65497816317**
Chosen Option : 3

Comprehension:

In the following passage some words have been deleted. Fill in the blanks with the help of the alternatives given. Select the most appropriate option for each blank.

Every living species of our planet has changed or is changing. Some (1)_____, such as the pre-historic sabre-toothed tiger (2)_____ died out and some are (3)_____ dying out. Sometimes new species appear. The dog is (4)_____ species which man has caused to (5)_____ from the wolf.

SubQuestion No : 24

Q.24 Select the most appropriate option to fill in blank no. 4.

- Ans
- 1. the
 - 2. only
 - 3. a
 - 4. an

Question ID : **65497816318**
Chosen Option : 2

Comprehension:

In the following passage some words have been deleted. Fill in the blanks with the help of the alternatives given. Select the most appropriate option for each blank.

Every living species of our planet has changed or is changing. Some (1)_____, such as the pre-historic sabre-toothed tiger (2)_____ died out and some are (3)_____ dying out. Sometimes new species appear. The dog is (4)_____ species which man has caused to (5)_____ from the wolf.

SubQuestion No : 25

Q.25 Select the most appropriate option to fill in blank no. 5.

- Ans
- 1. expand
 - 2. emerge
 - 3. derive
 - 4. evolve

Question ID : **65497816319**
Chosen Option : 2

Q.1 आठ मित्र A, B, C, D, E, F, G और H एक गोल मेज के परितः इसी क्रम में दक्षिणावर्त रूप से मेज के केंद्र की ओर अभिमुख होकर एक-दूसरे से समान दूरी पर बैठे हैं। यदि C दक्षिण दिशा में बैठा है, तो उत्तर-पश्चिम दिशा में कौन बैठा है?

Ans 1. F

2. G

3. E

4. H

Question ID : 65497814837

Chosen Option : 1

Q.2 दो कथन और उसके बाद दो निष्कर्ष I और II दिए गए हैं। यह मानते हुए कि कथन सत्य हैं, भले ही वे सामान्य रूप से ज्ञात तथ्यों से भिन्न प्रतीत होते हों, बताएं कि कौन-सा/से निष्कर्ष दिए गए कथनों का तार्किक रूप से अनुसरण करता है / करते हैं?

कथन:

कुछ अंगूठियां, कैलेंडर हैं।

सभी अंगूठियां, कैप हैं।

निष्कर्ष:

I. सभी कैलेंडर, अंगूठियां हैं।

II. कम से कम कुछ कैलेंडर, कैप हैं।

Ans 1. न तो निष्कर्ष I और न ही II अनुसरण करता है

2. निष्कर्ष I और II दोनों अनुसरण करते हैं

3. केवल निष्कर्ष II अनुसरण करता है

4. केवल निष्कर्ष I अनुसरण करता है

Question ID : 65497814835

Chosen Option : 3

Q.3 निम्न श्रेणी में प्रश्नवाचक चिह्न (?) के स्थान पर कौन-सी संख्या आएगी?

5, 20, 65, 200, ?

Ans 1. 575

2. 1005

3. 605

4. 1055

Question ID : 65497814825

Chosen Option : 3

Q.4 निम्न श्रेणी में प्रश्नवाचक चिह्न (?) के स्थान पर कौन-सी संख्या आएगी?

40, 41, 50, 75, 124, ?

Ans 1. 257

2. 205

3. 264

4. 232

Question ID : 65497814824

Chosen Option : 2

Q.5 दो कथन और उसके बाद दो निष्कर्ष I और II दिए गए हैं। यह मानते हुए कि कथन सत्य हैं, भले ही वे सामान्य रूप से ज्ञात तथ्यों से भिन्न प्रतीत होते हों, बताएं कि कौन-सा/से निष्कर्ष दिए गए कथनों का तार्किक रूप से अनुसरण करता है/ करते हैं?

कथन:

कोई भी प्याज नींबू नहीं है।
कोई भी नींबू आलू नहीं है।

निष्कर्ष:

I. कोई भी प्याज आलू नहीं है।
II. कोई भी आलू नींबू नहीं है।

- Ans
- 1. न तो निष्कर्ष I और न ही II अनुसरण करता है
 - 2. केवल निष्कर्ष I अनुसरण करता है
 - 3. केवल निष्कर्ष II अनुसरण करता है
 - 4. निष्कर्ष I और II दोनों अनुसरण करते हैं

Question ID : 65497814834
Chosen Option : 3

Q.6 उस विकल्प का चयन कीजिए जिसका तीसरी संख्या से वही संबंध है, जो दूसरी संख्या का पहली संख्या से है।

2 : 54 :: 4 : ?

- Ans
- 1. 270
 - 2. 250
 - 3. 200
 - 4. 225

Question ID : 65497814822
Chosen Option : --

Q.7 एक निश्चित कूट भाषा में, यदि 'WRITE' को 'RWIET', 'MONTHLY' को 'NOMTYLH' लिखा जाता है, तो उसी कूट भाषा में 'AMSTERDAM' को क्या लिखा जाएगा?

- Ans
- 1. STMAEAMER
 - 2. TSMAEMADR
 - 3. STNAEMAER
 - 4. TSNAEFADR

Question ID : 65497814827
Chosen Option : 2

Q.8 उस विकल्प का चयन कीजिए जो अक्षर-समूह की निम्न श्रृंखला में प्रश्नवाचक चिह्न (?) के स्थान पर आएगा।

NYD, MXC, LWB, KVA, ?

- Ans
- 1. JULY
 - 2. JUJZ
 - 3. JTZ
 - 4. LTZ

Question ID : 65497814833
Chosen Option : 2

Q.9 एक निश्चित कूट भाषा में, यदि 'FACTOR' को 'JEGXSV' लिखा जाता है, तो उसी कूट भाषा में 'MARINA' को क्या लिखा जाएगा?

- Ans
- 1. PFVMRF
 - 2. REUORE
 - 3. QEHMSE
 - 4. QEVMRE

Question ID : 65497814826
Chosen Option : 4

Q.10 दिए गए विकल्पों में से गणितीय चिह्नों के उस संयोजन का चयन करें जिसे निम्न समीकरण में * के स्थान पर क्रमिक रूप से रखने पर समीकरण संतुलित हो जाएगा।

$$25 * 5 * 6 * 15 * 3 * 50$$

- Ans
- 1. +, x, -, +, =
 - 2. x, +, +, -, =
 - 3. ÷, x, -, +, =
 - 4. x, ÷, +, -, =

Question ID : 65497814820
Chosen Option : 1

Q.11 दिए गए पैटर्न का ध्यानपूर्वक अध्ययन कीजिए और उस संख्या का चयन कीजिए जो इसमें प्रश्नवाचक चिह्न (?) के स्थान पर आ सकती है।

15 12 90
16 13 104
12 18 ?

- Ans
- 1. 119
 - 2. 108
 - 3. 100
 - 4. 129

Question ID : 65497814823
Chosen Option : --

Q.12 यदि $H > M = D > P$ और $K = H > T > Z$ है, तो निम्न में से कौन सा विकल्प सही नहीं है?

- Ans
- 1. $Z > K$
 - 2. $Z < H$
 - 3. $H > D$
 - 4. $P < M$

Question ID : 65497814838
Chosen Option : 1

Q.13 निम्न समीकरण को सही (संतुलित) करने के लिए किन दो चिह्नों को आपस में बदला जाना चाहिए?

$$7 + 3 - 24 \div 6 \times 12 = 29$$

Ans 1. \times और $-$

2. $+$ और \times

3. $+$ और $-$

4. \div और \times

Question ID : 65497814821

Chosen Option : 2

Q.14 एक निश्चित कूट भाषा में, यदि 'FREEDOM' को '618222241213' के रूप में कूटबद्ध किया जाता है, तो उसी भाषा में 'SUPINE' को किस रूप में कूटबद्ध किया जाता है?

Ans 1. 19062191322

2. 18617181422

3. 19211191422

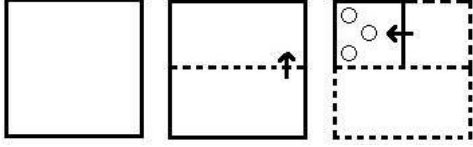
4. 19616181422

Question ID : 65497814829

Chosen Option : 3

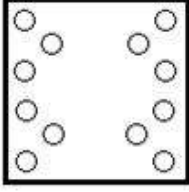
www.HaryanaJobs.in

Q.15 एक कागज को निम्नानुसार मोड़ा और काटा गया है। इसे खोलने पर यह कैसा दिखेगा?

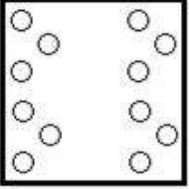


Ans

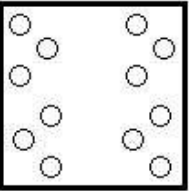
✓ 1.



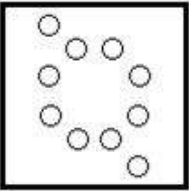
✗ 2.



✗ 3.



✗ 4.



www.HaryanaJobs.in

Question ID : 65497814843
Chosen Option : 1

Q.16 उस विकल्प का चयन कीजिए जिसका तीसरे शब्द से वही संबंध है, जो दूसरे शब्द का पहले शब्द से है।

बिस्तर : सोना :: कुर्सी : ?

Ans

✓ 1. बैठना

✗ 2. लकड़ी

✗ 3. कूदना

✗ 4. संतुलन

Question ID : 65497814831
Chosen Option : 1

Q.17 उस विकल्प आकृति का चयन कीजिए जो निम्नांकित आकृति श्रृंखला में प्रश्नवाचक चिह्न (?) के स्थान पर आएगी और पैटर्न को पूरा करेगी।



Ans

✗ 1.



✗ 2.



✗ 3.



✓ 4.



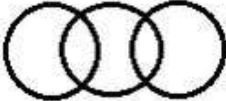
Question ID : 65497814840
Chosen Option : 4

Q.18 उस वेन आरेख का चयन कीजिए जो निम्नांकित वर्गों के मध्य संबंध का सर्वश्रेष्ठ निरूपण करता है।


अभियंता, भारतीय, महिलाएं

Ans

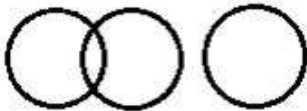
✗ 1.



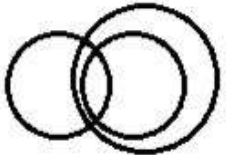
✓ 2.



✗ 3.



✗ 4.



Question ID : 65497814844
Chosen Option : 2

Q.19 उस विकल्प का चयन कीजिए जिसका तीसरे शब्द से वही संबंध है, जो दूसरे शब्द का पहले शब्द से है।

उभयचर : मेंढक :: सरीसृप : ?

- Ans
- 1. कंगारू
 - 2. छिपकली
 - 3. कॉकरोच
 - 4. चूहा

Question ID : 65497814832

Chosen Option : 2

Q.20 उस विकल्प का चयन कीजिए जो दी गई आकृति में इसके भाग के रूप में अंतर्निहित नहीं है (घुमाने की अनुमति नहीं है)।



Ans

- 1.
- 2.
- 3.
- 4.

Question ID : 65497814841

Chosen Option : 2

Q.21 पांच मित्र एक गोल मेज के परितः इसके केंद्र की ओर अभिमुख होकर बैठे हैं। अभिषेक, शरद के बाईं ओर पड़ोस में बैठा है। जोसेफ, वसीम के दाईं ओर पड़ोस में बैठा है। विशाल, वसीम के बाईं ओर तीसरे स्थान पर बैठा है। जोसेफ और अभिषेक के बीच में कौन बैठा है?

- Ans
- 1. विशाल
 - 2. या तो वसीम, या शरद
 - 3. वसीम
 - 4. या तो वसीम, या विशाल

Question ID : 65497814836

Chosen Option : 1

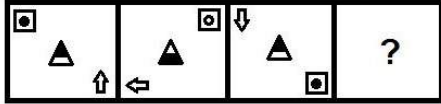
Q.22 उस विकल्प का चयन कीजिए जिसका तीसरे अक्षर-समूह से वही संबंध है, जो दूसरे अक्षर-समूह का पहले अक्षर-समूह से है।

MONKEY : STRDJP :: TORQUE : ?

- Ans
- 1. WTYJMB
 - 2. WTYLBV
 - 3. WSQJZV
 - 4. WTYJZV

Question ID : 65497814830
Chosen Option : --

Q.23 उस आकृति का चयन कीजिए जो निम्नांकित आकृति श्रृंखला में प्रश्नवाचक चिह्न (?) के स्थान पर आएगी।



Ans

- 1.
- 2.
- 3.
- 4.

Question ID : 65497814839
Chosen Option : 2

Q.24 एक निश्चित कूट भाषा में, यदि 'TURNIP' को '239597' के रूप में, और 'QUEEN' को '83555' के रूप में कूटबद्ध किया जाता है, तो उसी कूट भाषा में 'LEMON' को किस रूप में कूटबद्ध किया जाएगा?

- Ans
- 1. 20584
 - 2. 45587
 - 3. 35465
 - 4. 45658

Question ID : 65497814828
Chosen Option : --

Q.25 यदि दर्पण को चित्रानुसार MN पर रखा जाए, तो दिए गए संयोजन के दर्पण में निर्मित सही प्रतिबिंब का चयन कीजिए।



- Ans
- ✗ 1. P 8 9 B G R
- ✗ 2. P 8 6 B G R
- ✓ 3. P 8 6 B G R
- ✗ 4. P 8 9 B G R

Question ID : 65497814842
Chosen Option : 3

Section : Numerical Aptitude

Q.1 दिए गए आंकड़ों का अध्ययन करें और नीचे दिए गए प्रश्न का उत्तर दें।

अंक	0-10	10-20	20-30	30-40	40-50
छात्रों की संख्या	3	18	5	7	16

यदि x, माध्यिका वर्ग (median class) की निचली सीमा है और y बहुलक वर्ग (modal class) की ऊपरी सीमा है, तो $(3x + 2y)$ का मान ज्ञात करें।

- Ans
- ✓ 1. 100
- ✗ 2. 80
- ✗ 3. 70
- ✗ 4. 90

Question ID : 65497814447
Chosen Option : --

Q.2 $\frac{1}{4} \div \frac{3}{4} \left(\frac{2}{5} - \frac{1}{3} \right)$ का मान कितना होगा?

$1\frac{2}{3}$ of $\frac{3}{4} - \frac{1}{4}$ of $\frac{2}{3}$

- Ans
- ✗ 1. $\frac{8}{195}$
- ✓ 2. $\frac{4}{195}$
- ✗ 3. $\frac{7}{195}$
- ✗ 4. $\frac{2}{195}$

Question ID : 65497816482
Chosen Option : 2

Q.3 कोई वस्तु ₹882 में बेचकर, किसी व्यक्ति को 10% की हानि होती है। यदि वह इस वस्तु को ₹991.76 में बेचता, तो हानि/लाभ प्रतिशत ज्ञात करें।

- Ans**
- 1. 12% लाभ
 - 2. 1.2% लाभ
 - 3. 1.5% हानि
 - 4. 5% हानि

Question ID : 65497814449
Chosen Option : 2

Q.4 ₹3,364 की राशि को दो भागों में इस प्रकार विभाजित किया जाता है कि इनसे क्रमशः 3 वर्ष और 5 वर्ष बाद प्राप्त राशियां बराबर होती हैं, जब यह वार्षिक 5% पर वार्षिक रूप से चक्रवृद्धि होती है। दोनों भागों के बीच अंतर ज्ञात करें।

- Ans**
- 1. ₹164
 - 2. ₹180
 - 3. ₹166
 - 4. ₹160

Question ID : 65497814455
Chosen Option : --

Q.5 किसी धात्विक ठोस गोले की त्रिज्या 21.6 cm है। इसे पिघलाया जाता है और एकसमान अनुप्रस्थ काट वाले तार में ढाला जाता है। यदि तार की लंबाई 259.2 m है, तो तार की त्रिज्या ज्ञात करें।

- Ans**
- 1. 0.9 cm
 - 2. 0.8 cm
 - 3. 0.72 cm
 - 4. 0.54 cm

Question ID : 65497814360
Chosen Option : --

Q.6 सुरेखा, अपनी मासिक आय का 24% किराने के सामान पर, 16% किराए पर और शेष आय का 55% बच्चों की शिक्षा और अन्य पर खर्च करती है। यदि वह महीने में ₹5,940 बचाती है, तो वह किराए पर कितना (₹ में) खर्च करती है?

- Ans**
- 1. 3,960
 - 2. 3,520
 - 3. 3,740
 - 4. 3,300

Question ID : 65497814448
Chosen Option : 2

Q.7 A और B दो संख्याओं का अनुपात 5 : 6 है। यदि इनमें से प्रत्येक से 8 घटाया जाता है, तो अनुपात 4 : 5 हो जाता है। A और B का योगफल ज्ञात करें।

- Ans
- 1. 121
 - 2. 88
 - 3. 99
 - 4. 110

Question ID : 65497814451
Chosen Option : 2

Q.8 किसी कक्षा में लड़कों और लड़कियों की संख्या का अनुपात 5 : 7 है। लड़कों का औसत भार 56 kg है और लड़कियों का औसत भार 50 kg है। कक्षा में सभी लड़कों और लड़कियों का औसत भार (kg में) ज्ञात करें।

- Ans
- 1. 54.1
 - 2. 51.8
 - 3. 53.2
 - 4. 52.5

Question ID : 65497814444
Chosen Option : 4

Q.9 किसी वस्तु का अंकित मूल्य ₹4,450 है। कोई दुकानदार इस वस्तु पर 10% की छूट देता है और 20% लाभ प्राप्त करता है। वस्तु का क्रय मूल्य (₹ में) ज्ञात करें।

- Ans
- 1. 3,180.00
 - 2. 3,337.50
 - 3. 3,240.50
 - 4. 3,260.00

Question ID : 65497814446
Chosen Option : 2

Q.10 12 संख्याओं का औसत 25.5 है। प्रथम छः संख्याओं का औसत 22.4 है और अंतिम तीन संख्याओं का औसत 28.2 है। 7वीं संख्या, 8वीं संख्या से 5 कम लेकिन 9वीं संख्या से 10 कम है। 8वीं और 9वीं संख्या का औसत ज्ञात करें।

- Ans
- 1. 29.8
 - 2. 31.5
 - 3. 29.4
 - 4. 32.6

Question ID : 65497814445
Chosen Option : --

Q.11 कोई राशि, $x\%$ वार्षिक साधारण ब्याज की दर पर 2 वर्ष के लिए निवेशित की जाती है। यदि इसे $(x+4)\%$ की दर पर समान समय के लिए निवेशित किया जाता, तो प्राप्त राशि ₹1,800 अधिक होती। समान राशि पर वार्षिक 8% की दर से $5\frac{2}{3}$ वर्ष का साधारण ब्याज ज्ञात करें।

- Ans
- 1. ₹10,064
 - 2. ₹9,520
 - 3. ₹10,200
 - 4. ₹10,336

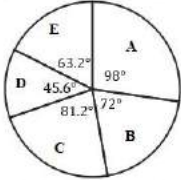
Question ID : 65497814454
Chosen Option : --

Q.12 यदि $(a+b):(b+c):(c+a) = 7:4:5$ और $a+b+c = 16$ है, तो $(a^2+b^2+c^2):(ab+bc+ca)$, _____ के बराबर है।

- Ans
- 1. 27 : 20
 - 2. 26 : 19
 - 3. 24 : 17
 - 4. 23 : 15

Question ID : 65497814453
Chosen Option : 2

Q.13 दिए गए पाई चार्ट का अध्ययन करें और नीचे दिए गए प्रश्न का उत्तर दें।
पाई चार्ट 2019 में किसी कंपनी के पांच विभागों A, B, C, D और E के कर्मचारियों की कुल संख्या का बंटन (break-up) दर्शाता है।



कर्मचारियों की कुल संख्या = 4500

यदि B विभाग के 30% कर्मचारियों को D विभाग में स्थानांतरित किया जाता है, तो C और D विभाग के कर्मचारियों की संख्या के बीच अंतर x है, जो _____ के बीच होगा।

- Ans
- 1. 168 और 172
 - 2. 164 और 168
 - 3. 176 और 180
 - 4. 172 और 176

Question ID : 65497814464
Chosen Option : 4

Q.14 $\frac{5}{16} + \frac{3}{5} \times 1\frac{7}{8} \div \frac{2}{3} - 6\frac{1}{8} \div \left(5\frac{1}{4} \div \frac{3}{7} \text{ of } \frac{1}{2}\right)$ of $\frac{6}{7}$ का मान ज्ञात करें।

- Ans
1. $\frac{19}{6}$
2. $\frac{31}{18}$
3. $\frac{41}{24}$
4. $\frac{17}{12}$

Question ID : 65497814443
Chosen Option : 3

Q.15 जब कोई वस्तु ₹1,188 में बेची गई, तो x% लाभ प्राप्त हुआ। जब यह वस्तु ₹1,435.50 में बेची गई, तो प्रतिशत लाभ (x + 25)% है। x का मान ज्ञात करें।

- Ans
1. 20
2. 15
3. 10
4. 18

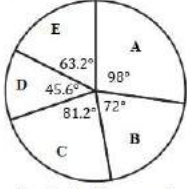
Question ID : 65497814450
Chosen Option : 1

Q.16 कपिल, धारा की विपरीत दिशा में $2\frac{1}{2}$ km की दूरी 15 मिनट में तय करता है और धारा की दिशा में समान दूरी 8 मिनट में तय करता है। धारा की चाल (km/h में) ज्ञात करें।

- Ans
1. $\frac{9}{2}$
2. $\frac{35}{8}$
3. 5
4. 4

Question ID : 65497814459
Chosen Option : --

- Q.17** दिए गए पाई चार्ट का अध्ययन करें और नीचे दिए गए प्रश्न का उत्तर दें।
पाई चार्ट 2019 में किसी कंपनी के पांच विभागों A, B, C, D और E के कर्मचारियों की कुल संख्या का बंटन (break-up) दर्शाता है।



कर्मचारियों की कुल संख्या = 4500

यदि A विभाग में पुरुष कर्मचारियों और महिला कर्मचारियों का अनुपात 3 : 4 है, तो C विभाग के कर्मचारियों की संख्या, A विभाग के महिला कर्मचारियों की संख्या से कितने प्रतिशत अधिक है? (निकटतम पूर्णांक तक)

- Ans**
- 1. 42
 - 2. 31
 - 3. 40
 - 4. 45

Question ID : 65497814465
Chosen Option : 4

- Q.18** माना 4-अंकों की छोटी से छोटी संख्या x इस प्रकार है कि जब इसे 5, 6 और 7 से विभाजित किया जाता है, तो क्रमशः 2, 3 और 4 शेषफल प्राप्त होता है। x के अंकों का योगफल ज्ञात करें।

- Ans**
- 1. 12
 - 2. 9
 - 3. 11
 - 4. 14

Question ID : 65497814441
Chosen Option : --

- Q.19** 240 m लंबी रेलगाड़ी, किसी खंभे को 16 सेकंड में पार करती है और किसी प्लेटफार्म को 42 सेकंड में पार करती है। प्लेटफार्म की लंबाई (m में) ज्ञात करें।

- Ans**
- 1. 400
 - 2. 360
 - 3. 390
 - 4. 420

Question ID : 65497814458
Chosen Option : 3

Q.20 $145 - [125 - \{64 \div 8 \text{ of } 4 - (4 \times 8 \div 2)\}]$ का मान ज्ञात करें।

- Ans
- 1. 8
 - 2. 5
 - 3. 6
 - 4. 7

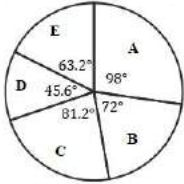
Question ID : 65497814442
Chosen Option : 3

Q.21 A और B किसी कार्य को क्रमशः 25 दिन और 40 दिन में कर सकते हैं। वे एक साथ 8 दिन तक कार्य करते हैं। अकेले C शेष कार्य को 24 दिन में पूरा करता है। A और C एक साथ उसी कार्य के 60% भाग को कितने दिन में पूरा करेंगे?

- Ans
- 1. 10 दिन
 - 2. 9 दिन
 - 3. 8 दिन
 - 4. 12 दिन

Question ID : 65497814456
Chosen Option : 1

Q.22 दिए गए पाई चार्ट का अध्ययन करें और नीचे दिए गए प्रश्न का उत्तर दें।
पाई चार्ट 2019 में किसी कंपनी के पांच विभागों A, B, C, D और E के कर्मचारियों की कुल संख्या का बंटन (break-up) दर्शाता है।



कर्मचारियों की कुल संख्या = 4500

कंपनी के D और E विभाग में कर्मचारियों की औसत संख्या, A विभाग में कर्मचारियों की संख्या की कितने प्रतिशत है? (ठीक एक दशमलब स्थान तक)

- Ans
- 1. 56.2%
 - 2. 55.5%
 - 3. 55.8%
 - 4. 54.4%

Question ID : 65497814463
Chosen Option : 2

Q.23 A, किसी कार्य को 8 दिन में कर सकता है। B की कार्य क्षमता A की कार्य क्षमता की आधी है और C की कार्य क्षमता B की कार्य क्षमता से 50% अधिक है। यदि तीनों एक साथ कार्य करते हैं, तो वे 2 दिन में कार्य का कितना भाग पूरा करेंगे?

- Ans**
1. $\frac{3}{8}$
2. $\frac{9}{32}$
3. $\frac{9}{16}$
4. $\frac{3}{4}$

Question ID : 65497814457
Chosen Option : 3

Q.24 कोई आयताकार प्लाट 420 m लंबा और 84 m चौड़ा है। इसकी सभी भुजाओं के अनुदिश अर्ध-वृत्तीय फुलवारियाँ बनी हुई हैं। पूरे प्लाट का क्षेत्रफल (हेक्टेयर में) x है। x का मान (ठीक एक दशमलव स्थान तक) ज्ञात करें।
($\pi = \frac{22}{7}$ लें)

- Ans**
1. 19.1
2. 19.4
3. 17.9
4. 18.7

Question ID : 65497814460
Chosen Option : --

Q.25 ₹7,560 की राशि को A, B, C और D के बीच इस प्रकार विभाजित किया जाता है कि A और B के हिस्सों का अनुपात 4 : 5, B और C के हिस्सों का अनुपात 3 : 4 और C और D के हिस्सों का अनुपात 5 : 7 है। B और D के हिस्सों के बीच अंतर (₹ में) ज्ञात करें।

- Ans**
1. 806.40
2. 1,612.80
3. 1,310.40
4. 1,209.60

Question ID : 65497814452
Chosen Option : --

Section : General Awareness

Q.1 भारतीय संविधान के अनुच्छेद 80 के अनुसार, राज्य सभा के सदस्यों की कुल संख्या _____ से अधिक नहीं हो सकती है।

- Ans
- 1. 235
 - 2. 260
 - 3. 250
 - 4. 240

Question ID : 65497816196
Chosen Option : 3

Q.2 कॉर्निया के पीछे पाए जाने वाले ऊतक के रंगीन वलय को किस नाम से जाना जाता है, जो पुतली के आकार को समायोजित करके, आंख में प्रवेश करने वाले प्रकाश की मात्रा को नियंत्रित करता है?

- Ans
- 1. आइरिस
 - 2. फोविया
 - 3. कोरॉइड
 - 4. रेटिना

Question ID : 65497816201
Chosen Option : 1

Q.3 निम्नलिखित में से किसने, मई 2020 में इराक़ के नए प्रधान मंत्री के रूप में पदभार ग्रहण किया है?

- Ans
- 1. मोहम्मद अल्लावी
 - 2. मुस्तफ़ा अल-कादिमी
 - 3. अदनान अल-ज़र्फ़ी
 - 4. अदेल अब्दुल महदी

Question ID : 65497816190
Chosen Option : --

Q.4 रुक्मिणी देवी अरुंडेल का निम्नलिखित में से किस नृत्य शैली से संबंध है?

- Ans
- 1. कथकली
 - 2. कुचिपुड़ी
 - 3. भरतनाट्यम
 - 4. कथक

Question ID : 65497816184
Chosen Option : 2

Q.5 भारत सरकार ने मौजूदा सामान्य बिक्री कर को भारतीय कराधान प्रणाली में बदलने के लिए किस वर्ष मूल्य वर्धित कर (वैट) को अप्रत्यक्ष कर के रूप में लागू किया?

- Ans
- 1. 2013
 - 2. 2011
 - 3. 2005
 - 4. 2007

Question ID : 65497817403
Chosen Option : --

Q.6 जोड़ों के बीच मौजूद द्रव, जो जोड़ों की गति को आसान बनाता है, को किस नाम से जाना जाता है?

- Ans 1. साइनोवियल
 2. उपास्थि
 3. टेंडन
 4. श्लेषपुटी

Question ID : 65497816199
 Chosen Option : 1

Q.7 मुगल प्रांतीय प्रशासन में, आमतौर पर, दीवानी का अर्थ क्या होता था?

- Ans 1. आपराधिक न्याय प्रणाली
 2. राजस्व प्रशासन
 3. कानून व्यवस्था और आपराधिक न्याय का प्रशासन
 4. आपराधिक न्यायशास्त्र और जेल का प्रशासन

Question ID : 65497816206
 Chosen Option : 3

Q.8 नाहरकटिया तेल क्षेत्र किस राज्य में स्थित है?

- Ans 1. पश्चिम बंगाल
 2. असम
 3. गुजरात
 4. महाराष्ट्र

Question ID : 65497816203
 Chosen Option : --

Q.9 रियल टाइम ग्रॉस सेटलमेंट (RTGS) के माध्यम से न्यूनतम कितनी राशि प्रेषित की जा सकती है?

- Ans 1. ₹3,00,000
 2. ₹5,00,000
 3. ₹1,00,000
 4. ₹2,00,000

Question ID : 65497816193
 Chosen Option : 4

Q.10 निम्नलिखित में से कौन-सा वाद्य यंत्र आमतौर पर ऊर्ध्वाधर स्थिति में और एक मुड़े हुए धनुष से बजाया जाता है?

- Ans 1. शहनाई
 2. वीणा
 3. सितार
 4. सारंगी

Question ID : 65497816183
 Chosen Option : 4

Q.11 मौर्य राजवंश का अंतिम शासक कौन था?

- Ans
- 1. सम्प्रति
 - 2. बृहद्रथ
 - 3. शतधनवन
 - 4. देववर्मन

Question ID : 65497816205
Chosen Option : 2

Q.12 ऑल इंग्लैंड ओपन बैडमिंटन चैम्पियनशिप 2020 में, पुरुष एकल का खिताब निम्नलिखित में से किसने जीता था?

- Ans
- 1. विक्टर एक्सेलसेन
 - 2. चाउ तिन चेन
 - 3. ली चोंग वेई
 - 4. लिन डैन

Question ID : 65497816186
Chosen Option : --

Q.13 जलियांवाला बाग हत्याकांड के लिए जिम्मेदार ब्रिटिश अधिकारी माइकल ओ डायर की हत्या निम्नलिखित में से किसने की थी?

- Ans
- 1. चंद्रशेखर आज़ाद
 - 2. राम प्रसाद बिस्मिल
 - 3. भगत सिंह
 - 4. उधम सिंह

Question ID : 65497816207
Chosen Option : 4

Q.14 लोहे का वह कौन सा गुण है, जिसके कारण गर्म लोहे के टुकड़े को पीटकर चाकू का रूप दिया जा सकता है?

- Ans
- 1. ध्वन्यात्मकता (sonority)
 - 2. चमक (lustrousness)
 - 3. तन्यता (ductility)
 - 4. आघातवर्धनीयता (malleability)

Question ID : 65497816200
Chosen Option : 4

Q.15 2019-2020 में, विश्व बैंक द्वारा कराए गए एक सर्वेक्षण के अनुसार, 'नई सृजित फर्मों' की श्रेणी में भारत का वैश्विक स्थान निम्नलिखित में से कौन सा है?

- Ans
- 1. दूसरा
 - 2. छठा
 - 3. पहला
 - 4. तीसरा

Question ID : 65497815182
Chosen Option : --

Q.16 निम्नलिखित में से किस भारतीय टेबल टेनिस खिलाड़ी ने आई.टी.टी.एफ. (ITTF) चैलेंजर प्लस ओमान ओपन 2020 जीता था?

- Ans
- 1. सानिल शेटी
 - 2. शुबजित साहा
 - 3. शरत कमल
 - 4. एंथोनी अमलराज

Question ID : 65497816187

Chosen Option : --

Q.17 1979 में 'द्वितीय पिछड़ा वर्ग आयोग (Second Backward Classes Commission)' की अध्यक्षता के द्वारा की गई थी।

- Ans
- 1. बी.पी. मंडल
 - 2. बी.आर. आंबेडकर
 - 3. वी.के. साहनी
 - 4. जय प्रकाश नारायण

Question ID : 65497816195

Chosen Option : --

Q.18 निम्नलिखित में से कौन सा अंग, ग्लूकोज को ग्लाइकोजन (भंडारण के लिए इस्तेमाल किया जाने वाला एक जटिल कार्बोहाइड्रेट) और अमीनो अम्ल को प्रोटीन में परिवर्तित करता है?

- Ans
- 1. यकृत
 - 2. फेफड़े
 - 3. छोटी आंत
 - 4. बड़ी आंत

Question ID : 65497816198

Chosen Option : 3

Q.19 भारत, दुनिया के कुल भौगोलिक क्षेत्रफल का कितना प्रतिशत भाग है (निकटतम पूर्ण संख्या तक पूर्णांकित)?

- Ans
- 1. 2
 - 2. 1
 - 3. 4
 - 4. 5

Question ID : 65497816204

Chosen Option : 1

Q.20 निम्नलिखित में से कौन सा एक जैन त्योहार है, जो श्वेतांबर समुदाय के द्वारा आठ दिनों के लिए मनाया जाता है और दिगंबर समुदाय द्वारा दसलक्षणपर्व के रूप में दस दिनों के लिए मनाया जाता है?

- Ans
- 1. पर्युषण पर्व
 - 2. कार्तिक पूर्णिमा
 - 3. ज्ञान पंचमी
 - 4. नवपद ओली

Question ID : 65497816185

Chosen Option : 1

Q.21 पद्म श्री 2020 पुरस्कार प्राप्तकर्ता, सरिता जोशी को निम्न में से किस क्षेत्र में उनके योगदान के लिए पुरस्कार प्रदान किया गया है?

- Ans
- 1. साहित्य और शिक्षा
 - 2. सार्वजनिक मामले
 - 3. व्यापार और उद्योग
 - 4. कला

Question ID : 65497816189
Chosen Option : 4

Q.22 निम्नलिखित में से किसे, मार्च 2020 में वित्त सचिव के रूप में नियुक्त किया गया था?

- Ans
- 1. बिमल जुल्का
 - 2. अमिता पांडोव
 - 3. सतीश कुमार शर्मा
 - 4. अजय भूषण पांडे

Question ID : 65497816188
Chosen Option : 4

Q.23 वाहनों में हेडलाइट के रूप में निम्नलिखित में से किस दर्पण का उपयोग किया जाता है?

- Ans
- 1. समतल दर्पण
 - 2. दोहरा उत्तल दर्पण
 - 3. अवतल दर्पण
 - 4. उत्तल दर्पण

Question ID : 65497816197
Chosen Option : 3

Q.24 कंचनजंगा बायोस्फियर रिज़र्व निम्नलिखित में से किस राज्य में स्थित है?

- Ans
- 1. झारखंड
 - 2. केरल
 - 3. हिमाचल प्रदेश
 - 4. सिक्किम

Question ID : 65497816202
Chosen Option : 3

Q.25 संसद के दोनों सदनों की संयुक्त बैठक की अध्यक्षता निम्नलिखित में से कौन करता है?

- Ans
- 1. लोकसभा अध्यक्ष
 - 2. राज्यसभा के सभापति
 - 3. राज्यसभा के उप सभापति
 - 4. केंद्रीय संसदीय मामलों के मंत्री

Question ID : 65497816194
Chosen Option : 1

Multi Tasking Non Technical Staff Examination 2020

Participant ID	www.HaryanaJobs.in
Participant Name	www.HaryanaJobs.in
Test Center Name	Arya College of Engineering and Information Technology
Test Date	08/10/2021
Test Time :	9:00 AM - 10:30 AM
Subject	MTS Non Technical 2020

Section : General English

Q.1 Select the INCORRECTLY spelt word.

- Ans 1. Pearl
 2. Please
 3. Peasent
 4. Plenty

Question ID : 65497816634
 Chosen Option : 3

Q.2 Select the most appropriate option to substitute the underlined segment in the given sentence. If there is no need to substitute it, select 'No substitution required'.

Both of us going out for lunch yesterday.

- Ans 1. going off
 2. No substitution required
 3. go out
 4. went out

Question ID : 65497816623
 Chosen Option : 4

Q.3 Identify the segment that contains a grammatical error. If there is no error, select 'No error'.

Life without laughter would be a dull affair.

- Ans 1. would be
 2. a dull affair
 3. No error
 4. Life without laughter

Question ID : 65497816613
 Chosen Option : 1

Q.4 Select the most appropriate meaning of the given idiom.

To go bananas

- Ans 1. To become nervous
 2. To keep eating bananas
 3. To become very excited or angry
 4. To feel very hungry

Question ID : 65497816631
 Chosen Option : 1

Q.5 Select the most appropriate word for the given group of words.

Something which brings bad luck

- Ans
- 1. Wicked
 - 2. Monstrous
 - 3. Devilish
 - 4. Jinxed

Question ID : 65497816633
Chosen Option : 2

Q.6 Select the most appropriate word for the given group of words.

Animals and plants which live in water

- Ans
- 1. Terrestrial
 - 2. Amphibian
 - 3. Aquatic
 - 4. Aerial

Question ID : 65497816632
Chosen Option : 3

Q.7 Select the most appropriate synonym of the given word.

PLENTIFUL

- Ans
- 1. Charming
 - 2. Meagre
 - 3. Beautiful
 - 4. Ample

Question ID : 65497816629
Chosen Option : 4

Q.8 Select the most appropriate ANTONYM of the given word.

FAKE

- Ans
- 1. Artificial
 - 2. False
 - 3. Genuine
 - 4. Bogus

Question ID : 65497816627
Chosen Option : 3

Q.9 Select the most appropriate ANTONYM of the given word.

MISERABLE

- Ans
- 1. Sad
 - 2. Cheerful
 - 3. Tragic
 - 4. Nervous

Question ID : 65497816626
Chosen Option : 2

Q.10 Select the most appropriate option to fill in the blank.

The terrorists were armed _____ machine guns.

- Ans
- 1. for
 - 2. by
 - 3. of
 - 4. with

Question ID : 65497816615

Chosen Option : 1

Q.11 Identify the segment that contains a grammatical error. If there is no error, select 'No error'.

His injury does not seems to affect him much.

- Ans
- 1. No error
 - 2. His injury
 - 3. to affect him much
 - 4. does not seems

Question ID : 65497816612

Chosen Option : 4

Q.12 Select the most appropriate option to substitute the underlined segment in the given sentence. If there is no need to substitute it, select 'No substitution required.'

The sound of thunder was followed to a heavy downpour.

- Ans
- 1. follows by
 - 2. No substitution required
 - 3. followed of
 - 4. followed by

Question ID : 65497815412

Chosen Option : 4

Q.13 Select the most appropriate meaning of the given idiom.

To be off your food

- Ans
- 1. To have no food
 - 2. To help someone
 - 3. To have no appetite
 - 4. To give food to others

Question ID : 65497816630

Chosen Option : 2

Q.14 Select the most appropriate option to fill in the blank.

She went in. I was just going to call her when she _____ again.

- Ans
- 1. appeared
 - 2. occurred
 - 3. cropped
 - 4. happened

Question ID : 65497816636

Chosen Option : 2

Q.15 Select the INCORRECTLY spelt word.

- Ans 1. Delete
 2. Delicious
 3. Delightfull
 4. Delicate

Question ID : 65497816635
Chosen Option : 3

Q.16 Select the most appropriate option to substitute the underlined segment in the given sentence.

I don't think we can talk to him at all. He wasn't listening.

- Ans 1. hadn't listened
 2. will not listening
 3. didn't listen
 4. doesn't listen

Question ID : 65497817534
Chosen Option : 3

Q.17 Select the most appropriate option to fill in the blank.

_____ hard she tried, Amayra could not memorise the poem.

- Ans 1. Though
 2. However
 3. While
 4. Because

Question ID : 65497816616
Chosen Option : 2

Q.18 Select the most appropriate synonym of the given word.

ROYAL

- Ans 1. Minor
 2. Poorly
 3. Kingly
 4. Lowly

Question ID : 65497816628
Chosen Option : 3

Q.19 Select the most appropriate option to fill in the blank.

The brave soldiers _____ the position they had lost.

- Ans 1. detained
 2. caught
 3. invaded
 4. captured

Question ID : 65497816637
Chosen Option : 1

Q.20 Identify the segment that contains a grammatical error. If there is no error, select 'No error'.

Many people from this village have migrated for searching of work.

- Ans 1. No error
2. this village have migrated
3. Many people from
4. for searching of work

Question ID : **65497816614**
Chosen Option : 4

Comprehension:

In the following passage some words have been deleted. Fill in the blanks with the help of the alternatives given. Select the most appropriate option for each blank.

My first voyage had been very profitable. I was again a (1)_____ man. I did not lack for luxury or entertainment. (2)_____, my friend, I could not rest for long. I (3)_____ the salt air and the thrill of travel and adventure. Soon I (4)_____ by the will of Allah back to the seaport at Basra, (5)_____ I found a newly-made ship with fine sails and the best equipment.

SubQuestion No : 21

Q.21 Select the most appropriate option to fill in blank no. 1.

- Ans 1. poor
2. dull
3. healthy
4. wealthy

Question ID : **65497816618**
Chosen Option : 4

Comprehension:

In the following passage some words have been deleted. Fill in the blanks with the help of the alternatives given. Select the most appropriate option for each blank.

My first voyage had been very profitable. I was again a (1)_____ man. I did not lack for luxury or entertainment. (2)_____, my friend, I could not rest for long. I (3)_____ the salt air and the thrill of travel and adventure. Soon I (4)_____ by the will of Allah back to the seaport at Basra, (5)_____ I found a newly-made ship with fine sails and the best equipment.

SubQuestion No : 22

Q.22 Select the most appropriate option to fill in blank no. 2.

- Ans 1. But
2. And
3. Since
4. So

Question ID : **65497816619**
Chosen Option : 4

Comprehension:

In the following passage some words have been deleted. Fill in the blanks with the help of the alternatives given. Select the most appropriate option for each blank.

My first voyage had been very profitable. I was again a (1)_____ man. I did not lack for luxury or entertainment. (2)_____, my friend, I could not rest for long. I (3)_____ the salt air and the thrill of travel and adventure. Soon I (4)_____ by the will of Allah back to the seaport at Basra, (5)_____ I found a newly-made ship with fine sails and the best equipment.

SubQuestion No : 23**Q.23 Select the most appropriate option to fill in blank no. 3.**

- Ans 1. had tasted
 2. am tasting
 3. have tasted
 4. taste

Question ID : **65497816620**
 Chosen Option : **3**

Comprehension:

In the following passage some words have been deleted. Fill in the blanks with the help of the alternatives given. Select the most appropriate option for each blank.

My first voyage had been very profitable. I was again a (1)_____ man. I did not lack for luxury or entertainment. (2)_____, my friend, I could not rest for long. I (3)_____ the salt air and the thrill of travel and adventure. Soon I (4)_____ by the will of Allah back to the seaport at Basra, (5)_____ I found a newly-made ship with fine sails and the best equipment.

SubQuestion No : 24**Q.24 Select the most appropriate option to fill in blank no. 4.**

- Ans 1. had pulled
 2. was pulling
 3. am pulled
 4. was pulled

Question ID : **65497816621**
 Chosen Option : **4**

Comprehension:

In the following passage some words have been deleted. Fill in the blanks with the help of the alternatives given. Select the most appropriate option for each blank.

My first voyage had been very profitable. I was again a (1)_____ man. I did not lack for luxury or entertainment. (2)_____, my friend, I could not rest for long. I (3)_____ the salt air and the thrill of travel and adventure. Soon I (4)_____ by the will of Allah back to the seaport at Basra, (5)_____ I found a newly-made ship with fine sails and the best equipment.

SubQuestion No : 25**Q.25 Select the most appropriate option to fill in blank no. 5.**

- Ans 1. wherever
 2. where
 3. when
 4. while

Question ID : **65497816622**
 Chosen Option : **2**

Section : **General Intelligence and Reasoning**

Q.1 विकल्पों में से कौन-सी संख्या, निम्न संख्या श्रेणी में प्रश्नवाचक चिह्न (?) के स्थान पर आएगी?

12, 18, 21, 27, 30, ?

- Ans
- 1. 39
 - 2. 34
 - 3. 36
 - 4. 33

Question ID : 65497814723

Chosen Option : 3

Q.2 जिस प्रकार 'हिरणी', 'बारहसिंगा' से संबंधित है, उसी प्रकार 'रानी मधुमक्खी', ' _____ ' से संबंधित है।

- Ans
- 1. नर मधुमक्खी (Drone)
 - 2. बछेड़ा (Foal)
 - 3. मक्खी (Drake)
 - 4. हंस (Gander)

Question ID : 65497814731

Chosen Option : 1

Q.3 जिस प्रकार 'गोल्फ', 'कोर्स' से संबंधित है, ठीक उसी प्रकार 'बॉक्सिंग', ' _____ ' से संबंधित है।

- Ans
- 1. रिंग
 - 2. कोर्ट
 - 3. ट्रैक
 - 4. फील्ड

Question ID : 65497814730

Chosen Option : 1

Q.4 दो कथन और उसके बाद तीन निष्कर्ष I, II और III दिए गए हैं। यह मानते हुए कि कथन सत्य हैं, भले ही वे सामान्य रूप से ज्ञात तथ्यों से भिन्न प्रतीत होते हों, बताएं कि कौन सा / से निष्कर्ष दिए गए कथनों का तार्किक रूप से अनुसरण करता है / करते हैं।

कथन:
कुछ रैकेट, बैट हैं।
सभी बैट, डंडे हैं।

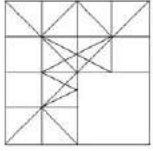
निष्कर्ष:
I. सभी रैकेट, डंडे हैं।
II. कुछ रैकेट, डंडे नहीं हैं।
III. कुछ डंडे, रैकेट हैं।

- Ans
- 1. केवल निष्कर्ष II अनुसरण करता है।
 - 2. केवल निष्कर्ष III अनुसरण करता है।
 - 3. निष्कर्ष I और III दोनों अनुसरण करते हैं।
 - 4. केवल निष्कर्ष I अनुसरण करता है।

Question ID : 65497814734

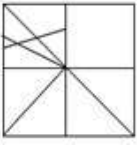
Chosen Option : 2

Q.5 उस विकल्प आकृति का चयन करें, जिसको दी गई प्रश्न आकृति के रिक्त स्थान में रखने पर पैटर्न पूरा हो जाएगा।

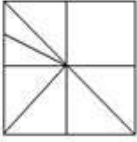


Ans

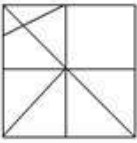
✗ 1.



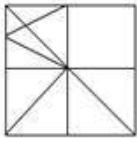
✗ 2.



✗ 3.



✓ 4.



Question ID : 65497814739
Chosen Option : 4

Q.6 उस विकल्प का चयन करें, जो तीसरे अक्षर-समूह से ठीक उसी प्रकार संबंधित है, जिस प्रकार दूसरा अक्षर-समूह पहले अक्षर-समूह से संबंधित है।

JUDICIAL : LJAUIDCI :: OUTWARDS : ?

Ans ✗ 1. UOWTRASD

✓ 2. SODURTAW

✗ 3. UOSDWTRA

✗ 4. SDUORAWT

Question ID : 65497814729
Chosen Option : 2

Q.7 पांच दोस्त, एक के बाद एक उत्तर और दक्षिण की ओर अभिमुख होकर बेंच पर बैठे हैं। R, बाईं ओर किनारे पर बैठा है और उत्तर की ओर अभिमुख है तथा T, R के दाईं ओर दूसरे स्थान पर बैठा है। यदि P, Q के बाईं ओर तीसरे स्थान पर बैठा है, तो S की बैठने की स्थिति बताइए।

Ans ✓ 1. दक्षिण की ओर अभिमुख और T के दाएं

✗ 2. उत्तर की ओर अभिमुख और T के दाएं

✗ 3. दक्षिण की ओर अभिमुख और P के बाएं

✗ 4. उत्तर की ओर अभिमुख और Q के बाएं

Question ID : 65497814735
Chosen Option : 1

Q.8 कोई बिक्री प्रतिनिधि U, V, W, X, Y और Z छह दुकानों में से प्रत्येक दुकान पर एक दिन में एक बार जाने की योजना बनाता है। वह निम्न शर्तों के अनुसार उस दिन के लिए अपना कार्यक्रम निर्धारित करता है:

- उसे दुकान U पर, V और Z से पहले जाना चाहिए।
- उसे दुकान V पर Y से पहले जाना चाहिए।
- वह जिस तीसरी दुकान पर जाता है वह X होनी चाहिए।

बिक्री प्रतिनिधि X के तुरंत बाद, _____ को छोड़कर निम्न में से किसी भी दुकान पर जा सकता है।

- Ans
- 1. W
 - 2. Y
 - 3. V
 - 4. U

Question ID : 65497814737
Chosen Option : 4

Q.9 यदि किसी निश्चित कूट भाषा में, HECTARE को 8532195 के रूप में और MONARCH को 4651938 के रूप में कूटबद्ध किया जाता है, तो उसी कूट भाषा में, OPINION को किस रूप में कूटबद्ध किया जाएगा?

- Ans
- 1. 6785865
 - 2. 7795975
 - 3. 4735345
 - 4. 6795965

Question ID : 65497814727
Chosen Option : 4

Q.10 इनमें से कौन से दो चिह्नों को आपस में बदलने पर दिया गया समीकरण संतुलित हो जाएगा?

$$8 - 13 + 32 \div 8 \times 17 = 91$$

- Ans
- 1. + और -
 - 2. + और ×
 - 3. - और ×
 - 4. + और ×

Question ID : 65497814719
Chosen Option : 3

Q.11 दो कथन और उसके बाद दो निष्कर्ष I और II दिए गए हैं। यह मानते हुए कि कथन सत्य हैं, भले ही वे सामान्य रूप से ज्ञात तथ्यों से भिन्न प्रतीत होते हों, बताएं कि कौन सा / से निष्कर्ष दिए गए कथनों का तार्किक रूप से अनुसरण करता है / करते हैं।


कथन:
कुछ प्लेट, कटोरे हैं।
कुछ कटोरे, कप हैं।

निष्कर्ष:
I. कुछ प्लेट, कप हैं।
II. कुछ कटोरे, प्लेट हैं।

- Ans
- 1. न तो निष्कर्ष I और न ही II अनुसरण करता है।
 - 2. केवल निष्कर्ष II अनुसरण करता है।
 - 3. निष्कर्ष I और II दोनों अनुसरण करते हैं।
 - 4. केवल निष्कर्ष I अनुसरण करता है।

Question ID : 65497814733
Chosen Option : 2

Q.12 उस विकल्प आकृति का चयन करें, जो निम्न आकृति-श्रेणी में प्रश्नवाचक चिह्न (?) के स्थान पर आएगी।



Ans

- ✓ 1.
- ✗ 2.
- ✗ 3.
- ✗ 4.

Question ID : 65497814738
Chosen Option : 1

Q.13 उस विकल्प का चयन करें, जिसमें संख्या-युग्म की संख्याओं का एक-दूसरे से ठीक वही संबंध है, जो निम्न संख्या-युग्म की संख्याओं के मध्य है।

84 : 21

- ✗ 1. 54 : 27
- ✗ 2. 72 : 12
- ✓ 3. 65 : 65
- ✗ 4. 60 : 12

Question ID : 65497814721
Chosen Option : 3

Q.14 किसी निश्चित कूट भाषा में, यदि GLAZED को EDAZGL लिखा जाता है, तो उसी कूट भाषा में, DAYOUT को किस प्रकार लिखा जाएगा?

- ✗ 1. TUOYAD
- ✓ 2. UTYODA
- ✗ 3. YADTUO
- ✗ 4. UTDAYO

Question ID : 65497814725
Chosen Option : 2

Q.15 यदि 'INHABIT' को '106' के रूप में और 'JUNCTURE' को '99' के रूप में कूटबद्ध किया जाता है, तो 'KEYSTONE' को किस रूप में कूटबद्ध किया जाएगा?

- ✗ 1. 154
- ✗ 2. 135
- ✗ 3. 153
- ✓ 4. 145

Question ID : 65497814728
Chosen Option : --

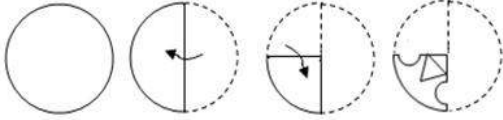
Q.16 किसी निश्चित कूट भाषा में, यदि BUBBLE को FQFXPA लिखा जाता है, तो उसी कूट भाषा में, FALCON को किस प्रकार लिखा जाएगा?

- Ans
- 1. JEPGSR
 - 2. JWPYSJ
 - 3. BWHYKJ
 - 4. BEHGKR

Question ID : 65497814726

Chosen Option : 2

Q.17 एक कागज को निम्नानुसार मोड़ा और काटा गया है। इसे खोलने पर यह कैसा दिखेगा?



Ans

- 1.
- 2.
- 3.
- 4.

www.HaryanaJobs.in


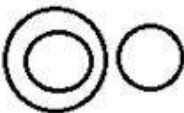

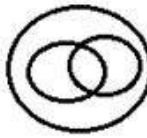
Question ID : 65497814742

Chosen Option : 2

Q.18 उस वेन-आरेख का चयन करें, जो निम्न वर्गों के बीच संबंध को सर्वोत्तम ढंग से निरूपित करता है।

माताएँ, औरतें, बहनें

Ans

- ✗ 1. 
- ✗ 2. 
- ✗ 3. 
- ✓ 4. 

Question ID : 65497814743
Chosen Option : 4

Q.19 विकल्पों में से कौन-सा अक्षर-समूह, निम्न अक्षर-समूह की श्रेणी में प्रश्नवाचक चिह्न (?) के स्थान पर आएगा?

SWA, CGK, MQU, ?

- Ans ✓ 1. WAE
- ✗ 2. XAE
- ✗ 3. WZC
- ✗ 4. VZD

Question ID : 65497814732
Chosen Option : 1

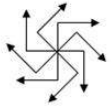
Q.20 इनमें से कौन से दो चिह्नों को एक-दूसरे से और दो अंकों को एक-दूसरे से आपस में बदलने पर दिया गया समीकरण संतुलित हो जाएगा?

$$75 \div 15 - 18 \times 12 + 17 = 79$$

- Ans ✗ 1. - और ×; 7 और 5
- ✗ 2. + और ×; 5 और 8
- ✗ 3. × और -; 2 और 5
- ✓ 4. - और ÷; 2 और 5

Question ID : 65497814720
Chosen Option : 3

Q.21 उस विकल्प आकृति का चयन करें, जो निम्न आकृति में अन्तःस्थापित है। (घुमाने की अनुमति नहीं है)



Ans

1.



2.



3.



4.



Question ID : 65497814740
Chosen Option : 3

Q.22 यदि दर्पण को दी गई आकृति के दाईं ओर रखा जाए, तो दर्पण में निर्मित सही प्रतिबिंब का चयन कीजिए।

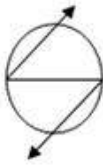


Ans

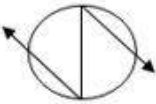
1.



2.



3.



4.



Question ID : 65497814741
Chosen Option : 2

www.HaryanaJobs.in

Q.23 विकल्पों में से कौन-सी संख्या, निम्न संख्या श्रेणी में प्रश्नवाचक चिह्न (?) के स्थान पर आएगी?

6, 15, 42, ?, 366, 1095

- Ans
- 1. 126
 - 2. 123
 - 3. 129
 - 4. 125

Question ID : 65497814724

Chosen Option : 2

Q.24 A, B, C, D, E, F और G सात व्यक्ति, गोल मेज के परितः बाहर की ओर अभिमुख होकर बैठे हैं। C, A के बाईं ओर दूसरे स्थान पर बैठा है लेकिन D के दाईं ओर पड़ोस में बैठा है। B, A के दाईं ओर तीसरे स्थान पर बैठा है, जबकि G और E उनके बीच बैठे हैं। F कहाँ बैठा है?

- Ans
- 1. C के दाएं
 - 2. A के दाएं
 - 3. D के बाएं
 - 4. C और D के बीच

Question ID : 65497814736

Chosen Option : 1

Q.25 उस विकल्प का चयन कीजिए जिसकी संख्याओं के मध्य वही संबंध है, जो निम्न दिए गए समुच्चय की संख्याओं के मध्य है।

(8, 18, 32)

- Ans
- 1. (46, 68, 102)
 - 2. (50, 72, 98)
 - 3. (35, 52, 80)
 - 4. (52, 78, 128)

Question ID : 65497814722

Chosen Option : --

Section : Numerical Aptitude

Q.1 संख्या 5, 7, 8, 10, 12, 13 और N को आरोही क्रम में व्यवस्थित किया जाता है। इन संख्याओं का माध्य, संख्याओं की माध्यिका के बराबर है। N का मान ज्ञात करें।

- Ans
- 1. 14
 - 2. 16
 - 3. 15
 - 4. 25

Question ID : 65497818395

Chosen Option : 3

Q.2 18 cm किनारे वाला धातु का घन, असमान आयाम वाले तीन छोटे घन बनाने के लिए पिघलाया जाता है। यदि दो छोटे घनों के किनारे 9 cm और 15 cm हैं, तो तीसरे छोटे घन का पृष्ठीय क्षेत्रफल (cm² में) ज्ञात करें।

- Ans
- 1. 864
 - 2. 1944
 - 3. 1728
 - 4. 486

Question ID : 65497818397
Chosen Option : 1

Q.3 चार वर्ष पहले, पांच सदस्यों वाले समूह की औसत आयु 38 वर्ष थी। एक और आदमी समूह में शामिल होता है और 6 सदस्यों वाले समूह की वर्तमान औसत आयु 44 वर्ष हो जाती है। नए सदस्य की वर्तमान आयु (वर्ष में) ज्ञात करें।

- Ans
- 1. 54
 - 2. 30
 - 3. 52
 - 4. 74

Question ID : 65497818385
Chosen Option : 1

Q.4 किसी नाव में रखे 25 बक्से के औसत वजन में 2 kg की वृद्धि होती है, जब उनमें से 68 kg वजन वाले बक्से को नए बक्से से बदला जाता है। नए बक्से का वजन (kg में) ज्ञात करें।

- Ans
- 1. 97
 - 2. 132
 - 3. 70
 - 4. 118

Question ID : 65497818384
Chosen Option : 4

Q.5 12 m × 6 m × 4 m आयाम वाले कमरे में लगाए जा सकने वाले सबसे लंबे खंबे की लंबाई (m में, दशमलव के बाद दो स्थानों तक गणना करें) ज्ञात करें।

- Ans
- 1. 13.4
 - 2. 7.2
 - 3. 12.6
 - 4. 14.0

Question ID : 65497818396
Chosen Option : 4

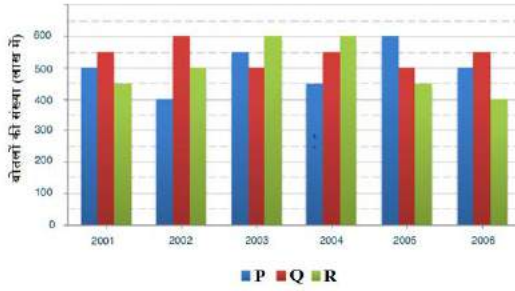
Q.6 किसी किले में 400 व्यक्तियों के लिए 60 दिन की खाद्य सामग्री है। 35 दिन बाद, 100 और व्यक्ति आते हैं। खाद्य सामग्री कितने दिन तक चलेगी, यह मानते हुए कि सभी पुरुष समान मात्रा में भोजन करते हैं?

- Ans
- 1. 35
 - 2. 30
 - 3. 28
 - 4. 20

Question ID : 65497818391
Chosen Option : 4

Q.7 कोई कंपनी एथलीटों के लिए, P, Q और R तीन भिन्न-भिन्न फ्लेवर वाले नए ऊर्जा पेय (energy drink) का उत्पादन करती है। नीचे दर्शाए गए बार ग्राफ में 2001 से 2006 तक छह वर्ष की अवधि के दौरान तीनों फ्लेवर (flavours) का उत्पादन दर्शाया गया है। ग्राफ का अध्ययन करें और नीचे दिए गए प्रश्न का उत्तर दें।

वर्ष 2001 से 2006 के दौरान कंपनी द्वारा P, Q और R तीन भिन्न-भिन्न फ्लेवर वाले नए ऊर्जा पेय (energy drink) का उत्पादन (लाख बोतल में)



2004, 2005 और 2006 में फ्लेवर Q की बोतलों के औसत उत्पादन और 2001, 2002 और 2003 में फ्लेवर P के औसत उत्पादन के बीच अंतर ज्ञात करें।

- Ans
- 1. 33,40,000
 - 2. 50,00,000
 - 3. 40,00,000
 - 4. 33,30,000

Question ID : 65497818403
Chosen Option : 2

Q.8 वह बड़ी से बड़ी संख्या ज्ञात करें, जिससे 827, 1149 और 1310 को विभाजित करने पर प्रत्येक स्थिति में समान शेषफल प्राप्त होगा?

- Ans
- 1. 116
 - 2. 232
 - 3. 322
 - 4. 161

Question ID : 65497818399
Chosen Option : 4

Q.9 5% वार्षिक चक्रवृद्धि ब्याज की दर से ₹10,000 की राशि पर 2 वर्ष का वार्षिक रूप से चक्रवृद्धि ब्याज (₹ में) ज्ञात करें।

- Ans
- 1. 11,000
 - 2. 1,025
 - 3. 11,025
 - 4. 1,000

Question ID : 65497818393
Chosen Option : 2

Q.10 8 महिलाएं और 8 लड़कियां किसी कार्य को 6 दिन में पूरा कर सकती हैं, जबकि 4 महिलाएं और 10 लड़कियां इस कार्य को 8 दिन में पूरा कर सकती हैं। अकेले एक लड़की इस कार्य को कितने दिन में पूरा करेगी?

- Ans
- 1. 120
 - 2. 84
 - 3. 72
 - 4. 144

Question ID : 65497818380
Chosen Option : 4

Q.11 कोई व्यक्ति ₹250 की दर से दो वस्तुएं बेचता है। इस लेन-देन में हुए लाभ या हानि का मान (₹ में) ज्ञात करें, यदि वह एक वस्तु को 25% के लाभ पर और दूसरी वस्तु को 25% की हानि पर बेचता है?

- Ans
- 1. हानि, 66.67
 - 2. लाभ, 66.67
 - 3. लाभ, 33.33
 - 4. हानि, 33.33

Question ID : 65497818389
Chosen Option : --

Q.12 यदि किसी आयताकार संवृत लकड़ी के बक्से का आंतरिक आयाम 30 cm, 18 cm और 23 cm है, यदि उपयोग की गई लकड़ी की मोटाई 1 cm है, तो यह कितना स्थान (cm³ में) घेरेगा?

- Ans
- 1. 9408
 - 2. 16000
 - 3. 14136
 - 4. 12420

Question ID : 65497818398
Chosen Option : --

Q.13 किसी संख्या को 8 से गुणा करने के बजाय 8 से विभाजित कर दिया जाता है। इसके परिणामस्वरूप, उत्तर में त्रुटि होती है। इस गलत गणना के कारण उत्तर में प्रतिशत अंतर (दशमलव के बाद दो स्थानों तक गणना करें) ज्ञात करें।

- Ans
- 1. 72.00%
 - 2. 48.67%
 - 3. 98.44%
 - 4. 67.33%

Question ID : 65497818387
Chosen Option : 3

Q.14 कोई व्यक्ति अपनी सामान्य चाल के पांच-आठवें भाग से झाड़व करते हुए अपने कार्यस्थल पर जाता है। वह, अपने कार्यस्थल पर 36 मिनट देर से पहुंचता है। उसके द्वारा कार्यस्थल पर जाने में लगने वाला सामान्य समय (घंटे में) ज्ञात करें।

- Ans
- 1. 2
 - 2. 1.5
 - 3. 1
 - 4. 2.5

Question ID : 65497818382
Chosen Option : 3

Q.15 किसी निश्चित धनराशि पर प्राप्त साधारण ब्याज मूलधन का 27% है। उधार दी गई राशि की अवधि, वार्षिक प्रतिशत दर के संख्यात्मक मान की एक तिहाई है। दर प्रतिशत ज्ञात करें।

- Ans
- 1. 15%
 - 2. 12%
 - 3. 9%
 - 4. 6%

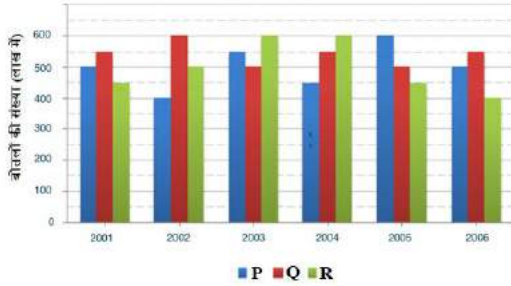
Question ID : 65497818394
Chosen Option : 3

Q.16 कोई नाव, धारा की दिशा में बिंदु P से बिंदु Q तक जाती है, जो P से 24 km की दूरी पर है और फिर बिंदु P पर वापस आती है। यदि नाव की वास्तविक चाल (शांत जल में) 6 km/h है, तो P से Q तक की पूरी यात्रा में, Q से P तक की पूरी यात्रा से 3 घंटा कम समय लगता है। P से Q तक 2 घंटे में जाने के लिए नाव की वास्तविक चाल (km/h में) ज्ञात करें।

- Ans
- 1. 12
 - 2. 22
 - 3. 10
 - 4. 15

Question ID : 65497818383
Chosen Option : --

Q.17 कोई कंपनी एथलीटों के लिए, P, Q और R तीन भिन्न-भिन्न फ्लेवर वाले नए ऊर्जा पेय (energy drink) का उत्पादन करती है। नीचे दर्शाए गए बार ग्राफ में 2001 से 2006 तक छह वर्ष की अवधि के दौरान तीनों फ्लेवर (flavours) का उत्पादन दर्शाया गया है। ग्राफ का अध्ययन करें और नीचे दिए गए प्रश्न का उत्तर दें।
वर्ष 2001 से 2006 के दौरान कंपनी द्वारा P, Q और R तीन भिन्न-भिन्न फ्लेवर वाले नए ऊर्जा पेय (energy drink) का उत्पादन (सय चोतल में)



निम्न में से किस वर्ष, पिछले वर्ष की तुलना में फ्लेवर R के लिए उत्पादन में वृद्धि/कमी का प्रतिशत सबसे अधिक है?

- Ans
- 1. 2002, वृद्धि
 - 2. 2005, कमी
 - 3. 2003, वृद्धि
 - 4. 2006, कमी

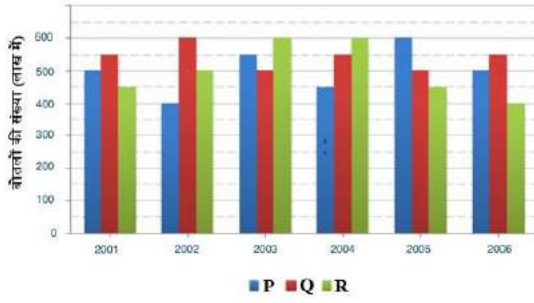
Question ID : 65497818404
Chosen Option : 2

Q.18 कोई व्यक्ति 40 सेब के क्रय मूल्य में 30 सेब बेचता है। उसका लाभ प्रतिशत (दशमलव के बाद दो स्थानों तक गणना करें) ज्ञात करें।

- Ans
- 1. 40.33%
 - 2. 30.67%
 - 3. 33.33%
 - 4. 25.00%

Question ID : 65497818388
Chosen Option : 3

- Q.19** कोई कंपनी एथलीटों के लिए, P, Q और R तीन भिन्न-भिन्न फ्लेवर वाले नए ऊर्जा पेय (energy drink) का उत्पादन करती है। नीचे दर्शाए गए बार ग्राफ में 2001 से 2006 तक छह वर्ष की अवधि के दौरान तीनों फ्लेवर (flavours) का उत्पादन दर्शाया गया है। ग्राफ का अध्ययन करें और नीचे दिए गए प्रश्न का उत्तर दें।
वर्ष 2001 से 2006 के दौरान कंपनी द्वारा P, Q और R तीन भिन्न-भिन्न फ्लेवर वाले नए ऊर्जा पेय (energy drink) का उत्पादन (लाख बोतल में)



2001 और 2002 में फ्लेवर R के कुल उत्पादन के संदर्भ में 2003 और 2004 में फ्लेवर P के कुल उत्पादन का प्रतिशत (दशमलव के बाद एक स्थान तक गणना करें) कितना है?

- Ans
- 1. 115%
 - 2. 87.0%
 - 3. 105.3%
 - 4. 95.0%

Question ID : 65497818402
Chosen Option : 4

- Q.20** $\frac{1}{6} + \left[4\frac{3}{4} - \left(3\frac{1}{6} - 2\frac{1}{3} \right) \right]$ का मान _____ के बीच है।
 $\left(\frac{1}{5} \text{ का } \frac{1}{5} \div \frac{1}{5} \right) \div \left(\frac{1}{5} \div \frac{1}{5} \times \frac{1}{5} \right)$

- Ans
- 1. 4.2 और 4.3
 - 2. 4.0 और 4.1
 - 3. 4.3 और 4.4
 - 4. 4.6 और 4.8

Question ID : 65497816280
Chosen Option : 2

- Q.21** कोई दुकानदार, किसी ग्राहक को 5%, 10% और 15% की तीन क्रमागत छूट देने के बाद किसी वस्तु के क्रय मूल्य पर 40% का लाभ कमाता है। यदि दुकानदार केवल 5% और 10% की छूट देता है, तो लाभ प्रतिशत ज्ञात करें।

- Ans
- 1. 66.71%
 - 2. 64.71%
 - 3. 59.71%
 - 4. 74.71%

Question ID : 65497818386
Chosen Option : --

Q.22 A pudding of mass 900 g has three ingredients: flour, sugar and butter. There is three times as much flour as sugar, and two times as much sugar as butter. How much flour (in g) is there in the recipe?

- Ans
- 1. 550
 - 2. 500
 - 3. 750
 - 4. 600

Question ID : 65497818390
Chosen Option : --

Q.23 स्वतंत्र रूप से खोलने पर, पाइप P और Q, पूरी तरह से खाली टंकी को क्रमशः 24 मिनट और 36 मिनट में भर सकते हैं। पाइप R पूरी तरह से भरी हुई टंकी को 30 मिनट में खाली कर सकता है। प्रारंभ में तीनों पाइप P, Q और R, एक साथ खोले जाते हैं। कितने मिनट बाद पाइप Q को बंद कर देना चाहिए, ताकि टंकी 1 घंटे में भर जाए?

- Ans
- 1. 24
 - 2. 15
 - 3. 18
 - 4. 30

Question ID : 65497818381
Chosen Option : 3

Q.24 $(8.5 - 2\frac{1}{2})$ of 16.5 - $[27.4 - \{10\frac{1}{4}$ of 2.5 - $(1\frac{1}{2} - 1\frac{1}{3})\}]$ का सरलीकृत मान ज्ञात करें।

- Ans
- 1. 97.075
 - 2. 101.075
 - 3. 96.925
 - 4. 99.925

Question ID : 65497818501
Chosen Option : 1

Q.25 ₹2,130 की राशि को तीन हिस्सों में विभाजित करना है। दूसरा हिस्सा, पहले हिस्से का 60% है और पहले और तीसरे हिस्से का अनुपात 5 : 7 है। हिस्से (₹ में) ज्ञात करें।

- Ans
- 1. 710, 994, 426
 - 2. 426, 710, 994
 - 3. 710, 426, 994
 - 4. 994, 710, 426

Question ID : 65497818392
Chosen Option : 3

Section : General Awareness

Q.1 पश्चिम बंगाल में इनमें से किस एक्सपोर्ट प्रॉसेसिंग ज़ोन (EPZ) की स्थापना की गई है?

- Ans
- 1. मिदनापुर
 - 2. हल्दिया
 - 3. फाल्टा
 - 4. फरक्का

Question ID : 65497817304
Chosen Option : --

Q.2 अगस्त 2020 में निम्नलिखित में से किसे एचडीएफसी बैंक के प्रबंध निदेशक और सीईओ के रूप में नियुक्त किया गया?

- Ans
- 1. मनोज सिन्हा
 - 2. रामदेव अग्रवाल
 - 3. आदित्य पुरी
 - 4. शशिधर जगदीशन

Question ID : 65497817909
Chosen Option : --

Q.3 सिपाही विद्रोह किस वर्ष में समाप्त हुआ था?

- Ans
- 1. 1858
 - 2. 1874
 - 3. 1888
 - 4. 1862

Question ID : 65497817317
Chosen Option : --

Q.4 निम्नलिखित में से किस प्रधानमंत्री ने 1985 में अखिल असम गण संग्राम परिषद के साथ असम समझौते पर हस्ताक्षर किए थे?

- Ans
- 1. राजीव गांधी
 - 2. आई.के. गुजराल
 - 3. वी.पी. सिंह
 - 4. पी.वी. नरसिम्हा राव

Question ID : 65497817306
Chosen Option : --

Q.5 निम्नलिखित में से किस भारतीय क्रिकेट खिलाड़ी की आत्मकथा का शीर्षक 'प्लेइंग इट माई वे' है?

- Ans
- 1. सौरव गांगुली
 - 2. सचिन तेंडुलकर
 - 3. कपिल देव
 - 4. रवि शास्त्री

Question ID : 65497817299
Chosen Option : 2

Q.6 सूर्य के प्रकाश की लाल और हरे रंग की तरंग दैर्ध्य के अलावा, महासागरों में जल के अणुओं द्वारा, सूर्य के प्रकाश की अन्य कौन से रंग की तरंग दैर्ध्य अवशोषित की जाती है?

- Ans
- 1. पीली
 - 2. नीली
 - 3. नारंगी
 - 4. बैंगनी

Question ID : 65497817312
Chosen Option : --

Q.7 कलाकारों को प्रदर्शन कला (Performing Arts) में योगदान के लिए _____ से संगीत नाटक अकादमी पुरस्कार दिया जाता है।

- Ans 1. 1959
 2. 1952
 3. 1961
 4. 1950

Question ID : 65497817301
 Chosen Option : --

Q.8 स्वतंत्रता के बाद निम्नलिखित में से कौन, किसी भी खेल में भारत का पहला विश्व चैंपियन था?

- Ans 1. रामनाथन कृष्णन
 2. लीला राम
 3. मिलखा सिंह
 4. विल्सन जोन्स

Question ID : 65497817298
 Chosen Option : --

Q.9 निम्नलिखित में से कौन एक स्वपोषी (ऑटोट्रॉफ़) है?

- Ans 1. पशु
 2. मानव
 3. पौधा
 4. कवक

Question ID : 65497817309
 Chosen Option : --

Q.10 जनपद गीते, जिसमें बासवन्ना के वचन शामिल हैं, _____ राज्य से संबंधित है।

- Ans 1. केरल
 2. कर्नाटक
 3. ओडिशा
 4. पश्चिम बंगाल

Question ID : 65497817295
 Chosen Option : --

Q.11 निम्नलिखित में से कौन सा हमारे आहार का एक गैर-पचनीय भाग है, जो पाचन तंत्र के स्वास्थ्य के लिए आवश्यक है?

- Ans 1. कार्बोहाइड्रेट (Carbohydrates)
 2. प्रोटीन (Proteins)
 3. खाद्य रेशे (Roughage)
 4. वसा (Fats)

Question ID : 65497817308
 Chosen Option : 4

Q.12 'पाटकर (Paitkar)' चित्रकारी, _____ की अद्वितीय सांस्कृतिक प्रतीक है।

- Ans
- 1. छत्तीसगढ़
 - 2. झारखंड
 - 3. तेलंगाना
 - 4. कर्नाटक

Question ID : 65497817294
Chosen Option : --

Q.13 स्वतंत्रता के बाद पहली बार भारत ने किस ओलंपिक खेल में पुरुषों की हॉकी स्पर्धा में स्वर्ण पदक जीता था?

- Ans
- 1. सिडनी
 - 2. बार्सिलोना
 - 3. लंदन
 - 4. एथेंस

Question ID : 65497817297
Chosen Option : --

Q.14 'वेटिंग फॉर ए वीजा' नामक पुस्तक के लेखक निम्नलिखित में से कौन है?

- Ans
- 1. सरदार वल्लभभाई पटेल
 - 2. महात्मा गांधी
 - 3. डॉ. बी.आर. अम्बेडकर
 - 4. जवाहर लाल नेहरू

Question ID : 65497817300
Chosen Option : 1

Q.15 भारतीय संविधान का कौन सा अनुच्छेद, यह घोषणा करता है कि भारतीय संविधान, 1950 के लागू होने से पहले के भाग III से असंगत सभी कानून शून्य माने जाएंगे?

- Ans
- 1. 13
 - 2. 10
 - 3. 17
 - 4. 19

Question ID : 65497817305
Chosen Option : --

Q.16 निम्नलिखित में से कौन सा, भारत में सबसे पुराना स्टॉक एक्सचेंज है?

- Ans
- 1. बी.एस.ई. (BSE)
 - 2. सी.एस.ई. (CSE)
 - 3. एन.एस.ई. (NSE)
 - 4. डी.एस.ई. (DSE)

Question ID : 65497815787
Chosen Option : --

Q.17 जल-तालिका के नीचे कठोर चट्टान की परतों के बीच जमा भू-जल को किस नाम से जाना जाता है?

- Ans 1. गर्म पानी का झरना (hot spring)
 2. जलभृत (aquifer)
 3. हिमनद (glacier)
 4. गीज़र (geyser)

Question ID : 65497817314
Chosen Option : 2

Q.18 जब चींटी काटती है, तो यह त्वचा में एक अम्लीय तरल (फॉर्मिक अम्ल) प्रविष्ट कर देती है। इसे बेअसर करने के लिए त्वचा पर निम्नलिखित में से क्या लगाया जाना चाहिए?

- Ans 1. टमाटर का गूदा
 2. नींबू का रस
 3. ब्लिचिंग पाउडर
 4. नम बेकिंग सोडा

Question ID : 65497817311
Chosen Option : 2

Q.19 _____, नामक एक बृहद पेशी शीट, छाती गुहा के तल का निर्माण करती है।

- Ans 1. ड्यूडिनम
 2. डायफ्राम
 3. एल्वियोली
 4. लैरिक्स

Question ID : 65497817310
Chosen Option : --

Q.20 निम्नलिखित में से किस वर्ष को मीठे पानी के अंतर्राष्ट्रीय वर्ष के रूप में मनाया गया था?

- Ans 1. 2007
 2. 2003
 3. 2009
 4. 2000

Question ID : 65497817313
Chosen Option : --

Q.21 1 नवंबर, 1858 को निम्नलिखित में से किसकी उद्घोषणा के बाद यह घोषणा की गई थी कि अब से भारत एक राज्य सचिव के माध्यम से और ब्रिटिश सम्राट के नाम पर शासित होगा?

- Ans 1. रानी विक्टोरिया
 2. राजा फिलिप
 3. रानी एलिजाबेथ
 4. राजा लुइस

Question ID : 65497817318
Chosen Option : --

Q.22 मस्तान शाह वली की दरगाह पर आयोजित होने वाला मेला निम्नलिखित में से कौन सा है?

- Ans 1. धामोनी उर्स
 2. हीरा भूमिया मेला
 3. करम मेला
 4. पीर बुधन मेला

Question ID : 65497817296
Chosen Option : --

Q.23 तराइन की पहली लड़ाई वर्ष _____ में लड़ी गई थी।

- Ans 1. 1204
 2. 1213
 3. 1157
 4. 1191

Question ID : 65497817316
Chosen Option : 3

Q.24 भारतीय संविधान का निम्नलिखित में से कौन सा अनुच्छेद हमें 'धन विधेयक (Money Bill)' का विवरण देता है?

- Ans 1. 127
 2. 110
 3. 95
 4. 123

Question ID : 65497817307
Chosen Option : --

Q.25 द्वि-वार्षिक पर्यावरण प्रदर्शन सूचकांक (EPI 2020) के 12 वें संस्करण में भारत का कौन सा स्थान था?

- Ans 1. 168
 2. 152
 3. 177
 4. 174

Question ID : 65497817315
Chosen Option : --

www.HaryanaJobs.in

Multi Tasking Non Technical Staff Examination 2020

Participant ID	www.HaryanaJobs.in
Participant Name	www.HaryanaJobs.in
Test Center Name	Arya Institute of Engineering and Technology
Test Date	08/10/2021
Test Time :	12:30 PM - 2:00 PM
Subject	MTS Non Technical 2020

Section : **General English**

Q.1 Identify the segment in the sentence that contains a grammatical error.

She used to teach dance in a school, did she?

- Ans
- 1. She used to
 - 2. in a school
 - 3. teach dance
 - 4. did she

Question ID : **65497816411**
Chosen Option : 4

Q.2 Identify the segment in the sentence that contains a grammatical error.

She is capable to do better but she lacks confidence.

- Ans
- 1. but she
 - 2. She is capable
 - 3. to do better
 - 4. lacks confidence

Question ID : **65497816412**
Chosen Option : 4

Q.3 Select the most appropriate meaning of the given idiom.

Loudmouth

- Ans
- 1. One who talks well
 - 2. One who speaks calmly
 - 3. One who talks boastfully
 - 4. One who speaks nervously

Question ID : **65497816428**
Chosen Option : 3

Q.4 Select the INCORRECTLY spelt word.

- Ans 1. preamble
 2. chronic
 3. prospect
 4. ambulance

Question ID : 65497816433

Chosen Option : 4

Q.5 Select the most appropriate option to substitute the underlined segment in the given sentence. If there is no need to substitute it, select 'No substitution required.'

The principals of government schools are being train in leadership skills at the IIM, Ahmedabad from 15th to 24th July.

- Ans 1. was been trained
 2. No substitution required
 3. are being trained
 4. is being train

Question ID : 65497815311

Chosen Option : 3

Q.6 Select the most appropriate ANTONYM of the given word.

REMOTE

- Ans 1. secret
 2. unlikely
 3. unknown
 4. close

Question ID : 65497816425

Chosen Option : 4

Q.7 Select the most appropriate meaning of the given idiom.

Comb through

- Ans 1. To come out of a problem
 2. To carefully look through
 3. To be trapped somewhere
 4. To hide information

Question ID : 65497816429

Chosen Option : 2

www.HaryanaJobs.in

Q.8 Identify the segment in the sentence that contains a grammatical error.

He stopped copying when the examiner warn him.

- Ans
- 1. warn him
 - 2. copying
 - 3. when the examiner
 - 4. He stopped

Question ID : 65497816410
Chosen Option : 1

Q.9 Fill in the blank with the most appropriate word.

The workers' interests must be protected, _____ they will go on a strike.

- Ans
- 1. and
 - 2. but
 - 3. so
 - 4. else

Question ID : 65497816414
Chosen Option : 4

Q.10 Select the most appropriate option to substitute the underlined segment. If no substitution is required, select 'No substitution required'.

Shikha said that the paper was lengthy and no difficult.

- Ans
- 1. lengthy or not
 - 2. No substitution required
 - 3. long so not
 - 4. lengthy but not

Question ID : 65497816421
Chosen Option : 4

Q.11 Select the most appropriate ANTONYM of the given word.

NEGLECT

- Ans
- 1. care
 - 2. taste
 - 3. mock
 - 4. wish

Question ID : 65497816424
Chosen Option : 1

Q.12 Select the most appropriate option to substitute the underlined segment in the given sentence.

I have lost my school diary; I can't find it nowhere.

- Ans
- 1. somewhere
 - 2. wherever
 - 3. everywhere
 - 4. anywhere

Question ID : 65497817433
Chosen Option : 4

Q.13 Select the INCORRECTLY spelt word.

- Ans
- 1. friend
 - 2. froth
 - 3. froun
 - 4. frozen

Question ID : 65497816432
Chosen Option : 2

Q.14 Select the most appropriate one-word substitution for the given group of words.

Science which deals with celestial objects and space

- Ans
- 1. Geography
 - 2. Astrology
 - 3. Geology
 - 4. Astronomy

Question ID : 65497816430
Chosen Option : 2

Q.15 Fill in the blank with the most appropriate word.

They _____ like bitter enemies but soon make up.

- Ans
- 1. quarrel
 - 2. conflict
 - 3. uproar
 - 4. tumult

Question ID : 65497816435
Chosen Option : 1

Q.16 Select the most appropriate synonym of the given word.

HAZARDOUS

- Ans 1. risky
 2. secure
 3. certain
 4. bulky

Question ID : 65497816427
Chosen Option : 1

Q.17 Fill in the blank with the most appropriate word.

Why not give him a free hand _____ conduct his business?

- Ans 1. at
 2. for
 3. in
 4. to

Question ID : 65497816413
Chosen Option : 4

Q.18 Fill in the blank with the most appropriate word.

It is the duty of every Indian to _____ communal harmony.

- Ans 1. repair
 2. maintain
 3. release
 4. present

Question ID : 65497816434
Chosen Option : 2

Q.19 Select the most appropriate synonym of the given word.

RELY

- Ans 1. protect
 2. depend
 3. ignore
 4. doubt

Question ID : 65497816426
Chosen Option : 2

www.HaryanaJobs.in

Q.20 Select the most appropriate one-word substitution for the given group of words.

Compulsion to steal

- Ans
- 1. Pyromania
 - 2. Nymphomania
 - 3. Megalomania
 - 4. Kleptomania

Question ID : **65497816431**
Chosen Option : 4

Comprehension:

In the following passage some words have been deleted. Fill in the blanks with the help of the alternatives given. Select the most appropriate option for each blank.

Namita did not have enough cash. She did not (1)_____ a credit card either. She found herself in a (2)_____. She had the contact number of a (3)_____ friend whom she called for help. Her friend came (4)_____ and settled the bill. Namita thanked her and expressed her (5)_____. She promised to return the money to her friend soon.

SubQuestion No : 21

Q.21 Select the most appropriate option to fill in blank no. 1.

- Ans
- 1. has
 - 2. having
 - 3. had
 - 4. have

Question ID : **65497816416**
Chosen Option : 4

Comprehension:

In the following passage some words have been deleted. Fill in the blanks with the help of the alternatives given. Select the most appropriate option for each blank.

Namita did not have enough cash. She did not (1)_____ a credit card either. She found herself in a (2)_____. She had the contact number of a (3)_____ friend whom she called for help. Her friend came (4)_____ and settled the bill. Namita thanked her and expressed her (5)_____. She promised to return the money to her friend soon.

SubQuestion No : 22

Q.22 Select the most appropriate option to fill in blank no. 2.

- Ans
- 1. trouble
 - 2. pressure
 - 3. fix
 - 4. puzzle

Question ID : **65497816417**
Chosen Option : 1

Comprehension:

In the following passage some words have been deleted. Fill in the blanks with the help of the alternatives given. Select the most appropriate option for each blank.

Namita did not have enough cash. She did not (1)_____ a credit card either. She found herself in a (2)_____. She had the contact number of a (3)_____ friend whom she called for help. Her friend came (4)_____ and settled the bill. Namita thanked her and expressed her (5)_____. She promised to return the money to her friend soon.

SubQuestion No : 23

Q.23 Select the most appropriate option to fill in blank no. 3.

- Ans 1. intimate
 2. close
 3. direct
 4. near

Question ID : **65497816418**
 Chosen Option : 2

Comprehension:

In the following passage some words have been deleted. Fill in the blanks with the help of the alternatives given. Select the most appropriate option for each blank.

Namita did not have enough cash. She did not (1)_____ a credit card either. She found herself in a (2)_____. She had the contact number of a (3)_____ friend whom she called for help. Her friend came (4)_____ and settled the bill. Namita thanked her and expressed her (5)_____. She promised to return the money to her friend soon.

SubQuestion No : 24

Q.24 Select the most appropriate option to fill in blank no. 4.

- Ans 1. immediately
 2. slowly
 3. regularly
 4. purposely

Question ID : **65497816419**
 Chosen Option : 1

Comprehension:

In the following passage some words have been deleted. Fill in the blanks with the help of the alternatives given. Select the most appropriate option for each blank.

Namita did not have enough cash. She did not (1)_____ a credit card either. She found herself in a (2)_____. She had the contact number of a (3)_____ friend whom she called for help. Her friend came (4)_____ and settled the bill. Namita thanked her and expressed her (5)_____. She promised to return the money to her friend soon.

SubQuestion No : 25

Q.25 Select the most appropriate option to fill in blank no. 5.

- Ans 1. solitude
 2. aptitude
 3. attitude
 4. gratitude

Question ID : **65497816420**
 Chosen Option : 4

Q.1 उस विकल्प का चयन कीजिए जिसका तीसरी संख्या से वही संबंध है, जो दूसरी संख्या का पहली संख्या से है।

5 : 61 :: 8 : ?

- Ans
- 1. 152
 - 2. 204
 - 3. 141
 - 4. 145

Question ID : 65497815125
Chosen Option : 4

Q.2 उस विकल्प का चयन कीजिए जो दी गई आकृति में इसके भाग के रूप में अंतर्निहित है (घुमाने की अनुमति नहीं है)।



Ans

- 1.
- 2.
- 3.
- 4.

Question ID : 65497815144
Chosen Option : 1

Q.3 एक निश्चित कूट भाषा में, यदि 'NOISE' को '59141519' के रूप में लिखा जाता है, तो उसी भाषा में 'DORMANT' को किस रूप में लिखा जाएगा?

- Ans
- 1. 182614151820
 - 2. 141317151920
 - 3. 141314151922
 - 4. 141314151820

Question ID : 65497815132
Chosen Option : 4

Q.4 एक निश्चित कूट भाषा में, यदि 'PLAN' को 'KOZM' लिखा जाता है, तो उसी कूट भाषा में 'FLICK' को क्या लिखा जाएगा?

- Ans
- 1. UQRXR
 - 2. UOZXP
 - 3. WNRXP
 - 4. UORXP

Question ID : 65497815129
Chosen Option : 4

Q.5 आठ मित्र P, Q, R, S, T, U, V और W इसी क्रम में वामावर्त रूप से एक गोल मेज के परितः एक-दूसरे से समान दूरी पर मेज के केंद्र की ओर अभिमुख होकर बैठे हैं। यदि T उत्तर-पूर्व दिशा में बैठा है, तो पश्चिम दिशा में कौन बैठा है?

- Ans
- 1. W
 - 2. S
 - 3. U
 - 4. P

Question ID : 65497815140
Chosen Option : 1

Q.6 उस विकल्प का चयन कीजिए जिसका तीसरे अक्षर-समूह से वही संबंध है, जो दूसरे अक्षर-समूह का पहले अक्षर-समूह से है।

QUEEN : TRBBQ :: PITCH : ?

- Ans
- 1. GMOTK
 - 2. SFWFK
 - 3. SLWFK
 - 4. KRGXY

Question ID : 65497815133
Chosen Option : 2

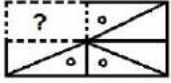
Q.7 निम्न श्रेणी में प्रश्नवाचक चिह्न (?) के स्थान पर कौन सी संख्या आएगी?

35, 50, 80, 125, 185, ?

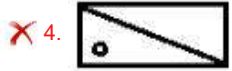
- Ans
- 1. 238
 - 2. 220
 - 3. 260
 - 4. 257

Question ID : 65497815127
Chosen Option : 3

Q.8 उस विकल्प आकृति का चयन कीजिए जो निम्नांकित आकृति श्रृंखला में प्रश्नवाचक चिह्न (?) के स्थान पर आएगी और पैटर्न को पूरा करेगी।



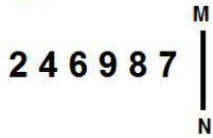
Ans



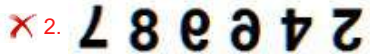
Question ID : 65497815143

Chosen Option : 1

Q.9 यदि दर्पण को चित्रानुसार MN पर रखा जाए, तो दिए गए संयोजन के दर्पण में निर्मित सही प्रतिबिंब का चयन कीजिए।



Ans



Question ID : 65497815145

Chosen Option : 1

Q.10 उस विकल्प का चयन कीजिए जिसका तीसरे शब्द से वही संबंध है, जो दूसरे शब्द का पहले शब्द से है।

मीटर : मिलीमीटर :: किलोग्राम : ?

Ans

✗ 1. पौंड

✗ 2. कुंतल

✓ 3. ग्राम

✗ 4. भार

Question ID : 65497815135

Chosen Option : 3

Q.11 उस विकल्प का चयन कीजिए जिसका तीसरे शब्द से वही संबंध है, जो दूसरे शब्द का पहले शब्द से है।

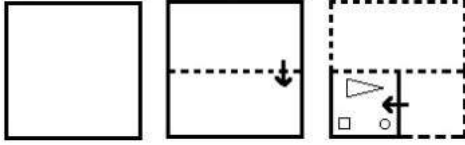
आम : फल :: फूलगोभी : ?

- Ans
- 1. रसोइया
 - 2. पौधे
 - 3. बंदगोभी
 - 4. सब्जियां

Question ID : 65497815134

Chosen Option : 4

Q.12 एक कागज को निम्नानुसार मोड़ा और काटा गया है। इसे खोलने पर यह कैसा दिखेगा?



Ans

- 1.
- 2.
- 3.
- 4.

Question ID : 65497815146

Chosen Option : 1

www.HaryanaJobs.in

Q.13 दिए गए पैटर्न का ध्यानपूर्वक अध्ययन कीजिए और उस संख्या का चयन कीजिए जो इसमें प्रश्नवाचक चिह्न (?) के स्थान पर आ सकती है।

7 12 50
10 11 53
12 15 ?

- Ans 1. 77
 2. 61
 3. 82
 4. 69

Question ID : 65497815126
Chosen Option : 4

Q.14 दो कथन और उसके बाद दो निष्कर्ष I और II दिए गए हैं। यह मानते हुए कि कथन सत्य हैं, भले ही वे सामान्य रूप से ज्ञात तथ्यों से भिन्न प्रतीत होते हों, बताएं कि कौन सा/से निष्कर्ष दिए गए कथनों का तार्किक रूप से अनुसरण करता है/करते हैं।

कथन :
कुछ बिस्तर मेज हैं।
सभी बिस्तर कुर्सियां हैं।

निष्कर्ष :
I. कुछ कुर्सियां मेज हैं।
II. कोई भी कुर्सी मेज नहीं है।

- Ans 1. केवल निष्कर्ष I अनुसरण करता है
 2. निष्कर्ष I या II में से कोई एक अनुसरण करता है
 3. केवल निष्कर्ष II अनुसरण करता है
 4. निष्कर्ष I और II दोनों अनुसरण करते हैं

Question ID : 65497815137
Chosen Option : 1

Q.15 एक निश्चित कूट भाषा में, यदि 'CLOT' को '6243040' लिखा जाता है, तो उसी कूट भाषा में 'MOSAIC' को क्या लिखा जाएगा?

- Ans 1. 2630382186
 2. 2830382183
 3. 2632362186
 4. 2630382206


Question ID : 65497815131
Chosen Option : 1

Q.16 उस वेन आरेख का चयन कीजिए जो निम्नांकित वर्गों के मध्य संबंध का सर्वश्रेष्ठ निरूपण करता है।

भाई, बहनें, पिता

Ans

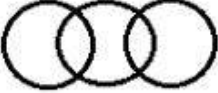
✗ 1.



✗ 2.



✗ 3.



✓ 4.



Question ID : 65497815147

Chosen Option : 4

Q.17 निम्न श्रेणी में प्रश्नवाचक चिह्न (?) के स्थान पर कौन सी संख्या आएगी?

40, 40, 42, 126, 130, ?

Ans ✗ 1. 260

✗ 2. 275

✓ 3. 650

✗ 4. 452

Question ID : 65497815128

Chosen Option : 3

Q.18 छः लड़कियां K, L, M, N, O और P एक सीधी रेखा पर उत्तर की ओर अभिमुख होकर बैठी हैं। P और K के बीच में L बैठी है। O, K के बाएं तीसरे नंबर पर बैठी है। N, L के दाएं तीसरे नंबर पर है। K ठीक M के बाएं पड़ोस में बैठी है। K और N के बीच में M बैठी है। O और L के बीच में कौन सी लड़की बैठी है?

Ans ✗ 1. M

✗ 2. N

✗ 3. K

✓ 4. P

Question ID : 65497815139

Chosen Option : 4

Q.19 तीन कथन और उसके बाद तीन निष्कर्ष I, II और III दिए गए हैं। यह मानते हुए कि कथन सत्य हैं, भले ही वे सामान्य रूप से ज्ञात तथ्यों से भिन्न प्रतीत होते हों, बताएं कि कौन सा/से निष्कर्ष दिए गए कथनों का तार्किक रूप से अनुसरण करता है/करते हैं।

कथन :

सभी इंजीनियर डॉक्टर हैं।
सभी डॉक्टर वकील हैं।
कोई भी वकील नर्तक नहीं है।

निष्कर्ष :

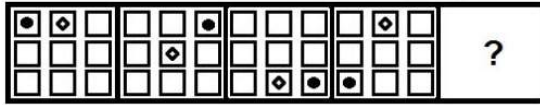
I. कोई भी डॉक्टर नर्तक नहीं है।
II. कोई भी इंजीनियर नर्तक नहीं है।
III. कुछ वकील इंजीनियर हैं।

- Ans
- 1. केवल निष्कर्ष I और II अनुसरण करते हैं
 - 2. कोई भी निष्कर्ष अनुसरण नहीं करता है
 - 3. केवल निष्कर्ष I और III अनुसरण करते हैं
 - 4. सभी निष्कर्ष अनुसरण करते हैं

Question ID : 65497815138


Chosen Option : 4

Q.20 उस आकृति का चयन कीजिए जो निम्नांकित आकृति श्रृंखला में प्रश्नवाचक चिह्न (?) के स्थान पर आएगी।




Ans


1.




2.



3.



4.



Question ID : 65497815142

Chosen Option : 3

Q.21 दिए गए विकल्पों में से गणितीय चिह्नों के उस संयोजन का चयन करें जिसे निम्न समीकरण में * के स्थान पर क्रमिक रूप से रखने पर समीकरण संतुलित हो जाएगा।

$$5 * 7 * 36 * 18 * 2 * 8$$

- Ans
- 1. ×, −, +, ÷, =
 - 2. ÷, ×, −, +, =
 - 3. ×, +, ÷, −, =
 - 4. ×, +, −, ÷, =

Question ID : 65497815123
Chosen Option : 1

Q.22 उस विकल्प का चयन कीजिए जो अक्षर-समूह की निम्न श्रृंखला में प्रश्नवाचक चिह्न (?) के स्थान पर आएगा।

YKS, VHP, SEM, ?, MYG

- Ans
- 1. QBJ
 - 2. PCK
 - 3. PDI
 - 4. PBJ

Question ID : 65497815136
Chosen Option : 4

Q.23 निम्न समीकरण को संतुष्ट करने के लिए किन दो संख्याओं को आपस में बदला जाना चाहिए?

$$64 - 24 \div 3 + 32 \times 12 = 158$$

- Ans
- 1. 12 और 32
 - 2. 12 और 3
 - 3. 32 और 64
 - 4. 64 और 12

Question ID : 65497815124
Chosen Option : 2

Q.24 पांच वस्तुएं A, B, C, D और E हैं जिनके वजन भिन्न-भिन्न हैं। B का वजन E से दोगुना है। C का वजन A से तीन गुना है। D का वजन C से चार गुना है। B का वजन D से आधा है। इन सब में किसका वजन सबसे ज्यादा है?

- Ans
- 1. C
 - 2. E
 - 3. B
 - 4. D

Question ID : 65497815141
Chosen Option : 4

Q.25 एक निश्चित कूट भाषा में, यदि 'PRICK' को 'QTLGP' और 'DOUBLE' को 'EQXFQK' लिखा जाता है, तो उसी कूट भाषा में 'ACEGARD' को क्या लिखा जाएगा?

- Ans 1. BEHKFXK
 2. BEHLGZK
 3. BEGKFYL
 4. BDFHSE

Question ID : 65497815130
 Chosen Option : 1

Section : Numerical Aptitude

Q.1 $120 \div [13 + \{47 - (36 - 36 \div 9 \text{ of } 2 \times 3)\}]$ का मान ज्ञात करें।

- Ans 1. 12
 2. 4
 3. 3
 4. 15

Question ID : 65497815048
 Chosen Option : 2

Q.2 कोई विक्रेता किसी वस्तु को उसके अंकित मूल्य पर 20% छूट देकर बेचता है और 12% लाभ प्राप्त करता है। यदि वस्तु का क्रय मूल्य ₹750 है, तो इसका अंकित मूल्य (₹ में) ज्ञात करें।

- Ans 1. 1,125
 2. 1,050
 3. 1,150
 4. 1,025

Question ID : 65497815052
 Chosen Option : 2

Q.3 जब किसी वस्तु को ₹531 में बेचा जाता है, तो 18% का लाभ होता है। यदि इस वस्तु को ₹486 में बेचा जाता है, तो _____ होगा/होगी।

- Ans 1. 10% की हानि
 2. 8% का लाभ
 3. 10% का लाभ
 4. 8% की हानि

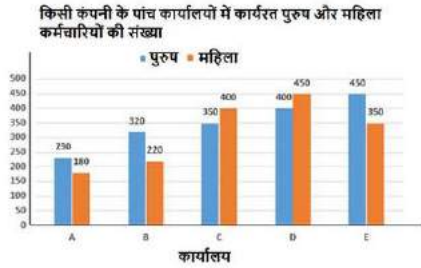
Question ID : 65497815055
 Chosen Option : 2

Q.4 यदि $(a + b) : (b + c) : (c + a) = 15 : 14 : 11$, और $a + b + c = 40$ है, तो $(3a + b - 4c)$ का मान ज्ञात करें।

- Ans
- 1. 18
 - 2. 15
 - 3. 17
 - 4. 14

Question ID : 65497815057
Chosen Option : 4

Q.5 दिए गए बार ग्राफ का अध्ययन करें और नीचे दिए गए प्रश्न का उत्तर दें।



कंपनी के किस कार्यालय में पुरुष कर्मचारियों की संख्या, सभी कार्यालयों की महिला कर्मचारियों की औसत संख्या से 25% अधिक है?

- Ans
- 1. E
 - 2. C
 - 3. B
 - 4. D

Question ID : 65497815069
Chosen Option : 4

Q.6 $\frac{2}{3} \div \left(\frac{4}{5} - \frac{1}{2}\right) \times \frac{18}{25} - \left(\frac{4}{5} \div \frac{5}{6} \text{ of } 2\frac{2}{3}\right) + 3\frac{1}{5} \div \frac{8}{5} \times \frac{2}{5}$ का मान ज्ञात करें।

- Ans
- 1. $3\frac{2}{25}$
 - 2. $3\frac{1}{5}$
 - 3. $2\frac{1}{25}$
 - 4. $4\frac{2}{5}$

Question ID : 65497815049
Chosen Option : 3

Q.7 माना x , 56,000 और 60,000 के बीच वह छोटी से छोटी संख्या है, जिसे जब 40, 45, 50 और 55 से विभाजित किया जाता है, तो प्रत्येक स्थिति में शेषफल 23 प्राप्त होता है। x के अंकों का योगफल ज्ञात करें।

- Ans
- 1. 26
 - 2. 23
 - 3. 19
 - 4. 21

Question ID : 65497815047
Chosen Option : 2

Q.8 मिश्र धातु A में कॉपर और जिंक का अनुपात 5 : 7 है और मिश्र धातु B में कॉपर और जिंक का अनुपात 4 : 5 है। A और B को 1 : 2 के अनुपात में लिया जाता है और नयी मिश्र धातु C बनाने के लिए मिश्रित किया जाता है। C का कितना भाग कॉपर है?

- Ans
- 1. $\frac{5}{12}$
 - 2. $\frac{47}{108}$
 - 3. $\frac{61}{108}$
 - 4. $\frac{4}{9}$

Question ID : 65497815059
Chosen Option : 2

Q.9 किसी वस्तु को 25% लाभ पर बेचा जाता है। यदि वस्तु के क्रय मूल्य और विक्रय मूल्य में ₹200 की वृद्धि होती है, तो लाभ प्रतिशत 20% होता है। वस्तु का मूल क्रय मूल्य ज्ञात करें।

- Ans
- 1. ₹900
 - 2. ₹800
 - 3. ₹840
 - 4. ₹750

Question ID : 65497815056
Chosen Option : 2

Q.10 कोई व्यक्ति $8\frac{1}{3}$ m/sec की चाल से चलता है, तो वह अपने गंतव्य स्थान पर समय पर पहुंचता है। वह यात्रा का $\frac{2}{3}$ भाग, समय के $\frac{5}{8}$ भाग में तय करता है। समय पर गंतव्य स्थान तक पहुंचने के लिए, उसे शेष दूरी को कितनी चाल (km/h में) से तय करना चाहिए?

- Ans
- 1. $28\frac{1}{3}$
 - 2. $26\frac{2}{3}$
 - 3. 28
 - 4. 24

Question ID : 65497815064
Chosen Option : 2

Q.11 दो संकेंद्रित वृत्तों के क्षेत्रफलों के बीच अंतर 88 cm^2 है। यदि आंतरिक वृत्त की त्रिज्या 6 cm है, तो बड़े वृत्त का क्षेत्रफल (cm^2 में) निम्न के निकटतम है। ($\pi = \frac{22}{7}$ लें)

- Ans
- 1. 196
 - 2. 197
 - 3. 201
 - 4. 198

Question ID : 65497815066
Chosen Option : 3

Q.12 3 cm आधार त्रिज्या और 120 cm ऊंचाई वाले ठोस धात्विक बेलन को पिघलाया जाता है और फिर $r \text{ cm}$ त्रिज्या वाला गोला बनाया जाता है। यदि रूपांतरण में 10% धातु की हानि होती है, तो r का मान ज्ञात करें।

- Ans
- 1. 12
 - 2. 8
 - 3. 9
 - 4. 13.5

Question ID : 65497814663
Chosen Option : 3

Q.13 3-अंकों वाली संख्याओं 524 , 466 , $3x4$ और $x52$ का औसत 529 है। $(10x+7)$ और $(14x-9)$ का औसत ज्ञात करें।

- Ans
- 1. 59
 - 2. 68
 - 3. 83
 - 4. 71

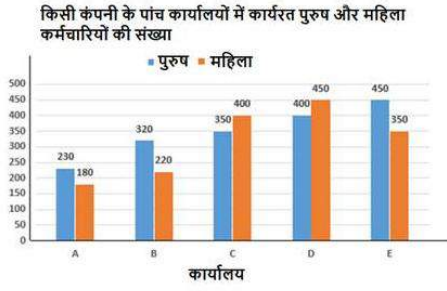
Question ID : 65497815051
Chosen Option : 3

Q.14 किसी कक्षा में सभी छात्रों का औसत भार 55 kg है। लड़कों और लड़कियों के औसत भारों का अनुपात $5 : 4$ है। यदि 40% छात्र लड़के और शेष लड़कियां हैं, तो लड़कों का औसत भार (kg में) ज्ञात करें।

- Ans
- 1. 66
 - 2. 62.5
 - 3. 65
 - 4. 60.8

Question ID : 65497815050
Chosen Option : 2

Q.15 दिए गए बार ग्राफ का अध्ययन करें और नीचे दिए गए प्रश्न का उत्तर दें।



कंपनी के कार्यालय B, D और E में महिला कर्मचारियों की कुल संख्या, कार्यालय A, B, C और E में पुरुष कर्मचारियों की कुल संख्या से कितने प्रतिशत कम है? (ठीक एक दशमलव स्थान तक)

- Ans
- 1. 35.2%
 - 2. 32.4%
 - 3. 36.5%
 - 4. 24.4%

Question ID : 65497815070

Chosen Option : 4

Q.16 प्रत्येक वर्ष किसी वस्तु के मूल्य में 20% की वृद्धि होती है। यदि तीसरे और चौथे वर्ष के अंत में, वस्तु के मूल्य के बीच अंतर ₹324 है, तो दूसरे वर्ष के अंत में उस वस्तु का मूल्य ज्ञात करें।

- Ans
- 1. ₹1,250
 - 2. ₹1,260
 - 3. ₹1,180
 - 4. ₹1,350

Question ID : 65497815054

Chosen Option : 4

Q.17 10% वार्षिक चक्रवृद्धि ब्याज की दर पर ₹4,000 की राशि उधार दी जाती है और ब्याज वार्षिक संयोजित होता है। दूसरे और तीसरे वर्ष में प्राप्त चक्रवृद्धि ब्याज के बीच अंतर ज्ञात करें।

- Ans
- 1. ₹45.00
 - 2. ₹46.50
 - 3. ₹44.00
 - 4. ₹45.40

Question ID : 65497815061

Chosen Option : 3

Q.18 बिना रुकावट के किसी बस की चाल 40 km/h है और रुकावट के साथ 32 km/h है। प्रति घंटे बस कितने मिनट के लिए रुकती है?

- Ans
1. 15
2. 16
3. 18
4. 12

Question ID : 65497815065
Chosen Option : 4

Q.19 A और B किसी निश्चित कार्य को क्रमशः 12 दिन और 18 दिन में कर सकते हैं। वे एक साथ 5 दिन तक कार्य करते हैं। अकेले C, शेष कार्य को $27\frac{1}{2}$ दिन में पूरा करता है। A, B और C एक साथ उसी कार्य का कितना भाग 6 दिन में पूरा करेंगे?

- Ans
1. $\frac{29}{30}$
2. $\frac{14}{15}$
3. $\frac{9}{10}$
4. $\frac{5}{6}$

Question ID : 65497815062
Chosen Option : 3

Q.20 पाइप A, B और C किसी टंकी को क्रमशः 30 घंटे, 36 घंटे और 28 घंटे में भर सकते हैं। तीनों पाइप एक साथ खोले जाते हैं। यदि टंकी पूर्ण रूप से भरने से पहले, A और C क्रमशः 5 घंटे और 8 घंटे बंद थे, तो टंकी भरने में लगने वाला समय ज्ञात करें।

- Ans
1. 12
2. 16
3. 14
4. 15

Question ID : 65497815063
Chosen Option : 4

Q.21 ₹12,384 की राशि को A, B, C और D के बीच इस प्रकार विभाजित किया जाता है कि A और B के हिस्सों का अनुपात 3 : 4 है, B और C के हिस्सों का अनुपात 5 : 6 है और C और D के हिस्सों का अनुपात 8 : 9 है। C का हिस्सा ज्ञात करें।

- Ans
1. ₹2,880
2. ₹2,160
3. ₹3,888
4. ₹3,456

Question ID : 65497815058
Chosen Option : 4

Q.22 वार्षिक साधारण ब्याज की समान दर पर, कोई निश्चित राशि 5 वर्ष में ₹4,600 और 8 वर्ष में ₹6,000 हो जाती है।

समान दर पर, ₹8,500 की राशि पर $6\frac{1}{2}$ वर्ष में प्राप्त साधारण ब्याज ज्ञात करें।

Ans 1. ₹11,460

2. ₹10,515

3. ₹11,375

4. ₹10,215

Question ID : 65497815060

Chosen Option : 3

Q.23 यदि बंटन का माध्य 24.6 है, तो x का मान ज्ञात करें।

वर्ग	0-10	10-20	20-30	30-40	40-50
बारंबारता	6	12	15	x	5

Ans 1. 13

2. 10

3. 12

4. 9

Question ID : 65497815053

Chosen Option : 2

Q.24

$3\frac{1}{4} - \frac{4}{5}$ of $\frac{5}{6}$ $-\left(2\frac{1}{3}$ of $1\frac{1}{2}\right)$ का मान कितना होगा?

Ans 1. 11

2. 12

3. 13

4. 9

Question ID : 65497816785

Chosen Option : 2

Q.25 दिए गए बार ग्राफ का अध्ययन करें और नीचे दिए गए प्रश्न का उत्तर दें।



यदि कार्यालय C की 45% महिला कर्मचारियों को कार्यालय B में स्थानांतरित किया जाता है, तो कार्यालय E के पुरुष कर्मचारियों की संख्या, कार्यालय B की महिला कर्मचारियों से कितना प्रतिशत अधिक है?

- Ans
- 1. 10%
 - 2. $11\frac{1}{9}\%$
 - 3. 12%
 - 4. 12.5%

Question ID : 65497815071

Chosen Option : 4

Section : General Awareness

Q.1 निम्नलिखित राष्ट्रवादी नेताओं में से किसे 'देशबंधु' के नाम से जाना जाता था?

- Ans
- 1. आशुतोष मुखर्जी
 - 2. दादाभाई नौरोजी
 - 3. मदन मोहन मालवीय
 - 4. चित्तरंजन दास

Question ID : 65497815197

Chosen Option : 4

Q.2 भारत में शास्त्रीय भाषा का दर्जा प्राप्त करने वाली पहली भाषा निम्नलिखित में से कौन-सी थी?

- Ans
- 1. संस्कृत
 - 2. तमिल
 - 3. कन्नड़
 - 4. मलयालम

Question ID : 65497815174

Chosen Option : 4

Q.3 किस देश के सहयोग से गीतांजलि साहित्य पुरस्कार प्रदान किया जाता है?

- Ans
- 1. इंग्लैंड
 - 2. फ्रांस
 - 3. जर्मनी
 - 4. संयुक्त राज्य अमेरिका

Question ID : 65497815178

Chosen Option : 2

Q.4 निम्नलिखित में से किस कंपनी ने 'टॉक-बैंक' नाम का एक ब्रेल की-बोर्ड विकसित किया है?

- Ans
- 1. माइक्रोसॉफ्ट
 - 2. हुवाई
 - 3. एप्पल
 - 4. गूगल

Question ID : 65497815188
Chosen Option : 1

Q.5 निम्नलिखित में से कौन सी कृति बर्नार्डिन एवरिस्टो ने लिखी है?

- Ans
- 1. 10 मिनट 38 सेकंड्स इन दिस स्ट्रेंज वर्ल्ड (10 Minutes 38 Seconds in This Strange World)
 - 2. डक्स, न्यूबरीपोर्ट (Ducks, Newburyport)
 - 3. गर्ल, वुमन, अदर (Girl, Woman, Other)
 - 4. एन ऑर्केस्ट्रा ऑफ माइनोरीटीज (An Orchestra of Minorities)

Question ID : 65497815180
Chosen Option : 3

Q.6 प्रधान मंत्री जीवन ज्योति बीमा योजना, बैंक खातों के सभी धारकों को _____ का जीवन बीमा कवर प्रदान करती है।

- Ans
- 1. ₹5 लाख
 - 2. ₹2 लाख
 - 3. ₹3 लाख
 - 4. ₹4 लाख

Question ID : 65497815184
Chosen Option : 2

Q.7 वित्त वर्ष 2019-20 में भारत में प्रत्यक्ष विदेशी निवेश का दूसरा सबसे बड़ा स्रोत निम्नलिखित में से कौन सा देश था?

- Ans
- 1. यूके (UK)
 - 2. यूएस (US)
 - 3. चीन
 - 4. मॉरीशस

Question ID : 65497815183
Chosen Option : 1

Q.8 निम्नलिखित में से कौन सा शहर अपनी आधारशिला रखे जाने के तुरंत बाद बहमनी सल्तनत की राजधानी बन गया था?

- Ans
- 1. देवगिरी
 - 2. दौलताबाद
 - 3. बरार
 - 4. अहसानाबाद

Question ID : 65497815195
Chosen Option : 3

Q.9 निम्नलिखित में से कौन सी नदी यमुना नदी की एक सहायक नदी है?

- Ans
- 1. सोन
 - 2. घाघरा
 - 3. गंडक
 - 4. चंबल

Question ID : 65497815192
Chosen Option : 4

Q.10 'क्विचोटे' नामक पुस्तक के लेखक कौन हैं?

- Ans
- 1. विक्रम सेठ
 - 2. किरण देसाई
 - 3. मागरेट एटवुड
 - 4. सलमान रुश्दी

Question ID : 65497815179
Chosen Option : 3

Q.11 क्योटो प्रोटोकॉल नियमों के तहत छह प्रदूषकों में से एक निम्नलिखित में से कौन सा है?

- Ans
- 1. कार्बन मोनोऑक्साइड
 - 2. फॉस्जीन
 - 3. परफ्ल्यूरोकार्बन
 - 4. क्लोरीन

Question ID : 65497815189
Chosen Option : 4

Q.12 के. श्रीकांत, जिन्हें जून 2020 में खेल रत्न पुरस्कार देने की सिफारिश की गई थी, _____ के एक पेशेवर खिलाड़ी हैं।

- Ans
- 1. गोल्फ
 - 2. बैडमिंटन
 - 3. फुटबॉल
 - 4. टेबल टेनिस

Question ID : 65497815176
Chosen Option : 2

Q.13 केंद्रीय बजट 2020-21 के अनुसार, ₹15 लाख से अधिक वार्षिक कर योग्य आय वाला निवासी भारतीय व्यक्ति _____% की दर से कर का भुगतान करेगा।

- Ans
- 1. 10
 - 2. 30
 - 3. 20
 - 4. 5

Question ID : 65497816898
Chosen Option : 1

Q.14 निम्नलिखित में से किस खेल के साथ 'सुल्तान अज़लान शाह कप' संबंधित है?

- Ans 1. हॉकी
 2. कबड्डी
 3. निशानेबाजी
 4. टेनिस

Question ID : 65497815177
 Chosen Option : 1

Q.15 भारत में राष्ट्रीय सुरक्षा सलाहकार का पद किस वर्ष सृजित किया गया था?

- Ans 1. 1998
 2. 2003
 3. 1999
 4. 2000

Question ID : 65497815185
 Chosen Option : --

Q.16 भारत में मूल्य वर्धित कर किस वर्ष में लाया गया था?

- Ans 1. 2010
 2. 2002
 3. 2005
 4. 2007

Question ID : 65497815186
 Chosen Option : 4

Q.17 निम्नलिखित में से किस राज्य ने 'हरिता हरम' के नाम से एक वृक्षारोपण कार्यक्रम लागू किया है?

- Ans 1. तेलंगाना
 2. उत्तर प्रदेश
 3. राजस्थान
 4. बिहार

Question ID : 65497815193
 Chosen Option : --

Q.18 निम्नलिखित में से कौन-सा जल में घुलनशील ऐसा एकमात्र विटामिन है जिसे कई वर्षों तक यकृत में संग्रहीत किया जा सकता है?

- Ans 1. विटामिन B-12
 2. विटामिन-K
 3. विटामिन-D
 4. विटामिन-C

Question ID : 65497815190
 Chosen Option : 4

Q.19 'पतेती' या पश्चाताप का दिन _____ कैलेंडर का एक महत्वपूर्ण दिन है।

- Ans
- 1. ईसाई
 - 2. बौद्ध
 - 3. जैन
 - 4. पारसी

Question ID : 65497815173
Chosen Option : 1

Q.20 निम्नलिखित में से किस गुप्त शासक ने लिच्छवी वंश की लड़की से विवाह किया था?

- Ans
- 1. रामगुप्त
 - 2. चंद्रगुप्त-I
 - 3. श्री गुप्त
 - 4. समुद्रगुप्त

Question ID : 65497815196
Chosen Option : 2

Q.21 स्पीति नदी निम्नलिखित में से किस नदी की सहायक नदी है?

- Ans
- 1. चिनाब
 - 2. सतलुज
 - 3. ब्यास
 - 4. रावी

Question ID : 65497815194
Chosen Option : 3

Q.22 'कजली पेंटिंग', जिसमें ब्रश का उपयोग नहीं किया जाता है, पारंपरिक रूप से निम्नलिखित में से किस राज्य से संबंध रखती है?

- Ans
- 1. राजस्थान
 - 2. केरल
 - 3. झारखंड
 - 4. तमिलनाडु

Question ID : 65497815175
Chosen Option : 1

Q.23 भारत में कृषि उत्पादों के लिए मौजूदा मंडियों को एकीकृत करने के उद्देश्य से बना एक अखिल भारतीय इलेक्ट्रॉनिक ट्रेडिंग पोर्टल निम्नलिखित में से कौन सा है?

- Ans
- 1. ई-कृषि (e-KRISHI)
 - 2. ई-बाज़ार (e-BAZAAR)
 - 3. ई-अन्न (e-ANNA)
 - 4. ई-नाम (e-NAM)

Question ID : 65497814677
Chosen Option : 2

Q.24 फॉलिक अम्ल का दूसरा नाम निम्नलिखित में से कौन सा है?

- Ans 1. तेरोईलग्लूटेमिक अम्ल
 2. एस्कॉर्बिक अम्ल
 3. ग्लाइकोलिक अम्ल
 4. लैक्टिक अम्ल

Question ID : 65497815191
Chosen Option : 2

Q.25 अप्रैल 2020 में, एरोबियोसिस इनोवेशन ने एक _____ के विकास की घोषणा की जिसे 'जीवन लाइट' का नाम दिया गया।

- Ans 1. व्यक्तिगत सुरक्षा उपकरण (पी.पी.ई.) किट
 2. कॉन्टैक्ट ट्रेसिंग मोबाइल एप्लिकेशन
 3. वेंटिलेटर
 4. नैनो तकनीक पर आधारित फेस मास्क

Question ID : 65497815187
Chosen Option : 1

www.HaryanaJobs.in

Multi Tasking Non Technical Staff Examination 2020

Participant ID	www.HaryanaJobs.in
Participant Name	www.HaryanaJobs.in
Test Center Name	ANAND INTERNATIONAL COLLEGE OF ENGINEERING JAIPUR
Test Date	11/10/2021
Test Time :	4:00 PM - 5:30 PM
Subject	MTS Non Technical 2020

Section : General English

Q.1 Select the MISSPELT spelt word.

Ans 1. Emergeny

2. Dreadful

3. Inflammable

4. Business

Question ID : 65497814615

Chosen Option : 1

Q.2 Select the most appropriate option to fill in the blank.

The quarantine period for travellers by road into this State has been _____ to 28 days.

Ans 1. advanced

2. enlarged

3. expanded

4. increased

Question ID : 65497814617

Chosen Option : 4

Q.3 Select the most appropriate option to fill in the blank.

The Minister's office _____ press statement that the Webinar which had been held on the previous day had received an excellent response.

Ans 1. issued

2. issues

3. have issue

4. will issued

Question ID : 65497814596

Chosen Option : 1

Q.4 Select the most appropriate one-word substitution for the given words.

The first people to live in an area

- Ans
- 1. Provincial
 - 2. Native
 - 3. Local
 - 4. Colonial

Question ID : 65497814612
Chosen Option : 2

Q.5 Select the most appropriate option to substitute the underlined segment in the given sentence. If there is no need to substitute it, select 'No substitution required'.

Keep pets can be very comforting for most people.

- Ans
- 1. Keeping pet
 - 2. No substitution required
 - 3. Keeping pets
 - 4. Keeps pet

Question ID : 65497814603
Chosen Option : 3

Q.6 Select the most appropriate meaning of the given idiom.

Fit as a fiddle

- Ans
- 1. Ready to start playing a fiddle
 - 2. To be in excellent health and good working order
 - 3. To have an expensive musical instrument
 - 4. About to buy a good musical instrument

Question ID : 65497814610
Chosen Option : 2

Q.7 Select the most appropriate option to substitute the underlined segment. If no substitution is required, select 'No substitution required'.

The doctor asked the patient what he had ate the previous night.

- Ans
- 1. had he ate
 - 2. No substitution required
 - 3. he had eaten
 - 4. had he eaten

Question ID : 65497816524
Chosen Option : 4

Q.8 Select the most appropriate **ANTONYM** of the given word.

FATIGUE

- Ans 1. weakness
 2. strength
 3. threat
 4. control

Question ID : **65497814606**
Chosen Option : 2

Q.9 Identify the segment in the sentence which contains a grammatical error.

After the rain the roads was wet and waterlogged in some places.

- Ans 1. in some places.
 2. After the rain
 3. wet and waterlogged
 4. the roads was

Question ID : **65497814592**
Chosen Option : 4

Q.10 Select the most appropriate meaning of the given idiom.

Elbow grease

- Ans 1. A lot of physical effort
 2. Oil on the shirt sleeve
 3. Stain on a car glass
 4. Too much cream on hands

Question ID : **65497814611**
Chosen Option : 1

Q.11 Select the most appropriate **ANTONYM** of the given word.

HEFTY

- Ans 1. generous
 2. slight
 3. liberal
 4. handsome

Question ID : **65497814607**
Chosen Option : 2

Q.12 Identify the segment in the sentence which contains a grammatical error.

There was very poor receptivity due from technological glitches; nonetheless, the online class was continued.

- Ans
- 1. nonetheless
 - 2. due from technological glitches
 - 3. the online class was continued
 - 4. There was very poor receptivity

Question ID : 65497814594
Chosen Option : 2

Q.13 Select the most appropriate option to fill in the blank.

After she received an overripe papaya, Vidya exclaimed that she would never ever _____ fruits online.

- Ans
- 1. ordering
 - 2. orders
 - 3. ordered
 - 4. order

Question ID : 65497814595
Chosen Option : 4

Q.14 Select the most appropriate synonym of the given word.

SMUDGE

- Ans
- 1. mud
 - 2. stain
 - 3. trash
 - 4. sweet

Question ID : 65497814608
Chosen Option : 3

Q.15 Identify the segment in the sentence which contains a grammatical error.

According to the meteorology department, yesterday Assam had the heavier rainfall of the decade.

- Ans
- 1. the meteorology department
 - 2. yesterday Assam had
 - 3. the heavier rainfall of the decade
 - 4. According to

Question ID : 65497814593
Chosen Option : 2

Q.16 Select the most appropriate synonym of the given word.

PRIORITY

- Ans 1. paucity
 2. formality
 3. precedence
 4. dignity

Question ID : 65497814609
Chosen Option : 3

Q.17 Select the most appropriate option to substitute the underlined segment in the given sentence. If there is no need to substitute it, select 'No substitution required'.

At first, we cruised in the local river beside trying anything more adventurous.

- Ans 1. before
 2. No substitution required
 3. already
 4. earlier

Question ID : 65497814402
Chosen Option : 1

Q.18 Select the most appropriate one-word substitution for the given words.

Special words and phrases used
by particular groups of people, especially in their work

- Ans 1. Elocution
 2. Conversation
 3. Jargon
 4. Dialogue

Question ID : 65497814613
Chosen Option : 3

Q.19 Select the MISSPELT word.

- Ans 1. Tolarance
 2. Eminent
 3. Weary
 4. Happiness

Question ID : 65497814614
Chosen Option : 1

Q.20 Select the most appropriate option to fill in the blank.

The patient's family had to go through a lot of trouble to _____ her into a hospital.

- Ans
- 1. permit
 - 2. admit
 - 3. access
 - 4. join

Question ID : 65497814616
Chosen Option : 2

Comprehension:

In the following passage some words have been deleted. Fill in the blanks with the help of the alternatives given. Select the most appropriate option for each blank.

Lin Piao used to absent himself (1) _____ classes very often and one day (2) _____ principal of the college made up his (3) _____ to expel him. So he sent for the (4) _____ man. Lin arrived just (5) _____ the principal was about to go for lunch. "Is this the time to come?" said the principal, sternly.

SubQuestion No : 21

Q.21 Select the most appropriate option to fill in blank no. 1.

- Ans
- 1. to
 - 2. from
 - 3. for
 - 4. in

Question ID : 65497814598
Chosen Option : 2

Comprehension:

In the following passage some words have been deleted. Fill in the blanks with the help of the alternatives given. Select the most appropriate option for each blank.

Lin Piao used to absent himself (1) _____ classes very often and one day (2) _____ principal of the college made up his (3) _____ to expel him. So he sent for the (4) _____ man. Lin arrived just (5) _____ the principal was about to go for lunch. "Is this the time to come?" said the principal, sternly.

SubQuestion No : 22

Q.22 Select the most appropriate option to fill in blank no. 2.

- Ans
- 1. some
 - 2. a
 - 3. an
 - 4. the

Question ID : 65497814599
Chosen Option : 4

Comprehension:

In the following passage some words have been deleted. Fill in the blanks with the help of the alternatives given. Select the most appropriate option for each blank.

Lin Piao used to absent himself (1)_____ classes very often and one day (2)_____ principal of the college made up his (3)_____ to expel him. So he sent for the (4)_____ man. Lin arrived just (5)_____ the principal was about to go for lunch. "Is this the time to come?" said the principal, sternly.

SubQuestion No : 23

Q.23 Select the most appropriate option to fill in blank no. 3.

- Ans 1. mind
 2. thought
 3. head
 4. brain

Question ID : **65497814600**
 Chosen Option : 1

Comprehension:

In the following passage some words have been deleted. Fill in the blanks with the help of the alternatives given. Select the most appropriate option for each blank.

Lin Piao used to absent himself (1)_____ classes very often and one day (2)_____ principal of the college made up his (3)_____ to expel him. So he sent for the (4)_____ man. Lin arrived just (5)_____ the principal was about to go for lunch. "Is this the time to come?" said the principal, sternly.

SubQuestion No : 24

Q.24 Select the most appropriate option to fill in blank no. 4.

- Ans 1. youthful
 2. immature
 3. childish
 4. young

Question ID : **65497814601**
 Chosen Option : 2

Comprehension:

In the following passage some words have been deleted. Fill in the blanks with the help of the alternatives given. Select the most appropriate option for each blank.

Lin Piao used to absent himself (1)_____ classes very often and one day (2)_____ principal of the college made up his (3)_____ to expel him. So he sent for the (4)_____ man. Lin arrived just (5)_____ the principal was about to go for lunch. "Is this the time to come?" said the principal, sternly.

SubQuestion No : 25

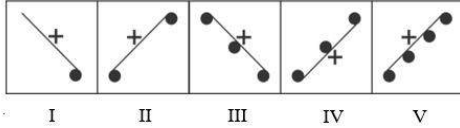
Q.25 Select the most appropriate option to fill in blank no. 5.

- Ans 1. why
 2. how
 3. also
 4. as

Question ID : **65497814602**
 Chosen Option : 4

Section : **General Intelligence and Reasoning**

Q.1 बताएं कि किस आकृति को निकाल दिया जाए, ताकि I से शुरू करके सभी आकृतियां एक पैटर्न में फिट हो सकें।



- Ans**
- 1. III
 - 2. V
 - 3. II
 - 4. IV

Question ID : 65497816758
Chosen Option : 4

Q.2 यदि दर्पण को दी गई आकृति के दाईं ओर रखा जाए, तो आकृति के दर्पण में निर्मित सही प्रतिबिंब का चयन कीजिए।



- Ans**
- 1.
 - 2.
 - 3.
 - 4.

www.HaryanaJobs.in

Question ID : 65497816761
Chosen Option : 1

Q.3 तीन कथन और उसके बाद तीन निष्कर्ष दिए गए हैं। यह मानते हुए कि कथन सत्य हैं, भले ही वे सामान्य रूप से ज्ञात तथ्यों से भिन्न प्रतीत होते हों, बताएं कि कौन सा/से निष्कर्ष दिए गए कथनों का तार्किक रूप से अनुसरण करता है/करते हैं।

कथन:

1. सभी बच्चे कक्षा V में पढ़ते हैं।
2. कुछ बच्चे कोचिंग जाते हैं।
3. कुछ बच्चे बुद्धिमान हैं।

निष्कर्ष:

- I. कोचिंग जाने वाले सभी बच्चे बुद्धिमान हैं।
- II. जो बच्चे कोचिंग जाते हैं, वे कक्षा V में पढ़ते भी हैं।
- III. कक्षा V में पढ़ने वाले सभी बच्चे बुद्धिमान नहीं हैं।

- Ans
- 1. निष्कर्ष II और III दोनों अनुसरण करते हैं।
 - 2. केवल निष्कर्ष III अनुसरण करता है।
 - 3. निष्कर्ष I और II दोनों अनुसरण करते हैं।
 - 4. केवल निष्कर्ष II अनुसरण करता है।

Question ID : 65497816754

Chosen Option : 3

Q.4 किसी निश्चित कोड भाषा में '137' का अर्थ 'Mary went Jammu' है, '274' का अर्थ 'I like Mary' है और '893' का अर्थ 'you went Goa' है। इसी भाषा में निम्न में से किस संख्या का अर्थ 'Goa' होगा?

- Ans
- 1. 1
 - 2. 7
 - 3. 3
 - 4. 8

Question ID : 65497816748

Chosen Option : 4

Q.5 यदि किसी कोड भाषा में 'SOLD' को 'HLOW' लिखा जाता है, तो इसी कोड भाषा में 'ROME' को क्या लिखा जाएगा?

- Ans
- 1. GLPK
 - 2. ILNV
 - 3. GLPV
 - 4. ILHW

Question ID : 65497816746

Chosen Option : 2

Q.6 जिस प्रकार 'सब्जियों' से 'किलोग्राम' संबंधित है, उसी प्रकार '_____' से 'लीटर' संबंधित है।

- Ans
- 1. दालों
 - 2. दूध
 - 3. केले
 - 4. घास

Question ID : 65497816750

Chosen Option : 2

Q.7 उस विकल्प का चयन करें, जो तीसरे शब्द से ठीक उसी प्रकार संबंधित है, जिस प्रकार दूसरा शब्द पहले शब्द से संबंधित है।

वर्ग : आयत :: समचतुर्भुज : ?

- Ans
- 1. पतंग
 - 2. समलम्ब चतुर्भुज
 - 3. घनाभ
 - 4. समान्तर चतुर्भुज

Question ID : 65497816751
Chosen Option : 1

Q.8 तीन कथन और उसके बाद दो निष्कर्ष दिए गए हैं। यह मानते हुए कि कथन सत्य हैं, भले ही वे सामान्य रूप से ज्ञात तथ्यों से भिन्न प्रतीत होते हों, बताएं कि कौन सा/से निष्कर्ष दिए गए कथनों का तार्किक रूप से अनुसरण करता है/करते हैं।

कथन:

1. सुहानी एक खिलाड़ी है।
2. कोई भी लड़का खिलाड़ी नहीं है।
3. सभी लंबे व्यक्ति खिलाड़ी हैं।

निष्कर्ष:

- I. सुहानी एक लंबी व्यक्ति नहीं है।
- II. लड़के लंबे व्यक्ति नहीं हैं।

- Ans
- 1. केवल निष्कर्ष II अनुसरण करता है।
 - 2. न तो निष्कर्ष I और ना ही II अनुसरण करता है।
 - 3. केवल निष्कर्ष I अनुसरण करता है।
 - 4. निष्कर्ष I और II, दोनों अनुसरण करते हैं।

Question ID : 65497816753
Chosen Option : 2

Q.9 छह छात्र A, B, C, D, E और F उत्तर की ओर अभिमुख होकर खड़े हैं, लेकिन वे वर्णानुक्रम में नहीं खड़े हैं। A एक छोर पर खड़ा है और F उसके पड़ोस में है। B, E के एकदम दाएं पड़ोस में है। B, दाएं छोर से दूसरे स्थान पर है। C, F के पड़ोस में नहीं है। दाएं छोर पर कौन खड़ा है?

- Ans
- 1. C
 - 2. D
 - 3. E
 - 4. A

Question ID : 65497816755
Chosen Option : 1

Q.10 उस संख्या का चयन करें, जो दी गई संख्या श्रेणी में प्रश्नवाचक चिह्न (?) के स्थान पर आएगी?

26, 37, 50, 65, ?, 101

- Ans
- 1. 82
 - 2. 92
 - 3. 78
 - 4. 80

Question ID : 65497816743
Chosen Option : 1

Q.11 एक परिसर में M, N, O, P, Q, R और S नामक घर एक पंक्ति में हैं, लेकिन वे वर्णानुक्रम में नहीं हैं। P किसी भी छोर पर नहीं है। R, P के ठीक दाएं पड़ोस में है। S, बाएं से तीसरा है। O एकदम बाएं छोर पर है। M दाईं ओर से दूसरा है। O, N के पड़ोस में नहीं है। Q कहां पर स्थित है?

- Ans
- 1. दाएं छोर पर
 - 2. दाईं ओर से तीसरा
 - 3. दाईं ओर से चौथा
 - 4. बाईं ओर से दूसरा

Question ID : 65497816756
Chosen Option : 4

Q.12 निम्न को एक तार्किक और सार्थक क्रम में व्यवस्थित करें। (उनकी ऊंचाई के साथ घटते क्रम में)

- I. एफिल टॉवर
- II. एम्पायर स्टेट बिल्डिंग
- III. कुतुब मीनार
- IV. बुर्ज खलीफ़ा

- Ans
- 1. I, II, III, IV
 - 2. I, IV, II, III
 - 3. III, II, I, IV
 - 4. IV, II, I, III

Question ID : 65497816757
Chosen Option : 2

Q.13 गणितीय चिह्नों के उस सही संयोजन का चयन करें, जिन्हें क्रमिक रूप से * चिह्नों के स्थान पर रखने पर समीकरण संतुलित हो जाएगा।

$$7 * 2 * 5 * 4 * 2 * 15$$

- Ans
- 1. +, ×, -, ÷, =
 - 2. ÷, -, +, ×, =
 - 3. ×, -, +, ÷, =
 - 4. -, ÷, +, ×, =

Question ID : 65497816740
Chosen Option : 1

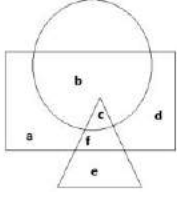
Q.14 अक्षरों के उस सही संयोजन का चयन करें, जिन्हें क्रमिक रूप से दी गई अक्षर श्रेणी में रिक्त स्थानों पर रखने पर श्रेणी पूर्ण हो जाएगी।

C _ _ U _ KZU _ K _ UC

- Ans
- 1. KZCCZ
 - 2. ZCKZC
 - 3. CKZCZ
 - 4. UKZCK

Question ID : 65497816752
Chosen Option : 1

Q.15 दी गई आकृति में, वृत्त उन लइकों को निरूपित करता है 'जो गा सकते हैं', आयत उन लइकों को निरूपित करता है 'जो खेल सकते हैं', तथा त्रिभुज उन लइकों को निरूपित करता है 'जो नाच सकते हैं'। आकृति का कौन-सा भाग उन लइकों को निरूपित करता है, 'जो नाच सकते हैं, लेकिन गा नहीं सकते'?



- Ans
- 1. e
 - 2. c
 - 3. f
 - 4. e और f

Question ID : 65497816763
Chosen Option : 4

Q.16 उस विकल्प का चयन करें, जिसमें संख्या-युग्म ठीक उसी प्रकार संबंधित है, जिस प्रकार दी गई युग्म की संख्याएं संबंधित हैं।

347 : 117

- Ans
- 1. 242 : 82
 - 2. 265 : 88
 - 3. 165 : 56
 - 4. 135 : 48

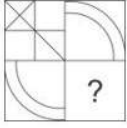
Question ID : 65497816741
Chosen Option : --

Q.17 यदि किसी कोड भाषा में 'ROSE' को 'TSYM' लिखा जाता है, तो इसी कोड भाषा में 'SOME' को क्या लिखा जाएगा?

- Ans
- 1. YESM
 - 2. YSEM
 - 3. USME
 - 4. USSM

Question ID : 65497816745
Chosen Option : 4

Q.18 दिए गए विकल्पों में से सही विकल्प चुनकर, दिए गए पैटर्न के अनुपस्थित भाग को पूरा करें।



Ans

- ✗ 1.
- ✗ 2.
- ✗ 3.
- ✓ 4.

Question ID : 65497816759

Chosen Option : 4

Q.19 किसी निश्चित कोड भाषा में '137' का अर्थ 'who are you' है, '274' का अर्थ 'we are girls' है और '893' का अर्थ 'you have toys' है। इसी भाषा में निम्न में से किस संख्या का अर्थ 'who' होगा?

- Ans ✗ 1. 3
- ✗ 2. 8
- ✓ 3. 1
- ✗ 4. 7

Question ID : 65497816747

Chosen Option : 3

Q.20 उस विकल्प का चयन करें, जो तीसरे अक्षर-समूह से ठीक उसी प्रकार संबंधित है, जिस प्रकार दूसरा अक्षर-समूह पहले अक्षर-समूह से संबंधित है।

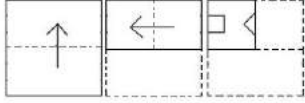
STEAM : PWBDJ :: DRESS : ?

- Ans ✗ 1. AVBUP
- ✗ 2. AOBVV
- ✗ 3. AOHVP
- ✓ 4. AUBVP

Question ID : 65497816749

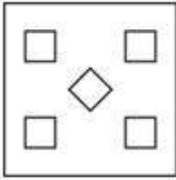
Chosen Option : 4

Q.21 एक कागज को बिंदीदार रेखाओं पर मोड़ा जाता है, जैसा कि पहली दो आकृतियों में दिखाया गया है। और इसे तीसरी आकृति के अनुसार काटा जाता है। जब इसे खोला जाएगा, तो यह कैसा दिखेगा?

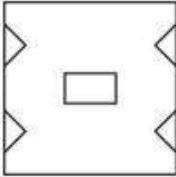


Ans

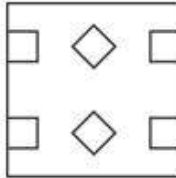
✗ 1.



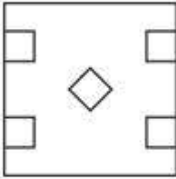
✗ 2.



✓ 3.



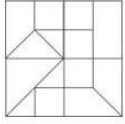
✗ 4.




Question ID : 65497816762
Chosen Option : 3

www.HaryanaJobs.in

Q.22 उस विकल्प आकृति का चयन करें, जो दी गई आकृति में अंतःस्थापित नहीं है (घुमाने की अनुमति नहीं है)



Ans



Question ID : 65497816760
Chosen Option : 3

Q.23 उस संख्या का चयन करें, जो दी संख्या श्रेणी में प्रश्नवाचक चिह्न (?) के स्थान पर आएगी?

121, 57, 21, 5, ?

Ans ✗ 1. 4

✗ 2. 8

✓ 3. 1

✗ 4. 3

Question ID : 65497816744
Chosen Option : 3

Q.24 दिए गए विकल्पों में से, संख्याओं के उस समुच्चय का चयन करें, जो दिए गए समुच्चय के सदृश नहीं है।

(12, 81, 15)

Ans ✗ 1. (15, 93, 16)

✓ 2. (13, 85, 17)

✗ 3. (11, 69, 12)

✗ 4. (8, 63, 13)

Question ID : 65497816742
Chosen Option : 2

Q.25 दिए गए समीकरण को संतुलित करने के लिए, इनमें से किन दो चिह्नों को एक-दूसरे से प्रतिस्थापित करना होगा?

$$3 \div 6 - 2 + 8 \times 4 = 18$$

- Ans
- 1. + और +
 - 2. \div और \times
 - 3. \div और -
 - 4. + और -

Question ID : 65497816739
Chosen Option : 2

Section : Numerical Aptitude

Q.1 किसी खोखले अर्द्धगोलीय कटोरे की आंतरिक और बाहरी विज्याएं क्रमशः 20 cm और 23 cm हैं। कटोरे का कुल पृष्ठीय क्षेत्रफल (cm^2 में) ज्ञात करें।

- Ans
- 1. 1987π
 - 2. 1858π
 - 3. 2082π
 - 4. 2194π

Question ID : 65497815168
Chosen Option : 2

Q.2 एक वस्तु को ₹5,600 में बेचने पर होने वाला लाभ, उस वस्तु को ₹2,400 में बेचने पर होने वाली हानि के बराबर है। लाभ प्रतिशत ज्ञात कीजिए।

- Ans
- 1. 25%
 - 2. 40%
 - 3. 32%
 - 4. 30%

Question ID : 65497816066
Chosen Option : 2

Q.3 यदि विश्वा की चाल 26 km/h हो, तो 1300 m की दूरी तय करने में उसे कितने मिनट का समय लगेगा?

- Ans
- 1. 6 मिनट
 - 2. 3 मिनट
 - 3. 5 मिनट
 - 4. 8 मिनट

Question ID : 65497816059
Chosen Option : 2

Q.4 दो संख्याओं के म.स. (HCF) और ल.स. (LCM) क्रमशः 8 और 224 हैं। यदि दोनों संख्याओं का अनुपात 4 : 7 है, तो दोनों में से बड़ी संख्या कौन सी है?

- Ans
- 1. 48
 - 2. 32
 - 3. 54
 - 4. 56

Question ID : 65497816076
Chosen Option : 4

Q.5 ₹8,000 की धनराशि, वार्षिक रूप से चक्रवृद्धि होने वाली 15% वार्षिक ब्याज दर पर कितने समय में ₹12,167 हो जाएगी?

- Ans
- 1. 5 वर्ष
 - 2. 3 वर्ष
 - 3. 2 वर्ष
 - 4. 4 वर्ष

Question ID : 65497816070
Chosen Option : 2

Q.6 20 और 45 के मध्य की अभाज्य संख्याओं का माध्य ज्ञात कीजिए।

- Ans
- 1. 24
 - 2. 32
 - 3. 36
 - 4. 34

Question ID : 65497816072
Chosen Option : 4

Q.7 एक बंद बेलन के वक्र पृष्ठ के क्षेत्रफल और आयतन का अनुपात 4 : 7 है। यदि संपूर्ण पृष्ठ का क्षेत्रफल 253 cm^2 है, तो इसकी ऊंचाई ज्ञात कीजिए।

(मान लें $\pi = \frac{22}{7}$)

- Ans
- 1. 8 cm
 - 2. 5 cm
 - 3. 9 cm
 - 4. 10 cm

Question ID : 65497816075
Chosen Option : 1

Q.8 A एक कार्य को 20 दिनों में पूरा कर सकता है और B उसी कार्य को 14 दिनों में पूरा कर सकता है। यदि वे 7 दिनों तक एक साथ कार्य करते हैं, तो शेष बचे कार्य का भिन्न क्या होगा?

Ans

✗ 1. $\frac{3}{10}$

✗ 2. $\frac{7}{20}$

✗ 3. $\frac{7}{10}$

✓ 4. $\frac{3}{20}$

Question ID : 65497816057

Chosen Option : 4

Q.9 दिया गया पाई चार्ट एक परिवार की मासिक बचत और उसके विभिन्न मदों पर होने वाले खर्च को प्रदर्शित करता है। चार्ट का अध्ययन करें और उसके बाद दिए गए प्रश्न का उत्तर दें।



यदि मासिक बचत ₹5,000 की है, तो शिक्षा और कपड़ों पर कुल खर्च कितना है?

Ans

✗ 1. ₹15,500

✓ 2. ₹14,500

✗ 3. ₹14,000

✗ 4. ₹16,500

Question ID : 65497816080

Chosen Option : 2

www.HaryanaJobs.in

Q.10 दिया गया पाई चार्ट एक परिवार की मासिक बचत और उसके विभिन्न मदों पर होने वाले खर्च को प्रदर्शित करता है। चार्ट का अध्ययन करें और उसके बाद दिए गए प्रश्न का उत्तर दें।



यदि हाउसिंग पर होने वाला खर्च, कपड़ों पर होने वाले खर्च से ₹1,680 अधिक है, तो वार्षिक बचत कितनी है?

- Ans**
- ✓ 1. ₹33,600
 - ✗ 2. ₹34,600
 - ✗ 3. ₹33,500
 - ✗ 4. ₹32,500

Question ID : 65497816081

Chosen Option : 1

Q.11 ₹12,500 के अंकित मूल्य वाली एक वस्तु पर दो क्रमागत छूटें दी गईं जिनमें से पहली छूट $14\frac{1}{2}\%$ है। अंत में यह वस्तु ₹9,405 में बेची गई। दूसरी छूट कितने प्रतिशत थी?

- Ans**
- ✗ 1. 10%
 - ✓ 2. 12%
 - ✗ 3. 8%
 - ✗ 4. 9%

Question ID : 65497816063

Chosen Option : 1

Q.12 ₹16,000 की धनराशि राहुल और विनोद में बांटी गई। राहुल ने अपनी धनराशि 7.5% वार्षिक साधारण ब्याज दर पर 4 वर्ष के लिए निवेश की और विनोद ने अपनी धनराशि 12% वार्षिक साधारण ब्याज दर पर 4 वर्ष के लिए निवेश की। यदि राहुल और विनोद को ब्याज के रूप में कुल ₹6,024 की धनराशि प्राप्त हुई, तो राहुल द्वारा कितनी धनराशि का निवेश किया गया था?

- Ans**
- ✗ 1. ₹8,200
 - ✓ 2. ₹9,200
 - ✗ 3. ₹9,500
 - ✗ 4. ₹8,400

Question ID : 65497816071

Chosen Option : 2

Q.13 एक बेलनाकार खंभे का व्यास 75 cm और उसकी ऊंचाई 5.6 m है। पेंटिंग की ₹15 प्रति m^2 की दर पर खंभे के वक्र पृष्ठ की पेंटिंग की लागत कितनी होगी?

(मान लें $\pi = \frac{22}{7}$)

- Ans
- 1. ₹188
 - 2. ₹180
 - 3. ₹198
 - 4. ₹195

Question ID : 65497816073
Chosen Option : 3

Q.14 संख्याओं 7, 4 और 2 में से प्रत्येक में कौन सी संख्या जोड़ी जाए कि परिणामी संख्याएं निरंतर अनुपात (continued proportion) में हों?

- Ans
- 1. 5
 - 2. 3
 - 3. 4
 - 4. 2

Question ID : 65497816067
Chosen Option : 4

Q.15 यदि कुछ कलमों और पेंसिलों को 5 : 3 के अनुपात में खरीदने पर अशोक को ₹44 का भुगतान करना पड़ता है। यदि अनुपात बदल कर 3 : 5 हो जाता है, तो उसे ₹36 का भुगतान करना पड़ता है। एक कलम के मूल्य का एक पेंसिल के मूल्य से अनुपात ज्ञात कीजिए।

- Ans
- 1. 8 : 5
 - 2. 5 : 3
 - 3. 7 : 3
 - 4. 7 : 4

Question ID : 65497816069
Chosen Option : 3

Q.16 दिया गया पाई चार्ट एक परिवार की मासिक बचत और उसके विभिन्न मदों पर होने वाले खर्च को प्रदर्शित करता है। चार्ट का अध्ययन करें और उसके बाद दिए गए प्रश्न का उत्तर दें।



भोजन और शिक्षा को मिलाकर केंद्रीय कोण कितना है?

- Ans
- 1. 116°
 - 2. 218°
 - 3. 216°
 - 4. 206°

Question ID : 65497816079

Chosen Option : 3

Q.17 एक हॉस्टल में 1200 छात्र थे। यदि 300 छात्र और बढ़ जाते हैं, तो मेस का खर्च ₹5,000 प्रति दिन बढ़ जाता है, जबकि प्रति व्यक्ति औसत खर्च में ₹5 की कमी हो जाती है। मेस का प्रति दिन का मूल खर्च कितना है?

- Ans
- 1. ₹45,000
 - 2. ₹52,000
 - 3. ₹55,000
 - 4. ₹50,000

Question ID : 65497816062

Chosen Option : 4

Q.18 50 ओवर वाले क्रिकेट के एक मैच में, पहले 20 ओवर में रन रेट 5.2 था। 344 रन के लक्ष्य तक पहुंचने के लिए शेष 30 ओवर में रन रेट कितना होना चाहिए?

- Ans
- 1. 6
 - 2. 7
 - 3. 7.5
 - 4. 8

Question ID : 65497816061

Chosen Option : 4

Q.19 रेणुका को गणित में अंग्रेजी के प्राप्तांकों के $1\frac{1}{2}$ गुना अंक प्राप्त हुए। उसके गणित, अंग्रेजी और विज्ञान में कुल प्राप्तांक 190 थे। यदि गणित और विज्ञान के प्राप्तांकों का अनुपात 2 : 3 है, तो उसके विज्ञान के प्राप्तांक बताइए।

- Ans
- 1. 90
 - 2. 88
 - 3. 85
 - 4. 92

Question ID : 65497816068

Chosen Option : 1

Q.20 4 पुरुष और 5 महिलाएं 8 दिनों में ₹8,800 कमा सकते हैं। 7 पुरुष और 10 महिलाएं 5 दिनों में ₹10,250 कमा सकते हैं। 8 पुरुष और 12 महिलाएं कितने दिनों में ₹21,600 कमा सकते हैं?

- Ans
- 1. 12 दिन
 - 2. 9 दिन
 - 3. 10 दिन
 - 4. 8 दिन

Question ID : 65497816058
Chosen Option : 2

Q.21 $1\frac{1}{16} - \left(\frac{2}{5} \text{ of } \frac{5}{32}\right) - \frac{1}{3} \div \frac{3}{7} \text{ of } \frac{49}{50} + 2 - (4 \times 19) \div 63$ का सरलतम मान क्या होगा?

- Ans
- 1. $\frac{1}{3}$
 - 2. $\frac{1}{16}$
 - 3. 1
 - 4. $\frac{1}{8}$

Question ID : 65497817290
Chosen Option : 3

Q.22 एक वस्तु को इसके क्रय मूल्य से $\frac{4}{3}$ गुने मूल्य पर बेचा गया। लाभ प्रतिशत ज्ञात कीजिए।

- Ans
- 1. $33\frac{1}{3}\%$
 - 2. $33\frac{1}{5}\%$
 - 3. $32\frac{1}{3}\%$
 - 4. $33\frac{1}{4}\%$

Question ID : 65497816065
Chosen Option : 1

Q.23 सोनू कुमार अपने मासिक वेतन का 42% भोजन पर, 16% किराए पर, 10% मनोरंजन पर और 7% परिवहन पर खर्च करता है। लेकिन पारिवारिक कार्यक्रम के कारण ₹18,000 की जरूरत को पूरा करने के लिए, उसे एक साहूकार से ₹12,500 का ऋण लेना पड़ा। उसका मासिक वेतन ज्ञात कीजिए।

- Ans**
- 1. ₹22,000
 - 2. ₹25,000
 - 3. ₹24,000
 - 4. ₹20,000

Question ID : 65497816064
Chosen Option : 1

Q.24 एक ठोस लंब वृत्तीय बेलन का संपूर्ण पृष्ठीय क्षेत्रफल (total surface area) 1617 cm^2 है। यदि इसके आधार का व्यास 21 cm है, तो इसका आयतन (cm^3 में) ज्ञात करें। ($\pi = \frac{22}{7}$ लें)

- Ans**
- 1. 4851
 - 2. 5228
 - 3. 3971
 - 4. 5324

Question ID : 65497816074
Chosen Option : 1

Q.25 धीरज एक निश्चित दूरी को 5 घंटे और 22 मिनट में तय करता है जिसमें से तीन-चौथाई भाग 5 km/h की चाल से तथा शेष भाग 6 km/h की चाल से तय करता है। उसके द्वारा तय की गई कुल दूरी ज्ञात कीजिए।

- Ans**
- 1. 30 km
 - 2. 26 km
 - 3. 28 km
 - 4. 25 km

Question ID : 65497816060
Chosen Option : 3

Section : General Awareness

Q.1 निम्नलिखित में से कौन सा मद भारत के चालू खाता शेष (Current Account Balance) को प्रत्यक्ष तौर पर प्रभावित नहीं करता है?

- Ans**
- 1. विदेशी सहायता
 - 2. राजस्व आय
 - 3. विदेश में शुद्ध आय
 - 4. व्यापार अंतर (ट्रेड गैप)

Question ID : 65497814880
Chosen Option : 4

Q.2 विक्रमादित्य VI, जिनके दरबारी कवि बिल्हण ने उनकी जीवनी लिखी थी, _____ राजवंश के शासक थे।

- Ans
- 1. राष्ट्रकूट
 - 2. पल्लव
 - 3. चालुक्य
 - 4. गंगा

Question ID : 65497814893
Chosen Option : 3

Q.3 भारत में राष्ट्रीय उपभोक्ता दिवस कब मनाया जाता है?

- Ans
- 1. 26 दिसंबर
 - 2. 24 नवंबर
 - 3. 24 दिसंबर
 - 4. 26 नवंबर

Question ID : 65497816697
Chosen Option : 3

Q.4 निम्नलिखित में से किस त्योहार को 'मणिपुरी नव वर्ष' के नाम से भी जाना जाता है?

- Ans
- 1. हिकरु हिडोंगबा
 - 2. गैंग-नागी
 - 3. चैरोबा
 - 4. कूट

Question ID : 65497814872
Chosen Option : 3

Q.5 निम्न में से कौन-सा रोग फ्लेविवायरस के कारण नहीं होता है?

- Ans
- 1. जापानी इंसेफेलाइटिस
 - 2. पीत ज्वर
 - 3. पोलियो
 - 4. डेंगू

Question ID : 65497814888
Chosen Option : 3

Q.6 सितंबर, 2020 तक की स्थिति के अनुसार, निम्नलिखित में से कौन-सा राष्ट्रीय उद्यान, यूनेस्को (UNESCO) की विश्व धरोहर सूची (प्राकृतिक) में अंकित है?

- Ans
- 1. गिर राष्ट्रीय उद्यान
 - 2. केवलादेव राष्ट्रीय उद्यान
 - 3. दाचीगाम राष्ट्रीय उद्यान
 - 4. हेमिस राष्ट्रीय उद्यान

Question ID : 65497814870
Chosen Option : 2

Q.7 अगस्त 2020 में, भारतीय संसदीय समूह के अध्यक्ष निम्नलिखित में से कौन थे?

- Ans
- 1. सुमित्रा महाजन
 - 2. एम. वेंकैया नायडू
 - 3. ओम बिड़ला
 - 4. वीरेन्द्र कुमार

Question ID : 65497814881
Chosen Option : 3

Q.8 विश्व का सबसे पुराना टेनिस टूर्नामेंट निम्नलिखित में से कौन सा है?

- Ans
- 1. फ्रेंच ओपन
 - 2. यू.एस. ओपन
 - 3. विंबलडन
 - 4. ऑस्ट्रेलियन ओपन

Question ID : 65497814873
Chosen Option : 3

Q.9 1975 में राष्ट्रीय आपातकाल की घोषणा के समय भारत के राष्ट्रपति निम्नलिखित में से कौन थे?

- Ans
- 1. फखरुद्दीन अली अहमद
 - 2. जाकिर हुसैन
 - 3. नीलम संजीव रेड्डी
 - 4. वराहगिरि वेंकट गिरि

Question ID : 65497814882
Chosen Option : 3

Q.10 पदार्थ की निम्नलिखित में से किस अवस्था को बोस-आइंस्टीन कंडेनसेट के नाम से भी जाना जाता है?

- Ans
- 1. तृतीय
 - 2. पंचम
 - 3. द्वितीय
 - 4. चतुर्थी

Question ID : 65497814887
Chosen Option : 4

Q.11 कार्बन के कुल कितने प्राकृतिक समस्थानिक होते हैं?

- Ans
- 1. 3
 - 2. 5
 - 3. 2
 - 4. 4

Question ID : 65497814885
Chosen Option : 4

Q.12 क्रोमाइट नामक खनिज का वैज्ञानिक नाम निम्नलिखित में से कौन सा है?

- Ans
- 1. एल्यूमीनियम क्रोमियम ऑक्साइड
 - 2. कॉपर क्रोमियम ऑक्साइड
 - 3. सिल्वर क्रोमियम ऑक्साइड
 - 4. आयरन क्रोमियम ऑक्साइड

Question ID : 65497814884
Chosen Option : 4

Q.13 निम्नलिखित में से कौन सा सिलिकॉन डाइऑक्साइड का एक गुण है?

- Ans
- 1. यह विद्युत का सुचालक होता है।
 - 2. यह मृदु होता है।
 - 3. इसका गलनांक उच्च होता है।
 - 4. यह जल में घुलनशील होता है।

Question ID : 65497814886
Chosen Option : 1

Q.14 भारतीय संविधान के अनुसार, संघ लोक सेवा आयोग का सदस्य छह वर्ष की अवधि के लिए या _____ वर्ष की आयु पूरी होने तक अपने पद पर रहता है।

- Ans
- 1. 65
 - 2. 62
 - 3. 68
 - 4. 60

Question ID : 65497814883
Chosen Option : 1

Q.15 संविधान के अनुच्छेद 280 के तहत, भारत के वित्त आयोग का गठन _____ द्वारा किया जाता है।

- Ans
- 1. उप-राष्ट्रपति
 - 2. राष्ट्रपति
 - 3. उच्च न्यायालय
 - 4. उच्चतम न्यायालय

Question ID : 65497814575
Chosen Option : 2

Q.16 अरबपति वॉरेन बफे द्वारा संचालित फर्म निम्नलिखित में से कौन-सी है?

- Ans
- 1. अमेरिकन एक्सप्रेस कंपनी
 - 2. बर्कशायर हैथवे
 - 3. बैंक ऑफ अमेरिका
 - 4. जे.पी. मॉर्गन चेस

Question ID : 65497814876
Chosen Option : 3

Q.17 निम्नलिखित में से किस स्वयंसेवी संस्थान ने 2020 के सामाजिक उद्यमिता के लिए स्कूल पुरस्कार जीता है?

- Ans
- 1. ग्रीनपीस
 - 2. अरमान (ARMMAN)
 - 3. गूज
 - 4. क्राई (CRY)

Question ID : 65497814875
Chosen Option : 4

Q.18 In which of the following states is Tilaiya Ultra Mega Power Project located?

- Ans
- 1. Jharkhand
 - 2. Maharashtra
 - 3. Madhya Pradesh
 - 4. Gujarat

Question ID : 65497814891
Chosen Option : 2

Q.19 निम्नलिखित में से कौन सा, पारंपरिक रूप से अंडमान और निकोबार द्वीप समूह में रहने वाला आदिवासी समूह नहीं है?

- Ans
- 1. ओनो
 - 2. जरावा
 - 3. मुंडा
 - 4. सेंटीनलीज

Question ID : 65497814871
Chosen Option : 3

Q.20 Which of the following is NOT one of 'The Smart Triplets' – the official mascots of the 2022 Asian Games?

- Ans
- 1. Kinchen
 - 2. Congcong
 - 3. Chenchen
 - 4. Lianlian

Question ID : 65497814874
Chosen Option : 1

Q.21 रानी रुद्रमादेवी का संबंध निम्नलिखित में से किस राजवंश से था?

- Ans
- 1. वाकाटक
 - 2. काकतीय
 - 3. पश्चिमी गंगा
 - 4. चोल

Question ID : 65497814892
Chosen Option : 2

Q.22 In which state is the Nokrek Biosphere Reserve located?

- Ans 1. Nagaland
 2. Arunachal Pradesh
 3. Meghalaya
 4. Sikkim

Question ID : 65497814889
 Chosen Option : 2

Q.23 ब्रिटिश शासन के दौरान निम्नलिखित में से कौन सा संगठन अन्य तीन संगठनों की तुलना में पहले स्थापित किया गया था?

- Ans 1. प्रार्थना समाज
 2. सत्यशोधक समाज
 3. परमहंस मंडली
 4. ब्रह्म समाज

Question ID : 65497814894
 Chosen Option : 2

Q.24 महादेव पहाड़ियां मुख्य रूप से किस राज्य में फैली हुई हैं?

- Ans 1. छत्तीसगढ़
 2. झारखंड
 3. उत्तर प्रदेश
 4. मध्य प्रदेश

Question ID : 65497814890
 Chosen Option : 4

Q.25 भारतीय मूल की दक्षिण अफ्रीकी, गीता रामजी, जिन्होंने मार्च 2020 में अंतिम सांस ली, किस क्षेत्र में अपने योगदान के लिए अंतरराष्ट्रीय स्तर पर जानी जाती हैं?

- Ans 1. विषाणु विज्ञान
 2. वैकासिक अर्थशास्त्र
 3. नाभिकीय भौतिकी
 4. अंतरिक्ष अनुसंधान

Question ID : 65497814877
 Chosen Option : --

Multi Tasking Non Technical Staff Examination 2020

Participant ID	www.HaryanaJobs.in
Participant Name	www.HaryanaJobs.in
Test Center Name	Jaipur Engineering College
Test Date	11/10/2021
Test Time :	9:00 AM - 10:30 AM
Subject	MTS Non Technical 2020

Section : **General English**

Q.1 Select the INCORRECTLY spelt word.

- Ans 1. Usual
 2. Manual
 3. Grajual
 4. Mutual

Question ID : **65497816533**

Chosen Option : 3

Q.2 Select the most appropriate meaning of the given idiom.

Fly the nest

- Ans 1. To lose direction and not reach one's destination
 2. Children leaving their parents' home to live on their own
 3. To run at a very fast pace to reach home
 4. Children returning home after studying abroad

Question ID : **65497816529**

Chosen Option : 3

Q.3 Select the most appropriate option to substitute the underlined segment in the given sentence. If there is no need to substitute it, select 'No substitution required.'

Many industrialists are coming onward to help migrant workers find employment in their villages and cities.

- Ans 1. backward
 2. towards
 3. forward
 4. No substitution required

Question ID : **65497815312**

Chosen Option : 3

Q.4 Identify the segment in the sentence which contains a grammatical error.

Why did you spent so much money on old and useless furniture?

- Ans
- 1. Why did you spent
 - 2. and useless furniture
 - 3. on old
 - 4. so much money

Question ID : 65497816512
Chosen Option : 1

Q.5 Select the most appropriate option to substitute the underlined segment. If no substitution is required, select 'No substitution required'.

You will never become a good reader until reading are done with a purpose.

- Ans
- 1. when reading has
 - 2. No substitution required
 - 3. until reading will be
 - 4. unless reading is

Question ID : 65497816522
Chosen Option : 4

Q.6 Select the most appropriate one-word substitution for the given group of words.

A gentle song sung to put a child to sleep

- Ans
- 1. Chorus
 - 2. Hymn
 - 3. Prayer
 - 4. Lullaby

Question ID : 65497816531
Chosen Option : 4

Q.7 Select the most appropriate meaning of the given idiom.

Your guess is as good as mine

- Ans
- 1. To have a better idea than others
 - 2. To have no idea of the answer
 - 3. To play a guessing game
 - 4. To have the same idea as another

Question ID : 65497816530
Chosen Option : 4

Q.8 Identify the segment in the sentence which contains a grammatical error.

The elegance furnished drawing room indicated that the owner had good taste.

- Ans 1. The elegance furnished
 2. drawing room indicated
 3. that the owner
 4. had good taste

Question ID : 65497816513
Chosen Option : 4

Q.9 Fill in the blank with the most appropriate word.

I am tired _____ reminding you to clean your room.

- Ans 1. at
 2. to
 3. by
 4. of

Question ID : 65497816514
Chosen Option : 3

Q.10 Select the most appropriate option to substitute the underlined segment in the given sentence.

When have you been waiting for me here?

- Ans 1. How long
 2. What time
 3. How far
 4. How late

Question ID : 65497817533
Chosen Option : 2

Q.11 Select the most appropriate ANTONYM of the given word.

SUBTLE

- Ans 1. crafty
 2. harsh
 3. faint
 4. slight

Question ID : 65497816526
Chosen Option : 4

Q.12 Select the most appropriate synonym of the given word.

STERN

- Ans 1. mild
 2. strict
 3. gentle
 4. lenient

Question ID : 65497816527
Chosen Option : 2

Q.13 Fill in the blank with the most appropriate word.

Swami Dayanand _____ the Arya Samaj.

- Ans 1. founded
 2. discovered
 3. invented
 4. developed

Question ID : 65497816536
Chosen Option : 1

Q.14 Select the most appropriate one-word substitution for the given group of words.

Undue favour shown to one's relatives

- Ans 1. Despotism
 2. Nepotism
 3. Nationalism
 4. Narcissism

Question ID : 65497816532
Chosen Option : 2

Q.15 Select the INCORRECTLY spelt word.

- Ans 1. Sugestion
 2. Legible
 3. Mediocre
 4. Opaque

Question ID : 65497816534
Chosen Option : 1

Q.16 Fill in the blank with the most appropriate word.

These discount coupons are _____ for only six months from the date of issue.

- Ans 1. valid
 2. attested
 3. solid
 4. tested

Question ID : 65497816535
Chosen Option : 1

Q.17 Fill in the blank with the most appropriate word.

My employers _____ my salary last year.

- Ans 1. rise
 2. raised
 3. raise
 4. rose

Question ID : 65497816515
Chosen Option : 2

Q.18 Identify the segment in the sentence which contains a grammatical error.

They went on talking while the teacher were teaching an important lesson.

- Ans 1. while the
 2. an important lesson
 3. teacher were teaching
 4. They went on talking

Question ID : 65497816511
Chosen Option : 3

Q.19 Select the most appropriate synonym of the given word.

PROVOKE

- Ans 1. gratify
 2. hinder
 3. placate
 4. enrage

Question ID : 65497816528
Chosen Option : 1

Q.20 Select the most appropriate **ANTONYM** of the given word.

CEASE

- Ans 1. halt
 2. stop
 3. start
 4. catch

Question ID : **65497816525**
Chosen Option : 3

Comprehension:

In the following passage some words have been deleted. Fill in the blanks with the help of the alternatives given. Select the most appropriate option for each blank.

Albert soon got to learn the language of (1)_____ native people. Now, he could talk to (2)_____ about their problems. They too began to (3)_____ him for advice. Some people, (4)_____, were too shy to share their concerns. Albert eventually (5)_____ them that he was there to assist them in all matters.

SubQuestion No : 21

Q.21 Select the most appropriate option to fill in the blank number 1.

- Ans 1. one
 2. the
 3. an
 4. a

Question ID : **65497816517**
Chosen Option : 2

Comprehension:

In the following passage some words have been deleted. Fill in the blanks with the help of the alternatives given. Select the most appropriate option for each blank.

Albert soon got to learn the language of (1)_____ native people. Now, he could talk to (2)_____ about their problems. They too began to (3)_____ him for advice. Some people, (4)_____, were too shy to share their concerns. Albert eventually (5)_____ them that he was there to assist them in all matters.

SubQuestion No : 22

Q.22 Select the most appropriate option to fill in the blank number 2.

- Ans 1. himself
 2. you
 3. them
 4. us

Question ID : **65497816518**
Chosen Option : 3

Comprehension:

In the following passage some words have been deleted. Fill in the blanks with the help of the alternatives given. Select the most appropriate option for each blank.

Albert soon got to learn the language of (1)_____ native people. Now, he could talk to (2)_____ about their problems. They too began to (3)_____ him for advice. Some people, (4)_____, were too shy to share their concerns. Albert eventually (5)_____ them that he was there to assist them in all matters.

SubQuestion No : 23

Q.23 Select the most appropriate option to fill in the blank number 3.

Ans 1. appear

2. approach

3. arrange

4. advance

Question ID : 65497816519
Chosen Option : 2

Comprehension:

In the following passage some words have been deleted. Fill in the blanks with the help of the alternatives given. Select the most appropriate option for each blank.

Albert soon got to learn the language of (1)_____ native people. Now, he could talk to (2)_____ about their problems. They too began to (3)_____ him for advice. Some people, (4)_____, were too shy to share their concerns. Albert eventually (5)_____ them that he was there to assist them in all matters.

SubQuestion No : 24

Q.24 Select the most appropriate option to fill in the blank number 4.

Ans 1. therefore

2. furthermore

3. however

4. moreover

Question ID : 65497816520
Chosen Option : 3

Comprehension:

In the following passage some words have been deleted. Fill in the blanks with the help of the alternatives given. Select the most appropriate option for each blank.

Albert soon got to learn the language of (1)_____ native people. Now, he could talk to (2)_____ about their problems. They too began to (3)_____ him for advice. Some people, (4)_____, were too shy to share their concerns. Albert eventually (5)_____ them that he was there to assist them in all matters.

SubQuestion No : 25

Q.25 Select the most appropriate option to fill in the blank number 5.

Ans 1. assured

2. settled

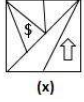
3. decided

4. confirmed

Question ID : 65497816521
Chosen Option : 1

Section : General Intelligence and Reasoning

Q.1 जब दर्पण को आकृति X के दाईं ओर रखा जाता है, तो आकृति X के दर्पण में निर्मित प्रतिबिंब का चयन करें।



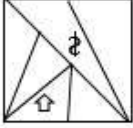
(X)

Ans

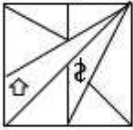
✗ 1.



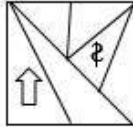
✗ 2.



✗ 3.



✓ 4.



Question ID : 65497816155

Chosen Option : 4

Q.2 यदि WIDOWER को VKAOXCU लिखा जाता है, तो FORTIFY को किस प्रकार लिखा जाएगा?

Ans ✗ 1. EOQSJCD

✗ 2. GMUSHDV

✓ 3. EQOTJDB

✗ 4. EPPTHDC

Question ID : 65497816140

Chosen Option : 3

Q.3 छः वस्तुओं F, G, H, J, K और L में से :

i. H, K से दोगुना भारी है और J, F से डेढ़ गुना भारी है।

ii. G का वज़न J से आधा है।

iii. F और J दोनों मिलाकर H से कम भारी हैं।

iv. J और L दोनों मिलाकर, F से दोगुने भारी हैं।

यदि वस्तुओं को उनके वज़न के अवरोही क्रम में व्यवस्थित किया जाता है, तो कौन-सी वस्तु नीचे से दूसरी होगी?

Ans ✗ 1. L

✗ 2. K

✓ 3. G

✗ 4. F

Question ID : 65497816151

Chosen Option : 3

Q.4 उस विकल्प का चयन करें, जो तीसरे अक्षर-समूह से ठीक उसी प्रकार संबंधित है, जिस प्रकार दूसरा अक्षर-समूह पहले अक्षर-समूह से संबंधित है।

LOTTERY : WQMTBTF :: SECULAR : ?

- Ans
- 1. GTFUCUM
 - 2. DFTUSBM
 - 3. BDRTQZK
 - 4. FGTUUCM

Question ID : 65497816143
Chosen Option : 4

Q.5 निम्न संख्या श्रेणी में प्रश्नवाचक चिह्न (?) के स्थान पर कौन-सी संख्या आएगी?

7, 9, 13, 16, 25, 29, ?, 50

- Ans
- 1. 38
 - 2. 41
 - 3. 45
 - 4. 47

Question ID : 65497816138
Chosen Option : 1

Q.6 जिस प्रकार 'साहित्य', 'काव्य' से संबंधित है, उसी प्रकार 'चित्रकारी', '_____' से संबंधित है।

- Ans
- 1. फ्रेम
 - 2. रंग
 - 3. छायाचित्र
 - 4. अभिव्यक्ति

Question ID : 65497816145
Chosen Option : 3

Q.7 यदि + और \times चिह्नों को एक-दूसरे से प्रतिस्थापित किया जाता है, तो निम्न में से कौन-सा समीकरण सही होगा?

- Ans
- 1. $9 \times 3 - 7 + 9 = 19$
 - 2. $4 \div 8 + 6 \times 3 = 8$
 - 3. $10 \times 5 \div 10 + 10 = 10$
 - 4. $18 \times 3 \div 12 + 8 = 20$

Question ID : 65497816133
Chosen Option : 4

Q.8 उस विकल्प का चयन करें जिसका तीसरी संख्या से वही संबंध है जो दूसरी संख्या का पहली संख्या से है।

7 : 294 :: 9 : ?

- Ans
- 1. 881
 - 2. 648
 - 3. 576
 - 4. 452

Question ID : 65497816135
Chosen Option : 2

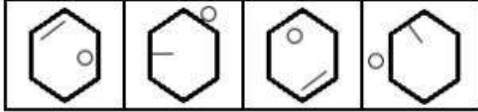
Q.9 निम्न संख्या श्रेणी में प्रश्नवाचक चिह्न (?) के स्थान पर कौन-सी संख्या आएगी?

91, 100, 94, 97, 101, 90, 112, ?

- Ans
- 1. 87
 - 2. 79
 - 3. 83
 - 4. 123

Question ID : 65497816137
Chosen Option : 2

Q.10 निम्न आकृति श्रेणी में कौन-सी विकल्प आकृति अगले स्थान पर आएगी?



Ans

- 1.
- 2.
- 3.
- 4.

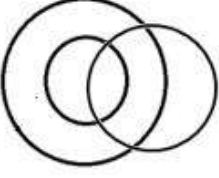
Question ID : 65497816152
Chosen Option : 1

Q.11 उस वेन-आरेख का चयन करें, जो निम्न वर्गों के बीच संबंध को सर्वोत्तम ढंग से निरूपित करता है।

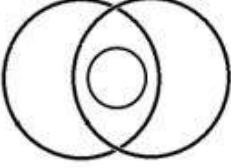
महिलाएँ, व्यवसायी, माताएँ

Ans

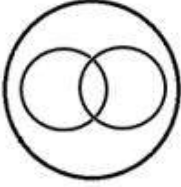
✓ 1.



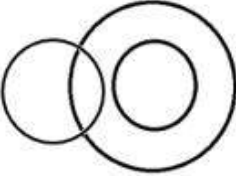
✗ 2.



✗ 3.



✗ 4.



Question ID : 65497816157

Chosen Option : 1

Q.12 जिस प्रकार 'नाटक', 'अभिनेता' से संबंधित है, उसी प्रकार 'कन्सर्ट', '_____' से संबंधित है।

Ans

✗ 1. निर्देशक

✗ 2. पियानो

✗ 3. सिम्फनी

✓ 4. संगीतकार

Question ID : 65497816144

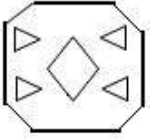
Chosen Option : 4

Q.13 नीचे तीन आकृतियों में कागज के एक टुकड़े को मोड़ने का क्रम और मुड़े हुए कागज को काटने का तरीका दर्शाया गया है। खोलने पर यह कागज कैसा दिखेगा?

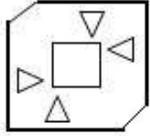


Ans

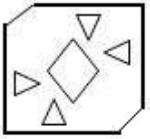
✗ 1.



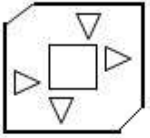
✓ 2.



✗ 3.



✗ 4.



Question ID : 65497816156

Chosen Option : 2

Q.14 यदि 'FESTIVE' को '16113215011' के रूप में और 'HUNGER' को '1427815114' के रूप में कूटबद्ध किया जाता है, तो 'GRUDGE' को किस रूप में कूटबद्ध किया जाएगा?

Ans ✗ 1. 12457111851

✗ 2. 15241718511

✓ 3. 15427181511

✗ 4. 14527811151

Question ID : 65497816142

Chosen Option : 3

Q.15 यदि CROWN को 68 के रूप में और DEPEND को 42 के रूप में कूटबद्ध किया जाता है, तो IMAGERY को किस रूप में कूटबद्ध किया जाएगा?

Ans ✗ 1. 73

✗ 2. 68

✗ 3. 67

✓ 4. 71

Question ID : 65497816141

Chosen Option : 4

Q.16 आठ दोस्त P, Q, R, S, T, U, V और W एक पंक्ति में उत्तर की ओर अभिमुख होकर बैठे हैं।

- Q ठीक P के दाईं ओर पड़ोस में बैठा है, जो कि पंक्ति में किसी एक अंतिम छोर पर बैठा है।
- Q, T के बाईं ओर तीसरे स्थान पर बैठा है।
- W और T के बीच दो लोग हैं।
- U, S के ठीक पड़ोस में नहीं है और V के ठीक बाईं ओर पड़ोस में बैठा है।
- V और R के बीच में तीन लोग हैं।

Q और T के बीच कौन-कौन बैठा है?

- Ans
- 1. R और U
 - 2. R और S
 - 3. V और S
 - 4. U और V

Question ID : 65497816150

Chosen Option : 2

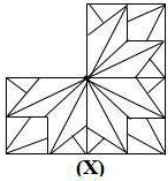
Q.17 यदि POUNDAGE को NOPUEGAD लिखा जाता है, तो STAMPING को किस प्रकार लिखा जाएगा?

- Ans
- 1. AMTSGNIP
 - 2. AMSTGNIP
 - 3. TSMGNPIA
 - 4. TAMSGINP

Question ID : 65497816139

Chosen Option : 2

Q.18 उस विकल्प आकृति का चयन करें, जिसे आकृति X के खाली स्थान में रखने से पैटर्न पूरा हो जाएगा।



Ans

- 1.
- 2.
- 3.
- 4.

Question ID : 65497816153

Chosen Option : 1

Q.19 दिए गए समीकरण को संतुलित करने के लिए, इनमें से किन दो चिह्नों को एक-दूसरे से प्रतिस्थापित करना होगा?

$$10 \div 5 - 4 \times 3 + 6 = 13$$

- Ans
- 1. + और -
 - 2. - और \times
 - 3. + और \div
 - 4. \div और \times

Question ID : 65497816134
Chosen Option : 3

Q.20 निम्न श्रेणी में प्रश्नवाचक चिह्न (?) के स्थान पर कौन-सा अक्षर-समूह आएगा?

PMOR, RNNP, TOMN, VPLL, ?

- Ans
- 1. YQKJ
 - 2. XRJK
 - 3. VQJJ
 - 4. XQKJ

Question ID : 65497816146
Chosen Option : 4

Q.21 तीन कथनों के बाद तीन निष्कर्ष I, II और III दिए गए हैं। कथनों को सत्य मानते हुए, भले ही ये वास्तविक दुनिया के ज्ञान के अनुरूप न हों, निर्धारित करें कि कौन सा/से निष्कर्ष कथनों का तार्किक रूप से अनुसरण करता/करते है/हैं?

कथन:

1. सभी कस्बे, शहर हैं।
2. कोई भी शहर, गांव नहीं है।
3. कुछ शहर, प्राधिकरण हैं।

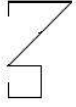
निष्कर्ष:

- I. कुछ प्राधिकरण, गांव हैं।
- II. कुछ कस्बे, प्राधिकरण हैं।
- III. कोई भी प्राधिकरण, गांव नहीं है।

- Ans
- 1. या तो निष्कर्ष I या फिर निष्कर्ष III अनुसरण करता है।
 - 2. केवल निष्कर्ष II अनुसरण करता है।
 - 3. केवल निष्कर्ष I अनुसरण करता है।
 - 4. केवल निष्कर्ष I और II अनुसरण करते हैं।

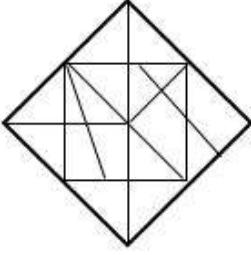
Question ID : 65497816148
Chosen Option : 1

Q.22 उस विकल्प का चयन करें, जिसमें दी गई आकृति अन्तःस्थापित है। (घुमाने की अनुमति नहीं है)

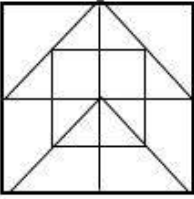


Ans

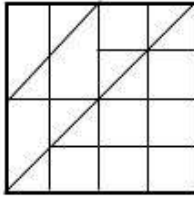
✗ 1.



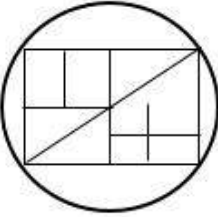
✗ 2.



✓ 3.



✗ 4.



www.HaryanaJobs.in

Question ID : 65497816154

Chosen Option : 3

Q.23 छः लड़के A, B, C, D, E और F एक पंक्ति में खड़े हैं।

- B और D के बीच दो लड़के हैं और D, E के ठीक सामने है।
- A और C, B के पड़ोस में हैं।
- A ठीक E के पीछे है और C ठीक F के सामने है।

कौन से दो लड़के ठीक बीच में हैं?

Ans ✗ 1. B और C

✓ 2. A और B

✗ 3. A और E

✗ 4. C और D

Question ID : 65497816149

Chosen Option : 2

Q.24 दो कथनों के बाद दो निष्कर्ष I और II दिए गए हैं। कथनों को सत्य मानते हुए, भले ही ये वास्तविक दुनिया के ज्ञान के अनुरूप न हों, निर्धारित करें कि कौन सा/से निष्कर्ष कथनों का तार्किक रूप से अनुसरण करता/करते है/हैं?

कथन:

1. कुछ धाराएं, नदियां हैं।
2. कोई भी नदी, झील नहीं है।

निष्कर्ष:

- I. कोई भी धारा, झील नहीं है।
- II. कुछ नदियां, धाराएं हैं।

- Ans
- 1. न तो निष्कर्ष I और न ही II अनुसरण करता है।
 - 2. केवल निष्कर्ष II अनुसरण करता है।
 - 3. केवल निष्कर्ष I अनुसरण करता है।
 - 4. निष्कर्ष I और II दोनों अनुसरण करते हैं।

Question ID : 65497816147
Chosen Option : 2

Q.25 संख्याओं के उस समुच्चय का चयन करें, जो निम्न समुच्चय के समान है।

{21, 29, 20}

- Ans
- 1. {19, 28, 17}
 - 2. {7, 26, 24}
 - 3. {8, 17, 15}
 - 4. {33, 35, 12}

Question ID : 65497816136
Chosen Option : 3

Section : Numerical Aptitude

Q.1 $\frac{119 - [48 \div 6 - 7\{5 \times 12 \div 3 - (15 - 3 - 8)\}]}{24 \div 3 - 9 \text{ of } 3 + (52 - 8 - 4) \div 6}$ का सरलीकृत मान ज्ञात करें।

- Ans
- 1. $\frac{127}{43}$
 - 2. $\frac{111}{11}$
 - 3. $\frac{127}{27}$
 - 4. $\frac{111}{11}$

Question ID : 65497818300
Chosen Option : 4

Q.2 दो धनात्मक संख्याओं का गुणनफल 1344 है और उनका अनुपात 7 : 12 है। इनमें छोटी संख्या ज्ञात करें।

- Ans
- 1. 112
 - 2. 16
 - 3. 28
 - 4. 48

Question ID : 65497818087
Chosen Option : 3

Q.3 16 व्यक्तियों वाले संयुक्त परिवार में, सबसे बड़े और सबसे छोटे सदस्यों की आयु में 82 वर्ष का अंतर है। यदि गणना में इन दोनों को छोड़ दिया जाए, तो शेष 14 व्यक्तियों की औसत आयु 28 है। पूरे परिवार की औसत आयु 30 वर्ष है, सबसे बड़े व्यक्ति की आयु ज्ञात करें।

- Ans
- 1. 85 वर्ष
 - 2. 88 वर्ष
 - 3. 76 वर्ष
 - 4. 60 वर्ष

Question ID : 65497818082
Chosen Option : 1

Q.4 कोई बस, स्टेशन A से स्टेशन B की ओर चलती है, जो 189 km की दूरी पर है। एक घंटे बाद, कोई कार, जिसकी चाल और बस की चाल का अनुपात 3 : 2 है, स्टेशन A से स्टेशन B की ओर चलना शुरू करती है। बस की चाल (km/h में) ज्ञात करें, यदि कार, बस से आधे घंटे पहले स्टेशन B पर पहुंचती है।

- Ans
- 1. 37.8
 - 2. 63
 - 3. 41
 - 4. 42

Question ID : 65497818080
Chosen Option : 2

Q.5 A, B से 30% अधिक कुशल है। यदि B किसी कार्य को 13 दिन में पूरा करता है, तो A उसी कार्य को कितने दिन में पूरा करेगा?

- Ans
- 1. 11
 - 2. 10
 - 3. 12
 - 4. 9

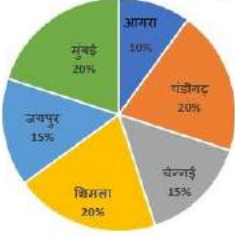
Question ID : 65497818077
Chosen Option : 2

Q.6 दो संख्याओं का अंतर 10 है। यदि उनका ल.स.प. (LCM) 120 और उनका म.स.प. (HCF) 10 है, तो संख्याओं का योगफल ज्ञात करें।

- Ans
- 1. 130
 - 2. 70
 - 3. 50
 - 4. 120

Question ID : 65497818096
Chosen Option : 2

Q.7 6 विशेष स्थानों का भ्रमण करने हेतु 80 परिवारों का उनके सबसे पसंदीदा स्थान के बारे में जानने के लिए सर्वेक्षण किया जाता है। इसे निम्न पाई चार्ट में दर्शाया गया है।



उन परिवारों के लिए केंद्रीय कोण ज्ञात करें, जिन्होंने जयपुर जाना पसंद किया?

- Ans
- 1. 25°
 - 2. 15°
 - 3. 54°
 - 4. 60°

Question ID : 65497818100
Chosen Option : 3

Q.8 यदि निम्न आंकड़ों का बहुलक 11 है, तो k का मान ज्ञात करें।

11, 8, 9, $(2k - 1)$, 11, 12, 12, 18, 14, 16

- Ans
- 1. 7
 - 2. 5
 - 3. 4
 - 4. 6

Question ID : 65497818092
Chosen Option : 4

Q.9 12 पुरुष, किसी रंगाई कार्य को 8 दिन में पूरा कर सकते हैं। जबकि, 16 महिलाएं उसी रंगाई कार्य को 12 दिन में पूरा कर सकती हैं। 8 पुरुष घर को रंगना शुरू करते हैं। 6 दिन रंगाई करने के बाद, 2 पुरुषों के स्थान पर 4 महिलाएं शामिल होती हैं। अब उन्हें शेष रंगाई कार्य को पूरा करने में कितने दिनों का समय लगेगा?

- Ans
- 1. 8
 - 2. 5
 - 3. 6
 - 4. 4

Question ID : 65497818078
Chosen Option : 3

Q.10 अमित, 40 km/h की चाल पर अपनी बाइक से किसी निश्चित दूरी को 15 मिनट में तय करता है। यदि वह समान दूरी को 12 मिनट में तय करना चाहता है, तो उसकी चाल कितनी होनी चाहिए?

- Ans
- 1. 32 km/h
 - 2. 50 km/h
 - 3. 60 km/h
 - 4. 72 km/h

Question ID : 65497818079
Chosen Option : 2

Q.11 अंकित, कुछ राशि 9% साधारण ब्याज की दर पर 2 वर्ष के लिए और समान राशि प्रति वर्ष 10% की दर पर 4 वर्ष के लिए निवेशित करता है। वह कुल ₹1,740 अर्जित करता है। प्रत्येक स्थिति में निवेशित राशि ज्ञात करें।

- Ans
- 1. ₹3,000
 - 2. ₹4,350
 - 3. ₹6,000
 - 4. ₹4,500

Question ID : 65497818091
Chosen Option : 1

Q.12 $\left(16\frac{2}{3} \div 10\right) - \left[\left(\frac{8}{3} \times \frac{5}{4}\right) \text{ of } \frac{2}{5} + \frac{16}{3} \times \frac{11}{8} - \left(\frac{1}{4} \div \frac{1}{28}\right)\right]$ का मान ज्ञात कीजिए।

- Ans
- 1. 10
 - 2. 5
 - 3. 0
 - 4. 1

Question ID : 65497816178
Chosen Option : 3

Q.13 कोई टाइपिस्ट, 32 cm × 20 cm आकार वाले पेपर का उपयोग करता है। वह सभी भुजाओं पर 2 cm का किनारा छोड़ता है। यदि वह सभी भुजाओं पर केवल 1 cm का किनारा छोड़े, तो टाइपिंग के लिए उपलब्ध क्षेत्रफल में हुई प्रतिशत वृद्धि ज्ञात करें (दशमलव के बाद दो स्थानों तक)।

- Ans
- 1. 82.96%
 - 2. 17.04%
 - 3. 20.54%
 - 4. 79.46%

Question ID : 65497818084
Chosen Option : 3

Q.14 कविता, किसी ड्रेस के लिए ₹800 मूल्य वाला कपड़ा खरीदती है और कढ़ाई और सिलाई पर ₹350 खर्च करती है। यदि वह ड्रेस को 20% लाभ पर बेचती है, तो विक्रय मूल्य ज्ञात करें।

- Ans
- 1. ₹1,310
 - 2. ₹1,500
 - 3. ₹1,220
 - 4. ₹1,380

Question ID : 65497818085
Chosen Option : 4

Q.15 किसी कॉलेज में B. Sc भौतिकी, रसायन और जीव विज्ञान पाठ्यक्रम के लिए सीटों का अनुपात 7 : 5 : 8 है। इन सीटों को क्रमशः 50%, 40% और 25% तक बढ़ाने का प्रस्ताव है। बढ़ी हुई सीटों का अनुपात ज्ञात करें।

- Ans
- 1. 7 : 4 : 4
 - 2. 57 : 45 : 33
 - 3. 21 : 14 : 20
 - 4. 12 : 9 : 33

Question ID : 65497818088
Chosen Option : 3

Q.16 दो विक्रेता किसी वस्तु को ₹3,000 के समान अंकित मूल्य पर बेचते हैं। पहला विक्रेता 10% और 15% की क्रमागत छूट देता है। दूसरा विक्रेता 20% और 5% की क्रमागत छूट देता है। दोनों छूटों के अंतर्गत वस्तु के विक्रय मूल्य में अंतर ज्ञात करें।

- Ans
- 1. ₹15
 - 2. ₹20
 - 3. ₹10
 - 4. ₹25

Question ID : 65497818083
Chosen Option : 1

Q.17 जब ब्याज की गणना अर्द्ध वार्षिक चक्रवृद्धि आधार पर की जाती है, तो 16% वार्षिक दर से ₹22,500 की राशि पर 1 वर्ष का चक्रवृद्धि ब्याज ज्ञात करें।

- Ans
- 1. ₹36,244
 - 2. ₹3,744
 - 3. ₹3,600
 - 4. ₹3,700

Question ID : 65497818090
Chosen Option : 2

Q.18 9 संख्याओं का औसत 19 है। यदि प्रथम चार संख्याओं का औसत 14 है, तो अंतिम 5 संख्याओं का औसत ज्ञात करें।

- Ans
- 1. 23
 - 2. 20
 - 3. 10
 - 4. 25.25

Question ID : 65497818081
Chosen Option : 1

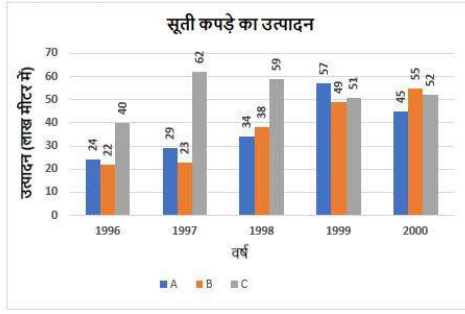
Q.19 ₹52/m² की दर से किसी बर्गाकार मैदान को समतल करने की लागत ₹1,30,000 है। ₹35/m की दर से इसकी सीमा पर बाड़ लगाने की लागत ज्ञात करें।

- Ans
- 1. ₹3,500
 - 2. ₹7,000
 - 3. ₹2,500
 - 4. ₹87,500

Question ID : 65497818094
Chosen Option : 2

www.HaryanaJobs.in

Q.20 दिया गया ग्राफ वर्ष 1996 - 2000 के दौरान A, B और C नामक तीन कंपनियों द्वारा सूती कपड़े का उत्पादन (लाख मीटर में) दर्शाता है।



किस वर्ष कंपनी C का उत्पादन, कंपनी A और कंपनी B के संयुक्त उत्पादन का 81.94% (दशमलव के बाद दो स्थानों तक गणना करें) है?

- Ans
- 1. 1998
 - 2. 1996
 - 3. 1999
 - 4. 2000

Question ID : 65497818101

Chosen Option : 1

Q.21 कोई तार 33 cm भुजा वाले वर्ग के आकार में है। यदि तार को वृत्त बनाने के लिए ढाला जाता है, तो वृत्त की त्रिज्या ज्ञात करें। ($\pi = \frac{22}{7}$ लें)

- Ans
- 1. 42 cm
 - 2. 21 cm
 - 3. 33 cm
 - 4. 16.5 cm

Question ID : 65497818093

Chosen Option : 2

Q.22 किसी बड़े कंटेनर में 3 : 2 अनुपात वाले जूस और पानी का 50 लीटर मिश्रण है। इसमें जूस और पानी के 60 लीटर मिश्रण को मिलाया जाता है, जिसमें जूस और पानी का अनुपात 2 : 1 हो जाता है। इसके बाद, 11 लीटर मिश्रण को शुद्ध जूस से बदल दिया जाता है। अंतिम मिश्रण में पानी और जूस का अनुपात ज्ञात करें।

- Ans
- 1. 29 : 81
 - 2. 4 : 7
 - 3. 37 : 18
 - 4. 18 : 37

Question ID : 65497818089

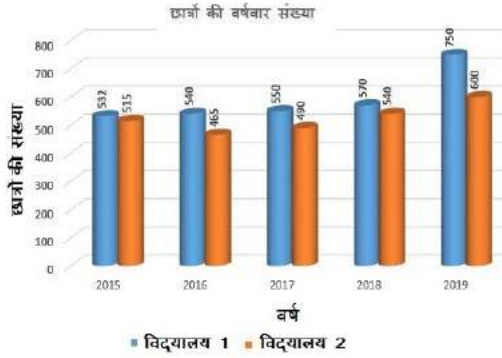
Chosen Option : 4

Q.23 10 cm भुजा वाली लकड़ी के घनाकार टुकड़े से, 4.2 cm त्रिज्या वाला गोला काटकर निकाला जाता है। इस प्रक्रिया में कितनी लकड़ी बर्बाद होती है? ($\pi = \frac{22}{7}$ लें)

- Ans**
- 1. 476.2 cm³
 - 2. 689.536 cm³
 - 3. 310.464 cm³
 - 4. 523.8 cm³

Question ID : 65497818095
Chosen Option : 2

Q.24 निम्न बार ग्राफ में 5 वर्ष की अवधि के दौरान दो विद्यालयों का वर्षानुसार छात्र नामांकन प्रस्तुत किया गया है।



किस वर्ष में दोनों विद्यालयों में नामांकन का अंतर सबसे कम है?

- Ans**
- 1. 2017
 - 2. 2016
 - 3. 2018
 - 4. 2015

Question ID : 65497818099
Chosen Option : 4

Q.25 किसी अलमारी को 15% लाभ पर बेचा गया। यदि इसकी कीमत 5% कम होती और इसे ₹1,470 कम में बेचा गया होता, तो लाभ 10% होता। अलमारी का क्रय मूल्य ज्ञात करें।

- Ans**
- 1. ₹2,94,000
 - 2. ₹14,000
 - 3. ₹29,400
 - 4. ₹16,100

Question ID : 65497818086
Chosen Option : 2

Section : General Awareness

Q.1 विश्व के किस भाग में सितंबर 2020 की स्थिति के अनुसार जनसंख्या का सर्वाधिक घनत्व है?

- Ans**
- 1. पूर्वी ऑस्ट्रेलिया
 - 2. दक्षिण मध्य एशिया
 - 3. पूर्वी अफ्रीका
 - 4. उत्तरी अमेरिका

Question ID : **65497817618**
Chosen Option : 2

Q.2 यदि दो बल विपरीत दिशाओं से किसी पिंड पर कार्य करते हैं, तो उस पर कार्य करने वाले शुद्ध बल का परिमाण दोनों बलों के परिमाण का _____ होता है।

- Ans**
- 1. अंतर
 - 2. योग
 - 3. अनुपात
 - 4. गुणनफल

Question ID : **65497817611**
Chosen Option : 4

Q.3 'ऐस अग्रेस्ट ऑड्स' किसकी आत्मकथा है?

- Ans**
- 1. सानिया मिर्जा
 - 2. दुती चंद
 - 3. मैरीकॉम
 - 4. हिमा दास

Question ID : **65497817604**
Chosen Option : 3

Q.4 'रतवाई' भारत की _____ जनजातियों से संबंधित एक नृत्य रूप है।

- Ans**
- 1. खासी
 - 2. मेवाती
 - 3. जतापूस
 - 4. भील

Question ID : **65497817597**
Chosen Option : 2

Q.5 निम्नलिखित में से किसने वर्ष 1503 में भारत में पहला यूरोपीय किला बनाया?

- Ans**
- 1. फ्रांसिसी
 - 2. पुर्तगाली
 - 3. अंग्रेज़
 - 4. डच

Question ID : **65497817620**
Chosen Option : 2

Q.6 'वल्लम काली' किस तरह का एक पारंपरिक खेल है?

- Ans
- 1. दौड़
 - 2. नौकायन
 - 3. मुक्केबाजी
 - 4. कुश्ती

Question ID : 65497817600
Chosen Option : 2

Q.7 कोयला भंडार के मामले में, अप्रैल 2020 की स्थिति के अनुसार दुनिया में भारत का _____ स्थान था।

- Ans
- 1. पाँचवाँ
 - 2. तीसरा
 - 3. सातवाँ
 - 4. नौवाँ

Question ID : 65497817616
Chosen Option : 2

Q.8 निम्नलिखित में से कौन सा वह आवश्यक तत्व है जिसका उपयोग पौधे प्रोटीन-संश्लेषण में करते हैं?

- Ans
- 1. क्लोरीन
 - 2. कैल्शियम
 - 3. सोडियम
 - 4. नाइट्रोजन

Question ID : 65497817612
Chosen Option : 2

Q.9 निम्नलिखित में से कौन सा निम्न श्रेणी का भूरा कोयला है जो आर्द्रता की उच्च मात्रा के कारण कोमल होता है?

- Ans
- 1. बिटुमिनस (Bituminous)
 - 2. एंथ्रेसाइट (Anthracite)
 - 3. लिग्नाइट (Lignite)
 - 4. पीट (Peat)

Question ID : 65497817617
Chosen Option : 4

Q.10 चालुक्य राजवंश ने वातापी में शासन किया जो आधुनिक समय में _____ भारतीय राज्य में है।

- Ans
- 1. केरल
 - 2. तमिलनाडु
 - 3. कर्नाटक
 - 4. गुजरात

Question ID : 65497817621
Chosen Option : 3

Q.11 रानी रुद्रमा देवी _____ राजवंश की प्रसिद्ध शासक थी।

- Ans 1. चेर
 2. काकतीय
 3. चोल
 4. पांड्य

Question ID : 65497817619
Chosen Option : 2

Q.12 कौन सा भारतीय, लॉन टेनिस खिलाड़ी 1954 में विंबलडन में लड़कों का एकल खिताब जीतने वाला पहला एशियाई खिलाड़ी बना?

- Ans 1. आनंद अमृतराज
 2. रामनाथन कृष्णन
 3. रमेश कृष्णन
 4. विजय अमृतराज

Question ID : 65497817601
Chosen Option : 2

Q.13 आँख के पारदर्शी अग्र भाग को क्या कहा जाता है?

- Ans 1. परितारिका (Iris)
 2. दृष्टिपटल (Retina)
 3. पुतली (Pupil)
 4. कॉर्निया (Cornea)

Question ID : 65497817613
Chosen Option : 2

Q.14 एक कागज जिसमें बैंक को किसी व्यक्ति के खाते से किसी अन्य व्यक्ति, जिसके नाम पर इसे जारी किया गया है, को एक विशिष्ट राशि का भुगतान करने का निर्देश दिया जाता है, उसे किस रूप में जाना जाता है?

- Ans 1. चेक
 2. नकदी
 3. मुद्रा
 4. पासबुक

Question ID : 65497818110
Chosen Option : 1

Q.15 निम्नलिखित में से कौन, लहसुन और प्याज में मौजूद मुख्य सक्रिय सल्फरयुक्त यौगिकों में से एक है?

- Ans 1. इथेनॉल
 2. सेलूलोज़
 3. फिनोल
 4. एलीसिन

Question ID : 65497817615
Chosen Option : 1

Q.16 किस भारतीय शहर को नवंबर 2017 में, संगीत में उसके योगदान के लिए यूनेस्को के सृजनात्मक शहर नेटवर्क में शामिल किया गया था?

- Ans
- 1. नागपुर
 - 2. वड़ोदरा
 - 3. बेंगलुरु
 - 4. चेन्नई

Question ID : 65497817603
Chosen Option : 2

Q.17 'मुया अवांद्रू (Muya Awandru)' किस भारतीय राज्य का पारंपरिक भोजन है?

- Ans
- 1. छत्तीसगढ़
 - 2. गुजरात
 - 3. त्रिपुरा
 - 4. कर्नाटक

Question ID : 65497817599
Chosen Option : 3

Q.18 कौन सा राज्य 2016 में भारत में पूरी तरह से जैविक खेती वाला पहला राज्य बन गया?

- Ans
- 1. सिक्किम
 - 2. पंजाब
 - 3. असम
 - 4. गोवा

Question ID : 65497817602
Chosen Option : 1

Q.19 पोचमपल्ली इकत साड़ियां और ऐसी पोशाक सामग्रियाँ, जो अपने पारंपरिक ज्यामितीय पैटर्न के लिए प्रसिद्ध हैं, _____ राज्य से संबंधित हैं।

- Ans
- 1. कर्नाटक
 - 2. तेलंगाना
 - 3. केरल
 - 4. तमिलनाडु

Question ID : 65497817598
Chosen Option : 4

Q.20 ग्रीष्मकाल में रात के पहले प्रहर में दिखने वाले प्रसिद्ध तारामंडल को किस नाम से जाना जाता है?

- Ans
- 1. कालपुरुष तारामंडल
 - 2. शर्मिष्ठा तारामंडल
 - 3. लघुसप्तर्षि तारामंडल
 - 4. सप्तर्षि तारामंडल

Question ID : 65497817614
Chosen Option : 2

Q.21 भारत और पाकिस्तान ने _____ पर हस्ताक्षर किए थे, जिसके तहत दोनों देश मतभेदों और विवादों को द्विपक्षीय रूप से सुलझाने पर सहमत हुए थे।

- Ans
- 1. आगरा संधि
 - 2. कलकत्ता संधि
 - 3. शिमला संधि
 - 4. लखनऊ संधि

Question ID : 65497817610
Chosen Option : 2

Q.22 प्रधानमंत्री वय वंदना योजना के तहत प्रति वरिष्ठ नागरिक निवेश की अधिकतम राशि कितनी है?

- Ans
- 1. ₹15 लाख
 - 2. ₹25 लाख
 - 3. ₹7 लाख
 - 4. ₹10 लाख

Question ID : 65497815889
Chosen Option : 4

Q.23 भारत ने किस वर्ष में तिब्बती आध्यात्मिक गुरु दलाई लामा को आश्रय दिया?

- Ans
- 1. 1960
 - 2. 1959
 - 3. 1957
 - 4. 1962

Question ID : 65497817609
Chosen Option : 4

Q.24 निम्नलिखित में से किसने कैरा जिला सहकारी दुग्ध उत्पादक संघ लिमिटेड के कार्य का विस्तार करने में मदद की जिससे वह श्वेत-क्रांति का अग्रदूत बना?

- Ans
- 1. बाबा आमटे
 - 2. सुंदरलाल बहुगुणा
 - 3. वर्गाज कुरियन
 - 4. अजर इकबाल

Question ID : 65497817607
Chosen Option : 3

Q.25 निम्नलिखित में से किसे अक्टूबर 2019 में लद्दाख के पहले उपराज्यपाल के रूप में नियुक्त किया गया?

- Ans
- 1. अनिल बैजल
 - 2. दिनेश्वर शर्मा
 - 3. राधा कृष्ण माथुर
 - 4. गिरीश चंद्र मुर्मू

Question ID : 65497817608
Chosen Option : 3

Multi Tasking Non Technical Staff Examination 2020

Participant ID	www.HaryanaJobs.in
Participant Name	www.HaryanaJobs.in
Test Center Name	Indian Institute Of Computer Education - CENTER 2
Test Date	11/10/2021
Test Time :	12:30 PM - 2:00 PM
Subject	MTS Non Technical 2020

Section : General English

Q.1 Select the INCORRECTLY spelt word.

- Ans 1. Parity
 2. Paired
 3. Partly
 4. Prepared

Question ID : 65497815725
 Chosen Option : 4

Q.2 Select the most appropriate option to substitute the underlined segment in the given sentence. If there is no need to substitute it, select 'No substitution required'.

This silver glass will shine if you rub by lemon peel.

- Ans 1. rubbing it by
 2. No substitution required
 3. rubbed it by
 4. rub it with

Question ID : 65497817129
 Chosen Option : 4

Q.3 Select the most appropriate option to substitute the underlined segment in the given sentence. If there is no need to substitute it, select 'No substitution required'.

Thousands of people gathered between the stadium to attend the rally.

- Ans 1. No substitution required
 2. gathered at
 3. gathered on to
 4. gathered over

Question ID : 65497815714
 Chosen Option : 2

Q.4 Select the INCORRECTLY spelt word.

- Ans 1. Croton
 2. Caused
 3. Crayon
 4. Coutious

Question ID : 65497815726

Chosen Option : 4

Q.5 Select the word which means the same as the group of words given.

The science or practice of drawing maps

- Ans 1. Geology
 2. Graphology
 3. Cartography
 4. Anthology

Question ID : 65497815723

Chosen Option : 3

Q.6 Select the most appropriate ANTONYM of the given word.

PERMANENT

- Ans 1. Lasting
 2. Constant
 3. Stable
 4. Temporary

Question ID : 65497815717

Chosen Option : 4

Q.7 Select the most appropriate ANTONYM of the given word.

DELIBERATE

- Ans 1. Thoughtful
 2. Illiterate
 3. Careful
 4. Spontaneous

Question ID : 65497815718

Chosen Option : 4

Q.8 Select the most appropriate synonym of the given word.

HARDLY

- Ans 1. Barely
 2. Strongly
 3. Roughly
 4. Adequately

Question ID : 65497815720
Chosen Option : 1

Q.9 Identify the segment in the sentence which contains a grammatical error.

Playing in the park is one of the thing that small children really love.

- Ans 1. in the park
 2. really love
 3. one of the thing
 4. that small children

Question ID : 65497815705
Chosen Option : 3

Q.10 Select the most appropriate option to substitute the underlined segment in the given sentence. If there is no need to substitute it, select 'No substitution required'.

The company has the number of festival offers coming up soon.

- Ans 1. a number of
 2. No substitution required
 3. an number of
 4. few number of

Question ID : 65497814908
Chosen Option : 1

Q.11 Identify the segment in the sentence which contains a grammatical error.

The sports teacher was elated when his team was won the state football championship.

- Ans 1. was elated
 2. when his team
 3. was won
 4. The sports teacher

Question ID : 65497815703
Chosen Option : 3

Q.12 Select the most appropriate synonym of the given word.

PRACTICAL

- Ans 1. Everlasting
 2. Theoretical
 3. Applicable
 4. Sensible

Question ID : 65497815719
Chosen Option : 3

Q.13 Select the most appropriate word to fill in the blank.

In spite of many _____ we managed to go ahead with our tree plantation drive.

- Ans 1. moments
 2. affirmations
 3. restrictions
 4. confirmations

Question ID : 65497815727
Chosen Option : 3

Q.14 Select the most appropriate word to fill in the blank.

Dubai is like an oasis _____ the middle of a desert.

- Ans 1. over
 2. in
 3. to
 4. on

Question ID : 65497815706
Chosen Option : 2

Q.15 Select the most appropriate meaning of the given idiom.

Many a slip between the cup and the lip

- Ans 1. The cup is slippery and likely to break if you are not careful
 2. The tea is too hot and likely to burn the lips
 3. The work is going as per plan and must be completed
 4. Bad things may happen before the task is finished

Question ID : 65497815721
Chosen Option : 4

Q.16 Select the most appropriate meaning of the given idiom.

Horses for courses

- Ans
- 1. The same horse can run in different race courses in order to win
 - 2. Different people are suited for different jobs
 - 3. The same person can do many jobs and give good results
 - 4. Horses are mainly bred for race courses and are winners

Question ID : 65497815722
Chosen Option : 2

Q.17 Select the most appropriate word to fill in the blank.

The priest's sermon had a calming _____ on everybody.

- Ans
- 1. study
 - 2. change
 - 3. chance
 - 4. effect

Question ID : 65497815728
Chosen Option : 4

Q.18 Select the most appropriate word to fill in the blank.

There are a lot of things that _____ to a healthy lifestyle.

- Ans
- 1. contributing
 - 2. contributes
 - 3. contributed
 - 4. contribute

Question ID : 65497815707
Chosen Option : 4

Q.19 Select the word which means the same as the group of words given.

A very steep or overhanging rock face or cliff on a mountain

- Ans
- 1. Precipice
 - 2. Edge
 - 3. Slope
 - 4. Hill

Question ID : 65497815724
Chosen Option : 4

Q.20 Identify the segment in the sentence which contains a grammatical error.

Much villagers attended the feast hosted by the village panchayat.

- Ans**
- 1. the village panchayat
 - 2. attended the feast
 - 3. hosted by
 - 4. Much villagers

Question ID : **65497815704**
Chosen Option : **4**

Comprehension:

In the following passage some words have been deleted. Fill in the blanks with the help of the alternatives given. Select the most appropriate option for each blank.

The Defence Minister complimented the IAF for its rapid deployment of assets at forward locations (1)_____ response to the border row with China in eastern Ladakh. The current combat readiness has sent a strong message to our (2)_____, he said. In an address to the top commanders of (3)_____ IAF on the opening day of a three-day conference, the defence minister said the nation's resolve to defend its sovereignty (4)_____ firm and that the people of the country have full confidence in the (5)_____ of its armed forces.

SubQuestion No : 21

Q.21 Select the most appropriate option to fill in blank no. 1.

- Ans**
- 1. with
 - 2. on
 - 3. in
 - 4. to

Question ID : **65497815709**
Chosen Option : **3**

Comprehension:

In the following passage some words have been deleted. Fill in the blanks with the help of the alternatives given. Select the most appropriate option for each blank.

The Defence Minister complimented the IAF for its rapid deployment of assets at forward locations (1)_____ response to the border row with China in eastern Ladakh. The current combat readiness has sent a strong message to our (2)_____, he said. In an address to the top commanders of (3)_____ IAF on the opening day of a three-day conference, the defence minister said the nation's resolve to defend its sovereignty (4)_____ firm and that the people of the country have full confidence in the (5)_____ of its armed forces.

SubQuestion No : 22

Q.22 Select the most appropriate option to fill in blank no. 2.

- Ans**
- 1. friends
 - 2. terrorists
 - 3. adversaries
 - 4. messengers

Question ID : **65497815710**
Chosen Option : **3**

Comprehension:

In the following passage some words have been deleted. Fill in the blanks with the help of the alternatives given. Select the most appropriate option for each blank.

The Defence Minister complimented the IAF for its rapid deployment of assets at forward locations (1)_____ response to the border row with China in eastern Ladakh. The current combat readiness has sent a strong message to our (2)_____, he said. In an address to the top commanders of (3)_____ IAF on the opening day of a three-day conference, the defence minister said the nation's resolve to defend its sovereignty (4)_____ firm and that the people of the country have full confidence in the (5)_____ of its armed forces.

SubQuestion No : 23

Q.23 Select the most appropriate option to fill in blank no. 3.

- Ans 1. one
 2. an
 3. a
 4. the

Question ID : 65497815711
Chosen Option : 4

Comprehension:

In the following passage some words have been deleted. Fill in the blanks with the help of the alternatives given. Select the most appropriate option for each blank.

The Defence Minister complimented the IAF for its rapid deployment of assets at forward locations (1)_____ response to the border row with China in eastern Ladakh. The current combat readiness has sent a strong message to our (2)_____, he said. In an address to the top commanders of (3)_____ IAF on the opening day of a three-day conference, the defence minister said the nation's resolve to defend its sovereignty (4)_____ firm and that the people of the country have full confidence in the (5)_____ of its armed forces.

SubQuestion No : 24

Q.24 Select the most appropriate option to fill in blank no. 4.

- Ans 1. standing
 2. stands
 3. were standing
 4. is stood

Question ID : 65497815712
Chosen Option : 3

Comprehension:

In the following passage some words have been deleted. Fill in the blanks with the help of the alternatives given. Select the most appropriate option for each blank.

The Defence Minister complimented the IAF for its rapid deployment of assets at forward locations (1)_____ response to the border row with China in eastern Ladakh. The current combat readiness has sent a strong message to our (2)_____, he said. In an address to the top commanders of (3)_____ IAF on the opening day of a three-day conference, the defence minister said the nation's resolve to defend its sovereignty (4)_____ firm and that the people of the country have full confidence in the (5)_____ of its armed forces.

SubQuestion No : 25

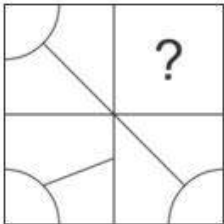
Q.25 Select the most appropriate option to fill in blank no. 5.

- Ans 1. probability
 2. sensibility
 3. capability
 4. availability

Question ID : 65497815713
 Chosen Option : 3

Section : General Intelligence and Reasoning

Q.1 सही विकल्प का चयन करके, पैटर्न के अनुपस्थित भाग को पूरा करें।



Ans

- 1.
- 2.
- 3.
- 4.

Question ID : 65497816961
 Chosen Option : 4

Q.2 छः छात्र A, B, C, D, E और F उत्तर की ओर अभिमुख होकर खड़े हैं, लेकिन जरूरी नहीं कि वे इसी क्रम में खड़े हों। A एक छोर पर खड़ा है और F उसके पड़ोस में है। B, E के एकदम दाएं पड़ोस में है। B, दाएं छोर से दूसरे स्थान पर है। C, F के पड़ोस में नहीं है। दाएं छोर से तीसरे स्थान पर कौन खड़ा है?

Ans 1. D

2. E

3. C

4. F

Question ID : 65497816957

Chosen Option : 2

Q.3 Arrange the following in a logical and meaningful order.

- I. Assistant Professor
- II. PGT
- III. Professor
- IV. Associate Professor

Ans 1. IV, II, I, III

2. I, III, IV, II

3. III, IV, I, II

4. I, II, III, IV

Question ID : 65497816959

Chosen Option : 1

Q.4 उस संख्या का चयन करें, जो दी गई संख्या श्रेणी में प्रश्नवाचक चिह्न (?) के स्थान पर आएगी?

6, 7, 13, 20, 33, 53, ?

Ans 1. 89

2. 79

3. 86

4. 73

Question ID : 65497816946

Chosen Option : 3

Q.5 किसी निश्चित कूट भाषा में '274' का अर्थ 'you are fool' है, '137' का अर्थ 'Rohan is fool' है और '893' का अर्थ 'Riya likes Rohan' है। इसी भाषा में निम्न में से किस संख्या का अर्थ 'Riya' होगा?

Ans 1. 9

2. 3

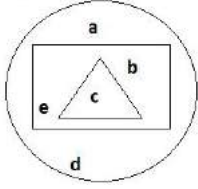
3. 7

4. 4

Question ID : 65497816950

Chosen Option : 1

Q.6 दी गई आकृति में, वृत्त उन लइकों को निरूपित करता है 'जो लिख सकते हैं', आयत उन लइकों को निरूपित करता है 'जो पढ़ सकते हैं', तथा त्रिभुज उन लइकों को निरूपित करता है 'जो गा सकते हैं'। आकृति का कौन-सा भाग उन लइकों को निरूपित करता है, 'जो लिख सकते हैं, लेकिन गा नहीं सकते'?



Ans 1. a, b, d, e

2. a, d

3. b, e

4. a, c

Question ID : 65497816965

Chosen Option : 1

Q.7 उस विकल्प का चयन करें, जिसमें संख्या-युग्म की संख्याएं एक-दूसरे से ठीक उसी प्रकार संबंधित नहीं हैं, जिस प्रकार दिए गए संख्या युग्म की संख्याएं एक-दूसरे से संबंधित हैं।

9 : 738

Ans 1. 7 : 350

2. 6 : 222

3. 8 : 157

4. 4 : 681

Question ID : 65497816943

Chosen Option : 3

Q.8 एक परिसर में M, N, O, P, Q, R और S नामक घर एक पंक्ति में हैं, लेकिन जरूरी नहीं कि वे इसी क्रम में हों। P किसी भी छोर पर नहीं है। R, P के ठीक दाएं पड़ोस में है। S, बाएं से तीसरा है। O एकदम बाएं छोर पर है। M दाईं ओर से दूसरा है। O, N के पड़ोस में नहीं है। R कहां पर स्थित है?

Ans 1. दाईं ओर से तीसरा

2. दाईं ओर से चौथा

3. दाएं छोर पर

4. बाईं ओर से दूसरा

Question ID : 65497816958

Chosen Option : 4

Q.9 Select the option that is related to the third term in the same way as the second term is related to the first term.

Square : Side :: Circle : ?

Ans 1. Arc

2. Area

3. Radius

4. Diameter

Question ID : 65497816953

Chosen Option : 1

Q.10 यदि किसी कूट भाषा में 'BEAM' को 'YVZN' लिखा जाता है, तो इसी कूट भाषा में 'HELP' को क्या लिखा जाएगा?

- Ans 1. SVOK
 2. SVKQ
 3. EVKO
 4. EVKQ

Question ID : 65497816948
 Chosen Option : 1

Q.11 दो कथन और उसके बाद दो निष्कर्ष दिए गए हैं। यह मानते हुए कि कथन सत्य हैं, भले ही वे सामान्य रूप से ज्ञात तथ्यों से भिन्न प्रतीत होते हों, बताएं कि कौन से निष्कर्ष दिए गए कथनों का तार्किक रूप से अनुसरण करते हैं?

कथन:

1. सभी पशु सफेद हैं।
2. कोई सरीसृप सफेद नहीं है।

निष्कर्ष:

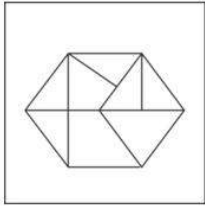
- I. कोई सरीसृप पशु नहीं है।
- II. कुछ सफेद पशु हैं।

- Ans 1. निष्कर्ष I और II, दोनों अनुसरण करते हैं।
 2. न तो निष्कर्ष I और ना ही II अनुसरण करता है।
 3. केवल निष्कर्ष I अनुसरण करता है।
 4. केवल निष्कर्ष II अनुसरण करता है।

Question ID : 65497816955
 Chosen Option : 1

www.HaryanaJobs.in

Q.12 उस आकृति का चयन करें, जो दी गई आकृति में अंतःस्थापित नहीं है (घुमाने की अनुमति नहीं है)।



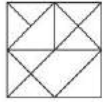
Ans



Question ID : 65497816962
Chosen Option : 3

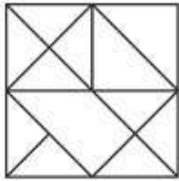
www.HaryanaJobs.in

Q.13 यदि दर्पण को दी गई आकृति के दाईं ओर रखा जाए, तो आकृति के दर्पण में निम्नित सही प्रतिबिंब का चयन कीजिए।

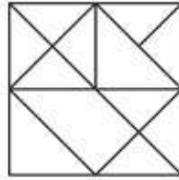


Ans

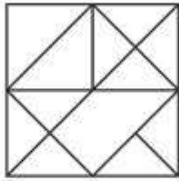
1.



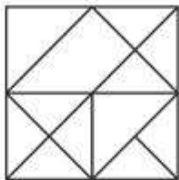
2.



3.



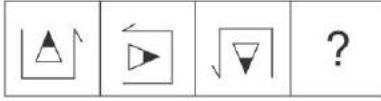
4.



www.HaryanaJobs.in

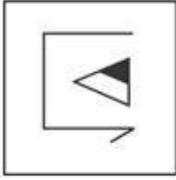
Question ID : 65497816963
Chosen Option : 2

Q.14 विकल्पों में से उस आकृति का चयन करें, जो प्रश्नवाचक चिह्न (?) की जगह पर आकर दी गई आकृति श्रेणी को पूरा करेगी।

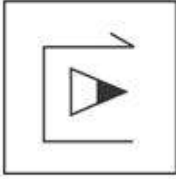


Ans

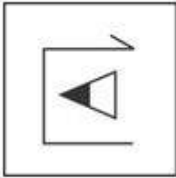
✗ 1.



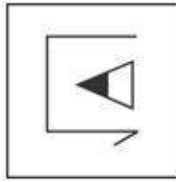
✗ 2.



✗ 3.



✓ 4.



Question ID : 65497816960

Chosen Option : 4

Q.15 उस विकल्प का चयन करें, जो तीसरे अक्षर-समूह से ठीक उसी प्रकार संबंधित है, जिस प्रकार दूसरा अक्षर-समूह पहले अक्षर-समूह से संबंधित है।

COLD : GTRK :: MICE : ?

Ans ✗ 1. QMGL

✓ 2. QNIL

✗ 3. RMGL

✗ 4. QNGL

Question ID : 65497816951

Chosen Option : 2

Q.16 तीन कथन और उसके बाद चार निष्कर्ष दिए गए हैं। यह मानते हुए कि कथन सत्य हैं, भले ही वे सामान्य रूप से ज्ञात तथ्यों से भिन्न प्रतीत होते हों, बताएं कि कौन से निष्कर्ष दिए गए कथनों का तार्किक रूप से अनुसरण करते हैं?

कथन:

1. कुछ महिलाएं अच्छा खाना बना सकती हैं।
2. अच्छा खाना बनाने वाली सभी महिलाएं, नृत्यांगनाएं हैं।
3. कुछ नृत्यांगनाएं खिलाड़ी हैं।

निष्कर्ष:

- I. कोई भी नृत्यांगना अच्छा खाना नहीं बना सकती है।
- II. कोई नृत्यांगना महिला नहीं है।
- III. कुछ खिलाड़ी महिलाएं हैं।
- IV. कोई खिलाड़ी महिला नहीं है।

- Ans
- 1. केवल निष्कर्ष III अनुसरण करता है।
 - 2. निष्कर्ष I और II, दोनों अनुसरण करते हैं।
 - 3. निष्कर्ष II और IV, दोनों अनुसरण करते हैं।
 - 4. या तो निष्कर्ष III या IV अनुसरण करता है।

Question ID : 65497816956

Chosen Option : 1

Q.17 यदि किसी कूट भाषा में 'WICE' को 'XGFA' लिखा जाता है, तो इसी कूट भाषा में 'WELL' को क्या लिखा जाएगा?

- Ans
- 1. XCOH
 - 2. XAHH
 - 3. XA00
 - 4. XCHO

Question ID : 65497816947

Chosen Option : 1

Q.18 अक्षरों के उस सही संयोजन का चयन करें, जिन्हें क्रमिक रूप से दी गई अक्षर श्रेणी में रिक्त स्थानों पर रखने पर श्रेणी पूर्ण हो जाएगी।

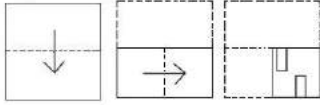
J _ G _ KP _ _ PGJ

- Ans
- 1. PJKGJK
 - 2. GJPKJK
 - 3. KPJGJK
 - 4. KJPGKJ

Question ID : 65497816954

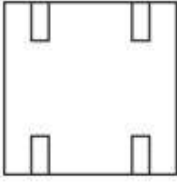
Chosen Option : 3

Q.19 एक कागज को बिंदीदार रेखाओं पर मोड़ा जाता है, जैसा कि पहली दो आकृतियों में दिखाया गया है। और इसे तीसरी आकृति के अनुसार काटा जाता है। जब इसे खोला जाएगा, तो यह कैसा दिखेगा?




Ans

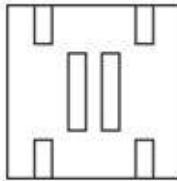
✗ 1.



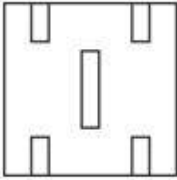
✗ 2.



✓ 3.



✗ 4.



Question ID : 65497816964

Chosen Option : 3

Q.20 दिए गए विकल्पों में से, संख्याओं के उस समुच्चय का चयन करें, जो दिए गए समुच्चय के समान है।

(272, 353, 452)

Ans ✗ 1. (459, 781, 972)

✗ 2. (617, 813, 215)

✓ 3. (560, 443, 263)

✗ 4. (901, 456, 791)

Question ID : 65497816944

Chosen Option : 3

Q.21 किसी निश्चित कूट भाषा में '274' का अर्थ 'God is great' है, '137' का अर्थ 'I worship God' है और '752' का अर्थ 'God is omnipotent' है। इसी भाषा में निम्न में से किस संख्या का अर्थ 'omnipotent' होगा?

Ans ✗ 1. 7

✗ 2. 3

✓ 3. 5

✗ 4. 4

Question ID : 65497816949

Chosen Option : 3

Q.22 गणितीय चिह्नों के उस सही संयोजन का चयन करें, जिसे क्रमिक रूप से * चिह्नों के स्थान पर रखने पर दिया गया समीकरण संतुलित हो जाएगा।

$$17 * 3 * 6 * 2 * 7 * 55$$

- Ans
- 1. $\div, +, -, \times, =$
 - 2. $\times, -, \div, +, =$
 - 3. $-, \div, +, \times, =$
 - 4. $-, +, \div, \times, =$

Question ID : 65497816942
Chosen Option : 2

Q.23 उस संख्या का चयन करें, जो दी गई संख्या श्रेणी में प्रश्नवाचक चिह्न (?) के स्थान पर आएगी?

$$30, 42, 56, 72, ?, 110$$

- Ans
- 1. 92
 - 2. 90
 - 3. 102
 - 4. 88

Question ID : 65497816945
Chosen Option : 2

Q.24 दिए गए समीकरण को संतुलित करने के लिए, इनमें से किन दो चिह्नों को एक-दूसरे से प्रतिस्थापित करना होगा?

$$8 \times 4 - 7 + 8 \div 2 = 35$$

- Ans
- 1. + और -
 - 2. - और \times
 - 3. \times और \div
 - 4. \div और -

Question ID : 65497816941
Chosen Option : 1

Q.25 Select the option that is related to the third term in the same way as the second term is related to the first term.

Sweet : Sour :: End : ?

- Ans
- 1. First
 - 2. Move
 - 3. Beginning
 - 4. New

Question ID : 65497816952
Chosen Option : 3

Section : Numerical Aptitude

Q.1 अनिल कुमार, रजत को कोई वस्तु 25% की हानि पर ₹15,000 में बेचता है। रजत इसे डेविड को उस कीमत पर बेचता है, जिससे अनिल कुमार को 5% का लाभ होता। रजत को प्राप्त लाभ प्रतिशत ज्ञात करें।

- Ans**
- 1. 42%
 - 2. 40%
 - 3. 25%
 - 4. 30%

Question ID : 65497815561
Chosen Option : 2

Q.2 किसी वस्तु का सूची मूल्य ₹15,000 है, जिस पर 12% छूट दी जाती है। शुद्ध विक्रय मूल्य ₹12,078 करने के लिए कितनी अतिरिक्त छूट दी जानी चाहिए?

- Ans**
- 1. 9%
 - 2. 8.5%
 - 3. 8%
 - 4. 7.5%

Question ID : 65497815558
Chosen Option : 2

Q.3 किसी वस्तु को ₹1,500 में बेचने पर प्राप्त लाभ, उस वस्तु को ₹1,350 में बेचने पर प्राप्त लाभ का दोगुना है। वस्तु का क्रय मूल्य ज्ञात करें।

- Ans**
- 1. ₹1,200
 - 2. ₹1,100
 - 3. ₹1,000
 - 4. ₹1,400

Question ID : 65497815560
Chosen Option : 1

Q.4 यदि किसी निश्चित आंकड़े के बहुलक और माध्यिका का अनुपात 9 : 8 है, तो इसके माध्य और माध्यिका का अनुपात ज्ञात करें।

- Ans**
- 1. 15 : 16
 - 2. 13 : 15
 - 3. 11 : 15
 - 4. 15 : 17

Question ID : 65497815567
Chosen Option : 1

Q.5 साधारण ब्याज की समान दर पर राघव, गोपाल को तीन वर्ष के लिए ₹7,500 और सचिन को चार वर्ष के लिए ₹5,000 उधार देता है और दोनों से ब्याज के रूप में ₹3,570 प्राप्त करता है। सचिन द्वारा दिया गया ब्याज ज्ञात करें।

- Ans
- 1. ₹1,600
 - 2. ₹1,680
 - 3. ₹1,580
 - 4. ₹1,500

Question ID : 65497815566
Chosen Option : 2

Q.6 प्रति दिन 6 घंटे कार्य करते हुए, A किसी कार्य को 12 दिन में कर सकता है और प्रति दिन 7 घंटे कार्य करते हुए, B उसी कार्य को 8 दिन में कर सकता है। प्रति दिन 9 घंटे एक साथ कार्य करते हुए, वे दोनों इस कार्य को कितने दिन में पूरा करेंगे?

- Ans
- 1. 4 दिन
 - 2. $\frac{5}{2}$ दिन
 - 3. $\frac{7}{2}$ दिन
 - 4. $\frac{9}{2}$ दिन

Question ID : 65497815553
Chosen Option : 3

Q.7 किसी आयताकार जलाशय में 126 किलोलीटर पानी है। जलाशय की गहराई 3.5 m है और इसकी लंबाई 8 m है। जलाशय की चौड़ाई ज्ञात करें।

- Ans
- 1. 4.2 m
 - 2. 4.5 m
 - 3. 4 m
 - 4. 5 m

Question ID : 65497814866
Chosen Option : 2

Q.8 यदि किसी शंकु के आधार का व्यास 24 cm है और इसका वक्र पृष्ठीय क्षेत्रफल $1395\frac{3}{7}$ cm² है, तो इसकी ऊंचाई ज्ञात करें।

(मान लें $\pi = \frac{22}{7}$)

- Ans
- 1. 30 cm
 - 2. 32 cm
 - 3. 36 cm
 - 4. 35 cm

Question ID : 65497815569
Chosen Option : 4

Q.9 यदि किसी बेलन की ऊंचाई में 30% की वृद्धि होती है और इसकी आधार त्रिज्या में 15% की कमी होती है, तो इसके वक्र पृष्ठीय क्षेत्रफल में कितने प्रतिशत का परिवर्तन होगा?

- Ans
- 1. 10.5%
 - 2. 10%
 - 3. 12%
 - 4. 8%

Question ID : 65497815570
Chosen Option : 1

Q.10 12 वर्ष पहले, अनिल और बीशु की आयु का अनुपात 5 : 12 था। अब से 8 वर्ष बाद, उनकी आयु का अनुपात 10 : 17 होगा। अनिल और बीशु की वर्तमान आयु का अनुपात ज्ञात करें।

- Ans
- 1. 7 : 13
 - 2. 9 : 16
 - 3. 5 : 8
 - 4. 8 : 15

Question ID : 65497815564
Chosen Option : 4

Q.11 $4 \times 2 \div 3$ of $12 - 3 \div 2 \times (2 - 3) \times 2 + 3 \div 2$ of 3 का मान कितना होगा?

- Ans
- 1. $\frac{59}{18}$
 - 2. $\frac{13}{18}$
 - 3. $\frac{67}{18}$
 - 4. $\frac{23}{6}$

Question ID : 65497817087
Chosen Option : 3

Q.12 कोई व्यक्ति, 47 km की दूरी 6 घंटे में तय करता है। वह पैदल $6\frac{1}{2}$ km/h की चाल से कुछ दूरी तय करता है और साइकिल द्वारा $8\frac{1}{2}$ km/h की चाल से बाकी दूरी तय करता है। पैदल चलकर तय की गई दूरी ज्ञात करें।

- Ans
- 1. 16 km
 - 2. 13 km
 - 3. 15 km
 - 4. 12 km

Question ID : 65497815555
Chosen Option : 2

Q.13 A का मासिक वेतन, B के मासिक वेतन से 20% अधिक है। C का मासिक वेतन, B के मासिक वेतन से ₹25,000 अधिक है। उनका कुल मासिक वेतन ₹2,65,000 है। B का वेतन, C के वेतन का कितने प्रतिशत है?

- Ans
- 1. 55%
 - 2. 60%
 - 3. 75%
 - 4. 70%

Question ID : 65497815559
Chosen Option : 3

Q.14 5 दिनों की बिक्री इस प्रकार दी गई है: ₹5,000, ₹6,000, ₹8,000, ₹7,000 और ₹9,000। 6ठे दिन की बिक्री कितनी होनी चाहिए ताकि औसत ₹8,500 हो जाए?

- Ans
- 1. ₹10,000
 - 2. ₹15,000
 - 3. ₹12,000
 - 4. ₹16,000

Question ID : 65497815556
Chosen Option : 4

Q.15 किसी त्रिभुज का आधार 8.5 cm है और ऊंचाई 14 cm है। उस दूसरे त्रिभुज की ऊंचाई ज्ञात करें, जिसका आधार 14 cm और जिसका क्षेत्रफल पहले त्रिभुज के क्षेत्रफल से दोगुना है।

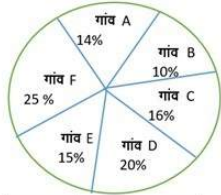
- Ans
- 1. 15 cm
 - 2. 16 cm
 - 3. 14 cm
 - 4. 17 cm

Question ID : 65497815568
Chosen Option : 4

www.HaryanaJobs.in

Q.16 निम्न पाई चार्ट और तालिका का अध्ययन करें और नीचे दिए गए प्रश्न का उत्तर दें।

दिया गया चार्ट 2016 में छह गांव A, B, C, D, E और F की जनसंख्या के प्रतिशत वितरण को दर्शाता है।



गांव	गरीबी रेखा से नीचे जनसंख्या प्रतिशत
A	30%
B	45%
C	55%
D	60%
E	58%
F	40%

यदि गांव D में गरीबी रेखा से नीचे की जनसंख्या 12408 है, तो गांव F में गरीबी रेखा से नीचे की जनसंख्या ज्ञात करें।

- Ans
- ✓ 1. 10340
- ✗ 2. 10300
- ✗ 3. 10440
- ✗ 4. 10240

Question ID : 65497815576
Chosen Option : 1

Q.17 P, Q और R के बीच ₹3,910 को $\frac{1}{4} : \frac{1}{5} : \frac{1}{8}$ के अनुपात में विभाजित करने के बजाय, गलती से इसे 4 : 5 : 8 के अनुपात में विभाजित किया गया। इस लेन-देन में R को प्राप्त लाभ ज्ञात करें।

- Ans
- ✗ 1. ₹900
- ✗ 2. ₹890
- ✓ 3. ₹990
- ✗ 4. ₹940

Question ID : 65497815563
Chosen Option : 3

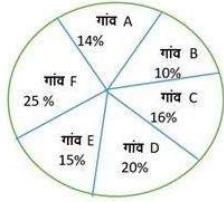
Q.18 दो संख्याएं A और B, तीसरी संख्या C से क्रमशः 20% और 56% अधिक हैं। संख्या A और B का अनुपात ज्ञात करें।

- Ans
- ✗ 1. 11 : 13
- ✓ 2. 10 : 13
- ✗ 3. 7 : 11
- ✗ 4. 10 : 17

Question ID : 65497815562
Chosen Option : 2

Q.19 निम्न पाई चार्ट और तालिका का अध्ययन करें और नीचे दिए गए प्रश्न का उत्तर दें।

दिया गया चार्ट 2016 में छह गांव A, B, C, D, E और F की जनसंख्या के प्रतिशत वितरण को दर्शाता है।



गांव	गरीबी रेखा से नीचे जनसंख्या प्रतिशत
A	30%
B	45%
C	55%
D	60%
E	58%
F	40%

गांव B और E के केन्द्रीय कोणों में अंतर ज्ञात करें।

- Ans
- 1. 15°
 - 2. 25°
 - 3. 18°
 - 4. 22°

Question ID : 65497815574

Chosen Option : 3

Q.20 पांच संख्याओं A, B, C, D और E का योगफल 37.5 है। A और B का औसत 6 है तथा D और E का औसत 9 है। A, B और C का औसत ज्ञात करें।

- Ans
- 1. 5.5
 - 2. 7.5
 - 3. 6
 - 4. 6.5

Question ID : 65497815557

Chosen Option : 4

Q.21 वरुण, किसी कार्य को 28 दिन में कर सकता है। सर्वश, इस कार्य को कितने दिन में पूरा कर सकता है, यदि सर्वश की कार्य क्षमता, वरुण से 40% अधिक है?

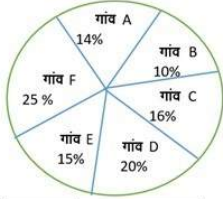
- Ans
- 1. 18 दिन
 - 2. 15 दिन
 - 3. 20 दिन
 - 4. 16 दिन

Question ID : 65497815552

Chosen Option : 3

Q.22 निम्न पाई चार्ट और तालिका का अध्ययन करें और नीचे दिए गए प्रश्न का उत्तर दें।

दिया गया चार्ट 2016 में छह गांव A, B, C, D, E और F की जनसंख्या के प्रतिशत वितरण को दर्शाता है।



गांव	गरीबी रेखा से नीचे जनसंख्या प्रतिशत
A	30%
B	45%
C	55%
D	60%
E	58%
F	40%

यदि गांव A में गरीबी रेखा से नीचे की जनसंख्या 42000 है, तो गांव A में गरीबी रेखा से ऊपर की जनसंख्या ज्ञात करें।

- Ans
- 1. 88000
 - 2. 98000
 - 3. 95000
 - 4. 85000

Question ID : 65497815575
Chosen Option : 2

Q.23 कोई व्यक्ति, अपने गंतव्य स्थान पर 32 मिनट की देरी से पहुंचता है, यदि उसकी चाल 6 km/h है। और वह अपने गंतव्य स्थान पर 18 मिनट पहले पहुंचता है, यदि उसकी चाल 7 km/h है। आरंभिक बिंदु से उसके गंतव्य स्थान की दूरी ज्ञात करें।

- Ans
- 1. 35 km
 - 2. 30 km
 - 3. 28 km
 - 4. 32 km

Question ID : 65497815554
Chosen Option : 1

Q.24 12 m 95 cm लंबाई और 3 m 85 cm चौड़ाई वाले कमरे की छत पर फर्श बंदी करने के लिए आवश्यक वर्गाकार टाइलों की न्यूनतम संख्या ज्ञात करें।

- Ans
- 1. 14245
 - 2. 12425
 - 3. 14225
 - 4. 14000

Question ID : 65497815571
Chosen Option : 2

Q.25 यदि ब्याज को अर्ध-वार्षिक रूप से चक्रवृद्धि किया जाता है, तो ₹12,600 की धनराशि के लिए 20% वार्षिक ब्याज दर पर $1\frac{1}{2}$ वर्ष का चक्रवृद्धि ब्याज ज्ञात करें। (निकटतम ₹ तक)

- Ans**
- 1. ₹4,171
 - 2. ₹4,169
 - 3. ₹4,251
 - 4. ₹4,269

Question ID : 65497815565
Chosen Option : 1

Section : General Awareness

Q.1 Which of the following is a comprehensive and in-depth analysis of a country's financial sector, done jointly by the World Bank and IMF in developing and emerging market countries?

- Ans**
- 1. Evaluation and Monitoring of the Financial Sector
 - 2. Developing Economies Financial Audit Scheme
 - 3. Financial Sector Assessment Program
 - 4. Finance and Socio Economic Audit Scheme

Question ID : 65497817505
Chosen Option : 1

Q.2 Which of the following awards was presented to Ramesh Sippy at the Filmfare Awards 2020?

- Ans**
- 1. Excellence in Cinema
 - 2. Best Director
 - 3. Lifetime Achievement Award
 - 4. Best Original Story

Question ID : 65497816491
Chosen Option : 3

Q.3 Complete the statement: Sodium hydrogen carbonate is used _____.

- Ans**
- 1. as a cleaning agent for domestic purposes
 - 2. for removing permanent hardness of water
 - 3. in the manufacture of borax
 - 4. in soda-acid fire extinguishers

Question ID : 65497816503
Chosen Option : 2

Q.4 भारतीय रिजर्व बैंक की स्थापना किस वर्ष में की गई थी?

- Ans 1. 1942
 2. 1947
 3. 1932
 4. 1935

Question ID : 65497815383
Chosen Option : 4

Q.5 Which of the following monuments is located in the state of Karnataka?

- Ans 1. Bara Imambara
 2. Qutub Minar
 3. Charminar
 4. Gol Gumbaz

Question ID : 65497816486
Chosen Option : 4

Q.6 The Indian Parliament passed the Citizenship (Amendment) Bill in the year _____.

- Ans 1. 2017
 2. 2019
 3. 2016
 4. 2015

Question ID : 65497816498
Chosen Option : 2

Q.7 Which of the following statements is NOT true?

- Ans 1. Elephants love to play with mud and water.
 2. Elephants use their tails to keep themselves cool.
 3. Elephants sleep for only two to four hours in a day.
 4. An adult elephant can eat more than 100 kilograms of leaves and twigs in one day.

Question ID : 65497816500
Chosen Option : 3

Q.8 Murshid Quli Khan was the Nawab of _____.

- Ans 1. Lucknow
 2. Awadh
 3. Hyderabad
 4. Bengal

Question ID : 65497816509
Chosen Option : 1

Q.9 Which of the following statements is NOT true about plateaus?

- Ans 1. The Marwar plateau is the highest plateau in the world.
2. The Deccan plateau is one of the oldest plateaus in India.
3. A plateau is an elevated flat land.
4. Plateaus are rich in mineral deposits.

Question ID : 65497816506

Chosen Option : 1

Q.10 'The Adventures of Huckleberry Finn' is a book written by _____.

- Ans 1. Rudyard Kipling
2. Ruskin Bond
3. Lewis Carroll
4. Mark Twain

Question ID : 65497816492

Chosen Option : 2

Q.11 Military commanders in Akbar's empire were called '_____'.
www.HaryanaJobs.in

- Ans 1. diwans
2. kotwals
3. faujdars
4. bakhshis

Question ID : 65497816510

Chosen Option : 3

Q.12 According to the Motor Vehicles Act, 1988, no person under the age of _____ years shall be granted a learner's license to drive a motor cycle without gear except with the consent in writing of the person having the care of the person desiring the learner's license.

- Ans 1. seventeen
2. twenty-one
3. eighteen
4. twenty

Question ID : 65497816497

Chosen Option : 3

Q.13 When dried raisins are placed in a concentrated salt solution, they _____.

- Ans 1. shrink
2. swell
3. first shrink and then swell
4. remain the same size

Question ID : 65497816502

Chosen Option : 2

Q.14 Which of the following countries is an 'Associate Member' of the ICC (International Cricket Council)?

- Ans
- 1. Afghanistan
 - 2. Pakistan
 - 3. Nepal
 - 4. Bangladesh

Question ID : 65497816489

Chosen Option : 4

Q.15 Tooth decay is caused by _____.

- Ans
- 1. viruses
 - 2. fungi
 - 3. protozoa
 - 4. bacteria

Question ID : 65497816501

Chosen Option : 2

Q.16 A clinical thermometer reads the temperature from _____.

- Ans
- 1. 25°C to 32°C
 - 2. 35°C to 42°C
 - 3. 38°C to 48°C
 - 4. 32°C to 38°C

Question ID : 65497816504

Chosen Option : 2

Q.17 Namami Gange Programme was approved by the Government of India in the year _____.

- Ans
- 1. 2019
 - 2. 2015
 - 3. 2014
 - 4. 2018

Question ID : 65497816507

Chosen Option : 2

Q.18 Which of the following statements is NOT true?

- Ans
- 1. Fiscal policy deals with the supply of money in the economy and the rate of interest.
 - 2. The government deals with fiscal policy.
 - 3. Fiscal policy is linked with general economic policy strategy of the country.
 - 4. Fiscal policy includes tax policy, expenditure policy, investment or disinvestment strategies and debt or surplus management.

Question ID : 65497816496

Chosen Option : --

Q.19 Which of the following rivers does NOT rise in the Nepal Himalayas?

- Ans
- 1. Ghaghara
 - 2. Kosi
 - 3. Gandak
 - 4. Narmada

Question ID : 65497816505
Chosen Option : 4

Q.20 Which of the following Acts was passed by the Government of India to inquire into allegations of corruption against certain public functionaries?

- Ans
- 1. Delimitation Act
 - 2. The Lokpal and Lokayukta Act
 - 3. Prevention of Money Laundering Act
 - 4. Central Vigilance Commission Act

Question ID : 65497816499
Chosen Option : 4

Q.21 Dashain is the longest and the most important festival of _____.

- Ans
- 1. Nepal
 - 2. Bhutan
 - 3. Myanmar
 - 4. Sri Lanka

Question ID : 65497816487
Chosen Option : 3

Q.22 In 1526, _____ defeated Ibrahim Lodi at Panipat and captured Delhi and Agra.

- Ans
- 1. Genghis Khan
 - 2. Timur
 - 3. Miran Shah
 - 4. Babur

Question ID : 65497816508
Chosen Option : 4

Q.23 The Nanda Devi Fair is organised in the Kumaon region in the month of _____ every year.

- Ans
- 1. September
 - 2. May
 - 3. December
 - 4. February

Question ID : 65497816488
Chosen Option : 2

Q.24 Who won the Styrian Grand Prix Formula 1 racing championship in July 2020?

- Ans**
- 1. Sebastian Vettel
 - 2. Max Verstappen
 - 3. Lewis Hamilton
 - 4. Valtteri Bottas

Question ID : **65497816490**
Chosen Option : **3**

Q.25 Who is the author of the book 'The Tales of Beedle The Bard'?

- Ans**
- 1. JK Rowling
 - 2. Lewis Carroll
 - 3. Roald Dahl
 - 4. EB White

Question ID : **65497816493**
Chosen Option : **2**

www.HaryanaJobs.in

Multi Tasking Non Technical Staff Examination 2020

Participant ID	www.HaryanaJobs.in
Participant Name	www.HaryanaJobs.in
Test Center Name	iON Digital Zone iDZ Bhagwanpur
Test Date	12/10/2021
Test Time :	4:00 PM - 5:30 PM
Subject	MTS Non Technical 2020

Section : **General English**

Q.1 Select the most appropriate ANTONYM of the given word.

OBESE

- Ans 1. Cute
 2. Skinny
 3. Paunchy
 4. Rude

Question ID : **65497818445**
 Chosen Option : 1

Q.2 Select the most appropriate synonym of the given word.

RABID

- Ans 1. Methodical
 2. Calm
 3. Indifferent
 4. Extreme

Question ID : **65497818447**
 Chosen Option : 3

Q.3 Identify the segment in the sentence which contains a grammatical error.

Google has set on an India fund and announced an investment of ten billion dollars.

- Ans 1. Google has set on
 2. and announced an investment
 3. of ten billion dollars
 4. an India fund

Question ID : **65497818430**
 Chosen Option : 4

Q.4 Select the INCORRECTLY spelt word.

- Ans 1. Concieve
 2. Receive
 3. Grieve
 4. Deceive

Question ID : 65497818452
Chosen Option : 1

Q.5 Select the most appropriate word to fill in the blank.

Several foreign students have been asked by the US to leave the university campus and _____ home.

- Ans 1. returns
 2. returned
 3. return
 4. returning

Question ID : 65497818433
Chosen Option : 3

Q.6 Select the most appropriate word to fill in the blank.

The _____ to have multiple plasma banks is a praise-worthy one.

- Ans 1. initiation
 2. initiate
 3. inaction
 4. initiative

Question ID : 65497818434
Chosen Option : 4

Q.7 Select the word which means the same as the group of words given.

A large open area of land, water or sky

- Ans 1. Front
 2. Margin
 3. Enclosure
 4. Expanse

Question ID : 65497818450
Chosen Option : 4

Q.8 Select the word which means the same as the group of words given.

Using high-sounding words but with little meaning

- Ans 1. Clever
 2. Reserved
 3. Bombastic
 4. Eloquent

Question ID : 65497818451
Chosen Option : 3

Q.9 Identify the segment in the sentence which contains a grammatical error.

Sitab, my gardener, have been cut the hedge the whole morning.

- Ans 1. the hedge
 2. have been cut
 3. Sitab, my gardener
 4. the whole morning

Question ID : 65497818432
Chosen Option : 2

Q.10 Select the most appropriate meaning of the given idiom.

Get on like a house on fire

- Ans 1. To be angry and unfriendly
 2. To take an instant dislike
 3. To become friends quickly
 4. To end a relationship

Question ID : 65497818448
Chosen Option : 1

Q.11 Select the most appropriate meaning of the given idiom.

Have your heart set on something

- Ans 1. To be in control of one's feelings
 2. To be always in a nervous state
 3. To want something very much
 4. To not want something at all

Question ID : 65497818449
Chosen Option : 1

Q.12 Select the most appropriate word to fill in the blank.

The CBSE has decided on a _____ to assign marks for the examinations not taken by Class 12 students.

- Ans
- 1. formulae
 - 2. formula
 - 3. formation
 - 4. equation

Question ID : 65497818455
Chosen Option : 2

Q.13 Select the most appropriate ANTONYM of the given word.

STUNNING

- Ans
- 1. Unattractive
 - 2. Gorgeous
 - 3. Obedient
 - 4. Impulsive

Question ID : 65497818444
Chosen Option : 1

Q.14 Select the most appropriate option to substitute the underlined segment in the given sentence. If there is no need to substitute it, select 'No substitution required'.

There was enough evidence to convict him of selling adulterated food.

- Ans
- 1. convict him by
 - 2. convict him in
 - 3. convict him into
 - 4. No substitution required

Question ID : 65497816321
Chosen Option : 4

Q.15 Select the most appropriate synonym of the given word.

SYMPTOMATIC

- Ans
- 1. Optimistic
 - 2. Atypical
 - 3. Strange
 - 4. Characteristic

Question ID : 65497818446
Chosen Option : 4

Q.16 Select the most appropriate option to substitute the underlined segment in the given sentence. If there is no need to substitute it, select 'No substitution required'.

Can you assembly the television using the manual?

- Ans
- 1. assembling
 - 2. assembles
 - 3. No substitution required
 - 4. assemble

Question ID : 65497818441
Chosen Option : 4

Q.17 Select the most appropriate word to fill in the blank.

The Singapore government has deported ten Indian students for _____ the government rules.

- Ans
- 1. verifying
 - 2. aiding
 - 3. violating
 - 4. vandalising

Question ID : 65497818454
Chosen Option : 3

Q.18 Identify the segment in the sentence which contains a grammatical error.

Tejaswin, the Indian sportsman, is leading the anti-race cause in the US.

- Ans
- 1. in the US
 - 2. the anti-race cause
 - 3. Tejaswin, the Indian sportsman
 - 4. is leading

Question ID : 65497818431
Chosen Option : 2

Q.19 Select the INCORRECTLY spelt word.

- Ans
- 1. Enjoin
 - 2. Iodine
 - 3. Loiter
 - 4. Voilent

Question ID : 65497818453
Chosen Option : 4

Q.20 Select the most appropriate option to substitute the underlined segment in the given sentence. If there is no need to substitute it, select 'No substitution required'.

The police warned citizens to be alert when outdoors as gangs has been attacking people on the road.

- Ans 1. was attacking
 2. have been attacking
 3. was being attacked
 4. No substitution required

Question ID : 65497818443
Chosen Option : 1

Comprehension:

In the following passage, some words have been deleted. Fill in the blanks with the help of the alternatives given. Select the most appropriate option for each blank.

The first thousand days can determine the trajectory (1)_____ a child's life. After food for the body (2)_____ taken care of we should provide food for (3)_____ mind. Early stimulation of children's mind can (4)_____ them to become good learners. Parents should be (5)_____ in doing this.

SubQuestion No : 21

Q.21 Select the most appropriate option to fill in blank no. 1.

- Ans 1. at
 2. from
 3. about
 4. of

Question ID : 65497818436
Chosen Option : 4

Comprehension:

In the following passage, some words have been deleted. Fill in the blanks with the help of the alternatives given. Select the most appropriate option for each blank.

The first thousand days can determine the trajectory (1)_____ a child's life. After food for the body (2)_____ taken care of we should provide food for (3)_____ mind. Early stimulation of children's mind can (4)_____ them to become good learners. Parents should be (5)_____ in doing this.

SubQuestion No : 22

Q.22 Select the most appropriate option to fill in blank no. 2.

- Ans 1. are
 2. am
 3. is
 4. has

Question ID : 65497818437
Chosen Option : 3

Comprehension:

In the following passage, some words have been deleted. Fill in the blanks with the help of the alternatives given. Select the most appropriate option for each blank.

The first thousand days can determine the trajectory (1)_____ a child's life. After food for the body (2)_____ taken care of we should provide food for (3)_____ mind. Early stimulation of children's mind can (4)_____ them to become good learners. Parents should be (5)_____ in doing this.

SubQuestion No : 23**Q.23 Select the most appropriate option to fill in blank no. 3.**

- Ans 1. that
 2. a
 3. the
 4. some

Question ID : **65497818438**
 Chosen Option : 3

Comprehension:

In the following passage, some words have been deleted. Fill in the blanks with the help of the alternatives given. Select the most appropriate option for each blank.

The first thousand days can determine the trajectory (1)_____ a child's life. After food for the body (2)_____ taken care of we should provide food for (3)_____ mind. Early stimulation of children's mind can (4)_____ them to become good learners. Parents should be (5)_____ in doing this.

SubQuestion No : 24**Q.24 Select the most appropriate option to fill in blank no. 4.**

- Ans 1. led
 2. lead
 3. leading
 4. leads

Question ID : **65497818439**
 Chosen Option : 2

Comprehension:

In the following passage, some words have been deleted. Fill in the blanks with the help of the alternatives given. Select the most appropriate option for each blank.

The first thousand days can determine the trajectory (1)_____ a child's life. After food for the body (2)_____ taken care of we should provide food for (3)_____ mind. Early stimulation of children's mind can (4)_____ them to become good learners. Parents should be (5)_____ in doing this.

SubQuestion No : 25**Q.25 Select the most appropriate option to fill in blank no. 5.**

- Ans 1. allocated
 2. orientated
 3. restricted
 4. adjusted

Question ID : **65497818440**
 Chosen Option : 2


Section : **General Intelligence and Reasoning**

Q.1 उस वेन-डायग्राम का चयन करें, जो निम्न वर्गों के बीच संबंध को सर्वोत्तम ढंग से निरूपित करता है।

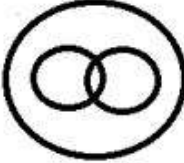
क्षोभमंडल, वायुमंडल, मध्यमंडल

Ans


✗ 1.



✗ 2.



✗ 3.



✓ 4.



Question ID : 65497818076

Chosen Option : 4

Q.2 कौन-सा अक्षर-समूह, निम्न श्रेणी में प्रश्नवाचक चिह्न (?) के स्थान पर आएगा?

QUESTION, USINETO, SNTIEO, NIOTE, ?

Ans ✗ 1. TEOI

✗ 2. OEIT

✓ 3. ITOE

✗ 4. ITEO

Question ID : 65497818065

Chosen Option : 3

Q.3 उस विकल्प का चयन करें जिसके संख्या-युग्म की संख्याओं के मध्य वही संबंध है जो निम्नलिखित संख्या-युग्म की संख्याओं के मध्य है।

61 : 97

Ans ✗ 1. 79 : 119

✗ 2. 52 : 84

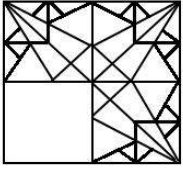
✓ 3. 46 : 78

✗ 4. 118 : 141

Question ID : 65497818054

Chosen Option : 3

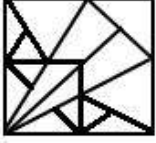
Q.4 उस विकल्प आकृति का चयन करें, जो दी गई आकृति 'X' में रिक्त स्थान पर आकर, पैटर्न को पूरा करेगी।



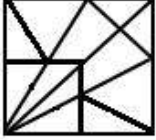
(X)

Ans

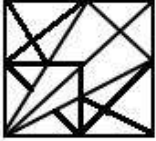
✗ 1.



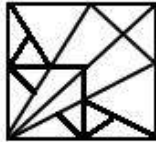
✗ 2.



✗ 3.



✓ 4.



Question ID : 65497818072
Chosen Option : 4

Q.5 उस विकल्प का चयन करें, जो तीसरे शब्द से ठीक उसी प्रकार संबंधित है, जिस प्रकार दूसरा शब्द पहले शब्द से संबंधित है।

जर्मनी : यूरो :: म्यांमार : ?

Ans

✓ 1. क्वात

✗ 2. पाउंड

✗ 3. डॉलर

✗ 4. दीनार

Question ID : 65497818064
Chosen Option : 1

Q.6 उस विकल्प का चयन करें, जो तीसरे अक्षर-समूह से ठीक उसी प्रकार संबंधित है, जिस प्रकार दूसरा अक्षर-समूह पहले अक्षर-समूह से संबंधित है।

FJNRVZ : KLEWXQ : WTQNKH : ?

- Ans
- 1. VTNMME
 - 2. NVVEMM
 - 3. XRTMNE
 - 4. USMENM

Question ID : 65497818062
Chosen Option : 2

Q.7 दो कथनों के बाद दो निष्कर्ष I और II दिए गए हैं। कथनों को सत्य मानते हुए, भले ही ये वास्तविक दुनिया के ज्ञान के अनुरूप न हों, निर्धारित करें कि कौन सा/से निष्कर्ष कथनों का तार्किक रूप से अनुसरण करता है/करते हैं?

कथन:

1. कुछ फोन, इंस्ट्रूमेंट हैं।
2. सभी इंस्ट्रूमेंट, डिवाइस हैं।

निष्कर्ष:

- I. सभी डिवाइस, इंस्ट्रूमेंट हैं।
- II. कुछ डिवाइस, फोन हैं।

- Ans
- 1. केवल निष्कर्ष II अनुसरण करता है।
 - 2. निष्कर्ष I और II दोनों अनुसरण करते हैं।
 - 3. न तो निष्कर्ष I और न ही II अनुसरण करता है।
 - 4. केवल निष्कर्ष I अनुसरण करता है।

Question ID : 65497818066
Chosen Option : 4

Q.8 यदि MATERIAL को SZLREKZH के रूप में कूटबद्ध किया जाता है, तो EQUATION को कैसे कूटबद्ध किया जाएगा?

- Ans
- 1. TPATDMNH
 - 2. TPDTAMNH
 - 3. PDTAMTNH
 - 4. SRFTAOPJ

Question ID : 65497818059
Chosen Option : 2

Q.9 यदि चिह्न + और ÷ को एक-दूसरे से प्रतिस्थापित किया जाता है, तो निम्न में से कौन-सा समीकरण सही होगा?

- Ans
- 1. $15 - 12 + 6 \div 2 = 13$
 - 2. $4 + 8 + 12 \times 6 = 10$
 - 3. $9 + 6 \times 4 \div 2 = 8$
 - 4. $8 + 12 \times 3 \div 1 = 4$

Question ID : 65497818052
Chosen Option : 3

Q.10 यदि दर्पण को दी गई आकृति 'X' के दाईं ओर रखा जाए, तो आकृति का दर्पण में निर्मित सही प्रतिबिंब चयनित कीजिए।



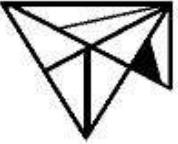
(X)

Ans


✓ 1.



✗ 2.



✗ 3.



✗ 4.



Question ID : 65497818074

Chosen Option : 1

Q.11 कौन-सी संख्या, निम्न संख्या श्रेणी में प्रश्नवाचक चिह्न (?) के स्थान पर आएगी?

17, 20, 30, 45, 71, 106, ?

Ans ✗ 1. 143

✗ 2. 171


✗ 3. 167

✓ 4. 156

Question ID : 65497818056

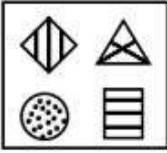
Chosen Option : 4

Q.12 उस विकल्प आकृति का चयन करें, जो निम्न आकृति श्रेणी में अगले स्थान पर आएगी?

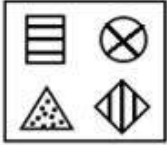


Ans

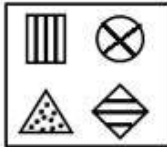
✗ 1.



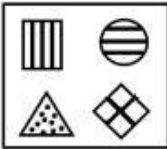
✗ 2.



✓ 3.



✗ 4.



Question ID : 65497818071
Chosen Option : 3

Q.13 यदि HARBOUR को BORUARH के रूप में कूटबद्ध किया जाता है, तो RAPTURE को कैसे कूटबद्ध किया जाएगा?

Ans ✗ 1. PTAURRE

✓ 2. TUPRAER

✗ 3. TUPARER

✗ 4. TPURARE

Question ID : 65497818058
Chosen Option : 2

Q.14 तीन कथनों के बाद तीन निष्कर्ष I, II और III दिए गए हैं। कथनों को सत्य मानते हुए, भले ही ये वास्तविक दुनिया के ज्ञान के अनुरूप न हों, निर्धारित करें कि कौन सा/से निष्कर्ष कथनों का तार्किक रूप से अनुसरण करता है/करते हैं?

कथन:

1. सभी वॉच, क्लॉक हैं।
2. कुछ क्लॉक, मशीनें हैं।
3. कुछ मशीनें, गैजेट हैं।

निष्कर्ष:

- I. कुछ वॉच, मशीन हैं।
- II. कुछ मशीनें, क्लॉक हैं।
- III. कुछ गैजेट के क्लॉक होने की संभावना है।

- Ans
- 1. केवल निष्कर्ष III अनुसरण करता है।
 - 2. केवल निष्कर्ष II अनुसरण करता है।
 - 3. सभी निष्कर्ष I, II और III अनुसरण करते हैं।
 - 4. केवल निष्कर्ष II और III अनुसरण करते हैं।

Question ID : 65497818067

Chosen Option : 4

Q.15 परामर्श के लिए 7 व्यक्ति, एक-एक करके डॉक्टर से मिले।

- i. महेश, अमित के तुरंत बाद लेकिन विराट से कुछ समय पहले डॉक्टर से मिला।
- ii. अशोक, विराट के ठीक बाद और नमन से ठीक पहले डॉक्टर से मिला।
- iii. अनूप और नमन, में से कोई भी डॉक्टर से अंत में नहीं मिला था।
- iv. अशोक और सूरज के बीच उतने व्यक्ति डॉक्टर से मिले थे, जितने अनूप और अशोक के बीच मिले थे।

डॉक्टर से मिलने वाले क्रमशः पहले और अंतिम व्यक्ति कौन थे?

- Ans
- 1. अमित और अशोक
 - 2. महेश और सूरज
 - 3. अमित और सूरज
 - 4. नमन और अशोक

Question ID : 65497818070

Chosen Option : 3

Q.16 विकल्प का चयन इस प्रकार करें जो तीसरे शब्द से उसी प्रकार सम्बंधित है जिस प्रकार दूसरा शब्द पहले शब्द से सम्बंधित है।

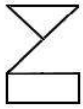
तीखा : मीठा :: जंगली : ?

- Ans
- 1. जंगल
 - 2. पालतू
 - 3. कमज़ोर
 - 4. नमकीन

Question ID : 65497818063

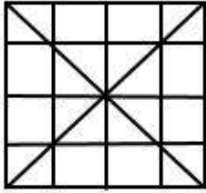
Chosen Option : 2

Q.17 उस विकल्प का चयन करें, जिसमें निम्न आकृति अन्तःस्थापित है। (घुमाने की अनुमति नहीं है)

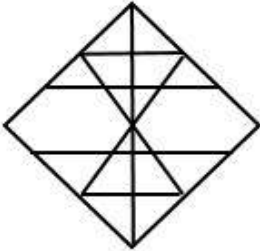


Ans

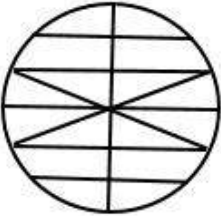
✓ 1.



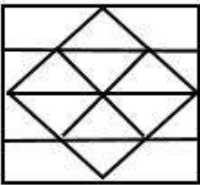
✗ 2.



✗ 3.



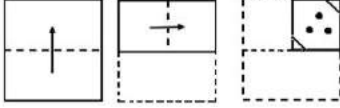
✗ 4.



www.HaryanaJobs.in


Question ID : 65497818073
Chosen Option : 1

Q.18 कागज के एक टुकड़े को मोड़ने का क्रम तथा उस मुड़े हुए कागज को काटने का तरीका नीचे की आकृतियों में दर्शाया गया है। खोलने पर यह कागज कैसा दिखेगा?




Ans


✗ 1.



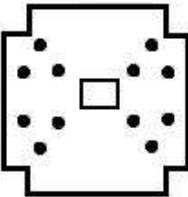
✓ 2.



✗ 3.



✗ 4.



www.HaryanaJobs.in

Question ID : 65497818075
Chosen Option : 2

Q.19 छः मित्र A, B, C, D, E और F उत्तर की ओर अभिमुख होकर एक पंक्ति में खड़े हैं।

- A और F के बीच एक व्यक्ति है।
- B और E के बीच दो व्यक्ति हैं।
- C, सबसे बाईं ओर है।
- F ठीक B और D के बीच में है।

यदि E एक छोर पर अंतिम व्यक्ति नहीं है, तो कौन सबसे दाईं ओर है?

- Ans
- ✗ 1. B
- ✗ 2. F
- ✗ 3. D
- ✓ 4. A

Question ID : 65497818068
Chosen Option : 3

Q.20 इनमें से कौन से दो चिह्नों को एक-दूसरे से प्रतिस्थापित करने से दिया गया समीकरण संतुलित हो सकता है?

$$15 + 15 \div 15 - 15 \times 15 = 15$$

- Ans
- 1. + और ×
 - 2. + और ×
 - 3. + और +
 - 4. + और -

Question ID : 65497818053
Chosen Option : 1

Q.21 यदि VEAL को 4483 के रूप में और LOWER को 33549 के रूप में कूटबद्ध किया जाता है, तो TECHNO को कैसे कूटबद्ध किया जाएगा?

- Ans
- 1. 205393
 - 2. 253911
 - 3. 243853
 - 4. 756946

Question ID : 65497818061
Chosen Option : 3

Q.22 विकल्पों में से संख्याओं के उस समुच्चय का चयन करें, जो इस दिए गए समुच्चय के समान है।

{25, 19, 36}

- Ans
- 1. {36, 23, 48}
 - 2. {30, 25, 35}
 - 3. {9, 49, 16}
 - 4. {20, 28, 32}

Question ID : 65497818055
Chosen Option : 4

Q.23 आठ घर A, B, C, D, E, F, G और H दो पंक्तियों में बने हैं, और प्रत्येक पंक्ति में चार घर हैं। दोनों पंक्तियों के घर, एक-दूसरे के सम्मुख हैं।

- i. C, F के सम्मुख है।
- ii. G और A विकर्णतः एक-दूसरे के सम्मुख हैं।
- iii. E, H के सम्मुख है, लेकिन वह A वाली पंक्ति में नहीं है।
- iv. H ठीक D और C के बीच में है।

इनमें से कौन सा घर, B के सम्मुख है?

- Ans
- 1. D
 - 2. F
 - 3. G
 - 4. A

Question ID : 65497818069
Chosen Option : 4

Q.24 कौन-सी संख्या, निम्न संख्या श्रेणी में प्रश्नवाचक चिह्न (?) के स्थान पर आएगी?

13, 16, 23, 36, 57, 88, ?, 188

Ans 1. 119

2. 131

3. 145

4. 127

Question ID : 65497818057

Chosen Option : 2

Q.25 यदि DEAF को 123 के रूप में और CAN को 45 के रूप में कूटबद्ध किया जाता है, तो BEAK को कैसे कूटबद्ध किया जाएगा?

Ans 1. 126

2. 109

3. 113

4. 93

Question ID : 65497818060

Chosen Option : 3

Section : Numerical Aptitude

Q.1 यदि किसी घन का आयतन $375\sqrt{3}cm^3$ है, तो इसका विकर्ण ज्ञात करें।

Ans 1. 12 cm

2. 15 cm

3. 14 cm

4. 10 cm

Question ID : 65497815770

Chosen Option : 2

Q.2 किसी संख्या के 40% और समान संख्या के 33% का औसत 73 है। उस संख्या के $\frac{1}{5}$ और $\frac{1}{4}$ का औसत ज्ञात करें।

Ans 1. 50

2. 42

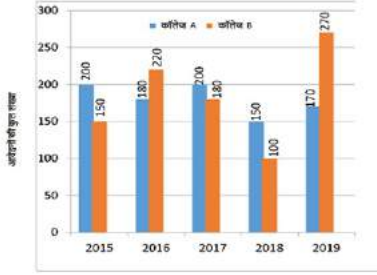
3. 45

4. 40

Question ID : 65497815759

Chosen Option : 3

- Q.3** निम्न बार ग्राफ का अध्ययन करें और नीचे दिए गए प्रश्न का उत्तर दें।
दिया गया बार ग्राफ पांच विभिन्न वर्षों में दो अलग-अलग कॉलेज A और B द्वारा बी.कॉम. पाठ्यक्रम के लिए प्राप्त आवेदनों की कुल संख्या निरूपित करता है।



एक साथ 2016 और 2017 में कॉलेज A द्वारा प्राप्त आवेदनों की कुल संख्या और एक साथ 2016 और 2017 में कॉलेज B द्वारा प्राप्त आवेदनों की कुल संख्या का अनुपात ज्ञात करें।

- Ans
- ✓ 1. 19 : 20
 - ✗ 2. 15 : 19
 - ✗ 3. 18 : 19
 - ✗ 4. 15 : 17

Question ID : 65497815776

Chosen Option : 1

- Q.4** $21 \times [(9 - 4) \div \{(8 \div 8 \text{ of } 4) + (4 \div 4 \text{ of } 2)\}]$ का मान कितना होगा?

- Ans
- ✗ 1. 100
 - ✗ 2. 20
 - ✗ 3. 80
 - ✓ 4. 140

Question ID : 65497817188

Chosen Option : 4

- Q.5** दो श्रमिक A और B किसी कार्य को करने के लिए नियुक्त किए जाते हैं। अकेले A को इस कार्य को पूरा करने में, एक साथ A और B को कार्य पूरा करने में लगने वाले समय से 14 घंटे अधिक लगते हैं। अकेले B को इस कार्य को पूरा करने में, एक साथ A और B को कार्य पूरा करने में लगने वाले समय से $3\frac{1}{2}$ घंटे अधिक लगते हैं। उन दोनों के द्वारा एक साथ कार्य को पूरा करने में लगने वाला समय ज्ञात करें।

- Ans
- ✓ 1. 7 घंटे
 - ✗ 2. 5 घंटे
 - ✗ 3. 8 घंटे
 - ✗ 4. 6 घंटे

Question ID : 65497815755

Chosen Option : 1

Q.6 A अकेले किसी कार्य को ₹4,800 में 16 दिन में कर सकता है। लेकिन किसी सहायक को कार्य में शामिल करने से, यह काम 12 दिन में पूरा हो जाता है। सहायक को प्राप्त होने वाला हिस्सा ज्ञात करें।

- Ans
- 1. ₹1,500
 - 2. ₹1,400
 - 3. ₹1,300
 - 4. ₹1,200

Question ID : 65497815754
Chosen Option : 4

Q.7 यदि 18% छूट और 10.5% छूट पर बेची जाने वाली एक वस्तु के विक्रय मूल्य के बीच अंतर ₹192 है, तो वस्तु का अंकित मूल्य ज्ञात करें।

- Ans
- 1. ₹2,500
 - 2. ₹2,560
 - 3. ₹2,580
 - 4. ₹2,480

Question ID : 65497815760
Chosen Option : 2

Q.8 तीन संख्याओं का अनुपात $\frac{1}{4} : \frac{1}{5} : \frac{1}{3}$ है। सबसे बड़ी संख्या और सबसे छोटी संख्या के बीच अंतर 800 है। तीनों संख्याओं का योगफल ज्ञात करें।

- Ans
- 1. 4500
 - 2. 5700
 - 3. 5800
 - 4. 4700

Question ID : 65497815764
Chosen Option : 4

Q.9 दो संख्याओं का योगफल 60 है और उनका गुणनफल 875 है। संख्याओं का म.स. ज्ञात करें।

- Ans
- 1. 7
 - 2. 5
 - 3. 8
 - 4. 6

Question ID : 65497815773
Chosen Option : 2

Q.10 किसी शंकु और अर्ध गोले में प्रत्येक के आधार की विज्या प्रत्येक की 14 cm है। इन दोनों के आयतन भी बराबर हैं। शंकु का वक्र पृष्ठीय क्षेत्रफल ज्ञात करें।
(मान लें $\pi = \frac{22}{7}$)

- Ans**
- 1. $516\sqrt{5}cm^2$
 - 2. $614\sqrt{5}cm^2$
 - 3. $616\sqrt{5}cm^2$
 - 4. $626\sqrt{5}cm^2$

Question ID : 65497815771
Chosen Option : 3

Q.11 किसी लंबवृत्तीय शंकु की तिर्यक ऊंचाई और आधार का व्यास क्रमशः 34 cm और 32 cm है। इसका आयतन (cm^3 में) ज्ञात करें।

- Ans**
- 1. 2880π
 - 2. 3200π
 - 3. 3840π
 - 4. 2560π

Question ID : 65497814967
Chosen Option : 4

Q.12 11 a.m. पर वैष्णव, स्थान A से स्थान B के लिए प्रस्थान करता है और 2 p.m. पर सुमन, स्थान B से स्थान A के लिए प्रस्थान करती है। उनके बीच की दूरी 516 km है। यदि वैष्णव की चाल 44 km/h है और सुमन की चाल 52 km/h है, तो वे किस समय एक दूसरे से मिलेंगे?

- Ans**
- 1. 6 p.m.
 - 2. 7 p.m.
 - 3. 8 p.m.
 - 4. 5 p.m.

Question ID : 65497815757
Chosen Option : 1

Q.13 प्रसाद, प्रत्येक ₹18,000 में 12 TV सेट खरीदता है और ₹2,59,200 के कुल मूल्य पर बेचता है। उसका लाभ या हानि प्रतिशत ज्ञात करें।

- Ans**
- 1. लाभ 15%
 - 2. हानि 20%
 - 3. लाभ 20%
 - 4. हानि 15%

Question ID : 65497815762
Chosen Option : 3

Q.14 कोई व्यक्ति, एक साथ रेडियो और TV सेट ₹30,400 में बेचता है, फलस्वरूप रेडियो पर 25% और TV सेट पर 10% का लाभ प्राप्त होता है। उन्हें एक साथ ₹30,700 में बेचकर, वह रेडियो पर 10% और TV सेट पर 25% का लाभ कमाता है। रेडियो का क्रय मूल्य ज्ञात करें।

- Ans
- 1. ₹8,000
 - 2. ₹10,000
 - 3. ₹12,000
 - 4. ₹9,000

Question ID : 65497815763
Chosen Option : 3

Q.15 किसी परीक्षा में 55% अभ्यर्थी लड़के थे। 60% लड़के और 75% लड़कियां उत्तीर्ण हुईं और 315 लड़कियां अनुत्तीर्ण हुईं। अनुत्तीर्ण होने वाले लड़कों की संख्या ज्ञात करें।

- Ans
- 1. 626
 - 2. 632
 - 3. 616
 - 4. 646

Question ID : 65497815761
Chosen Option : 3

Q.16 कोई व्यक्ति, भौतिक विज्ञान की 10 किताबें और रसायन विज्ञान की कुछ किताबें आर्डर करता है। रसायन विज्ञान की किताब का मूल्य भौतिक विज्ञान की किताब के मूल्य से दोगुना है। बिल बनाते समय, बिलती से बलक भौतिक विज्ञान और रसायन विज्ञान की किताबों की संख्या को प्रतिस्थापित कर देता है, जिससे बिल में $12\frac{1}{2}\%$ कमी हो जाती है। मूल क्रम में भौतिक विज्ञान की किताबों की संख्या और रसायन विज्ञान की किताबों की संख्या का अनुपात ज्ञात करें।

- Ans
- 1. 3 : 5
 - 2. 2 : 3
 - 3. 3 : 4
 - 4. 4 : 5

Question ID : 65497815766
Chosen Option : 2

Q.17 किसी व्यक्ति ने अपने 15 वर्ष और 13 वर्ष की आयु वाले दो पुत्रों में ₹1,45,600 की राशि विभाजित की। दोनों पुत्रों ने अपने अपने हिस्सों को 10% वार्षिक साधारण ब्याज पर निवेश किया। यदि प्रत्येक को उसकी 18 वर्ष की आयु होने पर बराबर धनराशि मिली हो, तो छोटे पुत्र ने कितनी राशि ब्याज पर निवेश की थी?

- Ans
- 1. ₹67,500
 - 2. ₹66,400
 - 3. ₹67,600
 - 4. ₹64,500

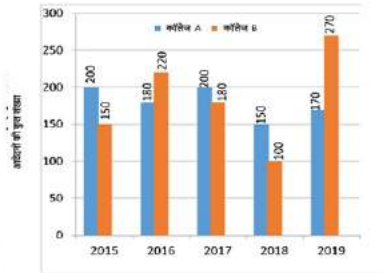
Question ID : 65497815768
Chosen Option : 3

Q.18 सात क्रमागत सम संख्याओं का औसत 36 है। पहली संख्या का मान ज्ञात करें।

- Ans
- ✓ 1. 30
 - ✗ 2. 28
 - ✗ 3. 32
 - ✗ 4. 26

Question ID : 65497815758
Chosen Option : 1

Q.19 निम्न बार ग्राफ का अध्ययन करें और नीचे दिए गए प्रश्न का उत्तर दें।
दिया गया बार ग्राफ पांच विभिन्न वर्षों में दो अलग-अलग कॉलेज A और B द्वारा बी.कॉम. पाठ्यक्रम के लिए प्राप्त आवेदनों की कुल संख्या निरूपित करता है।



2015 से 2019 तक कॉलेज A द्वारा प्राप्त आवेदनों की औसत संख्या और 2015 से 2019 तक कॉलेज B द्वारा प्राप्त आवेदनों की औसत संख्या के बीच अंतर ज्ञात करें।

- Ans
- ✓ 1. 4
 - ✗ 2. 6
 - ✗ 3. 8
 - ✗ 4. 5

Question ID : 65497815778
Chosen Option : 1

Q.20 यदि ₹12,500 को 12% वार्षिक चक्रवृद्धि ब्याज की दर पर एक वर्ष 4 माह के लिए निवेशित किया जाता है, जबकि ब्याज वार्षिक संयोजित होता है। तो प्राप्त मिश्रधन ज्ञात करें।

- Ans
- ✗ 1. ₹15,460
 - ✗ 2. ₹14,650
 - ✗ 3. ₹16,450
 - ✓ 4. ₹14,560

Question ID : 65497815767
Chosen Option : 4

Q.21 25, 34, 46, 48, $2x+1$, $4x+3$, 105, 110, 114, 122 संख्याएं आरोही क्रम में लिखी गई हैं और उनकी माध्यिका 77 है। x का मान ज्ञात करें।

- Ans
- 1. 25
 - 2. 22
 - 3. 24
 - 4. 28

Question ID : 65497815769
Chosen Option : 1

Q.22 दिनेश की मासिक आय और व्यय का अनुपात 17 : 14 है। उसकी मासिक बचत ₹12,000 है। यदि उसकी मासिक आय में ₹10,000 की वृद्धि होती है और व्यय में ₹2,000 की कमी होती है, तो उसकी आय और व्यय का नया अनुपात ज्ञात करें।

- Ans
- 1. 13 : 8
 - 2. 11 : 9
 - 3. 13 : 9
 - 4. 11 : 7

Question ID : 65497815765
Chosen Option : 3

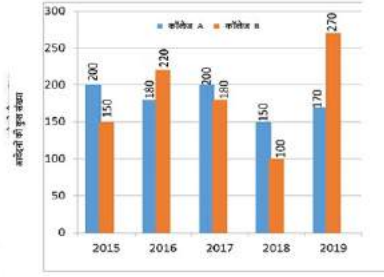
Q.23 320 km/h की चाल से, कोई जहाज किसी निश्चित दूरी को $5\frac{1}{2}$ घंटे में तय करता है। समान दूरी को 4 घंटे में तय करने के लिए, उस जहाज की चाल कितनी होनी चाहिए?

- Ans
- 1. 420 km/h
 - 2. 440 km/h
 - 3. 460 km/h
 - 4. 450 km/h

Question ID : 65497815756
Chosen Option : 2

www.HaryanaJobs.in

- Q.24** निम्न बार ग्राफ का अध्ययन करें और नीचे दिए गए प्रश्न का उत्तर दें।
दिया गया बार ग्राफ पांच विभिन्न वर्षों में दो अलग-अलग कॉलेज A और B द्वारा बी.कॉम. पाठ्यक्रम के लिए प्राप्त आवेदनों की कुल संख्या निरूपित करता है।



2016 में कॉलेज A द्वारा प्राप्त आवेदनों की संख्या, 2015 से 2019 तक कॉलेज A द्वारा प्राप्त आवेदनों की कुल संख्या की कितने प्रतिशत है?

- Ans**
- 1. 20%
 - 2. 25%
 - 3. 24%
 - 4. 15%

Question ID : 65497815777
Chosen Option : 1

- Q.25** किसी कमरे की चारों दीवारों का क्षेत्रफल 1152 m^2 है और इसकी लंबाई, इसकी चौड़ाई की $\frac{5}{2}$ गुनी है। यदि कमरे की ऊंचाई 12 m है, तो इसके फर्श का क्षेत्रफल ज्ञात करें।

- Ans**
- 1. 560 m^2
 - 2. 520 m^2
 - 3. 540 m^2
 - 4. 580 m^2

Question ID : 65497815772
Chosen Option : 3

Section : General Awareness

- Q.1** क्यूरियम का रासायनिक प्रतीक निम्नलिखित में से कौन सा है?

- Ans**
- 1. Ci
 - 2. Cm
 - 3. Cr
 - 4. Cu

Question ID : 65497818422
Chosen Option : --

Q.2 1972 में पश्चिम बंगाल वन विभाग ने राज्य के दक्षिण पश्चिमी जिलों में निम्नकोटिकृत _____ वनों को पुनर्जीवित करने में अपनी विफलताओं को स्वीकार किया।

- Ans
- 1. साल
 - 2. पियाल
 - 3. सागौन
 - 4. पलाश

Question ID : 65497818423
Chosen Option : --

Q.3 गुरु केलू चरण महापात्रा का नाम मुख्यतः निम्नलिखित में से किस नृत्य से संबंधित है?

- Ans
- 1. ओडीसी
 - 2. मोहिनीअट्टम
 - 3. कथक
 - 4. सत्रीया

Question ID : 65497818405
Chosen Option : --

Q.4 निम्नलिखित में से कौन भारत के पूर्व राष्ट्रपति नहीं रहे हैं?

- Ans
- 1. के.आर. नारायणन
 - 2. ज्ञानी जैल सिंह
 - 3. शंकर दयाल शर्मा
 - 4. विश्वनाथ प्रताप सिंह

Question ID : 65497818417
Chosen Option : 4

Q.5 जिम्नास्ट दीपा कर्माकर का संबंध किस राज्य से है?

- Ans
- 1. महाराष्ट्र
 - 2. मणिपुर
 - 3. हरियाणा
 - 4. त्रिपुरा

Question ID : 65497818408
Chosen Option : --

Q.6 निम्नलिखित में से कौन 2019 में भौतिकी में नोबेल पुरस्कार का सह-प्राप्तकर्ता नहीं था?

- Ans
- 1. अकीरा योशिनु
 - 2. जेम्स पीबल्स
 - 3. मिशेल मेयर
 - 4. डिडिएर केलोज़

Question ID : 65497818421
Chosen Option : 1

Q.7 संयुक्त राष्ट्र के सतत विकास लक्ष्यों के संदर्भ में, निम्नलिखित में से कौन सा लक्ष्य संख्या एक (1) है?

- Ans
- 1. उद्योग, नवाचार और बुनियादी ढांचा
 - 2. कम असमानताएं
 - 3. शून्य भूख
 - 4. गरीबी नहीं

Question ID : 65497818415
Chosen Option : --

Q.8 ओज़ोन के एक अणु में कितने ऑक्सीजन परमाणु होते हैं?

- Ans
- 1. तीन
 - 2. दो
 - 3. चार
 - 4. एक

Question ID : 65497818420
Chosen Option : 1

Q.9 कोलेरू झील (Kolleru Lake) किस राज्य में स्थित है?

- Ans
- 1. केरल
 - 2. आंध्र प्रदेश
 - 3. तमिलनाडु
 - 4. उत्तराखंड

Question ID : 65497818425
Chosen Option : 2

Q.10 भारत ने राष्ट्रमंडल खेलों की मेजबानी किस वर्ष की थी?

- Ans
- 1. 2018
 - 2. 2010
 - 3. 2012
 - 4. 2006

Question ID : 65497818409
Chosen Option : 2

Q.11 बादामी किस वंश की सबसे पुरानी राजधानी थी?

- Ans
- 1. मौर्य राजवंश
 - 2. चालुक्य राजवंश
 - 3. शुंग राजवंश
 - 4. पल्लव राजवंश

Question ID : 65497818428
Chosen Option : 2

Q.12 निम्नलिखित में से कौन पद्म विभूषण का पहला प्राप्तकर्ता था?

- Ans 1. सत्येंद्र नाथ बोस
 2. हरगोबिंद खुराना
 3. जॉन मथाई
 4. जे.आर.डी. टाटा

Question ID : 65497818411
 Chosen Option : --

Q.13 1877 में, निम्नलिखित में से किस वायसराय ने महारानी विक्टोरिया को भारत की महारानी के रूप में स्वीकार करने के लिए एक दरबार का आयोजन किया था?

- Ans 1. लॉर्ड लिटन
 2. लॉर्ड डफरिन
 3. लॉर्ड मिंटो
 4. लॉर्ड रिपन

Question ID : 65497818429
 Chosen Option : 4

Q.14 'कंठपुरा (Kanthapura)' शीर्षक पुस्तक के लेखक कौन हैं?

- Ans 1. कमला दास
 2. राजा राव
 3. नीरद चौधरी
 4. सीताकांत महापात्रा

Question ID : 65497818410
 Chosen Option : --

Q.15 उपभोक्ता संरक्षण अधिनियम, 1986 के अनुसार यदि दावे का मूल्य _____ तक है तो जिला उपभोक्ता विवाद निवारण मंच में शिकायत दर्ज की जा सकती है।

- Ans 1. ₹10 लाख
 2. ₹15 लाख
 3. ₹5 लाख
 4. ₹20 लाख

Question ID : 65497818418
 Chosen Option : 2

Q.16 वे आस्तियाँ जो 12 महीने की अवधि के लिए अवमानक श्रेणी में बनी रहती हैं, उसे बैंक द्वारा _____ आस्ति के रूप में वर्गीकृत किया जाता है।

- Ans 1. हानि
 2. तरल
 3. गैर निष्पादित
 4. संदिग्ध

Question ID : 65497816293
 Chosen Option : --

Q.17 निम्नलिखित में से कौन सा भगवान विठोबा की स्तुति में गाया जाने वाला भक्ति काव्य का एक रूप है?

- Ans
- 1. सबद
 - 2. तेवरम
 - 3. अभंग
 - 4. भटियाली

Question ID : 65497818406
Chosen Option : --

Q.18 सितंबर 2020 की स्थिति के अनुसार, राज्यसभा का सदस्य बनने के लिए किसी व्यक्ति की आयु _____ वर्ष से कम नहीं होनी चाहिए।

- Ans
- 1. 25
 - 2. 18
 - 3. 21
 - 4. 30

Question ID : 65497818416
Chosen Option : 4

Q.19 जुलाई 2020 की स्थिति के अनुसार केंद्रीय सड़क परिवहन और राजमार्ग मंत्री निम्नलिखित में से कौन थे?

- Ans
- 1. नितिन गडकरी
 - 2. किरण रिजिजू
 - 3. पीयूष गोयल
 - 4. थावर चंद गहलोत

Question ID : 65497818412
Chosen Option : 1

Q.20 अमर्त्य सेन को अर्थशास्त्र का नोबेल पुरस्कार किस वर्ष मिला?

- Ans
- 1. 2004
 - 2. 1998
 - 3. 1997
 - 4. 1999

Question ID : 65497818514
Chosen Option : 2

Q.21 _____, गर्भावस्था, प्रसव और प्रसवोत्तर अवधि पर संकेंद्रित अध्ययन का क्षेत्र है।

- Ans
- 1. प्रसूति विज्ञान
 - 2. विकलांग चिकित्सा
 - 3. कर्करोग विज्ञान
 - 4. नेत्ररोग विज्ञान

Question ID : 65497818419
Chosen Option : 1

Q.22 हड़प्पा सभ्यता का निम्नलिखित में से कौन सा स्थल अफगानिस्तान में स्थित है?

- Ans
- 1. बालाकोट
 - 2. कालीबंगन
 - 3. नागेश्वर
 - 4. शोरतुगई

Question ID : 65497818427
Chosen Option : 4

Q.23 निम्नलिखित में से कौन सा कर्नाटक का एक शहर नहीं है?

- Ans
- 1. चिकमंगलूर
 - 2. भुसावल
 - 3. बीजापुर
 - 4. चित्रदुर्गा

Question ID : 65497818424
Chosen Option : 2

Q.24 निम्नलिखित में से कौन सा किला काकतीय राजवंश द्वारा बनवाया गया था?

- Ans
- 1. गोलकोंडा
 - 2. रायगढ़
 - 3. नीमराना
 - 4. पन्हाला

Question ID : 65497818407
Chosen Option : --

Q.25 निम्नलिखित में से कौन सा जलप्रपात गोवा राज्य में है?

- Ans
- 1. डुडुमा
 - 2. गोकक
 - 3. शिवसमुद्रम
 - 4. दूधसागर

Question ID : 65497818426
Chosen Option : 4

Multi Tasking Non Technical Staff Examination 2020

Participant ID	www.HaryanaJobs.in
Participant Name	www.HaryanaJobs.in
Test Center Name	iON Digital Zone iDZ Dohna
Test Date	12/10/2021
Test Time :	9:00 AM - 10:30 AM
Subject	MTS Non Technical 2020

Section : **General English**

Q.1 Select the most appropriate **ANTONYM** of the given word.

GLITTERING

- Ans 1. Stingy
 2. Dull
 3. Shiny
 4. Attractive

Question ID : **65497815212**
 Chosen Option : **2**

Q.2 Select the **INCORRECTLY** spelt word.

- Ans 1. Eligible
 2. Legible
 3. Justifiable
 4. Identifiable

Question ID : **65497815221**
 Chosen Option : **4**

Q.3 Select the most appropriate option to substitute the underlined segment in the given sentence. If there is no need to substitute it, select 'No substitution required.'

These days my parents are been taking great care of my health and want me to eat nuts and seeds, which are rich in vitamins and minerals.

- Ans 1. are taking
 2. will have taken
 3. No substitution required
 4. were taking

Question ID : **65497815209**
 Chosen Option : **1**

Q.4 Select the most appropriate option to substitute the underlined segment in the given sentence. If there is no need to substitute it, select 'No substitution required'.

Anurag asked me why didn't you pay the driver.

- Ans
- 1. didn't I paid
 - 2. you didn't pay
 - 3. I didn't pay
 - 4. No substitution required

Question ID : 65497816827
Chosen Option : 3

Q.5 Identify the segment in the sentence which contains a grammatical error.

Though they worked day and night to build the highway before the deadline they could not completed it.

- Ans
- 1. day and night
 - 2. Though they worked
 - 3. to build the highway
 - 4. could not completed

Question ID : 65497815199
Chosen Option : 4

Q.6 Select the INCORRECTLY spelt word.

- Ans
- 1. Suspention
 - 2. Composition
 - 3. Application
 - 4. Identification

Question ID : 65497815220
Chosen Option : 1

Q.7 Select the most appropriate word to fill in the blank.

Pravesh's teacher makes him feel as if he is _____.

- Ans
- 1. inappropriate
 - 2. invisible
 - 3. influential
 - 4. incompetent

Question ID : 65497815223
Chosen Option : 4

Q.8 Select the most appropriate option to substitute the underlined segment in the given sentence. If there is no need to substitute it, select 'No substitution required'.

Cakes are Jaya's favourite snack, even samosas is Aparna's preferred choice.

- Ans 1. while samosas are
 2. but samosas be
 3. No substitution required
 4. either samosa are

Question ID : 65497814705
Chosen Option : 1

Q.9 Identify the segment in the sentence which contains a grammatical error.

I have no inform about today's meeting with the managing director.

- Ans 1. with the
 2. about today's meeting
 3. no inform
 4. I have

Question ID : 65497815198
Chosen Option : 3

Q.10 Select the most appropriate word to fill in the blank.

The Health Minister has been discharged from the hospital, _____ he?

- Ans 1. haven't
 2. hadn't
 3. hasn't
 4. didn't

Question ID : 65497815202
Chosen Option : 3

Q.11 Select the most appropriate word to fill in the blank.

The office superintendent asked me to leave my job application _____ him.

- Ans 1. with
 2. between
 3. behind
 4. to

Question ID : 65497815201
Chosen Option : 4

Q.12 Identify the segment in the sentence which contains a grammatical error.

According to a recent survey, around 60% of children under the age of 5 years has been immunise.

- Ans 1. has been immunise
 2. under the age
 3. a recent survey
 4. according to

Question ID : 65497815200
Chosen Option : 1

Q.13 Select the most appropriate meaning of the given idiom.

A turning point

- Ans 1. A change of destiny that is surprising
 2. A decision to turn things around
 3. The time at which an important change starts
 4. The time when people decide to give up plans

Question ID : 65497815217
Chosen Option : 3

Q.14 Select the most appropriate synonym of the given word.

TRANSPARENT

- Ans 1. Clear
 2. Pretty
 3. Shiny
 4. Opaque

Question ID : 65497815214
Chosen Option : 1

Q.15 Select the most appropriate meaning of the given idiom.

Drop in

- Ans 1. Have very little effect
 2. Reduce in numbers
 3. Pay a casual visit
 4. Go back on a promise

Question ID : 65497815216
Chosen Option : --

Q.16 Select the most appropriate synonym of the given word.

POLLUTION

- Ans
- 1. Expansion
 - 2. Creation
 - 3. Contamination
 - 4. Aggravation

Question ID : 65497815215
Chosen Option : 3

Q.17 Select the word which means the same as the group of words given.

One who treats and prevents diseases of the heart

- Ans
- 1. Neurologist
 - 2. Pathologist
 - 3. Pediatrician
 - 4. Cardiologist

Question ID : 65497815218
Chosen Option : 4

Q.18 Select the most appropriate word to fill in the blank.

I receive a lot of _____ from my family members, who are very encouraging.

- Ans
- 1. inspiration
 - 2. invitation
 - 3. ambition
 - 4. expectation

Question ID : 65497815222
Chosen Option : 1

Q.19 Select the word which means the same as the group of words given.

Never wrong or making a mistake

- Ans
- 1. Infallible
 - 2. Untrustworthy
 - 3. Incapable
 - 4. Ineligible

Question ID : 65497815219
Chosen Option : 1

Q.20 Select the most appropriate **ANTONYM** of the given word.

UNUSUAL

- Ans 1. Rare
 2. Questionable
 3. Commonplace
 4. Fantastic

Question ID : **65497815213**
Chosen Option : **3**

Comprehension:

In the following passage some words have been deleted. Fill in the blanks with the help of the alternatives given. Select the most appropriate option for each blank.

With Covid-19 cases going down in Delhi many hospitals have (1)_____ shifting their focus to other facilities for the treatment of non-Covid patients. At a time when (2)_____ pressure of non-Covid patients continues to increase, the Municipal Corporation (3)_____ hospitals to retain back-up health workers for 100 beds and move the remaining (4)_____ to other units. This move is expected to bring relief to many patients suffering from other diseases (5)_____ cancer, heart or kidney disease, which need urgent services.

SubQuestion No : 21

Q.21 Select the most appropriate option to fill in blank number 1.

- Ans 1. starts
 2. started
 3. start
 4. starting

Question ID : **65497815204**
Chosen Option : **2**

Comprehension:

In the following passage some words have been deleted. Fill in the blanks with the help of the alternatives given. Select the most appropriate option for each blank.

With Covid-19 cases going down in Delhi many hospitals have (1)_____ shifting their focus to other facilities for the treatment of non-Covid patients. At a time when (2)_____ pressure of non-Covid patients continues to increase, the Municipal Corporation (3)_____ hospitals to retain back-up health workers for 100 beds and move the remaining (4)_____ to other units. This move is expected to bring relief to many patients suffering from other diseases (5)_____ cancer, heart or kidney disease, which need urgent services.

SubQuestion No : 22

Q.22 Select the most appropriate option to fill in blank number 2.

- Ans 1. any
 2. the
 3. some
 4. a

Question ID : **65497815205**
Chosen Option : **2**

Comprehension:

In the following passage some words have been deleted. Fill in the blanks with the help of the alternatives given. Select the most appropriate option for each blank.

With Covid-19 cases going down in Delhi many hospitals have (1)_____ shifting their focus to other facilities for the treatment of non-Covid patients. At a time when (2)_____ pressure of non-Covid patients continues to increase, the Municipal Corporation (3)_____ hospitals to retain back-up health workers for 100 beds and move the remaining (4)_____ to other units. This move is expected to bring relief to many patients suffering from other diseases (5)_____ cancer, heart or kidney disease, which need urgent services.

SubQuestion No : 23

Q.23 Select the most appropriate option to fill in blank number 3.

Ans 1. has advised

2. advising

3. have advised

4. has advise

Question ID : **65497815206**
Chosen Option : 1

Comprehension:

In the following passage some words have been deleted. Fill in the blanks with the help of the alternatives given. Select the most appropriate option for each blank.

With Covid-19 cases going down in Delhi many hospitals have (1)_____ shifting their focus to other facilities for the treatment of non-Covid patients. At a time when (2)_____ pressure of non-Covid patients continues to increase, the Municipal Corporation (3)_____ hospitals to retain back-up health workers for 100 beds and move the remaining (4)_____ to other units. This move is expected to bring relief to many patients suffering from other diseases (5)_____ cancer, heart or kidney disease, which need urgent services.

SubQuestion No : 24

Q.24 Select the most appropriate option to fill in blank number 4.

Ans 1. members

2. patients

3. staff

4. guards

Question ID : **65497815207**
Chosen Option : 2

Comprehension:

In the following passage some words have been deleted. Fill in the blanks with the help of the alternatives given. Select the most appropriate option for each blank.

With Covid-19 cases going down in Delhi many hospitals have (1)_____ shifting their focus to other facilities for the treatment of non-Covid patients. At a time when (2)_____ pressure of non-Covid patients continues to increase, the Municipal Corporation (3)_____ hospitals to retain back-up health workers for 100 beds and move the remaining (4)_____ to other units. This move is expected to bring relief to many patients suffering from other diseases (5)_____ cancer, heart or kidney disease, which need urgent services.

SubQuestion No : 25

Q.25 Select the most appropriate option to fill in blank number 5.

- Ans 1. similar to
 2. along with
 3. such as
 4. as well as

Question ID : 65497815208
Chosen Option : 3

Section : **General Intelligence and Reasoning**

Q.1 दिए गए विकल्पों में से कौन सा विकल्प रिक्त स्थान की पूर्ति के लिए सर्वाधिक उपयुक्त है?

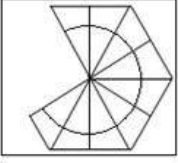
16 : 128 :: 4 : _____

- Ans 1. 14
 2. 40
 3. 26
 4. 8

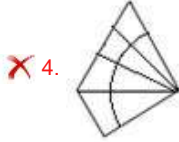
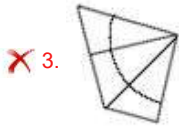
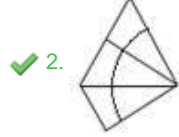
Question ID : 65497817852
Chosen Option : 4

www.HaryanaJobs.in

Q.2 उस विकल्प आकृति का चयन कीजिए जो प्रश्न आकृति के पैटर्न को पूरा करेगी।



Ans



Question ID : 65497817870
Chosen Option : 2

Q.3 उस विकल्प का चयन कीजिए जिसका तीसरे शब्द से वही संबंध है, जो दूसरे शब्द का पहले शब्द से है।

लावक : किसान :: निहाई :

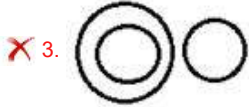
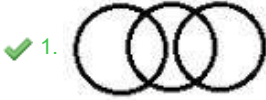
- Ans
- ✗ 1. घड़ीसाज़
 - ✗ 2. श्रमिक
 - ✗ 3. बढ़ई
 - ✓ 4. लोहार

Question ID : 65497817861
Chosen Option : 4

Q.4 उस वेन आरेख का चयन कीजिए जो निम्न वर्गों के मध्य के संबंध का सर्वश्रेष्ठ निरूपण करता है।

विद्यार्थी, महिलाएं, शिक्षक

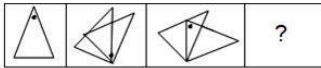
Ans



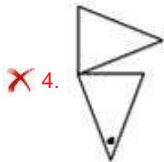
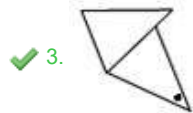
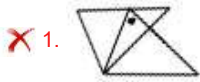
Question ID : 65497817874

Chosen Option : 1

Q.5 उस आकृति का चयन कीजिए जो निम्नांकित आकृति श्रृंखला में प्रश्नवाचक चिह्न (?) के स्थान पर आएगी।



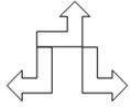
Ans



Question ID : 65497817869

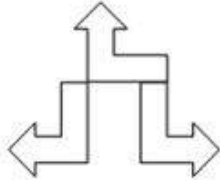
Chosen Option : --

Q.6 यदि दर्पण को दी गई आकृति के दाईं ओर रखा जाए, तो दर्पण में निर्मित सही प्रतिबिंब का चयन कीजिए।

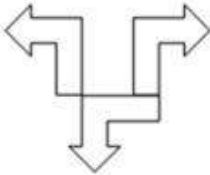


Ans

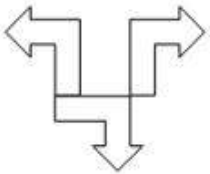
✓ 1.



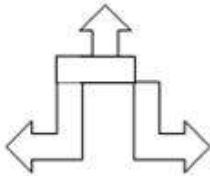
✗ 2.



✗ 3.



✗ 4.



Question ID : 65497817872

Chosen Option : 1

Q.7 Seven persons are sitting along the sides of a heptagon table facing the centre. D is second to the right of A, and B is second to the right of F, who is to the immediate right of A. If G and C are sitting adjoining, C being second to the left of A, then what is the sitting position of E?

Ans ✗ 1. Immediate left of F

✓ 2. Immediate right of C

✗ 3. Immediate right of A

✗ 4. Immediate left of B

Question ID : 65497817867

Chosen Option : 2

Q.8 उस विकल्प का चयन कीजिए जो अक्षर-समूह की निम्न श्रृंखला में प्रश्नवाचक चिह्न (?) के स्थान पर आएगा।

HEA, JGC, LIE, ?

- Ans
- 1. DAW
 - 2. PLI
 - 3. EBX
 - 4. NKG

Question ID : 65497817863
Chosen Option : 4

Q.9 एक निश्चित कूट भाषा में, यदि EXTRNSIC को CIXESNRT लिखा जाता है, तो उसी कूट भाषा में, LEFTWING को क्या लिखा जाएगा?

- Ans
- 1. ELGNTFIW
 - 2. GNIWTFEL
 - 3. GNELIWTF
 - 4. TFELGNIW

Question ID : 65497817856
Chosen Option : 3

Q.10 दिए गए विकल्पों में से गणितीय चिह्नों के उस संयोजन का चयन करें जिसे निम्न समीकरण में A, B, C, D और E के स्थान पर क्रमिक रूप से रखने पर समीकरण संतुलित हो जाएगा।

(38 A 17) B 9 C 117 D 13 E 94 = 104

- Ans
- 1. -, ×, +, ÷, -
 - 2. +, ÷, ×, +, -
 - 3. ×, ÷, +, -, -
 - 4. ×, -, ÷, +, -

Question ID : 65497817851
Chosen Option : 1

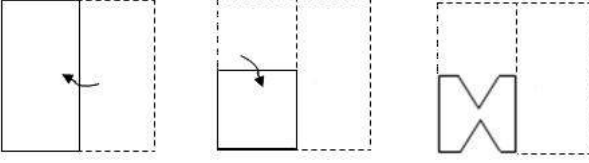
Q.11 निम्न श्रेणी में प्रश्नवाचक चिह्न (?) के स्थान पर कौन सी संख्या आएगी?

256, 123, 66, ?, 18, 6

- Ans
- 1. 33
 - 2. 32
 - 3. 29
 - 4. 27

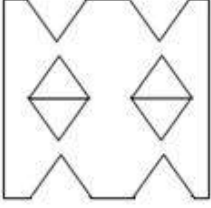
Question ID : 65497817855
Chosen Option : 3

Q.12 एक कागज को निम्नानुसार मोड़ा और काटा गया है। इसे खोलने पर यह कैसा दिखेगा?

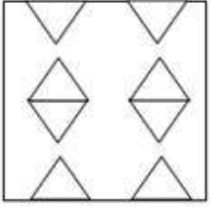


Ans

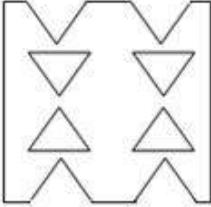
✗ 1.



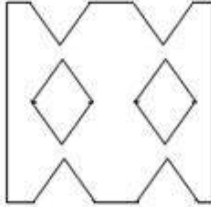
✗ 2.



✗ 3.



✓ 4.



www.HaryanaJobs.in

Question ID : 65497817873

Chosen Option : 4

Q.13 निम्न समीकरण को संतुष्ट करने के लिए किन दो अंकों को आपस में बदला जाना चाहिए?

$$186 \div 17 + 104 - 12 \times 3 = 16$$

Ans ✗ 1. 2 और 7

✓ 2. 8 और 3

✗ 3. 4 और 7

✗ 4. 6 और 4

Question ID : 65497817850

Chosen Option : 2

Q.14 दो कथन और उसके बाद तीन निष्कर्ष I, II और III दिए गए हैं। यह मानते हुए कि कथन सत्य हैं, भले ही वे सामान्य रूप से ज्ञात तथ्यों से भिन्न प्रतीत होते हों, बताएं कि कौन सा/से निष्कर्ष दिए गए कथनों का तार्किक रूप से अनुसरण करता है/करते हैं।

कथन:

सभी पक्षी गौरैया हैं।
सभी गौरैया सरीसृप हैं।

निष्कर्ष:

- I. कुछ सरीसृप पक्षी हैं।
- II. सभी सरीसृप गौरैया हैं।
- III. सभी पक्षी सरीसृप हैं।

- Ans
- 1. निष्कर्ष II और III दोनों अनुसरण करते हैं।
 - 2. निष्कर्ष I और III दोनों अनुसरण करते हैं।
 - 3. निष्कर्ष I और II दोनों अनुसरण करते हैं।
 - 4. न तो निष्कर्ष I, और न ही निष्कर्ष II व III अनुसरण करता है।

Question ID : 65497817865

Chosen Option : 2

Q.15 उस विकल्प का चयन कीजिए जिसकी संख्याओं के मध्य वही संबंध है, जो निम्न दिए गए समुच्चय की संख्याओं के मध्य है।

(192, 140, 252)

- Ans
- 1. (221, 192, 252)
 - 2. (186, 134, 246)
 - 3. (165, 118, 221)
 - 4. (165, 140, 192)

Question ID : 65497817853

Chosen Option : 4

www.HaryanaJobs.in

Q.16 उस विकल्प आकृति का चयन कीजिए जो दी गई आकृति में अंतर्निहित है (घुमाने की अनुमति नहीं है)।

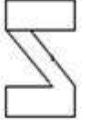


Ans

1.



2.



3.



4.



Question ID : 65497817871
Chosen Option : 4

Q.17 Which of the given options is the most suitable to fill in the blank?

Newspaper : Press :: Cloth : _____

Ans 1. Mill

2. Shop

3. Tailor

4. Fibre

Question ID : 65497817862
Chosen Option : 3

Q.18 एक निश्चित कूट भाषा में, यदि MATERIAL को QDXHVLPD लिखा जाता है, तो उसी कूट भाषा में, ONTOLOGY को क्या लिखा जाएगा?

Ans 1. SRXSPSKC

2. RMSRORJB

3. RRSSOSGC

4. RRRPRKC

Question ID : 65497817857
Chosen Option : --

Q.19 एक निश्चित कूट प्रणाली में, यदि SHELVES को 1919515222219 के रूप में और NOMINEE को 1412131814225 के रूप में कूटबद्ध किया जाता है, तो उसी कूट प्रणाली में, SEIZURE को किस रूप में कूटबद्ध किया जाएगा?

Ans 1. 19229262185

2. 1922912195

3. 8518266185

4. 8221816922

Question ID : 65497817859

Chosen Option : 2

Q.20 दो कथन और उसके बाद दो निष्कर्ष। और II दिए गए हैं। यह मानते हुए कि कथन सत्य हैं, भले ही वे सामान्य रूप से ज्ञात तथ्यों से भिन्न प्रतीत होते हों, बताएं कि कौन सा/से निष्कर्ष दिए गए कथनों का तार्किक रूप से अनुसरण करता है/करते हैं।

कथन:

सभी मशीनें टूल हैं।

कोई भी टूल कम्प्यूटर नहीं है।

निष्कर्ष:

I. कोई भी मशीन कम्प्यूटर नहीं है।

II. कुछ कम्प्यूटर टूल हैं।

Ans 1. केवल निष्कर्ष II अनुसरण करता है।

2. निष्कर्ष I और II दोनों अनुसरण करते हैं।

3. न तो निष्कर्ष I और न ही II अनुसरण करता है।

4. केवल निष्कर्ष I अनुसरण करता है।

Question ID : 65497817864

Chosen Option : 4

Q.21 किसी अंतर्राष्ट्रीय आभासी सम्मेलन का समन्वयक, क्रिप्टोग्राफी, फ्लूड डायनेमिक्स, बिग डेटा एनालिसिस, वेवलेट थ्योरी, डिफरेंशियल इक्वेशन और लीनियर अलजेब्रा जैसे विभिन्न क्षेत्रों पर छः अतिथियों के व्याख्यान की योजना बनाता है, जिसमें सोमवार से रविवार तक प्रत्येक दिन केवल एक व्याख्यान का आयोजन किया जाना है।

वेवलेट थ्योरी का आयोजन डिफरेंशियल इक्वेशन के तुरंत बाद होना चाहिए।

बिग डेटा एनालिसिस का आयोजन बुधवार को करना है जिसे लीनियर अलजेब्रा के बाद नहीं होना चाहिए।

फ्लूड डायनेमिक्स का आयोजन शुक्रवार को करना है तथा क्रिप्टोग्राफी और लीनियर अलजेब्रा के बीच दो दिनों का अंतराल होना चाहिए।

एक दिन कोई व्याख्यान नहीं होगा (शनिवार वह दिन नहीं है) और उस दिन से ठीक पहले लीनियर अलजेब्रा का आयोजन होगा।

बिग डेटा एनालिसिस और वेवलेट थ्योरी के बीच कितने व्याख्यानों का आयोजन होगा?

Ans 1. एक

2. तीन

3. दो

4. चार

Question ID : 65497817868

Chosen Option : --

Q.22 उस विकल्प का चयन कीजिए जिसका तीसरे अक्षर-समूह से वही संबंध है, जो दूसरे अक्षर-समूह का पहले अक्षर-समूह से है।

PHONETIC : FLWHQRKS :: SHEEPDOG : ?

- Ans
- 1. VKRJHHS
 - 2. JRGSHHKV
 - 3. JRVKGS
 - 4. VKHHSGRJ

Question ID : 65497817860
Chosen Option : 2

Q.23 एक निश्चित कूट प्रणाली में, यदि OPULENT को 84 के रूप में और LEARNER को 114 के रूप में कूटबद्ध किया जाता है, तो उसी कूट प्रणाली में, PHYSICS को किस रूप में कूटबद्ध किया जाएगा?

- Ans
- 1. 90
 - 2. 99
 - 3. 97
 - 4. 88

Question ID : 65497817858
Chosen Option : 4

Q.24 निम्न श्रेणी में प्रश्नवाचक चिह्न (?) के स्थान पर कौन सी संख्या आएगी?

16, 32, 8, 48, 6, 60, 5, ?

- Ans
- 1. 75
 - 2. 60
 - 3. 65
 - 4. 70

Question ID : 65497817854
Chosen Option : --

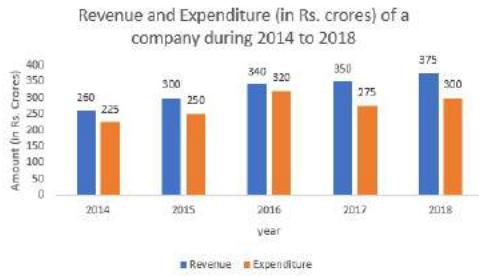
Q.25 छः विद्यार्थियों के पहले सेमेस्टर के स्कोर दर्शाते हैं कि रमन ने रीतेश से अधिक अंक प्राप्त किए हैं, लेकिन वह हर्षिता के बाद दूसरे नंबर पर है। यदि अंकुर के अंक सबसे कम हैं, तो राघव की स्थिति क्या है?

- Ans
- 1. रमन और रीतेश के बीच में
 - 2. रमन से ठीक ऊपर
 - 3. रीतेश से ठीक नीचे
 - 4. हर्षिता से ठीक ऊपर

Question ID : 65497817866
Chosen Option : 3

Section : Numerical Aptitude

Q.1 Study the following graph and answer the question that follows.



The expenditure of the company in 2016 is what percentage more than the average revenue (per year) in 2014, 2015 and 2018 (correct to the nearest integer)?

- Ans**
- 1. 5%
 - 2. 6%
 - 3. 3%
 - 4. 4%

Question ID : **65497816282**
Chosen Option : 3

Q.2 एक व्यक्ति ने ₹6,500 की धनराशि को $x\%$ वार्षिक साधारण ब्याज दर पर और ₹7,500 की धनराशि को $(x - 2)\%$ वार्षिक साधारण ब्याज दर पर निवेश किया। यदि दोनों निवेशों पर 3 वर्षों के लिए अर्जित कुल ब्याज ₹3,750 है, तो पहले निवेश पर ब्याज की दर कितनी है?

- Ans**
- 1. 14%
 - 2. 8%
 - 3. 12%
 - 4. 10%

Question ID : **65497816273**
Chosen Option : 4

Q.3 A और B की आय 3 : 4 के अनुपात में है, और उनके खर्च 9 : 5 के अनुपात में हैं। यदि A की आय, B के खर्च के तीन गुने के बराबर है, तो A और B की बचत का अनुपात क्या है?

- Ans**
- 1. 3 : 5
 - 2. 2 : 5
 - 3. 5 : 3
 - 4. 5 : 2

Question ID : **65497816270**
Chosen Option : 2

Q.4 $5\frac{5}{29} - \left[\frac{15}{4} \div \left\{ \frac{3}{4} \times \left(\frac{3}{2} - \frac{1}{5} - \frac{1}{3} \right) \right\} \right]$ का मान ज्ञात करें।

- Ans
- 1. 5
 - 2. 10
 - 3. 1
 - 4. 0

Question ID : 65497815269
Chosen Option : 4

Q.5 यदि A और B एक कार्य को 20 दिनों में कर सकते हैं, और A अकेले उसी कार्य को 30 दिनों में कर सकता है, तो B अकेले उसी कार्य को कितने दिनों में पूरा कर सकता है?

- Ans
- 1. 40
 - 2. 50
 - 3. 75
 - 4. 60

Question ID : 65497816259
Chosen Option : 4

Q.6 A hall is 18 m long and 12 m broad. If the sum of the areas of the floor and the ceiling is equal to the sum of the areas of the four walls, the volume (in m³) of the hall is:

- Ans
- 1. 1376.4
 - 2. 1175.5
 - 3. 1876.2
 - 4. 1555.2

Question ID : 65497816275
Chosen Option : --

Q.7 तीन वस्तुओं में से प्रत्येक को ₹180 के मूल्य पर खरीदा जाता है। उनमें से एक को 10% की हानि पर बेचा जाता है। यदि अन्य दो वस्तुओं को ऐसे मूल्य पर बेचना हो जिससे पूरे सौदे में 25% का लाभ हासिल किया जा सके, तो दो वस्तुओं पर लाभ प्रतिशत कितना होना चाहिए?

- Ans
- 1. 45%
 - 2. 30%
 - 3. 42.5%
 - 4. 37.5%

Question ID : 65497816268
Chosen Option : 3

Q.8 The curved surface area of a right circular cone is $65\pi \text{ cm}^2$ and the radius of its base is 5 cm. What is half of the volume of the cone, in cm^3 ?

- Ans
- 1. 180π
 - 2. 50π
 - 3. 100π
 - 4. 45π

Question ID : 65497816277
Chosen Option : 2

Q.9 A, B और C क्रमशः 10, 15 और 30 दिनों में एक कार्य को पूरा कर सकते हैं। यदि B और C दोनों, हर तीसरे दिन A की सहायता करते हैं, तो कार्य कितने दिनों में पूरा हो सकता है?

- Ans
- 1. 5
 - 2. 8
 - 3. $8\frac{1}{2}$
 - 4. $7\frac{1}{2}$

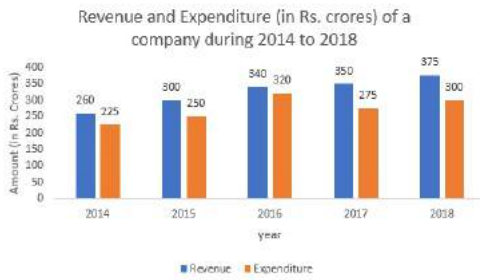
Question ID : 65497816260
Chosen Option : 2

Q.10 10%, 12% और 15% के तीन सामान्य छूट, _____ की एकल छूट के बराबर है।

- Ans
- 1. 34.17%
 - 2. 32.68%
 - 3. 35.36%
 - 4. 37%

Question ID : 65497816265
Chosen Option : 2

Q.11 Study the following graph and answer the question that follows.



In which year is the percentage increase in the revenue, as compared to that in the preceding year, between 1% and 3%?

- Ans**
- 1. 2016
 - 2. 2017
 - 3. 2015
 - 4. 2018

Question ID : 65497816283

Chosen Option : 2

Q.12 30 वस्तुओं का क्रय मूल्य, x वस्तुओं के विक्रय मूल्य के बराबर है। यदि लाभ 25% है, तो x का मान ज्ञात कीजिए।

- Ans**
- 1. 24
 - 2. 25
 - 3. 18
 - 4. 30

Question ID : 65497816267

Chosen Option : 1

Q.13 दो संख्याएँ तीसरी संख्या से क्रमशः 17% और 50% अधिक हैं। दो संख्याओं का अनुपात _____ है।

- Ans**
- 1. 50 : 39
 - 2. 59 : 39
 - 3. 39 : 59
 - 4. 39 : 50

Question ID : 65497816269

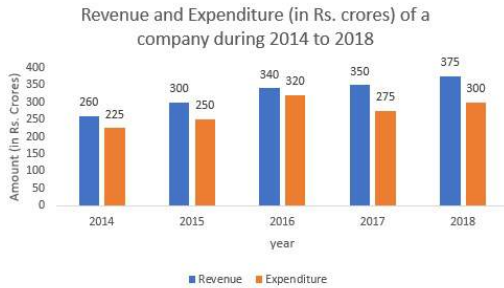
Chosen Option : 4

Q.14 एक लड़की अपनी कमाई का 76% खर्च करती है। यदि उसकी कमाई में 18% की वृद्धि होती है और उसके खर्च में 25% की वृद्धि होती है, तो उसकी बचत में कितने प्रतिशत की वृद्धि या कमी (दशमलव के एक स्थान तक सही) होगी?

- Ans**
- 1. 5.7% वृद्धि
 - 2. 8.4% वृद्धि
 - 3. 6.9% कमी
 - 4. 4.2% कमी

Question ID : 65497816266
Chosen Option : 4

Q.15 Study the following graph and answer the question that follows.



What is the ratio of the total revenue of the company in 2016 and 2018 to that of the total expenditure in 2015 and 2017?

- Ans**
- 1. 130 : 103
 - 2. 115 : 114
 - 3. 105 : 143
 - 4. 143 : 105

Question ID : 65497816281
Chosen Option : 4

Q.16 ₹10,000 की धनराशि पर 10% वार्षिक ब्याज दर पर $1\frac{1}{2}$ वर्ष के छमाही आधार पर चक्रवृद्धि किए जाने वाले चक्रवृद्धि ब्याज और साधारण ब्याज में अंतर (₹ में) ज्ञात कीजिए।

- Ans**
- 1. 102.25
 - 2. 76.25
 - 3. 87
 - 4. 91.5

Question ID : 65497816272
Chosen Option : 2

Q.17 एक व्यक्ति 6 मिनट में 900 मीटर लंबी सड़क पार करता है। व्यक्ति की चाल km/h में कितनी है?

- Ans
- 1. 15
 - 2. 12
 - 3. 9
 - 4. 10

Question ID : 65497816261
Chosen Option : 3

Q.18 माना कि x वह न्यूनतम संख्या है जो 8, 12, 30, 36 और 45 से विभाज्य है तथा x एक पूर्ण वर्ग भी है। x का मान कितना है?

- Ans
- 1. 2500
 - 2. 4900
 - 3. 4225
 - 4. 3600

Question ID : 65497816278
Chosen Option : 4

Q.19 एक फल विक्रेता ने लगातार पांच महीनों तक ₹10,435, ₹9,927, ₹10,855, ₹10,230 और ₹9,562 की बिक्री की। छठे महीने में उसकी बिक्री (₹ में) कितनी होनी चाहिए जिससे उसे ₹10,500 की औसत बिक्री मिल सके?

- Ans
- 1. 11,991
 - 2. 8,231
 - 3. 8,991
 - 4. 9,231

Question ID : 65497816263
Chosen Option : 1

Q.20 एक ट्रेन एक कार की तुलना में 40% अधिक तेजी से यात्रा कर सकती है। ट्रेन और कार दोनों एक ही समय में बिंदु A से चलना शुरू करती हैं और बिंदु B तक एक ही समय पर पहुंचती हैं, जो कि बिंदु A से 70 km दूर है। हालांकि, रास्ते में, स्टेशन पर रुकने के चलते ट्रेन ने लगभग 15 मिनट गवां दिए थे। कार की चाल km/h में कितनी है?

- Ans
- 1. 80
 - 2. 90
 - 3. 100
 - 4. 120

Question ID : 65497816262
Chosen Option : --

Q.21 एक राशि (₹ में) A, B और C के बीच 5 : 6 : 7 के अनुपात में वितरित की जाती है। यदि B अपने हिस्से में से ₹400 की धनराशि C को देता है, तो A, B और C के हिस्सों का अनुपात 2 : 3 : 4 हो जाता है। शुरुआत में, A और C के हिस्सों (₹ में) का योग कितना था?

- Ans
- 1. 8,400
 - 2. 11,200
 - 3. 14,000
 - 4. 7,200

Question ID : 65497816271
Chosen Option : --

Q.22 100 वस्तुओं का माध्य 47 है। बाद में यह पता चला कि तीन वस्तुएं, जो कि 60, 70, 80 होनी चाहिए थी, उन्हें गलती से क्रमशः 40, 20, 50 पढ़ लिया गया था। सही माध्य कितना है?

- Ans
- 1. 50
 - 2. 51
 - 3. 48
 - 4. 47

Question ID : 65497816274
Chosen Option : 3

Q.23 6 व्यक्तियों का औसत वजन तब 2.5 kg बढ़ जाता है जब 55 kg वजन वाले एक व्यक्ति के स्थान पर एक नया व्यक्ति आ जाता है। नए व्यक्ति का वजन (kg में) कितना हो सकता है?

- Ans
- 1. 60
 - 2. 62.5
 - 3. 70
 - 4. 75.5

Question ID : 65497816264
Chosen Option : 3

Q.24 एक खेत का आकार वृत्ताकार है। इसके परितः ₹11 प्रति मीटर के मूल्य से बाड़ लगाने की लागत ₹2,420 है। खेत का क्षेत्रफल (m^2 में) कितना है? ($\pi = \frac{22}{7}$ लें)

- Ans
- 1. 3850
 - 2. 4250
 - 3. 4500
 - 4. 2700

Question ID : 65497816276
Chosen Option : 1

Q.25 $\left\{ \left(1 - \frac{2}{15} \right) + \frac{2}{5} \right\} \div \frac{14}{15} + \left(\frac{2}{3} \text{ of } \frac{6}{7} \div \frac{4}{9} - \frac{1}{6} \times 1 \frac{5}{7} \right)$ का सरलतम मान क्या होगा?

- Ans
1. $\frac{1}{2}$
2. $\frac{33}{14}$
3. 2
4. $\frac{11}{15}$

Question ID : 65497817391
Chosen Option : 2

Section : General Awareness

Q.1 डकवर्थ-लुईस-स्टर्न विधि निम्नलिखित में से किस खेल से संबंधित है?

- Ans
1. फुटबॉल
2. हॉकी
3. पोलो
4. क्रिकेट

Question ID : 65497814671
Chosen Option : 4

Q.2 _____ एक प्रकार की ऐसी धोखाधड़ी है जहाँ अधिकृत बैंकिंग लेन-देन के दौरान डेबिट/क्रेडिट कार्ड की जानकारी चुराने के लिए एक छोटे इलेक्ट्रॉनिक डिवाइस का इस्तेमाल किया जाता है।

- Ans
1. फिशिंग
2. स्किमिंग
3. स्मिशिंग
4. विशिंग

Question ID : 65497816596
Chosen Option : 2

Q.3 'टोकामक' नाम का उपकरण निम्नलिखित में से किस प्रकार के ईंधन से संबंधित है?

- Ans
1. जल-विद्युत
2. ज्वारीय
3. भू-तापीय
4. परमाणु

Question ID : 65497814686
Chosen Option : --

Q.4 प्रार्थना समाज के संस्थापक निम्नलिखित में से कौन थे?

- Ans
- 1. एम.जी. रानाडे
 - 2. आत्माराम पांडुरंग
 - 3. ज्योतिबा फूले
 - 4. आर.सी. भंडारकर

Question ID : 65497814690
Chosen Option : 2

Q.5 असंतृप्त कार्बन यौगिक, _____ के साथ जलते हैं।

- Ans
- 1. धुंए वाली सफ़ेद लौ
 - 2. धुंए वाली नारंगी लौ
 - 3. धुंए वाली लाल लौ
 - 4. धुंए वाली पीली लौ

Question ID : 65497814684
Chosen Option : 4

Q.6 प्रसिद्ध हास्य कलाकार, केन शिमुरा, जिनकी मार्च 2020 में मृत्यु हो गई थी, वे किस देश से थे?

- Ans
- 1. दक्षिण कोरिया
 - 2. जापान
 - 3. इंडोनेशिया
 - 4. चीन

Question ID : 65497814674
Chosen Option : --

Q.7 एक केंद्र प्रायोजित योजना के रूप में भारत सरकार द्वारा 'प्रोजेक्ट एलीफेंट' किस वर्ष शुरू किया गया था?

- Ans
- 1. 1984
 - 2. 1997
 - 3. 1988
 - 4. 1992

Question ID : 65497814688
Chosen Option : 4

Q.8 'योशंग' नामक त्रौहार निम्नलिखित में से किस राज्य में पारंपरिक रूप से मनाया जाता है?

- Ans
- 1. झारखंड
 - 2. छत्तीसगढ़
 - 3. सिक्किम
 - 4. मणिपुर

Question ID : 65497814670
Chosen Option : 4

Q.9 'स्पीकिंग टूथ टू पाँवर: माई अल्टरनेटिव व्यू' नामक पुस्तक के लेखक निम्नलिखित में से कौन हैं?

- Ans
- 1. सुब्रमण्यम स्वामी
 - 2. मणिशंकर अय्यर
 - 3. अरुण शौरी
 - 4. पी. चिदंबरम

Question ID : 65497814675
Chosen Option : --

Q.10 अकबर द्वारा लड़ी गई निम्नलिखित लड़ाइयों में से, कौन सी लड़ाई अन्यो की तुलना में नवीनतम है?

- Ans
- 1. थानेसर की लड़ाई
 - 2. पानीपत की दूसरी लड़ाई
 - 3. तुकारोई की लड़ाई
 - 4. हल्दीघाटी की लड़ाई

Question ID : 65497814691
Chosen Option : 4

Q.11 'अमृता देवी बिश्रोई राष्ट्रीय पुरस्कार' किसके लिए दिया जाता है?

- Ans
- 1. पर्यावरण संरक्षण
 - 2. ऊर्जा संरक्षण
 - 3. वन्यजीव संरक्षण
 - 4. जैव विविधता संरक्षण

Question ID : 65497814673
Chosen Option : --

Q.12 हड़प्पा सभ्यता के निम्नलिखित स्थलों में से कौन सा स्थल पाकिस्तान में स्थित नहीं है?

- Ans
- 1. शोरतुगई
 - 2. कोट दीजी
 - 3. बालाकोट
 - 4. चनहुदड़ो

Question ID : 65497814692
Chosen Option : 1

Q.13 राष्ट्रीय एकता परिषद की पहली बैठक किस वर्ष हुई थी?

- Ans
- 1. 1955
 - 2. 1951
 - 3. 1962
 - 4. 1965

Question ID : 65497814681
Chosen Option : 1

Q.14 ओडिशा के बरगढ़ जिले में निकाली जाने वाली धनुयात्रा विष्णु के निम्नलिखित में से किस अवतार को समर्पित है?

- Ans 1. भगवान कृष्ण
 2. भगवान राम
 3. भगवान वामन
 4. भगवान वराह

Question ID : 65497814668
 Chosen Option : --

Q.15 निम्नलिखित में से कौन सा हमारे सौर मंडल का बौना ग्रह (ड्वार्फ प्लैनेट) है?

- Ans 1. मेकमेक (Makemake)
 2. गैनिमीड (Ganymede)
 3. कैलिस्टो (Callisto)
 4. यूरोपा (Europa)

Question ID : 65497814685
 Chosen Option : --

Q.16 दक्षिण एशियाई क्षेत्रीय सहयोग संगठन (सार्क-SAARC) की स्थापना किस वर्ष हुई थी?

- Ans 1. 1980
 2. 1985
 3. 1983
 4. 1987

Question ID : 65497814679
 Chosen Option : 2

Q.17 निम्नलिखित में से कौन सा ग्रेफाइट का एक गुण नहीं है?

- Ans 1. हीरे की तुलना में इसका घनत्व कम होता है।
 2. इसका गलनांक निम्न होता है।
 3. यह विद्युत का सुचालक होता है।
 4. यह उष्मा का सुचालक होता है।

Question ID : 65497814682
 Chosen Option : 4

Q.18 पाकिस्तान, निम्नलिखित में से किस नदी पर 'डायमर भाषा' नामक बांध का निर्माण कर रहा है?

- Ans 1. चिनाब
 2. सतलुज
 3. सिंधु
 4. झेलम

Question ID : 65497814687
 Chosen Option : --

Q.19 निम्नलिखित में से कौन सी आर्द्रभूमि केरल में स्थित है?

- Ans
- 1. होकेरा आर्द्रभूमि
 - 2. सैंडी पक्षी अभयारण्य
 - 3. सास्तामकोट्टा झील
 - 4. नंदुर मदमहेश्वर

Question ID : 65497814689
Chosen Option : 3

Q.20 2019 में द म्यूजिक एकेडमी द्वारा 'नृत्य कलानिधि' की उपाधि से सम्मानित प्रियदर्शनी गोविंद, एक प्रसिद्ध _____ नृत्यांगना हैं।

- Ans
- 1. भरतनाट्यम
 - 2. कथकली
 - 3. कथक
 - 4. कुचिपुड़ी

Question ID : 65497814669
Chosen Option : --

Q.21 सितंबर 2021 तक के अनुसार, नीति आयोग के CEO (सी.ई.ओ.) कौन है?

- Ans
- 1. अमिताभ कांत
 - 2. उर्जित पटेल
 - 3. डॉ. राजीव कुमार
 - 4. शक्तिकांत दास

Question ID : 65497814474
Chosen Option : 1

Q.22 किसेराइट, निम्नलिखित में से किस खनिज का अयस्क है?

- Ans
- 1. मैग्नीशियम
 - 2. पोटेशियम
 - 3. लोहा
 - 4. चांदी

Question ID : 65497814683
Chosen Option : --

Q.23 केंद्रीय खेल मंत्रालय ने खेलो इंडिया योजना के पहले चरण में आठ राज्यों में खेलो इंडिया सेंटर फॉर एक्सीलेंस (KISCE) स्थापित करने का निर्णय लिया है। निम्नलिखित में से कौन सा राज्य इन आठ राज्यों में से एक नहीं है?

- Ans
- 1. ओडिशा
 - 2. कर्नाटक
 - 3. नागालैंड
 - 4. आंध्र प्रदेश

Question ID : 65497814672
Chosen Option : --

Q.24 16वीं लोकसभा के प्रो-टेम स्पीकर कौन थे?

- Ans 1. कमलनाथ
 2. मीरा कुमार
 3. मनोहर पर्रिकर
 4. एम. थंबीदुरई

Question ID : 65497814680
Chosen Option : --

Q.25 निम्नलिखित लघु नामों में से, कौन सा भारत में खुदरा भुगतान और निपटान प्रणाली का संचालन करने वाला एक प्रमुख (अम्ब्रेला) संगठन है?

- Ans 1. SIDBI
 2. NABARD
 3. NPCI
 4. IRDAI

Question ID : 65497814678
Chosen Option : --

www.HaryanaJobs.in

Multi Tasking Non Technical Staff Examination 2020

Participant ID	www.HaryanaJobs.in
Participant Name	www.HaryanaJobs.in
Test Center Name	Yagyavalkya Institute of Technology
Test Date	12/10/2021
Test Time :	12:30 PM - 2:00 PM
Subject	MTS Non Technical 2020

Section : **General English**

Q.1 Select the most appropriate meaning of the given idiom.

In the eye of the storm

- Ans
- 1. Be involved in discussion
 - 2. Be calm in difficulty
 - 3. Be in a controversial situation
 - 4. Be the centre of attraction

Question ID : **65497816934**
Chosen Option : **2**

Q.2 Select the most appropriate option to substitute the underlined segment in the given sentence.

Srilekha is Mr. Singhs daughter.

- Ans
- 1. Mr. Singhs'
 - 2. Mr. Singh
 - 3. Mr. Singh's
 - 4. Mr. Singhs's

Question ID : **65497817735**
Chosen Option : **3**

Q.3 Select the INCORRECTLY spelt word.

- Ans
- 1. Offspring
 - 2. Offance
 - 3. Officiate
 - 4. Offshoot

Question ID : **65497816938**
Chosen Option : **1**

Q.4 Select the most appropriate option to substitute the underlined segment in the given sentence. If there is no need to substitute it, select 'No substitution required'.

The sun is very large than Earth.

- Ans 1. much larger than
 2. very larger than
 3. much large as
 4. No substitution required

Question ID : 65497816926
Chosen Option : 1

Q.5 Select the most appropriate option to fill in the blank.

I stayed _____ my uncle's house last night.

- Ans 1. by
 2. in
 3. at
 4. on

Question ID : 65497816918
Chosen Option : 2

Q.6 Select the most appropriate ANTONYM of the given word.

PRECISE

- Ans 1. Correct
 2. Actual
 3. Definite
 4. Vague

Question ID : 65497816929
Chosen Option : 4

Q.7 Select the most appropriate word for the given group of words.

To get ready

- Ans 1. Preserve
 2. Pretend
 3. Protect
 4. Prepare

Question ID : 65497816936
Chosen Option : 4

Q.8 Select the most appropriate meaning of the given idiom.

To be taken aback

- Ans
- 1. To be nervous
 - 2. To be irritated
 - 3. To be surprised
 - 4. To be excited

Question ID : 65497816933
Chosen Option : 2

Q.9 Select the most appropriate ANTONYM of the given word.

RADIANCE

- Ans
- 1. Dullness
 - 2. Glow
 - 3. Brilliance
 - 4. Glitter

Question ID : 65497816930
Chosen Option : 1

Q.10 Identify the segment that contains a grammatical error. If there is no error, select 'No error'.

Who has distributed these sweets among the children?

- Ans
- 1. these sweets
 - 2. Who has distributed
 - 3. among the children
 - 4. No error

Question ID : 65497816917
Chosen Option : 4

Q.11 Select the most appropriate synonym of the given word.

RAPTUROUS

- Ans
- 1. Worried
 - 2. Disgusted
 - 3. Agitated
 - 4. Delighted

Question ID : 65497816932
Chosen Option : 3

Q.12 Select the most appropriate option to fill in the blank.

Problems often _____ when you least expect them.

- Ans
- 1. raise
 - 2. rise
 - 3. arouse
 - 4. arise

Question ID : 65497816940
Chosen Option : 4

Q.13 Select the most appropriate synonym of the given word.

PACIFY

- Ans
- 1. Soothe
 - 2. Upset
 - 3. Excite
 - 4. Irritate

Question ID : 65497816931
Chosen Option : 1

Q.14 Select the most appropriate option to fill in the blank.

_____ this water looks clean, it may be contaminated.

- Ans
- 1. Although
 - 2. In case
 - 3. Because
 - 4. Despite

Question ID : 65497816919
Chosen Option : 1

Q.15 Select the most appropriate word for the given group of words.

Imaginary line dividing Earth into northern and southern hemispheres

- Ans
- 1. Axis
 - 2. Longitude
 - 3. Latitude
 - 4. Equator

Question ID : 65497816935
Chosen Option : 4

Q.16 Select the most appropriate option to fill in the blank.

If my memory _____ me right, Abhimanyu was not killed by one person but by seven warriors.

- Ans 1. serves
 2. finds
 3. supports
 4. makes

Question ID : 65497816939
Chosen Option : 2

Q.17 Identify the segment that contains a grammatical error. If there is no error, select 'No error'.

Children has to bring their own food.

- Ans 1. Children has
 2. No error
 3. to bring
 4. their own food

Question ID : 65497816915
Chosen Option : 1

Q.18 Select the INCORRECTLY spelt word.

- Ans 1. Leave
 2. Lease
 3. Legacy
 4. Leagend

Question ID : 65497816937
Chosen Option : 4

Q.19 Select the most appropriate option to substitute the underlined segment in the given sentence. If there is no need to substitute it, select 'No substitution required.'

Priya had strong enough to fight all odds and succeed in meeting her goals in life.

- Ans 1. is strength
 2. No substitution required
 3. has stronger
 4. was strong

Question ID : 65497815514
Chosen Option : 3

Q.20 Identify the segment that contains a grammatical error. If there is no error, select 'No error'.

I was watching a whole scene very carefully.

- Ans
- 1. No error
 - 2. I was watching
 - 3. very carefully
 - 4. a whole scene

Question ID : 65497816916
Chosen Option : 4

Comprehension:

In the following passage some words have been deleted. Fill in the blanks with the help of the alternatives given. Select the most appropriate option for each blank.

The department of post has (1)_____ inter-city road transport of parcels from Calcutta to Guwahati, Bhubaneswar and Patna. The inter-city (2)_____ of parcels by road (3)_____ amid the inability of the railways (4)_____ adequate space and the preference given (5)_____ the airways to perishable commodities.

SubQuestion No : 21

Q.21 Select the most appropriate option to fill in blank no. 1.

- Ans
- 1. started
 - 2. to starting
 - 3. start
 - 4. starting

Question ID : 65497816921
Chosen Option : 1

Comprehension:

In the following passage some words have been deleted. Fill in the blanks with the help of the alternatives given. Select the most appropriate option for each blank.

The department of post has (1)_____ inter-city road transport of parcels from Calcutta to Guwahati, Bhubaneswar and Patna. The inter-city (2)_____ of parcels by road (3)_____ amid the inability of the railways (4)_____ adequate space and the preference given (5)_____ the airways to perishable commodities.

SubQuestion No : 22

Q.22 Select the most appropriate option to fill in blank no. 2.

- Ans
- 1. moves
 - 2. movement
 - 3. moving
 - 4. move

Question ID : 65497816922
Chosen Option : 2

Comprehension:

In the following passage some words have been deleted. Fill in the blanks with the help of the alternatives given. Select the most appropriate option for each blank.

The department of post has (1)_____ inter-city road transport of parcels from Calcutta to Guwahati, Bhubaneswar and Patna. The inter-city (2)_____ of parcels by road (3)_____ amid the inability of the railways (4)_____ adequate space and the preference given (5)_____ the airways to perishable commodities.

SubQuestion No : 23**Q.23 Select the most appropriate option to fill in blank no. 3.**

- Ans 1. was coming
 2. is coming
 3. come
 4. comes

Question ID : 65497816923
 Chosen Option : 4

Comprehension:

In the following passage some words have been deleted. Fill in the blanks with the help of the alternatives given. Select the most appropriate option for each blank.

The department of post has (1)_____ inter-city road transport of parcels from Calcutta to Guwahati, Bhubaneswar and Patna. The inter-city (2)_____ of parcels by road (3)_____ amid the inability of the railways (4)_____ adequate space and the preference given (5)_____ the airways to perishable commodities.

SubQuestion No : 24**Q.24 Select the most appropriate option to fill in blank no. 4.**

- Ans 1. providing
 2. to provide
 3. provided
 4. provide

Question ID : 65497816924
 Chosen Option : 2

Comprehension:

In the following passage some words have been deleted. Fill in the blanks with the help of the alternatives given. Select the most appropriate option for each blank.

The department of post has (1)_____ inter-city road transport of parcels from Calcutta to Guwahati, Bhubaneswar and Patna. The inter-city (2)_____ of parcels by road (3)_____ amid the inability of the railways (4)_____ adequate space and the preference given (5)_____ the airways to perishable commodities.

SubQuestion No : 25**Q.25 Select the most appropriate option to fill in blank no. 5.**

- Ans 1. with
 2. from
 3. by
 4. in

Question ID : 65497816925
 Chosen Option : 3

Section : **General Intelligence and Reasoning**

Q.1 दो कथनों के बाद दो निष्कर्ष I और II दिए गए हैं। कथनों को सत्य मानते हुए, भले ही ये सामान्य रूप से ज्ञात तथ्यों से भिन्न प्रतीत होते हों, निर्धारित करें कि कौन सा/से निष्कर्ष कथनों का तार्किक रूप से अनुसरण करता/करते है/हैं।

कथन:

कुछ मोबाइल फोन, वीडियो गेम हैं।
सभी वीडियो गेम, रिमोट कंट्रोल हैं।

निष्कर्ष:

I. कुछ मोबाइल फोन, रिमोट कंट्रोल हैं।
II. कुछ रिमोट कंट्रोल, मोबाइल फोन हैं।

- Ans
- 1. केवल निष्कर्ष II अनुसरण करता है।
 - 2. केवल निष्कर्ष I अनुसरण करता है।
 - 3. न तो निष्कर्ष I और न ही II अनुसरण करता है।
 - 4. निष्कर्ष I और II दोनों अनुसरण करते हैं।

Question ID : 65497817663

Chosen Option : 4

Q.2 गणितीय चिह्नों के उस सही क्रम का चयन करें, जिन्हें क्रमिक रूप से * के स्थान पर रखने पर दिया गया समीकरण संतुलित हो जाएगा।

$$42 * 36 * 5 * 78 * (8 * 5) = 216$$

- Ans
- 1. - + + x +
 - 2. + x - + +
 - 3. x + + - +
 - 4. + + x + -

Question ID : 65497817649

Chosen Option : 2

Q.3 निम्न संख्या श्रेणी में प्रश्नवाचक चिह्न (?) के स्थान पर कौन-सी संख्या आएगी?

54, 68, 78, 84, ?

- Ans
- 1. 90
 - 2. 84
 - 3. 86
 - 4. 88

Question ID : 65497817652

Chosen Option : 3

Q.4 जिस प्रकार 'कुत्ता', 'पिल्ला' से संबंधित है, उसी प्रकार 'भेड़', '_____' से संबंधित है।

- Ans
- 1. शावक
 - 2. मेमना
 - 3. बछड़ा
 - 4. बच्चा

Question ID : 65497817659

Chosen Option : 2

Q.5 निम्न अक्षर-श्रेणी में प्रश्नवाचक चिह्न (?) के स्थान पर कौन-सा अक्षर-समूह आएगा?

RUY, DGK, PSW, ?

Ans 1. ADG

2. BEH

3. ADH

4. BEI

Question ID : 65497817661

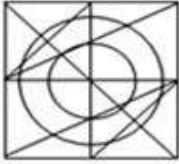
Chosen Option : 4

Q.6 उस विकल्प का चयन करें, जिसमें निम्न आकृति अन्तःस्थापित है। (घुमाने की अनुमति नहीं है)

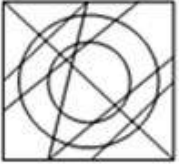


Ans

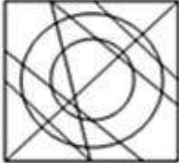
1.



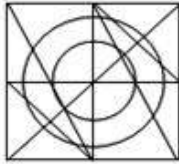
2.



3.



4.

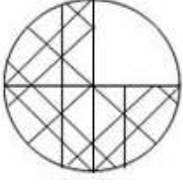


www.HaryanaJobs.in

Question ID : 65497817669

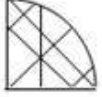
Chosen Option : 4

Q.7 उस विकल्प आकृति का चयन करें, जो निम्न पैटर्न को पूरा करेगी।

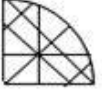


Ans

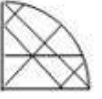
✓ 1.



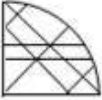
✗ 2.



✗ 3.



✗ 4.



Question ID : 65497817668
Chosen Option : 1

Q.8 उस विकल्प का चयन करें जिसके संख्या-युग्म की संख्याओं के मध्य वही संबंध है जो निम्नलिखित संख्या-युग्म की संख्याओं के मध्य है।

84 : 96

Ans ✗ 1. 64 : 82

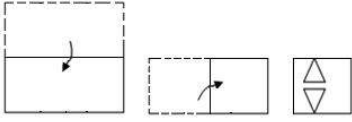
✗ 2. 42 : 58

✗ 3. 46 : 60

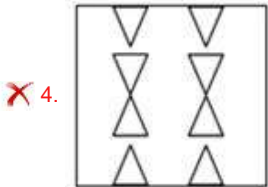
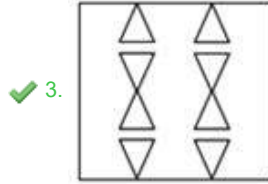
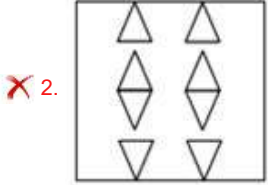
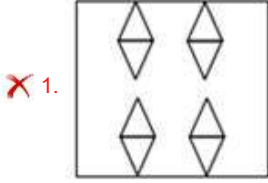
✓ 4. 68 : 82

Question ID : 65497817650
Chosen Option : --

Q.9 एक कागज़ को निम्न आकृति के अनुसार मोड़ा और काटा गया है। यह कागज़ खोलने पर कैसा दिखेगा?



Ans



Question ID : 65497817671

Chosen Option : 3

Q.10 उस विकल्प का चयन करें, जो तीसरे शब्द से ठीक उसी प्रकार संबंधित है, जिस प्रकार दूसरा शब्द पहले शब्द से संबंधित है।

वाट : शक्ति :: वोल्ट : _____.

- Ans
- ✗ 1. सामर्थ्य
 - ✗ 2. धारा
 - ✗ 3. एम्पियर
 - ✓ 4. विभव

Question ID : 65497817660

Chosen Option : 4

Q.11 यदि किसी निश्चित कूट भाषा में, MUSICAL को 109 के रूप में और RAISING को 110 के रूप में कूटबद्ध किया जाता है, तो उसी कूट भाषा में FOURTH को किस रूप में कूटबद्ध किया जाएगा?

- Ans 1. 72
 2. 76
 3. 70
 4. 74

Question ID : 65497817657
 Chosen Option : 1

Q.12 दो कथनों के बाद दो निष्कर्ष I और II दिए गए हैं। कथनों को सत्य मानते हुए, भले ही ये सामान्य रूप से ज्ञात तथ्यों से भिन्न प्रतीत होते हों, निर्धारित करें कि कौन सा/से निष्कर्ष कथनों का तार्किक रूप से अनुसरण करता/करते है/हैं।

कथन:
 सभी सिर, पूंछ हैं।
 सभी पूंछ, हड्डियां हैं।


निष्कर्ष:
 I. सभी हड्डियां, सिर हैं।
 II. सभी सिर, हड्डियां हैं।

- Ans 1. केवल निष्कर्ष II अनुसरण करता है।
 2. न तो निष्कर्ष I और न ही II अनुसरण करता है।
 3. केवल निष्कर्ष I अनुसरण करता है।
 4. निष्कर्ष I और II दोनों अनुसरण करते हैं।

Question ID : 65497817662
 Chosen Option : 1

www.HaryanaJobs.in

Q.13 यदि दर्पण को आकृति के दाईं ओर रखा गया हो, तो दी गई आकृति के सही दर्पण प्रतिबिंब का चयन करें।



Ans

✗ 1.



✗ 2.



✓ 3.



✗ 4.



www.HaryanaJobs.in

Question ID : 65497817670
Chosen Option : 3

Q.14 उस विकल्प का चयन करें, जो तीसरे अक्षर-समूह से ठीक उसी प्रकार संबंधित है, जिस प्रकार दूसरा अक्षर-समूह पहले अक्षर-समूह से संबंधित है।

RAILCAR : NEEPYEN : : ICESHOW : _____.

Ans ✓ 1. EGAWDSS

✗ 2. MYIOLKT

✗ 3. MZJOMKU

✗ 4. NZJPMLU

Question ID : 65497817658
Chosen Option : 1

Q.15 यदि किसी निश्चित कूट भाषा में, SHELTER को 6295793 के रूप में और FISHERY को 8162934 के रूप में कूटबद्ध किया जाता है, तो उसी कूट भाषा में, FILTHY को किस रूप में कूटबद्ध किया जाएगा?

- Ans
- 1. 581724
 - 2. 812457
 - 3. 815724
 - 4. 157842

Question ID : 65497817656

Chosen Option : 3

Q.16 इनमें से किन दो अंकों को एक-दूसरे से और किन दो चिह्नों को एक-दूसरे से प्रतिस्थापित करने से दिया गया समीकरण संतुलित होगा?

$$36 \div 2 - 159 + 78 \times 18 = 135$$

- Ans
- 1. 8 और 7; × और +
 - 2. 6 और 8; + और -
 - 3. 5 और 8; + और -
 - 4. 8 और 2; × और +

Question ID : 65497817648

Chosen Option : 4

Q.17 उस विकल्प का चयन करें, जिसमें संख्याएं एक-दूसरे से ठीक उसी प्रकार संबंधित हैं, जिस प्रकार दिए गए समुच्चय की संख्याएं एक-दूसरे से संबंधित हैं।

$$98 : 81 : 72$$

- Ans
- 1. 68 : 54 : 44
 - 2. 72 : 63 : 55
 - 3. 76 : 63 : 54
 - 4. 68 : 56 : 46

Question ID : 65497817651

Chosen Option : 3

Q.18 निम्न भारतीय नदियों की क्रमबद्धता (उत्तर से दक्षिण) दर्शाने वाले सही विकल्प का चयन करें।

1. कावेरी
2. नर्मदा
3. गोदावरी
4. गंगा
5. कृष्णा

- Ans
- 1. 2 - 3 - 4 - 1 - 5
 - 2. 1 - 3 - 2 - 5 - 4
 - 3. 4 - 3 - 2 - 1 - 5
 - 4. 4 - 2 - 3 - 5 - 1

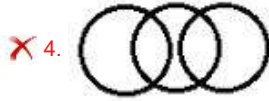
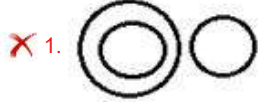
Question ID : 65497817666

Chosen Option : 4

Q.19 उस वेन-आरेख का चयन करें, जो निम्न वर्गों के बीच संबंध को सर्वोत्तम ढंग से निरूपित करता है।

महीने, कैलेंडर, दिन

Ans



Question ID : 65497817672

Chosen Option : 2

Q.20 निम्न संख्या श्रेणी में प्रश्नवाचक चिह्न (?) के स्थान पर कौन-सी संख्या आएगी?

8, 16, 12, 32, 16, 64, ?

Ans ✗ 1. 18

✗ 2. 24

✗ 3. 32

✓ 4. 20

Question ID : 65497817653

Chosen Option : 4

Q.21 किसी निश्चित कूट भाषा में, यदि CONDENSE को OCDNNEES लिखा जाता है, तो उसी कूट भाषा में, FACILITY को क्या लिखा जाएगा?

Ans ✗ 1. ICAFYFIL

✓ 2. AFICILYT

✗ 3. AFYTICIL

✗ 4. YTILICAF

Question ID : 65497817654

Chosen Option : 2

Q.22 किसी निश्चित कूट भाषा में, यदि HIMSELF को FKKUCND लिखा जाता है, तो उसी कूट भाषा में, OUTDOOR को क्या लिखा जाएगा?

- Ans
- 1. MVTGORP
 - 2. NWQFLQO
 - 3. MWRFMQP
 - 4. PWSDNOR

Question ID : 65497817655

Chosen Option : 3

Q.23 42 विद्यार्थियों वाली कक्षा में, रितिका शीर्ष से 13वें स्थान पर है, जबकि शीतल नीचे से 34वें स्थान पर है। रितिका और शीतल के बीच कितने विद्यार्थी हैं?

- Ans
- 1. 3
 - 2. 2
 - 3. 4
 - 4. 1

Question ID : 65497817664

Chosen Option : 1

Q.24 उस विकल्प आकृति का चयन करें, जो निम्न आकृति-श्रेणी में प्रश्नवाचक चिह्न (?) के स्थान पर आएगी।



Ans

- 1.
- 2.
- 3.
- 4.

Question ID : 65497817667

Chosen Option : 2

Q.25 कुछ व्यक्ति गोल मेज के परितः केंद्र की ओर अभिमुख होकर बैठे हैं। S ठीक उस R के सामने बैठा है, जो कि Q के बाईं ओर पड़ोस में बैठा है। T, Q के दाईं ओर पड़ोस में बैठा है। यदि U ठीक Q के सामने बैठा है, तो P की स्थिति क्या है?

- Ans
- 1. S और T के बीच
 - 2. U के बाईं ओर
 - 3. U और R के बीच
 - 4. R के दाईं ओर

Question ID : 65497817665

Chosen Option : 3

Section : Numerical Aptitude

Q.1 यदि $\frac{a}{b} = \frac{b}{c} = \frac{c}{d}$ है, तो b और c के संदर्भ में $\frac{a}{d}$ का मान निम्न में से किसके बराबर होगा?

Ans

✓ 1. $\left(\frac{b}{c}\right)^3$

✗ 2. $\left(\frac{b}{c}\right)^2$

✗ 3. $\left(\frac{b}{c}\right)^{0.5}$

✗ 4. $\left(\frac{b}{c}\right)^{1.5}$

Question ID : 65497817481

Chosen Option : 1

Q.2 नीचे दिए गए साठ पदों का औसत क्या होगा?

$$\cos^2 x, \cos^2 2x, \cos^2 3x, \dots, \cos^2 30x, \sin^2 x, \sin^2 2x, \sin^2 3x, \dots, \sin^2 30x$$

Ans

✗ 1. 1

✗ 2. $\cos^2 x \sin^2 x$

✗ 3. $\cos^2 x$

✓ 4. 0.5

Question ID : 65497817475

Chosen Option : 4

Q.3 यदि कोई व्यक्ति 80% खिलौनों को उस मूल्य पर बेचता है, जिस पर उसने सभी खिलौने खरीदे थे, तो लाभ प्रतिशत ज्ञात कीजिए।

Ans

✗ 1. 22.5

✗ 2. 40

✓ 3. 25

✗ 4. 20

Question ID : 65497817479

Chosen Option : 3

Q.4 एक ऐसा लाइन ग्राफ जो हिस्टोग्राम के स्थान पर प्रतिस्थापित हो सकता है, क्या कहलाता है?

- Ans
- 1. से कम प्रकार का संचयी बारंबारता ग्राफ
 - 2. से अधिक प्रकार का संचयी बारंबारता ग्राफ
 - 3. बारंबारता बहुभुज
 - 4. चापविकर्ण

Question ID : 65497817486

Chosen Option : 3

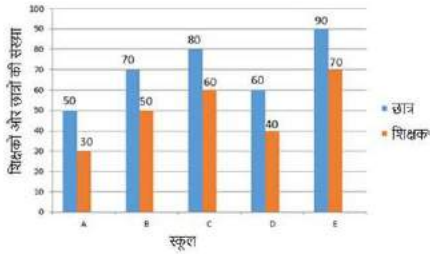
Q.5 किसी धनराशि पर अर्जित साधारण ब्याज उस राशि का $\frac{1}{25}$ है, जहां निवेश के वर्षों की संख्या प्रतिशत दर के बराबर है। धनराशि का निवेश कितने वर्षों के लिए किया गया?

- Ans
- 1. 5
 - 2. 2
 - 3. 3
 - 4. 4

Question ID : 65497817485

Chosen Option : 2

Q.6 किसी नगर के पाँच स्कूलों A, B, C, D और E में शिक्षकों और छात्रों की संख्या को दिए गए बार ग्राफ के माध्यम से दर्शाया गया है, जहाँ छात्रों की संख्या दस के अपवर्त्य के रूप में प्रस्तुत की गई है। इस बार ग्राफ का अध्ययन कर नीचे के प्रश्न का उत्तर दीजिए।



निम्नलिखित किस स्कूल में शिक्षकों का छात्रों के साथ अनुपात उच्चतम है?

- Ans
- 1. B
 - 2. D
 - 3. E
 - 4. C

Question ID : 65497817493

Chosen Option : 3

Q.7 एक महिला प्रतिदिन घर से अपने कार्यालय पैदल चलकर जाती है, जिसके लिए उसने एक समय निर्धारित किया है। किसी एक दिन वह अपनी चाल को 25% कम कर देती है। उस दिन उसे अपने सामान्य समय के किस भाग (fraction) तक देरी होगी?

- Ans
- ✗ 1. $\frac{1}{6}$
- ✗ 2. $\frac{2}{3}$
- ✗ 3. $\frac{1}{4}$
- ✓ 4. $\frac{1}{3}$

Question ID : 65497817473
Chosen Option : 4

Q.8
$$\frac{10^2 \text{ of } \left(\frac{1}{5}\right)^3 \div \frac{1}{4} \times 4 - \frac{2}{5} \text{ of } 15}{\frac{4}{5} \left(5 \div 5 \text{ of } 12 + \frac{1}{6}\right)}$$
 को सरल करें।

- Ans
- ✗ 1. $-\frac{65}{73}$
- ✗ 2. $-\frac{78}{73}$
- ✗ 3. $-\frac{147}{73}$
- ✓ 4. 34

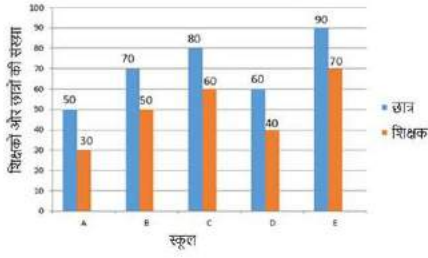
Question ID : 65497817997
Chosen Option : 4

Q.9 चार व्यक्ति P, Q, R, S एक काम में लगाए गए, शर्त थी कि P, Q, R, S क्रमशः (सोमवार, बुधवार, शनिवार); (मंगलवार, शुक्रवार); (बुधवार, शनिवार); (रविवार) वाले दिनों में काम करेंगे। किसी सोमवार को काम शुरू किया गया जिसे 15^{वें} दिन सोमवार को पूरा कर लिया गया। यदि इस काम को करने में P, Q, R, S की दक्षता 1 : 2 : 3 : 4 के अनुपात में थी, तो अकेले लगातार काम करते हुए R कितने दिनों में उस काम को पूरा कर सकेगा?

- Ans
- ✗ 1. 10
- ✓ 2. 11
- ✗ 3. 12
- ✗ 4. 13

Question ID : 65497817472
Chosen Option : 2

Q.10 किसी नगर के पाँच स्कूलों A, B, C, D और E में शिक्षकों और छात्रों की संख्या को दिए गए बार ग्राफ के माध्यम से दर्शाया गया है, जहाँ छात्रों की संख्या दस के अपवर्त्य के रूप में प्रस्तुत की गई है। इस बार ग्राफ का अध्ययन कर नीचे के प्रश्न का उत्तर दीजिए।



पाँचों स्कूलों A, D, B, C और E में छात्रों के शिक्षकों के साथ अनुपातों का समानुपात ज्ञात कीजिए।

- Ans
1. 720 : 800 : 926 : 935 : 975
2. 350 : 275 : 287 : 300 : 320
3. 350 : 315 : 294 : 280 : 270
4. 756 : 840 : 900 : 945 : 980

Question ID : 65497817494

Chosen Option : 3

Q.11 घनाभ के आकार वाले लकड़ी के एक टुकड़े को उसकी लंबाई से लंबरूप चार बार काटकर पाँच बराबर भागों में बाटा गया, और इस प्रकार बने प्रत्येक घन टुकड़े का आयतन 27 cm^3 हो गया। घनाभ का कुल पृष्ठीय क्षेत्रफल (cm^2 में) ज्ञात करें।

- Ans
1. 198
2. 150
3. 174
4. 216

Question ID : 65497817488

Chosen Option : 1

Q.12 500 और 900 को सम्मिलित करते हुए, इनके बीच ऐसी कुल कितनी ऐसी संख्याएँ हैं, जो 12, 15, 20 और 30 इन सभी संख्याओं से पूर्णतः विभाज्य हैं?

- Ans
1. 4
2. 5
3. 6
4. 7

Question ID : 65497817490

Chosen Option : 4

Q.13 एक निश्चित धनराशि का तीन वर्षों के लिए, वार्षिक रूप से चक्रवृद्धि व्याज देने वाली किसी योजना में निवेश किया गया। आरंभिक दो वर्षों के दौरान योजना में क्रमशः 80% और 60% की वृद्धि दर्ज की गई, लेकिन तीसरे वर्ष इसमें 40% की गिरावट आ गई। तीन वर्षों के लिए समग्र व्याज दर ज्ञात कीजिए।

- Ans
- 1. 48.6%
 - 2. 22.5%
 - 3. 20%
 - 4. 24%

Question ID : 65497817484
Chosen Option : 4

Q.14 दो वृत्त बाह्य रूप से एक दूसरे को स्पर्श करते हैं, उनके केंद्रों के बीच की दूरी 12 cm और उनके क्षेत्रफलों का योग 74π (cm² में) है। छोटे वृत्त की त्रिज्या कितनी (cm में) है?

- Ans
- 1. 3
 - 2. 5
 - 3. 4.5
 - 4. 2.8

Question ID : 65497817487
Chosen Option : 2

Q.15 ₹300 और ₹400 प्रति kg मूल्य वाली चाय की दो किस्मों को क्रमशः किस अनुपात में मिश्रित किया जाना चाहिए कि मिश्रण का मूल्य ₹320 प्रति kg हो जाए?

- Ans
- 1. 1 : 4
 - 2. 4 : 1
 - 3. 1 : 5
 - 4. 5 : 1

Question ID : 65497817482
Chosen Option : 2

Q.16 यदि 24 व्यक्ति प्रतिदिन 12 घंटे कार्य करके किसी काम को 15 दिन में पूरा करते हैं, तो 36 व्यक्ति प्रतिदिन 10 घंटे कार्य करते हुए उस काम की दोगुनी मात्रा को कितने दिन में पूरा करेंगे?

- Ans
- 1. 30
 - 2. 32
 - 3. 12
 - 4. 24

Question ID : 65497817471
Chosen Option : 4

Q.17 r त्रिज्या वाले एक गोले की सामग्री को पिघलाकर किसी बेलनाकार खोखले ढाँचे में ढाला गया है जिसकी मोटाई a और बाहरी त्रिज्या b है। यदि ढलाई में सामग्री की कोई हानि न हुई हो तो ढाँचे की अनुमानित लंबाई कितनी है?

- Ans
1. $\frac{4r^3}{3a(2a-b)}$
2. $\frac{4r^3}{3a(b+a)(b-a)}$
3. $\frac{4r^3}{3a(2b-a)}$
4. $\frac{4r^3}{3a(b-a)}$

Question ID : 65497817489
Chosen Option : 3

Q.18 $\left(120 \div \frac{5}{4}\right) - \left\{ \left(105 - 5 \times 3 + 2 \text{ of } 17 \div \frac{1}{6}\right) \div \left(5 + \frac{1}{4}\right) \right\}$ का मान ज्ञात करें।

- Ans
1. 46
2. 40
3. 50
4. 45

Question ID : 65497815875
Chosen Option : 2

Q.19 किसी माल के दो समान भाग, समान मूल्य देकर खरीदे गए और वे क्रमशः 25% लाभ और 20% हानि पर बेचे गए। लाभ प्रतिशत कितना था?

- Ans
1. 2.5
2. 2
3. 4.5
4. 5

Question ID : 65497817480
Chosen Option : 1

Q.20 किसी धनात्मक संख्या और उसके व्युत्क्रम का अंतर $\frac{175}{144}$ के गुणक में बढ़ जाता है, यदि उस संख्या में 20% की वृद्धि की जाती है। वह संख्या ज्ञात कीजिए।

- Ans
1. 6
2. 5
3. 7.5
4. 2.5

Question ID : 65497817478
Chosen Option : --

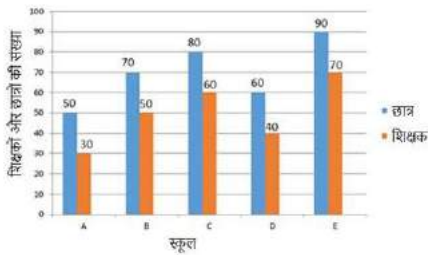
Q.21 X, Y, Z मिलकर साझेदारी में ₹1,20,000 की पूंजी से एक उद्यम की शुरुआत करते हैं, जिसमें Y और Z के योगदान, X के योगदान से क्रमशः 40% और ₹1,000 अधिक हैं। अर्जित लाभ पूंजी का 20% है। इस लाभ में से, 10% आकस्मिक व्ययों में चला जाता है। इसमें से X का हिस्सा (₹ में) ज्ञात कीजिए।

- Ans**
- 1. 7,500
 - 2. 6,300
 - 3. 7,000
 - 4. 4,800

Question ID : 65497817483

Chosen Option : --

Q.22 किसी नगर के पाँच स्कूलों A, B, C, D और E में शिक्षकों और छात्रों की संख्या को दिए गए बार ग्राफ के माध्यम से दर्शाया गया है, जहाँ छात्रों की संख्या दस के अपवर्त्य के रूप में प्रस्तुत की गई है। इस बार ग्राफ का अध्ययन कर नीचे के प्रश्न का उत्तर दीजिए।



यदि स्कूल E के 20% छात्र समान रूप से विभाजित कर स्कूलों A और C में स्थानांतरित किए जाते हैं तथा उनके 10% शिक्षक स्कूल A में स्थानांतरित किए जाते हैं तो निम्नलिखित में से किस स्कूल के छात्र-शिक्षक का अनुपात स्कूल D के छात्र-शिक्षक अनुपात के निकटतम होगा?

- Ans**
- 1. A
 - 2. C
 - 3. E
 - 4. B

Question ID : 65497817495

Chosen Option : 1

Q.23 किसी वस्तु पर तीन क्रमिक छूटें दी गयीं जिससे एक ग्राहक को अंकिित मूल्य ₹12,500 से ₹2,366.8 कम का भुगतान करना पड़ा। यदि आरंभिक दो क्रमिक छूटें क्रमशः 12% और 6% हों तो, तीसरी छूट की प्रतिशत दर ज्ञात कीजिए?

- Ans**
- 1. 2
 - 2. 2.5
 - 3. 3.6
 - 4. 3

Question ID : 65497817477

Chosen Option : --

Q.24 दो घड़ियां किसी रविवार को एक साथ 11 a.m. पर चालू की जाती हैं। उसके बाद, वे प्रतिदिन क्रमशः एक मिनट तेज़ और एक मिनट धीमी होती जाती हैं। जब पहली घड़ी अगले शुक्रवार को 10 p.m. दिखा रही हो, तो दूसरी घड़ी घंटे और मिनट में क्या समय बता रही होगी?

- Ans
- 1. 9 घंटे $49\frac{9}{11}$ मिनट p.m.
 - 2. 9 घंटे $48\frac{3}{11}$ मिनट p.m.
 - 3. 9 घंटे $48\frac{7}{11}$ मिनट p.m.
 - 4. 9 घंटे $49\frac{1}{11}$ मिनट p.m.

Question ID : 65497817474
Chosen Option : --

Q.25 2020 की फरवरी के महीने में एक व्यक्ति का दैनिक औसत व्यय ₹120 था। आरंभिक 15 दिनों का औसत व्यय ₹142 और अंतिम 15 दिनों का औसत व्यय ₹96 था। 15^{वीं} फरवरी को उसका व्यय (₹ में) कितना था?

- Ans
- 1. 88
 - 2. 95
 - 3. 90
 - 4. 98

Question ID : 65497817476
Chosen Option : 3

Section : General Awareness

Q.1 भारतीय संविधान में 'संविधान में संशोधन का प्रस्ताव' निम्नलिखित में से किस देश के संविधान से लिया गया है?

- Ans
- 1. जर्मनी
 - 2. रूस
 - 3. कनाडा
 - 4. दक्षिण अफ्रीका

Question ID : 65497814277
Chosen Option : 4

Q.2 विश्व का सबसे बड़ा डेल्टा निम्नलिखित में से कौन सा है?

- Ans
- 1. गंगा-ब्रह्मपुत्र डेल्टा
 - 2. राइन-मूस डेल्टा
 - 3. इरावदी डेल्टा
 - 4. अमेज़न डेल्टा

Question ID : 65497814284
Chosen Option : 1

Q.3 'कुंडलिनी: द मदर ऑफ द यूनिवर्स' पुस्तक किसने लिखी है, जिसमें 'ललिता सहस्रनाम' का अंग्रेजी अनुवाद शामिल है?

- Ans
- 1. डॉ. एस. राधाकृष्णन
 - 2. रबीन्द्रनाथ टैगोर
 - 3. ऋषि सिंह घेरवाल
 - 4. विक्रम सेठ

Question ID : 65497814271
Chosen Option : 2

Q.4 भारतीय संविधान का अनुच्छेद 21 किससे संबंधित है?

- Ans
- 1. राष्ट्रीय आपातकाल
 - 2. संपत्ति का अधिकार
 - 3. मौलिक कर्तव्य
 - 4. जीवन का अधिकार

Question ID : 65497814276
Chosen Option : 4

Q.5 _____ में भारत सरकार के एक कार्यकारी निर्णय द्वारा योजना आयोग की स्थापना की गई थी।

- Ans
- 1. 1960
 - 2. 1955
 - 3. 1945
 - 4. 1950

Question ID : 65497814272
Chosen Option : 4

Q.6 फिल्म निर्माता उत्पल बोरपुजारी की डॉक्यूमेंट्री, 'सॉनस ऑफ द _____' नागा जनजातियों के लोक गीतों और संस्कृति पर आधारित है।

- Ans
- 1. ब्लू हिल्स
 - 2. ब्लू रिवर
 - 3. ब्लू अर्थ
 - 4. ब्लू स्काई

Question ID : 65497814270
Chosen Option : 4

Q.7 निम्नलिखित में से कौन सी एक उत्तर भारत में खरीफ़ की फ़सल है और दक्षिण भारत में रबी की फ़सल है?

- Ans
- 1. गन्ना
 - 2. रागी
 - 3. तिल
 - 4. सूरजमुखी

Question ID : 65497814283
Chosen Option : --

Q.8 अर्थशास्त्र के संदर्भ में, EPF (ईपीएफ) में P (पी) का अर्थ क्या है?

- Ans
- 1. Profit (प्रोफिट)
 - 2. Provident (प्रोविडेंट)
 - 3. Planning (प्लानिंग)
 - 4. Promotion (प्रमोशन)

Question ID : 65497814274
Chosen Option : 2

Q.9 320 ई (AD) से 550 ई (AD) के बीच किस राजवंश ने भारत पर शासन किया था?

- Ans
- 1. होयसल राजवंश
 - 2. गुप्त राजवंश
 - 3. मौर्य राजवंश
 - 4. मगध राजवंश

Question ID : 65497814287
Chosen Option : 2

Q.10 कौन सी मृदा उत्तरी मैदानों और नदी घाटियों में फैली हुई है और भारत के कुल क्षेत्रफल का लगभग 40% क्षेत्र घेरे हुए है?

- Ans
- 1. लाल मृदा
 - 2. काली मृदा
 - 3. जलोढ़ मृदा
 - 4. लैटेराइट मृदा

Question ID : 65497814285
Chosen Option : 3

Q.11 प्रकाश की तरंग दैर्घ्य को मापने की इकाई क्या है?

- Ans
- 1. कैंडेला
 - 2. ऐंस्ट्राम
 - 3. डाइन
 - 4. फैराडे

Question ID : 65497814279
Chosen Option : 2

Q.12 बहुत उच्च तापमान को मापने के लिए किस उपकरण का उपयोग किया जाता है?

- Ans
- 1. मैनोमीटर
 - 2. फैदोमीटर
 - 3. पायरोमीटर
 - 4. सैलिनोमीटर

Question ID : 65497814278
Chosen Option : 2

Q.13 ला लीगा ट्रॉफी किस खेल से संबंधित है?

- Ans 1. फुटबॉल
 2. भारोत्तोलन
 3. टेनिस
 4. क्रिकेट

Question ID : 65497814268
Chosen Option : 1

Q.14 रऊफ और हीकत _____ के नृत्य रूप हैं।

- Ans 1. मणिपुर
 2. जम्मू और कश्मीर
 3. ओडिशा
 4. सिक्किम

Question ID : 65497814266
Chosen Option : 2

Q.15 निम्नलिखित में से कौन सा वेद संगीत से संबंधित है?

- Ans 1. अथर्ववेद
 2. ऋग्वेद
 3. यजुर्वेद
 4. सामवेद

Question ID : 65497814286
Chosen Option : --

Q.16 भारत के संविधान का कौन सा भाग संघ (केंद्र) एवं राज्यों के बीच के संबंधों से संबंधित है?

- Ans 1. भाग VIII
 2. भाग IX
 3. भाग XI
 4. भाग VII

Question ID : 65497814275
Chosen Option : 4

Q.17 केशिका फीड फाउंटैन पेन का आविष्कार किसने किया था?

- Ans 1. एल.ई. वाटरमैन
 2. इयान डोनाल्ड
 3. डेविड हॉजेज़
 4. अल्फ्रेड नोबेल

Question ID : 65497814280
Chosen Option : 1

Q.18 शिशु मृत्यु दर (या IMR), किसी वर्ष विशेष में पैदा हुए 1000 जीवित बच्चों के अनुपात में उन शिशुओं की संख्या को इंगित करती है जिनकी मृत्यु _____ की आयु से पहले हो जाती है।

- Ans
- 1. 6 महीने
 - 2. 3 साल
 - 3. 1 साल
 - 4. 3 महीने

Question ID : 65497816394
Chosen Option : 4

Q.19 चेचक के टीके की खोज किसने की थी?

- Ans
- 1. एडवर्ड जेनर
 - 2. जोनास सॉल्क
 - 3. लुई पाश्चर
 - 4. लीओन कैलमेट

Question ID : 65497814282
Chosen Option : --

Q.20 निम्नलिखित में से किस खेल से अंजू बाँबी जॉर्ज संबंधित हैं?

- Ans
- 1. निशानेबाजी
 - 2. एथलेटिक्स
 - 3. मुक्केबाज़ी
 - 4. हॉकी

Question ID : 65497814267
Chosen Option : 2

Q.21 विटामिन K की कमी से हमारे शरीर में _____ होता/होती है।

- Ans
- 1. रक्त के थक्के के जमने में देरी
 - 2. स्कर्वी
 - 3. रतौंधी
 - 4. प्रजनन में व्यवधान

Question ID : 65497814281
Chosen Option : 1

Q.22 पानीपत की पहली लड़ाई कब लड़ी गई थी?

- Ans
- 1. 1326
 - 2. 1526
 - 3. 1479
 - 4. 1632

Question ID : 65497814288
Chosen Option : 2

Q.23 'कोलकलि' किस राज्य के पारंपरिक लोक नृत्यों में से एक है?

- Ans
- 1. आंध्र प्रदेश
 - 2. अरुणाचल प्रदेश
 - 3. केरल
 - 4. नागालैंड

Question ID : 65497814265
Chosen Option : --

Q.24 'पंडवानी' _____ का सबसे प्रसिद्ध लोक गीत-नाट्य है?

- Ans
- 1. कर्नाटक
 - 2. छत्तीसगढ़
 - 3. महाराष्ट्र
 - 4. राजस्थान

Question ID : 65497814264
Chosen Option : 3

Q.25 'बियोन्ड द लाइन्स' पुस्तक के लेखक कौन हैं?

- Ans
- 1. विष्णु शर्मा
 - 2. वी.वी. गिरि
 - 3. कुलदीप नैयर
 - 4. उमर खय्याम

Question ID : 65497814269
Chosen Option : 3

www.HaryanaJobs.in

Multi Tasking Non Technical Staff Examination 2020

Participant ID	www.HaryanaJobs.in
Participant Name	www.HaryanaJobs.in
Test Center Name	Yagyavalkya Institute of Technology
Test Date	13/10/2021
Test Time :	4:00 PM - 5:30 PM
Subject	MTS Non Technical 2020

Section : **General English**

Q.1 Select the most appropriate word to fill in the blank.

My joy knew no _____ when I met my family after five years.

- Ans
- 1. sadness
 - 2. attention
 - 3. bounds
 - 4. pleasure

Question ID : **65497815122**
Chosen Option : **3**

Q.2 Select the most appropriate word to fill in the blank.

_____ it was snowing we decided to carry on driving in the mountains.

- Ans
- 1. Though
 - 2. However
 - 3. Unless
 - 4. If

Question ID : **65497815100**
Chosen Option : **1**

Q.3 Select the INCORRECTLY spelt word.

- Ans
- 1. Allergy
 - 2. Tuition
 - 3. Defination
 - 4. Grammar

Question ID : **65497815119**
Chosen Option : **1**

Q.4 Identify the segment in the sentence which contains a grammatical error.

Rohit said that he would save me from been scold by father.

- Ans
- 1. said that
 - 2. he would
 - 3. been scold
 - 4. save me

Question ID : 65497815099
Chosen Option : 3

Q.5 Identify the segment in the sentence which contains a grammatical error.

We were not able to watched the movie due to lockdown.

- Ans
- 1. due to
 - 2. were not
 - 3. the movie
 - 4. able to watched

Question ID : 65497815097
Chosen Option : 4

Q.6 Select the most appropriate ANTONYM of the given word.

BRIGHT

- Ans
- 1. Colourful
 - 2. Charming
 - 3. Bleak
 - 4. Active

Question ID : 65497815112
Chosen Option : 3

Q.7 Select the word which means the same as the group of words given.

Scientific study of mind and behaviour

- Ans
- 1. Psychology
 - 2. Philosophy
 - 3. Astrology
 - 4. Neurology

Question ID : 65497815117
Chosen Option : 1

Q.8 Select the most appropriate option to substitute the underlined segment in the given sentence. If there is no need to substitute it, select 'No substitution required'.

The children have been quarrelling all the time, are they?

- Ans
- 1. aren't they
 - 2. No substitution required
 - 3. haven't they
 - 4. have they

Question ID : 65497816826
Chosen Option : 3

Q.9 Select the word which means the same as the group of words given.

A person who knows everything

- Ans
- 1. Omnivorous
 - 2. Omnipresent
 - 3. Omniscient
 - 4. Omnipotent

Question ID : 65497815118
Chosen Option : 3

Q.10 Select the most appropriate word to fill in the blank.

Most countries are now beginning to show a _____ in their economy and there's a sense of relief.

- Ans
- 1. setback
 - 2. downturn
 - 3. growth
 - 4. dismay

Question ID : 65497815121
Chosen Option : 1

Q.11 Select the most appropriate option to substitute the underlined segment in the given sentence. If there is no need to substitute it, select 'No substitution required.'

Aren't it difficult to drive a car in a crowded city?

- Ans
- 1. Hasn't
 - 2. Isn't
 - 3. No substitution required
 - 4. Hadn't

Question ID : 65497815108
Chosen Option : 2

Q.12 Select the most appropriate option to substitute the underlined segment in the given sentence. If there is no need to substitute it, select 'No substitution required'.

Prema's exceptional good looks always distinguish her from the rest of her sisters.

- Ans
- 1. distinguishes
 - 2. distinguishing
 - 3. are distinguish
 - 4. No substitution required

Question ID : 65497814605
Chosen Option : 1

Q.13 Select the most appropriate synonym of the given word.

INVESTIGATE

- Ans
- 1. Reveal
 - 2. Discover
 - 3. Search
 - 4. Prepare

Question ID : 65497815114
Chosen Option : 3

Q.14 Select the most appropriate synonym of the given word.

INEXPENSIVE

- Ans
- 1. Unaffordable
 - 2. Attractive
 - 3. Costly
 - 4. Cheap

Question ID : 65497815113
Chosen Option : 4

Q.15 Select the most appropriate word to fill in the blank.

The Registrar informed the candidate that the last date _____ submission of forms was over.

- Ans
- 1. in
 - 2. for
 - 3. at
 - 4. to

Question ID : 65497815101
Chosen Option : 2

Q.16 Select the most appropriate ANTONYM of the given word.

NATIVE

- Ans 1. Resident
 2. Free
 3. Alien
 4. Heavenly

Question ID : 65497815111
Chosen Option : 3

Q.17 Identify the segment in the sentence which contains a grammatical error.

Both Renu and her sister is very tall and are in the basketball team.

- Ans 1. is very tall
 2. and her sister
 3. in the basketball team
 4. and are

Question ID : 65497815098
Chosen Option : 4

Q.18 Select the most appropriate meaning of the given idiom.

A rotten apple

- Ans 1. A tree which gives poor produce
 2. A time when things are left to spoil
 3. A single bad person or thing in a group
 4. A single moment when things change

Question ID : 65497815115
Chosen Option : 3

Q.19 Select the most appropriate meaning of the given idiom.

Giving a false alarm

- Ans 1. A situation when people ring an alarm bell to frighten everybody just for fun
 2. A situation when people don't think that something is good and the opposite happens
 3. A situation when people wrongly think that something bad is going to happen
 4. A situation when things go wrong and everything bad happens

Question ID : 65497815116
Chosen Option : --

Q.20 Select the INCORRECTLY spelt word.

- Ans 1. Seive
 2. Receive
 3. Perceive
 4. Conceive

Question ID : 65497815120

Chosen Option : 1

Comprehension:

In the following passage some words have been deleted. Fill in the blanks with the help of the alternatives given. Select the most appropriate option for each blank.

For the past few months Twinkle and Himanshu Kalia have been relentlessly (1)_____ to ensure that Covid patients and those suspected to (2)_____ reach the hospital by providing them ambulance service. Twinkle and her husband (3)_____ drive two of their fleet of 10 private ambulances. Twinkle herself caught the virus (4)_____ driving patients to hospitals or funeral grounds. But she did not (5)_____ her work and started working once she was fit.

SubQuestion No : 21

Q.21 Select the most appropriate option to fill in blank no. 1.

- Ans 1. works
 2. worked
 3. work
 4. working

Question ID : 65497815103

Chosen Option : 4

Comprehension:

In the following passage some words have been deleted. Fill in the blanks with the help of the alternatives given. Select the most appropriate option for each blank.

For the past few months Twinkle and Himanshu Kalia have been relentlessly (1)_____ to ensure that Covid patients and those suspected to (2)_____ reach the hospital by providing them ambulance service. Twinkle and her husband (3)_____ drive two of their fleet of 10 private ambulances. Twinkle herself caught the virus (4)_____ driving patients to hospitals or funeral grounds. But she did not (5)_____ her work and started working once she was fit.

SubQuestion No : 22

Q.22 Select the most appropriate option to fill in blank no. 2.

- Ans 1. had affected
 2. have affected
 3. be affected
 4. be affect

Question ID : 65497815104

Chosen Option : 2

Comprehension:

In the following passage some words have been deleted. Fill in the blanks with the help of the alternatives given. Select the most appropriate option for each blank.

For the past few months Twinkle and Himanshu Kalia have been relentlessly (1)_____ to ensure that Covid patients and those suspected to (2)_____ reach the hospital by providing them ambulance service. Twinkle and her husband (3)_____ drive two of their fleet of 10 private ambulances. Twinkle herself caught the virus (4)_____ driving patients to hospitals or funeral grounds. But she did not (5)_____ her work and started working once she was fit.

SubQuestion No : 23

Q.23 Select the most appropriate option to fill in blank no. 3.

Ans 1. themselves

2. ourselves

3. herself

4. itself

Question ID : 65497815105

Chosen Option : 1

Comprehension:

In the following passage some words have been deleted. Fill in the blanks with the help of the alternatives given. Select the most appropriate option for each blank.

For the past few months Twinkle and Himanshu Kalia have been relentlessly (1)_____ to ensure that Covid patients and those suspected to (2)_____ reach the hospital by providing them ambulance service. Twinkle and her husband (3)_____ drive two of their fleet of 10 private ambulances. Twinkle herself caught the virus (4)_____ driving patients to hospitals or funeral grounds. But she did not (5)_____ her work and started working once she was fit.

SubQuestion No : 24

Q.24 Select the most appropriate option to fill in blank no. 4.

Ans 1. because

2. since

3. while

4. for

Question ID : 65497815106

Chosen Option : 3

Comprehension:

In the following passage some words have been deleted. Fill in the blanks with the help of the alternatives given. Select the most appropriate option for each blank.

For the past few months Twinkle and Himanshu Kalia have been relentlessly (1)_____ to ensure that Covid patients and those suspected to (2)_____ reach the hospital by providing them ambulance service. Twinkle and her husband (3)_____ drive two of their fleet of 10 private ambulances. Twinkle herself caught the virus (4)_____ driving patients to hospitals or funeral grounds. But she did not (5)_____ her work and started working once she was fit.

SubQuestion No : 25

Q.25 Select the most appropriate option to fill in blank no. 5.

Ans 1. redeem

2. continue

3. escape

4. abandon

Question ID : 65497815107

Chosen Option : 4

Section : General Intelligence and Reasoning

Q.1 तीन कथनों के बाद तीन निष्कर्ष I, II और III दिए गए हैं। यह मानते हुए कि कथनों में दी गई जानकारी सत्य है, भले ही यह सामान्य रूप से ज्ञात तथ्यों से भिन्न प्रतीत हो, निर्धारित करें कि कौन सा/से निष्कर्ष कथनों का तार्किक रूप से अनुसरण करता है/करते हैं।

कथन:

1. कोई भी पत्ती हरी नहीं है।
2. सभी फल हरे हैं।
3. कुछ मिठाइयां फल हैं।

निष्कर्ष:

- I. कोई भी पत्ती फल नहीं है।
- II. सभी मिठाइयां हरी हैं।
- III. कुछ पत्तियां हरी हो सकती हैं।

- Ans
- 1. केवल निष्कर्ष I अनुसरण करता है।
 - 2. केवल निष्कर्ष III अनुसरण करता है।
 - 3. निष्कर्ष I और III, दोनों अनुसरण करते हैं।
 - 4. निष्कर्ष I और II, दोनों अनुसरण करते हैं।

Question ID : 65497817461
Chosen Option : 1

Q.2 उस विकल्प का चयन करें, जो तीसरे अक्षर-समूह से ठीक उसी प्रकार संबंधित है, जिस प्रकार दूसरा अक्षर-समूह पहले अक्षर-समूह से संबंधित है।

सुरक्षा : शील्ड :: अनावरण : ?

- Ans
- 1. कवर
 - 2. चोट
 - 3. धमकाना
 - 4. प्रकटीकरण

Question ID : 65497817458
Chosen Option : 4

Q.3 अक्षरों के उस सही संयोजन का चयन करें, जिन्हें क्रमिक रूप से दी गई अक्षर श्रेणी में रिक्त स्थानों पर रखने पर श्रेणी पूर्ण हो जाएगी।

_ B _ A _ S A B _ _ B S

- Ans
- 1. ASBAS
 - 2. ASBSA
 - 3. BASBA
 - 4. SABAS

Question ID : 65497817459
Chosen Option : 2

Q.4 उस विकल्प का चयन करें, जो तीसरी संख्या से उसी प्रकार संबंधित है, जिस प्रकार दूसरी संख्या पहली संख्या से संबंधित है।

75 : 9 :: 15 : ?

- Ans
- 1. 13
 - 2. 135
 - 3. 225
 - 4. 45

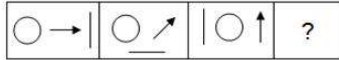
Question ID : 65497817448
Chosen Option : --

Q.5 किसी निश्चित कूट भाषा में 'AMAZON' को 140 के रूप में तथा 'BRAZIL' को 136 के रूप में कूटबद्ध किया जाता है। इसी कूट भाषा में 'GERMANY' को किस रूप में कूटबद्ध जाएगा?

- Ans
- 1. 83
 - 2. 106
 - 3. 166
 - 4. 183

Question ID : 65497817454
Chosen Option : 3

Q.6 उस विकल्प आकृति का चयन करें, जो निम्न आकृति-श्रेणी में प्रश्नवाचक चिह्न (?) के स्थान पर आएगी।



- Ans
- 1.
 - 2.
 - 3.
 - 4.

Question ID : 65497817465
Chosen Option : 3

www.HaryanaJobs.in

Q.7 अजय, ललित, चरण, ध्रुव और गजेन्द्र पांच पुरुष हैं, जो किसी पंक्ति में दक्षिण की ओर अभिमुख होकर बैठे हैं, जबकि मयूरी, नर्मदा, शालिनी, प्रिया और हर्षिनी पांच महिलाएं हैं, जो पहली पंक्ति के समानांतर दूसरी पंक्ति में उत्तर की ओर अभिमुख होकर बैठी हैं।

ललित, जो कि ध्रुव के ठीक बाईं ओर बैठा है, हर्षिनी के सम्मुख है।

चरण और नर्मदा एक-दूसरे से विकर्णतः सम्मुख बैठे हैं।

गजेन्द्र, शालिनी के सम्मुख बैठा है, जो कि मयूरी के ठीक दाईं ओर पड़ोस में बैठी है।

प्रिया, जो कि हर्षिनी के ठीक बाईं ओर पड़ोस में बैठी है, ध्रुव के सम्मुख है।

मयूरी, पंक्ति के एक छोर पर बैठी है।

शालिनी के दाईं ओर तीसरे स्थान पर कौन बैठी है?

- Ans
- 1. प्रिया
 - 2. नर्मदा
 - 3. मयूरी
 - 4. हर्षिनी

Question ID : 65497817463
Chosen Option : 2

Q.8 इन ऋतुओं को उस क्रम में व्यवस्थित करें, जिस क्रम में वे भारत में मार्च से फरवरी तक आती हैं।

1. पतझड़
2. वसंत
3. मानसून
4. सर्दी
5. गर्मी

- Ans
- 1. 1, 5, 2, 3, 4
 - 2. 2, 3, 5, 1, 4
 - 3. 2, 5, 3, 1, 4
 - 4. 1, 5, 3, 2, 4

Question ID : 65497817464
Chosen Option : 1

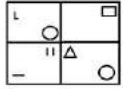
Q.9 उस विकल्प का चयन करें, जो तीसरे अक्षर-समूह से ठीक उसी प्रकार संबंधित है, जिस प्रकार दूसरा अक्षर-समूह पहले अक्षर-समूह से संबंधित है।

ACTION : EXPNSI :: SISTER : ?

- Ans
- 1. WDOYIM
 - 2. WEOZJN
 - 3. VDOYIN
 - 4. UDPZIM

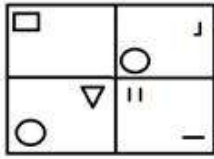
Question ID : 65497817456
Chosen Option : 1

Q.10 यदि दर्पण को दी गई आकृति के दाईं ओर रखा जाए, तो आकृति के दर्पण में निम्नित सही प्रतिबिंब का चयन कीजिए।

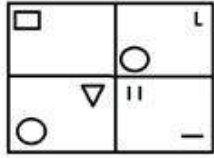


Ans

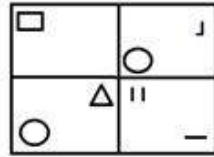
✗ 1.



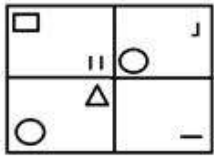
✗ 2.



✓ 3.



✗ 4.



Question ID : 65497817468
Chosen Option : 3

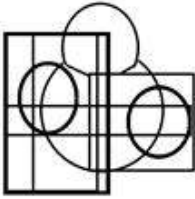
www.HaryanaJobs.in

Q.11 उस विकल्प का चयन करें, जिसमें दी गई आकृति अंतःस्थापित है (घुमाने की अनुमति नहीं है)।

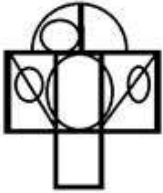


Ans

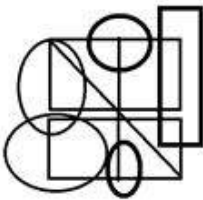
✗ 1.



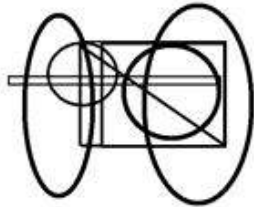
✗ 2.



✗ 3.



✓ 4.



Question ID : 65497817467

Chosen Option : 4

Q.12 दिए गए पैटर्न का सावधानीपूर्वक अध्ययन करें और उस संख्या का चयन करें, जो प्रश्नवाचक चिह्न (?) के स्थान पर आ सकती है?

3 5 13
8 12 92
8 16 ?

Ans ✗ 1. 128

✗ 2. 124

✓ 3. 120

✗ 4. 136

Question ID : 65497817449

Chosen Option : 3

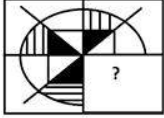
Q.13 किसी निश्चित कूट भाषा में, 'SOCKS' को 'OKYGO' लिखा जाता है। इसी कूट भाषा में, 'GLORY' को क्या लिखा जाएगा?

- Ans
- 1. CKHNU
 - 2. CKHUM
 - 3. CHKNU
 - 4. CHKMC

Question ID : 65497817452

Chosen Option : 3

Q.14 दिए गए विकल्पों में से सही विकल्प चुनकर, दिए गए पैटर्न के अनुपस्थित भाग को पूरा करें।



Ans

- 1.
- 2.
- 3.
- 4.

Question ID : 65497817466

Chosen Option : 1

Q.15 किसी निश्चित कूट भाषा में, 'SQUARE' को RP51Q2 के रूप में तथा 'CUBE' को B5A2 के रूप में कूटबद्ध किया जाता है। इसी कूट भाषा में, 'TRIANGLE' को किस रूप में कूटबद्ध किया जाएगा?

- Ans
- 1. SQ13FMK2
 - 2. 5S11OHM2
 - 3. SQ31MFK2
 - 4. SQ114HM2

Question ID : 65497817455

Chosen Option : 3

Q.16 किसी निश्चित कूट भाषा में, 'SWIM' को 'HDRN' लिखा जाता है। इसी कूट भाषा में, 'CLEAR' को क्या लिखा जाएगा?

- Ans
- 1. YOZUR
 - 2. OVXZR
 - 3. XVOIZ
 - 4. XOVZI

Question ID : 65497817453

Chosen Option : 4

Q.17 दो कथनों के बाद दो निष्कर्ष I और II दिए गए हैं। यह मानते हुए कि कथनों में दी गई जानकारी सत्य है, भले ही यह सामान्य रूप से ज्ञात तथ्यों से भिन्न प्रतीत हो, निर्धारित करें कि कौन सा/से निष्कर्ष कथनों का तार्किक रूप से अनुसरण करता है/करते हैं।

कथन:

1. सभी चम्मच गोल हैं।
2. सभी गोल आकृतियां हैं।

निष्कर्ष:

- I. कुछ आकृतियां गोल हैं।
- II. सभी चम्मच आकृतियां हैं।

- Ans
- 1. न तो निष्कर्ष I और ना ही II अनुसरण करता है।
 - 2. केवल निष्कर्ष I अनुसरण करता है।
 - 3. केवल निष्कर्ष II अनुसरण करता है।
 - 4. निष्कर्ष I और II, दोनों अनुसरण करते हैं।

Question ID : 65497817460

Chosen Option : 4

Q.18 गणितीय चिह्नों के उस सही क्रम का चयन करें, जिन्हें दिए गए समीकरण में क्रमिक रूप से * चिह्नों के स्थान पर रखने पर समीकरण संतुलित हो जाएगा।

$$8 * 20 * 320 * 20 * 10 = 166$$

- Ans
- 1. -, ÷, +, ×
 - 2. ×, +, ÷, -
 - 3. +, ×, -, ÷
 - 4. ÷, ×, +, -


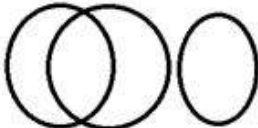
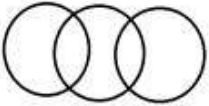
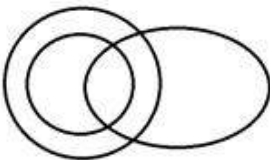
Question ID : 65497817447

Chosen Option : 2

Q.19 उस वेन-आरेख का चयन करें, जो निम्न वर्गों के बीच संबंध को सर्वोत्तम ढंग से निरूपित करता है।

डायरी, पन्ने, पेन

Ans

- 1. 
- 2. 
- 3. 
- 4. 

Question ID : 65497817470

Chosen Option : 2

Q.20 पांच विद्यार्थी अहमद, रोहित, चारु, दीक्षा और चिन्मयी आप के सामने किसी पंक्ति में इस प्रकार बैठे हैं कि दीक्षा, चारु के बाईं ओर है और रोहित, चिन्मयी के दाईं ओर है। अहमद, चारु के दाईं ओर है और रोहित, दीक्षा के बाईं ओर है। यदि चिन्मयी किसी किनारे पर बैठी है, तो मध्य में कौन बैठा/बैठी है?

- Ans
- 1. चारु
 - 2. दीक्षा
 - 3. रोहित
 - 4. अहमद

Question ID : 65497817462
Chosen Option : 1

Q.21 उस संख्या का चयन करें, जो निम्न श्रेणी में प्रश्नवाचक चिह्न (?) के स्थान पर आ सकती है?

7, 8, 15, 18, 23, 28, 31, 38, ?

- Ans
- 1. 45
 - 2. 39
 - 3. 48
 - 4. 43

Question ID : 65497817450
Chosen Option : 2

Q.22 उस विकल्प का चयन करें, जो तीसरे अक्षर-समूह से ठीक उसी प्रकार संबंधित है, जिस प्रकार दूसरा अक्षर-समूह पहले अक्षर-समूह से संबंधित है।

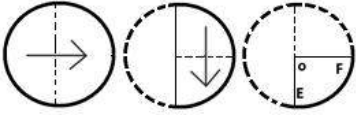
पेंसिल : शार्पनर :: लकड़ी : ?

- Ans
- 1. रबर
 - 2. कुल्हाड़ी
 - 3. पेंचकस
 - 4. पेड़

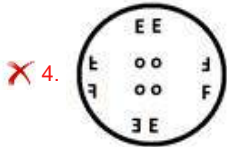
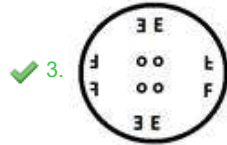
Question ID : 65497817457
Chosen Option : 2

www.HaryanaJobs.in

Q.23 एक कागज को निम्नानुसार मोड़कर काटा जाता है। इसे खोलने पर यह कैसा दिखेगा?



Ans



Question ID : 65497817469

Chosen Option : 3

Q.24 दी गई श्रेणियों का ध्यानपूर्वक अध्ययन करें, तथा उस विकल्प का चयन करें, जो B के मान को निरूपित करता है।

7 21 84 420
15 45 A B

Ans ✗ 1. 950

✗ 2. 850

✓ 3. 900

✗ 4. 720

Question ID : 65497817451

Chosen Option : 3

Q.25 दिए गए समीकरण को संतुलित करने के लिए, इनमें से किन दो चिह्नों को एक-दूसरे से प्रतिस्थापित करना होगा?

$128 + 8 \times 2 \div 4 - 6 = 30$

Ans ✗ 1. \times और $-$

✗ 2. \div और $-$

✓ 3. $+$ और $+$

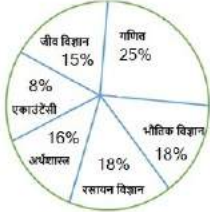
✗ 4. $-$ और $+$

Question ID : 65497817446

Chosen Option : 3

Section : Numerical Aptitude

- Q.1** निम्न पाई चार्ट का अध्ययन करें, जो छह भिन्न-भिन्न विषय पढ़ाने वाले शिक्षकों के प्रतिशत-वार वितरण को दर्शाता है और नीचे दिए गए प्रश्न का उत्तर दें।
शिक्षकों की कुल संख्या = 1600



यदि रसायन विज्ञान पढ़ाने वाले शिक्षकों में से $\frac{3}{8}$ महिला हैं, तो रसायन विज्ञान पढ़ाने वाले पुरुष शिक्षकों की संख्या गणित पढ़ाने वाले शिक्षकों की कुल संख्या की कितने प्रतिशत है?

- Ans**
- 1. 40%
 - 2. 45%
 - 3. 55%
 - 4. 60%

Question ID : 65497815878
Chosen Option : 2

- Q.2** किसी कक्षा में छात्रों के समूह की औसत आयु 15.5 वर्ष है। 14.5 वर्ष की औसत आयु वाले 15 नए छात्र समूह में शामिल होते हैं, जिसके कारण कक्षा में छात्रों की औसत आयु 15 वर्ष हो जाती है। आरंभ में, कक्षा में उपस्थित छात्रों की संख्या ज्ञात करें।

- Ans**
- 1. 15
 - 2. 14
 - 3. 12
 - 4. 18

Question ID : 65497815860
Chosen Option : 1

- Q.3** निम्न पाई चार्ट का अध्ययन करें, जो छह भिन्न-भिन्न विषय पढ़ाने वाले शिक्षकों के प्रतिशत-वार वितरण को दर्शाता है और नीचे दिए गए प्रश्न का उत्तर दें।
शिक्षकों की कुल संख्या = 1600



जीव विज्ञान और गणित पढ़ाने वाले शिक्षकों का कुल केंद्रीय कोण ज्ञात करें।

- Ans**
- 1. 124°
 - 2. 140°
 - 3. 144°
 - 4. 134°

Question ID : 65497815877
Chosen Option : 3

Q.4 8% वार्षिक चक्रवृद्धि ब्याज की दर से ₹6,250 पर दो वर्ष में प्राप्त चक्रवृद्धि ब्याज जात करें, जब ब्याज वार्षिक रूप से चक्रवृद्धि होता है।

- Ans** ✓ 1. ₹1,040
 ✗ 2. ₹1,450
 ✗ 3. ₹1,500
 ✗ 4. ₹1,020

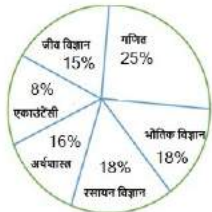
Question ID : 65497815868
 Chosen Option : 1

Q.5 $\frac{1}{2} + \left[4\frac{3}{4} - \left(3\frac{1}{6} - 2\frac{1}{3} \right) \right]$ का मान इनमें से किसके मध्य होगा?
 $\left(\frac{1}{5} \text{ of } \frac{1}{5} + \frac{1}{5} \right) \div \left(\frac{1}{5} + \frac{1}{5} \times \frac{1}{5} \right)$

- Ans** ✗ 1. 4.0 और 4.1
 ✗ 2. 4.3 और 4.4
 ✗ 3. 4.6 और 4.8
 ✓ 4. 4.2 और 4.3

Question ID : 65497817189
 Chosen Option : 4

Q.6 निम्न पाई चार्ट का अध्ययन करें, जो छह भिन्न-भिन्न विषय पढ़ाने वाले शिक्षकों के प्रतिशत-वार वितरण को दर्शाता है और नीचे दिए गए प्रश्न का उत्तर दें।
 शिक्षकों की कुल संख्या = 1600



यदि एकाउंटेंसी पढ़ाने वाले शिक्षकों की संख्या में 25% की वृद्धि होती है और अर्थशास्त्र पढ़ाने वाले शिक्षकों की संख्या में 25% की कमी होती है, तो एकाउंटेंसी और अर्थशास्त्र पढ़ाने वाले शिक्षकों की कुल संख्या जात करें।

- Ans** ✓ 1. 352
 ✗ 2. 445
 ✗ 3. 464
 ✗ 4. 440

Question ID : 65497815879
 Chosen Option : 1

Q.7 यदि कोई व्यक्ति $8\frac{1}{2}$ km/h की बजाय 12 km/h की चाल से चलता है, तो वह 14 km अधिक चलेगा। उसके द्वारा तय की गई वास्तविक दूरी ज्ञात करें।

- Ans
- 1. 32 km
 - 2. 36 km
 - 3. 34 km
 - 4. 30 km

Question ID : 65497815857
Chosen Option : 3

Q.8 किसी बेलन और गोले की विज्या की माप 10.5 cm है। इन दोनों के आयतन भी बराबर हैं। बेलन के वक्र पृष्ठ का क्षेत्रफल ज्ञात करें।

(मान लें $\pi = \frac{22}{7}$)

- Ans
- 1. 824 cm^2
 - 2. 934 cm^2
 - 3. 924 cm^2
 - 4. 920 cm^2

Question ID : 65497815872
Chosen Option : 3

Q.9 किसी वस्तु को 5.75% लाभ पर बेचा गया। यदि यह वस्तु 1.2% हानि पर बेची जाती, तो ₹1,390 कम प्राप्त होता। वस्तु का क्रय मूल्य ज्ञात करें।

- Ans
- 1. ₹22,000
 - 2. ₹22,500
 - 3. ₹25,000
 - 4. ₹20,000

Question ID : 65497815864
Chosen Option : 4

Q.10 पुरुषों और महिलाओं की दैनिक मजदूरी का अनुपात 4 : 3 है। 15 पुरुष और 25 महिलाएं मिलकर ₹5,400 कमाते हैं। एक पुरुष और 5 महिलाओं की कुल मजदूरी ज्ञात करें।

- Ans
- 1. ₹760
 - 2. ₹680
 - 3. ₹740
 - 4. ₹860

Question ID : 65497815866
Chosen Option : 1

Q.11 तीन संख्याओं का योगफल 272 है। यदि पहली और दूसरी संख्या के बीच अनुपात 3 : 5 है और दूसरी और तीसरी संख्या के बीच अनुपात 5 : 8 है, तो तीसरी संख्या ज्ञात करें।

- Ans
- 1. 136
 - 2. 236
 - 3. 142
 - 4. 126

Question ID : 65497815867
Chosen Option : 1

Q.12 A अकेले किसी कार्य को ₹6,500 में, 15 दिन में पूरा कर सकता है। B की मदद से, कार्य 12 दिन में पूरा होता है। B का हिस्सा ज्ञात करें।

- Ans
- 1. ₹2,300
 - 2. ₹1,300
 - 3. ₹1,200
 - 4. ₹1,500

Question ID : 65497815855
Chosen Option : 2

Q.13 वरुण, अपने पास रखी धनराशि का 60% अपनी पत्नी को देता है। वह शेष धनराशि का 20% अपने प्रत्येक तीन बच्चों को भी देता है। अब बची हुई धनराशि का 3/5 हिस्सा अन्य विविध मदों पर खर्च करता है और ₹9,600 की शेष राशि को बैंक में जमा करता है। आरंभ में वरुण के पास कितनी धनराशि थी?

- Ans
- 1. ₹1,60,000
 - 2. ₹1,80,000
 - 3. ₹1,50,000
 - 4. ₹2,00,000

Question ID : 65497815862
Chosen Option : 3

Q.14 4 mm विज्या वाले 144-m लंबे तार को गोला बनाने के लिए पिघलाया जाता है। गोले का पृष्ठीय क्षेत्रफल (cm^2 में) ज्ञात करें, यह मानते हुए कि पदार्थ का अपव्यय नहीं हुआ है।

- Ans
- 1. 676π
 - 2. 484π
 - 3. 576π
 - 4. 400π

Question ID : 65497815067
Chosen Option : 3

Q.15 पांच संख्याओं का औसत 78 है। यदि पहली दो संख्याओं का औसत 54 है और अंतिम दो संख्याओं का औसत 63 है, तो तीसरी संख्या ज्ञात करें।

- Ans
- 1. 144
 - 2. 136
 - 3. 156
 - 4. 126

Question ID : 65497815859
Chosen Option : 3

Q.16 किसी विद्यालय में लड़के और लड़कियों का अनुपात 17 : 12 है और विद्यालय में छात्रों की कुल संख्या 1305 है। विद्यालय में लड़कों की संख्या ज्ञात करें।

- Ans
- 1. 765
 - 2. 700
 - 3. 750
 - 4. 650

Question ID : 65497815865
Chosen Option : 1

Q.17 50 वस्तुओं का माध्य 24 था। बाद में, यह ज्ञात हुआ कि दो वस्तुओं को गलती से 38 और 77 के बजाय 83 और 17 पढ़ा गया था। सही माध्य ज्ञात करें।

- Ans
- 1. 22.5
 - 2. 24
 - 3. 23.4
 - 4. 24.3

Question ID : 65497815870
Chosen Option : 4

Q.18 कोई आदमी अपनी साइकिल को 20% लाभ पर बेचना चाहता था, लेकिन वास्तव में वह इस साइकिल को 20% हानि पर ₹960 में बेचता है। 20% का लाभ प्राप्त के लिए वह इसे किस मूल्य पर बेचना चाहता था?

- Ans
- 1. ₹1,450
 - 2. ₹1,420
 - 3. ₹1,440
 - 4. ₹1,340

Question ID : 65497815863
Chosen Option : 3

Q.19 किसी शंकु के आधार का क्षेत्रफल 154 cm^2 है और वक्र पृष्ठ का क्षेत्रफल 550 cm^2 है, तो इसका आयतन ज्ञात करें।

(मान लें $\pi = \frac{22}{7}$)

- Ans
- 1. 1132 cm^3
 - 2. 1130 cm^3
 - 3. 1234 cm^3
 - 4. 1232 cm^3

Question ID : 65497815873

Chosen Option : 4

Q.20 A और B एक साथ किसी कार्य को 24 दिन में कर सकते हैं। B और C एक साथ इस कार्य को 36 दिन में कर सकते हैं। यदि A, C की तुलना में तीन गुना अधिक कुशल मजदूर है, तो अकेले B कार्य को कितने दिन में कर सकता है?

- Ans
- 1. 48 दिन
 - 2. 36 दिन
 - 3. 40 दिन
 - 4. 45 दिन

Question ID : 65497815856

Chosen Option : 1

Q.21 यदि किसी घन का आयतन $81\sqrt{3} \text{ cm}^3$ है, तो इसका कुल पृष्ठीय क्षेत्रफल ज्ञात करें।

- Ans
- 1. 166 cm^2
 - 2. 162 cm^2
 - 3. 164 cm^2
 - 4. 152 cm^2

Question ID : 65497815871

Chosen Option : 2

Q.22 नवीन, सुमन और आर्या दोनों से ऋण लेता है, जो कुल मिलाकर ₹9,400 है। सुमन, प्रति वर्ष $12\frac{1}{2}\%$ साधारण ब्याज की मांग करती है, जबकि आर्या, प्रति वर्ष $10\frac{1}{2}\%$ साधारण ब्याज की मांग करती है। एक वर्ष में नवीन द्वारा दिया गया कुल ब्याज ₹1,063 है। आर्या से उधार ली गई राशि ज्ञात करें।

- Ans
- 1. ₹5,400
 - 2. ₹5,600
 - 3. ₹6,600
 - 4. ₹5,200

Question ID : 65497815869

Chosen Option : 2

Q.23 कोई व्यक्ति 5 km/h, 8 km/h और 10 km/h की चाल से समान दूरियां तय करता है और कुल 2 घंटे 33 मिनट का समय लेता है। उसके द्वारा तय की गई कुल दूरी ज्ञात करें।

- Ans
- 1. 5 km
 - 2. 10 km
 - 3. 18 km
 - 4. 8 km

Question ID : 65497815858
Chosen Option : 3

Q.24 15% छूट के बाद, कोई वस्तु ₹1,190 में बेची जाती है। यदि 12.5% की छूट दी जाती है, तो यह वस्तु कितने में बेची जानी चाहिए?

- Ans
- 1. ₹1,225
 - 2. ₹1,200
 - 3. ₹1,325
 - 4. ₹1,220

Question ID : 65497815861
Chosen Option : 1

Q.25 तीन संख्याओं का अनुपात 3 : 5 : 7 है और उनका ल.स. (LCM) 840 है। उनका म.स. (HCF) ज्ञात करें।

- Ans
- 1. 8
 - 2. 4
 - 3. 5
 - 4. 6

Question ID : 65497815874
Chosen Option : 1

Section : General Awareness

Q.1 महाराष्ट्र की पहली महिला चुनाव आयुक्त कौन थी?

- Ans
- 1. नीला सत्यनारायण
 - 2. सुगत कुमारी
 - 3. मिनती बेहरा
 - 4. रेखा शर्मा

Question ID : 65497814473
Chosen Option : 1

Q.2 अगस्त 2020 तक की स्थिति के अनुसार, भारत के वित्त मंत्रालय के मुख्य आर्थिक सलाहकार (चीफ इकोनॉमिक एडवाइजर) निम्नलिखित में से कौन थे?

- Ans 1. कृष्णमूर्ति वी. सुब्रमण्यन
 2. आनंद नंदकुमार
 3. अजित पाई
 4. रवि अंशुमान

Question ID : 65497814476
Chosen Option : 1

Q.3 1903 में दक्षिण अफ्रीका में महात्मा गांधी ने किस अखबार की स्थापना की थी?

- Ans 1. यंग इंडिया
 2. नवजीवन
 3. स्वराज हिंद
 4. इंडियन ओपिनियन

Question ID : 65497814489
Chosen Option : 4

Q.4 राजस्थान में, पश्चिम में बहने वाली सबसे बड़ी नदी, निम्नलिखित में से कौन सी है?

- Ans 1. बनास
 2. बाणगंगा
 3. चंबल
 4. लूनी

Question ID : 65497814485
Chosen Option : 4

Q.5 वर्साय की संधि किस वर्ष में हस्ताक्षरित हुई थी?

- Ans 1. 1933
 2. 1919
 3. 1940
 4. 1921

Question ID : 65497814488
Chosen Option : 2

Q.6 हरपेटोलॉजी (Herpetology) किससे संबंधित है?

- Ans 1. कीटों के अध्ययन से
 2. पक्षियों के अध्ययन से
 3. सरीसृप और उभयचर के अध्ययन से
 4. मछली के अध्ययन से

Question ID : 65497814481
Chosen Option : 3

Q.7 RBI (भारतीय रिजर्व बैंक) के केंद्रीय निदेशक मंडल को कितने वर्ष की अवधि के लिए नियुक्त/नामित किया जाता है?

- Ans
- 1. पाँच
 - 2. छह
 - 3. चार
 - 4. तीन

Question ID : 65497816495
Chosen Option : 4

Q.8 निम्नलिखित में से किस तत्व का उपयोग पानी के उपचार/शुद्धिकरण के लिए किया जा सकता है?

- Ans
- 1. मैग्नेशियम
 - 2. सीसा
 - 3. क्लोरीन
 - 4. पोटैशियम

Question ID : 65497814483
Chosen Option : 3

Q.9 निम्नलिखित में से किस गैस का उपयोग बिजली के बल्बों में किया जाता है?

- Ans
- 1. हाइड्रोजन
 - 2. हैलोजन
 - 3. नाइट्रोजन
 - 4. कार्बन डाइऑक्साइड

Question ID : 65497814480
Chosen Option : 2

Q.10 दुनिया के एकमात्र समुद्र का नाम बताइए जिसके पास भूमि सीमा नहीं है।

- Ans
- 1. आमुण्डसेन सागर
 - 2. पेचोरा सागर
 - 3. सारगैसो सागर
 - 4. आइरोइस सागर

Question ID : 65497814487
Chosen Option : 3

Q.11 तपेदिक (टी.बी.) के टीके की खोज किसने की थी?

- Ans
- 1. लुई पाश्चर
 - 2. लियोन कैलमेट और कैमाइल गुएरिन
 - 3. एडवर्ड जेनर
 - 4. जोनास सॉल्क और कैमाइल गुएरिन

Question ID : 65497814484
Chosen Option : 2

Q.12 गम्भीरा, धाली और जात्रा किस राज्य की प्रसिद्ध नृत्य शैली हैं?

- Ans 1. पश्चिम बंगाल
 2. उत्तर प्रदेश
 3. पंजाब
 4. तमिलनाडु

Question ID : 65497814467
 Chosen Option : 1

Q.13 'धनगरी गजा' एक नृत्य शैली है जो मुख्य रूप से _____ से संबंधित है।

- Ans 1. उत्तर प्रदेश
 2. छत्तीसगढ़
 3. महाराष्ट्र
 4. झारखंड

Question ID : 65497814466
 Chosen Option : 4

Q.14 अर्थशास्त्र के संदर्भ में UNDP का अर्थ क्या है?

- Ans 1. यूनाइटेड नेशन्स डीरेग्युलेशन प्रोग्राम (United Nations Deregulation Programme)
 2. यूनाइटेड नेशन्स डिफॉल्टिंग प्रोग्राम (United Nations Defaulting Programme)
 3. यूनाइटेड नेशन्स डिसइंफ्लेशन प्रोग्राम (United Nations Disinflation Programme)
 4. यूनाइटेड नेशन्स डेवलपमेंट प्रोग्राम (United Nations Development Programme)

Question ID : 65497814373
 Chosen Option : 4

Q.15 22 जुलाई 2020 को, मुंबई कस्टम के उपायुक्त, _____ को वर्ष 2020-2023 की अवधि के लिए ब्रिक्स चैंबर ऑफ कॉमर्स एंड इंडस्ट्री (CCI) के युवा नेताओं के लिए संचालन समिति का मानद सलाहकार नियुक्त किया गया है।

- Ans 1. एच.एम. पटेल
 2. अमित घावटे
 3. साहिल सेठ
 4. योगेश यादव

Question ID : 65497814472
 Chosen Option : 1

Q.16 उस देश का नाम बताये जिसके पास सबसे अधिक AFC (ए.एफ.सी.) एशियाई कप खिताब है।

- Ans 1. सऊदी अरब
 2. ईरान
 3. जापान
 4. दक्षिण कोरिया

Question ID : 65497814470
 Chosen Option : 3

Q.17 तीन-एकांकी नाटक (थ्री-एक्ट प्ले), 'पोस्ट ऑफिस' के लेखक कौन थे?

- Ans
- 1. विष्णु शर्मा
 - 2. रबीन्द्रनाथ टैगोर
 - 3. एम.के. गांधी
 - 4. कर्ण सिंह

Question ID : 65497814471
Chosen Option : 1

Q.18 भारतीय संविधान का अनुच्छेद 61 किससे संबंधित है?

- Ans
- 1. राष्ट्रीय आपातकाल
 - 2. राष्ट्रपति का महाभियोग
 - 3. मौलिक कर्तव्य
 - 4. वित्तीय आपातकाल

Question ID : 65497814478
Chosen Option : 2

Q.19 दुनिया में सबसे अधिक टाइम ज़ोन (समय क्षेत्र) किस देश में हैं?

- Ans
- 1. रूस
 - 2. संयुक्त राज्य अमेरिका
 - 3. फ्रांस
 - 4. यूनाइटेड किंगडम

Question ID : 65497814486
Chosen Option : 2

Q.20 भारत के संविधान का कौन सा भाग वित्त, संपत्ति, अनुबंध और मुकदमे (सूट) से संबंधित है?

- Ans
- 1. भाग IX
 - 2. भाग X
 - 3. भाग VIII
 - 4. भाग XII

Question ID : 65497814477
Chosen Option : 1

Q.21 निम्नलिखित में से कौन-सा एसिड (अम्ल), आमाशय में विद्यमान आमाशयी ग्रंथियों (गैस्ट्रिक ग्लैंड्स) द्वारा स्रावित किया जाता है?

- Ans
- 1. हाइड्रोक्लोरिक एसिड
 - 2. साइट्रिक एसिड
 - 3. एसिटिक एसिड
 - 4. नाइट्रिक एसिड

Question ID : 65497814482
Chosen Option : 1

Q.22 निम्न के बाद सम्राट अशोक ने बौद्ध धर्म ग्रहण किया था।

- Ans
- 1. बक्सर के युद्ध
 - 2. कलिंग के युद्ध
 - 3. हल्दीघाटी के युद्ध
 - 4. तराइन के युद्ध

Question ID : 65497814490
Chosen Option : 2

Q.23 भलरी, _____ के लोकप्रिय लोक-गीतों में से एक है, जिसे किसानों द्वारा अपने खेतों में काम करते समय गाया जाता है।

- Ans
- 1. हिमाचल प्रदेश
 - 2. महाराष्ट्र
 - 3. बिहार
 - 4. राजस्थान

Question ID : 65497814468
Chosen Option : 1

Q.24 पूनम यादव ने किस खेल के लिए 2019 का अर्जुन पुरस्कार जीता था?

- Ans
- 1. निशानेबाजी
 - 2. कुश्ती
 - 3. बैडमिंटन
 - 4. क्रिकेट

Question ID : 65497814469
Chosen Option : 1

Q.25 ब्रिटेन के किस कानून के द्वारा भारतीय प्रतिनिधियों को भारतीय विधान परिषदों (इंडियन लेजिस्लेटिव काउंसिल) के चुनाव में पहली बार सीटों का आवंटन किया गया था?

- Ans
- 1. भारत सरकार अधिनियम, 1833
 - 2. भारतीय परिषद अधिनियम, 1892
 - 3. भारत सरकार अधिनियम, 1915
 - 4. भारतीय परिषद अधिनियम, 1861

Question ID : 65497814479
Chosen Option : 3

Multi Tasking Non Technical Staff Examination 2020

Participant ID	www.HaryanaJobs.in
Participant Name	www.HaryanaJobs.in
Test Center Name	Yagyavalkya Institute of Technology
Test Date	13/10/2021
Test Time :	9:00 AM - 10:30 AM
Subject	MTS Non Technical 2020

Section : General English

Q.1 Select the most appropriate idiom to fill in the blank.

Ritu was shocked on learning that her kids had _____ somewhere after school.

- Ans 1. wandered off
 2. finished off
 3. jumped at
 4. wondered at

Question ID : 65497818253
Chosen Option : 1

Q.2 Select the INCORRECTLY spelt word.

- Ans 1. Midday
 2. Addres
 3. Occur
 4. Cuddle

Question ID : 65497818250
Chosen Option : 2

Q.3 Identify the segment in the sentence which contains a grammatical error.

If you could wait for just half an hour you will certain be able to meet her.

- Ans 1. for just half an hour
 2. be able to meet her
 3. If you could wait
 4. you will certain

Question ID : 65497818229
Chosen Option : 4

Q.4 Select the most appropriate idiom to fill in the blank.

Vidushi liked the cake so much that she _____.

- Ans 1. pulled at it
 2. polished it off
 3. poked with it
 4. pushed it over

Question ID : 65497818252
Chosen Option : 1

Q.5 Select the most appropriate synonym of the given word.

INTERROGATE

- Ans 1. Answer
 2. Investigate
 3. Meditate
 4. Delay

Question ID : 65497818245
Chosen Option : 2

Q.6 Select the most appropriate meaning of the given idiom.

Chinks in the armour

- Ans 1. A weakness that can be taken advantage of
 2. A protective shield with ventilation
 3. An old fashioned and useless weapon
 4. A soldier's inner vest that protects

Question ID : 65497818247
Chosen Option : --

Q.7 Select the word which means the same as the group of words given.

Lasting for only a short time

- Ans 1. Solitary
 2. Transient
 3. Permanent
 4. Joyous

Question ID : 65497818249
Chosen Option : 2

Q.8 Select the most appropriate word to fill in the blank.

During the monsoons it is _____ to boost one's immunity with a proper diet and regular exercise.

- Ans
- 1. advising
 - 2. imprudent
 - 3. improper
 - 4. advisable

Question ID : 65497818231
Chosen Option : 4

Q.9 Select the INCORRECTLY spelt word.

- Ans
- 1. Insistence
 - 2. Essence
 - 3. Tolarence
 - 4. Preference

Question ID : 65497818251
Chosen Option : 3

Q.10 Select the word which means the same as the group of words given.

To prevent or alter a result or course of events

- Ans
- 1. Intervene
 - 2. Interchange
 - 3. Interrelate
 - 4. Interact

Question ID : 65497818248
Chosen Option : 1

Q.11 Select the most appropriate option to substitute the underlined segment in the given sentence. If there is no need to substitute it, select 'No substitution required'.

Karan was so deep effected by the film that he didn't speak a word.

- Ans
- 1. deeper affect
 - 2. deeply effective
 - 3. No substitution required
 - 4. deeply affected

Question ID : 65497818342
Chosen Option : 4

www.HaryanaJobs.in

Q.12 Select the most appropriate meaning of the given idiom.

Alive and kicking

- Ans 1. To be active and healthy
 2. To behave childishly
 3. To be careless and unafraid
 4. To be very good in football

Question ID : 65497818246
Chosen Option : 3

Q.13 Identify the segment in the sentence which contains a grammatical error.

According to current research by World Health Organisation, a 65-year-old person is then no longest categorised as old.

- Ans 1. a 65 year old person
 2. is then no longest
 3. According to current research by World Health Organisation
 4. categorised as old

Question ID : 65497818230
Chosen Option : 2

Q.14 Select the most appropriate word to fill in the blank.

The Blood Finder app is very useful in _____ the correct donor.

- Ans 1. unlocking
 2. locating
 3. establishing
 4. starting

Question ID : 65497818232
Chosen Option : 2

Q.15 Identify the segment in the sentence which contains a grammatical error.

I was thrilled to going out with my friend for the film.

- Ans 1. to going out
 2. for the film
 3. with my friend
 4. I was thrilled

Question ID : 65497818228
Chosen Option : 1

Q.16 Select the most appropriate option to substitute the underlined segment in the given sentence. If there is no need to substitute it, select 'No substitution required'.

No sooner I get the message, I shall pass it on to you.

- Ans 1. As soon as
 2. Hardly
 3. No substitution required
 4. Although

Question ID : 65497816220
Chosen Option : 1

Q.17 Select the most appropriate synonym of the given word.

CRUCIAL

- Ans 1. Trivial
 2. Vital
 3. Menial
 4. Easy

Question ID : 65497818244
Chosen Option : 3

Q.18 Select the most appropriate option to substitute the underlined segment in the given sentence. If there is no need to substitute it, select 'No substitution required'.

The BBC has a wonderful series on a emergence of women novelists in English literature.

- Ans 1. No substitution required
 2. many
 3. the
 4. that

Question ID : 65497818239
Chosen Option : 3

Q.19 Select the most appropriate ANTONYM of the given word.

RENOWNED

- Ans 1. Glorious
 2. Obscure
 3. Noted
 4. Vain

Question ID : 65497818243
Chosen Option : 2

Q.20 Select the most appropriate **ANTONYM** of the given word.

IRRITATE

- Ans** 1. Annoy
 2. Delight
 3. Shock
 4. Frighten

Question ID : **65497818242**
Chosen Option : 2

Comprehension:

In the following passage, some words have been deleted. Fill in the blanks with the help of the alternatives given. Select the most appropriate option for each blank.

The pandemic in India occurred at a time (1)_____ the crop was standing all ready to be (2)_____. If NAFED had not intervened with the initiative (3)_____ the stocks of farmers in these circumstances, it (4)_____ not only have been devastating for the farmers (5)_____ also led to a food emergency later on.

SubQuestion No : 21

Q.21 Select the most appropriate option to fill in blank no. 1.

- Ans** 1. where
 2. when
 3. until
 4. during

Question ID : **65497818234**
Chosen Option : 2

Comprehension:

In the following passage, some words have been deleted. Fill in the blanks with the help of the alternatives given. Select the most appropriate option for each blank.

The pandemic in India occurred at a time (1)_____ the crop was standing all ready to be (2)_____. If NAFED had not intervened with the initiative (3)_____ the stocks of farmers in these circumstances, it (4)_____ not only have been devastating for the farmers (5)_____ also led to a food emergency later on.

SubQuestion No : 22

Q.22 Select the most appropriate option to fill in blank no. 2.

- Ans** 1. harvested
 2. picking
 3. collecting
 4. invested

Question ID : **65497818235**
Chosen Option : 1

Comprehension:

In the following passage, some words have been deleted. Fill in the blanks with the help of the alternatives given. Select the most appropriate option for each blank.

The pandemic in India occurred at a time (1)_____ the crop was standing all ready to be (2)_____. If NAFED had not intervened with the initiative (3)_____ the stocks of farmers in these circumstances, it (4)_____ not only have been devastating for the farmers (5)_____ also led to a food emergency later on.

SubQuestion No : 23

Q.23 Select the most appropriate option to fill in blank no. 3.

- Ans
- 1. to earn
 - 2. to divert
 - 3. to purchase
 - 4. to patronise

Question ID : **65497818236**
Chosen Option : 3

Comprehension:

In the following passage, some words have been deleted. Fill in the blanks with the help of the alternatives given. Select the most appropriate option for each blank.

The pandemic in India occurred at a time (1)_____ the crop was standing all ready to be (2)_____. If NAFED had not intervened with the initiative (3)_____ the stocks of farmers in these circumstances, it (4)_____ not only have been devastating for the farmers (5)_____ also led to a food emergency later on.

SubQuestion No : 24

Q.24 Select the most appropriate option to fill in blank no. 4.

- Ans
- 1. will
 - 2. must
 - 3. can't
 - 4. would

Question ID : **65497818237**
Chosen Option : 4

Comprehension:

In the following passage, some words have been deleted. Fill in the blanks with the help of the alternatives given. Select the most appropriate option for each blank.

The pandemic in India occurred at a time (1)_____ the crop was standing all ready to be (2)_____. If NAFED had not intervened with the initiative (3)_____ the stocks of farmers in these circumstances, it (4)_____ not only have been devastating for the farmers (5)_____ also led to a food emergency later on.

SubQuestion No : 25

Q.25 Select the most appropriate option to fill in blank no. 5.

- Ans
- 1. yet
 - 2. however
 - 3. so
 - 4. but

Question ID : **65497818238**
Chosen Option : 4

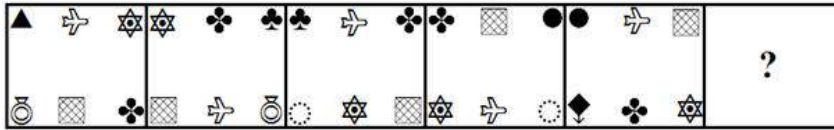
Q.1 निम्न श्रेणी में प्रश्नवाचक चिह्न (?) के स्थान पर कौन-सी संख्या आएगी?

31, 32, 35, 46, 59, 88, 119, ?

- Ans
- 1. 114
 - 2. 141
 - 3. 147
 - 4. 174

Question ID : 65497815834
Chosen Option : 2

Q.2 निम्न आकृति श्रेणी में प्रश्नवाचक चिह्न (?) के स्थान पर कौन सी आकृति आएगी।



Ans

- 1.
- 2.
- 3.
- 4.

Question ID : 65497815849
Chosen Option : 2

Q.3 निम्न श्रेणी में प्रश्नवाचक चिह्न (?) के स्थान पर कौन-सी संख्या आएगी?

8, 26, 73, 157, 284, 464, 705, 1017, ?

- Ans
- 1. 1840
 - 2. 1804
 - 3. 1408
 - 4. 1480

Question ID : 65497815835
Chosen Option : --

Q.4 यदि SHADOW को 184 के रूप में और TEDIOUS को 384 के रूप में कूटबद्ध किया जाता है, तो VALIDATE को किस रूप में कूटबद्ध किया जाएगा?

- Ans
- 1. 586
 - 2. 568
 - 3. 468
 - 4. 486

Question ID : 65497815838

Chosen Option : --

Q.5 जिस प्रकार 'भेंढक', 'टरनि (Croak)' से संबंधित है, उसी प्रकार 'मोर', '_____' से संबंधित है।


- Ans
- 1. फुसफुसाने (Hiss)
 - 2. धिधियाने (Grunt)
 - 3. चिंघाड़ने (Scream)
 - 4. गुरनि (Growl)

Question ID : 65497815841

Chosen Option : 2


www.HaryanaJobs.in

Q.6 उस विकल्प का चयन करें, जिसमें दी गई आकृति अन्तःस्थापित है। (घुमाने की अनुमति नहीं है)




Ans


✓ 1.




✗ 2.



✗ 3.



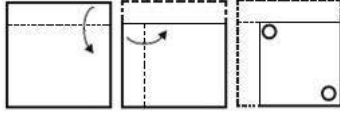
✗ 4.



www.HaryanaJobs.in


Question ID : 65497815851
Chosen Option : 1

Q.7 एक कागज को निम्नानुसार मोड़ा और काटा गया है। इसे खोलने पर यह कैसा दिखेगा?

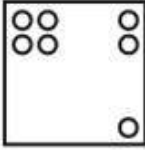


Ans

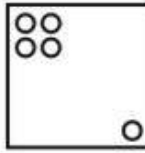
✗ 1.



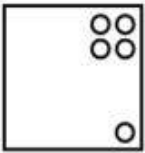
✗ 2.



✓ 3.



✗ 4.



Question ID : 65497815853

Chosen Option : 3

Q.8 उस विकल्प का चयन करें, जो तीसरे अक्षर-समूह से ठीक उसी प्रकार संबंधित है जिस प्रकार दूसरा अक्षर-समूह पहले अक्षर-समूह से संबंधित है।

GEOGRAPHY : OEGARGYHP :: REASONING : ?

Ans ✓ 1. AERNOSGNI

✗ 2. NOSGNIAER

✗ 3. GNINOSAER

✗ 4. SAERONNIG

Question ID : 65497815840

Chosen Option : 1

Q.9 निम्न चार अक्षर-समूहों में से तीन किसी प्रकार समान हैं और एक असंगत है। उस असंगत अक्षर-समूह का चयन करें।

Ans ✓ 1. TPLR

✗ 2. NJQW

✗ 3. KGTZ

✗ 4. GCXD

Question ID : 65497815843

Chosen Option : 1

Q.10 यदि दर्पण को दिए गए संयोजन के दाईं ओर रखा जाए, तो संयोजन का दर्पण में निर्मित सही प्रतिबिंब चयनित कीजिए।

&VEcTORANaLYsIS2

- Ans
- 1. &VEcTORANaLYsIS2
 - 2. &VEcTORANaLYsIS2
 - 3. &VEcTORANaLYsIS2
 - 4. &VEcTORANaLYsIS2

Question ID : 65497815852
Chosen Option : 4

Q.11 लड़कों की पंक्ति में, करुण, बाईं ओर से 5वें स्थान पर है और पंथ दाईं ओर से 6वें स्थान पर है। जब वे अपने स्थान एक-दूसरे से बदल लेते हैं, तो करुण बाईं ओर से 13वें स्थान पर हो जाता है। दाईं ओर से पंथ की नई स्थिति क्या होगी?

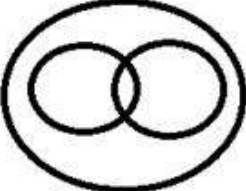
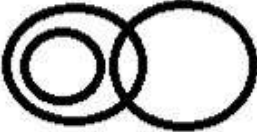


- Ans
- 1. 18वीं
 - 2. 7वीं
 - 3. 11वीं
 - 4. 14वीं

Question ID : 65497815846
Chosen Option : 4

Q.12 उस वेन-आरेख का चयन करें, जो निम्न वर्गों के बीच संबंध को सर्वोत्तम ढंग से निरूपित करता है।

डॉक्टर, राजनेता, पुरुष

Ans

- 1. 
- 2. 
- 3. 
- 4. 

Question ID : 65497815854
Chosen Option : 4

Q.13 किसी निश्चित कूट भाषा में, MAJESTY को TEQIZAF लिखा जाता है। उसी कूट भाषा में DURABLE को किस प्रकार लिखा जाएगा?

- Ans
- 1. KBYEISL
 - 2. KAYEISI
 - 3. KASECSI
 - 4. KBTECTL

Question ID : 65497815836
Chosen Option : 2

Q.14 यदि 'x' का अर्थ 'जोड़', '÷' का अर्थ 'घटाना', '+' का अर्थ 'गुणा' और '-' का अर्थ 'भाग' है, तो $75 \times 345 + 15 - 23 \div (15 + 18) = ?$

- Ans
- 1. 40
 - 2. 30
 - 3. 10
 - 4. 20

Question ID : 65497815830
Chosen Option : 2

Q.15 किसी निश्चित कूट भाषा में, यदि MEALTIME को TMMLIEEA लिखा जाता है, तो उसी कूट भाषा में, PROVINCE को किस प्रकार लिखा जाएगा?

- Ans
- 1. VRPONIEC
 - 2. ORPNIVEC
 - 3. RPVONIEC
 - 4. VPRONEIC

Question ID : 65497815837
Chosen Option : --

Q.16 उस विकल्प का चयन करें, जो तीसरे शब्द से ठीक उसी प्रकार संबंधित है, जिस प्रकार दूसरा शब्द पहले शब्द से संबंधित है।

निर्भोक : साहसी :: खंडित : _____.

- Ans
- 1. पतित
 - 2. विस्तीर्ण
 - 3. सतर्क
 - 4. फंसना

Question ID : 65497815842
Chosen Option : 1

Q.17 दिए गए समीकरण को संतुलित करने के लिए, इनमें से किन दो चिह्नों को एक-दूसरे से प्रतिस्थापित करना होगा?

$$110 + 728 \div 28 - 15 \times 413 = 87$$

- Ans
- 1. + और +
 - 2. + और -
 - 3. - और +
 - 4. x और -

Question ID : 65497815831

Chosen Option : 4

Q.18 किसी परिवार के आठ सदस्य - अर्चना, सुमन, धीरज, मेघना, बिंदु, तिलक, राजन और किरण उत्तर की ओर अभिमुख होकर सीधी पंक्ति में बैठे हैं। उनकी भिन्न-भिन्न आयु - 12, 17, 19, 22, 28, 31, 38 और 48 है, लेकिन जरूरी नहीं कि आयु इसी क्रम में हो।

अर्चना, उस सदस्य के दाईं ओर तीसरे स्थान पर बैठी है, जिसकी आयु 22 वर्ष है। मेघना और 22 वर्ष की आयु वाला सदस्य एक साथ बैठे हैं। किरण और 48 वर्ष की आयु वाले सदस्य के बीच एक व्यक्ति बैठा है। बिंदु और किरण की आयु के बीच 5 वर्ष का अंतर है। वह सदस्य जो मेघना से 10 वर्ष बड़ा है, वह मेघना के दाईं ओर तीसरे स्थान पर बैठा है। राजन और धीरज एक साथ बैठे हैं और उनमें से कोई एक पंक्ति के अंतिम छोर पर बैठा है। धीरज, सुमन से 9 वर्ष बड़ा है। अर्चना ठीक किरण और तिलक के बीच में बैठी है। अर्चना, धीरज से 12 वर्ष छोटी है। किरण की आयु 12 वर्ष नहीं है।

मेघना के दाईं ओर तीसरे स्थान पर कौन बैठा है?

- Ans
- 1. बिंदु
 - 2. धीरज
 - 3. किरण
 - 4. तिलक

Question ID : 65497815847

Chosen Option : --

Q.19 दो कथन और उसके बाद दो निष्कर्ष। और II दिए गए हैं। यह मानते हुए कि कथन सत्य हैं, भले ही वे सामान्य रूप से ज्ञात तथ्यों से भिन्न प्रतीत होते हों, बताएं कि कौन सा/से निष्कर्ष दिए गए कथनों का तार्किक रूप से अनुसरण करता है/ करते हैं?

कथन:

कुछ मोमबत्तियां, बल्ब हैं।
कुछ बल्ब, जनरेटर हैं।

निष्कर्ष:

- I. कुछ मोमबत्तियां, जनरेटर हैं।
- II. सभी मोमबत्तियां, जनरेटर हैं।

- Ans
- 1. निष्कर्ष I और II दोनों अनुसरण करते हैं।
 - 2. केवल निष्कर्ष I अनुसरण करता है।
 - 3. न तो निष्कर्ष I और न ही II अनुसरण करता है।
 - 4. केवल निष्कर्ष II अनुसरण करता है।

Question ID : 65497815844

Chosen Option : 3

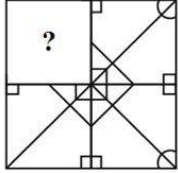
Q.20 यदि किसी निश्चित कूट भाषा में, SHELVES को 100 के रूप में और TURNING को 87 के रूप में कूटबद्ध किया जाता है, तो उसी कूट भाषा में REDRESS को किस रूप में कूटबद्ध किया जाएगा?

- Ans
- 1. 88
 - 2. 89
 - 3. 101
 - 4. 102

Question ID : 65497815839

Chosen Option : 3

Q.21 उस विकल्प का चयन करें, जो प्रश्नवाचक चिह्न (?) के स्थान पर आएगा और दी गई आकृति को पूरा करेगा।



Ans

- 1.
- 2.
- 3.
- 4.

Question ID : 65497815850

Chosen Option : 1

Q.22 उस विकल्प का चयन करें, जो तीसरी संख्या से ठीक उसी प्रकार संबंधित है, जिस प्रकार दूसरी संख्या पहली संख्या से संबंधित है।

24 : 588 :: 26 : _____.

- Ans
- 1. 687
 - 2. 678
 - 3. 698
 - 4. 689

Question ID : 65497815832

Chosen Option : 4

Q.23 उस समुच्चय का चयन करें, जिसमें संख्याएं एक-दूसरे से ठीक उसी प्रकार संबंधित हैं जिस प्रकार दिए गए समुच्चय की संख्याएं एक-दूसरे से संबंधित हैं।

(105, 6, 27)

- Ans 1. (250, 11, 52)
 2. (156, 8, 42)
 3. (145, 8, 37)
 4. (152, 7, 32)

Question ID : 65497815833

Chosen Option : --

Q.24 छः विभिन्न पदों क्लर्क, पीआरओ, व्याख्याता, लेखाकार, चौकीदार और प्रधानाचार्य, के लिए अधिसूचना क्रमागत शुक्रवारों को जारी की जानी है। अधिसूचना जारी करने का कार्यक्रम निम्न शर्तों के अनुसार होना चाहिए:

- (i) क्लर्क पद की अधिसूचना, चौकीदार पद की अधिसूचना से एक सप्ताह पहले जारी की जानी चाहिए।
(ii) व्याख्याता पद की अधिसूचना, पहली अधिसूचना जारी होने के तुरंत बाद जारी नहीं की जानी चाहिए।
(iii) पीआरओ पद की अधिसूचना, प्रधानाचार्य पद की अधिसूचना जारी होने वाले शुक्रवार के बाद वाले शुक्रवार को जारी होनी चाहिए।
(iv) लेखाकार पद की अधिसूचना पांचवें शुक्रवार को जारी होनी चाहिए और यह पीआरओ पद की अधिसूचना से तुरंत पहले नहीं जारी होनी चाहिए।
(v) चौकीदार पद की अधिसूचना अंत में जारी नहीं होनी चाहिए।

निम्न में से कौन-सी अधिसूचना पीआरओ पद की अधिसूचना के तुरंत बाद जारी होगी?

- Ans 1. चौकीदार
 2. प्रधानाचार्य
 3. व्याख्याता
 4. क्लर्क

Question ID : 65497815848

Chosen Option : --

Q.25 तीन कथन और उनके बाद चार निष्कर्ष I, II, III और IV दिए गए हैं। यह मानते हुए कि कथन सत्य हैं, भले ही वे सामान्य रूप से ज्ञात तथ्यों से भिन्न प्रतीत होते हों, बताएं कि कौन से निष्कर्ष दिए गए कथनों का तार्किक रूप से अनुसरण करते हैं?

कथन:

कुछ ड्रम, वायलिन हैं।
कुछ वायलिन, पियानो हैं।
सभी पियानो, बांसुरी हैं।

निष्कर्ष:

- I. कुछ बांसुरी, वायलिन हैं।
II. कुछ पियानो, ड्रम हैं।
III. कोई भी पियानो, ड्रम नहीं है।
IV. कुछ वायलिन, ड्रम हैं।

- Ans 1. निष्कर्ष II और III दोनों अनुसरण करते हैं।
 2. निष्कर्ष I और II दोनों अनुसरण करते हैं।
 3. निष्कर्ष I और IV दोनों तथा II या III में से कोई एक अनुसरण करता है।
 4. निष्कर्ष II और IV दोनों अनुसरण करते हैं।

Question ID : 65497815845

Chosen Option : 3

Section : Numerical Aptitude

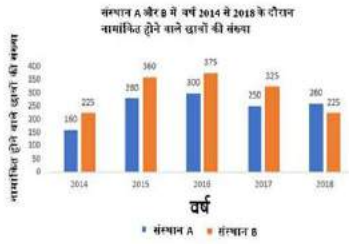
Q.1 एक वस्तु का अंकित मूल्य ₹400 है। अंकित मूल्य पर 20% की छूट देने के बावजूद दुकानदार ₹48 का लाभ अर्जित करता है। उसका लाभ प्रतिशत ज्ञात कीजिए।

Ans

- ✓ 1. $17\frac{11}{17}\%$
 ✗ 2. $15\frac{11}{17}\%$
 ✗ 3. $14\frac{11}{17}\%$
 ✗ 4. $19\frac{11}{17}\%$

Question ID : 65497816366
Chosen Option : 1

Q.2 निम्नांकित बार ग्राफ का अध्ययन करें जो संस्थान A और B में 5 वर्षों के दौरान नामांकित होने वाले छात्रों की संख्या को दर्शाता है, और उसके बाद दिए गए प्रश्न का उत्तर दें।



संस्थान A में वर्ष 2017 और 2018 के दौरान नामांकित होने वाले छात्रों की संख्या का संस्थान B में वर्ष 2014 और 2015 के दौरान नामांकित होने वाले छात्रों की संख्या से अनुपात ज्ञात कीजिए।

Ans

- ✓ 1. 34 : 39
 ✗ 2. 39 : 34
 ✗ 3. 17 : 39
 ✗ 4. 39 : 17

Question ID : 65497816382
Chosen Option : 1

Q.3 यदि $[0.9 \{1.1 - 0.3(0.3 - 0.2 \div 0.5) + 0.4\}] \div 0.81 = x + 1$ है, तो x का मान ज्ञात कीजिए।

Ans

- ✓ 1. 0.7
 ✗ 2. 1
 ✗ 3. -0.5
 ✗ 4. -0.8

Question ID : 65497817491
Chosen Option : --

Q.4 एक लड़का एक आयताकार मैदान की दो सन्निकट भुजाओं के समानांतर टहलता है। यदि वह विकर्ण के समानांतर टहला होता, तो उसे उस मैदान की बड़ी भुजा की एक-चौथाई दूरी के बराबर दूरी कम तय करनी पड़ती। बड़ी वाली भुजा का, छोटी वाली भुजा से अनुपात ज्ञात कीजिए।

- Ans
- ✓ 1. 24 : 7
 - ✗ 2. 7 : 24
 - ✗ 3. 11 : 18
 - ✗ 4. 18 : 11

Question ID : 65497816378
Chosen Option : 1

Q.5 एक आयत की लंबाई, एक वृत्त की त्रिज्या की $\frac{3}{5}$ है। उस वृत्त की त्रिज्या एक ऐसे वर्ग की भुजा के बराबर है जिसका क्षेत्रफल 6400 m^2 है। यदि आयत की चौड़ाई 20 m है, तो उसका क्षेत्रफल (m^2 में) ज्ञात कीजिए।

- Ans
- ✗ 1. 1200
 - ✗ 2. 480
 - ✓ 3. 960
 - ✗ 4. 1000

Question ID : 65497816377
Chosen Option : 3

Q.6 यदि 52, 47, 20 और 19 में से प्रत्येक से x घटा दिया जाए, तो इस तरह प्राप्त संख्याएँ समानुपात में होती हैं। $(x + 13)$ और $(x - 8)$ के मध्य मध्यानुपाती ज्ञात कीजिए।

- Ans
- ✓ 1. 10
 - ✗ 2. 9
 - ✗ 3. 12
 - ✗ 4. 15

Question ID : 65497816372
Chosen Option : 1

Q.7 80 विद्यार्थियों की एक कक्षा में 60% लड़कियाँ हैं और शेष लड़के हैं। लड़कों का औसत वजन, लड़कियों की अपेक्षा 5% अधिक है। यदि सभी विद्यार्थियों का औसत वजन 51 kg है, तो लड़कों का औसत वजन (kg में) ज्ञात कीजिए।

- Ans
- ✓ 1. 52.5
 - ✗ 2. 50
 - ✗ 3. 47.5
 - ✗ 4. 55

Question ID : 65497816365
Chosen Option : 1

Q.8 $\frac{13}{2} \left[15 \div \frac{3}{5} \text{ of } \frac{1}{2} + 76 + 1\frac{1}{2} \times 4\frac{1}{2} \div 3\frac{1}{4} \right]$ का मान ज्ञात करें।

- Ans
- 1. 732.5
 - 2. 830.5
 - 3. 832
 - 4. 832.5

Question ID : 65497815270
Chosen Option : 4

Q.9 एक ट्रेन स्टेशनों P और Q के बीच की दूरी 1 घंटे और 20 मिनट में तय करती है। यदि यह अपनी सामान्य चाल की $\frac{5}{6}$ चाल से चलती है, तो यह स्टेशनों P और Q के बीच की दूरी को कितने समय में तय करेगी?

- Ans
- 1. 1 h 24 min
 - 2. 1 h 36 min
 - 3. 1 h 48 min
 - 4. 1 h 12 min

Question ID : 65497816363
Chosen Option : 2

Q.10 ₹63,800 की धनराशि को A और B के मध्य 4 : 7 के अनुपात में विभाजित किया जाना है। दोनों के हिस्से में कितना अंतर (₹ में) होगा?

- Ans
- 1. 17,400
 - 2. 40,600
 - 3. 25,000
 - 4. 23,200

Question ID : 65497816370
Chosen Option : 1

Q.11 11 विभिन्न प्रेक्षकों के समुच्चय की माध्यिका 17.5 है। यदि इस समुच्चय के 5 सबसे बड़े प्रेक्षकों में से प्रत्येक में 3 की वृद्धि हो जाए, तो नए समुच्चय की माध्यिका _____।

- Ans
- 1. 3 बढ़ जाएगी
 - 2. मूल समुच्चय के समान रहेगी
 - 3. मूल संख्या की तीन गुनी हो जाएगी
 - 4. 3 घट जाएगी

Question ID : 65497816375
Chosen Option : 2

Q.12 'B' की तुलना में 'A' तीन गुना अच्छा कामगार है और इसलिए वह एक काम को पूरा करने में 'B' की तुलना में 36 दिन कम लेता है। वे दोनों एक साथ मिलकर उसी काम को कितने दिनों में पूरा कर लेंगे?

Ans

✓ 1. $13\frac{1}{2}$

✗ 2. $15\frac{1}{2}$

✗ 3. $14\frac{1}{2}$

✗ 4. $12\frac{1}{2}$

Question ID : 65497816361

Chosen Option : 1

Q.13 एक आयताकार कमरे का क्षेत्रफल 60 m^2 है और इसका परिमाप 34 m है। आयताकार कमरे के विकर्ण की लंबाई एक वर्ग की भुजा के बराबर है। वर्ग का क्षेत्रफल (m^2 में) ज्ञात कीजिए।

Ans

✓ 1. 169

✗ 2. 300

✗ 3. 244

✗ 4. 144

Question ID : 65497816376

Chosen Option : 1

Q.14 गेहूं की प्रति kg की कीमत में 20% कमी के कारण, राम ₹800 में 5 kg अधिक गेहूं खरीद सकता है। गेहूं की प्रति kg मूल कीमत (₹ में) कितनी थी?

Ans

✓ 1. 40

✗ 2. 50

✗ 3. 55

✗ 4. 30

Question ID : 65497816367

Chosen Option : 1

Q.15 एक निश्चित धनराशि वार्षिक रूप से चक्रवृद्धि की जाने वाली 10% वार्षिक ब्याज दर पर 4 वर्षों में ₹29,282 हो जाती है। उसी धनराशि के लिए, उसी ब्याज दर पर 5 वर्ष का साधारण ब्याज (₹ में) कितना होगा?

Ans

✓ 1. 10,000

✗ 2. 9,000

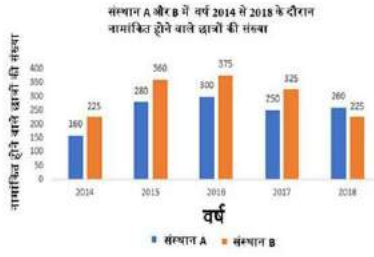
✗ 3. 7,000

✗ 4. 11,500

Question ID : 65497816373

Chosen Option : 1

Q.16 निम्नांकित बार ग्राफ का अध्ययन करें जो संस्थान A और B में 5 वर्षों के दौरान नामांकित होने वाले छात्रों की संख्या को दर्शाता है, और उसके बाद दिए गए प्रश्न का उत्तर दें।



संस्थान B में वर्ष 2015, 2016 तथा 2018 में से प्रत्येक के दौरान नामांकित होने वाले छात्रों की औसत संख्या, संस्थान A में वर्ष 2016 के दौरान नामांकित होने वाले छात्रों की संख्या से कितने प्रतिशत (दशमलव के एक स्थान तक सही) अधिक है?

- Ans
- 1. 7.6%
 - 2. 6.7%
 - 3. 5.8%
 - 4. 8.5%

Question ID : 65497816383

Chosen Option : 2

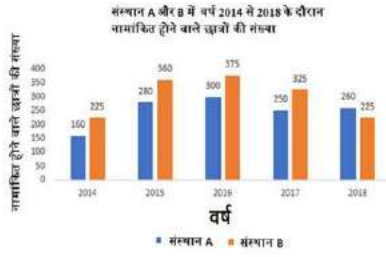
Q.17 सीता और गीता ने, स्थान A से 90 km की दूरी पर स्थित स्थान B के लिए एक साथ यात्रा आपस की। सीता की चाल, गीता की अपेक्षा 3 km/h धीमी थी। गीता स्थान B पर पहुंची और तुरंत वापस होकर सीता से स्थान B से 15 km की दूरी पर मिली। सीता की चाल (km/h में) बताइए।

- Ans
- 1. 6
 - 2. 7.5
 - 3. 10.5
 - 4. 9

Question ID : 65497816362

Chosen Option : 2

Q.18 निम्नांकित बार ग्राफ का अध्ययन करें जो संस्थान A और B में 5 वर्षों के दौरान नामांकित होने वाले छात्रों की संख्या को दर्शाता है, और उसके बाद दिए गए प्रश्न का उत्तर दें।



संस्थान A में वर्ष 2014, 2016 तथा 2018 के दौरान नामांकित होने वाले छात्रों की कुल संख्या, संस्थान B में 5 वर्षों के दौरान नामांकित होने वाले छात्रों की औसत संख्या की कितने प्रतिशत (दशमलव के एक स्थान तक सही) है?

- Ans
- 1. 276.5%
 - 2. 238.4%
 - 3. 285.7%
 - 4. 237.6%

Question ID : 65497816384

Chosen Option : 2

Q.19 यदि 4 व्यक्ति प्रतिदिन 9 घंटे काम करके एक खेत की फसल 5 दिनों में काट सकते हैं, तो 10 व्यक्ति प्रतिदिन 6 घंटे काम करके उसी खेत की फसल कितने दिनों में काट पाएंगे?

- Ans
- 1. 3
 - 2. 5
 - 3. 2
 - 4. 4

Question ID : 65497816360

Chosen Option : 1

Q.20 एक व्यक्ति A ने ₹75,000 की धनराशि 5% साधारण ब्याज दर पर 3 वर्ष के लिए उधार ली। उसने इस धनराशि को एक दूसरे व्यक्ति B को 7% वार्षिक ब्याज दर पर 3 वर्ष के लिए उधार दे दी। उसका लाभ (₹ में) ज्ञात कीजिए।

- Ans
- 1. 5,000
 - 2. 6,000
 - 3. 3,500
 - 4. 4,500

Question ID : 65497816374

Chosen Option : 4

Q.21 एक इलेक्शन में, दो प्रत्याशियों के लिए हुए मतदान का अनुपात 4 : 9 था। विजयी प्रत्याशी को 984321 मत प्राप्त हुए, तो डाले गए मतों की संख्या कितनी थी?

- Ans**
- ✓ 1. 1421797
 - ✗ 2. 1712597
 - ✗ 3. 1912577
 - ✗ 4. 1571279

Question ID : 65497816371
Chosen Option : 1

Q.22 300 और 500 के मध्य की उन संख्याओं का योगफल कितना होगा जिन्हें 6, 12 और 18 से विभाजित करने पर शून्य शेषफल बचता है?

- Ans**
- ✗ 1. 1618
 - ✓ 2. 1632
 - ✗ 3. 1586
 - ✗ 4. 1764

Question ID : 65497816379
Chosen Option : 2

Q.23 एक व्यक्ति ने दो वस्तुएं ₹3,000 प्रत्येक में खरीदीं। उसने उसमें से एक वस्तु को 10% के लाभ पर तथा दूसरी वस्तु को 5% की हानि पर बेच दिया। उसका कुल लाभ या हानि प्रतिशत ज्ञात कीजिए।

- Ans**
- ✗ 1. 10% लाभ
 - ✗ 2. 7.5% हानि
 - ✗ 3. कोई लाभ या हानि नहीं हुई
 - ✓ 4. 2.5% लाभ

Question ID : 65497816368
Chosen Option : 4

Q.24 चार अलग-अलग संख्याएं हैं। पहली तीन संख्याओं का औसत चौथी संख्या का तीन गुना है, और सभी चार संख्याओं का औसत 55 है। पहली तीन संख्याओं का औसत ज्ञात कीजिए।

- Ans**
- ✗ 1. 72
 - ✗ 2. 63
 - ✗ 3. 60
 - ✓ 4. 66

Question ID : 65497816364
Chosen Option : 4

Q.25 एक निश्चित धनराशि को A, B, C और D में इस प्रकार विभाजित किया जाता है कि B का हिस्सा A के हिस्से का $\frac{1}{4}$ है, C का हिस्सा B के हिस्से का 40% है तथा D का हिस्सा C के हिस्से का 50% है। यदि B और D के हिस्सों के बीच का अंतर ₹1,600 है, तो वह धनराशि ज्ञात करें।

- Ans
- 1. ₹9,200
 - 2. ₹9,600
 - 3. ₹9,400
 - 4. ₹9,000

Question ID : 65497816369
Chosen Option : 1

Section : General Awareness

Q.1 भारत में बैंकिंग क्षेत्र के संदर्भ में, 'RTGS' में 'G' किस शब्द का द्योतक है?

- Ans
- 1. ग्राँस (Gross)
 - 2. गेन (Gain)
 - 3. ग्रेजुअल (Gradual)
 - 4. ग्रैंड (Grand)

Question ID : 65497818515
Chosen Option : 1

Q.2 भारत के संविधान की कौन सी अनुसूची राज्य की विधान परिषद में सीटों के आवंटन से संबंधित है?

- Ans
- 1. छठी
 - 2. चौथी
 - 3. पांचवीं
 - 4. आठवीं

Question ID : 65497818519
Chosen Option : 2

Q.3 'प्रोडुनोवा' निम्नलिखित किस महिला खेल स्पर्धा से संबंधित है?

- Ans
- 1. एककालिक तेराकी
 - 2. साइकिलिंग
 - 3. जिमनास्टिक्स
 - 4. डाइविंग

Question ID : 65497818510
Chosen Option : --

Q.4 कठोरकृत मिट्टी पर किसी मृत कीट के शरीर के किसी हिस्से की छाप, _____ का एक उदाहरण है।

- Ans
- 1. तलछट
 - 2. खाद
 - 3. पुरावशेष
 - 4. जीवाश्म

Question ID : 65497818522
Chosen Option : 1

Q.5 पारो शहर कहां का एक प्रसिद्ध पर्यटन स्थल है?

- Ans 1. भूटान
 2. भारत
 3. श्रीलंका
 4. बांग्लादेश

Question ID : 65497818526
 Chosen Option : --

Q.6 निम्नलिखित में से कौन दिल्ली के लोदी राजवंश का अंतिम शासक था?

- Ans 1. इब्राहिम लोदी
 2. सिकंदर लोदी
 3. बारबक शाह
 4. बहलोल लोदी

Question ID : 65497818528
 Chosen Option : 4

Q.7 जुलाई 2020 की स्थिति के अनुसार भारत के केंद्रीय कानून और न्याय मंत्री कौन थे?

- Ans 1. स्मृति ईरानी
 2. रविशंकर प्रसाद
 3. गजेंद्रसिंह शेखावत
 4. महेंद्र नाथ पांडेय

Question ID : 65497818517
 Chosen Option : 4

Q.8 भारत में स्वयं सहायता समूहों के मुख्य उद्देश्यों में निम्नलिखित में से कौन सा शामिल नहीं है?

- Ans 1. संपार्श्विक के साथ ऋण प्रदान करना
 2. घरेलू हिंसा पर चर्चा और कार्रवाई करने के लिए एक मंच प्रदान करना
 3. अपने सदस्यों की बचत को एकत्र करना
 4. समूहों के गठन में ग्रामीण गरीबों को संगठित करना

Question ID : 65497818516
 Chosen Option : 4

Q.9 'वेटिंग फॉर द महात्मा (Waiting for the Mahatma)' शीर्षक पुस्तक के लेखक का नाम क्या है?

- Ans 1. गोपीनाथ बोरदोलोई
 2. श्रीलाल शुक्ल
 3. आर.के. नारायण
 4. अनीता देसाई

Question ID : 65497818511
 Chosen Option : 2

Q.10 Which of the following terms is associated with the 'Bharatnatyam' dance form?

- Ans
- 1. Batu nritya
 - 2. Tharijham
 - 3. Mangalacharan
 - 4. Tillana

Question ID : 65497818508
Chosen Option : 3

Q.11 प्राचीन भारतीय इतिहास के संदर्भ में, निम्नलिखित में से कौन चिकित्सा के क्षेत्र में प्रसिद्ध था?

- Ans
- 1. हरिसेन
 - 2. विशाखदत्त
 - 3. बाणभट्ट
 - 4. चरक

Question ID : 65497818530
Chosen Option : 4

Q.12 'pH' में 'p' किस शब्द का द्योतक है?

- Ans
- 1. प्रेसिपिटेशन (Precipitation)
 - 2. पोटेंशी (Potency)
 - 3. पोटेंज़ (Potenz)
 - 4. पर्सेंटेज (Percentage)

Question ID : 65497818523
Chosen Option : 3

Q.13 49वें दादा साहेब फाल्के पुरस्कार के प्राप्तकर्ता कौन थे?

- Ans
- 1. मनोज कुमार
 - 2. विनोद खन्ना
 - 3. अमिताभ बच्चन
 - 4. गुलज़ार

Question ID : 65497818513
Chosen Option : 2

Q.14 धनराज पिल्लै का संबंध निम्नलिखित में से किस खेल से है?

- Ans
- 1. बास्केटबॉल
 - 2. टेनिस
 - 3. हॉकी
 - 4. शूटिंग

Question ID : 65497818512
Chosen Option : 3

Q.15 मुहम्मद बिन तुगलक ने अपनी राजधानी दिल्ली से कहां स्थानांतरित की?

- Ans
- 1. जौनपुर
 - 2. मुर्शिदाबाद
 - 3. चुनार
 - 4. दौलताबाद

Question ID : 65497818529
Chosen Option : 4

Q.16 फारेनहाइट स्केल पर भापांक (स्टीम पॉइंट) क्या है?

- Ans
- 1. 212°F
 - 2. 100°F
 - 3. 32°F
 - 4. 80°F

Question ID : 65497818521
Chosen Option : 1

Q.17 निम्नलिखित में से क्या कूलॉम प्रति सेकंड के बराबर है?

- Ans
- 1. वाल्ट
 - 2. ओम
 - 3. एम्पीयर
 - 4. फैराडे

Question ID : 65497818520
Chosen Option : 3

Q.18 जब हाइड्रोजन के निर्माण के लिए रक्त तप्त लोहे की रॉड के ऊपर से भाप गुजारकर रासायनिक समीकरण को संतुलित किया जाता है, तो समीकरण के बाएँ पक्ष में पानी के अणुओं की संख्या कितनी होती है?

- Ans
- 1. चार
 - 2. दो
 - 3. तीन
 - 4. एक

Question ID : 65497818524
Chosen Option : 2

Q.19 निम्नलिखित में से कौन सा बंदरगाह गुजरात में है?

- Ans
- 1. पारादीप
 - 2. मोरमुगांव
 - 3. पेनम्बुर
 - 4. कांडला

Question ID : 65497818525
Chosen Option : 4

Q.20 जुलाई 2020 की स्थिति के अनुसार, निम्नलिखित में से कौन सा यूनेस्को विश्व धरोहर स्थल नहीं है?

- Ans
- 1. एलिफेंटा गुफाएं, महाराष्ट्र
 - 2. रानी की वाव, गुजरात
 - 3. जंतर-मंतर, राजस्थान
 - 4. जंतर-मंतर, दिल्ली

Question ID : 65497818507
Chosen Option : 3

Q.21 हेमकुंड साहिब गुरुद्वारा किस राज्य में स्थित है?

- Ans
- 1. बिहार
 - 2. उत्तराखंड
 - 3. हिमाचल प्रदेश
 - 4. पंजाब

Question ID : 65497818506
Chosen Option : 1

Q.22 जुलाई 2020 की स्थिति के अनुसार भारत के नागरिक के लिए कितने मौलिक कर्तव्य निर्धारित हैं?

- Ans
- 1. 16
 - 2. 11
 - 3. 12
 - 4. 10

Question ID : 65497818518
Chosen Option : 2

Q.23 निम्नलिखित में से कौन सी गंगा नदी की सहायक नदी नहीं है?

- Ans
- 1. रामगंगा
 - 2. काली
 - 3. पेनगंगा
 - 4. सोन

Question ID : 65497818527
Chosen Option : 3

Q.24 आर्थिक सर्वेक्षण (भारत) 2019-20 ने निम्नलिखित विचार प्रस्तुत किया " _____ एक ऐसी सार्वजनिक संपत्ति है जो अधिक उपयोग करने पर बढ़ती है।"

- Ans
- 1. विश्वास
 - 2. रोज़गार
 - 3. ईमानदारी
 - 4. उद्यमिता

Question ID : 65497816393
Chosen Option : 3

Q.25 निम्नलिखित में से कौन सा भारतीय फुटबॉल खिलाड़ी गोलकीपर नहीं था?

- Ans
- 1. ब्रह्मानंद सलगांवकर
 - 2. भास्कर गांगुली
 - 3. बिदेश बोस
 - 4. पीटर थंगराज

Question ID : 65497818509
Chosen Option : --

www.HaryanaJobs.in

Multi Tasking Non Technical Staff Examination 2020

Participant ID	www.HaryanaJobs.in
Participant Name	www.HaryanaJobs.in
Test Center Name	Indraprastha Public School
Test Date	13/10/2021
Test Time :	12:30 PM - 2:00 PM
Subject	MTS Non Technical 2020

Section : **General English**

Q.1 Select the most appropriate one-word substitution for the given group of words.

An imaginary ideal society where people live in perfect conditions

- Ans
- 1. Utopia
 - 2. Idyll
 - 3. Countryside
 - 4. Myopia

Question ID : **65497815926**
Chosen Option : 1

Q.2 Select the most appropriate option to substitute the underlined segment in the given sentence. If there is no need to substitute it, select 'No substitution required'.

Don't park your car here, the police should tow it away.

- Ans
- 1. need to
 - 2. No substitution required
 - 3. ought to
 - 4. might

Question ID : **65497815916**
Chosen Option : 4

Q.3 Select the most appropriate meaning of the given idiom.

Months on end

- Ans
- 1. In a month's time
 - 2. End of the month
 - 3. Several months in a row
 - 4. Last month of the year

Question ID : **65497815923**
Chosen Option : --

Q.4 Select the most appropriate option to substitute the underlined segment in the given sentence. If there is no need to substitute it, select 'No substitution required.'

The government has ordered that all illegal structures around heritage buildings must be brought down.

Ans 1. No substitution required

2. without

3. into

4. towards

Question ID : 65497815009

Chosen Option : 1

Q.5 Identify the segment in the sentence which contains a grammatical error.

I earn little money than my younger brother.

Ans 1. than my

2. younger brother

3. little money

4. I earn

Question ID : 65497815906

Chosen Option : 3

Q.6 Identify the segment in the sentence which contains a grammatical error.

The guide gave us completed information about the historical castle.

Ans 1. completed information

2. about the

3. The guide gave us

4. historical castle

Question ID : 65497815905

Chosen Option : 1

Q.7 Select the most appropriate word to fill in the blank.

Yesterday, Mohini _____ her brother to lend her a pen.

Ans 1. request

2. requested

3. has requested

4. requests

Question ID : 65497815908

Chosen Option : 2

Q.8 Select the most appropriate word to fill in the blank.

She received _____ for her beautiful handwriting.

- Ans
- 1. counsel
 - 2. confirmation
 - 3. complements
 - 4. compliments

Question ID : 65497815930
Chosen Option : 4

Q.9 Select the most appropriate meaning of the given idiom.

Hit the ceiling

- Ans
- 1. Explode in anger
 - 2. Make good progress
 - 3. Reach the top
 - 4. Have high hopes

Question ID : 65497815924
Chosen Option : --

Q.10 Select the most appropriate one-word substitution for the given group of words.

A person who makes maps

- Ans
- 1. Stenographer
 - 2. Cartographer
 - 3. Calligrapher
 - 4. Biographer

Question ID : 65497815925
Chosen Option : 2

Q.11 Select the most appropriate synonym of the given word.

YIELD

- Ans
- 1. deny
 - 2. submit
 - 3. assert
 - 4. retain

Question ID : 65497815921
Chosen Option : 2

Q.12 Select the most appropriate ANTONYM of the given word.

FORMER

- Ans
- 1. earlier
 - 2. further
 - 3. anterior
 - 4. latter

Question ID : 65497815920
Chosen Option : 4

Q.13 Select the most appropriate word to fill in the blank.

_____ I saw the smoke, I realised there was a fire in the woods.

- Ans
- 1. As soon as
 - 2. Scarcely
 - 3. Unless
 - 4. Although

Question ID : 65497815909
Chosen Option : 1

Q.14 Select the INCORRECTLY spelt word.

- Ans
- 1. Accident
 - 2. Greatful
 - 3. Receipt
 - 4. Column

Question ID : 65497815927
Chosen Option : 2

Q.15 Select the most appropriate word to fill in the blank.

If we _____ any further, we will lose the contract.

- Ans
- 1. late
 - 2. back
 - 3. delay
 - 4. slow

Question ID : 65497815929
Chosen Option : 3

Q.16 Select the most appropriate synonym of the given word.

COMPREHEND

- Ans 1. understand
 2. attack
 3. permit
 4. confess

Question ID : 65497815922
Chosen Option : 1

Q.17 Select the most appropriate option to substitute the underlined segment in the given sentence. If there is no need to substitute it, select 'No substitution required'.

The boys have gone for a morning walk, are they?

- Ans 1. have they
 2. aren't they
 3. haven't they
 4. No substitution required

Question ID : 65497817230
Chosen Option : 3

Q.18 Select the most appropriate ANTONYM of the given word.

CROOKED

- Ans 1. bent
 2. hooked
 3. curved
 4. straight

Question ID : 65497815919
Chosen Option : 4

Q.19 Identify the segment in the sentence which contains a grammatical error.

The students have been doing yoga since an hour.

- Ans 1. have been
 2. The students
 3. since an hour
 4. doing yoga

Question ID : 65497815907
Chosen Option : 3

Q.20 Select the INCORRECTLY spelt word.

- Ans 1. Possession
 2. Interrupt
 3. Threshold
 4. Guarantee

Question ID : 65497815928
Chosen Option : 2

Comprehension:

In the following passage some words have been deleted. Fill in the blanks with the help of the options given. Select the most appropriate option for each blank.

It is a common sight to find roads littered with scraps of paper, empty cans, cigarette stubs... the list is unending. It is sad that we (1)_____ pass by with a look of disgust (2)_____ do nothing to clean up the (3)_____. Littering pollutes the environment and can be (4)_____ for animals. It contaminates the soil and water and (5)_____ diseases.

SubQuestion No : 21

Q.21 Select the most appropriate option to fill in blank no. 1.

- Ans 1. fairly
 2. exactly
 3. nearly
 4. simply

Question ID : 65497815911
Chosen Option : 3

Comprehension:

In the following passage some words have been deleted. Fill in the blanks with the help of the options given. Select the most appropriate option for each blank.

It is a common sight to find roads littered with scraps of paper, empty cans, cigarette stubs... the list is unending. It is sad that we (1)_____ pass by with a look of disgust (2)_____ do nothing to clean up the (3)_____. Littering pollutes the environment and can be (4)_____ for animals. It contaminates the soil and water and (5)_____ diseases.

SubQuestion No : 22

Q.22 Select the most appropriate option to fill in blank no. 2.

- Ans 1. than
 2. so
 3. but
 4. only

Question ID : 65497815912
Chosen Option : 3

Comprehension:

In the following passage some words have been deleted. Fill in the blanks with the help of the options given. Select the most appropriate option for each blank.

It is a common sight to find roads littered with scraps of paper, empty cans, cigarette stubs... the list is unending. It is sad that we (1)_____ pass by with a look of disgust (2)_____ do nothing to clean up the (3)_____. Littering pollutes the environment and can be (4)_____ for animals. It contaminates the soil and water and (5)_____ diseases.

SubQuestion No : 23**Q.23 Select the most appropriate option to fill in blank no. 3.**

- Ans 1. mess
 2. chaos
 3. wreck
 4. pattern

Question ID : **65497815913**
 Chosen Option : 1

Comprehension:

In the following passage some words have been deleted. Fill in the blanks with the help of the options given. Select the most appropriate option for each blank.

It is a common sight to find roads littered with scraps of paper, empty cans, cigarette stubs... the list is unending. It is sad that we (1)_____ pass by with a look of disgust (2)_____ do nothing to clean up the (3)_____. Littering pollutes the environment and can be (4)_____ for animals. It contaminates the soil and water and (5)_____ diseases.

SubQuestion No : 24**Q.24 Select the most appropriate option to fill in blank no. 4.**

- Ans 1. fatal
 2. vital
 3. trivial
 4. final

Question ID : **65497815914**
 Chosen Option : 1

Comprehension:

In the following passage some words have been deleted. Fill in the blanks with the help of the options given. Select the most appropriate option for each blank.

It is a common sight to find roads littered with scraps of paper, empty cans, cigarette stubs... the list is unending. It is sad that we (1)_____ pass by with a look of disgust (2)_____ do nothing to clean up the (3)_____. Littering pollutes the environment and can be (4)_____ for animals. It contaminates the soil and water and (5)_____ diseases.

SubQuestion No : 25**Q.25 Select the most appropriate option to fill in blank no. 5.**

- Ans 1. have been causing
 2. have caused
 3. cause
 4. causes

Question ID : **65497815915**
 Chosen Option : 4

Q.1 उस विकल्प का चयन कीजिए जिसका तीसरे शब्द से वही संबंध है, जो दूसरे शब्द का पहले शब्द से है।

रसोइया : भोजन :: बढ़ई : ?

- Ans
- 1. लकड़हारा
 - 2. निर्माण
 - 3. कुल्हाड़ी
 - 4. फर्नीचर

Question ID : 65497815336

Chosen Option : 4

Q.2 Two statements are given followed by two conclusions numbered I and II. Assuming the statements to be true, even if they seem to be at variance with commonly known facts, decide which of the conclusions logically follow(s) from the statements.

Statements:

Some clothes are curtains.

All curtains are fibres.

Conclusions:

I. Some fibres are clothes.

II. No fibre is a cloth.

- Ans
- 1. Only conclusion II follows
 - 2. Both conclusions I and II follow
 - 3. Only conclusion I follows
 - 4. Either conclusion I or II follows

Question ID : 65497815339

Chosen Option : 3

Q.3 दिए गए पैटर्न का ध्यानपूर्वक अध्ययन कीजिए और उस संख्या का चयन कीजिए जो इसमें प्रश्नवाचक चिह्न (?) के स्थान पर आ सकती है।

11 9 11

7 8 ?

324 289 441

- Ans
- 1. 12
 - 2. 10
 - 3. 9
 - 4. 11

Question ID : 65497815328

Chosen Option : 2

Q.4 Two statements are given followed by three conclusions numbered I, II and III. Assuming the statements to be true, even if they seem to be at variance with commonly known facts, decide which of the conclusions logically follow(s) from the statements.

Statements:

All jewels are metals.
No metal is a diamond.

Conclusions:

I. No jewel is a diamond.
II. No diamond is a metal.
III. Some metals are jewels.

- Ans**
- 1. Only conclusions I and III follow
 - 2. All of the conclusions follow
 - 3. Only conclusions II and III follow
 - 4. Only conclusions I and II follow

Question ID : 65497815340
Chosen Option : 2

Q.5 यदि $B = D$, $C = U$, $B > G$, $U > R$ और $C > S$ है, तो निम्न में से कौन सा व्यंजक सही नहीं है?

- Ans**
- 1. $C < R$
 - 2. $G < D$
 - 3. $S < C$
 - 4. $S < U$

Question ID : 65497815343
Chosen Option : 1

www.HaryanaJobs.in

Q.6 उस विकल्प आकृति का चयन कीजिए जो निम्नांकित आकृति श्रृंखला में प्रश्नवाचक चिह्न (?) के स्थान पर आएगी और पैटर्न को पूरा करेगी।

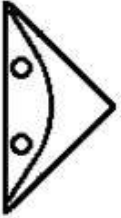


Ans

✗ 1.



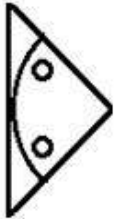
✗ 2.



✗ 3.



✓ 4.



www.HaryanaJobs.in

Question ID : 65497815345
Chosen Option : 4

Q.7 उस विकल्प का चयन कीजिए जिसका तीसरे अक्षर-समूह से वही संबंध है, जो दूसरे अक्षर-समूह का पहले अक्षर-समूह से है।

FLKU : VLMG :: DPJMR : ?

Ans ✗ 1. XQKNT

✗ 2. SOKRE

✓ 3. SNKQE

✗ 4. TNKOE

Question ID : 65497815335
Chosen Option : 3

Q.8 उस विकल्प का चयन कीजिए जिसका तीसरी संख्या से वही संबंध है, जो दूसरी संख्या का पहली संख्या से है।

8 : 108 :: 12 : ?

- Ans 1. 208
 2. 150
 3. 225
 4. 135

Question ID : 65497815327
 Chosen Option : 1

Q.9 In a line, five friends P, Q, R, S and T are sitting, all facing East. P is sitting at the second place to the left of T. R is third to the left of S and also to the immediate right of P. Which two persons are sitting at the corners?

- Ans 1. Q and R
 2. P and Q
 3. Q and T
 4. P and S

Question ID : 65497815341
 Chosen Option : 4

Q.10 एक निश्चित कूट भाषा में, यदि 'FORT' को '6301820' और 'PRICE' को '161818310' लिखा जाता है, तो उसी कूट भाषा में 'FUTILE' को क्या लिखा जाएगा?

- Ans 1. 62120091210
 2. 64220091205
 3. 62220181310
 4. 64220181210

Question ID : 65497815334
 Chosen Option : 4

Q.11 निम्न श्रेणी में प्रश्नवाचक चिह्न (?) के स्थान पर कौन सी संख्या आएगी?

140, 141, 133, 160, 96, ?

- Ans 1. 311
 2. 221
 3. 276
 4. 337

Question ID : 65497815330
 Chosen Option : 2

Q.12 उस विकल्प का चयन कीजिए जो अक्षर-समूह की निम्न श्रृंखला में प्रश्नवाचक चिह्न (?) के स्थान पर आएगा।

ZML, WKK, TIJ, QGI, ?

Ans 1. NEH

2. MEH

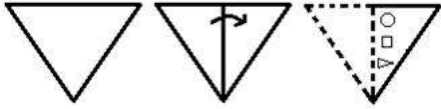
3. NDG

4. ODH

Question ID : 65497815338

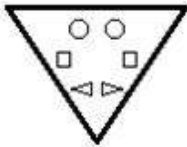
Chosen Option : 1

Q.13 एक कागज को निम्नानुसार मोड़ा और काटा गया है। इसे खोलने पर यह कैसा दिखेगा?

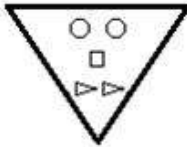


Ans

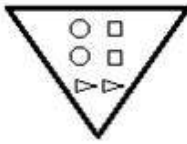
1.



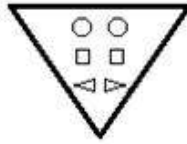
2.



3.



4.



www.HaryanaJobs.in

Question ID : 65497815348

Chosen Option : 4

Q.14 वर्गों के उस समुच्चय का चयन कीजिए जिनके मध्य के संबंध को निम्नांकित वेन आरेख द्वारा सर्वोत्तम रूप से निरूपित किया गया है।



Ans

- ✓ 1. गेहूं, मक्का, अनाज
 ✗ 2. पशु, पौधे, ककड़ी
 ✗ 3. मसाले, जीरा, पालक
 ✗ 4. इंजीनियर, डॉक्टर, फार्मासिस्ट

Question ID : 65497815349
 Chosen Option : 1

Q.15 एक निश्चित कूट भाषा में, यदि 'CAMPHOR' को 'HZLOGNW' और 'FASTEN' को 'KZRSDS' लिखा जाता है, तो उसी कूट भाषा में 'NATIONAL' को क्या लिखा जाएगा?

Ans

- ✗ 1. TZUHNMQ
 ✗ 2. MZSHNMZK
 ✗ 3. SZSINOZK
 ✓ 4. SZSHNMZQ

Question ID : 65497815332
 Chosen Option : 4

Q.16 Select the option that is related to the third word in the same way as the second word is related to the first word.

Gymnasium : Exercise :: School : ?

Ans

- ✗ 1. Curriculum
 ✓ 2. Education
 ✗ 3. Teachers
 ✗ 4. Students

Question ID : 65497815337
 Chosen Option : 2

Q.17 एक निश्चित कूट भाषा में, यदि 'PRUNE' को '74' लिखा जाता है, तो उसी कूट भाषा में 'LONDON' को क्या लिखा जाएगा?

Ans

- ✗ 1. 112
 ✗ 2. 121
 ✓ 3. 74
 ✗ 4. 60

Question ID : 65497815333
 Chosen Option : 3

Q.18 एक निश्चित कूट भाषा में, यदि 'BROWN' को 'ORBNW' लिखा जाता है, तो उसी कूट भाषा में 'LUCKY' को क्या लिखा जाएगा?

- Ans
- 1. CKUYL
 - 2. CLUYK
 - 3. CULYK
 - 4. UKLCY

Question ID : 65497815331
Chosen Option : 3

Q.19 निम्न समीकरण को संतुलित करने के लिए किन दो चिह्नों को परस्पर बदला जाना चाहिए?

$$8 \times 9 \div 15 + 30 - 5 = 63$$

- Ans
- 1. + और -
 - 2. + और -
 - 3. - और ×
 - 4. + और ×

Question ID : 65497815325
Chosen Option : 2

Q.20 यदि दर्पण को चिह्नानुसार MN पर रखा जाए, तो दिए गए संयोजन के दर्पण में निर्मित सही प्रतिबिंब का चयन कीजिए।

X B 7 5 G R

M
|
N

- Ans
- 1. R B 7 5 G R
 - 2. X B 7 5 G R
 - 3. X B 7 5 G R
 - 4. X B 7 5 G R

Question ID : 65497815347
Chosen Option : 1

Q.21 उस विकल्प का चयन कीजिए जो दी गई आकृति (X) में इसके भाग के रूप में अंतर्निहित नहीं है (घुमाने की अनुमति नहीं है)।



Ans

1.
 2.
 3.
 4.

Question ID : 65497815346

Chosen Option : 3

Q.22 Eight friends P, Q, R, S, T, U, V and W are sitting anticlockwise at equal distances in the same sequence around a circular table. All are facing the centre of the table. If T is sitting in the West, then who is sitting at the third place to the left of P?

1. U
 2. V
 3. S
 4. W

Question ID : 65497815342

Chosen Option : 3

Q.23 निम्न समीकरण को संतुलित करने के लिए किन दो संख्याओं को परस्पर बदला जाना चाहिए?

$$14 \times 7 - 25 \div 5 + 95 = 104$$

1. 25 और 7
 2. 7 और 5
 3. 25 और 95
 4. 14 और 95

Question ID : 65497815326

Chosen Option : 3

Q.24 निम्न श्रेणी में प्रश्नवाचक चिह्न (?) के स्थान पर कौन सी संख्या आएगी?

20, 44, 92, 188, 380, ?

Ans 1. 764

2. 884

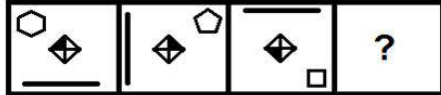
3. 760

4. 880

Question ID : 65497815329

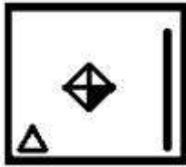
Chosen Option : 1

Q.25 उस आकृति का चयन कीजिए जो निम्नांकित आकृति श्रृंखला में प्रश्नवाचक चिह्न (?) के स्थान पर आएगी।

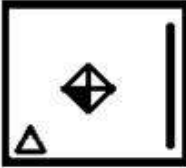


Ans

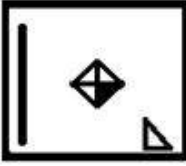
1.



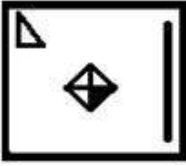
2.



3.



4.



Question ID : 65497815344

Chosen Option : 1

Section : Numerical Aptitude

Q.1 दो विक्रेता, ₹2,000 के समान अंकित मूल्य पर वस्तु बेचते हैं। त्योहार के समय, पहला विक्रेता 25% और 15% की क्रमागत छूट देता है और दूसरा विक्रेता 10% और 30% की क्रमागत छूट देता है। बेहतर छूट में उपलब्ध वस्तु की कीमत कितनी है?

- Ans
- 1. ₹1,250
 - 2. ₹1,275
 - 3. ₹1,255
 - 4. ₹1,260

Question ID : 65497817780
Chosen Option : 2

Q.2 किसी गोलाकार गुब्बारे को और अधिक फुलाने पर उसकी त्रिज्या 6 cm से बढ़कर 10 cm हो जाती है। मूल गुब्बारे तथा उसमें और अधिक हवा भरने के बाद उनके पृष्ठीय क्षेत्रफलों का अनुपात ज्ञात कीजिए।

- Ans
- 1. 27 : 125
 - 2. 3 : 5
 - 3. 4 : 5
 - 4. 9 : 25

Question ID : 65497817790
Chosen Option : 4

Q.3 कोई दुकानदार अपनी दुकान में उपलब्ध प्रत्येक वस्तु पर वास्तविक क्रय मूल्य से 20% अधिक अंकित करता है। वह प्रत्येक वस्तु पर 10% की छूट देता है। यदि वस्तु ₹5,400 में बेची जाती है, तो उसका लाभ प्रतिशत ज्ञात करें।

- Ans
- 1. 6.6%
 - 2. 15%
 - 3. 4%
 - 4. 8%

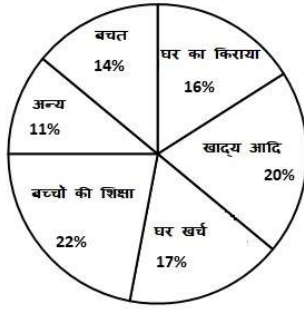
Question ID : 65497817783
Chosen Option : 4

Q.4 किसी दौड़ में 7 एथलीटों द्वारा लिया गया औसत समय 2 मिनट 10 सेकंड है। यदि विजेता दौड़ को 1 मिनट 40 सेकंड में पूरा करता है, तो अन्य एथलीटों द्वारा लिया गया औसत समय ज्ञात करें।

- Ans
- 1. 2 मिनट 25 सेकंड
 - 2. 2 मिनट 15 सेकंड
 - 3. 2 मिनट 45 सेकंड
 - 4. 2 मिनट 35 सेकंड

Question ID : 65497817778
Chosen Option : 2

Q.5 निम्न पाई चार्ट में दर्शाए अनुसार, गुप्ता परिवार अपनी मासिक आय को विभिन्न ढ्ढों पर खर्च करता है।



घर के किराए और बचत के लिए संयुक्त क्षेत्र का केंद्रीय कोण ज्ञात करें।

- Ans
- 1. 90°
 - 2. 108°
 - 3. 100°
 - 4. 30°

Question ID : 65497817797
Chosen Option : 2

Q.6 कोई ट्रॉसपोटर अपना ट्रक, अपनी यात्रा के पहले 4 घंटों तक 90 km/h की चाल से चलाता है और शेष दूरी 50 km/h की चाल से 6 घंटे में तय करता है। ट्रक की औसत चाल (km/h में) ज्ञात करें।

- Ans
- 1. 60
 - 2. 66
 - 3. 64
 - 4. 70

Question ID : 65497817779
Chosen Option : 2

Q.7 कोई व्यक्ति, 10 km/h की एकसमान चाल से साईकिल चलाते हुए, किसी पुल को 90 सेकंड में पार करता है। पुल की लंबाई ज्ञात करें।

- Ans
- 1. 150 m
 - 2. 15 m
 - 3. 250 m
 - 4. 25 m

Question ID : 65497817776
Chosen Option : 3

Q.8 Kulbhushan started a juice (syrup + water) counter. Initially, he had 140 litres of juice which had 40% water in it. He sold 30 litres of the juice. Then he added equal amounts of syrup and water. Now the ratio of water to syrup became 3 : 4. What quantity of water was added?

- Ans**
- 1. 22 litres
 - 2. 24 litres
 - 3. 28 litres
 - 4. 26 litres

Question ID : 65497817786
Chosen Option : 1

Q.9 For a 14-day camp, sufficient supplies are available for 300 people. 50 more people arrive on day 1 itself. For how many days will these supplies be sufficient for all these people?

- Ans**
- 1. 10
 - 2. 12
 - 3. 11
 - 4. 13

Question ID : 65497817774
Chosen Option : 2

Q.10 किसी वर्गाकार पार्क का क्षेत्रफल 4356 m^2 है। इसका एक चक्कर लगाना, दूसरे वृत्ताकार पार्क का एक चक्कर लगाने के समान है। वृत्ताकार पार्क का क्षेत्रफल ज्ञात करें। ($\pi = \frac{22}{7}$ लें)

- Ans**
- 1. 5544 m^2
 - 2. 22176 m^2
 - 3. 11088 m^2
 - 4. 1386 m^2

Question ID : 65497817791
Chosen Option : 1

Q.11 Two girls move in opposite directions, one from A to B and the other from B to A. The girl from A reaches the destination in 12 minutes. The girl from B stops on the way for 10 minutes and reaches her destination in 25 minutes. If A's speed is 5 km/h, then what is the speed of B?

- Ans**
- 1. $1\frac{5}{7} \text{ km/h}$
 - 2. 2.4 km/h
 - 3. 4 km/h
 - 4. 3 km/h

Question ID : 65497817777
Chosen Option : 3

Q.12 यदि निम्न आंकड़ों का माध्य 9 है, तो k का मान ज्ञात करें।
11, (k-2), 7, (k-1), 11, 16, 12, 15, (k-1), 13

- Ans
- 1. 2
 - 2. 4
 - 3. 3
 - 4. 5

Question ID : 65497817789
Chosen Option : 3

Q.13 तीन संख्याओं का अनुपात $\frac{4}{9} : \frac{2}{3} : \frac{3}{4}$ है। सबसे बड़ी और सबसे छोटी संख्या के बीच का अंतर 33 है। सबसे बड़ी संख्या ज्ञात करें।

- Ans
- 1. 81
 - 2. 72
 - 3. 66
 - 4. 48

Question ID : 65497817785
Chosen Option : 1

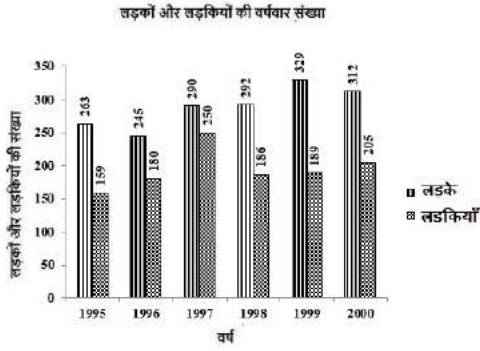
Q.14 Kamal and her sister together have ₹2,100. On taking ₹300 from her sister, Kamal will have the same amount as what her sister had earlier. Find the ratio of the initial amounts that Kamal and her sister had.

- Ans
- 1. 5 : 9
 - 2. 4 : 3
 - 3. 1 : 1
 - 4. 3 : 4

Question ID : 65497817784
Chosen Option : 4

www.HaryanaJobs.in

Q.15 निम्न बार ग्राफ में 6 वर्ष के दौरान, किसी विद्यालय में लड़के और लड़कियों के नामांकन का रिकॉर्ड प्रस्तुत किया गया है।

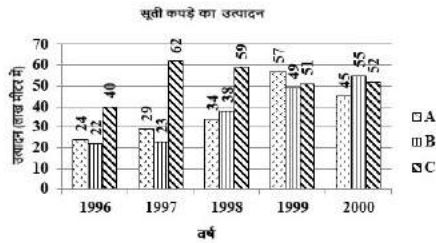


किस वर्ष में कुल नामांकन सबसे कम था?

- Ans
- ✓ 1. 1995
 - ✗ 2. 1996
 - ✗ 3. 2000
 - ✗ 4. 1998

Question ID : 65497817796
Chosen Option : 1

Q.16 निम्न ग्राफ में, वर्ष 1996 - 2000 के दौरान A, B और C तीन कंपनियों द्वारा सूती कपड़े का उत्पादन (लाख मीटर में) दर्शाया गया है।



वर्ष 1996 और 1997 में कंपनी C के उत्पादन और वर्ष 1999 और 2000 में कंपनी B के उत्पादन का अनुपात ज्ञात करें।

- Ans
- ✗ 1. 11 : 3
 - ✗ 2. 52 : 51
 - ✗ 3. 3 : 11
 - ✓ 4. 51 : 52

Question ID : 65497817798
Chosen Option : 4

Q.17 किसी विद्यालय में, कक्षा X के सेक्शन A से कुछ छात्रों को सेक्शन B में स्थानांतरित किया जाता है और इस तरह सेक्शन B में छात्रों की संख्या में 12% की वृद्धि होती है। लेकिन बाद के चरण में, उन सभी को वापस सेक्शन A में स्थानांतरित किया जाता है। सेक्शन B के छात्रों की संख्या में हुई प्रतिशत कमी (दशमलव के बाद दो स्थानों तक) ज्ञात करें।

- Ans
- 1. 0%
 - 2. 10.71%
 - 3. 11%
 - 4. 12%

Question ID : 65497817781
Chosen Option : 2

Q.18 कोई व्यक्ति ₹10,000 की राशि, 10% वार्षिक साधारण ब्याज की दर पर 2 वर्ष के लिए निवेशित करता है। यदि वह साधारण ब्याज के बजाय वार्षिक चक्रवृद्धि ब्याज का भुगतान करता है, और ब्याज की गणना वार्षिक रूप में होती है तो उसे कितना अधिक ब्याज प्राप्त होगा?

- Ans
- 1. ₹1
 - 2. ₹4,100
 - 3. ₹100
 - 4. ₹2,100

Question ID : 65497817787
Chosen Option : 3

Q.19 $3\frac{1}{9} \div \frac{4}{9}$ of $\left(7\frac{3}{10} + 3\frac{1}{5}\right) + \frac{4}{5} \div 2\frac{2}{5}$ का मान ज्ञात कीजिए।

- Ans
- 1. 2
 - 2. 1
 - 3. 5
 - 4. 10

Question ID : 65497815977
Chosen Option : 2

Q.20 कमला के पास तीन बेलनाकार कंटेनर हैं, जिनमें से प्रत्येक की त्रिज्या 20 cm है, वह इन्हें अनाज से भरना चाहती है। यदि उसके अनाज वाले झोले में 100 kg अनाज है और वह तीनों कंटेनरों को 70 cm की ऊंचाई तक भरती है, तो झोले में कितना अनाज बचेगा, यदि 1 kg अनाज 3000 cm^3 स्थान लेता है? ($\pi = \frac{22}{7}$ लें)

- Ans
- 1. 88 kg
 - 2. 58 kg
 - 3. 50 kg
 - 4. 12 kg

Question ID : 65497817792
Chosen Option : 4

Q.21 दो संख्याओं का योगफल 140 है। यदि उनका ल.स.प. (LCM) 240 और म.स.प. (HCF) 20 है, तो छोटी संख्या ज्ञात करें।

- Ans
- 1. 140
 - 2. 20
 - 3. 60
 - 4. 80

Question ID : 65497817793
Chosen Option : 3

Q.22 A shopkeeper sold some bedsheets of one variety for ₹12,000 for 20% profit, and some bedsheets of another variety for ₹10,350 for 15% profit. What was his overall profit on the sale of these bedsheets?

- Ans
- 1. ₹3,350
 - 2. ₹3,552.50
 - 3. ₹3,750
 - 4. ₹3,952.50

Question ID : 65497817782
Chosen Option : 1

Q.23 किसी पूल में 3 नल हैं। पूल को भरने में, पहले नल को 3 दिन, दूसरे नल को 2 दिन और तीसरे नल को 18 घंटे लगते हैं। तीनों नल एक साथ खोले जाते हैं। 8 घंटे बाद, दूसरे नल को बंद कर दिया जाता है। पूल, कुल कितने समय में पूर्णतः भर जाएगा?

- Ans
- 1. 4 घंटा
 - 2. 12 घंटा
 - 3. $\frac{128}{11}$ घंटा
 - 4. $\frac{144}{13}$ घंटा

Question ID : 65497817775
Chosen Option : 2

Q.24 $6 - \left[\left\{ \left(\frac{20}{24} \div \frac{1}{2} \right) + \frac{48}{56} - \frac{6}{7} \right\} \text{ of } \frac{6}{10} - 7 \right]$ का सरलीकृत मान ज्ञात करें।

- Ans
- 1. 12
 - 2. 0
 - 3. 9
 - 4. 13

Question ID : 65497818198
Chosen Option : 4

Q.25 Sudhir took a loan of ₹15,000 on simple interest for as many years as the rate of interest. If he paid ₹7,350 as interest at the end of the loan period, then what was the rate of interest per annum?

- Ans**
- 1. 10%
 - 2. 15%
 - 3. 7%
 - 4. 49%

Question ID : **65497817788**
Chosen Option : 3

Section : **General Awareness**

Q.1 Who among the following founded the organisation 'East India Association'?

- Ans**
- 1. Womesh Chandra Bonnerjee
 - 2. Gopal Krishna Gokhale
 - 3. Dadabhai Naoroji
 - 4. George Yule

Question ID : **65497815904**
Chosen Option : --

Q.2 अंग्रेजी गैर-काल्पनिक कथा वर्ग में 2019 का साहित्य अकादमी पुरस्कार निम्नलिखित में से किसे प्राप्त हुआ?

- Ans**
- 1. रोशनी चोकशी
 - 2. शशि थरूर
 - 3. रघु कर्नाड
 - 4. अमिताभ बागची

Question ID : **65497815887**
Chosen Option : --

Q.3 2020 में दूर डे फ्रांस किसने जीता?

- Ans**
- 1. सेप कुस (Sepp Kuss)
 - 2. रोमैन सिकार्ड (Romain Sicard)
 - 3. तडेज पोगाकर (Tadej Pogacar)
 - 4. रूडी मोलार्ड (Rudy Molard)

Question ID : **65497815884**
Chosen Option : --

Q.4 BSE (पूर्ववर्ती बॉम्बे स्टॉक एक्सचेंज) का सेंसेक्स (SENSEX) इंडेक्स, कंपनियों के व्यापार की मात्रा और उनके शेयर की कीमत के आधार पर शीर्ष _____ कंपनियों से मिलकर बना है।

- Ans**
- 1. सौ
 - 2. पचास
 - 3. तीस
 - 4. दस

Question ID : **65497815890**
Chosen Option : --

Q.5 निम्नलिखित कथनों में से कौन सा सही है?

- Ans 1. राज्यसभा के बारह सदस्यों को राष्ट्रपति द्वारा नामित किया जाता है।
 2. राज्यसभा के बारह सदस्यों को राज्यसभा के सभापति द्वारा नामित किया जाता है।
 3. राज्यसभा के पंद्रह सदस्य प्रधानमंत्री द्वारा नामित किए जाते हैं।
 4. राज्यसभा के पंद्रह सदस्य राष्ट्रपति द्वारा नामित किए जाते हैं।

Question ID : 65497815893
Chosen Option : 1

Q.6 निम्नलिखित में से कौन सी प्रक्रिया, तरल को सीधे उसके वाष्प रूप में परिवर्तित करती है?

- Ans 1. भाप बनना
 2. उर्ध्वपातन
 3. संघनन
 4. वाष्पीकरण

Question ID : 65497815894
Chosen Option : 4

Q.7 भारत में प्रतिभूति अपीलीय न्यायाधिकरण (SAT) की स्थापना किस वर्ष में हुई थी?

- Ans 1. 1994
 2. 1997
 3. 1992
 4. 1990

Question ID : 65497817202
Chosen Option : --

Q.8 निम्नलिखित में से कौन सा, 'कुंभ मेले' के चार आयोजन स्थलों में से एक नहीं है?

- Ans 1. उज्जैन
 2. हरिद्वार
 3. प्रयागराज
 4. वाराणसी

Question ID : 65497815880
Chosen Option : 4

Q.9 निम्नलिखित में से कौन स्वतंत्र भारत के प्रथम वित्त मंत्री थे?

- Ans 1. जगजीवन राम
 2. श्यामा प्रसाद मुखर्जी
 3. आर.के. शनमुखम चेट्टी
 4. टी.टी. कृष्णामाचारी

Question ID : 65497815892
Chosen Option : 3

Q.10 Which of the following types of mirrors show lateral inversion of light?

- Ans 1. Concave mirror
 2. Plane mirror
 3. Rectangle mirror
 4. Convex mirror

Question ID : 65497815897
 Chosen Option : --

Q.11 In which of the following parts of the human body is the masseter muscle located?

- Ans 1. Thigh
 2. Chest
 3. Hand
 4. Jaw

Question ID : 65497815898
 Chosen Option : --

Q.12 दक्कन का पठार एक त्रिकोणीय आकार का पठार है और उत्तर में _____ पर्वत-श्रेणी से घिरा है।

- Ans 1. सतपुड़ा
 2. विंध्य
 3. पश्चिमी घाट
 4. अरावली

Question ID : 65497815901
 Chosen Option : --

Q.13 निम्नलिखित में से किस राज्य में, लेजिस्लेटिव असेंबली (विधान सभा) क्षेत्रों की संख्या सर्वाधिक है?

- Ans 1. महाराष्ट्र
 2. मध्य प्रदेश
 3. उत्तर प्रदेश
 4. राजस्थान

Question ID : 65497815891
 Chosen Option : 3

Q.14 SC Jamir, one of the recipients of the Padma Bhushan 2020 award, received the award for his contribution in:

- Ans 1. Art
 2. Public Affairs
 3. Literature and Education
 4. Trade and Industry

Question ID : 65497815886
 Chosen Option : --

Q.15 Who among the following was appointed as the Chief Information Commissioner (CIC) in March 2020?

- Ans 1. Bimal Julka
 2. Ajay Bhushan Pandey
 3. Amita Pandove
 4. Satish Kumar Sharma

Question ID : 65497815885
 Chosen Option : --

Q.16 निम्नलिखित में से कौन सा रोगकारक 'काला-अजार' रोग का कारण बनता है?

- Ans 1. जीवाणु
 2. कवक
 3. विषाणु
 4. प्रोटोजोआ

Question ID : 65497815896
 Chosen Option : 4

Q.17 कहा जाता है कि प्रथम बौद्ध परिषद को _____ द्वारा संरक्षण प्रदान किया गया था।

- Ans 1. चंद्रगुप्त मौर्य
 2. अशोक
 3. अजातशत्रु
 4. पोरस

Question ID : 65497815902
 Chosen Option : 2

Q.18 निम्नलिखित में से कौन सा, संक्रामक रोग का एक उदाहरण है?

- Ans 1. मनोभ्रंश
 2. फुफ्फुसीय उच्च रक्तचाप
 3. मधुमेह
 4. तपेदिक

Question ID : 65497815895
 Chosen Option : 4

Q.19 मीनाक्षी श्रीनिवासन निम्नलिखित में से किस नृत्य शैली की प्रतिनिधि के रूप में ख्यातलब्ध हैं?

- Ans 1. कथक
 2. कुचिपुड़ी
 3. कथकली
 4. भरतनाट्यम

Question ID : 65497815882
 Chosen Option : --

Q.20 LAC (Line of Actual Control) is the effective border between India and:

- Ans 1. Afghanistan
 2. China
 3. Myanmar
 4. Bangladesh

Question ID : 65497815899
 Chosen Option : 2

Q.21 प्रधानमंत्री मुद्रा योजना के तहत, _____ तक आय उत्पन्न करने वाली गतिविधियों के लिए दिए जाने वाले ऋण को शिशु ऋण कहा जाता है।

- Ans 1. ₹40,000
 2. ₹60,000
 3. ₹50,000
 4. ₹75,000

Question ID : 65497815080
 Chosen Option : --

Q.22 निम्नलिखित में से किस टीम ने, 2019 का इंडियन प्रीमियर लीग (IPL) क्रिकेट टूर्नामेंट जीता?

- Ans 1. मुंबई इंडियंस ने
 2. कोलकाता नाइट राइडर्स ने
 3. रॉयल चैलेंजर्स बैंगलोर ने
 4. चेन्नई सुपर किंग्स ने

Question ID : 65497815883
 Chosen Option : 1

Q.23 भगवान महावीर को मोक्ष निम्न में से किस स्थान पर प्राप्त हुआ था?

- Ans 1. पावापुरी
 2. श्रवणबेलगोला
 3. सोनागिरि
 4. माउंट आबू

Question ID : 65497815881
 Chosen Option : 2

Q.24 ब्रिटिश भारती की राजधानी किस वर्ष कलकत्ता से दिल्ली स्थानांतरित की गई थी?

- Ans 1. 1911
 2. 1907
 3. 1905
 4. 1909

Question ID : 65497815903
 Chosen Option : 1

Q.25 2011 की जनगणना के अनुसार, भारत की साक्षरता दर कितनी थी?

Ans 1. 74.0%

2. 81.5%

3. 61.0%

4. 72.0%

Question ID : 65497815900
Chosen Option : 1

www.HaryanaJobs.in

Multi Tasking Non Technical Staff Examination 2020

Participant ID	www.HaryanaJobs.in
Participant Name	www.HaryanaJobs.in
Test Center Name	Shiv Jyoti International School
Test Date	14/10/2021
Test Time :	4:00 PM - 5:30 PM
Subject	MTS Non Technical 2020

Section : **General English**

Q.1 Select the INCORRECTLY spelt word.

- Ans
- 1. Professor
 - 2. Possible
 - 3. Intelligent
 - 4. Confesion

Question ID : **65497815018**
Chosen Option : 4

Q.2 Select the most appropriate ANTONYM of the given word.

PROMINENT

- Ans
- 1. Dangerous
 - 2. Crazy
 - 3. Inconspicuous
 - 4. Evident

Question ID : **65497815011**
Chosen Option : 3

Q.3 Select the most appropriate word to fill in the blank.

You have to submit a copy of _____ school leaving certificate.

- Ans
- 1. your
 - 2. hers
 - 3. yours
 - 4. theirs

Question ID : **65497814999**
Chosen Option : 1

Q.4 Select the most appropriate synonym of the given word.

REGULAR

- Ans 1. Usual
 2. Recent
 3. Fake
 4. Agreeable

Question ID : 65497815012
Chosen Option : 1

Q.5 Select the most appropriate word to fill in the blank.

These days you get very good _____ if you buy consumer goods online.

- Ans 1. objects
 2. deals
 3. covers
 4. spaces

Question ID : 65497815020
Chosen Option : 2

Q.6 Select the most appropriate ANTONYM of the given word.

RECEIVE

- Ans 1. Abandon
 2. Follow
 3. Obtain
 4. Give

Question ID : 65497815010
Chosen Option : 4

Q.7 Identify the segment in the sentence which contains a grammatical error.

In spite of my best efforts I could not concentrated on my studies.

- Ans 1. on my studies
 2. my best efforts
 3. In spite of
 4. could not concentrated

Question ID : 65497814997
Chosen Option : 4

Q.8 Select the most appropriate option to substitute the underlined segment in the given sentence. If there is no need to substitute it, select 'No substitution required.'

These days I ate lots of fruits and green vegetables to boost my immunity.

- Ans 1. eat
 2. No substitution required
 3. eaten
 4. eating

Question ID : 65497815007
Chosen Option : 1

Q.9 Identify the segment in the sentence which contains a grammatical error.

The baby were not able to eat anything due to stomach ache.

- Ans 1. due to
 2. to eat
 3. not able
 4. The baby were

Question ID : 65497814996
Chosen Option : 4

Q.10 Select the most appropriate meaning of the given idiom.

Be over the moon

- Ans 1. Willing to take on a task
 2. Very pleased about something
 3. Unable to perform well
 4. Very unhappy at an incident

Question ID : 65497815015
Chosen Option : 2

Q.11 Select the most appropriate option to substitute the underlined segment in the given sentence. If there is no need to substitute it, select 'No substitution required'.

I always stays at a hotel which is near my work place.

- Ans 1. am always stayed
 2. No substitution required
 3. am always stay
 4. always stay

Question ID : 65497816726
Chosen Option : 4

Q.12 Select the most appropriate word to fill in the blank.

You studied mathematics in Class X, _____ you?

- Ans
- 1. aren't
 - 2. didn't
 - 3. hadn't
 - 4. haven't

Question ID : 65497815000
Chosen Option : 2

Q.13 Select the most appropriate word to fill in the blank.

Restaurants are _____ to new ways of attracting customers these days.

- Ans
- 1. existing
 - 2. displaying
 - 3. adapting
 - 4. living

Question ID : 65497815021
Chosen Option : 3

Q.14 Select the word which means the same as the group of words given.

A system of government in which power is held by the people

- Ans
- 1. Democracy
 - 2. Monarchy
 - 3. Bureaucracy
 - 4. Autocracy

Question ID : 65497815016
Chosen Option : 1

Q.15 Select the INCORRECTLY spelt word.

- Ans
- 1. Apartment
 - 2. Evacuate
 - 3. Advertisement
 - 4. Adress

Question ID : 65497815019
Chosen Option : 4

Q.16 Select the word which means the same as the group of words given.

Drawings or writing scribbled on walls in public places

- Ans
- 1. Posters
 - 2. Graffiti
 - 3. Hoardings
 - 4. Sketches

Question ID : 65497815017
Chosen Option : 2

Q.17 Select the most appropriate synonym of the given word.

TREMENDOUS

- Ans
- 1. Huge
 - 2. Fortunate
 - 3. Minute
 - 4. Eligible

Question ID : 65497815013
Chosen Option : 1

Q.18 Select the most appropriate option to substitute the underlined segment in the given sentence. If there is no need to substitute it, select 'No substitution required'.

We received all the health updates but were not sure whether its accurateness.

- Ans
- 1. about they are accurate
 - 2. No substitution required
 - 3. about their accuracy
 - 4. whether how they were accurate

Question ID : 65497814604
Chosen Option : 3

Q.19 Identify the segment in the sentence which contains a grammatical error.

The young businessman's life was saved when he is pull out from his burning car by passers-by.

- Ans
- 1. was saved
 - 2. he is pull out
 - 3. by passers-by
 - 4. from his burning car

Question ID : 65497814998
Chosen Option : 2

Q.20 Select the most appropriate meaning of the given idiom.

See eye to eye

- Ans 1. Agree
 2. Quarrel
 3. Disturb
 4. Smile

Question ID : **65497815014**
 Chosen Option : 1

Comprehension:

In the following passage some words have been deleted. Fill in the blanks with the help of the alternatives given. Select the most appropriate option for each blank.

Delhi recorded a spell of light rain (1)_____ Friday evening with humidity levels remaining on the higher side throughout (2)_____ day. The IMD has forecast moderate rain on Saturday but some areas (3)_____ to get heavy rain. An official also said that the next seven days are (4)_____ to see good rain. The municipal corporation has been advised to remain prepared for water logging in (5)_____ areas of the city.

SubQuestion No : 21

Q.21 Select the most appropriate option to fill in blank no.1.

- Ans 1. in
 2. on
 3. at
 4. for

Question ID : **65497815002**
 Chosen Option : 2

Comprehension:

In the following passage some words have been deleted. Fill in the blanks with the help of the alternatives given. Select the most appropriate option for each blank.

Delhi recorded a spell of light rain (1)_____ Friday evening with humidity levels remaining on the higher side throughout (2)_____ day. The IMD has forecast moderate rain on Saturday but some areas (3)_____ to get heavy rain. An official also said that the next seven days are (4)_____ to see good rain. The municipal corporation has been advised to remain prepared for water logging in (5)_____ areas of the city.

SubQuestion No : 22

Q.22 Select the most appropriate option to fill in blank no. 2.

- Ans 1. any
 2. a
 3. every
 4. the

Question ID : **65497815003**
 Chosen Option : 4

Comprehension:

In the following passage some words have been deleted. Fill in the blanks with the help of the alternatives given. Select the most appropriate option for each blank.

Delhi recorded a spell of light rain (1)_____ Friday evening with humidity levels remaining on the higher side throughout (2)_____ day. The IMD has forecast moderate rain on Saturday but some areas (3)_____ to get heavy rain. An official also said that the next seven days are (4)_____ to see good rain. The municipal corporation has been advised to remain prepared for water logging in (5)_____ areas of the city.

SubQuestion No : 23

Q.23 Select the most appropriate option to fill in blank no. 3.

- Ans 1. expects
 2. has expected
 3. are expected
 4. expecting

Question ID : **65497815004**
 Chosen Option : **3**

Comprehension:

In the following passage some words have been deleted. Fill in the blanks with the help of the alternatives given. Select the most appropriate option for each blank.

Delhi recorded a spell of light rain (1)_____ Friday evening with humidity levels remaining on the higher side throughout (2)_____ day. The IMD has forecast moderate rain on Saturday but some areas (3)_____ to get heavy rain. An official also said that the next seven days are (4)_____ to see good rain. The municipal corporation has been advised to remain prepared for water logging in (5)_____ areas of the city.

SubQuestion No : 24

Q.24 Select the most appropriate option to fill in blank no. 4.

- Ans 1. like
 2. likelihood
 3. liked
 4. likely

Question ID : **65497815005**
 Chosen Option : **4**

Comprehension:

In the following passage some words have been deleted. Fill in the blanks with the help of the alternatives given. Select the most appropriate option for each blank.

Delhi recorded a spell of light rain (1)_____ Friday evening with humidity levels remaining on the higher side throughout (2)_____ day. The IMD has forecast moderate rain on Saturday but some areas (3)_____ to get heavy rain. An official also said that the next seven days are (4)_____ to see good rain. The municipal corporation has been advised to remain prepared for water logging in (5)_____ areas of the city.

SubQuestion No : 25

Q.25 Select the most appropriate option to fill in blank no. 5.

- Ans 1. low lying
 2. uplifted
 3. high rise
 4. middle

Question ID : **65497815006**
 Chosen Option : **2**

Section : General Intelligence and Reasoning

Q.1 उस विकल्प का चयन करें जो निम्न शब्दों का वह क्रम दर्शाता है जिस क्रम में वे अंग्रेजी शब्दकोश में आते हैं।

1. Identify
2. Identifier
3. Identifiable
4. Identikit
5. Identity

- Ans
- 1. 5-4-3-2-1
 - 2. 2-1-3-5-4
 - 3. 3-2-1-4-5
 - 4. 2-3-1-4-5

Question ID : 65497814434
Chosen Option : 3

Q.2 यदि दर्पण को आकृति के दाईं ओर रखा गया हो, तो दी गई आकृति के सही दर्पण प्रतिबिंब का चयन करें।

β&Q@£

- Ans
- 1. β&Q@£
 - 2. β&Q@£
 - 3. £@Q&β
 - 4. £@Q&β

Question ID : 65497814438
Chosen Option : 3

Q.3 विकल्पों में से कौन-सा अक्षर-समूह निम्न अक्षर श्रेणी में प्रश्नवाचक चिह्न (?) के स्थान पर आएगा?

TQN, JGD, ZWT, ?

- Ans
- 1. PMJ
 - 2. QNK
 - 3. OLI
 - 4. QMK

Question ID : 65497814429
Chosen Option : 1

Q.4 दो कथनों के बाद दो निष्कर्ष I और II दिए गए हैं। कथनों को सत्य मानते हुए, भले ही ये सामान्य रूप से ज्ञात तथ्यों से भिन्न प्रतीत होते हों, निर्धारित करें कि कौन सा/से निष्कर्ष कथनों का तार्किक रूप से अनुसरण करता/करते है/हैं।

कथन:
कुछ गौरैया, चील हैं।
सभी चील, कौवे हैं।

निष्कर्ष:
I. सभी गौरैया, कौवे हैं।
II. कुछ कौवे, गौरैया हैं।

- Ans
- 1. केवल निष्कर्ष I अनुसरण करता है।
 - 2. न तो निष्कर्ष I और न ही II अनुसरण करता है।
 - 3. केवल निष्कर्ष II अनुसरण करता है।
 - 4. निष्कर्ष I और II दोनों अनुसरण करते हैं।

Question ID : 65497814430
Chosen Option : 3

Q.5 किसी निश्चित कूट भाषा में, यदि COMMITAL को ACILMMOT लिखा जाता है, तो उसी कूट भाषा में, INTEGRAL को किस प्रकार लिखा जाएगा?

- Ans
- 1. LARGETNI
 - 2. AEIGLNTR
 - 3. INETGRLA
 - 4. AEGILNRT

Question ID : 65497814422
Chosen Option : 2

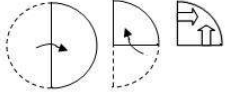
Q.6 उस संख्या त्रिक का चयन करें जो दिए गए त्रिकों के सदृश (analogous) है।

(7, 40, 9), (11, 108, 13)

- Ans
- 1. (8, 58, 6)
 - 2. (4, 12, 5)
 - 3. (9, 67, 10)
 - 4. (13, 123, 24)

Question ID : 65497814419
Chosen Option : 1

Q.7 एक कागज़ को निम्न आकृति के अनुसार मोड़ा और काटा गया है। यह कागज़ खोलने पर कैसा दिखेगा?



Ans

✗ 1.



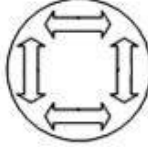
✗ 2.



✗ 3.



✓ 4.



Question ID : 65497814439

Chosen Option : 4

Q.8 दो कथनों के बाद दो निष्कर्ष I और II दिए गए हैं। कथनों को सत्य मानते हुए, भले ही ये सामान्य रूप से ज्ञात तथ्यों से भिन्न प्रतीत होते हों, निर्धारित करें कि कौन सा/से निष्कर्ष कथनों का तार्किक रूप से अनुसरण करता/करते है/हैं।

कथन:

सभी टेलीविज़न, रेडियो हैं।

कुछ रेडियो, ट्रांजिस्टर हैं।

निष्कर्ष:

I. सभी रेडियो, टेलीविज़न हैं।

II. कुछ टेलीविज़न, ट्रांजिस्टर हैं।

Ans

✗ 1. निष्कर्ष I और II दोनों अनुसरण करते हैं।

✗ 2. केवल निष्कर्ष II अनुसरण करता है।

✓ 3. न तो निष्कर्ष I और न ही II अनुसरण करता है।

✗ 4. केवल निष्कर्ष I अनुसरण करता है।

Question ID : 65497814431

Chosen Option : 3

Q.9 गणितीय चिह्नों के उस सही क्रम का चयन करें, जिन्हें क्रमिक रूप से * चिह्नों के स्थान पर रखने पर दिया गया समीकरण संतुलित हो जाएगा।

$$78 * 26 * 4 * 13 * 28 = 58$$

- Ans
- 1. - + + *
 - 2. + * + -
 - 3. + + * +
 - 4. + + * -

Question ID : 65497814417
Chosen Option : 2

Q.10 किसी टैक्सी में छः सीटें हैं, तीन आगे की पंक्ति में और तीन पीछे की पंक्ति में। जो लोग कार में पहले सवार होते हैं, वे पीछे की सीट पर जाते हैं और पहले आओ पहले पाओ के आधार पर सीट ग्रहण करते हैं। Y कार में सबसे पहले सवार होता है और U सबसे अंत में सवार होता है। Z कार में सवार होने वाला दूसरा अंतिम व्यक्ति है और V के सामने बैठा है। यदि W, V के बाईं ओर बैठा है, तो X का कार में सवार होने का क्रम बताइए।

- Ans
- 1. पांचवां
 - 2. चौथा
 - 3. दूसरा
 - 4. तीसरा

Question ID : 65497814433
Chosen Option : 2

Q.11 Five persons, A, B, C, D, and E are sitting on a bench all facing the park. D is second left of C but immediate right of B. If E is on the extreme left of the bench and sitting adjacent to B, what is the exact location of A?

- Ans
- 1. Left of C
 - 2. Left of D
 - 3. Right of C
 - 4. Right of E

Question ID : 65497814432
Chosen Option : 1

Q.12 किसी निश्चित कूट भाषा में, यदि POWERCUT को TRAHVFYW लिखा जाता है, तो उसी कूट भाषा में TRACKING को किस प्रकार लिखा जाएगा?

- Ans
- 1. RTCAIKGN
 - 2. XUEFOLRT
 - 3. XVEGOMRU
 - 4. WUDFNLQT

Question ID : 65497814423
Chosen Option : 2

Q.13 उस विकल्प का चयन करें, जो तीसरे अक्षर-समूह से ठीक उसी प्रकार संबंधित है, जिस प्रकार दूसरा अक्षर-समूह पहले अक्षर-समूह से संबंधित है।

LATITUDE : OZGRGFVW :: DUSTMITE : _____.

- Ans
- 1. VFGGMRV
 - 2. WFHGNGV
 - 3. WGHNSGW
 - 4. XGIHOSHW

Question ID : 65497814426
Chosen Option : 2

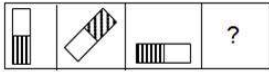
Q.14 विकल्पों में से कौन-सी संख्या, निम्न संख्या श्रेणी में प्रश्नवाचक चिह्न (?) के स्थान पर आएगी?

8, 18, 26, 32, 36, ?

- Ans
- 1. 42
 - 2. 38
 - 3. 36
 - 4. 40

Question ID : 65497814420
Chosen Option : 2

Q.15 उस विकल्प आकृति का चयन करें, जो निम्न आकृति-श्रेणी में प्रश्नवाचक चिह्न (?) के स्थान पर आएगी।



Ans

- 1.
- 2.
- 3.
- 4.

Question ID : 65497814435
Chosen Option : 3

Q.16 इनमें से कौन-सी दो संख्याओं और कौन से दो चिह्नों को एक-दूसरे से प्रतिस्थापित करने से दिया गया समीकरण संतुलित हो जाएगा?

$$18 \times 7 \div 36 + 78 - 14 = 86$$

- Ans
- 1. 1 और 4; \times और $+$
 - 2. 6 और 4; $-$ और $+$
 - 3. 4 और 3; $+$ और $-$
 - 4. 3 और 4; \times और $+$

Question ID : 65497814416
Chosen Option : 3

Q.17 यदि किसी निश्चित कूट भाषा में, TEACHER को 4235726 के रूप में और STRENGTH को 8462947 के रूप में कूटबद्ध किया जाता है, तो उसी कूट भाषा में ENTRENCH को किस रूप में कूटबद्ध किया जाएगा?

- Ans
- 1. 29462957
 - 2. 24922457
 - 3. 29642965
 - 4. 46294675

Question ID : 65497814424
Chosen Option : 1

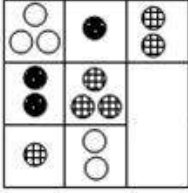
Q.18 यदि किसी निश्चित कूट भाषा में, NUISANCE को 134 के रूप में और ERASURE को 106 के रूप में कूटबद्ध किया जाता है, तो उसी कूट भाषा में PHILLIPS को किस रूप में कूटबद्ध किया जाएगा?

- Ans
- 1. 115
 - 2. 99
 - 3. 119
 - 4. 95

Question ID : 65497814425
Chosen Option : --


www.HaryanaJobs.in

Q.19 उस विकल्प आकृति का चयन करें, जो निम्न पैटर्न को पूरा करेगी।




Ans

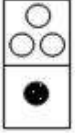
✗ 1.




✓ 2.



✗ 3.



✗ 4.



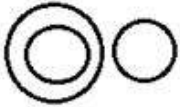
Question ID : 65497814436
Chosen Option : 2

Q.20 उस वेन-आरेख का चयन करें, जो निम्न वर्गों के बीच संबंध को सर्वोत्तम ढंग से निरूपित करता है।


सेब, फल, गाजर

Ans

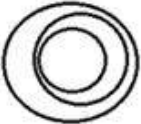
✓ 1.



✗ 2.



✗ 3.



✗ 4.



Question ID : 65497814440
Chosen Option : 1

Q.21 जिस प्रकार 'सुई', 'तुरपन' से संबंधित है, उसी प्रकार 'कलम', ' _____ ' से संबंधित है।

- Ans
- 1. कागज़
 - 2. निब
 - 3. स्याही
 - 4. लेखन

Question ID : 65497814428
Chosen Option : 4

Q.22 विकल्पों में से कौन-सी संख्या, निम्न संख्या श्रेणी में प्रश्नवाचक चिह्न (?) के स्थान पर आएगी?

26, 28, 24, 30, 22, ?

- Ans
- 1. 28
 - 2. 32
 - 3. 26
 - 4. 30

Question ID : 65497814421
Chosen Option : 2

Q.23 उस विकल्प का चयन करें, जो तीसरे शब्द से ठीक उसी प्रकार संबंधित है, जिस प्रकार दूसरा शब्द पहले शब्द से संबंधित है।

मुर्गी : चूजा :: कुत्ता : _____.

- Ans
- 1. बछड़ा
 - 2. पिल्ला
 - 3. शिशु
 - 4. शावक

Question ID : 65497814427
Chosen Option : 2

Q.24 उस विकल्प का चयन करें, जिसमें संख्या-युग्म की संख्याएं एक-दूसरे से ठीक उसी प्रकार संबंधित हैं, जिस प्रकार दिए गए संख्या-युग्म की संख्याएं एक-दूसरे से संबंधित हैं।

18 : 38

- Ans
- 1. 46 : 68
 - 2. 51 : 83
 - 3. 28 : 60
 - 4. 38 : 70

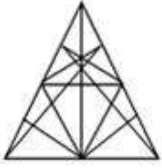
Question ID : 65497814418
Chosen Option : 3

Q.25 उस विकल्प का चयन करें, जिसमें निम्न आकृति अन्तःस्थापित है। (घुमाने की अनुमति नहीं है)

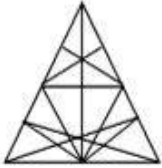


Ans

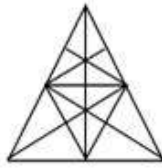
✗ 1.



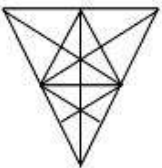
✗ 2.



✓ 3.



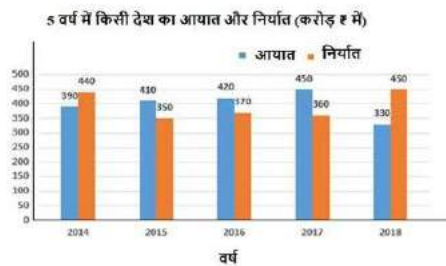
✗ 4.



Question ID : 65497814437
Chosen Option : 3

Section : Numerical Aptitude

Q.1 दिए गए ग्राफ का अध्ययन करें और नीचे दिए गए प्रश्न का उत्तर दें।



2014, 2016 और 2018 में देश का कुल निर्यात, 2015 और 2017 में कुल आयात से कितने प्रतिशत अधिक है?
(दशमलव के एक स्थान तक सही)

- Ans
- ✗ 1. 44.2%
 - ✗ 2. 32.4%
 - ✗ 3. 30.6%
 - ✓ 4. 46.5%

Question ID : 65497815172
Chosen Option : 4

Q.2 सात वर्ष पहले, A और B की आयु का अनुपात 2 : 3 था। तीन वर्ष बाद, उनकी आयु का अनुपात 5 : 7 होगा। उनकी वर्तमान आयु का योगफल (वर्ष में) ज्ञात करें।

- Ans
- 1. 110
 - 2. 114
 - 3. 112
 - 4. 118

Question ID : 65497815158
Chosen Option : 2

Q.3 $21 - [29 - \{27 - (43 - 15 \div 3 \times 4 \text{ of } 3 + 2)\}]$ का मान ज्ञात करें।

- Ans
- 1. 27
 - 2. 31
 - 3. 39
 - 4. 34

Question ID : 65497815149
Chosen Option : 4

Q.4 अमिता, ₹100.80 में 12 की दर से 100 सेब खरीदती है और ₹117 में 15 की दर से 200 सेब खरीदती है। यह पाया गया कि 10% सेब खराब थे। वह ₹204 में 20 की दर से सभी सेब बेच देती है। पूरे लेन-देन में उसका लाभ प्रतिशत ज्ञात करें।

- Ans
- 1. 14.25%
 - 2. 14.75%
 - 3. 15.25%
 - 4. 15.5%

Question ID : 65497815157
Chosen Option : 2

Q.5 A किसी कार्य को 12 दिन में कर सकता है और B उसी कार्य को 18 दिन में कर सकता है। वे एक साथ 4 दिन तक कार्य करते हैं। अकेले C, शेष कार्य को 6 दिन में पूरा करता है। यदि उन्हें पूरे कार्य के लिए ₹3,240 मिलते हैं, तो इस राशि में C का हिस्सा ज्ञात करें।

- Ans
- 1. ₹1,170
 - 2. ₹1,440
 - 3. ₹1,080
 - 4. ₹1,260

Question ID : 65497815163
Chosen Option : 1

Q.6 पिछले वर्ष, किसी परीक्षा में विद्यालय A से 300 छात्र शामिल हुए और $33\frac{1}{3}\%$ छात्र अनुत्तीर्ण हुए। उसी वर्ष, परीक्षा में विद्यालय B से 480 छात्र शामिल हुए। विद्यालय A और B से कुल 60% छात्र उत्तीर्ण हुए। विद्यालय B से अनुत्तीर्ण छात्रों का प्रतिशत ज्ञात करें।

Ans

✓ 1. $44\frac{1}{6}\%$

✗ 2. $42\frac{1}{3}\%$

✗ 3. $40\frac{2}{3}\%$

✗ 4. $43\frac{3}{4}\%$

Question ID : 65497815155

Chosen Option : 1

Q.7 X और Y की आय का अनुपात 2 : 3 है और उनके व्ययों का अनुपात 4 : 5 है। यदि X और Y क्रमशः ₹5,000 और ₹17,500 बचाते हैं, तो X की आय (₹ में) ज्ञात करें।

Ans

✗ 1. 55,000

✗ 2. 60,000

✗ 3. 50,000

✓ 4. 45,000

Question ID : 65497815160

Chosen Option : 4

Q.8 यदि आंकड़ों 8, 5, 4, 3, 2, 7, 3, 10, 9, 17, 12, 3, 8, 4 की माध्यिका, बहुलक और परास क्रमशः a, b और c हैं, तो $(3a - 2b + c)$ का मान ज्ञात करें।

Ans

✓ 1. 27

✗ 2. 26

✗ 3. 29

✗ 4. 30

Question ID : 65497815154

Chosen Option : 1

Q.9 किसी आयत की लंबाई और चौड़ाई क्रमशः 35 cm और 12 cm है। इस आयत के चारों ओर निर्मित वृत्त की परिधि ज्ञात करें। ($\pi = \frac{22}{7}$ लें)

- Ans
- 1. $117\frac{1}{7}$ cm
 - 2. $116\frac{2}{7}$ cm
 - 3. $114\frac{4}{7}$ cm
 - 4. $115\frac{3}{7}$ cm

Question ID : 65497815167
Chosen Option : 2

Q.10 कोई दुकानदार, किसी वस्तु को उसके अंकित मूल्य के $\frac{4}{5}$ भाग पर खरीदता है और इसे अंकित मूल्य से 16% अधिक मूल्य पर बेचता है, तो उसका लाभ प्रतिशत ज्ञात करें।

- Ans
- 1. 42%
 - 2. 45%
 - 3. 40%
 - 4. 48%

Question ID : 65497815153
Chosen Option : 2

Q.11 किसी बेलन की त्रिज्या में उसकी वास्तविक त्रिज्या से 50% की कमी जाती है। यदि इसका आयतन पहले की तरह समान रहता है, तो इसकी ऊंचाई मूल ऊंचाई से k गुना हो जाती है। k का मान ज्ञात करें।

- Ans
- 1. 2
 - 2. 16
 - 3. 8
 - 4. 4

Question ID : 65497814664
Chosen Option : 4

Q.12 वार्षिक चक्रवृद्धि ब्याज की किसी निश्चित प्रतिशत दर पर निवेशित कोई राशि, 2 वर्ष में ₹13,824 और 3 वर्ष में ₹16,588.80 हो जाती है, जबकि ब्याज वार्षिक संयोजित होता है। समान राशि पर 4 वर्ष के अंत में प्राप्त मिश्रधन ज्ञात करें। (निकटतम रुपये तक)

- Ans
- 1. ₹20,238
 - 2. ₹19,907
 - 3. ₹18,579
 - 4. ₹18,248

Question ID : 65497815162
Chosen Option : 2

Q.13 पाइप A और B किसी टंकी को क्रमशः 18 मिनट और 30 मिनट में भर सकते हैं। टंकी से जुड़ा पाइप C, प्रति मिनट 125 लीटर पानी बाहर निकाल सकता है। यदि सभी पाइप एक साथ खोले जाते हैं, तो टंकी 45 मिनट में भर जाती है। टंकी की क्षमता लीटर में ज्ञात करें।

- Ans
- 1. 1500
 - 2. 1875
 - 3. 2000
 - 4. 1375

Question ID : 65497815164
Chosen Option : 2

Q.14 $2\frac{1}{4} \div 1\frac{1}{2}$ of $\left[4\frac{1}{6} - \left(\frac{17}{21} + \frac{4}{3} \times 2\frac{1}{8} \div 1\frac{1}{6} \text{ of } \frac{3}{4} - \frac{5}{7}\right)\right]$ का मान ज्ञात करें।

- Ans
- 1. $3\frac{1}{3}$
 - 2. $1\frac{4}{5}$
 - 3. $\frac{5}{9}$
 - 4. $1\frac{1}{4}$

Question ID : 65497815150
Chosen Option : 2

Q.15 $\frac{1}{5} \div \frac{3}{10}$ of $\frac{4}{9} - \frac{4}{5} \times 1\frac{1}{9} \div \frac{8}{15} + \frac{3}{4} + \frac{3}{4} \div \frac{1}{2}$ का मान कितना होगा?

- Ans
- 1. $\frac{7}{12}$
 - 2. $\frac{11}{12}$
 - 3. $\frac{17}{12}$
 - 4. $\frac{25}{12}$

Question ID : 65497816885
Chosen Option : 4

Q.16 किसी निश्चित राशि पर, $6\frac{3}{4}\%$ की दर से $4\frac{2}{3}$ वर्ष में प्राप्त साधारण ब्याज ₹8,820 है। समान राशि पर, $8\frac{1}{3}\%$ साधारण ब्याज की दर से $7\frac{1}{2}$ वर्ष में प्राप्त धनराशि जात करें।

- Ans
- 1. ₹54,400
 - 2. ₹45,500
 - 3. ₹54,500
 - 4. ₹45,400

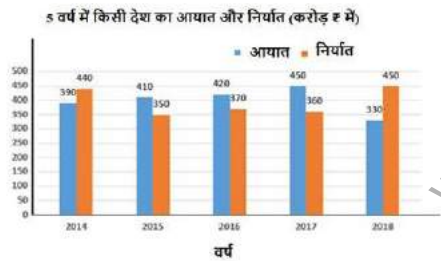
Question ID : 65497815161
Chosen Option : 2

Q.17 कोई व्यक्ति, बिंदु A से बिंदु B तक 10 m/sec की चाल से यात्रा करता है और बिंदु B से बिंदु A तक x km/h की चाल से वापस आता है। यदि उसकी औसत चाल 45 km/h है, तो x का मान जात करें।

- Ans
- 1. 50
 - 2. 60
 - 3. 56
 - 4. 54

Question ID : 65497815165
Chosen Option : 2

Q.18 दिए गए ग्राफ का अध्ययन करें और नीचे दिए गए प्रश्न का उत्तर दें।



यदि पांचों वर्षों में देश के आयात से संबंधित आंकड़े के लिए पाई चार्ट तैयार किया जाता है, तो 2015 में आयात को निरूपित करने वाले क्षेत्र (sector) का केंद्रीय कोण (डिग्री में) _____ होगा।

- Ans
- 1. 75.6
 - 2. 73.8
 - 3. 59.4
 - 4. 70.2

Question ID : 65497815171
Chosen Option : 4

Q.19 तीन धनात्मक पूर्णांक हैं। यदि उनमें से किन्हीं भी दो पूर्णाकों का औसत, तीसरे पूर्णांक में जोड़ा जाता है, तो परिणामी योगफल 181, 172 और 160 होता है। दिए गए पूर्णाकों का औसत ज्ञात करें।

- Ans
- 1. 78.5
 - 2. 84
 - 3. 86
 - 4. 85.5

Question ID : 65497815152
Chosen Option : 4

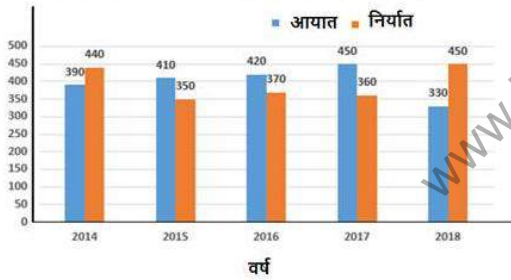
Q.20 जब किसी वस्तु को ₹242 में बेचा जाता है, तो 12% की हानि होती है। 15% का लाभ प्राप्त करने के लिए, वस्तु को किस मूल्य (₹ में) में बेचना चाहिए?

- Ans
- 1. 326.50
 - 2. 319
 - 3. 324
 - 4. 316.25

Question ID : 65497815156
Chosen Option : 4

Q.21 दिए गए ग्राफ का अध्ययन करें और नीचे दिए गए प्रश्न का उत्तर दें।

5 वर्ष में किसी देश का आयात और निर्यात (करोड़ ₹ में)



किस वर्ष में कंपनी का निर्यात, 2016, 2017 और 2018 के दौरान औसत आयात का 87.5% है?

- Ans
- 1. 2016
 - 2. 2015
 - 3. 2017
 - 4. 2014

Question ID : 65497815170
Chosen Option : 1

Q.22 कोई व्यक्ति, धारा की दिशा में 78 km और धारा की विपरीत दिशा में 42 km की दूरी नाव द्वारा 6 घंटे में तय कर सकता है। धारा की चाल 6 km/h है। नाव द्वारा कितने समय में वह शांत जल में 100 km की दूरी तय कर सकता है?

- Ans
- 1. 4
 - 2. 6
 - 3. 5
 - 4. 8

Question ID : 65497815166
Chosen Option : 3

Q.23 किसी कक्षा में छात्रों का औसत भार 58.5 kg है। 49 kg, 51 kg, 54 kg और 68 kg भार वाले और चार छात्र कक्षा में शामिल होते हैं। अब कक्षा में सभी छात्रों का औसत भार 58.3 kg है। आरंभ में, कक्षा में छात्रों की संख्या ज्ञात करें।

- Ans
- 1. 54
 - 2. 44
 - 3. 46
 - 4. 56

Question ID : 65497815151
Chosen Option : 4

Q.24 ₹16,200 की राशि को A, B और C के बीच विभाजित किया गया। यदि A को ₹1,200 कम प्राप्त हो, तो हिस्सों का अनुपात 3 : 4 : 5 होगा। आरंभ में A का हिस्सा ज्ञात करें।

- Ans
- 1. ₹4,950
 - 2. ₹6,250
 - 3. ₹3,750
 - 4. ₹6,050

Question ID : 65497815159
Chosen Option : 3

Q.25 जब 3820, 4672 और 6163 को बड़ी से बड़ी संख्या x से विभाजित किया जाता है, तो प्रत्येक स्थिति में प्राप्त शेषफल समान होता है। जब 1035 को x से विभाजित किया जाता है, तो प्राप्त भागफल ज्ञात करें।

- Ans
- 1. 6
 - 2. 8
 - 3. 3
 - 4. 4

Question ID : 65497815148
Chosen Option : --

Section : General Awareness

Q.1 बाबा रामचंद्र ने औपनिवेशिक शासन के दौरान मुख्य रूप से निम्नलिखित में से किस क्षेत्र में किसान संघर्ष का नेतृत्व किया था?

- Ans
- 1. जोधपुर
 - 2. अवध
 - 3. हैदराबाद
 - 4. मैसूर

Question ID : 65497815296

Chosen Option : --

Q.2 राजा शशांक, जिनके विरुद्ध हर्षवर्धन ने युद्ध की घोषणा की थी, _____ साम्राज्य के शासक थे।

- Ans
- 1. गौड़
 - 2. मगध
 - 3. जूनागढ़
 - 4. कान्यकुब्ज

Question ID : 65497815297

Chosen Option : 1

Q.3 भाम्बावली वज्रई झरना निम्नलिखित में से किस राज्य में स्थित है?

- Ans
- 1. कर्नाटक
 - 2. आंध्र प्रदेश
 - 3. ओडिशा
 - 4. महाराष्ट्र

Question ID : 65497815295

Chosen Option : --

Q.4 'द मेडिसिन मेकर पॉवर लिस्ट 2020' में बायोफार्मास्यूटिकल्स के क्षेत्र में शीर्ष 20 प्रेरणादायक नेताओं में निम्नलिखित में से किसे नामित किया गया है?

- Ans
- 1. अजय पीरामल
 - 2. ग्लेन सल्दान्हा
 - 3. दिलीप सांघवी
 - 4. किरण मजूमदार शॉ

Question ID : 65497815280

Chosen Option : 4

Q.5 'ट्रेकोमा' नामक बीमारी से शरीर का निम्नलिखित में से कौन सा अंग प्रत्यक्ष तौर पर प्रभावित होता है?

- Ans
- 1. यकृत
 - 2. आंखें
 - 3. फेफड़े
 - 4. दांत

Question ID : 65497815289

Chosen Option : 2

Q.6 आई.सी.सी. (ICC) महिला टी-20 विश्व कप 2020 में भारतीय टीम की कप्तान कौन थी?

- Ans
- 1. शेफाली वर्मा
 - 2. ऋचा घोष
 - 3. वेद कृष्णमूर्ति
 - 4. हरमनप्रीत कौर

Question ID : 65497815278
Chosen Option : 4

Q.7 अगस्त 2020 तक प्राप्त जानकारी के अनुसार पुलेला गोपीचंद भारतीय _____ टीम के प्रमुख कोच थे।

- Ans
- 1. कुश्ती
 - 2. बैडमिंटन
 - 3. फुटबॉल
 - 4. जूडो

Question ID : 65497815277
Chosen Option : 2

Q.8 निम्न भारतीय क्रांतिकारियों में से किसने जर्मनी के सहयोग से अंग्रेजों के खिलाफ सशस्त्र विद्रोह का विचार किया था?

- Ans
- 1. खुदीराम बोस
 - 2. अशफाक-उल्ला खान
 - 3. बाघा जतिन
 - 4. प्रफुल्ल चाकी

Question ID : 65497815298
Chosen Option : 1

Q.9 लोक रंगमंच रूप 'रणमले' पारंपरिक रूप से निम्नलिखित में से किस राज्य से संबंधित है?

- Ans
- 1. झारखंड
 - 2. पश्चिम बंगाल
 - 3. गोवा
 - 4. छत्तीसगढ़

Question ID : 65497815274
Chosen Option : 1

Q.10 2019 का शांति स्वरूप भटनागर विज्ञान और प्रौद्योगिकी पुरस्कार निम्नलिखित में से किसे प्राप्त नहीं हुआ था?

- Ans
- 1. तापस कुमार माजी
 - 2. सौमेन बसाक
 - 3. कायरात साईकृष्णन
 - 4. शाक्य सिंहा सेन

Question ID : 65497815281
Chosen Option : --

Q.11 स्टेनली जलाशय निम्नलिखित में से किस राज्य में स्थित है?

- Ans 1. तमिलनाडु
 2. आंध्र प्रदेश
 3. गोवा
 4. महाराष्ट्र

Question ID : 65497815293
 Chosen Option : 1

Q.12 निम्नलिखित में से कौन सा राजस्थान का राज्य नृत्य है?

- Ans 1. घूमर
 2. कच्ची घोड़ी
 3. कालबेलिया
 4. कठपुतली

Question ID : 65497815275
 Chosen Option : 3

Q.13 ब्रिटेन सरकार के आंकड़ों के अनुसार, भारत, 2019-20 के दौरान ब्रिटेन में प्रत्यक्ष विदेशी निवेश का _____ सबसे बड़ा स्रोत था।

- Ans 1. पाँचवाँ
 2. चौथा
 3. दूसरा
 4. तीसरा

Question ID : 65497815284
 Chosen Option : 2

Q.14 31 जुलाई 2020 तक प्राप्त जानकारी के अनुसार योजना मंत्रालय के राज्य मंत्री (स्वतंत्र प्रभार) कौन थे?

- Ans 1. श्रीपाद येसो नाइक
 2. किरन रिज्जीजू
 3. संतोष कुमार गंगवार
 4. राव इंद्रजीत सिंह

Question ID : 65497815287
 Chosen Option : 1

Q.15 हिंदी काव्य पुस्तक 'छीलते हुए अपने को' के लेखक निम्नलिखित में से कौन हैं?

- Ans 1. नंद किशोर आचार्य
 2. गुलजार
 3. जावेद अख्तर
 4. राहत इंदौरी

Question ID : 65497815279
 Chosen Option : 1

Q.16 सौर मंडल का सबसे वातमय ग्रह निम्नलिखित में से कौन सा है?

- Ans 1. नेपच्यून
 2. मंगल
 3. यूरेनस
 4. शनि

Question ID : 65497815292
 Chosen Option : --

Q.17 31 जुलाई 2020 तक की जानकारी के अनुसार बृहस्पति ग्रह के कुल कितने प्राकृतिक उपग्रह थे?

- Ans 1. 75
 2. 79
 3. 86
 4. 82

Question ID : 65497815291
 Chosen Option : 3

Q.18 निम्नलिखित में से किसने, भारत के योजना आयोग के उपाध्यक्ष के रूप में कार्य किया है?

- Ans 1. रामास्वामी वेंकटरमन
 2. प्रतिभा पाटिल
 3. प्रणब मुखर्जी
 4. ज्ञानी जैल सिंह

Question ID : 65497815286
 Chosen Option : 1

Q.19 एक छाया कठपुतली थियेटर परंपरा, थोलूबोम्मलत्ता, किस राज्य से संबंधित है?

- Ans 1. महाराष्ट्र
 2. आंध्र प्रदेश
 3. कर्नाटक
 4. केरल

Question ID : 65497815276
 Chosen Option : 3

Q.20 क्वार्ट्ज का प्राथमिक घटक निम्नलिखित में से कौन सा है?

- Ans 1. जिंक
 2. एल्युमीनियम
 3. सिलिका
 4. आयरन

Question ID : 65497815288
 Chosen Option : 3

Q.21 निम्नलिखित में से कौन भारत के सभी केंद्रीय विश्वविद्यालयों का कुलाध्यक्ष (विजिटर) होता है?

- Ans
- 1. भारत के उपराष्ट्रपति
 - 2. अध्यक्ष, विश्वविद्यालय अनुदान आयोग
 - 3. भारत के राष्ट्रपति
 - 4. केंद्रीय मानव संसाधन विकास मंत्री

Question ID : 65497815285
Chosen Option : 3

Q.22 जुलाई 2020 में केंद्रीय सूक्ष्म, लघु और मध्यम उद्यम मंत्रालय ने उद्यमों के वर्गीकरण और पंजीकरण की प्रक्रिया को सुविधाजनक बनाने के लिए एक पंजीकरण पोर्टल की शुरुआत की। इस पोर्टल का नाम क्या है?

- Ans
- 1. सक्षम पंजीकरण पोर्टल
 - 2. दक्ष पंजीकरण पोर्टल
 - 3. उद्यम पंजीकरण पोर्टल
 - 4. सुगम पंजीकरण पोर्टल

Question ID : 65497814777
Chosen Option : 1

Q.23 निम्नलिखित में से कौन सी कर्नाटक की एक पूर्व की ओर बहने वाली नदी नहीं है?

- Ans
- 1. मंजरा
 - 2. मांडवी
 - 3. तुंगभद्रा
 - 4. भीम

Question ID : 65497815294
Chosen Option : 3

Q.24 किसी बैंक के निम्नलिखित किस कार्य के साथ आप 'संपार्श्विक' (collateral) शब्द को संबद्ध करेंगे?

- Ans
- 1. ऋण और अग्रिम की स्वीकृति
 - 2. पोर्टफोलियो प्रबंधन
 - 3. चेक संग्रहण
 - 4. जमा स्वीकृति

Question ID : 65497816899
Chosen Option : 1

Q.25 पृथ्वी के वायुमंडल में अनुमानित रूप से कितने प्रतिशत आर्गन है?

- Ans
- 1. 1%
 - 2. 2%
 - 3. 4%
 - 4. 3%

Question ID : 65497815290
Chosen Option : 1

Multi Tasking Non Technical Staff Examination 2020

Participant ID	www.HaryanaJobs.in
Participant Name	www.HaryanaJobs.in
Test Center Name	ION DIGITAL ZONE IDZ TUPUDANA
Test Date	14/10/2021
Test Time :	9:00 AM - 10:30 AM
Subject	MTS Non Technical 2020

Section : **General English**

Q.1 Select the most appropriate meaning of the given idiom.

A piece of the pie

- Ans 1. An unpleasant thing to accept
 2. A share in money or business
 3. Make a sweet dish
 4. Feel humbled

Question ID : **65497817944**
Chosen Option : **2**

Q.2 Select the most appropriate word which means the same as the group of words given.

The broken parts of objects found in an ancient site

- Ans 1. Destruction
 2. Repairs
 3. Ruins
 4. Defects

Question ID : **65497817945**
Chosen Option : **3**

Q.3 Select the most appropriate word to fill in the blank.

A team of doctors has been sent to the worst affected area to _____ the patients there.

- Ans 1. conduct
 2. treat
 3. experiment
 4. result

Question ID : **65497817949**
Chosen Option : **2**

Q.4 Select the most appropriate option to substitute the underlined segment in the given sentence.

There will be little more pupils in the class next year, but we have enough space.

- Ans
- 1. much more
 - 2. few more
 - 3. a little more
 - 4. a few more

Question ID : 65497817936
Chosen Option : 2

Q.5 Select the most appropriate ANTONYM of the given word.

ADMIRE

- Ans
- 1. Dislike
 - 2. Approve
 - 3. Disagree
 - 4. Respect

Question ID : 65497817939
Chosen Option : 1

Q.6 Select the most appropriate word which means the same as the group of words given.

Forgive or pardon some wrongdoing or an offence

- Ans
- 1. Convict
 - 2. Condemn
 - 3. Condone
 - 4. Condole

Question ID : 65497817946
Chosen Option : 3

Q.7 Select the most appropriate option to substitute the underlined segment in the given sentence. If there is no need to substitute it, select 'No substitution required'.

Astronomers consider the year 2020 to be eventful in the celestial world until the four eclipses.

- Ans
- 1. because of
 - 2. notwithstanding
 - 3. No substitution required
 - 4. even though

Question ID : 65497818240
Chosen Option : 1

Q.8 Choose the correctly spelt word.

- Ans 1. Siringe
 2. Cyrinje
 3. Sirynje
 4. Syringe

Question ID : 65497817948
Chosen Option : 4

Q.9 Select the most appropriate ANTONYM of the given word.

ABSOLUTE

- Ans 1. Limited
 2. Adequate
 3. Total
 4. Complete

Question ID : 65497817940
Chosen Option : 1

Q.10 Choose the correctly spelt word.

- Ans 1. Dieloge
 2. Diloge
 3. Dilogue
 4. Dialogue

Question ID : 65497817947
Chosen Option : 4

Q.11 The given sentence contains a grammatical error. Identify the segment that contains the error.

Mr. Choudhri goes to fly to Germany and France next weekend.

- Ans 1. to Germany and France
 2. next weekend
 3. Mr. Choudhri goes
 4. to fly

Question ID : 65497817927
Chosen Option : 3

Q.12 The given sentence contains a grammatical error. Identify the segment that contains the error.

Not get into the car; it has not been cleaned inside.

- Ans
- 1. into the car
 - 2. been cleaned inside
 - 3. Not get
 - 4. it has not

Question ID : 65497817926
Chosen Option : 3

Q.13 Select the most appropriate option to substitute the underlined segment in the given sentence. If there is no need to substitute it, select 'No substitution required'.

Just when I sit down, than the doorbell rang.

- Ans
- 1. As soon as I did
 - 2. Hardly when I
 - 3. No sooner did I
 - 4. No substitution required

Question ID : 65497816019
Chosen Option : 3

Q.14 Select the most appropriate word to fill in the blank.

Modern technology has created many new jobs that require _____ skills and knowledge.

- Ans
- 1. dangerous
 - 2. hard
 - 3. common
 - 4. specialised

Question ID : 65497817950
Chosen Option : 4

Q.15 Select the most appropriate meaning of the given idiom.

Call off

- Ans
- 1. Shout someone's name aloud
 - 2. Speak to someone over the phone
 - 3. Visit someone
 - 4. Cancel something

Question ID : 65497817943
Chosen Option : 4

Q.16 Select the most appropriate option to fill in the blank.

I haven't got _____ with me now.

- Ans
- 1. some money
 - 2. lot of money
 - 3. no money
 - 4. any money

Question ID : 65497817928
Chosen Option : 4

Q.17 Select the most appropriate synonym of the given word.

AIM

- Ans
- 1. Purpose
 - 2. Shot
 - 3. Selection
 - 4. Courage

Question ID : 65497817941
Chosen Option : 1

Q.18 Select the most appropriate synonym of the given word.

ALARM

- Ans
- 1. Wake
 - 2. Ring
 - 3. Panic
 - 4. Sound

Question ID : 65497817942
Chosen Option : 3

Q.19 The given sentence contains a grammatical error. Identify the segment that contains the error.

The school usually starts at 8 a.m. and is closing at 3 p.m.

- Ans
- 1. The school
 - 2. at 8 a.m. and
 - 3. is closing at 3 p.m.
 - 4. usually starts

Question ID : 65497817925
Chosen Option : 3

Q.20 Select the most appropriate option to fill in the blank.

_____ some more soup?

- Ans
- 1. You will like
 - 2. Would you like
 - 3. You want to like
 - 4. Did you like

Question ID : **65497817929**
Chosen Option : 2

Comprehension:

In the following passage, some words have been deleted. Fill in the blanks with the help of the options given. Select the most appropriate option for each blank.

Here are some statistics for those interested in numbers and percentages. The proportion of (1)_____ users in India is said to be 90.1%. While the use of landline phones continues to decline, the (2)_____ of mobile phone users appears to have reached a plateau, according to reports. The number of (3)_____ to landline phones had gone up from 9.8 million in 1995 to 21.7 million in 2019. On the other hand, India had only 1.2 million cell phone users in 1999, which grew to an (4)_____ figure of 1,161.7 million in 2019. It's unimaginable, isn't it? Mobile phones have also literally (5)_____ phone booths. There were about 6.2 million public call offices in India in 2008. The number declined to 0.2 million in 2019; of those, 0.1 million public telephones are in villages. New York city is said to have only 4 such booths.

SubQuestion No : 21

Q.21 Select the most appropriate option to fill in blank no. 1.

- Ans
- 1. phone
 - 2. landline
 - 3. text
 - 4. computer

Question ID : **65497817931**
Chosen Option : 1

Comprehension:

In the following passage, some words have been deleted. Fill in the blanks with the help of the options given. Select the most appropriate option for each blank.

Here are some statistics for those interested in numbers and percentages. The proportion of (1)_____ users in India is said to be 90.1%. While the use of landline phones continues to decline, the (2)_____ of mobile phone users appears to have reached a plateau, according to reports. The number of (3)_____ to landline phones had gone up from 9.8 million in 1995 to 21.7 million in 2019. On the other hand, India had only 1.2 million cell phone users in 1999, which grew to an (4)_____ figure of 1,161.7 million in 2019. It's unimaginable, isn't it? Mobile phones have also literally (5)_____ phone booths. There were about 6.2 million public call offices in India in 2008. The number declined to 0.2 million in 2019; of those, 0.1 million public telephones are in villages. New York city is said to have only 4 such booths.

SubQuestion No : 22

Q.22 Select the most appropriate option to fill in blank no. 2.

- Ans
- 1. figure
 - 2. number
 - 3. ratio
 - 4. proportion

Question ID : **65497817932**
Chosen Option : 2

Comprehension:

In the following passage, some words have been deleted. Fill in the blanks with the help of the options given. Select the most appropriate option for each blank.

Here are some statistics for those interested in numbers and percentages. The proportion of (1)_____ users in India is said to be 90.1%. While the use of landline phones continues to decline, the (2)_____ of mobile phone users appears to have reached a plateau, according to reports. The number of (3)_____ to landline phones had gone up from 9.8 million in 1995 to 21.7 million in 2019. On the other hand, India had only 1.2 million cell phone users in 1999, which grew to an (4)_____ figure of 1,161.7 million in 2019. It's unimaginable, isn't it? Mobile phones have also literally (5)_____ phone booths. There were about 6.2 million public call offices in India in 2008. The number declined to 0.2 million in 2019; of those, 0.1 million public telephones are in villages. New York city is said to have only 4 such booths.

SubQuestion No : 23

Q.23 Select the most appropriate option to fill in blank no. 3.

- Ans
- 1. sellers
 - 2. buyers
 - 3. subscribers
 - 4. producers

Question ID : **65497817933**
Chosen Option : **3**

Comprehension:

In the following passage, some words have been deleted. Fill in the blanks with the help of the options given. Select the most appropriate option for each blank.

Here are some statistics for those interested in numbers and percentages. The proportion of (1)_____ users in India is said to be 90.1%. While the use of landline phones continues to decline, the (2)_____ of mobile phone users appears to have reached a plateau, according to reports. The number of (3)_____ to landline phones had gone up from 9.8 million in 1995 to 21.7 million in 2019. On the other hand, India had only 1.2 million cell phone users in 1999, which grew to an (4)_____ figure of 1,161.7 million in 2019. It's unimaginable, isn't it? Mobile phones have also literally (5)_____ phone booths. There were about 6.2 million public call offices in India in 2008. The number declined to 0.2 million in 2019; of those, 0.1 million public telephones are in villages. New York city is said to have only 4 such booths.

SubQuestion No : 24

Q.24 Select the most appropriate option to fill in blank no. 4.

- Ans
- 1. astonishing
 - 2. excellent
 - 3. anticipated
 - 4. imaginable

Question ID : **65497817934**
Chosen Option : **1**

Comprehension:

In the following passage, some words have been deleted. Fill in the blanks with the help of the options given. Select the most appropriate option for each blank.

Here are some statistics for those interested in numbers and percentages. The proportion of (1)_____ users in India is said to be 90.1%. While the use of landline phones continues to decline, the (2)_____ of mobile phone users appears to have reached a plateau, according to reports. The number of (3)_____ to landline phones had gone up from 9.8 million in 1995 to 21.7 million in 2019. On the other hand, India had only 1.2 million cell phone users in 1999, which grew to an (4)_____ figure of 1,161.7 million in 2019. It's unimaginable, isn't it? Mobile phones have also literally (5)_____ phone booths. There were about 6.2 million public call offices in India in 2008. The number declined to 0.2 million in 2019; of those, 0.1 million public telephones are in villages. New York city is said to have only 4 such booths.

SubQuestion No : 25

Q.25 Select the most appropriate option to fill in blank no. 5.

- Ans 1. erased
 2. established
 3. thrown out
 4. destroyed

Question ID : **65497817935**
 Chosen Option : 1

Section : **General Intelligence and Reasoning**

Q.1 विकल्पों में से उस अक्षर-समूह का चयन करें, जो दी गई श्रेणी में प्रश्नवाचक चिह्न (?) के स्थान पर आकर श्रेणी को पूरा करेगा?

HJKL, GHHH, FFED, ?

- Ans 1. EEDC
 2. EDCB
 3. EEBZ
 4. EDBZ

Question ID : **65497816550**
 Chosen Option : 4

Q.2 उस विकल्प का चयन करें, जो तीसरे अक्षर-समूह से ठीक उसी प्रकार संबंधित है, जिस प्रकार दूसरा अक्षर-समूह पहले अक्षर-समूह से संबंधित है।

FEMININE : ENIMINEF :: HOMEWORK : ?

- Ans 1. MOHOWEKR
 2. RKWOMEHO
 3. OHEMOWKR
 4. KREMOWOH

Question ID : **65497816549**
 Chosen Option : 4

Q.3 दो कथन और उसके बाद दो निष्कर्ष I और II दिए गए हैं। यह मानते हुए कि कथन सत्य हैं, भले ही वे सामान्य रूप से ज्ञात तथ्यों से भिन्न प्रतीत होते हों, बताएं कि कौन से निष्कर्ष दिए गए कथनों का तार्किक रूप से अनुसरण करते हैं?

कथन:

सभी कागज, कैचियां हैं।
कुछ कैचियां, पत्थर हैं।

निष्कर्ष:

I. सभी कैचियां, कागज हैं।
II. कुछ पत्थर, कैचियां हैं।

- Ans
- 1. निष्कर्ष I और II दोनों अनुसरण करते हैं
 - 2. केवल निष्कर्ष I अनुसरण करता है
 - 3. न तो निष्कर्ष I और न ही II अनुसरण करता है
 - 4. केवल निष्कर्ष II अनुसरण करता है

Question ID : 65497816551

Chosen Option : 4

Q.4 उस विकल्प का चयन करें, जो तीसरे अक्षर-समूह से ठीक उसी प्रकार संबंधित है, जिस प्रकार दूसरा अक्षर-समूह पहले अक्षर-समूह से संबंधित है।

ABUSIVE : CAWRKUG :: VIOLENT : ?

- Ans
- 1. XHQKGMV
 - 2. TJMMCOR
 - 3. XJQMGOV
 - 4. TJMKGOV

Question ID : 65497816547

Chosen Option : 1

Q.5 यदि 'HONEY' को '72' के रूप में तथा 'JAGGERY' को '80' के रूप में कूटबद्ध किया जाता है, तो 'SUGAR' को किस रूप में कूटबद्ध किया जाएगा?

- Ans
- 1. 71
 - 2. 76
 - 3. 67
 - 4. 73

Question ID : 65497816546

Chosen Option : 1

Q.6 उस आकृति का चयन करें, जिसमें दी गई आकृति अंतःस्थापित है (घुमाने की अनुमति नहीं है)।

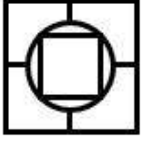


Ans

✗ 1.



✗ 2.



✗ 3.



✓ 4.



Question ID : 65497816558

Chosen Option : 1

Q.7 यदि 'MONEY' को '77' के रूप में तथा 'CAPITAL' को '67' के रूप में कूटबद्ध किया जाता है, तो 'ASSET' को किस रूप में कूटबद्ध किया जाएगा?

Ans ✓ 1. 69

✗ 2. 72

✗ 3. 65

✗ 4. 68

Question ID : 65497816545

Chosen Option : 1

Q.8 दिए गए समीकरण को संतुलित करने के लिए, इनमें से किन दो चिह्नों को एक-दूसरे से प्रतिस्थापित करना होगा?

$$36 - 6 \div 6 \times 6 + 30 = 0$$

Ans ✓ 1. - और ÷

✗ 2. + और ×

✗ 3. - और +

✗ 4. ÷ और ×

Question ID : 65497816537

Chosen Option : 1

Q.9 विकल्पों से उस संख्या-युग्म का चयन करें, जिसमें दी गई दोनों संख्याएं एक-दूसरे से ठीक उसी प्रकार संबंधित हैं, जिस प्रकार, नीचे दिए गए संख्या-युग्म की संख्याएं एक-दूसरे से संबंधित हैं।

5 : 55

- Ans 1. 7 : 140
 2. 8 : 200
 3. 6 : 90
 4. 4 : 32

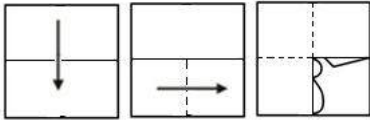
Question ID : 65497816539
 Chosen Option : 2

Q.10 'मैरीकॉम' का जो संबंध 'बॉक्सिंग' से है, वही संबंध 'पी.टी. उषा' का '_____' से है।

- Ans 1. कुश्ती
 2. भारोत्तोलन
 3. शूटिंग
 4. दौड़

Question ID : 65497816548
 Chosen Option : 4

Q.11 एक कागज को निम्नानुसार मोड़ा और काटा गया है। इसे खोलने पर यह कैसा दिखेगा?



Ans

- 1.
- 2.
- 3.
- 4.

Question ID : 65497816560
 Chosen Option : 1

Q.12 यदि किसी कोड भाषा में 'BETTER' को 'EBWQHO' लिखा जाता है, तो इसी कोड भाषा में 'WORSE' को क्या लिखा जाएगा?

- Ans
- 1. ZLOVH
 - 2. ZLOPH
 - 3. ZLUVH
 - 4. ZLUPH

Question ID : 65497816543

Chosen Option : 4

Q.13 दिए गए विकल्पों में से, संख्याओं के उस समुच्चय का चयन करें, जिसमें दी गई संख्याएं एक-दूसरे से ठीक उसी प्रकार संबंधित हैं, जिस प्रकार, दिए गए संख्याओं के समुच्चय की संख्याएं एक-दूसरे से संबंधित हैं।

(12, 13, 76)

- Ans
- 1. (21, 25, 125)
 - 2. (11, 13, 62)
 - 3. (15, 17, 98)
 - 4. (9, 10, 45)

Question ID : 65497816540

Chosen Option : 3

Q.14 यदि दर्पण को दी गई आकृति के दाईं ओर रखा जाए, तो आकृति के दर्पण में निर्मित सही प्रतिबिंब का चयन कीजिए।
SYMP TOMS

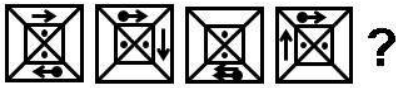
- Ans
- 1.
 - 2.
 - 3.
 - 4.

Question ID : 65497816559

Chosen Option : 3

www.HaryanaJobs.in

Q.15 दी गई आकृति श्रेणी में प्रश्नवाचक चिह्न (?) की जगह पर कौन-सी विकल्प आकृति आएगी?



Ans

✓ 1.



✗ 2.



✗ 3.



✗ 4.



Question ID : 65497816556

Chosen Option : 1

Q.16 उस वेन-आरेख का चयन करें, जो निम्न के बीच संबंध को सर्वश्रेष्ठ रूप से निरूपित करता है।


नागालैंड, मेघालय, कोहिमा

Ans

✗ 1.



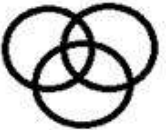
✗ 2.



✓ 3.




✗ 4.



Question ID : 65497816561

Chosen Option : 3

Q.17 उस आकृति का चयन करें, जो दिए गए पैटर्न को पूरा करेगी।



Ans

✗ 1.



✗ 2.



✗ 3.



✓ 4.



www.HaryanaJobs.in

Question ID : 65497816557
Chosen Option : 4

Q.18 विकल्पों में से उस संख्या का चयन करें, जो दी गई संख्या श्रेणी में प्रश्नवाचक चिह्न (?) के स्थान पर आएगी?

1, 6, 7, 13, 20, 33, ?

Ans ✗ 1. 55

✓ 2. 53

✗ 3. 49

✗ 4. 59

Question ID : 65497816542
Chosen Option : 2

Q.19 गणितीय चिह्नों के उस सही संयोजन का चयन करें, जिन्हें क्रमिक रूप से * चिह्नों के स्थान पर रखने पर समीकरण संतुलित हो जाएगा।

$$72 * 4 * 15 * 3 * 12 = 51$$

- Ans 1. ÷, +, ×, -
 2. -, +, ÷, ×
 3. ÷, +, -, ×
 4. +, ÷, ×, -

Question ID : 65497816538
Chosen Option : 1

Q.20 विकल्पों में से उस संख्या का चयन करें, जो दी गई संख्या श्रेणी में प्रश्नवाचक चिह्न (?) के स्थान पर आएगी?

13, 6, 11, 5, 9, ?

- Ans 1. 4
 2. 17
 3. 7
 4. 12

Question ID : 65497816541
Chosen Option : 1

Q.21 उस विकल्प का चयन करें, जिसमें निम्न शब्दों का तार्किक और सार्थक क्रम दर्शाया गया है।

1. लाल बहादुर शास्त्री
2. अटल बिहारी वाजपेयी
3. जवाहरलाल नेहरू
4. मनमोहन सिंह
5. इंदिरा गांधी

- Ans 1. 3, 1, 5, 2, 4
 2. 4, 2, 1, 5, 3
 3. 3, 5, 1, 4, 2
 4. 4, 2, 3, 1, 5

Question ID : 65497816555
Chosen Option : 1

Q.22 छः दोस्त, तनय, नेहा, कल्पना, राशि, हेमंत और चैत्रा एक पंक्ति में खड़े हैं। नेहा और चैत्रा के बीच दो व्यक्ति हैं। कल्पना ठीक राशि और नेहा के बीच में है। हेमंत, चैत्रा के पड़ोस में खड़ा है। नेहा पंक्ति के एक छोर पर है। चैत्रा और तनय के बीच कौन खड़ा है?

- Ans 1. कल्पना
 2. नेहा
 3. हेमंत
 4. राशि

Question ID : 65497816553
Chosen Option : 3

Q.23 Seven persons, A, B, C, D, E, F, G, are sitting around a circular table facing towards the centre.

- 1) C is the neighbour of A and G.
- 2) B is to the immediate right of A.
- 3) F is second to the left of D.

What is G's position?

- Ans
- 1. Between C and D
 - 2. Second to the left of B
 - 3. To the immediate left of D
 - 4. Second to the right of F

Question ID : 65497816554
Chosen Option : 1

Q.24 दो कथन और उसके बाद चार निष्कर्ष I, II, III और IV दिए गए हैं। यह मानते हुए कि कथन सत्य हैं, भले ही वे सामान्य रूप से ज्ञात तथ्यों से भिन्न प्रतीत होते हों, बताएं कि कौन से निष्कर्ष दिए गए कथनों का तार्किक रूप से अनुसरण करते हैं?

कथन:

कोई साबुन, मिठाई नहीं है।
सभी मिठाइयां, कप हैं।

निष्कर्ष:

- I. कोई मिठाई, साबुन नहीं है।
- II. कुछ कप, मिठाइयां हैं।
- III. कुछ मिठाइयां, साबुन हैं।
- IV. सभी कप, मिठाइयां हैं।

- Ans
- 1. केवल निष्कर्ष I अनुसरण करता है।
 - 2. निष्कर्ष I और II, दोनों अनुसरण करते हैं।
 - 3. केवल निष्कर्ष II अनुसरण करता है।
 - 4. निष्कर्ष I और IV, दोनों अनुसरण करते हैं।

Question ID : 65497816552
Chosen Option : 2

Q.25 यदि किसी कोड भाषा में 'BEAUTY' को 'WRSYCZ' लिखा जाता है, तो इसी कोड भाषा में 'NATURE' को क्या लिखा जाएगा?

- Ans
- 1. GPWRCL
 - 2. GTWVCP
 - 3. PCVWTG
 - 4. CPSRYL

Question ID : 65497816544
Chosen Option : 4

Section : Numerical Aptitude

Q.1 एक वस्तु का विक्रय मूल्य ₹2,300 और प्रतिशत लाभ 25% है। यदि उसी वस्तु को दोबारा ₹1,656 में बेचा जाए, तो हानि/लाभ प्रतिशत क्या होगा?

- Ans
- 1. 10% लाभ
 - 2. 10% हानि
 - 3. 6.25% लाभ
 - 4. 6.5% हानि

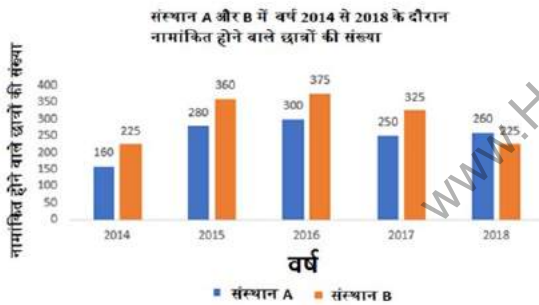
Question ID : 65497816975
Chosen Option : 2

Q.2 300 से 400 के बीच की ऐसी संख्याओं का योगफल कितना होगा जिन्हें 6, 12 और 16 से विभाजित करने पर कोई शेषफल नहीं बचता है?

- Ans
- 1. 720
 - 2. 586
 - 3. 632
 - 4. 764

Question ID : 65497816985
Chosen Option : 1

Q.3 नीचे दिए गये बार ग्राफ में 5 वर्षों के दौरान संस्थानों A और B के विभिन्न पाठ्यक्रमों में नामांकित होने वाले छात्रों की संख्या को दर्शाया गया है। ग्राफ का अध्ययन कीजिए और उससे संबंधित प्रश्न का उत्तर दीजिए।



संस्थान A में 2014 और 2016 के दौरान नामांकित होने वाले छात्रों की संख्या, संस्थान B में सभी पांचों वर्षों में नामांकित होने वाले छात्रों की औसत संख्या की कितने प्रतिशत (दशमलव के एक स्थान तक) है?

- Ans
- 1. 138.4%
 - 2. 127.6%
 - 3. 185.7%
 - 4. 152.3%

Question ID : 65497816990
Chosen Option : 4

Q.4 एक ट्रेन को P और Q स्टेशनों के बीच की यात्रा में 1 घंटे 30 मिनट का समय लगता है। यदि यह अपनी सामान्य गति की $\frac{5}{6}$ गति से चले तो इससे P और Q स्टेशनों के बीच की यात्रा में कितना समय लगेगा?

- Ans**
- 1. 1 घंटा 36 मिनट
 - 2. 1 घंटा 12 मिनट
 - 3. 1 घंटा 24 मिनट
 - 4. 1 घंटा 48 मिनट

Question ID : 65497816969
Chosen Option : 4

Q.5 एक वस्तु का अंकित मूल्य ₹400 है। अंकित मूल्य पर 20% की छूट देने के बाद दुकानदार को ₹48 की हानि होती है। हानि का प्रतिशत ज्ञात कीजिए?

- Ans**
- 1. $13\frac{1}{23}\%$
 - 2. $15\frac{1}{23}\%$
 - 3. $14\frac{1}{23}\%$
 - 4. $17\frac{1}{23}\%$

Question ID : 65497816972
Chosen Option : 1

Q.6 एक लड़का आयताकार मैदान की दो आसन्न भुजाओं के साथ-साथ चलता है। यदि वह विकर्ण वाले रास्ते पर चलता, तो वह लंबी वाली भुजा की एक-चौथाई के बराबर दूरी की बचत कर लेता। छोटी और बड़ी भुजाओं के बीच अनुपात ज्ञात कीजिए।

- Ans**
- 1. 18 : 11
 - 2. 7 : 24
 - 3. 11 : 18
 - 4. 24 : 7

Question ID : 65497816984
Chosen Option : 2

Q.7 एक व्यक्ति ₹75,000 की धनरशि, 7% के साधारण ब्याज पर 3 वर्षों के लिए उधार लेता है। वह इसे B को 5% के ब्याज पर 3 वर्षों के लिए उधार देता है। उसे कितनी हानि (₹ में) हुई?

- Ans**
- 1. 5,000
 - 2. 6,000
 - 3. 4,500
 - 4. 3,500

Question ID : 65497816980
Chosen Option : 3

Q.8 A, B से तीन गुना अधिक कुशल कर्मचारी है और इसलिए वह एक काम को पूरा करने में B से 36 दिन कम का समय लेता है। एक साथ काम करते हुए वे दोनों उसी काम के 40% भाग को कितने दिन में कर पाएंगे?

Ans

1. $5\frac{1}{2}$

2. $4\frac{2}{5}$

3. $5\frac{2}{5}$

4. $3\frac{1}{2}$

Question ID : 65497816967
Chosen Option : 3

Q.9 चार अलग-अलग संख्याएं हैं। पहली तीन संख्याओं का औसत, चौथी संख्या का तीन गुना है और सभी चारों संख्याओं का औसत 55 है। पहली तीनों संख्याओं का योगफल कितना है?

Ans

1. 172

2. 165

3. 198

4. 153

Question ID : 65497816970
Chosen Option : 3

Q.10 यदि संख्याओं 52, 47, 20 और 19 प्रत्येक में से x घटाया जाए तो इस प्रकार प्राप्त संख्याएं समानुपातिक होती हैं। तो (x+4) और (x-8) के बीच मध्यानुपाती क्या होगा?

Ans

1. 10

2. 8

3. 9

4. 12

Question ID : 65497816978
Chosen Option : 2

Q.11 एक आयत की लंबाई, एक वृत्त की त्रिज्या की $\frac{3}{5}$ है। वृत्त की त्रिज्या उस वर्ग की भुजा के बराबर है जिसका क्षेत्रफल 6400 m^2 है। यदि आयत की चौड़ाई 15 m हो, तो आयत का परिमाण (m में) ज्ञात कीजिए?

Ans

1. 180

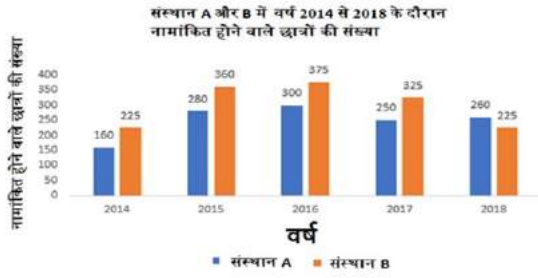
2. 126

3. 120

4. 160

Question ID : 65497816983
Chosen Option : 2

Q.12 नीचे दिए गये बार ग्राफ में 5 वर्षों के दौरान संस्थानों A और B के विभिन्न पाठ्यक्रमों में नामांकित होने वाले छात्रों की संख्या को दर्शाया गया है। ग्राफ का अध्ययन कीजिए और उससे संबंधित प्रश्न का उत्तर दीजिए।



संस्थान A में 2015, 2016 और 2018 के दौरान नामांकित (प्रति वर्ष) होने वाले छात्रों की संख्या का औसत, संस्थान B में 2015 के दौरान नामांकित होने वाले छात्रों की संख्या से कितने प्रतिशत (दशमलव के एक स्थान तक) कम है?

- Ans
- 1. 18.5%
 - 2. 22.2%
 - 3. 25.8%
 - 4. 26.7%

Question ID : 65497816989
Chosen Option : 2

Q.13 80 विद्यार्थियों की एक कक्षा में, 60% लड़कियां और शेष लड़के हैं। लड़कों का औसत भार लड़कियों के औसत भार से 5% अधिक है। यदि सभी विद्यार्थियों का औसत भार 51 kg है, तो लड़कियों का औसत भार (kg में) कितना होगा?

- Ans
- 1. 55
 - 2. 50
 - 3. 47.5
 - 4. 52.5

Question ID : 65497816971
Chosen Option : 2

Q.14 $5\frac{1}{4} + \frac{1}{4} \div \frac{1}{4}$ of $\frac{1}{8} - \frac{9}{4} + 1\frac{1}{3} \div 1\frac{1}{4}$ of $\left[2\frac{3}{5} - 2\frac{1}{3}\right]$ का मान ज्ञात करें।

- Ans
- 1. 15
 - 2. 10
 - 3. 5
 - 4. 12

Question ID : 65497815573
Chosen Option : 1

Q.15 4 व्यक्ति प्रतिदिन 9 घंटे काम करते हुए किसी खेत में लगी फसल की कटाई 5 दिन में कर सकते हैं, उसी फसल को, 10 व्यक्ति यदि 3 दिनों में काटना चाहते हैं, तो उन्हें प्रतिदिन कितने घंटे काम करना होगा?

- Ans
- 1. 3
 - 2. 4
 - 3. 5
 - 4. 6

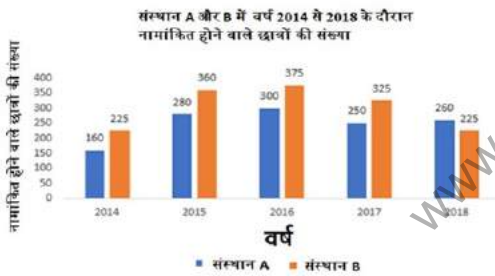
Question ID : 65497816966
Chosen Option : 4

Q.16 एक आयताकार कमरे का क्षेत्रफल 60 m^2 और परिमाप 34 m है। आयताकार कमरे के विकर्ण की लंबाई, एक वर्ग की भुजा के बराबर है। उस वर्ग का परिमाप (m में) ज्ञात कीजिए?

- Ans
- 1. 64
 - 2. 100
 - 3. 44
 - 4. 52

Question ID : 65497816982
Chosen Option : 4

Q.17 निम्नांकित बार ग्राफ में 5 वर्षों के दौरान संस्थानों A और B के विभिन्न पाठ्यक्रमों में नामांकित होने वाले छात्रों की संख्या को दर्शाया गया है। ग्राफ का अध्ययन कीजिए और उससे संबंधित प्रश्न का उत्तर दीजिए।



संस्थान A में 2015 और 2018 के दौरान नामांकित होने वाले छात्रों की संख्या का, संस्थान B में 2014 और 2015 के दौरान नामांकित होने वाले छात्रों की संख्या से अनुपात क्या होगा?

- Ans
- 1. 12 : 13
 - 2. 13 : 17
 - 3. 13 : 12
 - 4. 17 : 13

Question ID : 65497816988
Chosen Option : 1

Q.18 $-20 \div \frac{4}{7}$ of $55 \frac{1}{8} \times \frac{9}{5} - \left(\frac{6}{7} + 1\right)$ को सरल करें।

Ans

1. $\frac{5}{7}$

2. -3

3. 3

4. $-\frac{200}{567}$

Question ID : 65497817794
Chosen Option : 2

Q.19 ₹63,800 की धनराशि को A और B के बीच 4 : 7 के अनुपात में बांटा जाना है। B के हिस्से में कितनी धनराशि (₹ में) आएगी?

Ans 1. 23,200

2. 17,400

3. 40,600

4. 25,000

Question ID : 65497816976
Chosen Option : 3

Q.20 कोई राशि 10% वार्षिक ब्याज दर पर, ब्याज की गणना वार्षिक आधार पर किए जाने पर, 4 वर्षों में ₹29,282 हो जाती है। उसी राशि को दोगुना करने पर, समान ब्याज दर से पांच वर्षों में साधारण ब्याज (₹ में) कितना प्राप्त होगा?

Ans 1. 18,000

2. 20,000

3. 21,500

4. 17,000

Question ID : 65497816979
Chosen Option : 2

Q.21 The median of a set of 7 distinct observations is 16.5. If each of the largest 3 observations of the set is increased by 5, then the median of the new set:

Ans 1. is decreased by 5

2. is five times of the original number

3. remains the same as that of the original set

4. is increased by 5

Question ID : 65497816981
Chosen Option : 3

Q.22 सीता और गीता स्थान B तक पहुँचने के लिए स्थान A से एक ही समय पर चलना शुरू करती हैं। स्थान A से, स्थान B की दूरी 90 km है। सीता की चाल, गीता से 3 km प्रति घंटा कम है। गीता स्थान B तक पहुँचती है और तुरंत वहां से वापस मुड़ लेती है, वह सीता को स्थान B से 15 km पहले मिलती है। गीता की चाल (km/h) में कितनी है?

- Ans
- 1. 6
 - 2. 7.5
 - 3. 9
 - 4. 10.5

Question ID : 65497816968
Chosen Option : 4

Q.23 गेहूँ के प्रति kg मूल्य में 20% की कमी होने के कारण राम ₹800 में 5 kg अधिक गेहूँ खरीदने में सक्षम है। गेहूँ की मूल मात्रा (kg में) कितनी थी?

- Ans
- 1. 20
 - 2. 40
 - 3. 50
 - 4. 30

Question ID : 65497816973
Chosen Option : 1

Q.24 एक व्यक्ति दो वस्तुएं खरीदता है, जिसमें से प्रत्येक का मूल्य ₹3,000 है। वह एक वस्तु को 5% के लाभ पर और दूसरी को 10% की हानि पर बेचता है। कुल लाभ या हानि प्रतिशत ज्ञात कीजिए?

- Ans
- 1. 2.5% हानि
 - 2. 10% हानि
 - 3. 2.5% लाभ
 - 4. न लाभ, न हानि

Question ID : 65497816974
Chosen Option : 1

Q.25 एक चुनाव में दो उम्मीदवारों के लिए पड़े मतों का अनुपात 4 : 9 था। यदि जीते हुए उम्मीदवार को 984321 मत प्राप्त हुए, तो हारे हुए उम्मीदवार को कुल कितने मत प्राप्त हुए?

- Ans
- 1. 912577
 - 2. 421797
 - 3. 571279
 - 4. 437476

Question ID : 65497816977
Chosen Option : 4

Section : General Awareness

Q.1 भारतीय संविधान को हाथों से लिखने वाला व्यक्ति कौन था?

- Ans 1. प्रेम बिहारी नारायण रायजादा
 2. कन्हैयालाल माणिकलाल मुंशी
 3. बालासाहेब गंगाधर खेर
 4. श्यामा प्रसाद मुखर्जी

Question ID : 65497817002
Chosen Option : 3

Q.2 शाकाहारी जीव, खाद्य श्रृंखला में _____ पोषण-स्तर बनाते हैं।

- Ans 1. पहला
 2. चौथा
 3. दूसरा
 4. तीसरा

Question ID : 65497817008
Chosen Option : 3

Q.3 निम्नलिखित में से कौन सी प्रारंभ में यमन से भारत में लाई गई कॉफी की एक प्रसिद्ध किस्म है?

- Ans 1. चारिएरियाना
 2. कैनेफोरा
 3. गेशा
 4. अरेबिका

Question ID : 65497817011
Chosen Option : 1

Q.4 'अकबर नामा', अबुल फज़ल द्वारा _____ खंडों में रचित अकबर के शासनकाल का इतिहास है।

- Ans 1. पाँच
 2. दो
 3. तीन
 4. चार

Question ID : 65497816997
Chosen Option : 4

Q.5 पूर्वोत्तर भारत के कुछ हिस्सों में मेलोकैना बैसीफेरा बाँसों (Melocanna baccifera bamboo) के पुष्पित होने के दौरान चूहे के संक्रमण के कारण होने वाले अकाल को '_____' अकाल के रूप में जाना जाता है।

- Ans 1. डोजी बारा
 2. चालिसा
 3. ऊपरी दोआब
 4. माउतम

Question ID : 65497817012
Chosen Option : 3

Q.6 ज्योतिबा फुले द्वारा निम्नलिखित में से किस संघ/संगठन की स्थापना की गई थी?

- Ans
- 1. ब्रह्म समाज
 - 2. सत्यशोधक समाज
 - 3. प्रार्थना समाज
 - 4. आर्य समाज

Question ID : 65497817014
Chosen Option : 2

Q.7 न्यूलैंड के अष्टक नियम के अनुसार, निम्नलिखित में से किसमें सोडियम के समान गुण होते हैं?

- Ans
- 1. बेरिलियम
 - 2. मैग्नीशियम
 - 3. पोटैशियम
 - 4. लिथियम

Question ID : 65497817009
Chosen Option : 3

Q.8 कावेरी संक्रमण अक्टूबर महीने में _____ में मनाया जाने वाला एक त्योहार है।

- Ans
- 1. आंध्र प्रदेश
 - 2. कर्नाटक
 - 3. तमिलनाडु
 - 4. तेलंगाना

Question ID : 65497816991
Chosen Option : 2

Q.9 Which of the following is a pivotal joint in the human body?

- Ans
- 1. Joint between the upper jaw and the rest of the head
 - 2. Joint where our neck joins the head
 - 3. Shoulder joint
 - 4. Elbow joint

Question ID : 65497817005
Chosen Option : 2

Q.10 Which of the following is a part of a leaf?

- Ans
- 1. Pistil
 - 2. Stamen
 - 3. Petiole
 - 4. Sepal

Question ID : 65497817006
Chosen Option : 3

Q.11 Which of the following can be classified as an artificial ecosystem?

- Ans 1. Lakes
 2. Forests
 3. Gardens
 4. Ponds

Question ID : 65497817007
 Chosen Option : 1

Q.12 निम्नलिखित में से कौन सा त्योहार सूर्य भगवान और उनकी पत्नी उषा को समर्पित है?

- Ans 1. छठ पूजा
 2. चित्रगुप्त पूजा
 3. बसंत पंचमी
 4. चेहलुम

Question ID : 65497816992
 Chosen Option : 1

Q.13 निम्नलिखित में से किसे जनवरी 2020 में 'शेवेलियर डैन्स लोर्रे डेस आर्ट्स एट डेस लेट्रेस (Chevalier dans l'Ordre des Arts et des Lettres)' (नाइट ऑफ द ऑर्डर ऑफ आर्ट्स एंड लेटर्स) के फ्रांसीसी सम्मान से सम्मानित किया गया था?

- Ans 1. संजना कपूर
 2. ऐश्वर्या राय
 3. इब्राहिम अल्काज़ी
 4. हरिप्रसाद चौरसिया

Question ID : 65497816998
 Chosen Option : 1

Q.14 निम्नलिखित में से कौन सा शासक मौर्य राजवंश से संबंधित नहीं था?

- Ans 1. अशोक
 2. चंद्रगुप्त
 3. बिंदुसार
 4. बिंबिसार

Question ID : 65497817015
 Chosen Option : 4

Q.15 निम्नलिखित में से कौन सा, शुद्ध घरेलू उत्पाद (NDP) की अवधारणा का सबसे अच्छा निरूपण करता है?

- Ans 1. जी.डी.पी. (GDP) + विदेशों से आय
 2. जी.डी.पी. (GDP) - विदेशों से आय
 3. जी.डी.पी. (GDP) - मूल्यहास
 4. जी.एन.पी. (GNP) - मूल्यहास

Question ID : 65497815586
 Chosen Option : 4

Q.16 खेलो इंडिया यूथ गेम्स, 2021 का आयोजन _____ में किया जाएगा।

- Ans
- 1. कर्नाटक
 - 2. पंजाब
 - 3. हरियाणा
 - 4. केरल

Question ID : 65497816994
Chosen Option : 1

Q.17 आर्थिक मामलों की मंत्रिमंडलीय समिति (सीसीईए) ने खरीद मौसम 2020-21 के लिए कपास (रेशा) का न्यूनतम समर्थन मूल्य (एमएसपी) बढ़ाकर ₹ _____ प्रति क्विंटल कर दिया है।

- Ans
- 1. 7,285
 - 2. 8,525
 - 3. 6,855
 - 4. 5,825

Question ID : 65497817001
Chosen Option : 2

Q.18 _____ में उल्लिखित है कि सूर्यास्त के बाद और सूर्योदय से पहले किसी भी महिला को असाधारण परिस्थितियों को छोड़कर गिरफ्तार नहीं किया जाएगा।

- Ans
- 1. भारतीय दंड संहिता
 - 2. अपराधियों की परिवीक्षा से संबंधित अधिनियम
 - 3. पुलिस अधिनियम
 - 4. दंड प्रक्रिया संहिता

Question ID : 65497817004
Chosen Option : 1

Q.19 भगवान शिव के तीन मुखों का प्रतिनिधित्व करने वाली 7 मीटर ऊँची मूर्ति 'सदाशिव' _____ गुफा में पाई जाती है।

- Ans
- 1. एलिफेंटा
 - 2. खंडगिरी
 - 3. उदयगिरी
 - 4. भीमबेटका

Question ID : 65497816993
Chosen Option : 1

Q.20 विश्व जनसंख्या समीक्षा रिपोर्ट द्वारा दी गई 2019 की स्थिति के अनुसार क्रय शक्ति समानता के संदर्भ में GDP (सकल घरेलू उत्पाद) की तुलना करने पर दुनिया में भारत का कौन सा स्थान है?

- Ans
- 1. पहला
 - 2. पाँचवाँ
 - 3. दूसरा
 - 4. चौथा

Question ID : 65497817807
Chosen Option : 3

Q.21 दलित समुदाय के अधिकारों के लिए लड़ाई निम्न में से किसने लड़ी?

- Ans
- 1. कृष्णजी गोपाल कर्वे
 - 2. सुभाष चंद्र बोस
 - 3. भीमराव अंबेडकर
 - 4. बिपिन चंद्र पाल

Question ID : 65497817013
Chosen Option : 3

Q.22 सिन्धु नदी, ग्रेट इंडियन डेजर्ट के _____ में स्थित है।

- Ans
- 1. उत्तर
 - 2. दक्षिण
 - 3. पूर्व
 - 4. पश्चिम

Question ID : 65497817010
Chosen Option : 4

Q.23 भारत के संविधान का कौन सा अनुच्छेद समान नागरिक संहिता को परिभाषित करता है?

- Ans
- 1. 44
 - 2. 24
 - 3. 42
 - 4. 22

Question ID : 65497817003
Chosen Option : 1

Q.24 क्रिकेट के तीनों प्रारूपों (टेस्ट मैच, एक दिवसीय अंतरराष्ट्रीय मैच और T20 अंतरराष्ट्रीय मैच) में खेलने वाले सबसे युवा भारतीय क्रिकेटर कौन हैं?

- Ans
- 1. ऋषभ पंत
 - 2. कुलदीप यादव
 - 3. हार्दिक पांड्या
 - 4. इशांत शर्मा

Question ID : 65497816995
Chosen Option : 1

Q.25 अंतर्राष्ट्रीय कृष्णभावनामृत संघ (इस्कॉन) की स्थापना किसने की?

- Ans
- 1. भक्तिवेदांत स्वामी प्रभुपाद
 - 2. श्री चैतन्य
 - 3. श्रीला भक्तिसिद्धांत सरस्वती
 - 4. श्री रामकृष्ण

Question ID : 65497816996
Chosen Option : 2

Multi Tasking Non Technical Staff Examination 2020

Participant ID	www.HaryanaJobs.in
Participant Name	www.HaryanaJobs.in
Test Center Name	Success Point Online Exam Center
Test Date	14/10/2021
Test Time :	12:30 PM - 2:00 PM
Subject	MTS Non Technical 2020

Section : **General English**

Q.1 Identify the segment in the sentence which contains a grammatical error.

If you had exercise regularly, you would have been fit today.

- Ans
- 1. If you had
 - 2. been fit today
 - 3. exercise regularly
 - 4. you would have

Question ID : **65497816107**
Chosen Option : 1

Q.2 Select the most appropriate ANTONYM of the given word.

SHALLOW

- Ans
- 1. deep
 - 2. near
 - 3. wide
 - 4. long

Question ID : **65497816121**
Chosen Option : 1

Q.3 Select the most appropriate word to fill in the blank.

The chairman's speech was _____ to the occasion.

- Ans
- 1. correct
 - 2. right
 - 3. useful
 - 4. appropriate

Question ID : **65497816131**
Chosen Option : 3

Q.4 Select the most appropriate meaning of the given idiom.

Put off

- Ans** 1. To wear
 2. To delay
 3. To keep
 4. To suggest

Question ID : 65497816125
Chosen Option : 1

Q.5 Identify the segment in the sentence which contains a grammatical error.

Mr. Roy was not only very successful and humble also.

- Ans** 1. and humble also
 2. not only
 3. Mr. Roy was
 4. very successful

Question ID : 65497816108
Chosen Option : 1

Q.6 Select the most appropriate option to substitute the underlined segment in the given sentence. If there is no need to substitute it, select 'No substitution required'.

The eldest prince was declared the heir of a throne.

- Ans** 1. heir for a throne
 2. No substitution required
 3. heir at the throne
 4. heir to the throne

Question ID : 65497816118
Chosen Option : 1

Q.7 Select the most appropriate word to fill in the blank.

_____! I forgot to inform you about the party.

- Ans** 1. Ah
 2. Ouch
 3. Oops
 4. Alas

Question ID : 65497816111
Chosen Option : 3

Q.8 Select the most appropriate word to fill in the blank.

He was _____ to six months of imprisonment for stealing.

- Ans
- 1. condemned
 - 2. convinced
 - 3. conformed
 - 4. contacted

Question ID : 65497816132
Chosen Option : --

Q.9 Select the INCORRECTLY spelt word.

- Ans
- 1. Spacious
 - 2. Cautious
 - 3. Studios
 - 4. Spoorious

Question ID : 65497816130
Chosen Option : --

Q.10 Select the most appropriate option to substitute the underlined segment in the given sentence. If there is no need to substitute it, select 'No substitution required.'

I reached the office before time as I want to completed some pending jobs.

- Ans
- 1. No substitution required
 - 2. wants to complete
 - 3. want to completing
 - 4. wanted to complete

Question ID : 65497815110
Chosen Option : 4

Q.11 Select the most appropriate meaning of the given idiom.

Follow suit

- Ans
- 1. To take a different path
 - 2. To do as others have done
 - 3. To dress as someone else
 - 4. To chase a convict

Question ID : 65497816126
Chosen Option : --

Q.12 Select the most appropriate one-word substitution for the given group of words.

Lack of feeling

- Ans 1. Telepathy
 2. Apathy
 3. Sympathy
 4. Empathy

Question ID : 65497816128
Chosen Option : 1

Q.13 Select the most appropriate word to fill in the blank.

Mother was tired, _____ she stayed up all night.

- Ans 1. so
 2. yet
 3. and
 4. or

Question ID : 65497816110
Chosen Option : 1

Q.14 Select the most appropriate ANTONYM of the given word.

HINDER

- Ans 1. hire
 2. heal
 3. hope
 4. help

Question ID : 65497816122
Chosen Option : --

Q.15 Select the most appropriate synonym of the given word.

DEJECTED

- Ans 1. depressed
 2. approved
 3. postponed
 4. conceited

Question ID : 65497816124
Chosen Option : 2

Q.16 Select the most appropriate option to substitute the underlined segment in the given sentence. If there is no need to substitute it, select 'No substitution required'.

These dates are from Dubai, isn't it?

- Ans
- 1. No substitution required
 - 2. are they
 - 3. aren't they
 - 4. aren't these

Question ID : 65497817331
Chosen Option : --

Q.17 Select the most appropriate synonym of the given word.

AGONY

- Ans
- 1. risk
 - 2. blame
 - 3. pain
 - 4. help

Question ID : 65497816123
Chosen Option : 3

Q.18 Select the most appropriate one-word substitution for the given group of words.

An underground place for storing wine

- Ans
- 1. Cellar
 - 2. Loft
 - 3. Niche
 - 4. Attic

Question ID : 65497816127
Chosen Option : --

Q.19 Identify the segment in the sentence which contains a grammatical error.

The man we met was any other than the original owner of the house.

- Ans
- 1. was any other
 - 2. owner of the house
 - 3. The man we met
 - 4. than the original

Question ID : 65497816109
Chosen Option : 3

Q.20 Select the INCORRECTLY spelt word.

- Ans 1. Gallary
 2. Rivalry
 3. Summary
 4. Primary

Question ID : **65497816129**
Chosen Option : --

Comprehension:

In the following passage some words have been deleted. Fill in the blanks with the help of the options given. Select the most appropriate option for each blank.

The soya bean is called 'yellow pearl' by the Chinese. All the eight amino acids (1)_____ the body needs are present in it. It's a (2)_____ and cheap source of protein. Even (3)_____ weather conditions can be withstood by this (4)_____ plant. Thus it is the key food that can (5)_____ to India's future needs.

SubQuestion No : 21

Q.21 Select the most appropriate option to fill in blank no. 1.

- Ans 1. what
 2. who
 3. when
 4. that

Question ID : **65497816113**
Chosen Option : --

Comprehension:

In the following passage some words have been deleted. Fill in the blanks with the help of the options given. Select the most appropriate option for each blank.

The soya bean is called 'yellow pearl' by the Chinese. All the eight amino acids (1)_____ the body needs are present in it. It's a (2)_____ and cheap source of protein. Even (3)_____ weather conditions can be withstood by this (4)_____ plant. Thus it is the key food that can (5)_____ to India's future needs.

SubQuestion No : 22

Q.22 Select the most appropriate option to fill in blank no. 2.

- Ans 1. well
 2. easy
 3. fat
 4. rich

Question ID : **65497816114**
Chosen Option : 1

Comprehension:

In the following passage some words have been deleted. Fill in the blanks with the help of the options given. Select the most appropriate option for each blank.

The soya bean is called 'yellow pearl' by the Chinese. All the eight amino acids (1)_____ the body needs are present in it. It's a (2)_____ and cheap source of protein. Even (3)_____ weather conditions can be withstood by this (4)_____ plant. Thus it is the key food that can (5)_____ to India's future needs.

SubQuestion No : 23

Q.23 Select the most appropriate option to fill in blank no. 3.

- Ans
- 1. agreeable
 - 2. injurious
 - 3. unfavourable
 - 4. favourable

Question ID : **65497816115**
Chosen Option : --

Comprehension:

In the following passage some words have been deleted. Fill in the blanks with the help of the options given. Select the most appropriate option for each blank.

The soya bean is called 'yellow pearl' by the Chinese. All the eight amino acids (1)_____ the body needs are present in it. It's a (2)_____ and cheap source of protein. Even (3)_____ weather conditions can be withstood by this (4)_____ plant. Thus it is the key food that can (5)_____ to India's future needs.

SubQuestion No : 24

Q.24 Select the most appropriate option to fill in blank no. 4.

- Ans
- 1. fresh
 - 2. ailing
 - 3. feeble
 - 4. hardy

Question ID : **65497816116**
Chosen Option : --

Comprehension:

In the following passage some words have been deleted. Fill in the blanks with the help of the options given. Select the most appropriate option for each blank.

The soya bean is called 'yellow pearl' by the Chinese. All the eight amino acids (1)_____ the body needs are present in it. It's a (2)_____ and cheap source of protein. Even (3)_____ weather conditions can be withstood by this (4)_____ plant. Thus it is the key food that can (5)_____ to India's future needs.

SubQuestion No : 25

Q.25 Select the most appropriate option to fill in blank no. 5.

- Ans
- 1. gratify
 - 2. provide
 - 3. supply
 - 4. cater

Question ID : **65497816117**
Chosen Option : 3

Q.1 चार संख्या-त्रिक दिए गए हैं, जिसमें से तीन किसी प्रकार समान हैं और एक असंगत है। उस असंगत संख्या-त्रिक का चयन करें।

- Ans 1. 24, 31, 1636
 2. 17, 18, 6481
 3. 72, 14, 2581
 4. 43, 12, 949

Question ID : 65497818156
Chosen Option : --

Q.2 किसी निश्चित कूट भाषा में, यदि $23 + 49 = 278$ और $24 + 51 = 410$ है, तो $78 + 61 = ?$

- Ans 1. 157
 2. 428
 3. 842
 4. 139

Question ID : 65497818162
Chosen Option : --

Q.3 रेणुका, अपनी बेटियों के लिए कुछ चॉकलेट खरीदती है। वह उन्हें मेज पर रखती है और अपने डॉक्टर से मिलने के लिए बाहर जाती है। फिर आयुषी घर आती है। वह चॉकलेट का एक तिहाई हिस्सा लेकर अपने दोस्त के घर जाती है। फिर साधना आती है। वह यह सोचती है कि वह सबसे पहले घर आई है। वह शेष चॉकलेट का एक तिहाई हिस्सा लेती है और बाहर चली जाती है। आखिरी में तान्या घर आती है। यह सोचकर कि वह सबसे पहले घर आई है, वह शेष चॉकलेट का एक तिहाई हिस्सा लेती है। जब रेणुका वापस आती है, तो वह मेज पर 24 चॉकलेट पड़ी देखती है। वह उन्हें अपनी बेटियों के बीच वितरित करती है, यह सुनिश्चित करते हुए कि सभी को एक समान हिस्सा मिले। आखिर में रेणुका, साधना को कितनी चॉकलेट देती है?

- Ans 1. 9
 2. 27
 3. 15
 4. 12

Question ID : 65497818171
Chosen Option : --

Q.4 किसी निश्चित भाषा में, यदि अंक 7 और 2 को आपस में बदली किया जाता है और 3 और 4 को आपस में बदली किया जाता है, तो निम्न व्यंजक का मान ज्ञात करें।

$$52 \div 4 - 7 \times 5 + 3$$

- Ans 1. 13
 2. 33
 3. 15
 4. 17

Question ID : 65497818154
Chosen Option : --

Q.5 किसी निश्चित कूट भाषा में, यदि January = 4, July = 3 और September = 6 है, तो December = ?

- Ans
- 1. 8
 - 2. 5
 - 3. 7
 - 4. 6

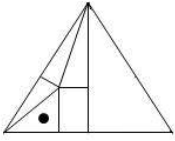
Question ID : 65497818161
Chosen Option : --

Q.6 'मकान' का 'छत' से वही संबंध है, जो 'पृथ्वी' का '_____' से है।

- Ans
- 1. आकाश
 - 2. पर्वत
 - 3. ध्रुव
 - 4. नदी

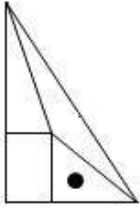
Question ID : 65497818165
Chosen Option : 2

Q.7 दी गई आकृति को ध्यान से देखें और उस विकल्प का चयन करें जो दी गई आकृति को पूरा करेगा।

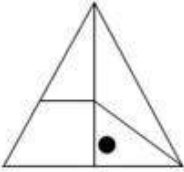


Ans

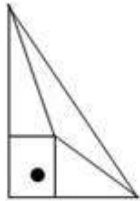
1.



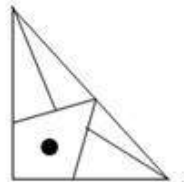
2.



3.

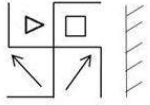


4.



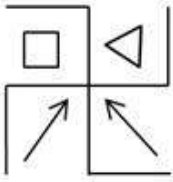
Question ID : 65497818173
Chosen Option : 1

Q.8 जब दर्पण को निम्न आकृति के दाईं ओर रखा जाता है, तब आकृति के दर्पण में निर्मित प्रतिबिंब का चयन करें।

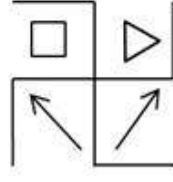


Ans

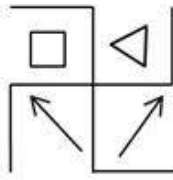
X 1.



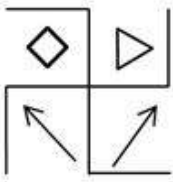
X 2.



✓ 3.



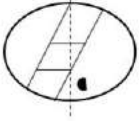
X 4.



www.HaryanaJobs.in

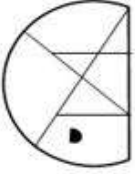
Question ID : 65497818175
Chosen Option : 3

Q.9 उस विकल्प का चयन करें, जिसमें यह दर्शाया गया है कि यदि दिए गए कागज़ के पारदर्शी शीट को बिंदीदार रेखा पर मोड़ा जाता है तो यह शीट कैसी दिखाई देगी।

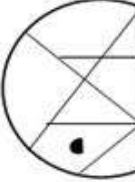


Ans

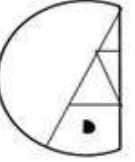
✗ 1.



✗ 2.



✗ 3.



✓ 4.



www.HaryanaJobs.in

Question ID : 65497818176

Chosen Option : 1

Q.10 किसी निश्चित भाषा में, यदि '+' का अर्थ 'गुणा', '×' का अर्थ 'भाग', '÷' का अर्थ 'घटाना' और '-' का अर्थ 'जोड़' है, तो निम्न व्यंजक का मान ज्ञात करें। (BODMAS प्रयुक्त करें)

$$18 \div 6 \times 3 - 4 + 5$$

Ans ✗ 1. 28

✗ 2. 1

✓ 3. 36

✗ 4. 40

Question ID : 65497818153

Chosen Option : 3

Q.11 निम्न में से कौन सा शब्द 'WONDERFUL' शब्द के अक्षरों का उपयोग करके नहीं बनाया जा सकता है?

- Ans 1. DAWN
 2. FOUND
 3. FUEL
 4. NERD

Question ID : 65497818159
 Chosen Option : 1

Q.12 निम्न संख्या श्रेणी में प्रश्नवाचक चिह्न (?) के स्थान पर कौन सा अक्षर आएगा?

C, W, E, U, ?

- Ans 1. G
 2. H
 3. F
 4. I

Question ID : 65497818160
 Chosen Option : 1

Q.13 दिए गए कथनों के आधार पर निम्न में से कौन सा निष्कर्ष निकाला जा सकता है?

कथन 1 : कुछ विश्वविद्यालय, कॉलेज हैं।
 कथन 2 : कोई भी विद्यालय, विभाग नहीं है।
 कथन 3 : सभी विश्वविद्यालय, विद्यालय हैं।

- Ans 1. सभी कॉलेज, विश्वविद्यालय हैं
 2. कुछ विश्वविद्यालय, विभाग हैं
 3. कुछ विद्यालय, कॉलेज हैं
 4. कुछ विभाग, कॉलेज हैं

Question ID : 65497818168
 Chosen Option : 1

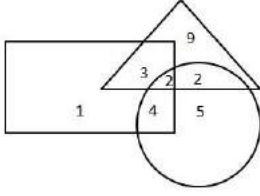
Q.14 उस विकल्प का चयन करें, जो तीसरे शब्द से ठीक उसी प्रकार संबंधित है जिस प्रकार दूसरा शब्द पहले शब्द से संबंधित है।

सांप : रेंगना (Slithering) :: घोड़ा : ?

- Ans 1. सरपट दौड़ (Gallop)
 2. हाईकिंग (Hiking)
 3. अलंकरण (Grooming)
 4. आवागर्द (Strolling)

Question ID : 65497818164
 Chosen Option : 2

Q.15 निम्न आकृति में, त्रिभुज 'बढ़ईयों' को निरूपित करता है, वृत्त 'लोहारों' को निरूपित करता है और आयत 'मछुआरों' को निरूपित करता है। कितने लोग बढ़ई नहीं हैं।



- Ans
- 1. 17
 - 2. 16
 - 3. 1
 - 4. 10

Question ID : 65497818177

Chosen Option : 4

Q.16 दिए गए कथनों के आधार पर निम्न में से कौन सा निष्कर्ष निकाला जा सकता है?

कथन 1 : सभी बाघ, इंसान हैं।

कथन 2 : कोई भी इंसान, पशु नहीं है।

- Ans
- 1. कुछ बाघ, पशु हैं
 - 2. कुछ इंसान, बाघ हैं
 - 3. कुछ पशु, इंसान हैं
 - 4. सभी बाघ, पशु हैं

Question ID : 65497818167

Chosen Option : 2

Q.17 आठ व्यक्ति A, B, C, D, E, F, G और H दो पंक्तियों में बैठे हैं, प्रत्येक पंक्ति में चार व्यक्ति हैं।

1. A, H के बगल में सामने की पंक्ति में बैठा है।
2. F ठीक C और B के बीच में बैठा है।
3. E, जो कि B के सामने बैठा है, किसी भी कोने पर नहीं बैठा है।
4. D पिछली पंक्ति के दाहिने कोने पर बैठा है।

यदि H एक कोने में बैठा है, तो F के सामने कौन बैठा है?

- Ans
- 1. H
 - 2. G
 - 3. E
 - 4. A

Question ID : 65497818170

Chosen Option : --

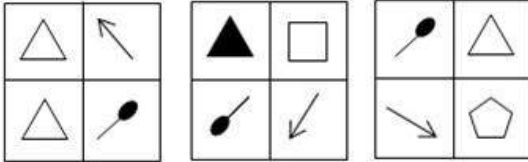
Q.18 दिए गए विकल्पों में से कौन सा विकल्प रिक्त स्थान की पूर्ति के लिए सर्वाधिक उपयुक्त है?

72 : 90 :: 12 : _____

- Ans 1. 27
 2. 20
 3. 21
 4. 32

Question ID : 65497818155
 Chosen Option : --

Q.19 निम्न आकृति श्रेणी में अगले स्थान पर कौन सी विकल्प आकृति आएगी?



Ans

- 1.
- 2.
- 3.
- 4.

www.HaryanaJobs.in

Question ID : 65497818172
 Chosen Option : 2

Q.20 निम्न संख्या श्रेणी में प्रश्नवाचक चिह्न (?) के स्थान पर कौन सी संख्या आएगी?

1, 11, 21, 1211, 3112, ?

Ans 1. 311221

2. 132112

3. 321121

4. 113121

Question ID : 65497818158

Chosen Option : --

Q.21 निम्न अक्षर समूह में प्रश्नवाचक चिह्न (?) के स्थान पर कौन सा अक्षर-समूह आएगा?

mnl, kpj, irh, ?

Ans 1. gue

2. hsg

3. guf

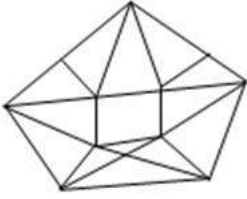
4. gtf

Question ID : 65497818166

Chosen Option : 4

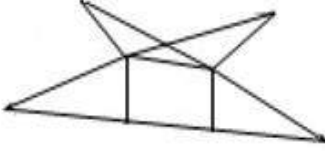
www.HaryanaJobs.in

Q.22 विकल्पों में से उस आकृति का चयन करें, जो दी गई प्रश्न आकृति में अन्तःस्थापित है।

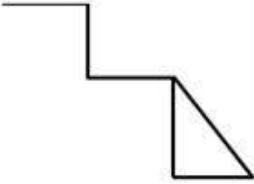


Ans

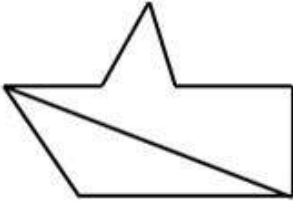
✓ 1.



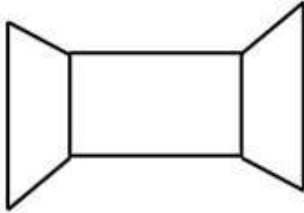
✗ 2.



✗ 3.



✗ 4.



www.HaryanaJobs.in

Question ID : 65497818174
Chosen Option : 1

Q.23 उस अक्षर संयोजन का चयन करें, जिसे दी गई श्रेणी के खाली स्थान में क्रमिक रूप से रखने पर श्रेणी पूरी हो जाएगी।

ca_b__ac_bc_cbb

Ans ✗ 1. ccbac

✗ 2. cabcc

✗ 3. ccaab

✓ 4. cbcba

Question ID : 65497818163
Chosen Option : 4

Q.24 आठ व्यक्ति A, B, C, D, E, F, G और H दो पंक्तियों में बैठे हैं, प्रत्येक पंक्ति में चार व्यक्ति हैं।

1. A, H के पड़ोस में सामने की पंक्ति में बैठा है।
2. F ठीक C और B के बीच में बैठा है।
3. E, जो कि B के सामने बैठा है, किसी भी कोने पर नहीं बैठा है।
4. D पिछली पंक्ति के दाहिने कोने पर बैठा है।

सामने की पंक्ति के दाहिने कोने पर कौन बैठा है?

- Ans 1. B
 2. G
 3. H
 4. A

Question ID : 65497818169
Chosen Option : --

Q.25 निम्न संख्या श्रेणी में प्रश्नवाचक चिह्न (?) के स्थान पर कौन सी संख्या आएगी?

15, 21, 24, 30, ?

- Ans 1. 34
 2. 33
 3. 39
 4. 40

Question ID : 65497818157
Chosen Option : 2

Section : Numerical Aptitude

Q.1 माना x , वह बड़ी से बड़ी संख्या है, जिससे 448, 678 और 908 को विभाजित करने पर प्रत्येक स्थिति में शेषफल 11 प्राप्त होता है। जब 147 को x द्वारा विभाजित किया जाता है, तो प्राप्त शेषफल ज्ञात करें।

- Ans 1. 4
 2. 9
 3. 5
 4. 3

Question ID : 65497814845
Chosen Option : 1

Q.2 ₹8,235 की राशि को A, B, C और D के बीच इस प्रकार विभाजित किया जाता है कि A और B के हिस्सों का अनुपात 3 : 4 है, B और C के हिस्सों का अनुपात 8 : 5 है और C और D के हिस्सों का अनुपात 7 : 10 है। A और C के हिस्सों के बीच अंतर ज्ञात करें।

- Ans 1. ₹310
 2. ₹315
 3. ₹270
 4. ₹405

Question ID : 65497814855
Chosen Option : --

Q.3 किसी वस्तु को ₹1,035 में बेचकर, 15% का लाभ प्राप्त होता है। यदि वस्तु को ₹922.50 में बेचा जाता है, तो लाभ/हानि प्रतिशत ज्ञात करें।

- Ans
- 1. हानि, 12.5%
 - 2. हानि, 2.5%
 - 3. लाभ, 12.5%
 - 4. लाभ, 2.5%

Question ID : 65497814853
Chosen Option : 4

Q.4 शंकु और बेलन के आयतनों का अनुपात 8 : 9 है और उनकी ऊंचाइयों का अनुपात 2 : 3 है। उनकी आधार की त्रिज्याओं का अनुपात ज्ञात करें।

- Ans
- 1. 4 : 3
 - 2. 2 : 1
 - 3. 3 : 2
 - 4. 3 : 4

Question ID : 65497814562
Chosen Option : --

Q.5 $5 - 5 \div 5 \times 5 + (6 \div 6 \text{ of } 6) \times 6 - \left(3\frac{2}{3} \div \frac{11}{30} \text{ of } \frac{2}{3}\right) \div 5$ का मान कितना होगा?

- Ans
- 1. -1
 - 2. 1
 - 3. 0
 - 4. -2

Question ID : 65497816684
Chosen Option : --

Q.6 338-m लंबी रेलगाड़ी 60 km/h की चाल से चलती है। यह समान दिशा में चल रहे आदमी को 39 सेकंड में पार करती है। आदमी की चाल (m/sec में) ज्ञात करें।

- Ans
- 1. 10
 - 2. 9
 - 3. 8
 - 4. 7

Question ID : 65497814863
Chosen Option : --

Q.7 X और Y एक साथ, किसी कार्य को 10 दिन में कर सकते हैं। X, Y से 40% अधिक कुशल है। अकेले X, उसी कार्य के 35% भाग को कितने दिन में पूरा करेगा?

- Ans
- 1. 5 दिन
 - 2. 8 दिन
 - 3. 9 दिन
 - 4. 6 दिन

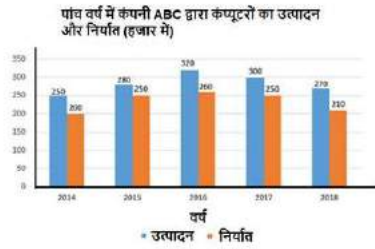
Question ID : 65497814861
Chosen Option : 4

Q.8 आठ वर्ष पहले, A और B की आयु का अनुपात 4 : 5 था और 12 वर्ष बाद उनकी आयु का अनुपात 13 : 15 होगा। B की वर्तमान आयु (वर्ष में) ज्ञात करें।

- Ans
- 1. 48
 - 2. 56
 - 3. 52
 - 4. 46

Question ID : 65497814856
Chosen Option : 1

Q.9 दिए गए ग्राफ का अध्ययन करें और नीचे दिए गए प्रश्न का उत्तर दें।



2014 से 2018 के दौरान कंपनी द्वारा कंप्यूटरों का कुल निर्यात, 2014, 2015 और 2018 के दौरान कंप्यूटरों के कुल उत्पादन से कितने प्रतिशत अधिक है?

- Ans
- 1. 48.5%
 - 2. 46.25%
 - 3. 46.8%
 - 4. 45.5%

Question ID : 65497814868
Chosen Option : 2

Q.10 दिए गए आंकड़ों के परास और माध्यिका का माध्य ज्ञात करें।

9, 8, 7, 5, 11, 10, 13, 16, 15, 23, 19, 7, 9, 11

- Ans
- 1. 14.5
 - 2. 13.5
 - 3. 14.25
 - 4. 15.25

Question ID : 65497814851
Chosen Option : --

Q.11 किसी कक्षा में 40 छात्रों का औसत भार 60 kg है। जब कक्षा में 10 नए छात्र शामिल होते हैं, तो औसत भार 64 kg हो जाता है। यदि 5 नए छात्रों का औसत भार 72 kg है, तो शेष 5 नए छात्रों का औसत भार (kg में) ज्ञात करें।

- Ans
- 1. 88
 - 2. 85.5
 - 3. 86
 - 4. 86.5

Question ID : 65497814849
Chosen Option : --

Q.12 a, b और c का औसत, d से 8 कम है। यदि a, b, c और d का औसत 42 है, तो $(3d - 2)$ और $(d + 5)$ का औसत ज्ञात करें।

- Ans
- 1. 97.5
 - 2. 98.5
 - 3. 99.5
 - 4. 96.5

Question ID : 65497814848
Chosen Option : --

Q.13 96 m, 110 m और 146 m भुजा वाले त्रिभुजाकार मैदान का क्षेत्रफल, उस आयताकार पार्क के क्षेत्रफल के बराबर है जिसकी भुजाओं का अनुपात 10 : 11 है। पार्क की लंबी भुजा की लंबाई ज्ञात करें।

- Ans
- 1. $44\sqrt{3}$ m
 - 2. 33 m
 - 3. 55 m
 - 4. $33\sqrt{3}$ m

Question ID : 65497814864
Chosen Option : --

Q.14 $15\frac{7}{10} + 3\frac{1}{5}$ of $\left[5\frac{1}{8} - \left(2\frac{1}{4} + \frac{5}{3} \times \frac{15}{14} \div \frac{10}{9} \text{ of } \frac{3}{14}\right)\right]$ का मान ज्ञात करें।

- Ans
1. $\frac{9}{10}$
2. $\frac{2}{5}$
3. $\frac{3}{7}$
4. $\frac{5}{21}$

Question ID : 65497814847

Chosen Option : --

Q.15 24.2 और 7.2 के बीच मध्यानुपात (mean proportional) तथा 2.8 और 4.2 के तृतीयानुपात (third proportional) का अनुपात ज्ञात करें।

- Ans
1. 44 : 21
2. 44 : 31
3. 44 : 41
4. 34 : 21

Question ID : 65497814857

Chosen Option : 1

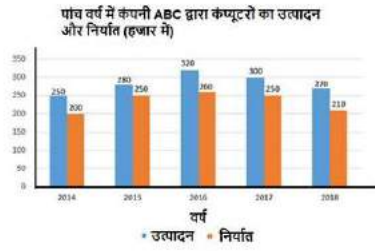
Q.16 किसी वस्तु के अंकित मूल्य पर, एक 45% की एकल छूट और दूसरी 20% और 25% की दो क्रमागत छूट के बाद के विक्रय मूल्यों के बीच अंतर ₹124 है। वस्तु का अंकित मूल्य (₹ में) ज्ञात करें।

- Ans
1. 2,520
2. 2,540
3. 2,480
4. 2,500

Question ID : 65497814850

Chosen Option : --

Q.17 दिए गए ग्राफ का अध्ययन करें और नीचे दिए गए प्रश्न का उत्तर दें।



किस वर्ष में कंपनी द्वारा कंप्यूटरों का उत्पादन, 2016 से 2018 के दौरान कंप्यूटरों के औसत निर्यात से 25% अधिक है?

- Ans
- 1. 2015
 - 2. 2018
 - 3. 2017
 - 4. 2016

Question ID : 65497814867
Chosen Option : --

Q.18 पाइप A और B किसी टंकी को क्रमशः 15 घंटे और 12 घंटे में भर सकते हैं। अकेले पाइप C भरी हुई टंकी को 10 घंटे में खाली कर सकता है। यदि तीनों पाइप एक साथ 2 घंटे 40 मिनट के लिए खोले जाते हैं, तो टंकी का कितना भाग खाली रहेगा?

- Ans
- 1. $\frac{2}{15}$
 - 2. $\frac{17}{20}$
 - 3. $\frac{13}{15}$
 - 4. $\frac{3}{20}$

Question ID : 65497814860
Chosen Option : 1

Q.19 15% वार्षिक चक्रवृद्धि ब्याज की दर पर $2\frac{1}{3}$ वर्ष के लिए निवेशित ₹4,800 की राशि का मिश्रधन (र में) ज्ञात करें जबकि ब्याज वार्षिक रूप से चक्रवृद्धि होता है। (निकटतम ₹1 तक)

- Ans
- 1. 6,665
 - 2. 7,935
 - 3. 6,575
 - 4. 6,348

Question ID : 65497814859
Chosen Option : --

Q.20 $17 - [16 - \{38 - (49 - 72 \div 16 \times 4 \text{ of } 2)\}]$ का मान ज्ञात करें।

- Ans
- 1. 28
 - 2. 23
 - 3. 26
 - 4. 29

Question ID : 65497814846
Chosen Option : 3

Q.21 कोई दुकानदार 500 नोटबुक खरीदता है। वह उनमें से 300 नोटबुक उस मूल्य पर बेचता है जिस मूल्य पर उसने 500 नोटबुक खरीदे थे, 140 नोटबुक को बेचे गये 300 नोटबुक के मूल्य से 20% अधिक पर बेचता है और शेष नोटबुक को क्रय मूल्य पर बेचता है। पूरे लेन-देन में उसका लाभ प्रतिशत ज्ञात करें।

- Ans
- 1. 56%
 - 2. 68%
 - 3. 60%
 - 4. 64%

Question ID : 65497814854
Chosen Option : --

Q.22 4 वर्ष में किसी राशि पर प्राप्त साधारण ब्याज, मूल राशि का 28% है। ₹2,880 की राशि पर दोगुनी दर से $3\frac{3}{4}$ वर्ष में प्राप्त साधारण ब्याज ज्ञात करें।

- Ans
- 1. ₹1,620
 - 2. ₹1,296
 - 3. ₹1,528
 - 4. ₹1,512

Question ID : 65497814858
Chosen Option : --

Q.23 कोई व्यक्ति अपनी चाल में 40% की वृद्धि करता है। ऐसा करने से, वह अपने कार्यालय सामान्य समय से 9 मिनट पहले पहुंचता है। सामान्यतः उसे अपने कार्यालय पहुंचने में कितना समय (मिनट में) लगता है?

- Ans
- 1. $30\frac{1}{2}$
 - 2. 33
 - 3. $31\frac{1}{2}$
 - 4. 32

Question ID : 65497814862
Chosen Option : 3

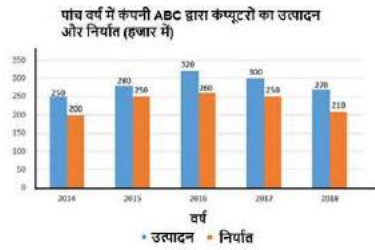
Q.24 A, B से 25% कम है, B, C से 30% कम है और C, D से 50% अधिक है। यदि A और C के बीच अंतर 285 है, तो B के $33\frac{1}{3}\%$ का मान ज्ञात करें।

- Ans**
- 1. 140
 - 2. 105
 - 3. 120
 - 4. 150

Question ID : 65497814852

Chosen Option : --

Q.25 दिए गए ग्राफ का अध्ययन करें और नीचे दिए गए प्रश्न का उत्तर दें।



2019 में कंप्यूटर के उत्पादन में उसी प्रतिशत से कमी होती है जिस प्रतिशत से 2018 में उसके पिछले वर्ष की तुलना में कंप्यूटर उत्पादन में कमी होती है, और 2019 में निर्यात 2018 के बराबर है, तो 2019 में कंप्यूटर के उत्पादन और निर्यात के बीच अंतर (हजार में) क्या है?

- Ans**
- 1. 21
 - 2. 33
 - 3. 35
 - 4. 39

Question ID : 65497814869

Chosen Option : --

Section : General Awareness

Q.1 निगथौजा राजवंश द्वारा भारत के किस राज्य पर शासन किया गया था?

- Ans**
- 1. असम
 - 2. मणिपुर
 - 3. हरियाणा
 - 4. गुजरात

Question ID : 65497817419

Chosen Option : --

Q.2 वर्ष 1960 में महाराष्ट्र और _____ का गठन करके बंबई राज्य का भाषाई आधार पर विभाजन कर दिया गया।

- Ans
- 1. गोवा
 - 2. कर्नाटक
 - 3. राजस्थान
 - 4. गुजरात

Question ID : 65497817408

Chosen Option : --

Q.3 अभिनेता और राजनेता शत्रुघ्न सिन्हा की जीवनी का नाम क्या है?

- Ans
- 1. द सब्स्टेंस एंड द शैडो
 - 2. एनीथिंग बट खामोश
 - 3. एंड देन वन डे : ए मेमॉयर
 - 4. खुल्लम खुल्ला

Question ID : 65497817401

Chosen Option : --

Q.4 भारत का कौन सा राज्य 'सुंदरेश्वर महोत्सव' मनाता है?

- Ans
- 1. हिमाचल प्रदेश
 - 2. मध्य प्रदेश
 - 3. गोवा
 - 4. केरल

Question ID : 65497817395

Chosen Option : --

Q.5 जो लोग द्विफोकसी लेंस लगाते हैं उनमें _____ पाया जाता है।

- Ans
- 1. मोतियाबिंद (cataract)
 - 2. दूरदृष्टि दोष (hypermetropia)
 - 3. निकट दृष्टि दोष (myopia)
 - 4. जरादूरदृष्टि दोष (presbyopia)

Question ID : 65497817411

Chosen Option : 1

Q.6 मृदा संरक्षण की निम्नलिखित प्रक्रियाओं में से किसको 'मल्लिंग' कहा जाता है?

- Ans
- 1. बरसाती पानी के साथ मिट्टी के बहाव को रोकने के लिए एकांतर पंक्तियों में विभिन्न फसलें उगाई जाती हैं।
 - 2. पानी के बहाव को धीमा करने के लिए चट्टानों का ढेर लगा दिया जाता है।
 - 3. परिरेखाओं (मेंडों) के समानांतर अवरोध बनाने के लिए पत्थर, घास और मिट्टी का उपयोग किया जाता है।
 - 4. पौधों के बीच खुली जमीन पर पुआल आदि कार्बनिक पदार्थ की एक परत बिछा दी जाती है।

Question ID : 65497817414

Chosen Option : --

Q.7 अपनी साहित्यिक कृतियों के लिए प्रसिद्ध 'बाणभट्ट' किसके शासनकाल के दौरान प्रसिद्ध हुए?

- Ans
- 1. चंद्रगुप्त II
 - 2. हर्षवर्धन
 - 3. अशोक
 - 4. बिंदुसार

Question ID : 65497817417
Chosen Option : 1

Q.8 'सर्कैडियन रिदम' शब्द किससे जुड़ा है?

- Ans
- 1. पेंडुलम के संचलन
 - 2. शरीर घड़ी (बाँडी क्लॉक)
 - 3. हिंडोले के संचलन
 - 4. दिल की धड़कन

Question ID : 65497817412
Chosen Option : --

Q.9 भारतीय संविधान सभा ने किस वर्ष भारत के संविधान के अनुच्छेद 370 को अंगीकार किया जिससे जम्मू-कश्मीर के लिए विशेष दर्जा और आंतरिक स्वायत्तता सुनिश्चित हुई?

- Ans
- 1. 1950
 - 2. 1949
 - 3. 1961
 - 4. 1952

Question ID : 65497817407
Chosen Option : --

Q.10 त्सोंगमो झील किस भारतीय राज्य में स्थित है?

- Ans
- 1. मिज़ोरम
 - 2. अरुणाचल प्रदेश
 - 3. नागालैंड
 - 4. सिक्किम

Question ID : 65497817416
Chosen Option : --

Q.11 किसकी आत्मकथा का शीर्षक 'सनी डेज' है?

- Ans
- 1. सचिन तेंदुलकर
 - 2. सौरव गांगुली
 - 3. अनिल कुंबले
 - 4. सुनील गावस्कर

Question ID : 65497817400
Chosen Option : 4

Q.12 अंग्रेज भौतिकविज्ञानी जेम्स प्रेस्कॉट जूल ने _____ के आधार की रूपरेखा प्रस्तुत की।

- Ans
- 1. गुरुत्वाकर्षण की घटना
 - 2. कंपनशील निधान के सिद्धांत
 - 3. संरक्षण के सिद्धांत
 - 4. गैसों के विसरण की अवधारणा

Question ID : 65497817410
Chosen Option : 4

Q.13 मणिपुर के 'सगोल कांगजेई' खेल को, इस खेल के प्रति उत्साही लोगों द्वारा दुनिया भर में _____ के रूप में अनुकूल किया गया है।

- Ans
- 1. असिक्रीड़ा (फेंसिंग)
 - 2. रग्बी
 - 3. पोलो
 - 4. जूडो

Question ID : 65497817398
Chosen Option : --

Q.14 _____ प्रकाश संश्लेषण की अभिक्रियाओं के लिए उपयोग किया जाने वाला शब्द है जो ग्लूकोज और अन्य कार्बोहाइड्रेट अणुओं को बनाने के लिए प्रकाश-आश्रित अभिक्रियाओं द्वारा संग्रहीत ऊर्जा का उपयोग करता है।

- Ans
- 1. पुष्पकुंज चक्र
 - 2. स्थूल चक्र
 - 3. शैल चक्र
 - 4. केल्विन चक्र

Question ID : 65497817413
Chosen Option : --

Q.15 गौतमीपुत्र शतकर्णी दूसरी शताब्दी ईस्वी में _____ साम्राज्य के महानतम शासक थे।

- Ans
- 1. चोल
 - 2. सातवाहन
 - 3. चेर
 - 4. राष्ट्रकूट

Question ID : 65497817418
Chosen Option : 4

Q.16 इंपीरियल बैंक ऑफ इंडिया के राज्य के स्वामित्व में पारित होने के बाद भारतीय स्टेट बैंक की स्थापना किस वर्ष में की गई थी?

- Ans
- 1. 1965
 - 2. 1955
 - 3. 1947
 - 4. 1950

Question ID : 65497815788
Chosen Option : 2

Q.17 किस भारतीय लेखक को 1957 में 'द रूम ऑन द रूफ', पुस्तक जिसे उन्होंने 17 की उम्र में लिखी थी, के लिए जॉन लेवेलिन राइस पुरस्कार से सम्मानित किया गया था?

- Ans 1. रस्किन बॉन्ड
 2. सलमान रुश्दी
 3. अमिताव घोष
 4. खुशवंत सिंह

Question ID : 65497817402
Chosen Option : 4

Q.18 उस ऑपरेशन का नाम क्या था जिसके कारण हैदराबाद राज्य का भारत में विलय हुआ?

- Ans 1. ऑपरेशन पोलो
 2. ऑपरेशन एकता
 3. ऑपरेशन गेटवे
 4. ऑपरेशन सूर्योदय

Question ID : 65497817406
Chosen Option : 1

Q.19 भारत के किस राज्य में राष्ट्रीय जल क्रीड़ा संस्थान (नेशनल इंस्टीट्यूट ऑफ वॉटर स्पोर्ट्स) है?

- Ans 1. कर्नाटक
 2. महाराष्ट्र
 3. गोवा
 4. असम

Question ID : 65497817399
Chosen Option : 2

Q.20 निम्नलिखित में से कौन सा बागान फसल की श्रेणी में आता है?

- Ans 1. बाजरा
 2. आलू
 3. ककड़ी
 4. कॉफी

Question ID : 65497817415
Chosen Option : --

Q.21 'चेतियागिरी विहार' साँची में मनाया जाने वाला _____ पर्व है।

- Ans 1. हिंदू
 2. सिख
 3. बौद्ध
 4. जैन

Question ID : 65497817396
Chosen Option : --

Q.22 निम्नलिखित में से किस बैंक ने बांग्लादेश में 718 मेगावाट संयुक्त-चक्र गैस-संचालित बिजली संयंत्र के निर्माण और प्रचालन के लिए रिलायंस बांग्लादेश एलएनजी और पॉवर प्लांट के साथ \$200 मिलियन के वित्तीय समझौते पर हस्ताक्षर किए हैं?

- Ans
- 1. आईसीआईसीआई बैंक
 - 2. भारतीय रिजर्व बैंक
 - 3. एशियाई विकास बैंक
 - 4. एचडीएफसी बैंक

Question ID : 65497818009
Chosen Option : --

Q.23 निम्नलिखित में से किसने पहला यौगिक माइक्रोस्कोप बनाया?

- Ans
- 1. विलियम गिल्बर्ट
 - 2. जकारियास जानसेन
 - 3. जॉन हेरिंगटन
 - 4. गैलिलियो गैलिली

Question ID : 65497817409
Chosen Option : 2

Q.24 निम्नलिखित में से कौन-सा, ओडिशा का एक लोकप्रिय त्योहार है?

- Ans
- 1. होला मोहल्ला
 - 2. धनु यात्रा
 - 3. थिरुवोनम
 - 4. गुड़ी पड़वा

Question ID : 65497817397
Chosen Option : 2

Q.25 भारत की पंचवर्षीय योजनाएँ _____ में प्रचलित योजनाओं के आधार पर तैयार की गई केंद्रीकृत आर्थिक और सामाजिक विकास कार्यक्रम थीं।

- Ans
- 1. जर्मनी
 - 2. यूएसएसआर (USSR)
 - 3. यूएस (US)
 - 4. नॉर्वे

Question ID : 65497817405
Chosen Option : 2

Multi Tasking Non Technical Staff Examination 2020

Participant ID	www.HaryanaJobs.in
Participant Name	www.HaryanaJobs.in
Test Center Name	iON Digital Zone iDZ Karhi Road Amoudha
Test Date	18/10/2021
Test Time :	4:00 PM - 5:30 PM
Subject	MTS Non Technical 2020

Section : **General English**

Q.1 Select the most appropriate option to substitute the underlined segment in the given sentence.

Don't forget post these letters.

- Ans
- 1. in posting
 - 2. to posting
 - 3. to post
 - 4. posted

Question ID : 65497817734
Chosen Option : 3

Q.2 Select the most appropriate option to substitute the underlined segment in the given sentence. If there is no need to substitute it, select 'No substitution required'.

If the world was to end tomorrow why would you spend your day today?

- Ans
- 1. No substitution required
 - 2. what would
 - 3. when would
 - 4. how would

Question ID : 65497818139
Chosen Option : 4

Q.3 Select the most appropriate word to fill in the blank.

Until recently, the village women _____ water from common wells or hand pumps, but now they have water taps.

- Ans
- 1. bought
 - 2. threw
 - 3. fetched
 - 4. sold

Question ID : 65497817748
Chosen Option : 3

Q.4 Select the most appropriate word which means the same as the group of words given.

Breathe hard and with difficulty

- Ans
- 1. Strangle
 - 2. Choke
 - 3. Cough
 - 4. Pant

Question ID : **65497817743**
Chosen Option : --

Q.5 Choose the correctly spelt word.

- Ans
- 1. Decendent
 - 2. Desendent
 - 3. Disendant
 - 4. Descendant

Question ID : **65497817746**
Chosen Option : 1

Q.6 Select the most appropriate option to substitute the underlined segment in the given sentence. If there is no need to substitute it, select 'No substitution required'.

There is many food for all of us.

- Ans
- 1. are plenty foods
 - 2. No substitution required
 - 3. is enough food
 - 4. are much food

Question ID : **65497815918**
Chosen Option : 3

Q.7 Select the most appropriate synonym of the given word.

OBSTRUCTION

- Ans
- 1. Destruction
 - 2. Construction
 - 3. Guesswork
 - 4. Hindrance

Question ID : **65497817740**
Chosen Option : 1

Q.8 Select the most appropriate option to fill in the blank.

I had to go to the ATM _____ some money.

- Ans 1. to get
 2. to getting
 3. for to get
 4. by getting

Question ID : 65497817726
Chosen Option : 1

Q.9 Select the most appropriate option to fill in the blank.

Let us go to the museum, _____?

- Ans 1. do we
 2. don't we
 3. shall we
 4. will we

Question ID : 65497817727
Chosen Option : 2

Q.10 The given sentence contains a grammatical error. Identify the segment that contains the error.

"You can meet me always you like," our teacher told us.

- Ans 1. You can meet
 2. our teacher told us
 3. me always
 4. you like

Question ID : 65497817724
Chosen Option : 3

Q.11 The given sentence contains a grammatical error. Identify the segment that contains the error.

Gopi's father asked him not stay out late again.

- Ans 1. asked him
 2. not stay out
 3. Gopi's father
 4. late again

Question ID : 65497817725
Chosen Option : 2

Q.12 Select the most appropriate synonym of the given word.

CONCLUDE

- Ans 1. Exclude
 2. End
 3. Open
 4. Include

Question ID : 65497817739
Chosen Option : 4

Q.13 Choose the correctly spelt word.

- Ans 1. Sandwish
 2. Sandwitch
 3. Standwich
 4. Sandwich

Question ID : 65497817745
Chosen Option : 4

Q.14 The given sentence contains a grammatical error. Identify the segment that contains the error.

The man whose sitting at the corner table is my uncle.

- Ans 1. at the corner table
 2. is my uncle
 3. whose sitting
 4. The man

Question ID : 65497817723
Chosen Option : 3

Q.15 Select the most appropriate meaning of the given idiom.

Carry on

- Ans 1. Take someone or something away
 2. Put something into action
 3. Continue doing something
 4. Throw something away

Question ID : 65497817741
Chosen Option : 3

Q.16 Select the most appropriate word which means the same as the group of words given.

Something that is given to counter the effect of poison

- Ans
- 1. Medicine
 - 2. Artichoke
 - 3. Antibiotic
 - 4. Antidote

Question ID : 65497817744
Chosen Option : 4

Q.17 Select the most appropriate ANTONYM of the given word.

EAGER

- Ans
- 1. Easier
 - 2. Indifferent
 - 3. Loveable
 - 4. Different

Question ID : 65497817738
Chosen Option : 4

Q.18 Select the most appropriate word to fill in the blank.

The workers who returned _____ during the lockdown did not go back to work.

- Ans
- 1. house
 - 2. hope
 - 3. office
 - 4. home

Question ID : 65497817747
Chosen Option : 4

Q.19 Select the most appropriate ANTONYM of the given word.

AGREE

- Ans
- 1. Oppose
 - 2. Question
 - 3. Distance
 - 4. Support

Question ID : 65497817737
Chosen Option : 1

Q.20 Select the most appropriate meaning of the given idiom.

Fall for

- Ans** 1. To invite someone
2. To be tricked or fooled by
3. To be supported by
4. To fall down and injure oneself

Question ID : **65497817742**
Chosen Option : 2

Comprehension:

In the following passage, some words have been deleted. Fill in the blanks with the help of the alternatives given. Select the most appropriate option for each blank.

According to a news report, a former captain of the Indian wheelchair cricket team has now been forced to (1)_____ as a labourer to support his family. In the context of the Covid-19 pandemic and lockdown, the children he used to (2)_____ earlier have stopped coming to him for a few months. Their parents said there was no money to pay for their (3)_____. Before the lockdown, he was giving coaching to wheelchair-bound children who were (4)_____ in playing cricket. The coach has now returned to his village where his old parents live. He said to the reporter who interviewed him, "These are difficult times, but I know I will be able to (5)_____ them," with a smile on his face.

SubQuestion No : 21

Q.21 Select the most appropriate option to fill in blank no. 1.

- Ans** 1. supervise
2. work
3. serve
4. employ

Question ID : **65497817729**
Chosen Option : 3

Comprehension:

In the following passage, some words have been deleted. Fill in the blanks with the help of the alternatives given. Select the most appropriate option for each blank.

According to a news report, a former captain of the Indian wheelchair cricket team has now been forced to (1)_____ as a labourer to support his family. In the context of the Covid-19 pandemic and lockdown, the children he used to (2)_____ earlier have stopped coming to him for a few months. Their parents said there was no money to pay for their (3)_____. Before the lockdown, he was giving coaching to wheelchair-bound children who were (4)_____ in playing cricket. The coach has now returned to his village where his old parents live. He said to the reporter who interviewed him, "These are difficult times, but I know I will be able to (5)_____ them," with a smile on his face.

SubQuestion No : 22

Q.22 Select the most appropriate option to fill in blank no. 2.

- Ans** 1. coach
2. study
3. learn
4. teach

Question ID : **65497817730**
Chosen Option : 1

Comprehension:

In the following passage, some words have been deleted. Fill in the blanks with the help of the alternatives given. Select the most appropriate option for each blank.

According to a news report, a former captain of the Indian wheelchair cricket team has now been forced to (1)_____ as a labourer to support his family. In the context of the Covid-19 pandemic and lockdown, the children he used to (2)_____ earlier have stopped coming to him for a few months. Their parents said there was no money to pay for their (3)_____. Before the lockdown, he was giving coaching to wheelchair-bound children who were (4)_____ in playing cricket. The coach has now returned to his village where his old parents live. He said to the reporter who interviewed him, "These are difficult times, but I know I will be able to (5)_____ them," with a smile on his face.

SubQuestion No : 23

Q.23 Select the most appropriate option to fill in blank no. 3.

- Ans 1. schooling
 2. training
 3. studies
 4. employment

Question ID : 65497817731
 Chosen Option : 2

Comprehension:

In the following passage, some words have been deleted. Fill in the blanks with the help of the alternatives given. Select the most appropriate option for each blank.

According to a news report, a former captain of the Indian wheelchair cricket team has now been forced to (1)_____ as a labourer to support his family. In the context of the Covid-19 pandemic and lockdown, the children he used to (2)_____ earlier have stopped coming to him for a few months. Their parents said there was no money to pay for their (3)_____. Before the lockdown, he was giving coaching to wheelchair-bound children who were (4)_____ in playing cricket. The coach has now returned to his village where his old parents live. He said to the reporter who interviewed him, "These are difficult times, but I know I will be able to (5)_____ them," with a smile on his face.

SubQuestion No : 24

Q.24 Select the most appropriate option to fill in blank no. 4.

- Ans 1. interested
 2. forced
 3. asked
 4. encouraged

Question ID : 65497817732
 Chosen Option : 1

Comprehension:

In the following passage, some words have been deleted. Fill in the blanks with the help of the alternatives given. Select the most appropriate option for each blank.

According to a news report, a former captain of the Indian wheelchair cricket team has now been forced to (1)_____ as a labourer to support his family. In the context of the Covid-19 pandemic and lockdown, the children he used to (2)_____ earlier have stopped coming to him for a few months. Their parents said there was no money to pay for their (3)_____. Before the lockdown, he was giving coaching to wheelchair-bound children who were (4)_____ in playing cricket. The coach has now returned to his village where his old parents live. He said to the reporter who interviewed him, "These are difficult times, but I know I will be able to (5)_____ them," with a smile on his face.

SubQuestion No : 25

Q.25 Select the most appropriate option to fill in blank no. 5.

- Ans
- 1. excel
 - 2. lose
 - 3. win
 - 4. overcome

Question ID : **65497817733**
Chosen Option : 4

Section : **General Intelligence and Reasoning**

Q.1 उस विकल्प का चयन कीजिए जिसका तीसरे शब्द से वही संबंध है, जो दूसरे शब्द का पहले शब्द से है।

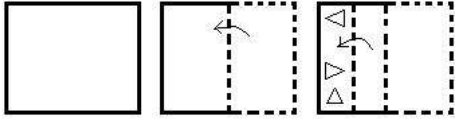
मोतियाबिंद : आंख :: एक्जिमा : ?

- Ans
- 1. एलर्जी
 - 2. खुजली
 - 3. जोड़
 - 4. त्वचा

Question ID : **65497815236**
Chosen Option : --

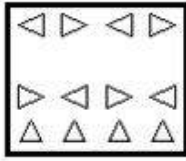
www.HaryanaJobs.in

Q.2 एक कागज को निम्नानुसार मोड़ा और काटा गया है। इसे खोलने पर यह कैसा दिखेगा?

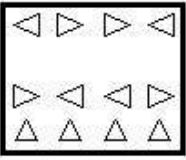


Ans

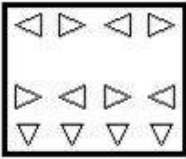
✓ 1.



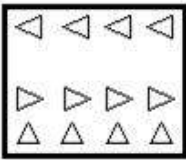
✗ 2.



✗ 3.



✗ 4.



Question ID : 65497815247
Chosen Option : 1

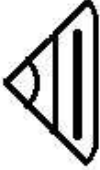
www.HaryanaJobs.in

Q.3 उस विकल्प आकृति का चयन कीजिए जो निम्नांकित आकृति श्रृंखला में प्रश्नवाचक चिह्न (?) के स्थान पर आएगी और पैटर्न को पूरा करेगी।

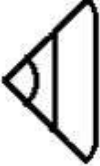


Ans

✓ 1.



✗ 2.



✗ 3.



✗ 4.



Question ID : 65497815244

Chosen Option : 1

Q.4 छः विद्यार्थी एक मेज के परितः उसके केंद्र की ओर अभिमुख होकर बैठे हैं। इकबाल और अमन के बीच में पुनीत बैठा है। जोया, इकबाल के दाएं दूसरे स्थान पर बैठी है। प्रतीक्षा, अमन के बाएं तीसरे स्थान पर बैठी है। जोया और अमन के बीच में अनामिका बैठी है। पुनीत और अनामिका के बीच में कौन बैठा है?

Ans ✗ 1. प्रतीक्षा

✓ 2. अमन

✗ 3. इकबाल

✗ 4. जोया

Question ID : 65497815240

Chosen Option : 2

Q.5 एक निश्चित कूट भाषा में, यदि 'FORCE' को '641832' और 'MIST' को '1331920' लिखा जाता है, तो उसी कूट भाषा में, 'URANUS' को क्या लिखा जाएगा?

- Ans
- 1. 618114618
 - 2. 218132119
 - 3. 518113519
 - 4. 518114519

Question ID : 65497815233
Chosen Option : 4

Q.6 दो कथन और उसके बाद 3 निष्कर्ष I, II और III दिए गए हैं। यह मानते हुए कि कथन सत्य हैं, भले ही वे सामान्य रूप से ज्ञात तथ्यों से भिन्न प्रतीत होते हों, बताएं कि कौन से निष्कर्ष दिए गए कथनों का तार्किक रूप से अनुसरण करते हैं?

कथन:
सभी दुकानें पार्क हैं।
कुछ दुकानें स्कूल हैं।

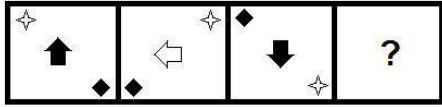
निष्कर्ष:
I. कुछ पार्क स्कूल हैं।
II. कोई स्कूल पार्क नहीं है।
III. कुछ पार्क दुकानें हैं।

- Ans
- 1. केवल निष्कर्ष I और III अनुसरण करते हैं
 - 2. केवल निष्कर्ष II और III अनुसरण करते हैं
 - 3. सभी निष्कर्ष अनुसरण करते हैं
 - 4. केवल निष्कर्ष I और II अनुसरण करते हैं

Question ID : 65497815239
Chosen Option : 1


www.HaryanaJobs.in

Q.7 उस आकृति का चयन कीजिए जो निम्नांकित आकृति श्रृंखला में प्रश्नवाचक चिह्न (?) के स्थान पर आएगी।

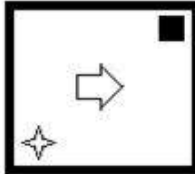


Ans


✗ 1.



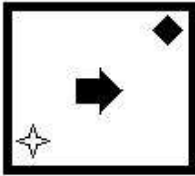
✗ 2.



✓ 3.



✗ 4.



Question ID : 65497815243
Chosen Option : 3

Q.8 दिए गए पैटर्न का ध्यानपूर्वक अध्ययन कीजिए और उस संख्या का चयन कीजिए जो इसमें प्रश्नवाचक चिह्न (?) के स्थान पर आ सकती है।

15 14 220
20 18 290
11 40 ?

Ans ✓ 1. 310

✗ 2. 340

✗ 3. 320

✗ 4. 390

Question ID : 65497815227
Chosen Option : 1

Q.9 निम्न श्रेणी में प्रश्नवाचक चिह्न (?) के स्थान पर कौन सी संख्या आएगी?

42, 41, 45, 36, 52, 27, ?

- Ans
- 1. 49
 - 2. 81
 - 3. 91
 - 4. 63

Question ID : 65497815229
Chosen Option : 4

Q.10 यदि A 'जोड़', B 'गुणा', C 'घटाना', और D 'भाग' को निर्दिष्ट करता है, तो निम्न व्यंजक का मान कितना होगा?

14 B (18 D 3) A 5 B 7 C 12 B (24 D 4)

- Ans
- 1. 41
 - 2. 53
 - 3. 77
 - 4. 47

Question ID : 65497815224
Chosen Option : 4

Q.11 छः मित्र K, L, M, N, O और P दो पंक्तियों में बैठे हैं; दोनों पंक्तियां उत्तर दिशा की ओर अभिमुख हैं। पहली पंक्ति में चार मित्र हैं, जबकि दूसरी पंक्ति में दो मित्र हैं। O और P के मध्य में L बैठा है। M ठीक O के पीछे बैठा है। N ठीक L के पीछे बैठा है। किनारों पर बैठे हुए K और P के पीछे कोई नहीं बैठा है। इनमें से कौन-कौन पहली पंक्ति में बैठे हैं?

- Ans
- 1. M, N, L और P
 - 2. K, L, P और M
 - 3. K, L, O और P
 - 4. P, L, N और K

Question ID : 65497815241
Chosen Option : 3

Q.12 एक निश्चित कूट भाषा में, यदि 'FUTILE' को 'UFITEL' लिखा जाता है, तो उसी कूट भाषा में 'OCTAVE' को क्या लिखा जाएगा?

- Ans
- 1. COATEV
 - 2. PDUBWF
 - 3. LXGRWG
 - 4. COTAEV

Question ID : 65497815230
Chosen Option : 1

Q.13 यदि दर्पण को चित्रानुसार MN पर रखा जाए, तो दी गई आकृति के दर्पण में निम्नित सही प्रतिबिंब का चयन कीजिए।



Ans

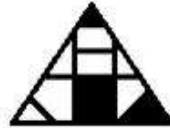
✗ 1.



✗ 2.



✓ 3.



✗ 4.



Question ID : 65497815246

Chosen Option : 3

Q.14 निम्न श्रेणी में प्रश्नवाचक चिह्न (?) के स्थान पर कौन सी संख्या आएगी?

15, 15, 17, 51, 55, ?

Ans ✓ 1. 275

✗ 2. 165

✗ 3. 255

✗ 4. 110

Question ID : 65497815228

Chosen Option : 1

Q.15 उस विकल्प का चयन कीजिए जिसका तीसरी संख्या से वही संबंध है, जो दूसरी संख्या का पहली संख्या से है।

9 : 90 :: 15 : ?

Ans ✗ 1. 95

✗ 2. 120

✓ 3. 240

✗ 4. 135

Question ID : 65497815226

Chosen Option : 3

Q.16 उस विकल्प का चयन कीजिए जिसमें दी गई आकृति (X) इसके भाग के रूप में अंतर्निहित है (घुमाने की अनुमति नहीं है)।



Ans

✗ 1.



✓ 2.



✗ 3.



✗ 4.



Question ID : 65497815245

Chosen Option : 2

Q.17 एक निश्चित कूट भाषा में, यदि 'CRECH' को 'DTHGM' लिखा जाता है, तो उसी कूट भाषा में 'FETCH' को क्या लिखा जाएगा?

Ans ✗ 1. GHVHM

✓ 2. GGWGM

✗ 3. GGWHN

✗ 4. GHXGM

Question ID : 65497815231

Chosen Option : 2

Q.18 उस विकल्प का चयन कीजिए जिसका तीसरे अक्षर-समूह से वही संबंध है, जो दूसरे अक्षर-समूह का पहले अक्षर-समूह से है।

TEMPO : TPOME :: DOLPHIN : ?

Ans ✓ 1. PONLIHD

✗ 2. ROMLIKD

✗ 3. PNOILHD

✗ 4. EPMQIJO

Question ID : 65497815234

Chosen Option : 1

Q.19 निम्न समीकरण को संतुलित करने के लिए किन दो संख्याओं को परस्पर बदला जाना चाहिए?

$$14 + 32 - 56 \div 28 \times 5 = 40$$

- Ans
- 1. 14 और 32
 - 2. 5 और 14
 - 3. 28 और 32
 - 4. 28 और 14

Question ID : 65497815225
Chosen Option : 4

Q.20 उस विकल्प का चयन कीजिए जिसका तीसरे शब्द से वही संबंध है, जो दूसरे शब्द का पहले शब्द से है।

ईधन : डीजल :: बर्तन : ?

- Ans
- 1. लोहा
 - 2. रसोई
 - 3. स्टील
 - 4. चम्मच

Question ID : 65497815235
Chosen Option : 4

Q.21 दो कथन और उसके बाद दो निष्कर्ष। और II दिए गए हैं। यह मानते हुए कि कथन सत्य हैं, भले ही वे सामान्य रूप से ज्ञात तथ्यों से भिन्न प्रतीत होते हों, बताएं कि कौन सा/से निष्कर्ष दिए गए कथनों का तार्किक रूप से अनुसरण करता है / करते हैं?

कथन:

कुछ डायरी पुस्तकें हैं।
कुछ पुस्तकें रजिस्टर हैं।

निष्कर्ष:

कुछ रजिस्टर डायरी हैं।
सभी रजिस्टर डायरी हैं।

- Ans
- 1. निष्कर्ष I और II दोनों अनुसरण करते हैं
 - 2. न तो निष्कर्ष I और न ही II अनुसरण करता है
 - 3. केवल निष्कर्ष I अनुसरण करता है
 - 4. केवल निष्कर्ष II अनुसरण करता है

Question ID : 65497815238
Chosen Option : 2

Q.22 उस विकल्प का चयन कीजिए जो अक्षर-समूह की निम्न श्रृंखला में प्रश्नवाचक चिह्न (?) के स्थान पर आएगा।

LOK, JMI, HKG, FIE, ?

- Ans
- 1. DGC
 - 2. EGD
 - 3. DGD
 - 4. DHG

Question ID : 65497815237
Chosen Option : 1

Q.23 सात मित्रों A, B, C, D, E, F और G, में से B केवल चार अन्य मित्रों से लंबा है। C, D से लंबा है। A, F से लंबा है। E केवल एक व्यक्ति G से लंबा है, जिसकी लंबाई इन सब मित्रों में सबसे कम है। B, A से लंबा है। इन सब में सबसे लंबा कौन है?

Ans 1. B

2. A

3. C

4. E

Question ID : 65497815242

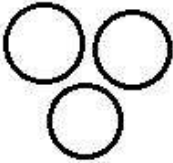
Chosen Option : 3

Q.24 Select the Venn diagram that best illustrates the relationship between the following classes.

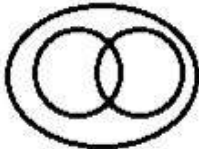
Animals, Lizards, Octopuses

Ans

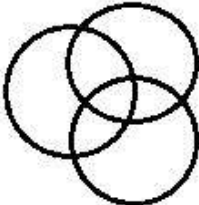
1.



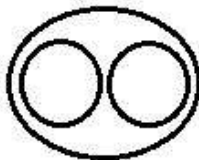
2.



3.



4.



Question ID : 65497815248

Chosen Option : 4

Q.25 एक निश्चित कूट भाषा में, यदि 'FRY' को '147' लिखा जाता है, तो उसी कूट भाषा में 'SEIZE' को क्या लिखा जाएगा?

Ans 1. 210

2. 254

3. 236

4. 320

Question ID : 65497815232

Chosen Option : 4

Section : Numerical Aptitude

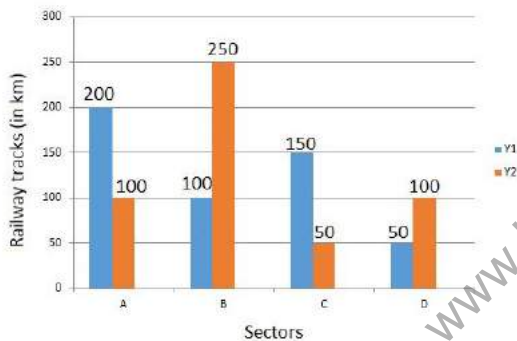
Q.1 $5\frac{6}{29} - \left[\frac{15}{4} + \left\{ \frac{3}{4} \times \left(\frac{3}{2} - \frac{1}{5} - \frac{1}{3} \right) \right\} \right]$ का मान ज्ञात करें।

- Ans
1. $\frac{2}{29}$
2. $\frac{4}{29}$
3. $\frac{1}{29}$
4. $\frac{3}{29}$

Question ID : 65497815876
Chosen Option : 3

Q.2 Study the bar graph and answer the question that follows.

The extent of construction of new railway tracks (in km) in four railway sectors A, B, C, D during two consecutive financial years Y1 and Y2 is presented through the given bar graph.



How much is the average and track length (in km) of A, B, D during Y2 more or less than that of C in Y1?

- Ans
1. Neither more nor less
2. 50 less
3. 33.33 more
4. 100 less

Question ID : 65497817595
Chosen Option : 1

Q.3 एक दुकानदार किसी वस्तु को इसके अंकित मूल्य पर 14% की छूट देकर बेचने के बाद भी 20% लाभ कमाता है। यदि वस्तु का क्रय मूल्य ₹184.90 है, तो इसका अंकित मूल्य ज्ञात करें।

- Ans
- ✓ 1. ₹258
 - ✗ 2. ₹272
 - ✗ 3. ₹278
 - ✗ 4. ₹264

Question ID : 65497817578
Chosen Option : 1

Q.4 एक व्यक्ति अपने मित्र से 1 जनवरी 2019 को ₹6,000 इस शर्त पर उधार लेता है कि वह 6.25% की साधारण ब्याज की दर से ब्याज की राशि ₹75 होने पर उसे वापस कर देगा। उधारी अवधि की समाप्ति किस तिथि को होगी?

- Ans
- ✗ 1. 15 जनवरी 2020
 - ✓ 2. 15 मार्च 2019
 - ✗ 3. 20 अक्टूबर 2019
 - ✗ 4. 14 फरवरी 2019

Question ID : 65497817586
Chosen Option : 2

Q.5 (1, 2, 7) और (14, 16, 2401) के चौथे अनुपाती के बीच माध्य अनुपाती क्या होगा?

- Ans
- ✗ 1. 224
 - ✓ 2. 196
 - ✗ 3. 392
 - ✗ 4. 14

Question ID : 65497817583
Chosen Option : --

Q.6 निम्न व्यंजक को सरल करें।

$$4 - 3 \text{ of } \left(1\frac{1}{2} + \frac{1}{3} \div \frac{1}{2} \text{ of } 4 - \frac{1}{4}\right)$$

Ans

✗ 1. $\frac{17}{12}$

✗ 2. -8

✓ 3. $-\frac{1}{4}$

✗ 4. $-\frac{19}{4}$

Question ID : 65497818097

Chosen Option : 3

Q.7 N क्रमिक सम संख्याओं का औसत निकालने के लिए उनकी सूची बनाते समय अंतिम संख्या के स्थान पर गलती से अगली विषम संख्या लिख दी गयी, इस प्रकार प्राप्त औसत वांछित औसत से 0.0125 अधिक हो गया। N का मान कितना है?

Ans

✗ 1. 40

✓ 2. 80

✗ 3. 100

✗ 4. 50

Question ID : 65497817577

Chosen Option : 2

Q.8 किसी काम के आधे हिस्से और एक तिहाई हिस्से को X और Y क्रमशः 5 और 10 दिन में कर सकते हैं। एक साथ काम करते हुए इस काम के दोगुने को वे कितने दिन में पूरा कर पायेंगे?

Ans

✗ 1. 16

✗ 2. $16\frac{1}{2}$

✓ 3. 15

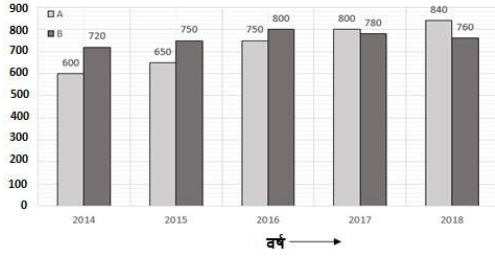
✗ 4. $7\frac{1}{2}$

Question ID : 65497817572

Chosen Option : 3

Q.9 निम्नांकित ग्राफ का अध्ययन करें, तथा उसके बाद पूछे गए प्रश्न का उत्तर दें।

कॉलेज A और B में 2014 से 2018 के दौरान नामांकित छात्रों की संख्या



कॉलेज B में वर्ष 2014, 2015 और 2017 में नामांकित छात्रों की औसत संख्या का, कॉलेज A में 2014 में नामांकित छात्रों की संख्या से अनुपात ज्ञात करें।

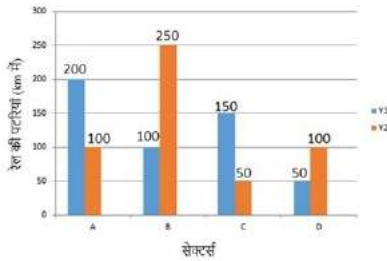
- Ans
- ✓ 1. 5 : 4
 - ✗ 2. 15 : 16
 - ✗ 3. 5 : 3
 - ✗ 4. 3 : 2

Question ID : 65497817596

Chosen Option : 1

Q.10 ग्राफ का अध्ययन कीजिये और उससे संबंधित प्रश्न का उत्तर दीजिए।

दो क्रमिक वित्तीय वर्षों Y1 और Y2 में चार रेलवे सेक्टर्स A, B, C, D में हुए रेल की पटरियों के विस्तार (km में) कार्य को नीचे दिए गये ग्राफ के द्वारा प्रदर्शित किया गया है।



D के लिए Y1 और Y2 की तुलना में B के लिए Y1 से Y2 में रेलवे ट्रैक की लंबाई में प्रतिशत वृद्धि कितनी है?

- Ans
- ✗ 1. 100
 - ✗ 2. 25
 - ✗ 3. 40
 - ✓ 4. 50

Question ID : 65497817594

Chosen Option : 1

Q.11 प्रत्येक 4 cm की त्रिज्या वाले तीन वृत्त एक समबाहु त्रिभुज के शीर्षों को केंद्र मानते हुए बनाये गये हैं। त्रिभुज की प्रत्येक भुजा की लंबाई 8 cm है, तो त्रिभुज के उस भाग का क्षेत्रफल (cm^2 में) ज्ञात कीजिये जो उसपर निर्मित वृत्तखंडों से आच्छादित नहीं है?

Ans

✗ 1. $16\left(2\sqrt{3} - \frac{\pi}{2}\right)$

✓ 2. $8\left(2\sqrt{3} - \pi\right)$

✗ 3. $16\left(2\sqrt{3} - \pi\right)$

✗ 4. $8\left(2\sqrt{3} - \frac{\pi}{2}\right)$

Question ID : 65497817589

Chosen Option : 2

Q.12 बरसात के दिनों में एक जलाशय में बहुत सा पानी आता है। जलाशय को साफ करने के लिए कुछ उपाय किये जाते हैं लेकिन उसमें पानी आना एक निश्चित दर से जारी रहता है। यह देखा गया कि सात और पांच व्यक्ति क्रमशः 20 और 50 दिनों में जलाशय को उस स्थिति में साफ कर सकते हैं जबकि उसमें पानी की आरंभिक मात्रा क्रमशः 24 और 36 किलोलीटर हो। जलाशय में प्रतिदिन आने वाले पानी की मात्रा लीटर में कितनी है?

Ans

✓ 1. 480

✗ 2. 600

✗ 3. 540

✗ 4. 640

Question ID : 65497817573

Chosen Option : --

Q.13 एक व्यक्ति को 49 km की यात्रा करनी है जिसे उसने छः भागों में विभाजित किया प्रत्येक दूरी या तो 4 km अथवा 5 km की गुणज है। पहली चार दूरियां 4 km, 5 km, 8 km और 10 km थीं। 4 km और 5 km के गुणजों वाली दूरियां क्रमशः 40 और 60 km/h की चाल से तय की गयीं और दो क्रमिक दूरियों के बीच उसने 6 मिनट का विश्राम लिया। पूरी यात्रा के दौरान उसकी औसत चाल (km/h में) कितनी थी?

Ans

✗ 1. $31\frac{7}{11}$

✗ 2. $33\frac{3}{8}$

✓ 3. $32\frac{4}{13}$

✗ 4. $34\frac{4}{15}$

Question ID : 65497817575

Chosen Option : 3

Q.14 किसी संख्या और उसके व्युत्पन्न का औसत 1 है। इसके वर्ग, घन और चार घात (fourth power) का औसत कितना होगा?

- Ans
- 1. 1
 - 2. 1.33
 - 3. 2
 - 4. 2.67

Question ID : 65497817576
Chosen Option : 1

Q.15 एक स्टीमर और एक मोटर बोट एक बंदरगाह और घाट के बीच की दूरी क्रमशः 7 घंटे 20 मिनट और 10 घंटे 40 मिनट में तय करते हैं। उनकी गतियों का अनुपात कितना है?

- Ans
- 1. 16 : 11
 - 2. 15 : 11
 - 3. 8 : 5
 - 4. 3 : 2

Question ID : 65497817574
Chosen Option : 1

Q.16 एक आयत की एक भुजा और एक विकर्ण की लंबाइयां क्रमशः 63 cm और 65 cm हैं। उस वर्ग का परिमाण (cm में) ज्ञात कीजिये जिसका क्षेत्रफल इस आयत का $\frac{1}{7}$ है?

- Ans
- 1. 48
 - 2. 36
 - 3. 64
 - 4. 24

Question ID : 65497817588
Chosen Option : 1

Q.17 120 प्रेक्षकों के समुच्चय का माध्य 80 है। प्रत्येक प्रेक्षण में से 10 घटाया जाता है और इससे प्राप्त मान को 7 से विभाजित किया जाता है। नये समुच्चय का माध्य ज्ञात कीजिये?

- Ans
- 1. $5\frac{5}{6}$
 - 2. $7\frac{1}{12}$
 - 3. 10
 - 4. 7

Question ID : 65497817587
Chosen Option : 3

Q.18 चक्रवृद्धि ब्याज पर निवेश की गयी ₹16,000 की राशि 2 वर्षों में ₹21,160 हो जाती है। ब्याज की वार्षिक प्रतिशत दर क्या है?

- Ans
- 1. 17.5
 - 2. 10
 - 3. 16.5
 - 4. 15

Question ID : 65497817585
Chosen Option : 4

Q.19 एक खुदरा विक्रेता थोक बाजार से 50 kg सब्जी खरीदता है। वह उसमें से आधी ₹450 के लाभ में बेच देता है और शेष पर उसे ₹275 की हानि होती है। प्रति किलोग्राम बेचे गये दोनों विक्रय मूल्यों के बीच का अंतर (में ₹) कितना है?

- Ans
- 1. 12
 - 2. 29
 - 3. 18
 - 4. 7

Question ID : 65497817581
Chosen Option : 2

Q.20 एक विशेष लेनदेन में $14\frac{2}{7}\%$ का लाभ हुआ। क्रय मूल्य, विक्रय मूल्य का कितने अंश (fraction) है?

- Ans
- 1. $\frac{1}{8}$
 - 2. $\frac{1}{7}$
 - 3. $\frac{8}{7}$
 - 4. $\frac{7}{8}$

Question ID : 65497817580
Chosen Option : 4

Q.21 x और y विपरीत चिहनों वाली दो संख्याएँ इस प्रकार हैं कि $x^2 : y^2 = 49 : 64$, तो $(5x - 6y) : (6x - 7y)$ का मान क्या होगा?

- Ans
- 1. 83 : 98
 - 2. 44 : 65
 - 3. 13 : 14
 - 4. 94 : 117

Question ID : 65497817582
Chosen Option : 1

Q.22 एक भर्ती परीक्षा में अभ्यर्थियों की सामान्य जागरूकता (GA) और गणितीय अभिक्रमता (QT) की परीक्षा हुई। GA और QT में क्रमशः 54% और 45% अभ्यर्थी असफल रहे जबकि 16% दोनों में अनुत्तीर्ण हुए। यदि दोनों में सफल होने वाले अभ्यर्थियों की संख्या 136 है, तो अभ्यर्थियों की कुल संख्या कितनी थी?

- Ans
- 1. 600
 - 2. 640
 - 3. 850
 - 4. 800

Question ID : 65497817579
Chosen Option : 4

Q.23 800 से 900 के बीच आने वाली वह संख्या कौन सी है जिसे या 34 अथवा 51 से विभाजित करने पर शेषफल 19 प्राप्त होता है?

- Ans
- 1. 835
 - 2. 821
 - 3. 869
 - 4. 887

Question ID : 65497817591
Chosen Option : 1

Q.24 एक ठोस लम्बवृत्तीय शंकु का संपूर्ण पृष्ठीय क्षेत्रफल समान त्रिज्या वाले गोले के क्षेत्रफल के बराबर है। शंकु की ऊंचाई गोले के व्यास की कितनी गुनी होगी?

- Ans
- 1. $\sqrt{2}$
 - 2. $2\sqrt{2}$
 - 3. $\frac{\sqrt{2}}{2}$
 - 4. $\sqrt[3]{2}$

Question ID : 65497817590
Chosen Option : 1

Q.25 समान धारिता वाले तीन जर्गों में दूध और पानी के मिश्रण के अनुपात क्रमशः 3 : 1, 7 : 1 और 11 : 5 हैं। तीनों जर्गों को एक खाली कंटेनर में पलट लिया जाता है। उस कंटेनर में पानी और दूध का अनुपात कितना होगा?

- Ans
- 1. 12 : 41
 - 2. 14 : 45
 - 3. 15 : 49
 - 4. 11 : 37

Question ID : 65497817584
Chosen Option : 4

Section : General Awareness

Q.1 'वेनिया जल प्रपात' भारत के किस राज्य में स्थित है?

- Ans
- 1. हिमाचल प्रदेश
 - 2. सिक्किम
 - 3. गोवा
 - 4. मेघालय

Question ID : 65497817214
Chosen Option : --

Q.2 चुरही, मांडेली और कीन्थाली निम्नलिखित में से किस राज्य में बोली जाने वाली बोलियां हैं?

- Ans
- 1. अरुणाचल प्रदेश
 - 2. हिमाचल प्रदेश
 - 3. मध्य प्रदेश
 - 4. उत्तर प्रदेश

Question ID : 65497817194
Chosen Option : 2

Q.3 'एमनेस्टी (Amnesty)' नामक पुस्तक के लेखक निम्नलिखित में से कौन हैं?

- Ans
- 1. विक्रम सेठ
 - 2. शशि थरूर
 - 3. अरविंद अडिगा
 - 4. अमीष त्रिपाठी

Question ID : 65497817198
Chosen Option : 1

Q.4 प्राचीन शहर हम्पी, _____ साम्राज्य की राजधानी था।

- Ans
- 1. विजयनगर
 - 2. नायक
 - 3. मराठा
 - 4. राष्ट्रकूट

Question ID : 65497817217
Chosen Option : 1

Q.5 'पोकोड झील' निम्नलिखित में से किस भारतीय राज्य में स्थित है?

- Ans
- 1. केरल
 - 2. तमिलनाडु
 - 3. पंजाब
 - 4. गुजरात

Question ID : 65497817212
Chosen Option : 2

Q.6 'घेरिया नृत्य' निम्नलिखित में से किस राज्य से संबंधित है?

- Ans
- 1. पंजाब
 - 2. हरियाणा
 - 3. महाराष्ट्र
 - 4. गुजरात

Question ID : 65497817193
Chosen Option : --

Q.7 निम्नलिखित में से कौन सा प्राकृतिक गैस का एक प्राथमिक घटक है?

- Ans
- 1. कार्बन डाइऑक्साइड
 - 2. नाइट्रोजन
 - 3. मीथेन
 - 4. हीलियम

Question ID : 65497817211
Chosen Option : 3

Q.8 भारत सरकार से पद्म श्री पुरस्कार प्राप्त करने वाले पहले खिलाड़ी निम्नलिखित में से कौन हैं?

- Ans
- 1. धनराज पिल्ले
 - 2. मिल्खा सिंह
 - 3. बलबीर सिंह दोसांझ
 - 4. मनप्रीत सिंह

Question ID : 65497817196
Chosen Option : 2

Q.9 भारतीय संविधान का कौन सा अनुच्छेद राज्यों में राज्यपालों का प्रावधान करता है?

- Ans
- 1. 153
 - 2. 136
 - 3. 124
 - 4. 148

Question ID : 65497817204
Chosen Option : 1

Q.10 SIDBI (सिडबी) का पूर्ण रूप क्या है?

- Ans
- 1. स्मॉल इंडस्ट्रीज डेवलपमेंट बैंक ऑफ इंडिया (Small Industries Development Bank of India)
 - 2. सर्विस इंडस्ट्रीज डेवलपमेंट बैंक ऑफ इंडिया (Service Industries Development Bank of India)
 - 3. सर्विस इन्वेस्टमेंट डेवलपमेंट बैंक ऑफ इंडिया (Service Investment Development Bank of India)
 - 4. स्मॉल इन्वेस्टमेंट डेवलपमेंट बैंक ऑफ इंडिया (Small Investment Development Bank of India)

Question ID : 65497817908
Chosen Option : 1

Q.11 मेघालय का लोकप्रिय पारंपरिक नृत्य-त्योहार 'शाद सुक' _____ के रूप में मनाया जाता है।

- Ans
- 1. जन्मोत्सव
 - 2. धन्यवाद समारोह
 - 3. सामुदायिक विवाह उत्सव
 - 4. बुआई का त्योहार

Question ID : 65497817195
Chosen Option : --

Q.12 निम्नलिखित में से कौन सा मानव शरीर का एक साइनोवियल जोड़ नहीं है?

- Ans
- 1. सूचर जोड़
 - 2. कोन्डाइलॉइड जोड़
 - 3. बॉल और सॉकेट जोड़
 - 4. हिज जोड़

Question ID : 65497817207
Chosen Option : --

Q.13 रामगुंडम ऊर्जा-संयंत्र निम्नलिखित में से किसके निर्माण के लिए प्रसिद्ध है?

- Ans
- 1. जलविद्युत (hydroelectricity)
 - 2. तापीय ऊर्जा (thermal energy)
 - 3. परमाणु ऊर्जा (nuclear energy)
 - 4. बायो-गैस (Bio-gas)

Question ID : 65497817213
Chosen Option : --

Q.14 विदेशी मुद्रा विनियमन अधिनियम (FERA) के स्थान पर विदेशी मुद्रा प्रबंधन अधिनियम (FEMA) किस वर्ष में लागू किया गया था?

- Ans
- 1. 2014
 - 2. 1988
 - 3. 1999
 - 4. 1992

Question ID : 65497815687
Chosen Option : 4

Q.15 एशिया की सबसे पुरानी रंगशालाओं में से एक, 'रंग घर' का निर्माण _____ वंश के शासकों ने करवाया था।

- Ans
- 1. सेन
 - 2. मुगल
 - 3. गुप्त
 - 4. अहोम

Question ID : 65497817216
Chosen Option : --

Q.16 _____, 2008 में ऑरेंज बाउल टूर्नामेंट में अंडर-18 का खिताब जीतने वाले पहले भारतीय थे।

- Ans 1. युकी भांबरी
 2. लिंंडर पेस
 3. मानस धामने
 4. रोहन बोपन्ना

Question ID : 65497817197
 Chosen Option : 2

Q.17 पंचायती राज संस्थाओं में मध्यवर्ती स्तर को किस नाम से जाना जाता है?

- Ans 1. ग्राम पंचायत
 2. क्षेत्र पंचायत
 3. पंचायत समिति
 4. जिला पंचायत

Question ID : 65497817205
 Chosen Option : 3

Q.18 भारतीय कम्युनिस्ट पार्टी - मार्क्सवादी (CPI-M) का गठन किस वर्ष में किया गया था?

- Ans 1. 1951
 2. 1962
 3. 1964
 4. 1972

Question ID : 65497817206
 Chosen Option : 3

Q.19 निम्नलिखित में से किस भारतीय अभिनेता ने 2020 का 'रशियन ऑडियंस हार्ट' पुरस्कार जीता है?

- Ans 1. सलमान खान
 2. रणवीर सिंह
 3. प्रभास
 4. महेश बाबू

Question ID : 65497817199
 Chosen Option : --

Q.20 किसी पिंड की गतिज और स्थितिज उर्जाएं उसकी _____ ऊर्जा की घटक होती हैं।

- Ans 1. रासायनिक
 2. विद्युतीय
 3. यांत्रिक
 4. उष्मीय

Question ID : 65497817209
 Chosen Option : 3

Q.21 पादपों का निम्नलिखित में से कौन सा भाग कार्बन डाइऑक्साइड का उद्ग्रहण करता है और वाष्पोत्सर्जन के कारण होने वाली जल हानि को सीमित करता है?

- Ans
- 1. अनुपर्ण
 - 2. परत
 - 3. डंठल
 - 4. रंध्र

Question ID : 65497817208
Chosen Option : 4

Q.22 Who among the following is the author of the book 'Dollar Bahu'?

- Ans
- 1. Jhumpa Lahiri
 - 2. Tasleema Nasreen
 - 3. Arundhati Roy
 - 4. Sudha Murty

Question ID : 65497817200
Chosen Option : --

Q.23 अंग्रेजों द्वारा पहली फैक्ट्री की स्थापना सन 1651 में _____ नदी के किनारे की गई थी।

- Ans
- 1. हुगली
 - 2. नर्मदा
 - 3. मांडवी
 - 4. गोदावरी

Question ID : 65497817215
Chosen Option : 3

Q.24 निम्नलिखित में से किस देश ने पहला कृत्रिम उपग्रह स्पुतनिक 1 लॉन्च किया था?

- Ans
- 1. सोवियत संघ (USSR)
 - 2. फ्रांस
 - 3. संयुक्त राज्य अमेरिका (USA)
 - 4. जर्मनी

Question ID : 65497817210
Chosen Option : 1

Q.25 जुलाई 2020 तक की स्थिति के अनुसार, जिन कर्मचारियों का मासिक वेतन _____ या उससे कम है, वे ई.एस.आई. (ESI) अधिनियम के तहत आते हैं।

- Ans
- 1. ₹17,000
 - 2. ₹15,000
 - 3. ₹25,000
 - 4. ₹21,000

Question ID : 65497817203
Chosen Option : --

Multi Tasking Non Technical Staff Examination 2020

Participant ID	www.HaryanaJobs.in
Participant Name	www.HaryanaJobs.in
Test Center Name	Vidya Institute of Information Technology
Test Date	18/10/2021
Test Time :	9:00 AM - 10:30 AM
Subject	MTS Non Technical 2020

Section : General English

Q.1 Select the most appropriate option to fill in the blank.

My brother took us _____ a ride in the nature reserve.

- Ans
- 1. to
 - 2. in
 - 3. at
 - 4. for

Question ID : 65497817221
Chosen Option : 4

Q.2 Identify the segment that contains a grammatical error. If there is no error, select 'No error'.

It is one of the best books whom I have ever read.

- Ans
- 1. It is one of the
 - 2. I have ever read
 - 3. best books whom
 - 4. No error

Question ID : 65497817220
Chosen Option : 3

Q.3 Select the most appropriate option to substitute the underlined segment in the given sentence. If there is no need to substitute it, select 'No substitution required'.

We had not explored even a tiny fraction of space even after years of space research.

- Ans
- 1. have not
 - 2. are not
 - 3. No substitution required
 - 4. could not

Question ID : 65497815715
Chosen Option : 1

Q.4 Select the most appropriate meaning of the given idiom.

At beck and call

- Ans**
- 1. Try to convince others about something
 - 2. Signal someone to approach
 - 3. Gain an advantage over someone
 - 4. Ready to do everything for someone

Question ID : 65497817237
Chosen Option : 4

Q.5 Select the most appropriate word for the given group of words.

Make better

- Ans**
- 1. Improve
 - 2. Change
 - 3. Delete
 - 4. Increase

Question ID : 65497817238
Chosen Option : 1

Q.6 Select the most appropriate option to fill in the blank.

I wonder if the postman _____ today.

- Ans**
- 1. come
 - 2. will come
 - 3. was coming
 - 4. will have come

Question ID : 65497817222
Chosen Option : 2

Q.7 Select the most appropriate synonym of the given word.

AMPLE

- Ans**
- 1. Sufficient
 - 2. Narrow
 - 3. Meager
 - 4. Short

Question ID : 65497817234
Chosen Option : 1

Q.8 Select the INCORRECTLY spelt word.

- Ans 1. Cubicle
 2. Cube
 3. Crystle
 4. Crust

Question ID : 65497817240

Chosen Option : 1

Q.9 Select the most appropriate ANTONYM of the given word.

EXCITED

- Ans 1. Thrilled
 2. Busy
 3. Active
 4. Bored

Question ID : 65497817232

Chosen Option : 4

Q.10 Select the most appropriate meaning of the given idiom.

Bear fruit

- Ans 1. Be creative
 2. Put in hard work
 3. Accept the truth
 4. Produce positive results

Question ID : 65497817236

Chosen Option : 4

Q.11 Select the most appropriate option to fill in the blank.

The weather report _____ the fishermen not to go fishing the next day.

- Ans 1. requested
 2. advised
 3. insisted
 4. announced

Question ID : 65497817242

Chosen Option : 2

Q.12 Select the most appropriate synonym of the given word.

CONCISE

- Ans
- 1. Edited
 - 2. Lengthy
 - 3. Modified
 - 4. Brief

Question ID : 65497817235
Chosen Option : 4

Q.13 Identify the segment that contains a grammatical error. If there is no error, select 'No error'.

Each team were wearing a different coloured dress.

- Ans
- 1. No error
 - 2. wearing a
 - 3. different coloured dress
 - 4. Each team were

Question ID : 65497817219
Chosen Option : 4

Q.14 Select the most appropriate option to substitute the underlined segment in the given sentence. If there is no need to substitute it, select 'No substitution required'.

The tournament have been cancel.

- Ans
- 1. has been cancelled
 - 2. have been cancelled
 - 3. No substitution required
 - 4. has been cancel

Question ID : 65497817229
Chosen Option : 1

Q.15 Select the most appropriate option to substitute the underlined segment in the given sentence.

Her later short stories are vastly superior than her earlier ones.

- Ans
- 1. superior to
 - 2. superior against
 - 3. superior over
 - 4. superior from

Question ID : 65497817837
Chosen Option : 1

Q.16 Select the most appropriate word for the given group of words.

The cry of an owl

- Ans 1. Hoot
 2. Coo
 3. Squawk
 4. Moo

Question ID : 65497817239
Chosen Option : 1

Q.17 Select the most appropriate option to fill in the blank.

Twenty people were buried alive when the building _____.

- Ans 1. collapsed
 2. damaged
 3. subsided
 4. shook

Question ID : 65497817243
Chosen Option : 3

Q.18 Select the INCORRECTLY spelt word.

- Ans 1. Possess
 2. Persuade
 3. Pursuit
 4. Precede

Question ID : 65497817241
Chosen Option : 1

Q.19 Identify the segment that contains a grammatical error. If there is no error, select 'No error'.

Every morning a shrill noise wake me up.

- Ans 1. wake me up
 2. Every morning
 3. a shrill noise
 4. No error

Question ID : 65497817218
Chosen Option : 1

Q.20 Select the most appropriate ANTONYM of the given word.

ACQUIRE

- Ans 1. Gain
 2. Disperse
 3. Collect
 4. Earn

Question ID : 65497817233
 Chosen Option : 2

Comprehension:

In the following passage, some words have been deleted. Fill in the blanks with the help of the options given. Select the most appropriate option for each blank.

The train came out of the jungle and passed fields of sugarcane and villages of mud huts. Children (1) _____ and waved to the train, though (2) _____ was no one in it except Suraj, the guard and the (3) _____ driver. Suraj waved back. Usually he (4) _____ in a field, waving; today, he was (5) _____ on a train.

SubQuestion No : 21

Q.21 Select the most appropriate option to fill in blank no. 1.

- Ans 1. shouts
 2. shout
 3. shouted
 4. shouting

Question ID : 65497817224
 Chosen Option : 3

Comprehension:

In the following passage, some words have been deleted. Fill in the blanks with the help of the options given. Select the most appropriate option for each blank.

The train came out of the jungle and passed fields of sugarcane and villages of mud huts. Children (1) _____ and waved to the train, though (2) _____ was no one in it except Suraj, the guard and the (3) _____ driver. Suraj waved back. Usually he (4) _____ in a field, waving; today, he was (5) _____ on a train.

SubQuestion No : 22

Q.22 Select the most appropriate option to fill in blank no. 2.

- Ans 1. there
 2. here
 3. this
 4. that

Question ID : 65497817225
 Chosen Option : 1

Comprehension:

In the following passage, some words have been deleted. Fill in the blanks with the help of the options given. Select the most appropriate option for each blank.

The train came out of the jungle and passed fields of sugarcane and villages of mud huts. Children (1) _____ and waved to the train, though (2) _____ was no one in it except Suraj, the guard and the (3) _____ driver. Suraj waved back. Usually he (4) _____ in a field, waving; today, he was (5) _____ on a train.

SubQuestion No : 23

Q.23 Select the most appropriate option to fill in blank no. 3.

- Ans
- 1. pump
 - 2. car
 - 3. engine
 - 4. motor

Question ID : **65497817226**
Chosen Option : 3

Comprehension:

In the following passage, some words have been deleted. Fill in the blanks with the help of the options given. Select the most appropriate option for each blank.

The train came out of the jungle and passed fields of sugarcane and villages of mud huts. Children (1) _____ and waved to the train, though (2) _____ was no one in it except Suraj, the guard and the (3) _____ driver. Suraj waved back. Usually he (4) _____ in a field, waving; today, he was (5) _____ on a train.

SubQuestion No : 24

Q.24 Select the most appropriate option to fill in blank no. 4.

- Ans
- 1. was
 - 2. are
 - 3. were
 - 4. is

Question ID : **65497817227**
Chosen Option : 4

Comprehension:

In the following passage, some words have been deleted. Fill in the blanks with the help of the options given. Select the most appropriate option for each blank.

The train came out of the jungle and passed fields of sugarcane and villages of mud huts. Children (1) _____ and waved to the train, though (2) _____ was no one in it except Suraj, the guard and the (3) _____ driver. Suraj waved back. Usually he (4) _____ in a field, waving; today, he was (5) _____ on a train.

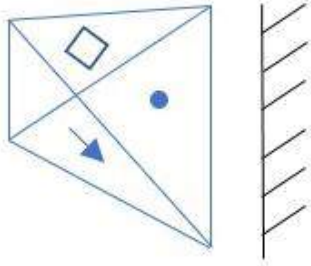
SubQuestion No : 25

Q.25 Select the most appropriate option to fill in blank no. 5.

- Ans
- 1. frequently
 - 2. absolutely
 - 3. definitely
 - 4. actually

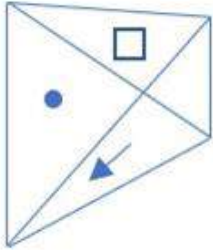
Question ID : **65497817228**
Chosen Option : 1

Q.1 निम्न आकृति के दर्पण में निर्मित प्रतिबिंब का चयन करें।

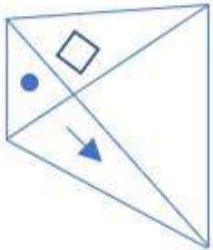


Ans

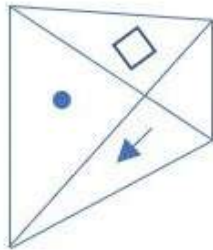
✗ 1.



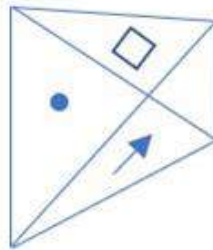
✗ 2.



✓ 3.



✗ 4.



www.HaryanaJobs.in

Question ID : 65497816458
Chosen Option : 3

Q.2 उस अक्षर-समूह का चयन करें, जो दी गई श्रेणी में प्रश्नवाचक चिह्न (?) के स्थान पर आएगा?

bisq, dguo, ?, hcyk

Ans 1. fewm

2. ffwn

3. eevm

4. efvn

Question ID : 65497816449

Chosen Option : 1

Q.3 उस विकल्प का चयन करें, जिसमें यह दर्शाया गया है कि जब दिए गए कागज़ की पारदर्शी शीट को बिंदीदार रेखा पर मोड़ा जाता है तो यह कैसी दिखेगी।



Ans

1.



2.



3.



4.



Question ID : 65497816459

Chosen Option : 4

Q.4 उस विकल्प का चयन करें, जो तीसरे पद से ठीक उसी प्रकार संबंधित है जिस प्रकार दूसरा पद पहले पद से संबंधित है।

Kabaddi : 7 :: Football : ?

Ans 1. 6

2. 8

3. 10

4. 1

Question ID : 65497816444

Chosen Option : 2

Q.5 किसी निश्चित कूट भाषा में, यदि 4 और 6 को एक-दूसरे से प्रतिस्थापित किया जाता है तथा 5 और 9 को एक-दूसरे से प्रतिस्थापित किया जाता है, तो निम्न में से कौन सी संख्या सबसे बड़ी होगी?

- Ans 1. 7458
 2. 4555
 3. 9383
 4. 7486

Question ID : 65497816437
 Chosen Option : 1

Q.6 छह दोस्त अभिषेक, अपूर्वा, पार्थ, किरण, ओंकार और विराज समषट्भुज के शीर्षों पर बैठे हैं और वे षट्भुज के केंद्र की ओर अभिमुख हैं।

1. अपूर्वा ठीक ओंकार और पार्थ के बीच में बैठी है।
2. अभिषेक, ओंकार के पड़ोस में बैठा है।
3. किरण, अपूर्वा के ठीक सामने नहीं है।

अभिषेक के ठीक सामने कौन बैठा है?

- Ans 1. पार्थ
 2. किरण
 3. अपूर्वा
 4. विराज

Question ID : 65497816452
 Chosen Option : 1

Q.7 छह दोस्त अभिषेक, अपूर्वा, पार्थ, किरण, ओंकार और विराज समषट्भुज के शीर्षों पर बैठे हैं और वे षट्भुज के केंद्र की ओर अभिमुख हैं।

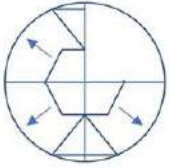
1. अपूर्वा ठीक ओंकार और पार्थ के बीच में बैठी है।
2. अभिषेक, ओंकार के पड़ोस में बैठा है।
3. किरण, अपूर्वा के ठीक सामने नहीं है।

उपरोक्त प्रश्न में, यदि विराज और ओंकार, अपने स्थान एक-दूसरे से बदल लेते हैं, तो किरण के बगल में कौन बैठा होगा?

- Ans 1. अपूर्वा
 2. ओंकार
 3. विराज
 4. अभिषेक

Question ID : 65497816453
 Chosen Option : 2

Q.8 विकल्पों में से उस आकृति का चयन करें, जिसे दी गई आकृति के रिक्त स्थान में रखने से पैटर्न पूरा हो जाएगा।

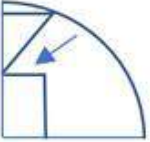


Ans

✓ 1.



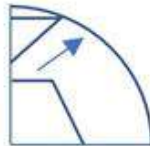
✗ 2.



✗ 3.



✗ 4.



Question ID : 65497816456
Chosen Option : 1

Q.9 दिए गए कथनों के आधार पर निम्न में से कौन सा निष्कर्ष निकाला जा सकता है?

कथन 1 : सभी कंप्यूटर, लैपटॉप हैं।

कथन 2 : कुछ लैपटॉप, सॉफ्टवेयर हैं।

Ans

✓ 1. कुछ कंप्यूटर, सॉफ्टवेयर हैं।

✗ 2. सभी लैपटॉप, कंप्यूटर हैं।

✗ 3. कोई भी सॉफ्टवेयर, लैपटॉप नहीं है।

✗ 4. सभी सॉफ्टवेयर, कंप्यूटर हैं।

Question ID : 65497816450
Chosen Option : 1

Q.10 उस विकल्प का चयन करें, जो तीसरी संख्या से ठीक उसी प्रकार संबंधित है जिस प्रकार दूसरी संख्या पहली संख्या से संबंधित है।

31 : 8 :: 92 : ?

Ans 1. 721

2. 77

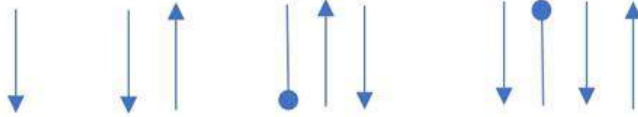
3. 49

4. 61

Question ID : 65497816438

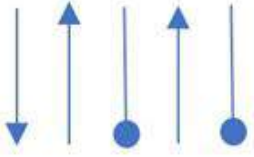
Chosen Option : 2

Q.11 उस विकल्प का चयन करें, जो दी गई आकृति श्रेणी में अगले स्थान पर आएगा।

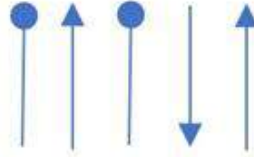


Ans

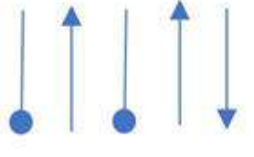
1.



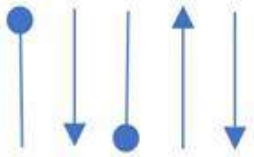
2.



3.



4.



Question ID : 65497816455

Chosen Option : 3

Q.12 किसी निश्चित कूट भाषा में, यदि '+' का अर्थ 'भाग', 'x' का अर्थ 'घटाना', '÷' का अर्थ 'जोड़' और '-' का अर्थ 'गुणा' है, तो निम्न व्यंजक का मान ज्ञात करें। (BODMAS का उपयोग करें)

$24 \div 6 - 2 + 4 \times 2$

Ans 1. 13

2. 12

3. 25

4. 10

Question ID : 65497816436

Chosen Option : 3

Q.13 उस विकल्प का चयन करें, जो तीसरे पद से ठीक उसी प्रकार संबंधित है जिस प्रकार दूसरा पद पहले पद से संबंधित है।

पेनिसिलिन : अलेक्जेंडर फ्लेमिंग :: एसी मोटर : ?

- Ans 1. निकोला टेस्ला
 2. थॉमस एडिसन
 3. आइजैक न्यूटन
 4. बेंजामिन फ्रैंकलिन

Question ID : 65497816447
Chosen Option : 1

Q.14 उन संख्याओं का चयन करें, जो दी गई संख्या श्रेणी में प्रश्नवाचक चिह्न (?) के स्थानों पर आएगी?

23, 25, 29, 35, 47, 50, ?, ?

- Ans 1. 54, 68
 2. 62, 70
 3. 56, 70
 4. 75, 50

Question ID : 65497816441
Chosen Option : --

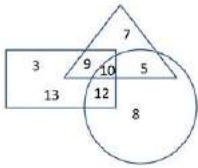
Q.15 उस विकल्प का चयन करें, जो तीसरे पद से ठीक उसी प्रकार संबंधित है जिस प्रकार दूसरा पद पहले पद से संबंधित है।

मैथिली : झारखंड :: कोंकणी : ?

- Ans 1. गोवा
 2. कोंकण
 3. कर्नाटक
 4. महाराष्ट्र

Question ID : 65497816448
Chosen Option : 3

Q.16 निम्न आकृति में, त्रिभुज 'फुटबॉल खिलाड़ियों' को निरूपित करता है, वृत्त 'खो-खो खिलाड़ियों' को निरूपित करता है और आयत 'कबड्डी खिलाड़ियों' को निरूपित करता है। कितने खिलाड़ी, कबड्डी और फुटबॉल दोनों खेलते हैं?



- Ans 1. 13
 2. 19
 3. 26
 4. 9

Question ID : 65497816460
Chosen Option : 2

Q.17 चार संख्या-त्रिक दिए गए हैं, जिनमें से तीन किसी प्रकार समान हैं और एक असंगत है। उस असंगत संख्या-त्रिक का चयन करें।

- Ans
- 1. 38, 924, 33
 - 2. 23, 426, 67
 - 3. 55, 5425, 96
 - 4. 43, 126, 32

Question ID : 65497816439
Chosen Option : --

Q.18 उस संख्या का चयन करें, जो दी गई संख्या श्रेणी में प्रश्नवाचक चिह्न (?) के स्थान पर आएगी?

2, 5, 13, 29, ?

- Ans
- 1. 47
 - 2. 41
 - 3. 39
 - 4. 43

Question ID : 65497816440
Chosen Option : --

Q.19 दिए गए कथनों के आधार पर निम्न में से कौन सा निष्कर्ष निकाला जा सकता है?

कथन 1 : ओम, आकाश से लंबा है।
कथन 2 : श्रद्धा, ओम से लंबी नहीं है।
कथन 3 : प्रतीक्षा, श्रद्धा से छोटी है।

- Ans
- 1. आकाश, प्रतीक्षा से लंबा है।
 - 2. श्रद्धा, आकाश से छोटी है।
 - 3. आकाश सबसे छोटा है।
 - 4. प्रतीक्षा, ओम से छोटी है।

Question ID : 65497816451
Chosen Option : 4

Q.20 उस अक्षर का चयन करें, जो दी गई अक्षर श्रेणी में प्रश्नवाचक चिह्न (?) के स्थान पर आएगा।

E, G, L, V, ?

- Ans
- 1. G
 - 2. M
 - 3. S
 - 4. P

Question ID : 65497816443
Chosen Option : 2

Q.21 किसी निश्चित कूट भाषा में, यदि '375' को '42', और '784' को '14' लिखा जाता है, तो उसी कूट भाषा में आप '465' को किस प्रकार लिखेंगे?

- Ans
- 1. 21
 - 2. 34
 - 3. 12
 - 4. 43

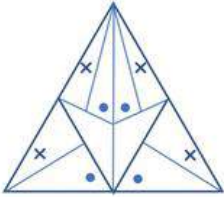
Question ID : 65497816445
Chosen Option : 3

Q.22 यदि सभी स्वर वर्णमाला से हटा दिए जाएं, तो कौन सा अक्षर 15वें स्थान पर आएगा?

- Ans
- 1. R
 - 2. T
 - 3. Q
 - 4. S

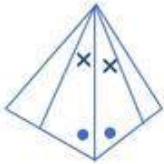
Question ID : 65497816442
Chosen Option : 4

Q.23 Select the figure from the options which is embedded in the given question figure.

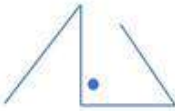


Ans

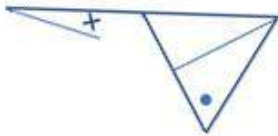
1.



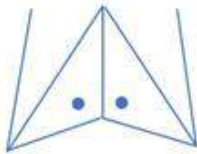
2.



3.



4.



Question ID : 65497816457
Chosen Option : 2

Q.24 उस अक्षर संयोजन का चयन करें, जिसे दी गई श्रेणी के रिक्त स्थानों में क्रमिक रूप से रखने पर श्रेणी पूरी हो जाएगी।

B_DC__ADD_BA

- Ans 1. ABCB
 2. ACBC
 3. DACB
 4. DABC

Question ID : 65497816446
Chosen Option : 2

Q.25 पांच खिलाड़ी 'a', 'b', 'c', 'd' और 'e' किसी मैच के दौरान कुछ रन बनाते हैं।

- 'b' अर्धशतक बनाता है, लेकिन शतक नहीं बनाता है।
 - 'd' ने 'c' से अधिक रन बनाए, लेकिन उसने 'b' से कम रन बनाए हैं।
 - 'a' ने 37 रन बनाए, जो 'c' से कम हैं।
 - 'e' ने 'd' से 29 रन अधिक बनाए।
 - 'c' ने 'b' से 21 रन कम बनाए हैं।
- 'e' ने लगभग कितने रन बनाए हैं?

- Ans 1. 58
 2. 134
 3. 62
 4. 70

Question ID : 65497816454
Chosen Option : 4

Section : Numerical Aptitude

Q.1 तीन संख्याओं का औसत 30 है। पहली संख्या, दूसरी संख्या की $\frac{2}{3}$ गुनी है और दूसरी संख्या, तीसरी संख्या की $\frac{3}{4}$ है। पहली संख्या ज्ञात करें।

- Ans 1. 30
 2. 25
 3. 28
 4. 20

Question ID : 65497815658
Chosen Option : 4

Q.2 दो संख्याओं का अनुपात 13 : 8 है। यदि प्रत्येक संख्या में 25 की वृद्धि होती है, तो अनुपात 44 : 29 हो जाता है। दोनों संख्याओं के बीच अंतर ज्ञात करें।

- Ans 1. 70
 2. 85
 3. 75
 4. 80

Question ID : 65497815664
Chosen Option : 3

Q.3 24 spheres of the same size are made by melting a solid cylinder, whose diameter is 28 cm and height is 7 cm. The surface area of each sphere is:

(Take $\pi = \frac{22}{7}$)

- Ans
- ✓ 1. 154 cm^2
 - ✗ 2. 144 cm^2
 - ✗ 3. 156 cm^2
 - ✗ 4. 164 cm^2

Question ID : 65497815671
Chosen Option : 1

Q.4 किसी खोखले अर्द्धगोलीय कटोरे के आंतरिक और बाह्य व्यास क्रमशः 18 cm और 22 cm हैं। कटोरे का कुल पृष्ठीय क्षेत्रफल (cm^2 में) ज्ञात करें।

- Ans
- ✗ 1. 414π
 - ✗ 2. 404π
 - ✗ 3. 424π
 - ✓ 4. 444π

Question ID : 65497814966
Chosen Option : 1

Q.5 एक व्यक्ति, 8 km/h की चाल से किसी दूरी को 12 मिनट में तय करता है। यदि वह 12 km/h की चाल से चलता है, तो समान दूरी को कितने समय में तय करेगा?

- Ans
- ✗ 1. 12 मिनट
 - ✗ 2. 10 मिनट
 - ✗ 3. 14 मिनट
 - ✓ 4. 8 मिनट

Question ID : 65497815655
Chosen Option : 4

Q.6 A, B और C किसी कार्य को क्रमशः 5 दिन, 8 दिन और 12 दिन में पूरा करते हैं। यदि वे एक साथ कार्य करते हैं और उन्हें कार्य के लिए ₹9,800 मिलता है, तो A को प्राप्त राशि ज्ञात करें।

- Ans
- ✗ 1. ₹4,600
 - ✓ 2. ₹4,800
 - ✗ 3. ₹5,800
 - ✗ 4. ₹4,200

Question ID : 65497815653
Chosen Option : 2

Q.7

$$\frac{\frac{1}{4} - \frac{1}{2} \left(\frac{2}{5} - \frac{1}{3} \right)}{1 - \frac{2}{3} \left(\frac{3}{4} - \frac{1}{4} \right) \left(\frac{2}{3} \right)}$$

का मान ज्ञात कीजिए।

Ans

✗ 1. $\frac{4}{65}$

✗ 2. $\frac{7}{65}$

✓ 3. $\frac{2}{65}$

✗ 4. $\frac{8}{65}$

Question ID : 65497817088

Chosen Option : 3

Q.8

₹15,400 की राशि दो भागों में, पहली 9% और शेष 12% साधारण ब्याज की दर पर उधार दी जाती है। तीन वर्ष बाद प्राप्त कुल ब्याज ₹4,914 है। 9% और 12% की दर पर उधार दी गई राशि का अनुपात ज्ञात करें।

Ans

✗ 1. 6 : 7

✓ 2. 5 : 6

✗ 3. 4 : 5

✗ 4. 5 : 7

Question ID : 65497815667

Chosen Option : 2

Q.9

किसी कंपनी में, 75% श्रमिक कुशल हैं और शेष अकुशल हैं। 84% कुशल श्रमिक और 28% अकुशल श्रमिक स्थायी हैं। यदि अस्थायी श्रमिकों की संख्या 180 है, तो कंपनी में श्रमिकों की कुल संख्या ज्ञात करें।

Ans

✓ 1. 600

✗ 2. 800

✗ 3. 650

✗ 4. 700

Question ID : 65497815660

Chosen Option : 1

Q.10

51 km की दूरी तय करते समय, किसी व्यक्ति ने देखा कि एक घंटा 40 मिनट चलने के बाद, उसके द्वारा तय की गई दूरी शेष दूरी की $\frac{5}{12}$ थी। उसकी गति ज्ञात करें।

Ans

✗ 1. 8 km/h

✗ 2. 7 km/h

✗ 3. 10 km/h

✓ 4. 9 km/h

Question ID : 65497815656

Chosen Option : 4

Q.11 दिया गया पाई चार्ट किसी विशेष वर्ष के दौरान किसी देश द्वारा विभिन्न खेलों पर किए गए व्यय को दर्शाता है। पाई चार्ट का अध्ययन करें और नीचे दिए गए प्रश्न का उत्तर दें।



यदि वर्ष में खेल पर खर्च की गई कुल राशि ₹4.2 करोड़ थी, तो फुटबॉल और हॉकी पर एक साथ खर्च की गई कुल राशि ज्ञात करें।

- Ans
- 1. ₹1.35 करोड़
 - 2. ₹1.47 करोड़
 - 3. ₹2.47 करोड़
 - 4. ₹1.45 करोड़

Question ID : 65497815675
Chosen Option : 2

Q.12 A, B और C बक्सों में 2:3:4 के अनुपात में कंचे रखे हुए हैं। बक्सों में कंचों की कुल संख्या 360 है। निम्न में से किसके द्वारा उपरोक्त अनुपात को 3:8:7 के अनुपात में बदला जा सकता है?

- (i) A से B में 20 कंचे और C से B में 20 कंचे स्थानांतरित करके।
- (ii) A से B में 20 कंचे और C से B में 10 कंचे स्थानांतरित करके।
- (iii) A से B में 40 कंचे और C से B में 20 कंचे स्थानांतरित करके।
- (iv) A से B में 30 कंचे और C से B में 30 कंचे स्थानांतरित करके।

- Ans
- 1. (ii)
 - 2. (iii)
 - 3. (iv)
 - 4. (i)

Question ID : 65497815665
Chosen Option : 4

Q.13 दिया गया पाई चार्ट किसी विशेष वर्ष के दौरान किसी देश द्वारा विभिन्न खेलों पर किए गए व्यय को दर्शाता है। पाई चार्ट का अध्ययन करें और नीचे दिए गए प्रश्न का उत्तर दें।



यदि खेलों पर खर्च की गई कुल राशि ₹3.6 करोड़ थी, तो हॉकी, क्रिकेट और बास्केटबॉल पर खर्च की गई औसत राशि ज्ञात करें।

- Ans
- ✗ 1. ₹65 लाख
 - ✗ 2. ₹60 लाख
 - ✗ 3. ₹56 लाख
 - ✓ 4. ₹62 लाख

Question ID : 65497815677
Chosen Option : 4

Q.14 दो संख्याओं का योगफल 50 है और उनका गुणनफल 525 है। दोनों संख्याओं का ल.स. (LCM) ज्ञात करें।

- Ans
- ✗ 1. 85
 - ✗ 2. 115
 - ✓ 3. 105
 - ✗ 4. 125

Question ID : 65497815672
Chosen Option : 3

Q.15 ब्याज की गणना अर्द्ध वार्षिक चक्रवृद्धि आधार पर करते हुए, ₹12,500 की राशि पर, 12% वार्षिक की दर से एक वर्ष का चक्रवृद्धि ब्याज ज्ञात करें।

- Ans
- ✗ 1. ₹1,500
 - ✗ 2. ₹1,455
 - ✓ 3. ₹1,545
 - ✗ 4. ₹1,540

Question ID : 65497815666
Chosen Option : 3

Q.16 उस पेंसिल की अधिकतम लंबाई ज्ञात करें, जिसे $13\text{ cm} \times 8\text{ cm} \times 3\text{ cm}$ भुजाओं वाले आयताकार बॉक्स में रखा जा सकता है।

- Ans
- 1. $10\sqrt{2}\text{ cm}$
 - 2. $12\sqrt{2}\text{ cm}$
 - 3. $11\sqrt{2}\text{ cm}$
 - 4. $11\sqrt{3}\text{ cm}$

Question ID : 65497815669
Chosen Option : 3

Q.17 यदि $4A = 5B = 8C$ है, तो $A : B : C$ ज्ञात करें।

- Ans
- 1. $12 : 8 : 7$
 - 2. $12 : 7 : 5$
 - 3. $10 : 8 : 5$
 - 4. $10 : 8 : 7$

Question ID : 65497815668
Chosen Option : 3

Q.18 If the difference of the mode and median of a data is 38, then the difference of the median and mean is:

- Ans
- 1. 24
 - 2. 18
 - 3. 19
 - 4. 22

Question ID : 65497815668
Chosen Option : 3

Q.19 30 लड़कों का औसत भार, 20 लड़कियों के औसत भार से 5 kg अधिक है। यदि 30 लड़कों का कुल भार 1050 kg है, तो 20 लड़कियों का कुल भार ज्ञात करें।

- Ans
- 1. 400 kg
 - 2. 600 kg
 - 3. 650 kg
 - 4. 550 kg

Question ID : 65497815657
Chosen Option : 2

Q.20 दिया गया पाई चार्ट किसी विशेष वर्ष के दौरान किसी देश द्वारा विभिन्न खेलों पर किए गए व्यय को दर्शाता है। पाई चार्ट का अध्ययन करें और नीचे दिए गए प्रश्न का उत्तर दें।



यदि वर्ष में खेलों पर खर्च की गई कुल राशि ₹2.4 करोड़ थी, तो एक साथ टेनिस और बास्केटबॉल पर खर्च की गई राशि, एक साथ गोल्फ और फुटबॉल पर खर्च की गई राशि से कितने प्रतिशत कम है?

- Ans
- 1. 12%
 - 2. 15%
 - 3. 8%
 - 4. 10%

Question ID : 65497815676

Chosen Option : 4

Q.21 किसी घनाभ की लंबाई, चौड़ाई और ऊंचाई का योगफल 28 cm है। यदि घनाभ का कुल पृष्ठीय क्षेत्रफल 588 cm^2 है, तो इसका विकर्ण ज्ञात करें।

- Ans
- 1. 12 cm
 - 2. 16 cm
 - 3. 14 cm
 - 4. 15 cm

Question ID : 65497815670

Chosen Option : 3

Q.22 ₹119.60 में 52 संतरे खरीदे जाते हैं और ₹41.40 प्रति दर्जन की दर से बेचे जाते हैं। लाभ प्रतिशत ज्ञात करें।

- Ans
- 1. 40%
 - 2. 50%
 - 3. 45%
 - 4. 60%

Question ID : 65497815661

Chosen Option : 2

Q.23 किसी वस्तु का अंकित मूल्य ₹5,800 है। यदि 20% छूट देने के बाद, रवि को 25% लाभ प्राप्त होता है, तो वस्तु का क्रय मूल्य ज्ञात करें।

- Ans
- 1. ₹3,720
 - 2. ₹3,625
 - 3. ₹3,712
 - 4. ₹3,724

Question ID : 65497815659
Chosen Option : 3

Q.24 A, B और C किसी कार्य को क्रमशः 16, 24 और 32 दिन में पूरा कर सकते हैं। वे एक साथ कार्य शुरू करते हैं, लेकिन C, 4 दिन बाद कार्य छोड़ देता है और A कार्य पूरा होने से 6 दिन पहले कार्य छोड़ देता है। कितने दिन में कार्य पूरा होगा?

- Ans
- 1. 15 दिन
 - 2. 14 दिन
 - 3. 9 दिन
 - 4. 12 दिन

Question ID : 65497815654
Chosen Option : 4

Q.25 कोई व्यक्ति, दो TV सेट प्रत्येक ₹7,200 में बेचता है, तो उसे न तो लाभ होता है और न ही हानि होती है। यदि वह एक TV सेट $12\frac{1}{2}\%$ के लाभ पर बेचता है, तो दूसरे TV सेट को बेचने पर हुई हानि ज्ञात करें।

- Ans
- 1. 8.5%
 - 2. 8%
 - 3. 10%
 - 4. 9%

Question ID : 65497815662
Chosen Option : 3

Section : General Awareness

Q.1 निम्नलिखित में से कौन सा महासागर दुनिया में तीसरा सबसे बड़ा महासागर है?

- Ans
- 1. अटलांटिक महासागर
 - 2. हिंद महासागर
 - 3. आर्कटिक महासागर
 - 4. प्रशांत महासागर

Question ID : 65497818323
Chosen Option : 1

Q.2 निम्नलिखित में से कौन सा एक जटिल पदार्थ है जो पौधों को संरचनात्मक शक्ति प्रदान करता है?

- Ans
- 1. ज़ाइलम
 - 2. सेलुलोज़
 - 3. फ्लोएम
 - 4. कोशिकाद्रव्य

Question ID : 65497818321
Chosen Option : 2

Q.3 निम्नलिखित में से कौन सा सकल घरेलू उत्पाद में शामिल होता है?

- Ans
- 1. अंतिम वस्तुओं की बिक्री
 - 2. अदला-बदली किए गए माल और सेवाएं
 - 3. उपयोग किए गए सामानों की बिक्री
 - 4. अंतरण भुगतान

Question ID : 65497818314
Chosen Option : 1

Q.4 खाद्य उत्पादन बढ़ाने के लिए मृदा बचत तकनीकों के विकास की दिशा में योगदान के लिए जून 2020 में विश्व खाद्य पुरस्कार किसने जीता?

- Ans
- 1. आई. सेकर
 - 2. एम कृष्णा रेड्डी
 - 3. ए. गोपालकृष्णन
 - 4. रतन लाल

Question ID : 65497818310
Chosen Option : --

Q.5 पहला मुगल बादशाह कौन था?

- Ans
- 1. हुमायूं
 - 2. बाबर
 - 3. जहांगीर
 - 4. शेरशाह सूरी

Question ID : 65497818327
Chosen Option : 2

Q.6 Ethanoic acid is also known as glacial acetic acid as it:

- Ans
- 1. crystallizes easily
 - 2. freezes in cold climate
 - 3. is volatile during winter
 - 4. is a liquid during winter

Question ID : 65497818322
Chosen Option : 1

Q.7 भारत के उत्तरी मैदान पूरी तरह से किस मिट्टी से निर्मित हैं?

- Ans
- 1. काली मिट्टी
 - 2. जलोढ़ मिट्टी
 - 3. पीली मिट्टी
 - 4. शुष्क मिट्टी

Question ID : 65497818325
Chosen Option : 2

Q.8 निम्नलिखित में से कौन सी नृत्य शैली मार्शल आर्ट प्रथाओं से ली गई है?

- Ans
- 1. घूमर
 - 2. भरतनाट्यम
 - 3. छऊ
 - 4. झोरा

Question ID : 65497818305
Chosen Option : --

Q.9 व्यक्ति के स्वास्थ्य के लिए निम्नलिखित में से क्या महत्वपूर्ण नहीं है?

- Ans
- 1. सामाजिक समानता
 - 2. सामंजस्य
 - 3. सार्वजनिक सफाई
 - 4. सार्वजनिक परिवहन

Question ID : 65497818320
Chosen Option : --

Q.10 मेलबर्न में आयोजित पुरुष एकल स्पर्धा में 2020 का ऑस्ट्रेलियन ओपन खिताब किसने जीता?

- Ans
- 1. राजीव राम
 - 2. नोवाक जोकोविच
 - 3. डोमिनिक थिएम
 - 4. जो सैलिसबरी

Question ID : 65497818308
Chosen Option : --

Q.11 निम्नलिखित में से कौन सा वेद सबसे पुराना है?

- Ans
- 1. यजुर्वेद
 - 2. सामवेद
 - 3. ऋग्वेद
 - 4. अथर्ववेद

Question ID : 65497818326
Chosen Option : 3

Q.12 'एंथुरियम' त्योहार किस राज्य में मनाया जाता है?

- Ans
- 1. असम
 - 2. मिज़ोरम
 - 3. नागालैंड
 - 4. मणिपुर

Question ID : 65497818304
Chosen Option : --

Q.13 निम्नलिखित में से किस खिलाड़ी को 2020 में पद्मश्री से सम्मानित किया गया?

- Ans
- 1. दीप्ति शर्मा
 - 2. पूनम यादव
 - 3. मनिका बत्रा
 - 4. रानी रामपाल

Question ID : 65497818307
Chosen Option : --

Q.14 संविधान सभा की पहली बैठक कब हुई?

- Ans
- 1. जुलाई 1948
 - 2. जनवरी 1950
 - 3. अगस्त 1945
 - 4. दिसंबर 1946

Question ID : 65497818316
Chosen Option : 4

Q.15 किरण देसाई ने निम्नलिखित में से कौन सी पुस्तक लिखी है?

- Ans
- 1. द इंटरप्रेटर ऑफ मैलाडीज
 - 2. द इनहेरिटेस ऑफ लॉस
 - 3. द गॉड ऑफ स्मॉल थिंग्स
 - 4. द ग्लास पैलेस

Question ID : 65497818309
Chosen Option : --

Q.16 भारत सरकार द्वारा विकलांगता अधिनियम किस वर्ष पारित किया गया?

- Ans
- 1. 1995
 - 2. 1997
 - 3. 1993
 - 4. 1992

Question ID : 65497818317
Chosen Option : --

Q.17 1917 में महात्मा गांधी ने गुजरात के खेड़ा जिले के किसानों के लिए सत्याग्रह की शुरुआत की थी। यह सत्याग्रह _____ की मांग के लिए था।

- Ans
- 1. राजस्व वसूली में छूट
 - 2. बेहतर गुणवत्ता वाले बीज
 - 3. सिंचाई सुविधाओं में सुधार
 - 4. स्वास्थ्य केंद्र

Question ID : 65497818328

Chosen Option : --

Q.18 The colour of the clear sky is blue due to the phenomenon of:

- Ans
- 1. refraction of light
 - 2. reflection of light
 - 3. dispersion of light
 - 4. scattering of light

Question ID : 65497818318

Chosen Option : 4

Q.19 निम्नलिखित में से कौन सी पहाड़ियां मेघालय में स्थित नहीं हैं?

- Ans
- 1. जयंतिया
 - 2. खासी
 - 3. जावडी
 - 4. गारो

Question ID : 65497818324

Chosen Option : 3

Q.20 1978 में भारत के प्रधानमंत्री निम्नलिखित में से कौन थे?

- Ans
- 1. गुलजारी लाल नंदा
 - 2. मोरारजी देसाई
 - 3. चरण सिंह
 - 4. लाल बहादुर शास्त्री

Question ID : 65497818311

Chosen Option : --

Q.21 1862 में, उच्च न्यायालय की स्थापना पहले कहां की गई थी?

- Ans
- 1. दिल्ली
 - 2. झांसी
 - 3. मद्रास
 - 4. म्वालियर

Question ID : 65497818315

Chosen Option : 3

Q.22 घरों में खाना पकाने के लिए उपयोग की जाने वाली तरल पेट्रोलियम गैस (एलपीजी) निम्न में से किसका मिश्रण है?

- Ans
- 1. मीथेन और प्रोपेन
 - 2. प्रोपेन और ब्यूटेन
 - 3. हेक्सेन और प्रोपेन
 - 4. मीथेन और ब्यूटेन

Question ID : 65497818319
Chosen Option : 2

Q.23 महात्मा गांधी राष्ट्रीय ग्रामीण रोजगार गारंटी अधिनियम, 2005 का उद्देश्य ग्रामीण क्षेत्रों में आजीविका सुरक्षा सुनिश्चित करने के लिए हर घर को _____ दिन का रोजगार प्रदान करना है।

- Ans
- 1. 250
 - 2. 100
 - 3. 45
 - 4. 365

Question ID : 65497816292
Chosen Option : --

Q.24 निम्नलिखित में से किसका निर्माण मोहम्मद कुली कुतुब शाह द्वारा कराया गया था?

- Ans
- 1. बुलंद दरवाजा
 - 2. चार मीनार
 - 3. जामा मस्जिद
 - 4. गोल गुम्बद

Question ID : 65497818306
Chosen Option : --

Q.25 भीम यूपीआई (BHIM UPI) के संदर्भ में, BHIM में 'I' किस शब्द का द्योतक है?

- Ans
- 1. आईडेंटिटी (Identity)
 - 2. इंटरफेस (Interface)
 - 3. इश्योरेंश (Insurance)
 - 4. इंटरफियर (Interfere)

Question ID : 65497818414
Chosen Option : 2

Multi Tasking Non Technical Staff Examination 2020

Participant ID	www.HaryanaJobs.in
Participant Name	www.HaryanaJobs.in
Test Center Name	iON Digital Zone iDZ Chandpura
Test Date	18/10/2021
Test Time :	12:30 PM - 2:00 PM
Subject	MTS Non Technical 2020

Section : **General English**

Q.1 Select the INCORRECTLY spelt word.

- Ans 1. Matrix
 2. Matriachy
 3. Material
 4. Mattress

Question ID : **65497817140**
 Chosen Option : 4

Q.2 Select the most appropriate meaning of the given idiom.

Be Off

- Ans 1. To switch off the light
 2. To go away
 3. To be in a bad mood
 4. To not eat anything

Question ID : **65497817135**
 Chosen Option : 3

Q.3 Identify the segment that contains a grammatical error. If there is no error, select 'No error'.

This monument is the older building in this area.

- Ans 1. in this area
 2. No error
 3. is the older building
 4. This monument

Question ID : **65497817117**
 Chosen Option : 3

Q.4 Select the most appropriate word for the given group of words.

A mass of wax cells built by honey bees to store honey

- Ans
- 1. Apiary
 - 2. Aviary
 - 3. Beehive
 - 4. Honeycomb

Question ID : 65497817138
Chosen Option : 3

Q.5 Select the most appropriate meaning of the given idiom.

Tighten one's belt

- Ans
- 1. To stop working full time
 - 2. To lose one's job
 - 3. To cut one's expenditure
 - 4. To make efforts to be slim

Question ID : 65497817136
Chosen Option : 3

Q.6 Select the most appropriate option to substitute the underlined segment in the given sentence. If there is no need to substitute it, select 'No substitution required'.

Life's many events give shape to a person's individuality.

- Ans
- 1. had shaped with
 - 2. No substitution required
 - 3. give shaping to
 - 4. are given shapes

Question ID : 65497815615
Chosen Option : 3

Q.7 Select the most appropriate word for the given group of words.

To keep away from

- Ans
- 1. Confront
 - 2. Fight
 - 3. Avoid
 - 4. Devote

Question ID : 65497817137
Chosen Option : 3

Q.8 Select the most appropriate option to substitute the underlined segment in the given sentence.

If my uncle were here now, he knows what to do.

- Ans
- 1. will know
 - 2. would have known
 - 3. would know
 - 4. will be knowing

Question ID : 65497817836
Chosen Option : 3

Q.9 Select the most appropriate synonym of the given word.

AMIABLE

- Ans
- 1. Friendly
 - 2. aloof
 - 3. Rude
 - 4. Bitter

Question ID : 65497817134
Chosen Option : 1

Q.10 Select the most appropriate ANTONYM of the given word.

SUCCEED

- Ans
- 1. Lose
 - 2. Achieve
 - 3. Win
 - 4. Gain

Question ID : 65497817131
Chosen Option : 1

Q.11 Select the most appropriate ANTONYM of the given word.

THRIVE

- Ans
- 1. Shrink
 - 2. Shine
 - 3. Prosper
 - 4. Develop

Question ID : 65497817132
Chosen Option : 1

Q.12 Select the most appropriate option to fill in the blank.

_____ the boys were afraid at heart, they decided to stay on in the jungle.

- Ans 1. Although
 2. Because
 3. So that
 4. In case

Question ID : 65497817121
Chosen Option : 1

Q.13 Identify the segment that contains a grammatical error. If there is no error, select 'No error'.

During the summer months, there is shortage of power in much parts of the country.

- Ans 1. in much parts
 2. No error
 3. During the summer
 4. there is shortage

Question ID : 65497817119
Chosen Option : 1

Q.14 Select the most appropriate synonym of the given word.

DECREASE

- Ans 1. Decline
 2. Increase
 3. Grow
 4. Ascend

Question ID : 65497817133
Chosen Option : 1

Q.15 Select the most appropriate option to fill in the blank.

The best way to learn a language is to spend some time in the _____ country where it is spoken.

- Ans 1. particular
 2. special
 3. peculiar
 4. definite

Question ID : 65497817142
Chosen Option : 1

Q.16 Select the most appropriate option to fill in the blank.

If you want good seats, I _____ you buy the tickets in advance.

- Ans
- 1. intend
 - 2. suggest
 - 3. claim
 - 4. imply

Question ID : 65497817141
Chosen Option : 2

Q.17 Select the most appropriate option to fill in the blank.

Only those children _____ are below fifteen can take part in this competition.

- Ans
- 1. whom
 - 2. who
 - 3. that
 - 4. which

Question ID : 65497817120
Chosen Option : 3

Q.18 Identify the segment that contains a grammatical error. If there is no error, select 'No error'.

The policeman wanted punish the boy severely.

- Ans
- 1. No error
 - 2. The policeman
 - 3. wanted punish
 - 4. the boy severely

Question ID : 65497817118
Chosen Option : 3

Q.19 Select the INCORRECTLY spelt word.

- Ans
- 1. Eclispe
 - 2. Echo
 - 3. Ecology
 - 4. Economic

Question ID : 65497817139
Chosen Option : 1

Q.20 Select the most appropriate option to substitute the underlined segment in the given sentence. If there is no need to substitute it, select 'No substitution required'.

As she wants to lose weight, she was started running.

- Ans
- 1. is started
 - 2. No substitution required
 - 3. has started
 - 4. were starting

Question ID : 65497817128
Chosen Option : 3

Comprehension:

In the following passage some words have been deleted. Fill in the blanks with the help of the alternatives given. Select the most appropriate option for each blank.

Eighty merchants of London came together in the year 1600 (1)_____ the East India Company. They wanted to enter (2)_____ business with Indian traders in the fields of textile and spices. They (3)_____ inspired by the Portuguese and the Dutch who were (4)_____ a flourishing trade in spices and earning huge (5)_____.

SubQuestion No : 21

Q.21 Select the most appropriate option to fill in blank no. 1.

- Ans
- 1. to forming
 - 2. formed
 - 3. to form
 - 4. form

Question ID : 65497817123
Chosen Option : 3

Comprehension:

In the following passage some words have been deleted. Fill in the blanks with the help of the alternatives given. Select the most appropriate option for each blank.

Eighty merchants of London came together in the year 1600 (1)_____ the East India Company. They wanted to enter (2)_____ business with Indian traders in the fields of textile and spices. They (3)_____ inspired by the Portuguese and the Dutch who were (4)_____ a flourishing trade in spices and earning huge (5)_____.

SubQuestion No : 22

Q.22 Select the most appropriate option to fill in blank no. 2.

- Ans
- 1. on
 - 2. at
 - 3. into
 - 4. inside

Question ID : 65497817124
Chosen Option : 3

Comprehension:

In the following passage some words have been deleted. Fill in the blanks with the help of the alternatives given. Select the most appropriate option for each blank.

Eighty merchants of London came together in the year 1600 (1)_____ the East India Company. They wanted to enter (2)_____ business with Indian traders in the fields of textile and spices. They (3)_____ inspired by the Portuguese and the Dutch who were (4)_____ a flourishing trade in spices and earning huge (5)_____.

SubQuestion No : 23

Q.23 Select the most appropriate option to fill in blank no. 3.

- Ans 1. were
 2. are
 3. had
 4. was

Question ID : **65497817125**
 Chosen Option : 1

Comprehension:

In the following passage some words have been deleted. Fill in the blanks with the help of the alternatives given. Select the most appropriate option for each blank.

Eighty merchants of London came together in the year 1600 (1)_____ the East India Company. They wanted to enter (2)_____ business with Indian traders in the fields of textile and spices. They (3)_____ inspired by the Portuguese and the Dutch who were (4)_____ a flourishing trade in spices and earning huge (5)_____.

SubQuestion No : 24

Q.24 Select the most appropriate option to fill in blank no. 4.

- Ans 1. carrying on
 2. setting about
 3. pulling on
 4. getting out

Question ID : **65497817126**
 Chosen Option : 1

Comprehension:

In the following passage some words have been deleted. Fill in the blanks with the help of the alternatives given. Select the most appropriate option for each blank.

Eighty merchants of London came together in the year 1600 (1)_____ the East India Company. They wanted to enter (2)_____ business with Indian traders in the fields of textile and spices. They (3)_____ inspired by the Portuguese and the Dutch who were (4)_____ a flourishing trade in spices and earning huge (5)_____.

SubQuestion No : 25

Q.25 Select the most appropriate option to fill in blank no. 5.

- Ans 1. benefits
 2. advantages
 3. profits
 4. proceeds

Question ID : **65497817127**
 Chosen Option : 3

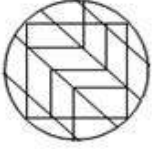
Section : **General Intelligence and Reasoning**

Q.1 उस विकल्प का चयन करें, जिसमें निम्न आकृति अन्तःस्थापित है। (घुमाने की अनुमति नहीं है)



Ans

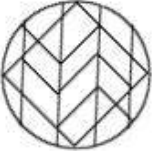
✗ 1.



✗ 2.



✗ 3.



✓ 4.



Question ID : 65497814235

Chosen Option : 4

Q.2 रितिक, अपनी कक्षा में शीर्ष से छठे स्थान पर है, जबकि अक्षय नीचे से 18वें स्थान पर है। यदि उनकी स्थितियों को प्रतिस्थापित किया जाता है, तो अक्षय का स्थान नीचे से 15वां हो जाता है। कक्षा में छात्रों की संख्या कितनी है?

Ans ✓ 1. 20

✗ 2. 23

✗ 3. 21

✗ 4. 32

Question ID : 65497814230

Chosen Option : 1

Q.3 निम्न शब्दों के सार्थक क्रम विन्यास दर्शाने वाले सही विकल्प का चयन करें।

1. हृदय (Heart)
2. कूल्हा (Pelvis)
3. कॉर्निया (Cornea)
4. यकृत (Kidney)
5. कर्णपल्लव (Pinna)

Ans ✓ 1. 3 - 5 - 1 - 4 - 2

✗ 2. 2 - 1 - 4 - 3 - 5

✗ 3. 3 - 5 - 4 - 1 - 2

✗ 4. 5 - 3 - 1 - 4 - 2

Question ID : 65497814232

Chosen Option : 4

Q.4 कौन-सी संख्या निम्न संख्या-श्रेणी में प्रश्नवाचक चिह्न (?) के स्थान पर आएगी?

12, 24, 36, 46, 56, ?, 72

- Ans
- 1. 62
 - 2. 66
 - 3. 64
 - 4. 65

Question ID : 65497814218
Chosen Option : 1

Q.5 इनमें से किन दो अंकों को एक-दूसरे से और किन दो चिह्नों को एक-दूसरे से प्रतिस्थापित करने से दिया गया समीकरण संतुलित हो सकता है?

$$46 \times 6 + 32 - 12 \div 8 = - 34$$

- Ans
- 1. 4 और 6; + और +
 - 2. 3 और 2; × और -
 - 3. 8 और 6; + और ×
 - 4. 6 और 2; + और ×

Question ID : 65497814215
Chosen Option : 3

Q.6 दो कथनों के बाद दो निष्कर्ष I और II दिए गए हैं। कथनों को सत्य मानते हुए, भले ही ये सामान्य रूप से ज्ञात तथ्यों से भिन्न प्रतीत होते हों, निर्धारित करें कि कौन सा/से निष्कर्ष कथनों का तार्किक रूप से अनुसरण करता/करते है/हैं?

कथन:

कुछ किताबें, उपन्यास हैं।
सभी उपन्यास, ग्रंथ हैं।

निष्कर्ष:

- I. सभी ग्रंथ, उपन्यास हैं।
- II. कुछ किताबें, ग्रंथ हैं।

- Ans
- 1. केवल निष्कर्ष II अनुसरण करता है।
 - 2. न तो निष्कर्ष I और न ही II अनुसरण करता है।
 - 3. निष्कर्ष I और II दोनों अनुसरण करते हैं।
 - 4. केवल निष्कर्ष I अनुसरण करता है।

Question ID : 65497814229
Chosen Option : 1

Q.7 उस विकल्प का चयन करें, जो तीसरे अक्षर-समूह से ठीक उसी प्रकार संबंधित है, जिस प्रकार दूसरा अक्षर-समूह पहले अक्षर-समूह से संबंधित है।

GOVERN : VRONGE :: MOCKERY : _____.

- Ans
- 1. YROMKEC
 - 2. YROMEKC
 - 3. YREKCOM
 - 4. YRKECOM

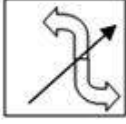
Question ID : 65497814224
Chosen Option : 1

Q.8 यदि दर्पण को आकृति के दाईं ओर रखा गया हो, तो दी गई आकृति के सही दर्पण प्रतिबिंब का चयन करें।

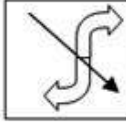


Ans

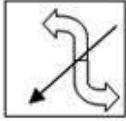
✗ 1.



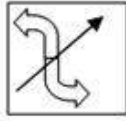
✗ 2.



✗ 3.



✓ 4.



Question ID : 65497814236

Chosen Option : 4

Q.9 यदि ÷ को + के साथ प्रतिस्थापित किया जाता है और × को - के साथ प्रतिस्थापित किया जाता है, तो निम्न में से कौन-सा समीकरण सही है?

Ans ✓ 1. $24 \times 84 + 12 \div 16 - 7 = 129$

✗ 2. $24 - 84 + 12 \times 16 + 7 = 129$

✗ 3. $24 + 84 \div 12 - 16 \times 7 = 129$

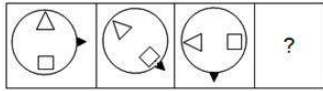
✗ 4. $24 - 84 + 12 + 16 \times 7 = 129$

Question ID : 65497814214

Chosen Option : 1

www.HaryanaJobs.in

Q.10 उस विकल्प आकृति का चयन करें, जो निम्न आकृति श्रेणी में प्रश्नवाचक चिह्न (?) के स्थान पर आएगी।

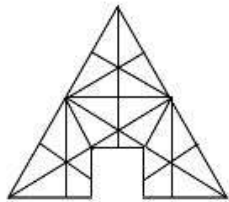


Ans

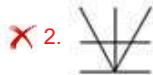


Question ID : 65497814233
Chosen Option : 4

Q.11 उस विकल्प आकृति का चयन करें, जो दिए गए पैटर्न को पूरा करेगी।



Ans



Question ID : 65497814234
Chosen Option : 1

Q.12 उस विकल्प का चयन करें, जिसमें संख्याएं एक-दूसरे से ठीक उसी प्रकार संबंधित हैं, जिस प्रकार दिए गए समुच्चय की संख्याएं एक-दूसरे से संबंधित हैं।

56 : 90 : 132

- Ans 1. 72 : 110 : 156
 2. 88 : 102 : 120
 3. 76 : 95 : 116
 4. 89 : 110 : 131

Question ID : 65497814217
Chosen Option : 1

Q.13 किसी निश्चित कूट भाषा में, यदि SIBLING को YOHROTМ लिखा जाता है, तो उसी कूट भाषा में OFFICER को किस प्रकार लिखा जाएगा?

- Ans 1. VLLOIJX
 2. CIFFORE
 3. UMМОIKX
 4. ULLOIKX

Question ID : 65497814220
Chosen Option : 4

Q.14 यदि किसी निश्चित कूट भाषा में, DAYCARE को 54 और JOURNEY को 105 के रूप में कूटबद्ध किया जाता है, तो उसी कूट भाषा में FURTHER को किस रूप में कूटबद्ध किया जाएगा?

- Ans 1. 98
 2. 99
 3. 93
 4. 96

Question ID : 65497814222
Chosen Option : 3

Q.15 उस विकल्प का चयन करें, जिसमें संख्या-युग्म की संख्याएं एक-दूसरे से ठीक उसी प्रकार संबंधित हैं, जिस प्रकार दिए गए संख्या-युग्म की संख्याएं एक-दूसरे से संबंधित हैं।

96 : 81

- Ans 1. 84 : 75
 2. 104 : 96
 3. 92 : 80
 4. 72 : 63

Question ID : 65497814216
Chosen Option : 4

Q.16 कौन-सी संख्या निम्न संख्या-श्रेणी में प्रश्नवाचक चिह्न (?) के स्थान पर आएगी?

48, 32, 23, 19, ?

- Ans
- 1. 20
 - 2. 19
 - 3. 18
 - 4. 17

Question ID : 65497814219
Chosen Option : 3

Q.17 यदि किसी निश्चित कूट भाषा में, CHARITY को 107 और DAYTIME को 89 के रूप में कूटबद्ध किया जाता है, तो उसी कूट भाषा में PENALIZE को किस रूप में कूटबद्ध किया जाएगा?

- Ans
- 1. 126
 - 2. 130
 - 3. 88
 - 4. 90

Question ID : 65497814223
Chosen Option : --

Q.18 कौन-सा अक्षर-समूह, निम्न अक्षर-श्रेणी में प्रश्नवाचक चिह्न (?) के स्थान पर आएगा?

WAS, YCU, AEW, ?

- Ans
- 1. GKC
 - 2. CGY
 - 3. FJB
 - 4. HLD

Question ID : 65497814227
Chosen Option : 2

Q.19 जिस प्रकार 'सिलाई', 'धागे' से संबंधित है, उसी प्रकार 'लेखन', '_____' से संबंधित है।

- Ans
- 1. कागज़
 - 2. निब
 - 3. स्याही
 - 4. कलम

Question ID : 65497814225
Chosen Option : 3

www.HaryanaJobs.in

Q.20 दो कथनों के बाद दो निष्कर्ष I और II दिए गए हैं। कथनों को सत्य मानते हुए, भले ही ये सामान्य रूप से ज्ञात तथ्यों से भिन्न प्रतीत होते हों, निर्धारित करें कि कौन सा/से निष्कर्ष कथनों का तार्किक रूप से अनुसरण करता/करते है/हैं?

कथन:

सभी कंप्यूटर, बॉक्स हैं।
सभी बॉक्स, प्रिंटर हैं।

निष्कर्ष:

I. सभी प्रिंटर, कंप्यूटर हैं।
II. सभी कंप्यूटर, प्रिंटर हैं।


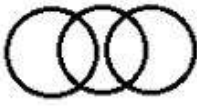


- Ans 1. न तो निष्कर्ष I और न ही II अनुसरण करता है।
 2. केवल निष्कर्ष II अनुसरण करता है।
 3. केवल निष्कर्ष I अनुसरण करता है।
 4. निष्कर्ष I और II दोनों अनुसरण करते हैं।

Question ID : 65497814228
Chosen Option : 2

Q.21 उस वेन-आरेख का चयन करें, जो निम्न वर्गों के बीच के संबंध को सर्वोत्तम ढंग से निरूपित करता है।

पुरुष, टेनिस खिलाड़ी, महिलाएं

Ans

1. 
2. 
3. 
4. 

Question ID : 65497814238
Chosen Option : 2

Q.22 P, Q, R, S और T पांच व्यक्ति, पंचभुजीय मेज के चारों ओर केंद्र की ओर मुंह करके बैठे हैं। T, उस R के बाईं ओर पड़ोस में बैठा है, जो कि P के दाईं ओर दूसरे स्थान पर बैठा है। Q, उस S के बाईं ओर पड़ोस में बैठा है, जो कि P के बाईं ओर पड़ोस में बैठा है। P के दाईं ओर पड़ोस में कौन बैठा है?

- Ans 1. T
 2. R
 3. Q
 4. S

Question ID : 65497814231
Chosen Option : 1

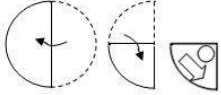
Q.23 किसी निश्चित कूट भाषा में, यदि MULTIPLE को EILLMPTU लिखा जाता है, तो उसी कूट भाषा में RAVENING को किस प्रकार लिखा जाएगा?

- Ans
- 1. AREVINGN
 - 2. AEIGNNVR
 - 3. EVARGNIN
 - 4. AEGINNRV

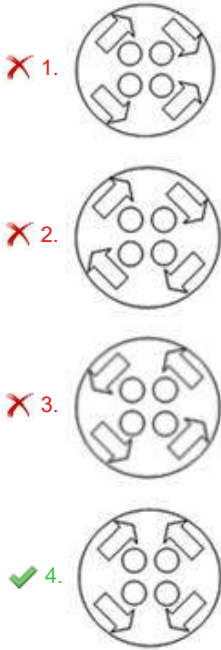
Question ID : 65497814221

Chosen Option : 4

Q.24 एक कागज़ को निम्न आकृतियों के अनुसार मोड़ा और काटा गया। यह कागज़ खोलने पर कैसा दिखेगा?



Ans



Question ID : 65497814237

Chosen Option : 4

Q.25 उस विकल्प का चयन करें, जो तीसरे शब्द से ठीक उसी प्रकार संबंधित है, जिस प्रकार दूसरा शब्द पहले शब्द से संबंधित है।

महासागर : समुद्र :: प्रसन्नता : _____।

- Ans
- 1. हर्ष
 - 2. आशावान
 - 3. शांति
 - 4. समृद्धि

Question ID : 65497814226

Chosen Option : 1

Section : Numerical Aptitude

Q.1 किसी कुर्सी का विक्रय मूल्य, उसके क्रय मूल्य से $\frac{33}{20}$ गुना है। लेन-देन में लाभ या हानि प्रतिशत ज्ञात करें।

- Ans
- 1. हानि, 65%
 - 2. लाभ, 65%
 - 3. लाभ, 35%
 - 4. हानि, 35%

Question ID : 65497818287
Chosen Option : 2

Q.2 संख्याओं 8, 9, 11, 15, 17, 21 और N को आरोही क्रम में व्यवस्थित किया जाता है। इन संख्याओं का माध्य, संख्याओं की माध्यिका के बराबर है। N का मान ज्ञात करें।

- Ans
- 1. 22
 - 2. 26
 - 3. 25
 - 4. 24

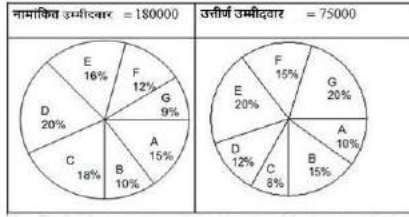
Question ID : 65497818294
Chosen Option : 4

Q.3 किसी कार्य को पूरा करने में, जैक को पीटर की तुलना में तीन गुना और जस्टिन की तुलना में दोगुना समय लगता है। एक साथ कार्य करते हुए, वे कार्य को 15 दिन में पूरा कर सकते हैं। अकेले जस्टिन को कार्य पूरा करने में कितना समय (दिन में) लगेगा?

- Ans
- 1. 60
 - 2. 75
 - 3. 90
 - 4. 45

Question ID : 65497818279
Chosen Option : 4

- Q.4** दिया गया पाई चार्ट उन उम्मीदवारों की संख्या को दर्शाता है, जिन्होंने 2010 में मेडिकल प्रवेश परीक्षा के लिए नामांकन कराया था और जिन्होंने भारत के सात चिकित्सा संस्थानों में परीक्षा उत्तीर्ण की थी। प्रवेश परीक्षा में उपस्थित होने वाले उम्मीदवारों की कुल संख्या 1,80,000 थी और उत्तीर्ण उम्मीदवारों की कुल संख्या 75,000 थी। चार्ट का ध्यानपूर्वक अध्ययन करें और नीचे दिए प्रश्न का उत्तर दें।



(नोट: नीचे दर्शाया गया डेटा केवल गणितीय अभ्यास के लिए है। यह वास्तविक आंकड़ों को निरूपित नहीं करता है।)

संस्थान B और E के लिए उत्तीर्ण उम्मीदवारों की संयुक्त संख्या, संस्थान C और D के लिए नामांकित उम्मीदवारों की संयुक्त संख्या का कितना प्रतिशत (दशमलव के बाद 1 स्थान तक गणना करें) है?

- Ans
- ✓ 1. 38.4%
 - ✗ 2. 48.6%
 - ✗ 3. 34.7%
 - ✗ 4. 69.4%

Question ID : 65497818302

Chosen Option : 4

- Q.5** कोई आदमी, 10% वार्षिक चक्रवृद्धि ब्याज की दर पर 2 वर्ष के लिए पैसा उधार लेता है और ₹1,089 की दो बराबर वार्षिक किश्तों में वापस भुगतान करता है। यदि ब्याज की गणना वार्षिक रूप में होती है तो उधार ली गई राशि (₹ में) ज्ञात करें।

- Ans
- ✗ 1. 2,178
 - ✓ 2. 1,890
 - ✗ 3. 2,090
 - ✗ 4. 1,800

Question ID : 65497818292

Chosen Option : 2

- Q.6** वह छोटी से छोटी संख्या ज्ञात करें, जिसे क्रमशः 72 और 96 से विभाजित करने पर प्रत्येक स्थिति में शेषफल 5 प्राप्त होता है।

- Ans
- ✗ 1. 283
 - ✗ 2. 571
 - ✗ 3. 581
 - ✓ 4. 293

Question ID : 65497818298

Chosen Option : 4

Q.7 $12 \times [(9 - 4) \div \{(8 \div 8 \text{ of } 4) + (4 \div 4 \text{ of } 2)\}]$ का मान ज्ञात कीजिए।

- Ans 1. 80
 2. $\frac{15}{4}$
 3. $\frac{15}{2}$
 4. 20

Question ID : 65497816279
 Chosen Option : 1

Q.8 साधारण ब्याज पर निवेशित कोई निश्चित धनराशि, 12 वर्ष में 4 गुनी हो जाती है। समान दर पर यह राशि कितने वर्ष में स्वयं की 10 गुनी हो जाएगी?

- Ans 1. 24
 2. 60
 3. 48
 4. 36

Question ID : 65497818293
 Chosen Option : 4

Q.9 कोई लड़की साइकिल से बिंदु A से B तक 25 km की दूरी 2 घंटा 20 मिनट में तय करती है। बिंदु A से 15 km तक सड़क समतल है और फिर इस सड़क में बिंदु B तक नीचे की ओर ढाल है। समतल सड़क पर लड़की की औसत चाल 10 km/h है। ढलान पर उसकी औसत चाल (downhill speed) (km/h में) ज्ञात करें।

- Ans 1. 18
 2. 12
 3. 15
 4. 10

Question ID : 65497818281
 Chosen Option : 2

Q.10 दो समरूप बेलनाकार जगों की ऊंचाई क्रमशः 5 cm और 8 cm है। यदि छोटे जग की धारिता 64 cm^3 है, बड़े जग की धारिता (cm^3 में, दशमलव के बाद दो स्थानों तक गणना करें) ज्ञात करें।

- Ans 1. 102.40
 2. 262.14
 3. 294.54
 4. 163.84

Question ID : 65497818295
 Chosen Option : 1

Q.11 कोई व्यापारी, ₹40 प्रति kg की दर से 500 kg चीनी खरीदता है। वह 200 kg चीनी 10% के लाभ पर और 120 kg चीनी 5% की हानि पर बेचता है। अपने प्रारंभिक निवेश पर 12% लाभ के लिए, उसे प्रति kg किस दर (₹ में, दशमलव के बाद दो स्थानों तक) से शेष चीनी को बेचना चाहिए?

- Ans**
- ✓ 1. 50.22
 - ✗ 2. 48.67
 - ✗ 3. 44.80
 - ✗ 4. 52.33

Question ID : 65497818288
Chosen Option : 1

Q.12 किसी कर्मचारी को उसके वेतन में दो क्रमागत वेतन-वृद्धि (increments) मिलती है, जिसके परिणामस्वरूप उसका वेतन प्रारंभिक वेतन का 2.5 गुना हो जाता है। उसकी पहली प्रतिशत वेतन-वृद्धि (increment) ज्ञात करें, यदि दूसरी प्रतिशत वेतन-वृद्धि पहले की तुलना में 4 गुना अधिक है?

- Ans**
- ✗ 1. 12%
 - ✓ 2. 25%
 - ✗ 3. 10%
 - ✗ 4. 50%

Question ID : 65497818286
Chosen Option : 2

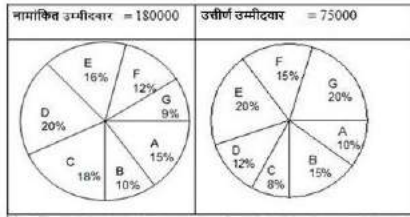
Q.13 प्रत्येक 1728 cm³ आयतन वाले चार ठोस घनों को दो पंक्तियों में रखा जाता है और प्रत्येक पंक्ति में दो घन रखे जाते हैं। उनसे वर्गाकार आधार वाला आयताकार ठोस बनता है। परिणामी ठोस का कुल पृष्ठीय क्षेत्रफल (cm² में) ज्ञात करें।

- Ans**
- ✗ 1. 1152
 - ✗ 2. 576
 - ✓ 3. 2304
 - ✗ 4. 1440

Question ID : 65497818296
Chosen Option : 3

www.HaryanaJobs.in

- Q.14** दिया गया पाई चार्ट उन उम्मीदवारों की संख्या को दर्शाता है, जिन्होंने 2010 में मेडिकल प्रवेश परीक्षा के लिए नामांकन कराया था और जिन्होंने भारत के सात चिकित्सा संस्थानों में परीक्षा उत्तीर्ण की थी। प्रवेश परीक्षा में उपस्थित होने वाले उम्मीदवारों की कुल संख्या 1,80,000 थी और उत्तीर्ण उम्मीदवारों की कुल संख्या 75,000 थी।
चार्ट का ध्यानपूर्वक अध्ययन करें और नीचे दिए प्रश्न का उत्तर दें।



(नोट: नीचे दर्शाया गया डेटा केवल गणितीय अभ्यास के लिए है। यह वास्तविक आंकड़ों को निरूपित नहीं करता है।)

निम्न में से किस संस्थान में उस संस्थान में नामांकित उम्मीदवारों की संख्या के संदर्भ में उत्तीर्ण उम्मीदवारों का प्रतिशत सबसे अधिक है?

दिया गया है कि B, E, F और G संस्थान में नामांकित उम्मीदवारों की संख्या क्रमशः 18,000, 28,800, 21,600 और 16,200 है।

- Ans
- 1. B
 - 2. E
 - 3. G
 - 4. F

Question ID : 65497818303
Chosen Option : 3

- Q.15** किसी छात्र द्वारा गणित, रसायन विज्ञान और भौतिकी में प्राप्त किए गए अंक क्रमशः 200 में से 195, 180 में से 133 और 160 में से 153 हैं। उसका औसत प्राप्तांक प्रतिशत में (दशमलव के बाद एक स्थान तक गणना करें) ज्ञात करें।

- Ans
- 1. 96.2
 - 2. 84.6
 - 3. 86.7
 - 4. 89.1

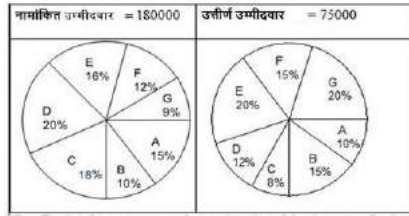
Question ID : 65497818283
Chosen Option : 4

- Q.16** 48 g वजन वाले अर्ध-कीमती रत्न की कीमत ₹2,30,400 है। यह दो टुकड़ों में टूटा हुआ है, जिनके वजन का अनुपात 5 : 7 है। यदि कीमत वजन के बर्ग के समानुपाती है, तो हानि (₹ में) ज्ञात करें।

- Ans
- 1. 78,400
 - 2. 1,18,400
 - 3. 40,000
 - 4. 1,12,000

Question ID : 65497818291
Chosen Option : 4

- Q.17 दिया गया पाई चार्ट उन उम्मीदवारों की संख्या को दर्शाता है, जिन्होंने 2010 में मेडिकल प्रवेश परीक्षा के लिए नामांकन कराया था और जिन्होंने भारत के सात चिकित्सा संस्थानों में परीक्षा उत्तीर्ण की थी। प्रवेश परीक्षा में उपस्थित होने वाले उम्मीदवारों की कुल संख्या 1,80,000 थी और उत्तीर्ण उम्मीदवारों की कुल संख्या 75,000 थी। चार्ट का ध्यानपूर्वक अध्ययन करें और नीचे दिए प्रश्न का उत्तर दें।



(नोट: नीचे दर्शाया गया डेटा केवल गणितीय अभ्यास के लिए है। यह वास्तविक आंकड़ों को निरूपित नहीं करता है।)

संस्थान A में नामांकित होने वाले उम्मीदवारों की संख्या और संस्थान G में उत्तीर्ण होने वाले उम्मीदवारों की संख्या का अनुपात ज्ञात करें।

- Ans
- ✓ 1. 9 : 5
- ✗ 2. 3 : 4
- ✗ 3. 4 : 3
- ✗ 4. 5 : 9

Question ID : 65497818301
Chosen Option : 1

- Q.18 $\frac{9 \div 9 \text{ of } 9 + 9}{9 \div 9 \times 9 + 9}$ का सरलीकृत मान ज्ञात करें।

- Ans
- ✗ 1. $\frac{1}{324}$
- ✗ 2. 1
- ✗ 3. $\frac{81}{41}$
- ✓ 4. $\frac{41}{81}$

Question ID : 65497818401
Chosen Option : 4

- Q.19 P और Q दो शहर हैं। कोई आदमी 50 km/h की औसत चाल से P से Q तक यात्रा करता है। वह 4 घंटे के लिए Q पर रुकता है और फिर उसी मार्ग पर 40 km/h की औसत चाल से चलते हुए P पर वापस जाता है। यदि उसे पूरी यात्रा में 22 घंटे लगते हैं, तो उसकी औसत चाल (km/h में, दशमलव के बाद दो स्थानों तक) ज्ञात करें।

- Ans
- ✗ 1. 42.42
- ✗ 2. 48.48
- ✓ 3. 36.36
- ✗ 4. 45.00

Question ID : 65497818282
Chosen Option : 1

Q.20 किसी विद्यालय में कक्षा 10 के तीन सेक्शन में छात्रों की संख्या का अनुपात 3 : 5 : 8 है। यदि तीनों सेक्शन में क्रमशः 15, 30 और 15 अधिक छात्र दाखिल होते हैं, तो नया अनुपात 4 : 7 : 9 हो जाता है। नए दाखिले से पहले छात्रों की कुल संख्या ज्ञात करें।

- Ans
- 1. 400
 - 2. 320
 - 3. 160
 - 4. 240

Question ID : 65497818290
Chosen Option : 4

Q.21 A, किसी कार्य को 8 दिन में कर सकता है, जबकि B अकेले इस कार्य को 12 दिन में कर सकता है। वे एक साथ 4 दिन कार्य करते हैं और शेष कार्य C अकेले 2 दिन में पूरा करता है। उन्हें पूरे कार्य को पूरा करने के लिए ₹7,200 मिलते हैं। क्रमशः A, B और C की आय (earnings) ज्ञात करें।

- Ans
- 1. ₹2,400, ₹2,400, ₹2,400
 - 2. ₹4,000, ₹2,400, ₹800
 - 3. ₹3,600, ₹2,400, ₹1,200
 - 4. ₹3,000, ₹3,000, ₹1,200

Question ID : 65497818280
Chosen Option : 3

Q.22 कोई लंब वृत्तीय शंकु, 9 cm भुजा वाले घन में अंतःस्थापित है, जो अधिकतम स्थान घेरता है। घन के आयतन और शंकु के आयतन का अनुपात ज्ञात करें। ($\pi = \frac{22}{7}$ लें)

- Ans
- 1. 42 : 11
 - 2. 81 : 22
 - 3. 11 : 42
 - 4. 22 : 81

Question ID : 65497818297
Chosen Option : 1

Q.23 ₹3,900 की राशि को P, Q और R के बीच इस प्रकार विभाजित किया जाता है कि R को P के हिस्से का दौ-पांचवा हिस्सा मिलता है और Q को R के हिस्से से तीन गुना हिस्सा मिलता है। Q का हिस्सा (₹ में) ज्ञात करें।

- Ans
- 1. 1,200
 - 2. 600
 - 3. 1,500
 - 4. 1,800

Question ID : 65497818289
Chosen Option : 4

Q.24 10-व्यक्ति वाली समिति की औसत आयु में 3 की वृद्धि होती है, जब 35 वर्ष, 48 वर्ष और 49 वर्ष वाले तीन पुरुषों का स्थान तीन महिलाएं ले लेती हैं। तीनों महिलाओं की औसत आयु (वर्ष में) ज्ञात करें।

- Ans
- 1. 74
 - 2. 64
 - 3. 44
 - 4. 54

Question ID : 65497818284
Chosen Option : 4

Q.25 एक सेल के अंतिम दो हफ्तों में, कीमतों में 40% की कमी होती है, इसके बाद 25% की छूट मिलती है। किसी माइक्रोवेव ओवन का सेल में अंतिम मूल्य (निकटतम रुपये तक) ज्ञात करें, जिसकी मूल कीमत ₹15,485 है?

- Ans
- 1. 6,869
 - 2. 6,968
 - 3. 5,419
 - 4. 10,065

Question ID : 65497818285
Chosen Option : 4

Section : General Awareness

Q.1 पूर्णिमा के बाद, हर रात चंद्रमा के चमकीले भाग का आकार घटने लगता है। पंद्रहवें दिन जब चंद्रमा पूरी तरह दिखाई नहीं देता है, वह दिन किस नाम से जाना जाता है?

- Ans
- 1. चाँद का दिन
 - 2. अर्ध-चंद्र दिवस
 - 3. पूर्णिमा का दिन
 - 4. अमावस्या का दिन

Question ID : 65497815692
Chosen Option : 4

Q.2 द्वीपक्षेत्रों सहित भारत के समुद्र तट की अनुमानित लंबाई कितनी है?

- Ans
- 1. 11516.6 किलोमीटर
 - 2. 5516.6 किलोमीटर
 - 3. 7516.6 किलोमीटर
 - 4. 9516.6 किलोमीटर

Question ID : 65497815699
Chosen Option : 3

Q.3 भारत सरकार द्वारा किस वर्ष 'प्रधानमंत्री अन्नदाता आय संरक्षण अभियान' (पीएम-आशा) शुरू किया गया था?

- Ans 1. 2018
 2. 2016
 3. 2015
 4. 2017

Question ID : 65497814979
 Chosen Option : --

Q.4 किस क्षेत्र में उनके उल्लेखनीय योगदान के लिए छत्रलाल मिश्रा को पद्म विभूषण 2020 से सम्मानित किया गया?

- Ans 1. साहित्य और शिक्षा
 2. कला
 3. सार्वजनिक मामले
 4. व्यापार और उद्योग

Question ID : 65497815683
 Chosen Option : 2

Q.5 कोई पंचायत अपनी पहली बैठक के लिए नियत तिथि से _____ तक चलती है।

- Ans 1. 11 वर्ष
 2. 9 वर्ष
 3. 14 वर्ष
 4. 5 वर्ष

Question ID : 65497815689
 Chosen Option : 4

Q.6 निम्नलिखित में से कौन, भारत रत्न पुरस्कार प्राप्त करने वाले पहले भारतीय थे?

- Ans 1. चंद्रशेखर वेंकट रमन
 2. पुरुषोत्तम दास टंडन
 3. मोक्षगुंडम विश्वेश्वरैया
 4. पांडुरंग वामन केन

Question ID : 65497815685
 Chosen Option : 1

Q.7 2020 में, निक्षेप बीमा और प्रत्यय गारंटी निगम (डीआईसीजीसी) को जमा बीमा सुरक्षा की राशि _____ तक बढ़ाने की अनुमति दी गई थी।

- Ans 1. ₹1 लाख
 2. ₹5 लाख
 3. ₹3 लाख
 4. ₹7 लाख

Question ID : 65497817101
 Chosen Option : 2

Q.8 एक स्थिर स्टैंड पर धागे की सहायता से लटके हुए छोटी गेंद या धातु के साधारण पेंडुलम को _____ कहा जाता है।

- Ans
- 1. नॉब
 - 2. बॉब
 - 3. हिज
 - 4. हेड

Question ID : 65497815695
Chosen Option : 1

Q.9 जब ऑक्सीजन के उपयोग के बिना, भोजन (ग्लूकोज) का अपघटन (breakdown) होता है, तो किस क्रिया को किस रूप में जाना जाता है?

- Ans
- 1. कोशिकीय श्वसन
 - 2. वायवीय श्वसन
 - 3. अवायवीय श्वसन
 - 4. केशिका श्वसन

Question ID : 65497815694
Chosen Option : 3

Q.10 किस भारतीय क्रिकेट खिलाड़ी ने सर्वाधिक अंतर्राष्ट्रीय क्रिकेट मैच में खेले हैं?

- Ans
- 1. सौरव गांगुली
 - 2. महेंद्र सिंह धोनी
 - 3. सचिन तेंदुलकर
 - 4. मोहम्मद अजहरुद्दीन

Question ID : 65497815681
Chosen Option : 3

Q.11 भारत किस देश के साथ सबसे लंबी सीमा साझा करता है?

- Ans
- 1. बांग्लादेश
 - 2. चीन
 - 3. म्यांमार
 - 4. भूटान

Question ID : 65497815698
Chosen Option : 1

Q.12 किस फुटबॉल खिलाड़ी को, किसी भी खिलाड़ी द्वारा फीफा (FIFA) विश्व कप में सर्वाधिक जीतें हासिल करने का गौरव प्राप्त है?

- Ans
- 1. जॉर्ज बेस्ट
 - 2. पेले
 - 3. डिएगो माराडोना
 - 4. जिनेदिन जिदान

Question ID : 65497815682
Chosen Option : 3

Q.13 निम्नलिखित में से किसने कथा साहित्य की श्रेणी में 2020 का पुलित्जर पुरस्कार जीता है?

- Ans
- 1. क्रिस्टोफर नाइट
 - 2. माइकल आर. जैक्सन
 - 3. डब्ल्यू. कालेब मैकडैनियल
 - 4. कोलसन व्हाइटहेड

Question ID : 65497815684
Chosen Option : --

Q.14 मानव शरीर में वसा और प्रोटीन के पृथक्करण, बंधन, संकुलन और वितरण का कार्य किस स्थान पर होता है?

- Ans
- 1. पेरॉक्सीसोम
 - 2. लाइसोसोम
 - 3. अंतःप्रद्रव्यी जालिका
 - 4. गॉल्जीकाय

Question ID : 65497815696
Chosen Option : 3

Q.15 घर्षण, सतहों की चिकनाई पर निर्भर करता है। घर्षण बल हमेशा प्रयुक्त बलों _____।

- Ans
- 1. का विरोध करता है
 - 2. में प्रतिरूपित होता है
 - 3. का संवहन करता है
 - 4. में जुड़ता है

Question ID : 65497815693
Chosen Option : 1

Q.16 प्रख्यात शास्त्रीय नृत्यांगना शोवना नारायण किस नृत्य शैली से संबद्ध हैं?

- Ans
- 1. मोहिनीअट्टम
 - 2. मणिपुरी
 - 3. कथक
 - 4. कुचिपुड़ी

Question ID : 65497815678
Chosen Option : 2

Q.17 लोकसभाध्यक्ष अपना इस्तीफा निम्न में से किसे सौंप सकते हैं?

- Ans
- 1. राष्ट्रपति
 - 2. लोकसभा के उपाध्यक्ष
 - 3. उप-राष्ट्रपति
 - 4. प्रधानमंत्री

Question ID : 65497815691
Chosen Option : 2

Q.18 दिसंबर 1885 में, भारतीय राष्ट्रीय कांग्रेस की स्थापना किस स्थान पर की गई थी?

- Ans
- 1. लखनऊ
 - 2. बॉम्बे
 - 3. कलकत्ता
 - 4. दिल्ली

Question ID : 65497815701
Chosen Option : 2

Q.19 पारंपरिक लोक नृत्य 'धनगरी गजा' का संबंध किस राज्य से है?

- Ans
- 1. मणिपुर
 - 2. मेघालय
 - 3. मध्य प्रदेश
 - 4. महाराष्ट्र

Question ID : 65497815680
Chosen Option : --

Q.20 निम्नलिखित में से किस राज्य में विधान परिषद है?

- Ans
- 1. पश्चिम बंगाल
 - 2. तमिलनाडु
 - 3. उत्तर प्रदेश
 - 4. गुजरात

Question ID : 65497815690
Chosen Option : 3

Q.21 निम्नलिखित में से कौन सी नदी अरब महासागर में गिरती है?

- Ans
- 1. यमुना
 - 2. गंगा
 - 3. ब्रह्मपुत्र
 - 4. ताप्ती

Question ID : 65497815697
Chosen Option : 4

Q.22 महात्मा गांधी दक्षिण अफ्रीका से भारत कब लौटे थे?

- Ans
- 1. अगस्त 1915
 - 2. फरवरी 1915
 - 3. जनवरी 1915
 - 4. नवंबर 1915

Question ID : 65497815700
Chosen Option : 3

Q.23 निम्नलिखित में से किसने 1875 में आर्य समाज की स्थापना की?

- Ans
- 1. केशव चंद्र सेन
 - 2. दयानंद सरस्वती
 - 3. महादेव गोविंद रानाडे
 - 4. राम मोहन राय

Question ID : 65497815679
Chosen Option : 2

Q.24 निम्नलिखित में से किसने 1784 में एशियाटिक सोसाइटी ऑफ बंगाल की स्थापना की थी?

- Ans
- 1. जोनाथन डंकन
 - 2. वारेन हेस्टिंग्स
 - 3. विलियम जोन्स
 - 4. लॉर्ड कार्नवालिस

Question ID : 65497815702
Chosen Option : 2

Q.25 निम्नलिखित में से कौन सी सरकारी योजना, गरीब परिवारों के ग्रामीण युवाओं के कौशल और उत्पादक क्षमता को विकसित करके, समावेशी विकास प्राप्त करने के उद्देश्य से शुरू की गई थी?

- Ans
- 1. पंडित दीनदयाल उपाध्याय श्रमेव जयते योजना (PDUSJY)
 - 2. दीन दयाल उपाध्याय ग्रामीण कौशल्य योजना (DDUGKY)
 - 3. मिशन इंद्रधनुष
 - 4. दीन दयाल उपाध्याय ग्राम ज्योति योजना (DDUGJY)

Question ID : 65497815688
Chosen Option : 2

www.HaryanaJobs.in

Multi Tasking Non Technical Staff Examination 2020

Participant ID	www.HaryanaJobs.in
Participant Name	www.HaryanaJobs.in
Test Center Name	SINCO LEARNING CENTER
Test Date	20/10/2021
Test Time :	4:00 PM - 5:30 PM
Subject	MTS Non Technical 2020

Section : **General English**

Q.1 Select the INCORRECTLY spelt word.

Ans 1. Muddel

2. Mumble

3. Multiple

4. Murmur

Question ID : **65497817341**

Chosen Option : 1

Q.2 Identify the segment that contains a grammatical error. If there is no error, select 'No error'.

Hundred and fifty rupees seem a high price for this little vase.

Ans 1. seem a high price

2. No error

3. Hundred and fifty rupees

4. for this little vase

Question ID : **65497817319**

Chosen Option : 4

Q.3 Select the most appropriate option to fill in the blank.

The trek manager _____ that the trekkers rest for a while before the climb.

Ans 1. insisted

2. warned

3. informed

4. told

Question ID : **65497817343**

Chosen Option : 1

Q.4 Select the most appropriate ANTONYM of the given word.

DISTANT

- Ans 1. Remote
 2. Near
 3. Isolated
 4. Removed

Question ID : 65497817333
Chosen Option : 2

Q.5 Select the most appropriate option to substitute the underlined segment in the given sentence. If there is no need to substitute it, select 'No substitution required'.

The workers has called up the strike.

- Ans 1. have called off
 2. has called off
 3. have called up
 4. No substitution required

Question ID : 65497817330
Chosen Option : 3

Q.6 Select the most appropriate option to fill in the blank.

Millions of people _____ during the acute famine of Odisha.

- Ans 1. collapsed
 2. starved
 3. damaged
 4. hungered

Question ID : 65497817344
Chosen Option : 2

Q.7 Select the most appropriate option to fill in the blank.

I am sure that my seeds _____ by next week

- Ans 1. are growing
 2. grow
 3. will grow
 4. grew

Question ID : 65497817323
Chosen Option : 3

Q.8 Select the most appropriate synonym of the given word.

PREVENT

- Ans 1. Open
 2. Push
 3. Block
 4. Allow

Question ID : 65497817335
Chosen Option : 3

Q.9 Select the most appropriate option to substitute the underlined segment in the given sentence. If there is no need to substitute it, select 'No substitution required'.

The game of cricket is governed by strict laws like other sports where there are merely rules.

- Ans 1. unlike
 2. quite like
 3. such like
 4. No substitution required

Question ID : 65497815716
Chosen Option : 1

Q.10 Identify the segment that contains a grammatical error. If there is no error, select 'No error'.

This is one trip whom I will never forget.

- Ans 1. never forget
 2. This is one trip
 3. whom I will
 4. No error

Question ID : 65497817321
Chosen Option : 3

Q.11 Identify the segment that contains a grammatical error. If there is no error, select 'No error'.

One of the apples that you have picked up are rotten.

- Ans 1. are rotten
 2. that you have picked up
 3. No error
 4. One of the apples

Question ID : 65497817320
Chosen Option : 2

Q.12 Select the most appropriate option to substitute the underlined segment in the given sentence.

The accused has been tortured before he was brought to the court.

- Ans
- 1. has tortured
 - 2. had been tortured
 - 3. had tortured
 - 4. was being tortured

Question ID : 65497817937
Chosen Option : 2

Q.13 Select the most appropriate meaning of the given idiom.

Behind closed doors

- Ans
- 1. Be away from others
 - 2. Do something secretly
 - 3. Be in prison
 - 4. Do something alone

Question ID : 65497817337
Chosen Option : 2

Q.14 Select the INCORRECTLY spelt word.

- Ans
- 1. Preferance
 - 2. Predict
 - 3. Preface
 - 4. Predominant

Question ID : 65497817342
Chosen Option : 1

Q.15 Select the most appropriate ANTONYM of the given word.

PROFUSE

- Ans
- 1. Plenty
 - 2. Scant
 - 3. Lush
 - 4. Sufficient

Question ID : 65497817334
Chosen Option : 2

Q.16 Select the most appropriate option to fill in the blank.

In the morning I leave my house _____ eight o'clock.

- Ans
- 1. on
 - 2. at
 - 3. in
 - 4. for

Question ID : 65497817322
Chosen Option : 2

Q.17 Select the most appropriate word for the given group of words.

Rub out writing

- Ans
- 1. Break
 - 2. Erase
 - 3. Demolish
 - 4. Abolish

Question ID : 65497817339
Chosen Option : 2

Q.18 Select the most appropriate word for the given group of words.

The cry of a goat

- Ans
- 1. Croak
 - 2. Bleat
 - 3. Yelp
 - 4. Bray

Question ID : 65497817340
Chosen Option : --

Q.19 Select the most appropriate meaning of the given idiom.

Bear the brunt

- Ans
- 1. Suffer the worst of something
 - 2. Be first to try something
 - 3. Know what is going on
 - 4. Confront a powerful rival

Question ID : 65497817338
Chosen Option : 1

www.HaryanaJobs.in

Q.20 Select the most appropriate synonym of the given word.

ELEGANT

- Ans 1. Rough
 2. Intelligent
 3. Graceful
 4. Common

Question ID : 65497817336
Chosen Option : 3

Comprehension:

In the following passage, some words have been deleted. Fill in the blanks with the help of the options given. Select the most appropriate option for each blank.

Suraj waved to a passing train, and kept waving (1)_____ only the spiralling smoke remained. He (2)_____ waving to trains. He wondered (3)_____ the people in them, and about (4)_____ they were going and what it (5)_____ be like there. And when the train had passed, Suraj was lonely.

SubQuestion No : 21

Q.21 Select the most appropriate option to fill in blank no. 1.

- Ans 1. until
 2. while
 3. after
 4. when

Question ID : 65497817325
Chosen Option : 3

Comprehension:

In the following passage, some words have been deleted. Fill in the blanks with the help of the options given. Select the most appropriate option for each blank.

Suraj waved to a passing train, and kept waving (1)_____ only the spiralling smoke remained. He (2)_____ waving to trains. He wondered (3)_____ the people in them, and about (4)_____ they were going and what it (5)_____ be like there. And when the train had passed, Suraj was lonely.

SubQuestion No : 22

Q.22 Select the most appropriate option to fill in blank no. 2.

- Ans 1. likes
 2. liked
 3. is liking
 4. was liking

Question ID : 65497817326
Chosen Option : 2

Comprehension:

In the following passage, some words have been deleted. Fill in the blanks with the help of the options given. Select the most appropriate option for each blank.

Suraj waved to a passing train, and kept waving (1)_____ only the spiralling smoke remained. He (2)_____ waving to trains. He wondered (3)_____ the people in them, and about (4)_____ they were going and what it (5)_____ be like there. And when the train had passed, Suraj was lonely.

SubQuestion No : 23**Q.23 Select the most appropriate option to fill in blank no. 3.**Ans 1. of 2. about 3. for 4. toQuestion ID : **65497817327**

Chosen Option : 1

Comprehension:

In the following passage, some words have been deleted. Fill in the blanks with the help of the options given. Select the most appropriate option for each blank.

Suraj waved to a passing train, and kept waving (1)_____ only the spiralling smoke remained. He (2)_____ waving to trains. He wondered (3)_____ the people in them, and about (4)_____ they were going and what it (5)_____ be like there. And when the train had passed, Suraj was lonely.

SubQuestion No : 24**Q.24 Select the most appropriate option to fill in blank no. 4.**Ans 1. when 2. why 3. where 4. howQuestion ID : **65497817328**

Chosen Option : 1

Comprehension:

In the following passage, some words have been deleted. Fill in the blanks with the help of the options given. Select the most appropriate option for each blank.

Suraj waved to a passing train, and kept waving (1)_____ only the spiralling smoke remained. He (2)_____ waving to trains. He wondered (3)_____ the people in them, and about (4)_____ they were going and what it (5)_____ be like there. And when the train had passed, Suraj was lonely.

SubQuestion No : 25**Q.25 Select the most appropriate option to fill in blank no. 5.**Ans 1. would 2. should 3. will 4. canQuestion ID : **65497817329**

Chosen Option : 1

Section : **General Intelligence and Reasoning**

Q.1 उस विकल्प का चयन कीजिए जिसका तीसरे अक्षर-समूह से वही संबंध है, जो दूसरे अक्षर-समूह का पहले अक्षर-समूह से है।

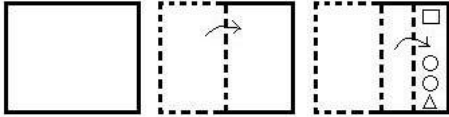
PRIVATE : HWDYLYS :: SIGNIFY : ?

- Ans
- ✓ 1. BILQJLV
 - ✗ 2. BIKRJLV
 - ✗ 3. BKLQJLR
 - ✗ 4. ZILQJLW

Question ID : 65497814931

Chosen Option : 1

Q.2 एक कागज को निम्नानुसार मोड़ा और काटा गया है। इसे खोलने पर यह कैसा दिखेगा?



Ans

- ✗ 1.
- ✓ 2.
- ✗ 3.
- ✗ 4.

Question ID : 65497814944

Chosen Option : 2

Q.3 निम्न श्रेणी में प्रश्नवाचक चिह्न (?) के स्थान पर कौन सी संख्या आएगी?

1080, 360, ?, 60, 30, 10, 5

- Ans
- ✗ 1. 240
 - ✗ 2. 170
 - ✗ 3. 120
 - ✓ 4. 180

Question ID : 65497814926

Chosen Option : 4

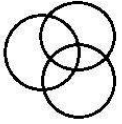
Q.4 यदि A 'जोड़', B 'गुणा', C 'घटाना', और D 'भाग' को निर्दिष्ट करता है, तो निम्न व्यंजक का मान कितना होगा?

5 B 3 A 4 B (6 C 2) C (18 D 3) D 2

- Ans
- 1. 45
 - 2. 28
 - 3. 37
 - 4. 31

Question ID : 65497814921
Chosen Option : 2

Q.5 वर्गों के उस समुच्चय का चयन कीजिए जिनके मध्य के संबंध को निम्नांकित वेन आरेख द्वारा सर्वोत्तम रूप से निरूपित किया गया है।



- Ans
- 1. इंजन, कारें, पौधे
 - 2. आर्किटेक्ट, लड़के, लड़कियां
 - 3. वकील, माताएं, बहनें
 - 4. इलाइची, मेथी, मसाले

Question ID : 65497814945
Chosen Option : 4

www.HaryanaJobs.in

Q.6 उस विकल्प का चयन कीजिए जिसमें दी गई आकृति (X) इसके भाग के रूप में अंतर्निहित है (घुमाने की अनुमति नहीं है)।

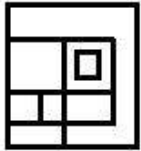


Ans

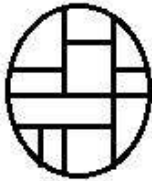
✗ 1.



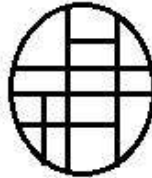
✗ 2.



✗ 3.



✓ 4.



Question ID : 65497814942
Chosen Option : 4

Q.7 उस विकल्प का चयन कीजिए जिसका तीसरी संख्या से वही संबंध है, जो दूसरी संख्या का पहली संख्या से है।

6 : 50 :: 11 : ?

Ans ✗ 1. 169

✗ 2. 104

✓ 3. 145

✗ 4. 99

Question ID : 65497814923
Chosen Option : 3

Q.8 यदि दर्पण को चित्रानुसार MN पर रखा जाए, तो दी गई आकृति के दर्पण में निम्नित सही प्रतिबिंब का चयन कीजिए।



Ans

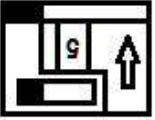
✓ 1.



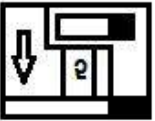
✗ 2.



✗ 3.



✗ 4.



Question ID : 65497814943

Chosen Option : 1

Q.9 दो कथन और उसके बाद तीन निष्कर्ष I, II और III दिए गए हैं। यह मानते हुए कि कथन सत्य हैं, भले ही वे सामान्य रूप से ज्ञात तथ्यों से भिन्न प्रतीत होते हों, बताएं कि कौन से निष्कर्ष दिए गए कथनों का तार्किक रूप से अनुसरण करते हैं?

कथन:

सभी सुई, धागे हैं।
कोई धागा, माचिस नहीं है।

निष्कर्ष:

I. कोई सुई, माचिस नहीं है।
II. कुछ धागे, सुई हैं।
III. कुछ माचिस, सुई हैं।

- Ans
- ✗ 1. केवल निष्कर्ष I और III अनुसरण करते हैं
 - ✓ 2. केवल निष्कर्ष I और II अनुसरण करते हैं
 - ✗ 3. सभी निष्कर्ष अनुसरण करते हैं
 - ✗ 4. केवल निष्कर्ष II और III अनुसरण करता है

Question ID : 65497814936

Chosen Option : 2

Q.10 एक निश्चित कूट भाषा में, यदि 'USEFUL' को 'XVHCRI' लिखा जाता है, तो उसी कूट भाषा में, 'MORSEL' को क्या लिखा जाएगा?

- Ans
- ✗ 1. ORUPCI
 - ✗ 2. QRUQBI
 - ✓ 3. PRUPBI
 - ✗ 4. PRVPBJ

Question ID : 65497814927

Chosen Option : 3

Q.11 निम्न श्रेणी में प्रश्नवाचक चिह्न (?) के स्थान पर कौन सी संख्या आएगी?

25, 34, 52, ?, 160, 304

- Ans
- 1. 95
 - 2. 99
 - 3. 80
 - 4. 88

Question ID : 65497814925
Chosen Option : 4

Q.12 उस विकल्प का चयन कीजिए जो अक्षर-समूह की निम्न श्रृंखला में प्रश्नवाचक चिह्न (?) के स्थान पर आएगा।

BRAIN, DRAIN, DTAIN, ?, DTCKN, DTCKP

- Ans
- 1. DTCIP
 - 2. DTACN
 - 3. DTCIN
 - 4. DRCIN

Question ID : 65497814934
Chosen Option : --

Q.13 एक निश्चित कूट भाषा में, यदि 'MIXTURE' को '117' के रूप में, और 'FLOWER' को '85' के रूप में कूटबद्ध किया जाता है, तो उसी भाषा में 'MERGER' को किस रूप में कूटबद्ध किया जाएगा?

- Ans
- 1. 86
 - 2. 72
 - 3. 66
 - 4. 55

Question ID : 65497814930
Chosen Option : 2

Q.14 पांच मित्र A, B, C, D और E एक सीधी रेखा पर बैठे हैं और सभी उत्तर दिशा की ओर अभिमुख हैं। E, B के बाईं ओर पड़ोस में बैठा है। A, C के दाईं ओर पड़ोस में बैठा है। D, B के दाईं ओर पड़ोस में बैठा है। B, A के बाईं ओर तीसरे स्थान पर बैठा है। E के दाईं ओर तीसरे स्थान पर कौन बैठा है?

- Ans
- 1. C
 - 2. A
 - 3. B
 - 4. D

Question ID : 65497814937
Chosen Option : 1

Q.15 निम्न समीकरण को संतुलित करने के लिए किन दो संख्याओं को आपस में बदला जाना चाहिए?

$$8 \times 7 - 42 \div 14 \times 2 + 21 = 66$$

- Ans
- 1. 14 और 42
 - 2. 2 और 7
 - 3. 7 और 14
 - 4. 14 और 21

Question ID : 65497814922
Chosen Option : 4

Q.16 पांच मित्र एक सीधी रेखा पर बैठे हैं और सभी उत्तर दिशा की ओर अभिमुख हैं। मोहित, अर्जुन के बाईं ओर दूसरे स्थान पर बैठा है। सूर्या, कार्तिक के बाईं ओर पड़ोस में बैठा है। हरमन, मोहित के दाईं ओर पड़ोस में बैठा है। सूर्या और मोहित के बीच में दो लोग बैठे हैं। कौन से दो लोग दोनों ओर किनारों पर बैठे हैं?

- Ans
- 1. हरमन और कार्तिक
 - 2. मोहित और कार्तिक
 - 3. मोहित और अर्जुन
 - 4. अर्जुन और कार्तिक

Question ID : 65497814938
Chosen Option : 2

Q.17 दो कथन और उसके बाद दो निष्कर्ष। और II दिए गए हैं। यह मानते हुए कि कथन सत्य हैं, भले ही वे सामान्य रूप से ज्ञात तथ्यों से भिन्न प्रतीत होते हों, बताएं कि कौन सा/से निष्कर्ष दिए गए कथनों का तार्किक रूप से अनुसरण करता है / करते हैं?

कथन:
सभी थर्मामीटर रॉकेट हैं।
सभी उपकरण थर्मामीटर हैं।

निष्कर्ष:
I. कुछ रॉकेट उपकरण हैं।
II. कुछ रॉकेट थर्मामीटर हैं।

- Ans
- 1. केवल निष्कर्ष II अनुसरण करता है
 - 2. न तो निष्कर्ष I और न ही II अनुसरण करता है
 - 3. केवल निष्कर्ष I अनुसरण करता है
 - 4. निष्कर्ष I और II दोनों अनुसरण करते हैं

Question ID : 65497814935
Chosen Option : 4

Q.18 एक निश्चित कूट भाषा में, यदि 'PROCESS' को '321815351938' के रूप में कूटबद्ध किया जाता है, तो उसी कूट भाषा में 'FREEZER' को कैसे कूटबद्ध किया जाएगा?

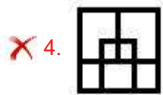
- Ans
- 1. 60185526518
 - 2. 14185526536
 - 3. 12195526526
 - 4. 12185526536

Question ID : 65497814929
Chosen Option : 4

Q.19 उस विकल्प आकृति का चयन कीजिए जो निम्नांकित आकृति श्रृंखला में प्रश्नवाचक चिह्न (?) के स्थान पर आएगी और पैटर्न को पूरा करेगी।



Ans



Question ID : 65497814941

Chosen Option : 2

Q.20 उस विकल्प का चयन कीजिए जिसका तीसरे शब्द से वही संबंध है जो दूसरे शब्द का पहले शब्द से है।

स्याही : लिखना :: दवा : ?

Ans ✓ 1. उपचार

✗ 2. केमिस्ट

✗ 3. चिकित्सक

✗ 4. टेबलेट

Question ID : 65497814932

Chosen Option : 1

Q.21 दिए गए पैटर्न का ध्यानपूर्वक अध्ययन कीजिए और उस संख्या का चयन कीजिए जो इसमें प्रश्नवाचक चिह्न (?) के स्थान पर आ सकती है।

5 9 5
7 3 ?
148 180 292

Ans ✗ 1. 9

✗ 2. 12

✗ 3. 10

✓ 4. 11

Question ID : 65497814924

Chosen Option : --

Q.22 एक निश्चित कूट भाषा में, यदि 'NORM' को 'MNOR', और 'DORSAL' को 'ADLORS' लिखा जाता है, तो उसी कूट भाषा में, 'BUDGET' को क्या लिखा जाएगा?

- Ans 1. BDEGTU
 2. FDEGRU
 3. BDEGUT
 4. DGEFTV

Question ID : 65497814928

Chosen Option : 1

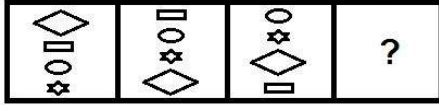
Q.23 पांच छड़ों P, Q, R, S और T में से T का वज़न 20 kg है। S का वज़न P के वज़न से आधा है। Q का वज़न P के वज़न से एक-चौथाई है। R का वज़न Q के वज़न से दोगुना है। P का वज़न T के वज़न से दोगुना है। इनमें से सबसे हल्की छड़ कौन सी है?

- Ans 1. Q
 2. S
 3. R
 4. P

Question ID : 65497814939

Chosen Option : 1

Q.24 उस आकृति का चयन कीजिए जो निम्नांकित आकृति श्रृंखला में प्रश्नवाचक चिह्न (?) के स्थान पर आएगी।



Ans

- 1.
- 2.
- 3.
- 4.

Question ID : 65497814940

Chosen Option : 3

Q.25 उस विकल्प का चयन कीजिए जिसका तीसरे शब्द से वही संबंध है जो दूसरे शब्द का पहले शब्द से है।

दालहन : उड़द :: अनाज : ?

- Ans
- 1. खाद
 - 2. धनिया
 - 3. चावल
 - 4. सरसों

Question ID : 65497814933

Chosen Option : 3

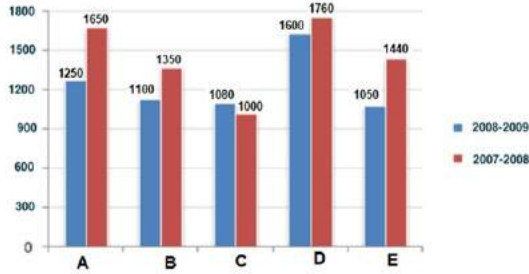
Section : Numerical Aptitude

Q.1 दिया गया बार ग्राफ वर्ष 2007-2008 और 2008-2009 में A, B, C, D और E पांच कंपनियों द्वारा ऑटोमोबाइल की बिक्री (₹ करोड़ में) निरूपित करता है।

बार ग्राफ का अध्ययन करें और नीचे दिए गए प्रश्न का उत्तर दें।

(नोट: नीचे दर्शाया गया डेटा केवल गणितीय अभ्यास के लिए है। यह कंपनियों के वास्तविक आंकड़ों को निरूपित नहीं करता है।)

वर्ष 2007-2008 और 2008-2009 में पांच कंपनियों द्वारा ऑटोमोबाइल की बिक्री



2008-2009 में कंपनी E की बिक्री (₹ करोड़ में) कितनी होनी चाहिए थी ताकि यह 2007-2008 के दौरान कंपनी C के ऑटोमोबाइल की बिक्री में हुई वृद्धि के समान वृद्धि दिखा सके?

- Ans
- 1. 1,130
 - 2. 1,650
 - 3. 1,520
 - 4. 1,360

Question ID : 65497818201

Chosen Option : --

Q.2 0.126, 0.36 और 0.96 का ल.स.प. (LCM) ज्ञात करें।

- Ans
- 1. 20.16
 - 2. 20160
 - 3. 201.60
 - 4. 2.016

Question ID : 65497818197

Chosen Option : 4

Q.3 जॉन, सू को कोई घड़ी 20% के लाभ पर बेचता है और सू इसे रीमा को 10% के लाभ पर बेचती है। यदि रीमा ने इस घड़ी के लिए ₹2,178 का भुगतान किया हो, तो जॉन ने घड़ी के लिए कितना (₹ में) भुगतान किया?

- Ans
- ✓ 1. 1,650
 - ✗ 2. 1,200
 - ✗ 3. 1,780
 - ✗ 4. 1,478

Question ID : 65497818187
Chosen Option : 1

Q.4 $\frac{109 - \{121 \div (11 \text{ of } 11) - (-4) - (3 - 8 - 1)\}}{125 - (-3)(4 - 6 - 2) \div 3\{5 + (-3) \text{ of } (-6)\}}$ का सरलीकृत मान ज्ञात करें।

- Ans
- ✗ 1. 100
 - ✗ 2. $\frac{5}{4}$
 - ✓ 3. $\frac{4}{5}$
 - ✗ 4. 125

Question ID : 65497818400
Chosen Option : 3

Q.5 सोहम और उसके पांच दोस्तों का औसत वजन 48.5 kg है। यदि सोहम का वजन, उसके पांच दोस्तों के औसत वजन से 3 kg अधिक है, सोहम का वजन (kg में) ज्ञात करें।

- Ans
- ✗ 1. 51.5
 - ✗ 2. 50.0
 - ✗ 3. 50.5
 - ✓ 4. 51.0

Question ID : 65497818182
Chosen Option : 4

Q.6 कोई निश्चित राशि साधारण ब्याज की निश्चित दर पर 2 वर्ष में ₹1,102 और 5 वर्ष में 1,600 हो जाती है। मूल राशि (₹ में) ज्ञात करें।

- Ans
- ✗ 1. 880
 - ✗ 2. 990
 - ✗ 3. 1,270
 - ✓ 4. 770

Question ID : 65497818192
Chosen Option : 1

Q.7 किसी बल्ले को ₹954 में बेचकर, किसी आदमी को 6% का लाभ होता है। 8% का लाभ प्राप्त करने के लिए, इस बल्ले का विक्रय मूल्य ज्ञात करें (₹ में)।

Ans 1. 1,080

2. 958

3. 972

4. 1,054

Question ID : 65497818186

Chosen Option : 3

Q.8 A और B दो रेलगाड़ियां एक समान चाल से क्रमशः बिंदु P और Q से एक साथ एक दूसरे की ओर चलना शुरू करती हैं। एक दूसरे को पार करने के बाद, A को बिंदु Q तक पहुंचने में 16 घंटे का समय लगता है और B को बिंदु P तक पहुंचने में 4 घंटे का समय लगता है। यदि रेलगाड़ी A, 54 km/h की चाल से चल रही है, तो रेलगाड़ी B की चाल (km/h में) ज्ञात करें।

Ans 1. 112

2. 108

3. 27

4. 36

Question ID : 65497818181

Chosen Option : 2

Q.9 किसी ठोस लंब वृत्तीय बेलन की ऊंचाई और आधार त्रिज्या का योगफल 46 cm है। यदि ठोस बेलन का कुल पृष्ठीय क्षेत्रफल 6072 cm² है, तो बेलन का आयतन (cm³ में) ज्ञात करें।

($\pi = \frac{22}{7}$ लें)

Ans 1. 11025 π

2. 3036

3. 3036 π

4. 11025

Question ID : 65497818196

Chosen Option : 1

Q.10 11, 10, 12, 13, 15, x और 17 का माध्य 15 है। x का मान ज्ञात करें।

Ans 1. 25

2. 29

3. 27

4. 18

Question ID : 65497818193

Chosen Option : 3

Q.11 18 cm लंबा केंचुआ, 4 cm/s की चाल से किसी मार्ग पर रेंग रहा है। कोई कीट, 6 s में केंचुए से आगे निकलता है। कीट कितनी तेजी से (cm/s में) चल रहा है, मान लें कि वे दोनों समानांतर मार्ग पर चल रहे हैं?

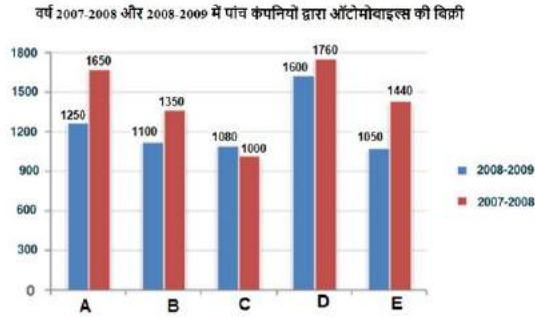
- Ans
- 1. 6.0
 - 2. 5.5
 - 3. 7.0
 - 4. 6.5

Question ID : 65497818180
Chosen Option : 3

Q.12 दिया गया बार ग्राफ वर्ष 2007-2008 और 2008-2009 में A, B, C, D और E पांच कंपनियों द्वारा ऑटोमोबाइल की बिक्री (₹ करोड़ में) निरूपित करता है।

बार ग्राफ का अध्ययन करें और नीचे दिए गए प्रश्न का उत्तर दें।

(नोट: नीचे दर्शाया गया डेटा केवल गणितीय अभ्यास के लिए है। यह कंपनियों के वास्तविक आंकड़ों को निरूपित नहीं करता है।)



2007-2008 में पांच कंपनियों की संयुक्त बिक्री की तुलना में 2008-2009 में पांच कंपनियों की संयुक्त बिक्री का प्रतिशत अंतर (दशमलव के बाद दो स्थानों तक गणना करें) जात करें।

- Ans
- 1. 17.64%
 - 2. 16.48%
 - 3. 18.42%
 - 4. 15.56%

Question ID : 65497818200
Chosen Option : 3

Q.13 एक निश्चित कार्य को करने के लिए, A और B की दक्षता का अनुपात 5 : 11 है। वे दोनों साथ-साथ काम करते हुए इस कार्य को $27\frac{1}{2}$ दिनों में कर सकते हैं। A और B, 20 दिनों तक साथ-साथ काम करते हैं। C बचे हुए कार्य को अकेले 18 दिनों में पूरा करता है। C अकेले इस मूल कार्य का 75% कितने दिनों में कर सकता है?

- Ans
- 1. $49\frac{1}{2}$ दिन
 - 2. 33 दिन
 - 3. $56\frac{1}{2}$ दिन
 - 4. 35 दिन

Question ID : 65497818179
Chosen Option : 1

Q.14 जब कोई निश्चित राशि 5% वार्षिक चक्रवृद्धि व्याज की दर पर 2 वर्ष के लिए निवेशित की जाती है, तो यह बढ़कर ₹1,543.50 हो जाती है। राशि (₹ में) ज्ञात करें।

- Ans
- ✓ 1. 1,400
 - ✗ 2. 1,500
 - ✗ 3. 1,600
 - ✗ 4. 1,200

Question ID : 65497818191
Chosen Option : 1

Q.15 15 cm भुजा वाले ठोस घन को 25 cm लंबाई, 20 cm चौड़ाई और 18 cm ऊंचाई वाले आयताकार कंटेनर में गिराया जाता है, कंटेनर आंशिक रूप से पानी से भरा हुआ है। यदि घन पूर्णतः पानी में डूब जाता है, तो पानी के स्तर का उत्थान (rise) (cm में) ज्ञात करें।

- Ans
- ✓ 1. 6.75
 - ✗ 2. 8.75
 - ✗ 3. 7.75
 - ✗ 4. 5.25

Question ID : 65497818194
Chosen Option : 1

Q.16 12वीं कक्षा में छात्रों की कुल संख्या 360 है और उसमें विज्ञान और मानविकी के छात्रों की संख्या का अनुपात 2 : 3 है। जब कुछ नए छात्र दाखिल होते हैं, तो विज्ञान के छात्रों की संख्या में 18 की वृद्धि होती है और विज्ञान के छात्र और मानविकी के छात्रों का अनुपात 3 : 5 में परिवर्तित हो जाता है। दाखिल हुए नए मानविकी छात्रों की संख्या ज्ञात करें।

- Ans
- ✓ 1. 54
 - ✗ 2. 63
 - ✗ 3. 72
 - ✗ 4. 45

Question ID : 65497818188
Chosen Option : 1

Q.17 $\frac{13}{70} \div \left[\frac{4}{5} \left(\frac{1}{3} - \frac{1}{4} \times \frac{1}{5} \right) \div 2 \frac{5}{6} \right] - 1 \frac{9}{28}$ का मान ज्ञात कीजिए।

- Ans
- ✗ 1. 12
 - ✓ 2. 1
 - ✗ 3. 20
 - ✗ 4. 10

Question ID : 65497816179
Chosen Option : 2

Q.18 किसी ठोस लंब वृत्तीय शंकु को इसके आधार के समानांतर रंटे द्वारा दो भागों में, इसके शीर्ष से एक-तिहाई लंबवत नीचे, काटा जाता है। छोटे शंकु और पूरे शंकु के आयतन का अनुपात ज्ञात करें।

Ans

✗ 1. $\frac{1}{3}$

✓ 2. $\frac{1}{27}$

✗ 3. $\frac{1}{8}$

✗ 4. $\frac{1}{9}$

Question ID : 65497818195

Chosen Option : 2

Q.19 P, Q और R तीन कंटेनरों की क्षमताओं का अनुपात 5 : 4 : 8 है। वे क्रमशः 1 : 4, 2 : 3 और 3 : 5 अनुपात वाले दूध और पानी के मिश्रण से पूर्णतः भरे हुए हैं। यदि तीनों कंटेनर के मिश्रणों को एक साथ मिश्रित किया जाता है, तो अंतिम मिश्रण में दूध और पानी का अनुपात ज्ञात करें।

Ans

✗ 1. 16 : 81

✓ 2. 28 : 57

✗ 3. 1 : 2

✗ 4. 25 : 64

Question ID : 65497818190

Chosen Option : 2

Q.20 किसी यात्रा का एक तिहाई भाग, 40 km/h की चाल से तय किया जाता है, यात्रा का एक-चौथाई भाग, 35 km/h की चाल से तय किया जाता है और यात्रा का शेष भाग, 45 km/h की चाल से तय किया जाता है। पूरी यात्रा के लिए औसत चाल (km/h में) ज्ञात करें।

Ans

✗ 1. $\frac{6570}{187}$

✗ 2. $\frac{5670}{187}$

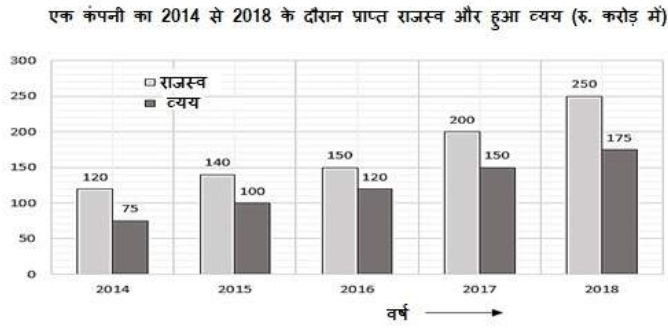
✗ 3. $\frac{6750}{187}$

✓ 4. $\frac{7560}{187}$

Question ID : 65497818183

Chosen Option : 2

Q.21 निम्नांकित ग्राफ का अध्ययन करें, तथा उसके बाद पूछे गए प्रश्न का उत्तर दें।



कितने वर्षों में राजस्व के प्रतिशत के रूप में लाभ (राजस्व-व्यय) 28% से अधिक है?

- Ans
- 1. 4
 - 2. 2
 - 3. 3
 - 4. 1

Question ID : 65497818202

Chosen Option : 3

Q.22 किसी त्रिभुज के आधार में 30% की वृद्धि होती है। इसकी ऊंचाई में कितने प्रतिशत की वृद्धि (दशमलव के बाद दो स्थानों तक गणना करें) की जाए, ताकि क्षेत्रफल में 50% की वृद्धि हो?

- Ans
- 1. 10.53%
 - 2. 15.38%
 - 3. 13.53%
 - 4. 12.38%

Question ID : 65497818185

Chosen Option : 2

Q.23 कोई निर्माता किसी वस्तु की कीमत ₹1,200 अंकित करता है। वह इसे किसी विक्रेता को 10% की छूट पर बेचता है। नकद में भुगतान करने के लिए, विक्रेता को उसके कुल भुगतान पर 5% की और छूट मिलती है। विक्रेता, निर्माता को कितनी राशि का भुगतान करता है (₹ में)?

- Ans
- 1. 1,020
 - 2. 1,080
 - 3. 1,056
 - 4. 1,026

Question ID : 65497818184

Chosen Option : 4

Q.24 यदि तीन संख्याओं का अनुपात 1 : 3 : 4 है और संख्याओं के योगफल का दोगुना 80 है, तो संख्याओं के वर्गों का अनुपात ज्ञात करें।

- Ans
- 1. 4 : 36 : 64
 - 2. 9 : 81 : 144
 - 3. 25 : 225 : 500
 - 4. 1 : 9 : 16

Question ID : 65497818189
Chosen Option : 4

Q.25 P, किसी कार्य को 18 दिन में कर सकता है और Q उसी कार्य को 36 दिन में कर सकता है। यदि वे एक साथ कार्य करते हैं, तो उन्हें इस कार्य को पूरा करने में कितना समय (दिन में) लगेगा?

- Ans
- 1. 20
 - 2. 12
 - 3. 10
 - 4. 24

Question ID : 65497818178
Chosen Option : 2

Section : General Awareness

Q.1 महेंद्रगिरी _____ की सबसे ऊंची चोटी है।

- Ans
- 1. पश्चिमी घाट
 - 2. हिमालयी पर्वत श्रृंखला
 - 3. सतपुड़ा पर्वत श्रृंखला
 - 4. पूर्वी घाट

Question ID : 65497818224
Chosen Option : 4

Q.2 स्वच्छ सर्वेक्षण लीग 2020 के तहत किस शहर ने भारत के सबसे स्वच्छ शहर के रूप में पहला स्थान हासिल किया?

- Ans
- 1. भोपाल
 - 2. झांसी
 - 3. ग्वालियर
 - 4. इंदौर

Question ID : 65497818217
Chosen Option : 4

Q.3 भारत के सर्वोच्च न्यायालय की स्थापना कब हुई थी?

- Ans
- 1. 30 जनवरी 1950 को
 - 2. 25 जनवरी 1954 को
 - 3. 15 जनवरी 1952 को
 - 4. 26 जनवरी 1950 को

Question ID : 65497818214
Chosen Option : 1

Q.4 राज्यसभा का सभापति कौन होता है?

- Ans
- 1. भारत के मुख्य न्यायाधीश
 - 2. भारत के राष्ट्रपति
 - 3. भारत के उपराष्ट्रपति
 - 4. भारत के गवर्नर

Question ID : 65497818215
Chosen Option : 3

Q.5 रानी रामपाल का संबंध निम्न में से किस खेल से है?

- Ans
- 1. हॉकी
 - 2. बैडमिंटन
 - 3. मुक्केबाज़ी
 - 4. क्रिकेट

Question ID : 65497818206
Chosen Option : 1

Q.6 निर्वाचक नामावली को सामान्यतः क्या कहा जाता है?

- Ans
- 1. क्रम सूची
 - 2. चुनाव गणना
 - 3. मतदाता सूची
 - 4. चुनाव सूची

Question ID : 65497818216
Chosen Option : 3

Q.7 द पीपुल्स फॉर द एथिकल ट्रीटमेंट ऑफ एनिमल्स, इंडिया ने 2020 में _____ को 'हीरो टू एनिमल्स अवार्ड' से सम्मानित किया।

- Ans
- 1. मेनका गांधी
 - 2. सोनू सूद
 - 3. सधा सैयद
 - 4. नवीन पटनायक

Question ID : 65497818210
Chosen Option : 4

Q.8 निम्नलिखित में से कौन एक प्रसिद्ध संतूर वादक है?

- Ans
- 1. पंडित रविशंकर
 - 2. उस्ताद जाकिर हुसैन
 - 3. पंडित शिवकुमार शर्मा
 - 4. उस्ताद बिस्मिल्लाह खां

Question ID : 65497818204
Chosen Option : --

Q.9 खेलो इंडिया यूथ गेम्स के किस संस्करण का आयोजन जनवरी 2020 में गुवाहाटी में किया गया था?

- Ans
- 1. चौथे संस्करण
 - 2. दूसरे संस्करण
 - 3. तीसरे संस्करण
 - 4. पांचवें संस्करण

Question ID : 65497818207
Chosen Option : 3

Q.10 मट्टनचेरी महल कहां पर स्थित है?

- Ans
- 1. तमिलनाडु
 - 2. ओडिशा
 - 3. आंध्र प्रदेश
 - 4. केरल

Question ID : 65497818205
Chosen Option : --

Q.11 रुक्मिणी देवी अरुंडेल _____ की प्रसिद्ध शास्त्रीय नृत्यांगना है।

- Ans
- 1. कथक
 - 2. मोहिनीअट्टम
 - 3. कुचिपुड़ी
 - 4. भरतनाट्यम

Question ID : 65497818203
Chosen Option : --

Q.12 भारत सरकार का कौन सा विभाग न्यूनतम समर्थन मूल्यों की घोषणा करता है?

- Ans
- 1. कृषि और सहकारिता विभाग
 - 2. विनिवेश विभाग
 - 3. व्यय विभाग
 - 4. आर्थिक कार्य विभाग

Question ID : 65497818213
Chosen Option : 4

Q.13 निम्नलिखित में से कौन सा भारतीय रिज़र्व बैंक की मौद्रिक नीति का एक साधन नहीं है?

- Ans
- 1. चलनिधि समायोजन सुविधा (LAF)
 - 2. रेपो दर
 - 3. वस्तु एवं सेवा कर (GST)
 - 4. नकदी आरक्षित अनुपात (CRR)

Question ID : 65497816192
Chosen Option : 3

Q.14 अगस्त 2020 तक की स्थिति के अनुसार विश्व स्वास्थ्य संगठन के मुख्य वैज्ञानिक निम्नलिखित में से कौन थे?

- Ans
- 1. डॉ. नाओको यामामोतो
 - 2. डॉ. सौम्या स्वामीनाथन
 - 3. डॉ. जसुजसन्ना जैकब
 - 4. डॉ. समीरा आसमा

Question ID : 65497818208
Chosen Option : 1

Q.15 भारत में जल जीवन मिशन किस वर्ष शुरू किया गया? इस मिशन का उद्देश्य कार्यात्मक घरेलू नल कनेक्शनों की अपनी योजना के माध्यम से पीने का पानी उपलब्ध कराना है।

- Ans
- 1. 2010
 - 2. 2009
 - 3. 2015
 - 4. 2019

Question ID : 65497818218
Chosen Option : --

Q.16 1919 में घटित जलियांवाला बाग नरसंहार कांड का दोष ब्रिटिश सेना के किस जनरल पर था?

- Ans
- 1. जनरल डायर
 - 2. जनरल किचनर
 - 3. जनरल रॉबर्ट
 - 4. जनरल स्ट्रिंगर लॉरेंस

Question ID : 65497818227
Chosen Option : 1

Q.17 आवधिक रूप से की गई जनसंख्या की आधिकारिक गणना _____ के रूप में जानी जाती है।

- Ans
- 1. जनगणना
 - 2. राष्ट्रीय जनसंख्या रजिस्टर
 - 3. राष्ट्रीय नागरिक रजिस्टर
 - 4. जनसांख्यिकीय गणना

Question ID : 65497818222
Chosen Option : 1

Q.18 'गीतांजलि' पुस्तक के लेखक कौन हैं?

- Ans
- 1. देवकी नंदन खत्री
 - 2. गंगा दास
 - 3. रबिंद्रनाथ टैगोर
 - 4. हरिवंश राय बच्चन

Question ID : 65497818209
Chosen Option : 3

Q.19 निम्नलिखित में से कौन सा शहर हड़प्पा सभ्यता से संबंधित है?

- Ans
- 1. धौलावीरा
 - 2. हम्पी
 - 3. कोशल
 - 4. लुम्बिनी

Question ID : 65497818225
Chosen Option : 1

Q.20 निम्नलिखित में से कौन सा ऊतक पशुओं के शरीर में एक सुरक्षात्मक ऊतक का काम करता है?

- Ans
- 1. तंत्रिका ऊतक
 - 2. पेशी ऊतक
 - 3. संयोजी ऊतक
 - 4. उपकला ऊतक

Question ID : 65497818219
Chosen Option : 1

Q.21 भारत के राष्ट्रपति द्वारा 15वें वित्त आयोग का गठन कितने वर्ष की अवधि के लिए किया गया है?

- Ans
- 1. चार
 - 2. पांच
 - 3. तीन
 - 4. छः

Question ID : 65497818413
Chosen Option : --

Q.22 पुताई की गई दीवारें _____ के बनने के कारण तीन से चार दिनों के बाद चमकदार दिखाई देती हैं।

- Ans
- 1. कैल्शियम नाइट्रेट
 - 2. कैल्शियम सल्फेट
 - 3. कैल्शियम ऑक्साइड
 - 4. कैल्शियम कार्बोनेट

Question ID : 65497818220
Chosen Option : --

Q.23 निम्नलिखित में से कौन सा राज्य कॉफी का सबसे बड़ा उत्पादक है?

- Ans
- 1. तमिलनाडु
 - 2. आंध्र प्रदेश
 - 3. केरल
 - 4. कर्नाटक

Question ID : 65497818223
Chosen Option : 3

Q.24 कौन सा नियम यह बताता ज्वार भाटा के लिए चंद्रमा और सूर्य की स्थितियां जिम्मेदार हैं?

- Ans
- 1. परावर्तन का नियम
 - 2. गुरुत्वाकर्षण का नियम
 - 3. जड़त्व का नियम
 - 4. अपवर्तन का नियम

Question ID : 65497818221
Chosen Option : 2

Q.25 भारत में जनरल डायर के प्रशासन के दौरान कौन सा कानून लागू किया गया था?

- Ans
- 1. मार्शल कानून
 - 2. साइमन कानून
 - 3. भेदभाव कानून
 - 4. निवारक निरोध

Question ID : 65497818226
Chosen Option : --

www.HaryanaJobs.in

Multi Tasking Non Technical Staff Examination 2020

Participant ID	www.HaryanaJobs.in
Participant Name	www.HaryanaJobs.in
Test Center Name	Success Point Online Exam Center
Test Date	20/10/2021
Test Time :	9:00 AM - 10:30 AM
Subject	MTS Non Technical 2020

Section : **General English**

Q.1 Select the word which means the same as the group of words given.

A person who is forgetful and unable to concentrate or think clearly

- Ans 1. Intelligent
 2. Scatterbrain
 3. Systematic
 4. Logical

Question ID : **65497818147**
 Chosen Option : **2**

Q.2 Select the most appropriate option to substitute the underlined segment in the given sentence. If there is no need to substitute it, select 'No substitution required'.

As been rich, he can afford this expensive treatment.

- Ans 1. No substitution required
 2. By been richer
 3. As he be rich
 4. Being rich

Question ID : **65497816120**
 Chosen Option : **4**

Q.3 Identify the segment in the sentence which contains a grammatical error.

Schools was brought to an abrupt standstill when the lockdown was imposed.

- Ans 1. to an abrupt stand still
 2. Schools was brought
 3. when the lockdown
 4. was imposed

Question ID : **65497818128**
 Chosen Option : **2**

Q.4 Select the most appropriate **ANTONYM** of the given word.

INITIATE

- Ans
- 1. Begin
 - 2. Inspire
 - 3. Launch
 - 4. Conclude

Question ID : **65497818142**
Chosen Option : 4

Q.5 Select the most appropriate word to fill in the blank.

Some of Guru Dutt's _____ classics are being screened on MUBI these days.

- Ans
- 1. eventful
 - 2. dependable
 - 3. catchy
 - 4. unforgettable

Question ID : **65497818152**
Chosen Option : 4

Q.6 Identify the segment in the sentence which contains a grammatical error.

Parents must monitor what them children access on the internet as they are easily influenced.

- Ans
- 1. access on the internet
 - 2. Parents must monitor
 - 3. what them children
 - 4. as they are easily influenced

Question ID : **65497818127**
Chosen Option : 3

Q.7 Select the word which means the same as the group of words given.

A person who examines, diagnoses and treats eyes

- Ans
- 1. Optician
 - 2. Econometrist
 - 3. Ophthalmologist
 - 4. Chronobiologist

Question ID : **65497818148**
Chosen Option : 3

Q.8 Select the most appropriate word to fill in the blank.

Chandigarh is a model city with sectors that are _____ with spaces for living, working and leisure.

- Ans 1. self-sufficient
 2. dependent
 3. self-righteous
 4. inferior

Question ID : 65497818151
Chosen Option : 1

Q.9 Select the most appropriate option to substitute the underlined segment in the given sentence. If there is no need to substitute it, select 'No substitution required'.

From all her birthday presents, Vanya liked the alphabetical mat the most.

- Ans 1. Except
 2. Between
 3. No substitution required
 4. Amongst

Question ID : 65497818341
Chosen Option : 4

Q.10 Select the most appropriate meaning of the given idiom.

Whet your appetite

- Ans 1. To find the food tasteless
 2. To feel lonely and isolated
 3. To go on a diet
 4. To want something more

Question ID : 65497818146
Chosen Option : 4

Q.11 Select the most appropriate option to substitute the underlined segment in the given sentence. If there is no need to substitute it, select 'No substitution required'.

It is important to be aware of what we eat as food choices play an important role and affect their lifespan.

- Ans 1. No substitution required
 2. affect our
 3. affect your
 4. affect her

Question ID : 65497818138
Chosen Option : 2

Q.12 Identify the segment in the sentence which contains a grammatical error.

Jagdeep, the Bollywood comedian, began his film career at eight as a live childlike actor in the 1950's.

- Ans
- 1. in the 1950's
 - 2. Jagdeep, the comedian
 - 3. as a live childlike actor
 - 4. began his film career

Question ID : 65497818129
Chosen Option : 3

Q.13 Select the INCORRECTLY spelt word.

- Ans
- 1. Academic
 - 2. Rampant
 - 3. Ocupant
 - 4. Abdicate

Question ID : 65497818150
Chosen Option : 3

Q.14 Select the most appropriate ANTONYM of the given word.

UNFEELING

- Ans
- 1. Aloof
 - 2. Cruel
 - 3. Modest
 - 4. Affectionate

Question ID : 65497818141
Chosen Option : 4

Q.15 Select the most appropriate synonym of the given word.

MIMIC

- Ans
- 1. Fail
 - 2. Attempt
 - 3. Prevent
 - 4. Copy

Question ID : 65497818143
Chosen Option : 4

Q.16 Select the most appropriate meaning of the given idiom.

Get something off one's chest

- Ans 1. To defeat someone in a physical fight
 2. To escape from a dangerous situation
 3. To stop oneself from confiding in a friend
 4. Talk about something that is worrying you

Question ID : 65497818145
Chosen Option : 4

Q.17 Select the INCORRECTLY spelt word.

- Ans 1. Exponent
 2. Stagnent
 3. Continent
 4. Imminent

Question ID : 65497818149
Chosen Option : 1

Q.18 Select the most appropriate synonym of the given word.

MAGNANIMOUS

- Ans 1. Unstable
 2. Malicious
 3. Charitable
 4. Suspicious

Question ID : 65497818144
Chosen Option : 3

Q.19 Select the most appropriate word to fill in the blank.

Once the interview was over I _____ felt light and free.

- Ans 1. leisurely
 2. hastily
 3. suddenly
 4. minutely

Question ID : 65497818130
Chosen Option : 1

Q.20 Select the most appropriate word to fill in the blank.

I totally disagree with his _____ proposal as he has not weighed the pros and cons.

- Ans
- 1. rational
 - 2. conceivable
 - 3. ridiculous
 - 4. realistic

Question ID : 65497818131
Chosen Option : 3

Comprehension:

In the following passage some words have been deleted. Fill in the blanks with the help of the alternatives given. Select the most appropriate option for each blank.

I studied at the J.J. School of Art in Mumbai, India's premier institute (1)_____ art and design. After two years I (2)_____ New York City to further my studies. I soon (3)_____ myself in a totally different culture which I embraced (4)_____ willingly. Interestingly, it was in New York that I began (5)_____ different cuisines.

SubQuestion No : 21

Q.21 Select the most appropriate option to fill in blank no. 1.

- Ans
- 1. with
 - 2. of
 - 3. about
 - 4. at

Question ID : 65497818133
Chosen Option : 2

Comprehension:

In the following passage some words have been deleted. Fill in the blanks with the help of the alternatives given. Select the most appropriate option for each blank.

I studied at the J.J. School of Art in Mumbai, India's premier institute (1)_____ art and design. After two years I (2)_____ New York City to further my studies. I soon (3)_____ myself in a totally different culture which I embraced (4)_____ willingly. Interestingly, it was in New York that I began (5)_____ different cuisines.

SubQuestion No : 22

Q.22 Select the most appropriate option to fill in blank no. 2.

- Ans
- 1. moved about
 - 2. moved to
 - 3. moved down
 - 4. move up

Question ID : 65497818134
Chosen Option : 2

Comprehension:

In the following passage some words have been deleted. Fill in the blanks with the help of the alternatives given. Select the most appropriate option for each blank.

I studied at the J.J. School of Art in Mumbai, India's premier institute (1)_____ art and design. After two years I (2)_____ New York City to further my studies. I soon (3)_____ myself in a totally different culture which I embraced (4)_____ willingly. Interestingly, it was in New York that I began (5)_____ different cuisines.

SubQuestion No : 23

Q.23 Select the most appropriate option to fill in blank no. 3.

- Ans 1. discover
 2. found
 3. finding
 4. observing

Question ID : **65497818135**
 Chosen Option : **2**

Comprehension:

In the following passage some words have been deleted. Fill in the blanks with the help of the alternatives given. Select the most appropriate option for each blank.

I studied at the J.J. School of Art in Mumbai, India's premier institute (1)_____ art and design. After two years I (2)_____ New York City to further my studies. I soon (3)_____ myself in a totally different culture which I embraced (4)_____ willingly. Interestingly, it was in New York that I began (5)_____ different cuisines.

SubQuestion No : 24

Q.24 Select the most appropriate option to fill in blank no. 4.

- Ans 1. most
 2. many
 3. more
 4. much

Question ID : **65497818136**
 Chosen Option : **4**

Comprehension:

In the following passage some words have been deleted. Fill in the blanks with the help of the alternatives given. Select the most appropriate option for each blank.

I studied at the J.J. School of Art in Mumbai, India's premier institute (1)_____ art and design. After two years I (2)_____ New York City to further my studies. I soon (3)_____ myself in a totally different culture which I embraced (4)_____ willingly. Interestingly, it was in New York that I began (5)_____ different cuisines.

SubQuestion No : 25

Q.25 Select the most appropriate option to fill in blank no. 5.

- Ans 1. experimenting with
 2. exercising upon
 3. measuring on
 4. rehearsing for

Question ID : **65497818137**
 Chosen Option : **4**

Section : **General Intelligence and Reasoning**

Q.1 यदि किसी कूट भाषा में 'ROSE' को 'ILHV' लिखा जाता है, तो इसी कूट भाषा में 'HAND' को क्या लिखा जाएगा?

- Ans 1. SZWM
 2. SZMW
 3. XQCW
 4. QXWC

Question ID : 65497816847
 Chosen Option : 2

Q.2 तीन कथन और उसके बाद दो निष्कर्ष दिए गए हैं। यह मानते हुए कि कथन सत्य हैं, भले ही वे सामान्य रूप से ज्ञात तथ्यों से भिन्न प्रतीत होते हों, बताएं कि कौन से निष्कर्ष दिए गए कथनों का तार्किक रूप से अनुसरण करते हैं?

कथन:

1. कुछ भारतीय डॉक्टर हैं।
2. सभी पुरुष भारतीय हैं।
3. सभी इंजिनियर पुरुष हैं।

निष्कर्ष:

- I. कुछ पुरुष डॉक्टर हैं।
- II. सभी इंजिनियर भारतीय हैं।

- Ans 1. निष्कर्ष I और II, दोनों अनुसरण करते हैं।
 2. केवल निष्कर्ष I अनुसरण करता है।
 3. न तो निष्कर्ष I और न ही II अनुसरण करता है।
 4. केवल निष्कर्ष II अनुसरण करता है।

Question ID : 65497816854
 Chosen Option : 4

Q.3 निम्न को एक तार्किक और सार्थक क्रम में व्यवस्थित करें।

- I. पुलिस अधीक्षक (SP)
- II. थाना प्रभारी (SHO)
- III. महानिरीक्षक (IG)
- IV. पुलिस उपाधीक्षक (DSP)

- Ans 1. II, IV, I, III
 2. IV, III, II, I
 3. II, III, I, IV
 4. III, IV, II, I

Question ID : 65497816858
 Chosen Option : 1

Q.4 उस संख्या का चयन करें, जो दी गई संख्या श्रेणी में प्रश्नवाचक चिह्न (?) के स्थान पर आएगी?

24, 60, 120, 210, 336, ?

- Ans 1. 504
 2. 390
 3. 490
 4. 428

Question ID : 65497816844
 Chosen Option : 1

Q.5 दिए गए समीकरण को संतुलित करने के लिए, इनमें से किन दो चिह्नों को एक-दूसरे से प्रतिस्थापित करना होगा?

$$7 \div 2 \times 5 - 4 + 2 = 15$$

- Ans
- 1. \div और $+$
 - 2. \times और \div
 - 3. $+$ और $-$
 - 4. $-$ और \div


Question ID : 65497816840
Chosen Option : 1

Q.6 किसी निश्चित कूट भाषा में '137' का अर्थ 'who are you' है, '274' का अर्थ 'we are girls' है और '893' का अर्थ 'you have toys' है। इसी भाषा में निम्न में से किस संख्या का अर्थ 'girls' होगा?

- Ans
- 1. 8
 - 2. 3
 - 3. 4
 - 4. 7

Question ID : 65497816849
Chosen Option : 3

Q.7 सही विकल्प का चयन करके, पैटर्न के अनुपस्थित भाग को पूरा करें।



- Ans
- 1.
 - 2.
 - 3.
 - 4.

Question ID : 65497816860
Chosen Option : 2

Q.8 उस विकल्प का चयन करें, जो तीसरे शब्द से ठीक उसी प्रकार संबंधित है, जिस प्रकार दूसरा शब्द पहले शब्द से संबंधित है।

डेसीबल : ध्वनि :: एम्पियर : ?

- Ans
- 1. दबाव
 - 2. आयतन
 - 3. विद्युत धारा
 - 4. तापमान

Question ID : 65497816852
Chosen Option : 3

Q.9 यदि दर्पण को दी गई आकृति के दाईं ओर रखा जाए, तो आकृति के दर्पण में निर्मित सही प्रतिबिंब का चयन कीजिए।



Ans

- 1.
- 2.
- 3.
- 4.

Question ID : 65497816862
Chosen Option : 3

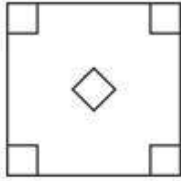
www.HaryanaJobs.in

Q.10 एक कागज को बिंदीदार रेखाओं पर मोड़ा जाता है, जैसा कि पहली दो आकृतियों में दिखाया गया है। और इसे तीसरी आकृति के अनुसार काटा जाता है। जब इसे खोला जाएगा, तो यह कैसा दिखेगा?

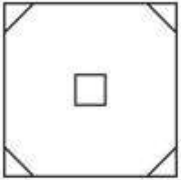


Ans

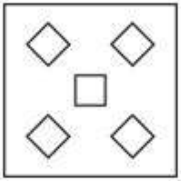
✓ 1.



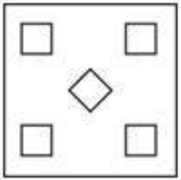
✗ 2.



✗ 3.



✗ 4.



Question ID : 65497816863
Chosen Option : 1

Q.11 उस विकल्प आकृति का चयन करें, जो दी गई आकृति में अंतःस्थापित नहीं है (घुमाने की अनुमति नहीं है)।



Ans

✓ 1.



✗ 2.



✗ 3.



✗ 4.



Question ID : 65497816861
Chosen Option : 1

Q.12 अक्षरों के उस सही संयोजन का चयन करें, जिन्हें क्रमिक रूप से दी गई अक्षर श्रेणी में रिक्त स्थानों पर रखने पर श्रेणी पूर्ण हो जाएगी।

P _ _ N _ O M _ _ _ M N P

- Ans
- 1. MONPNP
 - 2. NPOMPO
 - 3. OMPNPO
 - 4. OPMNPO

Question ID : 65497816853
Chosen Option : 3

Q.13 गणितीय चिह्नों के उस सही संयोजन का चयन करें, जिन्हें क्रमिक रूप से * चिह्नों के स्थान पर रखने पर समीकरण संतुलित हो जाएगा।

3 * 6 * 2 * 8 * 4 * 5 * 36

- Ans
- 1. +, x, -, x, +, =
 - 2. x, +, +, x, -, =
 - 3. -, x, +, +, x, =
 - 4. ÷, x, +, x, -, =

Question ID : 65497816841
Chosen Option : 2

Q.14 उस विकल्प का चयन करें, जो तीसरे अक्षर-समूह से ठीक उसी प्रकार संबंधित है, जिस प्रकार दूसरा अक्षर-समूह पहले अक्षर-समूह से संबंधित है।

STRAW : HGIZD :: NORTH : ?

- Ans
- 1. MLIGS
 - 2. CBISD
 - 3. CBISL
 - 4. MLGSI

Question ID : 65497816850
Chosen Option : 1

Q.15 एक परिसर में M, N, O, P, Q, R और S नामक सात घर एक पंक्ति में बने हैं, लेकिन जरूरी नहीं कि वे इसी क्रम में हों। P किसी भी छोर पर नहीं है। R, P के ठीक दाएं पड़ोस में है। S, बायें से तीसरा है। O एकदम बाएं छोर पर है। M दाईं ओर से दूसरा है। O, N के पड़ोस में नहीं है। P कहाँ स्थित है?

- Ans
- 1. बाईं ओर से दूसरा
 - 2. बाएं से तीसरा
 - 3. S के पड़ोस में
 - 4. दाएं छोर पर

Question ID : 65497816857
Chosen Option : 3

Q.16 उस विकल्प का चयन करें, जो तीसरे शब्द से ठीक उसी प्रकार संबंधित है, जिस प्रकार दूसरा शब्द पहले शब्द से संबंधित है।

क्रिकेट : ग्यारह :: वॉलीबॉल : ?

- Ans
- 1. नौ
 - 2. सात
 - 3. आठ
 - 4. छह

Question ID : 65497816851
Chosen Option : 1

Q.17 यदि किसी कूट भाषा में 'SOLO' को 'TMOK' लिखा जाता है, तो इसी कूट भाषा में 'ROSE' को क्या लिखा जाएगा?

- Ans
- 1. SMTF
 - 2. SKTA
 - 3. SKTF
 - 4. SMVA

Question ID : 65497816846
Chosen Option : 4

Q.18 छः छात्र A, B, C, D, E और F उत्तर की ओर अभिमुख होकर खड़े हैं, लेकिन जरूरी नहीं कि वे इसी क्रम में खड़े हों। A एक छोर पर खड़ा है और F उसके पड़ोस में है। B, E के एकदम दाएं पड़ोस में है। B, दाएं छोर से दूसरे स्थान पर है। C, F के पड़ोस में नहीं है। बाएं छोर पर कौन खड़ा है?

- Ans
- 1. A
 - 2. F
 - 3. E
 - 4. C

Question ID : 65497816856
Chosen Option : 1

Q.19 किसी निश्चित कूट भाषा में '137' का अर्थ 'Mary went Jammu' है, '274' का अर्थ 'I like Mary' और '893' का अर्थ 'you went Goa' है। इसी भाषा में निम्न में से किस संख्या का अर्थ 'Jammu' होगा?

- Ans
- 1. 2
 - 2. 8
 - 3. 9
 - 4. 1

Question ID : 65497816848
Chosen Option : 4

Q.20 उस विकल्प का चयन करें, जिसमें संख्या-युग्म के मध्य वही संबंध है, जो दिए गए युग्म की संख्याओं के मध्य है।

115 : 163

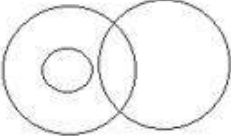
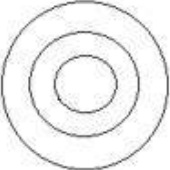
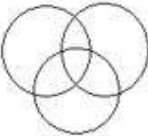
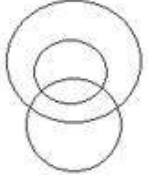
- Ans
- 1. 75 : 110
 - 2. 163 : 99
 - 3. 48 : 78
 - 4. 43 : 75

Question ID : 65497816842

Chosen Option : 4

Q.21 उस वेन-आरेख का चयन करें, जो महिलाओं, माताओं और नर्तकों के बीच संबंध को सर्वश्रेष्ठ ढंग से निरूपित करता है।

Ans

- 1. 
- 2. 
- 3. 
- 4. 

www.HaryanaJobs.in

Question ID : 65497816864

Chosen Option : 4

Q.22 दिए गए विकल्पों में से, संख्याओं के उस समुच्चय का चयन करें, जो दिए गए समुच्चय के समान नहीं है।

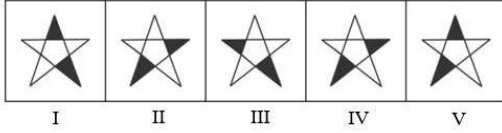
(15, 112, 13)

- Ans
- 1. (11, 76, 8)
 - 2. (17, 102, 9)
 - 3. (13, 96, 11)
 - 4. (12, 72, 6)

Question ID : 65497816843

Chosen Option : 1

Q.23 बताएं कि किस आकृति को निकाल दिया जाए, ताकि I से शुरू करके सभी आकृतियां एक पैटर्न में फिट हो सकें।



- Ans
- 1. III
 - 2. II
 - 3. V
 - 4. IV

Question ID : 65497816859
Chosen Option : 4

Q.24 तीन कथनों के बाद तीन निष्कर्ष दिए गए हैं। यह मानते हुए कि कथन सत्य हैं, भले ही वे सामान्य रूप से ज्ञात तथ्यों से भिन्न प्रतीत होते हों, बताएं कि कौन से निष्कर्ष दिए गए कथनों का तार्किक रूप से अनुसरण करते हैं?

कथन:

1. सभी लड़कियां नर्तक हैं।
2. कुछ नर्तक लड़के हैं।
3. कोई लड़का खिलाड़ी नहीं है।

निष्कर्ष:

- I. कुछ नर्तक लड़कियां हैं।
- II. कुछ खिलाड़ी लड़के हैं।
- III. कुछ नर्तक खिलाड़ी हैं।

- Ans
- 1. निष्कर्ष II और III, दोनों अनुसरण करते हैं।
 - 2. केवल निष्कर्ष I अनुसरण करता है।
 - 3. केवल निष्कर्ष III अनुसरण करता है।
 - 4. निष्कर्ष I और II, दोनों अनुसरण करते हैं।

Question ID : 65497816855
Chosen Option : 2

Q.25 उस संख्या का चयन करें, जो दी गई संख्या-श्रेणी में प्रश्नवाचक चिह्न (?) के स्थान पर आएगी?

5, 9, 16, 29, ?, 103

- Ans
- 1. 78
 - 2. 54
 - 3. 92
 - 4. 86

Question ID : 65497816845
Chosen Option : 2

Section : Numerical Aptitude

Q.1 एक गोला बनाने के लिए 1 cm त्रिज्या वाले आठ धात्विक गोलों को पिघलाया जाता है। परिणामी गोले की त्रिज्या ज्ञात करें।

- Ans
- 1. 8 cm
 - 2. 6 cm
 - 3. 2 cm
 - 4. 3 cm

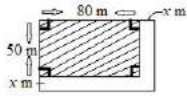
Question ID : 65497817689
Chosen Option : 3

Q.2 दो संख्याओं का अंतर 20 है। यदि उनका ल.स.प. (LCM) 240 और म.स.प. (HCF) 20 है, तो बड़ी संख्या ज्ञात करें।

- Ans
- 1. 80
 - 2. 70
 - 3. 120
 - 4. 60

Question ID : 65497817692
Chosen Option : 1

Q.3 दी गई आकृति में, अछाया क्षेत्र (unshaded region) का क्षेत्रफल, छाया क्षेत्र के क्षेत्रफल का 35% है। x का मान ज्ञात करें।

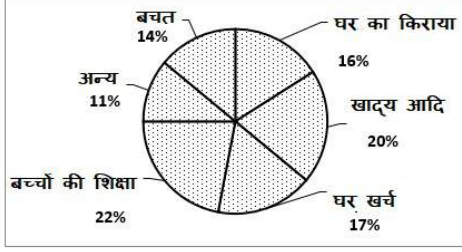


- Ans
- 1. 5
 - 2. 10
 - 3. 20
 - 4. 15

Question ID : 65497817690
Chosen Option : 2

www.HaryanaJobs.in

Q.4 निम्न पाई चार्ट में दर्शाए अनुसार, गुप्ता परिवार अपनी मासिक आय को विभिन्न ढ्ढों पर खर्च करता है। खाद्य आदि (Food etc.) पर व्यय को निरुपित करने वाले क्षेत्र का केंद्रीय कोण कितना है?



- Ans
- 1. 60°
 - 2. 72°
 - 3. 18°
 - 4. 80°

Question ID : 65497817696
Chosen Option : 2

Q.5 निम्न व्यंजक को सरल करें।

$$\frac{135 \div \frac{1}{3} \text{ of } 5 - 2\frac{2}{3} \div 1\frac{1}{3} + 6}{(15^2 + 9 \div 3) - (10 - 5 \times \frac{2}{5})}$$

- Ans
- 1. $\frac{73}{26}$
 - 2. $\frac{217}{226}$
 - 3. $\frac{17}{10}$
 - 4. $\frac{17}{44}$

Question ID : 65497818098
Chosen Option : 4

Q.6 पांच व्यक्ति एक साथ कार्य करते हुए, किसी कार्य को 8 दिन में पूरा कर सकते हैं। ओम प्रकाश जो उसी कार्य को स्वतंत्र रूप से 24 दिन में पूरा कर सकता है, 4 दिन बाद उनके साथ शामिल होता है। इस परिस्थिति में कितने दिन में कार्य पूरा हो जाएगा?

- Ans
- 1. 7
 - 2. 3
 - 3. 5
 - 4. 4

Question ID : 65497817673
Chosen Option : 1

Q.7 यदि ब्याज की गणना अर्द्ध-वार्षिक चक्रवृद्धि आधार पर होती है, तो 8% वार्षिक ब्याज की दर से ₹15,000 की राशि पर एक वर्ष का चक्रवृद्धि ब्याज ज्ञात करें।

- Ans**
- 1. ₹6,224
 - 2. ₹16,224
 - 3. ₹1,200
 - 4. ₹1,224

Question ID : 65497817686
Chosen Option : 4

Q.8 6 men can complete a work in 64 days. 24 women can complete the same work in 32 days. 16 men and 24 women together worked for 12 days, after which 8 men and 8 women were dropped. In how many days the work will be completed?

- Ans**
- 1. 18
 - 2. 15
 - 3. 3
 - 4. 6

Question ID : 65497817674
Chosen Option : 2

Q.9 ₹21,000 की राशि को A, B और C के बीच इस प्रकार विभाजित किया जाता है कि A और B के हिस्सों का अनुपात 2 : 3 है और B और C के हिस्सों का अनुपात 4 : 5 है। B का हिस्सा ज्ञात करें।

- Ans**
- 1. ₹12,000
 - 2. ₹10,500
 - 3. ₹7,000
 - 4. ₹7,200

Question ID : 65497817683
Chosen Option : 4

Q.10 50 km/h की नियत चाल से चलते हुए कोई कार किसी निश्चित दूरी को 3 घंटे में तय करती है। यदि चाल केवल 40 km/h हो, तो इस समान दूरी को तय करने में कितना अधिक समय लगेगा?

- Ans**
- 1. 45 मिनट
 - 2. 30 मिनट
 - 3. 1 घंटा
 - 4. 10 मिनट

Question ID : 65497817675
Chosen Option : 1

Q.11 कोई दुकानदार 20% लाभ के साथ ₹3,000 में 6 कार्टिगन और 16% लाभ के साथ ₹6,380 में 10 ट्राउजर बेचता है। कुल लाभ प्रतिशत ज्ञात करें।

- Ans
- 1. 8%
 - 2. 18%
 - 3. 17.25%
 - 4. 11.38%

Question ID : 65497817682
Chosen Option : 3

Q.12 A और B, प्रत्येक ने ₹70,000 का निवेश करके कोई व्यवसाय शुरू किया। 10 महीने बाद A, ₹40,000 की अतिरिक्त राशि का निवेश करता है। और 2 महीने बाद B, ₹20,000 निकालता है। और 2 महीने बाद, कोई तीसरा व्यक्ति C व्यवसाय से जुड़ता है और ₹40,000 निवेश करता है। यदि 2 वर्ष के अंत में, C को अपने लाभ के हिस्से के रूप में ₹7,500 मिलता है, तो लाभ में A का हिस्सा ज्ञात करें।

- Ans
- 1. ₹25,500
 - 2. ₹20,625
 - 3. ₹42,000
 - 4. ₹27,000

Question ID : 65497817685
Chosen Option : 2

Q.13 कोई दुकानदार, ₹1,450 प्रति कुर्सी की दर से 10 कुर्सियां खरीदता है और भाड़े पर ₹600 खर्च करता है। 10% लाभ प्राप्त करने के लिए उसे प्रत्येक कुर्सी को कितनी कीमत पर बेचना चाहिए?

- Ans
- 1. ₹1,661
 - 2. ₹1,595
 - 3. ₹1,645
 - 4. ₹2,225

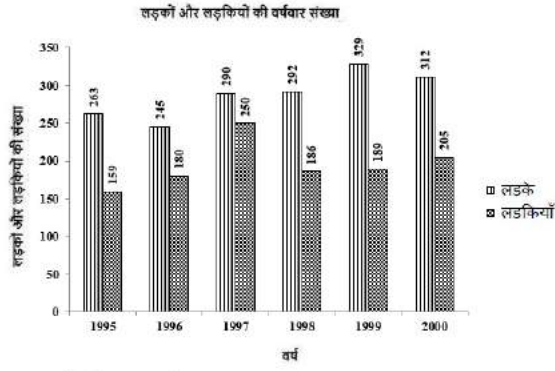
Question ID : 65497817681
Chosen Option : 1

Q.14 दो संख्याओं का अनुपात 4 : 5 है। यदि पहली संख्या से 2 घटाया जाता है और दूसरी संख्या में 2 जोड़ा जाता है, तो उनका अनुपात 2 : 3 हो जाता है। दोनों संख्याओं के बीच अंतर ज्ञात करें।

- Ans
- 1. 5
 - 2. 9
 - 3. 2
 - 4. 1

Question ID : 65497817684
Chosen Option : 1

Q.15 निम्न बार ग्राफ में 6 वर्ष के दौरान किसी विद्यालय में लड़के और लड़कियों के नामांकन का रिकॉर्ड प्रस्तुत किया गया है।



किस वर्ष में कुल नामांकन सबसे अधिक था?

- Ans
- 1. 1997
 - 2. 1998
 - 3. 2000
 - 4. 1999

Question ID : 65497817695

Chosen Option : 1

Q.16 प्रत्येक 1728 cm^3 आयतन वाले तीन घनों को एक दूसरे के ऊपर रखा गया है। परिणामी ठोस का कुल पृष्ठीय क्षेत्रफल ज्ञात करें।

- Ans
- 1. 2016 cm^2
 - 2. 2592 cm^2
 - 3. 2304 cm^2
 - 4. 2160 cm^2

Question ID : 65497817691

Chosen Option : 2

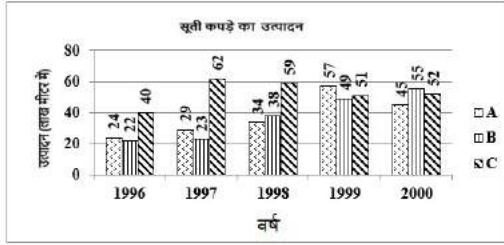
Q.17 त्योहार के समय में, ₹5,000 अंकित मूल्य वाला इलेक्ट्रिक गैजेट, निश्चित छूट देने के बाद ₹4,250 में बेचा जाता है। यदि छूट प्रतिशत में 5% की कमी होती है, तो ग्राहकों को किस कीमत पर इलेक्ट्रिक गैजेट उपलब्ध होगा?

- Ans
- 1. ₹4,500
 - 2. ₹4,000
 - 3. ₹5,000
 - 4. ₹4,750

Question ID : 65497817679

Chosen Option : 2

- Q.18 निम्न ग्राफ में, वर्ष 1996 - 2000 के दौरान A, B और C तीन कंपनियों के सूती कपड़े के उत्पादन (लाख मीटर में) को दर्शाया गया है।
1996-98 के दौरान कंपनी A का उत्पादन, 1998-2000 के दौरान कंपनी B और C के औसत उत्पादन का कितना प्रतिशत है (दशमलव के बाद दो स्थानों तक गणना करें)?



- Ans
- ✗ 1. 56.86%
 - ✗ 2. 74.36%
 - ✗ 3. 89.47%
 - ✓ 4. 57.24%

Question ID : 65497817697
Chosen Option : 3

- Q.19 $0.04 \div 0.002 + 0.5 \times 0.002 \div 0.0004$ का मान ज्ञात कीजिए।

- Ans
- ✓ 1. 22.5
 - ✗ 2. 20
 - ✗ 3. 21.5
 - ✗ 4. 22

Question ID : 65497815976
Chosen Option : 1

- Q.20 यदि निम्न आंकड़ों का बहुलक 14 है, तो k का मान ज्ञात करें।
11, k, 8, 9, (k-1), 11, 12, 12, 15, (k-1), 14

- Ans
- ✗ 1. 13
 - ✗ 2. 12
 - ✓ 3. 15
 - ✗ 4. 11

Question ID : 65497817688
Chosen Option : 3

Q.21 200 m की दौड़ में, ज़किया 5 km/h की औसत चाल से दौड़ती है। वह बीना से 20 m पीछे से दौड़ती है और फिर भी उसे 18 सेकंड से हराती है। बीना की औसत चाल (km/h में) ज्ञात करें।

- Ans
- 1. 4.5
 - 2. 3.5
 - 3. 4.2
 - 4. 4

Question ID : 65497817676
Chosen Option : 1

Q.22 किसी कक्षा में 24 लड़कियों का औसत मासिक जेब खर्च ₹275 है, जबकि 16 लड़कों का औसत मासिक जेब खर्च ₹325 है। पूरी कक्षा का औसत मासिक जेब खर्च ज्ञात करें।

- Ans
- 1. ₹295
 - 2. ₹290
 - 3. ₹300
 - 4. ₹310

Question ID : 65497817677
Chosen Option : 1

Q.23 अमर अपनी कार को 2 घंटे के लिए 70 km/h की चाल से चलाता है, 3 घंटे के लिए 80 km/h की चाल से और 1 घंटे के लिए 40 km/h की चाल से चलाता है और अपने होमटाउन (गृह-नगर) पहुंचता है। उसकी औसत चाल (km/h में) ज्ञात करें।

- Ans
- 1. 70
 - 2. 66
 - 3. 64
 - 4. 60

Question ID : 65497817678
Chosen Option : 1

Q.24 साधारण ब्याज की दर पर कोई निश्चित राशि 10 वर्ष में स्वयं की दोगुनी हो जाती है। समान ब्याज दर पर कितने वर्ष में यह राशि स्वयं की तीन गुनी हो जाएगी?

- Ans
- 1. 15
 - 2. 12
 - 3. 20
 - 4. 16

Question ID : 65497817687
Chosen Option : 3

Q.25 85% साक्षरता दर वाले किसी शहर की जनसंख्या 2500 है। यदि पुरुष जनसंख्या 55% है और उनमें से 92% साक्षर हैं, तो शहर में महिलाओं की साक्षरता दर ज्ञात करें।

Ans

1. $72\frac{5}{9}\%$

2. $76\frac{4}{9}\%$

3. 82%

4. 75%

Question ID : 65497817680
Chosen Option : 2

Section : General Awareness

Q.1 मुहम्मद बिन तुगलक ने निम्नलिखित विदेशी यात्रियों में से किसे राज्य सेवा में नियुक्त किया था?

Ans

1. अल मसूदी

2. इब्न बतूता

3. निकोलो कॉन्टी

4. मार्को पोलो

Question ID : 65497814976
Chosen Option : 2

Q.2 रेणुका आर्द्रभूमि नामक रामसर आर्द्रभूमि स्थान निम्नलिखित में से किस राज्य में स्थित है?

Ans

1. तेलंगाना

2. आंध्र प्रदेश

3. हिमाचल प्रदेश

4. मध्य प्रदेश

Question ID : 65497814990
Chosen Option : 3

Q.3 गोदावरी बेसिन का सबसे बड़ा जलग्रहण क्षेत्र निम्नलिखित में से किस राज्य में है?

Ans

1. मध्य प्रदेश

2. महाराष्ट्र

3. तेलंगाना

4. कर्नाटक

Question ID : 65497814991
Chosen Option : 3

Q.4 जुलाई 2020 में, निम्नलिखित में से किसे एशियाई विकास बैंक के उपाध्यक्ष के रूप में नामित किया गया है?

- Ans 1. अशोक लवासा
 2. दीपक पारेख
 3. आदि गोदरेज
 4. किरण मजूमदार शॉ

Question ID : 65497814978
 Chosen Option : 1

Q.5 विकल्पों में सूचीबद्ध धातुओं में से कौन सी धातु सबसे कम अभिक्रियाशील है?

- Ans 1. तांबा
 2. लोहा
 3. सोना
 4. मैग्नीशियम

Question ID : 65497814985
 Chosen Option : 4

Q.6 निम्नलिखित में से कौन सा राजस्थान का राज्य पक्षी है?

- Ans 1. भारतीय रोलर
 2. एशियाई कोयल
 3. सोन चिड़िया (ग्रेट इंडियन बस्टर्ड)
 4. सारस क्रेन

Question ID : 65497814972
 Chosen Option : 4

Q.7 भारतीय संविधान का कौन सा अनुच्छेद लोगों के कल्याण को बढ़ावा देने के लिए राज्य को एक सामाजिक व्यवस्था बनाने का निर्देश देता है?

- Ans 1. अनुच्छेद 45
 2. अनुच्छेद 44
 3. अनुच्छेद 42
 4. अनुच्छेद 38

Question ID : 65497814982
 Chosen Option : 4

Q.8 पृथ्वी की ठोस परपटी में पाई जाने वाली धातुओं की प्रचुरता के संदर्भ में, लौह धातु का कौन सा स्थान है?

- Ans 1. चौथा
 2. पहला
 3. तीसरा
 4. दूसरा

Question ID : 65497814988
 Chosen Option : 3

Q.9 बलबन ने, दिल्ली के निम्नलिखित सुल्तानों में से किसके शासनकाल के दौरान वास्तविक शक्तियाँ प्राप्त की थी?

- Ans
- 1. रुकुनूद्दीन फिरोज
 - 2. आराम शाह
 - 3. नसीरुद्दीन महमूद शाह
 - 4. अलाउद्दीन मसूद

Question ID : 65497814994
Chosen Option : 4

Q.10 यान्डाबू की संधि (1826) के माध्यम से ब्रिटिश ईस्ट इंडिया कंपनी द्वारा निम्नलिखित में से कौन सा क्षेत्र हड़प लिया गया था?

- Ans
- 1. असम
 - 2. कश्मीर
 - 3. ओडिशा
 - 4. लद्दाख

Question ID : 65497814993
Chosen Option : 3

Q.11 अप्रैल 2020 में, _____ के मुख्य परिचालन अधिकारी, यू.बी. प्रवीण राव को नॉस्कॉम (NASSCOM) का अध्यक्ष नियुक्त किया गया था।

- Ans
- 1. इंफोसिस
 - 2. विप्रो
 - 3. टी.सी.एस. (TCS)
 - 4. एच.सी.एल. (HCL)

Question ID : 65497814977
Chosen Option : 1

Q.12 भारत में वायु गुणवत्ता सूचकांक के मापन में कितने प्रदूषकों को शामिल किया गया है?

- Ans
- 1. 4
 - 2. 12
 - 3. 6
 - 4. 8

Question ID : 65497814989
Chosen Option : 4

Q.13 'पुष्टिमार्ग' नामक भक्ति संप्रदाय के संस्थापक निम्नलिखित में से कौन थे?

- Ans
- 1. कबीर
 - 2. वल्लभाचार्य
 - 3. शंकराचार्य
 - 4. रामानुजन

Question ID : 65497814973
Chosen Option : 3

Q.14 निम्नलिखित नेताओं में से कौन काकोरी ट्रेन डकैती मामले में अभियुक्त नहीं था?

- Ans
- 1. रामप्रसाद बिस्मिल
 - 2. भगत सिंह
 - 3. रोशन सिंह
 - 4. राजेंद्र नाथ लाहिड़ी

Question ID : 65497814995
Chosen Option : 2

Q.15 निम्नलिखित में से किस अंतर्राष्ट्रीय संगठन ने जून 2020 में छः भारतीय राज्यों में स्कूली शिक्षा की गुणवत्ता और प्रशासन में सुधार के लिए \$500 मिलियन के स्टैडनिंग टीचिंग-लर्निंग एंड रिजल्ट्स फॉर स्टेट्स प्रोग्राम (STARS) को मंजूरी दी है?

- Ans
- 1. एशिया विकास निधि
 - 2. यूनेस्को (UNESCO)
 - 3. अंतरराष्ट्रीय मुद्रा कोष
 - 4. विश्व बैंक

Question ID : 65497814981
Chosen Option : 4

Q.16 1990 में, निम्नलिखित में से किस विषय पर सिफारिशें देने के लिए, दिनेश गोस्वामी समिति का गठन किया गया था?

- Ans
- 1. पुलिस सुधार
 - 2. मूल कर्तव्य
 - 3. चुनावी सुधार
 - 4. केंद्र-राज्य संबंध

Question ID : 65497814983
Chosen Option : --

Q.17 'कैलेवराइट' नामक खनिज _____ युक्त एक टैलुराइट खनिज है।

- Ans
- 1. चांदी
 - 2. जस्ता
 - 3. सोना
 - 4. तांबा

Question ID : 65497814987
Chosen Option : 3

Q.18 निम्नलिखित में से कौन सा महाराष्ट्र का राज्य वृक्ष है?

- Ans
- 1. बरगद
 - 2. जम्मी
 - 3. आम
 - 4. अशोक

Question ID : 65497814971
Chosen Option : 2

Q.19 भारतीय संविधान के किस अनुच्छेद में यह कहा गया है कि भारत का एक राष्ट्रपति होगा?

- Ans
- 1. अनुच्छेद 58
 - 2. अनुच्छेद 54
 - 3. अनुच्छेद 55
 - 4. अनुच्छेद 52

Question ID : 65497814984
Chosen Option : 4

Q.20 आर्थिक सर्वेक्षण 2019-20 के अनुसार, दिल्ली में संपत्ति का पंजीकरण कराने में _____ दिन लगते हैं।

- Ans
- 1. 96
 - 2. 31
 - 3. 49
 - 4. 68

Question ID : 65497816797
Chosen Option : 2

Q.21 ब्रांड फाइनेंसेज 'इंडिया 100-2020 रैंकिंग' के अनुसार, निम्नलिखित में से कौन सा ब्रांड भारत का सबसे प्रसिद्ध वैश्विक ब्रांड है?

- Ans
- 1. रिलायंस
 - 2. टाटा
 - 3. एच.सी.एल. (HCL)
 - 4. एल.आई.सी. (LIC)

Question ID : 65497814576
Chosen Option : 1

Q.22 'Essay on Population' (1798) नामक अपनी पुस्तक में जनसंख्या वृद्धि के सिद्धांत देने का श्रेय निम्नलिखित में से किसे दिया जाता है?

- Ans
- 1. फ्रेडरिक एंगेल्स
 - 2. कार्ल मार्क्स
 - 3. थॉमस रॉबर्ट माल्थस
 - 4. एडम स्मिथ

Question ID : 65497814992
Chosen Option : 3

Q.23 नितिन मेनन, जिन्हें एक अंतर्राष्ट्रीय खेल निकाय द्वारा 2020-21 के लिए अंपायर/रेफरी के एलीट पैनल में शामिल किया गया है, निम्न में से किस खेल के साथ पेशेवर रूप से संबंधित हैं?

- Ans
- 1. क्रिकेट
 - 2. बास्केटबाल
 - 3. फुटबॉल
 - 4. हॉकी

Question ID : 65497814975
Chosen Option : 3

Q.24 निम्नलिखित में से कौन निशानेबाज़ी की एक अंतरराष्ट्रीय खिलाड़ी है?

- Ans
- 1. मंजू रानी
 - 2. अंजुम मुदगिल
 - 3. लैशराम सरिता देवी
 - 4. जमुना बोरो

Question ID : 65497814974
Chosen Option : 3

Q.25 डोलोमाइट _____ का एक अयस्क है।

- Ans
- 1. मैग्नीशियम
 - 2. पोटैशियम
 - 3. एल्युमीनियम
 - 4. सोडियम

Question ID : 65497814986
Chosen Option : 2

www.HaryanaJobs.in

Multi Tasking Non Technical Staff Examination 2020

Participant ID	www.HaryanaJobs.in
Participant Name	www.HaryanaJobs.in
Test Center Name	Examit Infotech Pvt Ltd
Test Date	20/10/2021
Test Time :	12:30 PM - 2:00 PM
Subject	MTS Non Technical 2020

Section : **General English**

Q.1 Identify the segment in the sentence which contains a grammatical error.

Last week we thrown a party for Arun.

- Ans 1. we thrown
 2. a party
 3. for Arun
 4. Last week

Question ID : **65497818330**
 Chosen Option : 1

Q.2 Select the word which means the same as the group of words given.

A situation when no progress is possible

- Ans 1. Harmony
 2. Deadlock
 3. Acceptance
 4. Deadline

Question ID : **65497818349**
 Chosen Option : 2

Q.3 Select the most appropriate option to substitute the underlined segment in the given sentence. If there is no need to substitute it, select 'No substitution required'.

I am trying my best to give in junk food.

- Ans 1. give up
 2. give out
 3. give back
 4. No substitution required

Question ID : **65497818340**
 Chosen Option : 1

Q.4 Select the most appropriate synonym of the given word.

STRENUOUS

- Ans 1. Easy
 2. Difficult
 3. Feeble
 4. Light

Question ID : 65497818345
Chosen Option : 3

Q.5 Select the most appropriate word to fill in the blank.

_____ you please help me with my computer?

- Ans 1. May
 2. Shall
 3. Could
 4. Dare

Question ID : 65497818333
Chosen Option : 1

Q.6 Select the INCORRECTLY spelt word.

- Ans 1. Responsibilities
 2. Opportunities
 3. Capabilities
 4. Journies

Question ID : 65497818351
Chosen Option : 4

Q.7 Select the most appropriate option to substitute the underlined segment in the given sentence. If there is no need to substitute it, select 'No substitution required'.

You should live throughout your means.

- Ans 1. between
 2. among
 3. No substitution required
 4. within

Question ID : 65497816221
Chosen Option : 4

Q.8 Select the most appropriate word to fill in the blank.

Did you visit _____ Nehru Planetarium in Delhi during the eclipse?

- Ans
- 1. a
 - 2. an
 - 3. any
 - 4. the

Question ID : 65497818332
Chosen Option : 4

Q.9 Select the most appropriate word to fill in the blank.

Watching one's pet cat is therapeutic and can make one quite _____ to the real world outside.

- Ans
- 1. studious
 - 2. envious
 - 3. obvious
 - 4. oblivious

Question ID : 65497818354
Chosen Option : 1

Q.10 Select the most appropriate option to substitute the underlined segment in the given sentence. If there is no need to substitute it, select 'No substitution required'.

Children need much of guidance in how to use the internet wisely and efficiently.

- Ans
- 1. most
 - 2. No substitution required
 - 3. many
 - 4. a lot

Question ID : 65497818442
Chosen Option : 4

Q.11 Select the most appropriate word to fill in the blank.

I like to go on a trip with Rahul as he is cheerful and _____.

- Ans
- 1. closed
 - 2. uncaring
 - 3. tense
 - 4. easy-going

Question ID : 65497818353
Chosen Option : 4

Q.12 Select the INCORRECTLY spelt word.

- Ans 1. Paralel
 2. Expel
 3. Repel
 4. Foretell

Question ID : 65497818352

Chosen Option : 1

Q.13 Identify the segment in the sentence which contains a grammatical error.

Are these library books their?

- Ans 1. their
 2. library
 3. Are these
 4. books

Question ID : 65497818331

Chosen Option : 1

Q.14 Select the word which means the same as the group of words given.

Be harmonious or consistent with

- Ans 1. Record
 2. Accord
 3. Cordon
 4. Discord

Question ID : 65497818350

Chosen Option : 2

Q.15 Select the most appropriate synonym of the given word.

PROACTIVE

- Ans 1. Enthusiastic
 2. Heedless
 3. Short-sighted
 4. Reactive

Question ID : 65497818346

Chosen Option : 4

Q.16 Select the most appropriate ANTONYM of the given word.

STATIONARY

- Ans 1. Moving
 2. Still
 3. Square
 4. Watch

Question ID : 65497818343
Chosen Option : 1

Q.17 Identify the segment in the sentence which contains a grammatical error.

Mohan was very hungry so he had missed breakfast that morning.

- Ans 1. very hungry
 2. so he had missed
 3. breakfast that morning
 4. Mohan was

Question ID : 65497818329
Chosen Option : 2

Q.18 Select the most appropriate ANTONYM of the given word.

SUFFICIENT

- Ans 1. Enough
 2. Inadequate
 3. Intense
 4. Precise

Question ID : 65497818344
Chosen Option : 2

Q.19 Select the most appropriate meaning of the given idiom.

At loggerheads

- Ans 1. To hit someone with a log
 2. To sit and discuss
 3. To disagree strongly
 4. To agree unwillingly

Question ID : 65497818348
Chosen Option : 3

Q.20 Select the most appropriate meaning of the given idiom.

At a stretch

- Ans** 1. After some time
 2. Without a stop
 3. During a year
 4. Within a month

Question ID : 65497818347
Chosen Option : 2

Comprehension:

In the following passage, some words have been deleted. Fill in the blanks with the help of the alternatives given. Select the most appropriate option for each blank.

Many years ago, I met a panchayat president (1)_____ a state literacy programme who talked to me (2)_____ Cuba's literacy programme where teachers, students and volunteers (3)_____ in a well organised, massive nationwide literacy movement. They (4)_____ people in the remotest of villages and were (5)_____ successful in their mission.

SubQuestion No : 21

Q.21 Select the most appropriate option to fill in blank no. 1.

- Ans** 1. which
 2. during
 3. while
 4. when

Question ID : 65497818335
Chosen Option : 2

Comprehension:

In the following passage, some words have been deleted. Fill in the blanks with the help of the alternatives given. Select the most appropriate option for each blank.

Many years ago, I met a panchayat president (1)_____ a state literacy programme who talked to me (2)_____ Cuba's literacy programme where teachers, students and volunteers (3)_____ in a well organised, massive nationwide literacy movement. They (4)_____ people in the remotest of villages and were (5)_____ successful in their mission.

SubQuestion No : 22

Q.22 Select the most appropriate option to fill in blank no. 2.

- Ans** 1. through
 2. across
 3. around
 4. about

Question ID : 65497818336
Chosen Option : 1

Comprehension:

In the following passage, some words have been deleted. Fill in the blanks with the help of the alternatives given. Select the most appropriate option for each blank.

Many years ago, I met a panchayat president (1)_____ a state literacy programme who talked to me (2)_____ Cuba's literacy programme where teachers, students and volunteers (3)_____ in a well organised, massive nationwide literacy movement. They (4)_____ people in the remotest of villages and were (5)_____ successful in their mission.

SubQuestion No : 23

Q.23 Select the most appropriate option to fill in blank no. 3.

- Ans 1. combine
 2. joined hands
 3. collaborate
 4. join forces

Question ID : **65497818337**
 Chosen Option : 3

Comprehension:

In the following passage, some words have been deleted. Fill in the blanks with the help of the alternatives given. Select the most appropriate option for each blank.

Many years ago, I met a panchayat president (1)_____ a state literacy programme who talked to me (2)_____ Cuba's literacy programme where teachers, students and volunteers (3)_____ in a well organised, massive nationwide literacy movement. They (4)_____ people in the remotest of villages and were (5)_____ successful in their mission.

SubQuestion No : 24

Q.24 Select the most appropriate option to fill in blank no. 4.

- Ans 1. reaching out to
 2. reached out to
 3. reaches out for
 4. reach out for

Question ID : **65497818338**
 Chosen Option : 2

Comprehension:

In the following passage, some words have been deleted. Fill in the blanks with the help of the alternatives given. Select the most appropriate option for each blank.

Many years ago, I met a panchayat president (1)_____ a state literacy programme who talked to me (2)_____ Cuba's literacy programme where teachers, students and volunteers (3)_____ in a well organised, massive nationwide literacy movement. They (4)_____ people in the remotest of villages and were (5)_____ successful in their mission.

SubQuestion No : 25

Q.25 Select the most appropriate option to fill in blank no. 5.

- Ans 1. negligibly
 2. exceedingly
 3. marginally
 4. excessively

Question ID : **65497818339**
 Chosen Option : 4

Section : **General Intelligence and Reasoning**

Q.1 यदि MARKET को 15 और SUBMARINE को 21 लिखा जाता है, तो CONVENTIONAL को किस प्रकार लिखा जाएगा?

- Ans
- 1. 24
 - 2. 23
 - 3. 27
 - 4. 31

Question ID : 65497817960

Chosen Option : --

Q.2 निम्न संख्या श्रेणी में प्रश्नवाचक चिह्न (?) के स्थान पर कौन-सी संख्या आएगी?

9, 12, 17, 26, 43, 76, ?, 270

- Ans
- 1. 141
 - 2. 125
 - 3. 133
 - 4. 154

Question ID : 65497817956

Chosen Option : --

Q.3 यदि PEDAGOGUE को DEPNFZEUG लिखा जाता है, तो HAMSTRING को किस प्रकार लिखा जाएगा?

- Ans
- 1. ASRNGITMH
 - 2. MAHQSRGNI
 - 3. SMAHTGNIR
 - 4. MAHSUTGNI

Question ID : 65497817957

Chosen Option : 2

Q.4 उस विकल्प का चयन करें, जो तीसरे अक्षर-समूह से ठीक उसी प्रकार संबंधित है, जिस प्रकार दूसरा अक्षर-समूह पहले अक्षर-समूह से संबंधित है।

FHKO : UQNL :: MORV : ?

- Ans
- 1. NIFD
 - 2. NLIE
 - 3. PLIG
 - 4. NJGE

Question ID : 65497817961

Chosen Option : 4

Q.5 दिए गए समीकरण को संतुलित करने के लिए, इनमें से किन दो चिह्नों को एक-दूसरे से प्रतिस्थापित करना होगा?

$$18 \div 9 + 12 \times 4 - 8 = 15$$

- Ans
- 1. \times और -
 - 2. + और -
 - 3. \div और \times
 - 4. - और \div

Question ID : 65497817952
Chosen Option : 4

Q.6 19 व्यक्ति एक पंक्ति में खड़े हैं।

- i. मनीष, पीछे से 7वें स्थान पर है।
- ii. रिकू ठीक मनीष और सीमा के बीच में हैं।
- iii. सीमा और रिकू के बीच तीन व्यक्ति हैं।

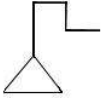
आगे से सीमा की स्थिति क्या है?

- Ans
- 1. पांचवी
 - 2. चौथी
 - 3. छठी
 - 4. सातवीं

Question ID : 65497817968
Chosen Option : 1

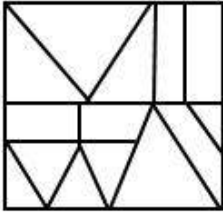
www.HaryanaJobs.in

Q.7 उस विकल्प का चयन करें, जिसमें दी गई आकृति अन्तःस्थापित है। (घुमाने की अनुमति नहीं है)

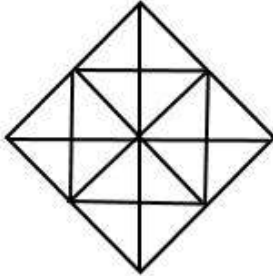


Ans

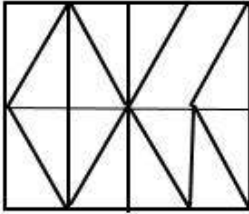
✗ 1.



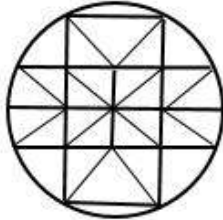
✗ 2.



✗ 3.



✓ 4.



www.HaryanaJobs.in

Question ID : 65497817972

Chosen Option : 4

Q.8 कौन-सा अक्षर-समूह, निम्न श्रेणी में प्रश्नवाचक चिह्न (?) के स्थान पर आएगा?

CBD, XYW, FEG, UVT, IHJ, ?

Ans ✓ 1. RSQ

✗ 2. STR

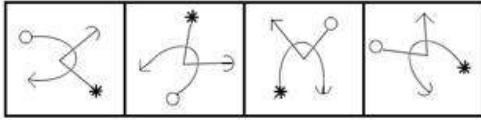
✗ 3. ORP

✗ 4. RQS

Question ID : 65497817964

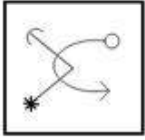
Chosen Option : 1

Q.9 कौन-सी विकल्प आकृति, निम्न आकृति श्रेणी में अगले स्थान पर आएगी?

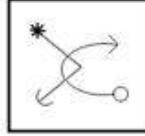


Ans

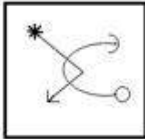
✗ 1.



✓ 2.



✗ 3.



✗ 4.



Question ID : 65497817970

Chosen Option : 2

Q.10 यदि MOTHER को QDGSNL लिखा जाता है, तो SHEATH को किस प्रकार लिखा जाएगा?

Ans ✓ 1. GSZDGR

✗ 2. RGDGSZ

✗ 3. RZSGDG

✗ 4. IUBFIT

Question ID : 65497817958

Chosen Option : 1

Q.11 यदि FRIEND को 86 और SICK को 62 लिखा जाता है, तो FRECKLE को किस प्रकार लिखा जाएगा?

Ans ✗ 1. 90

✓ 2. 95

✗ 3. 87

✗ 4. 108

Question ID : 65497817959

Chosen Option : 2

Q.12 तीन कथनों के बाद तीन निष्कर्ष I, II और III दिए गए हैं। कथनों को सत्य मानते हुए, भले ही ये सामान्य रूप से ज्ञात तथ्यों से भिन्न प्रतीत होते हों, निर्धारित करें कि कौन सा/से निष्कर्ष कथनों का तार्किक रूप से अनुसरण करता है/करते हैं।

कथन:

1. सभी इमारतें, दुकान हैं।
2. कुछ दुकानें, बुटीक हैं।
3. कोई भी रेस्टोरेंट, बुटीक नहीं है।

निष्कर्ष:

- I. कुछ बुटीक, इमारतें हैं।
- II. कुछ रेस्टोरेंट्स की इमारत होने की संभावना है।
- III. कोई भी रेस्टोरेंट, दुकान नहीं है।

- Ans
- 1. केवल निष्कर्ष I अनुसरण करता है।
 - 2. केवल निष्कर्ष II और III अनुसरण करते हैं।
 - 3. केवल निष्कर्ष I और II अनुसरण करते हैं।
 - 4. केवल निष्कर्ष II अनुसरण करता है।

Question ID : 65497817966

Chosen Option : 2

Q.13 जिस प्रकार 'थका', 'श्रांत' से संबंधित है, उसी प्रकार 'दुखी', ' _____ ' से संबंधित है।

- Ans
- 1. भावना
 - 2. मूड
 - 3. खुश
 - 4. उदास

Question ID : 65497817962

Chosen Option : 4

Q.14 विकल्पों में से उस संख्या का चयन करें, जो दिए गए समुच्चय की संख्या के समान हो।

(425, 902, 713)

- Ans
- 1. 218
 - 2. 555
 - 3. 319
 - 4. 624

Question ID : 65497817954

Chosen Option : --

Q.15 यदि - और ÷ चिह्नों को एक-दूसरे से प्रतिस्थापित किया जाता है, तो निम्न में से कौन-सा समीकरण सही होगा?

- Ans
- 1. $6 \div 3 + 12 - 6 = 5$
 - 2. $12 + 4 - 4 + 2 = 3$
 - 3. $9 \div 9 - 9 + 9 = 9$
 - 4. $12 \div 3 + 9 - 9 = 4$

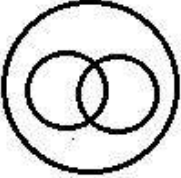
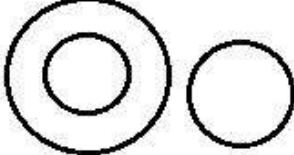
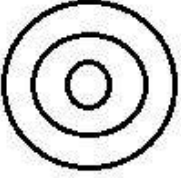
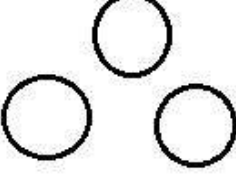
Question ID : 65497817951

Chosen Option : 1

Q.16 उस वेन-आरेख का चयन करें, जो निम्न वर्गों के बीच संबंध को सर्वोत्तम ढंग से निरूपित करता है।

सूर्य, ग्रह, बृहस्पति

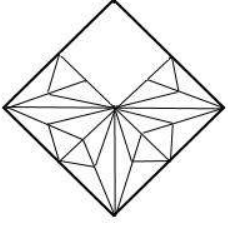
Ans

- ✗ 1. 
- ✓ 2. 
- ✗ 3. 
- ✗ 4. 

Question ID : 65497817975
 Chosen Option : 2

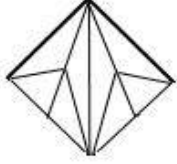
www.HaryanaJobs.in

Q.17 उस विकल्प आकृति का चयन करें, जिसे आकृति के खाली स्थान में रखने से पैटर्न पूरा होगा।

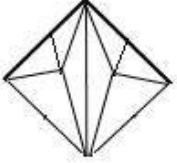


Ans

✓ 1.



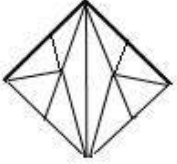
✗ 2.



✗ 3.



✗ 4.



www.HaryanaJobs.in

Question ID : 65497817971
Chosen Option : 1

Q.18 जिस प्रकार 'घनत्व', 'हाइड्रोमीटर' से संबंधित है, उसी प्रकार 'द्रव्यमान', '_____' से संबंधित है।

Ans ✗ 1. भारीपन

✗ 2. किलोग्राम

✗ 3. आयतन

✓ 4. तराजू

Question ID : 65497817963
Chosen Option : 4

Q.19 निम्न संख्या श्रेणी में प्रश्नवाचक चिह्न (?) के स्थान पर कौन-सी संख्या आएगी?

19, 22, 28, 37, 40, ?, 55, 58

Ans 1. 49

2. 46

3. 43

4. 47

Question ID : 65497817955

Chosen Option : 2

Q.20 दो कथनों के बाद दो निष्कर्ष I और II दिए गए हैं। कथनों को सत्य मानते हुए, भले ही ये सामान्य रूप से ज्ञात तथ्यों से भिन्न प्रतीत होते हों, निर्धारित करें कि कौन सा/से निष्कर्ष कथनों का तार्किक रूप से अनुसरण करता है/करते हैं।

कथन:

1. कुछ उपकरण, मशीन हैं।
2. सभी उपकरण, गैजेट हैं।

निष्कर्ष:

- I. कोई भी मशीन, गैजेट नहीं है।
- II. कुछ मशीनें, गैजेट हैं।

Ans 1. केवल निष्कर्ष I अनुसरण करता है।

2. न तो निष्कर्ष I और न ही II अनुसरण करता है।

3. केवल निष्कर्ष II अनुसरण करता है।

4. या तो निष्कर्ष I या तो II अनुसरण करता है।

Question ID : 65497817965

Chosen Option : 3

www.HaryanaJobs.in

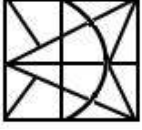
Q.21 यदि दर्पण को दी गई आकृति 'X' के दाईं ओर रखा जाए, तो आकृति का दर्पण में निर्मित सही प्रतिबिंब चयनित कीजिए।



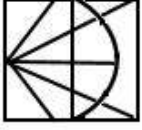
X

Ans

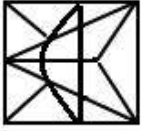
✗ 1.



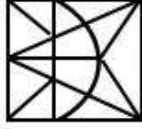
✗ 2.



✗ 3.



✓ 4.



Question ID : 65497817973

Chosen Option : 4

Q.22 उस संख्या-युग्म का चयन करें, जिसमें दोनों संख्याएं एक-दूसरे से ठीक उसी प्रकार संबंधित हैं, जिस प्रकार नीचे दिए गए युग्म की दोनों संख्याएं एक-दूसरे से संबंधित हैं।

20 : 68

Ans ✗ 1. 25 : 90

✗ 2. 5 : 18

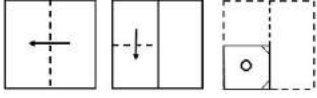
✓ 3. 12 : 30

✗ 4. 30 : 110

Question ID : 65497817953

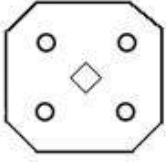
Chosen Option : 3

Q.23 कागज़ के किसी टुकड़े को मोड़ने का क्रम और मुड़े हुए कागज़ को काटने का तरीका नीचे तीन आकृतियों में दर्शाया गया है। खोलने पर यह कागज़ कैसा दिखेगा?

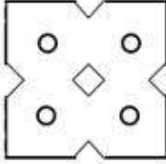


Ans

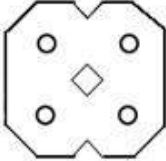
✗ 1.



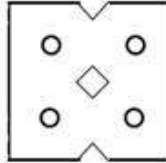
✗ 2.



✗ 3.



✓ 4.



Question ID : 65497817974

Chosen Option : 4

Q.24 छह व्यक्ति P, Q, R, S, T और U एक के बाद एक करके कोई पत्रिका पढ़ते हैं।

- S, इसे पढ़ने वाला न तो पहला व्यक्ति था और न ही आखिरी था।
- P और T के बीच उतने ही पढ़ने वाले व्यक्ति थे जितने R और P के बीच थे।
- S, Q से कुछ समय पहले इसे पढ़ता है, जो कि U के कुछ समय बाद इसे पढ़ता है।
- जिस व्यक्ति ने इसे अंत में पढ़ा था, उसने इसे R से लिया था।

वे दो व्यक्ति कौन थे जिन्होंने पत्रिका को क्रमशः सबसे पहले और सबसे अंत में पढ़ा था?

Ans ✓ 1. T और Q

✗ 2. P और Q

✗ 3. P और U

✗ 4. T और U

Question ID : 65497817969

Chosen Option : 4

Q.25 आठ व्यक्ति A, B, C, D, E, F, G और H एक गोल मेज के परितः केंद्र की ओर अभिमुख होकर बैठे हैं।

- D ठीक G और A के बीच में बैठा है और B की ओर अभिमुख है।
- F ठीक A और H के बीच बैठा है और H, D के दाईं ओर तीसरे स्थान पर बैठा है।
- E, G के बाईं ओर दूसरे स्थान पर बैठा है।

C के ठीक बाईं ओर कौन-कौन से व्यक्ति बैठे हैं?

- Ans
- 1. EBH
 - 2. ADF
 - 3. AHF
 - 4. BFH

Question ID : 65497817967

Chosen Option : 1

Section : Numerical Aptitude

Q.1 एक वस्तु का विक्रय मूल्य, उसके क्रय मूल्य का $\frac{3}{4}$ गुना है। हानि/लाभ प्रतिशत (दशमलव के दो स्थानों तक सही) कितना है?

- Ans
- 1. 19.54% हानि
 - 2. 16.67% हानि
 - 3. 19.54% लाभ
 - 4. 16.67% लाभ

Question ID : 65497816469

Chosen Option : 4

Q.2 एक किसान ने अपने खेत में खेती करने के लिए एक साहूकार से ₹1,32,000 का ऋण लिया। ब्याज की दर 12.5% वार्षिक है और ब्याज वार्षिक रूप से चक्रवृद्धि होता है। दो वर्षों के अंत में, उसने ₹1,07,062.50 और अपना स्कूटर देकर अपने ऋण को चुका दिया। स्कूटर का मूल्य (₹ में) कितना है?

- Ans
- 1. 50,000
 - 2. 45,000
 - 3. 75,000
 - 4. 60,000

Question ID : 65497816474

Chosen Option : 4

Q.3 एक निश्चित कार्य को पूरा करने के लिए बीस व्यक्तियों को, दिन में 8 घंटे कार्य करते हुए, 15 दिनों का समय लगता है। उसी कार्य को 4 दिनों में पूरा करने के लिए, 60 व्यक्तियों को प्रतिदिन कितने घंटे कार्य करना चाहिए?

- Ans
- 1. 11
 - 2. 12
 - 3. 9
 - 4. 10

Question ID : 65497816461

Chosen Option : 4

Q.4 एक लंब वृत्तीय बेलन का वक्र पृष्ठीय क्षेत्रफल 19.5 m^2 है और इसका आयतन 39 m^3 है। इसके आधार की त्रिज्या (m में) कितनी है?

- Ans
- 1. 4
 - 2. 3
 - 3. 6
 - 4. 5

Question ID : 65497816477
Chosen Option : 1

Q.5 एक सप्ताह में, चाय के एक बैग का वजन 350 kg, 280 kg, 340 kg, 270 kg, 360 kg, 310 kg, 300 kg था। परास (kg में) ज्ञात कीजिए।

- Ans
- 1. 100
 - 2. 90
 - 3. 70
 - 4. 80

Question ID : 65497816476
Chosen Option : 2

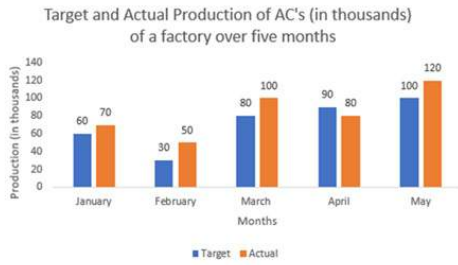
Q.6 एक हवाई जहाज 190 km/h की चाल से चलते हुए एक निश्चित दूरी 7 घंटे में तय करता है। उतनी ही दूरी $4\frac{3}{4}$ घंटे में तय करने के लिए, इसे कितनी चाल (km/h में) से चलना चाहिए?

- Ans
- 1. 280
 - 2. 300
 - 3. 240
 - 4. 275

Question ID : 65497816463
Chosen Option : 1

www.HaryanaJobs.in

Q.7 Study the following graph and answer the question that follows.



The ratio of the actual production of ACs in March and April to that of the combined target production of ACs in January and April, is:

- Ans**
1. 5 : 2
2. 6 : 5
3. 2 : 5
4. 5 : 6

Question ID : 65497816483
Chosen Option : 2

Q.8 $\left\{ \left(4 - \frac{2}{1 + \frac{2}{2}} \right) \div 1 \frac{5}{12} \text{ of } \frac{72}{145} - (4 + 3 \div 0.5 - 1) \right\}$ का सरलतम मान क्या होगा?

- Ans**
1. 3
2. 1
3. -4
4. -2

Question ID : 65497817492
Chosen Option : 3

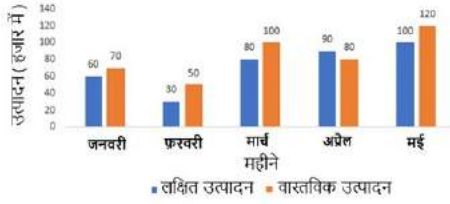
Q.9 यदि $x : y : z = 1 : 2 : 3$ है, तो $\left(\frac{x^2 + 2y^2 + z^2}{3x^2 - 2y^2 + 4z^2} \right)$ का मान कितना है?

- Ans**
1. $\frac{19}{31}$
2. $\frac{16}{31}$
3. $\frac{18}{31}$
4. $\frac{15}{31}$

Question ID : 65497816471
Chosen Option : 3

Q.10 निम्नांकित ग्राफ का अध्ययन करें और उसके बाद दिए गए प्रश्न का उत्तर दें।

पाँच महीने में एक कारखाने के AC का लक्षित और वास्तविक उत्पादन (हजारों में)



मार्च में (AC) का वास्तविक उत्पादन, 5 महीने की अवधि में एसी (AC) के औसत लक्षित उत्पादन से कितने प्रतिशत अधिक है? (निकटतम पूर्णांक तक सही)

- Ans
- 1. 40%
 - 2. 41%
 - 3. 38%
 - 4. 39%

Question ID : 65497816484

Chosen Option : 4

Q.11 एक वस्तु के अंकित मूल्य पर 10% की छूट देने के बाद, इसे ₹450 में बेचा गया। यदि छूट नहीं दी गई होती, तो लाभ 25% होता। वस्तु का क्रय मूल्य (₹ में) कितना है?

- Ans
- 1. 625
 - 2. 500
 - 3. 400
 - 4. 375

Question ID : 65497816467

Chosen Option : 3

Q.12 वह बड़ी से बड़ी संख्या कौन-सी होगी जिससे 2036 और 233 को विभाजित करने पर प्राप्त शेषफल क्रमशः 12 और 13 हों?

- Ans
- 1. 36
 - 2. 46
 - 3. 44
 - 4. 42

Question ID : 65497816480

Chosen Option : 3

Q.13 समान लंबाई वाली दो रेलगाड़ियाँ, समानांतर पटरियों पर एक ही दिशा में, 44 km/h और 32 km/h की चाल से चल रही हैं। तेज चाल से चलने वाली रेलगाड़ी, दूसरी रेलगाड़ी को 72 सेकंड में पार कर लेती है। प्रत्येक ट्रेन की लंबाई (m में) कितनी है?

- Ans 1. 120
 2. 75
 3. 135
 4. 100

Question ID : 65497816464
 Chosen Option : 1

Q.14 उस समलंब चतुर्भुज का क्षेत्रफल (cm² में) कितना होगा जिसकी समानांतर भुजाएँ 25 cm और 19 cm लंबी हैं, और उनके बीच की दूरी 15 cm है?

- Ans 1. 330
 2. 275
 3. 410
 4. 345

Question ID : 65497816479
 Chosen Option : 1

Q.15 $\frac{7}{10} \div \frac{7}{5}$ of $\left[\frac{21}{10} + \frac{13}{5}\right] + \left[\frac{1}{10} \times \frac{10}{47} - \frac{6}{47}\right]$ का मान ज्ञात करें।

- Ans 1. 5
 2. 10
 3. 1
 4. 0

Question ID : 65497815370
 Chosen Option : 4

Q.16 एक पुस्तक की आठ प्रतियाँ, एक वर्ष के अंत में देय एक निश्चित धनराशि में खरीदी जा सकती हैं और उतनी ही धनराशि का नकद भुगतान करके उसी पुस्तक की दस प्रतियाँ खरीदी जा सकती हैं। ब्याज दर का प्रतिशत कितना है?

- Ans 1. 30%
 2. 10%
 3. 25%
 4. 15%

Question ID : 65497816475
 Chosen Option : 3

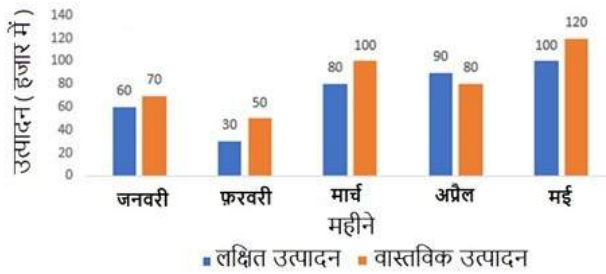
Q.17 एक परीक्षा में, उत्तीर्ण होने वाले अभ्यर्थियों की संख्या का अनुत्तीर्ण होने वाले अभ्यर्थियों की संख्या से अनुपात 5 : 2 था। यदि अनुत्तीर्ण अभ्यर्थियों की संख्या 14 अधिक होती, तो उत्तीर्ण अभ्यर्थियों की संख्या का अनुत्तीर्ण अभ्यर्थियों की संख्या से अनुपात 4 : 3 होता। परीक्षा में बैठने वाले अभ्यर्थियों की संख्या कितनी थी?

- Ans
- 1. 126
 - 2. 98
 - 3. 70
 - 4. 100

Question ID : 65497816473
Chosen Option : 1

Q.18 निम्नांकित ग्राफ का अध्ययन करें और उसके बाद दिए गए प्रश्न का उत्तर दें।

पाँच महीने में एक कारखाने के AC का लक्षित और वास्तविक उत्पादन (हजारों में)



किस महीने में एसी (AC) का वास्तविक उत्पादन, लक्षित उत्पादन से 20% अधिक है?

- Ans
- 1. मार्च
 - 2. मई
 - 3. अप्रैल
 - 4. फरवरी

Question ID : 65497816485
Chosen Option : 2

Q.19 10 cm और 12 cm की त्रिज्याओं वाले दो वृत्त एक दूसरे को प्रतिच्छेदित करते हैं और उनकी उभयनिष्ठ जीवा की लंबाई 16 cm है। उनके केंद्रों के बीच की दूरी (cm में) कितनी है?

- Ans
- 1. $6 + 3\sqrt{5}$
 - 2. $6 + 4\sqrt{5}$
 - 3. $6 + 2\sqrt{5}$
 - 4. $6 + 5\sqrt{5}$

Question ID : 65497816478
Chosen Option : 2

Q.20 एक परिवार का औसत मासिक खर्च, वर्ष के पहले तीन महीनों के दौरान ₹10,000 था, अगले चार महीनों के दौरान ₹12,500 था, और अंतिम पाँच महीनों के दौरान ₹13,500 था। यदि वर्ष के दौरान परिवार की कुल बचत ₹32,500 थी, तो उसकी औसत मासिक आय (₹ में) कितनी है?

- Ans
- 1. 17,250
 - 2. 13,750
 - 3. 14,250
 - 4. 15,000

Question ID : 65497816465
Chosen Option : 4

Q.21 एक कक्षा में 100 विद्यार्थी हैं, जिनमें से 70% लड़कियाँ हैं और शेष लड़के हैं। एक परीक्षा में लड़कियों का औसत स्कोर, लड़कों की तुलना में 20% अधिक है। यदि सभी विद्यार्थियों का औसत स्कोर 57 है, तो लड़कों का औसत स्कोर कितना है?

- Ans
- 1. 60
 - 2. 75
 - 3. 45
 - 4. 50

Question ID : 65497816466
Chosen Option : 4

Q.22 A और B की आय का अनुपात 1 : 2 है और उनके व्यय का अनुपात 2 : 3 है। यदि B के व्यय का 80%, A की आय के बराबर है, तो A और B की बचतों का अनुपात कितना है?

- Ans
- 1. 2 : 9
 - 2. 7 : 3
 - 3. 9 : 2
 - 4. 3 : 7

Question ID : 65497816472
Chosen Option : --

Q.23 A एक वस्तु को 12% लाभ पर B को बेचता है। B इसे 9% हानि पर C को बेचता है। यदि C इसके लिए ₹15,288 का भुगतान करता है, तो A द्वारा इस वस्तु को किस मूल्य (₹ में) में खरीदा गया था?

- Ans
- 1. 14,250
 - 2. 16,000
 - 3. 15,000
 - 4. 16,800

Question ID : 65497816470
Chosen Option : 3

Q.24 जब चीनी का मूल्य 30% बढ़ जाता है, तो एक व्यक्ति चीनी पर अपना खर्च केवल 12% बढ़ाता है। उसे किस प्रतिशत (दशमलव के दो स्थानों तक सही) से अपनी चीनी की खपत में कमी करनी चाहिए जिससे उसके व्यय का स्तर समान बनाए रखा जा सके?

- Ans
- 1. 15.75%
 - 2. 11.54%
 - 3. 12.75%
 - 4. 13.85%

Question ID : 65497816468
Chosen Option : 4

Q.25 'A' अकेले 10 दिनों में एक कार्य कर सकता है और 'B' अकेले इस कार्य को 15 दिनों में कर सकता है। 'A' और 'B' एक कार्य ₹42,000 में करने के लिए तैयार हुए। उन्होंने 'C' की मदद से, 5 दिनों में कार्य पूरा कर लिया। C को कितना भुगतान (₹ में) किया जाना चाहिए?

- Ans
- 1. 14,000
 - 2. 15,000
 - 3. 21,000
 - 4. 7,000

Question ID : 65497816462
Chosen Option : 4

Section : General Awareness

Q.1 वर्ष 2009 में, निम्नलिखित में से किसे 15वीं लोकसभा में विपक्ष के नेता के रूप में नियुक्त किया गया था?

- Ans
- 1. अनंत कुमार
 - 2. सुषमा स्वराज
 - 3. स्मृति ईरानी
 - 4. अरुण जेटली

Question ID : 65497814782
Chosen Option : 4

Q.2 ब्रह्म कांचीबोटला, जिनकी अप्रैल 2020 में अमेरिका में मृत्यु हो गई थी, को किस क्षेत्र में उनके योगदान के लिए जाना जाता है?

- Ans
- 1. चिकित्सा विज्ञान
 - 2. पत्रकारिता
 - 3. थिएटर
 - 4. खेल

Question ID : 65497814775
Chosen Option : 1

Q.3 क्रिकेट खिलाड़ी बेन स्टोक्स निम्नलिखित में से किस देश के लिए खेलते हैं?

- Ans 1. इंग्लैंड
 2. न्यूजीलैंड
 3. ऑस्ट्रेलिया
 4. दक्षिण अफ्रीका

Question ID : 65497814772
 Chosen Option : 1

Q.4 देवराय की लड़ाई में औरंगजेब ने निम्नलिखित में से किसे पराजित किया था?

- Ans 1. दारा शिकोह
 2. मुराद बख्श
 3. शाहजहाँ
 4. शाह शुजा

Question ID : 65497814791
 Chosen Option : 1

Q.5 किस शास्त्रीय अर्थशास्त्री ने निम्नलिखित वाक्यांश को लोकप्रिय बनाया: "प्रत्येक से उसकी क्षमता के अनुसार, प्रत्येक को उसकी आवश्यकता के अनुसार"?

- Ans 1. जॉन स्टुअर्ट मिल
 2. कार्ल मार्क्स
 3. एडम स्मिथ
 4. डेविड रिकार्डो

Question ID : 65497814475
 Chosen Option : 2

Q.6 आमतौर पर निम्नलिखित में से किस अवधि में पृथ्वी से काइटिड्स (Quadrantids) नाम का उल्कापात दिखाई देता है?

- Ans 1. दिसम्बर/जनवरी
 2. अक्टूबर/नवंबर
 3. मई/जून
 4. अगस्त/सितम्बर

Question ID : 65497814785
 Chosen Option : --

Q.7 निम्नलिखित क्रिकेट खिलाड़ियों में से कौन-सा, विजडन अल्फ्रेक के 2020 संस्करण द्वारा नामित विजडन फाइव क्रिकेटर्स ऑफ द ईयर में से एक नहीं है?

- Ans 1. एलीस पेरी
 2. पैट कर्मिस
 3. जोफ्रा आर्चर
 4. आंद्रे रसेल

Question ID : 65497814773
 Chosen Option : 1

Q.8 निम्नलिखित में से किस केंद्र शासित प्रदेश का राज्यों की परिषद में प्रतिनिधित्व है?

- Ans 1. अंडमान व निकोबार द्वीप समूह
 2. पुदुचेरी
 3. चंडीगढ़
 4. लक्षद्वीप

Question ID : 65497814780
Chosen Option : 2

Q.9 निम्नलिखित में से किस महीने में पृथ्वी से लाइरिड्स (Lyrids) नाम का उल्कापात दिखाई दे सकता है?

- Ans 1. फरवरी
 2. अगस्त
 3. अप्रैल
 4. जून

Question ID : 65497814786
Chosen Option : --

Q.10 अग्रणी वैक्सीन निर्माता कंपनी सीरम इंस्टीट्यूट ऑफ इंडिया प्राइवेट लिमिटेड निम्नलिखित में से किस कॉरपोरेट घराने से संबंध रखती है?

- Ans 1. साइरस पूनावाला समूह
 2. अडानी समूह
 3. टाटा समूह
 4. रिलायंस समूह

Question ID : 65497814774
Chosen Option : 1

Q.11 30 जून 2020 तक की स्थिति के अनुसार, भारत सरकार द्वारा शास्त्रीय भाषाओं के रूप में मान्यता प्राप्त भाषाओं में से, निम्नलिखित में से कौन-सी नवीनतम है?

- Ans 1. उड़िया
 2. मलयालम
 3. कन्नड़
 4. तेलुगू

Question ID : 65497814770
Chosen Option : --

Q.12 'न्यू लैप्स फॉर ओल्ड' शीर्षक वाले लेखों की श्रृंखला के लेखक कौन थे, जिनमें ब्रिटिश शासन के प्रति अपनी उदार नीति के लिए कांग्रेस की कड़ी आलोचना की गई थी?

- Ans 1. श्री अरबिंदो
 2. लाला लाजपत राय
 3. बिपिन चंद्र पाल
 4. बाल गंगाधर तिलक

Question ID : 65497814793
Chosen Option : 1

Q.13 फरवरी 2020 में, शंघाई को-ऑपरेशन ऑर्गनाइजेशन (SCO) ने 'एस.सी.ओ. के आठ अजूबों की सूची' प्रकाशित की। निम्नलिखित में से कौन सा भारतीय स्मारक इस सूची में शामिल है?

- Ans
- 1. महाबलीपुरम के स्मारक
 - 2. खजुराहो के स्मारक समूह
 - 3. स्टैच्यू ऑफ यूनिटी
 - 4. महान चोल मंदिर

Question ID : 65497814769
Chosen Option : 3

Q.14 वर्धा नदी, निम्नलिखित में से किस नदी प्रणाली की महत्वपूर्ण नदियों में से एक है?

- Ans
- 1. गंगा
 - 2. कृष्णा
 - 3. गोदावरी
 - 4. महानदी

Question ID : 65497814790
Chosen Option : 3

Q.15 निम्नलिखित में से कौन सा रोग लीशमैनिया प्रजाति के प्रोटोजोआ परजीवी के कारण होता है?

- Ans
- 1. चिकनगुनिया
 - 2. काला अजार
 - 3. पोलियो
 - 4. मलेरिया

Question ID : 65497814784
Chosen Option : 2

Q.16 आदिकवि पंपा ने अपनी रचनाएँ निम्नलिखित में से किस भाषा में की हैं?

- Ans
- 1. मलयालम
 - 2. तमिल
 - 3. तेलुगू
 - 4. कन्नड़

Question ID : 65497814792
Chosen Option : 2

Q.17 किशनगंगा नदी, निम्नलिखित में से किस नदी की प्रमुख सहायक नदियों में से एक है?

- Ans
- 1. रावी
 - 2. झेलम
 - 3. सतलुज
 - 4. चिनाब

Question ID : 65497814789
Chosen Option : --

Q.18 श्रीविल्लिपुथुर हाथी अभ्यारण्य निम्नलिखित में से किस राज्य में स्थित है?

- Ans
- 1. कर्नाटक
 - 2. तेलंगाना
 - 3. तमिलनाडु
 - 4. आंध्र प्रदेश

Question ID : 65497814788
Chosen Option : 4

Q.19 सिक्किम का निम्नलिखित में से कौन सा समुदाय पारंपरिक रूप से लोक नृत्य 'चू-फाट' से संबंध रखता है?

- Ans
- 1. तमांग
 - 2. लेपचा
 - 3. भूटिया
 - 4. नेपाली

Question ID : 65497814771
Chosen Option : 2

Q.20 अंतर्राष्ट्रीय अंतरिक्ष स्टेशन के लिए नासा के मानव मिशन हेतु स्पेस-एक्स द्वारा विकसित अंतरिक्ष यान का नाम क्या है?

- Ans
- 1. क्रू एरीज
 - 2. क्रू शार्क
 - 3. क्रू ड्रैगन
 - 4. क्रू सेंटौरस

Question ID : 65497814783
Chosen Option : 4

Q.21 जून 2020 में कृषि, सहकारिता और किसान कल्याण विभाग द्वारा प्रकाशित 'दूसरा बागवानी उत्पादन अग्रिम अनुमान 2019-20' के अनुसार, 2019-20 में कुल बागवानी उत्पादन 2018-19 से लगभग _____ अधिक रहने का अनुमान है।

- Ans
- 1. 4%
 - 2. 3%
 - 3. 2%
 - 4. 1%

Question ID : 65497814779
Chosen Option : 2

Q.22 2024 तक चंद्रमा पर पहली महिला और अगले पुरुष को उतारने के लिए नासा के कार्यक्रम का नाम क्या है?

- Ans
- 1. ओरायन
 - 2. अपोलो
 - 3. नाइके
 - 4. आर्टेमिस

Question ID : 65497814787
Chosen Option : 2

Q.23 निम्नलिखित में से कौन-सा, ऋणी को संपार्श्विक (collateral) की कमी की समस्या को दूर करने में सहायता करता है?

- Ans
- 1. स्वयं सहायता समूह (Self Help Groups)
 - 2. नागरिक समितियां (Civil Societies)
 - 3. प्रेशर ग्रुप्स (Pressure Groups)
 - 4. गैर सरकारी संगठन (Non-Governmental Organizations)

Question ID : 65497816696

Chosen Option : --

Q.24 भारतीय संविधान के निम्नलिखित अनुच्छेदों में से किसमें भारत में संघ और राज्य लोक सेवा आयोगों के कर्तव्यों और कार्यों का वर्णन है?

- Ans
- 1. अनुच्छेद 312
 - 2. अनुच्छेद 308
 - 3. अनुच्छेद 316
 - 4. अनुच्छेद 320

Question ID : 65497814781

Chosen Option : 1

Q.25 विश्व बौद्धिक संपदा संगठन (WIPO) के अनुसार, 2019 में चीन से सर्वाधिक अंतरराष्ट्रीय पेटेंट आवेदन दाखिल किए गए हैं। वर्ष 2018 में निम्नलिखित में से कौन सा देश इस स्थान पर था?

- Ans
- 1. सिंगापुर
 - 2. दक्षिण कोरिया
 - 3. संयुक्त राज्य अमेरिका
 - 4. जापान

Question ID : 65497814776

Chosen Option : 3

www.HaryanaJobs.in

Multi Tasking Non Technical Staff Examination 2020

Participant ID	www.HaryanaJobs.in
Participant Name	www.HaryanaJobs.in
Test Center Name	iON Digital Zone iDZ Tatisilwai
Test Date	22/10/2021
Test Time :	4:00 PM - 5:30 PM
Subject	MTS Non Technical 2020

Section : **General English**

Q.1 Select the INCORRECTLY spelt word.

- Ans 1. Gaeity
 2. Relevant
 3. Probable
 4. Hypocrisy

Question ID : **65497816231**

Chosen Option : 1

Q.2 Select the most appropriate meaning of the given idiom.

Lean and mean

- Ans 1. Evil and selfish
 2. Thin and weak
 3. Ready and efficient
 4. Fat and lazy

Question ID : **65497816227**

Chosen Option : 2

Q.3 Select the INCORRECTLY spelt word.

- Ans 1. Gloomy
 2. Premium
 3. Temprature
 4. Massive

Question ID : **65497816230**

Chosen Option : 3

Q.4 Select the most appropriate word to fill in the blank.

They _____ a separate cabin to each employee.

- Ans 1. allotted
 2. asserted
 3. owned
 4. appointed

Question ID : 65497816233
Chosen Option : 1

Q.5 Select the most appropriate option to substitute the underlined segment in the given sentence. If there is no need to substitute it, select 'No substitution required'.

Why are you stood here at this late hour?

- Ans 1. stand
 2. standing
 3. No substitution required
 4. stands

Question ID : 65497816219
Chosen Option : 2

Q.6 Select the most appropriate ANTONYM of the given word.

NAB

- Ans 1. grab
 2. arrest
 3. free
 4. catch

Question ID : 65497816222
Chosen Option : 3

Q.7 Select the most appropriate option to substitute the underlined segment in the given sentence. If there is no need to substitute it, select 'No substitution required.'

The pilgrims were fined them one thousand rupees each for littering around the shrine.

- Ans 1. have fined them
 2. was fined with
 3. No substitution required
 4. were fined

Question ID : 65497815210
Chosen Option : 4

Q.8 Select the most appropriate word to fill in the blank.

Those who _____ of their riches aren't truly rich.

- Ans
- 1. announce
 - 2. claim
 - 3. pretend
 - 4. boast

Question ID : 65497816232
Chosen Option : 4

Q.9 Select the most appropriate one-word substitution for the given group of words.

An additional remark at the end of a letter after the signature

- Ans
- 1. Abbreviation
 - 2. Postscript
 - 3. Salutation
 - 4. Attachment

Question ID : 65497816229
Chosen Option : 2

Q.10 Select the most appropriate synonym of the given word.

ISOLATE

- Ans
- 1. combine
 - 2. detach
 - 3. connect
 - 4. attach

Question ID : 65497816224
Chosen Option : 2

Q.11 Identify the segment in the sentence which contains a grammatical error.

He said he had being playing tennis since he was eight.

- Ans
- 1. he had being
 - 2. since he was eight
 - 3. He said
 - 4. playing tennis

Question ID : 65497816210
Chosen Option : 1

Q.12 Identify the segment in the sentence which contains a grammatical error.

Don't you think this bag is too big to carried?

- Ans 1. to carried
 2. too big
 3. Don't you think
 4. this bag is

Question ID : 65497816209
Chosen Option : 1

Q.13 Select the most appropriate word to fill in the blank.

He met _____ an accident a few years ago.

- Ans 1. with
 2. from
 3. across
 4. along

Question ID : 65497816212
Chosen Option : 1

Q.14 Select the most appropriate synonym of the given word.

ENTHRALL

- Ans 1. enchant
 2. eject
 3. repel
 4. incite

Question ID : 65497816225
Chosen Option : 4

Q.15 Select the most appropriate ANTONYM of the given word.

CHERISH

- Ans 1. disregard
 2. disturb
 3. distribute
 4. disperse

Question ID : 65497816223
Chosen Option : 2

Q.16 Select the most appropriate word to fill in the blank.

I will teach you _____ you promise to work hard.

- Ans
- 1. and
 - 2. so
 - 3. only
 - 4. if

Question ID : 65497816211
Chosen Option : 4

Q.17 Select the most appropriate option to substitute the underlined segment in the given sentence. If there is no need to substitute it, select 'No substitution required'.

I went to the market buying few vegetables and milk.

- Ans
- 1. to buy few
 - 2. to buy some
 - 3. buying some
 - 4. No substitution required

Question ID : 65497817332
Chosen Option : 2

Q.18 Select the most appropriate one-word substitution for the given group of words.

A person who speaks two languages

- Ans
- 1. Multilingual
 - 2. Bilingual
 - 3. Bilateral
 - 4. Monolingual

Question ID : 65497816228
Chosen Option : 2

Q.19 Select the most appropriate meaning of the given idiom.

Keep in check

- Ans
- 1. To place an order
 - 2. To test something
 - 3. To keep something safe
 - 4. To control something

Question ID : 65497816226
Chosen Option : 4

Q.20 Identify the segment in the sentence which contains a grammatical error.

The little baby cried loudly to a new toy.

- Ans
- 1. cried loudly
 - 2. The little baby
 - 3. new toy
 - 4. to a

Question ID : 65497816208
Chosen Option : 4

Comprehension:

In the following passage some words have been deleted. Fill in the blanks with the help of the alternatives given. Select the most appropriate option for each blank.

Do you know that you (1)_____ about one-third of your life sleeping? However, your body doesn't (2)_____ the sleeping time. It has a lot to do (3)_____ you are sleeping. The body produces energy at night (4)_____ you have plenty of energy the next morning. Hormones, which are (5)_____ growth chemicals, help the body to repair itself and grow.

SubQuestion No : 21

Q.21 Select the most appropriate option to fill in blank no. 1.

- Ans
- 1. settle
 - 2. delay
 - 3. spend
 - 4. apply

Question ID : 65497816214
Chosen Option : 3

Comprehension:

In the following passage some words have been deleted. Fill in the blanks with the help of the alternatives given. Select the most appropriate option for each blank.

Do you know that you (1)_____ about one-third of your life sleeping? However, your body doesn't (2)_____ the sleeping time. It has a lot to do (3)_____ you are sleeping. The body produces energy at night (4)_____ you have plenty of energy the next morning. Hormones, which are (5)_____ growth chemicals, help the body to repair itself and grow.

SubQuestion No : 22

Q.22 Select the most appropriate option to fill in blank no. 2.

- Ans
- 1. consume
 - 2. waste
 - 3. remove
 - 4. dispose

Question ID : 65497816215
Chosen Option : 2

Comprehension:

In the following passage some words have been deleted. Fill in the blanks with the help of the alternatives given. Select the most appropriate option for each blank.

Do you know that you (1)_____ about one-third of your life sleeping? However, your body doesn't (2)_____ the sleeping time. It has a lot to do (3)_____ you are sleeping. The body produces energy at night (4)_____ you have plenty of energy the next morning. Hormones, which are (5)_____ growth chemicals, help the body to repair itself and grow.

SubQuestion No : 23

Q.23 Select the most appropriate option to fill in blank no. 3.

- Ans
- 1. what
 - 2. where
 - 3. why
 - 4. when

Question ID : **65497816216**
Chosen Option : 4

Comprehension:

In the following passage some words have been deleted. Fill in the blanks with the help of the alternatives given. Select the most appropriate option for each blank.

Do you know that you (1)_____ about one-third of your life sleeping? However, your body doesn't (2)_____ the sleeping time. It has a lot to do (3)_____ you are sleeping. The body produces energy at night (4)_____ you have plenty of energy the next morning. Hormones, which are (5)_____ growth chemicals, help the body to repair itself and grow.

SubQuestion No : 24

Q.24 Select the most appropriate option to fill in blank no. 4.

- Ans
- 1. because
 - 2. so that
 - 3. such as
 - 4. although

Question ID : **65497816217**
Chosen Option : 2

Comprehension:

In the following passage some words have been deleted. Fill in the blanks with the help of the alternatives given. Select the most appropriate option for each blank.

Do you know that you (1)_____ about one-third of your life sleeping? However, your body doesn't (2)_____ the sleeping time. It has a lot to do (3)_____ you are sleeping. The body produces energy at night (4)_____ you have plenty of energy the next morning. Hormones, which are (5)_____ growth chemicals, help the body to repair itself and grow.

SubQuestion No : 25

Q.25 Select the most appropriate option to fill in blank no. 5.

- Ans
- 1. special
 - 2. occasional
 - 3. memorable
 - 4. restricted

Question ID : **65497816218**
Chosen Option : 1

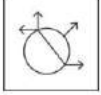
Section : **General Intelligence and Reasoning**

Q.1 एक परिसर में M, N, O, P, Q, R और S नामक घर एक पंक्ति में हैं, लेकिन वे अनिवार्य रूप से इसी क्रम में नहीं हैं। P किसी भी छोर पर नहीं है। R, P के ठीक दाएं पड़ोस में है। S, बाएं से तीसरा है। O एकदम बाएं छोर पर है। M दाईं ओर से दूसरा है। O, N के पड़ोस में नहीं है। N की स्थिति क्या है?

- Ans
- 1. दाएं से तीसरा
 - 2. दाएं से चौथा
 - 3. दाएं छोर पर
 - 4. बाएं से दूसरा

Question ID : 65497817059
Chosen Option : 3

Q.2 यदि दर्पण को दी गई आकृति के दाईं ओर रखा जाए, तो आकृति के दर्पण में निर्मित सही प्रतिबिंब का चयन कीजिए।



Ans

- 1.
- 2.
- 3.
- 4.

Question ID : 65497817064
Chosen Option : 2


Q.3 अक्षरों के उस सही संयोजन का चयन करें, जिन्हें क्रमिक रूप से दी गई अक्षर श्रेणी में रिक्त स्थानों पर रखने पर श्रेणी पूर्ण हो जाएगी।

e _ _ c _ j f _ _ fce

- Ans
- 1. jfejce
 - 2. jcefje
 - 3. fecjej
 - 4. jfecej

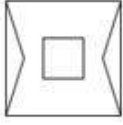
Question ID : 65497817055
Chosen Option : 4

Q.4 एक कागज को बिंदीदार रेखाओं पर मोड़ा जाता है, जैसा कि पहले दो आकृतियों में दिखाया गया है। और इसे तीसरी आकृति के अनुसार काटा जाता है। जब इसे खोला जाएगा, तो यह कैसा दिखेगा?

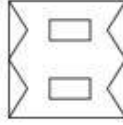


Ans

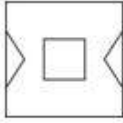
✗ 1.



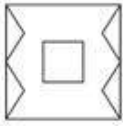
✓ 2.



✗ 3.



✗ 4.



Question ID : 65497817065

Chosen Option : 2

Q.5 दी गई संख्या श्रेणी को पूर्ण करें।

500, 450, 405, 365, _____

Ans ✗ 1. 320

✓ 2. 330

✗ 3. 350

✗ 4. 340

Question ID : 65497817046

Chosen Option : 2

Q.6 दो कथनों के बाद तीन निष्कर्ष दिए गए हैं। यह मानते हुए कि कथन सत्य हैं, भले ही वे सामान्य रूप से ज्ञात तथ्यों से भिन्न प्रतीत होते हों, बताएं कि कौन से निष्कर्ष दिए गए कथनों का तार्किक रूप से अनुसरण करते हैं?

कथन:

1. सभी पुस्तकें लाल हैं।
2. कोई कॉपी लाल नहीं है।

निष्कर्ष:

- I. कुछ पुस्तकें कॉपियां हैं।
- II. कोई पुस्तक कॉपी नहीं है।
- III. सभी कॉपियां पुस्तकें हैं।

Ans ✗ 1. निष्कर्ष II और III, दोनों अनुसरण करते हैं।

✓ 2. केवल निष्कर्ष II अनुसरण करता है।

✗ 3. निष्कर्ष I और II, दोनों अनुसरण करते हैं।

✗ 4. केवल निष्कर्ष I अनुसरण करता है।

Question ID : 65497817057

Chosen Option : 2

Q.7 उस विकल्प का चयन करें, जो तीसरे पद से ठीक उसी प्रकार संबंधित है, जिस प्रकार दूसरा पद पहले पद से संबंधित है।

NICE : OGFA :: COLD : _____

- Ans
- 1. FMIH
 - 2. FMOA
 - 3. DKIZ
 - 4. DMOZ

Question ID : 65497817052
Chosen Option : 4

Q.8 गणितीय चिह्नों के उस सही संयोजन का चयन करें, जिन्हें क्रमिक रूप से * चिह्नों के स्थान पर रखने पर समीकरण संतुलित हो जाएगा।

8 * 4 * 7 * 8 * 2 * 35

- Ans
- 1. +, -, ×, ÷, =
 - 2. ×, +, -, ÷, =
 - 3. -, ×, +, ÷, =
 - 4. ×, -, ÷, +, =

Question ID : 65497817043
Chosen Option : 2

Q.9 किसी निश्चित कूट भाषा में '274' का अर्थ 'God is great' है, '137' का अर्थ 'I worship God' है और '752' का अर्थ 'God is omnipotent' है। इसी भाषा में निम्न में से किस संख्या का अर्थ 'worship' होगा?

- Ans
- 1. 5
 - 2. 7
 - 3. 2
 - 4. 3

Question ID : 65497817051
Chosen Option : 4

Q.10 यदि किसी कूट भाषा में 'HOOK' को 'SLLP' लिखा जाता है, तो इसी कूट भाषा में 'HOPE' को क्या लिखा जाएगा?

- Ans
- 1. SZZL
 - 2. SZZT
 - 3. SLKV
 - 4. HLZT

Question ID : 65497817049
Chosen Option : 3

Q.11 उस विकल्प का चयन करें, जो तीसरे शब्द से ठीक उसी प्रकार संबंधित है, जिस प्रकार दूसरा शब्द पहले शब्द से संबंधित है।

धूप : अंधा :: शोर : _____

- Ans
- 1. मौन
 - 2. शांति
 - 3. गुंगा
 - 4. बहरा

Question ID : 65497817054
Chosen Option : 4

Q.12 किसी निश्चित कूट भाषा में '893' का अर्थ 'Shahid likes cakes' है, '137' का अर्थ 'cakes are delicious' है और '274' का अर्थ 'we are girls' है। इसी भाषा में निम्न में से किस संख्या का अर्थ 'delicious' होगा?

- Ans
- 1. 7
 - 2. 1
 - 3. 9
 - 4. 8

Question ID : 65497817050
Chosen Option : 2

Q.13 दो कथनों के बाद दो निष्कर्ष दिए गए हैं। यह मानते हुए कि कथन सत्य हैं, भले ही वे सामान्य रूप से ज्ञात तथ्यों से भिन्न प्रतीत होते हों, बताएं कि कौन से निष्कर्ष दिए गए कथनों का तार्किक रूप से अनुसरण करते हैं?

कथन:

1. सभी माताएं महिलाएं हैं।
2. कुछ महिलाएं डॉक्टर हैं।

निष्कर्ष:

- I. कोई माता डॉक्टर नहीं है।
- II. कुछ माताएं डॉक्टर हैं।

- Ans
- 1. या तो निष्कर्ष I या II अनुसरण करता है।
 - 2. केवल निष्कर्ष I अनुसरण करता है।
 - 3. निष्कर्ष I और II, दोनों अनुसरण करते हैं।
 - 4. केवल निष्कर्ष II अनुसरण करता है।

Question ID : 65497817056
Chosen Option : 1

Q.14 उस संख्या का चयन करें, जो दी गई संख्या श्रेणी से संबंधित नहीं है।

140, 91, 56, 30, 14, 5, 1

- Ans
- 1. 1
 - 2. 56
 - 3. 14
 - 4. 91

Question ID : 65497817047
Chosen Option : 2




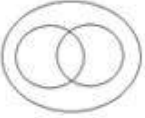
Q.15 उस विकल्प का चयन करें, जो तीसरे शब्द से ठीक उसी प्रकार संबंधित है, जिस प्रकार दूसरा शब्द पहले शब्द से संबंधित है।

साइकिल : पहिए :: पक्षी : _____

- Ans
- 1. नदी
 - 2. आकाश
 - 3. भूमि
 - 4. पंख

Question ID : 65497817053
Chosen Option : 4

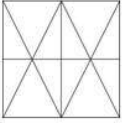
Q.16 उस वेन-आरेख का चयन करें, जो बहुभुज, त्रिभुज और समचतुर्भुज के बीच संबंध को सही ढंग से निरूपित करता है।

- Ans
- 1. 
 - 2. 
 - 3. 
 - 4. 

Question ID : 65497817066
Chosen Option : 3

www.HaryanaJobs.in

Q.17 उस आकृति का चयन करें, जो दी गई आकृति में अंतःस्थापित है (घुमाने की अनुमति नहीं है)।



Ans

✗ 1.



✓ 2.



✗ 3.



✗ 4.



Question ID : 65497817063

Chosen Option : 2

Q.18 दिए गए विकल्पों में से, संख्याओं के उस समुच्चय का चयन करें, जो दिए गए समुच्चय के समान है।

(437, 909, 279)

Ans

✗ 1. (189, 654, 501)

✗ 2. (218, 930, 550)

✓ 3. (516, 189, 628)

✗ 4. (718, 990, 546)

Question ID : 65497817045

Chosen Option : 3

Q.19 छः छात्र A, B, C, D, E और F उत्तर की ओर अभिमुख होकर खड़े हैं, लेकिन वे अनिवार्य रूप से इसी क्रम में नहीं खड़े हैं। A एक छोर पर खड़ा है और F उसके पड़ोस में है। B, E के एकदम दाएं पड़ोस में है। B, दाएं छोर से दूसरे स्थान पर है। C, F के पड़ोस में नहीं है। इनमें से कौन बाएं से तीसरे स्थान पर खड़ा है?

Ans

✓ 1. D

✗ 2. E

✗ 3. C

✗ 4. F

Question ID : 65497817058

Chosen Option : 1

Q.20 यदि किसी कूट भाषा में 'BEAM' को 'EKJY' लिखा जाता है, तो इसी कूट भाषा में 'HOLE' को क्या लिखा जाएगा?

- Ans
- 1. EUOK
 - 2. KUUB
 - 3. KROK
 - 4. KUUQ

Question ID : 65497817048

Chosen Option : 4

Q.21 उस विकल्प का चयन करें, जिसमें संख्या-युग्म की संख्याएं एक-दूसरे से ठीक उसी प्रकार संबंधित नहीं हैं, जिस प्रकार दिए गए युग्म की संख्याएं एक-दूसरे से संबंधित हैं।

9 : 734

- Ans
- 1. 6 : 221
 - 2. 8 : 517
 - 3. 4 : 71
 - 4. 7 : 348

Question ID : 65497817044

Chosen Option : 3

Q.22 निम्न को एक तार्किक और सार्थक क्रम में व्यवस्थित करें।

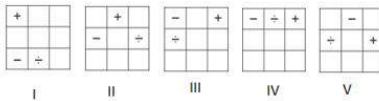
I. सिंचाई II. कृषि भूमि III. फसल कटाई IV. बीज

- Ans
- 1. IV, II, III, I
 - 2. III, II, IV, I
 - 3. II, IV, I, III
 - 4. I, II, IV, III

Question ID : 65497817060

Chosen Option : 3

Q.23 बताएं कि किस आकृति को निकाल दिया जाए, ताकि I से शुरू करके सभी आकृतियां एक पैटर्न में फिट हो सकें।



- Ans
- 1. II
 - 2. V
 - 3. IV
 - 4. III

Question ID : 65497817061

Chosen Option : 4

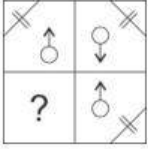
Q.24 उस विकल्प का चयन करें, जिसमें दिए गए चिह्नों को एक-दूसरे से प्रतिस्थापित करने पर दिया गया समीकरण संतुलित हो जाएगा।

$$11 + 4 - 3 \div 3 \times 7 = 8$$

- Ans
- 1. + और +
 - 2. × और +
 - 3. - और ×
 - 4. + और ×

Question ID : 65497817042
Chosen Option : 3

Q.25 सही विकल्प का चयन करके, दिए गए पैटर्न के अनुपस्थित भाग को पूरा करें।



- Ans
- 1.
 - 2.
 - 3.
 - 4.

Question ID : 65497817062
Chosen Option : 2

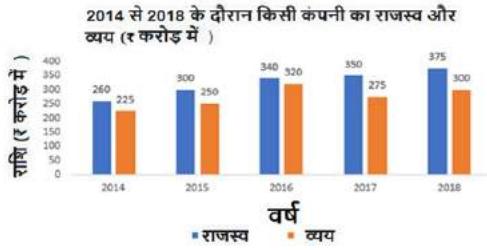
Section : Numerical Aptitude

Q.1 $4\frac{2}{5} \div \left\{ \left(1\frac{1}{2} - 3\frac{1}{5} \right) \div 3\frac{2}{5} + \left(2\frac{1}{5} \div 1\frac{1}{2} + 4\frac{2}{5} \right) + \frac{1}{2} \right\}$ का मान ज्ञात करें।

- Ans
- 1. $\frac{4}{7}$
 - 2. $\frac{3}{7}$
 - 3. $\frac{3}{5}$
 - 4. $\frac{3}{4}$

Question ID : 65497815674
Chosen Option : 4

Q.2 दिए गए ग्राफ का अध्ययन कीजिए और उससे संबंधित प्रश्न का उत्तर दीजिए।



2016 में कंपनी का राजस्व, 2014, 2016 और 2018 के कंपनी के औसत राजस्व से कितने प्रतिशत (निकटतम पूर्णांक तक सही) अधिक था?

- Ans
- ✓ 1. 5%
 - ✗ 2. 7%
 - ✗ 3. 8%
 - ✗ 4. 9%

Question ID : 65497817191
Chosen Option : 1

Q.3 30 वस्तुओं का क्रय मूल्य, 24 वस्तुओं के विक्रय मूल्य के बराबर है। यदि लाभ $x\%$ है, तो x का मान कितना होगा?

- Ans
- ✗ 1. 30
 - ✗ 2. 18
 - ✓ 3. 25
 - ✗ 4. 24

Question ID : 65497817176
Chosen Option : 3

Q.4 एक लम्ब वृत्तीय शंकु के बक्रपृष्ठ का क्षेत्रफल $65 \pi \text{ cm}^2$ और इसके आधार की त्रिज्या 5 cm है। शंकु के आयतन का 40% (cm^3) में कितना होगा?

- Ans
- ✗ 1. 180π
 - ✗ 2. 100π
 - ✓ 3. 40π
 - ✗ 4. 50π

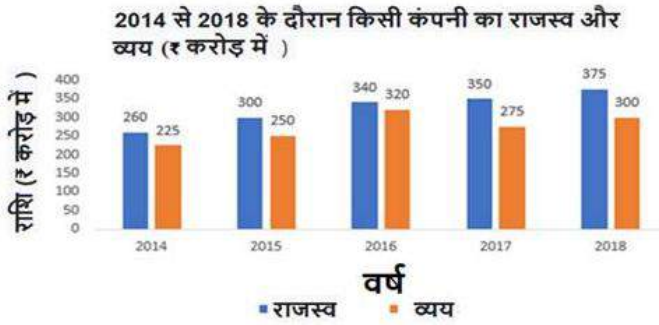
Question ID : 65497817186
Chosen Option : 3

Q.5 एक हॉल 18 m लंबा और 12 m चौड़ा है। यदि इसके फर्श का क्षेत्रफल चारों दीवारों के क्षेत्रफल के योगफल के बराबर है, तो हॉल का आयतन (m^3 में) ज्ञात कीजिए?

- Ans
- 1. 675.5
 - 2. 777.6
 - 3. 576.4
 - 4. 876.2

Question ID : 65497817184
Chosen Option : 2

Q.6 दिए गए ग्राफ का अध्ययन कीजिए और उससे संबंधित प्रश्न का उत्तर दीजिए।



पिछले वर्ष की तुलना में, किस वर्ष कंपनी के राजस्व में प्रतिशत वृद्धि सर्वाधिक थी?

- Ans
- 1. 2016
 - 2. 2018
 - 3. 2017
 - 4. 2015

Question ID : 65497817192
Chosen Option : 4

Q.7 A और B किसी काम को 20 दिन में पूरा कर सकते हैं। A अकेला उसी काम को 60 दिनों में पूरा करता है। B अकेले उस काम को कितने दिनों में पूरा कर लेगा?

- Ans
- 1. 30
 - 2. 75
 - 3. 50
 - 4. 40

Question ID : 65497817168
Chosen Option : 1

Q.8 A और B की आय का अनुपात 6 : 11 है। उनके व्यय का अनुपात 1 : 2 है। यदि A और B क्रमशः ₹9,000 और ₹11,500 की बचत करते हैं, तो B का व्यय ज्ञात करें।

- Ans
- 1. ₹60,000
 - 2. ₹54,900
 - 3. ₹55,800
 - 4. ₹55,500

Question ID : 65497817180
Chosen Option : 1

Q.9 एक व्यक्ति ने ₹6,500 की धनराशि $x\%$ की वार्षिक साधारण ब्याज दर पर और ₹7,500 की धनराशि $(x-2)\%$ की साधारण ब्याज दर पर निवेश की। यदि दोनों धनराशियों से 3 वर्षों में प्राप्त ब्याज ₹3,750 है, तो निवेश की गयी दूसरी राशि के लिए ब्याज की दर कितनी थी?

- Ans
- 1. 8%
 - 2. 10%
 - 3. 12%
 - 4. 14%

Question ID : 65497817182
Chosen Option : 1

Q.10 1800 मीटर लंबी सड़क को एक व्यक्ति 6 मिनट में पार करता है। व्यक्ति की चाल km/h में कितनी है?

- Ans
- 1. 9
 - 2. 12
 - 3. 15
 - 4. 18

Question ID : 65497817170
Chosen Option : 4

Q.11 निम्न में से कौन-सी एक छूट 10%, 15% और 18% की तीन क्रमिक छूटों के समतुल्य होगी?

- Ans
- 1. 32.68%
 - 2. 34.17%
 - 3. 37.27%
 - 4. 35.36%

Question ID : 65497817174
Chosen Option : 3

Q.12 A और B की आय का अनुपात 3 : 4 और उनके व्यय का अनुपात 9 : 5 है। यदि A की आय, B के व्यय की तीन गुनी है, तो A और B की बचत का अनुपात क्या होगा?

- Ans
- 1. 5 : 2
 - 2. 3 : 5
 - 3. 2 : 5
 - 4. 5 : 3

Question ID : 65497817179
Chosen Option : 3

Q.13 ₹20,000 की धनराशि के लिए छमाही आधार पर चक्रवृद्धि होने वाली 10% वार्षिक ब्याज की दर पर $1\frac{1}{2}$ वर्ष में प्राप्त चक्रवृद्धि ब्याज और साधारण ब्याज के बीच अंतर (₹ में) कितना होगा?

- Ans
- 1. 76.25
 - 2. 152.5
 - 3. 87
 - 4. 91.5

Question ID : 65497817181
Chosen Option : 2

Q.14 6 व्यक्तियों का औसत भार तब 2.5 kg कम हो जाता है जब उस समूह में 70 kg वाले एक व्यक्ति के स्थान पर एक अन्य नया व्यक्ति शामिल होता है। नये व्यक्ति का भार (kg में) कितना है?

- Ans
- 1. 75.5
 - 2. 55
 - 3. 60
 - 4. 62.5

Question ID : 65497817173
Chosen Option : 2

Q.15 कार की अपेक्षा एक ट्रेन 40% अधिक चाल से चल सकती है। कार और ट्रेन दोनों बिंदु B, जो कि A से 70 km दूर स्थित है, तक पहुँचने के लिए एक ही समय में बिंदु A से चलना आरंभ करती हैं और बिंदु B पर एक ही समय पर पहुंचती हैं। हालांकि रास्ते में ट्रेन को स्टेशनों पर 15 मिनट के लिए रुकना पड़ा। ट्रेन की चाल km/h में ज्ञात कीजिए?

- Ans
- 1. 100
 - 2. 90
 - 3. 112
 - 4. 80

Question ID : 65497817171
Chosen Option : 3

Q.16 दो संख्याएं तीसरी संख्या से क्रमशः 17% और 50% कम हैं। उन दोनों संख्याओं का अनुपात कितना होगा?

- Ans
- 1. 59 : 35
 - 2. 50 : 83
 - 3. 35 : 59
 - 4. 83 : 50

Question ID : 65497817178
Chosen Option : 4

Q.17 तीन वस्तुएं खरीदी गईं जिनमें से प्रत्येक का मूल्य ₹180 है। उनमें से एक को 10% की हानि पर बेचा गया। यदि अन्य दो वस्तुओं को इस प्रकार बेचा गया पूरे सौदे में 20% का लाभ हुआ, तो दो वस्तुओं को कितने प्रतिशत लाभ पर बेचा गया?

- Ans
- 1. 37.5%
 - 2. 45%
 - 3. 42.5%
 - 4. 35%

Question ID : 65497817177
Chosen Option : 4

Q.18 100 संख्याओं का माध्य 51 है। बाद में यह पाया गया कि तीन संख्याओं 50, 70, 60 को गलती से क्रमशः 40, 20, 50 पढ़ लिया गया था। वास्तविक माध्य ज्ञात कीजिए?

- Ans
- 1. 51.7
 - 2. 50.8
 - 3. 52.3
 - 4. 48.6

Question ID : 65497817183
Chosen Option : 1

Q.19 मान लीजिए x वह छोटी से छोटी संख्या है जो 8, 12, 30, 36 और 45 से विभाज्य है और x एक पूर्ण वर्ग भी है। संख्या x के अंकों का योगफल कितना होगा?

- Ans
- 1. 6
 - 2. 7
 - 3. 4
 - 4. 9

Question ID : 65497817187
Chosen Option : 4

Q.20 निम्न व्यंजक को सरल करें।

$$\left[8 \times 5 - 3 \text{ of } \left(2\frac{3}{5} \div 1\frac{2}{5} \times 5 - 3 \right) \right] \times \frac{7}{2}$$

- Ans
- 1. 352
 - 2. 208
 - 3. 74
 - 4. 52

Question ID : 65497817895
Chosen Option : 3

Q.21 एक वृत्ताकार मैदान है। इस मैदान का क्षेत्रफल 3850m^2 है, और इसके परितः बाड़ लगाने का खर्च ₹11 प्रति मीटर है, तो कुल लागत (₹ में) ज्ञात कीजिए?

($\pi = \frac{22}{7}$ मानें)

- Ans
- 1. 2,420
 - 2. 3,000
 - 3. 2,840
 - 4. 2,200

Question ID : 65497817185
Chosen Option : 1

Q.22 एक दुकानदार ने पांच क्रमिक महीनों में ₹9,435, ₹9,927, ₹9,855, ₹9,230 और ₹9,562 की बिक्री की। छठे महीने में उसे कितने रुपये की बिक्री करनी होगी जिससे कुल ₹9,500 की औसत बिक्री प्राप्त कर सके?

- Ans
- 1. 9,231
 - 2. 8,991
 - 3. 8,231
 - 4. 9,991

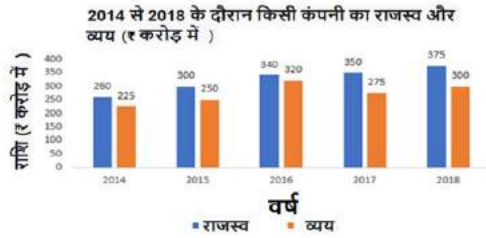
Question ID : 65497817172
Chosen Option : 2

Q.23 A, B और C किसी काम को क्रमशः 10, 15 और 30 दिनों में कर सकते हैं। यदि B और C प्रत्येक तीसरे दिन A की सहायता करते हैं, तो काम का 40% भाग कितने दिन में पूरा हो जाएगा?

- Ans
1. 5
2. $3\frac{1}{2}$
3. $2\frac{1}{2}$
4. 3

Question ID : 65497817169
Chosen Option : 4

Q.24 दिए गए ग्राफ का अध्ययन कीजिए और उससे संबंधित प्रश्न का उत्तर दीजिए।



कंपनी द्वारा 2015 और 2017 के कुल व्यय का, 2016 और 2018 में कंपनी को प्राप्त राजस्व से अनुपात कितना होगा?

- Ans
1. 105 : 143
2. 115 : 114
3. 130 : 103
4. 143 : 105

Question ID : 65497817190
Chosen Option : 1

Q.25 एक लड़की अपनी आय का 80% खर्च करती है। यदि उसकी आय में 18% और खर्च में 25% की वृद्धि होती है, तो उसकी बचत में कितने प्रतिशत (दशमलव के एक स्थान तक सही) की बढ़ोत्तरी या कमी होगी?

- Ans
1. 5%, कमी
2. 10%, बढ़ोत्तरी
3. 5%, बढ़ोत्तरी
4. 10%, कमी

Question ID : 65497817175
Chosen Option : 4

Section : General Awareness

Q.1 भारतीय संविधान का निम्नलिखित में से कौन सा अनुच्छेद नागरिकों के लिए समान नागरिक संहिता से संबंधित है?

- Ans 1. अनुच्छेद 44
 2. अनुच्छेद 45
 3. अनुच्छेद 42
 4. अनुच्छेद 40

Question ID : 65497816095
 Chosen Option : 1

Q.2 निम्नलिखित में से किस बीमारी को 'तीन-D' की बीमारी के नाम से भी जाना जाता है, इसमें डिमेंशिया (dementia), डायरिया (diarrhoea) और डर्माइटिस (dermatitis) शामिल हैं?

- Ans 1. स्कर्वी
 2. ऑस्टियोपोरोसिस
 3. ज़ीरोपथेलेमिया
 4. पेलेग्रा

Question ID : 65497816100
 Chosen Option : 2

Q.3 महात्मा गांधी ने भारत छोड़ो आंदोलन निम्नलिखित में से किस शहर से शुरू किया था?

- Ans 1. बॉम्बे
 2. कराची
 3. मद्रास
 4. लाहौर

Question ID : 65497816104
 Chosen Option : 1

Q.4 राजा अशोक की उस पुत्री का नाम क्या था जिसे उसने एक बौद्ध मिशनरी के कर्तव्यों को निभाने की जिम्मेदारी दी थी?

- Ans 1. चारुमति
 2. पद्मावती
 3. संघमित्रा
 4. असंधमित्रा

Question ID : 65497816106
 Chosen Option : 3

Q.5 मई 2020 में निम्नलिखित में से किसे विश्व स्वास्थ्य संगठन (WHO) के कार्यकारी बोर्ड का अध्यक्ष नामित किया गया है?

- Ans 1. हिरोकी नकटानी
 2. नरेश त्रेहन
 3. हर्षवर्धन
 4. टेड्रोस एडहानॉम

Question ID : 65497816089
 Chosen Option : 3

Q.6 निम्नलिखित में से कौन सा रोगकारक, मलेरिया रोग का कारण होता है?

- Ans
- 1. जीवाणु
 - 2. कवक
 - 3. विषाणु
 - 4. परजीवी

Question ID : 65497816096
Chosen Option : 4

Q.7 _____, शरीर के भीतर, मुख्य रूप से हृदय या फेफड़ों में, उत्पन्न होने वाली ध्वनियों को सुनने के लिए उपयोग किया जाने वाला एक चिकित्सा उपकरण है।

- Ans
- 1. पेरिस्कोप
 - 2. स्टेथोस्कोप
 - 3. कैलाइडोस्कोप
 - 4. टेलीस्कोप

Question ID : 65497816098
Chosen Option : 2

Q.8 'विश्व जनसंख्या संभावना 2019 रिपोर्ट (World Population Prospects 2019 Report)' के अनुसार, वर्ष _____ तक भारत की जनसंख्या चीन की जनसंख्या से अधिक होने की संभावना है।

- Ans
- 1. 2027
 - 2. 2026
 - 3. 2024
 - 4. 2025

Question ID : 65497815181
Chosen Option : 1

Q.9 शिमला में स्थित संस्कृति एवं सभ्यता अध्ययन केंद्र का क्या नाम है?

- Ans
- 1. टैगोर सेंटर
 - 2. नेहरू सेंटर
 - 3. अब्दुल कलाम सेंटर
 - 4. इंटरनेशनल सेंटर

Question ID : 65497816083
Chosen Option : --

Q.10 पद्म श्री पुरस्कार 2020 के प्राप्तकर्ताओं में से एक, शांति जैन को, निम्नलिखित में से किस क्षेत्र में उनके योगदान के लिए यह पुरस्कार मिला है?

- Ans
- 1. सार्वजनिक मामले
 - 2. कला
 - 3. व्यापार और उद्योग
 - 4. साहित्य और शिक्षा

Question ID : 65497816088
Chosen Option : 3

Q.11 पत्तियों की सतह पर मौजूद छोटे छिद्रों को _____ नाम से जाना जाता है।

- Ans
- 1. कोशिका द्रव्य
 - 2. केन्द्रक
 - 3. माइटोकॉन्ड्रिया
 - 4. रंध्र

Question ID : 65497816097
Chosen Option : 4

Q.12 'अ बुमन इज नो मैन' नामक पुस्तक निम्नलिखित में से किसने लिखी है?

- Ans
- 1. मार्गरेट एटवुड (Margaret Atwood)
 - 2. जोखा अल्हार्थी अलहरथी (Jokha Alharthi)
 - 3. एंड्रयू सीन ग्रीर (Andrew Sean Greer)
 - 4. एताफ रम (Etaf Rum)

Question ID : 65497816087
Chosen Option : 1

Q.13 उत्सर्जन के लिए शुंडिका ग्रंथि (प्रोबोसिस ग्लैंड) निम्नलिखित में से किस संघ (फाइलम) के जीवों में उपस्थित होती है?

- Ans
- 1. मोलस्का
 - 2. आर्थ्रोपोडा
 - 3. हेमीकार्डेटा
 - 4. पोरिफेरा

Question ID : 65497816099
Chosen Option : --

Q.14 निम्नलिखित में से कौन राज्य की विधान परिषद में कुछ सदस्यों को नामित करने की शक्ति रखता है?

- Ans
- 1. संबंधित राज्य के मुख्यमंत्री
 - 2. संबंधित राज्य की विधान परिषद के अध्यक्ष
 - 3. संबंधित राज्य के राज्यपाल
 - 4. भारत के प्रधान मंत्री

Question ID : 65497816094
Chosen Option : 3

Q.15 भारतीय संविधान के अनुसार, लोक सभा में सदस्यों की कुल संख्या _____ से अधिक नहीं हो सकती है।

- Ans
- 1. 652
 - 2. 552
 - 3. 540
 - 4. 640

Question ID : 65497816093
Chosen Option : 2

Q.16 भारत का राष्ट्रीय धरोहर पशु निम्नलिखित में से कौन सा है?

- Ans
- 1. शेर
 - 2. हाथी
 - 3. बाघ
 - 4. घोड़ा

Question ID : 65497816084
Chosen Option : 3

Q.17 सूक्ष्म, लघु एवं मध्यम उद्यमों (MSME) द्वारा अपने कर्मचारियों को नकदीरहित भुगतान करने और वित्तीय सुरक्षा कवच प्रदान करने में सक्षम बनाने के लिए जून 2020 में, _____ ने 'सुरक्षा सैलरी अकाउंट' प्रस्तुत किया।

- Ans
- 1. एयरटेल पेमेंट्स बैंक
 - 2. इंडिया पोस्ट पेमेंट्स बैंक
 - 3. पेटीएम पेमेंट्स बैंक
 - 4. फिनो पेमेंट्स बैंक

Question ID : 65497816092
Chosen Option : 2

Q.18 400 मीटर दूरी की भारतीय धावक प्राची चौधरी, निम्नलिखित में से किस राज्य से संबंधित हैं?

- Ans
- 1. उत्तर प्रदेश
 - 2. राजस्थान
 - 3. महाराष्ट्र
 - 4. मध्य प्रदेश

Question ID : 65497816085
Chosen Option : --

Q.19 कर्क रेखा (Tropic of Cancer) निम्नलिखित में से किस भारतीय राज्य से होकर नहीं गुजरती है?

- Ans
- 1. छत्तीसगढ़
 - 2. झारखंड
 - 3. त्रिपुरा
 - 4. असम

Question ID : 65497816103
Chosen Option : 4

Q.20 भारत के आर्थिक सर्वेक्षण 2020 के अनुसार, निवारक स्वास्थ्य सेवा को बढ़ावा देने के लिए, 2022 तक कितने आयुष्मान भारत - स्वास्थ्य और कल्याण केंद्रों की शुरुआत प्रस्तावित है?

- Ans
- 1. डेढ़ लाख
 - 2. दो लाख
 - 3. ढाई लाख
 - 4. एक लाख

Question ID : 65497817303
Chosen Option : 1

Q.21 कवरत्ती, निम्नलिखित में से किस केंद्र शासित प्रदेश की राजधानी है?

- Ans
- 1. जम्मू और कश्मीर
 - 2. लद्दाख
 - 3. अंडमान व निकोबार द्वीप समूह
 - 4. लक्षद्वीप

Question ID : 65497816101
Chosen Option : 4

Q.22 ईस्ट इंडिया कंपनी के व्यापारियों की अनर्गल व्यावसायिक गतिविधियों पर अंकुश लगाने और क्षेत्र के कुछ कानूनों को कंपनी के नियंत्रण में लाने के लिए, ब्रिटिश संसद ने कई कानून बनाए थे, जिनमें से सबसे पहला था।

- Ans
- 1. 1773 का रेग्युलेंटिंग अधिनियम
 - 2. 1813 का चार्टर अधिनियम
 - 3. 1833 का भारत सरकार अधिनियम
 - 4. 1780 का रेग्युलेंटिंग अधिनियम

Question ID : 65497816105
Chosen Option : 1

Q.23 निम्नलिखित में से किसने 2020 में, ईएसपीएन (ESPN) का फीमेल स्पोर्ट्सपर्सन ऑफ दि ईयर पुरस्कार लगातार तीसरी बार प्राप्त किया?

- Ans
- 1. अपर्णा पोपट
 - 2. पी.वी. सिंधु
 - 3. अंजलि वेदपाठक
 - 4. साइना नेहवाल

Question ID : 65497816086
Chosen Option : 2

Q.24 प्रख्यात संगीत निर्माता इलैयाराजा मुख्य रूप से निम्नलिखित में से किस भाषा की फिल्मों से संबंधित है?

- Ans
- 1. मलयालम
 - 2. तमिल
 - 3. कन्नड़
 - 4. तेलुगू

Question ID : 65497816082
Chosen Option : --

Q.25 विंध्य श्रेणी निम्नलिखित में से किस राज्य में स्थित नहीं है?

- Ans
- 1. गुजरात
 - 2. उत्तर प्रदेश
 - 3. मध्य प्रदेश
 - 4. राजस्थान

Question ID : 65497816102
Chosen Option : 4

Multi Tasking Non Technical Staff Examination 2020

Participant ID	www.HaryanaJobs.in
Participant Name	www.HaryanaJobs.in
Test Center Name	Soni Computer Center
Test Date	22/10/2021
Test Time :	9:00 AM - 10:30 AM
Subject	MTS Non Technical 2020

Section : **General English**

Q.1 Choose the correctly spelt word.

- Ans 1. Nusence
 2. Newsence
 3. Newsanse
 4. Nuisance

Question ID : **65497817846**
 Chosen Option : 4

Q.2 Select the most appropriate synonym of the given word.

ABUSE

- Ans 1. Use
 2. Close
 3. Harm
 4. Terminate

Question ID : **65497817841**
 Chosen Option : 3

Q.3 The given sentence contains a grammatical error. Identify the segment that contains the error.

You look very tired; you would go to bed now.

- Ans 1. you would go
 2. to bed now
 3. You look
 4. very tired

Question ID : **65497817826**
 Chosen Option : 1

Q.4 Select the most appropriate word to fill in the blank.

After many years of _____ the world's first test tube baby was born in 1978.

- Ans
- 1. success
 - 2. service
 - 3. experience
 - 4. research

Question ID : 65497817849
Chosen Option : 4

Q.5 Select the most appropriate word which means the same as the group of words given.

Overflow or fill an area with excess water, as in a flood

- Ans
- 1. Storm
 - 2. Inundate
 - 3. Cover
 - 4. Supersede

Question ID : 65497817845
Chosen Option : 2

Q.6 Select the most appropriate option to substitute the underlined segment in the given sentence.

Suman and his friend often coming here to read books.

- Ans
- 1. often are coming here
 - 2. are often coming here
 - 3. often come here
 - 4. often have been coming here

Question ID : 65497817835
Chosen Option : 3

Q.7 Select the most appropriate option to substitute the underlined segment in the given sentence. If there is no need to substitute it, select 'No substitution required'.

The Sports Committee was asked to give an explanation for dropping the boy into the school team.

- Ans
- 1. from
 - 2. in
 - 3. away
 - 4. No substitution required

Question ID : 65497818140
Chosen Option : 1

Q.8 Select the most appropriate **ANTONYM** of the given word.

ALIKE

- Ans**
- 1. Similar
 - 2. Different
 - 3. Same
 - 4. Ordinary

Question ID : **65497817838**
Chosen Option : **2**

Q.9 Select the most appropriate word to fill in the blank.

I am sure that there isn't _____ on this campus now.

- Ans**
- 1. anybody
 - 2. no one
 - 3. nobody
 - 4. somebody

Question ID : **65497817827**
Chosen Option : **1**

Q.10 Select the most appropriate word which means the same as the group of words given.

Move ahead or forward steadily and gradually

- Ans**
- 1. Forge
 - 2. Forego
 - 3. Parade
 - 4. Forerun

Question ID : **65497817844**
Chosen Option : **3**

Q.11 The given sentence contains a grammatical error. Identify the segment that contains the error.

There is no one else in this house; I can feel the presence.

- Ans**
- 1. no one else
 - 2. in this house
 - 3. I can feel the presence
 - 4. There is

Question ID : **65497817824**
Chosen Option : **3**

Q.12 Select the most appropriate meaning of the given idiom.

Pick and choose

- Ans 1. Start a quarrel or a fight over something
 2. Start all over again after a crisis
 3. Select only the best from choices
 4. Question someone on a topic

Question ID : 65497817843
Chosen Option : 3

Q.13 Select the most appropriate ANTONYM of the given word.

ABOLISH

- Ans 1. Disprove
 2. Disclose
 3. Contest
 4. Continue

Question ID : 65497817839
Chosen Option : 4

Q.14 Select the most appropriate option to substitute the underlined segment in the given sentence. If there is no need to substitute it, select 'No substitution required'.

I asked my friend that when would she return from her trip.

- Ans 1. No substitution required
 2. when she would
 3. that when she was returning
 4. so when would she

Question ID : 65497816018
Chosen Option : 2

Q.15 Select the most appropriate meaning of the given idiom.

Make out

- Ans 1. Become friends again with someone
 2. Invent an explanation for something
 3. Run away from a difficult situation
 4. Understand someone or something with difficulty

Question ID : 65497817842
Chosen Option : 4

Q.16 Choose the correctly spelt word.

- Ans
- 1. Ilegibel
 - 2. Illijible
 - 3. Illegible
 - 4. Illejible

Question ID : 65497817847
Chosen Option : 3

Q.17 Select the most appropriate synonym of the given word.

ALLOW

- Ans
- 1. Stop
 - 2. Reject
 - 3. Permit
 - 4. Disallow

Question ID : 65497817840
Chosen Option : 3

Q.18 The given sentence contains a grammatical error. Identify the segment that contains the error.

I will join you tomorrow if I will have time.

- Ans
- 1. I will join
 - 2. will have time
 - 3. you tomorrow
 - 4. if I

Question ID : 65497817825
Chosen Option : 2

Q.19 Select the most appropriate word to fill in the blank.

If you had come to the match yesterday with us, you _____ watching it.

- Ans
- 1. should have enjoyed
 - 2. would enjoy
 - 3. would have enjoyed
 - 4. had enjoyed

Question ID : 65497817828
Chosen Option : 3

Q.20 Select the most appropriate word to fill in the blank.

There is no problem with your bike; it's in good _____.

- Ans**
- 1. condition
 - 2. health
 - 3. conduct
 - 4. size

Question ID : **65497817848**
Chosen Option : 1

Comprehension:

In the following passage, some words have been deleted. Fill in the blanks with the help of the alternatives given. Select the most appropriate option for each blank.

Today, nearly every Indian has a mobile phone. From the time the first (1)_____ was made in India using a mobile phone on July 31, 1995, a lot of (2)_____ have taken place in the use of mobile phones in the last twenty-five years or so. The number of mobile phone users is (3)_____ to have recorded a growth of three thousand times during this period. Initially, the call rates were expensive and the cost of early devices was high – very few people could (4)_____ a mobile phone. However, mobile phone usage has risen sky high because of these reasons: the call rates have fallen (5)_____ and smartphones have made the internet accessible in our palms.

SubQuestion No : 21

Q.21 Select the most appropriate option to fill in blank No. 1.

- Ans**
- 1. step
 - 2. piece
 - 3. part
 - 4. call

Question ID : **65497817830**
Chosen Option : 4

Comprehension:

In the following passage, some words have been deleted. Fill in the blanks with the help of the alternatives given. Select the most appropriate option for each blank.

Today, nearly every Indian has a mobile phone. From the time the first (1)_____ was made in India using a mobile phone on July 31, 1995, a lot of (2)_____ have taken place in the use of mobile phones in the last twenty-five years or so. The number of mobile phone users is (3)_____ to have recorded a growth of three thousand times during this period. Initially, the call rates were expensive and the cost of early devices was high – very few people could (4)_____ a mobile phone. However, mobile phone usage has risen sky high because of these reasons: the call rates have fallen (5)_____ and smartphones have made the internet accessible in our palms.

SubQuestion No : 22

Q.22 Select the most appropriate option to fill in blank No. 2.

- Ans**
- 1. changes
 - 2. promotions
 - 3. facts
 - 4. lies

Question ID : **65497817831**
Chosen Option : 1

Comprehension:

In the following passage, some words have been deleted. Fill in the blanks with the help of the alternatives given. Select the most appropriate option for each blank.

Today, nearly every Indian has a mobile phone. From the time the first (1)_____ was made in India using a mobile phone on July 31, 1995, a lot of (2)_____ have taken place in the use of mobile phones in the last twenty-five years or so. The number of mobile phone users is (3)_____ to have recorded a growth of three thousand times during this period. Initially, the call rates were expensive and the cost of early devices was high – very few people could (4)_____ a mobile phone. However, mobile phone usage has risen sky high because of these reasons: the call rates have fallen (5)_____ and smartphones have made the internet accessible in our palms.

SubQuestion No : 23

Q.23 Select the most appropriate option to fill in blank No. 3.

- Ans 1. summed up
 2. reported
 3. considered
 4. doubted

Question ID : 65497817832
Chosen Option : 2

Comprehension:

In the following passage, some words have been deleted. Fill in the blanks with the help of the alternatives given. Select the most appropriate option for each blank.

Today, nearly every Indian has a mobile phone. From the time the first (1)_____ was made in India using a mobile phone on July 31, 1995, a lot of (2)_____ have taken place in the use of mobile phones in the last twenty-five years or so. The number of mobile phone users is (3)_____ to have recorded a growth of three thousand times during this period. Initially, the call rates were expensive and the cost of early devices was high – very few people could (4)_____ a mobile phone. However, mobile phone usage has risen sky high because of these reasons: the call rates have fallen (5)_____ and smartphones have made the internet accessible in our palms.

SubQuestion No : 24

Q.24 Select the most appropriate option to fill in blank No. 4.

- Ans 1. afford
 2. produce
 3. use
 4. sell

Question ID : 65497817833
Chosen Option : 1

Comprehension:

In the following passage, some words have been deleted. Fill in the blanks with the help of the alternatives given. Select the most appropriate option for each blank.

Today, nearly every Indian has a mobile phone. From the time the first (1)_____ was made in India using a mobile phone on July 31, 1995, a lot of (2)_____ have taken place in the use of mobile phones in the last twenty-five years or so. The number of mobile phone users is (3)_____ to have recorded a growth of three thousand times during this period. Initially, the call rates were expensive and the cost of early devices was high – very few people could (4)_____ a mobile phone. However, mobile phone usage has risen sky high because of these reasons: the call rates have fallen (5)_____ and smartphones have made the internet accessible in our palms.

SubQuestion No : 25

Q.25 Select the most appropriate option to fill in blank No. 5.

- Ans 1. evenly
 2. occasionally
 3. drastically
 4. unevenly

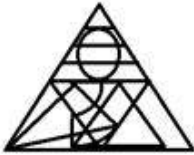
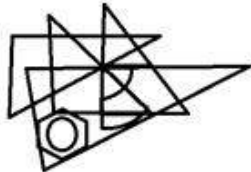
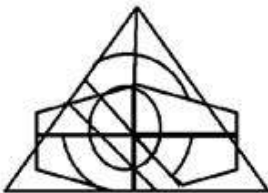

Question ID : 65497817834
 Chosen Option : 3

Section : **General Intelligence and Reasoning**

Q.1 उस विकल्प का चयन करें, जिसमें दी गई आकृति अन्तःस्थापित है। (घुमाने की अनुमति नहीं है)



Ans

 1. 2. 3. 4.

Question ID : 65497817265
 Chosen Option : 2

Q.2 उस विकल्प का चयन करें, जो तीसरे पद से ठीक उसी प्रकार संबंधित है, जिस प्रकार दूसरा पद पहले पद से संबंधित है।

PENCIL : QJOHNM :: ALBUM : ?

- Ans
- 1. EMDZS
 - 2. ENCYR
 - 3. FNBZS
 - 4. FMCZR

Question ID : 65497817254
Chosen Option : 4

Q.3 उस संख्या का चयन करें, जो निम्न श्रेणी में प्रश्नवाचक चिह्न (?) के स्थान पर आएगी?

15, 30, 44, 57, 69, ?

- Ans
- 1. 80
 - 2. 91
 - 3. 85
 - 4. 78

Question ID : 65497817248
Chosen Option : 1

Q.4 किसी निश्चित कूट भाषा में, JOHN को 60 और RANI को 72 लिखा जाता है। उसी कूट भाषा में YUVAAN को क्या लिखा जाएगा?

- Ans
- 1. 66
 - 2. 21
 - 3. 63
 - 4. 69

Question ID : 65497817253
Chosen Option : 4

Q.5 उस सही विकल्प का चयन करें जो निम्न इकाइयों के तार्किक और सार्थक क्रम को निरूपित करता है।

1. बाइट
2. मेगाबाइट
3. टेराबाइट
4. गीगाबाइट
5. किलोबाइट

- Ans
- 1. 1, 5, 2, 4, 3
 - 2. 1, 5, 4, 2, 3
 - 3. 3, 1, 2, 4, 5
 - 4. 1, 5, 2, 3, 4

Question ID : 65497817262
Chosen Option : 1

Q.6 किसी निश्चित कूट भाषा में, MALE को RGSM लिखा जाता है। उसी कूट भाषा में, SEAM को किस प्रकार लिखा जाएगा?

- Ans
- 1. LGMR
 - 2. TJGW
 - 3. XKHU
 - 4. WJGT

Question ID : 65497817250
Chosen Option : 3

Q.7 दिए गए पैटर्न का ध्यानपूर्वक अध्ययन करें और उस संख्या का चयन करें, जो इसमें प्रश्रवाचक चिह्न (?) के स्थान पर आएगी?

5 7 12
3 6 9
12 ? 99

- Ans
- 1. 78
 - 2. 36
 - 3. 09
 - 4. 32

Question ID : 65497817247
Chosen Option : 2

Q.8 छः कर्मचारी (A, B, C, D, E, F) आठ कुर्सियों वाले गोल मेज पर बैठे हैं। उनमें से दो एक दूसरे के ठीक सामने नहीं बैठे हैं। एक व्यक्ति के निकट कोई भी नहीं बैठा है। E, F के दाईं ओर तीसरे स्थान पर बैठा है। B ठीक A के सामने बैठा है। D ठीक E के सामने बैठा है, जो कि E के दाईं ओर दूसरे स्थान पर बैठा है। C ठीक A और E के बीच में बैठा है।

यदि बाँस प्रत्येक किनारे में खाली कुर्सी के निकट बैठा है, तो उनमें से बाँस कौन है?

- Ans
- 1. A
 - 2. B
 - 3. D
 - 4. F

Question ID : 65497817261
Chosen Option : 2

Q.9 उस विकल्प का चयन करें, जो तीसरे पद से ठीक उसी प्रकार संबंधित है, जिस प्रकार दूसरा पद पहले पद से संबंधित है।

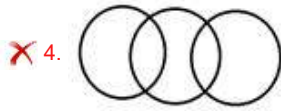
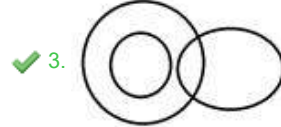
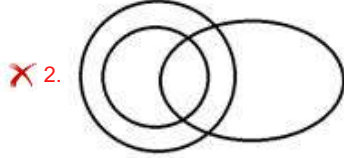

बोतल : कैप :: जार : ?

- Ans
- 1. मास्क
 - 2. प्लास्टिक
 - 3. ढक्कन
 - 4. शील्ड

Question ID : 65497817255
Chosen Option : 3

Q.10 उस वेन-आरेख का चयन करें, जो निम्न वर्गों के बीच संबंध को सर्वोत्तम ढंग से निरूपित करता है।
चारकोल, काला रंग, क्लासरूम बोर्ड

Ans



Question ID : 65497817268

Chosen Option : 3

Q.11 तीन कथनों के बाद तीन निष्कर्ष I, II और III दिए गए हैं। यह मानते हुए कि कथनों में दी गई जानकारी सत्य है, भले ही ये सामान्य रूप से ज्ञात तथ्यों से भिन्न प्रतीत होती हों, निर्धारित करें कि कौन-सा/से निष्कर्ष कथनों का तार्किक रूप से अनुसरण करता है/करते हैं।

कथन:

1. कुछ पनीर, बटर हैं।
2. सभी तेल, बटर हैं।
3. कोई भी बटर, द्रव नहीं है।

निष्कर्ष:

- I. कोई भी तेल, द्रव नहीं है।
- II. कुछ बटर, पनीर हैं।
- III. सभी बटर, तेल हैं।

Ans ✗ 1. I, II और III सभी निष्कर्ष अनुसरण करते हैं।

✗ 2. कोई भी निष्कर्ष अनुसरण नहीं करता है।

✓ 3. निष्कर्ष I और II दोनों अनुसरण करते हैं।

✗ 4. निष्कर्ष II और III दोनों अनुसरण करते हैं।

Question ID : 65497817259

Chosen Option : 3

Q.12 यदि गणितीय चिह्नों को निम्नानुसार प्रतिस्थापित किया जाता है, तो उस विकल्प का चयन करें, जो सही समीकरण को निरूपित करता है।

× का अर्थ + है,
- का अर्थ × है,
+ का अर्थ ÷ है,
÷ का अर्थ - है।

- Ans 1. $18 \times 25 + 30 \div 7 \times 11 = 19$
 2. $18 + 25 - 30 \div 7 \times 11 = 30$
 3. $18 \div 25 + 30 - 7 \times 11 = 31$
 4. $18 + 25 - 30 \times 7 \div 11 = 14$

Question ID : 65497817245
Chosen Option : --

Q.13 यदि गणितीय चिह्नों को निम्नानुसार प्रतिस्थापित किया जाता है, ÷ का अर्थ × है; × अर्थ - है; + का अर्थ ÷ है और - का अर्थ + है, तो उस विकल्प का चयन करें, जो दिए गए समीकरण के अंतिम मान को निरूपित करता है।

$$39 + 3 \div 4 - 1 \times 3$$

- Ans 1. 51
 2. 50
 3. 53
 4. 46

Question ID : 65497817244
Chosen Option : 2

Q.14 छः कर्मचारी (A, B, C, D, E, F) आठ कुर्सियों वाले गोल मेज पर बैठे हैं। उनमें से दो एक दूसरे के ठीक सामने नहीं बैठे हैं। एक व्यक्ति के निकट कोई भी नहीं बैठा है। E, F के दाईं ओर तीसरे स्थान पर बैठा है। B ठीक A के सामने बैठा है। D ठीक E के सामने बैठा है, जो कि E के दाईं ओर दूसरे स्थान पर बैठा है। C ठीक A और E के बीच में बैठा है।

C के सन्दर्भ में F की स्थिति ज्ञात करें।

- Ans 1. बाईं ओर पहले स्थान पर
 2. दाईं ओर पहले स्थान पर
 3. बाईं ओर दूसरे स्थान पर
 4. दाईं ओर दूसरे स्थान पर

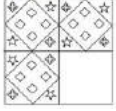
Question ID : 65497817260
Chosen Option : 3

Q.15 किसी निश्चित कूट भाषा में, ANKLE को BBVXJ लिखा जाता है। उसी कूट भाषा में, THIGH को किस प्रकार लिखा जाएगा?

- Ans 1. MRPNP
 2. NPRNP
 3. NRPMP
 4. NPRMP

Question ID : 65497817251
Chosen Option : 2

Q.16 उस विकल्प आकृति का चयन करें, जिसको दी गई प्रश्न आकृति के रिक्त स्थान में रखने पर पैटर्न पूरा हो जाएगा।



Ans

✗ 1.



✓ 2.



✗ 3.



✗ 4.



Question ID : 65497817264

Chosen Option : 2

Q.17 दो कथनों के बाद दो निष्कर्ष I और II दिए गए हैं। यह मानते हुए कि कथनों में दी गई जानकारी सत्य है, भले ही ये सामान्य रूप से ज्ञात तथ्यों से भिन्न प्रतीत होती हों, निर्धारित करें कि कौन-सा/से निष्कर्ष कथनों का तार्किक रूप से अनुसरण करता है/करते हैं।

कथन:

1. कुछ संतरे, पीले हैं।
2. कुछ पीले, अंगूर हैं।

निष्कर्ष:

- I. कुछ संतरे, अंगूर हैं।
- II. सभी अंगूर, पीले हैं।

Ans

✗ 1. केवल निष्कर्ष I अनुसरण करता है।

✗ 2. केवल निष्कर्ष II अनुसरण करता है।

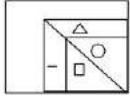
✗ 3. निष्कर्ष I और II दोनों अनुसरण करते हैं।

✓ 4. न तो निष्कर्ष I और न ही II अनुसरण करता है।

Question ID : 65497817258

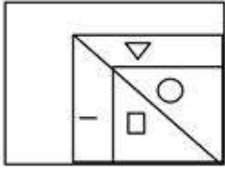
Chosen Option : 4

Q.18 यदि दर्पण को दी गई आकृति के दाईं ओर रखा जाए, तो आकृति के दर्पण में निर्मित सही प्रतिबिंब का चयन कीजिए।

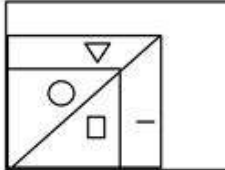


Ans

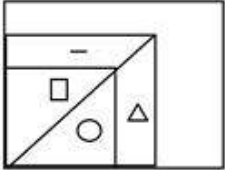
✗ 1.



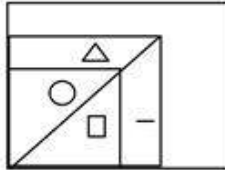
✗ 2.



✗ 3.



✓ 4.



Question ID : 65497817266
Chosen Option : 4

Q.19 लोकेश सरीसृप और उभयचरों के अध्ययन का विशेषज्ञ है। लोकेश, _____ है।

- Ans
- ✓ 1. हर्पेटोलॉजिस्ट (herpetologist)
 - ✗ 2. ओर्नीथोलॉजिस्ट (ornithologist)
 - ✗ 3. एन्टोमोलॉजिस्ट (entomologist)
 - ✗ 4. डर्मटोलॉजिस्ट (dermatologist)

Question ID : 65497817256
Chosen Option : 1

Q.20 चार अक्षर-समूह दिए गए हैं, जिनमें से तीन किसी प्रकार समान हैं, जबकि एक असंगत है। उस असंगत अक्षर-समूह का चयन करें।

- Ans
- ✗ 1. CGI
 - ✗ 2. LPR
 - ✗ 3. DHJ
 - ✓ 4. INP

Question ID : 65497817257
Chosen Option : 4

Q.21 उस संख्या का चयन करें, जो निम्न श्रेणी में प्रश्नवाचक चिह्न (?) के स्थान पर आएगी?

11, 23, ?, 95, 191

- Ans 1. 39
 2. 51
 3. 33
 4. 47

Question ID : 65497817249
Chosen Option : 4

Q.22 किसी निश्चित कूट भाषा में, ADDRESS का कोड 25 है और BOLT का कोड 13 है। उसी कूट भाषा में, CASTE का क्या कोड होगा?

- Ans 1. 28
 2. 19
 3. 14
 4. 23

Question ID : 65497817252
Chosen Option : 3

Q.23 उस विकल्प का चयन करें, जो तीसरी संख्या से ठीक उसी प्रकार संबंधित है, जिस प्रकार दूसरी संख्या पहली संख्या से संबंधित है।

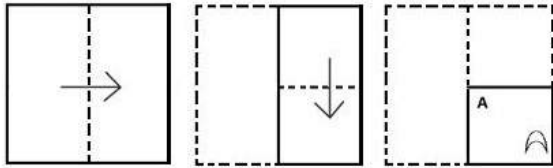
125 : 343 :: 1331 : ?

- Ans 1. 729
 2. 3375
 3. 1728
 4. 2197

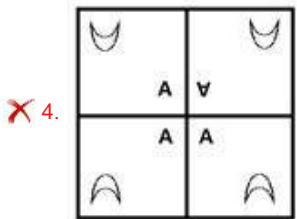
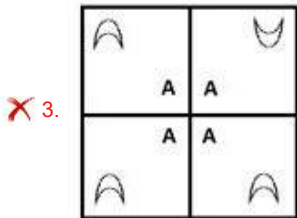
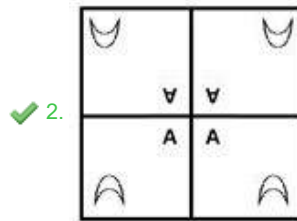
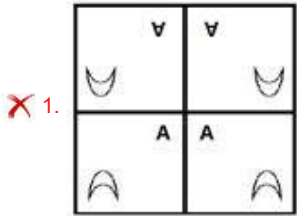
Question ID : 65497817246
Chosen Option : 4

www.HaryanaJobs.in

Q.24 किसी कागज़ को निम्नानुसार मोड़ा और काटा जाता है। खोलने पर यह कैसा दिखेगा?



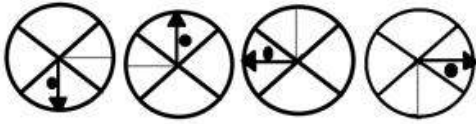
Ans



www.HaryanaJobs.in

Question ID : 65497817267
Chosen Option : 2

Q.25 उस आकृति का चयन करें, जो निम्न श्रेणी में अगले स्थान पर आएगी।



Ans

✓ 1.



✗ 2.



✗ 3.



✗ 4.



Question ID : 65497817263

Chosen Option : 1

Section : Numerical Aptitude

Q.1 75 अंकों का औसत 45 है। पहले 50 अंकों का औसत 42 है और अंतिम 26 अंकों का औसत 52 है। 50 वाँ अंक ज्ञात करें।

Ans ✗ 1. 60

✓ 2. 77

✗ 3. 80

✗ 4. 75

Question ID : 65497818485

Chosen Option : 2

Q.2 किसी इंजीनियरिंग संस्थान के तीन वर्गों में छात्रों की कुल संख्या 885 है। पहले दो वर्गों में छात्रों की संख्या का अनुपात 4 : 9 है। दूसरे और तीसरे वर्ग में छात्रों की संख्या का अनुपात 6 : 11 है। उस वर्ग में कितने छात्र हैं, जिसमें छात्रों की अधिकतम संख्या है?

Ans ✗ 1. 594

✓ 2. 495

✗ 3. 459

✗ 4. 954

Question ID : 65497818493

Chosen Option : 2

Q.3 दो संख्याएँ, तीसरी संख्या से 32% और 48% अधिक हैं। दूसरी संख्या, पहली संख्या का कितना प्रतिशत है (दशमलव के बाद दो स्थानों तक गणना करें)?

- Ans
- 1. 150.12%
 - 2. 89.19%
 - 3. 112.12%
 - 4. 102.19%

Question ID : 65497818488
Chosen Option : 3

Q.4 A और B किसी कार्य को 12 दिन में पूरा कर सकते हैं। A, B की तुलना में डेढ़ गुना अधिक कुशल है। अकेले A, इस कार्य को कितने दिन में पूरा करेगा?

- Ans
- 1. 15
 - 2. 25
 - 3. 20
 - 4. 30

Question ID : 65497818481
Chosen Option : 3

Q.5 कोई घुड़दौड़ का मैदान, बलयाकार रिंग के रूप में है, जिसकी बाह्य और आंतरिक परिधि क्रमशः 748 m और 396 m है। घुड़दौड़ के मैदान की चौड़ाई (m में) ज्ञात करें। ($\pi = \frac{22}{7}$ लें)

- Ans
- 1. 88
 - 2. 176
 - 3. 28
 - 4. 56

Question ID : 65497818499
Chosen Option : 4

Q.6 A और B किसी कार्य को 15 दिन में कर सकते हैं, जबकि B और C उसी कार्य को 12 दिन में कर सकते हैं और C और A उसी कार्य को 10 दिन में कर सकते हैं। वे सभी एक साथ 5 दिन तक कार्य करते हैं और फिर B और C कार्य छोड़ देते हैं। A को कार्य पूरा करने में और कितने दिन लगेंगे?

- Ans
- 1. 12
 - 2. 15
 - 3. 4
 - 4. 9

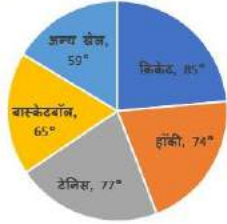
Question ID : 65497818482
Chosen Option : 4

Q.7 A और B क्रमशः 8 km/h और 12 km/h की चाल से समान दूरी तय करते हैं। यदि B को दूरी तय करने में A से 30 मिनट कम समय लगता है, तो उनमें से प्रत्येक द्वारा तय की गई दूरी (km में) ज्ञात करें।

- Ans
- 1. 15
 - 2. 12
 - 3. 8
 - 4. 10

Question ID : 65497818483
Chosen Option : 2

Q.8 नीचे दिया गया पाई चार्ट 2015 के दौरान किसी देश द्वारा विभिन्न खेलों पर किया गया व्यय निरूपित करता है। पाई चार्ट का अध्ययन करें और नीचे दिए गए प्रश्न का उत्तर दें।
नोट: आकृति, पैमाने के लिए नहीं खींची गई है। डेटा वास्तविक संख्याओं को निरूपित नहीं करता है। यह केवल गणितीय अभ्यास के लिए बनाया गया है।



2015 में, पिछले वर्ष की तुलना में क्रिकेट और अन्य खेलों पर क्रमशः 50% और 25% व्यय में वृद्धि हुई थी। 2014 में क्रिकेट और अन्य खेलों पर हुए व्यय का अनुपात ज्ञात करें।

- Ans
- 1. 97 : 170
 - 2. 170 : 97
 - 3. 354 : 425
 - 4. 425 : 354

Question ID : 65497818505
Chosen Option : 4

Q.9 $\frac{18}{5}$, $\frac{6}{5}$ और $\frac{18}{125}$ का ल.स. (LCM) ज्ञात करें।

- Ans
- 1. 4.8
 - 2. 5.2
 - 3. 3.6
 - 4. 8.3

Question ID : 65497818500
Chosen Option : 3

Q.10 किसी कंपनी द्वारा अर्जित लाभ को तीन दोस्तों में विभाजित करना है, जिन्होंने कंपनी में अपना धन 6 : 9 : 11 के अनुपात में निवेशित किया है, यदि सबसे अधिक निवेश करने वाले व्यक्ति का हिस्सा ₹2,310 है, तो अन्य दो दोस्तों द्वारा प्राप्त धन का योगफल (₹ में) ज्ञात करें।

- Ans
- 1. 5,460
 - 2. 3,150
 - 3. 1,260
 - 4. 1,890

Question ID : 65497818491
Chosen Option : 2

Q.11 निम्न संख्याओं का माध्य (2 दशमलव स्थान तक) ज्ञात करें।

8.9, 6.5, 7.8, 12.3, 15.6, 14.4, 9.8

- Ans
- 1. 8.96
 - 2. 7.85
 - 3. 9.83
 - 4. 10.76

Question ID : 65497818496
Chosen Option : 4

Q.12 15 m लंबाई, 12 m चौड़ाई और 5 m गहराई वाले खुले टैंक का निर्माण 1.5 m चौड़ाई वाली स्टेनलेस स्टील शीट की मदद से करना है। आवश्यक शीट की लंबाई (m में) कितनी होगी?

- Ans
- 1. 300
 - 2. 250
 - 3. 450
 - 4. 350

Question ID : 65497818498
Chosen Option : 1

Q.13 12 m लंबाई, 9 m ऊंचाई और 30 cm मोटाई की एक दीवार का निर्माण करना है। यदि सभी ईंट 24 cm लंबाई, 18 cm चौड़ाई और 15 cm ऊंचाई की हों, तो कितनी ईंटों की आवश्यकता होगी?

- Ans
- 1. 5000
 - 2. 6000
 - 3. 5500
 - 4. 6500

Question ID : 65497818497
Chosen Option : 1

Q.14 किसी टंकी को पूर्णतः पानी से भरना है जिसके लिए समान प्रकार के 8 पाइप उपयोग किए जाते हैं। टंकी 1 घंटा और 40 मिनट में भर जाती है। यदि ऊपर बताए अनुसार, समान प्रकार के 10 पाइप उपयोग किए जाते हैं, तो टंकी को पूर्णतः भरने में कितना समय (घंटा और मिनट में) लगेगा?

- Ans
- 1. 1 घंटा 30 मिनट
 - 2. 1 घंटा 20 मिनट
 - 3. 1 घंटा 45 मिनट
 - 4. 2 घंटा 5 मिनट

Question ID : 65497818492
Chosen Option : 2

Q.15 $15 \text{ of } 8 - 6 + [(27 - 3) \div 6 - 4]$ का मान ज्ञात कीजिए।

- Ans
- 1. 120
 - 2. 114
 - 3. 118
 - 4. 126

Question ID : 65497816380
Chosen Option : 2

Q.16 नीचे दिया गया पाई चार्ट 2015 के दौरान किसी देश द्वारा विभिन्न खेलों पर किया गया व्यय निरूपित करता है। पाई चार्ट का अध्ययन करें और नीचे दिए गए प्रश्न का उत्तर दें।
नोट: आकृति, पैमाने के लिए नहीं खींची गई है।



2015 के दौरान, एक साथ क्रिकेट और टेनिस पर कुल व्यय का कितना प्रतिशत खर्च हुआ है?

- Ans
- 1. 50%
 - 2. 21.4%
 - 3. 45%
 - 4. 23.6%

Question ID : 65497818503
Chosen Option : 3

Q.17 P, Q को 25% के लाभ पर कोई मोबाइल फोन बेचता है। हालांकि, Q, R को 10% की हानि पर इस मोबाइल फोन को बेचता है। यदि R, मोबाइल फोन के लिए ₹3,240 का भुगतान करता है, तो इस मोबाइल फोन के लिए, P द्वारा भुगतान की गई कीमत (₹ में) ज्ञात करें।

- Ans**
- 1. 3,600
 - 2. 3,000
 - 3. 2,880
 - 4. 2,580

Question ID : 65497818490
Chosen Option : 3

Q.18 किसी पुरानी कार की वर्तमान कीमत ₹5,40,000 है। इसकी कीमत में प्रति वर्ष 25% की दर से अवमूल्यन होता है। 2 वर्ष पहले इसकी कीमत (₹ में) ज्ञात करें।

- Ans**
- 1. 2,16,000
 - 2. 6,30,000
 - 3. 7,20,000
 - 4. 9,60,000

Question ID : 65497818494
Chosen Option : 4

Q.19 नीचे दिया गया पाई चार्ट 2015 के दौरान किसी देश द्वारा विभिन्न खेलों पर किया गया व्यय निरूपित करता है। पाई चार्ट का अध्ययन करें और नीचे दिए गए प्रश्न का उत्तर दें।
नोट: आकृति, पैमाने के लिए नहीं खींची गई है।



यदि 2015 के दौरान खेलों पर खर्च की गई कुल राशि ₹5,20,00,000 है, तो हॉकी पर खर्च की गई राशि (₹ में), बास्केटबॉल पर खर्च की गई राशि की तुलना में कितनी अधिक है?

- Ans**
- 1. 52,00,000
 - 2. 39,00,000
 - 3. 13,00,000
 - 4. 26,00,000

Question ID : 65497818504
Chosen Option : 1

Q.20 $\left[\frac{5}{8} - \left\{ \frac{5}{8} - \left(\frac{5}{8} - \frac{3}{8} \right) \right\} \right]$ of $3.6 - 0.8 \div 10$ का सरलीकृत मान ज्ञात करें।

- Ans
- 1. 0.82
 - 2. -0.82
 - 3. -0.88
 - 4. 0.88

Question ID : 65497818502
Chosen Option : 1

Q.21 किसी वस्तु का क्रय मूल्य, इसके विक्रय मूल्य से 25% कम है। लाभ या हानि प्रतिशत ज्ञात करें।

- Ans
- 1. 66.67%, लाभ
 - 2. 33.33%, हानि
 - 3. 33.33%, लाभ
 - 4. 66.67%, हानि

Question ID : 65497818489
Chosen Option : 3

Q.22 कोई खुदरा व्यापारी किसी निश्चित वस्तु पर अपने ग्राहक को 40% की छूट देता है। इस लेन-देन में उसे उस वस्तु पर 25% का लाभ होता है। यदि खुदरा व्यापारी के लिए वस्तु की कीमत ₹4,320 है, तो इसका अंकित मूल्य (₹ में) ज्ञात करें।

- Ans
- 1. 8,000
 - 2. 9,000
 - 3. 6,000
 - 4. 2,592

Question ID : 65497818487
Chosen Option : 2

Q.23 12 छात्रों वाले समूह की औसत ऊंचाई 170 cm है। 154 cm, 157 cm, 165 cm और 172 cm ऊंचाई वाले चार छात्र समूह छोड़ देते हैं। समूह की नई औसत ऊंचाई (cm में) ज्ञात करें।

- Ans
- 1. 176
 - 2. 174
 - 3. 170
 - 4. 165

Question ID : 65497818486
Chosen Option : 2

Q.24 प्रारंभिक बिंदु से कोई हवाई जहाज, निर्धारित समय से 45 मिनट बाद उड़ान भरता है। प्रारंभिक बिंदु से गंतव्य स्थान की दूरी 2100 km है। समय पर पहुंचने के लिए, पायलट अपनी सामान्य चाल में 40% की वृद्धि करता है। बढ़ी हुई चाल (km/h में) ज्ञात करें।

- Ans**
- 1. 1120
 - 2. 2940
 - 3. 2520
 - 4. 1870

Question ID : 65497818484
Chosen Option : 3

Q.25 5% वार्षिक दर से किसी निश्चित धनराशि पर प्राप्त व्याज कितने वर्ष में उसका तीन-आठवाँ भाग होगा? (अपना उत्तर वर्ष और महीने में व्यक्त करें)

- Ans**
- 1. 8 वर्ष 5 महीने
 - 2. 8 वर्ष 6 महीने
 - 3. 7 वर्ष 6 महीने
 - 4. 7 वर्ष 5 महीने

Question ID : 65497818495
Chosen Option : 3

Section : General Awareness

Q.1 निम्नलिखित में से किस विटामिन को 'सायनोकोबालामिन' के नाम से भी जाना जाता है?

- Ans**
- 1. विटामिन B-6
 - 2. विटामिन B-12
 - 3. विटामिन B-3
 - 4. विटामिन B-1

Question ID : 65497815089
Chosen Option : 2

Q.2 निम्नलिखित में से कौन-सा, लाला लाजपत राय के लेखनों में से एक नहीं है?

- Ans**
- 1. आर्य समाज
 - 2. द स्टोरी ऑफ माय डीपोर्टेशन
 - 3. अनहैप्पी इंडिया
 - 4. इंडिया विन्स फ्रीडम

Question ID : 65497815077
Chosen Option : 1

Q.3 शरीर में _____ की गंभीर कमी के कारण क्वाशिओरकोर रोग होता है।

- Ans
- 1. लोह
 - 2. विटामिन K
 - 3. कैल्शियम
 - 4. प्रोटीन

Question ID : 65497815087
Chosen Option : 4

Q.4 निम्नलिखित में से कौन सी एक आदर्श गैस नहीं है?

- Ans
- 1. ऑक्सीजन
 - 2. आर्गन
 - 3. क्रिप्टॉन
 - 4. नियॉन

Question ID : 65497815086
Chosen Option : 1

Q.5 HVJ पाइपलाइन, जो भारत की पहली अन्तर-राज्यीय अंतर्देशीय प्राकृतिक गैस पाइपलाइन है, में 'V' अक्षर का क्या अर्थ है?

- Ans
- 1. Vijaipur (विजयपुर)
 - 2. Vaikom (वाईकम)
 - 3. Vadnagar (वडनगर)
 - 4. Vadodara (वड़ोदरा)

Question ID : 65497815082
Chosen Option : 4

Q.6 भारतीय संविधान का निम्नलिखित में से कौन सा अनुच्छेद नागरिकों के लिए आजीविका के पर्याप्त साधनों का अधिकार सुनिश्चित करने के लिए राज्य को निर्देश देता है?

- Ans
- 1. अनुच्छेद 33
 - 2. अनुच्छेद 27
 - 3. अनुच्छेद 39
 - 4. अनुच्छेद 29

Question ID : 65497815085
Chosen Option : 3

Q.7 राष्ट्रीय अनुसूचित जनजाति आयोग निम्नलिखित में से किस वर्ष में एक पृथक आयोग के रूप में अस्तित्व में आया था?

- Ans
- 1. 2004
 - 2. 2000
 - 3. 2002
 - 4. 2006

Question ID : 65497815084
Chosen Option : --

Q.8 Which of the following was Oxford Dictionary's Hindi Word Of The Year 2018?

- Ans 1. Arajak Tatva
 2. Navayuvak
 3. Nari Shakti
 4. Sangathan

Question ID : 65497815072
 Chosen Option : 3

Q.9 एक लोकप्रिय पर्यटन स्थल हैवलाक द्वीप कहाँ स्थित है?

- Ans 1. अंडमान व निकोबार द्वीप समूह
 2. लक्षद्वीप
 3. केरल
 4. गोवा

Question ID : 65497815091
 Chosen Option : 1

Q.10 1800 से 1500 ईसा पूर्व की ऋग्वेद की 30 पांडुलिपियों को किस वर्ष यूनेस्को के विश्व स्मृति रजिस्टर में सम्मिलित किया गया था?

- Ans 1. 2008
 2. 2005
 3. 2009
 4. 2007

Question ID : 65497815073
 Chosen Option : --

Q.11 भारत की 2011 की जनगणना के अनुसार, भारत की दशकीय विकास दर लगभग थी:

- Ans 1. 17.7%
 2. 19.3%
 3. 15.6%
 4. 20.5%

Question ID : 65497815092
 Chosen Option : 1

Q.12 निकी पूनाचा _____ के एक पेशेवर खिलाड़ी हैं।

- Ans 1. पोलो
 2. स्काश
 3. टेनिस
 4. बास्केटबॉल

Question ID : 65497815076
 Chosen Option : --

Q.13 खनिज कार्नाटाइट _____ का एक महत्वपूर्ण स्रोत है।

- Ans
- 1. तांबा
 - 2. जस्ता
 - 3. लोहा
 - 4. यूरेनियम

Question ID : 65497815088
Chosen Option : 4

Q.14 टिम ब्रुक-टेलर, जिन्होंने अप्रैल 2020 में यूके (UK) में अंतिम सांस ली, को किस क्षेत्र में उनके योगदान के लिए जाना जाता है?

- Ans
- 1. अभिनय
 - 2. वास्तुकला
 - 3. साहित्य
 - 4. खेल

Question ID : 65497815079
Chosen Option : 1

Q.15 आई.एम. विजयन, जिन्हें जून 2020 में पद्म श्री पुरस्कार देने की सिफारिश की गई थी, _____ के एक पेशेवर खिलाड़ी हैं।

- Ans
- 1. शतरंज
 - 2. हॉकी
 - 3. क्रिकेट
 - 4. फुटबॉल

Question ID : 65497815075
Chosen Option : 1

Q.16 निम्नलिखित में से कौन सी नदी महाराष्ट्र के त्रयम्बकेश्वर से निकलती है?

- Ans
- 1. महानदी
 - 2. कृष्णा
 - 3. गोदावरी
 - 4. दामोदर

Question ID : 65497815093
Chosen Option : 2

Q.17 Which of the following abbreviations stands for a Union Government programme for urban development?

- Ans
- 1. AMRUT
 - 2. UJALA
 - 3. UDAY
 - 4. UJJWALA

Question ID : 65497815083
Chosen Option : 3

Q.18 प्राचीन बंदरगाह, सोपारा निम्नलिखित में से किस राज्य में स्थित है?

- Ans
- 1. ओडिशा
 - 2. केरल
 - 3. महाराष्ट्र
 - 4. तमिलनाडु

Question ID : 65497815094
Chosen Option : 3

Q.19 For immunity against which of the following diseases is BCG vaccine given?

- Ans
- 1. Chickenpox
 - 2. Polio
 - 3. Tuberculosis
 - 4. Asthma

Question ID : 65497815090
Chosen Option : 3

Q.20 जून 2020 में, निम्नलिखित में से किसे राष्ट्रीय लोक वित्त और नीति संस्थान (NIPFP) के अध्यक्ष के रूप में नियुक्ति दी गई थी?

- Ans
- 1. अरविंद सुब्रमण्यन
 - 2. उर्जित पटेल
 - 3. कृष्णमूर्ति सुब्रमण्यन
 - 4. कौशिक बसु

Question ID : 65497815078
Chosen Option : 1

Q.21 वर्ष 1930 में सी. राजगोपालाचारी ने निम्नलिखित में से किस स्थान पर नमक कानून तोड़ा था?

- Ans
- 1. तिरुची
 - 2. मदुरै
 - 3. तिरुपति
 - 4. वेदारण्यम

Question ID : 65497815095
Chosen Option : 4

Q.22 नीति आयोग के अध्यक्ष निम्नलिखित में से कौन हैं?

- Ans
- 1. निर्मला सीतारमण
 - 2. अमिताभ कांत
 - 3. नरेंद्र मोदी
 - 4. राजीव कुमार

Question ID : 65497814676
Chosen Option : 3

Q.23 निम्नलिखित सिख आध्यात्मिक गुरुओं में से किसके बारे में कहा जाता है कि उन्होंने जहाँगीर के विद्रोही पुत्र खुसरो को सहायता प्रदान की थी?

- Ans
- 1. गुरु अंगद देव
 - 2. गुरु अर्जुन देव
 - 3. गुरु अमर दास
 - 4. गुरु रामदास

Question ID : 65497815096

Chosen Option : 2

Q.24 भारतीय रिज़र्व बैंक ने अप्रैल 1947 तक _____ के लिए भी केंद्रीय बैंक के रूप में कार्य किया।

- Ans
- 1. श्रीलंका
 - 2. बर्मा
 - 3. नेपाल
 - 4. भूटान

Question ID : 65497816798

Chosen Option : 4

Q.25 सिक्किम में मनाया जाने वाला एक त्योहार, द्रुक्पासीची (Drukpa Tsechi), निम्नलिखित में से किस व्यक्तित्व से संबंधित है?

- Ans
- 1. महावीर स्वामी
 - 2. भगवान बुद्ध
 - 3. भगवान कृष्ण
 - 4. भगवान राम

Question ID : 65497815074

Chosen Option : 3

www.HaryanaJobs.in

Multi Tasking Non Technical Staff Examination 2020

Participant ID	www.HaryanaJobs.in
Participant Name	www.HaryanaJobs.in
Test Center Name	Info Educomonline Solution
Test Date	22/10/2021
Test Time :	12:30 PM - 2:00 PM
Subject	MTS Non Technical 2020

Section : **General English**

Q.1 Select the most appropriate **ANTONYM** of the given word.

SLACKEN

- Ans 1. Intensify
 2. Retard
 3. Relax
 4. Weaken

Question ID : **65497816829**
 Chosen Option : --

Q.2 Select the most appropriate word for the given group of words.

To take something on loan with the intention of returning it

- Ans 1. Lend
 2. Borrow
 3. Lease
 4. Hire

Question ID : **65497816834**
 Chosen Option : 2

Q.3 Select the **INCORRECTLY** spelt word.

- Ans 1. Growl
 2. Grumble
 3. Grownd
 4. Groove

Question ID : **65497816836**
 Chosen Option : --

Q.4 Select the most appropriate option to substitute the underlined segment in the given sentence. If there is no need to substitute it, select 'No substitution required.'

There were many options to choose for and I decided to study International Policy.

- Ans
- 1. No substitution required
 - 2. choose from
 - 3. choose by
 - 4. choose with

Question ID : 65497815513
Chosen Option : 1

Q.5 Select the most appropriate ANTONYM of the given word.

PROMPT

- Ans
- 1. Speedy
 - 2. Sluggish
 - 3. Alert
 - 4. Immediate

Question ID : 65497816828
Chosen Option : 2

Q.6 Select the most appropriate option to fill in the blank.

When my mother makes a promise, she always _____ it.

- Ans
- 1. sticks
 - 2. keeps
 - 3. follows
 - 4. supports

Question ID : 65497816838
Chosen Option : 1

Q.7 Select the most appropriate synonym of the given word.

RETORT

- Ans
- 1. Request
 - 2. Advise
 - 3. Reply
 - 4. Question

Question ID : 65497816830
Chosen Option : --

Q.8 Identify the segment that contains a grammatical error. If there is no error, select 'No error'.

Various initiatives was taken by the government to help the farmers.

- Ans
- 1. to help the farmers
 - 2. No error
 - 3. Various initiatives was
 - 4. taken by the government

Question ID : 65497816814
Chosen Option : 3

Q.9 Select the most appropriate meaning of the given idiom.

To be moved to tears

- Ans
- 1. To be mesmerised by something
 - 2. To be surprised or shocked
 - 3. To be transported to another world
 - 4. To be overwhelmed with emotion

Question ID : 65497816833
Chosen Option : --

Q.10 Select the most appropriate option to fill in the blank.

The audience gave the actors a standing ovation _____ the play ended.

- Ans
- 1. while
 - 2. when
 - 3. unless
 - 4. since

Question ID : 65497816817
Chosen Option : 2

Q.11 Select the INCORRECTLY spelt word.

- Ans
- 1. Predominant
 - 2. Participation
 - 3. Permanent
 - 4. Presision

Question ID : 65497816837
Chosen Option : 3

Q.12 Select the most appropriate meaning of the given idiom.

To gain ground

- Ans
- 1. To grow crops
 - 2. To be happy
 - 3. To buy land
 - 4. To make progress

Question ID : 65497816832
Chosen Option : 4

Q.13 Identify the segment that contains a grammatical error. If there is no error, select 'No error'.

The house was so old that its walls were cracked bad.

- Ans
- 1. so old that its walls
 - 2. The house was
 - 3. No error
 - 4. were cracked bad

Question ID : 65497816815
Chosen Option : 4

Q.14 Select the most appropriate option to substitute the underlined segment in the given sentence. If there is no need to substitute it, select 'No substitution required'.

Mother has ironed my clothes.

- Ans
- 1. has ironing
 - 2. has been ironed
 - 3. has iron
 - 4. No substitution required

Question ID : 65497816825
Chosen Option : 4

Q.15 Select the most appropriate option to substitute the underlined segment in the given sentence.

I wish I have a motorbike; I can't depend on the bus to reach my office on time.

- Ans
- 1. might have
 - 2. had
 - 3. didn't have
 - 4. don't have

Question ID : 65497817635
Chosen Option : 1

Q.16 Select the most appropriate option to fill in the blank.

The parents of the lost boy have announced _____ for information about their child.

- Ans
- 1. a prize
 - 2. a profit
 - 3. an award
 - 4. a reward

Question ID : 65497816839
Chosen Option : 4

Q.17 Select the most appropriate word for the given group of words.

A heavy round plate of metal thrown by an athlete

- Ans
- 1. Spear
 - 2. Javelin
 - 3. Discus
 - 4. Hammer

Question ID : 65497816835
Chosen Option : 3

Q.18 Identify the segment that contains a grammatical error. If there is no error, select 'No error'.

The reason for my absence from the office was because I was ill.

- Ans
- 1. because I was ill
 - 2. The reason for my absence
 - 3. No error
 - 4. from the office was

Question ID : 65497816816
Chosen Option : 4

Q.19 Select the most appropriate synonym of the given word.

EXULTATION

- Ans
- 1. Depression
 - 2. Agitation
 - 3. Jubilation
 - 4. Irritation

Question ID : 65497816831
Chosen Option : 3

Q.20 Select the most appropriate option to fill in the blank.

You must be on your guard _____ pickpockets, when you enter a crowded metro.

- Ans 1. across
 2. against
 3. for
 4. with

Question ID : 65497816818
Chosen Option : 2

Comprehension:

In the following passage some words have been deleted. Fill in the blanks with the help of the alternatives given. Select the most appropriate option for each blank.

A long time ago, Brahmadutta was the king of Benaras. Like (1)_____ kings he was interested only in (2)_____ and his favourite animal to hunt (3)_____ deer. The king would ride over (4)_____ planted fields and destroy the crops. He would (5)_____ men from the village to help him in the hunt even at the harvest time!

SubQuestion No : 21

Q.21 Select the most appropriate option to fill in blank no. 1.

- Ans 1. many
 2. much
 3. lot
 4. any

Question ID : 65497816820
Chosen Option : 1

Comprehension:

In the following passage some words have been deleted. Fill in the blanks with the help of the alternatives given. Select the most appropriate option for each blank.

A long time ago, Brahmadutta was the king of Benaras. Like (1)_____ kings he was interested only in (2)_____ and his favourite animal to hunt (3)_____ deer. The king would ride over (4)_____ planted fields and destroy the crops. He would (5)_____ men from the village to help him in the hunt even at the harvest time!

SubQuestion No : 22

Q.22 Select the most appropriate option to fill in blank no. 2.

- Ans 1. conquering
 2. fighting
 3. travelling
 4. hunting

Question ID : 65497816821
Chosen Option : 4

Comprehension:

In the following passage some words have been deleted. Fill in the blanks with the help of the alternatives given. Select the most appropriate option for each blank.

A long time ago, Brahmadutta was the king of Benaras. Like (1)_____ kings he was interested only in (2)_____ and his favourite animal to hunt (3)_____ deer. The king would ride over (4)_____ planted fields and destroy the crops. He would (5)_____ men from the village to help him in the hunt even at the harvest time!

SubQuestion No : 23**Q.23 Select the most appropriate option to fill in blank no. 3.**

- Ans
- 1. is
 - 2. are
 - 3. was
 - 4. were

Question ID : 65497816822
Chosen Option : 1

Comprehension:

In the following passage some words have been deleted. Fill in the blanks with the help of the alternatives given. Select the most appropriate option for each blank.

A long time ago, Brahmadutta was the king of Benaras. Like (1)_____ kings he was interested only in (2)_____ and his favourite animal to hunt (3)_____ deer. The king would ride over (4)_____ planted fields and destroy the crops. He would (5)_____ men from the village to help him in the hunt even at the harvest time!

SubQuestion No : 24**Q.24 Select the most appropriate option to fill in blank no. 4.**

- Ans
- 1. freshly
 - 2. brightly
 - 3. urgently
 - 4. quietly

Question ID : 65497816823
Chosen Option : 1

Comprehension:

In the following passage some words have been deleted. Fill in the blanks with the help of the alternatives given. Select the most appropriate option for each blank.

A long time ago, Brahmadutta was the king of Benaras. Like (1)_____ kings he was interested only in (2)_____ and his favourite animal to hunt (3)_____ deer. The king would ride over (4)_____ planted fields and destroy the crops. He would (5)_____ men from the village to help him in the hunt even at the harvest time!

SubQuestion No : 25**Q.25 Select the most appropriate option to fill in blank no. 5.**

- Ans
- 1. taken
 - 2. take
 - 3. taking
 - 4. took

Question ID : 65497816824
Chosen Option : 4

Section : **General Intelligence and Reasoning**

Q.1 वह विकल्प चुनें जिसमें संख्याएँ उसी प्रकार संबंधित हैं जिस प्रकार नीचे दिए गए सेट की संख्याएं आपस में संबंधित हैं।

{11, 240, 19}

- Ans
- 1. {6, 150, 14}
 - 2. {12, 80, 8}
 - 3. {23, 310, 17}
 - 4. {27, 380, 33}

Question ID : 65497818459
Chosen Option : --

Q.2 यदि गणितीय चिह्न '+' और 'x' का स्थान आपस में परिवर्तित कर दिया जाए, तो निम्नलिखित में से कौन सा समीकरण सही होगा?

- Ans
- 1. $12 + 3 + 6 \times 3 = 9$
 - 2. $15 - 9 + 2 \times 6 = 5$
 - 3. $8 \times 6 - 2 + 3 = 6$
 - 4. $9 \times 6 + 3 + 2 = 10$

Question ID : 65497818456
Chosen Option : 1

Q.3 'नाटक' का 'निर्देशक' से वही संबंध है, जो 'समाचार-पत्र' का '_____' से है।

- Ans
- 1. संपादक
 - 2. मालिक
 - 3. लेखक
 - 4. प्रेस

Question ID : 65497818467
Chosen Option : 1

Q.4 किसी विशिष्ट कूटभाषा में SNAKE को 15 के रूप में कूटबद्ध किया जाता है। तो उसी भाषा में DONATION को कैसे कूटबद्ध किया जाएगा?

- Ans
- 1. 26
 - 2. 24
 - 3. 18
 - 4. 29

Question ID : 65497818464
Chosen Option : 2

www.HaryanaJobs.in

Q.5 दिए गए कथनों और निष्कर्षों को ध्यान से पढ़ें। आपको कथनों में दी गई जानकारी को सच मानना है भले ही वे सामान्यतः ज्ञात तथ्यों से भिन्न प्रतीत हों, और फिर यह तय करना है कि कौन सा / कौन से निष्कर्ष प्रदत्त कथनों का तार्किक रूप से अनुसरण करता है / करते हैं।

कथन:

कुछ छात्र विद्वान हैं।
कुछ विद्वान लड़कियाँ हैं।
सभी लड़कियाँ साक्षर हैं।

निष्कर्ष:

कुछ छात्र लड़कियाँ हैं।
कुछ विद्वान साक्षर हैं।
कुछ साक्षरों के छात्र होने की संभावना है।

- Ans
- 1. केवल निष्कर्ष I और II अनुसरण करते हैं
 - 2. सभी निष्कर्ष I, II और III अनुसरण करते हैं
 - 3. केवल निष्कर्ष I अनुसरण करता है
 - 4. केवल निष्कर्ष II और III अनुसरण करते हैं

Question ID : 65497818471

Chosen Option : 4

Q.6 वह विकल्प चुनें जिसके संख्या युग्म में वही संबंध है जो संबंध निम्न संख्या युग्म की संख्याओं में है।

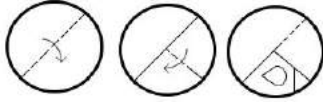
13 : 210

- Ans
- 1. 9 : 108
 - 2. 11 : 152
 - 3. 5 : 48
 - 4. 7 : 72

Question ID : 65497818458

Chosen Option : --

Q.7 नीचे आकृति में कागज के एक टुकड़े को मोड़ने का क्रम और उस मुड़े हुए कागज को काटने का तरीका दर्शाया गया है। वापस खोलने पर यह कागज कैसा दिखेगा?

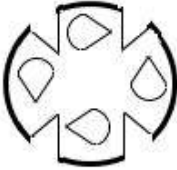


Ans

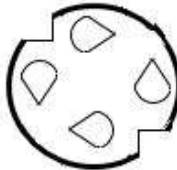
✗ 1.



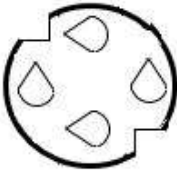
✗ 2.



✓ 3.



✗ 4.



Question ID : 65497818479
Chosen Option : 3

Q.8 Read the given statements and conclusions carefully. Assuming that the information given in the statements is true, even if it appears to be at variance with commonly known facts, decide which of the given conclusions logically follow(s) from the statements.

Statements:

All ponds are lakes.
No river is a pond.

Conclusions:

Some rivers are not lakes.
No river is a lake.
Some rivers are lakes.

Ans ✗ 1. Only conclusions II and III follow

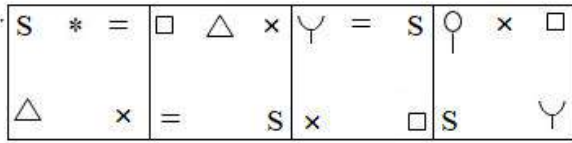
✓ 2. Either conclusion I or III follows

✗ 3. Only conclusion I follows

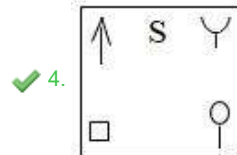
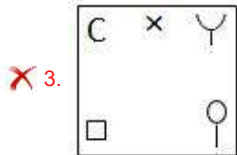
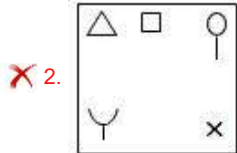
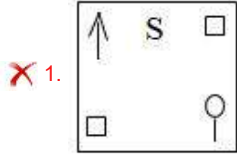
✗ 4. Only conclusions I and II follow

Question ID : 65497818470
Chosen Option : 4

Q.9 निम्नलिखित आकृति-श्रृंखला में आगे आने वाली आकृति का चयन करें।



Ans



Question ID : 65497818475

Chosen Option : --

Q.10 किसी विशिष्ट कूटभाषा में THEOCRACY को CYACROHET के रूप में लिखा जाता है। तो उसी भाषा में RELATIONS को कैसे लिखा जाएगा?

- Ans
- ✗ 1. NSOIATLER
 - ✗ 2. SONIATELR
 - ✗ 3. OSNAITLER
 - ✓ 4. NSOTIAELR

Question ID : 65497818462

Chosen Option : --

Q.11 किसी विशिष्ट कूटभाषा में MARK को 16 के रूप में और BEAK को 10 के रूप में कूटबद्ध किया जाता है। तो उसी भाषा में PICKLE को कैसे कूटबद्ध किया जाएगा?

- Ans
- ✗ 1. 35
 - ✓ 2. 29
 - ✗ 3. 27
 - ✗ 4. 32

Question ID : 65497818465

Chosen Option : --

Q.12 मोनिका, प्रीति, आभा और राजी नामक चार लड़कियाँ तथा हर्ष, पुनीत और सुशांत नामक तीन लड़के इस तरह एक पंक्ति में उत्तर की ओर मुँह कर बैठे हैं कि कोई भी दो लड़कियाँ बगल में नहीं बैठी हैं।

मोनिका, हर्ष के ठीक बाईं ओर लेकिन सुशांत के बगल में नहीं है।
आभा, पुनीत के ठीक दाईं ओर है लेकिन किसी भी सिरे पर नहीं बैठी है।
हर्ष और पुनीत, राजी के पड़ोसी हैं।

पंक्ति के दाहिने सिरे पर कौन बैठा है?

- Ans
- 1. सुशांत
 - 2. मोनिका
 - 3. हर्ष
 - 4. प्रीति

Question ID : 65497818473
Chosen Option : 1

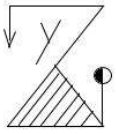
Q.13 वह विकल्प चुनें जो तीसरे अक्षर-समूह से उसी प्रकार संबंधित है, जिस प्रकार दूसरा अक्षर-समूह पहले अक्षर-समूह से संबंधित है।

DGJM : VUPO :: BFJN : ?

- Ans
- 1. XUQM
 - 2. ZTQM
 - 3. XTRL
 - 4. XVPN

Question ID : 65497818466
Chosen Option : --

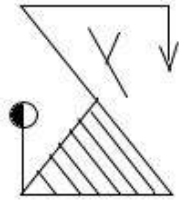
Q.14 यदि दर्पण को आकृति के दाईं ओर रखा जाता है तो बताएँ कि आकृति (X) का सटीक दर्पण प्रतिबिंब कौन सा होगा?



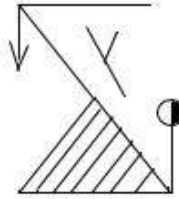
(X)

Ans

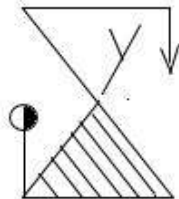
✗ 1.



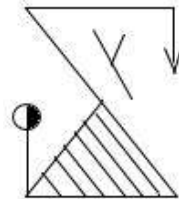
✗ 2.



✗ 3.



✓ 4.



www.HaryanaJobs.in

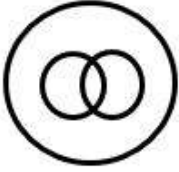
Question ID : 65497818478
Chosen Option : 4

Q.15 वह वेन आरेख चुनें जो निम्न वर्गों के मध्य के संबंध को सबसे अच्छे ढंग से निरूपित करता है।

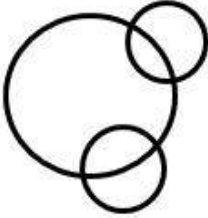
ईट, कमरे की दीवार, मकान

Ans

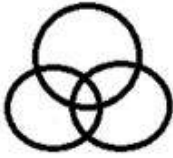
✗ 1.



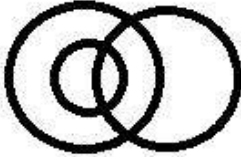
✗ 2.



✗ 3.



✓ 4.



Question ID : 65497818480
Chosen Option : 1

Q.16 जिस प्रकार 'कैनवास' से 'पेंटिंग' संबंधित है, उसी प्रकार _____ से 'इंद्रधनुष' संबंधित है।

Ans ✓ 1. आकाश

✗ 2. बादल

✗ 3. वर्षा

✗ 4. सूर्य

Question ID : 65497818468
Chosen Option : 1

Q.17 निम्न समीकरण के किन दो चिह्नों का स्थान परस्पर बदलने पर यह समीकरण सही हो जाएगा?

$$12 + 6 \times 4 - 6 \div 3 = 5$$

Ans ✗ 1. - और +

✗ 2. × और +

✓ 3. + और ÷

✗ 4. ÷ और ×

Question ID : 65497818457
Chosen Option : 3

Q.18 किसी विशिष्ट कूटभाषा में COMPUTER को CMOQVERT के रूप में लिखा जाता है। तो उसी भाषा में LANGUAGE को कैसे लिखा जाएगा?

- Ans**
- 1. ALNHVAEG
 - 2. LNAVFEAG
 - 3. ANLFTGEA
 - 4. NLAHVGEA

Question ID : 65497818463

Chosen Option : 4

Q.19 Among five objects, Gas stove, Washing machine, Refrigerator, Inverter and Microwave oven:

the Washing machine is twice as heavy as the Inverter;
 the Gas stove is one and half times as heavy as the Microwave oven;
 the Washing machine and Microwave oven together weigh as much as the Gas stove and Inverter together;
 the Refrigerator and Inverter together are one and half times as heavy as the Gas stove.

Which is the heaviest among the five objects?

- Ans**
- 1. Microwave oven
 - 2. Washing machine
 - 3. Refrigerator
 - 4. Gas stove

Question ID : 65497818474

Chosen Option : 2

Q.20 दिए गए विकल्पों में से वह अक्षर-समूह चुनें जो निम्नलिखित श्रृंखला में प्रश्नचिह्न (?) के स्थान पर आएगा?

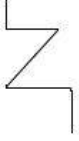
TRIBUTE, RBTEUIT, BEITUTR, ?, TRIBUTE

- Ans**
- 1. BIURTE
 - 2. ETTRUIB
 - 3. ETRTUIB
 - 4. EURTTIB

Question ID : 65497818469

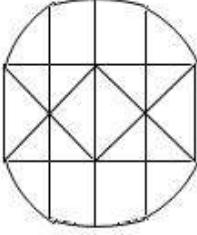
Chosen Option : 2

Q.21 वह विकल्प चुनें जिसमें दी गई आकृति सन्निहित है (आकृति को घुमाना नहीं है)।

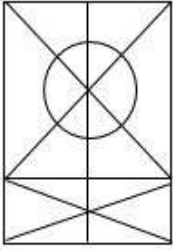


Ans

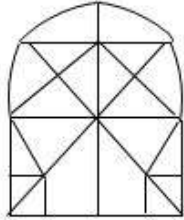
✗ 1.



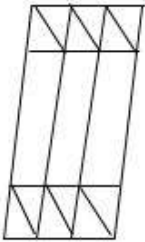
✗ 2.



✓ 3.



✗ 4.



www.HaryanaJobs.in

Question ID : 65497818477

Chosen Option : 3

Q.22 दिए गए विकल्पों में से वह संख्या चुनें जो निम्नलिखित श्रृंखला में प्रश्नचिह्न (?) के स्थान पर आएगी?

210, 201, 217, 192, 228, 179, ?

Ans ✓ 1. 243

✗ 2. 251

✗ 3. 228

✗ 4. 239

Question ID : 65497818460

Chosen Option : 1

Q.23 P, Q, R, S, T और U एक पंक्ति में उत्तर की ओर मुँह करके बैठे हैं। U, S और P के बगल में बैठा है। P, Q के बाएँ से दूसरे स्थान पर है। Q किसी एक सिरे पर बैठा है। तो बताएँ कि बाएँ सिरे से दूसरे स्थान पर कौन बैठा है?

- Ans
- 1. P
 - 2. U
 - 3. S
 - 4. T

Question ID : 65497818472
Chosen Option : 3

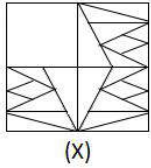
Q.24 दिए गए विकल्पों में से वह संख्या चुनें जो निम्नलिखित श्रृंखला में प्रश्नचिह्न (?) के स्थान पर आएगी?

4, 9, 20, 43, ?, 185

- Ans
- 1. 90
 - 2. 87
 - 3. 133
 - 4. 95

Question ID : 65497818461
Chosen Option : 1

Q.25 विकल्पों में से वह आकृति चुनें जिसे आकृति (X) के खाली स्थान में रखने पर पैटर्न पूरा हो जाएगा।



Ans

- 1.
- 2.
- 3.
- 4.

Question ID : 65497818476
Chosen Option : 3

Section : Numerical Aptitude

Q.1 अरविंद ने ₹16,000 प्रति मशीन की दर से आठ बॉशिंग मशीनें खरीदीं और सभी मशीनें ₹1,12,640 में बेच दीं। उसका लाभ या हानि प्रतिशत जात कीजिए।

- Ans**
- 1. 12% लाभ
 - 2. 12% हानि
 - 3. 15% लाभ
 - 4. 15% हानि

Question ID : 65497815964
Chosen Option : 2

Q.2 एक व्यक्ति अपनी कुल यात्रा का $\frac{3}{7}$ भाग ट्रेन से, $\frac{5}{14}$ भाग बस से और शेष 3 km पैदल तय करता है। उसके द्वारा तय की गई कुल दूरी जात कीजिए।

- Ans**
- 1. 12 km
 - 2. 18 km
 - 3. 14 km
 - 4. 15 km

Question ID : 65497815958
Chosen Option : 3

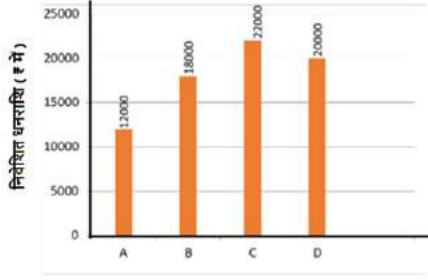
Q.3 सुमन ने राहुल को ₹6,400 तीन वर्षों के लिए और गणेश को ₹4,000, 5 वर्षों के लिए साधारण ब्याज की समान वार्षिक दर पर उधार दिए, और उसने उन दोनों से ब्याज के रूप में कुल ₹4,116 प्राप्त किये। गणेश द्वारा दिया जाने वाला ब्याज कितना है?

- Ans**
- 1. ₹2,200
 - 2. ₹2,100
 - 3. ₹2,000
 - 4. ₹1,800

Question ID : 65497815970
Chosen Option : --

www.HaryanaJobs.in

Q.4 निम्नांकित ग्राफ 4 विभिन्न लोगों A, B, C और D के द्वारा एक बैंक में साधारण ब्याज पर निवेशित धनराशि दर्शाता है। ग्राफ का अध्ययन करें और उसके बाद दिए गए प्रश्न का उत्तर दें।



यदि B को R% वार्षिक ब्याज दर पर 5 वर्षों के बाद प्राप्त होने वाली धनराशि, D को समान वार्षिक ब्याज दर पर $3\frac{1}{2}$ वर्ष के बाद प्राप्त होने वाली धनराशि के बराबर है, तो R का मान ज्ञात कीजिए।

- Ans
- 1. 9%
 - 2. 12%
 - 3. 10%
 - 4. 8%

Question ID : 65497815980

Chosen Option : --

Q.5 सुरेश और दिनेश 120 km की यात्रा इस तरह करते हैं कि सुरेश की चाल, दिनेश की चाल से अधिक होती है। उनकी चालों का योग 75 km/h है, और दोनों के द्वारा लिया गया समय 6 घंटे और 40 मिनट है। सुरेश की चाल ज्ञात कीजिए।

- Ans
- 1. 45 km/h
 - 2. 42 km/h
 - 3. 40 km/h
 - 4. 30 km/h

Question ID : 65497815959

Chosen Option : 1

Q.6 किसी घनाभाकार टंकी की क्षमता 12288 किलोलीटर है। इसकी लंबाई 32 m है और इसकी चौड़ाई और ऊंचाई का अनुपात 3 : 2 है। टंकी की चौड़ाई (m में) ज्ञात करें।

- Ans
- 1. 16
 - 2. 21
 - 3. 28
 - 4. 24

Question ID : 65497815068

Chosen Option : 4

Q.7 एक घनाकार कमरे के फर्श का क्षेत्रफल 147 m^2 है। इस कमरे में अधिकतम कितनी लंबाई वाली छड़ रखी जा सकती है?

- Ans
- 1. 18 m
 - 2. 21 m
 - 3. 16 m
 - 4. 15 m

Question ID : 65497815972
Chosen Option : --

Q.8 कुछ सेबों को यदि ₹9 प्रति सेब के मूल्य के बजाय, ₹12 प्रति सेब के मूल्य पर बेचा जाए, तो उनके विक्रय मूल्यों में ₹870 का अंतर आता है। यदि सेबों का कुल क्रय मूल्य ₹2,320 है, तो एक सेब का वह विक्रय मूल्य बताइए जिस पर बेचने पर 25% का लाभ प्राप्त हो।

- Ans
- 1. ₹8
 - 2. ₹10
 - 3. ₹15
 - 4. ₹12

Question ID : 65497815965
Chosen Option : --

Q.9 रघु ने एक वस्तु ₹6,800 में खरीदी और ₹700 इसकी मरम्मत पर खर्च किए। उसने इस पर इसकी संपूर्ण लागत से 8% अधिक मूल्य अंकित किया। उसने इसे $x\%$ की छूट देने के बाद ₹6,480 में बेच दिया। x का मान ज्ञात कीजिए।

- Ans
- 1. 20%
 - 2. 15%
 - 3. 18%
 - 4. 25%

Question ID : 65497815962
Chosen Option : 1

Q.10 एक परीक्षा में 40% अभ्यर्थी लड़कियां थीं। परीक्षा में 35% लड़के और 20% लड़कियां अनुत्तीर्ण हो गए, और 585 लड़के उत्तीर्ण हुए। उत्तीर्ण होने वाली लड़कियों की संख्या ज्ञात कीजिए।

- Ans
- 1. 480
 - 2. 580
 - 3. 460
 - 4. 450

Question ID : 65497815963
Chosen Option : 1

Q.11 The diameter of an iron ball used for shot-put is 21 cm. It is melted and then a cylinder of height 3.5 cm is made. The curved surface area of the cylinder will be:

(Take $\pi = \frac{22}{7}$)

- Ans**
- 1. 362 cm^2
 - 2. 464 cm^2
 - 3. 460 cm^2
 - 4. 462 cm^2

Question ID : **65497815974**
Chosen Option : --

Q.12 यदि एक निश्चित धनराशि चक्रवृद्धि ब्याज पर 5 वर्षों में $2\frac{1}{2}$ गुनी हो जाती है, तो यही धनराशि समान वार्षिक ब्याज दर पर कितने वर्षों में $6\frac{1}{4}$ गुनी हो जाएगी?

- Ans**
- 1. 8 वर्ष
 - 2. 10 वर्ष
 - 3. 9 वर्ष
 - 4. 12 वर्ष

Question ID : **65497815969**
Chosen Option : --

Q.13 The ratio of two numbers is 9 : 13 and their HCF is 6. Their LCM is:

- Ans**
- 1. 720
 - 2. 710
 - 3. 702
 - 4. 602

Question ID : **65497815975**
Chosen Option : --

Q.14 चार क्रमागत विषम संख्याओं a, b, c और d का औसत 18 है। b और c का औसत ज्ञात कीजिए।

- Ans**
- 1. 15
 - 2. 14
 - 3. 12
 - 4. 18

Question ID : **65497815960**
Chosen Option : 4

Q.15 A के $\frac{1}{4}$ और B के $\frac{1}{3}$ का औसत 5 है, तथा A के $\frac{1}{2}$ और B के $\frac{1}{2}$ का औसत 9 है। 2A और 3B का औसत ज्ञात कीजिए।

- Ans
- 1. 32
 - 2. 42
 - 3. 40
 - 4. 46

Question ID : 65497815961
Chosen Option : --

Q.16 A और B एक साथ कार्य करते हुए किसी कार्य के 36% भाग को 9 दिनों में पूरा कर सकते हैं। B अकेला उस कार्य को 30 दिनों में पूरा कर सकता है। A अकेला उस कार्य को कितने दिनों में पूरा कर पाएगा?

- Ans
- 1. 120 दिन
 - 2. 150 दिन
 - 3. 160 दिन
 - 4. 140 दिन

Question ID : 65497815956
Chosen Option : 2

Q.17 A, B और C एक कार्य को क्रमशः 20, 35 और 60 दिनों में कर सकते हैं। उन्होंने एक साथ कार्य आरंभ किया, लेकिन B और C ने कार्य पूरा होने से क्रमशः 8 और 12 दिन पहले काम छोड़ दिया। अब वह कार्य कितने दिनों में पूरा होगा?

- Ans
- 1. 12 दिन
 - 2. 10 दिन
 - 3. 15 दिन
 - 4. 20 दिन

Question ID : 65497815957
Chosen Option : --

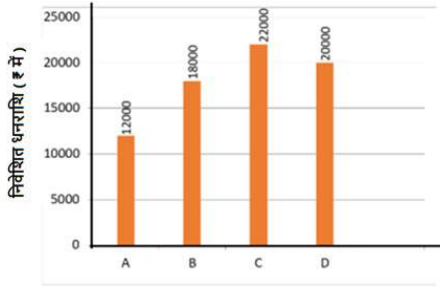
Q.18 यदि एक शंकु के आधार का व्यास 32 cm है और इसके वक्र पृष्ठ का क्षेत्रफल $3268\frac{4}{7} \text{ cm}^2$ है, तो इसकी ऊँचाई ज्ञात कीजिए।

(मान लें $\pi = \frac{22}{7}$)

- Ans
- 1. 60 cm
 - 2. 58 cm
 - 3. 64 cm
 - 4. 63 cm

Question ID : 65497815973
Chosen Option : 3

Q.19 निम्नांकित ग्राफ 4 विभिन्न लोगों A, B, C और D के द्वारा एक बैंक में साधारण ब्याज पर निवेशित धनराशि दर्शाता है। ग्राफ का अध्ययन करें और उसके बाद दिए गए प्रश्न का उत्तर दें।



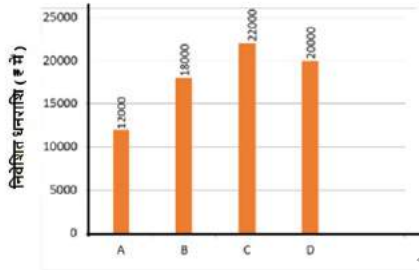
यदि ब्याज दर 8.5% वार्षिक है, तो 3 वर्षों के बाद C को प्राप्त होने वाली धनराशि ज्ञात कीजिए।

- Ans
- ✗ 1. ₹27,600
 - ✗ 2. ₹25,600
 - ✗ 3. ₹25,610
 - ✓ 4. ₹27,610

Question ID : 65497815978

Chosen Option : 4

Q.20 निम्नांकित ग्राफ 4 विभिन्न लोगों A, B, C और D के द्वारा एक बैंक में साधारण ब्याज पर निवेशित धनराशि दर्शाता है। ग्राफ का अध्ययन करें और उसके बाद दिए गए प्रश्न का उत्तर दें।



A को एक नियत ब्याज दर पर 4 वर्षों के बाद प्राप्त होने वाला ब्याज ₹3,840 है। यदि ब्याज दर में 2% की वृद्धि हो जाए, तो A को उतनी ही अवधि के बाद कुल कितनी धनराशि प्राप्त होगी?

- Ans
- ✗ 1. ₹15,000
 - ✓ 2. ₹16,800
 - ✗ 3. ₹15,800
 - ✗ 4. ₹16,000

Question ID : 65497815979

Chosen Option : 2

Q.21 ₹63,404 की धनराशि को A और B के मध्य 4 : 7 के अनुपात में विभाजित किया गया। A के हिस्से के 5 गुने और B के हिस्से के 2 गुने के मध्य अंतर ज्ञात कीजिए।

- Ans
- 1. ₹43,458
 - 2. ₹34,580
 - 3. ₹34,584
 - 4. ₹45,384

Question ID : 65497815967
Chosen Option : 3

Q.22 यदि $(3 \times 22) \div (5^2 + 2^3) - 2^x = -30$ है, तो x का मान क्या होगा?

- Ans
- 1. 5
 - 2. 6
 - 3. 4
 - 4. 3

Question ID : 65497817289
Chosen Option : 1

Q.23 मां और पुत्री की वर्तमान आयु का अनुपात 3 : 1 है। पांच वर्ष पूर्व, उनकी आयु का अनुपात 5 : 1 था। अब से 41 वर्ष बाद मां की आयु कितनी होगी?

- Ans
- 1. 71 वर्ष
 - 2. 70 वर्ष
 - 3. 68 वर्ष
 - 4. 65 वर्ष

Question ID : 65497815966
Chosen Option : 1

Q.24 12 संख्याओं का माध्य 25 है। यदि एक संख्या निकाल दी जाती है, तो उनका माध्य 22 हो जाता है। निकाली गई संख्या ज्ञात कीजिए।

- Ans
- 1. 50
 - 2. 48
 - 3. 52
 - 4. 58

Question ID : 65497815971
Chosen Option : 4

Q.25 एक व्यक्ति सेब, केला और संतरे क्रमशः 20%, 25% और 30% के लाभ पर बेचता है। यदि फलों के क्रय मूल्यों का अनुपात 2 : 3 : 5 है, और फल 5 : 4 : 2 के अनुपात में बेचे जाते हैं, तो लाभ प्रतिशत ज्ञात कीजिए।

- Ans
- 1. 18%
 - 2. 20%
 - 3. 25%
 - 4. 30%

Question ID : 65497815968
Chosen Option : --

Section : General Awareness

Q.1 जोग जल प्रपात किस राज्य / केंद्र शासित प्रदेश में स्थित है?

- Ans
- 1. पंजाब
 - 2. लद्दाख
 - 3. कर्नाटक
 - 4. जम्मू और कश्मीर

Question ID : 65497815495
Chosen Option : 3

Q.2 2020 में निम्नलिखित में से किसे राजीव गांधी खेल रत्न पुरस्कार प्रदान किया गया?

- Ans
- 1. सचिन तेंदुलकर
 - 2. सुरेश रैना
 - 3. महेन्द्र सिंह धोनी
 - 4. रोहित शर्मा

Question ID : 65497815479
Chosen Option : 4

Q.3 निम्नलिखित में से किस ग्रह का अपना कोई उपग्रह नहीं है?

- Ans
- 1. मंगल
 - 2. बृहस्पति
 - 3. बुध
 - 4. शनि

Question ID : 65497815490
Chosen Option : 3

Q.4 निम्नलिखित में से किसे 'कोशिका का पॉवरहाउस' कहा जाता है?

- Ans
- 1. श्वेत रक्त कणिकाओं
 - 2. माइटोकॉन्ड्रिया
 - 3. लाल रक्त कणिकाओं
 - 4. प्लाज्मा झिल्ली

Question ID : 65497815491
Chosen Option : 2

Q.5 प्राचीन बौद्ध ग्रंथ निम्न में से किस भाषा में लिखे गये थे?

- Ans 1. पालि
 2. अपभ्रंश
 3. संस्कृत
 4. प्राकृत

Question ID : 65497815498
 Chosen Option : 4

Q.6 भारतीय राष्ट्रीय कांग्रेस की अध्यक्ष चुनी जाने वाली पहली महिला कौन थीं?

- Ans 1. इंदिरा गांधी
 2. सुचेता कृपलानी
 3. नेली सेनगुप्ता
 4. एनी बेसेंट

Question ID : 65497815499
 Chosen Option : 4

Q.7 भारत के संविधान के निम्नलिखित अनुच्छेदों में से कौन सा यह प्रावधान करता है कि देवनागरी लिपि में लिखी जाने वाली हिंदी, संघ की आधिकारिक भाषा होगी?

- Ans 1. अनुच्छेद 343 (3)
 2. अनुच्छेद 343 (1)
 3. अनुच्छेद 343 (2)
 4. अनुच्छेद 344 (1)

Question ID : 65497815489
 Chosen Option : 2

Q.8 जून 2020 में शुरू किया गया द अर्बन लर्निंग इंटरनशिप प्रोग्राम (TULIP), निम्न में से किसका संयुक्त उपक्रम है?

- Ans 1. आवास एवं शहरी मामलों का मंत्रालय (MoHUA) और वाणिज्य एवं उद्योग मंत्रालय
 2. मानव संसाधन विकास मंत्रालय (MHRD) और आवास एवं शहरी मामलों का मंत्रालय (MoHUA)
 3. आवास एवं शहरी मामलों का मंत्रालय (MoHUA) और कौशल विकास एवं उद्यमिता मंत्रालय
 4. मानव संसाधन विकास मंत्रालय (MHRD) और कौशल विकास एवं उद्यमिता मंत्रालय

Question ID : 65497815486
 Chosen Option : 3

Q.9 भारत ने द्विवार्षिक पर्यावरणीय प्रदर्शन सूचकांक (EPI 2020) के 12वें संस्करण, जिसने 180 देशों के पर्यावरणीय प्रदर्शन का मूल्यांकन किया था, में _____ स्थान हासिल किया था।

- Ans 1. 168वां
 2. 178वां
 3. 138वां
 4. 108वां

Question ID : 65497815482
 Chosen Option : --

Q.10 निम्नलिखित में से कौन-सा कच्चे तेल से बना उत्पाद नहीं है?

- Ans 1. एन्थ्रेससाइट
 2. गैसोलिन
 3. डीज़ल
 4. डामर

Question ID : 65497815493
 Chosen Option : 1

Q.11 सिरका में कौन सा अम्ल होता है?

- Ans 1. सिट्रिक अम्ल
 2. नाइट्रिक अम्ल
 3. टारटरिक अम्ल
 4. एसिटिक अम्ल

Question ID : 65497815494
 Chosen Option : 4

Q.12 अंडमान और निकोबार द्वीप समूह में _____ द्वीप शामिल हैं।

- Ans 1. 672
 2. 372
 3. 472
 4. 572

Question ID : 65497815497
 Chosen Option : 4

Q.13 किस संत के सम्मान में अकबर ने फ़तेहपुर सीकरी का निर्माण किया था?

- Ans 1. शेख सलीम चिश्ती
 2. शेख निज़ामत उल्लाह
 3. शेख शहाबुद्दीन सुहरावर्दी
 4. ख्वाजा पीर मोहम्मद

Question ID : 65497815500
 Chosen Option : 1

Q.14 बाग की गुफाएँ, जो भारतीय शैलकर्तित स्थापत्य वास्तुकला (रॉक-कट आर्किटेक्चर) का अद्भुत नमूना हैं, _____ में स्थित हैं।

- Ans 1. छत्तीसगढ़
 2. मध्य प्रदेश
 3. पंजाब
 4. बिहार

Question ID : 65497815476
 Chosen Option : --

Q.15 मिज़ोरम के पारंपरिक बांस नृत्य को क्या कहा जाता है?

- Ans
- 1. माच
 - 2. यक चाम
 - 3. चेराव
 - 4. थांग ता

Question ID : 65497815477
Chosen Option : --

Q.16 सिंधी कवि और लेखक वासुदेव मोही को सरस्वती सम्मान, 2019 के लिए चुना गया था। यह पुरस्कार द्वारा प्रतिवर्ष दिया जाता है।

- Ans
- 1. इन्फोसिस फाउंडेशन
 - 2. अजीम प्रेमजी फाउंडेशन
 - 3. जे.आर.डी. और सर रतन टाटा ट्रस्ट्स
 - 4. के.के. बिड़ला फाउंडेशन

Question ID : 65497815483
Chosen Option : 4

Q.17 काकीनाडा, जो भारत के गैस पाइपलाइन नेटवर्क में एक विशेष स्थान रखता है, किस स्थान पर स्थित है?

- Ans
- 1. तमिलनाडु
 - 2. ओडिशा
 - 3. आंध्र प्रदेश
 - 4. केरल

Question ID : 65497814878
Chosen Option : --

Q.18 किसी राज्य के राज्यपाल के रूप में नियुक्ति के लिए भारत के संविधान द्वारा निर्धारित न्यूनतम आयु कितनी है?

- Ans
- 1. 21 साल
 - 2. 25 साल
 - 3. 30 साल
 - 4. 35 साल

Question ID : 65497815487
Chosen Option : 4

Q.19 निम्नलिखित में से कौन-सा प्राकृतिक गैस का सबसे बड़ा घटक है?

- Ans
- 1. इथेनॉल
 - 2. मेथनॉल
 - 3. एथेन
 - 4. मीथेन

Question ID : 65497815492
Chosen Option : 4

Q.20 '150 इयर्स ऑफ सेलिब्रेटिंग द महात्मा - द साउथ अफ्रीकन लिगेसी' नामक पुस्तक के लेखक निम्नलिखित में से कौन हैं?

- Ans 1. फकीर हसन
 2. डैनियल बुड्रेल
 3. फरीद जकारिया
 4. फ्रेडरिक टुटेन

Question ID : 65497815481
 Chosen Option : --

Q.21 निम्नलिखित में से कौन सा क्षेत्रफल की दृष्टि से भारत का सबसे छोटा केंद्र शासित प्रदेश है?

- Ans 1. दादरा और नगर हवेली और दमन और दीव
 2. लक्षद्वीप
 3. पुदुचेरी
 4. चंडीगढ़

Question ID : 65497815496
 Chosen Option : 4

Q.22 जुलाई 2020 में, भारतीय क्रिकेट कंट्रोल बोर्ड (BCCI) के अंतरिम सी.ई.ओ. (CEO) के रूप में निम्नलिखित में से किसे नियुक्त किया गया है?

- Ans 1. हेमांग अमीन
 2. राहुल जौहरी
 3. सुंदर रमण
 4. संतोष रंगनेकर

Question ID : 65497815480
 Chosen Option : --

Q.23 निम्नलिखित में से कौन सा पद भारत के संविधान के अनुच्छेद 76 के तहत एक संवैधानिक पद है?

- Ans 1. अतिरिक्त स्थायी परामर्शदाता
 2. अपर महाधिवक्ता
 3. भारत के महाधिवक्ता
 4. भारत के महान्यायवादी

Question ID : 65497815488
 Chosen Option : 4

Q.24 केंद्रीय बजट 2020-21 में बैंक जमाओं के लिए जमा बीमा सुरक्षा बढ़ाकर ₹ _____ प्रति जमाकर्ता कर दी गई है।

- Ans 1. 3 लाख
 2. 5 लाख
 3. 1 लाख
 4. 2 लाख

Question ID : 65497817000
 Chosen Option : 2

Q.25 लल्ल दद, जो कि 14वीं शताब्दी की महिला संत थी, की गिनती _____ भाषा की आरंभिक और सबसे प्रसिद्ध कवयत्रियों में की जाती है।

- Ans
- 1. पंजाबी
 - 2. कश्मीरी
 - 3. बंगाली
 - 4. तमिल

Question ID : **65497815478**

Chosen Option : --

www.HaryanaJobs.in

Multi Tasking Non Technical Staff Examination 2020

Participant ID	www.HaryanaJobs.in
Participant Name	www.HaryanaJobs.in
Test Center Name	Eduhive Palestra
Test Date	26/10/2021
Test Time :	4:00 PM - 5:30 PM
Subject	MTS Non Technical 2020

Section : **General English**

Q.1 Select the most appropriate one-word substitution for the given group of words.

Move suddenly and powerfully forward or upward

- Ans
- 1. Abound
 - 2. Flourish
 - 3. Surge
 - 4. Thrive

Question ID : **65497814411**
Chosen Option : 3

Q.2 Select the most appropriate ANTONYM of the given word.

HIGHLIGHT (v.)

- Ans
- 1. Downplay
 - 2. Consider
 - 3. Recognise
 - 4. Describe

Question ID : **65497814405**
Chosen Option : 1

Q.3 Select the most appropriate option to substitute the underlined segment in the given sentence. If there is no need to substitute it, select 'No substitution required'.

You can find several kind of birds in the Mysore Zoo, pelicans, flamingos, hornbills and egrets.

- Ans
- 1. kind of several birds
 - 2. several kinds of birds
 - 3. several kind of bird
 - 4. No substitution required

Question ID : **65497814301**
Chosen Option : 4

Q.4 Select the most appropriate option to fill in the blank.

A recent survey on the subject of fear asked people to _____ to a list of common phobias.

- Ans
- 1. respond
 - 2. answer
 - 3. reflect
 - 4. review

Question ID : 65497814394
Chosen Option : 2

Q.5 Identify the segment in the sentence which contains a grammatical error.

You are fond of instrumental music, isn't it?

- Ans
- 1. instrumental music
 - 2. fond of
 - 3. You are
 - 4. isn't it

Question ID : 65497814390
Chosen Option : 4

Q.6 Select the most appropriate option to fill in the blank.

It is mandatory for information about the _____ of the product to be given on the label.

- Ans
- 1. requirements
 - 2. essentials
 - 3. ingredients
 - 4. materials

Question ID : 65497814415
Chosen Option : 3

Q.7 Select the most appropriate one-word substitution for the given group of words.

A grant or payment to support a student's education

- Ans
- 1. Advance
 - 2. Sponsor
 - 3. Fund
 - 4. Scholarship

Question ID : 65497814410
Chosen Option : 4

Q.8 Select the most appropriate option to fill in the blank.

To get the _____ idea you need to read through the paragraph first.

- Ans 1. altogether
 2. overall
 3. inside
 4. internal

Question ID : 65497814414
Chosen Option : 2

Q.9 Select the most appropriate option to substitute the underlined segment. If no substitution is required, select 'No substitution required'.

Rohit had hardly stepped into the office than he was summon by his boss.

- Ans 1. No substitution required
 2. than he is summoned
 3. when he was summoned
 4. then he were summoned

Question ID : 65497816423
Chosen Option : 3

Q.10 Select the most appropriate synonym of the given word.

DETERMINED

- Ans 1. Intense
 2. Inspired
 3. Resolute
 4. Disillusioned

Question ID : 65497814407
Chosen Option : 3

Q.11 Select the most appropriate option to substitute the underlined segment in the given sentence. If there is no need to substitute it, select 'No substitution required'.

Girish was able to drive down from Bengaluru in ten hours as there was very little traffic on the highway.

- Ans 1. as there was very less
 2. as there were very little
 3. No substitution required
 4. as there was a very little

Question ID : 65497814401
Chosen Option : 4

Q.12 Select the INCORRECTLY spelt word.

- Ans 1. Graphic
 2. Quandary
 3. Guidance
 4. Quiet

Question ID : 65497814413
Chosen Option : 3

Q.13 Select the INCORRECTLY spelt word.

- Ans 1. Excuse
 2. Weather
 3. Indicashun
 4. Advertisement

Question ID : 65497814412
Chosen Option : 1

Q.14 Select the most appropriate synonym of the given word.

ACHIEVE

- Ans 1. Succeed
 2. Avoid
 3. Prevent
 4. Confuse

Question ID : 65497814406
Chosen Option : 1

Q.15 Select the most appropriate meaning of the given idiom.

Out of the question

- Ans 1. Very difficult
 2. Very badly written
 3. Not possible at all
 4. Not in the syllabus

Question ID : 65497814408
Chosen Option : 3

Q.16 Select the most appropriate option to fill in the blank.

It is the story of a king who was fond of being _____ lies.

- Ans 1. said
 2. told
 3. tell
 4. telling

Question ID : 65497814393
Chosen Option : 4

Q.17 Select the most appropriate ANTONYM of the given word.

DISASTER

- Ans 1. Safety
 2. Success
 3. Downfall
 4. Collapse

Question ID : 65497814404
Chosen Option : 1

Q.18 Select the most appropriate meaning of the given idiom.

Change hands

- Ans 1. Carry something in both hands
 2. Pass from one person to another
 3. Move from one hand to another
 4. Give away something you do not need

Question ID : 65497814409
Chosen Option : 2

Q.19 Identify the segment in the sentence which contains a grammatical error.

I'm sure that I found the place without any difficulty when I go next time.

- Ans 1. I found the place
 2. when I go next time
 3. I'm sure that
 4. without any difficulty

Question ID : 65497814391
Chosen Option : 2

Q.20 Identify the segment in the sentence which contains a grammatical error.

Investigations have been going on for a long time to produce an environment-friendly plastic that decay and become a part of the soil.

- Ans 1. to produce an environment-friendly plastic
 2. Investigations have been going on
 3. that decay and become a part of the soil
 4. for a long time

Question ID : 65497814392
Chosen Option : 2

Comprehension:

In the following passage some words have been deleted. Fill in the blanks with the help of the alternatives given. Select the most appropriate option for each blank.

You must pace your work. What (1)_____ I mean? I'm glad you (2)_____ that question. We pace our work according (3)_____ the eight-hour workday. If you (4)_____ twelve hours of work in your in-box, for example, you must (5)_____ that work into the eight-hour day.

SubQuestion No : 21

Q.21 Select the most appropriate option to fill in blank no. 1.

- Ans
- 1. have
 - 2. am
 - 3. will
 - 4. do

Question ID : 65497814396
Chosen Option : 2

Comprehension:

In the following passage some words have been deleted. Fill in the blanks with the help of the alternatives given. Select the most appropriate option for each blank.

You must pace your work. What (1)_____ I mean? I'm glad you (2)_____ that question. We pace our work according (3)_____ the eight-hour workday. If you (4)_____ twelve hours of work in your in-box, for example, you must (5)_____ that work into the eight-hour day.

SubQuestion No : 22

Q.22 Select the most appropriate option to fill in blank no. 2.

- Ans
- 1. say
 - 2. spoke
 - 3. asked
 - 4. find

Question ID : 65497814397
Chosen Option : 3

Comprehension:

In the following passage some words have been deleted. Fill in the blanks with the help of the alternatives given. Select the most appropriate option for each blank.

You must pace your work. What (1)_____ I mean? I'm glad you (2)_____ that question. We pace our work according (3)_____ the eight-hour workday. If you (4)_____ twelve hours of work in your in-box, for example, you must (5)_____ that work into the eight-hour day.

SubQuestion No : 23

Q.23 Select the most appropriate option to fill in blank no. 3.

- Ans
- 1. to
 - 2. by
 - 3. from
 - 4. with

Question ID : 65497814398
Chosen Option : 1

Comprehension:

In the following passage some words have been deleted. Fill in the blanks with the help of the alternatives given. Select the most appropriate option for each blank.

You must pace your work. What (1)_____ I mean? I'm glad you (2)_____ that question. We pace our work according (3)_____ the eight-hour workday. If you (4)_____ twelve hours of work in your in-box, for example, you must (5)_____ that work into the eight-hour day.

SubQuestion No : 24

Q.24 Select the most appropriate option to fill in blank no. 4.

- Ans 1. have
 2. are having
 3. had
 4. will have

Question ID : 65497814399
 Chosen Option : 1

Comprehension:

In the following passage some words have been deleted. Fill in the blanks with the help of the alternatives given. Select the most appropriate option for each blank.

You must pace your work. What (1)_____ I mean? I'm glad you (2)_____ that question. We pace our work according (3)_____ the eight-hour workday. If you (4)_____ twelve hours of work in your in-box, for example, you must (5)_____ that work into the eight-hour day.

SubQuestion No : 25

Q.25 Select the most appropriate option to fill in blank no. 5.

- Ans 1. expand
 2. increase
 3. stretch
 4. compress

Question ID : 65497814400
 Chosen Option : 4

Section : General Intelligence and Reasoning

Q.1 आठ मित्र P, Q, R, S, T, U, V और W इसी क्रम में दक्षिणावर्त रूप से एक गोल मेज के परितः एक-दूसरे से समान दूरी पर बैठे हैं। सभी मेज के केंद्र की ओर अभिमुख हैं। यदि U दक्षिण दिशा में बैठा है, तो उत्तर-पूर्व दिशा में कौन बैठा है?

- Ans 1. R
 2. T
 3. Q
 4. P

Question ID : 65497815039
 Chosen Option : 1

Q.2 निम्न श्रेणी में प्रश्नवाचक चिह्न (?) के स्थान पर कौन सी संख्या आएगी?

17, 17, 34, 102, 408, ?

- Ans
- 1. 1620
 - 2. 2440
 - 3. 2040
 - 4. 1550

Question ID : 65497815026
Chosen Option : 3

Q.3 एक निश्चित कूट भाषा में, यदि 'MINT' को 'TNIM' लिखा जाता है, तो उसी कूट भाषा में 'CORTEX' को क्या लिखा जाएगा?

- Ans
- 1. XETRCO
 - 2. XTEROC
 - 3. XERTOC
 - 4. XETROC

Question ID : 65497815028
Chosen Option : 4

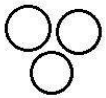
Q.4 दिए गए पैटर्न का ध्यानपूर्वक अध्ययन कीजिए और उस संख्या का चयन कीजिए जो इसमें प्रश्नवाचक चिह्न (?) के स्थान पर आ सकती है।

15 4 161
12 3 117
16 5 ?

- Ans
- 1. 143
 - 2. 131
 - 3. 120
 - 4. 111

Question ID : 65497815025
Chosen Option : 2

Q.5 वर्गों के उस समुच्चय का चयन कीजिए जिनके मध्य के संबंध को निम्नांकित वेन आरेख द्वारा सर्वोत्तम रूप से निरूपित किया है।



- Ans
- 1. पुस्तकें, रसोईघर, कारें
 - 2. वाहन, पशु, बसें
 - 3. पशु, ध्रुवीय भालू, बर्फ
 - 4. भोजन, अनाज, मक्का

Question ID : 65497815046
Chosen Option : 1

Q.6 उस विकल्प का चयन कीजिए जिसका तीसरे शब्द से वही संबंध है, जो दूसरे शब्द का पहले शब्द से है।

पुस्तकें : बस्ता :: गैस स्टोव : ?

- Ans 1. भोजन
 2. रसोईघर
 3. गैस सिलिंडर
 4. शेफ

Question ID : 65497815033

Chosen Option : 2

Q.7 उस विकल्प का चयन कीजिए जो अक्षर-समूह की निम्न श्रृंखला में प्रश्नवाचक चिह्न (?) के स्थान पर आएगा।

KTY, NXD, QBI, TFN, ?

- Ans 1. WLT
 2. WKR
 3. VJS
 4. WJS

Question ID : 65497815035

Chosen Option : 4

Q.8 दो कथन और उसके बाद दो निष्कर्ष I और II दिए गए हैं। यह मानते हुए कि कथन सत्य हैं, भले ही वे सामान्य रूप से ज्ञात तथ्यों से भिन्न प्रतीत होते हों, बताएं कि कौन सा/से निष्कर्ष दिए गए कथनों का तार्किक रूप से अनुसरण करता है / करते हैं।

कथन:

कोई भी दुकान रेस्टोरेंट नहीं है।
सभी रेस्टोरेंट पार्क हैं।

निष्कर्ष:

- I. कुछ पार्क रेस्टोरेंट हैं।
II. कोई भी रेस्टोरेंट दुकान नहीं है।

- Ans 1. केवल निष्कर्ष II अनुसरण करता है
 2. केवल निष्कर्ष I अनुसरण करता है
 3. निष्कर्ष I और II दोनों अनुसरण करते हैं
 4. न तो निष्कर्ष I और न ही II अनुसरण करता है

Question ID : 65497815036

Chosen Option : 2

Q.9 एक निश्चित कूट भाषा में, यदि 'LOAN' को '15122613' लिखा जाता है, तो उसी कूट भाषा में 'DEUCE' को क्या लिखा जाएगा?

- Ans 1. 232162421
 2. 202272422
 3. 232262422
 4. 232292322

Question ID : 65497815030

Chosen Option : 3

Q.10 यदि दर्पण को चित्रानुसार MN पर रखा जाए, तो दर्पण में निर्मित सही प्रतिबिंब का चयन कीजिए।

M
F 3 A P 5
N

Ans

- ✗ 1.
- ✗ 2.
- ✗ 3.
- ✓ 4.

Question ID : 65497815044

Chosen Option : 4

Q.11 एक निश्चित कूट भाषा में, यदि 'FLOOD' को '25' और 'HINT' को '15' लिखा जाता है, तो उसी कूट भाषा में 'FAST' को क्या लिखा जाएगा?

Ans ✓ 1. 64

- ✗ 2. 18
- ✗ 3. 78
- ✗ 4. 60

Question ID : 65497815031

Chosen Option : 1

Q.12 निम्न श्रेणी में प्रश्नवाचक चिह्न (?) के स्थान पर कौन सी संख्या आएगी?

57, 71, 88, 109, 135, ?

Ans ✗ 1. 188

- ✓ 2. 167
- ✗ 3. 201
- ✗ 4. 175

Question ID : 65497815027

Chosen Option : 2

Q.13 उस विकल्प का चयन कीजिए जिसका तीसरे शब्द से वही संबंध है, जो दूसरे शब्द का पहले शब्द से है।

काठमांडू : नेपाल :: थिम्फू : ?

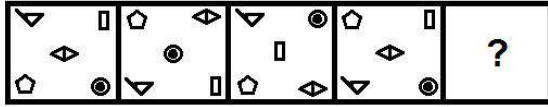
Ans ✓ 1. भूटान

- ✗ 2. श्रीलंका
- ✗ 3. चीन
- ✗ 4. मालदीव

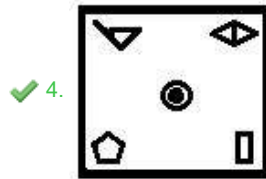
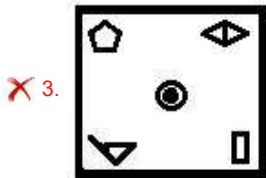
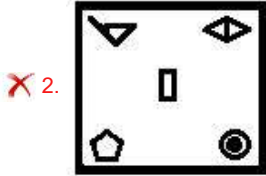
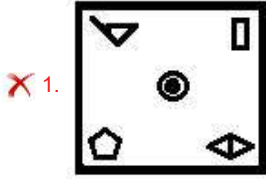
Question ID : 65497815034

Chosen Option : 1

Q.14 उस आकृति का चयन कीजिए जो निम्नांकित आकृति श्रृंखला में प्रश्नवाचक चिह्न (?) के स्थान पर आएगी।



Ans



Question ID : 65497815041
Chosen Option : 4

Q.15 निम्न समीकरण को संतुष्ट करने के लिए किन दो चिह्नों को आपस में बदला जाना चाहिए?

$$4 + 5 - 16 \times 4 \div 2 = 1$$

Ans ✓ 1. + और ×

✗ 2. + और -

✗ 3. + और -

✗ 4. + और ×

Question ID : 65497815022
Chosen Option : 1

Q.16 पांच लोग एक लाइन में खड़े हुए टिकट खरीदने की प्रतीक्षा कर रहे हैं। दीप्ति, हर्षा के ठीक पीछे खड़ी है। विनीता एकदम मृणाल के आगे खड़ी है। सिंधु ठीक दीप्ति के पीछे है। यदि विनीता लाइन में सबसे आगे खड़ी है, तो सबसे पीछे कौन खड़ी है?

Ans ✗ 1. हर्षा

✗ 2. मृणाल

✓ 3. सिंधु

✗ 4. दीप्ति

Question ID : 65497815038
Chosen Option : 3

Q.17 उस विकल्प का चयन कीजिए जिसका तीसरे अक्षर-समूह से वही संबंध है, जो दूसरे अक्षर-समूह का पहले अक्षर-समूह से है।

NORWAY : YWRONA :: PORTUGAL : ?

- Ans
- 1. UTRPOLGA
 - 2. ATRPOGLU
 - 3. URTOPLGA
 - 4. UTPRLOGA

Question ID : 65497815032
Chosen Option : 1

Q.18 उस विकल्प आकृति का चयन कीजिए जो निम्नांकित आकृति श्रृंखला में प्रश्नवाचक चिह्न (?) के स्थान पर आएगी और पैटर्न को पूरा करेगी।



Ans

- 1.
- 2.
- 3.
- 4.

Question ID : 65497815042
Chosen Option : 1

Q.19 यदि $G > T$, $H = B$, $T > H$, $M = T$ और $B > K$ है, तो निम्न में से कौन सा व्यंजक सही है?

- Ans
- 1. $G = T$
 - 2. $B > T$
 - 3. $G < M$
 - 4. $K < H$

Question ID : 65497815040
Chosen Option : 4

Q.20 एक निश्चित कूट भाषा में, यदि 'MARKS' को 'NASLT' और 'PORT' को 'QOSU' लिखा जाता है, तो उसी कूट भाषा में 'FINGER' को क्या लिखा जाएगा?

- Ans
- 1. GJOHFS
 - 2. EIOKFT
 - 3. GIOHES
 - 4. GIOFDS

Question ID : 65497815029

Chosen Option : 3

Q.21 उस विकल्प का चयन कीजिए जिसमें दी गई आकृति (X) इसके भाग के रूप में अंतर्निहित है (घुमाने की अनुमति नहीं है)।



(X)

Ans

 1. 2. 3. 4.

Question ID : 65497815043

Chosen Option : 2

Q.22 निम्न समीकरण को संतुष्ट करने के लिए किन दो संख्याओं को आपस में बदला जाना चाहिए?

$$81 + 45 \div 3 - 18 \times 9 = 32$$

- Ans
- 1. 45 और 9
 - 2. 3 और 9
 - 3. 45 और 18
 - 4. 81 और 18

Question ID : 65497815023

Chosen Option : 2

Q.23 उस विकल्प का चयन कीजिए जिसका तीसरी संख्या से वही संबंध है, जो दूसरी संख्या का पहली संख्या से है।

7 : 53 :: 9 : ?

- Ans 1. 85
 2. 99
 3. 112
 4. 101

Question ID : 65497815024
 Chosen Option : 1

Q.24 एक कागज को निम्नानुसार मोड़ा और काटा गया है। इसे खोलने पर यह कैसा दिखेगा?



Ans

- 1.
- 2.
- 3.
- 4.

Question ID : 65497815045
 Chosen Option : 2

Q.25 दो कथन और उसके बाद तीन निष्कर्ष I, II और III दिए गए हैं। यह मानते हुए कि कथन सत्य हैं, भले ही वे सामान्य रूप से ज्ञात तथ्यों से भिन्न प्रतीत होते हों, बताएं कि कौन सा/से निष्कर्ष दिए गए कथनों का तार्किक रूप से अनुसरण करता है / करते हैं।

कथन:

सभी कौवे, गौरैया हैं।
 सभी बतखें गौरैया हैं।

निष्कर्ष:

- I. कोई भी गौरैया कौवा नहीं है।
 II. कोई भी कौवा बतख नहीं है।
 III. कुछ कौवे बतख हैं।

- Ans 1. निष्कर्ष II या III में से कोई एक अनुसरण करता है
 2. केवल निष्कर्ष I और III अनुसरण करते हैं
 3. केवल निष्कर्ष II और III अनुसरण करते हैं
 4. केवल निष्कर्ष I और II अनुसरण करते हैं

Question ID : 65497815037
 Chosen Option : 1

Section : Numerical Aptitude

Q.1 संख्या A का $\frac{11}{5}$, संख्या B का 22% है। संख्या B, तीसरी संख्या C के 2.5% के बराबर है। यदि संख्या C का मान 5500 है, तो A के 40% और B के 20% का योगफल ज्ञात करें।

- Ans
- 1. 32
 - 2. 36
 - 3. 30
 - 4. 33

Question ID : 65497815256

Chosen Option : --

Q.2 यदि ब्याज की गणना वार्षिक चक्रवृद्धि आधार पर होती है, तो प्रति वर्ष कितने प्रतिशत की दर पर ₹12,500 की राशि 2 वर्ष में ₹14,045 हो जाएगी?

- Ans
- 1. 9%
 - 2. 8%
 - 3. 7%
 - 4. 6%

Question ID : 65497815262

Chosen Option : 4

Q.3 एक कार समान चाल के साथ 300 km की दूरी तय करती है। यात्रा के लिए लिया गया समय चाल (km/h) का एक तिहाई है। 300 km की दूरी तय करने में लगने वाला समय ज्ञात करें।

- Ans
- 1. 9 घंटे
 - 2. 8 घंटे
 - 3. 12 घंटे
 - 4. 10 घंटे

Question ID : 65497815251

Chosen Option : 4

Q.4 किसी रेलगाड़ी की औसत चाल, किसी कार की औसत चाल की 160% है। कार, 880 km की दूरी 16 घंटे में तय करती है। रेलगाड़ी द्वारा 484 km की दूरी तय करने में लगा समय ज्ञात करें।

- Ans
- 1. $5\frac{1}{2}$ घंटे
 - 2. 5 घंटे
 - 3. $4\frac{1}{2}$ घंटे
 - 4. $7\frac{1}{2}$ घंटे

Question ID : 65497815252

Chosen Option : 1

Q.5 ₹x की धनराशि वार्षिक रूप से चक्रवृद्धि होने वाली एक निश्चित वार्षिक ब्याज दर पर 3 वर्षों में ₹27,900 तथा 6 वर्षों में ₹41,850 हो जाती है। x का मान ज्ञात करें।

- Ans
- ✗ 1. 17,600
 - ✓ 2. 18,600
 - ✗ 3. 17,800
 - ✗ 4. 18,400

Question ID : 65497815261
Chosen Option : 2

Q.6 कोई वस्तु ₹14,000 में खरीदी गई और इसके क्रय मूल्य के $\frac{4}{7}$ पर बेची गई। हानि प्रतिशत ज्ञात करें।

- Ans
- ✗ 1. $42\frac{5}{7}\%$
 - ✓ 2. $42\frac{6}{7}\%$
 - ✗ 3. $42\frac{3}{7}\%$
 - ✗ 4. $41\frac{6}{7}\%$

Question ID : 65497815257
Chosen Option : 2

Q.7 दिए गए पाई चार्ट का अध्ययन करें और नीचे दिए गए प्रश्न का उत्तर दें।

दिया गया चार्ट सप्ताह के प्रत्येक दिन बेचे गए वनीला केक और चॉकलेट केक की कुल संख्या का प्रतिशत-वार वितरण दर्शाता है। सप्ताह में बेचे गए केकों की कुल संख्या 10500 है।



यदि बुधवार को बेचे गए वनीला केक और चॉकलेट केक का अनुपात 13 : 8 है, तो उस दिन कितने वनीला केक बेचे गए?

- Ans
- ✗ 1. 1340
 - ✗ 2. 1420
 - ✓ 3. 1430
 - ✗ 4. 1450

Question ID : 65497815271
Chosen Option : 3

Q.8 यदि $10\frac{1}{2}\%$ वार्षिक साधारण ब्याज की दर पर, कोई निश्चित राशि 5 वर्ष में ₹27,450 हो जाती है, तो राशि ज्ञात करें।

- Ans
- 1. ₹17,000
 - 2. ₹16,000
 - 3. ₹18,000
 - 4. ₹16,500

Question ID : 65497815263
Chosen Option : 3

Q.9 A और B के वेतन का अनुपात 6 : 7 है। यदि A के वेतन में $5\frac{1}{2}\%$ की वृद्धि होती है, तो उसका कुल वेतन ₹1,26,600 हो जाता है। B का वेतन ज्ञात करें।

- Ans
- 1. ₹1,40,000
 - 2. ₹1,45,000
 - 3. ₹1,20,000
 - 4. ₹1,30,000

Question ID : 65497815260
Chosen Option : 1

Q.10 यदि किसी वर्ग की भुजा में 40% की वृद्धि होती है, तो इसके क्षेत्रफल में हुई वृद्धि ज्ञात करें।

- Ans
- 1. 86%
 - 2. 96%
 - 3. 92%
 - 4. 90%

Question ID : 65497815267
Chosen Option : 2

Q.11 किसी परिवार के पहले 4 महीने का औसत मासिक व्यय ₹12,000 है, अगले 3 महीने का ₹15,000 और अंतिम 5 महीने का औसत मासिक व्यय ₹17,000 है। यदि पूरे वर्ष में परिवार ₹1,52,000 बचाता है, तो परिवार की औसत मासिक आय ज्ञात करें।

- Ans
- 1. ₹26,500
 - 2. ₹27,000
 - 3. ₹25,700
 - 4. ₹27,500

Question ID : 65497815254
Chosen Option : 4

Q.12 दो धनात्मक संख्याओं के ल.स. (LCM) और म.स. (HCF) क्रमशः 96 और 8 हैं। यदि संख्याओं का योगफल 56 है, तो संख्याओं के बीच अंतर ज्ञात करें।

- Ans
- ✓ 1. 8
 - ✗ 2. 10
 - ✗ 3. 12
 - ✗ 4. 9

Question ID : 65497815268
Chosen Option : 1

Q.13 दिए गए पाई चार्ट का अध्ययन करें और नीचे दिए गए प्रश्न का उत्तर दें।
दिया गया चार्ट सप्ताह के प्रत्येक दिन बेचे गए वनीला केक और चॉकलेट केक की कुल संख्या का प्रतिशत-वार वितरण दर्शाता है। सप्ताह में बेचे गए केकों की कुल संख्या 10500 है।



शुक्रवार को बेचे गए वनीला केक और चॉकलेट केक का अनुपात 4 : 3 है। यदि एक वनीला केक का मूल्य ₹8 है और एक चॉकलेट केक का मूल्य ₹7 है, तो शुक्रवार को सभी वनीला केक और चॉकलेट केक बेचकर प्राप्त हुई कुल राशि ज्ञात करें।

- Ans
- ✓ 1. ₹7,950
 - ✗ 2. ₹8,000
 - ✗ 3. ₹7,500
 - ✗ 4. ₹6,950

Question ID : 65497815272
Chosen Option : 1

Q.14 56 cm व्यास वाले वृत्ताकार तार को आयत के आकार में मोड़ा जाता है, जिनकी भुजाओं का अनुपात 7 : 4 है। आयत से घिरा क्षेत्रफल ज्ञात करें।

(मान लें $\pi = \frac{22}{7}$)

- Ans
- ✗ 1. 1684 cm²
 - ✗ 2. 1842 cm²
 - ✓ 3. 1792 cm²
 - ✗ 4. 1782 cm²

Question ID : 65497815265
Chosen Option : 3

Q.15 जब विक्रय मूल्य में ₹118.5 की वृद्धि होती है, तो $12\frac{1}{2}\%$ की हानि, $11\frac{1}{5}\%$ के लाभ में परिवर्तित हो जाती है। वस्तु का क्रय मूल्य ज्ञात करें।

- Ans
- 1. ₹550
 - 2. ₹800
 - 3. ₹600
 - 4. ₹500

Question ID : 65497815258
Chosen Option : 1

Q.16 A, किसी कार्य को $7\frac{1}{2}$ दिन में कर सकता है, जबकि B उसी कार्य को $10\frac{1}{2}$ दिन में कर सकता है। यदि वे एक साथ कार्य करते हैं, तो उस कार्य को पूरा होने में कितने दिन लगेंगे?

- Ans
- 1. $4\frac{3}{8}$ दिन
 - 2. $4\frac{1}{8}$ दिन
 - 3. $4\frac{1}{2}$ दिन
 - 4. 4 दिन

Question ID : 65497815249
Chosen Option : 1

Q.17 किसी बेलन के वक्र पृष्ठीय क्षेत्रफल और कुल पृष्ठीय क्षेत्रफल का अनुपात 4 : 7 है। यदि इसका आयतन 4851 cm^3 है, तो इसकी त्रिज्या ज्ञात करें।

(मान ले $\pi = \frac{22}{7}$)

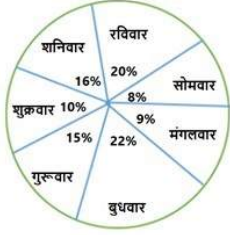
- Ans
- 1. 10 cm
 - 2. 10.5 cm
 - 3. 9.5 cm
 - 4. 7 cm

Question ID : 65497815266
Chosen Option : --

www.HaryanaJobs.in

Q.18 दिए गए पाई चार्ट का अध्ययन करें और नीचे दिए गए प्रश्न का उत्तर दें।

दिया गया चार्ट सप्ताह के प्रत्येक दिन बेचे गए वनीला केक और चॉकलेट केक की कुल संख्या का प्रतिशत-वार वितरण दर्शाता है। सप्ताह में बेचे गए केकों की कुल संख्या 10500 है।



यदि गुरुवार और रविवार को बेचे गए वनीला केक की औसत संख्या 1020 है और गुरुवार को बेचे गए चॉकलेट केक की संख्या, रविवार को बेचे गए चॉकलेट केक की संख्या से 245 अधिक है, तो गुरुवार को बेचे गए चॉकलेट केक की संख्या ज्ञात करें।

- Ans
- 1. 940
 - 2. 850
 - 3. 950
 - 4. 840

Question ID : 65497815273
Chosen Option : --

Q.19 किसी वस्तु के मूल्य में $12\frac{1}{2}\%$ की कमी एक व्यक्ति द्वारा उस वस्तु को ₹280 में 2.5 kg अधिक खरीदने में सक्षम बनाती है। प्रति kg वस्तु के मूल्य में हुई कमी ज्ञात करें।

- Ans
- 1. ₹13
 - 2. ₹15
 - 3. ₹14
 - 4. ₹12

Question ID : 65497815255
Chosen Option : 3

Q.20 $5 - 5 \div 5 \times 5 + (7 \div 7 \text{ of } 6) \times 6 - \left(3\frac{2}{3} \div \frac{11}{30} \text{ of } \frac{2}{3}\right) \div 5$ का मान कितना होगा?

- Ans
- 1. 0
 - 2. -2
 - 3. -1
 - 4. 1

Question ID : 65497816886
Chosen Option : 2

Q.21 चार क्रमागत सम संख्याओं का औसत 27 है। सबसे छोटी संख्या ज्ञात करें।

- Ans
- 1. 22
 - 2. 26
 - 3. 20
 - 4. 24

Question ID : 65497815253
Chosen Option : 4

Q.22 किसी निश्चित आंकड़े के माध्य और माध्यिका का अनुपात 4 : 5 है, तो इसके बहुलक और माध्य का अनुपात ज्ञात करें।

- Ans
- 1. 6 : 5
 - 2. 7 : 5
 - 3. 7 : 4
 - 4. 8 : 5

Question ID : 65497815264
Chosen Option : 3

Q.23 किसी शंकु का वक्रपृष्ठिय क्षेत्रफल $\frac{3432}{7}$ cm² है और इसकी त्रिज्या 12 cm है। उस गोले की त्रिज्या ज्ञात करें, जिसका आयतन शंकु के आयतन का 1.2 गुना है। ($\pi = \frac{22}{7}$ लें)

- Ans
- 1. 5 cm
 - 2. 4 cm
 - 3. 6 cm
 - 4. 8 cm

Question ID : 65497814764
Chosen Option : --

Q.24 विनीत, विनोद से 8 वर्ष छोटा है। यदि 4 वर्ष पहले, उनकी आयु का अनुपात 1 : 2 था, तो विनोद की वर्तमान आयु ज्ञात करें।

- Ans
- 1. 20 वर्ष
 - 2. 25 वर्ष
 - 3. 28 वर्ष
 - 4. 22 वर्ष

Question ID : 65497815259
Chosen Option : 1

Q.25 A और B किसी कार्य को क्रमशः 12 दिन और 18 दिन में कर सकते हैं। वे एक साथ 4 दिन तक कार्य करते हैं, जिसके बाद B के स्थान पर C कार्य में शामिल होता है और शेष कार्य A और C द्वारा अगले 4 दिन में पूरा किया जाता है। अकेले C, उस कार्य को कितने दिन में पूरा करेगा?

- Ans
- 1. 36
 - 2. 32
 - 3. 42
 - 4. 30

Question ID : 65497815250
Chosen Option : 1

Section : General Awareness

Q.1 निम्नलिखित में से कौन-सी चट्टान पानी में तैरती है?

- Ans
- 1. ग्रेनाइट
 - 2. लावा काँच (ऑब्सीडियन)
 - 3. स्लेट
 - 4. झाँवा (प्यूमिस)

Question ID : 65497817107
Chosen Option : 2

Q.2 लखनऊ संधि (Lucknow Pact) पर _____ में हस्ताक्षर किए गए थे।

- Ans
- 1. 1922
 - 2. 1916
 - 3. 1930
 - 4. 1920

Question ID : 65497817114
Chosen Option : 2

Q.3 भारत में फ्रेंच कॉलोनी की राजधानी कौन सा शहर था?

- Ans
- 1. पांडिचेरी
 - 2. कोचीन
 - 3. पंजिम
 - 4. तूतीकोरिन

Question ID : 65497817115
Chosen Option : 2

Q.4 कौन सी ग्रंथ ऐसा कोर्टिसोल पैदा करती है जिसे अक्सर मनुष्यों में 'तनाव हार्मोन' के रूप में जाना जाता है?

- Ans
- 1. पीयूषिका ग्रंथ
 - 2. अधिवृक्क ग्रंथ
 - 3. पीनियल ग्रंथ
 - 4. अवटु (थाइरॉयड) ग्रंथ

Question ID : 65497817109
Chosen Option : --

Q.5 भारत के किस राज्य में सितंबर 2020 की यथास्थिति में जिलों की संख्या सबसे कम थी?

- Ans
- 1. सिक्किम
 - 2. अरुणाचल प्रदेश
 - 3. नागालैंड
 - 4. गोवा

Question ID : 65497817104
Chosen Option : 3

Q.6 2019 में, संयुक्त अरब अमीरात द्वारा किस भारतीय राजनयिक को फर्स्ट क्लास ऑर्डर ऑफ जायेद II अवॉर्ड से सम्मानित किया गया था?

- Ans
- 1. जावेद अशरफ
 - 2. नवदीप सिंह सूरी
 - 3. तरनजीत सिंह संधू
 - 4. रवीश कुमार

Question ID : 65497817099
Chosen Option : --

Q.7 कौन सा भारतीय राज्य, ब्राह्मणी, खरकाई और सुवर्णरेखा नदियों का स्रोत है?

- Ans
- 1. झारखंड
 - 2. मध्य प्रदेश
 - 3. बिहार
 - 4. उत्तर प्रदेश

Question ID : 65497817111
Chosen Option : 2

Q.8 कौन सी भारतीय अभिनेत्री 'मिसेज फनीबोन्स: शी इज जस्ट लाइक यू ऐंड ए लॉट लाइक मी (Mrs Funnybones: She's just Like You and a Lot Like Me)' नामक पुस्तक की लेखिका है?

- Ans
- 1. ऐश्वर्या राय
 - 2. सोनाली बेंद्रे
 - 3. माधुरी दीक्षित
 - 4. ट्रिंकल खन्ना

Question ID : 65497817097
Chosen Option : 4

Q.9 किस भारतीय राज्य में 'भूशी झील' स्थित है?

- Ans
- 1. पंजाब
 - 2. गुजरात
 - 3. राजस्थान
 - 4. महाराष्ट्र

Question ID : 65497817112
Chosen Option : --

Q.10 'थोलू बोम्मलता' (चमड़े की कठपुतलियों का छाया नृत्य वाला शो) किस राज्य का एक पारंपरिक कला रूप है?

- Ans
- 1. केरल
 - 2. कर्नाटक
 - 3. तमिलनाडु
 - 4. आंध्र प्रदेश

Question ID : 65497817092
Chosen Option : --

Q.11 निम्नलिखित में किसे ट्यूमर को छेड़ने के बजाय प्रतिरक्षा प्रणाली का उपचार करके कैंसर से लड़ने का प्रभावी नया तरीका शुरू करने के लिए शरीर क्रिया-विज्ञान (फिजियोलॉजी) या औषधि (मेडिसिन) में 2018 का नोबेल पुरस्कार मिला?

- Ans
- 1. माइकल रोसबैश
 - 2. जेम्स पी एलीसन
 - 3. जेफरी हॉल
 - 4. माइकल डब्ल्यू. यंग

Question ID : 65497817110
Chosen Option : --

Q.12 राष्ट्रीय कृषि और ग्रामीण विकास बैंक (NABARD) की स्थापना किस वर्ष में की गई थी?

- Ans
- 1. 1982
 - 2. 1972
 - 3. 1952
 - 4. 1962

Question ID : 65497815686
Chosen Option : --

Q.13 जुलाई 2020 तक की स्थिति के अनुसार, किसी भारतीय राज्य के तब तक के सबसे कम उम्र के/की राज्यपाल कौन थे/थीं?

- Ans
- 1. जगदीश मुखी
 - 2. शारदा मुखर्जी
 - 3. मागरिट अल्वा
 - 4. स्वराज कौशल

Question ID : 65497817103
Chosen Option : 1

Q.14 बासेल मानदंड, वित्तीय प्रणाली के किस पहलू पर ध्यान केंद्रित करते हैं?

- Ans 1. बैंकिंग
 2. शेयर बाजार
 3. बीमा
 4. पण्य बाजार

Question ID : 65497817102
 Chosen Option : --

Q.15 1951 में शुरू की गई, भारत की पहली पंचवर्षीय योजना, कृषि उत्पादन को बढ़ावा देने की दृष्टि से कृषि और सिंचाई पर ध्यान केंद्रित करने के लिए निम्नलिखित में से किस आर्थिक मॉडल पर आधारित थी?

- Ans 1. हेक्शर-ओहलिन मॉडल
 2. हैरोड-डोमर मॉडल
 3. कॉब-डगलस मॉडल
 4. मुंडेल-फ्लेमिंग मॉडल

Question ID : 65497817808
 Chosen Option : --

Q.16 निम्नलिखित में से कौन-सी, महाराष्ट्र राज्य से संबंधित एक प्रदर्शन कला है?

- Ans 1. खेलौरन
 2. लावणी
 3. कालबेलिया
 4. दांडी गेर

Question ID : 65497817094
 Chosen Option : 2

Q.17 'पुलिस और लोक व्यवस्था', भारत के संविधान की अनुसूची के तहत राज्य के विषय हैं।

- Ans 1. 12वीं
 2. 5वीं
 3. 7वीं
 4. 9वीं

Question ID : 65497817105
 Chosen Option : 3

Q.18 निम्नलिखित घरेलू वस्तुओं में से किन में सल्फ्यूरिक एसिड होता है?

- Ans 1. सिरका
 2. बैटरी
 3. टूथपेस्ट
 4. मक्खन

Question ID : 65497817106
 Chosen Option : 3

Q.19 नरक दूतों / बुरी आत्माओं को भगाने के लिए मनाया जाने वाला त्योहार 'मोपिन' किस राज्य से संबंधित है?

- Ans
- 1. छत्तीसगढ़
 - 2. अरुणाचल प्रदेश
 - 3. राजस्थान
 - 4. केरल

Question ID : 65497817093

Chosen Option : 1

Q.20 मई 2019 में, फ्रांस सरकार द्वारा किस भारतीय वैज्ञानिक को शेवेलियर डी एल'ऑर्डर नेशनल डी ला लैगियोन डी'ऑनर (Chevalier de l'Ordre national de la Légion d'Honneur) का गौरव प्रदान किया गया था?

- Ans
- 1. ए.एस. किरण कुमार
 - 2. जी. माधवन नायर
 - 3. तपन मिश्रा
 - 4. मङ्गलस्वामी अन्नादुरै

Question ID : 65497817098

Chosen Option : --

Q.21 पानी में ऐसीटिक अम्ल के पाँच से आठ प्रतिशत वाले मिश्रण को किस रूप में जाना जाता है?

- Ans
- 1. चूना (lime)
 - 2. कली चूना (quicklime)
 - 3. अल्कोहल (alcohol)
 - 4. सिरका (vinegar)

Question ID : 65497817108

Chosen Option : 2

Q.22 निम्नलिखित में से कौन ऐसे स्वतंत्रता सेनानी थे, जिनकी डिजाइन के आधार पर वर्तमान भारतीय राष्ट्रीय ध्वज को डिजाइन किया गया है?

- Ans
- 1. बादल गुप्ता
 - 2. तिरोत सिंग
 - 3. पिंगली वेंकैया
 - 4. टंगुदुरी प्रकाशम

Question ID : 65497817116

Chosen Option : 3

Q.23 निम्नलिखित में से कौन सा वह पर्वत शिखर है जो भारतीय राज्य नागालैंड और म्यांमार के सगाइंग श्रेणी की पहाड़ी सीमा पर आसपास की चोटियों से ऊपर दिखाई देता है?

- Ans
- 1. माउंट कलसुबाई
 - 2. माउंट धूपगढ़
 - 3. माउंट सारामती
 - 4. माउंट दोडुबेट्ट

Question ID : 65497817113

Chosen Option : 4

Q.24 2019 में कौन सा भारतीय बिलियर्ड खिलाड़ी पाँच अलग-अलग वर्षों में एक साथ विश्व, एशियाई और भारतीय खिताब जीतने वाला पहला खिलाड़ी बन गया?

- Ans
- 1. सौरव कोठारी
 - 2. पंकज आडवाणी
 - 3. रूपेश शाह
 - 4. आदित्य मेहता

Question ID : 65497817095

Chosen Option : 2

Q.25 निम्नलिखित में से कौन, 1958 में इंग्लिश चैनल तैरकर पार करने वाला पहला भारतीय तैराक था?

- Ans
- 1. ब्रोजेन दास
 - 2. मिहिर सेन
 - 3. शमशेर खान
 - 4. विधावल खाडे

Question ID : 65497817096

Chosen Option : 2

www.HaryanaJobs.in

Multi Tasking Non Technical Staff Examination 2020

Participant ID	www.HaryanaJobs.in
Participant Name	www.HaryanaJobs.in
Test Center Name	Aurobindo International School Jaipur
Test Date	26/10/2021
Test Time :	9:00 AM - 10:30 AM
Subject	MTS Non Technical 2020

Section : **General English**

Q.1 Select the most appropriate option to substitute the underlined segment in the given sentence. If there is no need to substitute it, select 'No substitution required'.

Anant went to the park every evening to exercise at his friends.

- Ans 1. to exercise with
 2. No substitution required
 3. on exercise along
 4. in exercising between

Question ID : **65497818241**
 Chosen Option : 1

Q.2 Select the most appropriate option to substitute the underlined segment in the given sentence.

One of the rooms in the new house had not yet been completed.

- Ans 1. have not yet been
 2. are not yet been completed
 3. has not yet been
 4. is not yet been completed

Question ID : **65497818037**
 Chosen Option : 3

Q.3 Select the most appropriate words to fill in the blank.

The effects of the fuel price hike _____ severely even now.

- Ans 1. are being felt
 2. has been felt
 3. is being felt
 4. were being felt

Question ID : **65497818030**
 Chosen Option : 1

Q.4 Select the most appropriate meaning of the given idiom.

Play safe

- Ans**
- 1. Do something following rules
 - 2. Play a game without getting hurt
 - 3. Play a game steadily
 - 4. Avoid risks and take precautions

Question ID : 65497818044
Chosen Option : 1

Q.5 Select the most appropriate ANTONYM of the given word.

CLEAR

- Ans**
- 1. Known
 - 2. Open
 - 3. Dim
 - 4. Doubt

Question ID : 65497818040
Chosen Option : 4

Q.6 The given sentence contains a grammatical error. Identify the segment that contains the error.

If I am you, I wouldn't take the risk of going to the market.

- Ans**
- 1. If I am you
 - 2. going to the market
 - 3. the risk of
 - 4. I wouldn't take

Question ID : 65497818027
Chosen Option : 1

Q.7 Select the most appropriate word which means the same as the group of words given.

Force someone through fear to do or not to do something

- Ans**
- 1. Intimidate
 - 2. Murder
 - 3. Subjugate
 - 4. Control

Question ID : 65497818047
Chosen Option : 1

Q.8 Select the most appropriate words to fill in the blank.

The pen I _____ five years ago is still writing well.

- Ans
- 1. has bought
 - 2. have bought
 - 3. buy
 - 4. bought

Question ID : 65497818029
Chosen Option : 4

Q.9 Select the most appropriate meaning of the given idiom.

Feel the pinch

- Ans
- 1. Maintain total silence
 - 2. Be in an agitated state of mind
 - 3. Face financial difficulties
 - 4. Listen carefully

Question ID : 65497818045
Chosen Option : 3

Q.10 Select the most appropriate word which means the same as the group of words given.

A shortage of vitamins, minerals, etc. needed for good health

- Ans
- 1. Nutrition
 - 2. Disease
 - 3. Deficiency
 - 4. Defect

Question ID : 65497818046
Chosen Option : 1

Q.11 Select the most appropriate option to substitute the underlined segment in the given sentence. If there is no need to substitute it, select 'No substitution required'.

Anshima was too exhausted to continue the race.

- Ans
- 1. much exhausted to
 - 2. so exhausted to
 - 3. No substitution required
 - 4. too exhausted for

Question ID : 65497816119
Chosen Option : 3

Q.12 Select the most appropriate synonym of the given word.

BANISH

- Ans 1. Paint
 2. Scrape
 3. Invent
 4. Exile

Question ID : 65497818043
Chosen Option : 4

Q.13 Select the most appropriate synonym of the given word.

DISCOVER

- Ans 1. Find
 2. Close
 3. Search
 4. Shut

Question ID : 65497818042
Chosen Option : 1

Q.14 Choose the correctly spelt word.

- Ans 1. Radieter
 2. Redieter
 3. Radiator
 4. Readiater

Question ID : 65497818049
Chosen Option : 3

Q.15 The given sentence contains a grammatical error. Identify the segment that contains the error.

My sister prefers tea than coffee in the afternoon after lunch.

- Ans 1. tea than coffee
 2. after lunch
 3. My sister prefers
 4. in the afternoon

Question ID : 65497818028
Chosen Option : 1

Q.16 The given sentence contains a grammatical error. Identify the segment that contains the error.

While he was running along the garden path, he has tripped over a big stone.

- Ans
- 1. long the garden path
 - 2. he has tripped
 - 3. over a big stone
 - 4. While he was running

Question ID : 65497818026
Chosen Option : 2

Q.17 Select the most appropriate word to fill in the blank.

The _____ of an atom of oxygen is different from that of an atom of hydrogen.

- Ans
- 1. value
 - 2. procedure
 - 3. structure
 - 4. position

Question ID : 65497818051
Chosen Option : 3

Q.18 Select the most appropriate word to fill in the blank.

The development of solar energy is of _____ interest, as it is a possible substitute for oil.

- Ans
- 1. global
 - 2. compound
 - 3. usual
 - 4. simple

Question ID : 65497818050
Chosen Option : 1

Q.19 Choose the correctly spelt word.

- Ans
- 1. Sarrrund
 - 2. Surrond
 - 3. Saround
 - 4. Surround

Question ID : 65497818048
Chosen Option : 4

Q.20 Select the most appropriate ANTONYM of the given word.

BARRIER

- Ans 1. Advocate
 2. Obstacle
 3. Opening
 4. Hindrance

Question ID : **65497818041**
 Chosen Option : 1

Comprehension:

In the following passage, some words have been deleted. Fill in the blanks with the help of the options given. Select the most appropriate option for each blank.

The mobile phone that you have may be called "the little computer". Do you know why? It has been claimed that it is thousands of times more powerful (1)_____ the computers that powered NASA's moon missions in the 1960s. Thus, the present-day smart phones are much (2)_____ but more powerful than the computers of about sixty years ago. Now a standard smart phone has (3)_____ replaced computers for many households because many internet services are now (4)_____ on the smart phone. In its early years, mobile internet was (5)_____ used only for email. Moreover, monthly data use per subscriber had risen from 2.7 GB in 2016 to 10.4 GB in 2019, but data prices had fallen from `152 per GB to a mere ten rupees during the same period.

SubQuestion No : 21

Q.21 Select the most appropriate option to fill in blank no. 1.

- Ans 1. for
 2. from
 3. than
 4. then

Question ID : **65497818032**
 Chosen Option : 3

Comprehension:

In the following passage, some words have been deleted. Fill in the blanks with the help of the options given. Select the most appropriate option for each blank.

The mobile phone that you have may be called "the little computer". Do you know why? It has been claimed that it is thousands of times more powerful (1)_____ the computers that powered NASA's moon missions in the 1960s. Thus, the present-day smart phones are much (2)_____ but more powerful than the computers of about sixty years ago. Now a standard smart phone has (3)_____ replaced computers for many households because many internet services are now (4)_____ on the smart phone. In its early years, mobile internet was (5)_____ used only for email. Moreover, monthly data use per subscriber had risen from 2.7 GB in 2016 to 10.4 GB in 2019, but data prices had fallen from `152 per GB to a mere ten rupees during the same period.

SubQuestion No : 22

Q.22 Select the most appropriate option to fill in blank no. 2.

- Ans 1. bigger
 2. harder
 3. sharper
 4. smaller

Question ID : **65497818033**
 Chosen Option : 4

Comprehension:

In the following passage, some words have been deleted. Fill in the blanks with the help of the options given. Select the most appropriate option for each blank.

The mobile phone that you have may be called "the little computer". Do you know why? It has been claimed that it is thousands of times more powerful (1)_____ the computers that powered NASA's moon missions in the 1960s. Thus, the present-day smart phones are much (2)_____ but more powerful than the computers of about sixty years ago. Now a standard smart phone has (3)_____ replaced computers for many households because many internet services are now (4)_____ on the smart phone. In its early years, mobile internet was (5)_____ used only for email. Moreover, monthly data use per subscriber had risen from 2.7 GB in 2016 to 10.4 GB in 2019, but data prices had fallen from `152 per GB to a mere ten rupees during the same period.

SubQuestion No : 23

Q.23 Select the most appropriate option to fill in blank no. 3.

- Ans 1. faithfully
 2. effectively
 3. productively
 4. predictably

Question ID : **65497818034**
 Chosen Option : **2**

Comprehension:

In the following passage, some words have been deleted. Fill in the blanks with the help of the options given. Select the most appropriate option for each blank.

The mobile phone that you have may be called "the little computer". Do you know why? It has been claimed that it is thousands of times more powerful (1)_____ the computers that powered NASA's moon missions in the 1960s. Thus, the present-day smart phones are much (2)_____ but more powerful than the computers of about sixty years ago. Now a standard smart phone has (3)_____ replaced computers for many households because many internet services are now (4)_____ on the smart phone. In its early years, mobile internet was (5)_____ used only for email. Moreover, monthly data use per subscriber had risen from 2.7 GB in 2016 to 10.4 GB in 2019, but data prices had fallen from `152 per GB to a mere ten rupees during the same period.

SubQuestion No : 24

Q.24 Select the most appropriate option to fill in blank no. 4.

- Ans 1. accessible
 2. inaccessible
 3. unavailable
 4. expensive

Question ID : **65497818035**
 Chosen Option : **1**

Comprehension:

In the following passage, some words have been deleted. Fill in the blanks with the help of the options given. Select the most appropriate option for each blank.

The mobile phone that you have may be called "the little computer". Do you know why? It has been claimed that it is thousands of times more powerful (1)_____ the computers that powered NASA's moon missions in the 1960s. Thus, the present-day smart phones are much (2)_____ but more powerful than the computers of about sixty years ago. Now a standard smart phone has (3)_____ replaced computers for many households because many internet services are now (4)_____ on the smart phone. In its early years, mobile internet was (5)_____ used only for email. Moreover, monthly data use per subscriber had risen from 2.7 GB in 2016 to 10.4 GB in 2019, but data prices had fallen from `152 per GB to a mere ten rupees during the same period.

SubQuestion No : 25

Q.25 Select the most appropriate option to fill in blank no. 5.

- Ans 1. importantly
 2. efficiently
 3. primarily
 4. secondarily

Question ID : **65497818036**
 Chosen Option : **3**

Section : **General Intelligence and Reasoning**

Q.1 एक निश्चित कूट भाषा में, यदि GLADIATOR को TROLIGDAA लिखा जाता है, तो उसी कूट भाषा में, SKILLFUL को क्या लिखा जाएगा?

- Ans 1. FIKLLLSU
 2. LUFLLIKS
 3. USLLLKIF
 4. ULLFILSK

Question ID : **65497817756**
 Chosen Option : **2**

Q.2 निम्न श्रेणी में प्रश्नवाचक चिह्न (?) के स्थान पर कौन सी संख्या आएगी?

6, 12, 9, 36, 31, 186, ?

- Ans 1. 190
 2. 208
 3. 179
 4. 211

Question ID : **65497817754**
 Chosen Option : **3**

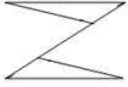
Q.3 छः लोग एक गोल मेज के परितः इसके केंद्र की ओर अभिमुख होकर बैठे हैं। W उस X के बाईं ओर पड़ोस में है जो कि Y के सामने बैठा है। यदि V, Y के बाईं ओर दूसरे स्थान पर बैठा है और वह ठीक U के सामने है, तो Z की स्थिति क्या है?

- Ans
- 1. X के सामने
 - 2. Y के दाईं ओर
 - 3. V के बाईं ओर
 - 4. V के दाईं ओर

Question ID : 65497817766

Chosen Option : 4

Q.4 उस विकल्प का चयन कीजिए जिसमें दी गई आकृति अंतर्निहित है (घुमाने की अनुमति नहीं है)।



Ans

- 1.
- 2.
- 3.
- 4.

Question ID : 65497817770

Chosen Option : 2

Q.5 दो कथन और उसके बाद दो निष्कर्ष। और II दिए गए हैं। यह मानते हुए कि कथन सत्य हैं, भले ही वे सामान्य रूप से ज्ञात तथ्यों से भिन्न प्रतीत होते हों, बताएं कि कौन सा / से निष्कर्ष दिए गए कथनों का तार्किक रूप से अनुसरण करता है / करते हैं।

कथन:

सभी टूल हार्डवेयर हैं।
सभी हार्डवेयर मेटालिक हैं।

निष्कर्ष:

I. सभी मेटालिक टूल हैं।
II. सभी टूल मेटालिक हैं।

- Ans
- 1. निष्कर्ष I और II दोनों अनुसरण करते हैं
 - 2. केवल निष्कर्ष II अनुसरण करता है
 - 3. न तो निष्कर्ष I और न ही II अनुसरण करता है
 - 4. केवल निष्कर्ष I अनुसरण करता है

Question ID : 65497817763

Chosen Option : 2

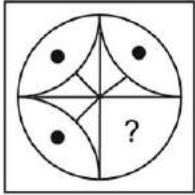
Q.6 एक निश्चित कूट भाषा में, यदि DOUBLE को FRYGRL लिखा जाता है, तो उसी कूट भाषा में, METHYL को क्या लिखा जाएगा?

- Ans
- 1. FQYFRK
 - 2. GRXFQJ
 - 3. OHXMES
 - 4. GRXEOH

Question ID : 65497817755

Chosen Option : 3

Q.7 उस विकल्प का चयन करें, जो पैटर्न को पूरा करने के लिए नीचे दी गई आकृति में प्रश्नवाचक चिह्न (?) के स्थान पर होगा।



Ans

- 1.
- 2.
- 3.
- 4.

Question ID : 65497817769

Chosen Option : 1

www.HaryanaJobs.in

Q.8 दिए गए विकल्पों में से गणितीय चिह्नों के उस संयोजन का चयन करें जिसे निम्न समीकरण में * के स्थान पर क्रमिक रूप से रखने पर समीकरण संतुलित हो जाएगा।

$$46 * 12 * 32 * 8 * (96 * 23) = 437$$

- Ans
- 1. +, ×, -, ÷, -
 - 2. ×, +, ÷, -, +
 - 3. -, ×, +, ÷, +
 - 4. ÷, -, ×, +, -

Question ID : 65497817750
Chosen Option : 2

Q.9 एक निश्चित कूट भाषा में, यदि NOTECARD को 56253194 के रूप में, और OPENMIND को 67554954 के रूप में कूटबद्ध किया जाता है, तो उसी कूट भाषा में HARDCORE को किस रूप में कूटबद्ध किया जाएगा?

- Ans
- 1. 81143115
 - 2. 81943695
 - 3. 91843165
 - 4. 81843585

Question ID : 65497817758
Chosen Option : 2

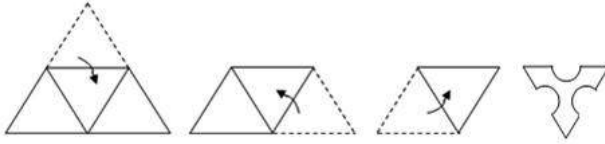
Q.10 उस विकल्प का चयन कीजिए जिसका तीसरे अक्षर-समूह से वही संबंध है, जो दूसरे अक्षर-समूह का पहले अक्षर-समूह से है।

CUSTOMER : YQWXKIIV :: COMMERCIAL : ?

- Ans
- 1. YKQQANGMWH
 - 2. GSIIEREWEP
 - 3. YKIIANYEWH
 - 4. GSQQIVGMEP

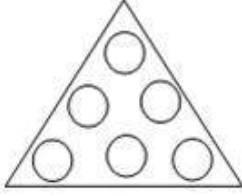
Question ID : 65497817759
Chosen Option : 1

Q.11 एक कागज को निम्नानुसार मोड़ा और काटा गया है। इसे खोलने पर यह कैसा दिखेगा?

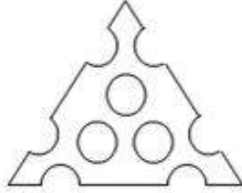


Ans

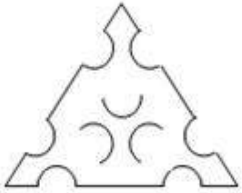
✗ 1.



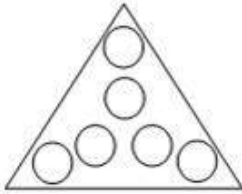
✓ 2.



✗ 3.



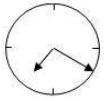
✗ 4.



www.HaryanaJobs.in

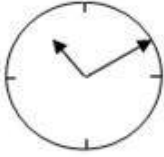
Question ID : 65497817772
Chosen Option : 2

Q.12 यदि दर्पण को दी गई आकृति के दाईं ओर रखा जाए, तो दर्पण में निर्मित सही प्रतिबिंब का चयन कीजिए।

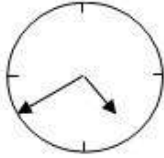


Ans

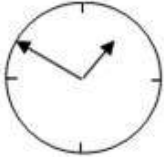
✗ 1.



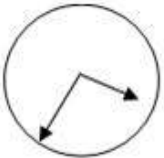
✓ 2.



✗ 3.



✗ 4.



Question ID : 65497817771
Chosen Option : 2

Q.13 निम्न श्रेणी में प्रश्नवाचक चिह्न (?) के स्थान पर कौन सी संख्या आएगी?

23, 19, 17, 13, ?

Ans ✗ 1. 9

✗ 2. 7

✗ 3. 5

✓ 4. 11

Question ID : 65497817753
Chosen Option : 4

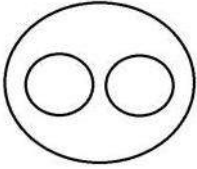
Q.14 Select the correct alternative to indicate the sequential order of the following names (geographical location).

1. Maharashtra
2. Rajasthan
3. Karnataka
4. Gujarat
5. Kerala

- Ans
- 1. 3-5-4-1-2
 - 2. 5-3-1-4-2
 - 3. 5-1-3-4-2
 - 4. 4-1-2-5-3

Question ID : 65497817767
Chosen Option : 2

Q.15 नीचे दर्शाए गए वेन आरेख में किन विकल्पों के बीच संबंध को सही ढंग से दर्शाया गया है?



- Ans
- 1. गाजर, भोजन, ड्रेसिंग टेबल
 - 2. बहुभुज, चतुर्भुज, वृत्त
 - 3. फर्निचर, कुर्सियाँ, मेज़
 - 4. पक्षी, कुत्ते, मोर

Question ID : 65497817773
Chosen Option : 3

Q.16 उस विकल्प का चयन कीजिए जो अक्षर-समूह की निम्न श्रृंखला में प्रश्नवाचक चिह्न (?) के स्थान पर आएगा।

USQ, NLJ, GEC, ?

- Ans
- 1. ZXV
 - 2. ZWT
 - 3. AYW
 - 4. YWU

Question ID : 65497817762
Chosen Option : 1

Q.17 निम्न समीकरण को संतुष्ट करने के लिए किन दो चिह्नों को आपस में बदला जाना चाहिए?

$$72 \div 36 + 12 \times 13 - 48 = 63$$

- Ans
- 1. \times और $+$
 - 2. $+$ और $-$
 - 3. \times और $-$
 - 4. $+$ और \div

Question ID : 65497817749
Chosen Option : 4

Q.18 एक निश्चित कूट भाषा में, यदि TICKBOX को 106 के रूप में और RELEASE को 125 के रूप में कूटबद्ध किया जाता है, तो उसी कूट भाषा में PACKAGE को किस रूप में कूटबद्ध किया जाएगा?

- Ans
- 1. 145
 - 2. 45
 - 3. 146
 - 4. 44

Question ID : 65497817757
Chosen Option : 3

Q.19 उस विकल्प का चयन कीजिए जिसका तीसरे शब्द से वही संबंध है, जो दूसरे शब्द का पहले शब्द से है।

सटीक : सही :: शिखर : ?

- Ans
- 1. घाटी
 - 2. ऊँचा
 - 3. शीर्ष
 - 4. पर्वत

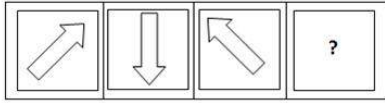
Question ID : 65497817760
Chosen Option : 3

Q.20 'हेक्टेअर' का जो संबंध 'क्षेत्रफल' से है, वही संबंध 'पास्कल' का '_____' से है।

- Ans
- 1. दाब
 - 2. ऊर्जा
 - 3. धारिता
 - 4. तापमान

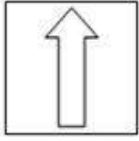
Question ID : 65497817761
Chosen Option : 1

Q.21 उस आकृति का चयन कीजिए जो निम्नांकित आकृति श्रृंखला में प्रश्नवाचक चिह्न (?) के स्थान पर आएगी।

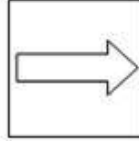


Ans

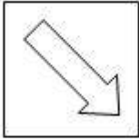
✗ 1.




✓ 2.



✗ 3.



✗ 4.



Question ID : 65497817768
Chosen Option : 2

Q.22 उस समुच्चय का चयन कीजिए जिसकी संख्याओं के मध्य वही संबंध है, जो निम्न दिए गए समुच्चय की संख्याओं के मध्य है।

(132, 126, 117)

Ans ✓ 1. (124, 117, 108)

✗ 2. (138, 132, 125)

✗ 3. (118, 111, 102)

✗ 4. (122, 117, 19)

Question ID : 65497817752
Chosen Option : 3

Q.23 जब सुबह-सुबह मैं अपने घर से ऑफिस जा रहा था, तब मेरी परछाई मेरे बाईं ओर बन रही थी। ऑफिस से मेरा घर किस दिशा में है?

Ans ✗ 1. पूर्व

✓ 2. दक्षिण

✗ 3. उत्तर-पश्चिम

✗ 4. उत्तर

Question ID : 65497817765
Chosen Option : 2

Q.24 उस संख्या-युग्म का चयन करें, जिसमें संख्याओं का आपस में वही संबंध है, जो दिए गए युग्म की संख्याओं के बीच है।

10.3 : 0.0103

- Ans
- 1. 0.20 : 0.002
 - 2. 2.80 : 0.0280
 - 3. 2.80 : 0.00280
 - 4. 0.20 : 0.20

Question ID : 65497817751
Chosen Option : 3

Q.25 दो कथन और उसके बाद दो निष्कर्ष। और II दिए गए हैं। यह मानते हुए कि कथन सत्य हैं, भले ही वे सामान्य रूप से ज्ञात तथ्यों से भिन्न प्रतीत होते हों, बताएं कि कौन सा / से निष्कर्ष दिए गए कथनों का तार्किक रूप से अनुसरण करता है / करते हैं।

कथन:

कोई भी पुस्तक पत्थर नहीं है।
कुछ पत्थर सॉफ्ट है।

निष्कर्ष:

- I. कोई भी पुस्तक सॉफ्ट नहीं है।
- II. कुछ पुस्तकें सॉफ्ट हैं।

- Ans
- 1. न तो निष्कर्ष I और न ही II अनुसरण करता है
 - 2. केवल निष्कर्ष I अनुसरण करता है
 - 3. केवल निष्कर्ष II अनुसरण करता है
 - 4. निष्कर्ष I और II दोनों अनुसरण करते हैं

Question ID : 65497817764
Chosen Option : 1

Section : Numerical Aptitude

Q.1 $\left[\left(3 - \frac{2}{1 + \frac{1}{4 + \frac{2}{3}}} \right) \text{ of } 1 \frac{13}{21} \div 3 \frac{2}{7} \right] - \frac{1}{3} \times \frac{9}{10}$ का सरलतम मान क्या होगा?

- Ans
- 1. 1
 - 2. $\frac{1}{5}$
 - 3. $\frac{3}{10}$
 - 4. 2

Question ID : 65497817593
Chosen Option : 3

Q.2 तीन धनात्मक संख्याओं में से किन्हीं दो संख्याओं का औसत, तीसरी संख्या में जोड़ा जाता है, तो परिणामी योगफल 154, 148 और 132 प्राप्त होते हैं। तीन मूल संख्याओं का औसत कितना है?

Ans

✗ 1. $70\frac{1}{3}$

✓ 2. $72\frac{1}{3}$

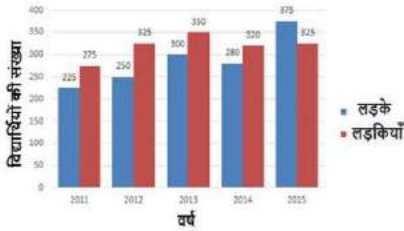
✗ 3. $76\frac{1}{3}$

✗ 4. $75\frac{1}{3}$

Question ID : 65497816667

Chosen Option : 2

Q.3 निम्नांकित ग्राफ का अध्ययन करें, जो एक स्कूल XYZ में, विभिन्न वर्षों में दसवीं कक्षा की परीक्षा में उपस्थित होने वाले लड़कों और लड़कियों की संख्या को दर्शाता है।



2012 और 2013 में दसवीं कक्षा की परीक्षा देने वाले लड़कों की कुल संख्या का 2012 और 2015 में दसवीं कक्षा की परीक्षा देने वाली लड़कियों की कुल संख्या से अनुपात क्या है?

Ans

✗ 1. 11 : 15

✓ 2. 11 : 13

✗ 3. 13 : 11

✗ 4. 15 : 11

Question ID : 65497816685

Chosen Option : 2

Q.4 दो रेलगाड़ियों की चाल का अनुपात 5 : 8 है। यदि दूसरी रेलगाड़ी 4 घंटे में 400 km चलती है, तो पहली रेलगाड़ी की चाल (km/h में) कितनी है?

Ans

✗ 1. 37

✓ 2. 62.5

✗ 3. 12.5

✗ 4. 25

Question ID : 65497816665

Chosen Option : 2

Q.5 $500 \div \frac{3}{8} \text{ of } \frac{2}{3} \div \left[\frac{5}{3} \text{ of } 300 + 7\frac{1}{2} \div 5\frac{1}{2} \times 1100 \right]$ का मान ज्ञात करें।

- Ans
- 1. 4
 - 2. 10
 - 3. 1
 - 4. 5

Question ID : 65497815471
Chosen Option : 3

Q.6 एक कार $5\frac{2}{3}$ m/sec की चाल से x km की दूरी तय करती है और शुरुआती बिंदु पर 5 m/sec की चाल से लौटती है। यदि कार द्वारा लिया गया कुल समय $7\frac{2}{3}$ घंटे है तो x का मान (km में) कितना है?

- Ans
- 1. 72
 - 2. 78
 - 3. 80
 - 4. 66

Question ID : 65497816666
Chosen Option : 1

Q.7 यदि दो संख्याओं का महत्तम समापवर्तक 12 है और इन्हीं दो संख्याओं का लघुतम समापवर्त्य 48 है, तो इन संख्याओं के गुणनफल का वर्गमूल कितना होगा?

- Ans
- 1. 24
 - 2. 12
 - 3. 48
 - 4. 16

Question ID : 65497816682
Chosen Option : 1

Q.8 एक वस्तु का अंकित मूल्य ₹4,450 है। यदि एक व्यक्ति, 15% की छूट देने के बाद, 15% का लाभ अर्जित करता है, तो वस्तु का क्रय मूल्य (निकटतम पूर्णांक तक सही) कितना है?

- Ans
- 1. ₹3,289
 - 2. ₹3,378
 - 3. ₹3,189
 - 4. ₹3,498

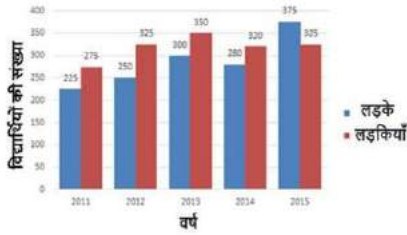
Question ID : 65497816669
Chosen Option : 1

Q.9 एक खुला टैंक 25 m लंबा, 12 m चौड़ा और 6 m गहरा है। अंदर से ₹15 प्रति m^2 पर इसकी दीवारों और तली पर प्लास्टर करने की लागत (₹ में) कितनी होगी?

- Ans 1. 11,160
 2. 12,500
 3. 13,275
 4. 10,800

Question ID : 65497816681
Chosen Option : 1

Q.10 निम्नांकित ग्राफ का अध्ययन करें, जो एक स्कूल XYZ में, विभिन्न वर्षों में दसवीं कक्षा की परीक्षा में उपस्थित होने वाले लड़कों और लड़कियों की संख्या को दर्शाता है।



2011, 2013 और 2015 में उपस्थित होने वाले लड़कों की संख्या का औसत, 2012 में उपस्थित होने वाली लड़कियों की संख्या से कितने प्रतिशत कम है (दशमलव के एक स्थान तक सही)?

- Ans 1. 6.9%
 2. 8.5%
 3. 7.7%
 4. 8.1%

Question ID : 65497816687
Chosen Option : 3

Q.11 यदि साधारण ब्याज की वार्षिक दर 8% से बढ़कर $12\frac{1}{2}\%$ हो जाती है, तो एक व्यक्ति की वार्षिक आय में ₹459 की वृद्धि होती है। मूलधन (₹ में) ज्ञात करें।

- Ans 1. 11,250
 2. 12,500
 3. 10,200
 4. 8,200

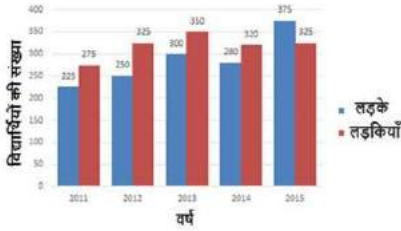
Question ID : 65497816677
Chosen Option : 3

Q.12 'A' एक कार्य का 60% भाग 9 दिनों में पूरा कर सकता है, जबकि 'B' उसी कार्य को $7\frac{1}{2}$ दिनों में पूरा कर सकता है। यदि वे एक साथ कार्य करते हैं, तो कार्य कितने दिनों में पूरा होगा?

- Ans
- 1. 4
 - 2. 7
 - 3. 6
 - 4. 5

Question ID : 65497816664
Chosen Option : 4

Q.13 निम्नांकित ग्राफ का अध्ययन करें, जो एक स्कूल XYZ में, विभिन्न वर्षों में दसवीं कक्षा की परीक्षा में उपस्थित होने वाले लड़कों और लड़कियों की संख्या को दर्शाता है।



2012, 2013 और 2015 में उपस्थित होने वाली लड़कियों की कुल संख्या, पाचों वर्षों में उपस्थित होने वाले लड़कों की संख्या से कितने प्रतिशत कम है (दशमलव के एक स्थान तक सही)?

- Ans
- 1. 29.7%
 - 2. 30.1%
 - 3. 32.6%
 - 4. 33.3%

Question ID : 65497816686
Chosen Option : 2

Q.14 संख्याओं 21, 22, 60 और 64 में से प्रत्येक से जब x घटाया जाता है, तो इस क्रम में प्राप्त होने वाली संख्याएँ, समानुपात में होती हैं। $(x-2)$ और $(2x+8)$ के बीच का मध्यानुपाती क्या है?

- Ans
- 1. 14
 - 2. 10
 - 3. 16
 - 4. 12

Question ID : 65497816675
Chosen Option : 4

Q.15 एक धनराशि को P, Q, R और S के बीच क्रमशः 3 : 4 : 5 : 6 के अनुपात में वितरित किया जाता है। यदि R को Q से ₹500 अधिक प्राप्त होते हैं, तो उन सभी के हिस्सों का योगफल (₹ में) कितना है?

- Ans
- 1. 8,000
 - 2. 6,000
 - 3. 7,500
 - 4. 9,000

Question ID : 65497816674
Chosen Option : 4

Q.16 जब एक वस्तु को ₹388 में बेचा जाता है, तो 3% की हानि होती है। यदि वस्तु को 8% के लाभ पर बेचा जाना हो, तो इसका विक्रय मूल्य (₹ में) कितना होगा?

- Ans
- 1. 412
 - 2. 444
 - 3. 432
 - 4. 460

Question ID : 65497816671
Chosen Option : 3

Q.17 यदि किसी वृत्त की विज्या में 19% की वृद्धि होती है, तो उसके क्षेत्रफल में कितने प्रतिशत की वृद्धि होगी?

- Ans
- 1. 27.89%
 - 2. 41.61%
 - 3. 32.85%
 - 4. 11.91%

Question ID : 65497816679
Chosen Option : 2

Q.18 एक स्कूल में लड़कों और लड़कियों का अनुपात 35 : 39 है। यदि स्कूल में लड़कों और लड़कियों का औसत 740 है, तो स्कूल में लड़कियों की संख्या कितनी है?

- Ans
- 1. 780
 - 2. 740
 - 3. 700
 - 4. 720

Question ID : 65497816673
Chosen Option : 1

Q.19 एक चुनाव-क्षेत्र में, 60% मतदाता पुरुष हैं और शेष महिलाएं हैं। 40% पुरुष निरक्षर हैं और 25% महिलाएं साक्षर हैं। निरक्षर महिलाओं की तुलना में, साक्षर पुरुषों की संख्या कितने प्रतिशत अधिक है?

- Ans
- 1. 25%
 - 2. 22.5%
 - 3. 17.5%
 - 4. 20%

Question ID : 65497816670
Chosen Option : 4

Q.20 यदि एक आयत की लंबाई में 80% की वृद्धि होती है, तो समान क्षेत्रफल बनाए रखने के लिए चौड़ाई में कितने प्रतिशत (दशमलव के एक स्थान तक सही) की कमी करनी होगी?

- Ans
- 1. 44.4%
 - 2. 43.5%
 - 3. 40.2%
 - 4. 42.5%

Question ID : 65497816680
Chosen Option : 1

Q.21 'A' एक कार्य को 15 दिनों में पूरा कर सकता है और 'B' उसी कार्य को 20 दिनों में पूरा कर सकता है। एक साथ कार्य करते हुए, वे उस कार्य का 35% भाग कितने दिनों में पूरा करेंगे?

- Ans
- 1. 5
 - 2. 6
 - 3. 3
 - 4. 7

Question ID : 65497816663
Chosen Option : 3

Q.22 एक धनराशि, चक्रवृद्धि ब्याज की निश्चित दर पर 15 वर्षों में दोगुनी हो जाती है। यह कितने वर्षों में स्वयं की चार गुनी हो जाएगी?

- Ans
- 1. 30
 - 2. 25
 - 3. 15
 - 4. 45

Question ID : 65497816676
Chosen Option : 1

Q.23 दो बाइकों के क्रय मूल्य का योगफल ₹50,000 है। पहली बाइक को 20% के लाभ पर और दूसरी बाइक को 20% की हानि पर बेचा गया। यदि दोनों के विक्रय मूल्य समान हैं, तो बेची गई पहली बाइक का क्रय मूल्य (₹ में) कितना है?

- Ans**
- 1. 20,000
 - 2. 25,000
 - 3. 30,000
 - 4. 27,500

Question ID : 65497816672
Chosen Option : 1

Q.24 कक्षा A और B में छात्रों की कुल संख्या 72 है। कक्षा A में छात्रों की संख्या, कक्षा B में छात्रों की संख्या से 40% अधिक है। कक्षा B में छात्रों के औसत अंक, कक्षा A के छात्रों के औसत अंकों से 50% अधिक है। यदि कक्षा A और B के सभी छात्रों के औसत अंक 58 हैं, तो कक्षा B के छात्रों के औसत अंक कितने हैं?

- Ans**
- 1. 48
 - 2. 58
 - 3. 72
 - 4. 50

Question ID : 65497816668
Chosen Option : 3

Q.25 यदि 5 मानों का विचरण 0.81 है, तो इसका मानक विचलन कितना है?

- Ans**
- 1. 0.09
 - 2. 2.7
 - 3. 0.27
 - 4. 0.9

Question ID : 65497816678
Chosen Option : 4

Section : General Awareness

Q.1 सिनेबार (Cinnabar) किस धातु का अयस्क है?

- Ans**
- 1. प्लेटिनम
 - 2. गैलियम
 - 3. पारद
 - 4. सोना

Question ID : 65497817715
Chosen Option : 3

Q.2 किस भारतीय राज्य में आपको मुहुरी नदी मिलेगी?

- Ans 1. त्रिपुरा
 2. मध्य प्रदेश
 3. पंजाब
 4. उत्तर प्रदेश

Question ID : 65497817719
 Chosen Option : --

Q.3 'द एंड ऑफ़ इमेजिनेशन (The End of Imagination)' नामक पुस्तक के/की लेखक/लेखिका कौन है?

- Ans 1. झुंपा लाहिड़ी
 2. सुधा मूर्ति
 3. अरुंधति रॉय
 4. किरण देसाई

Question ID : 65497817703
 Chosen Option : 3

Q.4 1996 में स्थापित विनिवेश आयोग, उद्योग मंत्रालय (सार्वजनिक उद्यम विभाग) के अध्यक्ष कौन थे?

- Ans 1. अरविंद मेहता
 2. जी.वी. रामकृष्ण
 3. एन.के. सिंह
 4. अरुंधति रॉय

Question ID : 65497817708
 Chosen Option : --

Q.5 'पोनू योक्सी', पुजारियों द्वारा आनुष्ठानिक नृत्यों के दौरान उपयोग किया जाने वाला तलवार जैसा वाद्ययंत्र, _____ से संबंधित है।

- Ans 1. मध्य प्रदेश
 2. हिमाचल प्रदेश
 3. अरुणाचल प्रदेश
 4. उत्तर प्रदेश

Question ID : 65497817699
 Chosen Option : 2

Q.6 निम्नलिखित में उस मिश्र धातु की पहचान करें जिसमें सीसा (लेड) एक घटक होता है।

- Ans 1. सोल्डर
 2. कॉन्स्टेंटन
 3. निकल
 4. अल्लिको

Question ID : 65497817713
 Chosen Option : 1

Q.7 भारत CITES (कन्वेंशन ऑन इंटरनेशनल ट्रेड इन इंडेजर्ड स्पेसीज ऑन वाइल्ड फाउना एंड प्लोरा) का हस्ताक्षरकर्ता किस वर्ष बना?

- Ans
- 1. 1976
 - 2. 1980
 - 3. 1975
 - 4. 1983

Question ID : 65497817717
Chosen Option : 4

Q.8 वर्ष 1960 में भारत और पाकिस्तान के बीच किस जल-संधि पर हस्ताक्षर किए गए?

- Ans
- 1. चिनाब
 - 2. ब्यास
 - 3. झेलम
 - 4. सिंधु

Question ID : 65497817709
Chosen Option : 4

Q.9 भारत के संविधान के किस नियम के तहत, लोकसभा में चर्चा में सदन के समक्ष औपचारिक प्रस्ताव शामिल नहीं है?

- Ans
- 1. नियम 157
 - 2. नियम 123
 - 3. नियम 146
 - 4. नियम 193

Question ID : 65497817711
Chosen Option : 3

Q.10 किस भारतीय प्रधानमंत्री ने वर्ष 1999 में शांति घोषणा पर हस्ताक्षर करने के लिए लाहौर की बस यात्रा की?

- Ans
- 1. आई.के. गुजराल
 - 2. अटल बिहारी वाजपेयी
 - 3. पी.वी. नरसिम्हा राव
 - 4. एच.डी. देवगौड़ा

Question ID : 65497817710
Chosen Option : 2

Q.11 फरवरी 2019 के अनुसार कृषि उत्पादों का दूसरा सबसे बड़ा उत्पादक देश निम्नलिखित में से कौन सा है?

- Ans
- 1. रूस
 - 2. भारत
 - 3. चीन
 - 4. फ्रांस

Question ID : 65497818111
Chosen Option : 2

Q.12 जुगाली करने वाला जानवर निम्नलिखित में से कौन-सा है?

- Ans 1. मुर्गी
 2. गाय
 3. गधा
 4. घोड़ा

Question ID : 65497817712
 Chosen Option : 2

Q.13 निम्नलिखित में से किसका एक परिरक्षक के रूप में उपयोग किया जाता है?

- Ans 1. सोडियम पामिटेट
 2. सोडियम क्लोराइड
 3. मैग्नीशियम सिलिकेट
 4. डाइप्रोपिलीन ग्लाइकोल

Question ID : 65497817716
 Chosen Option : 2

Q.14 निम्नलिखित में से किसे औरंगाबाद शहर का संस्थापक माना जाता है?

- Ans 1. निजाम शाह
 2. मलिक अंबर
 3. बहलौल लोदी
 4. कुतुब शाह

Question ID : 65497817722
 Chosen Option : 2

Q.15 'बागुरंबा' असम के बोडो समुदाय का एक _____ है।

- Ans 1. आनुष्ठानिक जुलूस
 2. लोक नृत्य
 3. चित्रकला शैली
 4. स्थानीय खेल

Question ID : 65497817698
 Chosen Option : 2

Q.16 'इमेजिनरी होमलैंड्स (Imaginary Homelands)' नामक पुस्तक के लेखक कौन है?

- Ans 1. खुशवंत सिंह
 2. अरविंद अडिगा
 3. सलमान रुश्दी
 4. रस्किन बॉन्ड

Question ID : 65497817704
 Chosen Option : --

Q.17 किस भारतीय कलाकार को पोलक क्रासनर फाउंडेशन द्वारा स्थापित जैक्सन पोलक फेलोशिप वर्ष 2019 में दूसरी बार मिली है?

- Ans
- 1. प्रदीप पुथूर
 - 2. नीरज गुप्ता
 - 3. रूपेश पेट्रिक
 - 4. अनीश कपूर

Question ID : 65497817705
Chosen Option : --

Q.18 निम्नलिखित में से कौन, एक ऊँचे दर्जे के पिस्टल-शूटर है?

- Ans
- 1. पंकज आडवाणी
 - 2. अमित पंधाल
 - 3. सौरभ चौधरी
 - 4. संदीप चौधरी

Question ID : 65497817701
Chosen Option : 3

Q.19 'बाल्चो' और 'सोपोटिल' _____ के पारंपरिक पाक व्यंजन हैं।

- Ans
- 1. उत्तराखंड
 - 2. गोवा
 - 3. पंजाब
 - 4. कर्नाटक

Question ID : 65497817700
Chosen Option : --

Q.20 सरयू नदी के तट पर बसे शहर की पहचान करें।

- Ans
- 1. हरिद्वार
 - 2. कानपुर
 - 3. अयोध्या
 - 4. भोपाल

Question ID : 65497817718
Chosen Option : 3

Q.21 वर्ष 2019 के लिए, 141 देशों के विश्व आर्थिक मंच के वैश्विक प्रतिस्पर्धात्मकता सूचकांक में भारत का स्थान कौन सा है?

- Ans
- 1. 58वाँ
 - 2. 60वाँ
 - 3. 50वाँ
 - 4. 68वाँ

Question ID : 65497815989
Chosen Option : --

Q.22 पुरुष क्रिकेट विश्व कप 1983 के फाइनल में भारत ने किस क्रिकेट टीम को हराया था?

- Ans
- 1. ऑस्ट्रेलिया
 - 2. वेस्ट इंडीज
 - 3. इंग्लैंड
 - 4. पाकिस्तान

Question ID : 65497817702
Chosen Option : 2

Q.23 'पाथरूघाट विद्रोह' किससे संबंधित है?

- Ans
- 1. शिक्षकों के विद्रोह
 - 2. सैनिकों के विद्रोह
 - 3. किसानों के विद्रोह
 - 4. वकीलों के विद्रोह

Question ID : 65497817720
Chosen Option : 2

Q.24 सामान्य वायुमंडलीय दाब पर और समुद्र-तल से 45 डिग्री अक्षांश पर बर्फ का गलनांक क्या है?

- Ans
- 1. 222.14 K
 - 2. 273.16 K
 - 3. 256.14 K
 - 4. 245.18 K

Question ID : 65497817714
Chosen Option : 2

Q.25 सूर्यवंशी गजपति राजवंश का संस्थापक कौन था जिसने 15वीं शताब्दी में ओड़िशा और आंध्र प्रदेश के कुछ हिस्सों पर शासन किया?

- Ans
- 1. कपिलेंद्र देव
 - 2. सुरेंद्र देव
 - 3. भानु देव
 - 4. वासु देव

Question ID : 65497817721
Chosen Option : --

Multi Tasking Non Technical Staff Examination 2020

Participant ID	www.HaryanaJobs.in
Participant Name	www.HaryanaJobs.in
Test Center Name	Simple Infotech PVT. LTD.
Test Date	26/10/2021
Test Time :	12:30 PM - 2:00 PM
Subject	MTS Non Technical 2020

Section : **General English**

Q.1 Identify the segment in the sentence which contains a grammatical error.

Saturn is the sixth planet from the sun and it is the second large in our solar system.

- Ans 1. it is the second large
 2. Saturn is the sixth planet
 3. in our solar system
 4. from the sun and

Question ID : **65497814189**
 Chosen Option : 1

Q.2 Select the most appropriate option to fill in the blank.

Penguins are black and white sea birds that live almost _____ in the cold southern hemisphere.

- Ans 1. ordinarily
 2. exclusively
 3. realistically
 4. pleasingly

Question ID : **65497814213**
 Chosen Option : 3

Q.3 Select the most appropriate synonym of the given word.

DUCT

- Ans 1. Wall
 2. Bend
 3. Bird
 4. Canal

Question ID : **65497814205**
 Chosen Option : 2

Q.4 Select the most appropriate one-word substitution for the given group of words.

Indelible mark on the skin made by inserting pigment into the skin

- Ans
- 1. Etch
 - 2. Tattoo
 - 3. Sketch
 - 4. Drawing

Question ID : 65497814209
Chosen Option : 2

Q.5 Select the most appropriate ANTONYM of the given word.

CLASSIC

- Ans
- 1. Expensive
 - 2. Atypical
 - 3. Usual
 - 4. Traditional

Question ID : 65497814203
Chosen Option : 3

Q.6 Select the most appropriate one-word substitution for the given group of words.

A person who attacks and robs ships at sea

- Ans
- 1. Crook
 - 2. Burglar
 - 3. Pilot
 - 4. Pirate

Question ID : 65497814208
Chosen Option : 4

Q.7 Select the most appropriate ANTONYM of the given word.

ENTIRE

- Ans
- 1. Absolute
 - 2. Complete
 - 3. Equal
 - 4. Partial

Question ID : 65497814202
Chosen Option : 4

Q.8 Select the most appropriate option to fill in the blank.

There was a narrow staircase _____ up to the roof.

- Ans
- 1. leaving
 - 2. lasting
 - 3. looking
 - 4. leading

Question ID : 65497814212
Chosen Option : 3

Q.9 Select the most appropriate meaning of the given idiom.

Bull's-eye

- Ans
- 1. Something that is the centre of a target
 - 2. Something that is round
 - 3. Something that is glassy-looking
 - 4. Something that scares people

Question ID : 65497814206
Chosen Option : 1

Q.10 Select the most appropriate meaning of the given idiom.

Off-colour

- Ans
- 1. Not able to appreciate art
 - 2. Wearing dull-coloured clothes
 - 3. Not well-dressed
 - 4. Feeling slightly ill

Question ID : 65497814207
Chosen Option : 4

Q.11 Identify the segment in the sentence which contains a grammatical error.

Although we took all precautions but we were unable to avoid getting caught in the heavy rain.

- Ans
- 1. we were unable
 - 2. Although we took all precautions but
 - 3. to avoid getting caught
 - 4. in the heavy rain

Question ID : 65497814190
Chosen Option : 1

Q.12 Select the most appropriate option to fill in the blank.

This is _____ a lovely smart phone. Did you pay a lot for it?

- Ans
- 1. what
 - 2. much
 - 3. such
 - 4. so

Question ID : 65497814192
Chosen Option : 3

Q.13 Select the most appropriate option to substitute the underlined segment in the given sentence. If there is no need to substitute it, select 'No substitution required'.

The shopkeeper checked all the items before packing it in the bag.

- Ans
- 1. No substitution required
 - 2. packing his
 - 3. packing them
 - 4. packing those

Question ID : 65497814200
Chosen Option : 3

Q.14 Select the most appropriate synonym of the given word.

LUCID

- Ans
- 1. Lucky
 - 2. Happy
 - 3. Timely
 - 4. Clear

Question ID : 65497814204
Chosen Option : 4

Q.15 Select the most appropriate option to substitute the underlined segment in the given sentence. If there is no need to substitute it, select 'No substitution required'.

During the fight the wise man walked away without arguing.

- Ans
- 1. walk over
 - 2. No substitution required
 - 3. walking about
 - 4. walk away

Question ID : 65497814199
Chosen Option : 4

Q.16 Identify the segment in the sentence which contains a grammatical error.

This is the place here Sudhir found the wallet full of money.

- Ans
- 1. This is the place
 - 2. here Sudhir
 - 3. found the wallet
 - 4. full of money

Question ID : 65497814188
Chosen Option : 2

Q.17 Select the INCORRECTLY spelt word.

- Ans
- 1. Impression
 - 2. Natural
 - 3. Dilema
 - 4. Partial

Question ID : 65497814211
Chosen Option : 3

Q.18 Select the INCORRECTLY spelt word.

- Ans
- 1. Graphic
 - 2. Particlar
 - 3. Clever
 - 4. Instant

Question ID : 65497814210
Chosen Option : 2

Q.19 Select the most appropriate option to fill in the blank.

The children discovered a box full of old photographs and _____ several hours looking through them.

- Ans
- 1. spent
 - 2. spend
 - 3. spends
 - 4. spending

Question ID : 65497814191
Chosen Option : 3

Q.20 Select the most appropriate option to substitute the underlined segment in the given sentence. If there is no need to substitute it, select 'No substitution required'.

She had grown too thin which she looked like a scarecrow.

- Ans 1. very thin that
 2. so thin that
 3. too thin or
 4. No substitution required

Question ID : 65497816322
Chosen Option : 2

Comprehension:

In the following passage some words have been deleted. Fill in the blanks with the help of the alternatives given. Select the most appropriate option for each blank.

For many years now the governments have been promising (1)_____ eradication of child labour in hazardous industries in India. But the truth (2)_____ that despite all the rhetoric no government (3)_____ far has succeeded in eradicating this evil, (4)_____ has any been able to ensure compulsory primary education (5)_____ every Indian child.

SubQuestion No : 21

Q.21 Select the most appropriate option to fill in blank no. 1.

- Ans 1. some
 2. few
 3. an
 4. the

Question ID : 65497814194
Chosen Option : 3

Comprehension:

In the following passage some words have been deleted. Fill in the blanks with the help of the alternatives given. Select the most appropriate option for each blank.

For many years now the governments have been promising (1)_____ eradication of child labour in hazardous industries in India. But the truth (2)_____ that despite all the rhetoric no government (3)_____ far has succeeded in eradicating this evil, (4)_____ has any been able to ensure compulsory primary education (5)_____ every Indian child.

SubQuestion No : 22

Q.22 Select the most appropriate option to fill in blank no. 2.

- Ans 1. were
 2. are
 3. is
 4. was

Question ID : 65497814195
Chosen Option : 3

Comprehension:

In the following passage some words have been deleted. Fill in the blanks with the help of the alternatives given. Select the most appropriate option for each blank.

For many years now the governments have been promising (1)_____ eradication of child labour in hazardous industries in India. But the truth (2)_____ that despite all the rhetoric no government (3)_____ far has succeeded in eradicating this evil, (4)_____ has any been able to ensure compulsory primary education (5)_____ every Indian child.

SubQuestion No : 23

Q.23 Select the most appropriate option to fill in blank no. 3.

- Ans 1. there
 2. here
 3. so
 4. till

Question ID : **65497814196**
 Chosen Option : 3

Comprehension:

In the following passage some words have been deleted. Fill in the blanks with the help of the alternatives given. Select the most appropriate option for each blank.

For many years now the governments have been promising (1)_____ eradication of child labour in hazardous industries in India. But the truth (2)_____ that despite all the rhetoric no government (3)_____ far has succeeded in eradicating this evil, (4)_____ has any been able to ensure compulsory primary education (5)_____ every Indian child.

SubQuestion No : 24

Q.24 Select the most appropriate option to fill in blank no. 4.

- Ans 1. either
 2. but
 3. neither
 4. nor

Question ID : **65497814197**
 Chosen Option : 2

Comprehension:

In the following passage some words have been deleted. Fill in the blanks with the help of the alternatives given. Select the most appropriate option for each blank.

For many years now the governments have been promising (1)_____ eradication of child labour in hazardous industries in India. But the truth (2)_____ that despite all the rhetoric no government (3)_____ far has succeeded in eradicating this evil, (4)_____ has any been able to ensure compulsory primary education (5)_____ every Indian child.

SubQuestion No : 25

Q.25 Select the most appropriate option to fill in blank no. 5.

- Ans 1. for
 2. at
 3. with
 4. from

Question ID : **65497814198**
 Chosen Option : 1

Section : **General Intelligence and Reasoning**

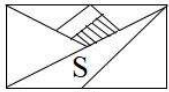
Q.1 छत्तीस व्यक्ति एक पंक्ति में उत्तर की ओर मुँह कर बैठे हैं। जतिन, हरीश और शोवन के ठीक मध्य में बैठा है। यदि हरीश और शोवन आपस में अपना स्थान बदल लेते हैं, तो हरीश का स्थान बाएँ छोर से 10वाँ और शोवन का स्थान दाएँ छोर से 13वाँ हो जाता है।

दाएँ छोर से जतिन का स्थान क्या है?

- Ans
- 1. 20वाँ
 - 2. 22वाँ
 - 3. 19वाँ
 - 4. 17वाँ

Question ID : 65497818270
Chosen Option : 1

Q.2 यदि दर्पण को आकृति के दाएँ ओर रखा जाता है तो बताएँ कि आकृति (X) का सटीक दर्पण प्रतिबिंब कौन सा होगा?



(X)

Ans

- 1.
- 2.
- 3.
- 4.

Question ID : 65497818276
Chosen Option : 3

Q.3 निम्नलिखित समीकरण को संतुलित करने के लिए किन दो चिह्नों का स्थान परस्पर बदलना होगा?

$$15 + 5 - 10 \times 8 \div 4 = 15$$

- Ans
- 1. \times और $-$
 - 2. $+$ और \times
 - 3. \div और $+$
 - 4. \div और $-$

Question ID : 65497818255
Chosen Option : 4

Q.4 वह विकल्प चुनें जो तीसरे अक्षर-समूह से उसी प्रकार संबंधित है, जिस प्रकार दूसरा अक्षर-समूह पहले अक्षर-समूह से संबंधित है।

BJDHF : QYSWU :: AICGE : ?

- Ans
- 1. RYTWV
 - 2. SZUYW
 - 3. RZSUW
 - 4. RZTXV

Question ID : 65497818264
Chosen Option : 4

Q.5 यदि गणितीय चिह्न '+' और '-' का स्थान आपस में परिवर्तित कर दिया जाए, तो निम्नलिखित में से कौन सा समीकरण सही होगा?

- Ans
- 1. $10 - 6 \times 2 + 12 = 8$
 - 2. $8 - 4 \times 4 + 12 = 12$
 - 3. $12 \div 6 + 6 - 12 = 9$
 - 4. $6 \times 4 + 6 - 4 = 18$

Question ID : 65497818254
Chosen Option : 2

Q.6 A, B, C, D, E, F, G और H नामक आठ घर दो समानांतर पंक्तियों में स्थित हैं, और प्रत्येक पंक्ति में 4 घर हैं। प्रत्येक पंक्ति में घरों के बीच की दूरी समान है। पंक्ति-I में स्थित चारों घरों का मुँह उत्तर की ओर और पंक्ति-II में स्थित चारों घरों की ओर है।

पंक्ति-I में स्थित B का मुँह F की ओर है, और वह किसी भी अंतिम छोर पर नहीं है।
H, F के ठीक पड़ोस में है और उसका मुँह D की ओर है।
C और E विकर्णतः एक दूसरे आमने-सामने हैं।
E का मुँह A की ओर है, जो कि H के ठीक पड़ोस में है।

निम्नलिखित में से कौन-सा कथन सत्य है?

- Ans
- 1. B और E एक दूसरे के निकट हैं।
 - 2. H, C और G के बीच में स्थित है।
 - 3. G एक अंतिम छोर पर है और उसका मुँह उत्तर की ओर है।
 - 4. A, G के बाएँ दूसरा घर है।

Question ID : 65497818271
Chosen Option : --

Q.7 दिए गए कथनों और निष्कर्षों को ध्यान से पढ़ें। आपको कथनों में दी गई जानकारी को सच मानना है भले ही वे सामान्यतः ज्ञात तथ्यों से भिन्न प्रतीत हों, और फिर यह तय करना है कि कौन सा / कौन से निष्कर्ष प्रदत्त कथनों का तार्किक रूप से अनुसरण करता है / करते हैं।

कथन:

कुछ ग्रामीण किसान हैं।

सभी व्यवसायी किसान हैं।

कुछ शहर के निवासी व्यवसायी हैं।

निष्कर्ष:

I. कुछ व्यवसायियों के ग्रामीण होने की संभावना है।

II. कुछ ग्रामीण शहर के निवासी हैं।

III. कुछ शहर के निवासी किसान हैं।

- Ans
- 1. केवल निष्कर्ष II और III अनुसरण करते हैं
 - 2. सभी निष्कर्ष I, II और III अनुसरण करते हैं
 - 3. केवल निष्कर्ष I और III अनुसरण करते हैं
 - 4. केवल निष्कर्ष I और II अनुसरण करते हैं

Question ID : 65497818269

Chosen Option : 3

Q.8 दिए गए विकल्पों में से वह अक्षर-समूह चुनें जो निम्नलिखित श्रृंखला में प्रश्नचिह्न (?) के स्थान पर आएगा?

acbd, fhcg, ikjl, npmo, ?, vxuw

- Ans
- 1. rtsu
 - 2. rtqs
 - 3. qsr
 - 4. prqs

Question ID : 65497818267

Chosen Option : 3

Q.9 छह व्यक्ति एक परीक्षा में शामिल हुए। नृपेश ने मानसी और अशिका से अधिक किंतु लीना से कम अंक प्राप्त किए। केवल दो व्यक्तियों ने नृपेश से अधिक अंक प्राप्त किए। संबित ने नागेन से कम अंक प्राप्त किए, लेकिन उसके अंक सबसे कम नहीं थे। केवल दो व्यक्तियों ने मानसी से कम अंक प्राप्त किए।

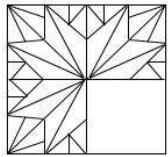
निम्नलिखित में से कौन-सा कथन निश्चित रूप से असत्य है?

- Ans
- 1. नागेन ने नृपेश से अधिक अंक प्राप्त किए।
 - 2. संबित ने मानसी से अधिक अंक प्राप्त किए।
 - 3. अशिका ने सबसे कम अंक प्राप्त किए।
 - 4. सर्वोच्च अंक प्राप्त करने वालों में लीना का दूसरा स्थान था।

Question ID : 65497818272

Chosen Option : 2

Q.10 विकल्पों में से वह आकृति चुनें जिसे आकृति (X) के खाली स्थान में रखने पर पैटर्न पूरा हो जाएगा।



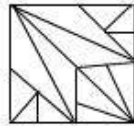
(X)

Ans

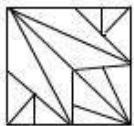
✗ 1.



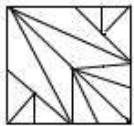
✓ 2.



✗ 3.



✗ 4.



Question ID : 65497818274
Chosen Option : 2

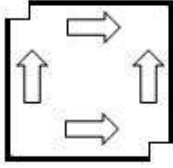
www.HaryanaJobs.in

Q.11 नीचे आकृति में कागज के एक टुकड़े को मोड़ने का क्रम और उस मुड़े हुए कागज को काटने का तरीका दर्शाया गया है। बापस खोलने पर यह कागज कैसा दिखेगा?

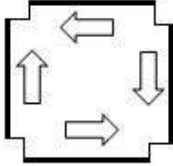


Ans

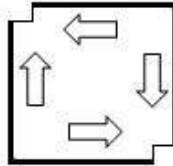
✗ 1.



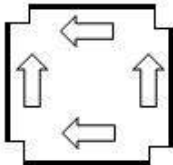
✗ 2.



✓ 3.



✗ 4.



Question ID : 65497818277
Chosen Option : 1

Q.12 किसी विशिष्ट कूटभाषा में BREAK को 42 के रूप में और PEAR को 44 के रूप में कूटबद्ध किया जाता है। तो उसी भाषा में LEADER को कैसे कूटबद्ध किया जाएगा?

Ans ✓ 1. 51

✗ 2. 47

✗ 3. 43

✗ 4. 56

Question ID : 65497818263
Chosen Option : 1

Q.13 वह विकल्प चुनें जिसकी संख्याएँ उसी प्रकार संबंधित हैं जिस प्रकार नीचे दिए गए सेट की संख्याएँ संबंधित हैं।

{91, 143, 221}

Ans ✓ 1. {84, 132, 204}

✗ 2. {56, 78, 136}

✗ 3. {112, 168, 262}

✗ 4. {119, 197, 289}

Question ID : 65497818257
Chosen Option : 1

Q.14 जिस प्रकार 'चतुर (Prudent)' का संबंध 'Cautious (सतर्क)' है, उसी प्रकार 'उत्कृष्ट (Excellent)' का संबंध '_____' से है।

- Ans
- 1. बुद्धिमान (Intelligent)
 - 2. शानदार (Fabulous)
 - 3. मूल (Original)
 - 4. विलक्षण (Singular)

Question ID : 65497818266
Chosen Option : 2

Q.15 किसी विशिष्ट कूटभाषा में BASKET को SFJTZC के रूप में लिखा जाता है। तो उसी भाषा में FATHER को कैसे लिखा जाएगा?

- Ans
- 1. QFGUZG
 - 2. SDISBH
 - 3. GZUFGQ
 - 4. QFTGYG

Question ID : 65497818260
Chosen Option : 1

Q.16 वह विकल्प चुनें जिसकी दोनों संख्याएं उसी प्रकार संबंधित हैं जिस प्रकार नीचे दिए गए संख्या-युग्म की संख्याएं संबंधित हैं।

80 : 4

- Ans
- 1. 180 : 6
 - 2. 150 : 5
 - 3. 20 : 2
 - 4. 40 : 3

Question ID : 65497818256
Chosen Option : 2

Q.17 किसी विशिष्ट कूटभाषा में CONVENTION को CNOVFOUINO के रूप में लिखा जाता है। तो उसी भाषा में RESPONDENT को कैसे लिखा जाएगा?

- Ans
- 1. RSEQNOCTNE
 - 2. ERSQPOEENT
 - 3. SEROPDNETN
 - 4. ERSQPEONET

Question ID : 65497818261
Chosen Option : 1

www.HaryanaJobs.in

Q.18 दिए गए विकल्पों में से वह संख्या चुनें जो निम्नलिखित श्रृंखला में प्रश्नचिह्न (?) के स्थान पर आएगी?

113, 109, 93, 88, 63, 57, ?

Ans 1. 32

2. 21

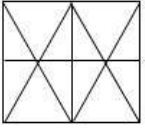
3. 19

4. 29

Question ID : 65497818258

Chosen Option : 2

Q.19 वह विकल्प चुनें जो दी गई आकृति में सन्निहित है (आकृति को घुमाना नहीं है)।

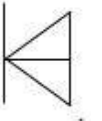


Ans

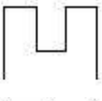
1.



2.



3.



4.



Question ID : 65497818275

Chosen Option : 4

Q.20 किसी विशिष्ट कूटभाषा में MEAT को 11 के रूप में और BARE को 14 के रूप में कूटबद्ध किया जाता है। तो उसी भाषा में FACTOR को कैसे कूटबद्ध किया जाएगा?

Ans 1. 15

2. 19

3. 13

4. 23

Question ID : 65497818262

Chosen Option : 1

Q.21 वह वेन आरेख चुनें जो निम्न वर्गों के मध्य के संबंध को सबसे अच्छे ढंग से निरूपित करता है।

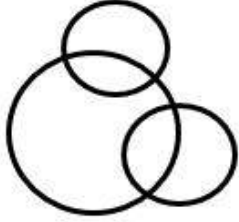
डॉक्टर, वकील, धनी व्यक्ति

Ans

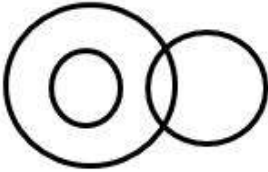
✗ 1.



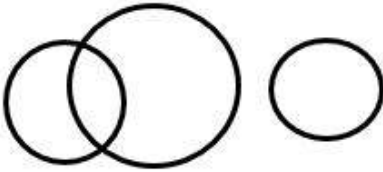
✓ 2.



✗ 3.



✗ 4.



Question ID : 65497818278

Chosen Option : 1

Q.22 जिस प्रकार 'समाचार पत्र' का संबंध 'सामान्य पाठक' से है, उसी प्रकार 'पेशेवर पत्रिका' का संबंध '_____' से है।

Ans ✗ 1. साक्षर

✓ 2. शोधकर्ता

✗ 3. ग्राहक

✗ 4. तकनीशियन

Question ID : 65497818265

Chosen Option : 1

Q.23 दिए गए विकल्पों में से वह संख्या चुनें जो निम्नलिखित श्रृंखला में प्रश्नचिह्न (?) के स्थान पर आएगी?

2, 5, 9, 16, 27, ?, 74

Ans ✓ 1. 45

✗ 2. 48

✗ 3. 43

✗ 4. 39

Question ID : 65497818259

Chosen Option : 1

Q.24 दिए गए कथनों और निष्कर्षों को ध्यान से पढ़ें। आपको कथनों में दी गई जानकारी को सच मानना है भले ही वे सामान्यतः ज्ञात तथ्यों से भिन्न प्रतीत हों, और फिर यह तय करना है कि कौन सा / कौन से निष्कर्ष प्रदत्त कथनों का तार्किक रूप से अनुसरण करता है / करते हैं।

कथन:

सभी मगरमच्छ जलीय जंतु हैं।
कुछ मगरमच्छ घड़ियाल हैं।

निष्कर्ष:

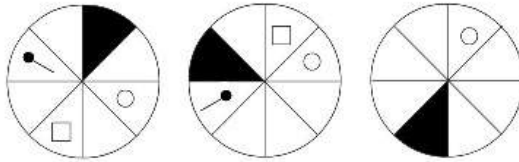
- I. कुछ घड़ियाल जलीय जंतु हैं।
- II. सभी घड़ियाल जलीय जंतु हैं।
- III. कुछ जलीय जंतु घड़ियाल हैं।

- Ans
- ✓ 1. केवल निष्कर्ष I और III अनुसरण करते हैं
 - ✗ 2. केवल निष्कर्ष II और III अनुसरण करते हैं
 - ✗ 3. केवल निष्कर्ष I अनुसरण करता है
 - ✗ 4. या तो निष्कर्ष I या निष्कर्ष II अनुसरण करता है

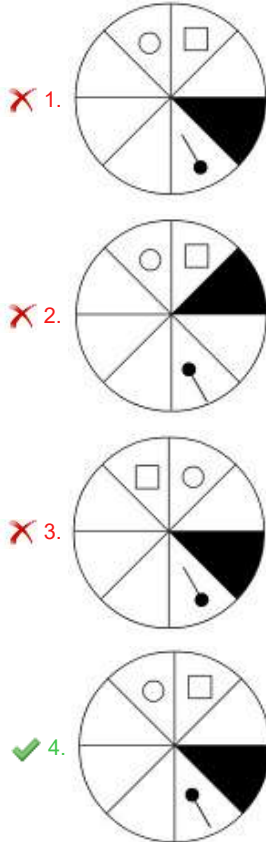
Question ID : 65497818268

Chosen Option : 1

Q.25 उस विकल्प का चयन करें, जो निम्न आकृति श्रेणी में अगले स्थान पर आएगा।



Ans



✗ 1.

✗ 2.

✗ 3.

✓ 4.

Question ID : 65497818273

Chosen Option : 4

Section : Numerical Aptitude

Q.1 $18 - [6 - \{13 - (78 - 8 \div 2 \times 5 \text{ of } 3)\}]$ का मान ज्ञात करें।

- Ans
- 1. 12
 - 2. 8
 - 3. 16
 - 4. 7

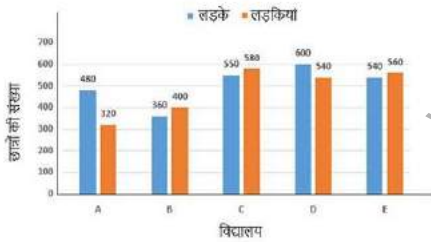
Question ID : 65497814745
Chosen Option : 4

Q.2 किसी वस्तु को ₹1,122 में बेचने से, 12% की हानि होती है। यदि यह वस्तु ₹1,224 में बेची जाती है, तो लाभ या हानि प्रतिशत ज्ञात करें।

- Ans
- 1. हानि, 8%
 - 2. हानि, 4%
 - 3. लाभ, 8%
 - 4. लाभ, 4%

Question ID : 65497814752
Chosen Option : 2

Q.3 दिए गए बार ग्राफ का अध्ययन करें, जो 1 जुलाई 2019 को विभिन्न विद्यालयों में छात्रों (लड़के और लड़कियाँ) की संख्या दर्शाता है और उससे संबंधित नीचे दिए गए प्रश्न का उत्तर दें।



विद्यालय A और D में लड़कों की कुल संख्या का 75%, विद्यालय E में छात्रों की कुल संख्या से कितने प्रतिशत कम है? (ठीक एक दशमलव स्थान तक)

- Ans
- 1. 26.4%
 - 2. 24.4%
 - 3. 20.6%
 - 4. 35.8%

Question ID : 65497814768
Chosen Option : 1

Q.4 बारह वर्ष पहले, A और B की आयु का अनुपात 12 : 5 था। अब से बारह वर्ष बाद, उनकी आयु का अनुपात 18 : 11 होगा। उनकी वर्तमान आयु के बीच अंतर (वर्ष में) ज्ञात करें।

- Ans
- 1. 25
 - 2. 28
 - 3. 30
 - 4. 24

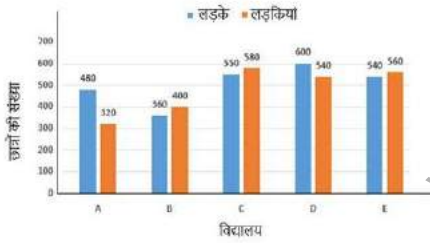
Question ID : 65497814755
Chosen Option : 2

Q.5 किसी वस्तु का अंकित मूल्य, उसके क्रय मूल्य से 35% अधिक है। अंकित मूल्य पर 20% छूट देने के बाद, यह वस्तु ₹432 में बेची गई। वस्तु का क्रय मूल्य ज्ञात करें।

- Ans
- 1. ₹400
 - 2. ₹425
 - 3. ₹380
 - 4. ₹420

Question ID : 65497814749
Chosen Option : 1

Q.6 दिए गए बार ग्राफ का अध्ययन करें, जो 1 जुलाई 2019 को विभिन्न विद्यालयों में छात्रों (लड़के और लड़कियाँ) की संख्या दर्शाता है और उससे संबंधित नीचे दिए गए प्रश्न का उत्तर दें।



किस विद्यालय में लड़कों की संख्या, पाँचों विद्यालयों में लड़कियों की औसत संख्या से 25% अधिक है?

- Ans
- 1. E
 - 2. D
 - 3. C
 - 4. A

Question ID : 65497814766
Chosen Option : 2

Q.7 A की ऊंचाई, B की ऊंचाई से 20% अधिक है और B की ऊंचाई, C की ऊंचाई से 20% कम है। C की ऊंचाई, D की ऊंचाई से 30% अधिक है। यदि C और A की ऊंचाई के बीच अंतर 6.8 cm है, तो B की ऊंचाई (cm में) ज्ञात करें।

- Ans
- 1. 132
 - 2. 135
 - 3. 140
 - 4. 136

Question ID : 65497814751
Chosen Option : 4

Q.8 3-अंकों वाली संख्याओं 372, $2x5$ और $x37$ का औसत 498 है। $(2x + 7)$ और $(5x - 2)$ का औसत ज्ञात करें।

- Ans
- 1. 28.5
 - 2. 28
 - 3. 27
 - 4. 30.5

Question ID : 65497814748
Chosen Option : 4

Q.9 A, किसी कार्य के 40% भाग को 24 दिन में कर सकता है और B उसी कार्य के $33\frac{1}{3}\%$ भाग को 15 दिन में कर सकता है। वे एक साथ 15 दिन तक कार्य करते हैं। अकेले C शेष कार्य को 10 दिन में पूरा करता है। A और C एक साथ उसी कार्य के 35% भाग को कितने दिन में पूरा करेंगे?

- Ans
- 1. 7 दिन
 - 2. 8 दिन
 - 3. 5 दिन
 - 4. 6 दिन

Question ID : 65497814759
Chosen Option : 4

Q.10 किसी ठोस सीसे के गोले की त्रिज्या 2 cm है। ऐसे ही 2541 गोलों को पिघलाया जाता है और x cm कोर वाला घन बनाया जाता है। x का मान ज्ञात करें। ($\pi = \frac{22}{7}$ लें)

- Ans
- 1. 66
 - 2. 22
 - 3. 44
 - 4. 33

Question ID : 65497814462
Chosen Option : 3

Q.11 किसी कक्षा में लड़कों और लड़कियों की संख्या का अनुपात 5 : 7 है। अंग्रेजी में, लड़कों का औसत स्कोर 48 है और लड़कियों का औसत स्कोर लड़कों के औसत स्कोर से 25% अधिक है। कक्षा में कुल लड़कों और लड़कियों का अंग्रेजी में औसत स्कोर ज्ञात करें।

- Ans**
- 1. 56
 - 2. 54
 - 3. 55
 - 4. 52

Question ID : 65497814747
Chosen Option : 3

Q.12 5% वार्षिक साधारण ब्याज की दर पर, ₹ x की राशि उस समय में बढ़कर ₹6,900 हो जाती है, जितने समय में 4% वार्षिक साधारण ब्याज की दर पर ₹9,000 की राशि बढ़कर ₹10,080 हो जाती है। x का मान ज्ञात करें।

- Ans**
- 1. 6,000
 - 2. 5,800
 - 3. 6,400
 - 4. 6,500

Question ID : 65497814757
Chosen Option : 1

Q.13 जब 5054, 5906 और 7397 को बड़ी से बड़ी संख्या x से विभाजित किया जाता है, तो प्रत्येक स्थिति में प्राप्त शेषफल समान होता है। x के अंकों का योगफल ज्ञात करें।

- Ans**
- 1. 6
 - 2. 5
 - 3. 11
 - 4. 9

Question ID : 65497814744
Chosen Option : 2

Q.14 कोई व्यक्ति 150 km की दूरी तय करता है और फिर आरंभिक बिंदु पर वापस आ जाता है। जाने में लगा समय, वापस आने में लगे समय से $2\frac{1}{2}$ घंटा अधिक था। वापस आने में उसकी चाल, जाने समय उसकी चाल से 10 km/h अधिक थी। वापस आने में उसकी चाल km/h में ज्ञात करें।

- Ans**
- 1. 30
 - 2. 35
 - 3. 20
 - 4. 25

Question ID : 65497814762
Chosen Option : 1

Q.15 कोई बस $11\frac{1}{9}$ m/sec की चाल से किसी निश्चित दूरी को 1 घंटे 30 मिनट में तय करती है। कोई कार उसी दूरी को 38 मिनट में तय करती है। बस और कार की चालों का अनुपात ज्ञात करें।

- Ans
- 1. 1 : 2
 - 2. 3 : 7
 - 3. 2 : 3
 - 4. 2 : 5

Question ID : 65497814761
Chosen Option : 4

Q.16 दिए गए बार ग्राफ का अध्ययन करें, जो 1 जुलाई 2019 को विभिन्न विद्यालयों में छात्रों (लड़के और लड़कियां) की संख्या दर्शाता है और उससे संबंधित नीचे दिए गए प्रश्न का उत्तर दें।



यदि पांचों विद्यालयों में लड़कियों की संख्या से संबंधित आंकड़े के लिए पाई चार्ट तैयार किया जाता है, तो विद्यालय C में लड़कियों की संख्या निरूपित करने वाले क्षेत्र (sector) का केंद्रीय कोण (डिग्री में) ज्ञात करें।

- Ans
- 1. 84
 - 2. 87
 - 3. 60
 - 4. 81

Question ID : 65497814767
Chosen Option : 2

Q.17 X, किसी निश्चित कार्य को 40 घंटे में कर सकता है। Y, X से 25% अधिक कुशल है और Z, Y से 28% अधिक कुशल है। एक साथ कार्य करते हुए, X, Y और Z उसी कार्य को कितने घंटे में पूरा करेंगे?

- Ans
- 1. $\frac{160}{9}$ घंटे
 - 2. $\frac{800}{77}$ घंटे
 - 3. $\frac{400}{11}$ घंटे
 - 4. $\frac{200}{13}$ घंटे

Question ID : 65497814760
Chosen Option : 2

Q.18 $1\frac{1}{8} \div 1\frac{4}{5}$ of $\left[3\frac{1}{4} - \left(\frac{14}{25} + \frac{2}{5} \times 2\frac{4}{5} \div \frac{5}{3} \text{ of } \frac{7}{15}\right)\right]$ का मान ज्ञात करें।

- Ans
1. $\frac{1}{2}$
2. $\frac{1}{5}$
3. $\frac{3}{25}$
4. 1

Question ID : 65497814746
Chosen Option : 1

Q.19 जब x को 7, 13, 19 और 29 में से प्रत्येक में जोड़ा जाता है, तो इस क्रम में प्राप्त संख्याएं समानुपात में होती हैं। $(3x - 8)$ और $(x + 5)$ के बीच मध्यानुपात (mean proportional) ज्ञात करें।

- Ans
1. 18
2. 12
3. 20
4. 15

Question ID : 65497814754
Chosen Option : 3

Q.20 दिए गए आंकड़ों के बहुलक और माध्यिका का माध्य ज्ञात करें।

5, 4, 6, 9, 3, 2, 5, 6, 7, 8, 9, 5, 7, 3

- Ans
1. 6
2. 5
3. 5.50
4. 5.25

Question ID : 65497814750
Chosen Option : 3

Q.21 जब ब्याज की गणना वार्षिक चक्रवृद्धि आधार पर होती है, तो चक्रवृद्धि ब्याज की दर पर निवेशित कोई राशि 4 वर्ष में बढ़कर ₹8,000 और 5 वर्ष में बढ़कर ₹8,400 हो जाती है। 6 वर्ष के अंत में समान राशि पर प्राप्त मिश्रण ज्ञात करें।

- Ans
1. ₹9,000
2. ₹8,904
3. ₹8,988
4. ₹8,820

Question ID : 65497814758
Chosen Option : 4

Q.22 X और Y की वर्तमान आय का अनुपात 5 : 8 है और पिछले वर्ष और वर्तमान वर्ष में उनकी व्यक्तिगत आय के अनुपात क्रमशः 2 : 3 और 3 : 4 हैं। यदि पिछले वर्ष में उनकी कुल आय ₹56,000 थी, तो Y की वर्तमान आय ज्ञात करें।

- Ans**
- 1. ₹40,000
 - 2. ₹48,000
 - 3. ₹30,000
 - 4. ₹36,000

Question ID : 65497814756
Chosen Option : 1

Q.23 60 m, 175 m और 185 m भुजाओं वाले त्रिभुजाकार मैदान का क्षेत्रफल, उस आयताकार पार्क के क्षेत्रफल के बराबर है जिसकी भुजाओं का अनुपात 21 : 10 है। पार्क का परिमाण (m में) ज्ञात करें।

- Ans**
- 1. 310
 - 2. 341
 - 3. 372
 - 4. 403

Question ID : 65497814763
Chosen Option : 1

Q.24 कोई दुकानदार 600 पेन खरीदता है। वह उनमें से 480 पेन को उस मूल्य पर बेचता है जिस मूल्य पर उसने 600 पेन खरीदे थे, 100 पेन को बेचे गये 480 पेनों के मूल्य से 10% अधिक मूल्य पर बेचता है और शेष पेन को क्रय मूल्य पर बेचता है। इस लेन-देन में उसका लाभ प्रतिशत ज्ञात करें।

- Ans**
- 1. 27%
 - 2. 25%
 - 3. 28.5%
 - 4. 26.25%

Question ID : 65497814753
Chosen Option : 3

Q.25 $\frac{1}{5} \div \frac{3}{10}$ of $\frac{4}{9} - \frac{4}{5} \times 1 \frac{1}{9} \div \frac{8}{15} - \frac{3}{4} + \frac{3}{4} \div \frac{1}{2}$ का मान कितना होगा?

- Ans**
- 1. $\frac{1}{12}$
 - 2. $\frac{7}{12}$
 - 3. $\frac{5}{12}$
 - 4. $\frac{11}{12}$

Question ID : 65497816683
Chosen Option : 2

Section : General Awareness

Q.1 निम्नलिखित में से कौन, भारत में अंग्रेजी शिक्षा के एक बड़े समर्थक थे?

- Ans 1. टी.बी. मैकाले
 2. जोनाथन डंकन
 3. विलियम जोन्स
 4. वारेन हेस्टिंग्स

Question ID : 65497815781
Chosen Option : 1

Q.2 जुलाई 2020 तक प्राप्त जानकारी के अनुसार, किस भारतीय क्रिकेट खिलाड़ी ने एक-दिवसीय अंतर्राष्ट्रीय मैचों में सबसे अधिक बार भारत की कप्तानी की है?

- Ans 1. महेंद्र सिंह धोनी
 2. कपिल देव
 3. सौरव गांगुली
 4. विराट कोहली

Question ID : 65497815782
Chosen Option : 1

Q.3 2020 के पद्मभूषण पुरस्कार विजेता, मनोज दास ने यह पुरस्कार निम्न में से किस क्षेत्र में अपने कार्यों के लिए जीता है?

- Ans 1. व्यापार और उद्योग
 2. साहित्य और शिक्षा
 3. कला
 4. सार्वजनिक मामले

Question ID : 65497815785
Chosen Option : 2

Q.4 1773 से 1785 तक ब्रिटिश भारत के पहले गवर्नर-जनरल कौन थे?

- Ans 1. सर जॉन शोर
 2. लॉर्ड कार्नवालिस
 3. लॉर्ड वैलेज़ली
 4. वारेन हेस्टिंग्स

Question ID : 65497815803
Chosen Option : 4

Q.5 फीफा (FIFA) विश्व कप 2026 कहाँ आयोजित होने वाला है?

- Ans 1. उत्तर कोरिया, दक्षिण कोरिया, जापान
 2. ऑस्ट्रेलिया, न्यूजीलैंड, फिजी
 3. जर्मनी, इटली, फ्रांस
 4. यू.एस., कनाडा, मैक्सिको

Question ID : 65497815783
Chosen Option : --

Q.6 पशु कोशिकाओं में, निम्नलिखित में से कौन सा, कोशिका का 'कचरा निपटान' है?

- Ans
- 1. रिक्तिकाएं
 - 2. पुटिकाएँ
 - 3. लाइसोसोम
 - 4. अंतर्द्वी जालिका

Question ID : 65497815797
Chosen Option : 2

Q.7 भारत के कितने राज्य और केंद्र शासित प्रदेश, उत्तर प्रदेश के सीमावर्ती हैं?

- Ans
- 1. 10
 - 2. 5
 - 3. 9
 - 4. 7

Question ID : 65497815799
Chosen Option : 4

Q.8 किसी वस्तु की 'से और तक (टू एंड फ्रॉ)' या 'पीछे और आगे' (बैक एंड फोर्थ) गति को किस रूप में जाना जाता है?

- Ans
- 1. आवेग
 - 2. कंपन
 - 3. डोलना
 - 4. ऐंठन

Question ID : 65497815793
Chosen Option : 1

Q.9 भारतीय संविधान का निम्नलिखित में से कौन सा अनुच्छेद राष्ट्रपति के महाभियोग की प्रक्रिया प्रदान करता है?

- Ans
- 1. अनुच्छेद 61
 - 2. अनुच्छेद 67
 - 3. अनुच्छेद 52
 - 4. अनुच्छेद 51

Question ID : 65497815792
Chosen Option : 1

Q.10 जुलाई 2020 में, भारत में डिपार्टमेंट फॉर प्रमोशन ऑफ इंडस्ट्री एंड इंटरनल ट्रेड (DPIIT) द्वारा, इश्योरेंस इंटरमीडिएरी कंपनियों के लिए प्रत्यक्ष विदेशी निवेश (FDI) का प्रतिशत कितना निर्धारित किया गया है?

- Ans
- 1. 49%
 - 2. 100%
 - 3. 50%
 - 4. 30%

Question ID : 65497817201
Chosen Option : 3

Q.11 निम्नलिखित में से कौन सा, भारत और चीन के बीच स्थित एक पहाड़ी दर्रा है?

- Ans 1. काराकोरम दर्रा
 2. ज़ोजिला दर्रा
 3. पंगसौ दर्रा
 4. खैबर दर्रा

Question ID : 65497815798
Chosen Option : 1

Q.12 WPI (डब्ल्यूपीआई) का पूरा नाम क्या है?

- Ans 1. Wholesale Product Index (होलसेल प्रोडक्ट इंडेक्स)
 2. Wholesale Price Information (होलसेल प्राइस इन्फार्मेशन)
 3. World Product Index (वर्ल्ड प्रोडक्ट इंडेक्स)
 4. Wholesale Price Index (होलसेल प्राइस इंडेक्स)

Question ID : 65497815789
Chosen Option : 1

Q.13 1857 की क्रांति के दौरान, बिहार में विद्रोह का नेतृत्व किसने किया था?

- Ans 1. कुँवर सिंह
 2. बख्त खान
 3. तात्या टोपे
 4. नाना साहिब

Question ID : 65497815801
Chosen Option : 1

Q.14 एलिफेंटा की गुफाएँ, मुख्य रूप से निम्नलिखित में से किस देवता को समर्पित हैं?

- Ans 1. भगवान गणेश
 2. भगवान शिव
 3. भगवान कृष्ण
 4. भगवान राम

Question ID : 65497815779
Chosen Option : 2

Q.15 निम्नलिखित में से किसने 1837 में पहली बार ब्राह्मी लिपि को समझा था?

- Ans 1. जेम्स प्रिंसेप
 2. अलेक्जेंडर कनिंघम
 3. जॉन मार्शल
 4. दयाराम साहनी

Question ID : 65497815802
Chosen Option : 4

Q.16 किसी स्क्रीन पर बनी छवि को _____ छवि कहा जाता है, जबकि एक समतल दर्पण द्वारा बनाई गई छवि को एक _____ छवि कहा जाता है।

- Ans
- 1. आभासी; वास्तविक
 - 2. सदिश; बहुस्तरीय
 - 3. वास्तविक; आभासी
 - 4. परवल्यिक; चिरस्थायी

Question ID : 65497815796
Chosen Option : 1

Q.17 वन्यजीव अपराध नियंत्रण ब्यूरो (WCCB) पर्यावरण, वन और जलवायु परिवर्तन मंत्रालय (MoEF&CC) के तहत एक सांविधिक बहु-विषयक निकाय है। इसका मुख्यालय कहाँ स्थित है?

- Ans
- 1. कोलकाता
 - 2. नागपुर
 - 3. नई दिल्ली
 - 4. पोर्ट ब्लेयर

Question ID : 65497815800
Chosen Option : 1

Q.18 जवाहरलाल नेहरू की मृत्यु के बाद, निम्नलिखित में से कौन, भारत के / की कार्यवाहक प्रधानमंत्री बने थे / बनी थीं?

- Ans
- 1. गुलजारीलाल नंदा
 - 2. मोरारजी देसाई
 - 3. जाकिर हुसैन
 - 4. इंदिरा गांधी

Question ID : 65497815790
Chosen Option : 1

Q.19 निम्नलिखित कथनों में से कौन सा सही है?

- Ans
- 1. राज्यपाल मुख्यमंत्री के प्रसादपर्यंत पद धारण करते हैं।
 - 2. राज्यपाल अपना इस्तीफा प्रधानमंत्री को सौंपते हैं।
 - 3. राज्यपाल की नियुक्ति राष्ट्रपति द्वारा की जाती है।
 - 4. राज्यपाल के रूप में नियुक्ति के लिए न्यूनतम आवश्यक आयु 30 वर्ष है।

Question ID : 65497815791
Chosen Option : 3

Q.20 निम्नलिखित में से कौन, 'टाइम' पत्रिका के पर्सन ऑफ द ईयर 2019 के रूप में चुने गए थे / गई थी?

- Ans
- 1. मलाला यूसूफजई
 - 2. लेडी गागा
 - 3. काइलन मबम्पे
 - 4. ग्रेटा थुनबर्ग

Question ID : 65497815784
Chosen Option : 1

Q.21 उस अलैंगिक प्रजनन को जिसमें जड़ों, तनों, पत्तियों और कलियों से नए पौधे तैयार किए जाते हैं, किस नाम से जाना जाता है?

- Ans 1. वानस्पतिक प्रजनन
 2. मुकुलन प्रजनन
 3. कलमी प्रजनन
 4. क्यारी प्रजनन

Question ID : 65497815795
Chosen Option : 2

Q.22 निम्नलिखित में से किस लेखकद्वय ने संयुक्त रूप से 2019 का बुकर पुरस्कार जीता है?

- Ans 1. जेरी क्राफ्ट और केशा अजसो फिशर ने
 2. वेलेरिया लुसेली और टायरी जोन्स ने
 3. डब्ल्यू. कालेब मैकडैनियल और वेलेरिया लुसेली ने
 4. मार्गरेट एटवुड और बर्नार्डिन एवरिस्टो ने

Question ID : 65497815786
Chosen Option : 4

Q.23 जून 2020 में, केंद्रीय कैबिनेट ने, ₹ _____ करोड़ की लागत से, पशुपालन अवसंरचना विकास निधि (AHIDF) की स्थापना को मंजूरी दी है।

- Ans 1. 15,000
 2. 12,000
 3. 10,000
 4. 8,000

Question ID : 65497814980
Chosen Option : 2

Q.24 'माथुरी' लोक नृत्य, निम्नलिखित में से किस राज्य में किया जाता है?

- Ans 1. उत्तर प्रदेश
 2. हरियाणा
 3. उत्तराखंड
 4. तेलंगाना

Question ID : 65497815780
Chosen Option : --

Q.25 विद्युत सेल के प्रतीक में, मोटी, छोटी रेखा निम्न में से किसका निरूपण करती है?

- Ans 1. ऋणात्मक टर्मिनल
 2. वलय टर्मिनल
 3. धनात्मक टर्मिनल
 4. उदासीन टर्मिनल

Question ID : 65497815794
Chosen Option : --

Multi Tasking Non Technical Staff Examination 2020

Participant ID	www.HaryanaJobs.in
Participant Name	www.HaryanaJobs.in
Test Center Name	Manda Institute of Technology
Test Date	27/10/2021
Test Time :	4:00 PM - 5:30 PM
Subject	MTS Non Technical 2020

Section : **General English**

Q.1 Select the most appropriate meaning of the given idiom.

Work out

- Ans
- 1. Do something successfully
 - 2. Work very hard
 - 3. Exercise or develop a plan
 - 4. Struggle very hard

Question ID : **65497817539**
Chosen Option : **3**

Q.2 The given sentence contains a grammatical error. Identify the segment that contains the error.

Last Saturday evening we go to a party.

- Ans
- 1. Last Saturday
 - 2. a party
 - 3. go to
 - 4. evening we

Question ID : **65497817521**
Chosen Option : **3**

Q.3 Select the most appropriate words to fill in the blank.

Mr. Patel is the manager, so you need to explain _____.

- Ans
- 1. for him
 - 2. to her
 - 3. to him
 - 4. from her

Question ID : **65497817524**
Chosen Option : **3**

Q.4 Select the most appropriate word that means the same as the group of words given.

Hard and difficult to bend

- Ans
- 1. Flexible
 - 2. Strong
 - 3. Rigid
 - 4. Pliable

Question ID : 65497817541
Chosen Option : 3

Q.5 Select the most appropriate ANTONYM of the given word.

ADD

- Ans
- 1. Multiply
 - 2. Continue
 - 3. Remove
 - 4. Increase

Question ID : 65497817535
Chosen Option : 3

Q.6 Select the most appropriate words to fill in the blank.

The job offer was too good for Ranjith to _____.

- Ans
- 1. turn back
 - 2. turn down
 - 3. turn off
 - 4. turn from

Question ID : 65497817525
Chosen Option : 1

Q.7 Choose the correctly spelt word.

- Ans
- 1. Gramar
 - 2. Grrammer
 - 3. Gramer
 - 4. Grammar

Question ID : 65497817543
Chosen Option : 4

Q.8 The given sentence contains a grammatical error. Identify the segment that contains the error.

They could be pass their exams if they studied harder.

- Ans
- 1. They could be
 - 2. studied harder
 - 3. if they
 - 4. pass their exams

Question ID : 65497817523
Chosen Option : 2

Q.9 Select the most appropriate synonym of the given word.

ACTIVE

- Ans
- 1. Quiet
 - 2. Similar
 - 3. Lazy
 - 4. Busy

Question ID : 65497817537
Chosen Option : 4

Q.10 Select the most appropriate ANTONYM of the given word.

ABSORB

- Ans
- 1. Oppose
 - 2. Solve
 - 3. Drink
 - 4. Eject

Question ID : 65497817536
Chosen Option : 4

Q.11 The given sentence contains a grammatical error. Identify the segment that contains the error.

My cousin is not like going for a walk very much.

- Ans
- 1. My cousin
 - 2. going for a walk
 - 3. is not like
 - 4. very much

Question ID : 65497817522
Chosen Option : 2

Q.12 Select the most appropriate meaning of the given idiom.

Back up

- Ans 1. Think about the past
 2. Stand up to fight
 3. Defend or support
 4. Withdraw

Question ID : 65497817540
Chosen Option : 3

Q.13 Select the most appropriate option to substitute the underlined segment in the given sentence. If there is no need to substitute it, select 'No substitution required'.

She came to work in spite of the heavy rain.

- Ans 1. No substitution required
 2. while
 3. although
 4. despite of

Question ID : 65497815817
Chosen Option : 1

Q.14 Select the most appropriate synonym of the given word.

BIND

- Ans 1. Tighten
 2. Fasten
 3. Bend
 4. Spoil

Question ID : 65497817538
Chosen Option : 1

Q.15 Select the most appropriate word to fill in the blank.

Two people were _____ to death when a bike hit a truck.

- Ans 1. rushed
 2. fell
 3. brushed
 4. crushed

Question ID : 65497817545
Chosen Option : 4

Q.16 Select the most appropriate word that means the same as the group of words given.

A change in the form or nature of something

- Ans 1. Camouflaging
 2. Metamorphosis
 3. Refraction
 4. Hibernation

Question ID : 65497817542
Chosen Option : 2

Q.17 Select the most appropriate word to fill in the blank.

_____, not revenge, is the key to happiness and peace.

- Ans 1. Pride
 2. Forgiveness
 3. Arrogance
 4. Humility

Question ID : 65497817546
Chosen Option : 2

Q.18 Choose the correctly spelt word.

- Ans 1. Phelcram
 2. Falkrum
 3. Phalkram
 4. Fulcrum

Question ID : 65497817544
Chosen Option : 4

Q.19 Select the most appropriate option to substitute the underlined segment in the given sentence.

I cannot put with his rudeness any longer.

- Ans 1. put up to
 2. put up with
 3. put up
 4. put away

Question ID : 65497818038
Chosen Option : 2

Q.20 Select the most appropriate option to substitute the underlined segment in the given sentence.

Juliet is telling to Ben to complete the work immediately.

- Ans 1. saying
 2. telling
 3. asking to
 4. informing to

Question ID : 65497817532
Chosen Option : 3

Comprehension:

In the following passage, some words have been deleted. Fill in the blanks with the help of the options given. Select the most appropriate option for each blank.

Recently, there was a news report about a man who tried to catch a robber but suffered a hip (1)_____ in the process. The victim was a plumber and he was (2)_____ in the hall outside the bedroom. He had left the bedroom door open for better ventilation. (3)_____ two hours after midnight, he heard some noise from the bedroom. When he went in to check, he found a man (4)_____ open the cupboard and taking away jewellery and cash. On seeing him, the robber tried to escape and jumped from the second floor. The plumber (5)_____ the robber and jumped after him. Unfortunately, he hit a concrete wall and broke his hip; he was rushed to a nearby hospital. The robber managed to escape.

SubQuestion No : 21

Q.21 Select the most appropriate option to fill in blank no. 1.

- Ans 1. problem
 2. condition
 3. disease
 4. fracture

Question ID : 65497817527
Chosen Option : 3

Comprehension:

In the following passage, some words have been deleted. Fill in the blanks with the help of the options given. Select the most appropriate option for each blank.

Recently, there was a news report about a man who tried to catch a robber but suffered a hip (1)_____ in the process. The victim was a plumber and he was (2)_____ in the hall outside the bedroom. He had left the bedroom door open for better ventilation. (3)_____ two hours after midnight, he heard some noise from the bedroom. When he went in to check, he found a man (4)_____ open the cupboard and taking away jewellery and cash. On seeing him, the robber tried to escape and jumped from the second floor. The plumber (5)_____ the robber and jumped after him. Unfortunately, he hit a concrete wall and broke his hip; he was rushed to a nearby hospital. The robber managed to escape.

SubQuestion No : 22

Q.22 Select the most appropriate option to fill in blank no. 2.

- Ans 1. been sleeping
 2. sleeping
 3. had been sleeping
 4. being sleeping

Question ID : 65497817528
Chosen Option : 2

Comprehension:

In the following passage, some words have been deleted. Fill in the blanks with the help of the options given. Select the most appropriate option for each blank.

Recently, there was a news report about a man who tried to catch a robber but suffered a hip (1)_____ in the process. The victim was a plumber and he was (2)_____ in the hall outside the bedroom. He had left the bedroom door open for better ventilation. (3)_____ two hours after midnight, he heard some noise from the bedroom. When he went in to check, he found a man (4)_____ open the cupboard and taking away jewellery and cash. On seeing him, the robber tried to escape and jumped from the second floor. The plumber (5)_____ the robber and jumped after him. Unfortunately, he hit a concrete wall and broke his hip; he was rushed to a nearby hospital. The robber managed to escape.

SubQuestion No : 23

Q.23 Select the most appropriate option to fill in blank no. 3.

Ans 1. About

2. For

3. At

4. By

Question ID : **65497817529**

Chosen Option : 1

Comprehension:

In the following passage, some words have been deleted. Fill in the blanks with the help of the options given. Select the most appropriate option for each blank.

Recently, there was a news report about a man who tried to catch a robber but suffered a hip (1)_____ in the process. The victim was a plumber and he was (2)_____ in the hall outside the bedroom. He had left the bedroom door open for better ventilation. (3)_____ two hours after midnight, he heard some noise from the bedroom. When he went in to check, he found a man (4)_____ open the cupboard and taking away jewellery and cash. On seeing him, the robber tried to escape and jumped from the second floor. The plumber (5)_____ the robber and jumped after him. Unfortunately, he hit a concrete wall and broke his hip; he was rushed to a nearby hospital. The robber managed to escape.

SubQuestion No : 24

Q.24 Select the most appropriate option to fill in blank no. 4.

Ans 1. examining

2. breaking

3. opening

4. closing

Question ID : **65497817530**

Chosen Option : 1

Comprehension:

In the following passage, some words have been deleted. Fill in the blanks with the help of the options given. Select the most appropriate option for each blank.

Recently, there was a news report about a man who tried to catch a robber but suffered a hip (1)_____ in the process. The victim was a plumber and he was (2)_____ in the hall outside the bedroom. He had left the bedroom door open for better ventilation. (3)_____ two hours after midnight, he heard some noise from the bedroom. When he went in to check, he found a man (4)_____ open the cupboard and taking away jewellery and cash. On seeing him, the robber tried to escape and jumped from the second floor. The plumber (5)_____ the robber and jumped after him. Unfortunately, he hit a concrete wall and broke his hip; he was rushed to a nearby hospital. The robber managed to escape.

SubQuestion No : 25

Q.25 Select the most appropriate option to fill in blank no. 5.

- Ans 1. darted
 2. ran
 3. dashed
 4. chased

Question ID : 65497817531
 Chosen Option : 2

Section : **General Intelligence and Reasoning**

Q.1 दिए गए समीकरण को संतुलित करने के लिए, इनमें से किन दो चिह्नों को एक-दूसरे से प्रतिस्थापित करना होगा?

$$45 \times 10 - 125 \div 25 + 5 = 30$$

- Ans 1. ÷ और -
 2. × और +
 3. - और +
 4. × और -

Question ID : 65497818355
 Chosen Option : 2

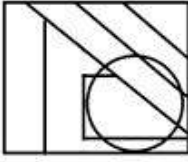
www.HaryanaJobs.in

Q.2 उस विकल्प का चयन करें, जिसमें दी गई आकृति अंतःस्थापित है (घुमाने की अनुमति नहीं है)।

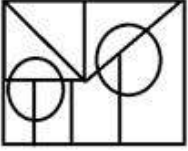


Ans

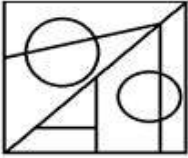
✗ 1.



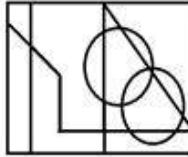
✗ 2.



✗ 3.



✓ 4.



Question ID : 65497818376

Chosen Option : 4

Q.3 आदित्य, हर्ष, श्रव्या, निधि, करुण, प्रेम और उमेश सात दोस्त उत्तर की ओर मुंह किए पंक्ति में बैठे हैं और थिएटर में फिल्म देख रहे हैं, लेकिन जरूरी नहीं कि इसी क्रम में हों। प्रेम या तो दाईं ओर या तो बाईं ओर से दूसरे स्थान पर बैठा है। निधि और प्रेम के बीच दो व्यक्ति बैठे हैं। श्रव्या, करुण के बाईं ओर चौथे स्थान पर बैठी है। उमेश, निधि के ठीक बाईं ओर बैठा है। हर्ष, श्रव्या के दाईं ओर तीसरे स्थान पर बैठा है। श्रव्या किसी भी छोर पर नहीं बैठी है।

प्रेम के ठीक दाईं ओर कौन बैठा है?

Ans ✗ 1. आदित्य

✗ 2. निधि

✓ 3. श्रव्या

✗ 4. करुण

Question ID : 65497818372

Chosen Option : 3

Q.4 चार कथनों के बाद तीन निष्कर्ष I, II और III दिए गए हैं। यह मानते हुए कि कथनों में दी गई जानकारी सत्य है, भले ही यह सामान्य रूप से ज्ञात तथ्यों से भिन्न प्रतीत हो, निर्धारित करें कि कौन से निष्कर्ष कथनों का तार्किक रूप से अनुसरण करते हैं?

कथन:

1. सभी धूल, प्रकृति हैं।
2. कोई प्रकृति, नदी नहीं है।
3. सभी जल, नदियां हैं।
4. कुछ तरल, जल हैं।

निष्कर्ष:

- I. कुछ प्रकृति, जल हैं।
- II. सभी प्रकृति, धूल हैं।
- III. सभी नदियां, तरल हैं।

- Ans
- 1. केवल निष्कर्ष III अनुसरण करता है।
 - 2. निष्कर्ष I और II, दोनों अनुसरण करते हैं।
 - 3. कोई भी निष्कर्ष अनुसरण नहीं करता है।
 - 4. निष्कर्ष I, II और III, सभी अनुसरण करते हैं।

Question ID : 65497818370

Chosen Option : 3

Q.5 उस विकल्प का चयन करें, जो तीसरी संख्या से उसी प्रकार संबंधित है, जिस प्रकार दूसरी संख्या पहली संख्या से संबंधित है।

13 : 182 :: 18 : ?

- Ans
- 1. 342
 - 2. 324
 - 3. 306
 - 4. 338

Question ID : 65497818357

Chosen Option : 1

Q.6 किसी कंपनी के सात कर्मचारी- चंदन, अय्यप्पन, सुकेश, रेखा, अंकित, माधवी, साध्वी वृत्ताकार सम्मेलन मेज के चारों ओर केंद्राभिमुख होकर बैठे हैं।

1. चंदन, अय्यप्पन और सुकेश के बीच बैठा है।
 2. रेखा, जो सुकेश के दाईं ओर दूसरे स्थान पर बैठी है, अंकित और माधवी के बीच बैठी है।
 3. अंकित, साध्वी के बगल में नहीं बैठा है।
- निम्न में से कौन-सा कथन गलत है?

- Ans
- 1. माधवी, सुकेश के दाईं ओर तीसरे स्थान पर बैठी है।
 - 2. अंकित, रेखा के ठीक बाईं ओर बैठा है।
 - 3. साध्वी, अंकित के दाईं ओर तीसरे स्थान पर बैठी है।
 - 4. रेखा, माधवी के ठीक दाईं ओर बैठी है।

Question ID : 65497818371

Chosen Option : 4

Q.7 उस संख्या को चुनें, जो निम्न श्रेणी में प्रश्नवाचक चिह्न (?) के स्थान पर आ सकती है?

?, 7, 14, 42, 168

Ans 1. 1

2. 7

3. 3

4. 4

Question ID : 65497818359

Chosen Option : 2

Q.8 उस विकल्प का चयन करें, जो तीसरे शब्द से ठीक उसी प्रकार संबंधित है, जिस प्रकार दूसरा शब्द पहले शब्द से संबंधित है।

दर्पण : परावर्तन :: प्रिज्म : ?

Ans 1. परावर्तन

2. परिक्षेपण

3. प्रकीर्णन

4. उल्लमण

Question ID : 65497818366

Chosen Option : 2

Q.9 चार अक्षर-समूह दिए गए हैं, जिनमें से तीन किसी प्रकार समान हैं और एक असंगत है। उस असंगत अक्षर-समूह का चयन करें।

Ans 1. GHN

2. CDI

3. ABG

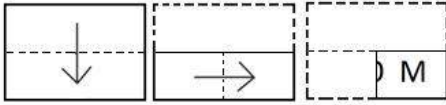
4. EFK

Question ID : 65497818368

Chosen Option : 1

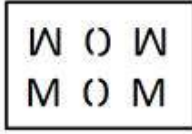
www.HaryanaJobs.in

Q.10 एक कागज को निम्नानुसार मोड़कर काटा जाता है। इसे खोलने पर यह कैसा दिखेगा?

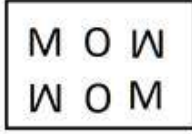


Ans

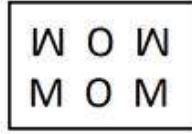
✗ 1.



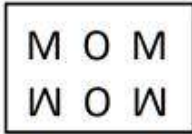
✗ 2.



✓ 3.



✗ 4.



Question ID : 65497818378

Chosen Option : 3

Q.11 किसी निश्चित कूट भाषा में, 'MOLE' को 'ELOM' लिखा जाता है। इसी कूट भाषा में, 'DRIVE' को क्या लिखा जाएगा?

Ans

✓ 1. EVIRD

✗ 2. EVIDR

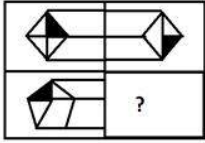
✗ 3. ERIVD

✗ 4. ERIDV

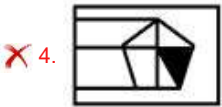
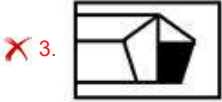
Question ID : 65497818361

Chosen Option : 1

Q.12 दिए गए विकल्पों में से सही विकल्प चुनकर, दिए गए पैटर्न के अनुपस्थित भाग को पूरा करें।



Ans



Question ID : 65497818375

Chosen Option : 2

Q.13 किसी निश्चित कूट भाषा में, 'ROMAN' को 'ILNZM' लिखा जाता है। इसी कूट भाषा में, 'FRANCE' को क्या लिखा जाएगा?

- Ans
- ✗ 1. XIZMVU
 - ✓ 2. UIZMXV
 - ✗ 3. UIZMVX
 - ✗ 4. VIZMUX

Question ID : 65497818362

Chosen Option : 2

Q.14 किसी निश्चित कूट भाषा में, 'ZEAL' को B21N के रूप में तथा 'PLACE' को RN1E2 के रूप में कूटबद्ध किया जाता है। इसी कूट भाषा में, 'MORNING' को किस रूप में कूटबद्ध किया जाएगा?

- Ans
- ✗ 1. O4TQ3QI
 - ✓ 2. O4TP3PI
 - ✗ 3. P5UQ9QJ
 - ✗ 4. 44TP3P3

Question ID : 65497818364

Chosen Option : 2

Q.15 दो कथनों के बाद दो निष्कर्ष I और II दिए गए हैं। यह मानते हुए कि कथनों में दी गई जानकारी सत्य है, भले ही यह सामान्य रूप से ज्ञात तथ्यों से भिन्न प्रतीत हो, निर्धारित करें कि कौन से निष्कर्ष कथनों का तार्किक रूप से अनुसरण करते हैं?

कथन:

1. कुछ पेड़ शाखाएं हैं।
2. सभी लकड़ियां शाखाएं हैं।

निष्कर्ष:

- I. सभी पेड़ लकड़ियां हैं।
- II. सभी शाखाएं लकड़ियां हैं।

- Ans 1. न तो निष्कर्ष I और ना ही II अनुसरण करता है।
2. केवल निष्कर्ष I अनुसरण करता है।
3. निष्कर्ष I और II, दोनों अनुसरण करते हैं।
4. केवल निष्कर्ष II अनुसरण करता है।

Question ID : 65497818369

Chosen Option : 1

Q.16 उस विकल्प का चयन करें, जो तीसरे अक्षर-समूह से ठीक उसी प्रकार संबंधित है, जिस प्रकार दूसरा अक्षर-समूह पहले अक्षर-समूह से संबंधित है।

FOCUS : OQLWB :: MINOR : ?

- Ans 1. WKVQB
2. VKWQA
3. VJVQA
4. VKWPB

Question ID : 65497818365

Chosen Option : 2

Q.17 किसी निश्चित कूट भाषा में, 'TRY' को 21 के रूप में तथा 'SAGE' को 8 के रूप में कूटबद्ध किया जाता है। इसी कूट भाषा में, 'COURAGE' को किस रूप में कूटबद्ध किया जाएगा?

- Ans 1. 7
2. 17
3. 70
4. 10

Question ID : 65497818363

Chosen Option : 4

Q.18 गणितीय चिह्नों के उस सही क्रम का चयन करें, जिन्हें दिए गए समीकरण में क्रमिक रूप से * चिह्नों के स्थान पर रखने पर समीकरण संतुलित हो जाएगा।

$$16 * 280 * 6 * 84 * 4 = 0$$

- Ans 1. ÷, +, -, ×
2. -, ×, ÷, +
3. -, ×, +, ÷
4. ×, -, ÷, +

Question ID : 65497818356

Chosen Option : 2

Q.19 'अध्याय' का 'पुस्तक' से वही संबंध है, जो 'बोगी' का '_____' से है।

- Ans
- 1. इंजन
 - 2. पहिया
 - 3. रेलगाड़ी
 - 4. रेल की पटरी

Question ID : 65497818367
Chosen Option : 3

Q.20 दिए गए पैटर्न का ध्यानपूर्वक अध्ययन करें, तथा उस विकल्प का चयन करें, जो इसमें X के मान को निरूपित कर सकता है।

1 3 5 7 11
2 11 28 X 126

- Ans
- 1. 41
 - 2. 35
 - 3. 49
 - 4. 53

Question ID : 65497818360
Chosen Option : 4

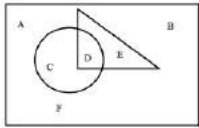
Q.21 दिए गए पैटर्न का सावधानीपूर्वक अध्ययन करें और उस संख्या को चुनें, जो प्रश्नवाचक चिह्न (?) के स्थान पर आ सकती है?

3 4 343
6 8 2744
9 ? 1331

- Ans
- 1. 11
 - 2. 12
 - 3. 2
 - 4. 8

Question ID : 65497818358
Chosen Option : 3

Q.22 दी गई आकृति में, वृत्त 'बच्चों' को दर्शाता है, त्रिभुज 'लड़कियों' को दर्शाता है और आयत 'मनुष्यों' को दर्शाता है। कौन सा भाग उन मनुष्यों को दर्शाता है, जो लड़कियाँ हैं पर 'बच्चे' नहीं हैं?



- Ans
- 1. E
 - 2. B
 - 3. D
 - 4. C

Question ID : 65497818379
Chosen Option : 1

Q.23 उस विकल्प का चयन करें जो दिए गए शब्दों का वह क्रम दर्शाता है जिस क्रम में वे अंग्रेजी शब्दकोश आते हैं?

1. Calibrate
2. California
3. Caliphate
4. Calicut
5. Caliber

Ans 1. 5, 1, 4, 2, 6, 3

2. 5, 1, 2, 4, 3, 6

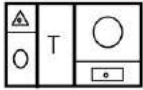
3. 4, 1, 5, 6, 3, 2

4. 1, 5, 4, 2, 6, 3

Question ID : 65497818373

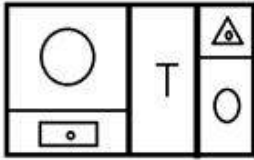
Chosen Option : 1

Q.24 यदि दर्पण को दी गई आकृति के दाईं ओर रखा जाए, तो आकृति के दर्पण में निर्मित सही प्रतिबिंब का चयन कीजिए।

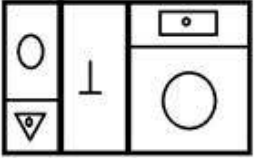


Ans

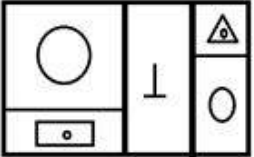
1.



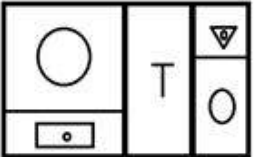
2.



3.



4.

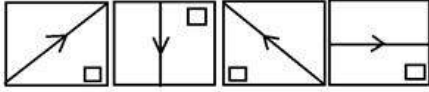


Question ID : 65497818377

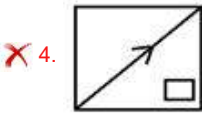
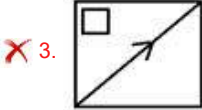
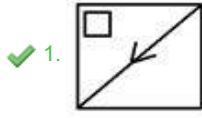
Chosen Option : 1

www.HaryanaJobs.in

Q.25 उस आकृति का चयन करें, जो निम्न आकृति श्रेणी में अगले स्थान पर आएगी।



Ans



Question ID : 65497818374

Chosen Option : 1

Section : Numerical Aptitude

Q.1 किसी बेलन की विज्या में 20% की वृद्धि होती है और उसकी ऊंचाई में 45% की कमी होती है। बेलन के आयतन में हुई प्रतिशत वृद्धि/कमी ज्ञात करें।

- Ans
- ✓ 1. कमी, 20.8%
 - ✗ 2. वृद्धि, 20.8%
 - ✗ 3. वृद्धि, 25%
 - ✗ 4. कमी, 25%

Question ID : 65497814765

Chosen Option : 1

Q.2 कोई वस्तु $13\frac{1}{4}\%$ के लाभ पर बेची जाती है। यदि इस वस्तु को ₹76.70 अधिक में बेचा जाता है, तो प्राप्त लाभ $16\frac{1}{5}\%$ होता है। वस्तु का क्रय मूल्य ज्ञात करें।

- Ans
- ✗ 1. ₹2,500
 - ✓ 2. ₹2,600
 - ✗ 3. ₹3,600
 - ✗ 4. ₹3,400

Question ID : 65497815359

Chosen Option : 2

Q.3 एक दूसरे से असहभाज्य (coprime) तीन संख्याएं इस प्रकार हैं कि पहली दो संख्याओं का गुणनफल 88 है और अंतिम दो संख्याओं का गुणनफल 165 है। तीनों संख्याओं का योगफल ज्ञात करें।

- Ans
- 1. 38
 - 2. 34
 - 3. 36
 - 4. 44

Question ID : 65497815369
Chosen Option : 2

Q.4 किसी आयत की लंबाई और चौड़ाई में क्रमशः 25% और 32% की वृद्धि होती है। परिणामी आयत के क्षेत्रफल में हुई प्रतिशत वृद्धि ज्ञात करें।

- Ans
- 1. 64%
 - 2. 60%
 - 3. 62%
 - 4. 65%

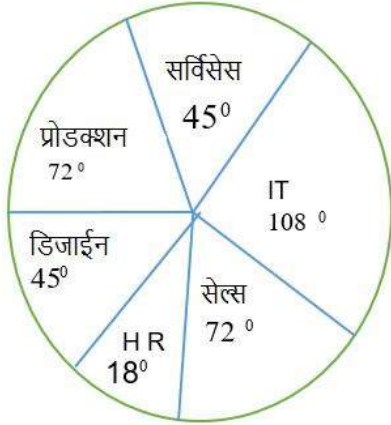
Question ID : 65497815367
Chosen Option : 4

www.HaryanaJobs.in

Q.5 निम्न पाई चार्ट और तालिका का अध्ययन करें और नीचे दिए गए प्रश्न का उत्तर दें।

किसी कंपनी के विभिन्न क्षेत्रों में कार्यरत लोगों की संख्या

कार्यरत लोगों की कुल संख्या = 2800



कंपनी के विभिन्न क्षेत्रों में कार्यरत महिलाओं का प्रतिशत:

क्षेत्र	प्रतिशत
IT	45%
सेल्स	40%
HR	75%
डिजाईन	60%
प्रोडक्शन	20%
सर्विसेस	25%

डिजाईन के क्षेत्र में कार्यरत महिलाओं की संख्या ज्ञात करें।

- Ans
- 1. 240
 - 2. 210
 - 3. 220
 - 4. 200

Question ID : 65497815372

Chosen Option : 2

Q.6 साधारण ब्याज की दर पर, ₹12,500 की राशि 4 वर्ष में ₹16,250 हो जाती है। यदि ब्याज की दर में वार्षिक 2.5% की वृद्धि होती है, तो समान अवधि में बढ़ी हुई राशि ज्ञात करें।

- Ans
- 1. ₹18,000
 - 2. ₹17,000
 - 3. ₹18,250
 - 4. ₹17,500

Question ID : 65497815364

Chosen Option : 4

Q.7 ₹86,581 की राशि, A और B के बीच 9 : 2 के अनुपात में विभाजित की जाती है। A को प्राप्त हिस्से के 4 गुने और B को प्राप्त हिस्से के 10 गुने के बीच अंतर ज्ञात करें।

- Ans
- 1. ₹1,36,952
 - 2. ₹1,35,936
 - 3. ₹1,25,963
 - 4. ₹1,25,936

Question ID : 65497815361
Chosen Option : 4

Q.8 $5 \text{ of } 8 - 6 + [(27 - 3) \div 6 - 4]$ का मान ज्ञात कीजिए।

- Ans
- 1. 26
 - 2. 34
 - 3. 54
 - 4. 19

Question ID : 65497816986
Chosen Option : 2

Q.9 किसी आयताकार शीट का परिमाण और क्षेत्रफल क्रमशः 94 m और 420 m^2 है। विकर्ण की लंबाई ज्ञात करें।

- Ans
- 1. 32 m
 - 2. 36 m
 - 3. 35 m
 - 4. 37 m

Question ID : 65497815366
Chosen Option : 4

Q.10 कोई विक्रेता किसी वस्तु का मूल्य, क्रय मूल्य से 50% अधिक अंकित करता है। वह किसी विशेष ग्राहक के लिए 30% और 25% की दो क्रमागत छूटें प्रदान करता है। परिणामस्वरूप, उसे ₹850 की हानि होती है। वह उक्त ग्राहक को किस मूल्य पर वस्तु बेचता है?

- Ans
- 1. ₹3,250
 - 2. ₹3,050
 - 3. ₹3,200
 - 4. ₹3,150

Question ID : 65497815356
Chosen Option : 4

Q.11 5 वर्ष पहले, दो व्यक्तियों की औसत आयु 7.5 वर्ष थी। 5 वर्ष बाद उनकी औसत आयु ज्ञात करें।

- Ans
- 1. 18.5 वर्ष
 - 2. 17 वर्ष
 - 3. 18 वर्ष
 - 4. 17.5 वर्ष

Question ID : 65497815354
Chosen Option : 4

Q.12 28 वस्तुओं का विक्रय मूल्य, 18 वस्तुओं के क्रय मूल्य के बराबर है। लाभ या हानि प्रतिशत ज्ञात करें।

- Ans
- 1. लाभ $32\frac{5}{7}\%$
 - 2. हानि $32\frac{5}{7}\%$
 - 3. हानि $35\frac{5}{7}\%$
 - 4. लाभ $35\frac{5}{7}\%$

Question ID : 65497815358
Chosen Option : 3

Q.13 कोई रेलगाड़ी 90 km/h की चाल से किसी निश्चित दूरी को 1 घंटे 12 मिनट में तय करती है। यदि चाल में 40% की वृद्धि हो जाती है, तो यह रेलगाड़ी दूरी के $\frac{7}{9}$ भाग को कितने समय में तय करेगी?

- Ans
- 1. 4 घंटा
 - 2. 5 घंटा
 - 3. 2 घंटा
 - 4. 3 घंटा

Question ID : 65497815353
Chosen Option : 3

Q.14 कोई व्यक्ति, बिंदु A से बिंदु B तक 6 km/h की चाल से जाता है और बिंदु B से बिंदु A तक 10 km/h की चाल से वापस आता है। व्यक्ति द्वारा A से B और वापस B से A तक जाने में लगने वाले समय का अनुपात ज्ञात करें।

- Ans
- 1. 4 : 3
 - 2. 5 : 3
 - 3. 5 : 2
 - 4. 5 : 4

Question ID : 65497815352
Chosen Option : 2

Q.15 किसी लंबवृत्तीय शंकु की आधार त्रिज्या और तिर्यक ऊंचाई का योगफल 49 cm है। यदि कुल पृष्ठीय क्षेत्रफल 1848 cm^2 है, तो इसकी ऊंचाई ज्ञात करें।

(मान लें $\pi = \frac{22}{7}$)

- Ans
- 1. 30 cm
 - 2. 35 cm
 - 3. 32 cm
 - 4. 36 cm

Question ID : 65497815368
Chosen Option : 2

Q.16 70 आंकड़ों का माध्य 32 था। बाद में, यह ज्ञात हुआ कि गलती से दो आंकड़ों को 46 और 81 के बजाय 64 और 28 पढ़ा गया था। सही माध्य ज्ञात करें।

- Ans
- 1. 33
 - 2. 31
 - 3. 32.5
 - 4. 34

Question ID : 65497815365
Chosen Option : 3

Q.17 ब्याज वार्षिक रूप में संयोजित होने पर, $7\frac{1}{2}\%$ वार्षिक चक्रवृद्धि ब्याज की दर पर, ₹9,600 की राशि कितने समय में ₹11,094 हो जाएगी?

- Ans
- 1. $2\frac{1}{2}$ वर्ष
 - 2. 2 वर्ष
 - 3. $1\frac{1}{2}$ वर्ष
 - 4. 3 वर्ष

Question ID : 65497815363
Chosen Option : 2

Q.18 माना दो धनात्मक संख्याएँ x और y इस प्रकार हैं कि $x > y$ है। x के 50% और y के 30% का औसत 34.5 है। यदि x और y के बीच अंतर 10 है, तो x और y का औसत ज्ञात करें।

- Ans
- 1. 64
 - 2. 80
 - 3. 85
 - 4. 75

Question ID : 65497815355
Chosen Option : 3

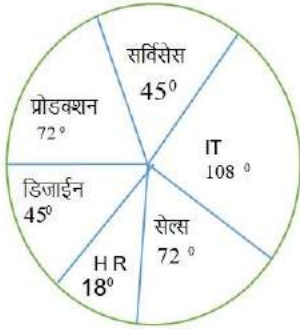
Q.19 किसी विद्यालय में लड़कों और लड़कियों की संख्याओं का अनुपात 5 : 7 है। विद्यालय में छात्रों की कुल संख्या कितनी हो सकती है?

- Ans
- 1. 1441
 - 2. 1440
 - 3. 1502
 - 4. 1442

Question ID : 65497815360
Chosen Option : 2

Q.20 निम्न पाई चार्ट और तालिका का अध्ययन करें और नीचे दिए गए प्रश्न का उत्तर दें।

किसी कंपनी के विभिन्न क्षेत्रों में कार्यरत लोगों की संख्या
कार्यरत लोगों की कुल संख्या = 2800



कंपनी के विभिन्न क्षेत्रों में कार्यरत महिलाओं का प्रतिशत:

क्षेत्र	प्रतिशत
IT	45%
सेल्स	40%
HR	75%
डिजाईन	60%
प्रोडक्शन	20%
सर्विसेस	25%

HR के क्षेत्र में कार्यरत महिलाओं की संख्या, एक साथ सभी क्षेत्रों में कार्यरत लोगों की कुल संख्या के कितने प्रतिशत है?

- Ans
- 1. 3.75%
 - 2. 3.25%
 - 3. 4%
 - 4. 3.5%

Question ID : 65497815373
Chosen Option : 1

Q.21 5 पुरुष और 6 महिलाएं, 6 दिन में ₹10,500 कमा सकती हैं। 8 पुरुष और 12 महिलाएं 8 दिन में ₹24,800 कमा सकते हैं। 7 पुरुष और 10 महिलाएं कितने दिन में ₹26,500 कमाएंगे?

- Ans**
1. 14
2. 15
3. 12
4. 10

Question ID : 65497815351
Chosen Option : 4

Q.22 A और B किसी कार्य को क्रमशः 21 दिन और 14 दिन में कर सकते हैं। वे एक साथ कार्य शुरू करते हैं, लेकिन 5 दिन बाद, किसी कारण से B कार्य छोड़ देता है और A शेष कार्य पूरा करता है। संपूर्ण कार्य कितने दिन में पूरा होगा?

- Ans**
1. $12\frac{1}{2}$ दिन
2. $10\frac{1}{2}$ दिन
3. $13\frac{1}{2}$ दिन
4. 13 दिन

Question ID : 65497815350
Chosen Option : 3

Q.23 जब किसी भिन्न के अंश में 25% की वृद्धि होती है और हर में $31\frac{1}{4}\%$ की वृद्धि होती है, तो भिन्न $\frac{5}{14}$ हो जाती है। मूल भिन्न ज्ञात करें।

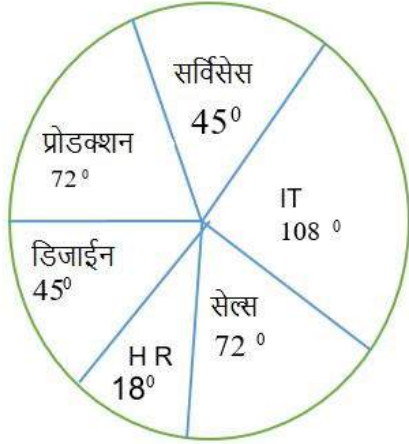
- Ans**
1. $\frac{3}{11}$
2. $\frac{3}{8}$
3. $\frac{5}{8}$
4. $\frac{7}{8}$

Question ID : 65497815357
Chosen Option : 2

Q.24 निम्न पाई चार्ट और तालिका का अध्ययन करें और नीचे दिए गए प्रश्न का उत्तर दें।

किसी कंपनी के विभिन्न क्षेत्रों में कार्यरत लोगों की संख्या

कार्यरत लोगों की कुल संख्या = 2800



कंपनी के विभिन्न क्षेत्रों में कार्यरत महिलाओं का प्रतिशत:

क्षेत्र	प्रतिशत
IT	45%
सेल्स	40%
HR	75%
डिजाईन	60%
प्रोडक्शन	20%
सर्विसेस	25%

सेल्स और IT क्षेत्र में कार्यरत पुरुषों की कुल संख्या ज्ञात करें।

- Ans
- 1. 788
 - 2. 698
 - 3. 789
 - 4. 798

Question ID : 65497815374

Chosen Option : 4

Q.25 मां और उसके बेटे की वर्तमान आयु का अनुपात 6 : 1 है। जब बेटे की आयु, उसकी मां की वर्तमान आयु के बराबर होगी, तो उसके पिता की आयु और उसकी मां की आयु का अनुपात 13 : 11 होगा। जब बेटे की आयु, उसके पिता की वर्तमान आयु के बराबर होगी, तो पिता और बेटे की आयु का योगफल 115 वर्ष होगा। पिता की वर्तमान आयु ज्ञात करें।

- Ans
- 1. 40 वर्ष
 - 2. 45 वर्ष
 - 3. 42 वर्ष
 - 4. 44 वर्ष

Question ID : 65497815362

Chosen Option : 2

Section : General Awareness

Q.1 जटिल खाद्य पदार्थ _____ की सहायता से सरल खाद्य पदार्थों में विघटित हो जाते हैं।

- Ans
- 1. जीवाणु
 - 2. कवक
 - 3. एन्जाइम्स
 - 4. हॉर्मोन्स

Question ID : 65497817815
Chosen Option : 1

Q.2 पुर्तगाली खोजकर्ता वास्को डी गामा ने वर्ष 1498 में _____ में पदार्पण किया।

- Ans
- 1. नागरकोइल
 - 2. कालीकट
 - 3. कलंगुट
 - 4. तूतीकोरिन

Question ID : 65497817823
Chosen Option : 2

Q.3 फवाद मिर्जा का संबंध किस खेल से है?

- Ans
- 1. रग्बी
 - 2. घुड़सवारी
 - 3. तैराकी
 - 4. जूडो

Question ID : 65497817802
Chosen Option : 2

Q.4 2020 के बजट के 'एस्पिरेशनल इंडिया' शीर्षक के अंतर्गत निम्नलिखित में से क्या शामिल है?

- Ans
- 1. बुनियादी सुविधा
 - 2. नई अर्थव्यवस्था
 - 3. संस्कृति और पर्यटन
 - 4. शिक्षा और कौशल

Question ID : 65497818211
Chosen Option : 2

Q.5 17वीं लोकसभा में महिला सांसदों की कुल संख्या कितनी है?

- Ans
- 1. 78
 - 2. 64
 - 3. 81
 - 4. 56

Question ID : 65497817812
Chosen Option : 1

Q.6 कीटों में साँस के आने-जाने के लिए श्वास नली का तंत्र क्या है?

- Ans
- 1. वायु-मार्ग
 - 2. गलफड़े
 - 3. श्वासनली
 - 4. डायफ्राम

Question ID : 65497817816
Chosen Option : 2

Q.7 भारत के संविधान का कौन सा अनुच्छेद राष्ट्रपति द्वारा क्षमा आदि प्रदान किए जाने और कुछ मामलों में सजा को निलंबित, माफ या कम किए जाने की शक्ति को परिभाषित करता है?

- Ans
- 1. अनुच्छेद 63
 - 2. अनुच्छेद 55
 - 3. अनुच्छेद 81
 - 4. अनुच्छेद 72

Question ID : 65497817810
Chosen Option : 4

Q.8 'रिखमपाड़ा' _____ का पारंपरिक नृत्य है।

- Ans
- 1. उत्तर प्रदेश
 - 2. अरुणाचल प्रदेश
 - 3. हिमाचल प्रदेश
 - 4. मध्य प्रदेश

Question ID : 65497817800
Chosen Option : 2

Q.9 वायुमंडल की किस परत में उल्कापिंडों के जलने की घटनाएँ हो सकती हैं?

- Ans
- 1. समतापमंडल
 - 2. तापमंडल
 - 3. मध्यमंडल
 - 4. बहिर्मंडल

Question ID : 65497817820
Chosen Option : 1

Q.10 किस भारतीय शहर में नीलाचल हिल्स हैं?

- Ans
- 1. गुवाहाटी
 - 2. गंगटोक
 - 3. बरेली
 - 4. इंदौर

Question ID : 65497817819
Chosen Option : 1

Q.11 पहाड़ी राज्यों में प्रधानमंत्री आवास योजना-ग्रामीण के तहत प्रदान की जाने वाली एकल सहायता राशि कितनी होती है?

- Ans
- 1. ₹1.50 लाख
 - 2. ₹1.30 लाख
 - 3. ₹1.15 लाख
 - 4. ₹1.25 लाख

Question ID : 65497815990
Chosen Option : 1

Q.12 कौन सी नदी जोग जलप्रपात सृजित करती है, जिसे गरसोप्पा जलप्रपात भी कहा जाता है?

- Ans
- 1. शिमशा नदी
 - 2. काबिनी नदी
 - 3. काली नदी
 - 4. शरावती नदी

Question ID : 65497817818
Chosen Option : 4

Q.13 स्वपोषी जीवों की ऊर्जा और कार्बन आवश्यकताओं को _____ द्वारा पूरा किया जाता है।

- Ans
- 1. अपघटन
 - 2. प्राम्ज्ञान
 - 3. प्रकाश संश्लेषण
 - 4. ग्लाइकोलिसिस

Question ID : 65497817817
Chosen Option : 3

Q.14 _____ में लिंगुअल लाइपेज़ नामक एक एंजाइम होता है, जो वसा को विघटित करता है।

- Ans
- 1. छोटी आँत
 - 2. बड़ी आँत
 - 3. अमाशय
 - 4. लार

Question ID : 65497817813
Chosen Option : 4

Q.15 निम्नलिखित में से किस मंत्रालय को भारत के केंद्रीय बजट 2020 में सबसे अधिक बजटीय आवंटन मिला?

- Ans
- 1. रक्षा
 - 2. महिला एवं बाल विकास मंत्रालय
 - 3. शिक्षा
 - 4. सूक्ष्म, लघु एवं मध्यम उद्यम

Question ID : 65497817809
Chosen Option : 4

Q.16 पश्मीना शॉल नामक महीन शॉल किन बकरियों के अधोलोम से बना जाता है?

- Ans
- 1. अल्पाइन बकरी
 - 2. कश्मीरी बकरी
 - 3. बोअर बकरी
 - 4. जमनापरी बकरी

Question ID : 65497817814
Chosen Option : 2

Q.17 चक्रधर समारोह का आयोजन उस्ताद अलाउद्दीन खान संगीत अकादमी और चक्रधर ललित कला केंद्र द्वारा महाराजा चक्रधर सिंह की गौरवशाली स्मृति के उपलक्ष्य में किया जाता है, जिन्होंने संगीत में _____ घराने की स्थापना की थी।

- Ans
- 1. लखनऊ
 - 2. ग्वालियर
 - 3. रायगढ़
 - 4. इलाहाबाद

Question ID : 65497817806
Chosen Option : 2

Q.18 'हवाई आई एम ऐन अथीस्ट (Why I am an Atheist)' शीर्षक पुस्तक के लेखक कौन हैं?

- Ans
- 1. राजा राममोहन राय
 - 2. बी.आर. अंबेडकर
 - 3. भगत सिंह
 - 4. ज्योतिबा फुले

Question ID : 65497817805
Chosen Option : 3

Q.19 1818 में होल्कर राजवंश ने _____ के साथ मंदसौर की संधि पर हस्ताक्षर किए।

- Ans
- 1. फ्रेंच
 - 2. डैनिश
 - 3. ब्रिटिश
 - 4. डच

Question ID : 65497817821
Chosen Option : 3

Q.20 'कामसले' _____ राज्य का एक पारंपरिक लोक नृत्य रूप है।

- Ans
- 1. कर्नाटक
 - 2. गोवा
 - 3. असम
 - 4. गुजरात

Question ID : 65497817799
Chosen Option : 3

Q.21 निम्नलिखित में से किस भारतीय निशानेबाज ने 2018 आइएसएसएफ (ISSF) जूनियर विश्व कप में 10 मीटर एयर राइफल श्रेणी में स्वर्ण पदक जीता?

- Ans 1. इलावेनिल वलारिवन
 2. राही सरनोबत
 3. अनीसा सेयद
 4. अपराजिता सिंह

Question ID : 65497817803
Chosen Option : 2

Q.22 भावार्थ दीपिका और अमृतानुभव _____ के लोगों की पवित्र पुस्तकें हैं।

- Ans 1. गुजरात
 2. हरियाणा
 3. महाराष्ट्र
 4. राजस्थान

Question ID : 65497817804
Chosen Option : 4

Q.23 1987 में, चौधरी देवी लाल ने _____ आंदोलन का नेतृत्व किया था।

- Ans 1. महा युद्ध
 2. न्याय युद्ध
 3. संघर्ष युद्ध
 4. ईसाफ युद्ध

Question ID : 65497817811
Chosen Option : 3

Q.24 निम्नलिखित में से कौन सी केरल राज्य की एक पारंपरिक आनुष्ठानिक लोक कला है?

- Ans 1. मंजरी
 2. पिथोरा
 3. मार्गोमकली
 4. फड़

Question ID : 65497817801
Chosen Option : 3

Q.25 निम्नलिखित में से किसने 'सर्वेन्ट्स ऑफ इंडिया सोसायटी' की स्थापना की?

- Ans 1. रमाबाई रानाडे
 2. गोपाल कृष्ण गोखले
 3. गोपीनाथ बारदोलोई
 4. सरोजिनी नायडू

Question ID : 65497817822
Chosen Option : 2

Multi Tasking Non Technical Staff Examination 2020

Participant ID	www.HaryanaJobs.in
Participant Name	www.HaryanaJobs.in
Test Center Name	Arya Institute of Engineering and Technology
Test Date	27/10/2021
Test Time :	9:00 AM - 10:30 AM
Subject	MTS Non Technical 2020

Section : **General English**

Q.1 Select the most appropriate one-word substitution for the given group of words.

The study of the origin and meanings of words

- Ans
- 1. Entomology
 - 2. Embryology
 - 3. Epistemology
 - 4. Etymology

Question ID : **65497814916**
Chosen Option : 1

Q.2 Select the most appropriate option to fill in the blank.

If you damage the property of others you are under a legal _____ to pay for the repairs.

- Ans
- 1. acknowledgement
 - 2. appreciation
 - 3. requirement
 - 4. obligation

Question ID : **65497814920**
Chosen Option : 4

Q.3 Identify the segment in the sentence which contains a grammatical error.

As soon the ceremony was over, the champions would walk in a majestic procession.

- Ans
- 1. the champions
 - 2. As soon the ceremony was over
 - 3. in a majestic procession
 - 4. would walk

Question ID : **65497814897**
Chosen Option : 2

Q.4 Select the most appropriate meaning of the given idiom.

To take for granted

- Ans 1. To accept a sponsorship without much fuss
 2. To accept without question or objection
 3. To apply for a loan with low rates of interest
 4. To get a scholarship and assignment easily

Question ID : **65497814913**
 Chosen Option : 1

Q.5 Select the most appropriate meaning of the given idiom.

Make no bones about something

- Ans 1. Take care of one's health
 2. Be fussy about bones in one's soup
 3. Insist on buying only boneless mutton
 4. Be frank and open about something

Question ID : **65497814914**
 Chosen Option : 4

Q.6 Select the most appropriate option to substitute the underlined segment in the given sentence. If there is no need to substitute it, select 'No substitution required'.

While driving down, Girish having to apply for official permission to cross the two states.

- Ans 1. had applying
 2. No substitution required
 3. had to apply
 4. have to apply

Question ID : **65497814906**
 Chosen Option : 4

Q.7 Select the most appropriate option to substitute the underlined segment in the given sentence. If there is no need to substitute it, select 'No substitution required'.

The Principal is going to meeting the senior classes tomorrow.

- Ans 1. going to have met
 2. No substitution required
 3. gone to meet
 4. going to meet

Question ID : **65497816725**
 Chosen Option : 2

Q.8 Select the most appropriate ANTONYM of the given word.

HOPE

- Ans 1. promise
 2. despair
 3. faith
 4. trust

Question ID : 65497814910
Chosen Option : 2

Q.9 Select the most appropriate synonym of the given word.

OMINOUS

- Ans 1. threatening
 2. capable
 3. promising
 4. favourable

Question ID : 65497814912
Chosen Option : 1

Q.10 Select the most appropriate ANTONYM of the given word.

BARREN

- Ans 1. clear
 2. fertile
 3. vacant
 4. empty

Question ID : 65497814909
Chosen Option : 2

Q.11 Select the most appropriate option to substitute the underlined segment in the given sentence. If there is no need to substitute it, select 'No substitution required'.

Mani will carry the bundle of clothes in a bucket to dry them out in the sun every day.

- Ans 1. No substitution required
 2. carry
 3. have carried
 4. carries

Question ID : 65497814504
Chosen Option : 4

www.HaryanaJobs.in

Q.12 Identify the segment in the sentence which contains a grammatical error.

Asking for and giving informations is an important feature of conversations.

- Ans
- 1. feature of conversations
 - 2. is an important
 - 3. Asking for and
 - 4. giving informations

Question ID : 65497814896
Chosen Option : 4

Q.13 Select the INCORRECTLY spelt word.

- Ans
- 1. objective
 - 2. opportunity
 - 3. contextual
 - 4. explanation

Question ID : 65497814918
Chosen Option : --

Q.14 Select the most appropriate option to fill in the blank.

I completed my learner's driving test last week. When am I going to get my _____ license?

- Ans
- 1. permanent
 - 2. constant
 - 3. lasting
 - 4. final

Question ID : 65497814919
Chosen Option : 4

Q.15 Select the most appropriate synonym of the given word.

LOYALTY

- Ans
- 1. faithfulness
 - 2. hatred
 - 3. pleasure
 - 4. dislike

Question ID : 65497814911
Chosen Option : 1

Q.16 Select the INCORRECTLY spelt word.

- Ans
- 1. talevision
 - 2. machine
 - 3. vacuum-cleaner
 - 4. refrigerator

Question ID : 65497814917
Chosen Option : 1

Q.17 Select the most appropriate option to fill in the blank.

The human brain regulates and coordinates all the voluntary and involuntary moves _____ we make.

- Ans 1. which
 2. whichever
 3. what
 4. whatever

Question ID : 65497814899
Chosen Option : 4

Q.18 Select the most appropriate one-word substitution for the given group of words.

A person who lives a solitary life and tends to avoid other people

- Ans 1. Vagabond
 2. Guru
 3. Recluse
 4. Saint

Question ID : 65497814915
Chosen Option : 3

Q.19 Select the most appropriate option to fill in the blank.

After a long and tiring day, Lata said she was completely _____.

- Ans 1. exhausted
 2. exhausting
 3. exhausts
 4. exhaust

Question ID : 65497814898
Chosen Option : 1

Q.20 Identify the segment in the sentence which contains a grammatical error.

By the way, will you taught me how to speak in English?

- Ans 1. will you taught me
 2. how to speak
 3. By the way
 4. in English

Question ID : 65497814895
Chosen Option : 1

Comprehension:

In the following passage some words have been deleted. Fill in the blanks with the help of the alternatives given. Select the most appropriate option for each blank.

The radio was already on. The radio comes (1)_____ automatically at 7 o'clock to wake me (2)_____. I looked at the clock. (3)_____ was already ten past seven. I had to get up quickly. I went into the shower, and I could (4)_____ the news on the radio. I couldn't hear it very well, but there was a story on the news about an elephant that had (5)_____ from a local circus.

SubQuestion No : 21

Q.21 Select the most appropriate option to fill in blank no. 1.

- Ans 1. in
 2. off
 3. of
 4. on

Question ID : 65497814901

Chosen Option : 2

Comprehension:

In the following passage some words have been deleted. Fill in the blanks with the help of the alternatives given. Select the most appropriate option for each blank.

The radio was already on. The radio comes (1)_____ automatically at 7 o'clock to wake me (2)_____. I looked at the clock. (3)_____ was already ten past seven. I had to get up quickly. I went into the shower, and I could (4)_____ the news on the radio. I couldn't hear it very well, but there was a story on the news about an elephant that had (5)_____ from a local circus.

SubQuestion No : 22

Q.22 Select the most appropriate option to fill in blank no. 2.

- Ans 1. up
 2. at
 3. out
 4. over

Question ID : 65497814902

Chosen Option : 1

Comprehension:

In the following passage some words have been deleted. Fill in the blanks with the help of the alternatives given. Select the most appropriate option for each blank.

The radio was already on. The radio comes (1)_____ automatically at 7 o'clock to wake me (2)_____. I looked at the clock. (3)_____ was already ten past seven. I had to get up quickly. I went into the shower, and I could (4)_____ the news on the radio. I couldn't hear it very well, but there was a story on the news about an elephant that had (5)_____ from a local circus.

SubQuestion No : 23

Q.23 Select the most appropriate option to fill in blank no. 3.

- Ans 1. It
 2. That
 3. Which
 4. What

Question ID : 65497814903

Chosen Option : 2

Comprehension:

In the following passage some words have been deleted. Fill in the blanks with the help of the alternatives given. Select the most appropriate option for each blank.

The radio was already on. The radio comes (1)_____ automatically at 7 o'clock to wake me (2)_____. I looked at the clock. (3)_____ was already ten past seven. I had to get up quickly. I went into the shower, and I could (4)_____ the news on the radio. I couldn't hear it very well, but there was a story on the news about an elephant that had (5)_____ from a local circus.

SubQuestion No : 24

Q.24 Select the most appropriate option to fill in blank no. 4.

- Ans 1. listened
 2. heard
 3. hear
 4. listen

Question ID : 65497814904

Chosen Option : 3

Comprehension:

In the following passage some words have been deleted. Fill in the blanks with the help of the alternatives given. Select the most appropriate option for each blank.

The radio was already on. The radio comes (1)_____ automatically at 7 o'clock to wake me (2)_____. I looked at the clock. (3)_____ was already ten past seven. I had to get up quickly. I went into the shower, and I could (4)_____ the news on the radio. I couldn't hear it very well, but there was a story on the news about an elephant that had (5)_____ from a local circus.

SubQuestion No : 25

Q.25 Select the most appropriate option to fill in blank no. 5.

- Ans 1. escaped
 2. absconded
 3. released
 4. captured

Question ID : 65497814905

Chosen Option : 2

Section : General Intelligence and Reasoning

Q.1 उस विकल्प का चयन कीजिए जिसका तीसरी संख्या से वही संबंध है, जो दूसरी संख्या का पहली संख्या से है।

4 : 80 :: 6 : ?

- Ans 1. 252
 2. 296
 3. 229
 4. 151

Question ID : 65497815428

Chosen Option : 1

Q.2 उस विकल्प का चयन कीजिए जिसका तीसरे शब्द से वही संबंध है, जो दूसरे शब्द का पहले शब्द से है।

नाइट-वॉचमैन : क्रिकेट :: ड्यूस : ?

- Ans
- 1. कुश्ती
 - 2. कबड्डी
 - 3. टेनिस
 - 4. स्केटिंग

Question ID : 65497815437

Chosen Option : 2

Q.3 यदि $N > G > E$ और $F = E > Q = R$ है, तो इनमें से कौन सा विकल्प सही नहीं है?

- Ans
- 1. $G > Q$
 - 2. $N > E$
 - 3. $F > Q$
 - 4. $F < R$

Question ID : 65497815444

Chosen Option : 4

Q.4 एक निश्चित कूट भाषा में, यदि 'HEALTH' को '132961' और 'EARTH' को '32761' लिखा जाता है, तो उसी कूट भाषा में 'LATER' को क्या लिखा जाएगा?

- Ans
- 1. 52687
 - 2. 12636
 - 3. 92619
 - 4. 92637

Question ID : 65497815434

Chosen Option : 4

Q.5 यदि दर्पण को चित्रानुसार MN पर रखा जाए, तो दिए गए संयोजन का दर्पण में निर्मित सही प्रतिबिंब का चयन कीजिए।

6 5 2 1 g 9

M
|
N

- Ans
- 1.
 - 2.
 - 3.
 - 4.

Question ID : 65497815448

Chosen Option : 2

Q.6 अर्पण, लोहित, विनायक, कृपाल और अशरफ एक मूवी देख रहे हैं। सभी स्क्रीन की ओर मुंह करके एक पंक्ति में बैठे हैं। कृपाल, अशरफ के बाएं बगल में बैठा है। विनायक, अर्पण के बाएं बगल में बैठा है। लोहित, अर्पण के बाएं दूसरे स्थान पर बैठा है। कृपाल एक किनारे पर बैठा है। अशरफ के दाएं बगल में कौन बैठा है?

- Ans
- 1. कृपाल
 - 2. विनायक
 - 3. अर्पण
 - 4. लोहित

Question ID : 65497815442
Chosen Option : 4

Q.7 उस विकल्प का चयन कीजिए जो दी गई आकृति में इसके भाग के रूप में अंतर्निहित है (घुमाने की अनुमति नहीं है)।



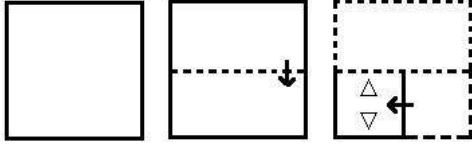
Ans

- 1.
- 2.
- 3.
- 4.

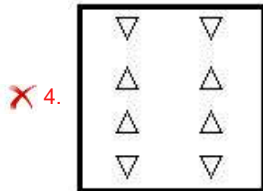
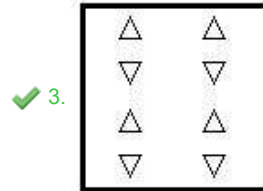
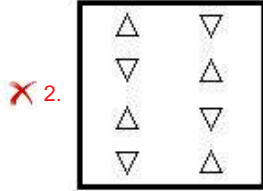
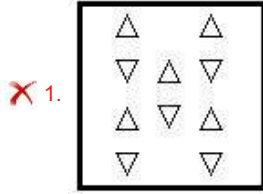
www.HaryanaJobs.in

Question ID : 65497815447
Chosen Option : 4

Q.8 एक कागज को निम्नानुसार मोड़ा और काटा गया है। इसे खोलने पर यह कैसा दिखेगा?



Ans



www.HaryanaJobs.in

Question ID : 65497815449
Chosen Option : 3

Q.9 निम्न श्रेणी में प्रश्नवाचक चिह्न (?) के स्थान पर कौन सी संख्या आएगी?

60, 120, 125, 250, 255, ?, 515

Ans ✓ 1. 510

✗ 2. 550

✗ 3. 310

✗ 4. 350

Question ID : 65497815431
Chosen Option : 1

Q.10 दिए गए पैटर्न का ध्यानपूर्वक अध्ययन कीजिए और उस संख्या का चयन कीजिए जो इसमें प्रश्नवाचक चिह्न (?) के स्थान पर आ सकती है।

8 14 224
11 15 330
9 12 ?

- Ans 1. 230
 2. 244
 3. 216
 4. 298

Question ID : 65497815429
Chosen Option : 3

Q.11 दो कथन और उसके बाद तीन निष्कर्ष I, II और III दिए गए हैं। यह मानते हुए कि कथन सत्य हैं, भले ही वे सामान्य रूप से ज्ञात तथ्यों से भिन्न प्रतीत होते हों, बताएं कि कौन से निष्कर्ष दिए गए कथनों का तार्किक रूप से अनुसरण करते हैं।

कथन:
कुछ क्रिकेटर, खिलाड़ी हैं।
कोई खिलाड़ी, संगीतकार नहीं है।

निष्कर्ष:
I. कोई क्रिकेटर, संगीतकार नहीं है।
II. कुछ खिलाड़ी, क्रिकेटर हैं।
III. कोई संगीतकार, खिलाड़ी नहीं है।

- Ans 1. केवल निष्कर्ष I और III अनुसरण करते हैं
 2. केवल निष्कर्ष I और II अनुसरण करते हैं
 3. सभी निष्कर्ष अनुसरण करते हैं
 4. केवल निष्कर्ष II और III अनुसरण करते हैं

Question ID : 65497815441
Chosen Option : 4

Q.12 दो कथन और उसके बाद दो निष्कर्ष I और II दिए गए हैं। यह मानते हुए कि कथन सत्य हैं, भले ही वे सामान्य रूप से ज्ञात तथ्यों से भिन्न प्रतीत होते हों, बताएं कि कौन सा/से निष्कर्ष दिए गए कथनों का तार्किक रूप से अनुसरण करता है/करते हैं?

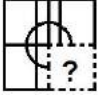
कथन:
सभी बिस्तर सोफा सेट हैं।
कुछ सोफा सेट गद्दे हैं।

निष्कर्ष:
I. कुछ सोफा सेट बिस्तर हैं।
II. कुछ गद्दे सोफा सेट हैं।

- Ans 1. केवल निष्कर्ष I अनुसरण करता है
 2. न तो निष्कर्ष I और न ही II अनुसरण करता है
 3. निष्कर्ष I और II दोनों अनुसरण करते हैं
 4. केवल निष्कर्ष II अनुसरण करता है

Question ID : 65497815440
Chosen Option : 3

Q.13 उस विकल्प आकृति का चयन कीजिए जो निम्नांकित आकृति श्रृंखला में प्रश्नवाचक चिह्न (?) के स्थान पर आएगी और पैटर्न को पूरा करेगी।



Ans

✗ 1.



✗ 2.



✓ 3.



✗ 4.



Question ID : 65497815446
Chosen Option : 3

Q.14 एक निश्चित कूट भाषा में, यदि 'TYPICAL' को '93' और 'FRAME' को '48' लिखा जाता है, तो उसी कूट भाषा में 'SENSOR' को क्या लिखा जाएगा?

Ans

✗ 1. 82

✗ 2. 72

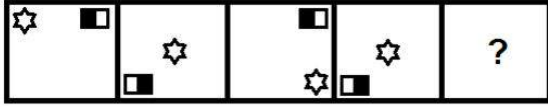
✗ 3. 90

✓ 4. 96

Question ID : 65497815435
Chosen Option : 4


www.HaryanaJobs.in

Q.15 उस आकृति का चयन कीजिए जो निम्नांकित आकृति श्रृंखला में प्रश्नवाचक चिह्न (?) के स्थान पर आएगी।




Ans


✗ 1.




✗ 2.



✗ 3.



✓ 4.



Question ID : 65497815445
Chosen Option : 4

Q.16 निम्न समीकरण को संतुलित करने के लिए किन दो संख्याओं को आपस में बदला जाना चाहिए?

$$39 \times 6 + 27 \div 3 - 52 = 123$$

Ans ✓ 1. 39 और 27

✗ 2. 39 और 52

✗ 3. 3 और 52

✗ 4. 3 और 6

Question ID : 65497815427
Chosen Option : 1

Q.17 उस विकल्प का चयन कीजिए जिसका तीसरे शब्द से वही संबंध है, जो दूसरे शब्द का पहले शब्द से है।

जीवविज्ञान : विज्ञान :: राजनीति विज्ञान : ?

Ans ✓ 1. सामाजिक विज्ञान

✗ 2. राजनीतिज्ञ

✗ 3. भाषा

✗ 4. भूविज्ञान

Question ID : 65497815438
Chosen Option : 2

Q.18 एक निश्चित कूट भाषा में, यदि 'VIEWER' को 'SFBTBO' लिखा जाता है, तो उसी कूट भाषा में 'CASTLE' को क्या लिखा जाएगा?

- Ans
- 1. ZUPQLB
 - 2. ZXRQID
 - 3. YXPSMB
 - 4. ZXPQIB

Question ID : 65497815432
Chosen Option : 4

Q.19 उस विकल्प का चयन कीजिए जिसका तीसरे अक्षर-समूह से वही संबंध है, जो दूसरे अक्षर-समूह का पहले अक्षर-समूह से है।

DEARTH : BFEIUS :: MOSQUE : ?

- Ans
- 1. TPQFVS
 - 2. TPNFVR
 - 3. TPOGVR
 - 4. TPNCWR

Question ID : 65497815436
Chosen Option : 2

Q.20 दिए गए विकल्पों में से गणितीय चिह्नों के उस संयोजन का चयन करें जिसे निम्न समीकरण में * के स्थान पर क्रमिक रूप से रखने पर समीकरण संतुलित हो जाएगा।

$19 * 24 * 8 * 4 * 6 * 40$

- Ans
- 1. $\times, \div, +, -, =$
 - 2. $-, +, \times, \div, =$
 - 3. $-, +, +, \times, =$
 - 4. $-, \div, \times, +, =$

Question ID : 65497815426
Chosen Option : 3

Q.21 निम्न श्रेणी में प्रश्नवाचक चिह्न (?) के स्थान पर कौन सी संख्या आएगी?

60, 80, 64, 70, 68, 60, ?, 50

- Ans
- 1. 72
 - 2. 70
 - 3. 52
 - 4. 44

Question ID : 65497815430
Chosen Option : 1

Q.22 एक निश्चित कूट भाषा में, यदि 'UNITY' को 'AOOUZ' और 'PROUD' को 'QSUAE' लिखा जाता है, तो उसी कूट भाषा में 'DOUBT' को क्या लिखा जाएगा?

- Ans
- 1. EUACU
 - 2. EUVCV
 - 3. FUVCU
 - 4. EPVCU

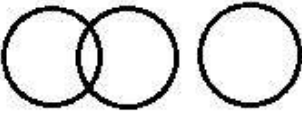
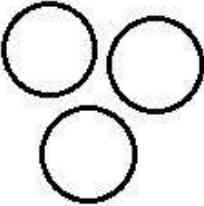
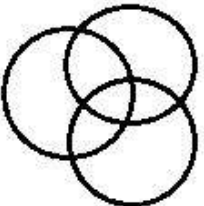
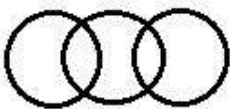
Question ID : 65497815433

Chosen Option : 1

Q.23 उस वेन आरेख का चयन कीजिए जो निम्नांकित वर्गों के मध्य संबंध का सर्वश्रेष्ठ निरूपण करता है।

ग्रामीण, लड़के, लड़कियां

Ans

- 1. 
- 2. 
- 3. 
- 4. 

Question ID : 65497815450

Chosen Option : 4

Q.24 सात लड़कियाँ P, Q, R, S, T, U और V एक गोल मेज के परितः मेज के केंद्र की ओर अभिमुख होकर बैठी हैं। Q, R के दाएं तीसरे स्थान पर बैठी है। V, P के दाएं तीसरे स्थान पर बैठी है। T, Q के दाएं बगल में बैठी है। S, R के बाएं बगल में बैठी है। R और P के बीच में U बैठी है। S और T के बीच में कौन है?

- Ans
- 1. Q
 - 2. V
 - 3. R
 - 4. P

Question ID : 65497815443

Chosen Option : 1

Q.25 उस विकल्प का चयन कीजिए जो अक्षर-समूह की निम्न श्रृंखला में प्रश्नवाचक चिह्न (?) के स्थान पर आएगा।

UNXQ, VOYR, XQAT, ATDW, ?

- Ans
- 1. DYHA
 - 2. EXHA
 - 3. EYHB
 - 4. EYGD

Question ID : 65497815439
Chosen Option : 2

Section : Numerical Aptitude

Q.1 यदि किसी आयत की लंबाई में 12% की वृद्धि और चौड़ाई में 10% की कमी होती है, तो मूल आयत और परिवर्तित आयत के क्षेत्रफलों का अनुपात ज्ञात करें।

- Ans
- 1. 25 : 26
 - 2. 125 : 126
 - 3. 126 : 125
 - 4. 1 : 2

Question ID : 65497817891
Chosen Option : 2

Q.2 $4\frac{1}{3} + \left[7\frac{2}{3} - \frac{4}{3} \left(\frac{25}{3} - \frac{1}{6} - \frac{2}{3} \right) \right]$ का मान ज्ञात कीजिए।

- Ans
- 1. 10
 - 2. 2
 - 3. 5
 - 4. 8

Question ID : 65497816077
Chosen Option : 2

Q.3 कनिका, 5% वार्षिक चक्रवृद्धि ब्याज की दर पर 2 वर्ष के लिए ₹10,000 का ऋण लेती है, ब्याज की गणना वार्षिक आधार पर की जाती है। यदि उसने साधारण ब्याज पर ऋण लिया होता, तो वह कितनी धनराशि बचाती?

- Ans
- 1. ₹25
 - 2. ₹1,000
 - 3. ₹1,025
 - 4. ₹400

Question ID : 65497817888
Chosen Option : 1

Q.4 कोई दुकानदार, ₹500, ₹350 और ₹200 प्रति पीस की दर से क्रमशः जीन्स, शर्ट और टी-शर्ट के लिए सप्लाई ऑर्डर (supply order) देता है। वह ₹46,800 में प्रत्येक प्रकार की वस्तु 1 : 2 : 3 के अनुपात में खरीदता है। उसने कितनी टी-शर्ट का ऑर्डर दिया था?

- Ans
- 1. 78
 - 2. 104
 - 3. 52
 - 4. 26

Question ID : 65497817885
Chosen Option : 1

Q.5 5 के प्रथम 10 गुणजों (multiples) का औसत ज्ञात करें।

- Ans
- 1. 40
 - 2. 27.5
 - 3. 30
 - 4. 32.5

Question ID : 65497817879
Chosen Option : 2

Q.6 दो उम्मीदवारों के बीच किसी चुनाव में 16% मतदाता अपना वोट नहीं डालते हैं। कुल मतदान के 10% वोट अवैध थे। सफल उम्मीदवार को 60% वैध वोट मिलते हैं और वह 567 वोट के अंतर से जीतता है। मतदाता सूची में नामांकित मतदाताओं की संख्या ज्ञात करें।

- Ans
- 1. 3570
 - 2. 3750
 - 3. 2500
 - 4. 3000

Question ID : 65497817882
Chosen Option : 2

Q.7 6 पुरुष और 8 महिलाएं और इसी प्रकार 3 पुरुष और 13 महिलाएं किसी कार्य को 10 दिन में समाप्त कर सकती हैं। यदि महिलाएं अकेले कार्य करती हैं, तो 6 महिलाएं उसी कार्य को कितने दिन में पूरा करेंगी?

- Ans
- 1. 35
 - 2. 32
 - 3. 30
 - 4. 25

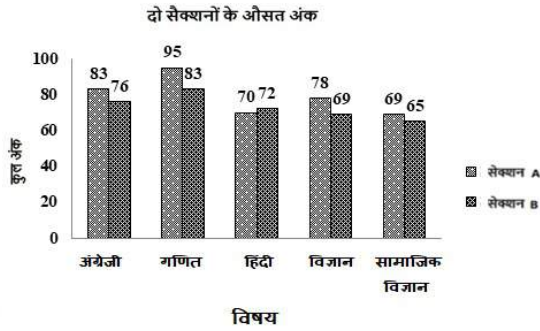
Question ID : 65497817876
Chosen Option : 3

Q.8 कोई दुकानदार, अंकित मूल्य पर 25% छूट के साथ कितना खरीदता है। बिक्री पर 20% लाभ प्राप्त करने के लिए, उसे कितने प्रतिशत की छूट देनी चाहिए?

- Ans
- ✓ 1. 10%
 - ✗ 2. 25%
 - ✗ 3. 30%
 - ✗ 4. 20%

Question ID : 65497817881
Chosen Option : 1

Q.9 दिए गए बार ग्राफ में, किसी विद्यालय के कक्षा XI के सेक्शन A और सेक्शन B के छात्रों द्वारा प्राप्त औसत अंक प्रदर्शित किए गए हैं। ग्राफ का अध्ययन करें और नीचे दिए गए प्रश्न का उत्तर दें।



सेक्शन A के छात्रों के, कितने विषय में बेहतर परिणाम हैं?

- Ans
- ✓ 1. 4
 - ✗ 2. 1
 - ✗ 3. 2
 - ✗ 4. 5

Question ID : 65497817897
Chosen Option : 1

Q.10 दो संख्याओं का ल.स.प. (LCM) 90 है, जबकि उनका म.स.प. (HCF) 6 है। यदि एक संख्या, दूसरी संख्या से 12 अधिक है, तो बड़ी संख्या ज्ञात करें।

- Ans
- ✓ 1. 30
 - ✗ 2. 51
 - ✗ 3. 12
 - ✗ 4. 45

Question ID : 65497817894
Chosen Option : 1

Q.11 बाबूलाल, किसी पार्क के बाहर जूस की दुकान चलाता है और सुबह में गिलोय का जूस (गिलोय + पानी) बेचता है। शुरू में उसके पास 19 लीटर जूस था, जिसमें गिलोय और पानी का अनुपात 2 : 9 था। वह $2\frac{1}{2}$ लीटर जूस बेचता है। बाद में, इसे पतला करने के लिए, वह कुछ मात्रा में पानी मिलाता है और गिलोय और पानी का अनुपात 1 : 5 हो जाता है। कितना पानी मिलाया गया था?

- Ans
- 1. 1 लीटर
 - 2. 2 लीटर
 - 3. $1\frac{1}{2}$ लीटर
 - 4. $\frac{1}{2}$ लीटर

Question ID : 65497817887
Chosen Option : 3

Q.12 यदि कोई कार किसी निश्चित दूरी को 1 घंटा 24 मिनट में तय करती है, दूरी का दो-तिहाई भाग 52 km/h की चाल से और शेष दूरी 65 km/h की चाल से तय करती है, तो कुल दूरी ज्ञात करें।

- Ans
- 1. 163.8 km
 - 2. 78 km
 - 3. 46.8 km
 - 4. 75.8 km

Question ID : 65497817878
Chosen Option : 2

Q.13 किसी वृत्ताकार पार्क की विज्या 23 m है। इसके भीतर चारों तरफ 4 m चौड़ा मार्ग है। ₹500/m² की दर से मार्ग पर ईंटें बिछाने की लागत ज्ञात करें। ($\pi = \frac{22}{7}$ लें)

- Ans
- 1. ₹2,10,000
 - 2. ₹2,64,000
 - 3. ₹2,40,000
 - 4. ₹2,60,000

Question ID : 65497817892
Chosen Option : --

Q.14 कोई दुकानदार, चावल की दो किस्मों को 1 : 5 के अनुपात में मिश्रित करता है। चावल के पहली किस्म की कीमत ₹65 प्रति kg है और दूसरी किस्म की कीमत ₹95 प्रति kg है। वह मिश्रित चावल को ₹99 प्रति kg की दर से बेचता है। उसका लाभ प्रतिशत ज्ञात करें।

- Ans
- 1. 10%
 - 2. 4%
 - 3. 19%
 - 4. $25\frac{1}{3}$ %

Question ID : 65497817884
Chosen Option : 1

Q.15 $1 \div \frac{3}{7}$ of $(6 + 8 \times 3 - 2) + \left[\frac{1}{5} \div \frac{7}{25} - \left(\frac{3}{7} + \frac{8}{14} \right) \right]$ का सरलीकृत मान ज्ञात करें।
 $18 \div 10 - 4 + 32 \div (4 + 10 \div 2 - 1)$

- Ans
1. $\frac{5}{42}$
2. $-\frac{5}{294}$
3. $-\frac{5}{42}$
4. $\frac{5}{294}$

Question ID : 65497818199
Chosen Option : 2

Q.16 700 m लंबी रेलगाड़ी, 60 km/h की चाल से चलती है। यदि यह रेलगाड़ी किसी पुल को 72 सेकंड में पार करती है, तो पुल की लंबाई ज्ञात करें।

- Ans
1. 600 m
2. 1200 m
3. 500 m
4. 1700 m

Question ID : 65497817877
Chosen Option : 3

Q.17 यदि निम्न आंकड़ों की माध्यिका 11 है, तो k का मान ज्ञात करें।
3, 21, 10, 7, 6, 9, (k+6), 15, 20, 16

- Ans
1. 4
2. 7
3. 5
4. 6

Question ID : 65497817890
Chosen Option : 4

Q.18 कोई दुकानदार, ₹42,000 में कंप्यूटर और ₹3,000 में प्रिंटर खरीदता है। यदि वह दोनों वस्तुओं को एक साथ ₹51,750 में बेचता है, तो उसका लाभ प्रतिशत ज्ञात करें।

- Ans
- ✓ 1. 15%
 - ✗ 2. $17\frac{2}{9}\%$
 - ✗ 3. $23\frac{3}{14}\%$
 - ✗ 4. $16\frac{1}{14}\%$

Question ID : 65497817883
Chosen Option : 1

Q.19 अखिल और सुनीता की औसत आयु 51 वर्ष है, सुनीता और वीना की औसत आयु 31 वर्ष है और वीना और अखिल की औसत आयु 33 वर्ष है। वीना की आयु ज्ञात करें।

- Ans
- ✗ 1. 49 वर्ष
 - ✗ 2. 53 वर्ष
 - ✓ 3. 13 वर्ष
 - ✗ 4. 17 वर्ष

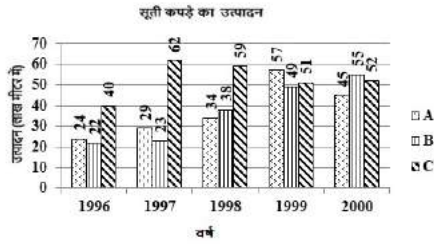
Question ID : 65497817880
Chosen Option : 3

Q.20 सुमित, 2 वर्ष के लिए दो बैंकों में से प्रत्येक में ₹50,000 का निवेश करता है। पहला बैंक 11% की वार्षिक दर पर साधारण ब्याज देता है, जबकि दूसरा बैंक 10% की वार्षिक दर पर चक्रवृद्धि ब्याज देता है। 2 वर्ष में, वह दोनों बैंकों से कितना ब्याज अर्जित करता है?

- Ans
- ✓ 1. ₹21,500
 - ✗ 2. ₹10,000
 - ✗ 3. ₹10,500
 - ✗ 4. ₹21,000

Question ID : 65497817889
Chosen Option : 1

Q.21 दिया गया ग्राफ वर्ष 1996 - 2000 के दौरान A, B और C तीन कंपनियों द्वारा सूती कपड़े का उत्पादन (लाख मीटर में) दर्शाता है। ग्राफ का अध्ययन करें और नीचे दिए गए प्रश्न का उत्तर दें।



1998 से 1999 तक कंपनी A द्वारा उत्पादन में हुई वृद्धि और 1996 से 1997 तक कंपनी C द्वारा उत्पादन में हुई वृद्धि के बीच अंतर (लाख मीटर में) ज्ञात करें।

- Ans**
1. 1
2. 11
3. 21
4. 13

Question ID : 65497817899
Chosen Option : 1

Q.22 कोई पुरुष किसी कार्य को 6 दिन में कर सकता है, जबकि कोई महिला उसी कार्य को 12 दिन में कर सकती है। 1 पुरुष और 1 महिला एक साथ कार्य करते हुए, उस कार्य को कितने दिनों में कर पाएंगे?

- Ans**
1. 5
2. $3\frac{1}{2}$
3. 4
4. 3

Question ID : 65497817875
Chosen Option : 3

Q.23 यह नियत किया गया था कि ₹2,820 की राशि को A, B और C के बीच 3 : 4 : 5 के अनुपात में विभाजित किया जाए, लेकिन गलती से विभाजन $\frac{1}{3} : \frac{1}{4} : \frac{1}{5}$ के अनुपात में हुआ। वृष्टि से A को कितना लाभ होता है?

- Ans**
1. ₹495
2. ₹720
3. ₹500
4. ₹17

Question ID : 65497817886
Chosen Option : 1

Q.24 एक शंक्वाकार ठोस धात्विक खिलौने का आधार अर्द्धगोलाकार है जिसकी त्रिज्या 3.5 cm है। यदि शंकु की ऊंचाई, इसके आधार की त्रिज्या के बराबर है, तो प्रयुक्त धातु का आयतन cm^3 में ज्ञात करें। ($\pi = \frac{22}{7}$ लें)

Ans

✗ 1. $144\frac{3}{4} \text{ cm}^3$

✗ 2. $89\frac{2}{3} \text{ cm}^3$

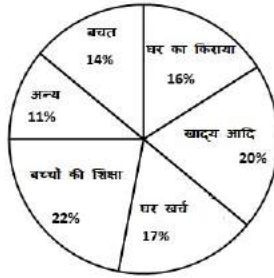
✓ 3. $134\frac{3}{4} \text{ cm}^3$

✗ 4. $179\frac{2}{3} \text{ cm}^3$

Question ID : 65497817893

Chosen Option : 3

Q.25 दिए गए पाई चार्ट में दर्शाए अनुसार, गुप्ता परिवार अपनी मासिक आय को विभिन्न मदों पर खर्च करता है। चार्ट का अध्ययन करें और नीचे दिए गए प्रश्न का उत्तर दें।



संयुक्त रूप से अन्य और घर के किराए पर खर्च हुई राशि का केंद्रीय कोण, घर खर्च पर खर्च हुई राशि के केंद्रीय कोण से कितना अधिक है?

Ans

✓ 1. 36°

✗ 2. 30°

✗ 3. 10°

✗ 4. 40°

Question ID : 65497817898

Chosen Option : 1

Section : General Awareness

Q.1 'बीइंग गांधी' शीर्षक पुस्तक निम्नलिखित में से किसने लिखी है?

Ans

✗ 1. निरुपमा यादव

✓ 2. पारो आनंद

✗ 3. वी पट्टाभि राम

✗ 4. आशीष रे

Question ID : 65497818007

Chosen Option : 1

Q.2 विश्व प्रकृति संरक्षण दिवस कब मनाया जाता है?

- Ans
- 1. 30 मई को
 - 2. 5 अगस्त को
 - 3. 12 जुलाई को
 - 4. 28 जुलाई को

Question ID : 65497818018
Chosen Option : --

Q.3 'बाणगंगा' महोत्सव का संबंध निम्नलिखित में से किस राज्य से है?

- Ans
- 1. उत्तराखंड
 - 2. महाराष्ट्र
 - 3. पंजाब
 - 4. सिक्किम

Question ID : 65497818001
Chosen Option : 1

Q.4 जवाहरलाल नेहरू मणिपुर नृत्य अकादमी निम्नलिखित में से किस शहर में स्थित है?

- Ans
- 1. इम्फाल
 - 2. हैदराबाद
 - 3. गुवाहाटी
 - 4. बेंगलुरु

Question ID : 65497818002
Chosen Option : 1

Q.5 भोजताल, जिसे पहले बड़े तालाब के नाम से जाना जाता था, किस राज्य में स्थित है?

- Ans
- 1. उत्तर प्रदेश
 - 2. ओडिशा
 - 3. राजस्थान
 - 4. मध्य प्रदेश

Question ID : 65497818021
Chosen Option : --

Q.6 बेरियम नाइट्रेट का उपयोग सिग्नल प्रदीप्ति (फ्लेयर्स) और आतिशबाजी में किया जाता है जो चमकीले रंग का प्रकाश उत्सर्जित करता है।

- Ans
- 1. पीले
 - 2. नीले
 - 3. हरे
 - 4. नारंगी

Question ID : 65497818016
Chosen Option : 3

Q.7 राष्ट्रीय हथकरघा दिवस कब मनाया जाता है?

- Ans
- 1. 18 नवंबर को
 - 2. 15 सितंबर को
 - 3. 23 अगस्त को
 - 4. 7 अगस्त को

Question ID : 65497818003
Chosen Option : 4

Q.8 अगस्त 2020 की स्थिति के अनुसार भारत का निम्नलिखित में से कौन सा राज्य सुनामी के लिए तैयार गांव वाला पहला राज्य बन गया?

- Ans
- 1. तमिलनाडु
 - 2. गुजरात
 - 3. ओडिशा
 - 4. केरल

Question ID : 65497818022
Chosen Option : 4

Q.9 भारत के संविधान के किस अनुच्छेद में यह उल्लिखित है कि देवनागरी लिपि में लिखित हिंदी संघ की राजभाषा होगी?

- Ans
- 1. अनुच्छेद 354(2)
 - 2. अनुच्छेद 343(2)
 - 3. अनुच्छेद 343(3)
 - 4. अनुच्छेद 343(1)

Question ID : 65497818014
Chosen Option : 1

Q.10 आवृत्ति का एसआई मात्रक क्या है?

- Ans
- 1. वोल्ट (Volt)
 - 2. हर्ट्ज (hertz)
 - 3. ओम (ohm)
 - 4. जूल (joule)

Question ID : 65497818019
Chosen Option : 2

Q.11 राजकोषीय नीति किसी देश की सरकार को _____ प्रवाह को नियंत्रित करने में मदद करती है।

- Ans
- 1. कर राजस्व
 - 2. व्यक्तिगत व्यय
 - 3. एंजेल निवेश
 - 4. इक्विटी बाजार

Question ID : 65497818312
Chosen Option : 2

Q.12 2 अक्टूबर 2014 को पेयजल एवं स्वच्छता मंत्रालय द्वारा पूरे भारत के ग्रामीण क्षेत्रों के लिए निम्नलिखित में से किस स्वच्छता अभियान की शुरुआत की गई थी?

- Ans
- 1. मिशन वृक्षारोपण
 - 2. प्रधानमंत्री जन विकास कार्यक्रम
 - 3. स्वच्छ भारत मिशन
 - 4. स्मार्ट सिटी सेंटर योजना

Question ID : 65497818017
Chosen Option : 3

Q.13 राष्ट्रीय खेल पुरस्कार, 2020 में पैरा स्विमिंग के लिए अर्जुन पुरस्कार किसने जीता?

- Ans
- 1. सुयश जाधव
 - 2. मरियप्पन टी.
 - 3. विजय मुनीश्वर
 - 4. गौरव खन्ना

Question ID : 65497818005
Chosen Option : 2

Q.14 म्यांमार का प्रमुख धर्म कौन सा है?

- Ans
- 1. बौद्ध धर्म
 - 2. जैन धर्म
 - 3. इस्लाम
 - 4. ईसाई धर्म

Question ID : 65497818020
Chosen Option : 1

Q.15 LED (एलईडी) का पूर्ण रूप क्या है?

- Ans
- 1. Light Emitting Device (लाइट इमिटिंग डिवाइस)
 - 2. Liquid Emitting Display (लिक्विड इमिटिंग डिस्प्ले)
 - 3. Light Emitting Diode (लाइट इमिटिंग डायोड)
 - 4. Linear Emergency Device (लीनियर इमर्जेंसी डिवाइस)

Question ID : 65497818015
Chosen Option : 2

Q.16 मार्च 2020 में 'नारी शक्ति पुरस्कार 2019' प्राप्त करने वाली प्रथम तीन भारतीय महिला लड़ाकू पायलटों में से एक निम्नलिखित में से कौन है?

- Ans
- 1. अवनी चतुर्वेदी
 - 2. निरुपमा यादव
 - 3. जानकी सबेश
 - 4. सीमा राव

Question ID : 65497818006
Chosen Option : 4

Q.17 भारतीय निर्यात-आयात बैंक ने निम्नलिखित में से किस देश को वहां बिजली आपूर्ति की गुणवत्ता में सुधार के लिए \$250 मिलियन की ऋण व्यवस्था (लाइन ऑफ़ क्रेडिट) प्रदान की है?

- Ans
- 1. श्रीलंका
 - 2. मोजाम्बिक
 - 3. नेपाल
 - 4. बांग्लादेश

Question ID : 65497818011

Chosen Option : --

Q.18 निम्नलिखित में से कौन सा सरकारी प्राधिकारी भारत के मुख्य चुनाव आयुक्त की नियुक्ति कर सकता है?

- Ans
- 1. उच्चतम न्यायालय के मुख्य न्यायाधीश
 - 2. राष्ट्रपति
 - 3. उपराष्ट्रपति
 - 4. प्रधानमंत्री

Question ID : 65497818013

Chosen Option : 2

Q.19 भारत में प्रथम महालेखाकार कार्यालय की स्थापना किस वर्ष में हुई थी?

- Ans
- 1. 1858
 - 2. 1890
 - 3. 1845
 - 4. 1867

Question ID : 65497818024

Chosen Option : --

Q.20 ब्रिटिश सरकार द्वारा भारत में मोर्ले-मिंटो सुधारों की घोषणा किस वर्ष की गयी थी?

- Ans
- 1. 1919
 - 2. 1905
 - 3. 1909
 - 4. 1932

Question ID : 65497818025

Chosen Option : 3

Q.21 प्रिज़्कर पुरस्कार (Pritzker Prize) को आमतौर पर _____ के क्षेत्र में दिए जाने वाले नोबेल पुरस्कार के रूप में जाना जाता है।

- Ans
- 1. अर्थशास्त्र
 - 2. वास्तुकला
 - 3. विज्ञान
 - 4. कला

Question ID : 65497818008

Chosen Option : 1

Q.22 इंदिरा गांधी के नेतृत्व में कांग्रेस पार्टी ने निम्नलिखित में से किस वर्ष के लोकसभा चुनाव में 'गरीबी हटाओ' का नारा दिया?

- Ans 1. 1971
 2. 1962
 3. 1957
 4. 1977

Question ID : 65497818012
Chosen Option : 4

Q.23 पुर्तगालियों द्वारा श्रीलंका की खोज किस वर्ष की गयी थी?

- Ans 1. 1670
 2. 1545
 3. 1505
 4. 1678

Question ID : 65497818023
Chosen Option : --

Q.24 भारत सरकार द्वारा प्रवासी श्रमिकों का सशक्तिकरण करने तथा उन्हें आजीविका प्राप्ति के अवसर उपलब्ध करवाने के लिए 'गरीब कल्याण रोजगार अभियान' (GKRA) नामक एक विशाल रोजगार-सह-ग्रामीण लोक निर्माण अभियान कब शुरू किया गया था?

- Ans 1. जून 2018
 2. जून 2017
 3. जून 2019
 4. जून 2020

Question ID : 65497816091
Chosen Option : --

Q.25 'हॉकी के जादूगर' के रूप में किसे जाना जाता है?

- Ans 1. मेजर ध्यानचंद
 2. मोहम्मद शाहिद
 3. बलबीर सिंह
 4. धनराज पिल्ले

Question ID : 65497818004
Chosen Option : 1

Multi Tasking Non Technical Staff Examination 2020

Participant ID	www.HaryanaJobs.in
Participant Name	www.HaryanaJobs.in
Test Center Name	Arya Institute of Engineering and Technology
Test Date	27/10/2021
Test Time :	12:30 PM - 2:00 PM
Subject	MTS Non Technical 2020

Section : **General English**

Q.1 Select the most appropriate option to fill in the blank.

_____ repeated warnings, he still comes late.

- Ans
- 1. Even though
 - 2. In order to
 - 3. In case of
 - 4. In spite of

Question ID : **65497816717**
Chosen Option : 4

Q.2 Select the most appropriate option to substitute the underlined segment in the given sentence. If there is no need to substitute it, select 'No substitution required.'

In earlier times, there were many who thought that the earth were flat rather than round.

- Ans
- 1. has
 - 2. will be
 - 3. was
 - 4. No substitution required

Question ID : **65497815413**
Chosen Option : 3

Q.3 Select the most appropriate word for the given group of words.

Something that can be carried easily

- Ans
- 1. Potable
 - 2. Briefcase
 - 3. Portable
 - 4. Mobile

Question ID : **65497816733**
Chosen Option : 3

Q.4 Select the most appropriate option to substitute the underlined segment in the given sentence.

My uncle and his family may come late last night, but I am not sure.

- Ans
- 1. might come
 - 2. should come
 - 3. would come
 - 4. might have come

Question ID : 65497817634
Chosen Option : 1

Q.5 Select the most appropriate synonym of the given word.

POMPOUS

- Ans
- 1. Humble
 - 2. Boastful
 - 3. Modest
 - 4. Dull

Question ID : 65497816730
Chosen Option : 2

Q.6 Select the most appropriate meaning of the given idiom.

To be on a roll

- Ans
- 1. To be experiencing a successful period
 - 2. To be experiencing setbacks
 - 3. To be moving from place to place
 - 4. To be feeling extremely unhappy

Question ID : 65497816731
Chosen Option : 1

Q.7 Select the most appropriate option to substitute the underlined segment in the given sentence. If there is no need to substitute it, select 'No substitution required'.

Everybody respecting her because she is so sincere.

- Ans
- 1. respects
 - 2. respect
 - 3. No substitution required
 - 4. is respecting

Question ID : 65497816724
Chosen Option : 1

Q.8 Select the most appropriate option to fill in the blank.

Nobody in the village was prepared _____ the tragic news.

- Ans 1. for
 2. to
 3. of
 4. with

Question ID : 65497816716
Chosen Option : 1

Q.9 Select the most appropriate synonym of the given word.

BREEZY

- Ans 1. Dusty
 2. Humid
 3. Noisy
 4. Airy

Question ID : 65497816729
Chosen Option : 1

Q.10 Select the INCORRECTLY spelt word.

- Ans 1. Devote
 2. Dive
 3. Divine
 4. Devide

Question ID : 65497816735
Chosen Option : 4

Q.11 Select the most appropriate option to fill in the blank.

He was _____ injured, but recovered very soon.

- Ans 1. directly
 2. hardly
 3. seriously
 4. simply

Question ID : 65497816737
Chosen Option : 3

Q.12 Identify the segment that contains a grammatical error. If there is no error, select 'No error'.

It was her who represented our school in the interschool debate competition.

- Ans** 1. It was her
 2. who represented our school
 3. in the interschool debate competition
 4. No error

Question ID : **65497816713**
Chosen Option : 1

Q.13 Select the most appropriate word for the given group of words.

A person's entire collection of clothes

- Ans** 1. Wardrobe
 2. Attire
 3. Dowry
 4. Closet

Question ID : **65497816734**
Chosen Option : 2

Q.14 Select the most appropriate option to fill in the blank.

Everyone without _____ voted for a holiday.

- Ans** 1. impression
 2. acceptance
 3. exception
 4. omission

Question ID : **65497816738**
Chosen Option : 2

Q.15 Identify the segment that contains a grammatical error. If there is no error, select 'No error'.

Your essay is good excepting for the spelling.

- Ans** 1. Your essay is good
 2. No error
 3. the spelling
 4. excepting for

Question ID : **65497816714**
Chosen Option : 4

Q.16 Select the INCORRECTLY spelt word.

- Ans 1. Futile
 2. Furl
 3. Fuse
 4. Fulfil

Question ID : 65497816736

Chosen Option : 4

Q.17 Select the most appropriate ANTONYM of the given word.

STIFF

- Ans 1. Tender
 2. Tight
 3. Strong
 4. Rigid

Question ID : 65497816728

Chosen Option : 1

Q.18 Select the most appropriate meaning of the given idiom.

To go nuts

- Ans 1. To look for nuts
 2. To become nervous
 3. To become crazy
 4. To feel very hungry

Question ID : 65497816732

Chosen Option : 2

Q.19 Identify the segment that contains a grammatical error. If there is no error, select 'No error'.

My father made me to do the French grammar exercise again and again.

- Ans 1. the French grammar exercise
 2. again and again
 3. No error
 4. My father made me to do

Question ID : 65497816715

Chosen Option : 4

Q.20 Select the most appropriate **ANTONYM** of the given word.

JUICY

- Ans** 1. Dry
 2. Dewy
 3. Watery
 4. Oily

Question ID : **65497816727**
Chosen Option : 1

Comprehension:

In the following passage some words have been deleted. Fill in the blanks with the help of the alternatives given. Select the most appropriate option for each blank.

We set sail the very next day, and cruised from island to island in the fine weather. (1)_____ we landed we found a crowd of merchants and clients eager (2)_____ business with us. At last we came to (3)_____ peaceful island, with no sign of human (4)_____. It was a lovely place, with green trees, brightly (5)_____ birds, and cool running streams. I roamed around and found a pleasant spot to eat the lunch that I had brought with me.

SubQuestion No : 21

Q.21 Select the most appropriate option to fill in blank no. 1.

- Ans** 1. However
 2. Whatever
 3. Wherever
 4. Somewhere

Question ID : **65497816719**
Chosen Option : 4

Comprehension:

In the following passage some words have been deleted. Fill in the blanks with the help of the alternatives given. Select the most appropriate option for each blank.

We set sail the very next day, and cruised from island to island in the fine weather. (1)_____ we landed we found a crowd of merchants and clients eager (2)_____ business with us. At last we came to (3)_____ peaceful island, with no sign of human (4)_____. It was a lovely place, with green trees, brightly (5)_____ birds, and cool running streams. I roamed around and found a pleasant spot to eat the lunch that I had brought with me.

SubQuestion No : 22

Q.22 Select the most appropriate option to fill in blank no. 2.

- Ans** 1. to do
 2. do
 3. to doing
 4. doing

Question ID : **65497816720**
Chosen Option : 1

Comprehension:

In the following passage some words have been deleted. Fill in the blanks with the help of the alternatives given. Select the most appropriate option for each blank.

We set sail the very next day, and cruised from island to island in the fine weather. (1)_____ we landed we found a crowd of merchants and clients eager (2)_____ business with us. At last we came to (3)_____ peaceful island, with no sign of human (4)_____. It was a lovely place, with green trees, brightly (5)_____ birds, and cool running streams. I roamed around and found a pleasant spot to eat the lunch that I had brought with me.

SubQuestion No : 23

Q.23 Select the most appropriate option to fill in blank no. 3.

- Ans 1. any
 2. an
 3. the
 4. a

Question ID : 65497816721

Chosen Option : 4

Comprehension:

In the following passage some words have been deleted. Fill in the blanks with the help of the alternatives given. Select the most appropriate option for each blank.

We set sail the very next day, and cruised from island to island in the fine weather. (1)_____ we landed we found a crowd of merchants and clients eager (2)_____ business with us. At last we came to (3)_____ peaceful island, with no sign of human (4)_____. It was a lovely place, with green trees, brightly (5)_____ birds, and cool running streams. I roamed around and found a pleasant spot to eat the lunch that I had brought with me.

SubQuestion No : 24

Q.24 Select the most appropriate option to fill in blank no. 4.

- Ans 1. people
 2. individuals
 3. persons
 4. inhabitants

Question ID : 65497816722

Chosen Option : 4

Comprehension:

In the following passage some words have been deleted. Fill in the blanks with the help of the alternatives given. Select the most appropriate option for each blank.

We set sail the very next day, and cruised from island to island in the fine weather. (1)_____ we landed we found a crowd of merchants and clients eager (2)_____ business with us. At last we came to (3)_____ peaceful island, with no sign of human (4)_____. It was a lovely place, with green trees, brightly (5)_____ birds, and cool running streams. I roamed around and found a pleasant spot to eat the lunch that I had brought with me.

SubQuestion No : 25

Q.25 Select the most appropriate option to fill in blank no. 5.

- Ans 1. colours
 2. colouring
 3. colour
 4. coloured

Question ID : 65497816723

Chosen Option : 4

Section : General Intelligence and Reasoning

Q.1 उस संख्या-युग्म का चयन करें, जिसमें दोनों संख्याएं एक-दूसरे से ठीक उसी प्रकार संबंधित हैं, जिस प्रकार नीचे दिए गए युग्म की दोनों संख्याएं एक-दूसरे से संबंधित हैं।

15 : 65

- Ans
- 1. 26 : 102
 - 2. 18 : 82
 - 3. 8 : 28
 - 4. 33 : 141

Question ID : 65497816236
Chosen Option : 3

Q.2 विद्यार्थियों की एक पंक्ति में रीता, दाईं ओर से 11वें स्थान पर है और माधुरी, बाईं ओर से 14वें स्थान पर है। रिया ठीक रीता और माधुरी के बीच में है। यदि पंक्ति में 16 छात्र हैं, तो बाईं ओर से रिया की स्थिति क्या है?

- Ans
- 1. 10वीं
 - 2. 13वीं
 - 3. 11वीं
 - 4. 9वीं

Question ID : 65497816251
Chosen Option : 1

Q.3 'Inventor' is related to 'Imagination' in the same way as 'Teacher' is related to '_____'.
www.HaryanaJobs.in

- Ans
- 1. Read
 - 2. Discipline
 - 3. Knowledge
 - 4. Profession

Question ID : 65497816246
Chosen Option : 3

Q.4 एकैडमिक स्टॉफ कॉलेज ने सोमवार से रविवार तक, छह अलग-अलग विषयों में पुनश्चर्या पाठ्यक्रम का आयोजन किया था जिसमें प्रत्येक दिन केवल एक विषय शामिल किया गया था।

1. एक दिन छुट्टी थी।
2. मनोविज्ञान का आयोजन, छुट्टी के पिछले दिन था।
3. पाठ्यक्रम, इतिहास के साथ समाप्त हुआ था।
4. अर्थशास्त्र, जिसका आयोजन बुधवार को हुआ था, भौतिकी के पिछले दिन था।
5. मनोविज्ञान और दर्शनशास्त्र के बीच दो दिन का अंतराल था।
6. समाजशास्त्र और अर्थशास्त्र के बीच एक दिन का अंतराल था और समाजशास्त्र और भौतिकी के बीच दो दिनों का अंतराल था।

छुट्टी किस दिन थी?

- Ans
- 1. गुरुवार
 - 2. बुधवार
 - 3. शुक्रवार
 - 4. शनिवार

Question ID : 65497816252
Chosen Option : --

Q.5 निम्न संख्या श्रेणी में प्रश्नवाचक चिह्न (?) के स्थान पर कौन-सी संख्या आएगी?

266, 138, 74, 42, ?, 18

Ans 1. 18

2. 26

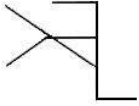
3. 34

4. 28

Question ID : 65497816238

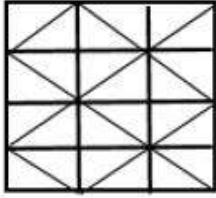
Chosen Option : 2

Q.6 उस विकल्प का चयन करें, जिसमें दी गई आकृति अन्तःस्थापित है। (घुमाने की अनुमति नहीं है)

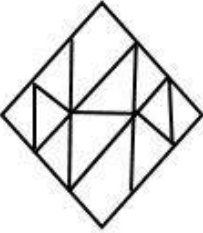


Ans

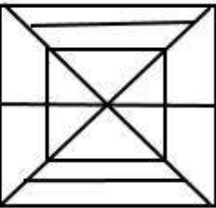
1.



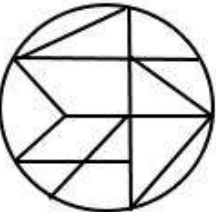
2.



3.



4.



Question ID : 65497816255

Chosen Option : 1

www.HaryanaJobs.in

Q.7 कागज़ के किसी टुकड़े को मोड़ने का क्रम और मुड़े हुए कागज़ को काटने का तरीका नीचे तीन आकृतियों में दर्शाया गया है। खोलने पर यह कागज़ कैसा दिखेगा?



Ans

✗ 1.



✓ 2.



✗ 3.



✗ 4.



Question ID : 65497816257

Chosen Option : 1

Q.8 जिस प्रकार 'रेस्टोरेंट', 'मेनू' से संबंधित है, उसी प्रकार 'पुस्तकालय' _____ से संबंधित है।

Ans ✗ 1. रजिस्टर

✓ 2. कैटलॉग

✗ 3. किताब

✗ 4. रैक

Question ID : 65497816245

Chosen Option : 2

www.HaryanaJobs.in

Q.9 तीन कथनों के बाद तीन निष्कर्ष I, II और III दिए गए हैं। कथनों को सत्य मानते हुए, भले ही ये वास्तविक दुनिया के ज्ञान के अनुरूप न हों, निर्धारित करें कि कौन सा/से निष्कर्ष कथनों का तार्किक रूप से अनुसरण करता/करते है/हैं?

कथन:

1. सभी अंकल, रिश्तेदार हैं।
2. कुछ रिश्तेदार, पड़ोसी हैं।
3. सभी पड़ोसी, व्यवसायी हैं।

निष्कर्ष:

- I. कुछ पड़ोसी, अंकल हैं।
- II. कुछ अंकल, व्यवसायी हैं।
- III. कुछ रिश्तेदार, व्यवसायी हैं।

- Ans
- 1. केवल निष्कर्ष II और III अनुसरण करते हैं।
 - 2. केवल निष्कर्ष I अनुसरण करता है।
 - 3. केवल निष्कर्ष I और II अनुसरण करते हैं।
 - 4. केवल निष्कर्ष III अनुसरण करता है।

Question ID : 65497816249

Chosen Option : 4

Q.10 दो कथनों के बाद दो निष्कर्ष I और II दिए गए हैं। कथनों को सत्य मानते हुए, भले ही ये वास्तविक दुनिया के ज्ञान के अनुरूप न हों, निर्धारित करें कि कौन सा/से निष्कर्ष कथनों का तार्किक रूप से अनुसरण करता/करते है/हैं।

कथन:

1. कुछ कॉटेज, झोंपड़ियां हैं।
2. सभी झोंपड़ियां, शेड हैं।

निष्कर्ष:

- I. कुछ शेड, कॉटेज हैं।
- II. कोई भी शेड, कॉटेज नहीं है।

- Ans
- 1. केवल निष्कर्ष II अनुसरण करता है।
 - 2. निष्कर्ष I और II दोनों अनुसरण करते हैं।
 - 3. या तो निष्कर्ष I या फिर II अनुसरण करता है।
 - 4. केवल निष्कर्ष I अनुसरण करता है।

Question ID : 65497816248

Chosen Option : 4

Q.11 निम्न संख्या श्रेणी में प्रश्नवाचक चिह्न (?) के स्थान पर कौन-सी संख्या आएगी?

13, 20, 30, 45, 68, 103, ?, 230

- Ans
- 1. 163
 - 2. 157
 - 3. 133
 - 4. 155

Question ID : 65497816239

Chosen Option : --

Q.12 उस विकल्प का चयन करें, जो तीसरे अक्षर-समूह से ठीक उसी प्रकार संबंधित है, जिस प्रकार दूसरा अक्षर-समूह पहले अक्षर-समूह से संबंधित है।

NICER : WAFGO :: SCARF : ?

Ans 1. KNDAT

2. KMCBT

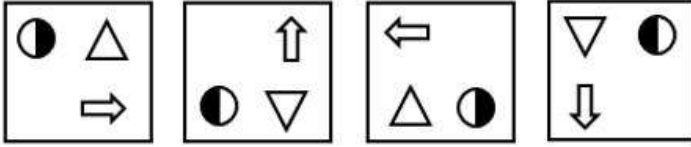
3. NKTDA

4. AYXEQ

Question ID : 65497816244

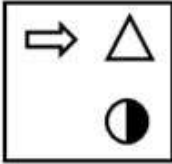
Chosen Option : 1

Q.13 कौन-सी विकल्प आकृति निम्न आकृति श्रेणी में आगले स्थान पर आएगी?

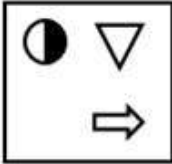


Ans

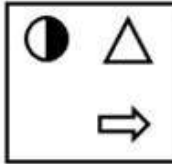
1.



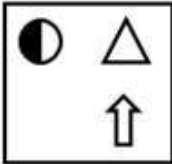
2.



3.



4.



Question ID : 65497816253

Chosen Option : 3

www.HaryanaJobs.in

Q.14 संख्याओं के उस समुच्चय का चयन करें, जो निम्न समुच्चय के समान है।

{12, 28, 32}

- Ans 1. {15, 35, 45}
2. {21, 48, 56}
3. {9, 21, 24}
4. {39, 78, 102}

Question ID : 65497816237
Chosen Option : 3

Q.15 यदि GOD को 55 के रूप में और MAKE को 78 के रूप में कूटबद्ध किया जाता है, तो BYTE को किस रूप में कूटबद्ध किया जाएगा?

- Ans 1. 72
2. 63
3. 52
4. 56

Question ID : 65497816242
Chosen Option : 4

Q.16 यदि FRATERNIZE को TRFAEINRZ लिखा जाता है, तो PHOTOGRAPH को किस प्रकार लिखा जाएगा?

- Ans 1. TOOHPRPHGA
2. TPOOHAGHPR
3. TRFAEHAGRP
4. THOOPHARPG

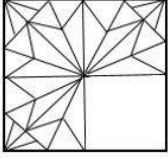
Question ID : 65497816240
Chosen Option : 3

Q.17 यदि PROBABLE को OORABLBF लिखा जाता है, तो TELEGRAM को किस प्रकार लिखा जाएगा?

- Ans 1. SFMDFARN
2. SLEGEARN
3. ULEGEARL
4. SLEEGARN

Question ID : 65497816241
Chosen Option : 2

Q.18 उस विकल्प आकृति का चयन करें, जिसे आकृति के खाली स्थान में रखने से पैटर्न पूरा हो जाएगा।

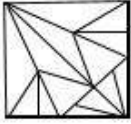


Ans

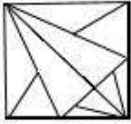
✗ 1.



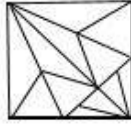
✗ 2.



✗ 3.



✓ 4.



Question ID : 65497816254

Chosen Option : 4

Q.19 यदि + और ÷ चिह्नों को एक-दूसरे से प्रतिस्थापित किया जाता है, तो निम्न में से कौन-सा समीकरण सही होगा?

Ans ✗ 1. $12 \div 3 + 9 - 9 = 4$

✗ 2. $12 + 4 - 4 + 2 = 3$

✗ 3. $9 + 9 - 9 + 9 = 9$

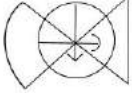
✓ 4. $16 \div 4 - 10 + 2 = 15$

Question ID : 65497816234

Chosen Option : 4

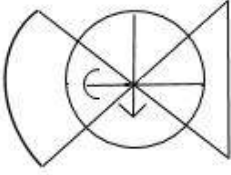
www.HaryanaJobs.in

Q.20 यदि दर्पण को दी गई आकृति के दाईं ओर रखा जाए, तो आकृति का दर्पण में निर्मित सही प्रतिबिंब चयनित कीजिए।

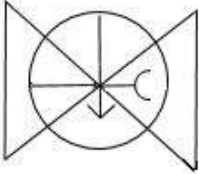


Ans

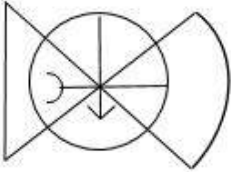
✗ 1.



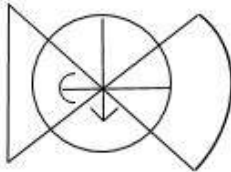
✗ 2.



✗ 3.



✓ 4.



Question ID : 65497816256
Chosen Option : 4

Q.21 सात लड़के A, B, C, D, E, F और G, पंक्ति में खड़े हैं।

- D, F के ठीक बाईं ओर पड़ोस में खड़ा है।
- A, G के ठीक बाईं ओर पड़ोस में खड़ा है।
- E और G के बीच दो लड़के हैं।
- B ठीक D और G के बीच में खड़ा है।

ठीक बीच में कौन खड़ा है?

Ans ✗ 1. B

✗ 2. C

✓ 3. G

✗ 4. D

Question ID : 65497816250
Chosen Option : 3

Q.22 निम्न श्रेणी में प्रश्नवाचक चिह्न (?) के स्थान पर कौन-सा अक्षर-समूह आएगा?

AZB, CBD, FEG, JIK, ?

Ans 1. ONP

2. NOP

3. OMP

4. NMO

Question ID : 65497816247

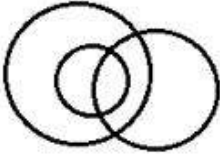
Chosen Option : 1

Q.23 Select the Venn diagram that best illustrates the relationship among the following classes.

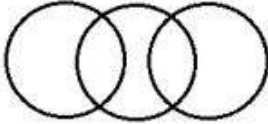
Tennis fans, Students, Hockey players

Ans

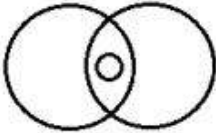
1.



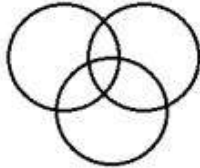
2.



3.



4.



www.HaryanaJobs.in

Question ID : 65497816258

Chosen Option : 4

Q.24 यदि RELICS को 120 के रूप में और BASTION को 146 के रूप में कूटबद्ध किया जाता है, तो DISTANT को किस रूप में कूटबद्ध किया जाएगा?

Ans 1. 160

2. 88

3. 182

4. 170

Question ID : 65497816243

Chosen Option : --

Q.25 दिए गए समीकरण को संतुलित करने के लिए, इनमें से किन दो चिह्नों को एक-दूसरे से प्रतिस्थापित करना होगा?

$$25 - 15 \div 5 \times 10 + 20 = 35$$

- Ans
- 1. + और +
 - 2. + और ×
 - 3. - और ×
 - 4. + और -

Question ID : 65497816235
Chosen Option : 4

Section : Numerical Aptitude

Q.1 एक निश्चित धनराशि $r\%$ वार्षिक साधारण ब्याज पर 3 वर्षों में ₹15,748 हो जाती है। वही धनराशि $(r + 2)\%$ वार्षिक साधारण ब्याज पर उतने ही समय में ₹16,510 हो जाती है। r का मान ज्ञात करें।

- Ans
- 1. 9
 - 2. 9.5
 - 3. 8
 - 4. 8.5

Question ID : 65497814958
Chosen Option : 3

Q.2 माना x , 5-अंकों वाली वह छोटी से छोटी संख्या है, जिसे जब 5, 6, 7 और 21 से विभाजित किया जाता है, तो प्रत्येक स्थिति में शेषफल 4 प्राप्त होता है। x के अंकों का योगफल ज्ञात करें।

- Ans
- 1. 13
 - 2. 17
 - 3. 11
 - 4. 10

Question ID : 65497814946
Chosen Option : 1

Q.3 रिया, अपनी आय का $66\frac{2}{3}\%$ भाग खर्च करती है। यदि उसकी आय में 16% की वृद्धि होती है और बचत में 17% की वृद्धि होती है, तो उसकी खर्च में हुई वृद्धि ज्ञात करें।

- Ans
- 1. 33%
 - 2. 12.8%
 - 3. 16.2%
 - 4. 15.5%

Question ID : 65497814953
Chosen Option : 4

Q.4 जब सुलेखा किसी वस्तु को ₹870 में बेचती है, तो उसे प्राप्त लाभ उसके द्वारा इस वस्तु को ₹450 में बेचने पर हुई हानि (₹ में) के दोगुने के बराबर होता है। 15% लाभ के लिए, उसे वस्तु को किस मूल्य (₹ में) पर बेचना चाहिए?

- Ans
- 1. 676.50
 - 2. 667
 - 3. 690
 - 4. 678.50

Question ID : 65497814954
Chosen Option : 4

Q.5 $\frac{4}{5} \times 1\frac{1}{9} \div \frac{8}{15} + \left(5\frac{1}{4} \div \frac{3}{7} \text{ of } \frac{1}{4} \times \frac{2}{7}\right) \div 5\frac{3}{5} - \frac{1}{4} \div \frac{3}{2}$ का मान ज्ञात करें।

- Ans
- 1. $\frac{1}{2}$
 - 2. 6
 - 3. $\frac{3}{5}$
 - 4. 4

Question ID : 65497814948
Chosen Option : 4

Q.6 X और Y किसी निश्चित कार्य को क्रमशः 16 दिन और 24 दिन में पूरा कर सकते हैं। वे एक साथ 4 दिन तक कार्य करते हैं। अकेले Z शेष कार्य को $10\frac{1}{2}$ दिन में पूरा करता है। Y और Z एक साथ उसी कार्य के $\frac{2}{8}$ वें भाग को कितने दिन में पूरा कर सकते हैं?

- Ans
- 1. 12 दिन
 - 2. 10 दिन
 - 3. 8 दिन
 - 4. 9 दिन

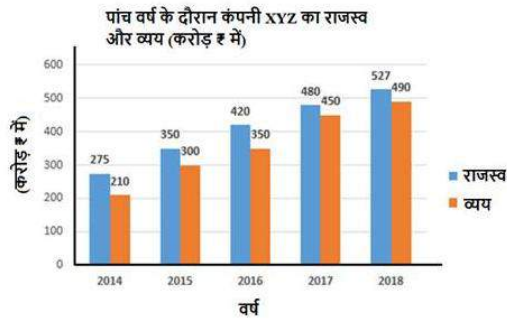
Question ID : 65497814961
Chosen Option : 4

Q.7 यदि किसी गोले की त्रिज्या में $16\frac{2}{3}\%$ की वृद्धि होती है, तो इसके पृष्ठ क्षेत्रफल में हुई प्रतिशत वृद्धि (ठीक एक दशमलव स्थान तक) ज्ञात करें।

- Ans
- 1. 36.1%
 - 2. 34.8%
 - 3. 33.9%
 - 4. 35.6%

Question ID : 65497814563
Chosen Option : 1

Q.8 दिए गए ग्राफ का अध्ययन करें और नीचे दिए गए प्रश्न का उत्तर दें।



किस वर्ष कंपनी का राजस्व, 2014, 2016 और 2018 के दौरान, औसत व्यय के 1.2 गुने के बराबर है?

- Ans
- 1. 2015
 - 2. 2017
 - 3. 2016
 - 4. 2018

Question ID : 65497814968
Chosen Option : 3

Q.9 78 m, 160 m और 178 m भुजा वाले त्रिभुजाकार मैदान का क्षेत्रफल, उस आयताकार उद्यान के क्षेत्रफल के बराबर है जिसकी भुजाओं का अनुपात 13 : 12 है। उद्यान की छोटी भुजा की लंबाई (m में) ज्ञात करें।

- Ans
- 1. $13\sqrt{5}$
 - 2. $26\sqrt{5}$
 - 3. $12\sqrt{10}$
 - 4. $24\sqrt{10}$

Question ID : 65497814965
Chosen Option : 4

Q.10 108 व्यक्तियों वाले समूह में, पुरुषों और महिलाओं की संख्या का अनुपात 5 : 4 है। पुरुषों की औसत ऊंचाई 158.7 cm है और महिलाओं की औसत ऊंचाई x cm है। यदि समूह में सभी व्यक्तियों की औसत ऊंचाई 155.5 cm है, तो x का मान ज्ञात करें।

- Ans
- 1. 151.5
 - 2. 150.8
 - 3. 152.2
 - 4. 153.4

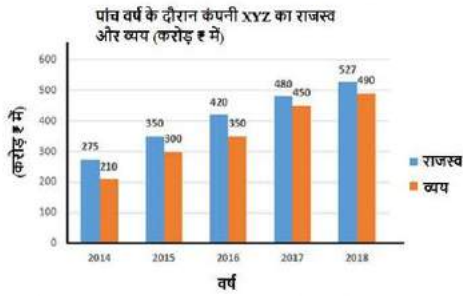
Question ID : 65497814949
Chosen Option : 1

Q.11 धारा की दिशा में किसी नाव की चाल, धारा की विपरीत दिशा में जाने की चाल से 2.5 गुना है। यदि नाव द्वारा धारा की दिशा में 30km और धारा की विपरीत दिशा में समान दूरी तय करने में 7 घंटे लगते हैं, तो धारा की दिशा में नाव की चाल (km/h) ज्ञात करें।

- Ans**
1. 12.5
2. 15
3. 9
4. 7.5

Question ID : 65497814964
Chosen Option : 2

Q.12 दिए गए ग्राफ का अध्ययन करें और नीचे दिए गए प्रश्न का उत्तर दें।



यदि पांच वर्ष में कंपनी के व्यय से संबंधित आंकड़ों के लिए पाई चार्ट तैयार किया जाता है, तो 2016 में व्यय को निरूपित करने वाले क्षेत्र (sector) का केंद्रीय कोण _____ के बीच होगा।

- Ans**
1. 65° और 68°
2. 68° और 71°
3. 71° और 74°
4. 74° और 77°

Question ID : 65497814969
Chosen Option : 2

Q.13 पांच पुरुष और 2 महिलाएं किसी कार्य को 9 दिन में कर सकती हैं, जबकि 11 पुरुष और 5 महिलाएं उसी कार्य को 4 दिन में कर सकती हैं। उसी कार्य को 6 दिन में पूरा करने के लिए, आवश्यक महिलाओं की संख्या ज्ञात करें।

- Ans**
1. 20
2. 18
3. 16
4. 15

Question ID : 65497814962
Chosen Option : 2

Q.14 कोई रेलगाड़ी $5\frac{1}{2}$ घंटे तक चलती है, वह दूरी का पहला आधा भाग 60 km/h की चाल से और दूसरा आधा भाग 20 m/sec की चाल से तय करती है। रेलगाड़ी द्वारा तय की गई कुल दूरी (km में) ज्ञात करें।

- Ans
- 1. 360
 - 2. 250
 - 3. 240
 - 4. 300

Question ID : 65497814963
Chosen Option : 1

Q.15 जब x को 24, 33, 20 और 26 में से घटाया जाता है, तो इस क्रम में प्राप्त संख्याएं समानुपात में होती हैं। $(2x + 1)$ और $(5x - 11)$ के बीच मध्यानुपात (mean proportional) ज्ञात करें।

- Ans
- 1. 30
 - 2. 42
 - 3. 20
 - 4. 35

Question ID : 65497814956
Chosen Option : 4

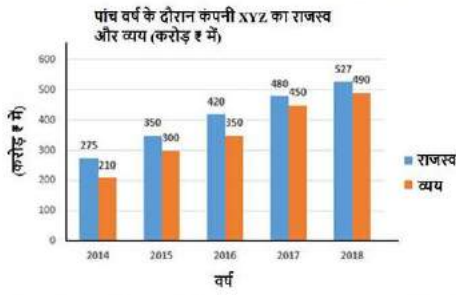
Q.16 ₹ x की राशि को A, B, C और D के बीच इस प्रकार विभाजित किया जाता है कि A और B के हिस्सों का अनुपात 3 : 2 है, B और C के हिस्सों का अनुपात 9 : 8 है और C और D के हिस्सों का अनुपात 4 : 3 है। यदि B और D के हिस्सों के बीच अंतर ₹708 है, तो x का मान ज्ञात करें।

- Ans
- 1. 8,614
 - 2. 8,732
 - 3. 8,850
 - 4. 8,496

Question ID : 65497814957
Chosen Option : 1

www.HaryanaJobs.in

Q.17 दिए गए ग्राफ का अध्ययन करें और नीचे दिए गए प्रश्न का उत्तर दें।



2014, 2015 और 2018 में कंपनी का कुल राजस्व, 2016 और 2017 में कुल व्यय से कितना प्रतिशत अधिक है?

- Ans
- 1. 34.5%
 - 2. 52.75%
 - 3. 42%
 - 4. 44%

Question ID : 65497814970

Chosen Option : 4

Q.18 कोई राशि, $x\%$ वार्षिक साधारण ब्याज की दर पर $2\frac{1}{2}$ वर्ष के लिए निवेशित की जाती है। यदि इस राशि को $(x + 3)\%$ की दर पर समान समय के लिए निवेशित किया जाता, तो इस राशि से ₹585 अधिक प्राप्त होता। समान राशि पर 14% वार्षिक दर से $4\frac{2}{3}$ वर्ष में प्राप्त साधारण ब्याज ज्ञात करें।

- Ans
- 1. ₹5,096
 - 2. ₹4,900
 - 3. ₹4,732
 - 4. ₹5,460

Question ID : 65497814959

Chosen Option : 1

Q.19 $16 - 4 \times [4 - \{98 \div 2 \text{ of } 7 - (6 - 36 \div 6 \times 2)\}]$ का मान ज्ञात करें।

- Ans
- 1. 40
 - 2. 38
 - 3. 42
 - 4. 52

Question ID : 65497814947

Chosen Option : 4

Q.20 किसी वस्तु का क्रय मूल्य ₹214 है। इस वस्तु के सूची मूल्य (list price) पर 15%, 20% और 10% की तीन क्रमागत छूट देने के बाद, यह वस्तु ₹153 में बेची जाती है। यदि इस वस्तु को सूची मूल्य (list price) पर बेचा जाता, तो लाभ (₹ में) ज्ञात करें।

Ans 1. 36

2. 45

3. 49

4. 39

Question ID : 65497814951

Chosen Option : 1

Q.21 $\frac{8}{3} \div \frac{3}{5} \times \frac{7}{5} \div 15$ का मान कितना होगा?

Ans 1. $\frac{1}{4}$

2. $\frac{1}{2}$

3. $\frac{1}{5}$

4. $\frac{1}{3}$

Question ID : 65497816784

Chosen Option : 3

Q.22 4-अंकों वाली संख्याओं 1244, 2345, 33×3 और 4×38 का औसत 2925 है। $(5x + 3)$ और $(9x - 5)$ का औसत ज्ञात करें।

Ans 1. 42

2. 48

3. 55

4. 41

Question ID : 65497814950

Chosen Option : 2

Q.23 A shopkeeper buys 60 oranges at 10 for ₹72, and an equal number at 12 for ₹90. He spends ₹118 on the transaction and sells all the oranges that he buys. If there is a profit of 26% in the entire transaction, then what is the selling price of 32 oranges?

- Ans**
- 1. ₹320
 - 2. ₹316.80
 - 3. ₹313.60
 - 4. ₹336

Question ID : 65497814955
Chosen Option : --

Q.24 एक व्यापारी ने अंकित मूल्य पर 10% की छूट पर एक वस्तु खरीदी, और इसे अंकित मूल्य से 15% अधिक मूल्य पर बेच दिया। लाभ प्रतिशत (निकटतम पूर्णांक तक सही) क्या है?

- Ans**
- 1. 33%
 - 2. 35%
 - 3. 28%
 - 4. 25%

Question ID : 65497814952
Chosen Option : 3

Q.25 अमित, ₹8,000 की राशि 10% वार्षिक चक्रवृद्धि ब्याज की दर पर 4 वर्ष के लिए उधार लेता है। वह पहले वर्ष के अंत में ₹2,800 और दूसरे वर्ष के अंत में ₹2,600 का भुगतान करता है। 4 वर्ष बाद, ऋण चुकाने के लिए उसे _____ का भुगतान करना पड़ेगा, जब ब्याज वार्षिक संयोजित होता है।

- Ans**
- 1. ₹4,780
 - 2. ₹4,840
 - 3. ₹4,880
 - 4. ₹4,800

Question ID : 65497814960
Chosen Option : 2

Section : General Awareness

Q.1 निम्न में से किस देश के पास संयुक्त राष्ट्र में वीटो पॉवर है?

- Ans**
- 1. चीन
 - 2. भूटान
 - 3. बांग्लादेश
 - 4. भारत

Question ID : 65497818113
Chosen Option : 1

Q.2 पेट्रिक अल्सर के लिए कौन सा जीवाणु जिम्मेदार है?

- Ans
- 1. कैम्पिलोबैक्टर
 - 2. बैसिलस सेरियस
 - 3. एशेरिकिया कोलाई
 - 4. हेलिकोबैक्टर पाइलोरी

Question ID : 65497818120
Chosen Option : --

Q.3 निम्नलिखित में से कौन सी मृदा संरक्षण की एक विधि है?

- Ans
- 1. वनोन्मूलन (Deforestation)
 - 2. छाद (Mulching)
 - 3. अत्यधिक रगड़ (Overgrazing)
 - 4. भूस्खलन (Landslides)

Question ID : 65497818123
Chosen Option : 2

Q.4 उस्ताद बिस्मिल्लाह खान कौन सा वाद्य यंत्र बजाने के लिए प्रसिद्ध थे?

- Ans
- 1. सितार
 - 2. तबला
 - 3. शहनाई
 - 4. संतूर

Question ID : 65497818102
Chosen Option : 3

Q.5 मार्च 1919 में बंबई में निम्नलिखित में से कौन सी समिति बनाई गई थी?

- Ans
- 1. सप्रू समिति
 - 2. सार्जेंट समिति
 - 3. हंटर समिति
 - 4. खिलाफत समिति

Question ID : 65497818126
Chosen Option : 3

Q.6 उपभोक्ता संरक्षण अधिनियम, _____ में अधिनियमित किया गया था।

- Ans
- 1. 1985
 - 2. 1986
 - 3. 1990
 - 4. 1992

Question ID : 65497816191
Chosen Option : 2

Q.7 ओडिशा में निम्नलिखित में से कौन सा त्योहार मनाया जाता है?

- Ans 1. नवकलेवर
 2. अंबुबाची
 3. चापचर कुट
 4. नामसोंग

Question ID : 65497818103
 Chosen Option : 2

Q.8 निम्नलिखित में से कौन सा जीव खाद्य सामग्री का विघटन शरीर के बाहर ही करता है और फिर उसे अवशोषित करता है?

- Ans 1. किलनी (Ticks)
 2. जोंक (Leeches)
 3. यीस्ट (Yeast)
 4. जूँ (Lice)

Question ID : 65497818118
 Chosen Option : --

Q.9 भारत के संविधान में _____ से कई संस्थागत विवरणों और प्रक्रियाओं को लिया गया है।

- Ans 1. भारत सरकार अधिनियम, 1935
 2. भारतीय पंजीकरण अधिनियम, 1930
 3. भारतीय कंपनी अधिनियम, 1930
 4. भारतीय भागीदारी अधिनियम, 1932

Question ID : 65497818115
 Chosen Option : 1

Q.10 Which tissue is responsible for the flexibility in plants?

- Ans 1. Meristematic
 2. Parenchyma
 3. Sclerenchyma
 4. Collenchyma

Question ID : 65497818119
 Chosen Option : 2

Q.11 'माई एक्सपेरिमेंट विद ट्रुथ (My Experiments With Truth)' किसकी आत्मकथा है?

- Ans 1. जवाहरलाल नेहरू
 2. महात्मा गांधी
 3. बिपिन चन्द्र पाल
 4. सुभाषचन्द्र बोस

Question ID : 65497818109
 Chosen Option : 2

Q.12 निम्नलिखित में से कौन सा एक उपभोक्ता अधिकार है?

- Ans
- 1. संवैधानिक उपचार का अधिकार
 - 2. कहीं भी आने-जाने और बसने का अधिकार
 - 3. वस्तु निर्माण का अधिकार
 - 4. हर्जनि की अपेक्षा का अधिकार

Question ID : 65497818112
Chosen Option : 3

Q.13 राष्ट्रीय खेल पुरस्कार 2020 के लिए खेल समिति के अध्यक्ष कौन थे?

- Ans
- 1. न्यायमूर्ति मुकुंदकम शर्मा
 - 2. कर्नल राज्यवर्धन सिंह राठौड़
 - 3. वीरेंद्र सहवाग
 - 4. आलोक सिन्हा

Question ID : 65497818105
Chosen Option : 2

Q.14 कौन सी नदी हिमालय की पूर्वी सीमा को चिह्नित करती है?

- Ans
- 1. काली
 - 2. तिस्ता
 - 3. दिहांग
 - 4. ब्रह्मपुत्र

Question ID : 65497818121
Chosen Option : 4

Q.15 पश्चिमोत्तर, उत्तर और पूर्वोत्तर में किस प्रकार के पर्वत भारत को आबद्ध करते हैं?

- Ans
- 1. गुंबद पर्वत (Dome mountains)
 - 2. तरुण वलित पर्वत (Young fold mountains)
 - 3. पठारी पर्वत (Plateau mountains)
 - 4. अवरोधी पर्वत (Block mountains)

Question ID : 65497818122
Chosen Option : 2

Q.16 बिजली गड़गड़ाहट की आवाज उसकी चमक से काफी बाद में सुनाई देती है। इससे क्या ज्ञात होता है?

- Ans
- 1. ध्वनि की गति प्रकाश की गति से काफी कम है।
 - 2. ध्वनि की गति प्रकाश की गति से तिगुनी होती है।
 - 3. ध्वनि की गति प्रकाश की गति से दोगुनी होती है।
 - 4. ध्वनि की गति प्रकाश की गति के समान है।

Question ID : 65497818117
Chosen Option : 1

Q.17 मुगल किसके वंशज थे?

- Ans 1. चंगेज खां
 2. गयासुद्दीन बलबन
 3. मीर जुमला
 4. मोहम्मद तुगलक

Question ID : 65497818124
 Chosen Option : 1

Q.18 हड़प्पा सभ्यता के लोगों को वर्तमान राजस्थान वाले क्षेत्र से कौन सी धातु मिली थी?

- Ans 1. लोहा
 2. एल्यूमीनियम
 3. तांबा
 4. कैल्शियम

Question ID : 65497818125
 Chosen Option : 3

Q.19 संविधान सभा का अध्यक्ष निम्नलिखित में से कौन था?

- Ans 1. डॉ राजेंद्र प्रसाद
 2. सरदार वल्लभ भाई पटेल
 3. जवाहरलाल नेहरू
 4. जगजीवन राम

Question ID : 65497818114
 Chosen Option : 1

Q.20 ओलंपिक गेम्स 2024 कहां पर आयोजित होने वाले हैं?

- Ans 1. लॉस एंजिल्स
 2. लीमा
 3. टोक्यो
 4. पेरिस

Question ID : 65497818106
 Chosen Option : 4

Q.21 1992 में सबसे कम उम्र में पद्म भूषण पुरस्कार पाने वाली शास्त्रीय नृत्यांगना निम्नलिखित में से कौन थी?

- Ans 1. सोनल मानसिंह
 2. मल्लिका साराभाई
 3. यामिनी कृष्णमूर्ति
 4. शोवना नारायण

Question ID : 65497818104
 Chosen Option : --

Q.22 निम्नलिखित में से कौन सा पारिस्थितिकी तंत्र का एक जैविक घटक है?

- Ans
- 1. वर्षा
 - 2. हवा
 - 3. घास
 - 4. खनिज

Question ID : 65497818116
Chosen Option : 3

Q.23 पंजाब की पहली महिला मुख्य सचिव कौन थीं?

- Ans
- 1. विनी महाजन
 - 2. आकांक्षा जुनेजा
 - 3. किरण बेदी
 - 4. डॉ. नवजोत कौर सिद्धू

Question ID : 65497818107
Chosen Option : --

Q.24 मधु शिकार (honey hunting) पर लघु वृत्तचित्र के लिए दादासाहेब फाल्के पुरस्कार 2020 किसने जीता?

- Ans
- 1. धीरज धूपर
 - 2. केजांग डी थोंगडोक
 - 3. किच्चा सुदीप
 - 4. अरमान मलिक

Question ID : 65497818108
Chosen Option : --

Q.25 अगस्त 2020 तक प्राप्त जानकारी के अनुसार भारतीय रिजर्व बैंक के गवर्नर कौन थे?

- Ans
- 1. नटराजन चंद्रशेखरन
 - 2. शक्तिकांत दास
 - 3. मनीष सभ्रवाल
 - 4. महेश कुमार जैन

Question ID : 65497818313
Chosen Option : 2