



GOVT. OF NCT OF DELHI
Delhi Subordinate Services Selection Board
FC-18, Institutional Area, Karkardooma, Delhi – 110092.
www.dsssb.delhigovt.nic.in

Participant ID	
Participant Name	
Test Center Name	ION Digital Zone iDZ 2 Sector 62
Test Date	17/11/2021
Test Time	4:30 PM - 6:30 PM
Subject	Fee Collector Sub Inspector or Auction Recorder

Section : General Ability 1

Q.1 यदि किसी निश्चित भाषा में, GLOW को '\$#@%' के रूप में लिखा जाता है और GIVE को '\$!^*' के रूप में लिखा जाता है। उसी भाषा में, LOVE को किस प्रकार लिखा जाता है?

- Ans
- A. #!^*
 - B. #@^*
 - C. #@%*
 - D. #@^\$

Question ID : 7773932312

Q.2 एक निश्चित कूटित भाषा में, आसमान 'को, लम्बे' के रूप में लिखा जाता है, लम्बे को 'छोटे' के रूप में लिखा जाता है, छोटे को 'लाल' के रूप में लिखा जाता है, लाल को 'नीले' के रूप में लिखा जाता है और 'नीले' को 'सूर्य' के रूप में लिखा जाता है। टमाटर का रंग क्या है?

- Ans
- A. नीले
 - B. आसमान
 - C. लाल
 - D. लम्बे

Question ID : 7773932310

Q.3 निम्नलिखित प्रश्न में, दिए गए विकल्पों में से संबंधित अक्षरों का चयन करें।

TOM : NIG :: ? : ?

- Ans
- A. EAT : YUN
 - B. EAT : XXM
 - C. FAT : LMV
 - D. EAT : ZXC

Question ID : 7773932306

Q.4 चार लड़के और तीन लड़कियां एक पंक्ति में खड़ी हैं, जरूरी नहीं कि इसी क्रम में हो। यदि कोई भी दो लड़कियां एक-दूसरे के समीप नहीं खड़ी होती हैं, तो अधिक से अधिक कितने लड़के एक साथ खड़े हो सकते हैं?

- Ans
- A. एक
 - B. दो
 - C. चार
 - D. तीन

Question ID : 7773932314

Q.5 निम्नलिखित श्रृंखला में लुप्त पद ज्ञात कीजिए।

FAQ, LGW, RMC, ?, DYO

- Ans
- A. XSI
 - B. LSI
 - C. VIR
 - D. MIS

Question ID : 7773932302

Q.6 नीचे दिए गए प्रश्न में तीन कथन दिए गए हैं जिनके बाद दो निष्कर्ष I और II दिए गए हैं। आपको दिए गए कथनों को सत्य मानना है, भले ही वे सामान्यतः ज्ञात तथ्यों के साथ विचरण करते हों। सभी निष्कर्षों को पढ़ें और फिर तय करें कि दिए गए कथनों में से कौन सा निष्कर्ष दिए गए कथनों से तार्किक रूप से अनुसरण करता है, सामान्यतः ज्ञात तथ्यों की अवहेलना करता है।

कथन:

कोई तेंदुए चीता नहीं है।
कुछ चीते बाघ हैं।
सभी बाघ शेर हैं।

निष्कर्ष:

I. कुछ तेंदुए बाघ नहीं हैं।
II. सभी तेंदुए बाघ हैं।

- Ans
- A. यदि निष्कर्ष I और II दोनों अनुसरण करते हैं।
 - B. यदि या तो निष्कर्ष I या II अनुसरण करता है।
 - C. यदि केवल निष्कर्ष II अनुसरण करता है।
 - D. यदि केवल निष्कर्ष I अनुसरण करता है।

Question ID : 7773932319

Q.7 P, Q, R, S, T, U और V सात मित्र हैं। S, V की तुलना में भारी है। V, P की तुलना में भारी है, लेकिन Q की तुलना में हल्का है। T, U की तुलना में भारी है। R, S की तुलना में भारी है, लेकिन U की तुलना में हल्का है। S केवल तीन व्यक्तियों से भारी है। 5 वा सबसे भारी व्यक्ति कौन है?

- Ans
- A. T
 - B. V
 - C. S
 - D. Q

Question ID : 7773932313

Q.8 उस पद का चयन करें, जो निम्नलिखित श्रृंखला में अगला आएगा।

E, G, J, L, O, Q, ?

- Ans A. R
 B. T
 C. U
 D. S

Question ID : 7773932303

Q.9 एक फोटो की ओर संकेत करते हुए एक महिला ने कहा "वह मेरी माँ के पिता की एकमात्र पुत्री है"। उस फोटो वाले व्यक्ति का महिला से क्या संबंध है।

- Ans A. पत्नी
 B. दादी
 C. पुत्री
 D. माँ

Question ID : 7773932317

Q.10 एक निश्चित भाषा में "FIVE" को "5940" के रूप में कुटित किया जा सकता है, तो उसी कुटित भाषा में "NINE" कैसे लिखा जाएगा?

- Ans A. 8820
 B. 8800
 C. 8850
 D. 7980

Question ID : 7773932309

Q.11 निम्नलिखित श्रृंखला में गलत पद ज्ञात कीजिये?

AZ, FU, JP, PK, UF

- Ans A. AZ
 B. FU
 C. PK
 D. JP

Question ID : 7773932304

Q.12 P, Q, R, S और T एक मेज के चारों ओर बैठते हैं। P, R के बाईं ओर से दूसरे स्थान पर बैठा है और Q, R के दाईं ओर से दूसरे स्थान पर बैठा है। यदि S, Q के समीप नहीं बैठा है, तो Q और S के एकदम बीच कौन बैठा है?

- Ans A. T
 B. P
 C. R
 D. R और P दोनों

Question ID : 7773932315

Q.13 दिए गए विकल्पों में से संबंधित संख्या का चयन करें।

POT : 51 :: HAT : ?

- Ans A. 29
 B. 36
 C. 47
 D. 58

Question ID : 7773932308

Q.14 उस पद का चयन करें, जो निम्नलिखित श्रृंखला में अगला आएगा।

'Sunday, Monday, Wednesday, Saturday, Wednesday, Monday, Sunday,_____'

- Ans A. Thursday
 B. Saturday
 C. Tuesday
 D. Sunday

Question ID : 7773932301

Q.15 नीचे दिए गए प्रश्न में तीन कथन दिए गए हैं जिनके बाद दो निष्कर्ष I और II दिए गए हैं। आपको दिए गए कथनों को सत्य मानना है, भले ही वे सामान्यतः ज्ञात तथ्यों के साथ विचरण करते हों। सभी निष्कर्षों को पढ़ें और फिर तय करें कि दिए गए कथनों में से कौन सा निष्कर्ष दिए गए कथनों से तार्किक रूप से अनुसरण करता है, सामान्यतः ज्ञात तथ्यों की अवहेलना करता है।

कथन:

कुछ पूर्व, पश्चिम है।
सभी उत्तर, दक्षिण है।
कोई उत्तर, पूर्व नहीं है।

निष्कर्ष:

- I. कोई दक्षिण पूर्व नहीं है।
II. सभी पश्चिम के उत्तर होने की संभावना है।

- Ans A. यदि दोनों निष्कर्ष I तथा निष्कर्ष II सत्य हैं।
 B. यदि केवल निष्कर्ष I सत्य नहीं है।
 C. यदि या तो निष्कर्ष I या निष्कर्ष II सत्य हैं।
 D. यदि न तो निष्कर्ष I न ही निष्कर्ष II सत्य है।

Question ID : 7773932320

Q.16 यदि $A+B$ का अर्थ है, B, A का पिता है, $A*B$ का अर्थ है, B, A की पत्नी है, $A-B$ का अर्थ है, B, A की बहन है, $A \div B$ का अर्थ है, B, A का पुत्र है। तो निम्नलिखित दिए गए विकल्पों में से किस विकल्प में, A, Y की भाभी है?

- Ans A. $R \div Y - M + X \div B * A$
 B. $B - M + A \div Y - X + R$
 C. $Y \div A + R \div M * X \div B$
 D. $R - M + A + Y * B \div X$

Question ID : 7773932316

Q.17 यदि HARBOUR को ICSDPWS के रूप में लिखा जाता है, तो उसी कूट में HABITAT 'कैसे लिखा जाता है?

- Ans A. ICCKUBU
 B. ICCKUCU
 C. ICCKVCU
 D. IBCKUCU

Question ID : 7773932311

Q.18 निम्नलिखित प्रश्न में, दिए गए विकल्पों में से संबंधित अक्षरों का चयन करें।

SAT : WEX :: MET : ?

- Ans A. FHY
 B. QIX
 C. AQI
 D. IYX

Question ID : 7773932307

Q.19 नीचे दिए गए प्रश्न में दो कथन दिए गए हैं जिनके बाद दो निष्कर्ष I और II दिए गए हैं। आपको दिए गए कथनों को सत्य मानना है, भले ही वे सामान्यतः ज्ञात तथ्यों के साथ विचरण करते हों। सभी निष्कर्षों को पढ़ें और फिर तय करें कि दिए गए कथनों में से कौन सा निष्कर्ष दिए गए कथनों से तार्किक रूप से अनुसरण करता है, सामान्यतः ज्ञात तथ्यों की अवहेलना करता है।

कथन:

कुछ दवाएं टैबलेट हैं।

कुछ दवाएं प्रभावी नहीं हैं।

निष्कर्ष:

I. कुछ टैबलेट प्रभावी हैं।

II. कोई भी प्रभावी टैबलेट नहीं है।

- Ans A. यदि केवल निष्कर्ष II अनुसरण करता है।
 B. यदि केवल निष्कर्ष I अनुसरण करता है।
 C. यदि निष्कर्ष I और II दोनों अनुसरण करते हैं।
 D. यदि या तो निष्कर्ष I या II अनुसरण करता है।

Question ID : 7773932318

Q.20 उस विकल्प का चयन करें जो तीसरे पद से उसी तरह से सम्बंधित है जिस प्रकार दूसरा पद पहले पद से सम्बंधित है।

वनस्पति विज्ञान : वनस्पति :: जंतु विज्ञान : ?

- Ans A. पैथोलॉजी
 B. जीव
 C. जीवाश्म
 D. जीवविज्ञान

Question ID : 7773932305

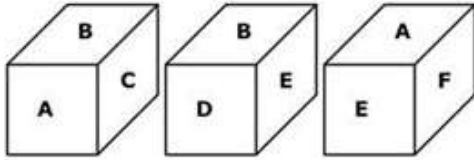
Q.1 नीचे दिए गए प्रश्न में, दो कथन दिए गए हैं। दोनों कथनों के बीच कारण और प्रभाव का संबंध हो भी सकता है और नहीं भी। इनके उपयोग करके अपने उत्तर को चिह्नित कीजिये?

कथन I: इस शहर में अपराध की दर बहुत कम है।
कथन II: इस शहर की पुलिस कुशल है।

- Ans
- A. यदि कथन I कारण है और कथन II प्रभाव है।
 - B. यदि दोनों कथन I और II स्वतंत्र कारण है।
 - C. यदि कथन II कारण है और कथन I प्रभाव है।
 - D. यदि दोनों कथन I और II स्वतंत्र प्रभाव है।

Question ID : 7773932322

Q.2 एक घन की तीन तरफ की स्थितियां दी गई हैं। 'A' के विपरीत क्या आएगा?



- Ans
- A. D
 - B. C
 - C. E
 - D. B

Question ID : 7773932334

Q.3 निम्नलिखित प्रश्न में दिए गए चार आकृतियों में से तीन एक निश्चित तरीके से समान हैं और इसलिए एक समूह बनाते हैं। जो उस समूह से संबंधित नहीं है, उसका चयन कीजिये?

Ans

- A.
- B.
- C.
- D.

Question ID : 7773932336

Q.4 उस आरेख को पहचानें जो नीचे दिए गए वर्गों के बीच संबंधों का सबसे अच्छा प्रतिनिधित्व करता है।

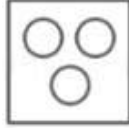
लोहा, हाइड्रोजन, एल्यूमीनियम

Ans

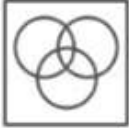
A.



B.



C.



D.



Question ID : 7773932328

Q.5 दिए गए विकल्पों में से संबंधित संख्या का चयन करें।

17 : 288 :: 21 : 440 :: 29 : ?

Ans A. 783

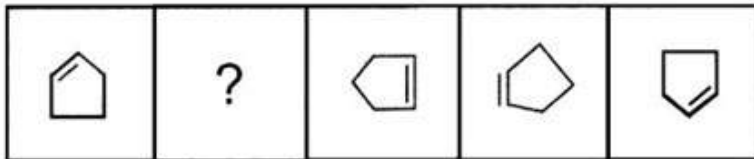
B. 899

C. 575

D. 840

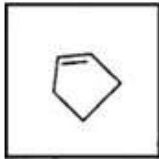
Question ID : 7773932326

Q.6 उस आकृति का चयन करें जो निम्नलिखित श्रृंखला में आगे आएगी।

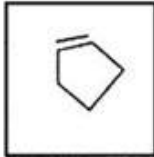


Ans

A.



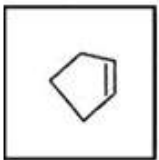
B.



C.

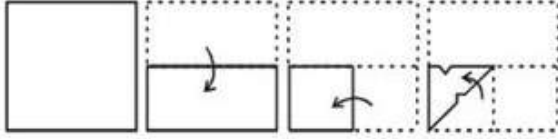


D.



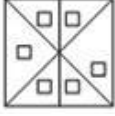
Question ID : 7773932335

Q.7 जब पारदर्शी पेपर को बिंदु रेखा पर मोड़ा जाता है और दिए गए छिद्रों के अनुसार नत्थी किया जाता है, तो दिए गए चार विकल्पों में से कौन-सा पैटर्न प्रदर्शित होगा?

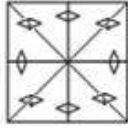


Ans

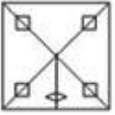
A.



B.



C.



D.



Question ID : 7773932339

Q.8 एक कथन और उसके बाद दो निष्कर्ष I और II दिए गये हैं। आपको इन कथनों को सही मानना होगा, भले ही वे आमतौर पर ज्ञात तथ्यों से भिन्न प्रतीत होते हैं। आपको यह तय करना होगा कि दिया गया कौनसा निष्कर्ष दिए गए कथन का अनुसरण करता है। उसी अनुसार अपना उत्तर चुनिए।

कथन: पौधे दिन के उजाले के दौरान प्रकाश संश्लेषण करते हैं।

निष्कर्ष:

I: पौधों की कोशिकाएँ होती हैं।

II: पौधों की विभिन्न प्रजातियाँ होती हैं।

Ans

A. निष्कर्ष I और निष्कर्ष II दोनों अनुसरण करते हैं।

B. केवल निष्कर्ष II अनुसरण करता है।

C. न तो निष्कर्ष I और न ही निष्कर्ष II अनुसरण करता है।

D. केवल निष्कर्ष I अनुसरण करता है।

Question ID : 7773932321

Q.9 निम्नलिखित में से किसमें B > C निश्चित रूप से सत्य है?

Ans

A. $C < D = A < B > D$

B. $A = C > D < B > G$

C. $B = P = C > Q < R = G$

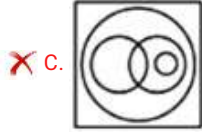
D. $B = D < A = C < D$

Question ID : 7773932327

Q.10 दिये गए वर्गों के बीच संबंधों को बेहतर तरीके से प्रदर्शित करने वाले आरेख को पहचानिये।

गैस, हीलीयम, एल्यूमिनियम, ऑक्सीजन

Ans



Question ID : 7773932332

Q.11 लोकेश की स्कूल बस जब उसके स्कूल पहुँचती है, तो बस का मुख उत्तर की ओर होता है। लोकेश के घर से चलने के बाद, बस दो बार दाएं मुड़ती है और स्कूल पहुँचने से पहले बाएं मुड़ती है, तो लोकेश के घर के सामने वाले बस स्टॉप से चलने के बाद बस का मुख किस ओर था?

Ans A. दक्षिण

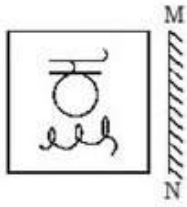
B. पूर्व

C. पश्चिम

D. उत्तर

Question ID : 7773932333

Q.12 निम्नलिखित प्रश्न में, दिए गए चारों विकल्पों में से चित्र के सही दर्पण प्रतिबिंब का चयन करें।



Ans

✓ A.



✗ B.



✗ C.



✗ D.



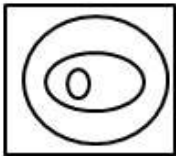
Question ID : 7773932340

Q.13 उस आरेख का चयन करें जो दिए गये वर्गों में उचित संबंध दर्शाता है।

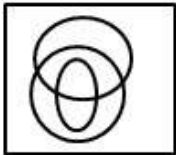
चाँदी, सोना, आभूषण

Ans


✗ A.



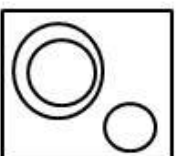
✗ B.



✓ C.



✗ D.



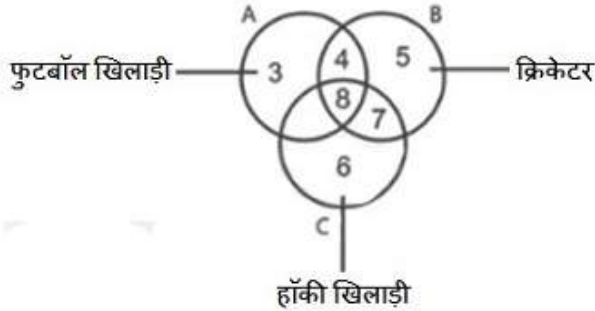
Question ID : 7773932330

Q.14 यदि '+' का अर्थ 'x', '-' का अर्थ है '÷', 'x' का अर्थ है '-' और '÷' का अर्थ है '+', तो $16 \div 4 \times 10 - 5 + 8 =$ का मान क्या होगा?

- Ans A. 4
 B. 12
 C. 2
 D. 8

Question ID : 7773932324

Q.15 दिए गए आरेख में, वृत्त A फुटबॉल खिलाड़ियों का प्रतिनिधित्व करता है, वृत्त B क्रिकेट खिलाड़ियों का प्रतिनिधित्व करता है और वृत्त C हॉकी खिलाड़ियों का प्रतिनिधित्व करता है। कौन-सा हिस्सा क्रिकेट खिलाड़ियों का प्रतिनिधित्व करता है जो केवल फुटबॉल खिलाड़ी हैं?



- Ans A. 4
 B. 6
 C. 8
 D. 7

Question ID : 7773932329

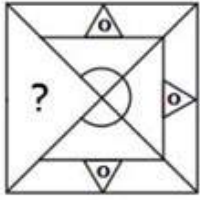
Q.16 कुछ समीकरण एक निश्चित प्रणाली के आधार पर हल किए जाते हैं। उसी आधार पर अनसुलझे समीकरण के लिए सही उत्तर ज्ञात कीजिये।

यदि $5 \times 4 \times 3 = 70$,
 $6 \times 5 \times 4 = 130$
 $7 \times 6 \times 5 = ?$

- Ans A. 220
 B. 230
 C. 210
 D. 240

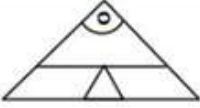
Question ID : 7773932325

Q.17 उत्तर आकृति में कौन-सी आकृति दी गई प्रश्न आकृति को पूरा करेगी-



Ans

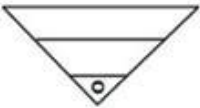
A.



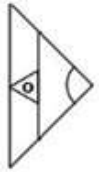
B.



C.

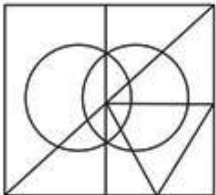


D.



Question ID : 7773932338

Q.18 दी गई आरेख में कितने त्रिभुज उपस्थित है?



Ans A. 9

B. 6

C. 8

D. 12

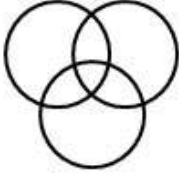
Question ID : 7773932337

Q.19 दिये गए वर्गों के बीच संबंधों को बेहतर तरीके से प्रदर्शित करने वाले आरेख को पहचानिये।


पेशेवर, गायक, महिला

Ans

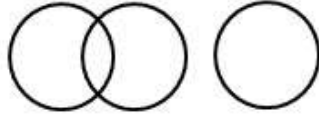
✓ A.



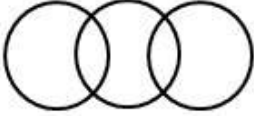
✗ B.



✗ C.



✗ D.



Question ID : 7773932331

Q.20 दिए गए विकल्पों में से लुप्त संख्या का चयन करें।

5, 10, 13, 26, 29, 58, 61, ?

Ans ✗ A. 64

✗ B. 128

✓ C. 122

✗ D. 125

Question ID : 7773932323

Section : General Awareness1

Q.1 निम्नलिखित में से कौन सा वाद्य यंत्र 'डमरू' का मूल नाम है?

Ans ✗ A. पीना

✗ B. संबल

✓ C. उदुकई

✗ D. पखवाज

Question ID : 7773932344

Q.2 केन्द्रीय बजट 2020 के अंतर्गत कितने स्टेशनों की पुनर्विकास परियोजनाएं का संचालन किया जाएगा?

- Ans A. 4
 B. 7
 C. 6
 D. 5

Question ID : 7773932350

Q.3 निम्नलिखित में किसे 'पादप वर्ग के उभयचर' के नाम से भी जाना जाता है?

- Ans A. एंजियोस्पर्म
 B. थैलोफाईटा
 C. ब्रायोफाईटा
 D. टेरीडोफाईटा

Question ID : 7773932353

Q.4 भारतीय रिज़र्व बैंक (आरबीआई) अधिनियम, 1934 में निम्नलिखित में से किस वर्ष में लचीली मुद्रास्फिति लक्ष्यीकरण ढांचे के कार्यान्वयन के लिए एक वैधानिक आधार प्रदान करने के लिए संशोधन किया गया था?

- Ans A. 2017
 B. 2018
 C. 2016
 D. 2015

Question ID : 7773932346

Q.5 निम्नलिखित में से किस स्थिति में ध्वनि बूम उत्पन्न होते हैं?

- Ans A. जब कोई वस्तु आयनमंडल में प्रवेश करती है।
 B. जब कोई वस्तु ध्वनि की गति से अधिक गति से यात्रा करती है।
 C. जब कोई वस्तु प्रकाश की गति से यात्रा करती है।
 D. जब ध्वनि तरंगें हल्के से सघन माध्यम तक जाती हैं।

Question ID : 7773932354

Q.6 स्टेफाइलोकोकाई निम्नलिखित में से क्या है?

- Ans A. प्रोटोजोआ
 B. जीवाणु
 C. कवक
 D. विषाणु

Question ID : 7773932355

Q.7 यदि दो तत्व समभारिक हुए तो निम्नलिखित में से कौन सी विशेषता समान होगी?

- Ans A. इलेक्ट्रॉनों की संख्या
 B. द्रव्यमान संख्या
 C. परमाणु संख्या
 D. संयोजकता

Question ID : 7773932351

Q.8 निम्नलिखित में से किसे ग्रीष्मकालीन मानसून के रूप में जाना जाता है?

- Ans A. दक्षिण-पूर्व मानसून
 B. उत्तर-पश्चिम मानसून
 C. दक्षिण-पश्चिम मानसून
 D. उत्तर-पूर्व मानसून

Question ID : 7773932359

Q.9 केंद्रीय बजट 2020 में जल जीवन मिशन के लिए कितनी राशि की मंजूरी दी गई है?

- Ans A. 3.60 लाख करोड़ रुपये
 B. 4.80 लाख करोड़ रुपये
 C. 3.90 लाख करोड़ रुपये
 D. 2.60 लाख करोड़ रुपये

Question ID : 7773932349

Q.10 केलुचरण महापात्र किस नृत्य-रूप से सम्बंधित हैं?

- Ans A. कथक
 B. मणिपुरी
 C. भरतनाट्यम
 D. ओडिसी

Question ID : 7773932345

Q.11 निम्नलिखित में से कौन सा रसायन घरेलू लांड्री और सैनिटाइजिंग में उपयोग होने वाले ब्लीच में उपस्थित है?

- Ans A. पोटेशियम परमैंगनेट
 B. सोडियम हाइपोक्लोराइट
 C. सोडियम हाइड्रॉक्साइड
 D. कैल्शियम कार्बोनेट

Question ID : 7773932352

Q.12 जैसलमेर का किला किस वर्ष में बनाया गया था?

- Ans A. 1079 ई.
 B. 1213 ई.
 C. 1102 ई.
 D. 1156 ई.

Question ID : 7773932341

Q.13 2011 की जनगणना के अनुसार देश की साक्षरता दर क्या है?

- Ans A. 75.46 प्रतिशत
 B. 74.04 प्रतिशत
 C. 71.23 प्रतिशत
 D. 79.61 प्रतिशत

Question ID : 7773932357

Q.14 शेर शाह सूरी के शासनकाल में निम्नलिखित में से कौन सा समय अवधि से मेल खाता है?

- Ans A. 1540-45
 B. 1530-35
 C. 1556-61
 D. 1526-30

Question ID : 7773932360

Q.15 भारतीय वित्तीय प्रणाली संहिता में कितने अंक होते हैं?

- Ans A. 11
 B. 10
 C. 12
 D. 9

Question ID : 7773932348

Q.16 अंडमान द्वीप और लक्षद्वीप द्वीप समूह सहित भारत के समुद्र तट की कुल लंबाई कितनी है?

- Ans A. 7524.6 किमी
 B. 7516.6 किमी
 C. 7345.8 किमी
 D. 7208.7 कि.मी.

Question ID : 7773932356

Q.17 निम्नलिखित में से सबसे छोटी नदी कौनसी है?

- Ans A. सिंधु
 B. गोदावरी
 C. नर्मदा
 D. कावेरी

Question ID : 7773932358

Q.18 निम्नलिखित में से कौनसी सेवा बुनियादी सेवा नहीं है?

- Ans A. अस्पताल
 B. पर्यटन
 C. प्रतिकक्षा
 D. बैंकिंग

Question ID : 7773932347

Q.19 निशागांधी नृत्य उत्सव निम्नलिखित में से किस राज्य में आयोजित किया जाता है?

- Ans A. महाराष्ट्र
 B. केरल
 C. कर्नाटक
 D. तमिल नाडू

Question ID : 7773932342

Q.20 निम्नलिखित में से किस स्थापत्य शैली में नालंदा के मठों का निर्माण किया गया था?

- Ans A. कुषाण
 B. चोल
 C. राष्ट्रकूट
 D. मौर्य

Question ID : 7773932343

Section : General Awareness2

Q.1 निम्नलिखित में से कौन सा एक गैर-संवैधानिक निकाय है?

- Ans A. भाषाई अल्पसंख्यकों के लिए विशेष अधिकारी
 B. भारत के महान्यायवादी
 C. नीति आयोग
 D. चुनाव आयोग

Question ID : 7773932376

Q.2 पुरु का राज्य कौनसे दो नदियों के बीच स्थित था?

- Ans A. सतलज और बेअस
 B. रावी और चेनाब
 C. झेलम और चेनाब
 D. रावी और सतलज

Question ID : 7773932362

Q.3 पुदुचेरी को किस संवैधानिक संशोधन द्वारा केंद्र शासित प्रदेश बनाया गया था?

- Ans A. 12 वीं
 B. 13 वीं
 C. 14 वीं
 D. 15 वीं

Question ID : 7773932374

Q.4 निम्नलिखित में से कौन सीरिया के राष्ट्रपति हैं?

- Ans
- A. मोहम्मद जवाद जरीफ़
 - B. महमूद अहमदीनेजाद
 - C. अली खमेनी
 - D. बशर अल - असद

Question ID : 7773932366

Q.5 निम्नलिखित में से यह कथन किसने दिया था - "तुम मुझे खून दो और मैं तुम्हें आजादी दूंगा"

- Ans
- A. नेताजी सुभाष चन्द्र बोस
 - B. महात्मा गाँधी
 - C. सरदार वल्लभभाई पटेल
 - D. जवाहरलाल नेहरू

Question ID : 7773932361

Q.6 निम्नलिखित में से कौन भारत में वायु सेना के वर्तमान प्रमुख हैं?

- Ans
- A. एयर मार्शल आर के एस भदौरिया
 - B. एयर मार्शल बी एस धनोआ
 - C. एयर मार्शल करमबीर सिंह
 - D. एयर मार्शल एच एस अरोड़ा

Question ID : 7773932364

Q.7 सार्क कोविड-19 आपात कोष में भारत द्वारा प्रारंभिक योगदान के रूप में कितनी राशि दी गई थी?

- Ans
- A. 7.5 मिलियन अमरीकी डालर
 - B. 1 मिलियन अमरीकी डालर
 - C. 5 मिलियन अमरीकी डालर
 - D. 10 मिलियन अमरीकी डालर

Question ID : 7773932371

Q.8 भारतीय संविधान के निम्नलिखित में से कौन सा अनुच्छेद संसद को अधिकारिक उद्देश्यों के लिए अंग्रेजी के निरंतर उपयोग के लिए कानून प्रदान करने का अधिकार देता है?

- Ans
- A. 345(4)
 - B. 340(2)
 - C. 343(3)
 - D. 343(1)

Question ID : 7773932373

Q.9 निम्नलिखित में से किस देश में क्रिकेट स्टेडियम द ओवल स्थित है?

- Ans A. ऑस्ट्रेलिया
 B. न्यू ज़ीलैण्ड
 C. इंग्लैंड
 D. दक्षिण अफ्रीका

Question ID : 7773932377

Q.10 निम्नलिखित में से किस खेल के साथ मैनुअल न्यूरो का संबंध है?

- Ans A. फुटबॉल
 B. बैडमिंटन
 C. टेनिस
 D. क्रिकेट

Question ID : 7773932378

Q.11 टीम दबंग मुंबई निम्नलिखित में से किस टूर्नामेंट में खेलती है?

- Ans A. इंडियन सुपर लीग
 B. हॉकी इंडिया लीग
 C. प्रो-कबड्डी लीग
 D. इंडियन प्रीमियर लीग

Question ID : 7773932379

Q.12 भारत के सर्वोच्च न्यायालय का उद्घाटन किस दिन हुआ था?

- Ans A. 26 जनवरी, 1950
 B. 28 जनवरी, 1949
 C. 26 जनवरी, 1949
 D. 28 जनवरी, 1950

Question ID : 7773932375

Q.13 निम्नलिखित में से कौन हूणों के नेता थे, जिन्होंने गुप्त साम्राज्य के एक बड़े हिस्से पर कब्ज़ा किया था?

- Ans A. बालादित्य
 B. तोरामारा
 C. यशोवर्मन
 D. मिहिरकुल

Question ID : 7773932363

Q.14 क्लाइमेक्स लॉरेस निम्नलिखित में से किस खेल से जुड़े हैं?

- Ans A. फुटबॉल
 B. टेनिस
 C. हॉकी
 D. बैडमिंटन

Question ID : 7773932380

Q.15 निम्नलिखित में से किसे यूनियन बैंक ऑफ इंडिया के कार्यकारी निदेशक के रूप में नियुक्त किया गया है?

- Ans A. बिरुपाक्ष मिश्रा
 B. देवोला देवी दास
 C. राजीव तलपड़े
 D. महावीर कौशिक

Question ID : 7773932368

Q.16 निम्नलिखित में से कौन सा राज्य लॉकडाउन के 21 दिन के लिए पान मसाला पर प्रतिबंध लगाने वाला पहला राज्य बन गया है?

- Ans A. महाराष्ट्र
 B. उत्तर प्रदेश
 C. मध्यप्रदेश
 D. गुजरात

Question ID : 7773932370

Q.17 नारी शक्ति पुरस्कार किस दिन राष्ट्रपति द्वारा प्रदान किया गया था?

- Ans A. 6 मार्च को
 B. 7 मार्च को
 C. 9 मार्च को
 D. 8 मार्च को

Question ID : 7773932367

Q.18 निम्नलिखित में से किस दिन को विश्व चगास रोग दिवस के रूप में मनाया जाता था?

- Ans A. 16 अप्रैल
 B. 17 अप्रैल
 C. 15 अप्रैल
 D. 14 अप्रैल

Question ID : 7773932369

Q.19 निम्नलिखित में से किस स्थान पर विंग्स इंडिया 2020 आयोजित किया गया था?

- Ans A. कोलकाता
 B. बेंगलुरु
 C. दिल्ली
 D. हैदराबाद

Question ID : 7773932372

Q.20 ए सूटेबल बॉय पुस्तक के लेखक कौन हैं?

- Ans A. सलमान रुश्दी
 B. खुशवंत सिंह
 C. चेतन भगत
 D. विक्रम सेठ

Question ID : 7773932365

Section : Arithmetic Ability 1

Q.1 11 संख्याओं का औसत 30 है। पहली पांच संख्याओं का औसत 24 और अंतिम तीन संख्याओं का औसत 13.33 है। यदि छठी संख्या क्रमशः सातवीं तथा आठवीं संख्या से 11 तथा 9 कम है, तो सातवीं संख्या क्या होगी ?

- Ans A. 50
 B. 59
 C. 61
 D. 60

Question ID : 7773932387

Q.2 भावेश, अंशुल से 18 वर्ष बड़ा और चिन्मय से 12 वर्ष छोटा है। चार वर्ष बाद, अंशुल और चिन्मय की आयु का अनुपात 3: 5 होगा। चिन्मय की वर्तमान आयु (वर्षों में) क्या है?

- Ans A. 102
 B. 71
 C. 52
 D. 65

Question ID : 7773932400

Q.3 6 अंकीय संख्या 79687X, 9 से पूर्णतः विभाज्य है जहां X एक अंकीय पूर्ण संख्या है। X मान ज्ञात कीजिए।

- Ans A. 0
 B. 7
 C. 9
 D. 8

Question ID : 7773932384

Q.4 यदि 6a और 8b का अंकगणितीय माध्य 100 से बड़ा हो और a, b से चार गुना हो, तो a का सबसे छोटा संभव धनात्मक पूर्णांक मान ज्ञात कीजिए।

- Ans A. 32
 B. 28
 C. 26
 D. 24

Question ID : 7773932389

Q.5 एक व्यक्ति एक वस्तु खरीदता है और उसे 8 प्रतिशत हानि पर बेचता है। यदि वह उसे 15 प्रतिशत कम मूल्य पर खरीदता और 270 रुपये अधिक पर बेचता तो उसे 20 प्रतिशत का लाभ होता। वस्तु का क्रयमूल्य ज्ञात कीजिए।

- Ans A. 2400 रुपये
 B. 2700 रुपये
 C. 3000 रुपये
 D. 2000 रुपये

Question ID : 7773932392

Q.6 A किसी वस्तु को B को 20 प्रतिशत लाभ पर बेचता है तथा B इसे C को 25 प्रतिशत लाभ पर बेचता है। यदि C इसके लिए 960 रुपये का भुगतान करता है तो A के लिए क्रय मूल्य कितना था?

- Ans A. 640 रुपये
 B. 600 रुपये
 C. 720 रुपये
 D. 625 रुपये

Question ID : 7773932394

Q.7 यदि $\frac{14}{3} + \frac{1}{2} \left[x - \frac{7}{3} \right] = -\frac{2x}{3}$, तो x का मान ज्ञात कीजिए।

- Ans A. -6
 B. 6
 C. 3
 D. -3

Question ID : 7773932385

Q.8 सुमित्रा ने एक पेन और एक पेंसिल 100 रुपये में बेची और पेन पर 20 प्रतिशत तथा पेंसिल पर 80 प्रतिशत का लाभ प्राप्त किया। यदि वह एक पेन और एक पेंसिल 130 रुपये में बेचती है और पेन पर 80 प्रतिशत तथा पेंसिल पर 20 प्रतिशत का लाभ मिलता है, तो पेन और पेंसिल का कुल क्रय मूल्य (लगभग) कितना है?

- Ans A. 70 रुपये
 B. 77 रुपये
 C. 65 रुपये
 D. 90 रुपये

Question ID : 7773932397

Q.9 एक चुनाव में केवल दो लोगों M और J ने चुनाव लड़ा। 20 प्रतिशत मतदाताओं ने मतदान नहीं किया और 1400 मत अवैध घोषित किए गए। M को J से 9800 अधिक वोट मिले और कुल पंजीकृत मतदाताओं का 52 प्रतिशत वोट प्राप्त किया। कुल पंजीकृत मतदाताओं में से J द्वारा प्राप्त मतों का प्रतिशत ज्ञात कीजिए।

- Ans A. 29 प्रतिशत
 B. 24 प्रतिशत
 C. 2 प्रतिशत
 D. 27 प्रतिशत

Question ID : 7773932393

Q.10 हमारे पास दूध और पानी के दो विलयन S1 और S2 हैं। S1 और S2 में दूध और पानी का अनुपात क्रमशः 2 : 3 और 4 : 5 है। दोनों विलयन को 6 : 7 के अनुपात में मिलाकर एक नया विलयन बनाया गया और उसे 30 रुपये प्रति लीटर की दर से बेचा गया। यदि शुद्ध दूध का क्रय मूल्य 40 रुपये प्रति लीटर है, तो लाभ प्रतिशत क्या है? (यह मानते हुए कि पानी मुफ्त है)

- Ans
- A. 72 प्रतिशत
 - B. 74.375 प्रतिशत
 - C. 70.83 प्रतिशत
 - D. 71.68 प्रतिशत

Question ID : 7773932395

Q.11 यदि $(4x^2 - 3y^2):(2x^2 + 5y^2) = 12 : 19$ हो तो $x : y$ का मान है:

- Ans
- A. 25 : 9
 - B. 16 : 1
 - C. 3 : 2
 - D. 17 : 8

Question ID : 7773932398

Q.12 एक सेल्समेन कुल बिक्री पर 10 प्रतिशत का बोनस प्राप्त करता है। वह 20000 से अधिक की बिक्री राशि पर भी अतिरिक्त 4 प्रतिशत बोनस प्राप्त करता है। यदि उसकी आय 4240 रुपये है तो कुल बिक्री ज्ञात कीजिए।

- Ans
- A. 46,000 रुपये
 - B. 40,000 रुपये
 - C. 36,000 रुपये
 - D. 39,500 रुपये

Question ID : 7773932388

Q.13 A और B ऑडी कार के डीलर है। एक कार का मूल्य 28,00,000 रुपये है। A पूरे सौदे पर 10 प्रतिशत का छूट देता है जबकि B, 20,00,000 रुपये पर 12 प्रतिशत तथा शेष पर 8 प्रतिशत की छूट देता है। उनके बिक्रय मूल्यों का अन्तर क्या है?

- Ans
- A. 42000 रुपये
 - B. 46000 रुपये
 - C. 64000 रुपये
 - D. 24000 रुपये

Question ID : 7773932390

Q.14 सबसे छोटी से छोटी संख्या क्या है जो 12, 16, 8 और 15 से विभाजित होने पर शेषफल 5 देती है, लेकिन 11 से विभाजित होने पर शेषफल नहीं देती ?

- Ans
- A. 7436
 - B. 2684
 - C. 1100
 - D. 1925

Question ID : 7773932381

Q.15 निम्नलिखित समीकरण को BODMAS का उपयोग करके सरल कीजिए।

$$106 + [64 - 2\{18 + (80 \text{ का } \frac{4}{5})\}]$$

- Ans
- A. 0
 - B. 1
 - C. 6
 - D. 5

Question ID : 7773932382

Q.16 दो कम्पनियों A और B एक टेंडर के लिए कोटेशन लगाती हैं। टेंडर के पहले दिन कम्पनी A को ज्ञात होता है कि उनकी कोटेशन 7 : 4 के अनुपात में हैं, और इस प्रकार बातचीत के दौरान वह अपनी कीमत को कम्पनी B के कोटेशन से 1 लाख रुपये कम कर लेता है। B को तब ज्ञात होता है कि निर्णायक कोटेशन क्रमशः 3 : 4 के अनुपात में हैं। वह मूल्य क्या था जिस पर 'A' ने बोली जीती ?

- Ans
- A. 3 लाख रुपये
 - B. 4 लाख रुपये
 - C. 1 लाख रुपये
 - D. 7 लाख रुपये

Question ID : 7773932399

Q.17 एक परिवार के 10 सदस्यों की औसत आयु 21 वर्ष है, लेकिन परिवार के एक सदस्य की मृत्यु के बाद औसत आयु में दो महीनों की कमी हो जाती है। मृत सदस्य की आयु है:

- Ans
- A. $20\frac{10}{12}$ वर्ष
 - B. $19\frac{1}{3}$ वर्ष
 - C. $20\frac{1}{3}$ वर्ष
 - D. $22\frac{1}{2}$ वर्ष

Question ID : 7773932386

Q.18 A की कीमत B से 10 प्रतिशत अधिक है, B की कीमत C से 20 प्रतिशत कम है, C की कीमत D से 30 प्रतिशत अधिक है। A की कीमत लगभग है:

- Ans
- A. D से 20 प्रतिशत अधिक
 - B. D से 16 प्रतिशत अधिक
 - C. D से 14 प्रतिशत अधिक
 - D. D से 14 प्रतिशत कम

Question ID : 7773932391

Q.19 एक व्यापारी को 112 मीटर कपड़ा बेचने पर 48 मीटर कपड़े के क्रय मूल्य के बराबर लाभ प्राप्त होता है। उसके लाभ का प्रतिशत ज्ञात कीजिए।

- Ans
- A. 56.86 प्रतिशत
 - B. 52.86 प्रतिशत
 - C. 46.86 प्रतिशत
 - D. 42.86 प्रतिशत

Question ID : 7773932396

Q.20 निम्नलिखित में से दूसरा सबसे बड़ा भिन्न ज्ञात कीजिए।

5/13, 8/19, 3/12, 7/14

- Ans
- A. 3/12
 - B. 7/14
 - C. 5/13
 - D. 8/19

Question ID : 7773932383

Section : Arithmetic Ability 2

Q.1 यदि चार मूल्यांकनकर्ताओं ने 8 दिन में प्रतिदिन 5 घंटे काम करके एक निश्चित संख्या में उत्तर पुस्तिकाओं का मूल्यांकन कर सकते हैं, तो 20 दिनों में दो मूल्यांकनकर्ताओं को उसकी दोगुनी संख्या में उत्तर पुस्तिकाओं का मूल्यांकन करने के लिए प्रतिदिन कितने घंटे काम करना होगा?

- Ans
- A. 9 घंटे
 - B. 6 घंटे
 - C. 7 घंटे
 - D. 8 घंटे

Question ID : 7773932410

Q.2 140 लीटर दूध तथा पानी के मिश्रण में, पानी का प्रतिशत केवल 30 प्रतिशत है। ग्वाला इस मिश्रण में से 20 लीटर मिश्रण किसी ग्राहक को दे देता है। तब वह बाकी बचे हुए मिश्रण में समान मात्रा में शुद्ध दूध तथा पानी मिलाता है। इसके परिणाम स्वरूप मिश्रण में दूध तथा पानी की मात्रा का अनुपात 2 : 1 हो जाता है। मिश्रण में दूध की कितनी मात्रा मिलायी गई?

- Ans
- A. 18 लीटर
 - B. 12 लीटर
 - C. 8 लीटर
 - D. 16 लीटर

Question ID : 7773932401

Q.3 यदि मूलधन की राशि मूल राशि की तुलना में 12000 रुपये अधिक होती, तो 2 वर्ष के लिए इस पर साधारण ब्याज मूल ब्याज से 3600 रुपये अधिक होता। ब्याज की वार्षिक दर ज्ञात कीजिए।

- Ans
- A. 25 प्रतिशत
 - B. 20 प्रतिशत
 - C. 15 प्रतिशत
 - D. 10 प्रतिशत

Question ID : 7773932402

Q.4 26 जनवरी 2019 को पांच अलग-अलग सिनेमाघरों में जाने वालों की संख्या तथा पुरुषों, महिलाओं और बच्चों का प्रतिशत विवरण।

सिनेमाघर	कुल लोगो की संख्या	प्रतिशत विवरण		
		पुरुष	महिला	बच्चे
P	6400	24	36	40
Q	5600	30	60	10
R	1680	85	15	0
S	7640	25	55	20
T	8040	35	20	45

सिनेमाघर R में जाने वाले पुरुषों की संख्या और सिनेमाघर T में जाने वाली महिलाओं की संख्या में अंतर क्या है?

- Ans
- A. 180
 - B. 140
 - C. 160
 - D. 120

Question ID : 7773932419

Q.5 दो श्रमिकों चिराग और दीपक द्वारा क्रमशः 25 और 20 दिनों में एक काम को पूरा किया जा सकता है। दोनों श्रमिक एक साथ काम करना शुरू करते हैं, लेकिन उनके सुपरवाइजर की अनुपस्थिति के कारण, चिराग अपनी क्षमता के 3/4 वें भाग और दीपक अपनी क्षमता के 3/5 वें भाग की दर से काम करता है। कुछ दिनों के बाद, सुपरवाइजर वापस आता है और वे अपनी पूरी क्षमता से काम करते हैं और उसके बाद उन्हें शेष काम पूरा करने में 6 दिन लगते हैं। कितने दिन तक सुपरवाइजर अनुपस्थित रहा?

- Ans
- A. $7\frac{2}{3}$ दिन
 - B. $6\frac{1}{3}$ दिन
 - C. $8\frac{2}{3}$ दिन
 - D. 8 दिन

Question ID : 7773932411

Q.6 12000 रुपये का 10 प्रतिशत वार्षिक दर से 6 माह का चक्रवृद्धि ब्याज ज्ञात कीजिए, यदि उसका ब्याज तिमाही देय है।

- Ans
- A. 712.5 रुपये
 - B. 610.5 रुपये
 - C. 880.5 रुपये
 - D. 607.5 रुपये

Question ID : 7773932403

Q.7 एक आदमी 8 किमी / घंटा की गति से साइकिल चलाता है और सुबह 11 बजे कार्यालय पहुंचता है और जब वह 12 किमी / घंटा की गति से साइकिल चलाता है तो वह सुबह 9 बजे कार्यालय पहुंचता है। उसे किस गति से साइकिल चलाना चाहिए ताकि वह सुबह 10 बजे अपने कार्यालय पहुंच जाए?

- Ans
- A. 12
 - B. 8
 - C. 9.6
 - D. 7.8

Question ID : 7773932407

Q.8 राहुल 20 किमी / घंटा की गति से अपने कार्यालय जाता है और सुबह 10 बजे पहुंचता है, अगले दिन वह 30 किमी / घंटा की गति से जाता है और सुबह 8 बजे पहुंचता है, लेकिन वह सुबह 9 बजे पहुंचना चाहता है। उसकी गति क्या होनी चाहिए?

- Ans
- A. 30 किमी / घंटा
 - B. 24 किमी / घंटा
 - C. 25 किमी / घंटा
 - D. 27.5 किमी / घंटा

Question ID : 7773932406

Q.9 एक राशि पर 3 वर्षों के लिए किसी दर से साधारण ब्याज 225 रुपये और उसी दर से उसी राशि पर 2 वर्षों के लिए चक्रवृद्धि ब्याज 153 रुपये है। राशि ज्ञात कीजिए।

- Ans
- A. 1775 रुपये
 - B. 1875 रुपये
 - C. 1975 रुपये
 - D. 2075 रुपये

Question ID : 7773932405

Q.10 एक समबहुभुज किसी वृत्त के अन्दर बना है, यदि इसकी एक भुजा केन्द्र पर 36° का कोण बनाती है, तो बहुभुज के भुजाओं की संख्या ज्ञात कीजिए।

- Ans
- A. 10
 - B. 12
 - C. 5
 - D. 9

Question ID : 7773932413

Q.11 एक त्रिभुज के भुजाओं में $1/2:1/3:1/4$ का अनुपात है। यदि त्रिभुज का परिमाप 52 सेमी है, तो सबसे छोटी भुजा की लंबाई है:

- Ans A. 10 सेमी
 B. 9 सेमी
 C. 12 सेमी
 D. 24 सेमी

Question ID : 7773932412

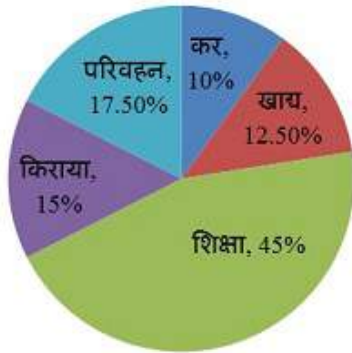
Q.12 35 मिनट के अंतराल पर एक जगह पर दो गोलियां चलाई गईं। फायरिंग बिंदु की तरफ अपने कार में आ रहे एक व्यक्ति दो ध्वनियों को 33 मिनट के अंतराल पर सुनता है। यदि ध्वनि की गति 330 मी./से. है तो कार की गति (किमी/घंटे में) क्या है ?

- Ans A. 50
 B. 62.5
 C. 37.5
 D. 72

Question ID : 7773932408

Q.13 निम्नलिखित पाई-चार्ट का अध्ययन कीजिए और प्रश्न का उत्तर दीजिए।

विभिन्न मदों पर श्री किरन का मासिक व्यय



किराए और कर पर एक साथ किया गया व्यय तथा भोजन और परिवहन पर एक साथ किये गए व्यय का क्रमशः अनुपात क्या है?

- Ans A. 4 : 3
 B. 6 : 5
 C. 3 : 4
 D. 5 : 6

Question ID : 7773932416

Q.14 A अकेला एक कार्य को 6 दिन में पूरा कर सकता है और B अकेला इसे 8 दिन में पूरा कर सकता है। A और B मिलकर उसे 3200 रुपये में करने के लिए तैयार होते हैं। C की मदद से वे कार्य को 3 दिन में पूरा कर देते हैं। C को कितना भुगतान करना होगा?

- Ans A. 375 रुपये
 B. 800 रुपये
 C. 600 रुपये
 D. 400 रुपये

Question ID : 7773932409

Q.15 एक व्यक्ति ने साधारण ब्याज पर 5 प्रतिशत की दर से एक बैंक में 6000 रुपये जमा करता है। एक अन्य व्यक्ति प्रति वर्ष चक्रवृद्धि ब्याज पर 8 प्रतिशत की दर से 5000 रुपये जमा करता है। दो वर्षों के बाद, उनके ब्याजों का अंतर होगा:

- Ans A. 600 रुपये
 B. 232 रुपये
 C. 230 रुपये
 D. 832 रुपये

Question ID : 7773932404

Q.16 26 जनवरी 2019 को पांच अलग-अलग सिनेमाघरों में जाने वालों की संख्या तथा पुरुषों, महिलाओं और बच्चों का प्रतिशत विवरण।

सिनेमाघर	कुल लोगो की संख्या	प्रतिशत विवरण		
		पुरुष	महिला	बच्चे
P	6400	24	36	40
Q	5600	30	60	10
R	1680	85	15	0
S	7640	25	55	20
T	8040	35	20	45

पाँचों सिनेमाघरों में जाने वाले सभी बच्चों की कुल संख्या ज्ञात कीजिए।

- Ans A. 8626
 B. 8266
 C. 8866
 D. 8466

Question ID : 7773932418

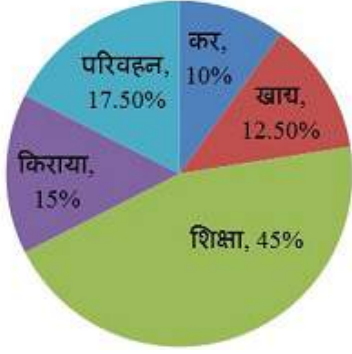
Q.17 एक पानी की टंकी 6 मीटर लंबी, 5 मीटर चौड़ी और 3.4 मीटर ऊंची है। लीटर में टैंक की क्षमता ज्ञात कीजिए।

- Ans A. 102000 लीटर
 B. 82000 लीटर
 C. 62000 लीटर
 D. 122000 लीटर

Question ID : 7773932414

Q.18 निम्नलिखित पाई-चार्ट का अध्ययन कीजिए और प्रश्न का उत्तर दीजिए।

विभिन्न मदों पर श्री किरन का मासिक व्यय



शिक्षा और परिवहन पर किए गए व्यय के बीच अंतर क्या है यदि कुल व्यय 28,000 रुपये है?

- Ans
- A. 7,700 रुपये
 - B. 5,240 रुपये
 - C. 9,360 रुपये
 - D. 3,120 रुपये

Question ID : 7773932417

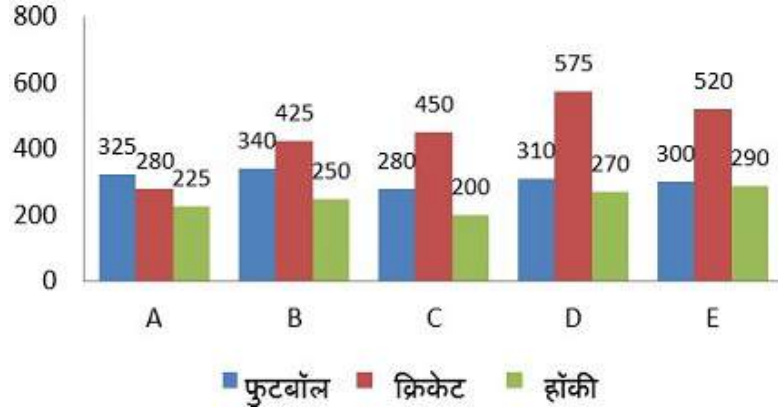
Q.19 एक शंकु के छिन्नक का वक्र पृष्ठ क्षेत्रफल ज्ञात कीजिए, जिसकी शीर्ष त्रिज्या, आधार की त्रिज्या और तिरछी ऊंचाई क्रमशः 12 सेमी, 15 सेमी और 8 सेमी के बराबर है।

- Ans
- A. 232π वर्ग सेमी
 - B. 104π वर्ग सेमी
 - C. 216π वर्ग सेमी
 - D. 176π वर्ग सेमी

Question ID : 7773932415

Q.20 निम्नलिखित ग्राफ का अध्ययन कीजिए और दिए गए प्रश्न का उत्तर दीजिए।

पांच अलग-अलग स्कूल से फुटबॉल, क्रिकेट और हॉकी खेलने वाले छात्रों की संख्या।



यदि स्कूलों A, C और E से क्रिकेट खेलने वाले छात्रों में क्रमशः 35 प्रतिशत, 40 प्रतिशत और 45 प्रतिशत ने अपना खेल बदल दिया, तो क्रिकेट खेलने वाले छात्रों की कुल संख्या क्या थी, जिन्होंने इन स्कूलों से अपना खेल बदल लिया?

- Ans A. 540
 B. 512
 C. 608
 D. 484

Question ID : 7773932420

Section : General English1

Q.1 In the following question, some parts of the sentence may have errors. Find out which part of the sentence has an error and select the appropriate option. If a sentence is free from error, select No Error.

Comparisons between the expected level of performance specifying and the current level of performance exhibited may indicate discrepancies.

- Ans A. may indicate discrepancies.
 B. No Error
 C. performance specifying and the current level of performance exhibited
 D. Comparisons between the expected level of

Question ID : 7773932422

Q.2 Arrange the jumbled sentences to make a meaningful paragraph.

- A. Some of their behaviour is silly, but a lot of it is downright dangerous, not just to themselves but to everyone else.
- B. It also brings to the surface many people who choose not to act in the larger interests of society.
- C. We see them in our newspaper headlines, in public spaces and in our own neighbourhoods.
- D. A crisis like Coronavirus brings to the fore many heroes, people going out of their way to help others selflessly.

Ans A. DBCA

B. DABC

C. DCBA

D. DBAC

Question ID : 7773932437

Q.3 In the following question, some parts of the sentence may have errors. Find out which part of the sentence has an error and select the appropriate option. If a sentence is free from error, select No Error.

For an organization, provide the right training to the right people can aid to create and maintain a well-trained and stable work force.

Ans A. to the right people can aid to create and

B. No Error

C. maintain a well-trained and stable work force.

D. For an organization, provide the right training

Question ID : 7773932423

Q.4 Select the most appropriate option to substitute the underlined segment in the given sentence. If there is no need to substitute it, select 'No improvement'.

If you want your daughter to have good manners, make sure she see you be polite to others.

Ans A. No improvement

B. she sees you being polite to

C. she saw you be polite

D. she seeing you polite

Question ID : 7773932428

Q.5 Parts of a sentence have been jumbled up. Arrange these parts in a meaningful order.

- A. The timing of the Covid-19 outbreak
- B. could not have been
- C. and the subsequent lockdown in India
- D. worse for the agricultural economy

Ans A. ACDB

B. ACBD

C. ADBC

D. ABCD

Question ID : 7773932434

Q.6 Arrange the jumbled sentences to make a meaningful paragraph.

- A. Shoppers stood in the aisles and pondered: Should I buy that mint-flavored toothpaste, or the one fortified with calcium?
- B. Today, fights are breaking out over the last bottle of hand-wash.
- C. Once upon a time, shelves of shopping malls used to brim with goodies.
- D. Or is the muesli with chopped bananas and dried figs better than the one with dates and raisins?

- Ans
- A. CABD
 - B. CBAD
 - C. CADB
 - D. CDAB

Question ID : 7773932436

Q.7 Select the most appropriate option to substitute the underlined segment in the given sentence. If there is no need to substitute it, select 'No improvement'.

Humans cannot generating or hearing the high frequency sound waves generated by bats.

- Ans
- A. cannot generate or hearing
 - B. cannot generating or hear
 - C. No improvement
 - D. cannot generate or hear

Question ID : 7773932427

Q.8 Select the most appropriate option to fill in the blank.

I am unable to open a window in my house as swarms of blue flies come in just _____ a window is open.

- Ans
- A. so that
 - B. as soon as
 - C. nevertheless
 - D. no sooner

Question ID : 7773932433

Q.9 Select the most appropriate synonym of the given word.

Stimulate

- Ans
- A. Frighten
 - B. Demoralize
 - C. Postpone
 - D. Encourage

Question ID : 7773932438

Q.10 In the following question, four sentences are given out of which three sentences are grammatically correct while one is incorrect. Find out which sentence is grammatically incorrect and select the appropriate option.

- Ans**
- A. An astronomer provides additional observations to support another astronomer's theory.
 - B. A cook revises a traditional recipe by substituting modern ingredients for those using in the original.
 - C. A doctor prescribes medication for a patient whose illness was misdiagnosed by another doctor.
 - D. A physics teacher accepts the data from a student's experiment but questions the student's conclusions.

Question ID : 7773932424

Q.11 Select the most appropriate option to substitute the underlined segment in the given sentence. If there is no need to substitute it, select 'No improvement'.

He read the letter, then with a face of anger, crumpled it up and threw it on the ground.

- Ans**
- A. crumple it up and throw it
 - B. crumpling up and throw it
 - C. No improvement
 - D. crumpled it up and throw it

Question ID : 7773932429

Q.12 Select the most appropriate option to fill in the blank.

From what he could hear, there was now _____ extra voice singing along with the music.

- Ans**
- A. a
 - B. an
 - C. No article is needed
 - D. the

Question ID : 7773932432

Q.13 Select the correct pair of homophones to fill in the blanks.

The chicken is seasoned with a blend of jalapeno, cayenne, _____, and black and white pepper.

The moon was about a half off its regular size and the weather was _____ and unpleasant.

- Ans**
- A. chilly ; chilly
 - B. chilli ; chilly
 - C. chilly ; chilli
 - D. chilli ; chilli

Question ID : 7773932439

Q.14 Select the most appropriate option to fill in the blank.

She stumbled out of the way just as she heard the voice, sounding _____ irritated.

- Ans A. quite
 B. utter
 C. quiet
 D. well

Question ID : 7773932430

Q.15 In the following question, four sentences are given out of which three sentences are grammatically correct while one is incorrect. Find out which sentence is grammatically incorrect and select the appropriate option.

- Ans A. National service and taxation are at odds with the notion of individual rights in a democracy.
 B. National service and taxation requires different degrees of sacrifice from different citizens.
 C. National service and taxation allow the government to overstep its boundaries and interfere in the lives of citizens.
 D. National service and taxation do not require that citizens be forced to accept both.

Question ID : 7773932425

Q.16 Select the most appropriate option to fill in the blank.

Winter is the best time to tackle _____ big projects in the garden such as digging up a new garden bed.

- Ans A. this
 B. that
 C. there
 D. those

Question ID : 7773932431

Q.17 Select the most appropriate option to substitute the underlined segment in the given sentence. If there is no need to substitute it, select 'No improvement'.

By the age 7, children should be able to reading and write simple words and structure simple sentences.

- Ans A. to read and write
 B. No improvement
 C. to reading and writing
 D. to read and writing

Question ID : 7773932426

Q.18 Parts of a sentence have been jumbled up. Arrange these parts in a meaningful order.

- A. to the age when sleek and compact form
- B. We have travelled a long road from the times when
- C. with powerful performance is the custom
- D. mobile phones would resemble the size of a medium-sized box with little processing power

- Ans
- A. BCDA
 - B. BACD
 - C. BCAD
 - D. BDAC

Question ID : 7773932435

Q.19 In the following question, some parts of the sentence may have errors. Find out which part of the sentence has an error and select the appropriate option. If a sentence is free from error, select No Error.

The very first step in recruitment process is to determine whether a need for recruitment actually exist or not.

- Ans
- A. is to determine whether a need for
 - B. recruitment actually exist or not.
 - C. No Error
 - D. The very first step in recruitment process

Question ID : 7773932421

Q.20 Select the most appropriate synonym of the given word.

Distort

- Ans
- A. Bottleneck
 - B. Misrepresent
 - C. Persevere
 - D. Decelerate

Question ID : 7773932440

Section : General English2

Q.1 Select the most appropriate antonym of the given word.

Savage

- Ans
- A. Refined
 - B. Enormous
 - C. Repulsive
 - D. Distinctive

Question ID : 7773932442

Q.2 Select the most appropriate meaning of the given idiom.

Chuck something down

- Ans A. To forget to pay
 B. To eat something quickly
 C. To erase the evidence
 D. To be careful

Question ID : 7773932450

Q.3 Select the incorrectly spelt word.

- Ans A. Ferrocious
 B. Displeasing
 C. Domesticated
 D. Murderous

Question ID : 7773932444

Q.4 Select the most appropriate meaning of the underlined idiom in the given sentence.

If you lend me a hand, I can get this done much faster.

- Ans A. To borrow
 B. To direct
 C. To help
 D. To control

Question ID : 7773932447

Q.5 Select the most appropriate meaning of the given idiom.

Swim with sharks

- Ans A. To lack the know-how
 B. To be greedy
 C. To undertake a risk
 D. To be involved with dangerous people

Question ID : 7773932451

Q.6 Select the word which means the same as the group of words given.

The arrangement of events or dates in the order of their occurrence.

- Ans A. Ichthyology
 B. Demonology
 C. Etiology
 D. Chronology

Question ID : 7773932453

Q.7 Select the most appropriate meaning of the underlined idiom in the given sentence.

We need to turn up the heat on those guys so that they finally pay their debt to us.

- Ans A. To pressurize someone
 B. To be extremely caring
 C. To convince to act
 D. To have a chance

Question ID : 7773932449

Q.8 Select the word which means the same as the group of words given.

The art or practice of garden cultivation and management.

- Ans A. Viticulture
 B. Floriculture
 C. Arboriculture
 D. Horticulture

Question ID : 7773932454

Q.9 Select the most appropriate antonym of the given word.

Exquisite

- Ans A. Piercing
 B. Graceful
 C. Tactless
 D. Torturous

Question ID : 7773932441

Q.10 Select the most appropriate meaning of the underlined idiom in the given sentence.

Cross your fingers that this is the package we've been waiting for.

- Ans A. To hope for good luck
 B. To change one's plans
 C. To continue to work
 D. To make a decision

Question ID : 7773932448

Q.11 Select the incorrectly spelt word.

- Ans A. Frolicsome
 B. Nutritious
 C. Pleasurable
 D. Enchanting

Question ID : 7773932443

Q.12 Select the incorrectly spelt word.

- Ans A. Aproximation
 B. Enlargement
 C. Diminutive
 D. Consolidation

Question ID : 7773932445

Q.13 Select the word which means the same as the group of words given.

An expert in or student of the scientific study of plants.

- Ans A. Botanist
 B. Biologist
 C. Zoologist
 D. Ecologist

Question ID : 7773932452

Q.14 Select the word which means the same as the group of words given.

A tight rope walker.

- Ans A. Etymologist
 B. Etiologist
 C. Funambulist
 D. Contortionist

Question ID : 7773932455

Q.15 Select the incorrectly spelt word.

- Ans A. Rebellious
 B. Apprehention
 C. Converging
 D. Contradictory

Question ID : 7773932446

Comprehension:

Read the passage carefully and select the best answer to each question out of the given four alternatives.

Not only is the Universe stranger than we think, it is stranger than we can think. A particle accelerator is a machine that uses electromagnetic fields to propel charged particles to very high speeds and energies, and to contain them in well-defined beams. Large accelerators are used for basic research in particle physics. The largest accelerator currently operating is the Large Hadron Collider near Geneva, Switzerland, operated by CERN. Other powerful accelerators are KEKB at KEK in Japan, RHIC at Brookhaven National Laboratory in New York and, formerly, the Tevatron at Fermilab, Batavia, Illinois.

Accelerators are also used as synchrotron light sources for the study of condensed matter physics. Smaller particle accelerators are used in a wide variety of applications, including particle therapy for oncological purposes, radioisotope production for medical diagnostics, ion implanters for manufacture of semiconductors, and accelerator mass spectrometers for measurements of rare isotopes such as radiocarbon. There are two basic classes of accelerators: electrostatic and electrodynamic (or electromagnetic) accelerators. Electrostatic accelerators use static electric fields to accelerate particles. A small-scale example of this class is the cathode ray tube in an ordinary old television set.

The achievable kinetic energy for particles in these devices is determined by the accelerating voltage, which is limited by electrical breakdown. Electrodynamic or electromagnetic accelerators, on the other hand, use changing electromagnetic fields (either magnetic induction or oscillating radio frequency fields) to accelerate particles. Since in these types the particles can pass through the same accelerating field multiple times, the output energy is not limited by the strength of the accelerating field. This class, which was first developed in the 1920s, is the basis for most modern large-scale accelerators.

SubQuestion No : 16

Q.16 Some particle accelerators are used as synchrotron light sources, for which purpose(s)?

- Ans
- A. oncological purposes
 - B. condensed matter physics
 - C. ion implanters
 - D. radioisotope production

Question ID : 7773932459

Comprehension:

Read the passage carefully and select the best answer to each question out of the given four alternatives.

Not only is the Universe stranger than we think, it is stranger than we can think. A particle accelerator is a machine that uses electromagnetic fields to propel charged particles to very high speeds and energies, and to contain them in well-defined beams. Large accelerators are used for basic research in particle physics. The largest accelerator currently operating is the Large Hadron Collider near Geneva, Switzerland, operated by CERN. Other powerful accelerators are KEKB at KEK in Japan, RHIC at Brookhaven National Laboratory in New York and, formerly, the Tevatron at Fermilab, Batavia, Illinois.

Accelerators are also used as synchrotron light sources for the study of condensed matter physics. Smaller particle accelerators are used in a wide variety of applications, including particle therapy for oncological purposes, radioisotope production for medical diagnostics, ion implanters for manufacture of semiconductors, and accelerator mass spectrometers for measurements of rare isotopes such as radiocarbon. There are two basic classes of accelerators: electrostatic and electrodynamic (or electromagnetic) accelerators. Electrostatic accelerators use static electric fields to accelerate particles. A small-scale example of this class is the cathode ray tube in an ordinary old television set.

The achievable kinetic energy for particles in these devices is determined by the accelerating voltage, which is limited by electrical breakdown. Electrodynamic or electromagnetic accelerators, on the other hand, use changing electromagnetic fields (either magnetic induction or oscillating radio frequency fields) to accelerate particles. Since in these types the particles can pass through the same accelerating field multiple times, the output energy is not limited by the strength of the accelerating field. This class, which was first developed in the 1920s, is the basis for most modern large-scale accelerators.

SubQuestion No : 17

Q.17 According to the passage a particle accelerator contains the charged particles in which form?

- Ans A. beams
- B. electromagnetic fields
- C. in the different forms
- D. in the same forms

Question ID : 7773932457

Comprehension:

Read the passage carefully and select the best answer to each question out of the given four alternatives.

Not only is the Universe stranger than we think, it is stranger than we can think. A particle accelerator is a machine that uses electromagnetic fields to propel charged particles to very high speeds and energies, and to contain them in well-defined beams. Large accelerators are used for basic research in particle physics. The largest accelerator currently operating is the Large Hadron Collider near Geneva, Switzerland, operated by CERN. Other powerful accelerators are KEKB at KEK in Japan, RHIC at Brookhaven National Laboratory in New York and, formerly, the Tevatron at Fermilab, Batavia, Illinois.

Accelerators are also used as synchrotron light sources for the study of condensed matter physics. Smaller particle accelerators are used in a wide variety of applications, including particle therapy for oncological purposes, radioisotope production for medical diagnostics, ion implanters for manufacture of semiconductors, and accelerator mass spectrometers for measurements of rare isotopes such as radiocarbon. There are two basic classes of accelerators: electrostatic and electrodynamic (or electromagnetic) accelerators. Electrostatic accelerators use static electric fields to accelerate particles. A small-scale example of this class is the cathode ray tube in an ordinary old television set.

The achievable kinetic energy for particles in these devices is determined by the accelerating voltage, which is limited by electrical breakdown. Electrodynamic or electromagnetic accelerators, on the other hand, use changing electromagnetic fields (either magnetic induction or oscillating radio frequency fields) to accelerate particles. Since in these types the particles can pass through the same accelerating field multiple times, the output energy is not limited by the strength of the accelerating field. This class, which was first developed in the 1920s, is the basis for most modern large-scale accelerators.

SubQuestion No : 18

Q.18 The electrodynamic accelerators use which thing to accelerate particles?

- Ans
- ~~A. both of them~~
 - ~~B. oscillating radio frequency field~~
 - C. either of them
 - ~~D. magnetic induction~~

Question ID : 7773932461

Comprehension:

Read the passage carefully and select the best answer to each question out of the given four alternatives.

Not only is the Universe stranger than we think, it is stranger than we can think. A particle accelerator is a machine that uses electromagnetic fields to propel charged particles to very high speeds and energies, and to contain them in well-defined beams. Large accelerators are used for basic research in particle physics. The largest accelerator currently operating is the Large Hadron Collider near Geneva, Switzerland, operated by CERN. Other powerful accelerators are KEKB at KEK in Japan, RHIC at Brookhaven National Laboratory in New York and, formerly, the Tevatron at Fermilab, Batavia, Illinois.

Accelerators are also used as synchrotron light sources for the study of condensed matter physics. Smaller particle accelerators are used in a wide variety of applications, including particle therapy for oncological purposes, radioisotope production for medical diagnostics, ion implanters for manufacture of semiconductors, and accelerator mass spectrometers for measurements of rare isotopes such as radiocarbon. There are two basic classes of accelerators: electrostatic and electrodynamic (or electromagnetic) accelerators. Electrostatic accelerators use static electric fields to accelerate particles. A small-scale example of this class is the cathode ray tube in an ordinary old television set.

The achievable kinetic energy for particles in these devices is determined by the accelerating voltage, which is limited by electrical breakdown. Electrodynamic or electromagnetic accelerators, on the other hand, use changing electromagnetic fields (either magnetic induction or oscillating radio frequency fields) to accelerate particles. Since in these types the particles can pass through the same accelerating field multiple times, the output energy is not limited by the strength of the accelerating field. This class, which was first developed in the 1920s, is the basis for most modern large-scale accelerators.

SubQuestion No : 19

Q.19 According to the passage, the best example of a small-scale particle accelerator is:

- Ans A. electromagnetic fields
- B. cathode ray tube
- C. particle therapy in oncology
- D. ion implanters

Question ID : 7773932458

Comprehension:

Read the passage carefully and select the best answer to each question out of the given four alternatives.

Not only is the Universe stranger than we think, it is stranger than we can think. A particle accelerator is a machine that uses electromagnetic fields to propel charged particles to very high speeds and energies, and to contain them in well-defined beams. Large accelerators are used for basic research in particle physics. The largest accelerator currently operating is the Large Hadron Collider near Geneva, Switzerland, operated by CERN. Other powerful accelerators are KEKB at KEK in Japan, RHIC at Brookhaven National Laboratory in New York and, formerly, the Tevatron at Fermilab, Batavia, Illinois.

Accelerators are also used as synchrotron light sources for the study of condensed matter physics. Smaller particle accelerators are used in a wide variety of applications, including particle therapy for oncological purposes, radioisotope production for medical diagnostics, ion implanters for manufacture of semiconductors, and accelerator mass spectrometers for measurements of rare isotopes such as radiocarbon. There are two basic classes of accelerators: electrostatic and electrodynamic (or electromagnetic) accelerators. Electrostatic accelerators use static electric fields to accelerate particles. A small-scale example of this class is the cathode ray tube in an ordinary old television set.

The achievable kinetic energy for particles in these devices is determined by the accelerating voltage, which is limited by electrical breakdown. Electrodynamic or electromagnetic accelerators, on the other hand, use changing electromagnetic fields (either magnetic induction or oscillating radio frequency fields) to accelerate particles. Since in these types the particles can pass through the same accelerating field multiple times, the output energy is not limited by the strength of the accelerating field. This class, which was first developed in the 1920s, is the basis for most modern large-scale accelerators.

SubQuestion No : 20

Q.20 The powerful particle accelerator KEKB is in:

- Ans A. America
 B. Japan
 C. Geneva
 D. Switzerland

Question ID : 7773932460

Section : General Hindi1

Q.1 निम्नलिखित में से शब्द के शुद्ध रूप का चयन कीजिए-

- Ans A. थिरुअन्तपुरम
 B. तिरुबोन्तपुरम
 C. तीरूअनन्तपुरम
 D. तिरुवनन्तपुरम

Question ID : 7773932469

Q.2 मेरे घर से आपका घर दो किलोमीटर दूर है' इस वाक्य में किस कारक की विभक्ति का प्रयोग किया गया है?

- Ans A. कर्म कारक
 B. अपादान कारक
 C. संबंध कारक
 D. सम्प्रदान कारक

Question ID : 7773932478

Q.3 निम्नलिखित में से इच्छावाचक वाक्य का चयन कीजिए-

- Ans A. सदा कल्याण हो।
 B. शायद आज शिक्षक न आए।
 C. धन्य ! तुम पहले नंबर से पास हो गए।
 D. निरंतर कोशिश करने वाले कभी हारते नहीं।

Question ID : 7773932481

Q.4 'गुण संधि' का संबंध निम्नलिखित में से किस संधि विशेष से है?

- Ans A. स्वर संधि
 B. दीर्घ संधि
 C. व्यंजन संधि
 D. विसर्ग संधि

Question ID : 7773932467

Q.5 निम्नलिखित में से कौन-सा 'बिजली' का पर्यायवाची शब्द नहीं है?

- Ans A. सौदामनी
 B. चंचला
 C. कांता
 D. दामिनी

Question ID : 7773932473

Q.6 निम्नलिखित में से शब्द 'क्षत्रिय' में कौन-सा प्रत्यय है?

- Ans A. इय
 B. ई
 C. निय
 D. क्ष

Question ID : 7773932462

Q.7 निम्नलिखित में से किस वाक्य में अन्यपुरुषवाचक सर्वनाम का प्रयोग किया गया है?

- Ans A. आपका नाम क्या है?
 B. तुम क्या कर रहे हो?
 C. उन सभी को यहां लेकर आओ।
 D. मेरा घर आगरा में है।

Question ID : 7773932479

Q.8 निम्नलिखित में से अशुद्ध वर्तनी वाले शब्द का चयन कीजिए-

- Ans A. प्राचीनतम
 B. प्रामाणिक
 C. सुग्रीव
 D. चर्तुभुज

Question ID : 7773932476

Q.9 निम्नलिखित में से दिए गए शब्द-युग्म के सही अर्थ-भेद का चयन कीजिए-

झल - झल्ल

- Ans A. व्यर्थ - आँच
 B. सनक - जलन
 C. बादल - घुटना
 D. जलन - सनक

Question ID : 7773932471

Q.10 निम्नलिखित में से उपर्युक्त शब्द का चयन कीजिए-

कामायनी, _____ की रचना है।

- Ans A. तुलसीदास
 B. सूरदास
 C. जयशंकर प्रसाद
 D. मैथिलीशरण गुप्त

Question ID : 7773932477

Q.11 निम्नलिखित में से दिए गए वाक्य के लिए एक शब्द का चयन कीजिए-

जिस स्थान पर अभिनेता अपना वेश-विन्यास करते हैं _____

- Ans A. नेपथ्य
 B. अजर
 C. फलक
 D. दुर्भिक्ष

Question ID : 7773932474

Q.12 निम्नलिखित में से शब्द 'जय-पराजय' में कौन-सा समास है?

- Ans A. तत्पुरुष समास
 B. द्वंद्व समास
 C. द्विगु समास
 D. कर्मधारय समास

Question ID : 7773932465

Q.13 निम्नलिखित में से पुल्लिंग शब्द का चयन कीजिए-

- Ans A. तारीख
 B. दया
 C. इत्मीनान
 D. दिल्ली

Question ID : 7773932480

Q.14 निम्नलिखित में से विदेशज शब्द का चयन कीजिए-

- Ans A. पाउडर
 B. घोटाला
 C. धक्का
 D. लाला

Question ID : 7773932468

Q.15 "उदार" का विलोम शब्द निम्नलिखित में से कौन-सा है?

- Ans A. कृतज्ञ
 B. कृपण
 C. उत्तम
 D. उद्धत

Question ID : 7773932472

Q.16 'ऋ' ध्वनि का उच्चारण स्थान निम्नलिखित में से क्या है?

- Ans A. कंठ
 B. दन्त
 C. तालु
 D. मूर्धा

Question ID : 7773932464

Q.17 निम्नलिखित में से तत्सम शब्द का चयन कीजिए:

- Ans A. औतार
 B. उलाहना
 C. उबटन
 D. उपवास

Question ID : 7773932463

Q.18 निम्नलिखित में से शुद्ध वर्तनी वाले शब्द का चयन कीजिए-

- Ans A. निलंबित
 B. इंसानियत
 C. नौसीखिया
 D. नेस्तनाबूद

Question ID : 7773932470

Q.19 निम्नलिखित में से "मछली" का पर्यायवाची शब्द कौन-सा है?

- Ans A. गिरा
 B. शर्वरी
 C. झख
 D. यती

Question ID : 7773932475

Q.20 निम्नलिखित में से भाववाचक संज्ञा शब्द कौन-सा है?

- Ans
- A. गेहूं
 - B. तांबा
 - C. आयोग
 - D. मुस्कुराहट

Question ID : 7773932466

Section : General Hindi2

Q.1 नीचे दिया गया वाक्य निम्नलिखित में से किस काल का है?

यदि तुम आओगे, तो मैं चँलूंगा।

- Ans
- A. आसन्न भूतकाल
 - B. सामान्य भविष्यत
 - C. सम्भाव्य भविष्यत
 - D. हेतुहेतुमद् भविष्यत

Question ID : 7773932485

Q.2 लोकोक्ति "अमानत में खयानत" का निम्नलिखित में से क्या अर्थ है?

- Ans
- A. अपनी इज्जत अपने हाथ होती है।
 - B. किसी भी काम में हमें मर्यादा का उल्लंघन नहीं करना चाहिए।
 - C. किसी के पास अमानत के रूप में रखी कोई वस्तु खर्च कर देना।
 - D. अपने घर या गली-मोहल्ले में बहादुरी दिखाना।

Question ID : 7773932491

Q.3 जब किसी शब्द को अलग दर्शना हो अर्थात् जहाँ वाक्य पूरा नहीं होता, बल्कि किसी वस्तु अथवा विषय के बारे में बताया जाता है, वहाँ निम्नलिखित में से किस चिन्ह का प्रयोग किया जाता है?

- Ans
- A. उपविराम चिन्ह
 - B. अल्पविराम चिन्ह
 - C. पूर्णविराम चिन्ह
 - D. अवतरण चिन्ह

Question ID : 7773932496

Q.4 निम्नलिखित में से शुद्ध वर्तनी वाले वाक्य का चयन कीजिए-

- Ans
- A. अपने देह को स्वस्थ रखो।
 - B. यह पूरा धन यहीं रह जाएगा।
 - C. आप को आने में देर हो गया।
 - D. यह दुनिया बड़ी अनोखा है।

Question ID : 7773932486

Q.5 निम्नलिखित में से किस लोकोक्ति का अर्थ "शिष्य का गुरु से अधिक उन्नति करना" होता है?

- Ans A. गुड़ ही रहा गुरु, शक्कर खा गया अकेला
 B. गुरु गुड़ ही रहा, चेला शक्कर हो गया
 C. गीदड़ की शामत आए तो वह शहर की तरफ भागता है
 D. गंगा गए तो गंगादास, जमुना गए तो जमनादास

Question ID : 7773932490

Q.6 निम्नलिखित में से कौन-सा लोकोक्ति का प्रचलित रूप है?

- Ans A. भेत खाये गदहा, सार खाये जोलहा।
 B. खेत खाये गदहा, मार खाये जोलहा।
 C. खेत खाये जोलहा मार खाये चूहा।
 D. खेत खाये चूहा, मार खाये दोहा।

Question ID : 7773932493

Q.7 निम्नलिखित में से किस लोकोक्ति का अर्थ "झगड़ा लगाकर अलग हो जाना" होता है?

- Ans A. आप भला तो जग भला।
 B. ओछे की प्रीत बालू की भीत।
 C. आग लगाकर जमालो दूर खड़ी।
 D. इन तिलों में तेल नहीं निकलता।

Question ID : 7773932492

Q.8 निम्नलिखित में से नीचे दिए गए वाक्य में किस चिन्ह का प्रयोग नहीं किया गया है?

भारतेंदु जी ने कहा, "हिंदी, हिन्दू, हिंदुस्तान"।

- Ans A. अल्पविराम चिन्ह
 B. लाघव चिन्ह
 C. पूर्णविराम चिन्ह
 D. अवतरण चिन्ह

Question ID : 7773932494

Q.9 निम्नलिखित में से मुहावरा "ढाई ईट की मस्जिद" का क्या अर्थ है?

- Ans A. भाग्य का खेल
 B. सबसे अलग कार्य करना
 C. विपत्ति में थोड़ी सी मदद
 D. हुकूमत होना

Question ID : 7773932489

Q.10 निम्नलिखित में से बहुवचन शब्द का चयन कीजिए-

- Ans A. वह
 B. यह
 C. वे
 D. मैं

Question ID : 7773932482

Q.11 निम्नलिखित में से वाक्य के प्रकार का चयन कीजिए-

यदि इस वर्ष वर्षा न हुई तो सभी की फसल नष्ट हो जाएंगी।

- Ans A. विस्मयादिबोधक वाक्य
 B. सरल वाक्य
 C. संयुक्त वाक्य
 D. मिश्र वाक्य

Question ID : 7773932484

Q.12 निम्नलिखित में से किस मुहावरे का अर्थ "किसी को तुच्छ समझ कर अलग करना" होता है?

- Ans A. दिमाग सातवें आसमान पर होना।
 B. दामक पकड़ना।
 C. दूध की मक्खी की तरह निकाल कर फेंक देना।
 D. दरवाजे की मिट्टी खोद डालना।

Question ID : 7773932488

Q.13 नीचे दिए गए वाक्य में निम्नलिखित में से किस चिन्ह का प्रयोग किया गया है?

वाह! कितना सुंदर दृश्य है।

- Ans A. दीर्घ उच्चारण चिन्ह
 B. अर्द्ध विराम
 C. विस्मयादिबोधक चिन्ह
 D. उप विराम

Question ID : 7773932495

Q.14 निम्नलिखित में से वाच्य के प्रकार का चयन कीजिए-

यह दुकान सेठ जी के द्वारा बनवाई गई थी।

- Ans A. भाववाच्य
 B. कर्मवाच्य
 C. क्रियावाच्य
 D. कर्तृवाच्य

Question ID : 7773932483

Q.15 निम्नलिखित में से मुहावरा "त्रिशंकु होना" का क्या अर्थ है?

- Ans A. किसी और का न रहना।
 B. व्यंग वचन बोलना
 C. न करने की कसम खाना
 D. पूरी तरह भरा हुआ

Question ID : 7773932487

Comprehension:

निम्नलिखित गद्यांश का ध्यानपूर्वक अध्ययन कर प्रश्नों के उत्तर दीजिए-

विद्वानों का यह कथन बहुत सही है कि विनम्रता के बिना स्वतंत्रता का कोई अर्थ नहीं होता है। इस बात को सभी लोग मानते हैं, कि आत्मसंस्कार के लिए थोड़ी-बहुत मानसिक स्वतंत्रता परमावश्यक है-चाहे उस स्वतंत्रता में अभिमान और नम्रता दोनों का मेल हो और चाहे वह नम्रता ही से उत्पन्न हो। यह बात तो निश्चित है कि जो मनुष्य मर्यादापूर्वक जीवन व्यतीत करना चाहता है, उसके लिए वह गुण अनिवार्य है, जिससे आत्मनिर्भरता आती है और जिससे अपने पैरों के बल खड़ा होना आता है। युवा को यह सदा स्मरण रखना चाहिए कि वह बहुत कम बातें जानता है, अपने ही आदर्श से वह बहुत नीचे है और उसकी आकांक्षाएँ उसकी योग्यता से कहीं बढ़ी हुई हैं। उसे इस बात का ध्यान रखना चाहिए कि वह अपने बड़ों का सम्मान करे, छोटों और बराबर वालों से कोमलता का व्यवहार करे, ये बातें आत्ममर्यादा के लिए आवश्यक हैं। यह सारा संसार, जो कुछ हम हैं और जो कुछ हमारा है-हमारा शरीर, हमारी आत्मा, हमारे भोग, हमारे घर और बाहर की दशा, हमारे बहुत-से अवगुण और थोड़े गुण-सब इसी बात की आवश्यकता प्रकट करते हैं कि हमें अपनी आत्मा को नम्र रखना चाहिए। नम्रता से मेरा अभिप्राय दबूपन से नहीं है, जिसके कारण मनुष्य दूसरों का मुँह ताकता है, जिससे उसका संकल्प क्षीण और उसकी प्रज्ञा मंद हो जाती है; जिसके कारण वह आगे बढ़ने के समय भी पीछे रहता है और अवसर पड़ने पर चट-पट किसी बात का निर्णय नहीं कर सकता। मनुष्य का बेड़ा उसके अपने ही हाथ में है, उसे वह चाहे जिधर ले जाए। सच्ची आत्मा वही है, जो प्रत्येक दशा में, प्रत्येक स्थिति के बीच अपनी राह आप निकालती है।

SubQuestion No : 16

Q.16 निम्नलिखित में से उपरोक्त गद्यांश के लिए उचित शीर्षक का चयन कीजिए-

- Ans A. नम्रता में दबूपन।
 B. विनम्रता का महत्व।
 C. शारीरिक स्वतंत्रता
 D. जीवन में सफलता का महत्व

Question ID : 7773932500

Comprehension:

निम्नलिखित गद्यांश का ध्यानपूर्वक अध्ययन कर प्रश्नों के उत्तर दीजिए-

विद्वानों का यह कथन बहुत सही है कि विनम्रता के बिना स्वतंत्रता का कोई अर्थ नहीं होता है। इस बात को सभी लोग मानते हैं, कि आत्मसंस्कार के लिए थोड़ी-बहुत मानसिक स्वतंत्रता परमावश्यक है-चाहे उस स्वतंत्रता में अभिमान और नम्रता दोनों का मेल हो और चाहे वह नम्रता ही से उत्पन्न हो। यह बात तो निश्चित है कि जो मनुष्य मर्यादापूर्वक जीवन व्यतीत करना चाहता है, उसके लिए वह गुण अनिवार्य है, जिससे आत्मनिर्भरता आती है और जिससे अपने पैरों के बल खड़ा होना आता है। युवा को यह सदा स्मरण रखना चाहिए कि वह बहुत कम बातें जानता है, अपने ही आदर्श से वह बहुत नीचे है और उसकी आकांक्षाएँ उसकी योग्यता से कहीं बढ़ी हुई हैं। उसे इस बात का ध्यान रखना चाहिए कि वह अपने बड़ों का सम्मान करे, छोटों और बराबर वालों से कोमलता का व्यवहार करे, ये बातें आत्ममर्यादा के लिए आवश्यक हैं। यह सारा संसार, जो कुछ हम हैं और जो कुछ हमारा है-हमारा शरीर, हमारी आत्मा, हमारे भोग, हमारे घर और बाहर की दशा, हमारे बहुत-से अवगुण और थोड़े गुण-सब इसी बात की आवश्यकता प्रकट करते हैं कि हमें अपनी आत्मा को नम्र रखना चाहिए। नम्रता से मेरा अभिप्राय दबूपन से नहीं है, जिसके कारण मनुष्य दूसरों का मुँह ताकता है, जिससे उसका संकल्प क्षीण और उसकी प्रज्ञा मंद हो जाती है; जिसके कारण वह आगे बढ़ने के समय भी पीछे रहता है और अवसर पड़ने पर चट-पट किसी बात का निर्णय नहीं कर सकता। मनुष्य का बेड़ा उसके अपने ही हाथ में है, उसे वह चाहे जिधर ले जाए। सच्ची आत्मा वही है, जो प्रत्येक दशा में, प्रत्येक स्थिति के बीच अपनी राह आप निकालती है।

SubQuestion No : 17

Q.17 उपरोक्त गद्यांश के संदर्भ में मुहावरा "मुँह ताकना" का निम्नलिखित में से क्या अर्थ है?

- Ans A. दूसरों पर आश्रित होना।
 B. चोरी करना।
 C. बहुत ज्यादा गुस्सा करना।
 D. कड़ा उत्तर देना।

Question ID : 7773932501

Comprehension:

निम्नलिखित गद्यांश का ध्यानपूर्वक अध्ययन कर प्रश्नों के उत्तर दीजिए-

विद्वानों का यह कथन बहुत सही है कि विनम्रता के बिना स्वतंत्रता का कोई अर्थ नहीं होता है। इस बात को सभी लोग मानते हैं, कि आत्मसंस्कार के लिए थोड़ी-बहुत मानसिक स्वतंत्रता परमावश्यक है-चाहे उस स्वतंत्रता में अभिमान और नम्रता दोनों का मेल हो और चाहे वह नम्रता ही से उत्पन्न हो। यह बात तो निश्चित है कि जो मनुष्य मर्यादापूर्वक जीवन व्यतीत करना चाहता है, उसके लिए वह गुण अनिवार्य है, जिससे आत्मनिर्भरता आती है और जिससे अपने पैरों के बल खड़ा होना आता है। युवा को यह सदा स्मरण रखना चाहिए कि वह बहुत कम बातें जानता है, अपने ही आदर्श से वह बहुत नीचे है और उसकी आकांक्षाएँ उसकी योग्यता से कहीं बढ़ी हुई हैं। उसे इस बात का ध्यान रखना चाहिए कि वह अपने बड़ों का सम्मान करे, छोटों और बराबर वालों से कोमलता का व्यवहार करे, ये बातें आत्ममर्यादा के लिए आवश्यक हैं। यह सारा संसार, जो कुछ हम हैं और जो कुछ हमारा है-हमारा शरीर, हमारी आत्मा, हमारे भोग, हमारे घर और बाहर की दशा, हमारे बहुत-से अवगुण और थोड़े गुण-सब इसी बात की आवश्यकता प्रकट करते हैं कि हमें अपनी आत्मा को नम्र रखना चाहिए। नम्रता से मेरा अभिप्राय दबूपन से नहीं है, जिसके कारण मनुष्य दूसरों का मुँह ताकता है, जिससे उसका संकल्प क्षीण और उसकी प्रज्ञा मंद हो जाती है; जिसके कारण वह आगे बढ़ने के समय भी पीछे रहता है और अवसर पड़ने पर चट-पट किसी बात का निर्णय नहीं कर सकता। मनुष्य का बेड़ा उसके अपने ही हाथ में है, उसे वह चाहे जिधर ले जाए। सच्ची आत्मा वही है, जो प्रत्येक दशा में, प्रत्येक स्थिति के बीच अपनी राह आप निकालती है।

SubQuestion No : 18

Q.18 निम्नलिखित में से "उदंडता" के विलोम शब्द का चयन कीजिए-

- Ans A. नम्रता
 B. उग्रता
 C. ढिठाई
 D. विग्रता

Question ID : 7773932498

Comprehension:

निम्नलिखित गद्यांश का ध्यानपूर्वक अध्ययन कर प्रश्नों के उत्तर दीजिए-

विद्वानों का यह कथन बहुत सही है कि विनम्रता के बिना स्वतंत्रता का कोई अर्थ नहीं होता है। इस बात को सभी लोग मानते हैं, कि आत्मसंस्कार के लिए थोड़ी-बहुत मानसिक स्वतंत्रता परमावश्यक है-चाहे उस स्वतंत्रता में अभिमान और नम्रता दोनों का मेल हो और चाहे वह नम्रता ही से उत्पन्न हो। यह बात तो निश्चित है कि जो मनुष्य मर्यादापूर्वक जीवन व्यतीत करना चाहता है, उसके लिए वह गुण अनिवार्य है, जिससे आत्मनिर्भरता आती है और जिससे अपने पैरों के बल खड़ा होना आता है। युवा को यह सदा स्मरण रखना चाहिए कि वह बहुत कम बातें जानता है, अपने ही आदर्श से वह बहुत नीचे है और उसकी आकांक्षाएँ उसकी योग्यता से कहीं बढ़ी हुई हैं। उसे इस बात का ध्यान रखना चाहिए कि वह अपने बड़ों का सम्मान करे, छोटों और बराबर वालों से कोमलता का व्यवहार करे, ये बातें आत्ममर्यादा के लिए आवश्यक हैं। यह सारा संसार, जो कुछ हम हैं और जो कुछ हमारा है-हमारा शरीर, हमारी आत्मा, हमारे भोग, हमारे घर और बाहर की दशा, हमारे बहुत-से अवगुण और थोड़े गुण-सब इसी बात की आवश्यकता प्रकट करते हैं कि हमें अपनी आत्मा को नम्र रखना चाहिए। नम्रता से मेरा अभिप्राय दबूपन से नहीं है, जिसके कारण मनुष्य दूसरों का मुँह ताकता है, जिससे उसका संकल्प क्षीण और उसकी प्रज्ञा मंद हो जाती है; जिसके कारण वह आगे बढ़ने के समय भी पीछे रहता है और अवसर पड़ने पर चट-पट किसी बात का निर्णय नहीं कर सकता। मनुष्य का बेड़ा उसके अपने ही हाथ में है, उसे वह चाहे जिधर ले जाए। सच्ची आत्मा वही है, जो प्रत्येक दशा में, प्रत्येक स्थिति के बीच अपनी राह आप निकालती है।

SubQuestion No : 19

Q.19 उपरोक्त गद्यांश के अनुसार दबूपन के कारण मनुष्य _____ है।

- Ans A. अवसर पड़ने पर आसानी से निर्णय ले पाता है।
 B. दूसरों का मुँह ताकता है।
 C. रोजगार आसानीपूर्वक मिल जाता है।
 D. अधिक सफलता प्राप्त करता है।

Question ID : 7773932499

Comprehension:

निम्नलिखित गद्यांश का ध्यानपूर्वक अध्ययन कर प्रश्नों के उत्तर दीजिए-

विद्वानों का यह कथन बहुत सही है कि विनम्रता के बिना स्वतंत्रता का कोई अर्थ नहीं होता है। इस बात को सभी लोग मानते हैं, कि आत्मसंस्कार के लिए थोड़ी-बहुत मानसिक स्वतंत्रता परमावश्यक है-चाहे उस स्वतंत्रता में अभिमान और नम्रता दोनों का मेल हो और चाहे वह नम्रता ही से उत्पन्न हो। यह बात तो निश्चित है कि जो मनुष्य मर्यादापूर्वक जीवन व्यतीत करना चाहता है, उसके लिए वह गुण अनिवार्य है, जिससे आत्मनिर्भरता आती है और जिससे अपने पैरों के बल खड़ा होना आता है। युवा को यह सदा स्मरण रखना चाहिए कि वह बहुत कम बातें जानता है, अपने ही आदर्श से वह बहुत नीचे है और उसकी आकांक्षाएँ उसकी योग्यता से कहीं बढ़ी हुई हैं। उसे इस बात का ध्यान रखना चाहिए कि वह अपने बड़ों का सम्मान करे, छोटों और बराबर वालों से कोमलता का व्यवहार करे, ये बातें आत्ममर्यादा के लिए आवश्यक हैं। यह सारा संसार, जो कुछ हम हैं और जो कुछ हमारा है-हमारा शरीर, हमारी आत्मा, हमारे भोग, हमारे घर और बाहर की दशा, हमारे बहुत-से अवगुण और थोड़े गुण-सब इसी बात की आवश्यकता प्रकट करते हैं कि हमें अपनी आत्मा को नम्र रखना चाहिए। नम्रता से मेरा अभिप्राय दबूपन से नहीं है, जिसके कारण मनुष्य दूसरों का मुँह ताकता है, जिससे उसका संकल्प क्षीण और उसकी प्रज्ञा मंद हो जाती है; जिसके कारण वह आगे बढ़ने के समय भी पीछे रहता है और अवसर पड़ने पर चट-पट किसी बात का निर्णय नहीं कर सकता। मनुष्य का बेड़ा उसके अपने ही हाथ में है, उसे वह चाहे जिधर ले जाए। सच्ची आत्मा वही है, जो प्रत्येक दशा में, प्रत्येक स्थिति के बीच अपनी राह आप निकालती है।

SubQuestion No : 20

Q.20 उपरोक्त गद्यांश के अनुसार आत्ममर्यादा के लिए निम्नलिखित में से कौन-सी बात आवश्यक है?

- Ans A. विनम्रता से किसी से बात नहीं करना।
 B. छोटों और बराबर वालों से कोमलता का व्यवहार करना।
 C. बड़ों का सम्मान करना।
 D. बड़ों का सम्मान करना, छोटों और बराबर वालों से कोमलता का व्यवहार करना।

Question ID : 7773932502



GOVT. OF NCT OF DELHI
Delhi Subordinate Services Selection Board
FC-18, Institutional Area, Karkardooma, Delhi – 110092.
www.dsssb.delhigovt.nic.in

Participant ID	
Participant Name	
Test Center Name	Gallatin Assessment Center
Test Date	22/11/2021
Test Time	12:30 PM - 2:30 PM
Subject	Fee Collector Sub Inspector Auction Recorder

Section : General Ability 1

Q.1 P is 3 years older to Q. Q is 4 years younger to R. R is 4 years older to S. S is 5 years younger to T. Who is the eldest?

- Ans
- A. Q
 - B. T
 - C. R
 - D. S

Question ID : 7773933221

Q.2 Select the option that is related to the third term in the same way as the second term is related to the first term.

Placid : Turbulent :: Nonchalant : ?

- Ans
- A. Negligent
 - B. Attentive
 - C. Volatile
 - D. Tranquil

Question ID : 7773933213

Q.3 In the following question below are given two statements followed by two conclusions (I) and (II). Taking the given statements to be true even if they seem to be at variance from commonly known facts, read all the conclusions and then decide which of the given conclusion logically follows the given statements.

Statements:

Some angels are gods.
All living being are gods.

Conclusions:

1. Some gods are angels.
2. Some living beings are gods.

- Ans
- A. Neither 1 nor 2 follows
 - B. Only conclusion 1 follows
 - C. Only conclusion 2 follows
 - D. Both 1 and 2 follow

Question ID : 7773933227

Q.4 Select the related letter /number from the given alternatives.

M1T8S : MATHS :: S16A14I19H : ?

- Ans A. SLAVISH
 B. SPANISH
 C. STAUNCH
 D. SPINACH

Question ID : 7773933216

Q.5 P, Q, R, S, T, U are 6 persons sitting in a straight line facing north but not in the same order. There are two persons sitting between the P and T. S is to the immediate right of P. R is at the extreme right. Q is second to the left of P. U is sitting between Q & P. Who is sitting at the left end?

- Ans A. T
 B. S
 C. P
 D. Q

Question ID : 7773933224

Q.6 If 'white' is called 'rain: 'rain' is called 'green: 'green' is called 'blue: 'blue' is called 'cloud: 'cloud' is called 'red: 'red' is called 'sky: 'sky' is called 'yellow' and 'yellow' is called 'black: then what is the colour of grass?

- Ans A. Sky
 B. Blue
 C. Red
 D. Cloud

Question ID : 7773933220

Q.7 A, B, C, D, and E are 5 books kept on top of each other. C is kept exactly between A and B. D and E are kept together. E is kept immediately above B. Which book is in the middle?

- Ans A. E
 B. C
 C. B or E
 D. B

Question ID : 7773933222

Q.8 Select the term that will come next in the following series.

LSQ, IPN, FMK, CJH, ?

- Ans A. CHR
 B. ASM
 C. ZGE
 D. SBT

Question ID : 7773933209

Q.9 In the following question below are given two statements followed by two conclusions (I) and (II). Taking the given statements to be true even if they seem to be at variance from commonly known facts, read all the conclusions and then decide which of the given conclusion logically follows the given statements.

Statement:

I: No medals are trophies.

II: No badges are medals.

Conclusion:

I: All trophies are badges.

II: Some badges are trophies.

- Ans A. Only conclusion II follows
- B. Neither conclusion I nor conclusion II follows
- C. Only conclusion I follows
- D. Both conclusions I and II follow

Question ID : 7773933228

Q.10 In a certain code language, "Sun is hot" is written as "fi lat muk", "milk is sour" is written as "muk ti mu" and "milk makes sour" is written as "ti mu fa". What is the code for "is" in that code language?

- Ans A. fa
- B. ti
- C. mu
- D. muk

Question ID : 7773933217

Q.11 किसी फोटो की ओर ईशारा करते हुए एक महिला कहती है कि वह मेरी सास के एकमात्र बेटे के बेटा का भाई है। उस व्यक्ति का उस महिला से क्या संबंध है?

- Ans A. भतीजा
- B. भाई
- C. साला/जीजा
- D. पुत्र

Question ID : 7773933225

Q.12 In the following question, select the related letter/letters from the given alternatives.

LNPR : TVXZ :: ? : NPRT

- Ans A. FHJL
- B. JLHF
- C. FLJH
- D. HFLJ

Question ID : 7773933215

Q.13 M, N, O, P, Q, R and S are playing cards sitting around a circular table facing towards the centre, but not necessarily in the same order. P is not the neighbour of O and Q. M is the neighbour of N and O. S, who is second to the left of P, is the neighbour of Q and R.

Which of the following is correct?

- Ans A. N is between M and P
 B. Q is to the immediate right of S
 C. P is between R and S
 D. R is to the immediate left of S

Question ID : 7773933223

Q.14 In each question below, three statements are given followed by two conclusions numbered I and II. You have to take the given statements to be true even if they seem to be at variance with commonly known facts. Read all the conclusions and then decide which of the given conclusions logically follow(s) from the given statements, disregarding the commonly known facts.

Statements:

All bullets are guns.

No bullet is pen.

Some pens are swords.

Conclusions:

I. No pen is a gun.

II. Some swords being bullets is a possibility.

- Ans A. If only conclusion II follows
 B. If either conclusion I or II follows
 C. If neither conclusion I nor II follows
 D. If only conclusion I follows

Question ID : 7773933226

Q.15 In the following question, select the related letters from the given alternatives.

SLING : GNILS :: HINGE : ?

- Ans A. NGIHE
 B. EGNIH
 C. INEHG
 D. HGEHI

Question ID : 7773933214

Q.16 Select the missing term in the following series.

ZE8, YJ6, VO4, ?, JY0

- Ans A. TY1
 B. QY1
 C. QT2
 D. QT3

Question ID : 7773933210

Q.17 If 'MOTHER' is coded as '1315208518' in a particular language, then how will 'NEPHEW' be coded in the same language?

- Ans A. 145168235
 B. 141586235
 C. 145168523
 D. 141568523

Question ID : 7773933219

Q.18 Find the wrong term in the following series.

MEZ, NGX, OIV, PKT, QMP

- Ans A. OIV
 B. PKT
 C. NGX
 D. QMP

Question ID : 7773933212

Q.19 If 'ROCKET' is coded as 'SQFOJZ' in a particular language, then how will 'SYSTEM' be coded in the same language?

- Ans A. TZTUFN
 B. TAVUJS
 C. TAVXJS
 D. TATXJS

Question ID : 7773933218

Q.20 Select the term that will come next in the following series.

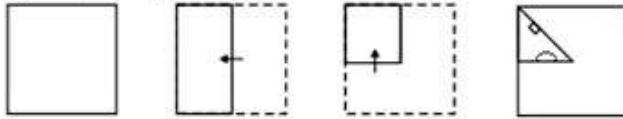
D, I, L, Q, T, Y, B, G, ?

- Ans A. O
 B. I
 C. J
 D. H

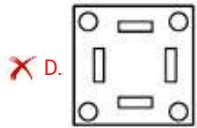
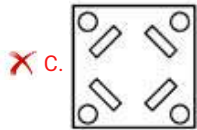
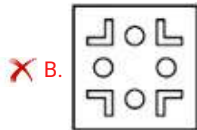
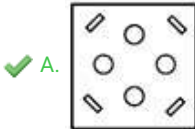
Question ID : 7773933211

Q.1 Find out from amongst the four alternatives as to how the pattern would appear on the sheet when the sheet is folded at the dotted line and is punched as given.

Question Figure:



Ans

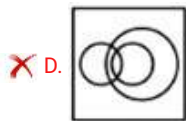


Question ID : 7773933247

Q.2 Select the Venn diagram that best illustrates the relationship between the following classes.

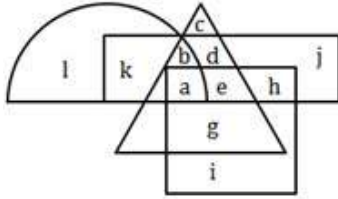
Cereal, Wheat and Tomato

Ans



Question ID : 7773933240

Q.3 In the following figure, the semi-circle stands for Books, the rectangle stands for Pens, the square stands for Paper and the triangle stands for Pencil. Study the figure carefully and answer the given question.



The letter which represents Books and Pencils but not Paper is_____.

- Ans
- A. e
 - B. f
 - C. a
 - D. b

Question ID : 7773933238

Q.4 Select the odd figure out of the following figure series..

Ans

- A.
- B.
- C.
- D.

Question ID : 7773933243

Q.5 Select the correct combination of mathematical signs to replace × signs and to balance the equation.

$$48 \times 4 \times 6 \times 3 \times 30$$

- Ans
- A. ÷, =, ×, +
 - B. -, =, ×, +
 - C. -, +, =, ×
 - D. ÷, +, ×, =

Question ID : 7773933234

Q.6 Identify the diagram that best represents the relationship among the given classes.

Teacher, Lawyer, Man

Ans

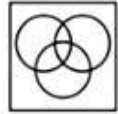
A.



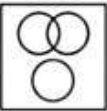
B.



C.



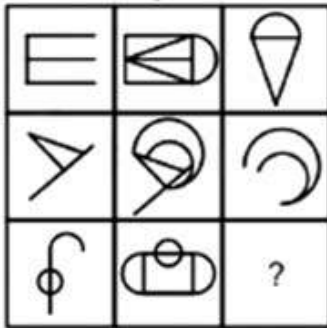
D.



Question ID : 7773933239

Q.7 Choose the correct figure when will replace the question mark.

Question Figure:

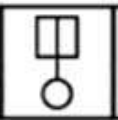


Ans

A.



B.



C.

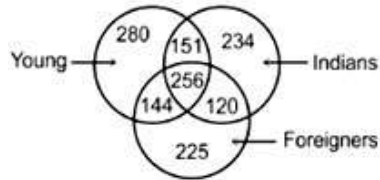


D.



Question ID : 7773933244

Q.8 Study the following information carefully and answer the questions based on it.
In the figure, how many of them are only young and foreigners?



- Ans A. 151
 B. 280
 C. 234
 D. 144

Question ID : 7773933237

Q.9 In the following question select the related number from the given alternatives.

82 : 36 :: 91 : 64 :: 73 : ?

- Ans A. 64
 B. 16
 C. 144
 D. 100

Question ID : 7773933232

Q.10 In each question below, three statements are given followed by two conclusions numbered I and II. You have to take the given statements to be true even if they seem to be at variance with commonly known facts. Read all the conclusions and then decide which of the given conclusions logically follow(s) from the given statements, disregarding the commonly known facts.

Statements:
 All squares are circles.
 All circles are units.
 No circle is a meter.

Conclusions:
 I. Some units which are not circles can be meters.
 II. Some squares being meters is a possibility.

- Ans A. If only conclusion I follows
 B. If either conclusion I or II follows
 C. If only conclusions II follows
 D. If both conclusion I and II follow

Question ID : 7773933229

Q.11 Select the missing number from the given responses.

3, 12, 39, ?, 363, 1092

- Ans A. 122
 B. 98
 C. 120
 D. 108

Question ID : 7773933231

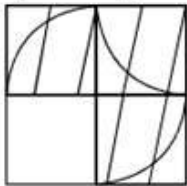
Q.12 Divya walked 50 m towards the south, and then she took a left turn and walked 30 m. She again took a right turn and walked 20 m. Before stopping, she took a last left turn. Now, which direction is she currently facing?

- Ans A. South
 B. East
 C. North
 D. West

Question ID : 7773933241

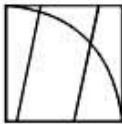
Q.13 Select the correct option to complete the following pattern.

Question Figure:

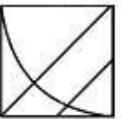


Ans

A.



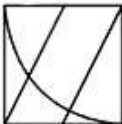
B.



C.



D.



Question ID : 7773933245

Q.14 Find the missing number in the given matrix.

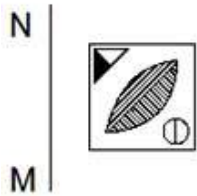
6	15	35
77	143	221
323	?	667

- Ans
- A. 475
 - B. 440
 - C. 399
 - D. 437

Question ID : 7773933235

Q.15 In the following question, choose the correct mirror image of the figure, from amongst the four alternatives.

Question Figure:



Ans

- A.
- B.
- C.
- D.

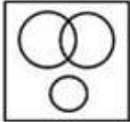
Question ID : 7773933248

Q.16 Identify the diagram that best represents the relationship among the given classes.

Hot Coffee, Medicine, Cold drinks

Ans

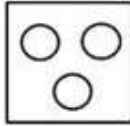
A.



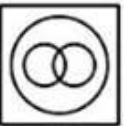
B.



C.



D.



Question ID : 7773933236

Q.17 If '-' stands for division, '+' for multiplication, '÷' for subtraction and 'x' for addition, which one of the following equations is correct?

Ans

A. $18 \div 3 \times 2 + 8 - 6 = 10$

B. $18 \times 3 + 2 \div 8 - 6 = 15$

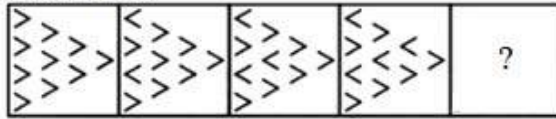
C. $18 - 3 \div 2 \times 8 + 6 = 17$

D. $18 - 3 + 2 \times 8 \div 6 = 14$

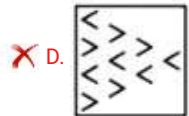
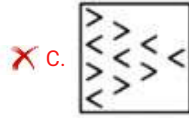
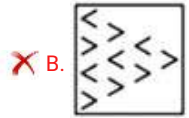
Question ID : 7773933233

Q.18 Select the figure that will come next in the following figure series.

Question Figure:



Ans



Question ID : 7773933242

Q.19 In the question below contains a Statement or a Question and two Arguments I and II. Assume the Statement or Question to be true and choose the correct answer according to the code given below.

Statement: Should luxury hotels be banned in India?


Argument I: Yes. They are places from where international criminals operate.
Argument II: No. Affluent foreign tourists will have no place to stay.

- Ans
- A. If only argument I is strong
 - B. If either argument I or II is strong
 - C. If only argument II is strong
 - D. If neither argument I nor II is strong

Question ID : 7773933230


Q.20 From the given answer figures, select the one in which the question figure is hidden/embedded.

Question Figure:

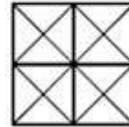


Ans

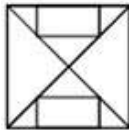
A.



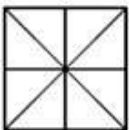
B.



C.



D.



Question ID : 7773933246

Section : General Awareness1

Q.1 From which year was quantitative restrictions on imports of manufactured consumer goods and agricultural products were fully removed?

Ans A. 2003

B. 2002

C. 2001

D. 2000

Question ID : 7773933256

Q.2 Which of the following types of micro-organisms had caused SARS?

Ans A. Roundworm

B. Protozoa

C. Bacteria

D. Virus

Question ID : 7773933261

Q.3 Vilayat Khan is known for which of the following musical instruments?

- Ans A. Tabla
 B. Sitar
 C. Sarod
 D. Sarangi

Question ID : 7773933250

Q.4 How many atolls are there in the archipelago of Lakshadweep?

- Ans A. 12
 B. 36
 C. 27
 D. 19

Question ID : 7773933266

Q.5 Which of the following is not a UNESCO World Heritage site of India?

- Ans A. Archaeological site of Nalanda
 B. Hawa Mahal
 C. Ellora Caves
 D. Chhatrapati Shivaji Terminus

Question ID : 7773933249

Q.6 What fiscal deficit target has been kept for the year 2021 as per the Union Budget 2020?

- Ans A. 3.80%
 B. 3.50%
 C. 3.30%
 D. 4.10%

Question ID : 7773933255

Q.7 Which of the following is a West-flowing river?

- Ans A. Tapti
 B. Krishna
 C. Godavari
 D. Cauvery

Question ID : 7773933265

Q.8 Which of the following states is the most populated state in India?

- Ans A. Maharashtra
 B. West Bengal
 C. Rajasthan
 D. Uttar Pradesh

Question ID : 7773933267

Q.9 Which of the following famous dancers had established the Darpana Academy of Performing Arts?

- Ans A. Pandit Birju Maharaj
 B. Mrinalini Sarabhai
 C. Kelucharan Mohapatra
 D. Rukmini Devi Arunadale

Question ID : 7773933251

Q.10 What kind of disease is the COVID-19?

- Ans A. Orthopedic disease
 B. Respiratory disease
 C. Cardiac disease
 D. Kidney disease

Question ID : 7773933263

Q.11 Which of the following is correct?

- Ans A. 1 Joule = 1000 Newton x 1 metre
 B. 1 Joule = 1 Newton x 1 metre
 C. 1 Joule = 1 Newton x 1 kilometre
 D. 1 kiloJoule = 1 Newton x 1 metre

Question ID : 7773933259

Q.12 What will be the value of temperature in Kelvin if it is zero degree centigrade?

- Ans A. 272
 B. 275
 C. 273
 D. 270

Question ID : 7773933262

Q.13 According to the Union Budget 2020, how many new smart-cities will be set-up via the Public Private Partnership route?

- Ans A. 5 smart cities
 B. 4 smart cities
 C. 3 smart cities
 D. 6 smart cities

Question ID : 7773933257

Q.14 In which of the following centuries were the Shore Temples of Mahabalipuram built?

- Ans A. 7th
 B. 6th
 C. 5th
 D. 4th

Question ID : 7773933268

Q.15 In which of the following states is the Chapchar kut festival celebrated?

- Ans A. Manipur
 B. Assam
 C. Mizoram
 D. Nagaland

Question ID : 7773933252

Q.16 What is the minimum age for a person, who can both read and write with understanding in any language, treated as literate in Census 2011?

- Ans A. 7 years
 B. 9 years
 C. 6 years
 D. 8 years

Question ID : 7773933264

Q.17 Which of the following elements has an atomic mass of 35.5?

- Ans A. Chlorine
 B. Sulphur
 C. Calcium
 D. Magnesium

Question ID : 7773933260

Q.18 Which of the following is the recently released Vivaad Se Vishwas Bill related to?

- Ans A. GST compensation scheme
 B. Skill development
 C. Direct tax dispute settlement scheme
 D. Employment generating scheme

Question ID : 7773933254

Q.19 For how many days is the Tirumala Tirupati Brahmotsavam celebrated?

- Ans A. 9
 B. 11
 C. 7
 D. 5

Question ID : 7773933253

Q.20 Berar Finance Limited and Mahindra & Mahindra Financial Services Ltd fall in which of the following categories?

- Ans A. Small Finance Banks
 B. Non-Banking Financial Companies
 C. Payment Banks
 D. Cooperative Banks

Question ID : 7773933258

Section : General Awareness2

Q.1 As per the SIPRI Military Expenditure Database 2019, which country makes the highest military expenditure in the world?

- Ans A. China
 B. Saudi Arabia
 C. USA
 D. India

Question ID : 7773933280

Q.2 Which edition of the Petersburg Climate Dialogue was held in 2020?

- Ans A. 10th
 B. 12th
 C. 11th
 D. 13th

Question ID : 7773933277

Q.3 Which of the following robots has been launched to help the frontline health workers during the COVID-19 pandemic?

- Ans A. BOLO
 B. HCARD
 C. Vyommitra
 D. Sahayak

Question ID : 7773933276

Q.4 Who out of the following had got the title of Maharajadhiraja?

- Ans A. Mihirakula
 B. Samudragupta
 C. Chandragupta II
 D. Chandragupta I

Question ID : 7773933269

Q.5 The one-horned Rhino is the state-animal of which of the following states?

- Ans A. West Bengal
 B. Assam
 C. Chandigarh
 D. Manipur

Question ID : 7773933273

Q.6 Who out of the following didn't win the Sahitya Akademi Award 2019?

- Ans A. Kumar Manish Arvind
 B. Abdul Ahad Hajini
 C. Shashi Tharoor
 D. Kashinath Singh

Question ID : 7773933274

Q.7 In which of the following countries is the Sabina Park Cricket Stadium situated?

- Ans A. West Indies
 B. England
 C. South Africa
 D. Australia

Question ID : 7773933288

Q.8 With which of the following sports is the I-League tournament related to?

- Ans A. Tennis
 B. Hockey
 C. T20 Cricket
 D. Football

Question ID : 7773933287

Q.9 Which of the following is "the right to vote"?

- Ans A. Legal Right
 B. Fundamental Duty
 C. Fundamental Right
 D. Constitutional Obligation

Question ID : 7773933284

Q.10 Which of the following law has been suspended by the Uttar Pradesh government by the way of an Ordinance in order to bring back the economy on track?

- Ans A. IT Act
 B. Labour laws
 C. The Epidemic Diseases Act
 D. SARFAESI Act

Question ID : 7773933281

Q.11 What amount of loan has been approved by the Asian Development Bank to India for fighting the COVID-19?

- Ans A. 2 billion USD
 B. 2.5 billion USD
 C. 1.5 billion USD
 D. 1 billion USD

Question ID : 7773933278

Q.12 Which day was celebrated as the World Day for Safety and Health at Work?

- Ans A. 28th April
 B. 26th April
 C. 27th April
 D. 29th April

Question ID : 7773933279

Q.13 Indian revolutionaries Bhagat Singh, Sukhdev Thapar and Shivaram Rajguru were hanged on _____ in the Lahore jail.

- Ans A. 1931
 B. 1933
 C. 1930
 D. 1928

Question ID : 7773933271

Q.14 For which of the following dynasties did Kanauj become a capital?

- Ans A. Nizam
 B. Senas
 C. Pratiharas
 D. Nandas

Question ID : 7773933270

Q.15 Provision for nomination of Anglo-Indians to Lok Sabha was made under which of the following Article of the Constitution?

- Ans A. Article 331
 B. Article 321
 C. Article 311
 D. Article 345

Question ID : 7773933282

Q.16 Which of the following sports is Anju Bobby George related to?

- Ans
- A. Gymnastics
 - B. Table Tennis
 - C. Archery
 - D. Long jump

Question ID : 7773933285

Q.17 What is the tenure of the office of the Attorney General of India?

- Ans
- A. Holds office during the pleasure of the president.
 - B. 6 years
 - C. 3 years
 - D. 5 years

Question ID : 7773933283

Q.18 Who was the first Chairman of UPSC (Union Public Service Commission)?

- Ans
- A. Sir Ross Barker
 - B. Sir David Petrie
 - C. Sir F.W. Robertson
 - D. Sir Eyre Gordon

Question ID : 7773933272

Q.19 Who out of the following is the author of the book 'Till the last breath'?

- Ans
- A. Durjoy Datta
 - B. Maanvi Ahuja
 - C. Ravinder Singh
 - D. Sudeep Nagarkar

Question ID : 7773933275

Q.20 Which season of ISL was held in 2019-20?

- Ans
- A. Sixth
 - B. Eighth
 - C. Seventh
 - D. Fifth

Question ID : 7773933286

Section : Arithmetic Ability1

Q.1 The students of section A and section B have average weights of 30 kg and 45 kg respectively. Find the average weight of both the sections together given that the students in the sections A and B are in the ratio 9 : 1.

- Ans
- A. 36 kg
 - B. 31.5 kg
 - C. 33 kg
 - D. 34.5 kg

Question ID : 7773933297

Q.2 A product costs a company Rs. 64 to manufacture and it sold the product to a dealer for Rs. 80 who, in turn, sold it to a shopkeeper for Rs. 98 who, in turn, sold it to a customer for Rs. 120. Find the company's profit percentage.

- Ans
- A. 25 percent
 - B. 30 percent
 - C. 87.5 percent
 - D. 50 percent

Question ID : 7773933304

Q.3 Find the second smallest fraction from the following.

13/16, 15/19, 17/21, 7/8

- Ans
- A. 7/8
 - B. 13/16
 - C. 15/19
 - D. 17/21

Question ID : 7773933291

Q.4 The sum of the digits of a two digit number is 12. If the new number formed by reversing the digits is greater than the original number by 54, then what will be the original number?

- Ans
- A. 39
 - B. 84
 - C. 93
 - D. 48

Question ID : 7773933308

Q.5 The average age of a group of men is increased by 5 years when a person aged 18 years is replaced by a new person of aged 38 years. How many men are there in the group?

- Ans
- A. 6
 - B. 5
 - C. 4
 - D. 3

Question ID : 7773933294

Q.6 Simplify the following expression by using BODMAS.

$$74400 \div 124\{(48 - 6) + (56 - 48)\}$$

- Ans A. 12
 B. 10
 C. 11
 D. 1

Question ID : 7773933290

Q.7 The amount of profit earned by selling an object in Rs. 788 is equal to the amount of loss suffered by selling it on Rs. 524. What is the cost price of the object?

- Ans A. Rs. 566
 B. Rs. 656
 C. Rs. 651
 D. Rs. 654

Question ID : 7773933305

Q.8 A family's monthly savings are 20 percent of the total monthly income of the family. The monthly expenditure on food is increased from 20 percent to 30 percent of the total monthly income and its total monthly income as well as its savings remain unchanged. Find the percentage that its expenditure on food forms of its savings.

- Ans A. 175 percent
 B. 160 percent
 C. 170 percent
 D. 150 percent

Question ID : 7773933300

Q.9 59541746 is exactly divisible by which of the following?

- Ans A. 9
 B. 11
 C. 12
 D. 13

Question ID : 7773933292

Q.10 The profit made in selling 20 m of a cloth equals the cost price of 5 m of that Cloth. Find the profit percentage made in selling each metre.

- Ans A. 50 percent
 B. 20 percent
 C. 40 percent
 D. 25 percent

Question ID : 7773933303

Q.11 The discount offered on a Shirt of Rs. 500 and a Trousers of Rs. 1000 is 20 percent and 40 percent respectively. If Ajay bought 2 Shirt and 3 Trousers then what was the effective discount (in percent) he received?

- Ans
- A. 25
 - B. 32
 - C. 30
 - D. 35

Question ID : 7773933296

Q.12 Find the greatest number that will divide 41, 71 and 182 so as to leave the same remainder in each case.

- Ans
- A. 6
 - B. 3
 - C. 11
 - D. 4

Question ID : 7773933289

Q.13 If sale tax be reduced from 7.5 percent to 7.33 percent, then what approximate difference does it make to a person who purchases an article whose marked price is Rs. 2400?

- Ans
- A. Rs. 4
 - B. Rs. 6
 - C. Rs. 8
 - D. Rs. 7

Question ID : 7773933301

Q.14 There are 40 employees in a company and all employees have the same salary. The salaries of 10 employees are increased by 10 percent. The salaries of the remaining employees are increased by 30 percent. Find the percentage increase in the total salary of all the employees.

- Ans
- A. 23 percent
 - B. 20 percent
 - C. 25 percent
 - D. 15 percent

Question ID : 7773933299

Q.15 A, B and C invest Rs. 1,50,000, Rs. 2,50,000 and Rs. 3,50,000 respectively into a partnership firm. 'A' is given Rs. 1000 per month as salary, 'B' is given 10 percent commission of profit after deducting the salary given to 'A' and the remaining profit is shared among them. At the end of the year if 'B' received a total of Rs. 30000 as his share, find the total profit earned.

- Ans
- A. Rs. 87000
 - B. Rs. 92000
 - C. Rs. 98000
 - D. Rs. 85000

Question ID : 7773933306

Q.16 The average runs scored by a batsman in 20 matches is 40. In the next 10 matches, the batsman scored an average of 13 runs. Find his average score in all the 30 matches.

- Ans A. 30
 B. 31
 C. 29
 D. 28

Question ID : 7773933298

Q.17 If $7xy4$ is a four digit number divisible by 11 where x and y are unknown digits, then x-y is equal to:

- Ans A. -3
 B. 4
 C. 3
 D. 5

Question ID : 7773933293

Q.18 The marks obtained by Suresh in physics, chemistry and math's are in the ratio $1/2 : 1/3 : 1/5$. If his total score is 930, his marks in physics are:

- Ans A. 420
 B. 450
 C. 350
 D. 300

Question ID : 7773933307

Q.19 A man sells 3 articles. First at a profit of 20 percent, second at a loss of 10 percent and the third at 25 percent loss. During the whole transaction he bears a loss of Rs. 60. Find the combined Cost Price of all article (in Rs.) if their Selling Prices are same.

- Ans A. 718
 B. 708
 C. 688
 D. 728

Question ID : 7773933302

Q.20 In a certain year, the average monthly income of a person was Rs. 3,400. For the first eight months of the year, his average monthly income was Rs. 3,160 and for the last five months, it was Rs. 4,120. His income in the eighth month of the year was:

- Ans A. Rs. 5,520
 B. Rs. 15,520
 C. Rs. 3,160
 D. Rs. 5,080

Question ID : 7773933295

Q.1 In a camp, there are some tent of same shape and size. Each tent is cylindrical up to a height of 4 m and conical above it. The diameter is 10.5 m and the slant height of the conical part is 10 m. if total 3861 sq. meter canvas is used in making of all the tents, then how many tents are in camp?

- Ans A. 11
 B. 13
 C. 19
 D. 7

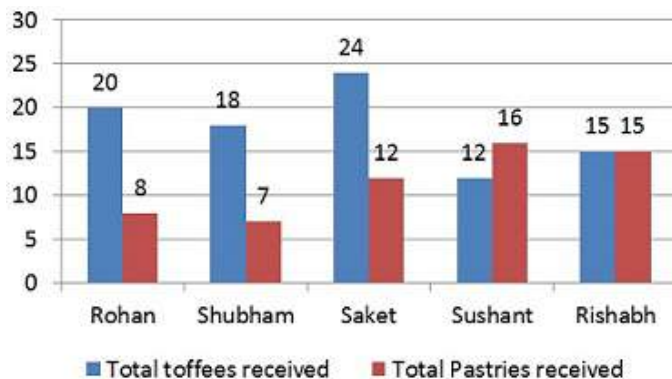
Question ID : 7773933320

Q.2 The length and breadth of the floor of a room are 20 feet and 10 feet respectively. Square tiles of side 2 feet of three different colors are to be laid on the floor. White tiles are laid in the first row and all sides. If black tiles are laid in one third of the remaining and green tiles in the rest, how many green tiles will be there?

- Ans A. 32
 B. 48
 C. 24
 D. 16

Question ID : 7773933322

Q.3 Vishal distributed toffees and pastries to his friends on the occasion of his birthday. Information about the number of toffees received and number of pastries received by some of his friends are given in the line graph.



If the ratio of number of pastries distributed by Vishal to total number of pastries received by Rohan, Shubham, Saket, Sushant, and Rishabh together is 15:2, respectively. If the price of each pastry is Rs. 5, then find the amount spent by Vishal for buying the pastries.

- Ans A. Rs. 1800
 B. Rs. 2175
 C. Rs. 2275
 D. Rs. 2450

Question ID : 7773933328

Q.4 Find the effective rate of interest p.a. if the normal rate of interest is 10 percent p.a. and the interest is compounded every six months.

- Ans A. 5.25 percent
 B. 10.25 percent
 C. 21.5 percent
 D. 10 percent

Question ID : 7773933311

Q.5 The expenditures of six different companies over the years (in Rs. lakh) .

Year → Company ↓	2011	2012	2013	2014	2015	2016
A	1400	1200	2200	2400	2100	4400
B	1800	3400	1800	2800	3500	3300
C	6400	2600	1600	3600	2600	2400
D	2400	3800	4200	3800	1500	2700
E	3200	4400	6000	5800	4700	3400
F	1600	4200	5200	6400	4500	4800

Note:

i) Profit = Income – Expenditure

ii) Profit (percent) = (Profit)/(Expenditure) × 100 percent

What is the ratio of the sum of the expenditures of all the companies together in 2011 to that in 2015?

- Ans A. 3: 5
 B. 8: 9
 C. 9: 11
 D. 5: 7

Question ID : 7773933327

Q.6 A theft is reported to a policeman. The thief starts running and the policeman chases him. When the policeman starts chasing, the thief was at a distance of 250 m. The thief and the policeman run at the speed of 8 km/hr and 9 km/hr respectively. Find the time the policeman will take to catch the thief.

- Ans A. 12 minute
 B. 9 minute
 C. 18 minute
 D. 15 minute

Question ID : 7773933315

Q.7 10 men can finish a piece of work in 15 days. 8 women can finish the same piece of work in 25 days. Only 10 women started working and in few days completed certain amount of work. After that 3 men joined them. The remaining work was completed by 10 women and 3 men together in 5 days. After how many days 3 men joined 10 women?

- Ans A. 11
 B. 10
 C. 13
 D. 15

Question ID : 7773933318

Q.8 What is the principal, if after five years at 11 percent p.a. simple interest, it amounts to Rs. 18600?

- Ans A. Rs. 15000
 B. Rs. 11000
 C. Rs. 8000
 D. Rs. 12000

Question ID : 7773933310

Q.9 An alloy contains zinc, copper and tin in the ratio 2:3:1 and another alloy contains copper, tin and lead in the ratio 5:4:3. If equal weights of both alloys are melted together to form a third alloy, then the weight of lead per kg in new alloy will be:

- Ans A. 1/2 kg
 B. 7/9 kg
 C. 3/14 kg
 D. 1/8 kg

Question ID : 7773933309

Q.10 The expenditures of six different companies over the years (in Rs. lakh).

Year → Company ↓	2011	2012	2013	2014	2015	2016
A	1400	1200	2200	2400	2100	4400
B	1800	3400	1800	2800	3500	3300
C	6400	2600	1600	3600	2600	2400
D	2400	3800	4200	3800	1500	2700
E	3200	4400	6000	5800	4700	3400
F	1600	4200	5200	6400	4500	4800

Note:

i) Profit = Income – Expenditure

ii) Profit (percent) = (Profit)/(Expenditure) × 100 percent

The profit earned by company C in 2016 was Rs. 240 lakh. If the profit percent of the company C in 2014 was the same as that in 2016, then what is the profit earned by C in 2014? (in Rs. lakh)

- Ans A. 28
 B. 37.5
 C. 26
 D. 24

Question ID : 7773933326

Q.11 The speeds of A and B are 30 km/hr and 40 km/hr respectively. Initially B is at a place L and A is at a place M. The distance between L and M is 650 km. A started his journey 3 hours earlier than B to meet each other, If they meet each other at a place P somewhere between L and M, then the distance between P and M is :

- Ans A. 330
 B. 320
 C. 420
 D. 410

Question ID : 7773933314

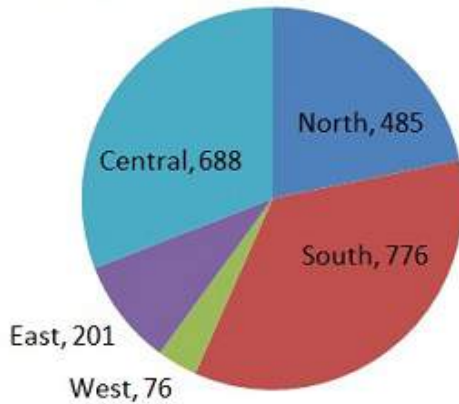
Q.12 A can do a job in 30 days, B in 36 days, and C in 20 days. A is helped by B and C in every second day. How long will it take for them to complete the job?

- Ans A. $13\frac{9}{10}$ days
 B. $11\frac{6}{13}$ days
 C. $15\frac{6}{13}$ days
 D. $14\frac{6}{13}$ days

Question ID : 7773933319

Q.13 The following pie chart shows the distribution of tiger in various zones of India in 2014. Study the pie chart and answer the following question.

Distribution of tiger in various zones of india



If the population of tiger is increasing at 5 percent rate every year, then the population of tiger in south region in 2017 should be approximately?

- Ans
- A. 826
 - B. 862
 - C. 898
 - D. 892

Question ID : 7773933325

Q.14 Two workers A and B can complete a work in 80 days and 64 days working alone respectively. They work at their full efficiency when they work alone. But when they work together, then A works at 75 percent of his efficiency and B works at 80 percent of his efficiency. A started the work and after some days B join him and the total work is completed in 65 days. After how many days B joins A?

- Ans
- A. 30
 - B. 40
 - C. 15
 - D. 45

Question ID : 7773933317

Q.15 If a sphere of radius r is divided into four identical parts, then find the total surface area of the four parts?

- Ans
- A. $4\pi r^2$ square unit
 - B. $3\pi r^2$ square unit
 - C. $2\pi r^2$ square unit
 - D. $8\pi r^2$ square unit

Question ID : 7773933321

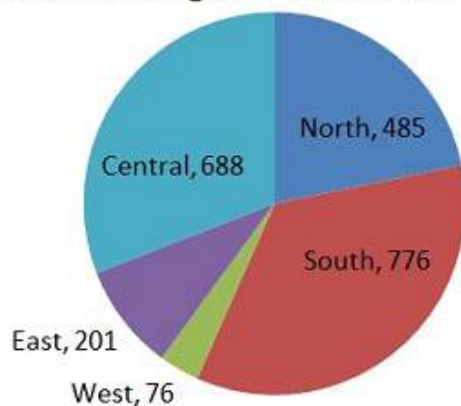
Q.16 A sum of Rs. 3700 amounts to Rs. 5476 in four years when invested at a certain rate of simple interest. If the rate of interest is 6 percent p.a. more, then how much would the sum amount to in the same time period?

- Ans A. Rs. 6364
 B. Rs. 6354
 C. Rs. 5463
 D. Rs. 6463

Question ID : 7773933312

Q.17 The following pie chart shows the distribution of tiger in various zones of India in 2014. Study the pie chart and answer the following question.

Distribution of tiger in various zones of india



If the population of tiger is decreasing at 10 percent rate every year, then the population of tiger in eastern region in 2016 should be approximately:

- Ans A. 163
 B. 126
 C. 183
 D. 138

Question ID : 7773933324

Q.18 A starts from X towards Y at 10 a.m. B starts from Y towards X at 11 a.m. if they reach their destinations at 2 p.m. and 5 p.m. respectively, at what time will they meet ?

- Ans A. 12:48 pm
 B. 12:48 am
 C. 12:50 pm
 D. 12:40 pm

Question ID : 7773933316

Q.19 A hollow sphere of external and internal diameters 8 cm and 4 cm respectively, is melted into a cone of base diameter 8 cm, then find the height of the cone.

- Ans
- A. 10 cm
 - B. 12 cm
 - C. 14 cm
 - D. 16 cm

Question ID : 7773933323

Q.20 What is the compound interest on Rs. 8000 at 20 percent p.a. for 9 months, if interest being compounded quarterly?

- Ans
- A. Rs. 1221
 - B. Rs. 1281
 - C. Rs. 1261
 - D. Rs. 1241

Question ID : 7773933313

Section : General English1

Q.1 In the following question, some parts of the sentence may have errors. Find out which part of the sentence has an error and select the appropriate option. If a sentence is free from error, select No Error.

Under Israel's chaotic complex occupation, Palestinians are divided into multiple categories, often dictated by where they reside.

- Ans
- A. multiple categories, often dictated by where they reside.
 - B. Under Israel's chaotic complex occupation,
 - C. No error
 - D. Palestinians are divided into

Question ID : 7773933329

Q.2 Arrange the jumbled sentences to make a meaningful paragraph.

- A. The Modi team is helping the country's response.
- B. Even if we concede state governments too need to review their interventions.
- C. It is focussing on the central government's performance and options are appropriate.
- D. As the pandemic deepens, it is time to ask where India can do better.

- Ans
- A. DCBA
 - B. DACB
 - C. DBCA
 - D. DABC

Question ID : 7773933345

Q.3 Select the correct pair of homophones to fill in the blanks.

Trees can help reduce the _____ of respiratory diseases as well as lung cancer.

Over the years Arthur has had many amusing _____ happen to him.

- Ans A. incidence, incidence
 B. incidence, incidents
 C. incidents, incidents
 D. incidents, incidence

Question ID : 7773933348

Q.4 Select the most appropriate synonym of the given word.

Jeopardy

- Ans A. Assured
 B. Valiant
 C. Danger
 D. Stability

Question ID : 7773933347

Q.5 Parts of a sentence have been jumbled up. Arrange these parts in a meaningful order.

- A. The death toll due to Covid-19
B. crossed 17,000 in the country,
C. rose to over 500 and the number of cases
D. according to the Union health ministry

- Ans A. ABCD
 B. ADCB
 C. ACDB
 D. ACBD

Question ID : 7773933342

Q.6 Select the most appropriate option to fill in the blank.

There are many ways that presidents admit responsibility _____ publicly issuing the apology.

- Ans A. besides
 B. beside
 C. in fact
 D. apart

Question ID : 7773933339

Q.7 In the following question, some parts of the sentence may have errors. Find out which part of the sentence has an error and select the appropriate option. If a sentence is free from error, select No Error.

Many a girl were influenced by the inspirational lecture given by the Nobel laureate.

- Ans A. by the inspirational lecture
 B. were influenced
 C. given by the Nobel laureate.
 D. Many a girl

Question ID : 7773933331

Q.8 Arrange the jumbled sentences to make a meaningful paragraph.

- A. The pandemic has provided new fuel to the US-China squabble.
B. The two sides engaged in endless mutual recrimination.
C. Global pandemics like Covid-19 require a coordinated global response.
D. And yet what the world is witnessing is quite the opposite.

- Ans A. CBAD
 B. CDBA
 C. CDAB
 D. CADB

Question ID : 7773933344

Q.9 Select the most appropriate option to fill in the blank.

These homes are built for children _____ parents are in prison serving life sentences.

- Ans A. who's
 B. whose
 C. who
 D. which

Question ID : 7773933341

Q.10 In the following question, four sentences are given out of which three sentences are grammatically correct while one is incorrect. Find out which sentence is grammatically incorrect and select the appropriate option.

- Ans A. Though the researchers have recently begun to understand its importance, inter-tribalism has always been an influential factor in a culture.
 B. People are currently struggling with an identity crisis caused by the two competing forces of tribalism and inter-tribalism.
 C. The tendency towards inter-tribalism, although prevalent within the American culture, have had a minimal effect on the Americans.
 D. The recent growth of inter-tribalism is unlikely to eliminate tribalism because the two forces do not oppose one another.

Question ID : 7773933333

Q.11 In the following question, four sentences are given out of which three sentences are grammatically correct while one is incorrect. Find out which sentence is grammatically incorrect and select the appropriate option.

- Ans** A. The parts of a system should be studied with an awareness of the laws and initial conditions that governs the system.
- B. A complicated system is best understood by studying its component parts in full isolation from the system as a whole.
- C. Because the parts of a system are interdependent, they cannot be studied separately without destroying the system's complexity.
- D. It is not possible to determine the laws governing a system until the system's parts are separated from one another.

Question ID : 7773933332

Q.12 Select the most appropriate option to substitute the underlined segment in the given sentence. If there is no need to substitute it, select 'No improvement'.

Armed commandos has taken position behind bushes on both sides of the road.

- Ans** A. had been take
- B. No improvement
- C. had taking
- D. had taken

Question ID : 7773933336

Q.13 Select the most appropriate option to substitute the underlined segment in the given sentence. If there is no need to substitute it, select 'No improvement'.

You'll need to dismantle the phone to access the card , as its hidden behind the battery.

- Ans** A. as its hidden behind
- B. No improvement
- C. so its hidden behind
- D. for its hide behind

Question ID : 7773933337

Q.14 Select the most appropriate option to substitute the underlined segment in the given sentence. If there is no need to substitute it, select 'No improvement'.

I looked to my right and saw James look at me with small smile on his face.

- Ans** A. look at me by
- B. No improvement
- C. looked at me with
- D. looking at me with a

Question ID : 7773933335

Q.15 Select the most appropriate option to fill in the blank.

Jen reached the table but instead of sitting down she stood _____ one of the chairs.

- Ans A. below
 B. behind
 C. across
 D. under

Question ID : 7773933338

Q.16 Select the most appropriate option to fill in the blank.

I was told that Mr. Young is in prison in the USA awaiting trial _____ charges of fraud.

- Ans A. in
 B. by
 C. on
 D. at

Question ID : 7773933340

Q.17 Parts of a sentence have been jumbled up. Arrange these parts in a meaningful order.

- A. which raises barriers
- B. The Narendra Modi government on Friday
- C. for Chinese investors
- D. announced a modification in India's FDI policy

- Ans A. BDAC
 B. BCAD
 C. BACD
 D. BDCA

Question ID : 7773933343

Q.18 Select the correct pair of homophones to fill in the blanks.

The policeman asked if I would _____ to a search of my vehicle.

The mountain is notoriously difficult and has seen very few successful _____.

- Ans A. ascents, assent
 B. ascent, ascents
 C. assent, assents
 D. assent, ascents

Question ID : 7773933346

Q.19 In the following question, some parts of the sentence may have errors. Find out which part of the sentence has an error and select the appropriate option. If a sentence is free from error, select No Error.

The moment the controller came to know of the leaking of the questions he ordered immediately dismissed the assistant.

- Ans
- A. The moment the controller came to know
 - B. of the leaking of the questions
 - C. No error
 - D. he ordered immediately dismissed the assistant

Question ID : 7773933330

Q.20 Select the most appropriate option to substitute the underlined segment in the given sentence. If there is no need to substitute it, select 'No improvement'.

The mark looked like the symbol for life that the mystics have creating years ago.

- Ans
- A. had create an year ago
 - B. No improvement
 - C. has created years ago.
 - D. had created years ago.

Question ID : 7773933334

Section : General English2

Q.1 Select the incorrectly spelt word.

- Ans
- A. Managerial
 - B. Demoralize
 - C. Fallacious
 - D. Erroneous

Question ID : 7773933354

Q.2 Select the most appropriate meaning of the given idiom.

In good faith

- Ans
- A. Uncompromised loyalty
 - B. With good intentions
 - C. In a prayer
 - D. In a short duration of time

Question ID : 7773933358

Q.3 Select the most appropriate antonym of the given word.

Evident

- Ans A. Obvious
 B. Visible
 C. Apparent
 D. Vague

Question ID : 7773933349

Q.4 Select the most appropriate meaning of the underlined idiom in the given sentence.

A: "Can you believe that Sam quit his job at the firm?"

B: "No, he really did a 180 degree turn on being a paralegal!"

- Ans A. To break a commitment
 B. To realize a mistake
 C. To re-evaluate the decision
 D. To make a big change

Question ID : 7773933357

Q.5 Select the most appropriate meaning of the underlined idiom in the given sentence.

I went into my presentation totally unprepared and bought the rabbit.

- Ans A. To buy a meal for self
 B. To improve performance
 C. To be unsuccessful
 D. To be impactful

Question ID : 7773933355

Q.6 Select the word which means the same as the group of words given.

Fit to be eaten, often used to contrast with unpalatable or poisonous varieties

- Ans A. Nutritive
 B. Savory
 C. Wholesome
 D. Edible

Question ID : 7773933360

Q.7 Select the word which means the same as the group of words given.

A mass departure of people.

- Ans A. Congregation
 B. Stampede
 C. Exodus
 D. Farewell

Question ID : 7773933361

Q.8 Select the incorrectly spelt word.

- Ans A. Unrestrained
 B. Dishonorable
 C. Illigitemate
 D. Unprincipled

Question ID : 7773933353

Q.9 Select the incorrectly spelt word.

- Ans A. Dilecious
 B. Spacious
 C. Audacious
 D. Precious

Question ID : 7773933351

Q.10 Select the incorrectly spelt word.

- Ans A. Tainted
 B. Victimized
 C. Disollute
 D. Purified

Question ID : 7773933352

Q.11 Select the most appropriate meaning of the underlined idiom in the given sentence.

We came up with a lot of big ideas, but no one addressed the nuts and bolts of how to implement them.

- Ans A. The non-essential aspects
 B. The unimportant details
 C. The most basic aspects
 D. The misleading aspects

Question ID : 7773933356

Q.12 Select the word which means the same as the group of words given.

A system in which members of an organization or society are ranked according to relative status or authority.

- Ans A. League
 B. Echelon
 C. Pyramid
 D. Hierarchy

Question ID : 7773933362

Q.13 Select the most appropriate antonym of the given word.

Contentious

- Ans A. Undisputed
 B. Contestable
 C. Dubitable
 D. Controversial

Question ID : 7773933350

Q.14 Select the word which means the same as the group of words given.

Destruction or slaughter on a mass scale, especially caused by fire or nuclear war.

- Ans A. Iconoclast
 B. Extinction
 C. Interdiction
 D. Holocaust

Question ID : 7773933363

Q.15 Select the most appropriate meaning of the given idiom.

An uphill task

- Ans A. A task that is easy
 B. Something that is difficult
 C. A task that requires climbing
 D. Something that is needless

Question ID : 7773933359

Comprehension:

Read the passage carefully and select the best answer to each question out of the given four alternatives.

The Industrial Revolution, now also known as the First Industrial Revolution, was the transition to new manufacturing processes in Europe and the United States, in the period from about 1760 to sometime between 1820 and 1840. This transition included going from hand production methods to machines, new chemical manufacturing and iron production processes, the increasing use of steam power and water power, the development of machine tools and the rise of the mechanized factory system. Textiles were the dominant industry of the Industrial Revolution in terms of employment, value of output and capital invested. The textile industry was also the first to use modern production methods.

The Industrial Revolution began in Great Britain, and many of the technological innovations were of British origin. By the mid-18th century Britain was the world's leading commercial nation, controlling a global trading empire with colonies in North America and the Caribbean, and with major military and political hegemony on the Indian subcontinent, particularly with the proto-industrialized Mughal Bengal, through the activities of the East India Company. The development of trade and the rise of business were among the major causes of the Industrial Revolution.

The Industrial Revolution marks a major turning point in history; almost every aspect of daily life was influenced in some way. In particular, average income and population began to exhibit unprecedented sustained growth. Some economists say that the major effect of the Industrial Revolution was that the standard of living for the general population in the western world began to increase consistently for the first time in history, although others have said that it did not begin to meaningfully improve until the late 19th and 20th centuries.

SubQuestion No : 16

Q.16 Which industry was the first to use modern production methods during Industrial Revolution?

- Ans A. Textile
- B. Iron production
- C. Chemical
- D. Steam power

Question ID : 7773933365

Comprehension:

Read the passage carefully and select the best answer to each question out of the given four alternatives.

The Industrial Revolution, now also known as the First Industrial Revolution, was the transition to new manufacturing processes in Europe and the United States, in the period from about 1760 to sometime between 1820 and 1840. This transition included going from hand production methods to machines, new chemical manufacturing and iron production processes, the increasing use of steam power and water power, the development of machine tools and the rise of the mechanized factory system. Textiles were the dominant industry of the Industrial Revolution in terms of employment, value of output and capital invested. The textile industry was also the first to use modern production methods.

The Industrial Revolution began in Great Britain, and many of the technological innovations were of British origin. By the mid-18th century Britain was the world's leading commercial nation, controlling a global trading empire with colonies in North America and the Caribbean, and with major military and political hegemony on the Indian subcontinent, particularly with the proto-industrialized Mughal Bengal, through the activities of the East India Company. The development of trade and the rise of business were among the major causes of the Industrial Revolution.

The Industrial Revolution marks a major turning point in history; almost every aspect of daily life was influenced in some way. In particular, average income and population began to exhibit unprecedented sustained growth. Some economists say that the major effect of the Industrial Revolution was that the standard of living for the general population in the western world began to increase consistently for the first time in history, although others have said that it did not begin to meaningfully improve until the late 19th and 20th centuries.

SubQuestion No : 17

Q.17 By the mid-18th century, which nation was the world's leading commercial nation?

- Ans
- A. South America
 - B. Italy
 - C. Britain
 - D. North America

Question ID : 7773933366

Comprehension:

Read the passage carefully and select the best answer to each question out of the given four alternatives.

The Industrial Revolution, now also known as the First Industrial Revolution, was the transition to new manufacturing processes in Europe and the United States, in the period from about 1760 to sometime between 1820 and 1840. This transition included going from hand production methods to machines, new chemical manufacturing and iron production processes, the increasing use of steam power and water power, the development of machine tools and the rise of the mechanized factory system. Textiles were the dominant industry of the Industrial Revolution in terms of employment, value of output and capital invested. The textile industry was also the first to use modern production methods.

The Industrial Revolution began in Great Britain, and many of the technological innovations were of British origin. By the mid-18th century Britain was the world's leading commercial nation, controlling a global trading empire with colonies in North America and the Caribbean, and with major military and political hegemony on the Indian subcontinent, particularly with the proto-industrialized Mughal Bengal, through the activities of the East India Company. The development of trade and the rise of business were among the major causes of the Industrial Revolution.

The Industrial Revolution marks a major turning point in history; almost every aspect of daily life was influenced in some way. In particular, average income and population began to exhibit unprecedented sustained growth. Some economists say that the major effect of the Industrial Revolution was that the standard of living for the general population in the western world began to increase consistently for the first time in history, although others have said that it did not begin to meaningfully improve until the late 19th and 20th centuries.

SubQuestion No : 18

Q.18 Which industrial sector was dominant of the Industrial Revolution in terms of employment, value of output and capital invested?

- Ans
- A. Water power
 - B. Iron production
 - C. Chemical manufacturing
 - D. Textile

Question ID : 7773933367

Comprehension:

Read the passage carefully and select the best answer to each question out of the given four alternatives.

The Industrial Revolution, now also known as the First Industrial Revolution, was the transition to new manufacturing processes in Europe and the United States, in the period from about 1760 to sometime between 1820 and 1840. This transition included going from hand production methods to machines, new chemical manufacturing and iron production processes, the increasing use of steam power and water power, the development of machine tools and the rise of the mechanized factory system. Textiles were the dominant industry of the Industrial Revolution in terms of employment, value of output and capital invested. The textile industry was also the first to use modern production methods.

The Industrial Revolution began in Great Britain, and many of the technological innovations were of British origin. By the mid-18th century Britain was the world's leading commercial nation, controlling a global trading empire with colonies in North America and the Caribbean, and with major military and political hegemony on the Indian subcontinent, particularly with the proto-industrialized Mughal Bengal, through the activities of the East India Company. The development of trade and the rise of business were among the major causes of the Industrial Revolution.

The Industrial Revolution marks a major turning point in history; almost every aspect of daily life was influenced in some way. In particular, average income and population began to exhibit unprecedented sustained growth. Some economists say that the major effect of the Industrial Revolution was that the standard of living for the general population in the western world began to increase consistently for the first time in history, although others have said that it did not begin to meaningfully improve until the late 19th and 20th centuries.

SubQuestion No : 19

Q.19 First Industrial Revolution, was the transition to new manufacturing processes in:

- Ans
- A. Europe and East Asia
 - B. East Asia and United States of America
 - C. Europe and United States of America
 - D. Europe and West Asia

Question ID : 7773933369

Comprehension:

Read the passage carefully and select the best answer to each question out of the given four alternatives.

The Industrial Revolution, now also known as the First Industrial Revolution, was the transition to new manufacturing processes in Europe and the United States, in the period from about 1760 to sometime between 1820 and 1840. This transition included going from hand production methods to machines, new chemical manufacturing and iron production processes, the increasing use of steam power and water power, the development of machine tools and the rise of the mechanized factory system. Textiles were the dominant industry of the Industrial Revolution in terms of employment, value of output and capital invested. The textile industry was also the first to use modern production methods.

The Industrial Revolution began in Great Britain, and many of the technological innovations were of British origin. By the mid-18th century Britain was the world's leading commercial nation, controlling a global trading empire with colonies in North America and the Caribbean, and with major military and political hegemony on the Indian subcontinent, particularly with the proto-industrialized Mughal Bengal, through the activities of the East India Company. The development of trade and the rise of business were among the major causes of the Industrial Revolution.

The Industrial Revolution marks a major turning point in history; almost every aspect of daily life was influenced in some way. In particular, average income and population began to exhibit unprecedented sustained growth. Some economists say that the major effect of the Industrial Revolution was that the standard of living for the general population in the western world began to increase consistently for the first time in history, although others have said that it did not begin to meaningfully improve until the late 19th and 20th centuries.

SubQuestion No : 20

Q.20 The transition period of the Industrial Revolution included –

(a) Chemical manufacturing (b) Development of machine tools (c) Mechanized factory system

- Ans
- A. Only (a)
 - B. Only (c)
 - C. Only (b)
 - D. all (a), (b) and (c)

Question ID : 7773933368

Section : General Hindi1

Q.1 निम्नलिखित में से शुद्ध वर्तनी वाले शब्द का चयन कीजिए-

- Ans
- A. पुनुरुत्थान
 - B. मुल्यांकन
 - C. चरमोत्कर्ष
 - D. हीरण्यकश्यपु

Question ID : 7773933378

Q.2 नीचे दिए गए वाक्य में निम्नलिखित में किस क्रियाविशेषण अव्यय का प्रयोग किया गया है?

वह नित्य टहलता है।

- Ans
- A. स्थानवाचक
 - B. परिमाणवाचक
 - C. कालवाचक
 - D. रीतिवाचक

Question ID : 7773933372

Q.3 निम्नलिखित में से उचित शब्द का चयन कीजिए-

समुद्र की अग्नि को _____ कहते हैं।

- Ans
- A. जठराग्नि
 - B. बड़वानल
 - C. दावाईनल
 - D. दावानल

Question ID : 7773933385

Q.4 निम्नलिखित में से पुल्लिंग शब्द का चयन कीजिए-

- Ans
- A. हानि
 - B. सुस्ती
 - C. हैरत
 - D. सौंदर्य

Question ID : 7773933388

Q.5 क्रियाविशेषणों का वर्गीकरण कितने आधारों पर किया गया है?

- Ans
- A. पांच
 - B. चार
 - C. दो
 - D. तीन

Question ID : 7773933371

Q.6 नीचे दिया गया वाक्य निम्नलिखित में से किस काल का है?

ओमप्रकाश मेरे पास आया था।

- Ans
- A. सम्भाव्य भविष्य काल
 - B. पूर्ण भूतकाल
 - C. आसन्न भूतकाल
 - D. हेतुहेतुमद् भविष्यत् काल

Question ID : 7773933387

Q.7 निम्नलिखित में से कौन-सा शब्द दीर्घ संधि का उदाहरण नहीं है?

- Ans A. वधूत्सव
 B. धर्मार्थ
 C. अन्वय
 D. रवींद्र

Question ID : 7773933375

Q.8 निम्नलिखित में से दिए गए शब्द-युग्म के सही अर्थ-भेद का चयन कीजिए-

शहर - सहर

- Ans A. नगर - प्रातःकाल
 B. नगर - मदिरा
 C. सबेरा - नगर
 D. चोटी - सिर

Question ID : 7773933379

Q.9 निम्नलिखित में से कौन-सी प्रेरणार्थक क्रिया है?

- Ans A. शरमाना
 B. हथियाना
 C. लिखवाना
 D. मुस्कराना

Question ID : 7773933374

Q.10 निम्नलिखित में से दिए गए वाक्य के लिए एक शब्द का चयन कीजिए-

"पैर से सिर तक"

- Ans A. आपादमस्तक
 B. आपादमष्टिष्क
 C. शिरोपार
 D. पादमस्तस्क

Question ID : 7773933382

Q.11 निम्नलिखित में से किस शब्द में प्रत्यय का प्रयोग किया गया है?

- Ans A. पाठक
 B. असत्य
 C. प्रबल
 D. अनुशासन

Question ID : 7773933370

Q.12 निम्नलिखित में से कौन-सा एक रस का अंग नहीं है?

- Ans A. प्रगतिभाव
 B. विभाव
 C. स्थायी भाव
 D. अनुभाव

Question ID : 7773933381

Q.13 निम्नलिखित में से शब्द के शुद्ध रूप का चयन कीजिए-

- Ans A. एक्स्ट्राआर्डनरि
 B. एक्स्ट्राऑर्डिनरी
 C. एक्स्ट्रऑर्डिनरि
 D. एक्स्ट्राऑर्डनीरी

Question ID : 7773933377

Q.14 "उद्यम" का विलोम शब्द निम्नलिखित में से कौन-सा है?

- Ans A. सौरभ
 B. सभ्य
 C. विधी
 D. आलस्य

Question ID : 7773933380

Q.15 निम्नलिखित में से कौन-सा शब्द "केतु" का पर्यायवाची शब्द नहीं है?

- Ans A. चंद्र
 B. केतन
 C. पताका
 D. ध्वज

Question ID : 7773933383

Q.16 निम्नलिखित में से 'शृंखला' शब्द का तद्भव शब्द क्या होगा?

- Ans A. शृखला
 B. साकला
 C. श्रीखला
 D. साँकल

Question ID : 7773933376

Q.17 निम्नलिखित में से किस वाक्य में कर्म कारक की विभक्ति का प्रयोग नहीं किया गया है?

- Ans A. आदित्य ने शैलेन्द्र को मारा।
 B. राम ने रावण को बाण से मारा।
 C. शिक्षक, विद्यार्थी को पीटता है।
 D. बड़ों को सम्मान दो।

Question ID : 7773933386

Q.18 निम्नलिखित में से अशुद्ध वर्तनी वाले शब्द का चयन कीजिए-

- Ans A. रचयिता
 B. प्रतिदर्श
 C. स्वादिष्ट
 D. आहार

Question ID : 7773933384

Q.19 निम्नलिखित में से किस शब्द में तत्पुरुष समास नहीं है?

- Ans A. अजातशत्रु
 B. शरणागत
 C. दिनकर
 D. कृषिप्रधान

Question ID : 7773933373

Q.20 निम्नलिखित में से कौन-सा वाक्य कर्मवाच्य का है?

- Ans A. ईश्वर हमारी सहायता करता है।
 B. पार्वती द्वारा पत्र लिखा गया।
 C. दादा जी से चला नहीं जाता।
 D. सुधा, पत्र पढ़ती है।

Question ID : 7773933389

Section : General Hindi2

Q.1 निम्नलिखित में से एकवचन शब्द का चयन कीजिए-

- Ans A. पक्षीवृंद
 B. वस्तु
 C. मज़दूरवर्ग
 D. सज्जनलोग

Question ID : 7773933390

Q.2 मुहावरा "मिट्टी खराब करना" का निम्नलिखित में से क्या अर्थ है?

- Ans A. कोमल होना
 B. गुप्त सहमति होना
 C. दुर्दशा करना
 D. युद्ध करना

Question ID : 7773933395

Q.3 निम्नलिखित में से किस मुहावरे का अर्थ "विपत्ति का समय आना" होता है?

- Ans
- A. मुँह जूठा करना
 - B. मुँह फुलाना
 - C. काले बादल छा जाना
 - D. साढ़े साती लगना

Question ID : 7773933396

Q.4 निम्नलिखित में से मुहावरा "नौ दिन चले अढ़ाई कोस" का क्या अर्थ है?

- Ans
- A. बहुत तेजी से काम करना।
 - B. बहुत सुस्ती से काम करना।
 - C. पूरी जिदगी पाप करके अंत में धर्मात्मा बनना।
 - D. कोई संबंध न रखना।

Question ID : 7773933400

Q.5 निम्नलिखित में से कौन-सा मिश्र वाक्य का उदाहरण है?

- Ans
- A. यदि समय पर मोहन नहीं आया तो मैं लेट हो जाऊंगा।
 - B. मोहन को देरी से नही आना चाहिए था।
 - C. मोहन से क्यों समय पर आया नही जाता।
 - D. मोहन देरी से आया और गाड़ी नही लेकर आया।

Question ID : 7773933393

Q.6 निम्नलिखित में से किस लोकोक्ति/मुहावरे का अर्थ "प्रतिदिन काम करके पेट भरना" होता है?

- Ans
- A. न लेना एक न देना दो।
 - B. नंग बड़े परमेश्वर से।
 - C. नित्यानवे के फेर में पड़ना।
 - D. नित्य कुआँ खोदना, नित्य पानी पीना।

Question ID : 7773933401

Q.7 निम्नलिखित में से वाक्य के प्रकार का चयन कीजिए-

संभव है संतोष मध्यप्रदेश जाए।

- Ans
- A. संदेहवाचक वाक्य
 - B. संकेतवाचक वाक्य
 - C. इच्छावाचक वाक्य
 - D. विधानवाचक वाक्य

Question ID : 7773933392

Q.8 निम्नलिखित में से अशुद्ध वर्तनी वाले वाक्य का चयन कीजिए:

- Ans A. भारत कभी ब्रिटेन के आधीन था।
 B. विशाल ! मेरी बात पर ध्यान दें।
 C. आपकी मनः कामना पूरी हो।
 D. पलक की ध्वनि मनमोहक है।

Question ID : 7773933391

Q.9 निम्नलिखित में से लोकोक्ति/मुहावरा "नया नौ दिन पुराना सौ दिन" का क्या अर्थ है?

- Ans A. नई चीजों की अपेक्षा नई चीजों का अधिक महत्व होता है।
 B. पुरानी चीजों की अपेक्षा पुरानी चीजों का अधिक महत्व होता है।
 C. पुरानी चीजों की अपेक्षा नई चीजों का अधिक महत्व होता है।
 D. नई चीजों की अपेक्षा पुरानी चीजों का अधिक महत्व होता है।

Question ID : 7773933399

Q.10 निम्नलिखित में से कौन-सा विकल्प लोकोक्ति का प्रचलित रूप है?

- Ans A. धोबी से पार न पावे, गधे के कान उमेटे।
 B. धोबी से पास न आवे, गधे के कान उमेटे।
 C. धोबी से पार न गधे के पावे और कान पावे उमेटे।
 D. धोबी से पार न होवे गधे के कान दौड़े।

Question ID : 7773933398

Q.11 निम्नलिखित में से लोकोक्ति/मुहावरा "रामबाण औषधि" का क्या अर्थ है?

- Ans A. खूब धन प्राप्त होना
 B. अचूक दवा
 C. दूसरे के प्रभाव में आना
 D. राम के नाम की औषधि का निर्माण करना

Question ID : 7773933397

Q.12 निम्नलिखित में से शुद्ध वर्तनी वाले वाक्य का चयन कीजिए:

- Ans A. निरपराध को दण्ड क्यो मिला।
 B. हिन्दी देवनगरी लिपी मे लिखी जाती है।
 C. निरपराध व्यक्ति को दण्ड क्यो मिला।
 D. अत्याधिक दुख सहा नहीं जाता।

Question ID : 7773933394

Q.13 तुलनावाचक 'सा', 'सी', 'से', के पहले निम्नलिखित में से किस चिन्ह का प्रयोग किया जाता है?

- Ans A. दीर्घ उच्चारण चिन्ह
 B. अवतरण चिन्ह
 C. योजक चिन्ह
 D. अर्द्धविराम चिन्ह

Question ID : 7773933404

Q.14 निम्नलिखित में से दिए गए चिन्ह (°) का नाम बताइये-

- Ans A. तुल्यता सूचक चिन्ह
 B. लाघव चिन्ह
 C. त्रुटिपूरक चिन्ह
 D. अवतरण चिन्ह

Question ID : 7773933402

Q.15 नीचे दिए गए वाक्य में निम्नलिखित में से किस चिन्ह का प्रयोग किया गया है?

हमें रोजाना अपना कार्य ^ चाहिए।

- Ans A. लाघव चिन्ह एवं त्रुटिपूरक चिन्ह
 B. विस्मरण चिन्ह एवं पूर्णविराम चिन्ह
 C. विस्मरण चिन्ह एवं विवरण चिन्ह
 D. पूर्णविराम चिन्ह एवं विवरण चिन्ह

Question ID : 7773933403

Comprehension:

निम्नलिखित गद्यांश का ध्यानपूर्वक अध्ययन कर प्रश्नों के उत्तर दीजिए-

परियोजना शिक्षा का एक बहुत ही महत्वपूर्ण अंग है। इसे तैयार करने में किसी खेल की तरह का ही आनंद मिलता है। इस तरह परियोजना तैयार करने का अर्थ है-खेल-खेल में बहुत कुछ सीख जाना। यदि आपको कहा जाए कि दीपावली पर निबंध लिखिए, तो आपको शायद उतना आनंद नहीं आएगा। लेकिन यदि आपसे कहा जाए कि अखबारों में प्राप्त जानकारियों के अलावा भी आपको देश-दुनिया की बहुत सारी जानकारियाँ प्रदान करनी है, तो यह आपको तथ्यों को जुटाने तथा उन पर विचार करने का अवसर प्रदान करती है। इससे आप में नए-नए तथ्यों के कौशल का विकास होता है। इससे आपमें एकाग्रता का विकास होता है। लेखन संबंधी नई-नई शैलियों का विकास होता है। आपमें चिंतन करने तथा किसी पूर्व घटना से वर्तमान घटना को जोड़कर देखने की शक्ति का विकास होता है। परियोजना कई प्रकार से तैयार की जा सकती है। प्रत्येक व्यक्ति इसे अलग ढंग से, अपने तरीके से तैयार कर सकता है। ठीक उसी प्रकार जैसे प्रत्येक व्यक्ति का बातचीत करने का, रहने का, खाने-पीने का अपना-अलग तरीका होता है। ऐसा निबंध, कहानी कविता लिखते या चित्र बनाते समय भी होता है। लेकिन ऊपर कही गई बातों के आधार पर यहाँ हम परियोजना को मोटे तौर पर दो भागों में बाँट सकते हैं- एक तो वे परियोजनाएँ, जो समस्याओं के निदान के लिए तैयार की जाती हैं और दूसरी वे, जो किसी विषय की समुचित जानकारी प्रदान करने के लिए तैयार की जाती हैं। समस्याओं के निदान के लिए तैयार की जाने वाली परियोजनाओं में संबंधित समस्या से जुड़े सभी तथ्यों पर प्रकाश डाला जाता है और उन समस्याओं के निदान भी किए जाते हैं। इस तरह की परियोजनाएँ प्रायः सरकार अथवा संगठनों द्वारा किसी समस्या पर कार्य - योजना तैयार करते समय बनाई जाती हैं। इससे उस समस्या के विभिन्न पहलुओं पर कार्य करने में आसानी हो जाती है। किंतु दूसरे प्रकार की परियोजना को आप आसानी से तैयार कर सकते हैं। इसे 'शैक्षिक परियोजना' भी कहा जाता है। इस तरह की परियोजनाएँ तैयार करते समय आप संबंधित विषय पर तथ्यों को जुटाते हुए बहुत सारी नई-नई बातों से अपने-आप परिचित भी हो जाते हैं।

SubQuestion No : 16

Q.16 निम्नलिखित में से उपर्युक्त गद्यांश के लिए उचित शीर्षक का चयन कीजिए-

- Ans A. शिक्षा के महत्वपूर्ण अंग
 B. एकाग्रता का विकास
 C. परियोजनाओं से संबंधित समस्या
 D. परियोजना का स्वरूप।

Question ID : 7773933410

Comprehension:

निम्नलिखित गद्यांश का ध्यानपूर्वक अध्ययन कर प्रश्नों के उत्तर दीजिए-

परियोजना शिक्षा का एक बहुत ही महत्वपूर्ण अंग है। इसे तैयार करने में किसी खेल की तरह का ही आनंद मिलता है। इस तरह परियोजना तैयार करने का अर्थ है-खेल-खेल में बहुत कुछ सीख जाना। यदि आपको कहा जाए कि दीपावली पर निबंध लिखिए, तो आपको शायद उतना आनंद नहीं आएगा। लेकिन यदि आपसे कहा जाए कि अखबारों में प्राप्त जानकारियों के अलावा भी आपको देश-दुनिया की बहुत सारी जानकारियाँ प्रदान करनी हैं, तो यह आपको तथ्यों को जुटाने तथा उन पर विचार करने का अवसर प्रदान करती है। इससे आप में नए-नए तथ्यों के कौशल का विकास होता है। इससे आपमें एकाग्रता का विकास होता है। लेखन संबंधी नई-नई शैलियों का विकास होता है। आपमें चिंतन करने तथा किसी पूर्व घटना से वर्तमान घटना को जोड़कर देखने की शक्ति का विकास होता है। परियोजना कई प्रकार से तैयार की जा सकती है। प्रत्येक व्यक्ति इसे अलग ढंग से, अपने तरीके से तैयार कर सकता है। ठीक उसी प्रकार जैसे प्रत्येक व्यक्ति का बातचीत करने का, रहने का, खाने-पीने का अपना-अलग तरीका होता है। ऐसा निबंध, कहानी कविता लिखते या चित्र बनाते समय भी होता है। लेकिन ऊपर कही गई बातों के आधार पर यहाँ हम परियोजना को मोटे तौर पर दो भागों में बाँट सकते हैं- एक तो वे परियोजनाएँ, जो समस्याओं के निदान के लिए तैयार की जाती हैं और दूसरी वे, जो किसी विषय की समुचित जानकारी प्रदान करने के लिए तैयार की जाती हैं। समस्याओं के निदान के लिए तैयार की जाने वाली परियोजनाओं में संबंधित समस्या से जुड़े सभी तथ्यों पर प्रकाश डाला जाता है और उन समस्याओं के निदान भी किए जाते हैं। इस तरह की परियोजनाएँ प्रायः सरकार अथवा संगठनों द्वारा किसी समस्या पर कार्य - योजना तैयार करते समय बनाई जाती हैं। इससे उस समस्या के विभिन्न पहलुओं पर कार्य करने में आसानी हो जाती है। किंतु दूसरे प्रकार की परियोजना को आप आसानी से तैयार कर सकते हैं। इसे 'शैक्षिक परियोजना' भी कहा जाता है। इस तरह की परियोजनाएँ तैयार करते समय आप संबंधित विषय पर तथ्यों को जुटाते हुए बहुत सारी नई-नई बातों से अपने-आप परिचित भी हो जाते हैं।

SubQuestion No : 17

Q.17 उपरोक्त गद्यांश के अनुसार परियोजना को मुख्य तौर पर दो भागों में बाँट सकते हैं- एक तो वे परियोजनाएँ, जो समस्याओं के निदान के लिए तैयार की जाती हैं और दूसरी वे _____

- Ans
- A. जिसमें एकाग्रता का विकास न हो।
 - B. जो किसी विषय की समुचित जानकारी प्रदान करने के लिए तैयार नहीं तैयार की गयी हो।
 - C. जो किसी विषय की केवल आखबारों से प्राप्त जानकारी प्रदान करने के लिए तैयार की जाती हैं।
 - D. जो किसी विषय की समुचित जानकारी प्रदान करने के लिए तैयार की जाती हैं।

Question ID : 7773933409

Comprehension:

निम्नलिखित गद्यांश का ध्यानपूर्वक अध्ययन कर प्रश्नों के उत्तर दीजिए-

परियोजना शिक्षा का एक बहुत ही महत्वपूर्ण अंग है। इसे तैयार करने में किसी खेल की तरह का ही आनंद मिलता है। इस तरह परियोजना तैयार करने का अर्थ है-खेल-खेल में बहुत कुछ सीख जाना। यदि आपको कहा जाए कि दीपावली पर निबंध लिखिए, तो आपको शायद उतना आनंद नहीं आएगा। लेकिन यदि आपसे कहा जाए कि अखबारों में प्राप्त जानकारियों के अलावा भी आपको देश-दुनिया की बहुत सारी जानकारियाँ प्रदान करनी हैं, तो यह आपको तथ्यों को जुटाने तथा उन पर विचार करने का अवसर प्रदान करती है। इससे आप में नए-नए तथ्यों के कौशल का विकास होता है। इससे आपमें एकाग्रता का विकास होता है। लेखन संबंधी नई-नई शैलियों का विकास होता है।

आपमें चिंतन करने तथा किसी पूर्व घटना से वर्तमान घटना को जोड़कर देखने की शक्ति का विकास होता है। परियोजना कई प्रकार से तैयार की जा सकती है। प्रत्येक व्यक्ति इसे अलग ढंग से, अपने तरीके से तैयार कर सकता है। ठीक उसी प्रकार जैसे प्रत्येक व्यक्ति का बातचीत करने का, रहने का, खाने-पीने का अपना-अलग तरीका होता है। ऐसा निबंध, कहानी कविता लिखते या चित्र बनाते समय भी होता है। लेकिन ऊपर कही गई बातों के आधार पर यहाँ हम परियोजना को मोटे तौर पर दो भागों में बाँट सकते हैं- एक तो वे परियोजनाएँ, जो समस्याओं के निदान के लिए तैयार की जाती हैं और दूसरी वे, जो किसी विषय की समुचित जानकारी प्रदान करने के लिए तैयार की जाती हैं।

समस्याओं के निदान के लिए तैयार की जाने वाली परियोजनाओं में संबंधित समस्या से जुड़े सभी तथ्यों पर प्रकाश डाला जाता है और उन समस्याओं के निदान भी किए जाते हैं। इस तरह की परियोजनाएँ प्रायः सरकार अथवा संगठनों द्वारा किसी समस्या पर कार्य - योजना तैयार करते समय बनाई जाती हैं। इससे उस समस्या के विभिन्न पहलुओं पर कार्य करने में आसानी हो जाती है।

किंतु दूसरे प्रकार की परियोजना को आप आसानी से तैयार कर सकते हैं। इसे 'शैक्षिक परियोजना' भी कहा जाता है। इस तरह की परियोजनाएँ तैयार करते समय आप संबंधित विषय पर तथ्यों को जुटाते हुए बहुत सारी नई-नई बातों से अपने-आप परिचित भी हो जाते हैं।

SubQuestion No : 18

Q.18 उपरोक्त गद्यांश के अनुसार परियोजना निम्नलिखित में से किस प्रकार से तैयार की जा सकती है एवं इसे मुख्य रूप से कितने भागों में बाँट सकते हैं?

- Ans**
- A. परियोजना कई प्रकार से तैयार की जाती है एवं मुख्य रूप से इसे दो भागों में बाँट सकते हैं।
 - B. परियोजना नियमित एवं अव्यवस्थित रूप से स्थिर की जाती है एवं यह तीन प्रकार की होती हैं।
 - C. परियोजना में संबंधित विषय पर तथ्यों को जुटाते हुए तैयार की जाती है एवं यह चार प्रकार की होती हैं।
 - D. परियोजना हमें हमारी समस्याओं का निदान प्रदान कर तैयार की जाती है एवं यह तीन प्रकार की होती हैं।

Question ID : 7773933406

Comprehension:

निम्नलिखित गद्यांश का ध्यानपूर्वक अध्ययन कर प्रश्नों के उत्तर दीजिए-

परियोजना शिक्षा का एक बहुत ही महत्वपूर्ण अंग है। इसे तैयार करने में किसी खेल की तरह का ही आनंद मिलता है। इस तरह परियोजना तैयार करने का अर्थ है-खेल-खेल में बहुत कुछ सीख जाना। यदि आपको कहा जाए कि दीपावली पर निबंध लिखिए, तो आपको शायद उतना आनंद नहीं आएगा। लेकिन यदि आपसे कहा जाए कि अखबारों में प्राप्त जानकारियों के अलावा भी आपको देश-दुनिया की बहुत सारी जानकारियाँ प्रदान करनी है, तो यह आपको तथ्यों को जुटाने तथा उन पर विचार करने का अवसर प्रदान करती है। इससे आप में नए-नए तथ्यों के कौशल का विकास होता है। इससे आपमें एकाग्रता का विकास होता है। लेखन संबंधी नई-नई शैलियों का विकास होता है। आपमें चिंतन करने तथा किसी पूर्व घटना से वर्तमान घटना को जोड़कर देखने की शक्ति का विकास होता है। परियोजना कई प्रकार से तैयार की जा सकती है। प्रत्येक व्यक्ति इसे अलग ढंग से, अपने तरीके से तैयार कर सकता है। ठीक उसी प्रकार जैसे प्रत्येक व्यक्ति का बातचीत करने का, रहने का, खाने-पीने का अपना-अलग तरीका होता है। ऐसा निबंध, कहानी कविता लिखते या चित्र बनाते समय भी होता है। लेकिन ऊपर कही गई बातों के आधार पर यहाँ हम परियोजना को मोटे तौर पर दो भागों में बाँट सकते हैं- एक तो वे परियोजनाएँ, जो समस्याओं के निदान के लिए तैयार की जाती हैं और दूसरी वे, जो किसी विषय की समुचित जानकारी प्रदान करने के लिए तैयार की जाती हैं।

समस्याओं के निदान के लिए तैयार की जाने वाली परियोजनाओं में संबंधित समस्या से जुड़े सभी तथ्यों पर प्रकाश डाला जाता है और उन समस्याओं के निदान भी किए जाते हैं। इस तरह की परियोजनाएँ प्रायः सरकार अथवा संगठनों द्वारा किसी समस्या पर कार्य - योजना तैयार करते समय बनाई जाती हैं। इससे उस समस्या के विभिन्न पहलुओं पर कार्य करने में आसानी हो जाती है।

किंतु दूसरे प्रकार की परियोजना को आप आसानी से तैयार कर सकते हैं। इसे 'शैक्षिक परियोजना' भी कहा जाता है। इस तरह की परियोजनाएँ तैयार करते समय आप संबंधित विषय पर तथ्यों को जुटाते हुए बहुत सारी नई-नई बातों से अपने-आप परिचित भी हो जाते हैं।

SubQuestion No : 19

Q.19 उपरोक्त गद्यांश में प्रयुक्त शब्द "कौशल" का पर्यायवाची निम्नलिखित में से कौन-सा है?

- Ans A. विकास
 B. अवसर
 C. पटुता
 D. आनंद

Question ID : 7773933407

Comprehension:

निम्नलिखित गद्यांश का ध्यानपूर्वक अध्ययन कर प्रश्नों के उत्तर दीजिए-

परियोजना शिक्षा का एक बहुत ही महत्वपूर्ण अंग है। इसे तैयार करने में किसी खेल की तरह का ही आनंद मिलता है। इस तरह परियोजना तैयार करने का अर्थ है-खेल-खेल में बहुत कुछ सीख जाना। यदि आपको कहा जाए कि दीपावली पर निबंध लिखिए, तो आपको शायद उतना आनंद नहीं आएगा। लेकिन यदि आपसे कहा जाए कि अखबारों में प्राप्त जानकारियों के अलावा भी आपको देश-दुनिया की बहुत सारी जानकारियाँ प्रदान करनी हैं, तो यह आपको तथ्यों को जुटाने तथा उन पर विचार करने का अवसर प्रदान करती है। इससे आप में नए-नए तथ्यों के कौशल का विकास होता है। इससे आपमें एकाग्रता का विकास होता है। लेखन संबंधी नई-नई शैलियों का विकास होता है। आपमें चिंतन करने तथा किसी पूर्व घटना से वर्तमान घटना को जोड़कर देखने की शक्ति का विकास होता है। परियोजना कई प्रकार से तैयार की जा सकती है। प्रत्येक व्यक्ति इसे अलग ढंग से, अपने तरीके से तैयार कर सकता है। ठीक उसी प्रकार जैसे प्रत्येक व्यक्ति का बातचीत करने का, रहने का, खाने-पीने का अपना-अलग तरीका होता है। ऐसा निबंध, कहानी कविता लिखते या चित्र बनाते समय भी होता है। लेकिन ऊपर कही गई बातों के आधार पर यहाँ हम परियोजना को मोटे तौर पर दो भागों में बाँट सकते हैं- एक तो वे परियोजनाएँ, जो समस्याओं के निदान के लिए तैयार की जाती हैं और दूसरी वे, जो किसी विषय की समुचित जानकारी प्रदान करने के लिए तैयार की जाती हैं।

समस्याओं के निदान के लिए तैयार की जाने वाली परियोजनाओं में संबंधित समस्या से जुड़े सभी तथ्यों पर प्रकाश डाला जाता है और उन समस्याओं के निदान भी किए जाते हैं। इस तरह की परियोजनाएँ प्रायः सरकार अथवा संगठनों द्वारा किसी समस्या पर कार्य - योजना तैयार करते समय बनाई जाती हैं। इससे उस समस्या के विभिन्न पहलुओं पर कार्य करने में आसानी हो जाती है।

किंतु दूसरे प्रकार की परियोजना को आप आसानी से तैयार कर सकते हैं। इसे 'शैक्षिक परियोजना' भी कहा जाता है। इस तरह की परियोजनाएँ तैयार करते समय आप संबंधित विषय पर तथ्यों को जुटाते हुए बहुत सारी नई-नई बातों से अपने-आप परिचित भी हो जाते हैं।

SubQuestion No : 20

Q.20 निम्नलिखित में से "यथासंभव" में कौन-सा समास है?

- Ans A. कर्मधारय समास
 B. द्वंद्व समास
 C. द्विगु समास
 D. अव्ययीभाव समास

Question ID : 7773933408



GOVT. OF NCT OF DELHI
Delhi Subordinate Services Selection Board
FC-18, Institutional Area, Karkardooma, Delhi – 110092.
www.dsssb.govt.nic.in

Participant ID	
Participant Name	
Test Center Name	
Test Date	22/11/2021
Test Time	4:30 PM - 6:30 PM
Subject	Fee Collector Sub Inspector Auction Recorder

Section : General Ability1

Q.1 How many symbols are there in the given series which are immediately preceded by a number and immediately followed by a letter.
5 6 * C D G % 3 & F A 4 R S 8 7 + M 2 4 # ^ z 1 @

- Ans
- A. 1
 - B. 4
 - C. 2
 - D. 3

Question ID : 967947422

Q.2 कक्षा XII में 60 छात्र हैं। संजना को XII A में रखा गया है, वह 5वें स्थान पर है, XII B में वह 8वें स्थान पर है और XII C में उसकी रैंक 6ठी है। कक्षा XII में उसकी संचयी रैंक क्या है?

- Ans
- A. 17
 - B. 19
 - C. 18
 - D. 20

Question ID : 967947424

Q.3 यदि बिल्ली कुत्ता है, कुत्ता गाय है, गाय गधा है, गधा हिरण है और हिरण खरगोश है, तो कौन सा जानवर भौकता है?

- Ans
- A. हिरण
 - B. गाय
 - C. बिल्ली
 - D. कुत्ता

Question ID : 967947420

Q.4 Out of the given options, three are similar in a certain manner. However, one option is NOT like the other three. Select the option which is different from the rest.

- Ans A. Gummy
 B. Gulpy
 C. Gunky
 D. Greed

Question ID : 967947409

Q.5 Complete the following series:
a_aab_a_a_d_

- Ans A. baaca
 B. cabaa
 C. aacaa
 D. abcab

Question ID : 967947405

Q.6 शब्द STEAM में केवल व्यंजनों को बदलकर कितने अर्थपूर्ण शब्द बनाए जा सकते हैं ताकि प्रत्येक शब्द में प्रत्येक अक्षर का केवल एक बार उपयोग करके, प्रत्येक व्यंजन को अंग्रेजी वर्णमाला के पिछले अक्षर से बदला जाता है?

- Ans A. 8
 B. 5
 C. 6
 D. 4

Question ID : 967947408

Q.7 Out of the given options, three are similar in a certain manner. However, one option is NOT like the other three. Select the option which is different from the rest.

- Ans A. Cork
 B. Paper
 C. Furniture
 D. Stone

Question ID : 967947412

Q.8 If VERTICAL = 90, YELLOW = 92, then what is the value of RELATION?

- Ans A. 43
 B. 94
 C. 34
 D. 25

Question ID : 967947419

Q.9 दी गई श्रृंखला में ऐसे कितने 6 हैं जिनके ठीक बाद में 6 है लेकिन ठीक पहले 6 नहीं है?
2 3 4 6 5 6 6 3 5 4 6 6 6 4 6 6 5 9 8 7 6 6 6 2 3 6 6 3 5 2 6 3 5 6 6 2

- Ans A. 4
 B. 2
 C. 6
 D. 3

Question ID : 967947421

Q.10 उस विकल्प का चयन करें जो तीसरे पद से उसी प्रकार से संबंधित है जिस प्रकार से दूसरा पद पहले पद से संबंधित है।
इस्पात : रेल :: अलनिको : ?

- Ans A. चांदी के बर्तन
 B. चुम्बक
 C. हवाईजहाज
 D. मशीनरी

Question ID : 967947414

Q.11 Select the option that is related to the third term on the same basis as the second term is related to the first term.
Newspaper : Editor :: Play : ?

- Ans A. Director
 B. Singer
 C. Theatre
 D. Actor

Question ID : 967947415

Q.12 If TIGER is coded as QNDJO and TABLE is coded as QFYQB, then the word TITANIC will be coded as?

- Ans A. QNQFKNZ
 B. NQQFNNP
 C. QNQKFNZ
 D. PNPFKNZ

Question ID : 967947418

Q.13 दिए गए विकल्पों में से तीन एक निश्चित तरीके से समान हैं। हालाँकि, एक विकल्प अन्य तीन की तरह नहीं है।
उस विकल्प का चयन करें जो अन्य से अलग है।

- Ans A. लहसुन
 B. बंद गोभी
 C. गाजर
 D. आलू

Question ID : 967947410

Q.14 राजू रजत से लंबा है लेकिन परम से छोटा है। अमर रजत से लंबा है लेकिन परम से छोटा है। उनमें से सबसे छोटा कौन है?

- Ans A. रजत
 B. अमर
 C. परम
 D. राजू

Question ID : 967947423

Q.15 Complete the following series:

_q_rp_r_pqr_

- Ans A. qprrr
 B. prqrr
 C. rpqrr
 D. rpqqr

Question ID : 967947406

Q.16 Select the option that is related to the third term on the same basis as the second term is related to the first term.

Monotony : Variety :: Crudeness : ?

- Ans A. Simple
 B. Sobriety
 C. Raw
 D. Refinement

Question ID : 967947413

Q.17 If AGAIN is coded as 53587 and PERIL is coded as 62489, then what will be the word for the code 65453?

- Ans A. RAPAG
 B. GAPAR
 C. GARAP
 D. PARAG

Question ID : 967947417

Q.18 शब्द 'DEFAULTS' के प्रत्येक व्यंजन को अंग्रेजी वर्णमाला श्रृंखला के पिछले अक्षर में बदल दिया गया है और प्रत्येक स्वर को अंग्रेजी वर्णमाला श्रृंखला के अगले अक्षर में बदल दिया गया है। नए गठन में कितने अक्षर दो बार आएंगे?

- Ans A. कोई नहीं
 B. दो
 C. तीन
 D. एक

Question ID : 967947407

Q.19 Select the option that is related to the third term on the same basis as the second term is related to the first term.

Summit : Apex :: Summon : ?

- Ans
- A. Witness
 - B. Court
 - C. Beckon
 - D. Judge

Question ID : 967947416

Q.20 दिए गए विकल्पों में से तीन एक निश्चित तरीके से समान हैं। हालाँकि, एक विकल्प अन्य तीन की तरह नहीं है। उस विकल्प का चयन करें जो अन्य से अलग है।

- Ans
- A. नाक
 - B. कान
 - C. आंख
 - D. मस्तिष्क

Question ID : 967947411

Section : General Ability2

Q.1 प्रश्न में दो कथन दिए गए हैं, जिसके बाद दो निष्कर्ष I और II दिए गए हैं। आपको उन कथनों को सत्य मानना है, भले ही यह सामान्यतः ज्ञात तथ्य से भिन्न प्रतीत हो। आपको यह निर्णय लेना है कि दिए गए निष्कर्षों में से कौन सा, यदि कोई हो, तो दिए गए कथनों में से अनुसरण करता है।

कथन 1 : सभी ह्वेल मछलियां हैं।

कथन 2: कोई मछली मगरमच्छ नहीं है।

निष्कर्ष I : कोई मगरमच्छ ह्वेल नहीं है।

निष्कर्ष II: कोई ह्वेल मगरमच्छ नहीं है

- Ans
- A. केवल निष्कर्ष I अनुसरण करता है
 - B. न ही निष्कर्ष I और न ही II अनुसरण करता है
 - C. निष्कर्ष I और II दोनों अनुसरण करते हैं
 - D. केवल निष्कर्ष II अनुसरण करता है

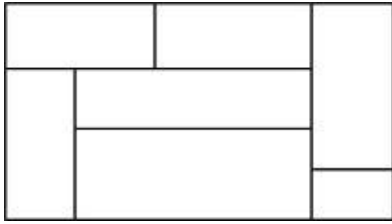
Question ID : 967947425

Q.2 यदि A का अर्थ है ÷, B का अर्थ है -, C का अर्थ है ×, तो अभिव्यक्ति का मान ज्ञात करें: 46 A 2 B 3 C 4 = ?

- Ans
- A. 17
 - B. 34
 - C. 11
 - D. 23

Question ID : 967947430

Q.3 How many maximum number of rectangles are there in the given question figure?



- Ans
- A. 16
 - B. 14
 - C. 13
 - D. 15

Question ID : 967947442

Q.4 Which of the following Venn diagram best represent the relationship between Females, Wives and Doctors?

Ans

- A.
- B.
- C.
- D.

Question ID : 967947435

Q.5 Find the missing number.

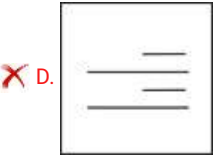
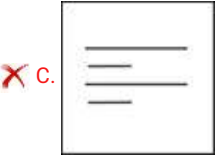
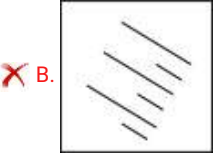
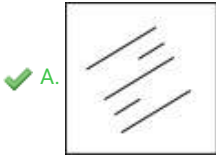
5	8	32
9	6	48
7	9	?

- Ans
- A. 54
 - B. 48
 - C. 45
 - D. 64

Question ID : 967947432

Q.6 Out of the given options, three are similar in a certain manner. However, one option is NOT like the other three. Select the option which is different from the rest.

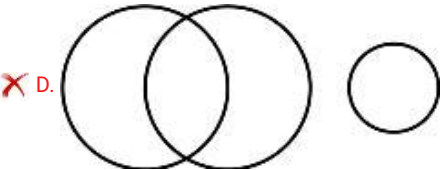
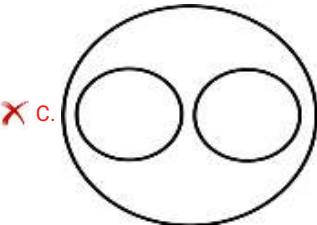
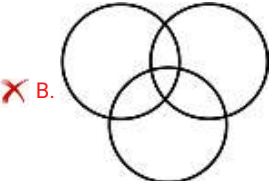
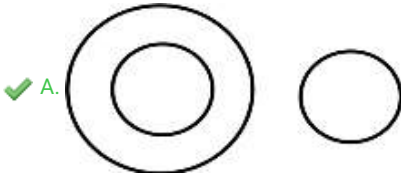
Ans



Question ID : 967947437

Q.7 निम्नलिखित में से कौन सा वेन आरेख श्रीलंकाई, एशियाई और अमेरिकी के बीच के संबंध को सबसे अच्छा दर्शाता है?

Ans

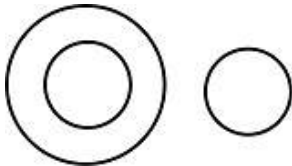


Question ID : 967947433

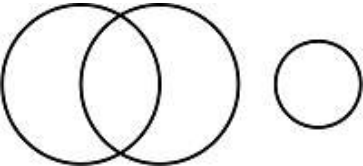
Q.8 Which of the following Venn diagram best represent the relationship between Birds, Kiwi and Elephants?

Ans

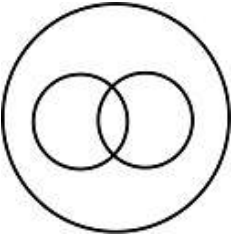
✓ A.



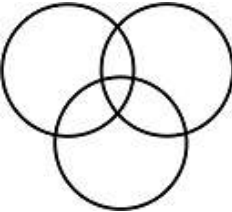
✗ B.



✗ C.

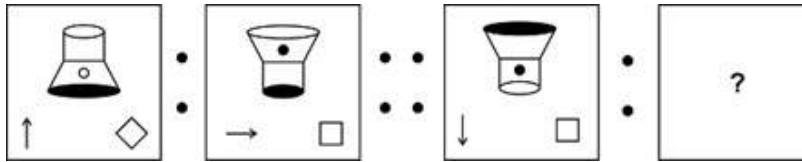


✗ D.



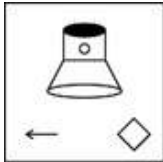
Question ID : 967947434

Q.9 Select the option that is related to the third term on the same basis as the second term is related to the first term.

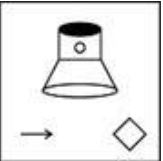


Ans

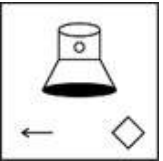
✓ A.



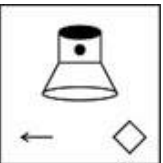
✗ B.



✗ C.



✗ D.



Question ID : 967947440

Q.10 In the question three statements are given, followed by four conclusions, I, II, III and IV. You have to consider the statements to be true even if it seems to be at variance from commonly known facts. You have to decide which of the given conclusions, if any, follows from the given statements.

Statement 1 : Some tables are chairs.

Statement 2 : All chairs are green.

Statement 3: Some green are red.

Conclusion I : All chairs are red.

Conclusion II : Some red are green.

Conclusion III: Some chairs are red.

Conclusion IV: All green are chairs.

Ans

✓ A. Only conclusion II follows


✗ B. Only conclusion I and IV follow

✗ C. Only conclusion II and III follow

✗ D. Either conclusion I or III follow.

Question ID : 967947428

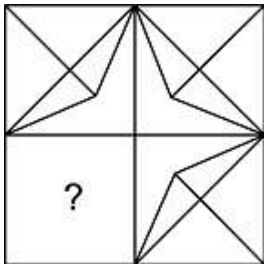
Q.11 Given below are three different positions of a dice. Find the number of dots on the face opposite to the face bearing 3 dots.


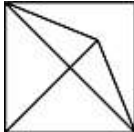

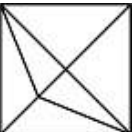


- Ans A. 6
 B. 5
 C. 1
 D. 4

Question ID : 967947441

Q.12 Which of the following answer figures complete the image pattern of the question figure?



- Ans A. 
 B. 
 C. 
 D. 

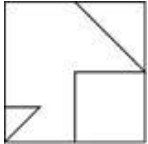
Question ID : 967947443

Q.13 If 'x' means division, '-' means multiplication, '÷' means addition and '+' means subtraction, then $(3 - 15 \div 11) \times 8 + 6 = ?$

- Ans A. 8
 B. 4
 C. 1
 D. 0

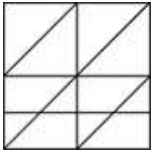
Question ID : 967947431

Q.14 From the given answer figures, select the one in which the question figure is hidden/embedded.

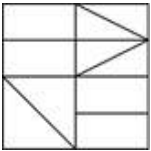


Ans

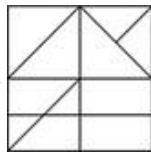
A.



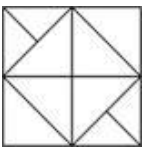
B.



C.



D.



Question ID : 967947444

Q.15 In the question two statements are given, followed by two conclusions, I and II. You have to consider the statements to be true even if it seems to be at variance from commonly known facts. You have to decide which of the given conclusions, if any, follows from the given statements.

Statement 1 : All leaders are good humans.

Statement 2 : All good humans are good orators.

Conclusion I : Some good humans are leaders.

Conclusion II : All good orators are leaders.

Ans

A. Only conclusion II follows

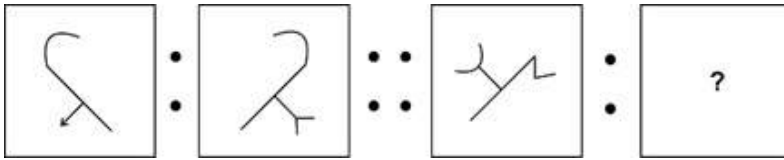
B. Only conclusion I follows

C. Both conclusion I and II follow

D. Neither conclusion I nor II follows

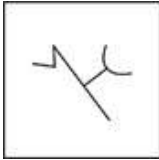
Question ID : 967947426

Q.16 Select the option that is related to the third term on the same basis as the second term is related to the first term.

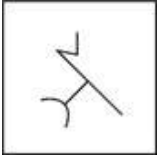


Ans

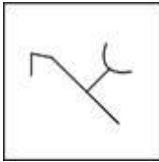
A.



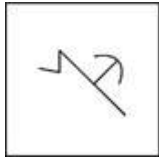
B.



C.




D.



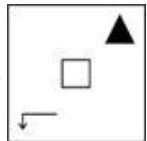
Question ID : 967947439

Q.17 Select the option that is related to the third term on the same basis as the second term is related to the first term.

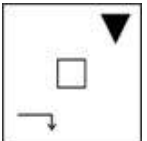


Ans

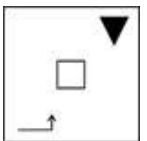
A.



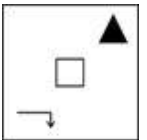
B.



C.



D.



Question ID : 967947438

Q.18 In the question three statements are given, followed by four conclusions, I, II, III and IV. You have to consider the statements to be true even if it seems to be at variance from commonly known facts. You have to decide which of the given conclusions, if any, follows from the given statements.

Statement 1 : Some mangoes are cherries.

Statement 2 : All cherries are fresh.

Statement 3: Some melons are fresh.

Conclusion I : Some mangoes are fresh.

Conclusion II : Some melons are mangoes.

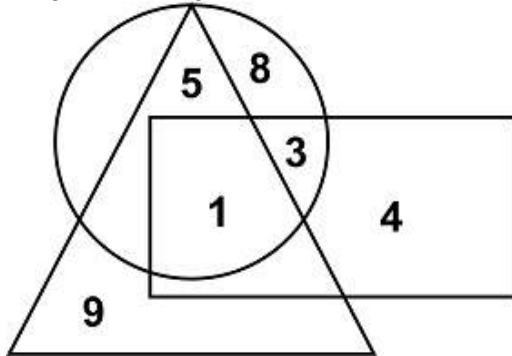
Conclusion III: Some cherries are melons.

Conclusion IV: Some cherries are mangoes.

- Ans
- A. Only conclusion I follows
 - B. Only conclusion II and III follow
 - C. Either conclusion II or III follow
 - D. Only conclusion I and IV follow

Question ID : 967947427

Q.19 The given Venn diagram find out the number that is common in all the given figures.



- Ans
- A. 8
 - B. 1
 - C. 9
 - D. 3

Question ID : 967947436

Q.20 Select the option in which the numbers are similarly related as in the given pair.

8 : 56 :: ____

- Ans
- A. 4 : 12
 - B. 5 : 25
 - C. 7 : 34
 - D. 9 : 81

Question ID : 967947429

Q.1 Which of the following is not a method of remittance?

- Ans A. National Electronic Funds Transfer (NEFT)
 B. Overdraft
 C. Draft
 D. Real-Time Gross Settlement (RTGS)

Question ID : 967947449

Q.2 बाजरा किस मृदा में सबसे अच्छा उगता है?

- Ans A. जलोढ़ मृदा
 B. काली मृदा
 C. लैटेराइट मृदा
 D. लाल मृदा

Question ID : 967947461

Q.3 What is the acceleration responsible for circular motion called?

- Ans A. Centripetal force
 B. Centrifugal force
 C. Rotational force
 D. Central force

Question ID : 967947454

Q.4 कौन सी नहर पूर्व में अटलांटिक महासागर को पश्चिम में प्रशान्त महासागर से जोड़ती है?

- Ans A. स्टॉकहोम नहर
 B. स्वेज़ नहर
 C. पनामा नहर
 D. ब्रुस की नहरें

Question ID : 967947462

Q.5 1577 में, _____ ने स्वर्ण मंदिर का निर्माण किया।

- Ans A. राजाराज I
 B. महाराजा सवाई जय सिंह II
 C. विमल शाह
 D. गुरु राम दास

Question ID : 967947447

Q.6 When total receipts exceed expenditure, the fiscal policy creates _____.

- Ans A. Deficit
 B. Difference
 C. Equilibrium
 D. Surplus

Question ID : 967947451

Q.7 Which of the following is an animal tissue?

- Ans A. Epithelial tissue
 B. Ground tissue
 C. Vascular tissue
 D. Dermal tissue

Question ID : 967947458

Q.8 The Reserve Bank of India was nationalized on _____.

- Ans A. 1st January, 1947
 B. 1st January, 1949
 C. 1st June, 1945
 D. 1st June, 1946

Question ID : 967947453

Q.9 Density of Population is the ratio between _____.

- Ans A. the number of people to the size of land
 B. the number of people to the number of houses
 C. the number of women to the number of men
 D. the number of births to the number of deaths

Question ID : 967947459

Q.10 कर राजस्व सरकारी बजट के किस घटक के अंतर्गत आता है?

- Ans A. राजस्व प्राप्तियां
 B. पूंजीगत व्यय
 C. पूंजी प्राप्तियां
 D. राजस्व व्यय

Question ID : 967947450

Q.11 Consumption goods and services (C) + Gross Investments (I) + Government Purchases (G) + (Exports (X) - Imports (M)) = _____.

- Ans A. Net Domestic Product
 B. Net National Product
 C. Gross National Product
 D. Gross Domestic Product

Question ID : 967947452

Q.12 _____ भारतीय नृत्य शैली में नृत्य और गायन दोनों में प्रतिभा की आवश्यकता होती है।

- Ans A. कूचिपूड़ी
 B. ओड़िसी
 C. कथक
 D. मणिपुरी

Question ID : 967947448

Q.13 बुलन्द दरवाज़ा और पंचमहाल _____ द्वारा बनाए गए थे।

- Ans A. मोहम्मद अली शाह
 B. अकबर
 C. बाबर
 D. शाह जहाँ

Question ID : 967947446

Q.14 खोजकर्ताओं का उनके द्वारा किए गए कार्य से मिलान करें:

1. यूरोप में चीन और अन्य एशियाई देशों का परिचय करवाया	A. वास्को द गामा
2. केप ऑफ स्टॉर्म को ढूँढा	B. मार्को पोलो
3. न्यूजीलैंड की खोज की	C. सैमुअल डी शैम्प्लेन
4. कनाडा में क्यूबेक स्थापित किया	D. बारटोलोमीयु डियास
5. 1497 में भारत को खोजने के लिए रवाना हुए	E. आबेल जैनज़ून तास्मान

- Ans A. 1-A, 2-E, 3-B, 4-C, 5-D
 B. 1-B, 2-E, 3-C, 4-D, 5-A
 C. 1-B, 2-D, 3-E, 4-C, 5-A
 D. 1-A, 2-B, 3-C, 4-D, 5-E

Question ID : 967947463

Q.15 निम्नलिखित में से कौन सा शस्योत्सव (हार्वेस्ट फेस्टिवल) नृत्य रूप का भी नाम है?

- Ans A. पोंगल
 B. बैसाखी
 C. गुड़ी पड़वा
 D. बिहु

Question ID : 967947445

Q.16 Which gas is released when yeast begins to feed on sugars while making a bread dough?

- Ans A. Oxygen
 B. Nitrogen
 C. Carbon monoxide
 D. Carbon dioxide

Question ID : 967947456

Q.17 Which of the following is not a geographical factor influencing the distribution of population?

- Ans
- A. Landforms
 - B. Climate
 - C. Urbanization
 - D. Availability of water

Question ID : 967947460

Q.18 Who designed and built the telescope with increasingly higher magnifying power, in 1608-09?

- Ans
- A. Thomas Edison
 - B. Benjamin Franklin
 - C. Alexander Graham Bell
 - D. Galileo Galilei

Question ID : 967947464

Q.19 _____ is applied to inanimate objects.

- Ans
- A. Disinfectants
 - B. Analgesics
 - C. Antibiotics
 - D. Tranquilizers

Question ID : 967947455

Q.20 Which of the following is not a part of the nose?

- Ans
- A. Olfactory chamber
 - B. Vestibule
 - C. Pharynx
 - D. Mesethmoid Cartilage

Question ID : 967947457

Section : General Awareness2

Q.1 सीरम इंस्टिट्यूट ऑफ इंडिया का संस्थापक कौन है?

- Ans
- A. विल्लू पूनावाला
 - B. अदार पूनावाला
 - C. डॉ. साइरस पूनावाला
 - D. सोली ए. पूनावाला

Question ID : 967947470

Q.2 तीसरा आंग्ल-मराठा युद्ध किस वर्ष में लड़ा गया था?

- Ans A. 1827
 B. 1819
 C. 1803
 D. 1817

Question ID : 967947467

Q.3 On 26 November, 1949, the constitution of India was _____.

- Ans A. signed
 B. adopted
 C. written
 D. reviewed

Question ID : 967947476

Q.4 सतीश शिवलिंगम किस खेल से जुड़ा हुआ है?

- Ans A. मुक्केबाज़ी
 B. भारोत्तोलन
 C. कुश्ती
 D. धनुर्विद्या

Question ID : 967947481

Q.5 Which game is scheduled to be held in Birmingham in 2022?

- Ans A. The 2022 Winter Paralympic
 B. The 2022 Winter Olympics
 C. The World Games 2022
 D. The 2022 Commonwealth Games

Question ID : 967947473

Q.6 The original Constitution of India was handwritten by _____.

- Ans A. Bhimrao Ramji Ambedkar
 B. Mohandas Karamchand Gandhi
 C. Dr Sachchidananda Sinha
 D. Prem Behari Narain Raizada

Question ID : 967947479

Q.7 Name the highest active volcano in Europe, that erupted four times within a span of six days.

- Ans A. Mount Vesuvius
 B. Mount Etna
 C. Mount Vulture
 D. Mount Elbrus

Question ID : 967947475

Q.8 ओलंपिक खेलों में भारत का प्रतिनिधित्व करने वाली पहली महिला जिमनास्ट कौन हैं?

- Ans A. मेघना गुंदलपल्ली रेड्डी
 B. अरुणा रेड्डी
 C. दीपा कर्मकार
 D. मंटू देबनाथ

Question ID : 967947471

Q.9 2022 विंटर ओलंपिक कहाँ आयोजित किया जाएगा?

- Ans A. हॉन्ग कॉन्ग
 B. बीजिंग
 C. मकाउ
 D. शंघाई

Question ID : 967947482

Q.10 इनमें से किस व्यक्तित्व को पद्म भूषण मिला है?

- Ans A. प्रणव मुखर्जी
 B. श्री शिंजो आबे
 C. रामविलास पासवान
 D. कंगना राणावत

Question ID : 967947469

Q.11 किस संशोधन ने अनुसूचित जाति और अनुसूचित जनजाति के सदस्यों के लिए लोकसभा और राज्य विधानसभाओं में सीटों के आरक्षण की समाप्ति की समय सीमा बढ़ा दी?

- Ans A. संविधान (104वां संशोधन अधिनियम), 2020
 B. संविधान (103वां संशोधन अधिनियम), 2019
 C. संविधान (100वां संशोधन अधिनियम), 2015
 D. संविधान (102वां संशोधन अधिनियम), 2018

Question ID : 967947478

Q.12 FIFA World Cup 2022 will be held in _____.

- Ans A. Italy
 B. India
 C. China
 D. Qatar

Question ID : 967947484

Q.13 मुंबई में वसई दुर्ग किसने बनवाया था?

- Ans A. पुर्तगाली
 B. मराठों
 C. मुगलों
 D. मौर्य

Question ID : 967947466

Q.14 The (British) East India Company was established on _____.

- Ans A. 20 December 1600
 B. 25 December 1600
 C. 31 December 1600
 D. 30 December 1600

Question ID : 967947465

Q.15 Which Article gave special status to Jammu and Kashmir to have a separate constitution, a state flag and autonomy over the internal administration of the state?

- Ans A. Article 371
 B. Article 351
 C. Article 370
 D. Article 350

Question ID : 967947472

Q.16 जवाहरलाल नेहरू ने _____ में उद्देश्य प्रस्ताव पेश किया।

- Ans A. विधान परिषद
 B. विधान सभा
 C. संसद
 D. संविधान सभा

Question ID : 967947477

Q.17 'लेसन्स लाइफ टॉट मी, अननोइंगली' _____ की आत्मकथा है।

- Ans A. अनुपम खेर
 B. जावेद अख्तर
 C. आयुष्मान खुराना
 D. देव आनंद

Question ID : 967947468

Q.18 किस देश में आधिकारिक राष्ट्रीय खेल नहीं है?

- Ans
- A. रूस
 - B. ऑस्ट्रेलिया
 - C. भारत
 - D. इंग्लैण्ड

Question ID : 967947480

Q.19 निम्नलिखित में से कौन भारतीय धनुर्विद्या खिलाड़ी नहीं है?

- Ans
- A. जयंत तालुकदार
 - B. सोमा बिस्वास
 - C. तरुणदीप राय
 - D. लिम्बा राम

Question ID : 967947483

Q.20 उस चक्रवात का नाम बताइए जो 2021 में मुंबई से टकराया था।

- Ans
- A. चक्रवात वायु
 - B. चक्रवात यास
 - C. चक्रवात ताउते
 - D. चक्रवात यसा

Question ID : 967947474

Section : Arithmetic Ability1

Q.1 एक दुकानदार ने 55 रुपए प्रति kg पर 120 kg चीनी खरीदी और उसे 60 रुपए प्रति kg चीनी की 70 kg के साथ मिलाया। 27% का लाभ अर्जित करने के लिए इसे किस मूल्य पर बेचना चाहिए?

- Ans
- A. 70.51 रुपए
 - B. 72.19 रुपए
 - C. 73.025 रुपए
 - D. 75 रुपए

Question ID : 967947497

Q.2 बिजली बिल में स्थिर और परिवर्तनशील दोनों घटक होते हैं। एक महीने में 3000 रुपए के शुल्क के रूप में 575 इकाई की खपत की गई और दूसरे महीने में 4250 रुपए के शुल्क के रूप में 700 इकाई की खपत की गई। यदि तीसरे महीने में 650 इकाई की खपत होती है, तो बिजली का बिल (रुपए में) क्या होगा?

- Ans
- A. 3800
 - B. 3900
 - C. 3750
 - D. 3850

Question ID : 967947502

Q.3 The price of a product was decreased by 5%. This resulted in an increase of numbers sold by 25%. What is the effect on total revenue?

- Ans
- A. 31.58% Increase
 - B. 18.75% Decrease
 - C. 31.58% Decrease
 - D. 18.75% Increase

Question ID : 967947493

Q.4 Arrange the fractions in ascending order:
4/8, 7/12, 12/16, 15/29 and 2/5

- Ans
- A. 2/5, 4/8, 12/16, 15/29, 7/12
 - B. 2/5, 4/8, 15/29, 12/16, 7/12
 - C. 2/5, 4/8, 15/29, 7/12, 12/16
 - D. 2/5, 4/8, 7/12, 15/29, 12/16

Question ID : 967947485

Q.5 साधारण ब्याज की दर प्रति वर्ष 10% है। वार्षिक किस्त क्या होगी जो 2 वर्ष में 1350 रुपए के कर्ज का बकाया निर्वहन करेगी?

- Ans
- A. 771.43
 - B. 790
 - C. 780
 - D. 800

Question ID : 967947504

Q.6 एक क्रिकेटर के 20 मैचों का औसत स्कोर 50 रन है। यदि पहले 15 मैचों का औसत स्कोर 40 रन है तो शेष मैचों का औसत स्कोर क्या है?

- Ans
- A. 40
 - B. 50
 - C. 80
 - D. 60

Question ID : 967947489

Q.7 If $p:q = 7/11$, what is the value of $(9p+13q)/(5p+17q)$?

- Ans
- A. 7/11
 - B. 103/111
 - C. 13/17
 - D. 100/111

Question ID : 967947499

Q.8 एक गांव की 15% आबादी कोरोना से मर गई। एक दहशत फैल गई और शेष 25% लोगों ने गांव छोड़ दिया। जनसंख्या अब 6375 है। यदि 25% के बजाय 30% लोग दहशत से गांव से चले जाते तो कितने लोग बचे होते?

- Ans
- A. 6000
 - B. 70000
 - C. 5950
 - D. 5500

Question ID : 967947494

Q.9 एक आदमी ने दो फ्लैट 675000 रुपए में बेचे। फ्लैटों का मूल्य एक समान है। उसे एक फ्लैट पर 15% का लाभ होता है जबकि दूसरे पर उसे 15% की हानि होती है। पूरे लेन-देन में उसे कितना लाभ या हानि होती है?

- Ans
- A. 10125 लाभ
 - B. 18929.3 हानि
 - C. 15537.08 हानि
 - D. 0 लाभ या हानि

Question ID : 967947498

Q.10 एक राशि पर 1 वर्ष के लिए चक्रवृद्धि ब्याज और साधारण ब्याज 800 है। ब्याज की दर 8% है। 3 वर्ष के चक्रवृद्धि ब्याज और साधारण ब्याज के बीच का अंतर होगा।

- Ans
- A. 197.12
 - B. 150
 - C. 19.712
 - D. 800

Question ID : 967947503

Q.11 X और Y सोने और चांदी की दो मिश्रतुएँ हैं जो क्रमशः 5 : 2 और 7 : 3 के अनुपात में धातुओं को मिलाकर तैयार की गई हैं। यदि एक तीसरा मिश्रतु Z तैयार करने के लिए मिश्रतु X का 40% और मिश्रतु Y का 60% लिया जाता है, तो C में सोने और चांदी का अनुपात क्या है?

- Ans
- A. 69 : 31
 - B. 74 : 26
 - C. 247 : 103
 - D. 68 : 32

Question ID : 967947501

Q.12 सरलीकृत करें: $(7/3 \div 6/11 \text{ of } 3/19 \times 13/4 \div 8/45) / (9/5 \div 4/17 \text{ of } 5/2 \times 3/2)$

- Ans
- A. 2377375/22032
 - B. 123561/13451
 - C. 245632/12341
 - D. 12356/24125

Question ID : 967947487

Q.13 एक छात्रावास में 40 छात्र हैं। 8 नए छात्रों के प्रवेश से, मेस का व्यय 42 रुपए प्रति दिन से बढ़ गया। प्रति व्यक्ति औसत व्यय में 2 रुपए की कमी आई। मेस का मूल व्यय क्या था?

- Ans
- A. 345 रुपए/दिन
 - B. 1380 रुपए/ दिन
 - C. 1600 रुपए/ दिन
 - D. 690 रुपए/दिन

Question ID : 967947491

Q.14 एक बेईमान व्यापारी अपनी वस्तु को लागत मूल्य पर बेचता है लेकिन 1 kg के लिए 975 gm वजन का उपयोग करता है। वह उस 1 kg को खरीदने के लिए 1025 g वजन का उपयोग करता है। उसका लाभ प्रतिशत क्या है?

- Ans
- A. 5.00 प्रतिशत
 - B. 5.13 प्रतिशत
 - C. 10.00 प्रतिशत
 - D. 5.70 प्रतिशत

Question ID : 967947496

Q.15 पहले वर्ष के दौरान एक शहर की जनसंख्या में 17% की वृद्धि हुई और दूसरे वर्ष में 11% की कमी हुई। तीसरे से 5वें वर्ष तक, जनसंख्या में वर्ष दर वर्ष 33.33 प्रतिशत की कमी आई है। पांचवें वर्ष के अंत में जनसंख्या 10413 है, पहले वर्ष की शुरुआत में कुल जनसंख्या कितनी है?

- Ans
- A. 40000
 - B. 43750
 - C. 33750
 - D. 30000

Question ID : 967947495

Q.16 P, Q और R का वेतन 3 : 4 : 11 के अनुपात में है। यदि उन्हें 30%, 25% और 5% की वृद्धि मिलती है, तो उनके वेतन का नया अनुपात क्या है?

- Ans
- A. 100 : 111 : 231
 - B. 231 : 100 : 87
 - C. 39 : 5 : 231
 - D. 78 : 100 : 231

Question ID : 967947500

Q.17 दस लोग एक होटल में खाना खाने गए। उनमें से नौ उनके भोजन पर 200 रुपए खर्च करते हैं और दसवां सभी दस लोगों के औसत व्यय से 9 रुपए अधिक खर्च करता है। उनके द्वारा खर्च की गई कुल राशि का दो गुना क्या है?

- Ans
- A. 4020
 - B. 2010
 - C. 1050
 - D. 2000

Question ID : 967947490

Q.18 Evaluate $4303.5 + 430.35 + 43.035 + 4.3035 + 0.43035$

- Ans A. 4781.61885
 B. 4178.61885
 C. 4187.61885
 D. 4817.1865

Question ID : 967947486

Q.19 Simplify: $11.5 + 9.25 \div 0.45 - 0.2525 \div 0.005$ of 0.01

- Ans A. -5710.94
 B. 5017.94
 C. -5017.94
 D. -5071.49

Question ID : 967947488

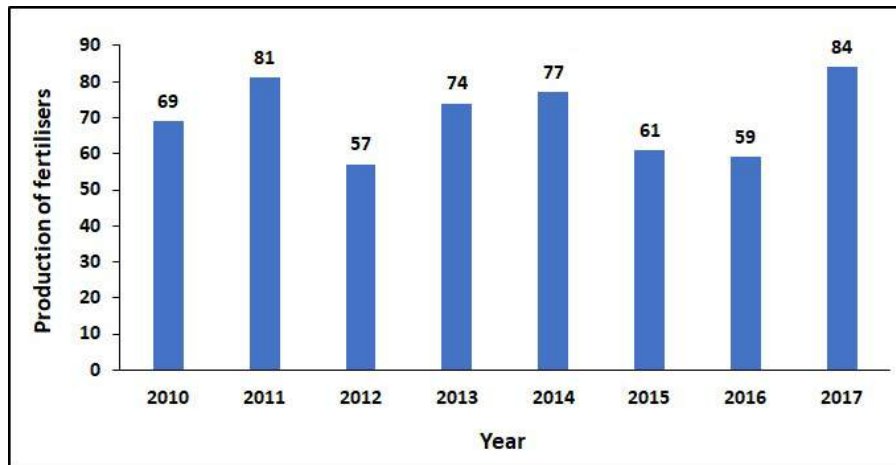
Q.20 यदि x का $x\%$ 529 है। x क्या है?

- Ans A. 230
 B. 231
 C. 23
 D. 2300

Question ID : 967947492

Section : Arithmetic Ability2

Q.1 In how many number of years the production of fertilisers was more than the average production of the given period?



- Ans A. 2
 B. 1
 C. 3
 D. 4

Question ID : 967947524

Q.2 श्रमिक X एक कार्य को पूरा करने में 10 घंटे लेता है, श्रमिक Y उसी कार्य को पूरा करने में 12 घंटे लेता है। दैनिक कार्य के घंटे 3 घंटे हैं और वे सप्ताह के पहले 2 दिन ही काम करते हैं। X और Y को समान कार्य को एक साथ कार्य करने में कितना समय (दिनों में) लेना चाहिए?

- Ans A. 2 दिन
 B. 7 दिन
 C. 3 दिन
 D. 14 दिन

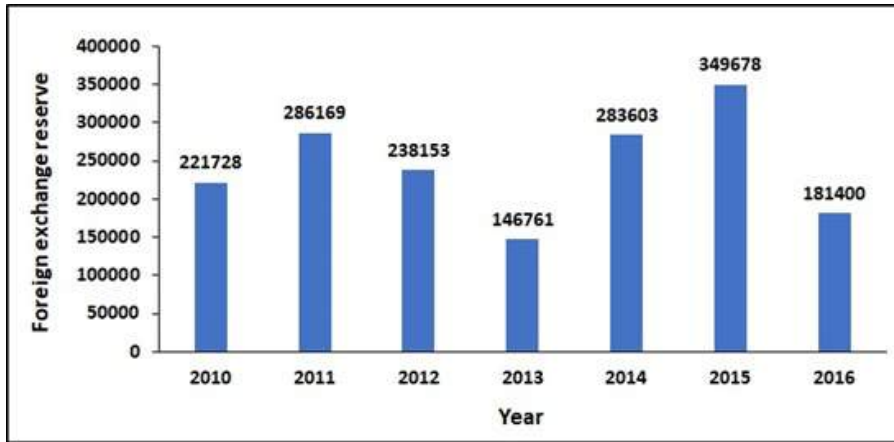
Question ID : 967947512

Q.3 श्री गिरी ने दो राशि को योजनाओं M और O में निवेश किया। दिया जाने वाला चक्रवृद्धि ब्याज क्रमशः प्रति वर्ष 6% और प्रति वर्ष 8% प्रति वर्ष हैं। यदि 2 वर्षों के बाद दोनों योजनाओं में अर्जित कुल ब्याज समान है और निवेश की गई कुल राशि 32000 रुपए हैं तो O में निवेश की गई राशि कितनी है?

- Ans A. 13638.62 रुपए
 B. 8753.34 रुपए
 C. 8729.87 रुपए
 D. 16000.65 रुपए

Question ID : 967947506

Q.4 The foreign exchange reserve in 2015 is how many times that in 2010?



- Ans A. 1.58 times
 B. 1.85 times
 C. 1.5 times
 D. 1.8 times

Question ID : 967947521

Q.5 The table gives the expenditure of the company per year over the given years. What is the ratio between the total expenditure on Taxes for all the years and the total expenditure on Fuel and Transport for all the years respectively?

Year	Item of expenditure				
	Salary	Fuel and Transport	Taxes	Interest on Loans	Bonus
2015	5,87,154	1,23,282	50,195	26,904	1,19,491
2016	5,01,638	1,23,710	50,012	33,091	1,40,548
2017	8,03,303	1,49,706	38,368	32,325	1,25,468
2018	6,01,096	1,19,813	47,882	30,441	1,11,136
2019	5,29,439	1,25,659	53,449	30,581	1,02,757

- Ans A. 2.86:1
 B. 2.68:1
 C. 0.37:1
 D. 0.73:1

Question ID : 967947517

Q.6 What is the percentage difference between the number of students passed with 30 cut off marks in physics and those passed with 30 cut off marks in average taking average as the base?

Subject	Marks out of 50				
	40 and Above	30 and above	20 and above	10 and above	0 and above
Physics	10	19	17	13	13
Maths	16	12	18	12	10
Average	13	16	18	13	12

- Ans A. 15.87 percent
 B. 18.75 percent
 C. 17.85 percent
 D. 15.75 percent

Question ID : 967947518

Q.7 Mac on his tour travels first 160 km at 40 kmph and the next 250 km at 60 kmph. What is the average speed of the last 300 km?

- Ans A. 55.55 km/h
 B. 43.73 km/h
 C. 53.73 km/h
 D. 55.38 km/h

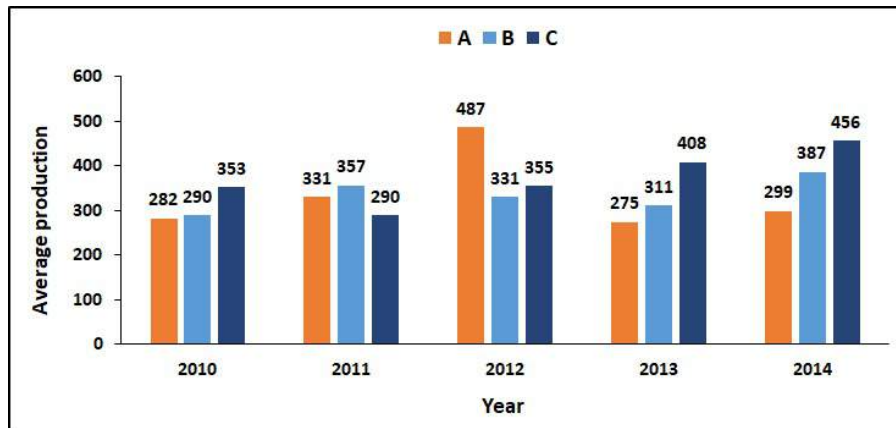
Question ID : 967947507

Q.8 The amount Rs. 1400 is divided between X and Y in such a fashion that the amount that X has after 6 years is equal to the amount that Y has after 8 years. The rate of compound interest is 4% p.a. What is half of the amount that Y gets?

- Ans
- A. Rs. 672.56
 - B. Rs. 436.28
 - C. Rs. 1063.72
 - D. Rs. 336.28

Question ID : 967947505

Q.9 The average production for five years was maximum for which company?



- Ans
- A. A and B
 - B. A
 - C. C
 - D. B

Question ID : 967947523

Q.10 A and B can do a job in 17 days and B and C can do it in 21 days. A, B and C can do the same job in 10 days. How many days will A and C take to do the job if A is working in half efficiency?

- Ans
- A. 12.57 days
 - B. 13.56 days
 - C. 18.87 days
 - D. 14.84 days

Question ID : 967947513

Q.11 Find the cost of carpeting a room 15 m long and 9 m wide with carpet of 90 cm wide at the rate of Rs. 12 per meter.

- Ans
- A. Rs. 2200
 - B. Rs. 1800
 - C. Rs. 2000
 - D. Rs. 1600

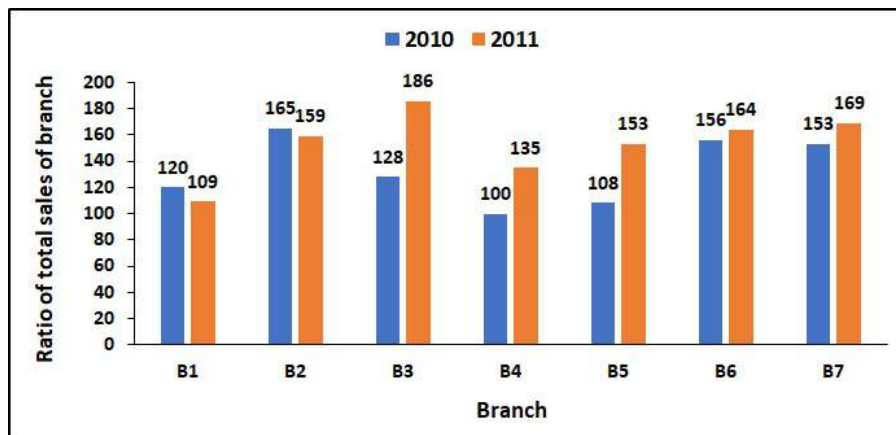
Question ID : 967947514

Q.12 If 6 men and 8 boys do a job in 10 days while 20 men and 40 boys do the same job in 2.5 days. How many days will 15 men and 20 boys to do the same job?

- Ans A. 4
 B. 5
 C. 3
 D. 2

Question ID : 967947511

Q.13 What is the ratio of total sales of branch 4 for both years to branch 6 for both years?



- Ans A. 64:47
 B. 47:64
 C. 50:68
 D. 68:50

Question ID : 967947522

Q.14 Arun walks at a speed of 5 kmph. He misses his train by 6 minutes. If he walks at a speed of 5.5 kmph, he reaches the station 2 minutes before arrival of the train. What is the distance covered by him?

- Ans A. 14.66 km
 B. 5.33 km
 C. 7.33 km
 D. 3.33 km

Question ID : 967947509

Q.15 The dimensions of an open box are 80 cm, 60 cm and 20 cm. The thickness is 4 cm. 1 cubic cm of metal weighs 0.8 gm., what will be the weight of the box?

- Ans A. 76.8 kg
 B. 22.32 kg
 C. 44.54 kg
 D. 34.56 kg

Question ID : 967947516

Q.16 Aman is trying to cover a distance of 24 km. After walking for 1 hour and 30 mins, the distance covered by him was $\frac{4}{7}$ of the remaining distance. What was his speed in meters per minute?

- Ans A. 96.97 m/min
 B. 98.98 m/min
 C. 9.696 m/min
 D. 969.69 m/min

Question ID : 967947508

Q.17 Father can do his job in 6 days but with the help of his son he can do the same job in 4 days. How long will his son take to complete his father's job?

- Ans A. 18 days
 B. 12 days
 C. 6 days
 D. 3 days

Question ID : 967947510

Q.18 The percentage of 32AH batteries sold to the total number of batteries sold was maximum in which year?

Year	Type of Batteries			
	4AH	7AH	32AH	35AH
2000	75	108	144	114
2001	89	102	75	160
2002	105	84	126	102
2003	96	90	114	135
2004	115	88	60	109

- Ans A. 2000
 B. 2002
 C. 2003
 D. 2001

Question ID : 967947519

Q.19 Combining the states B and D together, what is the percentage of the candidate qualified to that of appeared?

State	Year					
	2010		2011		2012	
	Applied	Qualified	Applied	Qualified	Applied	Qualified
A	3147	196	1554	208	2875	231
B	1618	153	4558	180	4109	255
C	3992	167	4410	183	3837	255
D	3730	190	3278	210	3762	238
E	2403	179	3261	171	2550	260

- Ans A. 5.8 percent
 B. 6.3 percent
 C. 3.5 percent
 D. 3.6 percent

Question ID : 967947520

Q.20 यदि दीवार का 10% मोटार से भरा है, तो 32 m लंबी, 12 m ऊंची और 80 cm मोटी दीवार बनाने के लिए 32 cm x 24 cm x 12 cm माप वाली ईंटों की संख्या की कितनी जरूरत होगी?

- Ans A. 35000
 B. 30000
 C. 45000
 D. 15000

Question ID : 967947515

Section : General English1

Q.1 Some parts of a passage have been jumbled up, and labelled P, Q, R and S. Select the option that gives the correct sequence in which these parts can be rearranged to form a meaningful and grammatically correct passage.

Allahrakha Rahman born A. S. Dileep Kumar known professionally as A. R. Rahman, is an Indian film composer, record producer, singer, and songwriter who works predominantly in Tamil and Hindi films.

P. With his in-house studio Panchathan Record Inn, Rahman's film-scoring career began during the early 1990s with the Tamil film Roja.

Q. Among Rahman's awards are six National Film Awards, two Academy Awards, two Grammy Awards, a BAFTA Award, a Golden Globe Award, fifteen Filmfare Awards and seventeen Filmfare Awards South.

R. Rahman initially composed scores for different documentaries and jingles for advertisements and Indian television channels.

S. In 2010, the Indian government awarded him the Padma Bhushan, the nation's third-highest civilian award.

Following that, he went on to score several songs for Tamil language films, including Ratnam's politically charged Bombay etc.

Ans A. SPRQ

B. SQRP

C. PSQR

D. PQRS

Question ID : 967947540

Q.2 Select the word that is similar in meaning (SYNONYM) to the word given below.

QUIESCENT

Ans A. PERMISSIVE

B. INACTIVE

C. OBSTRUCT

D. RIGOROUS

Question ID : 967947544

Q.3 Select the word that is opposite in meaning (ANTONYM) to the word given below.

EXODUS

Ans A. ARRIVAL

B. DESTINY

C. DORMANT

D. FORTUNE

Question ID : 967947543

Q.4 Select the word segment that substitutes (replaces) the bracketed word segment correctly and completes the sentence meaningfully. Select the option 'no correction required' if the sentence is correct as given.

(Its not any one variable at) isolation that makes a company great.

- Ans
- A. Its not any one variable on
 - B. It is not any one variable in
 - C. No correction required.
 - D. It is not any one variable at

Question ID : 967947530

Q.5 Select the word segment that substitutes (replaces) the bracketed word segment correctly and completes the sentence meaningfully. Select the option 'no correction required' if the sentence is correct as given.

(May be no company anywhere) generates as much antipathy as Philip Morris.

- Ans
- A. Perhaps no company anywhere
 - B. Perhaps no company somewhere
 - C. Perhaps no company nowhere
 - D. No correction required.

Question ID : 967947532

Q.6 Fill in the blank with the most appropriate choice.

The reason is that they are struggling, consciously or _____, against their own resistance.

- Ans
- A. preconsciously
 - B. hyperconsciously
 - C. unconsciously
 - D. nonconsciously

Question ID : 967947536

Q.7 Fill in the blank with the most appropriate choice.

Channing's comment proved to be an _____ gift, as it planted the seed of a question that became the basis of this entire book.

- Ans
- A. expensive
 - B. expressive
 - C. astounding
 - D. invaluable

Question ID : 967947537

Q.8 The sentence below has been divided into three parts. Select the part of the sentence that has an error. If the sentence has no error, select the option 'No Error'.

Ken is a very modest and humble man / but I've never known a person as successful and in / doing what he has done that's as modest as him.

- Ans
- A. Ken is a very modest and humble man
 - B. No Error
 - C. doing what he has done that's as modest as him.
 - D. but I've never known a person as successful and in

Question ID : 967947525

Q.9 The sentence below has been divided into three parts. Select the part of the sentence that has an error. If the sentence has no error, select the option 'No Error'.

Putting aside their egos, the Wells Fargo / team pulled the plug on its international operations, / excepting the truth that it could not get any better.

- Ans
- A. team pulled the plug on its international operations,
 - B. excepting the truth that it could not get any better.
 - C. Putting aside their egos, the Wells Fargo
 - D. No Error

Question ID : 967947529

Q.10 Some parts of a sentence have been jumbled up, and labelled P, Q, R and S. Select the option that gives the correct sequence in which these parts can be rearranged to form a meaningful and grammatically correct sentence.

The first Rotary Club was formed when

- P. a meeting of three business acquaintances
- Q. friend Gustave Loehr's office in the Unity Building
- R. attorney Paul P. Harris called together
- S. in downtown Chicago, United States, at Harris's

on Dearborn Street on February 23, 1905.

- Ans
- A. PSQR
 - B. SQRP
 - C. RPSQ
 - D. QSRP

Question ID : 967947538

Q.11 Some parts of a sentence have been jumbled up, and labelled P, Q, R and S. Select the option that gives the correct sequence in which these parts can be rearranged to form a meaningful and grammatically correct sentence.

An ancient civilization is defined to be in the Bronze Age

- P. other metals available at the time, allowing
- Q. arsenic, or other metals, or by trading for bronze from
- R. production areas elsewhere. Bronze is harder and more durable than
- S. either by producing bronze by smelting its own copper and alloying with tin,

Bronze Age civilizations to gain a technological advantage.

- Ans
- A. RQSP
 - B. QPRS
 - C. SQRP
 - D. PQRS

Question ID : 967947541

Q.12 Fill in the blank with the most appropriate choice.

His _____ observation was correct, she never did intend to leave.

- Ans
- A. optional
 - B. mandatory
 - C. secondary
 - D. essential

Question ID : 967947534

Q.13 Select the word segment that substitutes (replaces) the bracketed word segment correctly and completes the sentence meaningfully. Select the option 'no correction required' if the sentence is correct as given.

Even if a manufacturing company can be (considered truly greater, their are doubts as to) whether an engine manufacturing company can truly endure this.

- Ans
- A. No correction required.
 - B. considered truly great, there is doubts as to
 - C. considered truly great, there are doubts as to
 - D. considered truly great, their are doubts as to

Question ID : 967947533

Q.14 Select the word that is similar in meaning (SYNONYM) to the word given below.

TRIVIAL

- Ans
- A. RIVAL
 - B. WANTING
 - C. PURITY
 - D. SMALL

Question ID : 967947542

Q.15 Select the word segment that substitutes (replaces) the bracketed word segment correctly and completes the sentence meaningfully. Select the option 'no correction required' if the sentence is correct as given.

(That had being said, it is worth noting) that most of the good companies are still going strong at the time of this writing.

- Ans
- A. No correction required.
 - B. That's being said that it is worth noting
 - C. It had been said that it is worth noting
 - D. That being said, it is worth noting

Question ID : 967947531

Q.16 The sentence below has been divided into three parts. Select the part of the sentence that has an error. If the sentence has no error, select the option 'No Error'.

If you look closely, you will / see Walgreens stores as densely packed in some / cities such as Starbucks coffee shops in Seattle.

- Ans
- A. No Error
 - B. see Walgreens stores as densely packed in some
 - C. If you look closely, you will
 - D. cities such as Starbucks coffee shops in Seattle.

Question ID : 967947527

Q.17 The sentence below has been divided into three parts. Select the part of the sentence that has an error. If the sentence has no error, select the option 'No Error'.

A mountainous route across Himalayas / from east to west is the Great Himalaya / Trail of roughly 1,700 kilometres.

- Ans
- A. No Error
 - B. Trail of roughly 1,700 kilometres.
 - C. A mountainous route across Himalayas
 - D. from east to west is the Great Himalaya

Question ID : 967947528

Q.18 The sentence below has been divided into three parts. Select the part of the sentence that has an error. If the sentence has no error, select the option 'No Error'.

"I love the Rambo movies," he / wrote. "Here was a guy who has zero / chance of success and always wins."

- Ans
- A. "I love the Rambo movies," he
 - B. chance of success and always wins."
 - C. No Error
 - D. wrote. "Here was a guy who has zero

Question ID : 967947526

Q.19 Fill in the blank with the most appropriate choice.

When we systematically _____ all 5979 articles in the study, we found fewer articles surrounding the transition date.

- Ans A. tabulated
 B. confounded
 C. disordered
 D. disarranged

Question ID : 967947535

Q.20 Some parts of a sentence have been jumbled up, and labelled P, Q, R and S. Select the option that gives the correct sequence in which these parts can be rearranged to form a meaningful and grammatically correct sentence.

London is an ancient name,

- P. attested in the first century AD,
Q. in the city originating from AD 65/70–80
R. for example, handwritten Roman tablets recovered
S. usually in the Latinised form Londinium;

include the word Londinio ('in London').

- Ans A. PSRQ
 B. PQRS
 C. PRQS
 D. SQRP

Question ID : 967947539

Section : General English2

Q.1 Select the most appropriate meaning of the given idiom.

Muck-raking

- Ans A. Making sand castles.
 B. Trying to find out unpleasant information about someone.
 C. To avoid a conversation.
 D. To take revenge.

Question ID : 967947555

Q.2 Select the most appropriate 'one word' for the expressions given below.

A person who studies coins.

- Ans A. Minimalist
 B. Philanthropist
 C. Maderia
 D. Numismatist

Question ID : 967947557

Q.3 Select the most appropriate 'one word' for the expressions given below.

An entertainer who performs spectacular gymnastic feats.

- Ans A. Trampoline Artist
 B. Acrobat
 C. Clod
 D. Dunce

Question ID : 967947559

Q.4 Select the word that is similar in meaning (SYNONYM) to the word given below.

GREGARIOUS

- Ans A. FOOLISH
 B. AFFABLE
 C. COY
 D. AMBIVERT

Question ID : 967947545

Q.5 Four words are given, out of which only one word is spelt correctly. Choose the correctly spelt word.

- Ans A. RESERRECTION
 B. RESURRECTION
 C. RESURECTION
 D. RESERECTION

Question ID : 967947551

Q.6 Select the most appropriate meaning of the given idiom.

Bolt from the blues

- Ans A. False invention.
 B. Something unexpected or surprising.
 C. Fish in shallow water.
 D. Thunder bolts.

Question ID : 967947553

Q.7 Four words are given, out of which only one word is spelt correctly. Choose the correctly spelt word.

- Ans A. IMPASSE
 B. IMPACE
 C. IMPASS
 D. IMPASCE

Question ID : 967947549

Q.8 Select the most appropriate meaning of the given idiom.

To eke out

- Ans A. To search for something for a very long time.
 B. To get exhausted of doing a task which doesn't seem to finish anytime soon.
 C. To use something sparingly in an attempt to preserve it.
 D. Famished.

Question ID : 967947554

Q.9 Select the most appropriate 'one word' for the expressions given below.

The school, college, or university that one once attended.

- Ans A. Nostalgia
 B. Alma mater
 C. Quasi mater
 D. Brusque

Question ID : 967947556

Q.10 Four words are given, out of which only one word is spelt correctly. Choose the correctly spelt word.

- Ans A. HUMONGOUS
 B. HUMONGUOUS
 C. HUMUNGOUS
 D. HUMUNGUOUS

Question ID : 967947548

Q.11 Four words are given, out of which only one word is spelt correctly. Choose the correctly spelt word.

- Ans A. AMBIDEXROUS
 B. AMBIDEXTEROUS
 C. AMBIDEXTROUS
 D. AMBIDEXTAURUS

Question ID : 967947550

Q.12 Select the most appropriate meaning of the given idiom.

In a jiffy

- Ans A. A sudden jerk.
 B. Immediately, very quickly, or at once.
 C. To give freedom.
 D. A small mistake.

Question ID : 967947552

Q.13 Select the word that is opposite in meaning (ANTONYM) to the word given below.

SUBSERVIENT

- Ans A. IMPETUOUS
 B. UNCONCERNED
 C. VEHEMENCE
 D. DISOBEDIENT

Question ID : 967947546

Q.14 Select the most appropriate 'one word' for the expressions given below.

A doctor who treats tumours.

- Ans A. Pediatrician
 B. Orthopedic
 C. Oncologist
 D. Dermatologist

Question ID : 967947558

Q.15 Four words are given, out of which only one word is spelt correctly. Choose the correctly spelt word.

- Ans A. CAPATIOUS
 B. CAPASCIOUS
 C. CAPASCIUOUS
 D. CAPACIOUS

Question ID : 967947547

Comprehension:

Read the following passage carefully and answer the given questions.

The Rowlatt Act (famously known as the Black Act) refers to the draconian law passed by the British government in March 1919. It is officially called the Anarchical and Revolutionary Crimes Act and gave enormous power to the British government and police to arrest anyone suspected of seditious activities. It was meant to replace the emergency law called the Defence of India Act 1915. The Black Act was drafted by a committee headed by a British Judge, Sir Sydney Rowlatt to curb the growing movement of nationalism in India. Despite a massive opposition by the unofficial Indian members to the Act, the legislative assembly made the notorious bill into law in March 1919. Here are the provisions of the infamous Rowlatt Act of 1919- the act gave the government authority to arrest any suspected person without a warrant and detain him/her for up to 2 years without a trial, the act also meant severe limitations on free press and gave the police undue right to search public and private spaces without a warrant, an indefinite ban on public gatherings of any nature. The Jallianwala Bagh Massacre took place on 13th April 1919 on the day of Baisakhi when a large group of men, women and children unaware of the martial law decided to assemble in the park. The peaceful protest was organised against the Rowlatt Act and the wrongful arrest of Congress leaders in India. Without any warning, General Dyer ordered its men to block all entrances and to open fire on the peaceful gathering. This massacre took 400 civilian lives and injured 1200.

SubQuestion No : 16

Q.16 According to the passage, which of the following option is incorrect? Choose one option.

- Ans
- A. The Jallianwala Bagh massacre took 400 civilian lives and injured 1200.
 - B. Despite a massive opposition by the unofficial Indian members to the Act, the legislative assembly made the notorious bill into law in March 1919.
 - C. The Defence of India Act 1919 was meant to replace the Rowlatt Act of 1915.
 - D. Rowlatt Act is officially called the Anarchical and Revolutionary Crimes Act.

Question ID : 967947565

Comprehension:

Read the following passage carefully and answer the given questions.

The Rowlatt Act (famously known as the Black Act) refers to the draconian law passed by the British government in March 1919. It is officially called the Anarchical and Revolutionary Crimes Act and gave enormous power to the British government and police to arrest anyone suspected of seditious activities. It was meant to replace the emergency law called the Defence of India Act 1915. The Black Act was drafted by a committee headed by a British Judge, Sir Sydney Rowlatt to curb the growing movement of nationalism in India. Despite a massive opposition by the unofficial Indian members to the Act, the legislative assembly made the notorious bill into law in March 1919. Here are the provisions of the infamous Rowlatt Act of 1919- the act gave the government authority to arrest any suspected person without a warrant and detain him/her for up to 2 years without a trial, the act also meant severe limitations on free press and gave the police undue right to search public and private spaces without a warrant, an indefinite ban on public gatherings of any nature. The Jallianwala Bagh Massacre took place on 13th April 1919 on the day of Baisakhi when a large group of men, women and children unaware of the martial law decided to assemble in the park. The peaceful protest was organised against the Rowlatt Act and the wrongful arrest of Congress leaders in India. Without any warning, General Dyer ordered its men to block all entrances and to open fire on the peaceful gathering. This massacre took 400 civilian lives and injured 1200.

SubQuestion No : 17

Q.17 According to the passage, at the Jallianwala Bagh the peaceful protest was organised against the Rowlatt Act and the wrongful arrest of which of the following Indian leaders?

- Ans
- A. Congress leaders
 - B. Home Bhaba Party
 - C. Muslim League
 - D. National Secular Society

Question ID : 967947563

Comprehension:

Read the following passage carefully and answer the given questions.

The Rowlatt Act (famously known as the Black Act) refers to the draconian law passed by the British government in March 1919. It is officially called the Anarchical and Revolutionary Crimes Act and gave enormous power to the British government and police to arrest anyone suspected of seditious activities. It was meant to replace the emergency law called the Defence of India Act 1915. The Black Act was drafted by a committee headed by a British Judge, Sir Sydney Rowlatt to curb the growing movement of nationalism in India. Despite a massive opposition by the unofficial Indian members to the Act, the legislative assembly made the notorious bill into law in March 1919. Here are the provisions of the infamous Rowlatt Act of 1919- the act gave the government authority to arrest any suspected person without a warrant and detain him/her for up to 2 years without a trial, the act also meant severe limitations on free press and gave the police undue right to search public and private spaces without a warrant, an indefinite ban on public gatherings of any nature. The Jallianwala Bagh Massacre took place on 13th April 1919 on the day of Baisakhi when a large group of men, women and children unaware of the martial law decided to assemble in the park. The peaceful protest was organised against the Rowlatt Act and the wrongful arrest of Congress leaders in India. Without any warning, General Dyer ordered its men to block all entrances and to open fire on the peaceful gathering. This massacre took 400 civilian lives and injured 1200.

SubQuestion No : 18

Q.18 The infamous Rowlatt Act of 1919 gave the government authority to:

- Ans
- ~~X~~ A. collect taxes from the public & detain him/her for up to 2 years without a trial if they fail to pay them.
 - ~~X~~ B. to arrest people who were found moving around the country.
 - C. arrest any suspected person without a warrant and detain him/her for up to 2 years without a trial.
 - ~~X~~ D. to arrest people who were part of public gathering, 3 people together was also considered a gathering.

Question ID : 967947562

Comprehension:

Read the following passage carefully and answer the given questions.

The Rowlatt Act (famously known as the Black Act) refers to the draconian law passed by the British government in March 1919. It is officially called the Anarchical and Revolutionary Crimes Act and gave enormous power to the British government and police to arrest anyone suspected of seditious activities. It was meant to replace the emergency law called the Defence of India Act 1915. The Black Act was drafted by a committee headed by a British Judge, Sir Sydney Rowlatt to curb the growing movement of nationalism in India. Despite a massive opposition by the unofficial Indian members to the Act, the legislative assembly made the notorious bill into law in March 1919. Here are the provisions of the infamous Rowlatt Act of 1919- the act gave the government authority to arrest any suspected person without a warrant and detain him/her for up to 2 years without a trial, the act also meant severe limitations on free press and gave the police undue right to search public and private spaces without a warrant, an indefinite ban on public gatherings of any nature. The Jallianwala Bagh Massacre took place on 13th April 1919 on the day of Baisakhi when a large group of men, women and children unaware of the martial law decided to assemble in the park. The peaceful protest was organised against the Rowlatt Act and the wrongful arrest of Congress leaders in India. Without any warning, General Dyer ordered its men to block all entrances and to open fire on the peaceful gathering. This massacre took 400 civilian lives and injured 1200.

SubQuestion No : 19

Q.19 What is the meaning of 'draconian' from the given passage?

- Ans
- ~~X~~ A. Depression or other mental illness.
 - ~~X~~ B. A group of young people from a particular area with a common interest.
 - ~~X~~ C. Large and heavy.
 - D. Excessively harsh and severe.

Question ID : 967947561

Comprehension:

Read the following passage carefully and answer the given questions.

The Rowlatt Act (famously known as the Black Act) refers to the draconian law passed by the British government in March 1919. It is officially called the Anarchical and Revolutionary Crimes Act and gave enormous power to the British government and police to arrest anyone suspected of seditious activities. It was meant to replace the emergency law called the Defence of India Act 1915. The Black Act was drafted by a committee headed by a British Judge, Sir Sydney Rowlatt to curb the growing movement of nationalism in India. Despite a massive opposition by the unofficial Indian members to the Act, the legislative assembly made the notorious bill into law in March 1919. Here are the provisions of the infamous Rowlatt Act of 1919- the act gave the government authority to arrest any suspected person without a warrant and detain him/her for up to 2 years without a trial, the act also meant severe limitations on free press and gave the police undue right to search public and private spaces without a warrant, an indefinite ban on public gatherings of any nature. The Jallianwala Bagh Massacre took place on 13th April 1919 on the day of Baisakhi when a large group of men, women and children unaware of the martial law decided to assemble in the park. The peaceful protest was organised against the Rowlatt Act and the wrongful arrest of Congress leaders in India. Without any warning, General Dyer ordered its men to block all entrances and to open fire on the peaceful gathering. This massacre took 400 civilian lives and injured 1200.

SubQuestion No : 20

Q.20 According to the passage, which of the following option is correct? Choose one option.

- Ans A. The Jallianwala Bagh Massacre took place on the day of poornima when a large group of men, women and children unaware of the martial law decided to assemble in the park.
- B. General Dyer ordered the gathered crowd to dismiss as they didn't, he ordered open fire on the peaceful gathering.
- C. The Black Act was drafted by a committee headed by a British Judge, Sir Sydney Rowlatt to curb the growing movement of nationalism in India.
- D. The Rowlatt Act (famously known as the Black Act) refers to the draconian law passed by the British government in March 1915.

Question ID : 967947564

Section : General Hindi1

Q.1 निम्नलिखित प्रश्न में, चार विकल्पों में से उस विकल्प का चयन करें जो दिए गए शब्द-युग्म के सही अर्थ का विकल्प है।

प्रदेश -प्रदेश

- Ans A. पत्थर,शत्रुता
- B. फैलाव,पत्ता
- C. प्रान्त,पलंग
- D. प्रान्त,शत्रुता

Question ID : 967947576

Q.2 निम्नलिखित प्रश्न में, चार विकल्प में से, उस सही विकल्प का चयन करें जो रिक्त स्थान के लिए उपयुक्त शब्द का सही विकल्प है।

कोई भी व्यक्ति अकेला नहीं रह सकता, अकेला रहना बहुत बड़ी _____ है।

- Ans A. तपस्या
 B. साधना
 C. कला
 D. बात

Question ID : 967947581

Q.3 निम्नलिखित प्रश्न में, चार विकल्पों में से उस विकल्प का चयन करें जो दिए गए शब्द के पर्यायवाची शब्द का सही विकल्प नहीं है।

कपि

- Ans A. हरि
 B. दनुज
 C. मर्कट
 D. शाखामृग

Question ID : 967947575

Q.4 निम्नलिखित प्रश्न में, चार विकल्पों में से उस विकल्प का चयन करें जो दिए गए संधि शब्द के सही संधि- विच्छेद का विकल्प है।

सख्युचित

- Ans A. सख्या + उचित
 B. सखि + उचित
 C. सखी + ऊचित
 D. सखी + उचित

Question ID : 967947569

Q.5 निम्नलिखित प्रश्न में से उस विकल्प का चयन करें जो दिए गए वाक्य के भेद का सही विकल्प है।

शायद कल हमारी परीक्षा हो।

- Ans A. संदेह वाचक
 B. इच्छा वाचक
 C. संकेत वाचक
 D. विधान वाचक

Question ID : 967947585

Q.6 निम्न विकल्पों में से उस विकल्प का चयन करें जो सदैव बहुवचन शब्द का विकल्प है।

- Ans A. सड़क
 B. कमेटी
 C. सेना
 D. प्राण

Question ID : 967947583

Q.7 निम्नलिखित प्रश्न में से, उस विकल्प का चयन करें जो सदैव पुल्लिंग रूप वाला विकल्प है।

- Ans A. बंदूक
 B. हल्दी
 C. जनवरी
 D. हिंदी

Question ID : 967947584

Q.8 निम्नलिखित प्रश्न में, चार विकल्पों में से, उस विकल्प का चयन करें जो उत्तम पुरुष वाचक सर्वनाम का सबसे अच्छा विकल्प है।

- Ans A. मेरे
 B. उसका
 C. तुमको
 D. तुझे

Question ID : 967947573

Q.9 निम्नलिखित प्रश्न में, चार विकल्पों में से उस विकल्प का चयन करें जो उपसर्ग से बने शब्द का सही विकल्प है।

- Ans A. उमड़कर
 B. सहायक
 C. बरखास्त
 D. चालाक

Question ID : 967947571

Q.10 निम्नलिखित प्रश्न में, चार विकल्पों में से उस विकल्प का चयन करें जो दिए गए संधि - विच्छेद शब्द के सही संधि का विकल्प है।

परीक्षा + अर्थी

- Ans A. परिक्षार्थी
 B. परिख्थार्थी
 C. परीक्षार्थी
 D. परीक्षारथी

Question ID : 967947568

Q.11 निम्नलिखित प्रश्न में, चार विकल्पों में से उस विकल्प का चयन करें जो दिए गए शब्द के सही अर्थ का उचित विकल्प है।

शचीपति

- Ans A. जगन्नाथ
 B. इंद्र
 C. गिरिधर
 D. सोम

Question ID : 967947580

Q.12 निम्न विकल्पों में से उस विकल्प का चयन करें जो शब्द के शुद्ध रूप का सही विकल्प है।

- Ans A. वर्नानातित
 B. वर्णनातीत
 C. वर्णनातित
 D. बर्नानातित

Question ID : 967947582

Q.13 निम्नलिखित प्रश्न में, चार विकल्पों में से उस विकल्प का चयन करें जो दिए गए वाक्यांश के लिए एक शब्द का सही विकल्प है।

जो दूसरों के सहारे जीता हो -

- Ans A. परोपजीवी
 B. पारदर्शक
 C. पारंगत
 D. परोपकारी

Question ID : 967947578

Q.14 निम्नलिखित प्रश्न में, चार विकल्पों में से उस विकल्प का चयन करें जो दिए गए शब्द के लिए सही बहुव्रीहि समास के विग्रह का सही विकल्प है।

पतझड़

- Ans A. झड़ते हैं जो पत्ते
 B. झड़ते हैं पत्ते जिसके
 C. झड़ जाते हैं पत्ते जिस ऋतु में
 D. पत्ते झड़ते हैं जिसके

Question ID : 967947570

Q.15 निम्नलिखित प्रश्न में, चार विकल्पों में से उस विकल्प का चयन करें जो दिए गए शब्द -युग्म के सही अर्थ का विकल्प है।

अविराम - अभिराम

- Ans A. शीघ्र,सुन्दर
 B. वायु,सुन्दर
 C. कमजोर,बिना रूके
 D. बिना रूके, सुन्दर

Question ID : 967947577

Q.16 निम्नलिखित प्रश्न में, चार विकल्पों में से उस विकल्प का चयन करें जो दिए गए संधि - विच्छेद शब्द के सही संधि का विकल्प है।

भारत + इंदु

- Ans A. भरतेंदुई
 B. भारतेंदू
 C. भारतेन्दु
 D. भरतैदू

Question ID : 967947566

Q.17 निम्नलिखित प्रश्न में, चार विकल्पों में से उस विकल्प का चयन करें जो दिए गए शब्द का अनेकार्थी शब्द का सही विकल्प नहीं है।

कनक

- Ans A. सोना
 B. धतूरा
 C. गेहूँ
 D. डंका

Question ID : 967947579

Q.18 निम्नलिखित प्रश्न में, चार विकल्पों में से उस विकल्प का चयन करें जो दिए गए शब्द का सही विलोम शब्द है।

भद्र

- Ans A. सौम्य
 B. अभद्र
 C. शालीन
 D. शिष्ट

Question ID : 967947574

Q.19 निम्नलिखित प्रश्न में, चार विकल्पों में से उस विकल्प का चयन करें जो दिए गए शब्द के सही संधि विच्छेद का विकल्प है।

हिमाद्रि

- Ans A. हिम + आद्री
 B. हिम + औद्रि
 C. हिम + अद्रि
 D. हिम + ओद्री

Question ID : 967947567

Q.20 निम्नलिखित प्रश्न में, चार विकल्पों में से उस विकल्प का चयन करें जो प्रत्यय से बने शब्द का सही विकल्प है।

- Ans A. स्वच्छ
 B. विशेष
 C. नौकरी
 D. उत्पन्न

Question ID : 967947572

Q.1 निम्नलिखित प्रश्न में, चार विकल्पों में से उस विकल्प का चयन करें जो दिए गए लोकोक्ति का सही अर्थ वाला विकल्प है।

अंधे के आगे रोवे, अपना दीदा खोवे।

- Ans A. मूर्खों को सदुपदेश देना या उनके लिए शुभ कार्य करना व्यर्थ है
 B. दूसरों को उपदेश देना व्यर्थ है
 C. संगती का प्रभाव अवश्य पड़ता है
 D. किये का फल भोगना पड़ता है

Question ID : 967947600

Q.2 निम्नलिखित प्रश्न में से उस विकल्प का चयन करें जो दिए गए वाक्य के भेद का सही विकल्प है।

वह जहां भी जाती है, वहाँ अनेक मित्र बनाती है।

- Ans A. मिश्रित वाक्य
 B. संकेतवाचक
 C. सरल वाक्य
 D. सयुक्त वाक्य

Question ID : 967947587

Q.3 निम्नाविकल्पों में से उस विकल्प का चयन करें जो दिए गए वाक्य के वृत्ति के भेद का सही विकल्प है।

क्या मैं भी आपके साथ चल सकता हूँ?

- Ans A. संदेहार्थ
 B. वाध्यता सूचक
 C. विध्यर्थ
 D. सामर्थ्य सूचक

Question ID : 967947591

Q.4 निम्नलिखित प्रश्न में, चार विकल्पों में से उस विकल्प का चयन करें जो दिए गए मुहावरे का सही अर्थ वाला विकल्प है।

दो से चार बनाने का गणित

- Ans A. कठिनाई का सामना करना।
 B. बहुत धनी होना।
 C. धन को जल्दी- जल्दी बढ़ाने की कला।
 D. अधिक प्रभावी होना।

Question ID : 967947595

Q.5 निम्नलिखित प्रश्न में, चार विकल्पों में से उस विकल्प का चयन करें जो विराम चिह्न युक्त वाक्य का सही विकल्प है।

- Ans A. आह, वह बेचारा फ़ैल हो गया।
 B. आह! वह बेचारा फ़ैल हो गया।
 C. आह वह बेचारा फ़ैल हो गया।
 D. आह! वह बेचारा फ़ैल हो गया

Question ID : 967947594

Q.6 निम्नलिखित प्रश्न में, चार विकल्पों में से उस विकल्प का चयन करें जो दिए गए मुहावरे का सही अर्थ वाला विकल्प है।

हाथों के तोते उड़ना

- Ans
- A. असर ना होना
 - B. सहायता की याचना करना
 - C. पछताते रह जाना
 - D. बुरा समाचार पाकर भीचक्के रह जाना / अचानक घबरा जाना

Question ID : 967947597

Q.7 निम्नविकल्पों में से उस विकल्प का चयन करें जो विराम चिह्न युक्त वाक्य का सही विकल्प है।

- Ans
- A. आप सभी 'गोदान' उपन्यास की समीक्षा लिखिए।
 - B. आप सभी 'गोदान' उपन्यास की समीक्षा लिखिए
 - C. आप सभी गोदान उपन्यास की समीक्षा लिखिए।
 - D. आप सभी "गोदान" उपन्यास की समीक्षा लिखिए।

Question ID : 967947592

Q.8 निम्नलिखित प्रश्न में, चार विकल्पों में से उस विकल्प का चयन करें जो दिए गए लोकोक्ति का सही अर्थ वाला विकल्प है।

लातों के भूत बातों से नहीं मानते

- Ans
- A. कुछ लोग बात से नहीं डंडे की भाषा समझते हैं।
 - B. भूत-प्रेत भगाना।
 - C. ताकतवर की ही जीत होती है।
 - D. चुनौती स्वीकार करना।

Question ID : 967947598

Q.9 निम्नलिखित प्रश्न में से उस विकल्प का चयन करें जो दिए गए वाक्य के पक्ष के भेद का सही विकल्प है।

पिताजी रोज़ टहलने जाते हैं।

- Ans
- A. अभ्यास द्योतक
 - B. प्रगतिद्योतक
 - C. आरम्भद्योतक
 - D. आवृत्ति / नित्यताद्योतक

Question ID : 967947588

Q.10 निम्नलिखित प्रश्न में, चार विकल्पों में से उस विकल्प का चयन करें जो दिए गए लोकोक्ति का सही अर्थ वाला विकल्प है।

बाप न मारे मेढकी, बेटा तीरंदाज़

- Ans
- A. विवाद को जड़ से नष्ट कर देना
 - B. सामर्थ्य से आगे बढ़- बढ़ कर बात करना
 - C. आपस की फूट से सर्वनाश होता है
 - D. बहुत होशियार होना

Question ID : 967947599

Q.11 निम्नलिखित प्रश्न में से उस विकल्प का चयन करें जो दिए गए वाक्य के भेद का सही विकल्प है।

मैं खेलने अवश्य आता पर मेरे पैर में चोट लग गई है।

- Ans A. इच्छावाचक वाक्य
 B. सयुक्त वाक्य
 C. मिश्रित वाक्य
 D. सरल वाक्य

Question ID : 967947590

Q.12 निम्नलिखित प्रश्न में से उस विकल्प का चयन करें जो दिए गए वाक्य के वृत्ति के भेद का सही विकल्प है।

हो सकता है गाडी न मिले।

- Ans A. संकेतार्थ
 B. संदेहार्थ
 C. विध्यर्थ
 D. संभावनार्थक

Question ID : 967947586

Q.13 निम्नलिखित प्रश्न में, चार विकल्पों में से उस विकल्प का चयन करें जो दिए गए मुहावरे का सही अर्थ वाला विकल्प है।

रंगा सियार होना

- Ans A. बहुत बढ़ा- चढ़ाकर कहना
 B. बहुत पछताना
 C. धूर्त होना / ढोंगी होना
 D. क्रोधित होना

Question ID : 967947596

Q.14 निम्नलिखित प्रश्न में, चार विकल्पों में से उस विकल्प का चयन करें जो विराम चिह्न युक्त वाक्य का सही विकल्प है।

- Ans A. कक्षा में शिक्षक ने "विज्ञान : वरदान या अभिशाप" विषय पर निबंध लिखने के लिए कहा।
 B. कक्षा में शिक्षक ने "विज्ञान : वरदान या अभिशाप" विषय पर निबंध लिखने के लिए कहा
 C. कक्षा में शिक्षक ने "विज्ञान, वरदान या अभिशाप" विषय पर निबंध लिखने के लिए कहा।
 D. कक्षा में शिक्षक ने "विज्ञान वरदान या अभिशाप" विषय पर निबंध लिखने के लिए कहा।

Question ID : 967947593

Q.15 निम्नलिखित प्रश्न में से उस विकल्प का चयन करें जो दिए गए वाक्य के पक्ष के भेद का सही विकल्प है।

रेलगाड़ी चली गई है।

- Ans A. पूर्णताद्योतक
 B. सातत्यद्योतक
 C. आरम्भद्योतक
 D. प्रगतिद्योतक

Question ID : 967947589

Comprehension:

दिए गए गद्यांश को ध्यानपूर्वक पढ़िए और दिए गए प्रश्नों के उत्तर दीजिए।

एक बार सागर तट पर गरुड़ भगवान के आने की सूचना मिली। सूचना मिलते ही सभी पक्षी सागर तट पर इकट्ठे होने लगे। हर एक के मन में यही इच्छा थी किसी प्रकार वे भगवान गरुड़ के दर्शन कर ले। इसी भीड़ में दो मित्र भी दिखाई पड़ रहे थे। एक कौआ था और दूसरा बटेर। ये दोनों भी भगवान गरुड़ के दर्शनों के लिए बड़ी दूर से उड़ कर आये। जिस मार्ग से वे दोनों आ रहे थे उसी राह पर जाता हुआ उन्हें एक ग्वाला भी मिला जो सिर पर दही का मटका रखे हुए था। कौए की दृष्टि तो खाने के मामले में बड़ी तेज होती है। बस उसने दूर से ही उस दही के मटके को भी देख लिया। दही देखकर उसके मुँह में पानी आ गया। तत्काल कौआ उड़ता हुआ नीचे उतरा और मटके पर बैठकर दही खाने लगा।

वह थोड़ा सा दही अपनी चोंच में भर लेता और उड़ जाता। ऐसा उसने अनेक बार किया। आखिर में ग्वाले को पता चला कि उसके सिर पर रखे मटके में से कोई दही खा रहा है।

कौआ तो अपनी आदत छोड़ नहीं सकता था। फिर जब किसी भूखे को बढ़िया भोजन मिल रहा हो तो वह कब रुकता है। बेचारे बटेर ने उसे ऐसा करने से रोका भी था, मगर कौआ कहाँ मानने वाला था। उसने तो अपना खाने का क्रम जारी रखा। दूसरी ओर ग्वाला भी जान गया था कि उसका दही कम हो रहा है। इसलिए उसने दही का मटका सिर से उतार कर नीचे जमीन पर रख दिया और ऊपर दृष्टि कर दही चोर को खोजने लगा। ऊपर एक वृक्ष पर कौआ और बटेर दोनों साथ – साथ बैठे थे। तुम ही हो वे चोर, जिन्होंने मेरा दही खाया है", ग्वाला बोला। क्रोध भरे ग्वाले ने पास पड़ा एक बड़ा सा पत्थर उठाकर उसे दे मारा। कौआ तो चोर था ही। उसे पता था कि ग्वाला क्रोध से भरा हुआ है। वह अवश्य ही चोर को मारेगा। इसलिए उसने उस पत्थर को अपनी ओर आते देखकर झट से उड़ान भरी और वहाँ से चलता बना। ग्वाले का पत्थर बेचारे निर्दोष बटेर को जा लगा और उसने वही पर दम तोड़ दिया।

SubQuestion No : 16

Q.16 कौवा किस प्रकृति का था?

- Ans A. सरल
 B. सौम्य
 C. चोर
 D. शांत

Question ID : 967947603

Comprehension:

दिए गए गद्यांश को ध्यानपूर्वक पढ़िए और दिए गए प्रश्नों के उत्तर दीजिए।

एक बार सागर तट पर गरुड़ भगवान के आने की सूचना मिली। सूचना मिलते ही सभी पक्षी सागर तट पर इकट्ठे होने लगे। हर एक के मन में यही इच्छा थी किसी प्रकार वे भगवान गरुड़ के दर्शन कर ले। इसी भीड़ में दो मित्र भी दिखाई पड़ रहे थे। एक कौआ था और दूसरा बटेर। ये दोनों भी भगवान गरुड़ के दर्शनों के लिए बड़ी दूर से उड़ कर आये। जिस मार्ग से वे दोनों आ रहे थे उसी राह पर जाता हुआ उन्हें एक ग्वाला भी मिला जो सिर पर दही का मटका रखे हुए था। कौए की दृष्टि तो खाने के मामले में बड़ी तेज होती है। बस उसने दूर से ही उस दही के मटके को भी देख लिया। दही देखकर उसके मुँह में पानी आ गया। तत्काल कौआ उड़ता हुआ नीचे उतरा और मटके पर बैठकर दही खाने लगा।

वह थोड़ा सा दही अपनी चोंच में भर लेता और उड़ जाता। ऐसा उसने अनेक बार किया। आखिर में ग्वाले को पता चला कि उसके सिर पर रखे मटके में से कोई दही खा रहा है।

कौआ तो अपनी आदत छोड़ नहीं सकता था। फिर जब किसी भूखे को बढ़िया भोजन मिल रहा हो तो वह कब रुकता है। बेचारे बटेर ने उसे ऐसा करने से रोका भी था, मगर कौआ कहाँ मानने वाला था। उसने तो अपना खाने का क्रम जारी रखा। दूसरी ओर ग्वाला भी जान गया था कि उसका दही कम हो रहा है। इसलिए उसने दही का मटका सिर से उतार कर नीचे जमीन पर रख दिया और ऊपर दृष्टि कर दही चोर को खोजने लगा। ऊपर एक वृक्ष पर कौआ और बटेर दोनों साथ – साथ बैठे थे। तुम ही हो वे चोर, जिन्होंने मेरा दही खाया है", ग्वाला बोला। क्रोध भरे ग्वाले ने पास पड़ा एक बड़ा सा पत्थर उठाकर उसे दे मारा। कौआ तो चोर था ही। उसे पता था कि ग्वाला क्रोध से भरा हुआ है। वह अवश्य ही चोर को मारेगा। इसलिए उसने उस पत्थर को अपनी ओर आते देखकर झट से उड़ान भरी और वहाँ से चलता बना। ग्वाले का पत्थर बेचारे निर्दोष बटेर को जा लगा और उसने वही पर दम तोड़ दिया।

SubQuestion No : 17

Q.17 अनुच्छेद के अनुसार पक्षियों को किस भगवान के आने की सूचना मिली?

- Ans A. पवनदेव
 B. इंद्र
 C. गरुड़
 D. अग्निदेव

Question ID : 967947602

Comprehension:

दिए गए गद्यांश को ध्यानपूर्वक पढ़िए और दिए गए प्रश्नों के उत्तर दीजिए।

एक बार सागर तट पर गरुड़ भगवान के आने की सूचना मिली। सूचना मिलते ही सभी पक्षी सागर तट पर इकट्ठे होने लगे। हर एक के मन में यही इच्छा थी किसी प्रकार वे भगवान गरुड़ के दर्शन कर ले। इसी भीड़ में दो मित्र भी दिखाई पड़ रहे थे। एक कौआ था और दूसरा बटेर। ये दोनों भी भगवान गरुड़ के दर्शनों के लिए बड़ी दूर से उड़ कर आये। जिस मार्ग से वे दोनों आ रहे थे उसी राह पर जाता हुआ उन्हें एक ग्वाला भी मिला जो सिर पर दही का मटका रखे हुए था। कौए की दृष्टि तो खाने के मामले में बड़ी तेज होती है। बस उसने दूर से ही उस दही के मटके को भी देख लिया। दही देखकर उसके मुँह में पानी आ गया। तत्काल कौआ उड़ता हुआ नीचे उतरा और मटके पर बैठकर दही खाने लगा।

वह थोड़ा सा दही अपनी चोंच में भर लेता और उड़ जाता। ऐसा उसने अनेक बार किया। आखिर में ग्वाले को पता चला कि उसके सिर पर रखे मटके में से कोई दही खा रहा है।

कौआ तो अपनी आदत छोड़ नहीं सकता था। फिर जब किसी भूखे को बढ़िया भोजन मिल रहा हो तो वह कब रुकता है। बेचारे बटेर ने उसे ऐसा करने से रोका भी था, मगर कौआ कहाँ मानने वाला था। उसने तो अपना खाने का क्रम जारी रखा। दूसरी ओर ग्वाला भी जान गया था कि उसका दही कम हो रहा है। इसलिए उसने दही का मटका सिर से उतार कर नीचे जमीन पर रख दिया और ऊपर दृष्टि कर दही चोर को खोजने लगा। ऊपर एक वृक्ष पर कौआ और बटेर दोनों साथ – साथ बैठे थे। तुम ही हो वे चोर, जिन्होंने मेरा दही खाया है”, ग्वाला बोला। क्रोध भरे ग्वाले ने पास पड़ा एक बड़ा सा पत्थर उठाकर उसे दे मारा। कौआ तो चोर था ही। उसे पता था कि ग्वाला क्रोध से भरा हुआ है। वह अवश्य ही चोर को मारेगा। इसलिए उसने उस पत्थर को अपनी ओर आते देखकर झट से उड़ान भरी और वहाँ से चलता बना। ग्वाले का पत्थर बेचारे निर्दोष बटेर को जा लगा और उसने वही पर दम तोड़ दिया।

SubQuestion No : 18

Q.18 'मित्र' शब्द का भाववाचक संज्ञा क्या है?

- Ans
- A. मित्रतापूर्ण
 - B. मैत्री
 - C. मित्रत्वा
 - D. मित्रता

Question ID : 967947605

Comprehension:

दिए गए गद्यांश को ध्यानपूर्वक पढ़िए और दिए गए प्रश्नों के उत्तर दीजिए।

एक बार सागर तट पर गरुड़ भगवान के आने की सूचना मिली। सूचना मिलते ही सभी पक्षी सागर तट पर इकट्ठे होने लगे। हर एक के मन में यही इच्छा थी किसी प्रकार वे भगवान गरुड़ के दर्शन कर ले। इसी भीड़ में दो मित्र भी दिखाई पड़ रहे थे। एक कौआ था और दूसरा बटेर। ये दोनों भी भगवान गरुड़ के दर्शनों के लिए बड़ी दूर से उड़ कर आये। जिस मार्ग से वे दोनों आ रहे थे उसी राह पर जाता हुआ उन्हें एक ग्वाला भी मिला जो सिर पर दही का मटका रखे हुए था। कौए की दृष्टि तो खाने के मामले में बड़ी तेज होती है। बस उसने दूर से ही उस दही के मटके को भी देख लिया। दही देखकर उसके मुँह में पानी आ गया। तत्काल कौआ उड़ता हुआ नीचे उतरा और मटके पर बैठकर दही खाने लगा।

वह थोड़ा सा दही अपनी चोंच में भर लेता और उड़ जाता। ऐसा उसने अनेक बार किया। आखिर में ग्वाले को पता चला कि उसके सिर पर रखे मटके में से कोई दही खा रहा है।

कौआ तो अपनी आदत छोड़ नहीं सकता था। फिर जब किसी भूखे को बढ़िया भोजन मिल रहा हो तो वह कब रुकता है। बेचारे बटेर ने उसे ऐसा करने से रोका भी था, मगर कौआ कहाँ मानने वाला था। उसने तो अपना खाने का क्रम जारी रखा। दूसरी ओर ग्वाला भी जान गया था कि उसका दही कम हो रहा है। इसलिए उसने दही का मटका सिर से उतार कर नीचे जमीन पर रख दिया और ऊपर दृष्टि कर दही चोर को खोजने लगा। ऊपर एक वृक्ष पर कौआ और बटेर दोनों साथ – साथ बैठे थे। तुम ही हो वे चोर, जिन्होंने मेरा दही खाया है”, ग्वाला बोला। क्रोध भरे ग्वाले ने पास पड़ा एक बड़ा सा पत्थर उठाकर उसे दे मारा। कौआ तो चोर था ही। उसे पता था कि ग्वाला क्रोध से भरा हुआ है। वह अवश्य ही चोर को मारेगा। इसलिए उसने उस पत्थर को अपनी ओर आते देखकर झट से उड़ान भरी और वहाँ से चलता बना। ग्वाले का पत्थर बेचारे निर्दोष बटेर को जा लगा और उसने वही पर दम तोड़ दिया।

SubQuestion No : 19

Q.19 अनुच्छेद के लिए उचित शीर्षक दीजिये।

- Ans
- A. बुरी संगती
 - B. मित्रता
 - C. कौआ और बटेर की मित्रता
 - D. ग्वाले का कौवे को मज़ा चखाना

Question ID : 967947606

Comprehension:

दिए गए गद्यांश को ध्यानपूर्वक पढ़िए और दिए गए प्रश्नों के उत्तर दीजिए।

एक बार सागर तट पर गरुड़ भगवान के आने की सूचना मिली। सूचना मिलते ही सभी पक्षी सागर तट पर इकट्ठे होने लगे। हर एक के मन में यही इच्छा थी किसी प्रकार वे भगवान गरुड़ के दर्शन कर ले। इसी भीड़ में दो मित्र भी दिखाई पड़ रहे थे। एक कौआ था और दूसरा बटेर। ये दोनों भी भगवान गरुड़ के दर्शनों के लिए बड़ी दूर से उड़ कर आये। जिस मार्ग से वे दोनों आ रहे थे उसी राह पर जाता हुआ उन्हें एक ग्वाला भी मिला जो सिर पर दही का मटका रखे हुए था। कौए की दृष्टि तो खाने के मामले में बड़ी तेज होती है। बस उसने दूर से ही उस दही के मटके को भी देख लिया। दही देखकर उसके मुँह में पानी आ गया। तत्काल कौआ उड़ता हुआ नीचे उतरा और मटके पर बैठकर दही खाने लगा।

वह थोड़ा सा दही अपनी चोंच में भर लेता और उड़ जाता। ऐसा उसने अनेक बार किया। आखिर में ग्वाले को पता चला कि उसके सिर पर रखे मटके में से कोई दही खा रहा है।

कौआ तो अपनी आदत छोड़ नहीं सकता था। फिर जब किसी भूखे को बढ़िया भोजन मिल रहा हो तो वह कब रुकता है। बेचारे बटेर ने उसे ऐसा करने से रोका भी था, मगर कौआ कहीं मानने वाला था। उसने तो अपना खाने का क्रम जारी रखा। दूसरी ओर ग्वाला भी जान गया था कि उसका दही कम हो रहा है। इसलिए उसने दही का मटका सिर से उतार कर नीचे जमीन पर रख दिया और ऊपर दृष्टि कर दही चोर को खोजने लगा। ऊपर एक वृक्ष पर कौआ और बटेर दोनों साथ – साथ बैठे थे। तुम ही हो वे चोर, जिन्होंने मेरा दही खाया है”, ग्वाला बोला। क्रोध भरे ग्वाले ने पास पड़ा एक बड़ा सा पत्थर उठाकर उसे दे मारा। कौआ तो चोर था ही। उसे पता था कि ग्वाला क्रोध से भरा हुआ है। वह अवश्य ही चोर को मारेगा। इसलिए उसने उस पत्थर को अपनी ओर आते देखकर झट से उड़ान भरी और वहाँ से चलता बना। ग्वाले का पत्थर बेचारे निर्दोष बटेर को जा लगा और उसने वही पर दम तोड़ दिया।

SubQuestion No : 20

Q.20 कौवे की दृष्टि किस मामले में तेज़ होती है?

- Ans
- A. लड़ाई के मामले में
 - B. सहायता करने में
 - C. पीने के मामले में
 - D. खाने के मामले में

Question ID : 967947604



GOVT. OF NCT OF DELHI
Delhi Subordinate Services Selection Board
FC-18, Institutional Area, Karkardooma, Delhi – 110092.
www.dsssbdelhi.govt.nic.in

Participant ID	
Participant Name	
Test Center Name	East Delhi Assessment Zone
Test Date	25/11/2021
Test Time	12:30 PM - 2:30 PM
Subject	Fee Collector Sub Inspector Auction Recorder

Section : General Ability1

Q.1 Out of the given options, three are similar in a certain manner. However, one option is NOT like the other three. Select the option which is different from the rest.

- Ans
- A. LQAO
 - B. FKUJ
 - C. DISH
 - D. AFPE

Question ID : 9679471217

Q.2 Select the option that is related to the third term on the same basis as the second term is related to the first term.

Atomic Nucleus : Electrons :: Sun : ?

- Ans
- A. Satellites
 - B. Stars
 - C. Planets
 - D. Solar System

Question ID : 9679471224

Q.3 The letters of a word are disorderly arranged as 'OCBLROC'. If re-arranged in the correct order, the name of a vegetable is formed. What is the last letter of the word so formed?

- Ans
- A. C
 - B. R
 - C. L
 - D. I

Question ID : 9679471214

Q.4 Out of the given options, three are similar in a certain manner. However, one option is NOT like the other three. Select the option which is different from the rest.

- Ans
- A. B.Tech : 4 years
 - B. B.Com : 3 years
 - C. MBA : 2 years
 - D. M.Tech : 1 year

Question ID : 9679471218

Q.5 Find the odd letter cluster:
ACIU, BDJV, GIOA, NPVZ

- Ans
- A. NPVZ
 - B. GIOA
 - C. ACIU
 - D. BDJV

Question ID : 9679471219

Q.6 Given below is a list of four words which are supposed to be formed from the letters of the term 'PRECISE'. Point the one which cannot be formed using the letters of the given term.

- Ans
- A. PRICE
 - B. RESET
 - C. PIECE
 - D. RISE

Question ID : 9679471216

Q.7 If G = 20 and VICE = 69, then HUMBLE = ?

- Ans
- A. 101
 - B. 61
 - C. 87
 - D. 99

Question ID : 9679471226

Q.8 If 'KIRAN' is coded as '29-11-17-9-31' and 'VEERAJ' is coded as '49-16-16-17-9-37', then how will you code 'NIRVAN'?

- Ans
- A. 31-11-17-49-9-31
 - B. 31-29-11-17-9-31
 - C. 31-11-17-9-29-31
 - D. 31-17-49-31-11-9

Question ID : 9679471227

Q.9 In the below analogous letter cluster pair, find the missing letter cluster:
LAHORE : OUQCGM :: AGRA : ?

- Ans
- A. ACIU
 - B. WGCQ
 - C. ARGA
 - D. DAAO

Question ID : 9679471223

Q.10 'HPACE' is a jumbled form of a meaningful word, of which every letter has been assigned a number: HPACE-41352. Choose the option which gives the correct order of the letters as indicated by the numbers to form words.

- Ans
- A. 12354
 - B. 34512
 - C. 21354
 - D. 53124

Question ID : 9679471213

Q.11 In a certain code language, 'CRUST' is coded as 'FUUQR'. How will 'PASTE' be written in that same code?

- Ans
- A. SDQRC
 - B. SFQCD
 - C. SDSRC
 - D. SCQCR

Question ID : 9679471228

Q.12 Select the option that is related to the third term on the same basis as the second term is related to the first term.

D : P :: E : ?

- Ans
- A. T
 - B. J
 - C. Y
 - D. Z

Question ID : 9679471222

Q.13 Madhup and Tushar are brothers. Sandhaya is the sister of Vinod. Tushar is the son of Sandhaya. How is Madhup related to Sandhaya?

- Ans
- A. Brother
 - B. Father
 - C. Brother's son
 - D. Son

Question ID : 9679471229

Q.14 Out of the given options, three are similar in a certain manner. However, one option is NOT like the other three. Select the option which is different from the rest.

- Ans A. LMNO : QHSI
 B. UVWX : ZQBS
 C. PQRS : ULWN
 D. ABCD : FWHY

Question ID : 9679471220

Q.15 Mr. Gajanand stays with his family consisting of his wife, two married brothers of whom, one has three children and another has four children. How many members are there in the family?

- Ans A. 13
 B. 14
 C. 11
 D. 12

Question ID : 9679471230

Q.16 Given here is a list of four words which are in a certain sequence. Choose the option which will continue the sequence:
Africa, Cabbage, Gelatine, Necklaces,?

- Ans A. Especially
 B. Establish
 C. Liability
 D. Fantastic

Question ID : 9679471215

Q.17 Out of the four options choose the word which has the same relationship as the following:
WeChat, WhatsApp, Hike

- Ans A. YOUTUBE
 B. REDIFF
 C. TELEGRAM
 D. GMAIL

Question ID : 9679471221

Q.18 Select the logical order:
1.Flight boarding
2.Check-in
3.Departure
4.Security Check

- Ans A. 1-4-2-3
 B. 3-4-2-1
 C. 4-3-2-1
 D. 2-4-1-3

Question ID : 9679471231

Q.19 There are 12 possible participants A to L who are going to make a team of 6 people. A has to be selected but doesn't want to team up with B. D has to be selected but doesn't want to team up with E and F. K has to be selected and L cannot be selected. In how many ways can the team be formed?

- Ans
- A. 5
 - B. 20
 - C. 10
 - D. 15

Question ID : 9679471232

Q.20 If M=13 and KITE=45, then BRIGHT=?

- Ans
- A. 64
 - B. 98
 - C. 58
 - D. 72

Question ID : 9679471225

Section : General Ability2

Q.1 Find the missing number from the series:
311, 313, 317, ____, 341, 373

- Ans
- A. 327
 - B. 325
 - C. 323
 - D. 333

Question ID : 9679471237

Q.2 The figure series given below follows a sequence. Choose the correct option from the list of answer figures, which should come after at the right of the problem figures, if the sequence were to be continued:

×	×			
	\$	×		%
		×	\$?

Ans

A.

%	\$	×
@		×
		#

B.

\$	×	×
%		#
		@

C.

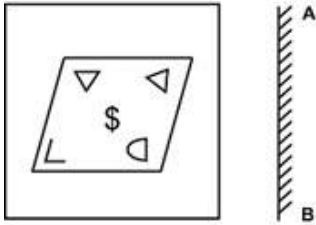
\$	×	×
%		#
+		

D.

	%	\$
		×
	#	×

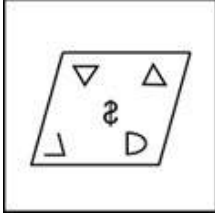
Question ID : 9679471247

Q.3 Find the correct mirror image of the problem figure.

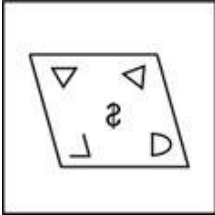


Ans

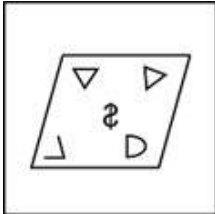
A.



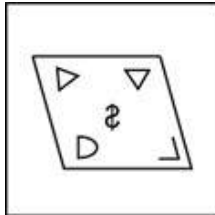
B.



C.

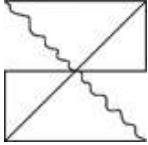


D.



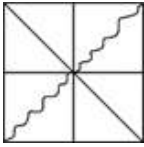
Question ID : 9679471251

Q.4 In which answer figure is the problem figure embedded?

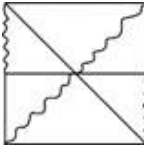


Ans

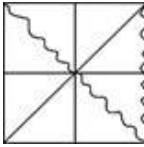
A.



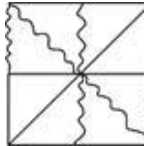
B.



C.

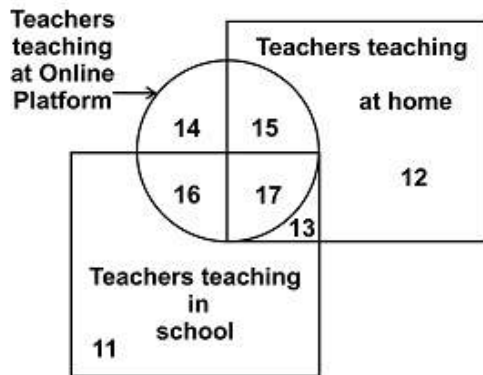


D.



Question ID : 9679471249

Q.5 Which numbered space in the figure represents teachers who teach in school, home and at online platforms?



Ans A. 17

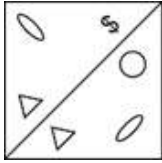
B. 16

C. 12

D. 13

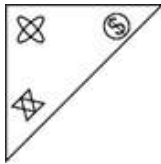
Question ID : 9679471241

Q.6 The problem figure represents a transparent piece of paper folded along the diagonal line. Which figure represents the correct result after folding?

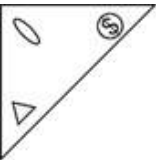


Ans

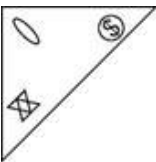
✓ A.



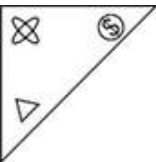
✗ B.



✗ C.



✗ D.



Question ID : 9679471250

Q.7 Below is given a set of statements and a set of conclusions which may or may not follow from the statement. Select the correct option:

Statements:

Face Mask is a cosmetic.

No Cosmetic is cream.

Some creams are medicines.

Conclusion 1: Some creams are cosmetic.

Conclusion 2: Some medicines are face mask.

Conclusion 3: Some cosmetics are face mask.

Ans ✗ A. Only Conclusion 2 and 3 Follows

✗ B. Only Conclusion 1 and 3 follows

✓ C. Only Conclusion 3 follows

✗ D. None of the Conclusion follow

Question ID : 9679471235

Q.8 Find the missing number from the series:

3, 7, 15, 31, __, 127, 255

Ans ✗ A. 75

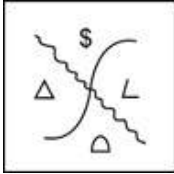
✗ B. 54

✗ C. 96

✓ D. 63

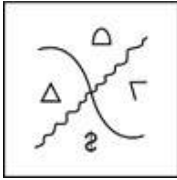
Question ID : 9679471239

Q.9 Find the water image of the following figure:

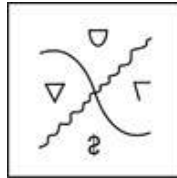


Ans

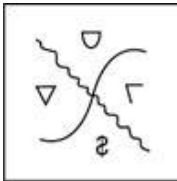
A.



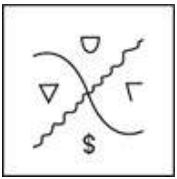
B.



C.



D.



Question ID : 9679471252

Q.10 Find the wrong number from the series:
12, 30, 56, 90, 130, 182

Ans A. 56

B. 182

C. 130

D. 90

Question ID : 9679471240

Q.11 Find the missing number from the series:
7, 8, 124, 48, 1330, 168, 4912, ____

Ans A. 12166

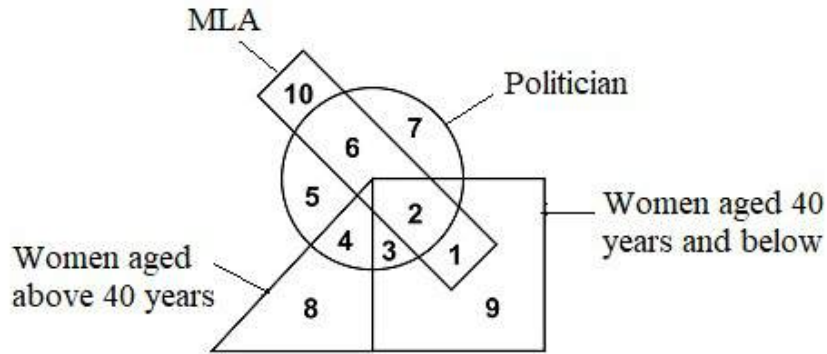
B. 360

C. 6858

D. 528

Question ID : 9679471238

Q.12 In the following figure, the women aged 40 years and below who are politician and MLA are indicated by which number?



- Ans
- A. 4
 - B. 2
 - C. 5
 - D. 6

Question ID : 9679471243

Q.13 Given below is a statement and a set of three assumptions which may or may not be implicit. Select the correct option:

An advertisement says: "We want to provide our service at your doorstep, rather than you bothering to come to us. Give us a call".

Assumption 1: People generally visit the store to get the service.

Assumption 2: People like to get service at their doorstep rather than going to the store.

Assumption 3: People will call the service provider after seeing this advertisement.

- Ans
- A. None of the Assumptions are implicit
 - B. Only Assumption 1 is implicit
 - C. Only Assumption 1 & 2 are implicit
 - D. All three Assumptions are implicit

Question ID : 9679471236

Q.14 Below is given a set of statements and a set of conclusions which may or may not follow from the statement. Select the correct option:

Statements:

All houses are concrete.

All concrete are expensive.

Conclusion 1: Only some houses are expensive.

Conclusion 2: Some concrete are not houses.

- Ans
- A. Only Conclusion 2 follows
 - B. None of the Conclusion follow
 - C. Only Conclusion 1 follows
 - D. Both Conclusions follow

Question ID : 9679471233

Q.15 From the following, choose the figure which is different in pattern which the other three follow:

2	4
4	16

FIGURE 1

3	9
9	81

FIGURE 2

5	25
25	125

FIGURE 3

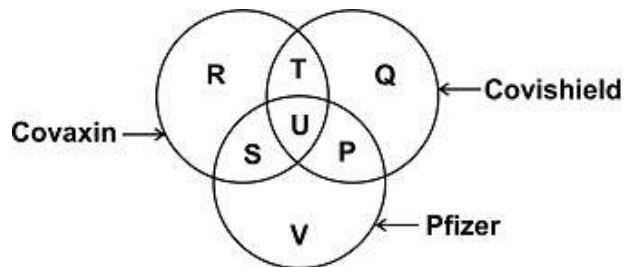
7	49
49	2401

FIGURE 4

- Ans A. FIGURE 2
 B. FIGURE 3
 C. FIGURE 4
 D. FIGURE 1

Question ID : 9679471248

Q.16 The diagram below represents the scientists who are engaged in the research of Covaxin, Covishield and Pfizer. Study the diagram and identify the region which represents scientists who research both Covaxin and Covishield but not Pfizer.



- Ans A. V
 B. T
 C. R+T+Q+S+U+P
 D. T+S+U+P

Question ID : 9679471242

Q.17 The figure series given below follows a sequence. Choose the correct option from the list of answer figures, which should come after at the right of the problem figures, if the sequence were to be continued:



Ans

- A.
- B.
- C.
- D.

Question ID : 9679471245

Q.18 Which of the following Venn diagrams best represents the relationship among Walmart (W), Flipkart (F), Myntra (M)?

Ans

- A.
- B.
- C.
- D.

Question ID : 9679471244

Q.19 Below given is a statement and two arguments which may or may not be strong arguments in support of/against the statement. Identify the correct option:

Statement: Should all factories have advanced machinery.

Argument 1: Yes advanced machinery will bring in more accuracy and efficiency in work.

Argument 2: No, more mechanization will lead to human resources losing their jobs to machine.

- Ans
- A. Both the Arguments are strong
 - B. None of the Arguments are strong
 - C. Only Argument 2 is strong
 - D. Only Argument 1 is strong

Question ID : 9679471234

Q.20 The figures given below follow a similar pattern. Find the succeeding figure which justifies the given sequence, from the list of options given below:

GREAT	TGREA	CRUST	TCRUS	IPZOF	?
-------	-------	-------	-------	-------	---

Ans

A. IFPZO

B. PIZOF

C. ZIPOF

D. FIPZO

Question ID : 9679471246

Q.1 During the reign of which dynasty did Gautama Buddha spend much of his life in Magadha?

- Ans
- A. Pradyota Dynasty
 - B. Maurya Dynasty
 - C. Haryanka Dynasty
 - D. Shishunaga Dynasty

Question ID : 9679471272

Q.2 Limnology refers to the study of:

- Ans
- A. Marine life and ecosystems.
 - B. All aspects of soil.
 - C. Inland freshwater both standing and running.
 - D. Igneous, metamorphic and sedimentary rocks.

Question ID : 9679471265

Q.3 Vesak is celebrated largely by which of the following religious communities?

- Ans
- A. Sikhs
 - B. Buddhists
 - C. Muslims
 - D. Parsis

Question ID : 9679471256

Q.4 Methylmercury poisoning is the cause of which of the following diseases?

- Ans
- A. Arsenicosis
 - B. Minamata disease
 - C. Blackfoot disease
 - D. Ischemic heart disease

Question ID : 9679471264

Q.5 Which soil after adopting appropriate soil conservation techniques is highly suitable for growing tea and coffee?

- Ans
- A. Arid Soil
 - B. Laterite Soil
 - C. Forest Soil
 - D. Alluvial Soil

Question ID : 9679471268

Q.6 Which of these islands in the Bay of Bengal is not a part of India?

- Ans
- A. Sagar Island
 - B. St. Martin's Island
 - C. North Sentinel Island
 - D. Neil Island

Question ID : 9679471269

Q.7 Which of the following Indian festivals is a mid winter festival, celebrating the passing of the winter solstice?

- Ans A. Holi
 B. Lohri
 C. Bohag Bihu
 D. Baisakhi

Question ID : 9679471254

Q.8 Which of the following is not a harvest festival?

- Ans A. Gurpurab
 B. Bohag Bihu
 C. Wangala
 D. Vasant Panchami

Question ID : 9679471253

Q.9 All of the following foods are a rich source of Ascorbic acid, except _____.

- Ans A. oranges
 B. beef
 C. potatoes
 D. strawberries

Question ID : 9679471262

Q.10 "National Ayurveda Day" is celebrated on the same day as which of these festivals?

- Ans A. Akshaya Tritiya
 B. Ram Navami
 C. Dhanteras
 D. Vesak

Question ID : 9679471255

Q.11 Which among these is not one of the 23 commodities covered by the MSP (Minimum Support Price) mechanism?

- Ans A. Sesame
 B. Sugarcane
 C. Onion
 D. Peanut

Question ID : 9679471259

Q.12 Who among these personalities was the founder of the Aligarh Muslim University?

- Ans
- A. Asaf Ali
 - B. Mohammad Ali Jauhar
 - C. Dr. Zakir Hussain
 - D. Sir Syed Ahmed Khan

Question ID : 9679471271

Q.13 Which of the following sentences best defines fiscal policy?

- Ans
- A. Policy to control interest rates or the money supply in a nation.
 - B. Strategic effort by the State to encourage economic transformation.
 - C. An estimate of taxation and government spending that impacts economy.
 - D. Regulations and agreements that control imports and exports to foreign countries.

Question ID : 9679471257

Q.14 The study of the relationship between living things and their interactions with their surroundings is called:

- Ans
- A. Ecology
 - B. Zoology
 - C. Biology
 - D. Geology

Question ID : 9679471266

Q.15 Which of the following carbon compounds is one of the main ingredients in a fire extinguisher?

- Ans
- A. carbon dioxide
 - B. carbon monoxide
 - C. carbon disulfide
 - D. carbon halides/ carboranes

Question ID : 9679471263

Q.16 In which part of India is Ley farming practiced?

- Ans
- A. Northeastern states
 - B. Arid zone
 - C. Gangetic plain
 - D. Deccan plateau

Question ID : 9679471267

Q.17 The Economic Survey of India is prepared under the guidance of which of the following personnel?

- Ans A. Chief Economic Adviser of India
 B. Finance Minister
 C. Governor of the Reserve Bank of India
 D. Comptroller and Auditor general of India

Question ID : 9679471260

Q.18 What was the theme of the Economic Survey 2020-21?

- Ans A. Shifting Gears towards \$5 trillion Indian Economy by 2024-25.
 B. Ethical Wealth Creation.
 C. Agriculture and Rural economy.
 D. Saving Lives and Livelihoods.

Question ID : 9679471261

Q.19 In the financial year 2021, which country had the highest FDI equity flow into India?

- Ans A. Singapore
 B. United Kingdom
 C. Netherlands
 D. United States of America

Question ID : 9679471258

Q.20 As per the 2011 census, which is the most densely populated district in India?

- Ans A. Mumbai Suburban
 B. Chennai
 C. North East Delhi
 D. Kolkata

Question ID : 9679471270

Section : General Awareness2

Q.1 When did the Information Technology Act come into effect?

- Ans A. 2004
 B. 1998
 C. 2002
 D. 2000

Question ID : 9679471287

Q.2 In which year did the Indian men's hockey team win the World Cup?

- Ans
- A. 1978
 - B. 1971
 - C. 1975
 - D. 1973

Question ID : 9679471290

Q.3 Mulk Raj Anand won the Sahitya Akademi Award in 1971 for which of his books?

- Ans
- A. The Big Heart
 - B. Untouchable
 - C. Morning Face
 - D. Across the Black Waters

Question ID : 9679471278

Q.4 How many players does a Kho-Kho team consist of?

- Ans
- A. 14
 - B. 8
 - C. 12
 - D. 10

Question ID : 9679471288

Q.5 With reference to the Puranas, which of the following Tirthankaras was said to be the cousin of Lord Krishna?

- Ans
- A. Neminatha
 - B. Mahavira
 - C. Shantinatha
 - D. Munisuvrata

Question ID : 9679471275

Q.6 Seval Sandhai is a rural sport in Tamin Nadu, which is a form of:

- Ans
- A. Kite flying
 - B. Bull-fighting
 - C. Cock- fighting
 - D. Martial Arts

Question ID : 9679471291

Q.7 the "Tripartite Struggle" for the control of Northern India in the Early Medieval period did not involve which of the following parties?

- Ans**
- A. Pratihara Empire
 - B. Pala Empire
 - C. Pallava Empire
 - D. Rashtrakuta Empire

Question ID : 9679471273

Q.8 All offences under which of these sections of the Indian Penal Code are considered non-bailable?

- Ans**
- A. Section 210- Fraudulently making false claim in court
 - B. Section 506- Criminal Intimidation
 - C. Section 124A- Sedition
 - D. Section 186- Disobedience to order duly promulgated by public servant

Question ID : 9679471286

Q.9 The Baghjan gas leak on 27th May 2020 occurred in which of the following states?

- Ans**
- A. West Bengal
 - B. Gujarat
 - C. Nagaland
 - D. Assam

Question ID : 9679471283

Q.10 The first Covid 19 case in India was recorded in the state of:

- Ans**
- A. Kerala
 - B. Uttar Pradesh
 - C. Maharashtra
 - D. Karnataka

Question ID : 9679471280

Q.11 The first ever match of first-class cricket in 1864, in India was played between:

- Ans**
- A. Madras and Calcutta
 - B. Calcutta and Bombay
 - C. Delhi and Madras
 - D. Madras and Bombay

Question ID : 9679471292

Q.12 A team of security forces was attacked in the Sukma-Bijapur district border of Chhattisgarh on 23rd March 2020 by which of the following groups?

- Ans**
- A. People's Liberation Guerilla Army (PGLA)
 - B. Salwa Judum
 - C. Bhumi Sena
 - D. Lal Jhanda dal

Question ID : 9679471282

Q.13 Which of these Indian American Journalists was awarded the Padma Bhushan in 2010 for their contributions to journalism?

- Ans**
- A. Fareed Zakaria
 - B. Vinnie Malhotra
 - C. Bobby Ghosh
 - D. Sanjay Gupta

Question ID : 9679471279

Q.14 The 2018 Men's Hockey World Cup was held in which state?

- Ans**
- A. West Bengal
 - B. Tamil Nadu
 - C. Odisha
 - D. Maharashtra

Question ID : 9679471289

Q.15 The Representation of People Act, 1951 deals with:

- Ans**
- A. Process of selection for public services
 - B. Procedure of bills being raised in the parliament
 - C. Eligibility criteria for qualifying scheduled cast or scheduled tribe status
 - D. Procedure of elections held in the country

Question ID : 9679471285

Q.16 The Northern Black Polished Ware (NBPW) culture in the Indian Subcontinent can be linked to which period?

- Ans**
- A. Chalcolithic Age
 - B. Neolithic Age
 - C. Iron Age
 - D. Bronze Age

Question ID : 9679471274

Q.17 The Forest Rights Act, which accords legal recognition to the rights of traditional forest dwelling communities in India was passed in the year:

- Ans
- A. 2008
 - B. 2002
 - C. 2006
 - D. 2000

Question ID : 9679471284

Q.18 Who succeeded Kamal Nath as the Chief Minister of Madhya Pradesh after the political crisis of March 2020?

- Ans
- A. Yashodara Raje Scindia
 - B. Shivraj Singh Chouhan
 - C. Uday Pratap Singh
 - D. Umang Singhar

Question ID : 9679471281

Q.19 The novel "Hullabaloo in the Guava Orchard" is written by:

- Ans
- A. Kiran Desai
 - B. Jhumpa Lahiri
 - C. Chitra Banerjee
 - D. Amrita Pritam

Question ID : 9679471277

Q.20 Arundhati Roy won the Man Booker Prize in 1997 for which of her books?

- Ans
- A. The God of Small Things
 - B. Broken Republic
 - C. The Cost of Living
 - D. The End of Imagination

Question ID : 9679471276

Section : Arithmetic Ability1

Q.1 A long rope of 55 m is cut into several equal parts of length 2.5 m. Find the number of such parts.

- Ans
- A. 22
 - B. 5
 - C. 18
 - D. 11

Question ID : 9679471296

Q.2 Find the approximate value of simple interest earned on a sum of Rs. 6600 for 3 years at 9.09% interest rate.

- Ans A. Rs. 1800
 B. Rs. 1600
 C. Rs. 1400
 D. Rs. 900

Question ID : 9679471311

Q.3 In a society, the ratio of engineers to scientists is 4 : 5. If the total number of people in the group is 81, what is the number of engineers in the group?

- Ans A. 21
 B. 27
 C. 36
 D. 45

Question ID : 9679471307

Q.4 The length and breadth of a rectangle are in the ratio 3 : 8. If the area of the rectangle is 144 m², find the perimeter.

- Ans A. $22\sqrt{6}$ m
 B. $14\sqrt{6}$ m
 C. 48 m
 D. 163 m

Question ID : 9679471310

Q.5 By selling an article for Rs. 420, a man gains Rs. 50. At what price he must sell the article to get Rs. 73 profit?

- Ans A. Rs. 443
 B. Rs. 235
 C. Rs. 365
 D. Rs. 528

Question ID : 9679471305

Q.6 A sum of money becomes four times in 2 years at a certain interest rate. Now, in how many years will the amount become 13 times its principal value at the same rate?

- Ans A. 9 years
 B. 5 years
 C. 12 years
 D. 8 years

Question ID : 9679471312

Q.7 Two numbers are in the ratio 9 : 11. If their HCF is 4, then find the numbers.

- Ans A. 84, 110
 B. 34, 42
 C. 36, 44
 D. 92, 84

Question ID : 9679471293

Q.8 The marked price of an article is raised 30% above the cost price. If the discount on the article is 10%, find the ratio of cost price and selling price.

- Ans A. 170 : 100
 B. 117 : 110
 C. 100 : 117
 D. 100 : 130

Question ID : 9679471298

Q.9 If the selling price of an article is $\frac{7}{6}$ th of its cost price, find the profit percent.

- Ans A. 8.33 percent
 B. 33.33 percent
 C. 42.33 percent
 D. 16.66 percent

Question ID : 9679471304

Q.10 The ratio of acid to water in a beaker is 2 : 17. Find the total volume of liquid in the beaker if on adding 15 ml of water the ratio of acid to water becomes 1 : 9.

- Ans A. 273 ml
 B. 285 ml
 C. 246 ml
 D. 352 ml

Question ID : 9679471309

Q.11 Arrange the fractions in descending order: $\frac{1}{2}$, $\frac{5}{3}$, $\frac{1}{4}$, $\frac{3}{9}$, $\frac{2}{7}$

- Ans A. $\frac{5}{3}$, $\frac{2}{7}$, $\frac{1}{4}$, $\frac{1}{2}$, $\frac{23}{9}$
 B. $\frac{5}{3}$, $\frac{1}{2}$, $\frac{3}{9}$, $\frac{2}{7}$, $\frac{1}{4}$
 C. $\frac{1}{2}$, $\frac{5}{3}$, $\frac{1}{4}$, $\frac{1}{3}$, $\frac{2}{7}$
 D. $\frac{1}{4}$, $\frac{2}{7}$, $\frac{1}{2}$, $\frac{5}{3}$, $\frac{3}{9}$

Question ID : 9679471295

Q.12 A man divides Rs. 6600 between his two children. The difference between the shares of two children is 30% of the total amount. Find the larger amount.

- Ans A. Rs. 4273
 B. Rs. 4829
 C. Rs. 4290
 D. Rs. 4939

Question ID : 9679471303

Q.13 The difference between 67% of a number and 39% of the same number is 84. Find the number.

- Ans A. 127
 B. 300
 C. 367
 D. 427

Question ID : 9679471302

Q.14 The average of the squares of first five natural numbers is:

- Ans A. 11
 B. 25
 C. 16.5
 D. 55

Question ID : 9679471299

Q.15 A student has to obtain a minimum of at least 42% marks in an examination to pass. He scored 37% and failed by 50 marks. Find the total marks of the exam.

- Ans A. 1200
 B. 1500
 C. 500
 D. 1000

Question ID : 9679471301

Q.16 Rahul's monthly salary is Rs. 7200. He spends 40% of the salary on rent, 20% on education and 70% of the remaining amount is invested in Gold. Find the amount invested in Gold.

- Ans A. Rs. 2016
 B. Rs. 3617
 C. Rs. 2531
 D. Rs. 2825

Question ID : 9679471300

Q.17 The ratio of number of men and women in a village of 6500 people is 7 : 6. How many more men should be added such that number of men becomes double that of women?

- Ans A. 2500
 B. 3200
 C. 3500
 D. 4200

Question ID : 9679471308

Q.18 There are a certain number of students in Physics Department. The average age of all the students in Physics department is 18 years. Later it was found that two data were recorded incorrectly as 17 and 20 instead of 16 and 23. Find the correct average age (approx.), if the total number of students are 30.

- Ans A. 16 years
 B. 18 years
 C. 20 years
 D. 19 years

Question ID : 9679471297

Q.19 The HCF of two numbers is 4 and the LCM is 48. If one of the numbers is 16, find the other number.

- Ans A. 8
 B. 32
 C. 20
 D. 12

Question ID : 9679471294

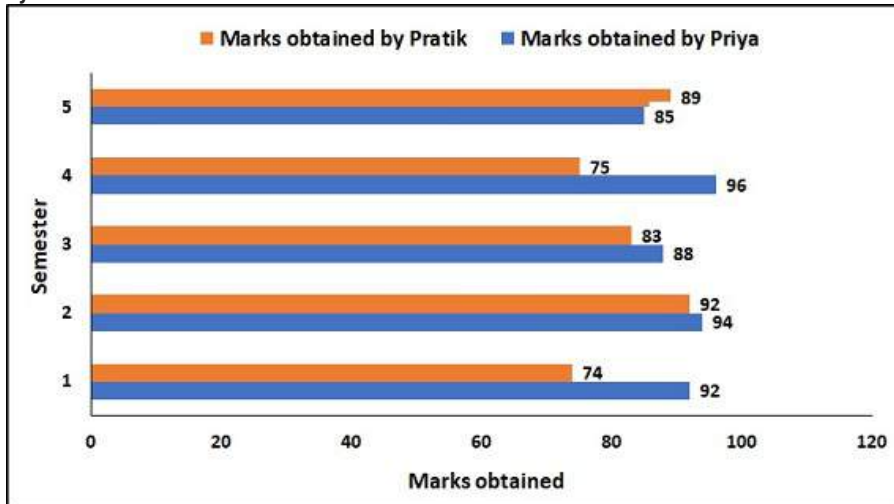
Q.20 A shopkeeper sells some bananas at the rate of Rs. 7.50 each. He bought the bananas at the rate of Rs. 5.50 each. Find the total profit earned on selling 2 dozen bananas.

- Ans A. Rs. 48
 B. Rs. 24
 C. Rs. 44
 D. Rs. 41

Question ID : 9679471306

Section : Arithmetic Ability2

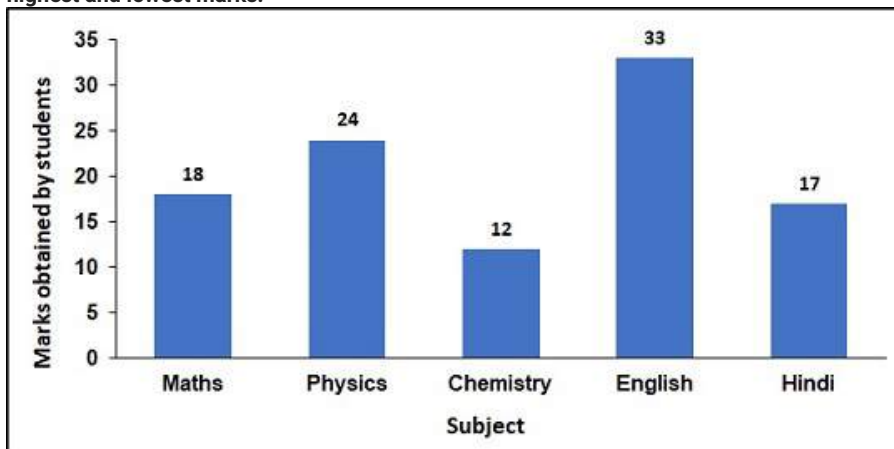
Q.1 The graph shows the percentage of marks obtained by Priya and Pratik in five different semesters. Find the ratio of marks obtained by Priya in 3rd semester to the marks obtained by Pratik in 4th and 5th semester.



- Ans
- A. 19 : 28
 - B. 16 : 49
 - C. 35 : 18
 - D. 22 : 41

Question ID : 9679471331

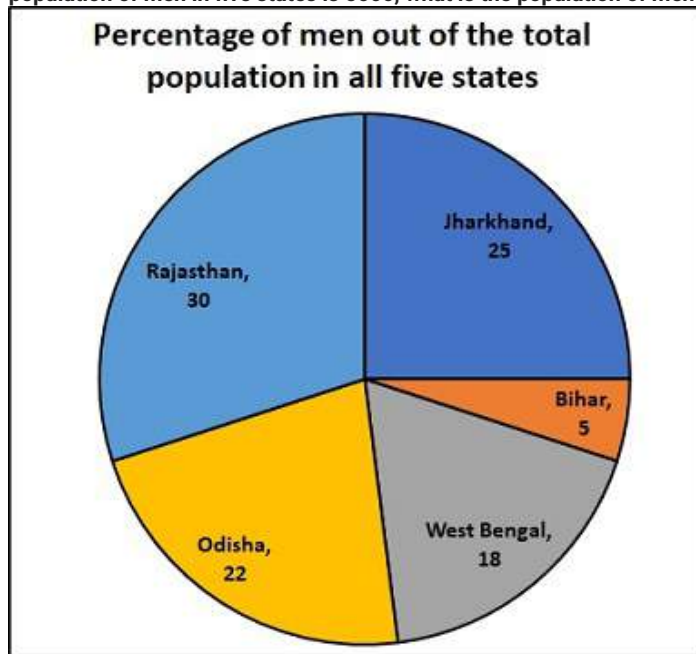
Q.2 The Bar Graph presents the percentage of marks obtained by a student in five different subjects. If the total marks of all the five subjects were 500, find the difference between the highest and lowest marks.



- Ans
- A. 85
 - B. 105
 - C. 110
 - D. 246

Question ID : 9679471329

Q.3 The pie chart shows the percentage of men living in five different states of India. If the total population of men in five states is 5600, what is the population of men in Rajasthan?



- Ans
- A. 1836
 - B. 2971
 - C. 1680
 - D. 1826

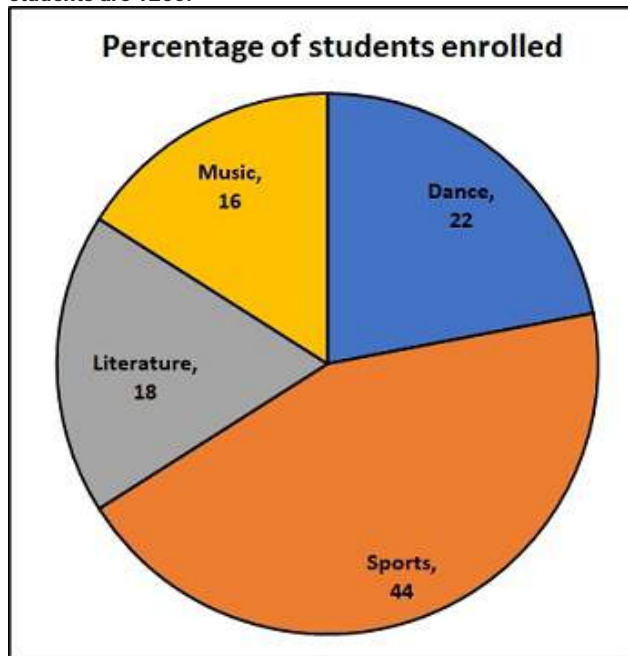
Question ID : 9679471326

Q.4 Sunil can write 500 pages in 5 days while Abhay can write 750 pages in 8 days. In how many days will they complete writing 1500 pages when working together?

- Ans
- A. 129/ 31 days
 - B. 253/ 26 days
 - C. 173/ 23 days
 - D. 240/ 31 days

Question ID : 9679471321

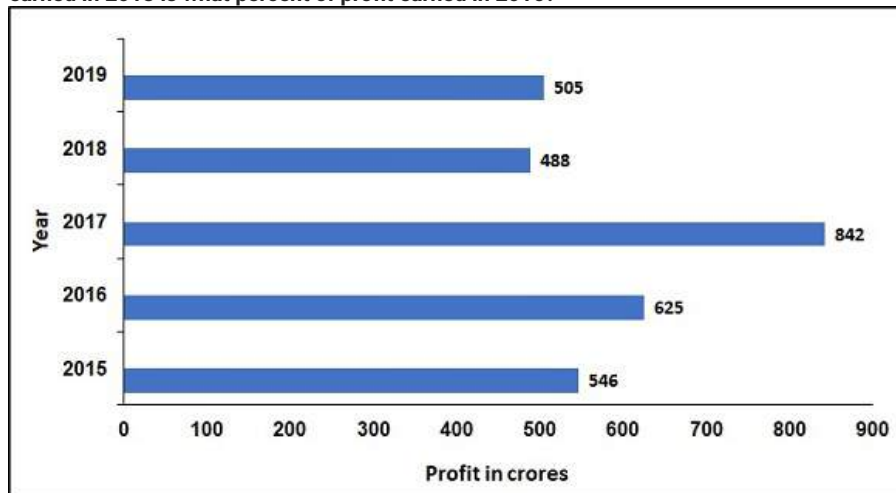
Q.5 The pie chart shows the percentage of students enrolled in different clubs of college. Find the total number of students enrolled in Sports and Music. Given that the total number of students are 1260.



- Ans
- A. 756
 - B. 384
 - C. 374
 - D. 479

Question ID : 9679471327

Q.6 Profit earned by a company in five consecutive years is shown in the bar graph. The profit earned in 2018 is what percent of profit earned in 2016?



- Ans
- A. 78.08 percent
 - B. 84.7 percent
 - C. 63 percent
 - D. 57 percent

Question ID : 9679471332

Q.7 A can do a piece of work in 12 days and B can do the same work in 18 days. They start working together and A leaves the work after working for 5 days. C joined the work when A left. C can complete the same work in 15 days. In how many days will B and C together complete the remaining work?

- Ans A. 2.5 days
 B. 5 days
 C. 7 days
 D. 2 days

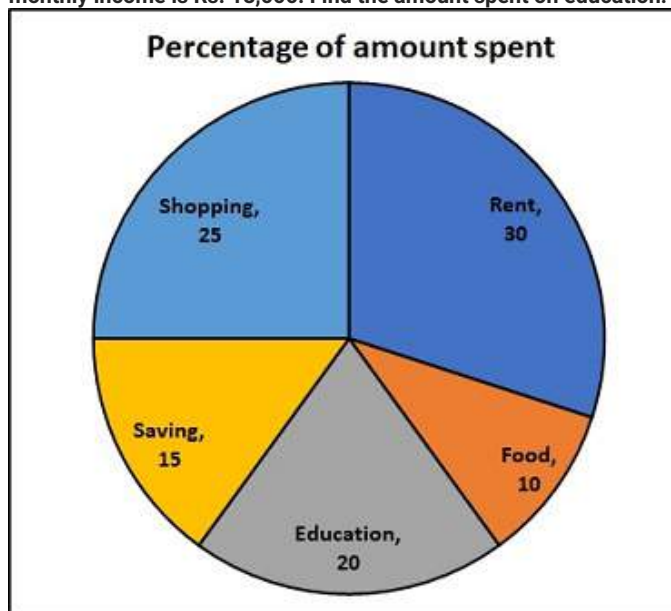
Question ID : 9679471320

Q.8 A student increases his speed by 25% and reaches school 10 minutes earlier. Find the actual time taken by him to reach the school.

- Ans A. 72 minutes
 B. 26 minutes
 C. 50 minutes
 D. 32 minutes

Question ID : 9679471315

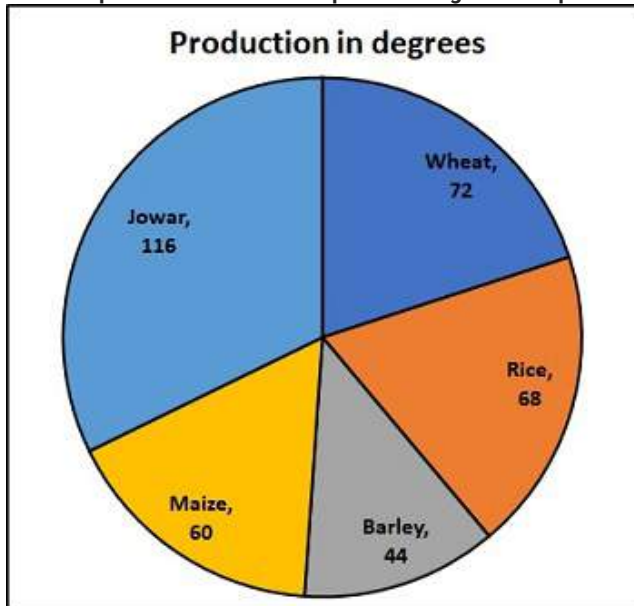
Q.9 The pie chart shows the expenditure of a man's monthly income in various ways. His monthly income is Rs. 18,000. Find the amount spent on education.



- Ans A. Rs. 3200
 B. Rs. 3500
 C. Rs. 3600
 D. Rs. 2800

Question ID : 9679471325

Q.10 The pie chart shows the production of different crops (in degrees) in a state in one month. The total production of all the crops is 7200 kg. Find the production of wheat in one month.



- Ans A. 1440 kg
 B. 1245 kg
 C. 1734 kg
 D. 1735 kg

Question ID : 9679471328

Q.11 A rhombus has side of length 20 cm. One of the lengths of the diagonal is 24 cm. Find the length of the other diagonal.

- Ans A. 45 cm
 B. 32 cm
 C. 19 cm
 D. 20 cm

Question ID : 9679471324

Q.12 In how many years will Rs. 62500 become Rs. 129600 at compound interest of 20 percent per annum?

- Ans A. 4 years
 B. 5 years
 C. 8 years
 D. 3 years

Question ID : 9679471314

Q.13 Calculate the volume of a cone of height 7 cm and radius 3 cm.

- Ans A. 83 cm^2
 B. 38 cm^2
 C. 66 cm^2
 D. 23 cm^2

Question ID : 9679471322

Q.14 9000 रुपए की राशि पर चक्रवृद्धि ब्याज और साधारण ब्याज के बीच का अंतर 2 वर्षों के लिए 405 रुपए है। ब्याज दर ज्ञात करें।

- Ans A. 38 प्रतिशत
 B. 48 प्रतिशत
 C. 21.2 प्रतिशत
 D. 39 प्रतिशत

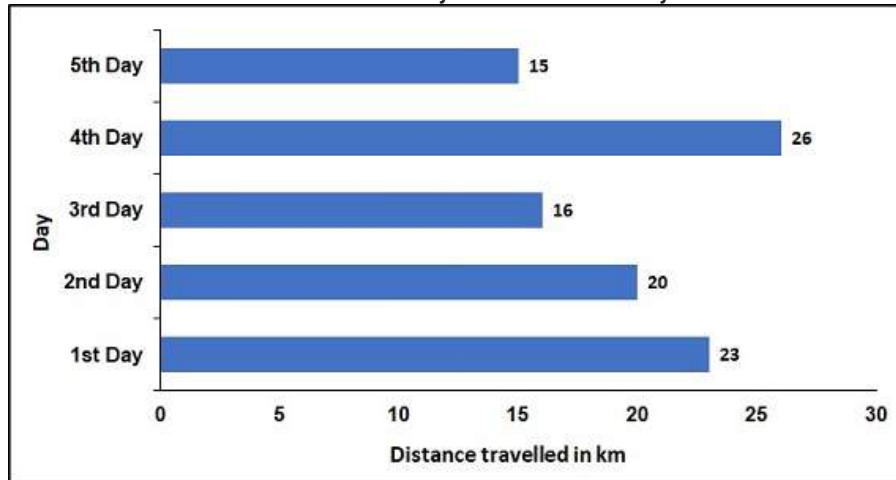
Question ID : 9679471313

Q.15 A metal ball of radius 9 cm is melted into smaller balls are radius 1.5 cm. Find the number of balls formed.

- Ans A. 244
 B. 265
 C. 216
 D. 263

Question ID : 9679471323

Q.16 The Bar Graph shows the distance covered by a truck on five consecutive days. What is the ratio of distance travelled on 2nd and 3rd day to the 1st and last day?



- Ans A. 17 : 19
 B. 16 : 48
 C. 17 : 34
 D. 18 : 19

Question ID : 9679471330

Q.17 Tap 'P' can fill the tank in 4 hours. Tap 'Q' can fill the tank in 6 hours while Tap 'R' can empty the tank in 12 hours. Find the time taken to fill the tank when all the three tanks are opened simultaneously.

- Ans
- A. 2.5 hours
 - B. 4.5 hours
 - C. 5 hours
 - D. 3 hours

Question ID : 9679471319

Q.18 A can complete a piece of work in 6 days while B can complete $\frac{6}{7}$ of the same work in 6 days. Find the time in which A and B working together can complete $\frac{13}{7}$ th part of the work.

- Ans
- A. 8 days
 - B. 7 days
 - C. 6 days
 - D. 12 days

Question ID : 9679471318

Q.19 Jane can complete a journey in 14 hours. He completes first half of the journey at a speed of 30 kmph and the rest at the speed of 45 kmph. Find the total distance travelled by him.

- Ans
- A. 504 km
 - B. 492 km
 - C. 469 km
 - D. 392 km

Question ID : 9679471317

Q.20 Two stations are 1500 km apart. Two trains start approaching each other from the two ends of the station simultaneously at the speed of 90 kmph and 60 kmph. Find the time after which they will cross each other.

- Ans
- A. 18 hours
 - B. 10 hours
 - C. 12 hours
 - D. 15 hours

Question ID : 9679471316

Q.1 The sentence below has been divided into three parts. Select the part of the sentence that has an error. If the sentence has no error, select the option 'No Error'.

As each day brought more damage, even their/ darn hoof prints messing up the beds, Meghan and/ me would kvetch daily about our deer problem.

- Ans**
- A. me would kvetch daily about our deer problem.
 - B. No Error
 - C. As each day brought more damage, even their
 - D. darn hoof prints messing up the beds, Meghan and

Question ID : 9679471336

Q.2 Select the word that is opposite in meaning (ANTONYM) to the word given below

gainsay

- Ans**
- A. repudiate
 - B. controvert
 - C. negate
 - D. accept

Question ID : 9679471351

Q.3 Select the word segment that substitutes (replaces) the bracketed word segment correctly and completes the sentence meaningfully. Select the option 'no correction required' if the sentence is correct as given.

Candidates were asked (which nation, beside Canada, concerns them) the most.

- Ans**
- A. what nations, beside Canada, concern them
 - B. what nation, beside Canada, concern them
 - C. which nation, besides Canada, concerns them
 - D. No correction required

Question ID : 9679471340

Q.4 Fill in the blank with the most appropriate choice

This may have served the purpose of camouflage, making the animal more _____.

- Ans**
- A. inconspicuous
 - B. prestigious
 - C. conspicuous
 - D. ambiguous

Question ID : 9679471345

Q.5 Some parts of a sentence have been jumbled up, and labelled P, Q, R and S. Select the option that gives the correct sequence in which these parts can be rearranged to form a meaningful and grammatically correct sentence.

After more natives

P. kill most of the natives

Q. Crusoe and Friday

R. a cannibal feast,

S. arrive to partake in

and save two prisoners.

Ans A. RQPS

B. PQRS

C. SPQR

D. SRQP

Question ID : 9679471346

Q.6 The sentence below has been divided into three parts. Select the part of the sentence that has an error. If the sentence has no error, select the option 'No Error'.

The painted surface is splotchy, as/ if damp or abraded, and/ the piece as a whole is very subdued.

Ans A. the piece as a whole is very subdued.

B. No Error

C. The painted surface is splotchy, as

D. if damp or abraded, and

Question ID : 9679471337

Q.7 Select the word segment that substitutes (replaces) the bracketed word segment correctly and completes the sentence meaningfully. Select the option 'no correction required' if the sentence is correct as given.

The (company said it will also dispose 12,000 surplus freight) cars in an effort to reduce costs.

Ans A. company said it will also dispose of 12,000 surplus freight

B. company said it will also dispose the 12,000 surplus freight

C. company said it will also have disposed 12,000 surplus freight

D. No correction required

Question ID : 9679471339

Q.8 Select the word that is similar in meaning (SYNONYM) to the word given below

hackneyed

Ans A. disparity

B. stale

C. amorphous

D. cherish

Question ID : 9679471352

Q.9 The question below consist of a set of labelled sentences. Out of four options given, select the most logical order of the sentences which form a paragraph.

Romulus, Rome's first king according to tradition, was the invention of later ancient historians.

P. His fictitious reign was filled with deeds expected of an ancient city founder and the son of a war god.

Q. His name, which is not even proper Latin, was designed to explain the origin of Rome's name.

R. Thus he was described as having established Rome's early political, military, and social institutions and as having waged war against neighbouring states.

S. Romulus was also thought to have shared his royal power for a time with a Sabine named Titus Tatius.

The name may be that of an authentic ruler of early Rome, perhaps Rome's first real king; nothing, however, was known about him in later centuries, and his reign was therefore lumped together with that of Romulus.

- Ans
- A. PSRQ
 - B. PSQR
 - C. QPRS
 - D. RPQS

Question ID : 9679471347

Q.10 Select the word segment that substitutes (replaces) the bracketed word segment correctly and completes the sentence meaningfully. Select the option 'no correction required' if the sentence is correct as given.

As the chicken contemplated crossing (the road, she asked herself why.)

- Ans
- A. the road, she always asked herself why?
 - B. No correction required
 - C. the roads, she asks herself why.
 - D. the road, she asked herself why?

Question ID : 9679471341

Q.11 Select the word that is similar in meaning (SYNONYM) to the word given below

facetious

- Ans
- A. amusing
 - B. grave
 - C. formal
 - D. propagate

Question ID : 9679471350

Q.12 The sentence below has been divided into three parts. Select the part of the sentence that has an error. If the sentence has no error, select the option 'No Error'.

One of his first acts was to/ sign agreement that Mexico would repay/ France the entire cost of the war.

- Ans A. One of his first acts was to
 B. sign agreement that Mexico would repay
 C. France the entire cost of the war.
 D. No Error

Question ID : 9679471333

Q.13 Fill in the blank with the most appropriate choice

Though Americans are notoriously _____, the plague of lawsuits is largely a myth.

- Ans A. egregious
 B. litigious
 C. prodigious
 D. contagious

Question ID : 9679471344

Q.14 The question below consist of a set of labelled sentences. Out of four options given, select the most logical order of the sentences which form a paragraph.

The regal period (753–509 BC) and the early republic (509–280 BC) are the most poorly documented periods of Roman history because historical accounts of Rome were not written until much later.

P. Thus historical writing at Rome did not begin until after Rome had completed its conquest of Italy, had emerged as a major power of the ancient world, and was engaged in a titanic struggle with Carthage for control of the western Mediterranean.

Q. During the last 200 years BC, 16 other Romans wrote similarly inclusive narratives.

R. Greek historians did not take serious notice of Rome until the Pyrrhic War (280–275 BC), when Rome was completing its conquest of Italy and was fighting against the Greek city of Tarentum in southern Italy.

S. Rome's first native historian, a senator named Quintus Fabius Pictor, lived and wrote even later, during the Second Punic War (218–201 BC).

All these works are now collectively termed "the Roman annalistic tradition" because many of them attempted to give a year-by-year account of Roman affairs for the republic.

- Ans A. RSPQ
 B. PSRQ
 C. RPSQ
 D. RQSP

Question ID : 9679471349

Q.15 Fill in the blank with the most appropriate choice

There are amongst the constellations four great _____ or serpent-like forms.

- Ans A. polygenic
 B. cosmogonic
 C. catatonic
 D. draconic

Question ID : 9679471343

Q.16 The sentence below has been divided into three parts. Select the part of the sentence that has an error. If the sentence has no error, select the option 'No Error'.

In 1779, Ludd is supposed/ to have broken two stocking/ frames in the fit of rage.

- Ans
- A. frames in the fit of rage.
 - B. to have broken two stocking
 - C. In 1779, Ludd is supposed
 - D. No Error

Question ID : 9679471335

Q.17 Select the word segment that substitutes (replaces) the bracketed word segment correctly and completes the sentence meaningfully. Select the option 'no correction required' if the sentence is correct as given.

It seems that 2003 is off to a good start as, this week, DJs big and small (will provide many a chances as tomfoolery) and monkey business.

- Ans
- A. No correction required
 - B. would provide many the chances as tomfoolery
 - C. will provide many a chance for tomfoolery
 - D. could provide many a chances with tomfoolery

Question ID : 9679471338

Q.18 The sentence below has been divided into three parts. Select the part of the sentence that has an error. If the sentence has no error, select the option 'No Error'.

John and me got busy/ just that afternoon/ when everyone was out.

- Ans
- A. just that afternoon
 - B. No Error
 - C. when everyone was out.
 - D. John and me got busy

Question ID : 9679471334

Q.19 Fill in the blank with the most appropriate choice

But he moves beyond Austin and Searle's _____ distinction between locution, illocution, and perlocution.

- Ans
- A. attrite
 - B. contrite
 - C. tripartite
 - D. dendrite

Question ID : 9679471342

Q.20 Some parts of a sentence have been jumbled up, and labelled P, Q, R and S. Select the option that gives the correct sequence in which these parts can be rearranged to form a meaningful and grammatically correct sentence.

Many arguments from

- P. both the Flood narrative
- Q. establish that the deluge
- R. Scriptural references,
- S. itself, and from later

was indeed universal.

- Ans
- A. PSRQ
 - B. QPRS
 - C. PSQR
 - D. RPQS

Question ID : 9679471348

Section : General English2

Q.1 Four words are given, out of which only one word is spelt correctly. Choose the correctly spelt word.

- Ans
- A. precerous
 - B. precarious
 - C. precerious
 - D. precarious

Question ID : 9679471356

Q.2 Four words are given, out of which only one word is spelt correctly. Choose the correctly spelt word.

- Ans
- A. saiate
 - B. satiate
 - C. sitate
 - D. saitate

Question ID : 9679471358

Q.3 Four words are given, out of which only three words are spelt correctly. Choose the one spelt incorrectly.

- Ans
- A. transeint
 - B. untenable
 - C. torpor
 - D. volatile

Question ID : 9679471359

Q.4 Select the most appropriate 'one word' for the expressions given below

A group of followers hired to applaud at a performance

- Ans A. Crusade
 B. Cynosure
 C. Claque
 D. Creche

Question ID : 9679471365

Q.5 Select the most appropriate 'one word' for the expressions given below

Examples that represent or express something very well

- Ans A. Epigraph
 B. Epitome
 C. Epitaph
 D. Epoch

Question ID : 9679471367

Q.6 Select the word that is opposite in meaning (ANTONYM) to the word given below

iconoclast

- Ans A. cynic
 B. believer
 C. eloquence
 D. critic

Question ID : 9679471353

Q.7 Select the word that is similar in meaning (SYNONYM) to the word given below

magnanimity

- Ans A. disperse
 B. selfish
 C. chivalry
 D. hyperbole

Question ID : 9679471354

Q.8 Select the most appropriate 'one word' for the expressions given below

The arrangement of events or dates in the order of their occurrence

- Ans A. Anthropology
 B. Terminology
 C. Chronology
 D. Ethnology

Question ID : 9679471364

Q.9 Select the most appropriate meaning of the given idiom

Fire and brimstone

- Ans
- A. To become more comfortable in whatever you are doing
 - B. An enjoyable day or circumstance
 - C. A very tasty food or meal
 - D. Referring to hell and how they think people are punished there after death.

Question ID : 9679471362

Q.10 Select the most appropriate meaning of the given idiom

A wolf in sheep's clothing

- Ans
- A. A dangerous person pretending harmless
 - B. Fair and honest
 - C. When you are mistreated the same way you mistreat others
 - D. In the order of; on the authority of

Question ID : 9679471360

Q.11 Four words are given, out of which only three words are spelt correctly. Choose the one spelt incorrectly.

- Ans
- A. fortutous
 - B. mercurial
 - C. indebted
 - D. harangue

Question ID : 9679471355

Q.12 Select the most appropriate meaning of the given idiom

Cut to the chase

- Ans
- A. Leave out all the unnecessary details and just get to the point
 - B. An unbelievable tale, untrue story
 - C. To make someone laugh
 - D. Someone who isn't adequate enough to compete or participate

Question ID : 9679471361

Q.13 Select the most appropriate meaning of the given idiom

Hit below the belt

- Ans
- A. Contrary the principles of fairness
 - B. To force an issue that has already ended
 - C. A person who is always willing to volunteer or do extra work.
 - D. An expression of comfort

Question ID : 9679471363

Q.14 Four words are given, out of which only three words are spelt correctly. Choose the one spelt incorrectly.

- Ans A. presumptious
 B. propriety
 C. salubrious
 D. pragmatic

Question ID : 9679471357

Q.15 Select the most appropriate 'one word' for the expressions given below

Kindness shown to somebody when they are being punished

- Ans A. Caravan
 B. Caucus
 C. Clemency
 D. Cluck

Question ID : 9679471366

Comprehension:

Read the following passage and answer the given questions.

University Entrance Examination is very important in Vietnamese students. High school graduates have to take it and get high results to be admitted to universities. The pressure on the candidates remains very high despite the measures that have been taken to reduce the heat around these exams, since securing a place in a state university is considered a major step towards a successful career for young people, especially those from rural areas or disadvantaged families. In the year 2004, it was estimated that nearly 1 million Vietnamese students took the University Entrance Examination, but on average only 1 out of 5 candidates succeeded. Normally, candidates take 3 exam subjects, and each lasts; 180 minutes for the fixed group of subjects they choose. There are 4 fixed groups of subjects: Group A: Mathematics, Physics, and Chemistry; Group B: Mathematics, Biology, and Chemistry; Group C: Literature, History, and Geography; Group D: Literature, Foreign Language, and Mathematics.

In addition to universities, there are community colleges, art and technology institutes; professional secondary schools, and vocational schools which offer degrees or certificates from a-few-month to 2-year courses.

According to Vietnam's Ministry of Education and Training, there are currently 23 non-public universities, accounting for 11% of the total number of universities. These non-public universities are currently training 119,464 students, or 11.7% of the total number of students. The government is planning to increase the number of non-public universities to 30% by 2007.

SubQuestion No : 16

Q.16 In the year 2004 how many Vietnamese students took the University Entrance Examination?

- Ans A. 5 Million
 B. 3 Million
 C. 1 Million
 D. 2 Million

Question ID : 9679471369

Comprehension:

Read the following passage and answer the given questions.

University Entrance Examination is very important in Vietnamese students. High school graduates have to take it and get high results to be admitted to universities. The pressure on the candidates remains very high despite the measures that have been taken to reduce the heat around these exams, since securing a place in a state university is considered a major step towards a successful career for young people, especially those from rural areas or disadvantaged families. In the year 2004, it was estimated that nearly 1 million Vietnamese students took the University Entrance Examination, but on average only 1 out of 5 candidates succeeded. Normally, candidates take 3 exam subjects, and each lasts; 180 minutes for the fixed group of subjects they choose. There are 4 fixed groups of subjects: Group A: Mathematics, Physics, and Chemistry; Group B: Mathematics, Biology, and Chemistry; Group C: Literature, History, and Geography; Group D: Literature, Foreign Language, and Mathematics.

In addition to universities, there are community colleges, art and technology institutes; professional secondary schools, and vocational schools which offer degrees or certificates from a-few-month to 2-year courses.

According to Vietnam's Ministry of Education and Training, there are currently 23 non-public universities, accounting for 11% of the total number of universities. These non-public universities are currently training 119,464 students, or 11.7% of the total number of students. The government is planning to increase the number of non-public universities to 30% by 2007.

SubQuestion No : 17

Q.17 According to the passage, out of all the students who take the University Entrance Examination how many succeed?

- Ans
- A. 0.15
 - B. 0.25
 - C. 0.2
 - D. 0.1

Question ID : 9679471371

Comprehension:

Read the following passage and answer the given questions.

University Entrance Examination is very important in Vietnamese students. High school graduates have to take it and get high results to be admitted to universities. The pressure on the candidates remains very high despite the measures that have been taken to reduce the heat around these exams, since securing a place in a state university is considered a major step towards a successful career for young people, especially those from rural areas or disadvantaged families. In the year 2004, it was estimated that nearly 1 million Vietnamese students took the University Entrance Examination, but on average only 1 out of 5 candidates succeeded. Normally, candidates take 3 exam subjects, and each lasts; 180 minutes for the fixed group of subjects they choose. There are 4 fixed groups of subjects: Group A: Mathematics, Physics, and Chemistry; Group B: Mathematics, Biology, and Chemistry; Group C: Literature, History, and Geography; Group D: Literature, Foreign Language, and Mathematics.

In addition to universities, there are community colleges, art and technology institutes; professional secondary schools, and vocational schools which offer degrees or certificates from a-few-month to 2-year courses.

According to Vietnam's Ministry of Education and Training, there are currently 23 non-public universities, accounting for 11% of the total number of universities. These non-public universities are currently training 119,464 students, or 11.7% of the total number of students. The government is planning to increase the number of non-public universities to 30% by 2007.

SubQuestion No : 18

Q.18 According to the passage, which of the following option is incorrect? Choose one option.

- Ans** A. One is eligible for University Entrance Examination after graduating high school
- B. In University Entrance Examination every student gets to choose from a classification of 3 fixed groups of subjects.
- C. There are currently 23 non-public universities in Vietnam.
- D. University Entrance Examination puts a lot of pressure on the high school students appearing for it.

Question ID : 9679471372

Comprehension:

Read the following passage and answer the given questions.

University Entrance Examination is very important in Vietnamese students. High school graduates have to take it and get high results to be admitted to universities. The pressure on the candidates remains very high despite the measures that have been taken to reduce the heat around these exams, since securing a place in a state university is considered a major step towards a successful career for young people, especially those from rural areas or disadvantaged families. In the year 2004, it was estimated that nearly 1 million Vietnamese students took the University Entrance Examination, but on average only 1 out of 5 candidates succeeded. Normally, candidates take 3 exam subjects, and each lasts; 180 minutes for the fixed group of subjects they choose. There are 4 fixed groups of subjects: Group A: Mathematics, Physics, and Chemistry; Group B: Mathematics, Biology, and Chemistry; Group C: Literature, History, and Geography; Group D: Literature, Foreign Language, and Mathematics.

In addition to universities, there are community colleges, art and technology institutes; professional secondary schools, and vocational schools which offer degrees or certificates from a-few-month to 2-year courses.

According to Vietnam's Ministry of Education and Training, there are currently 23 non-public universities, accounting for 11% of the total number of universities. These non-public universities are currently training 119,464 students, or 11.7% of the total number of students. The government is planning to increase the number of non-public universities to 30% by 2007.

SubQuestion No : 19

Q.19 According to the 4 fixed groups of subjects, which of the following mentioned subject is not in any classified group?

- Ans A. Literature
 B. English
 C. History
 D. Maths

Question ID : 9679471373

Comprehension:

Read the following passage and answer the given questions.

University Entrance Examination is very important in Vietnamese students. High school graduates have to take it and get high results to be admitted to universities. The pressure on the candidates remains very high despite the measures that have been taken to reduce the heat around these exams, since securing a place in a state university is considered a major step towards a successful career for young people, especially those from rural areas or disadvantaged families. In the year 2004, it was estimated that nearly 1 million Vietnamese students took the University Entrance Examination, but on average only 1 out of 5 candidates succeeded. Normally, candidates take 3 exam subjects, and each lasts; 180 minutes for the fixed group of subjects they choose. There are 4 fixed groups of subjects: Group A: Mathematics, Physics, and Chemistry; Group B: Mathematics, Biology, and Chemistry; Group C: Literature, History, and Geography; Group D: Literature, Foreign Language, and Mathematics.

In addition to universities, there are community colleges, art and technology institutes; professional secondary schools, and vocational schools which offer degrees or certificates from a-few-month to 2-year courses.

According to Vietnam's Ministry of Education and Training, there are currently 23 non-public universities, accounting for 11% of the total number of universities. These non-public universities are currently training 119,464 students, or 11.7% of the total number of students. The government is planning to increase the number of non-public universities to 30% by 2007.

SubQuestion No : 20

Q.20 What is the minimum exam subjects one has to take in the University Entrance Examination?

- Ans A. 2
 B. 3
 C. 5
 D. 4

Question ID : 9679471370

Section : General Hindi1

Q.1 निम्नलिखित प्रश्न में, चार विकल्पों में से, उस सही विकल्प का चयन करें जो रिक्त स्थान के लिए उपयुक्त शब्द का सही विकल्प है।

संस्कृति शब्द ___ से बना है।

- Ans A. सामीप्य
 B. सम
 C. संस्कार
 D. संत

Question ID : 9679471385

Q.2 निम्नलिखित प्रश्न में, चार विकल्पों में से, उस विकल्प का चयन करें जो दिए गए वाक्य के प्रकार के भेद का सही विकल्प है।

जो तुम्हारा नया मित्र है, मैं उसे जानता हूँ।

- Ans A. सरल वाक्य
 B. मिश्र वाक्य
 C. संयुक्त वाक्य
 D. संदेहवाचक वाक्य

Question ID : 9679471393

Q.3 निम्नलिखित प्रश्न में, चार विकल्पों में से, उस विकल्प का चयन करें जो दिए गए शब्द का सही पर्यायवाची शब्द है।

तरी

- Ans A. विमल
 B. शरीर
 C. अलंकार
 D. जलयान

Question ID : 9679471391

Q.4 निम्नलिखित प्रश्न में, चार विकल्पों में से, उस विकल्प का चयन करें जो दिए गए शब्द का सही विलोम शब्द है।

अंतिम

- Ans A. प्रारंभिक
 B. मुक्त
 C. ध्वंस
 D. गौण

Question ID : 9679471390

Q.5 निम्नलिखित प्रश्न में, चार विकल्पों में से, उस विकल्प का चयन करें जो दिए गए वाक्य के प्रकार के भेद का सही विकल्प है।

वाह! तुम बहुत अच्छा खेले।

- Ans
- A. निषेधवाचक
 - B. विधानवाचक
 - C. विस्मयाधिवाचक
 - D. संकेतवाचक

Question ID : 9679471392

Q.6 निम्नलिखित प्रश्न में, चार विकल्पों में से, उस विकल्प का चयन करें जो शब्द का शुद्ध रूप का सही विकल्प है।

- Ans
- A. अनिवार्य
 - B. निरलिप
 - C. स्वछंदता
 - D. अकुस्ट

Question ID : 9679471387

Q.7 निम्नलिखित प्रश्न में, चार विकल्पों में से, उस विकल्प का चयन करें जो देशज शब्द का सही विकल्प हो।

- Ans
- A. इस्तीफा
 - B. एहसान
 - C. अमीर
 - D. ठर्रा

Question ID : 9679471379

Q.8 निम्नलिखित प्रश्न में, चार विकल्पों में से, उस विकल्प का चयन करें जो दिए गए शब्द युग्म के सही अर्थ का विकल्प हो।

भित्ति - भीती

- Ans
- A. दीवार, डर
 - B. सलाह, शिकारी
 - C. ताज, डर
 - D. सुई, सारणी

Question ID : 9679471383

Q.9 निम्नलिखित प्रश्न में, चार विकल्पों में से, उस विकल्प का चयन करें जो दिए गए शब्द युग्म के सही अर्थ का विकल्प हो।

व्यंजन - व्यजन

- Ans
- A. समूह, पर
 - B. पकवान, पंखा
 - C. राग, दल
 - D. पकवान, गाना बजाना

Question ID : 9679471382

Q.10 निम्नलिखित प्रश्न में, चार विकल्पों में से, उस विकल्प का चयन करें जो दिए गए शब्द के सही संधि विच्छेद का विकल्प है।

भिन्न

- Ans A. भिद + न
 B. भीत + न्न
 C. भी + न्न
 D. भित + न्न

Question ID : 9679471375

Q.11 निम्नलिखित प्रश्न में, चार विकल्पों में से, उस सही विकल्प का चयन करें जो रिक्त स्थान के लिए उपयुक्त शब्द का सही विकल्प है।

विद्यालय एक _____ होता है।

- Ans A. शिक्षा
 B. संघ
 C. परिवार
 D. स्थान

Question ID : 9679471384

Q.12 निम्नलिखित प्रश्न में, चार विकल्पों में से, उस विकल्प का चयन करें जो प्रत्यय से बने शब्द का सही विकल्प हो।

- Ans A. अनबन
 B. उनचालीस
 C. चौरंग
 D. जापानी

Question ID : 9679471378

Q.13 निम्नलिखित प्रश्न में, चार विकल्पों में से, उस विकल्प का चयन करें जो शब्द का शुद्ध रूप का सही विकल्प है।

- Ans A. कूष्मांडा
 B. अनुछेद
 C. वक्कीगत
 D. प्राथना

Question ID : 9679471386

Q.14 निम्नलिखित प्रश्न में, चार विकल्पों में से, उस विकल्प का चयन करें जो दिए गए वाक्यांशों के लिए एक शब्द का सही विकल्प है।

जिसका भाषा द्वारा वर्णन असंभव हो –

- Ans A. अवर्णनीय
 B. अतुलनीय
 C. अनिर्वचनीय
 D. अकल्पनीय

Question ID : 9679471388

Q.15 निम्नलिखित प्रश्न में, चार विकल्पों में से, उस विकल्प का चयन करें जो दिए गए सही संधि विच्छेद की संधि का सही विकल्प है।

अच् + अंत

- Ans A. अचंत
 B. अत्यंत
 C. अचिन्त्य
 D. अजन्त

Question ID : 9679471374

Q.16 निम्नलिखित प्रश्न में, चार विकल्पों में से, उस विकल्प का चयन करें जो दिए गए शब्द के लिए सही द्विगु समास के विग्रह का विकल्प हो।

सतसई -

- Ans A. सात साधुओं का मेल
 B. सात दोहों का मेल
 C. सात दोहों का समूह
 D. सात सौ दोहों का समाहार

Question ID : 9679471376

Q.17 निम्नलिखित प्रश्न में, चार विकल्पों में से, उस विकल्प का चयन करें जो उपसर्ग से बने शब्द का सही विकल्प हो।

- Ans A. बंगाली
 B. गायक
 C. औगढ़
 D. रंगीन

Question ID : 9679471377

Q.18 निम्नलिखित प्रश्न में, चार विकल्पों में से, उस विकल्प का चयन करें जो रीतिवाचक क्रियाविशेषण का सही विकल्प हो।

- Ans A. इस चिलचिलाती धूप में घर से निकलना मुश्किल है।
 B. यह सचमुच ही बेहद कठोर है।
 C. वह आदमी व्यवहार से कुशल है।
 D. एक मीटर कपड़ा चाहिए।

Question ID : 9679471381

Q.19 निम्नलिखित प्रश्न में, चार विकल्पों में से, उस विकल्प का चयन करें जो दिए गए वाक्यांशों के लिए एक शब्द का सही विकल्प है।

जिसके हस्ताक्षर नीचे अंकित है—

- Ans A. अध्यादेश
 B. अधोहस्ताक्षरकर्ता
 C. हस्ताक्षरकर्ता
 D. अधिहस्ताक्षरकर्ता

Question ID : 9679471389

Q.20 निम्नलिखित प्रश्न में, चार विकल्पों में से, उस विकल्प का चयन करें जो देशज शब्द का सही विकल्प हो।

- Ans A. कुर्सी
 B. औरत
 C. नहर
 D. कपास

Question ID : 9679471380

Section : General Hindi2

Q.1 निम्नलिखित प्रश्न में, चार विकल्पों में से, उस विकल्प का चयन करें जो दी गई मुहावरे का सही अर्थ वाला विकल्प है।

चांदी का जूता -

- Ans A. धोखा देना
 B. काम निकलना
 C. दोष देना
 D. घूस या रिश्त

Question ID : 9679471408

Q.2 निम्नलिखित प्रश्न में, चार विकल्पों में से, उस विकल्प का चयन करें जो दिए गए लोकोक्ति का सही अर्थ वाला विकल्प है।

जीभ भी जली और स्वाद भी न पाया

- Ans A. धुन सवार होना
 B. बदनामी भी हुई और लाभ भी नहीं मिला
 C. लोभ आकर्षण की बातें करना
 D. चुगली करना

Question ID : 9679471404

Q.3 निम्नलिखित प्रश्न में, चार विकल्पों में से, उस विकल्प का चयन करें जो दिए गए लोकोक्ति का सही अर्थ वाला विकल्प है।

दाल-भात में मूसलचंद -

- Ans A. बलवान से बैर नहीं करना चाहिए
 B. व्यर्थ टाँग अड़ाने वाला
 C. काम तो आता न हो, दूसरों में दोष निकालना
 D. अपराधी निरपराध पर दोष लगाए

Question ID : 9679471405

Q.4 निम्नलिखित प्रश्न में, चार विकल्पों में से, उस विकल्प का चयन करें जो दी गई मुहावरे का सही अर्थ वाला विकल्प है।

घिग्घी बन्ध जाना -

- Ans A. दूर होना
 B. बलिदान देना
 C. डर के कारण आवाज़ न निकलना
 D. कष्ट सहते हुए मरना

Question ID : 9679471407

Q.5 निम्नलिखित प्रश्न में, चार विकल्पों में से, उस विकल्प का चयन करें जो शुद्ध वाक्य का सही विकल्प है।

- Ans A. प्रत्येक मनुष्य स्वप्न का देखता है।
 B. प्रत्येक मनुष्य स्वप्न को देखता है।
 C. प्रत्येक मनुष्य स्वप्न में देखता है।
 D. प्रत्येक मनुष्य स्वप्न देखता है।

Question ID : 9679471397

Q.6 निम्नलिखित प्रश्न में, चार विकल्पों में से, उस विकल्प का चयन करें जो विराम चिह्न युक्त वाक्य का सही विकल्प है।

- Ans A. क्या करता क्या न करता, कुछ भी समझ में नहीं आ रहा था।
 B. क्या करता, क्या न करता, कुछ भी समझ में नहीं आ रहा था।
 C. क्या करता, क्या न करता, कुछ भी समझ में नहीं आ रहा था।
 D. क्या करता; क्या न करता; कुछ भी समझ में नहीं आ रहा था।

Question ID : 9679471401

Q.7 निम्नलिखित प्रश्न में, चार विकल्पों में से, उस विकल्प का चयन करें जो दिए गए वाक्य के काल के भेद का सही विकल्प है।

संभव खाना खा चुका था।

- Ans A. सामान्य भविष्यत् काल
 B. अपूर्ण भूतकाल
 C. अपूर्ण वर्तमानकाल
 D. पूर्ण भूतकाल

Question ID : 9679471395

Q.8 निम्नलिखित प्रश्न में, चार विकल्पों में से, उस विकल्प का चयन करें जो दिए गए वाक्य के वृत्ति के भेद का सही विकल्प है।

सुरेश क्रिकेट खेल रहा है।

- Ans A. निश्चयार्थबोधक
 B. संदेहार्थ
 C. संकेतार्थ
 D. विध्यर्थ

Question ID : 9679471396

Q.9 निम्नलिखित प्रश्न में, चार विकल्पों में से, उस विकल्प का चयन करें जो दिए गए वाक्य के पक्ष के भेद का सही विकल्प है।

राम दिनभर खेलता रहता था, तभी परीक्षा में फ़ैल हुआ।

- Ans A. सातप्यबोधक
 B. आरंभद्योतक
 C. पूर्णताद्योतक
 D. अभ्यासद्योतक

Question ID : 9679471399

Q.10 निम्नलिखित प्रश्न में, चार विकल्पों में से, उस विकल्प का चयन करें जो विराम चिह्न युक्त वाक्य का सही विकल्प है।

- Ans A. मैं कौन हूँ, कहाँ जा रहा हूँ, किससे मिलता हूँ, इससे आपको क्या मतलब
 B. मैं कौन हूँ, कहाँ जा रहा हूँ, किससे मिलता हूँ, इससे आपको क्या मतलब?
 C. मैं कौन हूँ कहाँ जा रहा हूँ, किससे मिलता हूँ, इससे आपको क्या मतलब?
 D. मैं कौन हूँ :कहाँ जा रहा हूँ,किससे मिलता हूँ, इससे आपको क्या मतलब?

Question ID : 9679471402

Q.11 निम्नलिखित प्रश्न में, चार विकल्पों में से, उस विकल्प का चयन करें जो दिए गए वाक्य के काल के भेद का सही विकल्प है।

शायद कल दादाजी आयें।

- Ans A. संदिग्ध वर्तमान काल
 B. अपूर्ण भूतकाल
 C. संभाव्य भविष्यत् काल
 D. अपूर्ण वर्तमानकाल

Question ID : 9679471394

Q.12 निम्नलिखित प्रश्न में, चार विकल्पों में से, उस विकल्प का चयन करें जो दी गई मुहावरे का सही अर्थ वाला विकल्प है।

घास खोदना -

- Ans A. मूर्ख बनाना
 B. चुगली करना
 C. भेद खुलना
 D. तुच्छ काम करना

Question ID : 9679471406

Q.13 निम्नलिखित प्रश्न में, चार विकल्पों में से, उस विकल्प का चयन करें जो विराम चिह्न युक्त वाक्य का सही विकल्प है।

- Ans A. कैसा न्याय? महाराज ने चौककर पूछा- "आखिर बात क्या है?"
 B. कैसा न्याय? महाराज ने चौककर पूछा- "आखिर बात क्या है"
 C. "कैसा न्याय?" महाराज ने चौककर पूछा- "आखिर बात क्या है?"
 D. कैसा न्याय? महाराज ने चौककर पूछा- आखिर बात क्या है?"

Question ID : 9679471400

Q.14 निम्नलिखित प्रश्न में, चार विकल्पों में से, उस विकल्प का चयन करें जो दिए गए लोकोक्ति का सही अर्थ वाला विकल्प है।

ढाक के वही तीन पात :

- Ans A. एक समान रहना
 B. स्तब्ध रह जाना
 C. पक्की बात
 D. प्रभाव जमाना

Question ID : 9679471403

Q.15 निम्नलिखित प्रश्न में, चार विकल्पों में से, उस विकल्प का चयन करें जो दिए गए वाक्य के पक्ष के भेद का सही विकल्प है।

सचिन दौड़ चुका है।

- Ans A. आवृत्तिमूलक
 B. अभ्यासद्योतक
 C. पूर्णताद्योतक
 D. प्रगति द्योतक

Question ID : 9679471398

Comprehension:

निम्नलिखित गद्यांश को पढ़िए और दिए गए प्रश्नों के उत्तर दीजिए।

मैं हैरान था कि यही दुबली-पतली गंगा, यही यमुना, यही सतलुज समतल मैदानों में उतरकर विशाल कैसे हो जाती हैं! इनका उछलना और कूदना, खिलखिलाकर लगातार हँसते जाना, इनकी यह भाव-भंगी, इनका यह उल्लास कहाँ गायब हो जाता है मैदान में जाकर? किसी लड़की को जब मैं देखता हूँ, किसी कली पर जब मेरा ध्यान अटक जाता है, तब भी इतना कौतूहल और विस्मय नहीं होता, जितना कि इन बेटियों की बाललीला देखकर! खेलते-खेलते जब ये जरा दूर निकल जाती हैं तो देवदार, चीड़, सरो, चिनार, सफेदा, कैल के जंगलों में पहुँचकर शायद इन्हें बीती बातें याद करने का मौका मिल जाता होगा। कौन जाने, बुढ़ा हिमालय अपनी इन नटखट बेटियों के लिए कितना सिर धुनता होगा! बड़ी-बड़ी चोटियों से जाकर पूछिए तो उत्तर में विराट मौन के सिवाय उनके पास और रखा ही क्या है?

SubQuestion No : 16

Q.16 अनुच्छेद के अनुसार लेखक हैरान क्यों था?

- Ans A. पहाड़ों को देख कर
 B. नदियों का शांत रूप देख कर
 C. नदियों का मैदान में आते ही विशाल रूप देखकर
 D. विभिन्न वृक्षों को देखकर

Question ID : 9679471410

Comprehension:

निम्नलिखित गद्यांश को पढ़िए और दिए गए प्रश्नों के उत्तर दीजिए।

मैं हैरान था कि यही दुबली-पतली गंगा, यही यमुना, यही सतलुज समतल मैदानों में उतरकर विशाल कैसे हो जाती हैं! इनका उछलना और कूदना, खिलखिलाकर लगातार हँसते जाना, इनकी यह भाव-भंगी, इनका यह उल्लास कहाँ गायब हो जाता है मैदान में जाकर? किसी लड़की को जब मैं देखता हूँ, किसी कली पर जब मेरा ध्यान अटक जाता है, तब भी इतना कौतूहल और विस्मय नहीं होता, जितना कि इन बेटियों की बाललीला देखकर! खेलते-खेलते जब ये जरा दूर निकल जाती हैं तो देवदार, चीड़, सरो, चिनार, सफेदा, कैल के जंगलों में पहुँचकर शायद इन्हें बीती बातें याद करने का मौका मिल जाता होगा। कौन जाने, बुड़ा हिमालय अपनी इन नटखट बेटियों के लिए कितना सिर धुनता होगा! बड़ी-बड़ी चोटियों से जाकर पूछिए तो उत्तर में विराट मौन के सिवाय उनके पास और रखा ही क्या है?

SubQuestion No : 17

Q.17 अनुच्छेद में बेटियाँ किसे कहा गया है?

- Ans
- A. बच्चों को
 - B. पेड़ पौधों को
 - C. हिमालय को
 - D. नदियों को

Question ID : 9679471411

Comprehension:

निम्नलिखित गद्यांश को पढ़िए और दिए गए प्रश्नों के उत्तर दीजिए।

मैं हैरान था कि यही दुबली-पतली गंगा, यही यमुना, यही सतलुज समतल मैदानों में उतरकर विशाल कैसे हो जाती हैं! इनका उछलना और कूदना, खिलखिलाकर लगातार हँसते जाना, इनकी यह भाव-भंगी, इनका यह उल्लास कहाँ गायब हो जाता है मैदान में जाकर? किसी लड़की को जब मैं देखता हूँ, किसी कली पर जब मेरा ध्यान अटक जाता है, तब भी इतना कौतूहल और विस्मय नहीं होता, जितना कि इन बेटियों की बाललीला देखकर! खेलते-खेलते जब ये जरा दूर निकल जाती हैं तो देवदार, चीड़, सरो, चिनार, सफेदा, कैल के जंगलों में पहुँचकर शायद इन्हें बीती बातें याद करने का मौका मिल जाता होगा। कौन जाने, बुड़ा हिमालय अपनी इन नटखट बेटियों के लिए कितना सिर धुनता होगा! बड़ी-बड़ी चोटियों से जाकर पूछिए तो उत्तर में विराट मौन के सिवाय उनके पास और रखा ही क्या है?

SubQuestion No : 18

Q.18 लेखक को कौतूहल और विस्मय सा कब प्रतीत होता है?

- Ans
- A. छोटे बच्चों को देख कर
 - B. कलियों को देख कर
 - C. नदियों की बाल लीला देख कर
 - D. प्रकृति को देखकर

Question ID : 9679471412

Comprehension:

निम्नलिखित गद्यांश को पढ़िए और दिए गए प्रश्नों के उत्तर दीजिए।

मैं हैरान था कि यही दुबली-पतली गंगा, यही यमुना, यही सतलुज समतल मैदानों में उतरकर विशाल कैसे हो जाती हैं! इनका उछलना और कूदना, खिलखिलाकर लगातार हँसते जाना, इनकी यह भाव-भंगी, इनका यह उल्लास कहाँ गायब हो जाता है मैदान में जाकर? किसी लड़की को जब मैं देखता हूँ, किसी कली पर जब मेरा ध्यान अटक जाता है, तब भी इतना कौतूहल और विस्मय नहीं होता, जितना कि इन बेटियों की बाललीला देखकर! खेलते-खेलते जब ये जरा दूर निकल जाती हैं तो देवदार, चीड़, सरो, चिनार, सफेदा, कैल के जंगलों में पहुँचकर शायद इन्हें बीती बातें याद करने का मौका मिल जाता होगा। कौन जाने, बुड़ा हिमालय अपनी इन नटखट बेटियों के लिए कितना सिर धुनता होगा! बड़ी-बड़ी चोटियों से जाकर पूछिए तो उत्तर में विराट मौन के सिवाय उनके पास और रखा ही क्या है?

SubQuestion No : 19

Q.19 इन में से कौन सा विस्मय का पर्ययाची नहीं है।

- Ans A. आश्चर्य
 B. अचम्भा
 C. ताजुब
 D. घटना

Question ID : 9679471413

Comprehension:

निम्नलिखित गद्यांश को पढ़िए और दिए गए प्रश्नों के उत्तर दीजिए।

मैं हैरान था कि यही दुबली-पतली गंगा, यही यमुना, यही सतलुज समतल मैदानों में उतरकर विशाल कैसे हो जाती हैं! इनका उछलना और कूदना, खिलखिलाकर लगातार हँसते जाना, इनकी यह भाव-भंगी, इनका यह उल्लास कहाँ गायब हो जाता है मैदान में जाकर? किसी लड़की को जब मैं देखता हूँ, किसी कली पर जब मेरा ध्यान अटक जाता है, तब भी इतना कौतूहल और विस्मय नहीं होता, जितना कि इन बेटियों की बाललीला देखकर! खेलते-खेलते जब ये जरा दूर निकल जाती हैं तो देवदार, चीड़, सरो, चिनार, सफेदा, कैल के जंगलों में पहुँचकर शायद इन्हें बीती बातें याद करने का मौका मिल जाता होगा। कौन जाने, बुड़ा हिमालय अपनी इन नटखट बेटियों के लिए कितना सिर धुनता होगा! बड़ी-बड़ी चोटियों से जाकर पूछिए तो उत्तर में विराट मौन के सिवाय उनके पास और रखा ही क्या है?

SubQuestion No : 20

Q.20 कौन अपनी नटखट बेटियों के लिए सिर धुनता रहता है?

- Ans A. बड़ी बड़ी चोटियाँ
 B. हिमालय
 C. देवदार
 D. चीड़

Question ID : 9679471414



GOVT. OF NCT OF DELHI
Delhi Subordinate Services Selection Board
FC-18, Institutional Area, Karkardooma, Delhi – 110092.
www.dsssbdelhigovt.nic.in

Participant ID	
Participant Name	
Test Center Name	East Delhi Assessment Zone
Test Date	25/11/2021
Test Time	8:30 AM - 10:30 AM
Subject	Fee Collector Sub Inspector Auction Recorder

Section : General Ability1

Q.1 Out of the given options, three are similar in a certain manner. However, one option is NOT like the other three. Select the option which is different from the rest.

- Ans
- A. Sputnik
 - B. Delta Plus
 - C. Covaxin
 - D. Covishield

Question ID : 9679471012

Q.2 Out of the four options choose the word which has the same relationship as the following:
Aadhar, PAN, Voter ID

- Ans
- A. Driving License
 - B. Food Bill
 - C. Medicine Bill
 - D. Amazon Voucher

Question ID : 9679471020

Q.3 Out of the four options choose the word which has the same relationship as the following:
Sun Pharma, Dr Reddy, Pfizer

- Ans
- A. ITC
 - B. Palmolive
 - C. Unilever
 - D. Cipla

Question ID : 9679471019

Q.4 Out of the given options, three are similar in a certain manner. However, one option is NOT like the other three. Select the option which is different from the rest.

- Ans
- A. 2782
 - B. 2881
 - C. 6852
 - D. 3983

Question ID : 9679471017

Q.5 If 'TOIL' is coded as '7-12-18-15', then how will you code 'HARDWARE'?

- Ans A. 19-23-9-23-4-22-9-27
 B. 19-26-9-23-4-22-9-26
 C. 19-26-11-23-4-22-7-26
 D. 19-26-9-23-4-26-9-22

Question ID : 9679471024

Q.6 Select the option that is related to the third term on the same basis as the second term is related to the first term.
Furniture : Wood :: Bridge : ?

- Ans A. Screw
 B. Iron
 C. Aluminium
 D. Ore

Question ID : 9679471015

Q.7 The word 'TRANSLATIONS' is coded as 'NARTSLTASNOI' in a certain code language. How is 'ABBREVIATION' coded in the same code language?

- Ans A. RBBANOITEVAI
 B. RBBAEVIATION
 C. RBBAEVAINOIT
 D. RBBAEVNOITAI

Question ID : 9679471026

Q.8 दिए गए विकल्पों में से, तीन एक निश्चित तरीके से समान हैं। हालाँकि, एक विकल्प अन्य तीन की तरह नहीं है।
उस विकल्प का चयन करें जो अन्य से अलग है।

- Ans A. गोवा : गोअन
 B. केरला : मलयालम
 C. तेलंगाना : तेलुगू
 D. महाराष्ट्र : मराठी

Question ID : 9679471018

Q.9 Find the missing letter in the series:
A,C, G, M, U, ____

- Ans A. E
 B. Y
 C. Z
 D. V

Question ID : 9679471014

Q.10 Out of the given options, three are similar in a certain manner. However, one option is NOT like the other three. Select the option which is different from the rest.

- Ans A. OQSU
 B. XZAC
 C. HJLN
 D. ACEG

Question ID : 9679471016

Q.11 In a certain code language, '256' means 'Don't give up', '469' means 'Don't surrender easily' and '732' means 'Give your best'. Which of the following is the code for 'up'?

- Ans A. 5
 B. 2
 C. 7
 D. 6

Question ID : 9679471025

Q.12 In a certain code language, 'SAFETY' is written as 'TBGFUZ'. How would 'GENTLE' be written in that same code language?

- Ans A. HFVOMF
 B. HFMVOF
 C. HFMUNF
 D. HFOUMF

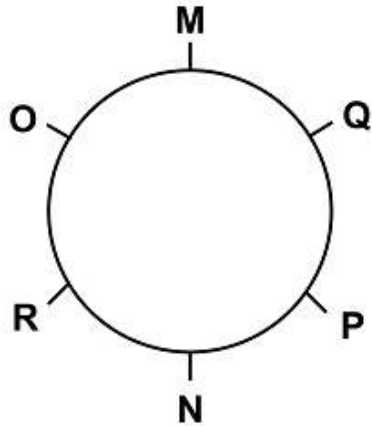
Question ID : 9679471023

Q.13 Nida, Karim, Abdul, Syed are different persons. Syed is the father of Karim. Nida is the daughter of Abdul and Abdul is the son of Syed. If Mahir is the son of Abdul and Armaan is the brother of Mahir, then:

- Ans A. Syed is the uncle of Armaan
 B. Armaan and Abdul are brothers
 C. Nida is the sister of Armaan
 D. Karim and Nida are siblings

Question ID : 9679471029

Q.14 M, N, O, P, Q, R are six friends who are sitting in a circle facing the centre. M and N are facing each other and so is O and P. Q sits at the immediate left of M. R is at the immediate right of O. Who amongst the following is sitting to the left of N?



- Ans
- A. P
 - B. R
 - C. O
 - D. Q

Question ID : 9679471028

Q.15 Introducing Shaleni, Shanaya said, "She is the only daughter of my father's only daughter". How is Shanaya related to Shaleni?

- Ans
- A. Father's sister's daughter
 - B. Mother
 - C. Mother's Sister
 - D. Mother's mother

Question ID : 9679471027

Q.16 Arrange the following in logical order:
Joining, HR interview, Technical interview, Offer Letter, Managerial interview, Application.

- Ans
- A. Application, Technical interview, Managerial interview, HR interview, Offer letter, Joining
 - B. Application, Managerial interview, Offer Letter, Technical interview, HR interview, Joining
 - C. Application, Joining, HR interview, Technical interview, Managerial interview, Offer letter
 - D. Managerial interview, Technical interview, Application, HR interview, Offer letter, Joining

Question ID : 9679471013

Q.17 Arrange the following words in logical order:
stomach, mouth, food pipe, large intestine, small intestine

- Ans
- A. mouth, stomach, food pipe, small intestine, large intestine
 - B. mouth, food pipe, stomach, large intestine, small intestine
 - C. mouth, food pipe, small intestine, stomach, large intestine
 - D. mouth, food pipe, stomach, small intestine, large intestine

Question ID : 9679471011

Q.18 Eight friends, A, B, C, D, E, F, G, H, are sitting around a circular table:

A is sitting to the immediate left of B

C is sitting opposite of B

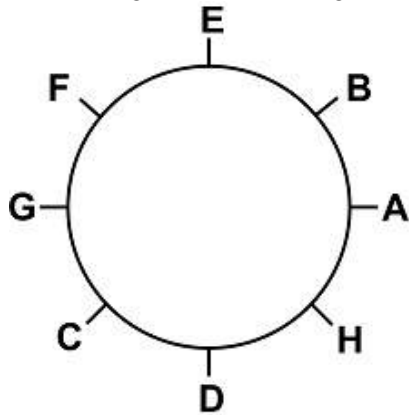
D is sitting to the immediate right of C

E is sitting to the immediate right of B

F cannot sit adjacent to A or C

G wants to sit away from A

Who is sitting to the immediate right of D?



- Ans
- A. G
 - B. F
 - C. H
 - D. A

Question ID : 9679471030

Q.19 Out of the four options choose the word which has the same relationship as the following:

WINDOWS, LINUX, UNIX, ____

- Ans
- A. macOS
 - B. ANDROID OS
 - C. iOS
 - D. BLACKBERRY OS

Question ID : 9679471022

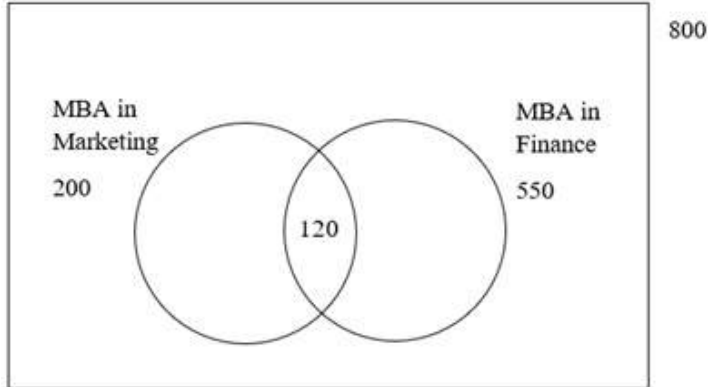
Q.20 Select the option that is related to the third term on the same basis as the second term is related to the first term.

BHARATNATYAM : EIBSBUOBUZBP :: KATHAK : ?

- Ans
- A. LBBUIN
 - B. LBUIBL
 - C. NBUIBL
 - D. NBUIBN

Question ID : 9679471021

Q.1 For the batch of 2021 in an MBA College, 800 candidates were admitted. Of the total candidates, some opted for MBA in Finance, some for MBA in Marketing, few for dual course in Finance & Marketing and remaining opted for Human Resources. From the figure given below find out how many opted for MBA in Human Resources?



- Ans A. 50
 B. 170
 C. 250
 D. 480

Question ID : 9679471041

Q.2 Find the missing number from the series:
0, 3, 8, 15, _____, 35

- Ans A. 26
 B. 22
 C. 28
 D. 24

Question ID : 9679471037

Q.3 Find the missing number from the series:
 $1/1.1$, $1/1.21$, $1/1.331$, $1/1.4641$, _____

- Ans A. $1/1.8757$
 B. $1/1.61051$
 C. $1/1.771561$
 D. $1/1.5689$

Question ID : 9679471036

Q.4 नीचे एक कथन और दो निष्कर्ष दिए गए हैं जो कथन से अनुसरण कर सकते हैं या नहीं भी कर सकते हैं। सही विकल्प का चयन करें:

कथन : देश में तीन तलाक के उदाहरण असामान्य नहीं हैं।

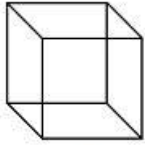
निष्कर्ष 1 : तीन तलाक के खिलाफ सख्त कानूनों के बावजूद देश में ऐसा हो रहा है।

निष्कर्ष 2 : तीन तलाक के लिए दी गई सजा इसे रोकने के लिए पर्याप्त नहीं है।

- Ans
- A. कोई भी निष्कर्ष अनुसरण नहीं करता है
 - B. केवल निष्कर्ष 1 अनुसरण करता है
 - C. केवल निष्कर्ष 2 अनुसरण करता है
 - D. दोनों निष्कर्ष अनुसरण करते हैं

Question ID : 9679471031

Q.5 Out of the given options, three are similar in a certain manner. However, one option is NOT like the other three. Select the option which is different from the rest.



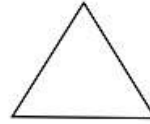
1



2



3



4

- Ans
- A. 3
 - B. 2
 - C. 4
 - D. 1

Question ID : 9679471046

Q.6 Which one is the correct water image of the word EXPERT?

EXPERT

Ans

A.

EXƆEƆT

B.

ƆEXƆEƆT

C.

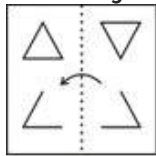
EXƆEƆT

D.

EXƆEƆT

Question ID : 9679471047

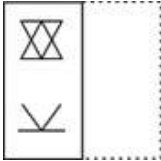
Q.7 A figure marked as a transparent sheet (X) is given and followed by four answer figures. One out of these four options resembles the figure which is obtained by folding transparent sheet along the dotted line. Find the answer from these figures:



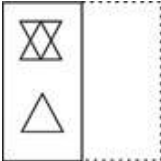
X

Ans

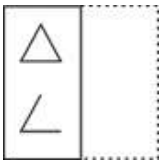
A.



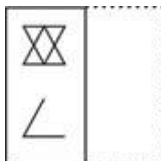
B.



C.

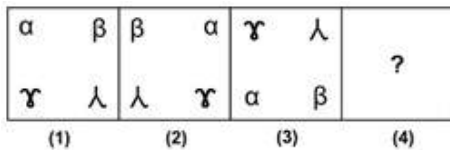


D.




Question ID : 9679471049

Q.8 The figure series given below follows a sequence. Choose the correct option from the list of answer figures, which should come after at the right of the problem figures, if the sequence were to be continued:

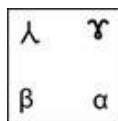


Ans

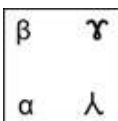
A.



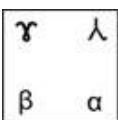
B.



C.

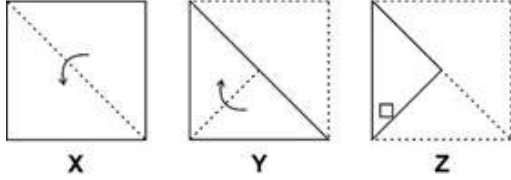


D.



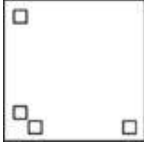
Question ID : 9679471044

Q.9 A set of three figures X,Y, Z have been given, showing a sequence in which the paper is folded and finally cut from a particular section. Below these figures a set of answer figures showing the design which the paper actually acquires when it is unfolded are also given. You need to select the answer figure which is closest to the unfolded piece of paper.

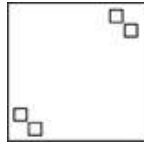


Ans


A.



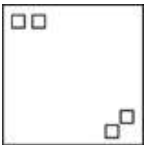
B.



C.



D.



Question ID : 9679471048

Q.10 The figure series given below follows a sequence. Choose the correct option from the list of answer figures, which should come after at the right of the problem figures, if the sequence were to be continued:

AP	BQ	BQ	AP	QA	PB	PB	QA	BQ	AP	?
----	----	----	----	----	----	----	----	----	----	---

Ans

A.

QA PB

B.

AP BQ

C.

QA BP

D.

AP QB

Question ID : 9679471045

Q.11 Below is given a statement and two assumptions that may or may not be implicit in the statement. Select the correct choice:

Statement : Gender discrimination can be eliminated by the actions of the government and society.

Assumption 1 : Gender Discrimination is a man made phenomenon.

Assumption 2 : No person will voluntarily allow a woman to succeed in her career.

Ans

A. Only assumption 1 is implicit

B. None of the assumptions are implicit

C. Both assumptions are implicit

D. Only assumption 2 is implicit

Question ID : 9679471033

Q.12 Find the wrong number from the series:
7, 77, 567, 3990, 28007, 196077

Ans

A. 567

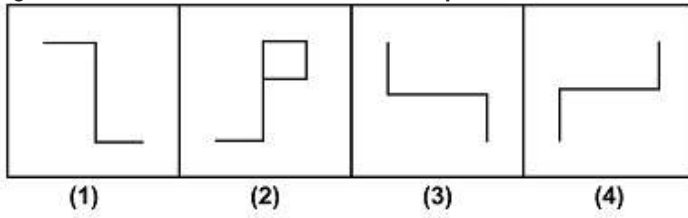
B. 196077

C. 28007

D. 3990

Question ID : 9679471038

Q.13 Out of the four figures in the diagram, three are similar in a certain manner. However, one figure is NOT like the other three. Select the option which is different from the rest.



- Ans
- A. 1
 - B. 4
 - C. 2
 - D. 3

Question ID : 9679471043

Q.14 Which of the following Venn diagrams best represents the relationship among Social Science, Civics, Physics?

Ans

- A.
- B.
- C.
- D.

Question ID : 9679471039

Q.15 Below is given a statement and two Arguments that may or may not be strong arguments in support of/against the statement. Select the correct choice:

Statement: Should there be only one interest rate for varying durations of a Recurring deposit (RD)?

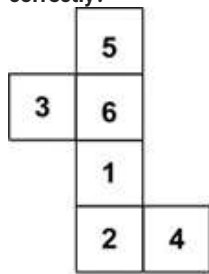
Argument 1 : No, this should not happen because people will then not have the incentive to make RDs for longer duration leading to liquidity crunch for the bank.

Argument 2 : Yes, this should happen as it will make it simpler for the people and they may be encouraged to log more money in banks.

- Ans
- A. Both Arguments are strong
 - B. Only Argument 2 is strong
 - C. None of the Arguments strong
 - D. Only Argument 1 is strong

Question ID : 9679471034

Q.16 According to the given figure of open dice, which closed dice represents the open one correctly?



Ans

- A.
- B.
- C.
- D.

Question ID : 9679471050

Q.17 Find the missing number from the series:
98, 91, 84, ____, 70, 63

- Ans A. 72
 B. 73
 C. 77
 D. 75

Question ID : 9679471035

Q.18 Below is given a statement and two conclusions that may or may not follow from the statement. Select the correct choice :

Statements : Some Planes are expensive. All expensive things are hard to buy.

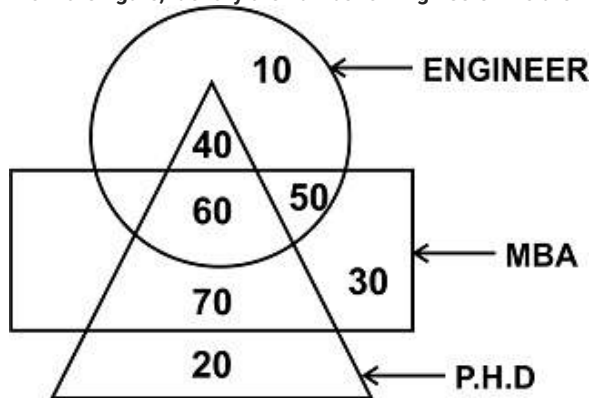
Conclusion1 : Some planes are hard to buy.

Conclusion2 : All planes are hard to buy.

- Ans A. Only conclusion 1 follows
 B. None of the conclusion follow
 C. Only conclusion 2 follows
 D. Both the conclusions follow

Question ID : 9679471032

Q.19 From the figure, identify the number of Engineers who are PHD holders but not MBA?

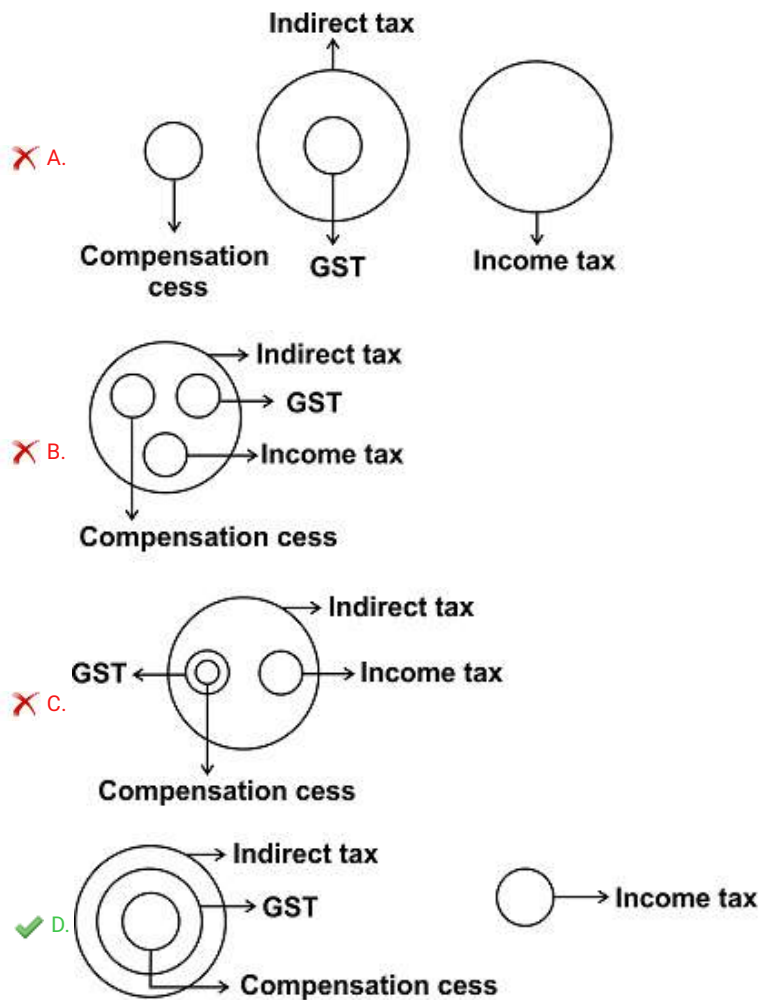


- Ans A. 40
 B. 20
 C. 30
 D. 10

Question ID : 9679471042

Q.20 Which of the following Venn diagrams best represents the relationship among Indirect tax, GST, Compensation cess, Income tax?

Ans



Question ID : 9679471040

Section : General Awareness1

Q.1 Which of these Mughal rulers abolished the Jizya tax that was imposed on all non-Muslims?

- Ans
- A. Shah Jahan
 - B. Akbar
 - C. Aurangzeb
 - D. Jehangir

Question ID : 9679471069

Q.2 Borgeet is a type of folk music associated with which of the following States?

- Ans
- A. Assam
 - B. Nagaland
 - C. Arunachal Pradesh
 - D. Mizoram

Question ID : 9679471051

Q.3 Hair and body sprays release which of these particles into the atmosphere?

- Ans A. Aerosols
 B. CFC's (chlorofluorocarbons)
 C. Water Vapour
 D. Ozone

Question ID : 9679471061

Q.4 Which of the following bands is considered to be India's first rock band?

- Ans A. Indian Ocean
 B. Parikrama
 C. Madhavas Rock Band
 D. Moheener Ghoraguli

Question ID : 9679471054

Q.5 Which among these is not a marginal sea that shares its borders with the Indian Ocean?

- Ans A. Black Sea
 B. Persian Gulf
 C. Red Sea
 D. Timor Sea

Question ID : 9679471068

Q.6 India's trade with which country has the largest trade deficit?

- Ans A. Japan
 B. United States of America
 C. Germany
 D. China

Question ID : 9679471059

Q.7 Malaria is caused by:

- Ans A. Bacillus cereus
 B. Plasmodium Vivax
 C. Streptococcus faecalis
 D. Salmonella typhi

Question ID : 9679471060

Q.8 Which among the following budgets was termed as the "Black Budget" being presented with a huge fiscal deficit?

- Ans A. 1997-98
 B. 1980-81
 C. 1991-92
 D. 1973-74

Question ID : 9679471057

Q.9 The Bhavani River originates from which of the following ranges?

- Ans A. Cardamom Hills
 B. Kudurekuha Jamly
 C. Nilgiri Hills
 D. Nallamala Hills

Question ID : 9679471067

Q.10 Who was the first Indian composer to compose a full symphony performed at the Royal Philharmonic Orchestra?

- Ans A. Chitragupt
 B. Ilaiyaraja
 C. A.R. Rahman
 D. Salil Chowdhury

Question ID : 9679471053

Q.11 Which of the following is a genetic disease?

- Ans A. Typhoid
 B. Haemophilia
 C. Leprosy
 D. Malaria

Question ID : 9679471064

Q.12 Why was the 1997-1998 budget known as the "Dream Budget"?

- Ans A. It strengthened focus on poverty alleviation.
 B. It lowered tax slabs of personal and corporate income tax and boosted the IT sector.
 C. It raised spending on education by 34.2% and also focused on job guarantees.
 D. It liberalized rules for non-resident investments and opened up mutual funds to the private sector.

Question ID : 9679471058

Q.13 The Reserve Bank of India was nationalized through which of the following Acts?

- Ans A. The Reserve Bank of India (Second Amendment) Act,1947
 B. The Reserve Bank of India (Transfer to Public Ownership) Act,1948
 C. The Reserve Bank of India (Amendment) Act,1951
 D. The Reserve Bank of India (Amendment) Act,1955

Question ID : 9679471055

Q.14 Which of these invaders captured the Peacock Throne while plundering Northern India?

- Ans A. Muhammad Ghori
 B. Nadir Shah
 C. Mahmud of Ghazni
 D. Timur

Question ID : 9679471070

Q.15 Shyama Sangeet is Bengali devotional music dedicated to which of the following deities?

- Ans A. Kali
 B. Saraswati
 C. Shiva
 D. Vishnu

Question ID : 9679471052

Q.16 The mountain range that encloses the Thar desert from the southeast is the:

- Ans A. Aravalli Range
 B. Shivalik Range
 C. Satpura Range
 D. Vindhya Range

Question ID : 9679471066

Q.17 The Phloem in plants is responsible for which of the following functions?

- Ans A. Conducting foods from leaves to all other parts of the plant.
 B. Forming the supportive and protective layer over stems.
 C. Forming photosynthetic tissues in leaves.
 D. Conducting water and dissolved minerals from roots to all parts of the plant.

Question ID : 9679471063

Q.18 Black soil is found mostly in the:

- Ans A. Gangetic plain
 B. Deccan region
 C. Himalayan region
 D. Eastern Ghats

Question ID : 9679471065

Q.19 Which of these sectors received the highest jump in allocation of funds in the 2021-22 budget?

- Ans A. Banking
 B. Manufacturing
 C. Aviation
 D. Healthcare

Question ID : 9679471056

Q.20 एक थर्मोसेट है:

- Ans A. कण जो एक निश्चित तापमान से अधिक गर्म करने पर पिघल जाता है लेकिन पुनःआकार दिया जा सकता है।
 B. कण जो ऊष्मा के संपर्क में आने के बाद ठंडा होने पर भंगुर हो जाता है।
 C. कण जो ऊष्मा और तापमान के प्रभाव में पूरी तरह से वाष्पित हो जाता है।
 D. कण जो गर्म करने पर कठोर और विकृत हो सकता है और पुनःआकार नहीं दिया जा सकता है।

Question ID : 9679471062

Section : General Awareness2

Q.1 The Berlin Committee for Indian independence, under the Zimmerman Plan was established in Germany in the year:

- Ans A. 1905
 B. 1914
 C. 1911
 D. 1907

Question ID : 9679471073

Q.2 Which part of the constitution deals with the relationship between the Union and the states?

- Ans A. Part IX A
 B. Part XIV
 C. Part XIII
 D. Part XI

Question ID : 9679471082

Q.3 In which year did the Indian football team qualify for the FIFA World Cup (though they did not participate)?

- Ans A. 1966
 B. 1970
 C. 1950
 D. 1958

Question ID : 9679471089

Q.4 In which Asian Games did the Indian men's golf team win its first gold medal?

- Ans A. 1994, Hiroshima
 B. 1978, Bangkok
 C. 1990, Beijing
 D. 1982, New Delhi

Question ID : 9679471090

Q.5 Who among these women holds the national record for 400 meters, set at the 2018 Asian Games in Jakarta?

- Ans
- A. P.U. Chitra
 - B. Dutee Chand
 - C. Hima Das
 - D. Dhanalakshmi

Question ID : 9679471088

Q.6 Which of the following states became the first "Har Ghar Jal" state by providing 100% tap water connections in rural areas, as declared by the Jal Shakti Ministry in 2020?

- Ans
- A. Sikkim
 - B. Manipur
 - C. Goa
 - D. Haryana

Question ID : 9679471080

Q.7 When was the Provisional Government of Free India (Azad Hind) founded?

- Ans
- A. 21st October, 1943
 - B. 21st October, 1942
 - C. 31st October, 1943
 - D. 31st October, 1942

Question ID : 9679471072

Q.8 On 7th August 2020, the Air India Express Flight 1344 crashed at which of the following airports?

- Ans
- A. Cochin International Airport, Kerala
 - B. Kozhikode International Airport, Kerala
 - C. Trivandrum International Airport, Kerala
 - D. Kannur International Airport, Kerala

Question ID : 9679471079

Q.9 Mahatma Gandhi was nominated for the Nobel Peace Prize 5 times. In which of the following years was he not nominated?

- Ans
- A. 1940
 - B. 1947
 - C. 1937
 - D. 1948

Question ID : 9679471077

Q.10 Anti-defection laws are listed in which Schedule of the Indian Constitution?

- Ans A. Tenth
 B. Second
 C. Twelfth
 D. Fourth

Question ID : 9679471085

Q.11 Who was the first Indian architect to win the Pritzker Prize?

- Ans A. Balkrishna Doshi
 B. Brinda Somaya
 C. Chitra Vishwanath
 D. Achyut Kanvinde

Question ID : 9679471076

Q.12 In which year did A.P.J. Abdul Kalam become the first Asian to receive the Hoover Medal?

- Ans A. 2008
 B. 2006
 C. 2004
 D. 2000

Question ID : 9679471075

Q.13 Which team has won the most number of titles in the I-League?

- Ans A. Bengaluru Football Club
 B. Churchill Brothers Football Club
 C. Dempo Sports Club
 D. Mohun Bagan Athletic Club

Question ID : 9679471087

Q.14 Which of these cyclones hit Maharashtra from 2-4 June 2020, causing damage along the northern coastline of the state?

- Ans A. Cyclone Phyan
 B. Cyclone Nisarga
 C. Cyclone Vayu
 D. Cyclone Tauktae

Question ID : 9679471078

Q.15 The feature of Judicial Review in the Indian constitution was inspired by the constitution of which country?

- Ans
- A. France
 - B. Ireland
 - C. United Kingdom
 - D. United States of America

Question ID : 9679471083

Q.16 During the skirmishes between India and China on 15-16 June 2020, 20 personnel of the Indian Army were killed at:

- Ans
- A. Galwan
 - B. Kibithu
 - C. Chushul
 - D. Nathula

Question ID : 9679471081

Q.17 Exactly how long did it take the Constituent Assembly to formulate the Constitution?

- Ans
- A. 2 years, 9 months, 18 days
 - B. 3 years, 9 months, 20 days
 - C. 3 years, 11 months, 20 days
 - D. 2 years, 11 months, 18 days

Question ID : 9679471084

Q.18 When was the Indian Indentured system of labour officially banned?

- Ans
- A. 1915
 - B. 1920
 - C. 1919
 - D. 1917

Question ID : 9679471071

Q.19 The I-league is associated with which of the following sports?

- Ans
- A. Badminton
 - B. Golf
 - C. Hockey
 - D. Football

Question ID : 9679471086

Q.20 Kailash Satyarthi was awarded the Nobel Prize in 2014 in the field of:

- Ans A. Literature
 B. Physiology
 C. Chemistry
 D. Peace

Question ID : 9679471074

Section : Arithmetic Ability1

Q.1 If the selling price is tripled, then the profit is four times. Find the initial profit percentage.

- Ans A. 245 percent
 B. 100 percent
 C. 200 percent
 D. 150 percent

Question ID : 9679471102

Q.2 Find the rate of interest of the principal amount of Rs. 45,000 to Rs. 49,000 in 4 years at simple interest? (Correct up to one decimal place)

- Ans A. 2.9 percent
 B. 4.1 percent
 C. 3 percent
 D. 2.2 percent

Question ID : 9679471109

Q.3 Seats for Mathematics, Physics and Biology in a school are in the ratio 3 : 8 : 9. There is a proposal to increase these seats by 40 percent, 50 percent and 75 percent respectively. What will be the ratio of new seats?

- Ans A. 1 : 3 : 19
 B. 2 : 5 : 7
 C. 5 : 13 : 21
 D. 28 : 80 : 105

Question ID : 9679471106

Q.4 With an average speed of 37 km/h, a train reaches its destination in time. If it goes with an average speed of 33 km/h, it is late by 1 hour. Find the length of the total journey.

- Ans A. 304.4 kms
 B. 321.7 kms
 C. 305.25 kms
 D. 341.4 kms

Question ID : 9679471096

Q.5 A student multiplied a number by $\frac{3}{5}$ instead of $\frac{5}{4}$. What is the percentage error in the calculation?

- Ans
- A. 49 percent
 - B. 50 percent
 - C. 51 percent
 - D. 52 percent

Question ID : 9679471098

Q.6 A makes an item for Rs. 400 and sells it to B at 28 percent profit. B sells it to C for Rs. 640 making a profit of 25 percent. What profit percentage did B make?

- Ans
- A. 21 percent
 - B. 20 percent
 - C. 23 percent
 - D. 25 percent

Question ID : 9679471103

Q.7 A sum of money is distributed among A, B, C, D in the proportion of 10 : 7 : 5 : 3. If C gets 500 more than D, then what is the value of money B gets?

- Ans
- A. Rs. 1799
 - B. Rs. 1750
 - C. Rs. 1800
 - D. Rs. 1400

Question ID : 9679471105

Q.8 If 24 percent of $a = b$, then b percent of 25 is the same as:

- Ans
- A. 5 percent of a
 - B. 4 percent of a
 - C. 6 percent of a
 - D. 3 percent of a

Question ID : 9679471099

Q.9 Three numbers which are co-prime to each other are such that the product of the first two is 493 and that of the last two is 957. The sum of the three numbers is:

- Ans
- A. 67
 - B. 91
 - C. 87
 - D. 79

Question ID : 9679471094

Q.10 The price of a watch was Rs. 840. A man bought the same watch for Rs. 585.48, after getting two successive discounts. If the first discount was 15 percent, what was the second discount rate?

- Ans A. 14 percent
 B. 18 percent
 C. 17 percent
 D. 15 percent

Question ID : 9679471097

Q.11 The ratio of 'metal 1' and 'metal 2' in Alloy 'A' is 1 : 4. In Alloy 'B' same metals are mixed in the ratio 3 : 7. If 30 kg of Alloy 'B' and 15 kg of Alloy 'A' are mixed then find out the ratio of 'metal 1' and 'metal 2' in the new Alloy.

- Ans A. 4 : 11
 B. 12 : 31
 C. 13 : 31
 D. 13 : 33

Question ID : 9679471108

Q.12 Amount of Rs. 14,000 was invested by A dividing it into two different schemes X and Y at a simple interest rate of 9% and 21%. What was the amount in plan X if the amount of interest earned in two years was Rs. 4675?

- Ans A. Rs. 6435.57
 B. Rs. 5700.13
 C. Rs. 5020.83
 D. Rs. 8400.9

Question ID : 9679471110

Q.13 एक वस्तु को 1845 रुपए में बेचने पर अर्जित किया गया 1845 रुपए का लाभ , 935 रुपए में बेचने पर हुई हानि का 25 गुना है। 40 प्रतिशत का लाभ अर्जित करने के लिए वस्तु को किस मूल्य पर बेचा जाना चाहिए?

- Ans A. 1536 रुपए
 B. 1358 रुपए
 C. 1456 रुपए
 D. 1222 रुपए

Question ID : 9679471104

Q.14 A family consists of two grandparents, two parents and four grandchildren. The average age of the grandparents is 71 years, that of the parents is 41 years and that of the grandchildren is 7 years. What is the average age of the family?

- Ans A. 32 years
 B. 30 years
 C. 31.9 years
 D. 31.5 years

Question ID : 9679471095

Q.15 Find the value of $(17 \times 27) - \sqrt{(815 + \sqrt{676})} - (77^2 \times 1/7) + 25 \times 33$.

- Ans A. 412
 B. 413
 C. 408
 D. 498

Question ID : 9679471093

Q.16 Simplify: $55\% \text{ of } 840 - \sqrt{1296} + 18 \times 19$

- Ans A. 744
 B. 700
 C. 842
 D. 768

Question ID : 9679471091

Q.17 Evaluate: $\frac{\{(0.63)^3 - (0.2)^3\}}{\{(0.63)^2 + 0.126 + (0.2)^2\}}$

- Ans A. 0.14
 B. 0.25
 C. 0.43
 D. 0.55

Question ID : 9679471092

Q.18 Two tailors X and Y are paid a total of Rs. 400 per week by their employer. If X is paid 150 percent of the sum paid to Y, how much is Y paid per week?

- Ans A. Rs. 130
 B. Rs. 160
 C. Rs. 140
 D. Rs. 150

Question ID : 9679471101

Q.19 The incomes of A, B, and C are in the ratio of 2 : 5 : 7 respectively and their spending are in the ratio of 5 : 8 : 10 respectively. If A saves half his income, then the savings of A, B, and C are in the ratio:

- Ans A. 5 : 17 : 25
 B. 2 : 13 : 17
 C. 1 : 5 : 19
 D. 3 : 34 : 19

Question ID : 9679471107

Q.20 A Cricket player scored 140 runs which consist of 4 sixes and 7 fours. What percent approximately of his total score did he make by running?

- Ans A. 44 percent
 B. 34 percent
 C. 63 percent
 D. 57 percent

Question ID : 9679471100

Section : Arithmetic Ability2

Q.1 A part of 29,000 is lent out at 2% for one year. The rest of the amount is lent out at 9% per annum after one year. The ratio of interest after 3 years from the time when first amount was lent out is 2 : 11. Find the second part that was lent out?

- Ans A. Rs. 6754
 B. Rs. 7666
 C. Rs. 11000
 D. Rs. 7346

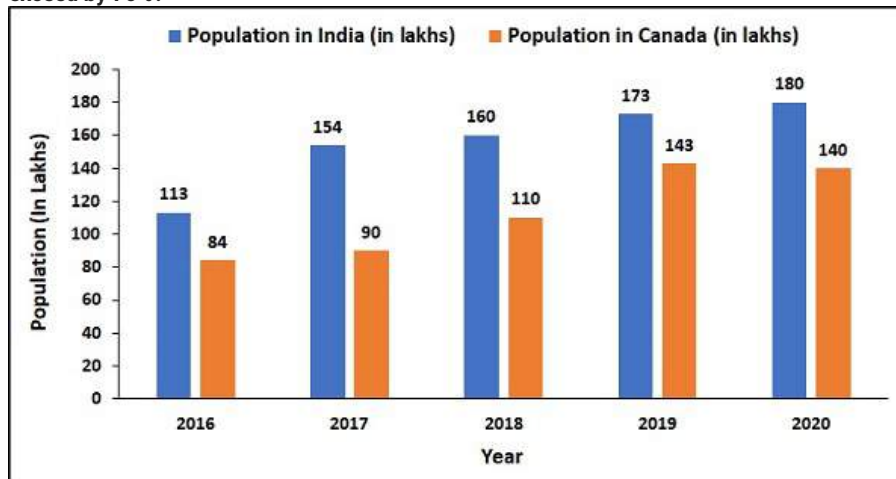
Question ID : 9679471111

Q.2 A cube with a diagonal measure of $45\sqrt{3}$ cm has been reformed into a cuboid. Find the height of the cuboid if the length and breadth of the cuboid measure 140 cm and 50 cm. (Correct up to two decimal places)

- Ans A. 13 cm
 B. 14.1 cm
 C. 13.02 cm
 D. 12.9 cm

Question ID : 9679471121

Q.3 The following bar chart shows the population (in lakhs) of Canada and India 2016-20. In which year the percentage difference of population in India as compared to that of Canada exceed by 70%?



- Ans A. 2018
 B. 2017
 C. 2016
 D. 2020

Question ID : 9679471130

Q.4 The surface areas of two spheres are in the ratio of 3 : 4. Find the ratio of their volumes.

- Ans A. $\sqrt{2}/6$
 B. $3/4$
 C. $\sqrt{3}/4$
 D. $3\sqrt{3}/8$

Question ID : 9679471120

Q.5 A can do a work in 13 days and B in 21 days. If they work on it together for 7 days, then the fraction of the work that is left is:

- Ans A. $33/240$
 B. $31/240$
 C. $35/273$
 D. $23/273$

Question ID : 9679471117

Q.6 The monthly attendance of a class is given. Find the average attendance of the given months.

Month	Attendance
January	55
March	65
April	72
June	48
July	80

- Ans
- A. 78
 - B. 60
 - C. 64
 - D. 25

Question ID : 9679471124

Q.7 The average daily income of 100 workers during a certain week is given. Calculate the percentage difference of the number of workers whose daily income is more than Rs. 1000 than the workers whose daily income is less than Rs. 900.

Daily Income (In Rupees)	Number Of Workers
700-800	10
800-900	10
900-1000	18
1000-1100	30
1100-1200	15

- Ans
- A. 110 percent
 - B. 75 percent
 - C. 125 percent
 - D. 120 percent

Question ID : 9679471125

Q.8 A hollow spherical shell is made of a metal of density 3.7 g/cm^3 . If its internal and external radii are 7 cm and 11 respectively, find the mass of the shell?

- Ans
- A. 16545.99 gm
 - B. 15318.7 gm
 - C. 15227.89 gm
 - D. 16543.616 gm

Question ID : 9679471122

Q.9 A is 40% more efficient than B. How much time approximately will they take to complete a job, working together, which A alone could have done in 35 days?

- Ans
- A. 22 days
 - B. 19 days
 - C. 14 days
 - D. 20 days

Question ID : 9679471119

Q.10 A किसी कार्य का 30%, 9 दिनों में कर सकता है। वह कार्य को 15 बार पूरा करने में कितने दिन लेगा?

- Ans
- A. 450 दिन
 - B. 330 दिन
 - C. 400 दिन
 - D. 300 दिन

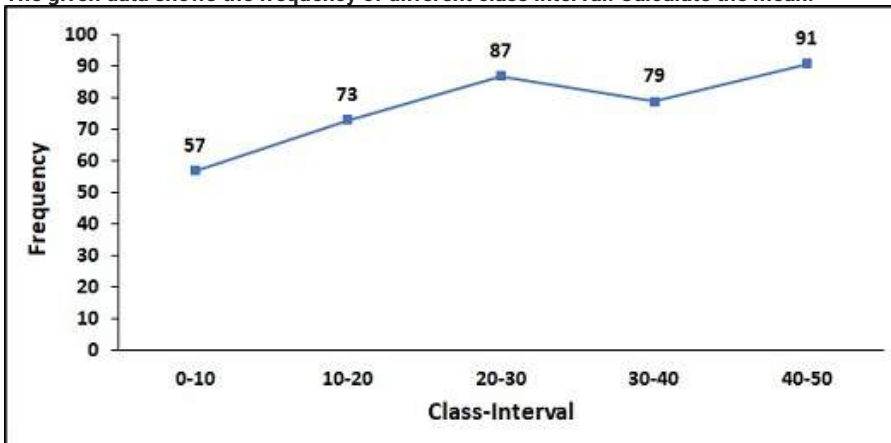
Question ID : 9679471116

Q.11 A man travels for 18 hours in total. The first half was covered on a bike at 60 km/h and the second half in a car at 85 km/h. What is the total distance travelled by him? (Correct up to two decimal places)

- Ans
- A. 1500.92 km
 - B. 1266.21 km
 - C. 1001.23 km
 - D. 1412.38 km

Question ID : 9679471115

Q.12 The given data shows the frequency of different class interval. Calculate the mean.



- Ans
- A. 25.42
 - B. 26.91
 - C. 44.17
 - D. 17.35

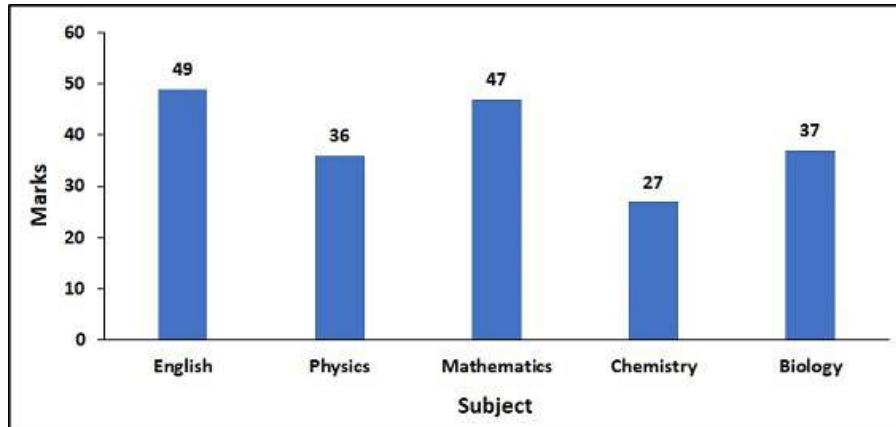
Question ID : 9679471128

Q.13 A can do a piece of work in 10 hours; B and C together can do it in 8 hours, while A and C together can do it in 6 hours. How long will B alone take to do it?

- Ans
- A. $11/3$ hours
 - B. $120/11$ hours
 - C. $120/7$ hours
 - D. $17/5$ hours

Question ID : 9679471118

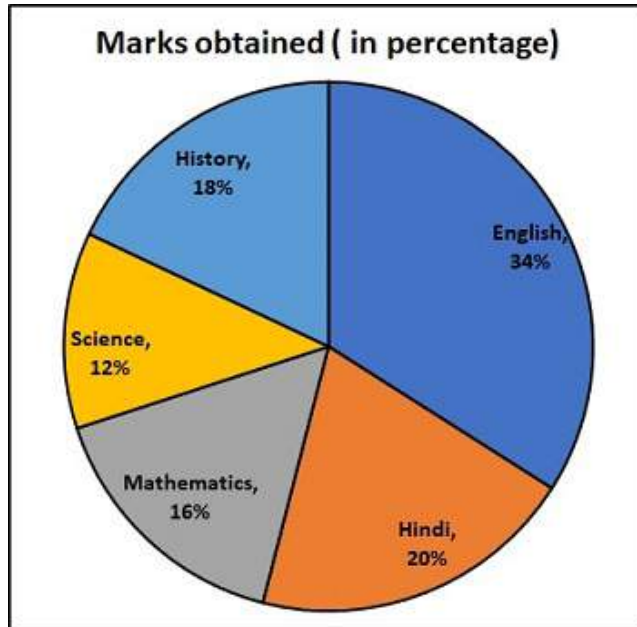
Q.14 The following graph shows the marks of a student in a test out of 50 and the mean marks is 39.2 but later it was found that the marks of mathematics was misprinted and the actual marks was 44. Find the new mean. Also find the difference in the marks of English and Biology.



- Ans
- A. 32.7, 13
 - B. 38.1, 13
 - C. 38.6, 12
 - D. 40, 14

Question ID : 9679471129

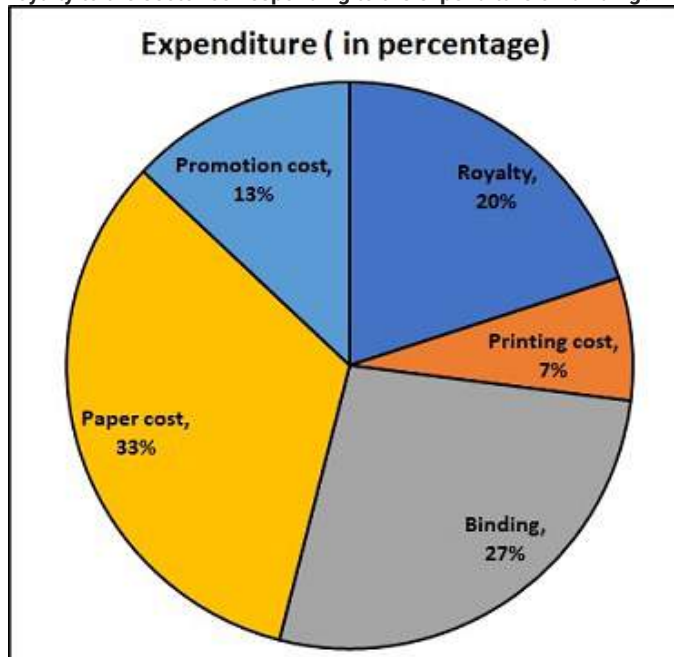
Q.15 The following are the marks scored by A in different subjects in an exam.
If he got a total of 800 marks and the passing marks is 100 find the subject in which he failed.



- Ans
- A. History
 - B. Hindi
 - C. English
 - D. Science

Question ID : 9679471123

Q.16 The following pie chart shows the percentage distribution of the expenditure incurred in publishing a book.
What is the difference in central angle of the sector corresponding to the expenditure on royalty to the sector corresponding to the expenditure on binding?



- Ans
- A. 21.2°
 - B. 25.2°
 - C. 26.2°
 - D. 22.4°

Question ID : 9679471126

Q.17 An aeroplane covers a certain distance at a speed of 333 kmph in 4 hours. To cover the same distance in $5/3$ hours, it must travel at a speed of:

- Ans
- A. 799.2 km
 - B. 770.9 km
 - C. 670.7 km
 - D. 777.4 km

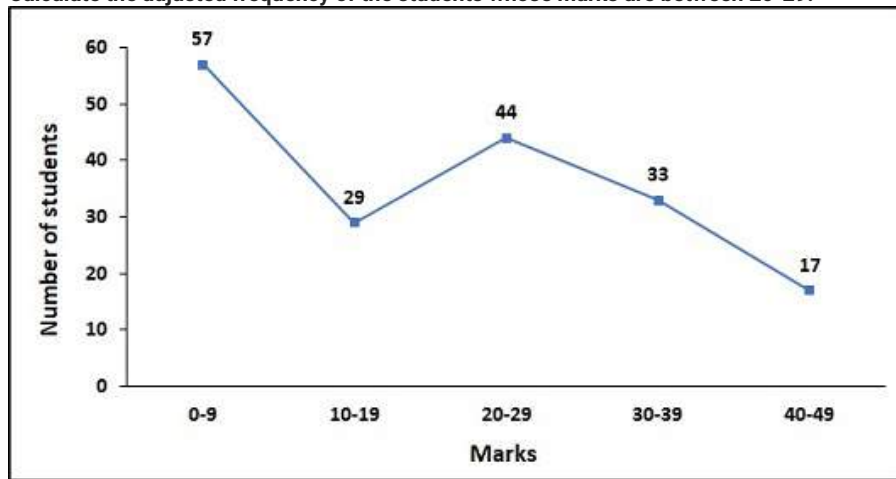
Question ID : 9679471113

Q.18 A train can travel 60% faster than a car. Both start from point A at the same time and reach point B 70 kms away from A at the same time. On the way, however, the train lost about 12.5 minutes while stopping at the stations. The speed of the car is:

- Ans
- A. 156.9 km/hr
 - B. 126 km/hr
 - C. 150.7 km/hr
 - D. 136.22 km/hr

Question ID : 9679471114

Q.19 Marks obtained by students in a class test is given.
Calculate the adjusted frequency of the students whose marks are between 20-29.



- Ans
- A. 28
 - B. 44
 - C. 33
 - D. 45

Question ID : 9679471127

Q.20 In a store, the profit is 240% of the cost. If the cost increases by 30% but the selling price remains constant, approximately what percentage of the selling price is the profit? (Correct up to two decimal places)

- Ans
- A. 75.08 percent
 - B. 61 percent
 - C. 61.75 percent
 - D. 60.98 percent

Question ID : 9679471112

Section : General English1

Q.1 Fill in the blank with the most appropriate choice.

All he saw in me was a way to gratify his greed and _____.

- Ans
- A. alacrity
 - B. loquacity
 - C. voracity
 - D. paucity

Question ID : 9679471143

Q.2 The sentence below has been divided into three parts. Select the part of the sentence that has an error. If the sentence has no error, select the option 'No Error'.

That two-day conflict/ has become one of the/ most famous battle in history.

- Ans A. has become one of the
 B. most famous battle in history.
 C. No Error
 D. That two-day conflict

Question ID : 9679471131

Q.3 The sentence below has been divided into three parts. Select the part of the sentence that has an error. If the sentence has no error, select the option 'No Error'.

Hardly was this feeling firmly established that physics/ was turned on its head by the twin revolutions of/ quantum theory and relativity theory.

- Ans A. was turned on its head by the twin revolutions of
 B. No Error
 C. Hardly was this feeling firmly established that physics
 D. quantum theory and relativity theory.

Question ID : 9679471133

Q.4 The question below consist of a set of labelled sentences. Out of four options given, select the most logical order of the sentences which form a paragraph.

The later Romans viewed the abolition of the kingship and its replacement by the consulship as marking the beginning of the republic.

P. Thus careful records were kept of these names, which later formed the chronological basis for ancient histories of the republic.

Q. The king's military power (imperium) was bestowed upon two annually elected magistrates called consuls.

R. The king's religious functions were henceforth performed by a priest-king (rex sacrorum), who held office for life.

S. They were always regarded as the chief magistrates of the republic, so much so that the names of each pair were given to their year of office for purposes of dating.

Such collegiality was basic to almost all Roman public offices; it served to check abuses of power because one magistrate's actions could be obstructed by his colleague.

- Ans A. RPSQ
 B. RPQS
 C. RSPQ
 D. RQSP

Question ID : 9679471147

Q.5 Select the word segment that substitutes (replaces) the bracketed word segment correctly and completes the sentence meaningfully. Select the option 'no correction required' if the sentence is correct as given.

Marine organisms on both sides of the isthmus (became isolated and neither diverged nor went extinct).

- Ans
- A. became isolated and either diverged nor went extinct
 - B. No correction required
 - C. became isolated and either diverged or went extinct
 - D. became isolated and neither diverged or went extinct

Question ID : 9679471138

Q.6 The sentence below has been divided into three parts. Select the part of the sentence that has an error. If the sentence has no error, select the option 'No Error'.

It was not difficult to guess that,/ if the Everest was one,/ the other must be Makalu.

- Ans
- A. if the Everest was one,
 - B. It was not difficult to guess that,
 - C. No Error
 - D. the other must be Makalu.

Question ID : 9679471132

Q.7 The question below consist of a set of labelled sentences. Out of four options given, select the most logical order of the sentences which form a paragraph.

Despite the advantages of consular collegiality, in military emergencies unity of command was sometimes necessary.

P. According to ancient tradition, the office of dictator was created in 501 BC, and it was used periodically down to the Second Punic War.

Q. The dictator held supreme military command for no longer than six months.

R. He was also termed the master of the army (magister populi), and he appointed a subordinate cavalry commander, the master of horse (magister equitum).

S. Rome's solution to this problem was the appointment of a dictator in place of the consuls.

The office was thoroughly constitutional and should not be confused with the late republican dictatorships of Sulla and Caesar, which were simply legalizations of autocratic power obtained through military usurpation.

- Ans
- A. PQRS
 - B. RQPS
 - C. SPQR
 - D. SRQP

Question ID : 9679471145

Q.8 Some parts of a sentence have been jumbled up, and labelled P, Q, R and S. Select the option that gives the correct sequence in which these parts can be rearranged to form a meaningful and grammatically correct sentence.

A biopsy allows

- P. scientists to look
- Q. a microscope and
- R. at a sample of
- S. your cells under

carry out tests on the tissue.

- Ans
- A. RPSQ
 - B. RQSP
 - C. PRSQ
 - D. PSQR

Question ID : 9679471146

Q.9 The sentence below has been divided into three parts. Select the part of the sentence that has an error. If the sentence has no error, select the option 'No Error'.

They are one of the countries/ leading manufacturers/ of children's clothing.

- Ans
- A. No Error
 - B. leading manufacturers
 - C. of children's clothing.
 - D. They are one of the countries

Question ID : 9679471135

Q.10 Select the word segment that substitutes (replaces) the bracketed word segment correctly and completes the sentence meaningfully. Select the option 'no correction required' if the sentence is correct as given.

(She said that, "Whenever Rose came) into the room, she felt the radiation of a vast and unseen force."

- Ans
- A. She said that whenever Rose came
 - B. She said, "Whenever Rose came
 - C. She said whenever Rose comes
 - D. No correction required

Question ID : 9679471139

Q.11 Fill in the blank with the most appropriate choice.

Washington Post hatchet man Michael Kelly joined in this macarena of meretricious _____.

- Ans
- A. mordacity
 - B. mendacity
 - C. pertinacity
 - D. efficacy

Question ID : 9679471142

Q.12 Fill in the blank with the most appropriate choice

It cannot identify vehicles, detect surface-to-surface missiles, or build large _____ images.

- Ans A. photovoltaic
 B. archaic
 C. voltaic
 D. mosaic

Question ID : 9679471141

Q.13 Some parts of a sentence have been jumbled up, and labelled P, Q, R and S. Select the option that gives the correct sequence in which these parts can be rearranged to form a meaningful and grammatically correct sentence.

The acceptance of

- P. a wholesale abdication
Q. by the Oireachtas
R. this privately drafted law
S. would amount to

of its legislative function.

- Ans A. RSPQ
 B. RQPS
 C. RQSP
 D. RPSQ

Question ID : 9679471144

Q.14 Select the word segment that substitutes (replaces) the bracketed word segment correctly and completes the sentence meaningfully. Select the option 'no correction required' if the sentence is correct as given.

(Every segment from the show reels introduce a title screen) sporting a colourful background and unreadable, untranslated text.

- Ans A. No correction required
 B. Each segment of the showreel introduces a title screen
 C. Each segment of the showreel introduce a title screen
 D. Every segment from the shows reel's introduce a title screen

Question ID : 9679471137

Q.15 Select the word that is opposite in meaning (ANTONYM) to the word given below.

abate

- Ans A. allay
 B. subside
 C. extend
 D. decrease

Question ID : 9679471148

Q.16 Fill in the blank with the most appropriate choice.

Instead, we have seen the election of left leaders who have called openly for _____ action.

- Ans A. polarity
 B. linearity
 C. solidarity
 D. irregularity

Question ID : 9679471140

Q.17 The sentence below has been divided into three parts. Select the part of the sentence that has an error. If the sentence has no error, select the option 'No Error'.

But no sooner had Bransford raced into/ that lead, that the champions got/ back into their familiar routine.

- Ans A. But no sooner had Bransford raced into
 B. that lead, that the champions got
 C. back into their familiar routine.
 D. No Error

Question ID : 9679471134

Q.18 Select the word that is similar in meaning (SYNONYM) to the word given below.

banal

- Ans A. original
 B. intelligent
 C. mundane
 D. sharp

Question ID : 9679471149

Q.19 Select the word segment that substitutes (replaces) the bracketed word segment correctly and completes the sentence meaningfully. Select the option 'no correction required' if the sentence is correct as given.

(Although it's technology is state-of-the-art, the impression) of ricketiness gives you a real old-time thrill.

- Ans A. Although it's technology is state-of-the-art, the impressions
 B. No correction required
 C. Although its technology is state-of-the-art, the impression
 D. Though it's technology is state-of-the-art, impressions

Question ID : 9679471136

Q.20 Select the word that is opposite in meaning (ANTONYM) to the word given below.

astute

- Ans A. canny
 B. sophisticated
 C. naive
 D. incongruity

Question ID : 9679471150

Section : General English2

Q.1 Four words are given, out of which only one word is spelt correctly. Choose the correctly spelt word.

- Ans A. diffidant
 B. diffident
 C. difident
 D. difidient

Question ID : 9679471157

Q.2 Select the most appropriate 'one word' for the expressions given below:

Highest point in the development of something; a climax or culmination

- Ans A. Apogee
 B. Apiary
 C. Apologue
 D. Apostate

Question ID : 9679471162

Q.3 Select the most appropriate meaning of the given idiom.

A bird in the hand is worth two in the bush

- Ans A. Having something that is certain is much better than taking a risk for more, because chances are you might losing everything
 B. One who causes damage
 C. Something good that isn't recognized at first
 D. Being upset for something that happened in the past

Question ID : 9679471158

Q.4 Four words are given, out of which only one word is spelt correctly. Choose the correctly spelt word.

- Ans A. consequensial
 B. consequential
 C. conscequential
 D. consecquential

Question ID : 9679471155

Q.5 Four words are given, out of which only three words are spelt correctly. Choose the one spelt incorrectly.

- Ans A. exculpate
 B. didactic
 C. facillitate
 D. chicanery

Question ID : 9679471156

Q.6 Select the most appropriate meaning of the given idiom.

A mare's nest

- Ans A. A very mild punishment
 B. A false invention
 C. A weak person
 D. A visual presentation

Question ID : 9679471161

Q.7 Select the most appropriate 'one word' for the expressions given below:

Very big and powerful companies or organizations

- Ans A. Beckon
 B. Behemoth
 C. Buccaneer
 D. Bastion

Question ID : 9679471163

Q.8 Select the most appropriate 'one word' for the expressions given below:

Ideas or inventions which are considered to be a particular person's creation

- Ans A. Bevy
 B. Brainchild
 C. Bohemian
 D. Cackle

Question ID : 9679471164

Q.9 Select the word that is opposite in meaning (ANTONYM) to the word given below.

ebullient

- Ans A. exuberant
 B. effusive
 C. depressed
 D. agitated

Question ID : 9679471152

Q.10 Select the most appropriate meaning of the given idiom.

A doubting Thomas

- Ans A. A hopeless case, a person or situation having no hope of positive change.
- B. You cannot change who you are
- C. A skeptic who needs physical or personal evidence in order to believe something
- D. A foolish person to lose his/ her money

Question ID : 9679471160

Q.11 Select the word that is similar in meaning (SYNONYM) to the word given below.

decorum

- Ans A. disparity
- B. dissonance
- C. impropriety
- D. demeanour

Question ID : 9679471151

Q.12 Four words are given, out of which only one word is spelt correctly. Choose the correctly spelt word.

- Ans A. honourary
- B. honorary
- C. hounarary
- D. honarary

Question ID : 9679471153

Q.13 Select the most appropriate meaning of the given idiom.

A dime A dozen

- Ans A. Anything that is common and easy to get
- B. A very small part of something big or whole
- C. An unreliable person
- D. Complete failure

Question ID : 9679471159

Q.14 Select the most appropriate 'one word' for the expressions given below:

A person who draws or produces maps

- Ans A. Stenographer
- B. Lexicographer
- C. Cartographer
- D. Lithographer

Question ID : 9679471165

Q.15 Four words are given, out of which only three words are spelt correctly. Choose the one spelt incorrectly.

- Ans A. accumen
 B. aesthetic
 C. advocate
 D. alleviate

Question ID : 9679471154

Comprehension:

Read the following passage carefully and answer the given questions.

Different regions have different rates of population growth, but in the 20th century, the world saw the biggest increase in its population in human history due to medical advances and massive increase in agricultural productivity made by the Green Revolution. However, in some countries there is a negative population growth, especially in the Central and Eastern Europe, mainly due to low fertility rate, and Southern Africa due to the high number of HIV – related deaths. Within the next decades, Japan and some countries in Western Europe are also expected to encounter a negative population growth due to sub-replacement fertility rates. Population growth which exceeds the carrying capacity of an area will result in overpopulation. On the contrary, such areas may be considered "under-populated" if the population is not large enough to maintain an economic system.

SubQuestion No : 16

Q.16 What is the definition of overpopulation as per the passage?

- Ans A. Population growth which overburdens the natural resources available to an area.
 B. Population growth outpacing the carrying capacity of an area.
 C. Population growth due to high fertility rates.
 D. Population growth which is not able to maintain economic system.

Question ID : 9679471167

Comprehension:

Read the following passage carefully and answer the given questions.

Different regions have different rates of population growth, but in the 20th century, the world saw the biggest increase in its population in human history due to medical advances and massive increase in agricultural productivity made by the Green Revolution. However, in some countries there is a negative population growth, especially in the Central and Eastern Europe, mainly due to low fertility rate, and Southern Africa due to the high number of HIV – related deaths. Within the next decades, Japan and some countries in Western Europe are also expected to encounter a negative population growth due to sub-replacement fertility rates. Population growth which exceeds the carrying capacity of an area will result in overpopulation. On the contrary, such areas may be considered "under-populated" if the population is not large enough to maintain an economic system.

SubQuestion No : 17

Q.17 According to the passage, which of the following option is incorrect? Choose one option.

- Ans A. Medical advancements played a major role in the boom of human population.
 B. Advancements in technology is one of the major reasons for increase in the human population we have witnessed in the 20th century.
 C. Japan is expected to encounter a declining population due to sub-replacement fertility rates in the next decades.
 D. 20th century has seen the biggest population boom in the human race in the entire human history.

Question ID : 9679471170

Comprehension:

Read the following passage carefully and answer the given questions.

Different regions have different rates of population growth, but in the 20th century, the world saw the biggest increase in its population in human history due to medical advances and massive increase in agricultural productivity made by the Green Revolution. However, in some countries there is a negative population growth, especially in the Central and Eastern Europe, mainly due to low fertility rate, and Southern Africa due to the high number of HIV – related deaths. Within the next decades, Japan and some countries in Western Europe are also expected to encounter a negative population growth due to sub-replacement fertility rates. Population growth which exceeds the carrying capacity of an area will result in overpopulation. On the contrary, such areas may be considered “under-populated” if the population is not large enough to maintain an economic system.

SubQuestion No : 18

Q.18 Which of the following region, out of the given four options, showed a declining population in the 20th century?

- Ans
- A. Northern Asia
 - B. North America
 - C. Eastern Asia
 - D. Southern Africa

Question ID : 9679471168

Comprehension:

Read the following passage carefully and answer the given questions.

Different regions have different rates of population growth, but in the 20th century, the world saw the biggest increase in its population in human history due to medical advances and massive increase in agricultural productivity made by the Green Revolution. However, in some countries there is a negative population growth, especially in the Central and Eastern Europe, mainly due to low fertility rate, and Southern Africa due to the high number of HIV – related deaths. Within the next decades, Japan and some countries in Western Europe are also expected to encounter a negative population growth due to sub-replacement fertility rates. Population growth which exceeds the carrying capacity of an area will result in overpopulation. On the contrary, such areas may be considered “under-populated” if the population is not large enough to maintain an economic system.

SubQuestion No : 19

Q.19 According to the passage, which of the following option is not a cause for the biggest population boom in the world?

- Ans
- A. Medicinal Advances
 - B. Increased agriculture
 - C. Better quality of life
 - D. Green Revolution

Question ID : 9679471169

Comprehension:

Read the following passage carefully and answer the given questions.

Different regions have different rates of population growth, but in the 20th century, the world saw the biggest increase in its population in human history due to medical advances and massive increase in agricultural productivity made by the Green Revolution. However, in some countries there is a negative population growth, especially in the Central and Eastern Europe, mainly due to low fertility rate, and Southern Africa due to the high number of HIV – related deaths. Within the next decades, Japan and some countries in Western Europe are also expected to encounter a negative population growth due to sub-replacement fertility rates. Population growth which exceeds the carrying capacity of an area will result in overpopulation. On the contrary, such areas may be considered "under-populated" if the population is not large enough to maintain an economic system.

SubQuestion No : 20

Q.20 What is the cause for Central Europe's population decline?

- Ans
- A. High mortality rates
 - B. Increasing number of HIV cases
 - C. Low mortality rate
 - D. Low fertility rate

Question ID : 9679471171

Section : General Hindi1

Q.1 निम्नलिखित प्रश्न में, चार विकल्पों में से, उस विकल्प का चयन करें जो प्रत्यय से बने शब्द का सही विकल्प हो।

- Ans
- A. प्रयोग
 - B. बेहया
 - C. डाकखाना
 - D. कपूत

Question ID : 9679471176

Q.2 निम्नलिखित प्रश्न में, चार विकल्पों में से, उस विकल्प का चयन करें जो दिए गए वाक्यांशों के लिए एक शब्द का सही विकल्प है।

आत्मा व परमात्मा का द्वैत न माननेवाला-

- Ans
- A. अद्वैतवादी
 - B. अनलदग्ध
 - C. अध्येता
 - D. द्वैतवादी

Question ID : 9679471181

Q.3 निम्नलिखित प्रश्न में, चार विकल्पों में से, उस विकल्प का चयन करें जो दिए गए शब्द का एकवचन रूप है।

योद्धाओं

- Ans
- A. सेना
 - B. सिपाहियों
 - C. सिपाही
 - D. योद्धा

Question ID : 9679471190

Q.4 निम्नलिखित प्रश्न में, चार विकल्पों में से, उस विकल्प का चयन करें जो विदेशी शब्द का सही विकल्प हो।

- Ans A. पगड़ी
 B. लोटा
 C. दीवार
 D. कान

Question ID : 9679471178

Q.5 निम्नलिखित प्रश्न में, चार विकल्पों में से, उस विकल्प का चयन करें जो दिए गए शब्द युग्म के सही अर्थ का विकल्प हो।

गुड़-गूढ़

- Ans A. शक्कर, गंभीर
 B. लकड़ी, गंभीर
 C. पुराना, संसार
 D. गंभीर, सिलसिला

Question ID : 9679471188

Q.6 निम्नलिखित प्रश्न में, चार विकल्पों में से, उस विकल्प का चयन करें जो दिए गए वाक्य के प्रकार के भेद का सही विकल्प है।

वह स्कूल जाते ही पढ़ने लग गया।

- Ans A. सरल वाक्य
 B. संयुक्त वाक्य
 C. मिश्र वाक्य
 D. विधानवाचक वाक्य

Question ID : 9679471191

Q.7 निम्नलिखित प्रश्न में, चार विकल्पों में से, उस विकल्प का चयन करें जो दिए गए सही संधि विच्छेद की संधि का सही विकल्प है।

सु + अच्छ

- Ans A. स्वच्छ
 B. सुअच्छा
 C. सुच्छ
 D. स्वच्छं

Question ID : 9679471172

Q.8 निम्नलिखित प्रश्न में, चार विकल्पों में से, उस विकल्प का चयन करें जो दिए गए शब्द का पुल्लिंग रूप है।

विधात्री

- Ans A. विदुषी
 B. भर्ता
 C. कर्ता
 D. विधाता

Question ID : 9679471189

Q.9 निम्नलिखित प्रश्न में, चार विकल्पों में से, उस विकल्प का चयन करें जो दिए गए शब्द युग्म के सही अर्थ का विकल्प हो।

अभय - उभय

- Ans A. असमर्थ, एक
 B. भय, दोनों
 C. निर्भय, दोनों
 D. दुर्बल, माया

Question ID : 9679471180

Q.10 निम्नलिखित प्रश्न में, चार विकल्पों में से, उस सही विकल्प का चयन करें जो रिक्त स्थान के लिए उपयुक्त शब्द का सही विकल्प है।

सड़क _____ देखकर पार करो।

- Ans A. आगे
 B. इधर-उधर
 C. सामने
 D. दायें-बाएं

Question ID : 9679471187

Q.11 निम्नलिखित प्रश्न में, चार विकल्पों में से, उस विकल्प का चयन करें जो देशज शब्द का सही विकल्प हो।

- Ans A. मृत्तिका
 B. गमछा
 C. सर्प
 D. अग्नि

Question ID : 9679471177

Q.12 निम्नलिखित प्रश्न में, चार विकल्पों में से, उस विकल्प का चयन करें जो दिए गए शब्द का सही पर्यायवाची शब्द नहीं है।

कुरंग

- Ans A. सारंग
 B. शृंगी
 C. हरिण
 D. मृग

Question ID : 9679471183

Q.13 निम्नलिखित प्रश्न में, चार विकल्पों में से, उस विकल्प का चयन करें जो दिए गए शब्द का सही विलोम शब्द हो।

तरुण

- Ans A. बचपन
 B. वृद्ध
 C. पोषण
 D. मरण

Question ID : 9679471182

Q.14 निम्नलिखित प्रश्न में, चार विकल्पों में से, उस विकल्प का चयन करें जो वाक्य के शुद्ध रूप का सही विकल्प है।

- Ans A. रोगी की दशा ठीक नहीं है।
 B. रोगी को दशा ठीक नहीं है।
 C. रोगी की दिशा ठीक नहीं है।
 D. रोगी के दिशा ठीक नहीं है।

Question ID : 9679471184

Q.15 निम्नलिखित प्रश्न में, चार विकल्पों में से, उस विकल्प का चयन करें जो दिए गए शब्द के लिए सही कर्मधारय के विग्रह का विकल्प हो।

कृष्णसर्प

- Ans A. कृष्ण रूपी सर्प
 B. कृष्ण और सर्प
 C. कृष्ण के समान सर्प
 D. कृष्ण है जो सर्प

Question ID : 9679471174

Q.16 निम्नलिखित प्रश्न में, चार विकल्पों में से, उस सही विकल्प का चयन करें जो रिक्त स्थान के लिए उपयुक्त शब्द का सही विकल्प है।

रचना ने ____ आकर मुझसे बात की।

- Ans A. अपने आप
 B. खुद से
 C. स्वयं
 D. आगे

Question ID : 9679471186

Q.17 निम्नलिखित प्रश्न में, चार विकल्पों में से, उस विकल्प का चयन करें जो वाक्य के शुद्ध रूप का सही विकल्प है।

- Ans A. सभी का ही नाम लिखो
 B. सभी से ही नाम लिखो
 C. सभी का नाम लिखो
 D. सभी के नाम लिखो

Question ID : 9679471185

Q.18 निम्नलिखित प्रश्न में, चार विकल्पों में से, उस विकल्प का चयन करें जो सार्वनामिक विशेषण का सही विकल्प हो।

- Ans A. वह आदमी योगाभ्यास कर रहा है।
 B. कुछ बच्चे चंदा मागने आए हैं।
 C. पुस्तक किससे मंगाऊं?
 D. शायद दरवाजे पर कोई खड़ा है।

Question ID : 9679471179

Q.19 निम्नलिखित प्रश्न में, चार विकल्पों में से, उस विकल्प का चयन करें जो उपसर्ग से बने शब्द का सही विकल्प हो।

- Ans A. बेचैनी
 B. विशेषकर
 C. बिनबात
 D. बेपरवाही

Question ID : 9679471175

Q.20 निम्नलिखित प्रश्न में, चार विकल्पों में से, उस विकल्प का चयन करें जो दिए गए शब्द के सही संधि विच्छेद का विकल्प है।

अम्बुर्जा

- Ans A. अम्बू + ऊर्जा
 B. अम्बु + उर्जा
 C. अम्बु + ऊर्जा
 D. अम्बु + उरजा

Question ID : 9679471173

Section : General Hindi2

Q.1 निम्नलिखित प्रश्न में, चार विकल्पों में से, उस विकल्प का चयन करें जो दिए गए वाक्य के काल के भेद का सही विकल्प है।

मोहन ने गृहकार्य कर लिया होगा।

- Ans A. सामान्य वर्तमान काल
 B. संभाव्य भविष्यकाल
 C. संदिग्ध भूतकाल
 D. पूर्ण भूतकाल

Question ID : 9679471196

Q.2 निम्नलिखित प्रश्न में, चार विकल्पों में से, उस विकल्प का चयन करें जो विराम चिह्न युक्त वाक्य का सही विकल्प है।

- Ans A. यह शहर यहाँ मौजूदा ऐतिहासिक इमारतों, मंदिरों, बाज़ारों आदि के लिए पूरे देशभर में विख्यात है
 B. यह शहर यहाँ मौजूदा ऐतिहासिक इमारतों, मंदिरों, बाज़ारों आदि के लिए पूरे देशभर में विख्यात है।
 C. यह शहर यहाँ मौजूदा ऐतिहासिक इमारतों, मंदिरों, बाज़ारों आदि के लिए पूरे देशभर में विख्यात है।
 D. यह शहर यहाँ मौजूदा ऐतिहासिक इमारतों मंदिरों, बाज़ारों आदि के लिए पूरे देशभर में विख्यात है।

Question ID : 9679471199

Q.3 निम्नलिखित प्रश्न में, चार विकल्पों में से, उस विकल्प का चयन करें जो दिए गए वाक्य के काल के भेद का सही विकल्प है।

जो बोये सो काटे।

- Ans A. हेतुहेतुमद भविष्य काल
 B. आसन्न भूतकाल
 C. अपूर्ण भूतकाल
 D. सामान्य वर्तमान काल

Question ID : 9679471197

Q.4 निम्नलिखित प्रश्न में, चार विकल्पों में से, उस विकल्प का चयन करें जो दी गई मुहावरे का सही अर्थ वाला विकल्प है।

पेट में दाढ़ी होना -

- Ans A. बहुत चालाक होना
 B. असत्य बोलना
 C. बुरे काम करना
 D. गुप्त रखना

Question ID : 9679471204

Q.5 निम्नलिखित प्रश्न में, चार विकल्पों में से, उस विकल्प का चयन करें जो दिए गए वाक्य के वृत्ति के भेद का सही विकल्प है।

वह मुझे याद करता होगा

- Ans A. निश्चयार्थ
 B. संदेहार्थ
 C. विध्वयार्थ
 D. संकेतार्थ

Question ID : 9679471194

Q.6 निम्नलिखित प्रश्न में, चार विकल्पों में से, उस विकल्प का चयन करें जो दिए गए वाक्य के पक्ष का सही विकल्प है।

सूर्य पश्चिम में अस्त होता है।

- Ans A. सातप्यबोधक
 B. पूर्णताद्योतक
 C. आरम्भद्योतक
 D. नित्यताबोधक

Question ID : 9679471195

Q.7 निम्नलिखित प्रश्न में, चार विकल्पों में से, उस विकल्प का चयन करें जो दिए गए लोकोक्ति का सही अर्थ वाला विकल्प है।

बासी बचे ना कुत्ता खाए -

- Ans A. ज़रूरत के अनुसार ही सामान बनाना
 B. डर कर भाग जाना
 C. प्रभाव जमाना
 D. साफ इनकार करना

Question ID : 9679471201

Q.8 निम्नलिखित प्रश्न में, चार विकल्पों में से, उस विकल्प का चयन करें जो दिए गए लोकोक्ति का सही अर्थ वाला विकल्प है।

घर पर फूस नहीं, नाम धनपत

- Ans A. अपनी बुराई नहीं देखना
 B. दुसरे को सुधारने से पहले अपने आप को सुधारना
 C. गुण कुछ नहीं पर गुणी कहलाना
 D. अपने आप से डरना

Question ID : 9679471202

Q.9 निम्नलिखित प्रश्न में, चार विकल्पों में से, उस विकल्प का चयन करें जो विराम चिह्न युक्त वाक्य का सही विकल्प है।

- Ans A. क्या बकते हो! आँखे निकालकर महाराज गरजे।
 B. "क्या बकते हो?" आँखे निकालकर महाराज गरजे।
 C. क्या बकते हो, आँखे निकालकर महाराज गरजे।
 D. क्या बकते हो? आँखे निकालकर महाराज गरजे

Question ID : 9679471200

Q.10 निम्नलिखित प्रश्न में, चार विकल्पों में से, उस विकल्प का चयन करें जो दी गई मुहावरे का सही अर्थ वाला विकल्प है।

गज भर की छाती होना -

- Ans A. हँसी उड़ना
 B. वास्तव में गुणी
 C. अत्यधिक साहसी होना
 D. थोथी धमकी

Question ID : 9679471206

Q.11 निम्नलिखित प्रश्न में, चार विकल्पों में से, उस विकल्प का चयन करें जो दिए गए लोकोक्ति का सही अर्थ वाला विकल्प है।

गंगा गए तो गंगा दास, जमुना गए तो जमुनादास--

- Ans A. जो व्यक्ति सामने आए उसकी प्रशंसा करना
 B. प्रभावहीन मनुष्य
 C. कमजोर पर अधिकार जमाने वाला
 D. घर की वस्तु का कोई मोल ना होना

Question ID : 9679471203

Q.12 निम्नलिखित प्रश्न में, चार विकल्पों में से, उस विकल्प का चयन करें जो दिए गए वाक्य के वृत्ति के भेद का सही विकल्प है।

क्या पता, मेरा मकान तुम्हे पसंद भी आए।

- Ans A. सम्भावनार्थ
 B. आज्ञार्थ
 C. संदेहार्थ
 D. संकेतार्थ

Question ID : 9679471193

Q.13 निम्नलिखित प्रश्न में, चार विकल्पों में से, उस विकल्प का चयन करें जो दी गई मुहावरे का सही अर्थ वाला विकल्प है।

गुरु घंटाल -

- Ans A. दुष्टों का नेता
 B. अपमानित करना
 C. व्यर्थ में दखल देना
 D. सब चौपट कर देना

Question ID : 9679471205

Q.14 निम्नलिखित प्रश्न में, चार विकल्पों में से, उस विकल्प का चयन करें जो दिए गए वाक्य के प्रकार के भेद का सही विकल्प है।

तुम्हारे आने से घर में रौनक बढ़ती है।

- Ans A. इच्छावाचक वाक्य
 B. आज्ञावाचक वाक्य
 C. निषेधवाचक
 D. संकेतवाचक वाक्य

Question ID : 9679471192

Q.15 निम्नलिखित प्रश्न में, चार विकल्पों में से, उस विकल्प का चयन करें जो विराम चिह्न युक्त वाक्य का सही विकल्प है।

- Ans A. धनौली कई ट्रेकिंग ट्रेल्स के लिए भी जानी जाती है, जैसे सुरकंडा देवी चंद्रबाबनी आदि।
- B. धनौली कई ट्रेकिंग ट्रेल्स के लिए भी जानी जाती है, जैसे सुरकंडा देवी, चंद्रबाबनी आदि
- C. धनौली कई ट्रेकिंग ट्रेल्स के लिए भी जानी जाती है जैसे सुरकंडा देवी, चंद्रबाबनी आदि।
- D. धनौली कई ट्रेकिंग ट्रेल्स के लिए भी जानी जाती है, जैसे सुरकंडा देवी, चंद्रबाबनी आदि।

Question ID : 9679471198

Comprehension:

निम्नलिखित गद्यांश को ध्यानपूर्वक पढ़िए और दिए गए प्रश्नों के उत्तर दीजिए।

हड्डियों के बीच के भाग मज्जा में ऐसे बहुत से कारखाने होते हैं जो रक्त कणों के निर्माण-कार्य में लगे रहते हैं। इनके लिए इन कारखानों को प्रोटीन, लौहतत्त्व और विटामिन रूपी कच्चे माल की जरूरत होती है। यह पौष्टिक आहार लेते हैं। हरी सब्जी, फल, दूध, अंडा और गोशत में ये तत्त्व उपयुक्त मात्र में होते हैं। यदि कोई व्यक्ति उचित आहार ग्रहण नहीं करता तो इन कारखानों को आवश्यकतानुसार कच्चा माल नहीं मिल पाता। प्रायः यह समझा जाता है कि रक्तदान करने से कमजोरी हो जाएगी, किंतु यह विचार बिलकुल निराधार है। हमारा शरीर इतना रक्त तो कुछ ही दिनों में बना लेता है। वैसे भी शरीर में लगभग पाँच लीटर खून होता है। इसमें से यदि कुछ रक्त किसी जरूरतमंद व्यक्ति के लिए जीवन-दान बन जाए तो इससे बड़ी बात क्या होगी!

SubQuestion No : 16

Q.16 रक्त के कारखानों को आवश्यकता अनुसार कच्चा माल क्यूँ नहीं मिल पाता?

- Ans A. ज़्यादा हरी सब्जी, फल, दूध खाने के कारण
- B. वहाँ तक पहुँच नहीं पाने के कारण
- C. उचित आहार ग्रहण नहीं करने के कारण
- D. विषेला होने के कारण

Question ID : 9679471209

Comprehension:

निम्नलिखित गद्यांश को ध्यानपूर्वक पढ़िए और दिए गए प्रश्नों के उत्तर दीजिए।

हड्डियों के बीच के भाग मज्जा में ऐसे बहुत से कारखाने होते हैं जो रक्त कणों के निर्माण-कार्य में लगे रहते हैं। इनके लिए इन कारखानों को प्रोटीन, लौहतत्त्व और विटामिन रूपी कच्चे माल की जरूरत होती है। यह पौष्टिक आहार लेते हैं। हरी सब्जी, फल, दूध, अंडा और गोशत में ये तत्त्व उपयुक्त मात्र में होते हैं। यदि कोई व्यक्ति उचित आहार ग्रहण नहीं करता तो इन कारखानों को आवश्यकतानुसार कच्चा माल नहीं मिल पाता। प्रायः यह समझा जाता है कि रक्तदान करने से कमजोरी हो जाएगी, किंतु यह विचार बिलकुल निराधार है। हमारा शरीर इतना रक्त तो कुछ ही दिनों में बना लेता है। वैसे भी शरीर में लगभग पाँच लीटर खून होता है। इसमें से यदि कुछ रक्त किसी जरूरतमंद व्यक्ति के लिए जीवन-दान बन जाए तो इससे बड़ी बात क्या होगी!

SubQuestion No : 17

Q.17 अनुच्छेद के अनुसार रक्तदान से संबंधित कौन स विचार निराधार है?

- Ans A. हमारा शरीर कुछ ही दिनों में जरूरत का रक्त बना लेता है
- B. रक्त पौष्टिक चीज़ों से बनता है
- C. रक्त हड्डियों के बीच के भाग में बनता है
- D. रक्त दान करने से कमजोरी होती है

Question ID : 9679471210

Comprehension:

निम्नलिखित गद्यांश को ध्यानपूर्वक पढ़िए और दिए गए प्रश्नों के उत्तर दीजिए।

हड्डियों के बीच के भाग मज्जा में ऐसे बहुत से कारखाने होते हैं जो रक्त कणों के निर्माण-कार्य में लगे रहते हैं। इनके लिए इन कारखानों को प्रोटीन, लौहतत्त्व और विटामिन रूपी कच्चे माल की जरूरत होती है। यह पौष्टिक आहार लेते हैं। हरी सब्जी, फल, दूध, अंडा और गोशत में ये तत्त्व उपयुक्त मात्र में होते हैं। यदि कोई व्यक्ति उचित आहार ग्रहण नहीं करता तो इन कारखानों को आवश्यकतानुसार कच्चा माल नहीं मिल पाता। प्रायः यह समझा जाता है कि रक्तदान करने से कमजोरी हो जाएगी, किंतु यह विचार बिलकुल निराधार है। हमारा शरीर इतना रक्त तो कुछ ही दिनों में बना लेता है। वैसे भी शरीर में लगभग पाँच लीटर खून होता है। इसमें से यदि कुछ रक्त किसी जरूरतमंद व्यक्ति के लिए जीवन-दान बन जाए तो इससे बड़ी बात क्या होगी!

SubQuestion No : 18

Q.18 इनमें से कौन सा निराधार का पर्यायवाची है।

- Ans A. निर्मूल
 B. आश्रयहीन
 C. असहाय
 D. आधार

Question ID : 9679471211

Comprehension:

निम्नलिखित गद्यांश को ध्यानपूर्वक पढ़िए और दिए गए प्रश्नों के उत्तर दीजिए।

हड्डियों के बीच के भाग मज्जा में ऐसे बहुत से कारखाने होते हैं जो रक्त कणों के निर्माण-कार्य में लगे रहते हैं। इनके लिए इन कारखानों को प्रोटीन, लौहतत्त्व और विटामिन रूपी कच्चे माल की जरूरत होती है। यह पौष्टिक आहार लेते हैं। हरी सब्जी, फल, दूध, अंडा और गोशत में ये तत्त्व उपयुक्त मात्र में होते हैं। यदि कोई व्यक्ति उचित आहार ग्रहण नहीं करता तो इन कारखानों को आवश्यकतानुसार कच्चा माल नहीं मिल पाता। प्रायः यह समझा जाता है कि रक्तदान करने से कमजोरी हो जाएगी, किंतु यह विचार बिलकुल निराधार है। हमारा शरीर इतना रक्त तो कुछ ही दिनों में बना लेता है। वैसे भी शरीर में लगभग पाँच लीटर खून होता है। इसमें से यदि कुछ रक्त किसी जरूरतमंद व्यक्ति के लिए जीवन-दान बन जाए तो इससे बड़ी बात क्या होगी!

SubQuestion No : 19

Q.19 अनुच्छेद के लिए उचित शीर्षक दीजिये।

- Ans A. पौष्टिक तत्व
 B. रक्त की जरूरत
 C. रक्त का निर्माण
 D. दान

Question ID : 9679471212

Comprehension:

निम्नलिखित गद्यांश को ध्यानपूर्वक पढ़िए और दिए गए प्रश्नों के उत्तर दीजिए।

हड्डियों के बीच के भाग मज्जा में ऐसे बहुत से कारखाने होते हैं जो रक्त कणों के निर्माण-कार्य में लगे रहते हैं। इनके लिए इन कारखानों को प्रोटीन, लौहतत्त्व और विटामिन रूपी कच्चे माल की जरूरत होती है। यह पौष्टिक आहार लेते हैं। हरी सब्जी, फल, दूध, अंडा और गोशत में ये तत्त्व उपयुक्त मात्र में होते हैं। यदि कोई व्यक्ति उचित आहार ग्रहण नहीं करता तो इन कारखानों को आवश्यकतानुसार कच्चा माल नहीं मिल पाता। प्रायः यह समझा जाता है कि रक्तदान करने से कमजोरी हो जाएगी, किंतु यह विचार बिलकुल निराधार है। हमारा शरीर इतना रक्त तो कुछ ही दिनों में बना लेता है। वैसे भी शरीर में लगभग पाँच लीटर खून होता है। इसमें से यदि कुछ रक्त किसी जरूरतमंद व्यक्ति के लिए जीवन-दान बन जाए तो इससे बड़ी बात क्या होगी!

SubQuestion No : 20

Q.20 रक्त कणों की रचना कहाँ होती है?

- Ans
- A. हड्डियों के बाहर
 - B. रक्त में
 - C. मज्जा में
 - D. कारखाने में

Question ID : 9679471208