

Constable GD in CAPFs NIA SSF and Rifleman GD in Assam Rifles Examination 2021

Roll Number	www.HaryanaJobs.in
Candidate Name	www.HaryanaJobs.in
Venue Name	Indraprastha Public School
Exam Date	30/11/2021
Exam Time :	12:30 PM - 2:00 PM
Subject	Constable GD 2021

Section : Part A General Intelligence and Reasoning

Q.1 दिए गए पैटर्न का ध्यानपूर्वक अध्ययन कीजिए और उस संख्या का चयन कीजिए, जो इसमें प्रश्नवाचक चिह्न (?) के स्थान पर आ सकती है।

5 12 ?
11 19 25
26 55 79

Ans 1. 18

2. 22

3. 17

4. 20

Question ID : 65497833811

Status : Not Answered

Chosen Option : --

Q.2 एक निश्चित कूट भाषा में, 'go went gone' को 'da ma dof' लिखा जाता है, 'he had gone' को 'ga dol ma' लिखा जाता है और 'he was good' को 'na ga ca' लिखा जाता है। उसी कूट भाषा में 'had' को किस प्रकार लिखा जाएगा?

Ans 1. ga

2. ca

3. dol

4. ma

Question ID : 65497833809

Status : Answered

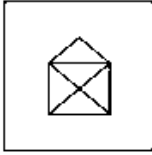
Chosen Option : 3

Q.3 उस विकल्प का चयन करें जिसमें दी गई आकृति अंतर्निहित है (घुमाने की अनुमति नहीं है)।

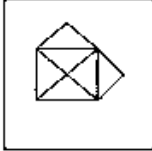


Ans

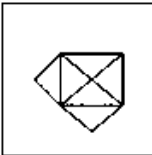
✗ 1.



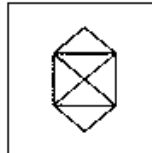
✗ 2.



✗ 3.



✓ 4.

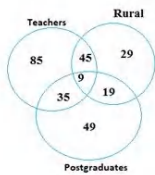


Question ID : 65497833804

Status : Answered

Chosen Option : 4

Q.4 दिए गए आरेख का ध्यानपूर्वक अध्ययन करें और निम्न प्रश्न का उत्तर दें।



उन शिक्षकों (Teachers) की संख्या कितनी है जो ना तो ग्रामीण (Rural) है ना ही स्नातकोत्तर (Postgraduates) हैं?

Ans ✗ 1. 9

✓ 2. 85

✗ 3. 45

✗ 4. 35

Question ID : 65497833808

Status : Answered

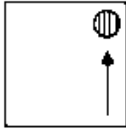
Chosen Option : 2

Q.5 दिए गए विकल्पों में से उस आकृति का चयन करें जो नीचे दी गई श्रृंखला में प्रश्न चिह्न (?) के स्थान पर आ सकती है।

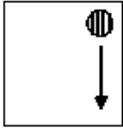


Ans

✓ 1.



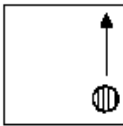
✗ 2.



✗ 3.



✗ 4.



Question ID : 65497833824

Status : Answered

Chosen Option : 1

Q.6 दिए गए विकल्पों में से उस संख्या का चयन करें, जो निम्नलिखित श्रेणी में प्रश्न चिह्न (?) के स्थान पर आ सकती है।

3, 35, 99, 195, ?

Ans

✗ 1. 225

✗ 2. 325

✗ 3. 299

✓ 4. 323

Question ID : 65497833823

Status : Answered

Chosen Option : 4

Q.7 उस विकल्प का चयन करें, जिसका तीसरे पद से वही संबंध है, जो दूसरे पद का पहले पद से है।

PRINT : RNTPI :: LEMON : ?

Ans

✗ 1. MLNOE

✗ 2. ELOMN

✓ 3. EONLM

✗ 4. LNEMO

Question ID : 65497833814

Status : Answered

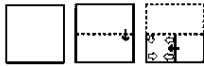
Chosen Option : 3

Q.8 किसी कूट भाषा में, 'SPIRIT' को 'WKMIMG' लिखा जाता है। उसी कूट भाषा में 'GLOBAL' को किस प्रकार लिखा जाएगा?

- Ans
- 1. GOTYXO
 - 2. KOSYEO
 - 3. GTYOOX
 - 4. KSOEYO

Question ID : 65497833815
 Status : Answered
 Chosen Option : 2

Q.9 निम्नांकित आकृतियों में एक कागज के टुकड़े को मोड़ने का क्रम और मुड़े हुए कागज को काटने की विधि दर्शाई गई है। यह कागज खोलने पर कैसा दिखेगा?



- Ans
- 1.
 - 2.
 - 3.
 - 4.

Question ID : 65497833813
 Status : Answered
 Chosen Option : 2

Q.10 दर्पण को चित्र में प्रदर्शित किए गए अनुसार 'PQ' पर रखे जाने पर, दिए गए संयोजन के सही दर्पण प्रतिबिंब का चयन कीजिए।



- Ans
- 1. TRIANGLE
 - 2. TRIANGLE
 - 3. TRIANGLE
 - 4. TRIANGLE


Question ID : 65497833820
 Status : Answered
 Chosen Option : 4

Q.11 निम्नलिखित चार अक्षर-समूहों में से तीन किसी तरह से संगत हैं और एक असंगत है। असंगत अक्षर-समूह का चयन करें।

- Ans 1. HAA
 2. OFF
 3. UHH
 4. IXX

Question ID : 65497833817
Status : Marked For Review
Chosen Option : 4

Q.12 F, G, P, Q, R और S अक्षरों द्वारा चिह्नित एक ही पासे की दो विभिन्न स्थितियाँ दर्शाई गई हैं। उस अक्षर का चयन करें जो अक्षर 'G' दर्शाने वाले फलक के विपरीत फलक पर होगा।



- Ans 1. F
 2. Q
 3. S
 4. R

Question ID : 65497833803
Status : Answered
Chosen Option : 2

Q.13 अक्षरों के उस संयोजन का चयन करें, जिसे दी गई श्रृंखला के रिक्त स्थानों में क्रमिक रूप से रखे जाने पर श्रृंखला पूर्ण हो जाएगी।

_ b _ p p p _ q p _ p b _ p _

- Ans 1. p q b p q p
 2. p b q p b q
 3. p q p p q b
 4. b q b p b p

Question ID : 65497833822
Status : Answered
Chosen Option : 1

Q.14 सात मित्र, M, N, O, P, Q, R और S, सभी एक सीधी पंक्ति में, उत्तर की ओर मुंह करके बैठे हैं। N पंक्ति के मध्य में बैठा है। M, Q और P के बीच में बैठा है। Q, N के बाईं ओर ठीक बगल में बैठा है। S, O के बाईं ओर ठीक बगल में बैठा है। M और O किसी भी सिरे पर नहीं बैठे हैं। दाएं सिरे पर कौन बैठा है?

- Ans 1. N
 2. P
 3. R
 4. Q

Question ID : 65497833800
Status : Answered
Chosen Option : 3

Q.15 दिए गए विकल्पों में से उस संख्या का चयन करें, जो निम्नलिखित श्रेणी में प्रश्न चिह्न (?) के स्थान पर आ सकती है।

144, 289, 484, ?, 1024

Ans 1. 725

2. 625

3. 729

4. 676

Question ID : 65497833819

Status : Answered

Chosen Option : 3

Q.16 एक काल्पनिक गणितीय प्रणाली में, P घटाना को दर्शाता है, Q भाग को दर्शाता है, R जोड़ने को दर्शाता है और S गुणन को दर्शाता है। गणित के अन्य सभी नियम मौजूदा प्रणाली के समान ही हैं। दिए गए व्यंजक का मान ज्ञात कीजिए।

106 R 115 Q 23 S 7 P 19

Ans 1. 122

2. 154

3. 45

4. 87

Question ID : 65497833802

Status : Not Attempted and Marked For Review

Chosen Option : --

Q.17 किसी संख्या में 12 जोड़ने पर प्राप्त परिणाम, संख्या और 4 के योग के दोगुने के बराबर होता है। संख्या ज्ञात कीजिए।

Ans 1. 10

2. 5

3. 4

4. 8

Question ID : 65497833812

Status : Answered

Chosen Option : 3

Q.18 दिए गए विकल्पों में से उस अक्षर-समूह का चयन कीजिए, जो निम्नलिखित श्रृंखला में प्रश्न चिह्न (?) के स्थान पर आ सकता है।

GBL, JEO, MHR, ?

Ans 1. PKU

2. OJB

3. QJV

4. QKW

Question ID : 65497833805

Status : Answered

Chosen Option : 1

Q.19 एक विशिष्ट कूट भाषा में, 'REACH' का कोड 85139 और 'SUN' का कोड 264 है। उसी कूट भाषा में 'SEARCH' का कोड क्या होगा?

- Ans
- 1. 258139
 - 2. 253189
 - 3. 253819
 - 4. 251839

Question ID : 65497833818
Status : Answered
Chosen Option : 4

Q.20 उस सही विकल्प का चयन करें, जो दिए गए शब्दों के उस सही क्रम को दर्शाता है, जिस क्रम में ये शब्द अंग्रेजी शब्दकोश में मौजूद होते हैं।

- i. Declaim
- ii. Decline
- iii. Decisive
- iv. Declare
- v. Decode

- Ans
- 1. i, iv, ii, iii, v
 - 2. i, ii, iv, iii, v
 - 3. v, iii, iv, ii, i
 - 4. iii, i, iv, ii, v

Question ID : 65497833821
Status : Answered
Chosen Option : 4

Q.21 सात मित्र, L, M, N, O, P, Q और R, एक वृत्ताकार मेज के परितः केंद्र की ओर पीठ करके बैठे हैं। L, P के दाईं ओर ठीक बगल में बैठा है। M, P का पड़ोसी नहीं है। O, L के बाईं ओर तीसरे स्थान पर बैठा है। Q, R और O के बीच में बैठा है। L के दाईं ओर ठीक बगल में कौन बैठा है?

- Ans
- 1. M
 - 2. R
 - 3. N
 - 4. Q

Question ID : 65497833807
Status : Answered
Chosen Option : 1

Q.22 'पटना' का 'बिहार' से वही संबंध है, जो 'दिसपुर' का '_____ ' से है।

- Ans
- 1. नागालैंड
 - 2. मेघालय
 - 3. मिज़ोरम
 - 4. असम

Question ID : 65497833806
Status : Answered
Chosen Option : 4

Q.23 उस विकल्प का चयन करें, जिसका चौथी संख्या से वही संबंध है, जो पहली संख्या का दूसरी संख्या से है।

54 : 9 :: ? : 7

Ans 1. 42

2. 62

3. 56

4. 60

Question ID : 65497833801
Status : Answered
Chosen Option : 1

Q.24 'A×B' का अर्थ है - 'A, B का भाई है'।
'A-B' का अर्थ है - 'A, B की मां है'।
'A÷B' का अर्थ है - 'A, B का पिता है'।

निम्नलिखित में से किसका अर्थ है - 'M, Q का पुत्र है'?

Ans 1. Q+M×R

2. M×R+Q

3. M+R×Q

4. M-R÷T

Question ID : 65497833816
Status : Answered
Chosen Option : 1

Q.25 दिए गए कथनों और निष्कर्षों को ध्यानपूर्वक पढ़ें। कथनों में दी गई जानकारी को सत्य मानते हुए विचार करें, भले ही वह सामान्यतः ज्ञात तथ्यों से भिन्न प्रतीत होती हो और बताएं कि दिए गए निष्कर्षों में से कौन से कथनों का तार्किक रूप से पालन करते हैं?

कथन :

सभी लैपटॉप, मॉनिटर हैं।

सभी मॉनिटर, टीवी हैं।

निष्कर्ष :

1. सभी मॉनिटर, लैपटॉप हैं।

2. कुछ टीवी, मॉनिटर हैं।

3. कोई भी मॉनिटर, लैपटॉप नहीं है।

Ans 1. केवल निष्कर्ष 1 पालन करता है।

2. केवल निष्कर्ष 2 पालन करता है।

3. निष्कर्ष 2 और 3 दोनों ही पालन करते हैं।

4. केवल निष्कर्ष 3 पालन करता है।

Question ID : 65497833810
Status : Answered
Chosen Option : 2

Section : Part B General Knowledge and General Awareness

Q.1 अंग्रेजों के खिलाफ किए गए आंदोलन और उसके नेता का इनमें से कौन सा युग समेकित नहीं है?

Ans 1. पागल पंथी विद्रोह - तिरुत सिंह

2. अहोम विद्रोह - गोमधर कुंवर

3. पाइका विद्रोह - बक्शी जगबंधु

4. कोल विद्रोह - बुधू भगत

Question ID : 65497833847
Status : Not Answered
Chosen Option : --

Q.2 खरीफ की इनमें से किस फसल को भोजन और चारे, दोनों के रूप में इस्तेमाल किया जाता है?

- Ans
- 1. बाजरा
 - 2. मक्का
 - 3. ज्वार
 - 4. गेहूँ

Question ID : 65497833836
Status : Answered
Chosen Option : 2

Q.3 शाही उपाधि अधिनियम [Royal Titles Act] (1876) के माध्यम से, महारानी विक्टोरिया ने 'कैसर-ए-हिंद' या भारत की महारानी की उपाधि धारण की। महारानी विक्टोरिया द्वारा उक्त उपाधि धारण किए जाने के समय ब्रिटिश भारत का वायसराय कौन था?

- Ans
- 1. लॉर्ड कैनिंग
 - 2. लॉर्ड लैंसडाउन
 - 3. लॉर्ड रिपन
 - 4. लॉर्ड लिटन

Question ID : 65497833835
Status : Answered
Chosen Option : 3

Q.4 जल्लीकट्टू, मुख्यतः तमिलनाडु में आयोजित एक _____ है।

- Ans
- 1. सांडों को काबू करने का त्योहार
 - 2. पतंगबाजी का त्योहार
 - 3. भैंसों की लड़ाई का त्योहार
 - 4. मोमबत्ती जलाने का त्योहार

Question ID : 65497833842
Status : Answered
Chosen Option : 1

Q.5 विश्व निमोनिया दिवस कब मनाया जाता है?

- Ans
- 1. 15 अक्टूबर
 - 2. 5 सितंबर
 - 3. 12 नवंबर
 - 4. 18 दिसंबर

Question ID : 65497833848
Status : Not Answered
Chosen Option : --

Q.6 हैदराबाद राज्य के संस्थापक, निज़ाम-उल-मुल्क आसफ जाह, _____ फ़रूख़सियर के दरबार के सबसे शक्तिशाली सदस्य थे।

- Ans
- 1. मुगल सम्राट
 - 2. खिलजी सम्राट
 - 3. राजपूत सम्राट
 - 4. गुप्त सम्राट

Question ID : 65497833838
Status : Marked For Review
Chosen Option : 2

Q.7 In November 2020, who among the following inaugurated the 'Lilawati Awards', which is an initiative of All India Council for Technical Education?

- Ans
- 1. Harsh Vardhan
 - 2. Rajiv Kumar
 - 3. Amit Shah
 - 4. Ramesh Pokhriyal 'Nishank'

Question ID : 65497833832
Status : Marked For Review
Chosen Option : 4

Q.8 भारत ने _____ में बैंक राष्ट्रीयकरण कार्यक्रम की 50वीं वर्षगांठ मनाई।

- Ans
- 1. 2019
 - 2. 2015
 - 3. 2020
 - 4. 2017

Question ID : 65497833849
Status : Answered
Chosen Option : 3

Q.9 भारत और बांग्लादेश, _____ के प्रमुख उत्पादक हैं।

- Ans
- 1. कॉफ़ी
 - 2. जूट
 - 3. चाय
 - 4. बाजरा

Question ID : 65497833843
Status : Answered
Chosen Option : 2

Q.10 Which of the following statements about the Equal Remuneration Act of 1976 is INCORRECT?

- Ans
- 1. It provides for prevention of discrimination against women at workplace.
 - 2. It provides for payment of equal remuneration to men and women, in the matter of employment.
 - 3. It applies to certain parts of India.
 - 4. It is a Central Legislation.

Question ID : 65497833839
Status : Not Answered
Chosen Option : --

Q.11 The Ministry of Information and Broadcasting announced _____ as the new President of the Film and Television Institute of India in September 2020.

- Ans
- 1. Gajendra Chauhan
 - 2. Anupam Kher
 - 3. Shekhar Kapur
 - 4. Mahesh Bhatt

Question ID : 65497833841
Status : Answered
Chosen Option : 2

Q.12 Who among the following Australian cricketers won the Allan Border Medal 2020?

- Ans
- 1. Cameron Green
 - 2. Pat Cummins
 - 3. Glenn Maxwell
 - 4. David Warner

Question ID : 65497833845
Status : Answered
Chosen Option : 2

Q.13 Which of the following was NOT the theme for Union Budget 2020-21?

- Ans
- 1. Education for All
 - 2. Develop a Caring Society
 - 3. Aspirational India
 - 4. Economic Development for All

Question ID : 65497833834
Status : Not Answered
Chosen Option : --

Q.14 22 नवंबर 2020 तक प्राप्त जानकारी के अनुसार, 17वीं लोकसभा में हिमाचल प्रदेश के कितने सदस्य हैं?

- Ans
- 1. 8
 - 2. 4
 - 3. 12
 - 4. 6

Question ID : 65497833831
Status : Not Answered
Chosen Option : --

Q.15 निम्नलिखित में से कौन फ़िट इंडिया आंदोलन के संस्थापक हैं?

- Ans
- 1. अमित शाह
 - 2. सुपर्णो सत्पथी
 - 3. नरेंद्र मोदी
 - 4. किरण रिजिजू

Question ID : 65497833833
Status : Answered
Chosen Option : 3

Q.16 Which of the following compounds contains an ionic bond?

- Ans
- 1. CH₄
 - 2. CHCl₃
 - 3. NaCl
 - 4. N₂

Question ID : 65497833846
Status : Not Answered
Chosen Option : --

Q.17 निम्नलिखित में से कौन सा स्मारक राजस्थान में स्थित है?

- Ans 1. हवा महल
 2. बड़ा इमामबाड़ा
 3. बीबी का मकबरा
 4. उज्जयंत महल

Question ID : 65497833827
Status : Answered
Chosen Option : 1

Q.18 Which of the following grasslands are present in North America?

- Ans 1. Pampas
 2. Prairies
 3. Downs
 4. Steppes

Question ID : 65497833826
Status : Answered
Chosen Option : 2

Q.19 मनिका बत्रा एक प्रसिद्ध भारतीय _____ हैं।

- Ans 1. टेबल टेनिस खिलाड़ी
 2. एथलीट
 3. तैराक
 4. बास्केटबॉल खिलाड़ी

Question ID : 65497833840
Status : Answered
Chosen Option : 1

Q.20 दिल्ली सल्तनत के अधीन प्रशासन की भाषा कौन सी थी?

- Ans 1. तुर्की
 2. संस्कृत
 3. फ़ारसी
 4. उर्दू

Question ID : 65497833837
Status : Answered
Chosen Option : 4

Q.21 Pressure is equal to thrust divided by _____.

- Ans 1. length
 2. area
 3. Force
 4. mass

Question ID : 65497833829
Status : Answered
Chosen Option : 2

Q.22 What is the maximum number of electrons that can be accommodated in the 'N' shell of an atom?

- Ans 1. 4
 2. 8
 3. 24
 4. 32

Question ID : 65497833828
Status : Not Answered
Chosen Option : --

Q.23 मलाला यूसुफजई सबसे कम आयु की नोबेल शांति पुरस्कार विजेता हैं, जिनको केवल 17 वर्ष की आयु में यह पुरस्कार प्रदान किया गया था। उन्हें इनमें से किस वर्ष में नोबेल शांति पुरस्कार से सम्मानित किया गया था?

- Ans 1. 2019
 2. 2014
 3. 2016
 4. 2018

Question ID : 65497833830
Status : Answered
Chosen Option : 2

Q.24 Which of the following types of goods is defined as 'the goods that are identical, similar or comparable to another product, in the eyes of the consumer, such that they can either fully or partly satisfy the same needs of the consumer'?

- Ans 1. Consumer goods
 2. Substitute goods
 3. Intermediate goods
 4. Capital goods

Question ID : 65497833825
Status : Not Answered
Chosen Option : --

Q.25 _____ ने मां बनने के बाद कोर्ट पर सफल वापसी करते हुए, एशिया/ओशिनिया ज़ोन के लिए फेड कप हार्ट अवार्ड 2020 जीतने वाली प्रथम भारतीय होने का गौरव हासिल किया।

- Ans 1. रुतुजा भोसले
 2. रिया भाटिया
 3. अंकिता रैना
 4. सानिया मिर्जा

Question ID : 65497833844
Status : Not Answered
Chosen Option : --

Section : Part C Elementary Mathematics

Q.1 एक मिश्रण की 35 लीटर मात्रा में दूध और पानी का अनुपात 3 : 2 है। यदि इसमें से मिश्रण की 4 लीटर मात्रा निकालकर उसके स्थान पर 4 लीटर दूध मिला दिया जाए, तो इस प्रकार प्राप्त नए मिश्रण में दूध और पानी का अनुपात ज्ञात कीजिए।

- Ans
- 1. 3 : 7
 - 2. 5 : 2
 - 3. 3 : 5
 - 4. 4 : 7

Question ID : 65497833872

Status : **Not Attempted and Marked For Review**

Chosen Option : --

Q.2 रवि ने ₹1800 की धनराशि 6% वार्षिक साधारण ब्याज की दर पर और ₹2800 की धनराशि 7% वार्षिक साधारण ब्याज की दर पर समान अवधि के लिए उधार ली और संपूर्ण ब्याज के रूप में कुल ₹2736 का भुगतान किया। उसके मित्र शिव ने ₹2500 की धनराशि 8% वार्षिक साधारण ब्याज की दर पर समान अवधि के लिए उधार ली। ऋण को पूर्णतया चुकाने के लिए शिव को कितना (₹ में) भुगतान करना होगा?

- Ans
- 1. 3,900
 - 2. 4,000
 - 3. 4,300
 - 4. 4,500

Question ID : 65497833853

Status : **Answered**

Chosen Option : 3

Q.3 एक निश्चित धनराशि पर 10% वार्षिक ब्याज की दर से 2 वर्ष का चक्रवृद्धि ब्याज ₹651 है (ब्याज की गणना वार्षिक चक्रवृद्धि आधार पर की गई है)। समान धनराशि पर, पूर्व से आधी ब्याज दर पर, पूर्व से दोगुनी अवधि का साधारण ब्याज ज्ञात कीजिए।

- Ans
- 1. ₹630
 - 2. ₹600
 - 3. ₹620
 - 4. ₹520

Question ID : 65497833862

Status : **Answered**

Chosen Option : 3

Q.4 एक रेलगाड़ी की चाल 25% कम कर देने पर यह समान दूरी तय करने में 42 मिनट अधिक लेती है। वही दूरी अपनी वास्तविक चाल से तय करने में रेलगाड़ी को (घंटों में) कितना समय लगेगा?

- Ans
- 1. $1\frac{4}{5}$
 - 2. $2\frac{1}{5}$
 - 3. $2\frac{1}{10}$
 - 4. $1\frac{1}{20}$

Question ID : 65497833871

Status : **Answered**

Chosen Option : 3

Q.5 यदि सीमा, उसके पास मौजूद सभी कंचों को प्रत्येक 6, 10, 12 और 15 कंचों वाली पंक्तियों में व्यवस्थित कर सकती है और कंचों की संख्या पूर्ण वर्ग है, तो सीमा के पास मौजूद कंचों की न्यूनतम संख्या ज्ञात कीजिए।

- Ans
- 1. 400
 - 2. 625
 - 3. 225
 - 4. 900

Question ID : 65497833850
Status : Answered
Chosen Option : 4

Q.6 एक आदमी ने ₹60 प्रति दर्जन की दर से कुछ अंडे खरीदे और उतने ही अंडे ₹50 प्रति दर्जन की दर से खरीदे। यदि उसने इन सभी अंडों को ₹70 प्रति दर्जन की दर से बेचने के पश्चात ₹930 का लाभ प्राप्त किया हो, तो उसके द्वारा खरीदे गए अंडों की कुल संख्या कितनी थी?

- Ans
- 1. 62 दर्जन
 - 2. 48 दर्जन
 - 3. 70 दर्जन
 - 4. 54 दर्जन

Question ID : 65497833866
Status : Answered
Chosen Option : 1

Q.7 24 लड़कों का औसत वजन, 28 लड़कियों के औसत वजन से 7 kg अधिक है। यदि 24 लड़कों का कुल वजन 1080 kg है, तो 28 लड़कियों का कुल वजन कितना होगा?

- Ans
- 1. 1064 kg
 - 2. 1054 kg
 - 3. 1074 kg
 - 4. 1046 kg

Question ID : 65497833854
Status : Answered
Chosen Option : 3

Q.8 यदि $2 \text{ of } 8 \div 3 + 3 \frac{4}{5} \div x - 4 \frac{7}{9} = 6 \frac{8}{9}$ है, तो x का मान कितना होगा ?

- Ans
- 1. $\frac{5}{9}$
 - 2. $\frac{3}{5}$
 - 3. $\frac{6}{7}$
 - 4. $\frac{2}{3}$

Question ID : 65497833865
Status : Answered
Chosen Option : 2

Q.9 The perimeter and area of a rectangular sheet are 40 m and 72 m^2 , respectively. The length of the diagonal will be:

- Ans
- 1. 16 m
 - 2. 14 m
 - 3. 12 m
 - 4. 10 m

Question ID : 65497833860
Status : Answered
Chosen Option : 1

Q.10 The height of a right circular cylinder is 14 cm and its curved surface is 264 cm^2 . Its volume is:

- Ans
- 1. 252 cm^3
 - 2. 396 cm^3
 - 3. 366 cm^3
 - 4. 290 cm^3

Question ID : 65497833874
Status : Answered
Chosen Option : 2

Q.11 एक छात्र को 160 अंक मिले और उसे उत्तीर्ण होने के लिए आवश्यक न्यूनतम 35% अंक प्राप्त करने के लिए 50 और अंकों की आवश्यकता है। पूर्णांक ज्ञात करें।

- Ans
- 1. 750
 - 2. 600
 - 3. 500
 - 4. 800

Question ID : 65497833864
Status : Answered
Chosen Option : 2

Q.12 440 के 35% में कितना जोड़ा जाए कि परिणाम, 550 के 42% के बराबर हो जाए?

- Ans
- 1. 77
 - 2. 75
 - 3. 70
 - 4. 65

Question ID : 65497833856
Status : Answered
Chosen Option : 1

Q.13 A ने एक वस्तु B को 20% लाभ पर बेची। B ने इसे 12% हानि पर C को बेच दिया और C ने इसे 25% लाभ पर D को बेच दिया। यदि B को ₹72 की हानि हुई, तो D ने उस वस्तु को किस मूल्य पर खरीदा?

- Ans
- 1. ₹660
 - 2. ₹594
 - 3. ₹528
 - 4. ₹396

Question ID : 65497833869
Status : Answered
Chosen Option : 1

Q.14 $\frac{3}{5} \div 4\frac{4}{5}$ of $\frac{5}{16} + \frac{2}{3} \div \frac{8}{15} \times 1\frac{1}{5} - \frac{1}{4} \times \frac{3}{4} \div 1\frac{1}{4}$ of $\frac{2}{5}$ का मान कितना होगा?

- Ans
- 1. $\frac{12}{5}$
 - 2. $\frac{9}{4}$
 - 3. $\frac{21}{10}$
 - 4. $\frac{61}{40}$

Question ID : 65497833870
Status : Not Answered
Chosen Option : --

Q.15 एक व्यक्ति 15% वार्षिक चक्रवृद्धि ब्याज की दर पर ₹15,000 उधार लेता है। प्रत्येक वर्ष के अंत में, वह आंशिक पुनर्भुगतान के रूप में ₹2,500 का भुगतान करता है। इस तरह की तीन किश्तों का भुगतान करने के बाद भी उस पर कितनी धनराशि बकाया है?

- Ans
- 1. ₹12,150
 - 2. ₹13,175.66
 - 3. ₹14,131.87
 - 4. ₹12,642.50

Question ID : 65497833873
Status : Not Answered
Chosen Option : --

Q.16 किन्हीं दो संख्याओं के महत्तम समापवर्तक और लघुत्तम समापवर्त्य क्रमशः 25 और 750 हैं। यदि दो संख्याओं में से एक संख्या 75 है, तो दूसरी संख्या ज्ञात कीजिए।

- Ans
- 1. 250
 - 2. 75
 - 3. 25
 - 4. 50

Question ID : 65497833863
Status : Answered
Chosen Option : 1

Q.17 एक समान चाल से चलती हुए एक कार 6 घंटों में एक निश्चित दूरी तय करती है। यदि कार की चाल 10 km/h बढ़ा दी जाती, तो यह दूरी 5 घंटों में तय की जा सकती थी। कार द्वारा तय की गई दूरी कितनी है?

- Ans
- 1. 200 km
 - 2. 300 km
 - 3. 350 km
 - 4. 250 km

Question ID : 65497833858
Status : Answered
Chosen Option : 2

Q.18 8%, 12.5% और 20% की तीन क्रमिक छूटों के समतुल्य एकल छूट कितनी होगी?

- Ans
- 1. 36.5%
 - 2. 35.4%
 - 3. 40.5%
 - 4. 35.6%

Question ID : 65497833855
Status : Answered
Chosen Option : 4

Q.19 32 श्रमिक, 9 घंटे प्रतिदिन कार्य करते हुए एक कार्य को 14 दिन में पूर्ण कर सकते हैं। यदि प्रत्येक श्रमिक, 8 घंटे प्रतिदिन कार्य करता हो, तो उस कार्य को 18 दिन में पूर्ण करने के लिए कितने श्रमिकों की आवश्यकता होगी?

- Ans
- 1. 24
 - 2. 26
 - 3. 28
 - 4. 30

Question ID : 65497833867
Status : Answered
Chosen Option : 3

Q.20 पाँच क्रमागत सम संख्याओं का औसत 36 है। यदि अगली पाँच क्रमागत विषम संख्याओं को शामिल किया जाए, तो सभी संख्याओं का औसत क्या होगा?

- Ans
- 1. 40.5
 - 2. 37.75
 - 3. 39
 - 4. 41.25

Question ID : 65497833851
Status : Not Answered
Chosen Option : --

Q.21 A और B ने ₹6000 में एक कार्य करने का ठेका लिया। इस कार्य को A, 10 दिन में और B, 12 दिन में पूरा कर सकता है। C की मदद से, उन्होंने 4 दिन में यह कार्य पूरा किया। भुगतान राशि में C का हिस्सा कितना होगा?

- Ans
- 1. ₹1,500
 - 2. ₹2,400
 - 3. ₹1,400
 - 4. ₹1,600

Question ID : 65497833857
Status : Answered
Chosen Option : 4

Q.22 एक वस्तु का अंकित मूल्य ₹ 700 है। यदि इसे 35% की छूट पर बेचा जाता है, तो इसका विक्रय मूल्य, इसके क्रय मूल्य के $\frac{5}{3}$ गुने के बराबर होता है। वस्तु का क्रय मूल्य (₹ में) ज्ञात कीजिए।

- Ans
- 1. 455
 - 2. 291
 - 3. 420
 - 4. 273

Question ID : 65497833868
Status : Answered
Chosen Option : 4

Q.23 एक राशि को P, Q और R के बीच क्रमशः 13 : 17 : 25 के अनुपात में वितरित किया गया। यदि R को Q से ₹6,800 अधिक मिले, तो P के भाग और Q के भाग का अंतर क्या है?

- Ans
- 1. ₹3,600
 - 2. ₹4,400
 - 3. ₹3,200
 - 4. ₹3,400

Question ID : 65497833859
Status : Answered
Chosen Option : 4

Q.24 जब एक भूखंड को ₹34,080 में बेचा गया तो मालिक को 20% की हानि हुई। 20% का लाभ अर्जित करने के लिए उस भूखंड को किस मूल्य पर बेचा जाना चाहिए?

- Ans
- 1. ₹50,120
 - 2. ₹51,120
 - 3. ₹41,120
 - 4. ₹51,020

Question ID : 65497833861
Status : Answered
Chosen Option : 2

Q.25 ₹1,26,672 को A और B के बीच में 7 : 9 के अनुपात में विभाजित किया जाता है। B के हिस्से और A के हिस्से के बीच का अंतर (₹ में) कितना होगा?

- Ans
- 1. 21,317
 - 2. 15,834
 - 3. 13,485
 - 4. 18,354

Question ID : 65497833852
Status : Answered
Chosen Option : 2

Q.1 Select the most appropriate ANTONYM of the given word.

United

- Ans 1. Bonded
 2. Separated
 3. Together
 4. Linked

Question ID : 65497833881
Status : Not Answered
Chosen Option : --

Q.2 Select the correctly spelt word.

- Ans 1. Schemes
 2. Malnourised
 3. Intigrated
 4. Recognisable

Question ID : 65497833879
Status : Not Answered
Chosen Option : --

Q.3 Select the most appropriate option to fill in the blank.

The _____ of directors gave their approval for the project.

- Ans 1. board
 2. team
 3. band
 4. bunch

Question ID : 65497833880
Status : Not Answered
Chosen Option : --

Q.4 Select the most appropriate synonym of the given word.

Brutal

- Ans 1. Cheerful
 2. Courteous
 3. Cruel
 4. Considerate

Question ID : 65497833878
Status : Not Answered
Chosen Option : --

Q.5 Select the most appropriate option to fill in the blank.

Nobody seems to be _____ in visiting museums.

- Ans 1. attracted
 2. obsessed
 3. anxious
 4. interested

Question ID : 65497833882
Status : Not Answered
Chosen Option : --

Q.6 The following sentence has been split into four segments. Identify the segment that contains a grammatical error.

Why do you think / why John / refused to / marry her?

- Ans
- 1. marry her
 - 2. why John
 - 3. Why do you think
 - 4. refused to

Question ID : 65497833888
Status : Not Answered
Chosen Option : --

Q.7 Select the option that can be used as a one-word substitute for the given group of words.

Able to be eaten

- Ans
- 1. Decibel
 - 2. Hobble
 - 3. Edible
 - 4. Scribble

Question ID : 65497833876
Status : Not Answered
Chosen Option : --

Q.8 Select the most appropriate option that can substitute the underlined segment in the given sentence. If there is no need to substitute it, select 'No substitution required'.

Vanilla ice cream with chocolate sauce is my favourite.

- Ans
- 1. with chocolate sauce is being
 - 2. with chocolate sauce are
 - 3. with chocolate sauces are
 - 4. No substitution required

Question ID : 65497833885
Status : Not Answered
Chosen Option : --

Q.9 Select the most appropriate option that can substitute the underlined segment in the given sentence. If there is no need to substitute it, select 'No substitution required'.

Trees can live in an extremely long time – tens, hundreds, even thousands of years.

- Ans
- 1. No substitution required
 - 2. can live for an extremely long time
 - 3. can live in an extremely longest time
 - 4. can live with an extremely long time

Question ID : 65497833884
Status : Not Answered
Chosen Option : --

Q.10 Select the option that can be used as a one-word substitute for the given group of words.

Owing money to someone

- Ans
- 1. Exchanged
 - 2. Donated
 - 3. Loaned
 - 4. Indebted

Question ID : 65497833890
Status : Not Answered
Chosen Option : --

Q.11 The following sentence has been split into four segments. Identify the segment that contains a grammatical error.

Emma agreed / thinking of an excuse / to get Paul / out of the house.

- Ans
- 1. Emma agreed
 - 2. to get Paul
 - 3. thinking of an excuse
 - 4. out of the house

Question ID : 65497833892
Status : Not Answered
Chosen Option : --

Q.12 Select the option that can be used as a one-word substitute for the given group of words.

A dummy used to display clothes in a shop window

- Ans
- 1. Mannequin
 - 2. Model
 - 3. Statue
 - 4. Supermodel

Question ID : 65497833894
Status : Not Answered
Chosen Option : --

Q.13 Select the option that is closest in meaning to the underlined idiom/phrase in the given sentence.

Losing my job was a blessing in disguise because I got to spend more time with my family.

- Ans
- 1. event that seemed bad at first but resulted in something good later
 - 2. task that appeared difficult at first but became easy later
 - 3. a good thing that happened only once
 - 4. a joyful event that made everybody happy

Question ID : 65497833886
Status : Not Answered
Chosen Option : --

Q.14 Select the most appropriate ANTONYM of the given word.

Remorse

- Ans 1. Denial
 2. Guilt
 3. Indifference
 4. Anger

Question ID : 65497833889
Status : Not Answered
Chosen Option : --

Q.15 Select the most appropriate option to fill in the blank.

It is important to _____ with the police and listen to their advice.

- Ans 1. cope
 2. concern
 3. cooperate
 4. combine

Question ID : 65497833887
Status : Not Answered
Chosen Option : --

Q.16 The following sentence has been split into four segments. Identify the segment that contains a grammatical error.

Mr. Ghosh is senior / than Mr. Sen, / so he must be / promoted first.

- Ans 1. than Mr. Sen
 2. Mr. Ghosh is senior
 3. promoted first
 4. so he must be

Question ID : 65497833877
Status : Not Answered
Chosen Option : --

Q.17 Select the INCORRECTLY spelt word.

- Ans 1. Submission
 2. Omission
 3. Comission
 4. Remission

Question ID : 65497833891
Status : Not Answered
Chosen Option : --

Q.18 Select the most appropriate meaning of the given idiom.

To lose one's head

- Ans 1. To become upset or angry
 2. To be robbed
 3. To be happy
 4. To take responsibility

Question ID : 65497833883
Status : Not Answered
Chosen Option : --

Q.19 Select the most appropriate synonym of the given word.

Perforate

- Ans 1. Fold
 2. Pierce
 3. Crack
 4. Tear

Question ID : 65497833893
Status : Not Answered
Chosen Option : --

Q.20 Select the most appropriate option that can substitute the underlined segment in the given sentence. If there is no need to substitute it, select 'No substitution required'.

He will not get admission in a good college unless he will work hard.

- Ans 1. would work
 2. No substitution required
 3. works
 4. is working

Question ID : 65497833875
Status : Not Answered
Chosen Option : --

Comprehension:

In the following passage, some words have been deleted. Read the passage carefully and select the most appropriate option to fill in each blank.

When the temperature (1)_____ during the summer season, many people choose to use air-conditioners to keep their homes and offices cool. Air-conditioners, which were once regarded as a luxury, have now almost become a/an (2)_____. The air-conditioning system not only cools the indoor air down but also filters out harmful pollutants. This helps reduce dust, pollen and allergens inside the home and (3)_____ the quality of air inside the house or room. However, along with the (4)_____, there are some disadvantages. A major disadvantage is that if the filter inside the air-conditioner is not cleaned and maintained regularly, it (5)_____ to problems such as allergic colds, fever, headaches and dryness of the skin.

SubQuestion No : 21

Q.21 Select the most appropriate option to fill in blank no. 1.

- Ans 1. rises
 2. gains
 3. raises
 4. extends

Question ID : 65497833896
Status : Not Answered
Chosen Option : --

Comprehension:

In the following passage, some words have been deleted. Read the passage carefully and select the most appropriate option to fill in each blank.

When the temperature (1)_____ during the summer season, many people choose to use air-conditioners to keep their homes and offices cool. Air-conditioners, which were once regarded as a luxury, have now almost become a/an (2)_____. The air-conditioning system not only cools the indoor air down but also filters out harmful pollutants. This helps reduce dust, pollen and allergens inside the home and (3)_____ the quality of air inside the house or room. However, along with the (4)_____, there are some disadvantages. A major disadvantage is that if the filter inside the air-conditioner is not cleaned and maintained regularly, it (5)_____ to problems such as allergic colds, fever, headaches and dryness of the skin.

SubQuestion No : 22

Q.22 Select the most appropriate option to fill in blank no. 2.

- Ans
- 1. urgency
 - 2. demand
 - 3. essence
 - 4. necessity

Question ID : 65497833897
Status : Not Answered
Chosen Option : --

Comprehension:

In the following passage, some words have been deleted. Read the passage carefully and select the most appropriate option to fill in each blank.

When the temperature (1)_____ during the summer season, many people choose to use air-conditioners to keep their homes and offices cool. Air-conditioners, which were once regarded as a luxury, have now almost become a/an (2)_____. The air-conditioning system not only cools the indoor air down but also filters out harmful pollutants. This helps reduce dust, pollen and allergens inside the home and (3)_____ the quality of air inside the house or room. However, along with the (4)_____, there are some disadvantages. A major disadvantage is that if the filter inside the air-conditioner is not cleaned and maintained regularly, it (5)_____ to problems such as allergic colds, fever, headaches and dryness of the skin.

SubQuestion No : 23

Q.23 Select the most appropriate option to fill in blank no. 3.

- Ans
- 1. develops
 - 2. reforms
 - 3. improve
 - 4. alters

Question ID : 65497833898
Status : Not Answered
Chosen Option : --

Comprehension:

In the following passage, some words have been deleted. Read the passage carefully and select the most appropriate option to fill in each blank.

When the temperature (1)_____ during the summer season, many people choose to use air-conditioners to keep their homes and offices cool. Air-conditioners, which were once regarded as a luxury, have now almost become a/an (2)_____. The air-conditioning system not only cools the indoor air down but also filters out harmful pollutants. This helps reduce dust, pollen and allergens inside the home and (3)_____ the quality of air inside the house or room. However, along with the (4)_____, there are some disadvantages. A major disadvantage is that if the filter inside the air-conditioner is not cleaned and maintained regularly, it (5)_____ to problems such as allergic colds, fever, headaches and dryness of the skin.

SubQuestion No : 24

Q.24 Select the most appropriate option to fill in blank no. 4.

- Ans
- 1. merit
 - 2. credits
 - 3. benefits
 - 4. virtue

Question ID : 65497833899
Status : Not Answered
Chosen Option : --

Comprehension:

In the following passage, some words have been deleted. Read the passage carefully and select the most appropriate option to fill in each blank.

When the temperature (1)_____ during the summer season, many people choose to use air-conditioners to keep their homes and offices cool. Air-conditioners, which were once regarded as a luxury, have now almost become a/an (2)_____. The air-conditioning system not only cools the indoor air down but also filters out harmful pollutants. This helps reduce dust, pollen and allergens inside the home and (3)_____ the quality of air inside the house or room. However, along with the (4)_____, there are some disadvantages. A major disadvantage is that if the filter inside the air-conditioner is not cleaned and maintained regularly, it (5)_____ to problems such as allergic colds, fever, headaches and dryness of the skin.

SubQuestion No : 25

Q.25 Select the most appropriate option to fill in blank no. 5.

- Ans
- 1. could lead
 - 2. is leading
 - 3. led
 - 4. leads

Question ID : 65497833900
Status : Not Answered
Chosen Option : --

Section : Part D Hindi

Q.1 सही वर्तनी वाले शब्द का चयन करें।

- Ans
- 1. पारीतोषिक
 - 2. परीतोषिक
 - 3. पारितोषिक
 - 4. परितोषिक

Question ID : 65497833904
Status : Answered
Chosen Option : 4

Q.2 दिए गए विकल्पों में से निम्नलिखित वाक्यांश के लिए एक शब्द का चयन कीजिए-

अपने देश के साथ विश्वासघात करने वाला

- Ans
- 1. दुर्भिक्ष
 - 2. देशप्रेमी
 - 3. देशद्रोही
 - 4. विश्वासघाती

Question ID : 65497833914
Status : Answered
Chosen Option : 3

Q.3 दिए गए वाक्य का वह भाग ज्ञात करें जिसमें कोई त्रुटि है। यदि कोई त्रुटि नहीं है, तो 'कोई त्रुटि नहीं है' चुनें।

क्या आप अपनी (1)/ बात की स्पष्टीकरण करने के लिए (2)/ बिलकुल तैयार हैं? (3)/ कोई त्रुटि नहीं है (4)

- Ans
- 1. 1
 - 2. 2
 - 3. 3
 - 4. 4

Question ID : 65497833907
Status : Answered
Chosen Option : 2

Q.4 दिए गए शब्द का विलोम चुनें-

प्रचुर

- Ans
- 1. प्रचलित
 - 2. अप्रचारित
 - 3. अप्रचुर
 - 4. प्रचारित

Question ID : 65497833912
Status : Answered
Chosen Option : 3

Q.5 दिए गए वाक्यांश के लिए एक शब्द दीजिए-

जो अक्षरों को पढ़ना-लिखना जानता हो

- Ans
- 1. साक्षर
 - 2. निराक्षर
 - 3. सर्वज्ञ
 - 4. अनपढ़

Question ID : 65497833902
Status : Answered
Chosen Option : 1

Q.6 दिए गए वाक्य में रेखांकित खंड को प्रतिस्थापित करने के लिए सर्वाधिक उपयुक्त विकल्प का चयन करें। यदि इसे प्रतिस्थापित करने की आवश्यकता नहीं है, तो विकल्प 'किसी बदलाव की आवश्यकता नहीं है' का चयन करें।

अपराधी छूट जाते हैं, निरपराध को सज़ा मिलता है।

- Ans 1. निरपराध को सज़ा मिलती है।
 2. किसी बदलाव की आवश्यकता नहीं है।
 3. निरपराध का सज़ा मिलता है।
 4. निरपराध को सज़ा मिलती है।

Question ID : 65497833905
Status : Answered
Chosen Option : 4

Q.7 बहु संख्यक रेखांकित शब्द का सही विलोम बताइए-

- Ans 1. अल्पसंख्यक
 2. अल्पतज्ञ
 3. असीम
 4. अल्प

Question ID : 65497833918
Status : Answered
Chosen Option : 1

Q.8 दिए गए वाक्य का वह भाग ज्ञात करें जिसमें कोई त्रुटि है। यदि कोई त्रुटि नहीं है, तो 'कोई त्रुटि नहीं है' चुनें।

हमारे यहाँ(1)/ तरुण नवयुवकों की(2)/ शिक्षा का अच्छा प्रबंध है।(3)/ कोई त्रुटि नहीं है।(4)

- Ans 1. 1
 2. 2
 3. 4
 4. 3

Question ID : 65497833911
Status : Answered
Chosen Option : 2

Q.9 रिक्त स्थान की पूर्ति करने के लिए सर्वाधिक उपयुक्त शब्द का चयन करें।

आज का युवा अपने अधिकारों के प्रति अत्यंत _____ है।

- Ans 1. सजग
 2. बेखबर
 3. अनभिज्ञ
 4. सहज

Question ID : 65497833909
Status : Answered
Chosen Option : 1

Q.10 सही वर्तनी वाले शब्द का चयन करें।

- Ans 1. गम्भीय
 2. गाम्भीर्य
 3. गम्भीर्य
 4. गांभीय

Question ID : 65497833903
Status : Answered
Chosen Option : 3

Q.11 दिए गए वाक्य में रेखांकित खंड को प्रतिस्थापित करने के लिए सर्वाधिक उपयुक्त विकल्प का चयन करें।
यदि इसे प्रतिस्थापित करने की आवश्यकता नहीं है, तो विकल्प 'किसी बदलाव की आवश्यकता नहीं है'
का चयन करें।

मैंने सुई, कंघी, दर्पण और पुस्तकें मोल लिए।

- Ans 1. मोल दी।
 2. मोल किए।
 3. किसी बदलाव की आवश्यकता नहीं है।
 4. मोल लीं।

Question ID : 65497833910
Status : Answered
Chosen Option : 4

Q.12 दिए गए शब्द के समानार्थी शब्द का चयन करें।

जलज

- Ans 1. जलधि
 2. राजीव
 3. जरायु
 4. सलिल

Question ID : 65497833908
Status : Answered
Chosen Option : 2

Q.13 'मृगांक' किसका पर्यायवाची है?

- Ans 1. सूर्य
 2. कमल
 3. चन्द्र
 4. नयन

Question ID : 65497833917
Status : Not Answered
Chosen Option : --

Q.14 दिए गए विकल्पों में से निम्नलिखित वाक्यांश के लिए एक शब्द का चयन कीजिए-

जिसके हृदय में ममता नहीं है

- Ans 1. निर्भय
 2. निर्दय
 3. निर्मम
 4. निर्मूल

Question ID : 65497833913
Status : Answered
Chosen Option : 3

Q.15 दिए गए वाक्य में रेखांकित खंड को प्रतिस्थापित करने के लिए सर्वाधिक उपयुक्त विकल्प का चयन करें।
यदि इसे प्रतिस्थापित करने की आवश्यकता नहीं है, तो विकल्प 'किसी बदलाव की आवश्यकता नहीं है'
का चयन करें।

कुछ बच्चे मैदान में क्रिकेट खेल रहे थे तो मेरे लड़का ने भी उनके साथ खेलने की जिद की।

- Ans
- 1. तो मेरा बच्चा ने भी उनके साथ
 - 2. तो मेरा लड़का ने भी उनके साथ
 - 3. किसी बदलाव की आवश्यकता नहीं है।
 - 4. तो मेरे बेटे ने भी उनके साथ

Question ID : 65497833906
Status : Answered
Chosen Option : 4

Q.16 छप्पर फाड़ कर देना मुहावरे का उचित अर्थ स्पष्ट कीजिए-

- Ans
- 1. बिना प्रयत्न प्राप्त होना
 - 2. जवाब नहीं देना
 - 3. विवाह करना
 - 4. अप्रत्याक्षित हानि होना।

Question ID : 65497833919
Status : Answered
Chosen Option : 1

Q.17 'आँखें नीची होना' मुहावरे का सही अर्थ है-

- Ans
- 1. परेशान होना
 - 2. क्रोधित होना
 - 3. चिंतित होना
 - 4. लज्जित होना

Question ID : 65497833915
Status : Answered
Chosen Option : 4

Q.18 रिक्त स्थान की पूर्ति करने के लिए सर्वाधिक उपयुक्त शब्द का चयन करें।

पुलिस सारी घटना की _____ कर रही है।

- Ans
- 1. जाँच
 - 2. माप
 - 3. परीक्षा
 - 4. टीका

Question ID : 65497833920
Status : Answered
Chosen Option : 1

Q.19 रिक्त स्थान की पूर्ति करने के लिए सर्वाधिक उपयुक्त शब्द का चयन करें।

श्रीकृष्ण के मामा कंस एक _____ राजा थे।

- Ans
- 1. देशप्रेमी
 - 2. धार्मिक
 - 3. अत्याचारी
 - 4. विनयी

Question ID : 65497833901
Status : Answered
Chosen Option : 3

Q.20 दिए गए वाक्य के किस भाग में त्रुटि है?

छात्राओं ने रंगारंग कार्यक्रम में भाग लिया।

- Ans
- 1. रंगारंग
 - 2. छात्राओं ने
 - 3. भाग लिया।
 - 4. कार्यक्रम में

Question ID : 65497833916

Status : Answered

Chosen Option : 4

Comprehension:

दिए गए गद्यांश में से कुछ शब्द हटा दिए गए हैं। नीचे दिए विकल्पों की सहायता से रिक्त स्थानों की पूर्ति करें। प्रत्येक संख्या के लिए सर्वाधिक उपयुक्त विकल्प का चयन करें।

तुलसीदास ने 'रामचरितमानस' के द्वारा वेद-शास्त्र-सम्मत हिन्दू धर्म का (1)_____ किया। हमारी संस्कृति का (2)_____ ही वेद, शास्त्र, स्मृति आदि ग्रंथ हैं। तुलसीदास ने उस संस्कृति के आध्यात्मिक और सामाजिक पक्ष की (3)_____ की और हमारे सामने कई आदर्श प्रस्तुत किए। 'रामचरितमानस' के (4)_____ से हिन्दुओं में अपनी संस्कृति के अतीत और भविष्य पर आस्था और गर्व का (5)_____ हुआ।

SubQuestion No : 21

Q.21 गद्यांश के रिक्त स्थान (1) के लिए सर्वाधिक उपयुक्त शब्द होगा-

- Ans
- 1. प्राचार
 - 2. प्रचार
 - 3. प्रकार
 - 4. प्रदान

Question ID : 65497833922

Status : Answered

Chosen Option : 2

Comprehension:

दिए गए गद्यांश में से कुछ शब्द हटा दिए गए हैं। नीचे दिए विकल्पों की सहायता से रिक्त स्थानों की पूर्ति करें। प्रत्येक संख्या के लिए सर्वाधिक उपयुक्त विकल्प का चयन करें।

तुलसीदास ने 'रामचरितमानस' के द्वारा वेद-शास्त्र-सम्मत हिन्दू धर्म का (1)_____ किया। हमारी संस्कृति का (2)_____ ही वेद, शास्त्र, स्मृति आदि ग्रंथ हैं। तुलसीदास ने उस संस्कृति के आध्यात्मिक और सामाजिक पक्ष की (3)_____ की और हमारे सामने कई आदर्श प्रस्तुत किए। 'रामचरितमानस' के (4)_____ से हिन्दुओं में अपनी संस्कृति के अतीत और भविष्य पर आस्था और गर्व का (5)_____ हुआ।

SubQuestion No : 22

Q.22 गद्यांश के रिक्त स्थान (2) के लिए सर्वाधिक उपयुक्त शब्द होगा-

- Ans
- 1. अधार
 - 2. आधार
 - 3. आभार
 - 4. उद्धार

Question ID : 65497833923

Status : Answered

Chosen Option : 2

Comprehension:

दिए गए गद्यांश में से कुछ शब्द हटा दिए गए हैं। नीचे दिए विकल्पों की सहायता से रिक्त स्थानों की पूर्ति करें। प्रत्येक संख्या के लिए सर्वाधिक उपयुक्त विकल्प का चयन करें।

तुलसीदास ने 'रामचरितमानस' के द्वारा वेद-शास्त्र-सम्मत हिन्दू धर्म का (1) _____ किया। हमारी संस्कृति का (2) _____ ही वेद, शास्त्र, स्मृति आदि ग्रंथ हैं। तुलसीदास ने उस संस्कृति के आध्यात्मिक और सामाजिक पक्ष की (3) _____ की और हमारे सामने कई आदर्श प्रस्तुत किए। 'रामचरितमानस' के (4) _____ से हिन्दुओं में अपनी संस्कृति के अतीत और भविष्य पर आस्था और गर्व का (5) _____ हुआ।

SubQuestion No : 23

Q.23 गद्यांश के रिक्त स्थान (3) के लिए सर्वाधिक उपयुक्त शब्द होगा-

- Ans** 1. गुणगान
 2. रक्षा
 3. रखा
 4. महत्ता

Question ID : 65497833924

Status : Answered

Chosen Option : 2

Comprehension:

दिए गए गद्यांश में से कुछ शब्द हटा दिए गए हैं। नीचे दिए विकल्पों की सहायता से रिक्त स्थानों की पूर्ति करें। प्रत्येक संख्या के लिए सर्वाधिक उपयुक्त विकल्प का चयन करें।

तुलसीदास ने 'रामचरितमानस' के द्वारा वेद-शास्त्र-सम्मत हिन्दू धर्म का (1) _____ किया। हमारी संस्कृति का (2) _____ ही वेद, शास्त्र, स्मृति आदि ग्रंथ हैं। तुलसीदास ने उस संस्कृति के आध्यात्मिक और सामाजिक पक्ष की (3) _____ की और हमारे सामने कई आदर्श प्रस्तुत किए। 'रामचरितमानस' के (4) _____ से हिन्दुओं में अपनी संस्कृति के अतीत और भविष्य पर आस्था और गर्व का (5) _____ हुआ।

SubQuestion No : 24

Q.24 गद्यांश के रिक्त स्थान (4) के लिए सर्वाधिक उपयुक्त शब्द होगा-

- Ans** 1. लिखन-पाठन
 2. पठन-पाठन
 3. लिखन-मनन
 4. मनन-गुनन

Question ID : 65497833925

Status : Answered

Chosen Option : 2

Comprehension:

दिए गए गद्यांश में से कुछ शब्द हटा दिए गए हैं। नीचे दिए विकल्पों की सहायता से रिक्त स्थानों की पूर्ति करें। प्रत्येक संख्या के लिए सर्वाधिक उपयुक्त विकल्प का चयन करें।

तुलसीदास ने 'रामचरितमानस' के द्वारा वेद-शास्त्र-सम्मत हिन्दू धर्म का (1) _____ किया। हमारी संस्कृति का (2) _____ ही वेद, शास्त्र, स्मृति आदि ग्रंथ हैं। तुलसीदास ने उस संस्कृति के आध्यात्मिक और सामाजिक पक्ष की (3) _____ की और हमारे सामने कई आदर्श प्रस्तुत किए। 'रामचरितमानस' के (4) _____ से हिन्दुओं में अपनी संस्कृति के अतीत और भविष्य पर आस्था और गर्व का (5) _____ हुआ।

SubQuestion No : 25

Q.25 गद्यांश के रिक्त स्थान (5) के लिए सर्वाधिक उपयुक्त शब्द होगा-

- Ans** 1. संचार
 2. विचार
 3. प्रचार
 4. संसार

Question ID : 65497833926

Status : Answered

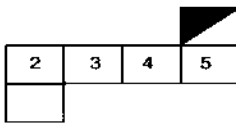
Chosen Option : 1

Constable GD in CAPFs NIA SSF and Rifleman GD in Assam Rifles Examination 2021

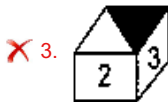
Roll Number	www.HaryanaJobs.in
Candidate Name	www.HaryanaJobs.in
Venue Name	ION Digital Zone iDZ Jalalpur
Exam Date	30/11/2021
Exam Time :	9:00 AM - 10:30 AM
Subject	Constable GD 2021

Section : Part A General Intelligence and Reasoning

Q.1 वह बॉक्स चुनें जो दी गई कागज की शीट को मोड़े जाने पर बने बॉक्स के सदृश नहीं है।



Ans



Question ID : 65497831787

Status : Answered

Chosen Option : 2

Q.2 चार व्यक्ति A, B, C और D कैरम खेल रहे हैं। A, C के बाईं ओर ठीक बगल में बैठा है। D, B के दाईं ओर ठीक बगल में बैठा है। कौन सा कथन A की सही स्थिति को दर्शाता है?

- Ans
- ✗ 1. D के सामने
 - ✗ 2. C के सामने
 - ✓ 3. B के सामने
 - ✗ 4. B की बाईं ओर ठीक बगल में

Question ID : 65497831791

Status : Answered

Chosen Option : 3

Q.3 यदि दर्पण को दाईं ओर रखा गया हो, तो दिए गए संयोजन के सही दर्पण प्रतिबिंब का चयन करें।

f h d B 3 1

Ans

- ✗ 1. f h d B 3 1
- ✗ 2. f h q B 3 1
- ✓ 3. f h q B 3 1
- ✗ 4. f h q B 3 1

Question ID : 65497831771

Status : Answered

Chosen Option : 3

Q.4 'तलवार' का 'शस्त्र' से वही संबंध है, जो 'नेकलेस' का '_____' से है।

Ans

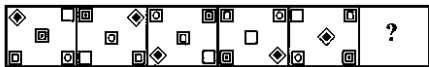
- ✗ 1. सुनार
- ✗ 2. गर्दन
- ✓ 3. आभूषण
- ✗ 4. महिलाएं

Question ID : 65497831790

Status : Answered

Chosen Option : 3

Q.5 दिए गए विकल्पों में से उस आकृति का चयन कीजिए जो दी गई श्रृंखला में प्रश्न चिह्न (?) के स्थान पर आ सकती है।



Ans

- ✗ 1. [Option 1: Diamond at top-left, square at top-right, diamond at bottom-left, square at bottom-right]
- ✓ 2. [Option 2: Diamond at top-left, square at top-right, square at bottom-left, diamond at bottom-right]
- ✗ 3. [Option 3: Square at top-left, diamond at top-right, square at bottom-left, diamond at bottom-right]
- ✗ 4. [Option 4: Square at top-left, diamond at top-right, diamond at bottom-left, square at bottom-right]

Question ID : 65497831783

Status : Answered

Chosen Option : 2

Q.6 दिए गए कथनों और निष्कर्षों को ध्यान से पढ़ें। यह मानते हुए कि कथनों में दी गई जानकारी सत्य है, भले ही यह सामान्य रूप से ज्ञात तथ्यों से भिन्न प्रतीत होती हो, यह निर्णय लें कि दिए गए निष्कर्षों में से कौन सा/से निष्कर्ष कथनों का तार्किक रूप से अनुसरण करता है / करते हैं।

कथन:

सभी अमरूद, नाशपातियाँ हैं।
कुछ कीवी, नाशपातियाँ हैं।

निष्कर्ष:

I. कुछ कीवी, अमरूद हैं।
II. कुछ नाशपातियाँ, कीवी हैं।

- Ans
- 1. न तो निष्कर्ष I और न ही II अनुसरण करता है।
 - 2. केवल निष्कर्ष I अनुसरण करता है।
 - 3. निष्कर्ष I और II दोनों अनुसरण करते हैं।
 - 4. केवल निष्कर्ष II अनुसरण करता है।

Question ID : 65497831773

Status : Answered

Chosen Option : 4

Q.7 वह विकल्प चुनें, जिसका तीसरी संख्या से ठीक वैसा ही संबंध है, जैसा कि दूसरी संख्या का संबंध पहली संख्या से है।

129 : 216 :: 165 : ?

- Ans
- 1. 252
 - 2. 348
 - 3. 269
 - 4. 306

Question ID : 65497831785

Status : Answered

Chosen Option : 1

Q.8 एक निश्चित कूट भाषा में, DANGER को EDSHHW के रूप में लिखा जाता है। उसी भाषा में SPEEDY को किस रूप में लिखा जाएगा?

- Ans
- 1. TSIEGE
 - 2. TSJFGD
 - 3. TSJEJE
 - 4. TSIFGD

Question ID : 65497831772

Status : Answered

Chosen Option : 2

Q.9 छह लोग, K, L, M, N, O और P किसी षट्कोणीय आकृति वाले मैदान में बैठे हुए हैं, लेकिन यह आवश्यक नहीं कि वे समान क्रम में हों। L या M के बगल में K नहीं बैठा हुआ है। M या O के बगल में N नहीं बैठा हुआ है। L, M के बगल में बैठा हुआ है। M और N के बीच में P बैठा हुआ है। घड़ी की दिशा में लोगों के बैठने की स्थिति का सही क्रम क्या है?

- Ans
- 1. L-N-O-K-M-P
 - 2. L-M-P-N-K-O
 - 3. L-O-K-P-M-N
 - 4. L-M-N-P-K-O

Question ID : 65497831784
Status : Answered
Chosen Option : 2

Q.10 उस विकल्प को चुनिए जो तीसरे पद से उसी तरह संबंधित है जिस तरह दूसरा पद पहले पद से संबंधित है।

BUMP : NOSD :: PICK : ?

- Ans
- 1. IEGR
 - 2. GIAR
 - 3. QJBX
 - 4. LGDL

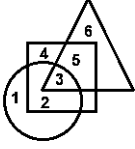
Question ID : 65497831777
Status : Answered
Chosen Option : 1

Q.11 चार अक्षर-समूह दिए गए हैं, जिनमें से तीन किसी तरह से एक समान हैं और एक असंगत है। उस अक्षर-समूह का चयन करें जो असंगत है।

- Ans
- 1. HFDZX
 - 2. CAYWU
 - 3. OMKIG
 - 4. TRPNL

Question ID : 65497831768
Status : Answered
Chosen Option : 1

Q.12 निम्नलिखित आरेख में, 'वृत्त', 'सैनिकों' को निरूपित करता है, 'वर्ग', 'भारतीयों' को निरूपित करता है, और 'त्रिभुज', 'गायकों' को निरूपित करता है। विभिन्न खंडों में दी गई संख्याएं उस श्रेणी से संबंधित व्यक्तियों की संख्या को दर्शाती हैं।



संख्या '5' किस श्रेणी को दर्शाती है?

- Ans
- 1. भारतीय गायक, जो सैनिक हैं
 - 2. भारतीय गायक, जो सैनिक नहीं हैं
 - 3. भारतीय सैनिक, जो गायक नहीं हैं
 - 4. भारतीय, जो न तो गायक हैं और न ही सैनिक हैं

Question ID : 65497831792

Status : Answered

Chosen Option : 2

Q.13 एक खास कोड भाषा में, 'VENDOR' को 'TMFLGT' लिखा जाता है। इस भाषा में 'CUSTOM' को कैसे लिखा जाएगा?

- Ans
- 1. DTVQPN
 - 2. OMVQWA
 - 3. BSTSPA
 - 4. OTVQMW

Question ID : 65497831778

Status : Answered

Chosen Option : 2

Q.14 दिए गए विकल्पों में से वह संख्या चुनें जो निम्नलिखित श्रेणी में प्रश्नवाचक चिह्न (?) के स्थान पर आ सकती है।

14, 16, 22, 34, 54, 84, ?

- Ans
- 1. 121
 - 2. 112
 - 3. 126
 - 4. 148

Question ID : 65497831770

Status : Answered

Chosen Option : 3

Q.15 किसी निश्चित कूट भाषा में, 'SOBER' को '64' के रूप में कूटबद्ध किया जाता है और 'NOSTALGIA' को '107' के रूप में कूटबद्ध किया जाता है। उसी भाषा में 'REPAIR' को किस तरह कूटबद्ध किया जाएगा?

- Ans
- 1. 67
 - 2. 83
 - 3. 80
 - 4. 73

Question ID : 65497831769
Status : Answered
Chosen Option : 4

Q.16 दिए गए विकल्पों में से उस संख्या का चयन कीजिए जो दी गई श्रृंखला में प्रश्न चिह्न (?) के स्थान पर आ सकती है।

13, 15, 12, 17, 10, 21, 8, ?

- Ans
- 1. 25
 - 2. 23
 - 3. 22
 - 4. 24

Question ID : 65497831782
Status : Answered
Chosen Option : 1

Q.17 गणितीय चिह्नों का वह सही संयोजन चुनें जिससे (?) संकेतों को क्रमिक रूप से बदला जा सके और दिए गए समीकरण को सही बनाया जा सके।

72 ? 18 ? 11 ? 44

- Ans
- 1. +, -, =
 - 2. x, +, =
 - 3. x, +, =
 - 4. ÷, x, =

Question ID : 65497831786
Status : Answered
Chosen Option : 4

Q.18 दिए गए पैटर्न का ध्यानपूर्वक अध्ययन करें और उस संख्या का चयन करें जो इसमें प्रश्न चिह्न (?) के स्थान पर आ सकती है।

13 30 34
27 ? 14
19 30 22

- Ans
- 1. 32
 - 2. 30
 - 3. 34
 - 4. 36

Question ID : 65497831774
Status : Not Answered
Chosen Option : --

Q.19 उस अक्षर संयोजन का चयन करें जिसे दी गई श्रृंखला के रिक्त स्थानों में क्रमिक रूप से रखे जाने पर श्रृंखला पूर्ण हो जाएगी।

L_PO_LO_OK_OP_KL_POK

- Ans
- 1. O, O, P, K, L, O
 - 2. O, K, P, L, O, O
 - 3. O, P, O, K, O, L
 - 4. O, P, K, O, L, O

Question ID : 65497831781

Status : Answered

Chosen Option : 2

Q.20 एक सेब का मूल्य, एक केले के मूल्य के दो गुने से चार कम है, और एक पपीते का मूल्य, एक सेब के मूल्य से आधा है। यदि फलों का कुल मूल्य ₹ 150 है, तो केले का मूल्य क्या है?

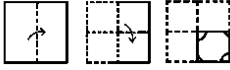
- Ans
- 1. ₹33
 - 2. ₹42
 - 3. ₹36
 - 4. ₹39

Question ID : 65497831775

Status : Answered

Chosen Option : 4

Q.21 नीचे दी गई आकृतियों में कागज़ के एक टुकड़े को मोड़ने का क्रम और मोड़े गए कागज़ को काटने का तरीका दर्शाया गया है। कागज़ को खोले जाने पर वह कैसा दिखाई देगा?



Ans

- 1.
- 2.
- 3.
- 4.

Question ID : 65497831776

Status : Answered

Chosen Option : 3

Q.22 दिए गए विकल्पों में से उस अक्षर-समूह का चयन करें, जो निम्नलिखित श्रृंखला में प्रश्नवाचक चिह्न (?) के स्थान पर आ सकता है।

DQH, HUL, MZQ, SFW, ?

- Ans
- 1. YMC
 - 2. ZLC
 - 3. ZNE
 - 4. ZMD

Question ID : 65497831789
Status : Answered
Chosen Option : 4

Q.23 उस सही विकल्प का चयन कीजिए जो दिए गए शब्दों के उस क्रम को दर्शाता है जिस क्रम में वे अंग्रेजी शब्दकोश में आते हैं।

1. Terminus
2. Therefore
3. Terrace
4. Thesis
5. Thiamine

- Ans
- 1. 1, 5, 2, 4, 3
 - 2. 1, 3, 2, 4, 5
 - 3. 1, 2, 3, 4, 5
 - 4. 1, 2, 4, 3, 5

Question ID : 65497831780
Status : Answered
Chosen Option : 2

Q.24 उस विकल्प को चुनें जिसमें दी गई आकृति अंतःस्थापित है (घुमाने की अनुमति नहीं है)।



Ans

✗ 1.



✓ 2.



✗ 3.



✗ 4.



Question ID : 65497831788

Status : Answered

Chosen Option : 2

Q.25 P, Q, R, S, T और U एक परिवार के छह सदस्य हैं। P, Q का पति है। U, Q का भाई है। R, Q के एकमात्र भाई का पुत्र है। S, T की बहन है। P, S का पिता है। U का T से क्या संबंध है?

Ans

✓ 1. मामा

✗ 2. भाई

✗ 3. मौसेरा भाई

✗ 4. फूफा

Question ID : 65497831779

Status : Answered

Chosen Option : 1

Section : Part B General Knowledge and General Awareness

Q.1 मुगलों को अपने तैमूर (तिमुरीद) राजवंश पर गर्व था। वे इसे किस प्रकार मनाया करते थे?

Ans

✗ 1. सैनिकों को दिन समर्पित करके

✗ 2. देश में छुट्टी के रूप में एक विशेष दिन घोषित करके

✓ 3. प्रत्येक शासक को तैमूर और स्वयं का एक चित्र प्रदान करके

✗ 4. घुड़दौड़ और निशानेबाजी जैसे विभिन्न कार्यक्रम आयोजित करके

Question ID : 65497831808

Status : Answered

Chosen Option : 4

Q.2 अक्टूबर 2020 में अंतरराष्ट्रीय सहयोग के लिए निम्नलिखित में से किस बैंक ने जापान बैंक के साथ \$1 बिलियन के ऋण समझौते पर हस्ताक्षर किए?

- Ans
- 1. पंजाब नेशनल बैंक
 - 2. बैंक ऑफ़ बड़ोदा
 - 3. भारतीय औद्योगिक विकास बैंक
 - 4. भारतीय स्टेट बैंक

Question ID : 65497831799
Status : Answered
Chosen Option : 3

Q.3 एम्मा रादुकानू (Emma Raducanu) एक पेशेवर टेनिस खिलाड़ी हैं। वह कहाँ की रहने वाली हैं?

- Ans
- 1. कनाडा
 - 2. यूके (UK)
 - 3. क्रोएशिया
 - 4. यूएस (US)

Question ID : 65497831817
Status : Not Answered
Chosen Option : --

Q.4 लक्ष्मी नारायण शास्त्री का संबंध निम्नलिखित में से किस नृत्य शैली से है?

- Ans
- 1. कथक
 - 2. ओडिसी
 - 3. कुचिपुड़ी
 - 4. मोहिनीअट्टम

Question ID : 65497831810
Status : Answered
Chosen Option : 4

Q.5 बड़ी संख्या में गहरी गलियों या घाटी वाले क्षेत्र को क्या कहा जाता है?

- Ans
- 1. प्रायद्वीपीय क्षेत्र
 - 2. शुष्क स्थलाकृति
 - 3. ह्यूमस क्षेत्र
 - 4. बैडलैंड स्थलाकृति

Question ID : 65497831794
Status : Answered
Chosen Option : 1

Q.6 भारत में निम्नलिखित में से कौन सा पुर्तगाली वायसराय था?

- Ans
- 1. कॉम्टे डि लैली (Comte de Lally)
 - 2. फ्रांसिस्को डि आल्मेडा (Francisco de Almeida)
 - 3. फ्रैंकोइस डुप्लेक्स (Francois Dupleix)
 - 4. रॉबर्ट क्लाइव (Robert Clive)

Question ID : 65497831801
Status : Answered
Chosen Option : 2

Q.7 निम्नलिखित में से किस देश में दुनिया का सबसे बड़ा आइस रिक है जिसे 'रिड्यूड कैनाल' कहा जाता है?

- Ans
- 1. स्विट्ज़रलैंड
 - 2. रूस
 - 3. यूएस (US)
 - 4. कनाडा

Question ID : 65497831796
Status : Answered
Chosen Option : 1

Q.8 केंद्रीय बजट 2020 के अनुसार, भारत जी-20 प्रेसीडेंसी की मेज़बानी कब करेगा?

- Ans
- 1. 2022
 - 2. 2021
 - 3. 2020
 - 4. 2023

Question ID : 65497831800
Status : Answered
Chosen Option : 2

Q.9 सितंबर 2021 में, आवश्यक दवाओं की राष्ट्रीय सूची (NLEM) से कितनी दवाओं को हटा दिया गया है?

- Ans
- 1. 36
 - 2. 16
 - 3. 39
 - 4. 19

Question ID : 65497831815
Status : Not Answered
Chosen Option : --

Q.10 Which of the following chemicals is known as vinegar?

- Ans
- 1. Acetic acid
 - 2. Formic acid
 - 3. Oxalic acid
 - 4. Tartaric acid

Question ID : 65497831812
Status : Answered
Chosen Option : 1

Q.11 _____ ने अक्टूबर 2020 में 'कॉन्टेक्टलेस कनेक्शंस' नामक अपना नया ब्रांड अभियान शुरू किया है।

- Ans
- 1. कॉन्टेक्टलेस आई.सी.आई.सी.आई. (ICICI) कार्ड
 - 2. कॉन्टेक्टलेस एस.बी.आई. (SBI) कार्ड
 - 3. कॉन्टेक्टलेस केनरा कार्ड
 - 4. कॉन्टेक्टलेस पी.एन.बी. (PNB) कार्ड

Question ID : 65497831806
Status : Answered
Chosen Option : 1

Q.12 'गीता रहस्य' पुस्तक किसने लिखी, जो म्यांमार की मांडले जेल में उनके द्वारा भगवद-गीता पर लिखी गई एक टीका है?

- Ans
- 1. लाला लाजपत राय
 - 2. बाल गंगाधर तिलक
 - 3. अरबिंदो घोष
 - 4. सुभास चंद्र बोस

Question ID : 65497831813
Status : Answered
Chosen Option : 2

Q.13 किसी द्रव का उसके कथनांक के कम किसी भी तापमान पर गैस में परिवर्तन इस नाम से जाना जाता है:

- Ans
- 1. निक्षेपण
 - 2. क्रिस्टलीकरण
 - 3. संघनन
 - 4. वाष्पीकरण

Question ID : 65497831807
Status : Answered
Chosen Option : 4

Q.14 किस संशोधन अधिनियम के अनुसार, बेटे, बेटियों और उनकी माताओं को पारिवारिक संपत्ति में बराबर हिस्सा मिल सकता है?

- Ans
- 1. हिंदू उत्तराधिकार अधिनियम 1950
 - 2. हिंदू संशोधन अधिनियम 1950
 - 3. हिंदू उत्तराधिकार संशोधन अधिनियम 2005
 - 4. हिंदू अधिनियम 1956

Question ID : 65497831805
Status : Answered
Chosen Option : 4

Q.15 निम्नलिखित में से कौन सी स्थिति चाय बागानों को नुकसान पहुंचा सकती है?

- Ans
- 1. 35°C से अधिक तापमान
 - 2. छायादार वृक्षों के नीचे रोपण
 - 3. 150-300 cm के बीच वर्षा
 - 4. गर्म और आर्द्र जलवायु

Question ID : 65497831816
Status : Answered
Chosen Option : 3

Q.16 Laterite soil is poor in oxides of which among the following?

- Ans 1. Silicon
 2. Titanium
 3. Aluminium
 4. Iron

Question ID : 65497831797
Status : Answered
Chosen Option : 1

Q.17 नील नॉगकिट्रिह एक कन्सर्ट पियानोवादक हैं और भारत में _____ के संस्थापक हैं।

- Ans 1. शिलांग चैंबर चोइर
 2. इंडियन फ्यूजन चैंबर चोइर
 3. ईस्ट परेड मलयालम चोइर
 4. द मोज़ार्ट चोईर ऑफ़ इंडिया

Question ID : 65497831793
Status : Not Answered
Chosen Option : --

Q.18 संविधान (126वें संशोधन) विधेयक, 2019 का उद्देश्य _____ तक अनुसूचित जातियों और अनुसूचित जनजातियों के लिए सीटों के आरक्षण को जारी रखते हुए भारत के संविधान के संस्थापकों द्वारा परिकल्पित समावेशी चरित्र को बनाए रखना है।

- Ans 1. 25 जनवरी 2035
 2. 25 जनवरी 2040
 3. 25 जनवरी 2030
 4. 25 जनवरी 2025

Question ID : 65497831814
Status : Answered
Chosen Option : 3

Q.19 निम्नलिखित में से कौन, 'लेटर्स टू मदर' पुस्तक के लेखक हैं?

- Ans 1. जवाहरलाल नेहरू
 2. पीवी नरसिम्हा राव
 3. नरेंद्र मोदी
 4. मनमोहन सिंह

Question ID : 65497831795
Status : Answered
Chosen Option : 1

Q.20 फारसी इतिहासकारों ने मुस्लिम सुल्तानों का वर्णन इस रूप में किया है:

- Ans
- 1. ईश्वर के शागिर्द
 - 2. ईश्वर के अवतार
 - 3. ईश्वर की छाया
 - 4. ईश्वर के अनुयायी

Question ID : 65497831803
Status : Answered
Chosen Option : 4

Q.21 मुगल साम्राज्य ने 17 वीं शताब्दी के अंत तक संकट का सामना करना शुरू कर दिया था। निम्नलिखित में से कौन सा इसका एक कारक नहीं था?

- Ans
- 1. औरंगजेब के उत्तराधिकारियों के अधीन, शाही प्रशासन की दक्षता जाती रही।
 - 2. औरंगजेब ने दक्कन में एक लंबा युद्ध लड़कर अपने साम्राज्य के सैन्य और वित्तीय संसाधनों को खर्च कर दिया था।
 - 3. बाद के मुगलों ने अपने शक्तिशाली 'मनसबदारों' पर कड़ी नजर रखी।
 - 4. उत्तर और पश्चिम भारत के कई हिस्सों में किसान और जमींदारों के विद्रोह से समस्याएं बढ़ गईं।

Question ID : 65497831804
Status : Answered
Chosen Option : 2

Q.22 राजकोषीय उत्तरदायित्व और बजट प्रबंधन अधिनियम के तहत नियम कब लागू हुए?

- Ans
- 1. जुलाई 2004
 - 2. जुलाई 2003
 - 3. अगस्त 2003
 - 4. अगस्त 2004

Question ID : 65497831802
Status : Answered
Chosen Option : 1

Q.23 भारतीय बैडमिंटन संघ का गठन किस वर्ष में किया गया था?

- Ans
- 1. 1956
 - 2. 1967
 - 3. 1934
 - 4. 1978

Question ID : 65497831798
Status : Not Answered
Chosen Option : --

Q.24 आयुष्मान भारत-प्रधान मंत्री जन आरोग्य योजना की दूसरी वर्षगांठ मनाने के लिए 'आरोग्य मंथन' 2.0 की अध्यक्षता किसने की?

- Ans 1. डॉ. हर्षवर्धन
 2. डॉ. अश्विनी कुमार चौबे
 3. अमित शाह
 4. डॉ. इंदु भूषण

Question ID : 65497831809
Status : Answered
Chosen Option : 1

Q.25 निम्नलिखित में से कौन सा एक बहुकोशिकीय जीव है?

- Ans 1. पैरामीशियम
 2. क्लैमिडोमोनास
 3. अमीबा
 4. स्पंज

Question ID : 65497831811
Status : Answered
Chosen Option : 4

Section : Part C Elementary Mathematics

Q.1 बाइक A 30 km/h की चाल से 2 घंटे में कुछ दूरी तय करती है, जबकि अन्य बाइक B 35 km/h की चाल से बाइक A के समान दूरी तय करती है। बाइक A द्वारा लिए गए समय का बाइक B द्वारा लिए गए समय से अनुपात कितना है?

- Ans 1. 7 : 6
 2. 8 : 5
 3. 6 : 7
 4. 5 : 6

Question ID : 65497831832
Status : Answered
Chosen Option : 1

Q.2 एक दुकानदार 10% और k% की क्रमागत छूट देता है। ग्राहक को ₹1,200 अंकित मूल्य वाला सामान ₹864 में मिलता है। k का मान ज्ञात करें।

- Ans 1. 25
 2. 15
 3. 20
 4. 80

Question ID : 65497831818
Status : Answered
Chosen Option : 3

Q.3 दो संख्याएं, तीसरी संख्या से क्रमशः 20% और 50% अधिक हैं। पहली दो संख्याओं का अनुपात कितना होगा?

- Ans
- 1. 2 : 3
 - 2. 4 : 5
 - 3. 1 : 1
 - 4. 5 : 6

Question ID : 65497831825
Status : Answered
Chosen Option : 2

Q.4 कोहली पुराने सामानों का कारोबार करता है। उसने ₹10,000 में पुराना एयर कंडिशनर खरीदा। उसने इसे लाने के लिए ₹500 परिवहन पर खर्च किया और इसकी मरम्मत पर ₹2,000 खर्च करके इसे ₹15,000 में बेच दिया। उसका लाभ या हानि प्रतिशत कितना है?

- Ans
- 1. 18% लाभ
 - 2. 18% हानि
 - 3. 20% हानि
 - 4. 20% लाभ

Question ID : 65497831829
Status : Answered
Chosen Option : 4

Q.5 जब एक सीधे बेलनाकार टैंक से 154 l तेल निकाला जाता है, तो उसका स्तर 10 cm नीचे गिर जाता है। टैंक का व्यास (cm में) कितना है?

($\pi = \frac{22}{7}$ लीजिए)

- Ans
- 1. 220
 - 2. 140
 - 3. 70
 - 4. 100

Question ID : 65497831827
Status : Answered
Chosen Option : 1

Q.6 तीन व्यक्ति एक साथ सुबह की सैर पर निकलते हैं। उनके द्वारा चले गए कदमों की माप क्रमशः 70 cm, 75 cm और 80 cm हैं। प्रत्येक द्वारा कितनी न्यूनतम दूरी तय की जानी चाहिए, जिसे वे सभी अपने पूर्ण कदमों में तय कर सकें?

- Ans
- 1. 8400 cm
 - 2. 6400 cm
 - 3. 8000 cm
 - 4. 8800 cm

Question ID : 65497831823
Status : Answered
Chosen Option : 1

Q.7 एक समूह में 20 छात्रों का औसत भार 54 kg है। यदि 52 kg औसत भार वाले 12 छात्र समूह में शामिल हो जाते हैं और 56 kg औसत भार वाले 7 छात्र समूह से निकल जाते हैं, तो अब समूह में शेष छात्रों का औसत भार (kg में) कितना होगा?

- Ans**
- 1. 51.96
 - 2. 54.24
 - 3. 53.84
 - 4. 52.48

Question ID : 65497831835
Status : Answered
Chosen Option : 4

Q.8 एक चुनाव में एक उम्मीदवार को कुल वैध वोटों के 75% वोट प्राप्त हुए। यदि कुल वोटों के 20% वोटों को अवैध घोषित कर दिया गया, और कुल वोटों की संख्या 560000 है, तो उस उम्मीदवार के पक्ष में पड़े वैध वोटों की कुल संख्या ज्ञात कीजिए।

- Ans**
- 1. 336000
 - 2. 346000
 - 3. 363000
 - 4. 330000

Question ID : 65497831824
Status : Answered
Chosen Option : 1

Q.9 एक घड़ी और पंखे का कुल क्रय मूल्य ₹1,170 है। रामा घड़ी को 20% के लाभ पर बेचता है और पंखे को 25% के लाभ पर बेचता है, यदि उसका समग्र लाभ ₹265 है, तो घड़ी का क्रय मूल्य ज्ञात करें।

- Ans**
- 1. ₹620
 - 2. ₹550
 - 3. ₹450
 - 4. ₹480

Question ID : 65497831833
Status : Answered
Chosen Option : 2

Q.10 एक नाव द्वारा धारा की विपरीत दिशा में 34 km जाने में लगने वाला समय, इसे धारा की दिशा में 40 km जाने में लगने वाले समय से 25% अधिक है। यदि धारा की चाल 4 km/h है, तो शांत जल में नाव की चाल (km/h में) क्या होगी?

- Ans**
- 1. 24
 - 2. 22
 - 3. 20
 - 4. 21

Question ID : 65497831842
Status : Answered
Chosen Option : 4

Q.11 पात्र A और B में अम्ल और पानी का मिश्रण है। पात्र A में अम्ल और पानी का अनुपात 7 : 5 और पात्र B में वह 11 : 13 है। पात्र A से चार लीटर विलयन को पात्र B के 5 लीटर विलयन में मिलाया गया है। इस मिश्रण में अम्ल और पानी का अनुपात कितना होगा?

- Ans
- ✓ 1. 37 : 35
 - ✗ 2. 22 : 21
 - ✗ 3. 21 : 22
 - ✗ 4. 35 : 37

Question ID : 65497831836
Status : Not Answered
Chosen Option : --

Q.12 $2 - \left[\frac{1}{2} + \frac{1}{4} + \frac{1}{6} \div \left(\frac{3}{4} - \frac{1}{2} \right) \right]$ का मान कितना होगा?

- Ans
- ✗ 1. $\frac{1}{12}$
 - ✗ 2. $\frac{11}{12}$
 - ✓ 3. $\frac{7}{12}$
 - ✗ 4. $\frac{17}{12}$

Question ID : 65497831828
Status : Answered
Chosen Option : 3

Q.13 एक बेलन का वक्र पृष्ठीय क्षेत्रफल 96 cm^2 और इसका आयतन 672 cm^3 है। इसका व्यास क्या होगा?

- Ans
- ✓ 1. 28 cm
 - ✗ 2. 26 cm
 - ✗ 3. 24 cm
 - ✗ 4. 32 cm

Question ID : 65497831820
Status : Answered
Chosen Option : 1

Q.14 व्यक्तियों का एक समूह किसी कार्य को एक निश्चित समय में पूरा कर सकता है। यदि उस समूह में 4 व्यक्ति अधिक होते, तो उन्हें इस कार्य को पूरा करने में 2 दिन कम लगते। यदि उस समूह में 6 व्यक्ति कम होते, तो उन्हें इस कार्य को पूरा करने में 4 दिन अधिक लगते। प्रारंभ में, समूह में व्यक्तियों की संख्या ज्ञात कीजिए।

- Ans
- ✓ 1. 36
 - ✗ 2. 45
 - ✗ 3. 40
 - ✗ 4. 32

Question ID : 65497831841
Status : Not Answered
Chosen Option : --

Q.15 8 पेन और 14 पेंसिलों का मूल्य, 12 पेन और 5 पेंसिलों के मूल्य के बराबर है। एक पेन के मूल्य और एक पेंसिल के मूल्य का अनुपात क्या है?

- Ans
- ✗ 1. 8 : 5
 - ✗ 2. 9 : 5
 - ✓ 3. 9 : 4
 - ✗ 4. 7 : 5

Question ID : 65497831819
Status : Answered
Chosen Option : 3

Q.16 यदि $3 \text{ of } 5 \div 2 + \frac{3x}{1 + \frac{2x}{2 + \frac{1}{1-x}}} = 12\frac{1}{2}$ हो, तो x का मान कितना होगा?

- Ans
- ✗ 1. $\frac{25}{13}$
 - ✗ 2. $\frac{15}{11}$
 - ✗ 3. $\frac{34}{33}$
 - ✓ 4. $\frac{35}{33}$

Question ID : 65497831831
Status : Not Answered
Chosen Option : --

Q.17 X की आय, Y की आय से 20% कम है, और Z की आय, X और Y की संयुक्त आय से 35% कम है। Z की आय, X की आय से कितने प्रतिशत अधिक है?

- Ans
- 1. 31.6%
 - 2. 45.5%
 - 3. 38.8%
 - 4. 46.25%

Question ID : 65497831840
Status : Answered
Chosen Option : 4

Q.18 ₹8,000 की धनराशि के लिए, वार्षिक आधार पर चक्रवृद्धि होने वाली 15% वार्षिक चक्रवृद्धि ब्याज दर पर 2 वर्ष और 4 माह का चक्रवृद्धि ब्याज (CI) कितना होगा?

- Ans
- 1. ₹3,109
 - 2. ₹12,008
 - 3. ₹1,264
 - 4. ₹11,109

Question ID : 65497831826
Status : Answered
Chosen Option : 1

Q.19 एक पंखे का सूची मूल्य ₹4,500 है और इसे 15% की छूट पर बेचा जाता है। यदि सूची मूल्य पर एक दूसरी प्रतिशत छूट देने के बाद इसका अंतिम विक्रय मूल्य ₹3,213 है, तो दूसरी छूट का प्रतिशत कितना है?

- Ans
- 1. 18%
 - 2. 15%
 - 3. 12%
 - 4. 16%

Question ID : 65497831839
Status : Answered
Chosen Option : 1

Q.20 एक राशि चक्रवृद्धि ब्याज पर 6 वर्ष में ₹12,600 और 9 वर्ष में ₹21,000 हो जाती है। निवेशित राशि _____ है।

- Ans
- 1. ₹4,436
 - 2. ₹4,500
 - 3. ₹4,600
 - 4. ₹4,536

Question ID : 65497831822
Status : Answered
Chosen Option : 2

Q.21 एक वस्तु $x\%$ लाभ पर ₹875 में बेची गई। जब उसी वस्तु को ₹896 में बेचा गया, तब प्राप्त लाभ पिछले लाभ से 3% अधिक था। x का मान क्या है?

- Ans
- 1. 30
 - 2. 25
 - 3. 20
 - 4. 24

Question ID : 65497831821
Status : Answered
Chosen Option : 2

Q.22 कुछ लोग किसी काम को 60 दिनों में पूरा करते हैं। यदि 9 लोग और होते, तो वह काम 50 दिनों में पूरा हो जाता। मूल रूप से कितने लोग हैं?

- Ans
- 1. 45
 - 2. 42
 - 3. 48
 - 4. 55

Question ID : 65497831830
Status : Answered
Chosen Option : 1

Q.23 एक निश्चित धनराशि वार्षिक 4% की साधारण ब्याज दर से 5 वर्ष में ₹4,260 हो जाती है। इसी धनराशि पर $4\frac{1}{5}$ वर्ष के लिए वार्षिक $8\frac{1}{2}\%$ की दर से साधारण ब्याज (₹ में, ₹ के निकटतम) कितना होगा?

- Ans
- 1. 1,285
 - 2. 1,271
 - 3. 1,267
 - 4. 1,250

Question ID : 65497831837
Status : Answered
Chosen Option : 3

Q.24 5 अंकों की सबसे छोटी संख्या x को 10, 15, 24, 35 और 42 से भाग देने पर प्रत्येक स्थिति में 7 शेषफल बचता है। x के अंकों का योग कितना होगा?

- Ans
- 1. 16
 - 2. 19
 - 3. 18
 - 4. 13

Question ID : 65497831834
Status : Answered
Chosen Option : 1

Q.25 एक कक्षा के छात्रों का औसत वजन 58.5 kg था। जब 64.5 kg औसत वजन वाले 8 और छात्र उस कक्षा में शामिल हो जाते हैं, तो सभी छात्रों के औसत वजन में 0.96 kg की वृद्धि हो जाती है। आरंभ में, कक्षा में छात्रों की संख्या कितनी थी?

- Ans**
- 1. 32
 - 2. 37
 - 3. 42
 - 4. 40

Question ID : 65497831838
Status : Answered
Chosen Option : 4

Section : Part D English

Q.1 Select the most appropriate synonym of the given word.

Rift

- Ans**
- 1. Break
 - 2. Heal
 - 3. Bind
 - 4. Boat

Question ID : 65497831846
Status : Answered
Chosen Option : 1

Q.2 The following sentence has been split into four segments. Identify the segment that contains a grammatical error.

Everyone needs / to have a home / and to feel secured / and be wanted.

- Ans**
- 1. to have a home
 - 2. and to feel secured
 - 3. and be wanted
 - 4. Everyone needs

Question ID : 65497831858
Status : Answered
Chosen Option : 4

Q.3 Select the most appropriate meaning of the given idiom.

Bite someone's head off

- Ans**
- 1. Speak angrily without any reason
 - 2. Go on repeating the same point
 - 3. Ask someone the same question again and again
 - 4. Scold someone for misbehaving

Question ID : 65497831844
Status : Answered
Chosen Option : 3

Q.4 Select the most appropriate meaning of the given idiom.

Once in a blue moon

- Ans**
- 1. Doing something very often
 - 2. Happening usually
 - 3. Taking place very rarely
 - 4. When the moon rises

Question ID : **65497831848**
Status : **Answered**
Chosen Option : **3**

Q.5 Select the INCORRECTLY spelt word.

- Ans**
- 1. Considerate
 - 2. Separate
 - 3. Disparate
 - 4. Desparate

Question ID : **65497831856**
Status : **Answered**
Chosen Option : **4**

Q.6 Select the most appropriate option to fill in the blank.

Sometime back, onion used to be the poor man's food as it was _____.

- Ans**
- 1. inferior
 - 2. cheap
 - 3. low
 - 4. available

Question ID : **65497831843**
Status : **Answered**
Chosen Option : **2**

Q.7 Select the most appropriate option to fill in the blank.

The landscape _____ Hardy to write this fine poem.

- Ans**
- 1. inspired
 - 2. pestered
 - 3. incited
 - 4. induced

Question ID : **65497831855**
Status : **Answered**
Chosen Option : **3**

Q.8 Select the most appropriate option that can substitute the underlined segment in the given sentence. If there is no need to substitute it, select 'No substitution required'.

The pack of wolves moving towards the children are a frightening sight.

- Ans**
- 1. was a frightening sight
 - 2. are an frightening sight
 - 3. had a frightening sight
 - 4. No substitution required

Question ID : 65497831850
Status : Answered
Chosen Option : 4

Q.9 Select the option that will improve the underlined part of the given sentence. In case no improvement is needed, select 'No improvement required'.

Need you please hold my bag for a moment?

- Ans**
- 1. Would you
 - 2. May you
 - 3. Should you
 - 4. No improvement required

Question ID : 65497831862
Status : Answered
Chosen Option : 1

Q.10 Select the option that can be used as a one-word substitute for the given group of words.

One who has keen interest in good food

- Ans**
- 1. Hungry
 - 2. Greedy
 - 3. Gourmet
 - 4. Gallant

Question ID : 65497831853
Status : Answered
Chosen Option : 4

Q.11 Select the INCORRECTLY spelt word.

- Ans**
- 1. Melody
 - 2. Melodrama
 - 3. Melodous
 - 4. Malignant

Question ID : 65497831854
Status : Answered
Chosen Option : 3

Q.12 Select the option that can be used as a one-word substitute for the given group of words.

Declare someone not guilty

- Ans** 1. Sentence
 2. Arrest
 3. Acquit
 4. Pardon

Question ID : 65497831860
Status : Answered
Chosen Option : 3

Q.13 Select the option that can be used as a one-word substitute for the given group of words.

A place where birds are kept

- Ans** 1. Aquarium
 2. Attic
 3. Apiary
 4. Aviary

Question ID : 65497831849
Status : Answered
Chosen Option : 3

Q.14 Select the most appropriate option to fill in the blank.

He was _____ by the judge for his courageous actions.

- Ans** 1. commended
 2. discouraged
 3. reprimanded
 4. criticised

Question ID : 65497831857
Status : Answered
Chosen Option : 1

Q.15 The following sentence has been divided into parts. One of them may contain an error. Select the part that contains the error from the given options. If you don't find any error, select 'No error' as your answer.

In summers, we must take care / to drink enough water / to keep ourselves hydrated.

- Ans** 1. to drink enough water
 2. No error
 3. In summers we must take care
 4. to keep ourselves hydrated

Question ID : 65497831845
Status : Answered
Chosen Option : 1

Q.16 Parts of the given sentence have been given as options. One of them contains a grammatical error. Select the option that has the error.

After a month-long vacation due to the sudden floods, Mani's school has been resuming today.

- Ans**
- 1. a month-long vacation
 - 2. due to the sudden floods
 - 3. has been resuming
 - 4. After

Question ID : 65497831851
Status : Answered
Chosen Option : 3

Q.17 Select the most appropriate synonym of the given word.

Grim

- Ans**
- 1. Joyful
 - 2. Forceful
 - 3. Arrogant
 - 4. Stern

Question ID : 65497831859
Status : Not Answered
Chosen Option : --

Q.18 Select the most appropriate ANTONYM of the given word.

Naive

- Ans**
- 1. Impulsive
 - 2. Simple
 - 3. Sincere
 - 4. Experienced

Question ID : 65497831861
Status : Answered
Chosen Option : 4

Q.19 Select the option that will improve the underlined part of the sentence. In case no improvement is needed, select 'No improvement required'.

She frequent go to her old school to visit her teachers.

- Ans**
- 1. frequent goes
 - 2. No improvement required
 - 3. frequently goes
 - 4. frequently going

Question ID : 65497831847
Status : Answered
Chosen Option : 3

Q.20 Select the most appropriate **ANTONYM** of the given word.

Desperate

- Ans**
- 1. Frantic
 - 2. Daring
 - 3. Content
 - 4. Determined

Question ID : **65497831852**
Status : **Answered**
Chosen Option : 1

Comprehension:

In the following passage, some words have been deleted. Read the passage carefully and select the most appropriate option to fill in each blank.

When Roald Amundsen first (1) _____ the South Pole in 1911, he could plant (2) _____ flag there whilst, back in (3) _____ Arctic, no explorer ever had the luxury (4) _____ his claim with a flag. If he did, it would (5) _____ end up floating away to Greenland, making it a totally useless exercise.

SubQuestion No : 21

Q.21 Select the most appropriate option to fill in blank no. 1.

- Ans**
- 1. reached
 - 2. had reached
 - 3. reaching
 - 4. reach

Question ID : **65497831864**
Status : **Answered**
Chosen Option : 1

Comprehension:

In the following passage, some words have been deleted. Read the passage carefully and select the most appropriate option to fill in each blank.

When Roald Amundsen first (1) _____ the South Pole in 1911, he could plant (2) _____ flag there whilst, back in (3) _____ Arctic, no explorer ever had the luxury (4) _____ his claim with a flag. If he did, it would (5) _____ end up floating away to Greenland, making it a totally useless exercise.

SubQuestion No : 22

Q.22 Select the most appropriate option to fill in blank no. 2.

- Ans**
- 1. his
 - 2. her
 - 3. your
 - 4. its

Question ID : **65497831865**
Status : **Answered**
Chosen Option : 1

Comprehension:

In the following passage, some words have been deleted. Read the passage carefully and select the most appropriate option to fill in each blank.

When Roald Amundsen first (1) _____ the South Pole in 1911, he could plant (2) _____ flag there whilst, back in (3) _____ Arctic, no explorer ever had the luxury (4) _____ his claim with a flag. If he did, it would (5) _____ end up floating away to Greenland, making it a totally useless exercise.

SubQuestion No : 23

Q.23 Select the most appropriate option to fill in blank no. 3.

- Ans**
- 1. any
 - 2. an
 - 3. the
 - 4. a

Question ID : 65497831866
Status : Answered
Chosen Option : 3

Comprehension:

In the following passage, some words have been deleted. Read the passage carefully and select the most appropriate option to fill in each blank.

When Roald Amundsen first (1) _____ the South Pole in 1911, he could plant (2) _____ flag there whilst, back in (3) _____ Arctic, no explorer ever had the luxury (4) _____ his claim with a flag. If he did, it would (5) _____ end up floating away to Greenland, making it a totally useless exercise.

SubQuestion No : 24

Q.24 Select the most appropriate option to fill in blank no. 4.

- Ans**
- 1. securing
 - 2. secured
 - 3. secure
 - 4. to secure

Question ID : 65497831867
Status : Answered
Chosen Option : 2

Comprehension:

In the following passage, some words have been deleted. Read the passage carefully and select the most appropriate option to fill in each blank.

When Roald Amundsen first (1) _____ the South Pole in 1911, he could plant (2) _____ flag there whilst, back in (3) _____ Arctic, no explorer ever had the luxury (4) _____ his claim with a flag. If he did, it would (5) _____ end up floating away to Greenland, making it a totally useless exercise.

SubQuestion No : 25

Q.25 Select the most appropriate option to fill in blank no. 5.

- Ans**
- 1. totally
 - 2. eventually
 - 3. happily
 - 4. entirely

Question ID : 65497831868
Status : Answered
Chosen Option : 1

Section : Part D Hindi

Q.1 'आँखों में सरसों फूलना' इस मुहावरे का अर्थ कौनसा है?

- Ans
- 1. विवेक न होना
 - 2. आदर भाव घाट जाना
 - 3. गुस्से से आँखें लाल हो जाना
 - 4. धोखा देना

Question ID : 65497831870
Status : Not Answered
Chosen Option : --

Q.2 रिक्त स्थान को भरने के लिए सबसे उपयुक्त शब्द का चयन करें।

राम ने मुझे पुस्तक _____ की।

- Ans
- 1. समर्पित
 - 2. समर्पण
 - 3. वितरित
 - 4. प्राप्त

Question ID : 65497831876
Status : Not Answered
Chosen Option : --

Q.3 दिए गए वाक्य का वह भाग ज्ञात करें जिसमें कोई त्रुटि है। यदि कोई त्रुटि नहीं है, तो 'कोई त्रुटि नहीं है' चुनें।

इस बात के कहने में(1)/ किसी को(2)/ संकोच न होगा।(3)/ कोई त्रुटि नहीं है। (4)

- Ans
- 1. 2
 - 2. 4
 - 3. 3
 - 4. 1

Question ID : 65497831877
Status : Not Answered
Chosen Option : --

Q.4 दिये गये वाक्य के किस भाग में त्रुटि है?

उनके निधन से देश की अपूरणीय छति हुई है।

- Ans
- 1. छति हुई है।
 - 2. उनके निधन से
 - 3. देश की
 - 4. अपूरणीय

Question ID : 65497831882
Status : Not Answered
Chosen Option : --

Q.5 रिक्त स्थान को भरने के लिए सबसे उपयुक्त शब्द का चयन करें।

विफलता का कारण अध्ययन पद्धति का _____ ही था।

- Ans
- 1. दोष
 - 2. आदर्श
 - 3. विस्तार
 - 4. समुचित

Question ID : 65497831875
Status : Not Answered
Chosen Option : --

Q.6 दिये गये वाक्य में रेखांकित अंश को प्रतिस्थापित करने के लिए सबसे उपयुक्त विकल्प का चयन करें।

गुरुजनों पर श्रद्धा करो।

- Ans
- 1. श्रद्धा भरो।
 - 2. श्रद्धा पूजो।
 - 3. श्रद्धा रखो।
 - 4. श्रद्धा दो।

Question ID : 65497831887
Status : Not Answered
Chosen Option : --

Q.7 दिए गए शब्द का विलोम चुनें।

प्रवेश

- Ans
- 1. निकास
 - 2. द्वार
 - 3. प्रवृत्ति
 - 4. प्रवर

Question ID : 65497831880
Status : Not Answered
Chosen Option : --

Q.8 दिए गए चार विकल्पों में से, उस विकल्प का चयन करें जो नीचे दिए मुहावरे का अर्थ व्यक्त करता है।

साँप छछूंदर की गति होना

- Ans
- 1. तुरंत भाग जाना
 - 2. गुप चुप हो जाना
 - 3. असमंजस की स्थिति होना
 - 4. विस्तृत अनुभव होना

Question ID : 65497831881
Status : Not Answered
Chosen Option : --

Q.9 निम्नलिखित में से शुद्ध वर्तनी वाला शब्द कौन सा है?

- Ans
- 1. सन्यास
 - 2. संन्याष
 - 3. संन्यास
 - 4. संन्याश

Question ID : 65497831885
Status : Not Answered
Chosen Option : --

Q.10 दिए गये वाक्यांश के लिए एक शब्द दीजिये।

जो देखा नहीं जा सकता

- Ans
- 1. अदृश्य
 - 2. दृश्य
 - 3. दृढव्य
 - 4. दृष्टिहीन

Question ID : 65497831871
Status : Not Answered
Chosen Option : --

Q.11 दिये गये वाक्य में रेखांकित अंश को प्रतिस्थापित करने के लिए सबसे उपयुक्त विकल्प का चयन करें।

मकान गिर जाने का संदेह है।

- Ans
- 1. डर
 - 2. भ्रम
 - 3. शोक
 - 4. लोभ

Question ID : 65497831886
Status : Not Answered
Chosen Option : --

Q.12 दिए गए शब्द के समानार्थी शब्द का चयन करें।

उन्मूलन

- Ans
- 1. समानता
 - 2. अपमान
 - 3. उखाड़ फेंकना
 - 4. उर्वरक

Question ID : 65497831873
Status : Not Answered
Chosen Option : --

Q.13 दिए गए वाक्य में रेखांकित खंड को प्रतिस्थापित करने के लिए सबसे उपयुक्त विकल्प का चयन करें। यदि इसे प्रतिस्थापित करने की आवश्यकता नहीं है, तो विकल्प 'किसी बदलाव की आवश्यकता नहीं है' का चयन करें।

ठंडा घड़े का पानी पिलाइए।

- Ans
- 1. ठंडा पानी घड़े का पिलाइए।
 - 2. पानी ठंडा घड़े का पिलाइए।
 - 3. किसी बदलाव की आवश्यकता नहीं है।
 - 4. घड़े का ठंडा पानी पिलाइए।

Question ID : 65497831869
Status : Not Answered
Chosen Option : --

Q.14 'अंशु' किसका पर्यायवाची है?

- Ans
- 1. स्त्री
 - 2. आँख
 - 3. अमृत
 - 4. किरण

Question ID : 65497831883
Status : Not Answered
Chosen Option : --

Q.15 दिए गए वाक्य का वह भाग ज्ञात करें जिसमें कोई त्रुटि है। यदि कोई त्रुटि नहीं है, तो 'कोई त्रुटि नहीं है' चुनें।

प्रदर्शनी, प्रायः शहर के उस स्थान पर (1)/ लगाया जाता है, जहाँ (2)/ लोग आसानी से पहुँच सकें। (3)/ कोई त्रुटि नहीं है (4)

- Ans
- 1. 4
 - 2. 2
 - 3. 1
 - 4. 3

Question ID : 65497831872
Status : Not Answered
Chosen Option : --

Q.16 नीचे दिए वाक्यांश के लिए एक शब्द दिए गए विकल्पों में से चुनिए।

जिसके पास कुछ भी न हो

- Ans
- 1. कंचन
 - 2. अकिंचन
 - 3. अक्षम
 - 4. अकथित

Question ID : 65497831879
Status : Not Answered
Chosen Option : --

Q.17 रिक्त स्थान को भरने के लिए सबसे उपयुक्त शब्द का चयन करें।

हिन्दी द्वारा सारे भारत को एक सूत्र में _____ जा सकता है।

- Ans
- 1. पिरोया
 - 2. बांधा
 - 3. डाला
 - 4. फंसाया

Question ID : 65497831874
Status : Not Answered
Chosen Option : --

Q.18 दिए गए शब्द का विलोम चुनें।

शोक

- Ans
- 1. शोभित
 - 2. अशोभित
 - 3. विषाद
 - 4. हर्ष

Question ID : 65497831878
Status : Not Answered
Chosen Option : --

Q.19 निम्नलिखित में से शुद्ध वर्तनी वाला शब्द कौन सा है?

- Ans
- 1. अविष्कार
 - 2. आविस्कार
 - 3. आविष्कार
 - 4. आविश्कार

Question ID : 65497831884
Status : Not Answered
Chosen Option : --

Q.20 'चुनाव में अपना मत देने की क्रिया' वाक्यांश के लिए एक शब्द होगा-

- Ans
- 1. मतपेटी
 - 2. मताधिकार
 - 3. मतदान
 - 4. मत विभाजन

Question ID : 65497831888
Status : Not Answered
Chosen Option : --

Comprehension:

दिए गए अनुच्छेद में से कुछ शब्द हटा दिए गए हैं। नीचे दिए विकल्पों की सहायता से रिक्त स्थान भरें। प्रत्येक संख्या के लिए सबसे उपयुक्त विकल्प का चयन करें।

धरती वह है जो (1)_____ करती है, सब (2)_____ इस पर रहते हैं, उनका पालन-पोषण करके उनकी रक्षा करती है। धर्म भी हमें (3)_____ करता है। धर्म न हो तो हम काम न कर सकें। अथवा, हम जो धारण करते हैं, मन में निश्चय कर लेते हैं वह (4)_____ है। चंद्र में जो शीतलता है, स्नेह है, वह हममें शांति उत्पन्न करता है। आकाश विस्तार है जिससे हम (5)_____ के विस्तार की प्रेरणा पाते हैं।

SubQuestion No : 21

Q.21 गद्यांश के रिक्त स्थान (1) के लिए सर्वाधिक उपयुक्त शब्द होगा-

- Ans**
- 1. गमन
 - 2. धारण
 - 3. चक्कर
 - 4. ग्रहण

Question ID : 65497831890

Status : Not Answered

Chosen Option : --

Comprehension:

दिए गए अनुच्छेद में से कुछ शब्द हटा दिए गए हैं। नीचे दिए विकल्पों की सहायता से रिक्त स्थान भरें। प्रत्येक संख्या के लिए सबसे उपयुक्त विकल्प का चयन करें।

धरती वह है जो (1)_____ करती है, सब (2)_____ इस पर रहते हैं, उनका पालन-पोषण करके उनकी रक्षा करती है। धर्म भी हमें (3)_____ करता है। धर्म न हो तो हम काम न कर सकें। अथवा, हम जो धारण करते हैं, मन में निश्चय कर लेते हैं वह (4)_____ है। चंद्र में जो शीतलता है, स्नेह है, वह हममें शांति उत्पन्न करता है। आकाश विस्तार है जिससे हम (5)_____ के विस्तार की प्रेरणा पाते हैं।

SubQuestion No : 22

Q.22 गद्यांश के रिक्त स्थान (2) के लिए सर्वाधिक उपयुक्त शब्द होगा-

- Ans**
- 1. लोग
 - 2. पक्षी
 - 3. जीव
 - 4. पशु

Question ID : 65497831891

Status : Not Answered

Chosen Option : --

Comprehension:

दिए गए अनुच्छेद में से कुछ शब्द हटा दिए गए हैं। नीचे दिए विकल्पों की सहायता से रिक्त स्थान भरें। प्रत्येक संख्या के लिए सबसे उपयुक्त विकल्प का चयन करें।

धरती वह है जो (1)_____ करती है, सब (2)_____ इस पर रहते हैं, उनका पालन-पोषण करके उनकी रक्षा करती है। धर्म भी हमें (3)_____ करता है। धर्म न हो तो हम काम न कर सकें। अथवा, हम जो धारण करते हैं, मन में निश्चय कर लेते हैं वह (4)_____ है। चंद्र में जो शीतलता है, स्नेह है, वह हममें शांति उत्पन्न करता है। आकाश विस्तार है जिससे हम (5)_____ के विस्तार की प्रेरणा पाते हैं।

SubQuestion No : 23

Q.23 गद्यांश के रिक्त स्थान (3) के लिए सर्वाधिक उपयुक्त शब्द होगा-

- Ans**
- 1. पालन
 - 2. पोषण
 - 3. धारण
 - 4. ग्रहण

Question ID : 65497831892

Status : Not Answered

Chosen Option : --

Comprehension:

दिए गए अनुच्छेद में से कुछ शब्द हटा दिए गए हैं। नीचे दिए विकल्पों की सहायता से रिक्त स्थान भरें। प्रत्येक संख्या के लिए सबसे उपयुक्त विकल्प का चयन करें।

धरती वह है जो (1)_____ करती है, सब (2)_____ इस पर रहते हैं, उनका पालन-पोषण करके उनकी रक्षा करती है। धर्म भी हमें (3)_____ करता है। धर्म न हो तो हम काम न कर सकें। अथवा, हम जो धारण करते हैं, मन में निश्चय कर लेते हैं वह (4)_____ है। चंद्र में जो शीतलता है, स्नेह है, वह हममें शांति उत्पन्न करता है। आकाश विस्तार है जिससे हम (5)_____ के विस्तार की प्रेरणा पाते हैं।

SubQuestion No : 24

Q.24 गद्यांश के रिक्त स्थान (4) के लिए सर्वाधिक उपयुक्त शब्द होगा-

- Ans**
- 1. कर्म
 - 2. संकल्प
 - 3. प्रेम
 - 4. धर्म

Question ID : 65497831893

Status : Not Answered

Chosen Option : --

Comprehension:

दिए गए अनुच्छेद में से कुछ शब्द हटा दिए गए हैं। नीचे दिए विकल्पों की सहायता से रिक्त स्थान भरें। प्रत्येक संख्या के लिए सबसे उपयुक्त विकल्प का चयन करें।

धरती वह है जो (1)_____ करती है, सब (2)_____ इस पर रहते हैं, उनका पालन-पोषण करके उनकी रक्षा करती है। धर्म भी हमें (3)_____ करता है। धर्म न हो तो हम काम न कर सकें। अथवा, हम जो धारण करते हैं, मन में निश्चय कर लेते हैं वह (4)_____ है। चंद्र में जो शीतलता है, स्नेह है, वह हममें शांति उत्पन्न करता है। आकाश विस्तार है जिससे हम (5)_____ के विस्तार की प्रेरणा पाते हैं।

SubQuestion No : 25

Q.25 गद्यांश के रिक्त स्थान (5) के लिए सर्वाधिक उपयुक्त शब्द होगा-

- Ans**
- 1. मस्तिष्क
 - 2. संस्कृति
 - 3. संस्कार
 - 4. चित्त

Question ID : 65497831894

Status : Not Answered

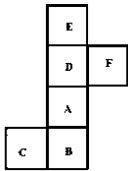
Chosen Option : --

Constable GD in CAPFs NIA SSF and Rifleman GD in Assam Rifles Examination 2021

Roll Number	www.HaryanaJobs.in
Candidate Name	www.HaryanaJobs.in
Venue Name	Jaipur Engineering College
Exam Date	30/11/2021
Exam Time :	4:00 PM - 5:30 PM
Subject	Constable GD 2021

Section : Part A General Intelligence and Reasoning

Q.1 दी गई शीट को मोड़कर एक घन बनाया जाता है। इस प्रकार से बने घन में, उस अक्षर का चयन करें, जो अक्षर 'D' दर्शाने वाले फलक के विपरीत वाले फलक पर होगा।



- Ans
- 1. C
 - 2. E
 - 3. F
 - 4. B

Question ID : 65497835467
Status : Answered
Chosen Option : 4

Q.2 छह मित्र गोवर्धन, सरयू, रेखा, श्यामला, हेमा और गणेश एक टिकट काउंटर पर पंक्ति में खड़े हैं। सरयू और हेमा के बीच दो व्यक्ति हैं। रेखा ठीक हेमा और श्यामला के बीच में है। गोवर्धन के आगे केवल एक व्यक्ति है। गणेश जो कि पंक्ति के पिछले छोर से तीसरे स्थान पर है, ठीक गोवर्धन और हेमा के बीच में है। सरयू और हेमा के बीच में कौन-से दो व्यक्ति खड़े हैं?

- Ans
- 1. गोवर्धन और रेखा
 - 2. श्यामला और रेखा
 - 3. गोवर्धन और गणेश
 - 4. गणेश और श्यामला

Question ID : 65497835464
Status : Answered
Chosen Option : 3

Q.3 दिए गए विकल्पों में से उस संख्या का चयन कीजिए जो निम्नलिखित श्रृंखला में प्रश्न चिह्न (?) को प्रतिस्थापित कर सकती है।

27, 41, 57, 76, 99, ?

- Ans
- 1. 114
 - 2. 127
 - 3. 152
 - 4. 136

Question ID : 65497835453
Status : Not Answered
Chosen Option : --

Q.4 यदि 'A' का अर्थ 'जोड़' है, 'B' का अर्थ 'गुणा' है, 'C' का अर्थ 'घटाना' है, और 'D' का अर्थ 'विभाजन' है, तो निम्नलिखित व्यंजक का मान ज्ञात करें।

82 A 126 B 16 D 112 C 73

- Ans
- 1. 72
 - 2. 27
 - 3. 52
 - 4. 25

Question ID : 65497835466
Status : Answered
Chosen Option : 2

Q.5 उस विकल्प का चयन कीजिए, जिसका तीसरे पद से वही संबंध है, जो दूसरे पद का पहले पद से है।

BEGIN : EBGNI :: CADET : ?

- Ans
- 1. ADFTE
 - 2. ACTDE
 - 3. ACDTE
 - 4. TEDCA

Question ID : 65497835469
Status : Answered
Chosen Option : 3

Q.6 रोशन, कृप का भाई है, जो प्रांजल का पुत्र है। वैष्णवी, आयुष की पत्नी हैं। प्रमिला, देविका की पुत्री है। देविका, आयुष की दादी है, जो रोशन का बेटा है। रोशन का प्रमिला से क्या संबंध है?

- Ans
- 1. भाई
 - 2. पिता
 - 3. भतीजा/भांजा
 - 4. ससुर

Question ID : 65497835471
Status : Answered
Chosen Option : 1

Q.7 उस विकल्प का चयन कीजिए जिसमें दी गई संख्याएँ आपस में उसी तरह से संबंधित हैं जिस प्रकार दिए गए समुच्चय की संख्याएँ आपस में संबंधित हैं।

(12, 14, 56)

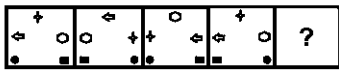
- Ans
- ✗ 1. (24, 16, 214)
 - ✓ 2. (16, 18, 96)
 - ✗ 3. (14, 20, 145)
 - ✗ 4. (10, 16, 82)

Question ID : 65497835457

Status : Answered

Chosen Option : 2

Q.8 दिए गए विकल्पों में से उस आकृति का चयन कीजिए, जो निम्नलिखित श्रृंखला में प्रश्नवाचक चिन्ह (?) के स्थान पर आ सकती है।



Ans

- ✓ 1.
- ✗ 2.
- ✗ 3.
- ✗ 4.

Question ID : 65497835475

Status : Answered

Chosen Option : 1

Q.9 वर्गों के उस समुच्चय का चयन कीजिए जिनके मध्य के संबंध को दिए गए वेन आरेख द्वारा सर्वश्रेष्ठ रूप से निरूपित किया गया है।



- Ans
- ✗ 1. कार्डियोलॉजिस्ट, वकील, प्रोफेसर
 - ✗ 2. पुत्रियां, भाई, इंजीनियर
 - ✗ 3. दादा, माता, फार्मासिस्ट
 - ✓ 4. माताएं, महिलाएं, वकील

Question ID : 65497835463
Status : Answered
Chosen Option : 4

Q.10 यदि दर्पण को दिए गए संयोजन के दाईं ओर रखा जाए, तो संयोजन के दर्पण में निर्मित सही प्रतिबिंब का चयन कीजिए।

d e t A 9 P

- Ans
- ✗ 1. q e A t e b
 - ✓ 2. q e A t e b
 - ✗ 3. q e A t e P
 - ✗ 4. d e V t e b

Question ID : 65497835454
Status : Answered
Chosen Option : 2

Q.11 अक्षरों के उस संयोजन का चयन कीजिए, जिसे दी गई श्रृंखला के रिक्त स्थानों में क्रमबद्ध रूप से रखने पर श्रृंखला पूर्ण हो जाएगी।

D Q _ R _ D _ M R _ D _ M _ T

- Ans
- ✗ 1. M Q T T Q R
 - ✗ 2. M T Q T R Q
 - ✗ 3. M T Q R Q T
 - ✓ 4. M T Q T Q R

Question ID : 65497835473
Status : Answered
Chosen Option : 4

Q.12 एक निश्चित कूट भाषा में, 'POUR' को 'OPRU' और 'TACKLE' को 'ATKCEL' के रूप में लिखा जाता है। उसी भाषा में 'FORMATIONS' कैसे लिखा जाएगा?

- Ans
- 1. MFPRTAOKSN
 - 2. OFMTRAOISO
 - 3. OFMRTAOISN
 - 4. OFNRTAONSI

Question ID : 65497835455
Status : Answered
Chosen Option : 3

Q.13 एक कैफेटेरिया में, सात ग्राहक (B, G, H, K, L, M और N) तीन अलग-बलग बेंचों (X, Y और Z) पर बैठते हैं। प्रत्येक बेंच पर कम से कम दो ग्राहकों को बैठना है। ग्राहक G, ग्राहकों K, L और M के साथ नहीं बैठता है। ग्राहक B केवल ग्राहक N के साथ बैठता है। ग्राहक K अपने मित्रों के साथ बेंच X पर बैठता है। ग्राहक H बेंच Z पर बैठता है। किस बेंच पर तीन ग्राहक हैं?

- Ans
- 1. केवल बेंच X
 - 2. बेंच X या बेंच Y
 - 3. केवल बेंच Z
 - 4. केवल बेंच Y

Question ID : 65497835462
Status : Answered
Chosen Option : 1

Q.14 एक निश्चित कूट भाषा में, PLAN को OBMQ लिखा जाता है, और NOT को UPO लिखा जाता है। उसी कूट भाषा में MOTHER को किस प्रकार लिखा जाएगा?

- Ans
- 1. SGIURN
 - 2. SFIUQM
 - 3. SFIVQN
 - 4. SFIUPN

Question ID : 65497835470
Status : Answered
Chosen Option : 4

Q.15 दिए गए विकल्पों में से उस संख्या का चयन कीजिए, जो निम्नलिखित श्रेणी में प्रश्नवाचक चिह्न (?) के स्थान पर आ सकती है।

23, 40, 74, 125, 193, ?

- Ans
- 1. 225
 - 2. 270
 - 3. 290
 - 4. 278

Question ID : 65497835474
Status : Answered
Chosen Option : 4

Q.16 ₹ 870 रुपये की धनराशि को उर्मी और कृपा के बीच क्रमशः 18 : 11 के अनुपात में विभाजित किया जाता है, जबकि ₹ 960 की धनराशि को पूर्वी और मृणाल के बीच क्रमशः 5 : 7 के अनुपात में विभाजित किया जाता है। चारों में से सर्वाधिक धनराशि किसे प्राप्त होती है?

- Ans
- 1. उर्मी
 - 2. मृणाल
 - 3. कृपा
 - 4. पूर्वी

Question ID : 65497835458
Status : Answered
Chosen Option : 2

Q.17 एक निश्चित कूट भाषा में, 'NAUSEA' को '236943' और 'SYRUP' को '97165' के रूप में कूटबद्ध किया गया है। उसी भाषा में, 'SUPPRESS' को किस रूप में कूटबद्ध किया जाएगा?

- Ans
- 1. 96552599
 - 2. 96551499
 - 3. 86552489
 - 4. 96441499

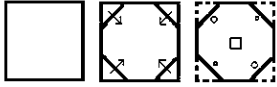
Question ID : 65497835452
Status : Answered
Chosen Option : 2

Q.18 'Ammeter' is related to 'Current' in the same way as 'Anemometer' is related to _____.

- Ans
- 1. Water
 - 2. Potential Difference
 - 3. Temperature
 - 4. Wind Speed and Direction

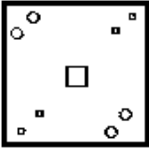
Question ID : 65497835461
Status : Answered
Chosen Option : 4

Q.19 निम्नलिखित आकृतियों में कागज के एक टुकड़े को मोड़ने का क्रम और उसे काटने की विधि दर्शाई गई है। इस कागज को खोलने पर यह कैसा दिखाई देगा?

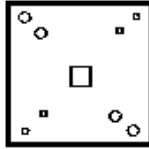


Ans

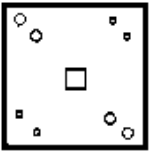
✗ 1.



✓ 2.



✗ 3.



✗ 4.



Question ID : 65497835459

Status : Answered

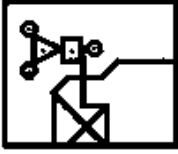
Chosen Option : 2

Q.20 उस विकल्प का चयन करें जिसमें दी गई आकृति सन्निहित है (आकृति को घुमाने की अनुमति नहीं है)।



Ans

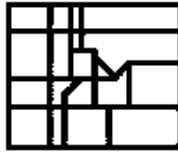
✗ 1.



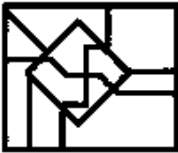
✗ 2.



✓ 3.



✗ 4.



Question ID : 65497835468

Status : Answered

Chosen Option : 1

Q.21 उस विकल्प का चयन कीजिए जिसका तीसरी संख्या से वही संबंध है, जो दूसरी संख्या का पहली संख्या से है और छठी संख्या का पाँचवीं संख्या से है।

6 : 4 :: 11 : ? :: 16 : 8

Ans

✗ 1. 5

✗ 2. 8

✗ 3. 7

✓ 4. 6

Question ID : 65497835465

Status : Answered

Chosen Option : 3

Q.22 उस सही विकल्प का चयन कीजिए, जो दिए गए शब्दों के उस क्रम को दर्शाता है, जिस क्रम में वे अंग्रेजी शब्दकोश में मौजूद होते हैं।

1. Carpet
2. Caring
3. Carrot
4. Creamy
5. Creek

Ans 1. 1, 2, 3, 4, 5
 2. 2, 1, 3, 5, 4
 3. 2, 1, 3, 4, 5
 4. 2, 3, 1, 4, 5

Question ID : 65497835472
Status : Answered
Chosen Option : 3

Q.23 दिए गए कथनों और निष्कर्षों को ध्यान से पढ़िए। कथनों में दी गई जानकारी को सत्य मानते हुए, भले ही वे सामान्यतः ज्ञात तथ्यों से भिन्न प्रतीत होती हों, यह निर्णय कीजिए कि दिए गए निष्कर्षों में से कौन सा/से निष्कर्ष तार्किक रूप से कथनों का अनुसरण करता है / करते हैं?

कथन:

1. सभी उद्यान, रिसॉर्ट हैं।
2. कोई भी रिसॉर्ट, न्यायालय नहीं है।
3. सभी पार्क, न्यायालय हैं।

निष्कर्ष:

- I. कोई भी न्यायालय, उद्यान नहीं है।
- II. कोई भी उद्यान, पार्क नहीं है।

Ans 1. केवल निष्कर्ष I अनुसरण करता है।
 2. कोई भी निष्कर्ष अनुसरण नहीं करता है।
 3. केवल निष्कर्ष II अनुसरण करता है।
 4. दोनों निष्कर्ष अनुसरण करते हैं।

Question ID : 65497835456
Status : Answered
Chosen Option : 4

Q.24 दिए गए विकल्पों में से उस अक्षर-समूह का चयन कीजिए जो निम्न श्रृंखला में प्रश्नवाचक चिह्न (?) के स्थान पर आ सकता है।

BEI, EHL, HKO, KNR, ?

Ans 1. NQU
 2. NPS
 3. NQT
 4. NRU

Question ID : 65497835460
Status : Answered
Chosen Option : 1

Q.25 चार अक्षर समूह दिए गए हैं, जिनमें से तीन किसी तरह से समान हैं और एक असंगत है। उस असंगत अक्षर समूह का चयन कीजिए।

- Ans
- 1. YDJ
 - 2. QVB
 - 3. NRV
 - 4. SXD

Question ID : 65497835451
Status : Answered
Chosen Option : 3

Section : Part B General Knowledge and General Awareness

Q.1 7 सितंबर 2021 को, नासा (NASA) ने घोषणा की कि पर्सीवरेस रोवर ने मंगल ग्रह की _____ के पहले नमूने के संग्रह का कार्य पूर्ण कर लिया है।

- Ans
- 1. चट्टान
 - 2. धूल
 - 3. बर्फ
 - 4. मृदा

Question ID : 65497835500
Status : Not Answered
Chosen Option : --

Q.2 निम्नलिखित में से किस वेब श्रृंखला ने 48वें अंतर्राष्ट्रीय एमी पुरस्कार 2020 में 'सर्वश्रेष्ठ ड्रामा सीरीज़' का पुरस्कार जीता?

- Ans
- 1. मिर्जापुर
 - 2. आश्रम
 - 3. मेड इन हेवन
 - 4. दिल्ली क्राइम

Question ID : 65497835479
Status : Answered
Chosen Option : 4

Q.3 निम्नलिखित में से किस झील का निर्माण अत्यंतनूतन युग के दौरान उल्का प्रभाव द्वारा हुआ था?

- Ans
- 1. चिल्का झील, ओडिशा
 - 2. लोनार झील, महाराष्ट्र
 - 3. लोकटक झील, मणिपुर
 - 4. वेम्बनाड झील, केरल

Question ID : 65497835478
Status : Answered
Chosen Option : 2

Q.4 अक्टूबर 2020 में, अपनी महिला यात्रियों की सुरक्षा के लिए भारतीय रेलवे द्वारा शुरू की गई पहल का नाम क्या था?

- Ans
- 1. नारी सहायक
 - 2. नारी सेवा
 - 3. नारी शक्ति
 - 4. मेरी सहेली

Question ID : 65497835487
Status : Answered
Chosen Option : 4

Q.5 जब भारत के संविधान का मसौदा तैयार किया जा रहा था, संविधान सभा को उस अशांति को ध्यान में रखना था जिससे भारत गुजर रहा था। उस परिदृश्य में निम्नलिखित में से कौन सा मुद्दा प्रासंगिक नहीं था?

- Ans
- 1. भारत और पाकिस्तान के विभाजन की पुष्टि हुई थी।
 - 2. रियासतें अपने भविष्य के बारे में अनिश्चित थीं।
 - 3. लोगों की सामाजिक-आर्थिक स्थिति बहुत अनुकूल थी।
 - 4. देश कई अलग-अलग समुदायों से बना था।

Question ID : 65497835486
Status : Answered
Chosen Option : 2

Q.6 हम हिंदू कैलेंडर के अनुसार 'होली' का त्योहार किस दिन मनाते हैं?

- Ans
- 1. पूर्णिमा के एक दिन बाद
 - 2. पूर्णिमा से एक दिन पहले
 - 3. अमावस्या के दिन
 - 4. पूर्णिमा के दिन

Question ID : 65497835488
Status : Answered
Chosen Option : 4

Q.7 'प्रधान मंत्री जीवन ज्योति बीमा योजना' किस वर्ष शुरू की गई थी?

- Ans
- 1. 2014
 - 2. 2018
 - 3. 2017
 - 4. 2015

Question ID : 65497835483
Status : Answered
Chosen Option : 4

Q.8 शास्त्रीय गायिका, गिरिजा देवी हिंदुस्तानी शास्त्रीय संगीत के किस स्वरूप में पारंगत थीं?

- Ans
- 1. तराना
 - 2. ध्रुपद
 - 3. ठुमरी
 - 4. खयाल

Question ID : 65497835477
Status : Not Answered
Chosen Option : --

Q.9 17 सितंबर, 2020 को, अंतर्राष्ट्रीय टेनिस महासंघ (ITF) ने यह घोषणा की, कि महासंघ या 'फेड' कप को अब महान महिला टेनिस खिलाड़ी के सम्मान में _____ के रूप में जाना जाएगा।

- Ans
- 1. मार्टिना नवरातिलोवा कप
 - 2. स्टेफी ग्राफ कप
 - 3. क्रिस एवर्ट कप
 - 4. बिली जीन किंग कप

Question ID : 65497835480
Status : Not Answered
Chosen Option : --

Q.10 2011 की जनगणना के अनुसार भारत के निम्नलिखित में से किस राज्य में जनसंख्या का सबसे अधिक घनत्व था?

- Ans
- 1. उत्तर प्रदेश
 - 2. बिहार
 - 3. मध्य प्रदेश
 - 4. सिक्किम

Question ID : 65497835492
Status : Answered
Chosen Option : 2

Q.11 कदमाई _____ राजवंश के तहत भू-राजस्व का एक रूप था।

- Ans
- 1. चोल
 - 2. कुषाण
 - 3. चालुक्य
 - 4. गुप्त

Question ID : 65497835494
Status : Not Answered
Chosen Option : --

Q.12 सांप्रदायिक समस्याओं पर गांधी-जिन्ना वार्ता के टूटने के बाद एक न्यायिक ढांचे में सांप्रदायिक मामले की जांच करने के लिए नवंबर 1944 में गैर-दलीय सम्मेलन की स्थायी समिति द्वारा किस समिति को नियुक्त किया गया था?

- Ans
- 1. बलवंत राय मेहता समिति
 - 2. सरदार पटेल समिति
 - 3. सप्रू समिति
 - 4. जाकिर हुसैन समिति

Question ID : 65497835482
Status : Not Answered
Chosen Option : --

Q.13 निम्नलिखित में से कौन सी, 'ठोस' की विशेषता नहीं है?

- Ans
- 1. ठोस के आकार को बदलना मुश्किल है, इसलिए वे कठोर होते हैं
 - 2. बल के अधीन होने पर ठोस टूट सकता है।
 - 3. ठोस को आसानी से संपीडित किया जा सकता है।
 - 4. ठोस का एक निश्चित आयतन होता है।

Question ID : 65497835489
Status : Answered
Chosen Option : 3

Q.14 निम्नलिखित में से कौन सा एक एकांशिकीय जीव है?

- Ans
- 1. मांसपेशियों की कोशिकाएं
 - 2. लाल शैवाल
 - 3. कवक
 - 4. जीवाणु

Question ID : 65497835490
Status : Answered
Chosen Option : 3

Q.15 सम्राट _____ ने मुहम्मद हुसैन अल-कातिब कश्मीरी को उनकी सुंदर लिखावट के लिए ज़रीन कलम (Zarin Qalam) या स्वर्ण कलम की उपाधि से सम्मानित किया।

- Ans
- 1. औरंगज़ेब
 - 2. जहाँगीर
 - 3. शाहजहाँ
 - 4. अकबर

Question ID : 65497835499
Status : Not Answered
Chosen Option : --

Q.16 निम्न में से कौन नवंबर 2020 तक नेपाल की क्रिकेट टीम का कप्तान था?

- Ans
- 1. ज्ञानेंद्र मल्ला
 - 2. दीपेन्द्र सिंह ऐरी
 - 3. रोहित पौडेल
 - 4. संदीप लामिछाने

Question ID : 65497835493
Status : Not Answered
Chosen Option : --

Q.17 भारत में वन (संरक्षण) अधिनियम वर्ष _____ में पारित किया गया था।

- Ans
- 1. 1974
 - 2. 1976
 - 3. 1980
 - 4. 1988

Question ID : 65497835496
Status : Answered
Chosen Option : 1

Q.18 निम्नलिखित में से कौन सा कार्य मेडुला ऑब्लॉंगेटा (medulla oblongata) द्वारा नियंत्रित नहीं होता है?

- Ans
- 1. खाँसना
 - 2. ताली बजाना
 - 3. छींकना
 - 4. उल्टी करना

Question ID : 65497835498
Status : Not Answered
Chosen Option : --

Q.19 27 नवंबर 2020 तक, भारत का विदेशी मुद्रा भंडार लगभग _____ बिलियन था।

- Ans
- 1. \$774
 - 2. \$574
 - 3. \$374
 - 4. \$474

Question ID : 65497835481
Status : Not Answered
Chosen Option : --

Q.20 200 एक दिवसीय अंतरराष्ट्रीय (ODI) मैच खेलने वाली पहली भारतीय महिला क्रिकेटर निम्नलिखित में से कौन है?

- Ans
- 1. पूनम यादव
 - 2. दीप्ति शर्मा
 - 3. अनुजा पाटिल
 - 4. मिताली राज

Question ID : 65497835484
Status : Answered
Chosen Option : 4

Q.21 निम्न में से कौन-सा 1865 में स्थापित भारत का सबसे पुराना संयुक्त स्टॉक बैंक है?

- Ans
- 1. केनरा बैंक
 - 2. स्टेट बैंक ऑफ़ त्रावणकोर
 - 3. इलाहाबाद बैंक (अब इंडियन बैंक)
 - 4. देना बैंक

Question ID : 65497835485
Status : Not Answered
Chosen Option : --

Q.22 निम्नलिखित में से किस देश ने जून 2021 में आयोजित G7 लीडर्स समिट की अध्यक्षता की?

- Ans
- 1. कोरिया गणराज्य
 - 2. भारत
 - 3. यूनाइटेड किंगडम
 - 4. ऑस्ट्रेलिया

Question ID : 65497835497
Status : Not Answered
Chosen Option : --

Q.23 निम्नलिखित में से कौन सी घटना वर्ष 1856 में हुई थी?

- Ans
- 1. तात्या टोपे को पकड़ लिया गया, भागने की कोशिश की और मार डाला गया।
 - 2. बहादुर शाह जफर को रंगून की जेल भेज दिया गया।
 - 3. मंगल पांडे को फांसी दी गई।
 - 4. अवध पर ब्रिटिश ईस्ट इंडिया कंपनी ने कब्जा कर लिया था।

Question ID : 65497835495
Status : Not Answered
Chosen Option : --

Q.24 निम्नलिखित में से कौन-सी नदी तिब्बत, भारत और बांग्लादेश से होकर बहती है?

- Ans
- 1. यमुना
 - 2. ब्रह्मपुत्र
 - 3. नर्मदा
 - 4. गंगा

Question ID : 65497835476
Status : Not Answered
Chosen Option : --

Q.25 अरुणाचल के फिल्म निर्माता को 2020 में _____ पर एक वृत्तचित्र (डाक्यूमेंट्री) के लिए प्रतिष्ठित दादा साहेब फाल्के पुरस्कार प्राप्त हुआ था।

- Ans
- 1. शहद निकालने
 - 2. नाव की सवारी
 - 3. जानवरों के शिकार
 - 4. पक्षी देखना

Question ID : 65497835491
Status : Not Answered
Chosen Option : --

Section : Part C Elementary Mathematics

Q.1 $\frac{2}{5}$ of $7\frac{1}{2} \div \frac{3}{4} - \frac{3}{4} \times 1\frac{1}{2} \div 2\frac{1}{4}$ का मान ज्ञात कीजिए।
 $5\frac{1}{2} \div 3\frac{2}{3}$ of $\frac{3}{8}$

- Ans
- 1. $\frac{1}{2}$
 - 2. $\frac{5}{3}$
 - 3. $\frac{3}{4}$
 - 4. $\frac{7}{8}$

Question ID : 65497835524
 Status : Answered
 Chosen Option : 4

Q.2 6 व्यक्तियों का औसत वजन 1.5 kg बढ़ जाता है जब उनमें से 45 kg वजन वाले व्यक्ति के स्थान पर एक नया व्यक्ति आता है। नए व्यक्ति का वजन कितना होना चाहिए?

- Ans
- 1. 48 kg
 - 2. 50 kg
 - 3. 55 kg
 - 4. 54 kg

Question ID : 65497835518
 Status : Answered
 Chosen Option : 4

Q.3 25% और 10% की दो क्रमिक छूटों के समतुल्य एकल छूट ज्ञात करें।

- Ans
- 1. 28%
 - 2. 45.5%
 - 3. 32.5%
 - 4. 40.25%

Question ID : 65497835513
 Status : Answered
 Chosen Option : 3

Q.4 A और B की औसत मासिक आय ₹4,500 है। B और C की औसत मासिक आय ₹5,600 है, और A और C की औसत मासिक आय ₹4,800 है। B की मासिक आय ज्ञात करें।

- Ans
- 1. ₹4,750
 - 2. ₹5,300
 - 3. ₹6,900
 - 4. ₹3,700

Question ID : 65497835512
Status : Answered
Chosen Option : 2

Q.5 एक आदमी एक निश्चित दूरी के दो-तिहाई भाग को 70 km/h की चाल से और शेष दूरी को 50 km/h की चाल से तय करता है। पूरी यात्रा में उसे $6\frac{4}{5}$ घंटे का समय लगता है। 56 km/h की चाल से, वह पूरी दूरी कितने समय में तय कर पाएगा?

- Ans
- 1. $8\frac{1}{3}$ घंटे
 - 2. 7 घंटे
 - 3. 8 घंटे
 - 4. $7\frac{1}{2}$ घंटे

Question ID : 65497835525
Status : Answered
Chosen Option : 4

Q.6 पाइप A और B एक टैंक को क्रमशः 18 घंटे और 27 घंटे में भर सकते हैं। यदि दोनों पाइपों को प्रति घंटे एक के बाद एक क्रमिक रूप से खोला जाता है और एक समय में एक ही पाइप खोला जाता है और पहले घंटे के लिए पाइप A को खोला जाता है, तो टैंक को पूरी तरह से भरने में कितने घंटे लगेंगे?

- Ans
- 1. 21
 - 2. $21\frac{1}{2}$
 - 3. $20\frac{1}{2}$
 - 4. 20

Question ID : 65497835523
Status : Answered
Chosen Option : 2

Q.7 कर्तिकेय ने 2% वार्षिक ब्याज की दर से चक्रवृद्धि ब्याज पर 3 वर्ष के लिए सावधि जमा योजना में ₹9,000 की राशि का निवेश किया। सावधि जमा राशि की परिपक्वता पर उसे कितनी राशि (दशमलव के दो स्थानों तक सही) मिलेगी?

- Ans
- 1. ₹9,650
 - 2. ₹10,255.25
 - 3. ₹9,525.50
 - 4. ₹9,550.87

Question ID : 65497835520
Status : Answered
Chosen Option : 4

Q.8 यदि $9987693 \times 6432 \times 7695$ को 10 से भाग दिया जाता है, तो शेषफल कितना बचेगा?

- Ans
- 1. 0
 - 2. 1
 - 3. 6
 - 4. 9

Question ID : 65497835502
Status : Answered
Chosen Option : 1

Q.9 रोहित एक कार्य को 32 दिन में पूरा कर सकता है, जबकि राज इसे स्वयं 48 दिन में पूरा कर सकता है। उन्होंने एक साथ कार्य प्रारंभ किया किन्तु कार्य समाप्त होने से 8 दिन पूर्व रोहित चला गया। उन्होंने कितने दिन एक साथ कार्य किया?

- Ans
- 1. 16
 - 2. 12
 - 3. 15
 - 4. 18

Question ID : 65497835515
Status : Answered
Chosen Option : 1

Q.10 एक मोटरकार ने 60 km/h की चाल से चलना प्रारंभ किया, और इसकी चाल प्रत्येक 3 घंटे पर 20 km/h बढ़ाई जाती है। 470 km की दूरी तय करने में इसे कितने घंटे लगेंगे?

- Ans
- 1. 7
 - 2. $6\frac{1}{2}$
 - 3. $6\frac{1}{4}$
 - 4. $5\frac{2}{3}$

Question ID : 65497835516
Status : Answered
Chosen Option : 2

Q.11 ₹1,575 में 90 पेन बेचकर एक दुकानदार को 30% की हानि होती है। 18% का लाभ अर्जित करने के लिए उसे ₹708 में कितने पेन बेचने होंगे?

- Ans
- ✓ 1. 24
 - ✗ 2. 30
 - ✗ 3. 25
 - ✗ 4. 20

Question ID : 65497835522
Status : Answered
Chosen Option : 1

Q.12 दो मित्र A और B, एक व्यवसाय में 3 : 4 के अनुपात में निवेश करते हैं। A ने दो महीने पहले अपना हिस्सा वापस ले लिया। एक वर्ष के अंत में, कुल लाभ ₹2,600 था। A के लाभ का हिस्सा ज्ञात करें।

- Ans
- ✗ 1. ₹800
 - ✗ 2. ₹1,110
 - ✗ 3. ₹750
 - ✓ 4. ₹1,000

Question ID : 65497835508
Status : Answered
Chosen Option : 4

Q.13 $85 \div 17 \text{ of } 4 - [65 \div 13 \text{ of } 2 - 14 \times (19 - 25) \div 12 - 10] \text{ of } \frac{2}{3}$ का मान ज्ञात कीजिए।

- Ans
- ✗ 1. $\frac{3}{2}$
 - ✗ 2. $\frac{11}{12}$
 - ✗ 3. $\frac{7}{6}$
 - ✓ 4. $\frac{19}{12}$

Question ID : 65497835521
Status : Answered
Chosen Option : 4

Q.14 दो लंब वृत्तीय शंकुओं, C और D की विज्याओं का अनुपात 2 : 3 है और उनकी ऊँचाईयों का अनुपात 3 : 2 है। शंकु D के आयतन का, शंकु C के आयतन से अनुपात ज्ञात करें।

- Ans
- 1. 3 : 2
 - 2. 3 : 4
 - 3. 2 : 3
 - 4. 4 : 3

Question ID : 65497835510
Status : Answered
Chosen Option : 1

Q.15 9 cm व्यास वाले किसी अर्धगोलाकार कटोरे में अधिकतम लगभग कितने L (लीटर) दूध आ सकता है?

- Ans
- 1. 0. 90 L
 - 2. 0.0191 L
 - 3. 1.90 L
 - 4. 0.191 L

Question ID : 65497835507
Status : Answered
Chosen Option : 4

Q.16 वरुण ने एक शोक व्यापारी से पर्दे का कपड़ा खरीदा, जिसके अंकित मूल्य पर 20% की छूट थी। फिर उसने उस कपड़े पर, उसके मूल अंकित मूल्य से 20% अधिक मूल्य अंकित किया और उस पर 10% की छूट दी। उसका प्रतिशत लाभ कितना है?

- Ans
- 1. 20
 - 2. 25
 - 3. 35
 - 4. 30

Question ID : 65497835501
Status : Answered
Chosen Option : 3

Q.17 वह छोटी से छोटी संख्या ज्ञात कीजिए जो एक पूर्ण वर्ग हो और निम्नलिखित प्रत्येक संख्या से विभाज्य हो।

15, 24 और 36

- Ans
- 1. 900
 - 2. 1600
 - 3. 6400
 - 4. 3600

Question ID : 65497835517
Status : Answered
Chosen Option : 4

Q.18 एक संख्या के दो-तिहाई के तीन-बटे आठ का एक बटे पांच, 20 है। उस संख्या का 60% कितना होगा?

- Ans
- 1. 365
 - 2. 156
 - 3. 120
 - 4. 240

Question ID : 65497835514
Status : Answered
Chosen Option : 4

Q.19 एक परिवार में 5 व्यक्ति चीनी की खरीद पर 10% खर्च करते हैं। चीनी के मूल्य में 10% की वृद्धि हुई। व्यय में वृद्धि न होने देने के लिए चीनी की खपत में प्रतिशत कमी क्या होनी चाहिए?

- Ans
- 1. 10%
 - 2. 11%
 - 3. 9%
 - 4. $9\frac{1}{11}\%$

Question ID : 65497835511
Status : Answered
Chosen Option : 4

Q.20 एक निश्चित धनराशि के लिए 2 वर्षों का साधारण ब्याज ₹80 है और उसी अवधि के लिए और उसी ब्याज दर पर चक्रवृद्धि ब्याज ₹85 है। वार्षिक ब्याज दर ज्ञात करें।

- Ans
- 1. 12.5%
 - 2. 8.5%
 - 3. 5.5%
 - 4. 7.5%

Question ID : 65497835509
Status : Answered
Chosen Option : 1

Q.21 यदि $0.35 : x :: 5 : 6$ है, तो x का मान कितना है?

- Ans
- 1. 0.42
 - 2. 0.34
 - 3. 0.48
 - 4. 0.44

Question ID : 65497835505
Status : Answered
Chosen Option : 1

Q.22 कोई धनराशि चक्रवृद्धि ब्याज पर 3 वर्ष में आरंभिक धनराशि की सात गुनी हो जाती है। यह धनराशि कितने वर्ष में स्वयं की 2401 गुनी हो जाएगी?

- Ans
- 1. 9
 - 2. 18
 - 3. 12
 - 4. 15

Question ID : 65497835506
Status : Answered
Chosen Option : 3

Q.23 किसी स्कूल में लड़कियों और लड़कों की संख्या का अनुपात 2 : 7 है। यदि लड़कियों और लड़कों की संख्या में क्रमशः 15% और 20% की वृद्धि हो जाती है, तो नया अनुपात कितना होगा?

- Ans
- 1. 24 : 71
 - 2. 23 : 84
 - 3. 21 : 22
 - 4. 19 : 14

Question ID : 65497835519
Status : Answered
Chosen Option : 2

Q.24 एक व्यापारी अंकित मूल्य पर 10% की छूट देता है और फिर भी पूरे सौदे में 8% का लाभ अर्जित करता है। वह अपनी वस्तु पर क्रय मूल्य से कितने प्रतिशत अधिक मूल्य अंकित करता है?

- Ans
- 1. 20%
 - 2. 25%
 - 3. 35%
 - 4. 18%

Question ID : 65497835504
Status : Answered
Chosen Option : 1

Q.25 एक व्यक्ति अपनी आय का 12% बचाता है। एक वर्ष के बाद, उसकी आय में 25% की वृद्धि होती है, लेकिन वह अभी भी उतनी ही राशि बचा पाता है। उसके व्यय में हुई प्रतिशत वृद्धि कितनी है?

- Ans
- 1. 27.4%
 - 2. 25.4%
 - 3. 33%
 - 4. 28.4%

Question ID : 65497835503
Status : Answered
Chosen Option : 4

Q.1 The following sentence has been split into four segments. Identify the segment that contains a grammatical error.

The visitors / were being showed / a collection of / old manuscripts.

- Ans**
- 1. a collection of
 - 2. were being showed
 - 3. old manuscripts
 - 4. The visitors

Question ID : 65497835539
Status : Answered
Chosen Option : 2

Q.2 The following sentence has been split into four segments. Identify the segment that contains a grammatical error.

Mohit is expecting / a huge profit / at his / recent investment.

- Ans**
- 1. a huge profit
 - 2. at his
 - 3. Mohit is expecting
 - 4. recent investment

Question ID : 65497835543
Status : Answered
Chosen Option : 2

Q.3 Select the most appropriate option to fill in the blank.

He _____ an important question in the meeting.

- Ans**
- 1. rose
 - 2. risen
 - 3. raised
 - 4. rise

Question ID : 65497835536
Status : Answered
Chosen Option : 3

Q.4 The following sentence has been divided into parts. One of them may contain an error. Select the part that contains the error from the given options. If you don't find any error, mark 'No error' as your answer.

May I / please borrow / yours book?

- Ans**
- 1. May I
 - 2. yours book
 - 3. No error
 - 4. please borrow

Question ID : 65497835527
Status : Answered
Chosen Option : 4

Q.5 Select the most appropriate option to fill in the blank.

When his mother was away, he took the _____ of his little brother.

- Ans
- 1. management
 - 2. duty
 - 3. power
 - 4. charge

Question ID : 65497835526
Status : Answered
Chosen Option : 2

Q.6 Select the option that can be used as a one-word substitute for the given group of words.

The sound of owls

- Ans
- 1. Moo
 - 2. Caw
 - 3. Cluck
 - 4. Hoot

Question ID : 65497835545
Status : Not Answered
Chosen Option : --

Q.7 Select the most appropriate synonym of the given word.

Maintain

- Ans
- 1. Neglect
 - 2. Ignore
 - 3. Care
 - 4. Release

Question ID : 65497835528
Status : Answered
Chosen Option : 3

Q.8 Select the most appropriate meaning of the given idiom.

To take stock of

- Ans
- 1. To count
 - 2. To think carefully
 - 3. To discuss
 - 4. To measure

Question ID : 65497835529
Status : Answered
Chosen Option : 4

Q.9 Select the option that will improve the underlined part of the given sentence. In case no improvement is needed, select 'No improvement required'.

Aphrodite vowed that Paris would had the most beautiful woman as his wife.

- Ans**
- 1. would be having
 - 2. No improvement required
 - 3. will be having
 - 4. would have

Question ID : 65497835532
Status : Answered
Chosen Option : 4

Q.10 Select the most appropriate SYNONYM of the given word.

Compose

- Ans**
- 1. Collect
 - 2. Cuddle
 - 3. Confuse
 - 4. Clutch

Question ID : 65497835544
Status : Answered
Chosen Option : 1

Q.11 Select the most appropriate ANTONYM of the given word.

Stout

- Ans**
- 1. Obese
 - 2. Thin
 - 3. Bulky
 - 4. Heavy

Question ID : 65497835540
Status : Answered
Chosen Option : 2

Q.12 Select the most appropriate ANTONYM of the given word.

Beneficial

- Ans**
- 1. Fearful
 - 2. Hopeful
 - 3. Harmful
 - 4. Careful

Question ID : 65497835534
Status : Answered
Chosen Option : 3

Q.13 Select the option that can be used as a one-word substitute for the given group of words.

A large number of things placed one on top of another

- Ans
- 1. Group
 - 2. Batch
 - 3. Load
 - 4. Pile

Question ID : 65497835531
Status : Answered
Chosen Option : 4

Q.14 Select the most appropriate option that can substitute the underlined segment in the given sentence. If there is no need to substitute it, select 'No substitution required'.

The task our English teacher gave us was both challenging and entertaining.

- Ans
- 1. is additionally challenging
 - 2. was both challenge
 - 3. No substitution required
 - 4. was together challenged

Question ID : 65497835537
Status : Answered
Chosen Option : 3

Q.15 Select the most appropriate meaning of the given idiom.

To get out of hand

- Ans
- 1. To get in a trouble
 - 2. To get an award
 - 3. To get angry
 - 4. To get out of control

Question ID : 65497835530
Status : Answered
Chosen Option : 4

Q.16 Select the option that will improve the underlined part of the given sentence. In case no improvement is needed, select 'No improvement required'.

The children were been drove to the picnic spot in the school bus.

- Ans
- 1. No improvement required
 - 2. were being driven
 - 3. were been driven
 - 4. were been driving

Question ID : 65497835538
Status : Answered
Chosen Option : 2

Q.17 Select the INCORRECTLY spelt word.

- Ans 1. Defiance
 2. Pretanse
 3. Reliance
 4. Alliance

Question ID : 65497835535
Status : Answered
Chosen Option : 2

Q.18 Select the option that can be used as a one-word substitute for the given group of words.

Able to be harmed easily

- Ans 1. Flexible
 2. Vulnerable
 3. Available
 4. Accessible

Question ID : 65497835541
Status : Answered
Chosen Option : 2

Q.19 Select the most appropriate option to fill in the blank.

Mere classroom teaching-learning is boring and _____ for students.

- Ans 1. monotonous
 2. exciting
 3. interesting
 4. varied

Question ID : 65497835533
Status : Answered
Chosen Option : 1

Q.20 Select the INCORRECTLY spelt word.

- Ans 1. Illusion
 2. Brilliant
 3. Scrutiny
 4. Abandan

Question ID : 65497835542
Status : Answered
Chosen Option : 4

Comprehension:

In the following passage, some words have been deleted. Read the passage carefully and select the most appropriate option to fill in each blank.

Football legend Diego Maradona was buried in a private ceremony after a day of (1) _____ scenes in the Argentine capital Buenos Aires. Only (2) _____ two dozen relatives and close friends (3) _____ the final ceremony on Thursday. But (4) _____ huge crowds turned out to pay (5) _____ respects, with many weeping, blowing kisses and praying as they filed past his coffin.

SubQuestion No : 21

Q.21 Select the most appropriate option to fill in blank no. 1.

- Ans**
- 1. expressive
 - 2. impressive
 - 3. emotional
 - 4. exciting

Question ID : 65497835547

Status : Answered

Chosen Option : 3

Comprehension:

In the following passage, some words have been deleted. Read the passage carefully and select the most appropriate option to fill in each blank.

Football legend Diego Maradona was buried in a private ceremony after a day of (1) _____ scenes in the Argentine capital Buenos Aires. Only (2) _____ two dozen relatives and close friends (3) _____ the final ceremony on Thursday. But (4) _____ huge crowds turned out to pay (5) _____ respects, with many weeping, blowing kisses and praying as they filed past his coffin.

SubQuestion No : 22

Q.22 Select the most appropriate option to fill in blank no. 2.

- Ans**
- 1. more or less
 - 2. around
 - 3. just
 - 4. roughly

Question ID : 65497835548

Status : Answered

Chosen Option : 2

Comprehension:

In the following passage, some words have been deleted. Read the passage carefully and select the most appropriate option to fill in each blank.

Football legend Diego Maradona was buried in a private ceremony after a day of (1) _____ scenes in the Argentine capital Buenos Aires. Only (2) _____ two dozen relatives and close friends (3) _____ the final ceremony on Thursday. But (4) _____ huge crowds turned out to pay (5) _____ respects, with many weeping, blowing kisses and praying as they filed past his coffin.

SubQuestion No : 23

Q.23 Select the most appropriate option to fill in blank no. 3.

- Ans** 1. attend
 2. have attended
 3. attended
 4. attending

Question ID : 65497835549

Status : Answered

Chosen Option : 3

Comprehension:

In the following passage, some words have been deleted. Read the passage carefully and select the most appropriate option to fill in each blank.

Football legend Diego Maradona was buried in a private ceremony after a day of (1) _____ scenes in the Argentine capital Buenos Aires. Only (2) _____ two dozen relatives and close friends (3) _____ the final ceremony on Thursday. But (4) _____ huge crowds turned out to pay (5) _____ respects, with many weeping, blowing kisses and praying as they filed past his coffin.

SubQuestion No : 24

Q.24 Select the most appropriate option to fill in blank no. 4.

- Ans** 1. earliest
 2. early
 3. earlier
 4. as early

Question ID : 65497835550

Status : Answered

Chosen Option : 2

Comprehension:

In the following passage, some words have been deleted. Read the passage carefully and select the most appropriate option to fill in each blank.

Football legend Diego Maradona was buried in a private ceremony after a day of (1) _____ scenes in the Argentine capital Buenos Aires. Only (2) _____ two dozen relatives and close friends (3) _____ the final ceremony on Thursday. But (4) _____ huge crowds turned out to pay (5) _____ respects, with many weeping, blowing kisses and praying as they filed past his coffin.

SubQuestion No : 25

Q.25 Select the most appropriate option to fill in blank no. 5.

- Ans**
- 1. them
 - 2. his
 - 3. their
 - 4. its

Question ID : 65497835551
Status : Answered
Chosen Option : 3

Section : Part D Hindi

Q.1 निराधार - रेखांकित शब्द का शब्द समूह बताइए।

- Ans**
- 1. जिसका कोई आधार नहीं।
 - 2. जो पढ़ा-लिखा न हो
 - 3. जिसका आधार हो
 - 4. जो दर्द से भरा हो

Question ID : 65497835565
Status : Not Answered
Chosen Option : --

Q.2 निम्नलिखित में से शुद्ध वर्तनी वाला शब्द कौन सा है?

- Ans**
- 1. सांसारीक
 - 2. संसारिक
 - 3. सांसारिक
 - 4. संसारीक

Question ID : 65497835564
Status : Not Answered
Chosen Option : --

Q.3 दिए गए वाक्य का वह भाग ज्ञात करें जिसमें कोई त्रुटि है। यदि कोई त्रुटि नहीं है, तो 'कोई त्रुटि नहीं है' चुनें।

मैं (1)/ सप्रमाण सहित/ (2) बता रहा हूँ। (3)/ कोई त्रुटि नहीं है/ (4)

- Ans
- 1. 3
 - 2. 2
 - 3. 1
 - 4. 4

Question ID : 65497835560
Status : Not Answered
Chosen Option : --

Q.4 'श्रव्य' का विलोम शब्द होगा-

- Ans
- 1. अदृश्य
 - 2. कटु
 - 3. दृश्य
 - 4. अलौकिक

Question ID : 65497835570
Status : Not Answered
Chosen Option : --

Q.5 दिये गये वाक्य में रेखांकित अंश को प्रतिस्थापित करने के लिए सबसे उपयुक्त विकल्प का चयन करें।

तुम्हें ऐसा नहीं बोलना चाहिए।

- Ans
- 1. विल्लाना
 - 2. उगलना
 - 3. भूकना
 - 4. कहना

Question ID : 65497835567
Status : Not Answered
Chosen Option : --

Q.6 रिक्त स्थान को भरने के लिए सबसे उपयुक्त शब्द का चयन करें।

क्रोध और लोभ, व्यक्ति के _____ हैं।

- Ans
- 1. चिर शत्रु
 - 2. चिरमित्र
 - 3. महान गुरु
 - 4. अजातशत्रु

Question ID : 65497835556
Status : Not Answered
Chosen Option : --

Q.7 दिए गए वाक्य में रेखांकित खंड को प्रतिस्थापित करने के लिए सबसे उपयुक्त विकल्प का चयन करें। यदि इसे प्रतिस्थापित करने की आवश्यकता नहीं है, तो विकल्प 'किसी बदलाव की आवश्यकता नहीं है' का चयन करें।

घनी झाड़ियों के पीछे छिपकर बैठी बिल्ली कुत्ते की जाने की प्रतीक्षा करने लगी।

- Ans
- 1. कुत्ते के जाने में प्रतीक्षा करने लगे।
 - 2. कुत्ते के जाने की प्रतीक्षा करने लगी।
 - 3. किसी बदलाव की आवश्यकता नहीं है।
 - 4. कुत्ते के जाने की प्रतीक्षा करने लगा।

Question ID : 65497835562
Status : Not Answered
Chosen Option : --

Q.8 दिए गए वाक्य का वह भाग ज्ञात करें जिसमें कोई त्रुटि है। यदि कोई त्रुटि नहीं है, तो 'कोई त्रुटि नहीं है' चुनें।

किसी भी भाषा की (1)/ वर्तनी सबसे अधिक (2)/ महत्व की चीज है (3)/ कोई त्रुटि नहीं है (4)

- Ans
- 1. 2
 - 2. 3
 - 3. 4
 - 4. 1

Question ID : 65497835557
Status : Not Answered
Chosen Option : --

Q.9 'अतिथि की सेवा करने वाला' वाक्यांश के लिए एक शब्द होगा-

- Ans
- 1. अतिथि
 - 2. आतिथेयी
 - 3. आतिथ्य
 - 4. अनुचर

Question ID : 65497835569
Status : Not Answered
Chosen Option : --

Q.10 रिक्त स्थान भरने के लिए सबसे उपयुक्त शब्द का चयन करें।

_____ खाना तैयार करती हैं।

- Ans
- 1. भैया
 - 2. लड़की
 - 3. बहुएँ
 - 4. बहू

Question ID : 65497835555
Status : Not Answered
Chosen Option : --

Q.11 'निर्जीव' का विलोम शब्द होगा-

- Ans 1. सजीव
 2. सहजीव
 3. अजीव
 4. समुण

Question ID : 65497835568
Status : Not Answered
Chosen Option : --

Q.12 दिए गए शब्द के समानार्थी शब्द का चयन करें।

नौका

- Ans 1. कलापी
 2. तरणी
 3. धरनी
 4. चपला

Question ID : 65497835558
Status : Not Answered
Chosen Option : --

Q.13 'मन मैला करना' मुहावरे का सही अर्थ क्या है?

- Ans 1. दोषारोपण करना
 2. खिन्न होना
 3. घृणा करना
 4. ईर्ष्या करना

Question ID : 65497835571
Status : Not Answered
Chosen Option : --

Q.14 'डेढ़ चावल की खिचड़ी पकाना' इस मुहावरे के उचित अर्थ का चयन कीजिए।

- Ans 1. बहुमत से अलग रहना
 2. छोटी उम्र में अधिक ज्ञानी होना
 3. अत्यधिक आभाव होना
 4. बहुमत का सम्मन करना

Question ID : 65497835554
Status : Not Answered
Chosen Option : --

Q.15 दिए गए वाक्य में रेखांकित खंड को प्रतिस्थापित करने के लिए सबसे उपयुक्त विकल्प का चयन करें।
यदि इसे प्रतिस्थापित करने की आवश्यकता नहीं है, तो विकल्प 'किसी बदलाव की आवश्यकता नहीं है'
का चयन करें।

मैं गाने की कसरत कर रहा हूँ।

- Ans
- 1. किसी बदलाव की आवश्यकता नहीं है।
 - 2. गाने कि प्रयत्न
 - 3. गाने की रियाज़
 - 4. गाने कि पहल

Question ID : 65497835552
Status : Not Answered
Chosen Option : --

Q.16 दिए गए शब्द के समानार्थी शब्द का चयन करें।

आनंद

- Ans
- 1. पुरस्कार
 - 2. आह्लाद
 - 3. संस्कार
 - 4. संवाद

Question ID : 65497835561
Status : Not Answered
Chosen Option : --

Q.17 रिक्त स्थान को भरने के लिए सबसे उपयुक्त शब्द का चयन करें।

बन्दूक एक बहुत ही उपयोगी _____ है।

- Ans
- 1. सर्वत्र
 - 2. शस्त्र
 - 3. वस्त्र
 - 4. शास्त्र

Question ID : 65497835559
Status : Not Answered
Chosen Option : --

Q.18 निम्नलिखित में से शुद्ध वर्तनी वाला शब्द कौन सा है?

- Ans
- 1. नमष्कार
 - 2. नमोष्कार
 - 3. नमश्कार
 - 4. नमस्कार

Question ID : 65497835563
Status : Not Answered
Chosen Option : --

Q.19 'किसी बड़े और महत्वपूर्ण कार्य का स्मरण चिह्न या रचना' इस वाक्यांश के लिए एक सार्थक शब्द दीजिए।

- Ans
- 1. सम्मान
 - 2. यश
 - 3. श्रेय
 - 4. कीर्ति

Question ID : 65497835553
Status : Not Answered
Chosen Option : --

Q.20 दिये गये वाक्य के किस भाग में त्रुटि है?

अब आज से इस प्रकार की गलती मत करना।

- Ans
- 1. की गलती
 - 2. मत करना।
 - 3. अब आज से
 - 4. इस प्रकार

Question ID : 65497835566
Status : Not Answered
Chosen Option : --

Comprehension:

शंका नैराश्य का लक्षण नहीं, आशा का ही स्रोत है। असल में जिन चीजों के बारे में हमें (1)_____ नहीं होती, उनकी असलियत तक पहुंचना भी हमारे लिए दुश्वार होता है। शंका मनुष्य को (2)_____ रहती है, शंका कठिनाई के भीतर से चलकर (3)_____ तक पहुंचने की राह है। शंका को सही बिंदु से देखकर उसका (4)_____ खोजने की कोशिश करना विद्वता की सबसे बड़ी पहचान है। विश्वास की अंधता में सो जाने की अपेक्षा शंका के (5)_____ पर चलते रहना धर्म की कहीं बड़ी पहचान है।

निम्न प्रश्नों के उत्तर उपरोक्त गद्यांश के आधार पर दीजिए।

SubQuestion No : 21

Q.21 गद्यांश के रिक्त स्थान (1) के लिए सर्वाधिक उपयुक्त शब्द होगा-

- Ans
- 1. लज्जा
 - 2. ईर्ष्या
 - 3. शंका
 - 4. चिंता

Question ID : 65497835573
Status : Not Answered
Chosen Option : --

Comprehension:

शंका नैराश्य का लक्षण नहीं, आशा का ही स्रोत है। असल में जिन चीजों के बारे में हमें (1)_____ नहीं होती, उनकी असलियत तक पहुंचना भी हमारे लिए दुश्वार होता है। शंका मनुष्य को (2)_____ रहती है, शंका कठिनाई के भीतर से चलकर (3)_____ तक पहुंचने की राह है। शंका को सही बिंदु से देखकर उसका (4)_____ खोजने की कोशिश करना विद्वता की सबसे बड़ी पहचान है। विश्वास की अंधता में सो जाने की अपेक्षा शंका के (5)_____ पर चलते रहना धर्म की कहीं बड़ी पहचान है।

निम्न प्रश्नों के उत्तर उपरोक्त गद्यांश के आधार पर दीजिए।

SubQuestion No : 22

Q.22 गद्यांश के रिक्त स्थान (2) के लिए सर्वाधिक उपयुक्त शब्द होगा-

- Ans**
- 1. सुलाये
 - 2. जलाये
 - 3. जगाये
 - 4. भगाये

Question ID : 65497835574

Status : Not Answered

Chosen Option : --

Comprehension:

शंका नैराश्य का लक्षण नहीं, आशा का ही स्रोत है। असल में जिन चीजों के बारे में हमें (1)_____ नहीं होती, उनकी असलियत तक पहुंचना भी हमारे लिए दुश्वार होता है। शंका मनुष्य को (2)_____ रहती है, शंका कठिनाई के भीतर से चलकर (3)_____ तक पहुंचने की राह है। शंका को सही बिंदु से देखकर उसका (4)_____ खोजने की कोशिश करना विद्वता की सबसे बड़ी पहचान है। विश्वास की अंधता में सो जाने की अपेक्षा शंका के (5)_____ पर चलते रहना धर्म की कहीं बड़ी पहचान है।

निम्न प्रश्नों के उत्तर उपरोक्त गद्यांश के आधार पर दीजिए।

SubQuestion No : 23

Q.23 गद्यांश के रिक्त स्थान (3) के लिए सर्वाधिक उपयुक्त शब्द होगा-

- Ans**
- 1. सत्य
 - 2. निर्णय
 - 3. साधन
 - 4. लक्ष्य

Question ID : 65497835575

Status : Not Answered

Chosen Option : --

Comprehension:

शंका नैराश्य का लक्षण नहीं, आशा का ही स्रोत है। असल में जिन चीजों के बारे में हमें (1)_____ नहीं होती, उनकी असलियत तक पहुंचना भी हमारे लिए दुश्वार होता है। शंका मनुष्य को (2)_____ रहती है, शंका कठिनाई के भीतर से चलकर (3)_____ तक पहुंचने की राह है। शंका को सही बिंदु से देखकर उसका (4)_____ खोजने की कोशिश करना विद्वता की सबसे बड़ी पहचान है। विश्वास की अंधता में सो जाने की अपेक्षा शंका के (5)_____ पर चलते रहना धर्म की कहीं बड़ी पहचान है।

निम्न प्रश्नों के उत्तर उपरोक्त गद्यांश के आधार पर दीजिए।

SubQuestion No : 24

Q.24 गद्यांश के रिक्त स्थान (4) के लिए सर्वाधिक उपयुक्त शब्द होगा-

- Ans**
- 1. समाधान
 - 2. परिणाम
 - 3. प्रभाव
 - 4. अवदान

Question ID : 65497835576

Status : Not Answered

Chosen Option : --

Comprehension:

शंका नैराश्य का लक्षण नहीं, आशा का ही स्रोत है। असल में जिन चीजों के बारे में हमें (1)_____ नहीं होती, उनकी असलियत तक पहुंचना भी हमारे लिए दुश्वार होता है। शंका मनुष्य को (2)_____ रहती है, शंका कठिनाई के भीतर से चलकर (3)_____ तक पहुंचने की राह है। शंका को सही बिंदु से देखकर उसका (4)_____ खोजने की कोशिश करना विद्वता की सबसे बड़ी पहचान है। विश्वास की अंधता में सो जाने की अपेक्षा शंका के (5)_____ पर चलते रहना धर्म की कहीं बड़ी पहचान है।

निम्न प्रश्नों के उत्तर उपरोक्त गद्यांश के आधार पर दीजिए।

SubQuestion No : 25

Q.25 गद्यांश के रिक्त स्थान (5) के लिए सर्वाधिक उपयुक्त शब्द होगा-

- Ans**
- 1. शूल
 - 2. धूल
 - 3. फूल
 - 4. शरीर

Question ID : 65497835577

Status : Not Answered

Chosen Option : --

Constable GD in CAPFs NIA SSF and Rifleman GD in Assam Rifles Examination 2021

Roll Number	www.HaryanaJobs.in
Candidate Name	www.HaryanaJobs.in
Venue Name	ANAND INTERNATIONAL COLLEGE OF ENGINEERING JAIPUR
Exam Date	29/11/2021
Exam Time :	12:30 PM - 2:00 PM
Subject	Constable GD 2021

Section : Part A General Intelligence and Reasoning

Q.1 एक कक्षा में कुल 60 छात्र हैं। छात्र 'B' का रैंक, योग्यता क्रम में नीचे की ओर से 41वां है। ऊपर की ओर से छात्र 'B' का रैंक क्या है?

- Ans
- 1. 20वां
 - 2. 21वां
 - 3. 22वां
 - 4. 23वां

Question ID : 65497832915
Status : Answered
Chosen Option : 1

Q.2 दिए गए संयोजन के सही दर्पण प्रतिबिंब का चयन करें, जब दर्पण को दिखाए गए अनुसार PQ पर रखा गया है।

BD9SKC |

- Ans
- 1. C B D E S K C
 - 2. C B D S K C
 - 3. C B D E S K C
 - 4. C B D S K C

Question ID : 65497832931
Status : Answered
Chosen Option : 2

Q.3 अक्षरों के उस संयोजन का चयन करें जिसे दी गई श्रेणी में रिक्त स्थानों पर क्रमिक रूप से रखने पर श्रेणी पूर्ण हो जाएगी।

K _ T _ STKM _ RST _ MTRS _ KM _ RST

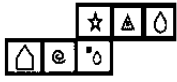
- Ans
- 1. K, T, R, M, T, R
 - 2. M, R, T, K, T, T
 - 3. M, T, R, K, T, R
 - 4. K, M, R, T, T, T

Question ID : 65497832933

Status : Answered

Chosen Option : 2

Q.4 उस बक्से का चयन करें जिसे दिए गए पत्रक (sheet) को उसकी रेखाओं पर मोड़कर बनाया जा सकता है।



Ans

- 1.
- 2.
- 3.
- 4.

Question ID : 65497832921

Status : Answered

Chosen Option : 4

Q.5 एक निश्चित कूट भाषा में, 'FAMILY' को 'QXBJSD' के रूप में लिखा जाता है। उसी भाषा में 'FILMY' को किस रूप में लिखा जाएगा?

- Ans
- 1. QBJSD
 - 2. QXBSD
 - 3. QDSBX
 - 4. QJSBD

Question ID : 65497832923

Status : Answered

Chosen Option : 4

Q.6 दिए गए विकल्पों में से उस अक्षर-समूह का चयन कीजिए जो दी गई श्रृंखला में प्रश्न चिह्न (?) के स्थान पर प्रतिस्थापित हो सकता है।

AU, BO, CI, DE, ?

- Ans
- 1. GE
 - 2. EA
 - 3. FI
 - 4. HU

Question ID : 65497832911
Status : Answered
Chosen Option : 2

Q.7 एक पंक्ति में, मानसी बाईं ओर से 29वें और दाईं ओर से 33वें स्थान पर है। पंक्ति में कितने विद्यार्थी हैं?

- Ans
- 1. 61
 - 2. 55
 - 3. 60
 - 4. 65

Question ID : 65497832918
Status : Answered
Chosen Option : 1

Q.8 किसी कूट भाषा में, ROM को $\alpha \times @$ और HEIGHT को $\epsilon \div \beta \odot \infty^*$ के रूप में लिखा जाता है। उसी भाषा में TIGER को किस प्रकार से लिखा जाएगा?





- Ans
- 1. $\beta \odot + @$
 - 2. $x + \beta \odot^*$
 - 3. $* \beta \odot + \alpha$
 - 4. $\odot + @ * \beta$

Question ID : 65497832914
Status : Answered
Chosen Option : 3

Q.9 उस वेन आरेख का चयन करें, जो निम्नलिखित वर्गों के बीच के संबंध को सबसे अच्छे तरीके से दर्शाता है।

विद्यार्थी, खिलाड़ी, क्रिकेट खिलाड़ी

Ans

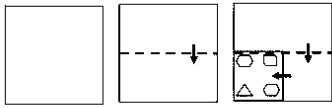
- ✘ 1. 
- ✘ 2. 
- ✘ 3. 
- ✔ 4. 

Question ID : 65497832917

Status : Answered

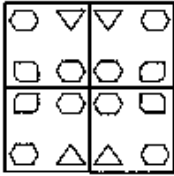
Chosen Option : 1

Q.10 नीचे दी गई आकृतियों में कागज़ के एक टुकड़े को मोड़ने और मोड़े गए कागज़ को काटने के तरीके का क्रम दर्शाया गया है। कागज़ को खोले जाने पर वह कैसा दिखाई देगा?

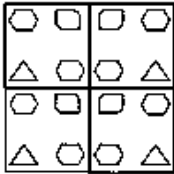


Ans

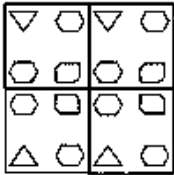
✗ 1.



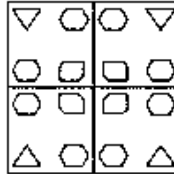
✗ 2.



✗ 3.



✓ 4.



Question ID : 65497832927

Status : Answered

Chosen Option : 4

Q.11 दिए गए कथनों और निष्कर्षों को ध्यान से पढ़ें। यह मानते हुए कि कथनों में दी गई जानकारी सत्य है, भले ही यह सामान्य रूप से ज्ञात तथ्यों से भिन्न प्रतीत होती हो, और यह निर्णय लें कि दिए गए निष्कर्षों में से कौन-सा/से निष्कर्ष कथनों का तार्किक रूप से अनुसरण करता है/करते हैं।

कथन:

सभी लड़के स्नातक हैं।
सभी स्नातक विवाहित हैं।

निष्कर्ष:

I. सभी लड़के विवाहित हैं।
II. सभी स्नातक विवाहित हैं।

Ans

✓ 1. निष्कर्ष I और II दोनों अनुसरण करते हैं।

✗ 2. केवल निष्कर्ष I अनुसरण करता है।

✗ 3. या तो निष्कर्ष I या तो II अनुसरण करता है।

✗ 4. केवल निष्कर्ष II अनुसरण करता है।

Question ID : 65497832924

Status : Answered

Chosen Option : 1

Q.12 गणितीय चिह्नों के उस सही संयोजन का चयन करें जो '@' संकेतों के स्थान पर क्रमिक रूप से आ सकता है और दिए गए समीकरण को संतुलित कर सकता है।

13 @ 4 @ 5 @ 57

- Ans
- 1. +, ×, =
 - 2. +, -, =
 - 3. ×, +, =
 - 4. ×, -, =

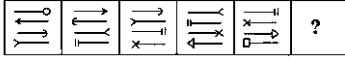
Question ID : 65497832920
Status : Answered
Chosen Option : 3

Q.13 72 विद्यार्थियों की एक कक्षा में लड़कों की संख्या लड़कियों की संख्या की दोगुनी है। लड़कों की संख्या ज्ञात करें।

- Ans
- 1. 24
 - 2. 48
 - 3. 36
 - 4. 18

Question ID : 65497832926
Status : Answered
Chosen Option : 2

Q.14 दिए गए विकल्पों में से उस आकृति का चयन कीजिए जो निम्नांकित श्रेणी में प्रश्नवाचक चिह्न (?) के स्थान पर आ सकती है।



Ans

- 1.
- 2.
- 3.
- 4.

Question ID : 65497832935
Status : Answered
Chosen Option : 2

Q.15 दिए गए विकल्पों में से उस संख्या का चयन कीजिए जो निम्न श्रेणी में प्रश्नवाचक चिह्न (?) के स्थान पर आएगी।

21, 22, 18, 27, 11, 36, ?

Ans 1. 72

2. 0

3. 27

4. 2

Question ID : 65497832934

Status : Answered

Chosen Option : 2

Q.16 उस विकल्प का चयन करें जो तीसरी संख्या से उसी प्रकार संबंधित है जिस प्रकार दूसरी संख्या पहली संख्या से संबंधित है।

234 : 171 :: 2535 : ?

Ans 1. 6414

2. 4838

3. 2393

4. 3787

Question ID : 65497832919

Status : Answered

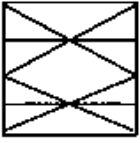
Chosen Option : 1

Q.17 उस विकल्प का चयन करें जिसमें दी गई आकृति अंतर्निहित है।

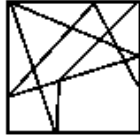


Ans

✗ 1.



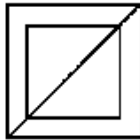
✓ 2.



✗ 3.



✗ 4.



Question ID : 65497832922

Status : Answered

Chosen Option : 2

Q.18 एक खास कूट भाषा में, 'KNOW' को '1614154' के रूप में कूटबद्ध किया जाता है। इस भाषा में 'HIRE' कैसे कूटबद्ध किया जाएगा?

Ans ✗ 1. 18191822

✗ 2. 199922

✓ 3. 1991822

✗ 4. 89185

Question ID : 65497832929

Status : Answered

Chosen Option : 3

Q.19 दिए गए विकल्पों में से उस संख्या का चयन करें, जो निम्नलिखित श्रृंखला में प्रश्नवाचक चिह्न (?) के स्थान पर आ सकती है।

9, 28, 65, 126, ?, 344

- Ans
- 1. 225
 - 2. 218
 - 3. 191
 - 4. 217

Question ID : 65497832930

Status : Not Attempted and Marked For Review

Chosen Option : --

Q.20 धीरज ने संदीप से कहा, "मेरी माँ तुम्हारी माँ की इकलौती पुत्री है।" धीरज की माँ संदीप से कैसे संबंधित है?

- Ans
- 1. माँ
 - 2. चाची
 - 3. बहन
 - 4. दादी

Question ID : 65497832916

Status : Answered

Chosen Option : 3

Q.21 चार अक्षर-समूह दिए गए हैं जिनमें से तीन किसी तरीके से समान हैं और एक भिन्न है। भिन्न अक्षर-समूह को चुनिए।

- Ans
- 1. ZOV
 - 2. VAQ
 - 3. XED
 - 4. WRU

Question ID : 65497832928

Status : Not Attempted and Marked For Review

Chosen Option : --

Q.22 'मनोभ्रंश' का संबंध 'स्मृति' से ठीक उसी तरह है, जैसे 'अनिद्रा' का संबंध '_____ ' से है।

- Ans
- 1. चलने
 - 2. नींद
 - 3. दौड़ने
 - 4. भूलने

Question ID : 65497832912

Status : Answered

Chosen Option : 2

Q.23 उस सही विकल्प का चयन कीजिए जो दिए गए शब्दों के उस क्रम को दर्शाता है जिस क्रम में वे अंग्रेजी शब्दकोश में आते हैं।

1. Poverty
2. Pretension
3. Perturb
4. Pendant
5. Pollution

Ans 1. 4, 5, 3, 1, 2
 2. 4, 3, 5, 1, 2
 3. 3, 5, 2, 1, 4
 4. 3, 4, 2, 1, 5

Question ID : 65497832932
Status : Answered
Chosen Option : 2

Q.24 दिए गए पैटर्न का ध्यानपूर्वक अध्ययन करें और उस संख्या का चयन करें जो इसमें प्रश्न चिह्न (?) के स्थान पर आ सकती है।

26 18 13
50 21 46
626 ? 123

Ans 1. 303
 2. 313
 3. 246
 4. 324

Question ID : 65497832925
Status : Not Attempted and Marked For Review
Chosen Option : --

Q.25 उस विकल्प का चयन करें जो तीसरे पद से ठीक उसी प्रकार से संबंधित है जैसे दूसरा पद पहले पद से संबंधित है।

DRON : BPML :: HOST : ?

Ans 1. FMQR
 2. MRQF
 3. FMRQ
 4. MFRQ

Question ID : 65497832913
Status : Answered
Chosen Option : 1

Section : Part B General Knowledge and General Awareness

Q.1 मार्च 2021 तक की स्थिति के अनुसार, 'प्रधानमंत्री फसल बीमा योजना' के तहत खरीफ फसलों की बीमित राशि पर प्रीमियम की दर कितनी है?

- Ans
- 1. 2.50%
 - 2. 1.00%
 - 3. 1.50%
 - 4. 2.00%

Question ID : 65497832936
Status : Answered
Chosen Option : 3

Q.2 निम्नलिखित में से महाराजाधिराज की उपाधि धारण करने वाले प्रथम गुप्त सम्राट कौन थे?

- Ans
- 1. चंद्रगुप्त प्रथम
 - 2. चंद्रगुप्त द्वितीय
 - 3. समुद्रगुप्त
 - 4. रामगुप्त

Question ID : 65497832938
Status : Answered
Chosen Option : 1

Q.3 संयुक्त राज्य अमेरिका में गदर पार्टी का गठन किस वर्ष किया गया था?

- Ans
- 1. 1919
 - 2. 1913
 - 3. 1924
 - 4. 1915

Question ID : 65497832939
Status : Not Answered
Chosen Option : --

Q.4 गुप्त राजवंश का वह पहला शासक निम्नलिखित में से कौन था जिसने महाराज-अधिराज की पदवी धारण की थी?

- Ans
- 1. चंद्रगुप्त
 - 2. रामगुप्त
 - 3. कुमारगुप्त
 - 4. स्कन्दगुप्त

Question ID : 65497832959
Status : Answered
Chosen Option : 1

Q.5 निम्नलिखित में से कौन सा पदार्थ एक मिश्रधातु है?

- Ans
- 1. प्लैटिनम
 - 2. टंगस्टन
 - 3. ज़र्कोनियम
 - 4. काँसा

Question ID : 65497832958
Status : Answered
Chosen Option : 4

Q.6 निम्नलिखित में से कौन भारत के पहले गृह मंत्री थे?

- Ans
- 1. गुलजारीलाल नंदा
 - 2. सरदार वल्लभभाई पटेल
 - 3. गोविंद बल्लभ पंत
 - 4. लाल बहादुर शास्त्री

Question ID : 65497832953
Status : Answered
Chosen Option : 2

Q.7 नवंबर 2020 में, निम्नलिखित में से किसने पंचकुला में GST (जी.एस.टी.) भवन का उद्घाटन किया?

- Ans
- 1. राजीव कुमार
 - 2. अमित शाह
 - 3. अजित कुमार
 - 4. नरेंद्र मोदी

Question ID : 65497832942
Status : Answered
Chosen Option : 4

Q.8 उस सीमा क्षेत्र को क्या कहते हैं जहां से महासागर के तापमान में तेजी से गिरावट आती है?

- Ans
- 1. महाद्वीपीय सीमांत
 - 2. द्रवतल
 - 3. ताप प्रवणता (थर्मोक्लाइन)
 - 4. महासागरीय कटक

Question ID : 65497832952
Status : Not Attempted and Marked For Review
Chosen Option : --

Q.9 क्लेमाइडोमोनस निम्न का एक उदाहरण है:

- Ans
- 1. शैवाल (algae)
 - 2. विषाणु (viruses)
 - 3. जीवाणु (bacteria)
 - 4. कवक (fungi)

Question ID : 65497832947

Status : Not Attempted and Marked For Review

Chosen Option : --

Q.10 निम्नलिखित में से कौन सा एक सरकारी घाटे का मापन नहीं है?

- Ans
- 1. राजस्व व्यय
 - 2. राजकोषीय घाटा
 - 3. राजस्व घाटा
 - 4. प्राथमिक घाटा

Question ID : 65497832949

Status : Answered

Chosen Option : 4

Q.11 निम्नलिखित में से कौन से शब्द का उपयोग क्रिकेट में नहीं किया जाता?

- Ans
- 1. स्कायर लेग
 - 2. फाइन लेग
 - 3. गली
 - 4. मिड लेग

Question ID : 65497832956

Status : Answered

Chosen Option : 4

Q.12 रज़िया, पहली महिला मुस्लिम शासक, भारत के किस तुर्की शासक की बेटी थी?

- Ans
- 1. शमसुद्दीन इल्तुतमिश
 - 2. कुतुबुद्दीन ऐबक
 - 3. मुइजुद्दीन बहराम
 - 4. गयासुद्दीन बलबन

Question ID : 65497832950

Status : Answered

Chosen Option : 1

Q.13 इंडियन प्रीमियर लीग 2020 का खिताब निम्नलिखित में से किस टीम ने जीता है?

- Ans
- 1. सनराइजर्स हैदराबाद
 - 2. रॉयल चैलेंजर्स बैंगलोर
 - 3. मुंबई इंडियंस
 - 4. दिल्ली कैपिटल्स

Question ID : 65497832944

Status : Answered

Chosen Option : 3

Q.14 'कथक' (कथक नामक एक नृत्य रूप), मूल रूप से उत्तर भारत के मंदिरों में _____ की एक जाति होती थी।

- Ans
- 1. भजन गायकों
 - 2. कथा वाचकों
 - 3. मंचीय कवियों
 - 4. पटकथा लेखकों

Question ID : 65497832951
Status : Answered
Chosen Option : 3

Q.15 किसी पिंड के संवेग को उसके निम्न के गुणनफल के रूप में परिभाषित किया जाता है:

- Ans
- 1. भार और वेग
 - 2. द्रव्यमान और लंबाई
 - 3. भार और चाल
 - 4. द्रव्यमान और वेग

Question ID : 65497832946
Status : Answered
Chosen Option : 4

Q.16 वास्तविक जी.डी.पी. (GDP), किसी देश के कुल _____ का माप है।

- Ans
- 1. बैंक लेन-देन
 - 2. किसानों की आय
 - 3. आर्थिक उत्पादन
 - 4. उद्योगपतियों की संपत्ति

Question ID : 65497832957
Status : Answered
Chosen Option : 3

Q.17 नागझीरा टाइगर रिज़र्व _____ में स्थित है।

- Ans
- 1. सिक्किम
 - 2. राजस्थान
 - 3. महाराष्ट्र
 - 4. गोवा

Question ID : 65497832937
Status : Answered
Chosen Option : 3

Q.18 'जनमसाखी', जिसका शाब्दिक अर्थ जन्म कथाएँ है, ऐसी रचनाएँ हैं जिनमें निम्न की जीवनियाँ प्रकाशित की गई हैं:

- Ans
- 1. कबीर दास
 - 2. गुरु नानक
 - 3. नरसिंह मेहता
 - 4. गुरु अर्जुन देव

Question ID : 65497832945
Status : Answered
Chosen Option : 2

Q.19 हाल ही में (दिसंबर 2020 में) निम्नलिखित में से किस खेल को 2024 पेरिस खेलों में पदार्पण करने के लिए आधिकारिक ओलंपिक खेल के रूप में पंजीकृत किया गया है?

- Ans
- 1. कराटे
 - 2. बॉलिंग
 - 3. स्काश
 - 4. ब्रेक डांस

Question ID : 65497832954
Status : Answered
Chosen Option : 1

Q.20 नागरिकता अधिनियम, _____ संविधान के लागू होने के बाद से भारतीय नागरिकता के अधिग्रहण, निर्धारण और समाप्ति से संबंधित मामलों से जुड़ा हुआ है।

- Ans
- 1. 1955
 - 2. 1957
 - 3. 1951
 - 4. 1961

Question ID : 65497832941
Status : Not Attempted and Marked For Review
Chosen Option : --

Q.21 _____ में अंतरराष्ट्रीय ओलंपिक समिति के नए मुख्यालय को यूरोपीय 2020 यू.एस. (US) ग्रीन बिल्डिंग काउंसिल (USGBC) लीडरशिप अवॉर्ड से सम्मानित किया गया।

- Ans
- 1. बासेल (basel)
 - 2. न्यूयॉर्क (New York)
 - 3. पेरिस (Paris)
 - 4. लोज़ान (Lausanne)

Question ID : 65497832948
Status : Answered
Chosen Option : 2

Q.22 स्वतंत्र भारत का पहला आम चुनाव _____ में हुआ था।

- Ans
- 1. 1961-62
 - 2. 1957-58
 - 3. 1951-52
 - 4. 1967-68

Question ID : 65497832940
Status : Answered
Chosen Option : 3

Q.23 नवंबर 2020 में, भारत जलवायु परिवर्तन ज्ञान पोर्टल (इंडिया क्लाइमेट चेंज नॉलेज पोर्टल) का शुभारंभ निम्नलिखित में से किसने किया?

- Ans
- 1. जगन मोहन रेड्डी
 - 2. प्रकाश जावड़ेकर
 - 3. नीतीश कुमार
 - 4. एस. जयशंकर

Question ID : 65497832943
Status : Not Attempted and Marked For Review
Chosen Option : --

Q.24 निम्नलिखित में से कौन सी, 'महासागरीय धाराओं' की विशेषता नहीं है?

- Ans
- 1. वे एक निश्चित दिशा में बहती हैं।
 - 2. उनकी कोई निश्चित दिशा नहीं होती।
 - 3. वे जल की धाराएँ हैं।
 - 4. वे लगातार समुद्र की सतह पर बहती हैं।

Question ID : 65497832955
Status : Answered
Chosen Option : 1

Q.25 2020-21 के लिए अपने बजट में निम्नलिखित में से किस राज्य सरकार ने 'ओरुनोदोई योजना' की घोषणा की?

- Ans
- 1. असम
 - 2. मिज़ोरम
 - 3. नागालैंड
 - 4. मणिपुर

Question ID : 65497832960
Status : Not Answered
Chosen Option : --

Q.1 16 cm × 12 cm × 10 cm के विमाओं वाले संदूक में लगाई जा सकने वाली सबसे लंबी छड़ की लंबाई (cm में) कितनी है?

- Ans
- 1. $12\sqrt{5}$
 - 2. $10\sqrt{5}$
 - 3. $10\sqrt{3}$
 - 4. 20

Question ID : 65497832983
Status : Not Answered
Chosen Option : --

Q.2 8 सदस्यों की एक टीम ने एक निशानेबाज़ी की प्रतियोगिता में भागीदारी की। सबसे ज्यादा स्कोर प्राप्त करने वाले व्यक्ति को 82 अंक मिले। यदि उसे 90 अंक मिले होते तो पूरी टीम के स्कोर का औसत 84 हो जाता। पूरी टीम को कुल मिलाकर कितना स्कोर प्राप्त हुआ?

- Ans
- 1. 646
 - 2. 546
 - 3. 564
 - 4. 664

Question ID : 65497832974
Status : Answered
Chosen Option : 4

Q.3 कोई दुकानदार किसी वस्तु पर उसकी लागत से 23% अधिक मूल्य अंकित करता है। उसने दो-तिहाई वस्तु को अंकित मूल्य पर बेचा और शेष को अंकित मूल्य पर 25% की छूट देकर बेचा। उसका कुल लाभ प्रतिशत कितना है?

- Ans
- 1. 12.15%
 - 2. 12.75%
 - 3. 12.25%
 - 4. 12.50%

Question ID : 65497832979
Status : Answered
Chosen Option : 3

Q.4 स्थान B पर जाने के लिए विष्णु स्थान A से सुबह 10 बजे चलता है और स्थान A पर जाने के लिए सुदीप स्थान B से दोपहर 2 बजे चलता है। दोनों स्थानों के बीच की दूरी 556 km है। यदि विष्णु की चाल 42 km/h और सुदीप की चाल 55 km/h है, तो वे एक-दूसरे से किस समय मिलेंगे?

- Ans
- 1. शाम 5 बजे
 - 2. शाम 6 बजे
 - 3. शाम 7 बजे
 - 4. रात 8 बजे

Question ID : 65497832970
Status : Answered
Chosen Option : 2

Q.5 6 फलैटों में से प्रत्येक का मूल्य ₹60 लाख था। एक बिल्डर ने $\frac{1}{3}$ फलैटों को 15% के लाभ और $\frac{1}{6}$ फलैटों को 6% की हानि पर बेच दिया। यदि उसे शेष फलैटों को बेचने के बाद 10% की शुद्ध हानि हुई, तो शेष फलैटों में उसकी हानि का प्रतिशत कितना था?

- Ans
- 1. 18%
 - 2. 28%
 - 3. 38%
 - 4. 30%

Question ID : 65497832971
Status : Answered
Chosen Option : 4

Q.6 एक आयताकार आँगन 1017 फीट लंबा और 1002 फीट चौड़ा है, इसमें समान आकार की वर्गाकार टाइल्स बिछाई जानी हैं। इस उद्देश्य के लिए उपयोग की जाने वाली सबसे बड़ी टाइल की कोर (साइड) की लंबाई ज्ञात कीजिए।

- Ans
- 1. 10 फीट
 - 2. 3 फीट
 - 3. 16 फीट
 - 4. 5 फीट

Question ID : 65497832973
Status : Answered
Chosen Option : 2

Q.7 108 और 198 का महत्तम समापवर्तक (HCF) कितना होगा?

- Ans
- 1. 12
 - 2. 18
 - 3. 34
 - 4. 98

Question ID : 65497832977
Status : Answered
Chosen Option : 1

Q.8 ₹7,000 की धनराशि के लिए अर्धवार्षिक आधार पर चक्रवृद्धि होने वाली 20% वार्षिक ब्याज दर पर 1.5 वर्ष का चक्रवृद्धि ब्याज ज्ञात करें।

- Ans
- 1. ₹2,017
 - 2. ₹3,337
 - 3. ₹2,317
 - 4. ₹2,137

Question ID : 65497832972
Status : Answered
Chosen Option : 3

Q.9 जब 6, 12, 18 और 28 में से प्रत्येक में x जोड़ा जाता है, तो इस तरह प्राप्त संख्याएं एक अनुपात में होती हैं। $(5x + 6) : (x - 1)$ का मान इनमें से किसके बराबर है?

- Ans
- 1. 6 : 1
 - 2. 1 : 6
 - 3. 2 : 7
 - 4. 7 : 2

Question ID : 65497832961
Status : Answered
Chosen Option : 4

Q.10 एक ट्रेन $3\frac{1}{2}$ h तक 40 km/h की औसत चाल से चलती है और फिर $2\frac{1}{2}$ h तक 60 km/h की चाल से चलती है। ट्रेन पूरे 6 h में कितनी दूरी तय करती है?

- Ans
- 1. 290 km
 - 2. 270 km
 - 3. 215 km
 - 4. 245 km

Question ID : 65497832985
Status : Answered
Chosen Option : 1

Q.11 किसी वस्तु को ₹1,850 में बेचने पर प्राप्त लाभ, उस वस्तु को ₹1,600 में बेचने पर मिले लाभ का दो गुना है। वस्तु का लागत मूल्य क्या है?

- Ans
- 1. ₹1,250
 - 2. ₹1,350
 - 3. ₹1,200
 - 4. ₹1,300

Question ID : 65497832967
Status : Answered
Chosen Option : 4

Q.12 दो क्रमागत प्राकृतिक सम संख्याओं के वर्गों का औसत 170 है। दोनों संख्याओं का औसत क्या होगा?

- Ans
- 1. 15
 - 2. 11
 - 3. 17
 - 4. 13

Question ID : 65497832964
Status : Answered
Chosen Option : 4

Q.13 A और B साथ मिलकर कार्य का $\frac{1}{5}$ भाग $4\frac{4}{5}$ दिनों में पूरा कर सकते हैं। अकेले A इस कार्य के $\frac{3}{4}$ भाग को 30 दिनों में पूरा कर सकता है। समूचे कार्य को अकेले पूरा करने में B को कितना समय लगेगा?

- Ans
- 1. 50 दिन
 - 2. 40 दिन
 - 3. 60 दिन
 - 4. 48 दिन

Question ID : 65497832969
Status : Answered
Chosen Option : 3

Q.14 रवि और सुमित के वेतनों का अनुपात 2 : 3 है। यदि प्रत्येक के वेतन में ₹5,000 की वृद्धि कर दी जाती है तो अनुपात 5 : 7 हो जाता है। वृद्धि के बाद सुमित का वेतन कितना होगा?

- Ans
- 1. ₹35,000
 - 2. ₹25,000
 - 3. ₹40,000
 - 4. ₹30,000

Question ID : 65497832975
Status : Answered
Chosen Option : 1

Q.15 एक संवृत बेलन के वक्र पृष्ठ के क्षेत्रफल और आयतन का अनुपात 4 : 5 है। यदि इसका संपूर्ण पृष्ठीय क्षेत्रफल 187 cm^2 है, तो इसकी ऊंचाई (cm में) कितनी होगी? (मान लीजिए $\pi = \frac{22}{7}$)

- Ans
- 1. 12.5
 - 2. 10.7
 - 3. 11.9
 - 4. 9.4

Question ID : 65497832962
Status : Not Attempted and Marked For Review
Chosen Option : --

Q.16 $18 \div \left[92 \div 2 \text{ of } 8 + 3\frac{1}{4} \right]$ का मान क्या होगा?

- Ans
- 1. 2
 - 2. 4
 - 3. 1
 - 4. 9

Question ID : 65497832963
Status : Answered
Chosen Option : 2

Q.17 A, B का 15% है, जबकि B, C का 12% है। यदि C = 1200 है, तो A + B का मान कितना होगा?

- Ans
- 1. 128.6
 - 2. 174.8
 - 3. 216.8
 - 4. 165.6

Question ID : 65497832978
Status : Answered
Chosen Option : 4

Q.18 एक दुकानदार के पास कुछ सेब हैं, जिनमें से 15% खराब हो चुके हैं। शेष बढ़िया सेबों में से 90% को बेचने के बाद उसके पास 34 बढ़िया सेब बचते हैं। उसके पास आरंभ में कितने सेब थे?

- Ans
- 1. 450
 - 2. 400
 - 3. 300
 - 4. 420

Question ID : 65497832966
Status : Not Attempted and Marked For Review
Chosen Option : --

Q.19 ₹4,500 की धनराशि कितनी साधारण ब्याज दर पर तीन वर्ष के बाद ₹5,310 हो जाएगी?

- Ans
- 1. 6.5%
 - 2. 8%
 - 3. 7%
 - 4. 6%

Question ID : 65497832976
Status : Answered
Chosen Option : 4

Q.20 मनीष किसी वस्तु को उसके लागत मूल्य से 44% अधिक के अंकित मूल्य पर बेचता है। यदि वह 27.5% की छूट देता है, तो उसके लाभ या हानि प्रतिशत की गणना करें।

- Ans
- 1. 4.4% हानि
 - 2. 4.4% लाभ
 - 3. 8% लाभ
 - 4. 8% हानि

Question ID : 65497832965
Status : Answered
Chosen Option : 2

Q.21 ₹8,100 की धनराशि पर 6 महीने के लिए वार्षिक 20% की ब्याज दर से त्रैमासिक रूप से चक्रवृद्धि होनेवाला चक्रवृद्धि ब्याज ज्ञात कीजिए।

- Ans
- 1. ₹780.60
 - 2. ₹950.50
 - 3. ₹830.25
 - 4. ₹800.75

Question ID : 65497832982
Status : Answered
Chosen Option : 3

Q.22 मधु ने एक घड़ी को 12% लाभ पर बेचा। यदि उसने इसे ₹28.80 अधिक में बेचा होता तो उसे 18.4% लाभ प्राप्त होता। घड़ी का क्रय मूल्य (₹ में) कितना था?

- Ans
- 1. 450
 - 2. 540
 - 3. 500
 - 4. 480

Question ID : 65497832980
Status : Answered
Chosen Option : 1

Q.23 यदि $3p = 4q$ और $3q = 5r$ है, तो $p : r$ अनुपात ज्ञात कीजिए।

- Ans
- 1. 15 : 9
 - 2. 20 : 15
 - 3. 5 : 9
 - 4. 20 : 9

Question ID : 65497832981
Status : Answered
Chosen Option : 4

Q.24 9 of $\{(4 \div 2) \times [2 - (4 \text{ of } 6 \div 2)] + (6 \times 1 \div 3)\} - 5$ का मान ज्ञात कीजिए।

- Ans
- 1. -167
 - 2. -150
 - 3. -99
 - 4. -157

Question ID : 65497832984
Status : Answered
Chosen Option : 4

Q.25 22 पुरुष किसी कार्य को $7\frac{1}{2}$ दिनों में पूरा कर सकते हैं। इसी कार्य को $5\frac{1}{2}$ दिनों में पूरा करने के लिए कितने पुरुषों की आवश्यकता होगी?

- Ans
- 1. 28
 - 2. 32
 - 3. 25
 - 4. 30

Question ID : 65497832968
Status : Answered
Chosen Option : 4

Section : Part D English

Q.1 Select the option that can be used as a one-word substitute for the given group of words.

A person who loves his/her country and, if necessary, will fight for it

- Ans
- 1. Patriot
 - 2. Patriarch
 - 3. Patron
 - 4. Expatriate

Question ID : 65497833000
Status : Not Answered
Chosen Option : --

Q.2 Select the most appropriate ANTONYM of the given word.

AMPLE

- Ans
- 1. Enough
 - 2. Liberal
 - 3. Meagre
 - 4. Sufficient

Question ID : 65497833003
Status : Not Answered
Chosen Option : --

Q.3 Select the most appropriate option that can substitute the underlined segment in the given sentence. If there is no need to substitute it, select 'No substitution required'.

Wash and dry the raw mangoes, and use a fork to prick it all over.

- Ans
- 1. for prick it all over
 - 2. to prick them all over
 - 3. No substitution required
 - 4. for all over pricking them

Question ID : 65497832987
Status : Not Answered
Chosen Option : --

Q.4 The following sentence has been split into four segments. Identify the segment that contains a grammatical error.

Our team leader / told us to be at the work / by 9 a.m. / the next morning.

- Ans**
- 1. by 9 a.m.
 - 2. the next morning
 - 3. Our team leader
 - 4. told us to be at the work

Question ID : 65497832988
Status : Not Answered
Chosen Option : --

Q.5 Select the most appropriate option to fill in the blank.

He will _____ if they look after him carefully.

- Ans**
- 1. pull off
 - 2. pull through
 - 3. pull out
 - 4. pull up

Question ID : 65497832994
Status : Not Answered
Chosen Option : --

Q.6 Select the option that can be used as a one-word substitute for the given group of words.

Become less intense or widespread

- Ans**
- 1. Ablaze
 - 2. Abate
 - 3. Abide
 - 4. Abode

Question ID : 65497833004
Status : Not Answered
Chosen Option : --

Q.7 Select the INCORRECTLY spelt word.

- Ans**
- 1. Accommodate
 - 2. Intregue
 - 3. Unique
 - 4. Quarantine

Question ID : 65497833005
Status : Not Answered
Chosen Option : --

Q.8 Select the most appropriate option to fill in the blank.

No changes can be made to the bond without the _____ of the partners.

- Ans
- 1. sympathy
 - 2. harmony
 - 3. consent
 - 4. confession

Question ID : 65497833001
Status : Not Answered
Chosen Option : --

Q.9 The following sentence has been split into four segments. Identify the segment that contains a grammatical error.

Do you play / any other sports / beside of / cricket and football?

- Ans
- 1. any other sports
 - 2. cricket and football
 - 3. Do you play
 - 4. beside of

Question ID : 65497832997
Status : Not Answered
Chosen Option : --

Q.10 Select the option that can be used as a one-word substitute for the given group of words.

Person who portrays bad character roles in cinema

- Ans
- 1. Villain
 - 2. Altruist
 - 3. Sadist
 - 4. Warrior

Question ID : 65497832986
Status : Not Answered
Chosen Option : --

Q.11 Select the correctly spelt word.

- Ans
- 1. Absolutly
 - 2. Adaptation
 - 3. Abandan
 - 4. Acurate

Question ID : 65497832993
Status : Not Answered
Chosen Option : --

Q.12 Select the most appropriate meaning of the given idiom.

Down in the mouth

- Ans 1. To be angry
 2. To be depressed
 3. To feel hungry
 4. To be happy

Question ID : 65497832996
Status : Not Answered
Chosen Option : --

Q.13 Select the most appropriate option that can substitute the underlined segment in the given sentence. If there is no need to substitute it, select 'No substitution required'.

My father said to me, "Where you have kept your books?"

- Ans 1. No substitution required
 2. did you kept
 3. have you kept
 4. you are keeping

Question ID : 65497832998
Status : Not Answered
Chosen Option : --

Q.14 Select the most appropriate option that can substitute the underlined segment in the given sentence. If there is no need to substitute it, select 'No substitution required'.

Naveena won a scholarship to further studies in medicine and decided to go abroad.

- Ans 1. for further study on medicine
 2. in furthering studies with medicine
 3. for further studies in medicine
 4. No substitution required

Question ID : 65497832991
Status : Not Answered
Chosen Option : --

Q.15 Select the most appropriate meaning of the given idiom.

To take the bull by the horns

- Ans 1. To be stubborn in every matter
 2. To take revenge on enemies
 3. To try to accomplish things
 4. To deal with difficult situations courageously

Question ID : 65497832995
Status : Not Answered
Chosen Option : --

Q.16 Select the most appropriate option to fill in the blank.

The word 'ecology' refers to the pattern and _____ of relationships among plants, animals and people and their environment.

- Ans 1. balance
 2. policy
 3. plan
 4. outline

Question ID : 65497832990
Status : Not Answered
Chosen Option : --

Q.17 Select the most appropriate synonym of the given word.

Accurate

- Ans 1. General
 2. False
 3. Exact
 4. Active

Question ID : 65497832999
Status : Not Answered
Chosen Option : --

Q.18 Select the most appropriate ANTONYM of the given word.

Reticent

- Ans 1. Talkative
 2. Hostile
 3. Aggressive
 4. Controversial

Question ID : 65497832992
Status : Not Answered
Chosen Option : --

Q.19 The following sentence has been divided into parts. One of them may contain an error. Select the part that contains the error from the given options. If you don't find any error, mark 'No error' as your answer.

The App has been so well-developed / that it anticipate / all the customers' needs.

- Ans 1. that it anticipate
 2. No error
 3. The App has been so well-developed
 4. all the customers' needs

Question ID : 65497833002
Status : Not Answered
Chosen Option : --

Q.20 Select the most appropriate synonym of the given word.

Refuge

- Ans** 1. Entrance
 2. Shelter
 3. Admit
 4. Arrival

Question ID : **65497832989**
Status : **Not Answered**
Chosen Option : --

Comprehension:

In the following passage, some words have been deleted. Read the passage carefully and select the most appropriate option to fill in each blank.

(1)_____ my thirteenth birthday, my mother made chicken pizza at home. That was the (2)_____ pizza I have ever eaten. She had made (3)_____ quantity for all my friends and everyone had a plateful. After the party got over, she (4)_____ me by gifting a beautiful pullover. The (5)_____ visit of my grandmother made my day.

SubQuestion No : 21

Q.21 Select the most appropriate option to fill in blank number 1.

- Ans** 1. On
 2. In
 3. From
 4. At

Question ID : **65497833007**
Status : **Not Answered**
Chosen Option : --

Comprehension:

In the following passage, some words have been deleted. Read the passage carefully and select the most appropriate option to fill in each blank.

(1)_____ my thirteenth birthday, my mother made chicken pizza at home. That was the (2)_____ pizza I have ever eaten. She had made (3)_____ quantity for all my friends and everyone had a plateful. After the party got over, she (4)_____ me by gifting a beautiful pullover. The (5)_____ visit of my grandmother made my day.

SubQuestion No : 22

Q.22 Select the most appropriate option to fill in blank number 2.

- Ans** 1. best
 2. better
 3. good
 4. very better

Question ID : **65497833008**
Status : **Not Answered**
Chosen Option : --

Comprehension:

In the following passage, some words have been deleted. Read the passage carefully and select the most appropriate option to fill in each blank.

(1)_____ my thirteenth birthday, my mother made chicken pizza at home. That was the (2)_____ pizza I have ever eaten. She had made (3)_____ quantity for all my friends and everyone had a plateful. After the party got over, she (4)_____ me by gifting a beautiful pullover. The (5)_____ visit of my grandmother made my day.

SubQuestion No : 23

Q.23 Select the most appropriate option to fill in blank number 3.

- Ans** 1. sufficient
 2. insufficient
 3. little
 4. inadequate

Question ID : **65497833009**
Status : **Not Answered**
Chosen Option : --

Comprehension:

In the following passage, some words have been deleted. Read the passage carefully and select the most appropriate option to fill in each blank.

(1)_____ my thirteenth birthday, my mother made chicken pizza at home. That was the (2)_____ pizza I have ever eaten. She had made (3)_____ quantity for all my friends and everyone had a plateful. After the party got over, she (4)_____ me by gifting a beautiful pullover. The (5)_____ visit of my grandmother made my day.

SubQuestion No : 24

Q.24 Select the most appropriate option to fill in blank number 4.

- Ans** 1. tormented
 2. blasted
 3. surprised
 4. drove

Question ID : **65497833010**
Status : **Not Answered**
Chosen Option : --

Comprehension:

In the following passage, some words have been deleted. Read the passage carefully and select the most appropriate option to fill in each blank.

(1)_____ my thirteenth birthday, my mother made chicken pizza at home. That was the (2)_____ pizza I have ever eaten. She had made (3)_____ quantity for all my friends and everyone had a plateful. After the party got over, she (4)_____ me by gifting a beautiful pullover. The (5)_____ visit of my grandmother made my day.

SubQuestion No : 25

Q.25 Select the most appropriate option to fill in blank number 5.

- Ans** 1. undesirable
 2. uneventful
 3. unexpected
 4. untoward

Question ID : **65497833011**
Status : **Not Answered**
Chosen Option : --

Section : Part D Hindi

Q.1 दिए गए वाक्य में रेखांकित खंड को प्रतिस्थापित करने के लिए सबसे उपयुक्त विकल्प का चयन करें।
यदि इसे प्रतिस्थापित करने की आवश्यकता नहीं है, तो विकल्प 'किसी बदलाव की आवश्यकता नहीं है'
का चयन करें।

वह मिलनसार था, इसलिए उन्होंने कई मित्र बना लिए।

- Ans
- 1. इसलिए उससे कई मित्र बना लिए।
 - 2. किसी बदलाव की आवश्यकता नहीं है।
 - 3. इसलिए उनके कई मित्र बना लिए।
 - 4. इसलिए उसने कई मित्र बना लिए।

Question ID : 65497833014
Status : Answered
Chosen Option : 4

Q.2 'भार्या' का पर्यायवाची है-

- Ans
- 1. पत्नी
 - 2. दुहिता
 - 3. बहन
 - 4. पुत्री

Question ID : 65497833028
Status : Answered
Chosen Option : 3

Q.3 रिक्त स्थान भरने के लिए सबसे उपयुक्त शब्द का चयन करें।

सभा _____ हो गई।

- Ans
- 1. शुरुआती
 - 2. विसर्जित
 - 3. विसर्जन
 - 4. समाप्ति

Question ID : 65497833012
Status : Answered
Chosen Option : 4

Q.4 सही वर्तनी वाले शब्द का चयन करें।

- Ans
- 1. राजनैतीक
 - 2. राजनीतिक
 - 3. राजनैतिक
 - 4. राजनितीक

Question ID : 65497833021
Status : Answered
Chosen Option : 3

Q.5 दिए गए वाक्य में रेखांकित खंड को प्रतिस्थापित करने के लिए सबसे उपयुक्त विकल्प का चयन करें।
यदि इसे प्रतिस्थापित करने की आवश्यकता नहीं है, तो विकल्प 'किसी बदलाव की आवश्यकता नहीं है'
का चयन करें।

उस समय यमुना में जल तो अधिक न थी और मगरमच्छ भी बहुत थे।

- Ans
- 1. पानी तो अधिक न थी
 - 2. जल भी अधिक न थे
 - 3. किसी बदलाव की आवश्यकता नहीं है।
 - 4. जल भी अधिक न था

Question ID : 65497833016
Status : Answered
Chosen Option : 4

Q.6 'परुष' का विलोम शब्द होगा-

- Ans
- 1. आकर्षक
 - 2. कठोर
 - 3. कोमल
 - 4. कर्कश

Question ID : 65497833030
Status : Answered
Chosen Option : 4

Q.7 दिए गए चार विकल्पों में से, उस विकल्प का चयन करें जो नीचे दिए मुहावरे का अर्थ व्यक्त करता है।

भाड़ झोंकना

- Ans
- 1. सहायता करना
 - 2. व्यर्थ समय खोना
 - 3. आग जलाना
 - 4. काम करना

Question ID : 65497833024
Status : Answered
Chosen Option : 3

Q.8 रिक्त स्थान को भरने के लिए सबसे उपयुक्त विकल्प का चयन करें।

लता मंगेशकर ने सैकड़ों _____ गाए हैं।

- Ans
- 1. संगीत
 - 2. नृत्य
 - 3. गीत
 - 4. कविता

Question ID : 65497833029
Status : Answered
Chosen Option : 1

Q.9 रिक्त स्थान को भरने के लिए सबसे उपयुक्त शब्द का चयन करें।

आज _____ बाजार जाना है।

- Ans
- 1. मैंने
 - 2. मेरे को
 - 3. मुझको
 - 4. मुझे

Question ID : 65497833023
Status : Answered
Chosen Option : 4

Q.10 'पत्थर की लकीर होना' मुहावरे का सही अर्थ है-

- Ans
- 1. मूर्ख होना
 - 2. नकल करना
 - 3. कठोर होना
 - 4. बात पक्की होना

Question ID : 65497833031
Status : Answered
Chosen Option : 4

Q.11 दिये गये वाक्य में रेखांकित अंश को प्रतिस्थापित करने के लिए सबसे उपयुक्त विकल्प का चयन करें।

व्यायाम से शारीरिक प्रगति होती है।

- Ans
- 1. उन्नति
 - 2. विकास
 - 3. अवनति
 - 4. सुंदरता

Question ID : 65497833026
Status : Answered
Chosen Option : 4

Q.12 दिये गये वाक्य के किस भाग में त्रुटि है?

मैं उसकी चातुर्यता से दंग रह गया।

- Ans
- 1. मैं उसकी
 - 2. रह गया।
 - 3. चातुर्यता
 - 4. से दंग

Question ID : 65497833027
Status : Answered
Chosen Option : 3

Q.13 दिए गए वाक्यांश के लिए एक शब्द चुनिए।

जो पहले हो चुका हो

- Ans
- 1. अपूर्व
 - 2. पूर्वी
 - 3. भूतपूर्व
 - 4. पूर्वकल्पित

Question ID : 65497833025
Status : Answered
Chosen Option : 3

Q.14 दिये गये वाक्यांश के लिए एक शब्द दीजिये।

जिसके समान कोई दूसरा न हो

- Ans
- 1. अद्वितीय
 - 2. अनंत
 - 3. अग्रगण्य
 - 4. अनादि

Question ID : 65497833018
Status : Answered
Chosen Option : 1

Q.15 सही वर्तनी वाले शब्द का चयन करें।

- Ans
- 1. सनयासी
 - 2. सन्यासी
 - 3. संन्यासी
 - 4. सन्यासी

Question ID : 65497833022
Status : Answered
Chosen Option : 4

Q.16 दिए गए शब्द का विलोम चुनें।

लघु

- Ans
- 1. महान
 - 2. सौम्य
 - 3. दाता
 - 4. गुरु

Question ID : 65497833017
Status : Answered
Chosen Option : 4

Q.17 दिए गए वाक्य का वह भाग ज्ञात करें जिसमें कोई त्रुटि है। यदि कोई त्रुटि नहीं है, तो 'कोई त्रुटि नहीं है' चुनें।

पाँच नगरों का नाम बताईये, जहाँ जनसंख्या घनत्व अधिक है।

- Ans
- 1. पाँच नगरों का नाम बताईये
 - 2. जहाँ जनसंख्या घनत्व
 - 3. कोई त्रुटि नहीं है।
 - 4. अधिक है।

Question ID : 65497833015
Status : Answered
Chosen Option : 3

Q.18 दिए गए वाक्य का वह भाग ज्ञात करें जिसमें कोई त्रुटि है। यदि कोई त्रुटि नहीं है, तो 'कोई त्रुटि नहीं है' चुनें।

इस परिसर में (1)/ अनाधिकार प्रवेश (2)/ वर्जित है। (3)/ कोई त्रुटि नहीं है (4)

- Ans
- 1. 2
 - 2. 3
 - 3. 4
 - 4. 1

Question ID : 65497833019
Status : Answered
Chosen Option : 3

Q.19 दिए गए शब्द के समानार्थी शब्द का चयन करें।

लहर

- Ans
- 1. उर्मिल
 - 2. धारा
 - 3. बहाव
 - 4. ऊर्मि

Question ID : 65497833020
Status : Answered
Chosen Option : 2

Q.20 दिए गये वाक्यांश के लिए एक शब्द दीजिये।

जिसे कभी बुढ़ापा न आए

- Ans
- 1. अजेय
 - 2. अमृत्य
 - 3. अमर
 - 4. अजर

Question ID : 65497833013
Status : Answered
Chosen Option : 4

Comprehension:

दिए गए अनुच्छेद में कुछ शब्द हटा दिए गए हैं। दिए गए विकल्पों की सहायता से रिक्त स्थान भरें। प्रत्येक संख्या के लिए सबसे उपयुक्त विकल्प का चयन करें।

उन दिनों हम रेलवे क्राटरों में रहते थे। मैं अपने (1) _____ केशव के साथ घर की ओर चला जा रहा था। एकाएक तेज (2) _____ चलने लगी। अचानक (3) _____ करता हुआ एक बहुत (4) _____ शीशम वृक्ष गिर पड़ा। केशव (5) _____ बचा।

SubQuestion No : 21

Q.21 गद्यांश के रिक्त स्थान (1) के लिए सर्वाधिक उपयुक्त शब्द होगा-

- Ans** 1. मित्र
 2. व्यक्ति
 3. आदमी
 4. दुश्मन

Question ID : 65497833033
Status : Answered
Chosen Option : 1

Comprehension:

दिए गए अनुच्छेद में कुछ शब्द हटा दिए गए हैं। दिए गए विकल्पों की सहायता से रिक्त स्थान भरें। प्रत्येक संख्या के लिए सबसे उपयुक्त विकल्प का चयन करें।

उन दिनों हम रेलवे क्राटरों में रहते थे। मैं अपने (1) _____ केशव के साथ घर की ओर चला जा रहा था। एकाएक तेज (2) _____ चलने लगी। अचानक (3) _____ करता हुआ एक बहुत (4) _____ शीशम वृक्ष गिर पड़ा। केशव (5) _____ बचा।

SubQuestion No : 22

Q.22 गद्यांश के रिक्त स्थान (2) के लिए सर्वाधिक उपयुक्त शब्द होगा-

- Ans** 1. तूफान
 2. अंधड़
 3. हवा
 4. बवंडर

Question ID : 65497833034
Status : Answered
Chosen Option : 3

Comprehension:

दिए गए अनुच्छेद में कुछ शब्द हटा दिए गए हैं। दिए गए विकल्पों की सहायता से रिक्त स्थान भरें। प्रत्येक संख्या के लिए सबसे उपयुक्त विकल्प का चयन करें।

उन दिनों हम रेलवे क्राटरों में रहते थे। मैं अपने (1) _____ केशव के साथ घर की ओर चला जा रहा था। एकाएक तेज (2) _____ चलने लगी। अचानक (3) _____ करता हुआ एक बहुत (4) _____ शीशम वृक्ष गिर पड़ा। केशव (5) _____ बचा।

SubQuestion No : 23

Q.23 गद्यांश के रिक्त स्थान (3) के लिए सर्वाधिक उपयुक्त शब्द होगा-

- Ans** 1. फटफट- ताड़
 2. सनसन-फट
 3. कड़कड़-धड़ाम
 4. छनछन- खटखट

Question ID : 65497833035
Status : Answered
Chosen Option : 1

Comprehension:

दिए गए अनुच्छेद में कुछ शब्द हटा दिए गए हैं। दिए गए विकल्पों की सहायता से रिक्त स्थान भरें। प्रत्येक संख्या के लिए सबसे उपयुक्त विकल्प का चयन करें।

उन दिनों हम रेलवे क्वार्टरों में रहते थे। मैं अपने (1) _____ केशव के साथ घर की ओर चला जा रहा था। एकाएक तेज (2) _____ चलने लगी। अचानक (3) _____ करता हुआ एक बहुत (4) _____ शीशम वृक्ष गिर पड़ा। केशव (5) _____ बचा।

SubQuestion No : 24

Q.24 गद्यांश के रिक्त स्थान (4) के लिए सर्वाधिक उपयुक्त शब्द होगा-

- Ans**
- 1. पतला
 - 2. नन्हा
 - 3. गीला
 - 4. विशाल

Question ID : 65497833036

Status : Answered

Chosen Option : 4

Comprehension:

दिए गए अनुच्छेद में कुछ शब्द हटा दिए गए हैं। दिए गए विकल्पों की सहायता से रिक्त स्थान भरें। प्रत्येक संख्या के लिए सबसे उपयुक्त विकल्प का चयन करें।

उन दिनों हम रेलवे क्वार्टरों में रहते थे। मैं अपने (1) _____ केशव के साथ घर की ओर चला जा रहा था। एकाएक तेज (2) _____ चलने लगी। अचानक (3) _____ करता हुआ एक बहुत (4) _____ शीशम वृक्ष गिर पड़ा। केशव (5) _____ बचा।

SubQuestion No : 25

Q.25 गद्यांश के रिक्त स्थान (5) के लिए सर्वाधिक उपयुक्त शब्द होगा-

- Ans**
- 1. हाथ-हाथ
 - 2. बाल-बाल
 - 3. थोड़ा-थोड़ा
 - 4. बूँद भर

Question ID : 65497833037

Status : Answered

Chosen Option : 2

Constable GD in CAPFs NIA SSF and Rifleman GD in Assam Rifles Examination 2021

Roll Number	www.HaryanaJobs.in
Candidate Name	www.HaryanaJobs.in
Venue Name	iON Digital Zone iDZ Ramtekdi 2
Exam Date	26/11/2021
Exam Time :	4:00 PM - 5:30 PM
Subject	Constable GD 2021

Section : Part A General Intelligence and Reasoning

Q.1 एक निश्चित कूट भाषा में, 'HORNS' को 'SRONH' और 'CRUDE' को 'UREDC' लिखा जाता है। उसी कूट भाषा में, 'FACTOR' को किस प्रकार लिखा जाएगा?

Ans 1. TROFCA

2. ACFOTR

3. TSOCAE

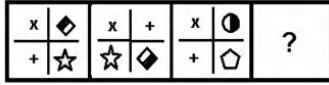
4. TROACF

Question ID : 65497828593

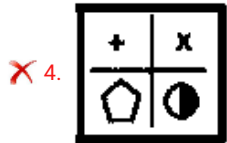
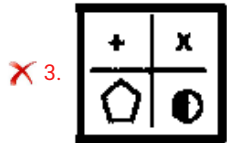
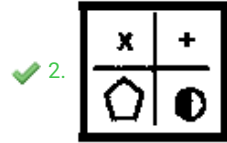
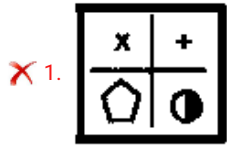
Status : **Not Attempted and
Marked For Review**

Chosen Option : --

Q.2 दिए गए विकल्पों में से उस आकृति का चयन करें, जो निम्नलिखित श्रृंखला में प्रश्नवाचक चिह्न (?) के स्थान पर आ सकती है।



Ans



Question ID : 65497828614

Status : Answered

Chosen Option : 1

Q.3 एक निश्चित कूट भाषा में, 'RAT' को '39' लिखा जाता है; और 'BEAR' को '26' लिखा जाता है। उसी कूट भाषा में 'SNAKE' को किस प्रकार लिखा जाएगा?

Ans ✗ 1. 54

✓ 2. 50

✗ 3. 52

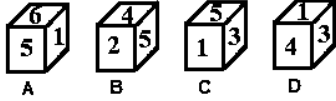
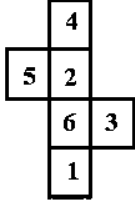
✗ 4. 48

Question ID : 65497828599

Status : Answered

Chosen Option : 2

Q.4 उन पार्सों का चयन कीजिए, जिन्हें दी गई शीट को रेखाओं पर मोड़कर बनाया जा सकता है।



- Ans
- 1. केवल A, C और D
 - 2. केवल A और D
 - 3. केवल A
 - 4. केवल A और C

Question ID : 65497828605

Status : Answered

Chosen Option : 2

Q.5 यदि 'A' का अर्थ 'जोड़' है, 'B' का अर्थ 'गुणा' है, 'C' का अर्थ 'घटाना' है, और 'D' का अर्थ 'भाग' है, तो निम्न व्यंजक का मान कितना होगा?

90 D (2 B 5) A 4 B (12 A 10) C 4 B (17 C 10)

- Ans
- 1. 67
 - 2. 69
 - 3. 65
 - 4. 61

Question ID : 65497828604

Status : Answered

Chosen Option : 2

Q.6 उस विकल्प का चयन कीजिए जिसमें दी गई आकृति सन्निहित है। (आकृति को घुमाने की अनुमति नहीं है)

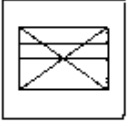


Ans

✓ 1.



✗ 2.



✗ 3.



✗ 4.



Question ID : 65497828606

Status : Answered

Chosen Option : 1

Q.7 अरुणिमा ने साहिल से कहा, "तुम्हारे साले की इकलौती बहन का पुत्र मेरा नाती है।" साहिल का अरुणिमा से क्या संबंध है?

Ans

✗ 1. पुत्र

✗ 2. ससुर

✓ 3. दामाद

✗ 4. चाचा

Question ID : 65497828617

Status : Answered

Chosen Option : 3

Q.8 पांच मित्र A, B, C, D और E एक सीधी पंक्ति में बैठे हैं। A और B एक-दूसरे के बगल में बैठे हैं। B, A और C के बीच में बैठा है। A, D के बाईं ओर तीसरे स्थान पर बैठा है। D दाएं सिरे से दूसरे स्थान पर बैठा है। बाएं सिरे से तीसरे स्थान पर कौन बैठा है?

Ans

✗ 1. D

✓ 2. C

✗ 3. E

✗ 4. A

Question ID : 65497828602

Status : Answered

Chosen Option : 2

Q.9 उस विकल्प का चयन कीजिए जिसमें दी गई संख्याएँ आपस में उसी तरह से संबंधित हैं जिस प्रकार दिए गए समुच्चय की संख्याएँ आपस में संबंधित हैं।

(7, 308, 11)

- Ans
- 1. (9, 160, 8)
 - 2. (16, 239, 6)
 - 3. (12, 324, 9)
 - 4. (8, 164, 5)

Question ID : 65497828595

Status : **Not Attempted and Marked For Review**

Chosen Option : --

Q.10 214 कर्मचारियों वाले एक संगठन में, 120 ने क्ले मॉडलिंग में भाग लिया और 130 ने पोस्टर मेकिंग में भाग लिया, 36 कर्मचारियों ने क्ले मॉडलिंग और पोस्टर मेकिंग दोनों में भाग लिया। यदि प्रत्येक कर्मचारी ने दो गतिविधियों में से कम से कम एक में भाग लिया, तो कितने कर्मचारियों ने केवल पोस्टर मेकिंग में भाग लिया?

- Ans
- 1. 80
 - 2. 94
 - 3. 84
 - 4. 90

Question ID : 65497828596

Status : **Marked For Review**

Chosen Option : 3

Q.11 उस विकल्प का चयन करें, जिसका तीसरे शब्द से वही संबंध है, जो दूसरे शब्द का पहले शब्द से है।

गति : स्पीडोमीटर :: वायु दाब : ?

- Ans
- 1. बैरोमीटर (Barometer)
 - 2. अल्टीमीटर (Altimeter)
 - 3. वैरियोमीटर (Variometer)
 - 4. हाइप्सोमीटर (Hypsometer)

Question ID : 65497828608

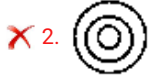
Status : **Marked For Review**

Chosen Option : 1

Q.12 उस वेन आरेख का चयन करें, जो निम्नलिखित वर्गों के बीच के संबंध को सबसे अच्छे तरीके से दर्शाता है।

अनाज, चुकंदर, कीवी

Ans



Question ID : 65497828610

Status : Answered

Chosen Option : 4

Q.13 दिए गए विकल्पों में से उस संख्या का चयन करें, जो निम्नलिखित श्रेणी में प्रश्नवाचक चिह्न (?) के स्थान पर आ सकती है।

21, 32, 54, ?, 131

Ans

✓ 1. 87

✗ 2. 72

✗ 3. 95

✗ 4. 66

Question ID : 65497828613

Status : Answered

Chosen Option : 1

Q.14 दिए गए विकल्पों में से उस अक्षर-समूह का चयन करें, जो निम्नलिखित श्रृंखला में प्रश्नवाचक चिह्न (?) के स्थान पर आ सकता है।

KMQW, HJNT, CEIO, ?

Ans

✓ 1. ACGM

✗ 2. IMST

✗ 3. FINT

✗ 4. OQSY

Question ID : 65497828607

Status : Not Attempted and Marked For Review

Chosen Option : --

Q.15 दिए गए कथनों और निष्कर्षों को ध्यान से पढ़िए। कथनों में दी गई जानकारी को सत्य मानते हुए विचार करें, भले ही वे सामान्यतः ज्ञात तथ्यों से भिन्न प्रतीत होती हों, और बताएं कि दिए गए निष्कर्षों में से कौन से तार्किक रूप से कथनों का पालन करते हैं?

कथन:

1. कोई भी लड़की, संगीतकार नहीं है।
2. कोई भी संगीतकार, शिक्षक नहीं है।
3. सभी सितारे, संगीतकार हैं।

निष्कर्ष:

- I. कोई भी सितारा, लड़की नहीं है।
- II. कोई भी सितारा, शिक्षक नहीं है।

- Ans
- 1. कोई भी निष्कर्ष पालन नहीं करता है।
 - 2. केवल निष्कर्ष I पालन करता है।
 - 3. दोनों ही निष्कर्ष पालन करते हैं।
 - 4. केवल निष्कर्ष II पालन करता है।

Question ID : 65497828594

Status : Answered

Chosen Option : 3

Q.16 दिए गए विकल्पों में से उस संख्या का चयन करें, जो निम्नलिखित श्रेणी में प्रश्नवाचक चिह्न (?) के स्थान पर आ सकती है।

31, 37, 41, 43, ?

- Ans
- 1. 45
 - 2. 47
 - 3. 51
 - 4. 49

Question ID : 65497828600

Status : Answered

Chosen Option : 4

Q.17 उस विकल्प का चयन कीजिए, जिसका तीसरी संख्या से वही संबंध है, जो दूसरी संख्या का पहली संख्या से है।

8 : 104 :: 16 : ?

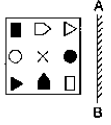
- Ans
- 1. 336
 - 2. 300
 - 3. 335
 - 4. 320

Question ID : 65497828603

Status : Not Attempted and Marked For Review

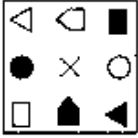
Chosen Option : --

Q.18 दर्पण को 'AB' पर रखे जाने पर, जैसा कि दर्शाया गया है, दी गई आकृति के सही दर्पण प्रतिबिंब का चयन करें।



Ans

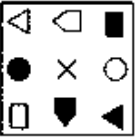
✓ 1.



✗ 2.



✗ 3.



✗ 4.



Question ID : 65497828601

Status : Answered

Chosen Option : 1

Q.19 उस सही विकल्प का चयन करें, जो दिए गए शब्दों के उस क्रम को दर्शाता है, जिस क्रम में वे अंग्रेजी शब्दकोश में मौजूद होते हैं।

1. Program
2. Problem
3. Proposal
4. Profound
5. Property

Ans ✓ 1. 2, 4, 1, 5, 3

✗ 2. 3, 2, 4, 5, 1

✗ 3. 2, 1, 4, 5, 3

✗ 4. 4, 2, 1, 3, 5

Question ID : 65497828611

Status : Answered

Chosen Option : 1

Q.20 अक्षरों के उस संयोजन का चयन करें, जिसे दी गई श्रृंखला के रिक्त स्थानों में क्रमवार भरने पर श्रृंखला पूर्ण हो जाएगी।

Z _ _ U M _ A F _ M _ A _ _ M

- Ans
- 1. DZFUMZA
 - 2. AFZUFU
 - 3. UADZMFZ
 - 4. FDPZMUF

Question ID : 65497828612
Status : Answered
Chosen Option : 2

Q.21 छह मित्र P, Q, R, S, T और U दो पंक्तियों में बैठे हैं, प्रत्येक पंक्ति में तीन मित्र बैठे हैं। S किसी भी पंक्ति के सिरे पर नहीं बैठा है। T, R के बगल में बैठा है। R और U, विकर्णतः एक दूसरे के सामने बैठे हैं। P, U के बाईं ओर दूसरे स्थान पर बैठा है। दिए गए विकल्पों में से कौन से तीन मित्र समान पंक्ति में बैठे हैं?

- Ans
- 1. TQU और PRS
 - 2. PTQ और RSU
 - 3. PSU और RTQ
 - 4. STU और PRQ

Question ID : 65497828609
Status : Answered
Chosen Option : 3

Q.22 एक निश्चित कूट भाषा में, 'INSPIRE' को 'JPTTJZF' लिखा जाता है। उसी कूट भाषा में 'FORGIVE' को किस प्रकार लिखा जाएगा?

- Ans
- 1. GQRKIDF
 - 2. GQSLIDF
 - 3. GQTKJEF
 - 4. GQSKJDF

Question ID : 65497828616
Status : Answered
Chosen Option : 4

Q.23 उस विकल्प का चयन करें, जो तीसरे अक्षर-समूह से वही संबंध है, जो दूसरे अक्षर-समूह का पहले अक्षर-समूह से है।

HKN : KOS :: MPS : ?

- Ans
- 1. PTW
 - 2. TPX
 - 3. TPW
 - 4. PTX

Question ID : 65497828615
Status : Answered
Chosen Option : 4

Q.24 चार अक्षर-समूह दिए गए हैं, जिनमें से तीन किसी तरह से संगत हैं और एक असंगत है। असंगत अक्षर-समूह का चयन करें।

- Ans
- 1. HQZ
 - 2. DMV
 - 3. HQY
 - 4. BKT

Question ID : 65497828598

Status : Answered

Chosen Option : 3

Q.25 निम्नलिखित आकृतियों में कागज के एक टुकड़े को मोड़ने का क्रम और उसे काटने की विधि दर्शाई गई है। इस कागज़ को खोलने पर यह कैसा दिखाई देगा?



Ans

- 1.
- 2.
- 3.
- 4.

Question ID : 65497828597

Status : Answered

Chosen Option : 3

Section : Part B General Knowledge and General Awareness

Q.1 निम्नलिखित में से किस राज्य में जन्म के समय जीवन प्रत्याशा सबसे अधिक है?

- Ans
- 1. हरियाणा
 - 2. केरल
 - 3. गोवा
 - 4. तमिलनाडु

Question ID : 65497828619

Status : Answered

Chosen Option : 2

Q.2 भारत की निम्नलिखित में से किस झील को रामसर स्थलों में शामिल नहीं किया गया है?

- Ans
- 1. चिल्का झील
 - 2. कीठम झील
 - 3. लोकटक झील
 - 4. डल झील

Question ID : 65497828623

Status : Answered

Chosen Option : 2

Q.3 नवंबर 2020 में, इनमें से किस राज्य में वन शहीदों के स्मारक (Forest Martyrs' Memorial) का उद्घाटन किया गया था?

- Ans
- 1. आंध्र प्रदेश
 - 2. तमिलनाडु
 - 3. महाराष्ट्र
 - 4. कर्नाटक

Question ID : 65497828642

Status : Not Attempted and Marked For Review

Chosen Option : --

Q.4 कबिनी नदी, इनमें से किस नदी की महत्वपूर्ण सहायक नदी है?

- Ans
- 1. कावेरी
 - 2. कृष्णा
 - 3. गोदावरी
 - 4. माही

Question ID : 65497828637

Status : Answered

Chosen Option : 4

Q.5 इनमें से किस संशोधन द्वारा 2006 में सरकारी और निजी शिक्षण संस्थानों में अन्य पिछड़ा वर्ग (OBC) को 27% आरक्षण प्रदान किया गया है?

- Ans
- 1. 93वें
 - 2. 77वें
 - 3. 86वें
 - 4. 92वें

Question ID : 65497828631

Status : Answered

Chosen Option : 4

Q.6 निम्नलिखित में से किस भारतीय अभिनेता को भारतीय चुनाव आयोग द्वारा पंजाब का स्टेट आइकन नियुक्त किया गया है?

- Ans
- 1. सोनू सूद
 - 2. अमिताभ बच्चन
 - 3. सलमान खान
 - 4. अक्षय कुमार

Question ID : 65497828624

Status : **Not Attempted and Marked For Review**

Chosen Option : --

Q.7 निम्नलिखित में से किसने 2020 में निट्टो मेन्स एटीपी (Nitto Men's ATP) टूर फ़ाइनल जीता था?

- Ans
- 1. आंद्रे रुब्लेव (Andrey Rublev)
 - 2. डोमिनिक थिएम (Dominic Thiem)
 - 3. डेनियल मेदवेदेव (Daniil Medvedev)
 - 4. नोवाक जोकोविच (Novak Djokovic)

Question ID : 65497828626

Status : **Not Attempted and Marked For Review**

Chosen Option : --

Q.8 निम्नलिखित में से कौन सी पुस्तक बाणभट्ट द्वारा लिखित है?

- Ans
- 1. अष्टाध्यायी
 - 2. हर्षचरितम्
 - 3. अक्रबरनामा
 - 4. मालविकाग्निमित्रम्

Question ID : 65497828639

Status : **Answered**

Chosen Option : 3

Q.9 इनमें से किसे नवंबर 2020 में रिजर्व बैंक इनोवेशन हब का पहला अध्यक्ष नियुक्त किया गया था?

- Ans
- 1. टी.एन. मनोहरन
 - 2. नारायण मूर्ति
 - 3. सेनापति (क्रिस) गोपालकृष्णन
 - 4. राजीव कुमार

Question ID : 65497828622

Status : **Not Attempted and Marked For Review**

Chosen Option : --

Q.10 निम्नलिखित में से कौन सा शीत-रक्तक (cold-blooded) प्राणी नहीं है?

- Ans 1. खरगोश
 2. मेंढक
 3. शार्क
 4. मगरमच्छ

Question ID : 65497828628

Status : Answered

Chosen Option : 1

Q.11 सांची में स्थित बौद्ध विहार को 'विशाल स्तूप (Great Stupa)' भी कहा जाता है। यह भारत में सर्वाधिक प्रसिद्ध बौद्ध स्मारकों में से एक है, जो _____ जिले के सांची शहर में स्थित है।

- Ans 1. पटना
 2. जबलपुर
 3. रायसेन
 4. पूर्णिया

Question ID : 65497828627

Status : Answered

Chosen Option : 2

Q.12 _____ को महारानी विक्टोरिया की उद्घोषणा में यह कहा गया कि अब से भारत का शासन एवं प्रशासन ब्रिटिश सम्राट के नाम पर एक राज्य सचिव के माध्यम से संचालित किया जाएगा।

- Ans 1. 12 अगस्त, 1858
 2. 16 सितंबर, 1860
 3. 27 अक्टूबर, 1858
 4. 1 नवंबर, 1858

Question ID : 65497828620

Status : Not Attempted and Marked For Review

Chosen Option : --

Q.13 निम्नलिखित में से किस देश ने चंद्र कक्षा (lunar orbit) में अपने पहले रोबोटिक डॉकिंग (robotic docking) का प्रदर्शन किया है?

- Ans 1. रूस
 2. चीन
 3. जापान
 4. भारत

Question ID : 65497828632

Status : Answered

Chosen Option : 1

Q.14 मानव शरीर की सबसे छोटी और सबसे लंबी हड्डियाँ क्रमशः _____ और _____ हैं।

- Ans
- 1. पिंडली की हड्डी (tibia), जंघास्थि (femur)
 - 2. नाखून, फिबुला
 - 3. रकाब (stapes), बहिर्जंघिका (fibula)
 - 4. रकाब (stapes), जंघास्थि (femur)

Question ID : 65497828629

Status : Answered

Chosen Option : 1

Q.15 जी.डी.पी. (GDP) को दो भिन्न तरीकों से व्यक्त किया जा सकता है - सांकेतिक जी.डी.पी. (nominal GDP) और _____।

- Ans
- 1. वास्तविक जी.डी.पी. (real GDP)
 - 2. प्रतीकात्मक जी.डी.पी. (symbolic GDP)
 - 3. परिकलित जी.डी.पी. (calculated GDP)
 - 4. घरेलू जी.डी.पी. (domestic GDP)

Question ID : 65497828636

Status : Answered

Chosen Option : 4

Q.16 निम्नलिखित में से कौन-सी, प्रायद्वीपीय भारत की पश्चिम की ओर बहने वाली सबसे बड़ी नदी है?

- Ans
- 1. कृष्णा
 - 2. नर्मदा
 - 3. कावेरी
 - 4. गोदावरी

Question ID : 65497828618

Status : Answered

Chosen Option : 4

Q.17 निम्नलिखित में से किसे भारत में 'रॉकेट तकनीकी के अगुआ (Pioneer of Rocket Technology)' होने का श्रेय दिया जाता है?

- Ans
- 1. टीपू सुल्तान
 - 2. अकबर द्वितीय
 - 3. लॉर्ड कॉर्नवॉलिस
 - 4. बाबर

Question ID : 65497828638

Status : Answered

Chosen Option : 3

Q.18 भारत का प्रसिद्ध पारंपरिक त्योहार छठ पूजा, निम्नलिखित में से किस देवता को समर्पित है?

- Ans
- 1. भगवान शिव
 - 2. चंद्रमा
 - 3. भगवान ब्रह्मा
 - 4. सूर्य

Question ID : 65497828621

Status : Not Answered

Chosen Option : --

Q.19 'लेसंस लाइफ टॉट मी अननोइंगली (Lessons Life Taught Me, Unknowingly)' नामक पुस्तक के लेखक कौन हैं?

- Ans
- 1. जावेद अख्तर
 - 2. शिल्पा शेटी
 - 3. ट्विकल खन्ना
 - 4. अनुपम खेर

Question ID : 65497828630

Status : Not Answered

Chosen Option : --

Q.20 17वीं शताब्दी में मुगल सम्राट शाहजहां द्वारा निर्मित _____, लगभग 200 वर्षों तक मुगल सम्राटों का मुख्य निवास स्थान था।

- Ans
- 1. लाल किला, दिल्ली
 - 2. सिरी फोर्ट, दिल्ली
 - 3. सलीमगढ़ किला, दिल्ली
 - 4. तुगलकाबाद का किला, दिल्ली

Question ID : 65497828634

Status : Not Answered

Chosen Option : --

Q.21 निम्नलिखित क्रिकेटर्स में से किसे 'आई. सी. सी. ओडीआई क्रिकेटर ऑफ़ द इयर पुरस्कार 2020' ('ICC ODI Cricketer of the Year Award 2020') से सम्मानित किया गया था?

- Ans
- 1. विराट कोहली
 - 2. जसप्रीत बुमराह
 - 3. महेन्द्र सिंह धोनी
 - 4. रोहित शर्मा

Question ID : 65497828641

Status : Not Answered

Chosen Option : --

Q.22 दही और विनेगर का स्वाद खट्टा होता है, क्योंकि इनमें _____ मौजूद होते हैं।

- Ans
- 1. यीस्ट
 - 2. अम्ल
 - 3. प्रोटीन
 - 4. रसायन

Question ID : 65497828633
Status : Not Answered
Chosen Option : --

Q.23 भारतीय संविधान के अनुच्छेद 44 के किस भाग में नागरिकों के लिए समान नागरिक संहिता का प्रावधान निहित है?

- Ans
- 1. भाग VI
 - 2. भाग IV
 - 3. भाग II
 - 4. भाग III

Question ID : 65497828640
Status : Not Answered
Chosen Option : --

Q.24 भारत में अखिल भारतीय टेनिस संघ (AITA) की स्थापना कब हुई थी?

- Ans
- 1. 1934
 - 2. 1912
 - 3. 1920
 - 4. 1956

Question ID : 65497828625
Status : Not Answered
Chosen Option : --

Q.25 क्षेत्र विशेष की संस्कृति, पर्यटन और विरासत को प्रदर्शित करने के लिए 'डेस्टिनेशन नॉर्थ ईस्ट 2020' का उद्घाटन किसने किया?

- Ans
- 1. केंद्रीय गृह मंत्री, अमित शाह
 - 2. केंद्रीय पर्यटन और संस्कृति मंत्री, प्रहलाद सिंह पटेल
 - 3. केंद्रीय पर्यटन मंत्री, डॉ. जितेंद्र सिंह
 - 4. प्रधानमंत्री, नरेंद्र मोदी

Question ID : 65497828635
Status : Not Answered
Chosen Option : --

Q.1 एक वस्तु को ₹340 में बेचने पर, एक व्यापारी को 20% की हानि होती है। 15% लाभ प्राप्त करने के लिए उसे इसको कितने रूपए में बेचना चाहिए?

- Ans
- ✗ 1. ₹517.50
 - ✗ 2. ₹455.75
 - ✓ 3. ₹488.75
 - ✗ 4. ₹475.50

Question ID : 65497828666
Status : Answered
Chosen Option : 1

Q.2 एक निश्चित धनराशि पर एक निश्चित वार्षिक दर से 2 वर्ष में प्राप्त चक्रवृद्धि ब्याज ₹1128.6 है; जबकि ब्याज की गणना वार्षिक चक्रवृद्धि आधार पर की जाती है, और समान राशि पर समान दर पर समान अवधि में प्राप्त साधारण ब्याज ₹1080 है। समान राशि पर समान दर पर 3 वर्ष में प्राप्त चक्रवृद्धि ब्याज और साधारण ब्याज का अंतर ज्ञात कीजिए।

- Ans
- ✗ 1. ₹170.174
 - ✓ 2. ₹150.174
 - ✗ 3. ₹165.174
 - ✗ 4. ₹160.174

Question ID : 65497828663
Status : Not Answered
Chosen Option : --

Q.3 यदि $0.45 : x :: 3 : 8$ है, तो x का मान इनमें से किसके बराबर होगा?

- Ans
- ✗ 1. 1.4
 - ✗ 2. 2.2
 - ✓ 3. 1.2
 - ✗ 4. 1.3

Question ID : 65497828648
Status : Answered
Chosen Option : 3

Q.4 एक चालक एक कार को 60 km/h की एकसमान चाल से चलाता है और 330 km की दूरी पर स्थित गंतव्य पर 30 मिनट की देरी से पहुंचता है। समय पर पहुंचने के लिए, चाल में कितनी % वृद्धि होनी चाहिए?

- Ans
- ✗ 1. 12%
 - ✗ 2. 15%
 - ✓ 3. 10%
 - ✗ 4. 20%

Question ID : 65497828658
Status : Answered
Chosen Option : 1

Q.5 एक व्यक्ति ने एक मशीन ₹50,000 में खरीदी और उस पर क्रय मूल्य से 20% अधिक मूल्य अंकित किया और उसे 15% की छूट पर बेच दी। प्रतिशत लाभ या हानि ज्ञात करें।

- Ans
- ✗ 1. 1% हानि
 - ✗ 2. 2.5% लाभ
 - ✗ 3. 4% हानि
 - ✓ 4. 2% लाभ

Question ID : 65497828656

Status : Answered

Chosen Option : 2

Q.6 A एक निश्चित कार्य का $\frac{3}{8}$ भाग 9 दिन में पूरा कर सकता है और B उसी कार्य के 80% भाग को 16 दिन में पूरा कर सकता है। दोनों ने मिलकर 5 दिन कार्य किया। शेष कार्य को C ने अकेले $6\frac{1}{2}$ दिन में पूरा किया। A और C मिलकर उसी कार्य को कितने दिन में पूरा कर लेंगे?

- Ans
- ✗ 1. 6 दिन
 - ✗ 2. 9 दिन
 - ✓ 3. 8 दिन
 - ✗ 4. 10 दिन

Question ID : 65497828667

Status : Not Attempted and Marked For Review

Chosen Option : --

Q.7 $\frac{1}{2}$ of $\frac{1}{3} - \frac{2}{3}$ of $\frac{4}{5} + 4 \div 7 + 3$ of $7 \div 2$ का मान कितना होगा?

- Ans
- ✗ 1. $\frac{1104}{105}$
 - ✗ 2. $\frac{1024}{105}$
 - ✓ 3. $\frac{1124}{105}$
 - ✗ 4. $\frac{1224}{105}$

Question ID : 65497828660

Status : Not Attempted and Marked For Review

Chosen Option : --

Q.8 A की आय, B की आय से 25% अधिक है। B की आय, A की आय से कितने प्रतिशत कम है?

- Ans
- 1. 15%
 - 2. 11%
 - 3. 18%
 - 4. 20%

Question ID : 65497828657

Status : Answered

Chosen Option : 4

Q.9 120 m और 180 m लंबी दो रेलगाड़ियां, 34 km/h और 32 km/h की एक समान चाल से एक दूसरे की ओर आ रही हैं। दोनों रेलगाड़ियों द्वारा एक दूसरे को पार करने में लिए गए समय की गणना कीजिए।

- Ans
- 1. 15.5 सेकंड
 - 2. 17 सेकंड
 - 3. 16 सेकंड
 - 4. 180/11 सेकंड

Question ID : 65497828659

Status : Answered

Chosen Option : 4

Q.10 एक वर्ग का परिमाण 64 cm है। एक आयत का क्षेत्रफल, उस वर्ग के क्षेत्रफल से 16 cm² कम है। यदि आयत की लंबाई 20 cm हो, तो आयत का परिमाण कितना होगा?

- Ans
- 1. 18 cm
 - 2. 64 cm
 - 3. 12 cm
 - 4. 15 cm

Question ID : 65497828664

Status : Not Attempted and Marked For Review

Chosen Option : --

Q.11 रोहित और मनोज के पास कुल ₹1,320 हैं। यदि रोहित की धनराशि का $\frac{10}{21}$, मनोज की धनराशि के $\frac{5}{7}$ के बराबर है, तो रोहित के पास कितनी धनराशि है?

- Ans
- 1. ₹328
 - 2. ₹980
 - 3. ₹320
 - 4. ₹792

Question ID : 65497828662

Status : Not Attempted and Marked For Review

Chosen Option : --

Q.12 ₹13540 की राशि को कमल और सुनीता के बीच इस प्रकार विभाजित किया गया है कि 8% वार्षिक चक्रवृद्धि ब्याज की दर पर 5 वर्ष के पश्चात कमल के हिस्से पर प्राप्त मिश्रधन, समान दर पर 7 वर्ष के पश्चात सुनीता के हिस्से पर प्राप्त मिश्रधन के बराबर हो, जबकि ब्याज की गणना वार्षिक चक्रवृद्धि आधार पर की जाती है। कमल का हिस्सा ज्ञात कीजिए।

- Ans
- 1. ₹7,390
 - 2. ₹7,290
 - 3. ₹7,280
 - 4. ₹8,240

Question ID : 65497828647

Status : Not Attempted and Marked For Review

Chosen Option : --

Q.13 वह बड़ी से बड़ी संख्या ज्ञात कीजिए, जिससे 265, 580 और 825 को विभाजित करने पर प्रत्येक मामले में समान शेष बचता है।

- Ans
- 1. 55
 - 2. 45
 - 3. 35
 - 4. 25

Question ID : 65497828650

Status : Not Attempted and Marked For Review

Chosen Option : --

Q.14 A की हानि का $\frac{2}{3}$, B के लाभ के $\frac{5}{7}$ के बराबर है। यदि A की हानि ₹2,460 है, तो A की हानि, B के लाभ के कितने प्रतिशत के बराबर है (दो दशमलव स्थान तक पूर्णांकित)?

- Ans
- 1. 107.14%
 - 2. 93.67%
 - 3. 93.33%
 - 4. 107.27%

Question ID : 65497828644

Status : Not Attempted and Marked For Review

Chosen Option : --

Q.15 कोई तालाब 50 m लंबा, 25 m चौड़ा और 4 m गहरा है। तालाब की धारिता (m^3 में) ज्ञात कीजिए।

- Ans
- 1. 2500
 - 2. 500
 - 3. 4000
 - 4. 5000

Question ID : 65497828649

Status : Answered

Chosen Option : 4

Q.16 एक धनराशि पर 9% वार्षिक ब्याज दर से 6 वर्ष में कुल साधारण ब्याज ₹5,427 प्राप्त किया गया। वह धनराशि कितनी है?

- Ans
- 1. ₹54,270
 - 2. ₹10,002
 - 3. ₹10,050
 - 4. ₹54,010

Question ID : 65497828653

Status : Answered

Chosen Option : 3

Q.17 एक व्यक्ति ने ₹18,000 में एक रेफ्रिजरेटर खरीदा। दो वर्षों के बाद, उसने इसकी मरम्मत पर ₹2,500 खर्च किए और इसे ₹12,300 में बेच दिया। हानि प्रतिशत ज्ञात करें।

- Ans
- 1. 46%
 - 2. 42%
 - 3. 44%
 - 4. 40%

Question ID : 65497828654

Status : Answered

Chosen Option : 2

Q.18 $2 \times 7 \div 14 \text{ of } 4 - 5 \div 4 \times (9 - 11) + 2 - 2 \times 6 \div 8 \text{ of } 3$ का मान कितना होगा?

- Ans
- 1. $3\frac{1}{2}$
 - 2. $4\frac{3}{4}$
 - 3. $4\frac{1}{4}$
 - 4. $2\frac{1}{2}$

Question ID : 65497828665

Status : **Marked For Review**

Chosen Option : 4

Q.19 यदि $P = a^3 \times b^5 \times c^{11}$, $Q = a^8 \times b^9 \times c^5$, $R = a^{15} \times c^{23}$ है, तो P, Q, R का महत्तम समापवर्तक (HCF) ज्ञात करें।

- Ans
- 1. $a^{15} \times b^9 \times c^{23}$
 - 2. $a^3 \times c^5$
 - 3. $a \times c$
 - 4. $a^{26} \times b^{14} \times c^{39}$

Question ID : 65497828643

Status : **Answered**

Chosen Option : 1

Q.20 किसी वस्तु को $14\frac{1}{2}\%$ और $10\frac{1}{2}\%$ की छूट पर बेचे जाने पर उसके विक्रय मूल्यों का अंतर 48 है। यदि अंकित मूल्य, क्रय मूल्य से 25% अधिक है, तो वस्तु का क्रय मूल्य कितना होगा?

- Ans
- 1. ₹950
 - 2. ₹960
 - 3. ₹920
 - 4. ₹860

Question ID : 65497828645

Status : **Not Attempted and Marked For Review**

Chosen Option : --

Q.21 यदि एक 7 ft लंबे लड़के की छाया जमीन पर 21 ft लंबी बन सकती है, तो कितने लंबे (ft में) व्यक्ति की छाया 15 ft लंबी बनेगी?

- Ans
- 1. 5.5
 - 2. 6
 - 3. 6.5
 - 4. 5

Question ID : 65497828652

Status : Not Answered

Chosen Option : --

Q.22 एक रेलगाड़ी 70 km/h की चाल से 5 घंटे तक चलती है और स्टेशन 'A' पर रुकती है। इसके बाद रेलगाड़ी, स्टेशन A से निकलकर 66 km/h की चाल से 3 घंटे चलकर स्टेशन 'B' पर पहुंचती है। रेलगाड़ी द्वारा तय की गई कुल दूरी ज्ञात कीजिए।

- Ans
- 1. 548 km
 - 2. 480 km
 - 3. 520 km
 - 4. 500 km

Question ID : 65497828661

Status : Not Answered

Chosen Option : --

Q.23 13 के पहले पांच गुणजों का औसत कितना है?

- Ans
- 1. 39
 - 2. 26
 - 3. 13
 - 4. 65

Question ID : 65497828651

Status : Not Answered

Chosen Option : --

Q.24 तीन संख्याओं में से, पहली संख्या, दूसरी संख्या की 3 गुनी है और दूसरी संख्या, तीसरी संख्या के आधे के बराबर है। संख्याओं का औसत 60 है। तीसरी संख्या ज्ञात कीजिए।

- Ans
- 1. 90
 - 2. 120
 - 3. 30
 - 4. 60

Question ID : 65497828655

Status : Not Answered

Chosen Option : --

Q.25 कुछ वस्तुओं को इस प्रकार बेचा गया कि 60% वस्तुओं का क्रय मूल्य, 40% वस्तुओं के विक्रय मूल्य के बराबर है। लाभ प्रतिशत ज्ञात करें।

- Ans
- 1. 35
 - 2. 50
 - 3. 45
 - 4. 40

Question ID : 65497828646
Status : Not Answered
Chosen Option : --

Section : Part D English

Q.1 Select the most appropriate meaning of the given idiom.

Monkey business

- Ans
- 1. Carrying out business related to monkeys
 - 2. Actions that imitate other animals
 - 3. Dealing in the supply of monkeys
 - 4. Behaviour that is not acceptable or is dishonest

Question ID : 65497828673
Status : Not Answered
Chosen Option : --

Q.2 Select the INCORRECTLY spelt word.

- Ans
- 1. Array
 - 2. Express
 - 3. Exclaim
 - 4. Comunity

Question ID : 65497828675
Status : Not Answered
Chosen Option : --

Q.3 The following sentence has been divided into parts. One of them may contain an error. Select the part that contains the error from the given options. If you don't find any error, mark 'No error' as your answer.

He want / to have / some more rice.

- Ans
- 1. No error
 - 2. He want
 - 3. some more rice
 - 4. to have

Question ID : 65497828668
Status : Not Answered
Chosen Option : --

Q.4 Select the most appropriate meaning of the given idiom.

In the long run

- Ans
- 1. Occasionally
 - 2. Ultimately
 - 3. Immediately
 - 4. Regularly

Question ID : 65497828670
Status : Not Answered
Chosen Option : --

Q.5 Select the most appropriate SYNONYM of the given word.

Lure

- Ans
- 1. Attract
 - 2. Amend
 - 3. Arise
 - 4. Attack

Question ID : 65497828686
Status : Not Answered
Chosen Option : --

Q.6 Select the most appropriate option to fill in the blank.

There are various legends associated with the _____ of the state of Kerala.

- Ans
- 1. root
 - 2. source
 - 3. basis
 - 4. origin

Question ID : 65497828676
Status : Not Answered
Chosen Option : --

Q.7 Select the most appropriate ANTONYM of the given word.

Tropical

- Ans
- 1. Lush
 - 2. Equatorial
 - 3. Sultry
 - 4. Cold

Question ID : 65497828680
Status : Not Answered
Chosen Option : --

Q.8 Parts of the given sentence have been given as options. One of them contains a grammatical error. Select the option that has the error.

Educational institutions have been notify to open from 17th November for higher semester students who are engaged in research.

- Ans
- 1. have been notify
 - 2. are engaged
 - 3. for higher semester students
 - 4. open from

Question ID : 65497828679
Status : Not Answered
Chosen Option : --

Q.9 The following sentence has been split into four segments. Identify the segment that contains a grammatical error.

He has been talking / since two hours / and is still / not tired.

- Ans
- 1. He has been talking
 - 2. not tired
 - 3. since two hours
 - 4. and is still

Question ID : 65497828685
Status : Not Answered
Chosen Option : --

Q.10 Select the most appropriate option to fill in the blank.

The police later _____ that one of the thieves had been arrested.

- Ans
- 1. abandoned
 - 2. commenced
 - 3. analysed
 - 4. confirmed

Question ID : 65497828671
Status : Not Answered
Chosen Option : --

Q.11 Select the most appropriate option that can substitute the underlined segment in the given sentence. If there is no need to substitute it, select 'No substitution required'.

I am living in this city for several years but have never experienced any discrimination.

- Ans
- 1. was lived
 - 2. have lived
 - 3. No substitution required'
 - 4. had lived

Question ID : 65497828683
Status : Not Answered
Chosen Option : --

Q.12 Select the most appropriate option to fill in the blank.

My classmate is _____ of my achievement.

- Ans
- 1. sad
 - 2. bitter
 - 3. zealous
 - 4. jealous

Question ID : 65497828677
Status : Not Answered
Chosen Option : --

Q.13 Select the option that can be used as a one-word substitute for the given group of words.

Fit to be eaten

- Ans
- 1. Tasty
 - 2. Edible
 - 3. Potable
 - 4. Delicious

Question ID : 65497828687
Status : Not Answered
Chosen Option : --

Q.14 Select the option that can be used as a one-word substitute for the given group of words.

A large cage, building or enclosure for keeping birds in

- Ans
- 1. Aviary
 - 2. Apiary
 - 3. Aquarium
 - 4. Asylum

Question ID : 65497828674
Status : Not Answered
Chosen Option : --

Q.15 Select the INCORRECTLY spelt word.

- Ans
- 1. Nineteen
 - 2. Neutrelise
 - 3. Noun
 - 4. Nationalise

Question ID : 65497828682
Status : Not Answered
Chosen Option : --

Q.16 Select the most appropriate synonym of the given word.

Desert

- Ans
- 1. Stay
 - 2. Support
 - 3. Abandon
 - 4. Help

Question ID : 65497828669
Status : Not Answered
Chosen Option : --

Q.17 Select the most appropriate option that can substitute the underlined word in the given sentence.

In India, there are not enough job employability.

- Ans
- 1. profitability
 - 2. productivities
 - 3. invincibility
 - 4. opportunities

Question ID : 65497828672
Status : Not Answered
Chosen Option : --

Q.18 Select the most appropriate option that can substitute the underlined segment in the given sentence. If there is no need to substitute it, select 'No substitution required'.

I started early from office, lest I should not get caught in the rain.

- Ans
- 1. lest I will not get caught
 - 2. lest I should get caught
 - 3. lest that I get caught
 - 4. No substitution required'

Question ID : 65497828684
Status : Not Answered
Chosen Option : --

Q.19 Select the option that can be used as a one-word substitute for the given group of words.

A system of society or government in which men hold the power and women are largely excluded from it

- Ans
- 1. Matriarchy
 - 2. Masculinity
 - 3. Patrilineal
 - 4. Patriarchy

Question ID : 65497828681
Status : Not Answered
Chosen Option : --

Q.20 Select the most appropriate ANTONYM of the given word.

Monumental

- Ans 1. Insignificant
 2. Mysterious
 3. Enormous
 4. Important

Question ID : 65497828678
Status : Not Answered
Chosen Option : --

Comprehension:

In the following passage, some words have been deleted. Read the passage carefully and select the most appropriate option to fill in each blank.

The predominantly deltaic eastern coastal plain is an area of deep sedimentation. Over (1) _____ of its length it is considerably wider (2) _____ the plain on the western coast. (3) _____ major deltas, from south to north, (4) _____ of the Kaveri, the Krishna-Godavari, the Mahanadi, and the Ganges-Brahmaputra rivers. The last of (5) _____ is some 190 miles (300 km) wide, but only about one-third of it lies within India.

SubQuestion No : 21

Q.21 Select the most appropriate option to fill in blank no. 1.

- Ans 1. more
 2. most
 3. many
 4. maximum

Question ID : 65497828689
Status : Not Answered
Chosen Option : --

Comprehension:

In the following passage, some words have been deleted. Read the passage carefully and select the most appropriate option to fill in each blank.

The predominantly deltaic eastern coastal plain is an area of deep sedimentation. Over (1) _____ of its length it is considerably wider (2) _____ the plain on the western coast. (3) _____ major deltas, from south to north, (4) _____ of the Kaveri, the Krishna-Godavari, the Mahanadi, and the Ganges-Brahmaputra rivers. The last of (5) _____ is some 190 miles (300 km) wide, but only about one-third of it lies within India.

SubQuestion No : 22

Q.22 Select the most appropriate option to fill in blank no. 2.

- Ans 1. then
 2. than
 3. that
 4. there

Question ID : 65497828690
Status : Not Answered
Chosen Option : --

Comprehension:

In the following passage, some words have been deleted. Read the passage carefully and select the most appropriate option to fill in each blank.

The predominantly deltaic eastern coastal plain is an area of deep sedimentation. Over (1) _____ of its length it is considerably wider (2) _____ the plain on the western coast. (3) _____ major deltas, from south to north, (4) _____ of the Kaveri, the Krishna-Godavari, the Mahanadi, and the Ganges-Brahmaputra rivers. The last of (5) _____ is some 190 miles (300 km) wide, but only about one-third of it lies within India.

SubQuestion No : 23

Q.23 Select the most appropriate option to fill in blank no. 3

Ans 1. Specific

2. The

3. Few

4. Such

Question ID : 65497828691

Status : Not Answered

Chosen Option : --

Comprehension:

In the following passage, some words have been deleted. Read the passage carefully and select the most appropriate option to fill in each blank.

The predominantly deltaic eastern coastal plain is an area of deep sedimentation. Over (1) _____ of its length it is considerably wider (2) _____ the plain on the western coast. (3) _____ major deltas, from south to north, (4) _____ of the Kaveri, the Krishna-Godavari, the Mahanadi, and the Ganges-Brahmaputra rivers. The last of (5) _____ is some 190 miles (300 km) wide, but only about one-third of it lies within India.

SubQuestion No : 24

Q.24 Select the most appropriate option to fill in blank no. 4.

Ans 1. are

2. have been

3. were

4. had been

Question ID : 65497828692

Status : Not Answered

Chosen Option : --

Comprehension:

In the following passage, some words have been deleted. Read the passage carefully and select the most appropriate option to fill in each blank.

The predominantly deltaic eastern coastal plain is an area of deep sedimentation. Over (1) _____ of its length it is considerably wider (2) _____ the plain on the western coast. (3) _____ major deltas, from south to north, (4) _____ of the Kaveri, the Krishna-Godavari, the Mahanadi, and the Ganges-Brahmaputra rivers. The last of (5) _____ is some 190 miles (300 km) wide, but only about one-third of it lies within India.

SubQuestion No : 25

Q.25 Select the most appropriate option to fill in blank no. 5.

- Ans
- 1. whom
 - 2. this
 - 3. them
 - 4. that

Question ID : 65497828693
Status : Not Answered
Chosen Option : --

Section : Part D Hindi

Q.1 दिए गए चार विकल्पों में से, उस विकल्प का चयन करें, जो नीचे दिए मुहावरे का अर्थ व्यक्त करता है।

भागीरथ प्रयत्न

- Ans
- 1. प्रयास न करना
 - 2. उनकी कोशिश
 - 3. थोड़ा प्रयास
 - 4. भारी कोशिश

Question ID : 65497828707
Status : Answered
Chosen Option : 3

Q.2 दिये गये वाक्य में रेखांकित अंश को प्रतिस्थापित करने के लिए सबसे उपयुक्त विकल्प का चयन करें।

इस गीत की दो चार लड़ियाँ सुना दो।

- Ans
- 1. कविता
 - 2. झड़ियाँ
 - 3. कड़ियाँ
 - 4. छंद

Question ID : 65497828709
Status : Answered
Chosen Option : 3

Q.3 दिए गए शब्द के समानार्थी शब्द का चयन करें।

सुधा

- Ans 1. द्रव्य
 2. पावन
 3. पीयूष
 4. वारि

Question ID : 65497828700

Status : Answered

Chosen Option : 3

Q.4 दिए गए शब्द का विलोम चुनें-

सौम्य

- Ans 1. स्तुत्य
 2. उग्र
 3. निंद्य
 4. सेवित

Question ID : 65497828706

Status : Answered

Chosen Option : 2

Q.5 दिए गए वाक्य में रेखांकित खंड को प्रतिस्थापित करने के लिए सबसे उपयुक्त विकल्प का चयन करें। यदि इसे प्रतिस्थापित करने की आवश्यकता नहीं है, तो विकल्प 'किसी बदलाव की आवश्यकता नहीं है' का चयन करें।

थोड़ी देर बाद वे वापस लौट आये।

- Ans 1. किसी बदलाव की आवश्यकता नहीं है।
 2. वे वापसी लौट आये
 3. वे लौट आये वापस
 4. वे लौट आये

Question ID : 65497828705

Status : Answered

Chosen Option : 4

Q.6 'कमर कसना' मुहावरे का अर्थ बताइए-

- Ans 1. हौसला हारना
 2. तैयार होना
 3. सहारा देना
 4. दर्द होना

Question ID : 65497828697

Status : Answered

Chosen Option : 2

Q.7 रिक्त स्थान को भरने के लिए सबसे उपयुक्त शब्द का चयन कीजिए।

पृथ्वी का _____ गोल है।

- Ans 1. आकार
 2. क्षमता
 3. स्वरूप
 4. रूप

Question ID : 65497828695
Status : Answered
Chosen Option : 1

Q.8 विलोम शब्दों के सही युग्म का चयन करें:

- Ans 1. भय - डर
 2. आदि - अंत
 3. न कहने योग्य - अकथ
 4. शरीर - देह

Question ID : 65497828711
Status : Answered
Chosen Option : 2

Q.9 दिए गए शब्द के समानार्थी शब्द का चयन करें।

अमृत

- Ans 1. अद्भुत
 2. वसुधा
 3. सुधा
 4. अलौकिक

Question ID : 65497828704
Status : Answered
Chosen Option : 4

Q.10 सही वर्तनी वाले शब्द का चयन करें।

- Ans 1. सैक्षनिक
 2. शैछणिक
 3. शैक्षणिक
 4. शिक्षणिक

Question ID : 65497828702
Status : Answered
Chosen Option : 3

Q.11 रिक्त स्थान भरने के लिए सबसे उपयुक्त शब्द का चयन करें-

उनकी आपस में _____ हो गई।

- Ans
- 1. लबझड़
 - 2. गड़बड़
 - 3. खटपट
 - 4. फटफट

Question ID : 65497828698

Status : Answered

Chosen Option : 3

Q.12 मेरे से प्रश्न मत पूछना - रेखांकित शब्द की त्रुटि पहचानिए-

- Ans
- 1. क्रिया विशेष के कारण
 - 2. सर्वनाम के कारण
 - 3. विशेषण के कारण
 - 4. संज्ञा के कारण

Question ID : 65497828710

Status : Answered

Chosen Option : 2

Q.13 बिना पलक झपकाए - वाक्यांश के लिए एक शब्द है:

- Ans
- 1. मेष
 - 2. निर्निमेष
 - 3. पलक
 - 4. निमेष

Question ID : 65497828712

Status : Answered

Chosen Option : 2

Q.14 नीचे दिए वाक्य में रिक्त-स्थान भरने के लिए सबसे उपयुक्त शब्द का चयन करें।

रात को उल्लुओं के _____ की आवाज़ें आ रही थीं।

- Ans
- 1. टरनि
 - 2. कूजने
 - 3. रेंकने
 - 4. घुघुआने

Question ID : 65497828708

Status : Answered

Chosen Option : 2

Q.15 'जिसकी जड़ या आधार का पता न हो' इस वाक्यांश के लिए एक सार्थक शब्द दीजिए।

- Ans
- 1. निर्भय
 - 2. निर्मम
 - 3. निर्दय
 - 4. निर्मूल

Question ID : 65497828694
Status : Answered
Chosen Option : 4

Q.16 माल-सामान की बिक्री करनेवाला

शब्द समूह के स्थान पर एक शब्द लिखिए-

- Ans
- 1. बुभुक्षा
 - 2. क्रेता
 - 3. ग्राहक
 - 4. विक्रेता

Question ID : 65497828713
Status : Answered
Chosen Option : 4

Q.17 दिए गए वाक्य का वो भाग ज्ञात करें जिसमें कोई त्रुटि है। यदि कोई त्रुटि नहीं है, तो 'कोई त्रुटि नहीं है' चुनें।

रण में सेनापति के वीरता (1)\ दिखाने का कारण राष्ट्रपति ने (2)\ उसे वीरचक्र प्रदान किया। (3)\ कोई त्रुटि नहीं है (4)

- Ans
- 1. 1
 - 2. 2
 - 3. 4
 - 4. 3

Question ID : 65497828699
Status : Answered
Chosen Option : 1

Q.18 दिए गए वाक्य का वह भाग ज्ञात करें जिसमें कोई त्रुटि है। यदि कोई त्रुटि नहीं है, तो 'कोई त्रुटि नहीं है' चुनें।

गणतंत्र दिवस की परेड को (1)\ लाखों बालक, वृद्ध नर और नारी (2)\ देख रही थी। (3)\ कोई त्रुटि नहीं है(4)

- Ans
- 1. 3
 - 2. 1
 - 3. 2
 - 4. 4

Question ID : 65497828703
Status : Answered
Chosen Option : 1

Q.19 दिए गए वाक्य में रेखांकित खंड को प्रतिस्थापित करने के लिए सबसे उपयुक्त विकल्प का चयन करें। यदि इसे प्रतिस्थापित करने की आवश्यकता नहीं है, तो विकल्प 'किसी बदलाव की आवश्यकता नहीं है' का चयन करें।

वह नहीं समझेगा इसलिए वह मूर्ख है।

- Ans
- 1. क्योंकि
 - 2. अतः
 - 3. इसके कारण
 - 4. किसी बदलाव की आवश्यकता नहीं है।

Question ID : 65497828696

Status : Answered

Chosen Option : 1

Q.20 सही वर्तनी वाले शब्द का चयन करें।

- Ans
- 1. अरिन्य
 - 2. अरिण्य
 - 3. अरण्य
 - 4. अरन्य

Question ID : 65497828701

Status : Answered

Chosen Option : 3

Comprehension:

निम्नलिखित गद्यांश को पढ़कर प्रश्नों के उचित उत्तर दीजिए-

प्राचीन काल में नारी का स्थान बहुत ही महत्वपूर्ण था। ऐसा कहा जाता है कि "जहाँ नारी की पूजा होती है, वहाँ देवता निवास करते हैं" मध्यकालीन युग से नारी का पतन शुरू हो गया। नारी को दासी या गुलाम माना जाने लगा। नारी घर में ही कैद हो गई। 19वीं सदी में राजा राममोहन राय, स्वामी विवेकानंद, दयानंद सरस्वती आदि महानुभावों एवं समाज सुधारकों के प्रयासों से नारी अबला से सबला बनती गई। सम्पूर्ण कायापलट हो गयी। नारी प्रगति के पथ पर निरंतर आगे बढ़ती गयी, आज की नारी ने जमीन से लेकर अंबर तक अपना कब्जा जमाया है। नर और नारी रथ के दो पहिये हैं, रथ को सुव्यवस्थित चलाने के लिए संतुलन होना चाहिए, तो ही परिवार सुख से जीता है। शिक्षित नारी परिवार की उद्धारक है। प्रत्येक घर में नारी का सम्मान होना चाहिए। समाज में प्रचलित कुरीतियों को दूर करने में दोनों को एक दूसरे का सहयोगी बनना चाहिए। नारी का उद्धार देश का उद्धार है। अर्थात् नारी को सदैव सम्मान देना चाहिए।

SubQuestion No : 21

Q.21 आकाश- कौन-सा शब्द रेखांकित शब्द का पर्याय नहीं है?

- Ans
- 1. अम्बर
 - 2. अतल
 - 3. नभ
 - 4. गगन

Question ID : 65497828715

Status : Answered

Chosen Option : 2

Comprehension:

निम्नलिखित गद्यांश को पढ़कर प्रश्नों के उचित उत्तर दीजिए-

प्राचीन काल में नारी का स्थान बहुत ही महत्वपूर्ण था। ऐसा कहा जाता है कि "जहाँ नारी की पूजा होती है, वहाँ देवता निवास करते हैं" मध्यकालीन युग से नारी का पतन शुरू हो गया। नारी को दासी या गुलाम माना जाने लगा। नारी घर में ही कैद हो गई। 19वीं सदी में राजा राममोहन राय, स्वामी विवेकानंद, दयानंद सरस्वती आदि महानुभावों एवं समाज सुधारकों के प्रयासों से नारी अबला से सबला बनती गई। सम्पूर्ण कायापलट हो गयी। नारी प्रगति के पथ पर निरंतर आगे बढ़ती गयी, आज की नारी ने जमीन से लेकर अंबर तक अपना कब्जा जमाया है। नर और नारी रथ के दो पहिये हैं, रथ को सुव्यवस्थित चलाने के लिए संतुलन होना चाहिए, तो ही परिवार सुख से जीता है। शिक्षित नारी परिवार की उद्धारक है। प्रत्येक घर में नारी का सम्मान होना चाहिए। समाज में प्रचलित कुरीतियों को दूर करने में दोनों को एक दूसरे का सहयोगी बनना चाहिए। नारी का उद्धार देश का उद्धार है। अर्थात् नारी को सदैव सम्मान देना चाहिए।

SubQuestion No : 22

Q.22 अबला रेखांकित शब्द का विलोम बताइए।

- Ans
- 1. दासी
 - 2. सबला
 - 3. दुर्बल
 - 4. नारी

Question ID : 65497828716

Status : Answered

Chosen Option : 2

Comprehension:

निम्नलिखित गद्यांश को पढ़कर प्रश्नों के उचित उत्तर दीजिए-

प्राचीन काल में नारी का स्थान बहुत ही महत्वपूर्ण था। ऐसा कहा जाता है कि "जहाँ नारी की पूजा होती है, वहाँ देवता निवास करते हैं" मध्यकालीन युग से नारी का पतन शुरू हो गया। नारी को दासी या गुलाम माना जाने लगा। नारी घर में ही कैद हो गई। 19वीं सदी में राजा राममोहन राय, स्वामी विवेकानंद, दयानंद सरस्वती आदि महानुभावों एवं समाज सुधारकों के प्रयासों से नारी अबला से सबला बनती गई। सम्पूर्ण कायापलट हो गयी। नारी प्रगति के पथ पर निरंतर आगे बढ़ती गयी, आज की नारी ने जमीन से लेकर अंबर तक अपना कब्जा जमाया है। नर और नारी रथ के दो पहिये हैं, रथ को सुव्यवस्थित चलाने के लिए संतुलन होना चाहिए, तो ही परिवार सुख से जीता है। शिक्षित नारी परिवार की उद्धारक है। प्रत्येक घर में नारी का सम्मान होना चाहिए। समाज में प्रचलित कुरीतियों को दूर करने में दोनों को एक दूसरे का सहयोगी बनना चाहिए। नारी का उद्धार देश का उद्धार है। अर्थात् नारी को सदैव सम्मान देना चाहिए।

SubQuestion No : 23

Q.23 एक दूसरे का _____ बनना चाहिए। रिक्त स्थान की पूर्ति कीजिए।

- Ans
- 1. सहाय
 - 2. सहयोगी
 - 3. असहयोगी
 - 4. सयोगी

Question ID : 65497828717

Status : Answered

Chosen Option : 2

Comprehension:

निम्नलिखित गद्यांश को पढ़कर प्रश्नों के उचित उत्तर दीजिए-

प्राचीन काल में नारी का स्थान बहुत ही महत्वपूर्ण था। ऐसा कहा जाता है कि "जहाँ नारी की पूजा होती है, वहाँ देवता निवास करते हैं" मध्यकालीन युग से नारी का पतन शुरू हो गया। नारी को दासी या गुलाम माना जाने लगा। नारी घर में ही कैद हो गई। 19वीं सदी में राजा राममोहन राय, स्वामी विवेकानंद, दयानंद सरस्वती आदि महानुभावों एवं समाज सुधारकों के प्रयासों से नारी अबला से सबला बनती गई। सम्पूर्ण कायापलट हो गयी। नारी प्रगति के पथ पर निरंतर आगे बढ़ती गयी, आज की नारी ने जमीन से लेकर अंबर तक अपना कब्जा जमाया है। नर और नारी रथ के दो पहिये हैं, रथ को सुव्यवस्थित चलाने के लिए संतुलन होना चाहिए, तो ही परिवार सुख से जीता है। शिक्षित नारी परिवार की उद्धारक है। प्रत्येक घर में नारी का सम्मान होना चाहिए। समाज में प्रचलित कुरीतियों को दूर करने में दोनों को एक दूसरे का सहयोगी बनना चाहिए। नारी का उद्धार देश का उद्धार है। अर्थात् नारी को सदैव सम्मान देना चाहिए।

SubQuestion No : 24

Q.24 मध्यकालीन युग में नारी की स्थिति क्या थी?

- Ans
- 1. महत्वपूर्ण स्थान था
 - 2. पूजनीय थी
 - 3. शिक्षित थी
 - 4. दासी

Question ID : 65497828718

Status : Answered

Chosen Option : 1

Comprehension:

निम्नलिखित गद्यांश को पढ़कर प्रश्नों के उचित उत्तर दीजिए-

प्राचीन काल में नारी का स्थान बहुत ही महत्वपूर्ण था। ऐसा कहा जाता है कि "जहाँ नारी की पूजा होती है, वहाँ देवता निवास करते हैं" मध्यकालीन युग से नारी का पतन शुरू हो गया। नारी को दासी या गुलाम माना जाने लगा। नारी घर में ही कैद हो गई। 19वीं सदी में राजा राममोहन राय, स्वामी विवेकानंद, दयानंद सरस्वती आदि महानुभावों एवं समाज सुधारकों के प्रयासों से नारी अबला से सबला बनती गई। सम्पूर्ण कायापलट हो गयी। नारी प्रगति के पथ पर निरंतर आगे बढ़ती गयी, आज की नारी ने जमीन से लेकर अंबर तक अपना कब्जा जमाया है। नर और नारी रथ के दो पहिये हैं, रथ को सुव्यवस्थित चलाने के लिए संतुलन होना चाहिए, तो ही परिवार सुख से जीता है। शिक्षित नारी परिवार की उद्धारक है। प्रत्येक घर में नारी का सम्मान होना चाहिए। समाज में प्रचलित कुरीतियों को दूर करने में दोनों को एक दूसरे का सहयोगी बनना चाहिए। नारी का उद्धार देश का उद्धार है। अर्थात् नारी को सदैव सम्मान देना चाहिए।

SubQuestion No : 25

Q.25 गद्यांश का उचित शीर्षक बताइए।

- Ans
- 1. यदि मैं शिक्षक बनूँ...!
 - 2. दहेज प्रथा
 - 3. मेरे सपनों का भारत
 - 4. नारी तू नारायणी

Question ID : 65497828719

Status : Answered

Chosen Option : 4

Constable GD in CAPFs NIA SSF and Rifleman GD in Assam Rifles Examination 2021

Roll Number	www.HaryanaJobs.in
Candidate Name	www.HaryanaJobs.in
Venue Name	ANAND INTERNATIONAL COLLEGE OF ENGINEERING JAIPUR
Exam Date	25/11/2021
Exam Time :	12:30 PM - 2:00 PM
Subject	Constable GD 2021

Section : Part A General Intelligence and Reasoning

Q.1 एक विशिष्ट कूट भाषा में, CHEAP को QBFID लिखा जाता है। उसी कूट भाषा में QUOTE को किस प्रकार लिखा जाएगा?

- Ans
- 1. FUPVR
 - 2. ETOUQ
 - 3. RVNUF
 - 4. UOQET

Question ID : 65497828231
Status : Not Answered
Chosen Option : --

Q.2 उस संख्या-त्रिक का चयन करें, जिसकी तीन संख्याओं के बीच वह संबंध नहीं है, जो शेष तीन संख्या-त्रिकों की संख्याओं के बीच है।

- Ans
- 1. (23, 69, 105)
 - 2. (17, 51, 85)
 - 3. (19, 57, 95)
 - 4. (13, 39, 65)

Question ID : 65497828218
Status : Answered
Chosen Option : 1

Q.3 उस विकल्प का चयन करें, जिसका तीसरे पद से वही संबंध है, जो दूसरे पद का पहले पद से है।

LARGE : MASHE :: WATER : _____

- Ans
- 1. VBSFQ
 - 2. VAUES
 - 3. XBUFS
 - 4. XAUES

Question ID : 65497828230
Status : Not Answered
Chosen Option : --

Q.4 आठ मित्र, अरविंद, प्रिया, कुणाल, काजल, आशीष, महक, शुभम और रिद्धि, एक अष्टभुजाकार मेज़ के चारों ओर मेज़ के केंद्र की ओर मुह करके बैठे हैं। कुणाल, महक और आशीष के बीच में है। काजल, प्रिया और अरविंद के बीच में है। शुभम, रिद्धि के बाईं ओर ठीक बगल में है। अरविंद, आशीष के दाईं ओर तीसरे स्थान पर है। रिद्धि और प्रिया के बीच में कौन बैठा/बैठी है?

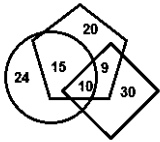
- Ans
- 1. अरविंद
 - 2. आशीष
 - 3. काजल
 - 4. शुभम

Question ID : 65497828225

Status : Answered

Chosen Option : 1

Q.5 निम्नलिखित आरेख में, 'समचतुर्भुज', 'शिक्षकों' को निरूपित करता है, 'वृत्त', 'समाज-सेवकों' को निरूपित करता है, और 'पंचभुज', 'महिलाओं' को निरूपित करता है। विभिन्न खंडों में दी गई संख्याएं, उस श्रेणी से संबंधित व्यक्तियों की संख्या को दर्शाती हैं।



कितनी महिला शिक्षक, समाज सेवक भी हैं?

- Ans
- 1. 10
 - 2. 24
 - 3. 9
 - 4. 15

Question ID : 65497828236

Status : Answered

Chosen Option : 1

Q.6 'सुवा' का 'फ़िजी' से वही संबंध है, जो 'हेल्सिंकी' का '_____' से है।

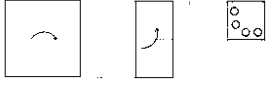
- Ans
- 1. फ़्रांस
 - 2. ग्रीस
 - 3. हंगरी
 - 4. फ़िनलैंड

Question ID : 65497828234

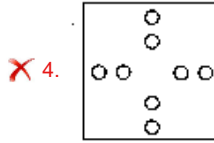
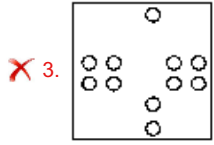
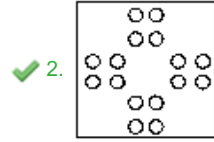
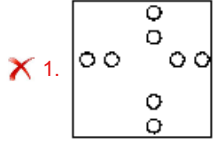
Status : Answered

Chosen Option : 2

Q.7 निम्नांकित आकृतियों में एक कागज के टुकड़े को मोड़ने का क्रम और मुड़े हुए कागज को काटने की विधि दर्शाई गई है। यह कागज खोलने पर कैसा दिखेगा?



Ans



Question ID : 65497828220

Status : Answered

Chosen Option : 2

Q.8 निम्नलिखित चार अक्षर-समूहों में से तीन किसी न किसी प्रकार संगत हैं और एक असंगत है। उस अक्षर-समूह का चयन करें, जो असंगत है।

Ans ✗ 1. PUZEJ

✗ 2. YDINS

✓ 3. TXBFK

✗ 4. BGLQV

Question ID : 65497828212

Status : Not Answered

Chosen Option : --

Q.9 यदि '+' का अर्थ '-', '-' का अर्थ 'x', 'x' का अर्थ '+', और '+' का अर्थ '+' है, तो निम्नलिखित व्यंजक का मान कितना होगा?

$$9 - 9 \div 72 \times 4 + 6$$

Ans ✗ 1. 98

✗ 2. 29

✗ 3. 27

✓ 4. 93

Question ID : 65497828227

Status : Answered

Chosen Option : 4

Q.10 दिए गए विकल्पों में से उस अक्षर-समूह का चयन करें, जो निम्नलिखित श्रृंखला में प्रश्नवाचक चिन्ह (?) के स्थान पर आ सकता है।

GQT, ETP, CWL, AZH, ?

- Ans
- 1. YBD
 - 2. YCE
 - 3. YCD
 - 4. ZCD

Question ID : 65497828233
Status : Answered
Chosen Option : 3

Q.11 N के दो बच्चे - S और P हैं। N की पत्नी J, M की मां की इकलौती बहन है। R, M के नाना हैं। R का N से क्या संबंध है?

- Ans
- 1. पिता
 - 2. दामाद
 - 3. ससुर
 - 4. चाचा/ताऊ/फूफा/मामा/मौसा

Question ID : 65497828232
Status : Not Answered
Chosen Option : --

Q.12 उस सही विकल्प का चयन करें, जो दिए गए शब्दों के तार्किक और सार्थक क्रम को दर्शाता है।

- i. फूल
- ii. अंकुर
- iii. फल
- iv. पौधा
- v. बीज

- Ans
- 1. v, iv, i, iii, ii
 - 2. v, ii, iv, i, iii
 - 3. ii, i, iii, iv, v
 - 4. ii, v, iv, i, iii

Question ID : 65497828221
Status : Answered
Chosen Option : 2

Q.13 दिए गए कथनों और निष्कर्षों को ध्यानपूर्वक पढ़ें। कथनों में दी गई जानकारी को सत्य मानते हुए विचार करें, भले ही वह सामान्य रूप से ज्ञात तथ्यों से भिन्न प्रतीत होती हो, और बताएं कि दिए गए निष्कर्षों में से कौन से, तार्किक रूप से कथनों का पालन करते हैं?

कथन:

सभी नेता, पुरुष हैं।
कुछ विद्यार्थी, नेता हैं।

निष्कर्ष:

I. कुछ विद्यार्थी, पुरुष हैं।
II. सभी नेता, विद्यार्थी हैं।

- Ans
- 1. निष्कर्ष I और II दोनों पालन करते हैं।
 - 2. केवल निष्कर्ष I पालन करता है।
 - 3. केवल निष्कर्ष II पालन करता है।
 - 4. या तो निष्कर्ष I या II पालन करता है।

Question ID : 65497828217

Status : Not Answered

Chosen Option : --

Q.14 दिए गए विकल्पों में से उस संख्या का चयन करें, जो निम्नलिखित श्रेणी में प्रश्नवाचक चिह्न (?) के स्थान पर आ सकती है।

34, 37, 42, 49, 60, 73, 90, ?

- Ans
- 1. 117
 - 2. 109
 - 3. 119
 - 4. 99

Question ID : 65497828214

Status : Answered

Chosen Option : 2

Q.15 उस अक्षर संयोजन का चयन करें, जिसे दी गई श्रृंखला के रिक्त स्थानों में क्रमिक रूप से रखे जाने पर श्रृंखला को पूर्ण करेगा।

r _ x l _ q _ _ x _ p q _ e _ l p _

- Ans
- 1. e, x, q, r, p, l, x, p
 - 2. p, e, q, l, x, p, r, q
 - 3. p, e, r, p, l, r, x, q
 - 4. e, p, r, e, l, r, x, q

Question ID : 65497828222

Status : Not Answered

Chosen Option : --

Q.16 छह मित्र A, B, C, D, E और F एक सीधी क्षैतिज पंक्ति में उत्तर की ओर मुख करके बैठे हैं। E और C के बीच चार व्यक्ति बैठे हैं। D, A और F के बीच में बैठा है। A, E के दाईं ओर ठीक बगल में बैठा है। F के दाईं ओर ठीक बगल में कौन बैठा है?

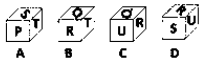
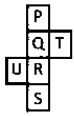
- Ans
- 1. A
 - 2. C
 - 3. B
 - 4. D

Question ID : 65497828235

Status : Not Answered

Chosen Option : --

Q.17 उन पार्सों का चयन करें जिन्हें दिए गए पत्रक (sheet) को रेखाओं के अनुसार मोड़ कर बनाया जा सकता है।



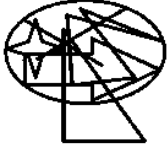
- Ans
- 1. केवल A, B और C
 - 2. केवल A और B
 - 3. A, B, C और D
 - 4. केवल B और D

Question ID : 65497828228

Status : Not Answered

Chosen Option : --

Q.18 उस विकल्प का चयन करें जो दी गई आकृति में अंतर्निहित है, (घुमाने की अनुमति नहीं है)।



Ans

- ✓ 1.
- ✗ 2.
- ✗ 3.
- ✗ 4.

Question ID : 65497828229
Status : Answered
Chosen Option : 1

Q.19 एक विशिष्ट कूट भाषा में, 'FRY' को '147' और 'CROP' को '208' लिखा जाता है। उसी कूट भाषा में 'MUSIC' को किस प्रकार लिखा जाएगा?

- Ans
- ✗ 1. 385
 - ✓ 2. 325
 - ✗ 3. 295
 - ✗ 4. 199

Question ID : 65497828213
Status : Answered
Chosen Option : 2

Q.20 एक पिता और उसके पुत्र की वर्तमान आयु का योग 58 वर्ष है। चार वर्ष पूर्व, उनकी आयु का अनुपात 4 : 1 था। पिता की वर्तमान आयु कितनी है?

- Ans
- ✗ 1. 38 वर्ष
 - ✗ 2. 40 वर्ष
 - ✗ 3. 35 वर्ष
 - ✓ 4. 44 वर्ष

Question ID : 65497828219
Status : Answered
Chosen Option : 2

Q.21 दिए गए विकल्पों में से उस संख्या का चयन करें, जो निम्नलिखित श्रेणी में प्रश्नवाचक चिह्न (?) के स्थान पर आ सकती है।

14, 29, 57, 115, 229, ?

Ans 1. 457

2. 459

3. 463

4. 461

Question ID : 65497828223

Status : Answered

Chosen Option : 2

Q.22 उस विकल्प का चयन करें, जिसका तीसरी संख्या से वही संबंध है, जो दूसरी संख्या का पहली संख्या से है।

7 : 342 :: 9 : ?

Ans 1. 327

2. 728

3. 729

4. 329

Question ID : 65497828226

Status : Answered

Chosen Option : 2

Q.23 दिए गए विकल्पों में से उस आकृति का चयन करें जो नीचे दी गई श्रृंखला में प्रश्न चिह्न (?) के स्थान पर आ सकती है।



Ans

1.



2.



3.



4.



Question ID : 65497828224

Status : Answered

Chosen Option : 4

Q.24 जब दर्पण को संयोजन के दिए गए चित्र के दाईं ओर रखा जाता है तो दिए गए संयोजन के सही दर्पण प्रतिबिंब का चयन करें।

B Y u m g d

Ans

1. P q m u Y B
2. b p m u Y B
3. q p m u Y B
4. b p m u Y B

Question ID : 65497828215

Status : Answered

Chosen Option : 1

Q.25 एक निश्चित कूट भाषा में, 'SHIMLA' को 'TJLQQG' और 'RANCHI' को 'SCQGMO' लिखा जाता है। उसी कूटभाषा में 'MUMBAI' को किस प्रकार लिखा जाएगा?

Ans

1. NWPFFO
2. NXQEFP
3. MXPEFP
4. OWQEEP

Question ID : 65497828216

Status : Answered

Chosen Option : 1

Section : Part B General Knowledge and General Awareness

Q.1 विश्व दर्शन दिवस, प्रति वर्ष नवंबर के तीसरे _____ को मनाया जाता है।

Ans

1. सोमवार
2. शनिवार
3. गुरुवार
4. शुक्रवार

Question ID : 65497828248

Status : Not Answered

Chosen Option : --

Q.2 किस मंत्रालय / संस्थान ने वित्तीय वर्ष 2019-20 के लिए, स्थिर मूल्यों (2011-12) और वर्तमान मूल्यों, दोनों पर, राष्ट्रीय आय के अनंतिम अनुमान जारी किए हैं?

Ans

1. गृह मंत्रालय
2. राष्ट्रीय सांख्यिकी कार्यालय
3. वित्त आयोग
4. नीति (NITI) आयोग

Question ID : 65497828245

Status : Not Answered

Chosen Option : --

Q.3 जड़त्व को इसके _____ द्वारा मापा जा सकता है।

- Ans
- 1. द्रव्यमान
 - 2. बल
 - 3. गति की अवस्था
 - 4. त्वरण

Question ID : 65497828252
Status : Answered
Chosen Option : 2

Q.4 जुलाई 2021 में, _____ को 2019 के लिए इंडियन स्पोर्ट्स ऑनर में डिफरेंटली एबल्ल स्पोर्ट्समैन ऑफ द इयर (Differently Abled Sportsman of the Year) के रूप में नामित किया गया था।

- Ans
- 1. विवेक चिकारा
 - 2. धर्मबीर नैन
 - 3. अमित कुमार सरोहा
 - 4. प्रमोद भगत

Question ID : 65497828261
Status : Not Answered
Chosen Option : --

Q.5 भारतीय रिजर्व बैंक अधिनियम, 1934 की धारा _____ के अनुसार, बैंक को सभी मूल्यवर्गों के बैंक नोट जारी करने का पूर्ण अधिकार प्राप्त है।

- Ans
- 1. 20
 - 2. 32
 - 3. 25
 - 4. 22

Question ID : 65497828242
Status : Not Answered
Chosen Option : --

Q.6 निम्नलिखित में से कौन 2020-21 हीरो इंडियन सुपर लीग का प्रतिभागी नहीं है?

- Ans
- 1. ओडिशा एफ़.सी. (FC)
 - 2. बेंगलुरु एफ़.सी. (FC)
 - 3. जमशेदपुर एफ़.सी. (FC)
 - 4. कोच्चि एफ़.सी. (FC)

Question ID : 65497828244
Status : Not Answered
Chosen Option : --

Q.7 पौधों और पशुओं में जैविक घटनाओं, जैसे - फूल आना, पत्तियां निकलना, सुषुप्तावस्था, प्रजनन और प्रवासन आदि के समय का अध्ययन क्या कहलाता है?

- Ans
- 1. लाइकेनोलॉजी (lichenology)
 - 2. फीनोलॉजी (phenology)
 - 3. सिनेन्थेरोलॉजी (synantherology)
 - 4. पोटमोलॉजी (pomology)

Question ID : 65497828246
Status : Not Answered
Chosen Option : --

Q.8 भारतीय दंड संहिता की धारा 354 _____ से संबंधित है।

- Ans
- 1. किसी स्त्री की लज्जा भंग करने के उद्देश्य से उस महिला पर हमला करने या उस पर आपराधिक बल का प्रयोग करने
 - 2. अपहरण करने के लिए दंड
 - 3. स्वेच्छा से गंभीर चोट पहुंचाने के लिए दंड
 - 4. किसी व्यक्ति को गंभीर आघात या मृत्यु का भय दिखाकर रंगदारी वसूलने

Question ID : 65497828258
Status : Not Answered
Chosen Option : --

Q.9 भारत के कितने राज्यों में द्विसदनीय विधानमंडल है?

- Ans
- 1. सात
 - 2. चार
 - 3. छह
 - 4. दो

Question ID : 65497828256
Status : Not Answered
Chosen Option : --

Q.10 स्वामी दयानंद सरस्वती द्वारा आर्य समाज की स्थापना किए जाने के समय भारत का वायसराय कौन था?

- Ans
- 1. लॉर्ड लैंसडाउन
 - 2. लॉर्ड कर्ज़न
 - 3. लॉर्ड नॉर्थब्रुक
 - 4. लॉर्ड डलहौज़ी

Question ID : 65497828247
Status : Answered
Chosen Option : 2

Q.11 निम्नलिखित में से कौन सा भारत का पहला स्वदेश- विकसित टीका है, जिसे सीरम इंस्टिट्यूट ऑफ इंडिया ने बिल एंड मेलिडा गेट्स फाउंडेशन और पाथ (PATH) के सहयोग से विकसित किया है?

- Ans
- 1. निमोसिल (Pneumosil)
 - 2. हैज़ा
 - 3. छोटी चेचक (Varicella)
 - 4. एंथ्रेक्स

Question ID : 65497828251
Status : Not Answered
Chosen Option : --

Q.12 फिक्शन (Fiction) श्रेणी में, 'द हिंदू प्राइज 2019' का विजेता कौन था?

- Ans
- 1. नीलम सरन गौर
 - 2. मिर्जा वहीद
 - 3. अनुराधा रॉय
 - 4. अमिताभ बागची

Question ID : 65497828253
Status : Not Answered
Chosen Option : --

Q.13 निम्न में से कौन सा बांध सुवर्णरेखा नदी पर बनाया गया है?

- Ans
- 1. बरही
 - 2. चांडिल
 - 3. मलय
 - 4. भैरव

Question ID : 65497828260
Status : Not Answered
Chosen Option : --

Q.14 19वीं शताब्दी के एक महान समाज सुधारक, नारायण गुरु का जन्म _____ राज्य में हुआ था।

- Ans
- 1. पश्चिम बंगाल
 - 2. केरल
 - 3. कर्नाटक
 - 4. असम

Question ID : 65497828243
Status : Not Answered
Chosen Option : --

Q.15 भारत सरकार ने सितंबर 2021 में राष्ट्रीय आवश्यक औषधि सूची (NLEM) को संशोधित करते हुए _____ दवाओं को इसमें शामिल किया और कुछ को इसमें से हटा दिया।

- Ans
- 1. 16
 - 2. 42
 - 3. 39
 - 4. 27

Question ID : 65497828259
Status : Not Answered
Chosen Option : --

Q.16 ओडिशा राज्य का 'धेनका (Dhenka)' एक लोकप्रिय _____ वाद्ययंत्र है।

- Ans
- 1. एरोफोन (aerophone)
 - 2. मेम्ब्रेनोफोन (membranophone)
 - 3. इडियोफोन (idiophone)
 - 4. कोर्डोफोन (chordophone)

Question ID : 65497828237
Status : Not Answered
Chosen Option : --

Q.17 'मौन मुस्कान की मार' नामक पुस्तक के लेखक कौन हैं?

- Ans
- 1. रोहित रॉय
 - 2. जुगल हंसराज
 - 3. उदय चोपड़ा
 - 4. आशुतोष राणा

Question ID : 65497828239
Status : Not Answered
Chosen Option : --

Q.18 निम्नलिखित में से कौन भारत का एक गोला-फेंक (shot put) खिलाड़ी है?

- Ans
- 1. तेजिंदरपाल सिंह तूर
 - 2. जेरेमी लालीनुंगा
 - 3. दीपक लाठर
 - 4. विकास ठाकुर

Question ID : 65497828240
Status : Not Answered
Chosen Option : --

Q.19 मार्च 2021 तक प्राप्त जानकारी के अनुसार, भारत के किस राज्य में जूट का सर्वाधिक उत्पादन होता है?

- Ans
- 1. त्रिपुरा
 - 2. पश्चिम बंगाल
 - 3. झारखंड
 - 4. असम

Question ID : 65497828241
Status : Answered
Chosen Option : 2

Q.20 ब्रेन फिंगरप्रिंटिंग के बारे में इनमें से कौन सा कथन सही नहीं है?

- Ans
- 1. यह जांच मानव मस्तिष्क के विद्युतीय व्यवहार का अध्ययन करने हेतु, विद्युतमस्तिष्कलेखन (इलेक्ट्रोएन्सेफेलोग्राम) द्वारा की जाती है।
 - 2. ब्रेन फिंगरप्रिंटिंग को ब्रेन इलेक्ट्रिकल ऑसिलेशन सिग्नल प्रोफाइलिंग (BEOSP) भी कहा जाता है।
 - 3. जांच में अभियुक्त के साथ प्रश्नोत्तर सत्र शामिल होता है।
 - 4. जांच के दौरान पाई गई जानकारी या सामग्री को साक्ष्य का हिस्सा बनाया जा सकता है।

Question ID : 65497828257

Status : Not Answered

Chosen Option : --

Q.21 निम्नलिखित में से कौन सी भारतीय मलिन बस्ती विश्व की सबसे बड़ी मलिन बस्तियों (झोपड़पट्टियों) में से एक है?

- Ans
- 1. बसंती
 - 2. भलस्वा
 - 3. नोचिकुप्पम
 - 4. धारावी

Question ID : 65497828255

Status : Not Answered

Chosen Option : --

Q.22 कृषि की उस शाखा को क्या कहा जाता है, जो बागानी फसलों (garden crops) – सामान्यतः फल, सब्जियों और सजावटी पौधों से संबंधित है?

- Ans
- 1. पर्माकल्चर (Permaculture)
 - 2. बागबानी (Horticulture)
 - 3. पुष्पकृषि (Floriculture)
 - 4. रेशम कीट-पालन (Sericulture)

Question ID : 65497828238

Status : Not Answered

Chosen Option : --

Q.23 बेगम नूर जहाँ का विवाह-पूर्व नाम क्या था?

- Ans
- 1. पद्मावती
 - 2. मेहर-उन-निसा
 - 3. हरखा बाई
 - 4. इंदिरा कंवर

Question ID : 65497828254

Status : Answered

Chosen Option : 2

Q.24 _____, आर्थिक स्थितियों को प्रभावित करने के लिए सरकारी व्यय और कर नीतियों का उपयोग है।

- Ans
- 1. मौद्रिक नीति
 - 2. राजकोषीय नीति
 - 3. विस्तारकारी नीति
 - 4. संविदात्मक मौद्रिक नीति

Question ID : 65497828249
Status : Not Answered
Chosen Option : --

Q.25 निम्न में से कौन-सी कला शैली पुरुषों द्वारा प्रदर्शित की जाती है, जिसमें उनका शरीर 'रामरस' से सना रहता है और वे साधारणतया पीले रंग के परिधान पहनकर गाते हुए 'करताल' के साथ नृत्य करते हैं?

- Ans
- 1. चैती (Chaiti)
 - 2. झूला (Jhoola)
 - 3. खेलिड़ा (Kheliran)
 - 4. झूमर (Jhumar)

Question ID : 65497828250
Status : Not Answered
Chosen Option : --

Section : Part C Elementary Mathematics

Q.1 एक निश्चित कार्य को करने के लिए, A, B और C की क्षमताओं का अनुपात 2 : 3 : 5 है। एक साथ कार्य करते हुए, वे उस कार्य को 15 दिनों में पूरा कर सकते हैं। B और C इसी कार्य के 80% हिस्से को कितने दिनों में पूरा करेंगे?

- Ans
- 1. 12 दिन
 - 2. 15 दिन
 - 3. 20 दिन
 - 4. 18 दिन

Question ID : 65497828285
Status : Not Answered
Chosen Option : --

Q.2 एक दुकानदार ने कुछ वस्तुएं ₹800 में खरीदीं, जिसमें से 40% को 10% की हानि पर बेच दिया। 12% का लाभ प्राप्त करने के लिए, शेष वस्तुओं पर प्रतिशत लाभ कितना होना चाहिए?

- Ans
- 1. $26\frac{2}{3}\%$
 - 2. $26\frac{3}{5}\%$
 - 3. $26\frac{1}{3}\%$
 - 4. 12%

Question ID : 65497828279
Status : Not Answered
Chosen Option : --

Q.3 $\frac{3}{7}$ और $\frac{18}{5}$ का लघुत्तम समापवर्त्य (LCM) कितना होगा?

- Ans
- 1. 6
 - 2. 7
 - 3. 18
 - 4. 10

Question ID : 65497828274
Status : Answered
Chosen Option : 3

Q.4 व्यंजक $\frac{0.2 + \frac{1}{2} \text{ of } \frac{2}{3} - 1 \times 2 \div 2}{0.2 \times 2 \div \frac{1}{2} \text{ of } \frac{2}{3} - 2 \text{ of } \frac{1}{2} \div \frac{1}{4}}$ को सरल करने पर _____ परिणाम प्राप्त होगा।

- Ans
- 1. $\frac{1}{7}$
 - 2. $\frac{-2}{19}$
 - 3. 1.3
 - 4. -1.3

Question ID : 65497828278
Status : Not Answered
Chosen Option : --

Q.5 कोई दुकानदार ₹912 में एक पंखा बेचकर 14% का लाभ प्राप्त करता है और ₹1,012 में एक अन्य पंखा बेचने पर उसे 8% की हानि होती है। उसका समय लाभ या हानि प्रतिशत कितना है?

- Ans
- 1. $1\frac{5}{19}\%$ लाभ
 - 2. $1\frac{4}{9}\%$ हानि
 - 3. $1\frac{3}{11}\%$ लाभ
 - 4. $1\frac{2}{5}\%$ हानि

Question ID : 65497828281
Status : Not Answered
Chosen Option : --

Q.6 एक ठोस बेलन के आधार की त्रिज्या और ऊँचाई का योग 17 cm है। यदि ठोस बेलन का संपूर्ण पृष्ठीय क्षेत्रफल 748 cm² है, तो बेलन की ऊँचाई ज्ञात करें।

- Ans
- ✓ 1. 10 cm
 - ✗ 2. 15 cm
 - ✗ 3. 12 cm
 - ✗ 4. 14 cm

Question ID : 65497828268
Status : Not Answered
Chosen Option : --

Q.7 A का मासिक वेतन, B के मासिक वेतन से 20% अधिक है। C का मासिक वेतन, B के मासिक वेतन से ₹25,000 अधिक है। उन सबका कुल मासिक वेतन ₹2,65,000 है। C का वेतन, A के वेतन से कितना प्रतिशत अधिक है?

- Ans
- ✗ 1. $5\frac{1}{5}\%$
 - ✗ 2. $13\frac{1}{9}\%$
 - ✓ 3. $11\frac{1}{9}\%$
 - ✗ 4. $19\frac{1}{5}\%$

Question ID : 65497828264
Status : Not Answered
Chosen Option : --

Q.8 50 km/h की चाल से चल रही 345 m लंबी एक रेलगाड़ी X, इसकी विपरीत दिशा में 76 km/h की चाल से चल रही रेलगाड़ी Y को 22 सेकंड में पार करती है। रेलगाड़ी Y, 905 m लंबे पुल को कितने समय में पार कर लेगी?

- Ans
- ✗ 1. 52 सेकंड
 - ✗ 2. 54 सेकंड
 - ✓ 3. 63 सेकंड
 - ✗ 4. 56 सेकंड

Question ID : 65497828286
Status : Not Answered
Chosen Option : --

Q.9 $6 \times (4 \times 5^2) \div 3 + 7 - 8$ का मान बताइए।

- Ans
- ✗ 1. 200
 - ✓ 2. 199
 - ✗ 3. 299
 - ✗ 4. 189

Question ID : 65497828269
Status : Not Answered
Chosen Option : --

Q.10 20%, 30% और 5% की तीन क्रमिक छूट देकर किसी वस्तु को ₹452.20 में बेचा जाता है। यदि वस्तु के अंकित मूल्य पर 55% की एकल छूट दी जाती है, तो वस्तु का विक्रय मूल्य (₹ में) ज्ञात कीजिए।

- Ans
- ✓ 1. 382.50
 - ✗ 2. 467.50
 - ✗ 3. 384.75
 - ✗ 4. 425.25

Question ID : 65497828283
Status : Not Answered
Chosen Option : --

Q.11 एक समूह में कुछ व्यक्तियों का औसत वजन 70 kg है। जब 60 kg औसत वजन वाले 15 व्यक्ति इस समूह को छोड़कर चले जाते हैं या 87.5 kg औसत वजन वाले 15 व्यक्ति इस समूह में शामिल होते हैं, तो दोनों ही स्थितियों में समूह में व्यक्तियों का औसत वजन बराबर रहता है। आरंभ में इस समूह में कितने सदस्य थे?

- Ans
- ✗ 1. 65
 - ✗ 2. 45
 - ✗ 3. 35
 - ✓ 4. 55

Question ID : 65497828282
Status : Not Answered
Chosen Option : --

Q.12 विवाह के समय, एक पति और उसकी पत्नी की औसत आयु 25 वर्ष थी। 7 वर्ष बाद, उनका 2 वर्ष का एक बच्चा है। वर्तमान समय में, परिवार की औसत आयु कितनी है?

- Ans
- ✓ 1. 22 वर्ष
 - ✗ 2. 29 वर्ष
 - ✗ 3. 25 वर्ष
 - ✗ 4. 21 वर्ष

Question ID : 65497828275
Status : Answered
Chosen Option : 2

Q.13 गोविंद, रहीम और सुधीर नामक तीन व्यक्ति एक कार्य को क्रमशः 8, 12 और 15 दिनों में पूरा कर सकते हैं। यदि वे एक साथ मिलकर कार्य करते हैं तो कार्य को पूरा करने में लगने वाला समय ज्ञात करें।

- Ans
- ✗ 1. 53/11 दिन
 - ✓ 2. 40/11 दिन
 - ✗ 3. 4 दिन
 - ✗ 4. 6 दिन

Question ID : 65497828280
Status : Answered
Chosen Option : 2

Q.14 $(263)^{149} + (263)^{150} + (263)^{151}$ में इकाई का अंक ज्ञात करें।

- Ans
- 1. 3
 - 2. 9
 - 3. 7
 - 4. 1

Question ID : 65497828263
Status : Answered
Chosen Option : 2

Q.15 A की आय, B की आय से 80% अधिक है, और C की आय, A और B की कुल आय के 20% से 25% अधिक है। C की आय, A की आय से कितने प्रतिशत कम है? (एक दशमलव स्थान तक पूर्णांकित)

- Ans
- 1. 62.6%
 - 2. 61.1%
 - 3. 82.8%
 - 4. 157.1%

Question ID : 65497828284
Status : Not Answered
Chosen Option : --

Q.16 किस राशि के लिए $x\%$ वार्षिक ब्याज दर पर x वर्षों का साधारण ब्याज ₹ x होगा?

- Ans
- 1. ₹ $100/x$
 - 2. ₹ $x/100$
 - 3. ₹ x
 - 4. ₹ $100x$

Question ID : 65497828277
Status : Answered
Chosen Option : 1

Q.17 कोई राशि साधारण ब्याज की 12% वार्षिक ब्याज दर पर कितने समय में दोगुनी हो जाएगी?

- Ans
- 1. 6 वर्ष 4 महीने
 - 2. 6 वर्ष 2 महीने
 - 3. 8 वर्ष 4 महीने
 - 4. 8 वर्ष 1 महीने

Question ID : 65497828272
Status : Answered
Chosen Option : 3

Q.18 यदि 782 को $\frac{1}{2} : \frac{2}{3} : \frac{3}{4}$ के अनुपात में विभाजित किया जाता है, तो पहला भाग कितना होगा?

- Ans
- 1. 156
 - 2. 204
 - 3. 324
 - 4. 144

Question ID : 65497828276
Status : Not Answered
Chosen Option : --

Q.19 2310 लोगों को तीन पार्टियों में इस प्रकार विभाजित करें, कि पहली पार्टी के $\frac{1}{2}$, दूसरी पार्टी के $\frac{1}{3}$, और तीसरी पार्टी के $\frac{1}{6}$ भाग में लोगों की संख्या बराबर हो।

- Ans
- 1. 420, 620, 1270
 - 2. 420, 630, 1260
 - 3. 420, 600, 1290
 - 4. 420, 650, 1240

Question ID : 65497828271
Status : Not Answered
Chosen Option : --

Q.20 एक वस्तु को ₹5,800 में बेचने पर होने वाला लाभ, उसकी वस्तु को ₹2,200 में बेचने पर होने वाली हानि के बराबर है। लाभ (₹ में) ज्ञात कीजिए।

- Ans
- 1. 2,100
 - 2. 1,800
 - 3. 1,200
 - 4. 1,500

Question ID : 65497828265
Status : Not Answered
Chosen Option : --

Q.21 दो धनात्मक संख्याएँ A और B (जहां $A > B$ है), 11 : 8 के अनुपात में हैं। यदि A के 7 गुने और B के 4 गुने का अंतर 225 है, तो $2A + 3B$ का मान कितना होगा?

- Ans
- 1. 320
 - 2. 330
 - 3. 220
 - 4. 230

Question ID : 65497828267
Status : Not Answered
Chosen Option : --

Q.22 एक त्रिभुजाकार मैदान के तीनों कोनों पर तीन छोड़े बाँधे गए हैं, प्रत्येक को बांधने के लिए 7 m लंबी रस्सी का उपयोग किया गया है, छोड़ों द्वारा चरे गए कुल स्थान का क्षेत्रफल ज्ञात कीजिए।

- Ans
- 1. 46 m²
 - 2. 58 m²
 - 3. 70 m²
 - 4. 77 m²

Question ID : 65497828273
Status : Not Answered
Chosen Option : --

Q.23 60 km/h की चाल से यात्रा करने पर एक कार को एक निश्चित दूरी तय करने में 4 घंटे लगते हैं। उसी दूरी को 1.5 घंटे में तय करने के लिए इस कार की चाल (km/h में) कितनी होनी चाहिए?

- Ans
- 1. 180
 - 2. 160
 - 3. 165
 - 4. 150

Question ID : 65497828270
Status : Not Answered
Chosen Option : --

Q.24 16% की छूट देने के बाद 16% का लाभ अर्जित करने के लिए एक दुकानदार को ₹210 क्रय मूल्य की वस्तु का अंकित मूल्य कितना रखना चाहिए?

- Ans
- 1. ₹290
 - 2. ₹270
 - 3. ₹210
 - 4. ₹250

Question ID : 65497828262
Status : Not Answered
Chosen Option : --

Q.25 एक निश्चित वार्षिक चक्रवृद्धि ब्याज की दर पर उधार दी गई एक धनराशि पर 3 वर्ष में प्राप्त मिश्रधन, उस राशि से 72.8% अधिक होता है, जबकि ब्याज की गणना वार्षिक चक्रवृद्धि आधार पर की जाती है। ₹18000 की धनराशि पर उसी ब्याज दर पर 1½ वर्ष में प्राप्त चक्रवृद्धि ब्याज (₹ में) ज्ञात कीजिए, जबकि ब्याज की गणना अर्ध-वार्षिक चक्रवृद्धि आधार पर की जाती है।

- Ans
- 1. 7,654
 - 2. 5,598
 - 3. 5,958
 - 4. 6,897

Question ID : 65497828266
Status : Not Answered
Chosen Option : --

Section : Part D English

Q.1 Select the most appropriate meaning of the given idiom.

To take pains

- Ans**
- 1. To wait anxiously
 - 2. To be involved in
 - 3. To get injured
 - 4. To make efforts

Question ID : 65497828288
Status : Not Answered
Chosen Option : --

Q.2 The following sentence has been split into four segments. Identify the segment that contains a grammatical error.

They would have / won the race / if they would have / run faster.

- Ans**
- 1. They would have
 - 2. won the race
 - 3. run faster
 - 4. if they would have

Question ID : 65497828294
Status : Not Answered
Chosen Option : --

Q.3 Select the most appropriate option to fill in the blank.

After a hectic day, all he wanted was to rest in _____.

- Ans**
- 1. calm
 - 2. turmoil
 - 3. quiet
 - 4. silence

Question ID : 65497828287
Status : Not Answered
Chosen Option : --

Q.4 Select the most appropriate option to fill in the blank.

People of the same _____ are not allowed to get married in her country.

- Ans**
- 1. clum
 - 2. clot
 - 3. clam
 - 4. clan

Question ID : 65497828301
Status : Not Answered
Chosen Option : --

Q.5 Select the most appropriate meaning of the given idiom.

Child's play

- Ans 1. Fair behaviour
 2. Something that is very easy
 3. Mischievous behaviour
 4. Playful attitude

Question ID : 65497828291
Status : Not Answered
Chosen Option : --

Q.6 Select the option that can be used as a one-word substitute for the given group of words.

A person who helps willingly without being paid for it

- Ans 1. Leader
 2. Volunteer
 3. Beggar
 4. Worker

Question ID : 65497828296
Status : Not Answered
Chosen Option : --

Q.7 Select the most appropriate synonym of the given word.

Estimate

- Ans 1. Assess
 2. Discover
 3. Solve
 4. Believe

Question ID : 65497828290
Status : Not Answered
Chosen Option : --

Q.8 Select the most appropriate option that can substitute the underlined segment in the given sentence. If there is no need to substitute it, select 'No substitution required'.

Neither the chairman nor the directors has present.

- Ans 1. No substitution required
 2. had present
 3. is present
 4. are present

Question ID : 65497828300
Status : Not Answered
Chosen Option : --

Q.9 Select the most appropriate option that can substitute the underlined segment in the given sentence. If there is no need to substitute it, select 'No substitution required'.

Srinu had to take a break from his training for the marathon during the lockdown so he decided to go to his hometown.

- Ans**
- 1. No substitution required
 - 2. took a break in
 - 3. take break for
 - 4. take a break on

Question ID : 65497828292
Status : Not Answered
Chosen Option : --

Q.10 Select the option that can be used as a one-word substitute for the given group of words.

Go back over the same route that one has just taken

- Ans**
- 1. Reroute
 - 2. Return
 - 3. Detour
 - 4. Retrace

Question ID : 65497828304
Status : Not Answered
Chosen Option : --

Q.11 Select the INCORRECTLY spelt word.

- Ans**
- 1. Boutique
 - 2. Honorarium
 - 3. Aqurarium
 - 4. Bungalow

Question ID : 65497828298
Status : Not Answered
Chosen Option : --

Q.12 Select the INCORRECTLY spelt word.

- Ans**
- 1. Negotiate
 - 2. Reffere
 - 3. Miraculous
 - 4. Satellite

Question ID : 65497828297
Status : Not Answered
Chosen Option : --

Q.13 Select the most appropriate synonym of the given word.

Perceive

- Ans 1. Discuss
 2. Recognise
 3. Present
 4. Declare

Question ID : 65497828303
Status : Not Answered
Chosen Option : --

Q.14 The following sentence has been divided into parts. One of them may contain an error. Select the part that contains the error from the given options. If you don't find any error, select 'No error' as your answer.

The book must be / old for its cover / is torn bad.

- Ans 1. old for its cover
 2. is torn bad
 3. No error
 4. The book must be

Question ID : 65497828289
Status : Not Answered
Chosen Option : --

Q.15 Select the option that will improve the underlined part of the given sentence. In case no improvement is needed, select 'No improvement required'.

The joint family system have undergone drastic changes.

- Ans 1. are undergoing
 2. No improvement required
 3. has undergone
 4. have underwent

Question ID : 65497828306
Status : Not Answered
Chosen Option : --

Q.16 Select the most appropriate option to fill in the blank.

He is greatly loved by all for his _____ nature.

- Ans 1. confused
 2. bewildered
 3. compassionate
 4. decorative

Question ID : 65497828299
Status : Not Answered
Chosen Option : --

Q.17 Select the most appropriate ANTONYM of the given word.

Deceive

- Ans 1. Support
 2. Betray
 3. Delude
 4. Pretend

Question ID : 65497828305
Status : Not Answered
Chosen Option : --

Q.18 The following sentence has been split into four segments. Identify the segment that contains a grammatical error.

Each of the students were / present for / the valedictory session / that night.

- Ans 1. Each of the students were
 2. present for
 3. the valedictory session
 4. that night

Question ID : 65497828302
Status : Not Answered
Chosen Option : --

Q.19 Select the option that can be used as a one-word substitute for the given group of words.

A short interesting or amusing story

- Ans 1. Anecdote
 2. Myth
 3. Epic
 4. Legend

Question ID : 65497828293
Status : Not Answered
Chosen Option : --

Q.20 Select the most appropriate ANTONYM of the given word.

Opaque

- Ans 1. Dense
 2. Hazy
 3. Misty
 4. Clear

Question ID : 65497828295
Status : Not Answered
Chosen Option : --

Comprehension:

In the following passage, some words have been deleted. Read the passage carefully and select the most appropriate option to fill in each blank.

Dr. Jill Biden is an English professor in a college and she has four degrees, (1) _____ a doctorate. She is the wife of (2) _____ newly elected U.S. President, Joe Biden. As (3) _____ next first lady, the 69-year-old Jill Biden (4) _____ to keep her job and continue teaching (5) _____ is something that she did as the second lady when her husband was the Vice President.

SubQuestion No : 21

Q.21 Select the most appropriate option to fill in blank no. 1.

- Ans**
- 1. includes
 - 2. including
 - 3. include
 - 4. included

Question ID : 65497828308

Status : Not Answered

Chosen Option : --

Comprehension:

In the following passage, some words have been deleted. Read the passage carefully and select the most appropriate option to fill in each blank.

Dr. Jill Biden is an English professor in a college and she has four degrees, (1) _____ a doctorate. She is the wife of (2) _____ newly elected U.S. President, Joe Biden. As (3) _____ next first lady, the 69-year-old Jill Biden (4) _____ to keep her job and continue teaching (5) _____ is something that she did as the second lady when her husband was the Vice President.

SubQuestion No : 22

Q.22 Select the most appropriate option to fill in blank no. 2.

- Ans**
- 1. a
 - 2. an
 - 3. the
 - 4. one

Question ID : 65497828309

Status : Not Answered

Chosen Option : --

Comprehension:

In the following passage, some words have been deleted. Read the passage carefully and select the most appropriate option to fill in each blank.

Dr. Jill Biden is an English professor in a college and she has four degrees, (1) _____ a doctorate. She is the wife of (2) _____ newly elected U.S. President, Joe Biden. As (3) _____ next first lady, the 69-year-old Jill Biden (4) _____ to keep her job and continue teaching (5) _____ is something that she did as the second lady when her husband was the Vice President.

SubQuestion No : 23

Q.23 Select the most appropriate option to fill in blank no. 3.

- Ans** 1. America's
 2. Americas'
 3. Americas's
 4. Americas

Question ID : 65497828310

Status : Not Answered

Chosen Option : --

Comprehension:

In the following passage, some words have been deleted. Read the passage carefully and select the most appropriate option to fill in each blank.

Dr. Jill Biden is an English professor in a college and she has four degrees, (1) _____ a doctorate. She is the wife of (2) _____ newly elected U.S. President, Joe Biden. As (3) _____ next first lady, the 69-year-old Jill Biden (4) _____ to keep her job and continue teaching (5) _____ is something that she did as the second lady when her husband was the Vice President.

SubQuestion No : 24

Q.24 Select the most appropriate option to fill in blank no. 4.

- Ans** 1. thinks
 2. aims
 3. plots
 4. plans

Question ID : 65497828311

Status : Not Answered

Chosen Option : --

Comprehension:

In the following passage, some words have been deleted. Read the passage carefully and select the most appropriate option to fill in each blank.

Dr. Jill Biden is an English professor in a college and she has four degrees, (1) _____ a doctorate. She is the wife of (2) _____ newly elected U.S. President, Joe Biden. As (3) _____ next first lady, the 69-year-old Jill Biden (4) _____ to keep her job and continue teaching (5) _____ is something that she did as the second lady when her husband was the Vice President.

SubQuestion No : 25

Q.25 Select the most appropriate option to fill in blank no. 5.

- Ans 1. whom
 2. which
 3. what
 4. who

Question ID : 65497828312
Status : Not Answered
Chosen Option : --

Section : **Part D Hindi**

Q.1 रिक्त स्थान भरने के लिए सबसे उपयुक्त शब्द का चयन करें।

बहुत से देशों ने एशियाई खेल _____ में भाग लिया।

- Ans 1. निरीक्षण
 2. प्रतियोगिता
 3. परीक्षण
 4. परीक्षा

Question ID : 65497828316
Status : Answered
Chosen Option : 2

Q.2 रिक्त स्थान को भरने के लिए सबसे उपयुक्त शब्द का चयन करें।

_____ लोगों की यही धारणा है।

- Ans 1. कम
 2. अधिकतर
 3. अधिक
 4. ज्यादा

Question ID : 65497828322
Status : Answered
Chosen Option : 2

Q.3 सही वर्तनी वाले शब्द का चयन करें।

- Ans 1. ऐश्वर्यशालि
 2. ऐश्वर्यशाली
 3. एश्वर्यशाली
 4. ऐशवर्यशाली

Question ID : 65497828323
Status : Not Answered
Chosen Option : --

Q.4 निम्नलिखित प्रश्न में दिए गए चार विकल्पों में से, उस विकल्प का चयन करें, जो दिए गए मुहावरे के अर्थ को व्यक्त करता है।

खोदा पहाड़ निकली चुहिया

- Ans 1. अटपटा काम करना
 2. अधिक परिश्रम के बाद साधारण लाभ
 3. बिना बल कोई काम करना
 4. दिखावा ही दिखावा करना

Question ID : 65497828321
Status : Answered
Chosen Option : 2

Q.5 सही वर्तनी वाले शब्द का चयन करें।

- Ans 1. अनूकरणीय
 2. अनुकरणीय
 3. अनुकरणिय
 4. अनूकरणिय

Question ID : 65497828324
Status : Answered
Chosen Option : 1

Q.6 दिये गये वाक्य में रेखांकित अंश को प्रतिस्थापित करने के लिए सबसे उपयुक्त विकल्प का चयन करें।

प्रतीक को हर तीसरे दिन दौरा आता है।

- Ans 1. पड़ता है।
 2. गिरता है।
 3. चलता है।
 4. होता है।

Question ID : 65497828331
Status : Answered
Chosen Option : 1

Q.7 दिये गये वाक्य में रेखांकित अंश को प्रतिस्थापित करने के लिए सबसे उपयुक्त विकल्प का चयन करें।

इस घटना की परीक्षा थानेदार कर रहा है।

- Ans
- 1. जाँच
 - 2. निगरानी
 - 3. निरीक्षण
 - 4. देखरेख

Question ID : 65497828330
Status : Answered
Chosen Option : 1

Q.8 दिए गए वाक्य में रेखांकित खंड को प्रतिस्थापित करने के लिए सबसे उपयुक्त विकल्प का चयन करें।
यदि इसे प्रतिस्थापित करने की आवश्यकता नहीं है, तो विकल्प 'किसी बदलाव की आवश्यकता नहीं है'
का चयन करें।

सचिव ने अध्यक्ष के गले में एक गुलाब के फूलों की माला पहनाई।

- Ans
- 1. किसी बदलाव की आवश्यकता नहीं है।
 - 2. गुलाब के फूलों की एक माला पहनाई।
 - 3. एक गुलाबों के फूलों की माला पहनाई।
 - 4. गुलाब के फूल की माला पहनाई।

Question ID : 65497828313
Status : Answered
Chosen Option : 2

Q.9 दिए गए वाक्यांश के लिए एक सार्थक शब्द दीजिए।

जो जानने की इच्छा रखता हो

- Ans
- 1. जिगीषु
 - 2. जिज्ञासा
 - 3. जिगीषा
 - 4. जिज्ञासु

Question ID : 65497828315
Status : Answered
Chosen Option : 4

Q.10 'लंगोटी में फाग खेलना' इस मुहावरे का क्या अर्थ है?

- Ans
- 1. पुराने रीति-रिवाजों का अनुसरण करना
 - 2. धनी का निर्धन हो जाना
 - 3. भाग्य से बंदा होना
 - 4. दरिद्रता में आनंद लूटना

Question ID : 65497828314
Status : Answered
Chosen Option : 1

Q.11 दिए गए वाक्य का वो भाग ज्ञात करें जिसमें कोई त्रुटि है। यदि कोई त्रुटि नहीं है, तो 'कोई त्रुटि नहीं है' चुनें।

अपने गुणों के कारण (1)\ उसका सब जगह (2)\ आदर-सत्कार होता था (3)\ कोई त्रुटि नहीं है (4)

- Ans
- 1. 2
 - 2. 4
 - 3. 1
 - 4. 3

Question ID : 65497828317
Status : Answered
Chosen Option : 3

Q.12 दिए गए वाक्य का वह भाग ज्ञात करें जिसमें कोई त्रुटि है। यदि कोई त्रुटि नहीं है, तो 'कोई त्रुटि नहीं है' चुनें।

कश्मीर में (1)/ अनेक दर्शनीय स्थल (2)/ देखने योग्य हैं। (3)/ कोई त्रुटि नहीं है (4)

- Ans
- 1. 2
 - 2. 1
 - 3. 3
 - 4. 4

Question ID : 65497828325
Status : Not Answered
Chosen Option : --

Q.13 रिक्त स्थान को भरने के लिए सबसे उपयुक्त शब्द का चयन करें।

तुम्हारे मित्रों को मैं _____ जानता हूँ।

- Ans
- 1. अच्छे तरह से
 - 2. अच्छी तरह से
 - 3. अच्छी तरह में
 - 4. खूब

Question ID : 65497828319
Status : Answered
Chosen Option : 2

Q.14 दिये गये वाक्यांश के लिए एक शब्द दीजिये।

जो उपकारों को नहीं मानता है

- Ans
- 1. कृतज्ञ
 - 2. विरोधी
 - 3. प्रतिपक्षी
 - 4. कृतम्र

Question ID : 65497828327
Status : Answered
Chosen Option : 2

Q.15 दिए गए शब्द के समानार्थी शब्द का चयन करें।

ज्ञानी

- Ans
- 1. मनोज्ञ
 - 2. विप्र
 - 3. मर्कट
 - 4. मनीषी

Question ID : 65497828318
Status : Answered
Chosen Option : 1

Q.16 दिए गए वाक्य का वह भाग ज्ञात करें जिसमें कोई त्रुटि है। यदि कोई त्रुटि नहीं है, तो 'कोई त्रुटि नहीं है' चुनें।

पुस्तकें ये (1)/ किसकी (2) हैं? (3)/ कोई त्रुटि नहीं (4)

- Ans
- 1. 1
 - 2. 3
 - 3. 4
 - 4. 2

Question ID : 65497828328
Status : Not Answered
Chosen Option : --

Q.17 'मिट्टी का बना हुआ' वाक्यांश के लिए एक शब्द होगा-

- Ans
- 1. प्रस्तर
 - 2. पार्थिव
 - 3. निर्जीव
 - 4. खिलौना

Question ID : 65497828332
Status : Answered
Chosen Option : 2

Q.18 दिए गए शब्द के समानार्थी शब्द का चयन करें।

चन्द्र

- Ans
- 1. तोय
 - 2. राकेश
 - 3. निशा
 - 4. वरी

Question ID : 65497828329
Status : Not Answered
Chosen Option : --

Q.19 दिए गए शब्द का विलोम चुनें।

लिप्त

- Ans
- 1. अलिप्त
 - 2. विलिप्त
 - 3. निर्लिप्त
 - 4. विलुप्त

Question ID : 65497828326
Status : Answered
Chosen Option : 2

Q.20 दिए गए शब्द का विलोम शब्द चुनें।

कीर्ति

- Ans
- 1. अपकीर्ति
 - 2. कुकीर्ति
 - 3. सुकीर्ति
 - 4. अकीर्ति

Question ID : 65497828320
Status : Answered
Chosen Option : 3

Comprehension:

दिए गए अनुच्छेद में कुछ शब्द हटा दिए गए हैं। दिए गए विकल्पों की सहायता से रिक्त स्थान भरें। प्रत्येक संख्या के लिए सबसे उपयुक्त विकल्प का चयन करें।

हम यह कह सकते हैं कि हमारे चारों ओर (1) _____, वही (2) _____ है। प्रकृति ने हमारे लिए एक (3) _____ एवं सुखद आवरण का निर्माण किया था, परन्तु मनुष्य ने (4) _____ सुखों के कारण – उसे (5) _____ कर दिया।

SubQuestion No : 21

Q.21 गद्यांश के रिक्त स्थान (1) के लिए सर्वाधिक उपयुक्त शब्द होगा-

- Ans
- 1. विद्यमान
 - 2. ओझल
 - 3. प्रतिदान
 - 4. अप्राप्य

Question ID : 65497828334
Status : Answered
Chosen Option : 1

Comprehension:

दिए गए अनुच्छेद में कुछ शब्द हटा दिए गए हैं। दिए गए विकल्पों की सहायता से रिक्त स्थान भरें। प्रत्येक संख्या के लिए सबसे उपयुक्त विकल्प का चयन करें।

हम यह कह सकते हैं कि हमारे चारों ओर (1)_____, वही (2)_____ है। प्रकृति ने हमारे लिए एक (3)_____ एवं सुखद आवरण का निर्माण किया था, परन्तु मनुष्य ने (4)_____ सुखों के कारण – उसे (5)_____ कर दिया।

SubQuestion No : 22

Q.22 गद्यांश के रिक्त स्थान (2) के लिए सर्वाधिक उपयुक्त शब्द होगा-

- Ans**
- 1. समाज
 - 2. व्यक्ति
 - 3. समिति
 - 4. पर्यावरण

Question ID : 65497828335
Status : Answered
Chosen Option : 4

Comprehension:

दिए गए अनुच्छेद में कुछ शब्द हटा दिए गए हैं। दिए गए विकल्पों की सहायता से रिक्त स्थान भरें। प्रत्येक संख्या के लिए सबसे उपयुक्त विकल्प का चयन करें।

हम यह कह सकते हैं कि हमारे चारों ओर (1)_____, वही (2)_____ है। प्रकृति ने हमारे लिए एक (3)_____ एवं सुखद आवरण का निर्माण किया था, परन्तु मनुष्य ने (4)_____ सुखों के कारण – उसे (5)_____ कर दिया।

SubQuestion No : 23

Q.23 गद्यांश के रिक्त स्थान (3) के लिए सर्वाधिक उपयुक्त शब्द होगा-

- Ans**
- 1. निकृष्ट
 - 2. अपरम्पार
 - 3. आश्चर्यजनक
 - 4. स्वस्थ

Question ID : 65497828336
Status : Answered
Chosen Option : 4

Comprehension:

दिए गए अनुच्छेद में कुछ शब्द हटा दिए गए हैं। दिए गए विकल्पों की सहायता से रिक्त स्थान भरें। प्रत्येक संख्या के लिए सबसे उपयुक्त विकल्प का चयन करें।

हम यह कह सकते हैं कि हमारे चारों ओर (1)_____, वही (2)_____ है। प्रकृति ने हमारे लिए एक (3)_____ एवं सुखद आवरण का निर्माण किया था, परन्तु मनुष्य ने (4)_____ सुखों के कारण – उसे (5)_____ कर दिया।

SubQuestion No : 24

Q.24 गद्यांश के रिक्त स्थान (4) के लिए सर्वाधिक उपयुक्त शब्द होगा-

- Ans**
- 1. भौतिक
 - 2. आध्यात्मिक
 - 3. राजनीतिक
 - 4. सांस्कृतिक

Question ID : 65497828337
Status : Answered
Chosen Option : 4

Comprehension:

दिए गए अनुच्छेद में कुछ शब्द हटा दिए गए हैं। दिए गए विकल्पों की सहायता से रिक्त स्थान भरें। प्रत्येक संख्या के लिए सबसे उपयुक्त विकल्प का चयन करें।

हम यह कह सकते हैं कि हमारे चारों ओर (1)_____, वही (2)_____ है। प्रकृति ने हमारे लिए एक (3)_____ एवं सुखद आवरण का निर्माण किया था, परन्तु मनुष्य ने (4)_____ सुखों के कारण – उसे (5)_____ कर दिया।

SubQuestion No : 25

Q.25 गद्यांश के रिक्त स्थान (5) के लिए सर्वाधिक उपयुक्त शब्द होगा-

- Ans** 1. अद्भुत
 2. दूषित
 3. आकस्मिक
 4. उज्वल

Question ID : 65497828338

Status : Answered

Chosen Option : 2

Constable GD in CAPFs NIA SSF and Rifleman GD in Assam Rifles Examination 2021

Roll Number	www.HaryanaJobs.in
Candidate Name	www.HaryanaJobs.in
Venue Name	Maa Kamla Digital Center
Exam Date	25/11/2021
Exam Time :	9:00 AM - 10:30 AM
Subject	Constable GD 2021

Section : Part A General Intelligence and Reasoning

Q.1 यदि 'A' 'जोड़' को निरूपित करता है, 'B' 'गुणा' को निरूपित करता है, 'C', 'घटाना' को निरूपित करता है और 'D', 'विभाजन' को निरूपित करता है, तो निम्नलिखित व्यंजक का मान ज्ञात करें।

483 D 23 A 93 C 16 B 4 C (15 B 2)

- Ans
- 1. 20
 - 2. 30
 - 3. 78
 - 4. 55

Question ID : 65497832551
Status : Answered
Chosen Option : 1

Q.2 उस सही विकल्प का चयन कीजिए जो दिए गए शब्दों के उस क्रम को दर्शाता है जिस क्रम में वे अंग्रेजी शब्दकोश में आते हैं।

1. Nervous
2. Nobility
3. Nebulizer
4. Nominate
5. Nitrogen

- Ans
- 1. 3, 4, 2, 5, 1
 - 2. 3, 1, 5, 2, 4
 - 3. 3, 5, 1, 2, 4
 - 4. 3, 1, 2, 5, 4

Question ID : 65497832533
Status : Answered
Chosen Option : 2

Q.3 सात डॉक्टर S, T, U, V, X, Y और Z, केस स्टडी के लिए एक गोल मेज के परितः केंद्र की ओर मुंह करके बैठे हुए हैं। Y, Z के दाएं तीसरे स्थान पर और S तथा X के बीच में बैठा है। Z, U के दाएं दूसरे स्थान पर बैठा है। V, X के बाएं तीसरे स्थान पर बैठा है। Y और V के बीच दो डॉक्टर बैठे हैं। दी गई जानकारी के आधार पर, निम्नलिखित कथनों में से कौन-सा कथन सही है?

- Ans
- 1. Z ठीक T और X के बीच में बैठा है।
 - 2. S, T के बाएं चौथे स्थान पर बैठा है।
 - 3. Y और Z के बीच में चार डॉक्टर बैठे हैं।
 - 4. U, V के दाएं बगल में बैठा है।

Question ID : 65497832548
Status : Answered
Chosen Option : 2

Q.4 किसी विशिष्ट कूट भाषा में, 'FALSE' को '2141588' के रूप में कूटबद्ध किया जाता है। उसी कूट भाषा में 'CHOICE' को किस रूप में कूटबद्ध किया जाएगा?

- Ans
- 1. 6181921288
 - 2. 24181924128
 - 3. 6191812822
 - 4. 24191812248

Question ID : 65497832547
Status : Answered
Chosen Option : 1

Q.5 वर्गों के उस समूह का चयन करें जिनके बीच के संबंध को निम्नांकित वेन आरेख द्वारा सबसे अधिक उचित तरीके से दर्शाया गया है।



- Ans
- 1. पालक, सब्जियाँ, आड़ू
 - 2. बुध, ग्रह, शुक्र
 - 3. व्यवसायी, वैज्ञानिक, गायक
 - 4. महिला, तैराक, पुरुष

Question ID : 65497832545
Status : Answered
Chosen Option : 4

Q.6 निशा, जो दिलीप की पुत्री है, वह देवेशी से कहती है, 'तुम्हारी मां ऋतु मेरे पिताजी की छोटी बहन है, जो कृष्ण की दूसरी संतान है'। कृष्ण का देवेशी से क्या संबंध है?

- Ans
- 1. पिता
 - 2. दादा
 - 3. ससुर
 - 4. नाना

Question ID : 65497832532
Status : Answered
Chosen Option : 4

Q.7 उस विकल्प का चयन कीजिए जिसका तीसरी संख्या से वही संबंध है, जो दूसरी संख्या का पहली संख्या से है और छठी संख्या का पाँचवीं संख्या से है।

11 : 77 :: 12 : ? :: 14 : 119

- Ans
- 1. 79
 - 2. 83
 - 3. 97
 - 4. 90

Question ID : 65497832550
Status : Answered
Chosen Option : 4

Q.8 दिए गए विकल्पों में से उस अक्षर-समूह का चयन करें, जो निम्नलिखित श्रृंखला में प्रश्नवाचक चिह्न (?) के स्थान पर आ सकता है।

EIM, QUY, CGK, ?

- Ans
- 1. OSW
 - 2. LPT
 - 3. SWA
 - 4. DHL

Question ID : 65497832542
Status : Answered
Chosen Option : 1

Q.9

- Ans
- 1.
 - 2.
 - 3.
 - 4.

Question ID : 65497832554
Status : Answered
Chosen Option : 3

Q.10 चार अक्षर-समूह दिए गए हैं, जिनमें से तीन किसी प्रकार से समान हैं और एक उनसे असंगत है। उस असंगत अक्षर-समूह का चयन करें।

- Ans
- 1. PRNT
 - 2. YAWD
 - 3. NPLR
 - 4. SUQW

Question ID : 65497832546
Status : Answered
Chosen Option : 2

Q.11 किसी विशिष्ट भाषा में, 'nuk me xil' का अर्थ 'lit this light', 'ki me to' का अर्थ 'the bright light' और 'nuk ki yun' का अर्थ 'this is bright' है। इस कूट भाषा में 'lit' का अर्थ क्या होगा?

- Ans
- 1. yun
 - 2. nuk
 - 3. xil
 - 4. me

Question ID : 65497832537
Status : Answered
Chosen Option : 3

Q.12 दिए गए विकल्पों में से उस संख्या का चयन करें जो निम्नलिखित श्रृंखला में प्रश्न चिह्न (?) के स्थान पर आ सकती है।

1, 8, 81, ?, 15625

- Ans
- 1. 1225
 - 2. 1024
 - 3. 1227
 - 4. 1015

Question ID : 65497832535
Status : Answered
Chosen Option : 2

Q.13

- Ans
- 1. T
 - 2. V
 - 3. S
 - 4. U

Question ID : 65497832534
Status : Answered
Chosen Option : 1

Q.14 जिस प्रकार मोतियाबिंद, 'नेत्र' से संबंधित है, उसी प्रकार मेनिअर रोग, '_____' से संबंधित है।

- Ans
- 1. मुंह
 - 2. दांत
 - 3. कान
 - 4. नाक

Question ID : 65497832543
Status : Answered
Chosen Option : 3

Q.15 उस विकल्प का चयन करें जो तीसरे अक्षर-समूह से ठीक उसी प्रकार संबंधित है जैसे दूसरा अक्षर-समूह पहले अक्षर-समूह से संबंधित है।

CNK : JUR :: FJL : ?

- Ans
- 1. OSU
 - 2. KOQ
 - 3. MQS
 - 4. NPR

Question ID : 65497832530
Status : Answered
Chosen Option : 3

Q.16 M, N, L, O, Q और H एक पंक्ति में बैठे हुए हैं। Q और H बीच में हैं। M और N पंक्ति के छोरों पर बैठे हैं। L, N के बाएं बैठा है। M के दाएं कौन बैठा है?

- Ans
- 1. N
 - 2. L
 - 3. O
 - 4. Q

Question ID : 65497832544
Status : Answered
Chosen Option : 3

Q.17 दिए गए पैटर्न का ध्यानपूर्वक अध्ययन करें, और उस संख्या का चयन करें जो इसमें प्रश्नवाचक चिह्न (?) के स्थान पर आ सकती है।

34 18 43

47 ? 28

71 33 61

- Ans
- 1. 35
 - 2. 25
 - 3. 42
 - 4. 19

Question ID : 65497832539
Status : Answered
Chosen Option : 2

Q.18 दिए गए कथनों और निष्कर्षों को ध्यानपूर्वक पढ़ें। कथनों में दी गई जानकारी सही मानते हुए, भले ही वह सामान्य रूप से ज्ञात तथ्यों से भिन्न प्रतीत हो, निर्णय करें कि दिए गए निष्कर्षों में से कौन से निष्कर्ष कथनों का तार्किक रूप से अनुसरण करते हैं।

कथन :

सभी पेन, पेंसिल हैं।
कुछ मार्कर, पेंसिल हैं।

निष्कर्ष :

I. सभी पेन, मार्कर हैं।
II. कुछ पेन, मार्कर हैं।

- Ans 1. कोई भी निष्कर्ष अनुसरण नहीं करता है।
 2. केवल निष्कर्ष II अनुसरण करता है।
 3. दोनों निष्कर्ष अनुसरण करते हैं।
 4. केवल निष्कर्ष I अनुसरण करता है।

Question ID : 65497832538

Status : Answered

Chosen Option : 1

Q.19 किसी निश्चित कूट भाषा में, 'LUCKNOW' को 'CULKWON' और 'UDAIPUR' को 'ADUIRUP' के रूप में लिखा जाता है। उसी कूट भाषा में 'GWALIOR' को किस रूप में लिखा जाएगा?

- Ans 1. AWGLROI
 2. AWGROIL
 3. WGLAROI
 4. AGWLRIO

Question ID : 65497832531

Status : Answered

Chosen Option : 1

Q.20

- Ans 1.
 2.
 3.
 4.

Question ID : 65497832553

Status : Answered

Chosen Option : 2

Q.21

- Ans 1.
 2.
 3.
 4.

Question ID : 65497832536

Status : Answered

Chosen Option : 3

Q.22

- Ans 1.
 2.
 3.
 4.

Question ID : 65497832541
Status : Answered
Chosen Option : 3

Q.23 वर्तमान में, सुमन की आयु उसकी बेटे की आयु की चार गुनी है। पाँच वर्ष पूर्व, उसकी आयु उसके बेटे की आयु की सात गुनी थी। उसके बेटे की आयु क्या है?

- Ans 1. 16 वर्ष
 2. 11 वर्ष
 3. 10 वर्ष
 4. 12 वर्ष

Question ID : 65497832540
Status : Answered
Chosen Option : 3

Q.24 दिए गए विकल्पों में से उस संख्या का चयन करें जो निम्नलिखित श्रृंखला में प्रश्न चिह्न (?) के स्थान पर आ सकती है।

2, 10, 30, ?, 130

- Ans 1. 68
 2. 65
 3. 70
 4. 75

Question ID : 65497832549
Status : Answered
Chosen Option : 1

Q.25

- Ans 1.
 2.
 3.
 4.

Question ID : 65497832552
Status : Answered
Chosen Option : 2

Q.1 कुलिक पक्षी अभयारण्य निम्नलिखित में से किस राज्य में स्थित है?

- Ans
- 1. मध्य प्रदेश
 - 2. महाराष्ट्र
 - 3. आंध्र प्रदेश
 - 4. पश्चिम बंगाल

Question ID : 65497832556
Status : Answered
Chosen Option : 3

Q.2 2022 के एशियाई खेलों की मेजबानी निम्नलिखित में से कौन सा देश करेगा?

- Ans
- 1. इंडोनेशिया
 - 2. दक्षिण कोरिया
 - 3. जापान
 - 4. चीन

Question ID : 65497832576
Status : Answered
Chosen Option : 4

Q.3 निम्नलिखित में से किस पुस्तक के लेखक शशि थरूर नहीं हैं?

- Ans
- 1. द पैराडॉक्सियल प्राइम मिनिस्टर (2018)
 - 2. मेकिंग इंडिया ऑसम (2015)
 - 3. द हिंदू वे: एन इंट्रोडक्शन टू हिंदूइज्म (2019)
 - 4. एन एरा ऑफ़ डार्कनेस: द ब्रिटिश एम्पायर इन इंडिया (2016)

Question ID : 65497832575
Status : Answered
Chosen Option : 2

Q.4 संघवाद, भारत के संविधान की प्रमुख विशेषताओं में से एक है, जिसके तहत:

- Ans
- 1. राज्य अपना अधिकार संसद से प्राप्त करते हैं
 - 2. भारत में सभी व्यक्ति केवल न्यायपालिका द्वारा बनाए गए कानूनों और नीतियों द्वारा शासित होते हैं
 - 3. राज्य, संघीय सरकार के एजेंट हैं
 - 4. सरकार का प्रमुख ही राज्य का प्रमुख होता है

Question ID : 65497832567
Status : Answered
Chosen Option : 2

Q.5 निम्नलिखित में से अंतिम मुगल सम्राट कौन था?

- Ans
- 1. शाहजहाँ
 - 2. औरंगजेब
 - 3. अकबर
 - 4. बहादुर शाह द्वितीय

Question ID : 65497832557
Status : Answered
Chosen Option : 4

Q.6 इंसान की आंख कैमरे की तरह होती है। इसकी लेंस प्रणाली, जिसे _____ कहा जाता है, प्रकाश संवेदी स्क्रीन पर प्रतिबिंब बनाती है।

- Ans
- 1. कॉर्निया
 - 2. प्यूपिल (पुतली)
 - 3. आइरिस
 - 4. रेटिना

Question ID : 65497832572
Status : Answered
Chosen Option : 4

Q.7 वर्ष 2019 के लिए, पेटा (PETA) इंडिया का/की 'पर्सन ऑफ़ द ईयर' निम्नलिखित में से कौन था/थी?

- Ans
- 1. पीवी सिंधु
 - 2. विराट कोहली
 - 3. सोनम कपूर
 - 4. अनुष्का शर्मा

Question ID : 65497832574
Status : Answered
Chosen Option : 3

Q.8 जुलाई 2021 तक प्राप्त जानकारी के अनुसार, आयुष्मान भारत प्रधानमंत्री जन आरोग्य योजना (AB-PM-JAY) को _____ राज्य में लागू नहीं किया गया था।

- Ans
- 1. कर्नाटक
 - 2. गुजरात
 - 3. पश्चिम बंगाल
 - 4. पंजाब

Question ID : 65497832579
Status : Answered
Chosen Option : 3

Q.9 सार्वजनिक मामलों के सूचकांक 2020 के अनुसार, बड़े राज्यों की श्रेणी में निम्नलिखित में से किसे, देश में सबसे अच्छा शासित राज्य घोषित किया गया है?

- Ans
- 1. राजस्थान
 - 2. ओडिशा
 - 3. केरल
 - 4. उत्तर प्रदेश

Question ID : 65497832568
Status : Answered
Chosen Option : 3

Q.10 भारत में, 2020 में राष्ट्रीय मिर्गी दिवस कब मनाया गया?

- Ans
- 1. 17 नवंबर
 - 2. 1 नवंबर
 - 3. 25 नवंबर
 - 4. 28 नवंबर

Question ID : 65497832564
Status : Answered
Chosen Option : 3

Q.11 किसी भी लोकतांत्रिक देश में कानून बनाने का अंतिम अधिकार _____ के पास होता है।

- Ans
- 1. विधि मंत्री
 - 2. राष्ट्रपति
 - 3. संसद
 - 4. प्रधानमंत्री

Question ID : 65497832559
Status : Answered
Chosen Option : 3

Q.12 निम्नलिखित में से कौन सी निर्वाह खेती के सापेक्ष वाणिज्यिक खेती की एक विशिष्ट विशेषता नहीं है?

- Ans
- 1. बाजार में बेचने के लिए फसलें उगाई जाती हैं
 - 2. बड़ी मात्रा में पूंजी उपयोग की जाती है
 - 3. ज्यादातर काम मशीनों से होता है
 - 4. यह मुख्य रूप से अल्पविकसित देशों में प्रचलित है

Question ID : 65497832573
Status : Answered
Chosen Option : 3

Q.13 _____, एक विज्ञान है, जिसमें शरीर की संरचना का अध्ययन किया जाता है।

- Ans
- 1. पेलियोबॉटनी
 - 2. एनाटॉमी
 - 3. साइटोलॉजी
 - 4. पेलिनोलॉजी

Question ID : 65497832562
Status : Answered
Chosen Option : 1

Q.14 निम्न में से किसकी शुरुआत हॉल्ट मैकेज़ी और रॉबर्ट मेटिस बर्ड द्वारा की गई थी?

- Ans
- 1. रैयतवाड़ी व्यवस्था
 - 2. व्यपगत का सिद्धांत
 - 3. महालवाड़ी व्यवस्था
 - 4. स्थाई बंदोबस्त

Question ID : 65497832563
Status : Answered
Chosen Option : 3

Q.15 जब प्राकृतिक संसाधनों का दोहन करके किसी माल का उत्पादन किया जाता है, तो इसे निम्नलिखित में से किस श्रेणी के अंतर्गत रखा जाता है?

- Ans
- 1. कृषि क्षेत्र
 - 2. औद्योगिक क्षेत्र
 - 3. खनन उद्योग
 - 4. सेवा क्षेत्र

Question ID : 65497832565
Status : Answered
Chosen Option : 4

Q.16 सरकार के कुल राजस्व और कुल व्यय के बीच के अंतर को _____ कहा जाता है।

- Ans
- 1. राजकोषीय घाटा
 - 2. बजट घाटा
 - 3. अपस्फीति
 - 4. प्राथमिक घाटा

Question ID : 65497832561
Status : Answered
Chosen Option : 3

Q.17 निम्नलिखित में से कौन एक हॉकी खिलाड़ी नहीं है?

- Ans
- 1. आकाशदीप सिंह
 - 2. अजीत सिंह
 - 3. मनु भाकर
 - 4. दीपिका ठाकुर

Question ID : 65497832578
Status : Answered
Chosen Option : 4

Q.18 2021 में निम्नलिखित में से कौन से देश ने 13 वें ब्रिक्स शिखर सम्मेलन की मेजबानी की?

- Ans
- 1. रूस
 - 2. भारत
 - 3. ब्राजील
 - 4. चीन

Question ID : 65497832560
Status : Answered
Chosen Option : 1

Q.19 निम्नलिखित में से बंगाल के किस राष्ट्रीय आंदोलन में तिरंगे झंडे को अभिकल्पित किया गया था?

- Ans
- 1. खिलाफत आंदोलन
 - 2. भारत छोड़ो आंदोलन
 - 3. सविनय अवज्ञा आंदोलन
 - 4. स्वदेशी आंदोलन

Question ID : 65497832558
Status : Answered
Chosen Option : 3

Q.20 चौदहवीं शताब्दी का ग्रंथ 'लीला तिलकम' किस शैली (Macaronic language) में लिखा गया है?

- Ans
- 1. मणिप्रवालम
 - 2. रेख्ता
 - 3. मोजाखराफ
 - 4. ब्राह्मी

Question ID : 65497832566
Status : Answered
Chosen Option : 2

Q.21 एनोफिलीज़ एक _____ है, जो मलेरिया के परजीवी के वाहक के रूप में कार्य करता है।

- Ans
- 1. नर मच्छर
 - 2. मादा मच्छर
 - 3. मकड़ी
 - 4. घरेलू मक्खी

Question ID : 65497832571
Status : Answered
Chosen Option : 2

Q.22 निम्नलिखित में से कौन सा भारत के आर्थिक क्षेत्र के प्राथमिक सेक्टर का एक उदाहरण है?

- Ans
- 1. वानिकी
 - 2. संचार
 - 3. कपड़ा बुनना
 - 4. परिवहन

Question ID : 65497832577
Status : Answered
Chosen Option : 1

Q.23 आईपीएल के 2020 के संस्करण तक मुंबई इंडियंस ने आईपीएल का खिताब कितनी बार जीता है?

- Ans
- 1. 4
 - 2. 3
 - 3. 2
 - 4. 5

Question ID : 65497832555
Status : Answered
Chosen Option : 4

Q.24 बंगाल टाइगर को वर्ष _____ में 'भारत का राष्ट्रीय पशु' स्वीकार किया गया था।

- Ans
- 1. 1978
 - 2. 1974
 - 3. 1972
 - 4. 1976

Question ID : 65497832569
Status : Answered
Chosen Option : 4

Q.25 निम्नलिखित में से कौन सा पर्व कार्तिक माह की अमावस्या को मनाया जाता है?

- Ans
- 1. गोवर्धन पूजा
 - 2. रक्षाबंधन
 - 3. धनतेरस
 - 4. दीवाली

Question ID : 65497832570
Status : Answered
Chosen Option : 4

Section : Part C Elementary Mathematics

Q.1

- Ans
- 1.
 - 2.
 - 3.
 - 4.

Question ID : 65497832584
Status : Answered
Chosen Option : 2

Q.2

- Ans
- 1.
 - 2.
 - 3.
 - 4.

Question ID : 65497832594
Status : Answered
Chosen Option : 2

Q.3

- Ans
- 1.
 - 2.
 - 3.
 - 4.

Question ID : 65497832598
Status : Answered
Chosen Option : 3

Q.4

- Ans
- 1.
 - 2.
 - 3.
 - 4.

Question ID : 65497832602
Status : Answered
Chosen Option : 4

Q.5

- Ans
- 1.
 - 2.
 - 3.
 - 4.

Question ID : 65497832603
Status : Answered
Chosen Option : 1

Q.6

- Ans
- 1.
 - 2.
 - 3.
 - 4.

Question ID : 65497832601
Status : Answered
Chosen Option : 3

Q.7

- Ans
- 1.
 - 2.
 - 3.
 - 4.

Question ID : 65497832591
Status : Answered
Chosen Option : 4

Q.8

- Ans
- 1.
 - 2.
 - 3.
 - 4.

Question ID : 65497832585
Status : Answered
Chosen Option : 2

Q.9

- Ans 1.
 2.
 3.
 4.

Question ID : 65497832597
Status : Answered
Chosen Option : 2

Q.10

- Ans 1.
 2.
 3.
 4.

Question ID : 65497832589
Status : Answered
Chosen Option : 1

Q.11

- Ans 1.
 2.
 3.
 4.

Question ID : 65497832588
Status : Answered
Chosen Option : 3

Q.12

- Ans 1.
 2.
 3.
 4.

Question ID : 65497832593
Status : Answered
Chosen Option : 1

Q.13

- Ans 1.
 2.
 3.
 4.

Question ID : 65497832586
Status : Answered
Chosen Option : 4

Q.14

- Ans 1.
 2.
 3.
 4.

Question ID : 65497832596
Status : Answered
Chosen Option : 3

Q.15

- Ans 1.
 2.
 3.
 4.

Question ID : 65497832592
Status : Answered
Chosen Option : 2

Q.16

- Ans 1.
 2.
 3.
 4.

Question ID : 65497832604
Status : Answered
Chosen Option : 4

Q.17

- Ans 1.
 2.
 3.
 4.

Question ID : 65497832583
Status : Answered
Chosen Option : 3

Q.18

- Ans 1.
 2.
 3.
 4.

Question ID : 65497832587
Status : Answered
Chosen Option : 4

Q.19

- Ans
- 1.
 - 2.
 - 3.
 - 4.

Question ID : 65497832599
Status : Answered
Chosen Option : 4

Q.20

- Ans
- 1.
 - 2.
 - 3.
 - 4.

Question ID : 65497832582
Status : Answered
Chosen Option : 2

Q.21

- Ans
- 1.
 - 2.
 - 3.
 - 4.

Question ID : 65497832595
Status : Answered
Chosen Option : 1

Q.22

- Ans
- 1.
 - 2.
 - 3.
 - 4.

Question ID : 65497832580
Status : Answered
Chosen Option : 1

Q.23

- Ans
- 1.
 - 2.
 - 3.
 - 4.

Question ID : 65497832590
Status : Answered
Chosen Option : 3

Q.24

- Ans
- 1.
 - 2.
 - 3.
 - 4.

Question ID : 65497832581
Status : Answered
Chosen Option : 2

Q.25

- Ans
- 1.
 - 2.
 - 3.
 - 4.

Question ID : 65497832600
Status : Answered
Chosen Option : 1

Section : Part D English

Q.1 Select the option that can be used as a one-word substitute for the given group of words.

Someone who buys and sells goods in large amounts to shops and businesses

- Ans
- 1. Dealer
 - 2. Merchant
 - 3. Supplier
 - 4. Wholesaler

Question ID : 65497832608
Status : Not Answered
Chosen Option : --

Q.2 Select the most appropriate synonym of the given word.

Coincidence

- Ans
- 1. Accent
 - 2. Extent
 - 3. Incident
 - 4. Chance

Question ID : 65497832617
Status : Not Answered
Chosen Option : --

Q.3 Select the most appropriate meaning of the given idiom.

Having a soft spot for

- Ans
- 1. Being too ridiculous
 - 2. Being fond of
 - 3. Having soft skin
 - 4. Being angry

Question ID : 65497832615
Status : Not Answered
Chosen Option : --

Q.4 Select the most appropriate option that can substitute the underlined segment in the given sentence. If there is no need to substitute it, select 'No substitution required'.

Leopards and cats are belong to the same family of animals.

- Ans
- 1. No substitution required
 - 2. belongs
 - 3. belong
 - 4. belonging

Question ID : 65497832624
Status : Not Answered
Chosen Option : --

Q.5 Select the INCORRECTLY spelt word.

- Ans
- 1. Commitment
 - 2. Persuasion
 - 3. Gregarious
 - 4. Magnificant

Question ID : 65497832614
Status : Not Answered
Chosen Option : --

Q.6 Select the most appropriate ANTONYM of the given word.

Ignorance

- Ans
- 1. Innocence
 - 2. Truth
 - 3. Virtue
 - 4. Knowledge

Question ID : 65497832619
Status : Not Answered
Chosen Option : --

Q.7 Select the option that will improve the underlined part of the sentence. In case no improvement is needed, select 'No improvement required'.

Neglected for a long time, the ancient monument needs immediate restoration.

- Ans
- 1. Having neglect for a long time
 - 2. Neglected in the long time
 - 3. No improvement required
 - 4. Neglecting from a long time

Question ID : 65497832609
Status : Not Answered
Chosen Option : --

Q.8 Select the most appropriate synonym of the given word.

Mirth

- Ans
- 1. Scene
 - 2. Joint
 - 3. Delight
 - 4. View

Question ID : 65497832607
Status : Not Answered
Chosen Option : --

Q.9 Select the option that can be used as a one-word substitute for the given group of words.

The branch of biology that deals with the relations of organisms to one another and to their physical surroundings.

- Ans
- 1. Morphology
 - 2. Anthropology
 - 3. Gerontology
 - 4. Ecology

Question ID : 65497832618
Status : Not Answered
Chosen Option : --

Q.10 Select the most appropriate meaning of the given idiom.

To be on pins and needles

- Ans
- 1. To avoid making a decision
 - 2. To be attacked from both sides
 - 3. To be in an agitated state of suspense
 - 4. To sit on a box of pins

Question ID : 65497832620
Status : Not Answered
Chosen Option : --

Q.11 Select the most appropriate option to fill in the blank.

An important _____ of education is to develop character.

- Ans
- 1. image
 - 2. means
 - 3. scheme
 - 4. purpose

Question ID : 65497832610
Status : Not Answered
Chosen Option : --

Q.12 Select the option that can be used as a one-word substitute for the given group of words.

One who cannot be changed or reformed

- Ans
- 1. Inevitable
 - 2. Incurable
 - 3. Incapable
 - 4. Invincible

Question ID : 65497832613
Status : Not Answered
Chosen Option : --

Q.13 The following sentence has been split into four segments. Identify the segment that contains a grammatical error.

The eldest / prince is / the heir / of the throne.

- Ans
- 1. The eldest
 - 2. the heir
 - 3. of the throne
 - 4. prince is

Question ID : 65497832611
Status : Not Answered
Chosen Option : --

Q.14 Select the most appropriate option that can substitute the underlined segment in the given sentence. If there is no need to substitute it, select 'No substitution required'.

Mala's voice is much more melodious to Gita.

- Ans
- 1. much more melodious to Gita's
 - 2. No substitution required
 - 3. much melodious to Gita's
 - 4. much more melodious than Gita's

Question ID : 65497832606
Status : Not Answered
Chosen Option : --

Q.15 Select the INCORRECTLY spelt word.

- Ans
- 1. Unflappable
 - 2. Unassuming
 - 3. Unruffled
 - 4. Unannimous

Question ID : 65497832621
Status : Not Answered
Chosen Option : --

Q.16 The following sentence has been split into four segments. Identify the segment that contains a grammatical error.

Sharada was cooking lunch / when I am going / to give her / the mobile phone.

- Ans
- 1. to give her
 - 2. the mobile phone
 - 3. Sharada was cooking lunch
 - 4. when I am going

Question ID : 65497832605
Status : Not Answered
Chosen Option : --

Q.17 Select the most appropriate ANTONYM of the given word.

Damage

- Ans
- 1. Hurt
 - 2. Ruin
 - 3. Mend
 - 4. Harm

Question ID : 65497832612
Status : Not Answered
Chosen Option : --

Q.18 Select the most appropriate option to fill in the blank.

He was in _____ of the costumes for the play.

- Ans
- 1. duty
 - 2. responsibility
 - 3. care
 - 4. charge

Question ID : 65497832623
Status : Not Answered
Chosen Option : --

Q.19 Select the most appropriate option to fill in the blank.

It is a disorder that manifests usually in middle _____.

- Ans
- 1. ages
 - 2. life
 - 3. year
 - 4. age

Question ID : 65497832622
Status : Not Answered
Chosen Option : --

Q.20 Parts of the given sentence have been given as options. One of them contains a grammatical error. Select the option that has the error.

Lack of calcium in human body usually leads against several health complications.

- Ans
- 1. Lack of calcium
 - 2. in human body
 - 3. several health complications
 - 4. leads against

Question ID : 65497832616
Status : Not Answered
Chosen Option : --

Comprehension:

In the following passage, some words have been deleted. Read the passage carefully and select the most appropriate option to fill in each blank.

A tic is a repeated, impulsive action, which an actor feels powerless (1)_____ or avoid. Only when the individual performs the tic, is tension and anxiety (2)_____, within the individual with a tic disorder. Tics can be (3)_____ by an emotional state or sensation, and can happen for no obvious reason. General types of tics (4)_____ verbal tics, facial tics and (5)_____ muscular tics.

SubQuestion No : 21

Q.21 Select the most appropriate option to fill in blank number 1.

- Ans
- 1. controlling
 - 2. controls
 - 3. to control
 - 4. controlled

Question ID : 65497832626
Status : Not Answered
Chosen Option : --

Comprehension:

In the following passage, some words have been deleted. Read the passage carefully and select the most appropriate option to fill in each blank.

A tic is a repeated, impulsive action, which an actor feels powerless (1)_____ or avoid. Only when the individual performs the tic, is tension and anxiety (2)_____, within the individual with a tic disorder. Tics can be (3)_____ by an emotional state or sensation, and can happen for no obvious reason. General types of tics (4)_____ verbal tics, facial tics and (5)_____ muscular tics.

SubQuestion No : 22

Q.22 Select the most appropriate option to fill in blank number 2.

Ans 1. released

2. stored

3. added

4. modified

Question ID : 65497832627

Status : Not Answered

Chosen Option : --

Comprehension:

In the following passage, some words have been deleted. Read the passage carefully and select the most appropriate option to fill in each blank.

A tic is a repeated, impulsive action, which an actor feels powerless (1)_____ or avoid. Only when the individual performs the tic, is tension and anxiety (2)_____, within the individual with a tic disorder. Tics can be (3)_____ by an emotional state or sensation, and can happen for no obvious reason. General types of tics (4)_____ verbal tics, facial tics and (5)_____ muscular tics.

SubQuestion No : 23

Q.23 Select the most appropriate option to fill in blank number 3.

Ans 1. triggered

2. elicited

3. done

4. began

Question ID : 65497832628

Status : Not Answered

Chosen Option : --

Comprehension:

In the following passage, some words have been deleted. Read the passage carefully and select the most appropriate option to fill in each blank.

A tic is a repeated, impulsive action, which an actor feels powerless (1)_____ or avoid. Only when the individual performs the tic, is tension and anxiety (2)_____, within the individual with a tic disorder. Tics can be (3)_____ by an emotional state or sensation, and can happen for no obvious reason. General types of tics (4)_____ verbal tics, facial tics and (5)_____ muscular tics.

SubQuestion No : 24

Q.24 Select the most appropriate option to fill in blank number 4.

- Ans
- 1. including
 - 2. include
 - 3. included
 - 4. includes

Question ID : 65497832629
Status : Not Answered
Chosen Option : --

Comprehension:

In the following passage, some words have been deleted. Read the passage carefully and select the most appropriate option to fill in each blank.

A tic is a repeated, impulsive action, which an actor feels powerless (1)_____ or avoid. Only when the individual performs the tic, is tension and anxiety (2)_____, within the individual with a tic disorder. Tics can be (3)_____ by an emotional state or sensation, and can happen for no obvious reason. General types of tics (4)_____ verbal tics, facial tics and (5)_____ muscular tics.

SubQuestion No : 25

Q.25 Select the most appropriate option to fill in blank number 5.

- Ans
- 1. other
 - 2. the other
 - 3. another
 - 4. others

Question ID : 65497832630
Status : Not Answered
Chosen Option : --

Section : Part D Hindi

Q.1 दिए गये वाक्यांश के लिए एक शब्द है-

जो एक ही माता के उदर से उत्पन्न हुए हों-

- Ans
- 1. लम्बोदर
 - 2. सहोदर
 - 3. समआयु
 - 4. समवयस्क

Question ID : 65497832635
Status : Answered
Chosen Option : 2

Q.2 दिए गए वाक्य में रेखांकित खंड को प्रतिस्थापित करने के लिए सबसे उपयुक्त विकल्प का चयन करें। यदि इसे प्रतिस्थापित करने की आवश्यकता नहीं है, तो विकल्प 'किसी बदलाव की आवश्यकता नहीं है' का चयन करें।

यह कहानी महादेवी वर्मा द्वारा लिखी है।

- Ans
- 1. किसी बदलाव की आवश्यकता नहीं है।
 - 2. द्वारा लिखी गयी है।
 - 3. द्वारा लिखा गया है।
 - 4. से लिखी है।

Question ID : 65497832638
Status : Answered
Chosen Option : 2

Q.3 आँख में कौन गिर गया - त्रुटि का परिचय दीजिए-

- Ans
- 1. संज्ञा की
 - 2. विशेषण की
 - 3. सर्वनाम की
 - 4. क्रिया की

Question ID : 65497832643
Status : Answered
Chosen Option : 3

Q.4 दिए गए वाक्य का वह भाग ज्ञात करें जिसमें कोई त्रुटि है। यदि कोई त्रुटि नहीं है, तो 'कोई त्रुटि नहीं है' चुनें।

स्त्री जाति के (1)\ कल्याण के लिए (2)\ एक योजना बना था। (3)\ कोई त्रुटि नहीं है (4)

- Ans
- 1. 2
 - 2. 1
 - 3. 3
 - 4. 4

Question ID : 65497832633
Status : Answered
Chosen Option : 3

Q.5 प्रत्येक कार्य को फुंक फुंक कर करना चाहिए।

रेखांकित मुहावरे का अर्थ स्पष्ट कीजिए-

- Ans
- 1. जल्दी से कार्य करना
 - 2. किसी को कार्य करने को देना
 - 3. कार्य करने में आलस करना
 - 4. अच्छी तरह से सोचकर कार्य करना

Question ID : 65497832645
Status : Answered
Chosen Option : 4

Q.6 अशुद्ध वर्तनी को पहचानिए-

- Ans
- 1. झंडा
 - 2. पड़ोसिन
 - 3. आजीविका
 - 4. चरमोत्षर्क

Question ID : 65497832646
Status : Answered
Chosen Option : 2

Q.7 दिए गये वाक्यांश के लिए एक शब्द है-

जिसका कोई अंग बेकार हो गया हो-

- Ans
- 1. विकलांग
 - 2. वंध्य
 - 3. अनाथ
 - 4. कुपोषित

Question ID : 65497832636
Status : Answered
Chosen Option : 1

Q.8 'गोद लिया हुआ पुत्र' वाक्यांश के लिए एक शब्द होगा-

- Ans
- 1. दत्तक
 - 2. तनय
 - 3. अनुज
 - 4. पाल्य

Question ID : 65497832648
Status : Answered
Chosen Option : 1

Q.9 रिक्त स्थान की पूर्ति के लिए सबसे उपयुक्त शब्द का चयन करें।

पुस्तकें, _____ का सशक्त माध्यम हैं।

- Ans
- 1. ज्ञानप्राप्ति
 - 2. जानने
 - 3. सुज्ञानप्राप्त
 - 4. समझ

Question ID : 65497832637
Status : Answered
Chosen Option : 1

Q.10 दिए गए शब्द का विलोम चुनें।

गमन

- Ans 1. आगमन
 2. आना
 3. प्रस्थान
 4. जाना

Question ID : 65497832639
Status : Answered
Chosen Option : 1

Q.11 दिए गए शब्द के विलोम शब्द का चयन करें-

करुण

- Ans 1. निष्ठुर
 2. दयालु
 3. मधुर
 4. नम्र

Question ID : 65497832634
Status : Answered
Chosen Option : 1

Q.12 दिए गए वाक्य में रेखांकित खंड को प्रतिस्थापित करने के लिए सबसे उपयुक्त विकल्प का चयन करें। यदि इसे प्रतिस्थापित करने की आवश्यकता नहीं है, तो विकल्प 'किसी बदलाव की आवश्यकता नहीं है' का चयन करें।

आज से उसका लक्ष्य केवल विद्या प्राप्ति होगी।

- Ans 1. मात्र विद्या प्राप्ति होगी।
 2. शेष विद्या प्राप्ति होगी।
 3. किसी बदलाव की आवश्यकता नहीं है।
 4. केवल विद्या प्राप्ति होगा।

Question ID : 65497832642
Status : Answered
Chosen Option : 3

Q.13 दिए गए वाक्य का वह भाग ज्ञात करें जिसमें कोई त्रुटि है। यदि कोई त्रुटि नहीं है, तो 'कोई त्रुटि नहीं है' चुनें।

सूखा पड़ने (1)\ का कारण इस बार (2)\ फसल कम है (3)\ कोई त्रुटि नहीं है (4)

- Ans 1. 1
 2. 4
 3. 3
 4. 2

Question ID : 65497832631
Status : Answered
Chosen Option : 4

Q.14 दिए गए शब्द का समानार्थी शब्द बताइए-

वानर

- Ans
- 1. मनुज
 - 2. गज
 - 3. कपि
 - 4. मधुकर

Question ID : 65497832632
Status : Answered
Chosen Option : 3

Q.15 शुद्ध शब्द को पहचानिए-

- Ans
- 1. त्रतीय्य
 - 2. कुमुदिनी
 - 3. कार्यवकरम
 - 4. प्रोढ़

Question ID : 65497832647
Status : Answered
Chosen Option : 2

Q.16 विहंग - रेखांकित शब्द का पर्यायवाची कौन-सा शब्द नहीं है-

- Ans
- 1. पंछी
 - 2. केहरी
 - 3. पक्षी
 - 4. खग

Question ID : 65497832644
Status : Answered
Chosen Option : 2

Q.17 दिये गये वाक्य में रेखांकित अंश को प्रतिस्थापित करने के लिए सबसे उपयुक्त विकल्प का चयन करें।

सरकार ने कलाकार को पुरस्कार अर्पित किया।

- Ans
- 1. दान
 - 2. निर्गत
 - 3. सम्मानित
 - 4. प्रदान

Question ID : 65497832649
Status : Answered
Chosen Option : 4

Q.18 उस विकल्प का चयन करें जो निम्न मुहावरे का सही अर्थ व्यक्त करता है।

ढाक के तीन पात

Ans 1. सदा एक ही दशा में रहना

2. अव्यवस्थित होना

3. निस्सार बातें करना

4. व्यर्थ प्रशंसा करना

Question ID : 65497832640
Status : Answered
Chosen Option : 4

Q.19 रिक्त स्थान की पूर्ति के लिए सबसे उपयुक्त विकल्प का चयन करें।

मलेरिया एक _____ है।

Ans 1. क्लेश

2. व्याधि

3. दुख

4. आधि

Question ID : 65497832650
Status : Answered
Chosen Option : 2

Q.20 रिक्त स्थान की पूर्ति के लिए सबसे उपयुक्त शब्द का चयन करें।

यह _____ का विषय है कि हमारे देश में अनेक महापुरुष हुए।

Ans 1. सामान्य

2. गर्व

3. उपेक्षित

4. दुर्भाग्य

Question ID : 65497832641
Status : Answered
Chosen Option : 2

Comprehension:

दिए गए गद्यांश में से कुछ शब्द हटा दिए गए हैं। संबंधित प्रश्नों में प्रत्येक संख्या के लिए सबसे उपयुक्त विकल्प का चयन करें।

नारियल खाना जितना अच्छा लगता है, उतना ही (1) _____ होता है इसे पेड़ से तोड़ना। नारियल के ऊँचें सीधे खड़े पेड़ तक पहुँचना (2) _____ खीर है। जान जोखिम में डालकर नारियल तोड़ने का काम करने वालों को बदले में (3) _____ भी बहुत कम मिलती है। इतनी (4) _____ से गिरकर कई लोग जान भी गँवा चुके हैं। केरल में अब लोग बंदर पाल रहे हैं। उन्हें नारियल तोड़ने के लिए (5) _____ दिया जा रहा है। हमारे देश में बंदरों की कमी नहीं है। इन्हें नारियल तोड़कर लाने की ट्रेनिंग देने के लिए स्कूल भी खोले गए हैं।

SubQuestion No : 21

Q.21 गद्यांश के रिक्त स्थान (1) के लिए सर्वाधिक उपयुक्त शब्द होगा-

- Ans
- 1. आवश्यक
 - 2. सरल
 - 3. सहज
 - 4. कठिन

Question ID : 65497832652

Status : Answered

Chosen Option : 4

Comprehension:

दिए गए गद्यांश में से कुछ शब्द हटा दिए गए हैं। संबंधित प्रश्नों में प्रत्येक संख्या के लिए सबसे उपयुक्त विकल्प का चयन करें।

नारियल खाना जितना अच्छा लगता है, उतना ही (1) _____ होता है इसे पेड़ से तोड़ना। नारियल के ऊँचें सीधे खड़े पेड़ तक पहुँचना (2) _____ खीर है। जान जोखिम में डालकर नारियल तोड़ने का काम करने वालों को बदले में (3) _____ भी बहुत कम मिलती है। इतनी (4) _____ से गिरकर कई लोग जान भी गँवा चुके हैं। केरल में अब लोग बंदर पाल रहे हैं। उन्हें नारियल तोड़ने के लिए (5) _____ दिया जा रहा है। हमारे देश में बंदरों की कमी नहीं है। इन्हें नारियल तोड़कर लाने की ट्रेनिंग देने के लिए स्कूल भी खोले गए हैं।

SubQuestion No : 22

Q.22 गद्यांश के रिक्त स्थान (2) के लिए सर्वाधिक उपयुक्त शब्द होगा-

- Ans
- 1. उल्टी
 - 2. टेढ़ी
 - 3. लम्बी
 - 4. सीधी

Question ID : 65497832653

Status : Answered

Chosen Option : 2

Comprehension:

दिए गए गद्यांश में से कुछ शब्द हटा दिए गए हैं। संबंधित प्रश्नों में प्रत्येक संख्या के लिए सबसे उपयुक्त विकल्प का चयन करें।

नारियल खाना जितना अच्छा लगता है, उतना ही (1) _____ होता है इसे पेड़ से तोड़ना। नारियल के ऊँचें सीधे खड़े पेड़ तक पहुँचना (2) _____ खीर है। जान जोखिम में डालकर नारियल तोड़ने का काम करने वालों को बदले में (3) _____ भी बहुत कम मिलती है। इतनी (4) _____ से गिरकर कई लोग जान भी गँवा चुके हैं। केरल में अब लोग बंदर पाल रहे हैं। उन्हें नारियल तोड़ने के लिए (5) _____ दिया जा रहा है। हमारे देश में बंदरों की कमी नहीं है। इन्हें नारियल तोड़कर लाने की ट्रेनिंग देने के लिए स्कूल भी खोले गए हैं।

SubQuestion No : 23

Q.23 गद्यांश के रिक्त स्थान (3) के लिए सर्वाधिक उपयुक्त शब्द होगा-

- Ans
- 1. उन्नति
 - 2. नारियल
 - 3. प्रशंसा
 - 4. मज़दूरी

Question ID : 65497832654

Status : Answered

Chosen Option : 4

Comprehension:

दिए गए गद्यांश में से कुछ शब्द हटा दिए गए हैं। संबंधित प्रश्नों में प्रत्येक संख्या के लिए सबसे उपयुक्त विकल्प का चयन करें।

नारियल खाना जितना अच्छा लगता है, उतना ही (1) _____ होता है इसे पेड़ से तोड़ना। नारियल के ऊँचें सीधे खड़े पेड़ तक पहुँचना (2) _____ खीर है। जान जोखिम में डालकर नारियल तोड़ने का काम करने वालों को बदले में (3) _____ भी बहुत कम मिलती है। इतनी (4) _____ से गिरकर कई लोग जान भी गँवा चुके हैं। केरल में अब लोग बंदर पाल रहे हैं। उन्हें नारियल तोड़ने के लिए (5) _____ दिया जा रहा है। हमारे देश में बंदरों की कमी नहीं है। इन्हें नारियल तोड़कर लाने की ट्रेनिंग देने के लिए स्कूल भी खोले गए हैं।

SubQuestion No : 24

Q.24 गद्यांश के रिक्त स्थान (4) के लिए सर्वाधिक उपयुक्त शब्द होगा-

- Ans
- 1. नीचे
 - 2. ऊँचाई
 - 3. लम्बाई
 - 4. गहराई

Question ID : 65497832655

Status : Answered

Chosen Option : 2

Comprehension:

दिए गए गद्यांश में से कुछ शब्द हटा दिए गए हैं। संबंधित प्रश्नों में प्रत्येक संख्या के लिए सबसे उपयुक्त विकल्प का चयन करें।

नारियल खाना जितना अच्छा लगता है, उतना ही (1) _____ होता है इसे पेड़ से तोड़ना। नारियल के ऊँचें सीधे खड़े पेड़ तक पहुँचना (2) _____ खीर है। जान जोखिम में डालकर नारियल तोड़ने का काम करने वालों को बदले में (3) _____ भी बहुत कम मिलती है। इतनी (4) _____ से गिरकर कई लोग जान भी गँवा चुके हैं। केरल में अब लोग बंदर पाल रहे हैं। उन्हें नारियल तोड़ने के लिए (5) _____ दिया जा रहा है। हमारे देश में बंदरों की कमी नहीं है। इन्हें नारियल तोड़कर लाने की ट्रेनिंग देने के लिए स्कूल भी खोले गए हैं।

SubQuestion No : 25

Q.25 गद्यांश के रिक्त स्थान (5) के लिए सर्वाधिक उपयुक्त शब्द होगा-

- Ans** 1. प्रशिक्षण
 2. अनुरक्षण
 3. विकास
 4. कौशल

Question ID : 65497832656

Status : Answered

Chosen Option : 1

Constable GD in CAPFs NIA SSF and Rifleman GD in Assam Rifles Examination 2021

Roll Number	www.HaryanaJobs.in
Candidate Name	www.HaryanaJobs.in
Venue Name	Jaipur Engineering College
Exam Date	25/11/2021
Exam Time :	4:00 PM - 5:30 PM
Subject	Constable GD 2021

Section : Part A General Intelligence and Reasoning

Q.1 एक निश्चित कूट भाषा में, GRAPES को 66 के रूप में लिखा जाता है। उसी भाषा में PRAISE को किस रूप में लिखा जाएगा?

- Ans
- 1. 69
 - 2. 68
 - 3. 66
 - 4. 67

Question ID : 65497836475
Status : Answered
Chosen Option : 2

Q.2 जिस प्रकार 'ऑस्ट्रेलिया' 'कैनबरा' से संबंधित है, उसी प्रकार 'फ्रांस' ' _____ ' से संबंधित है।

- Ans
- 1. जकार्ता
 - 2. रोम
 - 3. मास्को
 - 4. पेरिस

Question ID : 65497836484
Status : Answered
Chosen Option : 4

Q.3 यदि '+' और '-' तथा संख्या '5' और '7' (अंक नहीं) को आपस में बदल दिया जाए, तो निम्नलिखित व्यंजक का मान कितना होगा?

$$18 - 20 \div 7 \times (15 + 5) + 3$$

- Ans
- 1. 35
 - 2. 12
 - 3. 47
 - 4. 28

Question ID : 65497836480
Status : Answered
Chosen Option : 3

Q.4 चार मित्र K, L, M और N एक पंक्ति में बैठे हैं, और उनके मुँह दक्षिण दिशा की ओर हैं। L और M दो अंतिम छोरों पर बैठे हैं। K, L और N के बीच बैठा है और M के दाएँ दूसरा है। K के ठीक बाएँ कौन बैठा है?

- Ans
- 1. L
 - 2. K
 - 3. M
 - 4. N

Question ID : 65497836485

Status : Answered

Chosen Option : 4

Q.5 एक संयुक्त परिवार में 8 सदस्य P, Q, R, S, T, U, V और W हैं। Q, S का भाई है। V, Q और R का बेटा है। S, U का भाई है। W, S और T की बेटी है। P, V की पत्नी है। R का संबंध P के साथ किस रूप में है?

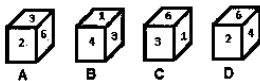
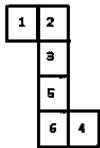
- Ans
- 1. बहन
 - 2. चाची
 - 3. माँ
 - 4. सास

Question ID : 65497836469

Status : Answered

Chosen Option : 4

Q.6 उस बक्से का चयन करें, जिसे निम्नांकित पत्रक (शीट) को रेखाओं पर मोड़ने पर प्राप्त किया जा सकता है।



- Ans
- 1. केवल B
 - 2. A और C
 - 3. A और D
 - 4. केवल D

Question ID : 65497836481

Status : Answered

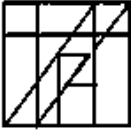
Chosen Option : 4

Q.7 उस विकल्प का चयन करें जिसमें दी गई आकृति अंतर्निहित है (घुमाने की अनुमति नहीं है)।

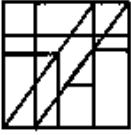


Ans

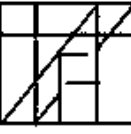
✓ 1.



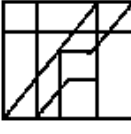
✗ 2.



✗ 3.



✗ 4.



Question ID : 65497836482

Status : Answered

Chosen Option : 1

Q.8 चार अक्षर-समूह दिए गए हैं, जिनमें से तीन किसी तरह से एक समान हैं और एक भिन्न है। उस अक्षर-समूह का चयन करें जो भिन्न है।

Ans ✗ 1. BDF

✗ 2. PRT

✓ 3. GJL

✗ 4. TVX

Question ID : 65497836474

Status : Answered

Chosen Option : 3

Q.9 दिए गए कथनों और निष्कर्षों को ध्यानपूर्वक पढ़ें। कथनों में दी गई जानकारी को सत्य मानते हुए विचार करें, भले ही वह सामान्यतः ज्ञात तथ्यों से भिन्न प्रतीत होती हो, और तय करें कि दिए गए निष्कर्षों में से कौन-सा/ से कथनों का तार्किक रूप से पालन करता है/करते हैं।

कथन:

सभी गीतकार मॉर्निंग-वाकर हैं।

कोई लेखाकार स्नातक नहीं है।

सभी मॉर्निंग-वॉकर लेखाकार हैं।

निष्कर्ष:

I. कोई गीतकार स्नातक नहीं है।

II. कुछ गीतकार स्नातक हैं।

Ans

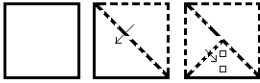
- ✓ 1. केवल निष्कर्ष I पालन करता है।
 ✗ 2. न तो निष्कर्ष I और न ही II पालन करता है।
 ✗ 3. या तो निष्कर्ष I या II पालन करता है।
 ✗ 4. केवल निष्कर्ष II पालन करता है।

Question ID : 65497836488

Status : Answered

Chosen Option : 3

Q.10 कागज के एक टुकड़े को मोड़ने के क्रम और मुड़े हुए कागज को काटने के तरीके को निम्नलिखित आकृतियों में दर्शाया गया है। खोलने पर, यह कागज कैसा दिखाई देगा?



Ans

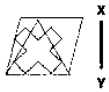
- ✗ 1.
- ✓ 2.
- ✗ 3.
- ✗ 4.

Question ID : 65497836491

Status : Answered

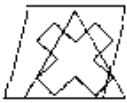
Chosen Option : 2

Q.11 दी गई आकृति के उस सही दर्पण प्रतिबिंब का चयन करें, जो दर्पण को 'XY' पर रखने पर बनेगा।



Ans

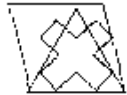
✗ 1.



✗ 2.



✓ 3.



✗ 4.



Question ID : 65497836477
Status : Answered
Chosen Option : 3

Q.12 दिए गए विकल्पों में से उस संख्या का चयन कीजिए जो निम्न श्रेणी में प्रश्नवाचक चिह्न (?) के स्थान पर आएगी।

100, 96, 88, 76, 60, ?

Ans ✓ 1. 40

✗ 2. 20

✗ 3. 38

✗ 4. 35

Question ID : 65497836472
Status : Answered
Chosen Option : 1

Q.13 एक टेलीविजन को ₹8,820 के मूल्य पर बेचने से 12% लाभ अर्जित हुआ। यदि टेलीविजन को 24% की हानि पर बेचा जाता है, तो उसका विक्रय मूल्य क्या होगा?

Ans ✓ 1. ₹5,985

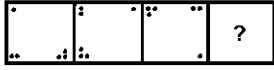
✗ 2. ₹6,930

✗ 3. ₹5,940

✗ 4. ₹6,205

Question ID : 65497836490
Status : Answered
Chosen Option : 1

Q.14 दिए गए विकल्पों में से उस आकृति का चयन कीजिए जो निम्नांकित आकृति श्रेणी में प्रश्नवाचक चिह्न (?) के स्थान पर आ सकती है।



Ans

✗ 1.



✗ 2.



✗ 3.



✓ 4.



Question ID : 65497836473

Status : Answered

Chosen Option : 4

Q.15 सात मित्र एक वृत्ताकार मेज पर केंद्र की ओर मुँह किए हुए बैठे हैं। A, B के बाएँ दूसरे स्थान पर बैठा है। C, B और G के बीच बैठा है। D, C के बाएँ दूसरे स्थान पर बैठा है। E जो G के दाएँ दूसरे स्थान पर बैठा है, A और F के बीच बैठा है। G के बाएँ दूसरे स्थान पर कौन बैठा है?

Ans ✗ 1. E

✗ 2. A

✗ 3. D

✓ 4. B

Question ID : 65497836478

Status : Answered

Chosen Option : 4

Q.16 उस विकल्प का चयन करें जो चौथी संख्या से उसी प्रकार संबंधित है, जिस प्रकार पहली संख्या दूसरी संख्या से संबंधित है।

625 : 25 :: ? : 35

Ans ✗ 1. 756

✓ 2. 875

✗ 3. 927

✗ 4. 1025

Question ID : 65497836479

Status : Answered

Chosen Option : 2

Q.17 दिए गए विकल्पों में से उस अक्षर-समूह का चयन करें, जो निम्नलिखित श्रृंखला में प्रश्नवाचक चिह्न (?) के स्थान पर आ सकता है।

BZE, CWG, ESI, ?, LHM

- Ans
- ✓ 1. HNK
 - ✗ 2. GNJ
 - ✗ 3. IML
 - ✗ 4. HMK

Question ID : 65497836483
Status : Answered
Chosen Option : 1

Q.18 वर्गों के उस समूह का चयन करें जिनके बीच के संबंध को निम्नांकित वेन आरेख द्वारा सबसे अधिक उचित तरीके से दर्शाया गया है।



- Ans
- ✗ 1. प्राकृतिक संख्याएँ, पूर्णांक, परिमेय संख्याएँ
 - ✗ 2. मक्का, चावल, गाजर
 - ✓ 3. मानव, पुरुष, राजनेता
 - ✗ 4. भारत, एशिया, बांग्लादेश

Question ID : 65497836486
Status : Answered
Chosen Option : 3

Q.19 वह सही विकल्प चुनें, जो दिए गए शब्दों के उस सही क्रम को दर्शाता है, जिस क्रम में ये शब्द अंग्रेजी शब्दकोश में दिखाई देते हैं।

1. Nebulous
2. Necessary
3. Necrosis
4. Nectarine
5. Negative

- Ans
- ✗ 1. 1, 3, 2, 4, 5
 - ✓ 2. 1, 2, 3, 4, 5
 - ✗ 3. 5, 4, 2, 3, 1
 - ✗ 4. 3, 2, 5, 4, 1

Question ID : 65497836470
Status : Answered
Chosen Option : 2

Q.20 दिए गए विकल्पों में से उस संख्या का चयन करें जो निम्नलिखित श्रृंखला में प्रश्न चिह्न (?) के स्थान पर आ सकती है।

3, 4, 8, 17, 33, ?

- Ans
- 1. 56
 - 2. 69
 - 3. 58
 - 4. 49

Question ID : 65497836476
Status : Answered
Chosen Option : 3

Q.21 एक निश्चित कूट भाषा में, 'NOSE' को 'QPVF' के रूप में लिखा जाता है और 'HAND' को 'KBQE' के रूप में लिखा जाता है। उसी भाषा में 'FACE' को किस रूप में लिखा जाएगा?

- Ans
- 1. KCFF
 - 2. LBFE
 - 3. IBFF
 - 4. JCEE

Question ID : 65497836468
Status : Answered
Chosen Option : 3

Q.22 एक निश्चित कूट भाषा में, 'DECK' को 'WVXP' लिखा जाता है, और 'CLAIM' को 'XOZRN' लिखा जाता है। उसी कूट भाषा में 'MASCOT' को किस प्रकार लिखा जाएगा?

- Ans
- 1. OZHXMG
 - 2. NZHXLG
 - 3. NZHYKH
 - 4. NZGXKG

Question ID : 65497836487
Status : Answered
Chosen Option : 2

Q.23 उस विकल्प का चयन करें जो तीसरे अक्षर-समूह से उसी प्रकार संबंधित है जिस प्रकार दूसरा अक्षर-समूह पहले अक्षर-समूह से संबंधित है।

GPHD : KTLH :: SDFG : ?

- Ans
- 1. XGJL
 - 2. VHKM
 - 3. UHJL
 - 4. WHJK

Question ID : 65497836467
Status : Answered
Chosen Option : 4

Q.24 अक्षरों के उस संयोजन का चयन करें जिसे दी गई श्रृंखला में रिक्त स्थानों पर क्रमिक रूप से रखने पर श्रृंखला पूर्ण हो जाएगी।

S_P__M_S_MP_

- Ans 1. MSPSSS
 2. PSMPPS
 3. MSSPSS
 4. PSMSSS

Question ID : 65497836471
Status : Answered
Chosen Option : 3

Q.25 उस विकल्प का चयन करें, जिसमें दी गई संख्याओं के बीच वही संबंध है, जो दिए गए समुच्चय की संख्याओं के बीच है।

145, 5, 29

- Ans 1. 125, 10, 15
 2. 224, 14, 16
 3. 160, 20, 6
 4. 180, 16, 30

Question ID : 65497836489
Status : Answered
Chosen Option : 2

Section : Part B General Knowledge and General Awareness

Q.1 अंतिम शुंग शासक की हत्या उसके मंत्री वासुदेव ने की थी, जिसने आगे चलकर _____ वंश की स्थापना की।

- Ans 1. काकतीय
 2. कण्व
 3. कलचुरी
 4. कोरवी

Question ID : 65497836516
Status : Answered
Chosen Option : 2

Q.2 निम्नलिखित से किस सूक्ष्मजीव के कारण साइट्रस कैंकर होता है?

- Ans 1. कवक
 2. विषाणु (वायरस)
 3. जीवाणु (बैक्टीरिया)
 4. प्रोटोजोआ

Question ID : 65497836508
Status : Not Answered
Chosen Option : --

Q.3 भारत के संविधान की प्रस्तावना में निम्नलिखित में से कौन सा शब्द सम्मिलित नहीं है?

- Ans 1. पूँजीवादी (Capitalist)
 2. बंधुता (Fraternity)
 3. संप्रभु (Sovereign)
 4. न्याय (Justice)

Question ID : 65497836495
Status : Answered
Chosen Option : 1

Q.4 प्रधान मंत्री नरेंद्र मोदी ने भारत में नोटबंदी की घोषणा किस वर्ष की थी?

- Ans 1. 2018
 2. 2014
 3. 2012
 4. 2016

Question ID : 65497836512
Status : Answered
Chosen Option : 4

Q.5 हसदेव और जोक नदियाँ भारत के किस राज्य में पाई जाती हैं?

- Ans 1. अरुणाचल प्रदेश
 2. छत्तीसगढ़
 3. गोवा
 4. हरियाणा

Question ID : 65497836513
Status : Not Answered
Chosen Option : --

Q.6 नवंबर 2020 में कक्षा (ऑर्बिट) में लॉन्च किए गए स्पेसएक्स क्यू ड्रैगन अंतरिक्ष यान को इसके चालक दल ने _____ नाम दिया था।

- Ans 1. पर्सिस्टेंस
 2. एन्ड्योरेंस
 3. रेसिलिएंस
 4. पेर्सिवेरन्स

Question ID : 65497836511
Status : Answered
Chosen Option : 4

Q.7 कौन से भारतीय कप्तान, सबसे तेज 12000 वनडे रन बनाने वाले क्रिकेटर बने? उन्होंने 2020 में यह उपलब्धि हासिल की।

- Ans
- 1. भुवनेश्वर कुमार
 - 2. रविचंद्रन अश्विन
 - 3. सुरेश रैना
 - 4. विराट कोहली

Question ID : 65497836505
Status : Answered
Chosen Option : 4

Q.8 आर्थिक मामलों की कैबिनेट समिति (CCEA) ने रबी मार्केटिंग अवधि 2022-23 के लिए गेहूं का न्यूनतम समर्थन मूल्य (MSP) _____ प्रति क्विंटल निर्धारित किया है।

- Ans
- 1. ₹1,995
 - 2. ₹1,975
 - 3. ₹2,005
 - 4. ₹2,015

Question ID : 65497836515
Status : Answered
Chosen Option : 2

Q.9 निम्नलिखित में से किसने प्रसिद्ध कोह-ए-नूर हीरा और शाहजहाँ के रत्न जड़ित मयूर सिंहासन को छीन लिया?

- Ans
- 1. मुहम्मद शाह
 - 2. रंजीत सिंह
 - 3. शाह आलम द्वितीय
 - 4. नादिर शाह

Question ID : 65497836494
Status : Answered
Chosen Option : 4

Q.10 युद्ध क्षेत्र में अपने दुश्मनों पर जीत का जश्न मनाने के लिए, नागालैंड की चांग जनजाति कौन-सा नृत्य करती है?

- Ans
- 1. चांग लो
 - 2. नोगक्रेम
 - 3. चेराव
 - 4. भोरताल

Question ID : 65497836506
Status : Answered
Chosen Option : 1

Q.11 ड्यूटेरियम और ट्रिटियम निम्न हैं:

- Ans
- 1. टाइटेनियम के समस्थानिक
 - 2. हाइड्रोजन के समस्थानिक
 - 3. कार्बन के समस्थानिक
 - 4. यूरेनियम के समस्थानिक

Question ID : 65497836498
Status : Answered
Chosen Option : 2

Q.12 कोलकाता में साल्ट लेक स्टेडियम का नामकरण किसके नाम पर किया गया है?

- Ans
- 1. स्वामी विवेकानंद
 - 2. नेताजी सुभाष चंद्र बोस
 - 3. ज्योति बसु
 - 4. गोस्टो पॉल

Question ID : 65497836492
Status : Answered
Chosen Option : 2

Q.13 2011 की जनगणना के अनुसार, निम्नलिखित में से किस राज्य में लिंग अनुपात (प्रति 1000 पुरुषों की तुलना में महिलाएँ) 1000 से अधिक है?

- Ans
- 1. बिहार
 - 2. केरल
 - 3. राजस्थान
 - 4. महाराष्ट्र

Question ID : 65497836501
Status : Answered
Chosen Option : 2

Q.14 1845-46 ईस्वी की अवधि के दौरान निम्नलिखित में से कौन सी लड़ाई लड़ी गई थी?

- Ans
- 1. द्वितीय आंग्ल-सिख युद्ध
 - 2. द्वितीय आंग्ल-मराठा युद्ध
 - 3. प्रथम आंग्ल-मराठा युद्ध
 - 4. प्रथम आंग्ल-सिख युद्ध

Question ID : 65497836499
Status : Not Answered
Chosen Option : --

Q.15 मई 2021 में, अंतर्राष्ट्रीय ओलंपिक समिति ने प्रतियोगिता में हेरफेर को रोकने के उद्देश्य से संचालित अपने 'बिलीव इन स्पोर्ट (Believe in Sport)' अभियान के लिए _____ को एथलीट एंबेसडर के रूप में नामित किया।

- Ans
- 1. मनिका बत्रा
 - 2. PV सिंधु
 - 3. साइखोम मीराबाई चानू
 - 4. मैरी कॉम

Question ID : 65497836514
Status : Answered
Chosen Option : 2

Q.16 निम्नलिखित में से कौन सा जहरीला पौधा नहीं है?

- Ans
- 1. पार्थेनियम
 - 2. नेरियम ओलियंडर
 - 3. ड्रेसीना
 - 4. कैलोट्रोपिस

Question ID : 65497836507
Status : Not Answered
Chosen Option : --

Q.17 ज्ञानपीठ पुरस्कार पहली बार किस वर्ष में प्रदान किया गया था?

- Ans
- 1. 1965
 - 2. 1957
 - 3. 1961
 - 4. 1963

Question ID : 65497836504
Status : Answered
Chosen Option : 1

Q.18 भारतीय दंड संहिता की धारा 304B _____ से संबंधित है।

- Ans
- 1. लापरवाही से हुई मृत्यु
 - 2. आत्महत्या करने का प्रयास
 - 3. आत्महत्या का दुष्प्रेरण
 - 4. दहेज हत्या

Question ID : 65497836510
Status : Not Answered
Chosen Option : --

Q.19 चिल्का झील जोकि भारत की सबसे बड़ी खारे पानी की झील है, किस राज्य में स्थित है?

- Ans
- 1. आंध्र प्रदेश
 - 2. ओडिशा
 - 3. छत्तीसगढ़
 - 4. पश्चिम बंगाल

Question ID : 65497836503
Status : Answered
Chosen Option : 2

Q.20 निम्नलिखित में से कौन सा स्मारक खिलजी राजवंश द्वारा बनवाया गया था?

- Ans
- 1. बड़ा गुंबद
 - 2. सफदरजंग का मकबरा
 - 3. अलाई दरवाजा
 - 4. शीश गुंबद

Question ID : 65497836502
Status : Answered
Chosen Option : 3

Q.21 किस राज्य सरकार ने नवंबर 2020 में छोटे व्यापारियों और कारीगरों को ब्याज मुक्त ऋण प्रदान करने के लिए 'जगनन्ना थोड़' योजना शुरू की थी?

- Ans
- 1. पश्चिम बंगाल
 - 2. आंध्र प्रदेश
 - 3. केरल
 - 4. तेलंगाना

Question ID : 65497836497
Status : Answered
Chosen Option : 2

Q.22 1968 में भारत सरकार द्वारा प्रदत्त साहित्य अकादमी अध्येतावृत्ति पाने वाले प्रथम व्यक्ति कौन थे?

- Ans
- 1. वी.एस. नायपॉल
 - 2. सी. नारायण रेड्डी
 - 3. एस. राधाकृष्णन
 - 4. एस.एल. भयरप्पा

Question ID : 65497836509
Status : Answered
Chosen Option : 1

Q.23 अगस्त 2020 में, केंद्र सरकार ने ट्रांसजेंडर व्यक्तियों (अधिकारों का संरक्षण) अधिनियम, 2019 की धारा द्वारा प्रदत्त अधिकारों का प्रयोग करके ट्रांसजेंडर लोगों के लिए राष्ट्रीय परिषद का गठन किया है।

- Ans
- 1. 22
 - 2. 25
 - 3. 18
 - 4. 16

Question ID : 65497836496
Status : Not Answered
Chosen Option : --

Q.24 'महानवमी डिब्बा' का ऐतिहासिक महत्व निम्नलिखित में से किस राजवंश से जुड़ा है?

- Ans
- 1. चौहान
 - 2. चोल
 - 3. पांड्य
 - 4. विजयनगर

Question ID : 65497836493
Status : Not Answered
Chosen Option : --

Q.25 निम्नलिखित में से किन राज्यों में 5वें आयुर्वेद दिवस पर दो आयुर्वेद संस्थान आरंभ किए गए थे?

- Ans
- 1. उत्तर प्रदेश और आंध्र प्रदेश
 - 2. राजस्थान और गुजरात
 - 3. पंजाब और हरियाणा
 - 4. महाराष्ट्र और कर्नाटक

Question ID : 65497836500
Status : Not Answered
Chosen Option : --

Section : Part C Elementary Mathematics

Q.1 एक डेयरी मालिक प्रतिदिन 3 किस्मों - फुल क्रीम, टॉड और डबल टॉड - के एक लीटर के पैकेटों में 528 लीटर दूध बेचता है। टॉड दूध के पैकेटों की बिक्री, फुल क्रीम दूध के पैकेटों की तुलना में 80% अधिक है, और डबल टॉड दूध के पैकेटों की बिक्री, टॉड दूध के पैकेटों की तुलना में 60% कम है। वह प्रतिदिन डबल टॉड दूध के कितने पैकेट बेचता है?

- Ans
- 1. 100
 - 2. 112
 - 3. 108
 - 4. 110

Question ID : 65497836540
Status : Answered
Chosen Option : 3

Q.2 A, B और C तीन संख्याएं हैं। A, B से 45% अधिक है और C, A से 60% कम है। B, C से कितने प्रतिशत (निकटतम पूर्णांक तक) अधिक है?

- Ans
- ✓ 1. 72%
 - ✗ 2. 42%
 - ✗ 3. 70%
 - ✗ 4. 68%

Question ID : 65497836533
Status : Answered
Chosen Option : 1

Q.3 ₹75,000 की धनराशि का, वार्षिक आधार पर चक्रवृद्धि होने वाली एक निश्चित वार्षिक ब्याज दर पर 2 वर्षों में प्राप्त चक्रवृद्धि ब्याज ₹6,120 है। यदि ब्याज त्रैमासिक आधार पर चक्रवृद्धि होता है, तो ₹1,00,000 की धनराशि की उसी ब्याज दर पर एक वर्ष के बाद प्राप्त धनराशि (₹ में, दशमलव के दो स्थानों तक सही) कितनी होगी?

- Ans
- ✗ 1. 1,06,040.20
 - ✗ 2. 1,00,400.60
 - ✗ 3. 1,40,060.50
 - ✓ 4. 1,04,060.40

Question ID : 65497836520
Status : Answered
Chosen Option : 4

Q.4 यदि केलों को ₹7 प्रति केले के बजाय ₹10 प्रति केले के मूल्य पर बेचा जाता है, तो कुछ केलों के विक्रय मूल्यों के बीच का अंतर ₹990 है। यदि सभी केलों का क्रय मूल्य ₹1,980 है, और यदि अर्जित लाभ 18% है, तो दस केलों का विक्रय मूल्य (₹ में) कितना होगा?

- Ans
- ✗ 1. 90.20
 - ✗ 2. 60.00
 - ✓ 3. 70.80
 - ✗ 4. 99.00

Question ID : 65497836519
Status : Answered
Chosen Option : 3

Q.5 दुकानदार ने एक वस्तु की कीमत इस प्रकार अंकित की जिससे वह उसके क्रय मूल्य पर 30% का लाभ अर्जित करे। फिर उसने अंकित मूल्य पर 12% की छूट पर इसे बेच दिया। उसके द्वारा अर्जित वास्तविक प्रतिशत लाभ ज्ञात करें।

- Ans
- ✓ 1. 14.4%
 - ✗ 2. 13.8%
 - ✗ 3. 14.2%
 - ✗ 4. 15.2%

Question ID : 65497836532
Status : Answered
Chosen Option : 1

Q.6 10 और 20 के बीच 3 के पहले तीन गुणजों के औसत और 4 के पहले 2 गुणजों के औसत के बीच का अंतर ज्ञात करें।

- Ans
- 1. 2
 - 2. 4
 - 3. 3
 - 4. 1

Question ID : 65497836528
Status : Answered
Chosen Option : 4

Q.7 यदि 51, x , 72 और 96 समानुपाती हैं, तो $(2x+8)$ और $(x+13)$ के बीच मध्यानुपात कितना होगा?

- Ans
- 1. 117
 - 2. 108
 - 3. 112
 - 4. 96

Question ID : 65497836536
Status : Answered
Chosen Option : 2

Q.8 यदि $A : B = 8 : 9$ और $B : C = 12 : 55$ है, तो $A : B : C$ का मान क्या है?

- Ans
- 1. 36 : 32 : 165
 - 2. 32 : 36 : 156
 - 3. 32 : 36 : 165
 - 4. 32 : 165 : 36

Question ID : 65497836517
Status : Answered
Chosen Option : 3

Q.9 एक निश्चित धनराशि, एकसमान वार्षिक साधारण ब्याज दर से 4 वर्ष में ₹12,420 और 7 वर्ष में ₹14,985 हो जाती है। वह धनराशि कितनी है?

- Ans
- 1. ₹8,400
 - 2. ₹9,000
 - 3. ₹9,500
 - 4. ₹8,800

Question ID : 65497836537
Status : Answered
Chosen Option : 2

Q.10 एक वृत्ताकार भूखंड का परिमाण 440 m है। इसके परितः 5 m चौड़ा वृत्ताकार पथ है। पथ का क्षेत्रफल (m² में, $\pi = \frac{22}{7}$ मानते हुए) लगभग कितना होगा?

- Ans
- 1. 2121.4
 - 2. 2278.6
 - 3. 1822.9
 - 4. 1964.3

Question ID : 65497836538
Status : Answered
Chosen Option : 2

Q.11 18 m लंबी, 10 m ऊंची और 40 cm चौड़ी एक दीवार को 30 cm, 15 cm और 10 cm की विमाओं वाली ईंटों का उपयोग करके निर्मित करना है। कितनी ईंटों (हजारों में) की आवश्यकता होगी?

- Ans
- 1. 14
 - 2. 16000
 - 3. 16
 - 4. 14000

Question ID : 65497836518
Status : Answered
Chosen Option : 2

Q.12 पहली चार अभाज्य संख्याओं के लघुत्तम समापवर्त्य (LCM) का, पहली तीन भाज्य संख्याओं के महत्तम समापवर्तक (HCF) से अनुपात ज्ञात करें।

- Ans
- 1. 26 : 1
 - 2. 105 : 1
 - 3. 6 : 1
 - 4. 168 : 1

Question ID : 65497836527
Status : Answered
Chosen Option : 2

Q.13 $10 - [378 \div 6 \text{ of } 9 - (25 - 72 \div 3)]$ का मान कितना होगा?

- Ans
- 1. 3
 - 2. 1
 - 3. 4
 - 4. 9

Question ID : 65497836521
Status : Answered
Chosen Option : 3

Q.14 दुकानदार A, ₹500 के अंकित मूल्य पर 8% और 12% की दो क्रमिक छूट देता है। एक अन्य दुकानदार B, उसी अंकित मूल्य वाली उसी वस्तु पर 20% की एकल छूट देता है। उनके विक्रय मूल्यों में अंतर ज्ञात करें।

- Ans
- 1. ₹4.40
 - 2. ₹5.20
 - 3. ₹3.20
 - 4. ₹4.80

Question ID : 65497836526
Status : Answered
Chosen Option : 4

Q.15 वह छोटी से छोटी संख्या कौन सी है, जो 4 से 9 तक की सभी संख्याओं से विभाज्य है?

- Ans
- 1. 2540
 - 2. 1520
 - 3. 2520
 - 4. 840

Question ID : 65497836539
Status : Answered
Chosen Option : 3

Q.16 एक निश्चित धनराशि के लिए, 5% वार्षिक ब्याज दर पर, 2 वर्ष के साधारण ब्याज (SI) और वार्षिक रूप से चक्रवृद्धि होने वाले चक्रवृद्धि ब्याज (CI) के बीच का अंतर ₹25.00 है। वह धनराशि ज्ञात करें।

- Ans
- 1. ₹7,500
 - 2. ₹12,000
 - 3. ₹8,000
 - 4. ₹10,000

Question ID : 65497836530
Status : Answered
Chosen Option : 4

Q.17 एक वस्तु को ₹2,900 में बेचकर एक दुकानदार 16% का लाभ अर्जित करता है। यदि उसने इसे ₹3,050 में बेचा होता, तो उसका प्रतिशत लाभ क्या होता?

- Ans
- 1. 21%
 - 2. 20%
 - 3. 22%
 - 4. 20.5%

Question ID : 65497836541
Status : Answered
Chosen Option : 3

Q.18 ₹7,800 की राशि को A, B और C में इस प्रकार विभाजित किया जाता है कि B का हिस्सा A के हिस्से का $\frac{1}{3}$ है और C का हिस्सा B के हिस्से से 20% अधिक है। A का हिस्सा ज्ञात करें।

- Ans
- ✓ 1. ₹4,500
 - ✗ 2. ₹3,000
 - ✗ 3. ₹1,500
 - ✗ 4. ₹2,500

Question ID : 65497836529
Status : Answered
Chosen Option : 1

Q.19 A और B मिलकर किसी कार्य को 24 दिनों में पूरा कर सकते हैं। B और C मिलकर इसे 30 दिनों में पूरा कर सकते हैं। यदि A की दक्षता C की तुलना में दोगुनी है, तो B अकेले उसी कार्य को पूरा करने के लिए कितने दिनों का समय लेगा?

- Ans
- ✓ 1. 40
 - ✗ 2. 48
 - ✗ 3. 36
 - ✗ 4. 30

Question ID : 65497836534
Status : Answered
Chosen Option : 1

Q.20 समान लंबाई की दो ट्रेनें A और B समानांतर पटरियों पर एक ही दिशा में क्रमशः 64.8 km/h और 50.4 km/h की चाल से चल रही हैं। ट्रेन A, ट्रेन B को एक मिनट में पार करती है। प्रत्येक ट्रेन की लंबाई (m में) ज्ञात करें।

- Ans
- ✗ 1. 125
 - ✗ 2. 100
 - ✓ 3. 120
 - ✗ 4. 150

Question ID : 65497836535
Status : Answered
Chosen Option : 3

Q.21 कोई व्यक्ति 1000 m लंबा पुल 6 min में पार करता है। उसकी चाल (km/h में) कितनी है?

- Ans
- ✗ 1. 16
 - ✓ 2. 10
 - ✗ 3. 8
 - ✗ 4. 12

Question ID : 65497836525
Status : Answered
Chosen Option : 2

Q.22 $72 - [20 - \{10 - (6 - \overline{6-4})\}]$ का मान कितना है?

- Ans 1. 58
 2. 48
 3. 56
 4. 44

Question ID : 65497836524
Status : Answered
Chosen Option : 1

Q.23 एक व्यक्ति ने एक पुरानी वस्तु ₹5,400 में खरीदी और उसकी मरम्मत पर ₹200 खर्च किए। उसने इसे ₹6,300 में बेच दिया। उसका लाभ प्रतिशत क्या है?

- Ans 1. 10
 2. 12.5
 3. 14
 4. 12

Question ID : 65497836522
Status : Answered
Chosen Option : 2

Q.24 23 छात्रों का औसत भार 53 kg दर्ज किया गया था। एक शिक्षक का भार भी शामिल करने पर, औसत भार में 100 g की वृद्धि हुई। शिक्षक का भार (kg में) ज्ञात करें।

- Ans 1. 56.2
 2. 55.8
 3. 55.4
 4. 56.4

Question ID : 65497836531
Status : Answered
Chosen Option : 3

Q.25 B किसी कार्य को पूरा करने के लिए, A द्वारा लिए गए दिनों की संख्या का पाँच गुना लेता है। एक साथ काम करके, वे काम को 15 दिनों में पूरा कर देते हैं। उसी काम को पूरा करने में अकेले A को कितने दिन लगेंगे?

- Ans 1. 18
 2. 12
 3. 20
 4. 16

Question ID : 65497836523
Status : Answered
Chosen Option : 1

Q.1 Select the option that can be used as a one-word substitute for the given group of words.

Lack of feeling

- Ans**
- 1. Empathy
 - 2. Apathy
 - 3. Telepathy
 - 4. Sympathy

Question ID : 65497836548
Status : Not Answered
Chosen Option : --

Q.2 Select the most appropriate meaning of the given idiom.

Gift of the gab

- Ans**
- 1. Ability to draw sketches
 - 2. Ability to speak in a sarcastic tone
 - 3. Ability to speak confidently and clearly
 - 4. Ability to please others

Question ID : 65497836552
Status : Not Answered
Chosen Option : --

Q.3 The following sentence has been split into four segments. Identify the segment that contains a grammatical error.

The teacher punished him / and told him / that he does not / need to give a clarification.

- Ans**
- 1. need to give a clarification
 - 2. The teacher punished him
 - 3. that he does not
 - 4. and told him

Question ID : 65497836550
Status : Not Answered
Chosen Option : --

Q.4 Select the most appropriate synonym of the given word.

Immerse

- Ans**
- 1. Immediate
 - 2. Submerge
 - 3. Submission
 - 4. Immoral

Question ID : 65497836556
Status : Not Answered
Chosen Option : --

Q.5 Select the most appropriate option to fill in the blank.

If you do not pay your _____ you will be imprisoned.

- Ans
- 1. debt
 - 2. debit
 - 3. deed
 - 4. damage

Question ID : 65497836561
Status : Not Answered
Chosen Option : --

Q.6 Parts of the given sentence have been given as options. One of them contains a grammatical error. Select the option that has the error.

Go to the ninth block on the left-hand side and take a sharpest turn to reach Bunny's house on the right.

- Ans
- 1. Bunny's house
 - 2. on the right
 - 3. Go to the ninth block
 - 4. take a sharpest turn

Question ID : 65497836555
Status : Not Answered
Chosen Option : --

Q.7 Select the INCORRECTLY spelt word.

- Ans
- 1. Accuse
 - 2. Progress
 - 3. Acclame
 - 4. Vicious

Question ID : 65497836549
Status : Not Answered
Chosen Option : --

Q.8 Select the most appropriate option that can substitute the underlined segment in the given sentence. If there is no need to substitute it, select 'No substitution required'.

Skydiving was a rare opportunity that I had got, so, even though I was exhausted, I decided to go for it.

- Ans
- 1. No substitution required
 - 2. so despite however
 - 3. as yet though
 - 4. still even if

Question ID : 65497836542
Status : Not Answered
Chosen Option : --

Q.9 The following sentence has been split into four segments. Identify the segment that contains a grammatical error.

Philip was / too proud / for extending / a hand of friendship.

- Ans**
- 1. too proud
 - 2. a hand of friendship
 - 3. Philip was
 - 4. for extending

Question ID : 65497836546
Status : Not Answered
Chosen Option : --

Q.10 Select the most appropriate option that can substitute the underlined segment in the given sentence. If there is no need to substitute it, select 'No substitution required'.

The interviews will be held between 11 a.m. to 5 p.m.

- Ans**
- 1. will hold during
 - 2. will be held from
 - 3. No substitution required
 - 4. will be held at

Question ID : 65497836544
Status : Not Answered
Chosen Option : --

Q.11 Select the most appropriate ANTONYM of the given word.

Aggressive

- Ans**
- 1. Calm
 - 2. Excited
 - 3. Sharp
 - 4. Simple

Question ID : 65497836558
Status : Not Answered
Chosen Option : --

Q.12 Select the most appropriate ANTONYM of the given word.

Frivolous

- Ans**
- 1. Quiet
 - 2. Petty
 - 3. Wise
 - 4. Idle

Question ID : 65497836547
Status : Not Answered
Chosen Option : --

Q.13 Select the most appropriate option to fill in the blank.

The _____ cannot be a panacea for all respiratory infections.

- Ans
- 1. care
 - 2. healing
 - 3. treatment
 - 4. diagnosis

Question ID : 65497836543
Status : Not Answered
Chosen Option : --

Q.14 Select the most appropriate meaning of the given idiom.

Blue blood

- Ans
- 1. Noble birth
 - 2. Rare sight
 - 3. Bad mood
 - 4. Weak person

Question ID : 65497836560
Status : Not Answered
Chosen Option : --

Q.15 Select the option that can be used as a one-word substitute for the given group of words.

A person who takes care of cattle

- Ans
- 1. Gardener
 - 2. Landlord
 - 3. Guard
 - 4. Cowherd

Question ID : 65497836545
Status : Not Answered
Chosen Option : --

Q.16 Select the most appropriate synonym of the given word.

Amiable

- Ans
- 1. Dishonest
 - 2. Disagreeable
 - 3. Honest
 - 4. Friendly

Question ID : 65497836551
Status : Not Answered
Chosen Option : --

Q.17 Select the most appropriate option to fill in the blank.

He has been _____ in his performance throughout.

- Ans
- 1. consistent
 - 2. constructive
 - 3. conducive
 - 4. connotative

Question ID : 65497836554
Status : Not Answered
Chosen Option : --

Q.18 Select the option that will improve the underlined part of the given sentence. In case no improvement is needed, select 'No improvement required'.

Since he is strong, he is quite timid.

- Ans
- 1. Although
 - 2. No improvement required
 - 3. Because
 - 4. Besides

Question ID : 65497836559
Status : Not Answered
Chosen Option : --

Q.19 Select the INCORRECTLY spelt word.

- Ans
- 1. Proactivity
 - 2. Pronunciation
 - 3. Procrastination
 - 4. Prolong

Question ID : 65497836553
Status : Not Answered
Chosen Option : --

Q.20 Select the option that can be used as a one-word substitute for the given group of words.

The action of killing oneself intentionally

- Ans
- 1. Suicide
 - 2. Parricide
 - 3. Genocide
 - 4. Homicide

Question ID : 65497836557
Status : Not Answered
Chosen Option : --

Comprehension:

In the following passage, some words have been deleted. Read the passage carefully and select the most appropriate option to fill in each blank.

The human skeleton is the (1)_____ framework of our body. It gives shape and support to the body. (2)_____, it provides protection, makes blood cells, stores minerals and regulates hormones. The spinal cord is an (3)_____ part of our body. The ribcage protects our lungs and heart. To increase the (4)_____ of our bones, we should include calcium in our diet. All our (5)_____ organs are protected by this skeletal system.

SubQuestion No : 21

Q.21 Select the most appropriate option to fill in blank no. 1.

- Ans** 1. middle
 2. internal
 3. external
 4. superficial

Question ID : 65497836563

Status : Not Answered

Chosen Option : --

Comprehension:

In the following passage, some words have been deleted. Read the passage carefully and select the most appropriate option to fill in each blank.

The human skeleton is the (1)_____ framework of our body. It gives shape and support to the body. (2)_____, it provides protection, makes blood cells, stores minerals and regulates hormones. The spinal cord is an (3)_____ part of our body. The ribcage protects our lungs and heart. To increase the (4)_____ of our bones, we should include calcium in our diet. All our (5)_____ organs are protected by this skeletal system.

SubQuestion No : 22

Q.22 Select the most appropriate option to fill in blank no. 2.

- Ans** 1. Beside
 2. Besides
 3. Unless
 4. Although

Question ID : 65497836564

Status : Not Answered

Chosen Option : --

Comprehension:

In the following passage, some words have been deleted. Read the passage carefully and select the most appropriate option to fill in each blank.

The human skeleton is the (1)_____ framework of our body. It gives shape and support to the body. (2)_____, it provides protection, makes blood cells, stores minerals and regulates hormones. The spinal cord is an (3)_____ part of our body. The ribcage protects our lungs and heart. To increase the (4)_____ of our bones, we should include calcium in our diet. All our (5)_____ organs are protected by this skeletal system.

SubQuestion No : 23

Q.23 Select the most appropriate option to fill in blank no. 3.

- Ans**
- 1. eternal
 - 2. insignificant
 - 3. alert
 - 4. important

Question ID : 65497836565

Status : Not Answered

Chosen Option : --

Comprehension:

In the following passage, some words have been deleted. Read the passage carefully and select the most appropriate option to fill in each blank.

The human skeleton is the (1)_____ framework of our body. It gives shape and support to the body. (2)_____, it provides protection, makes blood cells, stores minerals and regulates hormones. The spinal cord is an (3)_____ part of our body. The ribcage protects our lungs and heart. To increase the (4)_____ of our bones, we should include calcium in our diet. All our (5)_____ organs are protected by this skeletal system.

SubQuestion No : 24

Q.24 Select the most appropriate option to fill in blank no. 4.

- Ans**
- 1. ability
 - 2. strength
 - 3. value
 - 4. length

Question ID : 65497836566

Status : Not Answered

Chosen Option : --

Comprehension:

In the following passage, some words have been deleted. Read the passage carefully and select the most appropriate option to fill in each blank.

The human skeleton is the (1)_____ framework of our body. It gives shape and support to the body. (2)_____, it provides protection, makes blood cells, stores minerals and regulates hormones. The spinal cord is an (3)_____ part of our body. The ribcage protects our lungs and heart. To increase the (4)_____ of our bones, we should include calcium in our diet. All our (5)_____ organs are protected by this skeletal system.

SubQuestion No : 25

Q.25 Select the most appropriate option to fill in blank no. 5.

Ans 1. fundamental

2. secondary

3. secret

4. vital

Question ID : 65497836567

Status : Not Answered

Chosen Option : --

Section : **Part D Hindi**

Q.1 दिये गये वाक्य में रेखांकित अंश को प्रतिस्थापित करने के लिए सबसे उपयुक्त विकल्प का चयन करें।

सब लोग अपनी राय दें।

Ans 1. अपना

2. अपनी-अपनी

3. अपना-अपना

4. अपने

Question ID : 65497836581

Status : Answered

Chosen Option : 2

Q.2 निम्नलिखित प्रश्न में, दिए गए चार विकल्पों में से, उस विकल्प का चयन करें जो मुहावरे का अर्थ व्यक्त करता है।

गर्दन उठाना

Ans 1. होश संभालना

2. विरोध करना

3. चुप कराना

4. लज्जित करना

Question ID : 65497836578

Status : Answered

Chosen Option : 2

Q.3 दिए गए वाक्य में रेखांकित खंड को प्रतिस्थापित करने के लिए सबसे उपयुक्त विकल्प का चयन करें। यदि इसे प्रतिस्थापित करने की आवश्यकता नहीं है, तो विकल्प 'किसी बदलाव की आवश्यकता नहीं है' का चयन करें।

गुरू जी की औदार्य की लोग प्रशंसा करते हैं।

- Ans
- 1. किसी बदलाव की आवश्यकता नहीं है।
 - 2. के औदार्य की लोग प्रशंसा करते है।
 - 3. के औदार्य की लोग प्रशंसा करते हैं।
 - 4. की औदार्य का लोग प्रशंसा करते हैं।

Question ID : 65497836571
Status : Answered
Chosen Option : 3

Q.4 जितनी जल्दी हो सके उतनी जल्दी काम कीजिए।

रेखांकित शब्द समूह के स्थान पर उचित शब्द प्रस्थापित कीजिए।

- Ans
- 1. आराम से
 - 2. यथाशीघ्र
 - 3. शांति
 - 4. धीरे -धीरे

Question ID : 65497836583
Status : Answered
Chosen Option : 2

Q.5 दिए गए वाक्य का वो भाग ज्ञात करें जिसमें कोई त्रुटि है। यदि कोई त्रुटि नहीं है, तो 'कोई त्रुटि नहीं है' चुनें।

लोग आपकी (1)\ बुद्धिमत्ता की (2)\ सराहना करते है (3)\ कोई त्रुटि नहीं है (4)

- Ans
- 1. 4
 - 2. 2
 - 3. 1
 - 4. 3

Question ID : 65497836570
Status : Answered
Chosen Option : 1

Q.6 दिये गये वाक्यांश के लिए एक शब्द दीजिये।

जो सब जानता हो

- Ans
- 1. अज्ञ
 - 2. सर्वज्ञ
 - 3. सुज्ञ
 - 4. विज्ञ

Question ID : 65497836577
Status : Answered
Chosen Option : 2

Q.7 रिक्त स्थान को भरने के लिए सबसे उपयुक्त शब्द का चयन करें।

निकम्मे व्यक्ति सदैव ख्याली _____ ही पकाते रहते हैं।

- Ans
- 1. चने
 - 2. चावल
 - 3. खिचड़ी
 - 4. पुलाव

Question ID : 65497836574
Status : Answered
Chosen Option : 3

Q.8 सही वर्तनी वाले शब्द का चयन करें।

- Ans
- 1. आधुनिक
 - 2. आधुनीक
 - 3. अधुनिक
 - 4. आन्धुनिक

Question ID : 65497836580
Status : Answered
Chosen Option : 1

Q.9 दिए गए शब्द का समानार्थी शब्द बताइए।

कथा

- Ans
- 1. आख्यान
 - 2. नाटक
 - 3. गीत
 - 4. उपन्यास

Question ID : 65497836569
Status : Answered
Chosen Option : 4

Q.10 रिक्त स्थान को भरने के लिए सबसे उपयुक्त विकल्प का चयन करें।

तेल का व्यापार उसका खानदानी _____ है।

- Ans
- 1. मन
 - 2. जागीर
 - 3. पेशा
 - 4. शौक

Question ID : 65497836582
Status : Answered
Chosen Option : 3

Q.11 दिए गए शब्द का विलोम चुनें।

ग्राह्य

- Ans 1. अग्राह्य
 2. सुग्राह्य
 3. अपग्राह्य
 4. विग्राह्य

Question ID : 65497836575
Status : Answered
Chosen Option : 4

Q.12 दिये गये वाक्य के किस भाग में त्रुटि है?

हमारी शिक्षा प्रणाली में कई दोष हैं।

- Ans 1. हमारी
 2. दोष हैं।
 3. शिक्षा प्रणाली
 4. में कई

Question ID : 65497836585
Status : Answered
Chosen Option : 3

Q.13 'रजनी' का पर्यायवाची है-

- Ans 1. निशा
 2. शारदा
 3. वसुधा
 4. रमणी

Question ID : 65497836586
Status : Answered
Chosen Option : 1

Q.14 रिक्त स्थान को भरने के लिए सबसे उपयुक्त विकल्प का चयन करें।

निखिल हारमोनियम बजाने में _____ है।

- Ans 1. प्रवीण
 2. दक्ष
 3. निपुण
 4. कारीगर

Question ID : 65497836587
Status : Answered
Chosen Option : 3

Q.15 दिए गए वाक्य का वो भाग ज्ञात करें जिसमें कोई त्रुटि है। यदि कोई त्रुटि नहीं है, तो 'कोई त्रुटि नहीं है' चुनें।

युवराज ने (1)\ एक ओवर में (2)\ छह छक्के लगाया (3)\ कोई त्रुटि नहीं है (4)

- Ans
- 1. 4
 - 2. 1
 - 3. 2
 - 4. 3

Question ID : 65497836568
Status : Answered
Chosen Option : 4

Q.16 सही वर्तनी वाले शब्द का चयन करें।

- Ans
- 1. आशिवादी
 - 2. आशीवाद
 - 3. आशिरवाद
 - 4. आशीर्वाद

Question ID : 65497836579
Status : Answered
Chosen Option : 4

Q.17 'एकाएक घटित होने वाला' वाक्यांश के लिए एक शब्द होगा-

- Ans
- 1. आकस्मिक
 - 2. यांत्रिक
 - 3. तात्कालिक
 - 4. आश्चर्य

Question ID : 65497836584
Status : Answered
Chosen Option : 1

Q.18 दिए गये वाक्यांश के लिए एक शब्द दीजिये।

जिसके समान कोई दूसरा न हो

- Ans
- 1. अद्भुत
 - 2. अद्वितीय
 - 3. अनूठा
 - 4. अनुपम

Question ID : 65497836573
Status : Answered
Chosen Option : 2

Q.19 दिए गए शब्द के विलोम शब्द का चयन करें।

ऐक्य

- Ans 1. अनेक
 2. अनैक्य
 3. मतैक्य
 4. विभाज्य

Question ID : 65497836572
Status : Answered
Chosen Option : 1

Q.20 निम्नलिखित प्रश्न में, दिए गए चार विकल्पों में से, उस विकल्प का चयन करें जो मुहावरे का अर्थ व्यक्त करता है।

गुरु घंटाल होना

- Ans 1. अयोग्य होना
 2. मूर्ख होना
 3. आलसी होना
 4. बहुत धूर्त होना

Question ID : 65497836576
Status : Answered
Chosen Option : 2

Comprehension:

दिए गए गद्यांश में कुछ शब्द हटा दिए गए हैं। दिए गए विकल्पों की सहायता से रिक्त स्थान भरें। प्रत्येक संख्या के लिए सबसे उपयुक्त विकल्प का चयन करें।

अपने इतिहास के अधिकांश कालों में भारत एक सांस्कृतिक इकाई होते हुए भी पारस्परिक युद्धों से (1) _____ होता रहा। यहाँ के शासक अपने शासन-कौशल में धूर्त एवं (2) _____ थे। समय-समय पर यहाँ दुर्भिक्ष, (3) _____ तथा प्लेग के प्रकोप होते रहे, जिससे सहस्रों व्यक्तियों की मृत्यु हुई। (4) _____ असमानता धर्मसंगत मानी गई, जिसके फलस्वरूप नीच कुल के व्यक्तियों का जीवन (5) _____ बन गया। इन सबके होते हुए भी हमारा विचार है कि पुरातन संसार के किसी भी भाग में मनुष्य के मनुष्य तथा मनुष्य के राज से ऐसे सुंदर एवं मानवीय संबंध नहीं रहे हैं।
गद्यांश के आधार पर उत्तर दीजिए।

SubQuestion No : 21

Q.21 गद्यांश के रिक्त स्थान (1) के लिए सर्वाधिक उपयुक्त शब्द होगा-

- Ans 1. विकसित
 2. जर्जर
 3. पोषित
 4. आप्लावित

Question ID : 65497836589
Status : Answered
Chosen Option : 4

Comprehension:

दिए गए गद्यांश में कुछ शब्द हटा दिए गए हैं। दिए गए विकल्पों की सहायता से रिक्त स्थान भरें। प्रत्येक संख्या के लिए सबसे उपयुक्त विकल्प का चयन करें।

अपने इतिहास के अधिकांश कालों में भारत एक सांस्कृतिक इकाई होते हुए भी पारस्परिक युद्धों से (1) _____ होता रहा। यहाँ के शासक अपने शासन-कौशल में धूर्त एवं (2) _____ थे। समय-समय पर यहाँ दुर्भिक्ष, (3) _____ तथा प्लेग के प्रकोप होते रहे, जिससे सहस्तों व्यक्तियों की मृत्यु हुई। (4) _____ असमानता धर्मसंगत मानी गई, जिसके फलस्वरूप नीच कुल के व्यक्तियों का जीवन (5) _____ बन गया। इन सबके होते हुए भी हमारा विचार है कि पुरातन संसार के किसी भी भाग में मनुष्य के मनुष्य तथा मनुष्य के राज से ऐसे सुंदर एवं मानवीय संबंध नहीं रहे हैं।
गद्यांश के आधार पर उत्तर दीजिए।

SubQuestion No : 22

Q.22 गद्यांश के रिक्त स्थान (2) के लिए सर्वाधिक उपयुक्त शब्द होगा-

- Ans** 1. असावधान
 2. सुरक्षित
 3. सतर्क
 4. सहनशील

Question ID : 65497836590
Status : Answered
Chosen Option : 1

Comprehension:

दिए गए गद्यांश में कुछ शब्द हटा दिए गए हैं। दिए गए विकल्पों की सहायता से रिक्त स्थान भरें। प्रत्येक संख्या के लिए सबसे उपयुक्त विकल्प का चयन करें।

अपने इतिहास के अधिकांश कालों में भारत एक सांस्कृतिक इकाई होते हुए भी पारस्परिक युद्धों से (1) _____ होता रहा। यहाँ के शासक अपने शासन-कौशल में धूर्त एवं (2) _____ थे। समय-समय पर यहाँ दुर्भिक्ष, (3) _____ तथा प्लेग के प्रकोप होते रहे, जिससे सहस्तों व्यक्तियों की मृत्यु हुई। (4) _____ असमानता धर्मसंगत मानी गई, जिसके फलस्वरूप नीच कुल के व्यक्तियों का जीवन (5) _____ बन गया। इन सबके होते हुए भी हमारा विचार है कि पुरातन संसार के किसी भी भाग में मनुष्य के मनुष्य तथा मनुष्य के राज से ऐसे सुंदर एवं मानवीय संबंध नहीं रहे हैं।
गद्यांश के आधार पर उत्तर दीजिए।

SubQuestion No : 23

Q.23 गद्यांश के रिक्त स्थान (3) के लिए सर्वाधिक उपयुक्त शब्द होगा-

- Ans** 1. सूख
 2. अन्न
 3. वस्त्र
 4. बाढ़

Question ID : 65497836591
Status : Answered
Chosen Option : 1

Comprehension:

दिए गए गद्यांश में कुछ शब्द हटा दिए गए हैं। दिए गए विकल्पों की सहायता से रिक्त स्थान भरें। प्रत्येक संख्या के लिए सबसे उपयुक्त विकल्प का चयन करें।

अपने इतिहास के अधिकांश कालों में भारत एक सांस्कृतिक इकाई होते हुए भी पारस्परिक युद्धों से (1) _____ होता रहा। यहाँ के शासक अपने शासन-कौशल में धूर्त एवं (2) _____ थे। समय-समय पर यहाँ दुर्भिक्ष, (3) _____ तथा प्लेग के प्रकोप होते रहे, जिससे सहस्तों व्यक्तियों की मृत्यु हुई। (4) _____ असमानता धर्मसंगत मानी गई, जिसके फलस्वरूप नीच कुल के व्यक्तियों का जीवन (5) _____ बन गया। इन सबके होते हुए भी हमारा विचार है कि पुरातन संसार के किसी भी भाग में मनुष्य के मनुष्य तथा मनुष्य के राज से ऐसे सुंदर एवं मानवीय संबंध नहीं रहे हैं।
गद्यांश के आधार पर उत्तर दीजिए।

SubQuestion No : 24

Q.24 गद्यांश के रिक्त स्थान (4) के लिए सर्वाधिक उपयुक्त शब्द होगा-

- Ans**
- 1. स्थानगत
 - 2. कर्मगत
 - 3. जन्मजात
 - 4. अर्थाधारित

Question ID : 65497836592

Status : Answered

Chosen Option : 3

Comprehension:

दिए गए गद्यांश में कुछ शब्द हटा दिए गए हैं। दिए गए विकल्पों की सहायता से रिक्त स्थान भरें। प्रत्येक संख्या के लिए सबसे उपयुक्त विकल्प का चयन करें।

अपने इतिहास के अधिकांश कालों में भारत एक सांस्कृतिक इकाई होते हुए भी पारस्परिक युद्धों से (1) _____ होता रहा। यहाँ के शासक अपने शासन-कौशल में धूर्त एवं (2) _____ थे। समय-समय पर यहाँ दुर्भिक्ष, (3) _____ तथा प्लेग के प्रकोप होते रहे, जिससे सहस्तों व्यक्तियों की मृत्यु हुई। (4) _____ असमानता धर्मसंगत मानी गई, जिसके फलस्वरूप नीच कुल के व्यक्तियों का जीवन (5) _____ बन गया। इन सबके होते हुए भी हमारा विचार है कि पुरातन संसार के किसी भी भाग में मनुष्य के मनुष्य तथा मनुष्य के राज से ऐसे सुंदर एवं मानवीय संबंध नहीं रहे हैं।
गद्यांश के आधार पर उत्तर दीजिए।

SubQuestion No : 25

Q.25 गद्यांश के रिक्त स्थान (5) के लिए सर्वाधिक उपयुक्त शब्द होगा-

- Ans**
- 1. सम्पन्न
 - 2. अविकसित
 - 3. अभिशाप
 - 4. खुशनुमा

Question ID : 65497836593

Status : Answered

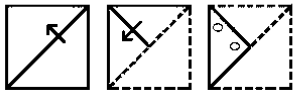
Chosen Option : 3

Constable GD in CAPFs NIA SSF and Rifleman GD in Assam Rifles Examination 2021

Roll Number	www.HaryanaJobs.in
Candidate Name	www.HaryanaJobs.in
Venue Name	ANAND INTERNATIONAL COLLEGE OF ENGINEERING JAIPUR
Exam Date	24/11/2021
Exam Time :	9:00 AM - 10:30 AM
Subject	Constable GD 2021

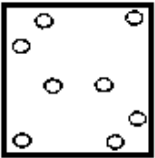
Section : Part A General Intelligence and Reasoning

Q.1 निम्नांकित आकृतियों में एक कागज के टुकड़े को मोड़ने का क्रम और मुड़े हुए कागज को काटने की विधि दर्शाई गई है। यह कागज खोलने पर कैसा दिखेगा?

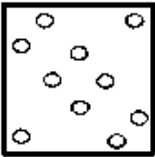


Ans

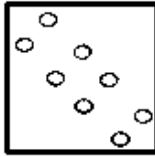
✗ 1.



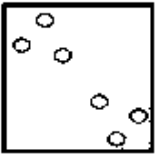
✗ 2.



✓ 3.



✗ 4.



Question ID : 65497829880

Status : Answered

Chosen Option : 3

Q.2 एक निश्चित कूट भाषा में, 'FLOAT' को 'ROU' लिखा जाता है, 'CLAIM' को 'OAV' लिखा जाता है। उसी कूट भाषा में 'ARMED' को किस प्रकार लिखा जाएगा?

- Ans
- ✓ 1. SMI
 - ✗ 2. DMK
 - ✗ 3. RFC
 - ✗ 4. TFE

Question ID : 65497829886
Status : Answered
Chosen Option : 1

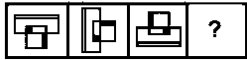
Q.3 दिए गए विकल्पों में से उस संख्या का चयन करें, जो निम्नलिखित श्रेणी में प्रश्न चिह्न (?) के स्थान पर आ सकती है।

2, 5, 11, 17, ?, 31, 41

- Ans
- ✗ 1. 21
 - ✗ 2. 25
 - ✗ 3. 29
 - ✓ 4. 23

Question ID : 65497829870
Status : Answered
Chosen Option : 3

Q.4 दिए गए विकल्पों में से उस आकृति का चयन कीजिए, जो निम्नलिखित श्रृंखला में प्रश्नवाचक चिह्न (?) के स्थान पर आ सकती है।

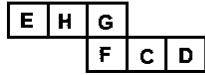


Ans

- ✓ 1.
- ✗ 2.
- ✗ 3.
- ✗ 4.

Question ID : 65497829884
Status : Answered
Chosen Option : 1

Q.5 दी गई शीट को मोड़कर एक घन बनाया जाता है। इस तरह बने घन में 'C' दर्शाने वाले फलक के विपरीत वाले फलक पर कौन सा अक्षर होगा?



- Ans
- 1. F
 - 2. G
 - 3. H
 - 4. E

Question ID : 65497829866
Status : Answered
Chosen Option : 3

Q.6 एक निश्चित कूट भाषा में, 'LAYOUT' को 'WRRVDI' लिखा जाता है। उसी कूट भाषा में, 'CHETAK' को किस प्रकार लिखा जाएगा?

- Ans
- 1. HXQBEF
 - 2. NXWBKZ
 - 3. NWXKBZ
 - 4. HQXEBF

Question ID : 65497829876
Status : Answered
Chosen Option : 2

Q.7 यदि 'A' का अर्थ '+' है, 'B' का अर्थ '-' है, 'C' का अर्थ 'x' है, और 'D' का अर्थ '÷' है, तो दिए गए व्यंजक का मान कितना होगा?

$$36 A (15 C 4) B (21 A 13) A 24 D (16 D 2) = ?$$

- Ans
- 1. 65
 - 2. 51
 - 3. 96
 - 4. 83

Question ID : 65497829865
Status : Answered
Chosen Option : 1

Q.8 दो बहनों रजिनी और रानी की आयु का अनुपात 2 : 3 है। 6 वर्ष बाद, उनकी आयु का अनुपात 3 : 4 हो जाएगा। रजिनी की वर्तमान आयु कितनी है?

- Ans
- 1. 12 वर्ष
 - 2. 18 वर्ष
 - 3. 16 वर्ष
 - 4. 14 वर्ष

Question ID : 65497829879
Status : Answered
Chosen Option : 1

Q.9 दिए गए विकल्पों में से उस संख्या का चयन कीजिए, जो निम्नलिखित श्रेणी में प्रश्नवाचक चिन्ह (?) के स्थान पर आ सकती है।

6, 22, 70, 214, ?, 1942

- Ans
- 1. 280
 - 2. 638
 - 3. 646
 - 4. 430

Question ID : 65497829883
Status : Answered
Chosen Option : 3

Q.10 उस विकल्प का चयन करें जो दी गई आकृति में सन्निहित नहीं है (घुमाने की अनुमति नहीं है)।



- Ans
- 1.
 - 2.
 - 3.
 - 4.

Question ID : 65497829867
Status : Answered
Chosen Option : 4

Q.11 दिए गए विकल्पों में से उस अक्षर-समूह का चयन करें, जो निम्नलिखित शृंखला में प्रश्न चिह्न (?) के स्थान पर आ सकता है?

SRQ, PON, ?, JIH, GFE

- Ans
- 1. LKM
 - 2. MLK
 - 3. KLM
 - 4. MKL

Question ID : 65497829872
Status : Answered
Chosen Option : 2

Q.12 'विटीकल्चर (Viticulture)' का 'अंगूर (Grapes)' से वही संबंध है, जो 'फ्लोरीकल्चर (Floriculture)' का _____ से है।

- Ans
- 1. फूलों (Flowers)
 - 2. पौधों (Plants)
 - 3. रेशम के कीड़े (Silkworm)
 - 4. फ्लोरीन (Fluorine)

Question ID : 65497829873
Status : Answered
Chosen Option : 1

Q.13 एक लड़के की ओर इशारा करते हुए, रंजीता ने कहा, "वह मेरे पति के ससुर की इकलौती पुत्री के पुत्र के पिता की इकलौती बहन का पुत्र है"। उस लड़के की माँ का रंजीता के पति से क्या संबंध है?

- Ans
- 1. चाची/ताई/बुआ
 - 2. मां
 - 3. पुत्री
 - 4. बहन

Question ID : 65497829887
Status : Answered
Chosen Option : 4

Q.14 उस सही विकल्प का चयन कीजिए, जो दिए गए शब्दों के उस क्रम को दर्शाता है, जिस क्रम में वे अंग्रेज़ी शब्दकोश में मौजूद होते हैं।

1. Acoustic
2. Academy
3. Accent
4. Accord
5. Active

- Ans
- 1. 2, 3, 4, 1, 5
 - 2. 2, 3, 1, 4, 5
 - 3. 2, 3, 4, 5, 1
 - 4. 2, 4, 3, 1, 5

Question ID : 65497829881
Status : Answered
Chosen Option : 1

Q.15

- Ans
- 1.
 - 2.
 - 3.
 - 4.

Question ID : 65497829871
Status : Answered
Chosen Option : 4

Q.16 उस विकल्प का चयन करें, जिसका तीसरी संख्या से वही संबंध है, जो दूसरी संख्या का पहली संख्या से है और छठी संख्या का पांचवीं संख्या से है।

7 : 113 :: 11 : ? :: 15 : 481

- Ans
- 1. 388
 - 2. 340
 - 3. 265
 - 4. 155

Question ID : 65497829864
Status : Not Answered
Chosen Option : --

Q.17 दिए गए कथनों और निष्कर्षों को ध्यानपूर्वक पढ़ें। कथनों में दी गई जानकारी को सत्य मानते हुए विचार करें, भले ही वह सामान्यतः ज्ञात तथ्यों से भिन्न प्रतीत होती हो, और बताइए कि दिए गए निष्कर्षों में से कौन से, तार्किक रूप से कथनों का पालन करते हैं?

कथन:

सभी चूहे, कुत्ते हैं।
कुछ चूहे, मुर्गियां हैं।

निष्कर्ष :

- I. कुछ चूहे, कुत्ते हैं।
- II. कुछ मुर्गियां, चूहे हैं।

- Ans
- 1. केवल निष्कर्ष II पालन करता है
 - 2. केवल निष्कर्ष I पालन करता है
 - 3. न तो निष्कर्ष I और न ही निष्कर्ष II पालन करता है
 - 4. निष्कर्ष I और II दोनों ही पालन करते हैं

Question ID : 65497829877
Status : Answered
Chosen Option : 4

Q.18

- Ans
- 1.
 - 2.
 - 3.
 - 4.

Question ID : 65497829875
Status : Answered
Chosen Option : 4

Q.19 अक्षरों के उस संयोजन का चयन कीजिए, जिसे दी गई शृंखला के रिक्त स्थानों में क्रमबद्ध रूप से रखने पर शृंखला पूर्ण हो जाएगी।

O _ KM _ OPK _ AO _ _ MA

- Ans
- 1. P A M P O
 - 2. P A M P K
 - 3. M A K A P
 - 4. P M A P K

Question ID : 65497829882
Status : Answered
Chosen Option : 2

Q.20 दिए गए पैटर्न का ध्यानपूर्वक अध्ययन कीजिए और उस संख्या का चयन कीजिए जो इसमें प्रश्नवाचक चिह्न (?) के स्थान पर आ सकती है।

6 15 48
7 17 55
13 29 ?

- Ans
- 1. 78
 - 2. 87
 - 3. 79
 - 4. 97

Question ID : 65497829878
Status : Not Answered
Chosen Option : --

Q.21 एक निश्चित कूट भाषा में, 'RAT' को '39' लिखा जाता है और 'DOG' को '26' लिखा जाता है। उसी भाषा में 'YAK' को किस प्रकार लिखा जाएगा?

- Ans
- 1. 43
 - 2. 31
 - 3. 37
 - 4. 25

Question ID : 65497829869
Status : Answered
Chosen Option : 3

Q.22 चार अक्षर-समूह दिए गए हैं, जिनमें से तीन किसी तरह से संगत हैं और एक असंगत है। उस अक्षर-समूह का चयन करें, जो असंगत है।

- Ans
- 1. GIMU
 - 2. DFJP
 - 3. NPTZ
 - 4. FHLR

Question ID : 65497829868
Status : Answered
Chosen Option : 1

Q.23 P, Q, R, S, T, U और V एक दीवार पर एक पंक्ति में पश्चिम दिशा की ओर मुंह करके बैठे हैं। R, S के ठीक बाईं ओर है। Q दोनों सिरों में से एक पर है और T उसके बगल में है। V, T और U के बीच में बैठा हुआ है। S उत्तरी सिरे से पांचवे स्थान पर है। उन व्यक्तियों में से कौन पंक्ति के ठीक मध्य में बैठा है?

- Ans
- 1. V
 - 2. U
 - 3. T
 - 4. Q

Question ID : 65497829874
Status : Answered
Chosen Option : 2

Q.24 उस विकल्प का चयन कीजिए, जिसका तीसरे पद से वही संबंध है, जो दूसरे पद का पहले पद से है।

TONGUE : PUHOFV :: MASTER : ?

- Ans
- 1. BNUTSF
 - 2. PCTHVS
 - 3. TBOSFU
 - 4. SFUTBN

Question ID : 65497829885
Status : Not Answered
Chosen Option : --

Q.25 आठ मित्र K, L, M, N, O, P, Q और R दो वृत्ताकार मेजों के परितः बैठे हैं, जिनमें से एक छोटे आकार की आंतरिक मेज और एक बड़े आकार की बाहरी मेज है। दोनों वृत्ताकार मेजों के केंद्र समान हैं। प्रत्येक मेज पर चार व्यक्ति एक-दूसरे से समान दूरी पर केंद्र की ओर मुख करके बैठे हैं। M, L के दाईं ओर ठीक बगल में बैठा है। Q और N दक्षिण में बैठे हैं और वे R और L की ओर मुख करके बैठे हैं। M, समान मेज पर O के सामने बैठा है। P, बाहरी मेज पर K के सामने बैठा है। N समान मेज पर P और K के बीच में बैठा है। L समान पर M और O के बीच में बैठा है। बाहरी मेज पर उत्तर दिशा में कौन बैठा है?

- Ans
- 1. P
 - 2. K
 - 3. L
 - 4. R

Question ID : 65497829863
Status : Not Answered
Chosen Option : --

Section : Part B General Knowledge and General Awareness

Q.1 'प्रधानमंत्री उज्ज्वला योजना' इनमें से किस वर्ष में प्रारंभ की गई थी?

- Ans
- 1. 2016
 - 2. 2020
 - 3. 2014
 - 4. 2018

Question ID : 65497829902
Status : Answered
Chosen Option : 1

Q.2 भारतीय संविधान का अनुच्छेद _____ केंद्र शासित प्रदेशों के प्रशासन से संबंधित है।

Ans 1. 239

2. 233

3. 224

4. 228

Question ID : 65497829911

Status : Not Answered

Chosen Option : --

Q.3 जून 2021 में, भारी उद्योग मंत्रालय ने FAME इंडिया स्कीम के फेज II के तहत इलेक्ट्रिक दोपहिया वाहनों के लिए सब्सिडी को बढ़ाकर _____ प्रति kWh कर दिया है।

Ans 1. ₹10,000

2. ₹20,000

3. ₹25,000

4. ₹15,000

Question ID : 65497829912

Status : Not Answered

Chosen Option : --

Q.4 अरावली पर्वतमाला की सबसे ऊँची चोटी _____ में स्थित है।

Ans 1. हरियाणा

2. दिल्ली

3. गुजरात

4. राजस्थान

Question ID : 65497829904

Status : Answered

Chosen Option : 4

Q.5 जीका वायरस रोग (Zika virus disease), मुख्यतः मच्छरों की _____ प्रजाति द्वारा संचारित विषाणु के कारण होता है।

Ans 1. क्यूलेक्स (Culex)

2. एडीज (Aedes)

3. हीमागोगस (Haemagogus)

4. एनाफिलीज़ (Anopheles)

Question ID : 65497829906

Status : Answered

Chosen Option : 2

Q.6 सितंबर 2021 में, कोल इंडिया लिमिटेड ने डंपरों में डीजल के उपयोग को _____ से बदलने के लिए एक प्रायोगिक परियोजना (pilot project) की शुरुआत की।

- Ans
- 1. संपीडित प्राकृतिक गैस (CNG)
 - 2. एथेनॉल
 - 3. तरलीकृत प्राकृतिक गैस (LNG)
 - 4. हाइड्रोजन

Question ID : 65497829908
Status : Answered
Chosen Option : 1

Q.7 नवंबर 2020 में, एशिया पैसिफिक इकॉनॉमिक को-ऑपरेशन की मेजबानी निम्नलिखित में से किस देश ने की थी?

- Ans
- 1. हांगकांग
 - 2. जापान
 - 3. मलेशिया
 - 4. सिंगापुर

Question ID : 65497829901
Status : Not Answered
Chosen Option : --

Q.8 अवध किसान सभा की स्थापना किस वर्ष की गई थी?

- Ans
- 1. 1925
 - 2. 1920
 - 3. 1928
 - 4. 1930

Question ID : 65497829903
Status : Not Answered
Chosen Option : --

Q.9 सितंबर 2021 में, _____ ने दो पैरालंपिक पदक जीतने वाली पहली भारतीय महिला होने का गौरव हासिल किया।

- Ans
- 1. अवनि लेखरा
 - 2. एकता भयान
 - 3. दीपा मलिक
 - 4. भाविना पटेल

Question ID : 65497829905
Status : Answered
Chosen Option : 1

Q.10 भू-राजस्व की _____ प्रणाली के तहत, भूमि के स्वामित्व अधिकार किसानों को सौंप दिए गए थे और ब्रिटिश सरकार उनसे सीधे कर वसूल करती थी।

- Ans
- 1. तालुकदार
 - 2. रैयतवाड़ी
 - 3. महालवाड़ी
 - 4. मालगुजारी

Question ID : 65497829907
Status : Answered
Chosen Option : 2

Q.11 निम्नलिखित में से किसे शतरंज के बोर्ड पर पीछे की ओर चलने की अनुमति नहीं है?

- Ans
- 1. ऊंट (Bishop)
 - 2. राजा (King)
 - 3. प्यादा (Pawn)
 - 4. वजीर (Queen)

Question ID : 65497829895
Status : Not Answered
Chosen Option : --

Q.12 भारत के संविधान की किस अनुसूची में 'हिंदी' भाषा शामिल है?

- Ans
- 1. दसवीं
 - 2. चौथी
 - 3. पांचवीं
 - 4. आठवीं

Question ID : 65497829900
Status : Answered
Chosen Option : 4

Q.13 सम्राट अशोक के बारे में निम्नलिखित में से कौन सा कथन असत्य है?

- Ans
- 1. अशोक का संबंध मौर्य वंश से था।
 - 2. अशोक विश्व के इतिहास में एकमात्र ऐसे राजा हैं, जिन्होंने युद्ध जीतने के बाद विजय का त्याग कर दिया था।
 - 3. अशोक ने जिस साम्राज्य पर शासन किया, उसकी स्थापना उसके दादा ने की थी।
 - 4. चाणक्य नामक एक बुद्धिमान व्यक्ति (जिसे कौटिल्य भी कहा जाता है) ने अशोक का विरोध किया था।

Question ID : 65497829910
Status : Not Answered
Chosen Option : --

Q.14 'द डे आई स्टॉप्ड ड्रिंकिंग मिल्क' पुस्तक के लेखक निम्न में से कौन हैं?

- Ans
- 1. रोशनी नीलकनी
 - 2. ट्विंकल खन्ना
 - 3. सुधा मूर्ति
 - 4. नीता अंबानी

Question ID : 65497829891
Status : Not Answered
Chosen Option : --

Q.15 यू.एस. (US) ओपन 2020 टेनिस टूर्नामेंट में महिलाओं का एकल खिताब (Women's Singles title) किसने जीता था?

- Ans
- 1. विक्टोरिया अज़ारेका (Victoria Azarenka)
 - 2. नाओमी ओसाका (Naomi Osaka)
 - 3. मारिया शारापोवा (Maria Sharapova)
 - 4. सेरेना विलियम्स (Serena Williams)

Question ID : 65497829898
Status : Answered
Chosen Option : 2

Q.16 निम्नलिखित में से कौन सा, विटामिन K1 का दूसरा नाम है?

- Ans
- 1. थियामिन
 - 2. निकोटिनिक एसिड
 - 3. फाइलोक्विनोन
 - 4. राइबोफ्लेविन

Question ID : 65497829889
Status : Answered
Chosen Option : 2

Q.17 प्रधानमंत्री मुद्रा योजना की 'शिशु योजना' के अंतर्गत अनुमन्य ऋण की अधिकतम राशि कितनी है?

- Ans
- 1. ₹5,00,000
 - 2. ₹50,000
 - 3. ₹2,00,000
 - 4. ₹1,00,000

Question ID : 65497829896
Status : Answered
Chosen Option : 2

Q.18 6 अप्रैल 1919 को _____ के विरुद्ध अहिंसक विरोध दिवस के रूप में मनाया गया था।

- Ans
- 1. रॉलेट एक्ट
 - 2. कैबिनेट मिशन योजना
 - 3. मॉर्ले-मिटो सुधार
 - 4. साइमन कमीशन

Question ID : 65497829909
Status : Answered
Chosen Option : 1

Q.19 व्यापार सुगमता सूचकांक (Ease of Doing Business Index) 2020 में भारत का कौन-सा स्थान था?

- Ans
- 1. 54
 - 2. 67
 - 3. 71
 - 4. 63

Question ID : 65497829899
Status : Answered
Chosen Option : 4

Q.20 पद्म श्री पुरस्कार से सम्मानित सितारा देवी, उनके _____ के क्षेत्र में योगदान के लिए प्रसिद्ध हैं।

- Ans
- 1. मुडियेट्टु (Mudiyettu)
 - 2. ओडिसी
 - 3. सत्रीया (Sattriya)
 - 4. कथक

Question ID : 65497829892
Status : Not Answered
Chosen Option : --

Q.21 निम्नलिखित में से कौन सा, एक लौह खनिज है?

- Ans
- 1. मैंगनीज
 - 2. जस्ता
 - 3. तांबा
 - 4. बाक्साइट

Question ID : 65497829893
Status : Answered
Chosen Option : 1

Q.22 'वेडिंग एल्बम' नामक नाटक के लेखक कौन हैं?

- Ans
- 1. गिरीश कर्नाड
 - 2. बादल सरकार
 - 3. विजय तेंदुलकर
 - 4. महेश दत्तानी

Question ID : 65497829894
Status : Not Answered
Chosen Option : --

Q.23 देव-दीपावली नामक त्योहार इनमें से किस शहर में मनाया जाता है?

- Ans
- 1. अयोध्या
 - 2. वाराणसी
 - 3. प्रयागराज
 - 4. उज्जैन

Question ID : 65497829888
Status : Not Answered
Chosen Option : --

Q.24 _____ दो-टर्मिनल वाला एक निष्क्रिय वैद्युत घटक है, जो परिपथ में विद्युत प्रतिरोध उत्पन्न करता है।

- Ans
- 1. प्रतिरोध
 - 2. डायोड
 - 3. संधारित्र
 - 4. ट्रांजिस्टर

Question ID : 65497829890
Status : Not Answered
Chosen Option : --

Q.25 जवाई बांध, जवाई नदी पर निर्मित एक जलाशय है, वह इनमें से किसकी सहायक नदी है?

- Ans
- 1. चंबल नदी
 - 2. बनास नदी
 - 3. माही नदी
 - 4. लूनी नदी

Question ID : 65497829897
Status : Not Answered
Chosen Option : --

Section : Part C Elementary Mathematics

Q.1

- Ans
- 1.
 - 2.
 - 3.
 - 4.

Question ID : 65497829936
Status : Answered
Chosen Option : 1

Q.2

- Ans 1.
 2.
 3.
 4.

Question ID : 65497829914
Status : Answered
Chosen Option : 2

Q.3

- Ans 1.
 2.
 3.
 4.

Question ID : 65497829928
Status : Answered
Chosen Option : 1

Q.4

- Ans 1.
 2.
 3.
 4.

Question ID : 65497829915
Status : Answered
Chosen Option : 2

Q.5

- Ans 1.
 2.
 3.
 4.

Question ID : 65497829921
Status : Answered
Chosen Option : 4

Q.6

- Ans 1.
 2.
 3.
 4.

Question ID : 65497829932
Status : Not Answered
Chosen Option : --

Q.7

- Ans 1.
 2.
 3.
 4.

Question ID : 65497829916
Status : Answered
Chosen Option : 3

Q.8

- Ans 1.
 2.
 3.
 4.

Question ID : 65497829913
Status : Answered
Chosen Option : 1

Q.9

- Ans 1.
 2.
 3.
 4.

Question ID : 65497829918
Status : Answered
Chosen Option : 2

Q.10

- Ans 1.
 2.
 3.
 4.

Question ID : 65497829929
Status : Answered
Chosen Option : 2

Q.11

- Ans 1.
 2.
 3.
 4.

Question ID : 65497829933
Status : Not Answered
Chosen Option : --

Q.12

- Ans 1.
 2.
 3.
 4.

Question ID : 65497829919
Status : Answered
Chosen Option : 2

Q.13

- Ans 1.
 2.
 3.
 4.

Question ID : 65497829923
Status : Not Answered
Chosen Option : --

Q.14

- Ans 1.
 2.
 3.
 4.

Question ID : 65497829935
Status : Answered
Chosen Option : 4

Q.15

- Ans 1.
 2.
 3.
 4.

Question ID : 65497829926
Status : Answered
Chosen Option : 1

Q.16

- Ans 1.
 2.
 3.
 4.

Question ID : 65497829927
Status : Not Answered
Chosen Option : --

Q.17

- Ans 1.
 2.
 3.
 4.

Question ID : 65497829920
Status : Answered
Chosen Option : 4

Q.18

- Ans 1.
 2.
 3.
 4.

Question ID : 65497829925
Status : Not Answered
Chosen Option : --

Q.19

- Ans 1.
 2.
 3.
 4.

Question ID : 65497829924
Status : Answered
Chosen Option : 4

Q.20

- Ans 1.
 2.
 3.
 4.

Question ID : 65497829934
Status : Answered
Chosen Option : 4

Q.21

- Ans 1.
 2.
 3.
 4.

Question ID : 65497829922
Status : Answered
Chosen Option : 1

Q.22

- Ans 1.
 2.
 3.
 4.

Question ID : 65497829937
Status : Answered
Chosen Option : 1

Q.23

- Ans 1.
 2.
 3.
 4.

Question ID : 65497829917
Status : Not Answered
Chosen Option : --

Q.24

- Ans 1.
 2.
 3.
 4.

Question ID : 65497829931
Status : Not Answered
Chosen Option : --

Q.25

- Ans 1.
 2.
 3.
 4.

Question ID : 65497829930
Status : Answered
Chosen Option : 3

Section : Part D English

HaryanaJobs.in

Q.1 Select the INCORRECTLY spelt word.

- Ans
- 1. Fasten
 - 2. Buisness
 - 3. Plunge
 - 4. Evolve

Question ID : 65497829953
Status : Not Answered
Chosen Option : --

Q.2 Select the most appropriate word for the given group of words.

An imaginary place where everything is perfect

- Ans
- 1. arcadia
 - 2. elysium
 - 3. utopia
 - 4. eden

Question ID : 65497829943
Status : Not Answered
Chosen Option : --

Q.3 Select the option that can be used as a one-word substitute for the given group of words.

Natural skill at doing something

- Ans
- 1. Sense
 - 2. Passion
 - 3. Knack
 - 4. Awareness

Question ID : 65497829952
Status : Not Answered
Chosen Option : --

Q.4 Select the option that can be used as a one-word substitute for the given group of words.

A person who investigates and solves crimes

- Ans
- 1. Inventor
 - 2. Explorer
 - 3. Detective
 - 4. Invigilator

Question ID : 65497829957
Status : Not Answered
Chosen Option : --

Q.5 Select the most appropriate ANTONYM of the given word.

Monotonous

- Ans 1. Varied
 2. Changing
 3. Elaborate
 4. Cheerful

Question ID : 65497829946
Status : Not Answered
Chosen Option : --

Q.6 Select the most appropriate synonym of the given word.

Reliable

- Ans 1. Trusted
 2. Intelligent
 3. Fortunate
 4. Wealthy

Question ID : 65497829945
Status : Not Answered
Chosen Option : --

Q.7 Select the most appropriate option to fill in the blank.

Asha has _____ the house beautifully for the party.

- Ans 1. produced
 2. planned
 3. decorated
 4. improved

Question ID : 65497829949
Status : Not Answered
Chosen Option : --

Q.8 The following sentence has been split into four segments. Identify the segment that contains a grammatical error.

Their dog is / more better / trained than / our dog.

- Ans 1. more better
 2. trained than
 3. Their dog is
 4. our dog

Question ID : 65497829944
Status : Not Answered
Chosen Option : --

Q.9 Select the INCORRECTLY spelt word.

- Ans
- 1. Cushion
 - 2. Costudy
 - 3. Curtail
 - 4. Custard

Question ID : 65497829939
Status : Not Answered
Chosen Option : --

Q.10 Select the most appropriate option to fill in the blank.

The protesters _____ when the police used tear gas.

- Ans
- 1. waved
 - 2. regretted
 - 3. assembled
 - 4. dispersed

Question ID : 65497829940
Status : Not Answered
Chosen Option : --

Q.11 Select the most appropriate meaning of the given idiom.

Elephant in the room

- Ans
- 1. An extremely fat person sitting all alone in a room
 - 2. A wild untamed animal left to wander astray
 - 3. An obvious issue left unaddressed due to its sensitivity
 - 4. A pretty affair which is kept a secret

Question ID : 65497829942
Status : Not Answered
Chosen Option : --

Q.12 The following sentence has been split into four segments. Identify the segment that contains a grammatical error.

Ravi told / his friends / that he would / return back soon.

- Ans
- 1. return back soon
 - 2. that he would
 - 3. his friends
 - 4. Ravi told

Question ID : 65497829954
Status : Not Answered
Chosen Option : --

Q.13 Select the most appropriate option that can substitute the underlined segment in the given sentence. If there is no need to substitute it, select 'No substitution required'.

If he works harder, he got better results.

- Ans 1. will get
 2. is getting
 3. No substitution required
 4. was getting

Question ID : 65497829938
Status : Not Answered
Chosen Option : --

Q.14 Select the most appropriate ANTONYM of the given word.

Persuade

- Ans 1. Halt
 2. Coax
 3. Lead
 4. Sway

Question ID : 65497829951
Status : Not Answered
Chosen Option : --

Q.15 Select the most appropriate option to fill in the blank.

The government _____ the contract for 100 low-floor buses to an automobile manufacturer.

- Ans 1. rewarded
 2. gifted
 3. awarded
 4. granted

Question ID : 65497829941
Status : Not Answered
Chosen Option : --

Q.16 Select the option that will improve the underlined part of the given sentence. In case no improvement is needed, select 'No improvement required'.

It never dawned to him if he could be in danger.

- Ans 1. dawned at him whether
 2. No improvement required
 3. dawned on him that
 4. dawned up to him that

Question ID : 65497829955
Status : Not Answered
Chosen Option : --

Q.17 Select the most appropriate meaning of the given idiom.

Hands down

- Ans 1. Easily and without doubt
 2. Without any weapons
 3. Very weakly and slowly
 4. With sufficient strength

Question ID : 65497829947
Status : Not Answered
Chosen Option : --

Q.18 Select the most appropriate SYNONYM of the given word.

Stray

- Ans 1. Fickle
 2. Homeless
 3. Careless
 4. Casual

Question ID : 65497829956
Status : Not Answered
Chosen Option : --

Q.19 Select the option that will improve the underlined part of the given sentence. In case no improvement is needed, select 'No improvement required'.

Try harder, don't give away so easily.

- Ans 1. No improvement required
 2. give up
 3. give out
 4. give back

Question ID : 65497829948
Status : Not Answered
Chosen Option : --

Q.20 The following sentence has been split into four segments. Identify the segment that contains a grammatical error.

We have / run out eggs; / could you buy / some more?

- Ans 1. some more
 2. could you buy
 3. run out eggs
 4. We have

Question ID : 65497829950
Status : Not Answered
Chosen Option : --

Comprehension:

In the following passage, some words have been deleted. Read the passage carefully and select the most appropriate option to fill in each blank.

On 14th April 1912, the Titanic received warnings all the day about (1)_____ icebergs. The first message was received at 9 a.m. Similar messages (2)_____. Around 9 p.m., Captain Smith (3)_____ with his second officer, before retiring for the night. They knew that on such a clear, moonless night it would be (4)_____ difficult to spot icebergs. Why did they not change the course of the ship and take the ice-free southern route? It remains one of the (5)_____ mysteries surrounding the Titanic.

SubQuestion No : 21

Q.21 Select the most appropriate option to fill in blank no. 1.

- Ans 1. stacking
 2. floating
 3. sinking
 4. soaring

Question ID : 65497829959

Status : **Not Answered**

Chosen Option : --

Comprehension:

In the following passage, some words have been deleted. Read the passage carefully and select the most appropriate option to fill in each blank.

On 14th April 1912, the Titanic received warnings all the day about (1)_____ icebergs. The first message was received at 9 a.m. Similar messages (2)_____. Around 9 p.m., Captain Smith (3)_____ with his second officer, before retiring for the night. They knew that on such a clear, moonless night it would be (4)_____ difficult to spot icebergs. Why did they not change the course of the ship and take the ice-free southern route? It remains one of the (5)_____ mysteries surrounding the Titanic.

SubQuestion No : 22

Q.22 Select the most appropriate option to fill in blank no. 2.

- Ans 1. rejected
 2. followed
 3. adapted
 4. influenced

Question ID : 65497829960

Status : **Not Answered**

Chosen Option : --

Comprehension:

In the following passage, some words have been deleted. Read the passage carefully and select the most appropriate option to fill in each blank.

On 14th April 1912, the Titanic received warnings all the day about (1)_____ icebergs. The first message was received at 9 a.m. Similar messages (2)_____. Around 9 p.m., Captain Smith (3)_____ with his second officer, before retiring for the night. They knew that on such a clear, moonless night it would be (4)_____ difficult to spot icebergs. Why did they not change the course of the ship and take the ice-free southern route? It remains one of the (5)_____ mysteries surrounding the Titanic.

SubQuestion No : 23

Q.23 Select the most appropriate option to fill in blank no. 3.

- Ans
- 1. emigrated
 - 2. gimmicked
 - 3. conferred
 - 4. disunited

Question ID : 65497829961

Status : **Not Answered**

Chosen Option : --

Comprehension:

In the following passage, some words have been deleted. Read the passage carefully and select the most appropriate option to fill in each blank.

On 14th April 1912, the Titanic received warnings all the day about (1)_____ icebergs. The first message was received at 9 a.m. Similar messages (2)_____. Around 9 p.m., Captain Smith (3)_____ with his second officer, before retiring for the night. They knew that on such a clear, moonless night it would be (4)_____ difficult to spot icebergs. Why did they not change the course of the ship and take the ice-free southern route? It remains one of the (5)_____ mysteries surrounding the Titanic.

SubQuestion No : 24

Q.24 Select the most appropriate option to fill in blank no. 4.

- Ans
- 1. dangerously
 - 2. extremely
 - 3. automatically
 - 4. obviously

Question ID : 65497829962

Status : **Not Answered**

Chosen Option : --

Comprehension:

In the following passage, some words have been deleted. Read the passage carefully and select the most appropriate option to fill in each blank.

On 14th April 1912, the Titanic received warnings all the day about (1)_____ icebergs. The first message was received at 9 a.m. Similar messages (2)_____. Around 9 p.m., Captain Smith (3)_____ with his second officer, before retiring for the night. They knew that on such a clear, moonless night it would be (4)_____ difficult to spot icebergs. Why did they not change the course of the ship and take the ice-free southern route? It remains one of the (5)_____ mysteries surrounding the Titanic.

SubQuestion No : 25

Q.25 Select the most appropriate option to fill in blank no. 5.

- Ans 1. unsolved
 2. resolved
 3. declaimed
 4. dishelmed

Question ID : 65497829963
Status : Not Answered
Chosen Option : --

Section : Part D Hindi

Q.1 नीचे दिए वाक्य में रिक्त-स्थान भरने के लिए सबसे उपयुक्त शब्द का चयन करें।

मुर्गा सुबह-सुबह _____ देता है।

- Ans 1. बाँग
 2. कूकड़ूँ
 3. दहाड़
 4. टर्

Question ID : 65497829973
Status : Answered
Chosen Option : 2

Q.2 सही वर्तनी वाले शब्द का चयन कीजिए।

- Ans 1. षष्ट
 2. शष्ट
 3. शष्ठ
 4. षष्ठ

Question ID : 65497829964
Status : Answered
Chosen Option : 1

Q.3 दिये गये वाक्य के किस भाग में त्रुटि है?

अगामी सोमवार से परीक्षा शुरू होगी।

- Ans
- 1. सोमवार से
 - 2. परीक्षा
 - 3. अगामी
 - 4. शुरू होगी।

Question ID : 65497829977

Status : Answered

Chosen Option : 3

Q.4 दिये गये वाक्य में रेखांकित अंश को प्रतिस्थापित करने के लिए सबसे उपयुक्त विकल्प का चयन करें।

मैं दो घंटे से आपकी प्रतीक्षा देख रहा हूँ।

- Ans
- 1. कर रहा हूँ।
 - 2. सुन रहा हूँ।
 - 3. गुन रहा हूँ।
 - 4. खा रहा हूँ।

Question ID : 65497829974

Status : Answered

Chosen Option : 1

Q.5 'जो केंद्र की ओर उन्मुख होता हो' वाक्यांश के लिए एक शब्द होगा-

- Ans
- 1. विकेंद्रीय
 - 2. केन्द्रापसारी
 - 3. केन्द्रीय
 - 4. केन्द्राभिसारी

Question ID : 65497829983

Status : Answered

Chosen Option : 4

Q.6 'संकीर्ण' का विलोम शब्द होगा-

- Ans
- 1. उत्तीर्ण
 - 2. प्रकीर्ण
 - 3. संकुचित
 - 4. विस्तीर्ण

Question ID : 65497829979

Status : Answered

Chosen Option : 4

Q.7 दिये गये वाक्य के किस भाग में त्रुटि है?

इस प्रकरण में उसके साथ उचित न्याय किया जाएगा।

- Ans
- 1. उचित न्याय
 - 2. उसके साथ
 - 3. किया जाएगा।
 - 4. इस प्रकरण में

Question ID : 65497829981

Status : Answered

Chosen Option : 1

Q.8 दिए गए वाक्य में रेखांकित खंड को प्रतिस्थापित करने के लिए सबसे उपयुक्त विकल्प का चयन करें। यदि इसे प्रतिस्थापित करने की आवश्यकता नहीं है, तो विकल्प 'किसी बदलाव की आवश्यकता नहीं है' का चयन करें।

में निश्चय रूप से नहीं कह सकता कि वह कब आएगा।

- Ans
- 1. निश्चित रूप में नहीं कह सकता
 - 2. निश्चय स्वरूप से नहीं कह सकता
 - 3. निश्चित रूप से नहीं कह सकता
 - 4. किसी बदलाव की आवश्यकता नहीं है।

Question ID : 65497829972

Status : Answered

Chosen Option : 3

Q.9 'इतिहास का जानकार' वाक्यांश के लिए एक शब्द होगा-

- Ans
- 1. इतिहासज्ञ
 - 2. प्रागैतिहासिक
 - 3. पुरातात्विक
 - 4. ऐतिहासिक

Question ID : 65497829976

Status : Answered

Chosen Option : 1

Q.10 सही वर्तनी वाले शब्द का चयन कीजिए।

- Ans
- 1. परस्परीक
 - 2. परस्परिक
 - 3. पारस्परिक
 - 4. पारस्परीक

Question ID : 65497829965

Status : Answered

Chosen Option : 3

Q.11 दिए गए वाक्य में रेखांकित खंड को प्रतिस्थापित करने के लिए सबसे उपयुक्त विकल्प का चयन करें। यदि इसे प्रतिस्थापित करने की आवश्यकता नहीं है, तो विकल्प 'किसी बदलाव की आवश्यकता नहीं है' का चयन करें।

अपने परिवार की गरिमा का ध्यान रखना।

- Ans
- 1. गरिमा का ध्यान रखना।
 - 2. किसी बदलाव की आवश्यकता नहीं है।
 - 3. गरीमा का ध्यान रखना।
 - 4. गरीमा का ध्यान रखना।

Question ID : 65497829966

Status : Answered

Chosen Option : 1

Q.12 'रिक्त' का विलोम शब्द होगा-

- Ans
- 1. अपूर्ण
 - 2. पूर्ण
 - 3. अधूरा
 - 4. अतिरिक्त

Question ID : 65497829982

Status : Answered

Chosen Option : 2

Q.13 'मनोरथ' किसका पर्यायवाची है?

- Ans
- 1. वासना
 - 2. लालच
 - 3. लक्ष्य
 - 4. कामना

Question ID : 65497829978

Status : Answered

Chosen Option : 4

Q.14 'पौ बारह होना' मुहावरे का सही अर्थ क्या है?

- Ans
- 1. बहुत नुकसान होना
 - 2. घमंड करना
 - 3. खूब लाभ होना
 - 4. आश्चर्यचकित होना

Question ID : 65497829980

Status : Not Answered

Chosen Option : --

Q.15 दिए गए शब्द के समानार्थी शब्द का चयन करें।

सोना

- Ans 1. हिरण्य
 2. कलत्र
 3. ललाम
 4. रत्नाकर

Question ID : 65497829971

Status : Answered

Chosen Option : 4

Q.16 दिये गये वाक्यांश के लिए एक शब्द दीजिये।

मृग जैसी आँखों वाली स्त्री

- Ans 1. हिरनचक्षु
 2. मृगमुखी
 3. मृगया
 4. मृगनयनी

Question ID : 65497829969

Status : Answered

Chosen Option : 4

Q.17 खूब लड़ी मर्दानी वो तो _____ थी।

रिक्त स्थान की पूर्ति कीजिए।

- Ans 1. अहल्या
 2. झॉंसी वाली रानी
 3. अनसूया
 4. रानी पद्मावती

Question ID : 65497829975

Status : Answered

Chosen Option : 2

Q.18 रिक्त स्थान को भरने के लिए सबसे उपयुक्त शब्द का चयन करें।

मनोरंजन भी जीवन के लिए उतना ही _____ है, जितना अध्ययन।

- Ans 1. अनावश्यक
 2. आवश्यक
 3. प्रतिबंधित
 4. शानदार

Question ID : 65497829968

Status : Answered

Chosen Option : 2

Q.19 दिए गए वाक्य का वह भाग ज्ञात करें जिसमें कोई त्रुटि है। यदि कोई त्रुटि नहीं है, तो 'कोई त्रुटि नहीं है' चुनें।

वैसा ही (1)/ उच्चारण हमें हिन्दी (2)/ में भी करनी चाहिए (3)/ कोई त्रुटि नहीं है (4)

Ans 1. 2

2. 3

3. 4

4. 1

Question ID : 65497829970

Status : Answered

Chosen Option : 2

Q.20 'हवा से बार्ते करना' मुहावरे का अर्थ बताइए।

Ans 1. ऊँचा उड़ना

2. पक्षियों की भाषा समझना

3. अकेले रहना

4. तेज़ गति से चलना

Question ID : 65497829967

Status : Answered

Chosen Option : 4

Comprehension:

जैसे ज्ञान का संशोधन और परिष्कार विज्ञान के (1)_____ द्वारा होता है, उसी प्रकार मनुष्य के स्वभाव का (2)_____ कलाओं के द्वारा किया जाता है। केवल ज्ञान की उन्नति और परिष्कार को अपना ध्येय बना लेने के कारण मनुष्य की (3)_____ शक्तियाँ बढ़ तो बहुत गयी हैं, लेकिन कलाओं की (4)_____ कर देने से हमें उनकी केवल दाहकता ही नसीब हो रही है। कलाहीनता मनुष्य को जड़ बना देती है और सचमुच ही आज का मनुष्य चारों ओर से अपनी ही (5)_____ का शिकार हो रहा है।

उपरोक्त गद्यांश के आधार पर निम्न प्रश्नों के उत्तर दीजिए।

SubQuestion No : 21

Q.21 गद्यांश के रिक्त स्थान (1) के लिए सर्वाधिक उपयुक्त शब्द होगा-

Ans 1. यंत्रों

2. उद्योगों

3. प्रयोगों

4. उपकरणों

Question ID : 65497829985

Status : Answered

Chosen Option : 4

Comprehension:

जैसे ज्ञान का संशोधन और परिष्कार विज्ञान के (1)_____ द्वारा होता है, उसी प्रकार मनुष्य के स्वभाव का (2)_____ कलाओं के द्वारा किया जाता है। केवल ज्ञान की उन्नति और परिष्कार को अपना ध्येय बना लेने के कारण मनुष्य की (3)_____ शक्तियां बढ़ तो बहुत गयी हैं, लेकिन कलाओं की (4)_____ कर देने से हमें उनकी केवल दाहकता ही नसीब हो रही है। कलाहीनता मनुष्य को जड़ बना देती है और सचमुच ही आज का मनुष्य चारों ओर से अपनी ही (5) _____ का शिकार हो रहा है।

उपरोक्त गद्यांश के आधार पर निम्न प्रश्नों के उत्तर दीजिए।

SubQuestion No : 22

Q.22 गद्यांश के रिक्त स्थान (2) के लिए सर्वाधिक उपयुक्त शब्द होगा-

- Ans
- 1. हास
 - 2. उत्थान
 - 3. विकास
 - 4. परिष्कार

Question ID : 65497829986

Status : Answered

Chosen Option : 3

Comprehension:

जैसे ज्ञान का संशोधन और परिष्कार विज्ञान के (1)_____ द्वारा होता है, उसी प्रकार मनुष्य के स्वभाव का (2)_____ कलाओं के द्वारा किया जाता है। केवल ज्ञान की उन्नति और परिष्कार को अपना ध्येय बना लेने के कारण मनुष्य की (3)_____ शक्तियां बढ़ तो बहुत गयी हैं, लेकिन कलाओं की (4)_____ कर देने से हमें उनकी केवल दाहकता ही नसीब हो रही है। कलाहीनता मनुष्य को जड़ बना देती है और सचमुच ही आज का मनुष्य चारों ओर से अपनी ही (5) _____ का शिकार हो रहा है।

उपरोक्त गद्यांश के आधार पर निम्न प्रश्नों के उत्तर दीजिए।

SubQuestion No : 23

Q.23 गद्यांश के रिक्त स्थान (3) के लिए सर्वाधिक उपयुक्त शब्द होगा-

- Ans
- 1. मानसिक
 - 2. सामाजिक
 - 3. शारीरिक
 - 4. आर्थिक

Question ID : 65497829987

Status : Answered

Chosen Option : 3

Comprehension:

जैसे ज्ञान का संशोधन और परिष्कार विज्ञान के (1)_____ द्वारा होता है, उसी प्रकार मनुष्य के स्वभाव का (2)_____ कलाओं के द्वारा किया जाता है। केवल ज्ञान की उन्नति और परिष्कार को अपना ध्येय बना लेने के कारण मनुष्य की (3)_____ शक्तियां बढ़ तो बहुत गयी हैं, लेकिन कलाओं की (4)_____ कर देने से हमें उनकी केवल दाहकता ही नसीब हो रही है। कलाहीनता मनुष्य को जड़ बना देती है और सचमुच ही आज का मनुष्य चारों ओर से अपनी ही (5) _____ का शिकार हो रहा है।

उपरोक्त गद्यांश के आधार पर निम्न प्रश्नों के उत्तर दीजिए।

SubQuestion No : 24

Q.24 गद्यांश के रिक्त स्थान (4) के लिए सर्वाधिक उपयुक्त शब्द होगा-

- Ans 1. उपेक्षा
 2. अपेक्षा
 3. तुलना
 4. प्रशंसा

Question ID : 65497829988

Status : Answered

Chosen Option : 1

Comprehension:

जैसे ज्ञान का संशोधन और परिष्कार विज्ञान के (1)_____ द्वारा होता है, उसी प्रकार मनुष्य के स्वभाव का (2)_____ कलाओं के द्वारा किया जाता है। केवल ज्ञान की उन्नति और परिष्कार को अपना ध्येय बना लेने के कारण मनुष्य की (3)_____ शक्तियां बढ़ तो बहुत गयी हैं, लेकिन कलाओं की (4)_____ कर देने से हमें उनकी केवल दाहकता ही नसीब हो रही है। कलाहीनता मनुष्य को जड़ बना देती है और सचमुच ही आज का मनुष्य चारों ओर से अपनी ही (5) _____ का शिकार हो रहा है।

उपरोक्त गद्यांश के आधार पर निम्न प्रश्नों के उत्तर दीजिए।

SubQuestion No : 25

Q.25 गद्यांश के रिक्त स्थान (5) के लिए सर्वाधिक उपयुक्त शब्द होगा-

- Ans 1. जड़ता
 2. शिथिलता
 3. सक्रियता
 4. निष्क्रियता

Question ID : 65497829989

Status : Answered

Chosen Option : 2

Constable GD in CAPFs NIA SSF and Rifleman GD in Assam Rifles Examination 2021

Roll Number	www.HaryanaJobs.in
Candidate Name	www.HaryanaJobs.in
Venue Name	iON Digital Zone iDZ3 Patliputra
Exam Date	24/11/2021
Exam Time :	4:00 PM - 5:30 PM
Subject	Constable GD 2021

Section : Part A General Intelligence and Reasoning

Q.1 दिए गए विकल्पों में से उस अक्षर-समूह का चयन करें जो निम्नलिखित श्रृंखला में प्रश्न चिह्न (?) के स्थान पर आ सकता है।

AS, CQ, EO, ?

Ans 1. GN

2. HN

3. HM

4. GM

Question ID : 65497835722

Status : Answered

Chosen Option : 4

Q.2 उस विकल्प का चयन करें जिसमें दिए गए संख्या-त्रिक की संख्याओं के बीच वही संबंध नहीं है जो संबंध निम्न संख्या-त्रिक की संख्याओं के बीच है।

(3, 6, 18)

Ans 1. (7, 14, 42)

2. (6, 12, 36)

3. (9, 18, 54)

4. (8, 16, 56)

Question ID : 65497835710

Status : Answered

Chosen Option : 4

Q.3 यदि 'A + B' का अर्थ है कि 'A, B की पुत्री है', 'A × B' का अर्थ है कि 'A, B की बहन है' और 'A = B' का अर्थ है कि 'A, B की पत्नी है' तो व्यंजक 'C × G × U + M = R' में G का R से क्या संबंध है?

Ans 1. माता

2. बहन

3. पुत्री

4. पुत्र

Question ID : 65497835707

Status : Not Answered

Chosen Option : --

Q.4 छः दोस्त R, S, T, U, V और W एक सीधी पंक्ति में बैठे हैं। T बाएं से तीसरे और दाएं से चौथे स्थान पर है। V, T और S के बीच में है। S, U के बाईं ओर बगल में है। R, T और W के बीच में है। V दाईं ओर से किस स्थान पर बैठा है?

- Ans 1. तीसरे
 2. दूसरे
 3. चौथे
 4. पांचवे

Question ID : 65497835715
Status : Answered
Chosen Option : 1

Q.5 दिए गए विकल्पों में से उस संख्या का चयन कीजिए जो निम्न श्रेणी में प्रश्नवाचक चिह्न (?) के स्थान पर आएगी।

5, 16, 28, 36, 71, 90, 234, 342, ?

- Ans 1. 793
 2. 893
 3. 739
 4. 839

Question ID : 65497835716
Status : Answered
Chosen Option : 3

Q.6 एक निश्चित कूट भाषा में, 'TIKRI' को '201811369' के रूप में कूटबद्ध किया जाता है। उसी कूट भाषा में, 'BOARD' को किस रूप में कूटबद्ध किया जाएगा?

- Ans 1. 2301364
 2. 2151364
 3. 2301184
 4. 2151184

Question ID : 65497835714
Status : Answered
Chosen Option : 1

Q.7 यदि 'P' का अर्थ 'जोड़' है, 'Q' का अर्थ 'गुणा' है, 'R' का अर्थ 'घटाना' है, और 'S' का अर्थ 'भाग' है, तो निम्न व्यंजक का मान कितना होगा?

45S (3P7) P5S (8S4) P9Q (15S5)

- Ans 1. 32
 2. 28
 3. 34
 4. 38

Question ID : 65497835718
Status : Answered
Chosen Option : 3

Q.8 दिए गए कथनों और निष्कर्षों को ध्यानपूर्वक पढ़ें। यह मानते हुए कि कथनों में दी गई जानकारी सत्य है, भले ही वह सामान्य रूप से ज्ञात तथ्यों से भिन्न प्रतीत होती हो, निर्णय लें कि दिए गए निष्कर्षों में से कौन से निष्कर्ष कथनों का तार्किक रूप से अनुसरण करते हैं।

कथन:

कुछ थैले, कलम हैं।
सभी कलम, बक्से हैं।
सभी थैले, पुस्तकें हैं।

निष्कर्ष:

I. कुछ पुस्तकें, बक्से हैं।
II. कुछ बक्से, थैले हैं।
III. कुछ पुस्तकें, कलम हैं।

- Ans 1. केवल निष्कर्ष I और III अनुसरण करते हैं।
 2. I, II और III सभी निष्कर्ष अनुसरण करते हैं।
 3. केवल निष्कर्ष I और II अनुसरण करते हैं।
 4. केवल निष्कर्ष II और III अनुसरण करते हैं।

Question ID : 65497835709
Status : Answered
Chosen Option : 2

Q.9 उस विकल्प का चयन करें, जो तीसरे पद से उसी प्रकार संबंधित है, जिस प्रकार दूसरा पद पहले पद से संबंधित है।

SYMBOL : YSBMLO :: BANQUETS : ?

- Ans 1. ABQNSTEU
 2. ABQNEUST
 3. NABEUQST
 4. QNABSTEU

Question ID : 65497835705
Status : Answered
Chosen Option : 2

Q.10 उस विकल्प का चयन कीजिए जिसका तीसरी संख्या से वही संबंध है जो दूसरी संख्या का पहली संख्या से है और छठी संख्या का पांचवीं संख्या से है।

23 : 368 :: 25 : ? :: 21 : 294

- Ans 1. 450
 2. 442
 3. 382
 4. 371

Question ID : 65497835717
Status : Answered
Chosen Option : 1

Q.11 किसी निश्चित कूट भाषा में, 'BOWLER' को 'C p X M f S' के रूप में लिखा जाता है और 'NEAT' को 'O f b U' के रूप में लिखा जाता है। उसी कूट भाषा में 'SERIOUS' को किस रूप में लिखा जाएगा?

- Ans
- 1. TfTjPVT
 - 2. TfSJPwt
 - 3. TfSjpvT
 - 4. TfsJpUt

Question ID : 65497835706

Status : Answered

Chosen Option : 3

Q.12 उस विकल्प का चयन करें जिसमें निम्नलिखित शब्दों का वह क्रम दिया गया है, जिस क्रम में वे अंग्रेजी शब्दकोश में आते हैं।

1. Restates
2. Resistance
3. Restoration
4. Resonant
5. Resection

- Ans
- 1. 5, 4, 2, 3, 1
 - 2. 5, 2, 4, 1, 3
 - 3. 5, 2, 1, 4, 3
 - 4. 5, 2, 4, 3, 1

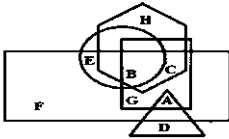
Question ID : 65497835726

Status : Answered

Chosen Option : 2

Q.13 नीचे दी गई आकृति में, वर्ग 'प्राकृतिक उपग्रह' को निरूपित करता है, वृत्त 'तारों' को निरूपित करता है, आयत 'ग्रहों' को निरूपित करता है, षट्भुज 'वायुमंडल' को निरूपित करता है, और त्रिभुज 'कृत्रिम उपग्रह' को निरूपित करता है।

कौन सा अक्षर ग्रहों को निरूपित करता है, लेकिन उन तारों को निरूपित नहीं करता है जिनमें वायुमंडल और प्राकृतिक उपग्रह हैं लेकिन कृत्रिम उपग्रह नहीं है।



- Ans
- 1. C
 - 2. E
 - 3. B
 - 4. A

Question ID : 65497835725

Status : Answered

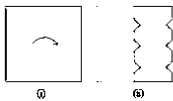
Chosen Option : 3

Q.14 एक निश्चित कूट भाषा में, 'DOCTOR' को 'SQWGTJ' के रूप में लिखा जाता है और 'SINGER' को 'SGJRNJ' के रूप में लिखा जाता है। उसी कूट भाषा में 'TAILOR' को किस रूप में लिखा जाएगा?

- Ans 1. SQOMFZ
 2. SQOMFX
 3. TQQNEZ
 4. TOOMFZ

Question ID : 65497835708
 Status : Answered
 Chosen Option : 3

Q.15 नीचे दी गई आकृतियों में कागज़ के एक टुकड़े को मोड़ने और मोड़े गए कागज़ को काटने के तरीके का क्रम दर्शाया गया है। कागज़ को खोले जाने पर वह कैसा दिखाई देगा?



Ans

- 1.
- 2.
- 3.
- 4.

Question ID : 65497835712
 Status : Not Answered
 Chosen Option : --

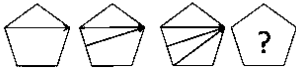
Q.16 दिए गए विकल्पों में से उस संख्या का चयन कीजिए जो निम्न श्रेणी में प्रश्नवाचक चिह्न (?) के स्थान पर आएगी।

8, 25, 57, 221, 449, ?

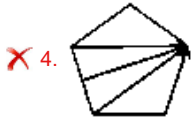
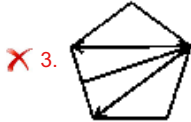
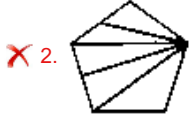
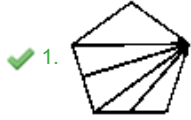
- Ans 1. 1879
 2. 1978
 3. 1798
 4. 1789

Question ID : 65497835728
 Status : Answered
 Chosen Option : 3

Q.17 दिए गए विकल्पों में से उस आकृति का चयन करें, जो निम्न आकृति श्रृंखला में प्रश्नवाचक चिह्न (?) के स्थान पर आ सकती है।



Ans



Question ID : 65497835729

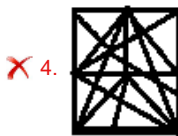
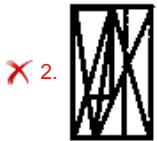
Status : Answered

Chosen Option : 1

Q.18 उस विकल्प का चयन कीजिए जिसमें दी गई आकृति सम्बन्धित है। (आकृति को घुमाने की अनुमति नहीं है)



Ans



Question ID : 65497835720

Status : Answered

Chosen Option : 2

Q.19 उस विकल्प का चयन करें जो तीसरे शब्द से उसी प्रकार संबंधित है जिस प्रकार दूसरा शब्द पहले शब्द से संबंधित है।

सिफ़िलिस : जीवाणु :: टीनिया पेडिस : ?

- Ans
- ✓ 1. कवक
 - ✗ 2. शैवाल
 - ✗ 3. प्रोटोज़ोआ
 - ✗ 4. विषाणु

Question ID : 65497835723
Status : Not Answered
Chosen Option : --

Q.20 चार अक्षर-समूह दिए गए हैं, जिनमें से तीन एक निश्चित प्रकार से समान हैं, जबकि एक उनसे असंगत है। उस असंगत अक्षर-समूह का चयन कीजिए।

- Ans
- ✓ 1. KIEA
 - ✗ 2. XVRL
 - ✗ 3. RPLF
 - ✗ 4. MKGA

Question ID : 65497835713
Status : Answered
Chosen Option : 1

Q.21 यदि शिखा और राजकुमार की वर्तमान आयु का अनुपात 2 : 1 है और 15 वर्ष पूर्व उनकी आयु का अनुपात 3 : 1 था, तो शिखा की वर्तमान आयु (वर्षों में) क्या है?

- Ans
- ✗ 1. 45
 - ✗ 2. 30
 - ✗ 3. 75
 - ✓ 4. 60

Question ID : 65497835711
Status : Answered
Chosen Option : 4

Q.22 यदि दर्पण को निम्नांकित चित्र के अनुसार 'PQ' पर रखा जाए, तो दिए गए संयोजन का दर्पण में निर्मित सही प्रतिबिंब चयनित कीजिए।

KURDARAM
P
|
Q

- Ans
- ✗ 1. MARKURDA
 - ✓ 2. MARADRAM
 - ✗ 3. RAMKURDA
 - ✗ 4. MARADRAM

Question ID : 65497835721
Status : Answered
Chosen Option : 2

Q.23 अक्षरों के उस संयोजन का चयन करें, जिसे दी गई श्रृंखला के रिक्त स्थानों में क्रम से रखे जाने पर श्रृंखला पूर्ण हो जाएगी।

I _ _ Q Z _ _ K _ _ I J _ Q Z

- Ans 1. JKIJQZK
 2. JKQZKI
 3. IJKQZK
 4. IQZIJKI

Question ID : 65497835727

Status : Answered

Chosen Option : 1

Q.24 चार सहेलियां रति, अरीमा, सोनाली और गीत उत्तर दिशा की ओर अभिमुख होकर एक बिस्तर पर एक दूसरे के बगल में बैठी हैं। सोनाली, रति के बाईं ओर बैठी है। रति, अरीमा के बाईं ओर बगल में बैठी है। गीत, रति और सोनाली के बीच में बैठी है। दायें छोर से दूसरे स्थान पर कौन सी लड़की बैठी है?

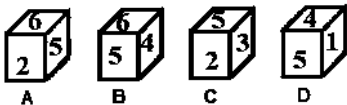
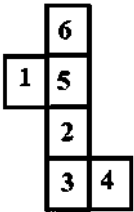
- Ans 1. गीत
 2. अरीमा
 3. रति
 4. सोनाली

Question ID : 65497835724

Status : Not Answered

Chosen Option : --

Q.25 निम्न शीट को रेखाओं पर से मोड़कर बनाये जा सकने वाले पासों का चयन कीजिए।



- Ans 1. केवल A
 2. A, B, C और D
 3. केवल A और C
 4. केवल B

Question ID : 65497835719

Status : Not Answered

Chosen Option : --

Q.1 निम्नलिखित में से कौन सा स्थान/क्षेत्र, भारतीय घुड़खर का प्राकृतिक आवास है?

- Ans
- 1. लघु कच्छ रण
 - 2. ऊपरी हिमालय
 - 3. गंगा के मैदान
 - 4. सुंदरबन

Question ID : 65497835743
Status : Answered
Chosen Option : 1

Q.2 'स्वर्णजयंती ग्राम स्वरोजगार योजना' (SGSY) वर्ष _____ में शुरू की गई थी।

- Ans
- 1. 2002
 - 2. 1995
 - 3. 2005
 - 4. 1999

Question ID : 65497835735
Status : Answered
Chosen Option : 4

Q.3 सालार जंग संग्रहालय किस शहर में स्थित है?

- Ans
- 1. हैदराबाद
 - 2. चेन्नई
 - 3. तिरुवनंतपुरम
 - 4. बंगलुरु

Question ID : 65497835740
Status : Answered
Chosen Option : 1

Q.4 निम्नलिखित में से किसे साहित्य के लिए 2020 के नोबेल पुरस्कार से सम्मानित किया गया था?

- Ans
- 1. काजुओ इशिगुरो (Kazuo Ishiguro)
 - 2. एलिस मुनरो (Alice Munro)
 - 3. डोरिस लेंसिंग (Doris Lessing)
 - 4. लुईस ग्लुक (Louise Gluck)

Question ID : 65497835744
Status : Answered
Chosen Option : 1

Q.5 चाणक्य, _____ के शासनकाल में प्रधान अमात्य थे।

- Ans
- 1. अशोक
 - 2. हर्षवर्धन
 - 3. बिन्दुसार
 - 4. चंद्रगुप्त मौर्य

Question ID : 65497835731
Status : Answered
Chosen Option : 4

Q.6 निम्नलिखित खिलाड़ियों में से कौन सा खिलाड़ी एक भारतीय पेशेवर टेनिस खिलाड़ी है?

- Ans
- 1. प्रकाश पादुकोण
 - 2. रोहन बोपन्ना
 - 3. कुलदीप यादव
 - 4. पुलेला गोपीचंद

Question ID : 65497835754
Status : Answered
Chosen Option : 2

Q.7 निम्नलिखित में से किस संवैधानिक संशोधन अधिनियम के तहत, संवैधानिक संशोधन विधेयक के लिए राष्ट्रपति को अपनी सहमति देना अनिवार्य कर दिया गया था?

- Ans
- 1. 100वें संशोधन अधिनियम, 2015
 - 2. 44वें संशोधन अधिनियम, 1978
 - 3. 24वें संशोधन अधिनियम, 1971
 - 4. 42वें संशोधन अधिनियम, 1976

Question ID : 65497835747
Status : Not Answered
Chosen Option : --

Q.8 बाल न्याय (बच्चों की देखभाल और संरक्षण) विधेयक, 2014 किस बात की अनुमति देता है?

- Ans
- 1. 16-18 वर्ष की आयु वाले किशोरों के माता-पिता को किशोर द्वारा किए गए अपराध के लिए अपराधी ठहराने की कोशिश की जानी चाहिए।
 - 2. 16-18 वर्ष की आयु वाले किशोरों को जघन्य अपराध के लिए वयस्कों की तरह सजा दी जानी चाहिए।
 - 3. 14-18 वर्ष की आयु वाले किशोरों को सुधार घरों में भेजा जाना चाहिए।
 - 4. 16-18 वर्ष की आयु वाले किशोरों को अपराधों के लिए 60 दिनों तक सामुदायिक सेवा में रखने का आदेश दिया जाना चाहिए।

Question ID : 65497835732
Status : Not Answered
Chosen Option : --

Q.9 धन जुटाने और भारतीय कंपनियों को उधार देने के लिए अंतरराष्ट्रीय वित्तीय संस्थानों द्वारा बांड भारत के बाहर वैश्विक पूंजी बाजारों में निर्गत किए जाते हैं।

- Ans
- 1. पापड़
 - 2. मसाला
 - 3. मिठाई
 - 4. चांदी

Question ID : 65497835736
Status : Answered
Chosen Option : 2

Q.10 'आजी लामू' लोक नृत्य का संबंध निम्नलिखित में से किस राज्य से है?

- Ans
- 1. त्रिपुरा
 - 2. अरुणाचल प्रदेश
 - 3. असम
 - 4. मणिपुर

Question ID : 65497835739
Status : Not Answered
Chosen Option : --

Q.11 निम्नलिखित में से किन देशों ने नवंबर 2020 में, 'अटल इनोवेशन मिशन-सीरियस इनोवेशन प्रोग्राम 3.0' की शुरुआत की?

- Ans
- 1. भारत और रूस
 - 2. भारत और फ्रांस
 - 3. भारत और जापान
 - 4. भारत और ऑस्ट्रेलिया

Question ID : 65497835748
Status : Not Answered
Chosen Option : --

Q.12 2020 में अर्जुन पुरस्कार से सम्मानित चिराग शेटी का संबंध निम्नलिखित में से किस खेल से है?

- Ans
- 1. हॉकी
 - 2. तैराकी
 - 3. बैडमिंटन
 - 4. क्रिकेट

Question ID : 65497835738
Status : Not Answered
Chosen Option : --

Q.13 निम्नलिखित में से किस जनजाति का संबंध नीलगिरि पर्वतों से है?

- Ans
- 1. अंगामी
 - 2. ओंगे
 - 3. टोडा
 - 4. जारवा

Question ID : 65497835734
Status : Answered
Chosen Option : 3

Q.14 भारत-म्यांमार सीमा पर, निम्न में से कौन-सी पहाड़ी भारत के पूर्वी पहाड़ी इलाकों की मिज़ो हिल्स और मणिपुर हिल्स को जोड़ती है?

- Ans
- 1. डोंक्या
 - 2. चिन
 - 3. खासी
 - 4. तोबा ककड़

Question ID : 65497835730
Status : Answered
Chosen Option : 3

Q.15 _____ 1864 और 1939 के बीच ब्रिटिश भारत की ग्रीष्मकालीन राजधानी रही थी।

- Ans
- 1. शिमला
 - 2. गंगटोक
 - 3. माउंट आबू
 - 4. कलिम्पोंग

Question ID : 65497835737
Status : Answered
Chosen Option : 1

Q.16 किसी देश की 'औसत आय' की गणना कैसे की जाती है?

- Ans
- 1. देश की कुल आय को इसकी कुल जनसंख्या से विभाजित करके।
 - 2. देश की कुल आय से जनसंख्या को घटाकर।
 - 3. देश की कुल आय तथा इसकी कुल जनसंख्या का गुणनफल।
 - 4. देश के सभी निवासियों की कुल आय।

Question ID : 65497835752
Status : Answered
Chosen Option : 1

Q.17 जेट इंजन किस सिद्धांत पर कार्य करता है?

- Ans
- 1. त्वरण के संरक्षण
 - 2. रैखिक संवेग के संरक्षण
 - 3. वेग के संरक्षण
 - 4. कोणीय संवेग के संरक्षण

Question ID : 65497835741
Status : Answered
Chosen Option : 2

Q.18 नवंबर 2020 में, भारत, जापान और अमेरिका के बीच आयोजित त्रिपक्षीय नौसैन्य अभ्यास का नाम क्या था?

- Ans
- 1. सिमबेक्स -20
 - 2. युद्ध अभ्यास
 - 3. मित्र शक्ति
 - 4. मालाबार

Question ID : 65497835733
Status : Answered
Chosen Option : 1

Q.19 _____ उद्यम एक ऐसा व्यावसायिक उद्यम होता है जिसमें मुख्यतः व्यापार के माध्यम से तथा सामान को सस्ते में खरीदकर और उसे उच्च कीमतों पर बेचकर लाभ कमाया जाता है।

- Ans
- 1. वस्तु विनिमय
 - 2. क्रय-विक्रय
 - 3. वाणिज्यिक
 - 4. किराया

Question ID : 65497835750
Status : Answered
Chosen Option : 3

Q.20 अक्टूबर 2020 में, निम्नलिखित में से किसे इंडिया पोस्ट पेमेंट्स बैंक के प्रबंधक निदेशक और मुख्य कार्यकारी अधिकारी के रूप में नियुक्त किया गया था?

- Ans
- 1. जे वेंकटरामू
 - 2. एस अपर्णा
 - 3. अपूर्वा चंद्रा
 - 4. सीमा गुप्ता

Question ID : 65497835745
Status : Answered
Chosen Option : 1

Q.21 किसी फूल के अंडाशय के अंदर छोटे मनके जैसी संरचनाओं को क्या कहा जाता है?

- Ans
- 1. दल
 - 2. बीजाण्ड
 - 3. बाह्य दल
 - 4. पुष्प-केसर

Question ID : 65497835742
Status : Not Answered
Chosen Option : --

Q.22 ट्रांसजेंडर बच्चों की देखभाल और सुरक्षा के लिए भारत का पहला घर कहां स्थापित किया जाएगा?

- Ans
- 1. मुंबई
 - 2. दिल्ली
 - 3. बेंगलुरु
 - 4. चेन्नई

Question ID : 65497835751
Status : Answered
Chosen Option : 3

Q.23 महान फुटबॉलर डिएगो माराडोना, जिनकी मृत्यु नवंबर, 2020 में हुई थी, के नेतृत्व में उनके देश अर्जेंटीना ने _____ में फीफा विश्व कप खिताब जीता था।

- Ans
- 1. 1982
 - 2. 1994
 - 3. 1990
 - 4. 1986

Question ID : 65497835746
Status : Answered
Chosen Option : 4

Q.24 निम्न में से कौन सा नियम यह कहता है कि, "दो वस्तुओं के बीच लगने वाला बल उनके द्रव्यमानों के गुणनफल के समानुपाती होता है?"

- Ans
- 1. जड़त्व का नियम
 - 2. गुरुत्वाकर्षण का नियम
 - 3. संवेग परिवर्तन का नियम
 - 4. गति का नियम

Question ID : 65497835749
Status : Answered
Chosen Option : 2

Q.25 भारत की जनगणना 2011 के अनुसार, _____ वर्ष और उससे अधिक आयु का कोई भी व्यक्ति, जो किसी भाषा को समझ और पढ़ और लिख सकता है, साक्षर माना जाएगा।

- Ans
- 1. 7
 - 2. 6
 - 3. 5
 - 4. 4

Question ID : 65497835753
Status : Answered
Chosen Option : 3

Q.1 अपनी सामान्य चाल की $\frac{6}{7}$ चाल से चलने पर, एक व्यक्ति को 10 min की देरी हो जाती है। उस व्यक्ति को अपनी सामान्य चाल से उसी दूरी को तय करने में कितना समय लगता है?

- Ans
- 1. 120 min
 - 2. 1 hour 15 min
 - 3. 1 hour
 - 4. 72 min

Question ID : 65497835773
Status : Answered
Chosen Option : 3

Q.2 रूमी, एरिका द्वारा अर्जित वेतन से 40% अधिक वेतन अर्जित करता है। चार्ल्स, एरिका द्वारा अर्जित वेतन से 60% अधिक वेतन अर्जित करता है। चार्ल्स द्वारा अर्जित वेतन, रूमी द्वारा अर्जित वेतन से कितने प्रतिशत (दशमलव के दो स्थानों तक सही) अधिक है?

- Ans
- 1. 14.29%
 - 2. 14.9%
 - 3. 12.29%
 - 4. 10.29%

Question ID : 65497835771
Status : Answered
Chosen Option : 1

Q.3 16 cm विज्या और 36 cm ऊंचाई वाले धातु के एक शंकु को पिघलाकर प्रत्येक 4 cm विज्या वाले गोले बनाए जाते हैं। इस प्रकार के गोलों की संख्या ज्ञात कीजिए।

- Ans
- 1. 32
 - 2. 28
 - 3. 45
 - 4. 36

Question ID : 65497835779
Status : Answered
Chosen Option : 4

Q.4 एक बैग में ₹441 की धनराशि 50 p, 25 p और 20 p के सिक्कों के रूप में है जिनका अनुपात 4 : 3 : 2 है। 25 p के सिक्कों की संख्या ज्ञात कीजिए।

- Ans
- 1. 400
 - 2. 240
 - 3. 460
 - 4. 420

Question ID : 65497835767
Status : Answered
Chosen Option : 2

Q.5 एक दुकानदार ने पतलून पर 25% की छूट की घोषणा की। उमेश दुकान में गया। वह छूट के रूप में ₹500 बचाना चाहता था। यदि प्रत्येक पतलून का मूल्य ₹250 है, तो ऐसा करने के लिए उसे कितने पतलून खरीदने होंगे?

- Ans
- ✓ 1. 8
 - ✗ 2. 6
 - ✗ 3. 5
 - ✗ 4. 4

Question ID : 65497835770
Status : Answered
Chosen Option : 1

Q.6 यदि 20 पुरुष किसी कार्य को 48 दिनों में पूरा कर सकते हैं, तो इस कार्य को 40 दिन में पूरा करने के लिए कितने पुरुषों की आवश्यकता होगी?

- Ans
- ✗ 1. 26
 - ✗ 2. 28
 - ✗ 3. 22
 - ✓ 4. 24

Question ID : 65497835759
Status : Answered
Chosen Option : 4

Q.7 92 km/h की एकसमान चाल से चल रही 180 मीटर लंबी एक ट्रेन, उसी दिशा में 74 km/h की एकसमान चाल से चल रही दूसरी ट्रेन को 60 सेकंड में पार करती है। दूसरी ट्रेन की लंबाई ज्ञात करें।

- Ans
- ✓ 1. 120 मीटर
 - ✗ 2. 150 मीटर
 - ✗ 3. 160 मीटर
 - ✗ 4. 140 मीटर

Question ID : 65497835775
Status : Answered
Chosen Option : 1

Q.8 एक विशाल स्कूल ऑडिटोरियम में, यदि शिक्षक, प्रत्येक पंक्ति में 16 विद्यार्थी रखते हैं, तो 14 विद्यार्थी बच जाएंगे। यदि वे प्रत्येक पंक्ति में 24 विद्यार्थी रखते हैं, तो 22 विद्यार्थी बच जाएंगे। यदि वे प्रत्येक पंक्ति में 25 विद्यार्थी रखते हैं, तो 23 विद्यार्थी बच जाएंगे और यदि वे प्रत्येक पंक्ति में 30 विद्यार्थी रखते हैं, तो 28 विद्यार्थी बच जाएंगे। स्कूल में उपस्थित विद्यार्थियों की न्यूनतम संख्या कितनी है?

- Ans
- ✓ 1. 1198
 - ✗ 2. 1202
 - ✗ 3. 1189
 - ✗ 4. 1200

Question ID : 65497835764
Status : Answered
Chosen Option : 1

Q.9 ₹1,625 की राशि पर दो अलग-अलग स्रोतों से 5 वर्षों में प्राप्त साधारण व्याजों के बीच ₹32.50 का अंतर है। उनकी व्याज दरों के बीच अंतर ज्ञात कीजिए।

- Ans
- 1. 0.6%
 - 2. 0.5%
 - 3. 0.3%
 - 4. 0.4%

Question ID : 65497835778
Status : Answered
Chosen Option : 4

Q.10 एक वस्तु के अंकित मूल्य पर 30% की छूट देने के बाद, इसे ₹455 में बेचा जाता है। वस्तु का अंकित मूल्य ज्ञात कीजिए।

- Ans
- 1. ₹650
 - 2. ₹554
 - 3. ₹550
 - 4. ₹560

Question ID : 65497835766
Status : Answered
Chosen Option : 1

Q.11 यदि एक त्रिभुज की भुजाएँ 8 cm, 8 cm और 12 cm हैं, तो त्रिभुज का क्षेत्रफल कितना होगा?

- Ans
- 1. 64 cm^2
 - 2. $12\sqrt{7} \text{ cm}^2$
 - 3. 19 cm^2
 - 4. 34 cm^2

Question ID : 65497835756
Status : Answered
Chosen Option : 1

Q.12 निम्नलिखित व्यंजक का मान ज्ञात करें।

$$27 \div 3 \times 4 + 4 \div 2 \text{ of } 2$$

- Ans
- 1. 37
 - 2. $1\frac{1}{8}$
 - 3. $6\frac{1}{4}$
 - 4. $2\frac{1}{8}$

Question ID : 65497835757
Status : Answered
Chosen Option : 3

Q.13 एक मशीन X, 4 घंटे में 1000 बोल्ट और दूसरी मशीन Y, 12 घंटे में 1000 बोल्ट का उत्पादन कर सकती है। X और Y मशीनें एक साथ अपनी-अपनी नियत उत्पादन दर पर 1000 बोल्ट का उत्पादन कितने घंटों में कर सकती हैं?

- Ans
- 1. 2
 - 2. 4
 - 3. 6
 - 4. 3

Question ID : 65497835772
Status : Answered
Chosen Option : 3

Q.14 9 प्रेक्षकों का औसत 10 था, जिनमें से पहले 5 प्रेक्षकों का औसत 11 था और अंतिम 5 प्रेक्षकों का औसत 8 था। 5वां प्रेक्षक कितना था?

- Ans
- 1. 4
 - 2. 5
 - 3. 7
 - 4. 6

Question ID : 65497835769
Status : Answered
Chosen Option : 2

Q.15 यदि 9-अंकीय संख्या $5y97405x2$, 72 से विभाज्य है, तो x के सबसे बड़े मान के लिए $(x - 2y)$ का मान ज्ञात करें।

- Ans
- 1. 1
 - 2. 9
 - 3. 8
 - 4. 4

Question ID : 65497835760
Status : Answered
Chosen Option : 3

Q.16 किसी धनराशि पर साधारण ब्याज की दर से 3 वर्षों में प्राप्त मिश्रधन ₹650 और 4 वर्षों में प्राप्त मिश्रधन ₹754 है। वह धनराशि ज्ञात कीजिए।

- Ans
- 1. ₹388
 - 2. ₹338
 - 3. ₹318
 - 4. ₹308

Question ID : 65497835768
Status : Answered
Chosen Option : 2

Q.17 एक कंपनी में, 75% कुशल श्रमिक हैं और शेष अकुशल हैं। 84% कुशल श्रमिक और 28% अकुशल श्रमिक स्थायी हैं। यदि अस्थायी श्रमिकों की संख्या 150 है, तो कंपनी में कुल श्रमिकों की संख्या कितनी है?

- Ans
- 1. 500
 - 2. 600
 - 3. 400
 - 4. 480

Question ID : 65497835761
Status : Answered
Chosen Option : 2

Q.18 A, B और C की वर्तमान औसत आयु 60 वर्ष है तथा B और C की वर्तमान औसत आयु 50 वर्ष है। A की वर्तमान आयु कितनी है?

- Ans
- 1. 80 वर्ष
 - 2. 60 वर्ष
 - 3. 45 वर्ष
 - 4. 75 वर्ष

Question ID : 65497835765
Status : Answered
Chosen Option : 1

Q.19 अरुण ने ₹7,000 की धनराशि 10% वार्षिक साधारण ब्याज दर पर दो वर्षों के लिए निवेश की। भरत ने एक निश्चित धनराशि 8% वार्षिक साधारण ब्याज दर पर 5 वर्षों के लिए निवेश की। यदि अरुण को प्राप्त मिश्रधन, भरत को प्राप्त मिश्रधन के बराबर है, तो भरत द्वारा निवेशित धनराशि कितनी थी?

- Ans
- 1. ₹5,800
 - 2. ₹6,200
 - 3. ₹6,500
 - 4. ₹6,000

Question ID : 65497835763
Status : Answered
Chosen Option : 4

Q.20 कोई व्यक्ति किसी वस्तु को निश्चित मूल्य पर बेचकर 15% लाभ प्राप्त करता है। यदि वह इसे दोगुने मूल्य पर बेचता है, तो उसका लाभ प्रतिशत कितना होगा?

- Ans
- 1. 115%
 - 2. 130%
 - 3. 120%
 - 4. 110%

Question ID : 65497835776
Status : Answered
Chosen Option : 1

Q.21 एक वस्तु को 12% की हानि पर ₹3,520 में बेचा गया। 18% का लाभ प्राप्त करने के लिए इस वस्तु को किस मूल्य पर बेचा जाना चाहिए?

- Ans
- 1. ₹4,500
 - 2. ₹4,620
 - 3. ₹4,720
 - 4. ₹5,620

Question ID : 65497835762
Status : Answered
Chosen Option : 3

Q.22 दो संख्याओं का अनुपात 2 : 5 है। यदि प्रत्येक में से 7 घटा दिया जाए, तो नई संख्याओं का अनुपात 13 : 43 हो जाएगा। छोटी संख्या ज्ञात कीजिए।

- Ans
- 1. 20
 - 2. 15
 - 3. 10
 - 4. 30

Question ID : 65497835777
Status : Answered
Chosen Option : 3

Q.23 एक कलाई घड़ी 15% लाभ पर ₹2,300 में बेची गई। लाभ की गणना करें।

- Ans
- 1. ₹300
 - 2. ₹280
 - 3. ₹250
 - 4. ₹320

Question ID : 65497835758
Status : Answered
Chosen Option : 1

Q.24 एक विद्यालय के छात्रों की कुल संख्या 1,600 है और लड़कों तथा लड़कियों की संख्या का अनुपात 11 : 9 है। इस अनुपात को 4 : 3 करने के लिए विद्यालय में कितने और लड़कों को प्रवेश देना होगा?

- Ans
- 1. 100
 - 2. 387
 - 3. 160
 - 4. 80

Question ID : 65497835755
Status : Answered
Chosen Option : 4

Q.25 $(1 - 1/2)(1 - 1/3)(1 - 1/4)..... (1 - 1/23)$ को सरल करने पर प्राप्त परिणाम _____ होगा।

- Ans
- 1. $1/23$
 - 2. $1/22$
 - 3. $1/3$
 - 4. $1/2$

Question ID : 65497835774
Status : Answered
Chosen Option : 1

Section : Part D English

Q.1 Select the option that can be used as a one-word substitute for the given group of words.

Light rain falling in small drops

- Ans
- 1. Downpour
 - 2. Stream
 - 3. Drizzle
 - 4. Dew

Question ID : 65497835793
Status : Not Answered
Chosen Option : --

Q.2 The following sentence has been divided into parts. One of them may contain an error. Select the part that contains the error from the given options. If you don't find any error, select 'No error' as your answer.

A good book / is one of / our best friends.

- Ans
- 1. our best friends
 - 2. A good book
 - 3. is one of
 - 4. No error

Question ID : 65497835781
Status : Not Answered
Chosen Option : --

Q.3 Select the most appropriate option that can substitute the underlined word in the given sentence.

After the bag was shut and barrelled, he realised that he had forgotten to put in the book.

- Ans
- 1. rebounded
 - 2. scrambled
 - 3. scratched
 - 4. strapped

Question ID : 65497835783
Status : Not Answered
Chosen Option : --

Q.4 Select the most appropriate option to fill in the blank.

Suddenly, it started raining and I _____ an umbrella from the office.

- Ans
- 1. borrowed
 - 2. criticised
 - 3. lended
 - 4. substituted

Question ID : 65497835784
Status : Not Answered
Chosen Option : --

Q.5 Select the most appropriate meaning of the given idiom.

Hand in hand

- Ans
- 1. Vigorously
 - 2. Easily
 - 3. In totality
 - 4. Together

Question ID : 65497835785
Status : Not Answered
Chosen Option : --

Q.6 Select the most appropriate option to fill in the blank.

The gentleman looked at the beautiful lady with great _____.

- Ans
- 1. reaction
 - 2. admiration
 - 3. vocation
 - 4. duration

Question ID : 65497835789
Status : Not Answered
Chosen Option : --

Q.7 Select the most appropriate option that can substitute the underlined segment in the given sentence. If there is no need to substitute it, select 'No substitution required'.

It was such a funny story that we cannot help laughed.

- Ans
- 1. could not help laughed
 - 2. cannot help laughing
 - 3. No substitution required
 - 4. could not help laughing

Question ID : 65497835780
Status : Not Answered
Chosen Option : --

Q.8 The following sentence has been split into four segments. Identify the segment that contains a grammatical error.

Tortoises inhabit all of / the world's landmasses / except Australia / and Antarctica.

- Ans**
- 1. and Antarctica
 - 2. Tortoises inhabit all of
 - 3. the world's landmasses
 - 4. except Australia

Question ID : 65497835791
Status : Not Answered
Chosen Option : --

Q.9 Select the most appropriate meaning of the given idiom.

Toe the line

- Ans**
- 1. Start early
 - 2. Follow the rules
 - 3. Touch the feet
 - 4. Finish first

Question ID : 65497835787
Status : Not Answered
Chosen Option : --

Q.10 Select the most appropriate option to fill in the blank.

The boy walked at a fast _____.

- Ans**
- 1. pace
 - 2. pose
 - 3. peace
 - 4. place

Question ID : 65497835798
Status : Not Answered
Chosen Option : --

Q.11 Select the option that can be used as a one-word substitute for the given group of words.

A medicine used to nullify the effect of poison

- Ans**
- 1. Antibiotic
 - 2. Antigen
 - 3. Antiseptic
 - 4. Antidote

Question ID : 65497835796
Status : Not Answered
Chosen Option : --

Q.12 The following sentence has been split into four segments. Identify the segment that contains a grammatical error.

We bought / good quality / furnitures / for our new house.

- Ans
- 1. for our new house
 - 2. furnitures
 - 3. good quality
 - 4. We bought

Question ID : 65497835794
Status : Not Answered
Chosen Option : --

Q.13 Select the INCORRECTLY spelt word.

- Ans
- 1. Capture
 - 2. Nerture
 - 3. Structure
 - 4. Lecture

Question ID : 65497835788
Status : Not Answered
Chosen Option : --

Q.14 Select the most appropriate synonym of the given word.

Amusing

- Ans
- 1. Wise
 - 2. Laughable
 - 3. Tiresome
 - 4. Dull

Question ID : 65497835782
Status : Not Answered
Chosen Option : --

Q.15 Select the most appropriate option that can substitute the underlined segment in the given sentence. If there is no need to substitute it, select 'No substitution required'.

My brother and Raj are good friends. They are knowing each other for at least 10 years.

- Ans
- 1. are known
 - 2. knew
 - 3. No substitution required
 - 4. have known

Question ID : 65497835799
Status : Not Answered
Chosen Option : --

Q.16 Select the most appropriate synonym of the given word.

Hurdle

- Ans** 1. Obstacle
 2. Compliment
 3. Rudiment
 4. Assistance

Question ID : **65497835792**
Status : **Not Answered**
Chosen Option : --

Q.17 Select the most appropriate ANTONYM of the given word.

Diverge

- Ans** 1. Submerge
 2. Contrast
 3. Depart
 4. Converge

Question ID : **65497835790**
Status : **Not Answered**
Chosen Option : --

Q.18 Select the most appropriate ANTONYM of the given word.

Chaste

- Ans** 1. Vicious
 2. Virtuous
 3. Cruel
 4. Corrupt

Question ID : **65497835795**
Status : **Not Answered**
Chosen Option : --

Q.19 Select the correctly spelt word.

- Ans** 1. Conscientious
 2. Conscientous
 3. Conscentious
 4. Conscientios

Question ID : **65497835797**
Status : **Not Answered**
Chosen Option : --

Q.20 Select the option that can be used as a one-word substitute for the given group of words.

A place where wild animals are kept in their natural environment

- Ans**
- 1. Aviary
 - 2. Pantry
 - 3. Sanctuary
 - 4. Tannery

Question ID : **65497835786**
Status : **Not Answered**
Chosen Option : --

Comprehension:

In the following passage, some words have been deleted. Read the passage carefully and select the most appropriate option to fill in each blank.

Dust storms do not just happen in the middle of the desert. They can happen in (1)_____ dry area where loose dirt can (2)_____ be picked up. Don't be surprised (3)_____ you suddenly saw a dust storm (4)_____ your way. Dust storms usually (5)_____ without warning.

SubQuestion No : 21

Q.21 Select the most appropriate option to fill in blank no.1.

- Ans**
- 1. all
 - 2. any
 - 3. much
 - 4. few

Question ID : **65497835801**
Status : **Not Answered**
Chosen Option : --

Comprehension:

In the following passage, some words have been deleted. Read the passage carefully and select the most appropriate option to fill in each blank.

Dust storms do not just happen in the middle of the desert. They can happen in (1)_____ dry area where loose dirt can (2)_____ be picked up. Don't be surprised (3)_____ you suddenly saw a dust storm (4)_____ your way. Dust storms usually (5)_____ without warning.

SubQuestion No : 22

Q.22 Select the most appropriate option to fill in blank no.2.

- Ans**
- 1. casually
 - 2. properly
 - 3. slowly
 - 4. easily

Question ID : **65497835802**
Status : **Not Answered**
Chosen Option : --

Comprehension:

In the following passage, some words have been deleted. Read the passage carefully and select the most appropriate option to fill in each blank.

Dust storms do not just happen in the middle of the desert. They can happen in (1)_____ dry area where loose dirt can (2)_____ be picked up. Don't be surprised (3)_____ you suddenly saw a dust storm (4)_____ your way. Dust storms usually (5)_____ without warning.

SubQuestion No : 23

Q.23 Select the most appropriate option to fill in blank no.3.

- Ans**
- 1. until
 - 2. if
 - 3. whether
 - 4. so

Question ID : **65497835803**
Status : **Not Answered**
Chosen Option : --

Comprehension:

In the following passage, some words have been deleted. Read the passage carefully and select the most appropriate option to fill in each blank.

Dust storms do not just happen in the middle of the desert. They can happen in (1)_____ dry area where loose dirt can (2)_____ be picked up. Don't be surprised (3)_____ you suddenly saw a dust storm (4)_____ your way. Dust storms usually (5)_____ without warning.

SubQuestion No : 24

Q.24 Select the most appropriate option to fill in blank no.4.

- Ans**
- 1. directing
 - 2. deciding
 - 3. heading
 - 4. lashing

Question ID : **65497835804**
Status : **Not Answered**
Chosen Option : --

Comprehension:

In the following passage, some words have been deleted. Read the passage carefully and select the most appropriate option to fill in each blank.

Dust storms do not just happen in the middle of the desert. They can happen in (1)_____ dry area where loose dirt can (2)_____ be picked up. Don't be surprised (3)_____ you suddenly saw a dust storm (4)_____ your way. Dust storms usually (5)_____ without warning.

SubQuestion No : 25

Q.25 Select the most appropriate option to fill in blank no.5.

- Ans**
- 1. show
 - 2. arrive
 - 3. enter
 - 4. reach

Question ID : **65497835805**
Status : **Not Answered**
Chosen Option : --

Section : Part D Hindi

Q.1 रिक्त स्थान की पूर्ति के लिए सबसे उपयुक्त शब्द का चयन करें।

मेरे द्वारा _____ चित्र बैठक में टँगा था।

- Ans
- 1. चित्रित
 - 2. रचित
 - 3. लिखित
 - 4. निर्मित

Question ID : 65497835811
Status : Answered
Chosen Option : 4

Q.2 विलोम शब्दों का सही युग्म निम्न में से कौन सा है?

- Ans
- 1. धरा - पृथ्वी
 - 2. क्रोध - गुस्सा
 - 3. आस्तिक - नास्तिक
 - 4. महात्मा - संत

Question ID : 65497835807
Status : Answered
Chosen Option : 3

Q.3 दिए गए वाक्य का वह भाग ज्ञात करें जिसमें कोई त्रुटि है। यदि कोई त्रुटि नहीं है, तो 'कोई त्रुटि नहीं है' चुनें।

मैंने अपने (1)/ मित्र के नाम क्लर्क को (2)/ एक पत्र लिखाया। (3)/ कोई त्रुटि नहीं है। (4)

- Ans
- 1. 2
 - 2. 3
 - 3. 1
 - 4. 4

Question ID : 65497835821
Status : Answered
Chosen Option : 1

Q.4 दिए गए वाक्य में रेखांकित खंड को प्रतिस्थापित करने के लिए सबसे उपयुक्त विकल्प का चयन करें। यदि इसे प्रतिस्थापित करने की आवश्यकता नहीं है, तो विकल्प 'किसी बदलाव की आवश्यकता नहीं है' का चयन करें।

हम दसवीं कक्षा के छात्र आपको निवेदन करते हैं।

- Ans
- 1. हम दसवीं कक्षा के छात्र
 - 2. किसी बदलाव की आवश्यकता नहीं है।
 - 3. निवेदन करते हैं
 - 4. आपसे

Question ID : 65497835810
Status : Answered
Chosen Option : 4

Q.5 उस विकल्प का चयन करें जो निम्न मुहावरे का सही अर्थ व्यक्त करता है।

हथेली पर सरसों उगाना

- Ans
- 1. खेती करना
 - 2. असंभव काम को संभव करना
 - 3. लड़ाई करना
 - 4. भाग जाना

Question ID : 65497835820
Status : Answered
Chosen Option : 2

Q.6 उस विकल्प का चयन करें जो निम्न मुहावरे का सही अर्थ व्यक्त करता है।

फूल झड़ना

- Ans
- 1. प्रिय वचन बोलना
 - 2. पतझड़ होना
 - 3. सुन्दर लगाना
 - 4. हल्की बातें बोलना

Question ID : 65497835815
Status : Answered
Chosen Option : 1

Q.7 दिए गए वाक्य में रेखांकित खंड को प्रतिस्थापित करने के लिए सबसे उपयुक्त विकल्प का चयन करें।
यदि इसे प्रतिस्थापित करने की आवश्यकता नहीं है, तो विकल्प 'किसी बदलाव की आवश्यकता नहीं है'
का चयन करें।

यह बात तुम लोगों के ऊपर निर्भर है।

- Ans
- 1. लोगों पर
 - 2. लोग के ऊपर
 - 3. किसी बदलाव की आवश्यकता नहीं है।
 - 4. लोगों के पर

Question ID : 65497835818
Status : Answered
Chosen Option : 2

Q.8 'जो पढ़ा न जा सके' वाक्यांश के लिए एक शब्द होगा-

- Ans
- 1. अपठित
 - 2. अकथनीय
 - 3. अपठनीय
 - 4. पठित

Question ID : 65497835825
Status : Answered
Chosen Option : 1

Q.9 दिए गए शब्द का समानार्थी शब्द बताइए-

हिरन

- Ans
- 1. गज
 - 2. दादुर
 - 3. केसरी
 - 4. मृग

Question ID : 65497835814
Status : Answered
Chosen Option : 4

Q.10 रिक्त स्थान की पूर्ति के लिए सबसे उपयुक्त शब्द का चयन करें।

_____ के लिए पौष्टिक भोजन आवश्यक है।

- Ans
- 1. स्वास्थ्य
 - 2. जीवंतता
 - 3. बीमारी
 - 4. अस्वास्थ्य

Question ID : 65497835812
Status : Answered
Chosen Option : 1

Q.11 रिक्त स्थान की पूर्ति के लिए सबसे उपयुक्त शब्द का चयन करें-

राम ने रावण का _____ किया।

- Ans
- 1. वध
 - 2. हत्या
 - 3. मृत्यु
 - 4. मौत

Question ID : 65497835824
Status : Answered
Chosen Option : 1

Q.12 सही वर्तनी वाले शब्द का चयन करें।

- Ans
- 1. निरामिष
 - 2. निरामिष
 - 3. निर्मिष
 - 4. निरामिस

Question ID : 65497835816
Status : Answered
Chosen Option : 1

Q.13 सही वर्तनी वाले शब्द का चयन करें।

- Ans 1. हस्तांतरित
 2. हस्तांतरीत
 3. हसतान्तरित
 4. हस्तंतरित

Question ID : 65497835817
Status : Answered
Chosen Option : 1

Q.14 'युद्ध करने की प्रबल इच्छा' इस वाक्यांश के लिए एक सार्थक शब्द दीजिए।

- Ans 1. युयुत्सा
 2. दुर्जेय
 3. अजातशत्रु
 4. युयुत्सु

Question ID : 65497835809
Status : Answered
Chosen Option : 4

Q.15 दिए गए शब्द का समानार्थी शब्द चुनें-

झगड़ा

- Ans 1. बैर
 2. द्वन्द्व
 3. विरोध
 4. खार

Question ID : 65497835822
Status : Answered
Chosen Option : 1

Q.16 दिए गए वाक्य का वह भाग ज्ञात करें जिसमें कोई त्रुटि है। यदि कोई त्रुटि नहीं है, तो 'कोई त्रुटि नहीं है' चुनें।

शत्रु पर (1)/ गोले और तोपों से (2)/ आक्रमण कर दिया गया। (3)/ कोई त्रुटि नहीं है(4)

- Ans 1. 3
 2. 4
 3. 1
 4. 2

Question ID : 65497835806
Status : Answered
Chosen Option : 4

Q.17 दिए गए वाक्य में रेखांकित खंड को प्रतिस्थापित करने के लिए सबसे उपयुक्त विकल्प का चयन करें।
यदि इसे प्रतिस्थापित करने की आवश्यकता नहीं है, तो विकल्प 'किसी बदलाव की आवश्यकता नहीं है'
का चयन करें।

न जाने क्यों, तुम बेफ़िज़ूल की बातों पर बहस कर लेते हो।

Ans 1. फ़िज़ूल की बातों पर

2. बेफ़िज़ूल में

3. किसी बदलाव की आवश्यकता नहीं है।

4. बेफ़िज़ूल की बातों में

Question ID : 65497835823

Status : Answered

Chosen Option : 3

Q.18 दिए गए वाक्य का वह भाग ज्ञात करें जिसमें कोई त्रुटि है। यदि कोई त्रुटि नहीं है, तो 'कोई त्रुटि नहीं है'
चुनें।

संसार की प्राचीन भाषा में (1)\ संस्कृत प्राचीनतम (2)\ भाषा मानी जाती है। (3)\ कोई त्रुटि नहीं है (4)

Ans 1. 4

2. 2

3. 1

4. 3

Question ID : 65497835813

Status : Answered

Chosen Option : 3

Q.19 दिए गए शब्द का विलोम चुनें।

अपेक्षा

Ans 1. उपेक्षा

2. अनापेक्षा

3. निरपेक्ष

4. सापेक्ष

Question ID : 65497835819

Status : Answered

Chosen Option : 1

Q.20 दिये गये वाक्यांश के लिए एक सार्थक शब्द का चयन कीजिए।

उसी समय में होने वाला या रहने वाला

Ans 1. सार्वजनिक

2. समदर्शी

3. समसामयिक

4. सामुदायिक

Question ID : 65497835808

Status : Answered

Chosen Option : 3

Comprehension:

दिए गए गद्यांश में से कुछ शब्द हटा दिए गए हैं। संबंधित प्रश्नों में प्रत्येक संख्या के लिए सबसे उपयुक्त विकल्प का चयन कीजिए।

(1) _____ का काम बहुत अंशों में (2) _____ के काम से मिलताजुलता है। मधुमक्खियां मकरंद संग्रह करने के लिए कोसों के चक्कर लगाती हैं और अच्छे-अच्छे (3) _____ पर बैठकर उनका रस लेती हैं। तभी तो उनके मधु में संसार की सर्वश्रेष्ठ (4) _____ रहती है। यदि आप अच्छे (5) _____ बनाना चाहते हैं तो आपको भी यह वृत्ति ग्रहण करनी चाहिए।

SubQuestion No : 21

Q.21 गद्यांश के रिक्त स्थान (1) के लिए सर्वाधिक उपयुक्त शब्द होगा-

- Ans** 1. लेखक
 2. राजनेता
 3. वकील
 4. अभियंता

Question ID : 65497835827

Status : Answered

Chosen Option : 1

Comprehension:

दिए गए गद्यांश में से कुछ शब्द हटा दिए गए हैं। संबंधित प्रश्नों में प्रत्येक संख्या के लिए सबसे उपयुक्त विकल्प का चयन कीजिए।

(1) _____ का काम बहुत अंशों में (2) _____ के काम से मिलताजुलता है। मधुमक्खियां मकरंद संग्रह करने के लिए कोसों के चक्कर लगाती हैं और अच्छे-अच्छे (3) _____ पर बैठकर उनका रस लेती हैं। तभी तो उनके मधु में संसार की सर्वश्रेष्ठ (4) _____ रहती है। यदि आप अच्छे (5) _____ बनाना चाहते हैं तो आपको भी यह वृत्ति ग्रहण करनी चाहिए।

SubQuestion No : 22

Q.22 गद्यांश के रिक्त स्थान (2) के लिए सर्वाधिक उपयुक्त शब्द होगा-

- Ans** 1. चींटियों
 2. मधुमक्खियों
 3. पशुओं
 4. पंछियों

Question ID : 65497835828

Status : Answered

Chosen Option : 2

Comprehension:

दिए गए गद्यांश में से कुछ शब्द हटा दिए गए हैं। संबंधित प्रश्नों में प्रत्येक संख्या के लिए सबसे उपयुक्त विकल्प का चयन कीजिए।

(1) _____ का काम बहुत अंशों में (2) _____ के काम से मिलताजुलता है। मधुमक्खियां मकरंद संग्रह करने के लिए कोसों के चक्कर लगाती हैं और अच्छे-अच्छे (3) _____ पर बैठकर उनका रस लेती हैं। तभी तो उनके मधु में संसार की सर्वश्रेष्ठ (4) _____ रहती है। यदि आप अच्छे (5) _____ बनाना चाहते हैं तो आपको भी यह वृत्ति ग्रहण करनी चाहिए।

SubQuestion No : 23

Q.23 गद्यांश के रिक्त स्थान (3) के लिए सर्वाधिक उपयुक्त शब्द होगा-

- Ans**
- 1. पेड़ों
 - 2. फूलों
 - 3. टहनियों
 - 4. पत्तों

Question ID : 65497835829

Status : Answered

Chosen Option : 2

Comprehension:

दिए गए गद्यांश में से कुछ शब्द हटा दिए गए हैं। संबंधित प्रश्नों में प्रत्येक संख्या के लिए सबसे उपयुक्त विकल्प का चयन कीजिए।

(1) _____ का काम बहुत अंशों में (2) _____ के काम से मिलताजुलता है। मधुमक्खियां मकरंद संग्रह करने के लिए कोसों के चक्कर लगाती हैं और अच्छे-अच्छे (3) _____ पर बैठकर उनका रस लेती हैं। तभी तो उनके मधु में संसार की सर्वश्रेष्ठ (4) _____ रहती है। यदि आप अच्छे (5) _____ बनाना चाहते हैं तो आपको भी यह वृत्ति ग्रहण करनी चाहिए।

SubQuestion No : 24

Q.24 गद्यांश के रिक्त स्थान (4) के लिए सर्वाधिक उपयुक्त शब्द होगा-

- Ans**
- 1. मधुरता
 - 2. चतुरता
 - 3. सुंदरता
 - 4. कटुता

Question ID : 65497835830

Status : Answered

Chosen Option : 1

Comprehension:

दिए गए गद्यांश में से कुछ शब्द हटा दिए गए हैं। संबंधित प्रश्नों में प्रत्येक संख्या के लिए सबसे उपयुक्त विकल्प का चयन कीजिए।

(1) _____ का काम बहुत अंशों में (2) _____ के काम से मिलताजुलता है। मधुमक्खियां मकरंद संग्रह करने के लिए कोसों के चक्कर लगाती हैं और अच्छे-अच्छे (3) _____ पर बैठकर उनका रस लेती हैं। तभी तो उनके मधु में संसार की सर्वश्रेष्ठ (4) _____ रहती है। यदि आप अच्छे (5) _____ बनाना चाहते हैं तो आपको भी यह वृत्ति ग्रहण करनी चाहिए।

SubQuestion No : 25

Q.25 गद्यांश के रिक्त स्थान (5) के लिए सर्वाधिक उपयुक्त शब्द होगा-

- Ans**
- 1. समाजसेवी
 - 2. लेखक
 - 3. पुलिस
 - 4. पत्रकार

Question ID : 65497835831

Status : Answered

Chosen Option : 2

Constable GD in CAPFs NIA SSF and Rifleman GD in Assam Rifles Examination 2021

Roll Number	www.HaryanaJobs.in
Candidate Name	www.HaryanaJobs.in
Venue Name	iON Digital Zone iDZ Green Park
Exam Date	22/11/2021
Exam Time :	9:00 AM - 10:30 AM
Subject	Constable GD 2021

Section : Part A General Intelligence and Reasoning

Q.1 अक्षरों के उस संयोजन का चयन कीजिए, जिसे दी गई श्रृंखला के रिक्त स्थानों में क्रमबद्ध रूप से रखने पर श्रृंखला पूर्ण हो जाएगी।

N _ K _ T N O K _ T _ _ _ D T

- Ans
- 1. K D D N O K
 - 2. O N D N O K
 - 3. O D K N O K
 - 4. O D D N O K

Question ID : 65497834711

Status : Answered

Chosen Option : 4

Q.2 उस विकल्प का चयन करें जिसमें दी गई आकृति अंतर्निहित है (आकृति को घुमाने की अनुमति नहीं है)।



Ans

- 1.
- 2.
- 3.
- 4.

Question ID : 65497834693

Status : Answered

Chosen Option : 3

Q.3 उस विकल्प का चयन करें जो तीसरे शब्द से उसी प्रकार संबंधित है जिस प्रकार दूसरा शब्द पहले शब्द से संबंधित है।

मधुमक्खियां : भिनभिनाना :: मुर्गियां : ?

- Ans
- 1. गरजना
 - 2. किकियाना
 - 3. कुटकुटाना
 - 4. चहचहाना

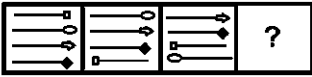
Question ID : 65497834698
Status : Answered
Chosen Option : 3

Q.4 एक निश्चित कूट भाषा में, 'DICTIONARY' को '20' के रूप में कूटबद्ध किया जाता है और 'MOBILITY' को '16' के रूप में कूटबद्ध किया जाता है। उसी कूट भाषा में 'TERMINATION' को किस रूप में कूटबद्ध किया जाएगा?

- Ans
- 1. 20
 - 2. 24
 - 3. 18
 - 4. 22

Question ID : 65497834702
Status : Answered
Chosen Option : 4

Q.5 दिए गए विकल्पों में से उस आकृति का चयन कीजिए, जो निम्न आकृति श्रृंखला में प्रश्नवाचक चिन्ह (?) के स्थान पर आ सकती है।



Ans

- 1.
- 2.
- 3.
- 4.

Question ID : 65497834713
Status : Answered
Chosen Option : 1

Q.6 किसी विशिष्ट कूट भाषा में, 'LEMON' को 'ELMNO' के रूप में लिखा जाता है। उसी कूट भाषा में 'CLUSTER' को किस रूप में लिखा जाएगा?

- Ans
- 1. LUCETRS
 - 2. CLESRUT
 - 3. CELRSTU
 - 4. LCUTESR

Question ID : 65497834705
Status : Not Answered
Chosen Option : --

Q.7 उस विकल्प का चयन करें, जो चौथी संख्या से उसी प्रकार संबंधित है जिस प्रकार पहली संख्या दूसरी संख्या से और पाँचवीं संख्या छठी संख्या से संबंधित है।

64 : 4 :: ? : 6 :: 100 : 5

- Ans
- 1. 144
 - 2. 188
 - 3. 228
 - 4. 108

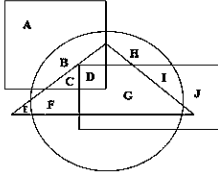
Question ID : 65497834690
Status : Answered
Chosen Option : 1

Q.8 किसी विशिष्ट कूट भाषा में, 'RAJU' को 'WFOZ' और 'SITA' को 'XNYF' के रूप में लिखा जाता है। उसी कूट भाषा में 'MONU' को किस रूप में लिखा जाएगा?

- Ans
- 1. UTRZ
 - 2. SRSY
 - 3. TRSX
 - 4. RTSZ

Question ID : 65497834695
Status : Answered
Chosen Option : 4

Q.9 निम्न वेन आरेख में, त्रिभुज, 'लंबे व्यक्तियों' का निरूपण करता है, वृत्त 'काली आंखों वाले व्यक्तियों' का निरूपण करता है, आयत 'भूरे बालों वाले व्यक्तियों' का निरूपण करता है, और वर्ग 'लड़कों' का निरूपण करता है। निम्नलिखित में से कौन-सा अक्षर उन लंबे और काली आंखों वाले लड़कों का निरूपण करता है, जिनके बाल भूरे नहीं हैं?



- Ans
- 1. F
 - 2. G
 - 3. C
 - 4. D

Question ID : 65497834700
Status : Answered
Chosen Option : 3

Q.10 दिए गए विकल्पों में से उस संख्या का चयन करें जो निम्नलिखित श्रृंखला में प्रश्न चिह्न (?) के स्थान पर आ सकती है।

4, 5, 18, 19, 68, 69, ?

- Ans
- 1. 250
 - 2. 256
 - 3. 262
 - 4. 266

Question ID : 65497834703
Status : Not Answered
Chosen Option : --

Q.11 पांच सहेलियां भूमिका, राशि, श्वेता, विभा और अरुणिमा पूर्व दिशा की ओर अभिमुख होकर एक पंक्ति में बैठी हैं। भूमिका, विभा और श्वेता के बीच में बैठी है। राशि, श्वेता के बाईं ओर दूसरे स्थान पर बैठी है। दक्षिण छोर पर कौन सी लड़की बैठी है?

- Ans
- 1. अरुणिमा
 - 2. राशि
 - 3. विभा
 - 4. श्वेता

Question ID : 65497834699
Status : Answered
Chosen Option : 3

Q.12 फलों की एक दुकान में केवल दो प्रकार के फल हैं, जिनके नाम संतरे और आम हैं। संतरों की संख्या आमों की संख्या की तीन गुनी है। निम्नलिखित में से कौन सी संख्या दुकान में फलों की कुल संख्या को निरूपित नहीं कर सकती है?

- Ans
- 1. 40
 - 2. 48
 - 3. 44
 - 4. 42

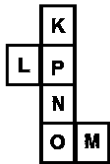
Question ID : 65497834708
Status : Answered
Chosen Option : 4

Q.13 आठ मित्र P, Q, R, S, T, U, V और W एक पंक्ति में बैठे फिल्म देख रहे हैं। T एक छोर पर बैठा है। Q, W और R के बीच में बैठा है। V, S और U के बीच में बैठा है। W, T के दाएँ बगल में बैठा है। R, P के बाएँ बगल में बैठा है। P और U के बीच में दो व्यक्ति बैठे हैं। दूसरे छोर पर कौन बैठा है?

- Ans
- 1. S
 - 2. R
 - 3. P
 - 4. U

Question ID : 65497834689
Status : Answered
Chosen Option : 4

Q.14 दी गई शीट को मोड़कर एक घन बनाया गया है। इस प्रकार बने घन में, कौन से अक्षर एक-दूसरे के विपरीत फलक पर नहीं होंगे?



- Ans
- 1. K और N
 - 2. L और M
 - 3. O और M
 - 4. P और O

Question ID : 65497834692
Status : Answered
Chosen Option : 3

Q.15 दिए गए कथनों और निष्कर्षों को ध्यानपूर्वक पढ़ें। यह मानते हुए कि कथनों में दी गई सूचना सही है, भले ही वह सामान्य रूप से ज्ञात तथ्यों से भिन्न प्रतीत होती हो, यह निर्धारित करें कि दिए गए निष्कर्षों में से कौन-सा/से निष्कर्ष कथनों का तार्किक रूप से अनुसरण करता है/करते हैं।

कथन:

सभी एंजाइम, विटामिन हैं।
सभी विटामिन, कार्बोहाइड्रेट हैं।

निष्कर्ष:

I. सभी एंजाइम, कार्बोहाइड्रेट हैं।
II. कोई भी एंजाइम, कार्बोहाइड्रेट नहीं है।

- Ans
- ✓ 1. केवल निष्कर्ष I अनुसरण करता है।
 - ✗ 2. या तो निष्कर्ष I या निष्कर्ष II अनुसरण करता है।
 - ✗ 3. निष्कर्ष I और II दोनों अनुसरण करते हैं।
 - ✗ 4. केवल निष्कर्ष II अनुसरण करता है।

Question ID : 65497834706

Status : Answered

Chosen Option : 1

Q.16 उस विकल्प का चयन कीजिए, जो निम्न शब्दों के उस क्रम को दर्शाता है, जिस क्रम में वे अंग्रेज़ी शब्दकोश में आते हैं।

1. Durable
2. Duty
3. Dubious
4. Duster
5. Dustbin

- Ans
- ✗ 1. 1, 3, 5, 4, 2
 - ✗ 2. 3, 1, 4, 5, 2
 - ✗ 3. 3, 5, 1, 4, 2
 - ✓ 4. 3, 1, 5, 4, 2

Question ID : 65497834710

Status : Answered

Chosen Option : 4

Q.17 दिए गए विकल्पों में से उस अक्षर-समूह का चयन कीजिए जो दी गई श्रृंखला में प्रश्न चिह्न (?) के स्थान पर आ सकता है।

PEA, SJH, VOO, YTV, ?

- Ans
- ✗ 1. CBY
 - ✗ 2. YBC
 - ✗ 3. CYB
 - ✓ 4. BYC

Question ID : 65497834697

Status : Answered

Chosen Option : 4

Q.18 दिए गए विकल्पों में से उस संख्या का चयन कीजिए, जो निम्नलिखित श्रेणी में प्रश्नवाचक चिन्ह (?) के स्थान पर आ सकती है।

345, 334, 320, 303, 283, 260, ?

- Ans
- 1. 208
 - 2. 234
 - 3. 212
 - 4. 221

Question ID : 65497834712
Status : Answered
Chosen Option : 2

Q.19 दिए गए समीकरण को संतुलित करने के लिए किन दो चिह्नों को परस्पर बदलना होगा?

$5 - 24 + 17 \times 16 \div 4 = 133$

- Ans
- 1. + और +
 - 2. + और ×
 - 3. × और +
 - 4. × और -

Question ID : 65497834691
Status : Answered
Chosen Option : 4

Q.20 एक परिवार में छः व्यक्ति, M, N, P, Q, R और S हैं। S, M की दादी है। P, R की बहन है। N, P के पिता हैं। M, Q और R का एकलौता पुत्र है। N की कोई विवाहित पुत्री नहीं है। M का N क्या संबंध है?

- Ans
- 1. पिता
 - 2. पुत्र
 - 3. भाई
 - 4. पोता

Question ID : 65497834696
Status : Answered
Chosen Option : 4

Q.21 दिए गए संयोजन के सही दर्पण प्रतिबिंब का चयन करें, जो दर्पण को दर्शाई गई स्थिति 'XX' पर रखने पर बनेगा।

AHKRQP |
x
x

- Ans
- 1. PQRKHA
 - 2. PQRKHA
 - 3. PQRKHA
 - 4. PQRKHA

Question ID : 65497834704
Status : Answered
Chosen Option : 1

Q.22 चार अक्षर-समूह दिए गए हैं, जिनमें से तीन किसी तरह से संगत हैं और एक असंगत है। उस असंगत अक्षर-समूह का चयन करें।

- Ans
- 1. PSVY
 - 2. BEHK
 - 3. HLOR
 - 4. KNQT

Question ID : 65497834701
Status : Answered
Chosen Option : 3

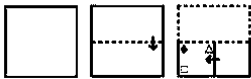
Q.23 दिए गए पैटर्न का ध्यानपूर्वक अध्ययन करें और उस संख्या का चयन करें जो इसमें प्रश्नचिह्न (?) के स्थान पर आ सकती है।

34 38 7
46 38 5
84 ? 15

- Ans
- 1. 38
 - 2. 78
 - 3. 87
 - 4. 83

Question ID : 65497834707
Status : Not Answered
Chosen Option : --

Q.24 नीचे दी गई आकृतियों में कागज के एक टुकड़े को मोड़ने का क्रम और उस मुड़े हुए कागज को काटने का तरीका दर्शाया गया है। इस कागज को खोलने पर यह कैसा दिखेगा?



Ans

- 1.
- 2.
- 3.
- 4.

Question ID : 65497834709
Status : Answered
Chosen Option : 1

Q.25 उस विकल्प का चयन करें जो तीसरे अक्षर-समूह से उसी प्रकार संबंधित है जिस प्रकार दूसरा अक्षर-समूह पहले अक्षर-समूह से संबंधित है।

DKLH : GPSQ :: FRLP : ?

- Ans
- 1. JWSY
 - 2. JWRY
 - 3. IWRZ
 - 4. IWSY

Question ID : 65497834694
Status : Answered
Chosen Option : 4

Section : Part B General Knowledge and General Awareness

Q.1 निम्नलिखित में से किस खिलाड़ी ने 2020 में फ्रांस के नांतेस में आयोजित एलेक्सिस वेलेंटाइन इंटरनेशनल बॉक्सिंग टूर्नामेंट में स्वर्ण पदक नहीं जीता था?

- Ans
- 1. संजीत
 - 2. अमित पंघाल
 - 3. सुमित सांगवान
 - 4. आशीष कुमार

Question ID : 65497834730
Status : Not Answered
Chosen Option : --

Q.2 निम्नलिखित में से कौन फारसी, अरबी और तुर्की के साथ ही साथ संस्कृत, हिंदी और राजस्थानी के प्रख्यात विद्वान थे?

- Ans
- 1. अकबर
 - 2. बीरबल
 - 3. रसखान
 - 4. अब्दुल रहीम खान-ए-खाना

Question ID : 65497834727
Status : Answered
Chosen Option : 4

Q.3 वर्ष 2019 का ज्ञानपीठ पुरस्कार किसे दिया गया था?

- Ans
- 1. शंख घोष
 - 2. अक्किताम अच्युतन नंबूदरी
 - 3. चंद्रशेखर कंबरा
 - 4. भालचंद्र नामदेव

Question ID : 65497834729
Status : Answered
Chosen Option : 2

Q.4 शेवेलियर ऑफ दि ऑर्डे डेस आर्ट्स एट डेस लेट्रेस (Chevalier of the Ordre des Arts et des Lettres) सम्मान से सम्मानित होने वाले प्रथम भारतीय अभिनेता निम्न में से कौन हैं?

- Ans
- 1. शिवाजी गणेशन
 - 2. दिलीप कुमार
 - 3. राजेश खन्ना
 - 4. रजनीकांत

Question ID : 65497834717
Status : Not Answered
Chosen Option : --

Q.5 बाल गंगाधर तिलक द्वारा संपादित कौन सा समाचार पत्र, ब्रिटिश शासन के सबसे कटु आलोचकों में से एक था?

- Ans
- 1. द ट्रिब्यून
 - 2. अमृत बाजार पत्रिका
 - 3. केसरी
 - 4. हिन्दू

Question ID : 65497834735
Status : Answered
Chosen Option : 3

Q.6 निम्नलिखित में से किस भारतीय क्रिकेटर ने 2002 में एंटीगुआ में वेस्टइंडीज के विरुद्ध अपने चोटिल जबड़े पर बंधी पट्टी बांधकर 14 ओवर तक बॉलिंग की?

- Ans
- 1. हरभजन सिंह
 - 2. ज़हीर खान
 - 3. इशांत शर्मा
 - 4. अनिल कुंबले

Question ID : 65497834733
Status : Not Answered
Chosen Option : --

Q.7 ओडिशा में गजपति साम्राज्य की स्थापना निम्नलिखित में से किस वर्ष हुई थी?

- Ans
- 1. 1435
 - 2. 1336
 - 3. 1567
 - 4. 1467

Question ID : 65497834720
Status : Not Answered
Chosen Option : --

Q.8 2021 में, 16वें G20 सम्मेलन की मेज़बानी निम्नलिखित में से किस देश ने की?

- Ans
- 1. जापान
 - 2. सऊदी अरब
 - 3. इटली
 - 4. भारत

Question ID : 65497834722
Status : Answered
Chosen Option : 3

Q.9 निम्नलिखित में से कौन सी मानव पूंजी नहीं है?

- Ans
- 1. शिक्षा
 - 2. प्रशिक्षण
 - 3. स्वास्थ्य देखभाल
 - 4. भूमि

Question ID : 65497834718
Status : Answered
Chosen Option : 3

Q.10 निम्नलिखित में से किस टाइगर रिजर्व को जुलाई 2021 में 'संरक्षण सुनिश्चित बाघ मानक (Conservation Assured Tiger Standards)' का दर्जा प्रदान किया गया था?

- Ans
- 1. रणथंभौर टाइगर रिजर्व
 - 2. बांधवगढ़ टाइगर रिजर्व
 - 3. कॉर्बेट टाइगर रिजर्व
 - 4. मुदुमलाई टाइगर रिजर्व

Question ID : 65497834738
Status : Answered
Chosen Option : 2

Q.11 निम्नलिखित में से कौन-सा तलवार नृत्य कुमाऊँनी जनजाति की युद्धकला परंपरा को चित्रित करता है?

- Ans
- 1. गेर
 - 2. कच्छी घोड़ी
 - 3. चरी
 - 4. छोलिया

Question ID : 65497834714
Status : Answered
Chosen Option : 2

Q.12 हड़प्पा स्थल पर _____ में हलरेखाओं (Furrow) के निशान खोजे गए थे।

- Ans
- 1. कालीबंगा
 - 2. बनवाली
 - 3. लोथल
 - 4. धोलावीरा

Question ID : 65497834737
Status : Answered
Chosen Option : 1

Q.13 SAFF (सैफ) महिला चैम्पियनशिप 2019 कहाँ आयोजित की गई थी?

- Ans
- 1. नेपाल
 - 2. बांग्लादेश
 - 3. भूटान
 - 4. भारत

Question ID : 65497834724
Status : Not Answered
Chosen Option : --

Q.14 मोतीलाल नेहरू की अध्यक्षता में भारतीय संविधान के मसौदे को तैयार करने के लिए किस वर्ष एक समिति का गठन किया गया था?

- Ans
- 1. 1934
 - 2. 1944
 - 3. 1928
 - 4. 1939

Question ID : 65497834721
Status : Answered
Chosen Option : 3

Q.15 भारतीय संविधान के निम्न में से किस अनुच्छेद के अंतर्गत किसी राज्य के राज्यपाल को राष्ट्रपति द्वारा अपने हस्ताक्षर और मुहर सहित अधिपत्र द्वारा नियुक्त किया जा सकता है?

- Ans
- 1. अनुच्छेद 153
 - 2. अनुच्छेद 154
 - 3. अनुच्छेद 156
 - 4. अनुच्छेद 155

Question ID : 65497834725
Status : Answered
Chosen Option : 4

Q.16 रॉबर्ट हुक (Robert Hooke) ने 1665 में माइक्रोस्कोप से _____ का निरीक्षण करते हुए कोशिका की खोज की थी।

- Ans
- 1. चट्टान
 - 2. कॉर्क के टुकड़ों
 - 3. पत्ती
 - 4. बालू के कणों

Question ID : 65497834736
Status : Answered
Chosen Option : 2

Q.17 भारतीय कम्युनिस्ट पार्टी का गठन किस वर्ष में हुआ था?

- Ans
- 1. 1940
 - 2. 1943
 - 3. 1925
 - 4. 1927

Question ID : 65497834719
Status : Answered
Chosen Option : 3

Q.18 निम्नलिखित में से कौन सी भारत में बैंकों द्वारा अपने ग्राहकों को प्रदान की जाने वाली सेवा नहीं है?

- Ans
- 1. यू.आर.एल. (URL)
 - 2. आर.टी.जी.एस. (RTGS)
 - 3. ई.सी.एस. (ECS)
 - 4. एन.ई.एफ.टी. (NEFT)

Question ID : 65497834731
Status : Answered
Chosen Option : 1

Q.19 किसी जीव के आधार युग्म अनुक्रम (base pair sequence) में परिवर्तन की प्रक्रिया क्या कहलाती है?

- Ans
- 1. निस्तारण
 - 2. परागण
 - 3. आयनीकरण
 - 4. उत्परिवर्तन

Question ID : 65497834716
Status : Answered
Chosen Option : 4

Q.20 अरुणाचल प्रदेश राज्य की सबसे ऊँची चोटी _____ है।

- Ans
- 1. कामत (Kamet)
 - 2. त्रिशूली (Trisuli)
 - 3. कंगतो (Kangto)
 - 4. नुन-कुन (Nun-Kun)

Question ID : 65497834723
Status : Answered
Chosen Option : 1

Q.21 हुंडरू जलप्रपात किस नदी पर स्थित है?

- Ans
- 1. सुवर्णरेखा
 - 2. उमंगोट
 - 3. सैगपो
 - 4. तीस्ता

Question ID : 65497834732
Status : Answered
Chosen Option : 1

Q.22 चक्रवात अम्फान भारत में कब आया था?

- Ans
- 1. जून 2020
 - 2. मार्च 2020
 - 3. अप्रैल 2020
 - 4. मई 2020

Question ID : 65497834728
Status : Not Answered
Chosen Option : --

Q.23 निम्नलिखित में से क्या, खाद्य और जल प्रदूषण का कारण नहीं है?

- Ans
- 1. खाद्य पदार्थों का अनुचित भंडारण
 - 2. कारखानों से निकला रासायनिक अपवाह
 - 3. आवारा जानवरों द्वारा काटना
 - 4. वातावरण में मौजूद संक्रामक जीव

Question ID : 65497834715
Status : Answered
Chosen Option : 3

Q.24 निम्नलिखित में से कौन सी आयु-सत्यापन परीक्षण विधि नहीं है जिसमें हाथ और कलाई के रेडियोग्राफ के आधार पर मूल्यांकन किया जाता है?

- Ans
- 1. टेनर-व्हाइटहाउस विधि
 - 2. ग्रीलुच-पाइल विधि
 - 3. ग्रीवा कशेरुक परिपक्वता विधि
 - 4. एफ.ई.एल.एस. (FELS) विधि

Question ID : 65497834726
Status : Not Answered
Chosen Option : --

Q.25 पिता की संपत्ति में पुत्रियों को समान अधिकार देने के लिए, हिंदू उत्तराधिकार अधिनियम, 1956 को किस वर्ष संशोधित किया गया था?

- Ans
- 1. 2007
 - 2. 2005
 - 3. 2010
 - 4. 2001

Question ID : 65497834734
Status : Not Answered
Chosen Option : --

Section : Part C Elementary Mathematics

Q.1 किसी कार्य को करने के लिए X, Y की तुलना में दोगुना और Z की तुलना में तीन गुना समय लेता है। वे सब एक साथ मिलकर 2 दिनों में इस कार्य को पूरा कर सकते हैं। Y अकेले इस कार्य को पूरा करने के लिए कितने दिनों का समय लेगा?

- Ans
- 1. 6 दिन
 - 2. 10 दिन
 - 3. 12 दिन
 - 4. 14 दिन

Question ID : 65497834753
Status : Answered
Chosen Option : 1

Q.2 यदि P, Q का 220% है, तो Q, P + Q का कितना प्रतिशत होगा?

- Ans
- 1. 37%
 - 2. 25%
 - 3. 31.25%
 - 4. 48.15%

Question ID : 65497834760
Status : Answered
Chosen Option : 3

Q.3 पांच अंकों की उस छोटी से छोटी संख्या को ज्ञात कीजिए जो 18, 21 और 24 से पूर्णतः विभाज्य है।

- Ans
- 1. 10060
 - 2. 10080
 - 3. 10286
 - 4. 11310

Question ID : 65497834759
Status : Answered
Chosen Option : 2

Q.4 50 kg भार वाले एक व्यक्ति के स्थान पर एक दूसरा व्यक्ति आ जाने पर 8 लोगों के औसत भार में 2.5 kg की वृद्धि हो जाती है। नए व्यक्ति का भार ज्ञात करें।

- Ans
- 1. 52 kg
 - 2. 58 kg
 - 3. 70 kg
 - 4. 72 kg

Question ID : 65497834750
Status : Answered
Chosen Option : 3

Q.5 45 km/h की चाल से चल रही एक ट्रेन एक घर को 12 sec में पार करती है। ट्रेन की लंबाई ज्ञात करें।

- Ans
- 1. 10 m
 - 2. 150 m
 - 3. 180 m
 - 4. 230 m

Question ID : 65497834754
Status : Answered
Chosen Option : 2

Q.6 5 विषयों में अमित के प्राप्तांकों का औसत 72 है। यदि इन विषयों में से 3 विषयों के प्राप्तांकों का औसत 70 है, तो शेष विषयों के प्राप्तांकों का औसत क्या होगा?

- Ans
- 1. 50
 - 2. 75
 - 3. 25
 - 4. 71

Question ID : 65497834740
Status : Answered
Chosen Option : 2

Q.7 यदि एक बेलन के आधार की त्रिज्या 20% बढ़ा दी जाए और इसकी ऊंचाई $33\frac{1}{3}\%$ घटा दी जाए, तो इसके आयतन में कितने प्रतिशत परिवर्तन हो जाएगा?

- Ans
- 1. 2% कम हो जाएगा
 - 2. 2% बढ़ जाएगा
 - 3. 4% कम हो जाएगा
 - 4. 0.4% कम हो जाएगा

Question ID : 65497834758
Status : Answered
Chosen Option : 3

Q.8 कोई धनराशि 20% वार्षिक चक्रवृद्धि ब्याज दर पर 2 वर्ष के लिए जमा की जाती है। यदि इसपर ब्याज अर्ध-वार्षिक रूप से देय होता, तो वह वार्षिक रूप से देय ब्याज की तुलना में ₹964 अधिक होता। वह धनराशि ज्ञात कीजिए।

- Ans
- 1. ₹40,000
 - 2. ₹70,000
 - 3. ₹60,000
 - 4. ₹80,000

Question ID : 65497834749
Status : Answered
Chosen Option : 1

Q.9 A, B और C किसी कार्य को क्रमशः 5, 6 और 8 दिनों में पूरा कर सकते हैं। यदि वे साथ काम करें और कार्य के लिए उन्हें ₹2,950 प्राप्त हों, तो B को इसमें से कितनी धनराशि मिलेगी?

- Ans
- 1. ₹1,050
 - 2. ₹1,150
 - 3. ₹1,000
 - 4. ₹1,200

Question ID : 65497834747
Status : Answered
Chosen Option : 3

Q.10 $\frac{\frac{3}{7} \div \frac{3}{7} \times \frac{3}{7}}{\frac{3}{7} \div \frac{3}{7} \div \frac{3}{7}} - \frac{9}{49}$ का मान क्या होगा?

- Ans
- 1. 1
 - 2. $\frac{40}{49}$
 - 3. $\frac{9}{49}$
 - 4. 0

Question ID : 65497834745
Status : Answered
Chosen Option : 2

Q.11 एक मिश्रण में अल्कोहल और जल का अनुपात 3 : 4 है। इसमें 8 लीटर पानी मिलाने पर अल्कोहल और जल का अनुपात 5 : 8 हो जाता है। मिश्रण की मूल मात्रा (लीटर में) कितनी है?

- Ans
- 1. 63
 - 2. 70
 - 3. 84
 - 4. 35

Question ID : 65497834756
Status : Answered
Chosen Option : 2

Q.12 यदि A का 10% = B है, तो 20 का B% कितना होगा?

- Ans
- 1. A का 5%
 - 2. A का 3%
 - 3. A का 2%
 - 4. A का 4%

Question ID : 65497834752
Status : Answered
Chosen Option : 1

Q.13 एक आयरन का क्रय मूल्य ₹210 है। इसका वह अधिकतम खुदरा मूल्य (MRP) तय कीजिए जिस पर 5% की छूट देने के बाद भी आपको 90% का लाभ प्राप्त हो।

- Ans
- 1. ₹385.50
 - 2. ₹420
 - 3. ₹630
 - 4. ₹524

Question ID : 65497834751
Status : Answered
Chosen Option : 2

Q.14 60 km/h की चाल से चल रही 243 m लंबी एक रेलगाड़ी एक सुरंग को पार करने में 42 सेकंड का समय लेती है। सुरंग की लंबाई (m में) ज्ञात कीजिए।

- Ans
- 1. 477
 - 2. 467
 - 3. 447
 - 4. 457

Question ID : 65497834762
Status : Answered
Chosen Option : 4

Q.15 $\left(\frac{2}{5} \text{ of } 7\frac{1}{2} \div 2\frac{1}{4}\right) + \left(5\frac{1}{2} \div 3\frac{2}{3} \text{ of } 6\right) - 1\frac{1}{3} \times \frac{5}{8}$ का मान ज्ञात कीजिए।

- Ans
- 1. $\frac{2}{3}$
 - 2. $\frac{3}{4}$
 - 3. $\frac{1}{4}$
 - 4. $\frac{3}{2}$

Question ID : 65497834761
Status : Answered
Chosen Option : 2

Q.16 एक वृत्ताकार बगीचे की परिधि 506 m है। ₹14 /m² की दर से इसे समतल करने की लागत (₹ में) कितनी होगी?

(मान लीजिए $\pi = \frac{22}{7}$)

- Ans
- 1. 312581
 - 2. 285131
 - 3. 251831
 - 4. 218531

Question ID : 65497834744
Status : Answered
Chosen Option : 2

Q.17 किसी लेनदेन में, लाभ प्रतिशत क्रय मूल्य का 48% है। बाद में यदि क्रय मूल्य में 20% की वृद्धि हो जाती है

लेकिन विक्रय मूल्य पूर्ववत ही रहता है, तो लाभ प्रतिशत में कितनी कमी हो जाएगी?

- Ans
- 1. 34.67%
 - 2. 24.0%
 - 3. 24.67%
 - 4. 14.67%

Question ID : 65497834748
Status : Answered
Chosen Option : 3

Q.18 ₹5,000 की धनराशि पर 8% की वार्षिक ब्याज दर से, वार्षिक रूप से चक्रवृद्धि होने पर 2 वर्षों में प्राप्त चक्रवृद्धि

ब्याज और साधारण ब्याज का अंतर कितना होगा?

- Ans
- 1. ₹84
 - 2. ₹64
 - 3. ₹32
 - 4. ₹48

Question ID : 65497834742
Status : Answered
Chosen Option : 3

Q.19 एक वस्तु को उसके क्रय मूल्य के $\frac{11}{8}$ गुने मूल्य पर बेचा गया। लाभ प्रतिशत ज्ञात करें।

- Ans
- 1. 37.5%
 - 2. 35%
 - 3. 36%
 - 4. 36.5%

Question ID : 65497834746
Status : Answered
Chosen Option : 1

Q.20 चार संख्याएँ 2 : 3 : 5 : 7 के अनुपात में हैं, और उनका महत्तम समापवर्तक (HCF) 6 है। सबसे बड़ी और सबसे छोटी संख्याओं के वर्गों का योग क्या होगा?

- Ans
- 1. 486
 - 2. 1908
 - 3. 54
 - 4. 324

Question ID : 65497834739
Status : Answered
Chosen Option : 2

Q.21 यदि $x : 2y = 4 : 9$ और $2 : x = 3 : 4$ है, तो y का मान कितना होगा?

- Ans
- 1. 5
 - 2. 4
 - 3. 6
 - 4. 3

Question ID : 65497834741
Status : Answered
Chosen Option : 4

Q.22 यदि $(a+b-c) : (b+c-a) : (a+c-b) = 4 : 5 : 9$ है, तो $a-b : c-b : c-a$ का मान क्या होगा?

- Ans
- 1. 1 : 4 : 5
 - 2. 4 : 5 : 1
 - 3. 5 : 1 : 4
 - 4. 4 : 1 : 5

Question ID : 65497834743
Status : Not Answered
Chosen Option : --

Q.23 A retailer gains 18% after allowing 12% discount on the cost price. If the cost price is ₹16,500, then what is the selling price?

- Ans
- 1. ₹17,550
 - 2. ₹17,133.60
 - 3. ₹16,155.50
 - 4. ₹17,354.60

Question ID : 65497834755
Status : Answered
Chosen Option : 2

Q.24 एक व्यापारी ₹600 में दो वस्तुएं A और B खरीदता है। वह A को 20% के लाभ पर और B को 10% की हानि पर बेचता है। यदि इस पूरे लेनदेन में उसे 8% का लाभ अर्जित होता है, तो वस्तु A का क्रय मूल (₹ में) कितना होगा?

- Ans
- 1. 350
 - 2. 360
 - 3. 375
 - 4. 380

Question ID : 65497834763
Status : Answered
Chosen Option : 2

Q.25 ₹7,500 की धनराशि पर 24% वार्षिक दर से 3 महीने में प्राप्त चक्रवृद्धि ब्याज (₹ में, निकटतम ₹ तक) कितना होगा, यदि ब्याज मासिक रूप में चक्रवृद्धि होता है?

- Ans
- 1. 303
 - 2. 459
 - 3. 439
 - 4. 465

Question ID : 65497834757
Status : Answered
Chosen Option : 2

Section : Part D English

Q.1 Select the most appropriate synonym of the given word.

Similar

- Ans
- 1. Alien
 - 2. Alike
 - 3. Equal
 - 4. Several

Question ID : 65497834771
Status : Not Answered
Chosen Option : --

Q.2 Select the option that can be used as a one-word substitute for the given group of words.

Fluent or persuasive in speaking or writing

- Ans
- 1. Eloquent
 - 2. Presenter
 - 3. Magnificent
 - 4. Persuader

Question ID : 65497834776
Status : Not Answered
Chosen Option : --

Q.3 Select the INCORRECTLY spelt word.

- Ans
- 1. Criteria
 - 2. Solitary
 - 3. Ledgeble
 - 4. Individual

Question ID : 65497834782
Status : Not Answered
Chosen Option : --

Q.4 Select the most appropriate option that can substitute the underlined segment in the given sentence. If there is no need to substitute it, select 'No substitution required'.

If I see a snake, I tried to catch it.

- Ans
- 1. was trying
 - 2. No substitution required
 - 3. am trying
 - 4. will try to catch

Question ID : 65497834764
Status : Not Answered
Chosen Option : --

Q.5 Select the most appropriate option to fill in the blank.

Hill stations like Darjeeling and Nainital offer _____ to weary tourists during summer.

- Ans
- 1. activity
 - 2. solace
 - 3. aid
 - 4. strain

Question ID : 65497834766
Status : Not Answered
Chosen Option : --

Q.6 Select the option that can be used as a one-word substitute for the given group of words.

Something that can be carried easily

- Ans
- 1. Reachable
 - 2. Convenient
 - 3. Handy
 - 4. Portable

Question ID : 65497834781
Status : Not Answered
Chosen Option : --

Q.7 Select the most appropriate option to fill in the blank.

The Sports Minister _____ the Badminton Association officials that all help will be given to them to conduct the tournament.

- Ans**
- 1. assured
 - 2. ascertained
 - 3. demonstrated
 - 4. committed

Question ID : 65497834768
Status : Not Answered
Chosen Option : --

Q.8 Select the most appropriate ANTONYM of the given word.

Ample

- Ans**
- 1. Spare
 - 2. Enough
 - 3. Plenty
 - 4. Scarce

Question ID : 65497834780
Status : Not Answered
Chosen Option : --

Q.9 Parts of the given sentence have been given as options. One of them contains a grammatical error. Select the option that has the error.

Rama's scores in the half-yearly examination are best than Raghu's scores.

- Ans**
- 1. in the
 - 2. Raghu's scores
 - 3. are best than
 - 4. Rama's scores

Question ID : 65497834774
Status : Not Answered
Chosen Option : --

Q.10 Select the most appropriate meaning of the given idiom.

To pull a fast one on someone

- Ans**
- 1. To win against someone
 - 2. To enchant someone
 - 3. To cheat someone
 - 4. To drive very fast

Question ID : 65497834778
Status : Not Answered
Chosen Option : --

Q.11 Select the most appropriate ANTONYM of the given word.

Opponent

- Ans
- 1. Professor
 - 2. Presenter
 - 3. Mentor
 - 4. Supporter

Question ID : 65497834772
Status : Not Answered
Chosen Option : --

Q.12 Select the option that can be used as a one-word substitute for the given group of words.

Handwritten book

- Ans
- 1. Outline
 - 2. Draft
 - 3. Edition
 - 4. Manuscript

Question ID : 65497834767
Status : Not Answered
Chosen Option : --

Q.13 Select the most appropriate synonym of the given word.

Convert

- Ans
- 1. Transform
 - 2. Affect
 - 3. Dazzle
 - 4. Radical

Question ID : 65497834775
Status : Not Answered
Chosen Option : --

Q.14 Select the most appropriate option to fill in the blank.

If the neighbours had not _____ food, we might have starved.

- Ans
- 1. stolen
 - 2. provided
 - 3. added
 - 4. thrown

Question ID : 65497834783
Status : Not Answered
Chosen Option : --

Q.15 The following sentence has been split into four segments. Identify the segment that contains a grammatical error.

The photographer climb / the tree and took pictures / of the leopard / chasing its prey.

- Ans
- 1. the tree and took pictures
 - 2. The photographer climb
 - 3. of the leopard
 - 4. chasing its prey

Question ID : 65497834770
Status : Not Answered
Chosen Option : --

Q.16 Select the INCORRECTLY spelt word.

- Ans
- 1. Hospitaliti
 - 2. Hoist
 - 3. Hostel
 - 4. Hold

Question ID : 65497834765
Status : Not Answered
Chosen Option : --

Q.17 Select the most appropriate option that can substitute the underlined segment in the given sentence. If there is no need to substitute it, select 'No substitution required'.

If you are in trouble, Tommy is the friend who stands by you.

- Ans
- 1. No substitution required
 - 2. was standing by
 - 3. will stand by
 - 4. stood by

Question ID : 65497834777
Status : Not Answered
Chosen Option : --

Q.18 The following sentence has been split into four segments. Identify the segment that contains a grammatical error.

The Great Wall of China / is no long / a continuous structure /owing to erosion.

- Ans
- 1. The Great Wall of China
 - 2. a continuous structure
 - 3. is no long
 - 4. owing to erosion

Question ID : 65497834779
Status : Not Answered
Chosen Option : --

Q.19 Select the most appropriate meaning of the given idiom.

To kick the bucket

- Ans 1. To die
 2. To play
 3. To fight
 4. To lose

Question ID : 65497834773
Status : Not Answered
Chosen Option : --

Q.20 Select the most appropriate option that can substitute the underlined segment in the given sentence. If there is no need to substitute it, select 'No substitution required'.

Indirect questions will be used while seeking information about an embarrassing subject.

- Ans 1. No substitution required
 2. are used while seeking information
 3. are use while seeking information
 4. are used while seek information

Question ID : 65497834769
Status : Not Answered
Chosen Option : --

Comprehension:

In the following passage, some words have been deleted. Read the passage carefully and select the most appropriate option to fill in each blank.

Pollution is the (1)_____ of the environment and the biggest problem across the globe. The major causes of pollution include (2)_____ use of motor vehicles, rapid industrialisation, increasing urbanisation, use of chemical fertilisers in agriculture and burning of fossil fuels. It has a (3)_____ effect on human health. Air pollution causes respiratory diseases and other diseases related to lungs. Noise pollution impairs the (4)_____ senses and causes stress. Water pollution pollutes water, which is mainly harmful for aquatic animals. The responsibility of (5)_____ the pollution is in the hands of human beings.

SubQuestion No : 21

Q.21 Select the most appropriate option to fill in blank no. 1.

- Ans 1. adulteration
 2. impure
 3. mixture
 4. contamination

Question ID : 65497834785
Status : Not Answered
Chosen Option : --

Comprehension:

In the following passage, some words have been deleted. Read the passage carefully and select the most appropriate option to fill in each blank.

Pollution is the (1)_____ of the environment and the biggest problem across the globe. The major causes of pollution include (2)_____ use of motor vehicles, rapid industrialisation, increasing urbanisation, use of chemical fertilisers in agriculture and burning of fossil fuels. It has a (3)_____ effect on human health. Air pollution causes respiratory diseases and other diseases related to lungs. Noise pollution impairs the (4)_____ senses and causes stress. Water pollution pollutes water, which is mainly harmful for aquatic animals. The responsibility of (5)_____ the pollution is in the hands of human beings.

SubQuestion No : 22

Q.22 Select the most appropriate option to fill in blank no. 2.

- Ans** 1. bulky
 2. massive
 3. compact
 4. slight

Question ID : **65497834786**
Status : **Not Answered**
Chosen Option : --

Comprehension:

In the following passage, some words have been deleted. Read the passage carefully and select the most appropriate option to fill in each blank.

Pollution is the (1)_____ of the environment and the biggest problem across the globe. The major causes of pollution include (2)_____ use of motor vehicles, rapid industrialisation, increasing urbanisation, use of chemical fertilisers in agriculture and burning of fossil fuels. It has a (3)_____ effect on human health. Air pollution causes respiratory diseases and other diseases related to lungs. Noise pollution impairs the (4)_____ senses and causes stress. Water pollution pollutes water, which is mainly harmful for aquatic animals. The responsibility of (5)_____ the pollution is in the hands of human beings.

SubQuestion No : 23

Q.23 Select the most appropriate option to fill in blank no. 3.

- Ans** 1. hazardous
 2. risky
 3. safe
 4. threatened

Question ID : **65497834787**
Status : **Not Answered**
Chosen Option : --

Comprehension:

In the following passage, some words have been deleted. Read the passage carefully and select the most appropriate option to fill in each blank.

Pollution is the (1)_____ of the environment and the biggest problem across the globe. The major causes of pollution include (2)_____ use of motor vehicles, rapid industrialisation, increasing urbanisation, use of chemical fertilisers in agriculture and burning of fossil fuels. It has a (3)_____ effect on human health. Air pollution causes respiratory diseases and other diseases related to lungs. Noise pollution impairs the (4)_____ senses and causes stress. Water pollution pollutes water, which is mainly harmful for aquatic animals. The responsibility of (5)_____ the pollution is in the hands of human beings.

SubQuestion No : 24

Q.24 Select the most appropriate option to fill in blank no. 4.

- Ans** 1. hearing
 2. auditory
 3. audible
 4. audacious

Question ID : 65497834788
Status : Not Answered
Chosen Option : --

Comprehension:

In the following passage, some words have been deleted. Read the passage carefully and select the most appropriate option to fill in each blank.

Pollution is the (1)_____ of the environment and the biggest problem across the globe. The major causes of pollution include (2)_____ use of motor vehicles, rapid industrialisation, increasing urbanisation, use of chemical fertilisers in agriculture and burning of fossil fuels. It has a (3)_____ effect on human health. Air pollution causes respiratory diseases and other diseases related to lungs. Noise pollution impairs the (4)_____ senses and causes stress. Water pollution pollutes water, which is mainly harmful for aquatic animals. The responsibility of (5)_____ the pollution is in the hands of human beings.

SubQuestion No : 25

Q.25 Select the most appropriate option to fill in blank no. 5.

- Ans** 1. minimising
 2. minimal
 3. minimum
 4. minimise

Question ID : 65497834789
Status : Not Answered
Chosen Option : --

Section : Part D Hindi

Q.1 'उल्लास' किसका पर्यायवाची है?

- Ans** 1. भय
 2. आनंद
 3. साहस
 4. क्रोध

Question ID : 65497834809
Status : Answered
Chosen Option : 2

Q.2 उस विकल्प का चयन करें जो निम्न मुहावरे का अर्थ व्यक्त करता है।

आंखें चुराना

- Ans
- 1. प्यार होना
 - 2. विमुख होना
 - 3. नाराज होना
 - 4. अनदेखा करना

Question ID : 65497834802
Status : Answered
Chosen Option : 4

Q.3 रिक्त स्थान की पूर्ति के लिए सबसे उपयुक्त शब्द का चयन करें।

थिएटर में कौन सा _____ खेला जा रहा है।

- Ans
- 1. खेल
 - 2. नाटक
 - 3. सिनेमा
 - 4. पिकचर

Question ID : 65497834792
Status : Answered
Chosen Option : 1

Q.4 दिए गए वाक्य में रेखांकित खंड को प्रतिस्थापित करने के लिए सबसे उपयुक्त विकल्प का चयन करें।
यदि इसे प्रतिस्थापित करने की आवश्यकता नहीं है, तो विकल्प 'किसी बदलाव की आवश्यकता नहीं है'
का चयन करें।

मुझे अपने पर आत्मविश्वास है।

- Ans
- 1. अपने पर विश्वास
 - 2. अपने में आत्मविश्वास
 - 3. किसी बदलाव की आवश्यकता नहीं है।
 - 4. अपने ऊपर आत्मविश्वास

Question ID : 65497834800
Status : Answered
Chosen Option : 1

Q.5 दिये गये वाक्य के किस भाग में त्रुटि है?

आज हम बजार चलेंगे।

- Ans
- 1. आज
 - 2. चलेंगे।
 - 3. हम
 - 4. बजार

Question ID : 65497834808
Status : Answered
Chosen Option : 4

Q.6 दिए गए वाक्य का वह भाग ज्ञात करें जिसमें कोई त्रुटि है। यदि कोई त्रुटि नहीं है, तो 'कोई त्रुटि नहीं है' चुनें।

यद्यपि उसके पास (1)\ उतना धन है तथापि (2)\ वह स्वस्थ नहीं है। (3)\ कोई त्रुटि नहीं है (4)

- Ans
- 1. 3
 - 2. 2
 - 3. 1
 - 4. 4

Question ID : 65497834794
Status : Answered
Chosen Option : 2

Q.7 दिए गए वाक्य का वह भाग ज्ञात करें जिसमें कोई त्रुटि है। यदि कोई त्रुटि नहीं है, तो 'कोई त्रुटि नहीं है' चुनें।

बुद्धिमान व्यक्ति की प्रखर बुद्धि हर कार्य में परिलक्षित होती है।

- Ans
- 1. कोई त्रुटि नहीं है।
 - 2. प्रखर बुद्धि
 - 3. बुद्धिमान व्यक्ति की
 - 4. हर कार्य में परिलक्षित होती है।

Question ID : 65497834798
Status : Answered
Chosen Option : 2

Q.8 'निरर्थक' का विलोम शब्द होगा-

- Ans
- 1. समर्थक
 - 2. सार्थक
 - 3. सफल
 - 4. रक्षक

Question ID : 65497834806
Status : Answered
Chosen Option : 2

Q.9 दिए गए वाक्य में रेखांकित खंड को प्रतिस्थापित करने के लिए सबसे उपयुक्त विकल्प का चयन करें। यदि इसे प्रतिस्थापित करने की आवश्यकता नहीं है, तो विकल्प 'किसी बदलाव की आवश्यकता नहीं है' का चयन करें।

महापुरुषों के उपदेशों का अपने जीवन में सम्मान करो।

- Ans
- 1. निषेध करो
 - 2. किसी बदलाव की आवश्यकता नहीं है।
 - 3. प्रयोग करो
 - 4. पालन करो

Question ID : 65497834801
Status : Answered
Chosen Option : 3

Q.10 सही वर्तनी वाले शब्द का चयन कीजिए।

- Ans
- 1. रुढ़िवादी
 - 2. रुढ़िवादि
 - 3. रूढ़िवादि
 - 4. रूढ़िवादी

Question ID : 65497834791
Status : Answered
Chosen Option : 1

Q.11 रिक्त स्थान की पूर्ति के लिए सबसे उपयुक्त शब्द का चयन करें।

हमें भारतीय होने पर _____ है।

- Ans
- 1. उन्माद
 - 2. दर्प
 - 3. गर्व
 - 4. घमंड

Question ID : 65497834804
Status : Answered
Chosen Option : 3

Q.12 दिए गए शब्द के समानार्थी शब्द का चयन करें।

भ्रमर

- Ans
- 1. भौरा
 - 2. जुगनू
 - 3. मक्खी
 - 4. तितली

Question ID : 65497834799
Status : Answered
Chosen Option : 1

Q.13 'बखिया उधेड़ना' मुहावरे का सही अर्थ क्या है?

- Ans
- 1. कठिन कार्य करना
 - 2. भेद खोलना
 - 3. प्रशंसा करना
 - 4. अत्यधिक क्रोध होना

Question ID : 65497834807
Status : Answered
Chosen Option : 2

Q.14 दिए गए शब्द का विलोम चुनें।

उर्वर

- Ans
- 1. ऊसर
 - 2. नीरस
 - 3. उर्वरक
 - 4. धूसर

Question ID : 65497834795
Status : Answered
Chosen Option : 4

Q.15 दिए गए वाक्य में रेखांकित खंड को प्रतिस्थापित करने के लिए सबसे उपयुक्त विकल्प का चयन करें।
यदि इसे प्रतिस्थापित करने की आवश्यकता नहीं है, तो विकल्प 'किसी बदलाव की आवश्यकता नहीं है'
का चयन करें।

उन्हें तात्कालिक आदेश से निलंबित कर दिये गया।

- Ans
- 1. आदेश से निलंबित करा दिये गया।
 - 2. आदेश से निलंबित कर दिया गया।
 - 3. आदेश से निलंबित कर दिये गये।
 - 4. किसी बदलाव की आवश्यकता नहीं है।

Question ID : 65497834793
Status : Answered
Chosen Option : 2

Q.16 _____ समाज का दर्पण है - रिक्त स्थान की पूर्ति कीजिए-

- Ans
- 1. गणित
 - 2. निवेदक
 - 3. साहित्य
 - 4. आलोचक

Question ID : 65497834805
Status : Answered
Chosen Option : 3

Q.17 दिये गये वाक्यांश के लिए एक शब्द दीजिये।

चिरकाल तक जीवित रहने वाला

- Ans
- 1. चिरंजीवी
 - 2. चिरंतन
 - 3. परजीवी
 - 4. परोपकारी

Question ID : 65497834797
Status : Answered
Chosen Option : 1

Q.18 सही वर्तनी वाले शब्द का चयन कीजिए।

- Ans 1. पारीश्रमिक
 2. पारिश्रमिक
 3. परीश्रमिक
 4. पारीश्रमीक

Question ID : 65497834790
Status : Answered
Chosen Option : 2

Q.19 'जिसमें चेतना न हो' वाक्यांश के लिए एक शब्द होगा-

- Ans 1. चेतन
 2. अचेतन
 3. मूर्ख
 4. चिरंतन

Question ID : 65497834803
Status : Answered
Chosen Option : 2

Q.20 दिए गये वाक्यांश के लिए एक शब्द है-

जिस स्त्री को कोई संतान न हो सके

- Ans 1. अस्तैण
 2. बंध्या
 3. संतानहीन
 4. अभागी

Question ID : 65497834796
Status : Answered
Chosen Option : 2

Comprehension:

दिए गए गद्यांश में से कुछ शब्द हटा दिए गए हैं। संबंधित प्रश्नों में प्रत्येक संख्या के लिए सबसे उपयुक्त विकल्प का चयन करें।

प्रकृति मनुष्य को ईश्वर का अनुपम (1) _____ है। प्रकृति सदा से मनुष्य की सहचरी रही है और अपने गुणों एवं सौंदर्य से मानव को तृप्त करती रही है। मनुष्य भी उसके (2) _____ रूप के प्रति खिंचा चला गया है, परंतु जैसे-जैसे मनुष्य के हाथों में विज्ञान की शक्ति आने लगी, उसने प्रकृति का दोहन किया और अपनी सहचरी प्रकृति को (3) _____ पहुँचाना आरंभ कर दिया। विज्ञान के बल पर वह स्वयं को सर्व-शक्तिमान समझने लगा और अपने ही (4) _____ की खाई खोदने लगा। बढ़ता हुआ प्रदूषण और प्राकृतिक असंतुलन इसी के परिणाम हैं। प्रकृति को नुकसान पहुँचाकर उसने समस्त मानव जाति को नुकसान पहुँचाया है। प्रकृति के साथ (5) _____ स्थापित करके ही मनुष्यता को बचाया जा सकता है।

SubQuestion No : 21

Q.21 गद्यांश के रिक्त स्थान (1) के लिए सर्वाधिक उपयुक्त शब्द होगा-

- Ans**
- 1. अभिशाप
 - 2. रूप
 - 3. एहसास
 - 4. वरदान

Question ID : 65497834811

Status : Answered

Chosen Option : 4

Comprehension:

दिए गए गद्यांश में से कुछ शब्द हटा दिए गए हैं। संबंधित प्रश्नों में प्रत्येक संख्या के लिए सबसे उपयुक्त विकल्प का चयन करें।

प्रकृति मनुष्य को ईश्वर का अनुपम (1) _____ है। प्रकृति सदा से मनुष्य की सहचरी रही है और अपने गुणों एवं सौंदर्य से मानव को तृप्त करती रही है। मनुष्य भी उसके (2) _____ रूप के प्रति खिंचा चला गया है, परंतु जैसे-जैसे मनुष्य के हाथों में विज्ञान की शक्ति आने लगी, उसने प्रकृति का दोहन किया और अपनी सहचरी प्रकृति को (3) _____ पहुँचाना आरंभ कर दिया। विज्ञान के बल पर वह स्वयं को सर्व-शक्तिमान समझने लगा और अपने ही (4) _____ की खाई खोदने लगा। बढ़ता हुआ प्रदूषण और प्राकृतिक असंतुलन इसी के परिणाम हैं। प्रकृति को नुकसान पहुँचाकर उसने समस्त मानव जाति को नुकसान पहुँचाया है। प्रकृति के साथ (5) _____ स्थापित करके ही मनुष्यता को बचाया जा सकता है।

SubQuestion No : 22

Q.22 गद्यांश के रिक्त स्थान (2) के लिए सर्वाधिक उपयुक्त शब्द होगा-

- Ans**
- 1. आकर्षक
 - 2. अभिशाप्त
 - 3. निकृष्ट
 - 4. अनाकर्षक

Question ID : 65497834812

Status : Answered

Chosen Option : 1

Comprehension:

दिए गए गद्यांश में से कुछ शब्द हटा दिए गए हैं। संबंधित प्रश्नों में प्रत्येक संख्या के लिए सबसे उपयुक्त विकल्प का चयन करें।

प्रकृति मनुष्य को ईश्वर का अनुपम (1) _____ है। प्रकृति सदा से मनुष्य की सहचरी रही है और अपने गुणों एवं सौंदर्य से मानव को तृप्त करती रही है। मनुष्य भी उसके (2) _____ रूप के प्रति खिंचा चला गया है, परंतु जैसे-जैसे मनुष्य के हाथों में विज्ञान की शक्ति आने लगी, उसने प्रकृति का दोहन किया और अपनी सहचरी प्रकृति को (3) _____ पहुँचाना आरंभ कर दिया। विज्ञान के बल पर वह स्वयं को सर्व-शक्तिमान समझने लगा और अपने ही (4) _____ की खाई खोदने लगा। बढ़ता हुआ प्रदूषण और प्राकृतिक असंतुलन इसी के परिणाम हैं। प्रकृति को नुकसान पहुँचाकर उसने समस्त मानव जाति को नुकसान पहुँचाया है। प्रकृति के साथ (5) _____ स्थापित करके ही मनुष्यता को बचाया जा सकता है।

SubQuestion No : 23

Q.23 गद्यांश के रिक्त स्थान (3) के लिए सर्वाधिक उपयुक्त शब्द होगा-

- Ans** 1. सम्पन्नता
 2. हानि
 3. लाभ
 4. सामर्थ्य

Question ID : 65497834813

Status : Answered

Chosen Option : 2

Comprehension:

दिए गए गद्यांश में से कुछ शब्द हटा दिए गए हैं। संबंधित प्रश्नों में प्रत्येक संख्या के लिए सबसे उपयुक्त विकल्प का चयन करें।

प्रकृति मनुष्य को ईश्वर का अनुपम (1) _____ है। प्रकृति सदा से मनुष्य की सहचरी रही है और अपने गुणों एवं सौंदर्य से मानव को तृप्त करती रही है। मनुष्य भी उसके (2) _____ रूप के प्रति खिंचा चला गया है, परंतु जैसे-जैसे मनुष्य के हाथों में विज्ञान की शक्ति आने लगी, उसने प्रकृति का दोहन किया और अपनी सहचरी प्रकृति को (3) _____ पहुँचाना आरंभ कर दिया। विज्ञान के बल पर वह स्वयं को सर्व-शक्तिमान समझने लगा और अपने ही (4) _____ की खाई खोदने लगा। बढ़ता हुआ प्रदूषण और प्राकृतिक असंतुलन इसी के परिणाम हैं। प्रकृति को नुकसान पहुँचाकर उसने समस्त मानव जाति को नुकसान पहुँचाया है। प्रकृति के साथ (5) _____ स्थापित करके ही मनुष्यता को बचाया जा सकता है।

SubQuestion No : 24

Q.24 गद्यांश के रिक्त स्थान (4) के लिए सर्वाधिक उपयुक्त शब्द होगा-

- Ans** 1. विकास
 2. प्रगति
 3. विनाश
 4. मृत्यु

Question ID : 65497834814

Status : Answered

Chosen Option : 3

Comprehension:

दिए गए गद्यांश में से कुछ शब्द हटा दिए गए हैं। संबंधित प्रश्नों में प्रत्येक संख्या के लिए सबसे उपयुक्त विकल्प का चयन करें।

प्रकृति मनुष्य को ईश्वर का अनुपम (1) _____ है। प्रकृति सदा से मनुष्य की सहचरी रही है और अपने गुणों एवं सौंदर्य से मानव को तृप्त करती रही है। मनुष्य भी उसके (2) _____ रूप के प्रति खिंचा चला गया है, परंतु जैसे-जैसे मनुष्य के हाथों में विज्ञान की शक्ति आने लगी, उसने प्रकृति का दोहन किया और अपनी सहचरी प्रकृति को (3) _____ पहुँचाना आरंभ कर दिया। विज्ञान के बल पर वह स्वयं को सर्व-शक्तिमान समझने लगा और अपने ही (4) _____ की खाई खोदने लगा। बढ़ता हुआ प्रदूषण और प्राकृतिक असंतुलन इसी के परिणाम हैं। प्रकृति को नुकसान पहुँचाकर उसने समस्त मानव जाति को नुकसान पहुँचाया है। प्रकृति के साथ (5) _____ स्थापित करके ही मनुष्यता को बचाया जा सकता है।

SubQuestion No : 25

Q.25 गद्यांश के रिक्त स्थान (5) के लिए सर्वाधिक उपयुक्त शब्द होगा-

- Ans**
- 1. सामंजस्य
 - 2. सहजता
 - 3. समरूपता
 - 4. समानता

Question ID : 65497834815

Status : Answered

Chosen Option : 1

Constable GD in CAPFs NIA SSF and Rifleman GD in Assam Rifles Examination 2021

Roll Number	www.HaryanaJobs.in
Candidate Name	www.HaryanaJobs.in
Venue Name	Examit Infotech Pvt Ltd
Exam Date	22/11/2021
Exam Time :	4:00 PM - 5:30 PM
Subject	Constable GD 2021

Section : Part A General Intelligence and Reasoning

Q.1 उस विकल्प का चयन कीजिए जिसका तीसरी संख्या से वही संबंध है, जो दूसरी संख्या का पहली संख्या से है।

6 : 216 :: 8 : ?

Ans 1. 1024

2. 512

3. 154

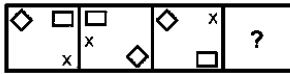
4. 64

Question ID : 65497831646

Status : Answered

Chosen Option : 2

Q.2 दिए गए विकल्पों में से उस आकृति को चुनिए जो निम्न श्रृंखला में प्रश्नचिह्न (?) का स्थान ले सकती है।



Ans

1.



2.



3.



4.



Question ID : 65497831653

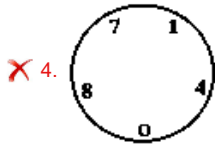
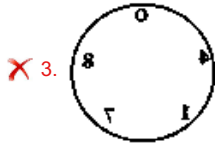
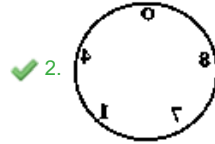
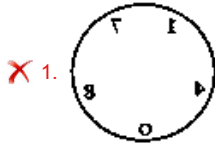
Status : Answered

Chosen Option : 1

Q.3 दर्पण को दी गई आकृति के दाईं ओर रखे जाने पर, आकृति का दर्पण में निर्मित सही प्रतिबिंब चयनित करें।



Ans



Question ID : 65497831657
Status : Answered
Chosen Option : 1

Q.4 A, B, C और D नाम के चार मित्र एक रेस्तरां में एक वर्गाकार मेज के चारों ओर बैठे हुए हैं। यदि B, A के ठीक सामने और D के विकर्णतः सामने बैठा हुआ है, तो C के सामने कौन बैठा है?

- Ans
- ✗ 1. कोई नहीं
 - ✗ 2. A
 - ✓ 3. D
 - ✗ 4. B

Question ID : 65497831643
Status : Answered
Chosen Option : 3

Q.5 एक निश्चित कूट भाषा में VOLLEY को WpMMfZ लिखा जाता है और DON को EpO लिखा जाता है। उसी कूट भाषा में DENSITY को किस प्रकार लिखा जाएगा?

- Ans
- ✓ 1. EfOTjUZ
 - ✗ 2. EFotJUy
 - ✗ 3. FfOtJuZ
 - ✗ 4. EEoTjUz

Question ID : 65497831664
Status : Answered
Chosen Option : 1

Q.6 उस संख्या की पहचान करें जो निम्न श्रृंखला से संबंधित नहीं है।

18, 27, 35, 45, 54

Ans 1. 18

2. 45

3. 54

4. 35

Question ID : 65497831652
Status : Answered
Chosen Option : 4

Q.7 दिए गए विकल्पों में से उस अक्षर-समूह का चयन करें जो निम्नलिखित श्रृंखला में प्रश्नवाचक चिह्न (?) के स्थान पर आ सकता है।

NKI, PMK, ROM, ?

Ans 1. SPN

2. TOM

3. TQO

4. TRP

Question ID : 65497831641
Status : Answered
Chosen Option : 3

Q.8 उस अक्षर संयोजन का चयन करें जिसे दी गई श्रृंखला के रिक्त स्थानों में क्रमिक रूप से रखे जाने पर श्रृंखला पूर्ण होगी।

BCB_BC_IB_BI

Ans 1. BCI

2. BCC

3. CBI

4. IBC

Question ID : 65497831651
Status : Answered
Chosen Option : 3

Q.9 यदि समायरा, मेरे पिता की माता के इकलौते पुत्र की पुत्री है, तो समायरा का मुझसे क्या संबंध है?

Ans 1. भतीजी/भांजी

2. पुत्री

3. मां

4. बहन

Question ID : 65497831665
Status : Answered
Chosen Option : 4

Q.10 एक सम्मेलन के अंत में, उपस्थित सभी 30 व्यक्तियों ने एक-दूसरे से हाथ मिलाया। इस प्रकार कुल कितनी बार हाथ मिलाए गए?

Ans 1. 435

2. 450

3. 300

4. 60

Question ID : 65497831661
Status : Answered
Chosen Option : 2

Q.11 A, B, C, D, E और F, अलग-अलग लंबाइयों के छः मित्र हैं। A केवल C और E से लंबा है। B, D से छोटा है लेकिन D उनमें से सबसे लंबा नहीं है। उनमें से सबसे लंबा कौन है?

- Ans
- 1. E
 - 2. A
 - 3. F
 - 4. C

Question ID : 65497831645
Status : Answered
Chosen Option : 3

Q.12 चार अक्षर-समूह दिए गए हैं, जिनमें से तीन किसी तरह से एक समान हैं और एक असंगत है। उस अक्षर-समूह का चयन करें जो असंगत है।

- Ans
- 1. USB
 - 2. IDE
 - 3. RDN
 - 4. ZTG

Question ID : 65497831654
Status : Answered
Chosen Option : 4

Q.13 एक निश्चित कूट भाषा में KING को 1012810131568 के रूप में कूटबद्ध किया जाता है। उसी कूट भाषा में ROSE को किस रूप में कूटबद्ध किया जाएगा?

- Ans
- 1. 17191614201864
 - 2. 17191416182046
 - 3. 17181416192056
 - 4. 19171614192035

Question ID : 65497831655
Status : Not Attempted and Marked For Review
Chosen Option : --

Q.14 उस विकल्प का चयन कीजिए जो दिए गए शब्दों का वह क्रम दर्शाता है जिस क्रम में वे अंग्रेजी शब्दकोश में आते हैं।

1. Power
2. Piece
3. Peace
4. Poem
5. Palm

- Ans
- 1. 1, 2, 3, 4, 5
 - 2. 2, 3, 1, 5, 4
 - 3. 5, 4, 3, 2, 1
 - 4. 5, 3, 2, 4, 1

Question ID : 65497831650
Status : Answered
Chosen Option : 4

Q.15 एक विशिष्ट कूट भाषा में, 'ORACLE' को 'HSVUXG' और 'DAVID' को 'BVJFB' लिखा जाता है। इसी कूट भाषा में 'VIDEO' को क्या लिखा जाएगा?

- Ans 1. JFBGH
 2. JFGBH
 3. JBFGH
 4. GFBJH

Question ID : 65497831658
Status : Answered
Chosen Option : 1

Q.16 दिए गए पैटर्न का ध्यानपूर्वक अध्ययन करें, और उस संख्या का चयन करें जो इसमें प्रश्नवाचक चिह्न (?) के स्थान पर आ सकती है।

10 13 17
12 11 ?
160 185 235

- Ans 1. 15
 2. 13
 3. 10
 4. 17

Question ID : 65497831660
Status : Answered
Chosen Option : 2

Q.17 निम्नलिखित समीकरण को सही (संतुलित) बनाने के लिए किन दो संख्याओं (अंक नहीं) को आपस में बदलना होगा?

$$3 \times 45 \div 5 + 7 - 12 = 70$$

- Ans 1. 3 और 5
 2. 5 और 7
 3. 3 और 7
 4. 5 और 12

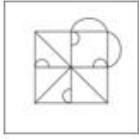
Question ID : 65497831647
Status : Answered
Chosen Option : 1

Q.18 उस विकल्प का चयन करें जिसमें दी गई आकृति सन्निहित है (घुमाने की अनुमति नहीं है)।



Ans

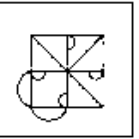
✓ 1.



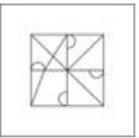
✗ 2.



✗ 3.



✗ 4.

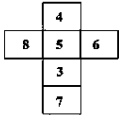


Question ID : 65497831649

Status : Answered

Chosen Option : 1

Q.19 दी गई शीट को मोड़कर एक घन बनाया जाता है। इस प्रकार से बने घन में, संख्या '7' दर्शाने वाले फलक के विपरीत फलक पर कौन-सी संख्या होगी?



Ans

✓ 1. 5

✗ 2. 6

✗ 3. 8

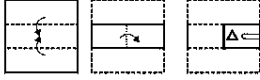
✗ 4. 4

Question ID : 65497831648

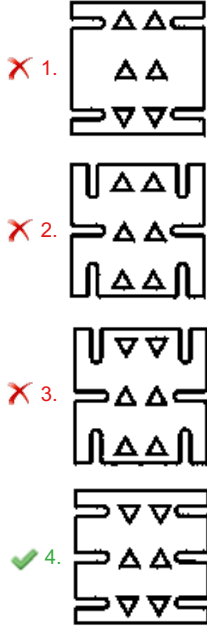
Status : Answered

Chosen Option : 1

Q.20 निम्नांकित चित्रों में एक कागज को मोड़ने के क्रम और मुड़े हुए कागज को काटने का तरीका दर्शाया गया है। मुड़े हुए कागज को खोलने पर यह कैसा दिखाई देगा?



Ans



Question ID : 65497831662
Status : Answered
Chosen Option : 4

Q.21 दिए गए विकल्पों में से उस संख्या का चयन करें जो निम्नलिखित श्रृंखला में प्रश्न चिह्न (?) के स्थान पर आ सकती है।

6, 8, 20, 50, 106, ?

- Ans
- 1. 212
 - 2. 280
 - 3. 196
 - 4. 218

Question ID : 65497831656
Status : Not Attempted and Marked For Review
Chosen Option : --

Q.22 'शहद' का जो संबंध 'मधुमक्खी' से है वही संबंध 'चीनी' का '_____' से है।

- Ans
- 1. मिठाई
 - 2. केक
 - 3. गन्ना
 - 4. जूसर

Question ID : 65497831642
Status : Answered
Chosen Option : 3

Q.23 उस विकल्प का चयन कीजिए, जिसका तीसरे पद से वही संबंध है, जो दूसरे पद का पहले पद से है।

TANGY : GZMTB :: PRIEST : ?





- Ans
- 1. LIRVJG
 - 2. KIRVHG
 - 3. KJSVHG
 - 4. KIRUHF

Question ID : 65497831663
Status : Answered
Chosen Option : 2

Q.24 उस वेन आरेख का चयन करें जो निम्नलिखित वर्गों के बीच के संबंधों का सबसे अच्छी तरह से दर्शाता है।

पुलिस, पुरुष, पति

Ans

- 1. 
- 2. 
- 3. 
- 4. 

Question ID : 65497831644
Status : Answered
Chosen Option : 2

Q.25 दिए गए कथनों और निष्कर्षों को ध्यानपूर्वक पढ़ें। कथनों में दी गई जानकारी को सत्य मानते हुए भले ही वह सामान्य ज्ञात तथ्यों से भिन्न प्रतीत होती हो, निर्णय कीजिए कि दिए गए निष्कर्षों में से कौन से निष्कर्ष कथनों का तार्किक रूप से अनुसरण करते हैं।

कथन:

सभी फल, फूल हैं।
कुछ फल, कीवी हैं।

निष्कर्ष:

- I. कुछ फूल, कीवी हैं।
- II. सभी कीवी, फल हैं।

- Ans
- 1. निष्कर्ष I और II दोनों अनुसरण करते हैं।
 - 2. केवल निष्कर्ष II अनुसरण करता है।
 - 3. न तो निष्कर्ष I और न ही निष्कर्ष II अनुसरण करता है।
 - 4. केवल निष्कर्ष I अनुसरण करता है।

Question ID : 65497831659
Status : Answered
Chosen Option : 4

Q.1 _____ साम्राज्य पहला अखिल भारतीय साम्राज्य था, जिसके शासन क्षेत्र में अधिकांश वर्तमान भारतीय उपमहाद्वीप आते थे।

- Ans
- 1. कुषाण
 - 2. गुप्त
 - 3. मौर्य
 - 4. चोल

Question ID : 65497831687
Status : Answered
Chosen Option : 3

Q.2 सांची को निम्नलिखित में से किस वर्ष यूनेस्को विश्व धरोहर स्थल घोषित किया गया?

- Ans
- 1. 1989
 - 2. 1967
 - 3. 2014
 - 4. 1999

Question ID : 65497831670
Status : Not Answered
Chosen Option : --

Q.3 बैंकिंग के संबंध में, सी.टी.एस. (CTS), _____ के लिए एक संक्षिप्त रूप है।

- Ans
- 1. Corporate Trade Schedule (कॉर्पोरेट ट्रेड शिड्यूल)
 - 2. Cheque Truncation System (चेक ट्रंकेशन सिस्टम)
 - 3. Cash Transaction Scrutiny (कैश ट्रांजेक्शन स्कूटिनी)
 - 4. Credit Transfer Statement (क्रेडिट ट्रांसफर स्टेटमेंट)

Question ID : 65497831686
Status : Not Answered
Chosen Option : --

Q.4 राष्ट्रीय खेल विश्वविद्यालय, इंदौर एक केंद्रीय विश्वविद्यालय है, जिसकी स्थापना वर्ष _____ में पारित एक अधिनियम के तहत की गई है।

- Ans
- 1. 2014
 - 2. 2018
 - 3. 2015
 - 4. 2019

Question ID : 65497831689
Status : Not Answered
Chosen Option : --

Q.5 मृदा प्रबंधन और फसल चक्र, खरपतवार और कीट नियंत्रण और फसलों की वृद्धि और खाद्य उत्पादन में महत्वपूर्ण भूमिका निभाने वाली जलवायु के अध्ययन से संबंधित विज्ञान क्या कहलाता है?

- Ans
- 1. घास विज्ञान (Agrostology)
 - 2. शरीर-रचना विज्ञान (Anatomy)
 - 3. कोशिका विज्ञान (Cytology)
 - 4. कृषि विज्ञान (Agronomy)

Question ID : 65497831677
Status : Answered
Chosen Option : 4

Q.6 अपघटित पारिस्थितिकी तंत्र और पारिस्थितिक स्थिरता के संरक्षण और पुनर्जनन के माध्यम से एक क्षेत्र के विकास की प्रक्रिया _____ कहलाती है।

- Ans
- 1. सामाजिक स्थिरता
 - 2. स्थायी विकास
 - 3. सामाजिक विकास
 - 4. पारिस्थितिक-विकास

Question ID : 65497831671
Status : Not Answered
Chosen Option : --

Q.7 टेनिस में ओपन एरा की शुरूआत _____ में हुई, जब ग्रैंड स्लैम टूर्नामेंट्स ने पेशेवर खिलाड़ियों को नवोदित खिलाड़ियों के साथ प्रतिस्पर्धा करने की अनुमति दी।

- Ans
- 1. 1938
 - 2. 1968
 - 3. 1958
 - 4. 1948

Question ID : 65497831669
Status : Not Answered
Chosen Option : --

Q.8 लेबैंग बूमनी निम्नलिखित में से किस राज्य का एक प्रदर्शनकारी लोक नृत्य है?

- Ans
- 1. त्रिपुरा
 - 2. महाराष्ट्र
 - 3. केरल
 - 4. ओडिशा

Question ID : 65497831678
Status : Answered
Chosen Option : 1

Q.9 'एग्जाम वारियर्स (Exam Warriors)' नामक पुस्तक के लेखक कौन हैं?

- Ans
- 1. विक्रम सेठ
 - 2. बिबेक देबरॉय
 - 3. अभिषेक मनु सिंघवी
 - 4. नरेंद्र मोदी

Question ID : 65497831680
Status : Not Answered
Chosen Option : --

Q.10 मनुष्यों में गुणसूत्रों के कितने युग्म होते हैं?

- Ans
- 1. 26
 - 2. 19
 - 3. 23
 - 4. 22

Question ID : 65497831672
Status : Answered
Chosen Option : 3

Q.11 निम्नलिखित में से कौन-सा पुरस्कार प्रतिष्ठित अंतरराष्ट्रीय खेल प्रतिस्पर्धाओं में पदक विजेताओं के कोच को दिया जाता है?

- Ans
- 1. राजीव गांधी खेल रत्न पुरस्कार
 - 2. ध्यान चंद पुरस्कार
 - 3. द्रोणाचार्य पुरस्कार
 - 4. अर्जुन पुरस्कार

Question ID : 65497831683
Status : Answered
Chosen Option : 3

Q.12 पिछले वित्त वर्ष के आवंटन के मुकाबले 2020-2021 के बजट में रक्षा व्यय में कितने प्रतिशत की बढ़ोत्तरी की गई?

- Ans
- 1. 7.4%
 - 2. 5.8%
 - 3. 6.1%
 - 4. 4.3%

Question ID : 65497831666
Status : Not Answered
Chosen Option : --

Q.13 हिंदू विधवा पुनर्विवाह अधिनियम निम्नलिखित में से किस वर्ष से लागू हुआ था?

- Ans
- 1. 1906
 - 2. 1934
 - 3. 1890
 - 4. 1856

Question ID : 65497831675
Status : Not Answered
Chosen Option : --

Q.14 विलियम जोस कप निम्नलिखित में से किस खेल (games/sports) से संबंधित है?

- Ans
- 1. बिलियर्ड्स
 - 2. बास्केटबॉल
 - 3. मुक्केबाजी
 - 4. क्रिकेट

Question ID : 65497831681
Status : Answered
Chosen Option : 1

Q.15 दिसंबर 2020 में अंतरराष्ट्रीय रेत कला महोत्सव (इंटरनेशनल सैंड आर्ट फेस्टिवल) के 9वें संस्करण का आयोजन _____ में किया गया था।

- Ans
- 1. महाराष्ट्र
 - 2. आंध्र प्रदेश
 - 3. ओडिशा
 - 4. तमिलनाडु

Question ID : 65497831668
Status : Not Answered
Chosen Option : --

Q.16 2011 की जनगणना के अनुसार, निम्नलिखित में से किस राज्य का लिंग-अनुपात 900 से कम है?

- Ans
- 1. मध्य प्रदेश
 - 2. हरियाणा
 - 3. झारखंड
 - 4. असम

Question ID : 65497831679
Status : Answered
Chosen Option : 2

Q.17 फरवरी 2020 में, भारतीय रिजर्व बैंक के बोर्ड ने अनुशांसा की कि इसका लेखा वर्ष _____ से बदलकर अप्रैल-मार्च कर दिया जाए।

- Ans
- 1. सितंबर - अगस्त
 - 2. अक्टूबर - सितंबर
 - 3. जनवरी - दिसंबर
 - 4. जुलाई - जून

Question ID : 65497831684
Status : Not Answered
Chosen Option : --

Q.18 चालीस वर्ष पूर्व बंद हो गये संगीत समूह _____, ने सितंबर 2021 में अपनी वापसी की घोषणा की।

- Ans
- 1. एबीबीए (ABBA)
 - 2. लेड जेप्लिन (Led Zeppelin)
 - 3. ईगल्स (Eagles)
 - 4. रोलिंग स्टोन्स (Rolling Stones)

Question ID : 65497831690
Status : Not Answered
Chosen Option : --

Q.19 प्राचीन भारत में लोग इस बात पर विश्वास करते थे कि जब ब्राहमणों के सहयोग से _____ अनुष्ठान किया जाता है, तो बलिदानी व्यक्ति का अगले जन्म में एक क्षत्रिय के रूप में पुनर्जन्म होता है, चाहे वह जन्म से क्षत्रिय न हो।

- Ans
- 1. हिरण्य-गर्भ
 - 2. समवज-तन
 - 3. मेधाजनन
 - 4. उपनयन

Question ID : 65497831685
Status : Not Attempted and Marked For Review
Chosen Option : --

Q.20 पृथ्वी की सतह के नीचे सबसे नजदीकी खनिज केवल _____ प्रक्रिया द्वारा खोदकर निकाले जा सकते जाते हैं।

- Ans
- 1. खुदाई (ड्रिलिंग)
 - 2. उत्खनन (कॉरीइंग)
 - 3. विवृत खनन (ओपन कास्ट माइनिंग)
 - 4. कूपकी खनन (शाफ्ट माइनिंग)

Question ID : 65497831682
Status : Answered
Chosen Option : 4

Q.21 सितंबर 2020 में संयुक्त राष्ट्र विकास कार्यक्रम (UNDP) के सद्भावना राजदूत के रूप में किसे नियुक्त किया गया था?

- Ans
- 1. पद्म लक्ष्मी
 - 2. मिशेल ओबामा
 - 3. येमी अलादे
 - 4. एम.नेत्रा

Question ID : 65497831673
Status : Answered
Chosen Option : 1

Q.22 जीव-जंतुओं की संरचना, स्वरूप और पारिस्थितिक वितरण के वैज्ञानिक अध्ययन को _____ कहा जाता है।

- Ans
- 1. जंतु विज्ञान (zoology)
 - 2. छिपकली विज्ञान (saurology)
 - 3. वनस्पति विज्ञान (botany)
 - 4. नृजाति विज्ञान (ethnology)

Question ID : 65497831674
Status : Answered
Chosen Option : 1

Q.23 उत्तर प्रदेश के बाद किस राज्य में लोकसभा सीटों की संख्या सबसे अधिक है?

- Ans
- 1. आंध्र प्रदेश
 - 2. महाराष्ट्र
 - 3. बिहार
 - 4. तमिलनाडु

Question ID : 65497831667
Status : Answered
Chosen Option : 3

Q.24 1918 में खेड़ा (Khair/Kaira) में आई बाढ़ के बाद इनमें से किसने अंग्रेजों के खिलाफ 'नो टैक्स कैपेन' का नेतृत्व किया था?

- Ans
- 1. महादेव देसाई
 - 2. मोरारजी देसाई
 - 3. वल्लभभाई पटेल
 - 4. त्रिभुवनदास पटेल

Question ID : 65497831688
Status : Answered
Chosen Option : 2

Q.25 महिला उद्यमिता दिवस प्रति वर्ष कब मनाया जाता है?

- Ans
- 1. 19 नवंबर
 - 2. 10 अक्टूबर
 - 3. 14 सितंबर
 - 4. 25 नवंबर

Question ID : 65497831676
Status : Not Answered
Chosen Option : --

Q.1 ₹980 की एक धनराशि को A, B और C में इस प्रकार विभाजित किया गया कि A को B के हिस्से का $\frac{3}{7}$ और C को A के हिस्से का 75% मिला। C का हिस्सा ज्ञात करें।

- Ans
- 1. ₹280
 - 2. ₹250
 - 3. ₹180
 - 4. ₹160

Question ID : 65497831700
Status : Answered
Chosen Option : 3

Q.2 छह संख्याओं A, B, C, D, E और F में से, पहली पाँच संख्याओं A, B, C, D और E का औसत, अंतिम पाँच संख्याओं B, C, D, E और F के औसत से 26 अधिक है। A और F के बीच का अंतर ज्ञात करें।

- Ans
- 1. 125
 - 2. 140
 - 3. 120
 - 4. 130

Question ID : 65497831699
Status : Answered
Chosen Option : 4

Q.3 14 cm ऊँचाई वाले एक लंबवृत्तीय बेलन का वक्र पृष्ठीय क्षेत्रफल 176 cm^2 है। बेलन के आधार का क्षेत्रफल (cm^2 में) ज्ञात कीजिए। ($\pi = \frac{22}{7}$ मानें)

- Ans
- 1. $\frac{66}{7}$
 - 2. $\frac{176}{7}$
 - 3. $\frac{88}{7}$
 - 4. $\frac{44}{7}$

Question ID : 65497831711
Status : Answered
Chosen Option : 3

Q.4 दो धनात्मक संख्याओं का लघुत्तम समापवर्त्य (LCM) उनके महत्तम समापवर्तक (HCF) का 13 गुना है। HCF और LCM का योग 252 है। यदि उनमें से एक संख्या 54 है, तो दूसरी संख्या ज्ञात करें।

- Ans
- 1. 68
 - 2. 63
 - 3. 73
 - 4. 78

Question ID : 65497831698
Status : Not Attempted and Marked For Review
Chosen Option : --

Q.5 एक दुकानदार ने किसी निश्चित वस्तु को एक निश्चित मूल्य पर बेचने का निर्णय किया। उसने निर्धारित मूल्य से 45% अधिक मूल्य का टैग उस वस्तु पर लगाया। वस्तु को बेचते समय उसने उस पर 40% की छूट दी। ज्ञात कीजिए उसे निर्धारित मूल्य से कितने रूपए अधिक या कम मिले?

- Ans
- 1. ₹13 अधिक
 - 2. ₹13 कम
 - 3. ₹87 अधिक
 - 4. ₹87 कम

Question ID : 65497831706
Status : Answered
Chosen Option : 2

Q.6 पाइप A, B और C एक टैंक को क्रमशः 10, 15 और 18 घंटे में भर सकते हैं। A और C को 5 घंटे के लिए खोला जाता है, उसके बाद केवल पाइप A को बंद किया जाता है और उसी समय पाइप B को (C के साथ) खोल दिया जाता है। टैंक को पूरा भरने में कुल कितना समय लगा?

- Ans
- 1. $2\frac{1}{3}$ घंटे
 - 2. $6\frac{9}{11}$ घंटे
 - 3. $5\frac{8}{11}$ घंटे
 - 4. $3\frac{2}{3}$ घंटे

Question ID : 65497831715
Status : Answered
Chosen Option : 2

Q.7 ब्याज वार्षिक रूप से चक्रवृद्धि होने पर, एक धनराशि पर 5% की वार्षिक ब्याज दर से 3 वर्ष में प्राप्त मिश्रधन ₹9,261 है। इसी धनराशि पर समान ब्याज दर से $3\frac{3}{4}$ वर्षों में प्राप्त साधारण ब्याज (₹ में) ज्ञात कीजिए।

- Ans
- 1. ₹1,620
 - 2. ₹1,500
 - 3. ₹1,560
 - 4. ₹1,350

Question ID : 65497831710
Status : Answered
Chosen Option : 2

Q.8 $72 \div 16 \text{ of } 3 - [28 \div 6 \text{ of } 4 - 20 \div 7 \times (23 - 37) - 41] \times 1\frac{1}{2}$ का मान ज्ञात कीजिए।

- Ans
- 1. $\frac{5}{8}$
 - 2. 1
 - 3. $\frac{5}{4}$
 - 4. $\frac{3}{2}$

Question ID : 65497831713
Status : Answered
Chosen Option : 3

Q.9 यदि 328, 451 और 697 का महत्तम समापवर्तक (HCF) x है, तो x का मान _____ के बीच होगा।

- Ans
- 1. 48 और 52
 - 2. 44 और 48
 - 3. 36 और 40
 - 4. 40 और 44

Question ID : 65497831707
Status : Answered
Chosen Option : 4

Q.10 विमला ने साधारण ब्याज पर ₹7,200 का ऋण लिया। ब्याज की दर और अवधि वर्ष के संख्यात्मक मान समान हैं। ऋण अवधि के अंत में यदि उसे ब्याज के रूप में ₹5,832 की धनराशि का भुगतान करना पड़ा, तो ब्याज दर ज्ञात करें।

- Ans
- 1. 8%
 - 2. 9%
 - 3. 8.5%
 - 4. 12%

Question ID : 65497831701
Status : Answered
Chosen Option : 2

Q.11 गेहूं के मूल्य में $12\frac{1}{2}\%$ की कमी होने से एक व्यक्ति ₹280 में $2\frac{1}{2}$ kg अधिक गेहूं खरीद पाता है। आरंभ में, व्यक्ति कितने गेहूं (kg में) खरीद पाता था?

- Ans
- 1. 20
 - 2. 12.5
 - 3. 15
 - 4. 17.5

Question ID : 65497831692
Status : Answered
Chosen Option : 4

Q.12 7 व्यक्ति प्रति दिन 7 घंटे काम करते हुए 6 दिनों में 14 बक्से पैक कर सकते हैं। यदि प्रति दिन 9 घंटे काम किया जाए तो 14 व्यक्तियों को 18 बक्से पैक करने में कितने दिन लगेंगे?

- Ans
- 1. 5
 - 2. 3
 - 3. 4
 - 4. 2

Question ID : 65497831694
Status : Answered
Chosen Option : 2

Q.13 एक व्यक्ति 3 km/h, 4 km/h, 5 km/h और 6 km/h की चाल से समान दूरियां तय करता है और उसे कुल 3 घंटे 48 मिनट लगते हैं। कुल दूरी (km में) कितनी है?

- Ans
- 1. 4
 - 2. 16
 - 3. 20
 - 4. 12

Question ID : 65497831695

Status : Not Attempted and Marked For Review

Chosen Option : --

Q.14 यदि ₹644 की धनराशि को तीन भागों में $\frac{1}{2} : \frac{2}{3} : \frac{3}{4}$ के अनुपात में विभाजित किया गया तो पहला भाग कितना होगा?

- Ans
- 1. ₹280
 - 2. ₹168
 - 3. ₹322
 - 4. ₹186

Question ID : 65497831704

Status : Answered

Chosen Option : 2

Q.15 एक घनाभ के तीन संलग्न पृष्ठों के पृष्ठीय क्षेत्रफल क्रमशः 5 cm^2 , 16 cm^2 और 20 cm^2 हैं। घनाभ का आयतन ज्ञात कीजिए।

- Ans
- 1. 40 cm^3
 - 2. 45 cm^3
 - 3. 50 cm^3
 - 4. 30 cm^3

Question ID : 65497831705

Status : Not Attempted and Marked For Review

Chosen Option : --

Q.16 $9\frac{4}{15} \div \frac{7}{8}$ of $(6\frac{1}{5} + 3\frac{2}{5}) - (\frac{2}{21} + \frac{1}{126})$ का मान ज्ञात कीजिए।

- Ans
- 1. 1
 - 2. 3
 - 3. 5
 - 4. 10

Question ID : 65497831702

Status : Answered

Chosen Option : 1

Q.17 दो संख्याओं x और y का अनुपात $4 : 7$ है, यदि x में 6 जोड़ा जाए और y से 7 घटाया जाए, तो उनका अनुपात $3 : 4$ हो जाता है। x और y के बीच अंतर ज्ञात करें।

- Ans
- 1. 30
 - 2. 27
 - 3. 36
 - 4. 24

Question ID : 65497831709
Status : Answered
Chosen Option : 2

Q.18 राधा अपनी आय से 28% की बचत करती है। यदि उसके व्यय में 25% की वृद्धि होती है और बचत में 30% की वृद्धि होती है, तो उसकी आय में हुई प्रतिशत वृद्धि ज्ञात करें।

- Ans
- 1. 27.6%
 - 2. 26.4%
 - 3. 27%
 - 4. 25%

Question ID : 65497831708
Status : Answered
Chosen Option : 2

Q.19 ब्याज वार्षिक रूप से चक्रवृद्धि होने पर, ₹10500 की धनराशि पर $x\%$ की वार्षिक ब्याज दर से 2 वर्ष में प्राप्त मिश्रधन ₹12705 है। ब्याज अर्ध-वार्षिक रूप से चक्रवृद्धि होने पर, उसी धनराशि पर $2x\%$ की वार्षिक ब्याज दर से $1\frac{1}{2}$ वर्ष में प्राप्त मिश्रधन (₹ में) कितना होगा?

- Ans
- 1. 13975.50
 - 2. 11297
 - 3. 17395.75
 - 4. 19753.25

Question ID : 65497831697
Status : Not Answered
Chosen Option : --

Q.20 37 संख्याओं का औसत 49 है। पहली 21 संख्याओं का औसत 43.8 है और अंतिम 17 संख्याओं का औसत 55.6 है। यदि 21 वीं संख्या को छोड़ दिया जाए, तो शेष संख्याओं का औसत कितना होगा (दशमलव के एक स्थान तक सही)?

- Ans
- 1. 53.5
 - 2. 49.7
 - 3. 48.9
 - 4. 47.6

Question ID : 65497831691
Status : Not Answered
Chosen Option : --

Q.21 एक रेलगाड़ी स्थान A से स्थान B तक 90 km/h की चाल से जाती है और 75 km/h की चाल से वापस आती है।
यदि यह कुल $14\frac{2}{3}$ घंटे लेती है, तो स्थान A और स्थान B के बीच की दूरी ज्ञात कीजिए।

- Ans
- 1. 580 km
 - 2. 600 km
 - 3. 620 km
 - 4. 560 km

Question ID : 65497831703
Status : Answered
Chosen Option : 2

Q.22 शीमा ने 10.5% के लाभ पर एक सूट बेचा। यदि उसने इसे ₹70 अधिक में बेचा होता, उसे 14% का लाभ प्राप्त होता।
सूट का प्रारंभिक विक्रय मूल्य (₹ में) ज्ञात करें।

- Ans
- 1. 2,140
 - 2. 2,210
 - 3. 2,350
 - 4. 2,280

Question ID : 65497831696
Status : Not Answered
Chosen Option : --

Q.23 एक कॉलेज के चुनाव में सीमा और गीता को कुल वैध मतों में से 4 : 5 के अनुपात में मत प्राप्त होते हैं। यदि 15000 मतों में से 19% मत अवैध हैं, तो सीमा और गीता के पक्ष में पड़े मतों के बीच कितने मतों का अंतर है?

- Ans
- 1. 1500
 - 2. 1150
 - 3. 1350
 - 4. 1800

Question ID : 65497831693
Status : Not Answered
Chosen Option : --

Q.24 मधु ने ₹1,470 में 35 kg चीनी खरीदी। उसने इसे बेचा और इस विक्रय में हुई हानि 5 kg चीनी के विक्रय मूल्य के बराबर थी। 8 kg चीनी का विक्रय मूल्य (₹ में) ज्ञात कीजिए।

- Ans
- 1. 288
 - 2. 300
 - 3. 294
 - 4. 296

Question ID : 65497831712
Status : Answered
Chosen Option : 4

Q.25 एक वस्तु को ₹157.50 में बेचने पर रवि को 12.5% का लाभ होता है। यदि वह इसे ₹147 में बेचता है, तो उसका प्रतिशत हानि/लाभ ज्ञात कीजिए।

- Ans
- 1. 10.5% लाभ
 - 2. 5% हानि
 - 3. 10.5% हानि
 - 4. 5% लाभ

Question ID : 65497831714
Status : Answered
Chosen Option : 1

Section : Part D English

Q.1 The following sentence has been split into four segments. Identify the segment that contains a grammatical error.

Plants that grow / in deserts / do not requires / much water.

- Ans
- 1. Plants that grow
 - 2. much water
 - 3. in deserts
 - 4. do not requires

Question ID : 65497831733
Status : Not Answered
Chosen Option : --

Q.2 Select the most appropriate option to fill in the blank.

Radha was extremely _____ about the welfare of her parents.

- Ans
- 1. intense
 - 2. impatient
 - 3. anxious
 - 4. eager

Question ID : 65497831721
Status : Not Answered
Chosen Option : --

Q.3 Select the option that can be used as a one-word substitute for the given group of words.

A spider's home

- Ans
- 1. Den
 - 2. Hole
 - 3. Hive
 - 4. Cobweb

Question ID : 65497831716
Status : Not Answered
Chosen Option : --

Q.4 Select the most appropriate meaning of the given idiom.

Not breathe a word

- Ans** 1. To be quiet because you are angry
 2. To decide not to talk to someone
 3. To be quiet not knowing what to say
 4. To remain silent about some secret

Question ID : 65497831730
Status : Not Answered
Chosen Option : --

Q.5 Select the most appropriate ANTONYM of the given word.

Petty

- Ans** 1. Big
 2. Dull
 3. Quick
 4. Light

Question ID : 65497831723
Status : Not Answered
Chosen Option : --

Q.6 Select the most appropriate SYNONYM of the given word.

Choke

- Ans** 1. Slash
 2. Chop
 3. Block
 4. Hack

Question ID : 65497831734
Status : Not Answered
Chosen Option : --

Q.7 Select the option that can be used as a one-word substitute for the given group of words.

One who travels on foot

- Ans** 1. Traveller
 2. Pedestrian
 3. Tourist
 4. Visitor

Question ID : 65497831724
Status : Not Answered
Chosen Option : --

Q.8 Select the most appropriate option to fill in the blank.

If you do not return my money, I will _____ you to court.

- Ans 1. carry
 2. drag
 3. push
 4. lift

Question ID : 65497831731
Status : Not Answered
Chosen Option : --

Q.9 The following sentence has been split into four segments. Identify the segment that contains a grammatical error.

These children / are attended / yoga classes / regularly.

- Ans 1. regularly
 2. These children
 3. yoga classes
 4. are attended

Question ID : 65497831726
Status : Not Answered
Chosen Option : --

Q.10 Select the INCORRECTLY spelt word.

- Ans 1. Spoonful
 2. Vegeteble
 3. Opening
 4. Drainage

Question ID : 65497831720
Status : Not Answered
Chosen Option : --

Q.11 Select the most appropriate option to fill in the blank.

Social distancing should be practiced in _____ with other everyday preventive actions.

- Ans 1. understanding
 2. comprehension
 3. arrangement
 4. combination

Question ID : 65497831719
Status : Not Answered
Chosen Option : --

Q.12 Select the most appropriate ANTONYM of the given word.

Defend

- Ans 1. Abandon
 2. Tarnish
 3. Adjourn
 4. Derange

Question ID : 65497831718
Status : Not Answered
Chosen Option : --

Q.13 Select the most appropriate option that can substitute the underlined word in the given sentence.

The Maldives is one of the few places in the world where ancient pleasure can be derived from doing nothing.

- Ans
- 1. bustling
 - 2. prosperous
 - 3. tremendous
 - 4. curt

Question ID : 65497831717
Status : Not Answered
Chosen Option : --

Q.14 Select the most appropriate option that can substitute the underlined segment in the given sentence. If there is no need to substitute it, select 'No substitution required'.

All the mangoes is sweet; you should try one.

- Ans
- 1. All the mangoes are sweet
 - 2. No substitution required
 - 3. All mangoes sweet
 - 4. All the mangoes sweet

Question ID : 65497831729
Status : Not Answered
Chosen Option : --

Q.15 Select the option that can be used as a one-word substitute for the given group of words.

A cage for keeping rabbits

- Ans
- 1. Hutch
 - 2. Kennel
 - 3. Apiary
 - 4. Lair

Question ID : 65497831735
Status : Not Answered
Chosen Option : --

Q.16 Select the most appropriate meaning of the given idiom.

To give up the ghost

- Ans
- 1. To stop working
 - 2. To scare away a ghost
 - 3. To speak lies
 - 4. To pretend to be a ghost

Question ID : 65497831728
Status : Not Answered
Chosen Option : --

Q.17 Select the option that will improve the underlined part of the given sentence. In case no improvement is needed, select 'No improvement required'.

Please walk carefully unless you should hurt yourself.

- Ans
- 1. or you might
 - 2. unless you will
 - 3. No improvement required
 - 4. so you should

Question ID : 65497831732
Status : Not Answered
Chosen Option : --

Q.18 Select the INCORRECTLY spelt word.

- Ans
- 1. Prosperous
 - 2. Sumptuous
 - 3. Pompous
 - 4. Pretious

Question ID : 65497831725
Status : Not Answered
Chosen Option : --

Q.19 The following sentence has been divided into parts. One of them contains an error. Select the part that contains the error from the given options.

Neither the guests / nor the host / were dressed appropriately / for the party.

- Ans
- 1. were dressed appropriately
 - 2. Neither the guests
 - 3. nor the host
 - 4. for the party

Question ID : 65497831722
Status : Not Answered
Chosen Option : --

Q.20 Select the most appropriate synonym of the given word.

Marvellous

- Ans
- 1. Dangerous
 - 2. Childish
 - 3. Innocent
 - 4. Wonderful

Question ID : 65497831727
Status : Not Answered
Chosen Option : --

Comprehension:

In the following passage, some words have been deleted. Read the passage carefully and select the most appropriate option to fill in each blank.

Consumption of junk and fast food is the main (1)_____ of obesity in teenagers. Large intake of high-calorie and low-nutrient food leads to (2)_____ weight gain. A number of health issues arise out of it. Obesity can also result in (3)_____ problems like low self-esteem and low confidence. It can also lead to laziness and inactiveness among teens. Junk food and soft drinks should be (4)_____ with lots of fruits, vegetables and whole grains in the diet. The best way to control obesity is to do (5)_____ physical exercise.

SubQuestion No : 21

Q.21 Select the most appropriate option to fill in blank no. 1.

- Ans** 1. cause
 2. result
 3. event
 4. effect

Question ID : 65497831737
Status : Not Answered
Chosen Option : --

Comprehension:

In the following passage, some words have been deleted. Read the passage carefully and select the most appropriate option to fill in each blank.

Consumption of junk and fast food is the main (1)_____ of obesity in teenagers. Large intake of high-calorie and low-nutrient food leads to (2)_____ weight gain. A number of health issues arise out of it. Obesity can also result in (3)_____ problems like low self-esteem and low confidence. It can also lead to laziness and inactiveness among teens. Junk food and soft drinks should be (4)_____ with lots of fruits, vegetables and whole grains in the diet. The best way to control obesity is to do (5)_____ physical exercise.

SubQuestion No : 22

Q.22 Select the most appropriate option to fill in blank no. 2.

- Ans** 1. insignificant
 2. necessary
 3. irrelevant
 4. unnecessary

Question ID : 65497831738
Status : Not Answered
Chosen Option : --

Comprehension:

In the following passage, some words have been deleted. Read the passage carefully and select the most appropriate option to fill in each blank.

Consumption of junk and fast food is the main (1)_____ of obesity in teenagers. Large intake of high-calorie and low-nutrient food leads to (2)_____ weight gain. A number of health issues arise out of it. Obesity can also result in (3)_____ problems like low self-esteem and low confidence. It can also lead to laziness and inactiveness among teens. Junk food and soft drinks should be (4)_____ with lots of fruits, vegetables and whole grains in the diet. The best way to control obesity is to do (5)_____ physical exercise.

SubQuestion No : 23

Q.23 Select the most appropriate option to fill in blank no. 3.

- Ans** 1. physiological
 2. mental
 3. political
 4. psychological

Question ID : 65497831739
Status : Not Answered
Chosen Option : --

Comprehension:

In the following passage, some words have been deleted. Read the passage carefully and select the most appropriate option to fill in each blank.

Consumption of junk and fast food is the main (1)_____ of obesity in teenagers. Large intake of high-calorie and low-nutrient food leads to (2)_____ weight gain. A number of health issues arise out of it. Obesity can also result in (3)_____ problems like low self-esteem and low confidence. It can also lead to laziness and inactiveness among teens. Junk food and soft drinks should be (4)_____ with lots of fruits, vegetables and whole grains in the diet. The best way to control obesity is to do (5)_____ physical exercise.

SubQuestion No : 24

Q.24 Select the most appropriate option to fill in blank no. 4.

Ans ✓ 1. substituted

✗ 2. placed

✗ 3. exchanged

✗ 4. altered

Question ID : 65497831740

Status : Not Answered

Chosen Option : --

Comprehension:

In the following passage, some words have been deleted. Read the passage carefully and select the most appropriate option to fill in each blank.

Consumption of junk and fast food is the main (1)_____ of obesity in teenagers. Large intake of high-calorie and low-nutrient food leads to (2)_____ weight gain. A number of health issues arise out of it. Obesity can also result in (3)_____ problems like low self-esteem and low confidence. It can also lead to laziness and inactiveness among teens. Junk food and soft drinks should be (4)_____ with lots of fruits, vegetables and whole grains in the diet. The best way to control obesity is to do (5)_____ physical exercise.

SubQuestion No : 25

Q.25 Select the most appropriate option to fill in blank no. 5.

Ans ✗ 1. formal

✗ 2. unsystematic

✗ 3. irregular

✓ 4. regular

Question ID : 65497831741

Status : Not Answered

Chosen Option : --

Section : Part D Hindi

Q.1 दिए गए शब्द का विलोम चुनें।

ऊपरलिखित

Ans ✗ 1. स्वलिखित

✗ 2. परलिखित

✓ 3. निम्नलिखित

✗ 4. पूर्वलिखित

Question ID : 65497831749

Status : Answered

Chosen Option : 3

Q.2 दिये गये वाक्य के किस भाग में त्रुटि है?

झूट बोलना पाप है।

- Ans
- 1. झूट
 - 2. बोलना
 - 3. है।
 - 4. पाप

Question ID : 65497831757
Status : Answered
Chosen Option : 1

Q.3 दिये गये वाक्यांश के लिए एक शब्द दीजिये।

जिसके - समान दूसरा न हो

- Ans
- 1. अनंत
 - 2. असीम
 - 3. अद्वितीय
 - 4. अद्भुत

Question ID : 65497831753
Status : Answered
Chosen Option : 3

Q.4 दिए गए वाक्य में रेखांकित खंड को प्रतिस्थापित करने के लिए सबसे उपयुक्त विकल्प का चयन करें।
यदि इसे प्रतिस्थापित करने की आवश्यकता नहीं है, तो विकल्प 'किसी बदलाव की आवश्यकता नहीं है'
का चयन करें।

सीता की मुखचंद्र देखकर राम भी खिल उठे।

- Ans
- 1. सीता का मुखचंद्र
 - 2. सीता जीके मुखचंद्र
 - 3. सीता के मुखचंद्र
 - 4. किसी बदलाव की आवश्यकता नहीं है

Question ID : 65497831743
Status : Answered
Chosen Option : 4

Q.5 दिये गये वाक्य के किस भाग में त्रुटि है?

पत्र किसके नाम पर लिखा गया है?

- Ans
- 1. लिखा
 - 2. पत्र किसके
 - 3. गया है?
 - 4. नाम पर

Question ID : 65497831759
Status : Answered
Chosen Option : 2

Q.6 'सरोवर' का पर्यायवाची है-

- Ans 1. तालाब
 2. बादल
 3. कमल
 4. समुद्र

Question ID : 65497831758
Status : Marked For Review
Chosen Option : 3

Q.7 'जिस पर आक्रमण हो' वाक्यांश के लिए एक शब्द होगा-

- Ans 1. आक्रांत
 2. आक्रांता
 3. आततायी
 4. आक्रामक

Question ID : 65497831761
Status : Answered
Chosen Option : 1

Q.8 सही वर्तनी वाले शब्द का चयन करें।

- Ans 1. मन्तवय
 2. मनतव्य
 3. मंतव्य
 4. मनत्वय

Question ID : 65497831747
Status : Answered
Chosen Option : 4

Q.9 दिए गए वाक्य में रेखांकित खंड को प्रतिस्थापित करने के लिए सबसे उपयुक्त विकल्प का चयन करें।
यदि इसे प्रतिस्थापित करने की आवश्यकता नहीं है, तो विकल्प 'किसी बदलाव की आवश्यकता नहीं है'
का चयन करें।

आप ठीक कहते हैं।

- Ans 1. है
 2. हों
 3. किसी बदलाव की आवश्यकता नहीं है।
 4. हैं

Question ID : 65497831754
Status : Answered
Chosen Option : 4

Q.10 'विफल' का विलोम शब्द होगा-

- Ans 1. असफल
 2. प्रफुल्ल
 3. निष्फल
 4. सफल

Question ID : 65497831760
Status : Answered
Chosen Option : 4

Q.11 रिक्त स्थान की पूर्ति के लिए सबसे उपयुक्त विकल्प का चयन करें।

जो _____ करता है उसका सर्वनाश हो जाता है।

- Ans 1. घमंड
 2. गौरव
 3. गर्व
 4. सम्मान

Question ID : 65497831755
Status : Answered
Chosen Option : 1

Q.12 रिक्त स्थान की पूर्ति के लिए सबसे उपयुक्त शब्द का चयन कीजिए।

घोड़ा बीच में ही _____ गया।

- Ans 1. डट
 2. अड़
 3. चल
 4. टोक

Question ID : 65497831742
Status : Answered
Chosen Option : 2

Q.13 दिए गए शब्द के समानार्थी शब्द का चयन कीजिए।

पर्वत

- Ans 1. द्रुम
 2. नग
 3. इषु
 4. भूय

Question ID : 65497831745
Status : Answered
Chosen Option : 4

Q.14 दिये गये वाक्यांश के लिए एक शब्द दीजिये।

जो प्राणी जमीन पर रहता हो

- Ans 1. जलचर
 2. जमीनी
 3. नभचर
 4. थलचर

Question ID : 65497831751
Status : Answered
Chosen Option : 4

Q.15 सही वर्तनी वाले शब्द का चयन करें।

- Ans 1. निनिमेष
 2. नीनिमेष
 3. निर्निमेष
 4. निनिर्मेष

Question ID : 65497831748
Status : Answered
Chosen Option : 3

Q.16 उस विकल्प का चयन कीजिए जो निम्न मुहावरे का अर्थ व्यक्त करता है।

घर की मुर्गी दाल बराबर

- Ans
- 1. लाभ के स्थान पर हानि
 - 2. घर की वस्तु को महत्व देना
 - 3. घर की वस्तु को तुच्छ समझना
 - 4. अत्यधिक कंजूस

Question ID : 65497831752
Status : Answered
Chosen Option : 3

Q.17 दिए गए वाक्य का वह भाग ज्ञात करें जिसमें कोई त्रुटि है। यदि कोई त्रुटि नहीं है, तो 'कोई त्रुटि नहीं' विकल्प को चुनें।

विद्यार्थियों ने प्रधानमंत्री को अभिनंदन-पत्र अर्पित की।

- Ans
- 1. प्रधानमंत्री को
 - 2. कोई त्रुटि नहीं
 - 3. विद्यार्थियों ने
 - 4. अभिनंदन-पत्र अर्पित की।

Question ID : 65497831744
Status : Answered
Chosen Option : 2

Q.18 दिए गए वाक्य में रेखांकित खंड को प्रतिस्थापित करने के लिए सबसे उपयुक्त विकल्प का चयन करें। यदि इसे प्रतिस्थापित करने की आवश्यकता नहीं है, तो विकल्प 'किसी बदलाव की आवश्यकता नहीं है' का चयन करें।

आवश्यक कार्य में व्यस्त रहने के कारण मुझे अवकाश नहीं मिले।

- Ans
- 1. किसी बदलाव की आवश्यकता नहीं है।
 - 2. व्यस्त रहने के कारण मुझे अवकाश नहीं मिली।
 - 3. व्यस्त रहने के कारण मुझे अवकाश नहीं मिला।
 - 4. व्यस्त रहते के कारण मुझे अवकाश नहीं मिला।

Question ID : 65497831746
Status : Answered
Chosen Option : 2

Q.19 उस विकल्प का चयन कीजिए जो निम्न मुहावरे का अर्थ व्यक्त करता है।

लँगोटी में फाग खेलना

- Ans
- 1. लड़ने को तैयार होना
 - 2. काम खराब कर देना
 - 3. दरिद्रता में आनंद लूटना
 - 4. दुःख सहते जाना

Question ID : 65497831750
Status : Answered
Chosen Option : 2

Q.20 रिक्त स्थान की पूर्ति के लिए सबसे उपयुक्त विकल्प का चयन करें।

पत्र का उत्तर शीघ्र देने की _____ करें।

- Ans
- 1. करुणा
 - 2. अनुकंपा
 - 3. कृपा
 - 4. दया

Question ID : 65497831756
Status : Answered
Chosen Option : 3

Comprehension:

संस्कृति की रचना और अभिव्यक्ति कला के माध्यम से होती है और भारतीय कला का यह (1) _____ है कि वह यूरोप की कलात्मक भंगिमाओं से (2) _____ नहीं बिठा सकती। बहुत प्राचीन काल में, यूनानी कला का सम्मिश्रण भारतीय (3) _____ से हुआ था। परिणामस्वरूप गांधार - कला का (4) _____ हुआ। किंतु वह भारत में टिक नहीं सकी, क्योंकि वह अभारतीय थी, क्योंकि भारत की (5) _____ अपने को इस मिश्रित कला के भीतर से व्यक्त नहीं कर सकती थी।

निम्न प्रश्नों के उत्तर उपरोक्त गद्यांश के आधार पर दीजिए।

SubQuestion No : 21

Q.21 गद्यांश के रिक्त स्थान (1) के लिए सर्वाधिक उपयुक्त शब्द होगा-

- Ans
- 1. स्वभाव
 - 2. विचार
 - 3. प्रभाव
 - 4. दोष

Question ID : 65497831763
Status : Answered
Chosen Option : 2

Comprehension:

संस्कृति की रचना और अभिव्यक्ति कला के माध्यम से होती है और भारतीय कला का यह (1) _____ है कि वह यूरोप की कलात्मक भंगिमाओं से (2) _____ नहीं बिठा सकती। बहुत प्राचीन काल में, यूनानी कला का सम्मिश्रण भारतीय (3) _____ से हुआ था। परिणामस्वरूप गांधार - कला का (4) _____ हुआ। किंतु वह भारत में टिक नहीं सकी, क्योंकि वह अभारतीय थी, क्योंकि भारत की (5) _____ अपने को इस मिश्रित कला के भीतर से व्यक्त नहीं कर सकती थी।

निम्न प्रश्नों के उत्तर उपरोक्त गद्यांश के आधार पर दीजिए।

SubQuestion No : 22

Q.22 गद्यांश के रिक्त स्थान (2) के लिए सर्वाधिक उपयुक्त शब्द होगा-

- Ans
- 1. मेलजोल
 - 2. गठबंधन
 - 3. सामंजस्य
 - 4. वैमनस्य

Question ID : 65497831764
Status : Answered
Chosen Option : 1

Comprehension:

संस्कृति की रचना और अभिव्यक्ति कला के माध्यम से होती है और भारतीय कला का यह (1)_____ है कि वह यूरोप की कलात्मक भंगिमाओं से (2)_____ नहीं बिठा सकती। बहुत प्राचीन काल में, यूनानी कला का सम्मिश्रण भारतीय (3)_____ से हुआ था। परिणामस्वरूप गांधार - कला का (4)_____ हुआ। किंतु वह भारत में टिक नहीं सकी, क्योंकि वह अभारतीय थी, क्योंकि भारत की (5)_____ अपने को इस मिश्रित कला के भीतर से व्यक्त नहीं कर सकती थी।

निम्न प्रश्नों के उत्तर उपरोक्त गद्यांश के आधार पर दीजिए।

SubQuestion No : 23

Q.23 गद्यांश के रिक्त स्थान (3) के लिए सर्वाधिक उपयुक्त शब्द होगा-

- Ans**
- 1. संगीत
 - 2. कविता
 - 3. नृत्य
 - 4. कला

Question ID : 65497831765

Status : Answered

Chosen Option : 4

Comprehension:

संस्कृति की रचना और अभिव्यक्ति कला के माध्यम से होती है और भारतीय कला का यह (1)_____ है कि वह यूरोप की कलात्मक भंगिमाओं से (2)_____ नहीं बिठा सकती। बहुत प्राचीन काल में, यूनानी कला का सम्मिश्रण भारतीय (3)_____ से हुआ था। परिणामस्वरूप गांधार - कला का (4)_____ हुआ। किंतु वह भारत में टिक नहीं सकी, क्योंकि वह अभारतीय थी, क्योंकि भारत की (5)_____ अपने को इस मिश्रित कला के भीतर से व्यक्त नहीं कर सकती थी।

निम्न प्रश्नों के उत्तर उपरोक्त गद्यांश के आधार पर दीजिए।

SubQuestion No : 24

Q.24 गद्यांश के रिक्त स्थान (4) के लिए सर्वाधिक उपयुक्त शब्द होगा-

- Ans**
- 1. जन्म
 - 2. खोज
 - 3. अनुसंधान
 - 4. आविष्कार

Question ID : 65497831766

Status : Answered

Chosen Option : 1

Comprehension:

संस्कृति की रचना और अभिव्यक्ति कला के माध्यम से होती है और भारतीय कला का यह (1)_____ है कि वह यूरोप की कलात्मक भंगिमाओं से (2)_____ नहीं बिठा सकती। बहुत प्राचीन काल में, यूनानी कला का सम्मिश्रण भारतीय (3)_____ से हुआ था। परिणामस्वरूप गांधार - कला का (4)_____ हुआ। किंतु वह भारत में टिक नहीं सकी, क्योंकि वह अभारतीय थी, क्योंकि भारत की (5)_____ अपने को इस मिश्रित कला के भीतर से व्यक्त नहीं कर सकती थी।

निम्न प्रश्नों के उत्तर उपरोक्त गद्यांश के आधार पर दीजिए।

SubQuestion No : 25

Q.25 गद्यांश के रिक्त स्थान (5) के लिए सर्वाधिक उपयुक्त शब्द होगा-

- Ans**
- 1. चिंता
 - 2. आत्मा
 - 3. परमात्मा
 - 4. इच्छा

Question ID : 65497831767

Status : Answered

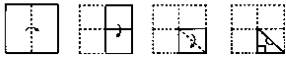
Chosen Option : 4

Constable GD in CAPFs NIA SSF and Rifleman GD in Assam Rifles Examination 2021

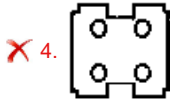
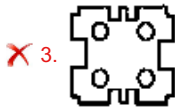
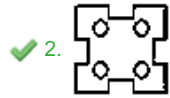
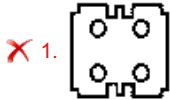
Roll Number	www.HaryanaJobs.in
Candidate Name	www.HaryanaJobs.in
Venue Name	Yuvi Online Solutions
Exam Date	18/11/2021
Exam Time :	9:00 AM - 10:30 AM
Subject	Constable GD 2021

Section : Part A General Intelligence and Reasoning

Q.1 नीचे दी गई आकृतियों में कागज़ के एक टुकड़े को मोड़ने और मोड़े गए कागज़ को काटने के तरीके का क्रम दर्शाया गया है। कागज़ को खोले जाने पर वह कैसा दिखाई देगा?



Ans



Question ID : 65497833697

Status : Answered

Chosen Option : 2

Q.2 दिए गए विकल्पों में से वह संख्या चुनें जिसे नीचे दी गई श्रृंखला में प्रश्न चिह्न (?) के स्थान पर रखा जा सकता है।

9, 14, 34, 114, ?, 1714

Ans ✗ 1. 654

✗ 2. 524

✓ 3. 434

✗ 4. 914

Question ID : 65497833691

Status : Answered

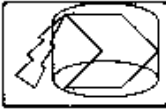
Chosen Option : 3

Q.3 दिए गए संयोजन के सही दर्पण प्रतिबिंब का चयन करें, जब दर्पण को दिखाए गए अनुसार XY पर रखा गया है।



Ans

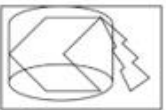
✓ 1.



✗ 2.



✗ 3.



✗ 4.



Question ID : 65497833685

Status : Answered

Chosen Option : 1

Q.4 L, M की माँ है। L की केवल दो संतानें हैं। N, M की बहन है। N, K की बेटी है। Z, K का पोता है। O, Z की माँ है। O, N से किस प्रकार संबंधित है?

Ans

✗ 1. बहन

✓ 2. भाभी

✗ 3. माँ

✗ 4. पत्नी

Question ID : 65497833688

Status : Answered

Chosen Option : 2

Q.5 उन अक्षरों के संयोजन का चयन करें जिसे दी गई श्रृंखला के रिक्त स्थान में क्रमिक रूप से रखे जाने पर श्रृंखला पूर्ण होगी।

PE__LEP__PLE__OP__

Ans

✗ 1. OPEOPLEE

✓ 2. OPEOPELE

✗ 3. OPOEPELE

✗ 4. OPOEEPLE

Question ID : 65497833690

Status : Answered

Chosen Option : 2

Q.6 चार अक्षर-समूह दिए गए हैं जिनमें से तीन किसी तरीके से समान हैं और एक भिन्न है। भिन्न अक्षर-समूह को चुनिए।

- Ans
- 1. QSJ
 - 2. EGV
 - 3. RTI
 - 4. NTD

Question ID : 65497833682
Status : Answered
Chosen Option : 4

Q.7 उस विकल्प का चयन करें जो तीसरे अक्षर-समूह से उसी प्रकार संबंधित है, जिस प्रकार दूसरा अक्षर-समूह पहले अक्षर-समूह से संबंधित है।

DHM : GCX :: KOT : ?

- Ans
- 1. NKL
 - 2. NHD
 - 3. NJE
 - 4. NIE

Question ID : 65497833686
Status : Answered
Chosen Option : 3

Q.8 छः दोस्त A, B, C, D, E और F एक वृत्त में इसके केंद्र की ओर अभिमुख होकर, एक-दूसरे के सम्मुख बैठे हैं। C और D एक-दूसरे के निकट बैठे हैं। B और F भी एक-दूसरे के निकट बैठे हैं। E ठीक B के सम्मुख बैठा है। F, B के बाएं बैठा है। E और F के बीच में कौन बैठा है?

- Ans
- 1. A
 - 2. B
 - 3. F
 - 4. E

Question ID : 65497833680
Status : Answered
Chosen Option : 1

Q.9 दिए गए समीकरण को सही करने के लिए किन दो संख्याओं (अंक नहीं) को आपस में बदला जाना चाहिए?

$$5 \times 40 \div 8 + 3 - 14 = 53$$

- Ans
- 1. 8 और 14
 - 2. 8 और 3
 - 3. 5 और 8
 - 4. 5 और 3

Question ID : 65497833675
Status : Answered
Chosen Option : 3

Q.10 छह दोस्त, रवि, काव्या, महिमा, गीता, मोहन और नेहा, एक सीधी पंक्ति में उत्तर की ओर अभिमुख होकर बैठे हैं। काव्या किसी भी अंतिम छोर पर नहीं बैठी है। नेहा ठीक रवि और मोहन के बीच में बैठी है। मोहन ठीक गीता के दाईं ओर पड़ोस में बैठा है। रवि और काव्या के बीच तीन दोस्त बैठे हैं। काव्या ठीक महिमा के दाईं ओर पड़ोस में बैठी है। बाएँ छोर से पाँचवें स्थान पर कौन बैठा/बैठी है?

- Ans
- 1. मोहन
 - 2. नेहा
 - 3. गीता
 - 4. काव्या

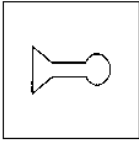
Question ID : 65497833673
Status : Answered
Chosen Option : 2

Q.11 'कपडे' का संबंध 'कपास' से उसी प्रकार है जैसे 'आटे' का संबंध '_____' से है।

- Ans
- 1. गेहूँ
 - 2. खाना
 - 3. चपाती
 - 4. टाइल्स

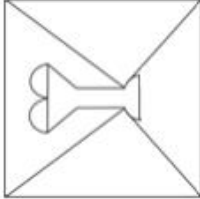
Question ID : 65497833679
Status : Answered
Chosen Option : 1

Q.12 उस विकल्प का चयन करें जिसमें दी गई आकृति अंतर्निहित है (घुमाने की अनुमति नहीं है)।

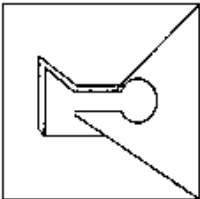


Ans

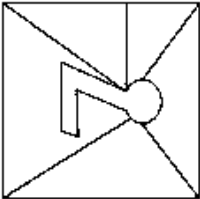
✗ 1.



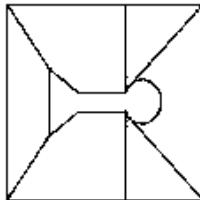
✗ 2.



✗ 3.



✓ 4.



Question ID : 65497833677

Status : Answered

Chosen Option : 4

Q.13 एक विशिष्ट कूट भाषा में, REMAIN को 92214261813 लिखा जाता है। इस भाषा में MACHINE का कूट क्या होगा?

Ans

✗ 1. 131389145

✗ 2. 514981313

✓ 3. 14262419181322

✗ 4. 22131819242614

Question ID : 65497833683

Status : Answered

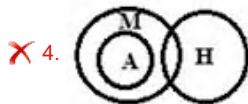
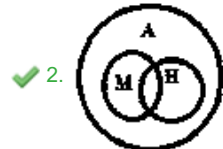
Chosen Option : 3

Q.14 उस वेन आरेख का चयन कीजिए जो निम्न वर्गों के मध्य के संबंध का सर्वश्रेष्ठ निरूपण करता है।

मनुष्य, नर, जीव

(H: मनुष्य; M: नर; A: जीव)

Ans



Question ID : 65497833681

Status : Answered

Chosen Option : 2

Q.15 दिए गए कथनों और निष्कर्षों को ध्यान से पढ़ें। यह मानते हुए कि कथनों में दी गई जानकारी सत्य है, भले ही यह सामान्य रूप से ज्ञात तथ्यों से भिन्न प्रतीत होती हो, यह निर्णय लें कि दिए गए निष्कर्षों में से कौन सा/से निष्कर्ष कथनों का तार्किक रूप से अनुसरण करता है/ करते हैं।

कथन:

सभी पतंगें वायुयान हैं।
सभी वायुयान काराज हैं।

निष्कर्ष:

I. सभी पतंगें काराज हैं।
II. कोई भी काराज वायुयान नहीं है।

Ans ✗ 1. निष्कर्ष I और II दोनों अनुसरण करते हैं।

✗ 2. केवल निष्कर्ष II अनुसरण करता है।

✗ 3. न तो निष्कर्ष I और न ही II अनुसरण करता है।

✓ 4. केवल निष्कर्ष I अनुसरण करता है।

Question ID : 65497833694

Status : Answered

Chosen Option : 4

Q.16 एक निश्चित कूट भाषा में, 'BOOK' को 'CRTR' के रूप में लिखा जाता है। उसी भाषा में 'PETROL' को किस रूप में लिखा जाएगा?

- Ans 1. QHYYXW
 2. QIXYYW
 3. HYXXW
 4. QHXYXW

Question ID : 65497833693
Status : Answered
Chosen Option : 1

Q.17 वह सही विकल्प चुनें जो दिए गए शब्दों को उसी क्रम में व्यवस्थित करता है जैसा कि वे अंग्रेजी शब्दकोष में दिखते हैं।

1. Goffer
2. Goblin
3. Goatling
4. Goatish
5. Goer

- Ans 1. 4, 3, 2, 5, 1
 2. 4, 2, 3, 5, 1
 3. 4, 3, 5, 2, 1
 4. 4, 2, 5, 3, 1

Question ID : 65497833689
Status : Answered
Chosen Option : 1

Q.18 एक विशिष्ट कूट भाषा में, 'LECTURE' को 'MGFXZXL' और 'TEACHER' को 'UGDGMKY' लिखा जाता है। इस भाषा में 'STUDENT' को क्या लिखा जाएगा?

- Ans 1. TVXJHTA
 2. TVWHJTA
 3. TVWJHTA
 4. TVXHJTA

Question ID : 65497833687
Status : Answered
Chosen Option : 4

Q.19 दिए गए विकल्पों में से उस संख्या को चुनिए जो निम्न श्रृंखला में प्रश्नचिह्न (?) का स्थान ले सकती है।

38, 42, 58, 94, ?, 258

- Ans 1. 158
 2. 152
 3. 108
 4. 164

Question ID : 65497833684
Status : Answered
Chosen Option : 1

Q.20 विकल्पों से वह चित्र चुनें जिसे प्रश्न चिह्न (?) के स्थान पर रखा जा सकता है और दिए गए पैटर्न को पूरा किया जा सकता है (धुमाने की अनुमति नहीं है)।



Ans

✗ 1.



✗ 2.



✗ 3.



✓ 4.



Question ID : 65497833692
Status : Answered
Chosen Option : 4

Q.21 दिए गए विकल्पों में से उस अक्षर-समूह का चयन कीजिए जो निम्न श्रृंखला में प्रश्नवाचक चिह्न (?) के स्थान पर आ सकता है।

YEM, BHP, EKS, HNV, ?

Ans ✓ 1. KQY

✗ 2. LNU

✗ 3. KRX

✗ 4. KPZ

Question ID : 65497833678
Status : Answered
Chosen Option : 1

Q.22 If, $5 + 7 = 473 + 8 = 359 + 2 = 29$ then, $7 + 4 = ?$

Ans ✗ 1. 42


✗ 2. 37

✓ 3. 39

✗ 4. 45

Question ID : 65497833696
Status : Answered
Chosen Option : 3

Q.23 एक ऐसे पासे की दो अलग-अलग स्थितियां दर्शाई गई हैं जिसके सभी पृष्ठों पर 4, 5, 6, 7, 8 और 9 में से एक-एक संख्या अंकित है। उस संख्या का चयन करें जो संख्या '9' दर्शाने वाले फलक के विपरीत फलक पर होगी।



- Ans
- 1. 4
 - 2. 7
 - 3. 8
 - 4. 6

Question ID : 65497833676
Status : Answered
Chosen Option : 2

Q.24 दिए गए पैटर्न का ध्यानपूर्वक अध्ययन करें और उस संख्या का चयन करें जो इसमें प्रश्न चिह्न (?) के स्थान पर आ सकती है।

7 343 3
5 ? 4
2 256 8

- Ans
- 1. 625
 - 2. 225
 - 3. 250
 - 4. 525

Question ID : 65497833695
Status : Answered
Chosen Option : 1

Q.25 उस विकल्प का चयन करें जो तीसरी संख्या से उसी प्रकार संबंधित है जिस प्रकार दूसरी संख्या पहली संख्या से संबंधित है।

7 : 56 :: 13 : ?

- Ans
- 1. 104
 - 2. 78
 - 3. 92
 - 4. 67

Question ID : 65497833674
Status : Answered
Chosen Option : 1

Section : Part B General Knowledge and General Awareness

Q.1 भारत में सक्रिय ज्वालामुखी कहां पाए जाते हैं?

- Ans 1. अंडमान और निकोबार
 2. लक्षद्वीप
 3. गोवा
 4. पुदुच्चेरी

Question ID : 65497833708
Status : Answered
Chosen Option : 1

Q.2 लगभग 1900 वर्ष पहले कागज का आविष्कार निम्नलिखित में से किस देश में किया गया था?

- Ans 1. चीन
 2. नेपाल
 3. जापान
 4. भारत

Question ID : 65497833718
Status : Answered
Chosen Option : 1

Q.3 मुहम्मद तुगलक ने अपने सैनिकों को भुगतान करने के लिए 'टोकन' मुद्रा का इस्तेमाल किया था, जो निम्न से बनी थी:

- Ans 1. अमूल्य सोना
 2. चांदी
 3. काँस्य
 4. सस्ती धातु

Question ID : 65497833712
Status : Answered
Chosen Option : 3

Q.4 सूचना का अधिकार अधिनियम, कानून का एक अच्छा उदाहरण है और इसके कार्य करने की अधिक संभावना है क्योंकि:

- Ans 1. यह लोकतंत्र के शत्रु के रूप में कार्य करता है।
 2. यह लोगों को यह पता लगाने का अधिकार देता है कि सरकार में क्या हो रहा है।
 3. यह धोखाधड़ी पर जुर्माने को कम करता है।
 4. यह भ्रष्टाचार को प्रोत्साहित करने वाले कानूनों की आपूर्ति करता है।

Question ID : 65497833714
Status : Answered
Chosen Option : 2

Q.5 निम्नलिखित में से किसे इंडियन प्रीमियर लीग 2020 में 'मोस्ट वैल्यूएबल प्लेयर ऑफ़ द टूर्नामेंट' घोषित किया गया था?

- Ans
- 1. कगिसो रबाडा
 - 2. जसप्रीत बुमराह
 - 3. जोफ़्रा आर्चर
 - 4. के.एल. राहुल

Question ID : 65497833703
Status : Answered
Chosen Option : 1

Q.6 अक्टूबर 2020 में, किस राज्य में महिलाओं के लिए विशेष जागरूकता अभियान 'मिशन शक्ति' का शुभारंभ किया गया?

- Ans
- 1. बिहार
 - 2. पंजाब
 - 3. मध्य प्रदेश
 - 4. उत्तर प्रदेश

Question ID : 65497833706
Status : Answered
Chosen Option : 4

Q.7 गिद्ध संरक्षण एवं प्रजनन केंद्र निम्नलिखित में से कहाँ स्थित है?

- Ans
- 1. पिंजौर
 - 2. आगरा
 - 3. रामपुर
 - 4. पुष्कर

Question ID : 65497833701
Status : Answered
Chosen Option : 1

Q.8 सरयू नदी निम्नलिखित में से किस राज्य में स्थित है?

- Ans
- 1. पश्चिम बंगाल
 - 2. छत्तीसगढ़
 - 3. हिमाचल प्रदेश
 - 4. उत्तराखंड

Question ID : 65497833704
Status : Answered
Chosen Option : 4

Q.9 निम्नलिखित में से कौन-सा मन्दिर श्रीलंका में स्थित है?

- Ans
- 1. कटास राज
 - 2. मुन्नेश्वरम
 - 3. पशुपतिनाथ
 - 4. प्रीह विहार

Question ID : 65497833698
Status : Answered
Chosen Option : 1

Q.10 किस निजी बैंक ने 26 नवंबर 2020 को व्यापारियों के लिए 'एस.एम.एस. पे (SMS Pay)' नामक एक दूरस्थ भुगतान सेवा शुरू की?

- Ans
- 1. आई.सी.आई.सी.आई. (ICICI) बैंक
 - 2. ऐक्सिस बैंक
 - 3. एच.डी.एफ.सी. (HDFC) बैंक
 - 4. यस बैंक

Question ID : 65497833721
Status : Answered
Chosen Option : 3

Q.11 पहली बंगाली महिला लेखिका आशापूर्णा देवी ने किस वर्ष ज्ञानपीठ पुरस्कार जीता?

- Ans
- 1. 1973
 - 2. 1975
 - 3. 1976
 - 4. 1974

Question ID : 65497833709
Status : Answered
Chosen Option : 1

Q.12 जाट शासक _____ के नेतृत्व में बल्लभगढ़ एक महत्वपूर्ण व्यापारिक केंद्र बन गया।

- Ans
- 1. सूरज मल
 - 2. बदन सिंह
 - 3. राजा राम
 - 4. रणधीर सिंह

Question ID : 65497833713
Status : Answered
Chosen Option : 4

Q.13 अंग्रेजों द्वारा पंजाब का विलय करते समय ब्रिटिश भारत के गवर्नर जनरल कौन थे?

- Ans
- 1. लॉर्ड कैनिंग
 - 2. लॉर्ड हार्डिंग
 - 3. लॉर्ड डलहौजी
 - 4. लॉर्ड एलनबरो

Question ID : 65497833722
Status : Answered
Chosen Option : 2

Q.14 सैला नृत्य शैली _____ राज्य से संबंधित है।

- Ans
- 1. छत्तीसगढ़
 - 2. झारखंड
 - 3. उत्तराखंड
 - 4. उत्तर प्रदेश

Question ID : 65497833707
Status : Answered
Chosen Option : 2

Q.15 29वां व्यास सम्मान निम्नलिखित में से किसने प्राप्त किया?

- Ans
- 1. लीलाधर जगूड़ी
 - 2. ममता कालिया
 - 3. सुरेन्द्र वर्मा
 - 4. नासिरा शर्मा

Question ID : 65497833702
Status : Answered
Chosen Option : 4

Q.16 _____ पिनियल ग्रंथि से स्रावित होता है।

- Ans
- 1. प्रोजेस्टेरोन
 - 2. इंसुलिन
 - 3. एपिनेफ्राइन
 - 4. मेलाटोनिन

Question ID : 65497833700
Status : Answered
Chosen Option : 1

Q.17 भारतीय रिज़र्व बैंक ने नवंबर 2020 में किस बैंक के स्थगन (moratorium) का प्रस्ताव रखा था?

- Ans
- 1. बैंक ऑफ़ बड़ौदा
 - 2. भारतीय स्टेट बैंक
 - 3. बैंक ऑफ़ इंडिया
 - 4. लक्ष्मी विलास बैंक

Question ID : 65497833720
Status : Answered
Chosen Option : 4

Q.18 रियो ओलंपिक 2016 में भाग लेने वाली सबसे कम उम्र की एथलीट तैराक गौरिका सिंह निम्न में से किस देश से संबंध रखती है?

- Ans
- 1. बांग्लादेश
 - 2. भारत
 - 3. पाकिस्तान
 - 4. नेपाल

Question ID : 65497833710
Status : Answered
Chosen Option : 2

Q.19 निम्नलिखित में से कौन-सा, पारिस्थितिकी तंत्र का एक अजैविक घटक नहीं है?

- Ans
- 1. खनिज पदार्थ
 - 2. जीवित जीव
 - 3. पवन
 - 4. तापमान

Question ID : 65497833717
Status : Answered
Chosen Option : 2

Q.20 कॉमनवेल्थ गेम्स 2018 की अंतिम पदक तालिका में भारत का स्थान क्या था?

- Ans
- 1. तीसरा
 - 2. पांचवां
 - 3. चौथा
 - 4. दूसरा

Question ID : 65497833715
Status : Answered
Chosen Option : 4

Q.21 वैकल्पिक पंक्तियों में उगाई जाने वाली विभिन्न फसलें निम्न का उदाहरण हैं:

- Ans
- 1. समोच्च फसल
 - 2. संयुक्त फसल
 - 3. अंतराफसल
 - 4. मिश्रित फसल

Question ID : 65497833711
Status : Answered
Chosen Option : 3

Q.22 भारतीय संविधान में निम्नलिखित में से कौन सा, स्वरूप में गैर-न्याय संगत है?

- Ans
- 1. धार्मिक मामलों का प्रबंधन करने की स्वतंत्रता
 - 2. समान न्याय और निःशुल्क कानूनी सहायता
 - 3. कानून की समानता और कानून की समान सुरक्षा
 - 4. अपराधों की सज़ा के संबंध में संरक्षण

Question ID : 65497833705
Status : Answered
Chosen Option : 4

Q.23 सार्वजनिक मामलों के सूचकांक 2020 के अनुसार, निम्न में से किसको केंद्रीय शासित प्रदेशों की श्रेणी में सबसे अच्छा शासित केंद्र शासित प्रदेश घोषित किया गया है?

- Ans
- 1. चंडीगढ़
 - 2. पुदुचेरी
 - 3. लद्दाख
 - 4. जम्मू और कश्मीर

Question ID : 65497833716
Status : Answered
Chosen Option : 1

Q.24 अक्टूबर 2020 तक प्राप्त जानकारी के अनुसार निम्नलिखित में से कौन सा देश दुनिया का दूसरा सबसे बड़ा कपास उत्पादक है?

- Ans
- 1. तिब्बत
 - 2. चीन
 - 3. भारत
 - 4. बांग्लादेश

Question ID : 65497833719
Status : Answered
Chosen Option : 3

Q.25 केलकर समिति 2015 _____ से संबंधित है।

- Ans
- 1. बैंकों के विलय
 - 2. निर्धनता रेखा के निर्धारण
 - 3. अवसंरचनात्मक विकास के पीपीपी मॉडल
 - 4. जीडीपी की गणना

Question ID : 65497833699
Status : Answered
Chosen Option : 1

Section : Part C Elementary Mathematics

Q.1 एक फल विक्रेता के पास कुछ सेब थे। उसने 40% सेब बेच दिए और अब भी उसके पास 540 सेब हैं। आरंभ में उसके पास कितने सेब थे?

- Ans
- 1. 600
 - 2. 800
 - 3. 900
 - 4. 740

Question ID : 65497833733
Status : Answered
Chosen Option : 3

Q.2 3073, 1756 और 4829 का महत्तम समापवर्तक (HCF), x है। x के अंकों का गुणनफल कितना होगा?

- Ans
- 1. 108
 - 2. 81
 - 3. 96
 - 4. 72

Question ID : 65497833742
Status : Answered
Chosen Option : 1

Q.3 एक व्यक्ति को टेलीविजन (TV) ₹18,400 में बेचने पर 8% की हानि हुई। 5% लाभ अर्जित करने के लिए टेलीविजन (TV) को किस मूल्य पर बेचना चाहिए?

- Ans**
- 1. ₹24,000
 - 2. ₹21,725
 - 3. ₹22,500
 - 4. ₹21,000

Question ID : 65497833738
Status : Answered
Chosen Option : 4

Q.4 85 m, 85 m और 154 m भुजाओं वाले एक त्रिभुजाकार मैदान का क्षेत्रफल (m^2 में) कितना होगा?

- Ans**
- 1. 2772
 - 2. 2868
 - 3. 2872
 - 4. 2768

Question ID : 65497833746
Status : Answered
Chosen Option : 1

Q.5 एक अधिकारी और एक क्लर्क की मासिक वेतन 11 : 4 के अनुपात में है। यदि अधिकारी के मासिक वेतन में ₹7,000 और क्लर्क के मासिक वेतन में ₹3,000 की वृद्धि होती है, तो अनुपात 19 : 7 हो जाता है। अधिकारी का प्रारंभिक वेतन (₹ में) कितना था?

- Ans**
- 1. 1,52,000
 - 2. 32,000
 - 3. 88,000
 - 4. 56,000

Question ID : 65497833725
Status : Answered
Chosen Option : 3

Q.6 सामान का एक तिहाई हिस्सा, 15% लाभ पर बेचा जाता है, सामान का 25% हिस्सा, 20% लाभ पर बेचा जाता है, और शेष सामान 10% हानि पर बेचा जाता है। यदि पूरे लेन-देन में ₹350 का लाभ अर्जित किया जाता है, तो सामान का वास्तविक मूल्य कितना (₹ में) था?

- Ans**
- 1. 9,000
 - 2. 7,200
 - 3. 5,400
 - 4. 6,000

Question ID : 65497833747
Status : Answered
Chosen Option : 4

Q.7 A किसी कार्य को 10 दिन में पूरा कर सकता है और B उसी कार्य को 15 दिन में पूरा कर सकता है। यदि वे 5 दिन तक एक साथ मिलकर उस कार्य को करते हैं, तो कार्य का कितना भाग शेष बचेगा?

- Ans
- 1. $1/6$
 - 2. $1/8$
 - 3. $1/2$
 - 4. $1/3$

Question ID : 65497833734
Status : Answered
Chosen Option : 1

Q.8 छह संख्याओं A, B, C, D, E और F का औसत 58 है। यदि पहली संख्या A, संख्याओं B और C के योग की $\frac{2}{5}$ है, और साथ ही संख्याओं D, E और F के योग के $\frac{3}{4}$ के भी बराबर है, तो B और C के योग का मान कितना है?

- Ans
- 1. 360
 - 2. 240
 - 3. 116
 - 4. 180

Question ID : 65497833724
Status : Answered
Chosen Option : 4

Q.9 यदि एक घन का आयतन $192\sqrt{3}$ क्यूबिक सेमी है, तो विकर्ण की लंबाई ज्ञात कीजिए।

- Ans
- 1. 12 cm
 - 2. 14 cm
 - 3. 13 cm
 - 4. 16 cm

Question ID : 65497833728
Status : Answered
Chosen Option : 1

Q.10 $12 - [3 + \{4 \text{ of } 2 \div 8 - (8 - 6 \div 3)\}]$ का मान ज्ञात कीजिए।

- Ans
- 1. 20
 - 2. 14
 - 3. 10
 - 4. 12

Question ID : 65497833737
Status : Answered
Chosen Option : 2

Q.11 15 लड़के किसी कार्य को 10 दिन में पूरा कर सकते हैं और 12 लड़कियां उसी कार्य को 15 दिन में पूरा कर सकती हैं। यदि सभी 15 लड़के और 12 लड़कियां एक साथ कार्य करते हैं, तो कार्य कितने दिनों में पूरा हो जाएगा?

- Ans
- 1. 8
 - 2. 4
 - 3. 6
 - 4. 5

Question ID : 65497833739
Status : Answered
Chosen Option : 3

Q.12 $\left(\frac{1}{4} \times \frac{3}{4} \div 1\frac{1}{4} \text{ of } \frac{2}{5}\right) \div \left(\frac{3}{4} \div 1\frac{2}{3} \text{ of } \frac{4}{5}\right) - \left(\frac{1}{2} - \frac{1}{2} \times \frac{1}{4}\right)$ का मान कितना होगा?

- Ans
- 1. $\frac{11}{12}$
 - 2. $\frac{2}{3}$
 - 3. $\frac{7}{24}$
 - 4. $\frac{5}{12}$

Question ID : 65497833740
Status : Answered
Chosen Option : 3

Q.13 किसी सेल (sale) में, इत्र विक्रय मूल्य पर 25% की छूट के साथ उपलब्ध हैं। यदि सेल (sale) में इत्र का मूल्य ₹6,873 है, तो इत्र का मूल विक्रय मूल्य कितना है?

- Ans
- 1. ₹9,146
 - 2. ₹9,066
 - 3. ₹9,164
 - 4. ₹9,064

Question ID : 65497833732
Status : Answered
Chosen Option : 3

Q.14 अमन, अपनी आय का 74% खर्च करता है। यदि उसका व्यय 30% बढ़ जाए और बचत 25% बढ़ जाए, तो उसकी आय में कितने प्रतिशत की वृद्धि हुई है?

- Ans
- ✓ 1. 28.7%
 - ✗ 2. 26.8%
 - ✗ 3. 27.8%
 - ✗ 4. 27.2%

Question ID : 65497833743
Status : Answered
Chosen Option : 1

Q.15 एक वर्ष पूर्व, A और B की आय का अनुपात 4 : 3 था। अब से 7 वर्ष पश्चात, उनकी आय का अनुपात 9 : 7 होगा। B की वर्तमान आय (वर्षों में) कितनी है?

- Ans
- ✓ 1. 49
 - ✗ 2. 52
 - ✗ 3. 51
 - ✗ 4. 48

Question ID : 65497833744
Status : Answered
Chosen Option : 3

Q.16 ₹846 में एक गिटार बेचने पर, राखी को 6% की हानि होती है। 8% का लाभ प्राप्त करने के लिए रीमा को गिटार किस मूल्य पर बेचना चाहिए?

- Ans
- ✗ 1. ₹912
 - ✓ 2. ₹972
 - ✗ 3. ₹922
 - ✗ 4. ₹992

Question ID : 65497833729
Status : Answered
Chosen Option : 2

Q.17 यदि ₹3,000 की धनराशि को अर्ध-वार्षिक रूप से चक्रवृद्धि होने वाली 20% की वार्षिक ब्याज दर पर 3 वर्षों के लिए निवेशित किया जाता है, तो चक्रवृद्धि ब्याज (निकटतम रूप में) ज्ञात कीजिए।

- Ans
- ✗ 1. ₹2,301
 - ✓ 2. ₹2,315
 - ✗ 3. ₹2,010
 - ✗ 4. ₹2,110

Question ID : 65497833730
Status : Answered
Chosen Option : 2

Q.18 एक निश्चित धनराशि साधारण ब्याज की समान वार्षिक दर पर 4 वर्षों में ₹12,740 और $7\frac{1}{2}$ वर्षों में ₹15,925 हो जाती है। क्रमशः धनराशि (₹ में) और वार्षिक ब्याज दर ज्ञात करें।

- Ans
- 1. ₹7,800; 10%
 - 2. ₹7,800; 7.5%
 - 3. ₹9,100; 10%
 - 4. ₹9,100; 7.5%

Question ID : 65497833726
Status : Answered
Chosen Option : 3

Q.19 7%, 12% और 5% की तीन क्रमिक छूटों के समतुल्य एकल छूट ज्ञात करें।

- Ans
- 1. 23%
 - 2. 22.252%
 - 3. 27.3%
 - 4. 22%

Question ID : 65497833736
Status : Answered
Chosen Option : 2

Q.20 दो स्टेशनों A और B के बीच की दूरी 700 km है। एक ट्रेन 80 km/h की चाल से स्टेशन A से स्टेशन B तक जाती है और 65 km/h की एक समान चाल से वापस A तक लौट आती है। पूरी यात्रा के दौरान ट्रेन की औसत चाल लगभग कितनी है?

- Ans
- 1. 74 km/h
 - 2. 70.73 km/h
 - 3. 72.7 km/h
 - 4. 71.72 km/h

Question ID : 65497833731
Status : Answered
Chosen Option : 4

Q.21 किसी बस की चाल ठहराव के समय को घटा कर 60 km/h है और ठहराव के समय को मिला कर 42 km/h है। बस प्रति घंटे कितने मिनट के लिए रुकती है?

- Ans
- 1. 9
 - 2. 18
 - 3. 10
 - 4. 12

Question ID : 65497833735
Status : Answered
Chosen Option : 2

Q.22 60 km/h की चाल से चलती एक 253 m लंबी रेलगाड़ी को एक पुल पार करने में 42 सेकेंड लगते हैं। पुल की लंबाई (m में) कितनी है?

- Ans
- 1. 443
 - 2. 435
 - 3. 447
 - 4. 427

Question ID : 65497833741
Status : Answered
Chosen Option : 3

Q.23 ₹8,000 धनराशि पर $2\frac{1}{8}$ वर्ष में वार्षिक 16% की दर से वार्षिक रूप से चक्रवृद्धि होनेवाला ब्याज (₹ में, ₹ के निकटतम) कितना होगा?

- Ans
- 1. 2,790
 - 2. 2,980
 - 3. 2,765
 - 4. 2,840

Question ID : 65497833745
Status : Answered
Chosen Option : 2

Q.24 दो धनात्मक संख्याएँ 7 : 4 के अनुपात में हैं। यदि उनके वर्गों के बीच का अंतर 297 है, तो दोनों संख्याओं का योगफल ज्ञात कीजिए।

- Ans
- 1. 33
 - 2. 32
 - 3. 42
 - 4. 35

Question ID : 65497833727
Status : Answered
Chosen Option : 1

Q.25 सात अंकों की वह सबसे बड़ी संख्या कौन-सी है, जिसे 10, 15, 20, 24 और 30 से विभाजित करने पर क्रमशः 6, 11, 16, 20 और 26 शेषफल प्राप्त होते हैं?

- Ans
- 1. 9999956
 - 2. 9999976
 - 3. 9999960
 - 4. 9999980

Question ID : 65497833723
Status : Not Answered
Chosen Option : --

Q.1 Select the most appropriate meaning of the given idiom.

To break loose

- Ans 1. To escape
 2. To let go
 3. To untie
 4. To set free

Question ID : 65497833763
Status : Not Answered
Chosen Option : --

Q.2 Select the most appropriate option to fill in the blank.

This antique sculpture is indeed _____.

- Ans 1. harmless
 2. helpless
 3. priceless
 4. endless

Question ID : 65497833767
Status : Not Answered
Chosen Option : --

Q.3 Select the option that can be used as a one-word substitute for the given group of words.

Eskimo's house that is made of ice blocks

- Ans 1. Burrow
 2. Cave
 3. Den
 4. Igloo

Question ID : 65497833749
Status : Not Answered
Chosen Option : --

Q.4 The following sentence has been split into four segments. Identify the segment that contains a grammatical error.

Who do you think / who stole / the painting / from the museum?

- Ans 1. who stole
 2. the painting
 3. from the museum
 4. Who do you think

Question ID : 65497833759
Status : Not Answered
Chosen Option : --

Q.5 Select the most appropriate ANTONYM of the given word.

Crisp

- Ans** 1. Tender
 2. Fresh
 3. Rotten
 4. Hard

Question ID : **65497833760**
Status : **Not Answered**
Chosen Option : --

Q.6 Select the correctly spelt word.

- Ans** 1. Bureaucracy
 2. Scavage
 3. Warriar
 4. Inheritance

Question ID : **65497833750**
Status : **Not Answered**
Chosen Option : --

Q.7 Select the most appropriate meaning of the given idiom.

Big bucks

- Ans** 1. A big loss
 2. A big bucket
 3. A big function
 4. A lot of money

Question ID : **65497833756**
Status : **Not Answered**
Chosen Option : --

Q.8 Select the most appropriate ANTONYM of the given word.

Reign

- Ans** 1. Manage
 2. Yield
 3. Influence
 4. Govern

Question ID : **65497833755**
Status : **Not Answered**
Chosen Option : --

Q.9 Select the most appropriate option to fill in the blank.

He ran towards his mother _____ and hugged her.

- Ans
- 1. partially
 - 2. spitefully
 - 3. eventually
 - 4. gaily

Question ID : 65497833751
Status : Not Answered
Chosen Option : --

Q.10 Select the most appropriate option that can substitute the underlined segment in the given sentence. If there is no need to substitute it, select 'No substitution required'.

The laptop that I bought last week works very good.

- Ans
- 1. No substitution required
 - 2. too good
 - 3. very well
 - 4. very nice

Question ID : 65497833757
Status : Not Answered
Chosen Option : --

Q.11 The following sentence has been divided into parts. One of them may contain an error. Select the part that contains the error from the given options. If you don't find any error, mark 'No error' as your answer.

Reva is / one of Gita's best friend / in the class.

- Ans
- 1. in the class
 - 2. one of Gita's best friend
 - 3. No error
 - 4. Reva is

Question ID : 65497833764
Status : Not Answered
Chosen Option : --

Q.12 Select the option that can be used as a one-word substitute for the given group of words.

Certain to happen

- Ans
- 1. Inevitable
 - 2. Predicted
 - 3. Necessary
 - 4. Avoidable

Question ID : 65497833761
Status : Not Answered
Chosen Option : --

Q.13 Select the most appropriate synonym of the given word.

Enjoyable

- Ans 1. Delightful
 2. Cloudy
 3. Bright
 4. Beautiful

Question ID : 65497833754
Status : Not Answered
Chosen Option : --

Q.14 Select the most appropriate option to fill in the blank.

Visitors come from all over the world to _____ the Shalimar Gardens.

- Ans 1. perceive
 2. see
 3. observe
 4. look

Question ID : 65497833752
Status : Not Answered
Chosen Option : --

Q.15 Select the most appropriate synonym of the given word.

DEFER

- Ans 1. Postpone
 2. Match
 3. Balance
 4. Conflict

Question ID : 65497833765
Status : Not Answered
Chosen Option : --

Q.16 Select the most appropriate option that can substitute the underlined segment in the given sentence. If there is no need to substitute it, select 'No substitution required'.

I thanked my teacher for explaining me the lesson.

- Ans 1. explain me the lessons
 2. No substitution required
 3. her explaining me the lesson
 4. explaining the lesson to me

Question ID : 65497833758
Status : Not Answered
Chosen Option : --

Q.17 Select the most appropriate option that can substitute the underlined segment in the given sentence. If there is no need to substitute it, select 'No substitution required'.

Don't disturb me while I talk to someone on the phone.

- Ans**
- 1. was talking
 - 2. am talking
 - 3. No substitution required
 - 4. talked

Question ID : 65497833748
Status : Not Answered
Chosen Option : --

Q.18 Select the INCORRECTLY spelt word.

- Ans**
- 1. Miscelleneous
 - 2. Misalliance
 - 3. Miscreant
 - 4. Misrepresent

Question ID : 65497833762
Status : Not Answered
Chosen Option : --

Q.19 Select the option that can be used as a one-word substitute for the given group of words.

Unable to act

- Ans**
- 1. Lax
 - 2. Idle
 - 3. Lazy
 - 4. Inert

Question ID : 65497833766
Status : Not Answered
Chosen Option : --

Q.20 The following sentence has been split into four segments. Identify the segment that contains a grammatical error.

The mountain / seems to steep / for us / to climb.

- Ans**
- 1. seems to steep
 - 2. for us
 - 3. The mountain
 - 4. to climb

Question ID : 65497833753
Status : Not Answered
Chosen Option : --

Comprehension:

In the following passage, some words have been deleted. Read the passage carefully and select the most appropriate option to fill in each blank.

Mahatma Gandhi was born (1)_____ 2 October 1869 to Karamchand and Putlibai (2)_____ Porbandar. After completing his studies in England, he (3)_____ to South Africa. When he suffered (4)_____, he started the Civil Disobedience movement (5)_____ civil rights of the Indian community.

SubQuestion No : 21

Q.21 Select the most appropriate option to fill in blank no. 1.

- Ans**
- 1. from
 - 2. in
 - 3. of
 - 4. on

Question ID : **65497833769**
Status : **Not Answered**
Chosen Option : --

Comprehension:

In the following passage, some words have been deleted. Read the passage carefully and select the most appropriate option to fill in each blank.

Mahatma Gandhi was born (1)_____ 2 October 1869 to Karamchand and Putlibai (2)_____ Porbandar. After completing his studies in England, he (3)_____ to South Africa. When he suffered (4)_____, he started the Civil Disobedience movement (5)_____ civil rights of the Indian community.

SubQuestion No : 22

Q.22 Select the most appropriate option to fill in blank no. 2.

- Ans**
- 1. above
 - 2. at
 - 3. below
 - 4. through

Question ID : **65497833770**
Status : **Not Answered**
Chosen Option : --

Comprehension:

In the following passage, some words have been deleted. Read the passage carefully and select the most appropriate option to fill in each blank.

Mahatma Gandhi was born (1)_____ 2 October 1869 to Karamchand and Putlibai (2)_____ Porbandar. After completing his studies in England, he (3)_____ to South Africa. When he suffered (4)_____, he started the Civil Disobedience movement (5)_____ civil rights of the Indian community.

SubQuestion No : 23

Q.23 Select the most appropriate option to fill in blank no. 3.

- Ans**
- 1. went
 - 2. going
 - 3. will go
 - 4. gone

Question ID : **65497833771**
Status : **Not Answered**
Chosen Option : --

Comprehension:

In the following passage, some words have been deleted. Read the passage carefully and select the most appropriate option to fill in each blank.

Mahatma Gandhi was born (1)_____ 2 October 1869 to Karamchand and Putlibai (2)_____ Porbandar. After completing his studies in England, he (3)_____ to South Africa. When he suffered (4)_____, he started the Civil Disobedience movement (5)_____ civil rights of the Indian community.

SubQuestion No : 24

Q.24 Select the most appropriate option to fill in blank no. 4.

- Ans**
- 1. deterioration
 - 2. distinction
 - 3. discrimination
 - 4. delegation

Question ID : 65497833772
Status : Not Answered
Chosen Option : --

Comprehension:

In the following passage, some words have been deleted. Read the passage carefully and select the most appropriate option to fill in each blank.

Mahatma Gandhi was born (1)_____ 2 October 1869 to Karamchand and Putlibai (2)_____ Porbandar. After completing his studies in England, he (3)_____ to South Africa. When he suffered (4)_____, he started the Civil Disobedience movement (5)_____ civil rights of the Indian community.

SubQuestion No : 25

Q.25 Select the most appropriate option to fill in blank no. 5.

- Ans**
- 1. with
 - 2. for
 - 3. to
 - 4. after

Question ID : 65497833773
Status : Not Answered
Chosen Option : --

Section : Part D Hindi

Q.1 निम्नलिखित प्रश्न में, दिए गए चार विकल्पों में से, उस विकल्प का चयन करें जो मुहावरे का अर्थ व्यक्त करता है।

हाथ मलना

- Ans**
- 1. पछताना
 - 2. संकल्प करना
 - 3. वीरता दिखाना
 - 4. व्यायाम करना

Question ID : 65497833782
Status : Answered
Chosen Option : 1

Q.2 दिए गए वाक्य में रेखांकित खंड को प्रतिस्थापित करने के लिए सबसे उपयुक्त विकल्प का चयन करें।
यदि इसे प्रतिस्थापित करने की आवश्यकता नहीं है, तो विकल्प 'किसी बदलाव की आवश्यकता नहीं है'
का चयन करें।

मैं आम खाया गया।

- Ans
- 1. किसी बदलाव की आवश्यकता नहीं है।
 - 2. मुझे
 - 3. मुझसे
 - 4. मेरे को

Question ID : 65497833783
Status : Answered
Chosen Option : 3

Q.3 'व्यथा' का पर्यायवाची है-

- Ans
- 1. वियोग
 - 2. चिंता
 - 3. दुःख
 - 4. सुख

Question ID : 65497833793
Status : Answered
Chosen Option : 3

Q.4 'छठी का दूध याद आना' मुहावरे का सही अर्थ है-

- Ans
- 1. अतीत पर गौरवान्वित होना
 - 2. संकट के समय पिछले दुख की याद आना
 - 3. संकट के समय पिछले सुख की याद आना
 - 4. अत्यंत प्रसन्न होना

Question ID : 65497833789
Status : Answered
Chosen Option : 2

Q.5 सही वर्तनी वाले शब्द का चयन करें।

- Ans
- 1. परिणाम
 - 2. परिनाम
 - 3. परीणाम
 - 4. परीनाम

Question ID : 65497833774
Status : Answered
Chosen Option : 1

Q.6 दिये गये वाक्य के किस भाग में त्रुटि है?

केवल आप ही यह काम निपुणता से कर सकते हैं।

- Ans
- 1. यह काम
 - 2. केवल आप ही
 - 3. निपुणता से
 - 4. कर सकते हैं।

Question ID : 65497833784
Status : Answered
Chosen Option : 2

Q.7 _____ हमारी राजभाषा है। उचित शब्द लिखिए।

- Ans
- 1. मराठी
 - 2. हिन्दी
 - 3. गुजराती
 - 4. संस्कृत

Question ID : 65497833790
Status : Answered
Chosen Option : 2

Q.8 दिये गये वाक्य के किस भाग में त्रुटि है?

मालिक मजदूरों का शोसण करते हैं।

- Ans
- 1. करते हैं।
 - 2. मजदूरों का
 - 3. मालिक
 - 4. शोसण

Question ID : 65497833792
Status : Answered
Chosen Option : 4

Q.9 'किसी और स्थान पर' वाक्यांश के लिए एक शब्द होगा-

- Ans
- 1. तत्र
 - 2. यत्र
 - 3. सर्वत्र
 - 4. अन्यत्र

Question ID : 65497833786
Status : Answered
Chosen Option : 4

Q.10 'उन्नति' का विलोम शब्द होगा-

- Ans
- 1. सम्मति
 - 2. अवनति
 - 3. अपनति
 - 4. दुर्गति

Question ID : 65497833785
Status : Answered
Chosen Option : 2

Q.11 रिक्त स्थान भरने के लिए सबसे उपयुक्त शब्द का चयन करें।

मेरे ऊपर परिवार के पालन-पोषण का _____ है।

- Ans
- 1. निर्वहन
 - 2. दायित्व
 - 3. आभार
 - 4. आधार

Question ID : 65497833776
Status : Answered
Chosen Option : 2

Q.12 मनुष्य जीवन _____ से सफल होता है। रिक्त स्थान की पूर्ति कीजिए।

- Ans
- 1. क्रोध
 - 2. परिश्रम
 - 3. आलसी जीवन से
 - 4. लोभ-लालच

Question ID : 65497833791
Status : Answered
Chosen Option : 2

Q.13 दिए गए शब्द के समानार्थी शब्द का चयन करें।

मोल

- Ans
- 1. मूल
 - 2. मलीन
 - 3. दाम
 - 4. मुक्ति

Question ID : 65497833779
Status : Answered
Chosen Option : 3

Q.14 दिये गये वाक्यांश के लिए एक शब्द दीजिये।

अतिथि की सेवा करने वाला

- Ans
- 1. आतिथ्य
 - 2. सेवक
 - 3. आतिथेय
 - 4. आशुतोष

Question ID : 65497833780
Status : Answered
Chosen Option : 3

Q.15 दिए गए वाक्य में रेखांकित खंड को प्रतिस्थापित करने के लिए सबसे उपयुक्त विकल्प का चयन करें।
यदि इसे प्रतिस्थापित करने की आवश्यकता नहीं है, तो विकल्प 'किसी बदलाव की आवश्यकता नहीं है'
का चयन करें।

परिवार नियोजन को कार्यक्रमों द्वारा जनसंख्या वृद्धि को रोका जाना चाहिए।

- Ans
- 1. परिवार नियोजन के कार्यक्रमों द्वारा
 - 2. किसी बदलाव की आवश्यकता नहीं है।
 - 3. परिवार नियोजन में कार्यक्रमों द्वारा
 - 4. परिवार नियोजन से कार्यक्रमों के द्वारा

Question ID : 65497833781
Status : Answered
Chosen Option : 1

Q.16 दिए गए वाक्य का वह भाग ज्ञात करें जिसमें कोई त्रुटि है। यदि कोई त्रुटि नहीं है, तो 'कोई त्रुटि नहीं है'
चुनें।

कई दिनों की बदली के पीछे आज धूप निकली है।

- Ans
- 1. कोई त्रुटि नहीं है।
 - 2. धूप निकली है।
 - 3. बदली के पीछे
 - 4. कई दिनों की

Question ID : 65497833778
Status : Answered
Chosen Option : 3

Q.17 'धरती और आकाश के बीच का स्थान' वाक्यांश के लिए एक शब्द होगा-

- Ans
- 1. द्वीप
 - 2. अंतरिक्ष
 - 3. गिरि
 - 4. अंतरीप

Question ID : 65497833787
Status : Answered
Chosen Option : 2

Q.18 सही वर्तनी वाले शब्द का चयन करें।

- Ans
- 1. धराशायी
 - 2. धाराशाई
 - 3. धराशायी
 - 4. धाराशायी

Question ID : 65497833775
Status : Answered
Chosen Option : 3

Q.19 दिए गए वाक्य में रेखांकित खंड को प्रतिस्थापित करने के लिए सबसे उपयुक्त विकल्प का चयन करें।
यदि इसे प्रतिस्थापित करने की आवश्यकता नहीं है, तो विकल्प 'किसी बदलाव की आवश्यकता नहीं है'
का चयन करें।

अधिक जनसंख्या अनेक समस्याओं को जन्म देता है।

- Ans
- 1. अनेक समस्याओं को जन्म देती है।
 - 2. अनेक समस्याओं को जन्म देती है।
 - 3. किसी बदलाव की आवश्यकता नहीं है।
 - 4. अनेक समस्या को जन्म देती है।

Question ID : 65497833777
Status : Answered
Chosen Option : 2

Q.20 'तिमिर' का विलोम शब्द होगा-

- Ans
- 1. प्रकाश
 - 2. आकाश
 - 3. रात्रि
 - 4. अंधकार

Question ID : 65497833788
Status : Answered
Chosen Option : 1

Comprehension:

आचरण की सभ्यता का देश ही (1) _____ है। उसमें न शारीरिक झगड़े हैं, न मानसिक, न आध्यात्मिक। न उसमें विद्रोह है; न जंग ही का (2) _____ है और न वहाँ कोई ऊँचा है, न (3) _____। न कोई वहाँ धनवान् है और ना कोई वहाँ (4) _____। वहाँ प्रकृति का नाम नहीं, वहाँ तो प्रेम और एकता का (5) _____ राज्य रहता है।

निम्न प्रश्नों के उत्तर उपरोक्त गद्यांश के आधार पर दीजिए।

SubQuestion No : 21

Q.21 गद्यांश के रिक्त स्थान (1) के लिए सर्वाधिक उपयुक्त शब्द होगा-

- Ans
- 1. मतवाला
 - 2. निराला
 - 3. भयंकर
 - 4. रंगीला

Question ID : 65497833795
Status : Answered
Chosen Option : 2

Comprehension:

आचरण की सभ्यता का देश ही (1) _____ है। उसमें न शारीरिक झगड़े हैं, न मानसिक, न आध्यात्मिक। न उसमें विद्रोह है; न जंग ही का (2) _____ है और न वहाँ कोई ऊँचा है, न (3) _____। न कोई वहाँ धनवान् है और ना कोई वहाँ (4) _____। वहाँ प्रकृति का नाम नहीं, वहाँ तो प्रेम और एकता का (5) _____ राज्य रहता है।

निम्न प्रश्नों के उत्तर उपरोक्त गद्यांश के आधार पर दीजिए।

SubQuestion No : 22

Q.22 गद्यांश के रिक्त स्थान (2) के लिए सर्वाधिक उपयुक्त शब्द होगा-

- Ans**
- 1. चीत्कार
 - 2. लक्षण
 - 3. संकेत
 - 4. नामोनिशान

Question ID : 65497833796
Status : Answered
Chosen Option : 3

Comprehension:

आचरण की सभ्यता का देश ही (1) _____ है। उसमें न शारीरिक झगड़े हैं, न मानसिक, न आध्यात्मिक। न उसमें विद्रोह है; न जंग ही का (2) _____ है और न वहाँ कोई ऊँचा है, न (3) _____। न कोई वहाँ धनवान् है और ना कोई वहाँ (4) _____। वहाँ प्रकृति का नाम नहीं, वहाँ तो प्रेम और एकता का (5) _____ राज्य रहता है।

निम्न प्रश्नों के उत्तर उपरोक्त गद्यांश के आधार पर दीजिए।

SubQuestion No : 23

Q.23 गद्यांश के रिक्त स्थान (3) के लिए सर्वाधिक उपयुक्त शब्द होगा-

- Ans**
- 1. नीचा
 - 2. मूर्ख
 - 3. विद्वान
 - 4. समान

Question ID : 65497833797
Status : Answered
Chosen Option : 1

Comprehension:

आचरण की सभ्यता का देश ही (1) _____ है। उसमें न शारीरिक झगड़े हैं, न मानसिक, न आध्यात्मिक। न उसमें विद्रोह है; न जंग ही का (2) _____ है और न वहाँ कोई ऊँचा है, न (3) _____। न कोई वहाँ धनवान् है और ना कोई वहाँ (4) _____। वहाँ प्रकृति का नाम नहीं, वहाँ तो प्रेम और एकता का (5) _____ राज्य रहता है।

निम्न प्रश्नों के उत्तर उपरोक्त गद्यांश के आधार पर दीजिए।

SubQuestion No : 24

Q.24 गद्यांश के रिक्त स्थान (4) के लिए सर्वाधिक उपयुक्त शब्द होगा-

- Ans**
- 1. वीर
 - 2. बलवान
 - 3. देवता
 - 4. निर्धन

Question ID : 65497833798
Status : Answered
Chosen Option : 4

Comprehension:

आचरण की सभ्यता का देश ही (1) _____ है। उसमें न शारीरिक झगड़े हैं, न मानसिक, न आध्यात्मिक। न उसमें विद्रोह है; न जंग ही का (2) _____ है और न वहाँ कोई ऊँचा है, न (3) _____। न कोई वहाँ धनवान् है और न कोई वहाँ (4) _____। वहाँ प्रकृति का नाम नहीं, वहाँ तो प्रेम और एकता का (5) _____ राज्य रहता है।

निम्न प्रश्नों के उत्तर उपरोक्त गद्यांश के आधार पर दीजिए।

SubQuestion No : 25

Q.25 गद्यांश के रिक्त स्थान (5) के लिए सर्वाधिक उपयुक्त शब्द होगा-

- Ans**
- 1. सम्पूर्ण
 - 2. खंडित
 - 3. अखंड
 - 4. कृत्रिम

Question ID : 65497833799

Status : Answered

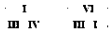
Chosen Option : 1

Constable GD in CAPFs NIA SSF and Rifleman GD in Assam Rifles Examination 2021

Roll Number	www.HaryanaJobs.in
Candidate Name	www.HaryanaJobs.in
Venue Name	iON Digital Zone iDZ4 Patliputra
Exam Date	18/11/2021
Exam Time :	4:00 PM - 5:30 PM
Subject	Constable GD 2021

Section : Part A General Intelligence and Reasoning

Q.1 I, II, III, IV, V और VI संख्याओं द्वारा चिह्नित एक ही पासे की दो विभिन्न स्थितियाँ दर्शाई गई हैं। उस संख्या का चयन करें जो 'IV' संख्या दर्शाने वाले फलक के विपरीत फलक पर होगी।



- Ans
- 1. V
 - 2. VI
 - 3. III
 - 4. II

Question ID : 65497832787
Status : Answered
Chosen Option : 2

Q.2 एक निश्चित कूट भाषा में, 'MAGNET' को 'HFTIJO' लिखा जाता है। उसी कूट भाषा में 'CULPRIT' को क्या लिखा जाएगा?

- Ans
- 1. XPGUWDO
 - 2. XZGKMNO
 - 3. XPQUMNO
 - 4. XZOKINO

Question ID : 65497832803
Status : Not Answered
Chosen Option : --

Q.3 एक काल्पनिक गणितीय प्रणाली में, प्रतीक '-' का अर्थ जोड़ है, प्रतीक '+' का अर्थ विभाजन है, प्रतीक 'x' का अर्थ घटाव है, और प्रतीक '÷' का अर्थ गुणा है। निम्नलिखित व्यंजक का मान क्या होगा?

$$144 \times 35 + 7 \div 12 - 3$$

- Ans
- 1. 43
 - 2. 95
 - 3. 87
 - 4. 107

Question ID : 65497832786
Status : Answered
Chosen Option : 3

Q.4 दिए गए विकल्पों में से उस अक्षर-समूह का चयन करें, जो निम्नलिखित श्रृंखला में प्रश्नवाचक चिह्न (?) के स्थान पर आ सकता है।

UKT, PFO, KAJ, ?

- Ans 1. FVE
 2. GHM
 3. EVO
 4. FEQ

Question ID : 65497832798
Status : Answered
Chosen Option : 1

Q.5 जिस प्रकार 'फ़ैक्टरी', 'उत्पादन' से संबंधित है, उसी प्रकार 'रसोई', '_____ ' से संबंधित है।

- Ans 1. सब्ज़ी
 2. फलों
 3. आयोजन
 4. पकाने

Question ID : 65497832799
Status : Answered
Chosen Option : 4

Q.6 उस सही विकल्प का चयन कीजिए जो दिए गए शब्दों के उस क्रम को दर्शाता है जिस क्रम में वे अंग्रेजी शब्दकोश में आते हैं।

- i. Monkey
ii. Money
iii. Monotony
iv. Monarch
v. Monster

- Ans 1. i, ii, iii, iv, v
 2. iv, ii, i, iii, v
 3. ii, i, iv, v, iii
 4. iv, iii, i, ii, v

Question ID : 65497832789
Status : Answered
Chosen Option : 2

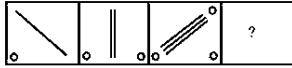
Q.7 उस संख्या की पहचान करें, जो निम्नलिखित श्रेणी से संबंधित नहीं है।

16, 17, 25, 52, 116, 243

- Ans 1. 243
 2. 52
 3. 25
 4. 116

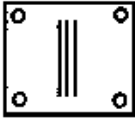
Question ID : 65497832807
Status : Answered
Chosen Option : 1

Q.8 दिए गए विकल्पों में से उस आकृति का चयन करें जो नीचे दी गई श्रृंखला में प्रश्न चिह्न (?) के स्थान पर आ सकती है।

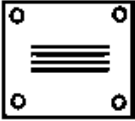


Ans

✗ 1.



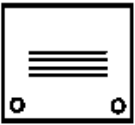
✓ 2.



✗ 3.



✗ 4.



Question ID : 65497832792

Status : Answered

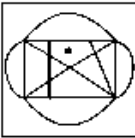
Chosen Option : 2

Q.9 उस विकल्प का चयन करें जिसमें दी गई आकृति अंतर्निहित है (घुमाने की अनुमति नहीं है)।

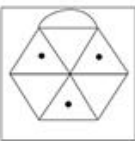


Ans

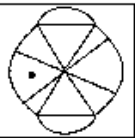
✗ 1.



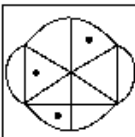
✗ 2.



✗ 3.



✓ 4.



Question ID : 65497832788

Status : Answered

Chosen Option : 4

Q.10 छः मित्र P, Q, R, S, T और U एक-दूसरे से समान दूरी पर एक वृत्ताकार मेज के चारों ओर केंद्र की ओर मुंह करके हुए बैठे हैं। S, U और Q के बीच बैठा है। P, S के बाएं दूसरे और T के दाएं दूसरे स्थान पर बैठा है। Q, T और S के बीच बैठा है। S के सामने कौन बैठा है?

- Ans
- 1. R
 - 2. T
 - 3. P
 - 4. U

Question ID : 65497832800
Status : Answered
Chosen Option : 1

Q.11 चार अक्षर-समूह दिए गए हैं, जिनमें से तीन किसी तरह से संगत हैं और एक असंगत है। उस अक्षर-समूह का चयन करें, जो अन्य से असंगत है।

- Ans
- 1. ZUP
 - 2. LGB
 - 3. FAU
 - 4. MHC

Question ID : 65497832805
Status : Answered
Chosen Option : 3

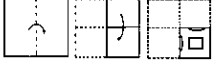
Q.12 छः विद्यार्थी अणिमा, रोहित, किरण, सीमा, जया और मनीष, एक विद्यालय में शीर्ष छह रैंक धारक हैं। रोहित की रैंक किरण और सीमा की रैंक के बीच है। रोहित चौथी रैंक पर है। जया और सीमा की रैंक के बीच दो विद्यार्थी हैं। सभी छः विद्यार्थियों के बीच जया सबसे निचली रैंक पर है। मनीष की रैंक अणिमा की रैंक से ठीक ऊपर है।

पांचवीं रैंक पर कौन है?

- Ans
- 1. किरण
 - 2. सीमा
 - 3. अणिमा
 - 4. मनीष

Question ID : 65497832784
Status : Answered
Chosen Option : 1

Q.13 नीचे दी गई आकृतियों में कागज़ के एक टुकड़े को मोड़ने और मोड़े गए कागज़ को काटने के तरीके का क्रम दर्शाया गया है। कागज़ को खोले जाने पर वह कैसा दिखाई देगा?

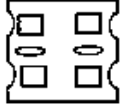


Ans

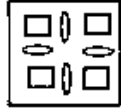
✗ 1.



✗ 2.



✓ 3.



✗ 4.



Question ID : 65497832797

Status : Answered

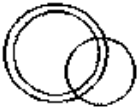
Chosen Option : 3

Q.14 उस वेन आरेख का चयन करें, जो निम्नलिखित वर्गों के बीच के संबंध को सबसे अच्छे तरीके से दर्शाता है।

पृथ्वी, वन, वृक्ष

Ans

✗ 1.



✓ 2.



✗ 3.



✗ 4.



Question ID : 65497832801

Status : Answered

Chosen Option : 2

Q.15 उस विकल्प का चयन करें जो तीसरी संख्या से उसी प्रकार संबंधित है जिस प्रकार दूसरी संख्या पहली संख्या से संबंधित है।

11 : 121 :: 17 : ?

Ans 1. 305

2. 289

3. 360

4. 256

Question ID : 65497832785

Status : Answered

Chosen Option : 2

Q.16 एक निश्चित कूट भाषा में, 'SLAM' को '5736339' लिखा जाता है, और 'TOY' को '604575' लिखा जाता है। उसी कूट भाषा में 'CLEAR' को क्या लिखा जाएगा?

Ans 1. 93612651

2. 93618357

3. 93615354

4. 63915354

Question ID : 65497832806

Status : Not Answered

Chosen Option : --

Q.17 रवली का कोई भाई नहीं है। गिरिमा, अर्जुन की पत्नी है। जाकिर, मालवी का पति है। छाया, रवली की पुत्री है। फातिमा, अर्जुन की पुत्री है। मालवी, रवली की मां है। गिरिमा, छाया की मौसी है। गिरिमा का जाकिर से क्या संबंध है?

Ans 1. पुत्री

2. बहू

3. साली

4. बहन

Question ID : 65497832804

Status : Answered

Chosen Option : 1

Q.18 एक निश्चित कूट भाषा में, 'CALM' को 'DCOQ' के रूप में लिखा जाता है। उसी कूट भाषा में 'COOK' को किस रूप में लिखा जाएगा?

Ans 1. DROQ

2. DQRO

3. DORQ

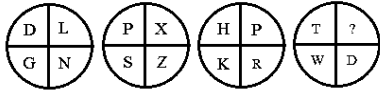
4. DPRQ

Question ID : 65497832793

Status : Answered

Chosen Option : 2

Q.19 दिए गए पैटर्न का ध्यानपूर्वक अध्ययन करें और उस अक्षर का चयन करें जो इसमें प्रश्न चिह्न (?) के स्थान पर आ सकता है।



- Ans
- 1. A
 - 2. Y
 - 3. Z
 - 4. B

Question ID : 65497832790
Status : Answered
Chosen Option : 4

Q.20 दिए गए विकल्पों में से उस संख्या का चयन करें जो निम्नलिखित श्रृंखला में प्रश्न चिह्न (?) के स्थान पर आ सकती है।

1, 2, 9, 64, ?

- Ans
- 1. 225
 - 2. 625
 - 3. 450
 - 4. 570

Question ID : 65497832791
Status : Answered
Chosen Option : 2

Q.21 रोहित अपनी मासिक आय का 15% कल्याण निधि में दान करता है। शेष आय निम्नलिखित तरीके से खर्च की जाती है: भोजन पर 35%, किराए पर 20%, बिलों पर 17%, कपड़ों पर 8% और शेष को बचत के रूप में रखा जाता है। यदि प्रत्येक माह बचाई गई धन-राशि ₹14,620 है, तो रोहित की मासिक आय कितनी है?

- Ans
- 1. ₹86,000
 - 2. ₹82,000
 - 3. ₹75,300
 - 4. ₹73,100

Question ID : 65497832796
Status : Answered
Chosen Option : 1

Q.22 उस विकल्प का चयन कीजिए जिसका तीसरे पद से वही संबंध है जो दूसरे पद का पहले पद से है।

INSERT: NIXZTR:: SECOND: ?

- Ans
- 1. ESHJDN
 - 2. EHSDJN
 - 3. ESJDHN
 - 4. EHHJND

Question ID : 65497832802
Status : Answered
Chosen Option : 1

Q.23 दिए गए पैटर्न का ध्यानपूर्वक अध्ययन करें और उस संख्या का चयन करें जो इसमें प्रश्न चिह्न (?) के स्थान पर आ सकती है।

64 12 27
216 ? 343
512 40 125

- Ans 1. 64
 2. 95
 3. 42
 4. 72

Question ID : 65497832795
Status : Answered
Chosen Option : 3

Q.24 दिए गए कथनों और निष्कर्षों को ध्यान से पढ़ें। यह मानते हुए कि कथनों में दी गई जानकारी सत्य है, भले ही यह सामान्य रूप से ज्ञात तथ्यों से भिन्न प्रतीत होती हो, यह निर्णय लें कि दिए गए निष्कर्षों में से कौन से निष्कर्ष कथनों का तार्किक रूप से अनुसरण करते हैं।

कथन:
सभी फल, तने हैं।
कुछ फल, पत्तियां हैं।

निष्कर्ष:
I. कुछ तने, पत्तियां हैं।
II. कुछ पत्तियां, फल हैं।

- Ans 1. केवल निष्कर्ष I अनुसरण करता है।
 2. केवल निष्कर्ष II अनुसरण करता है।
 3. न तो निष्कर्ष I और न ही II अनुसरण करता है।
 4. निष्कर्ष I और II दोनों अनुसरण करते हैं।

Question ID : 65497832794
Status : Answered
Chosen Option : 4

Q.25 दिए गए संयोजन के सही दर्पण प्रतिबिंब का चयन कीजिए, जबकि दर्पण को इसकी दाईं ओर रखा गया है।

6 T Y G z 2

- Ans 1. 2 Z G Y T @
 2. 2 z G Y T @
 3. @ 1 Y G z 2
 4. 2 z G Y T @

Question ID : 65497832808
Status : Answered
Chosen Option : 2

Q.1 विश्व इस्पात संघ {World Steel Association (worldsteel)} के अनुसार निम्नलिखित में से कौन सा देश अक्टूबर 2020 तक दुनिया का दूसरा सबसे बड़ा इस्पात उत्पादक देश है?

- Ans
- 1. भारत
 - 2. म्यांमार
 - 3. जापान
 - 4. चीन

Question ID : 65497832828
Status : Not Answered
Chosen Option : --

Q.2 निम्नलिखित में से कौन सा रोग मुख्यतः एडीज़ मच्छरों द्वारा फैलाए जाने वाले वायरस के कारण होता है?

- Ans
- 1. मलेरिया
 - 2. जीका बुखार
 - 3. तुलारेमिया
 - 4. मीनामाता

Question ID : 65497832816
Status : Answered
Chosen Option : 1

Q.3 नवंबर 2020 में, उपराष्ट्रपति द्वारा आभासी रूप में शुरू किया गया 'अंतर्राष्ट्रीय सातवधनम' कार्यक्रम निम्न में से किससे संबंधित है?

- Ans
- 1. साहित्य
 - 2. खाद्य सुरक्षा
 - 3. भारतीय नौसेना
 - 4. औषधि

Question ID : 65497832818
Status : Not Answered
Chosen Option : --

Q.4 भारत का केंद्रीय बजट तैयार करने वाला बजट प्रभाग, वित्त मंत्रालय के अधीन _____ विभाग का एक हिस्सा है।

- Ans
- 1. वित्तीय सेवाएं
 - 2. आर्थिक मामले
 - 3. निवेश और सार्वजनिक परिसंपत्ति प्रबंधन
 - 4. राजस्व

Question ID : 65497832830
Status : Answered
Chosen Option : 1

Q.5 निम्नलिखित में से कौन सा पारिभाषिक शब्द उन प्रजातियों के लिए प्रयुक्त है जो स्थानीय आवास के प्राकृतिक आवासी नहीं हैं, लेकिन इस तंत्र में शामिल होते हैं?

- Ans
- 1. स्थानिक (Endemic)
 - 2. विजातीय (Exotic)
 - 3. जीवोम (Biome)
 - 4. अजैव (Abiotic)

Question ID : 65497832810
Status : Answered
Chosen Option : 2

Q.6 एत्माद-उद-दौला (या इतिमाद-उद-दौला) का मकबरा कहाँ स्थित है?

- Ans
- 1. औरंगाबाद
 - 2. फतेहपुर सीकरी
 - 3. आगरा
 - 4. शाहजहानाबाद

Question ID : 65497832829
Status : Not Answered
Chosen Option : --

Q.7 केंद्रीय बजट 2020 में वरिष्ठ नागरिकों और दिव्यांग व्यक्तियों के लिए कितनी निधि (धन-राशि) आवंटित की गई थी?

- Ans
- 1. ₹9,500 करोड़
 - 2. ₹8,500 करोड़
 - 3. ₹10,000 करोड़
 - 4. ₹7,500 करोड़

Question ID : 65497832819
Status : Not Answered
Chosen Option : --

Q.8 अक्टूबर 2020 में, कंबोडिया में भारत के राजदूत के रूप में किसे नियुक्त किया गया था?

- Ans
- 1. मनिका जैन
 - 2. के नंदिनी सिंगला
 - 3. देवयानी उत्तम खोबरागड़े
 - 4. नरिंदर चौहान

Question ID : 65497832822
Status : Not Answered
Chosen Option : --

Q.9 यदि n, परमाणु का ऊर्जा स्तर सूचकांक है, तो M कक्षक के लिए, n _____ के बराबर है।

- Ans
- 1. 4
 - 2. 3
 - 3. 1
 - 4. 2

Question ID : 65497832812
Status : Answered
Chosen Option : 4

Q.10 _____ अवध का अंतिम नवाब था।

- Ans
- 1. मीर जाफर
 - 2. मंसूर अली खान
 - 3. वाजिद अली शाह
 - 4. अलीवर्दी खान

Question ID : 65497832825
Status : Answered
Chosen Option : 1

Q.11 निम्नलिखित में से कौन सी परिस्थिति कॉफी बागानों को नुकसान पहुंचा सकती है?

- Ans
- 1. गर्म और आर्द्र जलवायु
 - 2. दोमट मिट्टी, जिसमें ह्यूमस और आयरन तथा कैल्शियम जैसे खनिज होते हैं
 - 3. दानों के पकने के समय वर्षा का होना
 - 4. 150 और 250 cm के बीच वर्षा

Question ID : 65497832831
Status : Answered
Chosen Option : 1

Q.12 किस संशोधन के तहत गोवा को पूर्ण राज्य का दर्जा दिया गया था?

- Ans
- 1. 56वें
 - 2. 61वें
 - 3. 71वें
 - 4. 52वें

Question ID : 65497832821
Status : Not Answered
Chosen Option : --

Q.13 FPI में प्रतिभूति और अन्य वित्तीय परिसंपत्तियां शामिल होती हैं, जो विदेशी निवेशकों द्वारा निष्क्रिय रूप से रखी जाती हैं। FPI का पूर्ण रूप क्या है?

- Ans
- 1. फ़ॉरेन पेमेंट इनवेस्टमेंट (Foreign Payment Investment)
 - 2. फ़ॉरेन पोर्टफोलियो इनवेस्टमेंट (Foreign Portfolio Investment)
 - 3. फाइनल पोर्टफोलियो इनवेस्टमेंट (Final Portfolio Investment)
 - 4. फाइनल पेमेंट इनवेस्टमेंट (Final Payment Investment)

Question ID : 65497832815
Status : Not Answered
Chosen Option : --

Q.14 किस किले को मराठा साम्राज्य का पहला स्तंभ माना जाता है?

- Ans
- 1. राजगढ़
 - 2. पन्हाला
 - 3. प्रचंडगढ़
 - 4. सिंधुदुर्ग

Question ID : 65497832826
Status : Not Answered
Chosen Option : --

Q.15 भारत में पूना के मराठा पेशवा बाजी राव द्वितीय और अंग्रेजों के बीच बसई की संधि पर हस्ताक्षर किस वर्ष किए गए थे?

- Ans
- 1. 1810
 - 2. 1820
 - 3. 1801
 - 4. 1802

Question ID : 65497832820
Status : Not Answered
Chosen Option : --

Q.16 लेफ्टिनेंट जनरल गुरमीत सिंह को सितंबर 2021 में _____ का राज्यपाल नियुक्त किया गया था।

- Ans
- 1. तमिलनाडु
 - 2. पंजाब
 - 3. उत्तराखंड
 - 4. नागालैंड

Question ID : 65497832832
Status : Not Answered
Chosen Option : --

Q.17 सितंबर 2021 में, निम्न में से किसने पैरालंपिक्स में पदक जीतने वाले पहले आईएस (IAS) अधिकारी होने का गौरव हासिल किया?

- Ans
- 1. निषाद कुमार
 - 2. देवेंद्र झाझरिया
 - 3. सुहास यतिराज
 - 4. सिंहराज अधाना

Question ID : 65497832833
Status : Answered
Chosen Option : 2

Q.18 निम्नलिखित में से कौन सी टीम आईपीएल-2020 में उपविजेता रही?

- Ans
- 1. मुंबई इंडियंस
 - 2. दिल्ली कैपिटल्स
 - 3. रॉयल चैलेंजर्स बेंगलोर
 - 4. सनराइजर्स हैदराबाद

Question ID : 65497832809
Status : Answered
Chosen Option : 4

Q.19 बेरीनाग का जल-स्रोत, उत्तर भारत की नदी _____ का मुख्य स्रोत है।

- Ans
- 1. झेलम
 - 2. ब्यास
 - 3. रावी
 - 4. चेनाब

Question ID : 65497832823
Status : Answered
Chosen Option : 1

Q.20 किसी तरल पदार्थ द्वारा लगाए जाने वाले घर्षण बल को निम्न में से क्या नाम दिया गया है?

- Ans
- 1. अपरूपण
 - 2. तलकर्षण
 - 3. पृष्ठ तनाव
 - 4. उत्प्लावन

Question ID : 65497832813
Status : Answered
Chosen Option : 3

Q.21 भारतीय वन्यजीव (संरक्षण) अधिनियम, 1972 की निम्नलिखित अनुसूचियों में से किसके तहत गंगा के डॉल्फिन संरक्षित किए गए हैं?

- Ans
- 1. पांचवी अनुसूची
 - 2. तीसरी अनुसूची
 - 3. पहली अनुसूची
 - 4. सातवीं अनुसूची

Question ID : 65497832827
Status : Not Answered
Chosen Option : --

Q.22 राष्ट्रीय बैडमिंटन चैम्पियनशिप 2019 कहाँ आयोजित की गई थी?

- Ans
- 1. इंदौर
 - 2. लखनऊ
 - 3. गुवाहाटी
 - 4. चंडीगढ़

Question ID : 65497832824
Status : Answered
Chosen Option : 3

Q.23 तेंगबोचे मठ किस देश में या भारत के किस राज्य में स्थित है?

- Ans
- 1. सिक्किम
 - 2. अरुणाचल प्रदेश
 - 3. नेपाल
 - 4. भूटान

Question ID : 65497832811
Status : Not Answered
Chosen Option : --

Q.24 हड़प्पा लिपि के दस बड़े आकार के चिह्नों वाला एक शिलालेख निम्न में से किस स्थान पर पाया गया था?

- Ans
- 1. बनवाली
 - 2. कालीबंगा
 - 3. धोलावीरा
 - 4. कोट दीजी

Question ID : 65497832817
Status : Not Answered
Chosen Option : --

Q.25 'वॉकिंग विद कॉमरेड्स' नामक पुस्तक के लेखक का नाम क्या है?

- Ans
- 1. विक्रम सेठ
 - 2. झुम्पा लाहिड़ी
 - 3. अरुंधति राँय
 - 4. किरण देसाई

Question ID : 65497832814
Status : Not Answered
Chosen Option : --

Q.1 दस क्रमागत विषम संख्याओं का औसत 46 है। सबसे छोटी और सबसे बड़ी संख्या का औसत ज्ञात कीजिए।

- Ans
- 1. 50
 - 2. 46
 - 3. 38
 - 4. 54

Question ID : 65497832837
Status : Answered
Chosen Option : 2

Q.2 दो संख्याओं का योगफल 342 है और उनका महत्तम समापवर्तक (HCF) 19 है। ऐसी संख्याओं के कितने युग्म बनाए जा सकते हैं?

- Ans
- 1. 3
 - 2. 6
 - 3. 2
 - 4. 4

Question ID : 65497832836
Status : Answered
Chosen Option : 2

Q.3 एक वस्तु को ₹242.50 में बेचने पर, 3% की हानि होती है। यदि वस्तु को 13% के लाभ पर बेचा जाए, तो विक्रय मूल्य क्या होगा?

- Ans
- 1. ₹300.60
 - 2. ₹270.40
 - 3. ₹275.80
 - 4. ₹282.50

Question ID : 65497832851
Status : Answered
Chosen Option : 4

Q.4 एक दुकानदार ने अपने स्टॉक का $\frac{1}{4}$ हिस्सा 25% के लाभ पर और शेष स्टॉक को 19% के लाभ पर बेचा। उसका कुल लाभ प्रतिशत ज्ञात करें।

- Ans
- 1. 20.5%
 - 2. 18.7%
 - 3. 12.9%
 - 4. 22.5%

Question ID : 65497832834
Status : Answered
Chosen Option : 1

Q.5 ₹x की एक धनराशि को A, B और C के बीच इस प्रकार विभाजित किया जाता है कि A और B के हिस्सों का अनुपात 3 : 5 है तथा B और C के हिस्सों का अनुपात 4 : 7 है। यदि B और C के हिस्सों के बीच का अंतर ₹1,455 है, तो x का मान ज्ञात कीजिए।

- Ans
- ✓ 1. ₹6,499
 - ✗ 2. ₹5,335
 - ✗ 3. ₹3,395
 - ✗ 4. ₹6,944

Question ID : 65497832838
Status : Answered
Chosen Option : 1

Q.6 $5 \div [6 \text{ of } 2 + (3 \times 7 \div (5 \text{ of } 3))]$ का मान ज्ञात कीजिए।

- Ans
- ✗ 1. $\frac{67}{15}$
 - ✓ 2. $\frac{25}{67}$
 - ✗ 3. $\frac{67}{5}$
 - ✗ 4. $\frac{17}{25}$

Question ID : 65497832852
Status : Answered
Chosen Option : 2

Q.7 दो संख्याएँ एक तीसरी संख्या से क्रमशः 8% और 28% अधिक हैं। उन दोनों संख्याओं का अनुपात कितना है?

- Ans
- ✓ 1. 27 : 32
 - ✗ 2. 2 : 7
 - ✗ 3. 5 : 6
 - ✗ 4. 5 : 9

Question ID : 65497832856
Status : Answered
Chosen Option : 1

Q.8 एक व्यक्ति अपने घर से निकलकर 4 km/h की चाल से चलते हुए अपने कार्यालय को जाता है और 2 km/h की चाल से वापस लौटता है। यदि उसे आने और जाने में 6 hours लगते हैं, तो उसके घर और कार्यालय के बीच की दूरी कितनी है?

- Ans
- ✓ 1. 8 km
 - ✗ 2. 6 km
 - ✗ 3. 8.5 km
 - ✗ 4. 4 km

Question ID : 65497832843
Status : Answered
Chosen Option : 1

Q.9 एक निश्चित धनराशि पर समान वार्षिक साधारण व्याज की दर से 3 वर्षों में प्राप्त मिश्रधन ₹17,925 और 7 वर्षों में प्राप्त मिश्रधन ₹21,825 है। ₹18,500 की धनराशि पर पूर्व की दोगुनी व्याज दर से $4\frac{2}{5}$ वर्ष में प्राप्त साधारण व्याज कितना होगा?

- Ans
- 1. 7,625
 - 2. 8,245
 - 3. 10,582
 - 4. 9,876

Question ID : 65497832835
Status : Answered
Chosen Option : 3

Q.10 6 cm ऊंचाई और 16 cm आधार के व्यास वाले किसी ठोस लंब वृत्तीय बेलन में ड्रिल करके एक शंक्वाकार छिद्र किया जाता है। शंकु की ऊंचाई और आधार का व्यास बेलन की ऊंचाई और आधार के व्यास के बराबर हैं। शेष ठोस का संपूर्ण पृष्ठीय क्षेत्रफल कितना है?

- Ans
- 1. $440 \pi \text{ cm}^2$
 - 2. $240 \pi \text{ cm}^2$
 - 3. $210 \pi \text{ cm}^2$
 - 4. $220 \pi \text{ cm}^2$

Question ID : 65497832841
Status : Answered
Chosen Option : 2

Q.11 ₹2,800 मूल्य वाले जूतों की एक जोड़ी पर एक जूता कंपनी 25% और 42% की दो क्रमिक छूटें देती है। जूतों की जोड़ी का अंतिम विक्रय मूल्य (₹ में) कितना होगा?

- Ans
- 1. 1,218
 - 2. 1,228
 - 3. 1,210
 - 4. 1,220

Question ID : 65497832855
Status : Answered
Chosen Option : 1

Q.12 P किसी कार्य के $\frac{1}{3}$ भाग को 6 दिन में पूरा कर सकता है और Q उसी कार्य के $\frac{1}{4}$ भाग को 9 दिनों में पूरा कर सकता है। यदि दोनों एकसाथ कार्य करते हैं और उन्हें कुल मिलाकर ₹210 का अंतिम भुगतान किया जाता है, तो Q को कितने रुपए मिलेंगे?

- Ans
- 1. ₹70
 - 2. ₹95
 - 3. ₹140
 - 4. ₹105

Question ID : 65497832854
Status : Answered
Chosen Option : 1

Q.13 तीन संख्याओं का औसत 180 है। यदि तीसरी संख्या पहली संख्या के $\frac{1}{3}$ से 10 अधिक और दूसरी संख्या से 5 कम है, तो तीसरी संख्या ज्ञात करें।

- Ans
- 1. 103
 - 2. 115
 - 3. 113
 - 4. 118

Question ID : 65497832846
Status : Answered
Chosen Option : 3

Q.14 एक से बड़ी एक ऐसी संख्या है जिसे 4, 5 और 6 से विभाजित करने पर प्रत्येक स्थिति में शेषफल 3 प्राप्त होता है। 500 से छोटी वह सबसे बड़ी संख्या ज्ञात कीजिए जो इस स्थिति को संतुष्ट करती हो।

- Ans
- 1. 493
 - 2. 483
 - 3. 486
 - 4. 484

Question ID : 65497832844
Status : Answered
Chosen Option : 2

Q.15 एक दुकानदार ने 600 संतरे और 400 केले खरीदे। उसने पाया कि 30% संतरे और 18% केले सड़े हुए हैं। अच्छे फलों का प्रतिशत ज्ञात कीजिए।

- Ans
- 1. 74.8
 - 2. 78.8
 - 3. 70.8
 - 4. 64.8

Question ID : 65497832845
Status : Answered
Chosen Option : 1

Q.16 एक विक्रेता ने ₹20 में 12 की दर से कैंडी खरीदी और ₹12 में 6 की दर से बेच दी। उसका प्रतिशत लाभ या हानि ज्ञात कीजिए।

- Ans
- 1. 20% लाभ
 - 2. 25% हानि
 - 3. 15% लाभ
 - 4. 30% हानि

Question ID : 65497832853
Status : Answered
Chosen Option : 1

Q.17 यदि X और Y एक साथ मिलकर किसी कार्य को 10 दिनों में पूरा कर सकते हैं, Y और Z उसी कार्य को 12 दिनों में पूरा कर सकते हैं तथा Z और X उस कार्य को 15 दिनों में पूरा कर सकते हैं, तो अकेला X उस कार्य को कितने दिनों में पूरा करेगा?

- Ans
- 1. 28 दिन
 - 2. 30 दिन
 - 3. 20 दिन
 - 4. 24 दिन

Question ID : 65497832849
Status : Answered
Chosen Option : 3

Q.18 एक व्यक्ति एक नौका को धारा की दिशा में 9 km/h की चाल से और धारा की विपरीत दिशा में 7 km/h की चाल से चला सकता है। धारा की चाल ज्ञात करें।

- Ans
- 1. 1 km/h
 - 2. 2 km/h
 - 3. $\frac{3}{4}$ km/h
 - 4. 1.5 km/h

Question ID : 65497832850
Status : Answered
Chosen Option : 1

Q.19 दो संख्याएँ 3 : 4 के अनुपात में हैं। यदि पहली संख्या का 60%, 144 है, तो दूसरी संख्या का 30% ज्ञात करें।

- Ans
- 1. 92
 - 2. 120
 - 3. 69
 - 4. 96

Question ID : 65497832848
Status : Answered
Chosen Option : 4

Q.20 16 cm × 12 cm × 9 cm भुजाओं वाले धातु के एक स्लैब को पिघलाकर घन के आकार में ढाला जाता है। घन का पृष्ठीय क्षेत्रफल (cm² में) ज्ञात कीजिए।

- Ans
- 1. 860
 - 2. 864
 - 3. 865
 - 4. 880

Question ID : 65497832858
Status : Answered
Chosen Option : 2

Q.21 यदि $\frac{a}{b} : \frac{7}{5}$ है, तो $\frac{(5a+4b)}{5a-4b}$ का मान कितना होगा?

- Ans
1. $\frac{5}{7}$
2. $\frac{3}{11}$
3. $\frac{7}{8}$
4. $\frac{11}{3}$

Question ID : 65497832840
Status : Answered
Chosen Option : 4

Q.22 $[52 - 4 \text{ of } (17 - 12) + 4 \times 7] \div [30 \div 15 \times 5]$ का मान कितना है?

- Ans
1. 8
2. 10
3. 6
4. 12

Question ID : 65497832842
Status : Answered
Chosen Option : 3

Q.23 एक दुकानदार अंकित मूल्य पर 25% की छूट प्रदान करता है। एक अन्य दुकानदार उसी अंकित मूल्य पर 5%, 12% और 10% की तीन क्रमिक छूटें प्रदान करता है। दोनों दुकानदारों द्वारा दी गई छूटों के बीच का अंतर ज्ञात करें।

- Ans
1. 2.00%
2. 0.24%
3. 1.12%
4. 1.00%

Question ID : 65497832847
Status : Answered
Chosen Option : 2

Q.24 एक निश्चित साधारण ब्याज से किसी धनराशि पर 3 वर्षों के बाद प्राप्त मिश्रधन ₹37,200 और 5 वर्षों के बाद प्राप्त मिश्रधन ₹42,000 है। उसी धनराशि पर 6% वार्षिक ब्याज दर से 8 वर्षों में प्राप्त होने वाला साधारण ब्याज (₹ में) ज्ञात कीजिए।

- Ans
1. 14,750
2. 14,400
3. 14,260
4. 14,000

Question ID : 65497832857
Status : Answered
Chosen Option : 2

Q.25 ₹12,100 को 2 भागों में इस प्रकार विभाजित कीजिए, कि जब इन्हें क्रमशः 3 और 4 वर्ष के लिए 6% की वार्षिक साधारण ब्याज दर पर निवेश किया जाता है तो बराबर मिश्रधन प्राप्त होता है। दोनों भागों के बीच के अंतर का 75% (₹ में) कितना होगा?

- Ans**
- 1. 200
 - 2. 400
 - 3. 300
 - 4. 225

Question ID : 65497832839
Status : Answered
Chosen Option : 3

Section : Part D English

Q.1 Select the most appropriate ANTONYM of the given word.

Ravish

- Ans**
- 1. Attract
 - 2. Charm
 - 3. Repel
 - 4. Captivate

Question ID : 65497832871
Status : Not Answered
Chosen Option : --

Q.2 Select the INCORRECTLY spelt word.

- Ans**
- 1. Substitution
 - 2. Habbitation
 - 3. Estimation
 - 4. Presentation

Question ID : 65497832868
Status : Not Answered
Chosen Option : --

Q.3 The following sentence has been split into four segments. Identify the segment that contains a grammatical error.

I have been / reading this book / since / two days.

- Ans**
- 1. I have been
 - 2. reading this book
 - 3. since
 - 4. two days

Question ID : 65497832865
Status : Not Answered
Chosen Option : --

Q.4 Select the option that can be used as a one-word substitute for the given group of words.

One who can use either hand easily

- Ans
- 1. Skilled
 - 2. Single-handed
 - 3. Disabled
 - 4. Ambidextrous

Question ID : 65497832864
Status : Not Answered
Chosen Option : --

Q.5 Select the most appropriate option that can substitute the underlined segment in the given sentence. If there is no need to substitute it, select 'No substitution required'.

Are you get irritated if someone disturbs you?

- Ans
- 1. Are you get irritate
 - 2. Do you get irritated
 - 3. No substitution required
 - 4. Did you getting irritating

Question ID : 65497832874
Status : Not Answered
Chosen Option : --

Q.6 Select the most appropriate meaning of the given idiom.

All and sundry

- Ans
- 1. Everyone
 - 2. None
 - 3. Everywhere
 - 4. Very few

Question ID : 65497832869
Status : Not Answered
Chosen Option : --

Q.7 Select the most appropriate option that can substitute the underlined word in the given sentence.

The bacteria in the roots of leguminous plants submerge nitrogen in the soil to compounds.

- Ans
- 1. propose
 - 2. analyse
 - 3. expand
 - 4. convert

Question ID : 65497832859
Status : Not Answered
Chosen Option : --

Q.8 Select the most appropriate ANTONYM of the given word.

Beseech

- Ans 1. Engage
 2. Command
 3. Appeal
 4. Request

Question ID : 65497832866
Status : Not Answered
Chosen Option : --

Q.9 Select the most appropriate option to fill in the blank.

It is essential to understand consumer behaviour so that protective _____ can be taken through legislation.

- Ans 1. measures
 2. methods
 3. events
 4. dealings

Question ID : 65497832863
Status : Not Answered
Chosen Option : --

Q.10 Select the option that can be used as a one-word substitute for the given group of words.

Something that can be carried easily

- Ans 1. Deliverable
 2. Transferable
 3. Plausible
 4. Portable

Question ID : 65497832867
Status : Not Answered
Chosen Option : --

Q.11 Select the most appropriate synonym of the given word.

Lure

- Ans 1. Repulsion
 2. Indication
 3. Attraction
 4. Warning

Question ID : 65497832861
Status : Not Answered
Chosen Option : --

Q.12 Select the option that can be used as a one-word substitute for the given group of words.

A piece of land entirely surrounded by water

- Ans**
- 1. Oasis
 - 2. Harbour
 - 3. Igloo
 - 4. Island

Question ID : 65497832877
Status : Not Answered
Chosen Option : --

Q.13 The following sentence has been split into four segments. Identify the segment that contains a grammatical error.

Did the police find out who break into your store?

- Ans**
- 1. find out
 - 2. your store
 - 3. who break into
 - 4. Did the police

Question ID : 65497832875
Status : Not Answered
Chosen Option : --

Q.14 Select the INCORRECTLY spelt word.

- Ans**
- 1. Valuable
 - 2. Infectious
 - 3. Precious
 - 4. Specieal

Question ID : 65497832862
Status : Not Answered
Chosen Option : --

Q.15 Select the most appropriate SYNONYM of the given word.

Supreme

- Ans**
- 1. Endless
 - 2. Useless
 - 3. Careless
 - 4. Matchless

Question ID : 65497832876
Status : Not Answered
Chosen Option : --

Q.16 Select the most appropriate option to fill in the blank.

He _____ her that he had deposited the money in the bank.

- Ans**
- 1. insured
 - 2. ensured
 - 3. assured
 - 4. assumed

Question ID : 65497832870
Status : Not Answered
Chosen Option : --

Q.17 The following sentence has been divided into parts. One of them may contain an error. Select the part that contains the error from the given options. If you don't find any error, select 'No error' as your answer.

Praneel is only two now / so he has not / started talk yet.

- Ans**
- 1. Praneel is only two now
 - 2. so he has not
 - 3. started talk yet
 - 4. No error

Question ID : 65497832860
Status : Not Answered
Chosen Option : --

Q.18 Select the most appropriate option to fill in the blank.

After hours of discussion, the team _____ at the same conclusion.

- Ans**
- 1. arrived
 - 2. came
 - 3. reached
 - 4. attained

Question ID : 65497832872
Status : Not Answered
Chosen Option : --

Q.19 Select the most appropriate meaning of the given idiom.

Hold your horses

- Ans**
- 1. Run fast
 - 2. Be patient
 - 3. Take control
 - 4. Make a profit

Question ID : 65497832878
Status : Not Answered
Chosen Option : --

Q.20 Select the most appropriate option that can substitute the underlined segment in the given sentence. If there is no need to substitute it, select 'No substitution required'.

The shopkeeper either offered to exchange the goods or refund the money.

- Ans**
- 1. The shopkeeper offered either to
 - 2. No substitution required'
 - 3. Either the shopkeeper offered to
 - 4. The shopkeeper neither offered to

Question ID : 65497832873
Status : Not Answered
Chosen Option : --

Comprehension:

In the following passage, some words have been deleted. Read the passage carefully and select the most appropriate option to fill in each blank.

The plane had been hired to transport Appu, the baby elephant, as a gift from India to Nigeria. Just before the (1) _____, the co-pilot checked the wooden crate and (2) _____ that it looked safe. Little did he know how (3) _____ the flight was going to be. When the plane was (4) _____ Kenya, Appu broke his crate and (5) _____ the flight cabin. The pilot made an emergency landing in Kenya.

SubQuestion No : 21

Q.21 Select the most appropriate option to fill in blank no.1.

- Ans**
- 1. departure
 - 2. evacuation
 - 3. escape
 - 4. retreat

Question ID : 65497832880
Status : Not Answered
Chosen Option : --

Comprehension:

In the following passage, some words have been deleted. Read the passage carefully and select the most appropriate option to fill in each blank.

The plane had been hired to transport Appu, the baby elephant, as a gift from India to Nigeria. Just before the (1) _____, the co-pilot checked the wooden crate and (2) _____ that it looked safe. Little did he know how (3) _____ the flight was going to be. When the plane was (4) _____ Kenya, Appu broke his crate and (5) _____ the flight cabin. The pilot made an emergency landing in Kenya.

SubQuestion No : 22

Q.22 Select the most appropriate option to fill in blank no.2.

- Ans**
- 1. recited
 - 2. reported
 - 3. described
 - 4. narrated

Question ID : 65497832881
Status : Not Answered
Chosen Option : --

Comprehension:

In the following passage, some words have been deleted. Read the passage carefully and select the most appropriate option to fill in each blank.

The plane had been hired to transport Appu, the baby elephant, as a gift from India to Nigeria. Just before the (1) _____, the co-pilot checked the wooden crate and (2) _____ that it looked safe. Little did he know how (3) _____ the flight was going to be. When the plane was (4) _____ Kenya, Appu broke his crate and (5) _____ the flight cabin. The pilot made an emergency landing in Kenya.

SubQuestion No : 23

Q.23 Select the most appropriate option to fill in blank no.3.

- Ans**
- 1. unreliable
 - 2. dramatic
 - 3. impressive
 - 4. devious

Question ID : 65497832882
Status : Not Answered
Chosen Option : --

Comprehension:

In the following passage, some words have been deleted. Read the passage carefully and select the most appropriate option to fill in each blank.

The plane had been hired to transport Appu, the baby elephant, as a gift from India to Nigeria. Just before the (1) _____, the co-pilot checked the wooden crate and (2) _____ that it looked safe. Little did he know how (3) _____ the flight was going to be. When the plane was (4) _____ Kenya, Appu broke his crate and (5) _____ the flight cabin. The pilot made an emergency landing in Kenya.

SubQuestion No : 24

Q.24 Select the most appropriate option to fill in blank no.4.

- Ans** 1. between
 2. over
 3. on
 4. beside

Question ID : 65497832883

Status : Not Answered

Chosen Option : --

Comprehension:

In the following passage, some words have been deleted. Read the passage carefully and select the most appropriate option to fill in each blank.

The plane had been hired to transport Appu, the baby elephant, as a gift from India to Nigeria. Just before the (1) _____, the co-pilot checked the wooden crate and (2) _____ that it looked safe. Little did he know how (3) _____ the flight was going to be. When the plane was (4) _____ Kenya, Appu broke his crate and (5) _____ the flight cabin. The pilot made an emergency landing in Kenya.

SubQuestion No : 25

Q.25 Select the most appropriate option to fill in blank no.5.

- Ans** 1. chased
 2. shared
 3. entered
 4. grabbed

Question ID : 65497832884

Status : Not Answered

Chosen Option : --

Section : Part D Hindi

Q.1 दिए गए वाक्य में रेखांकित खंड को प्रतिस्थापित करने के लिए सबसे उपयुक्त विकल्प का चयन करें। यदि इसे प्रतिस्थापित करने की आवश्यकता नहीं है, तो विकल्प 'किसी बदलाव की आवश्यकता नहीं है' का चयन करें।

सब लोग अपनी राय दें।

- Ans** 1. उनकी
 2. किसी बदलाव की आवश्यकता नहीं है।
 3. अपनी-अपनी
 4. इनकी

Question ID : 65497832896

Status : Answered

Chosen Option : 3

Q.2 उस विकल्प का चयन करें जो निम्न मुहावरे का सही अर्थ व्यक्त करता है।

भगीरथ श्रम करना

- Ans 1. अथक प्रयत्न करना
 2. कठिन श्रम करना
 3. दृढ़ प्रतीक्षा करना
 4. असम्भव कार्य करना

Question ID : 65497832892
Status : Answered
Chosen Option : 1

Q.3 दिए गए वाक्य में रेखांकित खंड को प्रतिस्थापित करने के लिए सबसे उपयुक्त विकल्प का चयन करें। यदि इसे प्रतिस्थापित करने की आवश्यकता नहीं है, तो विकल्प 'किसी बदलाव की आवश्यकता नहीं है' का चयन करें।

हम भोजन खाते हैं।

- Ans 1. करते हैं
 2. लेते हैं
 3. पाते हैं
 4. किसी बदलाव की आवश्यकता नहीं है।

Question ID : 65497832894
Status : Answered
Chosen Option : 1

Q.4 'रास्ता देखना' मुहावरे का सही अर्थ है-

- Ans 1. परेशान होना
 2. निराश होना
 3. मूल्यांकन करना
 4. प्रतीक्षा करना

Question ID : 65497832903
Status : Answered
Chosen Option : 4

Q.5 दिए गए वाक्य का वह भाग ज्ञात करें जिसमें कोई त्रुटि है। यदि कोई त्रुटि नहीं है, तो 'कोई त्रुटि नहीं है' चुनें।

स्कूल का सभी विद्यार्थी (1) इस मैदान में (2) प्रार्थना के लिए आते है (3) कोई त्रुटि नहीं है (4)

- Ans 1. 3
 2. 1
 3. 2
 4. 4

Question ID : 65497832885
Status : Answered
Chosen Option : 2

Q.6 दिए गए शब्द का समानार्थी शब्द बताइए-

कपड़ा

- Ans
- 1. वपन
 - 2. वमन
 - 3. वसन
 - 4. वज़न

Question ID : 65497832886
Status : Answered
Chosen Option : 3

Q.7 उसका पास कुछ भी नहीं है।

रेखांकित शब्द की अशुद्धि पहचानिए-

- Ans
- 1. कोई भी गलती नहीं है।
 - 2. सर्वनाम के कारण
 - 3. विभक्ति के कारण
 - 4. संज्ञा के कारण

Question ID : 65497832900
Status : Answered
Chosen Option : 2

Q.8 राह दिखानेवाला - वाक्यांश के लिए एक शब्द लिखिए।

- Ans
- 1. पथिक
 - 2. मुसाफिर
 - 3. पथदर्शक
 - 4. राही

Question ID : 65497832902
Status : Answered
Chosen Option : 3

Q.9 सही वर्तनी वाले शब्द का चयन करें।

- Ans
- 1. एकाग्रचित
 - 2. एकाग्रचीत
 - 3. एकागरचित
 - 4. एकाग्रचित

Question ID : 65497832888
Status : Answered
Chosen Option : 1

Q.10 दिए गए वाक्य में रेखांकित खंड को प्रतिस्थापित करने के लिए सबसे उपयुक्त विकल्प का चयन करें।
यदि इसे प्रतिस्थापित करने की आवश्यकता नहीं है, तो विकल्प 'किसी बदलाव की आवश्यकता नहीं है'
का चयन करें।

आपसे मेरा सविनयपूर्वक निवेदन है।

- Ans
- 1. सविनय निवेदन है
 - 2. विनम्रपूर्वक निवेदन है
 - 3. समग्रपूर्वक अनुरोध है
 - 4. किसी बदलाव की आवश्यकता नहीं है।

Question ID : 65497832895
Status : Answered
Chosen Option : 1

Q.11 दिए गए शब्द का विलोम चुनें।

प्रत्यक्ष

- Ans
- 1. अभिमुख
 - 2. समीप
 - 3. सम्मुख
 - 4. परोक्ष

Question ID : 65497832891
Status : Answered
Chosen Option : 4

Q.12 दिए गये वाक्यांश के लिए एक शब्द दीजिये-

जो बहुत बोलता हो

- Ans
- 1. बहुभाषी
 - 2. वाचाल
 - 3. मितभाषी
 - 4. अल्पभाषी

Question ID : 65497832887
Status : Answered
Chosen Option : 2

Q.13 उत्थान - रेखांकित शब्द का विलोम बताइए-

- Ans
- 1. विकर्षण
 - 2. आदर्श
 - 3. पतन
 - 4. प्रगति

Question ID : 65497832901
Status : Answered
Chosen Option : 3

Q.14 रिक्त स्थान की पूर्ति के लिए सबसे उपयुक्त शब्द का चयन करें-

उसका हृदय बड़ा _____ था।

- Ans
- 1. कठोर
 - 2. कर्कश
 - 3. कठिन
 - 4. कसैला

Question ID : 65497832890
Status : Answered
Chosen Option : 1

Q.15 मधुर बात करनेवाला - वाक्यांश के लिए एक शब्द लिखिए-

- Ans
- 1. अल्पभाषी
 - 2. मधुर भाषी
 - 3. सुखद
 - 4. संगीतज्ञ

Question ID : 65497832899
Status : Answered
Chosen Option : 2

Q.16 रिक्त स्थान की पूर्ति के लिए सबसे उपयुक्त शब्द का चयन करें।

मेरा और आपका _____ सम्बन्ध है।

- Ans
- 1. घोर
 - 2. गहन
 - 3. घनिष्ठ
 - 4. पक्का

Question ID : 65497832893
Status : Answered
Chosen Option : 3

Q.17 दिये गये वाक्य के किस भाग में त्रुटि है?

मैं उसकी बुद्धिमानता से बहुत प्रभावित हूँ।

- Ans
- 1. से बहुत
 - 2. प्रभावित हूँ।
 - 3. बुद्धिमानता
 - 4. मैं उसकी

Question ID : 65497832897
Status : Answered
Chosen Option : 4

Q.18 सही वर्तनी वाले शब्द का चयन करें।

- Ans
- 1. आत्मोत्सग
 - 2. आत्मोत्सर्ग
 - 3. आत्मोतसर्ग
 - 4. आत्मोत्सर्ग

Question ID : 65497832889
Status : Answered
Chosen Option : 4

Q.19 'जलाशय' का पर्यायवाची है-

- Ans
- 1. जलधर
 - 2. महीधर
 - 3. रत्नाकर
 - 4. पद्माकर

Question ID : 65497832898
Status : Answered
Chosen Option : 1

Q.20 रिक्त स्थान की पूर्ति के लिए सबसे उपयुक्त विकल्प का चयन करें।

शेखर अज्ञेय के एक उपन्यास का _____ है।

- Ans
- 1. अभिनेता
 - 2. नायक
 - 3. नेता
 - 4. सूत्रधार

Question ID : 65497832904
Status : Answered
Chosen Option : 1

Comprehension:

गद्यांश को पढ़कर पूछे गये प्रश्नों के उत्तर लिखिए-

भारत के इतिहास में अमरत्व प्राप्ति के अधिकारी लौह-पुरुष सरदार वल्लभभाई पटेल को कौन नहीं जानता? 31 अक्टूबर, 1875 में गुजरात के नाडियाद गाँव में एक किसान परिवार में उनका जन्म हुआ था। पाठशाला का अभ्यास करने में काफी समय लगा था। 36 साल की उम्र में वकालत पढ़ने के लिए वे इंग्लैंड गए। उन्होंने 36 महीने का कोर्स 30 महीनों में पूरा किया। 1917 में वे गांधीजी के संपर्क में आए। ब्रिटिश राज्य के खिलाफ अहिंसक आंदोलन के जरिये बारदोली, बलसाड, खेड़ा आदि के किसानों को एकत्र किया। उनके इस आंदोलन ने उन्हें प्रसिद्धि एवं प्रतिष्ठा दिलाई। भारतीय राष्ट्रीय कांग्रेस ने प्रमुख स्थान दिया। लोगों ने उन्हें सरदार की उपाधि दी। आजादी के बाद छोटी-छोटी रियायतों को एक करने का कार्य किया। 15 अगस्त, 1947 तक हैदराबाद, कश्मीर और जूनागढ़ को छोड़कर सभी रियायतें भारत संघ में सम्मिलित हो गई थीं। गृहमंत्री बनने के बाद लगभग छः सौ रियायतों को भारत संघ में सम्मिलित किया। हैदराबाद के नवाब ने विरोध किया तो वहाँ सेना भेजकर निजाम को आत्मसमर्पण करने के लिए मजबूर किया। 15 दिसम्बर, 1950 को जगमगता वह सितारा हमें अंधकार में छोड़कर चला गया। सन् 1991 में उन्हें भारतरत्न से सम्मानित किया गया। स्वतंत्रता सेनानी सरदार वल्लभभाई की जीवनी सदैव प्रेरणादायी है।

SubQuestion No : 21

Q.21 _____ को लौहपुरुष कहा जाता है।

- Ans
- 1. अटल बिहारी वाजपेयी
 - 2. मोरारजी देसाई
 - 3. लाला लजपतराय
 - 4. सरदार वल्लभभाई पटेल

Question ID : 65497832906

Status : Answered

Chosen Option : 4

Comprehension:

गद्यांश को पढ़कर पूछे गये प्रश्नों के उत्तर लिखिए-

भारत के इतिहास में अमरत्व प्राप्ति के अधिकारी लौह-पुरुष सरदार वल्लभभाई पटेल को कौन नहीं जानता? 31 अक्टूबर, 1875 में गुजरात के नाडियाद गाँव में एक किसान परिवार में उनका जन्म हुआ था। पाठशाला का अभ्यास करने में काफी समय लगा था। 36 साल की उम्र में वकालत पढ़ने के लिए वे इंग्लैंड गए। उन्होंने 36 महीने का कोर्स 30 महीनों में पूरा किया। 1917 में वे गांधीजी के संपर्क में आए। ब्रिटिश राज्य के खिलाफ अहिंसक आंदोलन के जरिये बारदोली, बलसाड, खेड़ा आदि के किसानों को एकत्र किया। उनके इस आंदोलन ने उन्हें प्रसिद्धि एवं प्रतिष्ठा दिलाई। भारतीय राष्ट्रीय कांग्रेस ने प्रमुख स्थान दिया। लोगों ने उन्हें सरदार की उपाधि दी। आजादी के बाद छोटी-छोटी रियायतों को एक करने का कार्य किया। 15 अगस्त, 1947 तक हैदराबाद, कश्मीर और जूनागढ़ को छोड़कर सभी रियायतें भारत संघ में सम्मिलित हो गई थीं। गृहमंत्री बनने के बाद लगभग छः सौ रियायतों को भारत संघ में सम्मिलित किया। हैदराबाद के नवाब ने विरोध किया तो वहाँ सेना भेजकर निजाम को आत्मसमर्पण करने के लिए मजबूर किया। 15 दिसम्बर, 1950 को जगमगता वह सितारा हमें अंधकार में छोड़कर चला गया। सन् 1991 में उन्हें भारतरत्न से सम्मानित किया गया। स्वतंत्रता सेनानी सरदार वल्लभभाई की जीवनी सदैव प्रेरणादायी है।

SubQuestion No : 22

Q.22 वकालत शब्द को व्याकरणिक दृष्टि से पहचानिए-

- Ans
- 1. जातिवाचक संज्ञा
 - 2. भाववाचक संज्ञा
 - 3. व्यक्तिवाचक संज्ञा
 - 4. विशेषण

Question ID : 65497832907

Status : Answered

Chosen Option : 2

Comprehension:

गद्यांश को पढ़कर पूछे गये प्रश्नों के उत्तर लिखिए-

भारत के इतिहास में अमरत्व प्राप्ति के अधिकारी लौह-पुरुष सरदार वल्लभभाई पटेल को कौन नहीं जानता? 31 अक्टूबर, 1875 में गुजरात के नाडियाद गाँव में एक किसान परिवार में उनका जन्म हुआ था। पाठशाला का अभ्यास करने में काफी समय लगा था। 36 साल की उम्र में वकालत पढ़ने के लिए वे इंग्लैंड गए। उन्होंने 36 महीने का कोर्स 30 महीनों में पूरा किया। 1917 में वे गांधीजी के संपर्क में आए। ब्रिटिश राज्य के खिलाफ अहिंसक आंदोलन के जरिये बारदोली, बलसाड, खेड़ा आदि के किसानों को एकत्र किया। उनके इस आंदोलन ने उन्हें प्रसिद्धि एवं प्रतिष्ठा दिलाई। भारतीय राष्ट्रीय कांग्रेस ने प्रमुख स्थान दिया। लोगों ने उन्हें सरदार की उपाधि दी। आजादी के बाद छोटी-छोटी रियायतों को एक करने का कार्य किया। 15 अगस्त, 1947 तक हैदराबाद, कश्मीर और जूनागढ़ को छोड़कर सभी रियायतें भारत संघ में सम्मिलित हो गई थीं। गृहमंत्री बनने के बाद लगभग छः सौ रियायतों को भारत संघ में सम्मिलित किया। हैदराबाद के नवाब ने विरोध किया तो वहाँ सेना भेजकर निजाम को आत्मसमर्पण करने के लिए मजबूर किया। 15 दिसम्बर, 1950 को जगमगता वह सितारा हमें अंधकार में छोड़कर चला गया। सन् 1991 में उन्हें भारतरत्न से सम्मानित किया गया। स्वतंत्रता सेनानी सरदार वल्लभभाई की जीवनी सदैव प्रेरणादायी है।

SubQuestion No : 23

Q.23 आजादी के बाद उन्होंने कौन-सा पद संभाला?

- Ans**
- 1. गृहमंत्री का
 - 2. राष्ट्रपति का
 - 3. प्रधानमंत्री का
 - 4. संरक्षण मंत्री का

Question ID : 65497832908

Status : Answered

Chosen Option : 1

Comprehension:

गद्यांश को पढ़कर पूछे गये प्रश्नों के उत्तर लिखिए-

भारत के इतिहास में अमरत्व प्राप्ति के अधिकारी लौह-पुरुष सरदार वल्लभभाई पटेल को कौन नहीं जानता? 31 अक्टूबर, 1875 में गुजरात के नाडियाद गाँव में एक किसान परिवार में उनका जन्म हुआ था। पाठशाला का अभ्यास करने में काफी समय लगा था। 36 साल की उम्र में वकालत पढ़ने के लिए वे इंग्लैंड गए। उन्होंने 36 महीने का कोर्स 30 महीनों में पूरा किया। 1917 में वे गांधीजी के संपर्क में आए। ब्रिटिश राज्य के खिलाफ अहिंसक आंदोलन के जरिये बारदोली, बलसाड, खेड़ा आदि के किसानों को एकत्र किया। उनके इस आंदोलन ने उन्हें प्रसिद्धि एवं प्रतिष्ठा दिलाई। भारतीय राष्ट्रीय कांग्रेस ने प्रमुख स्थान दिया। लोगों ने उन्हें सरदार की उपाधि दी। आजादी के बाद छोटी-छोटी रियायतों को एक करने का कार्य किया। 15 अगस्त, 1947 तक हैदराबाद, कश्मीर और जूनागढ़ को छोड़कर सभी रियायतें भारत संघ में सम्मिलित हो गई थीं। गृहमंत्री बनने के बाद लगभग छः सौ रियायतों को भारत संघ में सम्मिलित किया। हैदराबाद के नवाब ने विरोध किया तो वहाँ सेना भेजकर निजाम को आत्मसमर्पण करने के लिए मजबूर किया। 15 दिसम्बर, 1950 को जगमगता वह सितारा हमें अंधकार में छोड़कर चला गया। सन् 1991 में उन्हें भारतरत्न से सम्मानित किया गया। स्वतंत्रता सेनानी सरदार वल्लभभाई की जीवनी सदैव प्रेरणादायी है।

SubQuestion No : 24

Q.24 उनका जन्म _____ हुआ था।

- Ans**
- 1. किसान परिवार में
 - 2. पारसी परिवार में
 - 3. ब्राह्मण परिवार में
 - 4. मुस्लिम परिवार में

Question ID : 65497832909

Status : Answered

Chosen Option : 1

Comprehension:

गद्यांश को पढ़कर पूछे गये प्रश्नों के उत्तर लिखिए-

भारत के इतिहास में अमरत्व प्राप्ति के अधिकारी लौह-पुरुष सरदार वल्लभभाई पटेल को कौन नहीं जानता? 31 अक्टूबर, 1875 में गुजरात के नाडियाद गाँव में एक किसान परिवार में उनका जन्म हुआ था। पाठशाला का अभ्यास करने में काफी समय लगा था। 36 साल की उम्र में वकालत पढ़ने के लिए वे इंग्लैंड गए। उन्होंने 36 महीने का कोर्स 30 महीनों में पूरा किया। 1917 में वे गांधीजी के संपर्क में आए। ब्रिटिश राज्य के खिलाफ अहिंसक आंदोलन के जरिये बारदोली, बलसाड, खेड़ा आदि के किसानों को एकत्र किया। उनके इस आंदोलन ने उन्हें प्रसिद्धि एवं प्रतिष्ठा दिलाई। भारतीय राष्ट्रीय कांग्रेस ने प्रमुख स्थान दिया। लोगों ने उन्हें सरदार की उपाधि दी। आजादी के बाद छोटी-छोटी रियायतों को एक करने का कार्य किया। 15 अगस्त, 1947 तक हैदराबाद, कश्मीर और जूनागढ़ को छोड़कर सभी रियायतें भारत संघ में सम्मिलित हो गई थीं। गृहमंत्री बनने के बाद लगभग छः सौ रियायतों को भारत संघ में सम्मिलित किया। हैदराबाद के नवाब ने विरोध किया तो वहाँ सेना भेजकर निजाम को आत्मसमर्पण करने के लिए मजबूर किया। 15 दिसम्बर, 1950 को जगमगता वह सितारा हमें अंधकार में छोड़कर चला गया। सन् 1991 में उन्हें भारतरत्न से सम्मानित किया गया। स्वतंत्रता सेनानी सरदार वल्लभभाई की जीवनी सदैव प्रेरणादायी है।

SubQuestion No : 25

Q.25 उनकी मृत्यु _____ को हुई।

Ans 1. 31 दिसम्बर, 1950

2. 15 दिसम्बर, 1950

3. 25 दिसम्बर, 1950

4. 15 अक्टूबर, 1875

Question ID : 65497832910

Status : Answered

Chosen Option : 2

Constable GD in CAPFs NIA SSF and Rifleman GD in Assam Rifles Examination 2021

Roll Number	www.HaryanaJobs.in
Candidate Name	www.HaryanaJobs.in
Venue Name	iON Digital Zone iDZ Kanti
Exam Date	17/11/2021
Exam Time :	12:30 PM - 2:00 PM
Subject	Constable GD 2021

Section : Part A General Intelligence and Reasoning

Q.1 निम्नलिखित समीकरण को सही बनाने के लिए, किन दो गणितीय चिह्नों को एक दूसरे से बदलने की आवश्यकता है?

$$16 \div 32 \times 128 + 9 - 17 = -4$$

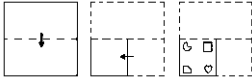
- Ans
- 1. + और +
 - 2. \times और -
 - 3. \times और +
 - 4. + और -

Question ID : 65497830258

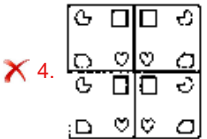
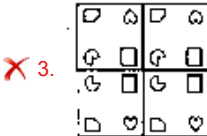
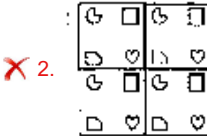
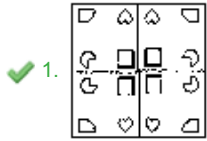
Status : Answered

Chosen Option : 3

Q.2 निम्नांकित चित्रों में एक कागज को मोड़ने का क्रम और मुड़े हुए कागज को काटने का तरीका दर्शाया गया है। मुड़े हुए कागज को खोलने पर यह कैसा दिखाई देगा?



Ans



Question ID : 65497830255

Status : Answered

Chosen Option : 1

Q.3 अक्षरों के उस संयोजन का चयन करें जो नीचे दी गई श्रृंखला के रिक्त स्थान में क्रमिक रूप से रखे जाने पर श्रृंखला को पूर्ण करेगा।

G _ _ P K _ D F _ K G D _ _ K

Ans ✗ 1. DPDFKF

✗ 2. DFGDFP

✓ 3. DFGPFP

✗ 4. DFGDFK

Question ID : 65497830245

Status : Answered

Chosen Option : 3

Q.4 दिए गए विकल्पों में से उस संख्या का चयन करें जो निम्नलिखित श्रृंखला में प्रश्न चिह्न (?) के स्थान पर आ सकती है।

15, 45, 75, 105, ?

Ans ✓ 1. 135

✗ 2. 130

✗ 3. 120

✗ 4. 125

Question ID : 65497830246

Status : Answered

Chosen Option : 1

Q.5 दिए गए कथनों और निष्कर्षों को ध्यानपूर्वक पढ़ें। कथनों में दी गई जानकारी सही मानते हुए, चाहे वह सामान्य ज्ञात तथ्यों से भिन्न प्रतीत होती हो, निर्णय करें कि दिए गए निष्कर्षों में से कौन सा/से, कथनों का तार्किक रूप से अनुसरण करता/करते हैं।

कथन :

सभी एम. टेक छात्र इंजीनियर हैं।
सभी एल.एल.एम. छात्र वकील हैं।

निष्कर्ष :

I. सभी वकील एल.एल.एम. छात्र हैं।
II. सभी इंजीनियर एम.टेक छात्र हैं।

Ans 1. न तो निष्कर्ष I और न ही निष्कर्ष II अनुसरण करता है।

2. केवल निष्कर्ष I अनुसरण करता है।

3. केवल निष्कर्ष II अनुसरण करता है।

4. निष्कर्ष I और II दोनों अनुसरण करते हैं।

Question ID : 65497830252

Status : Answered

Chosen Option : 1

Q.6 चार अक्षर-समूह दिए गए हैं, जिनमें से तीन किसी तरह से संगत हैं और एक असंगत है। उस अक्षर-समूह का चयन करें, जो अन्य से असंगत है।

Ans 1. PSVYB

2. NQTWA

3. DGJMP

4. TWZCF

Question ID : 65497830265

Status : Answered

Chosen Option : 2

Q.7 दिए गए पैटर्न का ध्यानपूर्वक अध्ययन करें, और उस संख्या का चयन करें जो इसमें प्रश्नवाचक चिह्न (?) के स्थान पर आ सकती है।

81 33 56

3 6 4

54 11 ?

Ans 1. 27

2. 28

3. 9

4. 14

Question ID : 65497830253

Status : Answered

Chosen Option : 2

Q.8 एक निश्चित कूट भाषा में, COACH को 90 लिखा जाता है और POST को 210 लिखा जाता है। उसी कूट भाषा में NOISE को किस प्रकार लिखा जाएगा?

- Ans
- 1. 186
 - 2. 158
 - 3. 168
 - 4. 124

Question ID : 65497830266
Status : Answered
Chosen Option : 1

Q.9 एक विशिष्ट कूट भाषा में, 'DESK' का कोड '@#+% ' और 'RAIN' का कोड '\$-x*' है। इस कूट भाषा में 'RISK' का कोड क्या होगा?

- Ans
- 1. #+%@
 - 2. S#%x
 - 3. \$x+%
 - 4. +-%

Question ID : 65497830251
Status : Answered
Chosen Option : 3

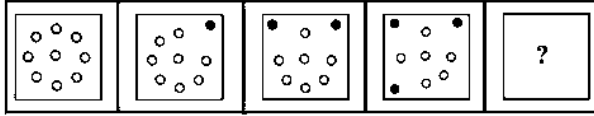
Q.10 दिए गए विकल्पों में से उस अक्षर-समूह का चयन करें, जो निम्नलिखित श्रृंखला में प्रश्नवाचक चिन्ह (?) के स्थान पर आ सकता है।

BKR, DNV, FQZ, ?, JWH

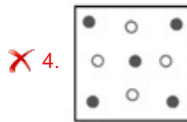
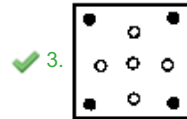
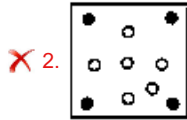
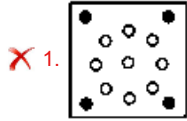
- Ans
- 1. THE
 - 2. HUD
 - 3. HTD
 - 4. HSC

Question ID : 65497830261
Status : Answered
Chosen Option : 3

Q.11 निम्न आकृति-श्रृंखला में प्रश्नवाचक चिह्न (?) के स्थान पर कौन-सी आकृति आएगी?



Ans



Question ID : 65497830247

Status : Answered

Chosen Option : 3

Q.12 बारह दोस्त दो समांतर रेखाओं में बैठे हुए हैं। हर पंक्ति में 6-6 लोग बैठे हुए हैं और उनका चेहरा दूसरी पंक्ति में बैठे लोगों की तरफ है। पंक्ति 1 में, A, B, C, D, E और F बैठे हुए हैं और उन सभी का चेहरा उत्तर दिशा की ओर है। पंक्ति 2 में, O, P, Q, R, S और T बैठे हुए हैं और उन सभी का चेहरा दक्षिण दिशा की ओर है, लेकिन यह आवश्यक नहीं है कि वे इसी क्रम में हों। C, B के दाईं ओर से तीसरे स्थान पर है। C, E या A के बगल में नहीं है। P, S के दाईं ओर तीसरे स्थान पर है। किसी भी पंक्ति के बिल्कुल अंत में न तो P और न ही S बैठा है। F का चेहरा O की ओर है जो T के दाईं ओर दूसरे स्थान पर है और T, S के बगल में नहीं है। Q और T के बीच में केवल दो लोग बैठे हुए हैं। A का चेहरा R की ओर नहीं है। निम्नलिखित में से कौन-सा युग्म पंक्तियों के छोरों पर बैठा हुआ है?

Ans ✗ 1. SB, PC

✗ 2. RB, TC

✓ 3. RE, TC

✗ 4. SA, PD

Question ID : 65497830256

Status : Answered

Chosen Option : 2

Q.13 नीता, विनीता, सत्या, कामिनी, दिव्या और अल्पा एक वृत्ताकार मेज के चारों ओर मेज के केंद्र की ओर मुख करके बैठी हैं। अल्पा, विनीता के दाईं ओर ठीक बगल में बैठी है। कामिनी, नीता और सत्या के बीच में बैठी है। दिव्या, नीता और विनीता के बीच में बैठी है। सत्या के बाईं ओर तीसरे स्थान पर कौन बैठी है?

- Ans
- 1. विनीता
 - 2. अल्पा
 - 3. दिव्या
 - 4. नीता

Question ID : 65497830263
Status : Answered
Chosen Option : 3

Q.14 दिए गए विकल्पों में से उस संख्या का चयन कीजिए, जो निम्नलिखित श्रेणी में प्रश्नवाचक चिन्ह (?) के स्थान पर आ सकती है।

14, 33, 71, 147, 299, ?

- Ans
- 1. 603
 - 2. 612
 - 3. 493
 - 4. 593

Question ID : 65497830267
Status : Answered
Chosen Option : 1

Q.15 उस विकल्प का चयन करें जो तीसरे अक्षर-समूह से उसी प्रकार संबंधित है जिस प्रकार दूसरा अक्षर-समूह पहले अक्षर-समूह से संबंधित है।

RKM : VFS :: PSQ : ?





- Ans
- 1. TMW
 - 2. SNW
 - 3. SNX
 - 4. TNW

Question ID : 65497830248
Status : Answered
Chosen Option : 4

Q.16 उस वेन आरेख का चयन कीजिए, जो निम्नलिखित वर्गों के बीच के संबंध को सर्वोत्तम ढंग से निरूपित करता है।

स्तनधारी, ज़ेबरा, पशु

Ans

- ✓ 1. 
- ✗ 2. 
- ✗ 3. 
- ✗ 4. 

Question ID : 65497830264

Status : Answered

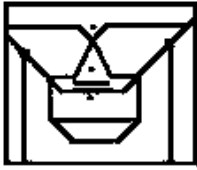
Chosen Option : 2

Q.17 उस विकल्प को चुनें जिसमें दी गई आकृति अंतःस्थापित है (घुमाने की अनुमति नहीं है)।



Ans

✗ 1.



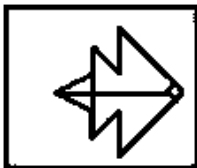
✓ 2.



✗ 3.



✗ 4.

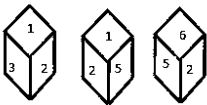


Question ID : 65497830260

Status : Answered

Chosen Option : 2

Q.18 एक ही पासे की तीन अलग-अलग स्थितियां दिखाई गई हैं। वह संख्या चुनें जो संख्या '4' वाले पृष्ठ के विपरीत पृष्ठ पर होगी।



Ans

✗ 1. 6

✓ 2. 2

✗ 3. 3

✗ 4. 1

Question ID : 65497830259

Status : Answered

Chosen Option : 2

Q.19 दिए गए संयोजन के सही दर्पण प्रतिबिंब का चयन कीजिए, जबकि दर्पण को इसकी दाईं ओर रखा गया है।

F R 4 P W 5

Ans

1. **5 W P 4 R F**
2. **5 M P 4 R F**
3. **5 W P 4 R F**
4. **5 W P 4 R F**

Question ID : 65497830268

Status : Answered

Chosen Option : 4

Q.20 एक निश्चित कूट भाषा में, 'SINGER' को 'TKROUX' के रूप में लिखा जाता है। उसी कूट भाषा में 'ROOKIE' को किस रूप में लिखा जाएगा?

Ans

1. SQRSYK
2. SQSSYK
3. SQSRYK
4. SQRRYK

Question ID : 65497830249

Status : Answered

Chosen Option : 2

Q.21 एक संख्या को उसके 4 गुने से घटाया जाता है, और फिर प्राप्त संख्या को उसकी (परिणामी संख्या की) अगली संख्या में जोड़ा जाता है। यदि इसका उत्तर 91 प्राप्त होता है, तो आरंभिक संख्या कितनी थी?

Ans

1. 13
2. 17
3. 14
4. 15

Question ID : 65497830254

Status : Answered

Chosen Option : 4

Q.22 C, B का भाई है और D, E के दादा/नाना हैं। B, D की बहू है और A, E के पिता हैं। C का E से क्या संबंध है?

Ans

1. चाचा
2. चाची
3. मामी
4. मामा

Question ID : 65497830250

Status : Answered

Chosen Option : 4

Q.23 वह विकल्प चुनें, जिसका तीसरी संख्या से ठीक वैसा ही संबंध है, जैसा कि दूसरी संख्या का संबंध पहली संख्या से है।

77 : 11 :: 259 : ?

- Ans
- 1. 29
 - 2. 37
 - 3. 43
 - 4. 31

Question ID : 65497830257
Status : Answered
Chosen Option : 2

Q.24 'नेफ्रोलॉजिस्ट' का 'गुर्दे' से वही संबंध है, जो 'कार्डियोलॉजिस्ट' का '_____' से है।

- Ans
- 1. हृदय
 - 2. फेफड़े
 - 3. पित्ताशय
 - 4. अग्न्याशय

Question ID : 65497830262
Status : Answered
Chosen Option : 1

Q.25 उस विकल्प का चयन कीजिए जिसमें निम्नलिखित शब्दों का वह क्रम दिया गया है जिस क्रम में वे अंग्रेज़ी शब्दकोश में आते हैं।

1. Uneventful
2. Uneconomical
3. Unexplained
4. Unexpected
5. Unemployment

- Ans
- 1. 3, 5, 1, 4, 2
 - 2. 2, 5, 3, 4, 1
 - 3. 2, 5, 1, 4, 3
 - 4. 2, 5, 1, 3, 4

Question ID : 65497830244
Status : Answered
Chosen Option : 3

Section : Part B General Knowledge and General Awareness

Q.1 राजनीतिज्ञ-लेखक एम वीरप्पा मोइली को उनकी _____ काव्य रचना 'श्री बाहुबली अहिंसादिग्विजयम' के लिए साहित्य अकादमी पुरस्कार 2020 से सम्मानित किया गया।

- Ans
- 1. तेलुगू
 - 2. तमिल
 - 3. मलयालम
 - 4. कन्नड़

Question ID : 65497830289
Status : Answered
Chosen Option : 1

Q.2 विक्रमशिला गंगा डॉल्फिन वन्यजीव अभयारण्य निम्नलिखित में से किस राज्य में स्थित है?

- Ans
- 1. उत्तर प्रदेश
 - 2. बिहार
 - 3. गोवा
 - 4. छत्तीसगढ़

Question ID : 65497830271
Status : Answered
Chosen Option : 1

Q.3 भारत में हिंदू उत्तराधिकार अधिनियम ने, ज्येष्ठाधिकार के नियम को कब समाप्त कर दिया था?

- Ans
- 1. 1956
 - 2. 1946
 - 3. 1960
 - 4. 1950

Question ID : 65497830280
Status : Answered
Chosen Option : 4

Q.4 भारतीय व्यापारियों और उद्योगपतियों द्वारा अपने व्यापारिक हितों को एक साझा मंच पर लाने के लिए भारतीय औद्योगिक और वाणिज्यिक कांग्रेस का गठन किस वर्ष किया गया था?

- Ans
- 1. 1934
 - 2. 1920
 - 3. 1909
 - 4. 1945

Question ID : 65497830272
Status : Answered
Chosen Option : 4

Q.5 सुतीर्थ मुखर्जी एक भारतीय _____ हैं।

- Ans
- 1. गोल्फर
 - 2. बैडमिंटन खिलाड़ी
 - 3. तैराक
 - 4. टेबल टेनिस खिलाड़ी

Question ID : 65497830290
Status : Answered
Chosen Option : 4

Q.6 थार के रेगिस्तान की सबसे लम्बी नदी निम्न में से कौन-सी है?

- Ans
- 1. लूनी
 - 2. चंबल
 - 3. झेलम
 - 4. सोन

Question ID : 65497830288
Status : Answered
Chosen Option : 2

Q.7 दिसंबर 2020 में विराट कोहली ने निम्न में से कौन सा पुरस्कार जीता?

- Ans
- 1. ICC मेन्स ODI क्रिकेटर ऑफ़ द डिकेड
 - 2. ICC मेन्स टेस्ट क्रिकेटर ऑफ़ द डिकेड
 - 3. ICC स्पिरिट ऑफ़ क्रिकेट अवार्ड ऑफ़ द डिकेड
 - 4. ICC मेन्स T20 क्रिकेटर ऑफ़ द डिकेड

Question ID : 65497830292
Status : Answered
Chosen Option : 1

Q.8 निम्नलिखित में से कौन सा मंगलुरु स्थित मंदिर भगवान शिव के एक अवतार को समर्पित है?

- Ans
- 1. अनंत वासुदेव मंदिर
 - 2. गुंडिचा मंदिर
 - 3. मुक्तेश्वर मंदिर
 - 4. कादरी मंजुनाथ मंदिर

Question ID : 65497830287
Status : Answered
Chosen Option : 4

Q.9 यस बैंक के संस्थापक कौन हैं?

- Ans
- 1. राहुल कुमार
 - 2. राजेश कपूर
 - 3. राणा कपूर
 - 4. प्रशांत कुमार

Question ID : 65497830274
Status : Answered
Chosen Option : 4

Q.10 निम्नलिखित में से कौन सा कथन गलत है?

- Ans
- 1. अमाशय से भोजन छोटी आंत में प्रवेश करता है।
 - 2. लार में सलाइवरी लाइपेज नामक एक एंजाइम होता है जो स्टार्च को सरल शर्करा में विघटित करता है।
 - 3. भोजन ग्रासनली (इसोफेगस) के माध्यम से अमाशय में प्रवेश करता है।
 - 4. कार्बोहाइड्रेट, प्रोटीन और वसा का पूर्ण पाचन छोटी आंत में ही होता है।

Question ID : 65497830282
Status : Answered
Chosen Option : 2

Q.11 निम्नलिखित में से किसने स्वतंत्र अवध वंश की नींव रखी?

- Ans
- 1. सआदत खाँ
 - 2. मार्तंड वर्मा
 - 3. चिकिलिच खाँ
 - 4. हैदर अली

Question ID : 65497830276
Status : Answered
Chosen Option : 1

Q.12 नवंबर 2020 में निम्नलिखित में से किसे बिहार विधानसभा का अध्यक्ष चुना गया?

- Ans
- 1. जीतन राम मांझी
 - 2. अवध बिहारी चौधरी
 - 3. विजय कुमार सिन्हा
 - 4. प्रेम कुमार

Question ID : 65497830273
Status : Answered
Chosen Option : 3

Q.13 संविधान की प्रस्तावना में इनमें से कौन सा शब्द, भारत को पूर्ण राजनीतिक स्वतंत्रता और सर्वोच्च शक्ति वाले देश के रूप में वर्णित करता है?

- Ans
- 1. लोकतांत्रिक
 - 2. धर्मनिरपेक्ष
 - 3. संप्रभु
 - 4. समाजवादी

Question ID : 65497830285
Status : Answered
Chosen Option : 3

Q.14 कुतुबमीनार के पांचवें तल का निर्माण निम्न में से किसके शासनकाल के दौरान किया गया था?

- Ans
- 1. इल्तुतमिश
 - 2. रज़िया सुल्तान
 - 3. फ़िरोज़ शाह तुग़लक़
 - 4. मोहम्मद-बिन-तुग़लक़

Question ID : 65497830275
Status : Answered
Chosen Option : 3

Q.15 'वन नेशन, वन टैक्स, वन मार्केट' के लक्ष्य को प्राप्त करने के लिए भारत में इनमें से कौन सा कर पेश किया गया था?

- Ans
- 1. प्रतिभूति लेनदेन कर
 - 2. केंद्रीय उत्पाद शुल्क
 - 3. वस्तु एवं सेवा कर
 - 4. सीमा शुल्क

Question ID : 65497830293
Status : Answered
Chosen Option : 3

Q.16 'द कॉमनवेल्थ ऑफ क्रिकेट: ए लाइफलाँग लव अफेयर विथ मोस्ट सटल एंड सॉफिस्टिकेटेड गेम नोन टू ह्यूमनकाईड' _____ द्वारा लिखित एक पुस्तक है।

- Ans
- 1. डायना एडलजी
 - 2. रामचंद्र गुहा
 - 3. विनोद राय
 - 4. विक्रम लिमये

Question ID : 65497830284
Status : Answered
Chosen Option : 2

Q.17 नवंबर 2020 में सब्जियों और फूलों के लिए इंडो-डच सेंटर ऑफ़ एक्सीलेंस (CoE) किस राज्य में खोला गया था?

- Ans
- 1. गुजरात
 - 2. तेलंगाना
 - 3. पंजाब
 - 4. केरल

Question ID : 65497830278
Status : Answered
Chosen Option : 3

Q.18 हीमोग्लोबिन की कमी के कारण निम्न में से कौन सा रोग होता है?

- Ans
- 1. एनीमिया
 - 2. मलेरिया
 - 3. हैजा
 - 4. रेबीज

Question ID : 65497830270
Status : Answered
Chosen Option : 1

Q.19 स्वाद संबंधी अभिग्राहक मानव शरीर के किस अंग में होते हैं?

- Ans
- 1. आंखें
 - 2. नाक
 - 3. त्वचा
 - 4. जीभ

Question ID : 65497830283
Status : Answered
Chosen Option : 4

Q.20 भारत के कुछ हिस्सों में किसान अपने _____ की पूजा करके पोला त्योहार मनाते हैं।

- Ans
- 1. बेल
 - 2. खेत
 - 3. खेती के औजार
 - 4. पूर्वजों

Question ID : 65497830281
Status : Answered
Chosen Option : 1

Q.21 निम्नलिखित में से कौन 31 अगस्त 2021 को भारत के उच्चतम न्यायालय के न्यायाधीशों के रूप में शपथ लेने वाली महिला न्यायाधीशों में शामिल नहीं थी?

- Ans
- 1. जस्टिस इंदिरा बनर्जी
 - 2. जस्टिस बेला एम त्रिवेदी
 - 3. जस्टिस बीवी नागरत्न
 - 4. जस्टिस हिमा कोहली

Question ID : 65497830286
Status : Answered
Chosen Option : 4

Q.22 '_____'; बांस उत्पादों को प्रदर्शित करने के लिए राष्ट्रीय बांस मिशन और गवर्नमेंट ई-मार्केटप्लेस (GeM) की एक पहल है।

- Ans
- 1. इंडियन गोल्ड कलेक्शन
 - 2. ग्रीन वुड कलेक्शन
 - 3. ग्रीन गोल्ड कलेक्शन
 - 4. इंडियन बम्बू कलेक्शन

Question ID : 65497830291
Status : Answered
Chosen Option : 4

Q.23 प्रथम ओलंपिक कांग्रेस का आयोजन वर्ष 1894 में _____ में किया गया था।

- Ans
- 1. ओस्लो
 - 2. लंदन
 - 3. पेरिस
 - 4. स्टॉकहोम

Question ID : 65497830269
Status : Answered
Chosen Option : 1

Q.24 भारत के संविधान का अनुच्छेद 76 किससे संबंधित है?

- Ans
- 1. भारत के महान्यायवादी
 - 2. प्रशासनिक अधिकरण
 - 3. सर्वोच्च न्यायालय
 - 4. चुनाव आयोग

Question ID : 65497830277
Status : Answered
Chosen Option : 1

Q.25 _____ एक जोखिम प्रबंधन रणनीति है जो संबंधित परिसंपत्ति में विपरीत स्थिति लेकर निवेश में नुकसान की भरपाई करने के लिए नियोजित है।

- Ans
- 1. बचाव-व्यवस्था
 - 2. संपार्श्विक
 - 3. मापनीयता
 - 4. ऋण-परिशोधन

Question ID : 65497830279
Status : Answered
Chosen Option : 4

Section : Part C Elementary Mathematics

Q.1 एक निश्चित धन-राशि पर 5% वार्षिक ब्याज दर पर 2 वर्षों के चक्रवृद्धि ब्याज और साधारण ब्याज के बीच अंतर ₹152 है। वह धन-राशि कितनी (₹ में) है?

- Ans
- 1. 60,800
 - 2. 10,500
 - 3. 50,500
 - 4. 60,000

Question ID : 65497830317
Status : Answered
Chosen Option : 1

Q.2 A एक निश्चित कार्य को 20 दिनों में कर सकता है। B, A से 25% अधिक कार्यकुशल है, और C, B से 20% अधिक कार्यकुशल है। A और C, एक साथ 5 दिनों तक कार्य करते हैं। B अकेले शेष कार्य को कितने दिनों में पूरा करेगा?

- Ans
- 1. 5 दिन
 - 2. 6 दिन
 - 3. 9 दिन
 - 4. 8 दिन

Question ID : 65497830313
Status : Answered
Chosen Option : 2

Q.3 रघु और रमन एक निश्चित बराबर दूरी को तय करने के लिए क्रमशः 10 km/h और 8 km/h की चाल से एक साथ चलना शुरू करते हैं। रघु, रमन से 30 मिनट पहले पहुँच जाता है। आरंभिक बिंदु और अंतिम बिंदु के बीच की दूरी ज्ञात करें।

- Ans
- 1. 24 km
 - 2. 20 km
 - 3. 25 km
 - 4. 28 km

Question ID : 65497830299
Status : Answered
Chosen Option : 2

Q.4 एक वस्तु का अंकित मूल्य ₹450 है। इसे 10%, x %, और 20% की तीन क्रमिक छूटों के बाद ₹267.30 में बेचा जाता है। x का मान ज्ञात कीजिए।

- Ans
- 1. 16.5
 - 2. 17.5
 - 3. 19
 - 4. 18

Question ID : 65497830311
Status : Answered
Chosen Option : 2

Q.5 शांत जल में एक नाव की चाल 10 km/h है। नाव द्वारा धारा की दिशा में 35 km जाने में लगा समय, धारा की विपरीत दिशा में 14 km जाने में लगने वाले समय का 1.25 गुना है। धारा की दिशा में 60 km जाने में कितना समय (घंटे में) लगेगा?

- Ans
- 1. 3
 - 2. 4
 - 3. 4.5
 - 4. 3.5

Question ID : 65497830314
Status : Answered
Chosen Option : 3

Q.6 $75 \div 30 - \frac{3}{4} \text{ of } \left(\frac{5}{7} \div \frac{9}{14} \right) - \left(3\frac{1}{3} - 1\frac{2}{3} \right)$ का मान कितना होगा?

- Ans
- 1. 1
 - 2. 0
 - 3. 10
 - 4. 5

Question ID : 65497830298
Status : Answered
Chosen Option : 2

Q.7 एक समूह में 24 व्यक्तियों का औसत भार 72 kg है। यदि 78 kg औसत भार वाले 3 व्यक्ति समूह से निकल जाते हैं और 75 kg औसत भार वाले 4 व्यक्ति समूह में शामिल हो जाते हैं, तो अब समूह में व्यक्तियों का औसत भार (kg में) कितना होगा?

- Ans
- ✓ 1. 71.76
 - ✗ 2. 67.8
 - ✗ 3. 67.74
 - ✗ 4. 66.5

Question ID : 65497830306
Status : Answered
Chosen Option : 1

Q.8 10 cm त्रिज्या वाले 12 गोलाकार गेंदों को ऊपर तक पानी से भरी हुई बाल्टी में डुबोया जाता है। बाहर निकले हुए पानी को 20 cm त्रिज्या वाले एक बेलनाकार जार में एकत्र किया जाता है। जार में पानी की ऊंचाई (cm में) कितनी है? ($\pi = \frac{22}{7}$ लें)

- Ans
- ✗ 1. 32
 - ✓ 2. 40
 - ✗ 3. 18
 - ✗ 4. 45

Question ID : 65497830297
Status : Answered
Chosen Option : 2

Q.9 एक वस्तु के अंकित मूल्य पर 10% और 5% की क्रमिक छूट देने के बाद, वह ₹3,420 में बिकी। वस्तु का अंकित मूल्य ज्ञात कीजिए।

- Ans
- ✗ 1. ₹6,000
 - ✗ 2. ₹4,400
 - ✓ 3. ₹4,000
 - ✗ 4. ₹5,000

Question ID : 65497830301
Status : Answered
Chosen Option : 3

Q.10 क्रमशः 6 cm, 8 cm और 10 cm भुजाओं वाले तीन ठोस धात्विक घनों को पिघलाकर एक नया ठोस घन बनाया गया। नये ठोस घन की भुजा का माप (cm में) ज्ञात कीजिए।

- Ans
- ✗ 1. 9
 - ✗ 2. 12.5
 - ✓ 3. 12
 - ✗ 4. 8

Question ID : 65497830318
Status : Answered
Chosen Option : 3

Q.11 एक वस्तु को ₹170 में बेचने पर एक व्यक्ति को 15% की हानि होती है। यदि वह इसे ₹206.40 में बेचे तो उसे कितने प्रतिशत लाभ या हानि होगी?

- Ans
- 1. हानि, 3.2%
 - 2. हानि, 1.6%
 - 3. लाभ, 1.6%
 - 4. लाभ, 3.2%

Question ID : 65497830309
Status : Answered
Chosen Option : 4

Q.12 किसी निश्चित राशि पर 8% की वार्षिक ब्याज दर से 2 वर्षों में प्राप्त होने वाले चक्रवृद्धि ब्याज और साधारण ब्याज के बीच का अंतर ₹144 है। वह राशि (₹ में) कितनी है?

- Ans
- 1. 24,500
 - 2. 40,000
 - 3. 20,500
 - 4. 22,500

Question ID : 65497830295
Status : Answered
Chosen Option : 4

Q.13 एक निश्चित धनराशि, साधारण ब्याज पर 2 वर्ष में ₹8,640 और 3 वर्ष में ₹9,720 हो जाती है। धनराशि (₹ में) और वार्षिक ब्याज दर क्रमशः कितनी हैं?

- Ans
- 1. ₹6,480 और 15%
 - 2. ₹6,450 और $16\frac{2}{3}\%$
 - 3. ₹6,450 और 15%
 - 4. ₹6,480 और $16\frac{2}{3}\%$

Question ID : 65497830308
Status : Answered
Chosen Option : 4

Q.14 किसी वस्तु के अंकित मूल्य पर 12.5% की छूट देते हुए कोई दुकानदार इसे ₹805 में बेचता है। यदि उसने यह छूट ना दी होती तो उसे इस पर 15% का लाभ प्राप्त होता। वस्तु का क्रय मूल्य (₹ में) कितना है?

- Ans
- 1. 780
 - 2. 750
 - 3. 800
 - 4. 700

Question ID : 65497830315
Status : Answered
Chosen Option : 3

Q.15 A और B की आय का अनुपात 4 : 5 और उनके व्ययों का अनुपात 2 : 3 है। यदि A और B क्रमशः ₹7,200 और ₹6,000 की बचत करते हैं, तो A की आय (₹ में) कितनी है?

- Ans
- 1. 24,000
 - 2. 18,000
 - 3. 19,200
 - 4. 20,000

Question ID : 65497830307
Status : Answered
Chosen Option : 3

Q.16 सीमा आयु में, सीमा से 8 वर्ष छोटी है। यदि 4 वर्ष पहले, उनकी आयु का अनुपात 1 : 2 था, तो अब से 6 वर्ष बाद, सीमा की आयु (वर्षों में) कितनी होगी?

- Ans
- 1. 24
 - 2. 18
 - 3. 20
 - 4. 12

Question ID : 65497830296
Status : Answered
Chosen Option : 2

Q.17 दो संख्याओं m और n का योग 84 ($m > n$) है और उनका अंतर 6 है। इन दोनों संख्याओं का अनुपात ज्ञात कीजिए।

- Ans
- 1. 15 : 13
 - 2. 4 : 3
 - 3. 17 : 15
 - 4. 9 : 8

Question ID : 65497830316
Status : Answered
Chosen Option : 1

Q.18 एक ट्रेन की चाल 110 km/h है। यह 20% बढ़ जाती है और फिर ट्रेन एकसमान चाल से चलती है। ट्रेन चालक 'गति कम करो' का संकेत देखता है, इसलिए वह उस समय की ट्रेन की चाल को 40% कम कर देता है। ट्रेन की अंतिम चाल (km/h में, दशमलव के एक स्थान तक सही) कितनी है?

- Ans
- 1. 79.2
 - 2. 69.2
 - 3. 66.5
 - 4. 75.5

Question ID : 65497830312
Status : Answered
Chosen Option : 1

Q.19 $[6 + 3 \text{ of } 7 - 5] \div 2 \text{ of } 11$ का मान कितना है?

- Ans
- 1. 22
 - 2. 1
 - 3. 11
 - 4. 121

Question ID : 65497830300
Status : Answered
Chosen Option : 2

Q.20 एक समूह में 56 छात्रों का औसत वजन 55 kg है। यदि 60 kg औसत वजन वाले 12 छात्र इस समूह से निकल जाते हैं और 52.5 kg औसत वजन वाले 6 छात्र इस समूह में शामिल हो जाते हैं, तो समूह में शेष बचे छात्रों के औसत वजन में हुई कमी ज्ञात कीजिए।

- Ans
- 1. 2.5 kg
 - 2. 1.5 kg
 - 3. 1.8 kg
 - 4. 2 kg

Question ID : 65497830310
Status : Answered
Chosen Option : 2

Q.21 एक संख्या में 25% की कमी की जाती है और फिर 25% की वृद्धि की जाती है। उसमें हुई शुद्ध प्रतिशत वृद्धि या प्रतिशत कमी ज्ञात करें।

- Ans
- 1. 2.5% कमी
 - 2. 4% कमी
 - 3. $3\frac{2}{3}$ % वृद्धि
 - 4. $6\frac{1}{4}$ % कमी

Question ID : 65497830304
Status : Answered
Chosen Option : 4

Q.22 P ने Q को एक लैम्प 20% के लाभ पर बेचा। बाद में, Q ने उसी लैम्प को 30% के लाभ पर P को बेच दिया, जिससे उसे ₹108 का लाभ मिला। P ने मूल रूप से लैम्प के लिए कितना भुगतान (₹ में) किया था?

- Ans
- 1. 300
 - 2. 280
 - 3. 330
 - 4. 320

Question ID : 65497830294
Status : Answered
Chosen Option : 1

Q.23 सोनी और गीता एक साथ मिलकर किसी कार्य को 8 h में पूरा कर सकती हैं और आरती अकेले उस कार्य को 12 h में पूरा कर सकती हैं। गीता अकेले उस कार्य को कितने घंटे (h) में पूरा कर सकती है?

- Ans
- 1. 48
 - 2. 12
 - 3. 14
 - 4. 24

Question ID : 65497830302
Status : Answered
Chosen Option : 4

Q.24 x , 1420 और 1780 के बीच आने वाली वह संख्या है जिसे 10, 15, 24 और 32 से विभाजित करने पर प्रत्येक स्थिति में शेषफल 7 प्राप्त होता है। x के अंकों का योग कितना होगा?

- Ans
- 1. 22
 - 2. 16
 - 3. 13
 - 4. 19

Question ID : 65497830305
Status : Answered
Chosen Option : 2

Q.25 15 मीटर और 12 मीटर भुजाओं वाले कमरे के फर्श को पक्का करने के लिए आवश्यक वर्गाकार टाइलों की न्यूनतम संख्या ज्ञात करें।

- Ans
- 1. 16
 - 2. 15
 - 3. 20
 - 4. 60

Question ID : 65497830303
Status : Answered
Chosen Option : 4

Section : Part D English

Q.1 Select the most appropriate ANTONYM of the given word.

Vulnerable

- Ans
- 1. Sensitive
 - 2. Tender
 - 3. Breakable
 - 4. Secure

Question ID : 65497830336
Status : Not Answered
Chosen Option : --

Q.2 The following sentence has been split into four segments. Identify the segment that contains a grammatical error.

The lady was furious / to see that no one / were wearing masks / on the road near the shop.

- Ans**
- 1. The lady was furious
 - 2. were wearing masks
 - 3. on the road near the shop
 - 4. to see that no one

Question ID : 65497830320
Status : Not Answered
Chosen Option : --

Q.3 Select the most appropriate meaning of the given idiom.

Drop names

- Ans**
- 1. Delete someone's name from a list
 - 2. Name famous people to impress others
 - 3. Show disrespect to someone's name
 - 4. Assume a false name

Question ID : 65497830337
Status : Not Answered
Chosen Option : --

Q.4 Select the most appropriate synonym of the given word.

Stun

- Ans**
- 1. Trick
 - 2. Jest
 - 3. Joke
 - 4. Shock

Question ID : 65497830321
Status : Not Answered
Chosen Option : --

Q.5 Select the option that will improve the underlined part of the given sentence. In case no improvement is needed, select 'No improvement required'.

The movie theatre is a excited place where people can relax and enjoy the experience.

- Ans**
- 1. No improvement required
 - 2. exciting
 - 3. an exciting
 - 4. the excited

Question ID : 65497830338
Status : Not Answered
Chosen Option : --

Q.6 Select the most appropriate option to fill in the blank.

Teams from all over India _____ in the talent show.

- Ans
- 1. provided
 - 2. participated
 - 3. produced
 - 4. prohibited

Question ID : 65497830328
Status : Not Answered
Chosen Option : --

Q.7 The following sentence has been split into four segments. Identify the segment that contains a grammatical error.

The education of girls / is a primary concern for the country, / so it should be started early, / isn't it?

- Ans
- 1. The education of girls
 - 2. isn't it
 - 3. so it should be started early
 - 4. is a primary concern for the country

Question ID : 65497830319
Status : Not Answered
Chosen Option : --

Q.8 Select the INCORRECTLY spelt word.

- Ans
- 1. Collection
 - 2. Consolidation
 - 3. Coressponding
 - 4. Complaint

Question ID : 65497830324
Status : Not Answered
Chosen Option : --

Q.9 The following sentence has been split into four segments. Identify the segment that contains a grammatical error.

The president forced / to leave the country / when the people rose up against / the government.

- Ans
- 1. to leave the country
 - 2. the government
 - 3. The president forced
 - 4. when the people rose up against

Question ID : 65497830330
Status : Not Answered
Chosen Option : --

Q.10 Select the most appropriate option to fill in the blank.

For a member to borrow money from the association, three _____ need to be met.

- Ans
- 1. accounts
 - 2. conditions
 - 3. points
 - 4. restrictions

Question ID : 65497830334
Status : Not Answered
Chosen Option : --

Q.11 Select the most appropriate synonym of the given word.

Defy

- Ans
- 1. Destroy
 - 2. Abide
 - 3. React
 - 4. Disobey

Question ID : 65497830331
Status : Not Answered
Chosen Option : --

Q.12 Select the option that can be used as a one-word substitute for the given group of words.

Release someone from a duty or obligation

- Ans
- 1. Banish
 - 2. Exonerate
 - 3. Dismiss
 - 4. Expel

Question ID : 65497830323
Status : Not Answered
Chosen Option : --

Q.13 Select the option that will improve the underlined part of the given sentence. In case no improvement is needed, select 'No improvement required'.

Unless we sat in an incorrect posture, we may strain our back.

- Ans
- 1. Although we are sitting
 - 2. Until we sit
 - 3. No improvement required
 - 4. If we sit

Question ID : 65497830327
Status : Not Answered
Chosen Option : --

Q.14 Select the option that can be used as a one-word substitute for the given group of words.

An object through which we cannot see at all

- Ans** 1. Opaque
 2. Transparent
 3. Translucent
 4. Crystal

Question ID : 65497830326
Status : Not Answered
Chosen Option : --

Q.15 Select the INCORRECTLY spelt word.

- Ans** 1. Recession
 2. Remission
 3. Precission
 4. Omission

Question ID : 65497830333
Status : Not Answered
Chosen Option : --

Q.16 Select the most appropriate ANTONYM of the given word.

Alert

- Ans** 1. Ready
 2. Careless
 3. Active
 4. Aware

Question ID : 65497830322
Status : Not Answered
Chosen Option : --

Q.17 Select the option that will improve the underlined part of the sentence. In case no improvement is needed, select 'No improvement required'.

The decision to become a doctor is completely hers.

- Ans** 1. No improvement required
 2. is completely her
 3. is complete her's
 4. are completely her

Question ID : 65497830325
Status : Not Answered
Chosen Option : --

Q.18 Select the most appropriate meaning of the given idiom.

To beat around the bush

- Ans
- 1. To discuss the main topic
 - 2. To avoid the main issue
 - 3. To avoid noticing someone
 - 4. To explain something in detail

Question ID : 65497830329
Status : Not Answered
Chosen Option : --

Q.19 Select the option that can be used as a one-word substitute for the given group of words.

Imitate someone's action or words in order to entertain or ridicule

- Ans
- 1. Repeat
 - 2. Duplicate
 - 3. Copy
 - 4. Mimic

Question ID : 65497830332
Status : Not Answered
Chosen Option : --

Q.20 Select the most appropriate option to fill in the blank.

The socio-economic policy has been the _____ of much debate.

- Ans
- 1. subject
 - 2. talk
 - 3. object
 - 4. concept

Question ID : 65497830335
Status : Not Answered
Chosen Option : --

Comprehension:

In the following passage, some words have been deleted. Read the passage carefully and select the most appropriate option to fill in each blank.

You should elect me as Class President as I think that everyone's (1)_____ matters. I am a confident speaker and have won prizes (2)_____ public speaking. I will make sure that the school council (3)_____ to us. When people come to me with problems, I (4) _____listen carefully. I never judge people who come to me for (5)_____. You can count on me for help.

SubQuestion No : 21

Q.21 Select the most appropriate option to fill in blank no.1.

- Ans
- 1. estimate
 - 2. opinion
 - 3. theorem
 - 4. reaction

Question ID : 65497830340
Status : Not Answered
Chosen Option : --

Comprehension:

In the following passage, some words have been deleted. Read the passage carefully and select the most appropriate option to fill in each blank.

You should elect me as Class President as I think that everyone's (1)_____ matters. I am a confident speaker and have won prizes (2)_____ public speaking. I will make sure that the school council (3)_____ to us. When people come to me with problems, I (4) _____listen carefully. I never judge people who come to me for (5)_____. You can count on me for help.

SubQuestion No : 22

Q.22 Select the most appropriate option to fill in blank no.2.

- Ans
- 1. on
 - 2. by
 - 3. of
 - 4. for

Question ID : 65497830341
Status : Not Answered
Chosen Option : --

Comprehension:

In the following passage, some words have been deleted. Read the passage carefully and select the most appropriate option to fill in each blank.

You should elect me as Class President as I think that everyone's (1)_____ matters. I am a confident speaker and have won prizes (2)_____ public speaking. I will make sure that the school council (3)_____ to us. When people come to me with problems, I (4) _____listen carefully. I never judge people who come to me for (5)_____. You can count on me for help.

SubQuestion No : 23

Q.23 Select the most appropriate option to fill in blank no.3.

- Ans
- 1. believes
 - 2. hears
 - 3. listens
 - 4. accepts

Question ID : 65497830342
Status : Not Answered
Chosen Option : --

Comprehension:

In the following passage, some words have been deleted. Read the passage carefully and select the most appropriate option to fill in each blank.

You should elect me as Class President as I think that everyone's (1)_____ matters. I am a confident speaker and have won prizes (2)_____ public speaking. I will make sure that the school council (3)_____ to us. When people come to me with problems, I (4) _____listen carefully. I never judge people who come to me for (5)_____. You can count on me for help.

SubQuestion No : 24

Q.24 Select the most appropriate option to fill in blank no.4.

- Ans** 1. always
 2. barely
 3. seldom
 4. never

Question ID : 65497830343
Status : Not Answered
Chosen Option : --

Comprehension:

In the following passage, some words have been deleted. Read the passage carefully and select the most appropriate option to fill in each blank.

You should elect me as Class President as I think that everyone's (1)_____ matters. I am a confident speaker and have won prizes (2)_____ public speaking. I will make sure that the school council (3)_____ to us. When people come to me with problems, I (4) _____listen carefully. I never judge people who come to me for (5)_____. You can count on me for help.

SubQuestion No : 25

Q.25 Select the most appropriate option to fill in blank no.5.

- Ans** 1. advice
 2. news
 3. caution
 4. lesson

Question ID : 65497830344
Status : Not Answered
Chosen Option : --

Section : **Part D Hindi**

Q.1 दिए गए शब्द के विलोम शब्द का चयन करें-

सहित

- Ans** 1. असीम
 2. विहीन
 3. विमुख
 4. असहित

Question ID : 65497830347
Status : Answered
Chosen Option : 2

Q.2 'पाँव उखड़ना' मुहावरे का सही अर्थ है-

- Ans
- 1. हारकर भाग जाना
 - 2. आत्मसमर्पण करना
 - 3. घायल होना
 - 4. गिर पड़ना

Question ID : 65497830362
Status : Answered
Chosen Option : 3

Q.3 दिए गए वाक्य का वह भाग ज्ञात करें जिसमें कोई त्रुटि है। यदि कोई त्रुटि नहीं है, तो 'कोई त्रुटि नहीं है' चुनें।

नदियों के (1)/ बाढ़ ने (2)/ तबाही मचा दी है (3)/ कोई त्रुटि नहीं है (4)

- Ans
- 1. 3
 - 2. 2
 - 3. 1
 - 4. 4

Question ID : 65497830351
Status : Answered
Chosen Option : 2

Q.4 निम्न चार विकल्पों में से, उस विकल्प का चयन करें जो दिए गये मुहावरे का अर्थ व्यक्त करता है-

चटनी हो जाना

- Ans
- 1. बहुत जल्द खर्च हो जाना
 - 2. बर्बाद हो जाना
 - 3. कुचल जाना
 - 4. पिस जाना

Question ID : 65497830348
Status : Answered
Chosen Option : 4

Q.5 दिये गये वाक्य के किस भाग में त्रुटि है?

इस ग्रंथ की इतिहासिकता अत्यंत संदिग्ध है।

- Ans
- 1. अत्यंत
 - 2. इस ग्रंथ
 - 3. की इतिहासिकता
 - 4. संदिग्ध है।

Question ID : 65497830358
Status : Answered
Chosen Option : 3

Q.6 दिए गये वाक्यांश के लिए एक शब्द दीजिये-

किसी के पीछे-पीछे चलने वाला

- Ans
- 1. अनुकरणीय
 - 2. सहचर
 - 3. अनुज
 - 4. अनुगामी

Question ID : 65497830349
Status : Answered
Chosen Option : 4

Q.7 निम्नलिखित में से शुद्ध वर्तनी वाला शब्द कौन सा है?

- Ans
- 1. तिरश्कार
 - 2. तीरस्कार
 - 3. तिरस्कार
 - 4. तिरष्कार

Question ID : 65497830356
Status : Answered
Chosen Option : 3

Q.8 'गिरि' का पर्यायवाची है-

- Ans
- 1. आकाश
 - 2. धरती
 - 3. पर्वत
 - 4. बादल

Question ID : 65497830359
Status : Answered
Chosen Option : 3

Q.9 दिए गए वाक्य का वह भाग ज्ञात करें जिसमें कोई त्रुटि है। यदि कोई त्रुटि नहीं है, तो 'कोई त्रुटि नहीं है' विकल्प को चुनें।

मालिन ने माला गूँथ लिया।

- Ans
- 1. कोई त्रुटि नहीं
 - 2. माला
 - 3. मालिन ने
 - 4. गूँथ लिया

Question ID : 65497830345
Status : Answered
Chosen Option : 4

Q.10 'जिसे त्याग देना उचित हो' वाक्यांश के लिए एक शब्द होगा-

- Ans 1. त्याज्य
 2. वांछनीय
 3. त्यागी
 4. त्यागपत्र

Question ID : 65497830363
Status : Answered
Chosen Option : 1

Q.11 दिए गए शब्द के समानार्थी शब्द का चयन करें।

घृणा

- Ans 1. नफ़रत
 2. करी
 3. रिपु
 4. चाय

Question ID : 65497830346
Status : Answered
Chosen Option : 1

Q.12 दिये गये वाक्य में रेखांकित अंश को प्रतिस्थापित करने के लिए सबसे उपयुक्त विकल्प का चयन करें।

सैनिकों ने देश को भारी संकट से रोक दिया।

- Ans 1. बचा लिया।
 2. भगा दिया
 3. रोक लिया।
 4. हटा दिया।

Question ID : 65497830361
Status : Answered
Chosen Option : 1

Q.13 रिक्त स्थान की पूर्ति के लिए सबसे उपयुक्त विकल्प का चयन करें।

धमकी देते हुए बदमाश लोगों को _____ रहा था।

- Ans 1. ताक
 2. देख
 3. घूर
 4. झाँक

Question ID : 65497830364
Status : Answered
Chosen Option : 3

Q.14 दिए गए शब्द का विलोम चुनें।

मधुर

- Ans
- 1. अम्ल
 - 2. कटु
 - 3. लवण
 - 4. तिक्त

Question ID : 65497830353
Status : Answered
Chosen Option : 2

Q.15 दिये गये वाक्य में रेखांकित अंश को प्रतिस्थापित करने के लिए सबसे उपयुक्त विकल्प का चयन करें।

भारत एक ताकतवर देश है।

- Ans
- 1. दुर्बल
 - 2. शक्तिशाली
 - 3. अविकसित
 - 4. प्रभावशाली

Question ID : 65497830360
Status : Answered
Chosen Option : 2

Q.16 रिक्त स्थान की पूर्ति के लिए सबसे उपयुक्त शब्द का चयन करें।

आजकल वहाँ काफी सरगर्मी _____ है।

- Ans
- 1. दृष्टिकोण
 - 2. वायवीय
 - 3. दिखती
 - 4. संभावित

Question ID : 65497830355
Status : Answered
Chosen Option : 3

Q.17 दिये गये वाक्यांश के लिए एक शब्द दीजिये।

मध्य रात्रि का समय

- Ans
- 1. उषाकाल
 - 2. विभावरी
 - 3. निशीथ
 - 4. प्रदोष

Question ID : 65497830354
Status : Answered
Chosen Option : 3

Q.18 निम्नलिखित में से शुद्ध वर्तनी वाला शब्द कौन सा है?

- Ans 1. उज्ज्वल
 2. उज्जवल
 3. उज्वल
 4. उजवल

Question ID : 65497830357
Status : Answered
Chosen Option : 1

Q.19 दिए गए वाक्य में रेखांकित खंड को प्रतिस्थापित करने के लिए सबसे उपयुक्त विकल्प का चयन करें।
यदि इसे प्रतिस्थापित करने की आवश्यकता नहीं है, तो विकल्प 'किसी बदलाव की आवश्यकता नहीं है'
का चयन करें।

इसका उत्तरदायित्व मेरे ऊपर है।

- Ans 1. मुझ ऊपर
 2. मुझ पर
 3. मेरे पर
 4. किसी बदलाव की आवश्यकता नहीं है।

Question ID : 65497830352
Status : Answered
Chosen Option : 2

Q.20 रिक्त स्थान की पूर्ति के लिए सबसे उपयुक्त शब्द का चयन करें।

कमल का पुष्प _____ होता है।

- Ans 1. सुकोमल
 2. कोमल
 3. निर्मल
 4. विमल

Question ID : 65497830350
Status : Answered
Chosen Option : 2

Comprehension:

दिए गए गद्यांश में से कुछ शब्द हटा दिए गए हैं। विकल्पों की सहायता से प्रत्येक संख्या के लिए सबसे उपयुक्त विकल्प का चयन करें।

संगीत का मानव- (1) _____ में विशेष स्थान है। प्रकृति का कण-कण संगीत से (2) _____ है। बाल-वृद्ध, नर-नारी सभी अनादि काल से उससे (3) _____ होते आये हैं और सदैव होते रहेंगे। शिशु की (4) _____ में, सरिता के (5) _____ निनाद में संगीत ही तो है।

SubQuestion No : 21

Q.21 गद्यांश के रिक्त स्थान (1) के लिए सर्वाधिक उपयुक्त शब्द होगा-

- Ans**
- 1. हृदय
 - 2. संसार
 - 3. जीवन
 - 4. मस्तिष्क

Question ID : 65497830366

Status : Answered

Chosen Option : 3

Comprehension:

दिए गए गद्यांश में से कुछ शब्द हटा दिए गए हैं। विकल्पों की सहायता से प्रत्येक संख्या के लिए सबसे उपयुक्त विकल्प का चयन करें।

संगीत का मानव- (1) _____ में विशेष स्थान है। प्रकृति का कण-कण संगीत से (2) _____ है। बाल-वृद्ध, नर-नारी सभी अनादि काल से उससे (3) _____ होते आये हैं और सदैव होते रहेंगे। शिशु की (4) _____ में, सरिता के (5) _____ निनाद में संगीत ही तो है।

SubQuestion No : 22

Q.22 गद्यांश के रिक्त स्थान (2) के लिए सर्वाधिक उपयुक्त शब्द होगा-

- Ans**
- 1. ओत-प्रोत
 - 2. डूबा
 - 3. सराबोर
 - 4. भीगा

Question ID : 65497830367

Status : Answered

Chosen Option : 3

Comprehension:

दिए गए गद्यांश में से कुछ शब्द हटा दिए गए हैं। विकल्पों की सहायता से प्रत्येक संख्या के लिए सबसे उपयुक्त विकल्प का चयन करें।

संगीत का मानव- (1) _____ में विशेष स्थान है। प्रकृति का कण-कण संगीत से (2) _____ है। बाल-वृद्ध, नर-नारी सभी अनादि काल से उससे (3) _____ होते आये हैं और सदैव होते रहेंगे। शिशु की (4) _____ में, सरिता के (5) _____ निनाद में संगीत ही तो है।

SubQuestion No : 23

Q.23 गद्यांश के रिक्त स्थान (3) के लिए सर्वाधिक उपयुक्त शब्द होगा-

- Ans**
- 1. तृप्त
 - 2. संचालित
 - 3. प्रभावित
 - 4. गतिशील

Question ID : 65497830368

Status : Answered

Chosen Option : 3

Comprehension:

दिए गए गद्यांश में से कुछ शब्द हटा दिए गए हैं। विकल्पों की सहायता से प्रत्येक संख्या के लिए सबसे उपयुक्त विकल्प का चयन करें।

संगीत का मानव- (1) _____ में विशेष स्थान है। प्रकृति का कण-कण संगीत से (2) _____ है। बाल-वृद्ध, नर-नारी सभी अनादि काल से उससे (3) _____ होते आये हैं और सदैव होते रहेंगे। शिशु की (4) _____ में, सरिता के (5) _____ निनाद में संगीत ही तो है।

SubQuestion No : 24

Q.24 गद्यांश के रिक्त स्थान (4) के लिए सर्वाधिक उपयुक्त शब्द होगा-

- Ans** 1. मुस्कान
 2. कलरव
 3. हलचल
 4. नटखटपन

Question ID : 65497830369

Status : Answered

Chosen Option : 1

Comprehension:

दिए गए गद्यांश में से कुछ शब्द हटा दिए गए हैं। विकल्पों की सहायता से प्रत्येक संख्या के लिए सबसे उपयुक्त विकल्प का चयन करें।

संगीत का मानव- (1) _____ में विशेष स्थान है। प्रकृति का कण-कण संगीत से (2) _____ है। बाल-वृद्ध, नर-नारी सभी अनादि काल से उससे (3) _____ होते आये हैं और सदैव होते रहेंगे। शिशु की (4) _____ में, सरिता के (5) _____ निनाद में संगीत ही तो है।

SubQuestion No : 25

Q.25 गद्यांश के रिक्त स्थान (5) के लिए सर्वाधिक उपयुक्त शब्द होगा-

- Ans** 1. छुल-छुल
 2. झर-झर
 3. कल-कल
 4. छल-छल

Question ID : 65497830370

Status : Answered

Chosen Option : 4

Constable GD in CAPFs NIA SSF and Rifleman GD in Assam Rifles Examination 2021

Roll Number	www.HaryanaJobs.in
Candidate Name	www.HaryanaJobs.in
Venue Name	iON Digital Zone iDZ Laxman Nagar
Exam Date	17/11/2021
Exam Time :	9:00 AM - 10:30 AM
Subject	Constable GD 2021

Section : Part A General Intelligence and Reasoning

Q.1 आठ मित्र, P, Q, R, S, T, U, V और W, एक गोल मेज़ के परितः इसके केंद्र की ओर अभिमुख होकर बैठे हैं। P, R और S के बीच में है। T, W के दाईं ओर तीसरे स्थान पर है। Q, S के एकदम बाएं बगल में है। T, S के दाईं ओर तीसरे स्थान पर है। V, U और W के बीच में है। S और W के बीच में कौन बैठा है?

- Ans
- 1. T
 - 2. R
 - 3. P
 - 4. Q

Question ID : 65497831137

Status : Answered

Chosen Option : 3

Q.2 दिए गए पैटर्न का ध्यानपूर्वक अध्ययन करें और उस संख्या का चयन करें जो इसमें प्रश्न चिह्न (?) के स्थान पर आ सकती है।

57 28 29
68 ? 33
72 37 35

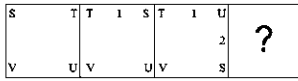
- Ans
- 1. 34
 - 2. 35
 - 3. 33
 - 4. 29

Question ID : 65497831151

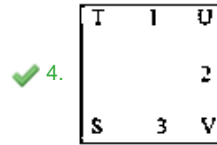
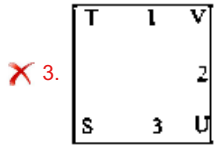
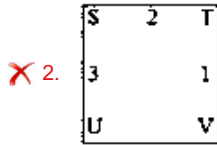
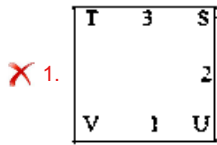
Status : Answered

Chosen Option : 1

Q.3 दिए गए विकल्पों में से उस आकृति का चयन करें जो नीचे दी गई श्रृंखला में प्रश्न चिह्न (?) के स्थान पर आ सकती है।



Ans



Question ID : 65497831148
Status : Answered
Chosen Option : 2

Q.4 उस वेन आरेख का चयन कीजिए, जो निम्नलिखित वर्गों के बीच के संबंध को सही ढंग से निरूपित करता है।

माता, पिता, पुरुष

Ans



Question ID : 65497831157
Status : Answered
Chosen Option : 1

Q.5 दिए गए विकल्पों में से वह संख्या चुनें जो निम्नलिखित श्रेणी में प्रश्नवाचक चिह्न (?) के स्थान पर आ सकती है।

16, 9, 27, 19, 76, 67, 335, ?

- Ans
- 1. 650
 - 2. 90
 - 3. 325
 - 4. 415

Question ID : 65497831135
Status : Answered
Chosen Option : 2

Q.6 अक्षरों के उस संयोजन का चयन करें जो दी गई श्रृंखला के रिक्त स्थान में क्रमिक रूप से रखे जाने पर श्रृंखला को पूर्ण करेगा।

P_RQPS _ P _ Q_SR_P_RQ

- Ans
- 1. QRQSRPQS
 - 2. SRQSRPQS
 - 3. SQQSRPQS
 - 4. SRSQRPQS

Question ID : 65497831146
Status : Answered
Chosen Option : 4

Q.7 दिए गए कथनों और निष्कर्षों को ध्यानपूर्वक पढ़ें। यह मानते हुए कि कथनों में दी गई जानकारी सही है, भले ही वह सामान्य रूप से ज्ञात तथ्यों से भिन्न प्रतीत होती हो, यह निर्धारित करें कि दिए गए निष्कर्षों में से कौन-से निष्कर्ष कथनों का तार्किक रूप से अनुसरण करते हैं।

कथन:

कुछ तारे, ग्रह हैं।
कुछ ग्रह, धूमकेतु हैं।

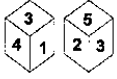
निष्कर्ष:

I. कुछ धूमकेतु, ग्रह हैं।
II. सभी तारे, धूमकेतु हैं।

- Ans
- 1. न तो निष्कर्ष I और न ही निष्कर्ष II अनुसरण करता है।
 - 2. निष्कर्ष I और II दोनों अनुसरण करते हैं।
 - 3. केवल निष्कर्ष I अनुसरण करता है।
 - 4. केवल निष्कर्ष II अनुसरण करता है।

Question ID : 65497831150
Status : Answered
Chosen Option : 4

Q.8 एक ही पासे के दो अलग-अलग स्थितियाँ दर्शाई गई हैं, जिनके फलकों पर 1 से 6 तक संख्याएं संख्या लिखी हुई हैं। उस संख्या का चयन कीजिए जो संख्या '6' वाले फलक के विपरीत फलक पर होगी।



- Ans
- ✓ 1. 3
 - ✗ 2. 4
 - ✗ 3. 1
 - ✗ 4. 2

Question ID : 65497831140
 Status : Answered
 Chosen Option : 4

Q.9 उस विकल्प का चयन कीजिए जिसमें नीचे दी गई आकृति सन्निकित है (आकृति को घुमाने की अनुमति नहीं है)।



Ans

✓ 1.



✗ 2.



✗ 3.



✗ 4.



Question ID : 65497831141
 Status : Answered
 Chosen Option : 1

Q.10 दो वर्ष पूर्व, T की आयु, P की आयु की दोगुनी थी। वर्तमान में P की आयु, R की आयु की तीन गुनी है। पांच साल में, P की आयु 29 वर्ष हो जाएगी। T की वर्तमान आयु कितनी है?

- Ans
- 1. 48
 - 2. 46
 - 3. 44
 - 4. 42

Question ID : 65497831152
Status : Answered
Chosen Option : 3

Q.11 किसी निश्चित कूट भाषा में, 'NOTION' को '13127181213' के रूप में कूटबद्ध किया जाता है। उसी भाषा में 'BEAUTIFY' को किस रूप में कूटबद्ध किया जाएगा?

- Ans
- 1. 2522266718212
 - 2. 2505016718212
 - 3. 2022266818222
 - 4. 2522268719215

Question ID : 65497831134
Status : Answered
Chosen Option : 3

Q.12 छः मित्र A, B, C, D, E और F एक सीधी क्षैतिज पंक्ति में उत्तर की ओर मुंह करके बैठे हुए हैं। B, F और C के बीच में बैठा है। E, C के दाईं ओर तीसरे स्थान पर बैठा है। D, E के बाईं ओर ठीक बगल में बैठा है। B के दाईं ओर दूसरे स्थान पर कौन बैठा है?

- Ans
- 1. E
 - 2. A
 - 3. F
 - 4. D

Question ID : 65497831156
Status : Answered
Chosen Option : 4

Q.13 'जटिल' का 'सरल' से वही संबंध है, जो 'संकुचन' का '_____' से है।

- Ans
- 1. संकीर्ण
 - 2. प्रसार
 - 3. निष्पादन
 - 4. छोटा

Question ID : 65497831155
Status : Answered
Chosen Option : 3

Q.14 एक निश्चित कूट भाषा में, KILOGRAM को LZQFNKHJ के रूप में लिखा जाता है। उसी कूट भाषा में AIRCRAFT को किस रूप में लिखा जाएगा?

- Ans
- 1. SEZQHZBQ
 - 2. BSHZQEZB
 - 3. ZHSBQZQH
 - 4. SEZQBQHZ

Question ID : 65497831143
Status : Answered
Chosen Option : 4

Q.15 यदि दर्पण को दाईं ओर रखा गया हो, तो दिए गए संयोजन के सही दर्पण प्रतिबिंब का चयन करें।

s x g 5 A Y

- Ans
- 1. Y A ɹ p x ɛ
 - 2. Y A ɹ p x ɛ
 - 3. Y A ɹ 6 x ɛ
 - 4. Y A 5 p x ɛ

Question ID : 65497831136
Status : Answered
Chosen Option : 4

Q.16 उस विकल्प का चयन कीजिए जिसमें निम्न शब्दों का वह क्रम दिया गया है, जिस क्रम में वे अंग्रेज़ी शब्दकोश में मौजूद होते हैं।

1. Creditor
2. Creature
3. Credible
4. Creditable
5. Credentials

- Ans
- 1. 3, 5, 1, 4, 2
 - 2. 2, 5, 3, 4, 1
 - 3. 2, 5, 1, 3, 4
 - 4. 2, 5, 4, 3, 1

Question ID : 65497831145
Status : Answered
Chosen Option : 2

Q.17 चार अक्षर-समूह दिए गए हैं, जिनमें से तीन किसी तरह से एक समान हैं और एक असंगत है। उस अक्षर-समूह का चयन करें जो असंगत है।

- Ans 1. CXGV
 2. LOPK
 3. EVIR
 4. HSLO

Question ID : 65497831133
Status : Answered
Chosen Option : 4

Q.18 उस विकल्प का चयन कीजिए जो तीसरी संख्या से उसी तरह से संबंधित है जैसे दूसरी संख्या पहली संख्या से संबंधित है और छठी संख्या पाँचवीं संख्या से संबंधित है।

16 : 256 :: 21 : ? :: 19 : 361

- Ans 1. 484
 2. 441
 3. 422
 4. 324

Question ID : 65497831138
Status : Answered
Chosen Option : 2

Q.19 किसी विशिष्ट कूट भाषा में, 'ABSTRACT' को 'IIYVDEU' के रूप में लिखा जाता है। उसी कूट भाषा में 'INSTINCT' को किस रूप में लिखा जाएगा?

- Ans 1. OUYYNQEU
 2. QUYYNPEU
 3. OUYYMQEU
 4. QUYYPMEU

Question ID : 65497831149
Status : Answered
Chosen Option : 3

Q.20 दिए गए विकल्पों में से उस संख्या का चयन करें जो निम्नलिखित श्रृंखला में प्रश्न चिह्न (?) के स्थान पर आ सकती है।

240, 258, 278, 300, ?

- Ans 1. 324
 2. 355
 3. 400
 4. 312

Question ID : 65497831147
Status : Answered
Chosen Option : 1

Q.21 यदि 'A' का अर्थ '+' है, 'B' का अर्थ '-' है, 'C' का अर्थ 'x' है, और, 'D' का अर्थ '÷', है, तो दिए गए समीकरणों में से कौन सा समीकरण संतुलित है?

- Ans 1. $45 D 5 C 7 A 14 = 77$
 2. $66 B 2 D 54 C 18 = 135$
 3. $45 A 5 C 7 D 14 = 77$
 4. $66 C 2 B 54 D 18 = 135$

Question ID : 65497831139
Status : Answered
Chosen Option : 2

Q.22 उस विकल्प का चयन कीजिए जो तीसरे पद से उसी प्रकार संबंधित है जिस प्रकार दूसरा पद पहले पद से संबंधित है।

METHOD : OIZPYP :: NORMAL : ?

- Ans 1. PSXUKX
 2. QRYVLY
 3. PXSUXK
 4. PSXVLX

Question ID : 65497831142
Status : Answered
Chosen Option : 2

Q.23 राधा और ज्ञानेश की तीन बेटियाँ हैं - मनुजा, तारिणी और सुषमा। तारिणी की शादी जय से हुई है और सुषमा की शादी अभय से हुई है। ज्ञानेश का तीसरा दामाद अखिल है। अखिल के दो बच्चे पीयूष और रानी हैं। जय की दो बेटियाँ ऋचा और नेहा हैं। मृदुल, अभय का इकलौता बेटा है। राधा का रानी से क्या संबंध है?

- Ans 1. नानी
 2. मौसेरी बहन
 3. माँ
 4. सास

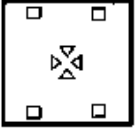
Question ID : 65497831144
Status : Answered
Chosen Option : 1

Q.24 नीचे दी गई आकृतियों में कागज के एक टुकड़े को मोड़ने का क्रम और उस मुड़े हुए कागज को काटने का तरीका दर्शाया गया है। इस कागज को खोलने पर यह कैसा दिखेगा?

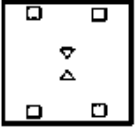


Ans

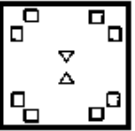
✗ 1.



✗ 2.



✗ 3.



✓ 4.



Question ID : 65497831153

Status : Answered

Chosen Option : 1

Q.25 दिए गए विकल्पों में से उस अक्षर-समूह का चयन करें, जो निम्नलिखित श्रृंखला में प्रश्नवाचक चिन्ह (?) के स्थान पर आ सकता है।

UC, AE, GG, MI, SK, ?

Ans ✗ 1. YO

✗ 2. WN

✓ 3. YM

✗ 4. LM

Question ID : 65497831154

Status : Answered

Chosen Option : 4

Section : Part B General Knowledge and General Awareness

Q.1 निम्नलिखित में से किसने अवध को अशांत क्षेत्र घोषित करने में महत्वपूर्ण भूमिका निभाई, जिससे इसे ब्रिटिश नियंत्रण में लाना आवश्यक हो गया था?

Ans ✗ 1. लॉर्ड रिपन

✗ 2. लॉर्ड कैनिंग

✓ 3. लॉर्ड डलहौजी

✗ 4. लॉर्ड वेलेजली

Question ID : 65497831173

Status : Answered

Chosen Option : 4

Q.2 लोक सभा के उपाध्यक्ष को निम्नलिखित में से किसके द्वारा पदच्युत किया जा सकता है?

- Ans
- 1. महान्यायवादी के आदेश से
 - 2. लोकसभा के तत्कालीन सदस्यों के बहुमत द्वारा लोकसभा में एक प्रस्ताव पारित करके
 - 3. भारत के नियंत्रक एवं महालेखापरीक्षक के आदेश से
 - 4. भारत के उपराष्ट्रपति के आदेश से

Question ID : 65497831169
Status : Answered
Chosen Option : 4

Q.3 सूमो कुश्ती (SUMO Wrestling) प्रतिस्पर्धा की उत्पत्ति किस देश से हुई?

- Ans
- 1. इंडोनेशिया
 - 2. जापान
 - 3. दक्षिण कोरिया
 - 4. वियतनाम

Question ID : 65497831161
Status : Answered
Chosen Option : 4

Q.4 अगस्त 2021 में, प्रधानमंत्री नरेंद्र मोदी ने घोषणा की कि राजीव गांधी खेल रत्न पुरस्कार का नाम बदलकर _____ कर दिया जाएगा।

- Ans
- 1. द्रोणाचार्य खेल रत्न पुरस्कार
 - 2. विजय हजारे खेल रत्न पुरस्कार
 - 3. एकलव्य खेल रत्न पुरस्कार
 - 4. मेजर ध्यानचंद खेल रत्न पुरस्कार

Question ID : 65497831182
Status : Answered
Chosen Option : 4

Q.5 निम्नलिखित में से किस राज्य में युमथांग घाटी (Yumthang Valley) स्थित है?

- Ans
- 1. नागालैंड
 - 2. उत्तराखंड
 - 3. सिक्किम
 - 4. हिमाचल प्रदेश

Question ID : 65497831172
Status : Answered
Chosen Option : 3

Q.6 6 सितंबर 2021 को इसरो (ISRO) के अध्यक्ष द्वारा की गई घोषणा के अनुसार, चंद्रयान -2 ने चंद्रमा की बार परिक्रमा पूरी कर ली थी।

- Ans
- 1. 15000
 - 2. 9000
 - 3. 11000
 - 4. 12000

Question ID : 65497831180
Status : Answered
Chosen Option : 3

Q.7 मानव दृश्य प्रणाली द्वारा अनुभव किए जाने वाले प्रकाश को मापने के विज्ञान, प्रकाशमिति (फोटोमेट्री) का मूल SI मात्रक क्या है?

- Ans
- 1. मोल (mol)
 - 2. ऐम्पियर (A)
 - 3. केल्विन (K)
 - 4. कैडेला (cd)

Question ID : 65497831165
Status : Answered
Chosen Option : 2

Q.8 'टू लाइव्स' पुस्तक के लेखक कौन हैं?

- Ans
- 1. वी.एस. नायपॉल
 - 2. अरविंद अडिगा
 - 3. सलमान रुश्दी
 - 4. विक्रम सेठ

Question ID : 65497831160
Status : Answered
Chosen Option : 2

Q.9 निम्नलिखित में से कौन सी मेसोपोटामियन भाषा नहीं थी?

- Ans
- 1. एमोराइट
 - 2. एलामाइट
 - 3. सुमेरियन
 - 4. अकाडियन

Question ID : 65497831177
Status : Answered
Chosen Option : 4

Q.10 नवंबर 2020 में, व्हाट्सएप ने अपनी भुगतान सेवाओं को संसाधित करने के लिए पाँच भारतीय बैंकों के साथ भागीदारी की। निम्नलिखित में से कौन सा बैंक उस सूची के पाँच बैंकों में से एक नहीं है?

- Ans
- 1. जिओ पेमेंट्स बैंक
 - 2. एचडीएफसी
 - 3. बैंक ऑफ इंडिया
 - 4. एक्सिस

Question ID : 65497831175
Status : Answered
Chosen Option : 4

Q.11 जनता द्वारा मुद्रा के रूप में अपने पास रखे गए धन और उसके द्वारा बैंक जमा धन के अनुपात को क्या कहते हैं?

- Ans
- 1. मुद्रा जमा अनुपात
 - 2. आरक्षित जमा अनुपात
 - 3. वैधानिक तरलता अनुपात
 - 4. नकद आरक्षित अनुपात

Question ID : 65497831176
Status : Answered
Chosen Option : 4

Q.12 अंतर्राष्ट्रीय क्रिकेट परिषद (ICC) बोर्ड ने नवंबर, 2020 में अंतर्राष्ट्रीय क्रिकेट के लिए न्यूनतम आयु नीति की घोषणा की। इस नीति के अनुसार, विश्व स्तर पर क्रिकेट खेलने के लिए खिलाड़ी की आयु कम से कम कितनी होनी चाहिए?

- Ans
- 1. 14 साल
 - 2. 16 साल
 - 3. 15 साल
 - 4. 13 साल

Question ID : 65497831162
Status : Answered
Chosen Option : 2

Q.13 जब इल्ली (कैटरपिलर) _____ नामक अपने जीवन चक्र के अगले चरण में प्रवेश करने के लिए तैयार होता है, तो यह खुद को संभालने के लिए पहले एक जाल बुनता है।

- Ans
- 1. डिम्ब
 - 2. आरंभिक कोकून
 - 3. प्यूपा
 - 4. विलंबित कोकून

Question ID : 65497831164
Status : Answered
Chosen Option : 3

Q.14 अक्टूबर-नवंबर, 2020 के दौरान हुए बिहार विधानसभा चुनाव में भारतीय राष्ट्रीय कांग्रेस ने कितनी सीटें जीतीं?

- Ans
- 1. 15
 - 2. 19
 - 3. 10
 - 4. 22

Question ID : 65497831174
Status : Answered
Chosen Option : 2

Q.15 भारत के किस शहर में 'सप्तक संगीत समारोह' मनाया जाता है?

- Ans
- 1. भोपाल
 - 2. लखनऊ
 - 3. अहमदाबाद
 - 4. अमृतसर

Question ID : 65497831158
Status : Answered
Chosen Option : 2

Q.16 निम्न में से किसे 'व्यष्टि अर्थशास्त्र (Microeconomics) के जनक' के रूप में जाना जाता है?

- Ans
- 1. जेम्स जे. हेकमैन
 - 2. मिल्टन फ्रीडमैन
 - 3. अल्फ्रेड मार्शल
 - 4. पॉल क्रुगमैन

Question ID : 65497831178
Status : Answered
Chosen Option : 1

Q.17 7 दिसंबर 2020 को प्रकाशित 'क्लाइमेट चेंज परफार्मेंस इंडेक्स (CCPI) 2021' में भारत _____ स्थान पर है।

- Ans
- 1. 11वें
 - 2. 20वें
 - 3. 10वें
 - 4. 15वें

Question ID : 65497831170
Status : Answered
Chosen Option : 1

Q.18 27 जनवरी 2020 को निम्नलिखित में से किसे पर्यावरणीय उपलब्धि के लिए वर्ष 2020 के टायलर पुरस्कार से सम्मानित किया गया था?

- Ans
- 1. पवन सुखदेव
 - 2. माधव गाडगिल
 - 3. पार्थ एस. दासगुप्ता
 - 4. ज्योति पारिख

Question ID : 65497831166
Status : Answered
Chosen Option : 3

Q.19 CNG का पूर्ण रूप निम्नलिखित में से क्या है?

- Ans
- 1. कोल एंड नेचुरल गैस (Coal and natural gases)
 - 2. कार्डियक नर्व ग्रिड (Cardiac nerve grid)
 - 3. केमिकली न्यूट्रल जीन (Chemically neutral gene)
 - 4. कम्प्रेस्ड नेचुरल गैस (Compressed natural gas)

Question ID : 65497831171
Status : Answered
Chosen Option : 1

Q.20 कृषि और प्रसंस्कृत खाद्य उत्पाद निर्यात विकास प्राधिकरण (APEEDA) की रिपोर्ट 2020 के अनुसार, भारत के किस राज्य में व्यावसायिक रूप से होने वाली पुष्पकृषि का प्रतिशत सबसे अधिक है?

- Ans
- 1. तमिलनाडु
 - 2. कर्नाटक
 - 3. मध्य प्रदेश
 - 4. महाराष्ट्र

Question ID : 65497831159
Status : Answered
Chosen Option : 2

Q.21 'भरतनाट्यम' नृत्य के पुनरुद्धार का श्रेय निम्नलिखित में से किस नृत्यांगना को दिया जाता है?

- Ans
- 1. यामिनी कृष्णमूर्ति
 - 2. रुक्मिणी देवी अरुंडेल
 - 3. मल्लिका साराभाई
 - 4. अलारमेल वल्ली

Question ID : 65497831163
Status : Answered
Chosen Option : 2

Q.22 निम्नलिखित में से किस नगर में, स्वतंत्रता सेनानी चंद्रशेखर आज़ाद ने अंग्रेजों द्वारा पकड़े जाने के बजाय स्वयं को गोली मार ली थी?

- Ans
- 1. कानपुर
 - 2. इलाहाबाद
 - 3. जबलपुर
 - 4. भोपाल

Question ID : 65497831167
Status : Answered
Chosen Option : 2

Q.23 कदम बांध, कदम नदी और _____ नदी के संगम पर स्थित है।

- Ans
- 1. शारावती
 - 2. गोदावरी
 - 3. काबिनी
 - 4. कावेरी

Question ID : 65497831181
Status : Answered
Chosen Option : 3

Q.24 बांग्लादेश किस वर्ष तक पाकिस्तान का हिस्सा रहा था?

- Ans
- 1. 1962
 - 2. 1956
 - 3. 1974
 - 4. 1971

Question ID : 65497831179
Status : Answered
Chosen Option : 1

Q.25 भारतीय स्वतंत्रता आंदोलन के संदर्भ में, 1932 में ग्रेट ब्रिटेन के निम्नलिखित में से किस प्रधानमंत्री ने सांप्रदायिक निर्णय/कम्युनल अवार्ड की घोषणा की थी?

- Ans
- 1. नेविले चैम्बरलिन (Neville Chamberlain)
 - 2. स्टेनली बाल्डविन (Stanley Baldwin)
 - 3. सर विंस्टन चर्चिल (Sir Winston Churchill)
 - 4. जेम्स रैम्जे मैकडोनाल्ड (James Ramsay MacDonald)

Question ID : 65497831168
Status : Answered
Chosen Option : 4

Section : Part C Elementary Mathematics

Q.1 राधा को 26 km/h की चाल से चलने पर 1950 m की दूरी तय करने में कितने मिनट लगेंगे?

- Ans
- ✓ 1. $4\frac{1}{2}$ मिनट
 - ✗ 2. $7\frac{1}{2}$ मिनट
 - ✗ 3. $5\frac{1}{2}$ मिनट
 - ✗ 4. $3\frac{1}{2}$ मिनट

Question ID : 65497831196
Status : Answered
Chosen Option : 2

Q.2 $\frac{33}{40} + \frac{1}{5} \left[\frac{4}{5} - \frac{1}{5} \times \left(\frac{7}{8} - \frac{5}{4} \right) \right] - \frac{4}{5}$ का मान ज्ञात कीजिए।

- Ans
- ✗ 1. $\frac{1}{3}$
 - ✗ 2. $\frac{1}{7}$
 - ✓ 3. $\frac{1}{5}$
 - ✗ 4. $\frac{1}{4}$

Question ID : 65497831195
Status : Answered
Chosen Option : 2

Q.3 A, एक निश्चित कार्य को 15 दिनों में पूरा कर सकता है। B, A से 10% कम कार्यकुशल है और C, A से 20% अधिक कार्यकुशल है। तीनों ने 3 दिनों तक एक साथ मिलकर कार्य किया। शेष कार्य को D द्वारा अकेले $9\frac{1}{2}$ दिनों में पूरा किया गया। मूल कार्य को D अकेले कितने दिनों में पूरा कर सकता है?

- Ans
- ✗ 1. 20 दिन
 - ✓ 2. 25 दिन
 - ✗ 3. 18 दिन
 - ✗ 4. 15 दिन

Question ID : 65497831206
Status : Answered
Chosen Option : 3

Q.4 यदि x का 25%, $(x + 60)$ के 30% से 40 कम है, तो $(x - 40)$ का 35%, 120 से कितने प्रतिशत अधिक होगा?

- Ans
- 1. 20%
 - 2. $12\frac{1}{2}\%$
 - 3. $16\frac{2}{3}\%$
 - 4. 25%

Question ID : 65497831205
Status : Answered
Chosen Option : 1

Q.5 दो व्यक्तियों P और Q की आयु का अनुपात 5 : 7 है। आठ वर्ष पहले, P और Q की आयु का अनुपात 7 : 13 था। P और Q की वर्तमान आयु क्रमशः _____ है।

- Ans
- 1. 21 और 15 वर्ष
 - 2. 15 और 21 वर्ष
 - 3. 12 और 13 वर्ष
 - 4. 20 और 28 वर्ष

Question ID : 65497831199
Status : Answered
Chosen Option : 2

Q.6 संख्या 2483 में किस छोटी से छोटी संख्या को जोड़ने पर यह 3, 4, 5 और 6 से पूर्णतः विभाज्य हो जाएगी?

- Ans
- 1. 30
 - 2. 37
 - 3. 22
 - 4. 23

Question ID : 65497831197
Status : Answered
Chosen Option : 4

Q.7 एक ठोस बेलन की ऊँचाई और त्रिज्या के बीच का अंतर 23 cm है। बेलन का संपूर्ण पृष्ठीय क्षेत्रफल 1628 cm^2 है। बेलन की क्रमशः ऊँचाई और त्रिज्या ज्ञात करें। ($\pi = \frac{22}{7}$ लें)

- Ans
- 1. 30 cm, 7 cm
 - 2. 32 cm, 09 cm
 - 3. 33 cm, 10 cm
 - 4. 28 cm, 5 cm

Question ID : 65497831201
Status : Answered
Chosen Option : 2

Q.8 एक दुकानदार ने ₹2,600 अंकित मूल्य वाले एक टेबल फैन को 18% की छूट पर खरीदा। उसने इसका अंकित मूल्य ₹2,800 रखा और इस पर 15% की छूट दी। इससे उसे कितना लाभ होगा?

- Ans**
- 1. ₹200
 - 2. ₹420
 - 3. ₹220
 - 4. ₹248

Question ID : 65497831183
Status : Answered
Chosen Option : 2

Q.9 ₹1800 में एक वस्तु को बेचकर मिला लाभ, उस लाभ की तुलना में तिगुना है जो इसे ₹1350 में बेचकर प्राप्त होता। वस्तु का क्रय मूल्य (₹ में) ज्ञात करें।

- Ans**
- 1. 1250
 - 2. 1175
 - 3. 1200
 - 4. 1125

Question ID : 65497831193
Status : Answered
Chosen Option : 2

Q.10 दो संख्याएँ 9 : 11 के अनुपात में हैं। यदि उनका महत्तम समापवर्तक (HCF) 23 है, तो दोनों संख्याओं में कितना अंतर है?

- Ans**
- 1. 146
 - 2. 46
 - 3. 253
 - 4. 56

Question ID : 65497831188
Status : Answered
Chosen Option : 3

Q.11 ₹73,500 की एक धनराशि को A, B, C और D में 3 : 7 : 9 : 11 के अनुपात में विभाजित किया जाता है। A और D के हिस्सों का योग कितना होगा?

- Ans**
- 1. ₹39,200
 - 2. ₹29,400
 - 3. ₹24,500
 - 4. ₹34,300

Question ID : 65497831184
Status : Answered
Chosen Option : 1

Q.12 एक निश्चित राशि 6 वर्षों में स्वयं की दोगुनी हो जाती है। वही राशि उसी ब्याज दर पर कितने समय (वर्षों में) में स्वयं की पाँच गुनी हो जाएगी?

- Ans
- 1. 24
 - 2. 35
 - 3. 30
 - 4. 28

Question ID : 65497831191
Status : Answered
Chosen Option : 2

Q.13 पांच वर्ष पूर्व A, B और C की औसत आयु 20 वर्ष थी। छः वर्ष पूर्व, B और C की औसत आयु 9 वर्ष थी। अब से तीन वर्ष बाद A की आयु (वर्ष में) कितनी होगी?

- Ans
- 1. 45
 - 2. 48
 - 3. 47
 - 4. 41

Question ID : 65497831203
Status : Answered
Chosen Option : 3

Q.14 $\frac{(251)^2 + (249)^2}{25.1 \times 25.1 - 624.99 + 24.9 \times 24.9}$ का मान 5×10^k है, जहाँ k का मान _____ है।

- Ans
- 1. 4
 - 2. 5
 - 3. 3
 - 4. 6

Question ID : 65497831192
Status : Answered
Chosen Option : 2

Q.15 एक कारखाने को 144 दिनों में, एक निर्धारित संख्या में वस्तुओं के निर्माण के लिए 56 मशीनों की आवश्यकता है। उसी संख्या में वस्तुएँ 96 दिनों में बनाने के लिए कितनी मशीनों की आवश्यकता होगी?

- Ans
- 1. 84
 - 2. 77
 - 3. 63
 - 4. 81

Question ID : 65497831190
Status : Answered
Chosen Option : 3

Q.16 यदि ब्याज को अर्धवार्षिक आधार पर चक्रवृद्धि किया जाता है, तो 16% वार्षिक ब्याज दर पर ₹5,000 की धनराशि को ₹5,832 बनाने में लगने वाले वर्षों की संख्या जात करें।

- Ans
- 1. 1.5 वर्ष
 - 2. 1 वर्ष
 - 3. $\frac{1}{2}$ वर्ष
 - 4. 2 वर्ष

Question ID : 65497831200
Status : Answered
Chosen Option : 1

Q.17 रघु ने ₹100 में 12 की दर से कुछ पेन खरीदे और ₹135 में 15 की दर से समान संख्या में पेन खरीदे। ₹260 में कितने पेन बेचने पर उसे 20% का लाभ होगा?

- Ans
- 1. 20
 - 2. 24
 - 3. 25
 - 4. 30

Question ID : 65497831202
Status : Answered
Chosen Option : 2

Q.18 कक्षा 8 के 20 छात्रों की औसत ऊँचाई 152 cm और कक्षा 9 के 15 छात्रों की औसत ऊँचाई 168 cm है। दोनों कक्षाओं के छात्रों की औसत ऊँचाई (निकटतम cm में) कितनी है?

- Ans
- 1. 158
 - 2. 159
 - 3. 157
 - 4. 160

Question ID : 65497831189
Status : Answered
Chosen Option : 3

Q.19 यदि X का मान Y की तुलना में 12.25% अधिक है, तो Y का मान X की तुलना में लगभग कितने प्रतिशत कम है?

- Ans
- 1. 10.9%
 - 2. 3%
 - 3. 15.6%
 - 4. 12%

Question ID : 65497831198
Status : Answered
Chosen Option : 3

Q.20 एक व्यक्ति ने ₹50,000 में दो मोबाइल फोन खरीदे। उसने उनमें से एक को 15% लाभ पर और दूसरे को 20% हानि पर बेच दिया। यदि दोनों मोबाइलों का विक्रय मूल्य बराबर है, तो हानि पर बेचे गए मोबाइल का क्रय मूल्य लगभग (निकटतम रूप में) कितना है?

- Ans**
- ✓ 1. 29,487
 - ✗ 2. 20,513
 - ✗ 3. 25,465
 - ✗ 4. 27,368

Question ID : 65497831186
Status : Answered
Chosen Option : 1

Q.21 एक व्यक्ति ने ₹14,000 की धनराशि 5% और ₹19,000 की धनराशि 6% वार्षिक साधारण ब्याज पर उधार दिया। उसे 3 वर्षों के बाद ब्याज के रूप में कितनी धनराशि प्राप्त होगी?

- Ans**
- ✗ 1. 3,420
 - ✓ 2. 5,520
 - ✗ 3. 5,445
 - ✗ 4. 2,100

Question ID : 65497831187
Status : Answered
Chosen Option : 3

Q.22 एक वस्तु का अंकित मूल्य ₹550 है। इसके अंकित मूल्य पर 15%, x % और 20% की तीन क्रमिक छूट देने के बाद इसे ₹317.90 में बेचा जाता है। यदि इसे $2x$ % की एकल छूट पर बेचा जाता है, तो इसका विक्रय मूल्य (₹ में) कितना होगा?

- Ans**
- ✗ 1. 484
 - ✓ 2. 385
 - ✗ 3. 495
 - ✗ 4. 440

Question ID : 65497831204
Status : Answered
Chosen Option : 4

Q.23 एक रेलगाड़ी, 600 m लंबी एक सुरंग को 54 सेकंड में पार कर सकती है और 350 m लंबे पुल को 36 सेकंड में पार कर सकती है। इस स्थिति में निम्न में से कौन से कथन सही होंगे?

- (i) रेलगाड़ी की चाल 60 km/h है।
(ii) रेलगाड़ी की लंबाई 150 m है।

- Ans**
1. न तो कथन (i) और न ही (ii) सही है
2. केवल कथन (ii) सही है
3. केवल कथन (i) सही है
4. कथन (i) और (ii) दोनों सही हैं

Question ID : 65497831207
Status : Answered
Chosen Option : 3

Q.24 पाइप A और B भरी हुई टंकी को क्रमशः 15 मिनट और 20 मिनट में खाली कर सकते हैं, जबकि अकेले पाइप C खाली टंकी को 8 मिनट में भर सकता है। यदि पाइप A, B और C को एक साथ खोला जाता है, तो टंकी कितने घंटों में भर जाएगी?

- Ans**
1. 2.5
2. 2
3. 1.5
4. 3

Question ID : 65497831194
Status : Answered
Chosen Option : 1

Q.25 एक व्यक्ति ने एक ऐसा आयताकार भूखंड खरीदा, जिसकी लंबाई और चौड़ाई का अनुपात 7 : 5 है। यदि भूखंड पर तार की बाड़ लगाने की लागत ₹15/m की दर से ₹2,880 है, तो भूखंड की लंबाई ज्ञात करें।

- Ans**
1. 60 m
2. 40 m
3. 56 m
4. 84 m

Question ID : 65497831185
Status : Answered
Chosen Option : 3

Section : Part D English

Q.1 Select the most appropriate ANTONYM of the given word.

Deny

- Ans 1. Accept
 2. Check
 3. Prevent
 4. Block

Question ID : 65497831217
Status : Not Answered
Chosen Option : --

Q.2 Select the option that can be used as a one-word substitute for the given group of words.

Delay an event to a later date or time

- Ans 1. Postpone
 2. Preserve
 3. Prepone
 4. Persevere

Question ID : 65497831220
Status : Not Answered
Chosen Option : --

Q.3 Select the option that will improve the underlined part of the given sentence. In case no improvement is needed, select 'No improvement required'.

I have never see anything like this before.

- Ans 1. never saw something
 2. never saw anything
 3. No improvement required
 4. never seen anything

Question ID : 65497831227
Status : Not Answered
Chosen Option : --

Q.4 Select the option that can be used as a one-word substitute for the given group of words.

An outgoing, socially confident person

- Ans 1. Introvert
 2. Brooder
 3. Solitary
 4. Extrovert

Question ID : 65497831224
Status : Not Answered
Chosen Option : --

Q.5 The following sentence has been split into four segments. Identify the segment that contains a grammatical error.

The report said that / people who are eat meat / are at a higher risk / of fractures.

- Ans**
- 1. The report said that
 - 2. people who are eat meat
 - 3. of fractures
 - 4. are at a higher risk

Question ID : 65497831214
Status : Not Answered
Chosen Option : --

Q.6 Select the most appropriate meaning of the given idiom.

To get out of hand

- Ans**
- 1. To act irresponsibly
 - 2. To lose courage
 - 3. To be indecisive
 - 4. To become uncontrollable

Question ID : 65497831210
Status : Not Answered
Chosen Option : --

Q.7 Select the most appropriate ANTONYM of the given word.

Enthusiasm

- Ans**
- 1. Excitement
 - 2. Lethargy
 - 3. Devotion
 - 4. Passion

Question ID : 65497831226
Status : Not Answered
Chosen Option : --

Q.8 Select the most appropriate option that can substitute the underlined word in the given sentence.

He became the first Indian to be invited to perform at the advantageous Maple Theatre in Canada.

- Ans**
- 1. multifarious
 - 2. inauspicious
 - 3. prestigious
 - 4. heterogeneous

Question ID : 65497831213
Status : Not Answered
Chosen Option : --

Q.9 Parts of the given sentence have been given as options. One of them contains a grammatical error. Select the option that has the error.

I am sure that Vasu is not going to returned the money that he owes you.

- Ans**
- 1. I am sure
 - 2. not going to
 - 3. he owes you
 - 4. returned

Question ID : 65497831222
Status : Not Answered
Chosen Option : --

Q.10 The following sentence has been split into four segments. Identify the segment that contains a grammatical error.

Angad says that / he follows / his exercise regimen strictly / and that helping to him stay fit.

- Ans**
- 1. he follows
 - 2. his exercise regimen strictly
 - 3. Angad says that
 - 4. and that helping to him stay fit

Question ID : 65497831215
Status : Not Answered
Chosen Option : --

Q.11 Select the most appropriate option to fill in the blank.

Besides having a good academic record, it is important that you learn how to face an interview with _____ and self-confidence.

- Ans**
- 1. ease
 - 2. counsel
 - 3. adaptation
 - 4. experience

Question ID : 65497831212
Status : Not Answered
Chosen Option : --

Q.12 Select the most appropriate synonym of the given word.

Monotonous

- Ans**
- 1. Boring
 - 2. Fluctuated
 - 3. Modified
 - 4. Varied

Question ID : 65497831216
Status : Not Answered
Chosen Option : --

Q.13 Select the most appropriate option to fill in the blank.

From these findings, we can _____ that the rate of crime is increasing in the city.

- Ans
- 1. presume
 - 2. infer
 - 3. summarise
 - 4. presuppose

Question ID : 65497831225
Status : Not Answered
Chosen Option : --

Q.14 Select the correctly spelt word.

- Ans
- 1. Contenuously
 - 2. Continuously
 - 3. Continuosly
 - 4. Contenewosly

Question ID : 65497831211
Status : Not Answered
Chosen Option : --

Q.15 Select the most appropriate meaning of the given idiom.

Down in the dumps

- Ans
- 1. In a very happy mood
 - 2. In a high spirit
 - 3. In a state of fury
 - 4. In a depressed state of mind

Question ID : 65497831221
Status : Not Answered
Chosen Option : --

Q.16 Select the most appropriate option to fill in the blank.

The shops at the Indian airports have to _____ prices in Indian rupees.

- Ans
- 1. tag
 - 2. display
 - 3. trace
 - 4. convert

Question ID : 65497831208
Status : Not Answered
Chosen Option : --

Q.17 Select the most appropriate synonym of the given word.

Imperial

- Ans 1. Ancestral
 2. Sovereign
 3. Paternal
 4. God-fearing

Question ID : 65497831223
Status : Not Answered
Chosen Option : --

Q.18 Select the most appropriate option that can substitute the underlined segment in the given sentence. If there is no need to substitute it, select 'No substitution required'.

If she likes the scenery, she will paint it.

- Ans 1. If she had liked
 2. If she is liking
 3. If she like
 4. No substitution required

Question ID : 65497831209
Status : Not Answered
Chosen Option : --

Q.19 Select the option that can be used as a one-word substitute for the given group of words.

A study of the human body

- Ans 1. Philology
 2. Physiology
 3. Philanthropy
 4. Pathology

Question ID : 65497831218
Status : Not Answered
Chosen Option : --

Q.20 Select the INCORRECTLY spelt word.

- Ans 1. Sensible
 2. Feasible
 3. Campatable
 4. Accessible

Question ID : 65497831219
Status : Not Answered
Chosen Option : --

Comprehension:

In the following passage, some words have been deleted. Read the passage carefully and select the most appropriate option to fill in each blank.

Few people lived near the North Pole. A small Inuit community had settled the closest, (1) _____ for the most part the region remained isolated (2) _____ the rest of the world for centuries. A few (3) _____ explorers like Henry Hudson and James Cook (4) _____ to navigate the region in search of a sea (5) _____ to connect the Atlantic and Pacific Oceans in the waters above North America.

SubQuestion No : 21

Q.21 Select the most appropriate option to fill in blank no. 1.

- Ans** 1. because
 2. so
 3. but
 4. or

Question ID : 65497831229

Status : Not Answered

Chosen Option : --

Comprehension:

In the following passage, some words have been deleted. Read the passage carefully and select the most appropriate option to fill in each blank.

Few people lived near the North Pole. A small Inuit community had settled the closest, (1) _____ for the most part the region remained isolated (2) _____ the rest of the world for centuries. A few (3) _____ explorers like Henry Hudson and James Cook (4) _____ to navigate the region in search of a sea (5) _____ to connect the Atlantic and Pacific Oceans in the waters above North America.

SubQuestion No : 22

Q.22 Select the most appropriate option to fill in blank no. 2.

- Ans** 1. by
 2. of
 3. from
 4. with

Question ID : 65497831230

Status : Not Answered

Chosen Option : --

Comprehension:

In the following passage, some words have been deleted. Read the passage carefully and select the most appropriate option to fill in each blank.

Few people lived near the North Pole. A small Inuit community had settled the closest, (1) _____ for the most part the region remained isolated (2) _____ the rest of the world for centuries. A few (3) _____ explorers like Henry Hudson and James Cook (4) _____ to navigate the region in search of a sea (5) _____ to connect the Atlantic and Pacific Oceans in the waters above North America.

SubQuestion No : 23

Q.23 Select the most appropriate option to fill in blank no. 3.

- Ans**
- 1. powerful
 - 2. thoughtful
 - 3. daring
 - 4. strong

Question ID : 65497831231

Status : Not Answered

Chosen Option : --

Comprehension:

In the following passage, some words have been deleted. Read the passage carefully and select the most appropriate option to fill in each blank.

Few people lived near the North Pole. A small Inuit community had settled the closest, (1) _____ for the most part the region remained isolated (2) _____ the rest of the world for centuries. A few (3) _____ explorers like Henry Hudson and James Cook (4) _____ to navigate the region in search of a sea (5) _____ to connect the Atlantic and Pacific Oceans in the waters above North America.

SubQuestion No : 24

Q.24 Select the most appropriate option to fill in blank no. 4.

- Ans**
- 1. tried
 - 2. trying
 - 3. try
 - 4. had tried

Question ID : 65497831232

Status : Not Answered

Chosen Option : --

Comprehension:

In the following passage, some words have been deleted. Read the passage carefully and select the most appropriate option to fill in each blank.

Few people lived near the North Pole. A small Inuit community had settled the closest, (1) _____ for the most part the region remained isolated (2) _____ the rest of the world for centuries. A few (3) _____ explorers like Henry Hudson and James Cook (4) _____ to navigate the region in search of a sea (5) _____ to connect the Atlantic and Pacific Oceans in the waters above North America.

SubQuestion No : 25

Q.25 Select the most appropriate option to fill in blank no. 5.

- Ans** 1. track
 2. route
 3. road
 4. path

Question ID : 65497831233
Status : Not Answered
Chosen Option : --

Section : Part D Hindi

Q.1 जिसके दस आनन है - वाक्यांश के लिए एक शब्द लिखिए।

- Ans** 1. कवि दिनकर
 2. राम
 3. दशानन
 4. कबीर

Question ID : 65497831242
Status : Answered
Chosen Option : 4

Q.2 रिक्त स्थान की पूर्ति के लिए सबसे उपयुक्त शब्द का चयन करें।

इस _____ घर-घर में यही दशा है।

- Ans** 1. गांव में
 2. गांव के
 3. गांव तक
 4. गांव की

Question ID : 65497831246
Status : Answered
Chosen Option : 1

Q.3 रिक्त स्थान की पूर्ति के लिए सबसे उपयुक्त शब्द का चयन करें।

बारिश की बूंदें _____ रही हैं।

- Ans
- 1. बरस
 - 2. टपक
 - 3. गीर
 - 4. रिस

Question ID : 65497831248
Status : Answered
Chosen Option : 2

Q.4 दिए गए वाक्य का वह भाग ज्ञात करें जिसमें कोई त्रुटि है। यदि कोई त्रुटि नहीं है, तो 'कोई त्रुटि नहीं है' विकल्प को चुनें।

शिक्षक ने उन छात्रों को पूछा।

- Ans
- 1. उन छात्रों को
 - 2. पूछा
 - 3. शिक्षक ने
 - 4. कोई त्रुटि नहीं है

Question ID : 65497831240
Status : Answered
Chosen Option : 3

Q.5 दिये गये वाक्य में रेखांकित अंश को प्रतिस्थापित करने के लिए सबसे उपयुक्त विकल्प का चयन करें।

कर्मचारी अपना वेतन नहीं पा पाया।

- Ans
- 1. दे पाया।
 - 2. ले पाया।
 - 3. कर पाया।
 - 4. भर पाया।

Question ID : 65497831252
Status : Answered
Chosen Option : 2

Q.6 दिये गये वाक्य के किस भाग में त्रुटि है?

पिताजी मेरे परीक्षाफल से संतुष्ट नहीं हुए।

- Ans
- 1. संतुष्ट
 - 2. पिताजी मेरे
 - 3. परीक्षाफल से
 - 4. नहीं हुए।

Question ID : 65497831250
Status : Answered
Chosen Option : 2

Q.7 उस विकल्प का चयन कीजिए जो नीचे दिए गये मुहावरे का अर्थ व्यक्त करता है-

आपे में आना

- Ans 1. होश में आना
 2. काबू में न रहना
 3. बेहोश हो जाना
 4. बहुत गुस्से में आना

Question ID : 65497831244
Status : Answered
Chosen Option : 1

Q.8 दिए गए शब्द के विलोम शब्द का चयन करें।

आसक्त

- Ans 1. विरक्त
 2. विस्तृत
 3. अनासक्त
 4. सक्त

Question ID : 65497831241
Status : Answered
Chosen Option : 3

Q.9 दिए गए वाक्य में रेखांकित खंड को प्रतिस्थापित करने के लिए सबसे उपयुक्त विकल्प का चयन करें।
यदि इसे प्रतिस्थापित करने की आवश्यकता नहीं है, तो विकल्प 'किसी बदलाव की आवश्यकता नहीं है'
का चयन करें।

जनता के अंदर असंतोष फैल गया।

- Ans 1. के पास
 2. के भीतर
 3. जनता में
 4. किसी बदलाव की आवश्यकता नहीं है।

Question ID : 65497831234
Status : Answered
Chosen Option : 3

Q.10 दिए गए शब्द के समानार्थी का चयन करें।

कोयल

- Ans 1. मुरारी
 2. अनंग
 3. वसंतदूत
 4. श्वान

Question ID : 65497831237
Status : Answered
Chosen Option : 3

Q.11 दिए गए शब्द के विलोम शब्द का चयन करें-

स्वल्पायु

- Ans
- 1. अवस्था
 - 2. चिरायु
 - 3. दीर्घ
 - 4. अल्पायु

Question ID : 65497831243
Status : Answered
Chosen Option : 4

Q.12 निम्नलिखित में से अशुद्ध वर्तनी वाले शब्द को पहचानिए-

- Ans
- 1. ज्योतिषी
 - 2. डारधिची
 - 3. ताज्जुब
 - 4. दशहरा

Question ID : 65497831238
Status : Answered
Chosen Option : 3

Q.13 दिए गए वाक्य का वह भाग ज्ञात करें जिसमें कोई त्रुटि है। यदि कोई त्रुटि नहीं है, तो 'कोई त्रुटि नहीं है' विकल्प को चुनें।

रमादेवी एक विद्वान महिला थीं।

- Ans
- 1. एक विद्वान
 - 2. कोई त्रुटि नहीं है
 - 3. महिला थीं
 - 4. रमादेवी

Question ID : 65497831236
Status : Answered
Chosen Option : 2

Q.14 निम्नलिखित में से शुद्ध वर्तनी वाले शब्द को पहचानिए-

- Ans
- 1. कारीगर
 - 2. बिकारी
 - 3. ओषधी
 - 4. सच्च

Question ID : 65497831239
Status : Answered
Chosen Option : 2

Q.15 'ठीक परिणाम देने वाला' वाक्यांश के लिए उपयुक्त शब्द होगा-

- Ans
- 1. सुखांत
 - 2. सुखदायी
 - 3. फलदायी
 - 4. फलक

Question ID : 65497831253
Status : Answered
Chosen Option : 3

Q.16 रिक्त स्थान की पूर्ति के लिए सबसे उपयुक्त शब्द का चयन करें।

आज इस साल का पहला तूफान_____।

- Ans
- 1. आया
 - 2. चला
 - 3. नाचा
 - 4. उठा

Question ID : 65497831247
Status : Answered
Chosen Option : 1

Q.17 दिए गये वाक्यांश के लिए एक शब्द दीजिये-

बिना वेतन के काम करने वाला

- Ans
- 1. वैतनिक
 - 2. अवैतनिक
 - 3. अपेय
 - 4. भुगतानविहीन

Question ID : 65497831245
Status : Answered
Chosen Option : 2

Q.18 'नलिन' किसका पर्यायवाची है?

- Ans
- 1. कपड़ा
 - 2. जल
 - 3. कमल
 - 4. स्वर्ग

Question ID : 65497831251
Status : Answered
Chosen Option : 2

Q.19 'काँटों पर लोटना' इस मुहावरे का उचित अर्थ किस विकल्प में है?

- Ans
- 1. संकट में डालना
 - 2. बाधा दूर होना
 - 3. बेचैन होना
 - 4. अडचनें पैदा करना

Question ID : 65497831235
Status : Answered
Chosen Option : 1

Q.20 दिए गए वाक्य में रेखांकित खंड को प्रतिस्थापित करने के लिए सबसे उपयुक्त विकल्प का चयन करें।
यदि इसे प्रतिस्थापित करने की आवश्यकता नहीं है, तो विकल्प 'किसी बदलाव की आवश्यकता नहीं है'
का चयन करें।

मैं गाने का कसरत कर रहा हूँ।

- Ans
- 1. अभ्यास कर रहा हूँ
 - 2. किसी बदलाव की आवश्यकता नहीं है।
 - 3. समर्पण कर रहा हूँ
 - 4. व्यायाम कर रहा हूँ

Question ID : 65497831249
Status : Answered
Chosen Option : 1

Comprehension:

नीचे दिए गए गद्यांश में से कुछ शब्द हटा दिए गए हैं। संबंधित प्रश्नों में प्रत्येक संख्या के लिए सबसे उपयुक्त विकल्प का चयन करें।

(1) _____ को सबल बनाने के लिए हमें नियमित (2) _____ करना चाहिए। सुंदर (3) _____ के लिए हमें खेलना, दौड़ना, चलना, कूदना और (4) _____ चाहिए। अतएव हम सभी को विद्यालयों में होनेवाले (5) _____ में भाग लेना चाहिए।

SubQuestion No : 21

Q.21 गद्यांश के रिक्त स्थान (1) के लिए सर्वाधिक उपयुक्त शब्द होगा-

- Ans
- 1. हृदय
 - 2. शरीर
 - 3. परिवार
 - 4. काम

Question ID : 65497831255
Status : Answered
Chosen Option : 2

Comprehension:

नीचे दिए गए गद्यांश में से कुछ शब्द हटा दिए गए हैं। संबंधित प्रश्नों में प्रत्येक संख्या के लिए सबसे उपयुक्त विकल्प का चयन करें।

(1) _____ को सबल बनाने के लिए हमें नियमित (2) _____ करना चाहिए। सुंदर (3) _____ के लिए हमें खेलना, दौड़ना, चलना, कूदना और (4) _____ चाहिए। अतएव हम सभी को विद्यालयों में होनेवाले (5) _____ में भाग लेना चाहिए।

SubQuestion No : 22

Q.22 गद्यांश के रिक्त स्थान (2) के लिए सर्वाधिक उपयुक्त शब्द होगा-

- Ans** 1. व्यायाम
 2. भाषण करना
 3. खाना
 4. शोना

Question ID : 65497831256
Status : Answered
Chosen Option : 1

Comprehension:

नीचे दिए गए गद्यांश में से कुछ शब्द हटा दिए गए हैं। संबंधित प्रश्नों में प्रत्येक संख्या के लिए सबसे उपयुक्त विकल्प का चयन करें।

(1) _____ को सबल बनाने के लिए हमें नियमित (2) _____ करना चाहिए। सुंदर (3) _____ के लिए हमें खेलना, दौड़ना, चलना, कूदना और (4) _____ चाहिए। अतएव हम सभी को विद्यालयों में होनेवाले (5) _____ में भाग लेना चाहिए।

SubQuestion No : 23

Q.23 गद्यांश के रिक्त स्थान (3) के लिए सर्वाधिक उपयुक्त शब्द होगा-

- Ans** 1. वेश-भूषा
 2. कार्य
 3. व्यवहार
 4. स्वास्थ्य

Question ID : 65497831257
Status : Answered
Chosen Option : 4

Comprehension:

नीचे दिए गए गद्यांश में से कुछ शब्द हटा दिए गए हैं। संबंधित प्रश्नों में प्रत्येक संख्या के लिए सबसे उपयुक्त विकल्प का चयन करें।

(1) _____ को सबल बनाने के लिए हमें नियमित (2) _____ करना चाहिए। सुंदर (3) _____ के लिए हमें खेलना, दौड़ना, चलना, कूदना और (4) _____ चाहिए। अतएव हम सभी को विद्यालयों में होनेवाले (5) _____ में भाग लेना चाहिए।

SubQuestion No : 24

Q.24 गद्यांश के रिक्त स्थान (4) के लिए सर्वाधिक उपयुक्त शब्द होगा-

- Ans** 1. टहलना
 2. पढ़ना
 3. गीत गाना
 4. रोना

Question ID : 65497831258
Status : Answered
Chosen Option : 2

Comprehension:

नीचे दिए गए गद्यांश में से कुछ शब्द हटा दिए गए हैं। संबंधित प्रश्नों में प्रत्येक संख्या के लिए सबसे उपयुक्त विकल्प का चयन करें।

(1) _____ को सबल बनाने के लिए हमें नियमित (2) _____ करना चाहिए। सुंदर (3) _____ के लिए हमें खेलना, दौड़ना, चलना, कूदना और (4) _____ चाहिए। अतएव हम सभी को विद्यालयों में होनेवाले (5) _____ में भाग लेना चाहिए।

SubQuestion No : 25

Q.25 गद्यांश के रिक्त स्थान (5) के लिए सर्वाधिक उपयुक्त शब्द होगा-

- Ans**
- 1. खेलों
 - 2. मजाक
 - 3. कसरत
 - 4. बातचीत में

Question ID : 65497831259

Status : Answered

Chosen Option : 1

Constable GD in CAPFs NIA SSF and Rifleman GD in Assam Rifles Examination 2021

Roll Number	www.HaryanaJobs.in
Candidate Name	www.HaryanaJobs.in
Venue Name	Info Educomonline Solution
Exam Date	17/11/2021
Exam Time :	4:00 PM - 5:30 PM
Subject	Constable GD 2021

Section : Part A General Intelligence and Reasoning

Q.1 What is the difference between the compound interest on ₹40,000 at 20% per annum compounded half-yearly and compounded quarterly for a period of one year?

- Ans
- 1. ₹320.25
 - 2. ₹220.25
 - 3. ₹8,400
 - 4. ₹8,620.25

Question ID : 65497832156
Status : Answered
Chosen Option : 2

Q.2 In a certain code language, HIDDEN is written as IJECDM. How will FELLOW be written as in that language?

- Ans
- 1. GFMKNV
 - 2. EDKKNV
 - 3. EDKMPZ
 - 4. GFMMPZ

Question ID : 65497832153
Status : Answered
Chosen Option : 1

Q.3 If 'white' is called 'black', 'black' is called 'grey', 'grey' is called 'red', 'red' is called 'green', 'green' is called 'blue' and 'blue' is called 'yellow', then what will be the colour of 'Stop' signal light?

- Ans
- 1. Grey
 - 2. Yellow
 - 3. Blue
 - 4. Green

Question ID : 65497832172
Status : Answered
Chosen Option : 4

Q.4 Study the given pattern carefully and select the number that can replace the question mark (?) in it.

15 30 33
16 26 19
62 122 ?

- Ans 1. 104
 2. 124
 3. 128
 4. 117

Question ID : 65497832155
Status : Answered
Chosen Option : 2

Q.5 In a certain code language, 'TWO' is coded as '3' and 'FIVE' is coded as '4'. How will 'EIGHT' be coded in that language?

- Ans 1. 7
 2. 9
 3. 5
 4. 8

Question ID : 65497832164
Status : Answered
Chosen Option : 3

Q.6 'Printer' is related to 'Hardware' in the same way as 'Web Browser' is related to _____.

- Ans 1. Google Chrome
 2. Windows
 3. Operating System
 4. Software

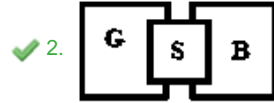
Question ID : 65497832168
Status : Answered
Chosen Option : 4

Q.7 Select the Venn diagram that best represents the relationship between the following classes.

Girls, Boys, Students

(G: Girls; B: Boys; S: Students)

Ans



Question ID : 65497832170

Status : Answered

Chosen Option : 2

Q.8 'P × Q' means 'P is the wife of Q'. 'P + Q' means 'P is the father of Q'. 'P ÷ Q' means 'P is the daughter of Q'. 'P - Q' means 'P is the son of Q'. How is E related to I in the expression 'E ÷ F + G - H ÷ I'?

Ans

✗ 1. Sister

✗ 2. Grandson

✗ 3. Daughter-in-law

✓ 4. Granddaughter

Question ID : 65497832173

Status : Answered

Chosen Option : 4

Q.9 Select the option that is related to the third number in the same way as the second number is related to the first number.

15 : 231 :: 16 : ?

Ans

✗ 1. 256

✗ 2. 260

✗ 3. 251

✓ 4. 262

Question ID : 65497832159

Status : Answered

Chosen Option : 4

Q.10 Eleven people are sitting across a rectangular table. Four persons are sitting on each longest side of the table. Boss is sitting alone at one side of the table. N and O are sitting beside each other on one of the shortest side of table. H is sitting opposite to E and between G and N. A is sitting opposite to C and between M and D. B is opposite to D and between C and G. F is sitting opposite to G. Who among them is a Boss?

- Ans
- 1. M
 - 2. A
 - 3. F
 - 4. G

Question ID : 65497832158
Status : Answered
Chosen Option : 1

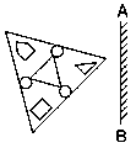
Q.11 Select the combination of letters that when sequentially placed in the blanks of the given series will complete the series.

T_DS_R_STRD_T_DS_R_S

- Ans
- 1. RTDSRTD
 - 2. DTDSSST
 - 3. DTRSRTD
 - 4. RTDTRDT

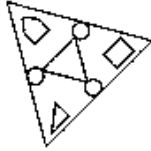
Question ID : 65497832150
Status : Answered
Chosen Option : 1

Q.12 Select the correct mirror image of the given figure when the mirror is placed at 'AB' as shown.

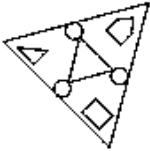


Ans

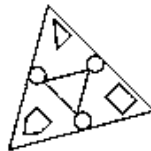
X 1.



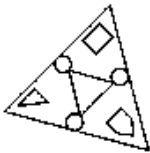
✓ 2.



X 3.



X 4.



Question ID : 65497832166
Status : Answered
Chosen Option : 2

Q.13 Select the number from among the given options that can replace the question mark (?) in the following series.

37, 41, 50, 66, ?

Ans ✓ 1. 91

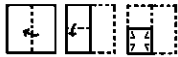
X 2. 97

X 3. 101

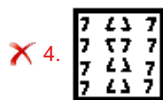
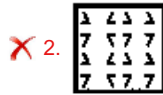
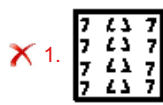
X 4. 85

Question ID : 65497832165
Status : Answered
Chosen Option : 1

Q.14 The sequence of folding a piece of paper and the manner in which the folded paper has been cut is shown in the following figures. How would this paper look when unfolded?



Ans



Question ID : 65497832157

Status : Answered

Chosen Option : 3

Q.15 Read the given statements and conclusions carefully. Assuming that the information given in the statements is true, even if it appears to be at variance with commonly known facts, decide which of the given conclusions logically follow(s) from the statements.

Statements:

1. All flowers are tulips.
2. No tulips are whites.

Conclusions:

- I. All tulips are flowers.
- II. Some tulips are whites.

Ans 1. Both the conclusions follow.

2. Only conclusion I follows.

3. Only conclusion II follows.

4. Neither conclusion I nor conclusion II follows.

Question ID : 65497832154

Status : Answered

Chosen Option : 4

Q.16 Select the number from among the given options that can replace the question mark (?) in the following series.

128, 109, ?, 77, 64, 53, 44

Ans 1. 92

2. 81

3. 88

4. 100

Question ID : 65497832151

Status : Answered

Chosen Option : 1

Q.17 Six people, F, G, H, I, J and K, are standing opposite to each other in a circle, facing towards the centre. F and G are adjacent to each other. F and K are opposite to each other. H is opposite to I. J is opposite to G. K is second to the left of H. Who is standing between F and I?

- Ans
- 1. H
 - 2. G
 - 3. K
 - 4. J

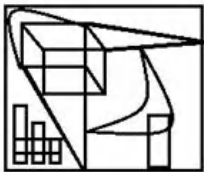
Question ID : 65497832169
Status : Answered
Chosen Option : 2

Q.18 Four letter-clusters have been given, out of which three are alike in some manner and one is different. Select the letter-cluster that is different.

- Ans
- 1. YUSR
 - 2. GDBA
 - 3. ZWUT
 - 4. IFDC

Question ID : 65497832163
Status : Answered
Chosen Option : 1

Q.19 Select the option that is embedded in the given figure (rotation is NOT allowed).



- Ans
- 1.
 - 2.
 - 3.
 - 4.

Question ID : 65497832162
Status : Answered
Chosen Option : 1

Q.20 Select the option that is related to the third letter-cluster in the same way as the second letter-cluster is related to the first letter-cluster.

FEW : GYH :: YOU : ?

- Ans
- 1. AQW
 - 2. WQA
 - 3. QWA
 - 4. QAW

Question ID : 65497832171
Status : Answered
Chosen Option : 3

Q.21 Select the letter-cluster from among the given options that can replace the question mark (?) in the following series.

BFI, EIL, HLO, KOR, ?

- Ans
- 1. LPS
 - 2. HNM
 - 3. QSV
 - 4. NRU

Question ID : 65497832167
Status : Answered
Chosen Option : 4

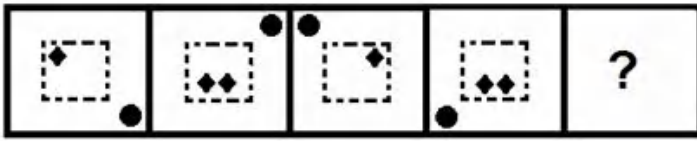
Q.22 If 'P' denotes 'addition', 'D' denotes 'subtraction', 'S' denotes 'multiplication', and 'V' denotes 'division', then what will be the value of the following expression?

15 S 2 P 2 (11 S 2) D 75 V 15 D 4 (9 S 4)

- Ans
- 1. 75
 - 2. 85
 - 3. -85
 - 4. -75

Question ID : 65497832160
Status : Answered
Chosen Option : 4

Q.23 Select the figure that will come next in the following figure series.




Ans

✗ 1.



✓ 2.



✗ 3.



✗ 4.

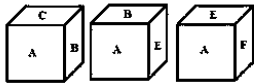


Question ID : 65497832152

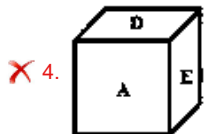
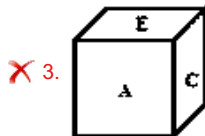
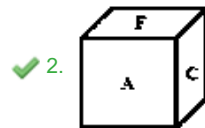
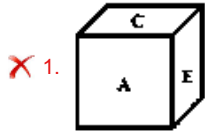
Status : Answered

Chosen Option : 2

Q.24 A dice is thrown three times. Its different positions are as shown. Select its next possible position from the given options.



Ans



Question ID : 65497832161
 Status : Answered
 Chosen Option : 2

Q.25 Select the correct option that indicates the arrangement of the given words in the order in which they appear in an English dictionary.

1. Manager
2. Manicure
3. Manner
4. Mammal
5. Mandible

Ans ✗ 1. 4, 1, 5, 3, 2

✗ 2. 1, 4, 5, 2, 3

✓ 3. 4, 1, 5, 2, 3

✗ 4. 3, 4, 2, 1, 5

Question ID : 65497832149
 Status : Answered
 Chosen Option : 3

Section : Part B General Knowledge and General Awareness

Q.1 Who among the following won the Men's Singles event at the US Open 2020?

- Ans
- 1. Alexander Zverev
 - 2. Dominic Thiem
 - 3. Bruno Soares
 - 4. Novak Djokovic

Question ID : 65497832174
Status : Answered
Chosen Option : 4

Q.2 The National Commission for Backward Classes Act, 1993, was repealed by The National Commission for Backward Classes (Repeal) Act in the year ____.

- Ans
- 1. 2018
 - 2. 2017
 - 3. 2016
 - 4. 2019

Question ID : 65497832197
Status : Not Answered
Chosen Option : --

Q.3 Who among the following cricketers won the Orange Cap in the Indian Premier League (IPL) 2020?

- Ans
- 1. KL Rahul
 - 2. MS Dhoni
 - 3. Jimmy Neesham
 - 4. Virat Kohli

Question ID : 65497832194
Status : Answered
Chosen Option : 1

Q.4 Besides banks, the other formal major source of cheap credit in rural areas, are:

- Ans
- 1. friends and relatives
 - 2. the cooperative societies
 - 3. zamindars
 - 4. money lenders

Question ID : 65497832192
Status : Answered
Chosen Option : 2

Q.5 What is the dominant substance that makes up the hair, nails and the top layer of skin in the human body?

- Ans**
- 1. Keratin
 - 2. Laminin
 - 3. Collagen
 - 4. Fibronectin

Question ID : 65497832175
Status : Answered
Chosen Option : 1

Q.6 The last Mughal Emperor Bahadur Shah Zafar was imprisoned in Rangoon jail by the British in the year _____.

- Ans**
- 1. 1826
 - 2. 1858
 - 3. 1862
 - 4. 1885

Question ID : 65497832196
Status : Answered
Chosen Option : 2

Q.7 Mahashay Dharampal Gulati, who passed away in December 2020, was the owner of iconic spice brand _____.

- Ans**
- 1. MDH
 - 2. Badshah
 - 3. Catch
 - 4. Everest

Question ID : 65497832188
Status : Answered
Chosen Option : 1

Q.8 A sphygmomanometer is used to measure which of the following?

- Ans**
- 1. Humidity
 - 2. Wind
 - 3. Electric current
 - 4. Blood pressure

Question ID : 65497832182
Status : Answered
Chosen Option : 4

Q.9 When did the Transgender Persons (Protection of Rights) Act, 2019 come into effect?

- Ans** 1. January 2020
 2. June 2020
 3. March 2020
 4. December 2019

Question ID : **65497832190**
Status : **Not Answered**
Chosen Option : --

Q.10 The book 'Kashmir's Untold Story: Declassified' was written by:

- Ans** 1. Nandita Haksar and Arundhati Roy
 2. Iqbal Chand Malhotra and Maroof Raza
 3. C Uday Bhaskar and GD Bakshi
 4. Karan Thapar and Shobhaa De

Question ID : **65497832184**
Status : **Not Answered**
Chosen Option : --

Q.11 _____ tax is imposed on transactions that have a negative externality; for example, pollution.

- Ans** 1. Tobin
 2. Customs
 3. CTT
 4. Pigovian

Question ID : **65497832185**
Status : **Not Answered**
Chosen Option : --

Q.12 As per Census 2011 which one of the following states does NOT fall in the Empowered Action Group (EAG) states?

- Ans** 1. Punjab
 2. Rajasthan
 3. Bihar
 4. Jharkhand

Question ID : **65497832178**
Status : **Answered**
Chosen Option : **4**

Q.13 When is the Indian Armed Forces Veterans Day observed annually?

- Ans** 1. 15 July
 2. 5 December
 3. 26 October
 4. 14 January

Question ID : **65497832191**
Status : **Answered**
Chosen Option : **1**

Q.14 Babur defeated Ibrahim Lodi and captured Delhi and Agra in the year _____.

- Ans
- 1. 1694
 - 2. 1372
 - 3. 1526
 - 4. 1467

Question ID : 65497832195
Status : Answered
Chosen Option : 3

Q.15 Which of the following chemicals is used to cause artificial rain (cloud seeding)?

- Ans
- 1. Hydrogen bromide
 - 2. Silver oxide
 - 3. Aluminium sulphide
 - 4. Silver iodide

Question ID : 65497832183
Status : Answered
Chosen Option : 4

Q.16 Which among the following terms denotes to the hilly parts of the Karnataka plateau?

- Ans
- 1. Buggyals
 - 2. Bets
 - 3. Malnad
 - 4. Terai

Question ID : 65497832187
Status : Not Answered
Chosen Option : --

Q.17 Which of the following states is associated with the dance drama folk theatre form 'Yakshagana'?

- Ans
- 1. Telangana
 - 2. Andhra Pradesh
 - 3. Karnataka
 - 4. Kerala

Question ID : 65497832181
Status : Answered
Chosen Option : 1

Q.18 In which of the following years was the Buddhist Chanting of Ladakh included in the UNESCO'S list of intangible cultural heritage?

- Ans
- 1. 2016
 - 2. 2013
 - 3. 2012
 - 4. 2014

Question ID : 65497832186
Status : Not Answered
Chosen Option : --

Q.19 Jwala Gutta is an Indian professional _____ player.

- Ans 1. badminton
 2. tennis
 3. table tennis
 4. football

Question ID : 65497832189
Status : Not Answered
Chosen Option : --

Q.20 The statutory power for exchange control was provided to Reserve Bank of India by the Foreign Exchange Regulation Act (FERA) of _____, which was subsequently replaced by a more comprehensive Foreign Exchange Regulation Act, 1973.

- Ans 1. 1953
 2. 1963
 3. 1947
 4. 1967

Question ID : 65497832179
Status : Not Answered
Chosen Option : --

Q.21 The Battle of Kohima was fought in 1944 between:

- Ans 1. Imperial Japanese forces and British Indian forces
 2. Chinese forces and British Indian forces
 3. Royal Burmese Army and British Indian Army
 4. Japanese forces and Communist Chinese forces

Question ID : 65497832180
Status : Answered
Chosen Option : 3

Q.22 Which of the following statements is NOT true regarding 'Spring tides'?

- Ans 1. These tides are the lowest.
 2. These tides occur on new moon days.
 3. These tides occur during full moon days.
 4. These tides are the highest.

Question ID : 65497832193
Status : Not Answered
Chosen Option : --

Q.23 Which of the following dynasties was NOT a part of the Delhi Sultanate?

- Ans 1. Lodhi
 2. Khilji
 3. Slave
 4. Sur

Question ID : 65497832176
Status : Answered
Chosen Option : 4

Q.24 Which of the following states announced the setting up of a 'Gau Cabinet' in November 2020 for the protection and promotion of cattle?

- Ans
- 1. Bihar
 - 2. Madhya Pradesh
 - 3. Chhattisgarh
 - 4. Uttar Pradesh

Question ID : 65497832198
Status : Answered
Chosen Option : 4

Q.25 _____ became the first Indian to win a singles match at the US Open in seven years in September 2020.

- Ans
- 1. Divij Sharan
 - 2. Sumit Nagal
 - 3. Yuki Bhambri
 - 4. Purav Raja

Question ID : 65497832177
Status : Answered
Chosen Option : 2

Section : Part C Elementary Mathematics

Q.1 What is the difference between the compound interest on ₹3,000 for 1 year at 5% per annum compounded yearly and that compounded half-yearly?

- Ans
- 1. ₹ $1\frac{13}{15}$
 - 2. ₹ $1\frac{7}{8}$
 - 3. ₹ $1\frac{6}{7}$
 - 4. ₹ $1\frac{22}{25}$

Question ID : 65497832219
Status : Answered
Chosen Option : 2

Q.2 By selling 40 dozen bananas for ₹1,440, a man gains 20%. In order to gain 30%, for how much should he sell 20 dozen bananas?

- Ans
- 1. ₹720
 - 2. ₹1,560
 - 3. ₹936
 - 4. ₹780

Question ID : 65497832199
Status : Answered
Chosen Option : 4

Q.3 If the height of a right circular cone is 24 m and its slant height is 30 m, then what is the area of its curved surface?

(Use $\pi = \frac{22}{7}$)

- Ans**
- 1. 1778.654 m²
 - 2. 1267.435 m²
 - 3. 1697.143 m²
 - 4. 1377.423 m²

Question ID : 65497832220
Status : Answered
Chosen Option : 3

Q.4 By selling an article for ₹254.38, there is a gain of 10.6%. If it is sold for ₹224.25, then the loss/gain percentage will be:

- Ans**
- 1. loss, 2.5%
 - 2. loss, 5%
 - 3. gain, 2.5%
 - 4. gain, 5%

Question ID : 65497832222
Status : Answered
Chosen Option : 1

Q.5 The average weight of 6 persons increases by 1.5 kg when a new person comes in place of one of them who was weighing 65 kg. What is the weight of the new person?

- Ans**
- 1. 75.5 kg
 - 2. 74 kg
 - 3. 66.5 kg
 - 4. 76 kg

Question ID : 65497832212
Status : Answered
Chosen Option : 2

Q.6 Akhil drives a car from his home to office at an average speed of 50 km/h and reaches office 10 minutes early. But one day due to some problem with the car, he could drive at an average speed of 30 km/h only and reached office 10 minutes late. How far is his office from home?

- Ans**
- 1. 25 km
 - 2. 37.5 km
 - 3. 12.5 km
 - 4. 30 km

Question ID : 65497832202
Status : Answered
Chosen Option : 1

Q.7 During a flight of 900 km, an aircraft was slowed down due to bad weather. Its average speed for the trip was reduced by 300 km/h and the time of flight increased by 30 min. The original duration of the flight was:

- Ans
- 1. $3/2$ h
 - 2. 2 h
 - 3. 1 h
 - 4. 3 h

Question ID : 65497832216
 Status : Answered
 Chosen Option : 3

Q.8 The amount obtained by investing a certain sum at $r\%$ p.a. for 3 years at simple interest is equal to the simple interest on the same sum at the same rate for 19 years. What is the value of r ?

- Ans
- 1. 4
 - 2. 5.75
 - 3. 6.25
 - 4. 8

Question ID : 65497832208
 Status : Answered
 Chosen Option : 3

Q.9 The value of $3 \times 4 \div 3$ of $24 - 3 \div 2 \times (3 - 4) \times 2 + 6 \div 4$ of 3 is:

- Ans
- 1. $-2\frac{1}{3}$
 - 2. $3\frac{2}{3}$
 - 3. $2\frac{1}{3}$
 - 4. $-3\frac{2}{3}$

Question ID : 65497832221
 Status : Answered
 Chosen Option : 2

Q.10 A trader purchased 360 packets of pencils at the rate of ₹15 per packet. He sold 60% of the packets at the rate of ₹18 per packet and the remaining packets at the rate of ₹20 per packet. What is his gain per cent (up to one decimal place) in this transaction?

- Ans
- 1. 25.4
 - 2. 25.5
 - 3. 25.3
 - 4. 25.2

Question ID : 65497832217
 Status : Answered
 Chosen Option : 3

Q.11 If 80% of $\frac{3}{4}$ of a number is 63, then the number is:

- Ans
- 1. 115
 - 2. 105
 - 3. 110
 - 4. 95

Question ID : 65497832214
Status : Answered
Chosen Option : 2

Q.12 Rameshwar deposited a part of ₹3,28,000 in a bank in the name of his daughter aged 18 years, and the balance in the name of his son aged 19 years in such a way that they both receive equal amounts when they become 21 years of age. If the bank gives compound interest at 5% per annum, then how much did he invest in the name of his daughter?

- Ans
- 1. ₹1,57,000
 - 2. ₹1,60,000
 - 3. ₹1,58,000
 - 4. ₹1,56,000

Question ID : 65497832200
Status : Not Answered
Chosen Option : --

Q.13 Pipes A and B can empty a full tank in 16 hours and 24 hours, respectively. Pipe C alone can fill the empty tank in 4 hours. If A, B and C are opened together, the tank will be 35% full after:

- Ans
- 1. $2\frac{1}{5}$ hours
 - 2. $2\frac{2}{5}$ hours
 - 3. $3\frac{1}{5}$ hours
 - 4. $3\frac{2}{5}$ hours

Question ID : 65497832223
Status : Answered
Chosen Option : 2

Q.14 The ratio of the number of men and women in a company is 5 : 4. If the number of men and women increase by 16% and 15%, respectively, then what will be the new ratio of men and women?

- Ans
- 1. 23 : 29
 - 2. 29 : 23
 - 3. 33 : 29
 - 4. 29 : 33

Question ID : 65497832218
Status : Answered
Chosen Option : 2

Q.15 If a 10-digit number $643x1145y2$ is divisible by 88, then the value of $(2x - 3y)$ for the largest value of y is:

- Ans**
- 1. 15
 - 2. 27
 - 3. -27
 - 4. -15

Question ID : 65497832203
Status : Answered
Chosen Option : 4

Q.16 What number must be added to each of the numbers 15, 9 and 5 so that the resulting numbers may be in a continued proportion?

- Ans**
- 1. 4
 - 2. 2
 - 3. 5
 - 4. 3

Question ID : 65497832210
Status : Answered
Chosen Option : 4

Q.17 Two numbers X and Y are such that the sum of 3% of X and 2% of Y is two-third of the sum of 2% of X and 6% of Y. The ratio of three times of X to two times of Y is:

- Ans**
- 1. 3 : 4
 - 2. 5 : 9
 - 3. 9 : 5
 - 4. 4 : 3

Question ID : 65497832204
Status : Answered
Chosen Option : 3

Q.18 Two successive discounts, with the first being 10%, were given on an article having the marked price of ₹7,500. Finally, it was sold for ₹5,805. What per cent was the second discount?

- Ans**
- 1. 16%
 - 2. 15%
 - 3. 14%
 - 4. 12%

Question ID : 65497832209
Status : Answered
Chosen Option : 4

Q.19 If the number 6523678pq is divisible by 99, the missing digits p and q are:

- Ans
- 1. $p = 3, q = 5$
 - 2. $p = 4, q = 4$
 - 3. $p = 2, q = 6$
 - 4. $p = 6, q = 2$

Question ID : 65497832205
Status : Answered
Chosen Option : 3

Q.20 If the selling price of an article is ₹900 and the discount is 40%, then find its marked price (in ₹).

- Ans
- 1. 1,200
 - 2. 1,500
 - 3. 800
 - 4. 1,600

Question ID : 65497832213
Status : Answered
Chosen Option : 2

Q.21 The average of seven consecutive positive integers is 259. If the next five odd numbers are included, then what is the average of all the numbers (correct to two decimal places)?

- Ans
- 1. 262.33
 - 2. 267.89
 - 3. 259.68
 - 4. 260.74

Question ID : 65497832206
Status : Not Answered
Chosen Option : --

Q.22 The area of the floor of a cubical room is 192 m^2 . The length of the longest rod that can be kept in that room is:

- Ans
- 1. 22 m
 - 2. 24 m
 - 3. 26 m
 - 4. 18 m

Question ID : 65497832211
Status : Not Answered
Chosen Option : --

Q.23 A, B and C can complete a work in 60, 30 and 20 days, respectively. In how many days can A complete the work if he is assisted by B and C together on every fifth day?

- Ans**
- 1. 15
 - 2. 30
 - 3. 35
 - 4. 25

Question ID : 65497832215
 Status : Not Answered
 Chosen Option : --

Q.24 Simplify the following expression.

$$\frac{312 \div 26 + 60 \div (42 - 55 \text{ of } 4 \div 10) \times 2}{9 + (12 - 2 \text{ of } 4)}$$

- Ans**
- 1. $1\frac{5}{13}$
 - 2. $-\frac{144}{169}$
 - 3. $\frac{6}{169}$
 - 4. $1\frac{1}{26}$

Question ID : 65497832201
 Status : Not Answered
 Chosen Option : --

Q.25 When x is subtracted from each of 43, 38, 11 and 10, then the numbers so obtained in this order are in proportion. What is the mean proportional between $(11x + 3)$ and $(9x - 2)$?

- Ans**
- 1. 20
 - 2. 30
 - 3. 25
 - 4. 35

Question ID : 65497832207
 Status : Not Answered
 Chosen Option : --

Q.1 Select the most appropriate ANTONYM of the given word.

Hesitate

- Ans**
- 1. Delay
 - 2. Waver
 - 3. Advance
 - 4. Falter

Question ID : 65497832237
Status : Not Answered
Chosen Option : --

Q.2 Select the option that can be used as a substitute for the given group of words.

Hair of animals, which is soft and used for making wool

- Ans**
- 1. Fur
 - 2. Kenosis
 - 3. Grizzly hair
 - 4. Bristles

Question ID : 65497832235
Status : Not Answered
Chosen Option : --

Q.3 Select the option that can be used as a one-word substitute for the given group of words.

Break or fall apart into small fragments in the process of deterioration

- Ans**
- 1. Slump
 - 2. Sag
 - 3. Collapse
 - 4. Crumble

Question ID : 65497832226
Status : Not Answered
Chosen Option : --

Q.4 Select the INCORRECTLY spelt word.

- Ans**
- 1. Rotate
 - 2. Rotten
 - 3. Robbery
 - 4. Round

Question ID : 65497832227
Status : Not Answered
Chosen Option : --

Q.5 Select the most appropriate meaning of the given idiom.

To break new ground

- Ans 1. To innovate or pioneer
 2. To disturb or interrupt
 3. To start digging somewhere else
 4. To look for a new building

Question ID : 65497832236
Status : Not Answered
Chosen Option : --

Q.6 Select the option that can be used as a one-word substitute for the given group of words.

A large number of fish swimming together

- Ans 1. Herd
 2. Gaggle
 3. Pride
 4. Shoal

Question ID : 65497832243
Status : Not Answered
Chosen Option : --

Q.7 Select the most appropriate option to fill in the blank.

The teacher asked us to write our answers _____.

- Ans 1. laughably
 2. latently
 3. laudably
 4. legibly

Question ID : 65497832238
Status : Not Answered
Chosen Option : --

Q.8 Select the most appropriate synonym of the given word.

Plead

- Ans 1. Request
 2. Reply
 3. Repeat
 4. Refuse

Question ID : 65497832242
Status : Not Answered
Chosen Option : --

Q.9 Select the most appropriate ANTONYM of the given word.

Detest

- Ans 1. Adore
 2. Hate
 3. Reject
 4. Abhor

Question ID : 65497832225
Status : Not Answered
Chosen Option : --

Q.10 The following sentence has been divided into parts. One of them may contain an error. Select the part that contains the error from the given options. If you don't find any error, mark 'No error' as your answer.

Kavya didn't wanted / any help / in painting.

- Ans 1. Kavya didn't wanted
 2. in painting
 3. No error
 4. any help

Question ID : 65497832228
Status : Not Answered
Chosen Option : --

Q.11 Select the most appropriate option that can substitute the underlined segment in the given sentence. If there is no need to substitute it, select 'No substitution required'.

The inmates of the house are sleep when the thief entered.

- Ans 1. were sleeping
 2. No substitution required
 3. are sleeping
 4. were sleep

Question ID : 65497832230
Status : Not Answered
Chosen Option : --

Q.12 The following sentence has been divided into parts. One of them may contain an error. Select the part that contains the error from the given options. If you don't find any error, mark 'No error' as your answer.

Please let me know / whether you decide / to come with me.

- Ans 1. whether you decide
 2. to come with me
 3. Please let me know
 4. No error

Question ID : 65497832224
Status : Not Answered
Chosen Option : --

Q.13 Select the correctly spelt word.

- Ans 1. Procedure
 2. Labaling
 3. Precoutions
 4. Precipetation

Question ID : 65497832233
Status : Not Answered
Chosen Option : --

Q.14 Select the most appropriate option that can substitute the underlined segment in the given sentence. If there is no need to substitute it, select 'No substitution required'.

Molly Yvonne didn't know what to do. She was torn apart with conflicting emotions.

- Ans 1. No substitution required
 2. In
 3. By
 4. For

Question ID : 65497832240
Status : Not Answered
Chosen Option : --

Q.15 Select the most appropriate option that can substitute the underlined segment in the given sentence. If there is no need to substitute it, select 'No substitution required'.

The old man was too weak that he couldn't climb the stairs.

- Ans 1. very weak to
 2. so weak to
 3. No substitution required
 4. too weak to

Question ID : 65497832239
Status : Not Answered
Chosen Option : --

Q.16 The following sentence has been split into four segments. Identify the segment that contains a grammatical error.

Shilpi has / a keen interest / of learning / a foreign language.

- Ans 1. a keen interest
 2. of learning
 3. a foreign language
 4. Shilpi has

Question ID : 65497832241
Status : Not Answered
Chosen Option : --

Q.17 Select the most appropriate synonym of the given word.

Cruel

- Ans 1. Polite
 2. Mild
 3. Brutal
 4. Easy

Question ID : 65497832229
Status : Not Answered
Chosen Option : --

Q.18 Select the most appropriate option to fill in the blank.

His condition was so critical that a senior doctor _____ performed the operation.

- Ans 1. myself
 2. itself
 3. yourself
 4. himself

Question ID : 65497832234
Status : Not Answered
Chosen Option : --

Q.19 Select the most appropriate meaning of the given idiom.

To break into tears

- Ans 1. To cry suddenly
 2. To fidget
 3. To panic
 4. To be afraid of

Question ID : 65497832232
Status : Not Answered
Chosen Option : --

Q.20 Select the most appropriate option to fill in the blank.

Music is helpful in improving the _____ of students.

- Ans 1. attraction
 2. transfiguration
 3. solution
 4. concentration

Question ID : 65497832231
Status : Not Answered
Chosen Option : --

Comprehension:

In the following passage, some words have been deleted. Read the passage carefully and select the most appropriate option to fill in each blank.

Once, a man and his son were going into town. (1) _____ wanted to sell some potatoes. They went with (2) _____ donkey, and the donkey (3) _____ the potatoes. While they walked, (4) _____ man came past on a horse. "Shame (5) _____ you!" he said. "Why do you have a donkey, but you don't ride it?"

SubQuestion No : 21

Q.21 Select the most appropriate option to fill in blank number 1.

- Ans
- 1. It
 - 2. He
 - 3. Who
 - 4. They

Question ID : 65497832245
Status : Not Answered
Chosen Option : --

Comprehension:

In the following passage, some words have been deleted. Read the passage carefully and select the most appropriate option to fill in each blank.

Once, a man and his son were going into town. (1) _____ wanted to sell some potatoes. They went with (2) _____ donkey, and the donkey (3) _____ the potatoes. While they walked, (4) _____ man came past on a horse. "Shame (5) _____ you!" he said. "Why do you have a donkey, but you don't ride it?"

SubQuestion No : 22

Q.22 Select the most appropriate option to fill in blank number 2.

- Ans
- 1. one
 - 2. their
 - 3. own
 - 4. his

Question ID : 65497832246
Status : Not Answered
Chosen Option : --

Comprehension:

In the following passage, some words have been deleted. Read the passage carefully and select the most appropriate option to fill in each blank.

Once, a man and his son were going into town. (1) _____ wanted to sell some potatoes. They went with (2) _____ donkey, and the donkey (3) _____ the potatoes. While they walked, (4) _____ man came past on a horse. "Shame (5) _____ you!" he said. "Why do you have a donkey, but you don't ride it?"

SubQuestion No : 23

Q.23 Select the most appropriate option to fill in blank number 3.

- Ans
- 1. carried
 - 2. sold
 - 3. weighed
 - 4. loaded

Question ID : 65497832247
Status : Not Answered
Chosen Option : --

Comprehension:

In the following passage, some words have been deleted. Read the passage carefully and select the most appropriate option to fill in each blank.

Once, a man and his son were going into town. (1) _____ wanted to sell some potatoes. They went with (2) _____ donkey, and the donkey (3) _____ the potatoes. While they walked, (4) _____ man came past on a horse. "Shame (5) _____ you!" he said. "Why do you have a donkey, but you don't ride it?"

SubQuestion No : 24

Q.24 Select the most appropriate option to fill in blank number 4.

- Ans** 1. other
 2. a
 3. same
 4. some

Question ID : 65497832248
Status : Not Answered
Chosen Option : --

Comprehension:

In the following passage, some words have been deleted. Read the passage carefully and select the most appropriate option to fill in each blank.

Once, a man and his son were going into town. (1) _____ wanted to sell some potatoes. They went with (2) _____ donkey, and the donkey (3) _____ the potatoes. While they walked, (4) _____ man came past on a horse. "Shame (5) _____ you!" he said. "Why do you have a donkey, but you don't ride it?"

SubQuestion No : 25

Q.25 Select the most appropriate option to fill in blank number 5.

- Ans** 1. by
 2. on
 3. at
 4. for

Question ID : 65497832249
Status : Not Answered
Chosen Option : --

Section : **Part D Hindi**

Q.1 कौनसा विलोम युग्म सुमेलित नहीं है?

- Ans** 1. अंगीकार-स्वीकार
 2. अधम-उत्तम
 3. अकाम-सकाम
 4. अवनत-उन्नत

Question ID : 65497832252
Status : Answered
Chosen Option : 3

Q.2 सही वर्तनी वाले शब्द का चयन करें।

- Ans
- 1. इर्ष्यालू
 - 2. ईष्यालू
 - 3. ईर्ष्यालु
 - 4. इषालु

Question ID : 65497832258
Status : Answered
Chosen Option : 3

Q.3 दिए गए वाक्य में रेखांकित खंड को प्रतिस्थापित करने के लिए सबसे उपयुक्त विकल्प का चयन करें।
यदि इसे प्रतिस्थापित करने की आवश्यकता नहीं है, तो विकल्प 'किसी बदलाव की आवश्यकता नहीं है'
का चयन करें।

अच्छे लड़के परिश्रमी होती हैं।

- Ans
- 1. किसी बदलाव की आवश्यकता नहीं है।
 - 2. होती है।
 - 3. होते हैं।
 - 4. होता है।

Question ID : 65497832255
Status : Answered
Chosen Option : 3

Q.4 दिये गये वाक्य के किस भाग में त्रुटि है?

कवि ने प्रकृति की सुंदर शोभा का वर्णन किया है।

- Ans
- 1. वर्णन किया है।
 - 2. कवि ने
 - 3. प्रकृति की
 - 4. सुंदर शोभा का

Question ID : 65497832267
Status : Answered
Chosen Option : 3

Q.5 'अंधेर करना' मुहावरे का अर्थ बताइए।

- Ans
- 1. अन्याय करना
 - 2. अंधेरा करना
 - 3. घमंड करना
 - 4. भ्रष्टाचार करना

Question ID : 65497832260
Status : Answered
Chosen Option : 1

Q.6 'आदर और निरादर करना' यह अर्थ किस मुहावरे का है?

- Ans 1. पान-पानही खिलाना
 2. पान-फूल-सा
 3. पान-पत्ते तक सीमित होना
 4. पान-फूल पर रहना

Question ID : 65497832253
Status : Answered
Chosen Option : 1

Q.7 रिक्त स्थान को भरने के लिए सबसे उपयुक्त शब्द का चयन करें।

पेड़ पर चिड़िया _____ है।

- Ans 1. चहचहाती
 2. हिनहिनाती
 3. कडकती
 4. टिटकारती

Question ID : 65497832256
Status : Answered
Chosen Option : 1

Q.8 दिए गए शब्द के समानार्थी शब्द का चयन करें।

इंद्र

- Ans 1. भगवान
 2. यक्षराज
 3. देवराज
 4. ईश्वर

Question ID : 65497832263
Status : Answered
Chosen Option : 3

Q.9 दिए गए शब्द के समानार्थी शब्द का चयन कीजिए।

तुरंगी

- Ans 1. अस्तबल
 2. घुड़सवार
 3. घुड़साल
 4. घुड़सार

Question ID : 65497832251
Status : Answered
Chosen Option : 2

Q.10 'जो न जाना गया हो' वाक्यांश के लिए एक शब्द होगा-

- Ans 1. अज्ञात
 2. ज्ञात
 3. अनजान
 4. अतिथि

Question ID : 65497832266
Status : Answered
Chosen Option : 1

Q.11 रिक्त स्थान को भरने के लिए सबसे उपयुक्त शब्द का चयन करें।

परिवर्तन _____ का नियम है।

- Ans 1. पृथ्वी
 2. संस्कृति
 3. जगत
 4. प्रकृति

Question ID : 65497832259
Status : Answered
Chosen Option : 3

Q.12 नीचे दिए वाक्य में रिक्त-स्थान भरने के लिए सबसे उपयुक्त शब्द का चयन करें।

बरगद _____ हहरा रहा था।

- Ans 1. झाँप-झाँप
 2. साय-साय
 3. सर-सर
 4. हर-हर

Question ID : 65497832265
Status : Answered
Chosen Option : 2

Q.13 दिए गए वाक्य में रेखांकित खंड को प्रतिस्थापित करने के लिए सबसे उपयुक्त विकल्प का चयन करें।
यदि इसे प्रतिस्थापित करने की आवश्यकता नहीं है, तो विकल्प 'किसी बदलाव की आवश्यकता नहीं है'
का चयन करें।

वह मुझे अनन्तकाल से नहीं मिला।

- Ans 1. चिरकाल से
 2. प्राचीन काल में
 3. पुरातन काल से
 4. किसी बदलाव की आवश्यकता नहीं है।

Question ID : 65497832261
Status : Answered
Chosen Option : 4

Q.14 'दोपहर के बाद का समय' वाक्यांश के लिए एक शब्द होगा-

- Ans 1. अपराह्न
 2. मध्याह्न
 3. गोधूलि
 4. पूर्वाह्न

Question ID : 65497832269
Status : Answered
Chosen Option : 2

Q.15 दिये गये वाक्यांश के लिए एक सार्थक शब्द दीजिए।

जिसकी जीविका निश्चित न हो

- Ans 1. आकाशवृत्ति
 2. खेचर
 3. आत्मघाती
 4. अगोचर

Question ID : 65497832254
Status : Answered
Chosen Option : 2

Q.16 दिए गए वाक्य में रेखांकित खंड को प्रतिस्थापित करने के लिए सबसे उपयुक्त विकल्प का चयन करें।
यदि इसे प्रतिस्थापित करने की आवश्यकता नहीं है, तो विकल्प 'किसी बदलाव की आवश्यकता नहीं है'
का चयन करें।

असली भैंस का दूध बहुत मीठा होता है।

- Ans 1. भैंस का असली दूध
 2. गाय का दूध
 3. भैंस का दूध
 4. किसी बदलाव की आवश्यकता नहीं है।

Question ID : 65497832264
Status : Answered
Chosen Option : 3

Q.17 'उग्र' का विलोम शब्द होगा-

- Ans 1. सरल
 2. सौम्य
 3. प्रखर
 4. कठोर

Question ID : 65497832268
Status : Answered
Chosen Option : 1

Q.18 दिए गए वाक्य का वह भाग ज्ञात करें जिसमें कोई त्रुटि है। यदि कोई त्रुटि नहीं है, तो 'कोई त्रुटि नहीं है' चुनें।

प्रस्तुत पंक्तियाँ (1)/ कामायनी से (2)/ ली हैं। (3)/ कोई त्रुटि नहीं है/ (4)

- Ans
- 1. 2
 - 2. 4
 - 3. 3
 - 4. 1

Question ID : 65497832262
Status : Answered
Chosen Option : 3

Q.19 दिए गए वाक्य का वह भाग ज्ञात करें जिसमें कोई त्रुटि है। यदि कोई त्रुटि नहीं है, तो 'कोई त्रुटि नहीं है' चुनें।

अन्य वर्ष के (1)/ समान इस वर्ष भी (2)/ फसल अच्छी रही। (3)/ कोई त्रुटि नहीं है (4)

- Ans
- 1. 2
 - 2. 1
 - 3. 3
 - 4. 4

Question ID : 65497832250
Status : Answered
Chosen Option : 2

Q.20 सही वर्तनी वाले शब्द का चयन करें।

- Ans
- 1. अदुतीय
 - 2. अद्वितिय
 - 3. अदितीत
 - 4. अद्वितीय

Question ID : 65497832257
Status : Answered
Chosen Option : 4

Comprehension:

मनुष्य शारीरिक कष्ट से ही पीछे हटने वाला (1) _____ नहीं है। मानसिक क्लेश की संभावना से भी बहुत- से कर्मों की ओर प्रवृत्त होने का (2) _____ उसे नहीं होता। जिन बातों से समाज के बीच उपहास, निंदा, (3) _____ इत्यादि का भय रहता है, उन्हें अच्छी और कल्याणकारिणी समझते हुए भी बहुत से लोग उनसे दूर रहते हैं। (4) _____ हानि देखते हुए भी कुछ प्रथाओं का अनुसरण बड़े-बड़े समझदार तक इसलिए करते चलते हैं कि उनके त्याग से वे बुरे कहे जाएँगे; लोगों में उनका वैसा आदर - सम्मान न रह जाएगा। उसके लिए मान - ग्लानि का कष्ट सब शारीरिक (5) _____ से बढ़कर होता है।

निम्न प्रश्नों के उत्तर उपरोक्त गद्यांश के आधार पर दीजिए।

SubQuestion No : 21

Q.21 गद्यांश के रिक्त स्थान (1) के लिए सर्वाधिक उपयुक्त शब्द होगा-

- Ans**
- 1. जलचर
 - 2. जानवर
 - 3. प्राणी
 - 4. नभचर

Question ID : 65497832271

Status : Answered

Chosen Option : 3

Comprehension:

मनुष्य शारीरिक कष्ट से ही पीछे हटने वाला (1) _____ नहीं है। मानसिक क्लेश की संभावना से भी बहुत- से कर्मों की ओर प्रवृत्त होने का (2) _____ उसे नहीं होता। जिन बातों से समाज के बीच उपहास, निंदा, (3) _____ इत्यादि का भय रहता है, उन्हें अच्छी और कल्याणकारिणी समझते हुए भी बहुत से लोग उनसे दूर रहते हैं। (4) _____ हानि देखते हुए भी कुछ प्रथाओं का अनुसरण बड़े-बड़े समझदार तक इसलिए करते चलते हैं कि उनके त्याग से वे बुरे कहे जाएँगे; लोगों में उनका वैसा आदर - सम्मान न रह जाएगा। उसके लिए मान - ग्लानि का कष्ट सब शारीरिक (5) _____ से बढ़कर होता है।

निम्न प्रश्नों के उत्तर उपरोक्त गद्यांश के आधार पर दीजिए।

SubQuestion No : 22

Q.22 गद्यांश के रिक्त स्थान (2) के लिए सर्वाधिक उपयुक्त शब्द होगा-

- Ans**
- 1. हिम्मत
 - 2. साहस
 - 3. दुस्साहस
 - 4. प्रयास

Question ID : 65497832272

Status : Answered

Chosen Option : 3

Comprehension:

मनुष्य शारीरिक कष्ट से ही पीछे हटने वाला (1) _____ नहीं है। मानसिक क्लेश की संभावना से भी बहुत- से कर्मों की ओर प्रवृत्त होने का (2) _____ उसे नहीं होता। जिन बातों से समाज के बीच उपहास, निंदा, (3) _____ इत्यादि का भय रहता है, उन्हें अच्छी और कल्याणकारिणी समझते हुए भी बहुत से लोग उनसे दूर रहते हैं। (4) _____ हानि देखते हुए भी कुछ प्रथाओं का अनुसरण बड़े-बड़े समझदार तक इसलिए करते चलते हैं कि उनके त्याग से वे बुरे कहे जाएँगे; लोगों में उनका वैसा आदर - सम्मान न रह जाएगा। उसके लिए मान - ग्लानि का कष्ट सब शारीरिक (5) _____ से बढ़कर होता है।

निम्न प्रश्नों के उत्तर उपरोक्त गद्यांश के आधार पर दीजिए।

SubQuestion No : 23

Q.23 गद्यांश के रिक्त स्थान (3) के लिए सर्वाधिक उपयुक्त शब्द होगा-

- Ans
- 1. स्तुति
 - 2. अपमान
 - 3. सम्मान
 - 4. यश

Question ID : 65497832273

Status : Answered

Chosen Option : 2

Comprehension:

मनुष्य शारीरिक कष्ट से ही पीछे हटने वाला (1) _____ नहीं है। मानसिक क्लेश की संभावना से भी बहुत- से कर्मों की ओर प्रवृत्त होने का (2) _____ उसे नहीं होता। जिन बातों से समाज के बीच उपहास, निंदा, (3) _____ इत्यादि का भय रहता है, उन्हें अच्छी और कल्याणकारिणी समझते हुए भी बहुत से लोग उनसे दूर रहते हैं। (4) _____ हानि देखते हुए भी कुछ प्रथाओं का अनुसरण बड़े-बड़े समझदार तक इसलिए करते चलते हैं कि उनके त्याग से वे बुरे कहे जाएँगे; लोगों में उनका वैसा आदर - सम्मान न रह जाएगा। उसके लिए मान - ग्लानि का कष्ट सब शारीरिक (5) _____ से बढ़कर होता है।

निम्न प्रश्नों के उत्तर उपरोक्त गद्यांश के आधार पर दीजिए।

SubQuestion No : 24

Q.24 गद्यांश के रिक्त स्थान (4) के लिए सर्वाधिक उपयुक्त शब्द होगा-

- Ans
- 1. परोक्ष
 - 2. भीषण
 - 3. भयंकर
 - 4. प्रत्यक्ष

Question ID : 65497832274

Status : Answered

Chosen Option : 4

Comprehension:

मनुष्य शारीरिक कष्ट से ही पीछे हटने वाला (1) _____ नहीं है। मानसिक क्लेश की संभावना से भी बहुत- से कर्मों की ओर प्रवृत्त होने का (2) _____ उसे नहीं होता। जिन बातों से समाज के बीच उपहास, निंदा, (3) _____ इत्यादि का भय रहता है, उन्हें अच्छी और कल्याणकारिणी समझते हुए भी बहुत से लोग उनसे दूर रहते हैं। (4) _____ हानि देखते हुए भी कुछ प्रथाओं का अनुसरण बड़े-बड़े समझदार तक इसलिए करते चलते हैं कि उनके त्याग से वे बुरे कहे जाएँगे; लोगों में उनका वैसा आदर - सम्मान न रह जाएगा। उसके लिए मान - ग्लानि का कष्ट सब शारीरिक (5) _____ से बढ़कर होता है।

निम्न प्रश्नों के उत्तर उपरोक्त गद्यांश के आधार पर दीजिए।

SubQuestion No : 25

Q.25 गद्यांश के रिक्त स्थान (5) के लिए सर्वाधिक उपयुक्त शब्द होगा-

- Ans**
- 1. अंगों
 - 2. अपराधों
 - 3. सुखों
 - 4. क्लेशों

Question ID : 65497832275

Status : Answered

Chosen Option : 3

Constable GD in CAPFs NIA SSF and Rifleman GD in Assam Rifles Examination 2021

Roll Number	www.HaryanaJobs.in
Candidate Name	www.HaryanaJobs.in
Venue Name	Soni Computer Center
Exam Date	16/11/2021
Exam Time :	12:30 PM - 2:00 PM
Subject	Constable GD 2021

Section : Part A General Intelligence and Reasoning

Q.1 दिए गए कथनों और निष्कर्षों को ध्यान से पढ़ें। यह मानते हुए कि कथनों में दी गई जानकारी सत्य है, भले ही यह सामान्य रूप से ज्ञात तथ्यों से भिन्न प्रतीत होती हो, यह निर्णय लें कि दिए गए निष्कर्षों में से कौन सा / कौन से निष्कर्ष कथनों का तार्किक रूप से अनुसरण करता है / करते हैं।

कथन:
कुछ बिल्लियाँ पशु हैं।
सभी पशु पौधे हैं।

निष्कर्ष:
I. सभी बिल्लियाँ पौधे हैं।
II. कुछ पौधे बिल्लियाँ हैं।
III. कुछ पौधे पशु हैं।
IV. सभी पशु बिल्लियाँ हैं।

- Ans
- 1. केवल निष्कर्ष I. अनुसरण करता है।
 - 2. केवल निष्कर्ष I, II और III अनुसरण करते हैं।
 - 3. सभी निष्कर्ष अनुसरण करते हैं।
 - 4. केवल निष्कर्ष II और III अनुसरण करते हैं।

Question ID : 65497829483
Status : Answered
Chosen Option : 4

Q.2 विकल्पों में चार संख्या-त्रिक दिए गए हैं, जिनमें से तीन किसी तरह से संगत हैं और कोई एक असंगत है। असंगत संख्या त्रिक का चयन कीजिए।

- Ans
- 1. (46, 65, 82)
 - 2. (54, 73, 90)
 - 3. (21, 40, 57)
 - 4. (39, 48, 75)

Question ID : 65497829484
Status : Answered
Chosen Option : 4

Q.3 एक विशिष्ट कूट भाषा में, 'PHENYL' का कोड '9-11-17-8-5-13' और 'COLONY' का कोड '6-12-13-12-8-5' है। इसी कूट भाषा में 'COLONEL' का कोड क्या होगा?

- Ans
- 1. 6-17-12-13-8-13-11
 - 2. 6-12-12-13-8-17-13
 - 3. 6-12-13-12-8-17-13
 - 4. 6-12-12-13-8-11-13

Question ID : 65497829501
Status : Answered
Chosen Option : 3

Q.4 दिए गए विकल्पों में से उस संख्या का चयन करें जो निम्नलिखित श्रृंखला में प्रश्न चिह्न (?) के स्थान पर आ सकती है।

153, 149, 143, 135, ?

Ans 1. 127

2. 131

3. 125

4. 129

Question ID : 65497829494

Status : Answered

Chosen Option : 3

Q.5 अदिति, संकेत की पुत्री है। वृत्ति, अंकित की पुत्री है। कृति, माही की मां है। नीता, संकेत की पत्नी है। नीता, वृत्ति की मां कृति की सास है। निम्नलिखित में से कौन सा कथन सही नहीं है?

Ans 1. कृति, संकेत की पुत्री है।

2. वृत्ति, माही की बहन है।

3. अदिति, नीता की पुत्री है।

4. अंकित, माही का पिता है।

Question ID : 65497829506

Status : Not Attempted and Marked For Review

Chosen Option : --

Q.6 यदि किसी वर्ग का विकर्ण 4 cm बढ़ाया जाता है, तो इसका क्षेत्रफल 56 cm^2 बढ़ जाता है। नये वर्ग के क्षेत्रफल और आरंभिक वर्ग के क्षेत्रफल का अनुपात ज्ञात कीजिए।

Ans 1. 12 : 5

2. 18 : 11

3. 13 : 8

4. 16 : 9

Question ID : 65497829485

Status : Not Attempted and Marked For Review

Chosen Option : --

Q.7 उस विकल्प का चयन कीजिए जो तीसरी संख्या से उसी प्रकार संबंधित है जिस प्रकार दूसरी संख्या पहली संख्या से संबंधित है।

20 : 480 :: 25 : ?

Ans 1. 700

2. 655

3. 725

4. 625

Question ID : 65497829488

Status : Answered

Chosen Option : 3

Q.8 Six friends are sitting in a straight line. E is 4th from the right. E is between B and D. A is adjacent to B. D is adjacent to C. D is between E and C. F is adjacent to C. Who is sitting between F and D?

- Ans
- 1. B
 - 2. A
 - 3. C
 - 4. E

Question ID : 65497829487
Status : Answered
Chosen Option : 3

Q.9 उस विकल्प का चयन कीजिए जिसमें नीचे दिए गए शब्दों के अंग्रेजी शब्दकोश का अनुक्रम दिया गया है।

1. Dermatitis
2. Desistance
3. Derogation
4. Descendant
5. Dereliction

- Ans
- 1. 5, 4, 1, 3, 2
 - 2. 5, 2, 1, 3, 4
 - 3. 5, 1, 3, 4, 2
 - 4. 5, 1, 3, 2, 4

Question ID : 65497829492
Status : Answered
Chosen Option : 3

Q.10 उस विकल्प का चयन कीजिए, जिसका तीसरे पद से वही संबंध है, जो दूसरे पद का पहले पद से है।

ZYGOTE : ZYTOGE :: SEQUENCE : ?

- Ans
- 1. USQNEEEC
 - 2. USNQEEEC
 - 3. USQENCEE
 - 4. SUQNEEEC

Question ID : 65497829504
Status : Not Attempted and Marked For Review
Chosen Option : --

Q.11 उस विकल्प का चयन कीजिए जिसमें दी गई आकृति सन्निहित है। (आकृति को घुमाने की अनुमति नहीं है)



Ans

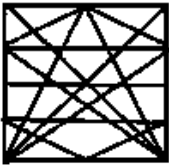
✗ 1.



✗ 2.



✗ 3.



✓ 4.



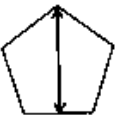
Question ID : 65497829491
Status : Answered
Chosen Option : 3

Q.12 दिए गए विकल्पों में से उस आकृति का चयन करें जो नीचे दी गई श्रृंखला में प्रश्न चिह्न (?) के स्थान पर आ सकती है।



Ans

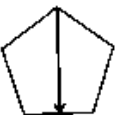
✗ 1.



✗ 2.



✗ 3.



✓ 4.



Question ID : 65497829495
Status : Answered
Chosen Option : 4

Q.13 अक्षरों के उस संयोजन का चयन करें जो दी गई श्रृंखला के रिक्त स्थान में क्रमिक रूप से रखे जाने पर श्रृंखला को पूर्ण करेगा।

A _ _ B _ _ A B _ C A _ B B C

Ans 1. A, B, C, A, B, A

2. B, C, A, A, A, B

3. B, A, B, A, C, B

4. B, B, C, C, A, B

Question ID : 65497829493

Status : Answered

Chosen Option : 1

Q.14 दिए गए विकल्पों में से उस संख्या का चयन करें, जो निम्नलिखित श्रृंखला में प्रश्नवाचक चिह्न (?) के स्थान पर आ सकती है।

5, 9, 18, 34, ?, 95

Ans 1. 63

2. 69

3. 59

4. 65

Question ID : 65497829502

Status : Answered

Chosen Option : 3

Q.15 एक निश्चित कूट भाषा में, 'MANGO' को 'QERKS' के रूप में लिखा जाता है और 'APPLE' को 'ETTP' के रूप में लिखा जाता है। उसी भाषा में 'GUAVA' को किस रूप में लिखा जाएगा?

Ans 1. KYEZE

2. KYFXF

3. KYGZE

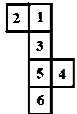
4. KXEZE

Question ID : 65497829482

Status : Answered

Chosen Option : 1

Q.16 उस पासे / उन पासों का चयन कीजिए जिसे / जिन्हें दी गई शीट को रेखाओं पर मोड़कर बनाया जा सकता है।



Ans 1. केवल B

2. केवल B और D

3. केवल B, C और D

4. केवल A और C

Question ID : 65497829490

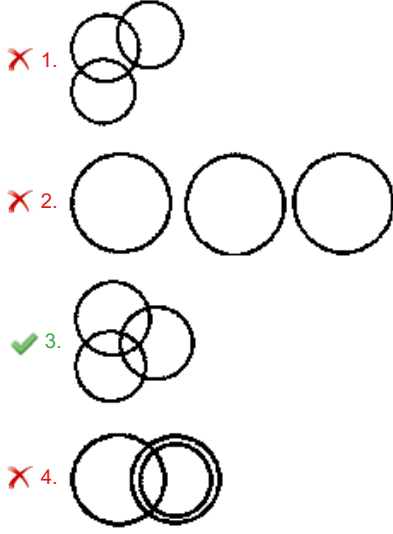
Status : Answered

Chosen Option : 2

Q.17 उस वेन आरेख का चयन करें, जो निम्नलिखित वर्गों के बीच के संबंध को सबसे अच्छे तरीके से दर्शाता है।

विद्यालय, शिक्षक, कर्मचारी

Ans



Question ID : 65497829499
Status : Answered
Chosen Option : 4

Q.18 दिए गए विकल्पों में से उस अक्षर-समूह का चयन करें, जो निम्नलिखित श्रृंखला में प्रश्नवाचक चिह्न (?) के स्थान पर आ सकता है।

IOM, NTR, SYW, ?

- Ans ✓ 1. XDB
✗ 2. NSX
✗ 3. OTZ
✗ 4. JPN

Question ID : 65497829496
Status : Answered
Chosen Option : 1

Q.19 निम्नलिखित चार अक्षर-समूहों में से तीन किसी न किसी प्रकार से संगत हैं और कोई एक असंगत है। उस अक्षर-समूह का चयन करें, जो अन्य से असंगत है।

- Ans ✗ 1. JHF
✗ 2. FDB
✗ 3. OMK
✓ 4. USP

Question ID : 65497829500
Status : Answered
Chosen Option : 4

Q.20 दिए गए संयोजन के सही दर्पण प्रतिबिंब का चयन करें जब दर्पण को निम्नांकित चित्रानुसार 'PQ' पर रखा गया है।

MERCHANT
P
|
Q

- Ans
- ✗ 1. MEBVHCIL
 - ✓ 2. TИAHCЯEM
 - ✗ 3. MEBCHVIL
 - ✗ 4. TИHЯEM

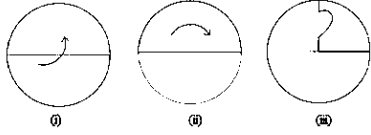
Question ID : 65497829503
Status : Answered
Chosen Option : 2

Q.21 एक निश्चित कूट भाषा में GAME को TUZANOVW लिखा जाता है और CAR को XYZAIJ लिखा जाता है। उसी कूट भाषा में POST को किस प्रकार लिखा जाएगा?

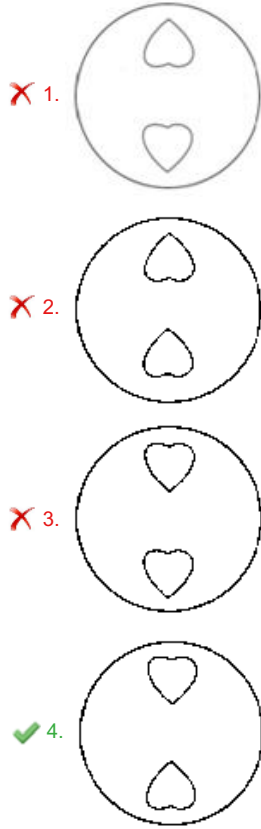
- Ans
- ✓ 1. KLLMHIGH
 - ✗ 2. OQNPRTSV
 - ✗ 3. KLMNJKGH
 - ✗ 4. QRPQTUUV

Question ID : 65497829505
Status : Answered
Chosen Option : 3

Q.22 नीचे दी गई आकृतियों में कागज़ के एक टुकड़े को मोड़ने और मोड़े गए कागज़ को काटने के तरीके का क्रम दर्शाया गया है। कागज़ को खोले जाने पर वह कैसा दिखाई देगा?



Ans



Question ID : 65497829486
Status : Answered
Chosen Option : 4

Q.23 'Experimenter' is related to 'Lab' in the same way as 'Chef' is related to '_____':

- Ans
- ✓ 1. Kitchen
 - ✗ 2. Dishes
 - ✗ 3. Cooking
 - ✗ 4. Food

Question ID : 65497829497
Status : Answered
Chosen Option : 1

Q.24 O, P, Q, R, S, T and U are sitting in a row facing north. U is sitting to the immediate right of T. Q is sitting in between R and O. P, who is on the extreme right, is sitting to the immediate right of O. S is sitting to the immediate left of R. Who is sitting in the middle of the row?

- Ans
- 1. S
 - 2. T
 - 3. R
 - 4. Q

Question ID : 65497829498
Status : Answered
Chosen Option : 3

Q.25 If 'A' denotes 'addition', 'B' denotes 'multiplication', 'C' denotes 'subtraction', and 'D' denotes 'division', then what will be the value of the following expression?

100 D (1 B 4) A 2 B (13 A 11) C 3 B (17 C 12)

- Ans
- 1. 60
 - 2. 58
 - 3. 52
 - 4. 49

Question ID : 65497829489
Status : Answered
Chosen Option : 2

Section : Part B General Knowledge and General Awareness

Q.1 त्वेसा मलिक एक भारतीय _____ खिलाड़ी हैं।

- Ans
- 1. गोल्फ
 - 2. वॉलीबॉल
 - 3. शतरंज
 - 4. बास्केटबॉल

Question ID : 65497829524
Status : Answered
Chosen Option : 1

Q.2 निम्नलिखित में से कौन सा विकल्प मौर्य साम्राज्य के शासकों के सही कालानुक्रमिक क्रम को दर्शाता है?

- Ans
- 1. बिंदुसार - चंद्रगुप्त - अशोक - बृहद्रथ
 - 2. चंद्रगुप्त - बिंदुसार - अशोक - बृहद्रथ
 - 3. बृहद्रथ - चंद्रगुप्त - बिंदुसार - अशोक
 - 4. अशोक - बृहद्रथ - चंद्रगुप्त - बिंदुसार

Question ID : 65497829528
Status : Answered
Chosen Option : 1

Q.3 'ला लीगा (La Liga)' खिताब _____ से संबंधित है।

- Ans
- 1. फुटबॉल
 - 2. क्रिकेट
 - 3. दौड़
 - 4. टेनिस

Question ID : 65497829508
Status : Answered
Chosen Option : 1

Q.4 उत्तर प्रदेश की कैबिनेट ने _____ के एक प्राणी उद्यान का नाम स्वतंत्रता सेनानी और क्रांतिकारी अशफाकउल्ला खान के नाम पर रखने के प्रस्ताव को मंजूरी दी है।

- Ans 1. गोरखपुर
 2. शाहजहांपुर
 3. गाज़ियाबाद
 4. फैजाबाद

Question ID : 65497829517
Status : Answered
Chosen Option : 1

Q.5 जुलाई 2019 में, विंगसूट स्काईडाइव जम्प करने वाले/वाली प्रथम भारतीय वायु सेना पायलट का नाम क्या है?

- Ans 1. तरुण चौधरी
 2. शीतल महाजन राणे
 3. अर्चना सरदाना
 4. रेचेल थॉमस

Question ID : 65497829518
Status : Answered
Chosen Option : 1

Q.6 निम्नलिखित में से कौन सा जंतु अपनी त्वचा द्वारा श्वसन करता है?

- Ans 1. मोर
 2. मेंढक
 3. खरगोश
 4. हिरण

Question ID : 65497829514
Status : Answered
Chosen Option : 2

Q.7 होजेनक्कल जलप्रपात (Hogenakkal Falls) किस राज्य में स्थित है?

- Ans 1. महाराष्ट्र
 2. केरल
 3. आंध्र प्रदेश
 4. तमिलनाडु

Question ID : 65497829507
Status : Answered
Chosen Option : 2

Q.8 1857 तक _____ भारत के मुगल सम्राटों का लगभग 200 वर्षों तक निवास स्थान रह चुका था।

- Ans 1. परी महल
 2. आगरा का किला
 3. जहांगीर महल
 4. लाल किला

Question ID : 65497829521
Status : Answered
Chosen Option : 2

Q.9 भारत सरकार द्वारा पेंशनभोगियों के लिए शुरू की गई एक बायोमेट्रिक सक्षम डिजिटल सेवा निम्नलिखित में से कौन सी है?

- Ans
- 1. प्रधानमंत्री जीवन ज्योति बीमा योजना
 - 2. प्रधानमंत्री मुद्रा योजना
 - 3. प्रधानमंत्री जन धन योजना
 - 4. जीवन प्रमाण

Question ID : 65497829509
Status : Answered
Chosen Option : 4

Q.10 निम्नलिखित में से सर्वाधिक अभिक्रियाशील धातु कौन सी है?

- Ans
- 1. पोटेशियम
 - 2. एल्युमीनियम
 - 3. सिल्वर
 - 4. आयरन

Question ID : 65497829513
Status : Answered
Chosen Option : 1

Q.11 महानदी नदी के बारे में निम्नलिखित में से कौन सा कथन गलत है?

- Ans
- 1. यह छत्तीसगढ़ के पहाड़ी इलाकों से निकलती है।
 - 2. इसके जलग्रहण क्षेत्र का कुछ हिस्सा महाराष्ट्र में स्थित है।
 - 3. यह लगभग 860 km लंबी है।
 - 4. यह अरब सागर में गिरती है।

Question ID : 65497829522
Status : Answered
Chosen Option : 1

Q.12 निम्नलिखित में से किस देश ने 2020 आई.सी.सी. (ICC) अंडर 19 क्रिकेट विश्व कप के 13 वें संस्करण की मेजबानी की?

- Ans
- 1. दक्षिण अफ्रीका
 - 2. इंग्लैंड
 - 3. भारत
 - 4. ऑस्ट्रेलिया

Question ID : 65497829526
Status : Answered
Chosen Option : 2

Q.13 भारत सरकार ने वर्ष _____ में आयुष्मान भारत प्रधान मंत्री जन आरोग्य योजना (AB-PM-JAY) को मंजूरी दी।

- Ans
- 1. 2019
 - 2. 2014
 - 3. 2018
 - 4. 2015

Question ID : 65497829531
Status : Answered
Chosen Option : 1

Q.14 भारतीय जीवन बीमा निगम अधिनियम, संसद द्वारा _____ में पारित किया गया था।

- Ans
- 1. 1965
 - 2. 1971
 - 3. 1948
 - 4. 1956

Question ID : 65497829529
Status : Answered
Chosen Option : 2

Q.15 निम्नलिखित में से किस राज्य में भोरमदेव मंदिर स्थित है, जहाँ प्रत्येक वर्ष मार्च के अंतिम सप्ताह में 'भोरमदेव महोत्सव' मनाया जाता है?

- Ans
- 1. कर्नाटक
 - 2. छत्तीसगढ़
 - 3. पश्चिम बंगाल
 - 4. तमिलनाडु

Question ID : 65497829512
Status : Answered
Chosen Option : 1

Q.16 निम्न में से कौन-सी अधातु बहु-परमाण्विक (poly-atomic) है?

- Ans
- 1. ऑक्सीजन
 - 2. हीलियम
 - 3. सल्फर
 - 4. आर्गन

Question ID : 65497829525
Status : Answered
Chosen Option : 3

Q.17 1865 में निम्नलिखित में से किसे बॉम्बे का पहला नगर आयुक्त नियुक्त किया गया था?

- Ans
- 1. आर्थर क्रॉफर्ड
 - 2. एच फाउलर
 - 3. चार्ल्स एटकिंसन
 - 4. विलियम हंटर

Question ID : 65497829510
Status : Answered
Chosen Option : 3

Q.18 30 अक्टूबर, 2020 को जम्मू और कश्मीर के राज्य चुनाव आयुक्त के रूप में किसे नियुक्त किया गया था?

- Ans
- 1. केवल कुमार शर्मा
 - 2. शत्रुंजय कुमार सिंह
 - 3. वी भास्करन
 - 4. मनोज कुमार

Question ID : 65497829520
Status : Answered
Chosen Option : 4

Q.19 किसी वस्तु के त्वरण को तब _____ कहा जाता है जब वह वस्तु एक सीधी रेखा में गति करती है और समय के नियमित अंतराल में उसका वेग बढ़ता या घटता रहता है।

- Ans
- 1. असमान
 - 2. ऋणात्मक
 - 3. एकसमान
 - 4. धनात्मक

Question ID : 65497829516
Status : Answered
Chosen Option : 3

Q.20 भारतीय संविधान के 44वें संशोधन अधिनियम, 1978 के तहत निम्नलिखित में से कौन सा एक मौलिक अधिकार नहीं है?

- Ans
- 1. संपत्ति का अधिकार
 - 2. शोषण के खिलाफ अधिकार
 - 3. समानता का अधिकार
 - 4. धर्म का अधिकार

Question ID : 65497829519
Status : Answered
Chosen Option : 1

Q.21 _____, ज्ञातृक (या ज्ञात्रिक) {Jnatrika (or Jhatrika)} क्षत्रिय वंश के प्रमुख के पुत्र थे।

- Ans
- 1. गौतम बुद्ध
 - 2. ऋषभनाथ
 - 3. पार्श्वनाथ
 - 4. वर्धमान महावीर

Question ID : 65497829527
Status : Answered
Chosen Option : 1

Q.22 किसी विशेष वर्ष के दौरान देश के अंतर्गत उत्पादित सभी अंतिम वस्तुओं और सेवाओं के मौद्रिक मूल्य को कहा जाता है।

- Ans
- 1. सकल घरेलू उत्पाद
 - 2. प्रति व्यक्ति आय
 - 3. राष्ट्रीय आय
 - 4. निवल घरेलू उत्पाद

Question ID : 65497829511
Status : Answered
Chosen Option : 1

Q.23 'कोर्ट्स ऑफ़ इंडिया: पास्ट टू प्रेजेंट' नामक पुस्तक के लेखक कौन हैं?

- Ans
- 1. जयंत कलिता
 - 2. शशि थरूर
 - 3. सत्यार्थ नायक
 - 4. रंजन गोगोई

Question ID : 65497829515
Status : Answered
Chosen Option : 4

Q.24 _____ ने अगस्त 2021 में मेजर ध्यानचंद नेशनल स्टेडियम, नई दिल्ली में आयोजित एक कार्यक्रम में फिट इंडिया मोबाइल ऐप लॉन्च किया।

- Ans
- 1. उषा शर्मा
 - 2. अनुराग सिंह ठाकुर
 - 3. रवि मित्तल
 - 4. निसिथ प्रमाणिक

Question ID : 65497829530
Status : Answered
Chosen Option : 2

Q.25 निम्नलिखित में से किस राज्य ने जनवरी 2020 में 71 वें गणतंत्र दिवस परेड में 'सर्वश्रेष्ठ झांकी' का पुरस्कार जीता?

- Ans
- 1. असम
 - 2. ओडिशा
 - 3. गोवा
 - 4. उत्तर प्रदेश

Question ID : 65497829523
Status : Answered
Chosen Option : 4

Section : Part C Elementary Mathematics

Q.1 9 और 36 का तृतीयानुपाती कितना है?

- Ans
- 1. 72
 - 2. 288
 - 3. 144
 - 4. 122

Question ID : 65497829540
Status : Answered
Chosen Option : 3

Q.2 A और B किसी काम को 120 दिनों में पूरा कर सकते हैं, B और C इसे 150 दिनों में पूरा कर सकते हैं तथा A और C इसे 200 दिनों में पूरा कर सकते हैं। B अकेले उस काम का $\frac{2}{5}$ वां हिस्सा कितने दिनों में पूरा कर पाएगा?

- Ans
- 1. 175
 - 2. 80
 - 3. 200
 - 4. 100

Question ID : 65497829547
Status : Answered
Chosen Option : 2

Q.3 किसी वस्तु के मूल्य पर 20% की छूट, किसी अन्य वस्तु के मूल्य पर 25% की छूट के बराबर है। दोनों वस्तुओं के मूल्य क्रमशः क्या होंगे?

- Ans
- 1. ₹50 और ₹60
 - 2. ₹40 और ₹50
 - 3. ₹50 और ₹40
 - 4. ₹60 और ₹50

Question ID : 65497829545
Status : Answered
Chosen Option : 3

Q.4 एक व्यक्ति दो वस्तुएँ बेचता है जिनमें से प्रत्येक का मूल्य ₹9,180 है। उसे एक वस्तु पर 8% का लाभ होता है और दूसरी वस्तु पर 15% की हानि होती है। उसका कुल लाभ या हानि कितना है?

- Ans
- 1. ₹940 का लाभ
 - 2. ₹940 की हानि
 - 3. ₹840 की हानि
 - 4. ₹840 का लाभ

Question ID : 65497829532
Status : Answered
Chosen Option : 3

Q.5 किसी धनराशि पर 8% की वार्षिक ब्याज दर पर 5 वर्ष में प्राप्त होने वाला साधारण ब्याज ₹3,040 है। वह धनराशि ज्ञात कीजिए।

- Ans
- 1. ₹7,600
 - 2. ₹7,700
 - 3. ₹6,600
 - 4. ₹8,600

Question ID : 65497829539
Status : Answered
Chosen Option : 1

Q.6 वह बड़ी से बड़ी संख्या कौन सी है जिससे 2675 और 2320 को विभाजित करने पर शेषफल क्रमशः 5 और 6 प्राप्त होता है?

- Ans
- 1. 168
 - 2. 187
 - 3. 178
 - 4. 170

Question ID : 65497829536
Status : Answered
Chosen Option : 4

Q.7 4, 6, 8, 12 और x का औसत 7 है और x, 9, 13, 15 और y का औसत 9 है। $2x - 3y$ का मान कितना होगा?

- Ans
- 1. 1
 - 2. 3
 - 3. 19
 - 4. 5

Question ID : 65497829544
Status : Answered
Chosen Option : 1

Q.8 दो संख्याओं का अनुपात 9 : 5 है। यदि बड़ी संख्या में 8 जोड़ा जाता है और छोटी संख्या में से 4 घटाया जाता है, तो बड़ी संख्या छोटी संख्या से दोगुनी हो जाती है। वह बड़ी संख्या निम्न में से कौन सी है?

- Ans
- 1. 110
 - 2. 114
 - 3. 144
 - 4. 104

Question ID : 65497829538
Status : Answered
Chosen Option : 3

Q.9 किसी कक्षा के दो वर्ग A और B हैं, जिनमें क्रमशः 38 और 42 छात्र हैं। यदि वर्ग A के छात्रों का औसत वजन 55 kg और वर्ग B के छात्रों का औसत वजन 32 kg है, तो कक्षा के सभी छात्रों का औसत वजन ज्ञात करें।

- Ans
- 1. 42 kg
 - 2. 40.925 kg
 - 3. 42.925 kg
 - 4. 44.925 kg

Question ID : 65497829537
Status : Answered
Chosen Option : 3

Q.10 $42 \div 9$ of $6 - [64 \div 48 \times 3 - 15 \div 8 \times (11 - 17) \div 9] \div 14$ का मान ज्ञात कीजिए।

- Ans
- 1. $\frac{7}{18}$
 - 2. $\frac{5}{12}$
 - 3. $\frac{19}{36}$
 - 4. $\frac{29}{72}$

Question ID : 65497829551
Status : Answered
Chosen Option : 4

Q.11 निम्नलिखित का मान बताइए।

$$523 + 523 \times 523 \div 523$$

- Ans
- 1. 1542
 - 2. 1005
 - 3. 1046
 - 4. 1235

Question ID : 65497829542
Status : Answered
Chosen Option : 3

Q.12 एक निश्चित धनराशि पर $x\%$ वार्षिक साधारण ब्याज की दर से 3 वर्षों में प्राप्त मिश्रधन ₹5,472 है और समान राशि पर समान साधारण ब्याज की दर से $7\frac{1}{2}$ वर्षों में प्राप्त मिश्रधन ₹6,930 है। x का मान ज्ञात कीजिए।

- Ans
- 1. 8
 - 2. 7.2
 - 3. 8.5
 - 4. 6.5

Question ID : 65497829555
Status : Answered
Chosen Option : 2

Q.13 तीन संख्याएँ 4 : 9 : 13 के अनुपात में हैं और इनका लघुत्तम समापवर्त्य (LCM) 2340 है। इनका महत्तम समापवर्तक (HCF) कितना होगा?

- Ans
- 1. 5
 - 2. 7
 - 3. 3
 - 4. 4

Question ID : 65497829534
Status : Answered
Chosen Option : 1

Q.14 A किसी कार्य का $\frac{2}{5}$ भाग, 6 दिन में कर सकता है और B उसी कार्य का 30% भाग, 3 दिन में कर सकता है। उन्होंने 4 दिन तक एक साथ काम किया। शेष कार्य अकेले C द्वारा 6 दिन में पूरा किया गया। B और C मिलकर मूल कार्य का 70% भाग _____ में पूरा कर सकते हैं।

- Ans
- 1. $5\frac{1}{2}$ दिन
 - 2. $4\frac{1}{2}$ दिन
 - 3. 4 दिन
 - 4. 5 दिन

Question ID : 65497829553
Status : Answered
Chosen Option : 2

Q.15 5 वर्ष पूर्व, A, B और C की आयु का अनुपात 4 : 5 : 7 था। उनकी वर्तमान आयु का योग 135 वर्ष है। अब से 3 वर्ष बाद, B और C की आयु का योग (वर्षों में) क्या होगा?

- Ans
- 1. 100
 - 2. 112
 - 3. 106
 - 4. 96

Question ID : 65497829554
Status : Answered
Chosen Option : 2

Q.16 यदि एक निश्चित धनराशि पर 9% वार्षिक व्याज दर से दो वर्ष का चक्रवृद्धि व्याज ₹3,762 है, तो वह धनराशि कितनी है?

- Ans
- 1. ₹18,000
 - 2. ₹20,000
 - 3. ₹24,000
 - 4. ₹25,000

Question ID : 65497829533
Status : Answered
Chosen Option : 2

Q.17 यदि एक त्रिभुज की भुजाएं 21 cm, 35 cm और 28 cm हैं, तो इसकी अंतः त्रिज्या (in radius) की माप कितनी है? (cm में)

- Ans
- 1. 21 cm
 - 2. 7 cm
 - 3. 9 cm
 - 4. 8 cm

Question ID : 65497829541
Status : Not Attempted and Marked For Review
Chosen Option : --

Q.18 एक दुकानदार के पास कुछ खिलौने हैं। वह दो-तिहाई खिलौनों को 35% के लाभ पर और शेष खिलौनों को 10% की हानि पर बेचता है। उसका कुल प्रतिशत लाभ कितना है?

- Ans
- 1. 20%
 - 2. 18%
 - 3. 25%
 - 4. 16%

Question ID : 65497829552
Status : Answered
Chosen Option : 1

Q.19 एक कार के मूल्य में 5% की वृद्धि होने पर उसकी बिक्री 16% कम हो जाती है। कुल राजस्व पर पड़ने वाले प्रतिशत प्रभाव की गणना कीजिए।

- Ans
- 1. 5% कमी
 - 2. 5% वृद्धि
 - 3. 9% कमी
 - 4. 9% वृद्धि

Question ID : 65497829546
Status : Answered
Chosen Option : 3

Q.20 एक डीलर ने 4% हानि पर एक वस्तु बेची। यदि उसने इसे ₹120 अधिक में बेचा होता तो उसे 8% का लाभ प्राप्त होता। 11% लाभ प्राप्त करने के लिए उसे वस्तु को किस मूल्य पर बेचना चाहिए?

- Ans
- 1. ₹1,210
 - 2. ₹1,200
 - 3. ₹1,110
 - 4. ₹1,320

Question ID : 65497829549
Status : Answered
Chosen Option : 3

Q.21 दो ट्रेनों क्रमशः स्थानों A और B से चलना आरंभ करती हैं, और एक दूसरे की ओर क्रमशः 60 km/h और 50 km/h की चाल से यात्रा करती हैं। उनके मिलने से पहले तक तेज चाल वाली ट्रेन ने धीमी चाल वाली ट्रेन से 110 km अधिक दूरी तय की थी। स्थानों A और B के बीच की दूरी कितनी है?

- Ans
- 1. 1100 km
 - 2. 1200 km
 - 3. 1210 km
 - 4. 1150 km

Question ID : 65497829548
Status : Answered
Chosen Option : 3

Q.22 एक वस्तु को अंकित मूल्य पर 20% छूट के बाद ₹120 में बेचा गया। यदि छूट नहीं दी जाती, तो इस पर 20% का लाभ होता। वस्तु का क्रय मूल्य ज्ञात करें।

- Ans
- 1. ₹130
 - 2. ₹120
 - 3. ₹125
 - 4. ₹100

Question ID : 65497829550
Status : Answered
Chosen Option : 3

Q.23 विग्नेश अपनी मासिक आय का 42% भोजन पर, 16% मकान के किराए पर, 11% मनोरंजन पर और 7% परिवहन पर खर्च करता है। लेकिन किसी पारिवारिक समारोह के कारण, ₹18,000 के खर्चों की पूर्ति के लिए उसे साहूकार से ₹12,000 उधार लेने पड़े। उसकी मासिक आय कितनी है?

- Ans
- 1. ₹30,000
 - 2. ₹25,000
 - 3. ₹20,000
 - 4. ₹24,000

Question ID : 65497829535
Status : Answered
Chosen Option : 2

Q.24 एक त्रिभुजाकार पार्क की भुजाएं 96 m, 110 m और 146 m हैं। इसका क्षेत्रफल उस समचतुर्भुजाकार मैदान के क्षेत्रफल के बराबर है, जिसका एक विकर्ण 60 m है। इसके दूसरे विकर्ण की लंबाई (m में) ज्ञात कीजिए।

- Ans
- 1. 218
 - 2. 176
 - 3. 132
 - 4. 88

Question ID : 65497829556
Status : Not Answered
Chosen Option : --

Q.25 किसी वायु-यान की चाल 120 km/min है। यह चाल m/sec में कितनी होगी?

- Ans
- 1. 120000
 - 2. 12000
 - 3. 1200
 - 4. 2000

Question ID : 65497829543
Status : Answered
Chosen Option : 4

Section : Part D English

Q.1 Select the option that can be used as a one-word substitute for the given group of words.

A person who supervises during an examination

- Ans
- 1. Administrator
 - 2. Principal
 - 3. Invigilator
 - 4. Examinee

Question ID : 65497829576
Status : Not Answered
Chosen Option : --

Q.2 The following sentence has been split into four segments. Identify the segment that contains a grammatical error.

I wish / I am / the Principal / of the school!

- Ans**
- 1. I am
 - 2. I wish
 - 3. the Principal
 - 4. of the school

Question ID : 65497829565
Status : Not Answered
Chosen Option : --

Q.3 The following sentence has been split into four segments. Identify the segment that contains a grammatical error.

We'll look at / your pet / when you go / on a vacation.

- Ans**
- 1. on a vacation
 - 2. your pet
 - 3. We'll look at
 - 4. when you go

Question ID : 65497829574
Status : Not Answered
Chosen Option : --

Q.4 Select the option that will improve the underlined part of the given sentence. In case no improvement is needed, select 'No improvement required'.

The new President has bring in many reforms.

- Ans**
- 1. brought about
 - 2. bring up
 - 3. brought out
 - 4. No improvement required

Question ID : 65497829573
Status : Not Answered
Chosen Option : --

Q.5 Select the option that can be used as a one-word substitute for the given group of words.

Many fish swimming together

- Ans**
- 1. Shoal
 - 2. Bevy
 - 3. Flock
 - 4. Brood

Question ID : 65497829561
Status : Not Answered
Chosen Option : --

Q.6 Select the most appropriate synonym of the given word.

Submissive

- Ans 1. Obstinate
 2. Obdurate
 3. Adamant
 4. Obedient

Question ID : 65497829558
Status : Not Answered
Chosen Option : --

Q.7 Select the most appropriate option to fill in the blank.

My sister bought the _____ watch.

- Ans 1. antipathy
 2. antique
 3. colloquial
 4. antilocal

Question ID : 65497829570
Status : Not Answered
Chosen Option : --

Q.8 Select the most appropriate option to fill in the blank.

The government should take steps to _____ pollution.

- Ans 1. convey
 2. consume
 3. conduct
 4. control

Question ID : 65497829562
Status : Not Answered
Chosen Option : --

Q.9 Select the most appropriate option to fill in the blank.

She _____ why I had not sent her an invitation.

- Ans 1. enquired
 2. granted
 3. denied
 4. desired

Question ID : 65497829564
Status : Not Answered
Chosen Option : --

Q.10 Select the most appropriate SYNONYM of the given word.

Ample

- Ans 1. Scarce
 2. Sufficient
 3. Sparse
 4. Limited

Question ID : 65497829575
Status : Not Answered
Chosen Option : --

Q.11 Select the most appropriate option that can substitute the underlined segment in the given sentence. If there is no need to substitute it, select 'No substitution required'.

The condition of the house had been so deteriorated from lack of maintenance that nobody wanted to purchase it.

- Ans
- 1. No substitution required
 - 2. was deteriorating
 - 3. had so deteriorated
 - 4. was so deteriorated

Question ID : 65497829572
Status : Not Answered
Chosen Option : --

Q.12 Select the most appropriate ANTONYM of the given word.

Fictitious

- Ans
- 1. False
 - 2. Subjective
 - 3. Factual
 - 4. Imaginative

Question ID : 65497829566
Status : Not Answered
Chosen Option : --

Q.13 Select the most appropriate option that can substitute the underlined word in the given sentence.

Besides generating revenue, tourism brings a break from the ceremony of daily life.

- Ans
- 1. symphony
 - 2. monotony
 - 3. company
 - 4. scrutiny

Question ID : 65497829559
Status : Not Answered
Chosen Option : --

Q.14 Select the most appropriate ANTONYM of the given word.

Spellbound

- Ans
- 1. Captivated
 - 2. Enthralled
 - 3. Amazed
 - 4. Disenchanted

Question ID : 65497829569
Status : Not Answered
Chosen Option : --

Q.15 The following sentence has been split into four segments. Identify the segment that contains a grammatical error.

The most important / of all my goals / are to/ learn English.

- Ans**
- 1. learn English
 - 2. The most important
 - 3. are to
 - 4. of all my goals

Question ID : 65497829557
Status : Not Answered
Chosen Option : --

Q.16 Select the INCORRECTLY spelt word.

- Ans**
- 1. Cereal
 - 2. Tunnel
 - 3. Wistle
 - 4. Rustle

Question ID : 65497829563
Status : Not Answered
Chosen Option : --

Q.17 Select the most appropriate meaning of the given idiom.

To be on the same page

- Ans**
- 1. To be published together
 - 2. To read a book together
 - 3. To understand what the other says
 - 4. To agree on something

Question ID : 65497829571
Status : Not Answered
Chosen Option : --

Q.18 Select the correctly spelt word.

- Ans**
- 1. Peadeatrician
 - 2. Asassination
 - 3. Bureaucracy
 - 4. Philianthropist

Question ID : 65497829568
Status : Not Answered
Chosen Option : --

Q.19 Select the most appropriate meaning of the given idiom.

Tickled pink

- Ans**
- 1. Very pleased
 - 2. Easily teased
 - 3. Very sensitive
 - 4. Fond of pink

Question ID : 65497829560
Status : Not Answered
Chosen Option : --

Q.20 Select the option that can be used as a one-word substitute for the given group of words.

One who collects coins

- Ans** 1. Anthropologist
 2. Numismatist
 3. Philatelist
 4. Fatalist

Question ID : 65497829567
Status : Not Answered
Chosen Option : --

Comprehension:

In the following passage, some words have been deleted. Read the passage carefully and select the most appropriate option to fill in each blank.

Writing is a form (1)_____, and neat handwriting is important when writing (2)_____ that will be read by someone else. We (3)_____ by the quality of our handwriting, and (4)_____ our handwriting is poor, we (5)_____ to be lazy or incompetent.

SubQuestion No : 21

Q.21 Select the most appropriate option to fill in blank no. 1.

- Ans** 1. for expression
 2. of expression
 3. to expressing
 4. in expression

Question ID : 65497829578
Status : Not Answered
Chosen Option : --

Comprehension:

In the following passage, some words have been deleted. Read the passage carefully and select the most appropriate option to fill in each blank.

Writing is a form (1)_____, and neat handwriting is important when writing (2)_____ that will be read by someone else. We (3)_____ by the quality of our handwriting, and (4)_____ our handwriting is poor, we (5)_____ to be lazy or incompetent.

SubQuestion No : 22

Q.22 Select the most appropriate option to fill in blank no. 2.

- Ans** 1. anything
 2. each thing
 3. everything
 4. nothing

Question ID : 65497829579
Status : Not Answered
Chosen Option : --

Comprehension:

In the following passage, some words have been deleted. Read the passage carefully and select the most appropriate option to fill in each blank.

Writing is a form (1)_____, and neat handwriting is important when writing (2)_____ that will be read by someone else. We (3)_____ by the quality of our handwriting, and (4)_____ our handwriting is poor, we (5)_____ to be lazy or incompetent.

SubQuestion No : 23

Q.23 Select the most appropriate option to fill in blank no. 3.

- Ans**
- 1. are often judged
 - 2. should be often judged
 - 3. judged often
 - 4. have been often judged

Question ID : 65497829580
Status : Not Answered
Chosen Option : --

Comprehension:

In the following passage, some words have been deleted. Read the passage carefully and select the most appropriate option to fill in each blank.

Writing is a form (1)_____, and neat handwriting is important when writing (2)_____ that will be read by someone else. We (3)_____ by the quality of our handwriting, and (4)_____ our handwriting is poor, we (5)_____ to be lazy or incompetent.

SubQuestion No : 24

Q.24 Select the most appropriate option to fill in blank no. 4.

- Ans**
- 1. as
 - 2. while
 - 3. when
 - 4. where

Question ID : 65497829581
Status : Not Answered
Chosen Option : --

Comprehension:

In the following passage, some words have been deleted. Read the passage carefully and select the most appropriate option to fill in each blank.

Writing is a form (1)_____, and neat handwriting is important when writing (2)_____ that will be read by someone else. We (3)_____ by the quality of our handwriting, and (4)_____ our handwriting is poor, we (5)_____ to be lazy or incompetent.

SubQuestion No : 25

Q.25 Select the most appropriate option to fill in blank no. 5.

- Ans**
- 1. look
 - 2. see
 - 3. appear
 - 4. expose

Question ID : 65497829582
Status : Not Answered
Chosen Option : --

Q.1 'ऊपर की ओर जाने वाला' वाक्यांश के लिए एक शब्द होगा-

- Ans
- 1. प्रतिगामी
 - 2. आगामी
 - 3. अधोगामी
 - 4. ऊर्ध्वगामी

Question ID : 65497829601
Status : Answered
Chosen Option : 4

Q.2 रिक्त स्थान की पूर्ति के लिए सबसे उपयुक्त शब्द का चयन करें-

वह वृक्ष की _____ डाली काट रहा था।

- Ans
- 1. सामान्य
 - 2. सखी
 - 3. सूखी
 - 4. सुखी

Question ID : 65497829587
Status : Answered
Chosen Option : 3

Q.3 'आग में कूदना' मुहावरे का सही अर्थ है-

- Ans
- 1. मदद करना
 - 2. मूर्ख होना
 - 3. जान जोखिम में डालना
 - 4. पश्चाताप करना

Question ID : 65497829597
Status : Answered
Chosen Option : 3

Q.4 'विशाल' का विलोम शब्द होगा-

- Ans
- 1. क्षणिक
 - 2. विकराल
 - 3. विराट
 - 4. लघु

Question ID : 65497829600
Status : Answered
Chosen Option : 4

Q.5 दिए गए वाक्य का वो भाग ज्ञात करें जिसमें कोई त्रुटि है। यदि कोई त्रुटि नहीं है, तो 'कोई त्रुटि नहीं है' चुनें।

शकीला भोपाली (1)\ प्रसिद्ध कव्वाली (2)\ गायकी हैं (3)\ कोई त्रुटि नहीं है (4)

- Ans
- 1. 2
 - 2. 3
 - 3. 4
 - 4. 1

Question ID : 65497829584
Status : Answered
Chosen Option : 2

Q.6 दिए गए शब्द का समानार्थी शब्द चुनें-

युक्ति

- Ans 1. उपाय
 2. युक्त
 3. जुड़ा हुआ
 4. संलग्न

Question ID : 65497829595
Status : Answered
Chosen Option : 1

Q.7 दिए गए वाक्यांश के लिए एक शब्द दीजिए।

प्रार्थना या निवेदन करने वाला

- Ans 1. स्तुति
 2. प्रार्थी
 3. भक्त वत्सल
 4. भजन

Question ID : 65497829583
Status : Answered
Chosen Option : 2

Q.8 दिए गए वाक्य में रेखांकित खंड को प्रतिस्थापित करने के लिए सबसे उपयुक्त विकल्प का चयन करें।
यदि इसे प्रतिस्थापित करने की आवश्यकता नहीं है, तो विकल्प 'किसी बदलाव की आवश्यकता नहीं है'
का चयन करें।

भाई साहब को मुझे एक रुपया दिया है।

- Ans 1. भाई साहब द्वारा
 2. भाई साहब ने
 3. किसी बदलाव की आवश्यकता नहीं है।
 4. भाई साहब

Question ID : 65497829593
Status : Answered
Chosen Option : 2

Q.9 रिक्त स्थान की पूर्ति के लिए सबसे उपयुक्त शब्द का चयन करें-

रोगी ने चिकित्सक से _____ लिया।

- Ans 1. मंत्रणा
 2. अनुदान
 3. आज्ञा
 4. परामर्श

Question ID : 65497829586
Status : Answered
Chosen Option : 3

Q.10 दिये गये वाक्य के किस भाग में त्रुटि है?

मैंने सारा माल उसके हाथ में बेच दिया है।

- Ans
- 1. बेच
 - 2. दिया है।
 - 3. मैंने सारा माल
 - 4. उसके हाथ में

Question ID : 65497829599
Status : Answered
Chosen Option : 4

Q.11 दिए गए वाक्य में रेखांकित खंड को प्रतिस्थापित करने के लिए सबसे उपयुक्त विकल्प का चयन करें।
यदि इसे प्रतिस्थापित करने की आवश्यकता नहीं है, तो विकल्प 'किसी बदलाव की आवश्यकता नहीं है'
का चयन करें।

रात दस बजे से दिल्ली में जंक्शन से हम कश्मीर मेल में सवार हुए।

- Ans
- 1. रात दस बजे तक दिल्ली में जंक्शन में हम
 - 2. किसी बदलाव की आवश्यकता नहीं है।
 - 3. रात दस बजे से, दिल्ली के जंक्शन से हम
 - 4. रात दस बजे, दिल्ली के जंक्शन से हम

Question ID : 65497829588
Status : Answered
Chosen Option : 4

Q.12 दिए गए शब्द का विलोम चुनें।

निर्मल

- Ans
- 1. मैला
 - 2. विमल
 - 3. गंदा
 - 4. मलिन

Question ID : 65497829591
Status : Answered
Chosen Option : 4

Q.13 सही वर्तनी वाले शब्द का चयन करें।

- Ans
- 1. वनस्पति
 - 2. बनस्पती
 - 3. वनस्पती
 - 4. वनास्पती

Question ID : 65497829589
Status : Answered
Chosen Option : 1

Q.14 दिए गए वाक्य का वह भाग ज्ञात करें जिसमें कोई त्रुटि है। यदि कोई त्रुटि नहीं है, तो 'कोई त्रुटि नहीं है' चुनें।

कई रेलवे के(1)/ कर्मचारियों की(2)/ गिरफ्तारी हुई।(3)/ कोई त्रुटि नहीं है।(4)

- Ans
- 1. 2
 - 2. 3
 - 3. 4
 - 4. 1

Question ID : 65497829594
Status : Answered
Chosen Option : 3

Q.15 दिए गए शब्द का समानार्थी शब्द बताइए-

कोयल

- Ans
- 1. शिखी
 - 2. कीर
 - 3. काक
 - 4. कोकिला

Question ID : 65497829585
Status : Answered
Chosen Option : 4

Q.16 सही वर्तनी वाले शब्द का चयन करें।

- Ans
- 1. प्रलहाद
 - 2. पहलाद
 - 3. प्रहलाद
 - 4. प्रल्हाद

Question ID : 65497829590
Status : Answered
Chosen Option : 3

Q.17 रिक्त स्थान की पूर्ति के लिए सबसे उपयुक्त विकल्प का चयन करें।

श्याम को रोगी पर _____ आ गई।

- Ans
- 1. दया
 - 2. क्षमा
 - 3. कृपा
 - 4. अनुकंपा

Question ID : 65497829602
Status : Answered
Chosen Option : 1

Q.18 दिये गये वाक्य में रेखांकित अंश को प्रतिस्थापित करने के लिए सबसे उपयुक्त विकल्प का चयन करें।

उसे व्याकरण का अच्छा बोध है।

- Ans
- 1. ज्ञान
 - 2. आभास
 - 3. समझ
 - 4. भान

Question ID : 65497829596
Status : Answered
Chosen Option : 1

Q.19 चंद्रमा के समान मुखवाला - वाक्यांश के लिए एक शब्द लिखिए-

- Ans
- 1. दसमुख
 - 2. चंद्रमुख
 - 3. लौहपुरुष
 - 4. गदाधर

Question ID : 65497829598
Status : Answered
Chosen Option : 2

Q.20 उस विकल्प का चयन करें जो निम्न मुहावरे का अर्थ व्यक्त करता है।

कलेजा ठंडा होना

- Ans
- 1. मन में शान्ति होना
 - 2. प्रिय होना
 - 3. बहुत दुखी होना
 - 4. धीरज रखना

Question ID : 65497829592
Status : Answered
Chosen Option : 3

Comprehension:

भारतवर्ष (1) _____ है और देश में भाषाएं चाहे जितनी भी हों, लेकिन उन सबके भीतर भारत की एक ही (2) _____ अपने को (3) _____ करती है। एक ही गंगोत्री का जल है जो अनेक नदियों में बह रहा है, एक ही सूर्य का (4) _____ है जो अनेक पात्रों में जगमगा रहा है और एक ही (5) _____ है जो अनेक छंदों में फूट रहा है। वेद, उपनिषद, रामायण और महाभारत - ये ही वे घाट हैं जहां पर हमारी सभी भाषाएं पानी पीती हैं।

निम्न प्रश्नों के उत्तर उपरोक्त गद्यांश के आधार पर दीजिए।

SubQuestion No : 21

Q.21 गद्यांश के रिक्त स्थान (1) के लिए सर्वाधिक उपयुक्त शब्द होगा-

- Ans
- 1. भिन्न
 - 2. एक
 - 3. अनेक
 - 4. प्रत्येक

Question ID : 65497829604
Status : Answered
Chosen Option : 2

Comprehension:

भारतवर्ष (1) _____ है और देश में भाषाएं चाहे जितनी भी हों, लेकिन उन सबके भीतर भारत की एक ही (2) _____ अपने को (3) _____ करती है। एक ही गंगोत्री का जल है जो अनेक नदियों में बह रहा है, एक ही सूर्य का (4) _____ है जो अनेक पात्रों में जगमगा रहा है और एक ही (5) _____ है जो अनेक छंदों में फूट रहा है। वेद, उपनिषद, रामायण और महाभारत – ये ही वे घाट हैं जहां पर हमारी सभी भाषाएं पानी पीती हैं।

निम्न प्रश्नों के उत्तर उपरोक्त गद्यांश के आधार पर दीजिए।

SubQuestion No : 22

Q.22 गद्यांश के रिक्त स्थान (2) के लिए सर्वाधिक उपयुक्त शब्द होगा-

- Ans** 1. आत्मा
 2. निष्ठा
 3. परमात्मा
 4. प्रतिष्ठा

Question ID : 65497829605

Status : Answered

Chosen Option : 2

Comprehension:

भारतवर्ष (1) _____ है और देश में भाषाएं चाहे जितनी भी हों, लेकिन उन सबके भीतर भारत की एक ही (2) _____ अपने को (3) _____ करती है। एक ही गंगोत्री का जल है जो अनेक नदियों में बह रहा है, एक ही सूर्य का (4) _____ है जो अनेक पात्रों में जगमगा रहा है और एक ही (5) _____ है जो अनेक छंदों में फूट रहा है। वेद, उपनिषद, रामायण और महाभारत – ये ही वे घाट हैं जहां पर हमारी सभी भाषाएं पानी पीती हैं।

निम्न प्रश्नों के उत्तर उपरोक्त गद्यांश के आधार पर दीजिए।

SubQuestion No : 23

Q.23 गद्यांश के रिक्त स्थान (3) के लिए सर्वाधिक उपयुक्त शब्द होगा-

- Ans** 1. संशोधित
 2. अर्पित
 3. प्रदर्शित
 4. अभिव्यक्त

Question ID : 65497829606

Status : Answered

Chosen Option : 4

Comprehension:

भारतवर्ष (1) _____ है और देश में भाषाएं चाहे जितनी भी हों, लेकिन उन सबके भीतर भारत की एक ही (2) _____ अपने को (3) _____ करती है। एक ही गंगोत्री का जल है जो अनेक नदियों में बह रहा है, एक ही सूर्य का (4) _____ है जो अनेक पात्रों में जगमगा रहा है और एक ही (5) _____ है जो अनेक छंदों में फूट रहा है। वेद, उपनिषद, रामायण और महाभारत – ये ही वे घाट हैं जहां पर हमारी सभी भाषाएं पानी पीती हैं।

निम्न प्रश्नों के उत्तर उपरोक्त गद्यांश के आधार पर दीजिए।

SubQuestion No : 24

Q.24 गद्यांश के रिक्त स्थान (4) के लिए सर्वाधिक उपयुक्त शब्द होगा-

- Ans** 1. दर्पण
 2. रस
 3. चित्र
 4. बिम्ब

Question ID : 65497829607

Status : Answered

Chosen Option : 4

Comprehension:

भारतवर्ष (1) _____ है और देश में भाषाएं चाहे जितनी भी हों, लेकिन उन सबके भीतर भारत की एक ही (2) _____ अपने को (3) _____ करती है। एक ही गंगोत्री का जल है जो अनेक नदियों में बह रहा है, एक ही सूर्य का (4) _____ है जो अनेक पात्रों में जगमगा रहा है और एक ही (5) _____ है जो अनेक छंदों में फूट रहा है। वेद, उपनिषद, रामायण और महाभारत – ये ही वे घाट हैं जहां पर हमारी सभी भाषाएं पानी पीती हैं।

निम्न प्रश्नों के उत्तर उपरोक्त गद्यांश के आधार पर दीजिए।

SubQuestion No : 25

Q.25 गद्यांश के रिक्त स्थान (5) के लिए सर्वाधिक उपयुक्त शब्द होगा-

- Ans**
- 1. बल
 - 2. नाम
 - 3. अर्थ
 - 4. भाव

Question ID : 65497829608

Status : Answered

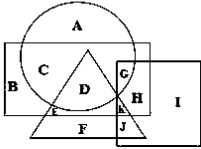
Chosen Option : 3

Constable GD in CAPFs NIA SSF and Rifleman GD in Assam Rifles Examination 2021

Roll Number	www.HaryanaJobs.in
Candidate Name	www.HaryanaJobs.in
Venue Name	Alankar Mahila P.G. Mahavidyalaya
Exam Date	16/11/2021
Exam Time :	9:00 AM - 10:30 AM
Subject	Constable GD 2021

Section : Part A General Intelligence and Reasoning

Q.1 निम्नलिखित वेन आरेख में, वृत्त, 'सब्जियों' को निरूपित करता है, त्रिभुज, 'जड़ों' को निरूपित करता है, वर्ग 'कठोर मृदा' को निरूपित करता है, और आयत 'गर्मियों' को निरूपित करता है। निम्नलिखित में से कौन-सा अक्षर उन जड़ वाली सब्जियों को निरूपित करता है जो गर्मी में उगती हैं, लेकिन कठोर मृदा में नहीं उगती हैं?



- Ans
- 1. G
 - 2. K
 - 3. E
 - 4. D

Question ID : 65497828356
Status : Answered
Chosen Option : 4

Q.2 उस विकल्प का चयन करें, जो तीसरे पद से वही संबंध है, जो दूसरे पद का पहले पद से है।

BLOCK : LBPKC :: MARGIN : ?

- Ans
- 1. OBHQHL
 - 2. OHQHBL
 - 3. OHBHQL
 - 4. OHHQBL

Question ID : 65497828361
Status : Answered
Chosen Option : 4

Q.3 दिए गए पैटर्न का ध्यानपूर्वक अध्ययन करें और उस संख्या का चयन करें, जो इसमें प्रश्नवाचक चिह्न (?) के स्थान पर आ सकती है।

13 26 39
30 42 ?
17 16 15

- Ans
- 1. 40
 - 2. 54
 - 3. 45
 - 4. 60

Question ID : 65497828341
Status : Answered
Chosen Option : 2

Q.4 दिए गए चित्र में कागज के एक टुकड़े को मोड़ने का क्रम और मुड़े हुए टुकड़े को काटने की विधि दर्शाई गई है। यह कागज खोलने पर कैसा दिखेगा?



Ans

- 1.
- 2.
- 3.
- 4.

Question ID : 65497828343
Status : Answered
Chosen Option : 3

Q.5 दिए गए विकल्पों में से उस आकृति का चयन कीजिए जो निम्नांकित आकृति श्रृंखला में प्रश्नवाचक चिह्न (?) के स्थान पर आ सकती है।



Ans


✗ 1.




✗ 2.



✗ 3.



✓ 4.



Question ID : 65497828352

Status : Answered

Chosen Option : 4

Q.6 पांच मित्र, P, Q, R, S और T, दक्षिण दिशा की ओर मुख करके एक पंक्ति में बैठे हैं। Q, मध्य स्थान पर बैठा है। P पश्चिमी सिरे पर बैठा है। T और R, Q के एक ही ओर बैठे हैं। P और R के बीच दो व्यक्ति बैठे हैं। Q और P के बीच में कौन बैठा है?

Ans ✗ 1. Q

✗ 2. T

✓ 3. S

✗ 4. R

Question ID : 65497828355

Status : Answered

Chosen Option : 3

Q.7 एक काल्पनिक गणितीय प्रणाली में, चिह्न '-' का अर्थ जोड़ है, चिह्न '+' का अर्थ भाग है, चिह्न 'x' का अर्थ घटाना है, और चिह्न '÷' का अर्थ गुणा है। गणित के अन्य सभी नियम मौजूदा प्रणाली के समान हैं। निम्नलिखित व्यंजक का मान ज्ञात कीजिए।

$$240 \times 72 + 8 \div 24 - 6$$

- Ans
- 1. 19
 - 2. 26
 - 3. 36
 - 4. 30

Question ID : 65497828346
Status : Answered
Chosen Option : 4

Q.8 दिए गए कथनों और निष्कर्षों को ध्यानपूर्वक पढ़ें। कथनों में दी गई जानकारी को सत्य मानते हुए विचार करें, भले ही वह सामान्य रूप से ज्ञात तथ्यों से भिन्न प्रतीत होती हो, और बताएं कि दिए गए निष्कर्षों में से कौन से, तार्किक रूप से कथनों का पालन करते हैं?

कथन:

सभी नीले सफेद हैं।
कुछ सफेद स्लेटी हैं।

निष्कर्ष:

- I. सभी स्लेटी सफेद हैं।
- II. सभी स्लेटी नीले हैं।

- Ans
- 1. केवल निष्कर्ष I पालन करता है।
 - 2. न तो निष्कर्ष I और न ही निष्कर्ष II पालन करता है।
 - 3. दोनों ही निष्कर्ष पालन करते हैं।
 - 4. केवल निष्कर्ष II पालन करता है।

Question ID : 65497828340
Status : Answered
Chosen Option : 2

Q.9 उस विकल्प का चयन करें, जिसका तीसरे शब्द से वही संबंध है, जो दूसरे शब्द का पहले शब्द से है।

भुवनेश्वर : ओडिशा :: आइज़ोल : ?

- Ans
- 1. मिज़ोरम
 - 2. मेघालय
 - 3. मणिपुर
 - 4. त्रिपुरा

Question ID : 65497828354
Status : Answered
Chosen Option : 1

Q.10 किसी निश्चित कूट भाषा में, 'ARROW' को 'FOOSE' लिखा जाता है और 'GERM' को 'THOR' लिखा जाता है। उसी भाषा में 'MOWER' को किस प्रकार लिखा जाएगा?

- Ans
- 1. SHORE
 - 2. ROSHE
 - 3. HORSE
 - 4. RSEHO

Question ID : 65497828339
Status : Answered
Chosen Option : 4

Q.11 उस विकल्प का चयन करें जिसका तीसरी संख्या से वही संबंध है, जो दूसरी संख्या का पहली संख्या से है।

31 : 90 :: 43 : ?

- Ans
- 1. 125
 - 2. 102
 - 3. 130
 - 4. 75

Question ID : 65497828345
Status : Answered
Chosen Option : 1

Q.12 अक्षरों के उस संयोजन का चयन करें, जिसे दी गई श्रेणी के रिक्त स्थानों पर क्रमिक रूप से रखने पर श्रेणी पूर्ण हो जाएगी।

C 2 _ X 2 C C _ X X 2 _ C 2 _ X _ C

- Ans
- 1. C2X2X
 - 2. XCX2C
 - 3. AXX2C
 - 4. X2CX2

Question ID : 65497828350
Status : Answered
Chosen Option : 4

Q.13 जब किसी संख्या को उसके 5 के गुणज और उसके वर्ग में जोड़ा जाता है, तो इन तीनों संख्याओं का योग 91 प्राप्त होता है। संख्या ज्ञात कीजिए।

- Ans
- 1. 6
 - 2. 9
 - 3. 11
 - 4. 7

Question ID : 65497828342
Status : Answered
Chosen Option : 4

Q.14 निम्नलिखित चार अक्षर-समूहों में से तीन किसी तरह से संगत हैं और एक असंगत है। उस अक्षर-समूह का चयन करें, जो असंगत है।

- Ans
- 1. QRS
 - 2. NMP
 - 3. HIJ
 - 4. DEF

Question ID : 65497828357
Status : Answered
Chosen Option : 2

Q.15 एक विशिष्ट कूट भाषा में, 'India is my country' का अर्थ '8573' है, 'Sam is my friend' का अर्थ '8634' है, 'My country' का अर्थ '73' और 'Team India' का अर्थ '59' है। उस कूट भाषा में 'Country' के लिए प्रयुक्त कूट क्या है?

- Ans
- 1. 3
 - 2. 7
 - 3. 8
 - 4. 5

Question ID : 65497828358
Status : Answered
Chosen Option : 2

Q.16 उस विकल्प का चयन करें जिसमें दी गई आकृति अंतर्निहित है (धुमाने की अनुमति नहीं है)।



Ans

- 1.
- 2.
- 3.
- 4.

Question ID : 65497828348
Status : Answered
Chosen Option : 2

Q.17 दिए गए विकल्पों में से उस अक्षर-समूह का चयन कीजिए, जो दी गई श्रृंखला में प्रश्नवाचक चिह्न (?) के स्थान पर आ सकता है।

SKH, PMG, MOF, JQE, ?

- Ans
- 1. HSD
 - 2. SDF
 - 3. GSD
 - 4. GTD

Question ID : 65497828353
Status : Answered
Chosen Option : 3

Q.18 उस सही विकल्प का चयन करें, जो दिए गए शब्दों के उस क्रम को दर्शाता है, जिस क्रम में वे अंग्रेजी शब्दकोश में मौजूद होते हैं।

1. Prestige
2. Pristine
3. Prescribe
4. Prepaid
5. Premium

- Ans
- 1. 5, 4, 3, 1, 2
 - 2. 5, 3, 4, 1, 2
 - 3. 4, 5, 3, 2, 1
 - 4. 4, 5, 3, 1, 2

Question ID : 65497828349
Status : Answered
Chosen Option : 1

Q.19 किसी कूट भाषा में, 'CIRCLE' को 'DLWAHY' लिखा जाता है। उसी कूट भाषा में 'SQUARE' को किस प्रकार लिखा जाएगा?

- Ans
- 1. TNZYVY
 - 2. TNPYVY
 - 3. TTPNKY
 - 4. TTZYNY

Question ID : 65497828362
Status : Answered
Chosen Option : 4

Q.20 दिए गए विकल्पों में से उस संख्या का चयन कीजिए, जो निम्नलिखित श्रेणी में प्रश्नवाचक चिह्न (?) के स्थान पर आएगी।

19, 23, 32, 48, 73, ?

- Ans
- 1. 111
 - 2. 109
 - 3. 108
 - 4. 103

Question ID : 65497828351
Status : Answered
Chosen Option : 2

Q.21 दिए गए विकल्पों में से उस संख्या का चयन करें, जो निम्नलिखित श्रृंखला में प्रश्नवाचक चिह्न (?) के स्थान पर आ सकती है।

24, 40, 64, 104, ?, 312

Ans 1. 168

2. 176

3. 228

4. 154

Question ID : 65497828359

Status : Marked For Review

Chosen Option : 1

Q.22 X, \$, Y, &, Z और @ अक्षरों/प्रतीकों द्वारा चिह्नित एक ही पासे की दो विभिन्न स्थितियाँ दर्शाई गई हैं। उस अक्षर/प्रतीक का चयन करें जो \$ प्रतीक दर्शाने वाले फलक के विपरीत फलक पर होगा।

$\begin{matrix} X & S & & Y \\ Y & Z & & & Z \\ & & & & & & @ & Z \end{matrix}$

Ans 1. Z

2. X

3. @

4. &

Question ID : 65497828347

Status : Answered

Chosen Option : 4

Q.23 'R+S' का अर्थ है - 'R, S की पुत्री है'। 'R-S' का अर्थ है - 'R, S का पति है'। 'R x S' का अर्थ है - 'R, S का भाई है'। यदि 'T x V + Z' है, तो निम्नलिखित में से कौन-सा विकल्प सत्य है?

Ans 1. T, Z का पिता है।

2. T, Z का पुत्र है।

3. T, Z का चाचा/ताऊ/मामा/मौसा/फूफा है।

4. T, Z का भाई है।

Question ID : 65497828363

Status : Answered

Chosen Option : 2

Q.24 दिए गए संयोजन के सही दर्पण प्रतिबिंब का चयन करें जब दर्पण को निम्नांकित चिह्नानुसार 'PQ' पर रखा गया है।

M8AGI2CAL
P
Q

- Ans
- 1. W8VIGJCVF
 - 2. JAQZGIA8M
 - 3. W8VGIJCVF
 - 4. JAQZGIA8M

Question ID : 65497828360
Status : Answered
Chosen Option : 4

Q.25 आठ मित्र, A, B, C, D, E, F, G और H, सभी एक सीधी रेखा में उत्तर की ओर मुख करके बैठे हैं। F, D और G के बीच बैठा है। B, H और A के बीच बैठा है। E, G के बाईं ओर तीसरे स्थान पर है। G एक सिरे पर बैठा है। H, C के बाईं ओर तीसरे स्थान पर है। A और E के बीच कौन बैठा है?

- Ans
- 1. D
 - 2. B
 - 3. C
 - 4. H

Question ID : 65497828344
Status : Answered
Chosen Option : 3

Section : Part B General Knowledge and General Awareness

Q.1 केंद्रीय शिक्षा मंत्री ने 5 सितंबर 2020 को _____ नामक एक निःशुल्क मोबाइल ऐप लॉन्च किया।

- Ans
- 1. Duolingo (ड्युओलिंगो)
 - 2. EnglishPro (इंग्लिश प्रो)
 - 3. Hello Talk (हेलो टॉक)
 - 4. Beelinguapp (बिलिंगुऐप)

Question ID : 65497828387
Status : Not Answered
Chosen Option : --

Q.2 α कण _____ के द्विआवेशित (Doubly Charged) आयन होते हैं।

- Ans
- 1. बेरीलियम
 - 2. हाइड्रोजन
 - 3. हीलियम
 - 4. लीथियम

Question ID : 65497828369
Status : Answered
Chosen Option : 2

Q.3 2011-2012 में की गई गणनाओं के अनुसार, ग्रामीण भारत के व्यक्तियों के लिए गरीबी रेखा _____ प्रति माह तय की गई थी।

- Ans 1. ₹816
 2. ₹752
 3. ₹687
 4. ₹1,000

Question ID : 65497828372
Status : Answered
Chosen Option : 2

Q.4 भारतीय संविधान का कौन सा अनुच्छेद सहकारी समितियों (co-operative societies) के संवर्धन से संबंधित है?

- Ans 1. 31B
 2. 43B
 3. 43A
 4. 31A

Question ID : 65497828376
Status : Answered
Chosen Option : 2

Q.5 नवंबर 2020 में दिवंगत, फकीर चंद कोहली को ' _____ ' के रूप में जाना जाता था।

- Ans 1. भारतीय सॉफ्टवेयर (IT) उद्योग के जनक
 2. भारतीय सिविल सेवा के जनक
 3. भारतीय अंतरिक्ष कार्यक्रम के जनक
 4. भारतीय प्रागैतिहासिक काल के जनक

Question ID : 65497828380
Status : Not Answered
Chosen Option : --

Q.6 राजा टोडर मल, निम्नलिखित में से किस मुगल सम्राट के शासनकाल के दौरान राजस्व मंत्री थे?

- Ans 1. हुमायूं
 2. शाहजहाँ
 3. जहांगीर
 4. अकबर

Question ID : 65497828384
Status : Answered
Chosen Option : 4

Q.7 मराठों, और अफगानिस्तान के शासक अहमद शाह दुर्रानी के बीच पानीपत की तीसरी लड़ाई किस वर्ष हुई थी?

- Ans
- 1. 1851
 - 2. 1781
 - 3. 1761
 - 4. 1831

Question ID : 65497828374
Status : Answered
Chosen Option : 3

Q.8 निम्नलिखित में से कौन सा वह साधारण उपकरण है जिसका उपयोग विद्युत परिपथ को वियोजित करने, या इसे पूर्ण करने के लिए किया जाता है?

- Ans
- 1. स्विच
 - 2. ट्रांजिस्टर
 - 3. संधारित्र
 - 4. प्रतिरोध

Question ID : 65497828373
Status : Answered
Chosen Option : 1

Q.9 निम्नलिखित में से किन देशों ने मालाबार नौसेना अभ्यास 2020 में भाग लिया?

- Ans
- 1. भारत, ऑस्ट्रेलिया, जापान और अमेरिका
 - 2. भारत, इजराइल और अमेरिका
 - 3. भारत, जापान और अमेरिका
 - 4. भारत, ऑस्ट्रेलिया, इजराइल और अमेरिका

Question ID : 65497828375
Status : Answered
Chosen Option : 1

Q.10 पानी के एक अणु में, हाइड्रोजन और ऑक्सीजन के द्रव्यमानों का अनुपात कितना होता है?

- Ans
- 1. 1 : 4
 - 2. 1 : 8
 - 3. 1 : 16
 - 4. 1 : 2

Question ID : 65497828370
Status : Answered
Chosen Option : 2

Q.11 _____ को विटीकल्चर (viticulture) के रूप में जाना जाता है।

- Ans
- 1. सब्जियां, फूल और फल उगाने
 - 2. मछली प्रजनन
 - 3. रेशमकीट का पालन करने
 - 4. अंगूर की खेती

Question ID : 65497828382
Status : Answered
Chosen Option : 4

Q.12 निम्नलिखित में से कौन तीरंदाजी में भारत का प्रतिनिधित्व करता है?

- Ans
- 1. सौम्यजीत घोष
 - 2. मनिका बत्रा
 - 3. नीरज चोपड़ा
 - 4. दीपिका कुमारी

Question ID : 65497828367
Status : Answered
Chosen Option : 4

Q.13 'संवाद कौमुदी' नामक अखबार की स्थापना निम्नलिखित में से किसने की?

- Ans
- 1. ईश्वर चंद्र विद्यासागर
 - 2. रास बिहारी बोस
 - 3. राजा राम मोहन राय
 - 4. शिशिर कुमार घोष

Question ID : 65497828366
Status : Answered
Chosen Option : 1

Q.14 नवंबर 2020 में, भारतीय क्रिकेट कंट्रोल बोर्ड (BCCI) ने _____ को 2023 तक के लिए भारतीय टीम का किट प्रायोजक घोषित किया है।

- Ans
- 1. ओप्पो (Oppo)
 - 2. एम.पी.एल. स्पोर्ट्स (MPL Sports)
 - 3. बाईजूस (Byju's)
 - 4. नाइकी (Nike)

Question ID : 65497828381
Status : Answered
Chosen Option : 3

Q.15 स्वच्छ भारत मिशन (ग्रामीण) के चरण 2 की शुरुआत किस वर्ष से हुई?

- Ans
- 1. 2021-22
 - 2. 2020-21
 - 3. 2018-19
 - 4. 2019-20

Question ID : 65497828388
Status : Answered
Chosen Option : 1

Q.16 टीम 'केरल ब्लास्टर्स (Kerala Blasters)' निम्नलिखित में से किस खेल से संबंधित है?

- Ans
- 1. कबड्डी
 - 2. क्रिकेट
 - 3. बैडमिंटन
 - 4. फुटबॉल

Question ID : 65497828383
Status : Answered
Chosen Option : 4

Q.17 26 जनवरी 2019 को, भारतीय संविधान ने अपने अस्तित्व के 69 वर्ष पूर्ण किए। इन वर्षों में, इसमें (12 जनवरी 2019 तक प्राप्त जानकारी के अनुसार) _____ बार संशोधन किए गए हैं।

- Ans
- 1. 103
 - 2. 109
 - 3. 100
 - 4. 106

Question ID : 65497828386
Status : Answered
Chosen Option : 1

Q.18 सरयू नदी किस नदी की सहायक नदी है?

- Ans
- 1. पिंडर
 - 2. टोंस
 - 3. शारदा
 - 4. भागीरथी

Question ID : 65497828364
Status : Answered
Chosen Option : 2

Q.19 निम्न में से कौन सा मिज़ो लोगों का परंपरागत बांस नृत्य (bamboo dance) है?

- Ans
- 1. उदोहो (Udoho)
 - 2. मोयशाई (Moyashai)
 - 3. चेरव (Cheraw)
 - 4. आलुयट्टू (Aaluyattu)

Question ID : 65497828378
Status : Answered
Chosen Option : 3

Q.20 _____, सारग्राही कला (eclectic art) के उच्च स्तर को दर्शाता है, जिसमें 7वीं और 8वीं शताब्दी में चालुक्य वंश के अधीन उत्तरी और दक्षिणी भारत की वास्तुकलाओं का सुमेलित मिश्रण हुआ है।

- Ans
- 1. कोणार्क
 - 2. पट्टदकल
 - 3. भीमबेटका
 - 4. कोच्चि

Question ID : 65497828368
Status : Answered
Chosen Option : 1

Q.21 निम्नलिखित में से कौन अपने 'ययाति' और 'तुगलक' नामक नाटकों के लिए प्रसिद्ध है?

- Ans
- 1. वीजू खोटे
 - 2. मोहम्मद जहूर खय्याम
 - 3. श्रीराम लागू
 - 4. गिरीश कर्नाड

Question ID : 65497828371
Status : Not Answered
Chosen Option : --

Q.22 निम्नलिखित में से किस संस्थान ने नवंबर 2020 में 'टीम हेलो (Team Halo)' नामक पहल की शुरुआत की थी?

- Ans
- 1. संयुक्त राष्ट्र
 - 2. विश्व व्यापार संगठन
 - 3. विश्व स्वास्थ्य संगठन
 - 4. विश्व बैंक

Question ID : 65497828377
Status : Answered
Chosen Option : 3

Q.23 वित्तीय वर्ष 2019-20 में निम्नलिखित में से कौन सा राष्ट्र भारत का शीर्ष व्यापारिक भागीदार था?

- Ans
- 1. चीन
 - 2. जापान
 - 3. अमेरिका
 - 4. मॉरीशस

Question ID : 65497828365
Status : Answered
Chosen Option : 3

Q.24 भारत के पंजाब से निकलने वाली पांच नदियां पाकिस्तान में मिथनकोट में _____ नदी में मिल जाती हैं।

- Ans
- 1. ब्रह्मपुत्र
 - 2. गंगा
 - 3. सिंधु
 - 4. यमुना

Question ID : 65497828379
Status : Answered
Chosen Option : 3

Q.25 1708 में गुरु गोविंद सिंह जी की मृत्यु के बाद, खालसा ने _____ के नेतृत्व में मुगल साम्राज्य के खिलाफ विद्रोह किया।

- Ans
- 1. गुरु नानक देव
 - 2. गुरु अमर दास
 - 3. गुरु अंगद
 - 4. बंदा बहादुर

Question ID : 65497828385
Status : Answered
Chosen Option : 4

Section : Part C Elementary Mathematics

Q.1 $45 - 3 \times (4 \text{ of } 6 + 12 \div 3 \times 6 - 4 \times 5) + 6$ का मान ज्ञात कीजिए।

- Ans
- 1. -30
 - 2. -45
 - 3. -33
 - 4. -135

Question ID : 65497828408
Status : Answered
Chosen Option : 3

Q.2 36 m पटुआ (जूट) बेचने पर, एक दुकानदार 12 m पटुआ (जूट) के विक्रय मूल्य के बराबर राशि का लाभ अर्जित करता है। उसके लाभ का प्रतिशत ज्ञात कीजिए।

- Ans
- 1. 45%
 - 2. 40%
 - 3. 55%
 - 4. 50%

Question ID : 65497828409
Status : Answered
Chosen Option : 4

Q.3 कक्षा IX और कक्षा X में छात्रों की संख्या क्रमशः 42 और 45 है। कक्षा IX और X में लड़कों और लड़कियों की संख्याओं का अनुपात क्रमशः 9 : 5 और 8 : 7 है। दोनों कक्षाओं में मिलाकर लड़कों की कुल संख्या और लड़कियों की कुल संख्या का अंतर ज्ञात कीजिए।

- Ans
- 1. 11
 - 2. 17
 - 3. 12
 - 4. 15

Question ID : 65497828411
Status : Answered
Chosen Option : 4

Q.4 12% of 4% of 7% of 2×10^6 का मान कितना होगा?

- Ans
- 1. 121
 - 2. 583
 - 3. 672
 - 4. 386

Question ID : 65497828403
Status : Answered
Chosen Option : 3

Q.5 112 cm × 44 cm × 25 cm विमाओं वाले एक ठोस धातु के बने आयताकार ब्लॉक को पिघलाया जाता है और 35 cm त्रिज्या वाले एक बेलन के रूप में ढाला जाता है। बेलन के वक्र पृष्ठ का क्षेत्रफल (cm² में) ज्ञात कीजिए।
($\pi = \frac{22}{7}$ लीजिए)

- Ans
- 1. 6160
 - 2. 6600
 - 3. 7040
 - 4. 7260

Question ID : 65497828413
Status : Answered
Chosen Option : 3

Q.6 साधारण ब्याज की एक निश्चित वार्षिक दर पर एक धनराशि पर प्राप्त मिश्रधन 4 वर्ष बाद ₹13200 और 8 वर्ष बाद ₹16400 होता है। उसी धनराशि पर 10% वार्षिक ब्याज की दर से $3\frac{1}{5}$ वर्ष में प्राप्त साधारण ब्याज (₹ में) ज्ञात कीजिए।

- Ans
- 1. 3200
 - 2. 2500
 - 3. 3500
 - 4. 4000

Question ID : 65497828392
Status : Answered
Chosen Option : 1

Q.7 एक बल्लेबाज ने 124 रन बनाए, जिसमें 6 चौके और 10 छक्के शामिल थे। उसके कुल स्कोर में से कितने प्रतिशत रन विकेटों के बीच दौड़कर बनाए गए?

- Ans
- 1. $28\frac{19}{31}\%$
 - 2. $35\frac{3}{31}\%$
 - 3. $24\frac{1}{31}\%$
 - 4. $32\frac{8}{31}\%$

Question ID : 65497828390
Status : Answered
Chosen Option : 4

Q.8 एक व्यक्ति 1600 m लंबे मार्ग को 4 मिनट में पार करता है। उसकी चाल (km/h में) कितनी है?

- Ans
- 1. 22
 - 2. 14
 - 3. 24
 - 4. 20

Question ID : 65497828398
Status : Answered
Chosen Option : 3

Q.9 रवि और सुमित के वेतनों का अनुपात 4 : 5 है। यदि उनमें से प्रत्येक के वेतन में ₹6000 की वृद्धि होती है, तो उनके वेतनों का नया अनुपात 35 : 40 हो जाता है। सुमित का बढ़ा हुआ वेतन ज्ञात कीजिए।

- Ans
- 1. ₹16,000
 - 2. ₹26,000
 - 3. ₹36,000
 - 4. ₹1,60,000

Question ID : 65497828399
Status : Answered
Chosen Option : 1

Q.10 जब विक्रय मूल्य में ₹132.60 की वृद्धि होती है, तो $10\frac{1}{2}\%$ की हानि $11\frac{3}{5}\%$ के लाभ में परिवर्तित हो जाती है। वस्तु का क्रय मूल्य (₹ में) ज्ञात करें।

- Ans
- 1. 800
 - 2. 500
 - 3. 750
 - 4. 600

Question ID : 65497828391
Status : Answered
Chosen Option : 4

Q.11 725 m लंबी एक ट्रेन 235 m लंबी सुरंग को 48 सेकंड में पार करती है। ट्रेन की चाल ज्ञात करें।

- Ans
- 1. 42 km/h
 - 2. 36 km/h
 - 3. 100 km/h
 - 4. 72 km/h

Question ID : 65497828405
Status : Answered
Chosen Option : 4

Q.12 P, Q और R किसी कार्य को अकेले करते हुए क्रमशः 10 दिन, 20 दिन और 30 दिन में पूरा कर सकते हैं। यदि Q और R, एक-एक दिन छोड़कर P की सहायता करते हैं, तो उस कार्य को कितनी जल्दी पूरा किया जा सकता है?

- Ans
- 1. 5 दिन
 - 2. $6\frac{1}{2}$ दिन
 - 3. $7\frac{1}{17}$ दिन
 - 4. 9 दिन

Question ID : 65497828410
Status : Answered
Chosen Option : 2

Q.13 एक निश्चित धनराशि 12% वार्षिक ब्याज की दर से $2\frac{1}{2}$ वर्षों में ₹9,982.50 हो जाती है, जबकि ब्याज की गणना 10-मासिक चक्रवृद्धि आधार पर की जाती है। धनराशि (₹ में) ज्ञात कीजिए।

- Ans
- 1. 8,000
 - 2. 8,500
 - 3. 7,500
 - 4. 7,800

Question ID : 65497828412
Status : Marked For Review
Chosen Option : 2

Q.14 एक कुर्सी अंकित मूल्य पर 10% की छूट के बाद ₹720 में बेची जाती है। कुर्सी का क्रय मूल्य ₹640 है। यदि इसे अंकित मूल्य पर बेचा जाए, तो लाभ प्रतिशत क्या होगा?

- Ans
- 1. 20%
 - 2. 18%
 - 3. 25%
 - 4. 30%

Question ID : 65497828407
Status : Answered
Chosen Option : 3

Q.15 $89563x87y$ एक नौ अंकीय संख्या है जो 72 से विभाज्य है। $\sqrt{7x-3y}$ का मान कितना होगा?

- Ans
- 1. 5
 - 2. 6
 - 3. 4
 - 4. 8

Question ID : 65497828389
Status : Answered
Chosen Option : 3

Q.16 वह बड़ी से बड़ी संख्या ज्ञात कीजिए, जिससे 398, 437 और 5425 को विभाजित करने पर क्रमशः 7, 12 और 2 शेष बचता है।

- Ans
- 1. 17
 - 2. 15
 - 3. 19
 - 4. 11

Question ID : 65497828393
Status : Answered
Chosen Option : 1

Q.17 A और B के वेतन का अनुपात 6 : 7 है। यदि B के वेतन में $5\frac{1}{2}\%$ की वृद्धि होती है, तो उसका कुल वेतन ₹1,47,700 हो जाता है। A का वेतन (₹ में) ज्ञात कीजिए।

- Ans
- 1. 1,35,000
 - 2. 1,20,000
 - 3. 1,40,000
 - 4. 1,10,000

Question ID : 65497828395
Status : Answered
Chosen Option : 2

Q.18 ₹2760 की धनराशि को इस प्रकार दो भागों में विभाजित कीजिए, कि जब उन्हें 5% वार्षिक साधारण ब्याज की दर पर क्रमशः 2 और 4 वर्षों के लिए निवेशित किया जाता है, तो उन पर प्राप्त होने वाले मिश्रधन बराबर होते हैं। निवेश किए गए दूसरे भाग की राशि ज्ञात कीजिए।

- Ans
- 1. 1,320
 - 2. 1,440
 - 3. 1,500
 - 4. 1,100

Question ID : 65497828396
Status : Answered
Chosen Option : 1

Q.19 $3 \times 7 + 5 - 6 \div 3 - 9 + 45 \div 5 \times 4 - 45$ का मान ज्ञात कीजिए।

- Ans
- 1. 36
 - 2. 9
 - 3. 6
 - 4. 7

Question ID : 65497828397
Status : Answered
Chosen Option : 3

Q.20 अनु किसी कार्य को करने में बिन्नी से चार गुना कार्यकुशल है। वे एक साथ मिलकर किसी कार्य को 7 घंटे में पूरा करती हैं। अनु अकेले उसी कार्य को कितने घंटों में पूरा करेगी?

- Ans
- 1. $31/4$
 - 2. 24
 - 3. $35/4$
 - 4. 22

Question ID : 65497828404
Status : Answered
Chosen Option : 3

Q.21 एक समबाहु त्रिभुज का परिमाण $36\sqrt{3}$ cm है। तो उसकी ऊंचाई ज्ञात कीजिए।

- Ans
- 1. 18 cm
 - 2. 6 cm
 - 3. 9 cm
 - 4. 10 cm

Question ID : 65497828400
Status : Answered
Chosen Option : 1

Q.22 यदि दो संख्याओं का औसत 13 है और उनके गुणनफल का वर्गमूल 12 है, तो संख्याओं के बीच का अंतर ज्ञात कीजिए।

- Ans
- 1. 18
 - 2. 10
 - 3. 12
 - 4. 8

Question ID : 65497828394
Status : Answered
Chosen Option : 2

Q.23 10 प्रेक्षणों का औसत 46 है। बाद में यह ज्ञात हुआ कि एक प्रेक्षण को 142 के स्थान पर गलती से 42 पढ़ा गया था। सही औसत ज्ञात करें।

- Ans
- 1. 56
 - 2. 46
 - 3. 52
 - 4. 58

Question ID : 65497828401
Status : Answered
Chosen Option : 1

Q.24 एक टेलीविज़न ₹14,500 में उपलब्ध था। दिवाली की सेल के दौरान उसकी कीमत घटकर ₹11,890 हो गई। छूट प्रतिशत ज्ञात करें।

- Ans
- 1. 17.6%
 - 2. 19%
 - 3. 18%
 - 4. 19.56%

Question ID : 65497828402
Status : Answered
Chosen Option : 3

Q.25 एक दुकानदार एक वस्तु को 20% लाभ पर बेचता है। यदि उसने इसे इसके मूल क्रय मूल्य से 20% कम मूल्य पर खरीदा होता और इसे ₹10 कम मूल्य पर बेचता, तो उसे 25% का लाभ होता। वस्तु का क्रय मूल्य ज्ञात कीजिए।

- Ans
- 1. ₹60
 - 2. ₹50
 - 3. ₹40
 - 4. ₹45

Question ID : 65497828406
Status : Answered
Chosen Option : 2

Section : Part D English

Q.1 Select the most appropriate meaning of the given idiom.

Play for time

- Ans
- 1. To make excuses or do things to gain time
 - 2. To play music in the time provided
 - 3. To play something for the sake of old times
 - 4. To do something in the stipulated time

Question ID : 65497828428
Status : Not Answered
Chosen Option : --

Q.2 Select the most appropriate option to fill in the blank.

The doctor _____ her to stop eating fried food.

- Ans
- 1. advised
 - 2. expressed
 - 3. arranged
 - 4. considered

Question ID : 65497828421
Status : Not Answered
Chosen Option : --

Q.3 Select the option that can be used as a one-word substitute for the given group of words.

One who examines a company's financial records

- Ans
- 1. Conductor
 - 2. Auditor
 - 3. Instructor
 - 4. Author

Question ID : 65497828424
Status : Not Answered
Chosen Option : --

Q.4 Select the option that can be used as a one-word substitute for the given group of words.

A person who knows everything

- Ans
- 1. Omniscient
 - 2. Omnipresent
 - 3. Intelligent
 - 4. Naive

Question ID : 65497828420
Status : Not Answered
Chosen Option : --

Q.5 Select the most appropriate ANTONYM of the given word.

Vital

- Ans
- 1. Crucial
 - 2. Critical
 - 3. Manual
 - 4. Trivial

Question ID : 65497828423
Status : Not Answered
Chosen Option : --

Q.6 Select the most appropriate SYNONYM of the given word.

Threat

- Ans 1. Attention
 2. Risk
 3. Proof
 4. Suggestion

Question ID : 65497828432
Status : Not Answered
Chosen Option : --

Q.7 The following sentence has been divided into parts. One of them may contain an error. Select the part that contains the error from the given options. If you don't find any error, mark 'No error' as your answer.

She left / hers umbrella / at the office.

- Ans 1. at the office
 2. She left
 3. No error
 4. hers umbrella

Question ID : 65497828414
Status : Not Answered
Chosen Option : --

Q.8 Select the most appropriate option that can substitute the underlined segment in the given sentence. If there is no need to substitute it, select 'No substitution required'.

I'm sure he will grab the chance to earn some extra money.

- Ans 1. to earns
 2. No substitution required
 3. of earns
 4. to earned

Question ID : 65497828429
Status : Not Answered
Chosen Option : --

Q.9 Select the most appropriate ANTONYM of the given word.

Precarious

- Ans 1. Safe
 2. Perilous
 3. Uncertain
 4. Dangerous

Question ID : 65497828426
Status : Not Answered
Chosen Option : --

Q.10 Select the most appropriate option that can substitute the underlined word in the given sentence.

Microwave ovens heat food quickly, anxiously and safely, but do not brown or bake food in the way that conventional ovens do.

- Ans**
- 1. beautifully
 - 2. angrily
 - 3. accidentally
 - 4. efficiently

Question ID : 65497828416
Status : Not Answered
Chosen Option : --

Q.11 Select the most appropriate synonym of the given word.

Visible

- Ans**
- 1. Secret
 - 2. Hidden
 - 3. Vague
 - 4. Apparent

Question ID : 65497828415
Status : Not Answered
Chosen Option : --

Q.12 Select the option that can be used as a one-word substitute for the given group of words.

Anything that leads to death

- Ans**
- 1. Scary
 - 2. Serious
 - 3. Ominous
 - 4. Fatal

Question ID : 65497828433
Status : Not Answered
Chosen Option : --

Q.13 The following sentence has been split into four segments. Identify the segment that contains a grammatical error.

Neither the manager / nor the employees was / aware of the / shortage of raw materials.

- Ans**
- 1. Neither the manager
 - 2. shortage of raw materials
 - 3. aware of the
 - 4. nor the employees was

Question ID : 65497828431
Status : Not Answered
Chosen Option : --

Q.14 The following sentence has been split into four segments. Identify the segment that contains a grammatical error.

Mohan told to / Sagar that he / was looking / very pale.

- Ans**
- 1. Sagar that he
 - 2. was looking
 - 3. very pale
 - 4. Mohan told to

Question ID : 65497828422
Status : Not Answered
Chosen Option : --

Q.15 Select the INCORRECTLY spelt word.

- Ans**
- 1. Voluntary
 - 2. Stationary
 - 3. Dictionery
 - 4. Delivery

Question ID : 65497828425
Status : Not Answered
Chosen Option : --

Q.16 Select the INCORRECTLY spelt word.

- Ans**
- 1. Response
 - 2. Congratulations
 - 3. Felicitate
 - 4. Aniversary

Question ID : 65497828418
Status : Not Answered
Chosen Option : --

Q.17 Select the most appropriate meaning of the given idiom.

To breathe one's last

- Ans**
- 1. To make a plot
 - 2. To give final verdict
 - 3. To die
 - 4. To take a major decision

Question ID : 65497828417
Status : Not Answered
Chosen Option : --

Q.18 Select the most appropriate option that can substitute the underlined segment in the given sentence. If there is no need to substitute it, select 'No substitution required'.

You need to get the cholesterol from out of your system.

- Ans
- 1. No substitution required
 - 2. out of your system
 - 3. out your system
 - 4. from out off your system

Question ID : 65497828430
Status : Not Answered
Chosen Option : --

Q.19 Select the most appropriate option to fill in the blank.

A _____ mind rarely meets a dead end; it continues the search for the answers.

- Ans
- 1. weird
 - 2. curious
 - 3. peculiar
 - 4. strange

Question ID : 65497828419
Status : Not Answered
Chosen Option : --

Q.20 Select the most appropriate option to fill in the blank.

A dialogue is a _____ between two or more people.

- Ans
- 1. commission
 - 2. conversation
 - 3. conversion
 - 4. convertible

Question ID : 65497828427
Status : Not Answered
Chosen Option : --

Comprehension:

In the following passage, some words have been deleted. Read the passage carefully and select the most appropriate option to fill in each blank.

When the air is clear, the sunset (1)_____ yellow, because the light from the sun has passed a long distance through air and the blue light (2)_____ scattered away. If the air is polluted with small particles, natural (3)_____ otherwise, the sunset will be more red. Sunsets over the sea may also be orange, (4)_____ salt particles in the air. The sky (5)_____ the sun is seen reddened, as well as the light coming directly from the sun.

SubQuestion No : 21

Q.21 Select the most appropriate option to fill in blank no. 1.

- Ans**
- 1. is
 - 2. has appeared
 - 3. appeared
 - 4. appears

Question ID : 65497828435

Status : Not Answered

Chosen Option : --

Comprehension:

In the following passage, some words have been deleted. Read the passage carefully and select the most appropriate option to fill in each blank.

When the air is clear, the sunset (1)_____ yellow, because the light from the sun has passed a long distance through air and the blue light (2)_____ scattered away. If the air is polluted with small particles, natural (3)_____ otherwise, the sunset will be more red. Sunsets over the sea may also be orange, (4)_____ salt particles in the air. The sky (5)_____ the sun is seen reddened, as well as the light coming directly from the sun.

SubQuestion No : 22

Q.22 Select the most appropriate option to fill in blank no. 2.

- Ans**
- 1. has been
 - 2. will be
 - 3. has
 - 4. was

Question ID : 65497828436

Status : Not Answered

Chosen Option : --

Comprehension:

In the following passage, some words have been deleted. Read the passage carefully and select the most appropriate option to fill in each blank.

When the air is clear, the sunset (1)_____ yellow, because the light from the sun has passed a long distance through air and the blue light (2)_____ scattered away. If the air is polluted with small particles, natural (3)_____ otherwise, the sunset will be more red. Sunsets over the sea may also be orange, (4)_____ salt particles in the air. The sky (5)_____ the sun is seen reddened, as well as the light coming directly from the sun.

SubQuestion No : 23

Q.23 Select the most appropriate option to fill in blank no. 3.

- Ans 1. if
 2. or
 3. but
 4. and

Question ID : 65497828437

Status : Not Answered

Chosen Option : --

Comprehension:

In the following passage, some words have been deleted. Read the passage carefully and select the most appropriate option to fill in each blank.

When the air is clear, the sunset (1)_____ yellow, because the light from the sun has passed a long distance through air and the blue light (2)_____ scattered away. If the air is polluted with small particles, natural (3)_____ otherwise, the sunset will be more red. Sunsets over the sea may also be orange, (4)_____ salt particles in the air. The sky (5)_____ the sun is seen reddened, as well as the light coming directly from the sun.

SubQuestion No : 24

Q.24 Select the most appropriate option to fill in blank no. 4.

- Ans 1. for
 2. due to
 3. because
 4. as

Question ID : 65497828438

Status : Not Answered

Chosen Option : --

Comprehension:

In the following passage, some words have been deleted. Read the passage carefully and select the most appropriate option to fill in each blank.

When the air is clear, the sunset (1)_____ yellow, because the light from the sun has passed a long distance through air and the blue light (2)_____ scattered away. If the air is polluted with small particles, natural (3)_____ otherwise, the sunset will be more red. Sunsets over the sea may also be orange, (4)_____ salt particles in the air. The sky (5)_____ the sun is seen reddened, as well as the light coming directly from the sun.

SubQuestion No : 25

Q.25 Select the most appropriate option to fill in blank no. 5.

- Ans** ✓ 1. around
✗ 2. across
✗ 3. along
✗ 4. through

Question ID : 65497828439
Status : Not Answered
Chosen Option : --

Section : Part D Hindi

Q.1 दिए गए वाक्य में रेखांकित खंड को प्रतिस्थापित करने के लिए सबसे उपयुक्त विकल्प का चयन करें। यदि इसे प्रतिस्थापित करने की आवश्यकता नहीं है, तो विकल्प 'किसी बदलाव की आवश्यकता नहीं है' का चयन करें।

मैं आपका दर्शन करने आया हूँ।

- Ans** ✗ 1. मैं आपकी
✗ 2. किसी बदलाव की आवश्यकता नहीं है।
✓ 3. मैं आपके
✗ 4. मैं आपसे

Question ID : 65497828453
Status : Answered
Chosen Option : 3

Q.2 दिए गए वाक्य का वह भाग ज्ञात करें जिसमें कोई त्रुटि है। यदि कोई त्रुटि नहीं है, तो 'कोई त्रुटि नहीं है' चुनें।

प्रधानाचार्य ने (1)/ हिंदी अध्यापक (2)/ को बुलाये। (3)/ कोई त्रुटि नहीं है(4)

- Ans** ✗ 1. 4
✗ 2. 2
✓ 3. 3
✗ 4. 1

Question ID : 65497828451
Status : Answered
Chosen Option : 2

Q.3 मुझे मज़ा आती है। - रेखांकित शब्द की त्रुटि बताइए-

- Ans
- 1. लिंग के कारण
 - 2. वचन के कारण
 - 3. कारक के कारण
 - 4. विशेषण के कारण

Question ID : 65497828456
Status : Answered
Chosen Option : 2

Q.4 दिए गए शब्द का विलोम चुनें।

द्रुत

- Ans
- 1. जड़
 - 2. अद्वैत
 - 3. मंथर
 - 4. वेग

Question ID : 65497828448
Status : Answered
Chosen Option : 3

Q.5 निम्नलिखित प्रश्न में, दिए गए चार विकल्पों में से, उस विकल्प का चयन करें, जो मुहावरे का अर्थ व्यक्त करता है।

कथा के बैंगन

- Ans
- 1. मन गढ़ंत बातें
 - 2. असंभव वस्तु
 - 3. कृपण व्यक्ति
 - 4. केवल दूसरों के लिए उपदेश

Question ID : 65497828449
Status : Answered
Chosen Option : 4

Q.6 'वह बात जो जन साधारण में चलती आ रही है' इस वाक्यांश के लिए एक सार्थक शब्द दीजिए।

- Ans
- 1. किंवदंती
 - 2. कूपमंडूक
 - 3. कपोल-कल्पित
 - 4. किंकर्तव्य

Question ID : 65497828440
Status : Answered
Chosen Option : 1

Q.7 रिक्त स्थान भरने के लिए सबसे उपयुक्त शब्द का चयन करें।

_____ से गहने बनते हैं।

- Ans
- 1. टीन
 - 2. सोना
 - 3. सोने
 - 4. लोहे

Question ID : 65497828441
Status : Answered
Chosen Option : 3

Q.8 'आँख लगना' मुहावरे का सही अर्थ है-

- Ans
- 1. गहरी नींद आना
 - 2. झपकी आना
 - 3. आँख में दर्द होना
 - 4. गले पड़ना

Question ID : 65497828454
Status : Answered
Chosen Option : 2

Q.9 दिए गए वाक्य का वह भाग ज्ञात करें जिसमें कोई त्रुटि है। यदि कोई त्रुटि नहीं है, तो 'कोई त्रुटि नहीं है' विकल्प को चुनें।

स्टेशन पहुँचते ही वह फोन कर दिया।

- Ans
- 1. कोई त्रुटि नहीं है
 - 2. स्टेशन पहुँचते ही
 - 3. वह
 - 4. फोन कर दिया

Question ID : 65497828442
Status : Answered
Chosen Option : 3

Q.10 'सामान्य नियम के विरुद्ध बात' वाक्यांश के लिए एक शब्द होगा-

- Ans
- 1. अपवाद
 - 2. वाद
 - 3. संवाद
 - 4. विवाद

Question ID : 65497828455
Status : Answered
Chosen Option : 1

Q.11 सद्भाव - रेखांकित शब्द का सही विलोम बताइए-

- Ans
- 1. स्वभाव
 - 2. गुस्सा
 - 3. दुर्भाव
 - 4. क्षम्य

Question ID : 65497828457
Status : Answered
Chosen Option : 3

Q.12 रिक्त स्थान भरने के लिए सबसे उपयुक्त शब्द का चयन करें।

तीनों _____ के स्वामी हैं इसलिए त्रिलोकीनाथ कहलाते हैं।

- Ans
- 1. भुवनों
 - 2. धरती
 - 3. आकाशों
 - 4. भवनों

Question ID : 65497828446
Status : Answered
Chosen Option : 4

Q.13 गुणदोष का समरूप मूल्यांकन करने वाले के लिए एक शब्द लिखिए-

- Ans
- 1. जिज्ञासु
 - 2. शास्त्रज्ञ
 - 3. ज्योतिषी
 - 4. समीक्षक

Question ID : 65497828458
Status : Answered
Chosen Option : 4

Q.14 दिए गए वाक्य में रेखांकित खंड को प्रतिस्थापित करने के लिए सबसे उपयुक्त विकल्प का चयन करें।
यदि इसे प्रतिस्थापित करने की आवश्यकता नहीं है, तो विकल्प 'किसी बदलाव की आवश्यकता नहीं है'
का चयन करें।

पिताजी मेरे लिए कुछ कपड़े ले आये।

- Ans
- 1. किसी बदलाव की आवश्यकता नहीं है।
 - 2. मेरे के लिए
 - 3. मेरे को
 - 4. मुझे

Question ID : 65497828450
Status : Answered
Chosen Option : 2

Q.15 इस प्रश्न में, एक शब्द चार अलग-अलग प्रकार से लिखा गया है, जिसमें से केवल एक को सही ढंग से लिखा गया है। सही वर्तनी वाले शब्द का चयन करें।

- Ans 1. अनधिकार
 2. अनाधीकार
 3. अनाधिकार
 4. अनधीकार

Question ID : 65497828444
Status : Answered
Chosen Option : 3

Q.16 दिए गए शब्द के समानार्थी शब्द का चयन करें।

कमल

- Ans 1. अरविन्द
 2. आयतन
 3. अमृत
 4. अमिय

Question ID : 65497828452
Status : Answered
Chosen Option : 1

Q.17 रिक्त स्थान को भरने के लिए सबसे उपयुक्त विकल्प का चयन करें।

मेरी _____ है कि मुझे चार दिन की छुट्टी दी जाए।

- Ans 1. पूजा
 2. याचना
 3. प्रार्थना
 4. आराधना

Question ID : 65497828459
Status : Answered
Chosen Option : 3

Q.18 इस प्रश्न में, एक शब्द चार अलग-अलग प्रकार से लिखा गया है, जिसमें से केवल एक को सही ढंग से लिखा गया है। सही वर्तनी वाले शब्द का चयन करें।

- Ans 1. मातृहिन
 2. मातर्हीन
 3. मार्तहीन
 4. मातृहीन

Question ID : 65497828445
Status : Answered
Chosen Option : 4

Q.19 दिए गए शब्द के समानार्थी शब्द का चयन करें।

यमुना

- Ans
- 1. आपगा
 - 2. तड़ाग
 - 3. अर्कजा
 - 4. निम्नगा

Question ID : 65497828443

Status : Answered

Chosen Option : 4

Q.20 दिए गए वाक्य में रेखांकित खंड को प्रतिस्थापित करने के लिए सबसे उपयुक्त विकल्प का चयन करें।
यदि इसे प्रतिस्थापित करने की आवश्यकता नहीं है, तो विकल्प 'किसी बदलाव की आवश्यकता नहीं है'
का चयन करें।

मेरी गाय को छूने का उत्साह कभी कोई नहीं कर सकता क्योंकि वह मारती है।

- Ans
- 1. मेरी गाय को छूने का हिम्मत
 - 2. मेरी गाय को छूने का साहस
 - 3. किसी बदलाव की आवश्यकता नहीं है।
 - 4. मेरी गाय को छूने की मेहनत

Question ID : 65497828447

Status : Answered

Chosen Option : 2

Comprehension:

गद्यांश को पढ़कर पूछे गये प्रश्नों के उत्तर लिखिए-

एक साधु थे। भिक्षाटन से मजे से दिन गुजारते और आनंदपूर्वक भजन करते थे। एक दिन महत्वाकांक्षा सिर पर चढ़ी, झोपड़ी के चूहों से निपटने के लिए एक बिल्ली पाली। बिल्ली के लिए दूध की जरूरत पड़ी - तो गाय खरीद कर लाए। गाय को साज-संभाल के लिए महिला की आवश्यकता पड़ी। महिला से शादी कर ली। परिवार बना। संत बनकर लोक कल्याण करने का लक्ष्य कहीं से कहीं चला गया। भौतिक आकांक्षाओं का जाल-जंजाल इतना बढ़ गया कि परमार्थ का लक्ष्य पूरा करने के लिए कुछ भी नहीं बचता था। सारी क्षमता उसी में खत्म जाती थी। सपनों का जमघट ही शेष रह जाता है। कहने का तात्पर्य यह है कि हमें हमारे लक्ष्य की ओर ध्यान देना चाहिए।

SubQuestion No : 21

Q.21 साधु अपना निर्वाह _____ करके करता था। रिक्त स्थान की पूर्ति कीजिए।

- Ans
- 1. खेती करके
 - 2. बच्चों को पढ़ाकर
 - 3. भिक्षाटन करके
 - 4. नौकरी करके

Question ID : 65497828461

Status : Answered

Chosen Option : 3

Comprehension:

गद्यांश को पढ़कर पूछे गये प्रश्नों के उत्तर लिखिए-

एक साधु थे। भिक्षाटन से मजे से दिन गुजारते और आनंदपूर्वक भजन करते थे। एक दिन महत्वाकांक्षा सिर पर चढ़ी, झोपड़ी के चूहों से निपटने के लिए एक बिल्ली पाली। बिल्ली के लिए दूध की जरूरत पड़ी - तो गाय खरीद कर लाए। गाय को साज-संभाल के लिए महिला की आवश्यकता पड़ी। महिला से शादी कर ली। परिवार बना। संत बनकर लोक कल्याण करने का लक्ष्य कहीं से कहीं चला गया। भौतिक आकांक्षाओं का जाल-जंजाल इतना बढ़ गया कि परमार्थ का लक्ष्य पूरा करने के लिए कुछ भी नहीं बचता था। सारी क्षमता उसी में खत्म जाती थी। सपनों का जमघट ही शेष रह जाता है। कहने का तात्पर्य यह है कि हमें हमारे लक्ष्य की ओर ध्यान देना चाहिए।

SubQuestion No : 22

Q.22 'आवश्यकता' के स्थान पर उचित शब्द लिखिए।

- Ans**
- 1. अवश्य
 - 2. जरूरत
 - 3. अक्लमंद
 - 4. परिश्रम

Question ID : 65497828462

Status : Answered

Chosen Option : 2

Comprehension:

गद्यांश को पढ़कर पूछे गये प्रश्नों के उत्तर लिखिए-

एक साधु थे। भिक्षाटन से मजे से दिन गुजारते और आनंदपूर्वक भजन करते थे। एक दिन महत्वाकांक्षा सिर पर चढ़ी, झोपड़ी के चूहों से निपटने के लिए एक बिल्ली पाली। बिल्ली के लिए दूध की जरूरत पड़ी - तो गाय खरीद कर लाए। गाय को साज-संभाल के लिए महिला की आवश्यकता पड़ी। महिला से शादी कर ली। परिवार बना। संत बनकर लोक कल्याण करने का लक्ष्य कहीं से कहीं चला गया। भौतिक आकांक्षाओं का जाल-जंजाल इतना बढ़ गया कि परमार्थ का लक्ष्य पूरा करने के लिए कुछ भी नहीं बचता था। सारी क्षमता उसी में खत्म जाती थी। सपनों का जमघट ही शेष रह जाता है। कहने का तात्पर्य यह है कि हमें हमारे लक्ष्य की ओर ध्यान देना चाहिए।

SubQuestion No : 23

Q.23 महत्वाकांक्षा रेखांकित शब्द का उचित अर्थ लिखिए।

- Ans**
- 1. बलवान होना
 - 2. उन्नति को प्राप्त करने की इच्छा
 - 3. दयालु
 - 4. लायक न होना

Question ID : 65497828463

Status : Answered

Chosen Option : 2

Comprehension:

गद्यांश को पढ़कर पूछे गये प्रश्नों के उत्तर लिखिए-

एक साधु थे। भिक्षाटन से मजे से दिन गुजारते और आनंदपूर्वक भजन करते थे। एक दिन महत्वाकांक्षा सिर पर चढ़ी, झोपड़ी के चूहों से निपटने के लिए एक बिल्ली पाली। बिल्ली के लिए दूध की जरूरत पड़ी - तो गाय खरीद कर लाए। गाय को साज-संभाल के लिए महिला की आवश्यकता पड़ी। महिला से शादी कर ली। परिवार बना। संत बनकर लोक कल्याण करने का लक्ष्य कहीं से कहीं चला गया। भौतिक आकांक्षाओं का जाल-जंजाल इतना बढ़ गया कि परमार्थ का लक्ष्य पूरा करने के लिए कुछ भी नहीं बचता था। सारी क्षमता उसी में खत्म जाती थी। सपनों का जमघट ही शेष रह जाता है। कहने का तात्पर्य यह है कि हमें हमारे लक्ष्य की ओर ध्यान देना चाहिए।

SubQuestion No : 24

Q.24 परमार्थ- रेखांकित शब्द का विलोम बताइए।

- Ans**
- 1. लालची
 - 2. दुष्ट
 - 3. स्वार्थ
 - 4. क्रोधी

Question ID : 65497828464

Status : Answered

Chosen Option : 3

Comprehension:

गद्यांश को पढ़कर पूछे गये प्रश्नों के उत्तर लिखिए-

एक साधु थे। भिक्षाटन से मजे से दिन गुजारते और आनंदपूर्वक भजन करते थे। एक दिन महत्वाकांक्षा सिर पर चढ़ी, झोपड़ी के चूहों से निपटने के लिए एक बिल्ली पाली। बिल्ली के लिए दूध की जरूरत पड़ी - तो गाय खरीद कर लाए। गाय को साज-संभाल के लिए महिला की आवश्यकता पड़ी। महिला से शादी कर ली। परिवार बना। संत बनकर लोक कल्याण करने का लक्ष्य कहीं से कहीं चला गया। भौतिक आकांक्षाओं का जाल-जंजाल इतना बढ़ गया कि परमार्थ का लक्ष्य पूरा करने के लिए कुछ भी नहीं बचता था। सारी क्षमता उसी में खत्म जाती थी। सपनों का जमघट ही शेष रह जाता है। कहने का तात्पर्य यह है कि हमें हमारे लक्ष्य की ओर ध्यान देना चाहिए।

SubQuestion No : 25

Q.25 झोपड़ी के चूहों से निपटने के लिए साधु ने क्या किया?

- Ans**
- 1. बिल्ली पाली
 - 2. कुछ भी नहीं किया
 - 3. दवा डालकर चूहों को मार दिया।
 - 4. कुत्ते को पाला

Question ID : 65497828465

Status : Answered

Chosen Option : 1

Constable GD in CAPFs NIA SSF and Rifleman GD in Assam Rifles Examination 2021

Roll Number	www.HaryanaJobs.in
Candidate Name	www.HaryanaJobs.in
Venue Name	CLM Resources and Management
Exam Date	16/11/2021
Exam Time :	4:00 PM - 5:30 PM
Subject	Constable GD 2021

Section : Part A General Intelligence and Reasoning

Q.1 दिए गए संयोजन के सही दर्पण प्रतिबिंब का चयन कीजिए, जबकि दर्पण को इसकी दाईं ओर रखा गया है।

4 2 5 3 e f

Ans

- ✓ 1. 4 2 5 3 e f
- ✗ 2. 4 2 5 3 e f
- ✗ 3. 4 2 5 3 e f
- ✗ 4. 4 2 5 3 e f

Question ID : 65497828871
Status : Answered
Chosen Option : 2

Q.2 'क्रिकेट' का 'LBW' से वही संबंध है, जो 'शतरंज' का '_____' से है।

Ans

- ✓ 1. चेकमेट
- ✗ 2. बैकस्ट्रोक
- ✗ 3. ड्यूस
- ✗ 4. हिट विकेट

Question ID : 65497828860
Status : Answered
Chosen Option : 3

Q.3 दिए गए विकल्पों में से उस संख्या का चयन कीजिए, जो निम्नलिखित श्रेणी में प्रश्नवाचक चिह्न (?) के स्थान पर आ सकती है।

14, 15, 24, 49, 98, 179, ?

Ans

- ✗ 1. 312
- ✓ 2. 300
- ✗ 3. 340
- ✗ 4. 290

Question ID : 65497828870
Status : Answered
Chosen Option : 4

Q.4 दिए गए कथनों और निष्कर्षों को ध्यानपूर्वक पढ़ें। कथनों में दी गई जानकारी को सत्य मानते हुए विचार करें, भले ही वह सामान्यतः ज्ञात तथ्यों से भिन्न प्रतीत होती हो, और तय करें कि दिए गए निष्कर्षों में से कौन से कथनों का तार्किक रूप से पालन करते हैं?

कथन:

कोई लड़का इंजीनियर नहीं है।
कोई इंजीनियर डाइवर नहीं है।
सभी लड़कियां लड़के हैं।

निष्कर्ष:

I. सभी लड़के डाइवर हैं।
II. कोई लड़की इंजीनियर नहीं है।

- Ans 1. निष्कर्ष I और II दोनों ही पालन करते हैं।
 2. केवल निष्कर्ष II पालन करता है।
 3. या तो निष्कर्ष I या II पालन करता है।
 4. केवल निष्कर्ष I पालन करता है।

Question ID : 65497828863
Status : Answered
Chosen Option : 2

Q.5 एक निश्चित कूट भाषा में, ALARMING को 150 लिखा जाता है। उसी कूट भाषा में FLOATER को किस प्रकार लिखा जाएगा?

- Ans 1. 156
 2. 141
 3. 154
 4. 124

Question ID : 65497828869
Status : Answered
Chosen Option : 2

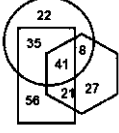
Q.6 उस विकल्प का चयन करें, जिसमें दी गई संख्याओं के बीच वही संबंध है, जो दिए गए समूह की संख्याओं के बीच है।

11, 4, 137

- Ans 1. 9, 8, 145
 2. 12, 7, 190
 3. 10, 5, 148
 4. 15, 14, 205

Question ID : 65497828864
Status : Answered
Chosen Option : 1

Q.7 निम्नलिखित आरेख में, 'षट्भुज', 'इंजीनियरों' को निरूपित करता है, 'वृत्त', 'संगीत-प्रेमियों' को निरूपित करता है, और 'आयत', 'मॉर्निंग-वाँकरों' को निरूपित करता है। विभिन्न खंडों में दी गई संख्याएँ, उस श्रेणी से संबंधित व्यक्तियों की संख्या को दर्शाती हैं।



कितने मॉर्निंग-वाँकर, संगीत प्रेमी हैं, लेकिन इंजीनियर नहीं हैं?

- Ans
- ✓ 1. 35
 - ✗ 2. 8
 - ✗ 3. 41
 - ✗ 4. 21

Question ID : 65497828867
Status : Answered
Chosen Option : 1

Q.8 एक निश्चित कूट भाषा में MORSEL को LESROM लिखा जाता है। उसी कूट भाषा में GATEWAY को किस प्रकार लिखा जाएगा?

- Ans
- ✗ 1. YAWATEG
 - ✗ 2. YAWTEAG
 - ✗ 3. AWYETAG
 - ✓ 4. YAWETAG

Question ID : 65497828861
Status : Answered
Chosen Option : 4

Q.9 यदि 21 मार्च 2007 को बुधवार है, तो 25 मई 2015 को सप्ताह का कौन सा दिन होगा?

- Ans
- ✗ 1. बुधवार
 - ✗ 2. मंगलवार
 - ✗ 3. रविवार
 - ✓ 4. सोमवार

Question ID : 65497828865
Status : Answered
Chosen Option : 1

Q.10 एक ही पासे की तीन अलग-अलग स्थितियां दिखाई गई हैं। प्रतीक '&' वाले फलक के विपरीत वाले फलक पर कौन-सी संख्या होगी / कौन-सा प्रतीक होगा?



- Ans
- 1. \$
 - 2. 9
 - 3. %
 - 4. #

Question ID : 65497828853

Status : Answered

Chosen Option : 1

Q.11 (i) अनुपमा, भाव्या, चहल, दिलीप, सौरभ, वरुण और गोविंद, एक वृत्ताकार व्यवस्था में केंद्र की ओर मुख करके बैठे हैं और ताश खेल रहे हैं।
 (ii) सौरभ अनुपमा और दिलीप के बगल में बैठा है।
 (iii) गोविंद, वरुण और चहल के बीच में नहीं बैठा है।
 (iv) वरुण, अनुपमा के दाईं ओर ठीक बगल में बैठा है।
 व्यक्तियों का इनमें से कौन सा युग्म एक दूसरे के बगल में नहीं बैठा है?

- Ans
- 1. दिलीप, सौरभ
 - 2. भाव्या, अनुपमा
 - 3. चहल, भाव्या
 - 4. गोविंद, दिलीप

Question ID : 65497828850

Status : Answered

Chosen Option : 1

Q.12 दिए गए विकल्पों में से उस आकृति का चयन करें, जो निम्नांकित आकृति में प्रश्नवाचक चिह्न (?) के स्थान पर आ सकती है, और पैटर्न को पूरा कर सकती है (घुमाने की अनुमति नहीं है)।



- Ans
- 1.
 - 2.
 - 3.
 - 4.

Question ID : 65497828858

Status : Answered

Chosen Option : 2

Q.13 उस विकल्प का चयन करें, जो दिए गए शब्दों के उस क्रम को दर्शाता है, जिस क्रम में ये शब्द अंग्रेजी शब्दकोश में मौजूद होते हैं।

1. Pitted
2. Pivot
3. Pixie
4. Pivotal
5. Pity

- Ans
- 1. 1, 2, 3, 4, 5
 - 2. 2, 1, 4, 5, 3
 - 3. 1, 5, 4, 2, 3
 - 4. 1, 5, 2, 4, 3

Question ID : 65497828855
Status : Answered
Chosen Option : 1

Q.14 सीमा ने एक फोटो की ओर इशारा करते हुए मुझसे कहा, "वह तुम्हारे पिता का पुत्र है।" फोटो में मौजूद व्यक्ति का मेरे साथ क्या संबंध है?

- Ans
- 1. पिताजी
 - 2. भाई
 - 3. चाचा/ताऊ/फूफा/मामा/मौसा
 - 4. दादा/नाना

Question ID : 65497828849
Status : Answered
Chosen Option : 2

Q.15 अक्षरों के उस संयोजन का चयन करें, जिसे दी गई शृंखला के रिक्त स्थानों में क्रमवार रखे जाने पर शृंखला पूर्ण हो जाएगी।

D _ _ S H T _ _ R I S H _ _ D R I _ _ T I D R I S _ _ I

- Ans
- 1. RIIDTISHHT
 - 2. RITIDTSHHT
 - 3. RDIITISHHT
 - 4. RDIISHTIHT

Question ID : 65497828856
Status : Answered
Chosen Option : 3

Q.16 यदि 'A' का अर्थ 'जोड़ना' है, 'B' का अर्थ 'गुणा' है, 'C' का अर्थ 'घटाना' है, और 'D' का अर्थ 'भाग' है, तो निम्नलिखित व्यंजक का मान क्या होगा?

60 D 2 A 3 B 6 C 5 C (4 B 3)

- Ans
- 1. 41
 - 2. 35
 - 3. 45
 - 4. 31

Question ID : 65497828852
Status : Answered
Chosen Option : 4

Q.17 दिए गए विकल्पों में से उस संख्या का चयन करें, जो निम्नलिखित श्रेणी में प्रश्नवाचक चिह्न (?) के स्थान पर आ सकती है।

209, 205, 196, 180, ?, 119

Ans 1. 165

2. 155

3. 149

4. 160

Question ID : 65497828857

Status : Answered

Chosen Option : 4

Q.18 किसी कूट भाषा में, APRIL को $\beta x + \alpha @$ और MARCH को $\epsilon + \beta \infty$ लिखा जाता है। उसी कूट भाषा में PARAM को किस प्रकार लिखा जाएगा?

Ans 1. $\beta x + \infty \epsilon$

2. $+x + \epsilon \beta$

3. $+ \beta x + \epsilon$

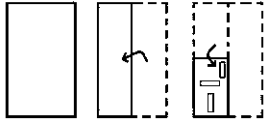
4. $x + \beta + \epsilon$

Question ID : 65497828848

Status : Answered

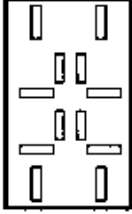
Chosen Option : 2

Q.19 कागज के एक टुकड़े को मोड़ने के क्रम और मुड़े हुए कागज को काटने के तरीके को निम्नलिखित आकृतियों में दर्शाया गया है। खोलने पर, यह कागज कैसा दिखाई देगा?

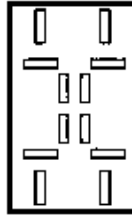


Ans

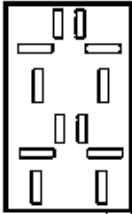
✗ 1.



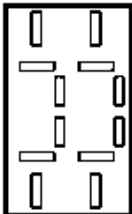
✓ 2.



✗ 3.



✗ 4.



Question ID : 65497828866

Status : Answered

Chosen Option : 1

Q.20 उस विकल्प का चयन करें, जिसका तीसरे अक्षर-समूह से वही संबंध है, जो दूसरे अक्षर-समूह का पहले अक्षर-समूह से है।

HOST : FMQR :: DRON : ?

Ans ✗ 1. BMPL

✓ 2. BPML

✗ 3. BLMP

✗ 4. BPLM

Question ID : 65497828847

Status : Answered

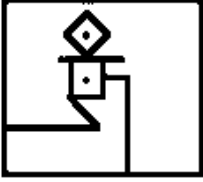
Chosen Option : 2

Q.21 उस विकल्प का चयन करें जिसमें दी गई आकृति सन्निहित है (आकृति को घुमाने की अनुमति नहीं है)।

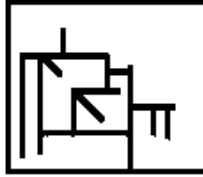
Ans

Ans

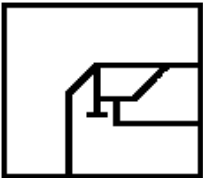
✗ 1.



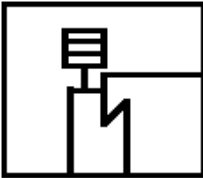
✓ 2.



✗ 3.



✗ 4.



Question ID : 65497828854

Status : Answered

Chosen Option : 1

Q.22 दिए गए विकल्पों में से उस अक्षर-समूह का चयन करें, जो निम्नलिखित श्रृंखला में प्रश्नवाचक चिह्न (?) के स्थान पर आ सकता है।

DOK, ENL, FMM, GLN, ?

Ans

✓ 1. HKO

✗ 2. GHP

✗ 3. GLO

✗ 4. HLP

Question ID : 65497828859

Status : Answered

Chosen Option : 1

Q.23 चार अक्षर-समूह दिए गए हैं, जिनमें से तीन किसी तरह से संगत हैं और एक असंगत है। उस अक्षर-समूह का चयन करें, जो अन्य से असंगत है।

- Ans
- 1. AEU
 - 2. IOU
 - 3. ZDK
 - 4. AEI

Question ID : 65497828868
Status : Answered
Chosen Option : 4

Q.24 उस विकल्प का चयन कीजिए, जिसका तीसरी संख्या से वही संबंध है, जो दूसरी संख्या का पहली संख्या से है; और छठी संख्या का पांचवीं संख्या से है।

16 : 120 :: 18 : ? :: 22 : 231

- Ans
- 1. 513
 - 2. 531
 - 3. 153
 - 4. 134

Question ID : 65497828851
Status : Answered
Chosen Option : 3

Q.25 छह लड़कियां A, B, C, D, E और F दो ऊर्ध्वाधर पंक्तियों में खड़ी हैं; सभी लड़कियों का मुख उत्तर दिशा की ओर है। प्रत्येक पंक्ति में तीन लड़कियां हैं। E, D के ठीक पीछे है। F, A के बाईं ओर है। C, B के ठीक आगे है। A, D के ठीक आगे है। कौन सी दो लड़कियां पंक्तियों के अंतिम स्थानों पर खड़ी हैं?

- Ans
- 1. A, B
 - 2. A, F
 - 3. C, E
 - 4. B, E

Question ID : 65497828862
Status : Answered
Chosen Option : 2

Section : Part B General Knowledge and General Awareness

Q.1 बॉम्बे में पहली सूती कपड़ा मिल की स्थापना किस वर्ष की गई थी?

- Ans
- 1. 1876
 - 2. 1867
 - 3. 1854
 - 4. 1845

Question ID : 65497828873
Status : Answered
Chosen Option : 4

Q.2 निम्नलिखित में से किस राज्य में अबोर पहाड़ियाँ स्थित हैं?

- Ans
- 1. पश्चिम बंगाल
 - 2. असम
 - 3. सिक्किम
 - 4. अरुणाचल प्रदेश

Question ID : 65497828878
Status : Answered
Chosen Option : 2

Q.3 गणेश चतुर्थी का धार्मिक त्योहार विशेष रूप से निम्नलिखित में से किस राज्य से संबंधित है?

- Ans
- 1. उत्तर प्रदेश
 - 2. पंजाब
 - 3. हरियाणा
 - 4. महाराष्ट्र

Question ID : 65497828879
Status : Answered
Chosen Option : 1

Q.4 भारत की 2011 की जनगणना के अनुसार, देश में _____ सांविधिक कस्बे हैं।

- Ans
- 1. 10,756
 - 2. 7,935
 - 3. 1,362
 - 4. 4,041

Question ID : 65497828891
Status : Answered
Chosen Option : 1

Q.5 तलाजा गुफाएं (Talaja Caves) _____ राज्य में स्थित हैं।

- Ans
- 1. महाराष्ट्र
 - 2. मध्य प्रदेश
 - 3. आंध्र प्रदेश
 - 4. गुजरात

Question ID : 65497828890
Status : Answered
Chosen Option : 1

Q.6 11 जुलाई को प्रत्येक वर्ष _____ के रूप में मनाया जाता है।

- Ans
- 1. विश्व जनसंख्या दिवस
 - 2. विश्व पर्यावरण दिवस
 - 3. विश्व स्वास्थ्य दिवस
 - 4. विश्व जल दिवस

Question ID : 65497828894
Status : Answered
Chosen Option : 1

Q.7 प्रधान मंत्री नरेंद्र मोदी ने तीन घटनाओं के स्मरणोत्सव के सिलसिले में मार्च 2021 में बांग्लादेश का दौरा किया। निम्नलिखित में से कौन सी उनमें से एक नहीं है?

- Ans
- 1. भारत और बांग्लादेश के बीच राजनयिक संबंधों की स्थापना के 50 वर्ष
 - 2. शेख मुजीबुर्रहमान की जन्म शतवार्षिकी
 - 3. भारत-बांग्लादेश भूमि सीमा समझौते (LBA) पर हस्ताक्षर के 10 वर्ष
 - 4. बांग्लादेश के स्वतंत्रता संग्राम के 50 वर्ष

Question ID : 65497828889
Status : Answered
Chosen Option : 3

Q.8 संविधान (52वां संशोधन) अधिनियम, 1985 द्वारा जोड़ी गई भारतीय संविधान की _____ अनुसूची, दल-बदल के आधार पर, किसी व्यक्ति की संसद के किसी भी सदन या राज्य की विधान सभा या विधान परिषद के सदस्य होने से अयोग्यता से संबंधित है।

- Ans
- 1. तीसरी
 - 2. दसवीं
 - 3. छठी
 - 4. पाँचवीं

Question ID : 65497828874
Status : Answered
Chosen Option : 4

Q.9 निम्नलिखित में से कौन सा वनों की कटाई का परिणाम नहीं है?

- Ans
- 1. प्रकृति के समग्र संतुलन में गड़बड़ी
 - 2. पृथ्वी पर प्रदूषण के स्तर में वृद्धि
 - 3. वायुमंडल में ऑक्सीजन के स्तर में वृद्धि
 - 4. भूजल के स्तर में कमी

Question ID : 65497828881
Status : Answered
Chosen Option : 2

Q.10 महान फुटबॉल खिलाड़ी डिएगो माराडोना का नवंबर 2020 में निधन हो गया। उन्होंने निम्नलिखित में से किस देश का प्रतिनिधित्व किया था?

- Ans
- 1. फ्रांस
 - 2. स्पेन
 - 3. अर्जेंटीना
 - 4. ब्राज़ील

Question ID : 65497828876
Status : Answered
Chosen Option : 3

Q.11 निम्नलिखित में से कौन एक भारतीय बैडमिंटन खिलाड़ी है?

- Ans
- 1. आशीष कुमार
 - 2. सतीश कुमार
 - 3. विकास कृष्ण
 - 4. B साई प्रणीत

Question ID : 65497828893
Status : Answered
Chosen Option : 3

Q.12 शरीयतुल्ला खान अंग्रेजों के खिलाफ _____ का हिस्सा थे।

- Ans
- 1. फराजी आंदोलन
 - 2. सन्यासी विद्रोह
 - 3. वहाबी आंदोलन
 - 4. फ़क़ीर विद्रोह

Question ID : 65497828887
Status : Answered
Chosen Option : 3

Q.13 अक्टूबर 2020 में, विश्व बैंक ने वित्त वर्ष 2020-21 में भारत के सकल घरेलू उत्पाद (GDP) में कितने प्रतिशत के संकुचन की उम्मीद की है?

- Ans
- 1. 9
 - 2. 9.8
 - 3. 9.5
 - 4. 9.6

Question ID : 65497828877
Status : Answered
Chosen Option : 2

Q.14 सितंबर 2021 तक प्राप्त जानकारी के अनुसार, भारत ने 1960 में पैरालंपिक खेलों की शुरुआत के बाद से अब तक इसमें _____ पदक जीते हैं।

- Ans
- 1. 9 स्वर्ण, 12 रजत और 10 कांस्य
 - 2. 7 स्वर्ण, 9 रजत और 11 कांस्य
 - 3. 9 स्वर्ण, 10 रजत और 12 कांस्य
 - 4. 7 स्वर्ण, 11 रजत और 9 कांस्य

Question ID : 65497828895
Status : Answered
Chosen Option : 3

Q.15 निम्नलिखित में से कौन इब्राहिम लोदी को पराजित करने के बाद पहला मुगल सम्राट बना?

- Ans
- 1. नादिर शाह
 - 2. शाहजहां
 - 3. औरंगज़ेब
 - 4. बाबर

Question ID : 65497828872
Status : Answered
Chosen Option : 4

Q.16 नवंबर 2020 में, ट्विटर ने विश्वस्तर पर ' _____ ' नामक ऐसे ट्वीट्स की शुरुआत की ,जो 24 घंटे में गायब हो जाते हैं।

- Ans
- 1. ग्रीट्स
 - 2. फ्लीट्स
 - 3. ब्लीड्स
 - 4. मीट्स

Question ID : 65497828885
Status : Answered
Chosen Option : 1

Q.17 पीने के लिए शुद्ध और उपयुक्त जल को _____ के रूप में जाना जाता है।

- Ans
- 1. तनुकृत जल
 - 2. सुवाह्य जल
 - 3. पेय जल
 - 4. नदी जल

Question ID : 65497828880
Status : Answered
Chosen Option : 3

Q.18 अभिनेत्री कंगना रनौत ने _____ नामक फिल्मों के लिए 67वें राष्ट्रीय फिल्म पुरस्कार, 2019 में 'सर्वश्रेष्ठ अभिनेत्री' का पुरस्कार जीता।

- Ans
- 1. 'पंगा' और 'जजमेंटल है क्या'
 - 2. 'जजमेंटल है क्या' औ 'मणिकर्णिका: द क्वीन ऑफ झांसी'
 - 3. 'मणिकर्णिका: द क्वीन ऑफ झांसी' और 'पंगा'
 - 4. 'जजमेंटल है क्या' और 'सिमरन'

Question ID : 65497828892
Status : Answered
Chosen Option : 2

Q.19 इंपीरियल बैंक ऑफ इंडिया की स्थापना कब हुई थी?

- Ans
- 1. 1948
 - 2. 1919
 - 3. 1947
 - 4. 1921

Question ID : 65497828886
Status : Answered
Chosen Option : 2

Q.20 निम्न में से कौन सा बैंक फॉर्च्यून ग्लोबल 500 सूची 2021 में शामिल है?

- Ans
- 1. भारतीय स्टेट बैंक
 - 2. आईसीआईसीआई (ICICI) बैंक
 - 3. बैंक ऑफ बड़ौदा
 - 4. एचडीएफसी (HDFC) बैंक

Question ID : 65497828896
Status : Answered
Chosen Option : 3

Q.21 मीर जाफ़र को वर्ष _____ में पुनः बंगाल के नवाब के रूप में प्रतिष्ठित किया गया था।

- Ans
- 1. 1746
 - 2. 1674
 - 3. 1647
 - 4. 1764

Question ID : 65497828884
Status : Answered
Chosen Option : 1

Q.22 मेगा फूड पार्क योजना का लक्ष्य, संग्रह केंद्रों और प्राथमिक प्रसंस्करण केंद्रों के नेटवर्क के माध्यम से खेत से प्रसंस्करण और फिर उपभोक्ता बाजारों तक सीधे जुड़ाव वाली एक प्रणाली प्रदान करना है। नवंबर 2020 में, नरेंद्र सिंह तोमर ने इनमें से किस राज्य में मेगा फूड पार्क का आभासी (वर्चुअल) उद्घाटन किया?

- Ans
- 1. राजस्थान
 - 2. पंजाब
 - 3. गुजरात
 - 4. ओडिशा

Question ID : 65497828875
Status : Answered
Chosen Option : 4

Q.23 सोमालिया के नवनिर्वाचित प्रधान मंत्री, _____, ने सितंबर, 2020 में पदभार संभाला।

- Ans
- 1. हसन अली खैरे
 - 2. मोहम्मद हुसैन रोबल
 - 3. उमर शमारिके
 - 4. आब्दी फराह शिरडन

Question ID : 65497828882
Status : Answered
Chosen Option : 1

Q.24 निम्नलिखित में से कौन सा कथन सत्य है?

- Ans
- 1. अम्ल, लाल लिटमस के रंग को बदलकर नीला कर देते हैं।
 - 2. क्षार, नीले लिटमस के रंग को बदलकर लाल कर देते हैं।
 - 3. क्षार, स्वाद में कड़वे होते हैं।
 - 4. अम्ल, स्वाद में नमकीन होते हैं।

Question ID : 65497828883
Status : Answered
Chosen Option : 3

Q.25 केंद्रीय प्रदूषण नियंत्रण बोर्ड (CPCB) का गठन _____ के तहत किया गया था।

- Ans
- 1. जल (प्रदूषण निवारण एवं नियंत्रण) अधिनियम 1974
 - 2. राष्ट्रीय पर्यावरण न्यायाधिकरण अधिनियम, 1995
 - 3. वायु (प्रदूषण निवारण एवं नियंत्रण) अधिनियम, 1981
 - 4. राष्ट्रीय पर्यावरण अपीलीय प्राधिकरण अधिनियम, 1997

Question ID : 65497828888
Status : Answered
Chosen Option : 1

Section : Part C Elementary Mathematics

Q.1 जब किसी वस्तु के विक्रय मूल्य में ₹164 की वृद्धि की जाती है तो 12% की हानि 8.5% के लाभ में बदल जाती है। वस्तु का क्रय मूल्य ज्ञात कीजिए।

- Ans
- 1. ₹760
 - 2. ₹840
 - 3. ₹850
 - 4. ₹800

Question ID : 65497828902
Status : Answered
Chosen Option : 1

Q.2 18 संतरों को ₹151.20 में बेचने पर, एक व्यक्ति को 20% की हानि होती है। 30% का लाभ अर्जित करने के लिए, उसे ₹819 में कितने संतरे बेचने होंगे?

- Ans
- 1. 65
 - 2. 45
 - 3. 60
 - 4. 50

Question ID : 65497828918
Status : Answered
Chosen Option : 2

Q.3 एक नाव 52 मिनट के कुल समय में धारा की विपरीत दिशा में 10 km और धारा की दिशा में 11 km की दूरी तय कर सकती है। यदि धारा की चाल 5 km/h है, तो धारा की दिशा में नाव की चाल (km/h में) ज्ञात कीजिए।

- Ans
- 1. 25
 - 2. 35
 - 3. 30
 - 4. 20

Question ID : 65497828916
Status : Answered
Chosen Option : 1

Q.4 एक व्यापारी ने एक वस्तु का मूल्य इस प्रकार अंकित किया कि उसे उस वस्तु के क्रय मूल्य पर 28% का लाभ अर्जित हो। उसने इसे अंकित मूल्य पर 15% की छूट देकर बेच दिया। उसका वास्तविक लाभ प्रतिशत कितना था?

- Ans
- 1. 9%
 - 2. 13%
 - 3. 12.5%
 - 4. 8.8%

Question ID : 65497828912
Status : Answered
Chosen Option : 3

Q.5 एक दुकानदार ने ₹1200 में 150 पेन के भाव पर पेन खरीदे, और ₹1620 में 180 पेन के भाव पर बेच दिए। उसका प्रतिशत लाभ या हानि ज्ञात कीजिए।

- Ans
- 1. 12% लाभ
 - 2. 12% हानि
 - 3. 14% लाभ
 - 4. 12.5% लाभ

Question ID : 65497828900
Status : Answered
Chosen Option : 1

Q.6 एक समकोण त्रिभुज की भुजाओं की लंबाइयों का अनुपात 5 : 12 : 13 है और इसका परिमाण 90 cm है। त्रिभुज का क्षेत्रफल (cm² में) ज्ञात कीजिए।

- Ans
- 1. 702
 - 2. 270
 - 3. 780
 - 4. 540

Question ID : 65497828921
Status : Answered
Chosen Option : 2

Q.7 A की आय, B की आय से 70% अधिक है; और C की आय A और B की संयुक्त आय के 80% के बराबर है। A की आय, C की आय से कितने प्रतिशत कम है? (एक दशमलव स्थान तक पूर्णांकित करें)

- Ans
- 1. 27.1%
 - 2. 19.8%
 - 3. 21.3%
 - 4. 20.4%

Question ID : 65497828913
Status : Answered
Chosen Option : 4

Q.8 एक कार अपनी यात्रा के पहले 41 km की दूरी 45 मिनट में तय करती है और शेष 23 km की दूरी 35 मिनट में तय करती है। कार की औसत चाल (m/sec में) ज्ञात करें।

- Ans
- 1. $16\frac{2}{3}$
 - 2. 16
 - 3. 15
 - 4. $13\frac{1}{3}$

Question ID : 65497828909
Status : Answered
Chosen Option : 2

Q.9 एक दुकानदार एक वस्तु को उसके सूची मूल्य पर 16% की छूट देकर ₹1,638 में बेचता है। यदि उसने कोई छूट नहीं दी होती, तो उसे 30% का लाभ होता। वस्तु का क्रय मूल्य (₹ में) ज्ञात कीजिए।

- Ans
- 1. 1,400
 - 2. 1,450
 - 3. 1,425
 - 4. 1,500

Question ID : 65497828917
Status : Answered
Chosen Option : 1

Q.10 पांच संख्याएं हैं। पहली चार संख्याओं का औसत पांचवीं संख्या के $\frac{5}{6}$ के बराबर है। यदि सभी पांच संख्याओं का औसत 26 है, तो पांचवीं संख्या ज्ञात कीजिए।

- Ans
- 1. 28
 - 2. 32
 - 3. 30
 - 4. 29

Question ID : 65497828911
Status : Answered
Chosen Option : 1

Q.11 जब एक तार को मोड़कर वृत्त बनाया जाता है तो यह 18634 cm^2 का क्षेत्रफल घेरता है। इसी तार को एक आयत बनाने के लिए मोड़ा जाता है जिसकी भुजाएं 5 : 6 के अनुपात में हैं। आयत की छोटी भुजा की लंबाई (cm में) ज्ञात कीजिए। (मान लीजिए $\pi = \frac{22}{7}$)

- Ans
- 1. 132
 - 2. 100
 - 3. 110
 - 4. 154

Question ID : 65497828898
Status : Answered
Chosen Option : 3

Q.12 सोमू ने ₹10,000 की धनराशि एक साहूकार से 7% प्रति 6 महीने की दर से साधारण ब्याज पर उधार ली। 3 वर्ष बाद उसे साहूकार को कितनी धनराशि का भुगतान करना होगा?

- Ans
- 1. ₹13,000
 - 2. ₹12,500
 - 3. ₹14,200
 - 4. ₹12,100

Question ID : 65497828907
Status : Answered
Chosen Option : 2

Q.13 $\left(\frac{7}{16} \div 10\frac{1}{2} \text{ of } 7\frac{1}{5}\right) \times 3\frac{3}{5} - 1\frac{1}{3} \times 1\frac{1}{8} \div \frac{1}{2} + \frac{3}{4}$ का मान ज्ञात करें।

- Ans
- 1. $\frac{-179}{48}$
 - 2. $\frac{61}{8}$
 - 3. $\frac{181}{24}$
 - 4. $\frac{-107}{48}$

Question ID : 65497828908

Status : Answered

Chosen Option : 3

Q.14 दो ऊनी जैकेटों A और B के मूल्य 7 : 9 के अनुपात में हैं। यदि जैकेट A का मूल्य, जैकेट B के मूल्य से ₹380 कम है, तो जैकेट B का मूल्य (₹ में) ज्ञात कीजिए।

- Ans
- 1. 1,710
 - 2. 1,680
 - 3. 1,330
 - 4. 1,650

Question ID : 65497828919

Status : Answered

Chosen Option : 4

Q.15 यदि ₹6225 की धनराशि को तीन हिस्सों में इस प्रकार बांटा जाए कि पहले हिस्से का 4 गुना, दूसरे हिस्से के 5 गुने के तथा तीसरे हिस्से के 7 गुने के बराबर है। पहले और दूसरे हिस्से के बीच (₹ में) अंतर कितना है?

- Ans
- 1. 525
 - 2. 450
 - 3. 300
 - 4. 600

Question ID : 65497828897

Status : Answered

Chosen Option : 1

Q.16 यदि निम्न छह प्रेक्षणों: $x + 2, x + 5, x + 8, x + 11, x + 14$ और $x + 17$ का औसत 12.5 है, तो प्रथम तीन प्रेक्षणों का औसत कितना है?

- Ans
- 1. 3
 - 2. 9
 - 3. 8
 - 4. 6

Question ID : 65497828905
Status : Answered
Chosen Option : 2

Q.17 $8 - [88 \div 2 \text{ of } 11 - (22 - 72 \div 4)]$ का मान क्या होगा?

- Ans
- 1. 4
 - 2. 8
 - 3. 6
 - 4. 0

Question ID : 65497828899
Status : Answered
Chosen Option : 1

Q.18 A किसी कार्य के $\frac{5}{7}$ भाग को पूरा करने में 15 दिन का समय लेता है। B की मदद से, उन्होंने समूचे कार्य को 12 दिनों में पूरा कर लिया। अकेले B को इस कार्य को पूरा करने में कितने दिनों का समय लगता?

- Ans
- 1. 18 दिन
 - 2. 20 दिन
 - 3. 28 दिन
 - 4. 25 दिन

Question ID : 65497828901
Status : Answered
Chosen Option : 1

Q.19 75 लीटर के एक मिश्रण में दूध और पानी का अनुपात 3 : 2 है। यदि यह अनुपात 1 : 2 करना हो, तो कितना पानी मिलाना होगा?

- Ans
- 1. 90 लीटर
 - 2. 60 लीटर
 - 3. 65 लीटर
 - 4. 50 लीटर

Question ID : 65497828906
Status : Answered
Chosen Option : 2

Q.20 2021 में, एक क्रिकेट टीम 225 मैचों में से 80% मैच जीतना चाहती है। पहले से खेले जा चुके 120 मैचों में, सफलता दर 70% है। लक्ष्य तक पहुंचने के लिए शेष मैचों में सफलता दर कितनी होनी चाहिए?

- Ans
- 1. $89\frac{5}{7}\%$
 - 2. 90%
 - 3. $91\frac{3}{7}\%$
 - 4. 86%

Question ID : 65497828914
Status : Answered
Chosen Option : 4

Q.21 यदि तीन संख्याएं 3 : 5 : 7 के अनुपात में हैं, और उनका लघुत्तम समापवर्त्य (LCM) 2415 है, तो दूसरी संख्या और पहली संख्या का अंतर कितना होगा?

- Ans
- 1. 69
 - 2. 46
 - 3. 92
 - 4. 23

Question ID : 65497828904
Status : Answered
Chosen Option : 2

Q.22 A, B और C साथ मिलकर किसी निश्चित कार्य को 10 दिन में कर सकते हैं। A, B से 20% अधिक कार्य-कुशल है, और C, B से 50% कम कार्य-कुशल है। B अकेले इसी कार्य को _____ में पूरा कर सकता है।

- Ans
- 1. $22\frac{1}{2}$ दिन
 - 2. 27 दिन
 - 3. 30 दिन
 - 4. 25 दिन

Question ID : 65497828915
Status : Answered
Chosen Option : 4

Q.23 एक निश्चित राशि पर 4% वार्षिक ब्याज की दर पर 2 वर्षों में प्राप्त चक्रवृद्धि ब्याज ₹1,530 है। समान राशि पर समान दर पर समान अवधि में प्राप्त साधारण ब्याज कितना (₹ में) होगा?

- Ans
- 1. 1,400
 - 2. 1,500
 - 3. 1,510
 - 4. 1,350

Question ID : 65497828920
Status : Answered
Chosen Option : 2

Q.24 2091, 3485 और 4879 का महत्तम समापवर्तक (HCF) x है। x के अंकों का योगफल ज्ञात कीजिए।

- Ans
- 1. 19
 - 2. 22
 - 3. 23
 - 4. 20

Question ID : 65497828910
Status : Answered
Chosen Option : 4

Q.25 एक निश्चित वार्षिक साधारण ब्याज की दर पर कोई धनराशि, 7 वर्ष में स्वयं से 70% अधिक हो जाती है।
₹8000 की धनराशि पर समान ब्याज दर पर 3 वर्ष में प्राप्त चक्रवृद्धि ब्याज ज्ञात कीजिए।

- Ans
- 1. ₹2,548
 - 2. ₹2,654
 - 3. ₹2,648
 - 4. ₹2,640

Question ID : 65497828903
Status : Answered
Chosen Option : 3

Section : Part D English

Q.1 Select the option that will improve the underlined part of the given sentence. In case no improvement is needed, select 'No improvement required'.

My teacher said me that I would be famous one day.

- Ans
- 1. asked me
 - 2. say to me
 - 3. told me
 - 4. No improvement required

Question ID : 65497828940
Status : Answered
Chosen Option : 4

Q.2 Select the option that can be used as a one-word substitute for the given group of words.

A piece of land where fruit trees are grown

- Ans
- 1. Pasture
 - 2. Barnyard
 - 3. Meadow
 - 4. Orchard

Question ID : 65497828935
Status : Answered
Chosen Option : 3

Q.3 Select the INCORRECTLY spelt word.

- Ans
- 1. Erode
 - 2. Eraser
 - 3. Erosion
 - 4. Eratic

Question ID : 65497828928
Status : Answered
Chosen Option : 3

Q.4 Select the option that can be used as a one-word substitute for the given group of words.

That which is lawful

- Ans
- 1. Valid
 - 2. Illegal
 - 3. Proper
 - 4. Legal

Question ID : 65497828926
Status : Answered
Chosen Option : 4

Q.5 Select the most appropriate option to fill in the blank.

She is on six months' _____ leave.

- Ans
- 1. paternal
 - 2. maternity
 - 3. paternity
 - 4. material

Question ID : 65497828929
Status : Answered
Chosen Option : 1

Q.6 Select the INCORRECTLY spelt word.

- Ans
- 1. Commitment
 - 2. Bouquet
 - 3. Proceedure
 - 4. Quarantine

Question ID : 65497828936
Status : Answered
Chosen Option : 3

Q.7 Parts of the given sentence have been given as options. One of them contains a grammatical error. Select the option that has the error.

Pray to the Almighty God with utmost devotion and help the needy and poored people.

- Ans**
- 1. with utmost devotion
 - 2. help the needy
 - 3. poored people
 - 4. to the Almighty God

Question ID : 65497828930
Status : Answered
Chosen Option : 1

Q.8 Select the most appropriate option to fill in the blank.

The Egyptians developed ways to prevent the dead body from _____.

- Ans**
- 1. destroying
 - 2. drooping
 - 3. dying
 - 4. decaying

Question ID : 65497828927
Status : Answered
Chosen Option : 2

Q.9 The following sentence has been split into four segments. Identify the segment that contains a grammatical error.

The man turned to him with a look of disapprove.

- Ans**
- 1. with a look
 - 2. turned to him
 - 3. The man
 - 4. of disapprove

Question ID : 65497828924
Status : Answered
Chosen Option : 2

Q.10 Select the most appropriate meaning of the given idiom.

Cool as a cucumber

- Ans**
- 1. Wise
 - 2. Scared
 - 3. Calm
 - 4. Lazy

Question ID : 65497828938
Status : Answered
Chosen Option : 4

Q.11 Select the most appropriate option that can substitute the underlined segment in the given sentence. If there is no need to substitute it, select 'No substitution required'.

Using a word processor for writing have a number of advantages.

- Ans**
- 1. to write have a number
 - 2. for writing has a number
 - 3. for writing having number
 - 4. No substitution required

Question ID : 65497828923
Status : Answered
Chosen Option : 1

Q.12 Select the option that can be used as a one-word substitute for the given group of words.

A volume containing several books previously published separately

- Ans**
- 1. Thesaurus
 - 2. Novel
 - 3. Omnibus
 - 4. Dictionary

Question ID : 65497828932
Status : Answered
Chosen Option : 3

Q.13 Select the most appropriate meaning of the given idiom.

Come to blows

- Ans**
- 1. Insult someone
 - 2. Return a favour
 - 3. Agree on a plan
 - 4. Get into a fight physically

Question ID : 65497828939
Status : Answered
Chosen Option : 3

Q.14 Select the most appropriate synonym of the given word.

Recommend

- Ans**
- 1. Adhere
 - 2. Oppose
 - 3. Approve
 - 4. Reward

Question ID : 65497828925
Status : Answered
Chosen Option : 4

Q.15 The following sentence has been split into four segments. Identify the segment that contains a grammatical error.

I saw some / children playing happily / below the shade / of a tree.

- Ans
- 1. children playing happily
 - 2. of a tree
 - 3. I saw some
 - 4. below the shade

Question ID : 65497828933
Status : Answered
Chosen Option : 1

Q.16 Select the most appropriate synonym of the given word.

Substitution

- Ans
- 1. Logical
 - 2. Hold
 - 3. Exchange
 - 4. Give

Question ID : 65497828931
Status : Answered
Chosen Option : 2

Q.17 Select the most appropriate ANTONYM of the given word.

Prudent

- Ans
- 1. Wasteful
 - 2. Cautious
 - 3. Clever
 - 4. Shrewd

Question ID : 65497828937
Status : Answered
Chosen Option : 2

Q.18 Select the most appropriate option that can substitute the underlined segment in the given sentence. If there is no need to substitute it, select 'No substitution required'.

Wool and silk are materials those are the easiest to dye.

- Ans
- 1. that are the easiest
 - 2. that is easy
 - 3. that are the easier
 - 4. No substitution required

Question ID : 65497828922
Status : Answered
Chosen Option : 4

Q.19 Select the most appropriate ANTONYM of the given word.

Criticise

- Ans
- 1. Analyse
 - 2. Oppose
 - 3. Clarify
 - 4. Approve

Question ID : 65497828934
Status : Answered
Chosen Option : 2

Q.20 Select the most appropriate option to fill in the blank.

The man felt exhausted after climbing a _____ of stairs.

- Ans
- 1. flight
 - 2. heap
 - 3. pack
 - 4. fleet

Question ID : 65497828941
Status : Answered
Chosen Option : 4

Comprehension:

In the following passage, some words have been deleted. Read the passage carefully and select the most appropriate option to fill in each blank.

A giant plane carrying 43 passengers was (1) _____ to crash-land when its landing gear got (2) _____. Only the skill of the pilot was able to (3) _____ a major tragedy. Expert mechanics laboured (4) _____ hours before they could find the (5) _____ of the mechanical failure.

SubQuestion No : 21

Q.21 Select the most appropriate option to fill in blank no.1.

- Ans
- 1. poked
 - 2. pushed
 - 3. forced
 - 4. bumped

Question ID : 65497828943
Status : Answered
Chosen Option : 3

Comprehension:

In the following passage, some words have been deleted. Read the passage carefully and select the most appropriate option to fill in each blank.

A giant plane carrying 43 passengers was (1) _____ to crash-land when its landing gear got (2) _____. Only the skill of the pilot was able to (3) _____ a major tragedy. Expert mechanics laboured (4) _____ hours before they could find the (5) _____ of the mechanical failure.

SubQuestion No : 22

Q.22 Select the most appropriate option to fill in blank no.2.

- Ans
- 1. glued
 - 2. fixed
 - 3. caught
 - 4. stuck

Question ID : 65497828944
Status : Answered
Chosen Option : 3

Comprehension:

In the following passage, some words have been deleted. Read the passage carefully and select the most appropriate option to fill in each blank.

A giant plane carrying 43 passengers was (1) _____ to crash-land when its landing gear got (2) _____. Only the skill of the pilot was able to (3) _____ a major tragedy. Expert mechanics laboured (4) _____ hours before they could find the (5) _____ of the mechanical failure.

SubQuestion No : 23

Q.23 Select the most appropriate option to fill in blank no.3.

- Ans
- 1. limit
 - 2. restrict
 - 3. forbid
 - 4. prevent

Question ID : 65497828945
Status : Answered
Chosen Option : 1

Comprehension:

In the following passage, some words have been deleted. Read the passage carefully and select the most appropriate option to fill in each blank.

A giant plane carrying 43 passengers was (1) _____ to crash-land when its landing gear got (2) _____. Only the skill of the pilot was able to (3) _____ a major tragedy. Expert mechanics laboured (4) _____ hours before they could find the (5) _____ of the mechanical failure.

SubQuestion No : 24

Q.24 Select the most appropriate option to fill in blank no.4.

- Ans
- 1. from
 - 2. over
 - 3. at
 - 4. for

Question ID : 65497828946
Status : Answered
Chosen Option : 3

Comprehension:

In the following passage, some words have been deleted. Read the passage carefully and select the most appropriate option to fill in each blank.

A giant plane carrying 43 passengers was (1) _____ to crash-land when its landing gear got (2) _____. Only the skill of the pilot was able to (3) _____ a major tragedy. Expert mechanics laboured (4) _____ hours before they could find the (5) _____ of the mechanical failure.

SubQuestion No : 25

Q.25 Select the most appropriate option to fill in blank no.5.

- Ans**
- 1. motive
 - 2. plan
 - 3. agency
 - 4. cause

Question ID : 65497828947
Status : Answered
Chosen Option : 3

Section : Part D Hindi

Q.1 रिक्त स्थान को भरने के लिए सबसे उपयुक्त विकल्प का चयन करें।

शिक्षक दिवस पर छात्रों ने शिक्षक को पुस्तक _____ की।

- Ans**
- 1. हस्तगत
 - 2. प्रदान
 - 3. भेंट
 - 4. दान

Question ID : 65497828967
Status : Not Answered
Chosen Option : --

Q.2 'कृपण' का विलोम शब्द होगा-

- Ans**
- 1. कर्मठ
 - 2. कठोर
 - 3. सरल
 - 4. दाता

Question ID : 65497828958
Status : Not Answered
Chosen Option : --

Q.3 दिए गए शब्द के समानार्थी शब्द का चयन करें।

बाण

- Ans 1. नाराज
 2. तनय
 3. दहन
 4. अगम

Question ID : 65497828952
Status : Not Answered
Chosen Option : --

Q.4 'पंकज' किसका पर्यायवाची है?

- Ans 1. वस्त्र
 2. किरण
 3. कमल
 4. आँख

Question ID : 65497828965
Status : Not Answered
Chosen Option : --

Q.5 सही वर्तनी वाले शब्द का चयन करें।

- Ans 1. इस्थायित्व
 2. स्थाईत्व
 3. स्थायीत्व
 4. स्थायित्व

Question ID : 65497828956
Status : Not Answered
Chosen Option : --

Q.6 'खून का घूँट पीना' मुहावरे का सही अर्थ है-

- Ans 1. अत्यंत क्रोधित होना
 2. भयभीत होना
 3. घृणा करना
 4. गुस्सा पचा जाना

Question ID : 65497828959
Status : Not Answered
Chosen Option : --

Q.7 दिये गये वाक्य में रेखांकित अंश को प्रतिस्थापित करने के लिए सबसे उपयुक्त विकल्प का चयन करें।

मोहन के गए पर वह उठ बैठा।

- Ans
- 1. दौड़ने पर
 - 2. मरने पर
 - 3. जाने पर
 - 4. उठने पर

Question ID : 65497828961
Status : Not Answered
Chosen Option : --

Q.8 रिक्त स्थान को भरने के लिए सबसे उपयुक्त विकल्प का चयन करें।

शिशु _____ और अबोध होता है।

- Ans
- 1. अल्पज्ञ
 - 2. बहुज्ञ
 - 3. अज्ञ
 - 4. भिज्ञ

Question ID : 65497828962
Status : Not Answered
Chosen Option : --

Q.9 दिये गये वाक्यांश के लिए एक शब्द दीजिये।

अपने पास रखी हुई, दूसरे की वस्तु

- Ans
- 1. धरनी
 - 2. धरोहर
 - 3. धनज्ञ
 - 4. धराऊ

Question ID : 65497828953
Status : Not Answered
Chosen Option : --

Q.10 दिए गए शब्द का विलोम चुनें।

जातीय

- Ans
- 1. सजातीय
 - 2. अजातीय
 - 3. विजातीय
 - 4. प्रजातीय

Question ID : 65497828949
Status : Not Answered
Chosen Option : --

Q.11 दिये गये वाक्य में रेखांकित अंश को प्रतिस्थापित करने के लिए सबसे उपयुक्त विकल्प का चयन करें।

पृथ्वी का रूप गोल है।

- Ans
- 1. प्रारूप
 - 2. स्वरूप
 - 3. प्रकार
 - 4. आकार

Question ID : 65497828960
Status : Not Answered
Chosen Option : --

Q.12 'धन से संबंध रखने वाला' वाक्यांश के लिए एक शब्द होगा-

- Ans
- 1. संपत्तिशास्त्र
 - 2. भौतिक
 - 3. आर्थिक
 - 4. अर्थशास्त्र

Question ID : 65497828966
Status : Not Answered
Chosen Option : --

Q.13 दिये गये वाक्य के किस भाग में त्रुटि है?

उसने अवाज देकर पूछा।

- Ans
- 1. अवाज
 - 2. उसने
 - 3. पूछा।
 - 4. देकर

Question ID : 65497828964
Status : Not Answered
Chosen Option : --

Q.14 दिये गये वाक्यांश के लिए एक शब्द दीजिये।

खेतों में, मेंड़ों से बनाए गए छोटे-छोटे, वर्गाकार या आयताकार भाग

- Ans
- 1. क्यारी
 - 2. नहर
 - 3. परनाला
 - 4. नाली

Question ID : 65497828950
Status : Not Answered
Chosen Option : --

Q.15 सही वर्तनी वाले शब्द का चयन करें।

- Ans 1. शूर्पणखा
 2. सूर्पनखा
 3. शुपर्णखा
 4. सुपनखा

Question ID : 65497828957
Status : Not Answered
Chosen Option : --

Q.16 दिए गए वाक्य का वह भाग ज्ञात करें जिसमें कोई त्रुटि है। यदि कोई त्रुटि नहीं है, तो 'कोई त्रुटि नहीं है' चुनें।

कभी-कभी, आकाश में दिखाई देने वाला उल्कापतन एक विलक्षण घटना है।

- Ans 1. दिखाई देने वाला
 2. कभी-कभी, आकाश में
 3. कोई त्रुटि नहीं है।
 4. उल्कापतन एक विलक्षण घटना है।

Question ID : 65497828948
Status : Not Answered
Chosen Option : --

Q.17 दिए गए वाक्य में रेखांकित खंड को प्रतिस्थापित करने के लिए सबसे उपयुक्त विकल्प का चयन करें। यदि इसे प्रतिस्थापित करने की आवश्यकता नहीं है, तो विकल्प 'किसी बदलाव की आवश्यकता नहीं है' का चयन करें।

इस कार्य के विघ्न बन कर तुम आए हो।

- Ans 1. इस कार्य में
 2. इस कार्य की
 3. इस कार्य का
 4. किसी बदलाव की आवश्यकता नहीं है।

Question ID : 65497828955
Status : Not Answered
Chosen Option : --

Q.18 रिक्त स्थान को भरने के लिए सबसे उपयुक्त शब्द का चयन करें।

सफलता पाने के लिए कठोर _____ करना पड़ता है।

- Ans 1. श्रम
 2. आवागमन
 3. अनुशासन
 4. अध्ययन

Question ID : 65497828954
Status : Not Answered
Chosen Option : --

Q.19 दिए गए वाक्य का वह भाग ज्ञात करें जिसमें कोई त्रुटि है। यदि कोई त्रुटि नहीं है, तो 'कोई त्रुटि नहीं है' चुनें।

महेश जी बता रहे थे कि उनका भतीजा अपने लक्ष्य पर नजर रखते हैं।

- Ans
- 1. कि उनका भतीजा
 - 2. महेश जी बता रहे थे
 - 3. अपने लक्ष्य पर नजर रखते हैं।
 - 4. कोई त्रुटि नहीं है।

Question ID : 65497828951
Status : Not Answered
Chosen Option : --

Q.20 'पसीना पसीना होना' मुहावरे का सही अर्थ है-

- Ans
- 1. भयभीत होना
 - 2. प्यासा होना
 - 3. शर्मिंदा होना
 - 4. क्रोधित होना

Question ID : 65497828963
Status : Not Answered
Chosen Option : --

Comprehension:

दिए गए अनुच्छेद में कुछ शब्द हटा दिए गए हैं। दिए गए विकल्पों की सहायता से रिक्त स्थान भरें। प्रत्येक संख्या के लिए सबसे उपयुक्त विकल्प का चयन करें-

भारत के गाँव (1) _____ के मनोरम स्थल हैं। वहाँ का निवासी प्रकृति की (2) _____ में ही पल रहा है परन्तु (3) _____ दृष्टि से पिछड़े हुए गाँवों की स्थिति अत्यन्त ही (4) _____ है क्योंकि वहाँ के लोग (5) _____ पर ही निर्भर रहते हैं।

SubQuestion No : 21

Q.21 गद्यांश के रिक्त स्थान (1) के लिए सर्वाधिक उपयुक्त शब्द होगा-

- Ans
- 1. शहरों
 - 2. प्रकृति
 - 3. राज्य
 - 4. त्रिलोक

Question ID : 65497828969
Status : Not Answered
Chosen Option : --

Comprehension:

दिए गए अनुच्छेद में कुछ शब्द हटा दिए गए हैं। दिए गए विकल्पों की सहायता से रिक्त स्थान भरें। प्रत्येक संख्या के लिए सबसे उपयुक्त विकल्प का चयन करें-

भारत के गाँव (1) _____ के मनोरम स्थल हैं। वहाँ का निवासी प्रकृति की (2) _____ में ही पल रहा है परन्तु (3) _____ दृष्टि से पिछड़े हुए गाँवों की स्थिति अत्यन्त ही (4) _____ है क्योंकि वहाँ के लोग (5) _____ पर ही निर्भर रहते हैं।

SubQuestion No : 22

Q.22 गद्यांश के रिक्त स्थान (2) के लिए सर्वाधिक उपयुक्त शब्द होगा-

- Ans** 1. गोद
 2. साथ
 3. छाँव
 4. हाथ

Question ID : 65497828970
Status : Not Answered
Chosen Option : --

Comprehension:

दिए गए अनुच्छेद में कुछ शब्द हटा दिए गए हैं। दिए गए विकल्पों की सहायता से रिक्त स्थान भरें। प्रत्येक संख्या के लिए सबसे उपयुक्त विकल्प का चयन करें-

भारत के गाँव (1) _____ के मनोरम स्थल हैं। वहाँ का निवासी प्रकृति की (2) _____ में ही पल रहा है परन्तु (3) _____ दृष्टि से पिछड़े हुए गाँवों की स्थिति अत्यन्त ही (4) _____ है क्योंकि वहाँ के लोग (5) _____ पर ही निर्भर रहते हैं।

SubQuestion No : 23

Q.23 गद्यांश के रिक्त स्थान (3) के लिए सर्वाधिक उपयुक्त शब्द होगा-

- Ans** 1. शारीरिक
 2. आर्थिक
 3. मानसिक
 4. राजनीतिक

Question ID : 65497828971
Status : Not Answered
Chosen Option : --

Comprehension:

दिए गए अनुच्छेद में कुछ शब्द हटा दिए गए हैं। दिए गए विकल्पों की सहायता से रिक्त स्थान भरें। प्रत्येक संख्या के लिए सबसे उपयुक्त विकल्प का चयन करें-

भारत के गाँव (1) _____ के मनोरम स्थल हैं। वहाँ का निवासी प्रकृति की (2) _____ में ही पल रहा है परन्तु (3) _____ दृष्टि से पिछड़े हुए गाँवों की स्थिति अत्यन्त ही (4) _____ है क्योंकि वहाँ के लोग (5) _____ पर ही निर्भर रहते हैं।

SubQuestion No : 24

Q.24 गद्यांश के रिक्त स्थान (4) के लिए सर्वाधिक उपयुक्त शब्द होगा-

- Ans** 1. स्तरीय
 2. सम्पन्न
 3. कठिन
 4. दयनीय

Question ID : 65497828972
Status : Not Answered
Chosen Option : --

Comprehension:

दिए गए अनुच्छेद में कुछ शब्द हटा दिए गए हैं। दिए गए विकल्पों की सहायता से रिक्त स्थान भरें। प्रत्येक संख्या के लिए सबसे उपयुक्त विकल्प का चयन करें-

भारत के गाँव (1) _____ के मनोरम स्थल हैं। वहाँ का निवासी प्रकृति की (2) _____ में ही पल रहा है परन्तु (3) _____ दृष्टि से पिछड़े हुए गाँवों की स्थिति अत्यन्त ही (4) _____ है क्योंकि वहाँ के लोग (5) _____ पर ही निर्भर रहते हैं।

SubQuestion No : 25

Q.25 गद्यांश के रिक्त स्थान (5) के लिए सर्वाधिक उपयुक्त शब्द होगा-

- Ans**
- 1. पंचायत
 - 2. प्रकृति
 - 3. कृषि
 - 4. सरकार

Question ID : 65497828973

Status : Not Answered

Chosen Option : --

Constable GD in CAPFs NIA SSF and Rifleman GD in Assam Rifles Examination 2021

Roll Number	www.HaryanaJobs.in
Candidate Name	www.HaryanaJobs.in
Venue Name	iON Digital Zone iDZ 1 Hathipur
Exam Date	15/12/2021
Exam Time :	12:30 PM - 2:00 PM
Subject	Constable GD 2021

Section : Part A General Intelligence and Reasoning

Q.1 उस विकल्प का चयन कीजिए, जिसका चौथी संख्या से वही संबंध है, जो पहली संख्या का दूसरी संख्या से है और पांचवीं संख्या का छठी संख्या से है।

26 : 6 :: ? : 11 :: 37 : 7

Ans 1. 101

2. 82

3. 145

4. 122

Question ID : 65497834312

Status : Answered

Chosen Option : 1

Q.2 आठ लड़कियां, K, L, M, N, O, P, Q और R, दो पंक्तियों में बैठी हैं, प्रत्येक पंक्ति में चार लड़कियां हैं। दोनों पंक्तियां एक ही दिशा की ओर अभिमुख हैं। एक पंक्ति दूसरी पंक्ति के पीछे है। K एक सिरे पर है और P के बाईं ओर ठीक बगल में है। O, M के बाईं ओर ठीक बगल में है। K और R के बीच में दो लड़कियां बैठी हैं। L, P के ठीक पीछे है। O, L और M के बीच में है। N आगे वाली पंक्ति में नहीं है। P और R के बीच में कौन बैठा है?

Ans 1. Q

2. L

3. N

4. M

Question ID : 65497834311

Status : Answered

Chosen Option : 1

Q.3 उस विकल्प का चयन कीजिए जो नीचे दी गई आकृति में सन्निहित है (आकृति को घुमाने की अनुमति नहीं है)



Ans

✗ 1.



✗ 2.



✓ 3.



✗ 4.



Question ID : 65497834315

Status : Answered

Chosen Option : 3

Q.4 दिए गए कथनों और निष्कर्षों को ध्यानपूर्वक पढ़ें। कथनों में दी गई जानकारी को सत्य मानते हुए विचार करें, भले ही वह सामान्यतः ज्ञात तथ्यों से भिन्न प्रतीत होती हो, और बताएं कि दिए गए निष्कर्षों में से कौन से, कथनों का तार्किक रूप से पालन करते हैं?

कथन:

कुछ गुलाब, पैंसी हैं।

कुछ लिली, पैंसी हैं।

सभी गुलाब, डेज़ी हैं।

निष्कर्ष:

I. कुछ गुलाब, लिली हैं।

II. सभी पैंसी, डेज़ी हैं।

Ans ✓ 1. न तो निष्कर्ष I और न ही निष्कर्ष II पालन करता है।

✗ 2. केवल निष्कर्ष II पालन करता है।

✗ 3. निष्कर्ष I और II दोनों ही पालन करते हैं।

✗ 4. केवल निष्कर्ष I पालन करता है।

Question ID : 65497834322

Status : Answered

Chosen Option : 1

Q.5 एक लड़के के फोटोग्राफ की ओर इशारा करते हुए आदित्य ने कहा, "वह मेरी सास की इकलौती पुत्री का इकलौता पुत्र है।" उस लड़के का आदित्य से क्या संबंध है?

Ans ✗ 1. भतीजा

✗ 2. साला

✓ 3. पुत्र

✗ 4. ससुर

Question ID : 65497834328

Status : Answered

Chosen Option : 3

Q.6 'औषधियों' का 'औषधालय' से वही संबंध है, जो 'ऐतिहासिक वस्तुओं' का '_____' से है।

- Ans
- 1. संस्कृति
 - 2. संग्रहालय
 - 3. उद्योग
 - 4. वास्तुकला

Question ID : 65497834309
Status : Answered
Chosen Option : 2

Q.7 एक निश्चित कूट भाषा में, 'TONIC' को 'UPOJDB' लिखा जाता है, और 'PRINT' को 'QSJOUS' लिखा जाता है। उसी कूट भाषा में 'SUPER' को किस प्रकार लिखा जाएगा?

- Ans
- 1. TVQFSQ
 - 2. TVFQSQ
 - 3. TUQSQF
 - 4. TVQFST

Question ID : 65497834327
Status : Answered
Chosen Option : 1

Q.8 चार अक्षर-समूह दिए गए हैं, जिनमें से तीन किसी तरह से संगत हैं और एक असंगत है। उस अक्षर-समूह का चयन करें, जो अन्य से असंगत है।

- Ans
- 1. LPU
 - 2. MMV
 - 3. DSE
 - 4. AMU

Question ID : 65497834329
Status : Answered
Chosen Option : 2

Q.9 दिए गए पैटर्न का ध्यानपूर्वक अध्ययन करें और उस संख्या का चयन करें, जो इसमें प्रश्न चिह्न (?) के स्थान पर आ सकती है।

26 19 12
32 ? 16
23 20 17

- Ans
- 1. 24
 - 2. 28
 - 3. 32
 - 4. 15

Question ID : 65497834323
Status : Answered
Chosen Option : 1

Q.10 दिए गए विकल्पों में से उस अक्षर समूह का चयन कीजिए, जो निम्न श्रृंखला में प्रश्न चिह्न (?) के स्थान पर आ सकता है।

NKY, LHU, JEQ, ?, FYI

- Ans
- 1. GAO
 - 2. HBM
 - 3. IBN
 - 4. HCN

Question ID : 65497834308
Status : Answered
Chosen Option : 2

Q.11 दिए गए विकल्पों में से उस आकृति का चयन करें जो निम्नलिखित श्रृंखला में प्रश्न चिह्न (?) के स्थान पर आ सकती है।



Ans

- 1.
- 2.
- 3.
- 4.

Question ID : 65497834320
Status : Answered
Chosen Option : 3

Q.12 उस सही विकल्प का चयन करें, जो दिए गए शब्दों के उस क्रम को दर्शाता है, जिसमें वे अंग्रेज़ी शब्दकोश में मौजूद होते हैं।

1. Patent
2. Patient
3. Patience
4. Paternalism
5. Patella

- Ans
- 1. 5, 4, 1, 3, 2
 - 2. 5, 1, 2, 3, 4
 - 3. 5, 1, 4, 3, 2
 - 4. 1, 4, 2, 3, 5

Question ID : 65497834317

Status : Answered

Chosen Option : 3

Q.13 किसी कूट भाषा में, LOTUS को NMVSU लिखा जाता है। उसी कूट भाषा में TULIP को किस प्रकार लिखा जाएगा?

- Ans
- 1. UVMJQ
 - 2. VWNKR
 - 3. UTMHQ
 - 4. VSNGR

Question ID : 65497834321

Status : Answered

Chosen Option : 4

Q.14 यदि दर्पण को 'PQ' पर रखा गया हो, तो दिए गए संयोजन के सही दर्पण प्रतिबिंब का चयन करें।

NUMERICAL
P
Q

- Ans
- 1. LАCІЯEMUИ
 - 2. ИИUMEBICAT
 - 3. ИИWIBECAT
 - 4. NUMIRECAL

Question ID : 65497834332

Status : Answered

Chosen Option : 1

Q.15 छह मित्र, A, B, C, D, E और F, एक वृत्ताकार मेज के परितः केंद्र की ओर मुख करके बैठे हैं। D, B के दाईं ओर तीसरे स्थान पर है। F, D के दाईं ओर ठीक बगल में बैठा है। C, D और E के बीच में बैठा है। B और F के बीच में कौन बैठा है?

- Ans
- 1. A
 - 2. C
 - 3. D
 - 4. E

Question ID : 65497834310
Status : Answered
Chosen Option : 1

Q.16 उस अक्षर-समूह का चयन कीजिए जिसका तीसरे अक्षर-समूह से वही संबंध है जो दूसरे अक्षर-समूह का पहले अक्षर-समूह से है।

BGL : HNT :: EIM : ?





- Ans
- 1. JLP
 - 2. QTX
 - 3. KPU
 - 4. ILN

Question ID : 65497834326
Status : Answered
Chosen Option : 3

Q.17 उस वेन आरेख का चयन कीजिए जो निम्न वर्गों के संबंध का सर्वश्रेष्ठ निरूपण करता है।

माताएं, बेटियाँ, महिलाएँ

Ans

- 1. 
- 2. 
- 3. 
- 4. 


Question ID : 65497834316
Status : Answered
Chosen Option : 3

Q.18 नीचे दी गई आकृतियों में कागज के एक टुकड़े को मोड़ने का क्रम और उस मुड़े हुए कागज को काटने का तरीका दर्शाया गया है। इस कागज को खोलने पर यह कैसा दिखेगा?




Ans

✓ 1.




✗ 2.



✗ 3.



✗ 4.



Question ID : 65497834325

Status : Answered

Chosen Option : 1

Q.19 दिए गए विकल्पों में से उस संख्या का चयन करें, जो निम्नलिखित श्रेणी में प्रश्न चिह्न (?) के स्थान पर आ सकती है।

11, 33, 13, 39, 17, ?

Ans ✓ 1. 51

✗ 2. 19

✗ 3. 57

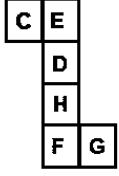
✗ 4. 41

Question ID : 65497834319

Status : Answered

Chosen Option : 1

Q.20 दी गई शीट को मोड़कर एक घन बनाया जाता है। इस प्रकार बनाए गए घन में, अक्षरों का कौन सा युग्म इसके विपरीत पृष्ठों पर होगा?



- Ans
- ✓ 1. E और H
 - ✗ 2. E और D
 - ✗ 3. C और H
 - ✗ 4. C और F

Question ID : 65497834314
Status : Answered
Chosen Option : 1

Q.21 दिए गए विकल्पों में से उस संख्या का चयन करें, जो निम्नलिखित श्रेणी में प्रश्न चिह्न (?) के स्थान पर आ सकती है।

7, 16, 41, ?, 171, 292

- Ans
- ✗ 1. 97
 - ✗ 2. 81
 - ✓ 3. 90
 - ✗ 4. 100

Question ID : 65497834331
Status : Answered
Chosen Option : 3

Q.22 किसी निश्चित कूट भाषा में, 'GLARE' को '201526922' और 'DUST' को '23687' लिखा जाता है। उसी कूट भाषा में 'HYPER' को किस प्रकार लिखा जाएगा?

- Ans
- ✗ 1. 19221219
 - ✓ 2. 19211229
 - ✗ 3. 19122129
 - ✗ 4. 19121229

Question ID : 65497834330
Status : Answered
Chosen Option : 2

Q.23 अक्षरों के उस संयोजन का चयन करें, जिसे क्रमबद्ध रूप से दी गई श्रृंखला के रिक्त स्थानों में रखे जाने पर श्रृंखला पूर्ण हो जाएगी।

KU__NK_QP__U_PN

- Ans
- 1. QQPUNK
 - 2. QUPQNK
 - 3. QPUNQK
 - 4. QPUNKQ

Question ID : 65497834318
Status : Answered
Chosen Option : 4

Q.24 किसी संख्या के दो गुने में तीन जोड़ने पर प्राप्त योगफल को 5 से गुणा किया जाता है और प्राप्त गुणनफल को मूल संख्या में जोड़ा जाता है, तो परिणाम 158 प्राप्त होता है। मूल संख्या का वर्ग ज्ञात कीजिए।

- Ans
- 1. 169
 - 2. 225
 - 3. 121
 - 4. 289

Question ID : 65497834324
Status : Answered
Chosen Option : 1

Q.25 दिए गए समीकरण को सही करने के लिए किन दो संख्याओं को आपस में बदला जाना चाहिए?

$$45 + 35 \times 7 - 81 \div 9 = 321$$

- Ans
- 1. 45 और 7
 - 2. 45 और 81
 - 3. 7 और 9
 - 4. 45 और 35

Question ID : 65497834313
Status : Answered
Chosen Option : 2

Section : Part B General Knowledge and General Awareness

Q.1 ऊन उद्योग में छंटाईकर्ता कभी-कभी _____ नामक जीवाणु से संक्रमित हो जाते हैं, जिसके कारण सॉर्टर डिजीज (Sorter's Disease) नामक घातक रक्त रोग हो जाता है।

- Ans
- 1. एंथ्रेक्स
 - 2. एडवर्ड्सियाला
 - 3. एसिटोबैक्टर पासचुरिएनस
 - 4. मेलिटॉगियम बोलेटस

Question ID : 65497834336
Status : Not Answered
Chosen Option : --

Q.2 चाय और कॉफी _____ मिट्टी में उगाई जाती हैं।

- Ans
- 1. लैटेराइट
 - 2. जलोढ़
 - 3. शुष्क
 - 4. काली

Question ID : 65497834347
Status : Answered
Chosen Option : 4

Q.3 निम्नलिखित में से किस राज्य ने 1 दिसंबर 2020 को, 'अरुणोदय (Orunodoi)' योजना का शुभारंभ किया?

- Ans
- 1. हिमाचल प्रदेश
 - 2. पश्चिम बंगाल
 - 3. असम
 - 4. सिक्किम

Question ID : 65497834343
Status : Not Answered
Chosen Option : --

Q.4 अक्टूबर, 2020 में एक अंतर्राष्ट्रीय निर्णायक मंडल द्वारा कितने भारतीय समुद्र तटों को प्रतिष्ठित 'ब्लू फ्लैग सर्टिफिकेशन (Blue Flag certification)' से सम्मानित किया गया?

- Ans
- 1. छह
 - 2. सात
 - 3. पांच
 - 4. आठ

Question ID : 65497834340
Status : Answered
Chosen Option : 3

Q.5 कालिदास रचित नाटक 'अभिज्ञान शाकुंतलम' शाकुंतला और राजा _____ की प्रेम कथा है।

- Ans
- 1. धृतराष्ट्र
 - 2. दुशासन
 - 3. दुष्यंत
 - 4. दशरथ

Question ID : 65497834355
Status : Answered
Chosen Option : 3

Q.6 केंद्रीय बजट 2020-21 के दौरान बच्चों और गर्भवती महिलाओं के पोषण के लिए इनमें से किस कार्यक्रम का शुभारंभ किया गया था?

- Ans
- 1. पोषण अभियान
 - 2. पोषण अधिकार
 - 3. पोषण ज्ञान
 - 4. पोषण संग

Question ID : 65497834345
Status : Answered
Chosen Option : 1

Q.7 औरंगजेब ने _____ में एक लंबी लड़ाई लड़ते हुए अपने साम्राज्य के सैन्य और वित्तीय संसाधनों को अधिकांशतः खर्च कर दिया था।

- Ans
- 1. दक्कन
 - 2. हैदराबाद
 - 3. अवध
 - 4. बंगाल

Question ID : 65497834350
Status : Not Answered
Chosen Option : --

Q.8 नवंबर, 2020 में, पूर्वोत्तर भारत से इनमें से किसे हॉकी इंडिया के प्रथम अध्यक्ष के रूप में चुना गया था?

- Ans
- 1. कोठाजीत सिंह (Kothajit Singh)
 - 2. मोहम्मद मुश्ताक अहमद (Mohd Mushtaque Ahmad)
 - 3. चिंगलेनसाना सिंह (Chinglensana Singh)
 - 4. ज्ञानेंद्रो निंगोबम (Gyanendro Ningombam)

Question ID : 65497834334
Status : Answered
Chosen Option : 4

Q.9 हजारद्वारी महल _____ में स्थित है।

- Ans
- 1. मुर्शिदाबाद
 - 2. जोधपुर
 - 3. मैसूर
 - 4. बीकानेर

Question ID : 65497834353
Status : Not Answered
Chosen Option : --

Q.10 इलाहाबाद के पास _____ में एक परिष्कृत जल संचयन प्रणाली थी जो प्राचीन काल में भी गंगा नदी के बाढ़ के पानी को नहर द्वारा निकाल देती थी।

- Ans
- 1. लहुरादेवा
 - 2. कौशांबी (कोसांबी)
 - 3. झूसी (झूसी)
 - 4. श्रृंगवेरपुर

Question ID : 65497834354
Status : Answered
Chosen Option : 3

Q.11 भारत किस वर्ष फुटबॉल के महिला एशियाई कप की मेजबानी करेगा?

- Ans
- 1. 2023
 - 2. 2024
 - 3. 2021
 - 4. 2022

Question ID : 65497834348
Status : Answered
Chosen Option : 4

Q.12 भारत में हिम तेंदुआ (Snow Leopard) परियोजना की शुरुआत _____ में की गई थी।

- Ans
- 1. 2009
 - 2. 2012
 - 3. 2006
 - 4. 2014

Question ID : 65497834341
Status : Not Answered
Chosen Option : --

Q.13 खिलजी और तुगलक शासकों ने सेन्य कमांडरों को क्षेत्रों का गवर्नर नियुक्त किया था। इन क्षेत्रों को किस नाम से जाना जाता था?

- Ans
- 1. मुकति
 - 2. इक्ता
 - 3. इकतदार
 - 4. सामंत

Question ID : 65497834349
Status : Answered
Chosen Option : 2

Q.14 निम्नलिखित में से कौन सा राज्य यमुना नदी के जलग्रहण क्षेत्र के अंतर्गत नहीं आता है?

- Ans
- 1. राजस्थान
 - 2. हिमाचल प्रदेश
 - 3. उत्तराखंड
 - 4. पंजाब

Question ID : 65497834344
Status : Answered
Chosen Option : 4

Q.15 भारत के आर्थिक सर्वेक्षण 2020-2021 के अनुसार, किस राज्य के वन आच्छादित क्षेत्र में वृद्धि नहीं हुई है?

- Ans
- 1. आंध्र प्रदेश
 - 2. कर्नाटक
 - 3. अरुणाचल प्रदेश
 - 4. केरल

Question ID : 65497834333
Status : Answered
Chosen Option : 4

Q.16 1 नवंबर 2020 से सब्जियों के आधार मूल्य (floor prices) निर्धारित करने वाला देश का पहला राज्य कौन सा था?

- Ans
- 1. ओडिशा
 - 2. तेलंगाना
 - 3. केरल
 - 4. तमिलनाडु

Question ID : 65497834352
Status : Answered
Chosen Option : 3

Q.17 भारत के राष्ट्रीय ध्वज के सफेद भाग के केंद्र में एक गहरे नीले रंग का अशोक चक्र सुसज्जित है। इस चक्र में कितनी तीलियां हैं?

- Ans
- 1. 22
 - 2. 20
 - 3. 30
 - 4. 24

Question ID : 65497834335
Status : Answered
Chosen Option : 4

Q.18 कृष्णदेवराय, जिन्होंने 1509 से 1529 तक विजयनगर पर शासन किया, किस राजवंश से संबंधित थे?

- Ans
- 1. तुलुव राजवंश
 - 2. अराविदु राजवंश
 - 3. सलुव राजवंश
 - 4. संगम राजवंश

Question ID : 65497834346
Status : Answered
Chosen Option : 4

Q.19 भारतीय संविधान का अनुच्छेद 368 इनमें से किससे संबंधित है?

- Ans
- 1. संवैधानिक संशोधन
 - 2. कृषि प्रक्रियाएं
 - 3. केंद्र-राज्य संबंध
 - 4. संसद

Question ID : 65497834351
Status : Answered
Chosen Option : 1

Q.20 भारतीय संविधान के किस अनुच्छेद में मौलिक कर्तव्यों से संबंधित प्रावधान दिए गए हैं?

- Ans
- 1. अनुच्छेद 21A
 - 2. अनुच्छेद 51A
 - 3. अनुच्छेद 18
 - 4. अनुच्छेद 81

Question ID : 65497834339
Status : Answered
Chosen Option : 1

Q.21 निम्नलिखित में से कौन सा मोती का प्राथमिक घटक है?

- Ans
- 1. मैग्नीशियम परॉक्साइड
 - 2. सोडियम बाईकार्बोनेट
 - 3. कैल्शियम कार्बोनेट
 - 4. कैल्शियम सल्फेट

Question ID : 65497834337
Status : Not Answered
Chosen Option : --

Q.22 पुस्तक 'द थर्ड पिलर: हाउ मार्केट्स एंड द स्टेट लीव द कम्युनिटी बिहाइंड' के लेखक निम्नलिखित में से कौन हैं?

- Ans
- 1. रुचिर शर्मा
 - 2. रघुराम राजन
 - 3. जयराम रमेश
 - 4. पी. चिदंबरम

Question ID : 65497834338
Status : Answered
Chosen Option : 2

Q.23 (जून 2021 में आर्थिक मामलों की कैबिनेट समिति द्वारा घोषित किए गए अनुसार) विपणन अवधि 2021-22 के लिए, _____ के मामले में, किसानों को उनकी उत्पादन लागत पर मिलने वाला अपेक्षित रिटर्न, अन्य अनिवार्य खरीफ फसलों की तुलना में अधिकतम 85% रहने का अनुमान है।

- Ans
- 1. तूर (अरहर)
 - 2. उड़द
 - 3. बाजरा
 - 4. मूंग

Question ID : 65497834357
Status : Not Answered
Chosen Option : --

Q.24 निम्नलिखित में से कौन सा समाचार पत्र राजा राममोहन राय द्वारा शुरू किया गया था?

- Ans
- 1. संवाद कौमुदी
 - 2. आनंद बाजार पत्रिका
 - 3. अमृत बाजार पत्रिका
 - 4. कर्मयोगी

Question ID : 65497834342
Status : Answered
Chosen Option : 1

Q.25 हेप्टाथलीट स्वप्ना बर्मन _____ राज्य की मूल निवासी हैं।

- Ans
- 1. मिजोरम
 - 2. पश्चिम बंगाल
 - 3. ओडिशा
 - 4. नागालैंड

Question ID : 65497834356
Status : Not Answered
Chosen Option : --

Section : Part C Elementary Mathematics

Q.1 साधारण ब्याज पर दी गई एक धनराशि 2 वर्षों में ₹7920 और उसके बाद 5 और वर्षों के पश्चात ₹11220 हो जाती है। वार्षिक ब्याज की दर ज्ञात कीजिए।

- Ans
- 1. 17.5%
 - 2. 12%
 - 3. 9.85%
 - 4. 10%

Question ID : 65497834359
Status : Not Answered
Chosen Option : --

Q.2 दो संख्याओं के लघुत्तम समापवर्त्य (LCM) और महत्तम समापवर्तक (HCF) क्रमशः 1920 और 4 हैं। उनमें से एक संख्या 60 है, तो दूसरी संख्या ज्ञात करें।

- Ans
- ✓ 1. 128
 - ✗ 2. 88
 - ✗ 3. 124
 - ✗ 4. 120

Question ID : 65497834373
Status : Answered
Chosen Option : 1

Q.3 यदि किसी उधार दी गई धनराशि पर 9 महीने का साधारण ब्याज उधार दी गई धनराशि का 0.12 गुना है, तो वार्षिक ब्याज दर कितने प्रतिशत है?

- Ans
- ✓ 1. 16%
 - ✗ 2. 15%
 - ✗ 3. 18%
 - ✗ 4. 12%

Question ID : 65497834366
Status : Answered
Chosen Option : 1

Q.4 उस छोटी से छोटी संख्या के अंकों का योग कितना है जिसे 12, 16 और 20 से विभाजित करने पर प्रत्येक मामले में 6 शेषफल बचता है और वह संख्या 9 से पूर्ण रूप से विभाज्य है?

- Ans
- ✗ 1. 12
 - ✗ 2. 16
 - ✓ 3. 18
 - ✗ 4. 14

Question ID : 65497834360
Status : Answered
Chosen Option : 1

Q.5 तीन संख्याओं A, B और C का अनुपात 2 : 3 : 5 है, और इन संख्याओं के वर्गों का योग 3,800 है। C का मान ज्ञात करें।

- Ans
- ✗ 1. 30
 - ✓ 2. 50
 - ✗ 3. 40
 - ✗ 4. 20

Question ID : 65497834371
Status : Answered
Chosen Option : 2

Q.6 एक वस्तु को ₹3,750 में बेचने पर दुकानदार को 25% का लाभ प्राप्त होता है। यदि वस्तु को ₹300 अधिक में बेचा गया होता, तो दुकानदार का प्रतिशत लाभ कितना होता?

- Ans
- ✓ 1. 35
 - ✗ 2. 37.5
 - ✗ 3. 32
 - ✗ 4. 36

Question ID : 65497834358
Status : Answered
Chosen Option : 1

Q.7 एक मशीन, एक निश्चित समयावधि में एक पुरुष की तुलना में दोगुना कार्य कर सकती है। 10 मशीनों और 5 पुरुषों को किसी कार्य को पूर्ण करने में 60 दिन का समय लगता है। 10 पुरुषों और 5 मशीनों को उसी कार्य को पूर्ण करने में कितना समय लगेगा?

- Ans
- ✗ 1. 90 दिन
 - ✗ 2. 84 दिन
 - ✓ 3. 75 दिन
 - ✗ 4. 68 दिन

Question ID : 65497834377
Status : Answered
Chosen Option : 3

Q.8 एक क्रिकेट टेस्ट मैच में, अनुज ने 15 छक्कों और 18 चौकों की सहायता से अपना दोहरा शतक पूरा किया। उसने दोहरा शतक पूरा करने के लिए विकेटों के बीच दौड़कर कितने प्रतिशत रन बनाए?

- Ans
- ✓ 1. 19%
 - ✗ 2. 24.5%
 - ✗ 3. 22%
 - ✗ 4. 16.5%

Question ID : 65497834364
Status : Answered
Chosen Option : 1

Q.9 $5 \times [6 \times 2\{3 \times 7 \div (5 \times 3)\}]$ का मान ज्ञात करें।

- Ans
- ✗ 1. 126
 - ✗ 2. 104
 - ✗ 3. 92
 - ✓ 4. 84

Question ID : 65497834375
Status : Answered
Chosen Option : 4

Q.10 21 वस्तुओं का क्रय मूल्य, 15 वस्तुओं के विक्रय मूल्य के बराबर है। लाभ या हानि का प्रतिशत ज्ञात करें।

- Ans
- 1. $22\frac{1}{7}\%$ लाभ
 - 2. 23% हानि
 - 3. 15% हानि
 - 4. 40% लाभ

Question ID : 65497834376

Status : Answered

Chosen Option : 4

Q.11 किसी 10 सदस्यीय परिवार के सदस्यों की औसत आयु 29 वर्ष है। यदि सबसे कम आयु वाले सदस्य जुड़वाँ हैं और उनमें से प्रत्येक की आयु 5 वर्ष है, तो जुड़वाँ बच्चों के जन्म के समय परिवार के सदस्यों की औसत आयु (वर्षों में) कितनी थी?

- Ans
- 1. 32
 - 2. 28
 - 3. 31
 - 4. 30

Question ID : 65497834362

Status : Answered

Chosen Option : 3

Q.12

व्यंजक $\frac{5\frac{5}{8}}{6\frac{3}{7}}$ of $\frac{6\frac{7}{11}}{9\frac{1}{8}} \div \frac{8}{9} \left(2\frac{3}{11} + \frac{13}{22}\right)$ of $\frac{9}{5}$ का मान ज्ञात करें।

- Ans
- 1. $\frac{11}{36}$
 - 2. $\frac{5}{36}$
 - 3. $\frac{1}{36}$
 - 4. $\frac{25}{36}$

Question ID : 65497834369

Status : Answered

Chosen Option : 2

Q.13 250 m लंबी ट्रेन एकसमान चाल से चलते हुए 200 m लंबे रेलवे प्लेटफॉर्म को 45 s में पार कर जाती है। उस ट्रेन को उस साइकिल सवार को पार करने में कितना समय (सेकंड में) लगेगा जो ट्रेन की दिशा में 6 km/h की चाल से साइकिल चला रहा है?

- Ans
- 1. 21
 - 2. 54
 - 3. 62.5
 - 4. 30

Question ID : 65497834368
Status : Answered
Chosen Option : 2

Q.14 एक ठोस लंबवृत्तीय बेलन के आधार की त्रिज्या 10.5 cm है और इसका आयतन 5197.5 cm^3 है। बेलन का कुल पृष्ठीय क्षेत्रफल (cm^2 में) ज्ञात कीजिए। ($\pi = \frac{22}{7}$ लीजिए)

- Ans
- 1. 1605
 - 2. 1749
 - 3. 1584
 - 4. 1683

Question ID : 65497834382
Status : Answered
Chosen Option : 3

Q.15 जब 22, 39, 56 और 107 में से प्रत्येक संख्या से 'x' घटाया जाता है, तो प्राप्त परिणामी संख्याएं, इसी क्रम में समानुपात में होती हैं। $(x + 3)$ और $(3x - 7)$ के बीच का माध्यानुपाती (mean proportional) ज्ञात कीजिए।

- Ans
- 1. 12
 - 2. 8
 - 3. 10
 - 4. 14

Question ID : 65497834380
Status : Not Answered
Chosen Option : --

Q.16 एक दुकानदार अपने माल पर क्रय मूल्य से 40% अधिक मूल्य अंकित करता है। उसने 60% माल अंकित मूल्य पर और शेष को अंकित मूल्य पर 65% छूट पर बेचा। पूरे संव्यवहार में उसका लाभ/हानि ज्ञात कीजिए।

- Ans
- 1. हानि, 9.6%
 - 2. लाभ, 3.6%
 - 3. हानि, 3.6%
 - 4. लाभ, 9.6%

Question ID : 65497834379
Status : Not Answered
Chosen Option : --

Q.17 एक दुकानदार ने एक वस्तु ₹4,500 में खरीदी, और इसे 5% की हानि पर बेच दिया। इस पैसे से उसने एक अन्य वस्तु खरीदी और उसे 10% के लाभ पर बेच दिया, उसका कुल लाभ ज्ञात करें।

- Ans
- 1. ₹220
 - 2. ₹202.50
 - 3. ₹280.50
 - 4. ₹210

Question ID : 65497834378
Status : Answered
Chosen Option : 2

Q.18 यदि एक घन का विकर्ण $\sqrt{108}$ cm है, तो घन का आयतन (cm^3 में) क्या होगा?

- Ans
- 1. 216
 - 2. 228
 - 3. 226
 - 4. 214

Question ID : 65497834372
Status : Answered
Chosen Option : 1

Q.19 किसी कक्षा में छात्रों का औसत वजन 56 kg है। यदि 58 kg औसत वजन वाले पांच और छात्र कक्षा में शामिल हो जाते हैं, तो छात्रों का औसत वजन 0.5 kg बढ़ जाता है। कक्षा में छात्रों की मूल संख्या कितनी थी?

- Ans
- 1. 25
 - 2. 20
 - 3. 15
 - 4. 18

Question ID : 65497834361
Status : Not Answered
Chosen Option : --

Q.20 ₹9,500 को तीन मित्रों A, B और C के बीच इस तरह विभाजित किया जाता है, कि B को मिलने वाली धनराशि A को मिली धनराशि का 75% है और A एवं C को मिली धनराशि का अनुपात 8 : 5 है। B को मिलने वाली राशि (₹ में) कितनी है?

- Ans
- 1. 6,000
 - 2. 3,000
 - 3. 2,500
 - 4. 4,000

Question ID : 65497834365
Status : Answered
Chosen Option : 3

Q.21 एक विक्रेता (डीलर) अपने ग्राहकों को 20% की छूट देता है और फिर भी 20% लाभ अर्जित करता है। यदि किसी सामान का क्रय मूल्य ₹960 है, तो उसका अंकित मूल्य (₹ में) कितना है?

- Ans
- ✓ 1. 1,440
 - ✗ 2. 1,600
 - ✗ 3. 1,152
 - ✗ 4. 1,280

Question ID : 65497834363

Status : Answered

Chosen Option : 3

Q.22 एक निश्चित वार्षिक ब्याज दर पर ₹10,000 की राशि 2 वर्षों में ₹13,225 हो जाती है, जबकि ब्याज की गणना वार्षिक चक्रवृद्धि आधार पर की जाती है। यदि ब्याज की गणना 8-मासिक चक्रवृद्धि आधार पर की जाए, तो समान राशि पर समान ब्याज दर पर समान समय में प्राप्त होने वाला ब्याज (₹ में) कितना होगा?

- Ans
- ✗ 1. 3,350
 - ✗ 2. 3,290
 - ✗ 3. 3,360
 - ✓ 4. 3,310

Question ID : 65497834381

Status : Not Answered

Chosen Option : --

Q.23 यदि दो संख्याएं, तीसरी संख्या के 12% और 48% के बराबर हैं, तो पहली संख्या दूसरी संख्या के कितने प्रतिशत के बराबर है?

- Ans
- ✗ 1. 20%
 - ✓ 2. 25%
 - ✗ 3. 30%
 - ✗ 4. 15%

Question ID : 65497834374

Status : Answered

Chosen Option : 2

Q.24 एक ट्रेन की औसत चाल, एक कार की औसत चाल की 180% है। कार 990 km की दूरी 15 घंटे में तय करती है। 891 km की दूरी तय करने के लिए ट्रेन द्वारा लिया गया समय (घंटों में) जात करें।

Ans

✗ 1. $9\frac{1}{2}$

✗ 2. $6\frac{1}{2}$

✓ 3. $7\frac{1}{2}$

✗ 4. $5\frac{1}{2}$

Question ID : 65497834370

Status : Not Answered

Chosen Option : --

Q.25 4 पुरुष और 4 महिलाएं किसी कार्य को 5 दिनों में पूरा कर सकते हैं, जबकि 2 पुरुष और 5 महिलाएं उसी कार्य को 6 दिनों में पूरा कर सकते हैं। 1 महिला अकेले और 1 पुरुष अकेले उस कार्य को पूरा करने में क्रमशः कितने-कितने दिन का समय लेंगे?

Ans

✗ 1. 36 और 45

✗ 2. 36 और 20

✓ 3. 45 और 36

✗ 4. 20 और 36

Question ID : 65497834367

Status : Answered

Chosen Option : 2

Section : Part D English

Q.1 Select the most appropriate option that can substitute the underlined word in the given sentence. If there is no need to substitute it, select 'No substitution required'.

Either Sumit or Amit will give their assistance in unloading the goods from the truck.

Ans

✓ 1. his

✗ 2. your

✗ 3. its

✗ 4. No substitution required

Question ID : 65497834396

Status : Not Answered

Chosen Option : --

Q.2 Select the most appropriate option that can substitute the underlined segment in the given sentence. If there is no need to substitute it, select 'No substitution required'.

This is the garage when I get my car repaired.

- Ans
- 1. wherever
 - 2. No substitution required
 - 3. whenever
 - 4. where

Question ID : 65497834383
Status : Not Answered
Chosen Option : --

Q.3 The following sentence has been divided into parts. One of them may contain an error. Select the part that contains the error from the given options. If you don't find any error, mark 'No error' as your answer.

Did you knew / that there will be / a pay hike soon?

- Ans
- 1. a pay hike soon
 - 2. No error
 - 3. Did you knew
 - 4. that there will be

Question ID : 65497834400
Status : Not Answered
Chosen Option : --

Q.4 Select the option that can be used as a one-word substitute for the given group of words.

A solemn promise

- Ans
- 1. Salute
 - 2. Contract
 - 3. Tribute
 - 4. Pledge

Question ID : 65497834402
Status : Not Answered
Chosen Option : --

Q.5 The following sentence has been split into four segments. Identify the segment that contains a grammatical error.

Its matter of great concern / for the authorities that / despite all the efforts, / the number of patients is increasing.

- Ans
- 1. despite all the efforts
 - 2. the number of patients is increasing
 - 3. for the authorities that
 - 4. Its matter of great concern

Question ID : 65497834388
Status : Not Answered
Chosen Option : --

Q.6 Select the most appropriate option to fill in the blank.

Disasters expose the most _____ section of society to grave danger.

- Ans
- 1. potable
 - 2. vulnerable
 - 3. sustainable
 - 4. equitable

Question ID : 65497834387
Status : Not Answered
Chosen Option : --

Q.7 Select the most appropriate synonym of the given word.

SUSTAIN (V)

- Ans
- 1. Weaken
 - 2. Support
 - 3. Suspect
 - 4. Believe

Question ID : 65497834401
Status : Not Answered
Chosen Option : --

Q.8 Select the correctly spelt word.

- Ans
- 1. Mathematics
 - 2. Maethematics
 - 3. Mathematiks
 - 4. Mathemetics

Question ID : 65497834386
Status : Not Answered
Chosen Option : --

Q.9 Select the INCORRECTLY spelt word.

- Ans
- 1. Indecisiveness
 - 2. Gullible
 - 3. Dissimulation
 - 4. Magnanemous

Question ID : 65497834391
Status : Not Answered
Chosen Option : --

Q.10 Select the most appropriate meaning of the given idiom.

To spill the beans

- Ans
- 1. To do something very difficult
 - 2. To give away a secret
 - 3. To throw away something important
 - 4. To work very hard

Question ID : 65497834399
Status : Not Answered
Chosen Option : --

Q.11 Select the most appropriate ANTONYM of the given word.

Delicious

- Ans
- 1. Sweet
 - 2. Distasteful
 - 3. Tasteful
 - 4. Satisfactory

Question ID : 65497834389
Status : Not Answered
Chosen Option : --

Q.12 Select the most appropriate option that can substitute the underlined word in the given sentence. If there is no need to substitute it, select 'No substitution required'.

Despite play very well, we lost the match.

- Ans
- 1. No substitution required
 - 2. Despite of us playing
 - 3. Despite of our playing
 - 4. Despite playing

Question ID : 65497834397
Status : Not Answered
Chosen Option : --

Q.13 Select the option that can be used as a one-word substitute for the given group of words.

Sound made by a horse

- Ans
- 1. Neigh
 - 2. Bark
 - 3. Growl
 - 4. Bray

Question ID : 65497834384
Status : Not Answered
Chosen Option : --

Q.14 Select the most appropriate option to fill in the blank.

She found herself in an _____ situation and left quickly.

- Ans
- 1. elegant
 - 2. awkward
 - 3. abstract
 - 4. obvious

Question ID : 65497834394
Status : Not Answered
Chosen Option : --

Q.15 The following sentence has been split into four segments. Identify the segment that contains a grammatical error.

The examinations / will be pushed back / so that candidates get additional time / for prepare.

- Ans
- 1. The examinations
 - 2. will be pushed back
 - 3. for prepare
 - 4. so that candidates get additional time

Question ID : 65497834392
Status : Not Answered
Chosen Option : --

Q.16 Select the most appropriate meaning of the given idiom.

To take up the gauntlet

- Ans
- 1. To deny the challenge
 - 2. To suffer humiliation
 - 3. To accept a challenge
 - 4. To face failure

Question ID : 65497834395
Status : Not Answered
Chosen Option : --

Q.17 Select the option that can be used as a one-word substitute for the given group of words.

Person who is the natural successor to ancestral property

- Ans
- 1. Heretic
 - 2. Extrovert
 - 3. Interlocutor
 - 4. Heir

Question ID : 65497834390
Status : Not Answered
Chosen Option : --

Q.18 Select the most appropriate option to fill in the blank.

The ticket gives _____ travel on city buses for as little as ₹100.

- Ans
- 1. unlimited
 - 2. never-ending
 - 3. uncontrolled
 - 4. infinite

Question ID : 65497834398
Status : Not Answered
Chosen Option : --

Q.19 Select the most appropriate ANTONYM of the given word.

Just

- Ans
- 1. Conclude
 - 2. Fail
 - 3. Corrupt
 - 4. Blur

Question ID : 65497834385
Status : Not Answered
Chosen Option : --

Q.20 Select the most appropriate synonym of the given word.

Sullen

- Ans
- 1. Smart
 - 2. Grim
 - 3. Dazzling
 - 4. Bright

Question ID : 65497834393
Status : Not Answered
Chosen Option : --

Comprehension:

In the following passage, some words have been deleted. Read the passage carefully and select the most appropriate option to fill in each blank.

Modern scientific and technological developments in the practice of medicine and public health (1)_____ nursing into new and wider fields of activity, and its functions have been expanded (2)_____. Therefore, nursing is no longer limited mainly to activities within the hospital. It has also become (3)_____ in which prevention and rehabilitation are a vital part of its program. The modern concept of nursing considers the hospital, (4)_____ central, as only one of (5)_____ in the community.

SubQuestion No : 21

Q.21 Select the most appropriate option to fill in blank no. 1.

- Ans
- 1. are drawn
 - 2. drew
 - 3. had drawn
 - 4. are drawing

Question ID : 65497834404

Status : **Not Answered**

Chosen Option : --

Comprehension:

In the following passage, some words have been deleted. Read the passage carefully and select the most appropriate option to fill in each blank.

Modern scientific and technological developments in the practice of medicine and public health (1)_____ nursing into new and wider fields of activity, and its functions have been expanded (2)_____. Therefore, nursing is no longer limited mainly to activities within the hospital. It has also become (3)_____ in which prevention and rehabilitation are a vital part of its program. The modern concept of nursing considers the hospital, (4)_____ central, as only one of (5)_____ in the community.

SubQuestion No : 22

Q.22 Select the most appropriate option to fill in blank no. 2.

- Ans
- 1. accordingly
 - 2. naturally
 - 3. consistently
 - 4. respectively

Question ID : 65497834405

Status : **Not Answered**

Chosen Option : --

Comprehension:

In the following passage, some words have been deleted. Read the passage carefully and select the most appropriate option to fill in each blank.

Modern scientific and technological developments in the practice of medicine and public health (1)_____ nursing into new and wider fields of activity, and its functions have been expanded (2)_____. Therefore, nursing is no longer limited mainly to activities within the hospital. It has also become (3)_____ in which prevention and rehabilitation are a vital part of its program. The modern concept of nursing considers the hospital, (4)_____ central, as only one of (5)_____ in the community.

SubQuestion No : 23

Q.23 Select the most appropriate option to fill in blank no. 3.

- Ans
- 1. community service
 - 2. community services
 - 3. a community service
 - 4. the community service

Question ID : 65497834406

Status : **Not Answered**

Chosen Option : --

Comprehension:

In the following passage, some words have been deleted. Read the passage carefully and select the most appropriate option to fill in each blank.

Modern scientific and technological developments in the practice of medicine and public health (1)_____ nursing into new and wider fields of activity, and its functions have been expanded (2)_____. Therefore, nursing is no longer limited mainly to activities within the hospital. It has also become (3)_____ in which prevention and rehabilitation are a vital part of its program. The modern concept of nursing considers the hospital, (4)_____ central, as only one of (5)_____ in the community.

SubQuestion No : 24

Q.24 Select the most appropriate option to fill in blank no. 4.

- Ans
- 1. whenever
 - 2. wherever
 - 3. however
 - 4. whatever

Question ID : 65497834407

Status : **Not Answered**

Chosen Option : --

Comprehension:

In the following passage, some words have been deleted. Read the passage carefully and select the most appropriate option to fill in each blank.

Modern scientific and technological developments in the practice of medicine and public health (1)_____ nursing into new and wider fields of activity, and its functions have been expanded (2)_____. Therefore, nursing is no longer limited mainly to activities within the hospital. It has also become (3)_____ in which prevention and rehabilitation are a vital part of its program. The modern concept of nursing considers the hospital, (4)_____ central, as only one of (5)_____ in the community.

SubQuestion No : 25

Q.25 Select the most appropriate option to fill in blank no. 5.

- Ans
- 1. many agency
 - 2. many agencies
 - 3. the many agencies
 - 4. the many agency

Question ID : 65497834408

Status : Not Answered

Chosen Option : --

Section : Part D Hindi

Q.1 दिए गए शब्द का विलोम चुने -

उर्वरा

- Ans
- 1. क्षुद्र
 - 2. ऊसर
 - 3. मोक्ष
 - 4. संपन्न

Question ID : 65497834423

Status : Answered

Chosen Option : 2

Q.2 दिए गए शब्द के समानार्थी शब्द का चयन कीजिए।

अटवी

- Ans
- 1. अडिग
 - 2. जंगल
 - 3. अचल
 - 4. अटल

Question ID : 65497834411

Status : Answered

Chosen Option : 4

Q.3 'सुर' का पर्यायवाची है-

- Ans 1. देवता
 2. सूर्य
 3. राक्षस
 4. सुरंग

Question ID : 65497834426
Status : Answered
Chosen Option : 1

Q.4 दिए गए वाक्य का वह भाग ज्ञात करें जिसमें कोई त्रुटि है। यदि कोई त्रुटि नहीं है, तो 'कोई त्रुटि नहीं है' चुनें।

बुरा से बुरा (1)/ आदमी यह (2)/ कहता है। (3)/ कोई त्रुटि नहीं है (4)

- Ans 1. 1
 2. 4
 3. 2
 4. 3

Question ID : 65497834410
Status : Answered
Chosen Option : 1

Q.5 रिक्त स्थान की पूर्ति करने के लिए सर्वाधिक उपयुक्त शब्द का चयन करें।

लड़का बीमार है _____ पढ़ने नहीं आया।

- Ans 1. कदाचित्
 2. इसलिए
 3. इससे
 4. क्योंकि

Question ID : 65497834419
Status : Answered
Chosen Option : 2

Q.6 दिए गए वाक्य का वह भाग ज्ञात करें जिसमें कोई त्रुटि है। यदि कोई त्रुटि नहीं है, तो 'कोई त्रुटि नहीं है' चुनें।

आपसी मनमुटाव को सामने - आमने बैठकर बातचीत से दूर करें।

- Ans 1. आपसी मनमुटाव को
 2. बातचीत से दूर करें।
 3. सामने - आमने बैठकर
 4. कोई त्रुटि नहीं है।

Question ID : 65497834422
Status : Answered
Chosen Option : 3

Q.7 दिए गए वाक्य में रेखांकित खंड को प्रतिस्थापित करने के लिए सर्वाधिक उपयुक्त विकल्प का चयन करें। यदि इसे प्रतिस्थापित करने की आवश्यकता नहीं है, तो विकल्प 'किसी बदलाव की आवश्यकता नहीं है' का चयन करें।

जंगली जानवर, चिड़ियाघर में हमारे मनोरंजन ही करते हैं।

- Ans
- 1. किसी बदलाव की आवश्यकता नहीं है।
 - 2. हमारे मनोरंजन ही कर रहे हैं।
 - 3. हमारे मनोरंजन ही करता है।
 - 4. हमारा मनोरंजन ही करते हैं।

Question ID : 65497834418

Status : Answered

Chosen Option : 4

Q.8 दिए गए वाक्यांश के लिए एक शब्द का चयन करें:

विस्थापित लोगों को पुनः बसाना

- Ans
- 1. पुनरावृत्ति
 - 2. पुनर्वास
 - 3. पुनरुक्ति
 - 4. पुनर्वा

Question ID : 65497834424

Status : Answered

Chosen Option : 2

Q.9 दिए गए वाक्य के किस भाग में त्रुटि है?

भारत में अनेक प्रदेशिक भाषाएं हैं।

- Ans
- 1. भारत में
 - 2. भाषाएं हैं।
 - 3. अनेक
 - 4. प्रदेशिक

Question ID : 65497834425

Status : Answered

Chosen Option : 4

Q.10 दिए गए शब्द का विलोम चुनें।

क्रूर

- Ans
- 1. विधुर
 - 2. निष्ठुर
 - 3. असुर
 - 4. दयालु

Question ID : 65497834415

Status : Answered

Chosen Option : 4

Q.11 निम्नलिखित प्रश्न में, दिए गए चार विकल्पों में से उस विकल्प का चयन करें, जो मुहावरे के सही अर्थ को व्यक्त करता है।

पहाड़ टूटना

- Ans
- 1. भारी विपत्ति आना
 - 2. विपत्ति के समय कोई साथ न देना
 - 3. खूब लाभ उठाना
 - 4. पहाड़ टूट कर गिरना

Question ID : 65497834416

Status : Answered

Chosen Option : 1

Q.12 रिक्त स्थान की पूर्ति करने के लिए सर्वाधिक उपयुक्त विकल्प का चयन करें।

भारत का _____ किया गया।

- Ans
- 1. अभिवादन
 - 2. समापन
 - 3. आवभगत
 - 4. स्वागत

Question ID : 65497834428

Status : Answered

Chosen Option : 3

Q.13 निम्नलिखित प्रश्न में, दिए गए चार विकल्पों में से उस विकल्प का चयन करें, जो मुहावरे के सही अर्थ को व्यक्त करता है।

हाथ मलना-

- Ans
- 1. हार मान लेना
 - 2. पछताना
 - 3. दोनों हाथों को मसलना
 - 4. खो देना

Question ID : 65497834421

Status : Answered

Chosen Option : 2

Q.14 दिए गए वाक्य में रेखांकित खंड को प्रतिस्थापित करने के लिए सर्वाधिक उपयुक्त विकल्प का चयन करें। यदि इसे प्रतिस्थापित करने की आवश्यकता नहीं है, तो विकल्प 'किसी बदलाव की आवश्यकता नहीं है' का चयन करें।

कई रेलवे के कर्मचारियों की गिरफ्तारी हुई।

- Ans
- 1. कईयों की रेलवे
 - 2. किसी बदलाव की आवश्यकता नहीं है।
 - 3. रेलवे के कई
 - 4. कई के रेलवे

Question ID : 65497834420

Status : Answered

Chosen Option : 3

Q.15 'गले का हार होना' मुहावरे का सही अर्थ है-

- Ans
- 1. बहुत कीमती होना
 - 2. गहरी मित्रता होना
 - 3. बहुत प्यारा होना
 - 4. समस्या पैदा करना

Question ID : 65497834427
Status : Answered
Chosen Option : 2

Q.16 अशुद्ध वर्तनी वाले शब्द का चयन करें।

- Ans
- 1. महाराजा
 - 2. कौतूहल
 - 3. दयालु
 - 4. कनिष

Question ID : 65497834414
Status : Answered
Chosen Option : 4

Q.17 सही वर्तनी वाले शब्द का चयन करें।

- Ans
- 1. शुसुम्ना
 - 2. सुषुम्ना
 - 3. शुषुम्ना
 - 4. सुशुम्ना

Question ID : 65497834413
Status : Answered
Chosen Option : 3

Q.18 दिए गए वाक्य में रेखांकित खंड को प्रतिस्थापित करने के लिए सर्वाधिक उपयुक्त विकल्प का चयन करें। यदि इसे प्रतिस्थापित करने की आवश्यकता नहीं है, तो विकल्प 'किसी बदलाव की आवश्यकता नहीं है' का चयन करें।

सुधा भूख में बेचैन है।

- Ans
- 1. भूख के
 - 2. भूख से
 - 3. किसी बदलाव की आवश्यकता नहीं है।
 - 4. भूख में

Question ID : 65497834412
Status : Answered
Chosen Option : 2

Q.19 दिए गए वाक्यांश के लिए एक शब्द का चयन करें:

असाधारण मेधा बुद्धि वाला

- Ans
- 1. बुद्धिमान
 - 2. महाज्ञानी
 - 3. बुद्धिशाली
 - 4. मेधावी

Question ID : 65497834417

Status : Answered

Chosen Option : 4

Q.20 रिक्त स्थान की पूर्ति करने के लिए सर्वाधिक उपयुक्त शब्द का चयन कीजिए।

नाटक _____ पर खेला जाता है।

- Ans
- 1. मेज
 - 2. मंच
 - 3. रंगमंच
 - 4. चौराहे

Question ID : 65497834409

Status : Answered

Chosen Option : 3

Comprehension:

दिए गए गद्यांश में से कुछ शब्द हटा दिए गए हैं, दिए गए विकल्पों की सहायता से रिक्त स्थान की पूर्ति करें, प्रत्येक संख्या के लिए सर्वाधिक उपयुक्त विकल्प का चयन करें।

सकारात्मक सोच व्यक्ति को (1) _____ की ओर ले जाती है। कहा भी जाता है कि मन के हारे हार है, मन के जीते (2) _____। जीवन एक संघर्ष है और इसका हमें (3) _____ होकर सामना करना चाहिए। सकारात्मक सोच से ऊर्जा प्राप्त होती है और हमारा (4) _____ बढ़ता है। निराशा हमें कमजोर बनाती है जबकि आशा नई (5) _____ दिखाती है।

SubQuestion No : 21

Q.21 गद्यांश के रिक्त स्थान (1) के लिए सर्वाधिक उपयुक्त शब्द होगा-

- Ans
- 1. पतन
 - 2. असफलता
 - 3. सफलता
 - 4. संघर्ष

Question ID : 65497834430

Status : Answered

Chosen Option : 3

Comprehension:

दिए गए गद्यांश में से कुछ शब्द हटा दिए गए हैं, दिए गए विकल्पों की सहायता से रिक्त स्थान की पूर्ति करें, प्रत्येक संख्या के लिए सर्वाधिक उपयुक्त विकल्प का चयन करें।

सकारात्मक सोच व्यक्ति को (1) _____ की ओर ले जाती है। कहा भी जाता है कि मन के हारे हार है, मन के जीते (2) _____। जीवन एक संघर्ष है और इसका हमें (3) _____ होकर सामना करना चाहिए। सकारात्मक सोच से ऊर्जा प्राप्त होती है और हमारा (4) _____ बढ़ता है। निराशा हमें कमजोर बनाती है जबकि आशा नई (5) _____ दिखाती है।

SubQuestion No : 22

Q.22 गद्यांश के रिक्त स्थान (2) के लिए सर्वाधिक उपयुक्त शब्द होगा-

- Ans
- 1. पीड़ा
 - 2. आनंद
 - 3. जीत
 - 4. प्रसन्नता

Question ID : 65497834431

Status : Answered

Chosen Option : 3

Comprehension:

दिए गए गद्यांश में से कुछ शब्द हटा दिए गए हैं, दिए गए विकल्पों की सहायता से रिक्त स्थान की पूर्ति करें, प्रत्येक संख्या के लिए सर्वाधिक उपयुक्त विकल्प का चयन करें।

सकारात्मक सोच व्यक्ति को (1) _____ की ओर ले जाती है। कहा भी जाता है कि मन के हारे हार है, मन के जीते (2) _____। जीवन एक संघर्ष है और इसका हमें (3) _____ होकर सामना करना चाहिए। सकारात्मक सोच से ऊर्जा प्राप्त होती है और हमारा (4) _____ बढ़ता है। निराशा हमें कमजोर बनाती है जबकि आशा नई (5) _____ दिखाती है।

SubQuestion No : 23

Q.23 गद्यांश के रिक्त स्थान (3) के लिए सर्वाधिक उपयुक्त शब्द होगा-

- Ans
- 1. बेपरवाह
 - 2. भयभीत
 - 3. निडर
 - 4. लापरवाह

Question ID : 65497834432

Status : Answered

Chosen Option : 3

Comprehension:

दिए गए गद्यांश में से कुछ शब्द हटा दिए गए हैं, दिए गए विकल्पों की सहायता से रिक्त स्थान की पूर्ति करें, प्रत्येक संख्या के लिए सर्वाधिक उपयुक्त विकल्प का चयन करें।

सकारात्मक सोच व्यक्ति को (1) _____ की ओर ले जाती है। कहा भी जाता है कि मन के हारे हार है, मन के जीते (2) _____। जीवन एक संघर्ष है और इसका हमें (3) _____ होकर सामना करना चाहिए। सकारात्मक सोच से ऊर्जा प्राप्त होती है और हमारा (4) _____ बढ़ता है। निराशा हमें कमजोर बनाती है जबकि आशा नई (5) _____ दिखाती है।

SubQuestion No : 24

Q.24 गद्यांश के रिक्त स्थान (4) के लिए सर्वाधिक उपयुक्त शब्द होगा-

- Ans
- 1. साम्राज्य
 - 2. दायरा
 - 3. आत्मविश्वास
 - 4. कार्य

Question ID : 65497834433

Status : Answered

Chosen Option : 3

Comprehension:

दिए गए गद्यांश में से कुछ शब्द हटा दिए गए हैं, दिए गए विकल्पों की सहायता से रिक्त स्थान की पूर्ति करें, प्रत्येक संख्या के लिए सर्वाधिक उपयुक्त विकल्प का चयन करें।

सकारात्मक सोच व्यक्ति को (1) _____ की ओर ले जाती है। कहा भी जाता है कि मन के हारे हार है, मन के जीते (2) _____। जीवन एक संघर्ष है और इसका हमें (3) _____ होकर सामना करना चाहिए। सकारात्मक सोच से ऊर्जा प्राप्त होती है और हमारा (4) _____ बढ़ता है। निराशा हमें कमजोर बनाती है जबकि आशा नई (5) _____ दिखाती है।

SubQuestion No : 25

Q.25 गद्यांश के रिक्त स्थान (5) के लिए सर्वाधिक उपयुक्त शब्द होगा-

- Ans
- 1. दुनिया
 - 2. जीवन
 - 3. राह
 - 4. बात

Question ID : 65497834434

Status : Answered

Chosen Option : 3

Constable GD in CAPFs NIA SSF and Rifleman GD in Assam Rifles Examination 2021

Roll Number	www.HaryanaJobs.in
Candidate Name	www.HaryanaJobs.in
Venue Name	iON Digital Zone iDZ 1 Sector 62
Exam Date	15/12/2021
Exam Time :	9:00 AM - 10:30 AM
Subject	Constable GD 2021

Section : Part A General Intelligence and Reasoning

Q.1 जिस प्रकार 'मोनार्च', 'तितली' से संबंधित है, उसी प्रकार 'मांबा', ' _____ ' से संबंधित है।

- Ans
- 1. शाही
 - 2. सांप
 - 3. रानी
 - 4. विष

Question ID : 65497830765
Status : Answered
Chosen Option : 2

Q.2 A, B, C, D, E, F, G और H, आठ मित्र इसी क्रम में एक-दूसरे से समान दूरी पर एक गोल मेज के परितः इसके केंद्र की ओर मुंह करके दक्षिणावर्त बैठे हुए हैं। C का मुंह उत्तर दिशा की ओर है। अब यदि D अपना स्थान छोड़ देता है और D के स्थान पर नया मित्र Y आकर बैठता है, तो निम्नलिखित दो व्यक्तियों में से कौन से एक दूसरे के सम्मुख बैठे हैं?

- Ans
- 1. B और F
 - 2. Y और B
 - 3. F और A
 - 4. C और H

Question ID : 65497830752
Status : Answered
Chosen Option : 1

Q.3 किरण की ओर इशारा करते हुए रोहन कहता है कि, "वह मेरे दादा के इकलौते पुत्र की पुत्री है।" किरण का रोहन से क्या संबंध है?

- Ans
- 1. बहन
 - 2. माँ
 - 3. पुत्र-वधू
 - 4. पत्नी

Question ID : 65497830759
Status : Answered
Chosen Option : 1

Q.4 पाँच व्यक्ति एक पंक्ति में बैठे हैं। दो व्यक्ति D और H अंतिम छोरों पर बैठे हैं। L, P के दाएँ है। T, H के बाएँ है। बाएँ से L की स्थिति क्या है?

- Ans
- 1. तीसरी
 - 2. चौथी
 - 3. पहली
 - 4. दूसरी

Question ID : 65497830766
Status : Answered
Chosen Option : 1

Q.5 दिए गए विकल्पों में से उस संख्या का चयन करें, जो निम्नलिखित श्रृंखला में प्रश्नवाचक चिह्न (?) के स्थान पर आ सकती है।

6, 5, 7, 7, 10, 11, 15, 17, ?

- Ans
- 1. 24
 - 2. 22
 - 3. 23
 - 4. 25

Question ID : 65497830762
Status : Answered
Chosen Option : 2

Q.6 दिए गए पैटर्न का ध्यानपूर्वक अध्ययन करें, और उस संख्या का चयन करें जो इसमें प्रश्नवाचक चिह्न (?) के स्थान पर आ सकती है।

14 12 15
11 17 16
180 234 ?

- Ans
- 1. 298
 - 2. 369
 - 3. 425
 - 4. 272

Question ID : 65497830770
Status : Answered
Chosen Option : 4

Q.7 किसी कागज की शीट को विशेष तरीके से मोड़ा जाता है और उसमें कई छिद्र किए जाते हैं। जब कागज की शीट को खोला जाता है, तो उसमें प्रश्न आकृति जैसी आकृति दिखती है। दिए गए विकल्पों में से, वह आकृति चुनें जो कागज को मोड़े जाने और छिद्र किए जाने के तरीके का अनुसरण करती है।



Ans

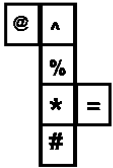
- ✗ 1.
- ✗ 2.
- ✓ 3.
- ✗ 4.

Question ID : 65497830772

Status : Answered

Chosen Option : 3

Q.8 दी गई शीट को मोड़कर एक घन बनाया जाता है। इस प्रकार बनाए गए घन में, चिहनों का कौन सा युग्म इसके विपरीत पृष्ठों पर होगा?



Ans

- ✓ 1. @ और =
- ✗ 2. % और *
- ✗ 3. # और =
- ✗ 4. @ और %

Question ID : 65497830755

Status : Not Answered

Chosen Option : --

Q.9 दिए गए विकल्पों में से उस अक्षर-समूह का चयन करें, जो निम्नलिखित श्रृंखला में प्रश्नवाचक चिह्न (?) के स्थान पर आ सकता है।

GLQ, VAF, KPU, ZEJ, ?

- Ans
- 1. OUZ
 - 2. PTY
 - 3. PUY
 - 4. OTY

Question ID : 65497830764
Status : Answered
Chosen Option : 4

Q.10 निम्नलिखित चार अक्षर-समूहों में से तीन किसी न किसी प्रकार समान हैं और एक भिन्न है। भिन्न अक्षर-समूह का चयन करें।

- Ans
- 1. TPLI
 - 2. MIEA
 - 3. XTPL
 - 4. RNJF

Question ID : 65497830760
Status : Answered
Chosen Option : 1

Q.11 वर्गों के उस समूह का चयन करें जिनके बीच के संबंध को निम्नांकित वेन आरेख द्वारा सबसे अधिक उचित तरीके से दर्शाया गया है।



- Ans
- 1. नागरिक, अशिक्षित, अधिवक्ता
 - 2. शार्क, व्हेल, टोड
 - 3. सोफा, फर्नीचर, पुस्तक
 - 4. भाई, क्रिकेटर, पुरुष

Question ID : 65497830767
Status : Answered
Chosen Option : 1

Q.12 दिए गए विकल्पों में से उस संख्या का चयन कीजिए जो निम्न श्रेणी में प्रश्नवाचक चिह्न (?) के स्थान पर आएगी।

14, 14, 15, 23, 87, 212, ?

- Ans
- 1. 482
 - 2. 248
 - 3. 284
 - 4. 428

Question ID : 65497830775
Status : Answered
Chosen Option : 4

Q.13 उस विकल्प का चयन कीजिए जिसमें निम्नलिखित शब्दों का वह क्रम दिया गया है जिस क्रम में वे अंग्रेजी शब्दकोश में आते हैं।

1. Congrats
2. Confusion
3. Confound
4. Congregate
5. Confucian

- Ans
- 1. 3, 4, 1, 5, 2
 - 2. 3, 1, 4, 5, 2
 - 3. 3, 5, 2, 1, 4
 - 4. 3, 2, 5, 1, 4

Question ID : 65497830773
Status : Answered
Chosen Option : 3

Q.14 उस विकल्प का चयन करें जो तीसरे अक्षर-समूह से ठीक उसी प्रकार से संबंधित है जैसे दूसरा अक्षर-समूह पहले अक्षर-समूह से संबंधित है।

PVSD : TYUE :: DPKR : ?

- Ans
- 1. HSMS
 - 2. HTMS
 - 3. GTNS
 - 4. ISNS

Question ID : 65497830757
Status : Answered
Chosen Option : 1

Q.15 एक विशिष्ट कूट भाषा में, MORALE को 1315181125 के रूप में लिखा जाता है। इस कूट भाषा में VALUES को किस रूप में लिखा जाएगा?

- Ans
- 1. 2211221519
 - 2. 1125185131
 - 3. 2121212519
 - 4. 1951221122

Question ID : 65497830761
Status : Answered
Chosen Option : 1

Q.16 दिए गए कथनों और निष्कर्षों को ध्यानपूर्वक पढ़ें। कथनों में दी गई जानकारी को सही मानते हुए, भले ही वह सामान्य रूप से ज्ञात तथ्यों से भिन्न प्रतीत होती हो, निर्णय करें कि दिए गए निष्कर्षों में से कौन से निष्कर्ष कथनों का तार्किक रूप से अनुसरण करते हैं।

कथन:

- I. सभी ग्रिल, ओवन हैं।
- II. कुछ तंदूर, ग्रिल हैं।

निष्कर्ष:

- I. कुछ तंदूर, ओवन हैं।
- II. सभी ओवन, तंदूर हैं।

- Ans
- 1. न तो निष्कर्ष I, और न ही निष्कर्ष II अनुसरण करता है।
 - 2. केवल निष्कर्ष I अनुसरण करता है।
 - 3. केवल निष्कर्ष II अनुसरण करता है।
 - 4. निष्कर्ष I और II, दोनों अनुसरण करते हैं।

Question ID : 65497830769

Status : Answered

Chosen Option : 2

Q.17 उस विकल्प का चयन कीजिए जिसमें नीचे दी गई आकृति सन्नहित है (आकृति को घुमाने की अनुमति नहीं है)।



Ans

- 1.
- 2.
- 3.
- 4.

Question ID : 65497830756

Status : Answered

Chosen Option : 4

Q.18 किसी निश्चित कूट भाषा में, शब्द 'DISK' को 'LTJE' लिखा जाता है। 'SFWP' को उसी कूट भाषा में कैसे लिखा जाएगा?

- Ans
- 1. REVO
 - 2. QXGT
 - 3. TGXQ
 - 4. OVER

Question ID : 65497830768
Status : Answered
Chosen Option : 2

Q.19 उस विकल्प का चयन कीजिए जो चौथी संख्या से उसी तरह से संबंधित है जैसे पहली संख्या दूसरी संख्या से संबंधित है और पाँचवीं संख्या छठी संख्या से संबंधित है।

4523 : 22 :: ? : 14 :: 9178 : 13

- Ans
- 1. 9152
 - 2. 5440
 - 3. 8228
 - 4. 7448

Question ID : 65497830753
Status : Not Answered
Chosen Option : --

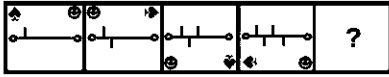
Q.20 दिए गए समीकरण को संतुलित करने के लिए किन दो चिह्नों के स्थानों को आपस में बदलना चाहिए?

$15 \times 6 + 132 - 11 \div 44 = 58$

- Ans
- 1. + और -
 - 2. + और +
 - 3. + और ×
 - 4. × और +

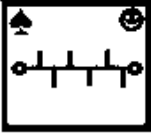
Question ID : 65497830754
Status : Answered
Chosen Option : 1

Q.21 दिए गए विकल्पों में से उस आकृति का चयन कीजिए जो निम्नांकित आकृति श्रेणी में प्रश्नवाचक चिह्न (?) के स्थान पर आ सकती है।



Ans

✗ 1.



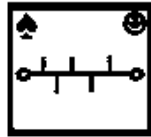
✗ 2.



✗ 3.



✓ 4.



Question ID : 65497830776

Status : Answered

Chosen Option : 3

Q.22 दी गई आकृति के उस सही दर्पण प्रतिबिंब का चयन करें, जो दर्पण को 'XY' पर रखने पर बनेगा।



Ans

✗ 1.



✓ 2.



✗ 3.



✗ 4.



Question ID : 65497830763

Status : Answered

Chosen Option : 2

Q.23 श्रेणी 53, 57, 61, 65... से कितने पद लिए जाएं ताकि उनका योग 1106 प्राप्त हो?

- Ans
- 1. 20
 - 2. 15
 - 3. 21
 - 4. 14

Question ID : 65497830771
Status : Answered
Chosen Option : 3

Q.24 अक्षरों के उस संयोजन का चयन करें जिसे दी गई श्रेणी में रिक्त स्थानों पर क्रमिक रूप से रखने पर श्रेणी पूर्ण हो जाएगी।

KP_LMK_TL_KPT_M_PT_M

- Ans
- 1. P, K, L, T, M, L
 - 2. T, P, M, L, K, L
 - 3. T, P, L, M, L, K
 - 4. P, T, L, K, M, L

Question ID : 65497830774
Status : Answered
Chosen Option : 2

Q.25 किसी विशिष्ट कूट भाषा में, 'HEROIC' को 'KBULLZ' के रूप में लिखा जाता है। उसी कूट भाषा में 'VALIANT' को किस रूप में लिखा जाएगा?

- Ans
- 1. YXOEDLW
 - 2. YXOFDKW
 - 3. YXOLXQQ
 - 4. TCJLYPS

Question ID : 65497830758
Status : Answered
Chosen Option : 2

Section : Part B General Knowledge and General Awareness

Q.1 1977 में, बंगाल सरकार ने कोलकाता मैदान में एक महिला स्वतंत्रता सेनानी को समर्पित इस पार्क की पहली प्रतिमा स्थापित की। उस महिला का नाम क्या था?

- Ans
- 1. मातंगिनी हाजरा
 - 2. कनकलता बरुआ
 - 3. भीकाजी कामा
 - 4. अरुणा आसफ अली

Question ID : 65497830784
Status : Answered
Chosen Option : 3

Q.2 सलाल हाइड्रोइलेक्ट्रिक पाँवर स्टेशन निम्नलिखित में से किस नदी पर बनाया गया है?

- Ans
- 1. चेनाब
 - 2. भागीरथी
 - 3. कोसी
 - 4. झेलम

Question ID : 65497830800
Status : Answered
Chosen Option : 1

Q.3 अक्टूबर 2020 में, निवेश संवर्धन और सरलीकरण एजेंसी गाइडेंस ने _____ राज्य में भारत का पहला उन्नत विनिर्माण केंद्र (AMHUB) स्थापित करने के लिए विश्व आर्थिक मंच (World Economic Forum (WEF)) के साथ भागीदारी की।

- Ans
- 1. आंध्र प्रदेश
 - 2. तमिलनाडु
 - 3. केरल
 - 4. कर्नाटक

Question ID : 65497830799
Status : Answered
Chosen Option : 1

Q.4 SLR उस धन-राशि का निर्धारण करती है, जिसकी आवश्यकता किसी बैंक को कुछ विशिष्ट प्रतिभूतियों में निवेश करने की होती है, जो मुख्य रूप से केंद्र और राज्य सरकारों द्वारा जारी प्रतिभूतियाँ होती हैं। SLR का पूर्ण रूप क्या है?

- Ans
- 1. Statutory Liquidity Reserve (स्टेटरी लिक्विडिटी रिजर्व)
 - 2. Statement Liquidity Ratio (स्टेटमेंट लिक्विडिटी रेशियो)
 - 3. Statutory Liquidity Rate (स्टेटरी लिक्विडिटी रेट)
 - 4. Statutory Liquidity Ratio (स्टेटरी लिक्विडिटी रेशियो)

Question ID : 65497830781
Status : Answered
Chosen Option : 1

Q.5 ऑस्ट्रेलियाई ओपन 2020 टेनिस टूर्नामेंट में पुरुष एकल का खिताब किसने जीता था?

- Ans
- 1. अलेक्ज़ेंडर ज़्वेरेव (Alexander Zverev)
 - 2. डोमिनिक थिएम (Dominic Thiem)
 - 3. नोवाक जोकोविच (Novak Djokovic)
 - 4. राफेल नडाल (Rafael Nadal)

Question ID : 65497830783
Status : Answered
Chosen Option : 3

Q.6 आर्थिक सर्वेक्षण 2019-20 के अनुसार इमर्जिंग ग्रीन बॉन्ड मार्केट में भारत की रैंक क्या थी?

- Ans
- 1. दूसरी
 - 2. तीसरी
 - 3. चौथी
 - 4. प्रथम

Question ID : 65497830796
Status : Answered
Chosen Option : 2

Q.7 वर्ष _____ में अपनाए गए भारतीय राष्ट्रीय कांग्रेस के तिरंगे झंडे के केंद्र में एक 'चरखा' रखा गया था।

- Ans
- 1. 1926
 - 2. 1938
 - 3. 1931
 - 4. 1929

Question ID : 65497830795
Status : Answered
Chosen Option : 1

Q.8 निम्नलिखित में से किस कीट में 'लूसिफेरिन' नामक वर्णक होता है?

- Ans
- 1. तितली
 - 2. रेड फ्लाई
 - 3. जुगनू
 - 4. नाइट फ्लाई

Question ID : 65497830779
Status : Answered
Chosen Option : 1

Q.9 'पट्टचित्र' चित्रकला शैली, किस राज्य का लोकप्रिय कला रूप है?

- Ans
- 1. उत्तर प्रदेश
 - 2. बिहार
 - 3. ओडिशा
 - 4. राजस्थान

Question ID : 65497830777
Status : Answered
Chosen Option : 3

Q.10 किस वर्ष भारत ने खोजपूर्ण खनन के लिए अंतर्राष्ट्रीय समुद्री प्राधिकरण के साथ एक समझौते पर हस्ताक्षर किए?

- Ans
- 1. 2003
 - 2. 2002
 - 3. 2001
 - 4. 2000

Question ID : 65497830789
Status : Not Answered
Chosen Option : --

Q.11 अगस्त 2020 में, प्रतिष्ठित राजीव गांधी खेल रत्न पुरस्कार निम्नलिखित खिलाड़ियों में से किसने प्राप्त किया?

- Ans 1. मरियप्पन टी.
 2. रोमेश पठानिया
 3. नरेश कुमार
 4. अतनु दास

Question ID : 65497830801
Status : Answered
Chosen Option : 1

Q.12 किस भारतीय खिलाड़ी ने बीबीसी इंडियन स्पोर्ट्सवुमेन ऑफ द ईयर 2019 पुरस्कार जीता?

- Ans 1. मानसी जोशी
 2. पीवी सिंधु
 3. मैरी कॉम
 4. विनेश फोगाट

Question ID : 65497830791
Status : Answered
Chosen Option : 2

Q.13 आर्थिक मामलों की मंत्रिमंडलीय समिति (CCEA) ने रबी विपणन सीजन 2020-21 में _____ के लिए न्यूनतम समर्थन मूल्य (MSP) में उच्चतम वृद्धि की घोषणा की।

- Ans 1. मसूर की दाल
 2. सरसों
 3. जौ
 4. गेहूं

Question ID : 65497830794
Status : Answered
Chosen Option : 4

Q.14 मानव शरीर की त्वचा की बाह्य परत के लिए निम्नलिखित में से किस शब्द का उपयोग किया जाता है?

- Ans 1. लैरिक्स (Larynx)
 2. क्वाड्रिसेप्स (Quadriceps)
 3. एपिडर्मिस (Epidermis)
 4. किरेटिन (Keratin)

Question ID : 65497830778
Status : Answered
Chosen Option : 4

Q.15 निम्नलिखित में से कौन सा हवाई अड्डा, अंतर्राष्ट्रीय उड़ानों पर यात्रियों के लिए ई-बोर्डिंग सुविधा शुरू करने वाला पहला भारतीय हवाई अड्डा बना?

- Ans
- 1. दाबोलीम हवाई अड्डा, गोवा
 - 2. इंदिरा गांधी अंतर्राष्ट्रीय हवाई अड्डा, दिल्ली
 - 3. जी.एम.आर. (GMR) हैदराबाद अंतर्राष्ट्रीय हवाई अड्डा
 - 4. सरदार वल्लभभाई पटेल अंतर्राष्ट्रीय हवाई अड्डा, गुजरात

Question ID : 65497830793
Status : Answered
Chosen Option : 2

Q.16 साहित्य अकादमी पुरस्कार किस वर्ष में शुरू किया गया था?

- Ans
- 1. 1955
 - 2. 1953
 - 3. 1956
 - 4. 1954

Question ID : 65497830790
Status : Answered
Chosen Option : 3

Q.17 निम्नलिखित में से कौन भारत का सर्वोच्च (सबसे ऊंचा) बांध है?

- Ans
- 1. भाखड़ा नांगल बांध, हिमाचल प्रदेश
 - 2. हीराकुड बांध, ओडिशा
 - 3. टिहरी बांध, उत्तराखंड
 - 4. सरदार सरोवर बांध, गुजरात

Question ID : 65497830782
Status : Answered
Chosen Option : 1

Q.18 निम्नलिखित में से कौन सा प्राचीन भारत में इलंगो द्वारा रचित एक प्रसिद्ध तमिल महाकाव्य है?

- Ans
- 1. शिलप्पादिकारम
 - 2. शिशुपाल वध
 - 3. रामचरितम
 - 4. ऐतरेय ब्राह्मण

Question ID : 65497830798
Status : Answered
Chosen Option : 1

Q.19 उच्च शिक्षा के लिए अंग्रेजी को शिक्षा का माध्यम बनाने और प्राच्य संस्थानों के प्रचार को रोकने के लिए अंग्रेजी शिक्षा अधिनियम किस वर्ष पारित किया गया?

- Ans 1. 1835
 2. 1854
 3. 1830
 4. 1833

Question ID : 65497830785
Status : Answered
Chosen Option : 4

Q.20 दशैं एक प्रसिद्ध त्योहार है, जिसकी शुरुआत _____ से हुई है।

- Ans 1. म्यांमार
 2. नेपाल
 3. भूटान
 4. भारत

Question ID : 65497830788
Status : Answered
Chosen Option : 2

Q.21 2020 में, भारतीय राष्ट्रीय महासागर सूचना सेवा केंद्र के निदेशक के रूप में किसे नियुक्त किया गया था?

- Ans 1. बीवी सत्यनारायण
 2. श्रीनिवास कुमार तुममाला
 3. विनय मोहन कात्रा
 4. एस नागेश्वर राव

Question ID : 65497830787
Status : Answered
Chosen Option : 2

Q.22 भारतीय संविधान में कितने मूल अधिकार और मौलिक कर्तव्य निर्धारित किये गए हैं?

- Ans 1. क्रमशः छः और ग्यारह
 2. क्रमशः सात और दस
 3. क्रमशः सात और ग्यारह
 4. क्रमशः आठ और दस

Question ID : 65497830786
Status : Answered
Chosen Option : 1

Q.23 निम्न में से कौन सी एक जल जनित बीमारी है?

- Ans
- 1. न्यूमोनिया
 - 2. सामान्य जुकाम
 - 3. हैज़ा
 - 4. कण्ठमाला (मम्प्स)

Question ID : 65497830797
Status : Answered
Chosen Option : 2

Q.24 भारतीय संविधान के अनुसार, निम्नलिखित में से कौन सा कथन सही है?

- Ans
- 1. विधानमंडल, लोगों का एक छोटा समूह है।
 - 2. कार्यकारी, हमारे चुने हुए प्रतिनिधियों को संदर्भित करता है।
 - 3. विधानमंडल, कार्यपालिका और न्यायपालिका द्वारा समान शक्तियों का उपयोग किया जाना चाहिए।
 - 4. न्यायपालिका, देश में अदालतों की प्रणाली को संदर्भित करती है।

Question ID : 65497830792
Status : Answered
Chosen Option : 4

Q.25 नोबेल शांति पुरस्कार 2020 से किसे सम्मानित किया गया?

- Ans
- 1. विश्व खाद्य कार्यक्रम
 - 2. अंतर्राष्ट्रीय मुद्रा कोष
 - 3. विश्व स्वास्थ्य संगठन
 - 4. एमनेस्टी इंटरनेशनल

Question ID : 65497830780
Status : Answered
Chosen Option : 1

Section : Part C Elementary Mathematics

Q.1 एक दुकानदार अपने माल पर क्रय मूल्य से 20% अधिक मूल्य अंकित करता है तथा 5% और 10% की दो क्रमिक छूट देता है। उसका लाभ प्रतिशत ज्ञात करें।

- Ans
- 1. 3%
 - 2. 2.6%
 - 3. 1.8%
 - 4. 2.3%

Question ID : 65497830813
Status : Answered
Chosen Option : 2

Q.2 A, B और C का मासिक वेतन 7 : 8 : 11 के अनुपात में है। यदि B का मासिक वेतन, C के मासिक वेतन से ₹3,600 कम है, तो A का वार्षिक वेतन (₹ में) कितना है?

- Ans
- 1. 8,40,000
 - 2. 3,15,000
 - 3. 1,00,800
 - 4. 6,30,000

Question ID : 65497830804
Status : Answered
Chosen Option : 1

Q.3 एक व्यापारी अपने सामान पर क्रय मूल्य से 20% अधिक मूल्य अंकित करता है और अपने ग्राहकों को बिल में 10% की छूट देता है। वह कितने प्रतिशत लाभ अर्जित करता है?

- Ans
- 1. 9%
 - 2. 8%
 - 3. 7%
 - 4. 5%

Question ID : 65497830808
Status : Answered
Chosen Option : 2

Q.4 ₹16,000 धनराशि को 2 वर्ष के लिए 20% वार्षिक चक्रवृद्धि ब्याज दर पर उधार दिया जाता है। ब्याज यदि वार्षिक रूप में चक्रवृद्धि होने के बजाये अर्धवार्षिक रूप से चक्रवृद्धि होता, तो ब्याज के रूप में ₹x अधिक प्राप्त होते। x का मान कितना है?

- Ans
- 1. ₹372.80
 - 2. ₹385.60
 - 3. ₹378.20
 - 4. ₹365.40

Question ID : 65497830822
Status : Not Answered
Chosen Option : --

Q.5 9 संख्याओं का औसत 51 है। उनमें से तीन संख्याओं का औसत 49 है और शेष संख्याओं में से चार संख्याओं का औसत 46 है। शेष संख्याओं का औसत क्या है?

- Ans
- 1. 63
 - 2. 62.5
 - 3. 54
 - 4. 64

Question ID : 65497830803
Status : Answered
Chosen Option : 4

Q.6 एक लंबवृत्तीय शंकु के आधार का व्यास 60 cm और इसकी ऊंचाई 16 cm है। शंकु का वक्र पृष्ठीय क्षेत्रफल (cm^2 में) कितना होगा?

- Ans
- 1. 1054π
 - 2. 1088π
 - 3. 1020π
 - 4. 960π

Question ID : 65497830823
Status : Answered
Chosen Option : 2

Q.7 केल्विन और किम मिलकर किसी कार्य को 25 दिन में समाप्त कर सकते हैं। दोनों ने 15 दिन तक साथ कार्य किया और फिर किम ने कार्य छोड़ दिया। उसके बाद, केल्विन ने शेष कार्य को 12 दिन में समाप्त कर दिया। केल्विन अकेले उस कार्य को कितने दिनों में समाप्त कर सकता है?

- Ans
- 1. 36
 - 2. 39
 - 3. 34
 - 4. 30

Question ID : 65497830817
Status : Answered
Chosen Option : 4

Q.8 एक आयताकार उद्यान का क्षेत्रफल 432 m^2 है। यदि इस आयताकार उद्यान की लंबाई, इसकी चौड़ाई से 6 m अधिक है, तो इसका परिमाण (m में) कितना होगा?

- Ans
- 1. 42
 - 2. 96
 - 3. 84
 - 4. 108

Question ID : 65497830807
Status : Not Answered
Chosen Option : --

Q.9 552, 759 और 828 का महत्तम समापवर्तक (HCF), x है। x का मान निम्नलिखित में से किसके मध्य होगा?

- Ans
- 1. 65 और 70
 - 2. 70 और 75
 - 3. 60 और 65
 - 4. 55 और 60

Question ID : 65497830819
Status : Answered
Chosen Option : 1

Q.10 $3 + \left\{ 1 + \frac{1}{3} - (3 - 4 \div 3) + \frac{1}{4} + \frac{2}{3} \right\}$ का मान ज्ञात कीजिए।

- Ans
- 1. $\frac{7}{3}$
 - 2. $\frac{4}{3}$
 - 3. $\frac{11}{12}$
 - 4. $\frac{43}{12}$

Question ID : 65497830824
 Status : Answered
 Chosen Option : 4

Q.11 $3 \times 6 + 8 - 6 \div 3 + 9$ का मान ज्ञात करें।

- Ans
- 1. 45
 - 2. 33
 - 3. 12
 - 4. 21

Question ID : 65497830810
 Status : Answered
 Chosen Option : 2

Q.12 यदि A ने एक वस्तु ₹384 में खरीदी और ₹527 में बेच दी, और B ने एक अन्य वस्तु ₹1,264 में खरीदी और ₹1,724 में बेच दी, तो किसका लाभ प्रतिशत अधिक है और लगभग कितना अधिक है?

- Ans
- 1. B का 1.54%
 - 2. A का 1.63%
 - 3. B का 0.65%
 - 4. A का 0.84%

Question ID : 65497830811
 Status : Answered
 Chosen Option : 2

Q.13 अनिल ने Y शहर से X शहर के लिए 4.20 a.m. बजे प्रस्थान किया। उसने पहले 1 h 30 min तक 70 km/h की गति से यात्रा की। उसके बाद, गति को घटाकर 50 km/h कर दिया। यदि दोनों शहरों के बीच की दूरी 240 km थी, तो अनिल कितने बजे X शहर पहुंचा?

- Ans
- 1. 10.24 a.m.
 - 2. 9.45 a.m.
 - 3. 7.25 a.m.
 - 4. 8.32 a.m.

Question ID : 65497830818
Status : Answered
Chosen Option : 1

Q.14 किसी धनराशि पर 12% वार्षिक ब्याज की दर पर 2 वर्ष में प्राप्त होने वाला साधारण ब्याज, उसी धनराशि पर 10% वार्षिक ब्याज की दर से 3 वर्ष में प्राप्त होने वाले साधारण ब्याज से ₹60 कम है। वह धनराशि कितनी (₹ में) है?

- Ans
- 1. ₹1,000
 - 2. ₹1,400
 - 3. ₹900
 - 4. ₹1,200

Question ID : 65497830809
Status : Answered
Chosen Option : 1

Q.15 A और B की वर्तमान आयु का अनुपात 8 : 15 है। अब से चार वर्ष पश्चात, उनकी आयु का अनुपात 9 : 16 होगा। अब से 8 वर्ष पश्चात, उनकी आयु का योग (वर्षों में) कितना होगा?

- Ans
- 1. 116
 - 2. 100
 - 3. 98
 - 4. 108

Question ID : 65497830821
Status : Answered
Chosen Option : 2

Q.16 शीना के पास 4 पौधे हैं, जिन पर ताजे फूल क्रमशः दूसरे, तीसरे, चौथे और छठे दिन आते हैं। यदि मंगलवार को, सभी चार पौधों पर ताजे फूल आए हैं, तो सभी चार पौधों पर अगली बार जल्द से जल्द ताजे फूल किस दिन आएंगे?

- Ans
- 1. मंगलवार
 - 2. सोमवार
 - 3. रविवार
 - 4. गुरुवार

Question ID : 65497830802
Status : Answered
Chosen Option : 2

Q.17 एक व्यक्ति A से B तक, 20 km/h की चाल से जाता है और वापसी के समय अपनी चाल में 50% की वृद्धि कर देता है। दोनों यात्राओं के लिए उसकी औसत चाल कितनी है?

- Ans
- 1. 40 km/h
 - 2. 24 km/h
 - 3. 36 km/h
 - 4. 48 km/h

Question ID : 65497830825
Status : Answered
Chosen Option : 2

Q.18 ₹7,560 की राशि को A, B और C के बीच इस प्रकार विभाजित किया जाता है, कि उनके हिस्सों में से क्रमशः ₹400, ₹300 और ₹260 कम करने पर उनके हिस्सों का अनुपात 4 : 2 : 5 हो जाता है। C का मूल हिस्सा कितना है? (₹ में)

- Ans
- 1. 3,260
 - 2. 2,800
 - 3. 6,600
 - 4. 1,500

Question ID : 65497830806
Status : Answered
Chosen Option : 3

Q.19 A किसी कार्य को 15 दिनों में कर सकता है और B इसी कार्य को 20 दिनों में कर सकता है। वे दोनों एक साथ मिलकर एक दिन में इस कार्य का कितना भाग कर सकेंगे?

- Ans
- 1. $\frac{9}{65}$
 - 2. $\frac{7}{60}$
 - 3. $\frac{8}{15}$
 - 4. $\frac{7}{15}$

Question ID : 65497830812
Status : Answered
Chosen Option : 2

Q.20 एक विक्रेता ने ₹3,750 में 25 दर्जन फल खरीदे। इनमें से 50 फल सड़े हुए थे, इसलिए फेंक दिए गए। पूरे लेन-देन में 20% का लाभ प्राप्त करने के लिए उसे शेष फलों को प्रति दर्जन किस दर (₹ में) पर बेचना चाहिए?

- Ans
- 1. 180
 - 2. 216
 - 3. 192
 - 4. 204

Question ID : 65497830826
Status : Not Answered
Chosen Option : --

Q.21 एक वस्तु का मूल्य प्रति वर्ष 10% बढ़ जाता है। यदि प्रथम वर्ष और तीसरे वर्ष के अंत में इसके मूल्यों के बीच अंतर ₹69.30 हो, तो चौथे वर्ष के अंत में इसका मूल्य (₹ में) कितना होगा?

- Ans
- 1. 439.23
 - 2. 363.00
 - 3. 399.30
 - 4. 441.93

Question ID : 65497830820
Status : Answered
Chosen Option : 2

Q.22 किसी बिस्तर की चादर का अंकित मूल्य ₹750 था। एक व्यक्ति ने दो क्रमिक छूट मिलने के बाद बिस्तर की चादर ₹560 में खरीदी, जिसमें से पहली छूट 16% थी। दूसरी छूट कितनी थी?

- Ans
- 1. $11\frac{4}{3}\%$
 - 2. $11\frac{1}{9}\%$
 - 3. $11\frac{1}{4}\%$
 - 4. $11\frac{1}{2}\%$

Question ID : 65497830815
Status : Answered
Chosen Option : 4

Q.23 4 वर्ष पहले, 4 सदस्यों वाले परिवार की औसत आयु 19 वर्ष थी। उस परिवार में एक शिशु के शामिल हो जाने पर परिवार की औसत आयु पूर्ववत् ही रहती है। शिशु की वर्तमान आयु ज्ञात कीजिए।

- Ans
- 1. 3 वर्ष
 - 2. 2 वर्ष
 - 3. 1 वर्ष
 - 4. 4 वर्ष

Question ID : 65497830814
Status : Answered
Chosen Option : 2

Q.24 यदि किसी निश्चित धनराशि पर वार्षिक रूप से चक्रवृद्धि होने वाली 10% वार्षिक ब्याज दर से प्राप्त होने वाला चक्रवृद्धि ब्याज ₹3,360 है, तो वह धनराशि कितनी है?

- Ans
- 1. ₹15,500
 - 2. ₹16,500
 - 3. ₹15,000
 - 4. ₹16,000

Question ID : 65497830805
Status : Answered
Chosen Option : 2

Q.25 पिछले वर्ष की तुलना में, 2012 में एक क्रिकेट स्टेडियम में औसत उपस्थिति 15% बढ़ गई। अगर 2012 में 2,160 अधिक लोग मैच देखने आए, तो 2011 में कितने लोग आए थे?

- Ans
- 1. 14,400
 - 2. 15,000
 - 3. 24,000
 - 4. 32,400

Question ID : 65497830816
Status : Answered
Chosen Option : 3

Section : Part D English

Q.1 Select the most appropriate option that can substitute the underlined segment in the given sentence. If there is no need to substitute it, select 'No substitution required'.

The farmer walked beside his bulls, isn't it?

- Ans
- 1. did he
 - 2. No substitution required
 - 3. didn't they
 - 4. didn't he

Question ID : 65497830827
Status : Not Answered
Chosen Option : --

Q.2 The following sentence has been split into four segments. Identify the segment that contains a grammatical error.

The children were / bubbling with excitement / at the thought of / seeing sea.

- Ans
- 1. bubbling with excitement
 - 2. seeing sea
 - 3. The children were
 - 4. at the thought of

Question ID : 65497830837
Status : Not Answered
Chosen Option : --

Q.3 Select the most appropriate meaning of the given idiom.

Maiden speech

- Ans 1. Unprepared speech
 2. Last speech
 3. First speech
 4. Madam's speech

Question ID : 65497830835
Status : Not Answered
Chosen Option : --

Q.4 Select the most appropriate ANTONYM of the given word.

Dispute

- Ans 1. Trouble
 2. Doubt
 3. Agreement
 4. Confusion

Question ID : 65497830836
Status : Not Answered
Chosen Option : --

Q.5 Select the most appropriate option that can substitute the underlined segment in the given sentence. If there is no need to substitute it, select 'No substitution required'.

If we are not clear about the exact meaning of a word, we should look into a dictionary.

- Ans 1. look of
 2. look to
 3. look up
 4. look on

Question ID : 65497830834
Status : Not Answered
Chosen Option : --

Q.6 Select the most appropriate ANTONYM of the given word.

INVERT

- Ans 1. Lean
 2. Straighten
 3. Upset
 4. Reverse

Question ID : 65497830842
Status : Not Answered
Chosen Option : --

Q.7 Select the most appropriate meaning of the given idiom.

A dime a dozen

- Ans**
- 1. Something which is not expensive
 - 2. Something which costs a dime
 - 3. Something which can be bought only in dozens
 - 4. Something very common or of little value

Question ID : **65497830839**
Status : **Not Answered**
Chosen Option : --

Q.8 Select the most appropriate option to fill in the blank.

Mother's back was too _____ to work any longer, so she lay down to rest.

- Ans**
- 1. sore
 - 2. sick
 - 3. sour
 - 4. soft

Question ID : **65497830846**
Status : **Not Answered**
Chosen Option : --

Q.9 Select the option that can be used as a one-word substitute for the given group of words.

A means of altering one's appearance to conceal one's identity

- Ans**
- 1. Dress
 - 2. Drape
 - 3. Distort
 - 4. Disguise

Question ID : **65497830840**
Status : **Not Answered**
Chosen Option : --

Q.10 Select the **INCORRECTLY** spelt word.

- Ans**
- 1. Fright
 - 2. Freind
 - 3. Freeze
 - 4. Frigid

Question ID : **65497830828**
Status : **Not Answered**
Chosen Option : --

Q.11 Select the most appropriate synonym of the given word.

Recover

- Ans
- 1. Remain
 - 2. Retain
 - 3. Refrain
 - 4. Regain

Question ID : 65497830833
Status : Not Answered
Chosen Option : --

Q.12 Select the option that can be used as a one-word substitute for the given group of words.

To reduce to a shorter form intended to stand for the whole

- Ans
- 1. Abbreviate
 - 2. Shrink
 - 3. Protract
 - 4. Extend

Question ID : 65497830843
Status : Not Answered
Chosen Option : --

Q.13 Select the INCORRECTLY spelt word.

- Ans
- 1. Curious
 - 2. Assistence
 - 3. Participant
 - 4. Exchanged

Question ID : 65497830844
Status : Not Answered
Chosen Option : --

Q.14 Select the most appropriate synonym of the given word.

Remedial

- Ans
- 1. Harmful
 - 2. Medicinal
 - 3. Corrective
 - 4. Superficial

Question ID : 65497830838
Status : Not Answered
Chosen Option : --

Q.15 The following sentence has been divided into parts. One of them may contain an error. Select the part that contains the error from the given options. If you don't find any error, mark 'No error' as your answer.

By this time tomorrow / we will have / reached to Delhi.

- Ans**
- 1. By this time tomorrow
 - 2. No error
 - 3. we will have
 - 4. reached to Delhi

Question ID : 65497830841
Status : Not Answered
Chosen Option : --

Q.16 Select the most appropriate option to fill in the blank.

War and Peace is a _____ written by Leo Tolstoy.

- Ans**
- 1. notable
 - 2. distinguished
 - 3. celebrated
 - 4. masterpiece

Question ID : 65497830830
Status : Not Answered
Chosen Option : --

Q.17 Select the option that can be used as a one-word substitute for the given group of words.

An area where fruit trees are grown

- Ans**
- 1. Farm
 - 2. Orchard
 - 3. Field
 - 4. Garden

Question ID : 65497830831
Status : Not Answered
Chosen Option : --

Q.18 Select the most appropriate option that can substitute the underlined segment in the given sentence. If there is no need to substitute it, select 'No substitution required'.

Please don't confuse me by giving so many different directions.

- Ans**
- 1. with giving so many
 - 2. No substitution required
 - 3. by give so many
 - 4. by giving so much

Question ID : 65497830845
Status : Not Answered
Chosen Option : --

Q.19 Select the most appropriate option to fill in the blank.

The situation became _____ after the scuffle between the farmers and the police.

- Ans
- 1. smooth
 - 2. serious
 - 3. sad
 - 4. funny

Question ID : 65497830829
Status : Not Answered
Chosen Option : --

Q.20 The following sentence has been split into four segments. Identify the segment that contains a grammatical error.

The penalty for / not wear masks / in public places / should be increased.

- Ans
- 1. The penalty for
 - 2. should be increased
 - 3. not wear masks
 - 4. in public places

Question ID : 65497830832
Status : Not Answered
Chosen Option : --

Comprehension:

In the following passage, some words have been deleted. Read the passage carefully and select the most appropriate option to fill in each blank.

Technology has made our lives simple and fast. The biggest (1)_____ has been the development of the internet. The internet is a (2)_____ of technology. It has brought us closer and people sitting at (3)_____ corners of the world can easily communicate. It facilitates shopping, money (4)_____, online learning etc. Cybercrimes are a result of the misuse of the internet. Children's (5)_____ to online games is another major problem faced by parents today.

SubQuestion No : 21

Q.21 Select the most appropriate option to fill in blank no. 1.

- Ans
- 1. contribution
 - 2. value
 - 3. hindrance
 - 4. supply

Question ID : 65497830848
Status : Not Answered
Chosen Option : --

Comprehension:

In the following passage, some words have been deleted. Read the passage carefully and select the most appropriate option to fill in each blank.

Technology has made our lives simple and fast. The biggest (1)_____ has been the development of the internet. The internet is a (2)_____ of technology. It has brought us closer and people sitting at (3)_____ corners of the world can easily communicate. It facilitates shopping, money (4)_____, online learning etc. Cybercrimes are a result of the misuse of the internet. Children's (5)_____ to online games is another major problem faced by parents today.

SubQuestion No : 22

Q.22 Select the most appropriate option to fill in blank no. 2.

- Ans**
- 1. asset
 - 2. favour
 - 3. burden
 - 4. boon

Question ID : **65497830849**
Status : **Not Answered**
Chosen Option : --

Comprehension:

In the following passage, some words have been deleted. Read the passage carefully and select the most appropriate option to fill in each blank.

Technology has made our lives simple and fast. The biggest (1)_____ has been the development of the internet. The internet is a (2)_____ of technology. It has brought us closer and people sitting at (3)_____ corners of the world can easily communicate. It facilitates shopping, money (4)_____, online learning etc. Cybercrimes are a result of the misuse of the internet. Children's (5)_____ to online games is another major problem faced by parents today.

SubQuestion No : 23

Q.23 Select the most appropriate option to fill in blank no. 3.

- Ans**
- 1. near
 - 2. distant
 - 3. farther
 - 4. further

Question ID : **65497830850**
Status : **Not Answered**
Chosen Option : --

Comprehension:

In the following passage, some words have been deleted. Read the passage carefully and select the most appropriate option to fill in each blank.

Technology has made our lives simple and fast. The biggest (1)_____ has been the development of the internet. The internet is a (2)_____ of technology. It has brought us closer and people sitting at (3)_____ corners of the world can easily communicate. It facilitates shopping, money (4)_____, online learning etc. Cybercrimes are a result of the misuse of the internet. Children's (5)_____ to online games is another major problem faced by parents today.

SubQuestion No : 24

Q.24 Select the most appropriate option to fill in blank no. 4.

- Ans**
- 1. contracts
 - 2. transactions
 - 3. sites
 - 4. business

Question ID : 65497830851
Status : Not Answered
Chosen Option : --

Comprehension:

In the following passage, some words have been deleted. Read the passage carefully and select the most appropriate option to fill in each blank.

Technology has made our lives simple and fast. The biggest (1)_____ has been the development of the internet. The internet is a (2)_____ of technology. It has brought us closer and people sitting at (3)_____ corners of the world can easily communicate. It facilitates shopping, money (4)_____, online learning etc. Cybercrimes are a result of the misuse of the internet. Children's (5)_____ to online games is another major problem faced by parents today.

SubQuestion No : 25

Q.25 Select the most appropriate option to fill in blank no. 5.

- Ans**
- 1. addiction
 - 2. indifference
 - 3. desire
 - 4. interest

Question ID : 65497830852
Status : Not Answered
Chosen Option : --

Section : Part D Hindi

Q.1 'परिचारक' का पर्यायवाची है-

- Ans**
- 1. सेवक
 - 2. चालक
 - 3. वाहक
 - 4. धावक

Question ID : 65497830872
Status : Answered
Chosen Option : 1

Q.2 दिये गये वाक्यांश के लिए एक शब्द दीजिये।

किए हुए को मानने वाला

- Ans
- 1. अकृतज्ञ
 - 2. कृतघ्न
 - 3. कृतकार्य
 - 4. कृतज्ञ

Question ID : 65497830862
Status : Answered
Chosen Option : 4

Q.3 दिए गए वाक्य में रेखांकित खंड को प्रतिस्थापित करने के लिए सबसे उपयुक्त विकल्प का चयन करें।
यदि इसे प्रतिस्थापित करने की आवश्यकता नहीं है, तो विकल्प 'किसी बदलाव की आवश्यकता नहीं है'
का चयन करें।

भारत में मासिनराम में सर्वाधिक वर्षा होता है।

- Ans
- 1. सर्वाधिक वर्षा होती है।
 - 2. किसी बदलाव की आवश्यकता नहीं है।
 - 3. सर्वाधिक वर्षा हुए है।
 - 4. सर्वाधिक वर्षा हुई है।

Question ID : 65497830855
Status : Answered
Chosen Option : 1

Q.4 निम्न मुहावरे का अर्थ व्यक्त करने वाले विकल्प का चयन कीजिए।

होश उड़ना

- Ans
- 1. अयोग्य होना
 - 2. सफल होना
 - 3. सपने देखना
 - 4. डर जाना

Question ID : 65497830864
Status : Answered
Chosen Option : 4

Q.5 दिए गए शब्द के समानार्थी शब्द का चयन करें।

उजास

- Ans
- 1. उन्नति
 - 2. प्रयास
 - 3. चमक
 - 4. उत्तमता

Question ID : 65497830859
Status : Answered
Chosen Option : 2

Q.6 रिक्त स्थान की पूर्ति के लिए सबसे उपयुक्त विकल्प का चयन करें।

इस मशीन में कुछ _____ है।

- Ans
- 1. झकझक
 - 2. खटपट
 - 3. गड़बड़
 - 4. बड़बड़

Question ID : 65497830867
Status : Answered
Chosen Option : 3

Q.7 'जो पढ़ने में रोचक लगे' वाक्यांश के लिए एक शब्द होगा-

- Ans
- 1. पद्य
 - 2. गद्य
 - 3. दर्शनीय
 - 4. पठनीय

Question ID : 65497830870
Status : Answered
Chosen Option : 4

Q.8 दिए गए वाक्य का वह भाग ज्ञात करें जिसमें कोई त्रुटि है। यदि कोई त्रुटि नहीं है, तो 'कोई त्रुटि नहीं है' चुनें।

कामायनी पढ़कर (1)/ आनन्द का (2)/ अनुभव होता है (3)/ कोई त्रुटि नहीं है (4)

- Ans
- 1. 1
 - 2. 4
 - 3. 2
 - 4. 3

Question ID : 65497830860
Status : Answered
Chosen Option : 2

Q.9 मुहावरे और उसके अर्थ युक्त सही युग्म की पहचान कीजिए-

- Ans
- 1. अम्बर के तारे गिनना - अच्छी नींद आना
 - 2. अंगूठा दिखाना - मुसीबत मोल लेना
 - 3. अंगारे सिर पर धरना - शांति से रहना
 - 4. आँखों में धूल झोंकना - धोखा देना

Question ID : 65497830869
Status : Answered
Chosen Option : 4

Q.10 दिए गए शब्द का विलोम चुनें।

आग्रह

- Ans
- 1. उपग्रह
 - 2. दुराग्रह
 - 3. विग्रह
 - 4. अनुग्रह

Question ID : 65497830861
Status : Answered
Chosen Option : 3

Q.11 सही वर्तनी वाले शब्द का चयन कीजिए।

- Ans
- 1. प्रतीनीधी
 - 2. प्रतिनीधि
 - 3. प्रतिनिधि
 - 4. प्रतीनिधी

Question ID : 65497830854
Status : Answered
Chosen Option : 3

Q.12 रिक्त स्थान के लिए सबसे उपयुक्त शब्द का चयन करें।

भरत को कैकेयी की करनी पर _____ हुआ।

- Ans
- 1. क्षोभ
 - 2. भय
 - 3. पश्चाताप
 - 4. क्रोध

Question ID : 65497830866
Status : Answered
Chosen Option : 4

Q.13 रिक्त स्थान की पूर्ति के लिए सबसे उपयुक्त शब्द का चयन करें।

बच्चा, माँ-बाप की आँखों का _____ होता है।

- Ans
- 1. सूरज
 - 2. सितारा
 - 3. तारा
 - 4. चाँद

Question ID : 65497830856
Status : Answered
Chosen Option : 3

Q.14 अमावस्या को अंधेरा छा जाता है।

रेखांकित शब्द का विलोम बताइए-

- Ans
- 1. अमास
 - 2. अंधेरा
 - 3. अंधकार
 - 4. पूर्णिमा

Question ID : 65497830868
Status : Answered
Chosen Option : 4

Q.15 दिये गये वाक्य के किस भाग में त्रुटि है?

उनके शासनकाल में दंगे हुए।

- Ans
- 1. शासनकाल
 - 2. में दंगे
 - 3. हुए।
 - 4. उनके

Question ID : 65497830871
Status : Answered
Chosen Option : 4

Q.16 दिये गये वाक्यांश के लिए एक शब्द दीजिये।

जिसे बुलाया गया हो

- Ans
- 1. अनिमेष
 - 2. अनाहूत
 - 3. आहूत
 - 4. अनेर

Question ID : 65497830857
Status : Answered
Chosen Option : 3

Q.17 दिए गए वाक्य का वह भाग ज्ञात करें जिसमें कोई त्रुटि है। यदि कोई त्रुटि नहीं है, तो 'कोई त्रुटि नहीं है' चुनें-

वृक्षों पर कोयल कूक रही है।

- Ans
- 1. वृक्षों पर
 - 2. रही है।
 - 3. कोयल कूक
 - 4. कोई त्रुटि नहीं है।

Question ID : 65497830858
Status : Answered
Chosen Option : 4

Q.18 दिये गये वाक्य में रेखांकित अंश को प्रतिस्थापित करने के लिए सबसे उपयुक्त विकल्प का चयन करें।

तुम मुझे अपना छोटा सा भाई समझो।

- Ans
- 1. छोटा भाई
 - 2. छोटा-मोटा भाई
 - 3. छोटे भाई
 - 4. छोटे सा भाई

Question ID : 65497830865
Status : Answered
Chosen Option : 1

Q.19 सही वर्तनी वाले शब्द का चयन कीजिए।

- Ans
- 1. पारलौकिक
 - 2. परलौकीक
 - 3. परलौकिक
 - 4. पारलौकीक

Question ID : 65497830853
Status : Answered
Chosen Option : 1

Q.20 दिए गए वाक्य में रेखांकित खंड को प्रतिस्थापित करने के लिए सबसे उपयुक्त विकल्प का चयन करें।
यदि इसे प्रतिस्थापित करने की आवश्यकता नहीं है, तो विकल्प 'किसी बदलाव की आवश्यकता नहीं है'
का चयन करें।

मुझसे अब चल नहीं सकता।

- Ans
- 1. चल नहीं पाता
 - 2. किसी बदलाव की आवश्यकता नहीं है।
 - 3. चला नहीं जाता
 - 4. चल नहीं गया

Question ID : 65497830863
Status : Answered
Chosen Option : 3

Comprehension:

दिए गए गद्यांश में से कुछ शब्द हटा दिए गए हैं। संबंधित प्रश्नों में प्रत्येक संख्या के लिए सबसे उपयुक्त विकल्प का चयन कीजिए।

आचार्य महावीरप्रसाद द्विवेदी ने हिन्दी निबन्ध के स्वरूप और (1) _____ का (2) _____ किया। भाषा की (3) _____ पर बल देने के कारण इस (4) _____ के निबन्ध प्रौढ़, व्यवस्थित और गम्भीर हैं। इनमें विषयों की विविधता और विचारों की (5) _____ मिलती है।

SubQuestion No : 21

Q.21 गद्यांश के रिक्त स्थान (1) के लिए सर्वाधिक उपयुक्त शब्द होगा-

- Ans**
- 1. रूप
 - 2. स्वर
 - 3. दशा
 - 4. दिशा

Question ID : 65497830874

Status : Answered

Chosen Option : 3

Comprehension:

दिए गए गद्यांश में से कुछ शब्द हटा दिए गए हैं। संबंधित प्रश्नों में प्रत्येक संख्या के लिए सबसे उपयुक्त विकल्प का चयन कीजिए।

आचार्य महावीरप्रसाद द्विवेदी ने हिन्दी निबन्ध के स्वरूप और (1) _____ का (2) _____ किया। भाषा की (3) _____ पर बल देने के कारण इस (4) _____ के निबन्ध प्रौढ़, व्यवस्थित और गम्भीर हैं। इनमें विषयों की विविधता और विचारों की (5) _____ मिलती है।

SubQuestion No : 22

Q.22 गद्यांश के रिक्त स्थान (2) के लिए सर्वाधिक उपयुक्त शब्द होगा-

- Ans**
- 1. संयोजन
 - 2. संस्थापन
 - 3. निर्धारण
 - 4. निश्चितिकरण

Question ID : 65497830875

Status : Answered

Chosen Option : 1

Comprehension:

दिए गए गद्यांश में से कुछ शब्द हटा दिए गए हैं। संबंधित प्रश्नों में प्रत्येक संख्या के लिए सबसे उपयुक्त विकल्प का चयन कीजिए।

आचार्य महावीरप्रसाद द्विवेदी ने हिन्दी निबन्ध के स्वरूप और (1) _____ का (2) _____ किया। भाषा की (3) _____ पर बल देने के कारण इस (4) _____ के निबन्ध प्रौढ़, व्यवस्थित और गम्भीर हैं। इनमें विषयों की विविधता और विचारों की (5) _____ मिलती है।

SubQuestion No : 23

Q.23 गद्यांश के रिक्त स्थान (3) के लिए सर्वाधिक उपयुक्त शब्द होगा-

- Ans**
- 1. कोमलता
 - 2. सुकुमारता
 - 3. शुद्धता
 - 4. प्रौढ़ता

Question ID : 65497830876

Status : Answered

Chosen Option : 3

Comprehension:

दिए गए गद्यांश में से कुछ शब्द हटा दिए गए हैं। संबंधित प्रश्नों में प्रत्येक संख्या के लिए सबसे उपयुक्त विकल्प का चयन कीजिए।

आचार्य महावीरप्रसाद द्विवेदी ने हिन्दी निबन्ध के स्वरूप और (1) _____ का (2) _____ किया। भाषा की (3) _____ पर बल देने के कारण इस (4) _____ के निबन्ध प्रौढ़, व्यवस्थित और गम्भीर हैं। इनमें विषयों की विविधता और विचारों की (5) _____ मिलती है।

SubQuestion No : 24

Q.24 गद्यांश के रिक्त स्थान (4) के लिए सर्वाधिक उपयुक्त शब्द होगा-

- Ans**
- 1. पल
 - 2. साल
 - 3. समय
 - 4. युग

Question ID : 65497830877

Status : Answered

Chosen Option : 4

Comprehension:

दिए गए गद्यांश में से कुछ शब्द हटा दिए गए हैं। संबंधित प्रश्नों में प्रत्येक संख्या के लिए सबसे उपयुक्त विकल्प का चयन कीजिए।

आचार्य महावीरप्रसाद द्विवेदी ने हिन्दी निबन्ध के स्वरूप और (1) _____ का (2) _____ किया। भाषा की (3) _____ पर बल देने के कारण इस (4) _____ के निबन्ध प्रौढ़, व्यवस्थित और गम्भीर हैं। इनमें विषयों की विविधता और विचारों की (5) _____ मिलती है।

SubQuestion No : 25

Q.25 गद्यांश के रिक्त स्थान (5) के लिए सर्वाधिक उपयुक्त शब्द होगा-

- Ans**
- 1. भिन्नता
 - 2. गहराई
 - 3. महानता
 - 4. गहनता

Question ID : 65497830878

Status : Answered

Chosen Option : 1

Constable GD in CAPFs NIA SSF and Rifleman GD in Assam Rifles Examination 2021


Roll Number	www.HaryanaJobs.in
Candidate Name	www.HaryanaJobs.in
Venue Name	Madhu Vachaspati Inter College
Exam Date	15/12/2021
Exam Time :	4:00 PM - 5:30 PM
Subject	Constable GD 2021


Section : Part A General Intelligence and Reasoning

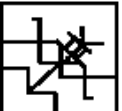
Q.1 उस विकल्प का चयन करें जिसमें दी गई आकृति अंतर्निहित है (घुमाने की अनुमति नहीं है)।


✘

Ans

✘ 1. 

✔ 2. 

✘ 3. 

✘ 4. 

Question ID : 65497834837
Status : Answered
Chosen Option : 2

Q.2 यदि दर्पण को निम्नांकित चित्र के अनुसार PQ पर रखा जाए, तो दिए गए संयोजन का दर्पण में निमित्त सही प्रतिबिंब चयनित कीजिए।



- Ans
- 1. **И АН АЯ И А**
 - 2. **А Н А И А И Я**
 - 3. **А И Я А И А И**
 - 4. **А И Я А И А И**

Question ID : 65497834828
Status : Answered
Chosen Option : 3

Q.3 दिए गए विकल्पों में से उस संख्या का चयन करें, जो निम्नलिखित श्रृंखला में प्रश्नवाचक चिह्न (?) के स्थान पर आ सकती है।

5, 7, 14, 16, 32, ?

- Ans
- 1. 64
 - 2. 36
 - 3. 48
 - 4. 34

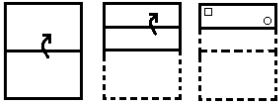
Question ID : 65497834831
Status : Answered
Chosen Option : 4

Q.4 A, B का पति है। C, B की सास है। D, A के पिता है। E, D की माँ है। C और G की माँ F है। यदि H, D के पिता है, तो E के साथ H का क्या संबंध है?

- Ans
- 1. पति
 - 2. भाई
 - 3. पिता
 - 4. ससुर

Question ID : 65497834840
Status : Answered
Chosen Option : 1

Q.5 दिए गए चित्र में कागज के एक टुकड़े को मोड़ने का क्रम और मुड़े हुए टुकड़े को काटने की विधि दर्शाई गई है। यह कागज खोलने पर कैसा दिखेगा?



Ans

- ✗ 1.
- ✗ 2.
- ✗ 3.
- ✓ 4.

Question ID : 65497834820

Status : Answered

Chosen Option : 4

Q.6 छह दोस्त, P, Q, R, S, T और U, एक वृत्ताकार मेज़ के परितः मेज़ के केंद्र की ओर मुँह करके बैठे हैं। P, S के दाईं ओर दूसरे स्थान पर है। Q, T के बाईं ओर बिल्कुल बगल में बैठा है। P, R और U के बीच बैठा है। S, R के बाईं ओर बिल्कुल बगल में बैठा है। P और S के बीच कौन बैठा है?

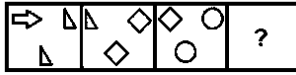
- Ans ✗ 1. U
- ✗ 2. Q
- ✗ 3. T
- ✓ 4. R

Question ID : 65497834823


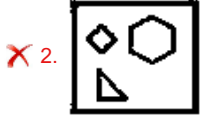
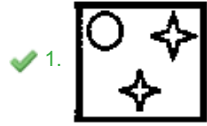
Status : Answered

Chosen Option : 4

Q.7 दिए गए विकल्पों में से उस आकृति का चयन करें, जो निम्नलिखित श्रृंखला में प्रश्नवाचक चिह्न (?) के स्थान पर आ सकती है।



Ans



Question ID : 65497834832
Status : Answered
Chosen Option : 1

Q.8 उस विकल्प का चयन करें जो तीसरे शब्द से उसी प्रकार संबंधित है जिस प्रकार दूसरा शब्द पहले शब्द से संबंधित है।

कुत्ता : भौकना :: पक्षी : ?

- Ans
- ✗ 1. टरना
 - ✓ 2. चहचहाना
 - ✗ 3. गुरना
 - ✗ 4. मिमियाना

Question ID : 65497834822
Status : Answered
Chosen Option : 2

Q.9 चार अक्षर-समूह दिए गए हैं, जिनमें से तीन एक निश्चित प्रकार से समान हैं, जबकि एक उनसे असंगत है। उस असंगत अक्षर-समूह का चयन कीजिए।

- Ans
- ✗ 1. EFIN
 - ✗ 2. OPSX
 - ✗ 3. ABEJ
 - ✓ 4. UCGK

Question ID : 65497834825
Status : Answered
Chosen Option : 4

Q.10 यदि 'ORCHID' को 'DAISY' कहा जाता है, 'DAISY' को 'LOTUS' कहा जाता है, 'LOTUS' को 'JASMINE' कहा जाता है, और 'JASMINE' को 'TULIP' कहा जाता है, तो भारत का राष्ट्रीय फूल कौन-सा होगा?

- Ans
- 1. DAISY
 - 2. LOTUS
 - 3. TULIP
 - 4. JASMINE

Question ID : 65497834839
Status : Answered
Chosen Option : 4

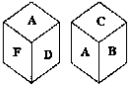
Q.11 वह विकल्प चुनें, जिसका तीसरे अक्षर-समूह से ठीक वैसा ही संबंध है, जैसा दूसरे अक्षर-समूह का पहले अक्षर-समूह से है।

IMR : VRM :: FJO : ?

- Ans
- 1. TPK
 - 2. SOJ
 - 3. TRL
 - 4. TPJ

Question ID : 65497834838
Status : Answered
Chosen Option : 2

Q.12 नीचे एक ही पासे की दो भिन्न स्थितियाँ दी गई हैं, जिनके छह पृष्ठों पर A से F तक अक्षर अंकित हैं। उस अक्षर का चयन करें जो अक्षर A वाले एक पृष्ठ के विपरीत पृष्ठ पर अंकित होगा?



- Ans
- 1. E
 - 2. F
 - 3. B
 - 4. C

Question ID : 65497834836
Status : Answered
Chosen Option : 1

Q.13 एक निश्चित कूट भाषा में, SHOT को 3881540 के रूप में कूटबद्ध किया जाता है। उसी कूट भाषा में, WINE को किस रूप में कूटबद्ध किया जाएगा?

- Ans
- 1. 3231592
 - 2. 4691410
 - 3. 4610412
 - 4. 4615137

Question ID : 65497834826
Status : Answered
Chosen Option : 2

Q.14 दिए गए विकल्पों में से उस संख्या का चयन कीजिए जो निम्न श्रेणी में प्रश्नवाचक चिह्न (?) के स्थान पर आएगी।

20, 21, 25, 34, ?, 75

Ans ✓ 1. 50

✗ 2. 51

✗ 3. 45

✗ 4. 55

Question ID : 65497834827

Status : Answered

Chosen Option : 1

Q.15 उस विकल्प का चयन करें, जिसमें संख्याएं एक-दूसरे से उसी तरह से संबंधित हैं जैसे दिए गए समुच्चय में संख्याएं एक-दूसरे से संबंधित हैं।

(15, 48, 98)

Ans ✗ 1. (24, 74, 150)

✗ 2. (18, 58, 101)

✓ 3. (21, 66, 134)

✗ 4. (17, 55, 105)

Question ID : 65497834818

Status : Answered

Chosen Option : 3

Q.16 किसी निश्चित कूट भाषा में, 'DECK' को 'EGFO' के रूप में लिखा जाता है। उसी भाषा में 'FINDER' को किस तरह लिखा जाएगा?

Ans ✗ 1. GHOGIX

✓ 2. GKQHJX

✗ 3. GKPFGU

✗ 4. GJODFS

Question ID : 65497834816

Status : Answered

Chosen Option : 2

Q.17 उस विकल्प का चयन करें जो तीसरी संख्या से उसी प्रकार संबंधित है, जिस प्रकार दूसरी संख्या पहली संख्या से संबंधित है।

10 : 109 :: 12 : ?

Ans ✗ 1. 136

✗ 2. 132

✗ 3. 139

✓ 4. 129

Question ID : 65497834834

Status : Answered

Chosen Option : 4

Q.18 यदि '-' का अर्थ '+', '+' का अर्थ 'x', 'x' का अर्थ '-' और 'x' का अर्थ '+' है, तो $80 - 20 + 10 \div 8 \times 10$ का मान क्या होगा?

- Ans
- 1. 78
 - 2. 68
 - 3. 42
 - 4. 45

Question ID : 65497834835
Status : Answered
Chosen Option : 3

Q.19 दिए गए कथनों और निष्कर्षों को ध्यान से पढ़ें। यह मानते हुए कि कथनों में दी गई जानकारी सत्य है, भले ही यह सामान्य रूप से ज्ञात तथ्यों से भिन्न प्रतीत होती हो, यह निर्णय लें कि दिए गए निष्कर्षों में से कौन-सा/से निष्कर्ष तार्किक रूप से कथनों का अनुसरण करता है / करते हैं।

कथन:

1. सभी शहर, गांव हैं।
2. कोई भी देश, शहर नहीं है।

निष्कर्ष:

- I. कोई भी देश, गांव नहीं है।
- II. कोई भी गांव, शहर नहीं है।

- Ans
- 1. न तो निष्कर्ष I और न ही II अनुसरण करता है।
 - 2. दोनों निष्कर्ष अनुसरण करते हैं।
 - 3. केवल निष्कर्ष I अनुसरण करता है।
 - 4. केवल निष्कर्ष II अनुसरण करता है।

Question ID : 65497834817
Status : Answered
Chosen Option : 1

Q.20 दिए गए विकल्पों में से उस अक्षर-समूह का चयन करें जो निम्नलिखित श्रृंखला में प्रश्न चिह्न (?) के स्थान पर आ सकता है।

NIR, JGN, FEJ, ?

- Ans
- 1. BCF
 - 2. ADE
 - 3. DDF
 - 4. CDE

Question ID : 65497834821
Status : Answered
Chosen Option : 1

Q.21 निम्नलिखित विकल्पों में से उस विकल्प का चयन करें, जो दिए गए शब्दों के उस सही क्रम को दर्शाता है, जिस क्रम में ये शब्द अंग्रेजी शब्दकोश में दिखाई देते हैं।

1. Species
2. Specify
3. Special
4. Specific
5. Speaker

- Ans
- 1. 3, 1, 5, 4, 2
 - 2. 1, 5, 3, 4, 2
 - 3. 5, 3, 1, 4, 2
 - 4. 1, 5, 3, 2, 4

Question ID : 65497834829
Status : Answered
Chosen Option : 3

Q.22 अक्षरों के उस संयोजन का चयन करें, जिसे जब दी गई श्रृंखला के रिक्त स्थानों में क्रम से रखा जाए, तो श्रृंखला पूर्ण होगी।

E J _ F K _ _ _ Q H _ _ I _ S

- Ans
- 1. GOMRNLP
 - 2. PGRNMOL
 - 3. RLMOPGN
 - 4. OPGLMRN

Question ID : 65497834830
Status : Not Attempted and Marked For Review
Chosen Option : --

Q.23 अनुज का वेतन मनोज के वेतन से दोगुना है। रामनाथन का वेतन विक्रम के वेतन का आधा है। मनोज का वेतन रामनाथन के वेतन से ₹ 15,000 कम है। यदि अनुज का वेतन ₹20,000 है, तो सभी चार व्यक्तियों का कुल वेतन कितना है?

- Ans
- 1. ₹1,30,000
 - 2. ₹1,15,000
 - 3. ₹1,05,000
 - 4. ₹1,00,000

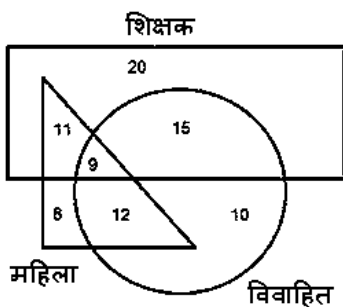
Question ID : 65497834819
Status : Answered
Chosen Option : 3

Q.24 एक परिवार के छह सदस्यों (A, B, C, D, E और F) ने एक पारिवारिक फोटो खिंचवाने का निर्णय लिया और इसके लिए एक बेड पर बैठ गए। B, D के दाएँ है। A, F और C के बीच में है। E एक छोर पर खड़ा है, और A के बाएँ दूसरे स्थान पर है। F, हमेशा D के बगल में खड़ा होना चाहता है। फोटो में बाएँ से तीसरा कौन है?

- Ans
- 1. C
 - 2. A
 - 3. F
 - 4. D

Question ID : 65497834833
Status : Answered
Chosen Option : 2

Q.25 दी गई आकृति का ध्यानपूर्वक अध्ययन करें और नीचे दिए गए प्रश्न का उत्तर दें।



उन महिला शिक्षिकाओं की संख्या कितनी है जो विवाहित नहीं हैं?

- Ans
- 1. 12
 - 2. 8
 - 3. 11
 - 4. 9

Question ID : 65497834824
Status : Answered
Chosen Option : 3

Section : Part B General Knowledge and General Awareness

Q.1 निम्नलिखित में से कौन अलाउद्दीन खिलजी के दरबारी कवि थे जिन्होंने प्रसिद्ध कविता 'हश्त-बहिश्त' लिखी थी?

- Ans
- 1. आगा हसन अमानत
 - 2. अमीर खुसरो
 - 3. हरिषेण
 - 4. चंदबरदाई

Question ID : 65497834843
Status : Answered
Chosen Option : 2

Q.2 विश्व बैंक के लॉजिस्टिक्स प्रदर्शन सूचकांक के अनुसार, 2018 में भारत को अन्य देशों के बीच किस स्थान पर रखा गया था जो 2014 में 54वें स्थान पर था?

- Ans
- 1. 42वें
 - 2. 52वें
 - 3. 40वें
 - 4. 44वें

Question ID : 65497834844
Status : Not Answered
Chosen Option : --

Q.3 महासागर का उथला हिस्सा जो 1° या उससे भी कम की औसत ढाल दर्शाता है, क्या कहलाता है?

- Ans
- 1. महासागरीय गर्त
 - 2. गहरा समुद्री मैदान
 - 3. महाद्वीपीय ढाल
 - 4. महाद्वीपीय ताक

Question ID : 65497834841
Status : Answered
Chosen Option : 1

Q.4 2019-20 में 'आई-लीग' ट्रॉफी किसको प्रदान की गई थी?

- Ans
- 1. ईस्ट बंगाल
 - 2. यूनाइटेड सिक्किम
 - 3. डेंपो गोआ
 - 4. मोहन बागान

Question ID : 65497834851
Status : Answered
Chosen Option : 4

Q.5 किसी देश के भीतर उत्पादित सभी अंतिम वस्तुओं और सेवाओं के मूल्य को क्या कहा जाता है?

- Ans
- 1. जी.एस.टी. (GST)
 - 2. वैट (VAT)
 - 3. जी.डी.पी. (GDP)
 - 4. आई.एम.आर. (IMR)

Question ID : 65497834861
Status : Answered
Chosen Option : 3

Q.6 _____ में अपना ट्विटर खाता खोलने के बाद, नवंबर 2020 तक भारतीय रिज़र्व बैंक के अपने आधिकारिक ट्विटर हैंडल पर 10 लाख (1 million) से अधिक फॉलोअर्स थे।

- Ans 1. जनवरी 2012
 2. अप्रैल 2014
 3. अक्टूबर 2018
 4. जुलाई 2016

Question ID : 65497834865
Status : Not Answered
Chosen Option : --

Q.7 अगस्त 2020 में, निम्नलिखित में से किस राज्य के दो तटीय गाँवों को आपदा का सामना करने के लिए, उनकी समग्र तैयारियों के लिए यूनेस्को (UNESCO) के अंतरसरकारी समुद्र विज्ञान आयोग द्वारा 'सुनामी के लिए तैयार' घोषित किया गया था?

- Ans 1. केरल
 2. गुजरात
 3. ओडिशा
 4. कर्नाटक

Question ID : 65497834846
Status : Not Attempted and Marked For Review
Chosen Option : --

Q.8 निम्नलिखित में से किस भारतीय खेल निशानेबाज ने 2019 में 10 मीटर एयर पिस्टल स्पर्धा में स्वर्ण पदक जीता था?

- Ans 1. हीना सिद्धू
 2. सौरभ चौधरी
 3. अंजलि भागवत
 4. अपूर्वी चंदेला

Question ID : 65497834855
Status : Answered
Chosen Option : 2

Q.9 भारत के संविधान का अनुच्छेद _____ यह बताता है कि राज्य भारत के पूरे क्षेत्र में नागरिकों के लिए समान नागरिक संहिता सुनिश्चित करने का प्रयास करेगा।

- Ans 1. 44
 2. 49
 3. 40
 4. 42

Question ID : 65497834864
Status : Answered
Chosen Option : 1

Q.10 राइबोफ्लेविन का दूसरा नाम क्या है?

- Ans
- 1. विटामिन C
 - 2. विटामिन A
 - 3. विटामिन D
 - 4. विटामिन B2

Question ID : 65497834852
Status : Answered
Chosen Option : 4

Q.11 2020 में 'मानवता के लिए गुलबेनकियन पुरस्कार' ('Gulbenkian Prize for Humanity') निम्नलिखित में से किसने प्राप्त किया?

- Ans
- 1. नरेंद्र मोदी
 - 2. इमरान खान
 - 3. ग्रेटा थनबर्ग
 - 4. एस. हुसैन ज़ैदी

Question ID : 65497834850
Status : Answered
Chosen Option : 3

Q.12 अधिकांश भारतीय घरों में सुरक्षित पेयजल प्राप्त करने के लिए निम्नलिखित में से कौन सी विधि का उपयोग किया जाता है?

- Ans
- 1. संग्रहण
 - 2. पुनर्चक्रण
 - 3. हिमीकरण
 - 4. उबालना

Question ID : 65497834858
Status : Answered
Chosen Option : 4

Q.13 निम्नलिखित में से कौन राष्ट्रीय आपदा प्रबंधन प्राधिकरण का पदेन अध्यक्ष होता है?

- Ans
- 1. उप-राष्ट्रपति
 - 2. राष्ट्रपति
 - 3. गृहमंत्री
 - 4. प्रधानमंत्री

Question ID : 65497834845
Status : Answered
Chosen Option : 4

Q.14 निम्नलिखित में से कौन-सी नृत्य शैली शास्त्रीय नृत्य शैली नहीं है?

- Ans
- 1. कुचिपुड़ी
 - 2. मणिपुरी
 - 3. बुराकथा
 - 4. ओडिसी

Question ID : 65497834854
Status : Answered
Chosen Option : 3

Q.15 भारतीय आर्थिक सर्वेक्षण 2020 के अनुसार, पशुधन क्षेत्र के बारे में निम्नलिखित में से कौन-सा कथन सही नहीं है?

- Ans
- 1. इसने किसानों की आय को दोगुना करने के लक्ष्य को प्राप्त करने में महत्वपूर्ण भूमिका निभाई है।
 - 2. पशुधन आय लाखों ग्रामीण परिवारों के लिए आय का महत्वपूर्ण द्वितीयक स्रोत बन गई है।
 - 3. पशुधन में कृषि क्षेत्र को प्रतिस्थापित करने की क्षमता है।
 - 4. पिछले पांच वर्षों में, पशुधन क्षेत्र 7.9 प्रतिशत की चक्रवृद्धि वार्षिक विकास दर (CAGR) से आगे बढ़ रहा है।

Question ID : 65497834842
Status : Answered
Chosen Option : 3

Q.16 सिंधु नदी संधि (1960) के अनुसार भारत सिंधु नदी प्रणाली का कितना पानी इस्तेमाल कर सकता है?

- Ans
- 1. 20%
 - 2. 10%
 - 3. 25%
 - 4. 15%

Question ID : 65497834853
Status : Answered
Chosen Option : 1

Q.17 गांधीजी ने वर्ष _____ में अहमदाबाद में सूती मिल श्रमिकों को साथ लेकर एक सत्याग्रह का आयोजन किया था।

- Ans
- 1. 1915
 - 2. 1918
 - 3. 1929
 - 4. 1921

Question ID : 65497834862
Status : Answered
Chosen Option : 2

Q.18 भारत के प्रधान मंत्री नरेंद्र मोदी और भूटान के प्रधान मंत्री लोटे टीशेयरिंग ने, भूटानी कार्ड धारकों को भारत में रूपे (RuPay) नेटवर्क का उपयोग करने की अनुमति देने के लिए वर्चुअल रूप से _____ को लॉन्च किया।

- Ans
- 1. वन नेशन वन कार्ड
 - 2. रूपे (RuPay) अंतर्राष्ट्रीय कार्ड
 - 3. रूपे (RuPay) कार्ड फेज़ I
 - 4. रूपे (RuPay) कार्ड फेज़ II

Question ID : 65497834856
Status : Answered
Chosen Option : 2

Q.19 वार्षिक सूरजकुंड शिल्प मेले की मेजबानी निम्नलिखित में से कौन सा राज्य करता है?

- Ans
- 1. हरियाणा
 - 2. हिमाचल प्रदेश
 - 3. उत्तराखंड
 - 4. उत्तर प्रदेश

Question ID : 65497834857
Status : Answered
Chosen Option : 1

Q.20 जब वातावरण में कार्बन डाइऑक्साइड में वृद्धि हो जाती है, तो इसके कारण _____ होती/होता है।

- Ans
- 1. वायु दाब
 - 2. वर्षा
 - 3. ग्लोबल वार्मिंग (भूमंडलीय तापन)
 - 4. संरक्षण

Question ID : 65497834859
Status : Answered
Chosen Option : 3

Q.21 ताजमहल आगरा शहर में _____ नदी के तट पर स्थित है।

- Ans
- 1. चंबल
 - 2. गंगा
 - 3. यमुना
 - 4. घाघरा

Question ID : 65497834848
Status : Answered
Chosen Option : 3

Q.22 भारत और पाकिस्तान के बीच निम्नलिखित में से किस समझौते को 'नेहरू-लियाकत समझौते' के रूप में जाना जाता है?

- Ans
- 1. अल्पसंख्यकों की सुरक्षा और अधिकारों को लेकर भारत और पाकिस्तान के बीच समझौता
 - 2. भारत और पाकिस्तान के बीच दोहरे कराधान से बचने के लिए समझौता
 - 3. रेल यातायात को फिर से शुरू करने के संबंध में भारत और पाकिस्तान के बीच समझौता
 - 4. भारत और पाकिस्तान के बीच हवाई सेवाओं से संबंधित समझौता

Question ID : 65497834863
Status : Answered
Chosen Option : 1

Q.23 'एन एरा ऑफ डार्कनेस: द ब्रिटिश एम्पायर इन इंडिया' नामक पुस्तक के/की लेखक/लेखिका कौन हैं?

- Ans
- 1. शशि थरूर
 - 2. चेतन भगत
 - 3. अरुण जेटली
 - 4. मीरा नायर

Question ID : 65497834860
Status : Answered
Chosen Option : 1

Q.24 टेबल टेनिस की उत्पत्ति कहाँ हुई थी?

- Ans
- 1. चीन
 - 2. इंग्लैंड
 - 3. जापान
 - 4. भारत

Question ID : 65497834847
Status : Answered
Chosen Option : 1

Q.25 निम्नलिखित में से किस महासागर में टोरेस जलडमरूमध्य स्थित है।

- Ans
- 1. अटलांटिक महासागर
 - 2. हिंद महासागर
 - 3. आर्कटिक महासागर
 - 4. प्रशांत महासागर

Question ID : 65497834849
Status : Answered
Chosen Option : 2

Q.1 एक वस्तु को 19% की छूट के बाद ₹1,215 में बेचा जाता है। यदि 17.5% की छूट दी गई है, तो वस्तु की बिक्री किस मूल्य (₹ में) पर होनी चाहिए?

- Ans
- 1. 1,327.50
 - 2. 1,723.50
 - 3. 1,237.50
 - 4. 1,527.30

Question ID : 65497834869
Status : Answered
Chosen Option : 3

Q.2 तीन संख्याओं का योगफल 118 है। यदि पहली संख्या और दूसरी संख्या का अनुपात 3 : 4 है और दूसरी संख्या और तीसरी संख्या का अनुपात 5 : 6 है, तो तीसरी संख्या ज्ञात कीजिए।

- Ans
- 1. 48
 - 2. 58
 - 3. 40
 - 4. 30

Question ID : 65497834885
Status : Answered
Chosen Option : 1

Q.3 दो उम्मीदवार एक चुनाव लड़ रहे हैं। सभी मत, वैध हैं। एक उम्मीदवार जिसे 38% मत प्राप्त हुए, 28,800 मतों से हार गया। डाले गए मतों की कुल संख्या ज्ञात कीजिए।

- Ans
- 1. 1,50,000
 - 2. 1,32,500
 - 3. 1,15,000
 - 4. 1,20,000

Question ID : 65497834870
Status : Answered
Chosen Option : 4

Q.4 किसी राशि का 7.5% वार्षिक ब्याज की दर पर 8 वर्षों का साधारण ब्याज ₹4,080 है। उसी राशि का किस ब्याज दर पर 5 वर्षों में प्राप्त ब्याज समान होगा?

- Ans
- 1. 12%
 - 2. 11%
 - 3. 10.5%
 - 4. 9%

Question ID : 65497834874
Status : Answered
Chosen Option : 3

Q.5 दो क्रमिक छूट मिल जाने से सीमा को ₹200 के अंकित मूल्य वाली एक कमीज ₹153 में मिल गई। यदि दूसरी छूट 15% थी, तो पहली छूट कितनी थी?

- Ans
- 1. 15%
 - 2. 20%
 - 3. 10%
 - 4. 25%

Question ID : 65497834877
Status : Answered
Chosen Option : 3

Q.6 एक समूह में $66\frac{2}{3}\%$ बच्चों की औसत आयु 13 वर्ष है। समूह में सभी बच्चों की औसत आयु 14.5 वर्ष है। शेष बच्चों की औसत आयु (वर्षों में) कितनी है?

- Ans
- 1. 15
 - 2. 16.5
 - 3. 13.5
 - 4. 17.5

Question ID : 65497834868
Status : Answered
Chosen Option : 4

Q.7 एक ठोस घनाभाकार बॉक्स की लंबाई, चौड़ाई और ऊंचाई 7 : 5 : 3 के अनुपात में हैं और इसका संपूर्ण पृष्ठीय क्षेत्रफल 11502 cm^2 है। इसकी चौड़ाई ज्ञात कीजिए।

- Ans
- 1. 81 cm
 - 2. 45 cm
 - 3. 27 cm
 - 4. 56 cm

Question ID : 65497834876
Status : Answered
Chosen Option : 2

Q.8 एक संख्या दूसरी संख्या की तीन गुनी है, और उनका महत्तम समापवर्तक (HCF) 8 है। इन संख्याओं के वर्गों का योग क्या होगा?

- Ans
- 1. 1000
 - 2. 640
 - 3. 512
 - 4. 1024

Question ID : 65497834866
Status : Answered
Chosen Option : 2

Q.9 चार अंकों की सबसे बड़ी संख्या ज्ञात कीजिए जो 14, 30 और 42 से विभाज्य है।

- Ans
- ✓ 1. 9870
 - ✗ 2. 9780
 - ✗ 3. 9098
 - ✗ 4. 9880

Question ID : 65497834881
Status : Answered
Chosen Option : 1

Q.10 एक वस्तु को ₹984 में बेचने पर अरुण को 18% की हानि होती है। 15% लाभ पाने के लिए उसे इसे कितनी कीमत में बेचना चाहिए?

- Ans
- ✗ 1. ₹1,132
 - ✓ 2. ₹1,380
 - ✗ 3. ₹1,265
 - ✗ 4. ₹1,440

Question ID : 65497834889
Status : Answered
Chosen Option : 2

Q.11 तीन संख्याओं का अनुपात 3 : 5 : 4 है और उनके वर्गों का योग 11250 है। संख्याओं का योग ज्ञात कीजिए।

- Ans
- ✓ 1. 180
 - ✗ 2. 150
 - ✗ 3. 165
 - ✗ 4. 225

Question ID : 65497834883
Status : Answered
Chosen Option : 1

Q.12 A एक कार्य के 25% भाग को 4 दिनों में कर सकता है, B इसी कार्य के 50% भाग को 12 दिनों में कर सकता है और C इसी कार्य को 32 दिनों में कर सकता है। उन्होंने एक साथ मिलकर कार्य करना शुरू किया परंतु C ने कार्य शुरू करने के 4 दिन बाद काम छोड़ दिया और A ने कार्य पूरा होने से 6 दिन पहले कार्य छोड़ दिया। कार्य कितने दिनों में समाप्त हुआ?

- Ans
- ✗ 1. 14 दिन
 - ✗ 2. 10 दिन
 - ✗ 3. 8 दिन
 - ✓ 4. 12 दिन

Question ID : 65497834871
Status : Answered
Chosen Option : 4

Q.13 यदि दो गोलों के पृष्ठीय क्षेत्रफल का अनुपात 4 : 25 हैं, तो उनके आयतन का अनुपात ज्ञात कीजिए।

- Ans
- ✓ 1. 8 : 125
 - ✗ 2. 125 : 8
 - ✗ 3. 4 : 25
 - ✗ 4. 5 : 2

Question ID : 65497834887
Status : Answered
Chosen Option : 1

Q.14 वार्षिक ब्याज दर 10% से घटकर $8\frac{3}{4}\%$ हो जाने की वजह से, एक साहूकार की उस वर्ष की आय में ₹84.50 की कमी होती है। उसकी पूंजी ज्ञात कीजिए।

- Ans
- ✗ 1. ₹6,940
 - ✓ 2. ₹6,760
 - ✗ 3. ₹7,660
 - ✗ 4. ₹7,460

Question ID : 65497834886
Status : Answered
Chosen Option : 2

Q.15 एक व्यक्ति ने ₹100 में 30 वस्तुएँ बेचीं और 20% का लाभ प्राप्त किया। उसके द्वारा ₹100 में खरीदी गई वस्तुओं की संख्या ज्ञात करें।

- Ans
- ✗ 1. 24
 - ✗ 2. 32
 - ✗ 3. 28
 - ✓ 4. 36

Question ID : 65497834878
Status : Answered
Chosen Option : 4

Q.16 जगत सिंह ने एक वस्तु को ₹6,000 में बेचा और उसे हानि हुई। यदि उसने इसे ₹7,400 में बेचा होता, तो उसे जिस राशि की हानि हुई थी उसकी $\frac{2}{3}$ धनराशि का लाभ मिला होता। उसे 25% का लाभ पाने के लिए वस्तु को किस मूल्य पर बेचना चाहिए?

- Ans
- ✗ 1. ₹8,500
 - ✓ 2. ₹8,550
 - ✗ 3. ₹7,500
 - ✗ 4. ₹7,550

Question ID : 65497834873
Status : Answered
Chosen Option : 2

Q.17 एक आदमी ने 47 km की दूरी 6 घंटे में तय की। उसने इस यात्रा के दौरान आंशिक दूरी $6\frac{1}{2}$ km/h की चाल से पैदल तय की और शेष दूरी $8\frac{1}{2}$ km/h की चाल से साईकल से तय की। उसके द्वारा साईकल से तय की गई दूरी (km में) ज्ञात कीजिए।

- Ans
- 1. 13
 - 2. 17
 - 3. 30
 - 4. 34

Question ID : 65497834872
Status : Answered
Chosen Option : 4

Q.18 एक कक्षा में 26 छात्रों की औसत आयु 15 वर्ष है। यदि इसमें शिक्षक की आयु शामिल कर ली जाए तो औसत एक से बढ़ जाएगा। शिक्षक की आयु (वर्षों में) क्या है?

- Ans
- 1. 40
 - 2. 33
 - 3. 42
 - 4. 38

Question ID : 65497834882
Status : Answered
Chosen Option : 3

Q.19 $2 \text{ of } 5 - \frac{1}{2} - \left[4 \div 2 - \frac{1}{3} - \left\{ \frac{3}{4} - \left(5 - \frac{1}{2} - \frac{3}{4} \right) \right\} \right]$ का मान कितना होगा?

- Ans
- 1. $\frac{10}{3}$
 - 2. $\frac{7}{6}$
 - 3. $\frac{1}{6}$
 - 4. $\frac{13}{2}$

Question ID : 65497834879
Status : Not Attempted and Marked For Review
Chosen Option : --

Q.20 $\{5 - 5 \div (10 - 12) \times 8 + 9\} \times 3 + 5 + 5 \times 5 \div 5$ of 5 का मान कितना होगा?

- Ans
- 1. 114
 - 2. 108
 - 3. 102
 - 4. 57

Question ID : 65497834888
Status : Answered
Chosen Option : 2

Q.21 कोई कार 35 km/h की एकसमान चाल से चल रही है। इसे 140 km की दूरी तय करने में कितना समय लगेगा?

- Ans
- 1. 300 मिनट
 - 2. 200 मिनट
 - 3. 250 मिनट
 - 4. 240 मिनट

Question ID : 65497834880
Status : Answered
Chosen Option : 4

Q.22 समानुपात $(5x + 1) : 3 = (x + 3) : 7$ में अज्ञात मान 'x' ज्ञात कीजिए।

- Ans
- 1. 1/14
 - 2. 1/8
 - 3. 1/17
 - 4. 1/16

Question ID : 65497834875
Status : Answered
Chosen Option : 4

Q.23 A एक कार्य का 40%, 6 दिन में और B उसी कार्य का $33\frac{1}{3}\%$, 8 दिन में पूरा कर सकता है। उन्होंने 8 दिन एकसाथ मिलकर कार्य किया। शेष कार्य को C ने अकेले 4 दिन में पूरा किया। A और C मिलकर उसी कार्य को कितने दिन में पूरा कर सकते हैं?

- Ans
- 1. 9 दिन
 - 2. 12 दिन
 - 3. $13\frac{1}{8}$ दिन
 - 4. 10 दिन

Question ID : 65497834890
Status : Answered
Chosen Option : 4

Q.24 एक धनराशि को 2 वर्ष के लिए एक निश्चित दर से साधारण ब्याज पर रखा गया था। यदि इसे 4% अधिक दर पर रखा जाता, तो इससे ₹480 अधिक प्राप्त होते। धनराशि ज्ञात कीजिए।

- Ans**
- 1. ₹6,500
 - 2. ₹6,000
 - 3. ₹5,000
 - 4. ₹5,900

Question ID : 65497834884
Status : Answered
Chosen Option : 2

Q.25 यदि 90 में से k% घटाने पर वही परिणाम मिलता है जो 60 में k% जोड़ने पर मिलता है, तो 120 का k%, [150 के (k+20)%] का कितना प्रतिशत है?

- Ans**
- 1. 76.42
 - 2. 40
 - 3. 60
 - 4. 45

Question ID : 65497834867
Status : Answered
Chosen Option : 2

Section : Part D English

Q.1 The following sentence has been divided into parts. One of them may contain an error. Select the part that contains the error from the given options. If you don't find any error, select 'No error' as your answer.

I wants / to borrow your bicycle / for a day.

- Ans**
- 1. for a day
 - 2. I wants
 - 3. No error
 - 4. to borrow your bicycle

Question ID : 65497834891
Status : Not Answered
Chosen Option : --

Q.2 Select the option that can be used as a one-word substitute for the given group of words.

A system of government in which most of the important decisions are taken by state officials rather than by elected representatives.

- Ans**
- 1. Aristocracy
 - 2. Democracy
 - 3. Monarchy
 - 4. Bureaucracy

Question ID : 65497834903
Status : Not Answered
Chosen Option : --

Q.3 Select the most appropriate option to fill in the blank.

_____ of money prevented me from purchasing the house.

- Ans
- 1. Limit
 - 2. Lack
 - 3. Short
 - 4. Less

Question ID : 65497834899
Status : Not Answered
Chosen Option : --

Q.4 Select the INCORRECTLY spelt word.

- Ans
- 1. Discipline
 - 2. Guidance
 - 3. Guarantee
 - 4. Appreciate

Question ID : 65497834905
Status : Not Answered
Chosen Option : --

Q.5 Select the most appropriate option that can substitute the underlined segment in the given sentence. If there is no need to substitute it, select 'No substitution required'.

It didn't dawn on me until much later that he doesn't like me.

- Ans
- 1. until much after
 - 2. until late
 - 3. No substitution required
 - 4. till late

Question ID : 65497834907
Status : Not Answered
Chosen Option : --

Q.6 Select the most appropriate synonym of the given word.

Coarse

- Ans
- 1. Polite
 - 2. Kind
 - 3. Crude
 - 4. Happy

Question ID : 65497834892
Status : Not Answered
Chosen Option : --

Q.7 Select the most appropriate SYNONYM of the given word.

Disrupt

- Ans 1. Discuss
 2. Disagree
 3. Disturb
 4. Disgrace

Question ID : 65497834909
Status : Not Answered
Chosen Option : --

Q.8 Parts of the given sentence have been given as options. One of them contains a grammatical error. Select the option that has the error.

India has produce many well-known scientists who have received accolades all over the world.

- Ans 1. India has produce
 2. all over the world
 3. who have received
 4. well-known scientists

Question ID : 65497834900
Status : Not Answered
Chosen Option : --

Q.9 Select the most appropriate option to fill in the blank.

It is believed that physical exercise is _____ for creating a balance between the body and the mind.

- Ans 1. demanding
 2. essential
 3. forceful
 4. increased

Question ID : 65497834906
Status : Not Answered
Chosen Option : --

Q.10 Select the option that can be used as a one-word substitute for the given group of words.

A building where monks live as a community

- Ans 1. Villa
 2. Monastery
 3. Cottage
 4. Condo

Question ID : 65497834894
Status : Not Answered
Chosen Option : --

Q.11 Select the most appropriate ANTONYM of the given word.

Gallant

- Ans 1. Courageous
 2. Heroic
 3. Valiant
 4. Cowardly

Question ID : 65497834902
Status : Not Answered
Chosen Option : --

Q.12 Select the most appropriate option that can substitute the underlined segment in the given sentence. If there is no need to substitute it, select 'No substitution required'.

There are still some sugar in the bowl.

- Ans 1. is still few sugar
 2. No substitution required
 3. are still little sugar
 4. is still some sugar

Question ID : 65497834897
Status : Not Answered
Chosen Option : --

Q.13 Select the most appropriate ANTONYM of the given word.

Hearty

- Ans 1. Cordial
 2. Robust
 3. Aloof
 4. Warm

Question ID : 65497834896
Status : Not Answered
Chosen Option : --

Q.14 Select the INCORRECTLY spelt word.

- Ans 1. Glade
 2. Gleam
 3. Glich
 4. Glove

Question ID : 65497834904
Status : Not Answered
Chosen Option : --

Q.15 Select the most appropriate option that can substitute the underlined segment in the given sentence. If there is no need to substitute it, select 'No substitution required'.

Fred and Andrew were training for the Asian games.

- Ans
- 1. is being training for
 - 2. is training for
 - 3. were being training for
 - 4. No substitution required

Question ID : 65497834901
Status : Not Answered
Chosen Option : --

Q.16 Select the most appropriate option to fill in the blank.

The novel presents a theme of betrayal in a _____ manner.

- Ans
- 1. skilful
 - 2. tableful
 - 3. fruitful
 - 4. harmful

Question ID : 65497834895
Status : Not Answered
Chosen Option : --

Q.17 Select the most appropriate meaning of the given idiom.

A cold fish

- Ans
- 1. An unemotional person
 - 2. A boring person
 - 3. A nervous person
 - 4. A sensitive person

Question ID : 65497834898
Status : Not Answered
Chosen Option : --

Q.18 Select the option that can be used as a one-word substitute for the given group of words.

A collection of sticks

- Ans
- 1. Bevy
 - 2. Bundle
 - 3. Brood
 - 4. Bale

Question ID : 65497834910
Status : Not Answered
Chosen Option : --

Q.19 The following sentence has been split into four segments. Identify the segment that contains a grammatical error.

Did you forgot / to post / the letter / that I gave you?

- Ans**
- 1. that I gave you
 - 2. the letter
 - 3. to post
 - 4. Did you forgot

Question ID : 65497834908
Status : Not Answered
Chosen Option : --

Q.20 Select the most appropriate meaning of the given idiom.

Vanish into thin air

- Ans**
- 1. Disappear completely
 - 2. Postpone finally
 - 3. Dilute entirely
 - 4. Mix permanently

Question ID : 65497834893
Status : Not Answered
Chosen Option : --

Comprehension:

In the following passage, some words have been deleted. Read the passage carefully and select the most appropriate option to fill in each blank.

Jog Falls is one of the highest waterfalls in India. It is made by Sharavati river (1)_____ through the Western Ghats. It is surrounded (2)_____ a beautiful tropical forest. During summer, there is not (3)_____ water in the river but during monsoons, (4)_____ river is swollen with water and the Falls create a (5)_____ spectacle.

SubQuestion No : 21

Q.21 Select the most appropriate option to fill in blank no.1.

- Ans**
- 1. flowing
 - 2. flow
 - 3. flows
 - 4. flowed

Question ID : 65497834912
Status : Not Answered
Chosen Option : --

Comprehension:

In the following passage, some words have been deleted. Read the passage carefully and select the most appropriate option to fill in each blank.

Jog Falls is one of the highest waterfalls in India. It is made by Sharavati river (1)_____ through the Western Ghats. It is surrounded (2)_____ a beautiful tropical forest. During summer, there is not (3)_____ water in the river but during monsoons, (4)_____ river is swollen with water and the Falls create a (5)_____ spectacle.

SubQuestion No : 22

Q.22 Select the most appropriate option to fill in blank no.2.

- Ans** 1. by
 2. through
 3. with
 4. from

Question ID : **65497834913**
Status : **Not Answered**
Chosen Option : --

Comprehension:

In the following passage, some words have been deleted. Read the passage carefully and select the most appropriate option to fill in each blank.

Jog Falls is one of the highest waterfalls in India. It is made by Sharavati river (1)_____ through the Western Ghats. It is surrounded (2)_____ a beautiful tropical forest. During summer, there is not (3)_____ water in the river but during monsoons, (4)_____ river is swollen with water and the Falls create a (5)_____ spectacle.

SubQuestion No : 23

Q.23 Select the most appropriate option to fill in blank no.3.

- Ans** 1. most
 2. many
 3. much
 4. more

Question ID : **65497834914**
Status : **Not Answered**
Chosen Option : --

Comprehension:

In the following passage, some words have been deleted. Read the passage carefully and select the most appropriate option to fill in each blank.

Jog Falls is one of the highest waterfalls in India. It is made by Sharavati river (1)_____ through the Western Ghats. It is surrounded (2)_____ a beautiful tropical forest. During summer, there is not (3)_____ water in the river but during monsoons, (4)_____ river is swollen with water and the Falls create a (5)_____ spectacle.

SubQuestion No : 24

Q.24 Select the most appropriate option to fill in blank no.4.

- Ans** 1. an
 2. one
 3. a
 4. the

Question ID : **65497834915**
Status : **Not Answered**
Chosen Option : --

Comprehension:

In the following passage, some words have been deleted. Read the passage carefully and select the most appropriate option to fill in each blank.

Jog Falls is one of the highest waterfalls in India. It is made by Sharavati river (1)_____ through the Western Ghats. It is surrounded (2)_____ a beautiful tropical forest. During summer, there is not (3)_____ water in the river but during monsoons, (4)_____ river is swollen with water and the Falls create a (5)_____ spectacle.

SubQuestion No : 25

Q.25 Select the most appropriate option to fill in blank no.5.

- Ans** 1. amazing
 2. different
 3. fantastic
 4. peculiar

Question ID : 65497834916
Status : Not Answered
Chosen Option : --

Section : Part D Hindi

Q.1 'ताप' का विलोम शब्द होगा-

- Ans** 1. उष्ण
 2. शीत
 3. संताप
 4. पाप

Question ID : 65497834934
Status : Answered
Chosen Option : 2

Q.2 सही वर्तनी वाले शब्द का चयन करें।

- Ans** 1. सौहार्द
 2. सौहार्द्र
 3. सेहार्द
 4. सोहाद्र

Question ID : 65497834931
Status : Answered
Chosen Option : 4

Q.3 दिए गए वाक्य में रेखांकित खंड को प्रतिस्थापित करने के लिए सबसे उपयुक्त विकल्प का चयन करें। यदि इसे प्रतिस्थापित करने की आवश्यकता नहीं है, तो विकल्प 'किसी बदलाव की आवश्यकता नहीं है' का चयन करें।

उसका दुर्भाग्य था और इसलिए वह परीक्षा में बैठ न सके।

- Ans
- 1. इसलिए वह परीक्षा में बैठे न सका।
 - 2. इसलिए वह परीक्षा में बैठ न सका।
 - 3. किसी बदलाव की आवश्यकता नहीं है।
 - 4. इसलिए वह परीक्षाओं में बैठ न सके।

Question ID : 65497834921
Status : Answered
Chosen Option : 2

Q.4 दिए गए वाक्य में रेखांकित खंड को प्रतिस्थापित करने के लिए सबसे उपयुक्त विकल्प का चयन करें। यदि इसे प्रतिस्थापित करने की आवश्यकता नहीं है, तो विकल्प 'किसी बदलाव की आवश्यकता नहीं है' का चयन करें।

संतुष्ट होने के कारण उसने कभी शिकायत नहीं की।

- Ans
- 1. उसने कभी शिकायत नहीं करा।
 - 2. किसी बदलाव की आवश्यकता नहीं है।
 - 3. उसने कभी शिकायत नहीं किये।
 - 4. उसने कभी शिकायतें नहीं किये।

Question ID : 65497834936
Status : Answered
Chosen Option : 2

Q.5 दिए गए वाक्य का वह भाग ज्ञात करें जिसमें कोई त्रुटि है। यदि कोई त्रुटि नहीं है, तो 'कोई त्रुटि नहीं है' चुनें।

पिताजी को (1)/ मुझे कुछ (2)/ रुपये दिये (3)/ कोई त्रुटि नहीं है (4)

- Ans
- 1. 3
 - 2. 2
 - 3. 4
 - 4. 1

Question ID : 65497834925
Status : Answered
Chosen Option : 4

Q.6 दिए गए वाक्य का वो भाग ज्ञात करें जिसमें कोई त्रुटि है। यदि कोई त्रुटि नहीं है, तो 'कोई त्रुटि नहीं है' चुनें।

बिल के भुगतान (1)\ न करने पर तुम्हें (2)\ माल वापस करना होगा। (3)\ कोई त्रुटि नहीं है (4)

- Ans
- 1. 3
 - 2. 2
 - 3. 4
 - 4. 1

Question ID : 65497834922
Status : Answered
Chosen Option : 4

Q.7 इस वाक्यांश के लिए एक सार्थक शब्द दीजिए।

किसी पर विजय पाने की इच्छा रखने वाला

- Ans
- 1. जिज्ञासा
 - 2. जिगीषु
 - 3. जिगीषा
 - 4. जिजीविषा

Question ID : 65497834917
Status : Answered
Chosen Option : 4

Q.8 रिक्त स्थान को भरने के लिए सबसे उपयुक्त शब्द का चयन कीजिए।

नई वस्तु की खोज को _____ कहते हैं।

- Ans
- 1. आविष्कार
 - 2. गवेषणा
 - 3. संशोधन
 - 4. खोज

Question ID : 65497834918
Status : Answered
Chosen Option : 1

Q.9 दिए गए शब्द का विलोम चुनें।

मौन

- Ans
- 1. चुप
 - 2. मौलिक
 - 3. वाचाल
 - 4. शांत

Question ID : 65497834927
Status : Answered
Chosen Option : 3

Q.10 'पर्वत के ऊपर की समतल भूमि' वाक्यांश के लिए एक शब्द होगा-

- Ans
- 1. गिरि
 - 2. उपत्यका
 - 3. अधित्यका
 - 4. पठार

Question ID : 65497834935
Status : Answered
Chosen Option : 4

Q.11 दिए गए वाक्य में रेखांकित खंड को प्रतिस्थापित करने के लिए सबसे उपयुक्त विकल्प का चयन करें।
यदि इसे प्रतिस्थापित करने की आवश्यकता नहीं है, तो विकल्प 'किसी बदलाव की आवश्यकता नहीं है'
का चयन करें।

रावण वध के दिन अनेक लोग ने रामलीला देखी।

- Ans
- 1. अनेक लोग ने रामलीला देखा।
 - 2. अनेक लोगों ने रामलीला देखें।
 - 3. अनेक लोगों ने रामलीला देखी।
 - 4. किसी बदलाव की आवश्यकता नहीं है।

Question ID : 65497834920
Status : Answered
Chosen Option : 3

Q.12 रिक्त स्थान को भरने के लिए सबसे उपयुक्त शब्द का चयन करें।

मैंने अपने भाई को _____ भेजा कि रविवार को हमसे मिलने आना।

- Ans
- 1. सूचना
 - 2. समाचार
 - 3. संवाद
 - 4. संदेश

Question ID : 65497834932
Status : Answered
Chosen Option : 4

Q.13 दिये गये वाक्य के किस भाग में त्रुटि है?

अभी ही वह यहाँ से बाहर गया है।

- Ans
- 1. से बाहर
 - 2. गया है।
 - 3. अभी ही
 - 4. वह यहाँ

Question ID : 65497834933
Status : Answered
Chosen Option : 3

Q.14 दिए गए शब्द के समानार्थी शब्द का चयन करें।

कमल

- Ans
- 1. अम्बुज
 - 2. कल्पतरु
 - 3. कुसुमाकर
 - 4. सैन्धव

Question ID : 65497834926
Status : Answered
Chosen Option : 1

Q.15 नीचे दिए वाक्यांश के लिए एक शब्द दिए गए विकल्पों में से चुनिए।

जिसका अपकार किया गया हो।

- Ans
- 1. उपकार
 - 2. अपकृत
 - 3. अपकार
 - 4. उपकृत

Question ID : 65497834929
Status : Answered
Chosen Option : 2

Q.16 सही वर्तनी वाले शब्द का चयन करें।

- Ans
- 1. पुज्यनिय
 - 2. पूजनीय
 - 3. पूजनीय
 - 4. पुजनीय

Question ID : 65497834930
Status : Answered
Chosen Option : 2

Q.17 दिए गए शब्द के समानार्थी शब्द का चयन करें।

पुष्प

- Ans
- 1. पल्लव
 - 2. प्रसून
 - 3. परिमल
 - 4. जलजात

Question ID : 65497834923
Status : Answered
Chosen Option : 2

Q.18 रिक्त स्थान को भरने के लिए सबसे उपयुक्त शब्द का चयन करें।

मेरे पिताजी ने यह _____ लिखी है।

- Ans
- 1. कहानी
 - 2. उपन्यास
 - 3. नाटक
 - 4. संस्करण

Question ID : 65497834919
Status : Answered
Chosen Option : 4

Q.19 दिए गए चार विकल्पों में से, उस विकल्प का चयन करें जो नीचे दिए मुहावरे का अर्थ व्यक्त करता है।

आँखों में धूल झोंकना

- Ans
- 1. आँख फोड़ना
 - 2. ढाढ़स बंधाना
 - 3. आदर देना
 - 4. धोखा देना

Question ID : 65497834928

Status : Answered

Chosen Option : 4

Q.20 निम्नलिखित प्रश्न में, दिए गए चार विकल्पों में से, उस विकल्प का चयन करें जो मुहावरे का अर्थ व्यक्त करता है।

देवता कूच कर जाना

- Ans
- 1. होश में न रहना
 - 2. दुर्गति होना
 - 3. दूर चले जाना
 - 4. घबरा जाना

Question ID : 65497834924

Status : Answered

Chosen Option : 3

Comprehension:

श्रद्धा का मूल तत्व है- दूसरे का महत्व स्वीकार। अतः जिसकी (1) _____ दृष्टि अपने से आगे नहीं जा सकती अथवा (2) _____ के कारण जिन्हें अपनी ही बड़ाई के अनुभव की लत लग गई है उनकी इतनी समाई नहीं कि वे श्रद्धा ऐसे पवित्र भाव को (3) _____ करें। स्वार्थियों और अभिमानियों के (4) _____ में श्रद्धा नहीं टिक सकती। उनका अंतःकरण संकुचित और (5) _____ होता है कि वह दूसरों के कृति का यथार्थ मूल्य नहीं परख सकते।

निम्न प्रश्नों के उत्तर उपरोक्त गद्यांश के आधार पर दीजिए।

SubQuestion No : 21

Q.21 गद्यांश के रिक्त स्थान (1) के लिए सर्वाधिक उपयुक्त शब्द होगा-

- Ans
- 1. स्वार्थबद्ध
 - 2. परमार्थबद्ध
 - 3. विस्तृत
 - 4. मुक्त

Question ID : 65497834938

Status : Answered

Chosen Option : 1

Comprehension:

श्रद्धा का मूल तत्व है- दूसरे का महत्व स्वीकार। अतः जिसकी (1) _____ दृष्टि अपने से आगे नहीं जा सकती अथवा (2) _____ के कारण जिन्हें अपनी ही बड़ाई के अनुभव की लत लग गई है उनकी इतनी समाई नहीं कि वे श्रद्धा ऐसे पवित्र भाव को (3) _____ करें। स्वार्थियों और अभिमानियों के (4) _____ में श्रद्धा नहीं टिक सकती। उनका अंतःकरण संकुचित और (5) _____ होता है कि वह दूसरों के कृति का यथार्थ मूल्य नहीं परख सकते।

निम्न प्रश्नों के उत्तर उपरोक्त गद्यांश के आधार पर दीजिए।

SubQuestion No : 22

Q.22 गद्यांश के रिक्त स्थान (2) के लिए सर्वाधिक उपयुक्त शब्द होगा-

- Ans**
- 1. अपमान
 - 2. सम्मान
 - 3. बलिदान
 - 4. अभिमान

Question ID : 65497834939

Status : Answered

Chosen Option : 4

Comprehension:

श्रद्धा का मूल तत्व है- दूसरे का महत्व स्वीकार। अतः जिसकी (1) _____ दृष्टि अपने से आगे नहीं जा सकती अथवा (2) _____ के कारण जिन्हें अपनी ही बड़ाई के अनुभव की लत लग गई है उनकी इतनी समाई नहीं कि वे श्रद्धा ऐसे पवित्र भाव को (3) _____ करें। स्वार्थियों और अभिमानियों के (4) _____ में श्रद्धा नहीं टिक सकती। उनका अंतःकरण संकुचित और (5) _____ होता है कि वह दूसरों के कृति का यथार्थ मूल्य नहीं परख सकते।

निम्न प्रश्नों के उत्तर उपरोक्त गद्यांश के आधार पर दीजिए।

SubQuestion No : 23

Q.23 गद्यांश के रिक्त स्थान (3) के लिए सर्वाधिक उपयुक्त शब्द होगा-

- Ans**
- 1. धारण
 - 2. चारण
 - 3. अनुकरण
 - 4. अनुसरण

Question ID : 65497834940

Status : Answered

Chosen Option : 1

Comprehension:

श्रद्धा का मूल तत्व है- दूसरे का महत्व स्वीकार। अतः जिसकी (1) _____ दृष्टि अपने से आगे नहीं जा सकती अथवा (2) _____ के कारण जिन्हें अपनी ही बड़ाई के अनुभव की लत लग गई है उनकी इतनी समाई नहीं कि वे श्रद्धा ऐसे पवित्र भाव को (3) _____ करें। स्वार्थियों और अभिमानियों के (4) _____ में श्रद्धा नहीं टिक सकती। उनका अंतःकरण संकुचित और (5) _____ होता है कि वह दूसरों के कृति का यथार्थ मूल्य नहीं परख सकते।

निम्न प्रश्नों के उत्तर उपरोक्त गद्यांश के आधार पर दीजिए।

SubQuestion No : 24

Q.24 गद्यांश के रिक्त स्थान (4) के लिए सर्वाधिक उपयुक्त शब्द होगा-

- Ans**
- 1. शरीर
 - 2. मस्तिष्क
 - 3. हृदय
 - 4. बुद्धि

Question ID : 65497834941

Status : Answered

Chosen Option : 3

Comprehension:

श्रद्धा का मूल तत्व है- दूसरे का महत्व स्वीकार। अतः जिसकी (1) _____ दृष्टि अपने से आगे नहीं जा सकती अथवा (2) _____ के कारण जिन्हें अपनी ही बड़ाई के अनुभव की लत लग गई है उनकी इतनी समाई नहीं कि वे श्रद्धा ऐसे पवित्र भाव को (3) _____ करें। स्वार्थियों और अभिमानियों के (4) _____ में श्रद्धा नहीं टिक सकती। उनका अंतःकरण संकुचित और (5) _____ होता है कि वह दूसरों के कृति का यथार्थ मूल्य नहीं परख सकते।

निम्न प्रश्नों के उत्तर उपरोक्त गद्यांश के आधार पर दीजिए।

SubQuestion No : 25

Q.25 गद्यांश के रिक्त स्थान (5) के लिए सर्वाधिक उपयुक्त शब्द होगा-

- Ans**
- 1. पवित्र
 - 2. धवल
 - 3. मलिन
 - 4. विस्तृत

Question ID : 65497834942

Status : Answered

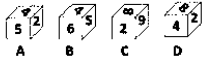
Chosen Option : 3

Constable GD in CAPFs NIA SSF and Rifleman GD in Assam Rifles Examination 2021

Roll Number	www.HaryanaJobs.in
Candidate Name	www.HaryanaJobs.in
Venue Name	Informatic Computer Education. Patliputra
Exam Date	14/12/2021
Exam Time :	12:30 PM - 2:00 PM
Subject	Constable GD 2021

Section : Part A General Intelligence and Reasoning

Q.1 उस पासे का चयन करें, जिसे निम्नांकित पत्रक (शीट) को रेखाओं पर मोड़ने पर प्राप्त किया जा सकता है।



- Ans
- 1. केवल C और D
 - 2. केवल C
 - 3. B, C और D
 - 4. केवल D

Question ID : 65497831532
Status : Answered
Chosen Option : 2

Q.2 एक निश्चित कूट भाषा में, REWARI को 185231189 के रूप में लिखा जाता है। उस भाषा में, SIRSA को कैसे लिखा जाएगा?

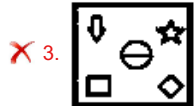
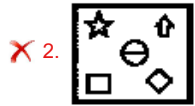
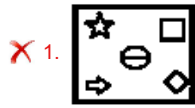
- Ans
- 1. 19919118
 - 2. 11819199
 - 3. 19918191
 - 4. 11819919

Question ID : 65497831523
Status : Answered
Chosen Option : 3

Q.3 दिए गए विकल्पों में से उस आकृति का चयन कीजिए जो निम्नांकित आकृति श्रेणी में प्रश्नवाचक चिह्न (?) के स्थान पर आ सकती है।



Ans



Question ID : 65497831528
Status : Answered
Chosen Option : 4

Q.4 यदि '+' का अर्थ '×', '-' का अर्थ '+', '×' का अर्थ '-' और '÷' का अर्थ '÷' है, तो निम्नलिखित व्यंजक का मान कितना होगा?

$$(11 + 5 \times 18) - 8 \div 17$$

- Ans
- ✗ 1. 55
 - ✗ 2. 52
 - ✗ 3. 53
 - ✓ 4. 51

Question ID : 65497831531
Status : Answered
Chosen Option : 4

Q.5 उस विकल्प का चयन करें, जिसमें दी गई संख्याओं के बीच वही संबंध है, जो दिए गए समुच्चय की संख्याओं के बीच है।

12, 168, 7

- Ans
- ✗ 1. 11, 145, 17
 - ✓ 2. 14, 448, 16
 - ✗ 3. 15, 180, 12
 - ✗ 4. 18, 240, 10

Question ID : 65497831536
Status : Answered
Chosen Option : 2

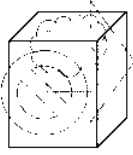
Q.6 दिए गए संयोजन के सही दर्पण प्रतिबिंब का चयन करें, जब दर्पण को दिखाए गए अनुसार PQ पर रखा गया है।

EGPTBN

- Ans
- ✓ 1. NBTPEE
 - ✗ 2. EGPTEE
 - ✗ 3. EGPTEE
 - ✗ 4. NBTPEE

Question ID : 65497831521
Status : Answered
Chosen Option : 1

Q.7 उस विकल्प का चयन करें, जो दिए गए चित्र में अंतर्निहित है (घुमाने की अनुमति नहीं है)।



- Ans
- ✗ 1.
 - ✗ 2.
 - ✓ 3.
 - ✗ 4.

Question ID : 65497831533
Status : Answered
Chosen Option : 3

Q.8 'चूल्हे' का जो संबंध 'पकाने' से है वही संबंध 'चाकू' का '_____' से है।

- Ans
- ✗ 1. बनाने (मेकिंग)
 - ✗ 2. चित्र (पेंटिंग)
 - ✗ 3. इंग्लिश (प्रेटिंग)
 - ✓ 4. काटने (चॉपिंग)

Question ID : 65497831515
Status : Answered
Chosen Option : 4

Q.9 किसी कूट भाषा में, TATA को 401202 के रूप में लिखा जाता है। उसी भाषा में TITAN को किस प्रकार से लिखा जाएगा?

- Ans 1. 40920128
 2. 20401982
 3. 40920821
 4. 20408219

Question ID : 65497831519
Status : Answered
Chosen Option : 1

Q.10 दिए गए कथनों और निष्कर्षों को ध्यानपूर्वक पढ़ें। कथनों में दी गई जानकारी को सत्य मानते हुए विचार करें, भले ही वह सामान्यतः ज्ञात तथ्यों से भिन्न प्रतीत होती हो, और तय करें कि दिए गए निष्कर्षों में से कौन-सा/ से कथनों का तार्किक रूप से पालन करता है/करते हैं?

कथन:
सभी केयरटेकर कुशल हैं।
कुछ कुशल वकील हैं।
सभी कुशल चित्रकार हैं।

निष्कर्ष:
I. कुछ चित्रकार वकील हैं।
II. कोई भी चित्रकार वकील नहीं है।

- Ans 1. केवल निष्कर्ष I पालन करता है।
 2. दोनों ही निष्कर्ष पालन करते हैं।
 3. केवल निष्कर्ष II पालन करता है।
 4. या तो निष्कर्ष I या II पालन करता है।

Question ID : 65497831535
Status : Answered
Chosen Option : 1

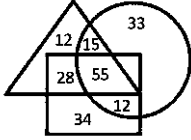
Q.11 अक्षरों के उस संयोजन का चयन करें जिसे दी गई श्रेणी में रिक्त स्थानों पर क्रमिक रूप से रखने पर श्रेणी पूर्ण हो जाएगी।

bi_h_h_is_ohb_sh_h

- Ans 1. sobhio
 2. shoboi
 3. shobio
 4. sohboi

Question ID : 65497831526
Status : Answered
Chosen Option : 1

Q.12 दिए गए वेन आरेख में, आयत 'नीले नेत्र वाले लोगों' को दर्शाता है, त्रिभुज 'छह उंगलियों वाले लोगों' को दर्शाता है और वृत्त 'डिंपल वाले लोगों' को दर्शाता है।



जिन लोगों की छह उंगलियाँ और नीले नेत्र हैं पर कोई डिंपल नहीं है, की संख्या A है और यदि छह उंगलियों वाले लोगों, जिनके डिंपल हैं पर नीले नेत्र नहीं हैं, की संख्या B है। A और B का योग कितना है?

- Ans
- 1. 70
 - 2. 40
 - 3. 67
 - 4. 43

Question ID : 65497831517
Status : Answered
Chosen Option : 1

Q.13 उस विकल्प का चयन करें जो तीसरे पद से ठीक उसी प्रकार से संबंधित है जैसे दूसरा पद पहले पद से संबंधित है।

ROPE : VSTI :: BOSE : ?

- Ans
- 1. SFIW
 - 2. IWSF
 - 3. ISWF
 - 4. FSWI

Question ID : 65497831522
Status : Answered
Chosen Option : 4

Q.14 दिए गए विकल्पों में से उस अक्षर-समूह का चयन करें जो निम्नलिखित श्रृंखला में प्रश्नवाचक चिह्न (?) के स्थान पर आ सकता है।

BHO, GMT, LRY, ?

- Ans
- 1. HMT
 - 2. QWD
 - 3. DJL
 - 4. IOU

Question ID : 65497831514
Status : Answered
Chosen Option : 2

Q.15 यदि 27 मई 2007 को रविवार है, तो 25 मई 2018 को सप्ताह का कौन सा दिन होगा?

- Ans
- 1. गुरुवार
 - 2. रविवार
 - 3. शुक्रवार
 - 4. शनिवार

Question ID : 65497831537
Status : Answered
Chosen Option : 3

Q.16 दिए गए विकल्पों में से उस संख्या का चयन कीजिए जो दी गई श्रृंखला में प्रश्न चिह्न (?) के स्थान पर प्रतिस्थापित हो सकती है।

38, 120, 366, ?

Ans 1. 1104

2. 1101

3. 1103

4. 1102

Question ID : 65497831520

Status : Answered

Chosen Option : 1

Q.17 उस सही विकल्प का चयन कीजिए जो दिए गए शब्दों के उस क्रम को दर्शाता है जिस क्रम में वे अंग्रेजी शब्दकोश में आते हैं।

1. Creepy
2. Cremate
3. Creosote
4. Crescendo
5. Crescent

Ans 1. 2, 5, 1, 4, 3

2. 1, 3, 2, 5, 4

3. 3, 5, 4, 1, 2

4. 1, 2, 3, 4, 5

Question ID : 65497831525

Status : Answered

Chosen Option : 4

Q.18 दिए गए चार अक्षर-समूहों में से तीन एक निश्चित प्रकार से समान हैं, जबकि एक भिन्न है। उस भिन्न अक्षर-समूह का चयन करें।

Ans 1. GHE

2. BJP

3. LUX

4. OWL

Question ID : 65497831518

Status : Answered

Chosen Option : 1

Q.19 नौ मित्र A, B, C, D, E, F, G, H और I उत्तर की ओर मुँह किए एक पंक्ति में बैठे हैं। A, H के बाएँ दूसरा है। H, B के बाएँ दूसरे स्थान पर है। B पंक्ति के एक छोर पर है। F, A और H के बीच में है। D, I और C के बीच में है। C, E के दाएँ तीसरे स्थान पर है। पंक्ति के बीच में कौन है?

Ans 1. C

2. F

3. G

4. A

Question ID : 65497831529

Status : Answered

Chosen Option : 4

Q.20 पांच मित्र एक लाइन में उत्तर दिशा की ओर अभिमुख होकर खड़े हैं। लाइन में दोनों छोरों पर वकील और जज़ खड़े हैं। वैज्ञानिक ठीक शिक्षक के दाईं ओर पड़ोस में खड़ा है। फार्मसिस्ट, जज़ के बाईं ओर खड़ा है। शिक्षक ठीक वकील और वैज्ञानिक के बीच में खड़ा है। बाईं ओर से गणना करने पर, वैज्ञानिक किस स्थान पर खड़ा है?

- Ans
- 1. पांचवे
 - 2. पहले
 - 3. तीसरे
 - 4. चौथे

Question ID : 65497831516
Status : Answered
Chosen Option : 3

Q.21 एक निश्चित कूट भाषा में, TEMPER को QBJMBO लिखा जाता है। उसी कूट भाषा में POSTED को किस प्रकार लिखा जाएगा?

- Ans
- 1. MLOQBB
 - 2. MLQQCA
 - 3. MMPQCA
 - 4. MLPQBA

Question ID : 65497831534
Status : Answered
Chosen Option : 4

Q.22 नीरज ने एक महिला की तस्वीर की ओर इशारा किया और कहा, "वह मेरे दादाजी के इकलौते पुत्र की पुत्री है। तस्वीर में दिखने वाली महिला के साथ नीरज का क्या संबंध है?

- Ans
- 1. भाई
 - 2. ससुर
 - 3. पिताजी
 - 4. चाचा

Question ID : 65497831524
Status : Answered
Chosen Option : 1

Q.23 उस विकल्प का चयन करें, जिसमें संख्या-युग्म के बीच वही संबंध है, जो निम्नांकित संख्या-युग्म के बीच है।

36 : 221

- Ans
- 1. 21 : 132
 - 2. 26 : 150
 - 3. 43 : 263
 - 4. 32 : 288

Question ID : 65497831530
Status : Answered
Chosen Option : 1

Q.24 दिए गए विकल्पों में से उस संख्या का चयन कीजिए जो निम्न श्रेणी में प्रश्नवाचक चिह्न (?) के स्थान पर आएगी।

105, 102, 96, 87, 75, ?

Ans ✓ 1. 60

✗ 2. 35

✗ 3. 55

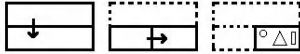
✗ 4. 45

Question ID : 65497831527

Status : Answered

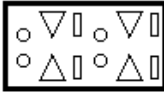
Chosen Option : 1

Q.25 कागज के एक टुकड़े को मोड़ने के क्रम और मुड़े हुए कागज को काटने के तरीके को निम्नलिखित आकृतियों में दर्शाया गया है। खोलने पर, यह कागज कैसा दिखाई देगा?

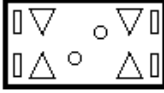


Ans

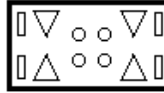
✗ 1.



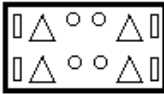
✗ 2.



✓ 3.



✗ 4.



Question ID : 65497831538

Status : Answered

Chosen Option : 3

Section : Part B General Knowledge and General Awareness

Q.1 भारत के संविधान में कितनी अनुसूचियों का उल्लेख है?

Ans ✗ 1. 23

✗ 2. 34

✓ 3. 12

✗ 4. 45

Question ID : 65497831549

Status : Answered

Chosen Option : 3

Q.2 अंतरराष्ट्रीय क्रिकेट परिषद (ICC) के नए स्वतंत्र अध्यक्ष ग्रेग बार्कले निम्नलिखित में से किस देश से संबंधित हैं?

Ans ✗ 1. ऑस्ट्रेलिया

✗ 2. इंग्लैंड

✗ 3. दक्षिण अफ्रीका

✓ 4. न्यूज़ीलैंड

Question ID : 65497831546

Status : Answered

Chosen Option : 4

Q.3 राजा मानसिंह तोमर ने _____ पर शासन किया था।

- Ans 1. खालियर
 2. बीकानेर
 3. मैसूर
 4. जैसलमेर

Question ID : 65497831563
Status : Answered
Chosen Option : 4

Q.4 कौन-सा देश 2022 में एशियाई फुटबॉल परिसंघ के महिला एशियन कप की मेजबानी करेगा?

- Ans 1. मलेशिया
 2. चीन
 3. भारत
 4. ताइवान

Question ID : 65497831560
Status : Answered
Chosen Option : 1

Q.5 निम्नलिखित में से किस स्थान पर हड़प्पा संस्कृति की अग्नि वेदियाँ पाई गई थीं?

- Ans 1. पदरी
 2. लोथल
 3. भगतराव
 4. मांडा

Question ID : 65497831547
Status : Not Answered
Chosen Option : --

Q.6 नॉमिनल जी.डी.पी. (GDP), एक अर्थव्यवस्था में आर्थिक उत्पादन का आकलन है जिसमें इसकी गणना में _____ शामिल होता है।

- Ans 1. केवल सेवाएं
 2. नागरिकों के लेखे
 3. वर्तमान मूल्य
 4. पिछले 5 वर्षों के मूल्य

Question ID : 65497831561
Status : Answered
Chosen Option : 3

Q.7 दिसंबर 2020 तक भारत में कितने रामसर स्थल मौजूद हैं?

- Ans 1. 39
 2. 42
 3. 40
 4. 41

Question ID : 65497831559
Status : Answered
Chosen Option : 1

Q.8 _____, नहर निर्गम (केनाल आउटलेट) के कमान-क्षेत्र में पानी के समान वितरण की एक प्रणाली है।

- Ans
- 1. उत्थापन (लिफ्ट)
 - 2. प्रवाह (फ्लो)
 - 3. वारबंदी
 - 4. हारवेस्टिंग

Question ID : 65497831544
Status : Not Answered
Chosen Option : --

Q.9 निम्नलिखित में से किस विदेशी व्यक्ति को 2019 में पद्म विभूषण मिला?

- Ans
- 1. प्रवीण गोर्धन
 - 2. जॉन चैम्बर्स
 - 3. इस्माइल ओमर गुलेह
 - 4. शिंजो आबे

Question ID : 65497831558
Status : Answered
Chosen Option : 4

Q.10 28 मार्च, 2020 को भारतीय रिजर्व बैंक (RBI) की अधिसूचना के अनुसार, दो ऋणदाताओं के विलय के बाद इलाहाबाद बैंक की सभी शाखाएं _____ की शाखाओं के रूप में कार्य करेंगी।

- Ans
- 1. इंडियन बैंक
 - 2. केनरा बैंक
 - 3. बैंक ऑफ़ बड़ौदा
 - 4. देना बैंक

Question ID : 65497831539
Status : Not Answered
Chosen Option : --

Q.11 निम्नलिखित में से कौन-सा बैक्टीरिया (जीवाणु), वायुमंडलीय नाइट्रोजन को फिक्स करने में सहायता करता है?

- Ans
- 1. अज़ोसपिरिलम
 - 2. राइजोबियम
 - 3. क्लोस्ट्रीडियम
 - 4. एजोटोबैक्टर

Question ID : 65497831556
Status : Answered
Chosen Option : 2

Q.12 मालदीव, किस वर्ष में एक सल्तनत व्यवस्था से एक राष्ट्रपति व्यवस्था वाली सरकार में बदल गया था?

- Ans
- 1. 1962
 - 2. 1947
 - 3. 1956
 - 4. 1968

Question ID : 65497831540
Status : Not Answered
Chosen Option : --

Q.13 'शिरुई लिली महोत्सव' निम्नलिखित में से किस राज्य में मनाया जाता है?

- Ans
- 1. केरल
 - 2. गोवा
 - 3. नागालैंड
 - 4. मणिपुर

Question ID : 65497831543
Status : Not Answered
Chosen Option : --

Q.14 निम्नलिखित में से कौन सा मिजोरम राज्य का मुख्य त्योहार है?

- Ans
- 1. हॉर्नबिल
 - 2. चपचार कूट
 - 3. सागा दावा
 - 4. ओणम

Question ID : 65497831555
Status : Answered
Chosen Option : 2

Q.15 विश्व प्रवासी पक्षी दिवस हर वर्ष कब मनाया जाता है?

- Ans
- 1. मई और अक्टूबर के पहले रविवार को
 - 2. अप्रैल और नवंबर के दूसरे शनिवार को
 - 3. अप्रैल और नवंबर के पहले रविवार को
 - 4. मई और अक्टूबर के दूसरे शनिवार को

Question ID : 65497831557
Status : Not Answered
Chosen Option : --

Q.16 निम्नलिखित में से किस राज्य सरकार ने नवंबर 2020 में घोषणा की थी कि वह गायों के संरक्षण और संवर्धन के लिए गौ मंत्रिमंडल की स्थापना करेगी?

- Ans
- 1. उत्तर प्रदेश
 - 2. कर्नाटक
 - 3. मध्य प्रदेश
 - 4. बिहार

Question ID : 65497831550
Status : Answered
Chosen Option : 1

Q.17 निम्नलिखित में से कौन, चोल राजवंश का संस्थापक था?

- Ans
- 1. राजेंद्र I
 - 2. राजेंद्र III
 - 3. विजयालय
 - 4. राजाराज

Question ID : 65497831548
Status : Not Answered
Chosen Option : --

Q.18 नेहरू रिपोर्ट (1928) निम्न से संबंधित थी:

- Ans
- 1. शिक्षा सुधार
 - 2. संवैधानिक ढांचा
 - 3. सांप्रदायिक पुरस्कार
 - 4. सूरत विभाजन

Question ID : 65497831552
Status : Answered
Chosen Option : 2

Q.19 टिटू लूका एक भारतीय ट्रेक और फील्ड एथलीट है। महिलाओं की निम्नलिखित में से किस स्पर्धा में वे राष्ट्रीय रिकार्ड धारक हैं?

- Ans
- 1. 100 m की दौड़
 - 2. 400 m की दौड़
 - 3. 800 m की दौड़
 - 4. 200 m की दौड़

Question ID : 65497831542
Status : Not Answered
Chosen Option : --

Q.20 नवंबर 2020 में, भारत के केंद्रीय मंत्रिमंडल ने _____ के साथ पूंजी-विहीन लक्ष्मी विलास बैंक (LVB) के विलय को मंजूरी दी।

- Ans
- 1. DBS बैंक इंडिया
 - 2. भारतीय स्टेट बैंक
 - 3. HDFC बैंक
 - 4. पंजाब नेशनल बैंक

Question ID : 65497831541
Status : Not Answered
Chosen Option : --

Q.21 निम्नलिखित में से कौन सी पहाड़ियाँ मेघालय में स्थित नहीं हैं?

- Ans
- 1. जयंतिया पहाड़ियाँ
 - 2. गारो पहाड़ियाँ
 - 3. खासी पहाड़ियाँ
 - 4. दफ़ला पहाड़ियाँ

Question ID : 65497831554
Status : Answered
Chosen Option : 4

Q.22 सितंबर 2020 में, बंगाल पीयरलेस हाउसिंग डेवलपमेंट कंपनी का ब्रांड एंबेसडर किसे बनाया गया?

- Ans
- 1. एम.एस. धोनी
 - 2. सौरव गांगुली
 - 3. विराट कोहली
 - 4. स्मृति मंधाना

Question ID : 65497831545
Status : Answered
Chosen Option : 4

Q.23 निम्नलिखित में से कौन सा युग्म ऊर्जा की इकाई दर्शाता है?

- Ans
- 1. इलेक्ट्रॉन वोल्ट और प्रकाशवर्ष
 - 2. जूल और पास्कल
 - 3. वेबर और एम्पियर
 - 4. कैलोरी और जूल

Question ID : 65497831551
Status : Answered
Chosen Option : 4

Q.24 अगस्त 2020 में निम्नलिखित में से किस भारतीय राज्य में रेलवे संग्रहालय का उद्घाटन किया गया?

- Ans
- 1. नई दिल्ली
 - 2. पंजाब
 - 3. कर्नाटक
 - 4. आंध्र प्रदेश

Question ID : 65497831553
Status : Not Answered
Chosen Option : --

Q.25 सितंबर 2021 में, आर्थिक मामलों की कैबिनेट समिति (CCEA) ने रबी मार्केटिंग सीजन (RMS) 2022-23 के लिए मसूर, सफ़ेद सरसों और काले सरसों के लिए पिछले वर्ष की तुलना में न्यूनतम समर्थन मूल्य (MSP) में _____ प्रति क्विंटल की उच्चतम पूर्ण वृद्धि को मंजूरी दी।

- Ans
- 1. ₹200
 - 2. ₹400
 - 3. ₹1,200
 - 4. ₹800

Question ID : 65497831562
Status : Not Answered
Chosen Option : --

Section : Part C Elementary Mathematics

Q.1 एक डीलर ने एक वस्तु की कीमत क्रय मूल्य से 50% अधिक अंकित की। एक खास ग्राहक को उसने 10%, 15% और 20% की क्रमागत छूट दी। परिणामस्वरूप उसे ₹410 की हानि हुई। उक्त ग्राहक को उसने वस्तु किस कीमत (₹ में) पर बेची?

- Ans
- 1. 5940
 - 2. 5490
 - 3. 4950
 - 4. 4590

Question ID : 65497831565
Status : Answered
Chosen Option : 4

Q.2 बारह संख्याओं का औसत 38 है। पहली तीन संख्याओं का औसत 33 है, अगली चार संख्याओं का औसत $35\frac{1}{2}$ है और अगली दो संख्याओं का औसत 40 है। यदि दसवीं संख्या ग्यारहवीं और बारहवीं संख्याओं से क्रमशः 4 और 5 कम हो, तो बारहवीं संख्या कौन सी है?

- Ans
- 1. 45
 - 2. 49
 - 3. 40
 - 4. 47

Question ID : 65497831564
Status : Answered
Chosen Option : 4

Q.3 एक व्यक्ति ने ₹20,000 की धनराशि साधारण ब्याज की 4.5% वार्षिक दर पर तीन वर्षों के लिए निवेश की। यदि उस व्यक्ति ने ₹16,000 की धनराशि 5% वार्षिक चक्रवृद्धि ब्याज दर पर 2 वर्षों के लिए निवेश की होती, तो दोनों स्थितियों में प्राप्त ब्याज के बीच कितना अंतर होता?

- Ans
- 1. ₹1,060
 - 2. ₹1,000
 - 3. ₹1,200
 - 4. ₹800

Question ID : 65497831582
Status : Answered
Chosen Option : 1

Q.4 एक लंब वृत्तीय शंकु के आधार का क्षेत्रफल 7546 cm^2 है और इसकी उंचाई 15 cm है। शंकु का आयतन (cm^3 में) ज्ञात करें। ($\pi = \frac{22}{7}$ लें)

- Ans
- 1. 40000
 - 2. 36930
 - 3. 35000
 - 4. 37730

Question ID : 65497831570
Status : Answered
Chosen Option : 4

Q.5 रीता ने सोने का 15 ग्राम का एक आभूषण ₹71820 में खरीदा, जिसमें 12% का जीएसटी और गहना बनाने के प्रभार शामिल हैं। सोने का प्रति ग्राम मूल मूल्य (₹ में) कितना है?

- Ans
- 1. 4157
 - 2. 4788
 - 3. 4572
 - 4. 4275

Question ID : 65497831566
Status : Not Attempted and Marked For Review
Chosen Option : --

Q.6 एक वस्तु पर 12.5% की छूट देने के बाद ₹1,225 में बेचा गया। यदि दी गई छूट 9.5% होती, तो वस्तु का विक्रय मूल्य क्या होता?

- Ans
- 1. ₹1,246
 - 2. ₹1,260
 - 3. ₹1,367
 - 4. ₹1,267

Question ID : 65497831573
Status : Answered
Chosen Option : 3

Q.7 ₹8,505 को P, Q और R के बीच उनके हिस्सों के अनुसार $1\frac{1}{3} : 1\frac{3}{4} : 2\frac{1}{6}$ के अनुपात में विभाजित किया गया है। P और R के हिस्सों में कितना अंतर (₹ में) है?

- Ans
- 1. 675
 - 2. 1,701
 - 3. 1,350
 - 4. 1,530

Question ID : 65497831581
Status : Answered
Chosen Option : 3

Q.8 व्यक्ति A एक कार्य को पूरा करने में 28 घंटे लेता है। व्यक्ति B उसी कार्य को A द्वारा लिए गए समय से एक-चौथाई समय में पूरा करता है। यदि दोनों एक साथ कार्य करते हैं, तो कार्य कितने समय में समाप्त हो जाएगा?

- Ans
- 1. 5 घंटे 30 मिनट
 - 2. 6 घंटे 36 मिनट
 - 3. 5 घंटे
 - 4. 5 घंटे 36 मिनट

Question ID : 65497831576
Status : Answered
Chosen Option : 4

Q.9 P को 96 km चलने के लिए Q से छह घंटे ज्यादा लगते हैं, लेकिन यदि P अपनी चाल को दोगुनी कर देता है तो उसे यह दूरी तय करने में Q से दो घंटे कम लगते हैं। 48 km चलने के लिए Q को कितना समय (घंटे में) चाहिए?

- Ans
- 1. 10
 - 2. 16
 - 3. 6
 - 4. 5

Question ID : 65497831568
Status : Answered
Chosen Option : 4

Q.10 $\frac{1}{4} \div 4\frac{2}{9}$ of $\frac{9}{19} + \left(\frac{5}{4} - \frac{3}{8}\right)$ का मान ज्ञात कीजिए।

- Ans
- 1. 4
 - 2. 1
 - 3. 2
 - 4. 8

Question ID : 65497831574
Status : Answered
Chosen Option : 2

Q.11 रेणु का व्यय, उसकी बचत से 150% अधिक है। यदि उसकी आय में 20% की और बचत में 50% की वृद्धि होती है, तो उसके व्यय में कितने प्रतिशत की वृद्धि होगी?

- Ans
- 1. 12%
 - 2. 5%
 - 3. 8%
 - 4. 10%

Question ID : 65497831587
Status : Answered
Chosen Option : 1

Q.12 50 और 7 के बीच उन सभी संख्याओं के औसत जो कि 6 से विभाज्य हैं, तथा 10 और 45 के बीच सभी अभाज्य संख्याओं के औसत के बीच का अंतर ज्ञात करें।

- Ans
- 1. 35.6
 - 2. 33.6
 - 3. 33.4
 - 4. 35.4

Question ID : 65497831580
Status : Answered
Chosen Option : 2

Q.13 A, B और C अलग-अलग एक काम को क्रमशः 20, 35 और 60 दिन में कर सकते हैं। उन्होंने एक साथ मिलकर काम करना शुरू किया, लेकिन B ने काम पूरा होने से 8 दिन पहले और C ने काम पूरा होने से 12 दिन पहले काम छोड़ दिया। सभी तीनों ने एक साथ मिलकर कितने दिन तक काम किया?

- Ans
- 1. 7
 - 2. 12
 - 3. 10
 - 4. 3

Question ID : 65497831567
Status : Answered
Chosen Option : 4

Q.14 चार अंकों की वह सबसे छोटी संख्या ज्ञात करें जो 3, 5, 7 और 9 से विभाज्य हो।

- Ans
- 1. 1145
 - 2. 1125
 - 3. 1260
 - 4. 1045

Question ID : 65497831579
Status : Answered
Chosen Option : 3

Q.15 एक छात्र ने ₹35 में 10 पेंसिल के मूल्य पर पेंसिल का एक बॉक्स खरीदा और उन सभी को ₹54 में 9 पेंसिल के मूल्य पर बेच दिया। इस सौदे में, उसे ₹350 का लाभ हुआ। बॉक्स में कितनी पेंसिलें थीं?

- Ans
- 1. 120
 - 2. 130
 - 3. 150
 - 4. 140

Question ID : 65497831571
Status : Answered
Chosen Option : 4

Q.16 एक निश्चित धनराशि पर साधारण ब्याज, मूलधन का $\frac{4}{25}$ है, यदि प्रतिशत ब्याज दर, और वर्षों में अवधि को निरूपित करने वाली संख्याएं बराबर हों, तो मूलधन उधार दिए जाने की अवधि ज्ञात करें।

- Ans
- 1. 5 वर्ष
 - 2. 6 वर्ष
 - 3. 2 वर्ष
 - 4. 4 वर्ष

Question ID : 65497831584
Status : Answered
Chosen Option : 4

Q.17 एक व्यक्ति 1800 m लंबी गली को 5 min में पार कर जाता है। उसकी चाल (km/h में) कितनी है?

- Ans
- 1. 21
 - 2. 20.6
 - 3. 21.6
 - 4. 11.6

Question ID : 65497831578
Status : Answered
Chosen Option : 3

Q.18 15 और 45 का तृतीय समानुपाती ज्ञात करें।

- Ans
- 1. 145
 - 2. 135
 - 3. 125
 - 4. 165

Question ID : 65497831583
Status : Answered
Chosen Option : 2

Q.19 $(5 \div 8)$ of $(4 \div 5)$ of 25 $(15^2 - 13^2)$ का मान कितना है?

- Ans
- 1. 700
 - 2. 725
 - 3. 525
 - 4. 625

Question ID : 65497831577
Status : Answered
Chosen Option : 1

Q.20 यदि किसी संख्या का $\frac{3}{5}$ भाग 54 है, तो इसका $\frac{2}{9}$ भाग कितना होगा?

- Ans
- 1. 36
 - 2. 20
 - 3. 27
 - 4. 45

Question ID : 65497831586
Status : Answered
Chosen Option : 2

Q.21 एक समबाहु त्रिभुजाकार बोर्ड की भुजा 12 m है। ₹4.50 प्रति मीटर की दर से बोर्ड की फेंसिंग की लागत (₹ में) ज्ञात करें।

- Ans
- 1. ₹210
 - 2. ₹150
 - 3. ₹198
 - 4. ₹162

Question ID : 65497831585
Status : Not Answered
Chosen Option : --

Q.22 ₹25110 की एक धनराशि को A, B, C और D के बीच इस प्रकार विभाजित किया जाता है, कि A और B के हिस्सों का अनुपात 8 : 9 है, B और C के हिस्सों का अनुपात 3 : 5 है तथा C और D के हिस्सों का अनुपात 1 : 2 है। B और D के हिस्सों के मध्य (₹ में) कितना अंतर है?

- Ans
- 1. 11125
 - 2. 8505
 - 3. 13150
 - 4. 6075

Question ID : 65497831569
Status : Answered
Chosen Option : 2

Q.23 एक वस्तु को ₹5,270 में बेचने पर एक व्यक्ति को 15% की हानि हुई। यदि उसने वस्तु को ₹6,324 में बेचा होता, तो उसका प्रतिशत लाभ या हानि ज्ञात कीजिए।

- Ans
- 1. 12% लाभ
 - 2. 20% लाभ
 - 3. 10% हानि
 - 4. 2% लाभ

Question ID : 65497831588
Status : Answered
Chosen Option : 4

Q.24 एक निश्चित धनराशि का प्रत्येक 8 माह में चक्रवृद्धि होने वाली 12% वार्षिक ब्याज दर पर 16 महीनों का ब्याज ₹3494.40 है। उतनी ही धनराशि का उसी ब्याज दर पर, यदि ब्याज वार्षिक आधार पर चक्रवृद्धि किया जाए, तो 2 वर्षों का चक्रवृद्धि ब्याज (₹ में) कितना होगा?

- Ans
- 1. 24362.80
 - 2. 22634.20
 - 3. 29432.60
 - 4. 26342.40

Question ID : 65497831572
Status : Answered
Chosen Option : 4

Q.25 अरुण ने ₹24,000 प्रत्येक पर 8 टीवी सेट खरीदे और 8 टीवी सेट को कुल ₹2,26,560 के मूल्य पर बेच दिया। उसका लाभ या हानि प्रतिशत ज्ञात कीजिए?

- Ans
- 1. लाभ 16%
 - 2. हानि 18%
 - 3. लाभ 18%
 - 4. हानि 16%

Question ID : 65497831575
Status : Answered
Chosen Option : 3

Q.1 Select the most appropriate ANTONYM of the given word.

Dull

- Ans 1. Tender
 2. Potent
 3. Keen
 4. Charitable

Question ID : 65497831590
Status : Answered
Chosen Option : 3

Q.2 Select the most appropriate meaning of the given idiom.

Take up room

- Ans 1. Feel choked
 2. Use mildly
 3. Occupy space
 4. Rent a place

Question ID : 65497831607
Status : Answered
Chosen Option : 3

Q.3 The following sentence has been split into four segments. Identify the segment that contains a grammatical error.

Fortunately, / the fire did not / caused much damage / to the building.

- Ans 1. caused much damage
 2. Fortunately
 3. to the building
 4. the fire did not

Question ID : 65497831595
Status : Answered
Chosen Option : 1

Q.4 Select the most appropriate option to fill in the blank.

Making notes will _____ you to organise your thoughts in a better way.

- Ans 1. disable
 2. capable
 3. adjustable
 4. enable

Question ID : 65497831591
Status : Answered
Chosen Option : 4

Q.5 Select the most appropriate option that can substitute the underlined segment in the given sentence. If there is no need to substitute it, select 'No substitution required'.

Tourism is one in the biggest businesses in the world.

- Ans**
- 1. are one of the
 - 2. is one of the
 - 3. are one in the
 - 4. No substitution required

Question ID : 65497831603
Status : Answered
Chosen Option : 2

Q.6 Select the option that can be used as a one-word substitute for the given group of words.

Sound made by ducks

- Ans**
- 1. Moo
 - 2. Grunt
 - 3. Caw
 - 4. Quack

Question ID : 65497831589
Status : Answered
Chosen Option : 3

Q.7 Select the most appropriate option to fill in the blank.

The little girl tried to _____ the singer.

- Ans**
- 1. imply
 - 2. imitate
 - 3. languish
 - 4. emit

Question ID : 65497831602
Status : Answered
Chosen Option : 1

Q.8 Select the INCORRECTLY spelt word.

- Ans**
- 1. Agreement
 - 2. Aggression
 - 3. Agitate
 - 4. Aggravate

Question ID : 65497831601
Status : Answered
Chosen Option : 1

Q.9 The following sentence has been split into four segments. Identify the segment that contains a grammatical error.

This apartment / is / nice than / that one.

- Ans
- 1. that one
 - 2. is
 - 3. nice than
 - 4. This apartment

Question ID : 65497831599
Status : Answered
Chosen Option : 3

Q.10 The following sentence has been split into four segments. Identify the segment that contains a grammatical error.

My friend / never tells / a lie, / doesn't he?

- Ans
- 1. My friend
 - 2. never tells
 - 3. doesn't he
 - 4. a lie

Question ID : 65497831604
Status : Answered
Chosen Option : 3

Q.11 Select the option that will improve the underlined part of the sentence. In case no improvement is needed, select 'No improvement required'.

My father is wishing me to give all my time to studies now.

- Ans
- 1. No improvement required
 - 2. has wished
 - 3. wishes
 - 4. was wishing

Question ID : 65497831594
Status : Answered
Chosen Option : 3

Q.12 Select the INCORRECTLY spelt word.

- Ans
- 1. Innocence
 - 2. Essence
 - 3. Conveyance
 - 4. Convenience

Question ID : 65497831598
Status : Answered
Chosen Option : 3

Q.13 Select the most appropriate meaning of the given idiom.

Draw first blood

- Ans 1. Be the first to gain an advantage or score against an opponent
 2. Be the first to donate blood to help a friend
 3. Agree to accompany someone for the diagnosis of an illness
 4. Take a blood test early in the morning

Question ID : 65497831593
Status : Not Answered
Chosen Option : --

Q.14 Select the most appropriate synonym of the given word.

Sufficient

- Ans 1. Enough
 2. Large
 3. Deficient
 4. Lacking

Question ID : 65497831605
Status : Answered
Chosen Option : 1

Q.15 Select the most appropriate option to fill in the blank.

Pahari is the most _____ spoken language in Himachal Pradesh.

- Ans 1. quickly
 2. carefully
 3. strictly
 4. commonly

Question ID : 65497831608
Status : Answered
Chosen Option : 4

Q.16 Select the option that can be used as a one-word substitute for the given group of words.

The system of money used in a particular country

- Ans 1. Assets
 2. Currency
 3. Valency
 4. Bullion

Question ID : 65497831606
Status : Answered
Chosen Option : 2

Q.17 Select the most appropriate ANTONYM of the given word.

Possess

- Ans 1. Release
 2. Occupy
 3. Obtain
 4. Maintain

Question ID : 65497831596
Status : Answered
Chosen Option : 1

Q.18 Select the most appropriate synonym of the given word.

Lethal

- Ans 1. Lazy
 2. Fatal
 3. Beneficial
 4. Slothful

Question ID : 65497831600
Status : Answered
Chosen Option : 2

Q.19 Select the option that can be used as a one-word substitute for the given group of words.

Shortened form of a word

- Ans 1. Allocation
 2. Connotation
 3. Abbreviation
 4. Punctuation

Question ID : 65497831597
Status : Answered
Chosen Option : 3

Q.20 Select the most appropriate option that can substitute the underlined segment in the given sentence. If there is no need to substitute it, select 'No substitution required'.

The ostrich is an interesting bird which has wings but cannot fly.

- Ans 1. which has got wing but cannot fly
 2. which have wings but cannot fly
 3. which is having wings but cannot fly
 4. No substitution required

Question ID : 65497831592
Status : Answered
Chosen Option : 4

Comprehension:

In the following passage, some words have been deleted. Read the passage carefully and select the most appropriate option to fill in each blank.

His friend did not return even the next day, or the day after. For several days, the partridge (1)_____worrying, and then gave up (2)_____of his friend's return.(3)_____dusk, a hare came to the tree and (4)_____an empty hole at the foot of the tree, (5)_____shelter inside. Since the partridge had given up hope, he did not object to the hole being occupied by the hare.

SubQuestion No : 21

Q.21 Select the most appropriate option to fill in blank no. 1.

- Ans**
- 1. did
 - 2. had
 - 3. was
 - 4. kept

Question ID : 65497831610
Status : Answered
Chosen Option : 3

Comprehension:

In the following passage, some words have been deleted. Read the passage carefully and select the most appropriate option to fill in each blank.

His friend did not return even the next day, or the day after. For several days, the partridge (1)_____worrying, and then gave up (2)_____of his friend's return.(3)_____dusk, a hare came to the tree and (4)_____an empty hole at the foot of the tree, (5)_____shelter inside. Since the partridge had given up hope, he did not object to the hole being occupied by the hare.

SubQuestion No : 22

Q.22 Select the most appropriate option to fill in blank No. 2.

- Ans**
- 1. trial
 - 2. risk
 - 3. chance
 - 4. hope

Question ID : 65497831611
Status : Answered
Chosen Option : 4

Comprehension:

In the following passage, some words have been deleted. Read the passage carefully and select the most appropriate option to fill in each blank.

His friend did not return even the next day, or the day after. For several days, the partridge (1)_____worrying, and then gave up (2)_____of his friend's return.(3)_____dusk, a hare came to the tree and (4)_____an empty hole at the foot of the tree, (5)_____shelter inside. Since the partridge had given up hope, he did not object to the hole being occupied by the hare.

SubQuestion No : 23

Q.23 Select the most appropriate option to fill in blank No. 3.

- Ans**
- 1. Since
 - 2. On
 - 3. At
 - 4. From

Question ID : 65497831612
Status : Answered
Chosen Option : 4

Comprehension:

In the following passage, some words have been deleted. Read the passage carefully and select the most appropriate option to fill in each blank.

His friend did not return even the next day, or the day after. For several days, the partridge (1)_____worrying, and then gave up (2)_____of his friend's return.(3)_____dusk, a hare came to the tree and (4)_____an empty hole at the foot of the tree, (5)_____shelter inside. Since the partridge had given up hope, he did not object to the hole being occupied by the hare.

SubQuestion No : 24

Q.24 Select the most appropriate option to fill in blank No. 4.

- Ans** 1. looking
 2. seeing
 3. noting
 4. watching

Question ID : 65497831613
Status : Answered
Chosen Option : 4

Comprehension:

In the following passage, some words have been deleted. Read the passage carefully and select the most appropriate option to fill in each blank.

His friend did not return even the next day, or the day after. For several days, the partridge (1)_____worrying, and then gave up (2)_____of his friend's return.(3)_____dusk, a hare came to the tree and (4)_____an empty hole at the foot of the tree, (5)_____shelter inside. Since the partridge had given up hope, he did not object to the hole being occupied by the hare.

SubQuestion No : 25

Q.25 Select the most appropriate option to fill in blank No. 5.

- Ans** 1. take
 2. taken
 3. took
 4. takes

Question ID : 65497831614
Status : Answered
Chosen Option : 3

Section : Part D Hindi

Q.1 सही वर्तनी वाले शब्द का चयन करें।

- Ans** 1. आभिर्भाव
 2. आर्भिव्य
 3. आविर्भाव
 4. आर्बिभाव

Question ID : 65497831628
Status : Not Answered
Chosen Option : --

Q.2 दिए गए शब्द का विलोम चुनें।

अनुयायी

- Ans 1. विरोधी
 2. आगत
 3. बाहरी
 4. निर्वात

Question ID : 65497831624
Status : Not Answered
Chosen Option : --

Q.3 निम्नलिखित प्रश्न में, दिए गए चार विकल्पों में से, उस विकल्प का चयन करें जो मुहावरे का अर्थ व्यक्त करता है।

'हथेली पर दही जमाना'

- Ans 1. छीन लेना
 2. मात्र कल्पना करते रहना
 3. बहुत उतावली करना
 4. साधारण काम समझना

Question ID : 65497831620
Status : Not Answered
Chosen Option : --

Q.4 दिए गए शब्द का विलोम चुनें।

सुशील

- Ans 1. दुश्शील
 2. अशील
 3. विशील
 4. गतिशील

Question ID : 65497831622
Status : Not Answered
Chosen Option : --

Q.5 सही वर्तनी वाले शब्द का चयन करें।

- Ans 1. अद्वितया
 2. अद्वितीय
 3. अदिवियाई
 4. अद्वितियाई

Question ID : 65497831627
Status : Not Answered
Chosen Option : --

Q.6 दिए गए वाक्य का वो भाग ज्ञात करें जिसमें कोई त्रुटि है। यदि कोई त्रुटि नहीं है, तो 'कोई त्रुटि नहीं है' चुनें।

प्रतिभाशाली छात्रों ने (1)\ विद्यालय का नाम (2)\ रौशन किये (3)\ कोई त्रुटि नहीं है (4)

Ans 1. 4

2. 3

3. 1

4. 2

Question ID : 65497831618
Status : Not Answered
Chosen Option : --

Q.7 रात के समय अन्धेरा छाया रहता है।

रेखांकित शब्द के स्थान पर उचित शब्द प्रस्थापित कीजिए।

Ans 1. रात्रि

2. अलि

3. दीन

4. दिन

Question ID : 65497831631
Status : Not Answered
Chosen Option : --

Q.8 रिक्त स्थान को भरने के लिए सबसे उपयुक्त शब्द का चयन कीजिए।

प्रेम करना तलवार की _____ पर चलना है।

Ans 1. नोक

2. धार

3. सिर

4. शक्ति

Question ID : 65497831615
Status : Not Answered
Chosen Option : --

Q.9 दिए गए वाक्य में रेखांकित खंड को प्रतिस्थापित करने के लिए सबसे उपयुक्त विकल्प का चयन करें। यदि इसे प्रतिस्थापित करने की आवश्यकता नहीं है, तो विकल्प 'किसी बदलाव की आवश्यकता नहीं है' का चयन करें।

वह वीर सिपाही जीवन भर लड़ते रहे।

Ans 1. लड़ता रहा

2. किसी बदलाव की आवश्यकता नहीं है

3. लड़ता रहे

4. लड़ती रही

Question ID : 65497831617
Status : Not Answered
Chosen Option : --

Q.10 'दामिनी' का पर्यायवाची है-

- Ans 1. चपला
 2. नंदिनी
 3. तरिणी
 4. सरिता

Question ID : 65497831634
Status : Not Answered
Chosen Option : --

Q.11 दिए गए वाक्य में रेखांकित खंड को प्रतिस्थापित करने के लिए सबसे उपयुक्त विकल्प का चयन करें।
यदि इसे प्रतिस्थापित करने की आवश्यकता नहीं है, तो विकल्प 'किसी बदलाव की आवश्यकता नहीं है'
का चयन करें।

अब मेरे दादाजी से उठे भी नहीं जाते।

- Ans 1. उठा भी नहीं जाता।
 2. किसी बदलाव की आवश्यकता नहीं है
 3. उठा भी नहीं जाते।
 4. उठे भी नहीं जाते।

Question ID : 65497831616
Status : Not Answered
Chosen Option : --

Q.12 दिये गये वाक्यांश के लिए एक शब्द दीजिये।

आशा से अधिक

- Ans 1. संभावित
 2. आशान्वित
 3. आशा प्रतिकूल
 4. आशातीत

Question ID : 65497831629
Status : Not Answered
Chosen Option : --

Q.13 दिए गए वाक्य का वह भाग ज्ञात करें जिसमें कोई त्रुटि है। यदि कोई त्रुटि नहीं है, तो 'कोई त्रुटि नहीं है'
चुनें।

शेर की तरह दहाड़ने वाले तुम, आज भीगी बिल्ली बने हुए हो!

- Ans 1. बने हुए हो!
 2. तुम, आज भीगी बिल्ली
 3. कोई त्रुटि नहीं है।
 4. शेर की तरह दहाड़ने वाले

Question ID : 65497831621
Status : Not Answered
Chosen Option : --

Q.14 दिये गये वाक्यांश के लिए एक शब्द दीजिये।

जिसका अपहरण हो सके

- Ans
- 1. अपरिहार्य
 - 2. अपसव्य
 - 3. अपहारित
 - 4. अपहार्य

Question ID : 65497831623
Status : Not Answered
Chosen Option : --

Q.15 रिक्त स्थान की पूर्ति के लिए सबसे उपयुक्त शब्द का चयन करें।

विराट इतना अच्छा खेल रहा है; बस किसी की _____ न लगे।

- Ans
- 1. खाइश
 - 2. नज़र
 - 3. आंख
 - 4. दृष्टि

Question ID : 65497831630
Status : Not Answered
Chosen Option : --

Q.16 निम्नलिखित प्रश्न में, दिए गए चार विकल्पों में से, उस विकल्प का चयन करें जो मुहावरे का अर्थ व्यक्त करता है।

म्याऊँ की ठौर पकड़ना

- Ans
- 1. प्रकुपित होना
 - 2. क्रोध के आवेश में होना
 - 3. उत्साह हीन होना
 - 4. जोखिम का कार्य करना

Question ID : 65497831625
Status : Not Answered
Chosen Option : --

Q.17 दिए गए शब्द का समानार्थी शब्द बताइए।

जनक

- Ans
- 1. जानकार
 - 2. जड़
 - 3. जन्मदाता
 - 4. जननी

Question ID : 65497831619
Status : Not Answered
Chosen Option : --

Q.18 दिये गये वाक्यांश के लिए एक शब्द दीजिये।

जो कल्पना से परे हो

- Ans
- 1. काल्पनिक
 - 2. अकाल्पनिक
 - 3. कल्पनात्मक
 - 4. कल्पनातीत

Question ID : 65497831626
Status : Not Answered
Chosen Option : --

Q.19 दिये गये वाक्य के किस भाग में त्रुटि है?

हमने एक सभा का संघटन किया।

- Ans
- 1. एक
 - 2. संघटन किया।
 - 3. हमने
 - 4. सभा का

Question ID : 65497831633
Status : Not Answered
Chosen Option : --

Q.20 रिक्त स्थान को भरने के लिए सबसे उपयुक्त विकल्प का चयन करें।

गौतम बुद्ध को _____ हुआ कि संसार में दुःख व्याप्त है।

- Ans
- 1. बोध
 - 2. अनुभव
 - 3. संज्ञान
 - 4. ज्ञान

Question ID : 65497831632
Status : Not Answered
Chosen Option : --

Comprehension:

दिए गए अनुच्छेद में कुछ शब्द हटा दिए गए हैं। दिए गए विकल्पों की सहायता से रिक्त स्थान भरें। प्रत्येक संख्या के लिए सबसे उपयुक्त विकल्प का चयन करें।

हमारे समाज में अनेक (1) _____ हैं। पाँच-सात वर्ष की बालिकाओं का (2) _____ साठ-सत्तर साल के (3) _____ के साथ कर दिया जाता है। दूसरी कुप्रथा (4) _____ है जिसे भारत की सरकार ने कानून के द्वारा (5) _____ घोषित कर दिया है।

SubQuestion No : 21

Q.21 गद्यांश के रिक्त स्थान (1) के लिए सर्वाधिक उपयुक्त शब्द होगा-

- Ans
- 1. रीतियाँ और नीतियाँ
 - 2. प्रथाएँ और नीतियाँ
 - 3. कुप्रथाएँ और कुरीतियाँ
 - 4. सुप्रथाएँ और कुरीतियाँ

Question ID : 65497831636
Status : Not Answered
Chosen Option : --

Comprehension:

दिए गए अनुच्छेद में कुछ शब्द हटा दिए गए हैं। दिए गए विकल्पों की सहायता से रिक्त स्थान भरें। प्रत्येक संख्या के लिए सबसे उपयुक्त विकल्प का चयन करें।

हमारे समाज में अनेक (1) _____ हैं। पाँच-सात वर्ष की बालिकाओं का (2) _____ साठ-सत्तर साल के (3) _____ के साथ कर दिया जाता है। दूसरी कुप्रथा (4) _____ है जिसे भारत की सरकार ने कानून के द्वारा (5) _____ घोषित कर दिया है।

SubQuestion No : 22

Q.22 गद्यांश के रिक्त स्थान (2) के लिए सर्वाधिक उपयुक्त शब्द होगा-

- Ans**
- 1. बन्धन
 - 2. कर्ण-छेदन
 - 3. विवाह
 - 4. कन्यादान

Question ID : 65497831637
Status : Not Answered
Chosen Option : --

Comprehension:

दिए गए अनुच्छेद में कुछ शब्द हटा दिए गए हैं। दिए गए विकल्पों की सहायता से रिक्त स्थान भरें। प्रत्येक संख्या के लिए सबसे उपयुक्त विकल्प का चयन करें।

हमारे समाज में अनेक (1) _____ हैं। पाँच-सात वर्ष की बालिकाओं का (2) _____ साठ-सत्तर साल के (3) _____ के साथ कर दिया जाता है। दूसरी कुप्रथा (4) _____ है जिसे भारत की सरकार ने कानून के द्वारा (5) _____ घोषित कर दिया है।

SubQuestion No : 23

Q.23 गद्यांश के रिक्त स्थान (3) के लिए सर्वाधिक उपयुक्त शब्द होगा-

- Ans**
- 1. बालकों
 - 2. प्रौढ़ों
 - 3. युवाओं
 - 4. वृद्धों

Question ID : 65497831638
Status : Not Answered
Chosen Option : --

Comprehension:

दिए गए अनुच्छेद में कुछ शब्द हटा दिए गए हैं। दिए गए विकल्पों की सहायता से रिक्त स्थान भरें। प्रत्येक संख्या के लिए सबसे उपयुक्त विकल्प का चयन करें।

हमारे समाज में अनेक (1) _____ हैं। पाँच-सात वर्ष की बालिकाओं का (2) _____ साठ-सत्तर साल के (3) _____ के साथ कर दिया जाता है। दूसरी कुप्रथा (4) _____ है जिसे भारत की सरकार ने कानून के द्वारा (5) _____ घोषित कर दिया है।

SubQuestion No : 24

Q.24 गद्यांश के रिक्त स्थान (4) के लिए सर्वाधिक उपयुक्त शब्द होगा-

- Ans**
- 1. विधवा विवाह
 - 2. जातीयता
 - 3. अस्पृश्यता
 - 4. स्वच्छता

Question ID : 65497831639
Status : Not Answered
Chosen Option : --

Comprehension:

दिए गए अनुच्छेद में कुछ शब्द हटा दिए गए हैं। दिए गए विकल्पों की सहायता से रिक्त स्थान भरें। प्रत्येक संख्या के लिए सबसे उपयुक्त विकल्प का चयन करें।

हमारे समाज में अनेक (1) _____ हैं। पाँच-सात वर्ष की बालिकाओं का (2) _____ साठ-सत्तर साल के (3) _____ के साथ कर दिया जाता है। दूसरी कुप्रथा (4) _____ है जिसे भारत की सरकार ने क़ानून के द्वारा (5) _____ घोषित कर दिया है।

SubQuestion No : 25

Q.25 गद्यांश के रिक्त स्थान (5) के लिए सर्वाधिक उपयुक्त शब्द होगा-

- Ans**
- 1. कानूनी
 - 2. अवैध
 - 3. निष्प्रभावी
 - 4. अस्पृश्य

Question ID : 65497831640

Status : Not Answered

Chosen Option : --

Constable GD in CAPFs NIA SSF and Rifleman GD in Assam Rifles Examination 2021

Roll Number	www.HaryanaJobs.in
Candidate Name	www.HaryanaJobs.in
Venue Name	Info Educomonline Solution
Exam Date	13/12/2021
Exam Time :	12:30 PM - 2:00 PM
Subject	Constable GD 2021

Section : Part A General Intelligence and Reasoning

Q.1 उस विकल्प का चयन करें, जो दी गई आकृति में अंतर्निहित नहीं है (आकृति को घुमाने की अनुमति नहीं है)।



Ans

✓ 1.



✗ 2.



✗ 3.



✗ 4.



Question ID : 65497833058

Status : Answered

Chosen Option : 3

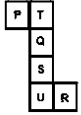
Q.2 शब्दों के उस समूह का चयन कीजिए, जो दिए गए वेन आरेख द्वारा सर्वोत्तम ढंग से प्रदर्शित होता है।



- Ans
- 1. मक्का, चावल, भोजन
 - 2. चमेली, फूल, अंडे
 - 3. पानी, द्रव, रस
 - 4. गुलाब, कुमुदिनी, फूल

Question ID : 65497833062
Status : Answered
Chosen Option : 3

Q.3 दी गई शीट को मोड़कर एक घन बनाया जाता है। इस प्रकार निर्मित घन में, अक्षरों का इनमें से कौन-सा युग्म एक दूसरे के विपरीत फलकों पर मौजूद होगा?



- Ans
- 1. S और R
 - 2. P और Q
 - 3. Q और U
 - 4. U और T

Question ID : 65497833057
Status : Answered
Chosen Option : 4

Q.4 'कुल्हाड़ी' का 'काटने' से वही संबंध है, जो 'छलनी' का '_____' से है।

- Ans
- 1. छानने
 - 2. पकड़ने
 - 3. लौ
 - 4. पीसने

Question ID : 65497833060
Status : Answered
Chosen Option : 1

Q.5 दिए गए विकल्पों में से उस संख्या का चयन करें, जो निम्नलिखित श्रृंखला में प्रश्नवाचक चिह्न (?) के स्थान पर आ सकती है।

27, 32, 42, 57, 77, ?

Ans 1. 124

2. 102

3. 105

4. 97

Question ID : 65497833043

Status : Answered

Chosen Option : 2

Q.6 दिए गए कथनों और निष्कर्षों को ध्यानपूर्वक पढ़ें। कथनों में दी गई जानकारी को सही मानते हुए, भले ही वह सामान्यतः ज्ञात तथ्यों से भिन्न प्रतीत होती हो, निर्णय कीजिए कि दिए गए निष्कर्षों में से कौन से निष्कर्ष कथनों का तार्किक रूप से अनुसरण करते हैं।

कथन:

I. कुछ टॉली-बैग, बैकपैक हैं।

II. कुछ बैकपैक, सूटकेस हैं।

III. सभी सूटकेस, बैग हैं।

निष्कर्ष:

I. कम से कम कुछ बैकपैक, बैग हैं।

II. कुछ बैग, सूटकेस हैं।

Ans 1. न तो निष्कर्ष I और न ही निष्कर्ष II अनुसरण करता है।

2. I और II दोनों निष्कर्ष अनुसरण करते हैं।

3. केवल निष्कर्ष I अनुसरण करता है।

4. केवल निष्कर्ष II अनुसरण करता है।

Question ID : 65497833050

Status : Answered

Chosen Option : 1

Q.7 दिए गए विकल्पों में से उस आकृति का चयन करें, जो निम्नलिखित श्रृंखला में प्रश्नवाचक चिह्न (?) के स्थान पर आ सकती है।



Ans

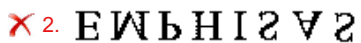


Question ID : 65497833044
Status : Answered
Chosen Option : 1

Q.8 यदि दर्पण को निम्न आकृति के अनुसार PQ पर रखा जाता है, तो दिए गए संयोजन का दर्पण में निर्मित सही प्रतिबिंब चयनित करें।



Ans



Question ID : 65497833048
Status : Answered
Chosen Option : 4

Q.9 उस विकल्प का चयन कीजिए जिसका तीसरे पद से वही संबंध है जो दूसरे पद का पहले पद से है।

BACK : ZCAM :: REAR : ?

- Ans
- 1. YPGT
 - 2. PYGT
 - 3. PGYT
 - 4. TYPG

Question ID : 65497833038
Status : Answered
Chosen Option : 3

Q.10 चार अक्षर-समूह दिए गए हैं, जिनमें से तीन किसी प्रकार से समान हैं और एक उनसे असंगत है। उस असंगत अक्षर-समूह का चयन करें।

- Ans
- 1. MDNK
 - 2. SFHJ
 - 3. GBTM
 - 4. JLQC

Question ID : 65497833045
Status : Answered
Chosen Option : 2

Q.11 दिए गए विकल्पों में से उस संख्या का चयन कीजिए जो दी गई श्रृंखला में प्रश्न चिह्न (?) के स्थान पर आ सकती है।

17, 18, 14, 23, 7, 32, -4, ?

- Ans
- 1. -25
 - 2. -45
 - 3. 25
 - 4. 45

Question ID : 65497833047
Status : Answered
Chosen Option : 3

Q.12 श्रृंखला 195, 188, 181, ... का कौन सा पद पहला ऋणात्मक पद होगा?

- Ans
- 1. 35
 - 2. 29
 - 3. 32
 - 4. 42

Question ID : 65497833052
Status : Answered
Chosen Option : 1

Q.13 दिए गए विकल्पों में से उस अक्षर-समूह का चयन करें, जो निम्नलिखित श्रृंखला में प्रश्नवाचक चिन्ह (?) के स्थान पर आ सकता है।

NX, LZ, JB, ?, FF, DH

- Ans
- 1. GC
 - 2. HD
 - 3. ED
 - 4. HC

Question ID : 65497833059
Status : Answered
Chosen Option : 3

Q.14 आठ व्यक्ति A, B, C, D, E, F, G और H, एक वृत्ताकार मेज के परितः एक दूसरे से समान दूरी पर इसी क्रम में दक्षिणावर्त बैठे हुए हैं। सभी का मुंह मेज के केंद्र की ओर है। यदि E उत्तर-पश्चिम दिशा में बैठा है, तो G का मुंह किस दिशा में है?

- Ans
- 1. उत्तर
 - 2. दक्षिण-पूर्व
 - 3. उत्तर-पश्चिम
 - 4. दक्षिण-पश्चिम

Question ID : 65497833054
Status : Answered
Chosen Option : 4

Q.15 पूजा, गुलाब की इकलौती बहन है। केशव और सुमेर भाई हैं। गुलाब, केशव का इकलौता भतीजा है। सुमेर, सोनू (पुरुष) का ससुर है। पूजा का सोनू से क्या संबंध है?

- Ans
- 1. बहन
 - 2. पत्नी
 - 3. साली
 - 4. मां

Question ID : 65497833040
Status : Answered
Chosen Option : 4

Q.16 एक विशिष्ट कूट भाषा में, शब्द 'PARTH' को 'TEVXL' के रूप में कूटबद्ध किया जाता है। इसी कूट भाषा में निम्न में से किस शब्द का कूट 'XVEHI' होगा ?

- Ans
- 1. TRADE
 - 2. TARDE
 - 3. BZILM
 - 4. BZLIM

Question ID : 65497833049
Status : Answered
Chosen Option : 1

Q.17 उस विकल्प का चयन कीजिए, जो निम्न शब्दों के उस सही क्रम को दर्शाता है, जिस क्रम में वे शब्द अंग्रेजी शब्दकोश में आते हैं।

1. Trimmer
2. Tripled
3. Trinity
4. Trinket
5. Triumph

- Ans
- 1. 2, 3, 1, 5, 4
 - 2. 3, 1, 2, 5, 4
 - 3. 1, 4, 3, 2, 5
 - 4. 1, 3, 4, 2, 5

Question ID : 65497833041
Status : Answered
Chosen Option : 2

Q.18 दिए गए समीकरण को सही करने के लिए किन दो संख्याओं को आपस में बदला जाना चाहिए?

$$48 + 37 \times 5 - 36 \div 12 = 274$$

- Ans
- 1. 12 और 5
 - 2. 37 और 48
 - 3. 12 और 36
 - 4. 48 और 12

Question ID : 65497833056
Status : Answered
Chosen Option : 2

Q.19 छः मित्र A, B, C, D, E और F, उत्तर की ओर मुंह करके दो पंक्तियों में बैठे हुए हैं। प्रत्येक पंक्ति में तीन व्यक्ति बैठे हैं। F बीच में बैठा है। C, B के ठीक पीछे बैठा है। D, E के दाईं ओर ठीक बगल में बैठा है। B, F के बाईं ओर ठीक बगल में बैठा है। कौन से तीन व्यक्ति एक ही पंक्ति में बैठे हैं?

- Ans
- 1. C, D और E
 - 2. A, B और D
 - 3. B, C और D
 - 4. A, F और C

Question ID : 65497833061
Status : Answered
Chosen Option : 1

Q.20 किसी कूट भाषा में, 'SLIDE' को '382418822' के रूप में कूटबद्ध किया जाता है। उसी कूट भाषा में 'TREND' को किस रूप में कूटबद्ध किया जाएगा?

- Ans
- 1. 428282036
 - 2. 463028282
 - 3. 403622288
 - 4. 430622828

Question ID : 65497833046
Status : Answered
Chosen Option : 4

Q.21 दिए गए पैटर्न का ध्यानपूर्वक अध्ययन करें, और उस संख्या का चयन करें जो इसमें प्रश्नवाचक चिह्न (?) के स्थान पर आ सकती है।

9 7 12
12 24 ?
15 25 37

- Ans 1. 35
 2. 36
 3. 42
 4. 40

Question ID : 65497833051
Status : Answered
Chosen Option : 2

Q.22 एक निश्चित कूट भाषा में, 'SLEEPER' को 'UKGDRDT' लिखा जाता है। उसी कूट भाषा में 'BEGUMPET' को क्या लिखा जाएगा?

- Ans 1. DOITDOGS
 2. DOITDOOG
 3. DDITOOGS
 4. DDITDOGO

Question ID : 65497833039
Status : Answered
Chosen Option : 1

Q.23 उस विकल्प का चयन कीजिए, जिसका चौथी संख्या से वही संबंध है, जो पहली संख्या का दूसरी संख्या से है और पांचवीं संख्या का छठी संख्या से है।

72 : 6 :: ? : 7 :: 128 : 8

- Ans 1. 101
 2. 90
 3. 98
 4. 95

Question ID : 65497833055
Status : Answered
Chosen Option : 3

Q.24 निम्नांकित चित्रों में एक कागज को मोड़ने के क्रम और मुड़े हुए कागज को काटने का तरीका दर्शाया गया है। मुड़े हुए कागज को खोलने पर यह कैसा दिखाई देगा?



Ans

- ✗ 1.
- ✗ 2.
- ✓ 3.
- ✗ 4.

Question ID : 65497833053

Status : Answered

Chosen Option : 1

Q.25 अक्षरों के उस संयोजन का चयन करें, जिसे दी गई शृंखला के रिक्त स्थानों में क्रमिक रूप से रखे जाने पर वह शृंखला को पूर्ण करेगा।

U _ _ Q G _ X P _ _ UX _ _ G

- Ans ✓ 1. XPUQQGP
- ✗ 2. QPXUGQP
- ✗ 3. XPQUQGP
- ✗ 4. XQPGUPQ

Question ID : 65497833042

Status : Answered

Chosen Option : 1

Section : Part B General Knowledge and General Awareness

Q.1 भारत सरकार ने इनमें से किसे सितंबर 2021 में देश का G20 शेरपा नियुक्त किया?

- Ans ✗ 1. सुरेश प्रभु
- ✓ 2. पीयूष गोयल
- ✗ 3. मोटेक सिंह अहलवालिया
- ✗ 4. शक्तिकांत दास

Question ID : 65497833087

Status : Answered

Chosen Option : 3

Q.2 'स्टैंड अप इंडिया' योजना में ग्रीनफील्ड उद्यम स्थापित करने के लिए ₹ _____ के बीच के बैंक ऋण की सुविधा हर बैंक की शाखा में कम से कम एक अनुसूचित जाति (SC) या अनुसूचित जनजाति (ST) के ऋणी को और कम से कम एक महिला को प्रदान की जाती है।

- Ans
- 1. 10 लाख और 1 करोड़
 - 2. 10 हजार और 1 लाख
 - 3. 5 लाख और 10 लाख
 - 4. 1 लाख और 5 लाख

Question ID : 65497833077
Status : Answered
Chosen Option : 4

Q.3 मुगल सम्राट शाह आलम द्वितीय ने ईस्ट इंडिया कंपनी को बंगाल प्रांत का दीवान किस वर्ष नियुक्त किया था?

- Ans
- 1. 1865
 - 2. 1765
 - 3. 1735
 - 4. 1665

Question ID : 65497833066
Status : Answered
Chosen Option : 4

Q.4 किसी देश द्वारा एक वित्तीय वर्ष के दौरान उत्पादित वस्तुओं और सेवाओं के मूल्य का योग क्या कहलाता है?

- Ans
- 1. व्यक्तिगत आय
 - 2. निजी आय
 - 3. राष्ट्रीय आय
 - 4. प्रयोज्य आय

Question ID : 65497833069
Status : Answered
Chosen Option : 2

Q.5 निम्नलिखित में से किस रसायन का उपयोग सूक्ष्मजीवों के विकास की रोकथाम के लिए परिरक्षक के रूप में नहीं किया जाता है?

- Ans
- 1. बेंजोइक एसिड
 - 2. सोडियम बेंजोएट
 - 3. सोडियम मेटाबाईसल्फेट
 - 4. सोडियम हाइड्रोजन कार्बोनेट

Question ID : 65497833070
Status : Answered
Chosen Option : 3

Q.6 भारत में हरित क्रांति के दौरान खेती के आधुनिक तरीकों को आजमाने वाला पहला राज्य निम्नलिखित में से कौन सा था?

- Ans
- 1. तमिलनाडु
 - 2. राजस्थान
 - 3. मध्य प्रदेश
 - 4. पंजाब

Question ID : 65497833079
Status : Answered
Chosen Option : 4

Q.7 अफगानिस्तान के क्रिकेट खिलाड़ी राशिद खान, इंडियन प्रीमियर लीग (IPL) 2021 में _____ के लिए खेले।

- Ans
- 1. पंजाब किंग्स
 - 2. सनराइजर्स हैदराबाद
 - 3. दिल्ली कैपिटल्स
 - 4. राजस्थान रॉयल्स

Question ID : 65497833086
Status : Answered
Chosen Option : 2

Q.8 स्थानांतरी कृषि को किस अन्य नाम से भी जाना जाता है?

- Ans
- 1. स्टैश और बर्न
 - 2. रम्बल और टम्बल
 - 3. शिफ्ट और बर्न
 - 4. स्लैश और बर्न

Question ID : 65497833074
Status : Answered
Chosen Option : 3

Q.9 2020 में इमैनुएल चारपेंटियर (Emmanuelle Charpentier) और जेनिफर ए डौडना (Jennifer A. Doudna) को संयुक्त रूप से _____ के क्षेत्र में नोबेल पुरस्कार से सम्मानित किया गया है।

- Ans
- 1. साहित्य
 - 2. भौतिक विज्ञान
 - 3. रसायन शास्त्र
 - 4. चिकित्सा

Question ID : 65497833083
Status : Answered
Chosen Option : 2

Q.10 Who among the following decides whether a particular bill is a Money Bill or not?

- Ans
- 1. Finance Minister of India
 - 2. Comptroller and Auditor-General of India
 - 3. Speaker of the Lok Sabha
 - 4. Attorney-General of India

Question ID : 65497833067
Status : Answered
Chosen Option : 1

Q.11 2020 में, राजीव गांधी खेलरत्न पुरस्कार कितने खिलाड़ियों को प्रदान किया गया?

- Ans
- 1. सात
 - 2. पांच
 - 3. दो
 - 4. एक

Question ID : 65497833063
Status : Answered
Chosen Option : 2

Q.12 2021 में होने वाली भारत की जनगणना, 1872 के बाद से, जब पहली बार पूरे देश में एक समान पैटर्न के अनुसार व्यवस्थित जनगणना आयोजित की गई थी, _____ दस-वार्षिक जनगणना है।

- Ans
- 1. 13वीं
 - 2. 14वीं
 - 3. 15वीं
 - 4. 16वीं

Question ID : 65497833084
Status : Answered
Chosen Option : 4

Q.13 कंपनस्वरी (इडियोफोन्स) वाद्ययंत्रों को नाट्य शास्त्र में क्या कहा गया है?

- Ans
- 1. अवनद्ध वाद्य
 - 2. तत् वाद्य
 - 3. घन वाद्य
 - 4. सुषिर वाद्य

Question ID : 65497833080
Status : Answered
Chosen Option : 3

Q.14 Which of the following awards is given by World Economic Forum to artists who have used their art to improve the state of the world?

- Ans
- 1. Filmfare Award
 - 2. Oscar Award
 - 3. Grammy Award
 - 4. Crystal Award

Question ID : 65497833075
Status : Answered
Chosen Option : 2

Q.15 डी.आर.डी.ओ. (DRDO) ने अक्टूबर 2020 में पोखरण रेंज में किस एंटी-टैंक गाइडेड मिसाइल का अंतिम परीक्षण सफलतापूर्वक किया?

- Ans
- 1. जैसमिन
 - 2. नाग
 - 3. अमोघ
 - 4. ध्रुवास्त

Question ID : 65497833072
Status : Not Answered
Chosen Option : --

Q.16 भारतीय वन (संशोधन) विधेयक, 2017 में _____ को 'वृक्ष' की परिभाषा से बाहर रखा गया है।

- Ans
- 1. ताड़ (palm)
 - 2. झाड़ (brush-wood)
 - 3. बांस (bamboo)
 - 4. गन्ने (cane)

Question ID : 65497833085
Status : Not Answered
Chosen Option : --

Q.17 निम्नलिखित में से कौन सी वस्तु केवल परावर्तित प्रकाश के कारण दिखाई देती है?

- Ans
- 1. जलती हुई मोमबत्ती
 - 2. जलती हुई मशाल
 - 3. चांद
 - 4. तारे

Question ID : 65497833082
Status : Not Answered
Chosen Option : --

Q.18 अपने पांच वर्षीय पुत्र बीर नरायण की ओर से शासन करने वाली रानी दुर्गावती किस जनजाति से संबंधित थी?

- Ans
- 1. कोरकू
 - 2. माड़िया
 - 3. बैगा
 - 4. गोंड

Question ID : 65497833071
Status : Not Answered
Chosen Option : --

Q.19 निम्नलिखित में से किसमें द्विबीजपत्री बीज होते हैं?

- Ans
- 1. मक्का
 - 2. घास
 - 3. चावल
 - 4. गुलाब

Question ID : 65497833081
Status : Not Answered
Chosen Option : --

Q.20 निम्नलिखित में से किस राज्य में भारत की सबसे बड़ी खारी आर्द्रभूमि, सांभर झील स्थित है?

- Ans
- 1. महाराष्ट्र
 - 2. कर्नाटक
 - 3. तमिलनाडु
 - 4. राजस्थान

Question ID : 65497833064
Status : Not Answered
Chosen Option : --

Q.21 निम्नलिखित में से किस भारतीय फुटबॉल खिलाड़ी का उपनाम 'सिक्किमीज़ साइपर' है?

- Ans
- 1. संध्या झिंगन
 - 2. भाईचुंग भूटिया
 - 3. सुब्रत पाल
 - 4. सुनील छेत्री

Question ID : 65497833076
Status : Not Answered
Chosen Option : --

Q.22 निम्नलिखित में से कौन सा कथन गलत है?

- Ans
- 1. कुतुबउद्दीन ऐबक ने दिल्ली पर 1206 -1210 तक शासन किया।
 - 2. दिल्ली सुल्तानों के समय अरबी प्रशासनिक कामकाज की भाषा थी।
 - 3. दिल्ली पहले तोमर राजपूतों के अधीन एक राज्य की राजधानी बनी।
 - 4. दिल्ली में ढाले गए सिक्कों को 'देहलीवाल' कहा जाता था।

Question ID : 65497833078
Status : Not Answered
Chosen Option : --

Q.23 सिंधु घाटी सभ्यता के निम्नलिखित में से किस स्थल पर 'महासनागार' की खोज की गई थी?

- Ans
- 1. बनवाली
 - 2. मोहनजोदड़ो
 - 3. लोथल
 - 4. कालीबंगा

Question ID : 65497833065
Status : Not Answered
Chosen Option : --

Q.24 अर्जुन तपस्या, दुनिया की सबसे बड़ी नक्काशीदार मूर्तियों में से एक है जो _____ में स्थित है।

- Ans
- 1. वायनाड, केरल
 - 2. जोधपुर, राजस्थान
 - 3. सतारा, महाराष्ट्र
 - 4. महाबलीपुरम, तमिलनाडु

Question ID : 65497833073
Status : Not Answered
Chosen Option : --

Q.25 3 सितंबर 2020 को संपन्न हुई, G-20 विदेश मंत्रियों की वर्चुअल बैठक की अध्यक्षता निम्नलिखित में से किस राष्ट्र ने की?

- Ans
- 1. मैक्सिको
 - 2. सऊदी अरब
 - 3. अर्जेंटीना
 - 4. भारत

Question ID : 65497833068
Status : Not Answered
Chosen Option : --

Section : Part C Elementary Mathematics

Q.1 12 cm भुजा वाले घन से काटे जा सकने वाले सबसे बड़े लंबवृत्तीय शंकु का आयतन कितना होगा? (दशमलव के दो स्थानों तक सही)

- Ans
- 1. 290.90 cm³
 - 2. 452.57 cm³
 - 3. 395.65 cm³
 - 4. 282.30 cm³

Question ID : 65497833102
Status : Not Answered
Chosen Option : --

Q.2 $6\sqrt{2}$ cm की भुजा वाले एक वर्ग को एक वृत्त में उत्कीर्णित किया गया है। वर्ग को छोड़कर वृत्त का क्षेत्रफल (cm^2 में, निकटतम पूर्णांक तक सही) ज्ञात करें। ($\pi = \frac{22}{7}$ लें)

- Ans
- 1. 39
 - 2. 47
 - 3. 27
 - 4. 41

Question ID : 65497833089
Status : Not Answered
Chosen Option : --

Q.3 $96 - 4 \text{ of } (18 - 13) + 4 \times 7$ का मान ज्ञात कीजिए।

- Ans
- 1. -36
 - 2. 104
 - 3. 560
 - 4. 36

Question ID : 65497833092
Status : Not Answered
Chosen Option : --

Q.4 रेशमा अपनी आय का 84% खर्च करती है। यदि उसकी आय में 30% की वृद्धि होती है, और बचत में 40% की वृद्धि होती है, तो उसके खर्च में कितने प्रतिशत की वृद्धि हुई? (दशमलव के बाद एक स्थान तक सही)

- Ans
- 1. 29.2%
 - 2. 28.8%
 - 3. 27.2%
 - 4. 28.1%

Question ID : 65497833099
Status : Not Answered
Chosen Option : --

Q.5 किसी बस की चाल प्रत्येक एक घंटे बाद 4 km बढ़ाई जाती है। यदि उस बस द्वारा पहले एक घंटे में तय की गई दूरी 55 km है, तो 13 घंटे में तय की गई कुल दूरी कितनी होगी?

- Ans
- 1. 1050 km
 - 2. 1027 km
 - 3. 1000 km
 - 4. 1100 km

Question ID : 65497833096
Status : Not Answered
Chosen Option : --

Q.6 श्री जुगल किशोर ने एक निश्चित राशि को साधारण ब्याज पर 4 वर्षों के लिए इस प्रकार निवेशित किया कि $\frac{3}{7}$ राशि 7% वार्षिक ब्याज पर, $\frac{2}{5}$ राशि 9% वार्षिक ब्याज पर और शेष राशि 11% वार्षिक ब्याज पर निवेशित हुई। यदि प्राप्त कुल ब्याज ₹11,880 है, तो कुल निवेशित राशि क्या थी?

- Ans
- 1. ₹32,000
 - 2. ₹38,000
 - 3. ₹35,000
 - 4. ₹30,000

Question ID : 65497833091
Status : Not Answered
Chosen Option : --

Q.7 एक विलयन में अल्कोहल और जल का अनुपात 4 : 3 है। इस विलयन की 350 mL मात्रा में कितना पानी (mL में) मिलाने पर विलयन में अल्कोहल और जल का अनुपात 5 : 6 हो जाएगा?

- Ans
- 1. 120
 - 2. 100
 - 3. 80
 - 4. 90

Question ID : 65497833106
Status : Not Answered
Chosen Option : --

Q.8 $\frac{3 \text{ of } 5\frac{1}{2} + 6 \div 5 - 2 \text{ of } 3 + 4}{1 + \frac{3}{1} \text{ of } 5 - 3\frac{1}{3} \text{ of } 2 \div 5}$ का मान ज्ञात करें।

- Ans
- 1. $\frac{302}{105}$
 - 2. $\frac{247}{205}$
 - 3. $\frac{243}{175}$
 - 4. $\frac{257}{302}$

Question ID : 65497833095
Status : Not Answered
Chosen Option : --

Q.9 A एक कार्य को 8 दिनों में पूर्ण कर सकता है। B इसे 12 दिनों में पूर्ण कर सकता है। C की सहायता से, वे इस कार्य को 4 दिन में पूर्ण कर लेते हैं। C अकेले इस कार्य को कितने दिनों पूर्ण कर सकता है?

- Ans
- 1. 18 दिन
 - 2. 6 दिन
 - 3. 24 दिन
 - 4. 4 दिन

Question ID : 65497833094
Status : Not Answered
Chosen Option : --

Q.10 साधारण व्याज पर उधार दी गई किसी धनराशि पर 3 वर्ष बाद का मिश्रधन ₹715 और उसके अगले 5 वर्ष की अवधि के बाद का मिश्रधन ₹990 होता है। वह धनराशि ज्ञात कीजिए।

- Ans
- 1. ₹600
 - 2. ₹625
 - 3. ₹590
 - 4. ₹550

Question ID : 65497833101
Status : Not Answered
Chosen Option : --

Q.11 किसी वस्तु को ₹375 में बेचने पर एक व्यक्ति को इतनी राशि प्राप्त होती है कि प्रतिशत लाभ क्रय मूल्य के बराबर हो जाता है। वस्तु का क्रय मूल्य क्या है?

- Ans
- 1. ₹200
 - 2. ₹250
 - 3. ₹160
 - 4. ₹150

Question ID : 65497833090
Status : Not Answered
Chosen Option : --

Q.12 श्यामलाल अपनी वस्तुओं पर क्रय मूल्य से 35% अधिक मूल्य अंकित करता है और फिर 5% की छूट देता है। उसका लाभ प्रतिशत ज्ञात कीजिए।

- Ans
- 1. 28%
 - 2. 28.50%
 - 3. 28.25%
 - 4. 28.75%

Question ID : 65497833093
Status : Not Answered
Chosen Option : --

Q.13 एक निश्चित धनराशि पर 6.4% वार्षिक ब्याज की दर से $3\frac{3}{4}$ वर्षों में प्राप्त साधारण ब्याज ₹1,896 है। समान राशि पर समान ब्याज दर पर $6\frac{1}{4}$ वर्षों में प्राप्त मिश्रधन कितना होगा?

- Ans
- ✓ 1. 11,060
 - ✗ 2. 11,050
 - ✗ 3. 11,080
 - ✗ 4. 11,000

Question ID : 65497833107
Status : Not Answered
Chosen Option : --

Q.14 19 संख्याओं का औसत 58 है। प्रथम 12 संख्याओं का औसत 63.6 और अंतिम 8 संख्याओं का औसत 55.1 है। यदि आरंभ से 12वीं संख्या निकाल दी जाए, तो शेष संख्याओं का औसत क्या होगा?

- Ans
- ✗ 1. $54\frac{4}{9}$
 - ✓ 2. $55\frac{5}{9}$
 - ✗ 3. $61\frac{1}{3}$
 - ✗ 4. $53\frac{2}{3}$

Question ID : 65497833105
Status : Not Answered
Chosen Option : --

Q.15 एक कक्षा परीक्षा में 35 छात्रों के अंकों का औसत 46 है। बाद में, यह पाया गया कि दो स्थानों पर 23 को 33 पढ़ा गया था, और एक स्थान पर 36 को 30 पढ़ा गया था। कक्षा के छात्रों के अंकों का वास्तविक औसत ज्ञात कीजिए।

- Ans
- ✗ 1. 45.3
 - ✓ 2. 45.6
 - ✗ 3. 44.8
 - ✗ 4. 42.6

Question ID : 65497833108
Status : Not Answered
Chosen Option : --

Q.16 34, 38, 85 और 95 के लघुत्तम समापवर्त्य (LCM) को इन संख्याओं के औसत से विभाजित करने पर प्राप्त शेषफल ज्ञात कीजिए।

- Ans
- ✓ 1. 17
 - ✗ 2. 21
 - ✗ 3. 19
 - ✗ 4. 23

Question ID : 65497833104
Status : Not Answered
Chosen Option : --

Q.17 एक दुकानदार ने जीस के मूल्य को ₹1,250 से घटाकर ₹1,150 कर दिया। दुकानदार द्वारा दी जाने वाली छूट का प्रतिशत कितना है?

- Ans
- 1. 7.25%
 - 2. 7.5%
 - 3. 8%
 - 4. 10%

Question ID : 65497833109
Status : Not Answered
Chosen Option : --

Q.18 यदि 341, 434 और 620 का महत्तम समापवर्तक (HCF) x है, तो x का मान _____ के बीच होगा।

- Ans
- 1. 30 और 35
 - 2. 25 और 30
 - 3. 35 और 40
 - 4. 40 और 45

Question ID : 65497833098
Status : Not Answered
Chosen Option : --

Q.19 अरुण ने दो वस्तुएं ₹631.80 प्रति वस्तु की दर से बेचीं। एक पर उसे 17% का लाभ हुआ और दूसरी पर उसे 19% की हानि हुई। पूरे लेन-देन में उसे कितने प्रतिशत की हानि हुई? (एक दशमलव स्थान तक पूर्णांकित)

- Ans
- 1. 5.2%
 - 2. 4.8%
 - 3. 4.3%
 - 4. 5.4%

Question ID : 65497833103
Status : Not Answered
Chosen Option : --

Q.20 किसी मिश्रधातु में कॉपर और जिंक का अनुपात 5 : 4 करने के लिए 20 kg जिंक के साथ कॉपर की कितनी मात्रा पिघलाने की आवश्यकता होगी?

- Ans
- 1. 12 kg
 - 2. 25 kg
 - 3. 10 kg
 - 4. 15 kg

Question ID : 65497833100
Status : Not Answered
Chosen Option : --

Q.21 निम्न समीकरण में x का मान ज्ञात कीजिए:

$$45\% \text{ of } 360 + 30\% \text{ of } 400 = 25\% \text{ of } x$$

- Ans
- 1. 1180
 - 2. 1128
 - 3. 1200
 - 4. 1112

Question ID : 65497833110
Status : Not Answered
Chosen Option : --

Q.22 एक दुकानदार एक वस्तु का मूल्य इसके वास्तविक मूल्य से 30% बढ़ाकर अंकित करता है और 10% की छूट देता है। लाभ प्रतिशत कितना है?

- Ans
- 1. 20%
 - 2. 17%
 - 3. 18%
 - 4. 15%

Question ID : 65497833097
Status : Not Answered
Chosen Option : --

Q.23 एक व्यक्ति को धारा की दिशा में 25 km तैरने में 2 घंटे का समय लगता है। धारा की विपरीत दिशा में वह समान समय में 19 km ही तैर पाता है। धारा की चाल (km/h में) कितनी है?

- Ans
- 1. 2
 - 2. 1.5
 - 3. 1.8
 - 4. 1.65

Question ID : 65497833112
Status : Not Answered
Chosen Option : --

Q.24 यदि a , b और c ऐसी धनात्मक संख्याएँ हैं कि $(a^2 + b^2) : (b^2 + c^2) : (c^2 + a^2) = 34 : 61 : 45$ हैं, तो $a+b : b+c : c+a$ का मान ज्ञात कीजिए।

- Ans
- 1. 8 : 11 : 9
 - 2. 9 : 11 : 8
 - 3. 8 : 9 : 11
 - 4. 9 : 8 : 11

Question ID : 65497833088
Status : Not Answered
Chosen Option : --

Q.25 एक टैंक को तीन पाइपों A, B और C द्वारा 3 घंटे में भर दिया जाता है। पाइप A, पाइप C से 6 गुना तेज और पाइप B से 2 गुना तेज है। पाइप B और C द्वारा टैंक को भरने में कितने घंटे लगेंगे?

Ans

✓ 1. $7\frac{1}{2}$

✗ 2. 7

✗ 3. $7\frac{4}{5}$

✗ 4. $7\frac{1}{4}$

Question ID : 65497833111

Status : Not Answered

Chosen Option : --

Section : Part D English

Q.1 Select the option that will improve the underlined part of the sentence. In case no improvement is needed, select 'No improvement required'.

We were took on the vineyards for a tour.

Ans

✓ 1. taken to

✗ 2. taken on

✗ 3. No improvement required

✗ 4. take in

Question ID : 65497833116

Status : Not Answered

Chosen Option : --

Q.2 Select the most appropriate ANTONYM of the given word.

Betterment

Ans

✗ 1. Prosperity

✓ 2. Deterioration

✗ 3. Progress

✗ 4. Advancement

Question ID : 65497833120

Status : Not Answered

Chosen Option : --

Q.3 Select the option that will improve the underlined part of the given sentence. In case no improvement is needed, select 'No improvement required'.

Although he got the message he rushed home.

- Ans
- 1. Hardly
 - 2. As soon as
 - 3. No sooner
 - 4. No improvement required

Question ID : 65497833131
Status : Not Answered
Chosen Option : --

Q.4 Select the option that can be used as a one-word substitute for the given group of words.

A type of substance or material that burns very quickly

- Ans
- 1. Indelible
 - 2. Incredible
 - 3. Invisible
 - 4. Inflammable

Question ID : 65497833126
Status : Not Answered
Chosen Option : --

Q.5 Select the option that can be used as a one-word substitute for the given group of words.

A plan or route to be followed on a journey

- Ans
- 1. Itinerary
 - 2. Travel
 - 3. Tour
 - 4. Arrangement

Question ID : 65497833118
Status : Not Answered
Chosen Option : --

Q.6 The following sentence has been split into four segments. Identify the segment that contains a grammatical error.

If I will meet / my friend today, / I shall give / him this book.

- Ans
- 1. If I will meet
 - 2. him this book
 - 3. I shall give
 - 4. my friend today

Question ID : 65497833124
Status : Not Answered
Chosen Option : --

Q.7 Select the most appropriate ANTONYM of the given word.

Volatile

- Ans
- 1. Subtle
 - 2. Erratic
 - 3. Flighty
 - 4. Certain

Question ID : 65497833132
Status : Not Answered
Chosen Option : --

Q.8 Select the INCORRECTLY spelt word.

- Ans
- 1. Occasion
 - 2. Occurence
 - 3. Offering
 - 4. Auction

Question ID : 65497833122
Status : Not Answered
Chosen Option : --

Q.9 Parts of the given sentence have been given as options. One of them contains a grammatical error. Select the option that has the error.

I could not went for my sister's wedding in Rajasthan as I had my final examination at that time.

- Ans
- 1. sister's wedding in Rajasthan
 - 2. at that time
 - 3. as I had
 - 4. could not went

Question ID : 65497833119
Status : Not Answered
Chosen Option : --

Q.10 The following sentence has been split into four segments. Identify the segment that contains a grammatical error.

The Nature Channel / gives a lots of / interesting information / on wildlife.

- Ans
- 1. gives a lots of
 - 2. on wildlife
 - 3. interesting information
 - 4. The Nature Channel

Question ID : 65497833114
Status : Not Answered
Chosen Option : --

Q.11 Select the option that will improve the underlined part of the given sentence. In case no improvement is needed, select 'No improvement required'.

The students felt a shame by their bad behaviour.

- Ans
- 1. felt ashamed by
 - 2. felt ashamed for
 - 3. feel shame on
 - 4. No improvement required

Question ID : 65497833117
Status : Not Answered
Chosen Option : --

Q.12 Select the most appropriate option to fill in the blank.

The guests were amazed at the _____ spread of food.

- Ans
- 1. lonely
 - 2. light
 - 3. lucky
 - 4. lavish

Question ID : 65497833128
Status : Not Answered
Chosen Option : --

Q.13 Select the most appropriate option to fill in the blank.

It looks as if it might rain tonight as the sky is _____.

- Ans
- 1. overjoyed
 - 2. overdue
 - 3. oversized
 - 4. overcast

Question ID : 65497833130
Status : Not Answered
Chosen Option : --

Q.14 Select the most appropriate synonym of the given word.

Steady

- Ans
- 1. Stable
 - 2. Flexible
 - 3. Soft
 - 4. Shaky

Question ID : 65497833125
Status : Not Answered
Chosen Option : --

Q.15 Select the most appropriate meaning of the given idiom.

To beat the clock

- Ans 1. To brag about oneself
 2. To perform a task within the time limit
 3. To be very angry for being late
 4. To race against time

Question ID : 65497833127
Status : Not Answered
Chosen Option : --

Q.16 Select the most appropriate synonym of the given word.

Sturdy

- Ans 1. Unhealthy
 2. Delicate
 3. Tough
 4. Active

Question ID : 65497833115
Status : Not Answered
Chosen Option : --

Q.17 Select the most appropriate meaning of the given idiom.

As thick as two short planks

- Ans 1. Extremely stupid
 2. Extremely ugly
 3. Extremely angry
 4. Extremely intelligent

Question ID : 65497833123
Status : Not Answered
Chosen Option : --

Q.18 Select the most appropriate option to fill in the blank.

Tukaram said that scaling every mountain peak has its own _____.

- Ans 1. checks
 2. burdens
 3. contests
 4. challenges

Question ID : 65497833113
Status : Not Answered
Chosen Option : --

Q.19 Select the **INCORRECTLY** spelt word.

- Ans** 1. Hotal
 2. Strain
 3. Mutter
 4. Guard

Question ID : 65497833129
Status : Not Answered
Chosen Option : --

Q.20 Select the option that can be used as a one-word substitute for the given group of words.

A person who never drinks alcohol.

- Ans** 1. Teetotaler
 2. Abandoner
 3. Noctambulist
 4. Alcoholic

Question ID : 65497833121
Status : Not Answered
Chosen Option : --

Comprehension:

In the following passage, some words have been deleted. Read the passage carefully and select the most appropriate option to fill in each blank.

The pandemic (1)_____ created a very difficult situation (2)_____ the migrant workers. They were forced to (3)_____ long distances (4)_____ foot to reach their native places. On the way, several people suffered (5)_____ and died too.

SubQuestion No : 21

Q.21 Select the most appropriate option to fill in blank number 1.

- Ans** 1. is
 2. may
 3. would
 4. has

Question ID : 65497833134
Status : Not Answered
Chosen Option : --

Comprehension:

In the following passage, some words have been deleted. Read the passage carefully and select the most appropriate option to fill in each blank.

The pandemic (1)_____ created a very difficult situation (2)_____ the migrant workers. They were forced to (3)_____ long distances (4)_____ foot to reach their native places. On the way, several people suffered (5)_____ and died too.

SubQuestion No : 22

Q.22 Select the most appropriate option to fill in blank number 2.

- Ans 1. for
 2. out of
 3. at
 4. from

Question ID : 65497833135
Status : Not Answered
Chosen Option : --

Comprehension:

In the following passage, some words have been deleted. Read the passage carefully and select the most appropriate option to fill in each blank.

The pandemic (1)_____ created a very difficult situation (2)_____ the migrant workers. They were forced to (3)_____ long distances (4)_____ foot to reach their native places. On the way, several people suffered (5)_____ and died too.

SubQuestion No : 23

Q.23 Select the most appropriate option to fill in blank number 3.

- Ans 1. sleep
 2. travel
 3. stand
 4. rumble

Question ID : 65497833136
Status : Not Answered
Chosen Option : --

Comprehension:

In the following passage, some words have been deleted. Read the passage carefully and select the most appropriate option to fill in each blank.

The pandemic (1)_____ created a very difficult situation (2)_____ the migrant workers. They were forced to (3)_____ long distances (4)_____ foot to reach their native places. On the way, several people suffered (5)_____ and died too.

SubQuestion No : 24

Q.24 Select the most appropriate option to fill in blank number 4.

- Ans 1. from
 2. in
 3. on
 4. to

Question ID : 65497833137
Status : Not Answered
Chosen Option : --

Comprehension:

In the following passage, some words have been deleted. Read the passage carefully and select the most appropriate option to fill in each blank.

The pandemic (1)_____ created a very difficult situation (2)_____ the migrant workers. They were forced to (3)_____ long distances (4)_____ foot to reach their native places. On the way, several people suffered (5)_____ and died too.

SubQuestion No : 25

Q.25 Select the most appropriate option to fill in blank number 5.

- Ans 1. haphazardly
 2. miserably
 3. excitedly
 4. posthumously

Question ID : 65497833138
Status : Not Answered
Chosen Option : --

Section : Part D Hindi

Q.1 दिये गये वाक्यांश के लिए एक शब्द दीजिये।

जिसके आर-पार दिखाई देता हो

- Ans 1. पारदर्शी
 2. प्रत्यागत
 3. पारलौकिक
 4. प्रकाश्य

Question ID : 65497833142
Status : Not Answered
Chosen Option : --

Q.2 'जहाँ तक और जितना संभव हो' वाक्यांश के लिए उपयुक्त शब्द होगा-

- Ans 1. संभाव्य
 2. संभावना
 3. संभवतः
 4. यथासंभव

Question ID : 65497833158
Status : Not Answered
Chosen Option : --

Q.3 दिये गये वाक्य में रेखांकित अंश को प्रतिस्थापित करने के लिए सबसे उपयुक्त विकल्प का चयन करें।

गिरीश ने अपने पाँव से जूता निकाला।

- Ans 1. जूता खिसकाया।
 2. जूता गिराया।
 3. जूता हटाया।
 4. जूता उतारा।

Question ID : 65497833157
Status : Not Answered
Chosen Option : --

Q.4 उस विकल्प का चयन कीजिए जिसमें निम्न मुहावरे का अर्थ दिया गया है।

पर निकलना

- Ans
- 1. घायल हो जाना
 - 2. पराधीन हो जाना
 - 3. स्वच्छंद हो जाना
 - 4. दूसरों का हो जाना

Question ID : 65497833148
Status : Not Answered
Chosen Option : --

Q.5 दिए गए शब्द का विलोम चुनें।

अथ

- Ans
- 1. इति
 - 2. प्रारंभ
 - 3. शुरू
 - 4. उद्घाटन

Question ID : 65497833147
Status : Not Answered
Chosen Option : --

Q.6 रिक्त स्थान की पूर्ति के लिए सबसे उपयुक्त विकल्प का चयन करें।

मुझे बच्चे के स्वास्थ्य की _____ है।

- Ans
- 1. चिंता
 - 2. शंका
 - 3. लज्जा
 - 4. ग्लानि

Question ID : 65497833151
Status : Not Answered
Chosen Option : --

Q.7 दिये गये वाक्यांश के लिए एक शब्द दीजिये।

चोरी के लिए मकान की दीवार में किया गया बड़ा सा छेद

- Ans
- 1. दुर्भेद्य
 - 2. सेंध
 - 3. स्तैण
 - 4. भेद्य

Question ID : 65497833145
Status : Not Answered
Chosen Option : --

Q.8 रिक्त स्थान की पूर्ति के लिए सबसे उपयुक्त शब्द का चयन करें।

मैं _____ नहीं जानता कि वह कहां गया।

- Ans
- 1. बिलकुल तो
 - 2. बिलकुल भी
 - 3. बिलकुल
 - 4. बिलकुल ही

Question ID : 65497833146
Status : Not Answered
Chosen Option : --

Q.9 दिये गये वाक्य में रेखांकित अंश को प्रतिस्थापित करने के लिए सबसे उपयुक्त विकल्प का चयन करें।

यह विषय अत्यंत कठोर है।

- Ans
- 1. दुर्गम
 - 2. कर्कश
 - 3. अगम
 - 4. कठिन

Question ID : 65497833156
Status : Not Answered
Chosen Option : --

Q.10 'चक्षु' किसका पर्यायवाची है?

- Ans
- 1. आकाश
 - 2. पक्षी
 - 3. घोड़ा
 - 4. आँख

Question ID : 65497833153
Status : Not Answered
Chosen Option : --

Q.11 निम्नलिखित में से शुद्ध वर्तनी वाला शब्द कौन सा है?

- Ans
- 1. घनिष्ट
 - 2. घनीष्ठ
 - 3. घनीष्ट
 - 4. घनिष्ठ

Question ID : 65497833154
Status : Not Answered
Chosen Option : --

Q.12 दिए गए वाक्य में रेखांकित खंड को प्रतिस्थापित करने के लिए सबसे उपयुक्त विकल्प का चयन करें।
यदि इसे प्रतिस्थापित करने की आवश्यकता नहीं है, तो विकल्प 'किसी बदलाव की आवश्यकता नहीं है'
का चयन करें।

गंदे पानी की समुचित निकासी का प्रबंध न होने के कारण समस्त गाँव की जनसंख्या परेशान है।

- Ans
- 1. गाँव की समस्त जनसंख्या परेशान है।
 - 2. समस्त गाँवों की जनसंख्या परेशान है।
 - 3. सारे गाँव की जनसंख्या परेशान है।
 - 4. किसी बदलाव की आवश्यकता नहीं है।

Question ID : 65497833141
Status : Not Answered
Chosen Option : --

Q.13 दिए गए शब्द के समानार्थी शब्द का चयन करें।

आश्रम

- Ans
- 1. इमारत
 - 2. मकान
 - 3. भवन
 - 4. विहार

Question ID : 65497833140
Status : Not Answered
Chosen Option : --

Q.14 दिए गए वाक्य का वह भाग ज्ञात करें जिसमें कोई त्रुटि है। यदि कोई त्रुटि नहीं है, तो 'कोई त्रुटि नहीं है'
विकल्प चुनें।

वह चार दिन का (1)\ आकस्मिक अवकाश पर (2)\ घर चला गया है। (3)\ कोई त्रुटि नहीं है (4)

- Ans
- 1. 2
 - 2. 4
 - 3. 1
 - 4. 3

Question ID : 65497833139
Status : Not Answered
Chosen Option : --

Q.15 निम्नलिखित में से शुद्ध वर्तनी वाला शब्द कौन सा है?

- Ans
- 1. वांछनीय
 - 2. वांक्षनीय
 - 3. वंक्षनीय
 - 4. वंछनीय

Question ID : 65497833155
Status : Not Answered
Chosen Option : --

Q.16 दिए गए शब्द का विलोम चुनें।

ज्ञान

- Ans 1. अज्ञान
 2. अहंकार
 3. विज्ञान
 4. संज्ञान

Question ID : 65497833144
Status : Not Answered
Chosen Option : --

Q.17 दिए गए वाक्य का वह भाग ज्ञात करें जिसमें कोई त्रुटि है। यदि कोई त्रुटि नहीं है, तो 'कोई त्रुटि नहीं है' चुनें।

मुझे उसके विरुद्ध कुछ कहना या करना ही नहीं पड़ा।

- Ans 1. ही नहीं पड़ा।
 2. कोई त्रुटि नहीं है।
 3. कुछ कहना या करना
 4. मुझे उसके विरुद्ध

Question ID : 65497833143
Status : Not Answered
Chosen Option : --

Q.18 दिये गये वाक्य के किस भाग में त्रुटि है?

आज विद्यालय के निरिक्षक आए हैं।

- Ans 1. आज
 2. आए हैं।
 3. निरिक्षक
 4. विद्यालय के

Question ID : 65497833152
Status : Not Answered
Chosen Option : --

Q.19 उस विकल्प का चयन कीजिए जिसमें निम्न मुहावरे का अर्थ दिया गया है।

आकाश के तारे तोड़ना-

- Ans 1. आसमान से तारे तोड़ने की कोशिश करना
 2. आसमान छूने की कोशिश करना
 3. असंभव काम करना
 4. काम तमाम करना

Question ID : 65497833149
Status : Not Answered
Chosen Option : --

Q.20 रिक्त स्थान की पूर्ति के लिए सबसे उपयुक्त विकल्प का चयन करें।

खेलकूद में _____ अच्छी बात है।

- Ans 1. स्पर्द्धा
 2. द्वेष
 3. ईर्ष्या
 4. क्रोध

Question ID : 65497833150
Status : Not Answered
Chosen Option : --

Comprehension:

दिए गए गद्यांश में से कुछ शब्द हटा दिए गए हैं। संबंधित प्रश्नों में, प्रत्येक संख्या के लिए सबसे उपयुक्त विकल्प का चयन करें-

मैं दिल्ली हूँ। सबसे पहले पांडवों ने मुझे (1) _____ और नाम रखा- इन्द्रप्रस्थ। वास्तव में मेरा सौन्दर्य इंद्र की अलकापुरी के (2) _____ था। युग बदला। मैं गुर्जरा के (3) _____ हुई। मुगलों के शासन में मेरा (4) _____ बहुत बढ़ा। अंग्रेजों को भी मैं ही सबसे अधिक (5) _____ हुई, इसीलिए वे कलकत्ता से अपने मुख्य कार्यालयों को मेरे यहाँ ही ले आये।

SubQuestion No : 21

Q.21 गद्यांश के रिक्त स्थान (1) के लिए सर्वाधिक उपयुक्त शब्द होगा-

- Ans 1. चलाया
 2. बसाया
 3. बनाया
 4. उठाया

Question ID : 65497833160
Status : Not Answered
Chosen Option : --

Comprehension:

दिए गए गद्यांश में से कुछ शब्द हटा दिए गए हैं। संबंधित प्रश्नों में, प्रत्येक संख्या के लिए सबसे उपयुक्त विकल्प का चयन करें-

मैं दिल्ली हूँ। सबसे पहले पांडवों ने मुझे (1) _____ और नाम रखा- इन्द्रप्रस्थ। वास्तव में मेरा सौन्दर्य इंद्र की अलकापुरी के (2) _____ था। युग बदला। मैं गुर्जरा के (3) _____ हुई। मुगलों के शासन में मेरा (4) _____ बहुत बढ़ा। अंग्रेजों को भी मैं ही सबसे अधिक (5) _____ हुई, इसीलिए वे कलकत्ता से अपने मुख्य कार्यालयों को मेरे यहाँ ही ले आये।

SubQuestion No : 22

Q.22 गद्यांश के रिक्त स्थान (2) के लिए सर्वाधिक उपयुक्त शब्द होगा-

- Ans 1. सुन्दर
 2. प्रकार
 3. समान
 4. अनुसार

Question ID : 65497833161
Status : Not Answered
Chosen Option : --

Comprehension:

दिए गए गद्यांश में से कुछ शब्द हटा दिए गए हैं। संबंधित प्रश्नों में, प्रत्येक संख्या के लिए सबसे उपयुक्त विकल्प का चयन करें-

मैं दिल्ली हूँ। सबसे पहले पांडवों ने मुझे (1) _____ और नाम रखा- इन्द्रप्रस्थ। वास्तव में मेरा सौन्दर्य इंद्र की अलकापुरी के (2) _____ था। युग बदला। मैं गुर्वंश के (3) _____ हुई। मुगलों के शासन में मेरा (4) _____ बहुत बढ़ा। अंग्रेजों को भी मैं ही सबसे अधिक (5) _____ हुई, इसीलिए वे कलकत्ता से अपने मुख्य कार्यालयों को मेरे यहाँ ही ले आये।

SubQuestion No : 23

Q.23 गद्यांश के रिक्त स्थान (3) के लिए सर्वाधिक उपयुक्त शब्द होगा-

- Ans**
- 1. अन्दर
 - 2. अधीन
 - 3. ऊपर
 - 4. जैसी

Question ID : 65497833162

Status : Not Answered

Chosen Option : --

Comprehension:

दिए गए गद्यांश में से कुछ शब्द हटा दिए गए हैं। संबंधित प्रश्नों में, प्रत्येक संख्या के लिए सबसे उपयुक्त विकल्प का चयन करें-

मैं दिल्ली हूँ। सबसे पहले पांडवों ने मुझे (1) _____ और नाम रखा- इन्द्रप्रस्थ। वास्तव में मेरा सौन्दर्य इंद्र की अलकापुरी के (2) _____ था। युग बदला। मैं गुर्वंश के (3) _____ हुई। मुगलों के शासन में मेरा (4) _____ बहुत बढ़ा। अंग्रेजों को भी मैं ही सबसे अधिक (5) _____ हुई, इसीलिए वे कलकत्ता से अपने मुख्य कार्यालयों को मेरे यहाँ ही ले आये।

SubQuestion No : 24

Q.24 गद्यांश के रिक्त स्थान (4) के लिए सर्वाधिक उपयुक्त शब्द होगा-

- Ans**
- 1. महत्त्व
 - 2. उजड़ना
 - 3. सजना
 - 4. उत्सव

Question ID : 65497833163

Status : Not Answered

Chosen Option : --

Comprehension:

दिए गए गद्यांश में से कुछ शब्द हटा दिए गए हैं। संबंधित प्रश्नों में, प्रत्येक संख्या के लिए सबसे उपयुक्त विकल्प का चयन करें-

मैं दिल्ली हूँ। सबसे पहले पांडवों ने मुझे (1) _____ और नाम रखा- इन्द्रप्रस्थ। वास्तव में मेरा सौन्दर्य इंद्र की अलकापुरी के (2) _____ था। युग बदला। मैं गुर्जरा के (3) _____ हुई। मुगलों के शासन में मेरा (4) _____ बहुत बढ़ा। अंग्रेजों को भी मैं ही सबसे अधिक (5) _____ हुई, इसीलिए वे कलकत्ता से अपने मुख्य कार्यालयों को मेरे यहाँ ही ले आये।

SubQuestion No : 25

Q.25 गद्यांश के रिक्त स्थान (5) के लिए सर्वाधिक उपयुक्त शब्द होगा-

- Ans**
- 1. बुरी
 - 2. सुन्दर
 - 3. प्रिय
 - 4. अच्छी

Question ID : 65497833164

Status : Not Answered

Chosen Option : --

Constable GD in CAPFs NIA SSF and Rifleman GD in Assam Rifles Examination 2021

Roll Number	www.HaryanaJobs.in
Candidate Name	www.HaryanaJobs.in
Venue Name	iON Digital Zone iDZ Nausarh Chowk
Exam Date	13/12/2021
Exam Time :	9:00 AM - 10:30 AM
Subject	Constable GD 2021

Section : Part A General Intelligence and Reasoning

Q.1 किसी निश्चित कूट भाषा में, 'FOX' को '6' और 'LION' को '8' के रूप में लिखा जाता है। उसी कूट भाषा में 'TIGER' को किस रूप में लिखा जाएगा?

- Ans
- 1. 8
 - 2. 10
 - 3. 12
 - 4. 6

Question ID : 65497830376

Status : Answered

Chosen Option : 2

Q.2 विकल्पों में चार अक्षर-समूह दिए गए हैं, जिनमें से तीन किसी प्रकार से संगत हैं और कोई एक असंगत है। उस असंगत अक्षर-समूह का चयन कीजिए।

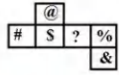
- Ans
- 1. YGSQ
 - 2. GTDME
 - 3. MHXT
 - 4. LBJZ

Question ID : 65497830375

Status : Not Attempted and Marked For Review

Chosen Option : --

Q.3 दी गई शीट को मोड़कर एक घन बनाया जाता है। इस तरह निर्मित घन में, निम्न में से कौन सा प्रतीक-युग्म विपरीत पृष्ठों पर होगा?



- Ans
- 1. \$ और &
 - 2. ? और &
 - 3. @ और ?
 - 4. \$ और %

Question ID : 65497830387

Status : Answered

Chosen Option : 4

Q.4 यदि मेरी बहन की सास का इकलौता पुत्र देविका का पिता है, तो देविका के दादा का मेरी बहन से क्या संबंध है?

- Ans
- 1. जीजा/देवर/जेठ
 - 2. ससुर
 - 3. चाचा/ताऊ/फूफा
 - 4. पिता

Question ID : 65497830391

Status : Answered

Chosen Option : 2

Q.5 एक कक्षा में सात मित्र P, Q, R, S, T, U और V एक ही पंक्ति में अध्यापक की ओर मुंह करके बैठे हुए हैं। R, U और Q के बीच में है। P, T और V के बीच में है। Q, S के बाएं तीसरे स्थान पर है। T और S दोनों छोरों पर बैठे हुए हैं। T के दाएं तीसरे स्थान पर कौन बैठा है?

- Ans
- 1. R
 - 2. V
 - 3. Q
 - 4. P

Question ID : 65497830373

Status : Answered

Chosen Option : 3

Q.6 दिए गए विकल्पों में से उस अक्षर-समूह का चयन करें जो निम्नलिखित शृंखला में प्रश्नवाचक चिह्न (?) के स्थान पर आ सकता है।

YC, VI, SO, PU, MA, JG, ?

- Ans
- 1. GT
 - 2. SN
 - 3. HN
 - 4. GM

Question ID : 65497830371

Status : Answered

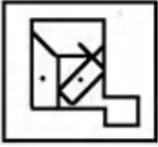
Chosen Option : 4

Q.7 उस विकल्प का चयन कीजिए जिसमें दी गई आकृति सन्निहित है। (आकृति को घुमाने की अनुमति नहीं है)

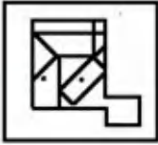


Ans

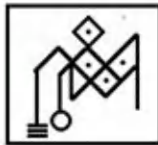
✗ 1.



✗ 2.



✓ 3.



✗ 4.



Question ID : 65497830388

Status : Answered

Chosen Option : 3

Q.8 एक निश्चित कूट भाषा में, NEWSPAPER को ODXTQZQDS लिखा जाता है और SORT को TNSU लिखा जाता है। उसी कूट भाषा में CHOCOLATE को किस प्रकार लिखा जाएगा?

Ans ✗ 1. DINDNOZUC

✓ 2. DINDNMZUD

✗ 3. CGNDNMZUC

✗ 4. DINDNKZVD

Question ID : 65497830390

Status : Answered

Chosen Option : 2

Q.9 उस विकल्प का चयन करें जिसका तीसरी संख्या से वही संबंध है जो दूसरी संख्या का पहली संख्या से है।

93 : 36 :: 83 : ?

Ans ✗ 1. 45

✗ 2. 85

✓ 3. 25

✗ 4. 75

Question ID : 65497830385

Status : Answered

Chosen Option : 3

Q.10 'स्वीकार' का जो संबंध 'इनकार' से है, 'दासता' का वही संबंध '____' से है।

- Ans
- 1. अपराध
 - 2. जेलर
 - 3. स्वतंत्रता
 - 4. पुलिस

Question ID : 65497830372

Status : Answered

Chosen Option : 3

Q.11 छः लड़कियां (A, B, C, D, E और F) एक गोल मेज के चारों ओर बैठी हैं। उनमें से सभी मेज के केंद्र की ओर अभिमुख हैं। B और D के बीच में E नहीं, बल्कि कोई और लड़की बैठी है। A, F के बाएं बैठी है। C, A के दाएं चौथे स्थान पर है। A के बाएं दूसरे स्थान पर कौन सी लड़की बैठी है?

- Ans
- 1. D
 - 2. F
 - 3. B
 - 4. C

Question ID : 65497830384

Status : Answered

Chosen Option : 4

Q.12 उस विकल्प का चयन कीजिए, जिसका तीसरे पद से वही संबंध है, जो दूसरे पद का पहले पद से है।

PRICES : SQDJTF :: QUALMS : ?

- Ans
- 1. TVMBTN
 - 2. VRMCNT
 - 3. URBMTN
 - 4. VRMBTN

Question ID : 65497830389

Status : Answered

Chosen Option : 1

Q.13 दिए गए पैटर्न का ध्यानपूर्वक अध्ययन कीजिए और उस संख्या का चयन कीजिए जो इसमें प्रश्नवाचक चिह्न (?) के स्थान पर आ सकती है।

11 33 ?
27 101 4
60 200 160

- Ans
- 1. 57
 - 2. 51
 - 3. 52
 - 4. 45

Question ID : 65497830381

Status : Not Attempted and Marked For Review

Chosen Option : --

Q.14

- Ans 1.
 2.
 3.
 4.

Question ID : 65497830374

Status : Answered

Chosen Option : 4

Q.15 दिए गए विकल्पों में से उस संख्या का चयन कीजिए, जो निम्नलिखित श्रेणी में प्रश्नवाचक चिन्ह (?) के स्थान पर आ सकती है।

24, 31, 39, 48, 58, 69, ?

- Ans 1. 76
 2. 81
 3. 96
 4. 86

Question ID : 65497830394

Status : Answered

Chosen Option : 2

Q.16 दिए गए कथनों और निष्कर्षों को ध्यानपूर्वक पढ़ें। यह मानते हुए कि कथनों में दी गई सूचना सत्य है, भले ही वह सामान्य रूप से ज्ञात तथ्यों से भिन्न प्रतीत होती हो, बताइए कि दिए गए निष्कर्षों में से कौन सा / कौन से निष्कर्ष कथनों का तार्किक रूप से अनुसरण करता है / करते हैं।

कथन :

सभी छात्र, शिक्षक हैं।
सभी शिक्षक, प्रोफेसर हैं।

निष्कर्ष :

1. सभी छात्र, प्रोफेसर हैं।
2. सभी प्रोफेसर, छात्र हैं।
3. कोई शिक्षक, प्रोफेसर नहीं है।

- Ans 1. केवल निष्कर्ष 2 अनुसरण करता है।
 2. केवल निष्कर्ष 1 अनुसरण करता है।
 3. केवल निष्कर्ष 3 अनुसरण करता है।
 4. निष्कर्ष 1 और 3 दोनों अनुसरण करते हैं।

Question ID : 65497830380

Status : Answered

Chosen Option : 1

Q.17

- Ans 1.
 2.
 3.
 4.

Question ID : 65497830378

Status : Answered

Chosen Option : 3

Q.18 दिए गए विकल्पों में से उस संख्या का चयन कीजिए जो निम्न श्रृंखला में प्रश्न चिह्न (?) के स्थान पर आ सकती है।

5, 35, 7, 63, 9, ?, 11

- Ans
- 1. 85
 - 2. 99
 - 3. 90
 - 4. 87

Question ID : 65497830377
Status : Answered
Chosen Option : 2

Q.19

- Ans
- 1.
 - 2.
 - 3.
 - 4.

Question ID : 65497830383
Status : Answered
Chosen Option : 1

Q.20 यदि 'x' का अर्थ '-' है, '÷' का अर्थ '+' है, और '+' का अर्थ 'x' है, तो निम्न व्यंजक का मान कितना होगा?

$240 \times 20 \div 5 + 30$

- Ans
- 1. 370
 - 2. 499
 - 3. 990
 - 4. 790

Question ID : 65497830386
Status : Answered
Chosen Option : 1

Q.21 अक्षरों के उस संयोजन का चयन कीजिए, जिसे दी गई श्रृंखला के रिक्त स्थानों में क्रमबद्ध रूप से रखने पर श्रृंखला पूर्ण हो जाएगी।

Z _ T _ V _ X T D _ Z _ _ D V

- Ans
- 1. XDZVXT
 - 2. XD XVXT
 - 3. ZDZVXT
 - 4. XDZVDT

Question ID : 65497830393
Status : Answered
Chosen Option : 1

Q.22 जब एक संख्या को 25 के वर्ग से घटाया जाता है, तो यह उस संख्या का 124 गुना हो जाता है। संख्या ज्ञात कीजिए।

- Ans
- 1. 25
 - 2. 10
 - 3. 5
 - 4. 15

Question ID : 65497830382
Status : Answered
Chosen Option : 3

Q.23 उस सही विकल्प का चयन कीजिए, जो दिए गए शब्दों के उस क्रम को दर्शाता है, जिस क्रम में वे अंग्रेज़ी शब्दकोश में मौजूद होते हैं।

1. Clarity
2. Claimant
3. Classy
4. Clear
5. Cloning

- Ans
- 1. 1, 2, 3, 4, 5
 - 2. 2, 1, 3, 5, 4
 - 3. 2, 1, 4, 3, 5
 - 4. 2, 1, 3, 4, 5

Question ID : 65497830392
Status : Answered
Chosen Option : 4

Q.24 एक निश्चित कूट भाषा में, 'how are you' को 'au bk ch' लिखा जाता है, 'we are playing' को 'ma ch ba' लिखा जाता है और 'we know him' को 'ba me uk' लिखा जाता है। उसी कूट भाषा में 'playing' को क्या लिखा जाएगा?

- Ans
- 1. ba
 - 2. ma
 - 3. ch
 - 4. au

Question ID : 65497830379
Status : Answered
Chosen Option : 2

Q.25

- Ans
- 1.
 - 2.
 - 3.
 - 4.

Question ID : 65497830395
Status : Answered
Chosen Option : 4

Q.1 किसी देश की GDP उस देश में _____ माल और सेवाओं के उत्पादन के माध्यम से जोड़े गए मूल्य का मानक माप है।

- Ans
- 1. प्रत्येक एकांतर वर्ष में
 - 2. प्रत्येक पांच वर्ष में
 - 3. प्रत्येक तीन वर्ष में
 - 4. आपातकाल के दौरान

Question ID : 65497830409
Status : Not Answered
Chosen Option : --

Q.2 सौमित्र चटर्जी, जिनका नवंबर 2020 में देहांत हुआ, निम्नलिखित में से किस क्षेत्र से संबंधित थे?

- Ans
- 1. खेल
 - 2. पुरातत्व विज्ञान
 - 3. राजनीति
 - 4. अभिनय

Question ID : 65497830402
Status : Not Answered
Chosen Option : --

Q.3 मौर्य साम्राज्य में तीर्थयात्रियों पर लगाए जाने वाले कर का नाम इनमें से क्या था?

- Ans
- 1. भद्र
 - 2. यात्रावेतन
 - 3. वसंतिका
 - 4. पदिका

Question ID : 65497830415
Status : Not Answered
Chosen Option : --

Q.4 मोटर वाहन अधिनियम, 1988 में निर्दिष्ट किया गया है कि 'धारा 18 के प्रावधानों के तहत, _____ वर्ष से कम आयु का कोई भी व्यक्ति किसी भी सार्वजनिक स्थान पर वाहन नहीं चलाएगा'।

- Ans
- 1. 16
 - 2. 20
 - 3. 21
 - 4. 18

Question ID : 65497830416
Status : Answered
Chosen Option : 4

Q.5 _____ ने मिस टिन इंटरनेशनल 2019 का ताज जीता था।

- Ans
- 1. अनिसिया गौथुसी
 - 2. थू फॉ
 - 3. येसेनिया गार्सिया
 - 4. आयूषी ढोलकिया

Question ID : 65497830413
Status : Not Answered
Chosen Option : --

Q.6 लेंस की क्षमता (power) के SI मात्रक को निम्न में से किस अक्षर के द्वारा निरूपित किया जाता है?

- Ans
- 1. S
 - 2. D
 - 3. M
 - 4. A

Question ID : 65497830418
Status : Answered
Chosen Option : 2

Q.7 इंडिया पोस्ट पेमेंट्स बैंक ने निम्नलिखित में से किस योजना का विस्तार करने के लिए नवंबर, 2020 में पीएनबी मेट लाइफ़ इंडिया इंश्योरेंस के साथ अनुबंध किया है?

- Ans
- 1. प्रधानमंत्री सुरक्षा बीमा योजना
 - 2. प्रधानमंत्री जीवन ज्योति बीमा योजना
 - 3. प्रधानमंत्री मुद्रा योजना
 - 4. प्रधानमंत्री जन धन योजना

Question ID : 65497830404
Status : Answered
Chosen Option : 2

Q.8 'मांडो' त्योहार निम्नलिखित में से किस राज्य से संबंधित है?

- Ans
- 1. आंध्र प्रदेश
 - 2. गोवा
 - 3. तेलंगाना
 - 4. हरियाणा

Question ID : 65497830400
Status : Not Answered
Chosen Option : --

Q.9 गुजरात में अंतर्राष्ट्रीय पतंग महोत्सव _____ के महीने में आयोजित किया जाता है।

- Ans
- 1. नवंबर
 - 2. जनवरी
 - 3. जून
 - 4. मार्च

Question ID : 65497830410
Status : Answered
Chosen Option : 2

Q.10 अक्टूबर 2019 में BCCI (भारतीय क्रिकेट कंट्रोल बोर्ड) के सचिव के रूप में किसे नियुक्त किया गया था?

- Ans
- 1. सौरव गांगुली
 - 2. अनिरुद्ध त्रिपाठी
 - 3. जय शाह
 - 4. लव अग्रवाल

Question ID : 65497830406
Status : Answered
Chosen Option : 3

Q.11 _____ ने अपनी पुस्तक 'पॉवर्टी एंड अन-ब्रिटिश रूल इन इंडिया' के माध्यम से भारत में ब्रिटिश शासन के आर्थिक प्रभावों की तीखी आलोचना की है।

- Ans
- 1. सुरेंद्रनाथ बनर्जी
 - 2. दादाभाई नौरोजी
 - 3. फिरोज़शाह मेहता
 - 4. बदरुद्दीन तैयबजी

Question ID : 65497830419
Status : Answered
Chosen Option : 2

Q.12 1961 में, अमेरिकी (US) फेडरल रिज़र्व ने _____ नामक एक मौद्रिक नीति पहल शुरू की थी, जो दीर्घकालिक दरों को कम करते हुए अमेरिकी अर्थव्यवस्था को प्रोत्साहित करने के लिए डिज़ाइन की गई थी। इस पहल को भारतीय रिज़र्व बैंक ने दिसंबर 2019 से अपनाया।

- Ans
- 1. ऑपरेशन हब
 - 2. ऑपरेशन ब्लूम
 - 3. ऑपरेशन चर्न
 - 4. ऑपरेशन ट्विस्ट

Question ID : 65497830396
Status : Not Answered
Chosen Option : --

Q.13 निम्नलिखित में से कौन सा, ऊर्जा का एक पारंपरिक स्रोत है?

- Ans 1. कोयला
 2. ज्वारीय
 3. भू-तापीय
 4. सौर

Question ID : 65497830399
Status : Answered
Chosen Option : 4

Q.14 नहर की एक जलग्रीवा (चैनल), जहाँ पानी को बलपूर्वक उत्थान द्वारा भूमि के ढलान की विपरीत दिशा में प्रवाहित किया जाता है, _____ कहलाती है।

- Ans 1. जलोत्सारण
 2. कमान क्षेत्र
 3. जलभृत
 4. उत्थापन प्रणाली

Question ID : 65497830401
Status : Not Answered
Chosen Option : --

Q.15 4-9 नवंबर 2020 तक शारजाह में आयोजित हुए महिला टी-20 प्रतियोगिता का प्रायोजक निम्न में से कौन था?

- Ans 1. वोडाफ़ोन
 2. जियो
 3. एयरटेल
 4. आईडिया

Question ID : 65497830408
Status : Answered
Chosen Option : 2

Q.16 नवंबर 2020 में, 80वें अखिल भारतीय पीठासीन अधिकारी सम्मेलन का आयोजन निम्नलिखित में से किस शहर/नगर में किया गया?

- Ans 1. हल्दिया
 2. बावला
 3. झरिया
 4. केवड़िया

Question ID : 65497830398
Status : Not Answered
Chosen Option : --

Q.17 निम्नलिखित में से किस ऑटोमोबाइल कंपनी ने सितंबर 2021 में भारत में बिक्री के लिए वाहनों का निर्माण बंद करने के अपने निर्णय की घोषणा की?

- Ans
- 1. शेवरलेट
 - 2. टोयोटा मोटर कॉर्पोरेशन
 - 3. फोर्ड मोटर कंपनी
 - 4. होंडा मोटर कंपनी लिमिटेड

Question ID : 65497830420
Status : Not Answered
Chosen Option : --

Q.18 किस श्रेणी को 'ऊपरी एशिया की रीढ़' के रूप में जाना जाता है?

- Ans
- 1. लद्दाख श्रेणी
 - 2. कैलाश श्रेणी
 - 3. काराकोरम श्रेणी
 - 4. जसकर श्रेणी

Question ID : 65497830407
Status : Answered
Chosen Option : 3

Q.19 बाबर ने निम्न में से किस वर्ष में दिल्ली के सुल्तान को हराकर दिल्ली और आगरा पर कब्जा कर लिया था?

- Ans
- 1. 1524
 - 2. 1526
 - 3. 1522
 - 4. 1528

Question ID : 65497830414
Status : Answered
Chosen Option : 2

Q.20 31 अगस्त 2021 तक प्राप्त जानकारी के अनुसार, इनमें से किस रेलवे स्टेशन को भारतीय खाद्य सुरक्षा एवं मानक प्राधिकरण (FSSAI) द्वारा 5-स्टार 'ईट राइट स्टेशन' प्रमाणन प्रदान नहीं किया गया है?

- Ans
- 1. छत्रपति शिवाजी टर्मिनस, मुंबई
 - 2. वड़ोदरा रेलवे स्टेशन
 - 3. अहमदाबाद रेलवे स्टेशन
 - 4. आनंद विहार टर्मिनल रेलवे स्टेशन, दिल्ली

Question ID : 65497830417
Status : Answered
Chosen Option : 3

Q.21 पौधों को प्रकाश संश्लेषण के लिए निम्नलिखित में से किस गैस की आवश्यकता होती है?

- Ans
- 1. नाइट्रोजन
 - 2. आर्गन
 - 3. कार्बन डाइऑक्साइड
 - 4. ऑक्सीजन

Question ID : 65497830412
Status : Answered
Chosen Option : 3

Q.22 पानी में क्लोरीन की गोलियां या _____ मिलाकर क्लोरीनीकरण किया जाता है।

- Ans
- 1. साधारण नमक
 - 2. ब्लीचिंग पाउडर
 - 3. बेकिंग सोडा
 - 4. हल्दी पाउडर

Question ID : 65497830411
Status : Answered
Chosen Option : 2

Q.23 नवंबर 2020 में, निम्नलिखित में से किसे खेलों में उनके योगदान के लिए 'केपिटल फ़ाउंडेशन नेशनल अवॉर्ड' से सम्मानित किया गया था?

- Ans
- 1. एके गुप्ता
 - 2. राजीव जलोटा
 - 3. ज्ञानेंद्रो निगोंबम
 - 4. नरिंदर बत्रा

Question ID : 65497830403
Status : Answered
Chosen Option : 2

Q.24 निम्नलिखित में से किस स्वतंत्रता सेनानी पर जनरल डायर की हत्या का आरोप लगाया गया था?

- Ans
- 1. सूर्य सेन
 - 2. भगत सिंह
 - 3. अरबिंदो घोष
 - 4. ऊधम सिंह

Question ID : 65497830405
Status : Answered
Chosen Option : 2

Q.25 निम्नलिखित में से किस राज्य में विधानसभा निर्वाचन क्षेत्रों की संख्या सबसे अधिक है?

- Ans
- 1. गुजरात
 - 2. उत्तर प्रदेश
 - 3. तमिलनाडु
 - 4. महाराष्ट्र

Question ID : 65497830397
Status : Not Answered
Chosen Option : --

Section : Part C Elementary Mathematics

Q.1

- Ans
- 1.
 - 2.
 - 3.
 - 4.

Question ID : 65497830437
Status : Answered
Chosen Option : 3

Q.2

- Ans
- 1.
 - 2.
 - 3.
 - 4.

Question ID : 65497830440
Status : Answered
Chosen Option : 3

Q.3

- Ans
- 1.
 - 2.
 - 3.
 - 4.

Question ID : 65497830426
Status : Answered
Chosen Option : 2

Q.4

- Ans 1.
 2.
 3.
 4.

Question ID : 65497830432
Status : Answered
Chosen Option : 2

Q.5

- Ans 1.
 2.
 3.
 4.

Question ID : 65497830427
Status : Answered
Chosen Option : 3

Q.6

- Ans 1.
 2.
 3.
 4.

Question ID : 65497830424
Status : Answered
Chosen Option : 3

Q.7

- Ans 1.
 2.
 3.
 4.

Question ID : 65497830425
Status : Not Attempted and
Marked For Review
Chosen Option : --

Q.8

- Ans 1.
 2.
 3.
 4.

Question ID : 65497830430
Status : Answered
Chosen Option : 1

Q.9

- Ans 1.
 2.
 3.
 4.

Question ID : 65497830445
Status : Answered
Chosen Option : 1

Q.10

- Ans 1.
 2.
 3.
 4.

Question ID : 65497830436
Status : Answered
Chosen Option : 1

Q.11

- Ans 1.
 2.
 3.
 4.

Question ID : 65497830442
Status : Answered
Chosen Option : 3

Q.12

- Ans 1.
 2.
 3.
 4.

Question ID : 65497830443
Status : Answered
Chosen Option : 1

Q.13

- Ans 1.
 2.
 3.
 4.

Question ID : 65497830435
Status : Not Attempted and
Marked For Review
Chosen Option : --

Q.14

- Ans 1.
 2.
 3.
 4.

Question ID : 65497830434
Status : **Not Attempted and Marked For Review**
Chosen Option : --

Q.15

- Ans 1.
 2.
 3.
 4.

Question ID : 65497830444
Status : **Answered**
Chosen Option : 4

Q.16

- Ans 1.
 2.
 3.
 4.

Question ID : 65497830441
Status : **Answered**
Chosen Option : 4

Q.17

- Ans 1.
 2.
 3.
 4.

Question ID : 65497830439
Status : **Answered**
Chosen Option : 2

Q.18

- Ans 1.
 2.
 3.
 4.

Question ID : 65497830433
Status : **Answered**
Chosen Option : 4

Q.19

- Ans 1.
 2.
 3.
 4.

Question ID : 65497830429
Status : Answered
Chosen Option : 4

Q.20

- Ans 1.
 2.
 3.
 4.

Question ID : 65497830428
Status : Answered
Chosen Option : 1

Q.21

- Ans 1.
 2.
 3.
 4.

Question ID : 65497830422
Status : Answered
Chosen Option : 4

Q.22

- Ans 1.
 2.
 3.
 4.

Question ID : 65497830431
Status : Answered
Chosen Option : 1

Q.23

- Ans 1.
 2.
 3.
 4.

Question ID : 65497830438
Status : Answered
Chosen Option : 2

Q.24

- Ans 1.
 2.
 3.
 4.

Question ID : 65497830421
Status : Answered
Chosen Option : 2

Q.25

- Ans 1.
 2.
 3.
 4.

Question ID : 65497830423
Status : Answered
Chosen Option : 2

Section : Part D English

Q.1 Select the most appropriate meaning of the given idiom.

To have a yen for

- Ans 1. To have a lot of Japanese money to spend
 2. To have a very strong and continuous desire or craving for something
 3. To want to earn money to go to Japan
 4. To have many friends who want to teach one new things

Question ID : 65497830451
Status : Not Answered
Chosen Option : --

Q.2 Select the most appropriate option that can substitute the underlined segment in the given sentence. If there is no need to substitute it, select 'No substitution required'.

My grandmother decide to gives me and my brothers some of her favourite books.

- Ans 1. No substitution required
 2. decided to give me
 3. decided to gave me
 4. have decided to give me

Question ID : 65497830452
Status : Not Answered
Chosen Option : --

Q.3 Select the most appropriate option that can substitute the underlined word in the given sentence. If there is no need to substitute it, select 'No substitution required'.

My sister enjoys reading, while my brother who hates it.

- Ans 1. unlike
 2. so as
 3. No substitution required
 4. but

Question ID : 65497830454
Status : Not Answered
Chosen Option : --

Q.4 Select the most appropriate ANTONYM of the given word.

Peculiar

- Ans 1. Strange
 2. Familiar
 3. Weird
 4. Unique

Question ID : 65497830463
Status : Not Answered
Chosen Option : --

Q.5 Select the option that can be used as a one-word substitute for the given group of words.

The sound made by an elephant

- Ans 1. Bleat
 2. Bark
 3. Trumpet
 4. Croak

Question ID : 65497830446
Status : Not Answered
Chosen Option : --

Q.6 Select the most appropriate ANTONYM of the given word.

Emerge

- Ans 1. Vanish
 2. Appear
 3. Surface
 4. Lose

Question ID : 65497830447
Status : Not Answered
Chosen Option : --

Q.7 Select the most appropriate option to fill in the blank.

Though the house belonged to my father, the _____ banyan tree was mine.

- Ans
- 1. inclusive
 - 2. magnificent
 - 3. exalted
 - 4. waterlogged

Question ID : 65497830448
Status : Not Answered
Chosen Option : --

Q.8 The following sentence has been split into four segments. Identify the segment that contains a grammatical error.

I prevailed / upto him / to join / our team.

- Ans
- 1. our team
 - 2. to join
 - 3. upto him
 - 4. I prevailed

Question ID : 65497830462
Status : Not Answered
Chosen Option : --

Q.9 Select the most appropriate SYNONYM of the given word.

Repel

- Ans
- 1. Resist
 - 2. Regret
 - 3. Retain
 - 4. Remit

Question ID : 65497830460
Status : Not Answered
Chosen Option : --

Q.10 Select the most appropriate meaning of the given idiom.

Go with the flow

- Ans
- 1. Swim in deep water
 - 2. Flatter someone in authority
 - 3. Do what others are doing
 - 4. Control a situation

Question ID : 65497830453
Status : Not Answered
Chosen Option : --

Q.11 Select the INCORRECTLY spelt word.

- Ans
- 1. Arrogance
 - 2. Effective
 - 3. Imitation
 - 4. Fascinating

Question ID : 65497830465
Status : Not Answered
Chosen Option : --

Q.12 Select the option that will improve the underlined part of the given sentence. In case no improvement is needed, select 'No improvement required'.

Nature provides every creature a chance to exist.

- Ans
- 1. the chance for existing
 - 2. chances in existence
 - 3. chance for existence
 - 4. No improvement required

Question ID : 65497830458
Status : Not Answered
Chosen Option : --

Q.13 Select the INCORRECTLY spelt word.

- Ans
- 1. Necessary
 - 2. Adequate
 - 3. Attendance
 - 4. Occurence

Question ID : 65497830455
Status : Not Answered
Chosen Option : --

Q.14 Select the most appropriate option to fill in the blank.

The judge had to free the young man because there was no _____ against him.

- Ans
- 1. cause
 - 2. evidence
 - 3. belief
 - 4. excuse

Question ID : 65497830456
Status : Not Answered
Chosen Option : --

Q.15 The following sentence has been split into four segments. Identify the segment that contains a grammatical error.

The lions were being fed / by there keeper / when we arrived / at the zoo.

- Ans
- 1. The lions were being fed
 - 2. when we arrived
 - 3. by there keeper
 - 4. at the zoo

Question ID : 65497830449
Status : Not Answered
Chosen Option : --

Q.16 Select the option that can be used as a one-word substitute for the given group of words.

To give up a throne voluntarily

- Ans
- 1. Allocate
 - 2. Abdicate
 - 3. Vacate
 - 4. Eradicate

Question ID : 65497830464
Status : Not Answered
Chosen Option : --

Q.17 Select the most appropriate synonym of the given word.

Baffle

- Ans
- 1. Confuse
 - 2. Amuse
 - 3. Choose
 - 4. Bemuse

Question ID : 65497830450
Status : Not Answered
Chosen Option : --

Q.18 Select the option that can be used as a one-word substitute for the given group of words.

A list of sources used when writing a scholarly article

- Ans
- 1. Atlas
 - 2. Journal
 - 3. Bibliography
 - 4. Dictionary

Question ID : 65497830461
Status : Not Answered
Chosen Option : --

Q.19 Select the most appropriate option to fill in the blank.

There are many plants and animals that cannot _____ in very cold or very hot places.

- Ans
- 1. tolerate
 - 2. survive
 - 3. preserve
 - 4. bear

Question ID : 65497830457
Status : Not Answered
Chosen Option : --

Q.20 The following sentence has been split into four segments. Identify the segment that contains a grammatical error.

Nature teach us / to maintain / a balance / in life.

- Ans
- 1. in life
 - 2. a balance
 - 3. Nature teach us
 - 4. to maintain

Question ID : 65497830459
Status : Not Answered
Chosen Option : --

Comprehension:

In the following passage, some words have been deleted. Read the passage carefully and select the most appropriate option to fill in each blank.

He invited the monkey to his house for dinner and said that his wife would like to meet him. (1) _____ monkey was happy, but (2) _____ swim, so the crocodile took (3) _____ on his back. The crocodile was happy (4) _____ he had tricked the monkey, however, while talking, he (5) _____ out the real reason for taking the monkey home. The clever monkey said, "You should have told me earlier, I left my heart on the tree."

SubQuestion No : 21

Q.21 Select the most appropriate option to fill in blank no. 1.

- Ans
- 1. A
 - 2. That
 - 3. One
 - 4. The

Question ID : 65497830467
Status : Not Answered
Chosen Option : --

Comprehension:

In the following passage, some words have been deleted. Read the passage carefully and select the most appropriate option to fill in each blank.

He invited the monkey to his house for dinner and said that his wife would like to meet him. (1) _____ monkey was happy, but (2) _____ swim, so the crocodile took (3) _____ on his back. The crocodile was happy (4) _____ he had tricked the monkey, however, while talking, he (5) _____ out the real reason for taking the monkey home. The clever monkey said, "You should have told me earlier, I left my heart on the tree."

SubQuestion No : 22

Q.22 Select the most appropriate option to fill in blank no. 2.

Ans 1. couldn't

2. hadn't

3. doesn't

4. didn't

Question ID : 65497830468

Status : Not Answered

Chosen Option : --

Comprehension:

In the following passage, some words have been deleted. Read the passage carefully and select the most appropriate option to fill in each blank.

He invited the monkey to his house for dinner and said that his wife would like to meet him. (1) _____ monkey was happy, but (2) _____ swim, so the crocodile took (3) _____ on his back. The crocodile was happy (4) _____ he had tricked the monkey, however, while talking, he (5) _____ out the real reason for taking the monkey home. The clever monkey said, "You should have told me earlier, I left my heart on the tree."

SubQuestion No : 23

Q.23 Select the most appropriate option to fill in blank no. 3.

Ans 1. her

2. him

3. it

4. them

Question ID : 65497830469

Status : Not Answered

Chosen Option : --

Comprehension:

In the following passage, some words have been deleted. Read the passage carefully and select the most appropriate option to fill in each blank.

He invited the monkey to his house for dinner and said that his wife would like to meet him. (1) _____ monkey was happy, but (2) _____ swim, so the crocodile took (3) _____ on his back. The crocodile was happy (4) _____ he had tricked the monkey, however, while talking, he (5) _____ out the real reason for taking the monkey home. The clever monkey said, "You should have told me earlier, I left my heart on the tree."

SubQuestion No : 24

Q.24 Select the most appropriate option to fill in blank no. 4.

- Ans
- 1. before
 - 2. while
 - 3. that
 - 4. whether

Question ID : 65497830470

Status : Not Answered

Chosen Option : --

Comprehension:

In the following passage, some words have been deleted. Read the passage carefully and select the most appropriate option to fill in each blank.

He invited the monkey to his house for dinner and said that his wife would like to meet him. (1) _____ monkey was happy, but (2) _____ swim, so the crocodile took (3) _____ on his back. The crocodile was happy (4) _____ he had tricked the monkey, however, while talking, he (5) _____ out the real reason for taking the monkey home. The clever monkey said, "You should have told me earlier, I left my heart on the tree."

SubQuestion No : 25

Q.25 Select the most appropriate option to fill in blank no. 5.

- Ans
- 1. blurted
 - 2. announced
 - 3. talked
 - 4. stated

Question ID : 65497830471

Status : Not Answered

Chosen Option : --

Section : Part D Hindi

Q.1 सही वर्तनी वाले शब्द का चयन करें -

- Ans
- 1. वाल्मीकी
 - 2. बाल्मीकी
 - 3. वाल्मीकि
 - 4. बाल्मीकि

Question ID : 65497830482

Status : Answered

Chosen Option : 3

Q.2 दिए गए शब्द के समानार्थी शब्द का चयन करें।

लहर

- Ans
- 1. अहि
 - 2. उर्मि
 - 3. विभा
 - 4. चंचला

Question ID : 65497830479

Status : Answered

Chosen Option : 4

Q.3 'सलिल' किसका पर्यायवाची है?

- Ans
- 1. वायु
 - 2. जल
 - 3. अग्नि
 - 4. कमल

Question ID : 65497830485

Status : Answered

Chosen Option : 4

Q.4 आधुनिक युग में विज्ञान महत्त्वपूर्ण है।

उपरोक्त वाक्य में रेखांकित शब्द के पर्यायवाची का चयन कीजिए:

- Ans
- 1. प्राचीन
 - 2. प्रासंगिक
 - 3. पुरातन
 - 4. अर्वाचीन

Question ID : 65497830486

Status : Answered

Chosen Option : 2

Q.5 'लोहा मानना' मुहावरे का सही अर्थ क्या है?

- Ans
- 1. श्रेष्ठता स्वीकार करना
 - 2. शत्रुता करना
 - 3. प्रतिरोध करना
 - 4. अधीनता स्वीकार करना

Question ID : 65497830491

Status : Answered

Chosen Option : 1

Q.6 दिये गये वाक्य के किस भाग में त्रुटि है?

हमारे बेटे के विवाह के उपलच्छ में भोज होगा।

- Ans
- 1. भोज होगा।
 - 2. हमारे बेटे के
 - 3. उपलच्छ में
 - 4. विवाह के

Question ID : 65497830484

Status : Answered

Chosen Option : 3

Q.7 दिए गए वाक्य का वो वह भाग ज्ञात करें जिसमें कोई त्रुटि है। यदि कोई त्रुटि नहीं है, तो 'कोई त्रुटि नहीं है' चुनें।

गाँधी जी (1) \ सत्य या अहिंसा में (2) \ विश्वास करते थे। (3) \ कोई त्रुटि नहीं है (4)

- Ans
- 1. 1
 - 2. 3
 - 3. 4
 - 4. 2

Question ID : 65497830487

Status : Answered

Chosen Option : 4

Q.8 नीचे दिए वाक्य में रिक्त-स्थान की पूर्ति के लिए सबसे उपयुक्त शब्द का चयन करें।

बिजली बड़े जोर से _____ रही है।

- Ans
- 1. कड़क
 - 2. गरज
 - 3. कुकड़
 - 4. चिंघाड़

Question ID : 65497830481

Status : Answered

Chosen Option : 1

Q.9 रिक्त स्थान की पूर्ति के लिए सबसे उपयुक्त शब्द का चयन कीजिए।

बरसात में मेंढ़क _____ हैं।

- Ans
- 1. मचलते
 - 2. गुरति
 - 3. तरति
 - 4. दहाड़ते

Question ID : 65497830472

Status : Answered

Chosen Option : 3

Q.10 सही वर्तनी वाले शब्द का चयन करें -

- Ans 1. विभीषिका
 2. विभिषिका
 3. वीभीषिका
 4. विभीषीका

Question ID : 65497830483
Status : Answered
Chosen Option : 2

Q.11 दिए गए वाक्यांश के लिए एक शब्द दीजिए।

समान उदर से जन्म लेने वाला

- Ans 1. सउदर
 2. सही
 3. सखा
 4. सहोदर

Question ID : 65497830475
Status : Not Attempted and
Marked For Review
Chosen Option : --

Q.12 'जो अपना उद्देश्य सिद्ध होने पर संतुष्ट हो' वाक्यांश के लिए उपयुक्त शब्द होगा-

- Ans 1. कृतज्ञ
 2. कृत्रिम
 3. कृतघ्न
 4. कृतार्थ

Question ID : 65497830489
Status : Answered
Chosen Option : 1

Q.13 दिए गए वाक्य में रेखांकित खंड को प्रतिस्थापित करने के लिए सबसे उपयुक्त विकल्प का चयन करें। यदि इसे प्रतिस्थापित करने की आवश्यकता नहीं है, तो विकल्प 'किसी बदलाव की आवश्यकता नहीं है' का चयन करें।

हमें ये ने कहा था।

- Ans 1. किसी बदलाव की आवश्यकता नहीं है
 2. उसने
 3. इन्होंने
 4. उन्होंने

Question ID : 65497830474
Status : Answered
Chosen Option : 2

Q.14 'विपत्ति' का विलोम शब्द होगा-

- Ans
- 1. सम्पत्ति
 - 2. आपत्ति
 - 3. संपत्ति
 - 4. उत्पत्ति

Question ID : 65497830488
Status : Answered
Chosen Option : 1

Q.15 'सिर उठाना' मुहावरे का अर्थ बताइए-

- Ans
- 1. विरोध में खड़ा होना
 - 2. अकड़ कर चलना
 - 3. सिर ऊँचा करना
 - 4. पीछे पड़ना

Question ID : 65497830476
Status : Answered
Chosen Option : 1

Q.16 दिए गए वाक्य का वह भाग ज्ञात करें जिसमें कोई त्रुटि है। यदि कोई त्रुटि नहीं है, तो 'कोई त्रुटि नहीं है' चुनें।

इतनी रात (1)/ गई आप (2)/ कहां थे (3)/ कोई त्रुटि नहीं है (4)

- Ans
- 1. 1
 - 2. 4
 - 3. 2
 - 4. 3

Question ID : 65497830478
Status : Answered
Chosen Option : 4

Q.17 'संधि' का विलोम शब्द होगा-

- Ans
- 1. दुराग्रह
 - 2. आग्रह
 - 3. विग्रह
 - 4. समास

Question ID : 65497830490
Status : Answered
Chosen Option : 3

Q.18 दिए गए वाक्य में रेखांकित खंड को प्रतिस्थापित करने के लिए सबसे उपयुक्त विकल्प का चयन करें। यदि इसे प्रतिस्थापित करने की आवश्यकता नहीं है, तो विकल्प 'किसी बदलाव की आवश्यकता नहीं है' का चयन करें।

यह नेता मंत्रिपरिषद में नहीं है।

- Ans
- 1. मंत्रीपरिषद में नहीं है।
 - 2. किसी बदलाव की आवश्यकता नहीं है।
 - 3. मंत्रीपरिषद में नहीं है।
 - 4. मंत्रिपरिषद में नहीं है।

Question ID : 65497830473
Status : Answered
Chosen Option : 3

Q.19 रिक्त स्थान की पूर्ति के लिए सबसे उपयुक्त शब्द का चयन करें।

में ____ श्रद्धा रखती हूँ।

- Ans
- 1. आप पर
 - 2. आपको
 - 3. आपकी
 - 4. आपने

Question ID : 65497830477
Status : Answered
Chosen Option : 1

Q.20 दिये गये वाक्यांश के लिए एक शब्द दीजिये।

जिसके आर -पार देखा जा सके

- Ans
- 1. पारदर्शी
 - 2. अपारगम्य
 - 3. दर्शक
 - 4. मूक दर्शक

Question ID : 65497830480
Status : Answered
Chosen Option : 1

Comprehension:

मनुष्य के केवल दिमाग ही नहीं, एक (1)_____ नाम की भी चीज होती है। मनुष्य प्रत्येक वस्तु को केवल (2)_____ के लिए ही ग्रहण नहीं करता, बहुत-सी चीजें वह इसलिए भी इकट्ठी करता है कि उनसे उसे वह (3)_____ मिल सके जो अन्य जीवधारियों की पहुंच से परे है। कला और विज्ञान, मनुष्य के लिए ये दोनों ही वस्तुएं एक (4)_____ अनिवार्य हैं, क्योंकि विज्ञान के अभाव में जैसे हम (5)_____ और असभ्य बन जाते हैं, वैसे ही कलाविहीन होने पर हम सिर्फ विज्ञान के पुर्जे रह जाते हैं।

निम्न प्रश्नों के उत्तर उपरोक्त गद्यांश के आधार पर दीजिए।

SubQuestion No : 21

Q.21 गद्यांश के रिक्त स्थान (1) के लिए सर्वाधिक उपयुक्त शब्द होगा-

- Ans 1. दिल
 2. पेट
 3. मन
 4. बुद्धि

Question ID : 65497830493

Status : Answered

Chosen Option : 1

Comprehension:

मनुष्य के केवल दिमाग ही नहीं, एक (1)_____ नाम की भी चीज होती है। मनुष्य प्रत्येक वस्तु को केवल (2)_____ के लिए ही ग्रहण नहीं करता, बहुत-सी चीजें वह इसलिए भी इकट्ठी करता है कि उनसे उसे वह (3)_____ मिल सके जो अन्य जीवधारियों की पहुंच से परे है। कला और विज्ञान, मनुष्य के लिए ये दोनों ही वस्तुएं एक (4)_____ अनिवार्य हैं, क्योंकि विज्ञान के अभाव में जैसे हम (5)_____ और असभ्य बन जाते हैं, वैसे ही कलाविहीन होने पर हम सिर्फ विज्ञान के पुर्जे रह जाते हैं।

निम्न प्रश्नों के उत्तर उपरोक्त गद्यांश के आधार पर दीजिए।

SubQuestion No : 22

Q.22 गद्यांश के रिक्त स्थान (2) के लिए सर्वाधिक उपयुक्त शब्द होगा-

- Ans 1. उपयोग
 2. दुरुपयोग
 3. उपचार
 4. त्याग

Question ID : 65497830494

Status : Answered

Chosen Option : 1

Comprehension:

मनुष्य के केवल दिमाग ही नहीं, एक (1)_____ नाम की भी चीज होती है। मनुष्य प्रत्येक वस्तु को केवल (2)_____ के लिए ही ग्रहण नहीं करता, बहुत-सी चीजें वह इसलिए भी इकट्ठी करता है कि उनसे उसे वह (3)_____ मिल सके जो अन्य जीवधारियों की पहुंच से परे है। कला और विज्ञान, मनुष्य के लिए ये दोनों ही वस्तुएं एक (4)_____ अनिवार्य हैं, क्योंकि विज्ञान के अभाव में जैसे हम (5)_____ और असभ्य बन जाते हैं, वैसे ही कलाविहीन होने पर हम सिर्फ विज्ञान के पुर्जे रह जाते हैं।

निम्न प्रश्नों के उत्तर उपरोक्त गद्यांश के आधार पर दीजिए।

SubQuestion No : 23

Q.23 गद्यांश के रिक्त स्थान (3) के लिए सर्वाधिक उपयुक्त शब्द होगा-

- Ans
- 1. सम्मान
 - 2. महत्व
 - 3. बल
 - 4. आनंद

Question ID : 65497830495

Status : Answered

Chosen Option : 4

Comprehension:

मनुष्य के केवल दिमाग ही नहीं, एक (1)_____ नाम की भी चीज होती है। मनुष्य प्रत्येक वस्तु को केवल (2)_____ के लिए ही ग्रहण नहीं करता, बहुत-सी चीजें वह इसलिए भी इकट्ठी करता है कि उनसे उसे वह (3)_____ मिल सके जो अन्य जीवधारियों की पहुंच से परे है। कला और विज्ञान, मनुष्य के लिए ये दोनों ही वस्तुएं एक (4)_____ अनिवार्य हैं, क्योंकि विज्ञान के अभाव में जैसे हम (5)_____ और असभ्य बन जाते हैं, वैसे ही कलाविहीन होने पर हम सिर्फ विज्ञान के पुर्जे रह जाते हैं।

निम्न प्रश्नों के उत्तर उपरोक्त गद्यांश के आधार पर दीजिए।

SubQuestion No : 24

Q.24 गद्यांश के रिक्त स्थान (4) के लिए सर्वाधिक उपयुक्त शब्द होगा-

- Ans
- 1. सापेक्ष
 - 2. समान
 - 3. तरफ
 - 4. प्रकार

Question ID : 65497830496

Status : Answered

Chosen Option : 2

Comprehension:

मनुष्य के केवल दिमाग ही नहीं, एक (1)_____ नाम की भी चीज होती है। मनुष्य प्रत्येक वस्तु को केवल (2)_____ के लिए ही ग्रहण नहीं करता, बहुत-सी चीजें वह इसलिए भी इकट्ठी करता है कि उनसे उसे वह (3)_____ मिल सके जो अन्य जीवधारियों की पहुंच से परे है। कला और विज्ञान, मनुष्य के लिए ये दोनों ही वस्तुएं एक (4)_____ अनिवार्य हैं, क्योंकि विज्ञान के अभाव में जैसे हम (5)_____ और असभ्य बन जाते हैं, वैसे ही कलाविहीन होने पर हम सिर्फ विज्ञान के पुर्जे रह जाते हैं।

निम्न प्रश्नों के उत्तर उपरोक्त गद्यांश के आधार पर दीजिए।

SubQuestion No : 25

Q.25 गद्यांश के रिक्त स्थान (5) के लिए सर्वाधिक उपयुक्त शब्द होगा-

- Ans
- 1. आलसी
 - 2. अंधविश्वासी
 - 3. चतुर
 - 4. स्वार्थी

Question ID : 65497830497

Status : Answered

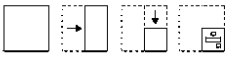
Chosen Option : 2

Constable GD in CAPFs NIA SSF and Rifleman GD in Assam Rifles Examination 2021

Roll Number	www.HaryanaJobs.in
Candidate Name	www.HaryanaJobs.in
Venue Name	Arya Institute of Engineering and Technology
Exam Date	10/12/2021
Exam Time :	12:30 PM - 2:00 PM
Subject	Constable GD 2021

Section : Part A General Intelligence and Reasoning

Q.1 निम्नांकित आकृतियों में एक कागज के टुकड़े को मोड़ने का क्रम और मुड़े हुए कागज को काटने की विधि दर्शाई गई है। यह कागज खोलने पर कैसा दिखेगा?



Ans

- ✗ 1.
- ✗ 2.
- ✓ 3.
- ✗ 4.

Question ID : 65497831277

Status : Answered

Chosen Option : 3

Q.2 उस विकल्प का चयन कीजिए, जिसका तीसरे पद से वही संबंध है, जो दूसरे पद का पहले पद से है।

PLUM : KOFN :: MIST : ?

- Ans ✗ 1. ORGH
- ✓ 2. NRHG
- ✗ 3. ROGH
- ✗ 4. NRFH

Question ID : 65497831282

Status : Answered

Chosen Option : 2

Q.3 अक्षरों के उस संयोजन का चयन करें जो दी गई श्रृंखला के रिक्त स्थान में क्रमिक रूप से रखे जाने पर श्रृंखला को पूर्ण करेगा।

LP_ST__Q_TL__ST

- Ans
- 1. LQPQSP
 - 2. QLPS PQ
 - 3. PQSLSP
 - 4. PQLQLP

Question ID : 65497831261
Status : Answered
Chosen Option : 2

Q.4 दिए गए पैटर्न का ध्यानपूर्वक अध्ययन कीजिए और उस संख्या का चयन कीजिए जो इसमें प्रश्नवाचक चिह्न (?) के स्थान पर आ सकती है।

5 17 61
6 21 75
8 ? 103

- Ans
- 1. 27
 - 2. 29
 - 3. 23
 - 4. 21

Question ID : 65497831272
Status : Answered
Chosen Option : 2

Q.5 यदि 'A' का अर्थ 'जोड़' है, 'B' का अर्थ 'गुणा' है, 'C' का अर्थ 'घटाना' है, और 'D' का अर्थ 'भाग' है, तो निम्न व्यंजक का मान कितना होगा?

483 D 23 A 93 C 16 B 4

- Ans
- 1. 60
 - 2. 57
 - 3. 50
 - 4. 67

Question ID : 65497831273
Status : Answered
Chosen Option : 3

Q.6 यदि 'A % B' का अर्थ है - 'A, B की पुत्री है', 'A & B' का अर्थ है - 'A, B की पत्नी है', और 'A # B' का अर्थ है - 'A, B का पुत्र है', तो व्यंजक V % G & H # L & Z में, G का Z से क्या संबंध है?

- Ans
- 1. भाभी/ननद/साली/देवरानी/जेठानी
 - 2. पुत्रवधू
 - 3. मामी/मौसी
 - 4. पुत्री

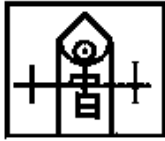
Question ID : 65497831284
Status : Answered
Chosen Option : 2

Q.7 उस विकल्प का चयन कीजिए जिसमें दी गई आकृति सम्बन्धित है। (आकृति को घुमाने की अनुमति नहीं है)

फ

Ans

✓ 1.



✗ 2.



✗ 3.



✗ 4.



Question ID : 65497831276

Status : Answered

Chosen Option : 1

Q.8 Six professional interior designers, Pavan, Nayan, Ratan, Shiva, Tanuja and Urmila, are sitting around a hexagonal table, each at one corner, and are facing the centre of the hexagonal table. Pavan is second to the left of Urmila. Nayan is the neighbour of Ratan and Shiva. Tanuja is second to the left of Shiva. Who among the following are the neighbours of Pavan?

Ans ✗ 1. Urmila and Ratan

✗ 2. Shiva and Nayan

✓ 3. Tanuja and Ratan

✗ 4. Urmila and Tanuja

Question ID : 65497831269

Status : Answered

Chosen Option : 3

Q.9 एक निश्चित कूट भाषा में, 'CROW' को '3-18-15-23' के रूप में कूटबद्ध किया जाता है और 'FISH' को '6-9-19-8' के रूप में कूटबद्ध किया जाता है। उसी भाषा में 'BULL' को किस रूप में कूटबद्ध किया जाएगा?

Ans ✓ 1. 2-21-12-12

✗ 2. 3-20-11-11

✗ 3. 2-22-12-12

✗ 4. 2-22-13-13

Question ID : 65497831265

Status : Answered

Chosen Option : 1

Q.10 दिए गए विकल्पों में से उस संख्या का चयन करें जो निम्नलिखित श्रृंखला में प्रश्न चिह्न (?) के स्थान पर आ सकती है।

6, 54, 378, 1890, ?

- Ans
- 1. 6811
 - 2. 5670
 - 3. 6002
 - 4. 4236

Question ID : 65497831266
Status : Answered
Chosen Option : 2

Q.11 जिस प्रकार 'माउस' 'कंप्यूटर' से संबंधित है, उसी प्रकार 'फ्लैश' '_____' से संबंधित है।

- Ans
- 1. कैमरा
 - 2. ताश
 - 3. प्रिंटर
 - 4. चमक

Question ID : 65497831279
Status : Answered
Chosen Option : 1

Q.12 दिए गए विकल्पों में से उस अक्षर-समूह का चयन करें, जो निम्नलिखित श्रृंखला में प्रश्नवाचक चिह्न (?) के स्थान पर आ सकता है।

BZCA, EXFY, HVIW, KTLU, ?

- Ans
- 1. NRPS
 - 2. ORNP
 - 3. NROS
 - 4. RNPO

Question ID : 65497831278
Status : Answered
Chosen Option : 3

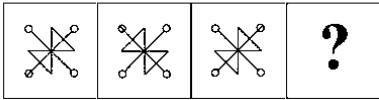
Q.13 दिए गए विकल्पों में से उस संख्या का चयन करें जो निम्नलिखित श्रृंखला में प्रश्न चिह्न (?) के स्थान पर आ सकती है।

241,258, 275, 292, ?

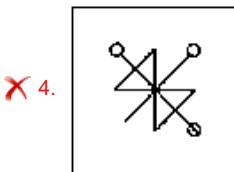
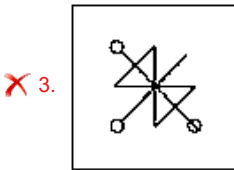
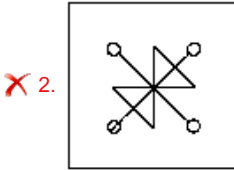
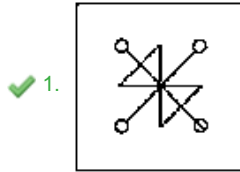
- Ans
- 1. 299
 - 2. 313
 - 3. 325
 - 4. 309

Question ID : 65497831262
Status : Answered
Chosen Option : 4

Q.14 दिए गए विकल्पों में से उस आकृति का चयन करें जो निम्नलिखित श्रृंखला में प्रश्न चिह्न (?) के स्थान पर आ सकती है।



Ans



Question ID : 65497831263
Status : Answered
Chosen Option : 1

Q.15 एक निश्चित कूट भाषा में CLOUD को DMNTE लिखा जाता है और MANGO को NZOHN लिखा जाता है। उसी कूट भाषा में PASTEUR को किस प्रकार लिखा जाएगा?

- Ans
- ✓ 1. QZTUDTS
 - ✗ 2. QZRSVVS
 - ✗ 3. UTBQSVF
 - ✗ 4. QBTFVVS

Question ID : 65497831283
Status : Answered
Chosen Option : 1

Q.16 मनोज अपने घर से निकल कर 7 घंटे में मंदिर पहुंचता है। उसने अपनी दूरी का 1/4 भाग, 10 km/h की चाल से तय किया तथा शेष दूरी को 12 km/h से तय किया। उसके घर से मंदिर की दूरी ज्ञात कीजिए।

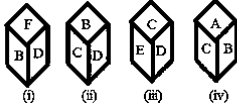
- Ans
- 1. 70 km
 - 2. 90 km
 - 3. 72 km
 - 4. 80 km

Question ID : 65497831274

Status : Answered

Chosen Option : 4

Q.17 एक पासे की चार अलग-अलग स्थितियां दर्शाई गई हैं। उस अक्षर का चयन कीजिए जो 'B' दर्शाने वाले फलक के विपरीत फलक पर होगा?



- Ans
- 1. C
 - 2. D
 - 3. E
 - 4. F

Question ID : 65497831275

Status : Answered

Chosen Option : 3

Q.18 उस वेन आरेख का चयन करें, जो निम्नलिखित वर्गों के बीच के संबंध को सबसे अच्छे तरीके से दर्शाता है।

नागरिक शास्त्र, विषय, रसायन विज्ञान

Ans

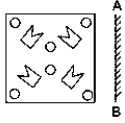
- 1.
- 2.
- 3.
- 4.

Question ID : 65497831281

Status : Answered

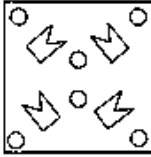
Chosen Option : 1

Q.19 दर्पण को 'AB' पर रखे जाने पर, जैसा कि दर्शाया गया है, दी गई आकृति की सही दर्पण छवि का चयन करें।

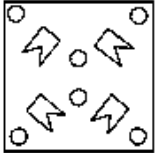


Ans

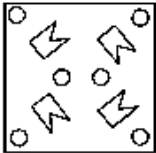
✓ 1.



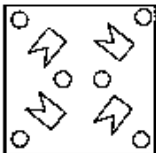
✗ 2.



✗ 3.



✗ 4.



Question ID : 65497831267

Status : Answered

Chosen Option : 1

Q.20 चार अक्षर-समूह दिए गए हैं, जिनमें से तीन किसी तरह से एक समान हैं और एक भिन्न है। उस अक्षर-समूह का चयन करें जो भिन्न है।

Ans ✓ 1. STUV

✗ 2. FGHE

✗ 3. HIJG

✗ 4. BCDA

Question ID : 65497831264

Status : Answered

Chosen Option : 1

Q.21 उस विकल्प का चयन कीजिए जिसका तीसरी संख्या से वही संबंध है जो दूसरी संख्या का पहली संख्या से और छठी संख्या का पांचवी संख्या से है।

13: 156 :: 18: ? :: 17 : 272

Ans 1. 305

2. 306

3. 308

4. 307

Question ID : 65497831271

Status : Answered

Chosen Option : 2

Q.22 दिए गए कथनों और निष्कर्षों को ध्यानपूर्वक पढ़ें। यह मानते हुए कि कथनों में दी गई सूचना सत्य है, भले ही वह सामान्य रूप से ज्ञात तथ्यों से भिन्न प्रतीत होती हो, बताइए कि दिए गए निष्कर्षों में से कौन सा/से निष्कर्ष कथनों का तार्किक रूप से अनुसरण करता है (करते हैं)।

कथन :

सभी बेल्ट, जूते हैं।

सभी जूते, टोपियां हैं।

कुछ हैट, टोपियां हैं।

निष्कर्ष :

I. कुछ टोपियां, बेल्ट हैं।

II. कुछ हैट, जूते हैं।

III. सभी जूते, बेल्ट हैं।

Ans 1. केवल निष्कर्ष I अनुसरण करता है।

2. केवल निष्कर्ष I और III अनुसरण करते हैं।

3. केवल निष्कर्ष II अनुसरण करता है।

4. केवल निष्कर्ष I और II अनुसरण करते हैं।

Question ID : 65497831270

Status : Answered

Chosen Option : 1

Q.23 पाँच व्यक्ति एक पंक्ति में उत्तर दिशा की ओर मुँह किए हुए खड़े हैं। G, J के दाएँ दूसरे स्थान पर खड़ा है। H, K के बगल में नहीं है। यदि M दाएँ छोर से दूसरे स्थान पर खड़ा है, तो पंक्ति के बाएँ छोर पर कौन खड़ा है?

Ans 1. G

2. M

3. J

4. K

Question ID : 65497831280

Status : Answered

Chosen Option : 3

Q.24 एक निश्चित कूट भाषा में, 'GLOBE' को 'KPKFA' लिखा जाता है। उसी कूट भाषा में, 'DRINK' को क्या लिखा जाएगा?

- Ans
- 1. ZVMRG
 - 2. HNEJO
 - 3. ZRVMG
 - 4. HVERO

Question ID : 65497831268
Status : Answered
Chosen Option : 4

Q.25 उस सही विकल्प का चयन कीजिए जो दिए गए शब्दों के उस क्रम को दर्शाता है जिस क्रम में वे अंग्रेजी शब्दकोश में आते हैं।

1. Mischievous
2. Miscreant
3. Millennium
4. Misconception
5. Millionaire

- Ans
- 1. 3, 5, 2, 4, 1
 - 2. 3, 5, 1, 4, 2
 - 3. 1, 2, 3, 4, 5
 - 4. 3, 5, 1, 2, 4

Question ID : 65497831260
Status : Answered
Chosen Option : 2

Section : Part B General Knowledge and General Awareness

Q.1 निम्नलिखित में से किसने चैस.कॉम (Chess.com) की 2020 जूनियर स्पीड ऑनलाइन चैस चैम्पियनशिप जीती?

- Ans
- 1. अलेक्सी सरना
 - 2. एंटोन स्मिरनोव
 - 3. निहाल सरीन
 - 4. एंड्रयू टैंग

Question ID : 65497831285
Status : Not Answered
Chosen Option : --

Q.2 वस्तुओं और सेवाओं के उत्पादन के लिए सबसे कम क्या आवश्यक है?

- Ans
- 1. कार्य करने के लिए लोग
 - 2. उपकरण, कच्चा माल और धन
 - 3. भूमि और अन्य प्राकृतिक संसाधन
 - 4. लोगों को शिक्षित करने के लिए संस्थान

Question ID : 65497831295
Status : Answered
Chosen Option : 4

Q.3 निम्नलिखित में से कौन सा अंग मानव नेत्र की संरचना से संबंधित है?

- Ans
- 1. जन्विका
 - 2. परितारिका (आइरिस)
 - 3. प्लीहा
 - 4. वर्तिकाग्र

Question ID : 65497831286
Status : Answered
Chosen Option : 2

Q.4 भारतीय सेना की पूर्वी कमान का मुख्यालय निम्नलिखित में से कहाँ पर स्थित है?

- Ans
- 1. लखनऊ
 - 2. गुवाहाटी
 - 3. कोलकाता
 - 4. पुणे

Question ID : 65497831290
Status : Answered
Chosen Option : 3

Q.5 अनेक विद्वान ऐसा मानते हैं कि टिगरिस-यूफ्रेट्स घाटी के मेसोपोटामियाई लोग, सिंधु घाटी सभ्यता को _____ कहते थे।

- Ans
- 1. मगन
 - 2. मेलुहा
 - 3. सुमेरियन
 - 4. बेबीलोन

Question ID : 65497831287
Status : Not Answered
Chosen Option : --

Q.6 जुलाई 2021 में, इंडियन ऑयल कॉर्पोरेशन लिमिटेड ने घोषणा की कि वह अपनी _____ रिफाइनरी में भारत का पहला 'ग्रीन हाइड्रोजन' संयंत्र स्थापित करेगा।

- Ans
- 1. पानीपत
 - 2. पारादीप
 - 3. हल्दिया
 - 4. मथुरा

Question ID : 65497831309
Status : Not Answered
Chosen Option : --

Q.7 भारतीय अंतर्राष्ट्रीय खिलाड़ी, के. एम. बीनामोल किस खेल से संबंधित है?

- Ans
- 1. कुश्ती
 - 2. बैडमिंटन
 - 3. एथलेटिक्स
 - 4. टेबल टेनिस

Question ID : 65497831292
Status : Not Answered
Chosen Option : --

Q.8 Bengal broke away from Mughal control under _____, who was deputy to the governor of the province.

- Ans
- 1. Murshid Quli Khan
 - 2. Qasim Khan
 - 3. Shaista Khan
 - 4. Farrukh Siyar

Question ID : 65497831300
Status : Answered
Chosen Option : 4

Q.9 नवंबर 2020 में, प्रधान मंत्री नरेंद्र मोदी ने दिल्ली के जवाहरलाल नेहरू विश्वविद्यालय परिसर में वीडियो कॉन्फ्रेंसिंग के माध्यम से _____ की एक प्रतिमा का अनावरण किया।

- Ans
- 1. मंगल पांडे
 - 2. रामकृष्ण परमहंस
 - 3. भगत सिंह
 - 4. स्वामी विवेकानंद

Question ID : 65497831303
Status : Answered
Chosen Option : 4

Q.10 मौलिद, निम्नलिखित में से किस त्योहार का दूसरा नाम है?

- Ans
- 1. ईद-उल-जुहा
 - 2. मिलाद-उन-नबी
 - 3. मुहूर्म
 - 4. ईद-उल-फ़ितर

Question ID : 65497831289
Status : Not Answered
Chosen Option : --

Q.11 जलवायु परिवर्तन से जुड़े पेरिस समझौते के आधार पर राष्ट्रीय निर्धारित योगदान के लिए, भारत ने यह संकल्प लिया है कि 2030 तक, हमारी बिजली उत्पादन क्षमता का _____ गैर-जीवाश्म ईंधन स्रोतों से उत्पन्न होगा।

- Ans
- 1. 40%
 - 2. 20%
 - 3. 30%
 - 4. 10%

Question ID : 65497831299
Status : Answered
Chosen Option : 3

Q.12 1932 में हस्ताक्षरित पूना समझौता, महात्मा गांधी और _____ के बीच हुआ एक समझौता था, जिसके बाद महात्मा गांधी ने अपना अनशन समाप्त किया।

- Ans
- 1. बीआर अम्बेडकर
 - 2. मुहम्मद अली जिन्ना
 - 3. लॉर्ड इरविन
 - 4. जवाहरलाल नेहरू

Question ID : 65497831306
Status : Answered
Chosen Option : 1

Q.13 G.V.A. अर्थव्यवस्था के किसी क्षेत्र, उद्योग या प्रखंड में उत्पादित वस्तुओं और सेवाओं के मूल्य की माप होता है। G.V.A. का पूर्ण स्वरूप क्या है?

- Ans
- 1. Gross Value Added (ग्रॉस वैल्यू एडेड)
 - 2. Growth Value Added (ग्रोथ वैल्यू एडेड)
 - 3. Growth Value Asset (ग्रोथ वैल्यू असेट)
 - 4. Gross Value Asset (ग्रॉस वैल्यू असेट)

Question ID : 65497831294
Status : Answered
Chosen Option : 4

Q.14 'द्रोणाचार्य पुरस्कार' _____ से संबंधित है।

- Ans
- 1. प्रतिष्ठित डॉक्टर और सर्जन
 - 2. स्पोर्ट्स और खेलों में उत्कृष्ट कोच
 - 3. प्रसिद्ध कलाकारों
 - 4. असाधारण योद्धा

Question ID : 65497831301
Status : Answered
Chosen Option : 2

Q.15 भारत के संविधान में पहला संशोधन वर्ष _____ में किया गया था।

- Ans
- 1. 1954
 - 2. 1951
 - 3. 1950
 - 4. 1959

Question ID : 65497831302
Status : Answered
Chosen Option : 2

Q.16 भारत का सबसे लंबा नदी पुल, ढोला-सादिया निम्नलिखित में से किस नदी पर बनाया जा रहा है?

- Ans
- 1. ब्रह्मपुत्र
 - 2. गोदावरी
 - 3. गंगा
 - 4. यमुना

Question ID : 65497831293
Status : Not Answered
Chosen Option : --

Q.17 The excessive quantities of chemicals which get washed from the fields act as nutrients for _____ to flourish.

- Ans
- 1. fungi
 - 2. soil
 - 3. algae
 - 4. bacteria

Question ID : 65497831298
Status : Answered
Chosen Option : 4

Q.18 भारतीय संविधान का अनुच्छेद 72 निम्न में से किससे संबंधित है?

- Ans
- 1. संसद सदस्यों की योग्यता
 - 2. संसद का संविधान
 - 3. राष्ट्रपति की क्षमादान देने की शक्ति
 - 4. भारत सरकार के कार्य संचालन

Question ID : 65497831308
Status : Answered
Chosen Option : 3

Q.19 निम्नलिखित में से किसने अक्टूबर 2020 में वैश्विक गांधी शांति पुरस्कार जीता?

- Ans
- 1. संतोष शर्मा
 - 2. पूनम खंगरोत
 - 3. अनिता देवी
 - 4. कंचन शर्मा

Question ID : 65497831291
Status : Not Answered
Chosen Option : --

Q.20 राजस्व बंदोबस्त की महालवाड़ी प्रणाली के बारे में निम्नलिखित में से कौन सा कथन गलत है?

- Ans 1. इस प्रणाली में जमींदारों को राजस्व एकत्र करने और उसका भुगतान ईस्ट इंडिया कंपनी को करने का अधिकार दिया गया था।
2. इस प्रणाली के तहत भू-राजस्व को समय-समय पर संशोधित किया जाता था।
3. इस प्रणाली की अवधारणा होल्ड मैकेज़ी ने दी थी।
4. इस प्रणाली का प्रस्ताव 1822 में पेश किया गया था।

Question ID : 65497831307
Status : Not Answered
Chosen Option : --

Q.21 क्यूपेम और कर्चोरम नामक शहर किस भारतीय राज्य में स्थित हैं?

- Ans 1. सिक्किम
2. गोवा
3. कर्नाटक
4. मणिपुर

Question ID : 65497831304
Status : Not Answered
Chosen Option : --

Q.22 जुलाई 2020 में, निम्नलिखित में से किस मंत्रालय ने आत्मनिर्भर भारत अभियान के अंतर्गत 'मनोदर्पण' पहल की शुरुआत की?

- Ans 1. जनजातीय मामलों का मंत्रालय
2. शिक्षा मंत्रालय
3. स्वास्थ्य और परिवार कल्याण मंत्रालय
4. रक्षा मंत्रालय

Question ID : 65497831288
Status : Answered
Chosen Option : 3

Q.23 एम.एस.पी. (MSP) में वृद्धि ने किसानों को मोटे अनाज के उत्पादन से _____ के उत्पादन के लिए भूमि को तैयार करने के लिए मजबूर किया है।

- Ans 1. मक्का
2. छोटे बाजरा
3. गेहूं और चावल
4. जौ और ज्वार

Question ID : 65497831297
Status : Answered
Chosen Option : 3

Q.24 भारत ने 2021 में आयोजित टोक्यो ओलंपिक गेम्स (2020) में _____ कांस्य पदक जीते।

- Ans
- 1. 5
 - 2. 3
 - 3. 7
 - 4. 4

Question ID : 65497831305
Status : Answered
Chosen Option : 2

Q.25 मुगल सम्राटों के शासन काल में, कथक मूल रूप से निम्न के दरबारों में दो 'घरानों' में विकसित हुआ:

- Ans
- 1. जयपुर और लखनऊ
 - 2. किराना और पटियाला
 - 3. ग्वालियर और आगरा
 - 4. इंदौर और मेवाड़

Question ID : 65497831296
Status : Not Answered
Chosen Option : --

Section : Part C Elementary Mathematics

Q.1 $\frac{2}{3}$, $\frac{4}{7}$ और $\frac{9}{13}$ का ल.स. (LCM) ज्ञात करें।

- Ans
- 1. 28
 - 2. 36
 - 3. 12
 - 4. 15

Question ID : 65497831320
Status : Answered
Chosen Option : 2

Q.2 15% वार्षिक ब्याज दर पर 2 वर्षों के लिए किसी निश्चित धनराशि का साधारण ब्याज, 10% वार्षिक ब्याज दर पर 2 वर्षों के लिए ₹5,000 के चक्रवृद्धि ब्याज का आधा है। साधारण ब्याज वाली राशि कितनी है?

- Ans
- 1. ₹2,000
 - 2. ₹1,750
 - 3. ₹1,050
 - 4. ₹2,250

Question ID : 65497831318
Status : Answered
Chosen Option : 2

Q.3 यदि पहली संख्या का 45%, दूसरी संख्या के दो-तिहाई के बराबर है, तो पहली संख्या और दूसरी संख्या का अनुपात ज्ञात कीजिए।

- Ans
- 1. 30 : 27
 - 2. 40 : 27
 - 3. 9 : 10
 - 4. 40 : 9

Question ID : 65497831315
Status : Answered
Chosen Option : 2

Q.4 80 छात्रों की एक कक्षा में 40% लड़कियां हैं और शेष लड़के हैं। लड़कों का औसत भार 55.5 kg है। यदि कक्षा में सभी छात्रों का औसत भार 54 kg है, तो लड़कियों का औसत भार (kg में) क्या होगा?

- Ans
- 1. 50.25
 - 2. 52
 - 3. 51
 - 4. 51.75

Question ID : 65497831326
Status : Answered
Chosen Option : 4

Q.5 यदि $(x + y) : (x - y) = 23 : 3$ है, तो $\frac{x^2 - y^2}{x^2 + y^2}$ का मान कितना होगा?

- Ans
- 1. $\frac{269}{69}$
 - 2. $\frac{165}{269}$
 - 3. $\frac{69}{269}$
 - 4. $\frac{269}{165}$

Question ID : 65497831317
Status : Answered
Chosen Option : 3

Q.6 पच्चीस पुरुषों को प्रतिदिन 6 घंटे कार्य करते हुए एक निश्चित कार्य को पूरा करने में 16 दिन लगते हैं। प्रतिदिन 8 घंटे कार्य करते हुए 5 दिनों में कार्य को पूरा करने के लिए कितने पुरुषों की आवश्यकता होगी?

- Ans
- 1. 54
 - 2. 60
 - 3. 68
 - 4. 56

Question ID : 65497831334
Status : Answered
Chosen Option : 2

Q.7 एक दुकानदार अपनी वस्तुओं पर क्रय मूल्य से 20% अधिक मूल्य अंकित करता है। वह अंकित मूल्य पर एक-चौथाई वस्तुएं बेचता है और शेष वस्तुओं को अंकित मूल्य पर 30% छूट पर बेचता है। उसका लाभ/हानि प्रतिशत कितना है?

- Ans
- 1. लाभ 7%
 - 2. हानि 11%
 - 3. लाभ 11%
 - 4. हानि 7%

Question ID : 65497831314
Status : Answered
Chosen Option : 4

Q.8 यदि $(x - y)$ का 30% = $(x + y)$ का 20% है, तो y, x का कितना प्रतिशत है?

- Ans
- 1. 20%
 - 2. 35%
 - 3. 24%
 - 4. 15%

Question ID : 65497831323
Status : Answered
Chosen Option : 1

Q.9 58 km/h की चाल से चलने वाली एक ट्रेन X, विपरीत दिशा में 50 km/h की चाल से चलने वाली एक दूसरी ट्रेन Y को पूरी तरह से पार करने में 16 सेकंड का समय लेती है। ट्रेन Y की लंबाई, ट्रेन X की लंबाई की तीन गुनी है। ट्रेन Y एक पुल को 54 सेकंड में पार करती है। पुल की लंबाई (m) ज्ञात करें।

- Ans
- 1. 480
 - 2. 750
 - 3. 390
 - 4. 360

Question ID : 65497831313
Status : Answered
Chosen Option : 3

Q.10 A, B को ₹26,000 की धनराशि 2 साल के लिए और C को ₹15,000 की धनराशि 4 साल के लिए उधार देता है। उसे दोनों से साधारण ब्याज के रूप में कुल मिलाकर ₹8,960 प्राप्त होते हैं। तो ब्याज दर कितनी है?

- Ans
- ✓ 1. 8%
 - ✗ 2. 7%
 - ✗ 3. 8.5%
 - ✗ 4. 7.5%

Question ID : 65497831311
Status : Answered
Chosen Option : 1

Q.11 एक खुदरा विक्रेता ₹1,125 में एक रिक्शा खरीदता है। इस पर उसके उपरिव्यय ₹75 हैं। यदि वह रिक्शे को ₹1,380 में बेचता है, तो उसका प्रतिशत लाभ ज्ञात कीजिए।

- Ans
- ✗ 1. 12%
 - ✗ 2. 18%
 - ✓ 3. 15%
 - ✗ 4. 12.5%

Question ID : 65497831333
Status : Answered
Chosen Option : 3

Q.12 $\left[3\frac{1}{4} \div \left\{1\frac{1}{4} - \frac{1}{2}\left(2\frac{1}{2} - \frac{1}{4} - \frac{1}{6}\right)\right\}\right] \div \left(\frac{1}{5} \text{ of } 4\frac{1}{3}\right) - 2 \times 3 \div 6 \text{ of } \frac{1}{3}$ का मान ज्ञात करें।

- Ans
- ✗ 1. 84
 - ✗ 2. 90
 - ✗ 3. 36
 - ✓ 4. 87

Question ID : 65497831312
Status : Not Answered
Chosen Option : --

Q.13 A की आय, B की आय से 40% अधिक है, और C की आय, A और B की कुल आय से 30% कम है। A की आय, C की आय से कितने प्रतिशत कम है?

- Ans
- ✗ 1. 25%
 - ✗ 2. 20%
 - ✓ 3. $16\frac{2}{3}\%$
 - ✗ 4. 16%

Question ID : 65497831328
Status : Answered
Chosen Option : 3

Q.14 45 छात्रों की एक कक्षा में, कक्षा की औसत आयु 18 वर्ष है। 35 छात्रों की औसत आयु 15 है। शेष 10 छात्रों की औसत आयु कितनी होगी?

- Ans
- ✓ 1. 28.5
 - ✗ 2. 25.2
 - ✗ 3. 21.70
 - ✗ 4. 23.25

Question ID : 65497831322
Status : Answered
Chosen Option : 1

Q.15 एक नाव धारा की दिशा में एक निश्चित दूरी को तय करने में 2 घंटे का समय लेती है, लेकिन धारा के विपरीत दिशा में समान दूरी तय करने में इसे $3\frac{1}{4}$ घंटे का समय लगता है। यदि धारा की चाल 5 km/h है, तो शांत जल में नाव की चाल (km/h में) ज्ञात करें।

- Ans
- ✓ 1. 21
 - ✗ 2. 24
 - ✗ 3. 20
 - ✗ 4. 18

Question ID : 65497831330
Status : Answered
Chosen Option : 1

Q.16 एक सब्जी विक्रेता थोक बाजार से ₹4,500 में सब्जियां खरीदता है। यदि ओवरहेड खर्च क्रय मूल्य का 4% है, तो 15% का लाभ कमाने के लिए उसे किस कीमत पर सब्जियां बेचनी चाहिए?

- Ans
- ✗ 1. ₹4,995
 - ✓ 2. ₹5,382
 - ✗ 3. ₹5,175
 - ✗ 4. ₹5,355

Question ID : 65497831310
Status : Answered
Chosen Option : 2

Q.17 दो संख्याओं का ल.स.(LCM), उनके म.स.(HCF) का 12 गुना है। यदि एक संख्या 15 है और म.स.(HCF) और ल.स. (LCM) का योग 65 है, तो दूसरी संख्या ज्ञात करें।

- Ans
- ✗ 1. 42
 - ✗ 2. 25
 - ✗ 3. 30
 - ✓ 4. 20

Question ID : 65497831321
Status : Answered
Chosen Option : 4

Q.18 A एक विशेष कार्य को 18 दिनों में, B इसे 27 दिनों में और C इसे 36 दिनों में पूरा कर सकता है। A, B और C एकसाथ कार्य करना शुरू करते हैं, लेकिन A कार्य पूरा होने से 4 दिन पहले और B कार्य पूरा होने से 6 दिन पहले कार्य छोड़ देता है। B ने कितने दिनों तक कार्य किया?

- Ans
- 1. 12
 - 2. 8
 - 3. 10
 - 4. 6

Question ID : 65497831329
Status : Answered
Chosen Option : 4

Q.19 एक वस्तु पर उसके क्रय मूल्य से 60% अधिक अंकित किया गया है। यदि वस्तु को बेचने पर 20% का लाभ होता है, तो उसके अंकित मूल्य पर दी गई छूट प्रतिशत ज्ञात करें।

- Ans
- 1. 25%
 - 2. 20%
 - 3. 40%
 - 4. $12\frac{1}{2}\%$

Question ID : 65497831327
Status : Answered
Chosen Option : 1

Q.20 36 लीटर मिश्रण में दूध और पानी का अनुपात 3 : 1 है। यदि इस मिश्रण का 5 लीटर भाग, 5 लीटर दूध से प्रतिस्थापित कर दिया जाए तो नए मिश्रण में दूध और पानी का अनुपात ज्ञात करें।

- Ans
- 1. 3 : 7
 - 2. 5 : 2
 - 3. 8 : 1
 - 4. 3 : 5

Question ID : 65497831324
Status : Not Answered
Chosen Option : --

Q.21 निम्न व्यंजक को सरल कीजिए।

$$5 \div \frac{5}{6} \times 6 - 1 \div \frac{1}{2} \times 2$$

- Ans
- 1. 0
 - 2. 36
 - 3. 32
 - 4. 30

Question ID : 65497831332
Status : Answered
Chosen Option : 3

Q.22 एक लम्ब वृत्तीय बेलन, जिसके आधार का क्षेत्रफल 40 cm^2 और ऊँचाई 7 cm है, का आयतन कितना होगा?

- Ans
- 1. 160 cm^3
 - 2. 240 cm^3
 - 3. 280 cm^3
 - 4. 140 cm^3

Question ID : 65497831316
Status : Not Answered
Chosen Option : --

Q.23 यदि किसी आयत का परिमाप 50 cm है और उसके विकर्ण की लंबाई 23 cm है, तो आयत का क्षेत्रफल कितना होगा?

- Ans
- 1. 40 cm^2
 - 2. 48 cm^2
 - 3. 36 cm^2
 - 4. 50 cm^2

Question ID : 65497831319
Status : Not Answered
Chosen Option : --

Q.24 एक धनराशि कितने प्रतिशत वार्षिक दर पर 12 वर्ष में दोगुनी हो जाएगी?

- Ans
- 1. 7%
 - 2. $8\frac{2}{3}\%$
 - 3. $8\frac{1}{3}\%$
 - 4. $7\frac{1}{3}\%$

Question ID : 65497831325
Status : Answered
Chosen Option : 3

Q.25 किसी वस्तु का अंकित मूल्य ₹900 है। यदि कोई दुकानदार 36% छूट देने के बाद इसे 20% की हानि पर बेचता है, तो वस्तु का क्रय मूल्य ज्ञात करें।

- Ans
- 1. ₹740
 - 2. ₹720
 - 3. ₹760
 - 4. ₹620

Question ID : 65497831331
Status : Answered
Chosen Option : 2

Q.1 Select the option that can be used as a one-word substitute for the given group of words.

A period of ten years

- Ans** 1. Millennium
 2. Decade
 3. Fortnight
 4. Centenary

Question ID : 65497831354
Status : Not Answered
Chosen Option : --

Q.2 Select the most appropriate meaning of the given idiom.

Loaded words

- Ans** 1. Words or language that is impolite and rude
 2. Words that carry more significance than their literal meaning
 3. Words that common people cannot understand
 4. Words that have been used by well-known writers

Question ID : 65497831340
Status : Not Answered
Chosen Option : --

Q.3 Select the most appropriate ANTONYM of the given word.

Connect

- Ans** 1. Link
 2. Demur
 3. Affirm
 4. Detach

Question ID : 65497831337
Status : Not Answered
Chosen Option : --

Q.4 Fill in the blank with the most appropriate word.

Pallavi gave a _____ smile when she saw her daughter on the stage.

- Ans** 1. strong
 2. thick
 3. deep
 4. broad

Question ID : 65497831349
Status : Not Answered
Chosen Option : --

Q.5 Select the most appropriate ANTONYM of the given word.

Vaguely

- Ans
- 1. Distractedly
 - 2. Uncertainly
 - 3. Marginally
 - 4. Distinctly

Question ID : 65497831348
Status : Not Answered
Chosen Option : --

Q.6 Select the most appropriate option to fill in the blank.

The Elizabethan society was extremely _____ and therefore, believed in the existence of ghosts and witches.

- Ans
- 1. superstitious
 - 2. lovable
 - 3. industrious
 - 4. enthralling

Question ID : 65497831347
Status : Not Answered
Chosen Option : --

Q.7 Select the option that will improve the underlined part of the given sentence. In case no improvement is needed, select 'No improvement required'.

Children played cheerfully in the park all day.

- Ans
- 1. cheerfully on
 - 2. No improvement required
 - 3. cheerfully between
 - 4. cheerful at

Question ID : 65497831350
Status : Not Answered
Chosen Option : --

Q.8 Select the most appropriate option that can substitute the underlined segment in the given sentence. If there is no need to substitute it, select 'No substitution required'.

Does the manufacturer have a website where details of the product are available?

- Ans
- 1. on the product was available
 - 2. of the product is available
 - 3. for the product be available
 - 4. No substitution required

Question ID : 65497831342
Status : Not Answered
Chosen Option : --

Q.9 The following sentence has been split into four segments. Identify the segment that contains a grammatical error.

People vary greatly / on the way / they appear and / in their personality traits.

- Ans**
- 1. they appear and
 - 2. on the way
 - 3. in their personality traits
 - 4. People vary greatly

Question ID : 65497831341
Status : Not Answered
Chosen Option : --

Q.10 Select the option that can be used as a one-word substitute for the given group of words.

Twice a month

- Ans**
- 1. Monthly
 - 2. Bimonthly
 - 3. Half-yearly
 - 4. Biennial

Question ID : 65497831344
Status : Not Answered
Chosen Option : --

Q.11 The following sentence has been split into four segments. Identify the segment that contains a grammatical error.

Research in the medical field / claims that German measles / usually cause milder / infection than Martian measles.

- Ans**
- 1. infection than Martian measles
 - 2. claims that German measles
 - 3. Research in the medical field
 - 4. usually cause milder

Question ID : 65497831336
Status : Not Answered
Chosen Option : --

Q.12 Select the most appropriate synonym of the given word.

Worth

- Ans**
- 1. Power
 - 2. Roughness
 - 3. Vigour
 - 4. Value

Question ID : 65497831343
Status : Not Answered
Chosen Option : --

Q.13 Select the most appropriate SYNONYM of the given word.

Seize

- Ans
- 1. Shut
 - 2. Lose
 - 3. Offer
 - 4. Catch

Question ID : 65497831353
Status : Not Answered
Chosen Option : --

Q.14 Select the option that can be used as a one-word substitute for the given group of words.

Song which is sung in a church by a group of singers

- Ans
- 1. Lullaby
 - 2. Dirge
 - 3. Anthem
 - 4. Carol

Question ID : 65497831338
Status : Not Answered
Chosen Option : --

Q.15 Select the option that will improve the underlined part of the given sentence. In case no improvement is needed, select 'No improvement required'.

Hopefully, I will have got my driving license by the end of this year.

- Ans
- 1. will have get
 - 2. had got
 - 3. No improvement required
 - 4. would got

Question ID : 65497831351
Status : Not Answered
Chosen Option : --

Q.16 Select the INCORRECTLY spelt word.

- Ans
- 1. Misanthorpe
 - 2. Mascot
 - 3. Socialite
 - 4. Alumni

Question ID : 65497831339
Status : Not Answered
Chosen Option : --

Q.17 Select the most appropriate meaning of the given idiom.

Pain in the neck

- Ans 1. Someone or something that is annoying or a nuisance
 2. Someone who is always angry
 3. Some who is forever ill
 4. Someone who is always depressed

Question ID : 65497831345
Status : Not Answered
Chosen Option : --

Q.18 The following sentence has been split into four segments. Identify the segment that contains a grammatical error.

Iron is / most useful / than any / other metal.

- Ans 1. other metal
 2. most useful
 3. than any
 4. Iron is

Question ID : 65497831352
Status : Not Answered
Chosen Option : --

Q.19 Select the INCORRECTLY spelt word.

- Ans 1. Transleate
 2. Transcend
 3. Transpire
 4. Transmit

Question ID : 65497831346
Status : Not Answered
Chosen Option : --

Q.20 Select the most appropriate option to fill in the blank.

Because of the loss of _____ and lack of food, animals are forced to enter villages.

- Ans 1. ecosystem
 2. habitats
 3. culture
 4. grasslands

Question ID : 65497831335
Status : Not Answered
Chosen Option : --

Comprehension:

In the following passage, some words have been deleted. Read the passage carefully and select the most appropriate option to fill in each blank.

The Great Indian, or Thar, Desert forms an important southern extension of the Indo-Gangetic Plain. (1)_____ is mostly in north-western India but (2)_____ extends into eastern Pakistan and is (3)_____ an area of gently undulating terrain . Further, (4)_____ it are several areas dominated (5)_____ shifting sand dunes and numerous isolated hills.

SubQuestion No : 21

Q.21 Select the most appropriate option to fill in blank no. 1.

- Ans**
- 1. Where
 - 2. There
 - 3. That
 - 4. It

Question ID : **65497831356**
Status : **Not Answered**
Chosen Option : --

Comprehension:

In the following passage, some words have been deleted. Read the passage carefully and select the most appropriate option to fill in each blank.

The Great Indian, or Thar, Desert forms an important southern extension of the Indo-Gangetic Plain. (1)_____ is mostly in north-western India but (2)_____ extends into eastern Pakistan and is (3)_____ an area of gently undulating terrain . Further, (4)_____ it are several areas dominated (5)_____ shifting sand dunes and numerous isolated hills.

SubQuestion No : 22

Q.22 Select the most appropriate option to fill in blank no. 2.

- Ans**
- 1. moreover
 - 2. plus
 - 3. sometimes
 - 4. also

Question ID : **65497831357**
Status : **Not Answered**
Chosen Option : --

Comprehension:

In the following passage, some words have been deleted. Read the passage carefully and select the most appropriate option to fill in each blank.

The Great Indian, or Thar, Desert forms an important southern extension of the Indo-Gangetic Plain. (1)_____ is mostly in north-western India but (2)_____ extends into eastern Pakistan and is (3)_____ an area of gently undulating terrain . Further, (4)_____ it are several areas dominated (5)_____ shifting sand dunes and numerous isolated hills.

SubQuestion No : 23

Q.23 Select the most appropriate option to fill in blank no. 3.

- Ans**
- 1. mostly
 - 2. nearly
 - 3. closely
 - 4. quite

Question ID : **65497831358**
Status : **Not Answered**
Chosen Option : --

Comprehension:

In the following passage, some words have been deleted. Read the passage carefully and select the most appropriate option to fill in each blank.

The Great Indian, or Thar, Desert forms an important southern extension of the Indo-Gangetic Plain. (1)_____ is mostly in north-western India but (2)_____ extends into eastern Pakistan and is (3)_____ an area of gently undulating terrain . Further, (4)_____ it are several areas dominated (5)_____ shifting sand dunes and numerous isolated hills.

SubQuestion No : 24

Q.24 Select the most appropriate option to fill in blank no. 4.

- Ans 1. above
 2. interior
 3. within
 4. over

Question ID : 65497831359
Status : Not Answered
Chosen Option : --

Comprehension:

In the following passage, some words have been deleted. Read the passage carefully and select the most appropriate option to fill in each blank.

The Great Indian, or Thar, Desert forms an important southern extension of the Indo-Gangetic Plain. (1)_____ is mostly in north-western India but (2)_____ extends into eastern Pakistan and is (3)_____ an area of gently undulating terrain . Further, (4)_____ it are several areas dominated (5)_____ shifting sand dunes and numerous isolated hills.

SubQuestion No : 25

Q.25 Select the most appropriate option to fill in blank no. 5.

- Ans 1. beside
 2. through
 3. by
 4. via

Question ID : 65497831360
Status : Not Answered
Chosen Option : --

Section : Part D Hindi

Q.1 दिए गए वाक्य का वह भाग ज्ञात करें जिसमें कोई त्रुटि है। यदि कोई त्रुटि नहीं है, तो 'कोई त्रुटि नहीं है' चुनें।

एक नागरिक को (1)/ अपना कर्तव्य (2)/ निबाहना चाहिए।(3)/ कोई त्रुटि नहीं है(4)

- Ans 1. 3
 2. 1
 3. 4
 4. 2

Question ID : 65497831361
Status : Answered
Chosen Option : 1

Q.2 दिए गए शब्द के समानार्थी शब्द का चयन कीजिए।

सूर्य

- Ans 1. आदित्य
 2. मयंक
 3. शशधर
 4. हिमांशु

Question ID : 65497831362
Status : Answered
Chosen Option : 3

Q.3 दिए गये शब्द का निम्न शब्दों में से विलोम नहीं है-

सुव्यवस्था

- Ans 1. गड़बड़ी
 2. अव्यवस्था
 3. सुचारू
 4. कुव्यवस्था

Question ID : 65497831364
Status : Answered
Chosen Option : 2

Q.4 नीचे दिए वाक्य में रिक्त-स्थान भरने के लिए सबसे उपयुक्त शब्द का चयन करें।

शर्मिला का ऊंची एड़ी का सैडिल _____ किए जा रहा था।

- Ans 1. गटर-गटर
 2. खिटिर-खिटिर
 3. खटर-पटर
 4. पटर-पटर

Question ID : 65497831369
Status : Answered
Chosen Option : 3

Q.5 रिक्त स्थान को भरने के लिए सबसे उपयुक्त शब्द का चयन करें।

दहेजप्रथा समाज के लिए _____ है।

- Ans 1. अभिशाप
 2. अपराध
 3. सम्मान
 4. अपमान

Question ID : 65497831368
Status : Answered
Chosen Option : 1

Q.6 'जो इंद्रियों की पहुँच से बाहर हो' वाक्यांश के लिए एक शब्द होगा-

- Ans
- 1. इंद्रियातीत
 - 2. इंद्रियनिग्रह
 - 3. ऐंद्रिक
 - 4. इंद्रियजित

Question ID : 65497831377
Status : Answered
Chosen Option : 2

Q.7 'अँधेरी रातों वाला पखवारा' वाक्यांश के लिए उपयुक्त शब्द होगा-

- Ans
- 1. अमावस्या
 - 2. शुक्लपक्ष
 - 3. कृष्णपक्ष
 - 4. मलमास

Question ID : 65497831380
Status : Answered
Chosen Option : 1

Q.8 दिए गए वाक्य में रेखांकित खंड को प्रतिस्थापित करने के लिए सबसे उपयुक्त विकल्प का चयन करें।
यदि इसे प्रतिस्थापित करने की आवश्यकता नहीं है, तो विकल्प 'किसी बदलाव की आवश्यकता नहीं है'
का चयन करें।

आजकल राजनीति बदल गया है।

- Ans
- 1. बदल गए हैं
 - 2. किसी बदलाव की आवश्यकता नहीं है।
 - 3. बदल गई हैं
 - 4. बदल गई है

Question ID : 65497831363
Status : Answered
Chosen Option : 4

Q.9 'आँखें दिखाना' मुहावरे का अर्थ बताइए।

- Ans
- 1. रूखापन
 - 2. आँखों में रोग होना
 - 3. शर्म करना
 - 4. बहुत गौर से देखना

Question ID : 65497831366
Status : Answered
Chosen Option : 4

Q.10 सही वर्तनी वाले शब्द का चयन करें।

- Ans 1. पैतृक
 2. पितृक
 3. पैत्रिक
 4. पेटृक

Question ID : 65497831370
Status : Answered
Chosen Option : 1

Q.11 माँ रसोईघर में बच्चों के लिए खाने कु पका रहि है।

अशुद्ध अंश को पहचानिए।

- Ans 1. रसोई घर मे
 2. बच्चों के लिए
 3. खाने कु पका रहि है।
 4. माँ

Question ID : 65497831374
Status : Answered
Chosen Option : 3

Q.12 निम्न चार विकल्पों में से, उस विकल्प का चयन करें जो दिए गये मुहावरे का अर्थ व्यक्त करता है।

'मोहर लगा देना'

- Ans 1. दामा लगाना
 2. लड़ाई जीत लेना
 3. पुष्टि करना
 4. निश्चित होना

Question ID : 65497831365
Status : Answered
Chosen Option : 3

Q.13 कम बोलने वाले व्यक्ति को क्या कहते हैं?

- Ans 1. गुंगा
 2. अल्पभाषी
 3. वाचाल
 4. गायक

Question ID : 65497831375
Status : Answered
Chosen Option : 2

Q.14 सही वर्तनी वाले शब्द का चयन करें।

- Ans
- 1. सन्यास
 - 2. संयास
 - 3. सनयास
 - 4. संन्यास

Question ID : 65497831371
Status : Answered
Chosen Option : 1

Q.15 दिये गये वाक्यांश के लिए एक शब्द दीजिए।

परम्परा से चली आ रही बात या कथा

- Ans
- 1. अनुश्रुति
 - 2. अविचारित
 - 3. अनुभूत
 - 4. पारम्परिक

Question ID : 65497831367
Status : Answered
Chosen Option : 4

Q.16 दिये गये वाक्य में रेखांकित अंश को प्रतिस्थापित करने के लिए सबसे उपयुक्त विकल्प का चयन करें।

मैं और मेरे मित्रों को हाकी खेलने का शौक है।

- Ans
- 1. मैंने
 - 2. मुझे
 - 3. मेरे को
 - 4. मैंने को

Question ID : 65497831373
Status : Answered
Chosen Option : 2

Q.17 दिये गये वाक्य के किस भाग में त्रुटि है?

यह मानसिक दासता सदा काल से चली आ रही है।

- Ans
- 1. चली आ
 - 2. सदा काल से
 - 3. यह मानसिक दासता
 - 4. रही है।

Question ID : 65497831378
Status : Answered
Chosen Option : 2

Q.18 नीचे दिए वाक्य में रिक्त-स्थान भरने के लिए सबसे उपयुक्त शब्द का चयन करें।

चाट पर मक्खियाँ _____ रही थीं।

- Ans
- 1. चहचहा
 - 2. सनसना
 - 3. फड़फड़ा
 - 4. भिनभिना

Question ID : 65497831372
Status : Answered
Chosen Option : 4

Q.19 'चंचल' का विलोम शब्द होगा-

- Ans
- 1. स्तब्ध
 - 2. अचेत
 - 3. अस्थिर
 - 4. स्थिर

Question ID : 65497831379
Status : Answered
Chosen Option : 4

Q.20 आकाश में बादल छाये हुए हैं।

कौन-सा शब्द रेखांकित शब्द का पर्याय नहीं है?

- Ans
- 1. जलधर
 - 2. वामदेवी
 - 3. मेघ
 - 4. पयोधर

Question ID : 65497831376
Status : Answered
Chosen Option : 2

Comprehension:

दिमाग मनुष्य के लिए सुख के साधन बटोर सकता है, मगर संतोष और (1)_____ मनुष्य के हृदय से उत्पन्न होती है। लेकिन मनुष्यता के लिए यह घोर (2)_____ की बात है कि आज आदमी के पास दिल नाम की चीज नहीं रह गयी। उसकी सारी (3)_____ उसका दिमाग हो गया है। दिमाग से तलवार तो वह बहुत (4)_____ निकाल रहा है, लेकिन दिल की गैरहाजिरी में वह यह (5)_____ ही नहीं पा रहा है कि यह तलवार कहाँ गिरायी जानी चाहिए। परिणामतः वह इस तलवार से अपना ही गला काट रहा है।

निम्न प्रश्नों के उत्तर उपरोक्त गद्यांश के आधार पर दीजिए।

SubQuestion No : 21

Q.21 गद्यांश के रिक्त स्थान (1) के लिए सर्वाधिक उपयुक्त शब्द होगा-

- Ans
- 1. मुक्ति
 - 2. शक्ति
 - 3. शांति
 - 4. प्रगति

Question ID : 65497831382
Status : Answered
Chosen Option : 2

Comprehension:

दिमाग मनुष्य के लिए सुख के साधन बटोर सकता है, मगर संतोष और (1)_____ मनुष्य के हृदय से उत्पन्न होती है। लेकिन मनुष्यता के लिए यह घोर (2)_____ की बात है कि आज आदमी के पास दिल नाम की चीज नहीं रह गयी। उसकी सारी (3)_____ उसका दिमाग हो गया है। दिमाग से तलवार तो वह बहुत (4)_____ निकाल रहा है, लेकिन दिल की गैरहाजिरी में वह यह (5)_____ ही नहीं पा रहा है कि यह तलवार कहां गिरायी जानी चाहिए। परिणामतः वह इस तलवार से अपना ही गला काट रहा है।

निम्न प्रश्नों के उत्तर उपरोक्त गद्यांश के आधार पर दीजिए।

SubQuestion No : 22

Q.22 गद्यांश के रिक्त स्थान (2) के लिए सर्वाधिक उपयुक्त शब्द होगा-

- Ans**
- 1. भय
 - 2. अपमान
 - 3. संकट
 - 4. हर्ष

Question ID : 65497831383

Status : Answered

Chosen Option : 3

Comprehension:

दिमाग मनुष्य के लिए सुख के साधन बटोर सकता है, मगर संतोष और (1)_____ मनुष्य के हृदय से उत्पन्न होती है। लेकिन मनुष्यता के लिए यह घोर (2)_____ की बात है कि आज आदमी के पास दिल नाम की चीज नहीं रह गयी। उसकी सारी (3)_____ उसका दिमाग हो गया है। दिमाग से तलवार तो वह बहुत (4)_____ निकाल रहा है, लेकिन दिल की गैरहाजिरी में वह यह (5)_____ ही नहीं पा रहा है कि यह तलवार कहां गिरायी जानी चाहिए। परिणामतः वह इस तलवार से अपना ही गला काट रहा है।

निम्न प्रश्नों के उत्तर उपरोक्त गद्यांश के आधार पर दीजिए।

SubQuestion No : 23

Q.23 गद्यांश के रिक्त स्थान (3) के लिए सर्वाधिक उपयुक्त शब्द होगा-

- Ans**
- 1. इज्जत
 - 2. सफलता
 - 3. मेहनत
 - 4. पूंजी

Question ID : 65497831384

Status : Answered

Chosen Option : 3

Comprehension:

दिमाग मनुष्य के लिए सुख के साधन बटोर सकता है, मगर संतोष और (1)_____ मनुष्य के हृदय से उत्पन्न होती है। लेकिन मनुष्यता के लिए यह घोर (2)_____ की बात है कि आज आदमी के पास दिल नाम की चीज नहीं रह गयी। उसकी सारी (3)_____ उसका दिमाग हो गया है। दिमाग से तलवार तो वह बहुत (4)_____ निकाल रहा है, लेकिन दिल की गैरहाजिरी में वह यह (5)_____ ही नहीं पा रहा है कि यह तलवार कहां गिरायी जानी चाहिए। परिणामतः वह इस तलवार से अपना ही गला काट रहा है।

निम्न प्रश्नों के उत्तर उपरोक्त गद्यांश के आधार पर दीजिए।

SubQuestion No : 24

Q.24 गद्यांश के रिक्त स्थान (4) के लिए सर्वाधिक उपयुक्त शब्द होगा-

- Ans**
- 1. सुंदर
 - 2. चटक
 - 3. तीखी
 - 4. नुकीली

Question ID : 65497831385

Status : Answered

Chosen Option : 3

Comprehension:

दिमाग मनुष्य के लिए सुख के साधन बटोर सकता है, मगर संतोष और (1)_____ मनुष्य के हृदय से उत्पन्न होती है। लेकिन मनुष्यता के लिए यह घोर (2)_____ की बात है कि आज आदमी के पास दिल नाम की चीज नहीं रह गयी। उसकी सारी (3)_____ उसका दिमाग हो गया है। दिमाग से तलवार तो वह बहुत (4)_____ निकाल रहा है, लेकिन दिल की गैरहाजिरी में वह यह (5)_____ ही नहीं पा रहा है कि यह तलवार कहां गिरायी जानी चाहिए। परिणामतः वह इस तलवार से अपना ही गला काट रहा है।

निम्न प्रश्नों के उत्तर उपरोक्त गद्यांश के आधार पर दीजिए।

SubQuestion No : 25

Q.25 गद्यांश के रिक्त स्थान (5) के लिए सर्वाधिक उपयुक्त शब्द होगा-

- Ans**
- 1. देख
 - 2. मान
 - 3. सुन
 - 4. समझ

Question ID : 65497831386

Status : Answered

Chosen Option : 4

Constable GD in CAPFs NIA SSF and Rifleman GD in Assam Rifles Examination 2021

Roll Number	www.HaryanaJobs.in
Candidate Name	www.HaryanaJobs.in
Venue Name	ION Digital Zone iDZ 1 Hathipur
Exam Date	10/12/2021
Exam Time :	9:00 AM - 10:30 AM
Subject	Constable GD 2021

Section : Part A General Intelligence and Reasoning

Q.1 किसी निश्चित कूट भाषा में, MIND को NJOE के रूप में लिखा जाता है। उसी कूट भाषा में NEFT को किस रूप में लिखा जाएगा?

- Ans
- 1. OFGU
 - 2. GUOF
 - 3. GUFO
 - 4. OFUG

Question ID : 65497829239
Status : Answered
Chosen Option : 1

Q.2 उस विकल्प का चयन कीजिए, जिसका चौथी संख्या से वही संबंध है, जो पहली संख्या का दूसरी संख्या से है और पांचवीं संख्या का छठी संख्या से है।

17 : 119 :: ? : 182 :: 23 : 161

- Ans
- 1. 22
 - 2. 20
 - 3. 26
 - 4. 24

Question ID : 65497829249
Status : Answered
Chosen Option : 3

Q.3 दिए गए विकल्पों में से उस अक्षर-समूह का चयन करें, जो निम्नलिखित श्रृंखला में प्रश्नवाचक चिह्न (?) के स्थान पर आ सकता है।

RAS, UFR, XKQ, APP, DUO, GZN, ?

- Ans
- 1. OPS
 - 2. JEM
 - 3. KYM
 - 4. KFN

Question ID : 65497829232
Status : Answered
Chosen Option : 2

Q.4 अक्षरों के उस संयोजन का चयन कीजिए, जिसे निम्न शृंखला के रिक्त स्थानों में क्रमिक रूप से रखने पर यह शृंखला पूर्ण हो जाएगी।

C _ P _ _ M _ K C M P _ C M _ K

- Ans
- 1. MKCMKC
 - 2. PKC PKP
 - 3. MKMPKP
 - 4. MKC PKP

Question ID : 65497829229
Status : Answered
Chosen Option : 4

Q.5 एक लड़के की तस्वीर की ओर इशारा करते हुए, माधवी ने कहा, "उसके पिता मेरी बहन के पति की बेटी के नाना/दादा के बेटे हैं"। उस लड़के का माधवी के पिता से क्या संबंध है?

- Ans
- 1. भाई
 - 2. बेटा
 - 3. पोता
 - 4. नाती

Question ID : 65497829238
Status : Answered
Chosen Option : 1

Q.6 दिए गए पैटर्न का ध्यानपूर्वक अध्ययन करें और उस संख्या का चयन करें जो इसमें प्रश्न चिह्न (?) के स्थान पर आ सकती है।

10 5 20
20 10 40
40 20 ?

- Ans
- 1. 60
 - 2. 80
 - 3. 70
 - 4. 90

Question ID : 65497829241
Status : Answered
Chosen Option : 2

Q.7 दिए गए कथनों और निष्कर्षों को ध्यानपूर्वक पढ़ें। यह मानते हुए कि कथनों में दी गई सूचना सही है, भले ही वह सामान्य रूप से ज्ञात तथ्यों से भिन्न प्रतीत होती हो, यह निर्धारित करें कि दिए गए निष्कर्षों में से कौन-से निष्कर्ष कथनों का तार्किक रूप से अनुसरण करते हैं।

कथन:

सभी नर्तक खिलाड़ी हैं।
सभी खिलाड़ी पुरुष हैं।

निष्कर्ष:

I. सभी नर्तक पुरुष हैं।
II. कुछ खिलाड़ी नर्तक हैं।

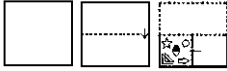
- Ans
- ✗ 1. केवल निष्कर्ष I अनुसरण करता है।
 - ✓ 2. दोनों निष्कर्ष अनुसरण करते हैं।
 - ✗ 3. केवल निष्कर्ष II अनुसरण करता है।
 - ✗ 4. या तो निष्कर्ष I या निष्कर्ष II अनुसरण करता है।

Question ID : 65497829240

Status : Answered

Chosen Option : 2

Q.8 निम्नांकित चित्रों में एक कागज को मोड़ने का क्रम और मुड़े हुए कागज को काटने का तरीका दर्शाया गया है। मुड़े हुए कागज को खोलने पर यह कैसा दिखाई देगा?



Ans

✗ 1.



✓ 2.



✗ 3.



✗ 4.



Question ID : 65497829243

Status : Answered

Chosen Option : 2

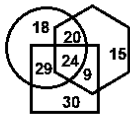
Q.9 उस विकल्प का चयन कीजिए, जिसमें निम्नलिखित शब्दों का वह क्रम दिया गया है जिस क्रम में वे अंग्रेजी शब्दकोश में आते हैं।

1. Real
2. Rim
3. Rise
4. Rare
5. Rose

Ans 1. 4, 1, 2, 5, 3
 2. 1, 4, 2, 3, 5
 3. 4, 1, 3, 2, 5
 4. 4, 1, 2, 3, 5

Question ID : 65497829228
Status : Answered
Chosen Option : 4

Q.10 दिए गए आरेख में, षटभुज 'पुस्तकालय कर्मियों' को निरूपित करता है, वर्ग 'कर-दाताओं' को निरूपित करता है और वृत्त 'चित्रकारों' को निरूपित करता है। भिन्न-भिन्न खंडों में दी गई संख्याएँ, उस संवर्ग के व्यक्तियों की संख्या को दर्शाती हैं।



कितने पुस्तकालय कर्मी न तो करदाता हैं, और न ही चित्रकार हैं?

Ans 1. 15
 2. 20
 3. 18
 4. 9

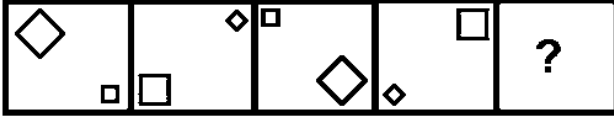
Question ID : 65497829235
Status : Answered
Chosen Option : 1

Q.11 दो क्रमागत संख्याओं और उनमें से बड़ी संख्या के तीन गुने का योग 64 है। सबसे छोटी संख्या ज्ञात कीजिए।

Ans 1. 11
 2. 10
 3. 13
 4. 12

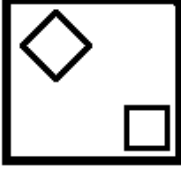
Question ID : 65497829242
Status : Answered
Chosen Option : 4

Q.12 निम्नांकित आकृति शृंखला में प्रश्नचिन्ह के स्थान पर आने वाली आकृति का चयन कीजिए।

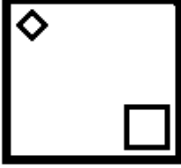


Ans

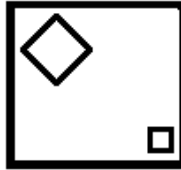
✗ 1.



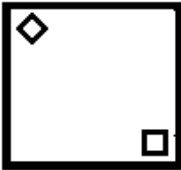
✗ 2.



✓ 3.



✗ 4.



Question ID : 65497829231
Status : Answered
Chosen Option : 3

Q.13 एक निश्चित कूट भाषा में 'BROKEN' को 'EUSOJS' और 'RASHES' को 'UDWLJX' के रूप में लिखा जाता है। उसी कूट भाषा में 'CONFER' किस रूप में लिखा जाएगा?

Ans ✗ 1. FSRKJW

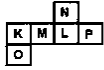
✗ 2. FRSJJV

✗ 3. FQRIJX

✓ 4. FRRJJW

Question ID : 65497829237
Status : Answered
Chosen Option : 4

Q.14 जब दी गई शीट को मोड़कर एक घन बनाया जाता है, तो अक्षरों का कौन-सा युग्म विपरीत फलकों पर नहीं होगा?



- Ans
- 1. M और P
 - 2. L और O
 - 3. N और O
 - 4. K और L

Question ID : 65497829251
Status : Answered
Chosen Option : 2

Q.15 दिए गए समीकरण को सही करने के लिए किन दो चिह्नों को आपस में बदला जाना चाहिए?

$$15 - 14 \div 21 \times 27 + 9 = 64$$

- Ans
- 1. \times और $+$
 - 2. $+$ और $+$
 - 3. $+$ और $-$
 - 4. $+$ और \times

Question ID : 65497829250
Status : Answered
Chosen Option : 2

Q.16 चार अक्षर-समूह दिए गए हैं, जिनमें से तीन किसी तरह से संगत हैं और एक असंगत है। उस अक्षर-समूह का चयन करें, जो अन्य से असंगत है।

- Ans
- 1. DBZX
 - 2. TRPN
 - 3. NLJH
 - 4. CAYV

Question ID : 65497829244
Status : Answered
Chosen Option : 4

Q.17 A, B, C, D, E और F छः मित्र, तीन तीन करके दो पंक्तियों में बैठे हुए हैं। दोनों पंक्तियों में बैठे हुए मित्रों के मुंह आमने-सामने हैं। C के सामने F है। F ठीक B और E के बीच में है। A के सामने B है। सभी मित्रों में से कौन चारों छोरों में किसी भी छोर पर नहीं बैठा है?

- Ans
- 1. A
 - 2. B
 - 3. D
 - 4. C

Question ID : 65497829234
Status : Answered
Chosen Option : 4

Q.18 दिए गए विकल्पों में से उस संख्या का चयन करें, जो निम्नलिखित श्रृंखला में प्रश्नवाचक चिह्न (?) के स्थान पर आ सकती है।

86, 90, 106, 170, ?

- Ans
- 1. 522
 - 2. 345
 - 3. 426
 - 4. 380

Question ID : 65497829230
Status : Answered
Chosen Option : 3

Q.19 एक निश्चित कूट भाषा में, TABLET को 20-1-2-12-5-40 लिखा जाता है। उसी कूट भाषा में RHESUS को किस प्रकार लिखा जाएगा?

- Ans
- 1. 19-8-5-19-21-38
 - 2. 18-8-5-19-21-38
 - 3. 18-8-5-19-20-19
 - 4. 18-9-5-18-21-36

Question ID : 65497829245
Status : Answered
Chosen Option : 2

Q.20 दिए गए संयोजन के सही दर्पण प्रतिबिंब का चयन कीजिए, जबकि दर्पण को इसकी दाईं ओर रखा गया है।

4 8 7 3 2 1

- Ans
- 1.
 - 2.
 - 3.
 - 4.

Question ID : 65497829247
Status : Answered
Chosen Option : 2

Q.21 आठ मित्र A, B, C, D, E, F, G और H, एक वृत्ताकार मेज के चारों ओर एक दूसरे से समान दूरी पर इसी क्रम में वामावर्त बैठे हुए हैं। सभी के मुंह मेज के केंद्र की ओर हैं। G पूर्व दिशा में बैठा है। C और E आपस में अपना स्थान बदल लेते हैं। इनमें से कौन दक्षिण-पूर्व दिशा में बैठा है?

- Ans
- 1. E
 - 2. H
 - 3. F
 - 4. D

Question ID : 65497829248
Status : Answered
Chosen Option : 2

Q.22 जिस प्रकार 'डेनमार्क', 'कोपेनहेगन' से संबंधित है, उसी प्रकार 'मिस्र', '_____ ' से संबंधित है।

- Ans
- 1. पेसो
 - 2. अफ्रीका
 - 3. जकार्ता
 - 4. काहिरा

Question ID : 65497829233
Status : Answered
Chosen Option : 4

Q.23 दिए गए विकल्पों में से उस संख्या का चयन कीजिए, जो निम्नलिखित श्रेणी में प्रश्नवाचक चिन्ह (?) के स्थान पर आ सकती है।

24, 25, 33, 60, ?, 249

- Ans
- 1. 124
 - 2. 156
 - 3. 148
 - 4. 90

Question ID : 65497829246
Status : Answered
Chosen Option : 1

Q.24 उस विकल्प का चयन करें, जिसमें दी गई आकृति अंतर्निहित है (आकृति को घुमाने की अनुमति नहीं है)।



Ans

- 1.
- 2.
- 3.
- 4.

Question ID : 65497829252
Status : Answered
Chosen Option : 3

Q.25 उस विकल्प का चयन कीजिए जो तृतीय पद से उसी तरह से संबंधित है जैसे द्वितीय पद प्रथम पद से संबंधित है।

AHEAD : ZFBWY :: VALOR : ?

- Ans 1. UYIKM
 2. UZJLO
 3. WCORV
 4. VYJIM

Question ID : 65497829236
Status : Answered
Chosen Option : 1

Section : Part B General Knowledge and General Awareness

Q.1 निम्नलिखित में से कौन सा एक केंद्रीय स्तर का कर है, जिसे वस्तु एवं सेवा कर (GST) में शामिल कर दिया गया?

- Ans 1. उत्पाद शुल्क
 2. मनोरंजन कर
 3. चुंगी
 4. क्रय कर

Question ID : 65497829273
Status : Answered
Chosen Option : 1

Q.2 मूसा पाराडिसिअका (Musa paradisiaca) का सामान्य प्रचलित नाम क्या है?

- Ans 1. तरबूज
 2. सेब
 3. केला
 4. अमरूद

Question ID : 65497829276
Status : Answered
Chosen Option : 1

Q.3 निम्नलिखित में से कौन सा विटामिन मानव शरीर में कोशिकाओं को एक साथ रखने में मदद करता है?

- Ans 1. विटामिन C
 2. विटामिन K
 3. विटामिन A
 4. विटामिन E

Question ID : 65497829275
Status : Answered
Chosen Option : 2

Q.4 बारालाचा दर्रे के दोनों किनारों पर से निकलने वाली दो जल धाराएं, चंद्र और भागा निम्न में से कौन सी नदी बनाती हैं?

- Ans
- 1. रावी
 - 2. चेनाब
 - 3. सिंधु
 - 4. झेलम

Question ID : 65497829264
Status : Not Answered
Chosen Option : --

Q.5 नवंबर 2020 में, निम्नलिखित में से किसे यूनेस्को बायोस्फीयर रिजर्व (UNESCO Biosphere Reserve) घोषित किया गया था?

- Ans
- 1. पन्ना बायोस्फीयर रिजर्व
 - 2. मन्नार की खाड़ी
 - 3. नंदा देवी बायोस्फीयर रिजर्व
 - 4. नीलगिरि बायोस्फीयर रिजर्व

Question ID : 65497829259
Status : Answered
Chosen Option : 1

Q.6 भारतीय संविधान के किस संशोधन अधिनियम में, राज्य के नीति निर्देशक तत्व के रूप में राज्य से आय, स्थिति, सुविधाओं और अवसरों में असमानता को कम करने की अपेक्षा की गई है?

- Ans
- 1. 44वें
 - 2. 42वें
 - 3. 47वें
 - 4. 52वें

Question ID : 65497829258
Status : Not Answered
Chosen Option : --

Q.7 एशिया में सौर-ऊर्जा द्वारा संचालित पहला कपड़ा मिल जल्द ही कहां चालू होगा?

- Ans
- 1. केरल
 - 2. राजस्थान
 - 3. महाराष्ट्र
 - 4. गुजरात

Question ID : 65497829263
Status : Answered
Chosen Option : 4

Q.8 निम्नलिखित में से कौन सा संग्रहालय कटक में स्थित है?

- Ans
- 1. भारतीय संग्रहालय
 - 2. राष्ट्रीय संग्रहालय
 - 3. नेताजी जन्म स्थान संग्रहालय
 - 4. सालार जंग संग्रहालय

Question ID : 65497829269
Status : Answered
Chosen Option : 3

Q.9 राष्ट्रीय जूट नीति _____ में तैयार की गई थी, जिसका उद्देश्य उत्पादकता में वृद्धि, गुणवत्ता में सुधार, किसानों के लिए जूट की अच्छी कीमत सुनिश्चित करना और प्रति हेक्टेयर उपज में वृद्धि करना था।

- Ans
- 1. 2005
 - 2. 2003
 - 3. 2009
 - 4. 2007

Question ID : 65497829270
Status : Not Answered
Chosen Option : --

Q.10 शिरोमणि गुरुद्वारा प्रबंधक समिति (SGPC) को मुख्य निकाय के रूप में नियंत्रण प्रदान करने के लिए _____ में सिख गुरुद्वारा अधिनियम पारित किया गया था।

- Ans
- 1. 1905
 - 2. 1919
 - 3. 1941
 - 4. 1925

Question ID : 65497829266
Status : Not Answered
Chosen Option : --

Q.11 1919 में जलियाँवाला बाग हत्याकांड कहाँ हुआ था?

- Ans
- 1. लाहौर
 - 2. पठानकोट
 - 3. अमृतसर
 - 4. अंबाला

Question ID : 65497829261
Status : Answered
Chosen Option : 3

Q.12 पंडित सारंगदेव कृत 'संगीत रत्नाकार' ग्रंथ में _____ अध्याय है।

- Ans
- 1. 5
 - 2. 7
 - 3. 9
 - 4. 11

Question ID : 65497829274
Status : Not Answered
Chosen Option : --

Q.13 नवंबर 2020 में, Mercedes-Benz (मर्सिडीज-बेंज) ने संभावित H.N.I. (उच्च-निवल मूल्य वाले) ग्राहकों को वित्तीय लाभ प्रदान करने के लिए _____ के साथ कोलैबोरेशन किया।

- Ans
- 1. आई.सी.आई.सी.आई. (ICICI)
 - 2. एस.बी.आई. (SBI)
 - 3. इंडसइंड
 - 4. एच.डी.एफ.सी. (HDFC)

Question ID : 65497829265
Status : Not Answered
Chosen Option : --

Q.14 वित्तीय वर्ष 2019-2020 के लिए बजट घाटे के रूप में भारत की जीडीपी (GDP) का प्रतिशत कितना दर्ज किया गया था?

- Ans
- 1. 3.56%
 - 2. 5.23%
 - 3. 6.42%
 - 4. 4.59%

Question ID : 65497829253
Status : Not Answered
Chosen Option : --

Q.15 'अल्बार्ट्रोस (Albatross)' शब्द का प्रयोग निम्न में से किस खेल में किया जाता है?

- Ans
- 1. गोल्फ (Golf)
 - 2. रग्बी (Rugby)
 - 3. तलवारबाजी (Fencing)
 - 4. पोलो (Polo)

Question ID : 65497829268
Status : Not Answered
Chosen Option : --

Q.16 हड़प्पाकालीन स्थल रंगपुर भारत के किस वर्तमान राज्य में स्थित है?

- Ans
- 1. राजस्थान
 - 2. गुजरात
 - 3. हिमाचल प्रदेश
 - 4. हरियाणा

Question ID : 65497829260
Status : Answered
Chosen Option : 1

Q.17 निम्नलिखित में से किसने 2021 में टोक्यो में आयोजित पैरालंपिक्स में रजत पदक जीता?

- Ans
- 1. योगेश कथुनिया
 - 2. मनीष नरवाल
 - 3. अविनि लेखरा
 - 4. सुमित अंतिल

Question ID : 65497829272
Status : Answered
Chosen Option : 1

Q.18 चौथी से नवीं शताब्दी के बीच, कांचीपुरम किस साम्राज्य की राजधानी थी?

- Ans
- 1. पांड्य
 - 2. पल्लव
 - 3. चोल
 - 4. चेर

Question ID : 65497829255
Status : Answered
Chosen Option : 2

Q.19 अक्टूबर 2020 में भारत के किस राज्य में पहली जलविमान (सीप्लेन) सेवा शुरू हुई?

- Ans
- 1. महाराष्ट्र
 - 2. गोवा
 - 3. गुजरात
 - 4. केरल

Question ID : 65497829257
Status : Answered
Chosen Option : 2

Q.20 निम्नलिखित में से कौन-सा कथन सही है?

- Ans
- 1. सर्वोच्च न्यायालय का न्यायाधीश, उप-राष्ट्रपति को अपना त्यागपत्र सौंपता है।
 - 2. सर्वोच्च न्यायालय का न्यायाधीश, प्रधानमंत्री को अपना त्यागपत्र सौंपता है।
 - 3. सर्वोच्च न्यायालय का न्यायाधीश, राष्ट्रपति को अपना त्यागपत्र सौंपता है।
 - 4. सर्वोच्च न्यायालय का न्यायाधीश, महान्यायवादी (अटॉर्नी जनरल) को अपना त्यागपत्र सौंपता है।

Question ID : 65497829262
Status : Answered
Chosen Option : 3

Q.21 निम्नलिखित में से कौन सी पुस्तक सुधा मूर्ति द्वारा लिखित है?

- Ans
- 1. द नेमसेक (The Namesake)
 - 2. इंटरप्रेटर ऑफ़ मेलोडीज़ (Interpreter of Maladies)
 - 3. अनएकस्टमड अर्थ (Unaccustomed Earth)
 - 4. महाश्वेता (Mahashweta)

Question ID : 65497829277
Status : Answered
Chosen Option : 1

Q.22 निम्नलिखित में से कौन 2014 में, पहला भारतीय मूल का एनबीए (NBA) खिलाड़ी बना था?

- Ans
- 1. अकिलन परी
 - 2. विशेष भृगुवंशी
 - 3. गुरसिमरन भुल्लर
 - 4. सत्यप्रकाश यादव

Question ID : 65497829256
Status : Answered
Chosen Option : 3

Q.23 FM रेडियो को पेटेंट कराने का श्रेय निम्नलिखित में से किसे दिया जाता है?

- Ans
- 1. जॉन बेयर्ड
 - 2. एडविन एच आर्मस्ट्रॉंग
 - 3. कार्ल बेन्ज़
 - 4. निकोला टेस्ला

Question ID : 65497829254
Status : Not Answered
Chosen Option : --

Q.24 शून्य बजट प्राकृतिक खेती में कौन सा राज्य अग्रणी है?

- Ans
- 1. बिहार
 - 2. आंध्र प्रदेश
 - 3. कर्नाटक
 - 4. सिक्किम

Question ID : 65497829267
Status : Answered
Chosen Option : 4

Q.25 निम्नलिखित में से कौन सी पुस्तक आर के नारायण द्वारा लिखित है?

- Ans
- 1. एंग्री रीवर (Angry River)
 - 2. स्वामी एंड फ्रेंड्स (Swami and Friends)
 - 3. द ब्लू अम्ब्रेला (The Blue Umbrella)
 - 4. रोड्स टू मसूरी (Roads to Mussoorie)

Question ID : 65497829271
Status : Not Answered
Chosen Option : --

Section : Part C Elementary Mathematics

Q.1 यदि 22, 15, 28, p और q का औसत 16 है, तो p और q का औसत ज्ञात कीजिए।

- Ans
- 1. 12
 - 2. 7.5
 - 3. 6
 - 4. 15

Question ID : 65497829300
Status : Answered
Chosen Option : 2

Q.2 एक त्रिभुज की भुजाओं का अनुपात 4 : 7 : 9 है। यदि सबसे छोटी भुजा और सबसे बड़ी भुजा का योग 65 cm है, तो तीसरी भुजा की लंबाई ज्ञात करें। (cm में)

- Ans
- 1. 55 cm
 - 2. 30 cm
 - 3. 35 cm
 - 4. 33.5 cm

Question ID : 65497829287
Status : Answered
Chosen Option : 3

Q.3 निम्नलिखित समीकरण का मान ज्ञात कीजिए।

$$1800 \div 10 \times [45 \div (17 - 2)] \text{ of } 2 + [-2(1 + 2)]$$

- Ans
- 1. $33\frac{1}{3}$
 - 2. 1074
 - 3. -2160
 - 4. 0

Question ID : 65497829278
Status : Answered
Chosen Option : 2

Q.4 किसी व्यक्ति और एक 230 m लंबी ट्रेन के बीच की दूरी 115 m है। यदि वह व्यक्ति 9 km/h की चाल से ट्रेन की ओर आ रहा है तो 60 km/h की चाल से चल रही ट्रेन उस व्यक्ति को कितने समय (sec में) में पार कर लेगी?

- Ans
- 1. 20
 - 2. 12
 - 3. 18
 - 4. 24

Question ID : 65497829286
Status : Not Answered
Chosen Option : --

Q.5 एक वृत्ताकार मैदान को ₹5 प्रति m^2 की दर से समतल कराने की लागत ₹19,250 है। ₹24 प्रति m की दर से इसके चारों ओर बाड़ लगवाने की लागत (₹ में) क्या होगी? ($\pi = \frac{22}{7}$ लीजिए)

- Ans
- 1. 4,752
 - 2. 5,500
 - 3. 5,280
 - 4. 4,224

Question ID : 65497829298
Status : Answered
Chosen Option : 3

Q.6 यदि 240 m लंबी ट्रेन 28 सेकंड में 250 m लंबा प्लेटफार्म पार करती है, तो ट्रेन की चाल (km/h में) कितनी है?

- Ans
- 1. 60
 - 2. 63
 - 3. 60.5
 - 4. 63.6

Question ID : 65497829281
Status : Answered
Chosen Option : 2

Q.7 A अकेले किसी कार्य को 18 दिनों में पूरा कर सकता है और B अकेले उसी कार्य को 24 दिनों में पूरा कर सकता है। A और B ने उस कार्य को ₹22,500 में करना तय किया। उन्होंने C की मदद ली और 8 दिनों में कार्य पूरा कर दिया। A को कितनी धनराशि मिलेगी?

- Ans
- 1. ₹7,500
 - 2. ₹10,000
 - 3. ₹9,000
 - 4. ₹5,192

Question ID : 65497829285
Status : Not Answered
Chosen Option : --

Q.8 निम्नलिखित व्यंजक का मान ज्ञात करें।

$$9 - 2 \times 2 \div 6 \text{ of } 3 + 3$$

- Ans
- 1. 1
 - 2. 10
 - 3. $\frac{7}{18}$
 - 4. $11\frac{7}{9}$

Question ID : 65497829289
Status : Answered
Chosen Option : 4

Q.9 यदि x का 16% = y का 24% है, तो x का 24% कितना है?

- Ans
- 1. y का 150%
 - 2. y का 40%
 - 3. y का 48%
 - 4. y का 36%

Question ID : 65497829284
Status : Answered
Chosen Option : 4

Q.10 ₹2,50,000 की धनराशि 12% वार्षिक चक्रवृद्धि ब्याज दर पर डेढ़ वर्ष के लिए निवेश की जाती है। अर्ध-वार्षिक रूप से चक्रवृद्धि होने और वार्षिक रूप से चक्रवृद्धि होने पर प्राप्त होने वाले मिश्रधनों में कितना अंतर होगा?

- Ans
- 1. ₹954
 - 2. ₹950
 - 3. ₹900
 - 4. ₹970

Question ID : 65497829280
Status : Not Answered
Chosen Option : --

Q.11 वह छोटी से छोटी संख्या ज्ञात करें, जिसे 8 और 14 से विभाजित करने पर शेषफल क्रमशः 5 और 11 प्राप्त होते हैं।

- Ans
- 1. 45
 - 2. 53
 - 3. 77
 - 4. 47

Question ID : 65497829292
Status : Answered
Chosen Option : 2

Q.12 यदि 25 पुरुष एक कार्य को 36 घंटे में पूरा कर सकते हैं, तो 12 पुरुष उसी कार्य को कितने घंटे में पूरा करेंगे?

- Ans
- 1. 65
 - 2. 50
 - 3. 49
 - 4. 75

Question ID : 65497829291
Status : Answered
Chosen Option : 4

Q.13 ₹18,400 की राशि को 6 पुरुषों, 13 महिलाओं और 6 लड़कों में इस प्रकार विभाजित कीजिए, कि एक पुरुष, एक महिला और एक लड़के के हिस्सों का अनुपात 5 : 4 : 3 हो। प्रत्येक लड़के को कितने रुपए मिलेंगे?

- Ans
- 1. ₹525
 - 2. ₹1,150
 - 3. ₹750
 - 4. ₹552

Question ID : 65497829301
Status : Answered
Chosen Option : 4

Q.14 किसी वस्तु को ₹68 में बेचने पर एक दुकानदार को 15% की हानि होती है। 20% का लाभ प्राप्त करने के लिए उसे वह वस्तु किस मूल्य पर बेचनी चाहिए?

- Ans
- 1. ₹90
 - 2. ₹95
 - 3. ₹92
 - 4. ₹96

Question ID : 65497829290
Status : Answered
Chosen Option : 4

Q.15 5 अंकों की वह बड़ी से बड़ी संख्या कौन सी है, जिसे 3, 5, 6 और 9 से विभाजित करने पर शेषफल क्रमशः 1, 3, 4 और 7 प्राप्त होता है?

- Ans
- 1. 99992
 - 2. 99990
 - 3. 99988
 - 4. 99999

Question ID : 65497829299
Status : Answered
Chosen Option : 3

Q.16 किसी परीक्षा में छात्रों के एक समूह के औसत प्राप्तांक 58 हैं। सबसे मेधावी 15% छात्रों के औसत प्राप्तांक 85 हैं और सबसे कमजोर 20% छात्रों के औसत प्राप्तांक 28 हैं। शेष छात्रों के औसत प्राप्तांक ज्ञात कीजिए।

- Ans
- 1. 35
 - 2. 43
 - 3. 61
 - 4. 72

Question ID : 65497829282
Status : Answered
Chosen Option : 3

Q.17 ₹3,596 की एक राशि को A, B और C के बीच $\frac{1}{6} : \frac{1}{9} : \frac{1}{9}$ के अनुपात में बांटा जाता है। A और C के हिस्सों में कितना अंतर (₹ में) है?

- Ans
- 1. 620
 - 2. 434
 - 3. 496
 - 4. 372

Question ID : 65497829296
Status : Answered
Chosen Option : 3

Q.18 किसी वस्तु को ₹2,320 में बेचकर एक व्यक्ति 16% का लाभ प्राप्त करता है। यदि उसने इसे ₹2,100 में बेचा होता, तो उसको होने वाला लाभ या हानि प्रतिशत ज्ञात कीजिए।

- Ans
- 1. लाभ, 6%
 - 2. लाभ, 5%
 - 3. हानि, 5%
 - 4. हानि, 6%

Question ID : 65497829279
Status : Answered
Chosen Option : 2

Q.19 एक निश्चित धनराशि, समान वार्षिक साधारण ब्याज की दर पर, 4 वर्षों में ₹10,164 और $7\frac{1}{2}$ वर्षों में ₹12,320 हो जाती है। मूल धनराशि और ब्याज की दर क्रमशः कितनी हैं?

- Ans
- 1. ₹7,800 और 8.5%
 - 2. ₹7,500 और 9%
 - 3. ₹8,000 और 7%
 - 4. ₹7,700 और 8%

Question ID : 65497829297
Status : Answered
Chosen Option : 4

Q.20 कोई दुकानदार प्रत्येक वस्तु पर 20% और 10% की क्रमिक छूट देता है। ₹500 के अंकित मूल्य वाली कोई वस्तु ग्राहकों के लिए कितने मूल्य पर उपलब्ध होगी?

- Ans
- 1. ₹470
 - 2. ₹320
 - 3. ₹360
 - 4. ₹350

Question ID : 65497829283
Status : Answered
Chosen Option : 3

Q.21 उस समलंब चतुर्भुज की ऊँचाई कितनी होगी, जिसकी समांतर भुजाओं की लंबाइयों का योग 9.5 cm और क्षेत्रफल 57 cm² है?

- Ans
- 1. 6 cm
 - 2. 5.8 cm
 - 3. 7.5 cm
 - 4. 12 cm

Question ID : 65497829288
Status : Answered
Chosen Option : 4

Q.22 एक सेल्समैन ने एक घड़ी को 15% हानि पर बेचा। यदि विक्रय मूल्य ₹150 अधिक होता, तो उसे 5% का लाभ होता। घड़ी का क्रय मूल्य कितना था?

- Ans
- 1. ₹915
 - 2. ₹830
 - 3. ₹625
 - 4. ₹750

Question ID : 65497829294
Status : Answered
Chosen Option : 4

Q.23 एक दुकानदार एक वस्तु पर इतना मूल्य अंकित करता है कि अंकित मूल्य पर 15% की छूट देने के बाद भी उसे 19% का लाभ प्राप्त हो। हालांकि एक ग्राहक को उस वस्तु पर 15% के बजाय 18% की छूट दी गई, इस स्थिति में दुकानदार द्वारा अर्जित प्रतिशत लाभ कितना होगा?

- Ans
- 1. 14.5%
 - 2. 13.8%
 - 3. 14.8%
 - 4. 12.5%

Question ID : 65497829295
Status : Not Answered
Chosen Option : --

Q.24 एक परीक्षा में उपस्थित होने वाले कुल छात्रों में 45% लड़कियां थीं। इस परीक्षा में 75% लड़के और 80% लड़कियां उत्तीर्ण हुईं और 144 लड़कियां अनुत्तीर्ण रहीं। अनुत्तीर्ण होने वाले लड़कों की संख्या कितनी थी?

- Ans
- 1. 180
 - 2. 210
 - 3. 240
 - 4. 220

Question ID : 65497829293
Status : Answered
Chosen Option : 4

Q.25 यदि एक निश्चित धनराशि साधारण ब्याज की एक निश्चित दर पर 2 वर्षों और 3 वर्षों में क्रमशः ₹1,980 और ₹2,070 हो जाती है, तो वह धनराशि (₹ में) ज्ञात कीजिए।

- Ans
- 1. 1,840
 - 2. 1,850
 - 3. 1,750
 - 4. 1,800

Question ID : 65497829302
Status : Not Answered
Chosen Option : --

Section : Part D English

Q.1 Select the most appropriate option to fill in the blank.

The car stopped _____ when the brakes were applied.

- Ans
- 1. boldly
 - 2. immediately
 - 3. faithfully
 - 4. obediently

Question ID : 65497829313
Status : Not Answered
Chosen Option : --

Q.2 Select the most appropriate meaning of the given idiom.

Think on your feet

- Ans** 1. Be interested in trekking and running a race
 2. Stand up to be able to solve a problem
 3. Be ready to take up all the challenges that you face
 4. Adjust quickly to changes and make fast decisions

Question ID : **65497829312**
Status : **Not Answered**
Chosen Option : --

Q.3 Select the most appropriate synonym of the given word.

Adversary

- Ans** 1. Prudent
 2. Opponent
 3. Uniform
 4. Companion

Question ID : **65497829311**
Status : **Not Answered**
Chosen Option : --

Q.4 Select the **INCORRECTLY** spelt word.

- Ans** 1. People
 2. Render
 3. Togather
 4. Gnaw

Question ID : **65497829321**
Status : **Not Answered**
Chosen Option : --

Q.5 Select the most appropriate synonym of the given word.

Baffle

- Ans** 1. Simplify
 2. Clarify
 3. Confuse
 4. Distinguish

Question ID : **65497829317**
Status : **Not Answered**
Chosen Option : --

Q.6 The following sentence has been split into four segments. Identify the segment that contains a grammatical error.

I decided to / sang a song / in the interschool / song competition.

- Ans**
- 1. in the interschool
 - 2. song competition
 - 3. sang a song
 - 4. I decided to

Question ID : 65497829316
Status : Not Answered
Chosen Option : --

Q.7 Select the most appropriate option to fill in the blank.

But for his _____ they would have attacked each other.

- Ans**
- 1. oscillation
 - 2. intervention
 - 3. intermission
 - 4. exaggeration

Question ID : 65497829322
Status : Not Answered
Chosen Option : --

Q.8 Select the most appropriate option that can substitute the underlined word in the given sentence. If there is no need to substitute it, select 'No substitution required'.

They have been living here during ten years.

- Ans**
- 1. No substitution required
 - 2. by
 - 3. since
 - 4. for

Question ID : 65497829314
Status : Not Answered
Chosen Option : --

Q.9 Select the most appropriate ANTONYM of the given word.

Innocent

- Ans**
- 1. Cunning
 - 2. Harmless
 - 3. Honest
 - 4. Simple

Question ID : 65497829304
Status : Not Answered
Chosen Option : --

Q.10 Select the most appropriate option to fill in the blank.

We can _____ ourselves from the rain by wearing a raincoat.

- Ans
- 1. neglect
 - 2. care
 - 3. protect
 - 4. defend

Question ID : 65497829319
Status : Not Answered
Chosen Option : --

Q.11 Select the most appropriate meaning of the given idiom.

Go through the roof

- Ans
- 1. Find a secret route
 - 2. Rise very high
 - 3. Be very happy
 - 4. Fall down flat

Question ID : 65497829320
Status : Not Answered
Chosen Option : --

Q.12 Select the option that can be used as a one-word substitute for the given group of words.

A small ornament which hangs down especially from a necklace

- Ans
- 1. Pendant
 - 2. Ring
 - 3. Diamond
 - 4. Earring

Question ID : 65497829306
Status : Not Answered
Chosen Option : --

Q.13 Select the option that can be used as a one-word substitute for the given group of words.

A list of books available in a library

- Ans
- 1. Catalogue
 - 2. Document
 - 3. Bibliography
 - 4. Register

Question ID : 65497829318
Status : Not Answered
Chosen Option : --

Q.14 Select the INCORRECTLY spelt word.

- Ans
- 1. zealous
 - 2. joyous
 - 3. nervous
 - 4. furious

Question ID : 65497829307
Status : Not Answered
Chosen Option : --

Q.15 Select the option that can be used as a one-word substitute for the given group of words.

Run after in order to catch or catch up with

- Ans
- 1. Race
 - 2. Sprint
 - 3. Rush
 - 4. Chase

Question ID : 65497829305
Status : Not Answered
Chosen Option : --

Q.16 The following sentence has been divided into parts. One of them may contain an error. Select the part that contains the error from the given options. If you don't find any error, select 'No error' as your answer.

He walked so fastly / that I could not / keep pace with him.

- Ans
- 1. He walked so fastly
 - 2. keep pace with him
 - 3. No error
 - 4. that I could not

Question ID : 65497829303
Status : Not Answered
Chosen Option : --

Q.17 Select the most appropriate ANTONYM of the given word.

Cautious

- Ans
- 1. Alert
 - 2. Vigilant
 - 3. Watchful
 - 4. Reckless

Question ID : 65497829308
Status : Not Answered
Chosen Option : --

Q.18 Select the most appropriate option that can substitute the underlined word in the given sentence. If there is no need to substitute it, select 'No substitution required'.

Everybody were going to see the circus.

- Ans
- 1. are
 - 2. No substitution required
 - 3. has
 - 4. was

Question ID : 65497829315
Status : Not Answered
Chosen Option : --

Q.19 The following sentence has been split into four segments. Identify the segment that contains a grammatical error.

Had you not / been playing / with a ball / for morning?

- Ans
- 1. for morning
 - 2. with a ball
 - 3. been playing
 - 4. Had you not

Question ID : 65497829310
Status : Not Answered
Chosen Option : --

Q.20 Select the most appropriate option that can substitute the underlined segment in the given sentence. If there is no need to substitute it, select 'No substitution required'.

An educated lady makes a better mother than an uneducated lady, isn't it?

- Ans
- 1. does she
 - 2. No substitution required
 - 3. hasn't she
 - 4. doesn't she

Question ID : 65497829309
Status : Not Answered
Chosen Option : --

Comprehension:

In the following passage, some words have been deleted. Read the passage carefully and select the most appropriate option to fill in each blank.

King Priam of Troy was old and weak, but his son Hector was a (1) _____ and noble young man. Hector had sensed (2) _____ when his brother had brought Helen to Troy. He (3) _____ that he must fight for his family but (4) _____ the circumstances that had set hero against hero. The (5) _____ warriors on the Trojan side were Achilles, Aeneas and Agamemnon.

SubQuestion No : 21

Q.21 Select the most appropriate option to fill in blank no.1.

- Ans** 1. feeble
 2. valiant
 3. meek
 4. timid

Question ID : 65497829324

Status : Not Answered

Chosen Option : --

Comprehension:

In the following passage, some words have been deleted. Read the passage carefully and select the most appropriate option to fill in each blank.

King Priam of Troy was old and weak, but his son Hector was a (1) _____ and noble young man. Hector had sensed (2) _____ when his brother had brought Helen to Troy. He (3) _____ that he must fight for his family but (4) _____ the circumstances that had set hero against hero. The (5) _____ warriors on the Trojan side were Achilles, Aeneas and Agamemnon.

SubQuestion No : 22

Q.22 Select the most appropriate option to fill in blank no.2.

- Ans** 1. limit
 2. danger
 3. warning
 4. climax

Question ID : 65497829325

Status : Not Answered

Chosen Option : --

Comprehension:

In the following passage, some words have been deleted. Read the passage carefully and select the most appropriate option to fill in each blank.

King Priam of Troy was old and weak, but his son Hector was a (1) _____ and noble young man. Hector had sensed (2) _____ when his brother had brought Helen to Troy. He (3) _____ that he must fight for his family but (4) _____ the circumstances that had set hero against hero. The (5) _____ warriors on the Trojan side were Achilles, Aeneas and Agamemnon.

SubQuestion No : 23

Q.23 Select the most appropriate option to fill in blank no.3.

- Ans** 1. was knowing
 2. knew
 3. knows
 4. know

Question ID : 65497829326

Status : Not Answered

Chosen Option : --

Comprehension:

In the following passage, some words have been deleted. Read the passage carefully and select the most appropriate option to fill in each blank.

King Priam of Troy was old and weak, but his son Hector was a (1) _____ and noble young man. Hector had sensed (2) _____ when his brother had brought Helen to Troy. He (3) _____ that he must fight for his family but (4) _____ the circumstances that had set hero against hero. The (5) _____ warriors on the Trojan side were Achilles, Aeneas and Agamemnon.

SubQuestion No : 24

Q.24 Select the most appropriate option to fill in blank no.4.

- Ans** 1. cried
 2. wept
 3. pined
 4. rued

Question ID : 65497829327

Status : Not Answered

Chosen Option : --

Comprehension:

In the following passage, some words have been deleted. Read the passage carefully and select the most appropriate option to fill in each blank.

King Priam of Troy was old and weak, but his son Hector was a (1) _____ and noble young man. Hector had sensed (2) _____ when his brother had brought Helen to Troy. He (3) _____ that he must fight for his family but (4) _____ the circumstances that had set hero against hero. The (5) _____ warriors on the Trojan side were Achilles, Aeneas and Agamemnon.

SubQuestion No : 25

Q.25 Select the most appropriate option to fill in blank no.5.

- Ans** 1. highest
 2. absolute
 3. principal
 4. maximum

Question ID : 65497829328

Status : Not Answered

Chosen Option : --

Section : Part D Hindi

Q.1 दिए गए वाक्य का वह भाग ज्ञात करें जिसमें कोई त्रुटि है। यदि कोई त्रुटि नहीं है, तो 'कोई त्रुटि नहीं है' चुनें।

इस विषय की (1)/ एक भी (2)/ पुस्तकें नहीं हैं। (3)/ कोई त्रुटि नहीं है (4)

- Ans** 1. 1
 2. 4
 3. 2
 4. 3

Question ID : 65497829329

Status : Answered

Chosen Option : 4

Q.2 रिक्त स्थान की पूर्ति के लिए सबसे उपयुक्त शब्द का चयन कीजिए।

बुद्धिजीवी वर्ग को वनों और जानवरों के _____ पर ध्यान देना चाहिए।

- Ans** 1. पर्यावरण
 2. व्यवस्थापन
 3. संरक्षण
 4. निरीक्षण

Question ID : 65497829339

Status : Answered

Chosen Option : 3

Q.3 'जिसके हाथ में वीणा है' - वाक्यांश के लिए एक शब्द का चयन कीजिए।

- Ans
- 1. ब्रजपाणि
 - 2. चक्रपाणि
 - 3. वैष्णवी
 - 4. सरस्वती

Question ID : 65497829338
Status : Answered
Chosen Option : 4

Q.4 'अतीत' का समानार्थी शब्द कौनसा है?

- Ans
- 1. अधिक
 - 2. अतिरेक
 - 3. विगत
 - 4. आगत

Question ID : 65497829330
Status : Answered
Chosen Option : 3

Q.5 दिये गये वाक्य में रेखांकित अंश को प्रतिस्थापित करने के लिए सबसे उपयुक्त विकल्प का चयन करें।

आयोग की रिपोर्ट सरकार के समक्ष समर्पित की गई।

- Ans
- 1. अर्पित
 - 2. जारी
 - 3. प्रस्तुत
 - 4. लोकार्पित

Question ID : 65497829346
Status : Answered
Chosen Option : 3

Q.6 निम्न में से कौनसा विलोम-युग्म सही नहीं है?

- Ans
- 1. क्रय-विक्रय
 - 2. एकत्र-विकीर्ण
 - 3. जेय-अजेय
 - 4. आहार-विहार

Question ID : 65497829331
Status : Answered
Chosen Option : 3

Q.7 दिए गए वाक्य में रेखांकित खंड को प्रतिस्थापित करने के लिए सबसे उपयुक्त विकल्प का चयन करें। यदि इसे प्रतिस्थापित करने की आवश्यकता नहीं है, तो विकल्प 'किसी बदलाव की आवश्यकता नहीं है' का चयन करें।

तुम्हारा पालन पोषण कौन किया?

- Ans
- 1. किसने किया?
 - 2. किसने की?
 - 3. कौन की?
 - 4. किसी बदलाव की आवश्यकता नहीं है

Question ID : 65497829334
Status : Answered
Chosen Option : 1

Q.8 दिए गए वाक्य का वह भाग ज्ञात करें जिसमें कोई त्रुटि है। यदि कोई त्रुटि नहीं है, तो 'कोई त्रुटि नहीं है' चुनें।

स्वार्थी लोग बहती गंगा में हाथ डालने की इच्छा रखते हैं।

- Ans
- 1. हाथ डालने की
 - 2. स्वार्थी लोग बहती गंगा में
 - 3. इच्छा रखते हैं।
 - 4. कोई त्रुटि नहीं है।

Question ID : 65497829342
Status : Answered
Chosen Option : 1

Q.9 दिए गए वाक्य का वह भाग ज्ञात करें जिसमें कोई त्रुटि है। यदि कोई त्रुटि नहीं है, तो 'कोई त्रुटि नहीं है' चुनें।

मनुष्य इसलिए (1)/ परिश्रम करता है ताकि उसे (2)/ अपना पेट पालना है। (3)/ कोई त्रुटि नहीं है (4)

- Ans
- 1. 1
 - 2. 2
 - 3. 3
 - 4. 4

Question ID : 65497829335
Status : Not Attempted and Marked For Review
Chosen Option : --

Q.10 निम्नलिखित में से शुद्ध वर्तनी वाला शब्द कौन सा है?

- Ans
- 1. लालायित
 - 2. ललायित
 - 3. लालायीत
 - 4. ललायीत

Question ID : 65497829347
Status : Answered
Chosen Option : 1

Q.11 'सुमति' शब्द का विलोम शब्द कौनसा है?

- Ans
- 1. कुमति
 - 2. अमति
 - 3. विमति
 - 4. निर्मिति

Question ID : 65497829336
Status : Answered
Chosen Option : 1

Q.12 निम्नलिखित में से शुद्ध वर्तनी वाला शब्द कौन सा है?

- Ans
- 1. निमीलित
 - 2. नीमीलित
 - 3. निमीलीत
 - 4. निमिलित

Question ID : 65497829348
Status : Answered
Chosen Option : 3

Q.13 दिये गये वाक्यांश के लिए एक शब्द दीजिये।

पहाड़ का निचला भाग

- Ans
- 1. अधित्यका
 - 2. औरस
 - 3. पहाड़ी
 - 4. उपत्यका

Question ID : 65497829341
Status : Answered
Chosen Option : 4

Q.14 'पानी का बुलबुला होना' मुहावरे का सही अर्थ है-

- Ans
- 1. भयभीत होना
 - 2. क्षणभंगुर होना
 - 3. हर्षित होना
 - 4. दुखी होना

Question ID : 65497829344
Status : Answered
Chosen Option : 2

Q.15 दिये गये वाक्यांश के लिए एक सार्थक शब्द का चयन कीजिए।

जिसे सारी बातों का ज्ञान हो

- Ans
- 1. बहुज्ञ
 - 2. मर्मज्ञ
 - 3. सर्वज्ञ
 - 4. विशेषज्ञ

Question ID : 65497829337
Status : Answered
Chosen Option : 3

Q.16 'काले तिल चबाना' मुहावरे का अर्थ है-

- Ans
- 1. पराधीन होना
 - 2. जलावतन करना
 - 3. गुस्सा होना
 - 4. दीर्घायु होना

Question ID : 65497829332
Status : Answered
Chosen Option : 3

Q.17 रिक्त स्थान की पूर्ति के लिए सबसे उपयुक्त शब्द का चयन कीजिए।

सौ _____ के टिकट चोरी हुए।

- Ans
- 1. रूपयों
 - 2. रूपयों
 - 3. रूपये
 - 4. रूपये

Question ID : 65497829333
Status : Answered
Chosen Option : 3

Q.18 दिए गए शब्द के सर्वाधिक उपयुक्त समानार्थी शब्द का चयन करें -

अंबर

- Ans
- 1. पीतांबर
 - 2. व्योम
 - 3. नीलांबर
 - 4. सोम

Question ID : 65497829343
Status : Answered
Chosen Option : 2

Q.19 रिक्त स्थान की पूर्ति के लिए सबसे उपयुक्त विकल्प का चयन करें।

रवि के जन्म दिन पर दोस्तों ने उसे एक एल्बम _____ में दिया।

- Ans
- 1. अनुदान
 - 2. दान
 - 3. भेंट
 - 4. उपहार

Question ID : 65497829345
Status : Answered
Chosen Option : 4

Q.20 दिए गए वाक्य में रेखांकित खंड को प्रतिस्थापित करने के लिए सबसे उपयुक्त विकल्प का चयन करें।
यदि इसे प्रतिस्थापित करने की आवश्यकता नहीं है, तो विकल्प 'किसी बदलाव की आवश्यकता नहीं है'
का चयन करें।

मकान मालिक ने किरायेदारों को अपने घर से हटाया।

- Ans
- 1. अपने घर से निकाला
 - 2. अपने घर से दौड़ाया
 - 3. अपने घर से भगाया
 - 4. किसी बदलाव की आवश्यकता नहीं है।

Question ID : 65497829340
Status : Answered
Chosen Option : 1

Comprehension:

दिए गए गद्यांश में से कुछ शब्द हटा दिए गए हैं। दिए गए विकल्पों की सहायता से प्रत्येक संख्या के लिए सबसे उपयुक्त विकल्प का चयन कीजिए।

(1) _____ को लोगों ने धोखे की दुकान बना रखा है, वे उसकी आड़ में स्वार्थ सिद्धि करते हैं। बात यह है कि लोग धर्म को छोड़कर (2) _____ के जाल में फंस जाते हैं। सम्प्रदाय की आड़ में बाह्य कृत्यों पर जोर देते हैं। वे (3) _____ को अपनाकर धर्म के (4) _____ को मसल देते हैं। धर्म मनुष्य को (5) _____ बनता है, उसके हृदय के बंद द्वार को खोलता है।

SubQuestion No : 21

Q.21 गद्यांश के रिक्त स्थान (1) के लिए सर्वाधिक उपयुक्त शब्द होगा-

- Ans
- 1. खेल
 - 2. शिक्षा
 - 3. धर्म
 - 4. राजनीति

Question ID : 65497829350
Status : Answered
Chosen Option : 3

Comprehension:

दिए गए गद्यांश में से कुछ शब्द हटा दिए गए हैं। दिए गए विकल्पों की सहायता से प्रत्येक संख्या के लिए सबसे उपयुक्त विकल्प का चयन कीजिए।

(1) _____ को लोगों ने धोखे की दुकान बना रखा है, वे उसकी आड़ में स्वार्थ सिद्धि करते हैं। बात यह है कि लोग धर्म को छोड़कर (2) _____ के जाल में फंस जाते हैं। सम्प्रदाय की आड़ में बाह्य कृत्यों पर जोर देते हैं। वे (3) _____ को अपनाकर धर्म के (4) _____ को मसल देते हैं। धर्म मनुष्य को (5) _____ बनता है, उसके हृदय के बंद द्वार को खोलता है।

SubQuestion No : 22

Q.22 गद्यांश के रिक्त स्थान (2) के लिए सर्वाधिक उपयुक्त शब्द होगा-

- Ans**
- 1. समाजसेवा
 - 2. दुर्बोध
 - 3. सम्प्रदाय
 - 4. पंचतंत्र

Question ID : 65497829351

Status : Answered

Chosen Option : 3

Comprehension:

दिए गए गद्यांश में से कुछ शब्द हटा दिए गए हैं। दिए गए विकल्पों की सहायता से प्रत्येक संख्या के लिए सबसे उपयुक्त विकल्प का चयन कीजिए।

(1) _____ को लोगों ने धोखे की दुकान बना रखा है, वे उसकी आड़ में स्वार्थ सिद्धि करते हैं। बात यह है कि लोग धर्म को छोड़कर (2) _____ के जाल में फंस जाते हैं। सम्प्रदाय की आड़ में बाह्य कृत्यों पर जोर देते हैं। वे (3) _____ को अपनाकर धर्म के (4) _____ को मसल देते हैं। धर्म मनुष्य को (5) _____ बनता है, उसके हृदय के बंद द्वार को खोलता है।

SubQuestion No : 23

Q.23 गद्यांश के रिक्त स्थान (3) के लिए सर्वाधिक उपयुक्त शब्द होगा-

- Ans**
- 1. उपदेश
 - 2. चिह्न
 - 3. संदेश
 - 4. धर्म

Question ID : 65497829352

Status : Answered

Chosen Option : 3

Comprehension:

दिए गए गद्यांश में से कुछ शब्द हटा दिए गए हैं। दिए गए विकल्पों की सहायता से प्रत्येक संख्या के लिए सबसे उपयुक्त विकल्प का चयन कीजिए।

(1) _____ को लोगों ने धोखे की दुकान बना रखा है, वे उसकी आड़ में स्वार्थ सिद्धि करते हैं। बात यह है कि लोग धर्म को छोड़कर (2) _____ के जाल में फंस जाते हैं। सम्प्रदाय की आड़ में बाह्य कृत्यों पर जोर देते हैं। वे (3) _____ को अपनाकर धर्म के (4) _____ को मसल देते हैं। धर्म मनुष्य को (5) _____ बनता है, उसके हृदय के बंद द्वार को खोलता है।

SubQuestion No : 24

Q.24 गद्यांश के रिक्त स्थान (4) के लिए सर्वाधिक उपयुक्त शब्द होगा-

- Ans**
- 1. सूचना
 - 2. आदेश
 - 3. प्रतीक
 - 4. सार तत्व

Question ID : 65497829353

Status : Answered

Chosen Option : 4

Comprehension:

दिए गए गद्यांश में से कुछ शब्द हटा दिए गए हैं। दिए गए विकल्पों की सहायता से प्रत्येक संख्या के लिए सबसे उपयुक्त विकल्प का चयन कीजिए।

(1) _____ को लोगों ने धोखे की दुकान बना रखा है, वे उसकी आड़ में स्वार्थ सिद्धि करते हैं। बात यह है कि लोग धर्म को छोड़कर (2) _____ के जाल में फंस जाते हैं। सम्प्रदाय की आड़ में बाह्य कृत्यों पर जोर देते हैं। वे (3) _____ को अपनाकर धर्म के (4) _____ को मसल देते हैं। धर्म मनुष्य को (5) _____ बनता है, उसके हृदय के बंद द्वार को खोलता है।

SubQuestion No : 25

Q.25 गद्यांश के रिक्त स्थान (5) के लिए सर्वाधिक उपयुक्त शब्द होगा-

- Ans**
- 1. बहिर्मुखी
 - 2. अन्तर्मुखी
 - 3. लोकप्रिय
 - 4. चिंतक

Question ID : 65497829354

Status : Answered

Chosen Option : 4

Constable GD in CAPFs NIA SSF and Rifleman GD in Assam Rifles Examination 2021





Roll Number	www.HaryanaJobs.in
Candidate Name	www.HaryanaJobs.in
Venue Name	Shubham Foundation
Exam Date	09/12/2021
Exam Time :	12:30 PM - 2:00 PM
Subject	Constable GD 2021

Section : Part A General Intelligence and Reasoning

Q.1 उस वेन आरेख का चयन करें जो निम्नलिखित वर्गों के मध्य संबंधों को सर्वोत्तम तरीके से निरूपित करता है।

यमुना, नदी, नर्मदा

Ans

- ✗ 1. 
- ✓ 2. 
- ✗ 3. 
- ✗ 4. 

Question ID : 65497831026

Status : Answered

Chosen Option : 2

Q.2 दिए गए विकल्पों में से वह संख्या चुनें जो निम्नलिखित श्रेणी में प्रश्नवाचक चिह्न (?) के स्थान पर आ सकती है।

46, 54, 70, 102, 166, ?

Ans

- ✗ 1. 290
- ✗ 2. 305
- ✓ 3. 294
- ✗ 4. 314

Question ID : 65497831008

Status : Answered

Chosen Option : 3

Q.3 उस विकल्प का चयन करें जो तीसरी संख्या से उसी प्रकार संबंधित है जिस प्रकार दूसरी संख्या पहली संख्या से संबंधित है।

9766 : 6433 :: 6875 : ?

- Ans
- 1. 4258
 - 2. 3542
 - 3. 3658
 - 4. 2789

Question ID : 65497831016
Status : Answered
Chosen Option : 2

Q.4 एक निश्चित कूट भाषा में, 'RHINO' को 'POJIS' के रूप में लिखा जाता है और 'TIGER' को 'SFHJU' के रूप में लिखा जाता है। उसी भाषा में 'HORSE' को किस रूप में लिखा जाएगा?

- Ans
- 1. ETRPJ
 - 2. ETSPI
 - 3. FTSPI
 - 4. FRSQJ

Question ID : 65497831010
Status : Answered
Chosen Option : 3

Q.5 चार अक्षर-समूह दिए गए हैं, जिनमें से तीन किसी तरह से संगत हैं और एक असंगत है। उस अक्षर-समूह का चयन करें, जो अन्य से असंगत है।

- Ans
- 1. ZDHLP
 - 2. LPTXB
 - 3. QUYBG
 - 4. BFJNR

Question ID : 65497831027
Status : Answered
Chosen Option : 3

Q.6 दिए गए संयोजन के सही दर्पण प्रतिबिंब का चयन कीजिए, जबकि दर्पण को इसकी दाईं ओर रखा गया है।

D 7 9 3 s q g

- Ans
- 1. p p s 3 6 7 D
 - 2. 6 b s 3 e 7 D
 - 3. p p s 3 e 7 D
 - 4. p p s 3 e 7 D

Question ID : 65497831030
Status : Answered
Chosen Option : 3

Q.7 दिए गए विकल्पों में से उस अक्षर-समूह का चयन कीजिए जो दी गई श्रृंखला में प्रश्न चिह्न (?) के स्थान पर प्रतिस्थापित हो सकता है।

REST, UCXR, XACP, AYHN, ?

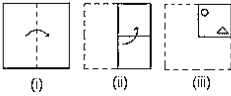
- Ans
- 1. XAML
 - 2. DWML
 - 3. DAMP
 - 4. XWNL

Question ID : 65497831023

Status : Answered

Chosen Option : 2

Q.8 नीचे दी गई आकृतियों में कागज़ के एक टुकड़े को मोड़ने और मोड़े गए कागज़ को काटने के तरीके का क्रम दर्शाया गया है। कागज़ को खोले जाने पर वह कैसा दिखाई देगा?



Ans

- 1.
- 2.
- 3.
- 4.

Question ID : 65497831014

Status : Answered

Chosen Option : 2

Q.9 एक निश्चित कूट भाषा में, PACKING को 7149113116 लिखा जाता है। उसी कूट भाषा में FRUITS को किस प्रकार लिखा जाएगा?

- Ans
- 1. 1820921187
 - 2. 19219201863
 - 3. 1920921186
 - 4. 6201821186

Question ID : 65497831028

Status : Answered

Chosen Option : 3

Q.10 दिए गए कथनों और निष्कर्षों को ध्यान से पढ़ें। यह मानते हुए कि कथनों में दी गई जानकारी सत्य है, भले ही यह सामान्य रूप से ज्ञात तथ्यों से भिन्न प्रतीत होती हो, यह निर्णय लें कि दिए गए निष्कर्षों में से कौन सा / कौन से निष्कर्ष कथनों का तार्किक रूप से अनुसरण करता है / करते हैं।

कथन:

सभी अंगूर फल हैं।
कुछ सब्जियाँ अंगूर हैं।

निष्कर्ष:

I. कुछ सब्जियाँ फल हैं।
II. सभी अंगूर सब्जियाँ हैं।

- Ans
- 1. निष्कर्ष I और II दोनों ही अनुसरण करते हैं।
 - 2. न तो निष्कर्ष I और न ही II अनुसरण करता है।
 - 3. केवल निष्कर्ष II अनुसरण करता है।
 - 4. केवल निष्कर्ष I अनुसरण करता है।

Question ID : 65497831011

Status : Answered

Chosen Option : 4

Q.11 एक विशिष्ट कूट भाषा में, 'BEHIND' को 'BLGJGD' लिखा जाता है। इस भाषा में 'ORANGE' को क्या लिखा जाएगा?

- Ans
- 1. PLCETQ
 - 2. CELCTQ
 - 3. CLECCQT
 - 4. NQCLTF

Question ID : 65497831021

Status : Answered

Chosen Option : 2

Q.12 A, B का भाई है। C, B का पति है। C, E का बेटा है। S, E की पत्नी है। S, B से किस प्रकार संबंधित है?

- Ans
- 1. सास
 - 2. मामी
 - 3. बहू
 - 4. भतीजी

Question ID : 65497831022

Status : Answered

Chosen Option : 1

Q.13 उस सही विकल्प का चयन करें, जो दिए गए शब्दों को उस क्रम में दर्शाता है जिस क्रम में वे अंग्रेजी शब्दकोश में दिखाई पड़ते हैं।

1. Tackle
2. Topper
3. Topic
4. Terminal
5. Termite

Ans 1. 4, 1, 5, 3, 2
 2. 1, 5, 4, 3, 2
 3. 1, 4, 5, 3, 2
 4. 1, 4, 5, 2, 3

Question ID : 65497831006
Status : Answered
Chosen Option : 3

Q.14 ब्रोंकाइटिस का जो संबंध 'फेफड़ों' से है, वही संबंध 'ग्लूकोमा' का ' _____ ' से है।

Ans 1. त्वचा
 2. आँखों
 3. जिक्का
 4. अग्न्याशय

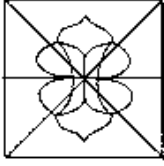
Question ID : 65497831024
Status : Answered
Chosen Option : 1

Q.15 उस विकल्प का चयन करें जिसमें दी गई आकृति अंतर्निहित है (घुमाने की अनुमति नहीं है)।

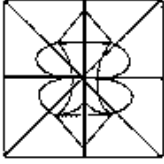


Ans

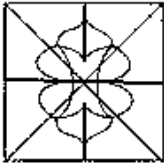
✓ 1.



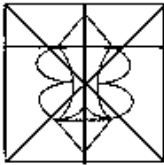
✗ 2.



✗ 3.



✗ 4.



Question ID : 65497831019

Status : Answered

Chosen Option : 1

Q.16 उस विकल्प का चयन करें जो तीसरे पद से उसी प्रकार संबंधित है, जिस प्रकार दूसरा पद पहले पद से संबंधित है।

ROCK : OGSV :: LAST : ?

Ans ✓ 1. XWEP

✗ 2. PETV

✗ 3. XVID

✗ 4. ODVX

Question ID : 65497831020

Status : Answered

Chosen Option : 1

Q.17 चार संख्या-त्रय (नंबर-ट्रायड) दिए गए हैं, जिनमें से तीन किसी तरह से एक समान हैं और एक भिन्न है। उस संख्या-त्रय (नंबर-ट्रायड) का चयन करें जो भिन्न है।

- Ans 1. (42, 79, 126)
 2. (27, 64, 101)
 3. (35, 72, 109)
 4. (54, 91, 128)

Question ID : 65497831012
Status : Answered
Chosen Option : 1

Q.18 दिए गए विकल्पों में से उस संख्या का चयन कीजिए, जो निम्नलिखित श्रेणी में प्रश्नवाचक चिह्न (?) के स्थान पर आ सकती है।

29, 38, 63, 112, 193, ?

- Ans 1. 327
 2. 385
 3. 303
 4. 314

Question ID : 65497831029
Status : Answered
Chosen Option : 4

Q.19 सात व्यक्ति, A, B, C, D, E, F और G, सात तलों वाले एक भवन में विभिन्न तलों पर रह रहे हैं। B और D के तलों के बीच चार तल हैं, और B, D से ऊपर वाले तल पर रहता है। E और A के तलों के बीच दो तल हैं, और A, E से नीचे वाले तल पर रहता है। C भू-तल पर रहता है। G और F पड़ोसी तल पर रहते हैं। C और F के तलों के बीच दो तल हैं, और F, C से ऊपर वाले तल पर रहता है।

सबसे ऊपर वाले तल पर कौन रह रहा है?

- Ans 1. G
 2. D
 3. A
 4. B

Question ID : 65497831015
Status : Answered
Chosen Option : 4

Q.20 निम्नलिखित समीकरण को सही करने के लिए किन दो गणितीय चिह्नों को आपस में बदलने की आवश्यकता है?

$$106 \div 3 \times 2 + 70 - 7 = 110$$

- Ans 1. - और ÷
 2. + और -
 3. × और -
 4. × और +

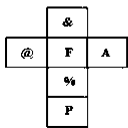
Question ID : 65497831017
Status : Answered
Chosen Option : 1

Q.21 A, B, C, D, E और F, छह सेवानिवृत्त अंतरराष्ट्रीय क्रिकेट खिलाड़ी हैं जो एक टीवी शो में, एक पंक्ति में एक के बाद दूसरे के आधार पर बैठे हैं। E और F पंक्ति में छोर पर हैं। C, E के बाएं दूसरे स्थान पर है। B, F के दाएं दूसरे स्थान पर है। A, B के बाएं पड़ोस में बैठा है। C के दाईं ओर पड़ोस में D है। बाएं से चौथे स्थान पर कौन है?

- Ans
- 1. C
 - 2. A
 - 3. B
 - 4. D

Question ID : 65497831025
Status : Answered
Chosen Option : 1

Q.22 दिए गए पत्रक (शीट) को मोड़कर एक घन बनाया गया है। इस प्रकार बने घन में, & प्रतीक दर्शाने वाले फलक के विपरीत फलक पर कौन सा अक्षर/प्रतीक होगा?



- Ans
- 1. @
 - 2. A
 - 3. %
 - 4. P

Question ID : 65497831018
Status : Answered
Chosen Option : 3

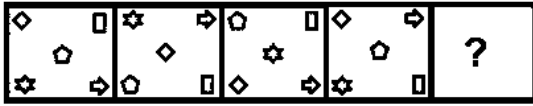
Q.23 निम्नलिखित भिन्नो में सबसे बड़े और सबसे छोटे भिन्न के बीच क्या अंतर है?

$$\frac{4}{5}, \frac{5}{6}, \frac{3}{8}, \frac{5}{7}, \frac{6}{7}$$

- Ans
- 1. $\frac{15}{28}$
 - 2. $\frac{13}{49}$
 - 3. $\frac{27}{56}$
 - 4. $\frac{15}{42}$

Question ID : 65497831013
Status : Answered
Chosen Option : 3

Q.24 उस आकृति का चयन करें जो निम्नलिखित आकृति श्रेणी में अगले स्थान पर आएगी।



Ans

- ✗ 1.
- ✗ 2.
- ✗ 3.
- ✓ 4.

Question ID : 65497831009

Status : Not Answered

Chosen Option : --

Q.25 अक्षरों के उस संयोजन का चयन करें जिसे दी गई श्रेणी में रिक्त स्थानों पर क्रमिक रूप से रखने पर श्रेणी पूर्ण हो जाएगी।

A Y _ Q A _ M Q _ Y M _ A _ M Q _ Y _ Q

- ✗ 1. MYAAAYAY
- ✓ 2. MYAQYAM
- ✗ 3. MAYYQMA
- ✗ 4. YMAQYAM

Question ID : 65497831007

Status : Answered

Chosen Option : 2

Section : Part B General Knowledge and General Awareness

Q.1 निम्नलिखित में से कौन मुगल सम्राट अकबर के शासनकाल के दौरान भारत में रहता था?

- Ans
- 1. जियाउद्दीन बरनी
 - 2. गयासुद्दीन बलबन
 - 3. अमीर खुसरो
 - 4. अब्दुल रहीम खान-ए-खाना

Question ID : 65497831037
Status : Answered
Chosen Option : 3

Q.2 लेलाह फर्नांडीज _____ की एक पेशेवर टेनिस खिलाड़ी हैं।

- Ans
- 1. जर्मनी
 - 2. कनाडा
 - 3. जापान
 - 4. यूएसए

Question ID : 65497831050
Status : Answered
Chosen Option : 3

Q.3 प्रसिद्ध तवांग मठ निम्नलिखित में से किस राज्य में स्थित है?

- Ans
- 1. असम
 - 2. सिक्किम
 - 3. आंध्र प्रदेश
 - 4. अरुणाचल प्रदेश

Question ID : 65497831038
Status : Answered
Chosen Option : 2

Q.4 साइबर बाल अपराध को रोकने की दिशा में किए गए अपने काम के लिए निम्नलिखित में से किसे अंतरराष्ट्रीय शांति पुरस्कार 2020 से सम्मानित किया गया है?

- Ans
- 1. सादात रहमान
 - 2. स्टेसी अब्राम्स
 - 3. एलेक्सी नवलनी
 - 4. ग्रेटा थनबर्ग

Question ID : 65497831041
Status : Answered
Chosen Option : 1

Q.5 उमानंद, असम में स्थित एक _____ है।

- Ans
- 1. द्वीप
 - 2. घाटी
 - 3. झील
 - 4. नदी

Question ID : 65497831049
Status : Answered
Chosen Option : 2

Q.6 वित्त मंत्री निर्मला सीतारमण ने 2021 में अपना _____ बजट पेश किया।

- Ans
- 1. तीसरा
 - 2. चौथा
 - 3. दूसरा
 - 4. पांचवां

Question ID : 65497831055
Status : Answered
Chosen Option : 3

Q.7 विकासवाद का सिद्धांत (Theory of Evolution) निम्नलिखित में से किसने दिया था?

- Ans
- 1. ग्रेगर जॉन मेंडल
 - 2. चार्ल्स रॉबर्ट डार्विन
 - 3. अल्बर्ट आइंस्टीन
 - 4. मैरी क्यूरी

Question ID : 65497831040
Status : Answered
Chosen Option : 2

Q.8 टाटा आयरन एंड स्टील कंपनी (TISCO) की स्थापना किस वर्ष हुई थी?

- Ans
- 1. 1907
 - 2. 1913
 - 3. 1932
 - 4. 1927

Question ID : 65497831036
Status : Answered
Chosen Option : 1

Q.9 निम्नलिखित में से किसने इंडक्शन मोटर का आविष्कार किया था?

- Ans
- 1. थॉमस सेवरी
 - 2. फ्रैंक शुमन
 - 3. जॉन एल. बेयर्ड
 - 4. निकोला टेस्ला

Question ID : 65497831032
Status : Answered
Chosen Option : 3

Q.10 केंद्रीय बजट 2020 में, भारत के निर्यात ऋण को बढ़ाने के उद्देश्य से किस योजना को आरंभ करने के विषय में कहा गया था?

- Ans
- 1. निर्विक (NIRVIK)
 - 2. निर्माण (NIRMAN)
 - 3. साथी (SATHI)
 - 4. सहज (SAHAJ)

Question ID : 65497831042
Status : Answered
Chosen Option : 1

Q.11 21 अक्टूबर, 2020 को अपने क्षेत्र के भीतर सी.बी.आई. (CBI) के संचालन के लिए सामान्य सहमति वापस लेने वाला भारत का पांचवा राज्य कौन-सा है?

- Ans
- 1. ओडिशा
 - 2. हरियाणा
 - 3. पंजाब
 - 4. महाराष्ट्र

Question ID : 65497831046
Status : Not Answered
Chosen Option : --

Q.12 संविधान सभा के लगभग 300 सदस्यों ने भारत के संविधान को लिखने के लिए _____ तक समय-समय पर बैठक की।

- Ans
- 1. 3 वर्ष
 - 2. 4 वर्ष
 - 3. 5 वर्ष
 - 4. 2 वर्ष

Question ID : 65497831047
Status : Not Answered
Chosen Option : --

Q.13 राजस्थान के देशनोक में स्थित करणी माता मंदिर इसमें रहने वाले _____ के लिए प्रसिद्ध है, जिन्हें पूजनीय माना जाता है।

- Ans
- 1. बंदरों
 - 2. गायों
 - 3. चूहों
 - 4. सांपों

Question ID : 65497831051
Status : Answered
Chosen Option : 1

Q.14 'द फेमस फाइव (The Famous Five)' साहसिक उपन्यासों की एक शृंखला है। इसके लेखक/लेखिका का नाम क्या है?

- Ans
- 1. एनिड ब्लीटन (Enid Blyton)
 - 2. रूडयार्ड किपलिंग (Rudyard Kipling)
 - 3. हैन्स क्रिश्चियन एंडरसन (Hans Christian Andersen)
 - 4. लुईस कैरोल (Lewis Carroll)

Question ID : 65497831053
Status : Answered
Chosen Option : 1

Q.15 नोवाक जोकोविच एक पेशेवर टेनिस खिलाड़ी हैं। उनका संबंध किस देश से है?

- Ans
- 1. स्पेन
 - 2. सर्बिया
 - 3. स्लोवाकिया
 - 4. स्वीडन

Question ID : 65497831054
Status : Answered
Chosen Option : 2

Q.16 विश्व शौचालय दिवस 2020 का विषय (थीम) क्या था?

- Ans
- 1. स्वच्छता
 - 2. किसी को पीछे नहीं छोड़ना (लीविंग नो वन बिहाइंड)
 - 3. सतत स्वच्छता और जलवायु परिवर्तन (ससटेनेबल सैनिटेशन एंड क्लाइमेट चेंज)
 - 4. सभी के लिए शौचालय (टॉयलेट्स फॉर ऑल)

Question ID : 65497831039
Status : Answered
Chosen Option : 4

Q.17 कर्नाटक में बासवन्ना और उसके साथी, जैसे कि अल्लामा प्रभु और अकममहादेवी ने सभी मनुष्यों की समानता के लिए बारहवीं शताब्दी के मध्य में किस आंदोलन की शुरुआत की थी?

- Ans
- 1. भक्ति
 - 2. चिश्ती
 - 3. निपाख
 - 4. वीरशैव

Question ID : 65497831044
Status : Not Answered
Chosen Option : --

Q.18 भारतीय दंड संहिता की किस धारा के तहत ताक-झांक एक अपराध है?

- Ans
- 1. धारा 354 C
 - 2. धारा 354 B
 - 3. धारा 354 A
 - 4. धारा 354 D

Question ID : 65497831045
Status : Not Answered
Chosen Option : --

Q.19 सितंबर 2020 में, _____ को राज्यसभा के उपाध्यक्ष के रूप में पुनर्निर्वाचित किया गया था।

- Ans
- 1. प्रतिभा पाटिल
 - 2. पी.जे. कुरियन
 - 3. हरिवंश नारायण सिंह
 - 4. नजमा हेपतुल्ला

Question ID : 65497831048
Status : Answered
Chosen Option : 3

Q.20 निम्न में से किस वर्ष के विश्व जनसंख्या दिवस की विषयवस्तु 'अब महिलाओं और लड़कियों के स्वास्थ्य और अधिकारों की सुरक्षा कैसे करें' थी?

- Ans
- 1. 2021
 - 2. 2020
 - 3. 2017
 - 4. 2018

Question ID : 65497831052
Status : Answered
Chosen Option : 2

Q.21 सितंबर 2020 में, मेरकॉम कैपिटल यूएसए द्वारा वैश्विक सौर ऊर्जा कंपनियों की नवीनतम रैंकिंग के अनुसार, परिचालन और ऑफ-टेकर अनुबंध वाली सौर ऊर्जा परियोजनाओं के संदर्भ में किस भारतीय कंपनी को नंबर 1 वैश्विक सौर ऊर्जा उत्पादन परिसंपत्ति की मालिक के रूप में चुना गया था?

- Ans
- 1. ग्रीनको
 - 2. अडानी ग्रीन एनर्जी
 - 3. एज़ोर पावर
 - 4. ACME सोलर

Question ID : 65497831034
Status : Not Answered
Chosen Option : --

Q.22 थोसेघर जलप्रपात किस राज्य में स्थित है?

- Ans
- 1. मध्य प्रदेश
 - 2. कर्नाटक
 - 3. महाराष्ट्र
 - 4. ओडिशा

Question ID : 65497831035
Status : Answered
Chosen Option : 2

Q.23 1591 में, अकबर के प्रसिद्ध सेनाध्यक्ष, राजा मान सिंह ने निम्नलिखित में से किस जनजाति को हराया था?

- Ans
- 1. लोहरा
 - 2. मुंडी
 - 3. चैरो
 - 4. संताल

Question ID : 65497831043
Status : Answered
Chosen Option : 3

Q.24 वेद ऋषि कपिल का संबंध भारतीय दर्शन के _____ संप्रदाय से था।

- Ans
- 1. न्याय
 - 2. वैशेषिक
 - 3. सांख्य
 - 4. मीमांसा

Question ID : 65497831033
Status : Answered
Chosen Option : 3

Q.25 किस भारतीय राज्य ने खेलो इंडिया यूथ गेम्स 2020 में सबसे अधिक पदक जीते?

- Ans
- 1. राजस्थान
 - 2. महाराष्ट्र
 - 3. मणिपुर
 - 4. हरियाणा

Question ID : 65497831031
Status : Answered
Chosen Option : 2

Section : Part C Elementary Mathematics

Q.1 एक व्यापारी एक वस्तु को उसके अंकित मूल्य पर 17% की छूट देते हुए ₹498 में बेचता है। यदि उसने कोई छूट नहीं दी होती, तो उसे 25% का लाभ होता। वस्तु का क्रय मूल्य (₹ में) ज्ञात कीजिए।

- Ans
- 1. 480
 - 2. 420
 - 3. 400
 - 4. 450

Question ID : 65497831077
Status : Answered
Chosen Option : 4

Q.2 यदि 24 cm ऊँचे एक लंब वृत्तीय शंकु का आयतन $\frac{17600}{7}$ cm³ है, तो इसकी त्रिज्या क्या होगी?

- Ans
- 1. 14 cm
 - 2. 12 cm
 - 3. 10 cm
 - 4. 7 cm

Question ID : 65497831067
Status : Answered
Chosen Option : 3

Q.3 एक वस्तु को ₹5,600 में बेचने पर एक व्यक्ति को कुछ हानि होती है। उसी वस्तु को ₹6,160 में बेचने पर उसे जो लाभ प्राप्त होता है, वह हानि का 2/5 होता है। वस्तु का लागत मूल्य कितना है?

- Ans
- 1. ₹5,880
 - 2. ₹6,067
 - 3. ₹6,000
 - 4. ₹5,600

Question ID : 65497831056
Status : Not Answered
Chosen Option : --

Q.4 एक कंपनी की आय प्रति वर्ष 30% बढ़ जाती है। यदि वर्ष 2018 में इसकी आय ₹70,98,000 थी, तो 2016 में आय कितनी थी?

- Ans
- 1. ₹40,00,000
 - 2. ₹48,00,000
 - 3. ₹45,00,000
 - 4. ₹42,00,000

Question ID : 65497831061
Status : Answered
Chosen Option : 4

Q.5 30% अम्ल वाले विलयन के 15 लीटर में कितने लीटर शुद्ध अम्ल है?

- Ans
- 1. 4.8 लीटर
 - 2. 3.2 लीटर
 - 3. 4.5 लीटर
 - 4. 5.3 लीटर

Question ID : 65497831074
Status : Answered
Chosen Option : 3

Q.6 एक इत्र का क्रय मूल्य ₹720 है। यदि इस पर एक दुकानदार द्वारा दी जाने वाली छूट 15% है, तो इत्र का विक्रय मूल्य कितना है?

- Ans
- 1. ₹612
 - 2. ₹595
 - 3. ₹646
 - 4. ₹550

Question ID : 65497831073
Status : Answered
Chosen Option : 1

Q.7 35 km/h की चाल से चल रहा एक ट्रक 140 km की दूरी तय करता है। यदि अगले 20 km की दूरी 30 मिनट में और अंतिम 30 km की दूरी 60 km/h की चाल से तय करता है, तो ट्रक की औसत चाल (km/h में) कितनी है?

- Ans
- 1. 40
 - 2. 42
 - 3. 48.5
 - 4. 38

Question ID : 65497831059
Status : Not Answered
Chosen Option : --

Q.8 जॉन एक वृत्ताकार मैदान के चारों ओर एक चक्कर प्रति घंटे की दर से पैदल चलता है जबकि सोनू दौड़ते हुए प्रति घंटे इस मैदान का सात चक्कर लगाता है। वे सुबह 9.35 बजे एक ही बिंदु से एक ही दिशा में चलना / दौड़ना शुरू करते हैं। वे सबसे पहले कितने बजे एक दूसरे को पार करेंगे?

- Ans
- 1. सुबह 9.55 बजे
 - 2. सुबह 9.45 बजे
 - 3. सुबह 9.40 बजे
 - 4. सुबह 9.50 बजे

Question ID : 65497831076
Status : Not Answered
Chosen Option : --

Q.9 निम्नलिखित व्यंजक का मान ज्ञात करें।

$$\frac{(5+9)-2+24 \text{ of } 6 \div 4 \times 12}{-24 \div (-8) \times (-2) + 3}$$

- Ans
- 1. -5
 - 2. $49\frac{1}{3}$
 - 3. -148
 - 4. $151\frac{1}{3}$

Question ID : 65497831058
Status : Answered
Chosen Option : 3

Q.10 तीन बक्सों A, B और C में 5 : 7 : 11 के अनुपात में गेंदें रखी हुई हैं, और तीनों बक्सों में गेंदों की कुल संख्या 92 है। यदि 4 गेंदों को बॉक्स B से बॉक्स A में और 8 गेंदों को बॉक्स C से बॉक्स A में डाल दिया जाए, तो इन तीन बक्सों A, B और C में गेंदों का नया अनुपात क्या होगा?

- Ans
- 1. 8 : 7 : 9
 - 2. 8 : 6 : 9
 - 3. 7 : 6 : 10
 - 4. 7 : 9 : 11

Question ID : 65497831064
Status : Answered
Chosen Option : 2

Q.11 यदि लागत मूल्य का विक्रय मूल्य से अनुपात 5 : 7 है, तो लाभ प्रतिशत कितना होगा?

- Ans
- 1. 40%
 - 2. 25%
 - 3. 35%
 - 4. 30%

Question ID : 65497831069
Status : Answered
Chosen Option : 1

Q.12 तीन वर्ष पहले, राम और श्याम की औसत उम्र 20 वर्ष थी। जब सैयद उनके साथ आ गया, तो औसत उम्र 25 वर्ष हो गई। सैयद की वर्तमान उम्र कितनी है?

- Ans
- 1. 26 वर्ष
 - 2. 21 वर्ष
 - 3. 23 वर्ष
 - 4. 29 वर्ष

Question ID : 65497831072
Status : Not Answered
Chosen Option : --

Q.13 चार अंकों की वह सबसे बड़ी संख्या कौन सी है, जिसे 18, 36 और 48 से विभाजित करने पर प्रत्येक बार समान शेषफल 8 प्राप्त होता है?

- Ans
- 1. 9944
 - 2. 9946
 - 3. 9964
 - 4. 9984

Question ID : 65497831062
Status : Answered
Chosen Option : 1

Q.14 कंक्रीट में बजरी के 9 भाग, रेत के 2 भाग और चूने के 6 भाग सम्मिलित हैं। 136 kg कंक्रीट में रेत और बजरी की मात्रा में कितना अंतर (kg में) होगा?

- Ans
- 1. 32
 - 2. 24
 - 3. 56
 - 4. 65

Question ID : 65497831078
Status : Answered
Chosen Option : 3

Q.15 A किसी काम को 16 दिनों में पूरा कर सकता है, और B उसी काम को 15 दिनों में पूरा कर सकता है। A द्वारा 4 दिन काम करने के बाद, बाकी काम पूरा करने के लिए B भी A के साथ शामिल हो जाता है। बाकी काम कितने दिनों में पूरा होगा?

- Ans
- 1. $7 \frac{25}{31}$
 - 2. $6 \frac{25}{31}$
 - 3. $8 \frac{25}{31}$
 - 4. $5 \frac{25}{31}$

Question ID : 65497831070
Status : Answered
Chosen Option : 4

Q.16 ₹8,000 की धनराशि के लिए, अर्धवार्षिक रूप से चक्रवृद्धि होने वाली 10% वार्षिक ब्याज दर पर $1\frac{1}{2}$ वर्ष का चक्रवृद्धि ब्याज कितना होगा?

- Ans
- 1. ₹1,261
 - 2. ₹1,461
 - 3. ₹1,260
 - 4. ₹1,360

Question ID : 65497831065
Status : Answered
Chosen Option : 1

Q.17 एक ठोस बेलनाकार छड़ का आयतन 2750 cm^3 है। यदि छड़ की लंबाई 35 cm है, तो बेलनाकार छड़ के आधार की त्रिज्या (cm में) ज्ञात कीजिए। ($\pi = \frac{22}{7}$ लें)

- Ans
- ✓ 1. 5
 - ✗ 2. 4
 - ✗ 3. 5.5
 - ✗ 4. 5.4

Question ID : 65497831080
Status : Answered
Chosen Option : 1

Q.18 ₹1,25,000 की राशि का अर्द्धवार्षिक रूप से चक्रवृद्धि होने वाली निश्चित ब्याज दर पर डेढ़ वर्ष का चक्रवृद्धि ब्याज ₹15,608 होता है। उसी राशि का उसी ब्याज दर पर 3 वर्ष का साधारण ब्याज कितना होगा?

- Ans
- ✗ 1. ₹31,216
 - ✗ 2. ₹31,000
 - ✗ 3. ₹15,000
 - ✓ 4. ₹30,000

Question ID : 65497831057
Status : Answered
Chosen Option : 3

Q.19 $104 \div 39$ of $\frac{2}{3} + 1\frac{2}{5} \times 12\frac{1}{7} - \frac{3}{4}$ का मान ज्ञात करें।

- Ans
- ✗ 1. $10\frac{1}{4}$
 - ✗ 2. $25\frac{1}{4}$
 - ✓ 3. $20\frac{1}{4}$
 - ✗ 4. $30\frac{1}{4}$

Question ID : 65497831068
Status : Answered
Chosen Option : 3

Q.20 किसी आदमी ने ₹50 प्रति लीटर के मूल्य पर 30 लीटर दूध खरीदा। दूध मथने के लिए ₹15 खर्च करने के बाद, उसे 4 kg क्रीम और 30 लीटर टॉड दूध मिला। यदि उसने ₹300 प्रति किग्रा के मूल्य से क्रीम और ₹40 प्रति लीटर के मूल्य पर टॉड दूध बेचा, तो उसका लाभ प्रतिशत कितना है?

- Ans
- 1. 53.4457%
 - 2. 58.4158%
 - 3. 55.3456%
 - 4. 58.24565%

Question ID : 65497831071
Status : Not Answered
Chosen Option : --

Q.21 सुशांत और निशांत की वर्तमान आयु का अनुपात 9 : 13 है। 8 वर्ष पश्चात, यह अनुपात 11 : 15 हो जाएगा। निशांत की वर्तमान आयु क्या है?

- Ans
- 1. 52 वर्ष
 - 2. 48 वर्ष
 - 3. 50 वर्ष
 - 4. 54 वर्ष

Question ID : 65497831066
Status : Answered
Chosen Option : 1

Q.22 एक निश्चित धनराशि पर 10% वार्षिक ब्याज की दर से 3 वर्षों में प्राप्त चक्रवृद्धि ब्याज ₹1,324 है। समान धनराशि पर, समान दर से समान समय में प्राप्त साधारण ब्याज (₹ में) ज्ञात कीजिए।

- Ans
- 1. 1,200
 - 2. 1,380
 - 3. 1,080
 - 4. 1,150

Question ID : 65497831079
Status : Answered
Chosen Option : 1

Q.23 छह पुरुष किसी कार्य को 14 दिन में पूरा कर सकते हैं। उन्होंने काम शुरू किया और 5 दिनों के बाद, तीन पुरुष कार्य छोड़कर चले गए। शेष पुरुष कितने दिनों में कार्य पूरा करेंगे?

- Ans
- 1. 18 दिन
 - 2. 15 दिन
 - 3. 12 दिन
 - 4. 20 दिन

Question ID : 65497831075
Status : Not Answered
Chosen Option : --

Q.24 दो संख्याएँ 7 : 11 के अनुपात में हैं। उनका लघुत्तम समापवर्त्य (LCM) 385 है। उनमें से छोटी वाली संख्या क्या है?

- Ans
- 1. 35
 - 2. 28
 - 3. 42
 - 4. 21

Question ID : 65497831060
Status : Answered
Chosen Option : 1

Q.25 तीन संख्याओं a, b और c का औसत 63 है। यदि पहली संख्या 'a', संख्याओं b और c के योग की तीन-चौथाई है, तो पहली संख्या 'a' का मान कितना होगा?

- Ans
- 1. 71
 - 2. 18
 - 3. 81
 - 4. 63

Question ID : 65497831063
Status : Answered
Chosen Option : 3

Section : Part D English

Q.1 Select the most appropriate meaning of the given idiom.

Drag one's feet

- Ans
- 1. Do something deliberately at a slow pace
 - 2. Have a disability in the feet
 - 3. Be hurt badly on the foot
 - 4. Find it difficult to walk fast

Question ID : 65497831088
Status : Not Answered
Chosen Option : --

Q.2 Select the most appropriate option to fill in the blank.

Candidates who successfully complete the entrance test will be _____ for an interview next week.

- Ans
- 1. encouraged
 - 2. asked
 - 3. invited
 - 4. required

Question ID : 65497831090
Status : Not Answered
Chosen Option : --

Q.3 Select the most appropriate option to fill in the blank.

The thief was taken to the police station but the _____ revealed nothing.

- Ans
- 1. provocation
 - 2. interrogation
 - 3. objection
 - 4. discussion

Question ID : 65497831092
Status : Not Answered
Chosen Option : --

Q.4 Select the option that can be used as a one-word substitute for the given group of words.

One who has fixed opinions and beliefs

- Ans
- 1. Broad-minded
 - 2. Flexible
 - 3. Rigid
 - 4. Amiable

Question ID : 65497831083
Status : Not Answered
Chosen Option : --

Q.5 Select the most appropriate option that can substitute the underlined word in the given sentence.

'Angulimala' lived by training travellers and feared no one.

- Ans
- 1. disillusioning
 - 2. distilling
 - 3. plundering
 - 4. mischallenging

Question ID : 65497831086
Status : Not Answered
Chosen Option : --

Q.6 Select the option that can be used as a one-word substitute for the given group of words.

A person who physically attacks another

- Ans
- 1. Convict
 - 2. Culprit
 - 3. Scoundrel
 - 4. Assailant

Question ID : 65497831097
Status : Not Answered
Chosen Option : --

Q.7 Select the INCORRECTLY spelt word.

- Ans** 1. Thretened
 2. Thermometer
 3. Thanksgiving
 4. Throughout

Question ID : **65497831089**
Status : **Not Answered**
Chosen Option : --

Q.8 Select the most appropriate synonym of the given word.

Achieve

- Ans** 1. Accuse
 2. Adjoin
 3. Abduct
 4. Accomplish

Question ID : **65497831087**
Status : **Not Answered**
Chosen Option : --

Q.9 The following sentence has been split into four segments. Identify the segment that contains a grammatical error.

Millions of people / have been protected / from polio by a fluid / called as a vaccine.

- Ans** 1. have been protected
 2. called as a vaccine
 3. from polio by a fluid
 4. Millions of people

Question ID : **65497831095**
Status : **Not Answered**
Chosen Option : --

Q.10 Select the most appropriate synonym of the given word.

Retrieve

- Ans** 1. Remove
 2. Retain
 3. Rescue
 4. Recover

Question ID : **65497831096**
Status : **Not Answered**
Chosen Option : --

Q.11 Select the option that can be used as a one-word substitute for the given group of words.

Life history of a person written by someone else

- Ans
- 1. Autobiography
 - 2. Biography
 - 3. Biodata
 - 4. Resume

Question ID : 65497831091
Status : Not Answered
Chosen Option : --

Q.12 Select the most appropriate option that can substitute the underlined segment in the given sentence. If there is no need to substitute it, select 'No substitution required'.

The actor along with his new wife is expected shortly.

- Ans
- 1. No substitution required
 - 2. are being
 - 3. are expected
 - 4. has expected

Question ID : 65497831093
Status : Not Answered
Chosen Option : --

Q.13 Select the most appropriate ANTONYM of the given word.

Retreat

- Ans
- 1. Advance
 - 2. Push
 - 3. Promote
 - 4. Strengthen

Question ID : 65497831098
Status : Not Answered
Chosen Option : --

Q.14 The following sentence has been divided into parts. One of them may contain an error. Select the part that contains the error from the given options. If you don't find any error, mark 'No error' as your answer.

Do you mind / whether I use / your telephone?

- Ans
- 1. Do you mind
 - 2. your telephone
 - 3. No error
 - 4. whether I use

Question ID : 65497831081
Status : Not Answered
Chosen Option : --

Q.15 Select the INCORRECTLY spelt word.

- Ans
- 1. Buying
 - 2. Bouncing
 - 3. Boxing
 - 4. Begining

Question ID : 65497831084
Status : Not Answered
Chosen Option : --

Q.16 Select the most appropriate option to fill in the blank.

You should pay a little more attention to your _____.

- Ans
- 1. apportion
 - 2. apparition
 - 3. appearance
 - 4. apprehension

Question ID : 65497831094
Status : Not Answered
Chosen Option : --

Q.17 Select the most appropriate ANTONYM of the given word.

Never

- Ans
- 1. Always
 - 2. Rarely
 - 3. Sometimes
 - 4. Seldom

Question ID : 65497831082
Status : Not Answered
Chosen Option : --

Q.18 Select the option that will improve the underlined part of the given sentence. In case no improvement is needed, select 'No improvement required'.

Reading not only helps to pass the leisure hours as well as keeps you well informed.

- Ans
- 1. No improvement required
 - 2. along with
 - 3. but also
 - 4. and even

Question ID : 65497831099
Status : Not Answered
Chosen Option : --

Q.19 Select the most appropriate meaning of the given idiom.

Game is up

- Ans**
- 1. New scheme has been launched
 - 2. Game is over and winner declared
 - 3. Deception is at an end
 - 4. Plan has been executed

Question ID : **65497831100**
Status : **Not Answered**
Chosen Option : --

Q.20 The following sentence has been split into four segments. Identify the segment that contains a grammatical error.

The cat / drank the milk / before we / return home.

- Ans**
- 1. drank the milk
 - 2. return home
 - 3. The cat
 - 4. before we

Question ID : **65497831085**
Status : **Not Answered**
Chosen Option : --

Comprehension:

In the following passage, some words have been deleted. Read the passage carefully and select the most appropriate option to fill in each blank.

Life is not about making lists and trying to be one step (1) _____ of others. Stop being a workaholic. Take a (2) _____. Do whatever makes you feel happy and (3) _____. Most of all, spend time in the (4) _____ of nature to pick up some (5) _____ lessons.

SubQuestion No : 21

Q.21 Select the most appropriate option to fill in blank no.1.

- Ans**
- 1. forward
 - 2. away
 - 3. ahead
 - 4. front

Question ID : **65497831102**
Status : **Not Answered**
Chosen Option : --

Comprehension:

In the following passage, some words have been deleted. Read the passage carefully and select the most appropriate option to fill in each blank.

Life is not about making lists and trying to be one step (1) _____ of others. Stop being a workaholic. Take a (2) _____. Do whatever makes you feel happy and (3) _____. Most of all, spend time in the (4) _____ of nature to pick up some (5) _____ lessons.

SubQuestion No : 22

Q.22 Select the most appropriate option to fill in blank no.2.

- Ans
- 1. recess
 - 2. blow
 - 3. break
 - 4. gap

Question ID : 65497831103
Status : Not Answered
Chosen Option : --

Comprehension:

In the following passage, some words have been deleted. Read the passage carefully and select the most appropriate option to fill in each blank.

Life is not about making lists and trying to be one step (1) _____ of others. Stop being a workaholic. Take a (2) _____. Do whatever makes you feel happy and (3) _____. Most of all, spend time in the (4) _____ of nature to pick up some (5) _____ lessons.

SubQuestion No : 23

Q.23 Select the most appropriate option to fill in blank no.3.

- Ans
- 1. lenient
 - 2. patient
 - 3. casual
 - 4. relaxed

Question ID : 65497831104
Status : Not Answered
Chosen Option : --

Comprehension:

In the following passage, some words have been deleted. Read the passage carefully and select the most appropriate option to fill in each blank.

Life is not about making lists and trying to be one step (1) _____ of others. Stop being a workaholic. Take a (2) _____. Do whatever makes you feel happy and (3) _____. Most of all, spend time in the (4) _____ of nature to pick up some (5) _____ lessons.

SubQuestion No : 24

Q.24 Select the most appropriate option to fill in blank no.4.

- Ans
- 1. group
 - 2. crowd
 - 3. company
 - 4. gathering

Question ID : 65497831105
Status : Not Answered
Chosen Option : --

Comprehension:

In the following passage, some words have been deleted. Read the passage carefully and select the most appropriate option to fill in each blank.

Life is not about making lists and trying to be one step (1) _____ of others. Stop being a workaholic. Take a (2) _____. Do whatever makes you feel happy and (3) _____. Most of all, spend time in the (4) _____ of nature to pick up some (5) _____ lessons.

SubQuestion No : 25

Q.25 Select the most appropriate option to fill in blank no.5.

- Ans** 1. innumerable
 2. invaluable
 3. inevitable
 4. invisible

Question ID : 65497831106
Status : Not Answered
Chosen Option : --

Section : Part D Hindi

Q.1 रिक्त स्थान को भरने के लिए सबसे उपयुक्त शब्द का चयन करें।

परीक्षा के दिन तक उसने एक _____ नहीं पढ़ा था।

- Ans** 1. कहानी
 2. पुस्तक
 3. हिन्दी
 4. अक्षर

Question ID : 65497831115
Status : Answered
Chosen Option : 4

Q.2 दिए गए वाक्य का वह भाग ज्ञात करें जिसमें कोई त्रुटि है। यदि कोई त्रुटि नहीं है, तो 'कोई त्रुटि नहीं है' चुनें।

वहाँ (1)/ भारी-भरकम (2)/ भीड़ लगी थी। (3)/ कोई त्रुटि नहीं है। (4)

- Ans** 1. 3
 2. 2
 3. 4
 4. 1

Question ID : 65497831120
Status : Answered
Chosen Option : 2

Q.3 दिए गए शब्द का विलोम चुनें।

आदान

- Ans 1. प्रदान
 2. निदान
 3. स्वादन
 4. श्रमदान

Question ID : 65497831118
Status : Answered
Chosen Option : 1

Q.4 सही वर्तनी वाले शब्द का चयन करें।

- Ans 1. आधुनीकीकरण
 2. आधुनिकीकर्ण
 3. आधूनीकीकरण
 4. आधुनिकीकरण

Question ID : 65497831113
Status : Answered
Chosen Option : 4

Q.5 कौनसा शब्द 'मुर्गा' का समानार्थी शब्द नहीं है?

- Ans 1. ताम्रचूड़
 2. शिखी
 3. अरुणशिखा
 4. कुक्कट

Question ID : 65497831108
Status : Answered
Chosen Option : 3

Q.6 दिए गए वाक्य में रेखांकित खंड को प्रतिस्थापित करने के लिए सबसे उपयुक्त विकल्प का चयन करें।
यदि इसे प्रतिस्थापित करने की आवश्यकता नहीं है, तो विकल्प 'किसी बदलाव की आवश्यकता नहीं है'
का चयन करें।

घर में चोरी हो जाने से वह कंकाल हो गया।

- Ans 1. ककाल
 2. कंकाली
 3. किसी बदलाव की आवश्यकता नहीं है।
 4. कंगाल

Question ID : 65497831122
Status : Answered
Chosen Option : 4

Q.7 दिये गये वाक्यांश के लिए एक शब्द दीजिये।

सर से पैर तक

- Ans
- 1. सर्वांग
 - 2. आपादमस्तक
 - 3. संपूर्ण शरीर
 - 4. नख शिख

Question ID : 65497831119
Status : Answered
Chosen Option : 3

Q.8 दिए गए वाक्य का वह भाग ज्ञात करें जिसमें कोई त्रुटि है। यदि कोई त्रुटि नहीं है, तो 'कोई त्रुटि नहीं है' चुनें।

आपने मुझे (1)/ नौकरी दी (2)/ मैं आजीवन कृतज्ञ रहूँगा।(3)/ कोई त्रुटि नहीं है (4)

- Ans
- 1. 3
 - 2. 1
 - 3. 2
 - 4. 4

Question ID : 65497831107
Status : Answered
Chosen Option : 1

Q.9 दिए गए वाक्य का वह भाग ज्ञात करें जिसमें कोई त्रुटि है। यदि कोई त्रुटि नहीं है, तो 'कोई त्रुटि नहीं है' चुनें।

सारा राज्य (1) /उसके लिए (2)/ एक थाती थी। (3)/ कोई त्रुटि नहीं (4)

- Ans
- 1. 1
 - 2. 4
 - 3. 2
 - 4. 3

Question ID : 65497831117
Status : Answered
Chosen Option : 4

Q.10 रिक्त स्थान भरने के लिए सबसे उपयुक्त शब्द का चयन करें।

अपने धन पर इतना _____ ठीक नहीं।

- Ans
- 1. अभिमान
 - 2. अनुमान
 - 3. अवमानना
 - 4. अपमान

Question ID : 65497831112
Status : Answered
Chosen Option : 1

Q.11 कौनसा विलोम युग्म सुमेलित नहीं है?

- Ans 1. गरल-विरल
 2. कृपण-दाता
 3. कोप-कृपा
 4. गंभीर-अगंभीर

Question ID : 65497831109
Status : Answered
Chosen Option : 4

Q.12 'गंगा से उत्पन्न' वाक्यांश के लिए एक शब्द होगा-

- Ans 1. गंगोत्री
 2. गंगाधर
 3. गांगेय
 4. गंगाजल

Question ID : 65497831124
Status : Answered
Chosen Option : 2

Q.13 दिये गये वाक्य में रेखांकित अंश को प्रतिस्थापित करने के लिए सबसे उपयुक्त विकल्प का चयन करें।

दोनों में एक होड़ सा लगा है।

- Ans 1. होड़ सा लगी है।
 2. होड़ लगा है।
 3. होड़ सी लगी है।
 4. होड़ सी लगा है।

Question ID : 65497831123
Status : Answered
Chosen Option : 3

Q.14 रिक्त स्थान को भरने के लिए सबसे उपयुक्त विकल्प का चयन करें।

रोग ज्ञात होने पर उसका _____ किया जाता है।

- Ans 1. उपाय
 2. उपचार
 3. अंत
 4. समाधान

Question ID : 65497831126
Status : Answered
Chosen Option : 2

Q.15 दिए गए शब्द का समानार्थी शब्द चुनें।

अनिश्चित

- Ans
- 1. अहितकर
 - 2. अनिष्ट
 - 3. संदिग्ध
 - 4. अवज्ञा

Question ID : 65497831121
Status : Answered
Chosen Option : 3

Q.16 'मुँह पकड़ना' मुहावरे का सही अर्थ है-

- Ans
- 1. लज्जित होना
 - 2. अपहरण करना
 - 3. बोलने न देना
 - 4. प्यार जताना

Question ID : 65497831125
Status : Answered
Chosen Option : 3

Q.17 दिए गए वाक्य में रेखांकित खंड को प्रतिस्थापित करने के लिए सबसे उपयुक्त विकल्प का चयन करें।
यदि इसे प्रतिस्थापित करने की आवश्यकता नहीं है, तो विकल्प किसी बदलाव की आवश्यकता नहीं है'
का चयन करें।

अभी सात बजने को पांच मिनट बाकी है।

- Ans
- 1. किसी बदलाव की आवश्यकता नहीं है।
 - 2. सात बजने तक
 - 3. सात बजने में
 - 4. सात बजने पर

Question ID : 65497831116
Status : Answered
Chosen Option : 3

Q.18 कौनसे विकल्प में मुहावरा और उसका अर्थ सुमेलित नहीं है?

- Ans
- 1. तीन-तेरह होना – तय करना
 - 2. पौ बारह होना – अत्यधिक लाभ होना
 - 3. नानी मरना – होश न रहना
 - 4. तीन-पांच करना – हुज्जत करना

Question ID : 65497831110
Status : Answered
Chosen Option : 1

Q.19 सही वर्तनी वाले शब्द का चयन करें।

- Ans 1. अनिर्वचनीय
 2. अर्निवचनीय
 3. अनिरव्वनीय
 4. अनीर्वचनीय

Question ID : 65497831114
Status : Answered
Chosen Option : 1

Q.20 दिए गए वाक्यांश के लिए एक शब्द दीजिए।

व्याकरण जानने वाला

- Ans 1. चक्रपाणी
 2. वैयाकरण
 3. वीणापाणी
 4. पंडित

Question ID : 65497831111
Status : Answered
Chosen Option : 2

Comprehension:

दिए गए अनुच्छेद में कुछ शब्द हटा दिए गए हैं। दिए गए विकल्पों की सहायता से रिक्त स्थान भरें। प्रत्येक संख्या के लिए सबसे उपयुक्त विकल्प का चयन करें।

आज संसार के सामने, अनेक छोटी बड़ी (1) _____ हैं। प्रत्येक देश उनके (2) _____ के लिए प्रयास कर रहा है इनमें बढती हुई (3) _____ काफी गंभीर है इसके कारण (4) _____ की योजनायें (5) _____ होती जा रही हैं।

SubQuestion No : 21

Q.21 गद्यांश के रिक्त स्थान (1) के लिए सर्वाधिक उपयुक्त शब्द होगा-

- Ans 1. विविधताएं
 2. समस्याएं
 3. रचनायें
 4. विशेषताएं

Question ID : 65497831128
Status : Answered
Chosen Option : 2

Comprehension:

दिए गए अनुच्छेद में कुछ शब्द हटा दिए गए हैं। दिए गए विकल्पों की सहायता से रिक्त स्थान भरें। प्रत्येक संख्या के लिए सबसे उपयुक्त विकल्प का चयन करें।

आज संसार के सामने, अनेक छोटी बड़ी (1) _____ हैं। प्रत्येक देश उनके (2) _____ के लिए प्रयास कर रहा है इनमें बढ़ती हुई (3) _____ काफी गंभीर है इसके कारण (4) _____ की योजनायें (5) _____ होती जा रही हैं।

SubQuestion No : 22

Q.22 गद्यांश के रिक्त स्थान (2) के लिए सर्वाधिक उपयुक्त शब्द होगा-

- Ans** 1. समाधान
 2. प्रसार
 3. व्यवधान
 4. नादान

Question ID : 65497831129
Status : Answered
Chosen Option : 1

Comprehension:

दिए गए अनुच्छेद में कुछ शब्द हटा दिए गए हैं। दिए गए विकल्पों की सहायता से रिक्त स्थान भरें। प्रत्येक संख्या के लिए सबसे उपयुक्त विकल्प का चयन करें।

आज संसार के सामने, अनेक छोटी बड़ी (1) _____ हैं। प्रत्येक देश उनके (2) _____ के लिए प्रयास कर रहा है इनमें बढ़ती हुई (3) _____ काफी गंभीर है इसके कारण (4) _____ की योजनायें (5) _____ होती जा रही हैं।

SubQuestion No : 23

Q.23 गद्यांश के रिक्त स्थान (3) के लिए सर्वाधिक उपयुक्त शब्द होगा-

- Ans** 1. विविधता
 2. जनसंख्या
 3. संस्कृति
 4. समानता

Question ID : 65497831130
Status : Answered
Chosen Option : 2

Comprehension:

दिए गए अनुच्छेद में कुछ शब्द हटा दिए गए हैं। दिए गए विकल्पों की सहायता से रिक्त स्थान भरें। प्रत्येक संख्या के लिए सबसे उपयुक्त विकल्प का चयन करें।

आज संसार के सामने, अनेक छोटी बड़ी (1) _____ हैं। प्रत्येक देश उनके (2) _____ के लिए प्रयास कर रहा है इनमें बढ़ती हुई (3) _____ काफी गंभीर है इसके कारण (4) _____ की योजनायें (5) _____ होती जा रही हैं।

SubQuestion No : 24

Q.24 गद्यांश के रिक्त स्थान (4) के लिए सर्वाधिक उपयुक्त शब्द होगा-

- Ans** 1. प्रकाश
 2. विकास
 3. सायास
 4. उल्लास

Question ID : 65497831131
Status : Answered
Chosen Option : 2

Comprehension:

दिए गए अनुच्छेद में कुछ शब्द हटा दिए गए हैं। दिए गए विकल्पों की सहायता से रिक्त स्थान भरें। प्रत्येक संख्या के लिए सबसे उपयुक्त विकल्प का चयन करें।

आज संसार के सामने, अनेक छोटी बड़ी (1) _____ हैं। प्रत्येक देश उनके (2) _____ के लिए प्रयास कर रहा है इनमें बढ़ती हुई (3) _____ काफी गंभीर है इसके कारण (4) _____ की योजनायें (5) _____ होती जा रही हैं।

SubQuestion No : 25

Q.25 गद्यांश के रिक्त स्थान (5) के लिए सर्वाधिक उपयुक्त शब्द होगा-

- Ans**
- 1. पुरानी
 - 2. सफल
 - 3. विफल
 - 4. नयी

Question ID : 65497831132

Status : Answered

Chosen Option : 3

Constable GD in CAPFs NIA SSF and Rifleman GD in Assam Rifles Examination 2021

Roll Number	www.HaryanaJobs.in
Candidate Name	www.HaryanaJobs.in
Venue Name	ION Digital Zone iDZ 2 Mathura Road
Exam Date	09/12/2021
Exam Time :	9:00 AM - 10:30 AM
Subject	Constable GD 2021

Section : Part A General Intelligence and Reasoning

Q.1 दिए गए विकल्पों में से उस अक्षर-समूह का चयन करें जो निम्नलिखित श्रृंखला में प्रश्न चिह्न (?) के स्थान पर आ सकता है।

DMI, GNL, JOO, ?

- Ans
- 1. LPQ
 - 2. MPR
 - 3. NTS
 - 4. OQR

Question ID : 65497828470
Status : Answered
Chosen Option : 2

Q.2 उस विकल्प का चयन करें जो तीसरे अक्षर-समूह से ठीक उसी प्रकार से संबंधित है जैसे दूसरा अक्षर-समूह पहले अक्षर-समूह से संबंधित है।

SBQN : UEVU :: LRFH : ?

- Ans
- 1. NVLO
 - 2. NUKO
 - 3. OULO
 - 4. MVKO

Question ID : 65497828479
Status : Answered
Chosen Option : 2

Q.3 अक्षरों के उस संयोजन का चयन कीजिए, नीचे जिसे दी गई अक्षर श्रृंखला के रिक्त स्थानों में क्रमिक रूप से रखने पर श्रृंखला पूर्ण हो जाएगी।

D _ CT _ O _ TDOC _ DO _ T

- Ans
- 1. ODCTC
 - 2. ODCTD
 - 3. ODTTT
 - 4. TDCTC

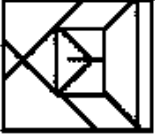
Question ID : 65497828467
Status : Answered
Chosen Option : 1

Q.4 उस विकल्प का चयन करें जिसमें दी गई आकृति अंतर्निहित है (घुमाने की अनुमति नहीं है)।

E

Ans

✗ 1.



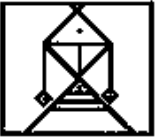
✓ 2.



✗ 3.



✗ 4.



Question ID : 65497828486

Status : Answered

Chosen Option : 2

Q.5 किसी निश्चित कूट भाषा में, TURTLE को RWPVJG के रूप में लिखा जाता है। उसी भाषा में OCTOPUS को किस रूप में लिखा जाएगा?

Ans

✗ 1. MEVMRSU

✗ 2. QARQNWQ

✗ 3. MERQMSU

✓ 4. MERQNWQ

Question ID : 65497828480

Status : Answered

Chosen Option : 4

Q.6 दिए गए विकल्पों में से उस संख्या का चयन कीजिए जो निम्न श्रृंखला में प्रश्न चिह्न (?) के स्थान पर आ सकती है।

25, 150, 145, 580, 577, ?

Ans

✗ 1. 1020

✗ 2. 980

✗ 3. 1731

✓ 4. 1154

Question ID : 65497828468

Status : Answered

Chosen Option : 3

Q.7 एक निश्चित कूट भाषा में, PLACARD को 29-3-23 लिखा जाता है, और DORMATS को 37-13-40 लिखा जाता है। उसी कूट भाषा में CONFUSE को किस प्रकार लिखा जाएगा?

- Ans
- 1. 30-6-44
 - 2. 35-6-42
 - 3. 32-7-40
 - 4. 32-6-45

Question ID : 65497828488
Status : Answered
Chosen Option : 4

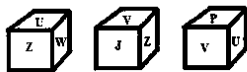
Q.8 उस आकृति का चयन कीजिए जो निम्न आकृति श्रृंखला में प्रश्नवाचक चिह्न (?) के स्थान पर आएगी।



- Ans
- 1.
 - 2.
 - 3.
 - 4.

Question ID : 65497828469
Status : Answered
Chosen Option : 4

Q.9 नीचे एक ही पासे की तीन भिन्न स्थितियाँ दी गई हैं। उस अक्षर का चयन करें जो 'Z' अक्षर वाले पृष्ठ के विपरीत पृष्ठ पर है।



- Ans
- 1. J
 - 2. V
 - 3. U
 - 4. P

Question ID : 65497828485
Status : Answered
Chosen Option : 4

Q.10 रंजन, रितेश के पिता हैं, जो सनी के नाना हैं। दक्षिता, रीमा की पुत्री है। शिखा, रीमा की सास है। रितेश, शिखा का इकलौता पुत्र है। पल्लवी, सनी की बहन है। दक्षिता का सनी से क्या संबंध है?

- Ans
- 1. चाची
 - 2. माँ
 - 3. बहन
 - 4. पुत्र

Question ID : 65497828481

Status : Answered

Chosen Option : 3

Q.11 निम्नांकित आकृतियों में एक कागज के टुकड़े को मोड़ने का क्रम और मुड़े हुए कागज को काटने की विधि दर्शाई गई है। यह कागज खोलने पर कैसा दिखेगा?



Ans

- 1.
- 2.
- 3.
- 4.

Question ID : 65497828478

Status : Answered

Chosen Option : 2

Q.12 उस विकल्प का चयन करें जो तीसरी संख्या से उसी प्रकार संबंधित है, जिस प्रकार दूसरी संख्या पहली संख्या से संबंधित है।

85 : 6 :: 97 : ?

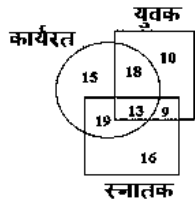
- Ans
- 1. 7
 - 2. 4
 - 3. 12
 - 4. 10

Question ID : 65497828483

Status : Answered

Chosen Option : 1

Q.13 दिए गए आरेख का ध्यानपूर्वक अध्ययन करें और नीचे दिए गए प्रश्न का उत्तर दें।



उन नियोजित (कार्यरत) युवकों की संख्या कितनी है जो स्नातक नहीं हैं?

- Ans
- 1. 15
 - 2. 19
 - 3. 18
 - 4. 10

Question ID : 65497828473
Status : Answered
Chosen Option : 3

Q.14 F, G, H, I और J एक पंक्ति में दक्षिण की ओर मुँह करके बैठे हैं, तथा R, S, T, U और V एक दूसरी पंक्ति में उत्तर की ओर मुँह करके बैठे हैं, जो पहली पंक्ति के समानांतर है। I, F के दाएँ दूसरा है, F, S के सामने है। H और S विकर्णतः एक-दूसरे के सामने हैं और अंतिम छोरों पर हैं। G, V के सामने हैं जो S के ठीक बाएँ है। T, जो V के बाएँ दूसरा है, J के सामने है। R पंक्ति के एक छोर पर है। निम्नलिखित में से कौन से युग्म एक-दूसरे के सामने हैं?

- Ans
- 1. HU, IV
 - 2. GS, FR
 - 3. JR, IT
 - 4. HR, IU

Question ID : 65497828482
Status : Not Answered
Chosen Option : --

Q.15 यदि '+' का अर्थ 'x', '-' का अर्थ '+', 'x' का अर्थ '-' और '-' का अर्थ '-' है, तो निम्नलिखित व्यंजक का मान क्या होगा?

$$47 + 12 \div 288 \times 18$$

- Ans
- 1. 470
 - 2. 454
 - 3. 548
 - 4. 47.75

Question ID : 65497828484
Status : Answered
Chosen Option : 3

Q.16 दिए गए पैटर्न का ध्यानपूर्वक अध्ययन करें और उस संख्या का चयन करें जो इसमें प्रश्न चिह्न (?) के स्थान पर आ सकती है।

- 125 5 3
- 128 ? 7
- 121 11 2

- Ans
- 1. 8
 - 2. 2
 - 3. 4
 - 4. 6

Question ID : 65497828476
Status : Answered
Chosen Option : 2

Q.17 एक निश्चित कूट भाषा में, KINGDOM को LKPHFQN के रूप में लिखा जाता है। उसी भाषा में TRIVIAL को किस रूप में लिखा जाएगा?

- Ans
- 1. UTLWKCM
 - 2. UTKWKCM
 - 3. UTLWKBM
 - 4. UTLWLBM

Question ID : 65497828474
Status : Answered
Chosen Option : 2

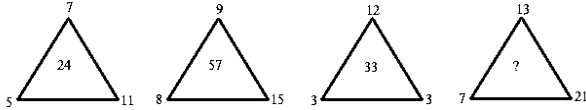
Q.18 दिए गए विकल्पों में से उस विकल्प का चयन कीजिए जो निम्न शब्दों के सही क्रम को अंग्रेजी शब्दकोश के अनुसार को व्यक्त करता है।

- 1. Target
- 2. Tarnish
- 3. Tarot
- 4. Tamarind
- 5. Tenacity

- Ans
- 1. 4, 1, 2, 3, 5
 - 2. 4, 1, 2, 5, 3
 - 3. 2, 1, 4, 3, 5
 - 4. 1, 4, 2, 3, 5

Question ID : 65497828466
Status : Answered
Chosen Option : 1

Q.19 दिए गए पैटर्न का ध्यानपूर्वक अध्ययन करें और उस संख्या का चयन करें जो इसमें प्रश्न चिह्न (?) के स्थान पर आ सकती है।



- Ans
- 1. 58
 - 2. 70
 - 3. 62
 - 4. 68

Question ID : 65497828477
Status : Answered
Chosen Option : 4

Q.20 यदि दर्पण को संयोजन के दाईं ओर रखा गया हो, तो दिए गए संयोजन के सही दर्पण प्रतिबिंब का चयन करें।

5 4 R Q X Z

- Ans
- 1. 2 4 R Q X Z
 - 2. 2 4 R Q X Z
 - 3. Z X Q R 4 5
 - 4. 5 4 R Q X Z

Question ID : 65497828490
Status : Answered
Chosen Option : 2

Q.21 उस विकल्प का चयन करें जो तीसरे शब्द से उसी प्रकार संबंधित है जिस प्रकार दूसरा शब्द पहले शब्द से संबंधित है।

बहादुर : साहसी :: बेवकूफ़ : ?

- Ans
- 1. बुद्धिमान
 - 2. समझदार
 - 3. डरपोक
 - 4. उन्मादी

Question ID : 65497828471
Status : Answered
Chosen Option : 4

Q.22 छः दोस्त, प्रिया, अरुण, वंश, रजत, भावना और मंजू एक वृत्ताकार मेज़ के चारों ओर मेज़ के केंद्र की विपरीत दिशा में मुंह करके बैठे हैं। वंश, रजत के दाईं ओर दूसरे स्थान पर बैठा है। अरुण और प्रिया रजत के पड़ोसी नहीं हैं। मंजू, रजत और अरुण के बीच बैठी है। वंश और रजत के बीच कौन बैठा/बैठी है?

- Ans
- 1. मंजू
 - 2. भावना
 - 3. अरुण
 - 4. प्रिया

Question ID : 65497828472
Status : Answered
Chosen Option : 2

Q.23 दिए गए कथनों और निष्कर्षों को ध्यानपूर्वक पढ़ें। यह मानते हुए कि कथनों में दी गई सूचना सत्य है, भले ही वह सामान्य रूप से ज्ञात तथ्यों से भिन्न प्रतीत होती हो, बताइए कि दिए गए निष्कर्षों में से कौन सा / कौन से निष्कर्ष कथनों का तार्किक रूप से अनुसरण करता है / करते हैं।

कथन:
सभी कपड़े, फूल हैं।
कुछ फूल, सब्जियाँ हैं।

निष्कर्ष:
कुछ फूल, कपड़े हैं।
कुछ सब्जियाँ, फूल हैं।

- Ans
- 1. निष्कर्ष I और II दोनों अनुसरण करते हैं।
 - 2. केवल निष्कर्ष I अनुसरण करता है।
 - 3. दोनों में से कोई भी निष्कर्ष अनुसरण करता है।
 - 4. केवल निष्कर्ष II अनुसरण करता है।

Question ID : 65497828475
Status : Answered
Chosen Option : 1

Q.24 दिए गए विकल्पों में से उस संख्या का चयन कीजिए, जो निम्नलिखित श्रेणी में प्रश्नवाचक चिन्ह (?) के स्थान पर आ सकती है।

23, 23, 46, 138, 552, ?

- Ans
- 1. 2760
 - 2. 2850
 - 3. 2650
 - 4. 2520

Question ID : 65497828489
Status : Not Answered
Chosen Option : --

Q.25 चार अक्षर-समूह दिए गए हैं, जिनमें से तीन किसी तरह से संगत हैं और एक असंगत है। उस अक्षर-समूह का चयन करें, जो अन्य से असंगत है।

- Ans 1. GAH
 2. MTA
 3. VCJ
 4. DKR

Question ID : 65497828487
Status : Answered
Chosen Option : 1

Section : Part B General Knowledge and General Awareness

Q.1 लोहा और इस्पात उद्योगों के संदर्भ में, शहरों और राज्यों का निम्नलिखित में से कौन सा युग्म सही है?

- Ans 1. दुर्गापुर - असम
 2. बोकारो - बिहार
 3. भिलाई - छत्तीसगढ़
 4. राउरकेला - कर्नाटक

Question ID : 65497828496
Status : Marked For Review
Chosen Option : 3

Q.2 Which of the following metals is susceptible to fire if kept in the open?

- Ans 1. Potassium
 2. Lithium
 3. Mercury
 4. Lead

Question ID : 65497828508
Status : Not Answered
Chosen Option : --

Q.3 भारतीय संविधान का चौहत्तरवां संशोधन अधिनियम, 1992 निम्न में से किससे संबंधित है?

- Ans 1. नगर पालिकाओं
 2. आपातकालीन प्रावधान
 3. नागरिकता
 4. मौलिक कर्तव्य

Question ID : 65497828503
Status : Answered
Chosen Option : 1

Q.4 महाजन कमीशन रिपोर्ट 2020 का संबंध निम्न में से किन राज्यों के सीमा विवाद से है?

- Ans
- 1. कर्नाटक, केरल और महाराष्ट्र
 - 2. ओडिशा, तेलंगाना और आंध्र प्रदेश
 - 3. असम, नागालैंड और मिज़ोरम
 - 4. केरल, तमिलनाडु और कर्नाटक

Question ID : 65497828504
Status : Not Answered
Chosen Option : --

Q.5 गुजरात के अलावा, विवाहित महिलाओं द्वारा की जाने वाली जिविती (जिव्ती/जीवति) पूजा, मुख्य रूप से _____ राज्य/केंद्र शासित प्रदेश में की जाती है।

- Ans
- 1. जम्मू और कश्मीर
 - 2. नागालैंड
 - 3. महाराष्ट्र
 - 4. बिहार

Question ID : 65497828507
Status : Not Attempted and Marked For Review
Chosen Option : --

Q.6 निम्नलिखित में से किस शासक ने 'दीन-ए-इलाही' नाम से एक नई जीवन शैली/धर्म की शुरुआत की?

- Ans
- 1. बहादुर शाह द्वितीय
 - 2. जहांगीर
 - 3. अकबर
 - 4. शाहजहाँ

Question ID : 65497828493
Status : Answered
Chosen Option : 3

Q.7 हृदय के एक चक्र (एक कार्डियक सायकल) में मछली के हृदय से रक्त कितनी बार गुजरता है?

- Ans
- 1. एक बार
 - 2. चार बार
 - 3. तीन बार
 - 4. दो बार

Question ID : 65497828509
Status : Marked For Review
Chosen Option : 2

Q.8 निम्न में से किसका संबंध तीसरे आंग्ल मैसूर युद्ध और भारत में लोक सेवाओं की शुरूआत से है?

- Ans
- 1. लॉर्ड विलियम बेन
 - 2. लॉर्ड वैलेज़ली
 - 3. लॉर्ड कार्नवालिस
 - 4. लॉर्ड हेस्टिंग्स

Question ID : 65497828500
Status : Answered
Chosen Option : 3

Q.9 मौर्य वंश ने निम्न में से किस राजवंश के बाद मगध पर शासन किया था?

- Ans
- 1. नंद राजवंश
 - 2. शुंग राजवंश
 - 3. गुप्त राजवंश
 - 4. कुषाण राजवंश

Question ID : 65497828502
Status : Not Attempted and Marked For Review
Chosen Option : --

Q.10 अगस्त 2021 में भारतीय रिज़र्व बैंक द्वारा जारी एक परिपत्र के अनुसार, 1 अक्टूबर 2021 के बाद से, एक महीने में कुल _____ घंटे की अवधि तक एटीएम (ATM) में नकदी नहीं होने की स्थिति में बैंकों पर ₹10,000 प्रति एटीएम (ATM) का जुर्माना लगाया जाएगा।

- Ans
- 1. 24
 - 2. 10
 - 3. 18
 - 4. 12

Question ID : 65497828515
Status : Not Answered
Chosen Option : --

Q.11 2020 के पुर्तगाली ग्रैंड प्रिक्स में, निम्नलिखित में से किसने अपनी 92वीं जीत के साथ, फॉर्मूला वन का रिकॉर्ड बनाकर माइकल शूमाकर को पछाड़ा और सूची में शीर्ष स्थान प्राप्त किया?

- Ans
- 1. चार्ल्स लेक्लेर्क
 - 2. लुईस हैमिल्टन
 - 3. सेबस्टियन वेट्टेल
 - 4. मैक्स वेरस्टैपेन

Question ID : 65497828506
Status : Answered
Chosen Option : 2

Q.12 _____ गोवा की पहली महिला राज्यपाल थीं।

- Ans
- 1. पद्मजा नायडू
 - 2. मृदुला सिन्हा
 - 3. कुमुदबेन जोशी
 - 4. सरला प्रेवाल

Question ID : 65497828510

Status : Not Attempted and
Marked For Review

Chosen Option : --

Q.13 Amoeba pushes out one or more finger-like projections called _____ or false feet for movement and capture of food.

- Ans
- 1. contractile vacuoles
 - 2. food vacuoles
 - 3. endoplasm
 - 4. pseudopodia

Question ID : 65497828492

Status : Not Answered

Chosen Option : --

Q.14 वीडियो सहायक रेफरी (VAR) प्रणाली का उपयोग _____ के खेल में किया जाता है।

- Ans
- 1. बास्केटबॉल
 - 2. क्रिकेट
 - 3. हॉकी
 - 4. फुटबॉल

Question ID : 65497828491

Status : Answered

Chosen Option : 2

Q.15 'शांताराम (Shantaram)' निम्न में से किस लेखक द्वारा रचित उपन्यास है?

- Ans
- 1. ग्रेगरी डेविड रॉबर्ट्स
 - 2. अमिताव घोष
 - 3. चेतन भगत
 - 4. सलमान रुश्दी

Question ID : 65497828513

Status : Not Answered

Chosen Option : --

Q.16 भारत के प्रथम और एकमात्र निजी जेट टर्मिनल का उद्घाटन 17 सितंबर, 2020 को कहां किया गया?

- Ans
- 1. दिल्ली
 - 2. चेन्नई
 - 3. गोवा
 - 4. मुंबई

Question ID : 65497828494
Status : Not Answered
Chosen Option : --

Q.17 'महामघम (Mahamagham)' उत्सव प्रत्येक 12 वर्ष में एक बार _____ में मनाया जाता है।

- Ans
- 1. नागालैंड
 - 2. बिहार
 - 3. गोवा
 - 4. तमिलनाडु

Question ID : 65497828511
Status : Not Answered
Chosen Option : --

Q.18 1991-92 में पहला _____ विश्वनाथन आनंद को प्रदान किया गया था।

- Ans
- 1. एकलव्य पुरस्कार
 - 2. द्रोणाचार्य पुरस्कार
 - 3. अर्जुन पुरस्कार
 - 4. राजीव गांधी खेल रत्न पुरस्कार

Question ID : 65497828514
Status : Answered
Chosen Option : 4

Q.19 निम्न में से किसे 'तरल आस्तियों' तथा 'मांग एवं आवधिक देयताओं' के अनुपात के रूप में परिभाषित किया जाता है?

- Ans
- 1. सांविधिक चलनिधि अनुपात
 - 2. नकदी कर्ज अनुपात
 - 3. आरक्षित नकदी निधि अनुपात
 - 4. आस्ति देयता अनुपात

Question ID : 65497828495
Status : Not Answered
Chosen Option : --

Q.20 नवंबर 2020 में, मूडीज इन्वेस्टर्स सर्विस द्वारा जारी आकलन के अनुसार वित्तीय वर्ष 2021 में भारत की जी.डी.पी. (GDP) कितनी रहने का अनुमान है?

- Ans
- 1. -9.6%
 - 2. -11.6%
 - 3. -8.6%
 - 4. -10.6%

Question ID : 65497828499
Status : Marked For Review
Chosen Option : 1

Q.21 दिसंबर 2020 में, आईआईटी (IIT) _____ के शोधकर्ताओं ने सिद्ध किया है कि कैसे इकाई जालक में एक सूक्ष्म-संरचित रेत की घड़ी (hour-glass) की आकृति वाले मेटास्ट्रक्चर (metastructure) के उपयोग के साथ, फैलाव और रुकाव बन्ध की व्यापक विविधता प्राप्त की जा सकती है?

- Ans
- 1. दिल्ली
 - 2. खड़गपुर
 - 3. रोपड़
 - 4. कानपुर

Question ID : 65497828498
Status : Not Attempted and Marked For Review
Chosen Option : --

Q.22 संयुक्त राष्ट्र के खाद्य और कृषि संगठन (FAO) ने वर्ष _____ में कोरापुट पारंपरिक कृषि को 'वैश्विक रूप से महत्वपूर्ण कृषि विरासत प्रणाली' (GIAHS) के रूप में घोषित किया।

- Ans
- 1. 2014
 - 2. 2012
 - 3. 2011
 - 4. 2013

Question ID : 65497828512
Status : Not Answered
Chosen Option : --

Q.23 1992 के 73 वें संशोधन अधिनियम ने संविधान में एक नया खंड _____ जोड़कर पंचायतों को संवैधानिक मान्यता प्रदान की।

- Ans
- 1. IX
 - 2. X
 - 3. XI
 - 4. XII

Question ID : 65497828497
Status : Answered
Chosen Option : 3

Q.24 लॉर्ड रिपन द्वारा हंटर कमीशन की नियुक्ति किस वर्ष में की गई थी?

- Ans
- 1. 1883
 - 2. 1881
 - 3. 1880
 - 4. 1882

Question ID : 65497828501
Status : Answered
Chosen Option : 4

Q.25 Which of the following statements is NOT a feature of 'soil'?

- Ans
- 1. It is made up of inorganic matter.
 - 2. It is made up of minerals.
 - 3. It covers the surface of the earth.
 - 4. It is a thin layer of grainy substance.

Question ID : 65497828505
Status : Not Answered
Chosen Option : --

Section : Part C Elementary Mathematics

Q.1 यदि एक आयत, जिसका क्षेत्रफल 154 cm^2 है, की भुजाओं में 3 cm का अंतर है, तो लंबी भुजा की लंबाई (cm में) ज्ञात कीजिए।

- Ans
- 1. 14
 - 2. 15
 - 3. 12.5
 - 4. 14.5

Question ID : 65497828540
Status : Not Answered
Chosen Option : --

Q.2 दो शहरों के बीच की दूरी 55 km/h की चाल से 8 h में तय की जाती है। यदि चाल को 25 km/h बढ़ा दें, तो कितने समय (घंटे और मिनट में) की बचत होगी?

- Ans
- 1. 2 h 30 min
 - 2. 3 h 30 min
 - 3. 3 h 50 min
 - 4. 2 h 50 min

Question ID : 65497828519
Status : Answered
Chosen Option : 2

Q.3 बट्टी को अपना स्कूटर ₹17,000 में बेचने पर 15% की हानि होती है। 18% लाभ अर्जित करने के लिए उसे यह स्कूटर किस मूल्य पर (₹में) बेचना चाहिए?

- Ans
- 1. 23,900
 - 2. 23,600
 - 3. 24,200
 - 4. 22,400

Question ID : 65497828532
Status : Answered
Chosen Option : 2

Q.4 ₹15,500 की राशि पर साधारण ब्याज की एक निश्चित वार्षिक प्रतिशत दर से $3\frac{1}{2}$ वर्षों में प्राप्त मिश्रधन ₹19,189 है। उसी राशि पर $6\frac{2}{3}$ वर्षों में समान दर से प्राप्त साधारण ब्याज (निकटतम ₹में) कितना होगा?

- Ans
- 1. ₹7,027
 - 2. ₹7,012
 - 3. ₹8,057
 - 4. ₹8,060

Question ID : 65497828536
Status : Not Answered
Chosen Option : --

Q.5 एक वस्तु पर निर्माता 12% का लाभ कमाता है, थोक विक्रेता 10% का लाभ कमाता है, और खुदरा विक्रेता 15% का लाभ कमाता है। यदि वस्तु का खुदरा विक्रय मूल्य ₹56,672 है, तो निर्माता के लिए उस वस्तु का लागत मूल्य ज्ञात करें।

- Ans
- 1. ₹40,000
 - 2. ₹32,000
 - 3. ₹35,000
 - 4. ₹28,000

Question ID : 65497828530
Status : Not Attempted and Marked For Review
Chosen Option : --

Q.6 तीन अंकों की बड़ी से बड़ी संख्या को 3, 4, 6, 15 और 20 से विभाजित करने पर प्रत्येक स्थिति में शेषफल 1 प्राप्त होता है। उस संख्या के अंकों का योग क्या होगा?

- Ans
- 1. 10
 - 2. 15
 - 3. 16
 - 4. 13

Question ID : 65497828533
Status : Answered
Chosen Option : 3

Q.7 एक वस्तु का क्रय मूल्य ₹1,545 है, जो अंकित मूल्य से 25% कम है। यदि वस्तु को 18% की छूट पर बेचा जाता है, तो इस लेनदेन में लाभ प्रतिशत कितना होगा?

- Ans
- 1. 9.67
 - 2. 13.33
 - 3. 9.33
 - 4. 13.67

Question ID : 65497828537
Status : Answered
Chosen Option : 3

Q.8 सात विषम क्रमिक (आरोही क्रम) संख्याओं का औसत 79 है। इनमें से पहली पांच संख्याओं का औसत क्या होगा?

- Ans
- 1. 77
 - 2. 75
 - 3. 78
 - 4. 76

Question ID : 65497828534
Status : Not Answered
Chosen Option : --

Q.9 2, 4, 6 के चतुर्थांशपाती (fourth proportional) और 4, 8 के तृतीयानुपाती (third proportional) का अनुपात ज्ञात कीजिए।

- Ans
- 1. 3 : 4
 - 2. 5 : 9
 - 3. 6 : 11
 - 4. 4 : 3

Question ID : 65497828538
Status : Not Answered
Chosen Option : --

Q.10 एक बैग में केवल ₹1, ₹2 और ₹5 के मूल्यवर्गों के सिक्के 12 : 5 : 3 के अनुपात में हैं। यदि बैग में कुल राशि ₹3,626 है, तो बैग में ₹5 के सिक्कों की संख्या कितनी है?

- Ans
- 1. 294
 - 2. 291
 - 3. 285
 - 4. 297

Question ID : 65497828535
Status : Not Answered
Chosen Option : --

Q.11 64 cm × 36 cm × 44 cm की भुजाओं वाले एक ठोस धात्विक घनाभ को पिघलाया जाता है और इस पदार्थ से, 12 cm की त्रिज्या वाली ठोस गेंदें बनाई जाती हैं। गेंदों की संख्या कितनी होगी? ($\pi = \frac{22}{7}$ लें)

- Ans
- ✓ 1. 14
 - ✗ 2. 15
 - ✗ 3. 10
 - ✗ 4. 12

Question ID : 65497828521
Status : Not Answered
Chosen Option : --

Q.12 A और B मिलकर एक काम को 6 दिनों में पूरा कर सकते हैं। B और C मिलकर उसी काम को 10 दिनों में पूरा कर सकते हैं। A, B और C एक साथ मिलकर उसी काम को 5 दिनों में पूरा कर सकते हैं। A और C एक साथ मिलकर उसी काम को कितने दिनों में पूरा कर सकते हैं?

- Ans
- ✗ 1. 8 दिन
 - ✗ 2. $8\frac{1}{2}$ दिन
 - ✓ 3. $7\frac{1}{2}$ दिन
 - ✗ 4. 7 दिन

Question ID : 65497828525
Status : Answered
Chosen Option : 3

Q.13 सचिन को 35 km चलने में प्रेम से 50 min अधिक समय लगता है। लेकिन यदि सचिन अपनी चाल दोगुनी कर देता है, तो वह प्रेम से $1\frac{1}{2}$ घंटा आगे हो जाता है। सचिन की चाल कितनी है?

- Ans
- ✓ 1. $7\frac{1}{2}$ km/h
 - ✗ 2. 7 km/h
 - ✗ 3. 8 km/h
 - ✗ 4. $8\frac{1}{2}$ km/h

Question ID : 65497828526
Status : Not Answered
Chosen Option : --

Q.14 छह अंकों की वह सबसे बड़ी संख्या कौन सी है जो 42, 44, 26, 39 और 40 से विभाज्य है?

- Ans
- ✓ 1. 960960
 - ✗ 2. 960945
 - ✗ 3. 960958
 - ✗ 4. 960954

Question ID : 65497828527
Status : Not Answered
Chosen Option : --

Q.15 दो पार्टियों ने चुनाव में हिस्सा लिया। पार्टी D ने पार्टी R द्वारा प्राप्त कुल मतों से 12% अधिक मत प्राप्त किए। यदि पार्टी R को 176000 वोट मिले, तो वह कितने मत से चुनाव में पराजित हुई?

- Ans
- ✗ 1. 62000
 - ✗ 2. 24000
 - ✓ 3. 48000
 - ✗ 4. 40000

Question ID : 65497828528
Status : Answered
Chosen Option : 2

Q.16 यदि राहुल के वेतन में से 60% कर की कटौती की जाती है, तो उसे कर के रूप में ₹12,800 का भुगतान करना होता है। राहुल द्वारा भुगतान किया जाने वाला कुल कर कितना है?

- Ans
- ✓ 1. ₹32,000
 - ✗ 2. ₹30,000
 - ✗ 3. ₹35,000
 - ✗ 4. ₹28,000

Question ID : 65497828524
Status : Not Answered
Chosen Option : --

Q.17 नौ छात्रे ₹800 में खरीदे गए और 7 छात्रों को ₹800 में बेच दिया गया। लाभ प्रतिशत (दशमलव के दो अंकों तक सही) क्या है?

- Ans
- ✗ 1. 20
 - ✗ 2. 28
 - ✗ 3. 26.5
 - ✓ 4. 28.57

Question ID : 65497828516
Status : Not Answered
Chosen Option : --

Q.18 गेहूँ और चावल के बाजार मूल्य का अनुपात 3 : 8 है और एक परिवार में गेहूँ और चावल की खपत की गई मात्रा का अनुपात 4 : 9 है। गेहूँ और चावल पर खर्च का अनुपात क्या है?

- Ans
- 1. 6 : 1
 - 2. 2 : 3
 - 3. 3 : 2
 - 4. 1 : 6

Question ID : 65497828520
Status : Answered
Chosen Option : 3

Q.19 किसी विशिष्ट शहर की आबादी 5,00,000 है। यदि वार्षिक जन्म दर 5% और वार्षिक मृत्यु दर 1% है, तो 3 वर्ष बाद शहर की आबादी कितनी होगी?

- Ans
- 1. 5,95,502
 - 2. 5,62,432
 - 3. 4,44,498
 - 4. 4,42,368

Question ID : 65497828517
Status : Not Answered
Chosen Option : --

Q.20 मधु और शाइनी एक कार्य को 20 दिनों में पूरा कर सकती हैं, शाइनी और रोजी उसी कार्य को 12 दिनों में पूरा कर सकती हैं, तथा रोजी और मधु इसी कार्य को 15 दिनों में पूरा कर सकती हैं। वे सब एक साथ मिलकर इस कार्य को कितने दिनों में पूरा करेंगी?

- Ans
- 1. 12 दिन
 - 2. 4 दिन
 - 3. 10 दिन
 - 4. 8 दिन

Question ID : 65497828531
Status : Answered
Chosen Option : 3

Q.21 एक कुर्सी का क्रय मूल्य ₹450 है। रवि ₹3,825 में 10 कुर्सियाँ खरीदता है। 10 कुर्सियाँ खरीदने पर उसे मिलने वाला छूट प्रतिशत कितना है?

- Ans
- 1. 15%
 - 2. 8%
 - 3. 10%
 - 4. 12%

Question ID : 65497828523
Status : Answered
Chosen Option : 1

Q.22 यदि A, B का एक-तिहाई है, B, C का दोगुना है, D, A का दो-तिहाई है और A, B, C और D का औसत 74 है, तो A और C के बीच कितना अंतर है?

- Ans
- 1. 28
 - 2. 26
 - 3. 24
 - 4. 32

Question ID : 65497828522
Status : Not Answered
Chosen Option : --

Q.23 $25 - [20 - \{10 - (7 - 2)\}]$ का मान ज्ञात करें।

- Ans
- 1. 7
 - 2. 12
 - 3. 10
 - 4. 8

Question ID : 65497828529
Status : Answered
Chosen Option : 3

Q.24 ₹1,40,000 की धनराशि पर अर्जित 8% ब्याज का उपयोग स्कूल में प्रतिवर्ष समान धनराशि वाली 20 छात्रवृत्तियाँ प्रदान करने के लिए किया जाता है। प्रत्येक छात्रवृत्ति की धनराशि (₹ में) कितनी है?

- Ans
- 1. 660
 - 2. 560
 - 3. 700
 - 4. 600

Question ID : 65497828539
Status : Not Answered
Chosen Option : --

Q.25 निम्नलिखित का मान कितना है?

$$\frac{18 \times 4 \div 2 \text{ of } 3 - 4}{2 \times (9 - 7) + 1 - 2 \times 3 \div 4 \text{ of } \frac{1}{2}}$$

- Ans
- 1. $\frac{1}{6}$
 - 2. $\frac{1}{2}$
 - 3. 4
 - 4. 6

Question ID : 65497828518
Status : Not Answered
Chosen Option : --

Section : Part D English

Q.1 Select the option that can be used as a one-word substitute for the given group of words.

Relating to a festival

- Ans
- 1. Frenzy
 - 2. Festoon
 - 3. Festal
 - 4. Fulvous

Question ID : 65497828543
Status : Not Answered
Chosen Option : --

Q.2 Select the most appropriate synonym of the given word.

Choosy

- Ans
- 1. Precious
 - 2. Picky
 - 3. Critical
 - 4. Boring

Question ID : 65497828558
Status : Not Answered
Chosen Option : --

Q.3 Select the option that will improve the underlined part of the given sentence. In case no improvement is needed, select 'No improvement required'.

Which planet is most closer to the sun?

- Ans
- 1. the closest
 - 2. most close
 - 3. No improvement required
 - 4. more close

Question ID : 65497828549
Status : Not Answered
Chosen Option : --

Q.4 Select the most appropriate ANTONYM of the given word.

Allure

- Ans
- 1. Charm
 - 2. Repulsion
 - 3. Appeal
 - 4. Magic

Question ID : 65497828548
Status : Not Answered
Chosen Option : --

Q.5 Select the option that can be used as a one-word substitute for the given group of words.

One who treats female ailments

- Ans
- 1. Chiropodist
 - 2. Psychiatrist
 - 3. Gynaecologist
 - 4. Neurologist

Question ID : 65497828545
Status : Not Answered
Chosen Option : --

Q.6 Select the most appropriate meaning of the given idiom.

Dig up dirt on someone

- Ans
- 1. Bury the dead in the ground
 - 2. Discover damaging information about someone
 - 3. Take revenge on somebody
 - 4. Protest against someone

Question ID : 65497828560
Status : Not Answered
Chosen Option : --

Q.7 Select the most appropriate option that can substitute the underlined segment in the given sentence. If there is no need to substitute it, select 'No substitution required'.

Kolkata is a capital of the Indian state of West Bengal.

- Ans**
- 1. was a capital of the
 - 2. is the capital of the
 - 3. No substitution required
 - 4. is a capital of a

Question ID : 65497828553
Status : Not Answered
Chosen Option : --

Q.8 The following sentence has been split into four segments. Identify the segment that contains a grammatical error.

Here into / the main campus of the hospital / comes the trained doctors / led by the Principal.

- Ans**
- 1. the main campus of the hospital
 - 2. comes the trained doctors
 - 3. Here into
 - 4. led by the Principal

Question ID : 65497828541
Status : Not Answered
Chosen Option : --

Q.9 Select the correctly spelt word.

- Ans**
- 1. Confeguration
 - 2. Confeguration
 - 3. Configuration
 - 4. Configuretiun

Question ID : 65497828544
Status : Not Answered
Chosen Option : --

Q.10 Select the option that can be used as a one-word substitute for the given group of words.

Belonging to very distant past and no longer in existence

- Ans**
- 1. Aged
 - 2. Old-fashioned
 - 3. Ancient
 - 4. Historic

Question ID : 65497828559
Status : Not Answered
Chosen Option : --

Q.11 Select the INCORRECTLY spelt word.

- Ans 1. Capillary
 2. Auxillary
 3. Corollary
 4. Ancillary

Question ID : 65497828555
Status : Not Answered
Chosen Option : --

Q.12 Select the most appropriate option that can substitute the underlined segment in the given sentence. If there is no need to substitute it, select 'No substitution required'.

Work hard lest you should not fail.

- Ans 1. lest you shall fail
 2. lest you will fail
 3. No substitution required
 4. lest you should fail

Question ID : 65497828552
Status : Not Answered
Chosen Option : --

Q.13 The following sentence has been split into four segments. Identify the segment that contains a grammatical error.

One or the other / of those men have / stolen my / grandfather's umbrella.

- Ans 1. One or the other
 2. of those men have
 3. grandfather's umbrella
 4. stolen my

Question ID : 65497828546
Status : Not Answered
Chosen Option : --

Q.14 Select the most appropriate option to fill in the blank.

She _____ her breath, surprised by the suddenness of the question.

- Ans 1. gasped
 2. caught
 3. shook
 4. clicked

Question ID : 65497828556
Status : Not Answered
Chosen Option : --

Q.15 The following sentence has been split into four segments. Identify the segment that contains a grammatical error.

The music / blared out / and was impossible / to have a conversation.

- Ans** 1. and was impossible
 2. The music
 3. to have a conversation
 4. blared out

Question ID : 65497828557
Status : Not Answered
Chosen Option : --

Q.16 Select the most appropriate option to fill in the blank.

Last week, I saw a TV programme about the _____ of global warming on agriculture.

- Ans** 1. impact
 2. relief
 3. import
 4. shock

Question ID : 65497828554
Status : Not Answered
Chosen Option : --

Q.17 Select the most appropriate synonym of the given word.

Treacherous

- Ans** 1. Retarded
 2. Sluggish
 3. Unfaithful
 4. Steadfast

Question ID : 65497828547
Status : Not Answered
Chosen Option : --

Q.18 Select the most appropriate ANTONYM of the given word.

Obedient

- Ans** 1. Voluntary
 2. Willing
 3. Disobedient
 4. Flexible

Question ID : 65497828542
Status : Not Answered
Chosen Option : --

Q.19 Select the most appropriate option to fill in the blank.

A doctor's first concern is the _____ of his patients.

- Ans**
- 1. profit
 - 2. well-being
 - 3. advantage
 - 4. benefit

Question ID : 65497828551
Status : Not Answered
Chosen Option : --

Q.20 Select the most appropriate meaning of the given idiom.

To land a job

- Ans**
- 1. To plough the land
 - 2. To be dismissed
 - 3. To do farming
 - 4. To be hired

Question ID : 65497828550
Status : Not Answered
Chosen Option : --

Comprehension:

In the following passage, some words have been deleted. Read the passage carefully and select the most appropriate option to fill in each blank.

Tourists to Jammu and Kashmir have another (1) _____ – a floating post office on the Dal Lake (2) _____ on a carved maroon houseboat. It is fastened (3) _____ the western edge of the Dal Lake. It (4) _____ all regular postal services while being (5) _____ on the lake.

SubQuestion No : 21

Q.21 Select the most appropriate option to fill in blank no.1.

- Ans**
- 1. attraction
 - 2. invitation
 - 3. attention
 - 4. addiction

Question ID : 65497828562
Status : Not Answered
Chosen Option : --

Comprehension:

In the following passage, some words have been deleted. Read the passage carefully and select the most appropriate option to fill in each blank.

Tourists to Jammu and Kashmir have another (1) _____ – a floating post office on the Dal Lake (2) _____ on a carved maroon houseboat. It is fastened (3) _____ the western edge of the Dal Lake. It (4) _____ all regular postal services while being (5) _____ on the lake.

SubQuestion No : 22

Q.22 Select the most appropriate option to fill in blank no.2.

- Ans** 1. completed
 2. assembled
 3. built
 4. produced

Question ID : 65497828563
Status : Not Answered
Chosen Option : --

Comprehension:

In the following passage, some words have been deleted. Read the passage carefully and select the most appropriate option to fill in each blank.

Tourists to Jammu and Kashmir have another (1) _____ – a floating post office on the Dal Lake (2) _____ on a carved maroon houseboat. It is fastened (3) _____ the western edge of the Dal Lake. It (4) _____ all regular postal services while being (5) _____ on the lake.

SubQuestion No : 23

Q.23 Select the most appropriate option to fill in blank no.3.

- Ans** 1. in
 2. of
 3. by
 4. to

Question ID : 65497828564
Status : Not Answered
Chosen Option : --

Comprehension:

In the following passage, some words have been deleted. Read the passage carefully and select the most appropriate option to fill in each blank.

Tourists to Jammu and Kashmir have another (1) _____ – a floating post office on the Dal Lake (2) _____ on a carved maroon houseboat. It is fastened (3) _____ the western edge of the Dal Lake. It (4) _____ all regular postal services while being (5) _____ on the lake.

SubQuestion No : 24

Q.24 Select the most appropriate option to fill in blank no.4.

- Ans** 1. offer
 2. offers
 3. has offered
 4. offered

Question ID : 65497828565
Status : Not Answered
Chosen Option : --

Comprehension:

In the following passage, some words have been deleted. Read the passage carefully and select the most appropriate option to fill in each blank.

Tourists to Jammu and Kashmir have another (1) _____ – a floating post office on the Dal Lake (2) _____ on a carved maroon houseboat. It is fastened (3) _____ the western edge of the Dal Lake. It (4) _____ all regular postal services while being (5) _____ on the lake.

SubQuestion No : 25

Q.25 Select the most appropriate option to fill in blank no.5.

- Ans**
- 1. boating
 - 2. ashore
 - 3. afloat
 - 4. floating

Question ID : 65497828566
Status : Not Answered
Chosen Option : --

Section : Part D Hindi

Q.1 दिए गए शब्द का विलोम चुनें।

आहार

- Ans**
- 1. निराहार
 - 2. विहार
 - 3. उपहार
 - 4. निरहार

Question ID : 65497828577
Status : Answered
Chosen Option : 1

Q.2 दिये गये वाक्यांश के लिए एक शब्द दीजिये।

जो प्राप्त न हो सके

- Ans**
- 1. प्राप्त
 - 2. अप्राप्य
 - 3. अप्राप्त
 - 4. प्राप्य

Question ID : 65497828578
Status : Answered
Chosen Option : 3

Q.3 नीचे दिए वाक्यांश के लिए एक शब्द दिए गए विकल्पों में से चुनिए-

जो कुछ न जानता हो

- Ans
- 1. सर्वज्ञ
 - 2. भिन्न
 - 3. अज्ञ
 - 4. ज्ञानी

Question ID : 65497828579
Status : Answered
Chosen Option : 3

Q.4 रिक्त स्थान भरने के लिए सबसे उपयुक्त शब्द का चयन करें।

हमने कभी ऐसी _____ नहीं देखी थी।

- Ans
- 1. युद्ध
 - 2. संग्राम
 - 3. रक्तपात
 - 4. लड़ाई

Question ID : 65497828571
Status : Answered
Chosen Option : 4

Q.5 दिए गये वाक्यांश के लिए एक शब्द दीजिये।

जिसका ज्ञान कम हो

- Ans
- 1. अनजान
 - 2. अज्ञानी
 - 3. अल्पज्ञ
 - 4. अनपढ़

Question ID : 65497828572
Status : Answered
Chosen Option : 3

Q.6 दिये गये वाक्य के किस भाग में त्रुटि है?

उसने अपना पौरुषत्व प्रमाणित कर दिया।

- Ans
- 1. प्रमाणित
 - 2. कर दिया।
 - 3. पौरुषत्व
 - 4. उसने अपना

Question ID : 65497828580
Status : Answered
Chosen Option : 3

Q.7 दिए गए वाक्य का वह भाग ज्ञात करें जिसमें कोई त्रुटि है। यदि कोई त्रुटि नहीं है, तो 'कोई त्रुटि नहीं है' चुनें।

आपसे इसका (1)/ स्पष्टीकरण करने (2)/ के लिए कहा था (3)/ कोई त्रुटि नहीं है (4)

- Ans
- 1. 2
 - 2. 4
 - 3. 3
 - 4. 1

Question ID : 65497828576
Status : Answered
Chosen Option : 3

Q.8 निम्नलिखित प्रश्न में, दिए गए चार विकल्पों में से उस विकल्प का चयन करें, जो मुहावरे का अर्थ व्यक्त करता है।

चिराग तले अंधेरा

- Ans
- 1. बेतुकी बातें करना
 - 2. बुरी राय देना
 - 3. पंडित के घर में मूर्खता का आचरण
 - 4. घबराना

Question ID : 65497828570
Status : Answered
Chosen Option : 1

Q.9 दिए गए वाक्य में रेखांकित खंड को प्रतिस्थापित करने के लिए सबसे उपयुक्त विकल्प का चयन करें। यदि इसे प्रतिस्थापित करने की आवश्यकता नहीं है, तो विकल्प 'किसी बदलाव की आवश्यकता नहीं है' का चयन करें।

इस कक्ष का निर्माण रोटरी क्लब की सौजन्यता से हुआ है।

- Ans
- 1. रोटरी क्लब का सौजन्य से हुआ है।
 - 2. रोटरी क्लब के सौजन्यता से हुआ है।
 - 3. रोटरी क्लब के सौजन्य से हुआ है।
 - 4. किसी बदलाव की आवश्यकता नहीं है।

Question ID : 65497828573
Status : Answered
Chosen Option : 3

Q.10 दिए गए वाक्य में रेखांकित खंड को प्रतिस्थापित करने के लिए सबसे उपयुक्त विकल्प का चयन करें। यदि इसे प्रतिस्थापित करने की आवश्यकता नहीं है, तो विकल्प 'किसी बदलाव की आवश्यकता नहीं है' का चयन करें।

आजकल औरतें हर काम में मर्दों का हाथ बँटाते हैं।

- Ans
- 1. मर्दों की हाथ बँटाती हैं।
 - 2. किसी बदलाव की आवश्यकता नहीं है।
 - 3. मर्दों का हाथ बँटाती है।
 - 4. मर्दों का हाथ बँटाती हैं।

Question ID : 65497828575
Status : Answered
Chosen Option : 4

Q.11 निम्नलिखित में से शुद्ध वर्तनी वाला शब्द कौन सा है?

- Ans 1. विषाद
 2. विसाद
 3. विशाद
 4. वीषाद

Question ID : 65497828582
Status : Answered
Chosen Option : 1

Q.12 दिए गए शब्द का विलोम चुनें।

मूक

- Ans 1. गूंगा
 2. विमुख
 3. वाचाल
 4. खगोल

Question ID : 65497828569
Status : Answered
Chosen Option : 3

Q.13 कौनसा शब्द 'परिणय' का समानार्थी शब्द नहीं है?

- Ans 1. शादी
 2. विवाह
 3. पाणिग्रहीता
 4. पाणिग्रहण

Question ID : 65497828568
Status : Answered
Chosen Option : 3

Q.14 दिये गये वाक्य में रेखांकित अंश को प्रतिस्थापित करने के लिए सबसे उपयुक्त विकल्प का चयन करें।

इस पुस्तक का छपित मूल्य कितना है?

- Ans 1. मौखिक
 2. प्रकाशित
 3. मुद्रित
 4. लिखित

Question ID : 65497828584
Status : Answered
Chosen Option : 2

Q.15 'फट पड़ना' मुहावरे का सही अर्थ है-

- Ans 1. एकदम गुस्से में हो जाना
 2. बिखर जाना
 3. आश्चर्यचकित हो जाना
 4. पिघल जाना

Question ID : 65497828585
Status : Answered
Chosen Option : 2

Q.16 'खग' का पर्यायवाची है-

- Ans 1. परिन्दा
 2. तनय
 3. विटप
 4. विशिख

Question ID : 65497828581
Status : Answered
Chosen Option : 1

Q.17 रिक्त स्थान को भरने के लिए सबसे उपयुक्त विकल्प का चयन करें।

मनीष के मुख पर _____ झलकता है।

- Ans 1. ओज
 2. साहस
 3. पौरुष
 4. दंभ

Question ID : 65497828586
Status : Answered
Chosen Option : 1

Q.18 रिक्त स्थान को भरने के लिए सबसे उपयुक्त शब्द का चयन करें।

तुम्हें स्मरण _____ चाहिए।

- Ans 1. कराना
 2. दिलाना
 3. आना
 4. लेना

Question ID : 65497828574
Status : Answered
Chosen Option : 3

Q.19 निम्नलिखित में से शुद्ध वर्तनी वाला शब्द कौन सा है?

- Ans 1. हस्तक्षेप
 2. हस्तछेप
 3. हस्ताक्षेप
 4. हस्तच्छेप

Question ID : 65497828583
Status : Answered
Chosen Option : 1

Q.20 दिए गए वाक्य का वह भाग ज्ञात करें जिसमें कोई त्रुटि है। यदि कोई त्रुटि नहीं है, तो 'कोई त्रुटि नहीं है' विकल्प को चुनें।

तुलसी के वास्ते राम अवतार लिया।

- Ans 1. कोई त्रुटि नहीं
 2. तुलसी के वास्ते
 3. राम
 4. अवतार लिया

Question ID : 65497828567
Status : Answered
Chosen Option : 3

Comprehension:

दिए गए अनुच्छेद में कुछ शब्द हटा दिए गए हैं। दिए गए विकल्पों की सहायता से रिक्त स्थान भरें। प्रत्येक संख्या के लिए सबसे उपयुक्त विकल्प का चयन करें।

पर्वतीय दृश्य मनोहर तथा (1) _____ होते हैं। इससे प्रकृति के प्रति (2) _____ की प्रेम भावना (3) _____ होती है। पर्वतीय दृश्य का (4) _____ मात्र कुछ क्षण के लिए चिन्ता तथा व्याकुलता से (5) _____ प्रदान करता है।

SubQuestion No : 21

Q.21 गद्यांश के रिक्त स्थान (1) के लिए सर्वाधिक उपयुक्त शब्द होगा-

- Ans 1. मनोरम
 2. दिव्य
 3. विशाल
 4. आकर्षक

Question ID : 65497828588
Status : Answered
Chosen Option : 4

Comprehension:

दिए गए अनुच्छेद में कुछ शब्द हटा दिए गए हैं। दिए गए विकल्पों की सहायता से रिक्त स्थान भरें। प्रत्येक संख्या के लिए सबसे उपयुक्त विकल्प का चयन करें।

पर्वतीय दृश्य मनोहर तथा (1) _____ होते हैं। इससे प्रकृति के प्रति (2) _____ की प्रेम भावना (3) _____ होती है। पर्वतीय दृश्य का (4) _____ मात्र कुछ क्षण के लिए चिन्ता तथा व्याकुलता से (5) _____ प्रदान करता है।

SubQuestion No : 22

Q.22 गद्यांश के रिक्त स्थान (2) के लिए सर्वाधिक उपयुक्त शब्द होगा-

- Ans** 1. मानव
 2. प्राणियों
 3. पशुओं
 4. निसर्ग

Question ID : 65497828589
Status : Answered
Chosen Option : 1

Comprehension:

दिए गए अनुच्छेद में कुछ शब्द हटा दिए गए हैं। दिए गए विकल्पों की सहायता से रिक्त स्थान भरें। प्रत्येक संख्या के लिए सबसे उपयुक्त विकल्प का चयन करें।

पर्वतीय दृश्य मनोहर तथा (1) _____ होते हैं। इससे प्रकृति के प्रति (2) _____ की प्रेम भावना (3) _____ होती है। पर्वतीय दृश्य का (4) _____ मात्र कुछ क्षण के लिए चिन्ता तथा व्याकुलता से (5) _____ प्रदान करता है।

SubQuestion No : 23

Q.23 गद्यांश के रिक्त स्थान (3) के लिए सर्वाधिक उपयुक्त शब्द होगा-

- Ans** 1. व्याप्त
 2. जागृत
 3. सुप्त
 4. संयुक्त

Question ID : 65497828590
Status : Answered
Chosen Option : 2

Comprehension:

दिए गए अनुच्छेद में कुछ शब्द हटा दिए गए हैं। दिए गए विकल्पों की सहायता से रिक्त स्थान भरें। प्रत्येक संख्या के लिए सबसे उपयुक्त विकल्प का चयन करें।

पर्वतीय दृश्य मनोहर तथा (1) _____ होते हैं। इससे प्रकृति के प्रति (2) _____ की प्रेम भावना (3) _____ होती है। पर्वतीय दृश्य का (4) _____ मात्र कुछ क्षण के लिए चिन्ता तथा व्याकुलता से (5) _____ प्रदान करता है।

SubQuestion No : 24

Q.24 गद्यांश के रिक्त स्थान (4) के लिए सर्वाधिक उपयुक्त शब्द होगा-

- Ans** 1. अनुसंधान
 2. स्मरण
 3. मनन
 4. अनुकरण

Question ID : 65497828591
Status : Answered
Chosen Option : 2

Comprehension:

दिए गए अनुच्छेद में कुछ शब्द हटा दिए गए हैं। दिए गए विकल्पों की सहायता से रिक्त स्थान भरें। प्रत्येक संख्या के लिए सबसे उपयुक्त विकल्प का चयन करें।

पर्वतीय दृश्य मनोहर तथा (1) _____ होते हैं। इससे प्रकृति के प्रति (2) _____ की प्रेम भावना (3) _____ होती है। पर्वतीय दृश्य का (4) _____ मात्र कुछ क्षण के लिए चिन्ता तथा व्याकुलता से (5) _____ प्रदान करता है।

SubQuestion No : 25

Q.25 गद्यांश के रिक्त स्थान (5) के लिए सर्वाधिक उपयुक्त शब्द होगा-

- Ans**
- 1. मुक्ति
 - 2. रिक्ति
 - 3. संपृक्ति
 - 4. समाप्ति

Question ID : 65497828592

Status : Answered

Chosen Option : 1

Constable GD in CAPFs NIA SSF and Rifleman GD in Assam Rifles Examination 2021

Roll Number	www.HaryanaJobs.in
Candidate Name	www.HaryanaJobs.in
Venue Name	Metro Network Solutions
Exam Date	08/12/2021
Exam Time :	12:30 PM - 2:00 PM
Subject	Constable GD 2021

Section : Part A General Intelligence and Reasoning

Q.1 दिए गए पैटर्न का ध्यानपूर्वक अध्ययन कीजिए और उस संख्या का चयन कीजिए जो इसमें प्रश्नवाचक चिह्न (?) के स्थान पर आ सकती है।

25 49 144
36 64 196
121 225 ?

Ans ✓ 1. 676

✗ 2. 346

✗ 3. 652

✗ 4. 576

Question ID : 65497832668

Status : Answered

Chosen Option : 1

Q.2 दिए गए कथनों और निष्कर्षों को ध्यानपूर्वक पढ़ें। यह मानते हुए कि कथनों में दी गई सूचना सत्य है, भले ही वह सामान्य रूप से ज्ञात तथ्यों से भिन्न प्रतीत होती हो, बताइए कि दिए गए निष्कर्षों में से कौन सा / कौन से निष्कर्ष कथनों का तार्किक रूप से अनुसरण करता है (करते हैं)।

कथन:
सभी कुएं, नहरें हैं।
सभी नहरें, नदियां हैं।

निष्कर्ष:
I) कुछ नहरें, कुएं हैं।
II) कुछ नदियां, कुएं हैं।

Ans ✓ 1. निष्कर्ष I और II दोनों अनुसरण करते हैं।

✗ 2. न तो निष्कर्ष I और न ही निष्कर्ष II अनुसरण करता है।

✗ 3. केवल निष्कर्ष I अनुसरण करता है।

✗ 4. केवल निष्कर्ष II अनुसरण करता है।

Question ID : 65497832667

Status : Answered

Chosen Option : 1

Q.3 चार अक्षर-समूह दिए गए हैं, जिनमें से तीन किसी तरह से संगत हैं और एक असंगत है। उस अक्षर-समूह का चयन करें, जो अन्य से असंगत है।

Ans ✓ 1. GKOV

✗ 2. AFKP

✗ 3. KPUZ

✗ 4. TYDI

Question ID : 65497832675

Status : Answered

Chosen Option : 1

Q.4 K, R का पुत्र है। V, J के पुत्र की पत्नी है। H, K का पुत्र है। M, J की पुत्री है। K, M का भाई है। H का R से क्या संबंध है?

- Ans
- 1. भतीजा/भांजा
 - 2. पोता
 - 3. नाती
 - 4. पुत्र

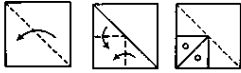
Question ID : 65497832681
Status : Answered
Chosen Option : 3

Q.5 'न्यूमिज़मैटिक्स' का जो संबंध 'सिक्कों' से है, 'ऑरोग्राफी' का वही संबंध ' _____ ' से है।

- Ans
- 1. खोल
 - 2. अंडे
 - 3. पहाड़ों
 - 4. जीवाश्मों

Question ID : 65497832672
Status : Answered
Chosen Option : 3

Q.6 निम्नांकित आकृतियों में एक कागज के टुकड़े को मोड़ने का क्रम और मुड़े हुए कागज को काटने की विधि दर्शाई गई है। यह कागज खोलने पर कैसा दिखेगा?



Ans

- 1.
- 2.
- 3.
- 4.

Question ID : 65497832670
Status : Answered
Chosen Option : 1

Q.7 उस अक्षर संयोजन का चयन करें जिसे दी गई श्रृंखला के रिक्त स्थानों में क्रमिक रूप से रखे जाने पर श्रृंखला पूर्ण हो जाएगी।

_ B I R _ I R B _

- Ans 1. CBH
 2. RBI
 3. TIC
 4. HIG

Question ID : 65497832658
Status : Answered
Chosen Option : 2

Q.8 एक निश्चित कूट भाषा में, 'PHARMACEUTICAL' को 'QGBQNZDDVSJBBK' लिखा जाता है। उसी कूट भाषा में, 'ELECTRONIC' को क्या लिखा जाएगा?

- Ans 1. FKEBUQPMKB
 2. FKFUBPOMIB
 3. FKFBUOPMIB
 4. FKFBUQPMJB

Question ID : 65497832666
Status : Answered
Chosen Option : 4

Q.9 उस विकल्प का चयन कीजिए, जिसका तीसरे पद से वही संबंध है, जो दूसरे पद का पहले पद से है।

SLOWER : SFXPMT :: MEAGRE : ?

- Ans 1. GSHBFO
 2. FSHNFC
 3. FSHBFN
 4. FBHTFN

Question ID : 65497832679
Status : Answered
Chosen Option : 3

Q.10 उस सही विकल्प का चयन करें जो दिए गए शब्दों का वह व्यवस्थित क्रम दर्शाता है जिसमें वे एक अंग्रेजी शब्दकोश में दिखाई देते हैं।

1. School
2. Stress
3. Source
4. Secure
5. Sweet

- Ans 1. 1, 3, 5, 2, 4
 2. 1, 4, 3, 2, 5
 3. 1, 2, 3, 4, 5
 4. 5, 4, 3, 2, 1

Question ID : 65497832657
Status : Answered
Chosen Option : 2

Q.11 एक निश्चित कूट भाषा में, DERMATOLOGY को 10 लिखा जाता है, और MAXIMUM को 6 लिखा जाता है। उसी कूट भाषा में NOCTURNAL को किस प्रकार लिखा जाएगा?

- Ans
- 1. 9
 - 2. 8
 - 3. 7
 - 4. 10

Question ID : 65497832676
Status : Answered
Chosen Option : 2

Q.12 यदि 'x' और '+' चिह्नों को तथा '6' और '5' अंकों को परस्पर बदल दिया जाए, तो निम्नलिखित व्यंजक का मान क्या होगा?

$$48 \times 5 + 9 \div 6 - (32 - 7) + 9$$

- Ans
- 1. 86
 - 2. 44
 - 3. 57
 - 4. 37

Question ID : 65497832663
Status : Answered
Chosen Option : 4

Q.13 दी गई आकृति के सही दर्पण प्रतिबिंब का चयन कीजिए, जबकि दर्पण को इसकी दाईं ओर रखा गया है।



Ans

1.



2.



3.



4.



Question ID : 65497832678
Status : Answered
Chosen Option : 4

Q.14 दिए गए विकल्पों में से उस संख्या का चयन कीजिए जो दी गई श्रृंखला में प्रश्न चिह्न (?) के स्थान पर प्रतिस्थापित हो सकती है।

42, 24, 34, 43, ?, 89

Ans 1. 53

2. 78

3. 98

4. 86

Question ID : 65497832659

Status : Answered

Chosen Option : 3

Q.15 छह बच्चे आनंद, बंदी, छाया, ध्रुव, श्रीकर और उमेश उत्तर दिशा की ओर अभिमुख होकर एक पंक्ति में खड़े हैं। उमेश, श्रीकर के दाईं ओर दूसरे स्थान पर है और छाया के बाएं पड़ोस में खड़ा है। बंदी ठीक ध्रुव और छाया के बीच में है। ध्रुव के बाईं ओर चौथे स्थान पर कौन है?

Ans 1. छाया

2. उमेश

3. श्रीकर

4. आनंद

Question ID : 65497832673

Status : Answered

Chosen Option : 4

Q.16 स्थानक A से B के दो ट्रेन टिकटों और स्थानक A से C के तीन टिकटों का मूल्य ₹8,750 है, लेकिन स्थानक A से B के तीन टिकटों और स्थानक A से C के दो टिकटों का मूल्य ₹9,825 है। स्थानक A से स्थानक B और C का किराया कितना-कितना है?

Ans 1. ₹1,965 और ₹1,890

2. ₹2,320 और ₹1,395

3. ₹2,255 और ₹1,635

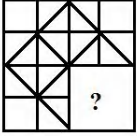
4. ₹2,395 और ₹1,320

Question ID : 65497832669

Status : Not Answered

Chosen Option : --

Q.17 दिए गए विकल्पों में से उस आकृति का चयन कीजिए जो निम्नांकित पैटर्न में प्रश्नवाचक चिह्न (?) के स्थान पर आ सकती है और पैटर्न को पूरा कर सकती है। (आकृति को घुमाने की अनुमति नहीं है)



Ans

✓ 1.



✗ 2.



✗ 3.



✗ 4.



Question ID : 65497832660

Status : Answered

Chosen Option : 1

Q.18 एक निश्चित कूट भाषा में, PLACE को QMZDD लिखा जाता है और BEAUTY को CDZTUZ लिखा जाता है। उसी कूट भाषा में MANSION को किस प्रकार लिखा जाएगा?

Ans

✗ 1. NAMSNOI

✗ 2. NOISNAM

✗ 3. NBOTJPO

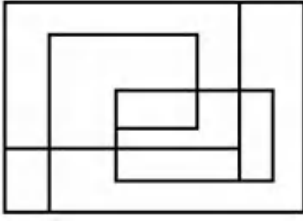
✓ 4. NZOTHNO

Question ID : 65497832680

Status : Answered

Chosen Option : 3

Q.19 निम्नांकित आकृति में कितने आयत हैं?



- Ans
- 1. 7
 - 2. 6
 - 3. 8
 - 4. 9

Question ID : 65497832665
Status : Answered
Chosen Option : 1

Q.20 P, Q, R, S, T और U छह मित्र हैं। वे एक पंक्ति में दक्षिण की ओर मुँह किए हुए बैठे हैं। P, R के ठीक बाएँ और S के दाएँ दूसरे स्थान पर बैठा है। T, R के ठीक दाएँ बैठा है। U, R के बाएँ दूसरे स्थान पर बैठा है। Q, S के ठीक बाएँ बैठा है। पंक्ति के एकदम दाएँ छोर पर कौन बैठा है?

- Ans
- 1. Q
 - 2. U
 - 3. T
 - 4. R

Question ID : 65497832661
Status : Answered
Chosen Option : 1

Q.21 उस विकल्प का चयन करें जो तीसरी संख्या से उसी प्रकार संबंधित है, जिस प्रकार दूसरी संख्या पहली संख्या से संबंधित है।

144 : 14 :: 81 : ?

- Ans
- 1. 11
 - 2. 65
 - 3. 15
 - 4. 9

Question ID : 65497832662
Status : Answered
Chosen Option : 1

Q.22 दिए गए विकल्पों में से उस संख्या का चयन कीजिए, जो निम्नलिखित श्रेणी में प्रश्नवाचक चिह्न (?) के स्थान पर आ सकती है।

7, 14, 25, 45, 81, ?, 239

- Ans
- 1. 142
 - 2. 205
 - 3. 95
 - 4. 111

Question ID : 65497832677
Status : Answered
Chosen Option : 1

Q.23 दिए गए विकल्पों में से उस अक्षर-समूह का चयन कीजिए जो दी गई श्रृंखला में प्रश्न चिह्न (?) के स्थान पर आ सकता है।

LOCK, MMFG, NKIC, OILY, ?

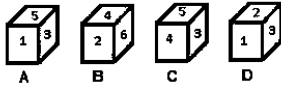
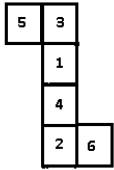
- Ans
- 1. PHPU
 - 2. PGOV
 - 3. PGOU
 - 4. PHPV

Question ID : 65497832671

Status : Answered

Chosen Option : 3

Q.24 उस पासे का चयन करें, जिसे निम्नांकित पत्रक (शीट) को रेखाओं पर मोड़ने पर प्राप्त किया जा सकता है।



- Ans
- 1. केवल D
 - 2. केवल A और D
 - 3. केवल C और B
 - 4. केवल A और B

Question ID : 65497832664

Status : Answered

Chosen Option : 4

Q.25 उस वेन आरेख का चयन करें जो निम्नलिखित वर्गों के मध्य संबंध को सर्वोत्तम तरीके से निरूपित करता है।

कद्दू, पालक, आलू

Ans



1.

2.

3.

4.

Question ID : 65497832674

Status : Answered

Chosen Option : 1

Section : Part B General Knowledge and General Awareness

Q.1 सितंबर 2021 में, सुप्रीम कोर्ट की दो-न्यायाधीशों की पीठ ने फैसला सुनाया कि मंदिर का/के _____ इससे जुड़ी जमीन का/के मालिक है/हैं।

- Ans
- 1. पीठासीन देवता
 - 2. न्यास
 - 3. पुजारी
 - 4. न्यासी

Question ID : 65497832706
Status : Answered
Chosen Option : 4

Q.2 गुरुग्राम में बढ़ते वायु प्रदूषण से निपटने के लिए नवंबर 2020 में निम्नलिखित में से कौन सी परियोजना आरंभ की गई थी?

- Ans
- 1. फ़ाइट एअर पॉल्यूशन (Fight Air Pollution)
 - 2. क्लीन एअर (Clean Air)
 - 3. कॉम्बैट पॉल्यूशन (Combat pollution)
 - 4. प्रोजेक्ट एअर केयर (Project Air Care)

Question ID : 65497832686
Status : Answered
Chosen Option : 1

Q.3 निम्नलिखित में से कौन-सी, ब्रिटिश भारत में नील की खेती से संबंधित एक प्रणाली थी?

- Ans
- 1. बाली (Bali)
 - 2. निज (Nij)
 - 3. वणिकपथ (Vanikpath)
 - 4. ज़ब्त (Zabt)

Question ID : 65497832704
Status : Not Answered
Chosen Option : --

Q.4 सितंबर 2020 में, वोडाफोन और _____ ने एक नए नाम के तहत अपने सभी उत्पादों का नाम बदलकर अपनी नई एकीकृत ब्रांड पहचान की घोषणा की।

- Ans
- 1. रिलायंस
 - 2. एयरटेल
 - 3. आइडिया
 - 4. बी.एस.एन.एल. (BSNL)

Question ID : 65497832695
Status : Answered
Chosen Option : 3

Q.5 पौधों के विभिन्न पहलुओं के वैज्ञानिक अध्ययन को _____ कहा जाता है।

- Ans
- 1. ब्रायोफ़ाइट विज्ञान (bryology)
 - 2. जंतु विज्ञान (zoology)
 - 3. वनस्पति विज्ञान (botany)
 - 4. जैव प्रौद्योगिकी (biotechnology)

Question ID : 65497832684
Status : Answered
Chosen Option : 3

Q.6 किसी देश का संविधान कई उद्देश्यों की पूर्ति करता है। निम्नलिखित में से कौन सा विकल्प उनमें से एक नहीं हो सकता?

- Ans
- 1. यह उस नियमों और सिद्धांतों के समुच्चय के रूप में कार्य करता है, जिनके आधार पर देश को नियंत्रित किया जा सकता है।
 - 2. यह हमें हमारे समाज की मौलिक प्रकृति उजागर करता है।
 - 3. इसमें यह शामिल है कि देश को सरकार के अधीन स्वरूप को बरकरार रखना चाहिए।
 - 4. यह कुछ आदर्शों को सहमति देता है जिन्हें देश में बरकरार रखा जाना चाहिए।

Question ID : 65497832694
Status : Answered
Chosen Option : 3

Q.7 मुगल बादशाह अकबर की मृत्यु निम्नलिखित में से किस वर्ष में हुई थी?

- Ans
- 1. 1666
 - 2. 1789
 - 3. 1605
 - 4. 1540

Question ID : 65497832685
Status : Not Answered
Chosen Option : --

Q.8 भारत ने 2021 में टोक्यो में आयोजित ओलंपिक गेम्स में _____ को हराकर 'पुरुषों की हॉकी में कांस्य पदक' जीता।

- Ans
- 1. जर्मनी
 - 2. ऑस्ट्रेलिया
 - 3. बेल्जियम
 - 4. अर्जेंटीना

Question ID : 65497832701
Status : Not Answered
Chosen Option : --

Q.9 नवम्बर 2020 तक के अनुसार, निम्नलिखित में से कौन अंतर्राष्ट्रीय ओलंपिक कमेटी का एक भारतीय सदस्य है?

- Ans
- 1. नीता अंबानी
 - 2. मिल्खा सिंह
 - 3. मुकेश अंबानी
 - 4. पी.टी. उषा

Question ID : 65497832682
Status : Answered
Chosen Option : 1

Q.10 निम्नलिखित में से कौन सा वैज्ञानिक अनुसंधान संस्थान राष्ट्रीय रैंकिंग सूचकांक 2020 में शीर्ष पर है?

- Ans
- 1. आई.आई.टी. (IIT) मद्रास
 - 2. आई.आई.एस.सी. (IISc) बैंगलोर
 - 3. आई.आई.टी. (IIT) बॉम्बे
 - 4. सी.एस.आई.आर. (CSIR)

Question ID : 65497832689
Status : Answered
Chosen Option : 1

Q.11 निम्नलिखित में से किस राज्य में नाहरगढ़ किला स्थित है?

- Ans
- 1. महाराष्ट्र
 - 2. राजस्थान
 - 3. पंजाब
 - 4. गुजरात

Question ID : 65497832696
Status : Answered
Chosen Option : 2

Q.12 _____ जनसंख्या के आकार, क्षेत्रीय वितरण और उसकी संरचना तथा जन्म, मृत्यु, प्रवास और उम्र बढ़ने के कारण समय के साथ जनसंख्या कैसे बदलती है, इसका अध्ययन है।

- Ans
- 1. डेमोग्राफी
 - 2. केलोलॉजी
 - 3. पोलोलॉजी
 - 4. फाइकोलॉजी

Question ID : 65497832683
Status : Answered
Chosen Option : 1

Q.13 सिंधु घाटी सभ्यता के घरों में कमरे आम तौर पर एक _____ के आसपास बने होते थे।

- Ans
- 1. कुएँ
 - 2. अंगीठी
 - 3. आंगन
 - 4. पानी की टंकी

Question ID : 65497832703
Status : Answered
Chosen Option : 3

Q.14 'अनकिया नट' एक विशिष्ट एकांकी नाटक है, जो _____ की संस्कृति को विशेषित करता है।

- Ans
- 1. ओडिशा
 - 2. तमिलनाडु
 - 3. असम
 - 4. बिहार

Question ID : 65497832688
Status : Not Answered
Chosen Option : --

Q.15 दक्का (ढाका) में अखिल भारतीय मुस्लिम लीग का गठन किया गया था। इसके बारे में निम्नलिखित में से कौन सा कथन सत्य नहीं है?

- Ans
- 1. यह मुसलमानों के लिए अलग निर्वाचक मंडल चाहता था।
 - 2. लीग ने बंगाल विभाजन का समर्थन नहीं किया।
 - 3. लीग का गठन 1906 में हुआ था।
 - 4. इसका गठन मुस्लिम जमींदारों और नवाबों के एक समूह द्वारा किया गया था।

Question ID : 65497832693
Status : Answered
Chosen Option : 2

Q.16 फ़राह खान ने फिल्म _____ के लिए फिल्मफेयर अवार्ड्स 2021 में 'सर्वश्रेष्ठ कोरियोग्राफी' का पुरस्कार जीता।

- Ans
- 1. थप्पड़
 - 2. मलंग
 - 3. छपाक
 - 4. दिल बेचारा

Question ID : 65497832698
Status : Answered
Chosen Option : 1

Q.17 _____ की धारा 20 मानसिक रोग से ग्रस्त प्रत्येक व्यक्ति को सम्मान के साथ जीने का अधिकार देती है।

- Ans
- 1. मानसिक स्वास्थ्य अधिनियम, 1987
 - 2. राष्ट्रीय चिकित्सा आयोग अधिनियम, 2019
 - 3. मानसिक स्वास्थ्य देखभाल अधिनियम, 2017
 - 4. भारतीय दंड संहिता, 1860

Question ID : 65497832705
Status : Answered
Chosen Option : 2

Q.18 केंद्रीय बजट 2020-21 में वर्ष _____ तक भविष्य के लिए तैयार रेलवे प्रणाली ('future ready' railway system) की परिकल्पना की गई है।

- Ans
- 1. 2030
 - 2. 2035
 - 3. 2025
 - 4. 2040

Question ID : 65497832702
Status : Answered
Chosen Option : 3

Q.19 'महावेली गंगा' _____ की सबसे लंबी नदी है।

- Ans
- 1. नेपाल
 - 2. पाकिस्तान
 - 3. श्रीलंका
 - 4. भूटान

Question ID : 65497832697
Status : Answered
Chosen Option : 1

Q.20 ए.डी.बी. (ADB/एशियाई विकास बैंक) वार्षिक रिपोर्ट 2018 के अनुसार कितने देश ए.डी.बी. (ADB) के सदस्य हैं?

- Ans
- 1. 68
 - 2. 37
 - 3. 87
 - 4. 49

Question ID : 65497832687
Status : Not Answered
Chosen Option : --

Q.21 'निर्गम मूल्य' क्या है?

- Ans
- 1. यह बाजार मूल्य से अधिक मूल्य है।
 - 2. यह बाजार मूल्य से कम मूल्य है।
 - 3. यह किसान द्वारा तय किया गया मूल्य है।
 - 4. यह बाजार मूल्य के समान मूल्य है।

Question ID : 65497832692
Status : Answered
Chosen Option : 1

Q.22 प्रति इकाई समय में, किसी वस्तु के वेग में परिवर्तन की दर _____ कहलाती है।

- Ans
- 1. औसत वेग
 - 2. गति
 - 3. औसत चाल
 - 4. त्वरण

Question ID : 65497832690
Status : Answered
Chosen Option : 3

Q.23 ग्रेट इंडियन डेजर्ट के बारे में निम्नलिखित में से कौन सा कथन गलत है?

- Ans
- 1. यह भारत का सबसे बड़ा मरुस्थल है।
 - 2. कांटेदार झाड़ियों के साथ, वनस्पति आवरण कम है।
 - 3. इसे थार मरुस्थल भी कहा जाता है।
 - 4. पद्मा इस क्षेत्र की प्रमुख नदी है।

Question ID : 65497832700
Status : Answered
Chosen Option : 4

Q.24 2019 में, ज्ञानपीठ पुरस्कार निम्न में से किसे प्राप्त हुआ?

- Ans
- 1. डॉ. ओ.एन.वी. कुरुप
 - 2. चंद्रशेखर कंबरा
 - 3. अक्किताम अच्युतन नंबूदरी
 - 4. डॉ. रघुवीर चौधरी

Question ID : 65497832691
Status : Not Answered
Chosen Option : --

Q.25 पी वी सिंधु ने 2021 में आयोजित टोक्यो ओलंपिक में बैडमिंटन महिला एकल वर्ग में _____ को हराकर कांस्य पदक जीता।

- Ans
- 1. गैटन हरामारा (Gaitan Haramara)
 - 2. हे बिंग जियाओ (He Bing Jiao)
 - 3. किम गा उन (Kim Ga-eun)
 - 4. सरोसी लौरा (Sarosi Laura)

Question ID : 65497832699
Status : Not Answered
Chosen Option : --

Q.1 एक वस्तु को ₹460 में बेचने पर सुधा को 8% की हानि होती है। यदि वह इसे ₹590 में बेचती है, तो उसे कितने प्रतिशत का लाभ होगा?

- Ans
- 1. 20%
 - 2. 18%
 - 3. 16.4%
 - 4. 15.3%

Question ID : 65497832727
Status : Not Answered
Chosen Option : --

Q.2 यदि किसी संख्या के 40% में 165 जोड़ा जाता है, तो परिणामी संख्या वही संख्या होगी। वह संख्या ज्ञात कीजिए।

- Ans
- 1. 250
 - 2. 284
 - 3. 275
 - 4. 225

Question ID : 65497832721
Status : Not Answered
Chosen Option : --

Q.3 यदि एक रेलगाड़ी 75 km/h की चाल से चलती है तो यह एक निश्चित दूरी को 12 h में तय करती है। यात्रा के समय को वास्तविक समय से 3 h कम करने के लिए, रेलगाड़ी को किस चाल पर चलना चाहिए?

- Ans
- 1. 120 km/h
 - 2. 100 km/h
 - 3. 90 km/h
 - 4. 95 km/h

Question ID : 65497832710
Status : Not Answered
Chosen Option : --

Q.4 एक वस्तु को उसके विक्रय मूल्य के $\frac{2}{11}$ पर बेचने पर, मधु को 10% की हानि होती है। यदि वह वस्तु को उसके वास्तविक विक्रय मूल्य के 95% पर बेचती है, तो लाभ प्रतिशत (दशमलव के एक स्थान तक सही) क्या होगा?

- Ans
- 1. 5.4%
 - 2. 4.5%
 - 3. 6.8%
 - 4. 3.8%

Question ID : 65497832707
Status : Not Answered
Chosen Option : --

Q.5 4, 8, 15 का चतुर्थानुपाती क्या होगा?

- Ans
- 1. 35
 - 2. 25
 - 3. 40
 - 4. 30

Question ID : 65497832711
Status : Answered
Chosen Option : 2

Q.6 ₹8,000 की धनराशि को अर्द्धवार्षिक रूप से चक्रवृद्धि होने वाली 10% वार्षिक व्याज दर पर निवेश करने पर यह धनराशि ₹9,261 हो जाती है, तो समयावधि ज्ञात कीजिए।

- Ans
- 1. 2 वर्ष
 - 2. $1\frac{1}{2}$ वर्ष
 - 3. 3 वर्ष
 - 4. $2\frac{1}{2}$ वर्ष

Question ID : 65497832716
Status : Not Answered
Chosen Option : --

Q.7 ₹8,052 की राशि को W, X, Y और Z के बीच इस तरह बांटा जाता है कि $W : X = X : Y = Y : Z = 5 : 6$ हो जाता है। X और Y के हिस्सों का योग कितना होगा?

- Ans
- 1. ₹1,800
 - 2. ₹2,160
 - 3. ₹3,960
 - 4. ₹1,200

Question ID : 65497832715
Status : Not Answered
Chosen Option : --

Q.8 एक बेलनाकार बर्तन, जिसके आधार की त्रिज्या 10.5 cm और ऊंचाई 30 cm है, का $\frac{4}{5}$ भाग पानी से भरा हुआ है। इस पानी की पूरी मात्रा को 44 cm लंबाई और 36 cm चौड़ाई वाले एक आयताकार टब में डाला जाता है। टब में पानी की ऊंचाई में होने वाली वृद्धि (cm में) ज्ञात कीजिए। ($\pi = \frac{22}{7}$ लीजिए) (और यह भी मान लीजिए कि पानी टब से बाहर नहीं छलकता है)

- Ans
- 1. $5\frac{1}{2}$
 - 2. $6\frac{1}{2}$
 - 3. $6\frac{1}{3}$
 - 4. $5\frac{1}{4}$

Question ID : 65497832731
Status : Not Answered
Chosen Option : --

Q.9 $72 \div 180 \times 5 - [96 \div 64 \text{ of } 5 - 25 \div 16 \times (23 - 29) - 11] \div 1\frac{23}{30}$ का मान क्या होगा?

- Ans
- 1. $1\frac{1}{4}$
 - 2. $2\frac{1}{2}$
 - 3. $3\frac{1}{2}$
 - 4. $2\frac{3}{4}$

Question ID : 65497832726
Status : Answered
Chosen Option : 2

Q.10 एक व्यापारी एक वस्तु को उसके अंकित मूल्य पर 28% की छूट देकर बेचता है और फिर भी 20% का लाभ प्राप्त करता है। यदि एक वस्तु की बिक्री पर उसके द्वारा प्राप्त लाभ ₹10.50 है, तो वस्तु का अंकित मूल्य (₹ में) ज्ञात कीजिए।

- Ans
- 1. 87.50
 - 2. 85.80
 - 3. 80
 - 4. 75

Question ID : 65497832725
Status : Not Answered
Chosen Option : --

Q.11 उस शंकु का आयतन ज्ञात कीजिए जिसके आधार की त्रिज्या 18 cm और उसकी ऊंचाई 35 cm है। ($\pi = \frac{22}{7}$ लीजिये)

- Ans
- 1. 35880 cm³
 - 2. 35460 cm³
 - 3. 11880 cm³
 - 4. 10880 cm³

Question ID : 65497832712
Status : Not Answered
Chosen Option : --

Q.12 एक निश्चित राशि को 15% वार्षिक दर पर 2 वर्षों के लिए निवेशित किए जाने पर प्राप्त मिश्रधन ₹9,982.50 है, जबकि ब्याज की गणना 8-मासिक चक्रवृद्धि आधार पर की जाती है। यदि ब्याज की गणना वार्षिक चक्रवृद्धि आधार पर की जाती है, तो समान राशि पर समान दर पर समान समय में प्राप्त मिश्रधन (₹ में) कितना होगा? (लगभग ₹ में)

- Ans
- 1. 9,897
 - 2. 9,919
 - 3. 9,923
 - 4. 9,885

Question ID : 65497832729
Status : Not Answered
Chosen Option : --

Q.13 ₹8,400 की धनराशि के लिए वार्षिक रूप से चक्रवृद्धि होने वाली एक निश्चित वार्षिक ब्याज दर पर 3 वर्ष में प्राप्त चक्रवृद्धि ब्याज ₹6115.20 है। उतनी ही धनराशि के लिए अर्द्धवार्षिक रूप से चक्रवृद्धि होने वाली ब्याज दर पर $1\frac{1}{2}$ वर्षों में प्राप्त चक्रवृद्धि ब्याज और उतनी ही धनराशि के लिए उसी ब्याज दर पर समान अवधि में प्राप्त साधारण ब्याज के बीच में अंतर (₹ में) ज्ञात करें।

- Ans**
- ✓ 1. 260.40
 - ✗ 2. 320.25
 - ✗ 3. 250
 - ✗ 4. 275.75

Question ID : 65497832708
Status : Not Answered
Chosen Option : --

Q.14 25 प्रेक्षकों का औसत 50 है। यदि शुरुआती 13 प्रेक्षकों का औसत 40 है और अंतिम 13 प्रेक्षकों का औसत 58 है, तो 13 वां प्रेक्षक कितना है?

- Ans**
- ✗ 1. 20
 - ✗ 2. 26
 - ✗ 3. 30
 - ✓ 4. 24

Question ID : 65497832714
Status : Answered
Chosen Option : 2

Q.15 एक साड़ी का अंकित मूल्य ₹1,800 है और कपड़े की दुकान से 10% और 20% की दो क्रमिक छूट मिलती है। साड़ी के विक्रय मूल्य की गणना कीजिए।

- Ans**
- ✗ 1. ₹1,254
 - ✗ 2. ₹1,365
 - ✗ 3. ₹1,300
 - ✓ 4. ₹1,296

Question ID : 65497832720
Status : Answered
Chosen Option : 4

Q.16 लावण्या ने एक इलेक्ट्रिक कुकर, उसके विक्रय मूल्य के नौ-दसवें हिस्से पर खरीदी और उसे उसके विक्रय मूल्य से 5% अधिक पर बेच दी। उसका प्रतिशत लाभ ज्ञात कीजिए।

- Ans**
- ✗ 1. $12\frac{1}{2}\%$
 - ✗ 2. $19\frac{1}{3}\%$
 - ✓ 3. $16\frac{2}{3}\%$
 - ✗ 4. $18\frac{1}{4}\%$

Question ID : 65497832724
Status : Not Answered
Chosen Option : --

Q.17 $6\frac{1}{4} \div \left[4\frac{7}{8} + \frac{3}{4} \times \left(9\frac{1}{2} - 7\frac{2}{3} \right) \right]$ का मान ज्ञात कीजिए।

- Ans
- 1. 6
 - 2. 5
 - 3. 1
 - 4. 2

Question ID : 65497832709
Status : Answered
Chosen Option : 3

Q.18 दो साइकिल सवार एक ही स्थान से विपरीत दिशाओं में यात्रा शुरू करते हैं। एक उत्तर की ओर 14 km/h की चाल से जाता है और दूसरा दक्षिण की ओर 24 km/h की चाल से जाता है। उन्हें एकदूसरे से 47.5 km की दूरी पर होने में कितना समय लगेगा?

- Ans
- 1. 1 h
 - 2. $1\frac{1}{4}$ h
 - 3. $1\frac{1}{3}$ h
 - 4. $1\frac{2}{3}$ h

Question ID : 65497832723
Status : Not Answered
Chosen Option : --

Q.19 दो पुरुष X और Y एकसाथ कार्य करते हुए किसी कार्य को 6 दिन में पूरा करते हैं। यदि X ने अपनी वास्तविक क्षमता का तीन गुना क्षमता से कार्य किया और Y ने अपनी वास्तविक क्षमता के एक चौथाई क्षमता से कार्य किया, तो कार्य 4 दिन में पूरा हो जाता है। X अकेले उस कार्य को कितने दिनों में पूरा कर सकता है?

- Ans
- 1. $12\frac{6}{5}$ दिन
 - 2. $8\frac{1}{2}$ दिन
 - 3. $9\frac{1}{3}$ दिन
 - 4. $10\frac{1}{5}$ दिन

Question ID : 65497832722
Status : Answered
Chosen Option : 3

Q.20 यदि चार अलग-अलग संख्याओं का लघुत्तम समापवर्त्य (LCM) 270 है और प्रत्येक युग्म का महत्तम समापवर्तक (HCF) 9 है, तो चारों संख्याओं का गुणनफल कितना होगा?

- Ans
- 1. 200605
 - 2. 196830
 - 3. 270
 - 4. 2430

Question ID : 65497832713
Status : Answered
Chosen Option : 4

Q.21 यदि P, Q से $33\frac{1}{3}\%$ कम कमाता है, तो Q, P से कितने प्रतिशत अधिक कमाता है?

- Ans
- 1. 45%
 - 2. 60%
 - 3. 28%
 - 4. 50%

Question ID : 65497832718
Status : Answered
Chosen Option : 4

Q.22 A और B एक निश्चित कार्य को क्रमशः $22\frac{1}{2}$ दिनों और 30 दिनों में कर सकते हैं। उन्होंने एक साथ कार्य शुरू किया, लेकिन 6 दिनों के बाद, B को कार्य छोड़ना पड़ा। फिर, C के साथ कार्य करते हुए, A ने शेष कार्य को 3 दिनों में पूरा किया। C अकेले मूल कार्य को कितने दिनों में पूरा कर सकता है?

- Ans
- 1. $7\frac{1}{2}$ दिन
 - 2. $8\frac{1}{2}$ दिन
 - 3. 8 दिन
 - 4. 9 दिन

Question ID : 65497832730
Status : Answered
Chosen Option : 2

Q.23 $\frac{4}{25}, \frac{8}{35}$ और $\frac{22}{40}$ का म.स.(HCF) ज्ञात करें।

- Ans
- 1. $\frac{1}{2800}$
 - 2. $\frac{1}{700}$
 - 3. $\frac{5}{1400}$
 - 4. $\frac{3}{1400}$

Question ID : 65497832717
Status : Answered
Chosen Option : 4

Q.24 A और B की आय का अनुपात 5 : 8 है। यदि A और B क्रमशः ₹36,000 और ₹60,000 खर्च करते हैं, तो उनकी बचत का अनुपात 3 : 4 होता है। B की बचत (₹ में) कितनी है?

- Ans
- 1. 10,000
 - 2. 12,000
 - 3. 9,000
 - 4. 15,000

Question ID : 65497832728
Status : Not Answered
Chosen Option : --

Q.25 5 वर्ष पूर्व पति, पत्नी और उनके बच्चे की औसत उम्र 24 वर्ष थी और 6 वर्ष पूर्व पत्नी और बच्चे की औसत उम्र 18 वर्ष थी। पति की वर्तमान उम्र ज्ञात कीजिए।

- Ans
- 1. 42 वर्ष
 - 2. 39 वर्ष
 - 3. 35 वर्ष
 - 4. 36 वर्ष

Question ID : 65497832719
Status : Not Answered
Chosen Option : --

Section : Part D English

Q.1 The following sentence has been split into four segments. Identify the segment that contains a grammatical error.

As the moon came up / over Himalayan peaks I saw / that the road looked / like a ribbon of moonlight.

- Ans
- 1. over Himalayan peaks I saw
 - 2. As the moon came up
 - 3. that the road looked
 - 4. like a ribbon of moonlight

Question ID : 65497832733
Status : Not Answered
Chosen Option : --

Q.2 Select the most appropriate option to fill in the blank.

The latch is _____, I cannot open the window.

- Ans
- 1. crammed
 - 2. congested
 - 3. packed
 - 4. jammed

Question ID : 65497832745
Status : Not Answered
Chosen Option : --

Q.3 The following sentence has been split into four segments. Identify the segment that contains a grammatical error.

A mother has / a greatest / influence / over the children.

- Ans
- 1. A mother has
 - 2. over the children
 - 3. influence
 - 4. a greatest

Question ID : 65497832749
Status : Not Answered
Chosen Option : --

Q.4 Select the option that can be used as a one-word substitute for the given group of words.

A four-footed animal

- Ans** 1. Reptile
 2. Quadruped
 3. Biped
 4. Centipede

Question ID : 65497832737
Status : Not Answered
Chosen Option : --

Q.5 Select the option that can be used as a one-word substitute for the given group of words.

An edged, bladed weapon that is longer than a knife

- Ans** 1. Spear
 2. Sword
 3. Rifle
 4. Arrow

Question ID : 65497832751
Status : Not Answered
Chosen Option : --

Q.6 The following sentence has been split into four segments. Identify the segment that contains a grammatical error.

The teacher / handled the / mischief child / quite easily.

- Ans** 1. quite easily
 2. mischief child
 3. The teacher
 4. handled the

Question ID : 65497832735
Status : Not Answered
Chosen Option : --

Q.7 Select the option that can be used as a one-word substitute for the given group of words.

Detailed examination of something complex

- Ans** 1. Experiment
 2. Invention
 3. Analysis
 4. Discovery

Question ID : 65497832739
Status : Not Answered
Chosen Option : --

Q.8 Select the INCORRECTLY spelt word.

- Ans 1. Neccessary
 2. Separate
 3. Ability
 4. Definitely

Question ID : 65497832738
Status : Not Answered
Chosen Option : --

Q.9 Select the most appropriate option that can substitute the underlined segment in the given sentence. If there is no need to substitute it, select 'No substitution required'.

Aparna will need a bigger bag than I will to pack her things.

- Ans 1. No substitution required
 2. a big bag than me
 3. bigger bag than I
 4. a biggest bag than I

Question ID : 65497832732
Status : Not Answered
Chosen Option : --

Q.10 Select the most appropriate option to fill in the blank.

The leader is popular because of his _____ and devotion towards the cause of the poor villagers.

- Ans 1. dynamism
 2. listlessness
 3. demonism
 4. decoction

Question ID : 65497832742
Status : Not Answered
Chosen Option : --

Q.11 Select the most appropriate synonym of the given word.

Level (adj)

- Ans 1. Rough
 2. Matched
 3. Frequent
 4. Flat

Question ID : 65497832734
Status : Not Answered
Chosen Option : --

Q.12 Select the most appropriate SYNONYM of the given word.

Adapt

- Ans 1. Reject
 2. Adjust
 3. Disturb
 4. Neglect

Question ID : 65497832750
Status : Not Answered
Chosen Option : --

Q.13 Select the option that is closest in meaning to the underlined idiom/phrase in the given sentence.

My room is always spick and span.

- Ans 1. used and dirty
 2. neat and tidy
 3. bright and well-ventilated
 4. dark and messy

Question ID : 65497832743
Status : Not Answered
Chosen Option : --

Q.14 Select the option that will improve the underlined part of the given sentence. In case no improvement is needed, select 'No improvement required'.

Having white hair make him look wise.

- Ans 1. making him looks
 2. makes him look
 3. make him looking
 4. No improvement required

Question ID : 65497832747
Status : Not Answered
Chosen Option : --

Q.15 Select the most appropriate meaning of the given idiom.

Come of age

- Ans 1. Earn money
 2. Grow old
 3. Reach maturity
 4. Be too young

Question ID : 65497832746
Status : Not Answered
Chosen Option : --

Q.16 Select the most appropriate ANTONYM of the given word.

Immune

- Ans
- 1. Eager
 - 2. Exposed
 - 3. Sensitive
 - 4. Excused

Question ID : 65497832744
Status : Not Answered
Chosen Option : --

Q.17 Select the most appropriate option to fill in the blank.

You have _____ much but do not lose hope.

- Ans
- 1. suffered
 - 2. settled
 - 3. supported
 - 4. stood

Question ID : 65497832740
Status : Not Answered
Chosen Option : --

Q.18 Select the most appropriate ANTONYM of the given word.

Lenient

- Ans
- 1. Furious
 - 2. Mild
 - 3. Strict
 - 4. Tolerant

Question ID : 65497832736
Status : Not Answered
Chosen Option : --

Q.19 Select the INCORRECTLY spelt word.

- Ans
- 1. Shedule
 - 2. Sheath
 - 3. Shade
 - 4. Sheet

Question ID : 65497832741
Status : Not Answered
Chosen Option : --

Q.20 Select the option that will improve the underlined part of the given sentence. In case no improvement is needed, select 'No improvement required'.

If I were late on the first day, it will make me look bad for the rest of the year.

- Ans
- 1. it would make
 - 2. No improvement required
 - 3. it makes
 - 4. would have made

Question ID : 65497832748
Status : Not Answered
Chosen Option : --

Comprehension:

In the following passage, some words have been deleted. Read the passage carefully and select the most appropriate option to fill in each blank.

It was a cloudy morning. I had just left for school (1) _____ I was caught in a heavy storm. I (2) _____ as it started pouring and I got all (3) _____. The clouds were blaring with thunder and lightning. (4) _____ all this, I managed to find a shelter and (5) _____ whether I should go to school or return home.

SubQuestion No : 21

Q.21 Select the most appropriate option to fill in blank no.1.

- Ans
- 1. since
 - 2. though
 - 3. then
 - 4. when

Question ID : 65497832753
Status : Not Answered
Chosen Option : --

Comprehension:

In the following passage, some words have been deleted. Read the passage carefully and select the most appropriate option to fill in each blank.

It was a cloudy morning. I had just left for school (1) _____ I was caught in a heavy storm. I (2) _____ as it started pouring and I got all (3) _____. The clouds were blaring with thunder and lightning. (4) _____ all this, I managed to find a shelter and (5) _____ whether I should go to school or return home.

SubQuestion No : 22

Q.22 Select the most appropriate option to fill in blank no.2.

- Ans
- 1. confused
 - 2. panicked
 - 3. alarmed
 - 4. frightened

Question ID : 65497832754
Status : Not Answered
Chosen Option : --

Comprehension:

In the following passage, some words have been deleted. Read the passage carefully and select the most appropriate option to fill in each blank.

It was a cloudy morning. I had just left for school (1) _____ I was caught in a heavy storm. I (2) _____ as it started pouring and I got all (3) _____. The clouds were blaring with thunder and lightning. (4) _____ all this, I managed to find a shelter and (5) _____ whether I should go to school or return home.

SubQuestion No : 23

Q.23 Select the most appropriate option to fill in blank no.3.

- Ans
- 1. parched
 - 2. flooded
 - 3. drenched
 - 4. drowned

Question ID : 65497832755
Status : Not Answered
Chosen Option : --

Comprehension:

In the following passage, some words have been deleted. Read the passage carefully and select the most appropriate option to fill in each blank.

It was a cloudy morning. I had just left for school (1) _____ I was caught in a heavy storm. I (2) _____ as it started pouring and I got all (3) _____. The clouds were blaring with thunder and lightning. (4) _____ all this, I managed to find a shelter and (5) _____ whether I should go to school or return home.

SubQuestion No : 24

Q.24 Select the most appropriate option to fill in blank no.4.

- Ans**
- 1. Along
 - 2. Through
 - 3. Within
 - 4. Amidst

Question ID : 65497832756
Status : Not Answered
Chosen Option : --

Comprehension:

In the following passage, some words have been deleted. Read the passage carefully and select the most appropriate option to fill in each blank.

It was a cloudy morning. I had just left for school (1) _____ I was caught in a heavy storm. I (2) _____ as it started pouring and I got all (3) _____. The clouds were blaring with thunder and lightning. (4) _____ all this, I managed to find a shelter and (5) _____ whether I should go to school or return home.

SubQuestion No : 25

Q.25 Select the most appropriate option to fill in blank no.5.

- Ans**
- 1. considered
 - 2. concluded
 - 3. studied
 - 4. worried

Question ID : 65497832757
Status : Not Answered
Chosen Option : --

Section : Part D Hindi

Q.1 'वह बात जो जनसाधारण में चलती आ रही है।'

वाक्यांश के लिए उपयुक्त शब्द होगा-

- Ans**
- 1. रसवन्ती
 - 2. प्रतीक
 - 3. बिम्ब
 - 4. किंवदंती

Question ID : 65497832776
Status : Answered
Chosen Option : 1

Q.2 निम्नलिखित प्रश्न में, दिए गए चार विकल्पों में से, उस विकल्प का चयन करें जो मुहावरे का अर्थ व्यक्त करता है।

पानी का बताशा होना

- Ans
- 1. मरणोन्मुख
 - 2. अत्यंत शीघ्र
 - 3. क्षण भंगुर
 - 4. बड़ा अनुभवी

Question ID : 65497832762
Status : Answered
Chosen Option : 3

Q.3 रिक्त स्थान को भरने के लिए सबसे उपयुक्त विकल्प का चयन करें।

महेश को स्वयं पर भरोसा है, वह किसी की _____ नहीं करता।

- Ans
- 1. तरफदारी
 - 2. परवाह
 - 3. इज्जत
 - 4. इच्छा

Question ID : 65497832777
Status : Answered
Chosen Option : 2

Q.4 'श्वेत' का विलोम शब्द होगा-

- Ans
- 1. उग्र
 - 2. श्याम
 - 3. सफेद
 - 4. नील

Question ID : 65497832775
Status : Answered
Chosen Option : 2

Q.5 दिए गए वाक्य में रेखांकित खंड को प्रतिस्थापित करने के लिए सबसे उपयुक्त विकल्प का चयन करें। यदि इसे प्रतिस्थापित करने की आवश्यकता नहीं है, तो विकल्प 'किसी बदलाव की आवश्यकता नहीं है' का चयन करें।

हो सकता है, तुम्हीं यह पत्र फाड़े हो।

- Ans
- 1. किसी बदलाव की आवश्यकता नहीं है।
 - 2. ने यह पत्र फाड़ा हो।
 - 3. ने यह पत्र फाड़ा है।
 - 4. ने यह पत्र फाड़ी है।

Question ID : 65497832764
Status : Answered
Chosen Option : 1

Q.6 दिए गए शब्द के समानार्थी शब्द का चयन करें।

बिजली

- Ans
- 1. तरणी
 - 2. सौदामिनी
 - 3. गृहिणी
 - 4. तरंगिणी

Question ID : 65497832759
Status : Answered
Chosen Option : 4

Q.7 दिए गए वाक्य का वह भाग ज्ञात करें जिसमें कोई त्रुटि है। यदि कोई त्रुटि नहीं है, तो 'कोई त्रुटि नहीं है' विकल्प को चुनें।

सोहन की बहन धीरे-धीरे पुस्तक पढ़ती है।

- Ans
- 1. सोहन की बहन
 - 2. कोई त्रुटि नहीं है
 - 3. पुस्तक पढ़ती है
 - 4. धीरे-धीरे

Question ID : 65497832758
Status : Answered
Chosen Option : 2

Q.8 वह बेचारा जन्म से अंधा है।

रेखांकित खंड के स्थान पर दूसरा शब्द प्रस्थापित कीजिए।

- Ans
- 1. जन्मांध
 - 2. बातूनी
 - 3. बहरा
 - 4. आलोचक

Question ID : 65497832768
Status : Answered
Chosen Option : 1

Q.9 वह थोड़ा ही भोजन करता है।

शब्द समूह के स्थान पर उचित शब्द लिखिए।

- Ans
- 1. मांसाहारी
 - 2. फलाहारी
 - 3. अल्पाहारी
 - 4. शाकाहारी

Question ID : 65497832769
Status : Answered
Chosen Option : 3

Q.10 दिये गये वाक्यांश के लिए एक शब्द चुनिए।

'जो देखा न जा सके'

- Ans
- 1. अदम्य
 - 2. अदृश्य
 - 3. अनिमेष
 - 4. अज्ञात

Question ID : 65497832760
Status : Answered
Chosen Option : 2

Q.11 'जिसकी उत्पत्ति स्वभावगत न हो' वाक्यांश के लिए उपयुक्त शब्द होगा-

- Ans
- 1. कृत्रिम
 - 2. प्राकृतिक
 - 3. अंडज
 - 4. आनुवांशिक

Question ID : 65497832773
Status : Answered
Chosen Option : 1

Q.12 दिये गये वाक्य के किस भाग में त्रुटि है?

तुम्हें इस बात को अच्छी तरह बूझना-समझना चाहिए।

- Ans
- 1. अच्छी तरह
 - 2. बात को
 - 3. बूझना-समझना चाहिए।
 - 4. तुम्हें इस

Question ID : 65497832774
Status : Answered
Chosen Option : 3

Q.13 रिक्त स्थान को भरने के लिए सबसे उपयुक्त शब्द का चयन करें।

साहित्य और जीवन का _____ सम्बन्ध है।

- Ans
- 1. अभिन्न
 - 2. निर्विघ्न
 - 3. घोर
 - 4. कठिन

Question ID : 65497832763
Status : Answered
Chosen Option : 3

Q.14 सही वर्तनी वाले शब्द का चयन करें।

- Ans
- 1. स्वामीभक्ती
 - 2. स्वामीभक्ति
 - 3. स्वामिभक्ति
 - 4. स्वमीभक्ती

Question ID : 65497832766
Status : Answered
Chosen Option : 1

Q.15 कौन-सा वाक्य शुद्ध है?

- Ans
- 1. मैंने मोसमी को बुलाई
 - 2. मैं मोसमी को बूलाता हूँ।
 - 3. मैं मोसमी को बुलाया
 - 4. मैंने मोसमी को बुलाया

Question ID : 65497832770
Status : Answered
Chosen Option : 4

Q.16 पर्यायवाची शब्द की सही जोड़ी बताइए।

- Ans
- 1. भौरा - अलि
 - 2. कवि - कविता
 - 3. लड़का - लड़के
 - 4. अनुकूल - प्रतिकूल

Question ID : 65497832771
Status : Answered
Chosen Option : 1

Q.17 दिए गए शब्द का विलोम चुनें।

स्वस्थ

- Ans
- 1. शुष्क
 - 2. नीरोगी
 - 3. साधर्म्य
 - 4. रुग्ण

Question ID : 65497832761
Status : Answered
Chosen Option : 4

Q.18 सही वर्तनी वाले शब्द का चयन करें।

- Ans
- 1. शुसमा
 - 2. सूसमा
 - 3. सुसमा
 - 4. सुषमा

Question ID : 65497832765
Status : Answered
Chosen Option : 4

Q.19 'पल्ला पकड़ना' मुहावरे का सही अर्थ है-

- Ans
- 1. नकल करना
 - 2. सहारा लेना
 - 3. समर्थन करना
 - 4. याचना करना

Question ID : 65497832772
Status : Answered
Chosen Option : 2

Q.20 रिक्त स्थान की पूर्ति के लिए सबसे उपयुक्त शब्द का चयन करें।

सादा जीवन _____ विचार ही जीने का मूल मंत्र होना चाहिए।

- Ans 1. उच्च
 2. निम्न
 3. विचित्र
 4. सरल

Question ID : 65497832767

Status : Answered

Chosen Option : 1

Comprehension:

भावना की अतिशयता जिस प्रकार अंधविश्वास को उत्पन्न करती है, बुद्धि की (1) _____ ठीक उसी प्रकार मनुष्य को दानव बना देती है और आज हम जिस युग में जी रहे हैं, वह सचमुच ही (2) _____ बर्बरता का युग है। जीवन के सारे (3) _____ उलट-पुलट गये हैं और मनुष्य यह भूल गया है कि उसका (4) _____ केवल अपने आप को ही जिलाना नहीं बल्कि समस्त मानव समाज को जीवित रखने में (5) _____ होना है।

निम्न प्रश्नों के उत्तर उपरोक्त गद्यांश के आधार पर दीजिए।

SubQuestion No : 21

Q.21 गद्यांश के रिक्त स्थान (1) के लिए सर्वाधिक उपयुक्त शब्द होगा-

- Ans 1. हीनता
 2. न्यूनता
 3. महानता
 4. अतिशयता

Question ID : 65497832779

Status : Answered

Chosen Option : 1

Comprehension:

भावना की अतिशयता जिस प्रकार अंधविश्वास को उत्पन्न करती है, बुद्धि की (1) _____ ठीक उसी प्रकार मनुष्य को दानव बना देती है और आज हम जिस युग में जी रहे हैं, वह सचमुच ही (2) _____ बर्बरता का युग है। जीवन के सारे (3) _____ उलट-पुलट गये हैं और मनुष्य यह भूल गया है कि उसका (4) _____ केवल अपने आप को ही जिलाना नहीं बल्कि समस्त मानव समाज को जीवित रखने में (5) _____ होना है।

निम्न प्रश्नों के उत्तर उपरोक्त गद्यांश के आधार पर दीजिए।

SubQuestion No : 22

Q.22 गद्यांश के रिक्त स्थान (2) के लिए सर्वाधिक उपयुक्त शब्द होगा-

- Ans 1. भौतिक
 2. मानसिक
 3. शारीरिक
 4. बौद्धिक

Question ID : 65497832780

Status : Answered

Chosen Option : 2

Comprehension:

भावना की अतिशयता जिस प्रकार अंधविश्वास को उत्पन्न करती है, बुद्धि की (1) _____ ठीक उसी प्रकार मनुष्य को दानव बना देती है और आज हम जिस युग में जी रहे हैं, वह सचमुच ही (2) _____ बर्बरता का युग है। जीवन के सारे (3) _____ उलट-पुलट गये हैं और मनुष्य यह भूल गया है कि उसका (4) _____ केवल अपने आप को ही जिलाना नहीं बल्कि समस्त मानव समाज को जीवित रखने में (5) _____ होना है।

निम्न प्रश्नों के उत्तर उपरोक्त गद्यांश के आधार पर दीजिए।

SubQuestion No : 23

Q.23 गद्यांश के रिक्त स्थान (3) के लिए सर्वाधिक उपयुक्त शब्द होगा-

- Ans** 1. लक्ष्य
 2. मूल्य
 3. अधिकार
 4. साधन

Question ID : 65497832781

Status : Answered

Chosen Option : 1

Comprehension:

भावना की अतिशयता जिस प्रकार अंधविश्वास को उत्पन्न करती है, बुद्धि की (1) _____ ठीक उसी प्रकार मनुष्य को दानव बना देती है और आज हम जिस युग में जी रहे हैं, वह सचमुच ही (2) _____ बर्बरता का युग है। जीवन के सारे (3) _____ उलट-पुलट गये हैं और मनुष्य यह भूल गया है कि उसका (4) _____ केवल अपने आप को ही जिलाना नहीं बल्कि समस्त मानव समाज को जीवित रखने में (5) _____ होना है।

निम्न प्रश्नों के उत्तर उपरोक्त गद्यांश के आधार पर दीजिए।

SubQuestion No : 24

Q.24 गद्यांश के रिक्त स्थान (4) के लिए सर्वाधिक उपयुक्त शब्द होगा-

- Ans** 1. हित
 2. कार्य
 3. धर्म
 4. अधिकार

Question ID : 65497832782

Status : Answered

Chosen Option : 3

Comprehension:

भावना की अतिशयता जिस प्रकार अंधविश्वास को उत्पन्न करती है, बुद्धि की (1) _____ ठीक उसी प्रकार मनुष्य को दानव बना देती है और आज हम जिस युग में जी रहे हैं, वह सचमुच ही (2) _____ बर्बरता का युग है। जीवन के सारे (3) _____ उलट-पुलट गये हैं और मनुष्य यह भूल गया है कि उसका (4) _____ केवल अपने आप को ही जिलाना नहीं बल्कि समस्त मानव समाज को जीवित रखने में (5) _____ होना है।

निम्न प्रश्नों के उत्तर उपरोक्त गद्यांश के आधार पर दीजिए।

SubQuestion No : 25

Q.25 गद्यांश के रिक्त स्थान (5) के लिए सर्वाधिक उपयुक्त शब्द होगा-

- Ans** 1. बाधक
 2. सहायक
 3. प्रवर्तक
 4. उन्नायक

Question ID : 65497832783

Status : Answered

Chosen Option : 2

Constable GD in CAPFs NIA SSF and Rifleman GD in Assam Rifles Examination 2021

Roll Number	www.HaryanaJobs.in
Candidate Name	www.HaryanaJobs.in
Venue Name	Gyanoday Technical Institute
Exam Date	08/12/2021
Exam Time :	9:00 AM - 10:30 AM
Subject	Constable GD 2021

Section : Part A General Intelligence and Reasoning

Q.1 सात मित्र A, B, C, D, E, F और G एक पंक्ति में उत्तर की ओर मुंह करके बैठे हैं। B पंक्ति के मध्य में नहीं बैठा है। A, B के दाईं ओर दूसरे स्थान पर बैठा है। D, F के बाईं ओर दूसरे स्थान पर बैठा है। G, F के बाईं ओर ठीक बगल में बैठा है। C, G के दाईं ओर दूसरे स्थान पर बैठा है। E, B और A के बीच में बैठा है। पंक्ति के मध्य में कौन बैठा है?

- Ans
- 1. G
 - 2. D
 - 3. E
 - 4. F

Question ID : 65497830129
Status : Answered
Chosen Option : 2

Q.2 चार अक्षर-समूह दिए गए हैं, जिनमें से तीन किसी तरह से संगत हैं और एक असंगत है। असंगत अक्षर-समूह का चयन कीजिए।

- Ans
- 1. ZBFL
 - 2. BDHN
 - 3. MOSY
 - 4. OQUB

Question ID : 65497830117
Status : Answered
Chosen Option : 4

Q.3 'गोंदा' का 'फूल' से वही संबंध है, जो 'जौ' का '_____' से है।

- Ans
- 1. डंठलों
 - 2. दालों
 - 3. मसालों
 - 4. अनाजों

Question ID : 65497830139
Status : Answered
Chosen Option : 4

Q.4 पांच मित्र P, Q, R, S और T एक बस में यात्रा कर रहे हैं। सभी एक के बाद एक, पांच अलग-अलग पंक्तियों में एक ही दिशा की ओर मुख करके बैठे हैं। P, S के ठीक आगे बैठा है। T, Q के पीछे बैठा है। R के पहले और बाद में बैठे व्यक्तियों की संख्या समान है। T, R के आगे बैठा है। इनमें से कौन अंत में बैठा है?

- Ans
- 1. T
 - 2. Q
 - 3. S
 - 4. P

Question ID : 65497830140
Status : Answered
Chosen Option : 3

Q.5 उस विकल्प का चयन करें, जिसका तीसरी संख्या से वही संबंध है, जो दूसरी संख्या का पहली संख्या से है।

12 : 67 :: 16 : ?

- Ans
- 1. 80
 - 2. 72
 - 3. 91
 - 4. 70

Question ID : 65497830131
Status : Answered
Chosen Option : 3

Q.6 दिए गए विकल्पों में से उस संख्या का चयन कीजिए, जो निम्नलिखित श्रेणी में प्रश्नवाचक चिह्न (?) के स्थान पर आएगी।

32, 33, 37, 46, ?, 87

- Ans
- 1. 60
 - 2. 52
 - 3. 62
 - 4. 77

Question ID : 65497830119
Status : Answered
Chosen Option : 2

Q.7 उस विकल्प का चयन करें, जिसका तीसरे अक्षर-समूह से वही संबंध है, जो दूसरे अक्षर-समूह का पहले अक्षर-समूह से है।

BFX : PTL :: UHE : ?

- Ans
- 1. IVS
 - 2. IUS
 - 3. IVT
 - 4. HVS

Question ID : 65497830121
Status : Answered
Chosen Option : 1

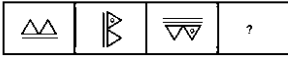
Q.8 Select the correct option that indicates the arrangement of the given words in a logical and meaningful order.

- i. Class
- ii. Family
- iii. Kingdom
- iv. Order
- v. Phylum

- Ans 1. iii, v, i, iv, ii
 2. iii, v, ii, iv, i
 3. iii, ii, iv, i, v
 4. iii, iv, ii, v, i

Question ID : 65497830124
 Status : Answered
 Chosen Option : 1

Q.9 दिए गए विकल्पों में से उस आकृति का चयन कीजिए जो दी गई श्रृंखला में प्रश्न चिह्न (?) के स्थान पर आ सकती है।



Ans

- 1.
- 2.
- 3.
- 4.

Question ID : 65497830127
 Status : Answered
 Chosen Option : 1

Q.10 उस अक्षर संयोजन का चयन करें जिसे दी गई श्रृंखला के रिक्त स्थानों में क्रमिक रूप से रखे जाने पर श्रृंखला पूर्ण हो जाएगी।

c _ _ w z c _ n _ z c j _ w _ _ j n _ z

- Ans 1. j, n, j, w, n, z, c, w
 2. n, j, n, w, n, z, c, w
 3. n, j, j, w, n, c, z, w
 4. j, n, j, w, z, n, c, w

Question ID : 65497830125
 Status : Answered
 Chosen Option : 1

Q.11 दिए गए विकल्पों में से उस संख्या का चयन कीजिए, जो निम्नलिखित श्रेणी में प्रश्नवाचक चिह्न (?) के स्थान पर आ सकती है।

24, 27, 33, 42, 54, ?

- Ans
- 1. 68
 - 2. 64
 - 3. 66
 - 4. 69

Question ID : 65497830126
Status : Answered
Chosen Option : 1

Q.12 रोहित ने रूचि से कहा, "तुम्हारी माँ के पिता मेरे बेटे के ससुर हैं"। रूचि का रोहित से क्या संबंध है?

- Ans
- 1. बेटा
 - 2. पोती
 - 3. बहन
 - 4. चाची

Question ID : 65497830123
Status : Answered
Chosen Option : 1

Q.13 एक विशिष्ट कूट भाषा में, 'match is over' को 'en jo hi' लिखा जाता है, 'the cricket match' को 'lu mo en' लिखा जाता है, और 'over the globe' को 'hi lu nok' लिखा जाता है। उसी कूट भाषा में 'cricket' को किस प्रकार लिखा जाएगा?

- Ans
- 1. nok
 - 2. jo
 - 3. hi
 - 4. mo

Question ID : 65497830128
Status : Answered
Chosen Option : 4

Q.14 रमेश के पास एक रुपए, पांच रुपए और दस रुपए के सिक्के समान संख्या में हैं। उसके पास कुल ₹640 हैं। उसके पास कुल कितने सिक्के हैं?

- Ans
- 1. 90
 - 2. 40
 - 3. 120
 - 4. 60

Question ID : 65497830134
Status : Answered
Chosen Option : 2

Q.15 यदि दर्पण को निम्नांकित चित्र के अनुसार PQ पर रखा जाए, तो दिए गए संयोजन का दर्पण में निमित्त सही प्रतिबिंब चयनित कीजिए।



- Ans
- 1. ADHWARIO
 - 2. OIRADHWIO
 - 3. OIRAWHDA
 - 4. ADHWARIO

Question ID : 65497830120
Status : Answered
Chosen Option : 4

Q.16 एक निश्चित कूट भाषा में, PARENTS को JYHULFG लिखा जाता है। उसी कूट भाषा में ASTONISH को किस प्रकार लिखा जाएगा?

- Ans
- 1. YGFKLQGR
 - 2. YGEKKQGR
 - 3. YHEKLQGR
 - 4. YHEKKQGS

Question ID : 65497830122
Status : Answered
Chosen Option : 1

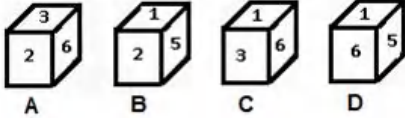
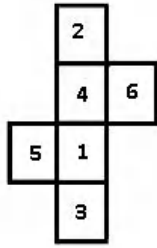
Q.17 दिए गए पैटर्न का ध्यानपूर्वक अध्ययन कीजिए और उस संख्या का चयन कीजिए, जो इसमें प्रश्नचिह्न (?) के स्थान पर आ सकती है।

? 23 17
74 95 62
44 49 28

- Ans
- 1. 36
 - 2. 16
 - 3. 15
 - 4. 32

Question ID : 65497830132
Status : Answered
Chosen Option : 3

Q.18 Select the dice that can be formed by folding the given sheet along the lines.



- Ans
- 1. Only D
 - 2. Only B
 - 3. Only A and B
 - 4. Only A and C

Question ID : 65497830135
Status : Answered
Chosen Option : 4

Q.19 दिए गए कथनों और निष्कर्षों का ध्यानपूर्वक अध्ययन करें। कथनों में दी गई जानकारी को सत्य मानते हुए विचार करें, भले ही वह सामान्यतः ज्ञात तथ्यों से भिन्न प्रतीत होती हो, और बताएं कि दिए गए निष्कर्षों में से कौन से तार्किक रूप से कथनों का पालन करते हैं।

कथन:
सभी सब्जियां खाद्य पदार्थ हैं।
कुछ खाद्य पदार्थ पेय हैं।

निष्कर्ष:
I. कुछ पेय खाद्य पदार्थ हैं।
II. कुछ सब्जियां पेय हैं।

- Ans
- 1. कोई भी निष्कर्ष पालन नहीं करता है।
 - 2. केवल निष्कर्ष I पालन करता है।
 - 3. केवल निष्कर्ष II पालन करता है।
 - 4. दोनों ही निष्कर्ष पालन करते हैं।

Question ID : 65497830130
Status : Answered
Chosen Option : 2

Q.20 यदि 'A' का अर्थ 'जोड़ना' है, 'B' का अर्थ 'घटाना' है, और '×' तथा '÷' चिह्नों को परस्पर बदल दिया जाए, तो निम्न व्यंजक का मान क्या होगा?

$$12 \div (81 B 18) \times 9 B 34 A 12 \times 6$$

Ans 1. 52

2. 54

3. 58

4. 76

Question ID : 65497830133

Status : Answered

Chosen Option : 1

Q.21 दिए गए विकल्पों में से उस अक्षर-समूह का चयन करें, जो निम्नलिखित श्रृंखला में प्रश्नवाचक चिन्ह (?) के स्थान पर आ सकता है।

GRTD, KNXZ, OJBV, SFFR, ?

Ans 1. WAJO

2. VBKN

3. WBJN

4. WBKO

Question ID : 65497830138

Status : Answered

Chosen Option : 3

Q.22 निम्नलिखित आरेख में, 'वृत्त', 'पुलिसकर्मियों' को निरूपित करता है, 'वर्ग', 'खिलाड़ियों' को निरूपित करता है, और 'त्रिभुज', 'करदाताओं' को निरूपित करता है। विभिन्न खंडों में दी गई संख्याएँ उस श्रेणी से संबंधित व्यक्तियों की संख्या को दर्शाती हैं।



कितने पुलिसकर्मियों, करदाता हैं लेकिन खिलाड़ी नहीं हैं?

Ans 1. 22

2. 6

3. 33

4. 27

Question ID : 65497830141

Status : Answered

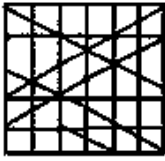
Chosen Option : 2

Q.23 उस विकल्प का चयन करें, जिसमें दी गई आकृति अंतर्निहित है (आकृति को घुमाने की अनुमति नहीं है)।

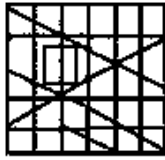


Ans

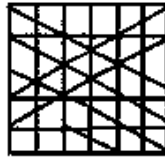
✗ 1.



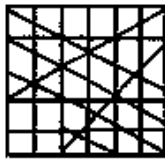
✗ 2.



✓ 3.



✗ 4.

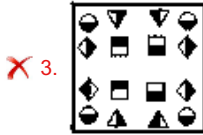
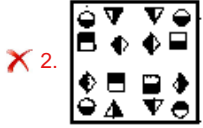
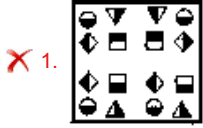


Question ID : 65497830136
Status : Answered
Chosen Option : 3

Q.24 निम्नांकित चित्रों में एक कागज को मोड़ने का क्रम और मुड़े हुए कागज को काटने का तरीका दर्शाया गया है। कागज को खोलने पर यह कैसा दिखाई देगा?



Ans



Question ID : 65497830137
Status : Answered
Chosen Option : 4

Q.25 एक निश्चित कूट भाषा में, FLEW को 1212546 लिखा जाता है। उसी कूट भाषा में RODE को किस प्रकार लिखा जाएगा?

- Ans
- ✗ 1. 3612411
 - ✗ 2. 341319
 - ✓ 3. 3615410
 - ✗ 4. 3615210

Question ID : 65497830118
Status : Answered
Chosen Option : 3

Section : Part B General Knowledge and General Awareness

Q.1 1947 में स्वतंत्र भारत की प्रथम कैबिनेट में शिक्षा विभाग का प्रभार किसके पास था?

- Ans
- ✗ 1. डॉ. बी.आर. अम्बेडकर
 - ✗ 2. लियाकत अली खान
 - ✗ 3. डॉ. राजेंद्र प्रसाद
 - ✓ 4. मौलाना अबुल कलाम आज़ाद

Question ID : 65497830150
Status : Answered
Chosen Option : 4

Q.2 भारतीय संविधान के किस अनुच्छेद में उच्चतम न्यायालय को याचिकाएं (writs) जारी करने की शक्ति प्रदान की गई है?

- Ans
- 1. अनुच्छेद 49
 - 2. अनुच्छेद 53
 - 3. अनुच्छेद 32
 - 4. अनुच्छेद 41

Question ID : 65497830163
Status : Answered
Chosen Option : 3

Q.3 म्यूरिएटिक अम्ल (muriatic acid) का रासायनिक सूत्र क्या है?

- Ans
- 1. HNO_3
 - 2. H_2SO_4
 - 3. AsH_3
 - 4. HCl

Question ID : 65497830153
Status : Marked For Review
Chosen Option : 3

Q.4 इनमें से किसके अनुसार, तापमान और अन्य भौतिक स्थितियां नियत रहने पर, किसी चालक के दो बिंदुओं के बीच प्रवाहित होने वाली धारा, दोनों बिंदुओं के बीच विभांतर के अनुक्रमानुपाती होती है?

- Ans
- 1. हुक का नियम
 - 2. ओम का नियम
 - 3. न्यूटन का नियम
 - 4. पास्कल का नियम

Question ID : 65497830159
Status : Answered
Chosen Option : 2

Q.5 सितंबर 2021 में, भारतीय विज्ञान संस्थान (IISc) और भारतीय अंतरिक्ष अनुसंधान संगठन (ISRO) के शोधकर्ताओं की एक टीम ने एक ऐसा उपकरण विकसित किया, जो _____ में सक्षम बना सकता है।

- Ans
- 1. अंतरिक्ष यात्रियों को अंतरिक्ष में कपड़े धोने
 - 2. अंतरिक्ष यानों को अंतरिक्ष में खाना गर्म करने
 - 3. वैज्ञानिकों को अंतरिक्ष से उपग्रह प्रक्षेपित करने
 - 4. वैज्ञानिकों को अंतरिक्ष में जैविक प्रयोग करने

Question ID : 65497830164
Status : Answered
Chosen Option : 1

Q.6 नवंबर 2020 में, केंद्रीय स्वास्थ्य मंत्री डॉ. हर्षवर्धन ने किस राज्य में 'पोर्टेबल ट्रांजिट हॉस्पिटल स्ट्रक्चर' का उद्घाटन किया?

- Ans
- 1. तमिलनाडु
 - 2. कर्नाटक
 - 3. महाराष्ट्र
 - 4. आंध्र प्रदेश

Question ID : 65497830151

Status : Not Attempted and Marked For Review

Chosen Option : --

Q.7 निम्नलिखित में से कौन सी पुस्तक मेगस्थनीज द्वारा लिखित है?

- Ans
- 1. नैचुरल हिस्ट्री
 - 2. इंडिका
 - 3. अर्थशास्त्र
 - 4. पेरिप्लस ऑफ द एरिथ्रियन सी

Question ID : 65497830148

Status : Answered

Chosen Option : 2

Q.8 निम्नलिखित में से किसने कभी भी भारत के लिए पेशेवर क्रिकेट नहीं खेला है?

- Ans
- 1. विजेन्द्र सिंह
 - 2. सौरव गांगुली
 - 3. हरभजन सिंह
 - 4. वीरेंद्र सहवाग

Question ID : 65497830166

Status : Answered

Chosen Option : 1

Q.9 निम्नलिखित में से किस कार्य के मूल्य को, राष्ट्रीय आय की गणना में शामिल नहीं किया जाता है?

- Ans
- 1. एक फर्म में कार्य करना
 - 2. एक नए घर का निर्माण
 - 3. बाजार में मछली बेचना
 - 4. गृहिणी का कार्य

Question ID : 65497830162

Status : Answered

Chosen Option : 4

Q.10 निम्नलिखित में से कौन सी साहित्यिक कृति संध्याकर नंदी द्वारा रचित है?

- Ans
- 1. गीत गोविंद
 - 2. अर्थशास्त्र
 - 3. रामचरितम/रामपालचरित
 - 4. बुद्धचरित

Question ID : 65497830154
Status : Answered
Chosen Option : 3

Q.11 'द लास्ट क्वीन ऑफ़ कश्मीर' नामक उपन्यास के लेखक कौन हैं?

- Ans
- 1. चित्रा बैनर्जी दिवाकरुणी
 - 2. सुधा मूर्ति
 - 3. चेतन भगत
 - 4. राकेश कौल

Question ID : 65497830146
Status : Not Answered
Chosen Option : --

Q.12 तुलसीदास की रचना, रामचरितमानस, _____ भाषा में लिखी गई है।

- Ans
- 1. असमिया
 - 2. अवधी
 - 3. उर्दू
 - 4. संस्कृत

Question ID : 65497830161
Status : Answered
Chosen Option : 2

Q.13 दशहरे के पर्व को _____ के नाम से भी जाना जाता है।

- Ans
- 1. धनतेरस
 - 2. नवरात्रि
 - 3. दुर्गाष्टमी
 - 4. विजयदशमी

Question ID : 65497830156
Status : Answered
Chosen Option : 4

Q.14 अक्टूबर 2020 में रेपो दर क्या थी?

- Ans
- 1. 4%
 - 2. 4.5%
 - 3. 5%
 - 4. 3.5%

Question ID : 65497830152
Status : Answered
Chosen Option : 1

Q.15 चावल की खेती की ज़ाबो प्रणाली (Zabo system) भारत के इनमें से किस राज्य में प्रचलित जल संचयन की एक स्वदेशी विधि है?

- Ans
- 1. केरल
 - 2. उत्तर प्रदेश
 - 3. कर्नाटक
 - 4. नागालैंड

Question ID : 65497830145
Status : Not Answered
Chosen Option : --

Q.16 महेश भूपति और लिण्डर पेस ने किस वर्ष विम्बलडन पुरुष युगल (Wimbledon Men's Doubles) खिताब जीता था?

- Ans
- 1. 1998
 - 2. 1999
 - 3. 1997
 - 4. 1995

Question ID : 65497830142
Status : Not Answered
Chosen Option : --

Q.17 मंदाकिनी नदी _____ में अलकनंदा नदी में मिलती है।

- Ans
- 1. विष्णुप्रयाग
 - 2. कर्णप्रयाग
 - 3. रुद्रप्रयाग
 - 4. देवप्रयाग

Question ID : 65497830165
Status : Not Attempted and Marked For Review
Chosen Option : --

Q.18 निम्न में से कौन सी घटना 1905 में बंगाल विभाजन से पूर्व घटी थी?

- Ans
- 1. जलियांवाला बाग नरसंहार
 - 2. काकोरी कांड
 - 3. चौरी चौरा कांड
 - 4. चापेकर बंधुओं द्वारा प्लेग कमिश्नर की हत्या

Question ID : 65497830149
Status : Answered
Chosen Option : 4

Q.19 नवंबर 2020 तक प्राप्त जानकारी के अनुसार निम्नलिखित में से कौन दिल्ली ज़िला क्रिकेट संघ के अध्यक्ष थे?

- Ans
- 1. राजीव जलोटा
 - 2. रोहन जेटली
 - 3. नीलेश शाह
 - 4. ए.के. सिंह

Question ID : 65497830147
Status : Answered
Chosen Option : 2

Q.20 बूरही दिहिंग (Burhi dihing) निम्नलिखित में से किस नदी की सहायक नदी है?

- Ans
- 1. ब्रह्मपुत्र
 - 2. गोदावरी
 - 3. यमुना
 - 4. गंगा

Question ID : 65497830143
Status : Answered
Chosen Option : 1

Q.21 जब किसी कार्य में आवश्यकता से अधिक लोग लगे होते हैं, तो इसे किस नाम से जाना जाता है?

- Ans
- 1. मौसमी बेरोजगारी (seasonal unemployment)
 - 2. संपूर्ण बेरोजगारी (total unemployment)
 - 3. प्रच्छन्न बेरोजगारी (disguised unemployment)
 - 4. आंशिक बेरोजगारी (partial unemployment)

Question ID : 65497830157
Status : Answered
Chosen Option : 3

Q.22 'ग्रिडा' नामक लोकनृत्य इनमें से किस राज्य से संबंधित है?

- Ans
- 1. छत्तीसगढ़
 - 2. मध्य प्रदेश
 - 3. झारखंड
 - 4. पश्चिम बंगाल

Question ID : 65497830144
Status : Not Answered
Chosen Option : --

Q.23 नीतीश कुमार, जिन्होंने 16 नवंबर 2020 को बिहार के मुख्यमंत्री के रूप में शपथ ग्रहण की, इनमें से किस दल से संबंधित हैं?

- Ans
- 1. भारतीय राष्ट्रीय कांग्रेस
 - 2. राष्ट्रीय जनता दल
 - 3. भारतीय जनता पार्टी
 - 4. जनता दल यूनाइटेड

Question ID : 65497830155
Status : Answered
Chosen Option : 4

Q.24 निम्नलिखित में से किसे ग्रीनहाउस गैस के रूप में नहीं जाना जाता है?

- Ans
- 1. कार्बन डाइऑक्साइड
 - 2. मेथेन
 - 3. ऑक्सीजन
 - 4. जल वाष्प

Question ID : 65497830158
Status : Answered
Chosen Option : 3

Q.25 "स्वतंत्रता मेरा जन्म अधिकार है और मैं इसे लेकर रहूँगा", यह नारा किसने दिया था?

- Ans
- 1. बाल गंगाधर तिलक
 - 2. लाला लाजपत राय
 - 3. बिपिन चंद्र पाल
 - 4. महात्मा गांधी

Question ID : 65497830160
Status : Answered
Chosen Option : 1

Section : Part C Elementary Mathematics

Q.1 एक समचतुर्भुज का परिमाप 148 cm है और इसका एक विकर्ण 70 cm है। समचतुर्भुज का क्षेत्रफल (cm² में) ज्ञात करें।

- Ans
- 1. 410
 - 2. 750
 - 3. 1680
 - 4. 840

Question ID : 65497830168
Status : Answered
Chosen Option : 4

Q.2 वार्षिक वेतन वृद्धि मिलने पर, नीरा का वेतन ₹45,000 से बढ़कर ₹48,150 हो गया। प्रतिशत वृद्धि ज्ञात कीजिए।

- Ans
- 1. 6.75%
 - 2. 6.25%
 - 3. 7%
 - 4. 7.5%

Question ID : 65497830189
Status : Answered
Chosen Option : 3

Q.3 किसी बॉक्स में 50p और 25p के सिक्के 9 : 5 के अनुपात में रखे हैं, जिनकी कुल धनराशि ₹207 है। 50p के सिक्कों की संख्या ज्ञात कीजिए।

- Ans
- 1. 180
 - 2. 324
 - 3. 150
 - 4. 226

Question ID : 65497830183
Status : Answered
Chosen Option : 1

Q.4 वह कौन-सी संख्या है जिसे 39, 52 और 60 से विभाजित करने पर क्रमशः 30, 43 और 51 शेष बचते हैं?

- Ans
- 1. 781
 - 2. 780
 - 3. 790
 - 4. 771

Question ID : 65497830177
Status : Answered
Chosen Option : 2

Q.5 दो संख्याओं का अनुपात 3 : 8 है। दोनों संख्याओं में 8 जोड़ने पर, अनुपात 2 : 5 हो जाता है। उन संख्याओं का योग कितना है?

- Ans
- 1. 240
 - 2. 264
 - 3. 120
 - 4. 288

Question ID : 65497830167
Status : Answered
Chosen Option : 2

Q.6 $\left(\frac{1}{2}\right) \{[-2(12 + 2)]10\}$ का मान ज्ञात करें।

- Ans
- ✗ 1. -160
 - ✗ 2. -35
 - ✗ 3. -100
 - ✓ 4. -140

Question ID : 65497830175
Status : Answered
Chosen Option : 4

Q.7 एक व्यक्ति ने, बिना कोई लाभ या हानि अर्जित किए, दो टीवी सेट ₹7200 प्रत्येक की दर से बेचे। यदि उसने एक टीवी सेट को 10% हानि पर बेचा हो, तो उसने दूसरे टीवी सेट को कितने प्रतिशत लाभ पर बेचा?

- Ans
- ✓ 1. $12\frac{1}{2}\%$
 - ✗ 2. $15\frac{1}{2}\%$
 - ✗ 3. $8\frac{1}{2}\%$
 - ✗ 4. $17\frac{1}{2}\%$

Question ID : 65497830169
Status : Answered
Chosen Option : 1

Q.8 मैं 10 km/h की चाल से चलती हूँ और एक निश्चित दूरी 2 घंटे में तय करती हूँ। यदि मैं अपनी चाल में 5 km/h की वृद्धि कर लूँ, तो मैं गंतव्य पर कितने समय पहले पहुँच जाऊँगी?

- Ans
- ✗ 1. 10 मिनट
 - ✗ 2. 20 मिनट
 - ✓ 3. 40 मिनट
 - ✗ 4. 50 मिनट

Question ID : 65497830176
Status : Answered
Chosen Option : 3

Q.9 किसी पहिए को 44 km की दूरी तय करने में 1000 चक्कर लगाना पड़ता है। पहिए की त्रिज्या ज्ञात कीजिए।

- Ans
- 1. 6 m
 - 2. 14 m
 - 3. 22 m
 - 4. 7 m

Question ID : 65497830185
Status : Answered
Chosen Option : 4

Q.10 A और B एक कार्य को क्रमशः 30 दिन और 40 दिन में पूरा कर सकते हैं। उन्होंने एक साथ कार्य शुरू किया। कुछ दिनों बाद A ने कार्य छोड़ दिया और B ने शेष कार्य को 5 दिनों में पूर्ण किया। A ने कितने दिनों के बाद कार्य छोड़ दिया था?

- Ans
- 1. 15
 - 2. 12
 - 3. 16
 - 4. 20

Question ID : 65497830190
Status : Answered
Chosen Option : 1

Q.11 एक व्यक्ति ने 4 घंटे में 54 km की दूरी तय की, उसने कुछ दूरी 6 km/h की चाल से पैदल चलकर और शेष दूरी 18 km/h की चाल से साइकिल द्वारा तय की। पैदल तय की गई दूरी (km में) ज्ञात कीजिए।

- Ans
- 1. 18
 - 2. 12
 - 3. 9
 - 4. 8

Question ID : 65497830191
Status : Answered
Chosen Option : 3

Q.12 आरती और रीता किसी कार्य को 8 घंटे में (क्रमशः अपनी-अपनी नियत गति से एक साथ कार्य करते हुए) कर सकती हैं और आरती अकेले इस कार्य को 10 घंटे में कर सकती हैं। रीता अकेले उस कार्य को कितने घंटे में कर सकती हैं?

- Ans
- 1. 15
 - 2. 40
 - 3. 10
 - 4. 20

Question ID : 65497830174
Status : Answered
Chosen Option : 2

Q.13 $68 - [5 + 3 \text{ of } (25 - 2 \times 10)] \div 29$ का मान कितना है?

- Ans
- 1. 58
 - 2. 2
 - 3. 8
 - 4. 4

Question ID : 65497830172
Status : Answered
Chosen Option : 2

Q.14 किसी रेस्तरां में, लंच के समय 40% ग्राहकों ने मांसाहारी भोजन किया, 52% ग्राहकों ने शाकाहारी भोजन किया, और 20% ग्राहकों ने दोनों प्रकार का भोजन किया। यदि 125 ग्राहक मौजूद थे, तो कितने लोगों ने लंच के समय किसी भी प्रकार का भोजन नहीं किया?

- Ans
- 1. 25
 - 2. 27
 - 3. 30
 - 4. 35

Question ID : 65497830180
Status : Answered
Chosen Option : 4

Q.15 20 और 50 के बीच की अभाज्य संख्याओं का औसत कितना होगा?

- Ans
- 1. 35.857
 - 2. 35.917
 - 3. 35.234
 - 4. 35.123

Question ID : 65497830179
Status : Answered
Chosen Option : 1

Q.16 निम्न में से कौन सी एकल छूट, 10%, 15% और 20% की तीन क्रमिक छूटों के बराबर होगी?

- Ans
- 1. 45%
 - 2. 39.8%
 - 3. 61.2%
 - 4. 38.8%

Question ID : 65497830188
Status : Answered
Chosen Option : 4

Q.17 राखी अपनी दुकान पर सभी वस्तुओं पर 30% की छूट देती है और इसके बावजूद वह 12% का लाभ अर्जित करती है। उस वस्तु का क्रय मूल्य (₹ में) कितना होगा जिसका अंकित मूल्य ₹280 है?

- Ans
- 1. 170
 - 2. 275
 - 3. 175
 - 4. 185

Question ID : 65497830171
Status : Answered
Chosen Option : 3

Q.18 ₹x की एक धनराशि पर एक निश्चित वार्षिक साधारण ब्याज की दर से 3 वर्ष में प्राप्त मिश्रधन ₹10,483 और 7 वर्ष में प्राप्त मिश्रधन ₹12,727 है। x का मान ज्ञात कीजिए।

- Ans
- 1. ₹8,800
 - 2. ₹6,600
 - 3. ₹5,000
 - 4. ₹7,500

Question ID : 65497830170
Status : Answered
Chosen Option : 1

Q.19 ब्याज की गणना वार्षिक चक्रवृद्धि आधार पर करने पर, ₹6,25,000 की धनराशि 10% वार्षिक दर पर कितने समय में ₹8,31,875 हो जाएगी?

- Ans
- 1. 4 वर्ष
 - 2. 2 वर्ष
 - 3. 3 वर्ष
 - 4. 6 वर्ष

Question ID : 65497830184
Status : Answered
Chosen Option : 3

Q.20 एक आदमी ने ₹48 में 12 के भाव पर कुछ खिलौने खरीदे और ₹48 में 8 के भाव पर उन्हें बेच दिया। उसका प्रतिशत लाभ या हानि ज्ञात कीजिए।

- Ans
- 1. 50%
 - 2. 2.5%
 - 3. 0.50%
 - 4. 5.0%

Question ID : 65497830173
Status : Answered
Chosen Option : 1

Q.21 रामू ने एक बैंक से ₹20,000 की राशि का ऋण लिया और 5 वर्ष बाद, उसने इसे चुकाने के लिए बैंक को ₹25,000 का भुगतान किया। वार्षिक व्याज की दर ज्ञात कीजिए।

- Ans
- 1. 6%
 - 2. 7%
 - 3. 8%
 - 4. 5%

Question ID : 65497830182
Status : Answered
Chosen Option : 4

Q.22 आठ वर्ष पूर्व, 4 सदस्यों वाले एक परिवार की औसत आयु 19 वर्ष थी। इस परिवार में एक बच्ची के शामिल होने के बाद परिवार की औसत आयु 8 वर्ष पहले की तुलना में 4 वर्ष अधिक हो गई। बच्ची की आयु कितनी है?

- Ans
- 1. 5 वर्ष
 - 2. 6 वर्ष
 - 3. 7 वर्ष
 - 4. 3 वर्ष

Question ID : 65497830187
Status : Answered
Chosen Option : 3

Q.23 एक व्यक्ति ने अपनी वस्तुओं के $\frac{3}{5}$ भाग को 16% लाभ पर और शेष भाग को क्रय मूल्य पर बेच दिया। इस पूरे लेन-देन में उसके द्वारा अर्जित लाभ ज्ञात कीजिए।

- Ans
- 1. $7\frac{3}{4}\%$ लाभ
 - 2. $11\frac{1}{2}\%$ हानि
 - 3. $9\frac{3}{5}\%$ लाभ
 - 4. $12\frac{1}{5}\%$ हानि

Question ID : 65497830186
Status : Not Attempted and Marked For Review
Chosen Option : --

Q.24 यदि $x^2 - 5x + 6$ और $x^2 + mx + 12$ का महत्तम समापवर्तक $(x - 3)$ है, तो m का मान कितना होगा?

- Ans
- 1. -7
 - 2. -2
 - 3. 2
 - 4. -1

Question ID : 65497830178

Status : Not Attempted and
Marked For Review

Chosen Option : --

Q.25 तीन संख्याओं का अनुपात 2 : 3 : 5 है और उनके घनों का योग 34560 है। दूसरी संख्या कितनी है?

- Ans
- 1. 12
 - 2. 30
 - 3. 6
 - 4. 18

Question ID : 65497830181

Status : Answered

Chosen Option : 4

Section : Part D English

Q.1 Select the most appropriate ANTONYM of the given word.

Demolish

- Ans
- 1. Destroy
 - 2. Divide
 - 3. Diminish
 - 4. Construct

Question ID : 65497830200

Status : Not Answered

Chosen Option : --

Q.2 Select the most appropriate meaning of the given idiom.

Out of the blue

- Ans
- 1. Completely unexpectedly
 - 2. Always dressing up in blue clothes
 - 3. Coming out of a blue box
 - 4. Caught in a fight

Question ID : 65497830203

Status : Not Answered

Chosen Option : --

Q.3 Select the most appropriate meaning of the given idiom.

Hang up one's boots

- Ans**
- 1. Tease an opponent
 - 2. Show disrespect
 - 3. Retire from a sport
 - 4. Challenge someone

Question ID : **65497830196**
Status : **Not Answered**
Chosen Option : --

Q.4 Select the most appropriate ANTONYM of the given word.

Assert

- Ans**
- 1. Abandon
 - 2. Request
 - 3. Urge
 - 4. Insist

Question ID : **65497830210**
Status : **Not Answered**
Chosen Option : --

Q.5 Select the INCORRECTLY spelt word.

- Ans**
- 1. Medallion
 - 2. Mechanical
 - 3. Mediate
 - 4. Meddle

Question ID : **65497830204**
Status : **Not Answered**
Chosen Option : --

Q.6 Select the option that will improve the underlined part of the given sentence. In case no improvement is needed, select 'No improvement required'.

The sun had set by the time we reached the hilltop.

- Ans**
- 1. we reach
 - 2. we were reaching
 - 3. we had reached
 - 4. No improvement required

Question ID : **65497830197**
Status : **Not Answered**
Chosen Option : --

Q.7 Select the option that will improve the underlined part of the given sentence. In case no improvement is needed, select 'No improvement required'.

Your brother can't drive, is it?

- Ans
- 1. No improvement required
 - 2. couldn't he
 - 3. can he
 - 4. will he

Question ID : 65497830211
Status : Not Answered
Chosen Option : --

Q.8 Select the most appropriate synonym of the given word.

Obvious

- Ans
- 1. Dull
 - 2. Thick
 - 3. Clear
 - 4. Vague

Question ID : 65497830195
Status : Not Answered
Chosen Option : --

Q.9 Select the most appropriate option to fill in the blank.

This case is limited to state _____.

- Ans
- 1. radicalisation
 - 2. jurisdiction
 - 3. preparation
 - 4. ramification

Question ID : 65497830205
Status : Not Answered
Chosen Option : --

Q.10 The following sentence has been split into four segments. Identify the segment that contains a grammatical error.

The manager told / the staff to complete / all the works / before going home.

- Ans
- 1. before going home
 - 2. the staff to complete
 - 3. The manager told
 - 4. all the works

Question ID : 65497830206
Status : Not Answered
Chosen Option : --

Q.11 Select the most appropriate synonym of the given word.

Investigate

- Ans
- 1. Supervise
 - 2. Relate
 - 3. Examine
 - 4. Calculate

Question ID : 65497830207
Status : Not Answered
Chosen Option : --

Q.12 Select the most appropriate option that can substitute the underlined segment in the given sentence. If there is no need to substitute it, select 'No substitution required'.

General speaking, the great discoverers were people with great courage.

- Ans
- 1. No substitution required
 - 2. Generally speak
 - 3. Generally spoken
 - 4. Generally speaking

Question ID : 65497830194
Status : Not Answered
Chosen Option : --

Q.13 Select the most appropriate option to fill in the blank.

He asked me _____ I knew you.

- Ans
- 1. although
 - 2. since
 - 3. whether
 - 4. unless

Question ID : 65497830192
Status : Not Answered
Chosen Option : --

Q.14 Select the option that can be used as a one-word substitute for the given group of words.

Study of insects

- Ans
- 1. Entomology
 - 2. Ornithology
 - 3. Geology
 - 4. Terminology

Question ID : 65497830198
Status : Not Answered
Chosen Option : --

Q.15 Select the most appropriate option to fill in the blank.

He was _____ from Turkey for his public condemnation of the Shah.

- Ans
- 1. exiled
 - 2. excluded
 - 3. evacuated
 - 4. escaped

Question ID : 65497830209
Status : Not Answered
Chosen Option : --

Q.16 Select the option that can be used as a one-word substitute for the given group of words.

A person who tends to be hopeful and confident about the future or the success of something

- Ans
- 1. Fanatic
 - 2. Pessimist
 - 3. Optimist
 - 4. Opportunist

Question ID : 65497830208
Status : Not Answered
Chosen Option : --

Q.17 The following sentence has been split into four segments. Identify the segment that contains a grammatical error.

If you want to / win the race, / you need to / believe in you.

- Ans
- 1. you need to
 - 2. believe in you
 - 3. If you want to
 - 4. win the race

Question ID : 65497830199
Status : Not Answered
Chosen Option : --

Q.18 Select the option that can be used as a one-word substitute for the given group of words.

Written law passed by a law-making body

- Ans
- 1. Statute
 - 2. Rule
 - 3. Summit
 - 4. Ordeal

Question ID : 65497830201
Status : Not Answered
Chosen Option : --

Q.19 Select the **INCORRECTLY** spelt word.

- Ans** ✓ 1. Procastination
✗ 2. Alliteration
✗ 3. Superintendent
✗ 4. Hallucination

Question ID : 65497830202
Status : Not Answered
Chosen Option : --

Q.20 The following sentence has been split into four segments. Identify the segment that contains a grammatical error.

Divya have little chance / of winning / the gold medal / this year.

- Ans** ✓ 1. Divya have little chance
✗ 2. of winning
✗ 3. this year
✗ 4. the gold medal

Question ID : 65497830193
Status : Not Answered
Chosen Option : --

Comprehension:

In the following passage, some words have been deleted. Fill in the blanks with the help of the options given. Select the most appropriate option for each number.

You will be quite surprised to know that the first telescope was made in the seventeenth century (1)_____ Galileo. It was fitted on top of the (2)_____ hill of Venice. Large crowds daily (3)_____ up the hill to see through (4)_____ telescope. They looked at the planets and (5)_____ at what they saw.

SubQuestion No : 21

Q.21 Select the most appropriate option to fill in blank no.1.

- Ans** ✓ 1. by
✗ 2. with
✗ 3. at
✗ 4. through

Question ID : 65497830213
Status : Not Answered
Chosen Option : --

Comprehension:

In the following passage, some words have been deleted. Fill in the blanks with the help of the options given. Select the most appropriate option for each number.

You will be quite surprised to know that the first telescope was made in the seventeenth century (1)_____ Galileo. It was fitted on top of the (2)_____ hill of Venice. Large crowds daily (3)_____ up the hill to see through (4)_____ telescope. They looked at the planets and (5)_____ at what they saw.

SubQuestion No : 22

Q.22 Select the most appropriate option to fill in blank no.2.

- Ans**
- 1. most high
 - 2. higher
 - 3. high
 - 4. highest

Question ID : **65497830214**
Status : **Not Answered**
Chosen Option : --

Comprehension:

In the following passage, some words have been deleted. Fill in the blanks with the help of the options given. Select the most appropriate option for each number.

You will be quite surprised to know that the first telescope was made in the seventeenth century (1)_____ Galileo. It was fitted on top of the (2)_____ hill of Venice. Large crowds daily (3)_____ up the hill to see through (4)_____ telescope. They looked at the planets and (5)_____ at what they saw.

SubQuestion No : 23

Q.23 Select the most appropriate option to fill in blank no.3.

- Ans**
- 1. watched
 - 2. backed
 - 3. paused
 - 4. climbed

Question ID : **65497830215**
Status : **Not Answered**
Chosen Option : --

Comprehension:

In the following passage, some words have been deleted. Fill in the blanks with the help of the options given. Select the most appropriate option for each number.

You will be quite surprised to know that the first telescope was made in the seventeenth century (1)_____ Galileo. It was fitted on top of the (2)_____ hill of Venice. Large crowds daily (3)_____ up the hill to see through (4)_____ telescope. They looked at the planets and (5)_____ at what they saw.

SubQuestion No : 24

Q.24 Select the most appropriate option to fill in blank no.4.

- Ans**
- 1. the
 - 2. an
 - 3. one
 - 4. a

Question ID : **65497830216**
Status : **Not Answered**
Chosen Option : --

Comprehension:

In the following passage, some words have been deleted. Fill in the blanks with the help of the options given. Select the most appropriate option for each number.

You will be quite surprised to know that the first telescope was made in the seventeenth century (1)_____ Galileo. It was fitted on top of the (2)_____ hill of Venice. Large crowds daily (3)_____ up the hill to see through (4)_____ telescope. They looked at the planets and (5)_____ at what they saw.

SubQuestion No : 25

Q.25 Select the most appropriate option to fill in blank no.5.

- Ans** 1. shocked
 2. wondered
 3. stunned
 4. surprised

Question ID : 65497830217
Status : Not Answered
Chosen Option : --

Section : Part D Hindi

Q.1 नीचे दिए गए वाक्य में रिक्त-स्थान की पूर्ति करने के लिए सर्वाधिक उपयुक्त शब्द का चयन करें।

मुर्गियों के दौड़ने की आवाज _____ सुनाई दे रही थी।

- Ans** 1. पड़-पड़-पड़-पड़
 2. धड़-धड़-धड़-धड़
 3. खट-खट-खट-खट
 4. किड़-किड़-किड़-किड़

Question ID : 65497830231
Status : Marked For Review
Chosen Option : 4

Q.2 निम्नलिखित प्रश्न में, दिए गए चार विकल्पों में से, उस विकल्प का चयन करें, जो दिए गए मुहावरे के सटीक अर्थ को दर्शाता है।

कलेजे का टुकड़ा

- Ans** 1. अत्यधिक दुःख
 2. असहनीय पीड़ा
 3. अत्यधिक प्रिय
 4. मन में बेचैनी

Question ID : 65497830228
Status : Answered
Chosen Option : 3

Q.3 रिक्त स्थान की पूर्ति करने के लिए सर्वाधिक उपयुक्त शब्द का चयन करें।

इस _____ ठीक बारह बजे हैं।

- Ans
- 1. युग
 - 2. काल
 - 3. समय
 - 4. अवधि

Question ID : 65497830232
Status : Answered
Chosen Option : 3

Q.4 दिए गए शब्द का विलोम शब्द चुनें।

गोचर

- Ans
- 1. अवगोचर
 - 2. कुगोचर
 - 3. अगोचर
 - 4. अनागोचर

Question ID : 65497830227
Status : Answered
Chosen Option : 3

Q.5 दिए गए शब्द का विलोम शब्द चुनें।

अर्वाचीन

- Ans
- 1. पुरातन
 - 2. पुराण
 - 3. प्राचीन
 - 4. पुराना

Question ID : 65497830224
Status : Answered
Chosen Option : 3

Q.6 दिए गए वाक्य का वो भाग ज्ञात करें जिसमें कोई त्रुटि है। यदि कोई त्रुटि नहीं है, तो 'कोई त्रुटि नहीं है' चुनें।

दिल्ली की जामा मस्जिद (1)\ विश्व ऐतिहासिक धरोहर में (2)\ सम्मिलित हुए है(3)\ कोई त्रुटि नहीं है (4)

- Ans
- 1. 2
 - 2. 1
 - 3. 3
 - 4. 4

Question ID : 65497830219
Status : Answered
Chosen Option : 3

Q.7 निम्न में से कौन सा दिए गए वाक्यांश के लिए एक शब्द नहीं है?

वह जिसकी दृष्टि दूर तक जाए

- Ans
- 1. दूरदर्शी
 - 2. दूरदेश
 - 3. अग्रशोची
 - 4. दूरदर्शन

Question ID : 65497830221
Status : Answered
Chosen Option : 1

Q.8 निम्नलिखित प्रश्न में, दिए गए चार विकल्पों में से, उस विकल्प का चयन करें, जो दिए गए मुहावरे के सटीक अर्थ को दर्शाता है।

पट्टी पढ़ाना

- Ans
- 1. सम्बन्ध खत्म करना
 - 2. सहारा लेना
 - 3. व्यर्थ बदनाम करना
 - 4. बुरी सलाह देना

Question ID : 65497830222
Status : Answered
Chosen Option : 4

Q.9 दिए गए वाक्य में रेखांकित खंड को प्रतिस्थापित करने के लिए सर्वाधिक उपयुक्त विकल्प का चयन करें। यदि इसे प्रतिस्थापित करने की आवश्यकता नहीं है, तो विकल्प 'किसी बदलाव की आवश्यकता नहीं है' का चयन करें।

रोगी को सेब काटकर खिलाओ।

- Ans
- 1. रोगी से
 - 2. रोगी का
 - 3. रोगी ने
 - 4. किसी बदलाव की आवश्यकता नहीं है।

Question ID : 65497830218
Status : Answered
Chosen Option : 4

Q.10 'प्रमोद' किसका पर्यायवाची है?

- Ans
- 1. नशा
 - 2. शोक
 - 3. उन्माद
 - 4. हर्ष

Question ID : 65497830235
Status : Answered
Chosen Option : 4

Q.11 सही वर्तनी वाले शब्द का चयन करें।

- Ans 1. शुद्धिकरण
 2. सुधिकरण
 3. शुद्धीकरण
 4. सुद्धीकरण

Question ID : 65497830230
Status : Answered
Chosen Option : 3

Q.12 दिए गए वाक्य में रेखांकित अंश को प्रतिस्थापित करने के लिए सर्वाधिक उपयुक्त विकल्प का चयन करें।

चोर सेंध मारते पकड़ा गया।

- Ans 1. लगाते पकड़ा गया।
 2. खोदते पकड़ा गया।
 3. करते पकड़ा गया।
 4. तोड़ते पकड़ा गया।

Question ID : 65497830236
Status : Answered
Chosen Option : 3

Q.13 दिए गए वाक्य का वह भाग ज्ञात करें जिसमें कोई त्रुटि है। यदि कोई त्रुटि नहीं है, तो 'कोई त्रुटि नहीं है' चुनें।

काशी के (1)/ विद्वानों का (2)/ कहना है (3)/ कोई त्रुटि नहीं है (4)

- Ans 1. 3
 2. 4
 3. 2
 4. 1

Question ID : 65497830223
Status : Answered
Chosen Option : 2

Q.14 सही वर्तनी वाले शब्द का चयन करें।

- Ans 1. शसी
 2. शशी
 3. ससी
 4. शशि

Question ID : 65497830229
Status : Answered
Chosen Option : 4

Q.15 दिए गए शब्द का समानार्थी शब्द बताइए-

तलवार

- Ans
- 1. शर
 - 2. खड्ग
 - 3. खद्योत
 - 4. भाला

Question ID : 65497830220
Status : Answered
Chosen Option : 2

Q.16 दिए गए वाक्य में रेखांकित अंश को प्रतिस्थापित करने के लिए सर्वाधिक उपयुक्त विकल्प का चयन करें।

मेरी शंकाओं का निराकरण हो जाना चाहिए।

- Ans
- 1. उत्तर
 - 2. समाधान
 - 3. उपचार
 - 4. समापन

Question ID : 65497830234
Status : Answered
Chosen Option : 2

Q.17 'जो पहले रहा हो' वाक्यांश के लिए एक शब्द होगा-

- Ans
- 1. पूर्वज
 - 2. प्रत्यक्ष
 - 3. अभूतपूर्व
 - 4. भूतपूर्व

Question ID : 65497830237
Status : Answered
Chosen Option : 4

Q.18 दिए गए वाक्यांश के लिए एक शब्द दीजिए।

जो देवताओं के योग्य हो

- Ans
- 1. दैवीय
 - 2. दैवी
 - 3. दिव्य
 - 4. देवयोग्य

Question ID : 65497830225
Status : Answered
Chosen Option : 4

Q.19 रिक्त स्थान की पूर्ति करने के लिए सर्वाधिक उपयुक्त शब्द का चयन करें।

उनकी _____ भी उनके साथ आई हैं।

- Ans 1. पत्नी
 2. महिला
 3. स्त्री
 4. नारी

Question ID : 65497830226
Status : Answered
Chosen Option : 1

Q.20 दिए गए वाक्य के किस भाग में त्रुटि है?

इस पुस्तक का यह नौवां संसर्कण है।

- Ans 1. का यह
 2. संसर्कण है।
 3. नौवां
 4. इस पुस्तक

Question ID : 65497830233
Status : Answered
Chosen Option : 2

Comprehension:

दिए गए गद्यांश में कुछ शब्द हटा दिए गए हैं। दिए गए विकल्पों की सहायता से रिक्त स्थान की पूर्ति करें। प्रत्येक संख्या के लिए सर्वाधिक उपयुक्त विकल्प का चयन करें।

हो सकता है आप सोचते हों कि जैसे आपके बाबा ने जिंदगी (1) _____, वैसे ही आपके बाप ने और शायद वैसे ही आप भी। खाने-पहनने का वही ढंग, वही पूजा- (2) _____, वही अपने देवी-देवता, वही (3) _____-रिश्ते, वही आचार- (4) _____, वही अपने- (5) _____, वही उमरों और मन में घुमड़ती हुई वही पीड़ाएँ।

SubQuestion No : 21

Q.21 गद्यांश के रिक्त स्थान (1) के लिए सर्वाधिक उपयुक्त शब्द होगा-

- Ans 1. बिताई
 2. छोड़ी
 3. निभाई
 4. काटी

Question ID : 65497830239
Status : Answered
Chosen Option : 1

Comprehension:

दिए गए गद्यांश में कुछ शब्द हटा दिए गए हैं। दिए गए विकल्पों की सहायता से रिक्त स्थान की पूर्ति करें। प्रत्येक संख्या के लिए सर्वाधिक उपयुक्त विकल्प का चयन करें।

हो सकता है आप सोचते हों कि जैसे आपके बाबा ने जिंदगी (1) _____, वैसे ही आपके बाप ने और शायद वैसे ही आप भी। खाने-पहनने का वही ढंग, वही पूजा- (2) _____, वही अपने देवी-देवता, वही (3) _____-रिश्ते, वही आचार- (4) _____, वही अपने- (5) _____, वही उम्रों और मन में घुमड़ती हुई वही पीड़ाएँ।

SubQuestion No : 22

Q.22 गद्यांश के रिक्त स्थान (2) के लिए सर्वाधिक उपयुक्त शब्द होगा-

- Ans**
- 1. प्रणाम
 - 2. पाठ
 - 3. भजन
 - 4. कीर्तन

Question ID : 65497830240
Status : Answered
Chosen Option : 2

Comprehension:

दिए गए गद्यांश में कुछ शब्द हटा दिए गए हैं। दिए गए विकल्पों की सहायता से रिक्त स्थान की पूर्ति करें। प्रत्येक संख्या के लिए सर्वाधिक उपयुक्त विकल्प का चयन करें।

हो सकता है आप सोचते हों कि जैसे आपके बाबा ने जिंदगी (1) _____, वैसे ही आपके बाप ने और शायद वैसे ही आप भी। खाने-पहनने का वही ढंग, वही पूजा- (2) _____, वही अपने देवी-देवता, वही (3) _____-रिश्ते, वही आचार- (4) _____, वही अपने- (5) _____, वही उम्रों और मन में घुमड़ती हुई वही पीड़ाएँ।

SubQuestion No : 23

Q.23 गद्यांश के रिक्त स्थान (3) के लिए सर्वाधिक उपयुक्त शब्द होगा-

- Ans**
- 1. नाते
 - 2. संबंध
 - 3. परिवार
 - 4. घर

Question ID : 65497830241
Status : Answered
Chosen Option : 1

Comprehension:

दिए गए गद्यांश में कुछ शब्द हटा दिए गए हैं। दिए गए विकल्पों की सहायता से रिक्त स्थान की पूर्ति करें। प्रत्येक संख्या के लिए सर्वाधिक उपयुक्त विकल्प का चयन करें।

हो सकता है आप सोचते हों कि जैसे आपके बाबा ने जिंदगी (1) _____, वैसे ही आपके बाप ने और शायद वैसे ही आप भी। खाने-पहनने का वही ढंग, वही पूजा- (2) _____, वही अपने देवी-देवता, वही (3) _____-रिश्ते, वही आचार- (4) _____, वही अपने- (5) _____, वही उम्रों और मन में घुमड़ती हुई वही पीड़ाएँ।

SubQuestion No : 24

Q.24 गद्यांश के रिक्त स्थान (4) के लिए सर्वाधिक उपयुक्त शब्द होगा-

- Ans**
- 1. संस्कार
 - 2. विचार
 - 3. व्यवहार
 - 4. उपचार

Question ID : 65497830242
Status : Answered
Chosen Option : 2

Comprehension:

दिए गए गद्यांश में कुछ शब्द हटा दिए गए हैं। दिए गए विकल्पों की सहायता से रिक्त स्थान की पूर्ति करें। प्रत्येक संख्या के लिए सर्वाधिक उपयुक्त विकल्प का चयन करें।

हो सकता है आप सोचते हों कि जैसे आपके बाबा ने जिंदगी (1) _____, वैसे ही आपके बाप ने और शायद वैसे ही आप भी। खाने-पहनने का वही ढंग, वही पूजा- (2) _____, वही अपने देवी-देवता, वही (3) _____-रिश्ते, वही आचार- (4) _____, वही अपने- (5) _____, वही उम्रों और मन में घुमड़ती हुई वही पीड़ाये।

SubQuestion No : 25

Q.25 गद्यांश के रिक्त स्थान (5) के लिए सर्वाधिक उपयुक्त शब्द होगा-

- Ans**
- 1. सबके
 - 2. दूसरे
 - 3. पराये
 - 4. उनके

Question ID : 65497830243

Status : Answered

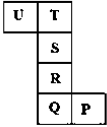
Chosen Option : 3

Constable GD in CAPFs NIA SSF and Rifleman GD in Assam Rifles Examination 2021

Roll Number	www.HaryanaJobs.in
Candidate Name	www.HaryanaJobs.in
Venue Name	Skymoon IT Point Pvt. Ltd
Exam Date	08/12/2021
Exam Time :	4:00 PM - 5:30 PM
Subject	Constable GD 2021

Section : Part A General Intelligence and Reasoning

Q.1 जब निम्नांकित आकृति को मोड़कर एक बॉक्स बनाया जाता है, तो कौन सा पृष्ठ, पृष्ठ R के सटा हुआ नहीं हो सकता है?



- Ans
- 1. P
 - 2. T
 - 3. U
 - 4. S

Question ID : 65497835216
Status : Answered
Chosen Option : 2

Q.2 उस विकल्प का चयन करें जो तीसरी संख्या से उसी प्रकार संबंधित है, जिस प्रकार दूसरी संख्या पहली संख्या से संबंधित है।

38 : 6 :: 83 : ?

- Ans
- 1. 10
 - 2. 8
 - 3. 9
 - 4. 7

Question ID : 65497835214
Status : Answered
Chosen Option : 3

Q.3 यदि 'H', 'x' को, 'J', 'z' को, 'D', '4' को और 'Y', '3' को निरूपित करता है, तो निम्नलिखित व्यंजक का मान क्या होगा?

105 J 29 H 96 Y 16 D 84

- Ans
- 1. 108
 - 2. 15
 - 3. 78
 - 4. 69

Question ID : 65497835215
Status : Answered
Chosen Option : 2

Q.4 'गरम' का संबंध 'ठंडे' से ठीक उसी तरह है, जैसे 'भारी' का संबंध '_____ ' से है।

- Ans
- 1. कम
 - 2. हल्के
 - 3. छोटे
 - 4. बड़े

Question ID : 65497835206
Status : Answered
Chosen Option : 2

Q.5 एक निश्चित कूट भाषा में, RAMP को 3611332 के रूप में कूटबद्ध किया जाता है। उसी कूट भाषा में, DELL को किस रूप में कूटबद्ध किया जाएगा?

- Ans
- 1. 851214
 - 2. 852424
 - 3. 851224
 - 4. 810224

Question ID : 65497835210
Status : Answered
Chosen Option : 3

Q.6 चार अक्षर-समूह दिए गए हैं, जिनमें से तीन एक निश्चित तरीके से संगत है और एक असंगत है। असंगत अक्षर-समूह का चयन कीजिए।

- Ans
- 1. WYCI
 - 2. HJNT
 - 3. BDHN
 - 4. ZAEJ

Question ID : 65497835209
Status : Answered
Chosen Option : 4

Q.7 किसी निश्चित कूट भाषा में, MELON को TCSKU के रूप में लिखा जाता है और CHAMP को JFHIW के रूप में लिखा जाता है। उसी कूट भाषा में FAMISH को किस रूप में लिखा जाएगा?

- Ans 1. MYTEZB
 2. NZSFYH
 3. MYTEBZ
 4. NXTEBY

Question ID : 65497835198
Status : Answered
Chosen Option : 1

Q.8 उस विकल्प का चयन करें, जो तीसरे अक्षर-समूह से उसी प्रकार संबंधित है, जिस प्रकार दूसरा अक्षर-समूह पहले अक्षर-समूह से संबंधित है।

FELT : PAVP :: SACK : ?

- Ans 1. CXNG
 2. BWNH
 3. CWMG
 4. BXMH

Question ID : 65497835197
Status : Answered
Chosen Option : 3

Q.9 एक परिवार में सात व्यक्ति हैं। अभय, मोनू का पुत्र है। निकुंज, अंजलि का पुत्र है। मेघा और श्रेया राकेश की पुत्रियां हैं, राकेश की शादी अंजलि से हुई है। मोनू की शादी श्रेया से हुई है। अभय का राकेश से क्या संबंध है?

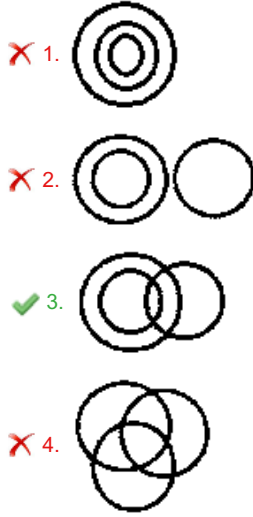
- Ans 1. बहनोई
 2. नाती
 3. पुत्र
 4. दामाद

Question ID : 65497835199
Status : Answered
Chosen Option : 2

Q.10 उस वेन आरेख का चयन करें, जो निम्नलिखित वर्गों के बीच के संबंध को सबसे अच्छे तरीके से दर्शाता है।

पुरुष, पिता, डॉक्टर

Ans



Question ID : 65497835208
Status : Answered
Chosen Option : 3

Q.11 दिए गए पैटर्न का ध्यानपूर्वक अध्ययन करें और उस संख्या का चयन करें जो इसमें प्रश्नचिह्न (?) के स्थान पर आ सकती है।

16 14 18
58 44 ?
13 8 4

- Ans
- ✗ 1. 24
- ✗ 2. 36
- ✗ 3. 40
- ✓ 4. 44

Question ID : 65497835202
Status : Answered
Chosen Option : 4

Q.12 एक निश्चित कूट भाषा में, 'PAPER IS WHITE' को 'JH NX TRO', के रूप में लिखा जाता है, 'BOTTLES ARE WHITE' को 'HN NX TP' के रूप में लिखा जाता है और 'BOTTLES IS BROKEN' को 'HN TRO SNG' के रूप में लिखा जाता है। उसी कूट भाषा में 'PAPER' को किस रूप में लिखा जाएगा?

- Ans
- ✗ 1. NX
- ✓ 2. JH
- ✗ 3. HN
- ✗ 4. TRO

Question ID : 65497835200
Status : Answered
Chosen Option : 2

Q.13 उस सही विकल्प का चयन कीजिए, जो दिए गए शब्दों के उस क्रम को दर्शाता है, जिस क्रम में वे अंग्रेज़ी शब्दकोश में आते हैं।

1. Priceless
2. Pristine
3. Prison
4. Priority
5. Prejudice

Ans ✓ 1. 5, 1, 4, 3, 2

✗ 2. 5, 1, 4, 2, 3

✗ 3. 5, 4, 1, 3, 2

✗ 4. 1, 3, 4, 2, 5

Question ID : 65497835218
Status : Answered
Chosen Option : 1

Q.14 दिए गए संयोजन के सही दर्पण प्रतिबिंब का चयन करें, जब दर्पण को दिखाए गए अनुसार PQ पर रखा गया है।

SHOPPAN
P
Q

Ans ✗ 1. SHOPPAN

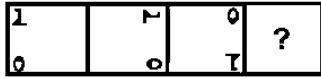
✗ 2. SHOPPAN

✗ 3. SHOPPAN

✓ 4. SHOPPAN

Question ID : 65497835212
Status : Answered
Chosen Option : 4

Q.15 दिए गए विकल्पों में से उस आकृति का चयन कीजिए, जो निम्न आकृति श्रृंखला में प्रश्नवाचक चिन्ह (?) के स्थान पर आ सकती है।

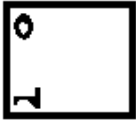


Ans

✓ 1.



✗ 2.



✗ 3.



✗ 4.



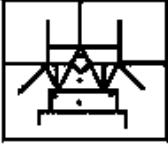
Question ID : 65497835221
Status : Answered
Chosen Option : 1

Q.16 उस विकल्प का चयन करें जिसमें दी गई आकृति अंतर्निहित है
(आकृति को घुमाने की अनुमति नहीं है)।

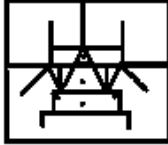


Ans

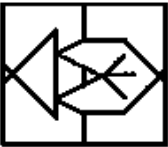
X 1.



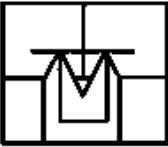
✓ 2.



X 3.



X 4.



Question ID : 65497835217
Status : Answered
Chosen Option : 2

Q.17 अक्षरों के उस संयोजन का चयन कीजिए, जिसे दी गई श्रृंखला के रिक्त स्थानों में क्रमबद्ध रूप से रखने पर श्रृंखला पूर्ण हो जाएगी।

Q _ T J _ Q R _ J C _ R T _ C Q _ T _ C

Ans

X 1. CRTQJRJ

X 2. RCJQJRR

✓ 3. RCTQJRJ

X 4. RCQTJRJ

Question ID : 65497835219
Status : Answered
Chosen Option : 3

Q.18 दिए गए विकल्पों में से उस संख्या का चयन कीजिए जो निम्न श्रेणी में प्रश्नवाचक चिह्न (?) के स्थान पर आएगी।

10, 11, 19, 46, 110, ?

Ans 1. 235

2. 240

3. 225

4. 234

Question ID : 65497835211

Status : Answered

Chosen Option : 1

Q.19 निम्न विकल्पों में से उस अक्षर-समूह का चयन कीजिए जो दी गई श्रृंखला में प्रश्नचिह्न (?) के स्थान पर आ सकता है।

AD, EH, ?, MP

Ans 1. IJ

2. KJ

3. IL

4. JK

Question ID : 65497835205

Status : Answered

Chosen Option : 3

Q.20 जब किसी संख्या को उसकी पूर्ववर्ती संख्या के तिगुने में जोड़ा जाता है, और इन दोनों संख्याओं के योग को 5 से विभाजित किया जाता है, तो परिणाम के रूप में 13 प्राप्त होता है। वह संख्या ज्ञात कीजिए।

Ans 1. 15

2. 17

3. 7

4. 13

Question ID : 65497835203

Status : Answered

Chosen Option : 2

Q.21 एक कक्षा में कुल 30 छात्र हैं। आदित्य योग्यता क्रम में ऊपर की ओर से 11वें रैंक पर है। नीचे की ओर से आदित्य की रैंक क्या है?

Ans 1. 17वीं

2. 20वीं

3. 18वीं

4. 19वीं

Question ID : 65497835207

Status : Answered

Chosen Option : 2

Q.22 दिए गए कथनों और निष्कर्षों को ध्यान से पढ़ें। यह मानते हुए कि कथनों में दी गई जानकारी सत्य है, भले ही यह सामान्य रूप से ज्ञात तथ्यों से भिन्न प्रतीत होती हो, यह निर्णय लें कि दिए गए निष्कर्षों में से कौन से निष्कर्ष कथनों का तार्किक रूप से अनुसरण करते हैं?

कथन:

कुछ ऊन कपड़े हैं।
सभी कपड़े नरम हैं।

निष्कर्ष:

I. सभी ऊन नरम हैं।
II. कुछ ऊन नरम हैं।

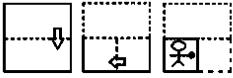
- Ans
- 1. निष्कर्ष I और II दोनों अनुसरण करते हैं।
 - 2. केवल निष्कर्ष II अनुसरण करता है।
 - 3. न तो निष्कर्ष I और न ही II अनुसरण करता है।
 - 4. केवल निष्कर्ष I अनुसरण करता है।

Question ID : 65497835201

Status : Answered

Chosen Option : 2

Q.23 नीचे दी गई आकृतियों में कागज़ के एक टुकड़े को मोड़ने और मोड़े गए कागज़ को काटने के तरीके का क्रम दर्शाया गया है। कागज़ को खोले जाने पर वह कैसा दिखाई देगा?



Ans

- 1.
- 2.
- 3.
- 4.

Question ID : 65497835204

Status : Answered

Chosen Option : 3

Q.24 उस संख्या की पहचान करें, जो निम्नलिखित श्रेणी से संबंधित नहीं है।

7, 7, 21, 105, 730, 6615

- Ans
- 1. 105
 - 2. 730
 - 3. 6615
 - 4. 21

Question ID : 65497835220
Status : Answered
Chosen Option : 2

Q.25 आठ मित्र A, B, C, D, E, F, G और H एक वृत्ताकार मेज के परितः केंद्र की ओर मुँह किए हुए बैठे हैं। लेकिन यह आवश्यक नहीं कि वे उपरोक्त क्रम में ही बैठे हों। F, D के ठीक बगल में है। C, A के दाईं ओर दूसरे स्थान पर है। A और D के बीच में केवल दो व्यक्ति हैं। E और G अगल-बगल बैठे हैं, तथा H और F भी अगल-बगल बैठे हैं। B, F के बाईं ओर तीसरे स्थान पर है। D, G के बाईं ओर तीसरे स्थान पर है। यदि B से दक्षिणावर्त दिशा में देखा जाए, तो B और G के बीच में कितने व्यक्ति बैठे हैं?

- Ans
- 1. तीन
 - 2. एक
 - 3. चार
 - 4. दो

Question ID : 65497835213
Status : Answered
Chosen Option : 4

Section : Part B General Knowledge and General Awareness

Q.1 1757 में प्लासी का युद्ध किसने जीता था?

- Ans
- 1. ब्रिटिश ईस्ट इंडिया कंपनी
 - 2. बंगाल के नवाब
 - 3. मराठा
 - 4. अवध के नवाब

Question ID : 65497835223
Status : Answered
Chosen Option : 1

Q.2 न्याय के सामान्य प्रशासन पर जब सैन्य प्राधिकरण का नियंत्रण हो जाता है, तब शासन की जो प्रणाली प्रभावी होती है उसे _____ कहा जाता है।

- Ans
- 1. सैनिक शासन
 - 2. तख्ता पलट
 - 3. राज तंत्र
 - 4. तानाशाही

Question ID : 65497835230
Status : Answered
Chosen Option : 1

Q.3 अगस्त 2021 में, ग्रीष्मकालीन ओलिंपिक खेल 2020 कहां आयोजित किए गए?

- Ans
- 1. टोक्यो
 - 2. पेरिस
 - 3. लॉस एंजिल्स
 - 4. बीजिंग

Question ID : 65497835236
Status : Answered
Chosen Option : 1

Q.4 _____ स्थापत्य कला की एक शैली है जिसमें नागर और द्रविड़ शैली के तत्वों का समावेश है।

- Ans
- 1. प्रशस्ति
 - 2. संहिता
 - 3. वेसर
 - 4. तोरण

Question ID : 65497835229
Status : Answered
Chosen Option : 3

Q.5 दिल्ली में लाल किले का निर्माण निम्नलिखित में से किसने कराया था?

- Ans
- 1. शाहजहां
 - 2. जहांगीर
 - 3. औरंगज़ेब
 - 4. अकबर

Question ID : 65497835224
Status : Answered
Chosen Option : 1

Q.6 निम्नलिखित में से कौन सा पशु जुगाली नहीं करता है?

- Ans
- 1. गाय
 - 2. हिरण
 - 3. भैंस
 - 4. सूअर

Question ID : 65497835241
Status : Answered
Chosen Option : 4

Q.7 मिट्टी की नमी को बनाए रखने के लिए, पौधों के बीच की खाली ज़मीन को कार्बनिक पदार्थों की परत से ढकने की प्रक्रिया को _____ के नाम से जाना जाता है।

- Ans
- 1. कम्पोस्टिंग
 - 2. मैन्योरिंग
 - 3. मल्विंग
 - 4. फर्टिलाइजिंग

Question ID : 65497835237
Status : Answered
Chosen Option : 3

Q.8 होपमैन विश्व कप 2019 निम्नलिखित में से किस देश ने जीता था?

- Ans 1. स्विट्जरलैंड
 2. जर्मनी
 3. ऑस्ट्रेलिया
 4. संयुक्त राज्य अमेरिका

Question ID : 65497835235
Status : Answered
Chosen Option : 2

Q.9 'तेय्यम' एक प्रसिद्ध आनुष्ठानिक कलारूप है जिसका उद्भव _____ राज्य में हुआ था।

- Ans 1. झारखंड
 2. केरल
 3. उत्तराखंड
 4. मणिपुर

Question ID : 65497835232
Status : Answered
Chosen Option : 2

Q.10 संयुक्त राष्ट्र ने वार्षिक विश्व शौचालय दिवस के रूप में _____ को चिह्नित किया है।

- Ans 1. 16 अप्रैल
 2. 14 जनवरी
 3. 17 सितंबर
 4. 19 नवंबर

Question ID : 65497835242
Status : Answered
Chosen Option : 1

Q.11 बौद्ध त्यौहार 'सोंगक्रान' निम्न में से किस भारतीय राज्य में प्रमुखतः मनाया जाता है?

- Ans 1. अरुणाचल प्रदेश
 2. झारखंड
 3. हिमाचल प्रदेश
 4. तमिलनाडु

Question ID : 65497835246
Status : Answered
Chosen Option : 1

Q.12 1982 में, दिल्ली में आयोजित हुए एशियाई खेलों में शुभंकर के रूप में निम्न में से किसका उपयोग किया गया था?

- Ans 1. भिन भिन - स्वर्ण का रंगीन पक्षी
 2. अतुंग- बावन हिरण
 3. काका - एक सींग वाला जवन राइनो
 4. अप्पू - हाथी का बच्चा

Question ID : 65497835238
Status : Answered
Chosen Option : 3

Q.13 12वें ब्रिक्स (ब्राजील, रूस, भारत, चीन और दक्षिण अफ्रीका) शिखर सम्मेलन का आभासी आयोजन की अध्यक्षता में किया गया था।

- Ans
- 1. भारतीय प्रधानमंत्री नरेंद्र मोदी
 - 2. रूसी राष्ट्रपति व्लादिमीर पुतिन
 - 3. ब्राजील के राष्ट्रपति जेर बोल्सोनारो
 - 4. चीनी राष्ट्रपति शी जिनपिंग

Question ID : 65497835226
Status : Answered
Chosen Option : 3

Q.14 निम्नलिखित में से किस राज्य ने श्रेणी-1 के अंतर्गत 2020 का ई-पंचायत का प्रथम पुरस्कार जीता था?

- Ans
- 1. कर्नाटक
 - 2. हिमाचल प्रदेश
 - 3. राजस्थान
 - 4. महाराष्ट्र

Question ID : 65497835234
Status : Answered
Chosen Option : 3

Q.15 _____ वित्त आयोग का गठन 27 नवंबर 2017 को भारत के संविधान के अनुच्छेद 280 के संदर्भ में किया गया था।

- Ans
- 1. 15वें
 - 2. 14वें
 - 3. 16वें
 - 4. 12वें

Question ID : 65497835239
Status : Answered
Chosen Option : 1

Q.16 किन्नौर में हंगरंग घाटी के शैलखार और चांगो के साथ स्पीति घाटी के अंतिम दक्षिण-पूर्वी छोर को निम्नलिखित में से कौन-सा दर्रा जोड़ता है?

- Ans
- 1. सिरमा ला
 - 2. कुली ला
 - 3. चक्षचन ला
 - 4. लेपचा ला

Question ID : 65497835233
Status : Not Answered
Chosen Option : --

Q.17 भारतीय रिजर्व बैंक के आधिकारिक चिन्ह में _____ शामिल है।

- Ans
- 1. ताड़ का वृक्ष
 - 2. पीपल का वृक्ष
 - 3. गुलाब का वृक्ष
 - 4. बरगद का वृक्ष

Question ID : 65497835228
Status : Answered
Chosen Option : 4

Q.18 पानीपत की तीसरी लड़ाई _____ को लड़ी गई थी।

- Ans
- 1. 14 जनवरी 1761
 - 2. 31 अगस्त 1796
 - 3. 26 नवंबर 1773
 - 4. 8 अप्रैल 1782

Question ID : 65497835245
Status : Answered
Chosen Option : 1

Q.19 भारतीय संविधान का निम्नलिखित में से कौन सा अनुच्छेद, राज्य को अंतरराष्ट्रीय शांति और सुरक्षा की अभिवृद्धि का निर्देश देता है?

- Ans
- 1. अनुच्छेद 48
 - 2. अनुच्छेद 51
 - 3. अनुच्छेद 50
 - 4. अनुच्छेद 40

Question ID : 65497835225
Status : Answered
Chosen Option : 2

Q.20 नवंबर 2020 में, निम्नलिखित में से किस बैंक के साथ भारत सरकार ने मेघालय के परिवहन क्षेत्र में सुधार और आधुनिकीकरण के लिए \$120 मिलियन की परियोजना पर हस्ताक्षर किए थे?

- Ans
- 1. AIIB
 - 2. NDB
 - 3. IMF
 - 4. विश्व बैंक

Question ID : 65497835231
Status : Answered
Chosen Option : 1

Q.21 'लाइफ मंत्रास (Life Mantras)' _____ द्वारा लिखित एक पुस्तक है।

- Ans
- 1. रामलिंगा राजू
 - 2. सुब्रत राँय सहारा
 - 3. नरेश गोयल
 - 4. सुभाष चंद्र

Question ID : 65497835243
Status : Answered
Chosen Option : 4

Q.22 _____ का वंश नाम (genus name) कुकुर्बिता (Cucurbita) है।

- Ans
- 1. कद्दू
 - 2. आलू
 - 3. बैंगन
 - 4. टमाटर

Question ID : 65497835244
Status : Answered
Chosen Option : 2

Q.23 _____ में स्थित विश्व शांति स्तूप की 50वीं वर्षगांठ 2019 में मनाई गई।

- Ans
- 1. अमरावती
 - 2. सारनाथ
 - 3. राजगीर
 - 4. सांची

Question ID : 65497835240
Status : Answered
Chosen Option : 4

Q.24 निम्नलिखित में से किस फसल के उत्पादन के लिए प्रति हेक्टेयर अधिकतम पानी की आवश्यकता होती है?

- Ans
- 1. आलू
 - 2. सूरजमुखी
 - 3. गन्ना
 - 4. कपास

Question ID : 65497835222
Status : Answered
Chosen Option : 2

Q.25 निम्नलिखित में से किसे 'उस बिंदु के रूप में निर्धारित किया गया है जहां संतुलित मूल्य के साथ किसी उत्पाद हेतु आपूर्ति, मांग के बराबर होती है'?

- Ans
- 1. मांग प्रत्यास्थता
 - 2. आपूर्ति वक्र
 - 3. मांग वक्र
 - 4. बाज़ार संतुलन

Question ID : 65497835227
Status : Answered
Chosen Option : 1

Section : Part C Elementary Mathematics

Q.1 कोई फल विक्रेता ₹68 प्रति किलोग्राम की दर से सेब बेचता है जिससे उसे 15% की हानि होती है। प्रति किलोग्राम की किस दर से सेब बेचने पर उसे 10% का लाभ प्राप्त होगा?

- Ans
- 1. ₹88
 - 2. ₹90
 - 3. ₹92
 - 4. ₹80

Question ID : 65497835262
Status : Answered
Chosen Option : 1

Q.2 एक दुकानदार, एक सिलाई मशीन के अंकित मूल्य पर 14% की छूट देने के बाद, रियायती मूल्य पर 10% की छूट देता है। यदि अंतिम विक्रय मूल्य ₹3,483 है, तो अंकित मूल्य ज्ञात कीजिए।

- Ans
- 1. ₹3,800
 - 2. ₹4,600
 - 3. ₹4,200
 - 4. ₹4,500

Question ID : 65497835255
Status : Answered
Chosen Option : 4

Q.3 एक त्रिभुजाकार मैदान का क्षेत्रफल, जिसकी भुजाएँ 96 m, 110 m और 146 m हैं, एक वर्गाकार मैदान के क्षेत्रफल के बराबर है। वर्गाकार मैदान की भुजा (m में) ज्ञात करें।

- Ans
- 1. $2\sqrt{660}$
 - 2. $4\sqrt{330}$
 - 3. $\sqrt{660}$
 - 4. $\sqrt{330}$

Question ID : 65497835265
Status : Answered
Chosen Option : 2

Q.4 7 वर्ष पूर्व, अजय, उसकी पत्नी और उनके बच्चे की औसत आयु 42 वर्ष थी और 9 वर्ष पूर्व अजय की पत्नी और उनके बच्चे की औसत आयु 38 वर्ष थी। अजय की वर्तमान आयु यात कीजिए।

- Ans
- 1. 48 वर्ष
 - 2. 53 वर्ष
 - 3. 55 वर्ष
 - 4. 52 वर्ष

Question ID : 65497835254
Status : Answered
Chosen Option : 2

Q.5 यदि $12389x6378y$ ग्यारह अंकों की एक ऐसी संख्या है जो 72 से विभाज्य है, तो $\sqrt{7x+7y}$ का मान ज्ञात करें।

- Ans
- 1. 6
 - 2. 8
 - 3. 7
 - 4. 9

Question ID : 65497835252
Status : Answered
Chosen Option : 3

Q.6 अवरोही क्रम में ली गई आठ क्रमागत विषम संख्याओं का औसत 82 है। प्रथम चार संख्याओं का औसत ज्ञात करें।

- Ans
- 1. 86
 - 2. 78
 - 3. 84
 - 4. 88

Question ID : 65497835267
Status : Answered
Chosen Option : 2

Q.7 अमन स्थान A से स्थान B तक 75 km/h की औसत चाल से यात्रा करता है। B तक पहुंचने के लिए, उसने दूरी के पहले 60% भाग की यात्रा कुल यात्रा में लगने वाले समय के $\frac{8}{15}$ भाग में पूर्ण की और शेष दूरी उसने x km/h की नियत चाल से तय की। x का मान निकटतम पूर्णांक में ज्ञात कीजिए।

- Ans
- 1. 65
 - 2. 64
 - 3. 67
 - 4. 63

Question ID : 65497835271
Status : Answered
Chosen Option : 2

Q.8 एक निश्चित राशि पर $r\%$ की वार्षिक दर से r वर्षों में प्राप्त साधारण व्याज उस राशि का $\frac{4}{25}$ है। r का मान ज्ञात करें।

- Ans
- 1. 6
 - 2. 8
 - 3. 5
 - 4. 4

Question ID : 65497835264
Status : Answered
Chosen Option : 4

Q.9 18 वस्तुओं का विक्रय मूल्य, 28 वस्तुओं के क्रय मूल्य के बराबर है। लाभ या हानि प्रतिशत कितना होगा?

- Ans
- 1. हानि $32\frac{5}{7}\%$
 - 2. हानि $53\frac{5}{9}\%$
 - 3. लाभ $55\frac{5}{9}\%$
 - 4. लाभ $35\frac{5}{7}\%$

Question ID : 65497835250
Status : Answered
Chosen Option : 3

Q.10 A और B एक कार्य को क्रमशः 18 दिन और 10 दिन में कर सकते हैं। उन्होंने 5 दिन तक एक साथ कार्य किया, जिसके बाद B की जगह पर C आ गया और कार्य अगले 3 दिन में समाप्त हो गया। C अकेले कार्य करने में कितना समय लेगा?

- Ans
- 1. 52 दिन
 - 2. 48 दिन
 - 3. 45 दिन
 - 4. 54 दिन

Question ID : 65497835257
Status : Answered
Chosen Option : 4

Q.11 दो विलयनों A और B में अम्ल और जल का अनुपात क्रमशः 4 : 3 और 9 : 5 है। विलयन A की चार लीटर मात्रा को विलयन B की पांच लीटर मात्रा में मिलाया जाता है। परिणामी मिश्रण में अम्ल और जल का अनुपात ज्ञात करें।

- Ans
- 1. 7 : 4
 - 2. 4 : 7
 - 3. 11 : 7
 - 4. 9 : 11

Question ID : 65497835268
Status : Answered
Chosen Option : 3

Q.12 विशाल ने अपने वेतन का 12% प्रधानमंत्री राहत कोष में दान देने का निर्णय लिया। दान वाले दिन, उसने अपना निर्णय बदला और ₹4,200 का दान दिया, जो उस राशि का 70% था, जो उसने पहले दान देने का निर्णय लिया था। उसका मासिक वेतन ज्ञात कीजिए।

- Ans
- ✓ 1. ₹50,000
 - ✗ 2. ₹52,000
 - ✗ 3. ₹48,000
 - ✗ 4. ₹60,000

Question ID : 65497835256
Status : Answered
Chosen Option : 1

Q.13 एक व्यक्ति, समान दूरियां 5 km/h, 8 km/h और 10 km/h की चाल से तय करता है, और कुल 61 मिनट 12 सेकंड का समय लेता है। व्यक्ति द्वारा तय की गई कुल दूरी ज्ञात कीजिए।

- Ans
- ✗ 1. 7.5 km
 - ✗ 2. 6.6 km
 - ✗ 3. 5.7 km
 - ✓ 4. 7.2 km

Question ID : 65497835258
Status : Answered
Chosen Option : 4

Q.14 एक संख्या का $\frac{1}{7}$ एक दूसरी संख्या के $\frac{2}{5}$ के बराबर है। पहली संख्या और दूसरी संख्या का अनुपात ज्ञात करें।

- Ans
- ✓ 1. 14 : 5
 - ✗ 2. 5 : 14
 - ✗ 3. 5 : 21
 - ✗ 4. 15 : 28

Question ID : 65497835247
Status : Answered
Chosen Option : 1

Q.15 ₹8,400 की राशि पर, एक निश्चित वार्षिक साधारण ब्याज की दर से $3\frac{1}{2}$ वर्षों में प्राप्त मिश्रधन ₹10,899 है। समान राशि पर दोगुनी वार्षिक साधारण ब्याज दर से $4\frac{2}{3}$ वर्षों में प्राप्त मिश्रधन ज्ञात करें।

- Ans
- ✓ 1. ₹15,064
 - ✗ 2. ₹11,732
 - ✗ 3. ₹14,672
 - ✗ 4. ₹7,532

Question ID : 65497835269
Status : Answered
Chosen Option : 1

Q.16 $2\frac{1}{36} \div \frac{5}{9}$ of $(5\frac{1}{10} + 2\frac{1}{5}) + \frac{3}{5} \div 4\frac{1}{5}$ का मान कितना होगा?

- Ans
- ✓ 1. $\frac{9}{14}$
 - ✗ 2. $\frac{5}{14}$
 - ✗ 3. $\frac{11}{14}$
 - ✗ 4. $\frac{1}{14}$

Question ID : 65497835249
Status : Answered
Chosen Option : 1

Q.17 एक कपड़े के वर्गाकार टुकड़े का क्षेत्रफल 841 cm^2 है। इसके प्रत्येक विकर्ण की लंबाई कितनी होगी?

- Ans
- ✗ 1. $28\sqrt{2} \text{ cm}$
 - ✗ 2. 58 cm
 - ✓ 3. $29\sqrt{2} \text{ cm}$
 - ✗ 4. 29 cm

Question ID : 65497835248
Status : Answered
Chosen Option : 3

Q.18 A और B की वर्तमान आयु का अनुपात $14 : 17$ है। अब से आठ वर्ष बाद, उनकी आयु का अनुपात $6 : 7$ होगा। उनकी वर्तमान आयु के बीच अंतर (वर्षों में) ज्ञात करें।

- Ans
- ✗ 1. 12
 - ✓ 2. 6
 - ✗ 3. 3
 - ✗ 4. 9

Question ID : 65497835263
Status : Answered
Chosen Option : 2

Q.19 A, B का 120% है और B, C का 85% है। यदि A, B और C का योग $143\frac{1}{2}$ है, तो $C - 4B + 2A$ का मान ज्ञात करें।

- Ans
- 1. 20
 - 2. 15
 - 3. -10
 - 4. -18

Question ID : 65497835253
Status : Answered
Chosen Option : 4

Q.20 श्यामलाल साधारण ब्याज पर कुछ धनराशि उधार देता है। वह मूलधन की गणना के लिए हर छह महीने में ब्याज जोड़ देता है। यदि वह 5% का ब्याज वसूल रहा है, तो प्रभावी वार्षिक ब्याज दर (दशमलव के दो स्थानों तक सही) कितनी हो जाएगी?

- Ans
- 1. 5.06%
 - 2. 7.3%
 - 3. 9.3%
 - 4. 4.61%

Question ID : 65497835261
Status : Answered
Chosen Option : 1

Q.21 $\left(\frac{3}{4} - \frac{1}{3} \div \frac{1}{3} \text{ of } \frac{9}{5}\right) \div \left(\frac{7}{16} \div \frac{1}{2} \text{ of } \frac{1}{5}\right) \text{ of } \frac{4}{15} - \frac{2}{3}$ का मान ज्ञात कीजिए।

- Ans
- 1. $\frac{3}{4}$
 - 2. $-\frac{3}{2}$
 - 3. $-\frac{1}{2}$
 - 4. $\frac{1}{4}$

Question ID : 65497835270
Status : Answered
Chosen Option : 3

Q.22 A एक काम को 18 दिन में कर सकता है और B इसी काम को 30 दिन में कर सकता है। इन दोनों ने मिलकर 6 दिन तक काम किया। बचे हुए काम को C ने अकेले 7 दिन में पूरा किया। A, B और C मिलकर इसी काम को कितने दिन में पूरा करेंगे?

Ans

✗ 1. $11\frac{3}{7}$

✗ 2. $9\frac{3}{7}$

✗ 3. $7\frac{3}{7}$

✓ 4. $6\frac{3}{7}$

Question ID : 65497835251

Status : Answered

Chosen Option : 4

Q.23 15% और 25% की दो क्रमिक छूटों के समतुल्य एकल छूट कितनी है?

Ans

✗ 1. 26.25%

✗ 2. 34.25%

✗ 3. 30.25%

✓ 4. 36.25%

Question ID : 65497835259

Status : Answered

Chosen Option : 4

Q.24 मान लीजिए x चार अंकों की बड़ी से बड़ी ऐसी संख्या है, जिसे 9, 12, 15, 20, 24 और 72 से विभाजित करने पर प्रत्येक स्थिति में शेषफल 3 प्राप्त होता है। x के अंकों का योग क्या होगा?

Ans

✗ 1. 17

✓ 2. 21

✗ 3. 27

✗ 4. 19

Question ID : 65497835266

Status : Answered

Chosen Option : 2

Q.25 एक व्यक्ति ने ₹448 में 112 की दर से कुछ खिलौने खरीदे और ₹81 में 9 खिलौने की दर से बेच दिए। उसका लाभ प्रतिशत ज्ञात करें।

- Ans
- 1. 100%
 - 2. 120%
 - 3. 90%
 - 4. 125%

Question ID : 65497835260
Status : Answered
Chosen Option : 4

Section : Part D English

Q.1 Select the most appropriate option that can substitute the underlined word in the given sentence. If there is no need to substitute it, select 'No substitution required'.

I'm going to Mumbai next week. A friend of myself has invited me to her wedding.

- Ans
- 1. friend of me
 - 2. one of friend
 - 3. No substitution required
 - 4. friend of mine

Question ID : 65497835285
Status : Not Answered
Chosen Option : --

Q.2 Select the most appropriate option to fill in the blank.

Too much of television watching can _____ the thinking process of a child.

- Ans
- 1. hamper
 - 2. interrogate
 - 3. instigate
 - 4. horrify

Question ID : 65497835284
Status : Not Answered
Chosen Option : --

Q.3 Select the option that can be used as a one-word substitute for the given group of words.

An animal that preys on other animals

- Ans
- 1. Hostile
 - 2. Predator
 - 3. Omnivore
 - 4. Victim

Question ID : 65497835290
Status : Not Answered
Chosen Option : --

Q.4 Select the option that will improve the underlined part of the given sentence. In case no improvement is needed, select 'No improvement required'.

The captain and his sailors was surrounding by pirates.

- Ans
- 1. was surround
 - 2. were surrounded
 - 3. were surrounding
 - 4. No improvement required

Question ID : 65497835279
Status : Not Answered
Chosen Option : --

Q.5 Select the most appropriate synonym of the given word.

Amalgam

- Ans
- 1. Distance
 - 2. Monograph
 - 3. Mixture
 - 4. Telegram

Question ID : 65497835282
Status : Not Answered
Chosen Option : --

Q.6 Select the option that can be used as a one-word substitute for the given group of words.

The doctor who specialises in the study or treatment of heart diseases and heart abnormalities

- Ans
- 1. Ophthalmologist
 - 2. Neurologist
 - 3. Cardiologist
 - 4. Dermatologist

Question ID : 65497835283
Status : Not Answered
Chosen Option : --

Q.7 Select the INCORRECTLY spelt word.

- Ans
- 1. Pityful
 - 2. Tactful
 - 3. Guilty
 - 4. Plead

Question ID : 65497835291
Status : Not Answered
Chosen Option : --

Q.8 The following sentence has been divided into parts. One of them may contain an error. Select the part that contains the error from the given options. If you don't find any error, select 'No error' as your answer.

I am wanting / to give Avika / a book on her birthday.

- Ans**
- 1. to give Avika
 - 2. No error
 - 3. a book on her birthday
 - 4. I am wanting

Question ID : 65497835272
Status : Not Answered
Chosen Option : --

Q.9 Select the most appropriate meaning of the given idiom.

To be off the hook

- Ans**
- 1. To be in trouble
 - 2. To be trapped
 - 3. To be close to the target
 - 4. To escape a difficult situation

Question ID : 65497835280
Status : Not Answered
Chosen Option : --

Q.10 Select the most appropriate option to fill in the blank.

Preparing for an examination needs good planning and _____.

- Ans**
- 1. arrogance
 - 2. mortality
 - 3. lethargy
 - 4. confidence

Question ID : 65497835277
Status : Not Answered
Chosen Option : --

Q.11 Select the most appropriate synonym of the given word.

Concise

- Ans**
- 1. Lengthy
 - 2. Short
 - 3. Fine
 - 4. Abrupt

Question ID : 65497835273
Status : Not Answered
Chosen Option : --

Q.12 Select the INCORRECTLY spelt word.

- Ans 1. Conference
 2. Presense
 3. Reference
 4. Difference

Question ID : 65497835286
Status : Not Answered
Chosen Option : --

Q.13 The following sentence has been split into four segments. Identify the segment that contains a grammatical error.

Treasure Island is / always been / my favourite book / right from my childhood days.

- Ans 1. my favourite book
 2. right from my childhood days
 3. Treasure Island is
 4. always been

Question ID : 65497835281
Status : Not Answered
Chosen Option : --

Q.14 Select the option that can be used as a one-word substitute for the given group of words.

A disease which affects large populations at the same time

- Ans 1. Epidemic
 2. Equinox
 3. Endemic
 4. Contagious

Question ID : 65497835275
Status : Not Answered
Chosen Option : --

Q.15 Select the most appropriate meaning of the given idiom.

Odd man out

- Ans 1. Person having no knowledge
 2. Person with a hereditary disease
 3. Person who is useless
 4. Person who doesn't fit into a group

Question ID : 65497835276
Status : Not Answered
Chosen Option : --

Q.16 Select the most appropriate ANTONYM of the given word.

Emerge

- Ans 1. Disappear
 2. Arrive
 3. Flow
 4. Rise

Question ID : 65497835278
Status : Not Answered
Chosen Option : --

Q.17 Select the most appropriate option to fill in the blank.

Unemployment has been the most _____ result of recession.

- Ans 1. public
 2. eminent
 3. obvious
 4. awkward

Question ID : 65497835287
Status : Not Answered
Chosen Option : --

Q.18 Select the most appropriate ANTONYM of the given word.

Specific

- Ans 1. General
 2. Exact
 3. Limited
 4. Different

Question ID : 65497835289
Status : Not Answered
Chosen Option : --

Q.19 The following sentence has been divided into parts. One of them may contain an error. Select the part that contains the error from the given options. If you don't find any error, mark 'No error' as your answer.

Rajeev has / extended his leave / at one more week.

- Ans 1. No error
 2. at one more week
 3. extended his leave
 4. Rajeev has

Question ID : 65497835288
Status : Not Answered
Chosen Option : --

Q.20 Select the most appropriate option that can substitute the underlined word in the given sentence.

He suddenly stopped the car and the conjuring of the brakes irritated us.

- Ans
- 1. beseeching
 - 2. stacking
 - 3. screeching
 - 4. snarling

Question ID : 65497835274
Status : Not Answered
Chosen Option : --

Comprehension:

In the following passage, some words have been deleted. Read the passage carefully and select the most appropriate option to fill in each blank.

Listening to Mozart can significantly increase your intelligence, (1)_____ to a research in America. Unfortunately, (2)_____ effect is temporary. It only (3)_____ for 15 minutes. Dr Frances Rauscher (4)_____ his colleagues at the University of California (5)_____ the findings in the journal 'Nature'.

SubQuestion No : 21

Q.21 Select the most appropriate option to fill in blank no.1.

- Ans
- 1. allowing
 - 2. according
 - 3. awarding
 - 4. acceding

Question ID : 65497835293
Status : Not Answered
Chosen Option : --

Comprehension:

In the following passage, some words have been deleted. Read the passage carefully and select the most appropriate option to fill in each blank.

Listening to Mozart can significantly increase your intelligence, (1)_____ to a research in America. Unfortunately, (2)_____ effect is temporary. It only (3)_____ for 15 minutes. Dr Frances Rauscher (4)_____ his colleagues at the University of California (5)_____ the findings in the journal 'Nature'.

SubQuestion No : 22

Q.22 Select the most appropriate option to fill in blank no.2.

- Ans
- 1. the
 - 2. a
 - 3. one
 - 4. an

Question ID : 65497835294
Status : Not Answered
Chosen Option : --

Comprehension:

In the following passage, some words have been deleted. Read the passage carefully and select the most appropriate option to fill in each blank.

Listening to Mozart can significantly increase your intelligence, (1)_____ to a research in America. Unfortunately, (2)_____ effect is temporary. It only (3)_____ for 15 minutes. Dr Frances Rauscher (4)_____ his colleagues at the University of California (5)_____ the findings in the journal 'Nature'.

SubQuestion No : 23

Q.23 Select the most appropriate option to fill in blank no.3.

- Ans** 1. lasts
 2. is lasting
 3. last
 4. lasted

Question ID : **65497835295**
Status : **Not Answered**
Chosen Option : --

Comprehension:

In the following passage, some words have been deleted. Read the passage carefully and select the most appropriate option to fill in each blank.

Listening to Mozart can significantly increase your intelligence, (1)_____ to a research in America. Unfortunately, (2)_____ effect is temporary. It only (3)_____ for 15 minutes. Dr Frances Rauscher (4)_____ his colleagues at the University of California (5)_____ the findings in the journal 'Nature'.

SubQuestion No : 24

Q.24 Select the most appropriate option to fill in blank no.4.

- Ans** 1. so
 2. and
 3. also
 4. but

Question ID : **65497835296**
Status : **Not Answered**
Chosen Option : --

Comprehension:

In the following passage, some words have been deleted. Read the passage carefully and select the most appropriate option to fill in each blank.

Listening to Mozart can significantly increase your intelligence, (1)_____ to a research in America. Unfortunately, (2)_____ effect is temporary. It only (3)_____ for 15 minutes. Dr Frances Rauscher (4)_____ his colleagues at the University of California (5)_____ the findings in the journal 'Nature'.

SubQuestion No : 25

Q.25 Select the most appropriate option to fill in blank no.5.

- Ans** 1. resulted
 2. reduced
 3. repeated
 4. reported

Question ID : **65497835297**
Status : **Not Answered**
Chosen Option : --

Section : Part D Hindi

Q.1 दिए गए वाक्य का वह भाग ज्ञात करें जिसमें कोई त्रुटि है। यदि कोई त्रुटि नहीं है, तो 'कोई त्रुटि नहीं है' चुनें।

विवेकानंद का देश (1)/ सदा (2)/ आभारी रहेगा। (3)/ कोई त्रुटि नहीं (4)

- Ans
- 1. 2
 - 2. 4
 - 3. 3
 - 4. 1

Question ID : 65497835309
Status : Answered
Chosen Option : 4

Q.2 दिए गए वाक्य में रेखांकित खंड को प्रतिस्थापित करने के लिए सबसे उपयुक्त विकल्प का चयन करें। यदि इसे प्रतिस्थापित करने की आवश्यकता नहीं है, तो विकल्प 'किसी बदलाव की आवश्यकता नहीं है' का चयन करें।

मुझे टमाटर का गर्म सूप पीना बहुत अच्छा लगता है।

- Ans
- 1. गर्म सूप पीना बहुत अच्छा लगता है।
 - 2. किसी बदलाव की आवश्यकता नहीं है।
 - 3. गर्म सूप पीना बहुत अच्छा लगते हैं।
 - 4. गर्म सूप पीना बहुत अच्छा लगता है।

Question ID : 65497835304
Status : Answered
Chosen Option : 4

Q.3 'जो स्त्री विद्वान् हो' इस वाक्यांश के लिए एक सार्थक शब्द दीजिए।

- Ans
- 1. विजित
 - 2. विदुषी
 - 3. विज्ञ
 - 4. विधुर

Question ID : 65497835298
Status : Answered
Chosen Option : 2

Q.4 रिक्त स्थान की पूर्ति के लिए सबसे उपयुक्त शब्द का चयन करें।

मैंने एक गाय और एक भैंस _____।

- Ans
- 1. खरीदी
 - 2. खरीदें
 - 3. खरीदा
 - 4. खरीदे

Question ID : 65497835303
Status : Answered
Chosen Option : 1

Q.5 निम्नलिखित में से शुद्ध वर्तनी वाला शब्द कौन सा है?

- Ans 1. निष्पक्ष
 2. निस्पक्ष
 3. निष्पच्छ
 4. निशपक्ष

Question ID : 65497835313
Status : Answered
Chosen Option : 1

Q.6 'भीगी बिल्ली बनना' मुहावरे का सही अर्थ क्या है?

- Ans 1. सहम जाना
 2. गिड़गिड़ाना
 3. चालाक बनना
 4. गायब हो जाना

Question ID : 65497835317
Status : Answered
Chosen Option : 3

Q.7 उस विकल्प का चयन करें जो निम्न मुहावरे का अर्थ व्यक्त करता है।

भाड़ झोंकना

- Ans 1. ढील देना
 2. थक जाना
 3. व्यर्थ समय खोना
 4. निराश हो जाना

Question ID : 65497835306
Status : Answered
Chosen Option : 3

Q.8 'पोषक' का विलोम शब्द होगा-

- Ans 1. क्षीण
 2. तोषक
 3. शोषक
 4. दुर्बल

Question ID : 65497835316
Status : Answered
Chosen Option : 3

Q.9 निम्नलिखित में से शुद्ध वर्तनी वाला शब्द कौन सा है?

- Ans
- 1. दुस्कर
 - 2. दूष्कर
 - 3. दुश्कर
 - 4. दुष्कर

Question ID : 65497835314
Status : Answered
Chosen Option : 4

Q.10 दिए गए शब्द का विलोम शब्द चुनिए।

आदान

- Ans
- 1. विधान
 - 2. प्रदान
 - 3. निधन
 - 4. तिरोधान

Question ID : 65497835300
Status : Answered
Chosen Option : 2

Q.11 रिक्त स्थान की पूर्ति के लिए सबसे उपयुक्त शब्द का चयन करें।

दो दिन से _____ में ठंडक है।

- Ans
- 1. ऋतु
 - 2. मौसम
 - 3. शीत
 - 4. जलवायु

Question ID : 65497835312
Status : Answered
Chosen Option : 2

Q.12 दिए गए वाक्यांश के लिए एक शब्द चुनिए।

इस लोक से संबंधित

- Ans
- 1. अलौकिक
 - 2. विलौकिक
 - 3. अवलौकिक
 - 4. लौकिक

Question ID : 65497835311
Status : Answered
Chosen Option : 4

Q.13 दिए गए शब्द के समानार्थी शब्द का चयन करें।

बिजली

- Ans 1. दामिनी
 2. यामिनी
 3. शर्वरी
 4. अटवी

Question ID : 65497835308
Status : Answered
Chosen Option : 1

Q.14 दिए गए शब्द के समानार्थी शब्द का चयन करें।

आकाश

- Ans 1. अक्षि
 2. अम्बक
 3. अतुल
 4. अम्बर

Question ID : 65497835310
Status : Answered
Chosen Option : 4

Q.15 दिए गए वाक्य का वह भाग ज्ञात करें जिसमें कोई त्रुटि है। यदि कोई त्रुटि नहीं है, तो 'कोई त्रुटि नहीं है' चुनें।

कोई किसी को (1)/ सिखाता नहीं कि (2)/ ऐसी उच्चारण करो (3)/ कोई त्रुटि नहीं है (4)

- Ans 1. 3
 2. 2
 3. 1
 4. 4

Question ID : 65497835307
Status : Answered
Chosen Option : 1

Q.16 दिए गए वाक्य का वह भाग ज्ञात करें जिसमें कोई त्रुटि है। यदि कोई त्रुटि नहीं है, तो 'कोई त्रुटि नहीं है' विकल्प को चुनिए।

(1) दस आदमियों ने (2) नाव से (3) नदी को पार किया (4) कोई त्रुटि नहीं है।

- Ans 1. नदी को पार किया
 2. नाव से
 3. कोई त्रुटि नहीं है।
 4. दस आदमियों ने

Question ID : 65497835299
Status : Answered
Chosen Option : 1

Q.17 दिये गये वाक्य में रेखांकित अंश को प्रतिस्थापित करने के लिए सबसे उपयुक्त विकल्प का चयन करें।

भाइयों के झगड़े का हेतु क्या हो सकता है?

- Ans
- 1. लक्ष्य
 - 2. कारण
 - 3. उद्देश्य
 - 4. प्रयोजन

Question ID : 65497835315
Status : Answered
Chosen Option : 2

Q.18 दिए गए वाक्य में रेखांकित खंड को प्रतिस्थापित करने के लिए सबसे उपयुक्त विकल्प का चयन करें।
यदि इसे प्रतिस्थापित करने की आवश्यकता नहीं है, तो विकल्प 'किसी बदलाव की आवश्यकता नहीं है'
का चयन करें।

हमारी संस्कृति में गुरु और शिष्य का सम्बन्ध बहुत सुन्दर और मधुर हुआ करती थी।

- Ans
- 1. सुन्दर और मधुर हुआ करती थी।
 - 2. सुन्दर और मधुर होते थे।
 - 3. सुन्दर और मधुर हुआ करता था।
 - 4. किसी बदलाव की आवश्यकता नहीं है।

Question ID : 65497835305
Status : Answered
Chosen Option : 3

Q.19 रिक्त स्थान की पूर्ति के लिए सबसे उपयुक्त शब्द का चयन करें।

परीक्षा की _____ बदलनी चाहिए।

- Ans
- 1. तरीका
 - 2. प्रणाली
 - 3. उपाय
 - 4. ढाँचा

Question ID : 65497835302
Status : Answered
Chosen Option : 2

Q.20 दिए गए वाक्यांश के लिए एक शब्द दीजिए।

जो पुरुष लोहे की तरह बलिष्ठ है

- Ans
- 1. सज्जन पुरुष
 - 2. राक्षस
 - 3. दानव
 - 4. लौह पुरुष

Question ID : 65497835301
Status : Answered
Chosen Option : 4

Comprehension:

दिए गए गद्यांश में से कुछ शब्द हटा दिए गए हैं। संबंधित प्रश्नों में प्रत्येक संख्या के लिए सबसे उपयुक्त विकल्प का चयन करें।

वायु प्रदूषण सबसे बड़ा (1) _____ है। यह मानव जीवन की (2) _____ से जुड़ा हुआ है। कल-कारखाने की (3) _____ हलवाइयों की भट्टियाँ, रात-दिन दौड़-भाग कर रही गाड़ियाँ, घंटों में जलनेवाली अंगीठियाँ आदि अपने (4) _____ तत्वों से पूरे वायुमंडल को (5) _____ कर देते हैं।

SubQuestion No : 21

Q.21 गद्यांश के रिक्त स्थान (1) के लिए सर्वाधिक उपयुक्त शब्द होगा-

- Ans** 1. क्रिया-कलाप
 2. खतरा
 3. संपद
 4. चाहत

Question ID : 65497835319
Status : Answered
Chosen Option : 2

Comprehension:

दिए गए गद्यांश में से कुछ शब्द हटा दिए गए हैं। संबंधित प्रश्नों में प्रत्येक संख्या के लिए सबसे उपयुक्त विकल्प का चयन करें।

वायु प्रदूषण सबसे बड़ा (1) _____ है। यह मानव जीवन की (2) _____ से जुड़ा हुआ है। कल-कारखाने की (3) _____ हलवाइयों की भट्टियाँ, रात-दिन दौड़-भाग कर रही गाड़ियाँ, घंटों में जलनेवाली अंगीठियाँ आदि अपने (4) _____ तत्वों से पूरे वायुमंडल को (5) _____ कर देते हैं।

SubQuestion No : 22

Q.22 गद्यांश के रिक्त स्थान (2) के लिए सर्वाधिक उपयुक्त शब्द होगा-

- Ans** 1. जिंदगी
 2. शरीर
 3. क्रिया-कलाप
 4. वक्त

Question ID : 65497835320
Status : Answered
Chosen Option : 3

Comprehension:

दिए गए गद्यांश में से कुछ शब्द हटा दिए गए हैं। संबंधित प्रश्नों में प्रत्येक संख्या के लिए सबसे उपयुक्त विकल्प का चयन करें।

वायु प्रदूषण सबसे बड़ा (1) _____ है। यह मानव जीवन की (2) _____ से जुड़ा हुआ है। कल-कारखाने की (3) _____ हलवाइयों की भट्टियाँ, रात-दिन दौड़-भाग कर रही गाड़ियाँ, घंटों में जलनेवाली अंगीठियाँ आदि अपने (4) _____ तत्वों से पूरे वायुमंडल को (5) _____ कर देते हैं।

SubQuestion No : 23

Q.23 गद्यांश के रिक्त स्थान (3) के लिए सर्वाधिक उपयुक्त शब्द होगा-

- Ans** 1. संपदाएँ
 2. चिमनियाँ
 3. गाड़ियाँ
 4. यंत्र

Question ID : 65497835321
Status : Answered
Chosen Option : 2

Comprehension:

दिए गए गद्यांश में से कुछ शब्द हटा दिए गए हैं। संबंधित प्रश्नों में प्रत्येक संख्या के लिए सबसे उपयुक्त विकल्प का चयन करें।

वायु प्रदूषण सबसे बड़ा (1) _____ है। यह मानव जीवन की (2) _____ से जुड़ा हुआ है। कल-कारखाने की (3) _____ हलवाईयों की भट्टियाँ, रात-दिन दौड़-भाग कर रही गाड़ियाँ, घंटों में जलनेवाली अंगीठियाँ आदि अपने (4) _____ तत्वों से पूरे वायुमंडल को (5) _____ कर देते हैं।

SubQuestion No : 24

Q.24 गद्यांश के रिक्त स्थान (4) के लिए सर्वाधिक उपयुक्त शब्द होगा-

- Ans**
- 1. पौष्टिक
 - 2. प्राकृतिक
 - 3. आत्मिक
 - 4. विषाक्त

Question ID : 65497835322

Status : Answered

Chosen Option : 4

Comprehension:

दिए गए गद्यांश में से कुछ शब्द हटा दिए गए हैं। संबंधित प्रश्नों में प्रत्येक संख्या के लिए सबसे उपयुक्त विकल्प का चयन करें।

वायु प्रदूषण सबसे बड़ा (1) _____ है। यह मानव जीवन की (2) _____ से जुड़ा हुआ है। कल-कारखाने की (3) _____ हलवाईयों की भट्टियाँ, रात-दिन दौड़-भाग कर रही गाड़ियाँ, घंटों में जलनेवाली अंगीठियाँ आदि अपने (4) _____ तत्वों से पूरे वायुमंडल को (5) _____ कर देते हैं।

SubQuestion No : 25

Q.25 गद्यांश के रिक्त स्थान (5) के लिए सर्वाधिक उपयुक्त शब्द होगा-

- Ans**
- 1. स्वस्थ
 - 2. संतुलित
 - 3. शोषित
 - 4. दूषित

Question ID : 65497835323

Status : Answered

Chosen Option : 4

Constable GD in CAPFs NIA SSF and Rifleman GD in Assam Rifles Examination 2021

Roll Number	www.HaryanaJobs.in
Candidate Name	www.HaryanaJobs.in
Venue Name	iON Digital Zone iDZ 1 Patliputra
Exam Date	07/12/2021
Exam Time :	12:30 PM - 2:00 PM
Subject	Constable GD 2021

Section : Part A General Intelligence and Reasoning

Q.1 दिए गए विकल्पों में से उस अक्षर-समूह का चयन कीजिए जो निम्न श्रृंखला में प्रश्न चिह्न (?) के स्थान पर आ सकता है।

EFJ, FGK, GHL, HIM, ?

Ans 1. IJM

2. IJN

3. IKN

4. IKM

Question ID : 65497832276

Status : Answered

Chosen Option : 2

Q.2 दिए गए कथनों और निष्कर्षों को ध्यानपूर्वक पढ़ें। यह मानते हुए कि कथनों में दी गई जानकारी सही है, भले ही वह सामान्य रूप से ज्ञात तथ्यों से भिन्न प्रतीत होती हो, निर्धारित करें कि दिए गए निष्कर्षों में से कौन-से निष्कर्ष कथनों का तार्किक रूप से अनुसरण करते हैं।

कथन:

सभी बाघ शेर हैं।

सभी शेर जानवर हैं।

निष्कर्ष:

I. सभी बाघ जानवर हैं।

II. कोई भी बाघ पक्षी नहीं है।

Ans 1. केवल निष्कर्ष II अनुसरण करता है।

2. या तो निष्कर्ष I या निष्कर्ष II अनुसरण करता है।

3. दोनों निष्कर्ष अनुसरण करते हैं।

4. केवल निष्कर्ष I अनुसरण करता है।

Question ID : 65497832281

Status : Answered

Chosen Option : 4

Q.3 'कुरसी' का जो संबंध 'लकड़ी' से है 'कंबल' का वही संबंध '_____' से है।

- Ans
- 1. प्लास्टिक
 - 2. कागज़
 - 3. बिस्तर
 - 4. ऊन

Question ID : 65497832277
Status : Answered
Chosen Option : 4

Q.4 उस विकल्प का चयन कीजिए जिसमें निम्न शब्दों का वह क्रम दिया गया है, जिस क्रम में ये शब्द अंग्रेजी शब्दकोश में मौजूद होते हैं।

1. Certain
2. Certify
3. Cerebral
4. Ceramic
5. Ceremony

- Ans
- 1. 4, 3, 2, 5, 1
 - 2. 3, 4, 5, 1, 2
 - 3. 4, 3, 5, 2, 1
 - 4. 4, 3, 5, 1, 2

Question ID : 65497832289
Status : Answered
Chosen Option : 4

Q.5 When a number is added to its previous number and another number that is two times its previous number, the sum of these three numbers is 61. Find the number.

- Ans
- 1. 16
 - 2. 14
 - 3. 15
 - 4. 13

Question ID : 65497832283
Status : Answered
Chosen Option : 1

Q.6 उस विकल्प का चयन कीजिए, जिसका चौथी संख्या से वही संबंध है, जो पहली संख्या का दूसरी संख्या से है और पांचवी संख्या का छठी संख्या से है।

153 : 12 :: ? : 17 :: 205 : 14

- Ans
- 1. 298
 - 2. 307
 - 3. 290
 - 4. 218

Question ID : 65497832297
Status : Answered
Chosen Option : 1

Q.7 चार अक्षर-समूह दिए गए हैं, जिनमें से तीन किसी तरह से एक समान हैं और एक भिन्न है। उस अक्षर-समूह का चयन करें जो भिन्न है।

- Ans
- 1. GCY
 - 2. OKG
 - 3. JFB
 - 4. UQN

Question ID : 65497832285
Status : Answered
Chosen Option : 4

Q.8 पांच भिन्न एक पंक्ति में उत्तर दिशा की ओर मुंह करके बैठे हुए हैं। G, I के दाईं ओर बगल में बैठा है। F, H के बाईं ओर और E के दाईं ओर बगल में बैठा है। यदि H और I एक-दूसरे के बगल में बैठे हैं, तो बीच में कौन बैठा है?

- Ans
- 1. F
 - 2. H
 - 3. I
 - 4. E

Question ID : 65497832278
Status : Answered
Chosen Option : 2

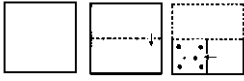
Q.9 दिए गए समीकरण को संतुलित करने के लिए किन दो संख्याओं को आपस में बदला जाना चाहिए?

$$30 + 28 - 34 \div 2 \times 4 = 2$$

- Ans
- 1. 30 और 34
 - 2. 34 और 4
 - 3. 4 और 2
 - 4. 28 और 34


Question ID : 65497832298
Status : Answered
Chosen Option : 1

Q.10 निम्नांकित चित्रों में एक कागज को मोड़ने का क्रम और मुड़े हुए कागज को काटने का तरीका दर्शाया गया है। मुड़े हुए कागज को खोलने पर यह कैसा दिखाई देगा?




Ans


✗ 1.




✗ 2.



✓ 3.



✗ 4.



Question ID : 65497832284

Status : Answered

Chosen Option : 3

Q.11 आठ मित्र P, Q, R, S, T, U, V और W एक वृत्ताकार मेज के इर्द-गिर्द केंद्र की ओर मुख करके बैठे हैं। V, R के दाईं ओर दूसरे स्थान पर बैठा है। P, S के बाईं ओर चौथे स्थान पर बैठा है। T, U के बाईं ओर तीसरे स्थान पर बैठा है। केवल Q, S और T के बीच में बैठा है। P और T के बीच में कौन बैठा है?

Ans ✗ 1. U

✗ 2. S

✓ 3. V

✗ 4. Q

Question ID : 65497832296

Status : Answered

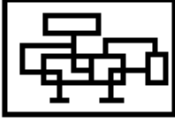
Chosen Option : 3

Q.12 उस विकल्प का चयन करें, जिसमें दी गई आकृति अंतर्निहित है।



Ans

✓ 1.



✗ 2.



✗ 3.



✗ 4.



Question ID : 65497832300
Status : Answered
Chosen Option : 1

Q.13 एक निश्चित कूट भाषा में, 'CANDLE' को '52144113' के रूप में कूटबद्ध किया जाता है। उसी कूट भाषा में 'QUIET' को किस रूप में कूटबद्ध किया जाएगा?

Ans

✓ 1. 02591271

✗ 2. 02592117

✗ 3. 20591271

✗ 4. 20592117

Question ID : 65497832286
Status : Answered
Chosen Option : 1

Q.14 दी गई आकृति के सही दर्पण प्रतिबिंब का चयन करें, जो दर्पण को दी गई आकृति के दाईं ओर रखने पर बनेगा।

QWERTY

Ans

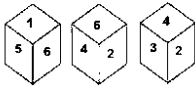
- ✓ 1. Y T R E W Q
- ✗ 2. Q W E R T Y
- ✗ 3. Q W E R T Y
- ✗ 4. Q W E R T Y

Question ID : 65497832288

Status : Answered

Chosen Option : 1

Q.15 एक ही पासे की तीन अलग-अलग स्थितियाँ दर्शाई गई हैं, जिसके छह फलकों पर 1 से 6 तक अंक दिए गए हैं। उस संख्या का चयन करें, जो अंक '3' वाले फलक के विपरीत फलक पर होगी।



Ans

- ✗ 1. 5
- ✓ 2. 6
- ✗ 3. 2
- ✗ 4. 1

Question ID : 65497832299

Status : Answered

Chosen Option : 2

Q.16 विकल्पों में से उस अक्षर समूह का चयन कीजिए जो तीसरे अक्षर-समूह उसी प्रकार संबंधित है, जिस प्रकार दूसरा अक्षर-समूह पहले अक्षर-समूह से संबंधित है।

DGK : URN :: HTP : ?

Ans

- ✗ 1. GUN
- ✗ 2. MKJ
- ✗ 3. JIP
- ✓ 4. QEI

Question ID : 65497832293

Status : Answered

Chosen Option : 4

Q.17 यदि A से Z तक के वर्णमाला अक्षर एक-दूसरे को उल्टे क्रम में दशति हैं, यानी A = Z, B = Y, C = X, D = W, इत्यादि, तो 'CERTIFIED' को कैसे लिखा जाएगा?

- Ans
- 1. XVIGURVRW
 - 2. XVIGRURVW
 - 3. XVIGRUVRW
 - 4. XVIGURRVW

Question ID : 65497832294
Status : Answered
Chosen Option : 2

Q.18 Y, B की मां है। B का विवाह C से हुआ है। X, C का पिता है। J, X का इकलौता पुत्र है। K, J की इकलौती सन्तान है। B का J से क्या संबंध है?

- Ans
- 1. भतीजी या भतीजा
 - 2. भाई
 - 3. ससुर
 - 4. जीजा

Question ID : 65497832295
Status : Answered
Chosen Option : 1

Q.19 दिए गए विकल्पों में से उस संख्या का चयन करें जो निम्नलिखित श्रृंखला में प्रश्न चिह्न (?) के स्थान पर आ सकती है।

1, 2, 3, 8, 15, ?, 105, 384

- Ans
- 1. 54
 - 2. 68
 - 3. 72
 - 4. 48

Question ID : 65497832287
Status : Answered
Chosen Option : 4

Q.20 एक महाविद्यालय में, 15 विद्यार्थी इतिहास और मनोविज्ञान दोनों विषयों का अध्ययन करते हैं। कुल मिलाकर, 22 विद्यार्थी इतिहास का अध्ययन करते हैं और 32 विद्यार्थी मनोविज्ञान पढ़ते हैं। 12 और विद्यार्थी हैं जो केवल भौतिकी का अध्ययन करते हैं। केवल इतिहास और केवल भौतिकी का अध्ययन करने वाले विद्यार्थियों की कुल संख्या कितनी है?

- Ans
- 1. 34
 - 2. 27
 - 3. 17
 - 4. 19

Question ID : 65497832279
Status : Answered
Chosen Option : 4

Q.21 अक्षरों के उस संयोजन का चयन करें, जिसे दी गई श्रृंखला के रिक्त स्थानों में क्रम से रखे जाने पर श्रृंखला पूर्ण हो जाएगी।

E _ CD _ H J _ _ E H _ _ D

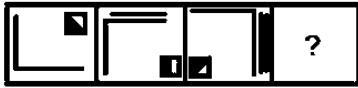
- Ans
- 1. H, E, C, D, C, J, C
 - 2. H, C, E, J, D, C, E
 - 3. H, J, C, E, C, E, H
 - 4. H, J, E, C, D, J, C

Question ID : 65497832290

Status : Answered

Chosen Option : 4

Q.22 दिए गए विकल्पों में से उस आकृति का चयन करें, जो निम्न आकृति श्रृंखला में प्रश्नवाचक चिह्न (?) के स्थान पर आ सकती है।



Ans

- 1.
- 2.
- 3.
- 4.

Question ID : 65497832292

Status : Answered

Chosen Option : 1

Q.23 दिए गए पैटर्न का ध्यानपूर्वक अध्ययन करें और उस संख्या का चयन करें जो इसमें प्रश्न चिह्न (?) के स्थान पर आ सकती है।

12 30 18
18 45 27
24 ? 24

- Ans 1. 44
 2. 24
 3. 48
 4. 14

Question ID : 65497832282
Status : Answered
Chosen Option : 3

Q.24 एक निश्चित कूट भाषा में, ROSE को QNRD के रूप में लिखा जाता है। उसी कूट भाषा में MIND को किस रूप में लिखा जाएगा?

- Ans 1. HLMC
 2. MCHL
 3. MCLH
 4. LHMC

Question ID : 65497832280
Status : Answered
Chosen Option : 4

Q.25 दिए गए विकल्पों में से उस संख्या का चयन करें, जो निम्नलिखित श्रृंखला में प्रश्नवाचक चिह्न (?) के स्थान पर आ सकती है।

70, 66, 58, 46, 30, ?

- Ans 1. 10
 2. 16
 3. 8
 4. 12

Question ID : 65497832291
Status : Answered
Chosen Option : 1

Section : Part B General Knowledge and General Awareness

Q.1 पंचायत का सदस्य बनने के लिए निम्नलिखित में से कितनी न्यूनतम आयु (संविधान के अनुसार निर्धारित) आवश्यक है?

- Ans 1. 36 वर्ष
 2. 21 वर्ष
 3. 18 वर्ष
 4. 28 वर्ष

Question ID : 65497832303
Status : Answered
Chosen Option : 3

Q.2 इंदिरा गांधी मेमोरियल ट्यूलिप गार्डन, जो एशिया का सबसे बड़ा ट्यूलिप गार्डन है, कहाँ स्थित है?

- Ans
- 1. देहरादून
 - 2. धर्मशाला
 - 3. श्रीनगर
 - 4. शिमला

Question ID : 65497832308
Status : Answered
Chosen Option : 1

Q.3 2020 में अपने स्वतंत्रता दिवस के भाषण के दौरान भारत के प्रधान मंत्री ने निम्नलिखित में से किस अभियान की घोषणा की थी?

- Ans
- 1. प्रोजेक्ट लेपर्ड
 - 2. प्रोजेक्ट डॉल्फिन
 - 3. प्रोजेक्ट टाइगर
 - 4. प्रोजेक्ट लायन

Question ID : 65497832321
Status : Not Answered
Chosen Option : --

Q.4 Stereopsis is a feature associated with the _____.

- Ans
- 1. eye
 - 2. nose
 - 3. tongue
 - 4. ear

Question ID : 65497832324
Status : Answered
Chosen Option : 1

Q.5 दिसंबर 1947 तक प्राप्त जानकारी के अनुसार, भारत का संविधान लिखने वाली संविधान सभा में _____ सदस्य थे।

- Ans
- 1. 230
 - 2. 275
 - 3. 299
 - 4. 245

Question ID : 65497832320
Status : Answered
Chosen Option : 3

Q.6 निम्नलिखित में से कौन-सा भारतीय शहर कलमकारी चित्रकला के लिए प्रसिद्ध है?

- Ans
- 1. विशाखापत्तनम
 - 2. गोलकोंडा
 - 3. काकीनाडा
 - 4. मसुलीपत्तनम

Question ID : 65497832314
Status : Answered
Chosen Option : 3

Q.7 जुलाई 2021 में, वैदेही डोंगरे को मिस इंडिया यूएसए (Miss India USA) 2021 का ताज पहनाया गया। वे कहाँ की रहने वाली हैं?

- Ans
- 1. विस्कॉन्सिन (Wisconsin)
 - 2. कान्सास (Kansas)
 - 3. मिशिगन (Michigan)
 - 4. नवादा (Nevada)

Question ID : 65497832325
Status : Not Answered
Chosen Option : --

Q.8 'व्हाई आई एम अ हिन्दू' नामक पुस्तक के लेखक निम्नलिखित में से कौन हैं?

- Ans
- 1. शशि थरूर
 - 2. विक्रम सेठ
 - 3. मनमोहन सिंह
 - 4. सत्यार्थ नायक

Question ID : 65497832310
Status : Answered
Chosen Option : 1

Q.9 निम्नलिखित में से कौन सी पहाड़ियाँ आंध्र प्रदेश में स्थित हैं?

- Ans
- 1. पालकोंडा की पहाड़ियाँ
 - 2. महाबलेश्वर की पहाड़ियाँ
 - 3. अन्नामलाई की पहाड़ियाँ
 - 4. नीलगिरि की पहाड़ियाँ

Question ID : 65497832309
Status : Answered
Chosen Option : 1

Q.10 निम्नलिखित में से किस वर्ष ताशकंद में भारतीय कम्युनिस्ट पार्टी (मार्क्सवादी) की स्थापना हुई थी?

- Ans
- 1. 1912
 - 2. 1909
 - 3. 1934
 - 4. 1920

Question ID : 65497832307
Status : Answered
Chosen Option : 2

Q.11 निम्नलिखित में से कौन सी नदी, अरब सागर में गिरती है?

- Ans
- 1. कृष्णा
 - 2. कावेरी
 - 3. नर्मदा
 - 4. गोदावरी

Question ID : 65497832302
Status : Answered
Chosen Option : 3

Q.12 निम्नलिखित में से क्या श्रीलंका का राष्ट्रीय खेल है?

- Ans
- 1. क्रिकेट
 - 2. तैराकी
 - 3. वॉलीबॉल
 - 4. फुटबॉल

Question ID : 65497832305
Status : Answered
Chosen Option : 3

Q.13 17 नवंबर 2020 को आयोजित हुए, 12वें ब्रिक्स (BRICS) (ब्राजील, रूस, भारत, चीन, और दक्षिण अफ्रीका) सम्मेलन की थीम निम्नलिखित में से क्या थी?

- Ans
- 1. वैश्विक विज्ञान, साझा स्वास्थ्य एवं नवप्रवर्तक समाधानों के लिए ब्रिक्स (BRICS) की साझेदारी
 - 2. वैश्विक स्थायित्व, साझा स्वास्थ्य एवं नवप्रवर्तक तकनीक के लिए ब्रिक्स (BRICS) की साझेदारी
 - 3. वैश्विक सुरक्षा, साझा नियति एवं नवप्रवर्तक विचारों के लिए ब्रिक्स (BRICS) की साझेदारी
 - 4. वैश्विक स्थिरता, साझा सुरक्षा एवं नवप्रवर्तक वृद्धि के लिए ब्रिक्स (BRICS) की साझेदारी

Question ID : 65497832304
Status : Not Answered
Chosen Option : --

Q.14 निम्नलिखित में से कौन सा खेल 'यू थान्ट कप' ('U Thant Cup') से संबंधित है?

- Ans
- 1. टेबल टेनिस
 - 2. लॉन टेनिस
 - 3. घुड़दौड़
 - 4. हॉकी

Question ID : 65497832311
Status : Marked For Review
Chosen Option : 3

Q.15 जनरल इंश्योरेंस कॉर्पोरेशन ऑफ इंडिया किस वर्ष कंपनी के रूप में निगमित हुई थी?

- Ans
- 1. 1972
 - 2. 1965
 - 3. 1988
 - 4. 1981

Question ID : 65497832301
Status : Not Answered
Chosen Option : --

Q.16 1722 में आगरा की सूबेदारी निम्नलिखित में से किस व्यक्ति को दी गई थी?

- Ans
- 1. सवाई राजा जगत सिंह
 - 2. जहांदार शाह
 - 3. शाहजहां
 - 4. सवाई राजा जय सिंह

Question ID : 65497832318
Status : Not Answered
Chosen Option : --

Q.17 निम्नलिखित व्यक्तित्वों में से कौन 1870 में भारतीय लोक सेवा के पहले भारतीय सदस्य थे?

- Ans
- 1. निबरन चंद्र मुखर्जी
 - 2. पिंगली वेंकैया
 - 3. बिपिन चंद्र पाल
 - 4. सत्येंद्रनाथ टैगोर

Question ID : 65497832319
Status : Not Answered
Chosen Option : --

Q.18 कृषि उत्पादों के परिवहन के लिए 'कृषि उड़ान योजना' का शुभारंभ वर्ष _____ के बजट में घोषित किया गया था।

- Ans
- 1. 2019
 - 2. 2017
 - 3. 2018
 - 4. 2020

Question ID : 65497832317
Status : Answered
Chosen Option : 4

Q.19 निम्नलिखित में से किस टीम ने पांच बार इंडियन प्रीमियर लीग का खिताब जीता है?

- Ans
- 1. सनराइजर्स हैदराबाद
 - 2. मुंबई इंडियंस
 - 3. कोलकाता नाईट राइडर्स
 - 4. चेन्नई सुपर किंग्स

Question ID : 65497832315
Status : Answered
Chosen Option : 2

Q.20 राजमाता विजया राजे सिंधिया की जन्म शताब्दी मनाने के लिए, भारत के प्रधानमंत्री ने कब ₹100 का सिक्का जारी किया?

- Ans
- 1. 10 अक्टूबर, 2020
 - 2. 14 अक्टूबर, 2020
 - 3. 12 अक्टूबर, 2020
 - 4. 16 अक्टूबर, 2020

Question ID : 65497832316
Status : Not Answered
Chosen Option : --

Q.21 केंद्र सरकार द्वारा शुरू किए गए राष्ट्रीय स्वच्छ वायु कार्यक्रम (NCAP) के द्वारा, सांद्रता की तुलना के लिए 2017 को आधार वर्ष मानते हुए, 2024 तक कणमय द्रव्य सांद्रण (Particulate Matter concentrations) में _____ की कमी प्राप्त करना अपेक्षित है।

- Ans
- 1. 40% से 50%
 - 2. 75% से 85%
 - 3. 20% से 30%
 - 4. 5% से 15%

Question ID : 65497832323
Status : Not Answered
Chosen Option : --

Q.22 Which of the following female mosquitoes acts as a carrier of dengue virus?

- Ans
- 1. Mansonides
 - 2. Aedes
 - 3. Anopheles
 - 4. Culex

Question ID : 65497832312
Status : Answered
Chosen Option : 2

Q.23 छतों पर वर्षा जल संचयन को अनिवार्य बनाने वाला भारत का पहला और एकमात्र राज्य निम्नलिखित में से कौन सा है?

- Ans
- 1. मेघालय
 - 2. आंध्र प्रदेश
 - 3. मिजोरम
 - 4. तमिलनाडु

Question ID : 65497832313
Status : Answered
Chosen Option : 1

Q.24 निम्नलिखित में से किसे नवंबर 2020 में एच.डी.एफ.सी. (HDFC) म्यूचुअल फंड के प्रबंध निदेशक (MD) और मुख्य कार्यकारी अधिकारी (CEO) के रूप में नियुक्त किया गया था?

- Ans
- 1. राजीव कुमार
 - 2. वी.के. यादव
 - 3. नवनीत मुनोत
 - 4. टी.एन. मनोहरन

Question ID : 65497832306
Status : Answered
Chosen Option : 4

Q.25 पंडित सारंगदेव कृत 'संगीत रत्नाकार' भारतीय शास्त्रीय संगीत से संबंधित ग्रंथ है। इसे किस शताब्दी में लिखा गया था?

- Ans
- 1. 15वीं
 - 2. 11वीं
 - 3. 17वीं
 - 4. 13वीं

Question ID : 65497832322
Status : Not Answered
Chosen Option : --

Section : Part C Elementary Mathematics

Q.1 ₹40,000 की राशि पर 2 वर्षों में मिले चक्रवृद्धि ब्याज और साधारण ब्याज का अंतर ₹324 है। वार्षिक ब्याज दर क्या थी?

- Ans
- 1. 12%
 - 2. 7%
 - 3. 9%
 - 4. 8%

Question ID : 65497832332
Status : Answered
Chosen Option : 3

Q.2 एक सेल्समैन ने एक वस्तु को 24% लाभ पर बेचा। यदि उसने इसे 12% कम में खरीदा होता और इसे ₹69 कम में बेचता, तो उसे 20% का लाभ होता। वस्तु का क्रय मूल्य ज्ञात करें।

- Ans
- 1. ₹850
 - 2. ₹900
 - 3. ₹425
 - 4. ₹375

Question ID : 65497832340
Status : Answered
Chosen Option : 4

Q.3 $3 \times 8 \div 4 \text{ of } 6 - 6 \div 4 \times (13 - 15) + 4 - 2 \times 9 \div 6 \times 6$ का मान कितना होगा?

Ans 1. - 10

2. $8\frac{1}{2}$

3. $7\frac{1}{2}$

4. - 16

Question ID : 65497832344
Status : Answered
Chosen Option : 1

Q.4 पाइप A और B एक खाली टंकी को क्रमशः 12 घंटे और 16 घंटे में भर सकते हैं। दोनों पाइपों को एक साथ खोला गया और 3 घंटे बाद पाइप B बंद कर दिया गया। टंकी के बचे भाग को भरने में पाइप A को कितना समय (घंटों में) लगेगा?

Ans 1. 9

2. 7

3. $6\frac{3}{4}$

4. $5\frac{1}{4}$

Question ID : 65497832346
Status : Answered
Chosen Option : 3

Q.5 पांच वर्ष पहले, A और B की आयु का अनुपात 5 : 8 था। अब से दस वर्ष बाद, उनकी आयु का अनुपात 8 : 11 होगा। B की वर्तमान आयु (वर्षों में) क्या है?

Ans 1. 40

2. 45

3. 30

4. 35

Question ID : 65497832341
Status : Answered
Chosen Option : 2

Q.6 62 पुस्तकों का क्रय मूल्य, 50 पुस्तकों के विक्रय मूल्य के बराबर है। लाभ प्रतिशत ज्ञात करें।

- Ans
- ✓ 1. 24
 - ✗ 2. 20
 - ✗ 3. 25
 - ✗ 4. 30

Question ID : 65497832331
Status : Answered
Chosen Option : 1

Q.7 व्यंजक $1 \div 1 \left\{ \frac{1}{2} + \frac{5}{2} \text{ of } \frac{1}{5} - \left(\frac{1}{4} \div \frac{1}{2} + \frac{1}{2} \right) + \frac{1}{2} \times 3 \right\}$ को सरल करने पर क्या परिणाम प्राप्त होगा?

- Ans
- ✓ 1. 2/3
 - ✗ 2. 0
 - ✗ 3. 1/2
 - ✗ 4. -1/2

Question ID : 65497832338
Status : Answered
Chosen Option : 1

Q.8 एक शंकु के आधार का व्यास उसकी ऊँचाई का 1.5 गुना है। यदि इसका वक्र पृष्ठीय क्षेत्रफल $480\pi \text{ cm}^2$ है, तो इसकी तिर्यक ऊँचाई (cm में) ज्ञात करें।

- Ans
- ✗ 1. $10\sqrt{5}$
 - ✗ 2. $10\sqrt{2}$
 - ✗ 3. $20\sqrt{5}$
 - ✓ 4. $20\sqrt{2}$

Question ID : 65497832343
Status : Answered
Chosen Option : 4

Q.9 एक वस्तु को 25% लाभ पर बेचा गया। यदि इसका क्रय मूल्य 20% कम हो और इसे उसी विक्रय मूल्य पर बेचा जाए तो लाभ का प्रतिशत कितना होगा?

- Ans
- ✓ 1. $56\frac{1}{4}\%$
 - ✗ 2. 45%
 - ✗ 3. $54\frac{3}{4}\%$
 - ✗ 4. 36%

Question ID : 65497832345
Status : Answered
Chosen Option : 1

Q.10 मान लीजिए x , 4 अंकों की ऐसी बड़ी से बड़ी संख्या है, जिसे 12, 15, 16 और 20 से विभाजित करने पर, क्रमशः 9, 12, 13 और 17 शेषफल प्राप्त होते हैं। x के अंकों का योग ज्ञात कीजिए।

- Ans
- 1. 27
 - 2. 28
 - 3. 17
 - 4. 13

Question ID : 65497832347

Status : Not Attempted and Marked For Review

Chosen Option : --

Q.11 जब प्राकृतिक संख्याओं की एक सूची में 25 को सम्मिलित किया जाता है, तो उनके औसत में 4 की वृद्धि हो जाती है। जब इस नई सूची में 7 को सम्मिलित किया जाता है, तो नई सूची की संख्याओं के औसत में $\frac{1}{3}$ की कमी हो जाती है। मूल सूची में कितनी संख्याएं थीं?

- Ans
- 1. 3
 - 2. 4
 - 3. 5
 - 4. 7

Question ID : 65497832326

Status : Not Answered

Chosen Option : --

Q.12 A एक काम को 40 दिनों में कर सकता है। वह 10 दिनों तक इस पर काम करता है, और फिर शेष काम को B अकेले 45 दिनों में पूरा करता है। A और B एक साथ मिलकर कितने दिनों में इस काम का 75% भाग पूरा कर लेंगे?

- Ans
- 1. 16
 - 2. 24
 - 3. 20
 - 4. 18

Question ID : 65497832329

Status : Answered

Chosen Option : 4

Q.13 यदि चावल के मूल्य में 18% की छूट, एक गृहिणी को ₹1876 में 5 kg अधिक चावल खरीदने में सक्षम बना देती है, तो चावल के प्रति kg मूल्य में हुई लगभग कमी (₹ में) ज्ञात कीजिए।

- Ans
- 1. 65
 - 2. 70
 - 3. 68
 - 4. 72

Question ID : 65497832327

Status : Answered

Chosen Option : 4

Q.14 ABCD एक ऐसा वर्ग है जिसकी भुजा की लंबाई 30 m है। उस न्यूनतम आकार के वर्ग का क्षेत्रफल कितना होगा जिसे ABCD के अंदर इसकी भुजाओं पर इसके शीर्षों के साथ निर्मित किया जा सकता है?

- Ans
- 1. 550 m²
 - 2. 500 m²
 - 3. 450 m²
 - 4. 400 m²

Question ID : 65497832336
Status : Answered
Chosen Option : 3

Q.15 दो बर्तनों A और B में अम्ल और जल के अनुपात क्रमशः 3 : 2 और 7 : 3 हैं। A और B के विलयनों को 4 : 3 के अनुपात में मिलाया जाता है। परिणामी विलयन में अम्ल और जल का अनुपात क्या होगा?

- Ans
- 1. 2 : 1
 - 2. 8 : 3
 - 3. 9 : 5
 - 4. 5 : 2

Question ID : 65497832349
Status : Answered
Chosen Option : 3

Q.16 6 और 42 का तृतीयानुपाती जात कीजिए।

- Ans
- 1. 294
 - 2. 284
 - 3. 249
 - 4. 349

Question ID : 65497832335
Status : Answered
Chosen Option : 1

Q.17 एक दुकानदार अपनी वस्तुओं पर क्रय मूल्य से 25% अधिक मूल्य अंकित करता है। अंततः वह वस्तुओं को 30% की छूट पर बेचता है। उसका लाभ या हानि प्रतिशत जात कीजिए?

- Ans
- 1. 12.5% हानि
 - 2. 12% हानि
 - 3. 13.5% लाभ
 - 4. 11.5% लाभ

Question ID : 65497832337
Status : Answered
Chosen Option : 1

Q.18 वह बड़ी से बड़ी संख्या ज्ञात कीजिए जिससे 52, 68 और 116 को भाग देने पर हर बार समान शेषफल प्राप्त हो।

- Ans
- ✓ 1. 16
 - ✗ 2. 12
 - ✗ 3. 14
 - ✗ 4. 18

Question ID : 65497832333
Status : Answered
Chosen Option : 1

Q.19 7.5% वार्षिक साधारण ब्याज की दर पर उधार ली गई एक निश्चित धनराशि $5\frac{1}{2}$ वर्षों में ₹16,950 हो जाती है। समान राशि पर समान दर से $8\frac{1}{4}$ वर्षों में प्राप्त साधारण ब्याज (₹ में) कितना होगा?

- Ans
- ✗ 1. 8,415
 - ✓ 2. 7,425
 - ✗ 3. 6,806
 - ✗ 4. 6,188

Question ID : 65497832350
Status : Answered
Chosen Option : 4

Q.20 23 संख्याओं का औसत 45 है। प्रथम 12 संख्याओं का औसत 40.5 और अंतिम 6 संख्याओं का औसत 48.5 है। शेष संख्याओं का औसत क्या होगा?

- Ans
- ✗ 1. 51.1
 - ✗ 2. 48.8
 - ✗ 3. 49.4
 - ✓ 4. 51.6

Question ID : 65497832348
Status : Answered
Chosen Option : 4

Q.21 एक परीक्षा में उपस्थित होने वाले कुल छात्रों में से 65% लड़के थे। 28% लड़के और 16% लड़कियां अनुत्तीर्ण हुईं और 702 लड़के उत्तीर्ण हुए। कितनी लड़कियां उत्तीर्ण हुईं?

- Ans
- ✗ 1. 420
 - ✓ 2. 441
 - ✗ 3. 440
 - ✗ 4. 460

Question ID : 65497832334
Status : Answered
Chosen Option : 2

Q.22 एक स्टेडियम में फैशन शो के दौरान, 2100 सीटों में से $82\frac{2}{3}\%$ सीटें भरी हुई थीं। यदि शो में प्रत्येक सीट का मूल्य ₹160 है, तो खाली सीटों के कारण शो में हुई कुल हानि (₹ में) कितनी होगी?

- Ans
- 1. 69720
 - 2. 47960
 - 3. 58240
 - 4. 97610

Question ID : 65497832328
Status : Answered
Chosen Option : 3

Q.23 एक मोटरबोट धारा की विपरीत दिशा में 48 km की दूरी तय करने में, धारा की दिशा में समान दूरी तय करने में लिए गए समय से एक घंटा अधिक समय लेती है। यदि नदी की धारा की चाल 4 km/h है, तो शांत जल में मोटरबोट की चाल (km/h में) कितनी होगी?

- Ans
- 1. 10
 - 2. 16
 - 3. 15
 - 4. 20

Question ID : 65497832330
Status : Answered
Chosen Option : 4

Q.24 दो ट्रेन A और B एक ही दिशा में क्रमशः 80 km/h और 100 km/h की समान चाल से चल रही हैं। ट्रेन A एक ही स्टेशन से, ट्रेन B से 30 मिनट पहले निकलती है। ट्रेन B, ट्रेन A को कितने समय में पार कर जाएगी?

- Ans
- 1. 50/3 मिनट
 - 2. 2 घंटे
 - 3. 15 मिनट
 - 4. 12.5 मिनट

Question ID : 65497832339
Status : Answered
Chosen Option : 2

Q.25 एक निश्चित धनराशि, समान वार्षिक साधारण ब्याज दर पर 4 वर्षों में ₹9,648 और 7 वर्षों में ₹11,484 हो जाती है। धनराशि ज्ञात करें।

- Ans
- 1. ₹7,200
 - 2. ₹7,800
 - 3. ₹7,000
 - 4. ₹7,500

Question ID : 65497832342
Status : Answered
Chosen Option : 1

Q.1 Select the most appropriate meaning of the given idiom.

Raining cats and dogs

- Ans**
- 1. Cat and dog fight
 - 2. Too crowded
 - 3. Raining heavily
 - 4. Raining lightly

Question ID : 65497832356
Status : Not Answered
Chosen Option : --

Q.2 Select the most appropriate option to fill in the blank.

It is a well-known fact that air pollution has a terrible _____ on the health of people.

- Ans**
- 1. effect
 - 2. shock
 - 3. problem
 - 4. force

Question ID : 65497832364
Status : Not Answered
Chosen Option : --

Q.3 Select the most appropriate option that can substitute the underlined segment in the given sentence. If there is no need to substitute it, select 'No substitution required'.

Many of the apples were rotten.

- Ans**
- 1. was rotten
 - 2. No substitution required
 - 3. is been rotten
 - 4. is rotten

Question ID : 65497832360
Status : Not Answered
Chosen Option : --

Q.4 Select the most appropriate ANTONYM of the given word.

Persist

- Ans**
- 1. Discontinue
 - 2. Convince
 - 3. Enable
 - 4. Incline

Question ID : 65497832354
Status : Not Answered
Chosen Option : --

Q.5 Select the most appropriate ANTONYM of the given word.

Dummy

- Ans**
- 1. Counterfeit
 - 2. Copy
 - 3. Duplicate
 - 4. Original

Question ID : 65497832361
Status : Not Answered
Chosen Option : --

Q.6 Select the most appropriate option to fill in the blank.

The systems _____ on back-up battery when the electricity goes off.

- Ans**
- 1. operate
 - 2. activate
 - 3. drive
 - 4. control

Question ID : 65497832355
Status : Not Answered
Chosen Option : --

Q.7 Select the option that can be used as a one-word substitute for the given group of words.

The sound an elephant makes

- Ans**
- 1. Bray
 - 2. Grunt
 - 3. Low
 - 4. Trumpet

Question ID : 65497832351
Status : Not Answered
Chosen Option : --

Q.8 Select the option that can be used as a one-word substitute for the given group of words.

A person who walks in his/her sleep

- Ans**
- 1. Exorcist
 - 2. Atheist
 - 3. Somnambulist
 - 4. Ventriloquist

Question ID : 65497832362
Status : Not Answered
Chosen Option : --

Q.9 Select the option that will improve the underlined part of the given sentence. In case no improvement is needed, select 'No improvement required'.

He did much mistakes.

- Ans**
- 1. committed many mistakes
 - 2. make many mistakes
 - 3. No improvement required
 - 4. did many a mistakes

Question ID : 65497832358
Status : Not Answered
Chosen Option : --

Q.10 Select the option that can be used as a one-word substitute for the given group of words.

Shortened form of a word or phrase

- Ans**
- 1. Precis
 - 2. Summary
 - 3. Anagram
 - 4. Abbreviation

Question ID : 65497832368
Status : Not Answered
Chosen Option : --

Q.11 Select the most appropriate SYNONYM of the given word.

Toil

- Ans**
- 1. Drive
 - 2. Sweat
 - 3. Rest
 - 4. Climb

Question ID : 65497832367
Status : Not Answered
Chosen Option : --

Q.12 Select the most appropriate synonym of the given word.

Keen

- Ans**
- 1. Benign
 - 2. Eager
 - 3. Jovial
 - 4. Active

Question ID : 65497832353
Status : Not Answered
Chosen Option : --

Q.13 Select the INCORRECTLY spelt word.

- Ans
- 1. Injury
 - 2. Thrust
 - 3. Sheild
 - 4. Attach

Question ID : 65497832369
Status : Not Answered
Chosen Option : --

Q.14 Select the most appropriate meaning of the given idiom.

Between Scylla and Charybdis

- Ans
- 1. Winning a competition
 - 2. Choice between two pleasant alternatives
 - 3. Choice between two unpleasant alternatives
 - 4. Dividing into equal shares

Question ID : 65497832357
Status : Not Answered
Chosen Option : --

Q.15 The following sentence has been split into four segments. Identify the segment that contains a grammatical error.

Water / freeze at / 0 degree / Celsius.

- Ans
- 1. freeze at
 - 2. Water
 - 3. Celsius
 - 4. 0 degree

Question ID : 65497832352
Status : Not Answered
Chosen Option : --

Q.16 The following sentence has been split into four segments. Identify the segment that contains a grammatical error.

I am thinking / your idea will be / really appreciated / by everyone.

- Ans
- 1. I am thinking
 - 2. by everyone
 - 3. your idea will be
 - 4. really appreciated

Question ID : 65497832366
Status : Not Answered
Chosen Option : --

Q.17 Select the most appropriate option to fill in the blank.

The little girl _____ a puppy from the street.

- Ans
- 1. preserved
 - 2. transferred
 - 3. passed
 - 4. rescued

Question ID : 65497832370
Status : Not Answered
Chosen Option : --

Q.18 Select the INCORRECTLY spelt word.

- Ans
- 1. Imaculate
 - 2. Impediment
 - 3. Immense
 - 4. Immature

Question ID : 65497832363
Status : Not Answered
Chosen Option : --

Q.19 Select the most appropriate option that can substitute the underlined segment in the given sentence. If there is no need to substitute it, select 'No substitution required'.

If the air pollutes with small particles, natural or otherwise, the sunset will be more red.

- Ans
- 1. will be polluted with
 - 2. is polluted with
 - 3. No substitution required
 - 4. was polluted with

Question ID : 65497832365
Status : Not Answered
Chosen Option : --

Q.20 Parts of the given sentence have been given as options. One of them contains a grammatical error. Select the option that has the error.

The easiest way to make pasta is to be followed Chef Kapoor's instructions on YouTube.

- Ans
- 1. instructions on YouTube
 - 2. to be followed
 - 3. The easiest way
 - 4. make pasta

Question ID : 65497832359
Status : Not Answered
Chosen Option : --

Comprehension:

In the following passage, some words have been deleted. Read the passage carefully and select the most appropriate option to fill in each blank.

The power of words (1)_____ an enduring effect and can be (2)_____ by all men and women. Words are not (3)_____ for writers or lovers of literature. Every profession is (4)_____ by words. It is impossible to (5)_____ oneself without using words.

SubQuestion No : 21

Q.21 Select the most appropriate option to fill in blank no. 1.

- Ans 1. are
 2. has
 3. is
 4. have

Question ID : 65497832372
Status : Not Answered
Chosen Option : --

Comprehension:

In the following passage, some words have been deleted. Read the passage carefully and select the most appropriate option to fill in each blank.

The power of words (1)_____ an enduring effect and can be (2)_____ by all men and women. Words are not (3)_____ for writers or lovers of literature. Every profession is (4)_____ by words. It is impossible to (5)_____ oneself without using words.

SubQuestion No : 22

Q.22 Select the most appropriate option to fill in blank no. 2.

- Ans 1. pleased
 2. impressed
 3. looked
 4. enjoyed

Question ID : 65497832373
Status : Not Answered
Chosen Option : --

Comprehension:

In the following passage, some words have been deleted. Read the passage carefully and select the most appropriate option to fill in each blank.

The power of words (1)_____ an enduring effect and can be (2)_____ by all men and women. Words are not (3)_____ for writers or lovers of literature. Every profession is (4)_____ by words. It is impossible to (5)_____ oneself without using words.

SubQuestion No : 23

Q.23 Select the most appropriate option to fill in blank no. 3.

- Ans 1. hardly
 2. such
 3. merely
 4. same

Question ID : 65497832374
Status : Not Answered
Chosen Option : --

Comprehension:

In the following passage, some words have been deleted. Read the passage carefully and select the most appropriate option to fill in each blank.

The power of words (1)_____ an enduring effect and can be (2)_____ by all men and women. Words are not (3)_____ for writers or lovers of literature. Every profession is (4)_____ by words. It is impossible to (5)_____ oneself without using words.

SubQuestion No : 24

Q.24 Select the most appropriate option to fill in blank no. 4.

- Ans** 1. guided
 2. charged
 3. managed
 4. trained

Question ID : 65497832375
Status : Not Answered
Chosen Option : --

Comprehension:

In the following passage, some words have been deleted. Read the passage carefully and select the most appropriate option to fill in each blank.

The power of words (1)_____ an enduring effect and can be (2)_____ by all men and women. Words are not (3)_____ for writers or lovers of literature. Every profession is (4)_____ by words. It is impossible to (5)_____ oneself without using words.

SubQuestion No : 25

Q.25 Select the most appropriate option to fill in blank no. 5.

- Ans** 1. impress
 2. depress
 3. repress
 4. express

Question ID : 65497832376
Status : Not Answered
Chosen Option : --

Section : Part D Hindi

Q.1 'सूर्य जिस पर्वत के पीछे निकलता है' वाक्यांश के लिए एक शब्द होगा-

- Ans** 1. दूर्वाचल
 2. गगनांचल
 3. उदयाचल
 4. अस्ताचल

Question ID : 65497832393
Status : Answered
Chosen Option : 3

Q.2 रिक्त स्थान की पूर्ति के लिए सबसे उपयुक्त शब्द का चयन करें।

सफलता के मार्ग में बहुत _____ हैं।

- Ans
- 1. संकट
 - 2. मेहनत
 - 3. बाधाएँ
 - 4. छाँव

Question ID : 65497832383
Status : Answered
Chosen Option : 3

Q.3 निम्न मुहावरे का अर्थ व्यक्त करने वाले विकल्प का चयन कीजिए।

टस से मस ना होना

- Ans
- 1. तनिक भी प्रभावित न होना
 - 2. शक्ति पर विश्वास करना
 - 3. रुक जाना
 - 4. स्थिर चित्त होना

Question ID : 65497832384
Status : Answered
Chosen Option : 1

Q.4 दिए गए वाक्य में रेखांकित खंड को प्रतिस्थापित करने के लिए सबसे उपयुक्त विकल्प का चयन करें।
यदि इसे प्रतिस्थापित करने की आवश्यकता नहीं है, तो विकल्प 'किसी बदलाव की आवश्यकता नहीं है'
का चयन करें।

मेरा बेटा बकरी को घुमाया।

- Ans
- 1. मेरे बेटे ने
 - 2. किसी बदलाव की आवश्यकता नहीं है।
 - 3. मेरी बेटा ने
 - 4. मेरा बेटा ने

Question ID : 65497832378
Status : Answered
Chosen Option : 4

Q.5 दिए गए शब्द के सर्वाधिक उपयुक्त समानार्थी शब्द का चयन करें -

महीप

- Ans
- 1. सुरेश
 - 2. दिनेश
 - 3. व्योमकेश
 - 4. नरेश

Question ID : 65497832389
Status : Answered
Chosen Option : 4

Q.6 दिए गए शब्द का समानार्थी शब्द बताइए-

सरस्वती

- Ans 1. शारदा
 2. पार्वती
 3. काली
 4. चंडी

Question ID : 65497832382
Status : Answered
Chosen Option : 1

Q.7 दिये गये वाक्य में रेखांकित अंश को प्रतिस्थापित करने के लिए सबसे उपयुक्त विकल्प का चयन करें।

अधिकतर लोगों का यही विचार है।

- Ans 1. अधिकतम
 2. अधिक
 3. अधिकांश
 4. सर्वाधिक

Question ID : 65497832396
Status : Answered
Chosen Option : 3

Q.8 रिक्त स्थान की पूर्ति के लिए सबसे उपयुक्त शब्द का चयन कीजिए।

भौरें _____ रहे हैं।

- Ans 1. मचल
 2. गुनगुना
 3. दौड़
 4. मुस्करा

Question ID : 65497832377
Status : Answered
Chosen Option : 2

Q.9 रिक्त स्थान की पूर्ति के लिए सबसे उपयुक्त विकल्प का चयन करें।

कवि कविता का _____ करता है।

- Ans 1. निर्माण
 2. सृजन
 3. व्यापार
 4. उत्पादन

Question ID : 65497832390
Status : Answered
Chosen Option : 2

Q.10 निम्नलिखित प्रश्न में, दिए गए चार विकल्पों में से, उस विकल्प का चयन करें जो मुहावरे का अर्थ व्यक्त करता है।

पहाड़ टूटना

- Ans
- 1. भूकंप होना
 - 2. प्रकृति का प्रकोप होना
 - 3. बहुत भारी कष्ट आ पड़ना
 - 4. डर जाना

Question ID : 65497832386
Status : Answered
Chosen Option : 3

Q.11 दिये गये वाक्य के किस भाग में त्रुटि है?

उसने इस बात पर कड़ी आपत्ति प्रकट की।

- Ans
- 1. उसने
 - 2. पर कड़ी
 - 3. आपत्ति प्रकट की।
 - 4. इस बात

Question ID : 65497832391
Status : Answered
Chosen Option : 2

Q.12 दिए गए वाक्यांश के लिए एक शब्द दीजिए।

जिसका दमन करना कठिन है

- Ans
- 1. दुर्बोध
 - 2. दृष्टव्य
 - 3. दुर्दम्य
 - 4. दुर्गम

Question ID : 65497832379
Status : Answered
Chosen Option : 4

Q.13 दिए गए वाक्य का वह भाग ज्ञात करें जिसमें कोई त्रुटि है। यदि कोई त्रुटि नहीं है, तो 'कोई त्रुटि नहीं है' चुनें।

उन्हें साहित्यिक सेवा (1) का लिए पुरस्कार (2) प्रदान किया गया। (3) कोई त्रुटि नहीं है (4)

- Ans
- 1. 3
 - 2. 1
 - 3. 2
 - 4. 4

Question ID : 65497832381
Status : Answered
Chosen Option : 3

Q.14 दिए गए वाक्य का वह भाग ज्ञात करें जिसमें कोई त्रुटि है। यदि कोई त्रुटि नहीं है, तो 'कोई त्रुटि नहीं है' चुनें।

कठिन से कठिन परिस्थितियों का भी हमें हमेशा आत्मविश्वास बनाए रखना चाहिए।

- Ans
- 1. कोई त्रुटि नहीं है।
 - 2. कठिन से कठिन परिस्थितियों का भी
 - 3. बनाए रखना चाहिए।
 - 4. हमें हमेशा आत्मविश्वास

Question ID : 65497832388
Status : Answered
Chosen Option : 2

Q.15 दिए गए वाक्य में रेखांकित खंड को प्रतिस्थापित करने के लिए सबसे उपयुक्त विकल्प का चयन करें। यदि इसे प्रतिस्थापित करने की आवश्यकता नहीं है, तो विकल्प 'किसी बदलाव की आवश्यकता नहीं है' का चयन करें।

साधु ने चूहे पर दया करा और उसे बिल्ली बना दिया।

- Ans
- 1. साधु ने चूहा पर दया करी
 - 2. किसी बदलाव की आवश्यकता नहीं है।
 - 3. साधु ने चूहे पर दया की
 - 4. साधु ने चूहे पर दया किये

Question ID : 65497832380
Status : Answered
Chosen Option : 1

Q.16 'साधारण' का विलोम शब्द होगा-

- Ans
- 1. विशिष्ट
 - 2. संक्षिप्त
 - 3. अवशिष्ट
 - 4. शिष्ट

Question ID : 65497832392
Status : Answered
Chosen Option : 1

Q.17 निम्नलिखित में से शुद्ध वर्तनी वाला शब्द कौन सा है?

- Ans
- 1. पुण्य
 - 2. पून्य
 - 3. पूण्य
 - 4. पुन्य

Question ID : 65497832394
Status : Answered
Chosen Option : 1

Q.18 दिये गये वाक्यांश के लिए एक शब्द दीजिये।

जो दूसरों के अधीन हो

- Ans
- 1. स्वाधीन
 - 2. दास
 - 3. परजीवी
 - 4. पराधीन

Question ID : 65497832387
Status : Answered
Chosen Option : 4

Q.19 दिए गए शब्द का विलोम चुनें।

आधुनिक

- Ans
- 1. पुरानी
 - 2. समकालीन
 - 3. तत्कालीन
 - 4. प्राचीन

Question ID : 65497832385
Status : Answered
Chosen Option : 3

Q.20 निम्नलिखित में से शुद्ध वर्तनी वाला शब्द कौन सा है?

- Ans
- 1. परिणति
 - 2. परिणती
 - 3. परीणती
 - 4. परीणति

Question ID : 65497832395
Status : Answered
Chosen Option : 2

Comprehension:

ईर्ष्या का दुःख प्रायः निष्फल हो जाता है। अधिकतर तो जिस बात की ईर्ष्या होती है वह ऐसी बात होती है, जिस पर हमारा (1) _____ नहीं होता। जब हममें अपनी ही स्थिति में अनुकूल (2) _____ करने की सामर्थ्य नहीं है तब हम दूसरे की (3) _____ में कहीं तक परिवर्तन कर सकते हैं? जितनी जानकारी हमें अपनी स्थिति से हो सकती है उतनी (4) _____ की स्थिति से नहीं। किसी स्थिति में परिवर्तन करने के लिए उसके अंग-प्रत्यंग का परिचय (5) _____ होता है।

निम्न प्रश्नों के उत्तर उपरोक्त गद्यांश के आधार पर दीजिए।

SubQuestion No : 21

Q.21 गद्यांश के रिक्त स्थान (1) के लिए सर्वाधिक उपयुक्त शब्द होगा-

- Ans
- 1. वश
 - 2. मोह
 - 3. ध्यान
 - 4. होश

Question ID : 65497832398
Status : Answered
Chosen Option : 1

Comprehension:

ईर्ष्या का दुःख प्रायः निष्फल हो जाता है। अधिकतर तो जिस बात की ईर्ष्या होती है वह ऐसी बात होती है, जिस पर हमारा (1) _____ नहीं होता। जब हममें अपनी ही स्थिति में अनुकूल (2) _____ करने की सामर्थ्य नहीं है तब हम दूसरे की (3) _____ में कहीं तक परिवर्तन कर सकते हैं? जितनी जानकारी हमें अपनी स्थिति से हो सकती है उतनी (4) _____ की स्थिति से नहीं। किसी स्थिति में परिवर्तन करने के लिए उसके अंग-प्रत्यंग का परिचय (5) _____ होता है।

निम्न प्रश्नों के उत्तर उपरोक्त गद्यांश के आधार पर दीजिए।

SubQuestion No : 22

Q.22 गद्यांश के रिक्त स्थान (2) के लिए सर्वाधिक उपयुक्त शब्द होगा-

- Ans**
- 1. स्थानांतरण
 - 2. क्रांति
 - 3. विद्रोह
 - 4. परिवर्तन

Question ID : 65497832399

Status : Answered

Chosen Option : 4

Comprehension:

ईर्ष्या का दुःख प्रायः निष्फल हो जाता है। अधिकतर तो जिस बात की ईर्ष्या होती है वह ऐसी बात होती है, जिस पर हमारा (1) _____ नहीं होता। जब हममें अपनी ही स्थिति में अनुकूल (2) _____ करने की सामर्थ्य नहीं है तब हम दूसरे की (3) _____ में कहीं तक परिवर्तन कर सकते हैं? जितनी जानकारी हमें अपनी स्थिति से हो सकती है उतनी (4) _____ की स्थिति से नहीं। किसी स्थिति में परिवर्तन करने के लिए उसके अंग-प्रत्यंग का परिचय (5) _____ होता है।

निम्न प्रश्नों के उत्तर उपरोक्त गद्यांश के आधार पर दीजिए।

SubQuestion No : 23

Q.23 गद्यांश के रिक्त स्थान (3) के लिए सर्वाधिक उपयुक्त शब्द होगा-

- Ans**
- 1. दुनिया
 - 2. गृहस्थी
 - 3. स्थिति
 - 4. नियति

Question ID : 65497832400

Status : Answered

Chosen Option : 3

Comprehension:

ईर्ष्या का दुःख प्रायः निष्फल हो जाता है। अधिकतर तो जिस बात की ईर्ष्या होती है वह ऐसी बात होती है, जिस पर हमारा (1) _____ नहीं होता। जब हममें अपनी ही स्थिति में अनुकूल (2) _____ करने की सामर्थ्य नहीं है तब हम दूसरे की (3) _____ में कहीं तक परिवर्तन कर सकते हैं? जितनी जानकारी हमें अपनी स्थिति से हो सकती है उतनी (4) _____ की स्थिति से नहीं। किसी स्थिति में परिवर्तन करने के लिए उसके अंग-प्रत्यंग का परिचय (5) _____ होता है।

निम्न प्रश्नों के उत्तर उपरोक्त गद्यांश के आधार पर दीजिए।

SubQuestion No : 24

Q.24 गद्यांश के रिक्त स्थान (4) के लिए सर्वाधिक उपयुक्त शब्द होगा-

- Ans 1. परिजनों
 2. दूसरे
 3. अपनों
 4. तीसरे

Question ID : 65497832401

Status : Answered

Chosen Option : 2

Comprehension:

ईर्ष्या का दुःख प्रायः निष्फल हो जाता है। अधिकतर तो जिस बात की ईर्ष्या होती है वह ऐसी बात होती है, जिस पर हमारा (1) _____ नहीं होता। जब हममें अपनी ही स्थिति में अनुकूल (2) _____ करने की सामर्थ्य नहीं है तब हम दूसरे की (3) _____ में कहीं तक परिवर्तन कर सकते हैं? जितनी जानकारी हमें अपनी स्थिति से हो सकती है उतनी (4) _____ की स्थिति से नहीं। किसी स्थिति में परिवर्तन करने के लिए उसके अंग-प्रत्यंग का परिचय (5) _____ होता है।

निम्न प्रश्नों के उत्तर उपरोक्त गद्यांश के आधार पर दीजिए।

SubQuestion No : 25

Q.25 गद्यांश के रिक्त स्थान (5) के लिए सर्वाधिक उपयुक्त शब्द होगा-

- Ans 1. समीचीन
 2. आवश्यक
 3. प्रासंगिक
 4. अनावश्यक

Question ID : 65497832402

Status : Answered

Chosen Option : 2

Constable GD in CAPFs NIA SSF and Rifleman GD in Assam Rifles Examination 2021

Roll Number	www.HaryanaJobs.in
Candidate Name	www.HaryanaJobs.in
Venue Name	ION Digital Zone iDZ Gram Raigawan Near Patan Bypass
Exam Date	07/12/2021
Exam Time :	9:00 AM - 10:30 AM
Subject	Constable GD 2021

Section : Part A General Intelligence and Reasoning

Q.1 निम्नलिखित आकृतियों में कागज़ के टुकड़े को मोड़ने का क्रम और मुड़े हुए टुकड़े को काटने का तरीका दर्शाया गया है। कागज़ को खोले जाने पर इसकी आकृति कैसी दिखेगी?



Ans



Question ID : 65497828744

Status : Answered

Chosen Option : 3

Q.2 छः मित्रों, नेहा, काव्या, गीता, वरुण, पूजा और कपिल की आयु अलग-अलग है। गीता, पूजा से बड़ी है लेकिन वरुण से छोटी है। तीन मित्र, गीता से बड़े हैं। कपिल की आयु, वरुण और काव्या की आयु के मध्य आती है। पूजा केवल एक मित्र से बड़ी है। उन सब में सबसे छोटा कौन है?

- Ans
- 1. पूजा
 - 2. कपिल
 - 3. नेहा
 - 4. काव्या

Question ID : 65497828724
Status : Answered
Chosen Option : 3

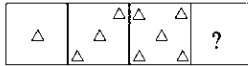
Q.3 उस विकल्प का चयन कीजिए जो तीसरे पद से उसी प्रकार संबंधित है जिस प्रकार दूसरा पद पहले पद से संबंधित है।

TUNER : VRRBX :: CLOCK : ?

- Ans
- 1. EROQZ
 - 2. EISZQ
 - 3. EISZO
 - 4. EORZQ

Question ID : 65497828737
Status : Answered
Chosen Option : 2

Q.4 दिए गए विकल्पों में से उस आकृति का चयन करें जो नीचे दी गई श्रृंखला में प्रश्न चिह्न (?) के स्थान पर आ सकती है।



Ans

- 1.
- 2.
- 3.
- 4.

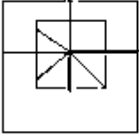
Question ID : 65497828723
Status : Answered
Chosen Option : 3

Q.5 उस विकल्प का चयन करें जिसमें दी गई आकृति सन्निकित है (घुमाने की अनुमति नहीं है)।

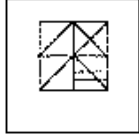


Ans

✗ 1.



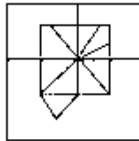
✗ 2.



✗ 3.



✓ 4.




Question ID : 65497828728

Status : Answered

Chosen Option : 4

Q.6 अक्षर a, b, c, d, e और f से अंकित, एक ही पासे की दो अलग-अलग स्थितियां दर्शाई गई हैं। उस अक्षर का चयन करें जो अक्षर 'a' वाले फलक के विपरीत फलक पर होगा।



Ans

✗ 1. b

✓ 2. f

✗ 3. d

✗ 4. e

Question ID : 65497828727

Status : Answered

Chosen Option : 2

Q.7 एक निश्चित कूट भाषा में, 'REFINE' को 'KHOZKL' लिखा जाता है। उसी कूट भाषा में, 'SOLVENT' को क्या लिखा जाएगा?

- Ans
- 1. YHJPPIX
 - 2. ZHKPRIY
 - 3. ZIKQQJY
 - 4. YHPJPIX

Question ID : 65497828738
Status : Answered
Chosen Option : 2

Q.8 दिए गए संयोजन के सही दर्पण प्रतिबिंब का चयन करें जब दर्पण को दिखाए गए अनुसार PQ पर रखा गया है।

FD&PCQ |

- Ans
- 1. Q̄C̄P̄8̄D̄F̄
 - 2. Q̄C̄P̄8̄D̄Ē
 - 3. Q̄C̄P̄8̄D̄F̄
 - 4. Q̄C̄P̄8̄D̄F̄

Question ID : 65497828736
Status : Answered
Chosen Option : 1

Q.9 किसी निश्चित कूट भाषा में, 'ORGAN' को 'QWDLG' लिखा जाता है और 'OPERATE' को 'QBXLWSX' लिखा जाता है। 'GENERATOR' को उसी कूट भाषा में कैसे लिखा जाएगा?

- Ans
- 1. DXCXWQLSW
 - 2. DXCXLSQW
 - 3. DXCXWLSQW
 - 4. DXCXSWLQW

Question ID : 65497828740
Status : Answered
Chosen Option : 3

Q.10 जीवा, कमल की पुत्री है। कमल के दो पुत्र हैं। अदा, मानविता की पुत्री है, जो कि कमल के पुत्र की पत्नी है। वीनू, प्रेम की मां है। प्रेम, अशोक का भाई है, जो कि अदा का पिता है। अदा का वीनू से क्या संबंध है?

- Ans
- 1. बहन
 - 2. पुत्री
 - 3. पोती/नातिन
 - 4. मां

Question ID : 65497828739
Status : Answered
Chosen Option : 3

Q.11 विकल्पों में से अक्षरों के उस संयोजन का चयन कीजिए जिसे नीचे दी गई श्रृंखला के रिक्त स्थानों में क्रमिक रूप से रखे जाने पर वह श्रृंखला को पूर्ण करेगा।

x z x _ y z x _ _ x y z x z _ _ y z

Ans 1. x z x x x

2. x z x y x

3. x z y z x

4. x z x x y

Question ID : 65497828721

Status : Answered

Chosen Option : 1

Q.12 उस विकल्प का चयन कीजिए जिसका तीसरी संख्या से वही संबंध है, जो दूसरी संख्या का पहली संख्या से है।

9783 : 3879 :: 1958 : ?

Ans 1. 5891

2. 8591

3. 9518

4. 9851

Question ID : 65497828725

Status : Answered

Chosen Option : 2

Q.13 दिए गए कथनों और निष्कर्षों को ध्यानपूर्वक पढ़ें। आपको कथनों में दी गई जानकारी को सत्य मानते हुए, भले ही वह सामान्यतः ज्ञात तथ्यों से भिन्न प्रतीत होती हो, निर्णय करें कि दिए गए निष्कर्षों में से कौन से निष्कर्ष कथनों का तार्किक रूप से अनुसरण करते हैं।

कथन:

कुछ अभिनेता, नृत्यरचनाकार हैं।

सभी नृत्यरचनाकार, निर्माता हैं।

एक भी निर्माता, निर्देशक नहीं है।

निष्कर्ष:

I. कुछ अभिनेता, निर्देशक हैं।

II. एक भी अभिनेता, निर्देशक नहीं है।

Ans 1. केवल निष्कर्ष I अनुसरण करता है।

2. केवल निष्कर्ष II अनुसरण करता है।

3. निष्कर्ष I और II, दोनों अनुसरण करते हैं।

4. या तो निष्कर्ष I, या फिर निष्कर्ष II अनुसरण करता है।

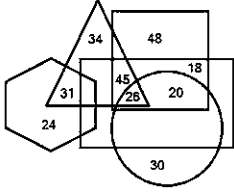
Question ID : 65497828741

Status : Answered

Chosen Option : 4

Q.14 नीचे दी गई आकृति में, वर्ग 'नींबू' को निरूपित करता है, वृत्त 'मीठे' को निरूपित करता है, त्रिभुज 'फलों' को निरूपित करता है, आयत 'खट्टे' को निरूपित करता है, और षट्भुज 'संतरों' को निरूपित करता है।

वह संख्या ज्ञात करें जो उन नींबू फलों (lemon fruits) को निरूपित करती है जो खट्टे हैं लेकिन मीठे नहीं हैं।



- Ans
- 1. 48
 - 2. 45
 - 3. 18
 - 4. 26

Question ID : 65497828732
Status : Answered
Chosen Option : 3

Q.15 दिए गए विकल्पों में से उस संख्या का चयन करें जो निम्नलिखित श्रृंखला में प्रश्न चिह्न (?) के स्थान पर आ सकती है।

560, 280, 140, 70, ?

- Ans
- 1. 50
 - 2. 35
 - 3. 45
 - 4. 40

Question ID : 65497828722
Status : Answered
Chosen Option : 2

Q.16 7 के पांच क्रमिक गुणजों का योग 455 है। इस श्रृंखला की सबसे बड़ी संख्या निम्न में से कौन सी है?

- Ans
- 1. 105
 - 2. 91
 - 3. 140
 - 4. 154

Question ID : 65497828743
Status : Answered
Chosen Option : 3

Q.17 विकल्पों में चार अक्षर-समूह दिए गए हैं जिनमें से तीन किसी न किसी प्रकार संगत हैं और एक असंगत है। उस अक्षर-समूह का चयन करें, जो अन्य से असंगत है।

- Ans
- 1. DMI
 - 2. CGP
 - 3. RFB
 - 4. ATH

Question ID : 65497828733
Status : Answered
Chosen Option : 1

Q.18 गणितीय चिह्नों के उस सही संयोजन का चयन करें जिसे क्रमिक रूप से * चिह्नों के स्थान पर रखने से दिया गया समीकरण संतुलित हो जाएगा।

$$7 * 8 * 6 * 130 * 2 * 3$$

- Ans
- 1. +, x, =, +, -
 - 2. =, x, +, +, -
 - 3. +, +, -, =, x
 - 4. x, +, =, +, -

Question ID : 65497828726
Status : Answered
Chosen Option : 4

Q.19 उस विकल्प का चयन करें जो तीसरे शब्द से उसी प्रकार संबंधित है जिस प्रकार दूसरा शब्द पहले शब्द से संबंधित है।

रूबेला : विषाणु :: मलेरिया : ?

- Ans
- 1. विषाणु
 - 2. परजीवी
 - 3. कवक
 - 4. जीवाणु

Question ID : 65497828730
Status : Answered
Chosen Option : 2

Q.20 छः व्यक्ति, A, B, C, D, E और F एक घेरा बनाकर बैठे हुए हैं। सभी के मुंह केंद्र की ओर हैं। B, A और E के बीच में बैठा हुआ है। C, D और F के बीच में बैठा हुआ है। F, A के बाईं ओर बगल में बैठा है। E के दाईं ओर बगल में कौन बैठा है?

- Ans
- 1. C
 - 2. B
 - 3. F
 - 4. D

Question ID : 65497828731
Status : Answered
Chosen Option : 4

Q.21 दिए गए विकल्पों में से उस संख्या का चयन करें, जो निम्नलिखित श्रृंखला में प्रश्नवाचक चिह्न (?) के स्थान पर आ सकती है।

36, 37, 46, 71, ?, 201

- Ans
- 1. 125
 - 2. 107
 - 3. 118
 - 4. 120

Question ID : 65497828735
Status : Answered
Chosen Option : 4

Q.22 उस विकल्प का चयन कीजिए जिसमें नीचे दिए गए शब्दों का अंग्रेजी शब्दकोश में आने वाला क्रम दिया गया है।

1. Subsidiary
2. Subscribe
3. Substantiate
4. Substandard
5. Subsequent

- Ans
- 1. 2, 5, 1, 3, 4
 - 2. 3, 5, 1, 4, 2
 - 3. 2, 5, 3, 4, 1
 - 4. 2, 5, 1, 4, 3

Question ID : 65497828720
Status : Answered
Chosen Option : 3

Q.23 एक विशिष्ट कूट भाषा में, 'SAVE' का कोड '522119' है। इस कूट भाषा में 'WEAK' का कोड क्या होगा?

- Ans
- 1. 523111
 - 2. 115195
 - 3. 235123
 - 4. 111523

Question ID : 65497828734
Status : Answered
Chosen Option : 4

Q.24 दिए गए विकल्पों में से उस अक्षर-समूह का चयन करें जो निम्नलिखित श्रृंखला में प्रश्न चिह्न (?) के स्थान पर आ सकता है।

KMC, LOF, MQI, NSL, ?

- Ans
- 1. OUO
 - 2. UOW
 - 3. VOU
 - 4. OOU

Question ID : 65497828729
Status : Answered
Chosen Option : 1

Q.25 दिए गए पैटर्न का ध्यानपूर्वक अध्ययन करें और विकल्पों में से उस संख्या को चुनें जो इसमें प्रश्न चिह्न (?) के स्थान पर आ सकती है।

7 8 9
4 2 ?
407 520 756

- Ans
- 1. 1
 - 2. 4
 - 3. 2
 - 4. 3

Question ID : 65497828742
Status : Answered
Chosen Option : 4

Section : Part B General Knowledge and General Awareness

Q.1 _____ एक भारतीय अमेरिकी पेशेवर पहलवान हैं, जो 'द ग्रेट खली' के नाम से प्रसिद्ध हैं।

- Ans
- 1. मनीष सिंह रावत
 - 2. सतनाम सिंह भामरा
 - 3. पान सिंह तोमर
 - 4. दलीप सिंह राणा

Question ID : 65497828766
Status : Not Answered
Chosen Option : --

Q.2 12वें ब्रिक्स (BRICS) सम्मेलन 2020 की मेज़बानी निम्नलिखित में से किस देश ने की थी?

- Ans
- 1. दक्षिण अफ्रीका
 - 2. रूस
 - 3. चीन
 - 4. भारत

Question ID : 65497828756
Status : Answered
Chosen Option : 2

Q.3 अठारहवीं शताब्दी के भारतीय युद्धों के संदर्भ में, 'पैदल सेना के सैनिकों द्वारा इस्तेमाल की जाने वाली भारी बंदूक' को निम्न में से क्या कहा जाता था?

- Ans
- 1. मैचलॉक
 - 2. सवार
 - 3. पैदल
 - 4. मस्कट

Question ID : 65497828748
Status : Not Answered
Chosen Option : --

Q.4 सूचना का अधिकार अधिनियम, 2005 _____ को छोड़कर संपूर्ण भारत में लागू हुआ।

- Ans
- 1. जम्मू और कश्मीर
 - 2. नागालैंड
 - 3. पुदुचेरी
 - 4. सिक्किम

Question ID : 65497828763
Status : Answered
Chosen Option : 1

Q.5 _____ एक व्यापक पद है जिसमें शरीर के भीतर घटित होने वाली सभी रासायनिक अभिक्रियाएं शामिल हैं।

- Ans
- 1. उत्सर्जन
 - 2. श्वसन
 - 3. प्रजनन
 - 4. चयापचय

Question ID : 65497828752
Status : Answered
Chosen Option : 4

Q.6 प्रथम आधुनिक ओलंपिक खेलों की शुरुआत 6 अप्रैल, 1896 को _____ में हुई थी।

- Ans
- 1. एथेंस
 - 2. लॉस एंजिल्स
 - 3. एमस्टर्डम
 - 4. लंदन

Question ID : 65497828745
Status : Answered
Chosen Option : 2

Q.7 ज्ञानपीठ पुरस्कार में क्या दिया जाता है?

- Ans
- 1. ₹21 लाख का नकद पुरस्कार, प्रशंसा पत्र और देवी सरस्वती की कांस्य प्रतिमा
 - 2. ₹11 लाख का नकद पुरस्कार, प्रशंसा पत्र और देवी सरस्वती की कांस्य प्रतिमा
 - 3. ₹12 लाख का नकद पुरस्कार, प्रशंसा पत्र और देवी सरस्वती की कांस्य प्रतिमा
 - 4. ₹15 लाख का नकद पुरस्कार, प्रशंसा पत्र और देवी सरस्वती की कांस्य प्रतिमा

Question ID : 65497828759
Status : Answered
Chosen Option : 4

Q.8 वयोवृद्धता में मानव _____ की समंजन शक्ति क्षीण हो जाती है।

- Ans
- 1. कान
 - 2. आँख
 - 3. नाक
 - 4. हाथ

Question ID : 65497828751
Status : Answered
Chosen Option : 2

Q.9 कोलात्रालु (Kolannalu) नृत्य का प्रदर्शन निम्नलिखित में से किस राज्य में किया जाता है?

- Ans
- 1. उड़ीसा
 - 2. केरल
 - 3. तमिलनाडु
 - 4. आंध्र प्रदेश

Question ID : 65497828757
Status : Answered
Chosen Option : 3

Q.10 1920 के दशक की शुरुआत में, एक उग्रवादी गुरिल्ला आंदोलन आंध्र प्रदेश की _____ पहाड़ियों में फैल गया था।

- Ans
- 1. नलमाला
 - 2. पालकोंडा
 - 3. गुडेम
 - 4. नागरी

Question ID : 65497828768
Status : Not Answered
Chosen Option : --

Q.11 पंजाब का निम्नलिखित में से कौन सा त्योहार पारंपरिक रूप से रबी फसलों की कटाई से संबंधित है?

- Ans
- 1. बैसाखी
 - 2. माघी
 - 3. मुक्तसर मेला
 - 4. होला मोहल्ला

Question ID : 65497828750
Status : Answered
Chosen Option : 1

Q.12 इंडियन प्रीमियर लीग (IPL) में 5,000 रन पूरे करने वाला पहला विदेशी खिलाड़ी कौन बना?

- Ans
- 1. डेविड वार्नर
 - 2. मार्क वुड
 - 3. एंड्रू टाई
 - 4. डेल स्टेन

Question ID : 65497828760
Status : Answered
Chosen Option : 1

Q.13 व्योम मित्र, जो जनवरी 2020 में खबरों में आया, एक _____ है।

- Ans
- 1. आई.आई.टी (IIT) बॉम्बे द्वारा विकसित ड्रोन
 - 2. DRDO द्वारा विकसित अंतरिक्ष यान का प्रकार
 - 3. पृथ्वी अवलोकन उपग्रह
 - 4. इसरो (ISRO) द्वारा विकसित ह्यूमनॉइड रोबोट

Question ID : 65497828749
Status : Answered
Chosen Option : 2

Q.14 दिल्ली के सुल्तानों के शासनकाल के दौरान, एक पांडुलिपि तैयार करने के लिए चार चरण आवश्यक होते थे। निम्नलिखित में से कौन सा चरण उनमें से एक नहीं था?

- Ans
- 1. पाठ का लेखन
 - 2. बंध या बाइंडिंग बनाना
 - 3. पाठ को संपादित करना
 - 4. महत्वपूर्ण शब्दों और अंशों को चिह्नित करने के लिए सोना पिघलाना

Question ID : 65497828761

Status : Not Attempted and Marked For Review

Chosen Option : --

Q.15 अशोक चक्र से सम्मानित होने वाली प्रथम भारतीय महिला कौन हैं?

- Ans
- 1. नीरजा भनोट
 - 2. किरण बेदी
 - 3. इंदिरा गांधी
 - 4. सरोजिनी नायडू

Question ID : 65497828753

Status : Answered

Chosen Option : 1

Q.16 भारत के निम्नलिखित में से किस राज्य में सोने के भंडार हैं?

- Ans
- 1. तमिलनाडु
 - 2. आंध्र प्रदेश
 - 3. मध्य प्रदेश
 - 4. कर्नाटक

Question ID : 65497828758

Status : Answered

Chosen Option : 4

Q.17 निम्नलिखित में से क्या पदार्थ का एक उदाहरण नहीं है?

- Ans
- 1. बादल
 - 2. गुरुत्व
 - 3. आग
 - 4. बारिश की बूंदें

Question ID : 65497828747

Status : Answered

Chosen Option : 2

Q.18 भारत की जनगणना 2011 के अनुसार, बिहार _____ % की साक्षरता दर के साथ सबसे कम साक्षर राज्य है।

- Ans
- 1. 65.46
 - 2. 66.95
 - 3. 67.06
 - 4. 63.82

Question ID : 65497828765
Status : Not Answered
Chosen Option : --

Q.19 निम्नलिखित में से किस योजना के तहत भारत सरकार ने अक्टूबर 2020 में संपत्ति कार्ड का भौतिक वितरण शुरू किया है?

- Ans
- 1. ग्रामीण क्षेत्रों में गांवों के समाजीकरण और तात्कालिक प्रौद्योगिकी के साथ उनका संवर्धन
 - 2. ग्रामीण क्षेत्रों के गांवों का सर्वेक्षण और तात्कालिक प्रौद्योगिकी के साथ गांवों की मैपिंग
 - 3. ग्रामीण क्षेत्रों में गांवों का सर्वेक्षण और महत्वपूर्ण प्रौद्योगिकी के साथ गांवों की मैपिंग
 - 4. ग्रामीण क्षेत्रों में गांवों के समाजीकरण और महत्वपूर्ण प्रौद्योगिकी के साथ उनका संवर्धन

Question ID : 65497828767
Status : Answered
Chosen Option : 4

Q.20 निम्न में से कौन पूर्वी बंगाल के एक वकील थे, जो असहयोग आंदोलन में विशेष रूप से सक्रिय थे?

- Ans
- 1. चित्तरंजन दास
 - 2. सरदार वल्लभभाई पटेल
 - 3. बीआर अंबेडकर
 - 4. बाल गंगाधर तिलक

Question ID : 65497828762
Status : Answered
Chosen Option : 3

Q.21 भारतीय संविधान के किस भाग में राष्ट्रपति के चुनाव से संबंधित नियमों का वर्णन किया गया है?

- Ans
- 1. भाग IV
 - 2. भाग VII
 - 3. भाग VI
 - 4. भाग V

Question ID : 65497828755
Status : Answered
Chosen Option : 1

Q.22 रंगनथिट्टू पक्षी अभयारण्य कहाँ स्थित है?

- Ans
- 1. केरल
 - 2. कर्नाटक
 - 3. तेलंगाना
 - 4. आंध्र प्रदेश

Question ID : 65497828754
Status : Not Answered
Chosen Option : --

Q.23 भारतीय गणतंत्र के विदेश मंत्री, _____ ने 16 सितंबर 2020 को वीडियो कॉन्फ्रेंसिंग के माध्यम से आई.बी.एस.ए (IBSA) विदेश मंत्रियों की व्यावहारिक बैठक की अध्यक्षता की।

- Ans
- 1. अमित शाह
 - 2. राजनाथ सिंह
 - 3. सलमान खुरशीद
 - 4. एस जयशंकर

Question ID : 65497828764
Status : Answered
Chosen Option : 4

Q.24 GDP अपस्फीतिकारक (deflator) को _____ मूल्य अपस्फीतिकारक (deflator) भी कहा जाता है।

- Ans
- 1. अंतर्निहित
 - 2. अनन्य
 - 3. सुनिश्चित
 - 4. नियामक

Question ID : 65497828746
Status : Answered
Chosen Option : 1

Q.25 जी.डी.पी. (GDP) का प्रमुख उपयोग क्या है?

- Ans
- 1. देश की साक्षरता दर का आकलन करना
 - 2. किसी देश की अर्थव्यवस्था की स्थिति का आकलन करना
 - 3. देश के युवाओं के स्वास्थ्य का आकलन करना
 - 4. देश की विदेश नीति का आकलन करना

Question ID : 65497828769
Status : Answered
Chosen Option : 2

Section : Part C Elementary Mathematics

Q.1 गुरुप्रीत एक दुकान पर गई और उसने एक सोफा खरीदा। उसे इस पर 20% की छूट मिली। यदि उसे 30% की छूट मिलती तो वह ₹1,000 और बचा पाती। उसने सोफा कितने मूल्य में खरीदा?

- Ans
- 1. ₹6,000
 - 2. ₹10,000
 - 3. ₹12,000
 - 4. ₹8,000

Question ID : 65497828781
Status : Answered
Chosen Option : 4

Q.2 ₹72,800 की धनराशि पर 10% वार्षिक ब्याज दर से 3 वर्ष बाद प्राप्त होने वाला चक्रवृद्धि ब्याज (₹ में) कितना होगा, यदि ब्याज वार्षिक रूप से चक्रवृद्धि होता है?

- Ans
- 1. 24,600.80
 - 2. 24,996.80
 - 3. 24,069.80
 - 4. 24,096.80

Question ID : 65497828771
Status : Answered
Chosen Option : 4

Q.3 एक व्यक्ति ने अपने बेटों A, B और C के बीच ₹45,000 और ₹18,000 की दो अलग-अलग राशियों का वितरण किया। ₹45,000 की पहली राशि को 3 : 7 : 5 के अनुपात में, और ₹18,000 की दूसरी राशि को 4 : 2 : 3 के अनुपात में बाँटा गया। A और C को मिली राशियों का अंतर क्या है?

- Ans
- 1. ₹5,000
 - 2. ₹3,000
 - 3. ₹4,000
 - 4. ₹4,500

Question ID : 65497828776
Status : Answered
Chosen Option : 3

Q.4 $6\frac{1}{3} - \left[\frac{9}{4} + \left\{ \frac{5}{4} - \frac{1}{13} \times \left(\frac{5}{2} - \frac{1}{3} \right) \right\} \right]$ का मान ज्ञात कीजिए।

- Ans
- 1. 5
 - 2. 0
 - 3. 1
 - 4. 3

Question ID : 65497828772
Status : Answered
Chosen Option : 4

Q.5 चार धनात्मक संख्याओं का अनुपात 5 : 8 : 12 : 18 है और उनका लघुत्तम समापवर्त्य (LCM) 2,880 है। सबसे बड़ी संख्या और सबसे छोटी संख्या का अंतर क्या है?

- Ans
- 1. 124
 - 2. 104
 - 3. 114
 - 4. 106

Question ID : 65497828774
Status : Answered
Chosen Option : 2

Q.6 एक कक्षा में, 60% विद्यार्थी लड़के और शेष लड़कियां हैं। यदि एक परीक्षा में 40% लड़के और 70% लड़कियां उत्तीर्ण हुईं और अनुत्तीर्ण लड़कियों की संख्या 42 है, तो अनुत्तीर्ण लड़कों की संख्या कितनी होगी?

- Ans
- 1. 78
 - 2. 126
 - 3. 104
 - 4. 84

Question ID : 65497828790
Status : Answered
Chosen Option : 2

Q.7 एक परिवार की मासिक आय और खर्च का अनुपात 14 : 11 है। यदि परिवार की मासिक बचत ₹13,500 है, तो परिवार की मासिक आय क्या है?

- Ans
- 1. ₹62,000
 - 2. ₹64,000
 - 3. ₹65,000
 - 4. ₹63,000

Question ID : 65497828778
Status : Answered
Chosen Option : 4

Q.8 किसी समकोण त्रिभुज की एक भुजा दूसरी भुजा की तीन गुनी है और कर्ण 8 cm है। त्रिभुज का क्षेत्रफल ज्ञात कीजिए।

- Ans
- 1. 8.5 cm^2
 - 2. 6.4 cm^2
 - 3. 10.2 cm^2
 - 4. 9.6 cm^2

Question ID : 65497828793
Status : Answered
Chosen Option : 2

Q.9 वह बड़ी से बड़ी संख्या कौन-सी है, जिससे 415, 688 और 825 को भाग देने पर शेषफल क्रमशः 7, 8 और 9 बचता है?

- Ans
- ✓ 1. 136
 - ✗ 2. 126
 - ✗ 3. 132
 - ✗ 4. 142

Question ID : 65497828789
Status : Answered
Chosen Option : 1

Q.10 पाँच संख्याओं a, b, c, d और e का औसत 150 है। यदि पहली तीन संख्याओं a, b और c का औसत 130 है, तो अंतिम दो संख्याओं d और e का औसत क्या होगा?

- Ans
- ✗ 1. 160
 - ✗ 2. 120
 - ✓ 3. 180
 - ✗ 4. 140

Question ID : 65497828775
Status : Answered
Chosen Option : 3

Q.11 ₹5,000 की राशि 9% वार्षिक साधारण ब्याज पर कितने समय में ₹6,800 हो जाएगी?

- Ans
- ✗ 1. 3 वर्ष
 - ✗ 2. 5 वर्ष
 - ✓ 3. 4 वर्ष
 - ✗ 4. 6 वर्ष

Question ID : 65497828777
Status : Answered
Chosen Option : 3

Q.12 प्रतिदिन 8 घंटे काम करते हुए जॉन एक कार्य को 6 दिन में पूरा कर सकता है और प्रतिदिन 4 घंटे काम करते हुए मनु इसे 3 दिन में पूरा कर सकता है। मिलकर प्रतिदिन $9\frac{3}{5}$ घंटे काम करने पर इसे पूरा करने में उन्हें कितना समय लगेगा?

- Ans
- ✗ 1. 3 दिन
 - ✓ 2. 1 दिन
 - ✗ 3. 2 दिन
 - ✗ 4. 4 दिन

Question ID : 65497828788
Status : Answered
Chosen Option : 2

Q.13 एक बेलनाकार स्तंभ का व्यास 85 cm और ऊँचाई 7 m है। ₹20 प्रति m^2 की दर से स्तंभ की वक्र पृष्ठ को रंगने की लागत क्या होगी?

- Ans
- 1. ₹474
 - 2. ₹374
 - 3. ₹275
 - 4. ₹370

Question ID : 65497828779
Status : Answered
Chosen Option : 1

Q.14 ब्याज वार्षिक रूप से चक्रवृद्धि होने पर, ₹1,600 की धनराशि पर 15% की ब्याज दर से 2 वर्षों में प्राप्त होने वाला चक्रवृद्धि ब्याज ज्ञात कीजिए।

- Ans
- 1. ₹525
 - 2. ₹615
 - 3. ₹490
 - 4. ₹516

Question ID : 65497828792
Status : Answered
Chosen Option : 4

Q.15 यदि क्रय मूल्य, विक्रय मूल्य का 84% हो, तो लाभ का प्रतिशत कितना होगा?

- Ans
- 1. $16\frac{3}{4}\%$
 - 2. $17\frac{3}{21}\%$
 - 3. $19\frac{1}{4}\%$
 - 4. $19\frac{1}{21}\%$

Question ID : 65497828787
Status : Answered
Chosen Option : 4

Q.16 किसी बॉक्स में 25p और 10p के सिक्के 6 : 5 के अनुपात में रखे हैं, जिनकी धनराशि ₹226 है। 10p के सिक्कों की संख्या ज्ञात कीजिए।

- Ans
- 1. 350
 - 2. 225
 - 3. 678
 - 4. 565

Question ID : 65497828791
Status : Answered
Chosen Option : 1

Q.17 पांच व्यक्तियों की औसत आयु 28 वर्ष है। यदि उनमें से एक को हटा दिया जाता है तो औसत में 2 वर्ष की कमी हो जाती है। हटाए गए व्यक्ति की आयु कितने वर्ष है?

- Ans
- 1. 36
 - 2. 28
 - 3. 35
 - 4. 34

Question ID : 65497828780
Status : Answered
Chosen Option : 1

Q.18 तीन उम्मीदवारों A, B और C ने एक चुनाव लड़ा और क्रमशः 1800, 3300 और 3900 वोट प्राप्त किए। किसी भी वोट को अवैध वोट न मानते हुए बताइए कि B को कुल वोटों के कितने प्रतिशत वोट (दशमलव के दो स्थानों तक सही) प्राप्त हुए?

- Ans
- 1. 35.5%
 - 2. 36.67%
 - 3. 32%
 - 4. 30%

Question ID : 65497828782
Status : Answered
Chosen Option : 1

Q.19 एक रेलगाड़ी, एकसमान चाल से $2\frac{1}{2}$ घंटे में 325 km की दूरी तय करती है। उसी चाल से 650 km की दूरी तय करने के लिए कितने घंटों का समय लगेगा?

- Ans
- 1. 5
 - 2. 10
 - 3. 6
 - 4. 4

Question ID : 65497828773
Status : Answered
Chosen Option : 1

Q.20 किसी टीवी का सूची मूल्य ₹15,000 है और उसके सूची मूल्य पर 18% की छूट दी जाती है। कितनी अतिरिक्त छूट दी जाए जिससे ग्राहक को ₹10,947 के शुद्ध मूल्य में टीवी मिल जाए?

- Ans
- 1. 11%
 - 2. 12%
 - 3. 9%
 - 4. 10%

Question ID : 65497828785
Status : Answered
Chosen Option : 1

Q.21 A ने एक वस्तु B को 25% लाभ पर बेची, B ने इसे C को 20% लाभ पर बेच दिया। C ने इसे 45% की हानि पर D को बेच दिया। यदि D ने इसे ₹330 में खरीदा, तो B ने वस्तु कितने (₹ में) में खरीदी थी?

- Ans
- 1. 600
 - 2. 500
 - 3. 480
 - 4. 450

Question ID : 65497828794
Status : Answered
Chosen Option : 2

Q.22 $3 \times [5 - 1 \div 2 - \{3 + (4 - 2 \div 2) - (15 \div 5 \text{ of } 3)\}]$ का मान ज्ञात करें।

- Ans
- 1. $\frac{5}{2}$
 - 2. $\frac{3}{5}$
 - 3. $-\frac{3}{2}$
 - 4. $-\frac{1}{5}$

Question ID : 65497828786
Status : Answered
Chosen Option : 3

Q.23 एक ट्रेन अपनी सामान्य चाल की $\frac{1}{2}$ चाल से चलते हुए गंतव्य तक पहुँचने में 60 मिनट अधिक समय लेती है। ट्रेन द्वारा उसी दूरी को तय करने में लगने वाला सामान्य समय जात कीजिए।

- Ans
- 1. 30 मिनट
 - 2. 1 घंटा
 - 3. 2 घंटे
 - 4. 1.5 घंटे

Question ID : 65497828784
Status : Answered
Chosen Option : 3

Q.24 एक रॉकिंग चेयर 10% के लाभ पर बेची गई। यदि इसे ₹80 अधिक मूल्य पर बेचा जाता, तो 15% लाभ हुआ होता। कुर्सी का क्रय मूल्य (₹ में) कितना है?

- Ans
- 1. 2,400
 - 2. 1,200
 - 3. 2,000
 - 4. 1,600

Question ID : 65497828770
Status : Answered
Chosen Option : 2

Q.25 A किसी प्रोजेक्ट को 10 दिनों में पूरा कर सकता है और B उसी प्रोजेक्ट को 15 दिनों में पूरा कर सकता है। यदि A और B एक साथ मिलकर प्रोजेक्ट पर काम करना शुरू करते हैं और B प्रोजेक्ट पूरा होने से 5 दिन पहले प्रोजेक्ट छोड़ देता है, तो प्रोजेक्ट कितने दिनों में पूरा होगा?

- Ans
- 1. 8 दिन
 - 2. 10 दिन
 - 3. 7 दिन
 - 4. 9 दिन

Question ID : 65497828783
Status : Answered
Chosen Option : 2

Section : Part D English

Q.1 Select the INCORRECTLY spelt word.

- Ans
- 1. Imperative
 - 2. Excepsional
 - 3. Integrated
 - 4. Intensify

Question ID : 65497828800
Status : Not Answered
Chosen Option : --

Q.2 The following sentence has been divided into parts. One of them may contain an error. Select the part that contains the error from the given options. If you don't find any error, mark 'No error' as your answer.

Neither of them have / any experience / in software development.

- Ans**
- 1. No error
 - 2. in software development
 - 3. Neither of them have
 - 4. any experience

Question ID : 65497828811
Status : Not Answered
Chosen Option : --

Q.3 Select the most appropriate synonym of the given word.

Regret

- Ans**
- 1. Receive
 - 2. Repeat
 - 3. Repent
 - 4. Relieve

Question ID : 65497828805
Status : Not Answered
Chosen Option : --

Q.4 Select the option that can be used as a one-word substitute for the given group of words.

Mark or substance that is impossible to remove

- Ans**
- 1. Incredible
 - 2. Indelible
 - 3. Stained
 - 4. Smudge

Question ID : 65497828799
Status : Not Answered
Chosen Option : --

Q.5 Select the most appropriate ANTONYM of the given word.

Vast

- Ans**
- 1. Limitless
 - 2. Small
 - 3. Gigantic
 - 4. Huge

Question ID : 65497828797
Status : Not Answered
Chosen Option : --

Q.6 Select the most appropriate option that can substitute the underlined word in the given sentence.

On the last day of the voyage, the ship was caught in a hurricane and the crew abandoned from their set course.

- Ans**
- 1. wandered
 - 2. enhanced
 - 3. channeled
 - 4. embarrassed

Question ID : 65497828795
Status : Not Answered
Chosen Option : --

Q.7 Select the most appropriate ANTONYM of the given word.

Bliss

- Ans**
- 1. Sorrow
 - 2. Pleasure
 - 3. Happiness
 - 4. Ecstasy

Question ID : 65497828806
Status : Not Answered
Chosen Option : --

Q.8 Select the most appropriate option that can substitute the underlined segment in the given sentence. If there is no need to substitute it, select 'No substitution required'.

The ceiling, which had cracks, caved in and several people trapped.

- Ans**
- 1. had been trapped
 - 2. No substitution required
 - 3. were trapped
 - 4. were trapping

Question ID : 65497828809
Status : Not Answered
Chosen Option : --

Q.9 The following sentence has been split into four segments. Identify the segment that contains a grammatical error.

The students / were tired / after working / at long hours.

- Ans**
- 1. The students
 - 2. were tired
 - 3. at long hours
 - 4. after working

Question ID : 65497828804
Status : Not Answered
Chosen Option : --

Q.10 Select the most appropriate meaning of the given idiom.

Having the gift of the gab

- Ans**
- 1. Has the best gift
 - 2. Possessive in nature
 - 3. Not ready to share belongings with others
 - 4. Talks well and persuasively

Question ID : **65497828807**
Status : **Not Answered**
Chosen Option : --

Q.11 The following sentence has been divided into parts. One of them may contain an error. Select the part that contains the error from the given options. If you don't find any error, select 'No error' as your answer.

The air in the city is so polluted / that it will be causing / several kinds of respiratory illnesses.

- Ans**
- 1. No error
 - 2. several kinds of respiratory illnesses
 - 3. that it will be causing
 - 4. The air in the city is so polluted

Question ID : **65497828796**
Status : **Not Answered**
Chosen Option : --

Q.12 Select the most appropriate option that can substitute the underlined segment in the given sentence. If there is no need to substitute it, select 'No substitution required'.

Either the bear or the lion have escaped from the zoo.

- Ans**
- 1. has escaped from
 - 2. have escaped in
 - 3. No substitution required
 - 4. have escaped to

Question ID : **65497828808**
Status : **Not Answered**
Chosen Option : --

Q.13 Select the **INCORRECTLY** spelt word.

- Ans**
- 1. Influnce
 - 2. Superior
 - 3. Intermediate
 - 4. Interfere

Question ID : **65497828801**
Status : **Not Answered**
Chosen Option : --

Q.14 Select the most appropriate option to fill in the blank.

Sunanda _____ me of my school friend whom I haven't seen for many years.

- Ans
- 1. recollects
 - 2. recalls
 - 3. reminds
 - 4. remembers

Question ID : 65497828802
Status : Not Answered
Chosen Option : --

Q.15 Select the most appropriate synonym of the given word.

GLEAM (V)

- Ans
- 1. Dull
 - 2. Shine
 - 3. Fade
 - 4. Slow

Question ID : 65497828812
Status : Not Answered
Chosen Option : --

Q.16 Select the option that can be used as a one-word substitute for the given group of words.

A thing no longer in use

- Ans
- 1. Broken
 - 2. Absolute
 - 3. Obsolete
 - 4. Damaged

Question ID : 65497828798
Status : Not Answered
Chosen Option : --

Q.17 Select the most appropriate option to fill in the blank.

The company entered the Indian market very late because they did not get a _____ partner.

- Ans
- 1. conformity
 - 2. compatible
 - 3. coordinated
 - 4. consequent

Question ID : 65497828803
Status : Not Answered
Chosen Option : --

Q.18 Select the most appropriate option to fill in the blank.

Ramesh visits his hometown quite_____.

- Ans
- 1. recently
 - 2. lately
 - 3. purposely
 - 4. frequently

Question ID : 65497828814
Status : Not Answered
Chosen Option : --

Q.19 Select the option that can be used as a one-word substitute for the given group of words.

Afternoon show of a film or play

- Ans
- 1. Movie
 - 2. Matinee
 - 3. Spectacle
 - 4. Performance

Question ID : 65497828813
Status : Not Answered
Chosen Option : --

Q.20 Select the most appropriate meaning of the given idiom.

On the cards

- Ans
- 1. Not likely to happen
 - 2. Written down
 - 3. Likely to happen
 - 4. Will happen

Question ID : 65497828810
Status : Not Answered
Chosen Option : --

Comprehension:

In the following passage, some words have been deleted. Read the passage carefully and select the most appropriate option to fill in each blank.

My experience (1)_____ the Indian Institution of Advanced Study, Shimla will always be (2)_____. The beauty of (3)_____ place can never be forgotten. The academic (4)_____ coupled with the (5)_____ aspect of the place make it worth visiting.

SubQuestion No : 21

Q.21 Select the most appropriate option to fill in blank number 1.

- Ans
- 1. at
 - 2. among
 - 3. from
 - 4. to

Question ID : 65497828816
Status : Not Answered
Chosen Option : --

Comprehension:

In the following passage, some words have been deleted. Read the passage carefully and select the most appropriate option to fill in each blank.

My experience (1)_____ the Indian Institution of Advanced Study, Shimla will always be (2)_____. The beauty of (3)_____ place can never be forgotten. The academic (4)_____ coupled with the (5)_____ aspect of the place make it worth visiting.

SubQuestion No : 22

Q.22 Select the most appropriate option to fill in blank number 2.

- Ans 1. overcome
 2. memorable
 3. memoir
 4. eligible

Question ID : 65497828817
Status : Not Answered
Chosen Option : --

Comprehension:

In the following passage, some words have been deleted. Read the passage carefully and select the most appropriate option to fill in each blank.

My experience (1)_____ the Indian Institution of Advanced Study, Shimla will always be (2)_____. The beauty of (3)_____ place can never be forgotten. The academic (4)_____ coupled with the (5)_____ aspect of the place make it worth visiting.

SubQuestion No : 23

Q.23 Select the most appropriate option to fill in blank number 3.

- Ans 1. an
 2. a
 3. the
 4. No article required

Question ID : 65497828818
Status : Not Answered
Chosen Option : --

Comprehension:

In the following passage, some words have been deleted. Read the passage carefully and select the most appropriate option to fill in each blank.

My experience (1)_____ the Indian Institution of Advanced Study, Shimla will always be (2)_____. The beauty of (3)_____ place can never be forgotten. The academic (4)_____ coupled with the (5)_____ aspect of the place make it worth visiting.

SubQuestion No : 24

Q.24 Select the most appropriate option to fill in blank number 4.

- Ans 1. adventure
 2. ambivalence
 3. environment
 4. argument

Question ID : 65497828819
Status : Not Answered
Chosen Option : --

Comprehension:

In the following passage, some words have been deleted. Read the passage carefully and select the most appropriate option to fill in each blank.

My experience (1)_____ the Indian Institution of Advanced Study, Shimla will always be (2)_____. The beauty of (3)_____ place can never be forgotten. The academic (4)_____ coupled with the (5)_____ aspect of the place make it worth visiting.

SubQuestion No : 25

Q.25 Select the most appropriate option to fill in blank number 5.

- Ans** 1. astrological
 2. historical
 3. astronomical
 4. biological

Question ID : 65497828820
Status : Not Answered
Chosen Option : --

Section : Part D Hindi

Q.1 दिए गए वाक्य में रेखांकित खंड को प्रतिस्थापित करने के लिए सबसे उपयुक्त विकल्प का चयन करें। यदि इसे प्रतिस्थापित करने की आवश्यकता नहीं है, तो विकल्प किसी बदलाव की आवश्यकता नहीं है का चयन करें।

तुम इस मूल्य से यह खरीद सकते हो।

- Ans** 1. इस मूल्य पर
 2. इस मूल्य को
 3. इस मूल्य में
 4. किसी बदलाव की आवश्यकता नहीं है।

Question ID : 65497828830
Status : Answered
Chosen Option : 3

Q.2 दिए गए शब्द के विलोम शब्द का चयन करें-

उदार

- Ans** 1. विनीत
 2. अनुदात्त
 3. आसक्त
 4. कृपण

Question ID : 65497828823
Status : Answered
Chosen Option : 4

Q.3 दिए गए वाक्य का वह भाग ज्ञात करें जिसमें कोई त्रुटि है। यदि कोई त्रुटि नहीं है, तो 'कोई त्रुटि नहीं है' चुनें।

तुम्हारे से(1)/ कोई काम(2)/ नहीं हो सकता।(3)/ कोई त्रुटि नहीं है।(4)

Ans ✓ 1. 1

✗ 2. 2

✗ 3. 3

✗ 4. 4

Question ID : 65497828833
Status : Answered
Chosen Option : 1

Q.4 सही वर्तनी वाले शब्द का चयन करें।

Ans ✓ 1. उत्कृष्ट

✗ 2. उतकृष्ट

✗ 3. उतकृष्ट

✗ 4. उत्कृष्ट

Question ID : 65497828827
Status : Answered
Chosen Option : 4

Q.5 निम्न चार विकल्पों में से, उस विकल्प का चयन करें जो दिए गये मुहावरे का अर्थ व्यक्त करता है-

रंग लाना

Ans ✗ 1. परिवर्तन होना

✗ 2. धाक जमना

✓ 3. प्रभाव उत्पन्न करना

✗ 4. प्रोत्साहित होना

Question ID : 65497828824
Status : Answered
Chosen Option : 3

Q.6 रिक्त स्थान को भरने के लिए सबसे उपयुक्त विकल्प का चयन करें।

मुझे _____ है कि आपकी दावत में सम्मिलित नहीं हो सकूँगा।

Ans ✗ 1. ग्लानि

✓ 2. खेद

✗ 3. शोक

✗ 4. हर्ष

Question ID : 65497828837
Status : Answered
Chosen Option : 2

Q.7 सही वर्तनी वाले शब्द का चयन करें।

- Ans
- 1. पदार्थ
 - 2. पदारथ
 - 3. पदार्थ
 - 4. पर्दाथ

Question ID : 65497828828
Status : Answered
Chosen Option : 3

Q.8 दिए गए शब्द के समानार्थी का चयन करें।

हिमालय

- Ans
- 1. स्थिर
 - 2. जगत
 - 3. नगराज
 - 4. सुरभि

Question ID : 65497828822
Status : Answered
Chosen Option : 2

Q.9 रिक्त स्थान की पूर्ति के लिए सबसे उपयुक्त शब्द का चयन करें-

राम खूब कसरत करता है _____ वह पहलवान बन जाए।

- Ans
- 1. क्योंकि
 - 2. इसलिए
 - 3. ताकि
 - 4. इससे

Question ID : 65497828825
Status : Answered
Chosen Option : 3

Q.10 दिए गए शब्द का विलोम चुनें-

छली

- Ans
- 1. निष्फल
 - 2. निश्छल
 - 3. कपटी
 - 4. धूर्त

Question ID : 65497828834
Status : Answered
Chosen Option : 2

Q.11 निम्नलिखित प्रश्न में, दिए गए चार विकल्पों में से, उस विकल्प का चयन करें जो मुहावरे का अर्थ व्यक्त करता है।

दाहिना हाथ होना

- Ans
- 1. धोखा देना
 - 2. दुश्मन होना
 - 3. बहुत सहायक होना
 - 4. चापलूसी करना

Question ID : 65497828831
Status : Answered
Chosen Option : 3

Q.12 'किसी के पीछे-पीछे चलने वाला' वाक्यांश के लिए एक शब्द होगा-

- Ans
- 1. आगामी
 - 2. प्रतिगामी
 - 3. अनुरागी
 - 4. अनुगामी

Question ID : 65497828836
Status : Answered
Chosen Option : 2

Q.13 'अनन्त' किसका पर्यायवाची है?

- Ans
- 1. आकाश
 - 2. समुद्र
 - 3. देव
 - 4. पर्वत

Question ID : 65497828840
Status : Answered
Chosen Option : 1

Q.14 दिए गए वाक्य में रेखांकित खंड को प्रतिस्थापित करने के लिए सबसे उपयुक्त विकल्प का चयन करें।
यदि इसे प्रतिस्थापित करने की आवश्यकता नहीं है, तो विकल्प 'किसी बदलाव की आवश्यकता नहीं है'
का चयन करें।

सरोजनी नायडू भारत की कोकिला कहा जाता थीं।

- Ans
- 1. भारत की कोकिला कही जाती थीं।
 - 2. किसी बदलाव की आवश्यकता नहीं है।
 - 3. भारत के कोकिला कही जाती थीं।
 - 4. भारत की कोकिला कही जाता थीं।

Question ID : 65497828826
Status : Answered
Chosen Option : 1

Q.15 दिए गए वाक्य का वह भाग ज्ञात करें जिसमें कोई त्रुटि है। यदि कोई त्रुटि नहीं है, तो 'कोई त्रुटि नहीं है' विकल्प को चुनें।

शिकारी ने शेर पर गोली चलाया।

- Ans
- 1. शेर पर
 - 2. गोली चलाया
 - 3. कोई त्रुटि नहीं है
 - 4. शिकारी ने

Question ID : 65497828821
Status : Answered
Chosen Option : 2

Q.16 दिये गये वाक्यांश के लिए एक शब्द चुनिए।

गोद लिया पुत्र

- Ans
- 1. दत्तक
 - 2. दत्तचित्त
 - 3. दन्तक
 - 4. बालक

Question ID : 65497828829
Status : Answered
Chosen Option : 1

Q.17 नीचे दिए वाक्यांश के लिए एक शब्द दिए गए विकल्पों में से चुनिए-

जो निगाह से परे हो

- Ans
- 1. प्रत्यक्ष
 - 2. निगाहहीन
 - 3. निगेबान
 - 4. परोक्ष

Question ID : 65497828835
Status : Answered
Chosen Option : 2

Q.18 _____ भविष्य की ओर बढ़ना चाहिए।

रिक्त स्थान की पूर्ति उचित शब्द से कीजिए-

- Ans
- 1. उजला
 - 2. कलंकीय
 - 3. अंधेरे
 - 4. उज्वल

Question ID : 65497828838
Status : Answered
Chosen Option : 4

Q.19 दिये गये वाक्य के किस भाग में त्रुटि है?

ऐसी स्थिती में कुछ काम नहीं हो सकता।

- Ans
- 1. में कुछ
 - 2. ऐसी स्थिती
 - 3. हो सकता।
 - 4. काम नहीं

Question ID : 65497828839
Status : Answered
Chosen Option : 2

Q.20 दिए गए वाक्य में रेखांकित खंड को प्रतिस्थापित करने के लिए सबसे उपयुक्त विकल्प का चयन करें।
यदि इसे प्रतिस्थापित करने की आवश्यकता नहीं है, तो विकल्प 'किसी बदलाव की आवश्यकता नहीं है'
का चयन करें।

शनैः-शनैः उसकी दिशा बिगड़ती गई।

- Ans
- 1. किसी बदलाव की आवश्यकता नहीं है।
 - 2. दशा
 - 3. दीशा
 - 4. दिसा

Question ID : 65497828832
Status : Answered
Chosen Option : 2

Comprehension:

दिए गए गद्यांश में से कुछ शब्द हटा दिए गए हैं। नीचे दिए विकल्पों की सहायता से प्रत्येक संख्या के लिए सबसे उपयुक्त विकल्प का चयन करें।

हमें विचार नहीं चाहिए। (1) _____ हमारे पास बहुत हैं। हमें विचारों को (2) _____ करने वाले लोगों की आवश्यकता है। इंजीनियरों, मिस्त्रियों, कलाकारों, कारीगरों की, जो देश का (3) _____ कर सकें। हमें पुल बनाने वालों, सड़कें बनाने वालों, इमारतें खड़ी करने वालों, कारखाने खोलने वालों की ज़रूरत है। हमें (4) _____ की ज़रूरत है। उद्योग (5) _____ की ज़रूरत है।

SubQuestion No : 21

Q.21 गद्यांश के रिक्त स्थान (1) के लिए सर्वाधिक उपयुक्त शब्द होगा-

- Ans
- 1. विचार
 - 2. सोच
 - 3. अचार
 - 4. आचार

Question ID : 65497828842
Status : Answered
Chosen Option : 1

Comprehension:

दिए गए गद्यांश में से कुछ शब्द हटा दिए गए हैं। नीचे दिए विकल्पों की सहायता से प्रत्येक संख्या के लिए सबसे उपयुक्त विकल्प का चयन करें।

हमें विचार नहीं चाहिए। (1) _____ हमारे पास बहुत हैं। हमें विचारों को (2) _____ करने वाले लोगों की आवश्यकता है। इंजीनियरों, मिस्त्रियों, कलाकारों, कारीगरों की, जो देश का (3) _____ कर सकें। हमें पुल बनाने वालों, सड़कें बनाने वालों, इमारतें खड़ी करने वालों, कारखाने खोलने वालों की ज़रूरत है। हमें (4) _____ की ज़रूरत है। उद्योग (5) _____ की ज़रूरत है।

SubQuestion No : 22

Q.22 गद्यांश के रिक्त स्थान (2) के लिए सर्वाधिक उपयुक्त शब्द होगा-

- Ans**
- 1. कार्यानित
 - 2. क्रियावित
 - 3. कार्यान्वित
 - 4. कार्यावित

Question ID : 65497828843

Status : Answered

Chosen Option : 3

Comprehension:

दिए गए गद्यांश में से कुछ शब्द हटा दिए गए हैं। नीचे दिए विकल्पों की सहायता से प्रत्येक संख्या के लिए सबसे उपयुक्त विकल्प का चयन करें।

हमें विचार नहीं चाहिए। (1) _____ हमारे पास बहुत हैं। हमें विचारों को (2) _____ करने वाले लोगों की आवश्यकता है। इंजीनियरों, मिस्त्रियों, कलाकारों, कारीगरों की, जो देश का (3) _____ कर सकें। हमें पुल बनाने वालों, सड़कें बनाने वालों, इमारतें खड़ी करने वालों, कारखाने खोलने वालों की ज़रूरत है। हमें (4) _____ की ज़रूरत है। उद्योग (5) _____ की ज़रूरत है।

SubQuestion No : 23

Q.23 गद्यांश के रिक्त स्थान (3) के लिए सर्वाधिक उपयुक्त शब्द होगा-

- Ans**
- 1. निर्माण
 - 2. कल्याण
 - 3. रक्षण
 - 4. पालन

Question ID : 65497828844

Status : Answered

Chosen Option : 1

Comprehension:

दिए गए गद्यांश में से कुछ शब्द हटा दिए गए हैं। नीचे दिए विकल्पों की सहायता से प्रत्येक संख्या के लिए सबसे उपयुक्त विकल्प का चयन करें।

हमें विचार नहीं चाहिए। (1) _____ हमारे पास बहुत हैं। हमें विचारों को (2) _____ करने वाले लोगों की आवश्यकता है। इंजीनियरों, मिस्त्रियों, कलाकारों, कारीगरों की, जो देश का (3) _____ कर सकें। हमें पुल बनाने वालों, सड़कें बनाने वालों, इमारतें खड़ी करने वालों, कारखाने खोलने वालों की ज़रूरत है। हमें (4) _____ की ज़रूरत है। उद्योग (5) _____ की ज़रूरत है।

SubQuestion No : 24

Q.24 गद्यांश के रिक्त स्थान (4) के लिए सर्वाधिक उपयुक्त शब्द होगा-

- Ans**
- 1. परिश्रमियों
 - 2. मेहनतियों
 - 3. उद्यमियों
 - 4. कसरतियों

Question ID : 65497828845

Status : Answered

Chosen Option : 3

Comprehension:

दिए गए गद्यांश में से कुछ शब्द हटा दिए गए हैं। नीचे दिए विकल्पों की सहायता से प्रत्येक संख्या के लिए सबसे उपयुक्त विकल्प का चयन करें।

हमें विचार नहीं चाहिए। (1) _____ हमारे पास बहुत हैं। हमें विचारों को (2) _____ करने वाले लोगों की आवश्यकता है। इंजीनियरों, मिस्त्रियों, कलाकारों, कारीगरों की, जो देश का (3) _____ कर सकें। हमें पुल बनाने वालों, सड़कें बनाने वालों, इमारतें खड़ी करने वालों, कारखाने खोलने वालों की ज़रूरत है। हमें (4) _____ की ज़रूरत है। उद्योग (5) _____ की ज़रूरत है।

SubQuestion No : 25

Q.25 गद्यांश के रिक्त स्थान (5) के लिए सर्वाधिक उपयुक्त शब्द होगा-

- Ans**
- 1. फैक्ट्रियों
 - 2. कार्यों
 - 3. धंधों
 - 4. मिलों

Question ID : 65497828846

Status : Answered

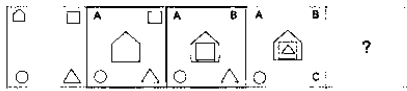
Chosen Option : 4

Constable GD in CAPFs NIA SSF and Rifleman GD in Assam Rifles Examination 2021

Roll Number	www.HaryanaJobs.in
Candidate Name	www.HaryanaJobs.in
Venue Name	ION DIGITAL ZONE IDZ TUPUDANA
Exam Date	07/12/2021
Exam Time :	4:00 PM - 5:30 PM
Subject	Constable GD 2021

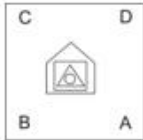
Section : **Part A General Intelligence and Reasoning**

Q.1 दिए गए विकल्पों में से उस आकृति का चयन कीजिए जो दी गई श्रृंखला में प्रश्न चिह्न (?) के स्थान पर आ सकती है।

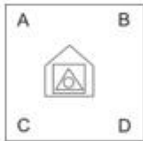


Ans

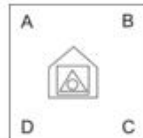
✗ 1.



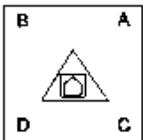
✗ 2.



✓ 3.



✗ 4.



Question ID : 65497830510

Status : Answered

Chosen Option : 3

Q.2 उस सही विकल्प का चयन करें जो नीचे दिए गए शब्दों का वह व्यवस्थित क्रम दर्शाता है जिस क्रम में वे एक अंग्रेजी शब्दकोश में मौजूद होते हैं।

1. Commander
2. Command
3. Commandment
4. Commemorate
5. Commandant

Ans 1. 2, 5, 3, 4, 1
 2. 2, 5, 1, 3, 4
 3. 3, 5, 1, 4, 2
 4. 2, 5, 1, 4, 3

Question ID : 65497830507
Status : Answered
Chosen Option : 2

Q.3 पाँच व्यक्ति, A, B, C, D और E एक पंक्ति में पश्चिम की ओर मुँह करके बैठे हैं। A और B एक साथ बैठे हैं। C दक्षिणी सिरे पर बैठा है और D उत्तरी सिरे पर बैठा है। E, B और C के बीच में बैठा है। दक्षिण से तीसरे स्थान पर कौन बैठा है?

Ans 1. E
 2. B
 3. A
 4. C

Question ID : 65497830518
Status : Answered
Chosen Option : 2

Q.4 'K % L' का अर्थ है कि 'K, L का भाई है', 'K \$ L' का अर्थ है कि 'K, L का पति है', 'K @ L' का अर्थ है कि 'K, B की बहन है', 'K # L' का अर्थ है कि 'K, L की माँ है'।

व्यंजक 'X @ P % T # M \$ Y # J @ H' में H, M से किस प्रकार संबंधित है?

Ans 1. भाई या बहन
 2. पिता
 3. चाचा
 4. बेटा या बेटी

Question ID : 65497830517
Status : Answered
Chosen Option : 4

Q.5 यदि '+' का अर्थ '÷', '-' का अर्थ '+', '×' का अर्थ '-', और '÷' का अर्थ '×' है, तो दिए गए व्यंजक का मान कितना होगा?

$$85 - 55 \div 75 + 25 \times 50$$

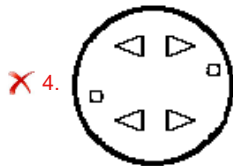
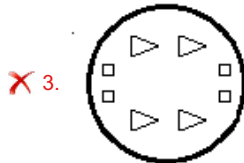
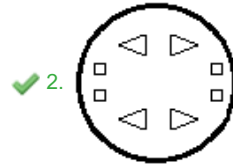
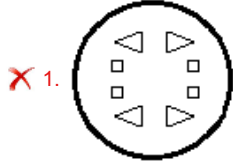
Ans 1. 200
 2. 300
 3. 250
 4. 150

Question ID : 65497830520
Status : Answered
Chosen Option : 1

Q.6 निम्नांकित चित्रों में एक कागज को मोड़ने के क्रम और मुड़े हुए कागज को काटने का तरीका दर्शाया गया है। मुड़े हुए कागज को खोलने पर यह कैसा दिखाई देगा?



Ans



Question ID : 65497830502

Status : Answered

Chosen Option : 2

Q.7 दिए गए विकल्पों में से वह संख्या चुनें जो निम्नलिखित श्रृंखला में प्रश्नवाचक चिह्न (?) के स्थान पर आ सकती है।

6, 11, 20, 37, 70, ?

Ans ✗ 1. 145

✗ 2. 130

✗ 3. 140

✓ 4. 135

Question ID : 65497830505

Status : Answered

Chosen Option : 4

Q.8 तीन संख्याओं A, B और C का योगफल 187 है। B, A की 1.5 गुनी है। C, B की दोगुनी है। तो C का मान कितना है?

- Ans
- 1. 85
 - 2. 100
 - 3. 99
 - 4. 102

Question ID : 65497830501
Status : Answered
Chosen Option : 4

Q.9 यदि 'पूर्व' को 'पश्चिम', 'पश्चिम' को 'उत्तर', 'उत्तर' को 'दक्षिण' और 'दक्षिण' को 'उत्तर' माना जाता है, तो भारत में सूर्योदय किस दिशा में होता है?

- Ans
- 1. उत्तर
 - 2. पूर्व
 - 3. पश्चिम
 - 4. दक्षिण

Question ID : 65497830516
Status : Answered
Chosen Option : 3

Q.10 दिए गए कथनों और निष्कर्षों को ध्यानपूर्वक पढ़ें। कथनों में दी गई जानकारी को सत्य मानते हुए, भले ही वो सामान्य रूप से ज्ञात तथ्यों से भिन्न प्रतीत होती हो, बताइए कि निम्न में से कौन से निष्कर्ष कथनों का तार्किक रूप से अनुसरण करते हैं।

कथन :

1. सभी धागे, पिन हैं।
2. कुछ पिन, कुशन हैं।

निष्कर्ष:

- I. कुछ कुशन, पिन हैं।
- II. कुछ पिन, धागे हैं।

- Ans
- 1. केवल निष्कर्ष II अनुसरण करता है।
 - 2. या तो निष्कर्ष I या निष्कर्ष II अनुसरण करता है।
 - 3. केवल निष्कर्ष I अनुसरण करता है।
 - 4. निष्कर्ष I और II दोनों अनुसरण करते हैं।

Question ID : 65497830499
Status : Answered
Chosen Option : 4

Q.11 एक विशिष्ट कूट भाषा में, 'FIRST' को 'TSRIF' लिखा जाता है। उसी कूट भाषा में 'NOSTALGIC' को क्या लिखा जाएगा?

- Ans
- 1. CIGLATSON
 - 2. ONTSLACIG
 - 3. CGILTASON
 - 4. TSONLACIG

Question ID : 65497830498
Status : Answered
Chosen Option : 1

Q.12 उस विकल्प का चयन करें जो तीसरी संख्या से उसी प्रकार संबंधित है जिस प्रकार दूसरी संख्या पहली संख्या से संबंधित है।

12 : 144 :: 15 : ?

- Ans
- 1. 200
 - 2. 250
 - 3. 225
 - 4. 125

Question ID : 65497830519
Status : Answered
Chosen Option : 3

Q.13 छः दोस्त एक गोल घरे में इसके केंद्र की ओर मुंह करके एक दूसरे से समान दूरी पर बैठे हुए हैं। दिराज, प्रमोद और पार्थिव के बीच में बैठा है। प्रियांशु, मुकुंद और लाया के बीच में बैठा है। प्रमोद और मुकुंद एक-दूसरे के सामने बैठे हुए हैं। लाया, प्रमोद के बाईं ओर बगल में है। पार्थिव के बाईं ओर बगल में कौन बैठा है?

- Ans
- 1. दिराज
 - 2. मुकुंद
 - 3. प्रमोद
 - 4. प्रियांशु

Question ID : 65497830513
Status : Answered
Chosen Option : 1

Q.14 उस अक्षर संयोजन का चयन करें जिसे दी गई श्रृंखला के रिक्त स्थानों में क्रमिक रूप से रखे जाने पर श्रृंखला पूर्ण हो जाएगी।

a _ b _ _ c _ _ bbac _ _ b _ acaab

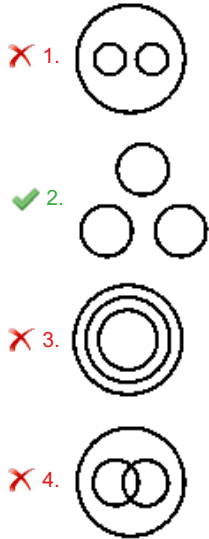
- Ans
- 1. abaabbab
 - 2. acbbabca
 - 3. bcaabbcc
 - 4. abaaaaab

Question ID : 65497830508
Status : Answered
Chosen Option : 1

Q.15 उस वेन आरेख का चयन कीजिए जो निम्न वर्गों के मध्य के संबंध का सर्वश्रेष्ठ निरूपण करता है।

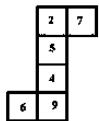
बेल्ट, टोपी, दस्ताना

Ans



Question ID : 65497830514
Status : Answered
Chosen Option : 2

Q.16 दी गई शीट को मोड़कर एक घन बनाया गया है। इस प्रकार बने घन में, उस संख्या का चयन करें, जो संख्या '5' दर्शाने वाले फलक के विपरीत फलक पर होगी।



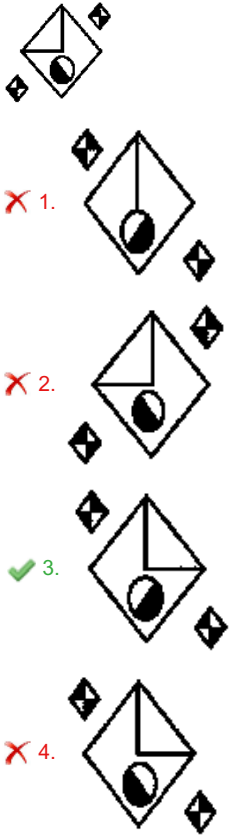
Ans

- ✓ 1. 9
- ✗ 2. 4
- ✗ 3. 7
- ✗ 4. 6

Question ID : 65497830521
Status : Answered
Chosen Option : 1

Q.17 यदि दर्पण को दाईं ओर रखा गया हो, तो दी गई आकृति के सही दर्पण प्रतिबिंब का चयन करें।

Ans



Question ID : 65497830506
Status : Answered
Chosen Option : 3

Q.18 उस विकल्प का चयन करें जो तीसरे अक्षर-समूह से उसी प्रकार संबंधित है, जिस प्रकार दूसरा अक्षर-समूह पहले अक्षर-समूह से संबंधित है।

CHER : EJGT :: DREN : ?

- Ans
- 1. FTGO
 - 2. ESGP
 - 3. FTGP
 - 4. FSGP

Question ID : 65497830515
Status : Answered
Chosen Option : 3

Q.19 'ऑप्टेलमोलॉजिस्ट' का जो संबंध 'आँख' से है, 'ओकोलॉजिस्ट' का वही संबंध ' _____ ' से है।

- Ans
- 1. कैंसर
 - 2. अस्थियों
 - 3. त्वचा
 - 4. पैर

Question ID : 65497830512
Status : Answered
Chosen Option : 1

Q.20 किसी निश्चित कूट भाषा में, 'FEAST' को '9842223' के रूप में कूटबद्ध किया जाता है। उसी कूट भाषा में 'CLOSE' को किस रूप में कूटबद्ध किया जाएगा?

- Ans
- 1. 71618208
 - 2. 61518228
 - 3. 71618228
 - 4. 61518208

Question ID : 65497830504
Status : Answered
Chosen Option : 2

Q.21 विकल्पों में से उस संख्या का चयन कीजिए जो दी गई श्रृंखला में प्रश्न चिह्न (?) के स्थान पर आ सकती है।

23, 36, 51, 68, ?

- Ans
- 1. 87
 - 2. 92
 - 3. 73
 - 4. 78

Question ID : 65497830509
Status : Answered
Chosen Option : 1

Q.22 उस अक्षर-समूह का चयन कीजिए जो निम्नांकित श्रेणी में प्रश्नवाचक चिह्न (?) के स्थान पर आ सकता है।

DMGU, AJDO, XGAI, ?, RAUA

- Ans
- 1. VDYE
 - 2. VEYE
 - 3. UDXE
 - 4. UEXE

Question ID : 65497830511
Status : Answered
Chosen Option : 4

Q.23 उस विकल्प का चयन करें, जिसकी संख्याएँ आपस में उसी प्रकार संबंधित हैं, जिस प्रकार दिए गए समुच्चय की संख्याएँ आपस में संबंधित हैं।

(7, 18, 75)

- Ans
- 1. (24, 15, 90)
 - 2. (3, 16, 61)
 - 3. (5, 13, 67)
 - 4. (11, 17, 84)

Question ID : 65497830500
Status : Not Answered
Chosen Option : --

Q.24 चार अक्षर-समूह दिए गए हैं, जिनमें से तीन किसी तरह से एक समान हैं और एक भिन्न है। उस अक्षर-समूह का चयन करें जो भिन्न है।

- Ans
- 1. GPL
 - 2. OXS
 - 3. LUP
 - 4. IRM

Question ID : 65497830503
Status : Answered
Chosen Option : 1

Q.25 उस विकल्प का चयन करें जिसमें दी गई आकृति अंतर्निहित है।



Ans

✓ 1.



✗ 2.



✗ 3.



✗ 4.



Question ID : 65497830522
Status : Answered
Chosen Option : 1

Section : Part B General Knowledge and General Awareness

Q.1 'माय कंट्री माय लाइफ (My Country My Life)' पुस्तक के लेखक निम्नलिखित में से कौन हैं?

Ans

✗ 1. अन्ना हजारे

✓ 2. एलके आडवाणी

✗ 3. प्रणब मुखर्जी

✗ 4. सोमनाथ चटर्जी

Question ID : 65497830529
Status : Answered
Chosen Option : 3

Q.2 निम्नलिखित में से कौन सी जनजाति 'केल पोलुद (Kail Polud)' त्योहार मनाती है?

- Ans
- 1. कोडव
 - 2. नाया
 - 3. मीणा
 - 4. भील

Question ID : 65497830542
Status : Answered
Chosen Option : 4

Q.3 चोल शिलालेखों में विद्यापीठों के लिए उपहार में दी गई भूमि का उल्लेख किस नाम से किया गया है?

- Ans
- 1. तिरुनमट्टकनी
 - 2. वेल्लनवगाई
 - 3. पल्लीछंदम
 - 4. शालभोग

Question ID : 65497830538
Status : Not Answered
Chosen Option : --

Q.4 तिराप और नोआ नदियां किस भारतीय राज्य में बहती हैं?

- Ans
- 1. अरुणाचल प्रदेश
 - 2. सिक्किम
 - 3. गोवा
 - 4. हिमाचल प्रदेश

Question ID : 65497830524
Status : Not Answered
Chosen Option : --

Q.5 निम्नलिखित में से कौन सा कथन सत्य है?

- Ans
- 1. भारत का संविधान अंग्रेजी और हिंदी में हाथों से लिखा गया था।
 - 2. 11 दिसंबर 1946 को संविधान सभा ने डॉ बीआर अंबेडकर को अपना स्थायी अध्यक्ष चुना।
 - 3. हंटर कमीशन के तहत गठित एक संविधान सभा द्वारा भारत का संविधान बनाया गया था।
 - 4. 26 अगस्त को भारत के 'संविधान दिवस' के रूप में मनाया जाता है।

Question ID : 65497830540
Status : Answered
Chosen Option : 2

Q.6 द्विवार्षिक 'भारत वन स्थिति रिपोर्ट (ISFR)' 2019 के अनुसार, क्षेत्र-वार _____ में देश का सबसे बड़ा वन आच्छादन है।

- Ans
- 1. कर्नाटक
 - 2. तमिलनाडु
 - 3. उत्तर प्रदेश
 - 4. मध्य प्रदेश

Question ID : 65497830528
Status : Answered
Chosen Option : 4

Q.7 नवंबर 2020 तक की स्थिति के अनुसार, अंतरराष्ट्रीय ओलंपिक समिति के अध्यक्ष निम्नलिखित में से कौन थे?

- Ans
- 1. जैक्स रोग
 - 2. थामस बाक
 - 3. लॉर्ड किलानिन
 - 4. जुआन एंटोनियो समरंच

Question ID : 65497830530
Status : Answered
Chosen Option : 4

Q.8 निम्नलिखित में से कौन सा हिल स्टेशन (पर्वतीय पर्यटन स्थल) मध्य हिमालय में स्थित है?

- Ans
- 1. कोडाइकनाल
 - 2. दार्जिलिंग
 - 3. मन्नार
 - 4. केम्पनगुंडी

Question ID : 65497830546
Status : Answered
Chosen Option : 3

Q.9 1951 में, निम्नलिखित में से किस राष्ट्र ने पहले एशियाई खेलों की मेजबानी की थी?

- Ans
- 1. इंडोनेशिया
 - 2. फिलीपींस
 - 3. भारत
 - 4. जापान

Question ID : 65497830526
Status : Answered
Chosen Option : 4

Q.10 'ओबामा: द कॉल ऑफ़ हिस्ट्री (Obama: The Call of History)' नामक पुस्तक के लेखक कौन हैं?

- Ans
- 1. पीटर बेकर
 - 2. मागरिट एटवुड
 - 3. मनमोहन सिंह
 - 4. हार्वर ली

Question ID : 65497830545
Status : Answered
Chosen Option : 1

Q.11 9 सितंबर, 2020 को आयोजित हुई प्रथम इंडो-पैसिफिक त्रिपक्षीय वार्ता भारत, फ्रांस और _____ के बीच हुई थी।

- Ans
- 1. संयुक्त राज्य अमेरिका
 - 2. ऑस्ट्रेलिया
 - 3. जर्मनी
 - 4. यूनाइटेड किंगडम

Question ID : 65497830537
Status : Not Answered
Chosen Option : --

Q.12 कल्हण एक लेखक थे जिन्होंने _____ के राजाओं के बारे में एक संस्कृत कविता लिखी थी।

- Ans
- 1. मेवाड़
 - 2. कश्मीर
 - 3. दिल्ली
 - 4. विजयनगर

Question ID : 65497830539
Status : Answered
Chosen Option : 4

Q.13 नवंबर 2020 में वर्चुअल रूप से आयोजित हुए 15वें जी-20 शिखर सम्मेलन की मेजबानी _____ ने की थी।

- Ans
- 1. सउदी अरब
 - 2. ब्राज़ील
 - 3. भारत
 - 4. फ्रांस

Question ID : 65497830541
Status : Answered
Chosen Option : 2

Q.14 निम्नलिखित में से क्या, किसी बीज का बीजावरण (सीड कोट) बनाता है?

- Ans
- 1. युग्मनज (Zygote)
 - 2. नाभिका (Hilum)
 - 3. अध्यावरण (Integument)
 - 4. भ्रूण (Embryo)

Question ID : 65497830544
Status : Not Answered
Chosen Option : --

Q.15 भूकंपों को पहचानने और उन्हें रिकॉर्ड करने के लिए निम्नलिखित में से किस उपकरण का उपयोग किया जाता है?

- Ans
- 1. क्रोनोमीटर
 - 2. सीस्मोग्राफ़
 - 3. बैरोग्राफ़
 - 4. ऐमीटर

Question ID : 65497830531
Status : Answered
Chosen Option : 2

Q.16 डिएगो माराडोना (Diego Maradona) का संबंध निम्नलिखित में से किस खेल से था?

- Ans
- 1. टेनिस
 - 2. क्रिकेट
 - 3. हॉकी
 - 4. फुटबॉल

Question ID : 65497830547
Status : Answered
Chosen Option : 1

Q.17 किसी व्यक्ति का वजन जमीन पर वजन 60 kg है। एकसमान त्वरण के साथ लंबवत ऊपर की ओर गतिमान एक लिफ्ट में जब उसका वजन मापा जाता है, तो उस व्यक्ति के वजन पर क्या प्रभाव पड़ेगा?

- Ans
- 1. नहीं बदलेगा
 - 2. शून्य हो जाएगा
 - 3. 60 kg से कम मापा जाएगा
 - 4. 60 kg से ज्यादा मापा जाएगा

Question ID : 65497830543
Status : Answered
Chosen Option : 3

Q.18 निम्नलिखित में से कौन सा उपवेद ऋग्वेद से संबंधित है?

- Ans
- 1. शिल्पवेद
 - 2. गंधर्ववेद
 - 3. आयुर्वेद
 - 4. धनुर्वेद

Question ID : 65497830532
Status : Answered
Chosen Option : 3

Q.19 दो या इससे अधिक समाजों की तुलना के लिए निम्नलिखित में से आय के किस मानक का उपयोग नहीं हो सकता है?

- Ans
- 1. आय का समान वितरण
 - 2. रोजगार
 - 3. क्रय शक्ति समता
 - 4. प्रति व्यक्ति आय

Question ID : 65497830535
Status : Answered
Chosen Option : 4

Q.20 मार्को पोलो, 1292-1294 के मध्य, _____ से भारत आया था।

- Ans
- 1. ब्रिस्टल
 - 2. लिस्बन
 - 3. पेरिस
 - 4. वेनिस

Question ID : 65497830525
Status : Not Answered
Chosen Option : --

Q.21 शहरी क्षेत्रों के लिए स्थानीय सरकारी निकायों को किस नाम से जाना जाता है?

- Ans
- 1. नगर पालिका
 - 2. राज्य परिषद
 - 3. जिला परिषद
 - 4. पंचायत समितियां

Question ID : 65497830536
Status : Answered
Chosen Option : 1

Q.22 2020 में, विजय नगर निम्नलिखित में से किस राज्य का 31वाँ ज़िला बना?

- Ans
- 1. आंध्र प्रदेश
 - 2. कर्नाटक
 - 3. केरल
 - 4. तेलंगाना

Question ID : 65497830533
Status : Answered
Chosen Option : 2

Q.23 भारत के आर्थिक सर्वेक्षण को भारत में पहली बार केंद्रीय बजट के एक भाग के रूप में किस वर्ष में पेश किया गया था?

- Ans
- 1. 1947-48
 - 2. 1949-50
 - 3. 1950-51
 - 4. 1952-53

Question ID : 65497830523
Status : Answered
Chosen Option : 3

Q.24 कश्मीर के पुरुषों और महिलाओं द्वारा पहनी जाने वाली पारंपरिक पोशाक निम्नलिखित में से कौन सी है?

- Ans
- 1. रिकुटु गमचा
 - 2. फानेक
 - 3. फेरन
 - 4. मेखला चादर

Question ID : 65497830527
Status : Answered
Chosen Option : 4

Q.25 नॉर्थ ईस्ट स्मॉल फाइनेंस बैंक का कॉर्पोरेट कार्यालय निम्नलिखित में से किस शहर में स्थित है?

- Ans
- 1. शिलांग
 - 2. अगरतला
 - 3. इंफाल
 - 4. गुवाहाटी

Question ID : 65497830534
Status : Not Answered
Chosen Option : --

Section : Part C Elementary Mathematics

Q.1 एक कक्षा में छात्रों की औसत आयु 16.8 वर्ष है। कक्षा में लड़कों की औसत आयु 18.4 वर्ष और लड़कियों की 16.4 वर्ष है। कक्षा में लड़कों की संख्या का लड़कियों की संख्या से अनुपात ज्ञात करें।

- Ans
- 1. 4 : 1
 - 2. 1 : 4
 - 3. 2 : 3
 - 4. 3 : 2

Question ID : 65497830561
Status : Answered
Chosen Option : 2

Q.2 एक संख्या और इसके एक-तिहाई का अंतर 520 है। इस संख्या का 20% कितना होगा?

- Ans
- 1. 280
 - 2. 172
 - 3. 156
 - 4. 165

Question ID : 65497830563
Status : Answered
Chosen Option : 3

Q.3 ₹x धनराशि को A, B और C के बीच इस प्रकार बांटा गया कि A और B के भागों का अनुपात 3 : 4 और A और C के भागों का अनुपात 5 : 8 है। यदि B और C के भागों के बीच अंतर ₹312 है, तो x का मान कितना होगा?

- Ans
- 1. ₹4,524
 - 2. ₹4,446
 - 3. ₹4,680
 - 4. ₹4,602

Question ID : 65497830571
Status : Answered
Chosen Option : 4

Q.4 दो संख्याओं के लघुतम समापवर्त्य (LCM) और महत्तम समापवर्तक (HCF) क्रमशः 210 और 5 है। यदि दोनों संख्याओं में से एक संख्या 30 है, तो दूसरी संख्या कौन सी है?

- Ans
- 1. 42
 - 2. 30
 - 3. 35
 - 4. 190

Question ID : 65497830548
Status : Answered
Chosen Option : 3

Q.5 एक समूह में 35 छात्रों की औसत ऊंचाई 156 cm है। यदि 154.5 cm औसत ऊंचाई वाले 8 छात्र समूह से निकल जाते हैं और 158 cm औसत ऊंचाई वाले 13 छात्र समूह में शामिल हो जाते हैं, तो अब समूह में सभी छात्रों की औसत ऊंचाई (cm में) कितनी होगी?

- Ans
- 1. 155.62
 - 2. 156.95
 - 3. 156.75
 - 4. 155.85

Question ID : 65497830570
Status : Answered
Chosen Option : 2

Q.6 दो वस्तुओं A और B का क्रय मूल्य 5 : 4 के अनुपात में है। इन वस्तुओं को बेचते समय दुकानदार को वस्तु A पर 10% का लाभ होता है और वस्तु B पर 20% का लाभ होता है और उनके विक्रय मूल्य में अंतर ₹560 का है। वस्तु A और B के क्रय मूल्यों का योग (₹ में) कितना है?

- Ans
- 1. 6300
 - 2. 7200
 - 3. 8100
 - 4. 5400

Question ID : 65497830550
Status : Answered
Chosen Option : 2

Q.7 एक निश्चित धनराशि, वार्षिक 7.5% की साधारण ब्याज दर से 3 वर्ष 4 महीने में ₹4,900 हो जाती है। उसी धनराशि पर वार्षिक 8% की साधारण ब्याज दर से $3\frac{3}{4}$ वर्ष में कितना मिश्रधन (₹ में) होगा?

- Ans
- 1. 4,956
 - 2. 5,147
 - 3. 5,096
 - 4. 5,048

Question ID : 65497830572
Status : Not Answered
Chosen Option : --

Q.8 पाइप A और B एक टंकी को क्रमशः 15 घंटे और 18 घंटे में खाली कर सकते हैं। पाइप C अकेले इस टंकी को 6 घंटे में भर सकता है। यदि सभी तीनों पाइप एक साथ खोल दी जाएँ तो, टंकी का दो-तिहाई भाग कितने समय में भर जाएगा?

- Ans
- 1. 18 घंटे
 - 2. 12 घंटे
 - 3. $22\frac{1}{2}$ घंटे
 - 4. 15 घंटे

Question ID : 65497830568
Status : Answered
Chosen Option : 4

Q.9 जब ₹176 को 1 : 4 : 6 के अनुपात में विभाजित किया जाता है, तो सबसे बड़े हिस्से और सबसे छोटे हिस्से (₹ में) में कितना अंतर होता है?

- Ans
- 1. 64
 - 2. 80
 - 3. 16
 - 4. 96

Question ID : 65497830558
Status : Answered
Chosen Option : 2

Q.10 हनी और जुनू मिलकर एक निश्चित कार्य को 20 दिन में पूरा कर सकते हैं। हनी, ने 12 दिन काम किया, जुनू ने शेष कार्य को अकेले 36 दिन में पूरा किया। जुनू पूरे कार्य को अकेले कितने दिन में पूरा कर सकता है?

- Ans
- ✓ 1. 60
 - ✗ 2. 62
 - ✗ 3. 54
 - ✗ 4. 45

Question ID : 65497830564
Status : Answered
Chosen Option : 1

Q.11 एक ट्रेन 108 km/h की चाल से और दूसरी ट्रेन 25 m/sec की चाल से चलती है। पहली ट्रेन की चाल का, दूसरी ट्रेन की चाल से अनुपात क्या है?

- Ans
- ✗ 1. 5 : 4
 - ✗ 2. 7 : 5
 - ✓ 3. 6 : 5
 - ✗ 4. 7 : 6

Question ID : 65497830554
Status : Answered
Chosen Option : 3

Q.12 एक मेज पर निर्माता 12% का लाभ कमाता है, थोक विक्रेता 15% का लाभ कमाता है, और खुदरा विक्रेता 20% का लाभ कमाता है। यदि उस मेज का खुदरा मूल्य ₹1,245 है, तो उसकी उत्पादन लागत (दशमलव के एक स्थान तक सही) ज्ञात करें।

- Ans
- ✓ 1. ₹805.5
 - ✗ 2. ₹1,004.6
 - ✗ 3. ₹735.6
 - ✗ 4. ₹800

Question ID : 65497830557
Status : Not Answered
Chosen Option : --

Q.13 एक दुकानदार ₹320 प्रति kg और ₹240 प्रति kg की कीमत वाली, चाय की दो किस्मों को 9 : 11 के अनुपात में मिलाता है। यदि वह इस मिश्रण को ₹325.68 प्रति kg की दर से बेचता है, तो उसका प्रतिशत लाभ ज्ञात करें।

- Ans
- ✗ 1. 15.3%
 - ✗ 2. 20%
 - ✗ 3. 16.8%
 - ✓ 4. 18%

Question ID : 65497830567
Status : Answered
Chosen Option : 3

Q.14 विपरीत दिशा में समानांतर पटरियों पर 48 km/h और 52 km/h की चाल से चल रही दो रेलगाड़ियां, 27 सेकेंड में एक-दूसरे को पार करती हैं। यदि एक रेलगाड़ी की लंबाई 350 m हो, तो दूसरी रेलगाड़ी की लंबाई (m में) ज्ञात करें?

- Ans
- 1. 390
 - 2. 375
 - 3. 400
 - 4. 425

Question ID : 65497830565
Status : Not Answered
Chosen Option : --

Q.15 चार घनों जिनमें से प्रत्येक की भुजा की माप 8 cm है, को एक के बाद एक करके एक पंक्ति में व्यवस्थित किया गया है। इस प्रकार निर्मित ठोस का कुल पृष्ठीय क्षेत्रफल (cm^2 में) ज्ञात कीजिए।

- Ans
- 1. 1536
 - 2. 1728
 - 3. 1152
 - 4. 512

Question ID : 65497830560
Status : Answered
Chosen Option : 1

Q.16 एक वस्तु का अंकित मूल्य ₹760 है। ऑफ सीज़न में इसे ₹722 में बेचा गया है। वस्तु पर छूट का प्रतिशत ज्ञात करें।

- Ans
- 1. 4%
 - 2. 6%
 - 3. 5%
 - 4. 8%

Question ID : 65497830562
Status : Answered
Chosen Option : 3

Q.17 एक निश्चित धनराशि 10% वार्षिक ब्याज दर पर 3 वर्ष में ₹6655 हो जाती है। यही धनराशि पिछली ब्याज दर से 1.5 गुना की चक्रवृद्धि ब्याज दर पर 2 वर्ष में ₹ x हो जाएगी। यदि दोनों मामलों में ब्याज को वार्षिक आधार पर चक्रवृद्धि किया जाए, तो x का मान कितना होगा?

- Ans
- 1. 1725.75
 - 2. 1516.25
 - 3. 1612.50
 - 4. 1000

Question ID : 65497830551
Status : Not Answered
Chosen Option : --

Q.18 माना कि x छह अंकों वाली वह सबसे बड़ी संख्या है जिसे 5, 6, 7, 8 और 9 से विभाजित करने पर क्रमशः 4, 5, 6, 7 और 8 शेषफल बचता है। x के अंकों का योग कितना होगा?

- Ans
- 1. 43
 - 2. 41
 - 3. 47
 - 4. 44

Question ID : 65497830569
Status : Not Answered
Chosen Option : --

Q.19 $5 \div 8$ of $2 - 10 \div 5$ of $8 + 6 \div 15 \times (7 - 4)$ of $2 - 2$ का मान ज्ञात करें।

- Ans
- 1. $\frac{197}{80}$
 - 2. $\frac{1}{16}$
 - 3. $\frac{43}{20}$
 - 4. $\frac{37}{80}$

Question ID : 65497830566
Status : Answered
Chosen Option : 4

Q.20 सरिता को 720 अंक अर्जित करने की उम्मीद थी लेकिन उसे 675 अंक ही मिले। उसने जो उम्मीद की थी, उसे उससे 5% कम अंक मिले। 90% अंक प्राप्त करने के लिए उसे कितने अंक अर्जित करने चाहिए थे?

- Ans
- 1. 900
 - 2. 990
 - 3. 810
 - 4. 1100

Question ID : 65497830549
Status : Answered
Chosen Option : 3

Q.21 एक लंबवृत्तीय शंकु के आधार का क्षेत्रफल $81\pi \text{ cm}^2$ है और इसकी ऊंचाई 18 cm है। इसकी तिर्यक ऊंचाई ज्ञात कीजिए।

- Ans
- 1. $15\sqrt{5} \text{ cm}$
 - 2. 21 cm
 - 3. 24 cm
 - 4. $9\sqrt{5} \text{ cm}$

Question ID : 65497830556
Status : Answered
Chosen Option : 4

Q.22 $7\frac{7}{15} \div \frac{4}{9}$ of $(4\frac{7}{10} + 5\frac{1}{5}) + (\frac{2}{3} - \frac{4}{11})$ का मान क्या होगा?

- Ans
- 1. 10
 - 2. 2
 - 3. 5
 - 4. 1

Question ID : 65497830553
Status : Answered
Chosen Option : 2

Q.23 एक दुकानदार ने एक वस्तु को उसके अंकित मूल्य पर 12% छूट देकर ₹1716 में बेचा। यदि वह कोई छूट न देता तो उसे 25% का लाभ हुआ होता। वस्तु का क्रय मूल्य (₹ में) कितना है?

- Ans
- 1. 1650
 - 2. 1560
 - 3. 1270
 - 4. 1720

Question ID : 65497830552
Status : Answered
Chosen Option : 2

Q.24 A और B की वर्तमान आयु के बीच का अनुपात 4 : 5 है। 10 वर्षों के बाद, उनकी आयु के बीच का अनुपात 5 : 6 होगा। उनकी वर्तमान आयु के बीच का अंतर ज्ञात कीजिए।

- Ans
- 1. 7 वर्ष
 - 2. 10 वर्ष
 - 3. 8 वर्ष
 - 4. 5 वर्ष

Question ID : 65497830555
Status : Answered
Chosen Option : 2

Q.25 एक व्यक्ति ने सावधि जमा में डेढ़ वर्ष के लिए ₹8,000 जमा किए, जिसपर ब्याज 10% की वार्षिक दर से अर्ध-वार्षिक रूप में संयोजित होता है। चक्रवृद्धि ब्याज जात करें।

- Ans
- 1. ₹1,261.00
 - 2. ₹1,250.00
 - 3. ₹1,040.00
 - 4. ₹1,020.00

Question ID : 65497830559
Status : Answered
Chosen Option : 1

Section : Part D English

Q.1 Select the option that can be used as a one-word substitute for the given group of words.

The practice of persuading someone to do something by using force or threats

- Ans
- 1. Cruelty
 - 2. Roughness
 - 3. Compulsion
 - 4. Coercion

Question ID : 65497830580
Status : Not Answered
Chosen Option : --

Q.2 Select the most appropriate synonym of the given word.

Venture

- Ans
- 1. Protect
 - 2. Neglect
 - 3. Attempt
 - 4. Guard

Question ID : 65497830574
Status : Not Answered
Chosen Option : --

Q.3 Select the most appropriate option that can substitute the underlined segment in the given sentence. If there is no need to substitute it, select 'No substitution required'.

This exercise are quite easier to do.

- Ans
- 1. is quite easy
 - 2. No substitution required
 - 3. be quite easy
 - 4. have been quite easy

Question ID : 65497830589
Status : Not Answered
Chosen Option : --

Q.4 Select the most appropriate ANTONYM of the given word.

Bold

- Ans 1. Timid
 2. Tired
 3. Soft
 4. Harsh

Question ID : 65497830579
Status : Not Answered
Chosen Option : --

Q.5 Select the option that can be used as a one-word substitute for the given group of words.

Something that is quickly and easily set on fire and burned

- Ans 1. Scorched
 2. Charred
 3. Blackened
 4. Inflammable

Question ID : 65497830582
Status : Not Answered
Chosen Option : --

Q.6 Select the most appropriate ANTONYM of the given word.

Hindrance

- Ans 1. Advantage
 2. Deterrent
 3. Barrier
 4. Handicap

Question ID : 65497830585
Status : Not Answered
Chosen Option : --

Q.7 Select the most appropriate meaning of the given idiom.

A fine state of affairs

- Ans 1. A punishable case
 2. A pleasant situation
 3. An uncanny situation
 4. An unpleasant situation

Question ID : 65497830577
Status : Not Answered
Chosen Option : --

Q.8 Select the most appropriate option that can substitute the underlined segment in the given sentence. If there is no need to substitute it, select 'No substitution required'.

Some people can only cope with problems by shutting them out of the minds.

- Ans**
- 1. out of the mind
 - 2. out of his mind
 - 3. out of their minds
 - 4. No substitution required

Question ID : 65497830586
Status : Not Answered
Chosen Option : --

Q.9 Select the option that will improve the underlined part of the sentence. In case no improvement is needed, select 'No improvement required'.

The river overflowed its banks and flooded the village.

- Ans**
- 1. overflowed its banks
 - 2. No improvement required
 - 3. overflowing its banks
 - 4. overflow it's banks

Question ID : 65497830583
Status : Not Answered
Chosen Option : --

Q.10 Select the INCORRECTLY spelt word.

- Ans**
- 1. Frawdster
 - 2. Gangster
 - 3. Prankster
 - 4. Trickster

Question ID : 65497830587
Status : Not Answered
Chosen Option : --

Q.11 Select the most appropriate SYNONYM of the given word.

Opinion

- Ans**
- 1. Fact
 - 2. Truth
 - 3. Idea
 - 4. Proof

Question ID : 65497830591
Status : Not Answered
Chosen Option : --

Q.12 Select the most appropriate option to fill in the blank.

A fossil normally _____ only portion of the deceased organism.

- Ans
- 1. maintains
 - 2. controls
 - 3. retains
 - 4. includes

Question ID : 65497830588
Status : Not Answered
Chosen Option : --

Q.13 Select the most appropriate meaning of the given idiom.

For good

- Ans
- 1. For someone's well-being
 - 2. Just in time
 - 3. Forever
 - 4. For a short time

Question ID : 65497830575
Status : Not Answered
Chosen Option : --

Q.14 The following sentence has been divided into parts. One of them may contain an error. Select the part that contains the error from the given options. If you don't find any error, select 'No error' as your answer.

She is one of / the tallest girl / in the school.

- Ans
- 1. the tallest girl
 - 2. in the school
 - 3. She is one of
 - 4. No error

Question ID : 65497830573
Status : Not Answered
Chosen Option : --

Q.15 Select the INCORRECTLY spelt word.

- Ans
- 1. Refusal
 - 2. Equipement
 - 3. Starvation
 - 4. Baggage

Question ID : 65497830581
Status : Not Answered
Chosen Option : --

Q.16 Select the most appropriate option to fill in the blank.

Students will be _____ for an interview on the basis of their score card.

- Ans
- 1. called
 - 2. asked
 - 3. appointed
 - 4. fetched

Question ID : 65497830584
Status : Not Answered
Chosen Option : --

Q.17 The following sentence has been split into four segments. Identify the segment that contains a grammatical error.

The road was / wide and shading / by rows of / tall trees.

- Ans
- 1. tall trees
 - 2. The road was
 - 3. wide and shading
 - 4. by rows of

Question ID : 65497830590
Status : Not Answered
Chosen Option : --

Q.18 The following sentence has been split into four segments. Identify the segment that contains a grammatical error.

Of the two politicians, Trump and Obama, /the later / is more impressive / as an orator.

- Ans
- 1. Of the two politicians, Trump and Obama
 - 2. the later
 - 3. as an orator
 - 4. is more impressive

Question ID : 65497830578
Status : Not Answered
Chosen Option : --

Q.19 Select the option that can be used as a one-word substitute for the given group of words.

A geometrical figure with six sides

- Ans
- 1. Hexagon
 - 2. Heptagon
 - 3. Pentagon
 - 4. Octagon

Question ID : 65497830592
Status : Not Answered
Chosen Option : --

Q.20 Select the most appropriate option to fill in the blank.

It is the teacher's _____ to decide who will participate in the competition.

- Ans
- 1. kindness
 - 2. thought
 - 3. right
 - 4. virtue

Question ID : 65497830576
Status : Not Answered
Chosen Option : --

Comprehension:

In the following passage, some words have been deleted. Read the passage carefully and select the most appropriate option to fill in each blank.

The elephant is Earth's largest (1)_____ animal, although the Asian elephant is slightly smaller than its African cousin. Elephants are (2)_____ of water and enjoy showering by sucking water into their trunks and (3)_____ it all over themselves. An elephant's trunk is actually a long nose with many functions. It is used for smelling, breathing, drinking and also for (4)_____ things— especially a potential meal. The trunk alone contains about 1,00,000 different (5)_____.

SubQuestion No : 21

Q.21 Select the most appropriate option to fill in blank no. 1.

- Ans
- 1. aquatic
 - 2. arboreal
 - 3. land
 - 4. aerial

Question ID : 65497830594
Status : Not Answered
Chosen Option : --

Comprehension:

In the following passage, some words have been deleted. Read the passage carefully and select the most appropriate option to fill in each blank.

The elephant is Earth's largest (1)_____ animal, although the Asian elephant is slightly smaller than its African cousin. Elephants are (2)_____ of water and enjoy showering by sucking water into their trunks and (3)_____ it all over themselves. An elephant's trunk is actually a long nose with many functions. It is used for smelling, breathing, drinking and also for (4)_____ things— especially a potential meal. The trunk alone contains about 1,00,000 different (5)_____.

SubQuestion No : 22

Q.22 Select the most appropriate option to fill in blank no. 2.

- Ans
- 1. surprised
 - 2. afraid
 - 3. proud
 - 4. fond

Question ID : 65497830595
Status : Not Answered
Chosen Option : --

Comprehension:

In the following passage, some words have been deleted. Read the passage carefully and select the most appropriate option to fill in each blank.

The elephant is Earth's largest (1)_____ animal, although the Asian elephant is slightly smaller than its African cousin. Elephants are (2)_____ of water and enjoy showering by sucking water into their trunks and (3)_____ it all over themselves. An elephant's trunk is actually a long nose with many functions. It is used for smelling, breathing, drinking and also for (4)_____ things— especially a potential meal. The trunk alone contains about 1,00,000 different (5)_____.

SubQuestion No : 23

Q.23 Select the most appropriate option to fill in blank no. 3.

- Ans**
- 1. adjusting
 - 2. smearing
 - 3. spraying
 - 4. arranging

Question ID : 65497830596
Status : Not Answered
Chosen Option : --

Comprehension:

In the following passage, some words have been deleted. Read the passage carefully and select the most appropriate option to fill in each blank.

The elephant is Earth's largest (1)_____ animal, although the Asian elephant is slightly smaller than its African cousin. Elephants are (2)_____ of water and enjoy showering by sucking water into their trunks and (3)_____ it all over themselves. An elephant's trunk is actually a long nose with many functions. It is used for smelling, breathing, drinking and also for (4)_____ things— especially a potential meal. The trunk alone contains about 1,00,000 different (5)_____.

SubQuestion No : 24

Q.24 Select the most appropriate option to fill in blank no. 4.

- Ans**
- 1. organizing
 - 2. grabbing
 - 3. trumpeting
 - 4. destroying

Question ID : 65497830597
Status : Not Answered
Chosen Option : --

Comprehension:

In the following passage, some words have been deleted. Read the passage carefully and select the most appropriate option to fill in each blank.

The elephant is Earth's largest (1)_____ animal, although the Asian elephant is slightly smaller than its African cousin. Elephants are (2)_____ of water and enjoy showering by sucking water into their trunks and (3)_____ it all over themselves. An elephant's trunk is actually a long nose with many functions. It is used for smelling, breathing, drinking and also for (4)_____ things— especially a potential meal. The trunk alone contains about 1,00,000 different (5)_____.

SubQuestion No : 25

Q.25 Select the most appropriate option to fill in blank no. 5.

Ans 1. intestines

2. muscles

3. regions

4. tusks

Question ID : 65497830598

Status : Not Answered

Chosen Option : --

Section : Part D Hindi

Q.1 अशुद्ध वर्तनी वाला शब्द निम्न में से कौन सा है?

Ans 1. पुरस्कार

2. आशिवाद

3. मयंक

4. प्रामाणिक

Question ID : 65497830616

Status : Answered

Chosen Option : 2

Q.2 निम्न में से किस वाक्यांश के लिए 'कालातीत' शब्द का उपयोग किया जाता है?

Ans 1. जिसका समय आएगा।

2. जिसका समय आनेवाला है।

3. जिसका समय बीत गया हो।

4. जिसका समय चल रहा है।

Question ID : 65497830617

Status : Answered

Chosen Option : 3

Q.3 दिए गए वाक्य में रेखांकित खंड को प्रतिस्थापित करने के लिए सबसे उपयुक्त विकल्प का चयन करें।
यदि इसे प्रतिस्थापित करने की आवश्यकता नहीं है, तो विकल्प 'किसी बदलाव की आवश्यकता नहीं है'
का चयन करें।

कवियों को काव्य के करते समय आनंद मिलता है।

- Ans
- 1. काव्य बनाते
 - 2. किसी बदलाव की आवश्यकता नहीं है।
 - 3. कविता करते
 - 4. काव्य करते

Question ID : 65497830611
Status : Answered
Chosen Option : 4

Q.4 दिये गये वाक्य में रेखांकित अंश को प्रतिस्थापित करने के लिए सबसे उपयुक्त विकल्प का चयन करें।

महेश चित्रकला का व्यायाम कर रहा है।

- Ans
- 1. चिंतन
 - 2. लेखन
 - 3. अभ्यास
 - 4. प्रयास

Question ID : 65497830618
Status : Answered
Chosen Option : 3

Q.5 दिये गये वाक्य के किस भाग में त्रुटि है?

वहाँ घमासान का युद्ध हो रहा था।

- Ans
- 1. वहाँ
 - 2. रहा था।
 - 3. युद्ध हो
 - 4. घमासान का

Question ID : 65497830612
Status : Answered
Chosen Option : 4

Q.6 दिए गए शब्द के समानार्थी शब्द का चयन करें।

पक्षी

- Ans
- 1. केकी
 - 2. पन्नग
 - 3. खग
 - 4. अलि

Question ID : 65497830609
Status : Answered
Chosen Option : 3

Q.7 दिए गए वाक्य का वह भाग ज्ञात करें जिसमें कोई त्रुटि है। यदि कोई त्रुटि नहीं है, तो 'कोई त्रुटि नहीं है' चुनें।

तितली के पास (1)/ पंख सुन्दर (2)/ होते हैं (3)/ कोई त्रुटि नहीं है (4)

- Ans
- 1. 2
 - 2. 4
 - 3. 3
 - 4. 1

Question ID : 65497830608
Status : Answered
Chosen Option : 1

Q.8 दिए गए वाक्य में रेखांकित खंड को प्रतिस्थापित करने के लिए सबसे उपयुक्त विकल्प का चयन करें। यदि इसे प्रतिस्थापित करने की आवश्यकता नहीं है, तो विकल्प 'किसी बदलाव की आवश्यकता नहीं है' का चयन करें।

हमारे धर्मशास्त्रों में बहुत कुछ पड़ा है।

- Ans
- 1. में बहुत कुछ संकलित है।
 - 2. किसी बदलाव की आवश्यकता नहीं है।
 - 3. के अंदर बहुत पड़ा है।
 - 4. के अंदर बहुत कुछ है।

Question ID : 65497830601
Status : Answered
Chosen Option : 4

Q.9 बिना विचारे किया गया विश्वास - वाक्यांश के लिए एक शब्द दीजिये -

- Ans
- 1. गोपनीय
 - 2. विश्वासू
 - 3. अन्धविश्वास
 - 4. विश्वास

Question ID : 65497830599
Status : Answered
Chosen Option : 3

Q.10 दिए गए शब्द के विलोम शब्द का चयन करें-

न्यून

- Ans
- 1. थोड़ा
 - 2. अल्प
 - 3. नूतन
 - 4. अधिक

Question ID : 65497830605
Status : Answered
Chosen Option : 4

Q.11 रिक्त स्थान की पूर्ति के लिए सबसे उपयुक्त शब्द का चयन कीजिए।

_____ की भीड़ बढ़ गई।

- Ans
- 1. दर्शक
 - 2. दर्शकों
 - 3. पाठक
 - 4. श्रोता

Question ID : 65497830600
Status : Answered
Chosen Option : 1

Q.12 रिक्त स्थान की पूर्ति के लिए सबसे उपयुक्त शब्द का चयन करें।

हरे-भरे खेत _____ हुए अत्यंत सुन्दर दिखाई देते हैं।

- Ans
- 1. लहराते
 - 2. लहलहाते
 - 3. फहराते
 - 4. चमचमाते

Question ID : 65497830607
Status : Answered
Chosen Option : 2

Q.13 रिक्त स्थान की पूर्ति के लिए सबसे उपयुक्त शब्द का चयन करें।

मैंने एक वर्ष तक उनकी प्रतीक्षा _____।

- Ans
- 1. की
 - 2. करी
 - 3. निहारी
 - 4. देखी

Question ID : 65497830610
Status : Answered
Chosen Option : 1

Q.14 दिए गए वाक्य का वह भाग ज्ञात करें जिसमें कोई त्रुटि है। यदि कोई त्रुटि नहीं है, तो 'कोई त्रुटि नहीं है' विकल्प को चुनिए।

(1) मेरे पिता ने (2) प्रधानाचार्य को (3) पत्र लिखें (4) कोई त्रुटि नहीं है।

- Ans
- 1. कोई त्रुटि नहीं है।
 - 2. पत्र लिखें
 - 3. मेरे पिता ने
 - 4. प्रधानाचार्य को

Question ID : 65497830602
Status : Answered
Chosen Option : 3

Q.15 निम्न मुहावरे के सही अर्थ को व्यक्त करने वाले विकल्प का चयन करें।

नाक- भौं सिकोड़ना

- Ans
- 1. इज्जत बचाना
 - 2. घमंड करना
 - 3. घृणा करना
 - 4. इशारा करना

Question ID : 65497830604
Status : Answered
Chosen Option : 3

Q.16 वर्तनी की दृष्टि से कौन-सा शब्द शुद्ध है?

- Ans
- 1. आतिसबाजी
 - 2. ऐतिहासिक
 - 3. अत्याक्षरी
 - 4. उत्तरदाई

Question ID : 65497830615
Status : Answered
Chosen Option : 2

Q.17 दिए गए शब्द का विलोम चुनें।

आरोह

- Ans
- 1. विरह
 - 2. अवरोह
 - 3. समारोह
 - 4. निरीह

Question ID : 65497830603
Status : Answered
Chosen Option : 2

Q.18 निम्न मुहावरे के सही अर्थ को व्यक्त करने वाले विकल्प का चयन करें।

हाथ पैर मारना

- Ans
- 1. छीना झपटी करना
 - 2. तैराकी करना
 - 3. लड़ाई करना
 - 4. प्रयत्न करना

Question ID : 65497830606
Status : Answered
Chosen Option : 4

Q.19 'कटु' का विलोम शब्द होगा-

- Ans
- 1. करुण
 - 2. पटु
 - 3. मधु
 - 4. क्रूर

Question ID : 65497830613
Status : Answered
Chosen Option : 3

Q.20 'जिसकी गहराई का पता न लग सके' वाक्यांश के लिए एक शब्द होगा-

- Ans
- 1. अगाध
 - 2. गहर
 - 3. असाध
 - 4. अबाध

Question ID : 65497830614
Status : Answered
Chosen Option : 1

Comprehension:

श्रद्धा एक (1) _____ भाव है, इससे अपनी श्रद्धा के बदले में हम श्रद्धेय से अपने लिए कोई बात नहीं चाहते। श्रद्धा धारण करते हुए हम अपने को उस (2) _____ में समझते हैं जिस किसी अंश पर - चाहे हम व्यक्ति रूप में उसके अंतर्गत न भी हों - जान-बूझकर उसने कोई शुभ प्रभाव डाला। श्रद्धा स्वयं ऐसे कामों के प्रति होती है जिनका (3) _____ प्रभाव अकेले हम पर नहीं बल्कि सारे (4) _____ समाज पर पड़ सकता है। श्रद्धा एक ऐसी आनंदपूर्ण (5) _____ है जिसे हम केवल समाज के प्रतिनिधिरूप में प्रकट करते हैं।

निम्न प्रश्नों के उत्तर उपरोक्त गद्यांश के आधार पर दीजिए।

SubQuestion No : 21

Q.21 गद्यांश के रिक्त स्थान (1) के लिए सर्वाधिक उपयुक्त शब्द होगा-

- Ans
- 1. राजनीतिक
 - 2. भौगोलिक
 - 3. आर्थिक
 - 4. सामाजिक

Question ID : 65497830620
Status : Answered
Chosen Option : 4

Comprehension:

श्रद्धा एक (1) _____ भाव है, इससे अपनी श्रद्धा के बदले में हम श्रद्धेय से अपने लिए कोई बात नहीं चाहते। श्रद्धा धारण करते हुए हम अपने को उस (2) _____ में समझते हैं जिस किसी अंश पर - चाहे हम व्यक्ति रूप में उसके अंतर्गत न भी हों - जान-बूझकर उसने कोई शुभ प्रभाव डाला। श्रद्धा स्वयं ऐसे कामों के प्रति होती है जिनका (3) _____ प्रभाव अकेले हम पर नहीं बल्कि सारे (4) _____ समाज पर पड़ सकता है। श्रद्धा एक ऐसी आनंदपूर्ण (5) _____ है जिसे हम केवल समाज के प्रतिनिधिरूप में प्रकट करते हैं।

निम्न प्रश्नों के उत्तर उपरोक्त गद्यांश के आधार पर दीजिए।

SubQuestion No : 22

Q.22 गद्यांश के रिक्त स्थान (2) के लिए सर्वाधिक उपयुक्त शब्द होगा-

- Ans** ✓ 1. समाज
✗ 2. नियम
✗ 3. स्वर्ग
✗ 4. अधिकार

Question ID : 65497830621

Status : Answered

Chosen Option : 1

Comprehension:

श्रद्धा एक (1) _____ भाव है, इससे अपनी श्रद्धा के बदले में हम श्रद्धेय से अपने लिए कोई बात नहीं चाहते। श्रद्धा धारण करते हुए हम अपने को उस (2) _____ में समझते हैं जिस किसी अंश पर - चाहे हम व्यक्ति रूप में उसके अंतर्गत न भी हों - जान-बूझकर उसने कोई शुभ प्रभाव डाला। श्रद्धा स्वयं ऐसे कामों के प्रति होती है जिनका (3) _____ प्रभाव अकेले हम पर नहीं बल्कि सारे (4) _____ समाज पर पड़ सकता है। श्रद्धा एक ऐसी आनंदपूर्ण (5) _____ है जिसे हम केवल समाज के प्रतिनिधिरूप में प्रकट करते हैं।

निम्न प्रश्नों के उत्तर उपरोक्त गद्यांश के आधार पर दीजिए।

SubQuestion No : 23

Q.23 गद्यांश के रिक्त स्थान (3) के लिए सर्वाधिक उपयुक्त शब्द होगा-

- Ans** ✗ 1. विचित्र
✓ 2. शुभ
✗ 3. नकारात्मक
✗ 4. अशुभ

Question ID : 65497830622

Status : Answered

Chosen Option : 2

Comprehension:

श्रद्धा एक (1) _____ भाव है, इससे अपनी श्रद्धा के बदले में हम श्रद्धेय से अपने लिए कोई बात नहीं चाहते। श्रद्धा धारण करते हुए हम अपने को उस (2) _____ में समझते हैं जिस किसी अंश पर - चाहे हम व्यक्ति रूप में उसके अंतर्गत न भी हों - जान-बूझकर उसने कोई शुभ प्रभाव डाला। श्रद्धा स्वयं ऐसे कामों के प्रति होती है जिनका (3) _____ प्रभाव अकेले हम पर नहीं बल्कि सारे (4) _____ समाज पर पड़ सकता है। श्रद्धा एक ऐसी आनंदपूर्ण (5) _____ है जिसे हम केवल समाज के प्रतिनिधिरूप में प्रकट करते हैं।

निम्न प्रश्नों के उत्तर उपरोक्त गद्यांश के आधार पर दीजिए।

SubQuestion No : 24

Q.24 गद्यांश के रिक्त स्थान (4) के लिए सर्वाधिक उपयुक्त शब्द होगा-

- Ans
- 1. असुर
 - 2. देव
 - 3. मनुष्य
 - 4. जानवर

Question ID : 65497830623

Status : Answered

Chosen Option : 3

Comprehension:

श्रद्धा एक (1) _____ भाव है, इससे अपनी श्रद्धा के बदले में हम श्रद्धेय से अपने लिए कोई बात नहीं चाहते। श्रद्धा धारण करते हुए हम अपने को उस (2) _____ में समझते हैं जिस किसी अंश पर - चाहे हम व्यक्ति रूप में उसके अंतर्गत न भी हों - जान-बूझकर उसने कोई शुभ प्रभाव डाला। श्रद्धा स्वयं ऐसे कामों के प्रति होती है जिनका (3) _____ प्रभाव अकेले हम पर नहीं बल्कि सारे (4) _____ समाज पर पड़ सकता है। श्रद्धा एक ऐसी आनंदपूर्ण (5) _____ है जिसे हम केवल समाज के प्रतिनिधिरूप में प्रकट करते हैं।

निम्न प्रश्नों के उत्तर उपरोक्त गद्यांश के आधार पर दीजिए।

SubQuestion No : 25

Q.25 गद्यांश के रिक्त स्थान (5) के लिए सर्वाधिक उपयुक्त शब्द होगा-

- Ans
- 1. मूर्खता
 - 2. कृतज्ञता
 - 3. चतुराई
 - 4. धृष्टता

Question ID : 65497830624

Status : Answered

Chosen Option : 2

Constable GD in CAPFs NIA SSF and Rifleman GD in Assam Rifles Examination 2021

Roll Number	www.HaryanaJobs.in
Candidate Name	www.HaryanaJobs.in
Venue Name	ION Digital Zone iDZ Naino Ka Bas
Exam Date	06/12/2021
Exam Time :	12:30 PM - 2:00 PM
Subject	Constable GD 2021

Section : Part A General Intelligence and Reasoning

Q.1 छह मित्र, अजय, नीतू, सीमा, कविता, मनोज और विजय, एक वृत्ताकार मेज के परितः बैठे हैं, उनकी पीठ मेज के केंद्र की ओर है। मनोज, सीमा और नीतू के बीच में बैठा है। अजय, सीमा के बाईं ओर ठीक बगल में बैठा है। कविता, नीतू की पड़ोसी नहीं है। सीमा के दाईं ओर तीसरे स्थान पर कौन बैठा/बैठी है?

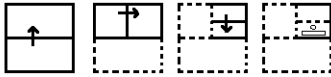
- Ans
- 1. कविता
 - 2. विजय
 - 3. नीतू
 - 4. अजय

Question ID : 65497833932

Status : Answered

Chosen Option : 2

Q.2 कागज के एक टुकड़े को मोड़ने के क्रम और मुड़े हुए कागज को काटने के तरीके को निम्नलिखित आकृतियों में दर्शाया गया है। खोलने पर, यह कागज़ कैसा दिखाई देगा?



Ans

- 1.
- 2.
- 3.
- 4.

Question ID : 65497833946

Status : Answered

Chosen Option : 4

Q.3 'काबुल' का 'अफ़गानिस्तान' से वही संबंध है, जो 'कैनबरा' का '_____ ' से है।

- Ans
- 1. ऑस्ट्रिया
 - 2. ऑस्ट्रेलिया
 - 3. बेल्जियम
 - 4. अर्जेंटीना

Question ID : 65497833931
Status : Answered
Chosen Option : 2


Q.4 उस विकल्प का चयन करें, जिसका तीसरे अक्षर-समूह से वही संबंध है, जो दूसरे अक्षर-समूह का पहले अक्षर-समूह से है।

ATRG : BWSJ :: MQSJ : ?

- Ans
- 1. OSWL
 - 2. PTVN
 - 3. NTTM
 - 4. NRTN

Question ID : 65497833927
Status : Answered
Chosen Option : 3

Q.5 दिए गए विकल्पों में से उस आकृति का चयन कीजिए जो दी गई श्रृंखला में प्रश्न चिह्न (?) के स्थान पर आ सकती है।



- Ans
- 1.
 - 2.
 - 3.
 - 4.

Question ID : 65497833941
Status : Answered
Chosen Option : 1

Q.6 एक परिवार में सात सदस्य S, T, U, V, W, X और Y हैं। पाँच सदस्य अलग-अलग व्यवसायों में अर्थात् शिक्षक, चिकित्सक, नर्स, इंजीनियर और वैज्ञानिक हैं। परिवार में दो विवाहित जोड़े हैं। S चिकित्सक है, जिसका विवाह Y से हुआ है, जो शिक्षक है। W वैज्ञानिक है, जो Y का ससुर है। V और U, S के बच्चे हैं, जो क्रमशः 6वीं और 8वीं कक्षा में पढ़ते हैं। X, T की मां हैं। S, T का भाई है, और T इंजीनियर है। W की पत्नी कौन है?

- Ans
- 1. X
 - 2. Y
 - 3. T
 - 4. S

Question ID : 65497833929
 Status : Answered
 Chosen Option : 1

Q.7 दी गई आकृति के सही दर्पण प्रतिबिंब का चयन करें, जो दर्पण को दी गई आकृति की दाईं ओर रखने पर बनेगा।

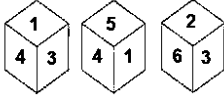


Ans

- 1.
- 2.
- 3.
- 4.

Question ID : 65497833937
 Status : Answered
 Chosen Option : 4

Q.8 एक ही पासे की तीन अलग-अलग स्थितियाँ दर्शाई गई हैं, जिसके छह फलकों पर 1 से 6 तक अंक दिए गए हैं। उस संख्या का चयन करें, जो अंक '3' वाले फलक के विपरीत फलक पर होगी।



- Ans
- 1. 1
 - 2. 6
 - 3. 2
 - 4. 5

Question ID : 65497833950
Status : Answered
Chosen Option : 4

Q.9 उस विकल्प का चयन कीजिए, जिसका तीसरी संख्या से वही संबंध है, जो दूसरी संख्या का पहली संख्या से है और छठी संख्या का पांचवीं संख्या से है।

48 : 32 :: 73 : ? :: 25 : 10

- Ans
- 1. 21
 - 2. 11
 - 3. 7
 - 4. 13

Question ID : 65497833948
Status : Not Answered
Chosen Option : --

Q.10 एक निश्चित कूट भाषा में, 'BATTLE' को '4240402410' लिखा जाता है। उसी कूट भाषा में 'KINGDOM' को किस प्रकार लिखा जाएगा?

- Ans
- 1. 2219281583026
 - 2. 2218291483026
 - 3. 2219281483026
 - 4. 2218281483026

Question ID : 65497833935
Status : Answered
Chosen Option : 4

Q.11 दिए गए समीकरण को सही करने के लिए किन दो चिह्नों को आपस में बदला जाना चाहिए?

$63 \div 21 - 7 + 28 \times 3 = 144$

- Ans
- 1. + और -
 - 2. + और -
 - 3. + और +
 - 4. × और +

Question ID : 65497833949
Status : Answered
Chosen Option : 1

Q.12 उस अक्षर संयोजन का चयन करें, जिसे दी गई श्रृंखला के रिक्त स्थानों में क्रमिक रूप से रखे जाने पर श्रृंखला पूर्ण हो जाएगी।

K_TQ_KPT_R_PTQ_KP_QR

- Ans
- 1. P, R, T, P, K, Q
 - 2. P, K, R, Q, R, T
 - 3. P, K, Q, R, T, R
 - 4. P, R, Q, K, R, T

Question ID : 65497833939
Status : Answered
Chosen Option : 4

Q.13 एक निश्चित कूट भाषा में FAX को EGZBWY लिखा जाता है। उसी कूट भाषा में SKIN को किस प्रकार लिखा जाएगा?

- Ans
- 1. RTJLHLMP
 - 2. RTJMHJMO
 - 3. RTJLHJLO
 - 4. RTJLHJMO

Question ID : 65497833942
Status : Answered
Chosen Option : 4

Q.14 दिए गए कथनों और निष्कर्षों को ध्यानपूर्वक पढ़ें। कथनों में दी गई जानकारी को सत्य मानते हुए विचार करें, भले ही वह सामान्यतः ज्ञात तथ्यों से भिन्न प्रतीत होती हो, और तय करें कि दिए गए निष्कर्षों में से कौन से कथनों का तार्किक रूप से पालन करते हैं?

कथन:

कोई रचनात्मक नियोक्ता नहीं है।
सभी विशेषज्ञ रचनात्मक हैं।
सभी कर्मचारी विशेषज्ञ हैं।

निष्कर्ष:

I. कोई नियोक्ता विशेषज्ञ नहीं है।
II. कोई कर्मचारी नियोक्ता नहीं है।

- Ans
- 1. केवल निष्कर्ष I पालन करता है।
 - 2. केवल निष्कर्ष II पालन करता है।
 - 3. न तो निष्कर्ष I और न ही II पालन करता है।
 - 4. निष्कर्ष I और II दोनों ही पालन करते हैं।

Question ID : 65497833943
Status : Answered
Chosen Option : 4

Q.15 एक निश्चित कूट भाषा में, 'ROSE IS RED' को 'tic ric sic' लिखा जाता है, 'SKY IS BLUE' को 'vic ric fic', लिखा जाता है, और 'DANGER SIGNALS ARE RED' को 'mic nic tic kic' लिखा जाता है। उसी कूट भाषा में 'ROSE' को किस प्रकार लिखा जाएगा?

- Ans
- 1. ric
 - 2. tic
 - 3. sic
 - 4. fic

Question ID : 65497833928
Status : Answered
Chosen Option : 3

Q.16 चार अक्षर-समूह दिए गए हैं, जिनमें से तीन किसी तरह से संगत हैं और एक असंगत है। असंगत अक्षर-समूह का चयन कीजिए।

- Ans
- 1. RWY
 - 2. LQS
 - 3. FKM
 - 4. RXZ

Question ID : 65497833934
Status : Answered
Chosen Option : 4

Q.17 उस सही विकल्प का चयन कीजिए, जो दिए गए शब्दों के उस क्रम को दर्शाता है जिस क्रम में वे अंग्रेजी शब्दकोश में मौजूद होते हैं।

1. Modification
2. Migraine
3. Midstream
4. Modernize
5. Marvellous

- Ans
- 1. 5, 3, 2, 4, 1
 - 2. 5, 2, 3, 4, 1
 - 3. 5, 3, 1, 4, 2
 - 4. 5, 2, 1, 4, 3

Question ID : 65497833938
Status : Answered
Chosen Option : 1

Q.18 उस विकल्प का चयन करें, जिसमें दी गई आकृति अंतर्निहित है (आकृति को घुमाने की अनुमति नहीं है)।



Ans

✓ 1.



✗ 2.



✗ 3.



✗ 4.



Question ID : 65497833951

Status : Answered

Chosen Option : 1

Q.19 सात मित्र एक वृत्ताकार मेज के इर्द-गिर्द केंद्र की ओर मुख करके बैठे हैं। राज, सचिन के बाईं ओर दूसरे स्थान पर बैठा है। दीनू, कृप और वीर के बीच में बैठा है। दीनू, सचिन के दाईं ओर दूसरे स्थान पर बैठा है। राज, वीर के दाईं ओर चौथे स्थान पर बैठा है। राँकी, सैम के दाईं ओर दूसरे स्थान पर बैठा है। वीर के बाईं ओर दूसरे स्थान पर कौन बैठा है?

Ans

✓ 1. राँकी

✗ 2. राज

✗ 3. सैम

✗ 4. दीनू

Question ID : 65497833947

Status : Answered

Chosen Option : 1

Q.20 दिए गए विकल्पों में से उस अक्षर-समूह का चयन कीजिए, जो निम्नलिखित श्रृंखला में प्रश्न चिह्न (?) के स्थान पर आ सकता है।

FDG, IIL, LNQ, ?

Ans

✗ 1. OST

✗ 2. RVT

✓ 3. OSV

✗ 4. SWZ

Question ID : 65497833930

Status : Answered

Chosen Option : 3

Q.21 उस विकल्प का चयन करें, जिसमें दी गई संख्याओं के बीच वही संबंध है, जो दिए गए समूह की संख्याओं के बीच है।

44, 70, 57

Ans ✓ 1. 34, 68, 51

✗ 2. 46, 80, 70

✗ 3. 28, 56, 112

✗ 4. 32, 50, 46

Question ID : 65497833944

Status : Answered

Chosen Option : 1

Q.22 दिए गए विकल्पों में से उस संख्या का चयन कीजिए, जो निम्नलिखित श्रेणी में प्रश्न चिह्न (?) के स्थान पर आ सकती है।

11, 19, 59, 115, 347, ?

Ans ✗ 1. 619

✗ 2. 679

✓ 3. 691

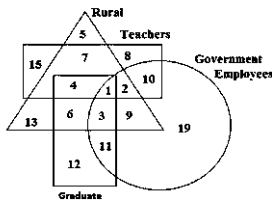
✗ 4. 697

Question ID : 65497833940

Status : Answered

Chosen Option : 3

Q.23 दिए गए आरेख का ध्यानपूर्वक अध्ययन करें और निम्न प्रश्न का उत्तर दें।



उन ग्रामीण सरकारी शिक्षकों (Rural Government Teachers) की संख्या क्या है, जो स्नातक (Graduate) नहीं हैं?

Ans ✓ 1. 2

✗ 2. 9

✗ 3. 1

✗ 4. 3

Question ID : 65497833933

Status : Answered

Chosen Option : 1

Q.24 अनुज के दादा की आयु, अनुज की आयु की 4 गुनी है। अनुज की दादी की आयु, उसके दादा की आयु से 5 वर्ष कम है। अनुज की दादी और दादा की आयु का योग 107 वर्ष है। अनुज की आयु कितनी है?

- Ans
- 1. 18 वर्ष
 - 2. 12 वर्ष
 - 3. 14 वर्ष
 - 4. 16 वर्ष

Question ID : 65497833945
Status : Answered
Chosen Option : 3

Q.25 दिए गए विकल्पों में से उस संख्या का चयन कीजिए, जो निम्नलिखित श्रेणी में प्रश्न चिह्न (?) के स्थान पर आ सकती है।

1, 9, 36, 100, ?

- Ans
- 1. 196
 - 2. 169
 - 3. 144
 - 4. 225

Question ID : 65497833936
Status : Answered
Chosen Option : 4

Section : Part B General Knowledge and General Awareness

Q.1 पहला भारतीय वाणिज्यिक बैंक, जिसका पूर्ण स्वामित्व और प्रबंधन भारतीयों के हाथों में था, _____ में स्थापित किया गया था।

- Ans
- 1. 1948
 - 2. 1950
 - 3. 1919
 - 4. 1911

Question ID : 65497833971
Status : Answered
Chosen Option : 2

Q.2 नवंबर 2020 में, भारतीय नौसेना की पांचवीं स्कॉर्पिन (Scorpene) श्रेणी की पनडुब्बी _____ मुंबई के मझगांव डॉक में जलावतरित की गई।

- Ans
- 1. खंडेरी
 - 2. वागीर
 - 3. वेला
 - 4. वागशीर

Question ID : 65497833956
Status : Answered
Chosen Option : 2

Q.3 देवी अम्बा निम्न में से किस नृत्य/नाटक प्रदर्शनों की अधिष्ठात्री देवी है?

- Ans
- 1. भवाई (Bhavai)
 - 2. हरिकथा (Harikatha)
 - 3. तेय्यम (Theyyam)
 - 4. माच (Maach)

Question ID : 65497833973
Status : Not Answered
Chosen Option : --

Q.4 नवंबर 2020 में भारतीय रिज़र्व बैंक द्वारा निम्नलिखित में से किस बैंक को एक महीने की अवधि के लिए अधिस्थगन (moratorium) के तहत रखा गया था?

- Ans
- 1. नॉर्थ कनारा गौड़ सारस्वत को-ऑपरेटिव बैंक लिमिटेड
 - 2. श्रमिक सहकारी बैंक लिमिटेड
 - 3. कोकण मर्केटाइल को-ऑपरेटिव बैंक लिमिटेड
 - 4. लक्ष्मी विलास बैंक लिमिटेड

Question ID : 65497833967
Status : Not Answered
Chosen Option : --

Q.5 इनमें से कौन भू-संसाधनों के उत्पादक और उपभोक्ता है?

- Ans
- 1. पौधे
 - 2. सरीसृप
 - 3. मानव
 - 4. ग्रह

Question ID : 65497833965
Status : Answered
Chosen Option : 2

Q.6 'चेजिंग इंडिया' नामक पुस्तक के लेखक कौन हैं?

- Ans
- 1. शशि थरूर
 - 2. सत्यार्थ नायक
 - 3. अभिषेक मनु सिंघवी
 - 4. मनमोहन सिंह

Question ID : 65497833963
Status : Not Answered
Chosen Option : --

Q.7 चंपानेर-पावागढ़ पुरातात्विक उद्यान किस राज्य में स्थित है?

- Ans
- 1. मध्य प्रदेश
 - 2. उत्तर प्रदेश
 - 3. राजस्थान
 - 4. गुजरात

Question ID : 65497833961
Status : Answered
Chosen Option : 1

Q.8 नवंबर 2020 में रविशंकर प्रसाद द्वारा विदेश मंत्रालय के साथ समन्वय में उमंग (UMANG) मोबाइल ऐप के अंतर्राष्ट्रीय संस्करण को कितने देशों में लांच किया गया था?

- Ans
- 1. 9
 - 2. 5
 - 3. 2
 - 4. 6

Question ID : 65497833958
Status : Not Answered
Chosen Option : --

Q.9 निम्नलिखित में से कौन सा खेल 'कॉन्केकैफ़ गोल्ड कप' ('CONCACAF Gold Cup') से संबंधित है?

- Ans
- 1. वॉलीबॉल
 - 2. बास्केटबॉल
 - 3. फ़ुटबॉल
 - 4. बेसबॉल

Question ID : 65497833964
Status : Not Answered
Chosen Option : --

Q.10 'प्रयाग प्रशस्ति' _____ में संकलित की गई थी।

- Ans
- 1. हिन्दी
 - 2. पाली
 - 3. संस्कृत
 - 4. प्राकृत

Question ID : 65497833954
Status : Answered
Chosen Option : 4

Q.11 दिलवाड़ा और जरगा पर्वत चोटियां निम्नलिखित में से किस राज्य में स्थित हैं?

- Ans
- 1. मध्य प्रदेश
 - 2. गुजरात
 - 3. राजस्थान
 - 4. हरियाणा

Question ID : 65497833960
Status : Answered
Chosen Option : 3

Q.12 चंदावर की लड़ाई मोहम्मद गोरी और _____ वंश के कन्नौज के जयचंद के बीच हुई थी।

- Ans
- 1. चौहान
 - 2. गुप्त
 - 3. बैक्ट्रियन
 - 4. गहड़वाल

Question ID : 65497833969
Status : Answered
Chosen Option : 4

Q.13 संयुक्त राष्ट्र (UN), प्रतिवर्ष किस दिन, नीले आसमान के लिए अंतर्राष्ट्रीय स्वच्छ वायु दिवस (International Day of Clean Air for blue skies) मनाता है?

- Ans
- 1. 7 सितंबर
 - 2. 30 जून
 - 3. 23 दिसंबर
 - 4. 15 मार्च

Question ID : 65497833974
Status : Answered
Chosen Option : 2

Q.14 निम्नलिखित में से किस क्रिकेट खिलाड़ी ने नवंबर 2020 में खेल के सभी प्रारूपों से संन्यास लेने की घोषणा की थी?

- Ans
- 1. सुदीप त्यागी
 - 2. एम.एस. धोनी
 - 3. शिखर धवन
 - 4. ईशांत शर्मा

Question ID : 65497833959
Status : Answered
Chosen Option : 2

Q.15 चुनाव के समय राजनीतिक दलों और चुनाव लड़ने वाले उम्मीदवारों द्वारा अनुपालित किए जाने वाले मानदंडों और दिशानिर्देशों का संकलन _____ कहलाता है।

- Ans
- 1. खंड (clause)
 - 2. आचार संहिता (code of conduct)
 - 3. मसौदा (draft)
 - 4. विधायिका (legislature)

Question ID : 65497833957
Status : Answered
Chosen Option : 2

Q.16 भारतीय नौसेना और रूसी नौसेना ने _____ 2020 नामक द्विपक्षीय समुद्री अभ्यास के 11वें संस्करण की शुरुआत की।

- Ans
- 1. इंडिया नेवी
 - 2. मर्चेट नेवी
 - 3. इंद्र नेवी
 - 4. कोस्टल नेवी

Question ID : 65497833970
Status : Answered
Chosen Option : 2

Q.17 निम्नलिखित में से किस संगठन ने 16 अगस्त 1946 को सीधी कार्यवाही का दिवस घोषित किया?

- Ans
- 1. भारतीय राष्ट्रीय कांग्रेस
 - 2. अवध किसान सभा
 - 3. मुस्लिम लीग
 - 4. स्वराज पार्टी

Question ID : 65497833953
Status : Answered
Chosen Option : 1

Q.18 एक रासायनिक अभिक्रिया में, _____ जल के साथ तीव्रता से अभिक्रिया करके कैल्शियम हाइड्रॉक्साइड उत्पन्न करता है और भारी मात्रा में ऊष्मा मुक्त होती है।

- Ans
- 1. कैल्शियम क्लोराइड
 - 2. कैल्शियम ऑक्साइड
 - 3. कैल्शियम सल्फेट
 - 4. कैल्शियम परॉक्साइड

Question ID : 65497833975
Status : Answered
Chosen Option : 1

Q.19 माइकल फेल्प्स किस खेल से संबंधित है?

- Ans
- 1. तैराकी
 - 2. जिम्नास्टिक
 - 3. लॉन टेनिस
 - 4. बैडमिंटन

Question ID : 65497833966
Status : Answered
Chosen Option : 1

Q.20 2011 की जनगणना के अनुसार, निम्नलिखित में से किस राज्य का जनसंख्या घनत्व 800 से अधिक था?

- Ans
- 1. महाराष्ट्र
 - 2. केरल
 - 3. हरियाणा
 - 4. कर्नाटक

Question ID : 65497833962
Status : Answered
Chosen Option : 1

Q.21 लोकप्रिय बालिका बचत योजना 'सुकन्या समृद्धि योजना' के तहत, वर्तमान में आवश्यक न्यूनतम वार्षिक जमा राशि कितनी है?

- Ans
- 1. ₹500
 - 2. ₹1,000
 - 3. ₹250
 - 4. ₹2,000

Question ID : 65497833952
Status : Answered
Chosen Option : 2

Q.22 भारत सरकार ने 'केंद्रीय ग्रामीण स्वच्छता कार्यक्रम' ('CRSP') का शुभारंभ किस वर्ष किया?

- Ans
- 1. 1990
 - 2. 1982
 - 3. 1978
 - 4. 1986

Question ID : 65497833968
Status : Not Answered
Chosen Option : --

Q.23 712 ई. में भारत पर हुए अरब आक्रमण का नेतृत्व _____ ने किया था।

- Ans
- 1. मुहम्मद बख्तियार खिलजी
 - 2. मुहम्मद बिन कासिम
 - 3. मुहम्मद शायबानी खान
 - 4. नसीर-उद-दीन मुहम्मद शाह

Question ID : 65497833972
Status : Answered
Chosen Option : 2

Q.24 74वें कान फिल्म समारोह में सर्वश्रेष्ठ डाक्यूमेंट्री के लिए ओइल डी'ओर (द गोल्डन आई) [Oeil d'or (The Golden Eye)] पुरस्कार निम्न में से किसे प्रदान किया गया?

- Ans
- 1. कैसाब्लांका बीट्स (Casablanca Beats)
 - 2. टाइटान (Titane)
 - 3. द रेड वेलवेट अंडरग्राउंड (The Red Velvet Underground)
 - 4. अ नाईट ऑफ़ नोइंग नथिंग (A Night of Knowing Nothing)

Question ID : 65497833976
Status : Not Answered
Chosen Option : --

Q.25 भारत में चुनाव सुधारों के संदर्भ में, VVPAT में 'T' का क्या अभिप्राय है?

- Ans
- 1. ट्रेट (Trait)
 - 2. टेक्स्ट (Text)
 - 3. ट्रस्ट (Trust)
 - 4. ट्रेल (Trail)

Question ID : 65497833955
Status : Answered
Chosen Option : 2

Section : Part C Elementary Mathematics

Q.1 संख्याओं 15, 20, 25 और 30 के लघुत्तम समापवर्त्य (LCM) और महत्तम समापवर्तक (HCF) का योग ज्ञात कीजिए।

- Ans
- 1. 125
 - 2. 305
 - 3. 50
 - 4. 1500

Question ID : 65497833998
Status : Answered
Chosen Option : 2

Q.2 ₹1,25,000 की धनराशि पर 15% वार्षिक ब्याज की दर पर 2 वर्ष का चक्रवृद्धि ब्याज ज्ञात कीजिए, यदि ब्याज की गणना 8-मासिक चक्रवृद्धि आधार पर की जाती है।

- Ans
- 1. ₹43,175
 - 2. ₹41,475
 - 3. ₹43,475
 - 4. ₹41,375

Question ID : 65497833991
Status : Answered
Chosen Option : 4

Q.3 गीता ने एक बैंक में 5% वार्षिक चक्रवृद्धि ब्याज पर ₹64,000 जमा किए, जिस पर ब्याज की गणना वार्षिक चक्रवृद्धि आधार पर की जाती है। 1 वर्ष 6 माह के बाद अर्जित ब्याज (₹ में) ज्ञात कीजिए।

- Ans
- 1. 4,880
 - 2. 4,850
 - 3. 4,800
 - 4. 4,900

Question ID : 65497834001
Status : Answered
Chosen Option : 1

Q.4 एक विलयन A में अम्ल और जल का अनुपात 1 : 5 है और विलयन B में अम्ल और जल का अनुपात 2 : 7 है। यदि दोनों विलयनों को समान मात्रा में मिश्रित किया जाता है, तो इस प्रकार बने गए विलयन में अम्ल और जल का अनुपात ज्ञात कीजिए।

- Ans
- ✓ 1. 7 : 29
 - ✗ 2. 1 : 4
 - ✗ 3. 3 : 10
 - ✗ 4. 21 : 29

Question ID : 65497834000
Status : Answered
Chosen Option : 1

Q.5 5 सबसे छोटी अभाज्य संख्याओं का औसत ज्ञात कीजिए।

- Ans
- ✗ 1. 7.8
 - ✓ 2. 5.6
 - ✗ 3. 7
 - ✗ 4. 3.6

Question ID : 65497833999
Status : Answered
Chosen Option : 2

Q.6 एक वस्तु का अंकित मूल्य ₹750 है। यदि इसे 16% की छूट पर बेचा जाता है, तो इसका विक्रय मूल्य, इसके क्रय मूल्य के $\frac{3}{2}$ गुने के बराबर होता है। वस्तु का क्रय मूल्य ज्ञात कीजिए।

- Ans
- ✗ 1. ₹450
 - ✓ 2. ₹420
 - ✗ 3. ₹320
 - ✗ 4. ₹440

Question ID : 65497833983
Status : Answered
Chosen Option : 2

Q.7 किसी कार्य को पूरा करने में A को B से 10 दिन अधिक समय लगता है। उन्होंने 5 दिन तक साथ मिलकर कार्य किया और कार्य का $\frac{8}{15}$ भाग पूरा कर लिया। उस संपूर्ण कार्य को अकेले पूरा करने में B को कितना समय लगेगा?

- Ans
- ✗ 1. 14 दिन
 - ✓ 2. 15 दिन
 - ✗ 3. 12 दिन
 - ✗ 4. 16 दिन

Question ID : 65497833985
Status : Answered
Chosen Option : 2

Q.8 एक त्रिभुजाकार पार्क की भुजाएँ 60 m, 297 m और 303 m हैं। इसका क्षेत्रफल एक वर्गाकार बगीचे के क्षेत्रफल के बराबर है। बगीचे का परिमाण (m में) ज्ञात करें।

- Ans
- 1. $18\sqrt{110}$
 - 2. $9\sqrt{330}$
 - 3. $18\sqrt{330}$
 - 4. $36\sqrt{110}$

Question ID : 65497833992
Status : Answered
Chosen Option : 4

Q.9 एक ट्रेन 56 km की दूरी 40 मिनट में तय करती है। यदि इसकी चाल में 9 km/h की कमी हो जाए, तो 225 km की दूरी तय करने में इसे कितना समय लगेगा?

- Ans
- 1. 3 घंटे
 - 2. 5 घंटे
 - 3. 6 घंटे
 - 4. 4 घंटे

Question ID : 65497833986
Status : Answered
Chosen Option : 1

Q.10 एक दुकानदार को 30 वस्तुएं बेचने पर, 8 वस्तुओं के विक्रय मूल्य के बराबर लाभ होता है। उसका प्रतिशत लाभ ज्ञात करें।

- Ans
- 1. $16\frac{4}{11}$
 - 2. $21\frac{4}{11}$
 - 3. $36\frac{4}{11}$
 - 4. $45\frac{4}{11}$

Question ID : 65497833980
Status : Answered
Chosen Option : 3

Q.11 किसी समांतर चतुर्भुज की आसन्न भुजाएं 10 cm और 15 cm हैं। यदि छोटी भुजाओं के बीच की दूरी 6 cm है, तो उसकी लंबी भुजाओं के बीच की दूरी कितनी है?

- Ans
- 1. 25 cm
 - 2. 18 cm
 - 3. 4 cm
 - 4. 9 cm

Question ID : 65497833978
Status : Answered
Chosen Option : 3

Q.12 यदि $(2x + 3y) : (3y - 2x) = 3 : 1$ है, तो $(3x + 4y) : (3x - y)$ का मान क्या होगा?

- Ans
- 1. 4 : 1
 - 2. 7 : 2
 - 3. 5 : 1
 - 4. 5 : 2

Question ID : 65497833990
Status : Answered
Chosen Option : 3

Q.13 एक ट्रेन 10 मिनट में, 14 km की दूरी तय करती है। यदि उसकी चाल में 4 km/h की कमी कर दी जाती है, तो उसे उतनी ही दूरी तय करने में कितना समय लगेगा?

- Ans
- 1. $12\frac{2}{3}$ मिनट
 - 2. 10 मिनट
 - 3. $10\frac{1}{2}$ मिनट
 - 4. 11 मिनट

Question ID : 65497833994
Status : Answered
Chosen Option : 3

Q.14 A किसी कार्य के 60% भाग को 6 दिनों में पूरा कर सकता है और B उसी कार्य को 15 दिनों में पूरा कर सकता है। वे 3 दिनों तक एक साथ मिलकर कार्य करते हैं। शेष कार्य को अकेले C द्वारा 12 दिनों में पूरा किया जाता है। अकेला C इसी कार्य के $\frac{1}{8}$ भाग को कितने दिनों में पूरा करेगा?

- Ans
- 1. 12
 - 2. 6
 - 3. 3
 - 4. 8

Question ID : 65497833981
Status : Answered
Chosen Option : 3

Q.15 $5 \times 3 \div 3 \text{ of } 6 - 8 \div 2 \times (3 - 5) + 3 - 2 \times 4 \div 6 \text{ of } \frac{1}{2}$ का मान ज्ञात कीजिए।

- Ans
- 1. $\frac{65}{6}$
 - 2. $\frac{85}{6}$
 - 3. $\frac{55}{6}$
 - 4. $\frac{35}{6}$

Question ID : 65497833993
Status : Answered
Chosen Option : 3

Q.16 किसी स्टोर में लाभ, क्रय मूल्य के 120% के बराबर है। यदि क्रय मूल्य में 20% की वृद्धि होती है, किंतु विक्रय मूल्य समान बना रहता है, तो इस स्थिति में प्राप्त लाभ, विक्रय मूल्य के लगभग कितने प्रतिशत के बराबर होगा?

- Ans
- 1. 64.54%
 - 2. 54%
 - 3. 50.4%
 - 4. 45.45%

Question ID : 65497833987
Status : Answered
Chosen Option : 4

Q.17 यदि $x^2 : y^2 = 4 : 9$ और $2 : x = 1 : 2$ है, तो y का मान ज्ञात करें।

- Ans
- 1. 3
 - 2. 9
 - 3. 18
 - 4. 6

Question ID : 65497833977
Status : Answered
Chosen Option : 4

Q.18 $4 \times 6 \div 4$ of $6 - 6 \div 2 \times (4 - 6) + 4 + 2 \times 3 \div 6$ of $\frac{1}{3}$ का मान ज्ञात करें।

- Ans
- 1. 11
 - 2. 9
 - 3. 14
 - 4. 7

Question ID : 65497833979
Status : Answered
Chosen Option : 3

Q.19 यदि दो क्रमागत विषम प्राकृत संख्याओं के वर्गों का औसत 145 है, तो इन दो संख्याओं का औसत क्या होगा?

- Ans
- 1. 10
 - 2. 16
 - 3. 14
 - 4. 12

Question ID : 65497833982
Status : Answered
Chosen Option : 4

Q.20 दो धनात्मक संख्याओं x और y का अंतर, x के 25% के बराबर है, जहां $x > y$ है। यदि y का मान 15 है, तो x का मान ज्ञात कीजिए।

- Ans
- 1. 20
 - 2. 25
 - 3. 15
 - 4. 18

Question ID : 65497833984
Status : Answered
Chosen Option : 1

Q.21 यदि कोई दुकानदार ₹500 के अंकित मूल्य वाले पेन पर 30% की छूट देता है और फिर 10% की एक और छूट देता है, तो पेन का विक्रय मूल्य कितना होगा?

- Ans
- 1. ₹305
 - 2. ₹310
 - 3. ₹315
 - 4. ₹215

Question ID : 65497833989
Status : Answered
Chosen Option : 3

Q.22 रवीना अपनी मासिक आय का $16\frac{2}{3}\%$ बचाती है। जब उसका मासिक व्यय 10% बढ़ जाता है (आय समान रहती है), तो वह एक महीने में ₹1,275 बचा पाती है। उसकी मासिक आय (₹ में) कितनी है?

- Ans
- 1. 15,500
 - 2. 16,400
 - 3. 15,300
 - 4. 16,800

Question ID : 65497833996
Status : Answered
Chosen Option : 3

Q.23 767, 1003 और 2773 का महत्तम समापवर्तक (HCF) x है। x का मान निम्न में से किन संख्याओं के बीच होगा?

- Ans
- 1. 60 और 65
 - 2. 50 और 55
 - 3. 45 और 50
 - 4. 55 और 60

Question ID : 65497833995
Status : Answered
Chosen Option : 4

Q.24 कोई धनराशि एक निश्चित साधारण व्याज दर पर 3 वर्ष में ₹820 हो जाती है और 4 वर्ष में ₹894 हो जाती है। 9 वर्ष बाद संचित व्याज कितना होगा?

- Ans
- 1. ₹766
 - 2. ₹686
 - 3. ₹666
 - 4. ₹676

Question ID : 65497833988
Status : Answered
Chosen Option : 3

Q.25 एक खिलौने का क्रय मूल्य ₹375 है। एक दुकानदार 12 खिलौनों को 20% के लाभ पर और 8 खिलौनों को 10% की हानि पर बेचता है। यदि वह सभी 20 खिलौनों को 9% लाभ पर बेचता, तो उसके कुल लाभ पर क्या प्रभाव होता?

- Ans
- 1. ₹75 बढ़ जाता
 - 2. ₹50 बढ़ जाता
 - 3. ₹65 घट जाता
 - 4. ₹55 घट जाता

Question ID : 65497833997
Status : Answered
Chosen Option : 1

Q.1 Select the option that can be used as a one-word substitute for the given group of words.

A deep-seated feeling of aversion

- Ans**
- 1. Sympathy
 - 2. Empathy
 - 3. Allopathy
 - 4. Antipathy

Question ID : **65497834012**
Status : **Not Answered**
Chosen Option : --

Q.2 Select the **INCORRECTLY** spelt word.

- Ans**
- 1. Futile
 - 2. Future
 - 3. Furnace
 - 4. Fertile

Question ID : **65497834020**
Status : **Not Answered**
Chosen Option : --

Q.3 Select the option that can be used as a one-word substitute for the given group of words.

Not easily excited or upset

- Ans**
- 1. Indecent
 - 2. Serious
 - 3. Placid
 - 4. Peaceful

Question ID : **65497834016**
Status : **Not Answered**
Chosen Option : --

Q.4 Select the option that can be used as a one-word substitute for the given group of words.

Animals living in the sea only

- Ans**
- 1. Cannibal
 - 2. Rodent
 - 3. Marine
 - 4. Ovine

Question ID : **65497834002**
Status : **Not Answered**
Chosen Option : --

Q.5 Select the most appropriate option that can substitute the underlined segment in the given sentence. If there is no need to substitute it, select 'No substitution required.'

In few words, he expressed his gratitude to me.

- Ans**
- 1. little
 - 2. No substitution required
 - 3. the few
 - 4. a few

Question ID : 65497834009
Status : Not Answered
Chosen Option : --

Q.6 Select the INCORRECTLY spelt word.

- Ans**
- 1. Procure
 - 2. Massacre
 - 3. Mediocher
 - 4. Mediocre

Question ID : 65497834017
Status : Not Answered
Chosen Option : --

Q.7 Select the most appropriate ANTONYM of the given word.

Emerge

- Ans**
- 1. Evolve
 - 2. Terminate
 - 3. Progress
 - 4. Disappear

Question ID : 65497834015
Status : Not Answered
Chosen Option : --

Q.8 Parts of the given sentence have been given as options. One of them contains a grammatical error. Select the option that has the error.

Jim Corbett's books bringing to light the beauty of life amidst nature.

- Ans**
- 1. Jim Corbett's books
 - 2. amidst nature
 - 3. beauty of life
 - 4. bringing to light

Question ID : 65497834010
Status : Not Answered
Chosen Option : --

Q.9 The following sentence has been split into four segments. Identify the segment that contains a grammatical error.

Which route / on the highway / have been blocked / by the police?

- Ans**
- 1. on the highway
 - 2. by the police
 - 3. have been blocked
 - 4. Which route

Question ID : 65497834006
Status : Not Answered
Chosen Option : --

Q.10 The following sentence has been split into four segments. Identify the segment that contains a grammatical error.

The use of the animal power / is now considered / by many people / to be archaic and inefficient.

- Ans**
- 1. is now considered
 - 2. by many people
 - 3. to be archaic and inefficient
 - 4. The use of the animal power

Question ID : 65497834014
Status : Not Answered
Chosen Option : --

Q.11 Select the most appropriate meaning of the given idiom.

A dog's life

- Ans**
- 1. A luxurious life
 - 2. A sheltered life
 - 3. A miserable life
 - 4. A meaningful life

Question ID : 65497834018
Status : Not Answered
Chosen Option : --

Q.12 Select the most appropriate ANTONYM of the given word.

Regret

- Ans**
- 1. Contentment
 - 2. Dissatisfaction
 - 3. Impatience
 - 4. Irritation

Question ID : 65497834005
Status : Not Answered
Chosen Option : --

Q.13 Select the most appropriate option to fill in the blank.

He _____ to find a second-hand book in a shop.

- Ans
- 1. handled
 - 2. managed
 - 3. trained
 - 4. achieved

Question ID : 65497834021
Status : Not Answered
Chosen Option : --

Q.14 Select the most appropriate synonym of the given word.

Hamper

- Ans
- 1. Loosen
 - 2. Explain
 - 3. Hinder
 - 4. Permit

Question ID : 65497834007
Status : Not Answered
Chosen Option : --

Q.15 Select the most appropriate synonym of the given word.

Bonanza

- Ans
- 1. Bonus
 - 2. Bane
 - 3. Bump
 - 4. Brink

Question ID : 65497834011
Status : Not Answered
Chosen Option : --

Q.16 Select the most appropriate option that can substitute the underlined word in the given sentence.

Indian's secularism and frequency serve as a role model to other developing countries.

- Ans
- 1. constantly
 - 2. illiteracy
 - 3. supremacy
 - 4. democracy

Question ID : 65497834003
Status : Not Answered
Chosen Option : --

Q.17 Select the most appropriate option to fill in the blank.

You must take your medicine _____.

- Ans 1. regularly
 2. usually
 3. constantly
 4. commonly

Question ID : 65497834019
Status : Not Answered
Chosen Option : --

Q.18 Select the most appropriate option that can substitute the underlined segment in the given sentence. If there is no need to substitute it, select 'No substitution required'.

The news are true.

- Ans 1. No substitution required
 2. news has true
 3. news are being true
 4. news is true

Question ID : 65497834013
Status : Not Answered
Chosen Option : --

Q.19 Select the most appropriate meaning of the given idiom.

To catch someone's fancy

- Ans 1. To appeal to someone
 2. To catch an infection
 3. To imagine things
 4. To dress up fashionably

Question ID : 65497834008
Status : Not Answered
Chosen Option : --

Q.20 Select the most appropriate option to fill in the blank.

Rima declared that she doesn't have much _____, just two bags.

- Ans 1. information
 2. luggage
 3. furniture
 4. burden

Question ID : 65497834004
Status : Not Answered
Chosen Option : --

Comprehension:

In the following passage, some words have been deleted. Read the passage carefully and select the most appropriate option to fill in each blank.

Mother Teresa was a humanitarian because she (1)_____ her entire life to the service of the sick and the (2)_____. She joined the sisters of Loreto at the age of 18 to (3)_____ a missionary in India. She started her missionary work in Darjeeling and (4)_____ the local language, Bengali. She soon took her vows (5)_____ a nun and also took the name, Teresa.

SubQuestion No : 21

Q.21 Select the most appropriate option to fill in blank no.1.

- Ans**
- 1. depleted
 - 2. devoted
 - 3. deputed
 - 4. destined

Question ID : **65497834023**
Status : **Not Answered**
Chosen Option : --

Comprehension:

In the following passage, some words have been deleted. Read the passage carefully and select the most appropriate option to fill in each blank.

Mother Teresa was a humanitarian because she (1)_____ her entire life to the service of the sick and the (2)_____. She joined the sisters of Loreto at the age of 18 to (3)_____ a missionary in India. She started her missionary work in Darjeeling and (4)_____ the local language, Bengali. She soon took her vows (5)_____ a nun and also took the name, Teresa.

SubQuestion No : 22

Q.22 Select the most appropriate option to fill in blank no.2.

- Ans**
- 1. abandoned
 - 2. separated
 - 3. dropped
 - 4. vacated

Question ID : **65497834024**
Status : **Not Answered**
Chosen Option : --

Comprehension:

In the following passage, some words have been deleted. Read the passage carefully and select the most appropriate option to fill in each blank.

Mother Teresa was a humanitarian because she (1)_____ her entire life to the service of the sick and the (2)_____. She joined the sisters of Loreto at the age of 18 to (3)_____ a missionary in India. She started her missionary work in Darjeeling and (4)_____ the local language, Bengali. She soon took her vows (5)_____ a nun and also took the name, Teresa.

SubQuestion No : 23

Q.23 Select the most appropriate option to fill in blank no.3.

- Ans**
- 1. becomes
 - 2. become
 - 3. became
 - 4. becoming

Question ID : **65497834025**
Status : **Not Answered**
Chosen Option : --

Comprehension:

In the following passage, some words have been deleted. Read the passage carefully and select the most appropriate option to fill in each blank.

Mother Teresa was a humanitarian because she (1)_____ her entire life to the service of the sick and the (2)_____. She joined the sisters of Loreto at the age of 18 to (3)_____ a missionary in India. She started her missionary work in Darjeeling and (4)_____ the local language, Bengali. She soon took her vows (5)_____ a nun and also took the name, Teresa.

SubQuestion No : 24

Q.24 Select the most appropriate option to fill in blank no.4.

- Ans**
- 1. recited
 - 2. read
 - 3. learnt
 - 4. wrote

Question ID : 65497834026
Status : Not Answered
Chosen Option : --

Comprehension:

In the following passage, some words have been deleted. Read the passage carefully and select the most appropriate option to fill in each blank.

Mother Teresa was a humanitarian because she (1)_____ her entire life to the service of the sick and the (2)_____. She joined the sisters of Loreto at the age of 18 to (3)_____ a missionary in India. She started her missionary work in Darjeeling and (4)_____ the local language, Bengali. She soon took her vows (5)_____ a nun and also took the name, Teresa.

SubQuestion No : 25

Q.25 Select the most appropriate option to fill in blank no.5.

- Ans**
- 1. as
 - 2. while
 - 3. when
 - 4. of

Question ID : 65497834027
Status : Not Answered
Chosen Option : --

Section : Part D Hindi

Q.1 दिए गए वाक्यांश के लिए एक शब्द दीजिए।

जो ईश्वर को न मानता हो

- Ans**
- 1. नास्तिक
 - 2. सात्विक
 - 3. आस्तिक
 - 4. असात्विक

Question ID : 65497834036
Status : Answered
Chosen Option : 1

Q.2 निम्नलिखित में से शुद्ध वर्तनी वाला शब्द कौन सा है?

- Ans
- 1. नछत्र
 - 2. नच्छत्र
 - 3. नक्षत्र
 - 4. नक्छत्र

Question ID : 65497834045
Status : Answered
Chosen Option : 3

Q.3 दिए गए शब्द के विलोम शब्द का चयन करें-

सौम्य

- Ans
- 1. साध्य
 - 2. कुटिल
 - 3. उग्र
 - 4. सभ्य

Question ID : 65497834030
Status : Answered
Chosen Option : 3

Q.4 दिए गए वाक्य का वो भाग ज्ञात करें जिसमें कोई त्रुटि है। यदि कोई त्रुटि नहीं है, तो 'कोई त्रुटि नहीं है' चुनें।

कपिल देव ने (1) पहले ओवर की पहले गेंद पर (2) रिचर्डसन को आउट कर दिया। (3) कोई त्रुटि नहीं है (4)

- Ans
- 1. 2
 - 2. 4
 - 3. 1
 - 4. 3

Question ID : 65497834029
Status : Answered
Chosen Option : 1

Q.5 दिए गए विकल्पों में से निम्नलिखित वाक्यांश के लिए एक शब्द का चयन कीजिए-

जिसे त्याग देना उचित हो

- Ans
- 1. त्याग
 - 2. त्याज्य
 - 3. त्यागपत्र
 - 4. त्राता

Question ID : 65497834038
Status : Answered
Chosen Option : 2

Q.6 रिक्त स्थान की पूर्ति करने के लिए सर्वाधिक उपयुक्त विकल्प का चयन करें।

भाई की शादी पर दीपक _____ से भरकर नाचने लगा।

- Ans
- 1. प्रकाश
 - 2. उल्लास
 - 3. हर्ष
 - 4. उन्माद

Question ID : 65497834042
Status : Answered
Chosen Option : 2

Q.7 दिए गए शब्द के समानार्थी शब्द का चयन करें।

धरती

- Ans
- 1. धज
 - 2. मेदिनी
 - 3. आत्मजा
 - 4. पुलिनवती

Question ID : 65497834035
Status : Answered
Chosen Option : 2

Q.8 दिए गए वाक्य में रेखांकित खंड को प्रतिस्थापित करने के लिए सर्वाधिक उपयुक्त विकल्प का चयन करें।
यदि इसे प्रतिस्थापित करने की आवश्यकता नहीं है, तो विकल्प 'किसी बदलाव की आवश्यकता नहीं है'
का चयन करें।

सूर्यास्त हो गया पर मज़दूरों ने उस काम समाप्त नहीं किया।

- Ans
- 1. मज़दूरों ने उसका काम समाप्त नहीं किया।
 - 2. मज़दूरों ने उसके काम समाप्त नहीं किया।
 - 3. मज़दूरों ने वह काम समाप्त नहीं किये।
 - 4. किसी बदलाव की आवश्यकता नहीं है।

Question ID : 65497834033
Status : Answered
Chosen Option : 1

Q.9 रिक्त स्थान की पूर्ति करने के लिए सर्वाधिक उपयुक्त शब्द का चयन करें।

_____ ही स्वतंत्रता की धात्री है।

- Ans
- 1. उग्रता
 - 2. व्यस्तता
 - 3. शीघ्रता
 - 4. नम्रता

Question ID : 65497834028
Status : Answered
Chosen Option : 4

Q.10 रिक्त स्थान की पूर्ति करने के लिए सर्वाधिक उपयुक्त विकल्प का चयन करें।

राष्ट्रपति ने लेखकों को पुरस्कार _____ किया।

- Ans
- 1. प्रदान
 - 2. अनुदान
 - 3. समर्पण
 - 4. दान

Question ID : 65497834039
Status : Answered
Chosen Option : 1

Q.11 दिए गए वाक्य का वह भाग ज्ञात करें जिसमें कोई त्रुटि है। यदि कोई त्रुटि नहीं है, तो 'कोई त्रुटि नहीं है' चुनें।

उसने अपने घर आने के लिए, आग्रहपूर्ण होकर कहा।

- Ans
- 1. उसने अपने घर
 - 2. आग्रहपूर्ण होकर कहा।
 - 3. कोई त्रुटि नहीं है।
 - 4. आने के लिए,

Question ID : 65497834034
Status : Answered
Chosen Option : 2

Q.12 दिए गए वाक्य में रेखांकित अंश को प्रतिस्थापित करने के लिए सर्वाधिक उपयुक्त विकल्प का चयन करें।

वहाँ असंख्य जनसमूह उमड़ पड़ा।

- Ans
- 1. अधिक
 - 2. बहुत
 - 3. अपार
 - 4. अनगिनत

Question ID : 65497834047
Status : Answered
Chosen Option : 3

Q.13 दिए गए वाक्य में रेखांकित खंड को प्रतिस्थापित करने के लिए सर्वाधिक उपयुक्त विकल्प का चयन करें। यदि इसे प्रतिस्थापित करने की आवश्यकता नहीं है, तो विकल्प 'किसी बदलाव की आवश्यकता नहीं है' का चयन करें।

माधव क्रिकेट खेलने के लिए अभी तुम्हारा घर आ रहा है।

- Ans
- 1. के लिए अभी तुम्हारे घर आ रहा है।
 - 2. के लिए अभी तुम्हारा घर आ रहे हैं।
 - 3. का लिए अभी तुम्हारा घर आ रहा है।
 - 4. किसी बदलाव की आवश्यकता नहीं है।

Question ID : 65497834032
Status : Answered
Chosen Option : 1

Q.14 निम्नलिखित में से शुद्ध वर्तनी वाला शब्द कौन सा है?

- Ans
- 1. प्रज्वलित
 - 2. प्रज्वलीत
 - 3. प्रज्वलीत
 - 4. प्रज्वलित

Question ID : 65497834046
Status : Answered
Chosen Option : 3

Q.15 दिए गए वाक्य के किस भाग में त्रुटि है?

वह बड़ा जबरजस्त शिकारी था।

- Ans
- 1. जबरजस्त
 - 2. बड़ा
 - 3. शिकारी था।
 - 4. वह

Question ID : 65497834043
Status : Answered
Chosen Option : 1

Q.16 दिए गए वाक्यांश के लिए एक शब्द दीजिए-

किसी बात को बहुत बढ़ा- चढ़ाकर कहना

- Ans
- 1. अतिवृष्टि
 - 2. अतिशयोक्ति
 - 3. अनसुनी
 - 4. अतींद्रिय

Question ID : 65497834031
Status : Answered
Chosen Option : 2

Q.17 'पहाड़' का पर्यायवाची है-

- Ans
- 1. अचल
 - 2. गिरीश
 - 3. अनंत
 - 4. तुरंग

Question ID : 65497834044
Status : Answered
Chosen Option : 1

Q.18 निम्नलिखित प्रश्न में, दिए गए चार विकल्पों में से, उस विकल्प का चयन करें, जो दिए गए मुहावरे के अर्थ को व्यक्त करता है।

अंधेरे में तीर चलाना

- Ans
- 1. इधर-उधर करना
 - 2. टाल-मटोल करना
 - 3. व्यर्थ श्रम करना
 - 4. लक्ष्य-विहीन प्रयास करना

Question ID : 65497834037
Status : Answered
Chosen Option : 4

Q.19 उसने तो पिता की नाक कटवा दी।

रेखांकित मुहावरे का सही अर्थ लिखिए-

- Ans
- 1. बहुत हानि होना।
 - 2. जवाब नहीं देना
 - 3. प्रतिष्ठा को हानि पहुँचाना।
 - 4. विवाह करना

Question ID : 65497834041
Status : Answered
Chosen Option : 3

Q.20 अच्छा कार्य करने से पुरस्कार मिलते हैं।

रेखांकित शब्द का सही विलोम बताइए-

- Ans
- 1. दंड
 - 2. भेंट
 - 3. ईनाम
 - 4. उपहार

Question ID : 65497834040
Status : Answered
Chosen Option : 1

Comprehension:

दिए गए गद्यांश में कुछ शब्द हटा दिए गए हैं। दिए गए विकल्पों की सहायता से रिक्त स्थान भरें। प्रत्येक संख्या के लिए सर्वाधिक उपयुक्त विकल्प का चयन करें।

कुत्ते को पालना बहुत ही (1) _____ अनुभव है। सभी पशु नहीं पाले जा सकते। कुत्ता सबसे अधिक (2) _____ पशु है। गरीब-अमीर सभी लोग कुत्ते को पालने का शौक पूरा करते हैं। सच बात यह है कि कुत्ता पलने को हमेशा तैयार रहता है। उसे स्नेह और भोजन देने वाला (3) _____ चाहिए। वह जल्दी पल जाता है। कुत्ता (4) _____ की भाषा जानता है। कोई भी मनुष्य रोटी का टुकड़ा डालकर उसे अपना (5) _____ बना सकता है।

SubQuestion No : 21

Q.21 गद्यांश के रिक्त स्थान (1) के लिए सर्वाधिक उपयुक्त शब्द होगा-

- Ans**
- 1. सुविधाजनक
 - 2. दुरुह
 - 3. खराब
 - 4. आनंददायक

Question ID : 65497834049

Status : Answered

Chosen Option : 4

Comprehension:

दिए गए गद्यांश में कुछ शब्द हटा दिए गए हैं। दिए गए विकल्पों की सहायता से रिक्त स्थान भरें। प्रत्येक संख्या के लिए सर्वाधिक उपयुक्त विकल्प का चयन करें।

कुत्ते को पालना बहुत ही (1) _____ अनुभव है। सभी पशु नहीं पाले जा सकते। कुत्ता सबसे अधिक (2) _____ पशु है। गरीब-अमीर सभी लोग कुत्ते को पालने का शौक पूरा करते हैं। सच बात यह है कि कुत्ता पलने को हमेशा तैयार रहता है। उसे स्नेह और भोजन देने वाला (3) _____ चाहिए। वह जल्दी पल जाता है। कुत्ता (4) _____ की भाषा जानता है। कोई भी मनुष्य रोटी का टुकड़ा डालकर उसे अपना (5) _____ बना सकता है।

SubQuestion No : 22

Q.22 गद्यांश के रिक्त स्थान (2) के लिए सर्वाधिक उपयुक्त शब्द होगा-

- Ans**
- 1. जंगली
 - 2. सभ्य
 - 3. पालतू
 - 4. फालतू

Question ID : 65497834050

Status : Answered

Chosen Option : 2

Comprehension:

दिए गए गद्यांश में कुछ शब्द हटा दिए गए हैं। दिए गए विकल्पों की सहायता से रिक्त स्थान भरें। प्रत्येक संख्या के लिए सर्वाधिक उपयुक्त विकल्प का चयन करें।

कुत्ते को पालना बहुत ही (1) _____ अनुभव है। सभी पशु नहीं पाले जा सकते। कुत्ता सबसे अधिक (2) _____ पशु है। गरीब-अमीर सभी लोग कुत्ते को पालने का शौक पूरा करते हैं। सच बात यह है कि कुत्ता पलने को हमेशा तैयार रहता है। उसे स्नेह और भोजन देने वाला (3) _____ चाहिए। वह जल्दी पल जाता है। कुत्ता (4) _____ की भाषा जानता है। कोई भी मनुष्य रोटी का टुकड़ा डालकर उसे अपना (5) _____ बना सकता है।

SubQuestion No : 23

Q.23 गद्यांश के रिक्त स्थान (3) के लिए सर्वाधिक उपयुक्त शब्द होगा-

- Ans**
- 1. साथी
 - 2. प्रिय
 - 3. मालिक
 - 4. सहयोगी

Question ID : 65497834051

Status : Answered

Chosen Option : 3

Comprehension:

दिए गए गद्यांश में कुछ शब्द हटा दिए गए हैं। दिए गए विकल्पों की सहायता से रिक्त स्थान भरें। प्रत्येक संख्या के लिए सर्वाधिक उपयुक्त विकल्प का चयन करें।

कुत्ते को पालना बहुत ही (1) _____ अनुभव है। सभी पशु नहीं पाले जा सकते। कुत्ता सबसे अधिक (2) _____ पशु है। गरीब-अमीर सभी लोग कुत्ते को पालने का शौक पूरा करते हैं। सच बात यह है कि कुत्ता पलने को हमेशा तैयार रहता है। उसे स्नेह और भोजन देने वाला (3) _____ चाहिए। वह जल्दी पल जाता है। कुत्ता (4) _____ की भाषा जानता है। कोई भी मनुष्य रोटी का टुकड़ा डालकर उसे अपना (5) _____ बना सकता है।

SubQuestion No : 24

Q.24 गद्यांश के रिक्त स्थान (4) के लिए सर्वाधिक उपयुक्त शब्द होगा-

- Ans**
- 1. रोटी
 - 2. जानवरों
 - 3. जूते
 - 4. मार

Question ID : 65497834052

Status : Answered

Chosen Option : 1

Comprehension:

दिए गए गद्यांश में कुछ शब्द हटा दिए गए हैं। दिए गए विकल्पों की सहायता से रिक्त स्थान भरें। प्रत्येक संख्या के लिए सर्वाधिक उपयुक्त विकल्प का चयन करें।

कुत्ते को पालना बहुत ही (1) _____ अनुभव है। सभी पशु नहीं पाले जा सकते। कुत्ता सबसे अधिक (2) _____ पशु है। गरीब-अमीर सभी लोग कुत्ते को पालने का शौक पूरा करते हैं। सच बात यह है कि कुत्ता पालने को हमेशा तैयार रहता है। उसे स्नेह और भोजन देने वाला (3) _____ चाहिए। वह जल्दी पल जाता है। कुत्ता (4) _____ की भाषा जानता है। कोई भी मनुष्य रोटी का टुकड़ा डालकर उसे अपना (5) _____ बना सकता है।

SubQuestion No : 25

Q.25 गद्यांश के रिक्त स्थान (5) के लिए सर्वाधिक उपयुक्त शब्द होगा-

- Ans**
- 1. आराध्य
 - 2. पालक
 - 3. स्वामी
 - 4. सेवक

Question ID : 65497834053

Status : Answered

Chosen Option : 4

Constable GD in CAPFs NIA SSF and Rifleman GD in Assam Rifles Examination 2021

Roll Number	www.HaryanaJobs.in
Candidate Name	www.HaryanaJobs.in
Venue Name	iON Digital Zone iDZ3 Patliputra
Exam Date	06/12/2021
Exam Time :	9:00 AM - 10:30 AM
Subject	Constable GD 2021

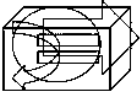
Section : Part A General Intelligence and Reasoning

Q.1 'संशोधन (Rectification)' का 'सुधार (Correction)' से वही संबंध है, जो 'निष्कासन (Eviction)' का '_____' से है।

- Ans
- 1. सराहना (Commend)
 - 2. निर्वासन (Expulsion)
 - 3. विस्मयादिबोधक (Exclamation)
 - 4. संवेदानात्मक (Sensational)

Question ID : 65497831915
Status : Answered
Chosen Option : 2

Q.2 उस विकल्प का चयन करें जिसमें दी गई आकृति अंतर्निहित है (घुमाने की अनुमति नहीं है)।



- Ans
- 1.
 - 2.
 - 3.
 - 4.

Question ID : 65497831911
Status : Answered
Chosen Option : 1

Q.3 दिए गए कथनों और निष्कर्षों को ध्यान से पढ़ें। यह मानते हुए कि कथनों में दी गई जानकारी सत्य है, भले ही यह सामान्य रूप से ज्ञात तथ्यों से भिन्न प्रतीत होती हो, यह निर्णय लें कि दिए गए निष्कर्षों में से कौन से निष्कर्ष कथनों का तार्किक रूप से अनुसरण करते हैं।

कथन:

सभी बिल्लियां, कुत्ते हैं।
सभी कुत्ते, हाथी हैं।
कोई भी हाथी, गाय नहीं है।

निष्कर्ष:

I. सभी बिल्लियां, हाथी हैं।
II. सभी हाथी, बिल्लियां हैं।

- Ans
- 1. केवल निष्कर्ष I अनुसरण करता है।
 - 2. केवल निष्कर्ष II अनुसरण करता है।
 - 3. न तो निष्कर्ष I और न ही निष्कर्ष II अनुसरण करता है।
 - 4. निष्कर्ष I और II दोनों अनुसरण करते हैं।

Question ID : 65497831900

Status : Answered

Chosen Option : 1

Q.4 विकल्पों में चार संख्या-त्रय दिए गए हैं, जिनमें से तीन किसी तरह से एक समान हैं और एक असंगत है। उस संख्या-त्रय का चयन करें जो अन्यो से असंगत है।

- Ans
- 1. (6, 36, 216)
 - 2. (5, 25, 125)
 - 3. (9, 81, 729)
 - 4. (8, 64, 412)

Question ID : 65497831901

Status : Answered

Chosen Option : 4

Q.5 दिए गए विकल्पों में से उस संख्या का चयन कीजिए, जो निम्नलिखित श्रेणी में प्रश्नवाचक चिन्ह (?) के स्थान पर आ सकती है।

11, 29, 65, 137, 281, ?

- Ans
- 1. 391
 - 2. 569
 - 3. 540
 - 4. 442

Question ID : 65497831917

Status : Answered

Chosen Option : 2

Q.6 दिए गए चित्र का जल में निर्मित सही प्रतिबिंब चयनित कीजिए।

Y R e m N 4

Ans

- ✗ 1. Y B e m N 4
- ✗ 2. Y B e w N 4
- ✗ 3. Y R e w N 4
- ✓ 4. Y B e w N 4

Question ID : 65497831898

Status : Answered

Chosen Option : 4

Q.7 निम्न आरेख में, 'पंचभुज', 'एथलीटों' को निरूपित करता है, 'षट्भुज', 'भारतीयों' को निरूपित करता है, और 'वृत्त', 'पदक विजेताओं' को निरूपित करता है। विभिन्न खंडों में दी गई संख्याएं, उस श्रेणी के व्यक्तियों की संख्या को दर्शाती हैं।



कितने भारतीय पदक विजेता हैं, लेकिन एथलीट नहीं हैं?

Ans

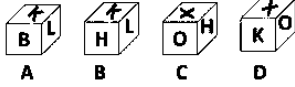
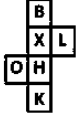
- ✓ 1. 7
- ✗ 2. 9
- ✗ 3. 6
- ✗ 4. 5

Question ID : 65497831919

Status : Answered

Chosen Option : 1

Q.8 उस/उन पासे/पासों का चयन करें जिसे/जिन्हें दिए गए पत्रक (sheet) को मोड़ कर बनाया जा सकता है।



Ans

- 1. A और B
- 2. A, B, C और D
- 3. A और C
- 4. A, B और C

Question ID : 65497831910
Status : Answered
Chosen Option : 4

Q.9 पांच व्यक्ति एक वृत्ताकार मेज के परितः मेज के केंद्र की ओर मुंह करके बैठे हुए हैं। श्वेता, कार्तिक के बाईं ओर बराल में बैठी है। माही, जेनी के दाईं ओर दूसरे स्थान पर बैठी है। जेनी, सुवर्णा और कार्तिक के बीच में बैठी है। सुवर्णा के दाईं ओर दूसरे स्थान पर कौन बैठा है?

Ans

- 1. श्वेता
- 2. कार्तिक
- 3. जेनी
- 4. माही

Question ID : 65497831916
Status : Answered
Chosen Option : 1

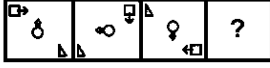
Q.10 एक निश्चित कूट भाषा में, 'LAWYER' को 'LWEAYR' के रूप में लिखा जाता है और 'ADVICE' को 'AVCDIE' के रूप में लिखा जाता है। उसी कूट भाषा में 'COURTS' को किस रूप में लिखा जाएगा?

Ans

- 1. STRUOC
- 2. OUTRSC
- 3. OURUST
- 4. CUTORS

Question ID : 65497831899
Status : Answered
Chosen Option : 4

Q.11 दिए गए विकल्पों में से उस आकृति का चयन कीजिए, जो निम्न आकृति श्रृंखला में प्रश्नवाचक चिन्ह (?) के स्थान पर आ सकती है।



Ans

✓ 1.



✗ 2.



✗ 3.



✗ 4.



Question ID : 65497831918
Status : Answered
Chosen Option : 1

Q.12 उस विकल्प का चयन करें जो तीसरी संख्या से उसी प्रकार संबंधित है, जिस प्रकार दूसरी संख्या पहली संख्या से संबंधित है।

23 : 299 :: 24 : ?

Ans ✗ 1. 310

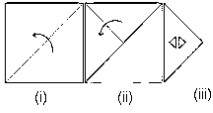
✓ 2. 312

✗ 3. 300

✗ 4. 306

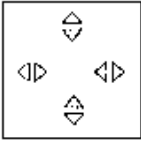
Question ID : 65497831908
Status : Answered
Chosen Option : 2

Q.13 नीचे दी गई आकृतियों में कागज़ के एक टुकड़े को मोड़ने और मोड़े गए कागज़ को काटने के तरीके का क्रम दर्शाया गया है। कागज़ को खोले जाने पर वह कैसा दिखाई देगा?

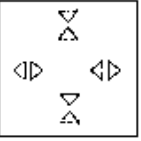


Ans

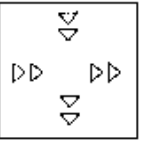
✓ 1.



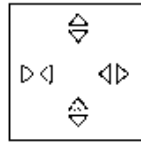
✗ 2.



✗ 3.



✗ 4.



Question ID : 65497831903

Status : Answered

Chosen Option : 1

Q.14 यदि 'र' का अर्थ '+', '@' का अर्थ '-', '#' का अर्थ 'x' और '\$' का अर्थ '+' है, तो 46 र 23 # 21 \$ 3 @ 17 का मान क्या होगा?

Ans

✗ 1. 466

✗ 2. 353

✓ 3. 190

✗ 4. 299

Question ID : 65497831909

Status : Answered

Chosen Option : 3

Q.15 अरविंद, कुणाल, निधि, पवन, साहिल, तान्या, तन्मय और सुनीता नाम के आठ व्यक्ति एक वृत्ताकार मेज के परितः मेज के केंद्र की ओर मुंह किए हुए बैठे हुए हैं। निधि, साहिल के दाएँ दूसरे स्थान पर बैठी है। कुणाल, पवन के दाएँ दूसरे स्थान पर बैठा है। तन्मय, पवन के बाएँ तीसरे स्थान पर बैठा है। सुनीता, तन्मय के बाएँ और अरविंद के दाएँ बगल में बैठी है। तान्या, अरविंद के दाएँ तीसरे स्थान पर बैठी है। निधि और साहिल के बीच में कौन बैठा/बैठी है?

- Ans
- 1. पवन
 - 2. तान्या
 - 3. तन्मय
 - 4. कुणाल

Question ID : 65497831907
Status : Answered
Chosen Option : 1

Q.16 उस सही विकल्प का चयन कीजिए, जो दिए गए शब्दों के उस क्रम को दर्शाता है, जिस क्रम में वे अंग्रेज़ी शब्दकोश में मौजूद होते हैं।

1. Season
2. Seating
3. Sense
4. Sealed
5. Seize

- Ans
- 1. 1, 4, 2, 5, 3
 - 2. 4, 1, 2, 5, 3
 - 3. 4, 1, 2, 3, 5
 - 4. 4, 2, 1, 5, 3

Question ID : 65497831913
Status : Answered
Chosen Option : 2

Q.17 दिए गए विकल्पों में से उस अक्षर-समूह का चयन करें, जो निम्नलिखित श्रृंखला में प्रश्नवाचक चिन्ह (?) के स्थान पर आ सकता है।

DNKB, GQNE, JTQH, MWTK, ?

- Ans
- 1. PZWN
 - 2. QZWM
 - 3. PAXN
 - 4. PZXO

Question ID : 65497831912
Status : Answered
Chosen Option : 1

Q.18 मनीष की ओर संकेत करते हुए अजय ने एक महिला से कहा, "वह मेरी बेटी की माँ के पिता का बेटा है।" अजय का मनीष से क्या संबंध है?

- Ans
- 1. जीजा
 - 2. चाचा
 - 3. ससुर
 - 4. भाई

Question ID : 65497831906
Status : Answered
Chosen Option : 1

Q.19 उस विकल्प का चयन करें जो तीसरे अक्षर-समूह से उसी प्रकार संबंधित है जिस प्रकार दूसरा अक्षर-समूह पहले अक्षर-समूह से संबंधित है।

LGS : QHX :: NDP : ?

- Ans
- 1. TIU
 - 2. TEV
 - 3. SEU
 - 4. SIU

Question ID : 65497831904
Status : Answered
Chosen Option : 3

Q.20 दिए गए विकल्पों में से उस संख्या का चयन कीजिए जो निम्नलिखित श्रृंखला में प्रश्न चिह्न (?) के स्थान पर आ सकती है।

192, 179, 162, ?, 120, 91, 60

- Ans
- 1. 143
 - 2. 81
 - 3. 136
 - 4. 150

Question ID : 65497831897
Status : Answered
Chosen Option : 3

Q.21 चार अक्षर समूह दिए गए हैं, जिनमें से तीन एक तरह से समान हैं और एक असंगत है। उस असंगत अक्षर समूह का चयन कीजिए।

- Ans
- 1. EIU
 - 2. OEU
 - 3. AEI
 - 4. QNV

Question ID : 65497831895
Status : Answered
Chosen Option : 4

Q.22 अक्षरों के उस संयोजन का चयन कीजिए, जिसे दी गई श्रृंखला के रिक्त स्थानों में क्रमबद्ध रूप से रखने पर श्रृंखला पूर्ण हो जाएगी।

W _ A T _ W X _ _ Q _ _ A T Q

- Ans
- 1. X Q A T W X
 - 2. X Q A T W A
 - 3. X Q A Q W X
 - 4. A Q A T W X

Question ID : 65497831914
Status : Answered
Chosen Option : 1

Q.23 एक प्राकृतिक संख्या X, उसकी अग्रवर्ती प्राकृतिक संख्या Y और Y की पांच गुनी एक अन्य प्राकृतिक संख्या, तीनों का योगफल 104 है। संख्या X का मान ज्ञात करें।

- Ans 1. 14
 2. 15
 3. 17
 4. 16

Question ID : 65497831902
Status : Answered
Chosen Option : 4

Q.24 एक निश्चित कूट भाषा में, 'STUDIES' को '60433' के रूप में कूटबद्ध किया गया है और 'PACKAGE' को '201113' के रूप में कूटबद्ध किया गया है। उसी कूट भाषा में 'BLOWING' को किस रूप में कूटबद्ध किया जाएगा?

- Ans 1. 292440
 2. 292330
 3. 282430
 4. 292431

Question ID : 65497831896
Status : Not Answered
Chosen Option : --

Q.25 एक निश्चित कूट भाषा में, 'KAPIL' को 'NDRKN' के रूप में लिखा जाता है और 'SAROJ' को 'VDTQL' के रूप में लिखा जाता है। उसी कूट भाषा में 'POOJA' को किस रूप में लिखा जाएगा?

- Ans 1. SRRLC
 2. SQRCM
 3. SRQLC
 4. SRRMD

Question ID : 65497831905
Status : Answered
Chosen Option : 3

Section : Part B General Knowledge and General Awareness

Q.1 अक्टूबर 2020 में निम्न में से किस बैंक ने व्हाट्सएप पर बैंकिंग सेवाओं का शुभारंभ किया था?

- Ans 1. बैंक ऑफ़ बड़ौदा (Bank of Baroda)
 2. आई.सी.आई.सी.आई. बैंक (ICICI Bank)
 3. आई.डी.बी.आई. बैंक (IDBI Bank)
 4. एच.डी.एफ़.सी. बैंक (HDFC Bank)

Question ID : 65497831931
Status : Answered
Chosen Option : 4

Q.2 भारतीय संविधान के किस अनुच्छेद के तहत राष्ट्रपति मृत्युदंड को क्षमा कर सकते हैं?

- Ans
- 1. अनुच्छेद 25
 - 2. अनुच्छेद 78
 - 3. अनुच्छेद 75
 - 4. अनुच्छेद 72

Question ID : 65497831929
Status : Answered
Chosen Option : 4

Q.3 _____ के जंगलों में पाए जाने वाले चमकीले हरे रंग के सांप की एक नई प्रजाति खोजी गई है, इसका नाम सालाजार स्लीथेरिन के नाम पर रखा गया है।

- Ans
- 1. तमिलनाडु
 - 2. हिमाचल प्रदेश
 - 3. केरल
 - 4. आंध्र प्रदेश

Question ID : 65497831935
Status : Not Answered
Chosen Option : --

Q.4 निम्नलिखित में से कौन बिहार की पहली महिला उपमुख्यमंत्री बनी हैं?

- Ans
- 1. रेणु देवी
 - 2. अंजू बाला
 - 3. अपर्णा यादव
 - 4. किरण बेदी

Question ID : 65497831930
Status : Answered
Chosen Option : 1

Q.5 राष्ट्रीय खाद्य सुरक्षा अधिनियम 2013 कानूनी रूप से लक्षित सार्वजनिक वितरण प्रणाली के तहत ग्रामीण आबादी के _____ तक हिस्से को सब्सिडी वाले खाद्यान्न प्राप्त करने का अधिकार देता है।

- Ans
- 1. 75%
 - 2. 100%
 - 3. 85%
 - 4. 95%

Question ID : 65497831940
Status : Answered
Chosen Option : 1

Q.6 कार्बन मोनोऑक्साइड के बारे में इनमें से कौन सा कथन गलत है?

- Ans
- 1. यह वाहनों द्वारा उच्च स्तर पर उत्पादित होती है
 - 2. यह रक्त की ऑक्सीजन ले जाने की क्षमता को कम कर देती है।
 - 3. यह जीवन रक्षक गैस है।
 - 4. यह पेट्रोल और डीजल जैसे ईंधन के अधूरे दहन से उत्पन्न होती है।

Question ID : 65497831938
Status : Answered
Chosen Option : 3

Q.7 निम्नलिखित में से कौन यूएस ओपन 2020 के दूसरे चरण में प्रवेश कर, पिछले सात वर्षों में ग्रैंड स्लैम एकल स्पर्धा के दूसरे चरण में प्रवेश करने वाला पहला भारतीय बना?

- Ans
- 1. शशिकुमार मुकुंद
 - 2. सुमित नागल
 - 3. रामकुमार रामनाथन
 - 4. प्रजनेश गुणेश्वरन

Question ID : 65497831924
Status : Answered
Chosen Option : 2

Q.8 विभिन्न प्रकार के हिंदू विवाहों में, उस विवाह को क्या कहते हैं जिसमें एक युवती और उसका प्रेमी अपनी इच्छा से विवाह करते हैं?

- Ans
- 1. पैशाच विवाह
 - 2. गंधर्व विवाह
 - 3. दैव विवाह
 - 4. प्रजापत्य विवाह

Question ID : 65497831921
Status : Not Answered
Chosen Option : --

Q.9 कालानुक्रम के अनुसार निम्नलिखित में से कौन सी घटना सबसे पहले आएगी?

- Ans
- 1. सिकंदर की मौत
 - 2. शक युग का आरंभ
 - 3. हर्षवर्धन का राज्यारोहण
 - 4. गुप्त युग का आरंभ

Question ID : 65497831926
Status : Answered
Chosen Option : 1

Q.10 निम्नलिखित में से कौन सी ध्वनि तरंग की एक विशेषता नहीं है?

- Ans
- 1. आवृत्ति
 - 2. आयाम
 - 3. संपीडन
 - 4. चाल

Question ID : 65497831934
Status : Answered
Chosen Option : 3

Q.11 बंगाल की दीवानी किस वर्ष ईस्ट इंडिया कंपनी को हस्तांतरित हुई थी?

- Ans
- 1. 1789
 - 2. 1845
 - 3. 1765
 - 4. 1898

Question ID : 65497831928
Status : Answered
Chosen Option : 3

Q.12 2020 में '40 इयर्स विथ अब्दुल कलाम- अनटोल्ड स्टोरीज' नामक पुस्तक किसने लिखी?

- Ans
- 1. अरुण तिवारी
 - 2. अदम्य सहस
 - 3. ए. शिवथानु पिल्लई
 - 4. विक्रम साराभाई

Question ID : 65497831936
Status : Not Answered
Chosen Option : --

Q.13 बाल गंगाधर तिलक को वेलेंटाइन चिरोल द्वारा _____ के रूप में वर्णित किया गया था।

- Ans
- 1. शांतिप्रिय व्यक्ति (Man of Peace)
 - 2. भारतीय अशांति के जनक (Father of Indian unrest)
 - 3. क्रांतिकारी विचारों के जनक (Father of Revolutionary Thoughts)
 - 4. भारत का वयोवृद्ध पुरुष (Grand Old Man of India)

Question ID : 65497831939
Status : Answered
Chosen Option : 2

Q.14 'द इनसाइडर' नामक पुस्तक के लेखक निम्नलिखित में से कौन हैं?

- Ans
- 1. के. नटवर सिंह
 - 2. ऑस्कर फर्नांडीज
 - 3. मनमोहन सिंह
 - 4. पी.वी. नरसिम्हा राव

Question ID : 65497831923
Status : Not Answered
Chosen Option : --

Q.15 हुड़का बोल (Hurka Baul) _____ में प्रचलित एक नृत्य रूप है।

- Ans
- 1. झारखंड
 - 2. छत्तीसगढ़
 - 3. उत्तराखंड
 - 4. उत्तर प्रदेश

Question ID : 65497831933
Status : Not Answered
Chosen Option : --

Q.16 भारत के जनसांख्यिकीय इतिहास में किस वर्ष को 'महान विभाजक वर्ष' (द ईयर ऑफ़ द ग्रेट डिवाइड) के नाम से जाना जाता है?

- Ans
- 1. 1921
 - 2. 1911
 - 3. 1901
 - 4. 1931

Question ID : 65497831922
Status : Answered
Chosen Option : 4

Q.17 15 अगस्त 2021 को ' _____ ': के हिस्से के रूप में दिव्यांग सदस्यों की एक टीम ने, दिव्यांगों द्वारा दुनिया के सबसे ऊंचे युद्धक्षेत्र तक पहुंचने का एक नया विश्व रिकॉर्ड बनाने हेतु सियाचिन ग्लेशियर तक जाने का एक अभियान चलाया।

- Ans
- 1. ऑपरेशन ब्लू फ्रीडम
 - 2. ऑपरेशन व्हाइट सी
 - 3. ऑपरेशन रेड बुल
 - 4. ऑपरेशन ब्लैक टॉरनेडो

Question ID : 65497831942
Status : Not Answered
Chosen Option : --

Q.18 संयुक्त राष्ट्र के खाद्य एवं कृषि संगठन (FAO) ने वर्ष _____ में कश्मीर की केसर विरासत को 'वैश्विक रूप से महत्वपूर्ण कृषि विरासत प्रणाली' (GIAHS) घोषित किया।

- Ans
- 1. 2011
 - 2. 2009
 - 3. 2008
 - 4. 2010

Question ID : 65497831943
Status : Not Answered
Chosen Option : --

Q.19 किस प्रकार की मिट्टी में पानी की अधिकतम मात्रा बनी रहती है?

- Ans
- 1. गाद
 - 2. चिकनी बलुई मिट्टी
 - 3. रेत
 - 4. चिकनी मिट्टी

Question ID : 65497831920
Status : Answered
Chosen Option : 2

Q.20 1955 से पूर्व निम्नलिखित में से किस बैंक को इंपीरियल बैंक ऑफ़ इंडिया के रूप में जाना जाता था?

- Ans
- 1. यूनिन बैंक ऑफ़ इंडिया
 - 2. ओरिएंटल बैंक ऑफ़ कॉमर्स
 - 3. सेंट्रल बैंक ऑफ़ इंडिया
 - 4. भारतीय स्टेट बैंक

Question ID : 65497831925
Status : Answered
Chosen Option : 4

Q.21 निम्नलिखित में से कौन सा देश 13वें पुरुष क्रिकेट विश्व कप 2023 की मेज़बानी करेगा?

- Ans
- 1. वेस्ट इंडीज़
 - 2. इंग्लैंड
 - 3. ऑस्ट्रेलिया
 - 4. भारत

Question ID : 65497831932
Status : Answered
Chosen Option : 4

Q.22 केंद्रीय पर्यावरण, वन और जलवायु परिवर्तन मंत्री - श्री भूपेंद्र यादव ने सितंबर 2021 में _____ में एक स्मॉग टॉवर का आभासी रूप से उद्घाटन (virtually inaugurated) किया।

- Ans
- 1. नई दिल्ली
 - 2. मुंबई
 - 3. चेन्नई
 - 4. बेंगलुरु

Question ID : 65497831941
Status : Answered
Chosen Option : 1

Q.23 निम्नलिखित विकल्पों में से कौन सा, सिंधु घाटी सभ्यता का नगरपत्तन (बंदरगाह शहर) नहीं था?

- Ans
- 1. बालाकोट
 - 2. राखीगढ़ी
 - 3. लोथल
 - 4. खिरसारा

Question ID : 65497831927
Status : Answered
Chosen Option : 1

Q.24 'मानव विकास रिपोर्ट 2019' के अनुसार मानव विकास प्रगति में एशिया का कौन-सा क्षेत्र सबसे तेजी से आगे बढ़ रहा है?

- Ans
- 1. पूर्वी एशिया
 - 2. उत्तरी एशिया
 - 3. दक्षिणी एशिया
 - 4. पश्चिमी एशिया

Question ID : 65497831937
Status : Not Answered
Chosen Option : --

Q.25 डिङ्को सिंह (Dingko Singh) का संबंध किस खेल से है?

- Ans
- 1. मुक्केबाज़ी
 - 2. तैराकी
 - 3. भालाफेंक
 - 4. फुटबॉल

Question ID : 65497831944
Status : Not Answered
Chosen Option : --

Section : Part C Elementary Mathematics

Q.1 यदि कंक्रीट में चूने के 3 भाग, बजरी के 7 भाग और रेत के 6 भाग हैं, तो 800 kg कंक्रीट में बजरी की मात्रा (kg में) कितनी होगी?

- Ans
- 1. 350
 - 2. 320
 - 3. 150
 - 4. 300

Question ID : 65497831946
Status : Answered
Chosen Option : 1

Q.2 पाइप A और B एक टैंक को क्रमशः 36 मिनट और 45 मिनट में भर सकते हैं। इन दोनों पाइपों को एक साथ खोला गया। 20 मिनट बाद, टैंक के तल में एक रिसाव देखा गया, जिसे तुरंत बंद कर दिया गया। इसके 15 मिनट बाद टैंक पूरा भर गया था। रिसाव, पूरे भरे टैंक को कितने समय में खाली कर सकता है?

- Ans
- 1. $28\frac{1}{3}$ मिनट
 - 2. $26\frac{2}{3}$ मिनट
 - 3. 30 मिनट
 - 4. 25 मिनट

Question ID : 65497831967
Status : Not Answered
Chosen Option : --

Q.3 मिस्टर राम ने अपने धन में से 60% धन अपनी पत्नी को दिया। शेष धन में से उन्होंने अपने तीनों बच्चों को 20% (प्रत्येक को) धन दिया। उसके बाद शेष धन का 3/5वां हिस्सा विविध वस्तुओं पर व्यय किया गया और शेष ₹9,600 को बैंक में जमा कर दिया। मिस्टर राम ने अपनी पत्नी को कितना धन (₹में) दिया?

- Ans
- 1. 1,50,000
 - 2. 1,20,000
 - 3. 80,000
 - 4. 90,000

Question ID : 65497831949
Status : Not Answered
Chosen Option : --

Q.4 एक आयताकार मैदान की भुजाएँ 20 m लंबी और 10 m चौड़ी हैं। यदि लंबाई में 10% की वृद्धि और चौड़ाई में 20% की कमी की जाती है, तो पुराने क्षेत्रफल का, नए क्षेत्रफल से अनुपात ज्ञात करें।

- Ans
- 1. 4 : 5
 - 2. 22 : 25
 - 3. 25 : 22
 - 4. 3 : 2

Question ID : 65497831961
Status : Answered
Chosen Option : 3

Q.5 एक ठोस घन का पृष्ठीय क्षेत्रफल 726 cm^2 है। इसे पिघलाकर एक ठोस बेलन बनाया जाता है, जिसकी त्रिज्या 11 cm है। बेलन की ऊँचाई (cm में) कितनी है? ($\pi = \frac{22}{7}$ लीजिए)

- Ans
- 1. 5.5
 - 2. 3.5
 - 3. 1.9
 - 4. 2.5

Question ID : 65497831947
Status : Not Answered
Chosen Option : --

Q.6 किसी राशि पर समान ब्याज दर से 4 वर्ष और 6 वर्ष में प्राप्त होने वाले साधारण ब्याजों का अनुपात क्या होगा?

- Ans
- 1. 2 : 5
 - 2. 2 : 3
 - 3. 1 : 3
 - 4. 3 : 6

Question ID : 65497831954
Status : Answered
Chosen Option : 2

Q.7 एक वस्तु को उस पर अंकित मूल्य के 75% मूल्य पर बेचा गया, और इससे 25% का लाभ प्राप्त हुआ। वस्तु का क्रय मूल्य कितना है?

- Ans
- ✓ 1. ₹60
 - ✗ 2. ₹50
 - ✗ 3. ₹70
 - ✗ 4. ₹75

Question ID : 65497831951
Status : Answered
Chosen Option : 1

Q.8 एक विद्यालय में 20 लड़कियों का औसत भार 52 kg था। 54 kg और 50 kg भार वाले दो नए विद्यार्थियों को प्रवेश दिया गया। इस नए औसत का, पुराने औसत से अनुपात ज्ञात करें।

- Ans
- ✗ 1. 21 : 22
 - ✗ 2. 14 : 13
 - ✗ 3. 24 : 25
 - ✓ 4. 1 : 1

Question ID : 65497831956
Status : Answered
Chosen Option : 4

Q.9 यदि किसी संख्या के 40% और उसी संख्या के 30% का अंतर 70 है, तो वह संख्या ज्ञात करें।

- Ans
- ✗ 1. 800
 - ✗ 2. 600
 - ✓ 3. 700
 - ✗ 4. 750

Question ID : 65497831966
Status : Answered
Chosen Option : 3

Q.10 एक कार्य को 8 दिनों में पूरा करने के लिए 20 व्यक्तियों को लगाया गया था। कोविड 19 संक्रमण के कारण, 4 व्यक्ति 4 दिन बाद कार्य छोड़कर चले गए। कार्य को पूरा करने के लिए आवश्यक दिनों की कुल संख्या ज्ञात करें।

- Ans
- ✓ 1. 9
 - ✗ 2. 10
 - ✗ 3. 11
 - ✗ 4. 12

Question ID : 65497831959
Status : Answered
Chosen Option : 1

Q.11 एक नाव शांत जल में एक निश्चित दूरी तय करने में, धारा की दिशा में उससे दो गुनी दूरी तय करने में लगने वाले समय तुलना में 40% कम समय लेती है। यदि शांत जल में नाव की चाल 25 km/h है, तो धारा की चाल (km/h में) ज्ञात कीजिए।

- Ans
- 1. 4.5
 - 2. 5
 - 3. 4
 - 4. 5.5

Question ID : 65497831969
Status : Not Answered
Chosen Option : --

Q.12 $\frac{\frac{3}{4} \times 1\frac{1}{2} \div 2\frac{1}{4} + 5\frac{1}{2} \div 3\frac{2}{3} \text{ of } \frac{2}{5}}{\frac{4}{5} \text{ of } 7\frac{1}{2} \div \frac{3}{4}}$ का मान ज्ञात कीजिए।

- Ans
- 1. $3\frac{3}{4}$
 - 2. $8\frac{1}{2}$
 - 3. $\frac{17}{32}$
 - 4. $\frac{1}{2}$

Question ID : 65497831963
Status : Answered
Chosen Option : 2

Q.13 एक व्यक्ति स्थान A से B तक, 30 km/h की चाल से; और B से C तक 45 km/h की चाल से यात्रा करता है। पूरी यात्रा के दौरान उसकी औसत चाल 40 km/h थी। AB : BC के बीच की चालों का अनुपात ज्ञात कीजिए।

- Ans
- 1. 2 : 3
 - 2. 1 : 2
 - 3. 3 : 5
 - 4. 1 : 3

Question ID : 65497831968
Status : Answered
Chosen Option : 1

Q.14 छः वर्ष पूर्व, A, B और C की औसत आयु 29 वर्ष थी। आठ वर्ष पूर्व, A और C की औसत आयु 27 वर्ष थी। B की वर्तमान आयु (वर्षों में) कितनी है?

- Ans
- 1. 35
 - 2. 31
 - 3. 34
 - 4. 36

Question ID : 65497831964
Status : Answered
Chosen Option : 1

Q.15 यदि एक 11-अंकीय संख्या $546789x531y$, 88 द्वारा विभाज्य है, तो $(x-y)$ का मान ज्ञात कीजिए।

- Ans
- 1. 0
 - 2. 1
 - 3. 3
 - 4. 2

Question ID : 65497831948
Status : Not Answered
Chosen Option : --

Q.16 एक व्यक्ति ने ₹50,000 की धनराशि 2% की वार्षिक चक्रवृद्धि ब्याज दर से 2 वर्ष के लिए उधार ली। पहले वर्ष के अंत में और दूसरे वर्ष के अंत में प्राप्त मिश्रधन में कितना अंतर होगा? (₹ में)

- Ans
- 1. ₹40
 - 2. ₹30
 - 3. ₹20
 - 4. ₹50

Question ID : 65497831960
Status : Not Answered
Chosen Option : --

Q.17 बिक्री कर सहित किसी वस्तु का विक्रय मूल्य ₹772.8 है। वस्तु का क्रय मूल्य ₹600 है। यदि दुकानदार ने 15% लाभ कमाया है, तो बिक्री कर की दर कितनी है?

- Ans
- 1. 13%
 - 2. 11%
 - 3. 12%
 - 4. 10%

Question ID : 65497831962
Status : Not Answered
Chosen Option : --

Q.18 एक वस्तु का क्रय मूल्य ₹2,250 है, जो अंकित मूल्य से 25% कम है। यदि उस वस्तु को 15% की छूट पर बेचा जाता, तो इस लेनदेन में अर्जित प्रतिशत लाभ ज्ञात कीजिए।

- Ans
- 1. 8.67%
 - 2. 11.25%
 - 3. 6.25%
 - 4. 13.33%

Question ID : 65497831945
Status : Answered
Chosen Option : 4

Q.19 एक दुकानदार को किसी वस्तु को अंकित मूल्य पर 15% की छूट देकर बेचने पर 70% का लाभ होता है। उसने वस्तु पर क्रय मूल्य से कितने प्रतिशत अधिक मूल्य अंकित किया था?

- Ans
- 1. 100
 - 2. 70
 - 3. 60
 - 4. 40

Question ID : 65497831953
Status : Answered
Chosen Option : 1

Q.20 $\frac{45 + \frac{6}{7} \text{ of } 21 - 8}{64 - \frac{3}{5} \text{ of } (28 - 13)}$ का मान कितना होगा?

- Ans
- 1. 5
 - 2. 1
 - 3. 10
 - 4. 2

Question ID : 65497831950
Status : Answered
Chosen Option : 2

Q.21 ₹600 की धनराशि पर साधारण ब्याज की दर से 3 वर्षों में प्राप्त मिश्रधन ₹850 है। ब्याज की वार्षिक दर ज्ञात कीजिए।

- Ans
- 1. 7.5%
 - 2. $\frac{125}{9}\%$
 - 3. 6%
 - 4. $\frac{21}{4}\%$

Question ID : 65497831958
Status : Answered
Chosen Option : 2

Q.22 एक संख्या को 65 से विभाजित करने पर शेषफल 31 प्राप्त होता है। वही संख्या जब 13 से विभाजित की जाती है, तो शेषफल _____ प्राप्त होगा।

- Ans
- 1. 7
 - 2. 5
 - 3. 3
 - 4. 9

Question ID : 65497831955
Status : Answered
Chosen Option : 2

Q.23 अजय किसी कार्य का $\frac{5}{12}$ भाग 20 दिन में पूरा कर सकता है। वह कार्य का $\frac{3}{4}$ भाग कितने दिनों में पूरा कर लेगा?

- Ans
- 1. 32 दिन
 - 2. 28 दिन
 - 3. 35 दिन
 - 4. 36 दिन

Question ID : 65497831952
Status : Answered
Chosen Option : 4

Q.24 एक वस्तु का अंकित मूल्य ₹500 है। $x\%$, 20% और $x\%$ की तीन क्रमिक छूट देने के बाद, इसे ₹309.76 में बेचा जाता है। x का मान क्या होगा?

- Ans
- 1. 12
 - 2. 15
 - 3. 10
 - 4. 16

Question ID : 65497831965
Status : Not Answered
Chosen Option : --

Q.25 ₹15,000 को A, B और C में इस प्रकार विभाजित किया गया कि A को B से 20% अधिक और B को C से 25% अधिक धनराशि मिली। C का हिस्सा ज्ञात करें।

- Ans
- 1. ₹5,000
 - 2. ₹4,000
 - 3. ₹3,200
 - 4. ₹4,800

Question ID : 65497831957
Status : Answered
Chosen Option : 2

Q.1 The following sentence has been split into four segments. Identify the segment that contains a grammatical error.

I wish / I helped him / with his homework / last night.

- Ans**
- 1. I wish
 - 2. with his homework
 - 3. last night
 - 4. I helped him

Question ID : 65497831984
Status : Not Answered
Chosen Option : --

Q.2 Select the most appropriate option to fill in the blank.

There was a huge demand for entry tickets at the _____.

- Ans**
- 1. venture
 - 2. venue
 - 3. vent
 - 4. venom

Question ID : 65497831980
Status : Not Answered
Chosen Option : --

Q.3 Select the most appropriate ANTONYM of the given word.

Emerge

- Ans**
- 1. Derive
 - 2. Arise
 - 3. Surface
 - 4. Disappear

Question ID : 65497831986
Status : Not Answered
Chosen Option : --

Q.4 Select the option that can be used as a one-word substitute for the given group of words.

Group of stars

- Ans**
- 1. Chain
 - 2. Constellation
 - 3. Congregation
 - 4. Collection

Question ID : 65497831977
Status : Not Answered
Chosen Option : --

Q.5 Select the option that will improve the underlined part of the given sentence. In case no improvement is needed, select 'No improvement required'.

The snow melts in the warm of spring.

- Ans**
- 1. No improvement required
 - 2. in the warmth
 - 3. with warm
 - 4. by the warming

Question ID : 65497831989
Status : Not Answered
Chosen Option : --

Q.6 Select the most appropriate option to fill in the blank.

One boy was _____ inside when the building caught fire.

- Ans**
- 1. captured
 - 2. saved
 - 3. gripped
 - 4. trapped

Question ID : 65497831970
Status : Not Answered
Chosen Option : --

Q.7 Select the INCORRECTLY spelt word.

- Ans**
- 1. Mercenary
 - 2. Versatile
 - 3. Contingency
 - 4. Voluntere

Question ID : 65497831978
Status : Not Answered
Chosen Option : --

Q.8 Select the most appropriate option that can substitute the underlined segment in the given sentence. If there is no need to substitute it, select 'No substitution required'.

The book is well-written but there is few boring patches in it.

- Ans**
- 1. No substitution required
 - 2. are a certain boring patches
 - 3. are some boring patches
 - 4. are little boring patches

Question ID : 65497831975
Status : Not Answered
Chosen Option : --

Q.9 The following sentence has been split into four segments. Identify the segment that contains a grammatical error.

I work mainly in the computer department, / who is / the smallest department / in the University.

- Ans**
- 1. the smallest department
 - 2. who is
 - 3. in the University
 - 4. I work mainly in the computer department

Question ID : 65497831971
Status : Not Answered
Chosen Option : --

Q.10 Select the INCORRECTLY spelt word.

- Ans**
- 1. Laurall
 - 2. Religious
 - 3. Mutual
 - 4. Whine

Question ID : 65497831988
Status : Not Answered
Chosen Option : --

Q.11 Select the most appropriate synonym of the given word.

Cunning

- Ans**
- 1. Shrewd
 - 2. Prudent
 - 3. Stray
 - 4. Unusual

Question ID : 65497831972
Status : Not Answered
Chosen Option : --

Q.12 Parts of the given sentence have been given as options. One of them contains a grammatical error. Select the option that has the error.

I did not like the place as it was too noise and polluted.

- Ans**
- 1. did not like
 - 2. and polluted
 - 3. too noise
 - 4. as it was

Question ID : 65497831981
Status : Not Answered
Chosen Option : --

Q.13 Select the most appropriate meaning of the given idiom.

To blow one's own horn

- Ans 1. To praise oneself
 2. To calm oneself
 3. To breathe deeply
 4. To become angry

Question ID : 65497831973
Status : Not Answered
Chosen Option : --

Q.14 Select the option that can be used as a one-word substitute for the given group of words.

Ordinary and dull

- Ans 1. Mundane
 2. Shallow
 3. Callous
 4. Familiar

Question ID : 65497831987
Status : Not Answered
Chosen Option : --

Q.15 Select the most appropriate synonym of the given word.

Shuffle

- Ans 1. Stand
 2. Erect
 3. Order
 4. Stagger

Question ID : 65497831982
Status : Not Answered
Chosen Option : --

Q.16 Select the most appropriate meaning of the given idiom.

To go round in circles

- Ans 1. To be unable to draw a circle properly
 2. To run round a circular stadium very fast
 3. To waste one's time and energy doing trivial things
 4. To play a game which makes you run a lot

Question ID : 65497831974
Status : Not Answered
Chosen Option : --

Q.17 Select the option that can be used as a one-word substitute for the given group of words.

The practice of having more than one husband or wife at the same time

- Ans
- 1. Polygenesis
 - 2. Polymorphism
 - 3. Polygamy
 - 4. Polygon

Question ID : 65497831983
Status : Not Answered
Chosen Option : --

Q.18 Select the most appropriate option that can substitute the underlined segment in the given sentence. If there is no need to substitute it, select 'No substitution required'.

Mr. Mohan Rao has been attacked on his conservative ideas about women.

- Ans
- 1. attack from his conservative
 - 2. attacking for his conservative
 - 3. attacked for his conservative
 - 4. No substitution required

Question ID : 65497831976
Status : Not Answered
Chosen Option : --

Q.19 Select the most appropriate ANTONYM of the given word.

Resist

- Ans
- 1. Curb
 - 2. Allow
 - 3. Defy
 - 4. Suffer

Question ID : 65497831985
Status : Not Answered
Chosen Option : --

Q.20 Select the most appropriate option to fill in the blank.

My friend asked me to _____ him a thousand rupees.

- Ans
- 1. supply
 - 2. lend
 - 3. extend
 - 4. afford

Question ID : 65497831979
Status : Not Answered
Chosen Option : --

Comprehension:

In the following passage, some words have been deleted. Read the passage carefully and select the most appropriate option to fill in each blank.

The issue of growing environmental pollution should be considered as one of (1) _____ importance. The environment (2) _____ the air we breathe, the water we drink, the trees and plants that (3) _____ food for us and the animal kingdom. All of these together form the circle of life on earth. Pollution is a process by which natural elements of the earth are negatively (4) _____, causing harm and (5) _____ to this circle of life.

SubQuestion No : 21

Q.21 Select the most appropriate option to fill in blank no. 1.

- Ans** 1. casual
 2. grave
 3. decisive
 4. serious

Question ID : 65497831991

Status : Not Answered

Chosen Option : --

Comprehension:

In the following passage, some words have been deleted. Read the passage carefully and select the most appropriate option to fill in each blank.

The issue of growing environmental pollution should be considered as one of (1) _____ importance. The environment (2) _____ the air we breathe, the water we drink, the trees and plants that (3) _____ food for us and the animal kingdom. All of these together form the circle of life on earth. Pollution is a process by which natural elements of the earth are negatively (4) _____, causing harm and (5) _____ to this circle of life.

SubQuestion No : 22

Q.22 Select the most appropriate option to fill in blank no. 2.

- Ans** 1. nourishes
 2. comprises
 3. constructs
 4. obstructs

Question ID : 65497831992

Status : Not Answered

Chosen Option : --

Comprehension:

In the following passage, some words have been deleted. Read the passage carefully and select the most appropriate option to fill in each blank.

The issue of growing environmental pollution should be considered as one of (1) _____ importance. The environment (2) _____ the air we breathe, the water we drink, the trees and plants that (3) _____ food for us and the animal kingdom. All of these together form the circle of life on earth. Pollution is a process by which natural elements of the earth are negatively (4) _____, causing harm and (5) _____ to this circle of life.

SubQuestion No : 23

Q.23 Select the most appropriate option to fill in blank no. 3.

- Ans**
- 1. beer
 - 2. garner
 - 3. bear
 - 4. procure

Question ID : 65497831993

Status : Not Answered

Chosen Option : --

Comprehension:

In the following passage, some words have been deleted. Read the passage carefully and select the most appropriate option to fill in each blank.

The issue of growing environmental pollution should be considered as one of (1) _____ importance. The environment (2) _____ the air we breathe, the water we drink, the trees and plants that (3) _____ food for us and the animal kingdom. All of these together form the circle of life on earth. Pollution is a process by which natural elements of the earth are negatively (4) _____, causing harm and (5) _____ to this circle of life.

SubQuestion No : 24

Q.24 Select the most appropriate option to fill in blank no. 4.

- Ans**
- 1. affected
 - 2. deflected
 - 3. effected
 - 4. aerated

Question ID : 65497831994

Status : Not Answered

Chosen Option : --

Comprehension:

In the following passage, some words have been deleted. Read the passage carefully and select the most appropriate option to fill in each blank.

The issue of growing environmental pollution should be considered as one of (1) _____ importance. The environment (2) _____ the air we breathe, the water we drink, the trees and plants that (3) _____ food for us and the animal kingdom. All of these together form the circle of life on earth. Pollution is a process by which natural elements of the earth are negatively (4) _____, causing harm and (5) _____ to this circle of life.

SubQuestion No : 25

Q.25 Select the most appropriate option to fill in blank no. 5.

- Ans 1. demolition
 2. damage
 3. distraction
 4. defiance

Question ID : 65497831995
Status : Not Answered
Chosen Option : --

Section : Part D Hindi

Q.1 दिए गए वाक्यांश के लिए एक शब्द दीजिए।

जिसके पार देखा जा सके

- Ans 1. पारदर्शी
 2. प्रदोष
 3. पराग
 4. पार्थिव

Question ID : 65497831997
Status : Answered
Chosen Option : 1

Q.2 दिए गए वाक्य का वह भाग ज्ञात करें जिसमें कोई त्रुटि है। यदि कोई त्रुटि नहीं है, तो 'कोई त्रुटि नहीं है' चुनें।

नियमित अभ्यास (1)/ मूर्ख को भी (2)/ चतुर बना देती है (3)/ कोई त्रुटि नहीं है (4)

- Ans 1. 1
 2. 2
 3. 4
 4. 3

Question ID : 65497832003
Status : Answered
Chosen Option : 4

Q.3 दिए गए शब्द के समानार्थी शब्द का चयन करें।

इन्द्र

- Ans
- 1. धनद
 - 2. सोम
 - 3. वासव
 - 4. पारिजात

Question ID : 65497832004
Status : Answered
Chosen Option : 3

Q.4 दिए गए वाक्य का वह भाग ज्ञात करें जिसमें कोई त्रुटि है। यदि कोई त्रुटि नहीं है, तो 'कोई त्रुटि नहीं है' चुनें।

पति-पत्नी (1) के झगड़े का हेतु (2) क्या हो सकता है? (3) कोई त्रुटि नहीं है। (4)

- Ans
- 1. 4
 - 2. 2
 - 3. 1
 - 4. 3

Question ID : 65497832009
Status : Answered
Chosen Option : 2

Q.5 दिए गए वाक्य का वो भाग ज्ञात करें जिसमें कोई त्रुटि है। यदि कोई त्रुटि नहीं है, तो 'कोई त्रुटि नहीं है' चुनें।

मैं भूखा हूँ (1) और मुझे बहुत तेज़ (2) प्यास भी लगा है। (3) कोई त्रुटि नहीं है (4)

- Ans
- 1. 1
 - 2. 2
 - 3. 3
 - 4. 4

Question ID : 65497832000
Status : Answered
Chosen Option : 3

Q.6 रिक्त स्थान की पूर्ति के लिए सबसे उपयुक्त शब्द का चयन करें।

बैलों के कंधों पर _____ पड़ा था।

- Ans
- 1. जुआ
 - 2. जुएँ
 - 3. जई
 - 4. जूआ

Question ID : 65497831999
Status : Answered
Chosen Option : 2

Q.7 'पानी फेर देना' मुहावरे का सही अर्थ क्या है?

- Ans
- 1. जवाब न देना
 - 2. संभाल लेना
 - 3. बुरा-भला कहना
 - 4. बिगाड़ देना

Question ID : 65497832014
Status : Answered
Chosen Option : 4

Q.8 दिए गये वाक्यांश के लिए एक शब्द दीजिये-

जिसे बुलाया न गया हो

- Ans
- 1. अनाहूत
 - 2. आरक्त
 - 3. आहूत
 - 4. अभिभूत

Question ID : 65497832002
Status : Answered
Chosen Option : 1

Q.9 रिक्त स्थान की पूर्ति के लिए सबसे उपयुक्त शब्द का चयन करें।

कई सौ वर्षों तक भारत के _____ पराधीनता की बेड़ियाँ पड़ी रहीं।

- Ans
- 1. गले में
 - 2. पैरों में
 - 3. शरीर में
 - 4. माथे पर

Question ID : 65497832008
Status : Answered
Chosen Option : 2

Q.10 उस विकल्प का चयन कीजिए, जो निम्न मुहावरे का अर्थ व्यक्त करता है।

आफ़त सिर पर लेना

- Ans
- 1. झगड़ा मोल लेना
 - 2. तंग करना
 - 3. स्वागत करना
 - 4. समस्या का सामना करना

Question ID : 65497831998
Status : Answered
Chosen Option : 1

Q.11 'अंगीकार' का विलोम शब्द होगा-

- Ans
- 1. मक्कार
 - 2. स्वीकार
 - 3. धिक्कार
 - 4. बहिष्कार

Question ID : 65497832013
Status : Answered
Chosen Option : 4

Q.12 दिए गए वाक्य में रेखांकित खंड को प्रतिस्थापित करने के लिए सबसे उपयुक्त विकल्प का चयन करें।
यदि इसे प्रतिस्थापित करने की आवश्यकता नहीं है, तो विकल्प 'किसी बदलाव की आवश्यकता नहीं है'
का चयन करें।

वह प्रतिदिनों ऐसा ही करता आया है।

- Ans
- 1. किसी बदलाव की आवश्यकता नहीं है।
 - 2. वह प्रतिदिन
 - 3. वे प्रतिदिनों
 - 4. वह प्रतिदिन

Question ID : 65497831996
Status : Answered
Chosen Option : 4

Q.13 सही वर्तनी वाले शब्द का चयन करें।

- Ans
- 1. यासथाक्ती
 - 2. जथाशाक्ति
 - 3. यशासक्ति
 - 4. यथाशक्ति

Question ID : 65497832007
Status : Answered
Chosen Option : 4

Q.14 दिए गए शब्द का समानार्थी शब्द चुनें-

एकांत

- Ans
- 1. एकता
 - 2. सहसा
 - 3. शून्य
 - 4. अचानक

Question ID : 65497832010
Status : Answered
Chosen Option : 3

Q.15 'आधे से अधिक लोगों की मिलकर एक राय' वाक्यांश के लिए उपयुक्त शब्द होगा-

- Ans
- 1. अल्पमत
 - 2. सहमत
 - 3. बहुमत
 - 4. जनमत

Question ID : 65497832015
Status : Answered
Chosen Option : 3

Q.16 सही वर्तनी वाले शब्द का चयन करें।

- Ans
- 1. पुत्रवधू
 - 2. पात्रवाधू
 - 3. पुत्रवधु
 - 4. पूत्रवधू

Question ID : 65497832006
Status : Answered
Chosen Option : 1

Q.17 दिये गये वाक्य में रेखांकित अंश को प्रतिस्थापित करने के लिए सबसे उपयुक्त विकल्प का चयन करें।

प्रेम का मूल्य मापा नहीं जा सकता।

- Ans
- 1. जोड़ा नहीं जा सकता।
 - 2. गिना नहीं जा सकता।
 - 3. नापा नहीं जा सकता।
 - 4. आँका नहीं जा सकता।

Question ID : 65497832012
Status : Answered
Chosen Option : 4

Q.18 दिए गए शब्द के विलोम शब्द का चयन करें-

सुलभ

- Ans
- 1. अलभ
 - 2. दुर्लभ
 - 3. निर्लभ
 - 4. अनुलभ

Question ID : 65497832001
Status : Answered
Chosen Option : 2

Q.19 रिक्त स्थान की पूर्ति के लिए सबसे उपयुक्त शब्द का चयन करें।

उनकी शंका का _____ तुम्हीं कर सकते हो।

- Ans
- 1. निपटान
 - 2. निराकरण
 - 3. हल
 - 4. समाधान

Question ID : 65497832005
Status : Answered
Chosen Option : 4

Q.20 दिये गये वाक्य में रेखांकित अंश को प्रतिस्थापित करने के लिए सबसे उपयुक्त विकल्प का चयन करें।

सुमन को अपने रूप पर गौरव है।

- Ans
- 1. सम्मान
 - 2. दर्प
 - 3. गर्व
 - 4. क्षोभ

Question ID : 65497832011
Status : Answered
Chosen Option : 3

Comprehension:

दिए गए गद्यांश में से कुछ शब्द हटा दिए गए हैं। संबंधित प्रश्नों में प्रत्येक संख्या के लिए सबसे उपयुक्त विकल्प का चयन करें।

संसार में (1) _____ यानि दूसरों पर आश्रित होना या निर्भर रहना एक प्रकार का पाप, सर्वाधिक हीन कर्म और आदमी के अंतःबाह्य व्यक्तित्व को एकदम हीन तथा बौना बनाकर रख देने वाला हुआ करता है। पराश्रित या परावलंबी को हमेशा आश्रय आधार देने वालों के (2) _____ बनकर रहना पड़ता है। उनके इशारों पर नाचने की बाध्यता और विवशता रहा करती है। उनकी अपनी (3) _____ पहले तो होती ही नहीं, होने या रहने पर भी उसका कोई मूल्य और महत्त्व नहीं रहा करता। वह चाहकर भी उसके अनुसार न तो कार्य ही कर सकता है और न उसे कभी पूर्ण होते हुए ही देख सकता है। इसी कारण पराधीनता को घोर पाप और (4) _____ माना गया है। इसके विपरीत स्वाधीनता को (5) _____ का द्वार, पुण्य-कार्यों का परिणाम और सब प्रकार से श्रेष्ठ स्वीकार किया गया है।

SubQuestion No : 21

Q.21 गद्यांश के रिक्त स्थान (1) के लिए सर्वाधिक उपयुक्त शब्द होगा-

- Ans
- 1. परतंत्र
 - 2. परावलंबी
 - 3. स्वावलंबी
 - 4. स्वतंत्र

Question ID : 65497832017
Status : Answered
Chosen Option : 2

Comprehension:

दिए गए गद्यांश में से कुछ शब्द हटा दिए गए हैं। संबंधित प्रश्नों में प्रत्येक संख्या के लिए सबसे उपयुक्त विकल्प का चयन करें।

संसार में (1) _____ यानि दूसरों पर आश्रित होना या निर्भर रहना एक प्रकार का पाप, सर्वाधिक हीन कर्म और आदमी के अंतःबाह्य व्यक्तित्व को एकदम हीन तथा बौना बनाकर रख देने वाला हुआ करता है। पराश्रित या परावलंबी को हमेशा आश्रय आधार देने वालों के (2) _____ बनकर रहना पड़ता है। उनके इशारों पर नाचने की बाध्यता और विवशता रहा करती है। उनकी अपनी (3) _____ पहले तो होती ही नहीं, होने या रहने पर भी उसका कोई मूल्य और महत्त्व नहीं रहा करता। वह चाहकर भी उसके अनुसार न तो कार्य ही कर सकता है और न उसे कभी पूर्ण होते हुए ही देख सकता है। इसी कारण पराधीनता को घोर पाप और (4) _____ माना गया है। इसके विपरीत स्वाधीनता को (5) _____ का द्वार, पुण्य-कार्यों का परिणाम और सब प्रकार से श्रेष्ठ स्वीकार किया गया है।

SubQuestion No : 22

Q.22 गद्यांश के रिक्त स्थान (2) के लिए सर्वाधिक उपयुक्त शब्द होगा-

- Ans** 1. विवश
 2. अधीन
 3. नौकर
 4. गुलाम

Question ID : 65497832018

Status : Answered

Chosen Option : 2

Comprehension:

दिए गए गद्यांश में से कुछ शब्द हटा दिए गए हैं। संबंधित प्रश्नों में प्रत्येक संख्या के लिए सबसे उपयुक्त विकल्प का चयन करें।

संसार में (1) _____ यानि दूसरों पर आश्रित होना या निर्भर रहना एक प्रकार का पाप, सर्वाधिक हीन कर्म और आदमी के अंतःबाह्य व्यक्तित्व को एकदम हीन तथा बौना बनाकर रख देने वाला हुआ करता है। पराश्रित या परावलंबी को हमेशा आश्रय आधार देने वालों के (2) _____ बनकर रहना पड़ता है। उनके इशारों पर नाचने की बाध्यता और विवशता रहा करती है। उनकी अपनी (3) _____ पहले तो होती ही नहीं, होने या रहने पर भी उसका कोई मूल्य और महत्त्व नहीं रहा करता। वह चाहकर भी उसके अनुसार न तो कार्य ही कर सकता है और न उसे कभी पूर्ण होते हुए ही देख सकता है। इसी कारण पराधीनता को घोर पाप और (4) _____ माना गया है। इसके विपरीत स्वाधीनता को (5) _____ का द्वार, पुण्य-कार्यों का परिणाम और सब प्रकार से श्रेष्ठ स्वीकार किया गया है।

SubQuestion No : 23

Q.23 गद्यांश के रिक्त स्थान (3) के लिए सर्वाधिक उपयुक्त शब्द होगा-

- Ans** 1. अस्तित्व
 2. अनिच्छा
 3. इच्छा
 4. मर्यादा

Question ID : 65497832019

Status : Answered

Chosen Option : 1

Comprehension:

दिए गए गद्यांश में से कुछ शब्द हटा दिए गए हैं। संबंधित प्रश्नों में प्रत्येक संख्या के लिए सबसे उपयुक्त विकल्प का चयन करें।

संसार में (1) _____ यानि दूसरों पर आश्रित होना या निर्भर रहना एक प्रकार का पाप, सर्वाधिक हीन कर्म और आदमी के अंतःबाह्य व्यक्तित्व को एकदम हीन तथा बौना बनाकर रख देने वाला हुआ करता है। पराश्रित या परावलंबी को हमेशा आश्रय आधार देने वालों के (2) _____ बनकर रहना पड़ता है। उनके इशारों पर नाचने की बाध्यता और विवशता रहा करती है। उनकी अपनी (3) _____ पहले तो होती ही नहीं, होने या रहने पर भी उसका कोई मूल्य और महत्त्व नहीं रहा करता। वह चाहकर भी उसके अनुसार न तो कार्य ही कर सकता है और न उसे कभी पूर्ण होते हुए ही देख सकता है। इसी कारण पराधीनता को घोर पाप और (4) _____ माना गया है। इसके विपरीत स्वाधीनता को (5) _____ का द्वार, पुण्य-कार्यों का परिणाम और सब प्रकार से श्रेष्ठ स्वीकार किया गया है।

SubQuestion No : 24

Q.24 गद्यांश के रिक्त स्थान (4) के लिए सर्वाधिक उपयुक्त शब्द होगा-

- Ans**
- 1. विशिष्ट
 - 2. सर्वश्रेष्ठ
 - 3. निकृष्ट
 - 4. आकृष्ट

Question ID : 65497832020

Status : Answered

Chosen Option : 3

Comprehension:

दिए गए गद्यांश में से कुछ शब्द हटा दिए गए हैं। संबंधित प्रश्नों में प्रत्येक संख्या के लिए सबसे उपयुक्त विकल्प का चयन करें।

संसार में (1) _____ यानि दूसरों पर आश्रित होना या निर्भर रहना एक प्रकार का पाप, सर्वाधिक हीन कर्म और आदमी के अंतःबाह्य व्यक्तित्व को एकदम हीन तथा बौना बनाकर रख देने वाला हुआ करता है। पराश्रित या परावलंबी को हमेशा आश्रय आधार देने वालों के (2) _____ बनकर रहना पड़ता है। उनके इशारों पर नाचने की बाध्यता और विवशता रहा करती है। उनकी अपनी (3) _____ पहले तो होती ही नहीं, होने या रहने पर भी उसका कोई मूल्य और महत्त्व नहीं रहा करता। वह चाहकर भी उसके अनुसार न तो कार्य ही कर सकता है और न उसे कभी पूर्ण होते हुए ही देख सकता है। इसी कारण पराधीनता को घोर पाप और (4) _____ माना गया है। इसके विपरीत स्वाधीनता को (5) _____ का द्वार, पुण्य-कार्यों का परिणाम और सब प्रकार से श्रेष्ठ स्वीकार किया गया है।

SubQuestion No : 25

Q.25 गद्यांश के रिक्त स्थान (5) के लिए सर्वाधिक उपयुक्त शब्द होगा-

- Ans**
- 1. परलोक
 - 2. मृत्यु
 - 3. स्वर्ग
 - 4. नर्क

Question ID : 65497832021

Status : Answered

Chosen Option : 3

Constable GD in CAPFs NIA SSF and Rifleman GD in Assam Rifles Examination 2021

Roll Number	www.HaryanaJobs.in
Candidate Name	www.HaryanaJobs.in
Venue Name	Aurobindo International School Jaipur
Exam Date	06/12/2021
Exam Time :	4:00 PM - 5:30 PM
Subject	Constable GD 2021

Section : Part A General Intelligence and Reasoning

Q.1 अक्षरों के उस संयोजन का चयन कीजिए, जिसे दी गई अक्षर श्रृंखला के रिक्त स्थानों में क्रमिक रूप से रखने पर श्रृंखला पूर्ण हो जाएगी।

H _ M T _ H O _ T C H O M _ C _ O _ T C

- Ans
- 1. M C M T H C
 - 2. H C M T O M
 - 3. O C T M C M
 - 4. O C M T H M

Question ID : 65497835833
Status : Answered
Chosen Option : 4

Q.2 एक निश्चित कूट भाषा में, 'MAYANK IS GREAT' को 're ge ne' लिखा जाता है, 'HE IS AN INDIAN' को 'te re pe me', लिखा जाता है, 'GREAT INDIAN CULTURE' को 'pe ge se' लिखा जाता है। उसी कूट भाषा में 'MAYANK' को किस प्रकार लिखा जाएगा?

- Ans
- 1. ge
 - 2. pe
 - 3. re
 - 4. ne

Question ID : 65497835837
Status : Answered
Chosen Option : 4

Q.3 उस विकल्प का चयन करें, जिसका तीसरे अक्षर-समूह से वही संबंध है, जो दूसरे अक्षर-समूह का पहले अक्षर-समूह से है।

QGNB : ZPWK :: HLMO : ?

- Ans
- 1. RVWY
 - 2. PUVX
 - 3. RVWZ
 - 4. QUVX

Question ID : 65497835836
Status : Answered
Chosen Option : 4

Q.4 'त्रिभुज' का 'पिरामिड' से वही संबंध है, जो 'आयत' का '_____' से है।

- Ans
- 1. चतुर्भुज
 - 2. घनाभ
 - 3. शंकु
 - 4. घन

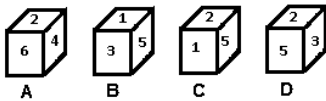
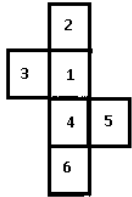
Question ID : 65497835849
Status : Answered
Chosen Option : 1

Q.5 किसी कूट भाषा में, 24391 को #∞x©* और 15678 को *β€μ£ लिखा जाता है। उसी कूट भाषा में 65432 को किस प्रकार लिखा जाएगा?

- Ans
- 1. β€#∞x
 - 2. #∞x β€
 - 3. €β∞x#
 - 4. x#€β∞

Question ID : 65497835841
Status : Answered
Chosen Option : 3

Q.6 उस पासे का चयन कीजिए, जिसे दी गई शीट को रेखाओं पर मोड़कर बनाया जा सकता है।



- Ans
- 1. केवल D और A
 - 2. केवल C
 - 3. केवल D
 - 4. केवल B और C

Question ID : 65497835842
Status : Answered
Chosen Option : 2

Q.7 दिए गए विकल्पों में से वह सही विकल्प चुनिए, जो दिए गए शब्दों के उस क्रम को दर्शाता है, जिसमें वे अंग्रेजी शब्दकोश में मौजूद होते हैं।

1. Parade
2. Parallel
3. Pearl
4. Peanut
5. Peach

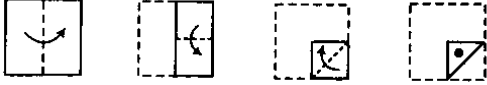
- Ans
- ✗ 1. 1, 2, 5, 3, 4
 - ✗ 2. 5, 2, 1, 4, 3
 - ✗ 3. 2, 1, 4, 5, 3
 - ✓ 4. 1, 2, 5, 4, 3

Question ID : 65497835832

Status : Answered

Chosen Option : 4

Q.8 नीचे दी गई आकृतियों में कागज के एक टुकड़े को मोड़ने का क्रम और उस मुड़े हुए कागज को काटने का तरीका दर्शाया गया है। इस कागज को खोलने पर यह कैसा दिखेगा?



Ans

- ✗ 1.
- ✗ 2.
- ✗ 3.
- ✓ 4.

Question ID : 65497835856

Status : Answered

Chosen Option : 4

Q.9 एक संयुक्त परिवार में 9 सदस्य C, D, E, F, G, H, I, J और K हैं। परिवार में तीन विवाहित जोड़े हैं। D शिक्षक है तथा E और F का भाई है। G, I की मां हैं। J, C की पत्नी है, और C, I के दादा हैं। E, C की इकलौती पुत्री है। K, F और H की पुत्री है। शिक्षक की पत्नी कौन है?

- Ans
- 1. E
 - 2. J
 - 3. G
 - 4. H

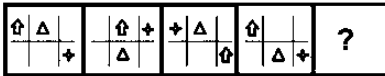
Question ID : 65497835838
Status : Answered
Chosen Option : 3

Q.10 सरयू ने अलग-अलग मूल्यों पर दो रेफ्रिजरेटर खरीदे, जिनके लिए उसने कुल ₹80,000 का भुगतान किया। इनमें से एक को उसके क्रय मूल्य के 3/4 पर और दूसरे को इसके क्रय मूल्य के 4/3 पर बेचने पर, उसे इस पूरे संव्यवहार में ₹8,000 का लाभ होता है। उस रेफ्रिजरेटर का क्रय मूल्य ज्ञात कीजिए, जिसे अधिक मूल्य पर खरीदा गया था।

- Ans
- 1. ₹50,000
 - 2. ₹40,000
 - 3. ₹48,000
 - 4. ₹45,000

Question ID : 65497835855
Status : Answered
Chosen Option : 1

Q.11 उस आकृति का चयन कीजिए जो निम्न आकृति श्रृंखला में प्रश्नवाचक चिह्न (?) के स्थान पर आएगी।



Ans

- 1.

↑	△
△	+
- 2.

△	↑
+	△
- 3.

↑	+
△	△
- 4.

↑	△
△	+

Question ID : 65497835835
Status : Answered
Chosen Option : 2

Q.12 एक विशिष्ट कूट भाषा में, BULK को 4212411 लिखा जाता है। उसी कूट भाषा में INCH को किस प्रकार लिखा जाएगा?

- Ans
- 1. 914128
 - 2. 914188
 - 3. 181468
 - 4. 181614

Question ID : 65497835845
Status : Answered
Chosen Option : 3

Q.13 दिए गए कथनों और निष्कर्षों को ध्यानपूर्वक पढ़ें। कथनों में दी गई जानकारी को सत्य मानते हुए विचार करें, भले ही वह सामान्यतः ज्ञात तथ्यों से भिन्न प्रतीत होती हो, और बताएं कि दिए गए निष्कर्षों में से कौन से तार्किक रूप से कथनों का पालन करते हैं?

कथन:

कुछ लॉकर, चाबियां हैं।
कुछ चाबियां, दरवाजे हैं।

निष्कर्ष:

- I. कुछ लॉकर, दरवाजे हैं।
- II. सभी चाबियां, दरवाजे हैं।

- Ans
- 1. केवल निष्कर्ष I पालन करता है।
 - 2. निष्कर्ष I और II दोनों ही पालन करते हैं।
 - 3. केवल निष्कर्ष II पालन करता है।
 - 4. न तो निष्कर्ष I और न ही निष्कर्ष II पालन करता है।

Question ID : 65497835853
Status : Answered
Chosen Option : 4

Q.14 निम्नलिखित चार अक्षर-समूहों में से तीन किसी तरह से संगत हैं और एक असंगत है। असंगत अक्षर-समूह का चयन करें।

- Ans
- 1. UYW
 - 2. LPN
 - 3. DHF
 - 4. OQP

Question ID : 65497835844
Status : Answered
Chosen Option : 4

Q.15 उस वेन आरेख का चयन करें, जो निम्नलिखित वर्गों के बीच के संबंध को सबसे अच्छे तरीके से दर्शाता है।

कबूतर, भालू, पक्षी

Ans

- ✗ 1.
- ✗ 2.
- ✗ 3.
- ✓ 4.

Question ID : 65497835851

Status : Answered

Chosen Option : 4

Q.16 दिए गए संयोजन के उस सही दर्पण प्रतिबिंब का चयन करें जो दर्पण को PQ पर रखने पर बनेगा।

CQ6RUL |

Ans

- ✗ 1. 7U8900
- ✗ 2. 7UR900
- ✗ 3. 7UR900
- ✓ 4. 7UR900

Question ID : 65497835847

Status : Answered

Chosen Option : 4

Q.17 सात सहेलियां - प्रणवी, विनीता, रूपा, सौम्या, भावना, उर्मिला और आरोही, वृत्ताकार स्थिति में केंद्र की ओर मुख करके बैठी हैं। आरोही, सौम्या के बाईं ओर दूसरे स्थान पर है तथा भावना और उर्मिला की पड़ोसी है। सौम्या, रूपा या भावना की पड़ोसी नहीं है। प्रणवी, विनीता और रूपा की पड़ोसी है। दी गई जानकारी के आधार पर, निम्न में से कौन सा कथन सही है?

Ans

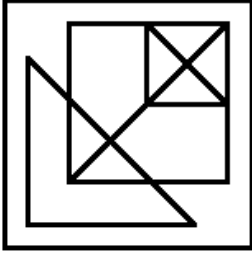
- ✗ 1. आरोही, रूपा और प्रणवी के बीच में बैठी है।
- ✗ 2. सौम्या, उर्मिला और आरोही के बीच में बैठी है।
- ✓ 3. रूपा, भावना और प्रणवी के बीच में बैठी है।
- ✗ 4. विनीता, भावना और प्रणवी के बीच में बैठी है।

Question ID : 65497835839

Status : Answered

Chosen Option : 3

Q.18 दी गई आकृति में अंतर्निहित त्रिभुजों की कुल संख्या ज्ञात कीजिए।



- Ans
- 1. 9
 - 2. 14
 - 3. 12
 - 4. 10

Question ID : 65497835843
Status : Answered
Chosen Option : 2

Q.19 दिए गए विकल्पों में से उस अक्षर-समूह का चयन करें, जो निम्नलिखित श्रृंखला में प्रश्नवाचक चिह्न (?) के स्थान पर आ सकता है।

XGC, UHE, RIH, ?

- Ans
- 1. OJL
 - 2. OKL
 - 3. PJL
 - 4. OJK

Question ID : 65497835848
Status : Answered
Chosen Option : 1

Q.20 दिए गए पैटर्न का ध्यानपूर्वक अध्ययन करें और उस संख्या का चयन करें, जो इसमें प्रश्न चिह्न (?) के स्थान पर आ सकती है।

3 13 4
4 27 11
6 ? 31

- Ans
- 1. 76
 - 2. 67
 - 3. 56
 - 4. 65

Question ID : 65497835854
Status : Answered
Chosen Option : 2

Q.21 दिए गए विकल्पों में से उस संख्या का चयन कीजिए, जो निम्नलिखित श्रेणी में प्रश्न चिह्न (?) के स्थान पर आ सकती है।

13, 27, 56, 115, 234, ?

- Ans
- 1. 702
 - 2. 455
 - 3. 468
 - 4. 473

Question ID : 65497835834
Status : Answered
Chosen Option : 4

Q.22 उस विकल्प का चयन कीजिए, जिसका चौथी संख्या से वही संबंध है, जो पहली संख्या का दूसरी संख्या से है।

36 : 9 :: ? : 16

- Ans
- 1. 65
 - 2. 80
 - 3. 64
 - 4. 61

Question ID : 65497835840
Status : Answered
Chosen Option : 3

Q.23 किसी कूट भाषा में, 'TABLET' को 'WYFJJR' लिखा जाता है। उसी कूट भाषा में, 'INSERT' को किस प्रकार लिखा जाएगा?

- Ans
- 1. LLWCWR
 - 2. LWLWCR
 - 3. LLCWWR
 - 4. LLWWCR

Question ID : 65497835852
Status : Answered
Chosen Option : 1

Q.24 दिए गए विकल्पों में से उस संख्या का चयन करें, जो निम्नलिखित श्रेणी में प्रश्न चिह्न (?) के स्थान पर आ सकती है।

23, 28, 38, 55, 81, ?

- Ans
- 1. 118
 - 2. 104
 - 3. 136
 - 4. 99

Question ID : 65497835846
Status : Answered
Chosen Option : 1

Q.25 J, H, Q, S, X, L और I एक सीधी पंक्ति में दक्षिण दिशा की ओर मुख करके बैठे हैं, किंतु उनका उपरोक्त क्रम में होना अनिवार्य नहीं है। J और Q के बीच में दो व्यक्ति बैठे हैं। X, J और S के बीच में बैठा है और H के दाईं ओर दूसरे स्थान पर बैठा है। L, Q के बाईं ओर दूसरे स्थान पर बैठा है और I के बाईं ओर ठीक बगल में बैठा है। Q और H, सीधी पंक्ति के सिरों पर बैठे हैं। निम्नलिखित में से कौन J के बाईं ओर तीसरे स्थान पर बैठा है?

- Ans
- 1. S
 - 2. H
 - 3. Q
 - 4. L

Question ID : 65497835850
Status : Answered
Chosen Option : 2

Section : Part B General Knowledge and General Awareness

Q.1 बंगाल किसके नेतृत्व में धीरे-धीरे मुगल नियंत्रण से अलग हो गया?

- Ans
- 1. मुकर्रम खान
 - 2. अली कादिर
 - 3. मुर्शिद कुली खान
 - 4. अलीवर्दी खान

Question ID : 65497835879
Status : Answered
Chosen Option : 3

Q.2 HIV (एच.आई.वी.) एक विषाणु है, जो शरीर की प्रतिरक्षा प्रणाली पर हमला करता है। HIV (एच.आई.वी.) का पूर्ण रूप क्या है?

- Ans
- 1. Human infectious virus (ह्यूमन इंफेक्शियस वायरस)
 - 2. Human immunodeficiency virus (ह्यूमन इम्यूनोडेफिशिएंसी वायरस)
 - 3. Herpes immunodeficiency virus (हर्पीज इम्यूनोडेफिशिएंसी वायरस)
 - 4. Human immunity deficiency virus (ह्यूमन इम्युनिटी डेफिशिएंसी वायरस)

Question ID : 65497835867
Status : Answered
Chosen Option : 2

Q.3 निम्नलिखित में से किसे ओलंपिक खेलों में पदक प्राप्त करने वाले पहले भारतीय मुक्केबाज होने का गौरव प्राप्त है?

- Ans
- 1. मैरी कॉम
 - 2. अखिल कुमार
 - 3. विजेन्द्र सिंह
 - 4. लैशराम सरिता देवी

Question ID : 65497835857
Status : Answered
Chosen Option : 1

Q.4 निम्नलिखित में से किसका उपयोग सर्च लाइटों में परावर्तक के रूप में किया जाता है?

- Ans
- 1. समतल दर्पण
 - 2. उत्तल दर्पण
 - 3. अवतल दर्पण
 - 4. अवतल लेंस

Question ID : 65497835858
Status : Answered
Chosen Option : 4

Q.5 आंध्र राज्य अधिनियम (1953) द्वारा भारत के _____ भाषाई राज्य का गठन किया गया।

- Ans
- 1. तृतीय
 - 2. चतुर्थ
 - 3. प्रथम
 - 4. द्वितीय

Question ID : 65497835863
Status : Answered
Chosen Option : 3

Q.6 मोटर वाहन (संशोधन) अधिनियम 2019 के अनुसार, शराब के नशे में वाहन चलाना अपराध है और यह दूसरी बार में _____ की अवधि तक के कारावास और/या ₹15,000 के जुर्माने से दंडनीय है।

- Ans
- 1. 1 वर्ष
 - 2. 3 माह
 - 3. 2 वर्ष
 - 4. 6 माह

Question ID : 65497835875
Status : Answered
Chosen Option : 1

Q.7 निम्नलिखित में से कौन सी नदी जास्कर (जंस्कार) और लद्दाख पर्वतमालाओं के बीच बहती है?

- Ans
- 1. गंगा
 - 2. ब्रह्मपुत्र
 - 3. यमुना
 - 4. सिंधु

Question ID : 65497835880
Status : Answered
Chosen Option : 4

Q.8 अशोक के कंधार अभिलेखों की खोज किस वर्ष में की गई थी?

- Ans
- 1. 1956
 - 2. 1960
 - 3. 1958
 - 4. 1954

Question ID : 65497835871
Status : Not Answered
Chosen Option : --

Q.9 2020 में रूस द्वारा आयोजित 12वें ब्रिक्स (BRICS) शिखर सम्मेलन की विषय-वस्तु क्या थी?

- Ans
- 1. एक उज्ज्वल भविष्य के लिए मजबूत साझेदारी (stronger partnership for a brighter future)
 - 2. समावेशी और सामूहिक समाधान विकसित करना (building up inclusive and collective solutions)
 - 3. वैश्विक स्थिरता, साझा सुरक्षा और अभिनव प्रगति (global stability, shared security and innovative growth)
 - 4. समावेशी विकास, स्थायी समाधान (inclusive growth, sustainable solutions)

Question ID : 65497835876
Status : Not Answered
Chosen Option : --

Q.10 निम्नलिखित में से किसने कोलकाता के खुदीराम अनुशीलन केंद्र में वरिष्ठ महिला राष्ट्रीय भारोत्तोलन चैंपियनशिप के 35वें संस्करण की 64 kg श्रेणी में स्वर्ण पदक जीता?

- Ans
- 1. के. रोशिलता देवी
 - 2. वीरजीत कौर
 - 3. राखी हलदर
 - 4. हरजिंदर कौर

Question ID : 65497835874
Status : Not Answered
Chosen Option : --

Q.11 मीराबाई चानू और _____ ने 2021 में टोक्यो में आयोजित ओलंपिक गेम्स (2020) में रजत पदक जीते।

- Ans
- 1. लवलीना बोरगोहेन
 - 2. बजरंग पुनिया
 - 3. नीरज चोपड़ा
 - 4. रवि कुमार दहिया

Question ID : 65497835881
Status : Answered
Chosen Option : 2

Q.12 हिमालय पर्वत की सुदूर उत्तरी पर्वतमाला को किस नाम से जाना जाता है?

- Ans
- 1. वाह्य हिमालय
 - 2. निम्न हिमालय
 - 3. महा-हिमालय
 - 4. महाभारत पर्वतमाला

Question ID : 65497835870
Status : Answered
Chosen Option : 3

Q.13 निम्नलिखित में से किसने हैदराबाद की चारमीनार का निर्माण करवाया था?

- Ans
- 1. हुमायूं
 - 2. मुहम्मद आदिल शाह
 - 3. अकबर
 - 4. मोहम्मद कुली कुतुब शाह

Question ID : 65497835865
Status : Answered
Chosen Option : 2

Q.14 1965 में ज्ञानपीठ पुरस्कार पाने वाले प्रथम व्यक्ति कौन थे?

- Ans
- 1. डॉ. ओ.एन.वी. कुरुप
 - 2. अक्किताम अच्युतन नंबूदरी
 - 3. जी. शंकर कुरुप
 - 4. डॉ. एम.टी. वासुदेवन नैय्यर

Question ID : 65497835873
Status : Not Answered
Chosen Option : --

Q.15 निम्नलिखित में से कौन-सा खनिज, अधात्विक खनिजों की श्रेणी में नहीं आता है?

- Ans
- 1. अभ्रक
 - 2. लाइमस्टोन
 - 3. बॉक्साइट
 - 4. जिप्सम

Question ID : 65497835872
Status : Not Answered
Chosen Option : --

Q.16 इक्विटास स्मॉल फ़ाइनेंस बैंक का मुख्यालय निम्नलिखित में से किस शहर में स्थित है?

- Ans
- 1. मुंबई
 - 2. गुरुग्राम
 - 3. चेन्नई
 - 4. बेंगलुरु

Question ID : 65497835869
Status : Answered
Chosen Option : 1

Q.17 27 अक्टूबर 2020 को आयोजित विश्व _____ विरासत दिवस की विषय-वस्तु 'Your Window to the World (योर विंडो टू द वर्ल्ड)' थी।

- Ans
- 1. भाषाई
 - 2. सांस्कृतिक
 - 3. दृश्य-श्रव्य
 - 4. आध्यात्मिक

Question ID : 65497835864
Status : Not Answered
Chosen Option : --

Q.18 निम्नलिखित में से किसने मांडू को अपनी राजधानी बनाया?

- Ans
- 1. होशंग शाह
 - 2. दिलावर खान
 - 3. बहमन शाह
 - 4. मीर जाफ़र

Question ID : 65497835862
Status : Not Answered
Chosen Option : --

Q.19 बजट 2020-2021 के अनुसार, सरफेसी अधिनियम 2002 के तहत, गैर-बैंकिंग वित्त कंपनियों (एनबीएफसी) की, भुगतान में चूक करने वाले कर्जदारों से ऋण की वसूली हेतु अर्हता को घटाकर ₹ _____ की संपत्ति तक कर दिया गया है।

- Ans
- 1. ₹250 करोड़
 - 2. ₹75 करोड़
 - 3. ₹100 करोड़
 - 4. ₹50 करोड़

Question ID : 65497835878
Status : Not Answered
Chosen Option : --

Q.20 जेम्स मिल ने अपनी पुस्तक 'द हिस्ट्री ऑफ ब्रिटिश इंडिया' में भारतीय इतिहास को तीन कालखंडों में विभाजित किया था, निम्नलिखित में से कौन सा उनमें शामिल नहीं है?

- Ans
- 1. ब्रिटिश
 - 2. हिंदू
 - 3. मुस्लिम
 - 4. ईसाई

Question ID : 65497835861
Status : Answered
Chosen Option : 4

Q.21 महात्मा गांधी ने 12 मार्च, 1930 को नमक आंदोलन (Salt March) की शुरुआत कहां से की थी?

- Ans
- 1. साबरमती
 - 2. चंपारण
 - 3. सेवाग्राम
 - 4. शांति निकेतन

Question ID : 65497835859
Status : Answered
Chosen Option : 1

Q.22 पानी में बने अम्लीय और क्षारीय विलयन विद्युत का चालन करते हैं, क्योंकि वे क्रमशः _____ और हाइड्रॉक्साइड आयन उत्पन्न करते हैं।

- Ans
- 1. कैल्शियम
 - 2. क्लोरीन
 - 3. हाइड्रोजन
 - 4. सल्फर

Question ID : 65497835866
Status : Answered
Chosen Option : 3

Q.23 निम्नलिखित में से किन देशों ने दक्षिणी चीन और इंडो पैसिफिक क्षेत्र में चीन के बढ़ते प्रभाव का मुकाबला करने के एक प्रयास के रूप में 17 नवंबर, 2020 को ऐतिहासिक 'रेसिप्रोकल एक्सेस एग्रीमेंट' ('RAA') पर हस्ताक्षर किए?

- Ans
- 1. ऑस्ट्रेलिया और जापान
 - 2. ऑस्ट्रेलिया और संयुक्त राज्य अमेरिका
 - 3. भारत और जापान
 - 4. भारत और संयुक्त राज्य अमेरिका

Question ID : 65497835860
Status : Answered
Chosen Option : 3

Q.24 भारतीय आर्थिक सर्वेक्षण 2019-20 के अनुसार, भारत के कुल प्रत्यक्ष विदेशी निवेश (FDI) अंतर्वाह में सेवा क्षेत्र का योगदान लगभग कितना है?

- Ans
- 1. दो-तिहाई
 - 2. दसवां भाग
 - 3. एक-चौथाई
 - 4. आधा

Question ID : 65497835877
Status : Answered
Chosen Option : 1

Q.25 निम्नलिखित में से किसे सितंबर 2020 में संयुक्त राष्ट्र पर्यावरण कार्यक्रम द्वारा भारत के लिए क्षेत्रीय राजदूत के रूप में नियुक्त किया गया है?

- Ans
- 1. स्मृति मंधाना
 - 2. खुशी चिंदालिया
 - 3. दीया मिर्जा
 - 4. नेत्रा कुमानन

Question ID : 65497835868
Status : Answered
Chosen Option : 2

Q.1 दो धनात्मक संख्याओं का लघुत्तम समापवर्त्य (LCM), उनके महत्तम समापवर्तक (HCF) के 28 गुने के बराबर है। यदि उनका महत्तम समापवर्तक (HCF) 5 है और संख्याओं का अंतर 15 है, तो दोनों संख्याओं का योगफल ज्ञात कीजिए।

- Ans
- ✓ 1. 55
 - ✗ 2. 65
 - ✗ 3. 45
 - ✗ 4. 50

Question ID : 65497835891
Status : Answered
Chosen Option : 1

Q.2 564 को इस प्रकार दो भागों में विभाजित किया गया है कि पहले भाग के आठवां हिस्से और दूसरे भाग के पांचवें हिस्से का अनुपात 5 : 4 है। दोनों भाग, क्रमशः क्या होंगे?

- Ans
- ✗ 1. 188 और 376
 - ✗ 2. 140 और 424
 - ✓ 3. 376 और 188
 - ✗ 4. 424 और 140

Question ID : 65497835886
Status : Answered
Chosen Option : 3

Q.3 तीन संख्याओं में से, पहली संख्या, दूसरी संख्या की तीन गुनी है और तीसरी संख्या की दो गुनी है। यदि इन तीनों संख्याओं का औसत 110 है, तो सबसे छोटी संख्या ज्ञात कीजिए।

- Ans
- ✓ 1. 60
 - ✗ 2. 45
 - ✗ 3. 30
 - ✗ 4. 40

Question ID : 65497835892
Status : Answered
Chosen Option : 1

Q.4 निम्नलिखित व्यंजक का मान ज्ञात करें।

$$\frac{6\frac{1}{2} + 2\frac{5}{7} \times \frac{14}{19} - \frac{1}{2} \div 2 \text{ of } \frac{1}{4}}{11 \times 12 \div 12 + 12}$$

- Ans
1. $\frac{110}{437}$
2. $\frac{15}{46}$
3. $\frac{15}{143}$
4. $\frac{19}{46}$

Question ID : 65497835884

Status : Answered

Chosen Option : 2

Q.5 एक पंखे को 20% के लाभ पर बेचा जाता है। यदि पंखे के क्रय मूल्य और विक्रय मूल्य दोनों में से ₹150 कम कर दिया जाता है, तो लाभ 5% अधिक होगा। पंखे का वास्तविक क्रय मूल्य (₹ में) ज्ञात कीजिए।

- Ans
1. 600
2. 750
3. 800
4. 450

Question ID : 65497835889

Status : Answered

Chosen Option : 2

Q.6 एक लंब वृत्तीय शंकु का वक्र पृष्ठीय क्षेत्रफल $3185\pi \text{ cm}^2$ है। यदि इसके आधार की त्रिज्या 35 cm है, तो इसकी ऊंचाई (cm में) कितनी होगी?

- Ans
1. 42
2. 49
3. 84
4. 98

Question ID : 65497835903

Status : Answered

Chosen Option : 3

Q.7 एक दुकानदार 15% की छूट देता है और फिर भी 5% लाभ प्राप्त करता है। यदि क्रय मूल्य ₹340.00 है, तो अंकित मूल्य (Marked Price) ज्ञात करें।

- Ans
- 1. ₹450.00
 - 2. ₹380.00
 - 3. ₹420.00
 - 4. ₹400.00

Question ID : 65497835895
Status : Answered
Chosen Option : 3

Q.8 कविता ने ₹2,500 में एक घड़ी खरीदी और इसे 12% की हानि पर बेच दिया। इन रुपयों से उसने एक पंखा खरीदा और उसे 15% के लाभ पर बेचा। इस पूरे लेनदेन में उसे होने वाले कुल लाभ/हानि का प्रतिशत ज्ञात कीजिए।

- Ans
- 1. 1.5% हानि
 - 2. 3% लाभ
 - 3. 0.3% हानि
 - 4. 1.2% लाभ

Question ID : 65497835906
Status : Answered
Chosen Option : 4

Q.9 यदि कोई धनराशि चक्रवृद्धि ब्याज की एक निश्चित दर पर 4 वर्ष में स्वयं की $1\frac{1}{2}$ गुनी हो जाती है। वही धनराशि, समान ब्याज दर पर कितने वर्ष में स्वयं की $2\frac{1}{4}$ गुनी हो जाएगी?

- Ans
- 1. 8
 - 2. 7
 - 3. 9
 - 4. 6

Question ID : 65497835894
Status : Answered
Chosen Option : 1

Q.10 एक दुकानदार ₹1,500 में 35 दर्जन पेंसिल खरीदता है। उसे 40% का लाभ प्राप्त करने के लिए, ₹125 में कितनी पेंसिलें बेचनी चाहिए?

- Ans
- 1. 28
 - 2. 24
 - 3. 25
 - 4. 20

Question ID : 65497835882
Status : Answered
Chosen Option : 3

Q.11 A और B एकसाथ चलना शुरू करते हैं और क्रमशः X और Y स्थानों से एक दूसरे की ओर बढ़ते हैं। मार्ग में एक निश्चित बिंदु पर एक दूसरे से मिलने के बाद, A और B को क्रमशः Y और X तक पहुँचने में 3.2 घंटे और 1.8 घंटे लगते हैं। यदि B की चाल 12 km/h थी, तो A की चाल (km/h में) ज्ञात करें।

- Ans
- 1. 16
 - 2. 12
 - 3. 9
 - 4. 8

Question ID : 65497835900
Status : Answered
Chosen Option : 3

Q.12 14 व्यक्तियों का औसत वजन 76.5 kg है। यदि 82 kg, 75 kg और x kg वजन वाले तीन अन्य व्यक्तियों को उनके साथ शामिल किया जाता है, तो सभी का औसत वजन 0.5 kg बढ़ जाता है। x का मान ज्ञात कीजिए।

- Ans
- 1. 79.5
 - 2. 80.5
 - 3. 81
 - 4. 85

Question ID : 65497835896
Status : Answered
Chosen Option : 3

Q.13 यदि A का 15%, B के 45% के बराबर है, तो A-B का कितना प्रतिशत, A के बराबर है?

- Ans
- 1. 60%
 - 2. 150%
 - 3. 75%
 - 4. 90%

Question ID : 65497835905
Status : Answered
Chosen Option : 2

Q.14 $\left(\frac{7}{5} \div \frac{7}{10} \text{ of } \frac{3}{4}\right) \div \frac{4}{9} + \left(\frac{7}{16} \div 10\frac{1}{2} \times 7\frac{1}{5}\right) \times \frac{5}{12}$ का मान ज्ञात कीजिए।

- Ans
- 1. $\frac{47}{8}$
 - 2. $\frac{39}{4}$
 - 3. $\frac{41}{4}$
 - 4. $\frac{49}{8}$

Question ID : 65497835888
Status : Answered
Chosen Option : 4

Q.15 एक निश्चित कार्य को पूरा करने में A, B की तुलना में 50% कम कुशल है और B, C की तुलना में 50% अधिक कुशल है। A, B और C एक साथ मिलकर इस कार्य को 48 दिनों में पूरा कर सकते हैं। A अकेले इसी कार्य को कितने समय में पूरा कर सकता है?

- Ans
- 1. 52 दिन
 - 2. 104 दिन
 - 3. 156 दिन
 - 4. 208 दिन

Question ID : 65497835899
Status : Answered
Chosen Option : 4

Q.16 एक वस्तु का अंकित मूल्य ₹250 है, इसे अंकित मूल्य पर 20%, 10% और $x\%$ की तीन क्रमिक छूट देने के बाद ₹164.70 में बेचा गया। x का मान ज्ञात करें।

- Ans
- 1. 8
 - 2. 8.5
 - 3. 9
 - 4. 9.5

Question ID : 65497835897
Status : Answered
Chosen Option : 2

Q.17 एक तैराक स्थिर जल में 12 km/h की चाल से तैर सकता है। यदि एक नदी 2 km/h की चाल से बह रही है, तो तैराक को धारा की विपरीत दिशा में 6 km तैरने में कितना समय लगेगा?

- Ans
- 1. 40 min
 - 2. 28 min
 - 3. 36 min
 - 4. 30 min

Question ID : 65497835885
Status : Answered
Chosen Option : 3

Q.18 पाइप A और B एक टैंक को क्रमशः 10 घंटे और $13\frac{1}{9}$ घंटे में भर सकते हैं। पाइप C एक निकासी पाइप है। जब तीनों पाइप एक साथ खोले जाते हैं, तो टैंक 8 घंटे में भर जाता है। पाइप C अकेले टैंक के 25% भाग को कितने घंटे में खाली करेगा?

- Ans
- 1. 6 घंटे
 - 2. 5 घंटे
 - 3. 4 घंटे
 - 4. 3 घंटे

Question ID : 65497835890
Status : Answered
Chosen Option : 2

Q.19 ₹9,600 धनराशि के एक भाग को वार्षिक 8% की दर से और शेष को वार्षिक 10% की दर से साधारण ब्याज पर निवेशित किया गया है। दोनों निवेशों से 4 वर्ष पश्चात, कुल ₹3,500 ब्याज प्राप्त हुआ। वार्षिक 10% की दर से निवेशित धनराशि (₹ में) कितनी थी?

- Ans
- 1. 4,400
 - 2. 4,250
 - 3. 5,350
 - 4. 5,200

Question ID : 65497835902
Status : Answered
Chosen Option : 3

Q.20 x को प्रत्येक 11, 18, 27, 42 संख्या में जोड़ने पर प्राप्त संख्याएं समानुपाती हैं। $(11x+3)$ और $(9x-2)$ के बीच मध्यानुपात कितना होगा?

- Ans
- 1. 25
 - 2. 24
 - 3. 30
 - 4. 28

Question ID : 65497835901
Status : Answered
Chosen Option : 3

Q.21 ₹5800 की एक धनराशि को इस प्रकार तीन भागों में विभाजित किया जाता है कि पहले भाग का आधा, दूसरे भाग का $\frac{1}{5}$ और तीसरे भाग का $\frac{3}{8}$ बराबर हैं। तीसरे भाग का मान ज्ञात कीजिए।

- Ans
- 1. ₹1,200
 - 2. ₹1,400
 - 3. ₹1,600
 - 4. ₹1,500

Question ID : 65497835893
Status : Answered
Chosen Option : 3

Q.22 A, B और C तीन संख्याएं हैं। A का मान, B के मान से 20% अधिक है। C का मान, A और B के मानों के योग से 20% कम है। B और C के मानों का अंतर, A के मान से कितने प्रतिशत कम है (एक दशमलव स्थान तक पूर्णांकित)?

- Ans
- 1. 52.4%
 - 2. 40.8%
 - 3. 36.7%
 - 4. 57.9%

Question ID : 65497835898
Status : Answered
Chosen Option : 3

Q.23 वह बड़ी से बड़ी संख्या ज्ञात कीजिए, जो 2880, 6525 और 8307 को पूर्णतया विभाजित करती है।

- Ans
- 1. 3
 - 2. 7
 - 3. 9
 - 4. 11

Question ID : 65497835904
Status : Answered
Chosen Option : 3

Q.24 सुमित को ₹29700 की धनराशि पर एक निश्चित ब्याज दर पर 3 वर्ष के साधारण ब्याज के रूप में ₹10692 प्राप्त हुए। उसके मित्र अनिल ने ₹12500 की राशि, समान दर पर, किंतु चक्रवृद्धि ब्याज पर, 2 वर्ष के लिए निवेशित की, जहां ब्याज की गणना वार्षिक चक्रवृद्धि आधार पर की जाती है। अनिल को ब्याज के रूप में कितनी धनराशि प्राप्त हुई?

- Ans
- 1. ₹3,180
 - 2. ₹3,200
 - 3. ₹3,000
 - 4. ₹3,150

Question ID : 65497835883
Status : Answered
Chosen Option : 1

Q.25 एक ठोस घन का संपूर्ण पृष्ठीय क्षेत्रफल 294 cm^2 है। इसे पिघलाकर 7 cm त्रिज्या वाला लंबवृत्तीय बेलन बनाया जाता है। बेलन की ऊंचाई (cm में, दशमलव के एक स्थान तक सही) कितनी होगी? ($\pi = \frac{22}{7}$ लें।)

- Ans
- 1. 2.2
 - 2. 4.5
 - 3. 1.8
 - 4. 3.1

Question ID : 65497835887
Status : Answered
Chosen Option : 1

Section : Part D English

Q.1 Select the most appropriate option that can substitute the underlined word in the given sentence.

At the time I was driving near Delhi, I perfectly felt the need to stretch my legs.

- Ans
- 1. effortlessly
 - 2. suddenly
 - 3. normally
 - 4. partially

Question ID : 65497835911
Status : Answered
Chosen Option : 2

Q.2 Select the INCORRECTLY spelt word.

- Ans
- 1. Delicious
 - 2. Progress
 - 3. Present
 - 4. Approve

Question ID : 65497835914
Status : Answered
Chosen Option : 1

Q.3 Select the most appropriate ANTONYM of the given word.

Humble

- Ans
- 1. Modest
 - 2. Boring
 - 3. Fair
 - 4. Arrogant

Question ID : 65497835923
Status : Answered
Chosen Option : 4

Q.4 The following sentence has been divided into parts. One of them may contain an error. Select the part that contains the error from the given options. If you don't find any error, select 'No error' as your answer.

This newspaper has / a bigger circulation / from any other newspaper.

- Ans**
- 1. a bigger circulation
 - 2. from any other newspaper
 - 3. This newspaper has
 - 4. No error

Question ID : 65497835907
Status : Answered
Chosen Option : 2

Q.5 Select the option that will improve the underlined part of the given sentence. In case no improvement is needed, select 'No improvement required'.

The farmer was deprived from his land by the money lender.

- Ans**
- 1. depriving in
 - 2. No improvement required
 - 3. deprived of
 - 4. deprived on

Question ID : 65497835925
Status : Answered
Chosen Option : 3

Q.6 Select the option that can be used as a one-word substitute for the given group of words.

One who disbelieves the existence of God

- Ans**
- 1. Polytheist
 - 2. Atheist
 - 3. Monotheist
 - 4. Theologist

Question ID : 65497835922
Status : Answered
Chosen Option : 2

Q.7 Select the most appropriate option that can substitute the underlined segment in the given sentence. If there is no need to substitute it, select 'No substitution required'.

The first meeting of the Standing Committee were on growth financing because investment is crucial for us in revival after the pandemic.

- Ans**
- 1. No substitution required
 - 2. was on growth financing
 - 3. are on growth financing
 - 4. have been in growth financing

Question ID : 65497835912
Status : Answered
Chosen Option : 2

Q.8 Select the most appropriate ANTONYM of the given word.

Oppose

- Ans** 1. Assist
 2. Quarrel
 3. Favour
 4. Control

Question ID : **65497835908**
Status : **Answered**
Chosen Option : **3**

Q.9 Select the most appropriate synonym of the given word.

Irregular

- Ans** 1. Smooth
 2. Common
 3. Uneven
 4. Usual

Question ID : **65497835918**
Status : **Answered**
Chosen Option : **3**

Q.10 Select the most appropriate option to fill in the blank.

The huge vase looks out of _____ with the surroundings.

- Ans** 1. size
 2. shape
 3. design
 4. place

Question ID : **65497835926**
Status : **Answered**
Chosen Option : **1**

Q.11 Select the most appropriate option to fill in the blank.

The old man has earned the _____ of settling disputes peacefully.

- Ans** 1. renown
 2. reputation
 3. resistance
 4. restoration

Question ID : **65497835915**
Status : **Answered**
Chosen Option : **3**

Q.12 Select the most appropriate meaning of the given idiom.

Storm in a teacup

- Ans
- 1. Making a habit of breaking teacups
 - 2. Thunder and storm during meal time
 - 3. Too little tea poured in a cup
 - 4. Anger or fuss about something trivial

Question ID : 65497835919
Status : Answered
Chosen Option : 4

Q.13 Parts of the given sentence have been given as options. One of them contains a grammatical error. Select the option that has the error.

The news reporter highlighting the mysterious death of the film actor repeatedly.

- Ans
- 1. highlighting
 - 2. repeatedly
 - 3. the mysterious death
 - 4. of the film actor

Question ID : 65497835920
Status : Answered
Chosen Option : 1

Q.14 Select the option that can be used as a one-word substitute for the given group of words.

One who supervises in an examination hall

- Ans
- 1. Examinee
 - 2. Teacher
 - 3. Invigilator
 - 4. Inspector

Question ID : 65497835916
Status : Answered
Chosen Option : 3

Q.15 Select the INCORRECTLY spelt word.

- Ans
- 1. Private
 - 2. Priviledge
 - 3. Prevalent
 - 4. Previous

Question ID : 65497835910
Status : Answered
Chosen Option : 2

Q.16 Select the option that can be used as a one-word substitute for the given group of words.

Pictures given in a book for the purpose of explaining things

- Ans** 1. Illustration
 2. Demonstration
 3. Decoration
 4. Ornamentation

Question ID : 65497835909
Status : Answered
Chosen Option : 1

Q.17 Select the most appropriate meaning of the given idiom.

To let someone off

- Ans** 1. To punish someone lightly
 2. To thank someone
 3. To allow someone
 4. To scold someone severely

Question ID : 65497835924
Status : Answered
Chosen Option : 4

Q.18 The following sentence has been split into four segments. Identify the segment that contains a grammatical error.

It is not simple / to finding / a way out / of problems.

- Ans** 1. to finding
 2. a way out
 3. of problems
 4. It is not simple

Question ID : 65497835917
Status : Answered
Chosen Option : 1

Q.19 Select the most appropriate option to fill in the blank.

Several companies have come up with technology at _____ prices to suit consumers of all segments.

- Ans** 1. acceptable
 2. agreeable
 3. amenable
 4. affordable

Question ID : 65497835913
Status : Answered
Chosen Option : 1

Q.20 Select the most appropriate synonym of the given word.

Promotion

- Ans**
- 1. Demotion
 - 2. Endearment
 - 3. Elevation
 - 4. Domination

Question ID : **65497835921**
Status : **Answered**
Chosen Option : **3**

Comprehension:

In the following passage, some words have been deleted. Read the passage carefully and select the most appropriate option to fill in each blank.

A biosketch is (1)_____ brief summary of a person's professional (2)_____ and recognition. It is meant (3)_____ highlight the important (4)_____ of one's training, experience and (5)_____ of interest.

SubQuestion No : 21

Q.21 Select the most appropriate option to fill in blank number 1.

- Ans**
- 1. No article required
 - 2. an
 - 3. one
 - 4. a

Question ID : **65497835928**
Status : **Answered**
Chosen Option : **4**

Comprehension:

In the following passage, some words have been deleted. Read the passage carefully and select the most appropriate option to fill in each blank.

A biosketch is (1)_____ brief summary of a person's professional (2)_____ and recognition. It is meant (3)_____ highlight the important (4)_____ of one's training, experience and (5)_____ of interest.

SubQuestion No : 22

Q.22 Select the most appropriate option to fill in blank number 2.

- Ans**
- 1. annoyance
 - 2. establishments
 - 3. accomplishments
 - 4. adventures

Question ID : **65497835929**
Status : **Answered**
Chosen Option : **3**

Comprehension:

In the following passage, some words have been deleted. Read the passage carefully and select the most appropriate option to fill in each blank.

A biosketch is (1)_____ brief summary of a person's professional (2)_____ and recognition. It is meant (3)_____ highlight the important (4)_____ of one's training, experience and (5)_____ of interest.

SubQuestion No : 23

Q.23 Select the most appropriate option to fill in blank number 3.

- Ans** 1. of
 2. from
 3. to
 4. about

Question ID : 65497835930
Status : Answered
Chosen Option : 3

Comprehension:

In the following passage, some words have been deleted. Read the passage carefully and select the most appropriate option to fill in each blank.

A biosketch is (1)_____ brief summary of a person's professional (2)_____ and recognition. It is meant (3)_____ highlight the important (4)_____ of one's training, experience and (5)_____ of interest.

SubQuestion No : 24

Q.24 Select the most appropriate option to fill in blank number 4.

- Ans** 1. aspects
 2. availability
 3. austerity
 4. assignments

Question ID : 65497835931
Status : Answered
Chosen Option : 1

Comprehension:

In the following passage, some words have been deleted. Read the passage carefully and select the most appropriate option to fill in each blank.

A biosketch is (1)_____ brief summary of a person's professional (2)_____ and recognition. It is meant (3)_____ highlight the important (4)_____ of one's training, experience and (5)_____ of interest.

SubQuestion No : 25

Q.25 Select the most appropriate option to fill in blank number 5.

- Ans** 1. areas
 2. section
 3. space
 4. surface

Question ID : 65497835932
Status : Answered
Chosen Option : 2

Q.1 किस विकल्प में मुहावरा और उसका अर्थ सुमेलित नहीं है?

- Ans
- 1. कलम न रुकना – लिखते ही रहना
 - 2. कलम कसाई – कलम को तोड़ने वाला
 - 3. कलम दान देना – लिखने की नौकरी देना
 - 4. कलम न उठ सकना – लिख न सकना

Question ID : 65497835936
Status : Not Answered
Chosen Option : --

Q.2 निम्नलिखित प्रश्न में दिए गए चार विकल्पों में से उस विकल्प का चयन करें, जो मुहावरे के सही अर्थ को व्यक्त करता है।

नमक हलाल

- Ans
- 1. धोखेबाज़
 - 2. भोजनभट्ट
 - 3. कृतज्ञ
 - 4. दुश्मन

Question ID : 65497835945
Status : Not Answered
Chosen Option : --

Q.3 दिए गए वाक्यांश के लिए एक शब्द दीजिए:

जो बहुत जानता हो

- Ans
- 1. अज्ञ
 - 2. सर्वज्ञ
 - 3. विज्ञ
 - 4. बहुज्ञ

Question ID : 65497835939
Status : Not Answered
Chosen Option : --

Q.4 'कमल' का समानार्थी शब्द कौन सा है?

- Ans
- 1. पयोधर
 - 2. पयोधि
 - 3. पयोद
 - 4. पयोज

Question ID : 65497835934
Status : Not Answered
Chosen Option : --

Q.5 सही वर्तनी वाले शब्द का चयन करें।

- Ans
- 1. दिक्षा
 - 2. दीक्क्षा
 - 3. दीच्छा
 - 4. दीक्षा

Question ID : 65497835941
Status : Not Answered
Chosen Option : --

Q.6 दिए गए शब्द के विलोम शब्द का चयन करें-

इहलोक

- Ans
- 1. परलोक
 - 2. सांसारिक
 - 3. भौतिक
 - 4. लौकिक

Question ID : 65497835938
Status : Not Answered
Chosen Option : --

Q.7 दिए गए वाक्य में रेखांकित अंश को प्रतिस्थापित करने के लिए सर्वाधिक उपयुक्त विकल्प का चयन करें।
यदि इसे प्रतिस्थापित करने की आवश्यकता नहीं है, तो विकल्प 'किसी बदलाव की आवश्यकता नहीं है'
का चयन करें।

महादेवी जी हिंदी का सुविख्यात कवयित्री थीं।

- Ans
- 1. हिंदी का सुविख्यात कवयित्री था।
 - 2. हिंदी की सुविख्यात कवयित्री थीं।
 - 3. हिंदी का सुविख्यात कवि थीं।
 - 4. किसी बदलाव की आवश्यकता नहीं है।

Question ID : 65497835940
Status : Not Answered
Chosen Option : --

Q.8 सही वर्तनी वाले शब्द का चयन करें।

- Ans
- 1. लक्ष्मण
 - 2. लच्छमन
 - 3. लछमन
 - 4. लक्षमण

Question ID : 65497835942
Status : Not Answered
Chosen Option : --

Q.9 दिए गए वाक्यांश के लिए एक शब्द दीजिए:

केवल फलों पर जीवन निर्वाह करने वाला

- Ans
- 1. अन्नाहारी
 - 2. शाकाहारी
 - 3. अल्पाहारी
 - 4. फलाहारी

Question ID : 65497835944
Status : Not Answered
Chosen Option : --

Q.10 दिए गए वाक्य के किस भाग में त्रुटि है?

वह सीड़ियों से ऊपर चढ़ गया।

- Ans
- 1. चढ़ गया।
 - 2. वह
 - 3. ऊपर
 - 4. सीड़ियों से

Question ID : 65497835951
Status : Not Answered
Chosen Option : --

Q.11 रिक्त स्थान की पूर्ति करने के लिए सर्वाधिक उपयुक्त विकल्प का चयन करें।

मन में _____ उत्पन्न होने से मैं कोई निर्णय न कर सका।

- Ans
- 1. टकराहट
 - 2. द्वंद्व
 - 3. संघर्ष
 - 4. युद्ध

Question ID : 65497835949
Status : Not Answered
Chosen Option : --

Q.12 कौन सा विलोम-युग्म सुमेलित नहीं है?

- Ans
- 1. यौगिक-अयौगिक
 - 2. लचकीला-कड़ा
 - 3. यौवन-वार्धक्य
 - 4. योगी-वियोगी

Question ID : 65497835935
Status : Not Answered
Chosen Option : --

Q.13 अनाथाश्रम में _____ रहते हैं।

रिक्त स्थान की पूर्ति कीजिए।

- Ans
- 1. मध्यम वर्ग के बच्चे
 - 2. श्रीमंत बच्चे
 - 3. अनाथ बच्चे
 - 4. झोपडपट्टी के बच्चे

Question ID : 65497835948
Status : Not Answered
Chosen Option : --

Q.14 दिए गए वाक्य में रेखांकित अंश को प्रतिस्थापित करने के लिए सर्वाधिक उपयुक्त विकल्प का चयन करें।
यदि इसे प्रतिस्थापित करने की आवश्यकता नहीं है, तो विकल्प 'किसी बदलाव की आवश्यकता नहीं है'
का चयन करें।

भारतीय किसान को खूब मेहनत करने पर भी उसकी पूरी लाभ नहीं मिलता है।

- Ans
- 1. किसी बदलाव की आवश्यकता नहीं है।
 - 2. उसका पूरी लाभ नहीं मिलती है।
 - 3. उसके पूरे लाभ नहीं मिलता है।
 - 4. उसका पूरा लाभ नहीं मिलता है।

Question ID : 65497835946
Status : Not Answered
Chosen Option : --

Q.15 'विभूति' का पर्यायवाची क्या है?

- Ans
- 1. शक्ति
 - 2. संपदा
 - 3. सौंदर्य
 - 4. विरासत

Question ID : 65497835952
Status : Not Answered
Chosen Option : --

Q.16 'आकाश को चूमने वाला' वाक्यांश के लिए एक शब्द क्या होगा?

- Ans
- 1. गगनधर्मा
 - 2. आकाशीय
 - 3. गगनचुंबी
 - 4. आकाशवाणी

Question ID : 65497835950
Status : Not Answered
Chosen Option : --

Q.17 दिए गए वाक्य का वह भाग ज्ञात करें, जिसमें कोई त्रुटि है। यदि कोई त्रुटि नहीं है, तो 'कोई त्रुटि नहीं है' चुनें।

उसे परिश्रम करनी चाहिए (1)\ और इस तरह अपनी कमी (2)\ पूरी करनी चाहिए (3)\ कोई त्रुटि नहीं है (4)

- Ans
- 1. 3
 - 2. 4
 - 3. 2
 - 4. 1

Question ID : 65497835937
Status : Not Answered
Chosen Option : --

Q.18 रिक्त स्थान की पूर्ति करने के लिए सर्वाधिक उपयुक्त शब्द का चयन करें।

विपत्ति में कभी अपना _____ नहीं खोना चाहिए।

- Ans
- 1. क्रोध
 - 2. धैर्य
 - 3. शांति
 - 4. धन

Question ID : 65497835943
Status : Not Answered
Chosen Option : --

Q.19 दिए गए वाक्य का वह भाग ज्ञात करें, जिसमें कोई त्रुटि है। यदि कोई त्रुटि नहीं है, तो 'कोई त्रुटि नहीं है' चुनें।

अनेकों बार (1)\ देख (2)\ चुका हूं। (3)\ कोई त्रुटि नहीं है (4)

- Ans
- 1. 4
 - 2. 1
 - 3. 3
 - 4. 2

Question ID : 65497835933
Status : Not Answered
Chosen Option : --

Q.20 दिए गए वाक्य में रेखांकित अंश को प्रतिस्थापित करने के लिए सर्वाधिक उपयुक्त विकल्प का चयन करें।

सूर्य प्रतिदिन पूर्व में उग रहा है।

- Ans
- 1. उगलता है।
 - 2. जगता है।
 - 3. उगता है।
 - 4. ढलता है।

Question ID : 65497835947
Status : Not Answered
Chosen Option : --

Comprehension:

दिए गए गद्यांश में कुछ शब्द हटा दिए गए हैं। दिए गए विकल्पों की सहायता से रिक्त स्थानों की पूर्ति करें।
प्रत्येक संख्या के लिए सर्वाधिक उपयुक्त विकल्प का चयन करें।

शिक्षक को राष्ट्र-निर्माता कहा जाता है। वह देश के बच्चों का (1) _____ संवारता है। उसका काम है—आज तक के नए ज्ञान को नई पीढ़ी के मन-मस्तिष्क में भरना। उससे भी अधिक आवश्यक है- अच्छे मनुष्य बनाना। (2) _____ शिक्षक वही है जो नए ज्ञान को पाने का इच्छुक रहता है। वह केवल किताबों तक ही सीमित नहीं रहता। वह अपने शिष्यों के जीवन में (3) _____ भरता है। वह उनमें अच्छी आदतों का विकास करता है। इसके लिए वह स्वयं अपना काम समय से और (4) _____ से करता है। बच्चे ऐसे शिक्षक से प्रभावित होते हैं। अच्छा शिक्षक (5) _____ होता है। वह डांट-डपट, क्रोध और व्यंग्य की बजाय अच्छे मित्र की तरह व्यवहार करता है।
गद्यांश के आधार पर प्रश्नों के उत्तर दीजिए।

SubQuestion No : 21

Q.21 गद्यांश के रिक्त स्थान (1) के लिए सर्वाधिक उपयुक्त शब्द होगा-

- Ans**
- 1. परलोक
 - 2. संसार
 - 3. भूत
 - 4. भविष्य

Question ID : 65497835954

Status : Not Answered

Chosen Option : --

Comprehension:

दिए गए गद्यांश में कुछ शब्द हटा दिए गए हैं। दिए गए विकल्पों की सहायता से रिक्त स्थानों की पूर्ति करें।
प्रत्येक संख्या के लिए सर्वाधिक उपयुक्त विकल्प का चयन करें।

शिक्षक को राष्ट्र-निर्माता कहा जाता है। वह देश के बच्चों का (1) _____ संवारता है। उसका काम है—आज तक के नए ज्ञान को नई पीढ़ी के मन-मस्तिष्क में भरना। उससे भी अधिक आवश्यक है- अच्छे मनुष्य बनाना। (2) _____ शिक्षक वही है जो नए ज्ञान को पाने का इच्छुक रहता है। वह केवल किताबों तक ही सीमित नहीं रहता। वह अपने शिष्यों के जीवन में (3) _____ भरता है। वह उनमें अच्छी आदतों का विकास करता है। इसके लिए वह स्वयं अपना काम समय से और (4) _____ से करता है। बच्चे ऐसे शिक्षक से प्रभावित होते हैं। अच्छा शिक्षक (5) _____ होता है। वह डांट-डपट, क्रोध और व्यंग्य की बजाय अच्छे मित्र की तरह व्यवहार करता है।
गद्यांश के आधार पर प्रश्नों के उत्तर दीजिए।

SubQuestion No : 22

Q.22 गद्यांश के रिक्त स्थान (2) के लिए सर्वाधिक उपयुक्त शब्द होगा-

- Ans**
- 1. पतित
 - 2. आदर्श
 - 3. जीवत
 - 4. साहस

Question ID : 65497835955

Status : Not Answered

Chosen Option : --

Comprehension:

दिए गए गद्यांश में कुछ शब्द हटा दिए गए हैं। दिए गए विकल्पों की सहायता से रिक्त स्थानों की पूर्ति करें।
प्रत्येक संख्या के लिए सर्वाधिक उपयुक्त विकल्प का चयन करें।

शिक्षक को राष्ट्र-निर्माता कहा जाता है। वह देश के बच्चों का (1) _____ संवारता है। उसका काम है—आज तक के नए ज्ञान को नई पीढ़ी के मन-मस्तिष्क में भरना। उससे भी अधिक आवश्यक है- अच्छे मनुष्य बनाना। (2) _____ शिक्षक वही है जो नए ज्ञान को पाने का इच्छुक रहता है। वह केवल किताबों तक ही सीमित नहीं रहता। वह अपने शिष्यों के जीवन में (3) _____ भरता है। वह उनमें अच्छी आदतों का विकास करता है। इसके लिए वह स्वयं अपना काम समय से और (4) _____ से करता है। बच्चे ऐसे शिक्षक से प्रभावित होते हैं। अच्छा शिक्षक (5) _____ होता है। वह डांट-डपट, क्रोध और व्यंग्य की बजाय अच्छे मित्र की तरह व्यवहार करता है।
गद्यांश के आधार पर प्रश्नों के उत्तर दीजिए।

SubQuestion No : 23

Q.23 गद्यांश के रिक्त स्थान (3) के लिए सर्वाधिक उपयुक्त शब्द होगा-

- Ans** 1. स्वामिभक्ति
 2. संस्कार
 3. आचार
 4. व्याभिचार

Question ID : 65497835956

Status : Not Answered

Chosen Option : --

Comprehension:

दिए गए गद्यांश में कुछ शब्द हटा दिए गए हैं। दिए गए विकल्पों की सहायता से रिक्त स्थानों की पूर्ति करें।
प्रत्येक संख्या के लिए सर्वाधिक उपयुक्त विकल्प का चयन करें।

शिक्षक को राष्ट्र-निर्माता कहा जाता है। वह देश के बच्चों का (1) _____ संवारता है। उसका काम है—आज तक के नए ज्ञान को नई पीढ़ी के मन-मस्तिष्क में भरना। उससे भी अधिक आवश्यक है- अच्छे मनुष्य बनाना। (2) _____ शिक्षक वही है जो नए ज्ञान को पाने का इच्छुक रहता है। वह केवल किताबों तक ही सीमित नहीं रहता। वह अपने शिष्यों के जीवन में (3) _____ भरता है। वह उनमें अच्छी आदतों का विकास करता है। इसके लिए वह स्वयं अपना काम समय से और (4) _____ से करता है। बच्चे ऐसे शिक्षक से प्रभावित होते हैं। अच्छा शिक्षक (5) _____ होता है। वह डांट-डपट, क्रोध और व्यंग्य की बजाय अच्छे मित्र की तरह व्यवहार करता है।
गद्यांश के आधार पर प्रश्नों के उत्तर दीजिए।

SubQuestion No : 24

Q.24 गद्यांश के रिक्त स्थान (4) के लिए सर्वाधिक उपयुक्त शब्द होगा-

- Ans** 1. बेमानी
 2. ईमानदारी
 3. सदाचार
 4. आलस्य

Question ID : 65497835957

Status : Not Answered

Chosen Option : --

Comprehension:

दिए गए गद्यांश में कुछ शब्द हटा दिए गए हैं। दिए गए विकल्पों की सहायता से रिक्त स्थानों की पूर्ति करें।
प्रत्येक संख्या के लिए सर्वाधिक उपयुक्त विकल्प का चयन करें।

शिक्षक को राष्ट्र-निर्माता कहा जाता है। वह देश के बच्चों का (1) _____ संवारता है। उसका काम है—आज तक के नए ज्ञान को नई पीढ़ी के मन-मस्तिष्क में भरना। उससे भी अधिक आवश्यक है- अच्छे मनुष्य बनाना। (2) _____ शिक्षक वही है जो नए ज्ञान को पाने का इच्छुक रहता है। वह केवल किताबों तक ही सीमित नहीं रहता। वह अपने शिष्यों के जीवन में (3) _____ भरता है। वह उनमें अच्छी आदतों का विकास करता है। इसके लिए वह स्वयं अपना काम समय से और (4) _____ से करता है। बच्चे ऐसे शिक्षक से प्रभावित होते हैं। अच्छा शिक्षक (5) _____ होता है। वह डांट-डपट, क्रोध और व्यंग्य की बजाय अच्छे मित्र की तरह व्यवहार करता है।
गद्यांश के आधार पर प्रश्नों के उत्तर दीजिए।

SubQuestion No : 25

Q.25 गद्यांश के रिक्त स्थान (5) के लिए सर्वाधिक उपयुक्त शब्द होगा-

- Ans**
- 1. निडर
 - 2. गुस्सैल
 - 3. दबंग
 - 4. स्नेहपूर्ण

Question ID : 65497835958

Status : Not Answered

Chosen Option : --

Constable GD in CAPFs NIA SSF and Rifleman GD in Assam Rifles Examination 2021

Roll Number	www.HaryanaJobs.in
Candidate Name	www.HaryanaJobs.in
Venue Name	iON Digital Zone iDZ Kalyani
Exam Date	03/12/2021
Exam Time :	12:30 PM - 2:00 PM
Subject	Constable GD 2021

Section : Part A General Intelligence and Reasoning

Q.1 निम्नलिखित विकल्पों में से उस विकल्प का चयन करें, जो दिए गए शब्दों के उस सही क्रम को दर्शाता है, जिस क्रम में ये शब्द अंग्रेजी शब्दकोश में दिखाई देते हैं।

1. Loiter
2. Loiterer
3. Logic
4. Logotype
5. Log

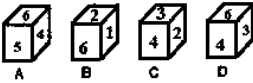
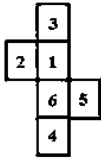
Ans 1. 5, 3, 1, 4, 2
 2. 5, 3, 4, 2, 1
 3. 5, 4, 3, 1, 2
 4. 5, 3, 4, 1, 2

Question ID : 65497832039

Status : Answered

Chosen Option : 4

Q.2 उस/उन पासे/पासों का चयन करें, जिसे दी गई शीट को लाड़नों पर मोड़कर बनाया जा सकता है।



Ans 1. A और D, दोनों
 2. केवल B
 3. केवल A
 4. B और C, दोनों

Question ID : 65497832029

Status : Answered

Chosen Option : 4

Q.3 एक विशिष्ट कूट भाषा में, 'FILE' को 'LIEF' और 'YOUR' को 'UORY' लिखा जाता है। इस भाषा में 'MARK' को क्या लिखा जाएगा?

- Ans
- 1. RAMK
 - 2. RAKM
 - 3. ARMK
 - 4. ARKM

Question ID : 65497832037
Status : Answered
Chosen Option : 2

Q.4 दिए गए कथनों और निष्कर्षों को ध्यानपूर्वक पढ़ें। कथनों में दी गई जानकारी सही मानते हुए, चाहे वह सामान्य ज्ञात तथ्यों से भिन्न प्रतीत हो, निर्णय करें कि दिए गए निष्कर्षों में से कौन-सा/से कथनों का तार्किक रूप से अनुसरण करता है (करते हैं)।

कथन:
सभी विद्यार्थी डॉक्टर हैं।
विश्वविद्यालय के सभी शिक्षक डॉक्टर हैं।

निष्कर्ष:
I. कुछ डॉक्टर विद्यार्थी हैं।
II. कुछ डॉक्टर विश्वविद्यालय के शिक्षक हैं।

- Ans
- 1. केवल निष्कर्ष II अनुसरण करता है।
 - 2. केवल निष्कर्ष I अनुसरण करता है।
 - 3. दोनों निष्कर्ष अनुसरण करते हैं।
 - 4. या तो निष्कर्ष I या निष्कर्ष II अनुसरण करता है।

Question ID : 65497832032
Status : Answered
Chosen Option : 3

Q.5 L की दो संतानें हैं और वह एकमात्र बेटा है, G का, जो T का ससुर है। T का केवल एक बेटा है। T, P की माँ है। Q, G की पोती नहीं है। P और Q सहोदर हैं। T, Q से किस प्रकार संबंधित है?

- Ans
- 1. भाई
 - 2. माँ
 - 3. पिता
 - 4. बहन

Question ID : 65497832038
Status : Answered
Chosen Option : 2

Q.6 वह संख्या ज्ञात कीजिए जिसे उसके 15 गुने संख्या में जोड़ने पर 176 प्राप्त होता है।

- Ans
- 1. 13
 - 2. 11
 - 3. 14
 - 4. 16

Question ID : 65497832034
Status : Answered
Chosen Option : 2

Q.7 चार अक्षर-समूह दिए गए हैं, जिनमें से तीन किसी तरह से संगत हैं और एक असंगत है। उस अक्षर-समूह का चयन करें, जो अन्य से असंगत है।

- Ans
- 1. DHLP
 - 2. NRVZ
 - 3. TXBF
 - 4. YCGL

Question ID : 65497832043
Status : Answered
Chosen Option : 4

Q.8 किसी विशिष्ट कूट भाषा में, 'how are you' को 'so me lo', 'you are intelligent' को 'the lo me' और 'are they lazy' को 'me ca ya' लिखा जाता है। इस भाषा में 'how are they' को क्या लिखा जाएगा?

- Ans
- 1. ya ca me
 - 2. so me ca
 - 3. so lo ca
 - 4. the lo me

Question ID : 65497832031
Status : Answered
Chosen Option : 2

Q.9 सात कार्यकर्ता आलोक, भूषण, कोलिन, दिनेश, ईशांत, फातिमा और गौरव एक सीधी रेखा में उत्तर की ओर उन्मुख होकर बैठे हैं। फातिमा, दिनेश और गौरव के बीच बैठी है। भूषण, कोलिन और आलोक के बीच में बैठा है। ईशांत, गौरव के बायें तीसरे स्थान पर है। गौरव एक कोने पर बैठा है। आलोक, कोलिन के दायें दूसरे स्थान पर है। ईशांत और फातिमा के बीच में कौन बैठा है?

- Ans
- 1. दिनेश
 - 2. भूषण
 - 3. आलोक
 - 4. गौरव

Question ID : 65497832026
Status : Answered
Chosen Option : 1

Q.10 यदि '+', गुणन को निरूपित करता है, '÷', घटाना निरूपित करता है और '-', विभाजन को निरूपित करता है, तो निम्न व्यंजक का मान ज्ञात करें।

$$25 + 25 \div 50 - 5$$

- Ans
- 1. 135
 - 2. 165
 - 3. 155
 - 4. 615

Question ID : 65497832028
Status : Answered
Chosen Option : 4

Q.11 उस विकल्प का चयन करें जो तीसरे अक्षर-समूह से उसी प्रकार संबंधित है, जिस प्रकार दूसरा अक्षर-समूह पहले अक्षर-समूह से संबंधित है।

DEAL : WVZO :: CARD : ?

- Ans 1. XZIW
 2. ZXWI
 3. ZXIW
 4. XZWI

Question ID : 65497832036
Status : Answered
Chosen Option : 1

Q.12 उस विकल्प का चयन करें जो तीसरे शब्द से उसी प्रकार संबंधित है जिस प्रकार दूसरा शब्द पहले शब्द से संबंधित है।

छुपाना : प्रकट करना :: विस्तार करना : ?

- Ans 1. संकुचित करना
 2. चौड़ा करना
 3. फैलाना
 4. बड़ा करना

Question ID : 65497832023
Status : Answered
Chosen Option : 1

Q.13 उस विकल्प का चयन कीजिए जिसका चौथी संख्या से वही संबंध है, जो पहली संख्या का दूसरी संख्या से है।

7 : 49 :: ? : 81

- Ans 1. 6
 2. 9
 3. 7
 4. 8

Question ID : 65497832027
Status : Answered
Chosen Option : 2

Q.14 दिए गए विकल्पों में से उस अक्षर-समूह का चयन करें जो निम्नलिखित श्रृंखला में प्रश्न चिह्न (?) के स्थान पर आ सकता है।

NGP, OIS, PKV, ?

- Ans 1. QMX
 2. QMY
 3. RMY
 4. RNX

Question ID : 65497832022
Status : Answered
Chosen Option : 2

Q.15 एक निश्चित कूट भाषा में, HALT को 164 लिखा जाता है और MOP को 132 लिखा जाता है। उसी कूट भाषा में GOBLET को किस प्रकार लिखा जाएगा?

- Ans
- 1. 334
 - 2. 288
 - 3. 366
 - 4. 260

Question ID : 65497832044
Status : Answered
Chosen Option : 3

Q.16 दिए गए पैटर्न का ध्यानपूर्वक अध्ययन करें, और उस संख्या का चयन करें जो प्रश्नवाचक चिह्न (?) के स्थान पर आ सकती है।

49 8 73
11 6 29
? 12 58

- Ans
- 1. 24
 - 2. 16
 - 3. 6
 - 4. 22

Question ID : 65497832033
Status : Answered
Chosen Option : 4

Q.17 सात दोस्त, M, N, O, P, Q, R और S, एक वृत्ताकार मेज़ के परितः मेज़ के केंद्र की ओर मुँह करके बैठे हैं। P और R, N के पड़ोसी हैं। S, N के बाईं ओर दूसरे स्थान पर बैठा है। O, R और Q के बीच बैठा है। O के दाईं ओर दूसरे स्थान पर कौन बैठा है?

- Ans
- 1. M
 - 2. N
 - 3. S
 - 4. Q

Question ID : 65497832024
Status : Answered
Chosen Option : 1

Q.18 अक्षरों के उस संयोजन का चयन करें, जिसे जब दी गई श्रृंखला के रिक्त स्थानों में क्रम से रखा जाए, तो श्रृंखला पूर्ण होगी।

P _ _ F I _ _ R O F _ _ P R O _ _ T P R _ _ I T

- Ans
- 1. ROTPITFIOF
 - 2. RPITOFTIOF
 - 3. ROTPIFOFFI
 - 4. ROTIPFTIOF

Question ID : 65497832040
Status : Answered
Chosen Option : 1

Q.19 दिए गए विकल्पों में से उस संख्या का चयन कीजिए, जो निम्नलिखित श्रेणी में प्रश्नवाचक चिह्न (?) के स्थान पर आ सकती है।

66, 77, 90, 107, 126, ?, 178

Ans 1. 168

2. 154

3. 136

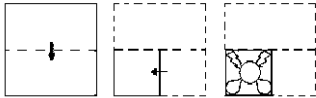
4. 149

Question ID : 65497832045

Status : Answered

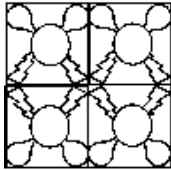
Chosen Option : 4

Q.20 निम्नांकित चित्रों में एक कागज को मोड़ने का क्रम और मुड़े हुए कागज को काटने का तरीका दर्शाया गया है। मुड़े हुए कागज को खोलने पर यह कैसा दिखाई देगा?

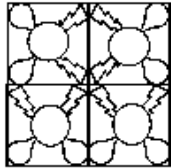


Ans

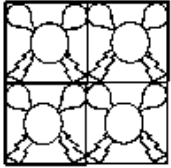
1.



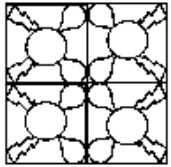
2.



3.



4.



Question ID : 65497832035

Status : Answered

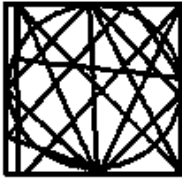
Chosen Option : 1

Q.21 उस विकल्प का चयन करें जिसमें दी गई आकृति सन्नहित है (घुमाने की अनुमति नहीं है)।



Ans

✗ 1.



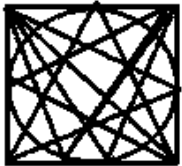
✗ 2.



✓ 3.



✗ 4.



Question ID : 65497832030

Status : Answered

Chosen Option : 3

Q.22 दिए गए संयोजन के सही दर्पण प्रतिबिंब का चयन कीजिए, जबकि दर्पण को इसकी दाईं ओर रखा गया है।

R k m S G 5

Ans

✗ 1.



✗ 2.



✓ 3.



✗ 4.



Question ID : 65497832046

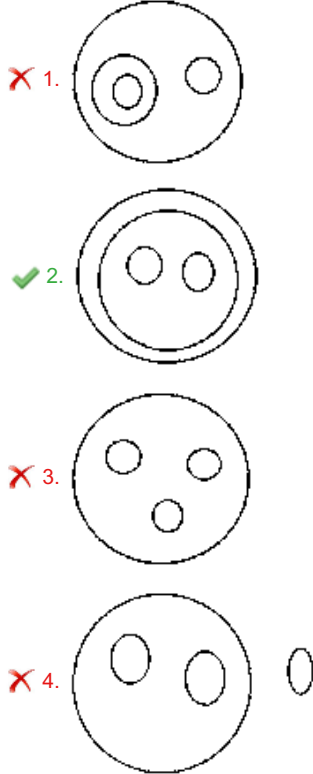
Status : Answered

Chosen Option : 3

Q.23 Select the Venn diagram that best represents the relationship between the following classes.

Living things, Animals, Birds, Dogs

Ans



Question ID : 65497832025

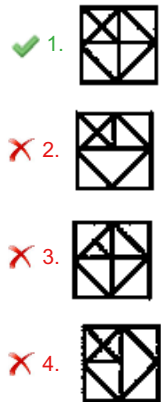
Status : Answered

Chosen Option : 1

Q.24 दिए गए विकल्पों में से उस आकृति का चयन करें, जो निम्नांकित आकृति में प्रश्नवाचक चिह्न (?) के स्थान पर आ सकती है (धुमाने की अनुमति नहीं है)।



Ans



Question ID : 65497832042

Status : Answered

Chosen Option : 1

Q.25 दिए गए विकल्पों में से उस संख्या का चयन करें, जो निम्नलिखित श्रृंखला में प्रश्नवाचक चिह्न (?) के स्थान पर आ सकती है।

145, 175, 235, 265, 325, ?, 415

- Ans
- 1. 385
 - 2. 375
 - 3. 355
 - 4. 380

Question ID : 65497832041
Status : Answered
Chosen Option : 3

Section : Part B General Knowledge and General Awareness

Q.1 समुद्री निकायों और समुद्र में _____ पानी होता है।

- Ans
- 1. खारा
 - 2. कड़वा
 - 3. खट्टा
 - 4. मीठा

Question ID : 65497832058
Status : Answered
Chosen Option : 1

Q.2 निम्नलिखित में से किस अभिनेता ने बिहार के एक यूट्यूबर (YouTuber) को नवंबर 2020 में मानहानि का नोटिस दिया, जिसमें उस पर कथित रूप से झूठे और बेबुनियाद आरोप लगाने के लिए हर्जाने में ₹500 करोड़ की मांग की?

- Ans
- 1. अक्षय कुमार
 - 2. सलमान खान
 - 3. आमिर खान
 - 4. अजय देवगन

Question ID : 65497832066
Status : Answered
Chosen Option : 3

Q.3 सर्वोच्च भारतीय नागरिक पुरस्कार, भारत रत्न, निम्नलिखित में से किस वर्ष में आरंभ किया गया था?

- Ans
- 1. 1956
 - 2. 1952
 - 3. 1954
 - 4. 1963

Question ID : 65497832054
Status : Answered
Chosen Option : 3

Q.4 दिसंबर 2020 में, _____, तिरुवनंतपुरम नगर निगम के सबसे कम उम्र के मेयर बने।

- Ans
- 1. आर्या राजेंद्रन
 - 2. शोभा सुरेंद्रन
 - 3. आशा प्रकाश
 - 4. श्रीकला नाडर

Question ID : 65497832069
Status : Answered
Chosen Option : 1

Q.5 ओरल रिहाइड्रेशन सॉल्यूशन (ORS) की अनुशंसा _____ से पीड़ित व्यक्ति के लिए की जाती है।

- Ans
- 1. त्वचा के चकत्ते
 - 2. आँख आना (कंजेक्टिवाइटिस)
 - 3. दस्त (डायरिया)
 - 4. घरघराहट (क्लीज़िंग)

Question ID : 65497832064
Status : Answered
Chosen Option : 1

Q.6 1756 में सिराज उद-दौला, _____ के बाद बंगाल के नवाब बने।

- Ans
- 1. मीर जाफ़र
 - 2. मीर कासिम
 - 3. मुर्शिद कुली खान
 - 4. अलीवर्दी खान

Question ID : 65497832060
Status : Answered
Chosen Option : 1

Q.7 प्रधानमंत्री रोजगार सृजन कार्यक्रम ('PMEGP') में व्यवसाय/सेवा क्षेत्र के तहत स्वीकार्य परियोजना की अधिकतम लागत कितनी है?

- Ans
- 1. ₹ 25 लाख
 - 2. ₹ 10 लाख
 - 3. ₹ 5 लाख
 - 4. ₹ 20 लाख

Question ID : 65497832047
Status : Not Answered
Chosen Option : --

Q.8 अगस्त 2021 में, निम्न में से किस बैंक ने श्रीनगर की डल झील में एक हाउसबोट पर पहला तैरता हुआ एटीएम (ATM) खोला?

- Ans
- 1. आईडीएफसी (IDFC) बैंक
 - 2. भारतीय स्टेट बैंक
 - 3. बैंक ऑफ बड़ौदा
 - 4. एक्सिस बैंक

Question ID : 65497832071
Status : Answered
Chosen Option : 2

Q.9 निम्नलिखित में से किस तिथि को विश्व एड्स दिवस मनाया जाता है?

- Ans
- 1. 12 जुलाई
 - 2. 5 सितंबर
 - 3. 1 दिसंबर
 - 4. 17 मई

Question ID : 65497832053
Status : Answered
Chosen Option : 3

Q.10 _____, एक खोखली लौकी में बांस के दो छोटे पाइप लगाकर बनाया गया एक सुधिर वाद्य यंत्र है, जिसे ज्यादातर सपेरो द्वारा इस्तेमाल किया जाता है।

- Ans
- 1. बीन
 - 2. डेरु
 - 3. घड़ा
 - 4. खरतल

Question ID : 65497832067
Status : Answered
Chosen Option : 1

Q.11 निम्नलिखित में से किस लड़ाई में ईस्ट इंडिया कंपनी ने मैसूर पर कब्जा कर लिया?

- Ans
- 1. बक्सर की लड़ाई
 - 2. श्रीरंगपट्टणम् की घेराबंदी
 - 3. प्लासी की लड़ाई
 - 4. पोलिलूर की लड़ाई

Question ID : 65497832057
Status : Answered
Chosen Option : 2

Q.12 भारतीय दंड संहिता की धारा 510 के अनुसार, एक शराबी व्यक्ति द्वारा सार्वजनिक रूप से दुराचार करने की सजा साधारण कारावास के साथ दंडनीय है, जो चौबीस घंटे तक बढ़ाई जा सकती है, या जुर्माना जो ₹ _____ तक बढ़ाया जा सकता है, या इन दोनों के साथ दंडित किया जा सकता है।

- Ans
- 1. 100
 - 2. 10
 - 3. 500
 - 4. 1000

Question ID : 65497832062
Status : Not Answered
Chosen Option : --

Q.13 देश के भीतर लोगों के एक स्थान से दूसरे स्थान पर जाने अथवा देश से बाहर जाने को _____ कहा जाता है।

- Ans
- 1. उत्प्रवास (एमिग्रेशन)
 - 2. प्रवास (माइग्रेशन)
 - 3. आप्रवास (इमिग्रेशन)
 - 4. नानवस्थानान्तर (ट्रांस ह्यूमन)

Question ID : 65497832050
Status : Answered
Chosen Option : 1

Q.14 _____ और ताप्ती नदियाँ एक दूसरे के लगभग समानांतर बहती हैं, लेकिन विपरीत दिशाओं में खुद को खाली कर लेती हैं।

- Ans
- 1. कृष्णा
 - 2. ब्रह्मपुत्र
 - 3. नर्मदा
 - 4. कावेरी

Question ID : 65497832068
Status : Answered
Chosen Option : 3

Q.15 हमारे सौर मंडल के बाहर निम्नलिखित में से ऐसा कौन सा ग्रह है जो आमतौर पर हमारी आकाशगंगा में किसी अन्य तारे की परिक्रमा करता है?

- Ans
- 1. हौमिया (Haumea)
 - 2. एक्सोप्लैनेट (Exoplanet)
 - 3. मीज़ोप्लैनेट (Mesoplanet)
 - 4. सुपर अर्थ (Super Earth)

Question ID : 65497832052
Status : Not Answered
Chosen Option : --

Q.16 In which income group does India fall on the basis of Gross National Income classified by the World Bank?

- Ans
- 1. High income group
 - 2. Low-income group
 - 3. Lower-middle income group
 - 4. Upper-middle income group

Question ID : 65497832056
Status : Not Answered
Chosen Option : --

Q.17 लॉन टेनिस में निम्नलिखित में से किस शब्द का प्रयोग नहीं किया जाता है?

- Ans
- 1. स्मैश (Smash)
 - 2. ड्यूस (Deuce)
 - 3. स्कूप (Scoop)
 - 4. एस (Ace)

Question ID : 65497832055
Status : Answered
Chosen Option : 3

Q.18 भारत ने किल्से, पोलैंड (Kielce, Poland) में आयोजित AIBA युवा पुरुष और महिला विश्व मुक्केबाजी चैंपियनशिप 2021 में कुल _____ पदक जीते।

- Ans
- 1. 9
 - 2. 11
 - 3. 10
 - 4. 8

Question ID : 65497832070
Status : Answered
Chosen Option : 2

Q.19 भारत के संविधान के किस अनुच्छेद द्वारा, 'अस्पृश्यता' को समाप्त कर दिया गया है, और किसी भी रूप में इस प्रथा का प्रचलन निषिद्ध किया गया है?

- Ans
- 1. 17
 - 2. 19
 - 3. 16
 - 4. 18

Question ID : 65497832048
Status : Answered
Chosen Option : 1

Q.20 नवंबर 2020 में प्रधानमंत्री नरेंद्र मोदी द्वारा वीडियो कॉन्फ्रेंसिंग के माध्यम से _____ राज्य में 'स्टैच्यू ऑफ पीस' का अनावरण किया गया।

- Ans
- 1. गुजरात
 - 2. राजस्थान
 - 3. बिहार
 - 4. उत्तर प्रदेश

Question ID : 65497832063
Status : Answered
Chosen Option : 2

Q.21 नवंबर 2019 में नीति आयोग ने भूमि _____ पर एक प्रारूप मॉडल अधिनियम जारी किया है।

- Ans
- 1. अधिग्रहण
 - 2. शीर्षांकन
 - 3. राजस्व
 - 4. उपरिसीमा

Question ID : 65497832049
Status : Not Answered
Chosen Option : --

Q.22 Pit-houses dug into the ground, with steps leading into them were found at the _____ archaeological site.

- Ans
- 1. Utnur
 - 2. Burzahom
 - 3. Hallur
 - 4. Paiyampalli

Question ID : 65497832061
Status : Not Answered
Chosen Option : --

Q.23 आई.पी.एल. (IPL) 2020 में कौन सी चार टीमों ने प्लेऑफ़ खेला?

- Ans
- 1. सनराइजर्स हैदराबाद, राजस्थान रॉयल्स, रॉयल चैलेंजर्स बैंगलोर, मुंबई इंडियंस
 - 2. दिल्ली कैपिटल्स, किंग्स इलेवन पंजाब, मुंबई इंडियंस, कोलकाता नाइट राइडर्स
 - 3. चेन्नई सुपर किंग्स, दिल्ली कैपिटल्स, सनराइजर्स हैदराबाद, रॉयल चैलेंजर्स बैंगलोर
 - 4. मुंबई इंडियंस, सनराइजर्स हैदराबाद, रॉयल चैलेंजर्स बैंगलोर, दिल्ली कैपिटल्स

Question ID : 65497832059
Status : Answered
Chosen Option : 4

Q.24 'खुल्लम' लोक नृत्य निम्नलिखित में से किस राज्य से संबंधित है?

- Ans
- 1. हरियाणा
 - 2. छत्तीसगढ़
 - 3. मिज़ोरम
 - 4. झारखंड

Question ID : 65497832051
Status : Answered
Chosen Option : 4

Q.25 वेद्वी, _____ शासकों द्वारा जबरन श्रम के रूप में एकत्र किया गया कर था।

- Ans
- 1. नंद
 - 2. पल्लव
 - 3. चालुक्य
 - 4. चोल

Question ID : 65497832065
Status : Not Answered
Chosen Option : --

Section : Part C Elementary Mathematics

Q.1 एक घनाभ की लंबाई, चौड़ाई और उंचाई का योगफल 18 cm है। यदि इसके विकर्ण की लंबाई 13 cm है, तो घनाभ का कुल पृष्ठीय क्षेत्रफल ज्ञात कीजिए।

- Ans
- 1. 155 cm²
 - 2. 154 cm²
 - 3. 145 cm²
 - 4. 150 cm²

Question ID : 65497832078
Status : Answered
Chosen Option : 1

Q.2 कक्षा X में 5 वर्ग हैं जिनमें क्रमशः 40, 50, 50, 60 और 60 छात्र हैं। इन वर्गों का उत्तीर्ण प्रतिशत क्रमशः 80%, 76%, 64%, 65% और 70% है। संपूर्ण कक्षा X का उत्तीर्ण प्रतिशत (दशमलव के दो स्थानों तक सही) ज्ञात कीजिए।

- Ans
- 1. 70.38%
 - 2. 71.83%
 - 3. 69.73%
 - 4. 72.81%

Question ID : 65497832074
Status : Answered
Chosen Option : 1

Q.3 यदि पहले वर्ष के लिए ब्याज दर 5% है, दूसरे वर्ष के लिए 6% है और तीसरे वर्ष के लिए 8% है, तो कौन सी राशि 3 वर्षों में चक्रवृद्धि ब्याज के तहत ₹30,051 का मिश्रधन देगी?

- Ans
- ✓ 1. ₹25,000
 - ✗ 2. ₹30,000
 - ✗ 3. ₹28,000
 - ✗ 4. ₹26,000

Question ID : 65497832084
Status : Answered
Chosen Option : 1

Q.4 राम ने ₹6,800 में एक वस्तु खरीदी और इसकी मरम्मत पर ₹700 खर्च किए। वह अपनी वस्तु पर कुल लागत से 8% अधिक मूल्य अंकित करता है। उसने 10% और x % की दो क्रमिक छूट देने के बाद वस्तु को ₹6,196.50 में बेची। x का मान ज्ञात कीजिए।

- Ans
- ✓ 1. 15
 - ✗ 2. 10
 - ✗ 3. 18
 - ✗ 4. 12

Question ID : 65497832073
Status : Answered
Chosen Option : 1

Q.5 एक परीक्षा में उत्तीर्ण प्रतिशत, कुल अंकों का 35% है। एक छात्र ने 390 अंक प्राप्त किए और उसे 65 अंकों से अनुत्तीर्ण घोषित कर दिया गया। परीक्षा के कुल अंक कितने होने चाहिए?

- Ans
- ✗ 1. 1200
 - ✗ 2. 1000
 - ✗ 3. 1600
 - ✓ 4. 1300

Question ID : 65497832086
Status : Answered
Chosen Option : 4

Q.6 वार्षिक रूप से संयोजित, 9% की वार्षिक दर पर एक वर्ष और 4 महीनों के लिए ₹20,000 पर अर्जित चक्रवृद्धि ब्याज ज्ञात कीजिए।

- Ans
- ✗ 1. ₹2,540
 - ✗ 2. ₹2,654
 - ✓ 3. ₹2,454
 - ✗ 4. ₹2,450

Question ID : 65497832083
Status : Answered
Chosen Option : 3

Q.7 जब 38 kg के भार वाले एक व्यक्ति को नए व्यक्ति द्वारा प्रतिस्थापित किया जाता है, तो 5 व्यक्तियों के औसत भार में 2.8 kg की वृद्धि होती है। नए व्यक्ति का भार ज्ञात कीजिए।

- Ans
- 1. 50 kg
 - 2. 52 kg
 - 3. 44 kg
 - 4. 48 kg

Question ID : 65497832080
Status : Answered
Chosen Option : 2

Q.8 दो वस्तुओं का क्रय मूल्य 4 : 5 के अनुपात में है। पहली वस्तु को 10% लाभ पर और दूसरी वस्तु को 20% लाभ पर बेचने से उनके विक्रय मूल्य के बीच का अंतर ₹480 है। दोनों वस्तुओं के क्रय मूल्य का योगफल क्या है?

- Ans
- 1. ₹2,800
 - 2. ₹2,500
 - 3. ₹2,700
 - 4. ₹3,200

Question ID : 65497832081
Status : Answered
Chosen Option : 3

Q.9 दो संख्याएँ 2 : 3 के अनुपात में हैं। उनके लघुत्तम समापवर्त्य (LCM) और महत्तम समापवर्तक (HCF) का गुणनफल 7350 है। दोनों संख्याओं के बीच का अंतर ज्ञात करें।

- Ans
- 1. 45
 - 2. 25
 - 3. 15
 - 4. 35

Question ID : 65497832085
Status : Answered
Chosen Option : 4

Q.10 दो धनात्मक संख्याओं के लघुत्तम समापवर्त्य (LCM) और महत्तम समापवर्तक (HCF) का योग और अंतर क्रमशः 148 और 140 है। यदि एक संख्या 16 है, तो दूसरी संख्या ज्ञात कीजिए।

- Ans
- 1. 38
 - 2. 46
 - 3. 36
 - 4. 34

Question ID : 65497832079
Status : Answered
Chosen Option : 3

Q.11 एक स्कूल में लड़कों और लड़कियों का अनुपात 7 : 5 है। यदि 60% लड़के और 40% लड़कियों की आयु 14 वर्ष और 14 वर्ष से कम है और 14 वर्ष की आयु से अधिक आयु वाले विद्यार्थियों की संख्या 870 है, तो स्कूल में विद्यार्थियों की कुल संख्या ज्ञात कीजिए।

- Ans
- ✓ 1. 1800
 - ✗ 2. 1750
 - ✗ 3. 1850
 - ✗ 4. 1600

Question ID : 65497832082
Status : Answered
Chosen Option : 1

Q.12 एक ट्रेन को 80 km/h की चाल से एक निश्चित दूरी तय करने में 1 घंटा और 12 मिनट का समय लगता है। यदि ट्रेन की चाल 25% बढ़ जाती है, तो पूर्व दूरी के $\frac{25}{3}$ भाग को तय करने में कितना समय (घंटों में) लगेगा?

- Ans
- ✗ 1. 4
 - ✗ 2. 6
 - ✓ 3. 8
 - ✗ 4. 10

Question ID : 65497832076
Status : Answered
Chosen Option : 3

Q.13 A ने एक वस्तु B को 24% लाभ पर बेची। B ने इसे C को 30% लाभ पर बेचा। यदि B का लाभ, A की तुलना में ₹72.60 अधिक था, तो B ने इसके लिए (₹ में) कितना भुगतान किया?

- Ans
- ✗ 1. 660
 - ✗ 2. 784
 - ✓ 3. 682
 - ✗ 4. 781

Question ID : 65497832092
Status : Answered
Chosen Option : 1

Q.14 A और B एक कार्य को क्रमशः 12 दिनों और 18 दिनों में पूरा कर सकते हैं। उन्होंने 4 दिनों तक एक साथ मिलकर कार्य किया जिसके बाद B के स्थान पर C को कार्य पर लगा दिया गया तथा शेष कार्य A और C ने अगले 4 दिनों में पूरा कर लिया। C अकेला इस कार्य के एक-तिहाई भाग को कितने दिनों में पूरा करेगा?

- Ans
- ✗ 1. 10 दिन
 - ✓ 2. 12 दिन
 - ✗ 3. 9 दिन
 - ✗ 4. 8 दिन

Question ID : 65497832075
Status : Answered
Chosen Option : 2

Q.15 3 cm त्रिज्या वाली एक गोलाकार गेंद, 5 cm की त्रिज्या वाले एक ऊर्ध्वाधर बेलन में भरे हुए पानी में डूबी हुई है। यह मानते हुए कि गेंद पूर्णतः पानी में डूबी है, जल स्तर में होने वाली वृद्धि (cm में, दशमलव के दो स्थानों तक) ज्ञात कीजिए।

- Ans
- ✓ 1. 1.44
 - ✗ 2. 2.25
 - ✗ 3. 3.14
 - ✗ 4. 1.75

Question ID : 65497832096
Status : Answered
Chosen Option : 1

Q.16 एक व्यापारी किसी वस्तु को उसके अंकित मूल्य पर 20% की छूट देकर बेचने पर 20% का लाभ अर्जित करता है। यदि वस्तु का क्रय मूल्य ₹448 है, तो उसका अंकित मूल्य (₹ में) क्या होगा?

- Ans
- ✓ 1. 672
 - ✗ 2. 600
 - ✗ 3. 652
 - ✗ 4. 640

Question ID : 65497832093
Status : Answered
Chosen Option : 1

Q.17 सुषमा ने रेशमा की तुलना में 40% अधिक निवेश किया। रेशमा ने दिव्या की तुलना में 30% कम निवेश किया। यदि दिव्या द्वारा निवेशित राशि ₹6,000 है, तो सुषमा द्वारा निवेशित राशि ज्ञात कीजिए।

- Ans
- ✗ 1. ₹4,850
 - ✗ 2. ₹4,520
 - ✓ 3. ₹5,880
 - ✗ 4. ₹5,550

Question ID : 65497832077
Status : Answered
Chosen Option : 3

Q.18 A और B की आय का अनुपात 8 : 11 है, और उनकी बचत का अनुपात 7 : 9 है। यदि A और B के व्यय क्रमशः ₹25,000 और ₹35,000 हैं, तो B की आय (₹ में) ज्ञात कीजिए।

- Ans
- ✗ 1. 42,900
 - ✓ 2. 44,000
 - ✗ 3. 38,500
 - ✗ 4. 39,600

Question ID : 65497832094
Status : Answered
Chosen Option : 2

Q.19 $36 \div 18 \text{ of } 3 \times 2 + 8 \div 4 \text{ of } 2 \times 5 - 5 \div 10 \times 2$ का मान ज्ञात करें।

- Ans
- ✓ 1. $5\frac{1}{3}$
 - ✗ 2. $9\frac{1}{6}$
 - ✗ 3. $1\frac{1}{3}$
 - ✗ 4. $6\frac{1}{12}$

Question ID : 65497832087
Status : Answered
Chosen Option : 1

Q.20 एक कंप्यूटर परीक्षा में उन्नीस छात्रों के औसत अंक 74 हैं। बाद में यह पाया गया कि औसत की गणना करते समय एक छात्र द्वारा प्राप्त अंक 56 के स्थान पर गलती से 65 के रूप में दर्ज किए गए थे। सही औसत अंक कितना है (दशमलव के एक स्थान तक सही)?

- Ans
- ✗ 1. 73.7
 - ✓ 2. 73.5
 - ✗ 3. 74
 - ✗ 4. 75.9

Question ID : 65497832072
Status : Answered
Chosen Option : 2

Q.21 एक कार की चाल में 25% की वृद्धि होने पर, वह समान दूरी तय करने में 24 मिनट कम समय लेती है। वास्तविक चाल से इस दूरी को तय करने में कितना समय (घंटों में) लगता है?

- Ans
- ✓ 1. 2
 - ✗ 2. $1\frac{1}{2}$
 - ✗ 3. $2\frac{1}{3}$
 - ✗ 4. 3

Question ID : 65497832091
Status : Answered
Chosen Option : 1

Q.22 $\frac{10}{21} \div 1\frac{1}{14}$ of $\frac{5}{3} - \frac{5}{3} \times \frac{1}{10} + \frac{9}{28} \div \frac{3}{7}$ of $\frac{6}{5}$ का मान ज्ञात करें।

- Ans
- 1. $\frac{11}{15}$
 - 2. $\frac{1}{10}$
 - 3. $\frac{29}{40}$
 - 4. $\frac{4}{15}$

Question ID : 65497832090
Status : Answered
Chosen Option : 3

Q.23 ₹8,400 की एक धनराशि को A और B के बीच इस प्रकार बांटा जाता है कि 15% वार्षिक ब्याज की दर पर, ब्याज की गणना 8-मासिक चक्रवृद्धि आधार पर करने पर, 2 वर्ष के अंत में A को मिलने वाली धनराशि, $2\frac{2}{3}$ वर्ष के अंत में B को मिलने वाली धनराशि के बराबर है। दी गई धनराशि में A का हिस्सा (₹ में) कितना है?

- Ans
- 1. 4,500
 - 2. 4,450
 - 3. 4,550
 - 4. 4,400

Question ID : 65497832095
Status : Not Answered
Chosen Option : --

Q.24 पाइप A और B एक टंकी को क्रमशः 12 घंटे और 18 घंटे में भर सकते हैं, जबकि पाइप C भरी हुई टंकी को 8 घंटे में खाली कर सकता है। A और B को $4\frac{1}{2}$ घंटे के लिए खोला जाता है और फिर बंद कर दिया जाता है। C अकेले इस टंकी को कितने घंटे में खाली कर देगा?

- Ans
- 1. $5\frac{1}{4}$ घंटे
 - 2. 9 घंटे
 - 3. 5 घंटे
 - 4. $9\frac{1}{2}$ घंटे

Question ID : 65497832089
Status : Answered
Chosen Option : 3

Q.25 एक वस्तु को ₹91 में बेचने पर मुधा को 30% का लाभ होता है। यदि वह इसे ₹78.75 में बेचती है, तो उसका हानि/लाभ प्रतिशत क्या होगा?

Ans

- ✓ 1. लाभ, $12\frac{1}{2}\%$
✗ 2. लाभ, $11\frac{1}{9}\%$
✗ 3. हानि, $12\frac{1}{2}\%$
✗ 4. हानि, $11\frac{1}{9}\%$

Question ID : 65497832088
Status : Answered
Chosen Option : 1

Section : Part D English

Q.1 Select the option that can be used as a one-word substitute for the given group of words.

Causing a mood of gloom and depression

Ans

- ✗ 1. Apprehensive
✗ 2. Devastated
✓ 3. Dismal
✗ 4. Desolate

Question ID : 65497832110
Status : Answered
Chosen Option : 3

Q.2 Select the most appropriate meaning of the given idiom.

In a fix

Ans

- ✓ 1. In a difficult situation
✗ 2. Under repairs
✗ 3. In a closed space
✗ 4. Under observation

Question ID : 65497832116
Status : Answered
Chosen Option : 1

Q.3 The following sentence has been split into four segments. Identify the segment that contains a grammatical error.

How many / languages do / most children / in India known?

Ans

- ✓ 1. in India known
✗ 2. most children
✗ 3. languages do
✗ 4. How many

Question ID : 65497832100
Status : Answered
Chosen Option : 3

Q.4 Select the most appropriate ANTONYM of the given word.

Ally

- Ans 1. Friend
 2. Partner
 3. Enemy
 4. Associate

Question ID : 65497832099
Status : Answered
Chosen Option : 3

Q.5 Select the most appropriate ANTONYM of the given word.

Overlook

- Ans 1. Neglect
 2. Notice
 3. Ignore
 4. Visualize

Question ID : 65497832109
Status : Answered
Chosen Option : 3

Q.6 Select the most appropriate meaning of the given idiom.

Open-ended

- Ans 1. Ending is twisted
 2. Ending is happy
 3. Having no planned ending
 4. Never ending

Question ID : 65497832105
Status : Answered
Chosen Option : 3

Q.7 Select the most appropriate synonym of the given word.

Crust

- Ans 1. Root
 2. Core
 3. Kernel
 4. Shell

Question ID : 65497832101
Status : Answered
Chosen Option : 4

Q.8 Select the most appropriate option to fill in the blank.

Giant pandas are black-and-white Chinese bears that are on the _____ of extinction.

- Ans
- 1. line
 - 2. verge
 - 3. margin
 - 4. peak

Question ID : 65497832112
Status : Answered
Chosen Option : 2

Q.9 Select the INCORRECTLY spelt word.

- Ans
- 1. Batch
 - 2. Catch
 - 3. Yatch
 - 4. Snatch

Question ID : 65497832111
Status : Answered
Chosen Option : 2

Q.10 Select the INCORRECTLY spelt word.

- Ans
- 1. Develop
 - 2. Occur
 - 3. Regulate
 - 4. Writting

Question ID : 65497832102
Status : Answered
Chosen Option : 4

Q.11 The following sentence has been split into four segments. Identify the segment that contains a grammatical error.

Raju was / a little boy / who were born / in a poor family.

- Ans
- 1. in a poor family
 - 2. who were born
 - 3. a little boy
 - 4. Raju was

Question ID : 65497832113
Status : Answered
Chosen Option : 3

Q.12 Select the most appropriate option that can substitute the underlined segment in the given sentence. If there is no need to substitute it, select 'No substitution required'.

The three friends spent over an hour discussing the problem with their teacher.

- Ans
- 1. discussing about
 - 2. discussing on
 - 3. having discussion on
 - 4. No substitution required

Question ID : 65497832107
Status : Answered
Chosen Option : 1

Q.13 Select the most appropriate option to fill in the blank.

He was fined for _____ traffic rules.

- Ans
- 1. refusing
 - 2. obeying
 - 3. violating
 - 4. omitting

Question ID : 65497832103
Status : Answered
Chosen Option : 2

Q.14 Select the most appropriate option to fill in the blank.

Health cannot be _____ at any cost.

- Ans
- 1. rejected
 - 2. neglected
 - 3. despised
 - 4. deserted

Question ID : 65497832104
Status : Answered
Chosen Option : 2

Q.15 Select the option that can be used as a one-word substitute for the given group of words.

Science of heredity

- Ans
- 1. Orthopedics
 - 2. Pathology
 - 3. Genealogy
 - 4. Genetics

Question ID : 65497832097
Status : Answered
Chosen Option : 4

Q.16 Select the option that can be used as a one-word substitute for the given group of words.

A hole or tunnel dug by a small animal to live in

- Ans
- 1. Cave
 - 2. Den
 - 3. Shed
 - 4. Burrow

Question ID : 65497832115
Status : Answered
Chosen Option : 4

Q.17 Select the most appropriate option that can substitute the underlined word in the given sentence.

As we all are aware, silk is dedicated from the cocoons of mulberry silkworms.

- Ans
- 1. derived
 - 2. decorated
 - 3. decimated
 - 4. deflected

Question ID : 65497832098
Status : Not Answered
Chosen Option : --

Q.18 Select the most appropriate synonym of the given word.

Disgust

- Ans
- 1. Dislike
 - 2. Desire
 - 3. Danger
 - 4. Doubt

Question ID : 65497832114
Status : Answered
Chosen Option : 1

Q.19 The following sentence has been split into four segments. Identify the segment that contains a grammatical error.

Why do they / keep talking on / about money / all the time?

- Ans
- 1. keep talking on
 - 2. Why do they
 - 3. all the time
 - 4. about money

Question ID : 65497832108
Status : Answered
Chosen Option : 1

Q.20 Select the most appropriate option that can substitute the underlined segment in the given sentence. If there is no need to substitute it, select 'No substitution required'.

I play football yesterday.

- Ans**
- 1. I been playing
 - 2. I playing
 - 3. No substitution required
 - 4. I played

Question ID : 65497832106
Status : Answered
Chosen Option : 4

Comprehension:

In the following passage, some words have been deleted. Read the passage carefully and select the most appropriate option to fill in each blank.

Joseph was always prepared. His motto was, 'Never throw anything out, you (1) _____ know when it might come in (2) _____.' His bedroom was totally (3) _____ with flat bicycle tyres, empty boxes, (4) _____ basket balls and bent tennis racquets (5) _____ leaving any space to get in the door.

SubQuestion No : 21

Q.21 Select the most appropriate option to fill in blank no.1.

- Ans**
- 1. often
 - 2. should
 - 3. would
 - 4. never

Question ID : 65497832118
Status : Answered
Chosen Option : 2

Comprehension:

In the following passage, some words have been deleted. Read the passage carefully and select the most appropriate option to fill in each blank.

Joseph was always prepared. His motto was, 'Never throw anything out, you (1) _____ know when it might come in (2) _____.' His bedroom was totally (3) _____ with flat bicycle tyres, empty boxes, (4) _____ basket balls and bent tennis racquets (5) _____ leaving any space to get in the door.

SubQuestion No : 22

Q.22 Select the most appropriate option to fill in blank no.2.

- Ans**
- 1. handy
 - 2. ready
 - 3. close
 - 4. nearby

Question ID : 65497832119
Status : Answered
Chosen Option : 4

Comprehension:

In the following passage, some words have been deleted. Read the passage carefully and select the most appropriate option to fill in each blank.

Joseph was always prepared. His motto was, 'Never throw anything out, you (1) _____ know when it might come in (2) _____.' His bedroom was totally (3) _____ with flat bicycle tyres, empty boxes, (4) _____ basket balls and bent tennis racquets (5) _____ leaving any space to get in the door.

SubQuestion No : 23

Q.23 Select the most appropriate option to fill in blank no.3.

- Ans
- 1. cluttered
 - 2. dislocated
 - 3. confused
 - 4. splashed

Question ID : 65497832120
Status : Answered
Chosen Option : 4

Comprehension:

In the following passage, some words have been deleted. Read the passage carefully and select the most appropriate option to fill in each blank.

Joseph was always prepared. His motto was, 'Never throw anything out, you (1) _____ know when it might come in (2) _____.' His bedroom was totally (3) _____ with flat bicycle tyres, empty boxes, (4) _____ basket balls and bent tennis racquets (5) _____ leaving any space to get in the door.

SubQuestion No : 24

Q.24 Select the most appropriate option to fill in blank no.4.

- Ans
- 1. deflated
 - 2. wearied
 - 3. drained
 - 4. reduced

Question ID : 65497832121
Status : Not Answered
Chosen Option : --

Comprehension:

In the following passage, some words have been deleted. Read the passage carefully and select the most appropriate option to fill in each blank.

Joseph was always prepared. His motto was, 'Never throw anything out, you (1) _____ know when it might come in (2) _____.' His bedroom was totally (3) _____ with flat bicycle tyres, empty boxes, (4) _____ basket balls and bent tennis racquets (5) _____ leaving any space to get in the door.

SubQuestion No : 25

Q.25 Select the most appropriate option to fill in blank no.5.

- Ans
- 1. merely
 - 2. simply
 - 3. barely
 - 4. slightly

Question ID : 65497832122
Status : Answered
Chosen Option : 4

Section : Part D Hindi

Q.1 दिए गए शब्द के समानार्थी शब्द का चयन करें।

पराग

- Ans 1. केशर
 2. सुगंध
 3. पवन
 4. शहद

Question ID : 65497832127
Status : Not Answered
Chosen Option : --

Q.2 नीचे दिए वाक्यांश के लिए एक शब्द दिए गए विकल्पों में से चुनिए।

जिसमें कोई विकार न हो

- Ans 1. साकार
 2. अविकार
 3. निर्विकार
 4. आकार

Question ID : 65497832132
Status : Not Answered
Chosen Option : --

Q.3 'अमर' का विलोम शब्द होगा-

- Ans 1. मर्त्य
 2. चिरन्तन
 3. अजर
 4. शाश्वत

Question ID : 65497832137
Status : Not Answered
Chosen Option : --

Q.4 दिये गये वाक्य के किस भाग में त्रुटि है?

केवल इसीलिए वह तुरंत यहाँ न आ सका।

- Ans 1. आ सका।
 2. वह तुरंत
 3. यहाँ न
 4. केवल इसीलिए

Question ID : 65497832134
Status : Not Answered
Chosen Option : --

Q.5 दिए गए वाक्य का वह भाग ज्ञात करें जिसमें कोई त्रुटि है। यदि कोई त्रुटि नहीं है, तो 'कोई त्रुटि नहीं है' चुनें।

पक्षीराज गरुण, भगवान् विष्णु के वाहन हैं और लक्ष्मी जी का वाहन उल्लू है।

- Ans
- 1. वाहन उल्लू है।
 - 2. और लक्ष्मी जी का
 - 3. कोई त्रुटि नहीं है।
 - 4. पक्षीराज गरुण, भगवान् विष्णु के वाहन हैं

Question ID : 65497832126
Status : Not Answered
Chosen Option : --

Q.6 'मीठी छुरी चलाना' मुहावरे का सही अर्थ है-

- Ans
- 1. आकर्षित करना
 - 2. विश्वासघात करना
 - 3. आतंकित करना
 - 4. लालच देना

Question ID : 65497832141
Status : Not Answered
Chosen Option : --

Q.7 'गाल फुलाना' मुहावरे का सही अर्थ है-

- Ans
- 1. रूठना
 - 2. हँसी-मजाक करना
 - 3. शिकायत करना
 - 4. प्रसन्न होना

Question ID : 65497832138
Status : Not Answered
Chosen Option : --

Q.8 'जिसके पास कुछ भी न हो' वाक्यांश के लिए एक शब्द होगा-

- Ans
- 1. अनिकेतन
 - 2. अकिंचन
 - 3. अक्षम
 - 4. निर्धन

Question ID : 65497832136
Status : Not Answered
Chosen Option : --

Q.9 सही वर्तनी वाले शब्द का चयन करें।

- Ans 1. प्रमुख
 2. पर्मुख
 3. प्रमुखिया
 4. प्रमुख

Question ID : 65497832129
Status : Not Answered
Chosen Option : --

Q.10 दिए गए वाक्य में रेखांकित खंड को प्रतिस्थापित करने के लिए सबसे उपयुक्त विकल्प का चयन करें।
यदि इसे प्रतिस्थापित करने की आवश्यकता नहीं है, तो विकल्प 'किसी बदलाव की आवश्यकता नहीं है'
का चयन करें।

गरीबी, बेरोज़गारी, निरक्षरता आदि बढ़ती जनसंख्या से उत्पन्न समस्या है।

- Ans 1. किसी बदलाव की आवश्यकता नहीं है।
 2. बढ़ती जनसंख्या से उत्पन्न समस्या होती है।
 3. बढ़ती जनसंख्या से उत्पन्न समस्याएँ हैं।
 4. बढ़ती जनसंख्या से उत्पन्न समस्याएँ हैं।

Question ID : 65497832124
Status : Not Answered
Chosen Option : --

Q.11 दिए गए वाक्य में रेखांकित खंड को प्रतिस्थापित करने के लिए सबसे उपयुक्त विकल्प का चयन करें।
यदि इसे प्रतिस्थापित करने की आवश्यकता नहीं है, तो विकल्प 'किसी बदलाव की आवश्यकता नहीं है'
का चयन करें।

मैंने दूध पीकर स्कूल गया।

- Ans 1. मैं दूध पीकर
 2. किसी बदलाव की आवश्यकता नहीं है।
 3. मैंने दूध पिया और
 4. मैंने दूध पीने के बाद

Question ID : 65497832130
Status : Not Answered
Chosen Option : --

Q.12 हिमालय रेखांकित शब्द का पर्यायवाची नहीं है-

- Ans 1. हिमाद्री
 2. पर्वतराज
 3. ऋतुराज
 4. नगराज

Question ID : 65497832140
Status : Not Answered
Chosen Option : --

Q.13 सही वर्तनी वाले शब्द का चयन करें।

- Ans 1. कृशांगी
 2. क्रिशानी
 3. किरशांगी
 4. क्रशांगी

Question ID : 65497832128
Status : Not Answered
Chosen Option : --

Q.14 'उदय' का विलोम शब्द होगा-

- Ans 1. अन्त
 2. सदय
 3. निर्दय
 4. अस्त

Question ID : 65497832135
Status : Not Answered
Chosen Option : --

Q.15 दिए गए वाक्य में रेखांकित खंड को प्रतिस्थापित करने के लिए सबसे उपयुक्त विकल्प का चयन करें।
यदि इसे प्रतिस्थापित करने की आवश्यकता नहीं है, तो विकल्प 'किसी बदलाव की आवश्यकता नहीं है'
का चयन करें।

अगर तुम गुंडागर्दी से बाज़ न आए, मगर चमड़ी उधेड़ कर रख दूंगा।

- Ans 1. इसलिए चमड़ियों को उधेड़ कर रख दूंगा।
 2. किसी बदलाव की आवश्यकता नहीं है।
 3. तो शरीर उधेड़ कर रख दूंगा।
 4. तो चमड़ी उधेड़ कर रख दूंगा।

Question ID : 65497832133
Status : Not Answered
Chosen Option : --

Q.16 रिक्त स्थान को भरने के लिए सबसे उपयुक्त विकल्प का चयन करें।

लड़की खिड़की के परदे की आड़ से _____ रही थी।

- Ans 1. झाँक
 2. घूर
 3. ताक
 4. देख

Question ID : 65497832142
Status : Not Answered
Chosen Option : --

Q.17 दिए गये वाक्यांश के लिए एक शब्द दीजिये।

जिसके पास कुछ भी न हो

- Ans
- 1. अधिकारहीन
 - 2. अकिंचन
 - 3. अनाथ
 - 4. अक्षम

Question ID : 65497832125
Status : Not Answered
Chosen Option : --

Q.18 रिक्त स्थान को भरने के लिए सबसे उपयुक्त शब्द का चयन करें।

हमारे गाँव में एक _____ की स्थापना हुई।

- Ans
- 1. तालाब
 - 2. घर
 - 3. दुकान
 - 4. मंदिर

Question ID : 65497832123
Status : Not Answered
Chosen Option : --

Q.19 भारत में अनेको राज्य है। रेखांकित शब्द कौन से कारण से वाक्य अशुद्ध है?

- Ans
- 1. सर्वनाम के कारण
 - 2. क्रिया के कारण
 - 3. वचन सम्बन्धी गलती है।
 - 4. संज्ञा के कारण

Question ID : 65497832139
Status : Not Answered
Chosen Option : --

Q.20 रिक्त स्थान को भरने के लिए सबसे उपयुक्त शब्द का चयन करें।

वकीलों ने कागजात की _____ की।

- Ans
- 1. दर्शन
 - 2. सर्वेक्षण
 - 3. निरीक्षण
 - 4. जांच

Question ID : 65497832131
Status : Not Answered
Chosen Option : --

Comprehension:

मनुष्य को तो मनुष्य ही सुख दे सकता है। परस्पर की निष्कपट सेवा ही से मनुष्य जाति का (1) _____ हो सकता है। धन इकट्ठा करना तो मनुष्य - जाति के आनंद - मंगल का एक (2) _____ सा और महा तुच्छ उपाय है। धन की (3) _____ करना नास्तिकता है; ईश्वर को भूल जाना है; अपने भाई - बहनों तथा मानसिक सुख और कल्याण के देनेवालों को मारकर अपने सुख के लिए शारीरिक राज्य की इच्छा करना है, जिस डाल पर बैठे हैं उसी डाल को स्वयं ही कुल्हाड़ी से (4) _____ है। अपने प्रिय जनों से रहित (5) _____ किस काम का?

निम्न प्रश्नों के उत्तर उपरोक्त गद्यांश के आधार पर दीजिए।

SubQuestion No : 21

Q.21 गद्यांश के रिक्त स्थान (1) के लिए सर्वाधिक उपयुक्त शब्द होगा-

- Ans** 1. कल्याण
 2. विरोध
 3. सम्मान
 4. नुकसान

Question ID : 65497832144

Status : Not Answered

Chosen Option : --

Comprehension:

मनुष्य को तो मनुष्य ही सुख दे सकता है। परस्पर की निष्कपट सेवा ही से मनुष्य जाति का (1) _____ हो सकता है। धन इकट्ठा करना तो मनुष्य - जाति के आनंद - मंगल का एक (2) _____ सा और महा तुच्छ उपाय है। धन की (3) _____ करना नास्तिकता है; ईश्वर को भूल जाना है; अपने भाई - बहनों तथा मानसिक सुख और कल्याण के देनेवालों को मारकर अपने सुख के लिए शारीरिक राज्य की इच्छा करना है, जिस डाल पर बैठे हैं उसी डाल को स्वयं ही कुल्हाड़ी से (4) _____ है। अपने प्रिय जनों से रहित (5) _____ किस काम का?

निम्न प्रश्नों के उत्तर उपरोक्त गद्यांश के आधार पर दीजिए।

SubQuestion No : 22

Q.22 गद्यांश के रिक्त स्थान (2) के लिए सर्वाधिक उपयुक्त शब्द होगा-

- Ans** 1. महत्वपूर्ण
 2. साधारण
 3. विशेष
 4. असामान्य

Question ID : 65497832145

Status : Not Answered

Chosen Option : --

Comprehension:

मनुष्य को तो मनुष्य ही सुख दे सकता है। परस्पर की निष्कपट सेवा ही से मनुष्य जाति का (1) _____ हो सकता है। धन इकट्ठा करना तो मनुष्य - जाति के आनंद - मंगल का एक (2) _____ सा और महा तुच्छ उपाय है। धन की (3) _____ करना नास्तिकता है; ईश्वर को भूल जाना है; अपने भाई - बहनों तथा मानसिक सुख और कल्याण के देनेवालों को मारकर अपने सुख के लिए शारीरिक राज्य की इच्छा करना है, जिस डाल पर बैठे हैं उसी डाल को स्वयं ही कुल्हाड़ी से (4) _____ है। अपने प्रिय जनों से रहित (5) _____ किस काम का?

निम्न प्रश्नों के उत्तर उपरोक्त गद्यांश के आधार पर दीजिए।

SubQuestion No : 23

Q.23 गद्यांश के रिक्त स्थान (3) के लिए सर्वाधिक उपयुक्त शब्द होगा-

- Ans**
- 1. पूजा
 - 2. इज्जत
 - 3. सेवा
 - 4. चाहत

Question ID : 65497832146

Status : Not Answered

Chosen Option : --

Comprehension:

मनुष्य को तो मनुष्य ही सुख दे सकता है। परस्पर की निष्कपट सेवा ही से मनुष्य जाति का (1) _____ हो सकता है। धन इकट्ठा करना तो मनुष्य - जाति के आनंद - मंगल का एक (2) _____ सा और महा तुच्छ उपाय है। धन की (3) _____ करना नास्तिकता है; ईश्वर को भूल जाना है; अपने भाई - बहनों तथा मानसिक सुख और कल्याण के देनेवालों को मारकर अपने सुख के लिए शारीरिक राज्य की इच्छा करना है, जिस डाल पर बैठे हैं उसी डाल को स्वयं ही कुल्हाड़ी से (4) _____ है। अपने प्रिय जनों से रहित (5) _____ किस काम का?

निम्न प्रश्नों के उत्तर उपरोक्त गद्यांश के आधार पर दीजिए।

SubQuestion No : 24

Q.24 गद्यांश के रिक्त स्थान (4) के लिए सर्वाधिक उपयुक्त शब्द होगा-

- Ans**
- 1. काटना
 - 2. छीलना
 - 3. पीटना
 - 4. तोड़ना

Question ID : 65497832147

Status : Not Answered

Chosen Option : --

Comprehension:

मनुष्य को तो मनुष्य ही सुख दे सकता है। परस्पर की निष्कपट सेवा ही से मनुष्य जाति का (1) _____ हो सकता है। धन इकट्ठा करना तो मनुष्य - जाति के आनंद - मंगल का एक (2) _____ सा और महा तुच्छ उपाय है। धन की (3) _____ करना नास्तिकता है; ईश्वर को भूल जाना है; अपने भाई - बहनों तथा मानसिक सुख और कल्याण के देनेवालों को मारकर अपने सुख के लिए शारीरिक राज्य की इच्छा करना है, जिस डाल पर बैठे हैं उसी डाल को स्वयं ही कुल्हाड़ी से (4) _____ है। अपने प्रिय जनों से रहित (5) _____ किस काम का?

निम्न प्रश्नों के उत्तर उपरोक्त गद्यांश के आधार पर दीजिए।

SubQuestion No : 25

Q.25 गद्यांश के रिक्त स्थान (5) के लिए सर्वाधिक उपयुक्त शब्द होगा-

- Ans**
- 1. आकाश
 - 2. धरती
 - 3. सत्ता
 - 4. राज्य

Question ID : 65497832148

Status : Not Answered

Chosen Option : --

Constable GD in CAPFs NIA SSF and Rifleman GD in Assam Rifles Examination 2021

Roll Number	www.HaryanaJobs.in
Candidate Name	www.HaryanaJobs.in
Venue Name	MIT Meerut
Exam Date	03/12/2021
Exam Time :	9:00 AM - 10:30 AM
Subject	Constable GD 2021

Section : Part A General Intelligence and Reasoning

Q.1 अक्षरों के उस संयोजन का चयन करें जिसे दी गई श्रेणी में रिक्त स्थानों पर क्रमिक रूप से रखने पर श्रेणी पूर्ण हो जाएगी।

kg_pg_kgt_gnk_tpg_kg_p_n

Ans 1. t, p, n, n, g, g, t

2. t, p, n, g, n, g, t

3. t, n, p, g, n, t, g

4. t, n, p, g, g, n, t

Question ID : 65497835084

Status : Answered

Chosen Option : 3

Q.2 दर्पण को दी गई आकृति के दाईं ओर रखे जाने पर, आकृति का दर्पण में निर्मित सही प्रतिबिंब चयनित कीजिए।



Ans

1.



2.



3.



4.



Question ID : 65497835090

Status : Answered

Chosen Option : 4

Q.3 एक विशिष्ट कूट भाषा में, 'FREE' को 'AQRR' और 'ASTER' को 'DNXRQ' लिखा जाता है। उसी भाषा में 'STARS' को क्या लिखा जाएगा?

- Ans
- 1. RXYQR
 - 2. NADRN
 - 3. PXDQO
 - 4. NXDQN

Question ID : 65497835071
Status : Answered
Chosen Option : 4

Q.4 यदि 'A % B' का अर्थ है कि 'A, B का पिता है', 'A # B' का अर्थ है कि 'A, B का भाई है' और 'A \$ B' का अर्थ है कि 'A, B की पत्नी है', तो दिए गए व्यंजक में K का R से क्या संबंध है?





K \$ H % Y # M # R

- Ans
- 1. माँ
 - 2. दादी
 - 3. पिता
 - 4. बुआ

Question ID : 65497835073
Status : Answered
Chosen Option : 1

Q.5 उस वेन आरेख का चयन करें, जो निम्नलिखित वर्गों के बीच के संबंध को सबसे अच्छे तरीके से दर्शाता है।

राज्य, जिला, कॉलोनी

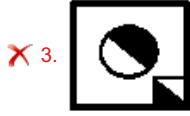
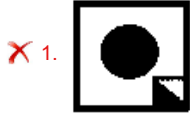
- Ans
- 1. 
 - 2. 
 - 3. 
 - 4. 

Question ID : 65497835094
Status : Answered
Chosen Option : 3

Q.6 दिए गए विकल्प में से उस आकृति का चयन करें जो निम्नलिखित आकृति श्रृंखला में प्रश्नवाचक चिह्न (?) के स्थान पर आ सकती है।



Ans

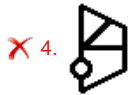


Question ID : 65497835086
Status : Answered
Chosen Option : 2

Q.7 उस विकल्प का चयन करें, जो दिए गए चित्र में अंतर्निहित नहीं है (आकृति को घुमाने की अनुमति नहीं है)।



Ans



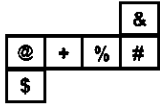
Question ID : 65497835077
Status : Answered
Chosen Option : 3

Q.8 Six friends, K, L, M, N, O and P, are sitting around a hexagonal shaped table at equal distances between them. K is facing P. O is second to the right of N. N is sitting between K and L. M is to the immediate left of P. Who is sitting to the immediate right of O?

- Ans
- 1. P
 - 2. N
 - 3. L
 - 4. M

Question ID : 65497835072
Status : Answered
Chosen Option : 1

Q.9 दी गई शीट को मोड़कर एक घन बनाया गया है। इस प्रकार बने घन में, '&' दिखाने वाले पृष्ठ के विपरीत पृष्ठ पर कौन सा चिह्न होगा?



- Ans
- 1. +
 - 2. \$
 - 3. @
 - 4. #

Question ID : 65497835076
Status : Answered
Chosen Option : 2

Q.10 दिए गए विकल्पों में से उस संख्या का चयन करें जो निम्नलिखित श्रृंखला में प्रश्न चिह्न (?) के स्थान पर आ सकती है।

9, 13, 52, 56, 224, 228, ?

- Ans
- 1. 1331
 - 2. 522
 - 3. 912
 - 4. 729

Question ID : 65497835089
Status : Answered
Chosen Option : 3

Q.11 चार अक्षर-समूह दिए गए हैं, जिनमें से तीन किसी तरह से एक समान हैं और एक असंगत है। उस अक्षर-समूह का चयन करें जो असंगत है।

- Ans
- 1. PLK
 - 2. KDF
 - 3. QJL
 - 4. NGI

Question ID : 65497835087
Status : Answered
Chosen Option : 1

Q.12 उस विकल्प का चयन करें, जिसकी संख्याएँ आपस में उसी प्रकार संबंधित हैं, जिस प्रकार दिए गए समुच्चय की संख्याएँ आपस में संबंधित हैं।

(5, 27, 8)

Ans 1. (16, 24, 12)

2. (11, 64, 15)

3. (4, 54, 6)

4. (8, 60, 6)

Question ID : 65497835080

Status : Not Answered

Chosen Option : --

Q.13 उस विकल्प का चयन करें, जो चौथी संख्या से उसी प्रकार संबंधित है जिस प्रकार पहली संख्या दूसरी संख्या से और पाँचवीं संख्या छठी संख्या से संबंधित है।

126 : 5 :: ? : 4 :: 28 : 3

Ans 1. 37

2. 65

3. 82

4. 17

Question ID : 65497835074

Status : Answered

Chosen Option : 2

Q.14 उस विकल्प का चयन करें जो तीसरे अक्षर-समूह से उसी प्रकार संबंधित है, जिस प्रकार दूसरा अक्षर-समूह पहले अक्षर-समूह से संबंधित है।

YKMP : QNLZ :: SURC : ?

Ans 1. DSTR

2. VTSB

3. KXQD

4. DSVT

Question ID : 65497835070

Status : Answered

Chosen Option : 4

Q.15 दिए गए विकल्पों में से वह संख्या चुनें जो निम्नलिखित श्रृंखला में प्रश्नवाचक चिह्न (?) के स्थान पर आ सकती है।

2, 6, 12, 20, 30, ?

Ans 1. 50

2. 48

3. 42

4. 36

Question ID : 65497835085

Status : Answered

Chosen Option : 3

Q.16 एक विशिष्ट कूट भाषा में, 'FOAMING' को 'AOFMGN' लिखा जाता है। उसी भाषा में 'BELIEVE' को क्या लिखा जाएगा?

- Ans
- 1. MFCJFWF
 - 2. EBILVEE
 - 3. LEBIEVE
 - 4. LEBEIEV

Question ID : 65497835078
Status : Answered
Chosen Option : 3

Q.17 श्री गुप्ता की आयु उनके बेटे शशांक से 26 वर्ष अधिक है। शशांक की बहन गार्गी शशांक से 4 वर्ष छोटी है। श्री गुप्ता की आयु गार्गी की आयु की चार गुनी है। शशांक की आयु कितनी है?

- Ans
- 1. 12 वर्ष
 - 2. 18 वर्ष
 - 3. 14 वर्ष
 - 4. 16 वर्ष

Question ID : 65497835081
Status : Answered
Chosen Option : 3

Q.18 'Hydrophobia' is related to 'Water' in the same way as 'Acrophobia' is related to _____.

- Ans
- 1. Darkness
 - 2. Examination
 - 3. Height
 - 4. Open spaces

Question ID : 65497835092
Status : Answered
Chosen Option : 1

Q.19 एक निश्चित कूट भाषा में, 'DESERT' को '415163' के रूप में कूटबद्ध किया जाता है और 'ARMY' को '2687' के रूप में कूटबद्ध किया जाता है। उसी भाषा में 'SMART' को किस रूप में कूटबद्ध किया जाएगा?

- Ans
- 1. 28563
 - 2. 58143
 - 3. 58436
 - 4. 58263

Question ID : 65497835088
Status : Answered
Chosen Option : 4

Q.20 उस सही विकल्प चयन करें, जो दिए गए शब्दों को उस क्रम में दर्शाता है जिस क्रम में वे अंग्रेजी शब्दकोश में दिखाई पड़ते हैं।

1. Favourite
2. Favourable
3. Favoured
4. Favouritism
5. Favourably

Ans 1. 1, 3, 4, 5, 2
 2. 3, 1, 4, 2, 5
 3. 2, 5, 3, 1, 4
 4. 2, 1, 3, 4, 5

Question ID : 65497835083
Status : Answered
Chosen Option : 3

Q.21 Read the given statements and conclusions carefully. Assuming that the information given in the statements is true, even if it appears to be at variance with commonly known facts, decide which of the given conclusions logically follow(s) from the statements.

Statements:

1. All chocolates are fruits.
2. All fruits are coconuts.

Conclusions:

- I. Some chocolates are not coconuts.
- II. All chocolates are coconuts.
- III. Some coconuts are fruits.

Ans 1. Only conclusion I follows
 2. None of the conclusions follow
 3. Only conclusions II and III follow
 4. Only conclusion II follows

Question ID : 65497835079
Status : Answered
Chosen Option : 3

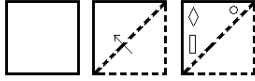
Q.22 दिए गए समीकरण को संतुलित करने के लिए किन दो संख्याओं को परस्पर बदलना होगा?

$$15 \times 7 + 40 - 24 \div 8 = 124$$

Ans 1. 24 और 8
 2. 24 और 40
 3. 7 और 15
 4. 7 और 24

Question ID : 65497835075
Status : Answered
Chosen Option : 2

Q.23 निम्नांकित चित्रों में एक कागज को मोड़ने का क्रम और मुड़े हुए कागज को काटने का तरीका दर्शाया गया है। मुड़े हुए कागज को खोलने पर यह कैसा दिखाई देगा?

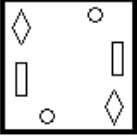


Ans

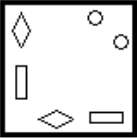
✗ 1.



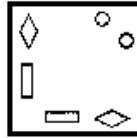
✗ 2.



✗ 3.



✓ 4.



Question ID : 65497835082

Status : Answered

Chosen Option : 4

Q.24 दिए गए विकल्पों में से उस अक्षर-समूह का चयन करें, जो निम्नलिखित श्रृंखला में प्रश्नवाचक चिह्न (?) के स्थान पर आ सकता है।

SPMJ, WTQN, YVSP, ?

Ans ✓ 1. QNKH

✗ 2. QNLH

✗ 3. MJGE

✗ 4. URPL

Question ID : 65497835091

Status : Answered

Chosen Option : 4

Q.25 Six friends, namely Avik, Rishi, Piyush, Sonal, Aashu, and Rohit, are standing in a row facing north. Rishi is standing to the left of Avik and to the right of Piyush. Sonal is standing to the right of Avik and to the left of Aashu. Aashu is standing to the left of Rohit. Which two friends are standing at the centre?

Ans ✗ 1. Rishi and Avik

✓ 2. Avik and Sonal

✗ 3. Aashu and Sonal

✗ 4. Rishi and Sonal

Question ID : 65497835093

Status : Answered

Chosen Option : 2

Q.1 धौलावीरा और लोथल की प्राचीन हड़प्पा बस्तियाँ वर्तमान भारतीय राज्य _____ में स्थित हैं।

- Ans
- 1. गुजरात
 - 2. राजस्थान
 - 3. मध्य प्रदेश
 - 4. हरियाणा

Question ID : 65497835099
Status : Answered
Chosen Option : 1

Q.2 वर्ष 2014 में, भारत को आधिकारिक तौर पर निम्नलिखित में से किस बीमारी से मुक्त घोषित किया गया था?

- Ans
- 1. पोलियो
 - 2. रेबीज
 - 3. प्लेग
 - 4. धनुस्तंभ (टेटनस)

Question ID : 65497835096
Status : Answered
Chosen Option : 3

Q.3 The arteries divide into smaller vessels. On reaching the tissues, they divide further into extremely thin tubes called:

- Ans
- 1. arterioles
 - 2. venules
 - 3. capillaries
 - 4. veins

Question ID : 65497835107
Status : Not Answered
Chosen Option : --

Q.4 मुगल बादशाह अकबर के किस वित्त मंत्री ने 'दहसाला' नामक कराधान की प्रणाली शुरू की थी?

- Ans
- 1. मिर्जा अज़ीज़ कोका
 - 2. अब्दुर रहीम
 - 3. बैरम खान
 - 4. राजा टोडरमल

Question ID : 65497835105
Status : Answered
Chosen Option : 4

Q.5 दुर्योधन सिंह नेगी निम्नलिखित में से किस खेल से संबंधित हैं?

- Ans
- 1. बास्केटबॉल
 - 2. फुटबॉल
 - 3. भारोत्तोलन
 - 4. मुक्केबाज़ी

Question ID : 65497835119
Status : Not Answered
Chosen Option : --

Q.6 किस संविधान संशोधन के द्वारा रियासतों के पूर्व शासकों की उपाधियों और विशेषाधिकारों को समाप्त कर दिया गया?

- Ans 1. 26वें
 2. 25वें
 3. 27वें
 4. 24वें

Question ID : 65497835115
Status : Not Answered
Chosen Option : --

Q.7 Which great traveller wrote the book 'The Great Tang Dynasty Record on the Western Regions'?

- Ans 1. Xuanzang
 2. Fa Hien
 3. Al Beruni
 4. Nicolo Conti

Question ID : 65497835100
Status : Not Answered
Chosen Option : --

Q.8 2020-2021 के बजट के तहत निम्नलिखित में से कौन-सा कर समाप्त कर दिया गया है?

- Ans 1. संपत्ति कर
 2. लाभांश वितरण कर
 3. प्रतिभूति लेनदेन कर
 4. कॉर्पोरेट कर

Question ID : 65497835104
Status : Answered
Chosen Option : 4

Q.9 निम्नलिखित में से कौन सा स्मारक उत्तर प्रदेश में स्थित नहीं है?

- Ans 1. जहाँगीर का मकबरा
 2. एल्माद-उद-दौला का मकबरा
 3. अकबर का मकबरा
 4. शेख सलीम चिश्ती का मकबरा

Question ID : 65497835110
Status : Answered
Chosen Option : 1

Q.10 'द अल्केमिस्ट' पुस्तक निम्नलिखित में से किसने लिखी?

- Ans 1. एंथनी डोएर
 2. पाउलो कोएलो
 3. कैथरीन बर्न्स
 4. रस्किन बांड

Question ID : 65497835112
Status : Not Answered
Chosen Option : --

Q.11 लोथल स्थल पर हड़प्पा सभ्यता के अवशेषों की खोज निम्न में से किसने की थी?

- Ans
- 1. डी.आर. साहनी
 - 2. आर.एस. बिष्ट
 - 3. एस.आर. राव
 - 4. आर.डी. बनर्जी

Question ID : 65497835108
Status : Answered
Chosen Option : 2

Q.12 गूगल द्वारा निर्मित कंप्यूटर को संगणना करने में कितना समय लगता है जो कि इसे क्वॉंटम सर्वोच्चता तक पहुंचने वाला सबसे तेज़ कंप्यूटर बनाता है?

- Ans
- 1. 200 सेकंड
 - 2. 300 सेकंड
 - 3. 500 सेकंड
 - 4. 400 सेकंड

Question ID : 65497835116
Status : Not Answered
Chosen Option : --

Q.13 फरवरी 2018 में कितने राज्यों ने प्रायोगिक योजना (पायलट योजना) के रूप में 'स्वजल' (ग्रामीण पाइप पेयजल आपूर्ति के लिए सामुदायिक नेतृत्व विधि) को शुरू किया?

- Ans
- 1. चार
 - 2. दो
 - 3. आठ
 - 4. छह

Question ID : 65497835097
Status : Not Answered
Chosen Option : --

Q.14 _____ is an annual allowance for wear and tear of a capital good.

- Ans
- 1. Depression
 - 2. Acceleration
 - 3. Appreciation
 - 4. Depreciation

Question ID : 65497835114
Status : Not Answered
Chosen Option : --

Q.15 रेपसीड-मस्टर्ड का राष्ट्रीय अनुसंधान केंद्र भारत के निम्नलिखित में से किस राज्य में स्थित है?

- Ans
- 1. राजस्थान
 - 2. पंजाब
 - 3. गुजरात
 - 4. हरियाणा

Question ID : 65497835118
Status : Not Answered
Chosen Option : --

Q.16 Which Indian state won the PATA (Pacific Asia Travel Association) Gold Award Grand Title Winner 2020 for Marketing for Education and Training for its 'Human by Nature Print Campaign'?

- Ans 1. Sikkim
 2. Kerala
 3. Goa
 4. Meghalaya

Question ID : 65497835103
Status : Answered
Chosen Option : 2

Q.17 निम्नलिखित में से कौन-सी सिक्किम राज्य की पारंपरिक नृत्य शैली है?

- Ans 1. मुखौटा
 2. चुटकी
 3. भोटिया
 4. पांडव

Question ID : 65497835095
Status : Not Answered
Chosen Option : --

Q.18 भारत में राष्ट्रीय उपभोक्ता दिवस इस दिन मनाया जाता है:

- Ans 1. 22 नवंबर
 2. 24 दिसंबर
 3. 05 सितंबर
 4. 01 दिसंबर

Question ID : 65497835117
Status : Answered
Chosen Option : 2

Q.19 प्रवर, मंजीरा और मनेर नदियाँ, _____ नदी की दाहिनी सहायक नदियाँ हैं।

- Ans 1. नर्मदा
 2. कृष्णा
 3. कावेरी
 4. गोदावरी

Question ID : 65497835098
Status : Answered
Chosen Option : 2

Q.20 दिसंबर 2020 में निम्नलिखित में से किसे विश्व स्वास्थ्य संगठन (WHO) फाउंडेशन के पहले मुख्य कार्यकारी अधिकारी (CEO) के रूप में नियुक्त किया गया था?

- Ans 1. मेलिंडा गेट्स
 2. अनिल सोनी
 3. रणदीप गुलेरिया
 4. टेड्रोस अदनोम गेब्रेयसस

Question ID : 65497835109
Status : Answered
Chosen Option : 4

Q.21 किस वर्ष, नेपाल ने राजतंत्र को समाप्त कर दिया और एक लोकतांत्रिक गणराज्य के रूप में उभरा?

- Ans 1. 2010
 2. 2008
 3. 2013
 4. 2005

Question ID : 65497835102
Status : Not Answered
Chosen Option : --

Q.22 'सीता - वॉरियर ऑफ़ मिथिला' पुस्तक के लेखक निम्नलिखित में से कौन हैं?

- Ans 1. चेतन भगत
 2. अरविंद अडिगा
 3. अमीश त्रिपाठी
 4. विक्रम सेठ

Question ID : 65497835101
Status : Not Answered
Chosen Option : --

Q.23 निम्नलिखित में से कौन खेलो इंडिया यूथ गेम्स 2020 में सबसे तेज एथलीट बन गया?

- Ans 1. हिमा दास
 2. निर्मला श्योराण
 3. ऐंसी सोजन
 4. सांद्रा बाबू

Question ID : 65497835106
Status : Not Answered
Chosen Option : --

Q.24 'स्टैचू ऑफ़ यूनिटी' _____ में स्थित है।

- Ans 1. ललितपुर
 2. पटना
 3. भिलाई
 4. केवड़िया

Question ID : 65497835111
Status : Answered
Chosen Option : 4

Q.25 With reference to famous sports personalities, who among the following is a Dutch?

- Ans 1. Pele
 2. Johan Cruyff
 3. Jacques Kallis
 4. Don Bradman

Question ID : 65497835113
Status : Answered
Chosen Option : 2

Q.1 सौरभ अपनी मासिक आय का 20% अपने बच्चों की शिक्षा पर खर्च करता है। वह शेष राशि का 30% परिवहन और कपड़ों पर खर्च करता है। इसके अतिरिक्त, वह अपने पास शेष बची राशि का 50% किराए और घर के रखरखाव में खर्च करता है। इन सभी खर्चों के बाद, वह अपने पास शेष बची राशि का 50% अपने माता-पिता के पास भेज देता है। शेष बची राशि ₹11,200 की वह बचत करता है। उसकी मासिक आय कितनी है?

- Ans
- 1. ₹11,200
 - 2. ₹86,000
 - 3. ₹1,00,000
 - 4. ₹80,000

Question ID : 65497835130
Status : Answered
Chosen Option : 4

Q.2 यदि $\frac{1}{a} : \frac{1}{7} = \frac{1}{3.43} : \frac{1}{a}$ है, तो a का मान कितना होगा?

- Ans
- 1. 7.7
 - 2. 4.9
 - 3. 5.6
 - 4. 6.5

Question ID : 65497835142
Status : Answered
Chosen Option : 2

Q.3 एक विक्रेता किसी वस्तु को उसके अंकित मूल्य पर 13% छूट देकर बेचता है और उसे 20% लाभ प्राप्त होता है। यदि वस्तु के क्रय मूल्य में 10% की वृद्धि होती है, तो उसे उसी अंकित मूल्य पर अब कितने प्रतिशत की छूट देनी चाहिए, ताकि पहले जितना ही लाभ प्रतिशत अर्जित किया जा सके?

- Ans
- 1. 5.3%
 - 2. 4.3%
 - 3. 2.5%
 - 4. 3.7%

Question ID : 65497835135
Status : Not Answered
Chosen Option : --

Q.4 एक निश्चित संख्या में लड्डू 10, 20 और 25 बच्चों के बीच बराबर-बराबर वितरित किए जा सकते हैं। लेकिन अगर 27 बच्चे हैं और उन्हें बराबर लड्डू देने पर 3 लड्डू शेष बच जाते हैं। लड्डूओं की न्यूनतम संख्या कितनी है?

- Ans
- 1. 200
 - 2. 300
 - 3. 100
 - 4. 400

Question ID : 65497835122
Status : Not Answered
Chosen Option : --

Q.5 एक व्यक्ति को उसकी सामान्य चाल की $\frac{3}{4}$ चाल से चलते हुए एक निश्चित दूरी को तय करने में लगने वाला समय, उसकी सामान्य चाल पर उसी दूरी को तय करने में लगे समय से 1 घंटा 40 मिनट अधिक है। उस व्यक्ति को अपनी सामान्य चाल से उसी दूरी को तय करने में कितना समय (घंटों में) लगता है?

- Ans
- 1. 3
 - 2. 4
 - 3. 6
 - 4. 5

Question ID : 65497835134
Status : Not Answered
Chosen Option : --

Q.6 A student travelled a distance of 30 km in 3 hours, partly on foot at a speed of 4 km/h and the remaining on a bicycle at a speed of 12 km/h. The ratio of the distance travelled on foot and that travelled on the bicycle is:

- Ans
- 1. 4 : 5
 - 2. 1 : 9
 - 3. 2 : 3
 - 4. 3 : 5

Question ID : 65497835141
Status : Answered
Chosen Option : 2

Q.7 ₹6,000 की धनराशि के लिए 5% वार्षिक ब्याज दर पर 2 वर्ष में प्राप्त साधारण ब्याज और वार्षिक रूप से चक्रवृद्धि होने वाले चक्रवृद्धि ब्याज में कितना अंतर होगा?

- Ans
- 1. ₹15
 - 2. ₹30
 - 3. ₹35
 - 4. ₹10

Question ID : 65497835127
Status : Answered
Chosen Option : 1

Q.8 साज़ीया की आय रेहाना की आय से 20% कम है। रेहाना की आय साज़ीया की आय से कितनी अधिक है?

- Ans
- 1. 75%
 - 2. 80%
 - 3. 20%
 - 4. 25%

Question ID : 65497835139
Status : Answered
Chosen Option : 4

Q.9 तीन वर्ष पहले, एक फ्लैट का मूल्य ₹65,00,000 था। इसका मूल्य पहले, दूसरे और तीसरे वर्ष की समाप्ति पर क्रमशः 5%, 4% और 3% की दर पर हासिल होता है। फ्लैट का वर्तमान मूल्य कितना है?

- Ans
- 1. ₹53,98,185
 - 2. ₹55,72,320
 - 3. ₹57,50,160
 - 4. ₹59,31,744

Question ID : 65497835132
Status : Answered
Chosen Option : 3

Q.10 A और B एक साथ काम करके किसी कार्य को 30 दिनों में पूरा कर सकते हैं। A अकेले उस कार्य को 50 दिनों में पूरा कर सकता है। B अकेले उसी कार्य को कितने दिनों में पूरा कर सकता है?

- Ans
- 1. 20
 - 2. 75
 - 3. 60
 - 4. 10

Question ID : 65497835128
Status : Answered
Chosen Option : 2

Q.11 सुमेर ने ₹800 प्रति कुर्सी के मूल्य पर 6 कुर्सियाँ और ₹1,200 में एक मेज खरीदा। उसने सभी कुर्सियों और मेज को ₹7,200 में बेच दिया। उसके लाभ का प्रतिशत कितना है?

- Ans
- 1. 25
 - 2. 22
 - 3. 16.6
 - 4. 20

Question ID : 65497835125
Status : Answered
Chosen Option : 4

Q.12 $\left(2\frac{6}{7} \text{ of } 4\frac{1}{5} \div \frac{2}{3}\right) \times 5\frac{1}{9} \div \left(\frac{3}{4} \times 2\frac{2}{3} \text{ of } \frac{1}{2} \div \frac{1}{4}\right)$ का मान कितना होगा?

- Ans
- 1. 5
 - 2. 25
 - 3. 21
 - 4. 23

Question ID : 65497835133
Status : Answered
Chosen Option : 4

Q.13 अमित ने विमल को एक अलमारी बेची और 10% का लाभ प्राप्त किया। विमल ने वही अलमारी चेतन को बेची और 10% का लाभ प्राप्त किया। यदि चेतन ने अलमारी को ₹14,520 में खरीदा, तो अमित के लिए अलमारी का क्रय मूल्य कितना था?

- Ans
- 1. ₹13,200
 - 2. ₹12,000
 - 3. ₹12,100
 - 4. ₹13,000

Question ID : 65497835131
Status : Answered
Chosen Option : 2

Q.14 चार मित्रों A, B, C और D ने किसी व्यवसाय में क्रमशः 3 : 7 : 9 : 13 के अनुपात में निवेश किया। यदि C के लाभ का हिस्सा ₹8,910 है, तो A और B के लाभ का कुल हिस्सा कितना है?

- Ans
- 1. ₹11,880
 - 2. ₹6,930
 - 3. ₹9,900
 - 4. ₹2,970

Question ID : 65497835126
Status : Answered
Chosen Option : 3

Q.15 14 m लंबे और 8 m चौड़े आयताकार पार्क के चारों ओर 1 m चौड़ा रास्ता है। रास्ते का क्षेत्रफल कितना है?

- Ans
- 1. 20 m²
 - 2. 13 m²
 - 3. 48 m²
 - 4. 30 m²

Question ID : 65497835144
Status : Answered
Chosen Option : 3

Q.16 निम्नलिखित में से कौन सा गलत है?

विकल्प	क्रय मूल्य	विक्रय मूल्य	लाभ %	हानि %
1	80	96	20%	-----
2	8000	7000	-----	25/2%
3	7812	6786	-----	13%
4	1400	1526	9%	-----

- Ans
- 1. 2
 - 2. 3
 - 3. 4
 - 4. 1

Question ID : 65497835136
Status : Answered
Chosen Option : 2

Q.17 25 और 45 के बीच आने वाली अभाज्य संख्याओं का औसत कितना है?

- Ans
- 1. $34\frac{1}{11}$
 - 2. $33\frac{8}{9}$
 - 3. 36
 - 4. $36\frac{1}{5}$

Question ID : 65497835124
Status : Answered
Chosen Option : 4

Q.18 एक गणित की परीक्षा में 30 छात्रों द्वारा प्राप्त औसत अंक 100 में से 76 हैं। अनजाने में, एक छात्र के अंक 65 के बजाय 56 और दूसरे छात्र के अंक 48 के बजाय 84 लिखे गए थे। सही औसत ज्ञात करें।

- Ans
- 1. 65%
 - 2. 70%
 - 3. 80%
 - 4. 75.1%

Question ID : 65497835137
Status : Answered
Chosen Option : 4

Q.19 निम्नलिखित समीकरण का मान ज्ञात कीजिए।

$$\frac{5}{7} \text{ of } \frac{2}{5} + \frac{3}{7} - \frac{1}{14} \times 2 = 1$$

Ans

✓ 1. $\frac{4}{7}$

✗ 2. $\frac{9}{7}$

✗ 3. 1

✗ 4. $\frac{6}{7}$

Question ID : 65497835123

Status : Answered

Chosen Option : 1

Q.20 दो पाइप एक कुंड को क्रमशः 12 और 15 घंटों में भर सकते हैं, जबकि तीसरा पाइप उसे 24 घंटे में खाली कर सकता है। यदि तीनों पाइप एक ही समय पर साथ खोले जाते हैं, तो कुंड भरने में कितना समय (घंटों और निकटतम मिनटों में) लगेगा?

Ans

✗ 1. 9 घंटे 13 मिनट

✗ 2. 9 घंटे 10 मिनट

✓ 3. 9 घंटे 14 मिनट

✗ 4. 9 घंटे 12 मिनट

Question ID : 65497835140

Status : Answered

Chosen Option : 1

Q.21 एक पर्स में रू० १, २ और २५ के सिक्कों का अनुपात 8 : 5 : 3 है। अगर पर्स में रू० इन सिक्कों का कुल मूल्य १३२ है, तो पर्स में २५ के कितने सिक्के हैं?

Ans

✗ 1. 32

✗ 2. 64

✗ 3. 20

✓ 4. 12

Question ID : 65497835120

Status : Answered

Chosen Option : 4

Q.22 ₹10,000 की धनराशि के लिए पहले वर्ष में 8%, दूसरे वर्ष में 10%, और तीसरे वर्ष में 12% की ब्याज दर पर 3 वर्षों का चक्रवृद्धि ब्याज कितना होगा?

Ans

✗ 1. ₹3,345.6

✗ 2. ₹3,330.6

✓ 3. ₹3,305.6

✗ 4. ₹3,350.6

Question ID : 65497835143

Status : Answered

Chosen Option : 3

Q.23 20%, 10% और 15% की क्रमिक छूटों की श्रृंखला के समतुल्य एकल छूट ज्ञात करें।

- Ans
- ✓ 1. 38.8%
 - ✗ 2. 37.5%
 - ✗ 3. 40%
 - ✗ 4. 45%

Question ID : 65497835138
Status : Answered
Chosen Option : 1

Q.24 21 m त्रिज्या वाले किसी वृत्ताकार पार्क का एक चक्कर, वर्गाकार पार्क के एक चक्कर के बराबर है। वर्गाकार पार्क की भुजा की लंबाई कितनी है?

$$\left(\pi = \frac{22}{7} \text{ लें}\right)$$

- Ans
- ✗ 1. 21 m
 - ✓ 2. 33 m
 - ✗ 3. 44 m
 - ✗ 4. 16.5 m

Question ID : 65497835121
Status : Answered
Chosen Option : 2

Q.25 वह सबसे छोटी संख्या ज्ञात करें, जिसे 8, 9 और 10 से विभाजित करने पर प्रत्येक में शेषफल 1 प्राप्त होता है।

- Ans
- ✗ 1. 360
 - ✗ 2. 359
 - ✓ 3. 361
 - ✗ 4. 181

Question ID : 65497835129
Status : Answered
Chosen Option : 3

Section : Part D English

Q.1 The following sentence has been divided into parts. One of them may contain an error. Select the part that contains the error from the given options. If you don't find any error, select 'No error' as your answer.

Radium is one of / the most valuable metal / in the world.

- Ans
- ✓ 1. the most valuable metal
 - ✗ 2. No error
 - ✗ 3. Radium is one of
 - ✗ 4. in the world

Question ID : 65497835146
Status : Not Answered
Chosen Option : --

Q.2 Select the most appropriate option to fill in the blank.

Trust is the most important element of a _____ relationship.

- Ans
- 1. fit
 - 2. humble
 - 3. sound
 - 4. kind

Question ID : 65497835152
Status : Not Answered
Chosen Option : --

Q.3 Select the most appropriate meaning of the given idiom.

From far and wide

- Ans
- 1. From somewhere
 - 2. From all directions
 - 3. From a far off place
 - 4. From a nearby place

Question ID : 65497835151
Status : Not Answered
Chosen Option : --

Q.4 Select the most appropriate meaning of the given idiom.

Alive and kicking

- Ans
- 1. Healthy and doing well
 - 2. Money earned in return for little work
 - 3. Strict and non-flexible
 - 4. Stout and chubby

Question ID : 65497835157
Status : Not Answered
Chosen Option : --

Q.5 The following sentence has been split into four segments. Identify the segment that contains a grammatical error.

I thought the actress / to be she, / but I / was not sure.

- Ans
- 1. to be she
 - 2. I thought the actress
 - 3. but I
 - 4. was not sure

Question ID : 65497835153
Status : Not Answered
Chosen Option : --

Q.6 Select the most appropriate option to fill in the blank.

The doctor's clinic is _____ to my house.

- Ans
- 1. adjunct
 - 2. far way
 - 3. adjacent
 - 4. akin

Question ID : 65497835162
Status : Not Answered
Chosen Option : --

Q.7 Select the most appropriate ANTONYM of the given word.

Abundant

- Ans
- 1. Spacious
 - 2. Devious
 - 3. Timorous
 - 4. Insufficient

Question ID : 65497835154
Status : Not Answered
Chosen Option : --

Q.8 Select the most appropriate option that can substitute the underlined segment in the given sentence. If there is no need to substitute it, select 'No substitution required'.

She has one younger sister, does she?

- Ans
- 1. haven't she
 - 2. No substitution required
 - 3. has she
 - 4. hasn't she

Question ID : 65497835145
Status : Not Answered
Chosen Option : --

Q.9 The following sentence has been split into four segments. Identify the segment that contains a grammatical error.

She asked her teacher / that if she could / explain that / problem again.

- Ans
- 1. problem again
 - 2. She asked her teacher
 - 3. that if she could
 - 4. explain that

Question ID : 65497835159
Status : Not Answered
Chosen Option : --

Q.10 Select the most appropriate synonym of the given word.

Turbulent

- Ans
- 1. Ordered
 - 2. Peaceful
 - 3. Violent
 - 4. Non-violent

Question ID : 65497835160
Status : Not Answered
Chosen Option : --

Q.11 Select the INCORRECTLY spelt word.

- Ans
- 1. Flame
 - 2. Flock
 - 3. Flore
 - 4. Flood

Question ID : 65497835149
Status : Not Answered
Chosen Option : --

Q.12 Select the most appropriate option that can substitute the underlined segment in the given sentence. If there is no need to substitute it, select 'No substitution required'.

Poetry can be the voice of our feelings if our minds are speechless with grief or joy.

- Ans
- 1. even our minds
 - 2. No substitution required
 - 3. even when our minds
 - 4. also our minds

Question ID : 65497835164
Status : Not Answered
Chosen Option : --

Q.13 Select the option that can be used as a one-word substitute for the given group of words.

Dead body of an animal

- Ans
- 1. Carcass
 - 2. Corpse
 - 3. Cadaver
 - 4. Cadence

Question ID : 65497835155
Status : Not Answered
Chosen Option : --

Q.14 Select the option that can be used as a one-word substitute for the given group of words.

The branch of science which deals with celestial bodies like stars, planets and natural objects in space

- Ans** 1. Astronomy
 2. Mythology
 3. Astrology
 4. Meteorology

Question ID : 65497835161
Status : Not Answered
Chosen Option : --

Q.15 Select the INCORRECTLY spelt word

- Ans** 1. Appliances
 2. Circuit
 3. Phenomenon
 4. Assosiated

Question ID : 65497835156
Status : Not Answered
Chosen Option : --

Q.16 Select the most appropriate option to fill in the blank.

He _____ a clever plan to safeguard his secret.

- Ans** 1. imagined
 2. devised
 3. created
 4. planned

Question ID : 65497835150
Status : Not Answered
Chosen Option : --

Q.17 Select the most appropriate synonym of the given word.

Absolutely

- Ans** 1. Generally
 2. Doubtfully
 3. Definitely
 4. Questionably

Question ID : 65497835148
Status : Not Answered
Chosen Option : --

Q.18 Select the option that can be used as a one-word substitute for the given group of words.

An imaginary ideal society free of poverty and suffering

- Ans** 1. Utopia
 2. Paradise
 3. Eden
 4. Heaven

Question ID : 65497835158
Status : Not Answered
Chosen Option : --

Q.19 Select the most appropriate ANTONYM of the given word.

Dissuade

- Ans** 1. Prevent
 2. Discourage
 3. Persuade
 4. Counsel

Question ID : 65497835163
Status : Not Answered
Chosen Option : --

Q.20 Select the most appropriate option that can substitute the underlined segment in the given sentence. If there is no need to substitute it, select 'No substitution required'.

She made the children to clean their room properly.

- Ans** 1. clean
 2. cleaned
 3. No substitution required
 4. cleaning

Question ID : 65497835147
Status : Not Answered
Chosen Option : --

Comprehension:

In the following passage, some words have been deleted. Read the passage carefully and select the most appropriate option to fill in each blank.

Producing silk is a (1)_____ process and demands close attention. First, quality feed for the silkworm needs to be (2)_____. Then, the worms need to be carefully hand-reared in controlled environmental (3)_____ till the pupae spin the silk cocoons. The silk is extracted by human hand and (4)_____ woven into fabric. The traditional hand-loom silk always scores over the power looms in their individuality, character and (5)_____ beauty.

SubQuestion No : 21

Q.21 Select the most appropriate option to fill in blank no. 1.

- Ans** 1. worthy
 2. filthy
 3. lengthy
 4. frothy

Question ID : 65497835166
Status : Not Answered
Chosen Option : --

Comprehension:

In the following passage, some words have been deleted. Read the passage carefully and select the most appropriate option to fill in each blank.

Producing silk is a (1)_____ process and demands close attention. First, quality feed for the silkworm needs to be (2)_____. Then, the worms need to be carefully hand-reared in controlled environmental (3)_____ till the pupae spin the silk cocoons. The silk is extracted by human hand and (4)_____ woven into fabric. The traditional hand-loom silk always scores over the power looms in their individuality, character and (5)_____ beauty.

SubQuestion No : 22

Q.22 Select the most appropriate option to fill in blank no. 2.

- Ans
- 1. cultivated
 - 2. clobbered
 - 3. channelled
 - 4. chiselled

Question ID : 65497835167
Status : Not Answered
Chosen Option : --

Comprehension:

In the following passage, some words have been deleted. Read the passage carefully and select the most appropriate option to fill in each blank.

Producing silk is a (1)_____ process and demands close attention. First, quality feed for the silkworm needs to be (2)_____. Then, the worms need to be carefully hand-reared in controlled environmental (3)_____ till the pupae spin the silk cocoons. The silk is extracted by human hand and (4)_____ woven into fabric. The traditional hand-loom silk always scores over the power looms in their individuality, character and (5)_____ beauty.

SubQuestion No : 23

Q.23 Select the most appropriate option to fill in blank no. 3.

- Ans
- 1. felicitations
 - 2. exhilarations
 - 3. conditions
 - 4. obstructions

Question ID : 65497835168
Status : Not Answered
Chosen Option : --

Comprehension:

In the following passage, some words have been deleted. Read the passage carefully and select the most appropriate option to fill in each blank.

Producing silk is a (1)_____ process and demands close attention. First, quality feed for the silkworm needs to be (2)_____. Then, the worms need to be carefully hand-reared in controlled environmental (3)_____ till the pupae spin the silk cocoons. The silk is extracted by human hand and (4)_____ woven into fabric. The traditional hand-loom silk always scores over the power looms in their individuality, character and (5)_____ beauty.

SubQuestion No : 24

Q.24 Select the most appropriate option to fill in blank no. 4.

- Ans
- 1. only
 - 2. but
 - 3. than
 - 4. then

Question ID : 65497835169
Status : Not Answered
Chosen Option : --

Comprehension:

In the following passage, some words have been deleted. Read the passage carefully and select the most appropriate option to fill in each blank.

Producing silk is a (1)_____ process and demands close attention. First, quality feed for the silkworm needs to be (2)_____. Then, the worms need to be carefully hand-reared in controlled environmental (3)_____ till the pupae spin the silk cocoons. The silk is extracted by human hand and (4)_____ woven into fabric. The traditional hand-loom silk always scores over the power looms in their individuality, character and (5)_____ beauty.

SubQuestion No : 25

Q.25 Select the most appropriate option to fill in blank no. 5.

- Ans 1. classic
 2. dramatic
 3. drastic
 4. arctic

Question ID : 65497835170
Status : Not Answered
Chosen Option : --

Section : Part D Hindi

Q.1 दिए गए शब्द के समानार्थी शब्द का चयन कीजिए।

पपीहा

- Ans 1. पनही
 2. पपैया
 3. पन्नग
 4. पय

Question ID : 65497835179
Status : Not Answered
Chosen Option : --

Q.2 दिए गए वाक्य का वह भाग ज्ञात करें जिसमें कोई त्रुटि है। यदि कोई त्रुटि नहीं है, तो 'कोई त्रुटि नहीं है' चुनें।

जब तक (1)/ मैं नहीं आऊँ (2)/ तुम दफ्तर बंद मत करना।(3)/ कोई त्रुटि नहीं है(4)

- Ans 1. 4
 2. 3
 3. 2
 4. 1

Question ID : 65497835178
Status : Answered
Chosen Option : 3

Q.3 दिये गये वाक्यांश के लिए एक सार्थक शब्द का चयन कीजिए।

व्यक्ति जो ठीक समय पर तुरंत किसी बात या व्यक्ति को सोच ले

- Ans 1. प्रतिवादी
 2. प्रस्युत्पन्न
 3. प्रस्युत्पन्नमति
 4. प्रत्यागत

Question ID : 65497835174
Status : Answered
Chosen Option : 3

Q.4 दिए गए वाक्य का वह भाग ज्ञात करें जिसमें कोई त्रुटि है। यदि कोई त्रुटि नहीं है, तो 'कोई त्रुटि नहीं है' चुनें।

हमारे से (1)/ कोई काम (2)/ नहीं होता (3)/ कोई त्रुटि नहीं है (4)

- Ans
- 1. 3
 - 2. 1
 - 3. 4
 - 4. 2

Question ID : 65497835185
Status : Answered
Chosen Option : 2

Q.5 निम्नलिखित प्रश्न में, दिए गए चार विकल्पों में से उस विकल्प का चयन करें, जो मुहावरे का अर्थ व्यक्त करता है।

पगड़ी उछलना

- Ans
- 1. सिर पर से टोपी निकाल लेना
 - 2. सिर पर पगड़ी बाँधना
 - 3. सम्मानित करना
 - 4. अपमानित करना

Question ID : 65497835182
Status : Answered
Chosen Option : 4

Q.6 दिए गए वाक्य में रेखांकित खंड को प्रतिस्थापित करने के लिए सबसे उपयुक्त विकल्प का चयन करें। यदि इसे प्रतिस्थापित करने की आवश्यकता नहीं है, तो विकल्प 'किसी बदलाव की आवश्यकता नहीं है' का चयन करें।

एक गाय, दो घोड़े और एक बकरी मैदान में चर रही हैं।

- Ans
- 1. चर रहे हैं
 - 2. किसी बदलाव की आवश्यकता नहीं है।
 - 3. चर रही है
 - 4. चर रहा है

Question ID : 65497835188
Status : Answered
Chosen Option : 2

Q.7 दिए गए शब्द का विलोम शब्द चुनिए।

मुनाफा

- Ans
- 1. नुकसान
 - 2. बढ़ावा
 - 3. बढ़ोत्तरी
 - 4. लाभ

Question ID : 65497835181
Status : Answered
Chosen Option : 1

Q.8 निम्नलिखित प्रश्न में, दिए गए चार विकल्पों में से उस विकल्प का चयन करें, जो मुहावरे का अर्थ व्यक्त करता है।

दिन दूना रात चौगुना

- Ans
- 1. दिखावा करना
 - 2. दिन से रात चार गुना बड़ी है
 - 3. खूब उन्नति करना
 - 4. नुकसान ही नुकसान होना

Question ID : 65497835183
Status : Answered
Chosen Option : 3

Q.9 रिक्त स्थान को भरने के लिए सबसे उपयुक्त शब्द का चयन कीजिए।

गर्मी से पहले _____ ऋतु होती है।

- Ans
- 1. वर्षा
 - 2. हेमंत
 - 3. वसंत
 - 4. ग्रीष्म

Question ID : 65497835177
Status : Answered
Chosen Option : 3

Q.10 दिए गए वाक्य में रेखांकित खंड को प्रतिस्थापित करने के लिए सबसे उपयुक्त विकल्प का चयन करें। यदि इसे प्रतिस्थापित करने की आवश्यकता नहीं है, तो विकल्प 'किसी बदलाव की आवश्यकता नहीं है' का चयन करें।

खरगोश निरिह पशु है।

- Ans
- 1. नीरिः पशु है।
 - 2. किसी बदलाव की आवश्यकता नहीं है।
 - 3. नीरिह पशु है।
 - 4. निरीह पशु है।

Question ID : 65497835180
Status : Answered
Chosen Option : 4

Q.11 दिए गए वाक्य का वह भाग ज्ञात करें जिसमें कोई त्रुटि है। यदि कोई त्रुटि नहीं है, तो 'कोई त्रुटि नहीं है' चुनें।

छात्र ने अपने (1)/ अध्यापक को (2)/ अभिनंदन-पत्र प्रदान किया। (3)/ कोई त्रुटि नहीं है (4)

- Ans
- 1. 2
 - 2. 4
 - 3. 3
 - 4. 1

Question ID : 65497835171
Status : Answered
Chosen Option : 2

Q.12 रिक्त स्थान को भरने के लिए सबसे उपयुक्त शब्द का चयन करें।

भारत वस्तुतः ऋतुओं की _____ का देश है।

- Ans
- 1. समानता
 - 2. मनोरंजकता
 - 3. विविधता
 - 4. समकक्षता

Question ID : 65497835189
Status : Answered
Chosen Option : 3

Q.13 सही वर्तनी वाले शब्द का चयन कीजिए।

- Ans
- 1. परिशिष्ट
 - 2. परिशीष्ट
 - 3. परीशिष्ट
 - 4. परिशीष्ठ

Question ID : 65497835175
Status : Answered
Chosen Option : 3

Q.14 'विवाद से अलग रहने वाला' वाक्यांश के लिए एक शब्द होगा-

- Ans
- 1. अभियुक्त
 - 2. तटस्थ
 - 3. मध्यस्थ
 - 4. गवाह

Question ID : 65497835190
Status : Answered
Chosen Option : 1

Q.15 'स्थावर' शब्द का विलोम कौन-सा है?

- Ans
- 1. चंचल
 - 2. जड़
 - 3. स्थिर
 - 4. जंगम

Question ID : 65497835172
Status : Answered
Chosen Option : 2

Q.16 दिये गये वाक्यांश के लिए एक सार्थक शब्द दीजिए।

ग्राम का रहनेवाला

- Ans
- 1. नागर
 - 2. नागरिक
 - 3. गंवार
 - 4. ग्रामीण

Question ID : 65497835173
Status : Answered
Chosen Option : 4

Q.17 दिए गए शब्द के समानार्थी शब्द का चयन करें।

नदी

- Ans
- 1. चंचला
 - 2. तरिणी
 - 3. लहरी
 - 4. सरिता

Question ID : 65497835187
Status : Answered
Chosen Option : 4

Q.18 दिए गए वाक्य में रेखांकित खंड को प्रतिस्थापित करने के लिए सबसे उपयुक्त विकल्प का चयन करें।
यदि इसे प्रतिस्थापित करने की आवश्यकता नहीं है, तो विकल्प 'किसी बदलाव की आवश्यकता नहीं है'
का चयन करें।

हत्यारे को मृत्युदंड की सजा मिलेगी।

- Ans
- 1. की सजा मिलेगा
 - 2. मिलेगा
 - 3. का सजा मिलेगा
 - 4. किसी बदलाव की आवश्यकता नहीं है।

Question ID : 65497835186
Status : Answered
Chosen Option : 2

Q.19 रिक्त स्थान भरने के लिए सबसे उपयुक्त शब्द का चयन करें।

लखनऊ जाकर कार्यालय के कई _____ निपटाने है।

- Ans
- 1. कार्य
 - 2. भुगतान
 - 3. कर्त्तव्य
 - 4. वक्तव्य

Question ID : 65497835184
Status : Answered
Chosen Option : 1

Q.20 सही वर्तनी वाले शब्द का चयन कीजिए।

- Ans
- 1. प्रावीधिकि
 - 2. प्राविधिकी
 - 3. प्रविधीकी
 - 4. प्रवीधिकी

Question ID : 65497835176
Status : Answered
Chosen Option : 2

Comprehension:

दिए गए अनुच्छेद में कुछ शब्द हटा दिए गए हैं। दिए गए विकल्पों की सहायता से रिक्त स्थान भरें। प्रत्येक प्रश्न संख्या के लिए सबसे उपयुक्त विकल्प का चयन कीजिए।

मानव जीवन को सफल बनाने के लिए तीन साधनों का उल्लेख हमारे शास्त्रों में बताया गया है – ज्ञान, भक्ति और (1) _____। अन्य प्राणियों से (2) _____ नहीं हो सकती। उनका (3) _____ भी सीमित ही है। उसमें कोई वृद्धि नहीं हुई है। मनुष्य का ज्ञान है तो विशाल, पर उसकी भी सीमा है। बिना (4) _____ के ज्ञान बेकार है। ज्ञान वहीं व्यावहारिक है जो कर्म को आगे बढ़ाने में सहायक हो। कर्म की ही प्रधानता है। गीता में भी कर्म की महिमा और (5) _____ का व्याख्यान है।

SubQuestion No : 21

Q.21 गद्यांश के रिक्त स्थान (1) के लिए सर्वाधिक उपयुक्त शब्द होगा-

- Ans** 1. उपासना
 2. साधना
 3. आराधना
 4. कर्म

Question ID : 65497835192
Status : Answered
Chosen Option : 4

Comprehension:

दिए गए अनुच्छेद में कुछ शब्द हटा दिए गए हैं। दिए गए विकल्पों की सहायता से रिक्त स्थान भरें। प्रत्येक प्रश्न संख्या के लिए सबसे उपयुक्त विकल्प का चयन कीजिए।

मानव जीवन को सफल बनाने के लिए तीन साधनों का उल्लेख हमारे शास्त्रों में बताया गया है – ज्ञान, भक्ति और (1) _____। अन्य प्राणियों से (2) _____ नहीं हो सकती। उनका (3) _____ भी सीमित ही है। उसमें कोई वृद्धि नहीं हुई है। मनुष्य का ज्ञान है तो विशाल, पर उसकी भी सीमा है। बिना (4) _____ के ज्ञान बेकार है। ज्ञान वहीं व्यावहारिक है जो कर्म को आगे बढ़ाने में सहायक हो। कर्म की ही प्रधानता है। गीता में भी कर्म की महिमा और (5) _____ का व्याख्यान है।

SubQuestion No : 22

Q.22 गद्यांश के रिक्त स्थान (2) के लिए सर्वाधिक उपयुक्त शब्द होगा-

- Ans** 1. ज्ञान
 2. रीति
 3. कर्म
 4. भक्ति

Question ID : 65497835193
Status : Answered
Chosen Option : 4

Comprehension:

दिए गए अनुच्छेद में कुछ शब्द हटा दिए गए हैं। दिए गए विकल्पों की सहायता से रिक्त स्थान भरें। प्रत्येक प्रश्न संख्या के लिए सबसे उपयुक्त विकल्प का चयन कीजिए।

मानव जीवन को सफल बनाने के लिए तीन साधनों का उल्लेख हमारे शास्त्रों में बताया गया है – ज्ञान, भक्ति और (1) _____। अन्य प्राणियों से (2) _____ नहीं हो सकती। उनका (3) _____ भी सीमित ही है। उसमें कोई वृद्धि नहीं हुई है। मनुष्य का ज्ञान है तो विशाल, पर उसकी भी सीमा है। बिना (4) _____ के ज्ञान बेकार है। ज्ञान वहीं व्यावहारिक है जो कर्म को आगे बढ़ाने में सहायक हो। कर्म की ही प्रधानता है। गीता में भी कर्म की महिमा और (5) _____ का व्याख्यान है।

SubQuestion No : 23

Q.23 गद्यांश के रिक्त स्थान (3) के लिए सर्वाधिक उपयुक्त शब्द होगा-

- Ans** 1. कर्म
 2. धन
 3. शक्ति
 4. ज्ञान

Question ID : 65497835194
Status : Answered
Chosen Option : 4

Comprehension:

दिए गए अनुच्छेद में कुछ शब्द हटा दिए गए हैं। दिए गए विकल्पों की सहायता से रिक्त स्थान भरें। प्रत्येक प्रश्न संख्या के लिए सबसे उपयुक्त विकल्प का चयन कीजिए।

मानव जीवन को सफल बनाने के लिए तीन साधनों का उल्लेख हमारे शास्त्रों में बताया गया है – ज्ञान, भक्ति और (1) _____। अन्य प्राणियों से (2) _____ नहीं हो सकती। उनका (3) _____ भी सीमित ही है। उसमें कोई वृद्धि नहीं हुई है। मनुष्य का ज्ञान है तो विशाल, पर उसकी भी सीमा है। बिना (4) _____ के ज्ञान बेकार है। ज्ञान वहीं व्यावहारिक है जो कर्म को आगे बढ़ाने में सहायक हो। कर्म की ही प्रधानता है। गीता में भी कर्म की महिमा और (5) _____ का व्याख्यान है।

SubQuestion No : 24

Q.24 गद्यांश के रिक्त स्थान (4) के लिए सर्वाधिक उपयुक्त शब्द होगा-

- Ans** 1. शक्ति
 2. भक्ति
 3. कर्म
 4. धन

Question ID : 65497835195
Status : Answered
Chosen Option : 3

Comprehension:

दिए गए अनुच्छेद में कुछ शब्द हटा दिए गए हैं। दिए गए विकल्पों की सहायता से रिक्त स्थान भरें। प्रत्येक प्रश्न संख्या के लिए सबसे उपयुक्त विकल्प का चयन कीजिए।

मानव जीवन को सफल बनाने के लिए तीन साधनों का उल्लेख हमारे शास्त्रों में बताया गया है – ज्ञान, भक्ति और (1) _____। अन्य प्राणियों से (2) _____ नहीं हो सकती। उनका (3) _____ भी सीमित ही है। उसमें कोई वृद्धि नहीं हुई है। मनुष्य का ज्ञान है तो विशाल, पर उसकी भी सीमा है। बिना (4) _____ के ज्ञान बेकार है। ज्ञान वहीं व्यावहारिक है जो कर्म को आगे बढ़ाने में सहायक हो। कर्म की ही प्रधानता है। गीता में भी कर्म की महिमा और (5) _____ का व्याख्यान है।

SubQuestion No : 25

Q.25 गद्यांश के रिक्त स्थान (5) के लिए सर्वाधिक उपयुक्त शब्द होगा-

- Ans** 1. कर्म
 2. कर्मफल
 3. शक्तिफल
 4. धनफल

Question ID : 65497835196
Status : Answered
Chosen Option : 2

Constable GD in CAPFs NIA SSF and Rifleman GD in Assam Rifles Examination 2021

Roll Number	www.HaryanaJobs.in
Candidate Name	www.HaryanaJobs.in
Venue Name	iON Digital Zone iDZ Dholi Magri
Exam Date	03/12/2021
Exam Time :	4:00 PM - 5:30 PM
Subject	Constable GD 2021

Section : Part A General Intelligence and Reasoning

Q.1 किसी निश्चित कोड भाषा में, 'PERHAPS' को 'SPAHREP' के रूप में लिखा जाता है। उसी भाषा में 'CHEWING' को किस तरह लिखा जाएगा?

- Ans
- 1. GNIWEHC
 - 2. ECHNIGW
 - 3. GNIEHWC
 - 4. HGWENIC

Question ID : 65497828974
Status : Answered
Chosen Option : 1

Q.2 उस विकल्प का चयन करें, जिसमें संख्याएं एक-दूसरे से उसी तरह से संबंधित हैं जैसे दिए गए समुच्चय में संख्याएं एक-दूसरे से संबंधित हैं।

(13, 224, 15)

- Ans
- 1. (22, 350, 16)
 - 2. (19, 274, 15)
 - 3. (9, 108, 12)
 - 4. (17, 396, 21)

Question ID : 65497828976
Status : Answered
Chosen Option : 4

Q.3 दिए गए कथनों और निष्कर्षों को ध्यानपूर्वक पढ़ें। कथनों में दी गई जानकारी को सत्य मानते हुए, भले ही वो सामान्य रूप से ज्ञात तथ्यों से भिन्न प्रतीत होती हो, बताइए कि निम्न में से कौन से निष्कर्ष कथनों का तार्किक रूप से अनुसरण करते हैं।

कथन:

1. कोई भी स्पीकर, फोन नहीं है।
2. सभी तार, फोन हैं।

निष्कर्ष:

- I. कुछ फोन, तार हैं।
- II. कोई भी तार, स्पीकर नहीं है।
- III. कोई भी फोन, स्पीकर नहीं है।

- Ans
- 1. केवल निष्कर्ष I और II अनुसरण करते हैं।
 - 2. केवल निष्कर्ष I अनुसरण करता है।
 - 3. केवल निष्कर्ष II और III अनुसरण करते हैं।
 - 4. सभी निष्कर्ष अनुसरण करते हैं।

Question ID : 65497828975

Status : Answered

Chosen Option : 4

Q.4 चार अक्षर-समूह दिए गए हैं, जिनमें से तीन किसी तरह से संगत हैं और एक असंगत है। उस अक्षर-समूह का चयन करें, जो अन्य से असंगत है।

- Ans
- 1. TYD
 - 2. RVB
 - 3. NSX
 - 4. GLQ

Question ID : 65497828995

Status : Answered

Chosen Option : 2

Q.5 विकल्पों में से उस संख्या का चयन कीजिए जो नीचे दी गई श्रृंखला में प्रश्न चिह्न (?) के स्थान पर आ सकती है।

4, 16, 64, 256, ?

- Ans
- 1. 512
 - 2. 252
 - 3. 320
 - 4. 1024

Question ID : 65497828988

Status : Answered

Chosen Option : 4

Q.6 उस अक्षर संयोजन का चयन करें जिसे दी गई श्रृंखला के रिक्त स्थानों में क्रमिक रूप से रखे जाने पर श्रृंखला पूर्ण हो जाएगी।

BCD_B_DDBC_D_CDD

- Ans
- 1. BCBB
 - 2. CBDB
 - 3. DCDB
 - 4. CCDB

Question ID : 65497828987
Status : Answered
Chosen Option : 3

Q.7 दिए गए विकल्पों में से उस संख्या का चयन कीजिए, जो निम्नलिखित श्रेणी में प्रश्नवाचक चिन्ह (?) के स्थान पर आ सकती है।

13, 29, 62, 129, 264, ?

- Ans
- 1. 535
 - 2. 395
 - 3. 470
 - 4. 505

Question ID : 65497828997
Status : Answered
Chosen Option : 1

Q.8 उस विकल्प का चयन करें, जो दी गई आकृति में अंतर्निहित नहीं है (आकृति को घुमाने की अनुमति नहीं है)।



- Ans
- 1.
 - 2.
 - 3.
 - 4.

Question ID : 65497828994
Status : Answered
Chosen Option : 3

Q.9 पंकज, अल्पेश, श्रीकुमार, दिनेश, नीरज और मनिंदर छः अलग-अलग पंक्तियों में एक के बाद एक के क्रम में बैठे हुए हैं। पंकज, अल्पेश से ठीक आगे वाली पंक्ति में बैठा है। दिनेश अंतिम पंक्ति में बैठा है। अल्पेश वाली पंक्ति से पहले चार पंक्तियां हैं। श्रीकुमार, नीरज के ठीक बाद वाली पंक्ति में है। मनिंदर पहली पंक्ति में नहीं है। मनिंदर के ठीक बाद वाली पंक्ति में कौन बैठा है?

- Ans
- 1. पंकज
 - 2. दिनेश
 - 3. नीरज
 - 4. अल्पेश

Question ID : 65497828983
Status : Answered
Chosen Option : 4

Q.10 दिए गए संयोजन के सही दर्पण प्रतिबिंब का चयन कीजिए, जबकि दर्पण को इसकी दाईं ओर रखा गया है।

X G f q 5 K

- Ans
- 1. K 9 p t G X
 - 2. K 2 p t G X
 - 3. K 2 b t G X
 - 4. K 2 p t G X

Question ID : 65497828998
Status : Answered
Chosen Option : 2

Q.11 एक निश्चित कूट भाषा में, ULTRA को 422440362 लिखा जाता है। उसी कूट भाषा में FUMING को किस प्रकार लिखा जाएगा?

- Ans
- 1. 122126181407
 - 2. 124026162814
 - 3. 144226182816
 - 4. 124226182814

Question ID : 65497828996
Status : Answered
Chosen Option : 4

Q.12 पीपूष ₹450 प्रति कंबल की दर से 4 कंबल खरीदता है। वह इन 4 कंबलों को गोपी को बेच देता है और अपने निवेश पर 12% का लाभ कमाता है। गोपी भी सभी 4 कंबल प्रीतम को बेच देता है और 15% का लाभ कमाता है। प्रीतम ने एक कंबल किस मूल्य पर खरीदा था?

- Ans
- 1. ₹602.40
 - 2. ₹579.60
 - 3. ₹622.50
 - 4. ₹529.60

Question ID : 65497828977
Status : Answered
Chosen Option : 2

Q.13 दिए गए विकल्पों में से उस अक्षर-समूह का चयन कीजिए जो निम्न श्रृंखला में प्रश्न चिह्न (?) के स्थान पर आ सकता है।

PHMT, OGNU, NFOV, MEPW, ?

- Ans
- 1. LDQX
 - 2. NGQX
 - 3. NVKD
 - 4. LDRY

Question ID : 65497828979
Status : Answered
Chosen Option : 1

Q.14 उस विकल्प का चयन कीजिए, जिसका चौथी संख्या से वही संबंध है, जो पहली संख्या का दूसरी संख्या से है और पांचवीं संख्या का छठी संख्या से है।

50 : 9 :: ? : 14 :: 82 : 11

- Ans
- 1. 145
 - 2. 172
 - 3. 126
 - 4. 160

Question ID : 65497828991
Status : Answered
Chosen Option : 4

Q.15 उस विकल्प का चयन कीजिए जिसमें निम्न शब्दों के अंग्रेजी शब्दकोश के वर्णानुक्रम को दर्शाया गया है।

- 1. Hitch
- 2. Home
- 3. Hire
- 4. Hippo

- Ans
- 1. 4, 3, 2, 1
 - 2. 4, 3, 1, 2
 - 3. 1, 2, 3, 4
 - 4. 1, 3, 2, 4

Question ID : 65497828986
Status : Answered
Chosen Option : 2

Q.16 वर्गों के उस समुच्चय का चयन कीजिए जिनके बीच के संबंध को निम्न वेन आरेख द्वारा सर्वोत्तम रूप से दर्शाया गया है।



Ans

- 1. महिलाएं, ड्राइवर, आर्किटेक्ट
- 2. डॉक्टर, करदाता, नर्स
- 3. प्रिंटर, टीवी, वाशिंग मशीन
- 4. कार, वाहन, स्कूटर

Question ID : 65497828985

Status : Answered

Chosen Option : 3

Q.17 मालती, विवेक की पत्नी के ससुर की बेटी है। अर्पित, नीतू का पोता है, जो कि दयाल की पत्नी है। विवेक, दयाल का इकलौता बेटा है। सुष्मिता, मालती की बहन है। विवेक की पत्नी का अर्पित से क्या संबंध है?

Ans

- 1. बुआ
- 2. माँ
- 3. नानी
- 4. मौसी

Question ID : 65497828984

Status : Answered

Chosen Option : 2

Q.18 जिस तरह से 'अटलांटिक' का संबंध 'महासागर' से है उसी तरह, 'पनामा' का संबंध '_____' से है।

Ans

- 1. परिवहन
- 2. नहर
- 3. भाषा
- 4. महाद्वीप

Question ID : 65497828980

Status : Answered

Chosen Option : 2

Q.19 सात व्यक्ति P, Q, R, S, T, U और V एक सीधी क्षैतिज पंक्ति में उत्तर की ओर मुख करके बैठे हैं। U, R के बाईं ओर दूसरे स्थान पर बैठा है। Q, V के बाईं ओर दूसरे स्थान पर बैठा है। T, R के बाईं ओर तीसरे स्थान पर बैठा है। S, P के दाईं ओर तीसरे स्थान पर बैठा है। यदि T किसी एक कोने पर बैठा है, तो दूसरे कोने पर कौन बैठा है?

Ans

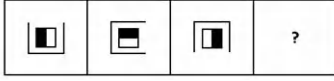
- 1. Q
- 2. S
- 3. P
- 4. V

Question ID : 65497828990

Status : Answered

Chosen Option : 4

Q.20 दिए गए विकल्पों में से उस आकृति का चयन करें, जो निम्न आकृति श्रृंखला में प्रश्नवाचक चिह्न (?) के स्थान पर आ सकती है।



Ans

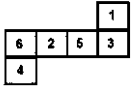
- 1.
- 2.
- 3.
- 4.

Question ID : 65497828989

Status : Answered

Chosen Option : 4

Q.21 दी गई शीट को मोड़कर एक घन बनाया जाता है। इस प्रकार निर्मित घन में, संख्या '3' वाले फलक के विपरीत फलक पर कौन सी संख्या मौजूद होगी?



Ans

- 1. 4
- 2. 1
- 3. 2
- 4. 6

Question ID : 65497828993

Status : Answered

Chosen Option : 3

Q.22 दिए गए समीकरण को सही करने के लिए किन दो संख्याओं को आपस में बदला जाना चाहिए?

$$28 \times 3 + 14 - 45 \div 9 = 65$$

- Ans 1. 14 और 28
 2. 14 और 9
 3. 28 और 45
 4. 14 और 3

Question ID : 65497828992
Status : Answered
Chosen Option : 1

Q.23 उस विकल्प का चयन कीजिए जो तृतीय अक्षर-समूह से उसी तरह से संबंधित है जैसे द्वितीय अक्षर-समूह प्रथम अक्षर-समूह से संबंधित है।

ADIJ : ES :: BDGH : ?

- Ans 1. ZC
 2. VM
 3. FO
 4. TY

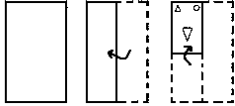
Question ID : 65497828981
Status : Answered
Chosen Option : 3

Q.24 एक निश्चित कूट भाषा में 'TARGET' को 'U b S h f U' और 'FLOW' को 'g M P X' लिखा जाता है। उसी भाषा में 'MACROS' कैसे लिखा जाएगा?

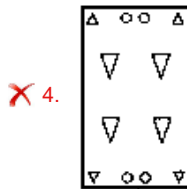
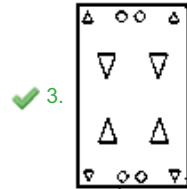
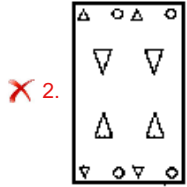
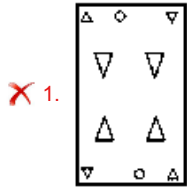
- Ans 1. NZD s P t
 2. n b b S p t
 3. L z D S p T
 4. N b d S P T

Question ID : 65497828982
Status : Answered
Chosen Option : 4

Q.25 दिए गए चित्र में कागज के एक टुकड़े को मोड़ने का क्रम और मुड़े हुए टुकड़े को काटने की विधि दर्शाई गई है। यह कागज खोलने पर कैसा दिखेगा?



Ans



Question ID : 65497828978
Status : Answered
Chosen Option : 3

Section : Part B General Knowledge and General Awareness

Q.1 2020 की जूनियर स्पीड ऑनलाइन शतरंज चैम्पियनशिप निम्न में से किस भारतीय खिलाड़ी ने जीती?

- Ans
- ✓ 1. निहाल सरीन
 - ✗ 2. रमेशबाबू प्रज्ञानानन्द
 - ✗ 3. मित्राबा गुहा
 - ✗ 4. डी. गुकेश

Question ID : 65497829014
Status : Answered
Chosen Option : 4

Q.2 तमिलनाडु, आंध्र प्रदेश और केरल में पाई जाने वाली किस प्रकार की मिट्टी काजू जैसी फसलों के लिए सबसे उपयुक्त है?

- Ans
- 1. लाल लैटेराइट मिट्टी
 - 2. जलोढ़ मिट्टी
 - 3. काली मिट्टी
 - 4. मरु मिट्टी

Question ID : 65497828999
Status : Answered
Chosen Option : 1

Q.3 भारतीय संविधान के निम्नलिखित में से किस अनुच्छेद के तहत सर्वोच्च न्यायालय को न्यायालय की अवमानना के लिए दंडित करने की शक्ति प्रदान की गई है, जिसमें खुद की अवमानना के लिए दंडित करने की शक्ति भी शामिल है?

- Ans
- 1. अनुच्छेद 63 और 72
 - 2. अनुच्छेद 130 और 172
 - 3. अनुच्छेद 65 और 122
 - 4. अनुच्छेद 129 और 142

Question ID : 65497829006
Status : Answered
Chosen Option : 4

Q.4 एशियन गेम्स में भारत ने पहली बार फुटबॉल का स्वर्ण पदक किस वर्ष जीता?

- Ans
- 1. 1951
 - 2. 1958
 - 3. 1962
 - 4. 1954

Question ID : 65497829009
Status : Not Answered
Chosen Option : --

Q.5 पावो क्रिस्टेटस (Pavo Cristatus) को सामान्यतः _____ के रूप में जाना जाता है।

- Ans
- 1. कबूतर
 - 2. मोर
 - 3. वनमानुष
 - 4. कुत्ता

Question ID : 65497829017
Status : Answered
Chosen Option : 2

Q.6 अगस्त 2021 में, भारतीय रिजर्व बैंक ने 'इंडो-नेपाल रेमिटेस फैसिलिटी स्कीम' के तहत नेपाल को किए जाने वाले फंड ट्रांसफर की सीमा बढ़ाकर _____ प्रति लेन-देन करने की घोषणा की, जो 1 अक्टूबर 2021 से प्रभावी होगी।

- Ans
- 1. ₹2 लाख
 - 2. ₹50 हजार
 - 3. ₹1 लाख
 - 4. ₹75 हजार

Question ID : 65497829023
Status : Answered
Chosen Option : 1

Q.7 निम्नलिखित में से क्या ठोस अपशिष्ट का जैव अपघटनीय रूप है?

- Ans
- 1. कंपोस्ट
 - 2. टायर
 - 3. प्लास्टिक
 - 4. काँच

Question ID : 65497829010
Status : Answered
Chosen Option : 1

Q.8 नालंदा और विक्रमशिला विश्वविद्यालयों के संस्थापक निम्नलिखित में से कौन थे?

- Ans
- 1. धर्मपाल
 - 2. मिहिरभोज
 - 3. गोपाल
 - 4. लक्ष्मण सेन

Question ID : 65497829001
Status : Answered
Chosen Option : 1

Q.9 2014 में इंडियन डेयरी एसोसिएशन (IDA) द्वारा शुरू किया गया, राष्ट्रीय दुग्ध दिवस कब मनाया जाता है?

- Ans
- 1. 29 अक्टूबर
 - 2. 26 नवंबर
 - 3. 14 जुलाई
 - 4. 31 सितंबर

Question ID : 65497829012
Status : Answered
Chosen Option : 1

Q.10 तमलाडु (या तमला डु) {Tamladu (or Tamla Du)} _____ जनजाति द्वारा मनाया जाने वाला त्योहार है।

- Ans
- 1. तुत्सा (Tutsa)
 - 2. मिशमी (Mishmi)
 - 3. खमती (Khamti)
 - 4. वाँचो (Wancho)

Question ID : 65497829015
Status : Not Answered
Chosen Option : --

Q.11 संयुक्त राष्ट्र के खाद्य और कृषि संगठन (FAO) ने वर्ष _____ में कुट्टनाड की समुद्र तल से नीचे की कृषि प्रणाली को 'वैश्विक रूप से महत्वपूर्ण कृषि विरासत प्रणाली' (GIAHS) घोषित किया।

- Ans
- 1. 2011
 - 2. 2013
 - 3. 2014
 - 4. 2012

Question ID : 65497829020
Status : Not Answered
Chosen Option : --

Q.12 'द एम्परर्स न्यू क्लॉथ्स ('The Emperor's New Clothes')' _____ द्वारा लिखी गई एक बालकथा है।

- Ans
- 1. एनिड ब्लीटन (Enid Blyton)
 - 2. रोआल्ड डाहल (Roald Dahl)
 - 3. ऑस्कर वाइल्ड (Oscar Wilde)
 - 4. हैन्स क्रिश्चियन एंडरसन (Hans Christian Andersen)

Question ID : 65497829021
Status : Not Answered
Chosen Option : --

Q.13 अक्टूबर 2020 में, भारत ने अपनी किलो-क्लास पनडुब्बियों में से एक INS सिंधुवीर को _____ को देने का फैसला किया।

- Ans
- 1. म्यांमार की नौसेना
 - 2. मालदीव की नौसेना
 - 3. मंगोलिया की नौसेना
 - 4. मॉरीशस की नौसेना

Question ID : 65497829007
Status : Answered
Chosen Option : 1

Q.14 निम्नलिखित में से किसने 'एडेलगिव हरुन इंडिया परोपकार सूची 2020' में शीर्ष स्थान प्राप्त किया?

- Ans 1. अजीम प्रेमजी
 2. शिव नादर
 3. मुकेश अंबानी
 4. एन.आर. नारायण मूर्ति

Question ID : 65497829008
Status : Not Answered
Chosen Option : --

Q.15 राष्ट्रीय नमक सत्याग्रह स्मारक कहाँ स्थित है?

- Ans 1. गुजरात
 2. महाराष्ट्र
 3. दिल्ली
 4. पुदुचेरी

Question ID : 65497829019
Status : Answered
Chosen Option : 1

Q.16 भारत में ब्रिटिश शासन के दौरान निम्नलिखित में से किसने रैयतवाड़ी व्यवस्था की शुरुआत की थी?

- Ans 1. लॉर्ड मिंटो
 2. कैप्टन अलेक्जेंडर रीड
 3. वारेन हेस्टिंग्स
 4. लॉर्ड डलहौज़ी

Question ID : 65497829004
Status : Answered
Chosen Option : 2

Q.17 भारतीय संविधान में द्विसदनीय प्रणाली, किस देश से ली गई है?

- Ans 1. ऑस्ट्रेलिया
 2. अमेरिका
 3. आयरलैंड
 4. यूनाइटेड किंगडम

Question ID : 65497829005
Status : Answered
Chosen Option : 2

Q.18 भारतीय अर्थशास्त्री अमर्त्य सेन को मई 2021 में सामाजिक विज्ञान श्रेणी में _____ शीर्ष प्रिसेस ऑफ ऑस्ट्रियस अवार्ड से सम्मानित किया गया।

- Ans 1. इटली के
 2. स्वीडन के
 3. जर्मनी के
 4. स्पेन के

Question ID : 65497829018
Status : Not Answered
Chosen Option : --

Q.19 2020 में, कितने कृषि विधेयक पारित किए गए?

- Ans
- 1. दो
 - 2. तीन
 - 3. चार
 - 4. पांच

Question ID : 65497829000
Status : Answered
Chosen Option : 2

Q.20 इनमें से कौन सा बैंक पूंजीकरण की समस्या से ग्रस्त था, और बाद में भारतीय रिजर्व बैंक ने 2020 में उसका प्रबंधन संभाल लिया?

- Ans
- 1. बंधन बैंक
 - 2. ऐक्सिस बैंक
 - 3. आईडीबीआई बैंक
 - 4. यस बैंक

Question ID : 65497829002
Status : Answered
Chosen Option : 4

Q.21 अंतरराष्ट्रीय हॉकी टीम के कप्तान बनने वाले पहले गोलकीपर निम्न में से कौन थे?

- Ans
- 1. शंकर लक्ष्मण
 - 2. रिचर्ड जे एलन
 - 3. बीरेंद्र लकड़ा
 - 4. पीआर श्रीजेश

Question ID : 65497829022
Status : Not Answered
Chosen Option : --

Q.22 कलकत्ता (कोलकाता) में भारतीय संग्रहालय की स्थापना निम्न में से किस वर्ष की गई थी?

- Ans
- 1. 1845
 - 2. 1798
 - 3. 1814
 - 4. 1886

Question ID : 65497829011
Status : Not Answered
Chosen Option : --

Q.23 अपने महानिर्वाण से पहले बुद्ध ने अंतिम उपदेश कहाँ दिया था?

- Ans
- 1. वैशाली
 - 2. लुंबिनी
 - 3. कुशीनगर
 - 4. सारनाथ

Question ID : 65497829003
Status : Answered
Chosen Option : 3

Q.24 भारतीय वन्यजीव (संरक्षण) अधिनियम किस वर्ष लागू किया गया था?

- Ans
- 1. 1974
 - 2. 1970
 - 3. 1972
 - 4. 1973

Question ID : 65497829013
Status : Answered
Chosen Option : 1

Q.25 ecology शब्द, _____ शब्द 'Oekologie' से बना है।

- Ans
- 1. यूनानी
 - 2. स्पेनिश
 - 3. लैटिन
 - 4. फ़्रांसीसी

Question ID : 65497829016
Status : Not Answered
Chosen Option : --

Section : Part C Elementary Mathematics

Q.1 P ने 20% की हानि पर कोई वस्तु Q को ₹18000 में बेची। Q इसे R को उस मूल्य पर बेचता है जिससे P को 8% का लाभ होता है। Q द्वारा प्राप्त प्रतिशत लाभ ज्ञात कीजिए।

- Ans
- 1. 35%
 - 2. 40%
 - 3. 12%
 - 4. 25%

Question ID : 65497829036
Status : Answered
Chosen Option : 1

Q.2 एक नाव शांत जल में 17 km/h की चाल से यात्रा करती है। यदि धारा की चाल 2 km/h है, तो नाव को धारा की दिशा में 95 km की दूरी तय करने में कितना समय (घंटों में) लगेगा?

- Ans
- 1. 6.3
 - 2. 5.6
 - 3. 5
 - 4. 6

Question ID : 65497829035
Status : Answered
Chosen Option : 3

Q.3 गेहूँ की दो किस्मों को मिला दिया गया। 60 kg गेहूँ में, 40% गेहूँ A किस्म का और 60% गेहूँ B किस्म का है। मिश्रित गेहूँ में A किस्म का कितना गेहूँ और मिला दिया जाए, जिससे मिश्रण में B किस्म का गेहूँ 40% रह जाए?

- Ans
- 1. 20 kg
 - 2. 12 kg
 - 3. 30 kg
 - 4. 9 kg

Question ID : 65497829025
Status : Answered
Chosen Option : 3

Q.4 एक निश्चित धनराशि 9.5% वार्षिक साधारण ब्याज की दर से 4 वर्षों में ₹6,624 हो जाती है। समान राशि पर समान ब्याज दर से $6\frac{1}{2}$ वर्षों में प्राप्त साधारण ब्याज (₹ में) कितना होगा?

- Ans
- 1. 2,886
 - 2. 3,016
 - 3. 2,964
 - 4. 2,912

Question ID : 65497829044
Status : Answered
Chosen Option : 3

Q.5 $\frac{67 + \frac{2}{5} \text{ of } 75}{5 + \frac{2}{3} \times (58 - 37)}$ का मान ज्ञात कीजिए।

- Ans
- 1. $5\frac{2}{19}$
 - 2. $-5\frac{1}{19}$
 - 3. $-5\frac{2}{19}$
 - 4. $5\frac{1}{19}$

Question ID : 65497829028
Status : Answered
Chosen Option : 1

Q.6 2015 में, एक फुटबॉल क्लब में औसत उपस्थिति पिछले वर्ष की तुलना में 11% कम हो गई। यदि इस वर्ष 3190 कम लोग मैच देखने गए, तो 2014 में कितने लोग मैच देखने गए थे?

- Ans
- ✓ 1. 29000
 - ✗ 2. 31900
 - ✗ 3. 28000
 - ✗ 4. 35090

Question ID : 65497829031
Status : Answered
Chosen Option : 1

Q.7 यदि $x^2 : y^2 = 9 : 25$ और $2 : x = 5 : 15$ है, तो y का मान क्या होगा?

- Ans
- ✗ 1. 15
 - ✓ 2. 10
 - ✗ 3. 12
 - ✗ 4. 17

Question ID : 65497829046
Status : Answered
Chosen Option : 2

Q.8 एक वस्तु पर 15% की छूट देने के बाद भी उस पर 19% का लाभ प्राप्त होता है। 25% की छूट देने पर प्राप्त प्रतिशत लाभ कितना होगा?

- Ans
- ✓ 1. 5%
 - ✗ 2. 6%
 - ✗ 3. 4.5%
 - ✗ 4. 4%

Question ID : 65497829045
Status : Answered
Chosen Option : 1

Q.9 126 km/h की चाल से चल रही एक ट्रेन एक खंभे को 6 सेकंड में पार कर लेती है। ट्रेन की लंबाई ज्ञात करें।

- Ans
- ✗ 1. 180 m
 - ✗ 2. 220 m
 - ✓ 3. 210 m
 - ✗ 4. 240 m

Question ID : 65497829039
Status : Answered
Chosen Option : 3

Q.10 50 m लंबे और 45 m चौड़े एक पूल (तालाब) में, 90 व्यक्ति डुबकी लगाते हैं। यदि व्यक्तियों द्वारा पानी का औसत विस्थापन 1 m^3 है, तो पानी का स्तर कितना ऊँचा उठेगा?

- Ans
- 1. 10 cm
 - 2. 40 cm
 - 3. 4 cm
 - 4. 12 cm

Question ID : 65497829027
Status : Answered
Chosen Option : 3

Q.11 ब्याज प्रति 8 माह पर चक्रवृद्धि होने पर, एक धनराशि पर 12% वार्षिक ब्याज दर से $1\frac{1}{3}$ वर्ष में प्राप्त होने वाला चक्रवृद्धि ब्याज ₹2496 है। समान ब्याज की दर से, यदि ब्याज वार्षिक रूप में चक्रवृद्धि हो, तो वही धनराशि चार वर्ष में कितनी (₹ में, निकटतम ₹ तक) हो जाएगी?

- Ans
- 1. 23603
 - 2. 20336
 - 3. 26033
 - 4. 30632

Question ID : 65497829037
Status : Answered
Chosen Option : 1

Q.12 A और B की आय का अनुपात $x : y$ है। जब A की आय में 20% की वृद्धि होती है और B की आय में 40% की कमी होती है, तो A और B की आय का अनुपात 5 : 6 हो जाता है। $\frac{3x + 2y}{5x - y}$ का मान ज्ञात कीजिए।

- Ans
- 1. $\frac{5}{2}$
 - 2. 1
 - 3. $\frac{7}{9}$
 - 4. 3

Question ID : 65497829043
Status : Answered
Chosen Option : 4

Q.13 $36\frac{2}{5} \div \left[27 + \frac{3}{8} \text{ of } 24 + \left(45 \div 9 - 4\frac{3}{5}\right)\right]$ का मान क्या होगा?

- Ans
- 1. 2
 - 2. 10
 - 3. 1
 - 4. 5

Question ID : 65497829038
Status : Answered
Chosen Option : 3

Q.14 P एक कार्य को 30 दिनों में पूर्ण कर सकता है और Q उसी कार्य को 40 दिनों में पूर्ण कर सकता है। उन दोनों ने 5 दिनों तक साथ मिलकर कार्य किया और फिर Q ने छोड़ दिया। P को अकेले ही शेष कार्य पूर्ण करने में कितना समय (दिन और घंटे में) लगेगा?

- Ans
- 1. 20 दिन 6 घंटे
 - 2. 21 दिन 18 घंटे
 - 3. 21 दिन 6 घंटे
 - 4. 21 दिन 12 घंटे

Question ID : 65497829033
Status : Answered
Chosen Option : 3

Q.15 ₹16,000 की राशि पर एक निश्चित वार्षिक ब्याज दर पर 2 वर्ष के चक्रवृद्धि ब्याज और साधारण ब्याज का अंतर ₹102.40 है, तो वार्षिक ब्याज दर ज्ञात कीजिए।

- Ans
- 1. 10%
 - 2. 8%
 - 3. 11%
 - 4. 6.5%

Question ID : 65497829047
Status : Answered
Chosen Option : 2

Q.16 3 अंकों की वह बड़ी से बड़ी संख्या कौन सी है, जो 4, 5 और 6 से विभाज्य है?

- Ans
- 1. 960
 - 2. 978
 - 3. 980
 - 4. 990

Question ID : 65497829024
Status : Answered
Chosen Option : 1

Q.17 निम्नलिखित भिन्न संख्याओं का महत्तम समापवर्तक (HCF) ज्ञात कीजिए?

$$\frac{4}{5}, \frac{24}{25}, \frac{16}{35}$$

Ans

✓ 1. $\frac{4}{175}$

✗ 2. $\frac{48}{5}$

✗ 3. $\frac{48}{175}$

✗ 4. $\frac{4}{5}$

Question ID : 65497829041

Status : Answered

Chosen Option : 1

Q.18 एक तार, जो 14 cm त्रिज्या वाले एक वृत्त के रूप में है, को मोड़कर एक वर्ग बनाया जाता है। वर्ग की भुजा की लंबाई (cm में) ज्ञात कीजिए। ($\pi = \frac{22}{7}$ मानिए)

Ans

✗ 1. 21.5

✗ 2. 24

✓ 3. 22

✗ 4. 20.8

Question ID : 65497829048

Status : Answered

Chosen Option : 3

Q.19 15 संख्याओं का औसत 55.4 है। पहली 6 संख्याओं का औसत 50 है और अगली 4 संख्याओं का औसत 60.5 है। शेष संख्याओं का औसत ज्ञात कीजिए।

Ans

✗ 1. 58.5

✗ 2. 55.6

✓ 3. 57.8

✗ 4. 59.4

Question ID : 65497829042

Status : Answered

Chosen Option : 3

Q.20 एक प्रकाशक, किसी पुस्तक को ₹625 में बेचकर, 25% का लाभ प्राप्त करता है। 35% लाभ प्राप्त करने के लिए उसे वह पुस्तक किस मूल्य (₹ में) पर बेचनी चाहिए?

- Ans
- 1. 700
 - 2. 725
 - 3. 675
 - 4. 650

Question ID : 65497829032
Status : Answered
Chosen Option : 3

Q.21 यदि $(2x + 3y) : (4x - 7y) = 3 : 5$ है, तो $x : y$ का मान क्या होगा?

- Ans
- 1. 18 : 1
 - 2. 4 : 11
 - 3. 11 : 4
 - 4. 1 : 18

Question ID : 65497829026
Status : Answered
Chosen Option : 1

Q.22 A और B एक साथ मिल कर एक कार्य को 16 दिनों में कर सकते हैं। यदि A, B की तुलना में 50% कम कार्यकुशल है, तो A अकेले कार्य करते हुए कितने दिनों में पूरे कार्य को पूर्ण कर सकता है?

- Ans
- 1. 48
 - 2. 30
 - 3. 36
 - 4. 24

Question ID : 65497829034
Status : Answered
Chosen Option : 1

Q.23 एक हैंडबैग, एक कमीज और एक जैकेट को ₹2,300 प्रत्येक में खरीदा गया था। उन्हें क्रमशः 12% लाभ, 15% हानि और 6% लाभ पर बेचा गया। कुल लाभ प्रतिशत या हानि प्रतिशत कितना है?

- Ans
- 1. 2% हानि
 - 2. 1% लाभ
 - 3. 5% लाभ
 - 4. 6% हानि

Question ID : 65497829040
Status : Answered
Chosen Option : 2

Q.24 एक छात्र के अंक गलती से 78 के बदले 92 दर्ज किए गए थे। इसके कारण कक्षा के औसत अंकों में आधे की वृद्धि हो गई। कक्षा में छात्रों की संख्या कितनी है?

- Ans** 1. 28
 2. 30
 3. 24
 4. 32

Question ID : 65497829029
Status : Answered
Chosen Option : 1

Q.25 8%, 15% और 20% की तीन क्रमागत छूटों के बराबर एक एकल छूट लगभग कितनी है?

- Ans** 1. 40%
 2. 38%
 3. 37%
 4. 43%

Question ID : 65497829030
Status : Answered
Chosen Option : 3

Section : Part D English

Q.1 Select the option that can be used as a one-word substitute for the given group of words.

Something that cannot be handled easily

- Ans** 1. Unfit
 2. Untidy
 3. Unwieldy
 4. Untimely

Question ID : 65497829052
Status : Answered
Chosen Option : 3

Q.2 Select the most appropriate option that can substitute the underlined segment in the given sentence. If there is no need to substitute it, select 'No substitution required'.

We are eaten our dinner before they arrived.

- Ans** 1. We are eating
 2. We had eaten
 3. No substitution required
 4. We is eaten

Question ID : 65497829063
Status : Answered
Chosen Option : 2

Q.3 Select the INCORRECTLY spelt word.

- Ans 1. Resist
 2. Bitray
 3. Reverse
 4. Specific

Question ID : 65497829066
Status : Answered
Chosen Option : 2

Q.4 Select the most appropriate option to fill in the blank.

Everyone _____ laughter when he appeared in the room.

- Ans 1. burst up
 2. burst out
 3. burst into
 4. burst in

Question ID : 65497829061
Status : Answered
Chosen Option : 2

Q.5 Select the most appropriate option to fill in the blank.

I expect him to _____ by his decision to help me.

- Ans 1. admit
 2. abide
 3. act
 4. bear

Question ID : 65497829060
Status : Answered
Chosen Option : 1

Q.6 Select the most appropriate meaning of the given idiom.

Ins and outs

- Ans 1. Complete facts
 2. Some details
 3. Brief points
 4. Hidden facts

Question ID : 65497829051
Status : Answered
Chosen Option : 1

Q.7 Select the most appropriate synonym of the given word.

Layout

- Ans 1. Arrangement
 2. Order
 3. Schedule
 4. Timetable

Question ID : 65497829064
Status : Answered
Chosen Option : 1

Q.8 Select the option that will improve the underlined part of the given sentence. In case no improvement is needed, select 'No improvement required'.

Mira's train was late and it reached Varanasi on middle night.

- Ans 1. No improvement required
 2. at midnight
 3. on midnight
 4. in middle night

Question ID : 65497829059
Status : Answered
Chosen Option : 2

Q.9 Select the option that can be used as a one-word substitute for the given group of words.

Study of living organisms

- Ans 1. Pathology
 2. Physiology
 3. Geology
 4. Biology

Question ID : 65497829065
Status : Answered
Chosen Option : 4

Q.10 The following sentence has been split into four segments. Identify the segment that contains a grammatical error.

Teachers are / expect to mentor / their students appropriately / during the Covid-19 pandemic.

- Ans 1. during the Covid-19 pandemic
 2. expect to mentor
 3. their students appropriately
 4. Teachers are

Question ID : 65497829062
Status : Answered
Chosen Option : 2

Q.11 Select the most appropriate synonym of the given word.

Chaos

- Ans
- 1. System
 - 2. Calm
 - 3. Quiet
 - 4. Turmoil

Question ID : 65497829050
Status : Answered
Chosen Option : 4

Q.12 Select the most appropriate ANTONYM of the given word.

Abstract

- Ans
- 1. Belligerent
 - 2. Hilarious
 - 3. Concrete
 - 4. Auspicious

Question ID : 65497829054
Status : Answered
Chosen Option : 3

Q.13 Select the most appropriate meaning of the given idiom.

See the light of day

- Ans
- 1. Have a long life
 - 2. Work during daytime
 - 3. Feel very hot
 - 4. Become publicly known

Question ID : 65497829068
Status : Answered
Chosen Option : 4

Q.14 Select the most appropriate option that can substitute the underlined word in the given sentence.

The door was ajar and Jenny observed in.

- Ans
- 1. peeped
 - 2. dazed
 - 3. stared
 - 4. derived

Question ID : 65497829053
Status : Answered
Chosen Option : 2

Q.15 Select the INCORRECTLY spelt word.

- Ans
- 1. Laboratory
 - 2. Government
 - 3. Advertisement
 - 4. Tactfully

Question ID : 65497829058
Status : Answered
Chosen Option : 1

Q.16 The following sentence has been split into four segments. Identify the segment that contains a grammatical error.

Abhiram returned back to the signal / and gave his last hundred rupee note / to the man / who had said he needed help.

- Ans
- 1. who had said he needed help
 - 2. to the man
 - 3. and gave his last hundred rupee note
 - 4. Abhiram returned back to the signal

Question ID : 65497829055
Status : Answered
Chosen Option : 4

Q.17 The following sentence has been divided into parts. One of them may contain an error. Select the part that contains the error from the given options. If you don't find any error, select 'No error' as your answer.

I wants / to take that / dog home.

- Ans
- 1. to take that
 - 2. I wants
 - 3. No error
 - 4. dog home

Question ID : 65497829049
Status : Answered
Chosen Option : 1

Q.18 Select the most appropriate ANTONYM of the given word.

Paltry

- Ans
- 1. Key
 - 2. Crucial
 - 3. Substantial
 - 4. Basic

Question ID : 65497829056
Status : Answered
Chosen Option : 4

Q.19 Select the option that can be used as a one-word substitute for the given group of words.

The science of surveying and charting bodies of water

- Ans** 1. Demography
 2. Hydrography
 3. Holography
 4. Topography

Question ID : 65497829057
Status : Answered
Chosen Option : 2

Q.20 Select the most appropriate option to fill in the blank.

If the prepaid card for mobile phones does not _____ to you, you may opt for the postpaid card.

- Ans** 1. interest
 2. appeal
 3. attract
 4. allure

Question ID : 65497829067
Status : Answered
Chosen Option : 4

Comprehension:

In the following passage, some words have been deleted. Read the passage carefully and select the most appropriate option to fill in each blank.

Triveni was a very popular Kannada writer. Her (1) _____ was easy to read and very convincing. Her stories (2) _____ dealt with problems in the lives of (3) _____ people and were always very interesting. (4) _____ for Kannada literature, she died very young. (5) _____, readers continue to appreciate her novels even today.

SubQuestion No : 21

Q.21 Select the most appropriate option to fill in blank no. 1.

- Ans** 1. design
 2. mode
 3. method
 4. style

Question ID : 65497829070
Status : Answered
Chosen Option : 4

Comprehension:

In the following passage, some words have been deleted. Read the passage carefully and select the most appropriate option to fill in each blank.

Triveni was a very popular Kannada writer. Her (1) _____ was easy to read and very convincing. Her stories (2) _____ dealt with problems in the lives of (3) _____ people and were always very interesting. (4) _____ for Kannada literature, she died very young. (5) _____, readers continue to appreciate her novels even today.

SubQuestion No : 22

Q.22 Select the most appropriate option to fill in blank no. 2.

- Ans**
- 1. once
 - 2. almost
 - 3. usually
 - 4. rough

Question ID : 65497829071
Status : Answered
Chosen Option : 3

Comprehension:

In the following passage, some words have been deleted. Read the passage carefully and select the most appropriate option to fill in each blank.

Triveni was a very popular Kannada writer. Her (1) _____ was easy to read and very convincing. Her stories (2) _____ dealt with problems in the lives of (3) _____ people and were always very interesting. (4) _____ for Kannada literature, she died very young. (5) _____, readers continue to appreciate her novels even today.

SubQuestion No : 23

Q.23 Select the most appropriate option to fill in blank no. 3.

- Ans**
- 1. routine
 - 2. ordinary
 - 3. natural
 - 4. habitual

Question ID : 65497829072
Status : Answered
Chosen Option : 2

Comprehension:

In the following passage, some words have been deleted. Read the passage carefully and select the most appropriate option to fill in each blank.

Triveni was a very popular Kannada writer. Her (1) _____ was easy to read and very convincing. Her stories (2) _____ dealt with problems in the lives of (3) _____ people and were always very interesting. (4) _____ for Kannada literature, she died very young. (5) _____, readers continue to appreciate her novels even today.

SubQuestion No : 24

Q.24 Select the most appropriate option to fill in blank no. 4.

- Ans**
- 1. Unfortunately
 - 2. Dismally
 - 3. Miserably
 - 4. Horribly

Question ID : 65497829073
Status : Answered
Chosen Option : 1

Comprehension:

In the following passage, some words have been deleted. Read the passage carefully and select the most appropriate option to fill in each blank.

Triveni was a very popular Kannada writer. Her (1) _____ was easy to read and very convincing. Her stories (2) _____ dealt with problems in the lives of (3) _____ people and were always very interesting. (4) _____ for Kannada literature, she died very young. (5) _____, readers continue to appreciate her novels even today.

SubQuestion No : 25

Q.25 Select the most appropriate option to fill in blank no. 5.

- Ans**
- 1. Therefore
 - 2. Besides
 - 3. Hence
 - 4. However

Question ID : 65497829074
Status : Answered
Chosen Option : 4

Section : Part D Hindi

Q.1 'पहाड़ के ऊपर की समतल भूमि' वाक्यांश के लिए एक सार्थक शब्द दीजिए।

- Ans**
- 1. अंतरिक्ष
 - 2. अधित्यका
 - 3. अनावृत्त
 - 4. आगत पतिका

Question ID : 65497829075
Status : Not Answered
Chosen Option : --

Q.2 दिए गए वाक्य का वह भाग ज्ञात करें जिसमें कोई त्रुटि है। यदि कोई त्रुटि नहीं है, तो 'कोई त्रुटि नहीं है' विकल्प को चुनें।

गुरुजनों पर श्रद्धा रखनी चाहिए।

- Ans**
- 1. गुरुजनों पर
 - 2. रखनी चाहिए
 - 3. कोई त्रुटि नहीं
 - 4. श्रद्धा

Question ID : 65497829078
Status : Not Answered
Chosen Option : --

Q.3 दिए गए शब्द का विलोम चुनें।

जागृति

- Ans
- 1. तृप्ति
 - 2. सुषुप्ति
 - 3. स्तुति
 - 4. निवृत्ति

Question ID : 65497829080
Status : Not Answered
Chosen Option : --

Q.4 रिक्त स्थान की पूर्ति के लिए सबसे उपयुक्त शब्द का चयन कीजिए।

उसका स्वर अत्यंत _____ था।

- Ans
- 1. कर्कश
 - 2. कठिन
 - 3. श्रेष्ठ
 - 4. कसैला

Question ID : 65497829077
Status : Not Answered
Chosen Option : --

Q.5 दिए गए वाक्य का वह भाग ज्ञात करें जिसमें कोई त्रुटि है। यदि कोई त्रुटि नहीं है, तो 'कोई त्रुटि नहीं' विकल्प को चुनें।

पिता ने बच्चों को जलेबियाँ खिलाए।

- Ans
- 1. कोई त्रुटि नहीं
 - 2. बच्चों को
 - 3. जलेबियाँ खिलाए
 - 4. पिता ने

Question ID : 65497829082
Status : Not Answered
Chosen Option : --

Q.6 दिए गए वाक्य में रेखांकित खंड को प्रतिस्थापित करने के लिए सबसे उपयुक्त विकल्प का चयन करें। यदि इसे प्रतिस्थापित करने की आवश्यकता नहीं है, तो विकल्प किसी बदलाव की आवश्यकता नहीं है' का चयन करें।

मेरा यह सुझाव तुम्हारे हित का है।

- Ans
- 1. तुम्हारे हित की
 - 2. किसी बदलाव की आवश्यकता नहीं है।
 - 3. तुम्हारे हित के लिए
 - 4. तुम्हारे हित को

Question ID : 65497829086
Status : Not Answered
Chosen Option : --

Q.7 कुलीन' शब्द के लिए सही वाक्यांश निम्न में से कौन सा होगा?

- Ans
- 1. जो क्षमा के लायक है।
 - 2. छात्रावास में रहने वाला।
 - 3. जो अच्छे कुल में जन्मा है।
 - 4. जो विदेश में रहता है।

Question ID : 65497829081
Status : Not Answered
Chosen Option : --

Q.8 रिक्त स्थान की पूर्ति के लिए सबसे उपयुक्त शब्द का चयन कीजिए।

आज _____ प्रतियोगिता नहीं होगी।

- Ans
- 1. अंत्याक्षरी
 - 2. अंताक्षरी
 - 3. अंत्येष्टि
 - 4. अन्त्योदय

Question ID : 65497829076
Status : Not Answered
Chosen Option : --

Q.9 दिए गए शब्द के समानार्थी शब्द का चयन करें।

गरमी

- Ans
- 1. मसूण
 - 2. निदाघ
 - 3. दिवा
 - 4. वासर

Question ID : 65497829088
Status : Not Answered
Chosen Option : --

Q.10 'पापड़ बेलना' मुहावरे का सही अर्थ है-

- Ans
- 1. पीछे पड़ना
 - 2. बेकार जीवन बिताना
 - 3. बहुत श्रम करना
 - 4. कठिन काम करना

Question ID : 65497829093
Status : Not Answered
Chosen Option : --

Q.11 दिये गये वाक्य में रेखांकित अंश को प्रतिस्थापित करने के लिए सबसे उपयुक्त विकल्प का चयन करें।

उसने अपनी भूल के लिए दया माँगी।

- Ans
- 1. भिक्षा
 - 2. याचना
 - 3. कृपा
 - 4. क्षमा

Question ID : 65497829092
Status : Not Answered
Chosen Option : --

Q.12 निम्नलिखित में से शुद्ध वर्तनी वाला शब्द कौन सा है?

- Ans
- 1. प्रशंशा
 - 2. प्रसंशा
 - 3. प्रशंसा
 - 4. प्रसंसा

Question ID : 65497829090
Status : Not Answered
Chosen Option : --

Q.13 दिए गए शब्द का विलोम चुनें।

शुक्ल

- Ans
- 1. पीत
 - 2. नील
 - 3. श्वेत
 - 4. कृष्ण

Question ID : 65497829084
Status : Not Answered
Chosen Option : --

Q.14 दिए गए वाक्य का वह भाग ज्ञात करें जिसमें कोई त्रुटि है। यदि कोई त्रुटि नहीं है, तो 'कोई त्रुटि नहीं है' चुनें।

दस रुपया (1)/ में क्या (2)/ आता है (3)/ कोई त्रुटि नहीं है (4)

- Ans
- 1. 2
 - 2. 4
 - 3. 3
 - 4. 1

Question ID : 65497829087
Status : Not Answered
Chosen Option : --

Q.15 निम्नलिखित में से शुद्ध वर्तनी वाला शब्द कौन सा है?

- Ans
- 1. उन्मीलीत
 - 2. उन्मिलित
 - 3. उन्मीलित
 - 4. उन्मिलीत

Question ID : 65497829091
Status : Not Answered
Chosen Option : --

Q.16 उस विकल्प का चयन कीजिए जो निम्न मुहावरे का अर्थ व्यक्त करता है।

'जूतियों में दाल बांटना'

- Ans
- 1. साफ़ इनकार करना
 - 2. बाधा पैदा करना
 - 3. आपस में लड़ाई-झगड़ा हो जाना
 - 4. उपाय करना

Question ID : 65497829085
Status : Not Answered
Chosen Option : --

Q.17 दिए गए वाक्य में रेखांकित खंड को प्रतिस्थापित करने के लिए सबसे उपयुक्त विकल्प का चयन करें।
यदि इसे प्रतिस्थापित करने की आवश्यकता नहीं है, तो विकल्प 'किसी बदलाव की आवश्यकता नहीं है'
का चयन करें।

सभा समाप्त होने के बाद अतिथि घर चली गईं।

- Ans
- 1. घर चलते दिए
 - 2. किसी बदलाव की आवश्यकता नहीं है।
 - 3. घर चलते गया
 - 4. घर चले गए

Question ID : 65497829079
Status : Not Answered
Chosen Option : --

Q.18 रिक्त स्थान की पूर्ति के लिए सबसे उपयुक्त विकल्प का चयन करें।

मित्रों ने अंकित का _____ किया पर उसने बुरा नहीं माना।

- Ans
- 1. परिहास
 - 2. उपहास
 - 3. व्यंग्य
 - 4. हास

Question ID : 65497829094
Status : Not Answered
Chosen Option : --

Q.19 दिए गए शब्द के समानार्थी शब्द का चयन कीजिए।

आँख

- Ans
- 1. वासव
 - 2. दनुज
 - 3. दृग
 - 4. अम्बु

Question ID : 65497829083
Status : Not Answered
Chosen Option : --

Q.20 दिये गये वाक्यांश के लिए एक शब्द दीजिये।

चार भुजाओं वाला

- Ans
- 1. चतुर्दशी
 - 2. चतुर्भुज
 - 3. चतुरानन
 - 4. चहुमुखी

Question ID : 65497829089
Status : Not Answered
Chosen Option : --

Comprehension:

दिए गए गद्यांश में से कुछ शब्द हटा दिए गए हैं। विकल्पों की सहायता से प्रत्येक संख्या के लिए सबसे उपयुक्त विकल्प का चयन करें।

आलस्य समय का सबसे बड़ा (1) _____ है। अतः इसे दूर भगाना आवश्यक है। (2) _____ का मूल्य पहचानिए। मानव जीवन (3) _____ है। नश्वर है। इस नश्वर संसार में हमें समय का (4) _____ करना है। विद्यार्थियों के लिए तो समय का विशेष (5) _____ है।

SubQuestion No : 21

Q.21 गद्यांश के रिक्त स्थान (1) के लिए सर्वाधिक उपयुक्त शब्द होगा-

- Ans
- 1. गुरु
 - 2. शत्रु
 - 3. मित्र
 - 4. शिष्य

Question ID : 65497829096
Status : Not Answered
Chosen Option : --

Comprehension:

दिए गए गद्यांश में से कुछ शब्द हटा दिए गए हैं। विकल्पों की सहायता से प्रत्येक संख्या के लिए सबसे उपयुक्त विकल्प का चयन करें।

आलस्य समय का सबसे बड़ा (1) _____ है। अतः इसे दूर भगाना आवश्यक है। (2) _____ का मूल्य पहचानिए। मानव जीवन (3) _____ है। नश्वर है। इस नश्वर संसार में हमें समय का (4) _____ करना है। विद्यार्थियों के लिए तो समय का विशेष (5) _____ है।

SubQuestion No : 22

Q.22 गद्यांश के रिक्त स्थान (2) के लिए सर्वाधिक उपयुक्त शब्द होगा-

- Ans** 1. भोजन
 2. समय
 3. मित्रता
 4. सक्रियता

Question ID : 65497829097

Status : Not Answered

Chosen Option : --

Comprehension:

दिए गए गद्यांश में से कुछ शब्द हटा दिए गए हैं। विकल्पों की सहायता से प्रत्येक संख्या के लिए सबसे उपयुक्त विकल्प का चयन करें।

आलस्य समय का सबसे बड़ा (1) _____ है। अतः इसे दूर भगाना आवश्यक है। (2) _____ का मूल्य पहचानिए। मानव जीवन (3) _____ है। नश्वर है। इस नश्वर संसार में हमें समय का (4) _____ करना है। विद्यार्थियों के लिए तो समय का विशेष (5) _____ है।

SubQuestion No : 23

Q.23 गद्यांश के रिक्त स्थान (3) के लिए सर्वाधिक उपयुक्त शब्द होगा-

- Ans** 1. 50 साल
 2. महीने
 3. स्थायी
 4. क्षण भर

Question ID : 65497829098

Status : Not Answered

Chosen Option : --

Comprehension:

दिए गए गद्यांश में से कुछ शब्द हटा दिए गए हैं। विकल्पों की सहायता से प्रत्येक संख्या के लिए सबसे उपयुक्त विकल्प का चयन करें।

आलस्य समय का सबसे बड़ा (1) _____ है। अतः इसे दूर भगाना आवश्यक है। (2) _____ का मूल्य पहचानिए। मानव जीवन (3) _____ है। नश्वर है। इस नश्वर संसार में हमें समय का (4) _____ करना है। विद्यार्थियों के लिए तो समय का विशेष (5) _____ है।

SubQuestion No : 24

Q.24 गद्यांश के रिक्त स्थान (4) के लिए सर्वाधिक उपयुक्त शब्द होगा-

- Ans** 1. उपभोग
 2. बर्वाद
 3. दुरुपयोग
 4. सदुपयोग

Question ID : 65497829099

Status : Not Answered

Chosen Option : --

Comprehension:

दिए गए गद्यांश में से कुछ शब्द हटा दिए गए हैं। विकल्पों की सहायता से प्रत्येक संख्या के लिए सबसे उपयुक्त विकल्प का चयन करें।

आलस्य समय का सबसे बड़ा (1) _____ है। अतः इसे दूर भगाना आवश्यक है। (2) _____ का मूल्य पहचानिए। मानव जीवन (3) _____ है। नश्वर है। इस नश्वर संसार में हमें समय का (4) _____ करना है। विद्यार्थियों के लिए तो समय का विशेष (5) _____ है।

SubQuestion No : 25

Q.25 गद्यांश के रिक्त स्थान (5) के लिए सर्वाधिक उपयुक्त शब्द होगा-

- Ans**
- 1. कारवाही
 - 2. भूमिका
 - 3. प्रभाव
 - 4. महत्त्व

Question ID : 65497829100

Status : Not Answered

Chosen Option : --

Constable GD in CAPFs NIA SSF and Rifleman GD in Assam Rifles Examination 2021

Roll Number	www.HaryanaJobs.in
Candidate Name	www.HaryanaJobs.in
Venue Name	Arya College of Engineering and Information Technology
Exam Date	02/12/2021
Exam Time :	12:30 PM - 2:00 PM
Subject	Constable GD 2021

Section : Part A General Intelligence and Reasoning

Q.1 अकरम, नागेश, गिरीश, विक्रम और सतपाल किसी पंचभुजाकार मेज के पांच कोनों पर बैठे हैं; सभी मेज के केंद्र की ओर अभिमुख होकर बैठे हैं। गिरीश, विक्रम के बाएं तीसरे स्थान पर बैठा है। सतपाल, नागेश के बाईं ओर बगल में बैठा है। अकरम, सतपाल के बाएं दूसरे स्थान पर बैठा है। नागेश के दाएं दूसरे स्थान पर कौन बैठा है?

- Ans
- 1. अकरम
 - 2. विक्रम
 - 3. सतपाल
 - 4. गिरीश

Question ID : 65497836342

Status : Answered

Chosen Option : 1

Q.2 किसी निश्चित कूट भाषा में, SHEER को 21102220 के रूप में कूटबद्ध किया जाता है और NIGHT को 16391022 के रूप में कूटबद्ध किया जाता है। उसी कूट भाषा में RIGHT को किस रूप में कूटबद्ध किया जाएगा?

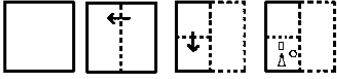
- Ans
- 1. 191191022
 - 2. 201191022
 - 3. 20391022
 - 4. 19391022

Question ID : 65497836345

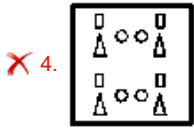
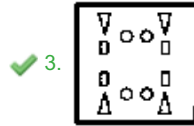
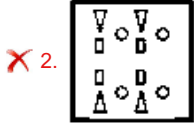
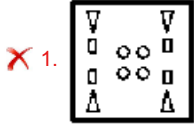
Status : Answered

Chosen Option : 3

Q.3 कागज के एक टुकड़े को मोड़ने के क्रम और मुड़े हुए कागज को काटने के तरीके को निम्न आकृतियों में दर्शाया गया है। खोलने पर यह कागज कैसा दिखाई देगा?



Ans



Question ID : 65497836360

Status : Answered

Chosen Option : 1

Q.4 एक निश्चित कूट भाषा में, 'SWEETS' को 'TZKOIN' के रूप में लिखा जाता है। उसी कूट भाषा में 'CHOICE' को किस रूप में लिखा जाएगा?

Ans ✗ 1. DJUSRZ

✓ 2. DKUSRZ

✗ 3. DJURSZ

✗ 4. DKURSZ

Question ID : 65497836354

Status : Answered

Chosen Option : 2

Q.5 C ने B से एक मशीन खरीदी, जिसने इसे A से खरीदा था। C ने मशीन को ₹9,360 में खरीदा। इस बिक्री पर, A और B ने क्रमशः 30% और 20% का लाभ अर्जित किया। A ने मशीन को किस मूल्य पर बेचा?

Ans ✓ 1. ₹7,800

✗ 2. ₹8,600

✗ 3. ₹8,200

✗ 4. ₹6,000

Question ID : 65497836359

Status : Not Answered

Chosen Option : --

Q.6 यदि दर्पण को दाईं ओर रखा गया हो, तो दी गई आकृति के सही दर्पण प्रतिबिंब का चयन करें।



Ans

✗ 1.



✓ 2.



✗ 3.



✗ 4.



Question ID : 65497836347

Status : Answered

Chosen Option : 2

Q.7 दिए गए विकल्पों में से वह संख्या चुनें जो निम्नलिखित श्रृंखला में प्रश्नवाचक चिह्न (?) के स्थान पर आ सकती है।

11, 9, 15, 41, ?

Ans

✗ 1. 110

✓ 2. 159

✗ 3. 135

✗ 4. 167

Question ID : 65497836346

Status : Answered

Chosen Option : 2

Q.8 दिए गए विकल्पों में से उस अक्षर-समूह का चयन करें जो निम्नलिखित श्रेणी में प्रश्नवाचक चिह्न (?) के स्थान पर आ सकता है।

AZK, EVN, IRQ, OLT, ?

- Ans
- 1. GKS
 - 2. TFQ
 - 3. UFW
 - 4. URD

Question ID : 65497836340
Status : Answered
Chosen Option : 3

Q.9 एक निश्चित कूट भाषा में NEXT को MODFWYSU लिखा जाता है। उसी कूट भाषा में CLOCK को क्या लिखा जाएगा?

- Ans
- 1. BDKPQPBDJL
 - 2. BDKMNPBDLM
 - 3. BDKMNPBDJL
 - 4. BDKMNPBEML

Question ID : 65497836356
Status : Answered
Chosen Option : 1

Q.10 चार अक्षर-समूह दिए गए हैं, जिनमें से तीन एक निश्चित प्रकार से समान हैं, जबकि एक उनसे असंगत है। उस असंगत अक्षर-समूह का चयन कीजिए।

- Ans
- 1. TPWR
 - 2. BXEV
 - 3. HDKF
 - 4. RNUP

Question ID : 65497836344
Status : Answered
Chosen Option : 1

Q.11 दिए गए विकल्पों में से उस संख्या का चयन कीजिए, जो निम्नलिखित श्रेणी में प्रश्नवाचक चिह्न (?) के स्थान पर आ सकती है।

53, 61, 88, 152, 277, ?

- Ans
- 1. 490
 - 2. 493
 - 3. 496
 - 4. 485

Question ID : 65497836363
Status : Answered
Chosen Option : 1

Q.12 अक्षरों के उस संयोजन का चयन कीजिए, जिसे दी गई श्रृंखला के रिक्त स्थानों में क्रमबद्ध रूप से रखने पर श्रृंखला पूर्ण हो जाएगी।

Q _ P _ M _ A _ T _ Q A _ T M

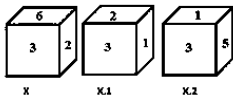
- Ans
- 1. A Q T P M P
 - 2. A T Q P Q P
 - 3. A T Q P M Q
 - 4. A T Q P M P

Question ID : 65497836362

Status : Answered

Chosen Option : 2

Q.13 एक पासे (X) को तीन बार एक ही क्रम में घुमाया जाता है। उसकी दो स्थितियां (X.1 और X.2) दी गई हैं। निम्नलिखित विकल्पों में से अगली संभावित स्थिति का चयन करें।



Ans

- 1.
- 2.
- 3.
- 4.

Question ID : 65497836351

Status : Answered

Chosen Option : 2

Q.14 आठ मित्र 2 पंक्तियों में एक दूसरे की ओर मुंह करके बैठे हुए हैं। A, D के सामने बैठा है और B और E का पड़ोसी है। अपनी-अपनी पंक्तियों में, H और C सबसे दाएं कोनों पर तथा E और F सबसे बाएं कोनों पर बैठे हैं। यदि G, F के बगल में बैठा है, तो B के सामने कौन बैठा है?

- Ans
- 1. C
 - 2. F
 - 3. G
 - 4. H

Question ID : 65497836348

Status : Answered





Chosen Option : 2

Q.15 'यूरोप' का जो संबंध 'स्विटज़रलैंड' से है, वही संबंध 'एशिया' का '____' से है।

- Ans
- 1. जापान
 - 2. फ्रांस
 - 3. महाद्वीप
 - 4. विश्व

Question ID : 65497836341
Status : Answered
Chosen Option : 3

Q.16 उस विकल्प का चयन करें जिसमें दी गई आकृति सन्निकित है
(आकृति को घुमाने की अनुमति नहीं है)।

- Ans
- 1. 
 - 2. 
 - 3. 
 - 4. 

Question ID : 65497836352
Status : Answered
Chosen Option : 1

Q.17 उस विकल्प का चयन कीजिए, जो नीचे दिए गए शब्दों के उस क्रम को दर्शाता है, जिस क्रम में वे अंग्रेजी शब्दकोश में आते हैं।

1. Rubric
2. Router
3. Ruthless
4. Routine
5. Ruin

Ans ✓ 1. 2, 4, 1, 5, 3

✗ 2. 2, 1, 4, 5, 3

✗ 3. 2, 4, 1, 3, 5

✗ 4. 4, 2, 1, 5, 3

Question ID : 65497836361

Status : Answered

Chosen Option : 3

Q.18 दिए गए कथनों और निष्कर्षों को ध्यानपूर्वक पढ़ें। कथनों में दी गई जानकारी को सत्य मानते हुए विचार करें, भले ही वह सामान्यतः ज्ञात तथ्यों से भिन्न प्रतीत होती हो, और तय करें कि दिए गए निष्कर्षों में से कौन से निष्कर्ष कथनों का तार्किक रूप से अनुसरण करते हैं?

कथन:

कुछ बोल्ट, पेन हैं।

कुछ स्टेसिल, बोल्ट हैं।

सभी स्क्रू, बोल्ट हैं।

निष्कर्ष:

I. कोई स्क्रू, स्टेसिल नहीं है।

II. कुछ पेन, स्टेसिल हैं।

Ans ✗ 1. केवल निष्कर्ष I अनुसरण करता है।

✗ 2. केवल निष्कर्ष II अनुसरण करता है।

✓ 3. न तो निष्कर्ष I और न ही II अनुसरण करता है।

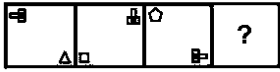
✗ 4. निष्कर्ष I और II दोनों ही अनुसरण करते हैं।

Question ID : 65497836357

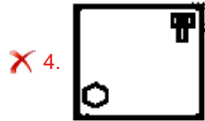
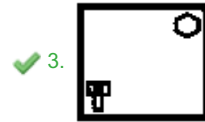
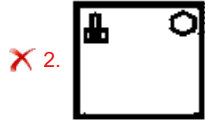
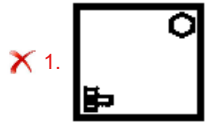
Status : Answered

Chosen Option : 3

Q.19 दिए गए विकल्पों में से उस आकृति का चयन कीजिए, जो निम्न आकृति श्रृंखला में प्रश्नवाचक चिन्ह (?) के स्थान पर आ सकती है।



Ans



Question ID : 65497836364
Status : Answered
Chosen Option : 3

Q.20 उस विकल्प का चयन करें, जिसमें दी गई संख्याओं के बीच वही संबंध है, जो नीचे दिए गए समुच्चय की संख्याओं के बीच है।

36, 74, 55

Ans ✗ 1. 80, 105, 85

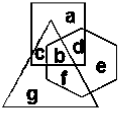
✓ 2. 40, 52, 46

✗ 3. 50, 44, 94

✗ 4. 58, 64, 54

Question ID : 65497836358
Status : Answered
Chosen Option : 1

Q.21 निम्न चित्र में, षट्भुज, 'लड़कों' को निरूपित करता है, आयत, 'खिलाड़ियों' को निरूपित करता है, और त्रिभुज 'संगीतकारों' को निरूपित करता है। विभिन्न खंडों में दिए गए अक्षर उस श्रेणी से संबंधित व्यक्तियों को निरूपित करते हैं।



'f' अक्षर किस वर्ग को निरूपित करता है?

- Ans
- 1. संगीतकार जो लड़के और खिलाड़ी दोनों हैं।
 - 2. लड़के जो खिलाड़ी हैं, लेकिन संगीतकार नहीं हैं।
 - 3. लड़के जो संगीतकार हैं, लेकिन खिलाड़ी नहीं हैं।
 - 4. खिलाड़ी जो संगीतकार हैं लेकिन लड़के नहीं हैं।

Question ID : 65497836343
Status : Answered
Chosen Option : 1

Q.22 निम्नलिखित समीकरण को संतुलित बनाने के लिए किन दो गणितीय चिह्नों को परस्पर बदल देना चाहिए?

$$13 + 18 \times 6 - 30 \div 6 = -90$$

- Ans
- 1. +, ×
 - 2. +, -
 - 3. -, +
 - 4. ×, +

Question ID : 65497836350
Status : Answered
Chosen Option : 4

Q.23 उस विकल्प का चयन करें जो तीसरे अक्षर-समूह से उसी प्रकार संबंधित है जिस प्रकार दूसरा अक्षर-समूह पहले अक्षर-समूह से संबंधित है।

AFHP : BINZ :: BZKS : ?

- Ans
- 1. CBQC
 - 2. CCQC
 - 3. CCRC
 - 4. CBRC

Question ID : 65497836353
Status : Answered
Chosen Option : 2

Q.24 यदि 'N', 'M' की पत्नी है, 'A', 'R' की बहन है, 'S', 'N' की माँ है, 'K', 'M' का भाई है और 'R', 'N' का बेटा है, तो 'K' का 'A' से क्या संबंध है?

- Ans
- 1. चाचा
 - 2. मामा
 - 3. पिता
 - 4. भाई

Question ID : 65497836355
Status : Not Answered
Chosen Option : --

Q.25 उस विकल्प का चयन कीजिए जो तीसरी संख्या से उसी प्रकार संबंधित है जिस प्रकार दूसरी संख्या पहली संख्या से और छठी संख्या पांचवीं संख्या से संबंधित है।

13 : 163 :: 11 : ? :: 9 : 75

- Ans
- 1. 115
 - 2. 121
 - 3. 128
 - 4. 125

Question ID : 65497836349
Status : Not Answered
Chosen Option : --

Section : Part B General Knowledge and General Awareness

Q.1 निम्नलिखित में से किस वास्तुकार को ब्रिटिश काल के दौरान नई दिल्ली के मुख्य भागों में इमारतों की योजना बनाने और उन्हें डिजाइन करने का श्रेय दिया जाता है?

- Ans
- 1. ले कार्बुजिए
 - 2. सर क्रिस्टोफर व्रेन
 - 3. एडविन लुटियंस
 - 4. फ्रैंक लॉयड राइट

Question ID : 65497836372
Status : Not Answered
Chosen Option : --

Q.2 निम्नलिखित में से कौन सा द्वीप यूनेस्को (UNESCO) विश्व धरोहर स्थल है जिसमें मुख्य रूप से हिंदू भगवान शिव को समर्पित गुफा मंदिरों का संग्रह है?

- Ans
- 1. क्रॉस द्वीप
 - 2. एलिफेंटा द्वीप
 - 3. खंडेरी द्वीप
 - 4. अंबु द्वीप

Question ID : 65497836382
Status : Not Answered
Chosen Option : --

Q.3 निम्नलिखित में से कौन सा समुद्री बंदरगाह हिंद महासागर में स्थित नहीं है?

- Ans
- 1. मनीला (फिलीपींस)
 - 2. जकार्ता (इंडोनेशिया)
 - 3. मेलबोर्न (ऑस्ट्रेलिया)
 - 4. चेन्नई (भारत)

Question ID : 65497836376
Status : Answered
Chosen Option : 4

Q.4 इसरो (ISRO) का प्रस्तावित 'शुक्रयान' मिशन कौन-से ग्रह के अध्ययन के लिए है?

- Ans
- 1. बुध
 - 2. बृहस्पति
 - 3. शुक्र
 - 4. मंगल

Question ID : 65497836367
Status : Answered
Chosen Option : 4

Q.5 ओलंपिक रिंग पहली बार सार्वजनिक रूप से _____ में प्रस्तुत किए गए थे।

- Ans
- 1. 1933
 - 2. 1917
 - 3. 1913
 - 4. 1937

Question ID : 65497836371
Status : Not Answered
Chosen Option : --

Q.6 स्क्रब टाइफस (scrub typhus) रोग एक प्रकार के _____ के कारण होता है।

- Ans
- 1. कवक
 - 2. जीवाणु
 - 3. शैवाल
 - 4. विषाणु

Question ID : 65497836387
Status : Not Answered
Chosen Option : --

Q.7 अकबर के दरबार के नव-रत्नों में शामिल महेश दास निम्न में से किस नाम से लोकप्रिय थे?

- Ans
- 1. बीरबल
 - 2. राजा टोडरमल
 - 3. राजा मान सिंह
 - 4. तानसेन

Question ID : 65497836388
Status : Answered
Chosen Option : 4

Q.8 कुष्ठरोग उन्मूलन के प्रयासों के लिए निम्नलिखित में से किसे 6 फरवरी 2020 को व्यक्तिगत श्रेणी में अंतरराष्ट्रीय गांधी पुरस्कार से सम्मानित किया गया?

- Ans
- 1. डॉ. जीपी तलवार
 - 2. डॉ. एनएस धर्मशक्तु
 - 3. डॉ. रेणुका रामकृष्णन
 - 4. डॉ. प्रियंवदा चुरा

Question ID : 65497836370
Status : Not Answered
Chosen Option : --

Q.9 अल्फ्रेड नोबेल की स्मृति में आर्थिक विज्ञान में 2020 का स्वेरिजेस रिक्सबैंक पुरस्कार संयुक्त रूप से _____ को प्रदान किया गया था।

- Ans
- 1. पॉल आर मिलग्रोम और रॉबर्ट बी विल्सन
 - 2. पॉल एम रोमर और रिचर्ड एच थेलर
 - 3. एंगस डीटन और रॉबर्ट जे शिलर
 - 4. एस्थर डुप्लो और माइकल क्रेमर

Question ID : 65497836375
Status : Answered
Chosen Option : 1

Q.10 जनवरी 2020 में यूके चिल्ड्रन बुक अवार्ड निम्नलिखित में से किसे प्राप्त हुआ?

- Ans
- 1. अनीता देसाई
 - 2. जसबिंदर बिलन
 - 3. झुंपा लाहिड़ी
 - 4. अरुंधति रॉय

Question ID : 65497836381
Status : Answered
Chosen Option : 2

Q.11 इकोनॉमिक सर्वे ऑफ इंडिया 2019-20 ने _____ के विचार को एक सार्वजनिक हित के रूप में पेश किया, जिसे अधिक उपयोग के साथ बढ़ाया जा सकता है।

- Ans
- 1. विश्वास
 - 2. निष्ठा
 - 3. उदारता
 - 4. स्वतंत्रता

Question ID : 65497836365
Status : Answered
Chosen Option : 4

Q.12 रिसेवेबल्स एक्सचेंज ऑफ इंडिया लिमिटेड (RXIL) को 2016 में भारतीय लघु उद्योग विकास बैंक (SIDBI) और _____ के बीच एक संयुक्त उद्यम के रूप में निगमित किया गया था।

- Ans
- 1. कलकत्ता स्टॉक एक्सचेंज
 - 2. नेशनल स्टॉक एक्सचेंज ऑफ इंडिया लिमिटेड
 - 3. बॉम्बे स्टॉक एक्सचेंज
 - 4. यूनाइटेड स्टॉक एक्सचेंज ऑफ इंडिया

Question ID : 65497836385
Status : Answered
Chosen Option : 3

Q.13 मुगल बादशाह शाह आलम द्वितीय ने किस वर्ष में बंगाल, बिहार और ओडिशा की दीवानी ईस्ट इंडिया कंपनी को अनुदान स्वरूप देने का फ़रमान जारी किया था?

- Ans
- 1. 1740
 - 2. 1765
 - 3. 1732
 - 4. 1756

Question ID : 65497836378
Status : Not Answered
Chosen Option : --

Q.14 निम्नलिखित में से कौन एक पेशेवर बिलियर्ड्स खिलाड़ी है?

- Ans
- 1. भक्ति शर्मा
 - 2. कृष्ण पाठक
 - 3. पंकज आडवाणी
 - 4. दीपक पुनिया

Question ID : 65497836380
Status : Not Answered
Chosen Option : --

Q.15 यदि प्रकाश एक-दूसरे के सामने रखे गए दो दर्पणों से परावर्तित हो, तो कितने प्रतिबिंब बनेंगे?

- Ans
- 1. शून्य
 - 2. अनंत
 - 3. दो
 - 4. एक

Question ID : 65497836374
Status : Answered
Chosen Option : 3

Q.16 मोहनजोदड़ो में मिले 'महास्रानागार' को _____ की परत चढ़ाकर जलरोधी बनाया गया था।

- Ans
- 1. बिटुमेन (bitumen)
 - 2. अस्फाल्ट (asphalt)
 - 3. प्राकृतिक चारकोल (natural tar)
 - 4. मधुमोम (beeswax)

Question ID : 65497836386
Status : Answered
Chosen Option : 1

Q.17 किस भारतीय क्रिकेटर ने दिसंबर 2020 में क्रिकेट के सभी प्रारूपों से अपने संन्यास की घोषणा की?

- Ans
- 1. एमएस धोनी
 - 2. सुरेश रैना
 - 3. पार्थिव पटेल
 - 4. सुदीप त्यागी

Question ID : 65497836383
Status : Answered
Chosen Option : 2

Q.18 भीमा देवी को समर्पित प्राचीन मंदिर कहाँ स्थित है?

- Ans
- 1. धर्मशाला, हिमाचल प्रदेश
 - 2. कौसानी, उत्तराखंड
 - 3. तंजावुर, तमिलनाडु
 - 4. पिंजौर, हरियाणा

Question ID : 65497836368
Status : Not Answered
Chosen Option : --

Q.19 अधिवृक्क ग्रंथियां मानव शरीर के किस अंग में स्थित होती हैं?

- Ans
- 1. हृदय
 - 2. फेफड़े
 - 3. यकृत
 - 4. वृक्क

Question ID : 65497836373
Status : Answered
Chosen Option : 4

Q.20 भारत के किस राज्य में माणिक्य वंश का शासन था?

- Ans
- 1. त्रिपुरा
 - 2. मणिपुर
 - 3. गुजरात
 - 4. राजस्थान

Question ID : 65497836377
Status : Answered
Chosen Option : 2

Q.21 विभिन्न देशों को वर्गीकृत करने में विश्व बैंक द्वारा उपयोग किया जाने वाला मुख्य मापदंड निम्नलिखित में से कौन सा है?

- Ans
- 1. सकल घरेलू उत्पाद
 - 2. प्रति व्यक्ति आय
 - 3. सकल राष्ट्रीय आय
 - 4. सकल राष्ट्रीय उत्पाद

Question ID : 65497836384
Status : Answered
Chosen Option : 3

Q.22 भारतीय संविधान का कौन-सा अनुच्छेद भारतीय संसद में मंत्रिपरिषद की भूमिकाओं और जिम्मेदारियों का वर्णन करता है?

- Ans
- 1. अनुच्छेद 74
 - 2. अनुच्छेद 54
 - 3. अनुच्छेद 62
 - 4. अनुच्छेद 81

Question ID : 65497836379
Status : Answered
Chosen Option : 1

Q.23 राज्यों की परिषद (राज्य सभा) में कामकाज की प्रक्रिया और आचरण के किस नियम के तहत राज्य सभा के सभापति, उप-सभापति के पैनल में छह सदस्यों को नामित करते हैं, जिनमें से एक, सभापति और उप-सभापति, दोनों की अनुपस्थिति में सदन की अध्यक्षता करता है?

- Ans
- 1. नियम 10
 - 2. नियम 8
 - 3. नियम 6
 - 4. नियम 12

Question ID : 65497836366
Status : Answered
Chosen Option : 4

Q.24 सितंबर 2021 में, चंडीगढ़, भारतीय खाद्य सुरक्षा एवं मानक प्राधिकरण (FSSAI) द्वारा 5-स्टार 'ईट राइट स्टेशन' प्रमाणन से सम्मानित किया जाने वाला भारत का _____ रेलवे स्टेशन बन गया।

- Ans
- 1. चौथा
 - 2. पांचवां
 - 3. सातवां
 - 4. दसवां

Question ID : 65497836389
Status : Not Answered
Chosen Option : --

Q.25 कुल भौगोलिक क्षेत्र के प्रतिशत के रूप में वन आच्छादन के संदर्भ में, द्विवार्षिक 'भारत वन स्थिति रिपोर्ट (ISFR) 2019 के अनुसार, निम्नलिखित में से कौन सा राज्य भारत के शीर्ष पाँच राज्यों में से एक नहीं है?

- Ans
- 1. मध्य प्रदेश
 - 2. मिज़ोरम
 - 3. अरुणाचल प्रदेश
 - 4. मेघालय

Question ID : 65497836369
Status : Answered
Chosen Option : 1

Section : Part C Elementary Mathematics

Q.1 यदि किसी लेनदेन में हुई हानि विक्रय मूल्य के $\frac{1}{5}$ के बराबर है, तो हानि प्रतिशत लगभग कितना होगा?

- Ans
- 1. 16.0
 - 2. 16.91
 - 3. 15.67
 - 4. 16.67

Question ID : 65497836404
Status : Answered
Chosen Option : 4

Q.2 40% और 20% की दो क्रमागत छूटें, _____ की एकल छूट के समतुल्य होंगी।

- Ans
- 1. 52%
 - 2. 48%
 - 3. 30%
 - 4. 60%

Question ID : 65497836391
Status : Answered
Chosen Option : 1

Q.3 $[(102 - 16 \div 8) - 2] \div [3 + 6 \times (5 + 4) \div 3 - 7]$ का मान कितना होगा?

- Ans
- 1. 8
 - 2. 7
 - 3. 6
 - 4. 9

Question ID : 65497836402
Status : Answered
Chosen Option : 2

Q.4 रेनू का व्यय, उसकी बचत से 120% अधिक है। यदि उसकी आय और व्यय में क्रमशः 25% और 30% की वृद्धि हो जाए, तो उसकी बचत में कितने प्रतिशत की वृद्धि होगी?

- Ans
- 1. 15%
 - 2. 16%
 - 3. 14%
 - 4. 12%

Question ID : 65497836411
Status : Not Answered
Chosen Option : --

Q.5 दो संख्याओं के लघुत्तम समापवर्त्य (LCM) और महत्तम समापवर्तक (HCF) क्रमशः 3564 और 81 हैं। यदि वे संख्याएं 324 और x हैं, तो x के अंकों का योग क्या होगा?

- Ans
- 1. 18
 - 2. 17
 - 3. 19
 - 4. 13

Question ID : 65497836410
Status : Answered
Chosen Option : 1

Q.6 एक व्यक्ति शांत जल में 9 km/h की चाल से नाव चला सकता है। उसे धारा की दिशा में 33 km जाने और धारा की विपरीत दिशा में 21 km जाने में बराबर समय लगता है। धारा की चाल (km/h में) ज्ञात कीजिए।

- Ans
- 1. 1.6
 - 2. 2.2
 - 3. 2.5
 - 4. 2

Question ID : 65497836414
Status : Answered
Chosen Option : 4

Q.7 आठ क्रमिक सम संख्याओं का औसत 65 है। यदि अगली चार क्रमिक सम संख्याएं शामिल की जाएं, तो सभी संख्याओं का औसत कितना होगा?

- Ans
- 1. 67
 - 2. 70
 - 3. 69
 - 4. 68

Question ID : 65497836397
Status : Answered
Chosen Option : 3

Q.8 एक व्यापारी के पास 80 kg चावल हैं, जिसकी कुछ मात्रा वह 15% के लाभ पर तथा शेष 5% की हानि पर बेचता है। पूरे लेनदेन में उसे 12% का लाभ प्राप्त होता है। उसने चावल की कितनी मात्रा (kg में) 15% लाभ पर बेची?

- Ans
- 1. 40
 - 2. 68
 - 3. 48
 - 4. 56

Question ID : 65497836413
Status : Answered
Chosen Option : 4

Q.9 एक शंकु के वक्र पृष्ठ का क्षेत्रफल $25\sqrt{2}\pi cm^2$ है। यदि शंकु की ऊंचाई, इसके आधार की त्रिज्या के बराबर है, तो शंकु का आयतन (cm^3 में, दशमलव के दो स्थानों तक सही) कितना होगा? ($\pi = \frac{22}{7}$ मानें)

- Ans
- 1. 130.95
 - 2. 140
 - 3. 124.85
 - 4. 132.75

Question ID : 65497836401
Status : Not Answered
Chosen Option : --

Q.10 रमेश ने सुरेश की तुलना में 30% अधिक निवेश किया। सुरेश ने अरुण की तुलना में 40% कम निवेश किया, जिसने ₹8,000 का निवेश किया था। रमेश और सुरेश द्वारा निवेशित राशियों के बीच अंतर (₹ में) ज्ञात कीजिए।

- Ans
- 1. 1,200
 - 2. 1,760
 - 3. 3,200
 - 4. 1,440

Question ID : 65497836400
Status : Answered
Chosen Option : 4

Q.11 एक स्पोर्ट स्टोर अपनी वस्तुओं पर 19% की छूट देता है और ऑनलाइन वॉलेट से भुगतान करने वाले ग्राहकों को घटे हुए मूल्य पर 2% की अतिरिक्त छूट देता है। यदि कोई ग्राहक ₹18000 मूल्य का खेल का सामान खरीदता है और ऑनलाइन वॉलेट के जरिए भुगतान करता है, तो उस ग्राहक को कितनी धनराशि (₹ में) का भुगतान करना होगा?

- Ans
- 1. 15000
 - 2. 16738.95
 - 3. 14288.40
 - 4. 12897.60

Question ID : 65497836395
Status : Not Answered
Chosen Option : --

Q.12 चार पक्षी A, B, C, D एक जंगल के चारों ओर उड़ते हैं। वे क्रमशः 27 मिनट, 30 मिनट, 45 मिनट और 60 मिनट में जंगल का एक चक्कर पूरा करते हैं। यदि वे एक साथ उड़ना शुरू करते हैं, तो कितने घंटे बाद वे आरंभिक बिंदु पर पुनः मिलेंगे?

- Ans
- 1. 12
 - 2. 10
 - 3. 8
 - 4. 9

Question ID : 65497836396
Status : Answered
Chosen Option : 4

Q.13 12 व्यक्ति 20 m लंबा गड्ढा 8 दिनों में खोद सकते हैं। उसी चौड़ाई और गहराई वाला 30 m का गड्ढा 6 दिनों में खोदने के लिए आवश्यक व्यक्तियों की संख्या ज्ञात करें।

- Ans
- 1. 24
 - 2. 16
 - 3. 18
 - 4. 20

Question ID : 65497836407
Status : Answered
Chosen Option : 1

Q.14 एक वस्तु ₹350 में खरीदी गई और ₹500 में बेची गई। प्रतिशत लाभ ज्ञात कीजिए। (दशमलव के दो स्थानों तक सही)

- Ans
- 1. 43.86
 - 2. 46.56
 - 3. 42.86
 - 4. 42.67

Question ID : 65497836403
Status : Answered
Chosen Option : 3

Q.15 कीर्ति की तुलना में राधा की कार्य कुशलता आधी है। राधा एक काम को अकेले पूरा करने में 30 दिन का समय लेती है। यदि राधा और कीर्ति दोनों एक साथ मिलकर काम करती हैं, तो उन्हें काम को पूरा करने में कितने दिन का समय लगेगा?

- Ans
- 1. 20 दिन
 - 2. 10 दिन
 - 3. 15 दिन
 - 4. 12 दिन

Question ID : 65497836406
Status : Answered
Chosen Option : 2

Q.16 एक परीक्षा में, विद्यार्थियों को उत्तीर्ण होने के लिए 35% अंक लाने अनिवार्य हैं। यदि सुनीता को 145 अंक मिले और वह 23 अंकों से अनुत्तीर्ण रही, तो परीक्षा का पूर्णांक कितना था?

- Ans
- 1. 168
 - 2. 520
 - 3. 480
 - 4. 500

Question ID : 65497836392
Status : Answered
Chosen Option : 3

Q.17 एक व्यक्ति ने ₹50,000 की धनराशि 4% की वार्षिक साधारण ब्याज दर पर 3 वर्षों के लिए उधार ली। उसने तुरंत यह राशि एक अन्य व्यक्ति को $6\frac{1}{4}\%$ की वार्षिक साधारण ब्याज दर पर 3 वर्षों के लिए उधार दे दी। इस लेनदेन में उसे प्रति वर्ष होने वाला लाभ ज्ञात कीजिए।

- Ans
- 1. ₹1,025
 - 2. ₹1,125
 - 3. ₹1,135
 - 4. ₹1,122

Question ID : 65497836405
Status : Answered
Chosen Option : 2

Q.18 एक निश्चित धनराशि पर साधारण ब्याज की समान वार्षिक ब्याज दर से 3 वर्ष बाद प्राप्त मिश्रधन ₹7485 और 8 वर्ष बाद प्राप्त मिश्रधन ₹9960 है। यदि ब्याज की दर पहले से दुगुनी हो जाए, तो साधारण ब्याज की दर से उतनी ही राशि पर 7 वर्ष के बाद प्राप्त मिश्रधन (₹ में) कितना होगा?

- Ans
- 1. 9465
 - 2. 11145
 - 3. 14735
 - 4. 12930

Question ID : 65497836399
Status : Answered
Chosen Option : 4

Q.19 एक व्यक्ति ने एक निश्चित धनराशि को साधारण ब्याज (SI) की 5% वार्षिक दर पर 2 वर्षों के लिए निवेश किया, जबकि एक अन्य व्यक्ति ने उतनी ही धनराशि को उसी अवधि के लिए 4% वार्षिक चक्रवृद्धि ब्याज दर पर निवेश किया। साधारण ब्याज दर पर प्राप्त ब्याज, चक्रवृद्धि ब्याज दर पर प्राप्त ब्याज से ₹184.00 अधिक है। निवेश की गई राशि ज्ञात करें।

- Ans**
- 1. ₹8,500
 - 2. ₹8,000
 - 3. ₹10,000
 - 4. ₹7,500

Question ID : 65497836408
Status : Answered
Chosen Option : 3

Q.20 10 महिलाएं किसी काम को 15 दिनों में पूरा कर सकती हैं। उसी काम को 15 पुरुष 5 दिनों में पूरा कर सकते हैं। 10 महिलाओं ने काम करना शुरू किया, और 3 दिन बाद 5 महिलाओं के स्थान पर 5 पुरुषों को काम पर लगा दिया गया। काम कितने दिनों में पूरा हो जाएगा?

- Ans**
- 1. 10
 - 2. 11
 - 3. 8
 - 4. 12

Question ID : 65497836393
Status : Answered
Chosen Option : 1

Q.21 ₹159250 की धनराशि A, B, C और D में इस प्रकार बांटी जाती है कि A और B का हिस्सा 1 : 3, B और C का हिस्सा 2 : 5 तथा C और D का हिस्सा 2 : 3 के अनुपात में होता है। A का हिस्सा (₹ में) कितना है?

- Ans**
- 1. 7000
 - 2. 8750
 - 3. 10500
 - 4. 21000

Question ID : 65497836398
Status : Answered
Chosen Option : 2

Q.22 निम्नलिखित व्यंजक को सरल कीजिए:

$$\frac{21 + (-18) \times 2 - [-4 + 15\{5 \div (4 - 7)\}] \div 4(-5)}{(-14) \times (2) + 7}$$

- Ans
1. $\frac{7}{20}$
2. $\frac{7}{12}$
3. $3\frac{8}{21}$
4. $-\frac{5}{12}$

Question ID : 65497836412
 Status : Not Answered
 Chosen Option : --

Q.23 एक कैंप में भाग ले रहे लड़कों की औसत आयु 16 वर्ष और लड़कियों की औसत आयु 13 वर्ष है। यदि कैंप में भाग ले रहे लड़कों और लड़कियों की औसत आयु का अनुपात 2 : 3 है, तो सभी प्रतिभागियों की औसत आयु (वर्ष में) कितनी है?

- Ans
1. 15.1
2. 14.0
3. 14.5
4. 14.2

Question ID : 65497836390
 Status : Not Answered
 Chosen Option : --

Q.24 एक वृत्त में उत्कीर्ण किए गए उस वर्ग का क्षेत्रफल कितना होगा जिसके विकर्ण की लंबाई 16 cm है।

- Ans
1. $64 \times \sqrt{2} \text{ cm}^2$
2. 64 cm^2
3. 256 cm^2
4. 128 cm^2

Question ID : 65497836409
 Status : Answered
 Chosen Option : 3

Q.25 एक नाव धारा की दिशा में 12 km की दूरी तय करने में 30 मिनट का समय लेती है और धारा की विपरीत दिशा में उसी चाल से चलते हुए समान दूरी तय करने में 36 मिनट का समय लेती है। शांत जल में नाव की चाल (km/h में) कितनी होगी?

- Ans
- 1. 23
 - 2. 20
 - 3. 22
 - 4. 24

Question ID : 65497836394
Status : Answered
Chosen Option : 3

Section : Part D English

Q.1 Select the most appropriate meaning of the given idiom.

A can of worms

- Ans
- 1. A difficult person to deal with
 - 2. A complicated situation or problem
 - 3. A good source of money
 - 4. A plan kept back to be used later

Question ID : 65497836419
Status : Not Answered
Chosen Option : --

Q.2 Select the most appropriate option to fill in the blank.

Words such as articles and pronouns can be _____ unless they are necessary.

- Ans
- 1. dropped
 - 2. disbarred
 - 3. dispelled
 - 4. disrupted

Question ID : 65497836421
Status : Not Answered
Chosen Option : --

Q.3 The following sentence has been split into four segments. Identify the segment that contains a grammatical error.

You will not / be able to / reach on time / while you hurry.

- Ans
- 1. reach on time
 - 2. while you hurry
 - 3. You will not
 - 4. be able to

Question ID : 65497836430
Status : Not Answered
Chosen Option : --

Q.4 Select the most appropriate option that can substitute the underlined segment in the given sentence. If there is no need to substitute it, select 'No substitution required'.

Yesterday, it was raining heavy when I met him at the station.

- Ans**
- 1. No substitution required
 - 2. heavy rain
 - 3. raining heavily
 - 4. rained heavily

Question ID : 65497836424
Status : Not Answered
Chosen Option : --

Q.5 The following sentence has been split into four segments. Identify the segment that contains a grammatical error.

The prisoners are kept inside / most of the time / but they are let them out / for an hour every day.

- Ans**
- 1. most of the time
 - 2. for an hour every day
 - 3. but they are let them out
 - 4. The prisoners are kept inside

Question ID : 65497836426
Status : Not Answered
Chosen Option : --

Q.6 Select the most appropriate meaning of the given idiom.

Over and over again

- Ans**
- 1. Start something new
 - 2. Do something repeatedly
 - 3. End of something important
 - 4. Work very hard

Question ID : 65497836429
Status : Not Answered
Chosen Option : --

Q.7 Select the most appropriate option that can substitute the underlined segment in the given sentence. If there is no need to substitute it, select 'No substitution required'.

If he likes this house, he will buy it.

- Ans**
- 1. If he like
 - 2. If he had liked
 - 3. No substitution required
 - 4. If he is liking

Question ID : 65497836417
Status : Not Answered
Chosen Option : --

Q.8 Select the most appropriate ANTONYM of the given word.

Bleak

- Ans 1. Dark
 2. Grim
 3. Cold
 4. Bright

Question ID : 65497836416
Status : Not Answered
Chosen Option : --

Q.9 Select the most appropriate option that can substitute the underlined segment in the given sentence. If there is no need to substitute it, select 'No substitution required'.

Unless you study hard, you will pass the examination.

- Ans 1. you not pass
 2. No substitution required
 3. you pass
 4. you will not pass

Question ID : 65497836425
Status : Not Answered
Chosen Option : --

Q.10 Select the INCORRECTLY spelt word.

- Ans 1. Disaster
 2. Calamity
 3. Affliction
 4. Casulty

Question ID : 65497836433
Status : Not Answered
Chosen Option : --

Q.11 Select the option that can be used as a one-word substitute for the given group of words.

Impossible to believe

- Ans 1. Implausible
 2. Fictitious
 3. Incredible
 4. Magic

Question ID : 65497836428
Status : Not Answered
Chosen Option : --

Q.12 Select the option that can be used as a one-word substitute for the given group of words.

An event causing great and sudden damage or suffering

- Ans
- 1. Termination
 - 2. Adventure
 - 3. Catastrophe
 - 4. Emergency

Question ID : 65497836432
Status : Not Answered
Chosen Option : --

Q.13 Select the most appropriate option to fill in the blank.

My brother _____ bought a new car.

- Ans
- 1. exactly
 - 2. freshly
 - 3. shortly
 - 4. recently

Question ID : 65497836434
Status : Not Answered
Chosen Option : --

Q.14 Select the most appropriate option to fill in the blank.

He was _____ to get a good job as soon as he was out of college.

- Ans
- 1. wise
 - 2. intelligent
 - 3. fortunate
 - 4. favoured

Question ID : 65497836418
Status : Not Answered
Chosen Option : --

Q.15 Select the option that can be used as a one-word substitute for the given group of words.

The sound made by a snake

- Ans
- 1. Coo
 - 2. Hiss
 - 3. Buzz
 - 4. Moo

Question ID : 65497836415
Status : Not Answered
Chosen Option : --

Q.16 Select the most appropriate synonym of the given word.

Eliminate

- Ans 1. Lighten
 2. Include
 3. Darken
 4. Exclude

Question ID : 65497836423
Status : Not Answered
Chosen Option : --

Q.17 The following sentence has been split into four segments. Identify the segment that contains a grammatical error.

The pilot / follow another airplane / as he had lost / his way in the storm.

- Ans 1. as he had lost
 2. his way in the storm
 3. follow another airplane
 4. The pilot

Question ID : 65497836422
Status : Not Answered
Chosen Option : --

Q.18 Select the most appropriate synonym of the given word.

Execute

- Ans 1. Employ
 2. Implement
 3. Destroy
 4. Organise

Question ID : 65497836427
Status : Not Answered
Chosen Option : --

Q.19 Select the most appropriate ANTONYM of the given word.

Malice

- Ans 1. Hatred
 2. Bitterness
 3. Kindness
 4. Grudge

Question ID : 65497836431
Status : Not Answered
Chosen Option : --

Q.20 Select the **INCORRECTLY** spelt word.

- Ans**
- 1. Experimental
 - 2. Equipment
 - 3. Electrolite
 - 4. Environmental

Question ID : **65497836420**

Status : **Not Answered**

Chosen Option : --

Comprehension:

In the following passage, some words have been deleted. Read the passage carefully and select the most appropriate option to fill in each blank.

Acupuncture, a system of treatment of diseases, has been practiced (1)_____ China for nearly five thousand years. It consists of rapid (2)_____ of fine steel needles, about 6 cm long, in particular (3)_____ on the body of the patient. After this, the doctor twirls the needle (4)_____ his thumb and forefinger. When a puncture is made on a spot on the body, energy (5)_____ from there along lines known as "meridians" to the diseased organs.

SubQuestion No : 21

Q.21 Select the most appropriate option to fill in blank no. 1.

- Ans**
- 1. on
 - 2. about
 - 3. in
 - 4. for

Question ID : **65497836436**

Status : **Not Answered**

Chosen Option : --

Comprehension:

In the following passage, some words have been deleted. Read the passage carefully and select the most appropriate option to fill in each blank.

Acupuncture, a system of treatment of diseases, has been practiced (1)_____ China for nearly five thousand years. It consists of rapid (2)_____ of fine steel needles, about 6 cm long, in particular (3)_____ on the body of the patient. After this, the doctor twirls the needle (4)_____ his thumb and forefinger. When a puncture is made on a spot on the body, energy (5)_____ from there along lines known as "meridians" to the diseased organs.

SubQuestion No : 22

Q.22 Select the most appropriate option to fill in blank no. 2.

- Ans**
- 1. position
 - 2. manipulation
 - 3. perfection
 - 4. insertion

Question ID : **65497836437**

Status : **Not Answered**

Chosen Option : --

Comprehension:

In the following passage, some words have been deleted. Read the passage carefully and select the most appropriate option to fill in each blank.

Acupuncture, a system of treatment of diseases, has been practiced (1)_____ China for nearly five thousand years. It consists of rapid (2)_____ of fine steel needles, about 6 cm long, in particular (3)_____ on the body of the patient. After this, the doctor twirls the needle (4)_____ his thumb and forefinger. When a puncture is made on a spot on the body, energy (5)_____ from there along lines known as "meridians" to the diseased organs.

SubQuestion No : 23

Q.23 Select the most appropriate option to fill in blank no. 3.

- Ans**
- 1. fields
 - 2. design
 - 3. spots
 - 4. regions

Question ID : 65497836438

Status : Not Answered

Chosen Option : --

Comprehension:

In the following passage, some words have been deleted. Read the passage carefully and select the most appropriate option to fill in each blank.

Acupuncture, a system of treatment of diseases, has been practiced (1)_____ China for nearly five thousand years. It consists of rapid (2)_____ of fine steel needles, about 6 cm long, in particular (3)_____ on the body of the patient. After this, the doctor twirls the needle (4)_____ his thumb and forefinger. When a puncture is made on a spot on the body, energy (5)_____ from there along lines known as "meridians" to the diseased organs.

SubQuestion No : 24

Q.24 Select the most appropriate option to fill in blank no. 4.

- Ans**
- 1. among
 - 2. between
 - 3. through
 - 4. across

Question ID : 65497836439

Status : Not Answered

Chosen Option : --

Comprehension:

In the following passage, some words have been deleted. Read the passage carefully and select the most appropriate option to fill in each blank.

Acupuncture, a system of treatment of diseases, has been practiced (1)_____ China for nearly five thousand years. It consists of rapid (2)_____ of fine steel needles, about 6 cm long, in particular (3)_____ on the body of the patient. After this, the doctor twirls the needle (4)_____ his thumb and forefinger. When a puncture is made on a spot on the body, energy (5)_____ from there along lines known as "meridians" to the diseased organs.

SubQuestion No : 25

Q.25 Select the most appropriate option to fill in blank no. 5.

- Ans**
- 1. results
 - 2. blushes
 - 3. substitutes
 - 4. flows

Question ID : 65497836440
Status : Not Answered
Chosen Option : --

Section : Part D Hindi

Q.1 सही वर्तनी वाले शब्द का चयन करें।

- Ans**
- 1. आराधना
 - 2. जबाब
 - 3. कार्यकर्म
 - 4. दसहरा

Question ID : 65497836446
Status : Answered
Chosen Option : 1

Q.2 दिये गये वाक्य के किस भाग में त्रुटि है?

बौद्ध बिहार में कई भिक्षु रहते थे।

- Ans**
- 1. रहते थे।
 - 2. बौद्ध बिहार
 - 3. भिक्षु
 - 4. में कई

Question ID : 65497836457
Status : Answered
Chosen Option : 4

Q.3 दिए गए वाक्य में रेखांकित खंड को प्रतिस्थापित करने के लिए सबसे उपयुक्त विकल्प का चयन करें।
यदि इसे प्रतिस्थापित करने की आवश्यकता नहीं है, तो विकल्प 'किसी बदलाव की आवश्यकता नहीं है'
का चयन करें।

हवा जोरों से बह रही है।

- Ans
- 1. किसी बदलाव की आवश्यकता नहीं है।
 - 2. जबरदस्त
 - 3. जोर से
 - 4. भयानक

Question ID : 65497836455
Status : Answered
Chosen Option : 3

Q.4 दिये गये वाक्यांश के लिए एक शब्द दीजिये।

कठिनाई से होने वाला कार्य

- Ans
- 1. असाध्य
 - 2. श्रमसाध्य
 - 3. आसान
 - 4. कष्टसाध्य

Question ID : 65497836447
Status : Answered
Chosen Option : 4

Q.5 दिए गए वाक्य में रेखांकित खंड को प्रतिस्थापित करने के लिए सबसे उपयुक्त विकल्प का चयन करें।
यदि इसे प्रतिस्थापित करने की आवश्यकता नहीं है, तो विकल्प 'किसी बदलाव की आवश्यकता नहीं है'
का चयन करें।

वह एक सप्ताह में वापस लौट आया।

- Ans
- 1. वे वापस लौट आए।
 - 2. वे वापस लौट आएँगे।
 - 3. किसी बदलाव की आवश्यकता नहीं है।
 - 4. वह वापस आया।

Question ID : 65497836443
Status : Answered
Chosen Option : 3

Q.6 दिए गए शब्द का विलोम चुनें।

वृद्ध

- Ans
- 1. युवक
 - 2. किशोर
 - 3. बालक
 - 4. शिशु

Question ID : 65497836451
Status : Answered
Chosen Option : 1

Q.7 रिक्त स्थान की पूर्ति के लिए सबसे उपयुक्त शब्द का चयन करें।

पशुओं का झुंड चारों ओर पानी की _____ में घूम रहा था।

- Ans
- 1. पकड़
 - 2. तलाश
 - 3. अनुसंधान
 - 4. चाह

Question ID : 65497836454
Status : Answered
Chosen Option : 2

Q.8 दिये गये वाक्यांश के लिए एक शब्द दीजिये।

जिसका जन्म शरीर से हुआ हो

- Ans
- 1. अण्डज
 - 2. शरीरज
 - 3. पिण्डज
 - 4. पार्थिव

Question ID : 65497836452
Status : Answered
Chosen Option : 2

Q.9 'विद्वान' का पर्यायवाची है-

- Ans
- 1. ऋषि
 - 2. तपस्वी
 - 3. मनीषी
 - 4. मुनि

Question ID : 65497836458
Status : Answered
Chosen Option : 2

Q.10 रिक्त स्थान की पूर्ति के लिए सबसे उपयुक्त विकल्प का चयन करें।

देश में उद्योग-धंधों की _____ हुई है।

- Ans
- 1. प्रोन्नति
 - 2. गति
 - 3. प्रगति
 - 4. उन्नति

Question ID : 65497836456
Status : Answered
Chosen Option : 4

Q.11 दिए गए शब्द के समानार्थी शब्द का चयन करें।

किरण

- Ans
- 1. अक्षि
 - 2. अभ्र
 - 3. रश्मि
 - 4. शक्र

Question ID : 65497836450
Status : Answered
Chosen Option : 3

Q.12 'माथा ठनकना' मुहावरे का सही अर्थ क्या है?

- Ans
- 1. चोट लगना
 - 2. गुस्सा होना
 - 3. संशय होना
 - 4. चिंता करना

Question ID : 65497836460
Status : Answered
Chosen Option : 4

Q.13 रिक्त स्थान की पूर्ति के लिए सबसे उपयुक्त शब्द का चयन कीजिए।

चिड़िया _____ है।

- Ans
- 1. मिमियाती
 - 2. चहचहाती
 - 3. दहाड़ती
 - 4. भौंकती

Question ID : 65497836441
Status : Answered
Chosen Option : 2

Q.14 उस विकल्प का चयन करें जो मुहावरे का सही अर्थ व्यक्त करता है।

गर्दन पर सवार होना

- Ans
- 1. बुरी हालत करना
 - 2. पीछा न छोड़ना
 - 3. गले पड़ना
 - 4. जान से मार देना

Question ID : 65497836444
Status : Answered
Chosen Option : 1

Q.15 दिए गए वाक्य में रेखांकित खंड को प्रतिस्थापित करने के लिए सबसे उपयुक्त विकल्प का चयन करें।
यदि इसे प्रतिस्थापित करने की आवश्यकता नहीं है, तो विकल्प 'किसी बदलाव की आवश्यकता नहीं है'
का चयन करें।

उसे तत्कालिक सहायता चाहिए।

- Ans
- 1. तत्कालिक सहायता
 - 2. किसी बदलाव की आवश्यकता नहीं है।
 - 3. तात्कालिक सहायता
 - 4. तात्कालिक सहायता

Question ID : 65497836442
Status : Answered
Chosen Option : 4

Q.16 दिए गए वाक्य का वह भाग ज्ञात करें जिसमें कोई त्रुटि है। यदि कोई त्रुटि नहीं है, तो 'कोई त्रुटि नहीं है'
चुनें।

निन्दा की उद्गम ही (1)/ हीनता और (2)/ कमजोरी से होता है (3)/ कोई त्रुटि नहीं है (4)

- Ans
- 1. 4
 - 2. 3
 - 3. 2
 - 4. 1

Question ID : 65497836448
Status : Answered
Chosen Option : 4

Q.17 'विवाद' का विलोम शब्द होगा-

- Ans
- 1. प्रवाद
 - 2. प्रतिवाद
 - 3. निर्विवाद
 - 4. वाद

Question ID : 65497836459
Status : Answered
Chosen Option : 3

Q.18 दिये गये वाक्यांश के लिए एक शब्द दीजिये।

तारों भरी रात

- Ans
- 1. प्रदोष
 - 2. पूर्वाह्न
 - 3. निशीथ
 - 4. विभावरी

Question ID : 65497836453
Status : Answered
Chosen Option : 3

Q.19 दिए गए वाक्य का वह भाग ज्ञात करें जिसमें कोई त्रुटि है। यदि कोई त्रुटि नहीं है, तो 'कोई त्रुटि नहीं है' चुनें।

बसंत के आगमन (1)/ से ही शीत की कोप (2)/ अदृश्य हो गया (3)/ कोई त्रुटि नहीं है (4)

- Ans
- 1. 1
 - 2. 4
 - 3. 2
 - 4. 3

Question ID : 65497836449
Status : Answered
Chosen Option : 3

Q.20 सही वर्तनी वाले शब्द का चयन करें।

- Ans
- 1. उज्जल
 - 2. उज्ज्वल
 - 3. उजल
 - 4. उज्वल

Question ID : 65497836445
Status : Answered
Chosen Option : 2

Comprehension:

दिए गए गद्यांश में से कुछ शब्द हटा दिए गए हैं। संबंधित प्रश्नों में प्रत्येक संख्या के लिए सबसे उपयुक्त विकल्प का चयन करें।

भाषा के (1) _____ मानव अपने विचारों, (2) _____ और अनुभूतियों को दो प्रकार से (3) _____-पद्य में या गद्य में। उसकी अभिव्यक्ति के इन दो रूपों के सृजन के (4) _____ तत्त्व हैं- भावना-प्रवण (5) _____ और विचारकेन्द्र मस्तिष्क।

SubQuestion No : 21

Q.21 गद्यांश के रिक्त स्थान (1) के लिए सर्वाधिक उपयुक्त शब्द होगा-

- Ans
- 1. मदद से
 - 2. सहयोग से
 - 3. सहायता से
 - 4. माध्यम से

Question ID : 65497836462
Status : Answered
Chosen Option : 4

Comprehension:

दिए गए गद्यांश में से कुछ शब्द हटा दिए गए हैं। संबंधित प्रश्नों में प्रत्येक संख्या के लिए सबसे उपयुक्त विकल्प का चयन करें।

भाषा के (1) _____ मानव अपने विचारों, (2) _____ और अनुभूतियों को दो प्रकार से (3) _____-पद्य में या गद्य में। उसकी अभिव्यक्ति के इन दो रूपों के सृजन के (4) _____ तत्त्व हैं- भावना-प्रवण (5) _____ और विचारकेन्द्र मस्तिष्क।

SubQuestion No : 22

Q.22 गद्यांश के रिक्त स्थान (2) के लिए सर्वाधिक उपयुक्त शब्द होगा-

- Ans**
- 1. आचारों
 - 2. भावों
 - 3. सोचों
 - 4. सपनों

Question ID : 65497836463
Status : Answered
Chosen Option : 2

Comprehension:

दिए गए गद्यांश में से कुछ शब्द हटा दिए गए हैं। संबंधित प्रश्नों में प्रत्येक संख्या के लिए सबसे उपयुक्त विकल्प का चयन करें।

भाषा के (1) _____ मानव अपने विचारों, (2) _____ और अनुभूतियों को दो प्रकार से (3) _____-पद्य में या गद्य में। उसकी अभिव्यक्ति के इन दो रूपों के सृजन के (4) _____ तत्त्व हैं- भावना-प्रवण (5) _____ और विचारकेन्द्र मस्तिष्क।

SubQuestion No : 23

Q.23 गद्यांश के रिक्त स्थान (3) के लिए सर्वाधिक उपयुक्त शब्द होगा-

- Ans**
- 1. प्रकट करता है
 - 2. बताता है
 - 3. व्यक्त करता है
 - 4. प्रकाशित करता है

Question ID : 65497836464
Status : Answered
Chosen Option : 3

Comprehension:

दिए गए गद्यांश में से कुछ शब्द हटा दिए गए हैं। संबंधित प्रश्नों में प्रत्येक संख्या के लिए सबसे उपयुक्त विकल्प का चयन करें।

भाषा के (1) _____ मानव अपने विचारों, (2) _____ और अनुभूतियों को दो प्रकार से (3) _____-पद्य में या गद्य में। उसकी अभिव्यक्ति के इन दो रूपों के सृजन के (4) _____ तत्त्व हैं- भावना-प्रवण (5) _____ और विचारकेन्द्र मस्तिष्क।

SubQuestion No : 24

Q.24 गद्यांश के रिक्त स्थान (4) के लिए सर्वाधिक उपयुक्त शब्द होगा-

- Ans**
- 1. मुल
 - 2. विषय
 - 3. प्रमुख
 - 4. कारक

Question ID : 65497836465
Status : Answered
Chosen Option : 3

Comprehension:

दिए गए गद्यांश में से कुछ शब्द हटा दिए गए हैं। संबंधित प्रश्नों में प्रत्येक संख्या के लिए सबसे उपयुक्त विकल्प का चयन करें।

भाषा के (1) _____ मानव अपने विचारों, (2) _____ और अनुभूतियों को दो प्रकार से (3) _____-पद्य में या गद्य में। उसकी अभिव्यक्ति के इन दो रूपों के सृजन के (4) _____ तत्त्व हैं- भावना-प्रवण (5) _____ और विचारकेन्द्र मस्तिष्क।

SubQuestion No : 25

Q.25 गद्यांश के रिक्त स्थान (5) के लिए सर्वाधिक उपयुक्त शब्द होगा-

- Ans**
- 1. हृदय
 - 2. मन
 - 3. दिल
 - 4. चेतक

Question ID : 65497836466

Status : Answered

Chosen Option : 2

Constable GD in CAPFs NIA SSF and Rifleman GD in Assam Rifles Examination 2021

Roll Number	www.HaryanaJobs.in
Candidate Name	www.HaryanaJobs.in
Venue Name	Jaipur Engineering College
Exam Date	02/12/2021
Exam Time :	4:00 PM - 5:30 PM
Subject	Constable GD 2021

Section : Part A General Intelligence and Reasoning

Q.1 चार अक्षर-समूह दिए गए हैं, जिनमें से तीन एक निश्चित प्रकार से समान हैं, जबकि एक उनसे असंगत है। उस असंगत अक्षर-समूह का चयन कीजिए।

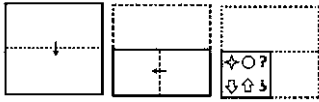
- Ans
- 1. FCHF
 - 2. HEJH
 - 3. PMRN
 - 4. XUZX

Question ID : 65497833313

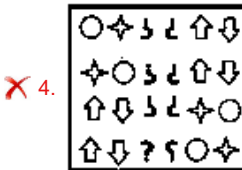
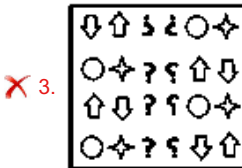
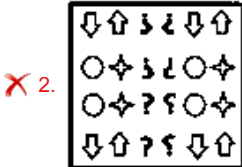
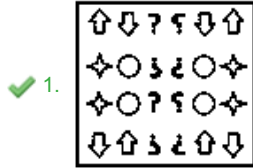
Status : Answered

Chosen Option : 3

Q.2 निम्नांकित चित्रों में एक कागज को मोड़ने का क्रम और मुड़े हुए कागज को काटने का तरीका दर्शाया गया है। मुड़े हुए कागज को खोलने पर यह कैसा दिखाई देगा?



Ans



Question ID : 65497833309

Status : Answered

Chosen Option : 1

Q.3 दिए गए विकल्पों में से उस संख्या का चयन करें जो निम्नलिखित श्रृंखला में प्रश्न चिह्न (?) के स्थान पर आ सकती है।

13, 17, 26, 51, ?, 221

Ans ✗ 1. 98

✓ 2. 100

✗ 3. 95

✗ 4. 87

Question ID : 65497833315

Status : Answered

Chosen Option : 4

Q.4 W, X, Y और Z ताश खेल रहे हैं। Y, X के दाईं ओर बैठा है, जो W के दाईं ओर बैठा है। Y के दाईं ओर कौन बैठा है?

- Ans
- 1. Z
 - 2. W
 - 3. Y
 - 4. X

Question ID : 65497833294
Status : Answered
Chosen Option : 1

Q.5 दिए गए विकल्पों में से उस संख्या का चयन कीजिए जो निम्न श्रृंखला में प्रश्न चिह्न (?) के स्थान पर आ सकती है।

89, 178, 356, 712, ?

- Ans
- 1. 1068
 - 2. 1424
 - 3. 1086
 - 4. 1429

Question ID : 65497833296
Status : Answered
Chosen Option : 2

Q.6 दिए गए विकल्पों में से उस अक्षर-समूह का चयन कीजिए जो निम्न श्रृंखला में प्रश्नवाचक चिह्न (?) के स्थान पर आ सकता है।

AHO, ELS, IPW, ?

- Ans
- 1. TMX
 - 2. MTA
 - 3. MXT
 - 4. MTY

Question ID : 65497833301
Status : Answered
Chosen Option : 2

Q.7 यदि दर्पण को निम्नांकित चित्र के अनुसार PQ पर रखा जाए, तो दिए गए संयोजन का दर्पण में निमित्त सही प्रतिबिंब चयनित कीजिए।

CONSUMER^P_Q

- Ans
- 1. RENU2MOC
 - 2. CONSUNEB
 - 3. COM2UNEB
 - 4. RENU2MOC

Question ID : 65497833316
Status : Answered
Chosen Option : 1

Q.8 दिए गए कथनों और निष्कर्षों को ध्यानपूर्वक पढ़ें। कथनों में दी गई जानकारी सही मानते हुए, भले वह सामान्य ज्ञात तथ्यों से भिन्न प्रतीत होती हो, निर्णय करें कि दिए गए निष्कर्षों में से कौन से निष्कर्ष कथनों का तार्किक रूप से अनुसरण करते हैं।

कथन :

कुछ विद्यार्थी, खिलाड़ी हैं।
सभी खिलाड़ी, पुरुष हैं।

निष्कर्ष :

I. सभी पुरुष, खिलाड़ी हैं।
II. कुछ पुरुष, विद्यार्थी हैं।

- Ans
- 1. केवल निष्कर्ष I अनुसरण करता है।
 - 2. केवल निष्कर्ष II अनुसरण करता है।
 - 3. कोई भी निष्कर्ष अनुसरण नहीं करता है।
 - 4. दोनों निष्कर्ष अनुसरण करते हैं।

Question ID : 65497833306

Status : Answered

Chosen Option : 2

Q.9 एक विशिष्ट कूट भाषा में, 'I am fine' को 'le su kim' के रूप में, 'you are fine' को 'se kim de' के रूप में और 'all are fine' को 'kim ru se' के रूप में लिखा जाता है। इसी कूट भाषा में 'all' को किस रूप में लिखा जाएगा?

- Ans
- 1. de
 - 2. ru
 - 3. su
 - 4. se

Question ID : 65497833305

Status : Answered

Chosen Option : 2

Q.10 पांच दोस्त S, R, K, G और M लकड़ी की एक गोल मेज के परितः, मेज के केंद्र की ओर अभिमुख होकर बैठे हैं। S, R के दाईं ओर बैठा है। G, K के बाईं ओर बैठा है। R, K और S के बीच में बैठा है। M, G के बाईं ओर बैठा है। M और R के बीच में कौन बैठा है?

- Ans
- 1. G
 - 2. R
 - 3. S
 - 4. K

Question ID : 65497833303

Status : Answered

Chosen Option : 3

Q.11 यदि 'M', '+' को निरूपित करता है, 'A', '-' को निरूपित करता है, 'B', '÷' को निरूपित करता है और 'C', '×' को निरूपित करता है, तो निम्न व्यंजक का मान ज्ञात करें।

25B5C5M5A6

Ans ✓ 1. 24

✗ 2. 32

✗ 3. 22

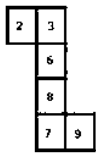
✗ 4. 34

Question ID : 65497833297

Status : Answered

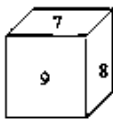
Chosen Option : 1

Q.12 कागज़ की दी गई शीट को मोड़कर निम्न में से कौन सा बॉक्स नहीं बनाया जा सकता है?

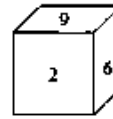


Ans

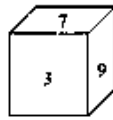
✗ 1.



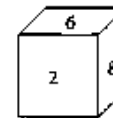
✓ 2.



✗ 3.



✗ 4.

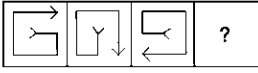


Question ID : 65497833299

Status : Answered

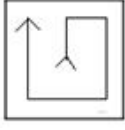
Chosen Option : 2

Q.13 दिए गए विकल्पों में से उस आकृति का चयन करें जो नीचे दी गई श्रृंखला में प्रश्न चिह्न (?) के स्थान पर आ सकती है।

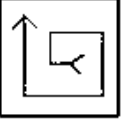


Ans

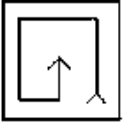
✓ 1.



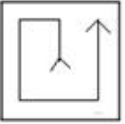
✗ 2.



✗ 3.



✗ 4.



Question ID : 65497833298
Status : Answered
Chosen Option : 1

Q.14 एक व्यक्ति ने एक महिला का परिचय अपने पिता की बहन की बेटी के रूप में दिया। महिला उस व्यक्ति से किस प्रकार संबंधित है?

Ans ✗ 1. बेटी

✓ 2. फुफेरी बहन

✗ 3. भांजी

✗ 4. पोती

Question ID : 65497833312
Status : Answered
Chosen Option : 2

Q.15 तीन व्यक्तियों A, B और C के पास क्रमशः ₹2, ₹5 और ₹10 के सिक्के हैं। प्रत्येक व्यक्ति के पास समान संख्या में सिक्के हैं। उनके पास कुल ₹510 हैं। प्रत्येक व्यक्ति के पास कितने सिक्के हैं?

Ans ✗ 1. 35

✗ 2. 25

✗ 3. 41

✓ 4. 30

Question ID : 65497833308
Status : Answered
Chosen Option : 4

Q.16 दिए गए पैटर्न का ध्यानपूर्वक अध्ययन करें, और उस संख्या का चयन करें जो इसमें प्रश्नवाचक चिह्न (?) के स्थान पर आ सकती है।

9 12 3
12 14 17
? 50 26

- Ans 1. 39
 2. 48
 3. 33
 4. 17

Question ID : 65497833307
Status : Answered
Chosen Option : 1

Q.17 उस विकल्प का चयन करें जिसमें दिए गए शब्दों को उस क्रम में व्यवस्थित किया गया है जिस क्रम में वे अंग्रेजी शब्दकोश में आते हैं।

1. Elegy
2. Elegant
3. Eleven
4. Elite

- Ans 1. 1, 2, 3, 4
 2. 2, 3, 4, 1
 3. 2, 1, 3, 4
 4. 3, 2, 4, 1

Question ID : 65497833292
Status : Answered
Chosen Option : 3

Q.18 'जूतों' का जो संबंध 'चमड़े' से है, 'शर्ट' का वही संबंध '_____' से है।

- Ans 1. आदमी
 2. कपड़े
 3. दर्जी
 4. आकार

Question ID : 65497833302
Status : Answered
Chosen Option : 2

Q.19 एक विशिष्ट कूट भाषा में, 'NIHAR' को 'ZUTMD' और 'VIRUS' को 'HUDGE' लिखा जाता है। इस कूट भाषा में 'GERMS' को क्या लिखा जाएगा?

- Ans 1. SODWE
 2. SPDZE
 3. TQDXE
 4. SQDYE

Question ID : 65497833311
Status : Not Attempted and
Marked For Review
Chosen Option : --

Q.20 एक निश्चित कूट भाषा में, 'REJECT' को '57' के रूप में कूटबद्ध किया जाता है। उसी कूट भाषा में, 'POISON' को किस रूप में कूटबद्ध किया जाएगा?

- Ans
- 1. 75
 - 2. 58
 - 3. 93
 - 4. 85

Question ID : 65497833314
Status : Answered
Chosen Option : 4

Q.21 उस विकल्प का चयन करें जो तीसरे अक्षर-समूह से उसी प्रकार संबंधित है, जिस प्रकार दूसरा अक्षर-समूह पहले अक्षर-समूह से संबंधित है।

EZU : GCY :: NHB : ?

- Ans
- 1. WQL
 - 2. PKF
 - 3. ROL
 - 4. QMJ

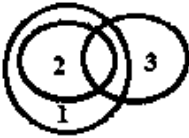
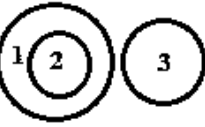
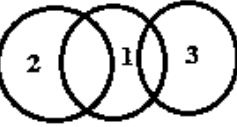

Question ID : 65497833310
Status : Answered
Chosen Option : 2

Q.22 उस वेन आरेख का चयन कीजिए जो निम्न वर्गों के मध्य के संबंध का सर्वश्रेष्ठ निरूपण करता है।

डॉक्टर, प्रोफेसर, कार्डियोलॉजिस्ट

1 = डॉक्टर, 2 = कार्डियोलॉजिस्ट, 3 = प्रोफेसर

Ans

- 1. 
- 2. 
- 3. 
- 4. 

Question ID : 65497833304
Status : Answered
Chosen Option : 2

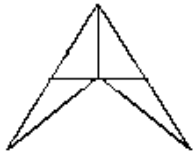
Q.23 दिए गए विकल्पों में से उस संख्या का चयन कीजिए जो निम्न श्रृंखला में प्रश्न चिह्न (?) के स्थान पर आ सकती है।

67, 70, 76, 85, ?

- Ans
- 1. 96
 - 2. 89
 - 3. 97
 - 4. 98

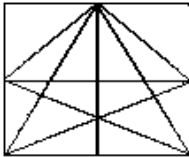
Question ID : 65497833295
Status : Answered
Chosen Option : 3

Q.24 उस विकल्प का चयन करें जिसमें दी गई आकृति अंतर्निहित है।
(चित्र को घुमाने की अनुमति है)

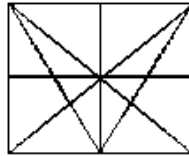


Ans

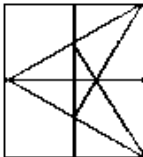
1.



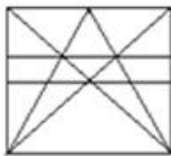
2.



3.



4.



Question ID : 65497833300
Status : Answered
Chosen Option : 2

Q.25 उस अक्षर संयोजन का चयन करें जिसे दी गई श्रृंखला के रिक्त स्थानों में क्रमिक रूप से रखे जाने पर श्रृंखला पूर्ण हो जाएगी।

H_S__PS__P_C

- Ans 1. PCHCHS
 2. PCHHCS
 3. PHCCHS
 4. SCHCHS

Question ID : 65497833293
Status : Answered
Chosen Option : 1

Section : Part B General Knowledge and General Awareness

Q.1 निम्नलिखित में से कौन सी खरीफ की फसल है?

- Ans 1. मटर
 2. कद्दू
 3. मूँगफली
 4. गेहूँ

Question ID : 65497833319
Status : Answered
Chosen Option : 3

Q.2 वायुमंडलीय दाब को मापने के लिए निम्नलिखित में से किस वैज्ञानिक उपकरण का उपयोग किया जाता है?

- Ans 1. ऐमीटर
 2. बैरोमीटर
 3. फोटोमीटर
 4. बोलोमीटर

Question ID : 65497833321
Status : Answered
Chosen Option : 2

Q.3 1932 में महात्मा गांधी और _____ के बीच पूना पैक्ट पर हस्ताक्षर किए गए थे।

- Ans 1. मुहम्मद अली जिन्ना
 2. जवाहर लाल नेहरू
 3. मोतीलाल नेहरू
 4. बी.आर. अम्बेडकर

Question ID : 65497833324
Status : Answered
Chosen Option : 4

Q.4 अपस्मार (मिर्गी) से शरीर का कौन सा अंग प्रभावित होता है?

- Ans
- 1. मस्तिष्क
 - 2. यकृत
 - 3. वृक्क
 - 4. हृदय

Question ID : 65497833323
Status : Not Answered
Chosen Option : --

Q.5 नर्मदा नदी मध्य प्रदेश में _____ से निकलती है।

- Ans
- 1. मांडू की पहाड़ियों
 - 2. अमरकंटक की पहाड़ियों
 - 3. ओंकारेश्वर की पहाड़ियों
 - 4. पचमढी की पहाड़ियों

Question ID : 65497833338
Status : Answered
Chosen Option : 2

Q.6 भारतीय रिजर्व बैंक ने रुपए के प्रतीक को निम्नलिखित में से किस वर्ष अपनाया?

- Ans
- 1. 2008
 - 2. 2012
 - 3. 2011
 - 4. 2010

Question ID : 65497833318
Status : Not Answered
Chosen Option : --

Q.7 हिल पैलेस संग्रहालय _____ में स्थित है।

- Ans
- 1. कर्नाटक
 - 2. केरल
 - 3. जम्मू और कश्मीर
 - 4. हिमाचल प्रदेश

Question ID : 65497833337
Status : Answered
Chosen Option : 3

Q.8 विश्व शौचालय दिवस 2020 की थीम 'स्थायी स्वच्छता और जलवायु परिवर्तन' थी। यह दिवस किस तारीख को मनाया गया?

- Ans
- 1. 22 नवंबर
 - 2. 14 नवंबर
 - 3. 16 नवंबर
 - 4. 19 नवंबर

Question ID : 65497833328

Status : Not Attempted and Marked For Review

Chosen Option : --

Q.9 विश्व बैंक के वर्गीकरण के अनुसार, जुलाई 2019 तक उच्च-मध्यम आय वाले देशों में प्रति व्यक्ति सकल राष्ट्रीय आय अमेरिकी डॉलर में _____ के बीच है।

- Ans
- 1. \$3,996 - \$12,375
 - 2. \$1,026 - \$3,995
 - 3. \$1,025 - \$3,224
 - 4. \$12,376 - \$15,275

Question ID : 65497833329

Status : Not Answered

Chosen Option : --

Q.10 भारत में पीर बुधान का मेला प्रति वर्ष कहाँ लगता है?

- Ans
- 1. मध्य प्रदेश
 - 2. हरियाणा
 - 3. उत्तर प्रदेश
 - 4. उत्तराखंड

Question ID : 65497833320

Status : Not Answered

Chosen Option : --

Q.11 अगस्त 2020 में निम्नलिखित में से किसने मध्य प्रदेश सरकार द्वारा खेलों में उत्कृष्टता के लिए दिया जाने वाला विक्रम पुरस्कार प्राप्त किया?

- Ans
- 1. शर्मिला देवी
 - 2. वंदना कटारिया
 - 3. निकी प्रधान
 - 4. करिश्मा यादव

Question ID : 65497833340

Status : Answered

Chosen Option : 2

Q.12 भारतीय संविधान के अनुच्छेद 123 के तहत अध्यादेशों की घोषणा करने की शक्ति निम्नलिखित में से किसके पास होती है?

- Ans
- 1. लोक सभा अध्यक्ष
 - 2. भारत के राष्ट्रपति
 - 3. राज्य सभा के सभापति
 - 4. भारत के महान्यायवादी

Question ID : 65497833327
Status : Answered
Chosen Option : 2

Q.13 निम्नलिखित में से कौन सा सबसे पुराना ग्रैंड स्लैम टेनिस टूर्नामेंट है?

- Ans
- 1. ऑस्ट्रेलियन ओपन
 - 2. विंबलडन
 - 3. फ्रेंच ओपन
 - 4. यू.एस. (US) ओपन

Question ID : 65497833335
Status : Answered
Chosen Option : 2

Q.14 निम्नलिखित विकल्पों में से कौन सी सबसे भारी गैस है?

- Ans
- 1. हीलियम
 - 2. ऑक्सीजन
 - 3. नाइट्रोजन
 - 4. रेडॉन

Question ID : 65497833322
Status : Answered
Chosen Option : 3

Q.15 महान बल्लेबाज और कमेंटेटर डीन जोन्स, जिनका निधन 24 सितंबर 2020 को हृदय गति रुक जाने (कार्डियक अरेस्ट) के कारण हुआ था, अपने खेल के दिनों में _____ का प्रतिनिधित्व करते थे।

- Ans
- 1. दक्षिण अफ्रीका
 - 2. ऑस्ट्रेलिया
 - 3. इंग्लैंड
 - 4. न्यूज़ीलैंड

Question ID : 65497833317
Status : Not Answered
Chosen Option : --

Q.16 नवंबर 2020 में, गूगल द्वारा पोषित शिक्षा शुल्क वित्तीयन कंपनी, फाइनैसपीयर का ब्रांड एंबेसडर नियुक्त किया गया?

- Ans
- 1. अक्षय कुमार
 - 2. रोहित शर्मा
 - 3. सोनू सूद
 - 4. विराट कोहली

Question ID : 65497833325
Status : Not Answered
Chosen Option : --

Q.17 राज्याधिकार के लिए मुगलों ने किस विरासत का अनुसरण किया?

- Ans
- 1. स्व-अर्जित निर्वसीयत
 - 2. सहदायिक विरासत
 - 3. पैतृक संपत्ति
 - 4. ज्येष्ठाधिकार नियम

Question ID : 65497833330
Status : Not Answered
Chosen Option : --

Q.18 वित्त (संख्या 2) अधिनियम, 2019 के अनुसार, आयकर अधिनियम की धारा _____ के तहत इलेक्ट्रिक वाहनों की खरीद हेतु लिए गए ऋण पर भुगतान किए गए ब्याज के लिए ₹1,50,000 तक की राशि की कटौती का दावा किया जा सकता है।

- Ans
- 1. 80GG
 - 2. 80DD
 - 3. 80DDB
 - 4. 80EEB

Question ID : 65497833341
Status : Not Answered
Chosen Option : --

Q.19 नगर निगम की बैठकों की अध्यक्षता कौन करता है?

- Ans
- 1. अध्यक्ष
 - 2. महापौर
 - 3. निदेशक
 - 4. राज्यपाल

Question ID : 65497833334
Status : Answered
Chosen Option : 2

Q.20 नवंबर 2020 में, निम्नलिखित में से कौन बिहार के मुख्यमंत्री बने।

- Ans
- 1. तेजस्वी यादव
 - 2. चिराग पासवान
 - 3. विजय सिन्हा
 - 4. नीतीश कुमार

Question ID : 65497833326
Status : Answered
Chosen Option : 4

Q.21 निम्नलिखित में से कौन सा 'मृदा निर्माण' का कारक नहीं है?

- Ans
- 1. कार्बनिक सामग्री की भूमिका
 - 2. जलवायु कारक
 - 3. अकार्बनिक सामग्री की भूमिका
 - 4. जनक शैल की प्रकृति

Question ID : 65497833331
Status : Not Answered
Chosen Option : --

Q.22 अलाउद्दीन खिलजी ने अपने सैनिकों के लिए एक नए सैनिक-नगर का निर्माण कराया, जिसका नाम _____ था।

- Ans
- 1. बंगाल
 - 2. सिंध
 - 3. मैसूर
 - 4. सीरी

Question ID : 65497833332
Status : Not Answered
Chosen Option : --

Q.23 'द गोल्डन बोट' नामक पुस्तक किसने लिखी है?

- Ans
- 1. सत्यजित रे
 - 2. मुंशी प्रेमचंद
 - 3. रबिन्द्रनाथ टैगोर
 - 4. आरके नारायण

Question ID : 65497833339
Status : Not Answered
Chosen Option : --

Q.24 सूफ़ी उस्ताद अपनी सभाओं को अपनी खानकाहों में आयोजित करते थे, जिन्हें _____ कहा जाता था।

- Ans
- 1. स्तूप
 - 2. धर्मशालाएं
 - 3. दरगाह
 - 4. धर्मस्थल

Question ID : 65497833333
Status : Answered
Chosen Option : 3

Q.25 अक्टूबर 2020 में, किस देश की डाक सेवा के साथ भारत के डाक विभाग ने सीमा शुल्क डेटा के इलेक्ट्रॉनिक विनिमय के लिए एक समझौता किया है?

- Ans
- 1. यूके
 - 2. ऑस्ट्रेलिया
 - 3. यूएस
 - 4. ब्राजील

Question ID : 65497833336
Status : Not Answered
Chosen Option : --

Section : Part C Elementary Mathematics

Q.1 सीमा इस दर से कार्य करती है कि वह किसी कार्य को 28 h में समाप्त कर सकती है, लेकिन वह इस दर से केवल 7 h तक ही कार्य करती है। इसके बाद, वह इस दर से कार्य करती है कि वह शेष कार्य 16 h में कर सकती है। इस पूरे कार्य को करने में सीमा को कुल कितने घंटे का समय लगा?

- Ans
- 1. 14
 - 2. 21
 - 3. 18
 - 4. 19

Question ID : 65497833355
Status : Not Attempted and Marked For Review
Chosen Option : --

Q.2 स्टॉपेज को छोड़कर, एक बस की चाल 60 km/h है और स्टॉपेज सहित उस बस की चाल 48 km/h है। यह बस प्रत्येक घंटे में कितने मिनट के लिए रुकती है?

- Ans
- 1. 8
 - 2. 10
 - 3. 12
 - 4. 14

Question ID : 65497833356
Status : Answered
Chosen Option : 2

Q.3 X एक कार्य का $\frac{1}{4}$ भाग 3 दिनों में पूरा कर सकता है और Y उसी कार्य का $\frac{1}{6}$ भाग 4 दिनों में पूरा कर सकता है। X और Y मिलकर 6 दिनों तक कार्य करते हैं और Z अकेला शेष कार्य 8 दिनों में पूरा करता है। यदि Y और Z एक साथ कार्य करते हैं, तो वे उसी कार्य को पूरा करने में कितना समय लेंगे?

- Ans
- 1. $9\frac{1}{7}$ दिन
 - 2. 12 दिन
 - 3. $13\frac{5}{7}$ दिन
 - 4. 10 दिन

Question ID : 65497833361
Status : Answered
Chosen Option : 3

Q.4 एक दुकानदार ने ₹6,000 का माल खरीदा। उसने 40% माल को 8% लाभ पर बेचा। पूरे लेनदेन में 25% का लाभ प्राप्त करने के लिए उसे शेष माल को कितने प्रतिशत लाभ पर (एक दशमलव स्थान तक सही) बेचना चाहिए?

- Ans
- 1. 26.7%
 - 2. 32.6%
 - 3. 28.4%
 - 4. 36.3%

Question ID : 65497833362
Status : Answered
Chosen Option : 4

Q.5 एक धावक 14 m त्रिज्या वाले एक वृत्ताकार मैदान के 8 चक्कर लगाने में 2 मिनट 56 सेकंड का समय लेता है। उसकी चाल क्या है?

- Ans
- 1. 6 m/sec
 - 2. 3 m/sec
 - 3. 5 m/sec
 - 4. 4 m/sec

Question ID : 65497833349
Status : Answered
Chosen Option : 4

Q.6 $5 + 5 \text{ of } 5 \div 5 - 13 \div 5 - 2 \text{ of } 3 \div 3$ का मान ज्ञात कीजिए।

- Ans
- 1. $\frac{73}{5}$
 - 2. $\frac{53}{5}$
 - 3. $\frac{27}{5}$
 - 4. $\frac{29}{5}$

Question ID : 65497833359
 Status : Answered
 Chosen Option : 3

Q.7 ₹ x पर 8.5% वार्षिक दर पर 12 वर्षों में प्राप्त साधारण ब्याज, समान राशि पर समान ब्याज दर से $4\frac{4}{5}$ वर्षों में प्राप्त मिश्रधन से ₹3,298 कम है। x का मान क्या होगा?

- Ans
- 1. 8,500
 - 2. 7,800
 - 3. 8,400
 - 4. 8,000

Question ID : 65497833365
 Status : Not Attempted and Marked For Review
 Chosen Option : --

Q.8 एक चुनाव में, दो उम्मीदवार चुनाव लड़ रहे हैं। विजेता को 48% वैध वोट मिले। उसके प्रतिद्वंद्वी को 34% वैध वोट मिले और वह 21000 वोटों से चुनाव हार गया। बाकी वोट अवैध थे। वैध वोटों की कुल संख्या ज्ञात करें।

- Ans
- 1. 135000
 - 2. 145000
 - 3. 150000
 - 4. 148000

Question ID : 65497833358
 Status : Answered
 Chosen Option : 3

Q.9 एक वस्तु को ₹630 में बेचे जाने पर 12.5% की हानि होती है। यदि वस्तु को ₹840 में बेचा जाए तो लाभ या हानि प्रतिशत कितना होगा?

Ans

- 1. $21\frac{1}{3}\%$ का लाभ
- 2. $11\frac{2}{3}\%$ की हानि
- 3. $16\frac{2}{3}\%$ का लाभ
- 4. $6\frac{1}{3}\%$ की हानि

Question ID : 65497833342
Status : Answered
Chosen Option : 3

Q.10 4 संख्याओं का औसत 60 है और पहली संख्या, शेष तीनों संख्याओं के योगफल की $\frac{1}{3}$ है। पहली संख्या ज्ञात कीजिए।

Ans

- 1. 60
- 2. 40
- 3. 30
- 4. 120

Question ID : 65497833352
Status : Answered
Chosen Option : 1

Q.11 एक पर्स ₹99 में 10% के लाभ पर बेचा गया। यदि इसे ₹72 में बेचा गया होता, तो लाभ या हानि का प्रतिशत ज्ञात करें।

Ans

- 1. 20% लाभ
- 2. 25% लाभ
- 3. 40% हानि
- 4. 45% हानि

Question ID : 65497833360
Status : Not Attempted and Marked For Review
Chosen Option : --

Q.12 दो अभाज्य संख्याओं x और y (जहाँ $x > y$ है) का लघुत्तम समापवर्त्य (LCM) 253 है। संख्याओं x और y का अंतर क्या है?

Ans

- 1. 11
- 2. 14
- 3. 12
- 4. 16

Question ID : 65497833344
Status : Answered
Chosen Option : 3

Q.13 एक निश्चित धनराशि पर साधारण ब्याज की समान वार्षिक दर से 3 वर्ष बाद प्राप्त मिश्रधन ₹9036 है और 7 वर्ष बाद प्राप्त मिश्रधन ₹11484 है। यदि ब्याज की दर दोगुनी हो जाए और ब्याज को वार्षिक आधार पर चक्रवृद्धि किया जाए तो उसी धनराशि पर 2 वर्ष का चक्रवृद्धि ब्याज (₹ में, निकटतम ₹ तक) कितना होगा?

- Ans
- 1. 2255
 - 2. 2656
 - 3. 2764
 - 4. 3123

Question ID : 65497833343
Status : Answered
Chosen Option : 3

Q.14 एक विक्रेता अपने ग्राहकों को 15% की छूट देता है और फिर भी 10% लाभ प्राप्त करता है। यदि किसी वस्तु का क्रय मूल्य ₹850 है, तो उसका अंकित मूल्य (₹ में) कितना है?

- Ans
- 1. 1,200
 - 2. 1,150
 - 3. 1,100
 - 4. 1,250

Question ID : 65497833363
Status : Answered
Chosen Option : 3

Q.15 यदि 758P09Q5 एक ऐसी संख्या है जो 3 से विभाज्य है, तो P + Q का न्यूनतम मान ज्ञात करें।

- Ans
- 1. 4
 - 2. 2
 - 3. 5
 - 4. 3

Question ID : 65497833357
Status : Answered
Chosen Option : 2

Q.16 हेडफोन के एक जोड़े का अंकित मूल्य ₹1,600 है जिसे ₹1,450 में बेचा जाता है। छूट प्रतिशत (दशमलव के दो स्थानों तक सही) ज्ञात कीजिए।

- Ans
- 1. 7.3%
 - 2. 9.38%
 - 3. 8.38%
 - 4. 9%

Question ID : 65497833353
Status : Answered
Chosen Option : 2

Q.17 220 m, 231 m और 319 m भुजाओं वाले एक त्रिभुजाकार मैदान का क्षेत्रफल, एक वृत्ताकार मैदान के क्षेत्रफल के 15 गुने के बराबर है। वृत्ताकार मैदान का व्यास (m में) कितना होगा?

- Ans
- ✓ 1. $14\sqrt{11}$
 - ✗ 2. $7\sqrt{7}$
 - ✗ 3. $7\sqrt{11}$
 - ✗ 4. $14\sqrt{7}$

Question ID : 65497833366
Status : Answered
Chosen Option : 1

Q.18 ₹14,175 की राशि को A, B और C के बीच $\frac{2}{3} : \frac{3}{5} : \frac{5}{6}$ के अनुपात में बांटा जाता है। A और C के हिस्सों का अंतर (₹ में) ज्ञात कीजिए।

- Ans
- ✗ 1. 950
 - ✓ 2. 1125
 - ✗ 3. 1050
 - ✗ 4. 900

Question ID : 65497833364
Status : Answered
Chosen Option : 2

Q.19 विनीता ₹12,000 की धनराशि 9% के साधारण वार्षिक व्याज की दर से एक निश्चित अवधि के लिए निवेशित करती है जिसपर उसे ₹18,480 का मिश्रधन प्राप्त होता है। उपरोक्त राशि कितने वर्षों के लिए निवेश की गई थी?

- Ans
- ✗ 1. 7 वर्ष
 - ✓ 2. 6 वर्ष
 - ✗ 3. 8 वर्ष
 - ✗ 4. 5 वर्ष

Question ID : 65497833348
Status : Answered
Chosen Option : 2

Q.20 दो संख्याओं में से, पहली संख्या दूसरी संख्या की तीन-चौथाई है। यदि दोनों संख्याओं के व्युत्क्रमों का औसत $\frac{7}{48}$ है, तो पहली संख्या क्या है?

- Ans
- ✓ 1. 6
 - ✗ 2. 8
 - ✗ 3. 4
 - ✗ 4. 10

Question ID : 65497833346
Status : Answered
Chosen Option : 1

Q.21 एक कॉलेज में ECE, मैकेनिकल और सिविल इंजीनियरिंग के लिए आवंटित सीटों की संख्या 3 : 4 : 5 के अनुपात में हैं। सीटों में क्रमशः 20%, 35% और 44% की वृद्धि प्रस्तावित है। बढ़ी हुई सीटों का अनुपात क्या होगा?

- Ans
- 1. 4 : 5 : 6
 - 2. 2 : 3 : 4
 - 3. 3 : 5 : 6
 - 4. 2 : 3 : 5

Question ID : 65497833350
Status : Answered
Chosen Option : 2

Q.22 किसी संख्या को निम्न में से किस संख्या से गुणा करने पर उस संख्या में 75% की वृद्धि हो जाएगी?

- Ans
- 1. $\frac{3}{4}$
 - 2. $\frac{7}{4}$
 - 3. $\frac{4}{7}$
 - 4. $\frac{4}{3}$

Question ID : 65497833354
Status : Answered
Chosen Option : 2

Q.23 यदि $(a + b) : (b + c) : (c + a) = 8 : 7 : 5$ और $a + b + c = 60$ है, तो $a : b : c$ क्या होगा?

- Ans
- 1. 5 : 7 : 8
 - 2. 3 : 5 : 2
 - 3. 5 : 6 : 7
 - 4. 4 : 5 : 6

Question ID : 65497833347
Status : Answered
Chosen Option : 2

Q.24 एक गोले की त्रिज्या 6 cm है। गोले को पिघला कर 0.4 cm त्रिज्या का एक तार बनाया गया। तार की लंबाई क्या होगी?

- Ans
- 1. 18 m
 - 2. 15 m
 - 3. 14 m
 - 4. 16 m

Question ID : 65497833351
Status : Answered
Chosen Option : 1

Q.25 $2\frac{1}{9} \div \left[3\frac{5}{6} - \frac{2}{3} \times \left(6\frac{1}{2} - 2\frac{1}{3} \right) \right]$ का मान क्या होगा?

- Ans
- 1. 9
 - 2. 5
 - 3. 1
 - 4. 2

Question ID : 65497833345
Status : Answered
Chosen Option : 4

Section : Part D English

Q.1 Select the option that can be used as a one-word substitute for the given group of words.

Group of people moving together in a company for security, especially for crossing deserts

- Ans
- 1. Choir
 - 2. Caravan
 - 3. Cabal
 - 4. Cortege

Question ID : 65497833368
Status : Not Answered
Chosen Option : --

Q.2 Select the most appropriate ANTONYM of the given word.

Arouse

- Ans
- 1. Alert
 - 2. Thrill
 - 3. Provoke
 - 4. Cease

Question ID : 65497833377
Status : Not Answered
Chosen Option : --

Q.3 Select the most appropriate option that can substitute the underlined word in the given sentence.

The collection and affection of rainwater is of vital importance.

- Ans
- 1. resolution
 - 2. construction
 - 3. caution
 - 4. utilisation

Question ID : 65497833367
Status : Not Answered
Chosen Option : --

Q.4 The following sentence has been split into four segments. Identify the segment that contains a grammatical error.

Burning of / fossil fuels is / causing pollution / in recent time.

- Ans**
- 1. Burning of
 - 2. causing pollution
 - 3. in recent time
 - 4. fossil fuels is

Question ID : 65497833369
Status : Not Answered
Chosen Option : --

Q.5 Select the most appropriate option to fill in the blank.

Sita was _____ to find out what had happened at the neighbour's place that morning.

- Ans**
- 1. odd
 - 2. curious
 - 3. eccentric
 - 4. peculiar

Question ID : 65497833376
Status : Not Answered
Chosen Option : --

Q.6 The following sentence has been divided into parts. One of them may contain an error. Select the part that contains the error from the given options. If you don't find any error, mark 'No error' as your answer.

Have you saw / my iPad / anywhere?

- Ans**
- 1. my iPad
 - 2. anywhere
 - 3. No error
 - 4. Have you saw

Question ID : 65497833384
Status : Not Answered
Chosen Option : --

Q.7 Select the most appropriate option that can substitute the underlined segment in the given sentence. If there is no need to substitute it, select 'No substitution required'.

Let's go out for dinner tonight, shall we?

- Ans**
- 1. should we
 - 2. won't we
 - 3. No substitution required
 - 4. shan't we

Question ID : 65497833380
Status : Not Answered
Chosen Option : --

Q.8 Select the INCORRECTLY spelt word.

- Ans**
- 1. Specialist
 - 2. Increment
 - 3. Explorashun
 - 4. Ridiculous

Question ID : 65497833374
Status : Not Answered
Chosen Option : --

Q.9 Select the most appropriate meaning of the given idiom.

Worked like a dream

- Ans**
- 1. Worked without a plan
 - 2. A plan succeeded perfectly
 - 3. A plan failed miserably
 - 4. Worked in a lazy mood

Question ID : 65497833379
Status : Not Answered
Chosen Option : --

Q.10 Select the most appropriate meaning of the given idiom.

Mark up

- Ans**
- 1. Put a clear label
 - 2. Accidentally stain
 - 3. Deliberately smear
 - 4. Increase the price

Question ID : 65497833383
Status : Not Answered
Chosen Option : --

Q.11 Select the most appropriate synonym of the given word.

Scour

- Ans**
- 1. Mark
 - 2. Scrub
 - 3. Dirty
 - 4. Spot

Question ID : 65497833370
Status : Not Answered
Chosen Option : --

Q.12 The following sentence has been split into four segments. Identify the segment that contains a grammatical error.

Sidharth made earnest attempts / to change / for better, / but nothing happened.

- Ans**
- 1. for better
 - 2. to change
 - 3. but nothing happened
 - 4. Sidharth made earnest attempts

Question ID : 65497833371
Status : Not Answered
Chosen Option : --

Q.13 Select the INCORRECTLY spelt word.

- Ans**
- 1. Incidentally
 - 2. Commercially
 - 3. Purify
 - 4. Possibility

Question ID : 65497833375
Status : Not Answered
Chosen Option : --

Q.14 Select the most appropriate synonym of the given word.

DENSE

- Ans**
- 1. Thick
 - 2. Soft
 - 3. Fast
 - 4. Low

Question ID : 65497833385
Status : Not Answered
Chosen Option : --

Q.15 Select the option that can be used as a one-word substitute for the given group of words.

A kind of decision on which one cannot go back

- Ans**
- 1. Alterable
 - 2. Absolute
 - 3. Irrevocable
 - 4. Flexible

Question ID : 65497833373
Status : Not Answered
Chosen Option : --

Q.16 Select the most appropriate option to fill in the blank.

The children requested that they might be _____ to stay up late.

- Ans
- 1. sentenced
 - 2. approved
 - 3. admitted
 - 4. permitted

Question ID : 65497833378
Status : Not Answered
Chosen Option : --

Q.17 Select the most appropriate option to fill in the blank.

Although the population of villages in England was rising at a _____ pace, that of the cities was increasing by leaps.

- Ans
- 1. slow
 - 2. equal
 - 3. fast
 - 4. uniform

Question ID : 65497833382
Status : Not Answered
Chosen Option : --

Q.18 Select the most appropriate ANTONYM of the given word.

Clumsy

- Ans
- 1. Graceful
 - 2. Wilful
 - 3. Stubborn
 - 4. Awkward

Question ID : 65497833372
Status : Not Answered
Chosen Option : --

Q.19 Select the most appropriate option that can substitute the underlined segment in the given sentence. If there is no need to substitute it, select 'No substitution required'.

As the boys missed the bus, they couldn't able to reach the school on time.

- Ans
- 1. was not able to
 - 2. can't able to
 - 3. couldn't
 - 4. No substitution required

Question ID : 65497833381
Status : Not Answered
Chosen Option : --

Q.20 Select the option that can be used as a one-word substitute for the given group of words.

Strong deep dislike

- Ans**
- 1. Empathy
 - 2. Telepathy
 - 3. Sympathy
 - 4. Antipathy

Question ID : **65497833386**
Status : **Not Answered**
Chosen Option : --

Comprehension:

In the following passage, some words have been deleted. Read the passage carefully and select the most appropriate option to fill in each blank.

One summer, a well in the garden dried up and there was no water for the plants. The rose slowly (1) _____ to wilt. The rose saw a sparrow (2) _____ its beak into the cactus for some water. The rose then felt (3) _____ of itself for having made fun of the cactus all this time. But, (4) _____ it was in need (5) _____ water, it went to ask the cactus if it could have some water. The kind cactus agreed, and they both got through summer as friends.

SubQuestion No : 21

Q.21 Select the most appropriate option to fill in blank number 1.

- Ans**
- 1. begun
 - 2. beginning
 - 3. began
 - 4. begin

Question ID : **65497833388**
Status : **Not Answered**
Chosen Option : --

Comprehension:

In the following passage, some words have been deleted. Read the passage carefully and select the most appropriate option to fill in each blank.

One summer, a well in the garden dried up and there was no water for the plants. The rose slowly (1) _____ to wilt. The rose saw a sparrow (2) _____ its beak into the cactus for some water. The rose then felt (3) _____ of itself for having made fun of the cactus all this time. But, (4) _____ it was in need (5) _____ water, it went to ask the cactus if it could have some water. The kind cactus agreed, and they both got through summer as friends.

SubQuestion No : 22

Q.22 Select the most appropriate option to fill in blank number 2.

- Ans**
- 1. dim
 - 2. dip
 - 3. din
 - 4. dish

Question ID : **65497833389**
Status : **Not Answered**
Chosen Option : --

Comprehension:

In the following passage, some words have been deleted. Read the passage carefully and select the most appropriate option to fill in each blank.

One summer, a well in the garden dried up and there was no water for the plants. The rose slowly (1) _____ to wilt. The rose saw a sparrow (2) _____ its beak into the cactus for some water. The rose then felt (3) _____ of itself for having made fun of the cactus all this time. But, (4) _____ it was in need (5) _____ water, it went to ask the cactus if it could have some water. The kind cactus agreed, and they both got through summer as friends.

SubQuestion No : 23

Q.23 Select the most appropriate option to fill in blank number 3.

- Ans** 1. embarrass
 2. ashamed
 3. disgraced
 4. humiliate

Question ID : 65497833390

Status : Not Answered

Chosen Option : --

Comprehension:

In the following passage, some words have been deleted. Read the passage carefully and select the most appropriate option to fill in each blank.

One summer, a well in the garden dried up and there was no water for the plants. The rose slowly (1) _____ to wilt. The rose saw a sparrow (2) _____ its beak into the cactus for some water. The rose then felt (3) _____ of itself for having made fun of the cactus all this time. But, (4) _____ it was in need (5) _____ water, it went to ask the cactus if it could have some water. The kind cactus agreed, and they both got through summer as friends.

SubQuestion No : 24

Q.24 Select the most appropriate option to fill in blank number 4.

- Ans** 1. although
 2. why
 3. if
 4. because

Question ID : 65497833391

Status : Not Answered

Chosen Option : --

Comprehension:

In the following passage, some words have been deleted. Read the passage carefully and select the most appropriate option to fill in each blank.

One summer, a well in the garden dried up and there was no water for the plants. The rose slowly (1) _____ to wilt. The rose saw a sparrow (2) _____ its beak into the cactus for some water. The rose then felt (3) _____ of itself for having made fun of the cactus all this time. But, (4) _____ it was in need (5) _____ water, it went to ask the cactus if it could have some water. The kind cactus agreed, and they both got through summer as friends.

SubQuestion No : 25

Q.25 Select the most appropriate option to fill in blank number 5.

- Ans 1. off
 2. of
 3. for
 4. from

Question ID : 65497833392
Status : Not Answered
Chosen Option : --

Section : Part D Hindi

Q.1 दिए गए शब्द का विलोम चुने –

उत्तीर्ण

- Ans 1. अनुत्तीर्ण
 2. वित्तीर्ण
 3. अवत्तीर्ण
 4. अनत्तीर्ण

Question ID : 65497833406
Status : Answered
Chosen Option : 1

Q.2 रिक्त स्थान की पूर्ति के लिए सबसे उपयुक्त विकल्प का चयन करें।

रोहन को _____ है कि मोहन इतना काम कर सकेगा।

- Ans 1. डर
 2. शंका
 3. आशंका
 4. भय

Question ID : 65497833412
Status : Answered
Chosen Option : 2

Q.3 दिए गए शब्द का विलोम चुनें।

आविर्भाव

- Ans
- 1. आनिर्भाव
 - 2. तिरोभाव
 - 3. प्रादुर्भाव
 - 4. निर्भाव

Question ID : 65497833397
Status : Answered
Chosen Option : 4

Q.4 दिए गए वाक्य में रेखांकित खंड को प्रतिस्थापित करने के लिए सबसे उपयुक्त विकल्प का चयन करें।
यदि इसे प्रतिस्थापित करने की आवश्यकता नहीं है, तो विकल्प 'किसी बदलाव की आवश्यकता नहीं है'
का चयन करें।

इटली की राजधानी रोम की तरह दिल्ली भी कई बार उजाड़ा और बसाया गया।

- Ans
- 1. कई बार उजाड़ा और बसायी गयी।
 - 2. किसी बदलाव की आवश्यकता नहीं है।
 - 3. कितनी बार उजाड़ा और बसाया गया।
 - 4. कई बार उजाड़ी और बसायी गयी।

Question ID : 65497833401
Status : Answered
Chosen Option : 4

Q.5 दिए गए वाक्यांश के लिए एक शब्द चुनिए।

जिसे कभी बुढ़ापा न आए

- Ans
- 1. अमर
 - 2. अजर
 - 3. ऊसर
 - 4. कुलीन

Question ID : 65497833407
Status : Answered
Chosen Option : 2

Q.6 उस विकल्प का चयन कीजिए जिसमें निम्न मुहावरे का सही अर्थ दिया गया है।

चुल्लुओं लह पीना

- Ans
- 1. जड़ से खत्म करना
 - 2. दीया बुझाना
 - 3. बहुत कष्ट देना
 - 4. मौत की तैयारी करना

Question ID : 65497833398
Status : Answered
Chosen Option : 3

Q.7 उसको प्राण निकल गये - अशुद्ध अंश को स्पष्ट कीजिए-

- Ans 1. उसको
 2. निकल
 3. गये
 4. प्राण

Question ID : 65497833409
Status : Answered
Chosen Option : 1

Q.8 दिए गए वाक्य में रेखांकित खंड को प्रतिस्थापित करने के लिए सबसे उपयुक्त विकल्प का चयन करें।
यदि इसे प्रतिस्थापित करने की आवश्यकता नहीं है, तो विकल्प 'किसी बदलाव की आवश्यकता नहीं है'
का चयन करें।

मित्रता एक ऐसा रिश्ता है जिसकी स्पर्धा किसी अन्य रिश्तेदार से नहीं की जा सकती।

- Ans 1. स्पर्धा किसी अन्य रिश्ते से
 2. किसी बदलाव की आवश्यकता नहीं है।
 3. तुलना किसी अन्य रिश्ते से
 4. तुलना किसी अन्य रिश्तेदार से

Question ID : 65497833402
Status : Answered
Chosen Option : 3

Q.9 दिए गए वाक्य में रेखांकित खंड को प्रतिस्थापित करने के लिए सबसे उपयुक्त विकल्प का चयन करें।
यदि इसे प्रतिस्थापित करने की आवश्यकता नहीं है, तो विकल्प 'किसी बदलाव की आवश्यकता नहीं है'
का चयन करें।

मुझे प्रथम पुरस्कार प्राप्त हुआ।

- Ans 1. पुरुष्कार
 2. पुरुस्कार
 3. पुरस्कार
 4. किसी बदलाव की आवश्यकता नहीं है।

Question ID : 65497833404
Status : Answered
Chosen Option : 2

Q.10 दिए गए वाक्यांश के लिए एक शब्द चुनिए।

जिस पर विश्वास किया जा सके-

- Ans 1. विश्वस्त
 2. विश्वसी
 3. विश्व
 4. विश्वासपात्र

Question ID : 65497833408
Status : Answered
Chosen Option : 4

Q.11 सही वर्तनी वाले शब्द का चयन करें।

- Ans 1. कालिदास
 2. कालीदास
 3. कलिदास
 4. कलीदास

Question ID : 65497833399
Status : Answered
Chosen Option : 3

Q.12 दिए गए शब्द के समानार्थी शब्द का चयन कीजिए।

राजा

- Ans 1. रत्नाकर
 2. मयंक
 3. मुकुंद
 4. महीप

Question ID : 65497833394
Status : Answered
Chosen Option : 2

Q.13 ठंडी हवा अच्छी लगती है? - रेखांकित शब्द का पर्यायवाची लिखिए-

- Ans 1. मातंग
 2. आवास
 3. अनल
 4. अनिल

Question ID : 65497833410
Status : Not Attempted and
Marked For Review
Chosen Option : --

Q.14 रिक्त स्थान की पूर्ति के लिए सबसे उपयुक्त शब्द का चयन करें।

15 अगस्त को एक _____ पर्व के रूप में मनाया जाता है।

- Ans 1. सांस्कृतिक
 2. राष्ट्रीय
 3. राजनीतिक
 4. सामाजिक

Question ID : 65497833403
Status : Answered
Chosen Option : 2

Q.15 दिए गए वाक्य का वह भाग ज्ञात करें जिसमें कोई त्रुटि है। यदि कोई त्रुटि नहीं है, तो 'कोई त्रुटि नहीं' विकल्प को चुनें।

मेला में बहुत सी चीजें बिकती है।

- Ans
- 1. बिकती है।
 - 2. बहुत सी चीजें
 - 3. कोई त्रुटि नहीं
 - 4. मेला में

Question ID : 65497833393
Status : Answered
Chosen Option : 4

Q.16 दिए गये वाक्यांश के लिए एक शब्द है-

वह पुरुष जिसकी पत्नी मर गयी हो -

- Ans
- 1. विदुषक
 - 2. वियोगी
 - 3. विधुर
 - 4. विपत्नीक

Question ID : 65497833396
Status : Answered
Chosen Option : 3

Q.17 दिए गए वाक्य का वह भाग ज्ञात करें जिसमें कोई त्रुटि है। यदि कोई त्रुटि नहीं है, तो 'कोई त्रुटि नहीं है' चुनें।

लाल बहादुर शास्त्री जी के मृत्यु की खबर सुनकर हमें बहुत दुख हुआ।

- Ans
- 1. बहुत दुख हुआ।
 - 2. लाल बहादुर शास्त्री जी के
 - 3. कोई त्रुटि नहीं है
 - 4. मृत्यु की खबर सुनकर हमें

Question ID : 65497833405
Status : Answered
Chosen Option : 2

Q.18 'क्रोध से लाल होने वाला' - अर्थ निम्न में से किस मुहावरे पर लागू होता है?

- Ans
- 1. अंगूठा दिखाना
 - 2. कंचन बरसना
 - 3. आंख खुलना
 - 4. आग बबूला होना

Question ID : 65497833411
Status : Answered
Chosen Option : 4

Q.19 रिक्त स्थान की पूर्ति के लिए सबसे उपयुक्त शब्द का चयन करें।

विद्यार्थियों को _____ का महत्त्व समझना चाहिए।

- Ans
- 1. शांती
 - 2. शांति
 - 3. दुःख
 - 4. सुख

Question ID : 65497833395
Status : Answered
Chosen Option : 2

Q.20 सही वर्तनी वाले शब्द का चयन करें।

- Ans
- 1. चतुष्कोन
 - 2. चतुश्कोण
 - 3. चतुस्कोण
 - 4. चतुष्कोण

Question ID : 65497833400
Status : Answered
Chosen Option : 4

Comprehension:

दिए गए गद्यांश में से कुछ शब्द हटा दिए गए हैं। संबंधित प्रश्नों में प्रत्येक संख्या के लिए सबसे उपयुक्त विकल्प का चयन करें-

आत्मविश्वास का अर्थ होता है - (1) _____ पर विश्वास। आत्मविश्वास की उत्पत्ति (2) _____ संकल्प से होती है। हमें (3) _____ पर यकीन रखना चाहिए। सफलता आत्मविश्वासी व्यक्ति के ही (4) _____ चूमती है। आत्मविश्वास ही वह (5) _____ है जो असंभव को संभव कर दिखाती है।

SubQuestion No : 21

Q.21 गद्यांश के रिक्त स्थान (1) के लिए सर्वाधिक उपयुक्त शब्द होगा-

- Ans
- 1. अपनों
 - 2. स्वयं
 - 3. सभी
 - 4. दूसरों

Question ID : 65497833414
Status : Answered
Chosen Option : 2

Comprehension:

दिए गए गद्यांश में से कुछ शब्द हटा दिए गए हैं। संबंधित प्रश्नों में प्रत्येक संख्या के लिए सबसे उपयुक्त विकल्प का चयन करें-

आत्मविश्वास का अर्थ होता है - (1) _____ पर विश्वास। आत्मविश्वास की उत्पत्ति (2) _____ संकल्प से होती है। हमें (3) _____ पर यकीन रखना चाहिए। सफलता आत्मविश्वासी व्यक्ति के ही (4) _____ चूमती है। आत्मविश्वास ही वह (5) _____ है जो असंभव को संभव कर दिखाती है।

SubQuestion No : 22

Q.22 गद्यांश के रिक्त स्थान (2) के लिए सर्वाधिक उपयुक्त शब्द होगा-

- Ans**
- 1. लचिले
 - 2. दृढ़
 - 3. बड़े
 - 4. विनम्र

Question ID : 65497833415
Status : Answered
Chosen Option : 2

Comprehension:

दिए गए गद्यांश में से कुछ शब्द हटा दिए गए हैं। संबंधित प्रश्नों में प्रत्येक संख्या के लिए सबसे उपयुक्त विकल्प का चयन करें-

आत्मविश्वास का अर्थ होता है - (1) _____ पर विश्वास। आत्मविश्वास की उत्पत्ति (2) _____ संकल्प से होती है। हमें (3) _____ पर यकीन रखना चाहिए। सफलता आत्मविश्वासी व्यक्ति के ही (4) _____ चूमती है। आत्मविश्वास ही वह (5) _____ है जो असंभव को संभव कर दिखाती है।

SubQuestion No : 23

Q.23 गद्यांश के रिक्त स्थान (3) के लिए सर्वाधिक उपयुक्त शब्द होगा-

- Ans**
- 1. खुद
 - 2. सभी
 - 3. रिश्तेदारों
 - 4. सहयोगियों

Question ID : 65497833416
Status : Answered
Chosen Option : 1

Comprehension:

दिए गए गद्यांश में से कुछ शब्द हटा दिए गए हैं। संबंधित प्रश्नों में प्रत्येक संख्या के लिए सबसे उपयुक्त विकल्प का चयन करें-

आत्मविश्वास का अर्थ होता है - (1) _____ पर विश्वास। आत्मविश्वास की उत्पत्ति (2) _____ संकल्प से होती है। हमें (3) _____ पर यकीन रखना चाहिए। सफलता आत्मविश्वासी व्यक्ति के ही (4) _____ चूमती है। आत्मविश्वास ही वह (5) _____ है जो असंभव को संभव कर दिखाती है।

SubQuestion No : 24

Q.24 गद्यांश के रिक्त स्थान (4) के लिए सर्वाधिक उपयुक्त शब्द होगा-

- Ans**
- 1. कदम
 - 2. घुटने
 - 3. सिर
 - 4. हाथ

Question ID : 65497833417
Status : Answered
Chosen Option : 1

Comprehension:

दिए गए गद्यांश में से कुछ शब्द हटा दिए गए हैं। संबंधित प्रश्नों में प्रत्येक संख्या के लिए सबसे उपयुक्त विकल्प का चयन करें-

आत्मविश्वास का अर्थ होता है - (1) _____ पर विश्वास। आत्मविश्वास की उत्पत्ति (2) _____ संकल्प से होती है। हमें (3) _____ पर यकीन रखना चाहिए। सफलता आत्मविश्वासी व्यक्ति के ही (4) _____ चूमती है। आत्मविश्वास ही वह (5) _____ है जो असंभव को संभव कर दिखाती है।

SubQuestion No : 25

Q.25 गद्यांश के रिक्त स्थान (5) के लिए सर्वाधिक उपयुक्त शब्द होगा-

- Ans**
- 1. कर्म
 - 2. पुस्तक
 - 3. शक्ति
 - 4. धर्म

Question ID : 65497833418

Status : Answered

Chosen Option : 3

Constable GD in CAPFs NIA SSF and Rifleman GD in Assam Rifles Examination 2021

Roll Number	www.HaryanaJobs.in
Candidate Name	www.HaryanaJobs.in
Venue Name	iON Digital Zone iDZ Madhyamgram
Exam Date	02/12/2021
Exam Time :	9:00 AM - 10:30 AM
Subject	Constable GD 2021

Section : Part A General Intelligence and Reasoning

Q.1 चार अक्षर-समूह दिए गए हैं, जिनमें से तीन किसी तरह से संगत हैं और एक असंगत है। असंगत अक्षर-समूह का चयन करें।

- Ans
- ✓ 1. NHDB
 - ✗ 2. BXJC
 - ✗ 3. ZTJM
 - ✗ 4. PLFH

Question ID : 65497829363

Status : Answered

Chosen Option : 3

Q.2 उस विकल्प का चयन कीजिए जिसमें दी गई आकृति सन्निकित है। (आकृति को घुमाने की अनुमति नहीं है)



Ans

- ✗ 1.
- ✗ 2.
- ✗ 3.
- ✓ 4.

Question ID : 65497829371

Status : Answered

Chosen Option : 4

Q.3 6 जनवरी 2010 को सप्ताह का कौन सा दिन था?

- Ans
- 1. गुरुवार
 - 2. मंगलवार
 - 3. शुक्रवार
 - 4. बुधवार

Question ID : 65497829375
Status : Answered
Chosen Option : 1

Q.4 यदि 'A \$ B' का अर्थ है - 'A, B की मां है', 'A @ B' का अर्थ है - 'A, B का भाई है', और 'A + B' का अर्थ है - 'A, B का पति है', तो व्यंजक 'E \$ G \$ Y @ K + W' में E का K से क्या संबंध है?

- Ans
- 1. दादी
 - 2. चाची/ताई/बुआ
 - 3. नानी
 - 4. मामी/मौसी

Question ID : 65497829379
Status : Answered
Chosen Option : 3

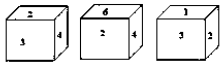
Q.5 उस विकल्प का चयन करें, जिसमें दी गई संख्याओं के बीच वही संबंध है, जो दिए गए समूह की संख्याओं के बीच है।

15, 104, 11

- Ans
- 1. 17, 112, 11
 - 2. 18, 160, 16
 - 3. 13, 48, 10
 - 4. 14, 154, 8

Question ID : 65497829374
Status : Answered
Chosen Option : 2

Q.6 एक पासे की तीन अलग-अलग स्थितियां दर्शाई गई हैं। उस संख्या का चयन कीजिए जो '3' दर्शाने वाले फलक के विपरीत फलक पर होगी।



- Ans
- 1. 5
 - 2. 2
 - 3. 4
 - 4. 6

Question ID : 65497829370
Status : Answered
Chosen Option : 3

Q.7 दिए गए कथनों और निष्कर्षों को ध्यानपूर्वक पढ़ें। कथनों में दी गई जानकारी को सत्य मानते हुए विचार करें, भले ही वह सामान्यतः ज्ञात तथ्यों से भिन्न प्रतीत होती हो, और तय करें कि दिए गए निष्कर्षों में से कौन से कथनों का तार्किक रूप से पालन करते हैं?

कथन:

सभी बर्गर केक हैं।
कुछ मिठाइयां फल हैं।
सभी मिठाइयां बर्गर हैं।

निष्कर्ष:

I. कुछ फल बर्गर हैं।
II. कुछ केक मिठाइयां हैं।

- Ans
- 1. केवल निष्कर्ष I पालन करता है।
 - 2. दोनों निष्कर्ष पालन करते हैं।
 - 3. कोई भी निष्कर्ष पालन नहीं करता है।
 - 4. केवल निष्कर्ष II पालन करता है।

Question ID : 65497829373

Status : Answered

Chosen Option : 2

Q.8

- Ans
- 1.
 - 2.
 - 3.
 - 4.

Question ID : 65497829358

Status : Answered

Chosen Option : 2

Q.9 अक्षरों के उस संयोजन का चयन करें जिसे दी गई शृंखला में रिक्त स्थानों पर क्रमिक रूप से रखने पर शृंखला पूर्ण हो जाएगी।

K_HA_AKO_AR__OH_RA

- Ans
- 1. OAHKKA
 - 2. OHRAKA
 - 3. AOHRAK
 - 4. ORHAKA

Question ID : 65497829360

Status : Answered

Chosen Option : 4

Q.10

- Ans
- 1.
 - 2.
 - 3.
 - 4.

Question ID : 65497829366

Status : Answered

Chosen Option : 3

Q.11 उस सही विकल्प का चयन कीजिए, जो दिए गए शब्दों के उस क्रम को दर्शाता है जिस क्रम में वे अंग्रेजी शब्दकोश में मौजूद होते हैं।

1. Abundant
2. Abstract
3. Abuse
4. Abstruse
5. Absurd

- Ans
- 1. 3, 1, 5, 4, 2
 - 2. 2, 5, 1, 3, 4
 - 3. 2, 4, 1, 5, 3
 - 4. 2, 4, 5, 1, 3

Question ID : 65497829359

Status : Answered

Chosen Option : 4

Q.12 एक निश्चित कूट भाषा में, 'PRESENT' को '79510552' लिखा जाता है। उसी कूट भाषा में 'STATE' को किस प्रकार लिखा जाएगा?

- Ans
- 1. 120125
 - 2. 112215
 - 3. 102125
 - 4. 120215

Question ID : 65497829364

Status : Answered

Chosen Option : 3

Q.13 एक निश्चित कूट भाषा में, FUTILE को UFITEL लिखा जाता है और SELDOM को ESDLMO लिखा जाता है। उसी कूट भाषा में CORTEX को किस प्रकार लिखा जाएगा?

- Ans
- 1. OCRTFX
 - 2. OCTRXE
 - 3. XETROC
 - 4. ROCXET

Question ID : 65497829372

Status : Answered

Chosen Option : 2

Q.14 दिए गए विकल्पों में से उस अक्षर-समूह का चयन कीजिए, जो निम्नलिखित शृंखला में प्रश्न चिह्न (?) के स्थान पर आ सकता है।

AEO, DHR, GKU, JNX, ?

- Ans
- 1. KPA
 - 2. MPA
 - 3. ORZ
 - 4. MQA

Question ID : 65497829355

Status : Answered

Chosen Option : 4

Q.15 'शर्ट' का 'कपड़े' से वही संबंध है, जो 'बाली' का '_____' से है।

- Ans
- 1. सुनार
 - 2. स्त्री
 - 3. कान
 - 4. सोना

Question ID : 65497829356
Status : Answered
Chosen Option : 4

Q.16 एक निश्चित कूट भाषा में, NERDS को QBUGV लिखा जाता है, CARING को FXUFQJ लिखा जाता है, उसी कूट भाषा में CLOSET को किस प्रकार लिखा जाएगा?

- Ans
- 1. FOKVBX
 - 2. FPLVBQ
 - 3. FOLVBW
 - 4. FOLUCW

Question ID : 65497829378
Status : Answered
Chosen Option : 3

Q.17 यदि 'A' का अर्थ 'जोड़ना' है, 'B' का अर्थ 'गुणा' है, 'C' का अर्थ 'घटाना' है, और 'D' का अर्थ 'भाग' है, तो निम्नलिखित व्यंजक का मान ज्ञात कीजिए।

625 D 5 A 93 C 22 B 8

- Ans
- 1. 24
 - 2. 26
 - 3. 62
 - 4. 42

Question ID : 65497829369
Status : Answered
Chosen Option : 4

Q.18

- Ans
- 1.
 - 2.
 - 3.
 - 4.

Question ID : 65497829376
Status : Answered
Chosen Option : 1

Q.19 L, M, N, O, P और Q परिवार एक कॉलोनी के एक पंक्ति में बने घरों में रह रहे हैं। Q और O, M के पड़ोसी हैं। L और N, P के पड़ोसी हैं। यदि O, L का निकटतम पड़ोसी नहीं है, तो दिए गए विकल्पों में से कौन Q का निकटतम पड़ोसी है?

- Ans
- 1. L
 - 2. P
 - 3. M
 - 4. O

Question ID : 65497829357
Status : Answered
Chosen Option : 3

Q.20 उस विकल्प का चयन कीजिए जिसका तीसरी संख्या से वही संबंध है जो दूसरी संख्या का पहली संख्या से और छठी संख्या का पांचवी संख्या से है।

7 : 9 :: 8 : ? :: 6 : 2

- Ans
- 1. 22
 - 2. 28
 - 3. 25
 - 4. 26

Question ID : 65497829368
Status : Answered
Chosen Option : 1

Q.21 दिए गए विकल्पों में से उस संख्या का चयन कीजिए, जो निम्न श्रृंखला में प्रश्नवाचक चिह्न (?) के स्थान पर आएगी।

89, 84, 82, 79, 75, 74, 68, ?

- Ans
- 1. 68
 - 2. 69
 - 3. 65
 - 4. 71

Question ID : 65497829361
Status : Answered
Chosen Option : 2

Q.22 दिए गए विकल्पों में से उस संख्या का चयन करें, जो निम्नलिखित श्रेणी में प्रश्न चिह्न (?) के स्थान पर आ सकती है।

3, 5, 8, 11, ?, 19, 24

- Ans
- 1. 15
 - 2. 19
 - 3. 21
 - 4. 16

Question ID : 65497829365
Status : Answered
Chosen Option : 1

Q.23

- Ans
- 1.
 - 2.
 - 3.
 - 4.

Question ID : 65497829362

Status : Answered

Chosen Option : 3

Q.24 आठ लड़के P, Q, R, S, T, U, V और W एक वृत्ताकार मेज के परितः एक-दूसरे से समान दूरी पर मेज के केंद्र की ओर मुख करके बैठे हैं, लेकिन उनका इसी क्रम में होना अनिवार्य नहीं है। S, P के ठीक सामने बैठा है, जिसके ठीक बगल में U और R बैठे हैं। T, V के ठीक बगल में बैठा है, जो S के दाईं ओर ठीक बगल में बैठा है। Q, T के ठीक सामने बैठा है और R, उसके ठीक बगल में नहीं बैठा है। इस जानकारी के आधार पर, निम्नलिखित में से कौन सा कथन सही है?

- Ans
- 1. R, W के ठीक सामने बैठा है।
 - 2. Q और U एक-दूसरे के बगल में नहीं बैठे हैं।
 - 3. T, V के ठीक बगल में बैठा है, लेकिन R के बगल में नहीं बैठा है।
 - 4. S और U, W के ठीक बगल में बैठे हैं।

Question ID : 65497829367

Status : Answered

Chosen Option : 1

Q.25 उस विकल्प का चयन कीजिए, जिसका तीसरे पद से वही संबंध है, जो दूसरे पद का पहले पद से है।

CAPSULE : PACSELU :: PINDROP : ?

- Ans
- 1. NIPPODR
 - 2. NIDPPRO
 - 3. INPDPRO
 - 4. NIPDPOR

Question ID : 65497829377

Status : Answered

Chosen Option : 4

Section : Part B General Knowledge and General Awareness

Q.1 कनकलता बरुआ एक किशोर स्वतंत्रता सेनानी थीं, वे कहाँ की रहने वाली थीं?

- Ans
- 1. असम
 - 2. सिक्किम
 - 3. मिजोरम
 - 4. नागालैंड

Question ID : 65497829402

Status : Not Answered

Chosen Option : --

Q.2 राजा आम्भी कहां के शासक थे?

- Ans
- 1. उज्जैन
 - 2. तक्षशिला
 - 3. कन्नौज
 - 4. अयोध्या

Question ID : 65497829401
Status : Not Answered
Chosen Option : --

Q.3 निम्नलिखित में से किस विटामिन की कमी से बच्चों में सूखा रोग (rickets) होता है?

- Ans
- 1. विटामिन A
 - 2. विटामिन C
 - 3. विटामिन E
 - 4. विटामिन D

Question ID : 65497829384
Status : Answered
Chosen Option : 4

Q.4 निम्नलिखित में से किस क्रिकेट खिलाड़ी को 2019 क्रिकेट विश्व कप में 'प्लेयर ऑफ़ द टूर्नामेंट' चुना गया था?

- Ans
- 1. केन विलियमसन
 - 2. हेनरी निकोल्स
 - 3. एंजेलो मैथ्यूज
 - 4. युवराज सिंह

Question ID : 65497829389
Status : Answered
Chosen Option : 1

Q.5 एक आवेशित पिंड द्वारा किसी अन्य आवेशित या अनावेशित पिंड पर लगाए जाने वाले बल को निम्नलिखित में से कौन सा बल कहा जाता है?

- Ans
- 1. पेशीय बल
 - 2. अभिकेंद्रीय बल
 - 3. स्थिर वैद्युत बल
 - 4. अपकेंद्रीय बल

Question ID : 65497829396
Status : Answered
Chosen Option : 3

Q.6 प्रधानमंत्री जन धन योजना (PMJDY) के तहत खोले गए बैंक खाते के बारे में इनमें से कौन सा कथन गलत है?

- Ans
- 1. खाताधारक को रुपये (RuPay) डेबिट कार्ड प्रदान किया जाता है।
 - 2. बैंक से असंबंधित व्यक्ति के लिए एक साधारण बचत बैंक खाता खोला जाता है।
 - 3. PMJDY खातों में जमा राशि पर कोई ब्याज नहीं मिलता है।
 - 4. पात्र खाताधारकों के लिए ₹10,000 तक की ओवरड्राफ्ट (OD) सुविधा उपलब्ध है।

Question ID : 65497829398

Status : Answered

Chosen Option : 3

Q.7 लैब्राडोर सागर और भूमध्य सागर किस महासागर का हिस्सा हैं?

- Ans
- 1. हिंद महासागर
 - 2. आर्कटिक महासागर
 - 3. प्रशांत महासागर
 - 4. अटलांटिक महासागर

Question ID : 65497829391

Status : Answered

Chosen Option : 4

Q.8 प्यूर्टो रिको खाई (Puerto Rico Trench) निम्नलिखित में से किस महासागर में स्थित है?

- Ans
- 1. आर्कटिक महासागर
 - 2. हिंद महासागर
 - 3. अटलांटिक महासागर
 - 4. प्रशांत महासागर

Question ID : 65497829387

Status : Not Answered

Chosen Option : --

Q.9 मुगल सम्राज्ञी नूरजहां द्वारा उनके पिता की याद में बनवाया गया इतिमाद-उद-दौला का मकबरा _____ में स्थित है।

- Ans
- 1. आगरा
 - 2. दिल्ली
 - 3. ग्वालियर
 - 4. लखनऊ

Question ID : 65497829394

Status : Answered

Chosen Option : 2

Q.10 उपभोक्ता संरक्षण अधिनियम, 2019 के अनुसार निम्न में से किसे उपभोक्ता माना जाता है?

- Ans 1. एक व्यक्ति, जो प्रतिफल के एवज में किसी भी माल या सेवाओं की खरीददारी करता है
2. एक व्यक्ति, जो मुफ्त में माल प्राप्त करता है
3. एक व्यक्ति, जो सेवा के अनुबंध के तहत सेवाओं का लाभ उठाता है
4. एक व्यक्ति, जो पुनर्विक्रय के लिए माल प्राप्त करता है

Question ID : 65497829403

Status : Answered

Chosen Option : 1

Q.11 भारतीय जनता पार्टी की स्थापना इनमें से किस वर्ष में हुई थी?

- Ans 1. 1967
2. 1980
3. 1934
4. 1957

Question ID : 65497829382

Status : Answered

Chosen Option : 2

Q.12 निम्नलिखित में से किस राष्ट्रीय आंदोलन में पहली बार बड़े पैमाने पर महिलाओं की भागीदारी देखी गई थी?

- Ans 1. खिलाफत आंदोलन
2. स्वदेशी आंदोलन
3. सविनय अवज्ञा आंदोलन
4. असहयोग आंदोलन

Question ID : 65497829385

Status : Answered

Chosen Option : 4

Q.13 प्रोटोजोआ किस रोग के रोगकारक होते हैं?

- Ans 1. पोलियो
2. मलेरिया
3. यक्ष्मा (तपेदिक)
4. आंत्र ज्वर

Question ID : 65497829395

Status : Answered

Chosen Option : 2

Q.14 मिट्टी की सबसे निचली परत को _____ कहा जाता है।

- Ans 1. जनक शैल (parent rock)
2. नींव शैल (foundation rock)
3. तल शैल (bedrock)
4. आधार शैल (base rock)

Question ID : 65497829388

Status : Answered

Chosen Option : 2

Q.15 तंजावुर का बृहदीश्वर मंदिर, जिसे पेरिया कोइल या बड़ा मंदिर भी कहा जाता है, किस भारतीय राज्य में स्थित है?

- Ans
- 1. कर्नाटक
 - 2. तमिलनाडु
 - 3. महाराष्ट्र
 - 4. केरल

Question ID : 65497829390
Status : Answered
Chosen Option : 2

Q.16 बाबर ने '_____' नामक युद्ध पद्धति की शुरुआत की, जिसमें सेना को विभिन्न डिवीजनों में विभाजित कर दिया जाता था, ताकि दुश्मन को हर तरफ से घेरा जा सके।

- Ans
- 1. चारा (Charah)
 - 2. खुम्स (Khums)
 - 3. अरब (Araba)
 - 4. तुलुगमा (Tulughma)

Question ID : 65497829400
Status : Answered
Chosen Option : 2

Q.17 दिसंबर 2020 में, निम्नलिखित में से किसने लोकसभा के महासचिव का पदभार ग्रहण किया है?

- Ans
- 1. ओम बिड़ला
 - 2. उत्पल कुमार सिंह
 - 3. स्नेहलता श्रीवास्तव
 - 4. हरदीप सिंह पुरी

Question ID : 65497829386
Status : Not Answered
Chosen Option : --

Q.18 दिसंबर 2020 तक प्राप्त जानकारी के अनुसार, निम्नलिखित में से किस खिलाड़ी ने सर्वाधिक बार हॉपमैन कप जीतकर रिकॉर्ड बनाया है?

- Ans
- 1. राफेल नडाल
 - 2. डोमिनिक थिएम
 - 3. रोजर फ्रेडर
 - 4. नोवाक जोकोविच

Question ID : 65497829393
Status : Not Answered
Chosen Option : --

Q.19 निम्नलिखित में से किसे तेनजिंग नॉर्गे नेशनल एडवेंचर अवार्ड 2019 के प्राप्तकर्ता होने का गौरव प्राप्त है?

- Ans
- 1. मनीष नरवाल
 - 2. राहुल अवारे
 - 3. गजानंद यादव
 - 4. नेत्रपाल हुड्डा

Question ID : 65497829381

Status : Not Answered

Chosen Option : --

Q.20 इनमें से किस राज्य के राज्यपाल ने जून 2020 में डाक विभाग द्वारा आयोजित पत्र लेखन प्रतियोगिता में प्रथम पुरस्कार प्राप्त किया?

- Ans
- 1. केरल
 - 2. अरुणाचल प्रदेश
 - 3. महाराष्ट्र
 - 4. मध्य प्रदेश

Question ID : 65497829392

Status : Not Answered

Chosen Option : --

Q.21 भारतीय रिजर्व बैंक (RBI) के संबंध में निम्नलिखित में से कौन सा कथन सही नहीं है?

- Ans
- 1. RBI देश के विदेशी मुद्रा भंडार का संरक्षक है।
 - 2. RBI सरकार का बैंकर है।
 - 3. RBI बैंकर का बैंक है।
 - 4. RBI केंद्र सरकार के लिए वार्षिक बजट तैयार करता है।

Question ID : 65497829380

Status : Answered

Chosen Option : 4

Q.22 भारी उद्योग और सार्वजनिक उद्यम मंत्रालय द्वारा जारी दिशा-निर्देशों के अनुसार, महारत्न का दर्जा प्राप्त करने हेतु पात्र होने के लिए केंद्रीय सार्वजनिक क्षेत्र के उद्यम को निम्नलिखित में से कौन सी शर्त को पूरा करना चाहिए?

- Ans
- 1. पिछले 5 वर्षों के दौरान कर के बाद ₹5,000 करोड़ से अधिक का औसत वार्षिक निवल लाभ होना चाहिए
 - 2. पिछले 5 वर्षों के दौरान ₹25,000 करोड़ से अधिक का औसत वार्षिक टर्नओवर होना चाहिए
 - 3. पिछले 5 वर्षों के दौरान औसत वार्षिक निवल मूल्य ₹15,000 करोड़ से अधिक होना चाहिए
 - 4. नवरत्न का दर्जा प्राप्त होना चाहिए

Question ID : 65497829399

Status : Answered

Chosen Option : 2

Q.23 निम्नलिखित में से किस बाघ अभयारण्य को 10 वर्षों के लक्ष्य के स्थान पर चार वर्षों में बाघों की संख्या को दोगुना करने के लिए नवंबर में पहला अंतरराष्ट्रीय पुरस्कार 'टी.एक्स.-2 (TX2)' प्रदान किया गया है?

- Ans
- 1. कार्बेट बाघ अभयारण्य
 - 2. बुक्सा बाघ अभयारण्य
 - 3. कान्हा बाघ अभयारण्य
 - 4. पीलीभीत बाघ अभयारण्य

Question ID : 65497829383
Status : Not Answered
Chosen Option : --

Q.24 केंद्र सरकार द्वारा सितंबर 2021 में 'PRANA' पोर्टल लॉन्च किया गया था। 'PRANA' का पूर्ण रूप क्या है?

- Ans
- 1. Programme for Rating of Air-polluted and Non-Polluted Areas (प्रोग्राम फॉर रेटिंग ऑफ़ एयर पॉल्यूटेड एंड नॉन-पॉल्यूटेड एरियाज़)
 - 2. Portal for Registration of Air-polluted and Non-Polluted Areas (पोर्टल फॉर रजिस्ट्रेशन ऑफ़ एयर पॉल्यूटेड एंड नॉन-पॉल्यूटेड एरियाज़)
 - 3. Portal for Regulation of Air-pollution in Non-Attainment Cities (पोर्टल फॉर रेगुलेशन ऑफ़ एयर पॉल्यूशन इन नॉन-अटेनमेंट सिटीज)
 - 4. Programme for Regulation of Air-pollution in Non-Attainment Cities (प्रोग्राम फॉर रेगुलेशन ऑफ़ एयर पॉल्यूशन इन नॉन-अटेनमेंट सिटीज)

Question ID : 65497829404
Status : Not Answered
Chosen Option : --

Q.25 जनवरी 2021 तक प्राप्त जानकारी के अनुसार, त्रिपुरा के मुख्यमंत्री निम्नलिखित में से कौन हैं?

- Ans
- 1. कॉनराड कोंगकल संगमा
 - 2. बिप्लब कुमार देब
 - 3. सर्बानंद सोनोवाल
 - 4. नीपिहु रियो

Question ID : 65497829397
Status : Answered
Chosen Option : 2

Section : Part C Elementary Mathematics

Q.1

- Ans
- 1.
 - 2.
 - 3.
 - 4.

Question ID : 65497829428
Status : Answered
Chosen Option : 3

Q.2

- Ans 1.
 2.
 3.
 4.

Question ID : 65497829406
Status : **Not Answered**
Chosen Option : --

Q.3

- Ans 1.
 2.
 3.
 4.

Question ID : 65497829415
Status : **Answered**
Chosen Option : 4

Q.4

- Ans 1.
 2.
 3.
 4.

Question ID : 65497829422
Status : **Not Answered**
Chosen Option : --

Q.5

- Ans 1.
 2.
 3.
 4.

Question ID : 65497829429
Status : **Answered**
Chosen Option : 3

Q.6

- Ans 1.
 2.
 3.
 4.

Question ID : 65497829425
Status : **Answered**
Chosen Option : 2

Q.7

Ans 1.

2.

3.

4.

Question ID : 65497829409

Status : Answered

Chosen Option : 1

Q.8

Ans 1.

2.

3.

4.

Question ID : 65497829423

Status : Not Answered

Chosen Option : --

Q.9

Ans 1.

2.

3.

4.

Question ID : 65497829408

Status : Answered

Chosen Option : 2

Q.10

Ans 1.

2.

3.

4.

Question ID : 65497829416

Status : Answered

Chosen Option : 1

Q.11

Ans 1.

2.

3.

4.

Question ID : 65497829424

Status : Answered

Chosen Option : 3

Q.12

- Ans 1.
 2.
 3.
 4.

Question ID : 65497829427
Status : Answered
Chosen Option : 2

Q.13

- Ans 1.
 2.
 3.
 4.

Question ID : 65497829421
Status : Answered
Chosen Option : 4

Q.14

- Ans 1.
 2.
 3.
 4.

Question ID : 65497829411
Status : Answered
Chosen Option : 4

Q.15

- Ans 1.
 2.
 3.
 4.

Question ID : 65497829414
Status : Answered
Chosen Option : 1

Q.16

- Ans 1.
 2.
 3.
 4.

Question ID : 65497829426
Status : Answered
Chosen Option : 4

Q.17

- Ans 1.
 2.
 3.
 4.

Question ID : 65497829410
Status : Answered
Chosen Option : 3

Q.18

- Ans 1.
 2.
 3.
 4.

Question ID : 65497829405
Status : Not Answered
Chosen Option : --

Q.19

- Ans 1.
 2.
 3.
 4.

Question ID : 65497829419
Status : Answered
Chosen Option : 3

Q.20

- Ans 1.
 2.
 3.
 4.

Question ID : 65497829417
Status : Answered
Chosen Option : 1

Q.21

- Ans 1.
 2.
 3.
 4.

Question ID : 65497829412
Status : Answered
Chosen Option : 1

Q.22

- Ans 1.
 2.
 3.
 4.

Question ID : 65497829407
Status : Answered
Chosen Option : 1

Q.23

- Ans 1.
 2.
 3.
 4.

Question ID : 65497829413
Status : Answered
Chosen Option : 1

Q.24

- Ans 1.
 2.
 3.
 4.

Question ID : 65497829420
Status : Answered
Chosen Option : 2

Q.25

- Ans 1.
 2.
 3.
 4.

Question ID : 65497829418
Status : Answered
Chosen Option : 1

Section : Part D English

HaryanaJobs.in

Q.1 Select the option that can be used as a one-word substitute for the given group of words.

Something that cannot be avoided

- Ans 1. Inevitable
 2. Impossible
 3. Irreparable
 4. Intolerable

Question ID : 65497829434
Status : Not Answered
Chosen Option : --

Q.2 Select the most appropriate ANTONYM of the given word.

Violent

- Ans 1. Delicious
 2. Mighty
 3. Urgent
 4. Gentle

Question ID : 65497829433
Status : Not Answered
Chosen Option : --

Q.3 Select the most appropriate synonym of the given word.

Aggregate

- Ans 1. Disperse
 2. Total
 3. Separate
 4. Divide

Question ID : 65497829439
Status : Not Answered
Chosen Option : --

Q.4 Select the most appropriate meaning of the given idiom.

On cloud nine

- Ans 1. Very happy
 2. Very angry
 3. Very far
 4. Very worried

Question ID : 65497829444
Status : Not Answered
Chosen Option : --

Q.5 Select the option that will improve the underlined part of the given sentence. In case no improvement is needed, select 'No improvement required'.

You are going abroad for studies, are you?

- Ans
- 1. No improvement required
 - 2. wasn't you
 - 3. isn't it
 - 4. aren't you

Question ID : 65497829437
Status : Not Answered
Chosen Option : --

Q.6 Select the most appropriate option that can substitute the underlined segment in the given sentence. If there is no need to substitute it, select 'No substitution required'.

Delhi is a most affected city by the virus nowadays.

- Ans
- 1. Delhi was a most affected
 - 2. Delhi is the most affected
 - 3. No substitution required
 - 4. Delhi has a most affected

Question ID : 65497829440
Status : Not Answered
Chosen Option : --

Q.7 The following sentence has been split into four segments. Identify the segment that contains a grammatical error.

There is / hardly some / petrol left / in the car.

- Ans
- 1. in the car
 - 2. There is
 - 3. petrol left
 - 4. hardly some

Question ID : 65497829447
Status : Not Answered
Chosen Option : --

Q.8 Select the option that will improve the underlined part of the given sentence. In case no improvement is needed, select 'No improvement required'.

Father asked me that if I will accompany him to the park.

- Ans
- 1. whether I will
 - 2. No improvement required
 - 3. if I would
 - 4. that if I would

Question ID : 65497829445
Status : Not Answered
Chosen Option : --

Q.9 The following sentence has been split into four segments. Identify the segment that contains a grammatical error.

I think / he has / settled / in United States.

- Ans 1. settled
 2. in United States
 3. I think
 4. he has

Question ID : 65497829438
Status : Not Answered
Chosen Option : --

Q.10 Select the option that can be used as a one-word substitute for the given group of words.

Woman who is the head of the family

- Ans 1. Patriarch
 2. Monogamy
 3. Polygamy
 4. Matriarch

Question ID : 65497829430
Status : Not Answered
Chosen Option : --

Q.11 Select the most appropriate SYNONYM of the given word.

Erect

- Ans 1. Topple
 2. Lower
 3. Raze
 4. Raise

Question ID : 65497829448
Status : Not Answered
Chosen Option : --

Q.12 Select the option that can be used as a one-word substitute for the given group of words.

A steep descent of water of a stream or river

- Ans 1. fountain
 2. glacier
 3. whirlpool
 4. waterfall

Question ID : 65497829449
Status : Not Answered
Chosen Option : --

Q.13 The following sentence has been split into four segments. Identify the segment that contains a grammatical error.

Ajit asked me / how could I solve / the complex puzzle / so easily.

- Ans
- 1. so easily
 - 2. the complex puzzle
 - 3. Ajit asked me
 - 4. how could I solve

Question ID : 65497829432
Status : Not Answered
Chosen Option : --

Q.14 Select the most appropriate option to fill in the blank.

The _____ was given a stipend during his period of training.

- Ans
- 1. owner
 - 2. intern
 - 3. employer
 - 4. entrant

Question ID : 65497829443
Status : Not Answered
Chosen Option : --

Q.15 Select the most appropriate meaning of the given idiom.

In the long run

- Ans
- 1. Eventually
 - 2. On condition
 - 3. Repeatedly
 - 4. In case

Question ID : 65497829441
Status : Not Answered
Chosen Option : --

Q.16 Select the INCORRECTLY spelt word.

- Ans
- 1. Complaint
 - 2. Worried
 - 3. Warrior
 - 4. Passenger

Question ID : 65497829435
Status : Not Answered
Chosen Option : --

Q.17 Select the most appropriate option to fill in the blank.

Two young men _____ the chain from the woman's neck and ran away.

- Ans
- 1. pulled
 - 2. squeezed
 - 3. pushed
 - 4. turned

Question ID : 65497829446
Status : Not Answered
Chosen Option : --

Q.18 Select the most appropriate option to fill in the blank.

There are five _____ members of the United Nations.

- Ans
- 1. forever
 - 2. immortal
 - 3. durable
 - 4. permanent

Question ID : 65497829436
Status : Not Answered
Chosen Option : --

Q.19 Select the INCORRECTLY spelt word.

- Ans
- 1. Vein
 - 2. Quick
 - 3. Certain
 - 4. Contein

Question ID : 65497829442
Status : Not Answered
Chosen Option : --

Q.20 Select the most appropriate ANTONYM of the given word.

Mettle

- Ans
- 1. Cowardice
 - 2. Caution
 - 3. Stamina
 - 4. Attention

Question ID : 65497829431
Status : Not Answered
Chosen Option : --

Comprehension:

In the following passage, some words have been deleted. Read the passage carefully and select the most appropriate option to fill in each blank.

You (1)_____ that tomatoes and processed tomato products protect (2)_____ some types of cancer. The cancer-preventing properties of tomato products have been (3)_____ to lycopene. It is a bright red pigment found in tomatoes and (4)_____ red fruits. Processing of tomatoes increases the (5)_____ of lycopene.

SubQuestion No : 21

Q.21 Select the most appropriate option to fill in blank no. 1.

- Ans
- 1. may hear
 - 2. are going to hear
 - 3. will hear
 - 4. may have heard

Question ID : 65497829451

Status : **Not Answered**

Chosen Option : --

Comprehension:

In the following passage, some words have been deleted. Read the passage carefully and select the most appropriate option to fill in each blank.

You (1)_____ that tomatoes and processed tomato products protect (2)_____ some types of cancer. The cancer-preventing properties of tomato products have been (3)_____ to lycopene. It is a bright red pigment found in tomatoes and (4)_____ red fruits. Processing of tomatoes increases the (5)_____ of lycopene.

SubQuestion No : 22

Q.22 Select the most appropriate option to fill in blank no. 2.

- Ans
- 1. for
 - 2. against
 - 3. as
 - 4. by

Question ID : 65497829452

Status : **Not Answered**

Chosen Option : --

Comprehension:

In the following passage, some words have been deleted. Read the passage carefully and select the most appropriate option to fill in each blank.

You (1)_____ that tomatoes and processed tomato products protect (2)_____ some types of cancer. The cancer-preventing properties of tomato products have been (3)_____ to lycopene. It is a bright red pigment found in tomatoes and (4)_____ red fruits. Processing of tomatoes increases the (5)_____ of lycopene.

SubQuestion No : 23

Q.23 Select the most appropriate option to fill in blank no. 3.

- Ans** 1. attributed
 2. offered
 3. allotted
 4. formed

Question ID : 65497829453

Status : **Not Answered**

Chosen Option : --

Comprehension:

In the following passage, some words have been deleted. Read the passage carefully and select the most appropriate option to fill in each blank.

You (1)_____ that tomatoes and processed tomato products protect (2)_____ some types of cancer. The cancer-preventing properties of tomato products have been (3)_____ to lycopene. It is a bright red pigment found in tomatoes and (4)_____ red fruits. Processing of tomatoes increases the (5)_____ of lycopene.

SubQuestion No : 24

Q.24 Select the most appropriate option to fill in blank no. 4.

- Ans** 1. another
 2. new
 3. other
 4. same

Question ID : 65497829454

Status : **Not Answered**

Chosen Option : --

Comprehension:

In the following passage, some words have been deleted. Read the passage carefully and select the most appropriate option to fill in each blank.

You (1)_____ that tomatoes and processed tomato products protect (2)_____ some types of cancer. The cancer-preventing properties of tomato products have been (3)_____ to lycopene. It is a bright red pigment found in tomatoes and (4)_____ red fruits. Processing of tomatoes increases the (5)_____ of lycopene.

SubQuestion No : 25

Q.25 Select the most appropriate option to fill in blank no. 5.

- Ans 1. application
 2. concentration
 3. persistence
 4. attention

Question ID : 65497829455
Status : Not Answered
Chosen Option : --

Section : Part D Hindi

Q.1 निम्नलिखित में से शुद्ध वर्तनी वाला शब्द कौन सा है?

- Ans 1. प्रमाणक
 2. प्रामाणिक
 3. प्रामाणीक
 4. प्रमाणीक

Question ID : 65497829467
Status : Answered
Chosen Option : 4

Q.2 दिये गये वाक्य में रेखांकित अंश को प्रतिस्थापित करने के लिए सबसे उपयुक्त विकल्प का चयन करें।

साधु माला घुमा रहा था।

- Ans 1. फेर
 2. नचा
 3. फेंक
 4. चला

Question ID : 65497829469
Status : Answered
Chosen Option : 1

Q.3 दिए गए वाक्य का वह भाग ज्ञात करें जिसमें कोई त्रुटि है। यदि कोई त्रुटि नहीं है, तो 'कोई त्रुटि नहीं है' विकल्प को चुनें।

सरदार भगत सिंह ने फाँसी पर चढ़ना पड़ा।

- Ans
- 1. चढ़ना पड़ा
 - 2. कोई त्रुटि नहीं है
 - 3. सरदार भगत सिंह ने
 - 4. फाँसी पर

Question ID : 65497829457
Status : Answered
Chosen Option : 3

Q.4 मुहावरे के सही युग्म का चयन करें।

- Ans
- 1. आँख में चर्बी छाना - घमंड से चूर होना
 - 2. आग लगना - धोखा देना
 - 3. आंख दिखाना - सुख होना
 - 4. आँख बिछाना - गुस्से में आना

Question ID : 65497829465
Status : Answered
Chosen Option : 1

Q.5 दिये गये वाक्यांश के लिए एक शब्द दीजिये।

जो इन्द्रियों से न जाना जा सके

- Ans
- 1. अगम
 - 2. अगम्य
 - 3. गोचर
 - 4. अगोचर

Question ID : 65497829463
Status : Answered
Chosen Option : 2

Q.6 रिक्त स्थान को भरने के लिए सबसे उपयुक्त विकल्प का चयन करें।

गंगा में प्रदूषण की _____ चिंताजनक है।

- Ans
- 1. घुलनशीलता
 - 2. विद्यमानता
 - 3. मिलावट
 - 4. उपस्थिति

Question ID : 65497829470
Status : Answered
Chosen Option : 4

Q.7 दिये गये वाक्य के किस भाग में त्रुटि है?

इस समय बच्चे स्कूल को जा रहे हैं।

- Ans
- 1. जा रहे हैं।
 - 2. बच्चे
 - 3. स्कूल को
 - 4. इस समय

Question ID : 65497829471

Status : Answered

Chosen Option : 3

Q.8 दिए गए वाक्य में रेखांकित खंड को प्रतिस्थापित करने के लिए सबसे उपयुक्त विकल्प का चयन करें। यदि इसे प्रतिस्थापित करने की आवश्यकता नहीं है, तो विकल्प 'किसी बदलाव की आवश्यकता नहीं है' का चयन करें।

इस कमरे में केवल दो लोग, एक लड़का और एक लड़की बैठी है।

- Ans
- 1. किसी बदलाव की आवश्यकता नहीं है।
 - 2. एक लड़की बैठा हैं।
 - 3. एक लड़की बैठे हैं।
 - 4. कई लड़की बैठी हैं।

Question ID : 65497829459

Status : Answered

Chosen Option : 1

Q.9 'सुमति' का विलोम शब्द होगा-

- Ans
- 1. कुमति
 - 2. अल्पमति
 - 3. सम्मति
 - 4. प्रमति

Question ID : 65497829472

Status : Answered

Chosen Option : 1

Q.10 'अपने ही कुल का नाश करने वाला व्यक्ति' वाक्यांश के लिए एक शब्द है-

- Ans
- 1. विभीषण
 - 2. कुलांगार
 - 3. कुलीन
 - 4. कूपमंडूक

Question ID : 65497829473

Status : Answered

Chosen Option : 1

Q.11 निम्नलिखित प्रश्न में दिए गए चार विकल्पों में से, उस विकल्प का चयन करें, जो मुहावरे के अर्थ को व्यक्त करता है।

पौ बारह होना

- Ans
- 1. प्रिय वचन बोलना
 - 2. हार जाना
 - 3. खूब लाभ होना
 - 4. बहुत खुश होना

Question ID : 65497829462

Status : Answered

Chosen Option : 4

Q.12 निम्नलिखित में से शुद्ध वर्तनी वाला शब्द कौन सा है?

- Ans
- 1. हाशिल
 - 2. हाषिल
 - 3. हासिल
 - 4. हासील

Question ID : 65497829466

Status : Answered

Chosen Option : 3

Q.13 रिक्त स्थान भरने के लिए सबसे उपयुक्त शब्द का चयन करें।

वह भीख _____ गुजर करता है।

- Ans
- 1. फेंककर
 - 2. देकर
 - 3. बाँटकर
 - 4. माँगकर

Question ID : 65497829456

Status : Answered

Chosen Option : 4

Q.14 दिए गए शब्द का विलोम चुनें।

अस्वीकार

- Ans
- 1. अपकार
 - 2. अनौदार्य
 - 3. अनुदात्त
 - 4. अंगीकार

Question ID : 65497829461

Status : Answered

Chosen Option : 4

Q.15 'तीर' का पर्यायवाची है-

- Ans 1. सर
 2. शर
 3. कर
 4. नाव

Question ID : 65497829475
Status : Answered
Chosen Option : 4

Q.16 रिक्त स्थान को भरने के लिए सबसे उपयुक्त विकल्प का चयन करें।

कश्मीर में विद्रोहियों का _____ था।

- Ans 1. विषाद
 2. आतंक
 3. कंप
 4. त्रास

Question ID : 65497829468
Status : Answered
Chosen Option : 2

Q.17 नीचे दिए वाक्यांश के लिए एक शब्द दिए गए विकल्पों में से चुनिए-

जिसके मन में दया का अभाव हो

- Ans 1. दयावान
 2. दयाभाव
 3. निर्द्वंद्व
 4. निर्दय

Question ID : 65497829464
Status : Answered
Chosen Option : 4

Q.18 दिये गये वाक्य के किस भाग में त्रुटि है?

वह तश्करी करते पकड़ा गया।

- Ans 1. करते
 2. तश्करी
 3. पकड़ा गया।
 4. वह

Question ID : 65497829474
Status : Answered
Chosen Option : 1

Q.19 दिए गए शब्द के समानार्थी शब्द का चयन करें।

विष्णु

- Ans
- 1. तापस
 - 2. गिरीश
 - 3. गोविंद
 - 4. शंकर

Question ID : 65497829458

Status : Answered

Chosen Option : 3

Q.20 दिए गए वाक्य में रेखांकित खंड को प्रतिस्थापित करने के लिए सबसे उपयुक्त विकल्प का चयन करें। यदि इसे प्रतिस्थापित करने की आवश्यकता नहीं है, तो विकल्प 'किसी बदलाव की आवश्यकता नहीं है' का चयन करें।

पूजनीय गुरु जी आ रहे हैं।

- Ans
- 1. पुजनीय गुरु जी
 - 2. पूजनीय गुरु जी
 - 3. किसी बदलाव की आवश्यकता नहीं है।
 - 4. पूजनीया गुरु जी

Question ID : 65497829460

Status : Answered

Chosen Option : 2

Comprehension:

विज्ञान के रथ पर चढ़ा हुआ संसार भटककर किस रास्ते जा पड़ा है, इसका कुछ अंदाज इस बात से लगाया जा सकता है कि (1)_____ के प्रेमी जैसे धर्म को अंधविश्वास समझते हैं, वैसे ही अब वे काव्य को अर्ध सभ्यों की (2)_____ कहने लगे हैं। सारे रेगिस्तान में दया-माया और रूहानियत की जो थोड़ी बहुत (3)_____ बची है, उसका एक छोटा नखलिस्तान भी उनकी बर्दाश्त के बाहर है और वे सच्चे हृदय से दुखी हो रहे हैं कि इस (4)_____ युग में भी मनुष्य उषा और सितारों की ओर देखता हुआ अपने कीमती (5)_____ को क्यों बर्बाद कर रहा है।

निम्न प्रश्नों के उत्तर उपरोक्त गद्यांश के आधार पर दीजिए।

SubQuestion No : 21

Q.21 गद्यांश के रिक्त स्थान (1) के लिए सर्वाधिक उपयुक्त शब्द होगा-

- Ans
- 1. दर्शन
 - 2. कला
 - 3. विज्ञान
 - 4. अध्यात्म

Question ID : 65497829477

Status : Answered

Chosen Option : 3

Comprehension:

विज्ञान के रथ पर चढ़ा हुआ संसार भटककर किस रास्ते जा पड़ा है, इसका कुछ अंदाज इस बात से लगाया जा सकता है कि (1)_____ के प्रेमी जैसे धर्म को अंधविश्वास समझते हैं, वैसे ही अब वे काव्य को अर्थ सभ्यों की (2)_____ कहने लगे हैं। सारे रेगिस्तान में दया-माया और रूहानियत की जो थोड़ी बहुत (3)_____ बची है, उसका एक छोटा नखलिस्तान भी उनकी बर्दाश्त के बाहर है और वे सच्चे हृदय से दुखी हो रहे हैं कि इस (4)_____ युग में भी मनुष्य उषा और सितारों की ओर देखता हुआ अपने कीमती (5)_____ को क्यों बर्बाद कर रहा है।

निम्न प्रश्नों के उत्तर उपरोक्त गद्यांश के आधार पर दीजिए।

SubQuestion No : 22

Q.22 गद्यांश के रिक्त स्थान (2) के लिए सर्वाधिक उपयुक्त शब्द होगा-

- Ans
- 1. महफिल
 - 2. शरारत
 - 3. बुद्धि
 - 4. वाणी

Question ID : 65497829478

Status : Answered

Chosen Option : 4

Comprehension:

विज्ञान के रथ पर चढ़ा हुआ संसार भटककर किस रास्ते जा पड़ा है, इसका कुछ अंदाज इस बात से लगाया जा सकता है कि (1)_____ के प्रेमी जैसे धर्म को अंधविश्वास समझते हैं, वैसे ही अब वे काव्य को अर्थ सभ्यों की (2)_____ कहने लगे हैं। सारे रेगिस्तान में दया-माया और रूहानियत की जो थोड़ी बहुत (3)_____ बची है, उसका एक छोटा नखलिस्तान भी उनकी बर्दाश्त के बाहर है और वे सच्चे हृदय से दुखी हो रहे हैं कि इस (4)_____ युग में भी मनुष्य उषा और सितारों की ओर देखता हुआ अपने कीमती (5)_____ को क्यों बर्बाद कर रहा है।

निम्न प्रश्नों के उत्तर उपरोक्त गद्यांश के आधार पर दीजिए।

SubQuestion No : 23

Q.23 गद्यांश के रिक्त स्थान (3) के लिए सर्वाधिक उपयुक्त शब्द होगा-

- Ans
- 1. हरियाली
 - 2. खुशहाली
 - 3. नीलिमा
 - 4. सम्पदा

Question ID : 65497829479

Status : Answered

Chosen Option : 2

Comprehension:

विज्ञान के रथ पर चढ़ा हुआ संसार भटककर किस रास्ते जा पड़ा है, इसका कुछ अंदाज इस बात से लगाया जा सकता है कि (1)_____ के प्रेमी जैसे धर्म को अंधविश्वास समझते हैं, वैसे ही अब वे काव्य को अर्थ सभ्यों की (2)_____ कहने लगे हैं। सारे रेगिस्तान में दया-माया और रूहानियत की जो थोड़ी बहुत (3)_____ बची है, उसका एक छोटा नखलिस्तान भी उनकी बर्दाश्त के बाहर है और वे सच्चे हृदय से दुखी हो रहे हैं कि इस (4)_____ युग में भी मनुष्य उषा और सितारों की ओर देखता हुआ अपने कीमती (5)_____ को क्यों बर्बाद कर रहा है।

निम्न प्रश्नों के उत्तर उपरोक्त गद्यांश के आधार पर दीजिए।

SubQuestion No : 24

Q.24 गद्यांश के रिक्त स्थान (4) के लिए सर्वाधिक उपयुक्त शब्द होगा-

- Ans 1. बौद्धिक
 2. मानसिक
 3. दार्शनिक
 4. आध्यात्मिक

Question ID : 65497829480

Status : Answered

Chosen Option : 4

Comprehension:

विज्ञान के रथ पर चढ़ा हुआ संसार भटककर किस रास्ते जा पड़ा है, इसका कुछ अंदाज इस बात से लगाया जा सकता है कि (1)_____ के प्रेमी जैसे धर्म को अंधविश्वास समझते हैं, वैसे ही अब वे काव्य को अर्थ सभ्यों की (2)_____ कहने लगे हैं। सारे रेगिस्तान में दया-माया और रूहानियत की जो थोड़ी बहुत (3)_____ बची है, उसका एक छोटा नखलिस्तान भी उनकी बर्दाश्त के बाहर है और वे सच्चे हृदय से दुखी हो रहे हैं कि इस (4)_____ युग में भी मनुष्य उषा और सितारों की ओर देखता हुआ अपने कीमती (5)_____ को क्यों बर्बाद कर रहा है।

निम्न प्रश्नों के उत्तर उपरोक्त गद्यांश के आधार पर दीजिए।

SubQuestion No : 25

Q.25 गद्यांश के रिक्त स्थान (5) के लिए सर्वाधिक उपयुक्त शब्द होगा-

- Ans 1. वक्त
 2. शरीर
 3. भविष्य
 4. अतीत

Question ID : 65497829481

Status : Answered

Chosen Option : 1

Constable GD in CAPFs NIA SSF and Rifleman GD in Assam Rifles Examination 2021

Roll Number	www.HaryanaJobs.in
Candidate Name	www.HaryanaJobs.in
Venue Name	City Craze
Exam Date	01/12/2021
Exam Time :	12:30 PM - 2:00 PM
Subject	Constable GD 2021

Section : Part A General Intelligence and Reasoning

Q.1 उस विकल्प का चयन करें जिसमें संख्याएँ उसी प्रकार संबंधित हैं जिस प्रकार संख्याएँ दिए गए समुच्चय में संबंधित हैं।

(11, 13, 17)

- Ans
- 1. (9, 25, 17)
 - 2. (29, 31, 33)
 - 3. (41, 43, 53)
 - 4. (61, 63, 65)

Question ID : 65497834448

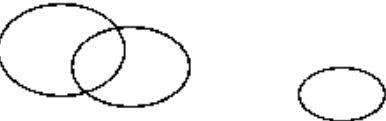

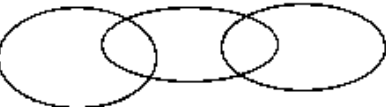
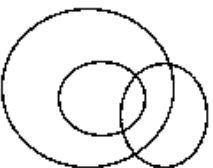
Status : Answered

Chosen Option : 3

Q.2 उस वेन आरेख का चयन करें जो निम्नलिखित वर्गों के मध्य संबंधों का सबसे उचित निरूपण करता है।

शिक्षिका, माता, स्त्री

Ans

1. 
2. 
3. 
4. 

Question ID : 65497834442

Status : Answered

Chosen Option : 4

Q.3 यदि 'P' का अर्थ '+', 'Q' का अर्थ '-', 'R' का अर्थ 'x' और 'S' का अर्थ '÷' है, तो निम्नलिखित व्यंजक का मान कितना होगा?

(14 R 9) S 6 P 40 Q 11

- Ans 1. 48
 2. 50
 3. 60
 4. 55

Question ID : 65497834449
Status : Answered
Chosen Option : 2

Q.4 दिए गए पैटर्न का ध्यानपूर्वक अध्ययन करें और उस अक्षर का चयन करें जो इसमें प्रश्न चिह्न (?) के स्थान पर आ सकता है।

C F I
R O ?
U X A

- Ans 1. L
 2. R
 3. M
 4. U

Question ID : 65497834444
Status : Answered
Chosen Option : 1

Q.5 सात व्यक्ति, गौरव, मनीष, राहुल, अनीश, मीता, प्रिया और प्रीति एक वृत्त में बैठे हैं। गौरव, मनीष और राहुल का पड़ोसी है। अनीश, मीता और राहुल का पड़ोसी नहीं है। प्रीति, मीता और प्रिया की पड़ोसी है और अनीश के बाईं ओर दूसरे स्थान पर बैठी है। राहुल की स्थिति क्या है?

- Ans 1. प्रीति के बाईं ओर बिल्कुल बगल में
 2. मनीष और गौरव के बीच में
 3. प्रिया के दाईं ओर चौथे स्थान पर
 4. अनीश के दाईं ओर दूसरे स्थान पर

Question ID : 65497834447
Status : Answered
Chosen Option : 3

Q.6 दिए गए पैटर्न का ध्यानपूर्वक अध्ययन करें, और उस संख्या का चयन करें जो प्रश्नवाचक चिह्न (?) के स्थान पर आ सकती है।

11 9 7
8 12 14
440 540 ?

- Ans 1. 710
 2. 640
 3. 560
 4. 490

Question ID : 65497834457
Status : Answered
Chosen Option : 4

Q.7 T के N और L नामक दो बेटे हैं। S अपने पिता का इकलौता बेटा है। R और S, T के पौत्र है। P, L की पत्नी है। M, S की माँ है। N, R से किस प्रकार संबंधित है?

- Ans
- 1. भतीजा
 - 2. चाचा
 - 3. पिता
 - 4. बेटा

Question ID : 65497834454
Status : Answered
Chosen Option : 2

Q.8 उस विकल्प का चयन करें जो दी गई आकृति में अंतर्निहित है, (घुमाने की अनुमति नहीं है)।



- Ans
- 1.
 - 2.
 - 3.
 - 4.

Question ID : 65497834451
Status : Answered
Chosen Option : 1

Q.9 एक विशिष्ट कूट भाषा में, 'SUPERWASH' को 'UWRGTYCUJ' लिखा जाता है। इस भाषा में 'ANTISEPTIC' को क्या लिखा जाएगा?

- Ans
- 1. CPVKUGRVKE
 - 2. CPVKUGRRVE
 - 3. CPKVUGRVKE
 - 4. CPUKVGRVKE

Question ID : 65497834455
Status : Answered
Chosen Option : 1

Q.10 दिए गए विकल्पों में से उस संख्या का चयन करें जो निम्नलिखित श्रृंखला में प्रश्न चिह्न (?) के स्थान पर आ सकती है।

11, 14, 26, 53, 101, ?

- Ans
- 1. 162
 - 2. 176
 - 3. 168
 - 4. 154

Question ID : 65497834445
Status : Answered
Chosen Option : 2

Q.11 दिए गए कथनों और निष्कर्षों को ध्यानपूर्वक पढ़ें। आपको कथनों में दी गई जानकारी को सही मान कर चलना है, भले ही वो सामान्य ज्ञात तथ्यों से भिन्न प्रतीत होती हो, और फिर निर्णय कीजिए कि दिए गए निष्कर्षों में से कौन सा/से निष्कर्ष कथनों का तार्किक रूप से अनुसरण करता है (करते हैं)।

कथन :

- I) सभी कंप्यूटर डेस्कटॉप हैं।
- II) कुछ कंप्यूटर लैपटॉप हैं।

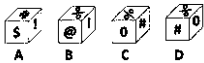
निष्कर्ष

- : I) कुछ लैपटॉप डेस्कटॉप हैं।
- II) सभी डेस्कटॉप लैपटॉप हैं।

- Ans
- 1. न तो निष्कर्ष I और न ही निष्कर्ष II अनुसरण करता है।
 - 2. निष्कर्ष I और II दोनों अनुसरण करते हैं।
 - 3. केवल निष्कर्ष I अनुसरण करता है।
 - 4. केवल निष्कर्ष II अनुसरण करता है।

Question ID : 65497834456
Status : Answered
Chosen Option : 3

Q.12 उस/उन पासे/पासों का चयन करें जिसे/जिन्हें दिए गए पत्रक (sheet) को उस पर बनी रेखाओं पर मोड़ कर बनाया जा सकता है।



- Ans
- 1. A, B, C और D
 - 2. केवल D
 - 3. केवल A और B
 - 4. केवल C और D

Question ID : 65497834450
Status : Answered
Chosen Option : 3

Q.13 छह मित्र एक पंक्ति में बैठे हैं और उत्तर की ओर उन्मुख हैं। H, D और G के बीच बैठा है जबकि B, L और A के बीच बैठा है। A और D अंतिम छोर पर बैठे हैं। G और B के मध्य कौन बैठा है?

- Ans
- 1. A
 - 2. L
 - 3. H
 - 4. D

Question ID : 65497834441
Status : Answered
Chosen Option : 1

Q.14 दिए गए विकल्पों में से उस संख्या का चयन कीजिए जो निम्नलिखित श्रृंखला में प्रश्न चिह्न (?) को प्रतिस्थापित कर सकती है।

20, 22, 27, ?, 55, 78, 109

- Ans
- 1. 38
 - 2. 32
 - 3. 30
 - 4. 49

Question ID : 65497834437
Status : Answered
Chosen Option : 1

Q.15 एक कागज को विशेष तरीके से मोड़ा जाता है और उसमें कई सारे छेद बनाए जाते हैं। जब कागज को खोला जाता है, तो वह प्रश्न आकृति की तरह दिखता है। दिए गए विकल्पों में से, उस विकल्प का चयन करें जो यह दर्शाता है कि कागज को किस तरह मोड़ा गया और उसमें छेद बनाए गए।

प्रश्न आकृति



Ans

- 1.
- 2.
- 3.
- 4.

Question ID : 65497834459
Status : Answered
Chosen Option : 3

Q.16 दिए गए विकल्पों में से उस अक्षर-समूह का चयन कीजिए जो दी गई श्रृंखला में प्रश्न चिह्न (?) के स्थान पर प्रतिस्थापित हो सकता है।

ADF, BEG, CFH, ?

- Ans
- 1. FDI
 - 2. DIF
 - 3. DFT
 - 4. DGI

Question ID : 65497834439
Status : Answered
Chosen Option : 4

Q.17 उस विकल्प का चयन करें जो तीसरे पद से उसी प्रकार संबंधित है, जिस प्रकार दूसरा पद पहले पद से संबंधित है।

GARDEN : EBPECO :: FLOWER : ?

- Ans
- 1. EMPVDS
 - 2. DMMXCS
 - 3. CJQYGT
 - 4. SFXPKE

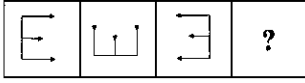
Question ID : 65497834452
Status : Answered
Chosen Option : 2

Q.18 'ऊपर' ठीक उसी तरह 'नीचे' से संबंधित है जिस तरह 'ठंडा', '_____' से संबंधित है।

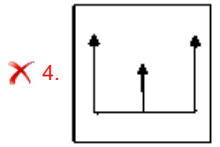
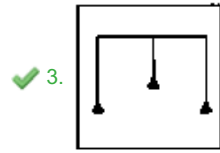
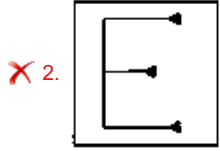
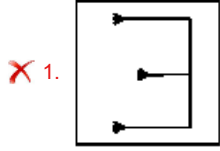
- Ans
- 1. कॉफ़ी
 - 2. सर्दी
 - 3. गर्म
 - 4. शीत

Question ID : 65497834440
Status : Answered
Chosen Option : 3

Q.19 दिए गए विकल्पों में से उस आकृति का चयन करें जो नीचे दी गई श्रृंखला में प्रश्न चिह्न (?) के स्थान पर आ सकती है।



Ans



Question ID : 65497834446

Status : Answered

Chosen Option : 3

Q.20 एक निश्चित कूट भाषा में, 'FRUSTRATION' को '11' और 'TOPICAL' को '7' के रूप में कूटबद्ध किया गया है। उसी भाषा में 'RESURGENCE' को किस रूप में कूटबद्ध किया जाएगा?

Ans ✗ 1. 12

✗ 2. 9

✗ 3. 11

✓ 4. 10

Question ID : 65497834436

Status : Answered

Chosen Option : 4

Q.21 एक विशिष्ट कूट भाषा में, 'MASTER' को 'NBTUFS' लिखा जाता है। इस भाषा में 'ENOUGH' को क्या लिखा जाएगा?

Ans ✓ 1. FOPVHI

✗ 2. OPHIFV

✗ 3. VHIPOF

✗ 4. VOHPFI

Question ID : 65497834453

Status : Answered

Chosen Option : 1

Q.22 एक कक्षा में, यदि 3 विद्यार्थी अनुपस्थित हों तो शेष विद्यार्थियों को समान रूप से 7 समूहों में विभाजित किया जा सकता है, और यदि 7 विद्यार्थी अनुपस्थित हों तो शेष विद्यार्थियों को समान रूप से 9 समूहों में विभाजित किया जा सकता है। कक्षा में कुल कितने विद्यार्थी हैं?

- Ans
- ✓ 1. 115
 - ✗ 2. 87
 - ✗ 3. 140
 - ✗ 4. 101

Question ID : 65497834458
Status : Answered
Chosen Option : 1

Q.23 चार अक्षर समूह दिए गए हैं, जिनमें से तीन किसी तरह से समान हैं और एक असंगत है। उस असंगत अक्षर समूह का चयन कीजिए।

- Ans
- ✗ 1. AEIMQ
 - ✗ 2. KOSWA
 - ✗ 3. EIMQU
 - ✓ 4. NRUZE

Question ID : 65497834435
Status : Answered
Chosen Option : 4

Q.24 यदि दर्पण को दी गई आकृति के दाईं ओर रखा जाए, तो आकृति का दर्पण में निर्मित सही प्रतिबिंब चयन करें।



Ans

- ✗ 1.
- ✗ 2.
- ✗ 3.
- ✓ 4.

Question ID : 65497834438
Status : Answered
Chosen Option : 4

Q.25 वह सही विकल्प चुनें, जो दिए गए शब्दों के उस सही क्रम को दर्शाता है, जिस क्रम में ये शब्द अंग्रेजी शब्दकोश में दिखाई देते हैं।

- i. Facet
- ii. Facility
- iii. Facile
- iv. Fact
- v. Faculty

- Ans
- 1. i, iii, ii, iv, v
 - 2. iii, ii, v, i, iv
 - 3. v, iv, iii, ii, i
 - 4. i, ii, iii, iv, v

Question ID : 65497834443
Status : Answered
Chosen Option : 1

Section : Part B General Knowledge and General Awareness

Q.1 उत्तराखंड का स्थापना दिवस कब मनाया जाता है?

- Ans
- 1. 30 सितंबर
 - 2. 20 अक्टूबर
 - 3. 9 नवंबर
 - 4. 15 अगस्त

Question ID : 65497834471
Status : Answered
Chosen Option : 3

Q.2 निम्नलिखित में से किस यौगिक को 'नॉर्वेजियन सॉल्टपीटर' भी कहा जाता है?

- Ans
- 1. पोटैशियम नाइट्रेट
 - 2. नाइट्रस ऑक्साइड
 - 3. कैल्शियम नाइट्रेट
 - 4. सोडियम नाइट्रेट

Question ID : 65497834469
Status : Answered
Chosen Option : 4

Q.3 निम्न में से कौन-सी हिमाचल प्रदेश की एक मार्शल नृत्य शैली है, जो तलवारों के साथ की जाती है?

- Ans
- 1. छनक छम
 - 2. पारस
 - 3. नामगेन
 - 4. खरैती

Question ID : 65497834472
Status : Not Answered
Chosen Option : --

Q.4 2018 पुरुष हॉकी विश्व कप की मेजबानी _____ ने की थी।

- Ans
- 1. मलेशिया
 - 2. ऑस्ट्रेलिया
 - 3. भारत
 - 4. स्पेन

Question ID : 65497834465
Status : Answered
Chosen Option : 3

Q.5 सामान्यतः, गर्म महासागरीय धाराएं, _____ के निकट उत्पन्न होती हैं और ध्रुवों की ओर गतिमान होती हैं।

- Ans
- 1. कर्क रेखा
 - 2. अंटार्कटिक वृत्त
 - 3. भूमध्य रेखा
 - 4. आर्कटिक वृत्त

Question ID : 65497834481
Status : Answered
Chosen Option : 3

Q.6 भारत के कितने राज्यों की सीमा, सिक्किम से जुड़ी हुई है?

- Ans
- 1. एक
 - 2. दो
 - 3. चार
 - 4. तीन

Question ID : 65497834461
Status : Answered
Chosen Option : 4

Q.7 धारा 19 के तहत गारंटीकृत सभी मौलिक अधिकार भारत के संविधान के किस अनुच्छेद के तहत स्वचालित रूप से निलंबित हो जाते हैं?

- Ans
- 1. अनुच्छेद 354
 - 2. अनुच्छेद 351
 - 3. अनुच्छेद 352
 - 4. अनुच्छेद 353

Question ID : 65497834479
Status : Answered
Chosen Option : 3

Q.8 'इंडिया एम्पायर एंड फर्स्ट वर्ल्ड वॉर कल्चर: राइटिंग, इमेजिस एंड सोन्स' के लिए किसे 'नॉन फिक्शन श्रेणी' में 'हिंदू पुरस्कार 2019' दिया गया?

- Ans
- 1. मीना कंदासामी
 - 2. दीपक उन्नीकृष्णन
 - 3. मनोरंजन ब्यापारी
 - 4. शांतनु दास

Question ID : 65497834475
Status : Not Answered
Chosen Option : --

Q.9 अमूल _____ से, दूध और दूध के उत्पादों में सहकारी समितियों की सफलता की कहानी है, जो देश में श्वेत क्रांति लाया।

- Ans
- 1. गुजरात
 - 2. कर्नाटक
 - 3. दिल्ली
 - 4. उत्तर प्रदेश

Question ID : 65497834483
Status : Answered
Chosen Option : 1

Q.10 ध्वनि, जोकि एक यांत्रिक तरंग है, निम्नलिखित में से किस माध्यम में यात्रा नहीं कर सकती है?

- Ans
- 1. इस्पात
 - 2. हवा
 - 3. जल
 - 4. निर्वात

Question ID : 65497834473
Status : Answered
Chosen Option : 4

Q.11 छत्तीसगढ़ का स्थापना दिवस कब मनाया जाता है?

- Ans
- 1. 15 जून
 - 2. 23 अक्टूबर
 - 3. 1 नवंबर
 - 4. 30 मई

Question ID : 65497834467
Status : Answered
Chosen Option : 4

Q.12 2018 में गोल्ड कोस्ट में आयोजित किए गए आखिरी राष्ट्रमंडल खेलों के लिए आधिकारिक शुभंकर (मैस्कोट) निम्न था:

- Ans
- 1. बोरोबी, एक नीला सर्पिंग कोआला
 - 2. गोल्डी, एक कीवी पक्षी
 - 3. क्लाइड, एक थिसल
 - 4. करक, एक लाल पूंछ वाला काला कॉकटू

Question ID : 65497834482
Status : Not Answered
Chosen Option : --

Q.13 व्यापार सुगमता सूचकांक (Ease of Doing Business Index) 2020 में भारत का कौन-सा स्थान था?

- Ans
- 1. 67
 - 2. 63
 - 3. 71
 - 4. 54

Question ID : 65497834464
Status : Answered
Chosen Option : 2

Q.14 नवंबर 2020 तक की स्थिति के अनुसार, भारतीय खेल प्राधिकरण (SAI) के महानिदेशक निम्नलिखित में से कौन थे?

- Ans
- 1. संदीप प्रधान
 - 2. रोहित भारद्वाज
 - 3. मातादीन असीवाल
 - 4. अंजन कुमार मिश्रा

Question ID : 65497834463
Status : Answered
Chosen Option : 1

Q.15 निम्नलिखित में से कौन सी श्रीलंका की पहली आधिकारिक भाषा है?

- Ans
- 1. सिंहली
 - 2. अंग्रेज़ी
 - 3. तमिल
 - 4. मलयालम

Question ID : 65497834477
Status : Answered
Chosen Option : 1

Q.16 नवंबर 2020 में, निम्नलिखित में से किसने वीडियो कॉन्फ्रेंस के माध्यम से विश्व स्वास्थ्य संगठन (WHO) कार्यकारी बोर्ड के 147वें सत्र की अध्यक्षता की थी?

- Ans
- 1. डॉ. हर्षवर्धन
 - 2. नरेंद्र मोदी
 - 3. अजय कुमार
 - 4. अमित शाह

Question ID : 65497834468
Status : Answered
Chosen Option : 1

Q.17 लैक्टोमीटर, हाइड्रोमीटर, जहाजों और पनडुब्बियों को _____ के आधार पर डिजाइन किया गया है।

- Ans
- 1. आर्किमिडीज के सिद्धांत
 - 2. गुरुत्वाकर्षण के सिद्धांत
 - 3. उत्प्लावन के सिद्धांत
 - 4. सापेक्षिक घनत्व के सिद्धांत

Question ID : 65497834474
Status : Answered
Chosen Option : 1

Q.18 निम्नलिखित में से किसे प्रकृति संरक्षण के लिए अंतर्राष्ट्रीय संघ (IUCN) द्वारा तेज़ी से लुप्तप्राय प्रजातियों में से एक घोषित किया गया है?

- Ans
- 1. जायंट अफ्रीकन स्नेल
 - 2. चैनल एप्पल स्नेल
 - 3. चाइनीज़ मिस्ट्री स्नेल
 - 4. गार्डेन स्नेल

Question ID : 65497834480
Status : Not Answered
Chosen Option : --

Q.19 दारा शिकोह अंततः उत्तराधिकार के युद्ध, सामूगढ़ की लड़ाई में _____ से हार गया।

- Ans
- 1. औरंगज़ेब
 - 2. मुहम्मद आज़म
 - 3. शेर शाह
 - 4. बैरम खाँ

Question ID : 65497834470
Status : Answered
Chosen Option : 1

Q.20 लाला लाजपत राय _____ के एक सक्रिय सदस्य थे।

- Ans
- 1. जैन धर्म
 - 2. बुद्ध धर्म
 - 3. आर्य समाज
 - 4. वैष्णव धर्म

Question ID : 65497834484
Status : Answered
Chosen Option : 3

Q.21 2019 में भारत में शिशु मृत्यु दर कितनी थी?

- Ans
- 1. 33.1
 - 2. 28.3
 - 3. 32.0
 - 4. 29.7

Question ID : 65497834476
Status : Not Answered
Chosen Option : --

Q.22 प्लासी नाम का एक छोटा सा गाँव जिसे 'प्लासी के युद्ध' के लिए जाना जाता है, जो ईस्ट इंडिया कंपनी और नवाब सिराज-उद-दौला के बीच लड़ा गया था, किस नदी के किनारे स्थित है?

- Ans
- 1. पद्मा
 - 2. हुगली
 - 3. भागीरथी
 - 4. बराकर

Question ID : 65497834478
Status : Answered
Chosen Option : 3

Q.23 हरियाणा में हर वर्ष 'सूरजकुंड शिल्प मेला' किस महीने में आयोजित किया जाता है?

- Ans
- 1. अप्रैल
 - 2. फरवरी
 - 3. अगस्त
 - 4. मार्च

Question ID : 65497834460
Status : Not Answered
Chosen Option : --

Q.24 निम्नलिखित में से किसने 1 सितंबर, 2020 को भारत के एक चुनाव आयुक्त के रूप में पदभार ग्रहण किया?

- Ans
- 1. आई.वी. सुब्बा राव
 - 2. सामंत गोयल
 - 3. राजीव कुमार
 - 4. के.एन. व्यास

Question ID : 65497834462
Status : Answered
Chosen Option : 3

Q.25 मधु के लिए मधु-मक्खियों और छत्तों का पालन और रखरखाव _____ कहलाता है।

- Ans
- 1. फ्लोरीकल्चर (floriculture)
 - 2. एपीकल्चर (apiculture)
 - 3. सेरीकल्चर (sericulture)
 - 4. पिस्सीकल्चर (pisciculture)

Question ID : 65497834466
Status : Answered
Chosen Option : 4

Section : Part C Elementary Mathematics

Q.1 एक वस्तु का अंकित मूल्य ₹850 है। यदि एक दुकानदार ने वस्तु पर 30% की छूट देने के बाद इसे 15% की हानि पर बेचा, तो वस्तु का क्रय मूल्य ज्ञात कीजिए।

- Ans
- 1. ₹700
 - 2. ₹650
 - 3. ₹680
 - 4. ₹600

Question ID : 65497834491
Status : Answered
Chosen Option : 1

Q.2 किसी वस्तु को एक तय मूल्य पर बेचा गया। इसे उस मूल्य के चार-पांचवें हिस्से पर बेचने पर 16% की हानि होती है। मूल (आरंभिक) मूल्य पर अर्जित प्रतिशत लाभ ज्ञात कीजिए।

- Ans
- 1. 7%
 - 2. 4%
 - 3. 8%
 - 4. 5%

Question ID : 65497834509
Status : Answered
Chosen Option : 1

Q.3 A, B और C अकेले-अकेले एक कार्य को क्रमशः 12, 10 और 15 दिनों में पूरा कर सकते हैं। तीनों एक साथ मिलकर काम शुरू करते हैं और 3 दिनों के बाद B और C काम छोड़ देते हैं। शेष कार्य अकेले A द्वारा कितने दिनों में पूरा किया जाएगा?

- Ans
- 1. 5 दिन
 - 2. 3 दिन
 - 3. 4 दिन
 - 4. 6 दिन

Question ID : 65497834505
Status : Answered
Chosen Option : 2

Q.4 एक सत्र की शुरुआत में, किसी स्कूल में कक्षा 6, 7 और 8 के छात्रों की संख्या क्रमशः 120, 150 और 130 थी। बाद में 10 छात्रों को कक्षा 6 और 7 में प्रवेश दिया गया और 10 छात्रों को कक्षा 8 से स्थानांतरित कर दिया गया। यह मानते हुए कि उसके बाद कक्षा में कोई प्रवेश या निष्कासन/स्थानांतरण नहीं हुआ, सत्र की शुरुआत में और अंत में छात्रों की संख्या का अनुपात ज्ञात करें।

- Ans
- 1. 13 : 42
 - 2. 20 : 21
 - 3. 40 : 41
 - 4. 3 : 5

Question ID : 65497834499
Status : Answered
Chosen Option : 3

Q.5 एक मशीन का प्रति वर्ष 10% मूल्यहास होता है। मशीन की वर्तमान कीमत ₹2,50,000 है। 2 वर्ष बाद मशीन का मूल्य कितना होगा?

- Ans
- 1. ₹2,02,500
 - 2. ₹2,05,000
 - 3. ₹1,98,000
 - 4. ₹2,10,000

Question ID : 65497834500
Status : Answered
Chosen Option : 1

Q.6 एक आयताकार खेत की लंबाई और चौड़ाई का अनुपात 4 : 3 है। यदि ₹2 प्रति m^2 पर खेत की जुताई की लागत ₹600 है, तो खेत की लंबाई ज्ञात करें।

- Ans
- 1. 20 m
 - 2. 18 m
 - 3. 15 m
 - 4. 14 m

Question ID : 65497834489
Status : Answered
Chosen Option : 1

Q.7 एक दुकानदार ने ₹24 में 10 पेंसिल के मूल्य पर 100 पेंसिलें बेचीं। 20% का लाभ अर्जित करने के लिए, एक पेंसिल का क्रय मूल्य ज्ञात करें।

- Ans
- 1. ₹1.80
 - 2. ₹2.20
 - 3. ₹2.00
 - 4. ₹2.10

Question ID : 65497834502
Status : Answered
Chosen Option : 3

Q.8 एक दुकान (स्टोर) 30% और 25% की दो क्रमिक छूट की घोषणा करता है। ₹1,200 क्रय मूल्य वाली शर्ट का अंतिम विक्रय मूल्य (₹ में) कितना है?

- Ans
- 1. 780
 - 2. 600
 - 3. 630
 - 4. 720

Question ID : 65497834485
Status : Answered
Chosen Option : 3

Q.9 एक निश्चित धनराशि चक्रवृद्धि ब्याज की एक निश्चित वार्षिक दर पर 2 वर्षों में दोगुनी हो जाती है। उसी चक्रवृद्धि ब्याज दर पर यह कितने वर्षों में 4 गुनी हो जाएगी?

- Ans
- 1. 6
 - 2. 5
 - 3. 4
 - 4. 3

Question ID : 65497834504
Status : Answered
Chosen Option : 3

Q.10 छः धनात्मक संख्याओं का औसत 12.5 है। यदि पहली संख्या, अंतिम पांच संख्याओं के योगफल का दो-तिहाई है, तो अंतिम पांच संख्याओं का औसत ज्ञात कीजिए।

- Ans
- 1. 15
 - 2. 12
 - 3. 9
 - 4. 8

Question ID : 65497834490
Status : Answered
Chosen Option : 3

Q.11 5 पुरुष 3 महिलाएं 4 दिन में ₹8,400 कमा सकते हैं। 9 पुरुष और 7 महिलाएं 7 दिन में ₹28,700 कमा सकते हैं। 8 पुरुष और 5 महिलाएं ₹30,600 कितने दिन में कमाएंगे?

- Ans
- 1. 8 दिन
 - 2. 12 दिन
 - 3. 13 दिन
 - 4. 9 दिन

Question ID : 65497834493
Status : Answered
Chosen Option : 4

Q.12 एक निश्चित धनराशि 8.5% की वार्षिक साधारण ब्याज दर पर $4\frac{1}{2}$ वर्षों में ₹8,571.50 हो जाती है। उसी धनराशि का $10\frac{1}{2}$ % के वार्षिक ब्याज दर पर $6\frac{2}{3}$ वर्षों में साधारण ब्याज ₹x होगा। x का मान कितना है?

- Ans
- 1. 4,340
 - 2. 3,980
 - 3. 4,130
 - 4. 4,520

Question ID : 65497834487
Status : Answered
Chosen Option : 3

Q.13 दो संख्याओं का अनुपात 3 : 5 है और उनका महत्तम समापवर्तक (HCF) 6 है। उनका लघुत्तम समापवर्तक (LCM) ज्ञात कीजिए।

- Ans
- 1. 80
 - 2. 60
 - 3. 30
 - 4. 90

Question ID : 65497834507
Status : Answered
Chosen Option : 4

Q.14 $[12 \div (2 \times 3)] \div [24 \div (8 - 5)]$ का मान कितना है?

- Ans
- ✓ 1. $\frac{1}{4}$
 - ✗ 2. $\frac{7}{8}$
 - ✗ 3. $\frac{3}{6}$
 - ✗ 4. $\frac{2}{3}$

Question ID : 65497834495
Status : Answered
Chosen Option : 1

Q.15 सेल्वारज ने एक फ्लैट खरीदने के लिए ₹38,00,000 की वन-टाइम पेमेंट की। फ्लैट की चाबी मिलने से पहले, उसे पूर्ण भुगतान करने के लिए 5% भुगतान करना था। भुगतान की जाने वाली अतिरिक्त राशि क्या थी?

- Ans
- ✗ 1. ₹2,50,000
 - ✗ 2. ₹3,00,000
 - ✓ 3. ₹2,00,000
 - ✗ 4. ₹2,40,000

Question ID : 65497834492
Status : Not Answered
Chosen Option : --

Q.16 एक व्यक्ति 12 h में एक यात्रा पूरी करता है। वह इस यात्रा का पहला आधा भाग 21 km/h की चाल से तय करता है और दूसरा आधा भाग 24 km/h की चाल से तय करता है। यात्रा की कुल दूरी (km में) ज्ञात कीजिए।

- Ans
- ✗ 1. 264
 - ✗ 2. 168.8
 - ✗ 3. 260
 - ✓ 4. 268.8

Question ID : 65497834496
Status : Answered
Chosen Option : 2

Q.17 यदि Y का X% 100 है और Z का Y% 400 है, तो X और Z के बीच का अनुपात ज्ञात कीजिए।

- Ans
- 1. 2 : 3
 - 2. 1 : 3
 - 3. 4 : 1
 - 4. 1 : 4

Question ID : 65497834508
Status : Answered
Chosen Option : 4

Q.18 एक निर्माता एक थोक व्यापारी को एक वस्तु बेचता है और 10% का लाभ कमाता है। थोक व्यापारी उसी वस्तु को खुदरा विक्रेता को 12% के लाभ पर बेचता है। खुदरा विक्रेता वह वस्तु, ग्राहक को 15% के लाभ पर बेचता है। यदि ग्राहक ने वस्तु के लिए ₹21,252 का भुगतान किया है, तो निर्माता के लिए वस्तु का क्रय मूल्य (₹ में) क्या था?

- Ans
- 1. 15,000
 - 2. 18,000
 - 3. 17,500
 - 4. 12,500

Question ID : 65497834486
Status : Answered
Chosen Option : 3

Q.19 दो धनात्मक संख्याओं का अनुपात 5 : 8 है। यदि उनके वर्गों का योग 356 है, तो इन दो संख्याओं का योग कितना होगा?

- Ans
- 1. 32
 - 2. 26
 - 3. 25
 - 4. 36

Question ID : 65497834488
Status : Answered
Chosen Option : 2

Q.20 24 km की दूरी तय करते समय, एक आदमी ने देखा कि 1 h 20 min चलने के बाद, उसके द्वारा तय की गई दूरी, शेष दूरी की $\frac{2}{11}$ थी। उसकी चाल क्या थी?

- Ans
- 1. 9 km/h
 - 2. 7 km/h
 - 3. 8 km/h
 - 4. 6 km/h

Question ID : 65497834494
Status : Answered
Chosen Option : 4

Q.21 व्यंजक $0.2 \times 2 + \frac{1}{2} \div 2 \times \frac{5}{2}$ of $2 - 1.5 + 3 \times \frac{1}{3} \div \frac{2}{3} - \frac{2}{5}$ को सरल करने पर _____ परिणाम प्राप्त होगा।

Ans

✓ 1. $\frac{1}{8}$

✗ 2. $\frac{1}{3}$

✗ 3. $\frac{2}{5}$

✗ 4. $\frac{1}{4}$

Question ID : 65497834501

Status : Not Answered

Chosen Option : --

Q.22 5 सदस्यों वाली कंपनी A की औसत आयु 44.8 वर्ष है और 4 सदस्यों वाली एक अन्य कंपनी B की औसत आयु 48 वर्ष है। कंपनी B की कुल आयु, कंपनी A की कुल आयु से कितने प्रतिशत कम है?

Ans

✗ 1. $\frac{25}{2}\%$

✗ 2. $\frac{31}{3}\%$

✓ 3. $\frac{100}{7}\%$

✗ 4. $\frac{25}{3}\%$

Question ID : 65497834498

Status : Answered

Chosen Option : 3

Q.23 एक स्कूल में, कुल विद्यार्थी (केवल लड़के और लड़कियां) 720 हैं। लड़के और लड़कियां 7 : 5 के अनुपात में हैं। एक अन्य स्कूल में, 560 विद्यार्थी (केवल लड़के और लड़कियां) हैं तथा लड़कों और लड़कियों का अनुपात 3 : 5 है। दोनों स्कूलों के विद्यार्थियों की कुल संख्या में लड़कों और लड़कियों का अनुपात ज्ञात करें।

Ans

✗ 1. 65 : 63

✗ 2. 60 : 63

✓ 3. 63 : 65

✗ 4. 65 : 60

Question ID : 65497834503

Status : Answered

Chosen Option : 3

Q.24 दो संख्याओं का गुणनफल 19440 है और उनका महत्तम समापवर्तक (HCF) 18 है। ऐसे संख्या युग्मों की संभावित संख्या जात करें।

- Ans
- 1. 2
 - 2. 4
 - 3. 3
 - 4. 1

Question ID : 65497834497
Status : Answered
Chosen Option : 2

Q.25 1 cm मोटाई, 9 cm चौड़ाई और 81 cm लंबाई वाली धातु की एक घनाभाकार प्लेट को पिघलाकर एक घन बनाया जाता है। घन का संपूर्ण पृष्ठीय क्षेत्रफल जात करें।

- Ans
- 1. 729 cm²
 - 2. 300 cm²
 - 3. 486 cm²
 - 4. 286 cm²

Question ID : 65497834506
Status : Answered
Chosen Option : 3

Section : Part D English

Q.1 Select the most appropriate option to fill in the blank.

The heavy rain affected _____ so much that we could not proceed further.

- Ans
- 1. distance
 - 2. visibility
 - 3. scene
 - 4. outlook

Question ID : 65497834529
Status : Not Answered
Chosen Option : --

Q.2 The following sentence has been divided into parts. One of them contains an error. Select the part that contains the error from the given options.

He had / prepare well / before the examination / so he did well.

- Ans
- 1. before the examination
 - 2. so he did well
 - 3. prepare well
 - 4. He had

Question ID : 65497834514
Status : Not Answered
Chosen Option : --

Q.3 Select the most appropriate synonym of the given word.

Weary

- Ans 1. Upset
 2. Tired
 3. Happy
 4. Fresh

Question ID : 65497834515
Status : Not Answered
Chosen Option : --

Q.4 Select the option that can be used as a one-word substitute for the given group of words.

Move faster

- Ans 1. Exhilarate
 2. Accelerate
 3. Abdicate
 4. Abnegate

Question ID : 65497834519
Status : Not Answered
Chosen Option : --

Q.5 Select the most appropriate meaning of the given idiom.

Flea market

- Ans 1. A place where antiques and second-hand goods are sold
 2. A place where vegetables and fruits are sold
 3. A place where stolen goods are sold
 4. A place where fish and marine animals are sold

Question ID : 65497834511
Status : Not Answered
Chosen Option : --

Q.6 Select the INCORRECTLY spelt word.

- Ans 1. Observatry
 2. Adolescence
 3. Metallurgy
 4. Prologue

Question ID : 65497834521
Status : Not Answered
Chosen Option : --

Q.7 Select the most appropriate option to fill in the blank.

Customers _____ money for the damaged products.

- Ans
- 1. ask
 - 2. grant
 - 3. allow
 - 4. claim

Question ID : 65497834522
Status : Not Answered
Chosen Option : --

Q.8 Select the most appropriate option that can substitute the underlined segment in the given sentence. If there is no need to substitute it, select 'No substitution required'.

She told him don't touch her bag.

- Ans
- 1. don't be touching
 - 2. not to touch
 - 3. to not touched
 - 4. No substitution required

Question ID : 65497834523
Status : Not Answered
Chosen Option : --

Q.9 Select the option that can be used as a one-word substitute for the given group of words.

A partner in crime

- Ans
- 1. Accomplice
 - 2. Follower
 - 3. Opponent
 - 4. Companion

Question ID : 65497834528
Status : Not Answered
Chosen Option : --

Q.10 Select the most appropriate ANTONYM of the given word.

Stable

- Ans
- 1. Fixed
 - 2. Steady
 - 3. Shaky
 - 4. Secure

Question ID : 65497834518
Status : Not Answered
Chosen Option : --

Q.11 Select the INCORRECTLY spelt word.

- Ans 1. Orchard
 2. Archary
 3. Monarch
 4. Anarchy

Question ID : 65497834520
Status : Not Answered
Chosen Option : --

Q.12 Select the most appropriate option that can substitute the underlined segment in the given sentence. If there is no need to substitute it, select 'No substitution required'.

I must replying this letter immediately.

- Ans 1. reply for this letter
 2. reply this letter
 3. reply to this letter
 4. No substitution required

Question ID : 65497834524
Status : Not Answered
Chosen Option : --

Q.13 Select the most appropriate option to fill in the blank.

She is so _____ of plants that she can spend her entire day in a garden.

- Ans 1. loving
 2. fond
 3. attached
 4. interested

Question ID : 65497834510
Status : Not Answered
Chosen Option : --

Q.14 Select the most appropriate option that can substitute the underlined segment in the given sentence. If there is no need to substitute it, select 'No substitution required'.

There have been heavy rains in the city even then hurricane made landfall.

- Ans 1. from the hurricane making landfall
 2. since the hurricane made landfall
 3. then the hurricane is made landfall
 4. No substitution required

Question ID : 65497834513
Status : Not Answered
Chosen Option : --

Q.15 Select the option that can be used as a one-word substitute for the given group of words.

Fluid secreted by flowers which is collected by bees for making honey

- Ans
- 1. Ambrosia
 - 2. Euphoria
 - 3. Juice
 - 4. Nectar

Question ID : 65497834512
Status : Not Answered
Chosen Option : --

Q.16 Select the option that is closest in meaning to the underlined idiom/phrase in the given sentence.

I will always be grateful to my friend because she has been with me through thick and thin.

- Ans
- 1. in your own place and other places
 - 2. in both, good times and bad times
 - 3. over a long period of time
 - 4. during different stages of life

Question ID : 65497834525
Status : Not Answered
Chosen Option : --

Q.17 Select the most appropriate synonym of the given word.

Rambling

- Ans
- 1. Long-Winded
 - 2. Elaborate
 - 3. Boring
 - 4. Articulate

Question ID : 65497834527
Status : Not Answered
Chosen Option : --

Q.18 Select the most appropriate ANTONYM of the given word.

Appoint

- Ans
- 1. Select
 - 2. Choose
 - 3. Assign
 - 4. Dismiss

Question ID : 65497834516
Status : Not Answered
Chosen Option : --

Q.19 The following sentence has been split into four segments. Identify the segment that contains a grammatical error.

John wanted to know / if will John / come to the college / in the evening.

- Ans**
- 1. come to the college
 - 2. in the evening
 - 3. John wanted to know
 - 4. if will John

Question ID : 65497834526
Status : Not Answered
Chosen Option : --

Q.20 The following sentence has been split into four segments. Identify the segment that contains a grammatical error.

Owing for / his illness, / he couldn't achieve / his goals.

- Ans**
- 1. he couldn't achieve
 - 2. his illness
 - 3. Owing for
 - 4. his goals

Question ID : 65497834517
Status : Not Answered
Chosen Option : --

Comprehension:

In the following passage, some words have been deleted. Read the passage carefully and select the most appropriate option to fill in each blank.

A job or academic interview is a (1)_____ meeting at which people are asked questions by one or a (2)_____ of interviewers to find out if they are suitable for a job. Sometimes, interviews for jobs are walk-in, which means that the candidate, (3)_____ instructions in an (4)_____, goes directly with all related (5)_____ such as CV, certificates and testimonials to a place where an interview is conducted.

SubQuestion No : 21

Q.21 Select the most appropriate option to fill in blank no. 1.

- Ans**
- 1. lethal
 - 2. decided
 - 3. formal
 - 4. public

Question ID : 65497834531
Status : Not Answered
Chosen Option : --

Comprehension:

In the following passage, some words have been deleted. Read the passage carefully and select the most appropriate option to fill in each blank.

A job or academic interview is a (1)_____ meeting at which people are asked questions by one or a (2)_____ of interviewers to find out if they are suitable for a job. Sometimes, interviews for jobs are walk-in, which means that the candidate, (3)_____ instructions in an (4)_____, goes directly with all related (5)_____ such as CV, certificates and testimonials to a place where an interview is conducted.

SubQuestion No : 22

Q.22 Select the most appropriate option to fill in blank no. 2.

- Ans** 1. company
 2. panel
 3. bunch
 4. band

Question ID : 65497834532

Status : Not Answered

Chosen Option : --

Comprehension:

In the following passage, some words have been deleted. Read the passage carefully and select the most appropriate option to fill in each blank.

A job or academic interview is a (1)_____ meeting at which people are asked questions by one or a (2)_____ of interviewers to find out if they are suitable for a job. Sometimes, interviews for jobs are walk-in, which means that the candidate, (3)_____ instructions in an (4)_____, goes directly with all related (5)_____ such as CV, certificates and testimonials to a place where an interview is conducted.

SubQuestion No : 23

Q.23 Select the most appropriate option to fill in blank no. 3.

- Ans** 1. devoting
 2. preparing
 3. following
 4. enacting

Question ID : 65497834533

Status : Not Answered

Chosen Option : --

Comprehension:

In the following passage, some words have been deleted. Read the passage carefully and select the most appropriate option to fill in each blank.

A job or academic interview is a (1)_____ meeting at which people are asked questions by one or a (2)_____ of interviewers to find out if they are suitable for a job. Sometimes, interviews for jobs are walk-in, which means that the candidate, (3)_____ instructions in an (4)_____, goes directly with all related (5)_____ such as CV, certificates and testimonials to a place where an interview is conducted.

SubQuestion No : 24

Q.24 Select the most appropriate option to fill in blank no. 4.

- Ans 1. instance
 2. advertisement
 3. observation
 4. establishment

Question ID : 65497834534

Status : Not Answered

Chosen Option : --

Comprehension:

In the following passage, some words have been deleted. Read the passage carefully and select the most appropriate option to fill in each blank.

A job or academic interview is a (1)_____ meeting at which people are asked questions by one or a (2)_____ of interviewers to find out if they are suitable for a job. Sometimes, interviews for jobs are walk-in, which means that the candidate, (3)_____ instructions in an (4)_____, goes directly with all related (5)_____ such as CV, certificates and testimonials to a place where an interview is conducted.

SubQuestion No : 25

Q.25 Select the most appropriate option to fill in blank no. 5.

- Ans 1. stuff
 2. material
 3. documents
 4. personnel

Question ID : 65497834535

Status : Not Answered

Chosen Option : --

Section : Part D Hindi

Q.1 दिए गए शब्द के समानार्थी शब्द का चयन करें।

द्वार

- Ans 1. कर्मठ
 2. कपाट
 3. कपट
 4. सपाट

Question ID : 65497834540

Status : Answered

Chosen Option : 2

Q.2 सही वर्तनी वाले शब्द का चयन करें।

- Ans
- 1. सांसरिक
 - 2. संसारिक
 - 3. संसारक
 - 4. सांसारिक

Question ID : 65497834545
Status : Answered
Chosen Option : 4

Q.3 दिए गए वाक्य का वह भाग ज्ञात करें जिसमें कोई त्रुटि है। यदि कोई त्रुटि नहीं है, तो 'कोई त्रुटि नहीं है' चुनें।

अध्यापक (1)/ हमसे एक लेख (2)/ लिखवाया। (3)/ कोई त्रुटि नहीं है (4)

- Ans
- 1. 1
 - 2. 4
 - 3. 3
 - 4. 2

Question ID : 65497834547
Status : Answered
Chosen Option : 3

Q.4 दिए गए वाक्यांश के लिए एक शब्द चुनिए।

जो किसी का पक्ष न ले

- Ans
- 1. निपक्ष
 - 2. तटीय
 - 3. विपक्ष
 - 4. तटस्थ

Question ID : 65497834551
Status : Answered
Chosen Option : 1

Q.5 दिए गए वाक्य का वो भाग ज्ञात करें जिसमें कोई त्रुटि है। यदि कोई त्रुटि नहीं है, तो 'कोई त्रुटि नहीं है' चुनें।

प्रतिभा की माँ (1)\ इस समय छोटे बच्चा को (2)\ कहानी सुना रही है (3)\ कोई त्रुटि नहीं है (4)

- Ans
- 1. 4
 - 2. 1
 - 3. 2
 - 4. 3

Question ID : 65497834539
Status : Answered
Chosen Option : 3

Q.6 दिये गये वाक्य के किस भाग में त्रुटि है?

उनकी आपस में घनिष्ठ मैत्रता थी।

- Ans
- 1. घनिष्ठ
 - 2. आपस में
 - 3. मैत्रता थी।
 - 4. उनकी

Question ID : 65497834554
Status : Answered
Chosen Option : 3

Q.7 दिए गए शब्द का विलोम चुनें।

आदर

- Ans
- 1. निरादर
 - 2. अपमान
 - 3. अनादर
 - 4. सादर

Question ID : 65497834543
Status : Answered
Chosen Option : 3

Q.8 निम्नलिखित प्रश्न में, दिए गए चार विकल्पों में से उस विकल्प का चयन करें, जो मुहावरे का अर्थ व्यक्त करता है।

तीन-तेरह करना

- Ans
- 1. मृत्यु को प्राप्त होना
 - 2. चुपचाप भाग जाना
 - 3. खुशामद करना
 - 4. इधर-उधर करना

Question ID : 65497834537
Status : Answered
Chosen Option : 4

Q.9 दिए गए शब्द का विलोम चुनें।

आचार

- Ans
- 1. अनाचार
 - 2. व्यवहार
 - 3. प्रचार
 - 4. विचार

Question ID : 65497834548
Status : Answered
Chosen Option : 4

Q.10 रिक्त स्थान को भरने के लिए सबसे उपयुक्त शब्द का चयन करें।

इस लड़की को वाद्य संगीत से _____ है।

- Ans
- 1. स्नेह
 - 2. आकर्षण
 - 3. अनुराग
 - 4. आसक्ति

Question ID : 65497834552
Status : Answered
Chosen Option : 1

Q.11 दिये गये वाक्यांश के लिए एक शब्द दीजिये।

जो कलहप्रिय हो

- Ans
- 1. कलेसी
 - 2. झगड़ातू
 - 3. क्लेश
 - 4. झगड़ोल

Question ID : 65497834541
Status : Answered
Chosen Option : 3

Q.12 दिए गए वाक्य में रेखांकित खंड को प्रतिस्थापित करने के लिए सबसे उपयुक्त विकल्प का चयन करें।
यदि इसे प्रतिस्थापित करने की आवश्यकता नहीं है, तो विकल्प 'किसी बदलाव की आवश्यकता नहीं है'
का चयन करें।

किसी भी देश की सम्पत्ति, ऐसे देश में आदर्श विद्यार्थी ही होते हैं।

- Ans
- 1. उस देश के आदर्श विद्यार्थी
 - 2. ऐसे देश के आदर्श विद्यार्थी
 - 3. किसी बदलाव की आवश्यकता नहीं है।
 - 4. उस देश में आदर्श विद्यार्थी

Question ID : 65497834542
Status : Answered
Chosen Option : 1

Q.13 निम्नलिखित प्रश्न में, दिए गए चार विकल्पों में से, उस विकल्प का चयन करें जो मुहावरे का अर्थ व्यक्त करता है।

ईद का चांद होना

- Ans
- 1. बहुत सुंदर होना
 - 2. बहुत समय बाद दिखायी देना
 - 3. आकर्षक होना
 - 4. दुर्लभ होना

Question ID : 65497834544
Status : Answered
Chosen Option : 2

Q.14 सही वर्तनी वाले शब्द का चयन करें।

- Ans
- 1. परिस्थित
 - 2. प्रस्थिति
 - 3. परिस्थिति
 - 4. पारिस्थिति

Question ID : 65497834546
Status : Answered
Chosen Option : 3

Q.15 दिए गए वाक्य में रेखांकित खंड को प्रतिस्थापित करने के लिए सबसे उपयुक्त विकल्प का चयन करें।
यदि इसे प्रतिस्थापित करने की आवश्यकता नहीं है, तो विकल्प 'किसी बदलाव की आवश्यकता नहीं है'
का चयन करें।

जंगल में मोर अथवा मोरनी दिखाई पड़ेगा।

- Ans
- 1. मोर अथवा मोरनी दिखाई पड़ेगी।
 - 2. मोर अथवा मोरनी दिखाई गए।
 - 3. किसी बदलाव की आवश्यकता नहीं है।
 - 4. मोर अथवा मोरनी दिखाई देगा।

Question ID : 65497834536
Status : Answered
Chosen Option : 4

Q.16 निम्नलिखित प्रश्न में, दिए गए चार विकल्पों में से उस विकल्प का चयन करें, जो मुहावरे का अर्थ व्यक्त करता है।

नाकों चने चबवाना-

- Ans
- 1. बदनाम करना
 - 2. दंग रह जाना
 - 3. तंग करना
 - 4. गुस्सा हो जाना

Question ID : 65497834549
Status : Answered
Chosen Option : 3

Q.17 रिक्त स्थान भरने के लिए सबसे उपयुक्त शब्द का चयन करें।

मक्खियाँ _____ हैं।

- Ans
- 1. भिनभिनाती
 - 2. खनखनाती
 - 3. सनसनाती
 - 4. चटचटाती

Question ID : 65497834538
Status : Answered
Chosen Option : 1

Q.18 रिक्त स्थान को भरने के लिए सबसे उपयुक्त शब्द का चयन करें।

साहित्य और जीवन का _____ संबंध है।

- Ans
- 1. अभिन्न
 - 2. घोर
 - 3. पृथक
 - 4. घनघोर

Question ID : 65497834550
Status : Answered
Chosen Option : 2

Q.19 दिये गये वाक्य में रेखांकित अंश को प्रतिस्थापित करने के लिए सबसे उपयुक्त विकल्प का चयन करें।

हमारे गले में पराधीनता की बेड़ियाँ पड़ी थीं।

- Ans
- 1. सीने में
 - 2. मस्तक में
 - 3. पैरों में
 - 4. भुजाओं में

Question ID : 65497834553
Status : Answered
Chosen Option : 3

Q.20 दिए गए शब्द के समानार्थी शब्द का चयन करें।

चंद्र

- Ans
- 1. सुधाकर
 - 2. पयोधर
 - 3. किंकर
 - 4. दिवाकर

Question ID : 65497834555
Status : Answered
Chosen Option : 1

Comprehension:

दिए गए अनुच्छेद में कुछ शब्द हटा दिए गए हैं। दिए गए विकल्पों की सहायता से रिक्त स्थान भरें। प्रत्येक संख्या के लिए सबसे उपयुक्त विकल्प का चयन करें।

किसी भी देश की (1)_____ चेतना बोली जाने वाली भाषा के (2)_____ में (3)_____ होती है।
(4)_____ और साहित्य एक-दूसरे से (5)_____ हैं।

SubQuestion No : 21

Q.21 गद्यांश के रिक्त स्थान (1) के लिए सर्वाधिक उपयुक्त शब्द होगा-

- Ans
- 1. राजनीतिक
 - 2. सांस्कृतिक
 - 3. भावी
 - 4. सामाजिक

Question ID : 65497834557
Status : Answered
Chosen Option : 1

Comprehension:

दिए गए अनुच्छेद में कुछ शब्द हटा दिए गए हैं। दिए गए विकल्पों की सहायता से रिक्त स्थान भरें। प्रत्येक संख्या के लिए सबसे उपयुक्त विकल्प का चयन करें।

किसी भी देश की (1)_____ चेतना बोली जाने वाली भाषा के (2)_____ में (3)_____ होती है।
(4)_____ और साहित्य एक-दूसरे से (5)_____ हैं।

SubQuestion No : 22

Q.22 गद्यांश के रिक्त स्थान (2) के लिए सर्वाधिक उपयुक्त शब्द होगा-

- Ans** 1. साहित्य
 2. पराक्रम
 3. पीछे
 4. आगे

Question ID : 65497834558
Status : Answered
Chosen Option : 4

Comprehension:

दिए गए अनुच्छेद में कुछ शब्द हटा दिए गए हैं। दिए गए विकल्पों की सहायता से रिक्त स्थान भरें। प्रत्येक संख्या के लिए सबसे उपयुक्त विकल्प का चयन करें।

किसी भी देश की (1)_____ चेतना बोली जाने वाली भाषा के (2)_____ में (3)_____ होती है।
(4)_____ और साहित्य एक-दूसरे से (5)_____ हैं।

SubQuestion No : 23

Q.23 गद्यांश के रिक्त स्थान (3) के लिए सर्वाधिक उपयुक्त शब्द होगा-

- Ans** 1. ओझल
 2. परिलक्षित
 3. दृष्टिहीन
 4. विध्वंसक

Question ID : 65497834559
Status : Answered
Chosen Option : 4

Comprehension:

दिए गए अनुच्छेद में कुछ शब्द हटा दिए गए हैं। दिए गए विकल्पों की सहायता से रिक्त स्थान भरें। प्रत्येक संख्या के लिए सबसे उपयुक्त विकल्प का चयन करें।

किसी भी देश की (1)_____ चेतना बोली जाने वाली भाषा के (2)_____ में (3)_____ होती है।
(4)_____ और साहित्य एक-दूसरे से (5)_____ हैं।

SubQuestion No : 24

Q.24 गद्यांश के रिक्त स्थान (4) के लिए सर्वाधिक उपयुक्त शब्द होगा-

- Ans** 1. परिवार
 2. संस्था
 3. समुदाय
 4. समाज

Question ID : 65497834560
Status : Answered
Chosen Option : 4

Comprehension:

दिए गए अनुच्छेद में कुछ शब्द हटा दिए गए हैं। दिए गए विकल्पों की सहायता से रिक्त स्थान भरें। प्रत्येक संख्या के लिए सबसे उपयुक्त विकल्प का चयन करें।

किसी भी देश की (1)_____ चेतना बोली जाने वाली भाषा के (2)_____ में (3)_____ होती है।
(4)_____ और साहित्य एक-दूसरे से (5)_____ हैं।

SubQuestion No : 25

Q.25 गद्यांश के रिक्त स्थान (5) के लिए सर्वाधिक उपयुक्त शब्द होगा-

- Ans**
- 1. भिन्न
 - 2. पृथक
 - 3. अलग
 - 4. अभिन्न

Question ID : 65497834561
Status : Answered
Chosen Option : 2

Constable GD in CAPFs NIA SSF and Rifleman GD in Assam
Rifles Examination 2021

Roll Number	www.HaryanaJobs.in
Candidate Name	www.HaryanaJobs.in
Venue Name	Gyansthal Mahavidyalaya
Exam Date	01/12/2021
Exam Time :	9:00 AM - 10:30 AM
Subject	Constable GD 2021

Section : Part A General Intelligence and Reasoning

Q.1 लैब A और लैब B, दो कंप्यूटर कक्ष हैं। यदि लैब A से 10 विद्यार्थी लैब B में भेजे जाते हैं, तो दोनों कक्षों में विद्यार्थियों की संख्या समान हो जाती है। यदि लैब B से 26 विद्यार्थी लैब A में भेजे जाते हैं, तो लैब A में विद्यार्थियों की संख्या, लैब B में विद्यार्थियों की संख्या की तीन गुनी हो जाती है। लैब B में विद्यार्थियों की संख्या क्या है?

Ans ✓ 1. 62

✗ 2. 82

✗ 3. 98

✗ 4. 78

Question ID : 65497832423

Status : Not Answered

Chosen Option : --

Q.2 दिए गए पैटर्न का ध्यानपूर्वक अध्ययन करें, और उस संख्या का चयन करें जो प्रश्नवाचक चिह्न (?) के स्थान पर आ सकती है।

5 6 7

8 7 9

189 265 ?

Ans ✗ 1. 395

✗ 2. 409

✗ 3. 341

✓ 4. 424

Question ID : 65497832422

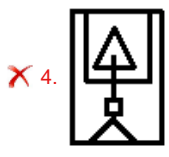
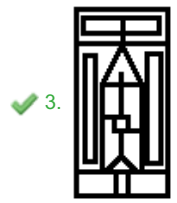
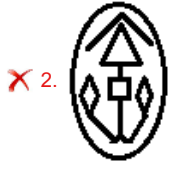

Status : Not Answered

Chosen Option : --

Q.3 उस विकल्प का चयन करें जिसमें दी गई आकृति सम्मिलित है (आकृति को घुमाने की अनुमति नहीं है)।



Ans

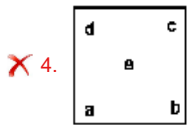
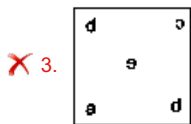
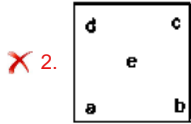
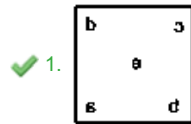


Question ID : 65497832407
Status : Answered
Chosen Option : 3

Q.4 यदि दर्पण को निम्न आकृति के अनुसार 'AB' पर रखा जाता है, तो दी गई आकृति का दर्पण में निर्मित सही प्रतिबिंब चयन करें।



Ans



Question ID : 65497832415
Status : Answered
Chosen Option : 1

Q.5 यदि 'A + B' का अर्थ है - 'A, B का पिता है', 'A @ B' का अर्थ है - 'A, B का भाई है', और 'A & B' का अर्थ है - 'A, B की पुत्री है', तो निम्नलिखित व्यंजक के अनुसार P का V से क्या संबंध है?

S + P + R @ Q & T & V

- Ans
- 1. पुत्रवधू
 - 2. पुत्र
 - 3. ससुर
 - 4. दामाद

Question ID : 65497832427
Status : Not Answered
Chosen Option : --

Q.6 उस विकल्प का चयन करें जो चौथी संख्या से उसी तरह से संबंधित है जैसे पहली संख्या दूसरी संख्या से संबंधित है और पांचवीं संख्या छठी संख्या से संबंधित है।

195 : 15 :: ? : 19 :: 273 : 21

- Ans
- 1. 247
 - 2. 252
 - 3. 280
 - 4. 311

Question ID : 65497832404
Status : Answered
Chosen Option : 1

Q.7 'स्वेटर' का जो संबंध 'ऊन' से है, 'सिक्के' का वही संबंध '_____' से है।

- Ans
- 1. धन
 - 2. राजा
 - 3. मुद्रा
 - 4. धातु

Question ID : 65497832417
Status : Answered
Chosen Option : 4

HaryanaJobs.in

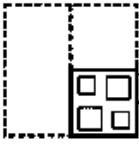
Q.8 एक कागज को विशेष तरीके से मोड़ा जाता है और उसमें कई सारे छेद बनाए जाते हैं। जब कागज को खोला जाता है तो वह प्रश्न आकृति की तरह दिखता है। दिए गए विकल्पों में से, उस आकृति का चयन करें जो यह दर्शाती है कि कागज को किस तरह मोड़ा गया और उसमें छेद बनाए गए।

प्रश्न आकृति

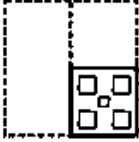


Ans

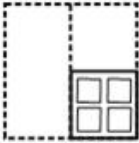
✗ 1.



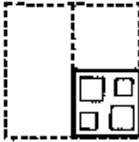
✗ 2.



✗ 3.



✓ 4.



Question ID : 65497832424

Status : Answered

Chosen Option : 4

Q.9 अक्षरों के उस संयोजन का चयन करें जिसे दी गई श्रृंखला में रिक्त स्थानों पर क्रमिक रूप से रखने पर श्रृंखला पूरी हो जाएगी।

R _ T _ T U _ _ R U _ S _ S T

Ans

✗ 1. URTSSR

✓ 2. SSTURR

✗ 3. SRTURU

✗ 4. STURSR

Question ID : 65497832409

Status : Not Answered

Chosen Option : --

Q.10 एक विशिष्ट कूट भाषा में, 'DEACTIVATION' को 'CAEDAVITNOIT' लिखा जाता है। इस भाषा में 'FACILITATION' को क्या लिखा जाएगा?

Ans

✗ 1. ICFAATILNOIT

✗ 2. ICFTILAAOIT

✗ 3. ICFTAAILNOIT

✓ 4. ICAFATILNOIT

Question ID : 65497832420

Status : Answered

Chosen Option : 4

Q.11 उस सही विकल्प चयन करें, जो दिए गए शब्दों को उस क्रम में दर्शाता है जिस क्रम में वे अंग्रेजी शब्दकोश में दिखाई पड़ते हैं।

1. Tamale
2. Tamagotchi
3. Tamarind
4. Tamarack
5. Tamable

Ans 1. 1, 5, 2, 4, 3
 2. 2, 1, 3, 4, 5
 3. 1, 3, 4, 5, 2
 4. 5, 2, 1, 4, 3

Question ID : 65497832408
Status : Answered
Chosen Option : 4

Q.12 दिए गए विकल्पों में से उस संख्या का चयन कीजिए जो दी गई श्रृंखला में प्रश्न चिह्न (?) के स्थान पर प्रतिस्थापित हो सकती है।

7, 7, 10.5, 21, 52.5, ?

Ans 1. 163.5
 2. 145
 3. 157.5
 4. 105

Question ID : 65497832414
Status : Answered
Chosen Option : 4

Q.13 दिए गए विकल्पों में से वह संख्या चुनें जो निम्नलिखित श्रृंखला में प्रश्नवाचक चिह्न (?) के स्थान पर आ सकती है।

3, 15, 60, 180, ?

Ans 1. 260
 2. 199
 3. 360
 4. 240

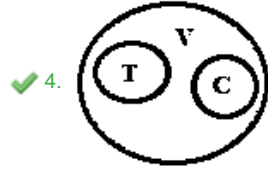
Question ID : 65497832410
Status : Answered
Chosen Option : 3

Q.14 उस वेन आरेख का चयन कीजिए जो निम्न वर्गों के मध्य के संबंध का सर्वश्रेष्ठ निरूपण करता है।

वाहन, ट्रक, कार

(V: वाहन; C: कार; T: ट्रक)

Ans



Question ID : 65497832419

Status : Answered

Chosen Option : 4

Q.15 उस विकल्प का चयन कीजिए, जिसका तीसरे पद से वही संबंध है, जो दूसरे पद का पहले पद से है।

SANITY : OBTZUJ :: FOSTER : ?

Ans ✗ 1. TGPHFU

✓ 2. TPGSFU

✗ 3. TPESFV

✗ 4. TQGSGU

Question ID : 65497832425

Status : Answered

Chosen Option : 2

Q.16 चार अक्षर-समूह दिए गए हैं, जिनमें से तीन किसी प्रकार से समान हैं और एक उनसे भिन्न है। उस भिन्न अक्षर-समूह का चयन करें।

Ans ✗ 1. PVY

✗ 2. FLO

✓ 3. GMQ

✗ 4. LRU

Question ID : 65497832412

Status : Answered

Chosen Option : 3

Q.17 दिए गए कथनों और निष्कर्षों को ध्यानपूर्वक पढ़ें। आपको कथनों में दी गई जानकारी को सही मान कर चलना है, भले ही वो सामान्य ज्ञात तथ्यों से भिन्न प्रतीत होती हो, और फिर निर्णय कीजिए कि दिए गए निष्कर्षों में से कौन सा/से निष्कर्ष कथनों का तार्किक रूप से अनुसरण करता है (करते हैं)।

कथन :

- I. कुछ टैबलेट स्मार्टफोन हैं।
- II. सभी स्मार्टफोन मोबाइल फोन हैं।

निष्कर्ष :

- I. कुछ मोबाइल फोन टैबलेट हैं।
- II. कुछ मोबाइल फोन स्मार्टफोन हैं।

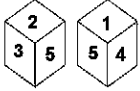
- Ans 1. न तो निष्कर्ष I और न ही निष्कर्ष II अनुसरण करता है।
2. निष्कर्ष I और II दोनों अनुसरण करते हैं।
3. केवल निष्कर्ष II अनुसरण करता है।
4. केवल निष्कर्ष I अनुसरण करता है।

Question ID : 65497832421

Status : Answered

Chosen Option : 2

Q.18 एक ही पासे की दो अलग-अलग स्थितियां दर्शाई गई हैं, जिनके छह पृष्ठों पर 1 से लेकर 6 तक की संख्या अंकित की गई हैं। उस संख्या का चयन करें जो '6' वाले पृष्ठ के विपरीत पृष्ठ पर होगी।



- Ans 1. 3
2. 4
3. 2
4. 5

Question ID : 65497832406

Status : Answered

Chosen Option : 4

Q.19 छः कवि A, B, C, D, E और F एक घरे में एक-दूसरे के सामने, केंद्र की ओर मुँह करके बैठे हैं। A, E के सामने बैठा है। F, E के पास में बैठा है। A, C के पास में बैठा है। B, D के ठीक दायें बैठा है। C, B के सामने बैठा है। B के बाएं पांचवे स्थान पर कौन बैठा है?

- Ans 1. F
2. A
3. D
4. E

Question ID : 65497832418

Status : Answered

Chosen Option : 4

Q.20 अर्पिता, चेतन, इन्सिया, लोहिता, मानुवी और युक्ति किसी गोल मेज के परितः इसके केंद्र की ओर अभिमुख होकर बैठे हैं। चेतन ठीक मानुवी के दाएं पड़ोस में बैठा है। अर्पिता ठीक इन्सिया और युक्ति के बीच में बैठी है। युक्ति ठीक मानुवी के दाएं दूसरे स्थान पर बैठी है। लोहिता और अर्पिता के बीच में कौन बैठा/बैठी है?

- Ans
- 1. मानुवी
 - 2. इन्सिया
 - 3. चेतन
 - 4. युक्ति

Question ID : 65497832403
Status : Answered
Chosen Option : 2

Q.21 दिए गए विकल्पों में से उस आकृति का चयन करें जो निम्नलिखित आकृति श्रृंखला में प्रश्नवाचक चिह्न (?) के स्थान पर आ सकती है।



Ans

- 1.
- 2.
- 3.
- 4.

Question ID : 65497832411
Status : Answered
Chosen Option : 3

Q.22 किसी कूट भाषा में, 'GINGER' को '30-30' और 'RADISH' को '23-36' के रूप में लिखा जाता है। उसी भाषा में 'TOMATO' को किस प्रकार से लिखा जाएगा?

- Ans
- 1. 49-39
 - 2. 39-41
 - 3. 35-45
 - 4. 48-36

Question ID : 65497832413
Status : Answered
Chosen Option : 4

Q.23 यदि 'A' का अर्थ '+' है, 'B' का अर्थ '-' है, 'C' का अर्थ 'x' है और 'D' का अर्थ '÷' है तो दिए गए व्यंजक का मान क्या होगा?

$$12 A 9 C (17 B 6) B 24 A (28 D 7) = ?$$

- Ans 1. 91
 2. 83
 3. 104
 4. 51

Question ID : 65497832405
Status : Answered
Chosen Option : 2

Q.24 एक निश्चित कूट भाषा में ZOMBIE को BEIMOZ लिखा जाता है, और FLEX को EFLX लिखा जाता है। उसी कूट भाषा में PRODUCT को किस प्रकार लिखा जाएगा?

- Ans 1. CDOPRTU
 2. CDPORTU
 3. CDORPTU
 4. CDPORUT

Question ID : 65497832426
Status : Answered
Chosen Option : 2

Q.25 दिए गए विकल्पों में से उस अक्षर-समूह का चयन कीजिए जो निम्न श्रृंखला में प्रश्नवाचक चिह्न (?) के स्थान पर आ सकता है।

MRV, QVZ, UZD, YDH, ?

- Ans 1. DHE
 2. CHL
 3. CFN
 4. CGM

Question ID : 65497832416
Status : Answered
Chosen Option : 2

Section : Part B General Knowledge and General Awareness

Q.1 भारत में अनियमित जमा योजना प्रतिबंध अधिनियम वर्ष _____ में लागू किया गया था।

- Ans 1. 2018
 2. 2020
 3. 2019
 4. 2021

Question ID : 65497832451
Status : Answered
Chosen Option : 2

Q.2 निम्नलिखित में से किस मंत्रालय ने सितंबर 2021 में 'शिक्षक पर्व' का आयोजन किया?

- Ans 1. शिक्षा मंत्रालय
 2. युवा कार्यक्रम और खेल मंत्रालय
 3. संस्कृति मंत्रालय
 4. श्रम एवं रोजगार मंत्रालय

Question ID : 65497832452
Status : Answered
Chosen Option : 3

Q.3 दिल्ली सल्तनत में सैन्य कमांडरों को सौंपी गई प्रादेशिक इकाइयों को _____ के रूप में जाना जाता था।

- Ans 1. इक्ता (Iqta)
 2. उशर (Ushr)
 3. खराज (Kharaj)
 4. हुंडी (Hundi)

Question ID : 65497832449
Status : Answered
Chosen Option : 1

Q.4 2020 में निम्नलिखित में से किसने 'लिज़ ओपन टेनिस' का एकल खिताब जीता?

- Ans 1. आर्यना सबालेनका
 2. सोफिया केनिन
 3. एलीस मार्टेस
 4. सेरेना विलियम्स

Question ID : 65497832440
Status : Not Answered
Chosen Option : --

Q.5 निम्नलिखित में से कृष्णा नदी की एक सहायक नदी कौन सी है?

- Ans 1. प्रणीता
 2. घाटप्रभा
 3. पूर्णा
 4. मंजरा

Question ID : 65497832446
Status : Not Answered
Chosen Option : --

Q.6 2020 में _____ पुरस्कार के लिए पुरस्कार राशि ₹7.5 लाख की राशि से बढ़ाकर ₹25 लाख कर दी गई।

- Ans 1. द्रोणाचार्य (लाइफटाइम)
 2. द्रोणाचार्य (नियमित)
 3. राजीव गांधी खेल रत्न
 4. अर्जुन

Question ID : 65497832448
Status : Not Answered
Chosen Option : --

Q.7 सेबी (SEBI) का मुख्यालय निम्नलिखित में से किस शहर में स्थित है?

- Ans
- 1. नई दिल्ली
 - 2. मुंबई
 - 3. चंडीगढ़
 - 4. गांधीनगर

Question ID : 65497832436
Status : Answered
Chosen Option : 2

Q.8 निम्नलिखित में से कौन सा युग्म गलत है?

- Ans
- 1. अहोम राजवंश - असम
 - 2. गजपति राजवंश - ओडिशा
 - 3. शर्की राजवंश - पंजाब
 - 4. मेवाड़ राजवंश - राजस्थान

Question ID : 65497832450
Status : Answered
Chosen Option : 3

Q.9 शिशुओं में जन्म के समय निम्नलिखित में से कौन सी हड्डी नहीं होती?

- Ans
- 1. जानुका (Kneecap)
 - 2. गाल (Cheek)
 - 3. श्रोणि (Pelvic)
 - 4. कॉलर (Collar)

Question ID : 65497832430
Status : Answered
Chosen Option : 3

Q.10 नेपाल के कवि, भानुभक्त आचार्य, _____ का संस्कृत से नेपाली भाषा में अनुवाद करने के लिए प्रसिद्ध हैं।

- Ans
- 1. योग सूत्र
 - 2. महाभारत
 - 3. मनुस्मृति
 - 4. रामायण

Question ID : 65497832439
Status : Answered
Chosen Option : 4

Q.11 'इंडिया स्टेट ऑफ़ फॉरेस्ट रिपोर्ट 2019' के अनुसार, भारत के निम्नलिखित में से किस राज्य में सर्वाधिक वन आच्छादित क्षेत्र है?

- Ans
- 1. नागालैंड
 - 2. आंध्र प्रदेश
 - 3. असम
 - 4. मध्य प्रदेश

Question ID : 65497832441
Status : Answered
Chosen Option : 4

Q.12 निम्नलिखित में से कौन-सा फूल, रात में खिलता है?

- Ans 1. एंजेल्स ट्रम्पेट
 2. गज़ानिया डेज़ी
 3. वेनिस मैलो
 4. जमैकन फीवरप्लान्ट

Question ID : 65497832429
Status : Not Answered
Chosen Option : --

Q.13 निम्नलिखित में से कौन 'सेविंग कैपिटलिज्म फ्रॉम द कैपिटलिस्ट' पुस्तक के लेखक हैं?

- Ans 1. रघुराम राजन
 2. शक्तिकांत दास
 3. बिमल जालान
 4. उर्जित पटेल

Question ID : 65497832431
Status : Not Answered
Chosen Option : --

Q.14 नवंबर 2020 में, भारत _____ ऐसा देश बन गया जिसके पास अपनी स्वतंत्र क्षेत्रीय नौवहन उपग्रह प्रणाली है। इसे अंतरराष्ट्रीय सामुद्रिक संगठन (IMO) द्वारा 'विश्वव्यापी रेडियो नेविगेशन प्रणाली' (WWRNS) के एक भाग के रूप में मान्यता प्राप्त है।

- Ans 1. चौथा
 2. छठा
 3. तीसरा
 4. पाँचवाँ

Question ID : 65497832435
Status : Answered
Chosen Option : 1

Q.15 हड़प्पा स्थलों पर निम्नलिखित में से मिली वस्तुओं में से कौन सी वस्तुओं को, इंजीनियर आज के पाकिस्तान के पंजाब में पहली रेलवे लाइनों का निर्माण करने के लिए ले गए थे?

- Ans 1. ईंटें
 2. दरवाज़े
 3. कांसे के धरण
 4. लोहे की पटरियाँ

Question ID : 65497832447
Status : Answered
Chosen Option : 4

Q.16 एलिफेंटा गुफाओं में _____ संप्रदाय से जुड़े शैल चित्रों (रॉक आर्ट) का संग्रह है।

- Ans 1. विष्णु
 2. बुद्ध
 3. शिव
 4. तीर्थंकर महावीर

Question ID : 65497832434
Status : Answered
Chosen Option : 2

Q.17 लोकप्रिय नृत्य 'लाहो' किस भारतीय राज्य से संबंधित है?

- Ans
- 1. बिहार
 - 2. हरियाणा
 - 3. मेघालय
 - 4. उत्तर प्रदेश

Question ID : 65497832437
Status : Not Answered
Chosen Option : --

Q.18 'ऑपरेशन थंडर 2020' निम्न से संबंधित है:

- Ans
- 1. COVID-19 (कोरोना) के लिए वैक्सीन
 - 2. आतंकवाद के खिलाफ सैन्य कार्रवाई
 - 3. चक्रवाती तूफान से राहत और बचाव अभियान
 - 4. पर्यावरणीय अपराधों के खिलाफ कार्रवाई

Question ID : 65497832443
Status : Answered
Chosen Option : 3

Q.19 उन जीवों को क्या कहा जाता है जो शिशु संततियों को जन्म देते हैं?

- Ans
- 1. जरायुज (विविपरस)
 - 2. विखण्डनशील (फिसिपरस)
 - 3. अंडज (ओविपरस)
 - 4. अंडजरायुज (ओवोविविपरस)

Question ID : 65497832433
Status : Not Answered
Chosen Option : --

Q.20 वर्ल्ड गेम्स एथलीट ऑफ द ईयर अवार्ड 2019 का/की विजेता कौन है?

- Ans
- 1. जसप्रीत कौर
 - 2. सविता पूनिया
 - 3. रानी रामपाल
 - 4. रितु रानी

Question ID : 65497832432
Status : Not Answered
Chosen Option : --

Q.21 निम्नलिखित में से कौन सा ग्रामीण परिवारों को प्रत्यक्ष ऋण सहायता प्रदान नहीं करता है?

- Ans
- 1. वित्त मंत्रालय
 - 2. क्षेत्रीय ग्रामीण बैंक
 - 3. सहकारी ऋण समितियाँ
 - 4. कृषि व्यापारी

Question ID : 65497832444
Status : Answered
Chosen Option : 1

Q.22 _____ आंशिक परिसीमित तटीय जल निकाय होता है जहाँ नदियों और जलधाराओं के मीठे पानी में महासागरों के खारे पानी का मिश्रण होता है।

- Ans
- 1. लैगून
 - 2. डेल्टा
 - 3. मरूद्यान
 - 4. मुहाना (एशुअरी)

Question ID : 65497832438
Status : Answered
Chosen Option : 2

Q.23 निम्नलिखित में से किस भारतीय सितारवादक और प्रमुख संगीतज्ञ ने 20 वीं शताब्दी की शुरुआत में, एक संकेतन प्रणाली विकसित की और भारतीय उपमहाद्वीप की संगीत प्रथाओं को वर्गीकृत किया जो कि पहले मौखिक परंपरा से आगे बढ़ती रही थीं?

- Ans
- 1. विष्णु नारायण भातखंडे
 - 2. मानिकचंद दुबे
 - 3. सिद्धार खान
 - 4. हाजी विलायत अली खान

Question ID : 65497832428
Status : Not Answered
Chosen Option : --

Q.24 जैसा कि केंद्रीय बजट 2020 में घोषित किया गया है, इलेक्ट्रिक वाहनों की खरीद हेतु लिए गए ऋण पर दिए गए ब्याज पर कटौती के रूप में ₹ _____ तक की राशि का दावा किया जा सकता है।

- Ans
- 1. 2 लाख
 - 2. 2.5 लाख
 - 3. 5 लाख
 - 4. 1.5 लाख

Question ID : 65497832445
Status : Not Answered
Chosen Option : --

Q.25 भारत के संविधान के निम्नलिखित प्रावधानों में से कौन सा प्रावधान संसद के साधारण बहुमत द्वारा संशोधित किया जा सकता है?

- Ans
- 1. संसद में गणपूर्ति (कोरम)
 - 2. मौलिक अधिकार
 - 3. राष्ट्रपति का निर्वाचन और उसकी प्रक्रिया
 - 4. सातवीं अनुसूची की कोई भी सूची

Question ID : 65497832442
Status : Answered
Chosen Option : 1

Section : Part C Elementary Mathematics

Q.1 आरंभ में, रेखा इस दर से कार्य करती है, कि वह एक कार्य को 24 h में पूरा कर सकती है, लेकिन वह उस दर से केवल 8 h तक ही कार्य करती है। उसके बाद, वह इस दर से कार्य करती है कि वह शेष कार्य को 9 h में पूरा कर सकती है। यदि रेखा को एक कार्यवधि में ही वह कार्य पूरा करना है, तो उस कार्य को पूरा करने में उसे कुल कितने h का समय लगेगा?

- Ans
- ✓ 1. 14
 - ✗ 2. 10
 - ✗ 3. 12
 - ✗ 4. 16

Question ID : 65497832465
Status : Not Answered
Chosen Option : --

Q.2 एक वस्तु को ₹210.80 में बेचने पर एक व्यक्ति को 15% की हानि होती है। 9.5% का लाभ प्राप्त करने के लिए, उसे इस वस्तु को किस मूल्य पर बेचना चाहिए?

- Ans
- ✗ 1. ₹291.50
 - ✓ 2. ₹271.56
 - ✗ 3. ₹280.45
 - ✗ 4. ₹265.40

Question ID : 65497832476
Status : Answered
Chosen Option : 1

Q.3 एक व्यक्ति ने स्कूटर से 245 km की दूरी 7 घंटे में तय की। यदि वह इलेक्ट्रिक साइकिल को स्कूटर की चाल की $\frac{3}{7}$ चाल से चलाए, तो 4 घंटे में कितनी दूरी (km में) तय करेगा?

- Ans
- ✗ 1. 45
 - ✗ 2. 35
 - ✓ 3. 60
 - ✗ 4. 50

Question ID : 65497832460
Status : Answered
Chosen Option : 3

Q.4 कोई ट्रेन किसी कार की तुलना में 50% तेज चल सकती है। दोनों एक ही समय पर स्थान A से रवाना होती हैं और 81 kms दूर स्थान B तक एक ही समय पर पहुंच जाती हैं। हालांकि, ट्रेन के स्टेशनों पर ठहरने का समय लगभग 12 मिनट रहा। कार की चाल (निकटतम पूर्णांक में) कितनी है?

- Ans
- ✗ 1. 85 km/h
 - ✗ 2. 95 km/h
 - ✓ 3. 135 km/h
 - ✗ 4. 105 km/h

Question ID : 65497832466
Status : Not Answered
Chosen Option : --

Q.5 पिछले वर्ष X और Y की आय का अनुपात 4 : 5 था। पिछले वर्ष से इस वर्ष उनकी अपनी आय के अनुपात क्रमशः 3 : 4 और 2 : 3 थे। यदि उनकी वर्तमान आय का योग ₹15,400 है, तो X की वर्तमान आय कितनी है?

- Ans
- 1. ₹9,000
 - 2. ₹7,900
 - 3. ₹7,500
 - 4. ₹6,400

Question ID : 65497832469
Status : Not Answered
Chosen Option : --

Q.6 हरि ने दो वस्तुएं A और B कुल मिलाकर ₹1,250 में खरीदीं। उसने A को 20% की हानि पर और B को 15% के लाभ पर बेचा। यदि B का विक्रय मूल्य, A के विक्रय मूल्य के दोगुने से ₹75 कम था, तो A का क्रय मूल्य (₹ में) कितना था?

- Ans
- 1. 550
 - 2. 600
 - 3. 650
 - 4. 525

Question ID : 65497832474
Status : Not Answered
Chosen Option : --

Q.7 दो पाइप A और B एक भरे हुए टैंक को क्रमशः 10 मिनट और 15 मिनट में खाली कर सकते हैं, जबकि पाइप C अकेले उसी (खाली) टैंक को 12 मिनट में भर सकता है। जब टैंक पूरा भरा होता है, तो A और B को 4 मिनट के लिए खोला जाता है और फिर उसके बाद केवल पाइप A को बंद कर दिया जाता है और C को तुरंत (B के साथ) खोल दिया जाता है। अब टैंक को पूरी तरह भरने में कितना समय (मिनट में) लगेगा?

- Ans
- 1. 20
 - 2. 30
 - 3. 25
 - 4. 40

Question ID : 65497832477
Status : Not Answered
Chosen Option : --

Q.8 7 m गहराई और 20 m त्रिज्या वाले खाली बेलनाकार टैंक में अधिकतम कितना पानी भरा जा सकता है?
($\pi = \frac{22}{7}$ लीजिए)

- Ans
- 1. 8800 m³
 - 2. 4000 m³
 - 3. 8000 m³
 - 4. 4800 m³

Question ID : 65497832468
Status : Answered
Chosen Option : 1

Q.9 10% वार्षिक ब्याज दर पर 3.5 वर्षों के लिए निवेशित किसी धनराशि का साधारण ब्याज, 9% वार्षिक ब्याज दर पर 4.5 वर्षों के लिए निवेशित उतनी ही धनराशि के साधारण ब्याज से ₹55 कम होता है। धनराशि की गणना करें।

- Ans
- ✗ 1. ₹407.40
 - ✗ 2. ₹975
 - ✓ 3. ₹1,000
 - ✗ 4. ₹500

Question ID : 65497832458
Status : Answered
Chosen Option : 3

Q.10 $\frac{4}{5} \div 3\frac{1}{4}$ of $\frac{8}{13} - \frac{1-\frac{1}{7}}{\frac{1}{7}+\frac{1}{8}} \times 4\frac{2}{7} + \frac{3}{5}$ का मान इनमें से किसके बराबर है?

- Ans
- ✓ 1. $\frac{5}{7}$
 - ✗ 2. $\frac{2}{7}$
 - ✗ 3. $\frac{3}{7}$
 - ✗ 4. $\frac{6}{7}$

Question ID : 65497832459
Status : Not Answered
Chosen Option : --

Q.11 नौ संख्याओं का औसत 20.6 है। उनमें से तीन संख्याओं का औसत 26.1 है, जबकि अन्य तीन संख्याओं का औसत 15.2 है। शेष तीन संख्याओं का औसत कितना होगा?

- Ans
- ✗ 1. 21
 - ✗ 2. 21.5
 - ✓ 3. 20.5
 - ✗ 4. 35.75

Question ID : 65497832454
Status : Answered
Chosen Option : 3

Q.12 273, 312 और 351 का महत्तम समापवर्तक (HCF) x है, तो x का मान _____ के बीच होगा।

- Ans
- ✗ 1. 25 और 30
 - ✓ 2. 35 और 40
 - ✗ 3. 40 और 45
 - ✗ 4. 30 और 35

Question ID : 65497832472
Status : Answered
Chosen Option : 2

Q.13 दिए गए भिन्न प्रतिशत को निम्नतम पद के अनुपात के रूप में व्यक्त करें।

$$\frac{75}{17} \%$$

- Ans
- 1. 3 : 57
 - 2. 68 : 3
 - 3. 3 : 68
 - 4. 3 : 67

Question ID : 65497832464
Status : Answered
Chosen Option : 3

Q.14 सर्दियों के मौसम में एक दुकानदार ने स्वेटर का मूल्य ₹1422 से घटाकर ₹1264 कर दिया। उसके द्वारा दी गई छूट का प्रतिशत (दशमलव के दो स्थान तक सही) ज्ञात करें।

- Ans
- 1. 10%
 - 2. 12.11%
 - 3. 11.11%
 - 4. 9.11%

Question ID : 65497832463
Status : Answered
Chosen Option : 3

Q.15 $60 \div 16 \times 2 - [76 \div 5 \text{ of } 19 - 15 \div 8 \times (21 - 25) - 3] \div 53$ का मान ज्ञात कीजिए।

- Ans
- 1. $4\frac{2}{5}$
 - 2. $3\frac{7}{10}$
 - 3. $7\frac{2}{5}$
 - 4. $6\frac{4}{15}$

Question ID : 65497832475
Status : Not Answered
Chosen Option : --

Q.16 प्रत्येक 2 cm व्यास वाली सीसे की गेंदों की संख्या ज्ञात करें, जिन्हें 18 cm व्यास वाले एक गोले से बनाया जा सकता है।

- Ans
- 1. 729
 - 2. 827
 - 3. 843
 - 4. 972

Question ID : 65497832471
Status : Not Answered
Chosen Option : --

Q.17 किसी कक्षा में 100 छात्रों के औसत अंक 80 थे। वरीयता सूची में शीर्ष 15 छात्रों और नीचे के 15 छात्रों के औसत अंक क्रमशः 84 और 74 थे। शेष छात्रों के औसत अंक (दशमलव के दो स्थानों तक सही) जात करें।

- Ans
- 1. 70.42
 - 2. 80.43
 - 3. 82.42
 - 4. 79.43

Question ID : 65497832462
Status : Answered
Chosen Option : 2

Q.18 तीन संख्याएँ इस प्रकार हैं कि पहली संख्या तीसरी संख्या से 30% अधिक है, और दूसरी संख्या तीसरी संख्या से 40% कम है। पहली संख्या का पहली और दूसरी संख्या के योग से अनुपात क्या है?

- Ans
- 1. $\frac{13}{19}$
 - 2. $\frac{9}{13}$
 - 3. $\frac{6}{13}$
 - 4. $\frac{6}{19}$

Question ID : 65497832455
Status : Answered
Chosen Option : 4

Q.19 एक वस्तु की कीमत में प्रति वर्ष 20% की वृद्धि होती है। यदि तीसरे और चौथे वर्ष के अंत में इसकी कीमतों का अंतर ₹86.40 है, तो दूसरे वर्ष के अंत में इसकी कीमत (₹ में) जात करें।

- Ans
- 1. 350
 - 2. 420
 - 3. 400
 - 4. 360

Question ID : 65497832473
Status : Answered
Chosen Option : 4

Q.20 एक व्यक्ति ने 8% वार्षिक चक्रवृद्धि ब्याज दर, जो कि वार्षिक रूप से चक्रवृद्धि है, पर ₹13,000 उधार लिए, जो 2 वर्ष में, दो समान वार्षिक किश्तों में वापस करने हैं। प्रत्येक किश्त की धनराशि कितनी होगी?

- Ans
- 1. ₹7,290
 - 2. ₹7,500
 - 3. ₹7,250
 - 4. ₹7,725

Question ID : 65497832470
Status : Not Answered
Chosen Option : --

Q.21 एक दुकानदार दो जोड़ी जूते समान मूल्य पर खरीदता है और उनमें से एक जोड़ी को 15% लाभ पर और दूसरे को 5% हानि पर बेचता है। यदि उनके विक्रय मूल्यों में ₹140 का अंतर है, तो इस पूरे सौदे में उसे कितना लाभ हुआ?

- Ans
- 1. ₹210
 - 2. ₹35
 - 3. ₹7
 - 4. ₹70

Question ID : 65497832457
Status : Answered
Chosen Option : 4

Q.22 6 कमीजों के अंकित मूल्य ₹8,400 पर 12.5% की छूट है। ₹4,900 में कितनी कमीज खरीदी जा सकती हैं?

- Ans
- 1. 7
 - 2. 6
 - 3. 5
 - 4. 4

Question ID : 65497832461
Status : Answered
Chosen Option : 4

Q.23 यदि $0.25 : x :: 5 : 6$, तो x का मान इनमें से कितने के बराबर है?

- Ans
- 1. 0.9
 - 2. 0.6
 - 3. 1.3
 - 4. 0.3

Question ID : 65497832467
Status : Not Answered
Chosen Option : --

Q.24 तीन संख्याएँ 4 : 3 : 7 के अनुपात में हैं और इनका महत्तम समापवर्तक (HCF) 6 है। इन तीन संख्याओं का योग कितना होगा?

- Ans
- 1. 98
 - 2. 84
 - 3. 42
 - 4. 56

Question ID : 65497832453
Status : Answered
Chosen Option : 2

Q.25 श्रीमती गुप्ता ने अर्धवार्षिक रूप से चक्रवृद्धि होने वाली 8% वार्षिक चक्रवृद्धि ब्याज की दर पर ₹50,000 का निवेश 1 वर्ष के लिए सावधि जमा (फिक्स डिपॉजिट) में किया। सावधि जमा की अवधि पूरी होने पर उन्हें कितनी राशि मिलेगी?

- Ans
- 1. ₹54,000
 - 2. ₹54,080
 - 3. ₹50,416
 - 4. ₹58,000

Question ID : 65497832456
Status : Answered
Chosen Option : 2

Section : Part D English

Q.1 The following sentence has been split into four segments. Identify the segment that contains a grammatical error.

God is great / and we could / be grateful to him for all the gifts / he has bestowed on us.

- Ans
- 1. God is great
 - 2. and we could
 - 3. he has bestowed on us
 - 4. be grateful to him for all the gifts

Question ID : 65497832482
Status : Not Answered
Chosen Option : --

Q.2 Select the most appropriate meaning of the given idiom.

Full steam ahead

- Ans
- 1. Miss the train before reaching
 - 2. Make a train journey
 - 3. Move onward with determination
 - 4. Move very noisily

Question ID : 65497832487
Status : Not Answered
Chosen Option : --

Q.3 Select the most appropriate SYNONYM of the given word.

Wily

- Ans
- 1. Frank
 - 2. Friendly
 - 3. Crafty
 - 4. Honest

Question ID : 65497832496
Status : Not Answered
Chosen Option : --

Q.4 Select the most appropriate option to fill in the blank.

Look at the hippo _____ about happily in the river.

- Ans
- 1. stammering
 - 2. splashing
 - 3. crackling
 - 4. sputtering

Question ID : 65497832480
Status : Not Answered
Chosen Option : --

Q.5 Select the INCORRECTLY spelt word.

- Ans
- 1. Palace
 - 2. Peddle
 - 3. Pecket
 - 4. Paint

Question ID : 65497832479
Status : Not Answered
Chosen Option : --

Q.6 Select the most appropriate option to fill in the blank.

In the year 1973, there were only 9 tiger reserves, but _____ the number has risen to fifty.

- Ans
- 1. gradually
 - 2. technically
 - 3. adamantly
 - 4. consequently

Question ID : 65497832481
Status : Not Answered
Chosen Option : --

Q.7 Select the option that can be used as a one-word substitute for the given group of words.

A place where antiques are kept

- Ans
- 1. Resort
 - 2. Orphanage
 - 3. Museum
 - 4. Hangar

Question ID : 65497832486
Status : Not Answered
Chosen Option : --

Q.8 Select the option that can be used as a one-word substitute for the given group of words.

Person who is not an expert in a field of art or music

- Ans** 1. Amateur
 2. Patron
 3. Eccentric
 4. Pariah

Question ID : 65497832484
Status : Not Answered
Chosen Option : --

Q.9 Select the option that is closest in meaning to the underlined idiom/phrase in the given sentence.

Please cut down on your expenses now or you will face difficulties in the future.

- Ans** 1. raise
 2. recover
 3. reduce
 4. refuse

Question ID : 65497832492
Status : Not Answered
Chosen Option : --

Q.10 Select the option that can be used as a one-word substitute for the given group of words.

Dwarf varieties of trees and shrubs grown in pots

- Ans** 1. Bonsai
 2. Shrimp
 3. Bonanza
 4. Pygmy

Question ID : 65497832497
Status : Not Answered
Chosen Option : --

Q.11 Select the correctly spelt word.

- Ans** 1. Metallic
 2. Vigorously
 3. Crystallisation
 4. Carying

Question ID : 65497832485
Status : Not Answered
Chosen Option : --

Q.12 The following sentence has been divided into parts. One of them contains an error. Select the part that contains the error from the given options.

We forgot / to wish Susan / in her birthday / this year.

- Ans
- 1. in her birthday
 - 2. this year
 - 3. We forgot
 - 4. to wish Susan

Question ID : 65497832488
Status : Not Answered
Chosen Option : --

Q.13 The following sentence has been split into four segments. Identify the segment that contains a grammatical error.

Peter said / then / he was / feeling unwell.

- Ans
- 1. feeling unwell
 - 2. he was
 - 3. Peter said
 - 4. then

Question ID : 65497832495
Status : Not Answered
Chosen Option : --

Q.14 Select the most appropriate option that can substitute the underlined segment in the given sentence. If there is no need to substitute it, select 'No substitution required'.

They have decorated their house nicely, didn't they?

- Ans
- 1. No substitution required
 - 2. have they
 - 3. haven't they
 - 4. did they

Question ID : 65497832478
Status : Not Answered
Chosen Option : --

Q.15 Select the most appropriate option that can substitute the underlined segment in the given sentence. If there is no need to substitute it, select 'No substitution required'.

No sooner he had returned home then he saw the letter lying on the table.

- Ans
- 1. No substitution required
 - 2. had he returned home when
 - 3. he returned home than
 - 4. had he returned home than

Question ID : 65497832491
Status : Not Answered
Chosen Option : --

Q.16 Select the most appropriate ANTONYM of the given word.

Certainty

- Ans 1. Unreasonable
 2. Prolong
 3. Doubt
 4. Divulge

Question ID : 65497832483
Status : Not Answered
Chosen Option : --

Q.17 Select the option that will improve the underlined part of the given sentence. In case no improvement is needed, select 'No improvement required'.

Not only did he run away from home, but also stole the money.

- Ans 1. No improvement required
 2. He only did not run
 3. Only he did not ran
 4. Not only did he ran

Question ID : 65497832494
Status : Not Answered
Chosen Option : --

Q.18 Select the most appropriate ANTONYM of the given word.

Assuage

- Ans 1. Soothe
 2. Decrease
 3. Relieve
 4. Provoke

Question ID : 65497832490
Status : Not Answered
Chosen Option : --

Q.19 Select the most appropriate synonym of the given word.

Enormous

- Ans 1. Ordinary
 2. Limited
 3. Massive
 4. Expensive

Question ID : 65497832489
Status : Not Answered
Chosen Option : --

Q.20 Select the most appropriate option to fill in the blank.

The child _____ that he had broken the vase.

- Ans**
- 1. collected
 - 2. requested
 - 3. demanded
 - 4. admitted

Question ID : 65497832493
Status : **Not Answered**
Chosen Option : --

Comprehension:

In the following passage, some words have been deleted. Read the passage carefully and select the most appropriate option to fill in each blank.

Once there were two brothers. One brother was (1) _____ poor farmer. He worked in the fields, and (2) _____ the weather was bad, he (3) _____ no food. But he was kind and worked a (4) _____. The other brother was a rich man (5) _____ worked on a ship. He was not kind and often cheated people.

SubQuestion No : 21

Q.21 Select the most appropriate option to fill in blank no. 1.

- Ans**
- 1. only
 - 2. simply
 - 3. the
 - 4. a

Question ID : 65497832499
Status : **Not Answered**
Chosen Option : --

Comprehension:

In the following passage, some words have been deleted. Read the passage carefully and select the most appropriate option to fill in each blank.

Once there were two brothers. One brother was (1) _____ poor farmer. He worked in the fields, and (2) _____ the weather was bad, he (3) _____ no food. But he was kind and worked a (4) _____. The other brother was a rich man (5) _____ worked on a ship. He was not kind and often cheated people.

SubQuestion No : 22

Q.22 Select the most appropriate option to fill in blank no. 2.

- Ans**
- 1. while
 - 2. when
 - 3. after
 - 4. what

Question ID : 65497832500
Status : **Not Answered**
Chosen Option : --

Comprehension:

In the following passage, some words have been deleted. Read the passage carefully and select the most appropriate option to fill in each blank.

Once there were two brothers. One brother was (1) _____ poor farmer. He worked in the fields, and (2) _____ the weather was bad, he (3) _____ no food. But he was kind and worked a (4) _____. The other brother was a rich man (5) _____ worked on a ship. He was not kind and often cheated people.

SubQuestion No : 23

Q.23 Select the most appropriate option to fill in blank no. 3.

- Ans
- 1. has
 - 2. had
 - 3. may have
 - 4. will have

Question ID : 65497832501
Status : Not Answered
Chosen Option : --

Comprehension:

In the following passage, some words have been deleted. Read the passage carefully and select the most appropriate option to fill in each blank.

Once there were two brothers. One brother was (1) _____ poor farmer. He worked in the fields, and (2) _____ the weather was bad, he (3) _____ no food. But he was kind and worked a (4) _____. The other brother was a rich man (5) _____ worked on a ship. He was not kind and often cheated people.

SubQuestion No : 24

Q.24 Select the most appropriate option to fill in blank no. 4.

- Ans
- 1. much
 - 2. lots
 - 3. lot
 - 4. hard

Question ID : 65497832502
Status : Not Answered
Chosen Option : --

Comprehension:

In the following passage, some words have been deleted. Read the passage carefully and select the most appropriate option to fill in each blank.

Once there were two brothers. One brother was (1) _____ poor farmer. He worked in the fields, and (2) _____ the weather was bad, he (3) _____ no food. But he was kind and worked a (4) _____. The other brother was a rich man (5) _____ worked on a ship. He was not kind and often cheated people.

SubQuestion No : 25

Q.25 Select the most appropriate option to fill in blank no. 5.

- Ans
- 1. who
 - 2. which
 - 3. that
 - 4. whom

Question ID : 65497832503
Status : Not Answered
Chosen Option : --

Q.1 दिए गए वाक्य में रेखांकित खंड को प्रतिस्थापित करने के लिए सबसे उपयुक्त विकल्प का चयन करें।
यदि इसे प्रतिस्थापित करने की आवश्यकता नहीं है, तो विकल्प 'किसी बदलाव की आवश्यकता नहीं है'
का चयन करें।

शाम बेटे को पत्र लिखा।

- Ans
- 1. शाम ने
 - 2. शाम को
 - 3. शाम से
 - 4. किसी बदलाव की आवश्यकता नहीं है

Question ID : 65497832508
Status : Answered
Chosen Option : 2

Q.2 'ऊपरी दिखावे के रूप में होने वाला' वाक्यांश के लिए एक शब्द होगा-

- Ans
- 1. अनौपचारिक
 - 2. उल्लेखनीय
 - 3. औपचारिक
 - 4. अधिकारिक

Question ID : 65497832523
Status : Answered
Chosen Option : 2

Q.3 'गीदड़ भभकी' मुहावरे का अर्थ बताइए।

- Ans
- 1. धोखा देने का प्रयास
 - 2. जान से मारने की धमकी
 - 3. झूठी धमकी
 - 4. अपशब्द कहना

Question ID : 65497832512
Status : Answered
Chosen Option : 3

Q.4 रिक्त स्थान भरने के लिए सबसे उपयुक्त शब्द का चयन करें।

दुकान से दो किलो मिठाई _____ लो।

- Ans
- 1. माँग
 - 2. भर
 - 3. खरीद
 - 4. प्राप्त

Question ID : 65497832511
Status : Answered
Chosen Option : 3

Q.5 दिए गए वाक्य का वह भाग ज्ञात करें जिसमें कोई त्रुटि है। यदि कोई त्रुटि नहीं है, तो 'कोई त्रुटि नहीं है' चुनें।

हमें भोगविलास के लिए (1)/ धन नष्ट न (2)/ करना चाहिए। (3)/ कोई त्रुटि नहीं है(4)

- Ans
- 1. 1
 - 2. 2
 - 3. 3
 - 4. 4

Question ID : 65497832506
Status : Answered
Chosen Option : 2

Q.6 'सम्मुख' का विलोम शब्द होगा-

- Ans
- 1. उन्मुख
 - 2. प्रमुख
 - 3. मुख
 - 4. विमुख

Question ID : 65497832522
Status : Answered
Chosen Option : 1

Q.7 सही वर्तनी वाले शब्द का चयन कीजिए।

- Ans
- 1. तात्कालिक
 - 2. तत्कलीक
 - 3. तत्कालीक
 - 4. तत्कालिक

Question ID : 65497832505
Status : Answered
Chosen Option : 1

Q.8 'जो दिये जाने योग्य न हो' वाक्यांश के लिए एक शब्द होगा-

- Ans
- 1. देय
 - 2. अदेय
 - 3. अज्ञेय
 - 4. गेय

Question ID : 65497832517
Status : Answered
Chosen Option : 2

Q.9 रिक्त स्थान को भरने के लिए सबसे उपयुक्त शब्द का चयन करें।

विषयों में _____ होने से सर्वनाश होता है।

- Ans
- 1. प्रेम
 - 2. आसक्ति
 - 3. स्नेह
 - 4. अनुराग

Question ID : 65497832518
Status : Answered
Chosen Option : 2

Q.10 दिये गये वाक्यांश के लिए एक शब्द दीजिये।

जिसका विवाह न हुआ हो

- Ans
- 1. अपरिग्रह
 - 2. अपरिणीत
 - 3. अविकारी
 - 4. अनुरक्त

Question ID : 65497832513
Status : Answered
Chosen Option : 2

Q.11 दिये गये वाक्य के किस भाग में त्रुटि है?

प्रायः सभी लोग इस बात को नहीं समझते हैं।

- Ans
- 1. इस बात
 - 2. प्रायः सभी लोग
 - 3. को नहीं
 - 4. समझते हैं।

Question ID : 65497832521
Status : Answered
Chosen Option : 2

Q.12 दिए गए वाक्य में रेखांकित खंड को प्रतिस्थापित करने के लिए सबसे उपयुक्त विकल्प का चयन करें।
यदि इसे प्रतिस्थापित करने की आवश्यकता नहीं है, तो विकल्प किसी बदलाव की आवश्यकता नहीं है का चयन करें।

उसका भाई सेक्रेटरी लगा हुआ है।

- Ans
- 1. सेक्रेटरी लगता है
 - 2. सेक्रेटरी है
 - 3. किसी बदलाव की आवश्यकता नहीं है।
 - 4. सेक्रेटरी लगा है

Question ID : 65497832515
Status : Answered
Chosen Option : 2

Q.13 निम्नलिखित प्रश्न में, दिए गए चार विकल्पों में से उस विकल्प का चयन करें, जो मुहावरे का अर्थ व्यक्त करता है।

उल्टी गंगा बहना

- Ans
- 1. गंगा उलटा बहती हुई दूसरी नदी से मिल जाना
 - 2. गंगा उलटा बह जाना
 - 3. अनुकूल कार्य
 - 4. प्रतिकूल कार्य

Question ID : 65497832510
Status : Answered
Chosen Option : 4

Q.14 कौनसा शब्द 'वायस' का समानार्थी शब्द नहीं है?

- Ans
- 1. काग
 - 2. एकाक्ष
 - 3. काक
 - 4. हरीत

Question ID : 65497832507
Status : Not Answered
Chosen Option : --

Q.15 नीचे दिए वाक्य में रिक्त-स्थान भरने के लिए सबसे उपयुक्त शब्द का चयन करें।

खिड़की के बाहर बारिश का _____ संगीत बज रहा था।

- Ans
- 1. रीमझीम
 - 2. रिमझिम
 - 3. झिमझिम
 - 4. झिमझीम

Question ID : 65497832516
Status : Answered
Chosen Option : 2

Q.16 दिये गये वाक्य के किस भाग में त्रुटि है?

मुझे पैसे की आवश्यकता नहीं है।

- Ans
- 1. पैसे की
 - 2. नहीं है।
 - 3. मुझे
 - 4. आवश्यकता

Question ID : 65497832519
Status : Answered
Chosen Option : 4

Q.17 सही वर्तनी वाले शब्द का चयन कीजिए।

- Ans
- 1. प्रस्तूतीकरण
 - 2. प्रस्तूतिकरण
 - 3. प्रस्तुतीकरण
 - 4. प्रस्तुतिकरण

Question ID : 65497832504
Status : Answered
Chosen Option : 3

Q.18 दिए गए वाक्य में रेखांकित खंड को प्रतिस्थापित करने के लिए सबसे उपयुक्त विकल्प का चयन करें।
यदि इसे प्रतिस्थापित करने की आवश्यकता नहीं है, तो विकल्प 'किसी बदलाव की आवश्यकता नहीं है'
का चयन करें।

प्राचार्य ने हमको समझाया की जो परिश्रम करेगा वह सफल होगा।

- Ans
- 1. किसी बदलाव की आवश्यकता नहीं है।
 - 2. प्राचार्य ने हमें समझाया की
 - 3. प्राचार्य ने हमें समझाया कि
 - 4. प्राचार्य ने हमको समझाया कि

Question ID : 65497832514
Status : Answered
Chosen Option : 2

Q.19 दिए गए शब्द का विलोम चुनिए।

सकाम

- Ans 1. निष्काम
 2. शार्थक
 3. विषम
 4. कुकाम

Question ID : 65497832509
Status : Answered
Chosen Option : 1

Q.20 'सुधा' किसका पर्यायवाची है?

- Ans 1. स्त्री
 2. अमृत
 3. पृथ्वी
 4. चंद्रमा

Question ID : 65497832520
Status : Answered
Chosen Option : 2

Comprehension:

सांस्कृतिक गुलामी का सबसे भयानक रूप वह होता है, जब कोई जाति अपनी भाषा को छोड़कर दूसरों की (1)_____ को अपना लेती है और उसी में तुलाने को अपना परम (2)_____ मानने लगती है। यह (3)_____ की पराकाष्ठा है, क्योंकि जो जाति अपनी भाषा में नहीं सोचती, अपनी भाषा में अपना साहित्य नहीं लिखती, अपनी भाषा में अपना दैनिक कार्य (4)_____ नहीं करती, वह अपनी परंपरा से छूट जाती है, अपने (5)_____ को खो बैठती है और उसके स्वाभिमान का प्रचंड विनाश हो जाता है।

निम्न प्रश्नों के उत्तर उपरोक्त गद्यांश के आधार पर दीजिए।

SubQuestion No : 21

Q.21 गद्यांश के रिक्त स्थान (1) के लिए सर्वाधिक उपयुक्त शब्द होगा-

- Ans 1. रचना
 2. शैली
 3. कला
 4. भाषा

Question ID : 65497832525
Status : Answered
Chosen Option : 4

Comprehension:

सांस्कृतिक गुलामी का सबसे भयानक रूप वह होता है, जब कोई जाति अपनी भाषा को छोड़कर दूसरों की (1) _____ को अपना लेती है और उसी में तुतलाने को अपना परम (2) _____ मानने लगती है। यह (3) _____ की पराकाष्ठा है, क्योंकि जो जाति अपनी भाषा में नहीं सोचती, अपनी भाषा में अपना साहित्य नहीं लिखती, अपनी भाषा में अपना दैनिक कार्य (4) _____ नहीं करती, वह अपनी परंपरा से छूट जाती है, अपने (5) _____ को खो बैठती है और उसके स्वाभिमान का प्रचंड विनाश हो जाता है।

निम्न प्रश्नों के उत्तर उपरोक्त गद्यांश के आधार पर दीजिए।

SubQuestion No : 22

Q.22 गद्यांश के रिक्त स्थान (2) के लिए सर्वाधिक उपयुक्त शब्द होगा-

- Ans** ✓ 1. गौरव
✗ 2. अभिमान
✗ 3. स्वार्थ
✗ 4. घमंड

Question ID : 65497832526
Status : Answered
Chosen Option : 1

Comprehension:

सांस्कृतिक गुलामी का सबसे भयानक रूप वह होता है, जब कोई जाति अपनी भाषा को छोड़कर दूसरों की (1) _____ को अपना लेती है और उसी में तुतलाने को अपना परम (2) _____ मानने लगती है। यह (3) _____ की पराकाष्ठा है, क्योंकि जो जाति अपनी भाषा में नहीं सोचती, अपनी भाषा में अपना साहित्य नहीं लिखती, अपनी भाषा में अपना दैनिक कार्य (4) _____ नहीं करती, वह अपनी परंपरा से छूट जाती है, अपने (5) _____ को खो बैठती है और उसके स्वाभिमान का प्रचंड विनाश हो जाता है।

निम्न प्रश्नों के उत्तर उपरोक्त गद्यांश के आधार पर दीजिए।

SubQuestion No : 23

Q.23 गद्यांश के रिक्त स्थान (3) के लिए सर्वाधिक उपयुक्त शब्द होगा-

- Ans** ✗ 1. आजादी
✗ 2. स्वाधीनता
✓ 3. गुलामी
✗ 4. प्रगति

Question ID : 65497832527
Status : Answered
Chosen Option : 3

Comprehension:

सांस्कृतिक गुलामी का सबसे भयानक रूप वह होता है, जब कोई जाति अपनी भाषा को छोड़कर दूसरों की (1) _____ को अपना लेती है और उसी में तुतलाने को अपना परम (2) _____ मानने लगती है। यह (3) _____ की पराकाष्ठा है, क्योंकि जो जाति अपनी भाषा में नहीं सोचती, अपनी भाषा में अपना साहित्य नहीं लिखती, अपनी भाषा में अपना दैनिक कार्य (4) _____ नहीं करती, वह अपनी परंपरा से छूट जाती है, अपने (5) _____ को खो बैठती है और उसके स्वाभिमान का प्रचंड विनाश हो जाता है।

निम्न प्रश्नों के उत्तर उपरोक्त गद्यांश के आधार पर दीजिए।

SubQuestion No : 24

Q.24 गद्यांश के रिक्त स्थान (4) के लिए सर्वाधिक उपयुक्त शब्द होगा-

- Ans** ✓ 1. संपादित
✗ 2. मूर्त
✗ 3. स्पष्ट
✗ 4. अभिव्यक्त

Question ID : 65497832528
Status : Answered
Chosen Option : 1

Comprehension:

सांस्कृतिक गुलामी का सबसे भयानक रूप वह होता है, जब कोई जाति अपनी भाषा को छोड़कर दूसरों की (1)_____ को अपना लेती है और उसी में तुलाने को अपना परम (2)_____ मानने लगती है। यह (3)_____ की पराकाष्ठा है, क्योंकि जो जाति अपनी भाषा में नहीं सोचती, अपनी भाषा में अपना साहित्य नहीं लिखती, अपनी भाषा में अपना दैनिक कार्य (4)_____ नहीं करती, वह अपनी परंपरा से छूट जाती है, अपने (5)_____ को खो बैठती है और उसके स्वाभिमान का प्रचंड विनाश हो जाता है।

निम्न प्रश्नों के उत्तर उपरोक्त गद्यांश के आधार पर दीजिए।

SubQuestion No : 25

Q.25 गद्यांश के रिक्त स्थान (5) के लिए सर्वाधिक उपयुक्त शब्द होगा-

- Ans** 1. सुख
 2. व्यक्तित्व
 3. सौन्दर्य
 4. विकास

Question ID : 65497832529

Status : Answered

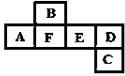
Chosen Option : 2

Constable GD in CAPFs NIA SSF and Rifleman GD in Assam Rifles Examination 2021

Roll Number	www.HaryanaJobs.in
Candidate Name	www.HaryanaJobs.in
Venue Name	iON Digital Zone iDZ Laxman Nagar
Exam Date	01/12/2021
Exam Time :	4:00 PM - 5:30 PM
Subject	Constable GD 2021

Section : Part A General Intelligence and Reasoning

Q.1 दी गई शीट को मोड़कर एक घन बनाया जाता है। इस तरह निर्मित घन में, निम्न में से कौन सा अक्षर-युग्म विपरीत पृष्ठों पर होगा?



- Ans
- ✓ 1. D और F
 - ✗ 2. B और E
 - ✗ 3. F और E
 - ✗ 4. C और F

Question ID : 65497830005
Status : Answered
Chosen Option : 1

Q.2 उस सही विकल्प का चयन कीजिए, जो दिए गए शब्दों के उस क्रम को दर्शाता है, जिस क्रम में वे अंग्रेजी शब्दकोश में मौजूद होते हैं।

1. Naughty
2. Navy
3. Navigate
4. Nautical
5. Nuptial

- Ans
- ✗ 1. 1, 4, 3, 5, 2
 - ✗ 2. 1, 3, 4, 2, 5
 - ✗ 3. 3, 2, 1, 4, 5
 - ✓ 4. 1, 4, 3, 2, 5

Question ID : 65497830007
Status : Answered
Chosen Option : 4

Q.3 किसी निश्चित कूट भाषा में, 'CAMEL' को 'ECNGN' और 'HORSE' को 'JQSUG' के रूप में लिखा जाता है। उसी कूट भाषा में 'WHALE' को किस रूप में लिखा जाएगा?

- Ans
- ✗ 1. XIBMF
 - ✓ 2. YJBNG
 - ✗ 3. YJCNG
 - ✗ 4. XJBNF

Question ID : 65497829990
Status : Answered
Chosen Option : 2

Q.4 शब्दों के उस समूह का चयन कीजिए, जो दिए गए वेन आरेख द्वारा सर्वोत्तम ढंग से प्रदर्शित होता है।



- Ans
- 1. इंजीनियर, स्नातक, अशिक्षित
 - 2. किसान, ग्रामीण, साक्षर
 - 3. डॉक्टर, नर्स, इंसान
 - 4. महिलाएं, माताएं, पुत्रियां

Question ID : 65497830014
Status : Answered
Chosen Option : 4

Q.5 अक्षरों के उस संयोजन का चयन कीजिए, जिसे दी गई श्रृंखला के रिक्त स्थानों में क्रमबद्ध रूप से रखने पर श्रृंखला पूर्ण हो जाएगी।

V _ M R _ V _ M _ D _ K M _ D

- Ans
- 1. KDKRDR
 - 2. KDKRVR
 - 3. KDRRVR
 - 4. KDKRVK

Question ID : 65497830008
Status : Answered
Chosen Option : 2

Q.6 उस विकल्प का चयन कीजिए जिसका तीसरी संख्या से वही संबंध है जो दूसरी संख्या का पहली संख्या से और छठी संख्या का पांचवी संख्या से है।

18 : 26 :: 20 : ? :: 16 : 23

- Ans
- 1. 41
 - 2. 31
 - 3. 38
 - 4. 29

Question ID : 65497830003
Status : Not Answered
Chosen Option : --

Q.7 A, D का पिता है। C और D भाई हैं। G, B की माँ है और C, B का भाई है। G, A से किस प्रकार संबंधित है?

- Ans
- 1. भाभी
 - 2. बहन
 - 3. सास
 - 4. पत्नी

Question ID : 65497829997
Status : Answered
Chosen Option : 4

Q.8 दिए गए विकल्पों में से उस संख्या का चयन कीजिए, जो निम्नलिखित श्रेणी में प्रश्नवाचक चिन्ह (?) के स्थान पर आ सकती है।

19, 19, 38, 114, ?, 2280

Ans 1. 1140

2. 456

3. 224

4. 344

Question ID : 65497830009

Status : Answered

Chosen Option : 2

Q.9 एक निश्चित कूट भाषा में, 'MISTAKE' को '9765412' के रूप में और 'NAKED' को '84123' के रूप में कूटबद्ध किया जाता है। उसी कूट भाषा में, 'INTIMATE' को किस रूप में कूटबद्ध किया जाएगा?

Ans 1. 89786145

2. 78579452

3. 78698365

4. 79438163

Question ID : 65497829999

Status : Answered

Chosen Option : 2

Q.10 दिए गए कथनों और निष्कर्षों को ध्यानपूर्वक पढ़ें। यह मानते हुए कि कथनों में दी गई जानकारी सही है, भले ही वह सामान्य रूप से ज्ञात तथ्यों से भिन्न प्रतीत होती हो, यह निर्धारित करें कि दिए गए निष्कर्षों में से कौन से निष्कर्ष कथनों का तार्किक रूप से अनुसरण करते हैं।

कथन:

सभी स्कूटर दो पहिया वाहन हैं।

सभी साइकिल दो पहिया वाहन हैं।

निष्कर्ष:

I. सभी स्कूटर साइकिल हैं।

II. सभी साइकिल स्कूटर हैं।

Ans 1. ना तो निष्कर्ष I। ना निष्कर्ष II। अनुसरण करता है।

2. केवल निष्कर्ष II। अनुसरण करता है।

3. निष्कर्ष I। और II। दोनों अनुसरण करते हैं।

4. केवल निष्कर्ष I। अनुसरण करता है।

Question ID : 65497829991

Status : Answered

Chosen Option : 3

Q.11 'केंचुए' का 'अरज्जूकी' से वही संबंध है, जो 'मछली' का '_____' से है।

Ans 1. रज्जूकी

2. अरज्जूकी

3. सरीसृप

4. स्तनधारी

Question ID : 65497830012

Status : Answered

Chosen Option : 3

Q.12 एक निश्चित कूट भाषा में, IMPORT को GKRQPR लिखा जाता है। उसी कूट भाषा में EXPEND को क्या लिखा जाएगा?

- Ans
- 1. GCFLMF
 - 2. CVNGLR
 - 3. DYQFMB
 - 4. CVRGLB

Question ID : 65497829996
Status : Answered
Chosen Option : 4

Q.13 छः डिलीवरी बॉय U, V, W, X, Y और Z एक स्टॉक रूम से अपना सामान लेने के लिए एक पंक्ति में एक के बाद एक करके खड़े हुए हैं। Z, W के बाएं ठीक बगल में है। पंक्ति में दोनों छोरों पर Z और Y खड़े हैं। W, Z और V के बीच में है। U, X के बाएं ठीक बगल में है। Y, X के दाएं ठीक बगल में है। निम्न में से कौन सा डिलीवरी बॉय दाईं ओर से चौथे स्थान पर खड़ा है?

- Ans
- 1. U
 - 2. V
 - 3. X
 - 4. W

Question ID : 65497830002
Status : Answered
Chosen Option : 2

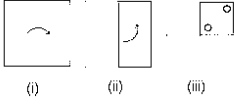
Q.14 दिए गए विकल्पों में से उस संख्या का चयन कीजिए जो निम्न श्रेणी में प्रश्नवाचक चिह्न (?) के स्थान पर आएगी।

2, 3, 10, 39, 172, ?, 5346

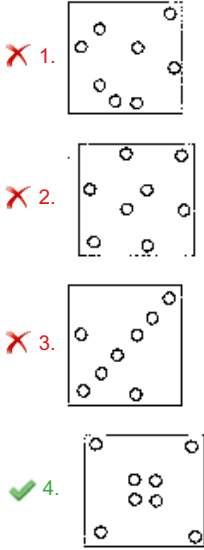
- Ans
- 1. 693
 - 2. 885
 - 3. 756
 - 4. 743

Question ID : 65497830000
Status : Not Answered
Chosen Option : --

Q.15 नीचे दी गई आकृतियों में कागज के एक टुकड़े को मोड़ने का क्रम और उस मुड़े हुए कागज को काटने का तरीका दर्शाया गया है। इस कागज को खोलने पर यह कैसा दिखेगा?



Ans



Question ID : 65497829994
Status : Answered
Chosen Option : 4

Q.16 चार अक्षर-समूह दिए गए हैं, जिनमें से तीन किसी निश्चित तरीके से संगत हैं, जबकि उनमें से कोई एक असंगत है। उस असंगत अक्षर-समूह का चयन कीजिए।

- Ans
- 1. MJQ
 - 2. EBI
 - 3. GDK
 - 4. RNU

Question ID : 65497829998
Status : Answered
Chosen Option : 4

Q.17 दिए गए विकल्पों में से उस अक्षर-समूह का चयन करें, जो निम्नलिखित श्रृंखला में प्रश्नवाचक चिन्ह (?) के स्थान पर आ सकता है।

TOD, UQG, VSJ, WUM, XWP, ?

- Ans
- 1. YYT
 - 2. YAS
 - 3. YZS
 - 4. YYS

Question ID : 65497830011
Status : Answered
Chosen Option : 4

Q.18 चार संख्या त्रिक दिए गए हैं, जिनमें से तीन किसी विशेष नियम के अनुसार संगत हैं और कोई एक असंगत है। उस असंगत संख्या त्रिक का चयन कीजिए।

- Ans 1. (13, 26, 169)
 2. (17, 34, 278)
 3. (15, 30, 225)
 4. (12, 24, 144)

Question ID : 65497829992
Status : Answered
Chosen Option : 2

Q.19 किसी कंपनी के कर्मचारियों की औसत आयु 45 वर्ष है। 38, 45 और 49 वर्ष की आयु वाले तीन कर्मचारी इस्तीफा दे देते हैं और 42, 46 और 44 वर्ष की आयु वाले तीन नये कर्मचारी कंपनी में शामिल होते हैं। अब कर्मचारियों की औसत आयु क्या होगी?

- Ans 1. 47 वर्ष
 2. 45 वर्ष
 3. 48 वर्ष
 4. 46 वर्ष

Question ID : 65497829993
Status : Answered
Chosen Option : 2

Q.20 यदि 'A' का अर्थ 'जोड़' है, 'B' का अर्थ 'गुणा' है, 'C' का अर्थ 'घटाना' है, और 'D' का अर्थ 'भाग' है, तो निम्न व्यंजक का मान कितना होगा?

72 D 6 B 12 A 24 C 18 C (20 B 5 A 48)

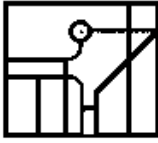
- Ans 1. 3
 2. 2
 3. 4
 4. 1

Question ID : 65497830004
Status : Answered
Chosen Option : 2

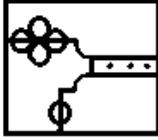
Q.21 उस विकल्प का चयन कीजिए जिसमें दी गई आकृति सन्निहित है। (आकृति को घुमाने की अनुमति नहीं है)

Ans

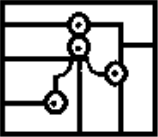
✗ 1.



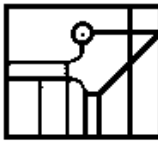
✗ 2.



✗ 3.



✓ 4.



Question ID : 65497830006

Status : Answered

Chosen Option : 4

Q.22 यदि दर्पण को निम्नांकित चित्र के अनुसार PQ पर रखा जाए, तो दिए गए संयोजन का दर्पण में निर्मित सही प्रतिबिंब चयनित कीजिए।

POLYNOMIAL $\left\{ \begin{array}{l} P \\ Q \end{array} \right.$

Ans

✗ 1. LAIMONYUJOP

✗ 2. BOGLMNOIYU

✗ 3. BOGLMNOIYU

✓ 4. LAIMONYUJOP

Question ID : 65497830001

Status : Answered

Chosen Option : 4

Q.23 दिए गए विकल्पों में से उस आकृति का चयन कीजिए, जो निम्न आकृति श्रृंखला में प्रश्नवाचक चिन्ह (?) के स्थान पर आ सकती है।



Ans

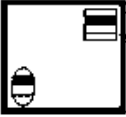
✗ 1.



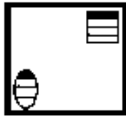
✓ 2.



✗ 3.



✗ 4.



Question ID : 65497830010

Status : Answered

Chosen Option : 2

Q.24 उस विकल्प का चयन करें जो तीसरे पद से उसी प्रकार संबंधित है, जिस प्रकार दूसरा पद पहले पद से संबंधित है।

BULK : YFOP :: NOTE : ?

Ans

✗ 1. OWQS

✗ 2. PQCH

✓ 3. MLGV

✗ 4. HWRP

Question ID : 65497829995

Status : Answered

Chosen Option : 3

Q.25 चिराग, फिरोज, हीरा, जॉय और लोहित एक सीधी पंक्ति में उत्तर की ओर मुंह करके बैठे हुए हैं। लोहित, फिरोज के दाईं ओर ठीक बगल में बैठा है। चिराग, जॉय के बाईं ओर ठीक बगल में बैठा है। लोहित और चिराग के बीच में केवल हीरा बैठा है। फिरोज के दाईं ओर तीसरे स्थान पर कौन बैठा है?

Ans

✓ 1. चिराग

✗ 2. जॉय

✗ 3. लोहित

✗ 4. हीरा

Question ID : 65497830013

Status : Answered

Chosen Option : 1

Q.1 सितंबर 2021 तक प्राप्त जानकारी के अनुसार, इमैनुएल मैक्रॉ किस देश के राष्ट्रपति हैं?

- Ans
- 1. इटली
 - 2. जर्मनी
 - 3. फ्रांस
 - 4. ग्रीस

Question ID : 65497830026
Status : Answered
Chosen Option : 3

Q.2 निम्नलिखित में से किस अम्ल को चींटी के काटते समय त्वचा में इंजेक्ट किया जाता है?

- Ans
- 1. साइट्रिक अम्ल
 - 2. एस्कॉर्बिक अम्ल
 - 3. टार्टरिक अम्ल
 - 4. फॉर्मिक अम्ल

Question ID : 65497830030
Status : Answered
Chosen Option : 4

Q.3 हड़प्पा सभ्यता के अन्य शहरों के विपरीत, धोलावीरा शहर को _____ भागों में विभाजित किया गया था, प्रत्येक भाग विशाल पत्थर की दीवारों से घिरा हुआ था।

- Ans
- 1. पाँच
 - 2. दो
 - 3. तीन
 - 4. चार

Question ID : 65497830034
Status : Answered
Chosen Option : 3

Q.4 एम्मा रादुकानू (Emma Raducanu) ने सितंबर 2021 में _____ को हराकर यूएस (US) ओपन महिला एकल (टेनिस) खिताब जीता।

- Ans
- 1. लेलाह फर्नांडिस (Leylah Fernandez)
 - 2. मरीना स्टाकुसिक (Marina Stakusic)
 - 3. मिया कुप्रेस (Mia Kupres)
 - 4. रेबेका मैरिनो (Rebecca Marino)

Question ID : 65497830039
Status : Answered
Chosen Option : 1

Q.5 तेरहवीं और चौदहवीं शताब्दी के दौरान पंजाब में निम्नलिखित में से कौन-सी जनजाति का प्रभुत्व था?

- Ans
- 1. खोखर
 - 2. गक्खर
 - 3. जंजुहा
 - 4. लंगाह

Question ID : 65497830021
Status : Answered
Chosen Option : 1

Q.6 अक्टूबर 2020 में रिवर्स रेपो दर क्या थी?

- Ans
- 1. 4%
 - 2. 3.35%
 - 3. 3.75%
 - 4. 3.5%

Question ID : 65497830019
Status : Answered
Chosen Option : 2

Q.7 निम्नलिखित में से किस प्रकार के बैंकों का संचालन मुख्यतः ऑनलाइन होता है और उनका कोई भौतिक शाखा नेटवर्क नहीं होता है?

- Ans
- 1. नियो
 - 2. शैडो
 - 3. वाणिज्यिक
 - 4. रिटेल

Question ID : 65497830016
Status : Not Answered
Chosen Option : --

Q.8 जैन धर्म के 24वें और अंतिम तीर्थंकर, वर्धमान महावीर का जन्म छठी शताब्दी ईसा में पूर्व में कहाँ हुआ था?

- Ans
- 1. बिहार
 - 2. आंध्र प्रदेश
 - 3. महाराष्ट्र
 - 4. तमिलनाडु

Question ID : 65497830017
Status : Not Answered
Chosen Option : --

Q.9 बैंकिंग विनियमन अधिनियम, 1949 की धारा _____ के प्रावधानों के तहत, किसी वाणिज्यिक बैंक को बैंकिंग व्यवसाय शुरू करने के लिए भारतीय रिजर्व बैंक से लाइसेंस प्राप्त करना आवश्यक है।

- Ans
- 1. 46
 - 2. 53
 - 3. 31
 - 4. 22

Question ID : 65497830036
Status : Not Answered
Chosen Option : --

Q.10 निम्नलिखित में से कौन सा एक प्राकृतिक पारिस्थितिकी तंत्र (इको सिस्टम) है?

- Ans
- 1. बांध
 - 2. बगीचा
 - 3. एकरियम
 - 4. रेगिस्तान

Question ID : 65497830031
Status : Answered
Chosen Option : 4

Q.11 अक्टूबर 2020 में फाउंडेशन ऑफ़ एनवायरनमेंट एजुकेशन, डेनमार्क द्वारा अंतरराष्ट्रीय 'ब्लू फ्लैग' प्रमाणन से सम्मानित किए जाने वाले आठ समुद्र तटों में निम्न में से कौन सा एक था?

- Ans
- 1. कारवार
 - 2. शिवराजपुर
 - 3. तिथल
 - 4. गोपालपुर

Question ID : 65497830032
Status : Answered
Chosen Option : 2

Q.12 फिल्म 'थलाइवी (Thalaivii)', जो सितंबर 2021 में रिलीज हुई थी, _____ के जीवन पर आधारित आधिकारिक बायोपिक है।

- Ans
- 1. सुषमा स्वराज
 - 2. शीला दीक्षित
 - 3. इंदिरा गांधी
 - 4. जे जयललिता

Question ID : 65497830035
Status : Answered
Chosen Option : 4

Q.13 पंजाब में मनाया जाने वाला 'लोहड़ी' त्यौहार प्रतिवर्ष _____ के महीने में मनाया जाता है।

- Ans
- 1. अप्रैल
 - 2. दिसंबर
 - 3. जनवरी
 - 4. फरवरी

Question ID : 65497830028
Status : Not Answered
Chosen Option : --

Q.14 'स्वस्थ वायु, स्वस्थ ग्रह (Healthy Air, Healthy Planet)', 2021 के _____ की विषयवस्तु थी।

- Ans
- 1. पृथ्वी दिवस
 - 2. नीले आसमान के लिए स्वच्छ हवा के अंतरराष्ट्रीय दिवस
 - 3. विश्व पर्यावरण दिवस
 - 4. विश्व ओजोन दिवस

Question ID : 65497830037
Status : Answered
Chosen Option : 2

Q.15 निम्नलिखित में से किस दिन को 'इंटरनेशनल डे टू एंड इंप्युनिटी फॉर क्राइम अगेंस्ट जर्नलिस्ट' के रूप में मनाया जाता है?

- Ans
- 1. 2 नवंबर
 - 2. 3 नवंबर
 - 3. 4 नवंबर
 - 4. 5 नवंबर

Question ID : 65497830023
Status : Not Answered
Chosen Option : --

Q.16 निम्नलिखित में से कौन सा एक फूल का भाग है?

- Ans
- 1. शिरा विन्यास
 - 2. शिराएँ
 - 3. स्त्रीकेसर
 - 4. मध्य शिरा

Question ID : 65497830033
Status : Answered
Chosen Option : 3

Q.17 कुव्वत-उल-इस्लाम मस्जिद कहाँ स्थित है?

- Ans
- 1. पुणे
 - 2. दिल्ली
 - 3. मैसूर
 - 4. आगरा

Question ID : 65497830024
Status : Answered
Chosen Option : 2

Q.18 निम्नलिखित में से कौन सी मृदा संरक्षण की एक विधि नहीं है?

- Ans
- 1. शेल्टर बेल्ट
 - 2. इंटरक्रॉपिंग
 - 3. रॉक डैम
 - 4. ओवरग्रेजिंग

Question ID : 65497830025
Status : Answered
Chosen Option : 3

Q.19 एशियाई फुटबॉल कप 2019 की मेजबानी निम्नलिखित में से किस देश ने की थी?

- Ans
- 1. चीन
 - 2. ऑस्ट्रेलिया
 - 3. म्यांमार
 - 4. संयुक्त अरब अमीरात

Question ID : 65497830018
Status : Not Answered
Chosen Option : --

Q.20 निम्नलिखित में से कौन-सा शहर, विजयनगर के मध्यकालीन हिंदू राज्य से संबंधित अपने खंडहरों के लिए प्रसिद्ध है और इसे विश्व विरासत स्थल घोषित किया गया है?

- Ans
- 1. डांडेली
 - 2. हम्पी
 - 3. चिकमंगलूर
 - 4. मडिकेरी

Question ID : 65497830020
Status : Answered
Chosen Option : 2

Q.21 भारतीय दंड संहिता की कौन-सी धारा महिला की सहमति के बिना गर्भपात करने के अपराध से संबंधित है?

- Ans
- 1. धारा 314
 - 2. धारा 313
 - 3. धारा 315
 - 4. धारा 312

Question ID : 65497830022
Status : Answered
Chosen Option : 4

Q.22 टेस्ट क्रिकेट में तिहरा शतक बनाने वाले पहले भारतीय बल्लेबाज _____ थे।

- Ans
- 1. शिखर धवन
 - 2. रोहित शर्मा
 - 3. वीरेंद्र सहवाग
 - 4. सुरेश रैना

Question ID : 65497830027
Status : Answered
Chosen Option : 3

Q.23 निम्नलिखित में से क्या बैरन द्वीप की एक अनूठी विशेषता है?

- Ans
- 1. यहां आदिम असारो जनजाति का निवास है।
 - 2. यह हिंद महासागर का एक निर्जन द्वीप है।
 - 3. यहाँ भारत का एकमात्र सक्रिय ज्वालामुखी है।
 - 4. यहाँ भारत की सबसे बड़ी खारे पानी की झील मौजूद है।

Question ID : 65497830015
Status : Answered
Chosen Option : 3

Q.24 उकाई बांध किस नदी पर स्थित है?

- Ans
- 1. माही
 - 2. ताप्ती
 - 3. कर्जन
 - 4. नर्मदा

Question ID : 65497830038
Status : Answered
Chosen Option : 2

Q.25 अक्टूबर 2020 तक के आंकड़ों के अनुसार, भारत सरकार ने _____ अनाजों के लिए न्यूनतम समर्थन मूल्य (MSP) तय कर दिया है।

- Ans
- 1. 5
 - 2. 10
 - 3. 7
 - 4. 12

Question ID : 65497830029
Status : Not Answered
Chosen Option : --

Q.1 ₹2,400 की राशि पर 20 मार्च 2019 से 31 मई 2019 तक $6\frac{1}{4}\%$ की वार्षिक ब्याजदर से प्राप्त साधारण ब्याज ज्ञात कीजिए।

- Ans
- 1. ₹25
 - 2. ₹54
 - 3. ₹30
 - 4. ₹42

Question ID : 65497830055
Status : Answered
Chosen Option : 3

Q.2 दो संख्याओं का लघुत्तम समापवर्त्य (LCM) और महत्तम समापवर्तक (HCF) क्रमशः 60 और 5 है। यदि एक संख्या को 2 से विभाजित किया जाता है और भागफल 10 है, तो दूसरी संख्या ज्ञात कीजिए।

- Ans
- 1. 30
 - 2. 15
 - 3. 12
 - 4. 20

Question ID : 65497830051
Status : Answered
Chosen Option : 1

Q.3 व्यंजक $\frac{1}{3 \times 4} + \frac{1}{4 \times 5} + \frac{1}{5 \times 6} + \dots + \frac{1}{20 \times 21}$ को सरल करने पर क्या परिणाम प्राप्त होगा?

- Ans
- 1. $\frac{3}{7}$
 - 2. $\frac{2}{7}$
 - 3. $\frac{1}{20}$
 - 4. $\frac{1}{7}$

Question ID : 65497830046
Status : Not Answered
Chosen Option : --

Q.4 $\left(3\frac{1}{5} \div \frac{2}{3} \text{ of } 4\frac{1}{2}\right) + 5\frac{2}{3} \div 1\frac{2}{3} \text{ of } 4\frac{1}{4} - 5\frac{1}{3} \times \frac{3}{4} \div 2\frac{2}{3}$ का मान ज्ञात कीजिए।

- Ans
- 1. $\frac{28}{15}$
 - 2. $\frac{2}{5}$
 - 3. $\frac{1}{3}$
 - 4. $\frac{11}{30}$

Question ID : 65497830058
Status : Not Answered
Chosen Option : --

Q.5 किसी धनराशि पर 8% वार्षिक ब्याज दर से 2 वर्ष में प्राप्त साधारण ब्याज और वार्षिक रूप से चक्रवृद्धि होने वाले चक्रवृद्धि ब्याज के बीच अंतर ₹16.80 है। वह धनराशि कितनी है?

- Ans
- 1. ₹2,025
 - 2. ₹2,225
 - 3. ₹2,825
 - 4. ₹2,625

Question ID : 65497830045
Status : Not Answered
Chosen Option : --

Q.6 किसी कक्षा के 15 छात्रों की औसत आयु 14 वर्ष है। इनमें से 6 छात्रों की औसत आयु 15 वर्ष और अन्य 8 छात्रों की औसत आयु 13 वर्ष है। 15वें छात्र की आयु ज्ञात कीजिए।

- Ans
- 1. 16 वर्ष
 - 2. 15 वर्ष
 - 3. 18 वर्ष
 - 4. 14 वर्ष

Question ID : 65497830052
Status : Answered
Chosen Option : 1

Q.7 वह अनुपात ज्ञात कीजिए जिसके दोनों पदों का अंतर 45 और प्राप्त मान $\frac{4}{7}$ के बराबर है।

- Ans
- 1. 60 : 105
 - 2. 35 : 80
 - 3. 50 : 95
 - 4. 65 : 20

Question ID : 65497830054
Status : Not Answered
Chosen Option : --

Q.8 यदि एक ईंट की माप $28 \text{ cm} \times 18 \text{ cm} \times 6 \text{ cm}$ है, तो 21 m लंबी, 12 m ऊँची और 36 cm मोटी दीवार बनाने के लिए कितनी ईंटों की आवश्यकता होगी?

- Ans
- 1. 20000
 - 2. 25000
 - 3. 30000
 - 4. 24000

Question ID : 65497830043
Status : Not Answered
Chosen Option : --

Q.9 एक व्यक्ति ने एक कार ₹3,80,000 में बेची और उसे 5% की हानि हुई। 15% का लाभ प्राप्त करने के लिए, कार का विक्रय मूल्य कितना होना चाहिए?

- Ans
- 1. ₹4,10,000
 - 2. ₹40,000
 - 3. ₹4,60,000
 - 4. ₹4,20,000

Question ID : 65497830047
Status : Answered
Chosen Option : 3

Q.10 एक कार पहले 272 km की दूरी 40 km/h की औसत चाल से और अगले 85 km की दूरी 50 km/h की औसत चाल से तय करती है। पूरी यात्रा के लिए औसत चाल (km/h में) ज्ञात कीजिए।

- Ans
- 1. 44
 - 2. 40
 - 3. 42.5
 - 4. 42

Question ID : 65497830064
Status : Answered
Chosen Option : 1

Q.11 मोहन और रमेश मिलकर एक कार्य को 15 दिनों में पूरा कर सकते हैं। मोहन, रमेश से 50% अधिक कुशल है। अकेले मोहन द्वारा कार्य को पूरा करने में लिया गया समय ज्ञात करें।

- Ans
- 1. 20 दिन
 - 2. 22.5 दिन
 - 3. 32 दिन
 - 4. 25 दिन

Question ID : 65497830048
Status : Answered
Chosen Option : 4

Q.12 ₹9,500 की धनराशि पर 2 वर्षों में 8% की वार्षिक व्याज दर से अर्धवार्षिक रूप से चक्रवृद्धि होनेवाला चक्रवृद्धि व्याज ज्ञात कीजिए। (दशमलव के दो स्थानों तक सही)।

- Ans
- 1. ₹1,650
 - 2. ₹1,613.66
 - 3. ₹1,532.75
 - 4. ₹1,213.50

Question ID : 65497830056
Status : Not Answered
Chosen Option : --

Q.13 एक वस्तु का अंकित मूल्य ₹400 था किन्तु दुकानदार ने इस पर 25% और 15% की दोहरी छूट दी। उसने वस्तु को कितने में बेचा?

- Ans
- 1. ₹325
 - 2. ₹255
 - 3. ₹278
 - 4. ₹300.5

Question ID : 65497830050
Status : Answered
Chosen Option : 2

Q.14 दो धनात्मक संख्याओं का अनुपात 3 : 4 है। यदि उनके घनों का योग 728 है, तो इन दो संख्याओं का योग क्या होगा?

- Ans
- 1. 16
 - 2. 15
 - 3. 14
 - 4. 24

Question ID : 65497830042
Status : Not Answered
Chosen Option : --

Q.15 एक व्यक्ति के वेतन में पहले 15% की वृद्धि की जाती है और उसके बाद 15% की कमी की जाती है। उसके वेतन में हुआ शुद्ध परिवर्तन कितना है?

- Ans
- 1. 2.25% की कमी
 - 2. 1.5% की कमी
 - 3. 2.25% की वृद्धि
 - 4. कोई परिवर्तन नहीं

Question ID : 65497830062
Status : Answered
Chosen Option : 1

Q.16 दो शंकुओं की ऊंचाई का अनुपात 2 : 1 है और उनकी त्रिज्याओं का अनुपात 1 : 2 हैं। उनके आयतन का अनुपात ज्ञात कीजिए।

- Ans
- 1. 4 : 3
 - 2. 2 : 1
 - 3. 1 : 2
 - 4. 3 : 4

Question ID : 65497830057
Status : Not Answered
Chosen Option : --

Q.17 मिश्रधातु A का 40 kg मिश्रधातु B के 63 kg में मिलाया जाता है। यदि मिश्रधातु A में, लेड और टिन का अनुपात 2 : 3 है और मिश्रधातु B में, टिन और तांबे का अनुपात 2 : 5 है, तो नई मिश्रधातु में टिन की मात्रा ज्ञात कीजिए?

- Ans
- 1. 24 kg
 - 2. 42 kg
 - 3. 36 kg
 - 4. 18 kg

Question ID : 65497830053
Status : Not Answered
Chosen Option : --

Q.18 दो धनात्मक संख्याओं x और y का अंतर 350 है, जहाँ $(x > y)$ है। यदि x का 9.5%, y के 16.5% के बराबर है, तो दोनों संख्याओं x और y का योग क्या होगा?

- Ans
- 1. 1250
 - 2. 1400
 - 3. 1300
 - 4. 1200

Question ID : 65497830041
Status : Not Answered
Chosen Option : --

Q.19 यदि किसी वस्तु का विक्रय मूल्य तीन गुना होने पर लाभ चार गुना हो जाता है, तो उसपर प्राप्त प्रतिशत लाभ कितना होगा?

- Ans
- 1. 50%
 - 2. 20%
 - 3. 100%
 - 4. 200%

Question ID : 65497830044
Status : Not Answered
Chosen Option : --

Q.20 दो धनात्मक संख्याओं का अनुपात 11 : 17 है और उनका महत्तम समापवर्तक (HCF) 4 है। उनका लघुत्तम समापवर्त्य (LCM) क्या होगा?

- Ans
- 1. 648
 - 2. 784
 - 3. 746
 - 4. 748

Question ID : 65497830040
Status : Not Answered
Chosen Option : --

Q.21 संख्याओं a और b, b और c, c और d के औसत क्रमशः 9, 6, 4 हैं। a और d का औसत ज्ञात कीजिए।

- Ans
- 1. 5.5
 - 2. 7
 - 3. 6
 - 4. 4.2

Question ID : 65497830060
Status : Not Answered
Chosen Option : --

Q.22 P, ₹1,200 में खरीदी एक वस्तु Q को 15% लाभ पर बेचता है। फिर Q इसे R को ₹1,449 में बेचता है। Q का लाभ प्रतिशत कितना है?

- Ans
- 1. 7%
 - 2. 10%
 - 3. 5%
 - 4. 6%

Question ID : 65497830049
Status : Not Answered
Chosen Option : --

Q.23 किसी बाल्टी का $\frac{4}{11}$ भाग 5 मिनट में भरता है। शेष बाल्टी को भरने में लगने वाला समय ज्ञात करें।

- Ans
- 1. 8 मिनट 20 सेकंड
 - 2. 8 मिनट 40 सेकंड
 - 3. 8 मिनट
 - 4. 8 मिनट 45 सेकंड

Question ID : 65497830059
Status : Not Answered
Chosen Option : --

Q.24 A एक कार्य को 18 दिनों में कर सकता है। A और B एक साथ कार्य करते हुए उसी कार्य को 8 दिनों में कर सकते हैं, जबकि B और C एक साथ कार्य करते हुए उसी कार्य को 6 दिनों में कर सकते हैं। A, B और C एक साथ कार्य करते हुए उसी कार्य को कितने दिनों में कर सकते हैं?

- Ans
- 1. $3\frac{1}{2}$
 - 2. $3\frac{4}{5}$
 - 3. $4\frac{3}{4}$
 - 4. $4\frac{1}{2}$

Question ID : 65497830063
Status : Not Answered
Chosen Option : --

Q.25 एक दुकानदार एक सोफा-सेट पर 12% की छूट देकर इसे ₹17,776 में बेचता है। सोफा-सेट का अंकित मूल्य (₹ में) कितना है?

- Ans
- 1. 20,200
 - 2. 22,000
 - 3. 19,800
 - 4. 19,910

Question ID : 65497830061
Status : Not Answered
Chosen Option : --

Section : Part D English

Q.1 The following sentence has been split into four segments. Identify the segment that contains a grammatical error.

Despite of being / a small girl / she fought / the bull bravely.

- Ans
- 1. a small girl
 - 2. the bull bravely
 - 3. she fought
 - 4. Despite of being

Question ID : 65497830079
Status : Not Answered
Chosen Option : --

Q.2 Select the most appropriate option to fill in the blank.

The pictures _____ the postures which you have to assume.

- Ans
- 1. decline
 - 2. decipher
 - 3. depict
 - 4. decode

Question ID : 65497830078
Status : Not Answered
Chosen Option : --

Q.3 Select the most appropriate option to fill in the blank.

'Of Mice and Men' is a well-known _____ by John Steinbeck.

- Ans 1. circular
 2. novella
 3. pamphlet
 4. memorandum

Question ID : 65497830072
Status : Not Answered
Chosen Option : --

Q.4 Select the option that can be used as a one-word substitute for the given group of words.

Brighten with light

- Ans 1. Illustrate
 2. Celebrate
 3. Illuminate
 4. Terminate

Question ID : 65497830070
Status : Not Answered
Chosen Option : --

Q.5 Select the most appropriate synonym of the given word.

Reckless

- Ans 1. Veritable
 2. Rational
 3. Queer
 4. Rash

Question ID : 65497830066
Status : Not Answered
Chosen Option : --

Q.6 The following sentence has been split into four segments. Identify the segment that contains a grammatical error.

The tornados / on the east coast / gives rise / to tsunamis.

- Ans 1. on the east coast
 2. gives rise
 3. to tsunamis
 4. The tornados

Question ID : 65497830065
Status : Not Answered
Chosen Option : --

Q.7 Select the option that will improve the underlined part of the given sentence. In case no improvement is needed, select 'No improvement required'.

Side by side fruits, Radha sells fresh flowers in the market.

- Ans**
- 1. Altogether fruits
 - 2. Apart for fruits
 - 3. Besides fruits
 - 4. No improvement required

Question ID : 65497830069
Status : Not Answered
Chosen Option : --

Q.8 Select the option that is closest in meaning to the underlined idiom/phrase in the given sentence.

The manager moved heaven and earth to help the factory workers who had lost their jobs.

- Ans**
- 1. offered good advice
 - 2. wasted a lot of time
 - 3. did everything possible
 - 4. travelled to distant places

Question ID : 65497830073
Status : Not Answered
Chosen Option : --

Q.9 Select the most appropriate option to fill in the blank.

The two parties held several _____ during the campaigning for elections.

- Ans**
- 1. crowds
 - 2. rallies
 - 3. assemblies
 - 4. masses

Question ID : 65497830068
Status : Not Answered
Chosen Option : --

Q.10 Select the option that will improve the underlined part of the given sentence. In case no improvement is needed, select 'No improvement required'.

The teacher asked Mohit that why he was absent for the test.

- Ans**
- 1. why he was
 - 2. why was he
 - 3. No improvement required
 - 4. that why was he

Question ID : 65497830084
Status : Not Answered
Chosen Option : --

Q.11 Select the most appropriate meaning of the given idiom.

Out of the blue

- Ans 1. Sorrowfully
 2. Unexpectedly
 3. From the sky
 4. Without a uniform

Question ID : 65497830067
Status : Not Answered
Chosen Option : --

Q.12 Select the most appropriate ANTONYM of the given word.

Impel

- Ans 1. Inspire
 2. Repress
 3. Prompt
 4. Oblige

Question ID : 65497830083
Status : Not Answered
Chosen Option : --

Q.13 Select the INCORRECTLY spelt word.

- Ans 1. Eligible
 2. Relevent
 3. Illicit
 4. Tactics

Question ID : 65497830082
Status : Not Answered
Chosen Option : --

Q.14 Select the most appropriate option that can substitute the underlined segment in the given sentence. If there is no need to substitute it, select 'No substitution required'.

No one are required to line up for the investigation.

- Ans 1. No one is required
 2. No substitution required
 3. No one have required
 4. No one had required

Question ID : 65497830071
Status : Not Answered
Chosen Option : --

Q.15 Select the option that can be used as a one-word substitute for the given group of words.

A vehicle used to carry a dead body

- Ans 1. Hearse
 2. Tomb
 3. Grave
 4. Coffin

Question ID : 65497830081
Status : Not Answered
Chosen Option : --

Q.16 Select the most appropriate synonym of the given word.

Aroma

- Ans 1. Sourness
 2. Stink
 3. Fragrance
 4. Stench

Question ID : 65497830075
Status : Not Answered
Chosen Option : --

Q.17 Select the most appropriate ANTONYM of the given word.

Retard

- Ans 1. Delay
 2. Choke
 3. Hurry
 4. Cram

Question ID : 65497830080
Status : Not Answered
Chosen Option : --

Q.18 Select the option that can be used as a one-word substitute for the given group of words.

Subject (someone) to a continuous flow of questions, criticisms or information

- Ans 1. Revolt
 2. Irritate
 3. Bombard
 4. Shout

Question ID : 65497830076
Status : Not Answered
Chosen Option : --

Q.19 Select the INCORRECTLY spelt word.

- Ans 1. Charity
 2. Overall
 3. Hittch
 4. Affirm

Question ID : 65497830077
Status : Not Answered
Chosen Option : --

Q.20 The following sentence has been split into four segments. Identify the segment that contains a grammatical error.

Last night's / Christmas party was fun. / I wish / you would come.

- Ans**
- 1. you would come
 - 2. Last night's
 - 3. I wish
 - 4. Christmas party was fun

Question ID : 65497830074
Status : Not Answered
Chosen Option : --

Comprehension:

In the following passage, some words have been deleted. Read the passage carefully and select the most appropriate option to fill in each blank.

Mount Everest, a peak in the Himalayan mountain range, is at a height of 8850 metres above sea level and is considered the (1)_____ point on earth. While it is called Chomo-Lungma, or "Mother Goddess of the Land," (2)_____ the Tibetans, the people of Nepal call it Sagarmatha. The British named the mountain (3)_____ Sir George Everest, a 19th-century British surveyor of South Asia. The Everest is believed to be over 60 billion years old. Although the first (4)_____ to climb Mount Everest was made in 1921, it was not successful. It was on 29th May, 1953, that Edmund Hillary and Tenzing Norgay became the first men to (5)_____ the summit of this mountain.

SubQuestion No : 21

Q.21 Select the most appropriate option to fill in blank no. 1.

- Ans**
- 1. highest
 - 2. maximum
 - 3. uppermost
 - 4. longest

Question ID : 65497830086
Status : Not Answered
Chosen Option : --

Comprehension:

In the following passage, some words have been deleted. Read the passage carefully and select the most appropriate option to fill in each blank.

Mount Everest, a peak in the Himalayan mountain range, is at a height of 8850 metres above sea level and is considered the (1)_____ point on earth. While it is called Chomo-Lungma, or "Mother Goddess of the Land," (2)_____ the Tibetans, the people of Nepal call it Sagarmatha. The British named the mountain (3)_____ Sir George Everest, a 19th-century British surveyor of South Asia. The Everest is believed to be over 60 billion years old. Although the first (4)_____ to climb Mount Everest was made in 1921, it was not successful. It was on 29th May, 1953, that Edmund Hillary and Tenzing Norgay became the first men to (5)_____ the summit of this mountain.

SubQuestion No : 22

Q.22 Select the most appropriate option to fill in blank no. 2.

- Ans**
- 1. with
 - 2. for
 - 3. by
 - 4. on

Question ID : 65497830087
Status : Not Answered
Chosen Option : --

Comprehension:

In the following passage, some words have been deleted. Read the passage carefully and select the most appropriate option to fill in each blank.

Mount Everest, a peak in the Himalayan mountain range, is at a height of 8850 metres above sea level and is considered the (1)_____ point on earth. While it is called Chomo-Lungma, or "Mother Goddess of the Land," (2)_____ the Tibetans, the people of Nepal call it Sagarmatha. The British named the mountain (3)_____ Sir George Everest, a 19th-century British surveyor of South Asia. The Everest is believed to be over 60 billion years old. Although the first (4)_____ to climb Mount Everest was made in 1921, it was not successful. It was on 29th May, 1953, that Edmund Hillary and Tenzing Norgay became the first men to (5)_____ the summit of this mountain.

SubQuestion No : 23

Q.23 Select the most appropriate option to fill in blank no. 3.

- Ans
- 1. over
 - 2. from
 - 3. about
 - 4. after

Question ID : 65497830088
Status : Not Answered
Chosen Option : --

Comprehension:

In the following passage, some words have been deleted. Read the passage carefully and select the most appropriate option to fill in each blank.

Mount Everest, a peak in the Himalayan mountain range, is at a height of 8850 metres above sea level and is considered the (1)_____ point on earth. While it is called Chomo-Lungma, or "Mother Goddess of the Land," (2)_____ the Tibetans, the people of Nepal call it Sagarmatha. The British named the mountain (3)_____ Sir George Everest, a 19th-century British surveyor of South Asia. The Everest is believed to be over 60 billion years old. Although the first (4)_____ to climb Mount Everest was made in 1921, it was not successful. It was on 29th May, 1953, that Edmund Hillary and Tenzing Norgay became the first men to (5)_____ the summit of this mountain.

SubQuestion No : 24

Q.24 Select the most appropriate option to fill in blank no. 4.

- Ans
- 1. test
 - 2. trial
 - 3. attempt
 - 4. struggle

Question ID : 65497830089
Status : Not Answered
Chosen Option : --

Comprehension:

In the following passage, some words have been deleted. Read the passage carefully and select the most appropriate option to fill in each blank.

Mount Everest, a peak in the Himalayan mountain range, is at a height of 8850 metres above sea level and is considered the (1)_____ point on earth. While it is called Chomo-Lungma, or "Mother Goddess of the Land," (2)_____ the Tibetans, the people of Nepal call it Sagarmatha. The British named the mountain (3)_____ Sir George Everest, a 19th-century British surveyor of South Asia. The Everest is believed to be over 60 billion years old. Although the first (4)_____ to climb Mount Everest was made in 1921, it was not successful. It was on 29th May, 1953, that Edmund Hillary and Tenzing Norgay became the first men to (5)_____ the summit of this mountain.

SubQuestion No : 25

Q.25 Select the most appropriate option to fill in blank no. 5.

- Ans 1. enter
 2. realise
 3. gain
 4. reach

Question ID : 65497830090
Status : Not Answered
Chosen Option : --

Section : Part D Hindi

Q.1 शुद्ध वर्तनी बताएँ-

- Ans 1. लालशा
 2. शोणित
 3. शोनित
 4. मतस्य

Question ID : 65497830104
Status : Answered
Chosen Option : 2

Q.2 दिये गये वाक्यांश के लिए एक शब्द दीजिये।

आँखों से परे

- Ans 1. बहुत दूर
 2. प्रत्यक्ष
 3. परोक्ष
 4. निकट

Question ID : 65497830099
Status : Answered
Chosen Option : 1

Q.3 निम्नलिखित शब्दों में शुद्ध वर्तनी को पहचानिए-

- Ans 1. अवीष्कार
 2. आविष्कार
 3. अविष्कार
 4. अविषकार

Question ID : 65497830103
Status : Answered
Chosen Option : 2

Q.4 दिये गये वाक्य में रेखांकित अंश को प्रतिस्थापित करने के लिए सबसे उपयुक्त विकल्प का चयन करें।

अपना दोष दूसरों के सिर क्यों जड़ते हो?

- Ans
- 1. फोड़ते हो?
 - 2. करते हो?
 - 3. जोड़ते हो?
 - 4. मढ़ते हो?

Question ID : 65497830109
Status : Answered
Chosen Option : 1

Q.5 दिए गए शब्द का विलोम चुनें।

अंधकार

- Ans
- 1. प्रकाश
 - 2. सूर्योदय
 - 3. उजाला
 - 4. कालिमा

Question ID : 65497830098
Status : Answered
Chosen Option : 1

Q.6 दिए गए शब्द का समानार्थी शब्द चुनें-

रंक

- Ans
- 1. वीरांगना
 - 2. दरिद्र
 - 3. राजा
 - 4. रक्त

Question ID : 65497830101
Status : Answered
Chosen Option : 3

Q.7 'भाड़ झोकना' मुहावरे का सही अर्थ क्या है?

- Ans
- 1. समय व्यर्थ खोना
 - 2. गालियाँ देना
 - 3. बहुत श्रम करना
 - 4. हमला करना

Question ID : 65497830107
Status : Answered
Chosen Option : 3

Q.8 रिक्त स्थान की पूर्ति के लिए सबसे उपयुक्त शब्द का चयन करें-

उसके पास _____ धन है।

- Ans
- 1. प्राप्त
 - 2. उपयुक्त
 - 3. अतल
 - 4. पर्याप्त

Question ID : 65497830092
Status : Answered
Chosen Option : 4

Q.9 दिए गए वाक्य में रेखांकित खंड को प्रतिस्थापित करने के लिए सबसे उपयुक्त विकल्प का चयन करें।
यदि इसे प्रतिस्थापित करने की आवश्यकता नहीं है, तो विकल्प 'किसी बदलाव की आवश्यकता नहीं है'
का चयन करें।

दूर रहने वाले लोगों से हम अपनी बात दूरभाष यंत्र में कर सकते हैं।

- Ans
- 1. किसी बदलाव की आवश्यकता नहीं है।
 - 2. दूरभाष यंत्र द्वारा कर सकते हैं।
 - 3. दूरभाष यंत्र में कर सकती हैं।
 - 4. दूरभाष यंत्र पर कर सकते हैं।

Question ID : 65497830093
Status : Answered
Chosen Option : 2

Q.10 रिक्त स्थान की पूर्ति के लिए सबसे उपयुक्त शब्द का चयन करें-

सशस्त्र प्रहरी _____ की रक्षा कर रहे थे।

- Ans
- 1. कोश
 - 2. कुल
 - 3. कोस
 - 4. कोष

Question ID : 65497830105
Status : Answered
Chosen Option : 4

Q.11 उस विकल्प का चयन करें जिसमें निम्न मुहावरे का सर्वाधिक उपयुक्त अर्थ दिया गया है।

मुट्ठी गर्म करना

- Ans
- 1. रिश्त देना
 - 2. बहुत परेशान करना
 - 3. किसी को भड़काना
 - 4. बुरी तरह पीटना

Question ID : 65497830102
Status : Answered
Chosen Option : 4

Q.12 रिक्त स्थान की पूर्ति के लिए सबसे उपयुक्त शब्द का चयन करें।

भाषा में अभिव्यक्त विचार लिपि की _____ से सुरक्षित रहते हैं।

- Ans
- 1. सहायता
 - 2. कृपा
 - 3. दया
 - 4. प्रेरणा

Question ID : 65497830096
Status : Answered
Chosen Option : 1

Q.13 दिए गए शब्द के समानार्थी शब्द का चयन करें।

सरस्वती

- Ans 1. धवल
 2. ब्राह्मी
 3. शुचि
 4. कान्ता

Question ID : 65497830095
Status : Answered
Chosen Option : 3

Q.14 दिए गए वाक्य का वह भाग ज्ञात करें जिसमें कोई त्रुटि है। यदि कोई त्रुटि नहीं है, तो 'कोई त्रुटि नहीं है' चुनें।

शिक्षा का (1)/ माध्यम तो (2)/ हिन्दी ही रहेगा (3)/ कोई त्रुटि नहीं है (4)

- Ans 1. 2
 2. 4
 3. 1
 4. 3

Question ID : 65497830094
Status : Answered
Chosen Option : 1

Q.15 'हास' का विलोम शब्द होगा-

- Ans 1. परिहास
 2. रुदन
 3. गायन
 4. उपहास

Question ID : 65497830106
Status : Answered
Chosen Option : 1

Q.16 दिए गए वाक्य का वह भाग ज्ञात करें जिसमें कोई त्रुटि है। यदि कोई त्रुटि नहीं है, तो 'कोई त्रुटि नहीं है' चुनें।

मैंने एक वर्ष तक(1)/ उनकी प्रतीक्षा(2)/ देखी।(3)/ कोई त्रुटि नहीं है।(4)

- Ans 1. 2
 2. 3
 3. 4
 4. 1

Question ID : 65497830100
Status : Answered
Chosen Option : 2

Q.17 दिये गये वाक्य में रेखांकित अंश को प्रतिस्थापित करने के लिए सबसे उपयुक्त विकल्प का चयन करें।

मैं आपके सुखी जीवन की आकांक्षा करता हूँ।

- Ans
- 1. इच्छा
 - 2. वासना
 - 3. कामना
 - 4. आराधना

Question ID : 65497830108
Status : Answered
Chosen Option : 3

Q.18 दिए गए वाक्यांश के लिए एक शब्द चुनें।

पूछने योग्य

- Ans
- 1. सुयोग्य
 - 2. प्रश्न
 - 3. प्रष्टव्य
 - 4. योग्य

Question ID : 65497830091
Status : Answered
Chosen Option : 2

Q.19 'जिसका भोग करना उचित हो' वाक्यांश के लिए एक शब्द होगा-

- Ans
- 1. भोग्य
 - 2. भजन
 - 3. भोजन
 - 4. भुक्ति

Question ID : 65497830110
Status : Answered
Chosen Option : 3

Q.20 दिए गए वाक्य का वह भाग ज्ञात करें जिसमें कोई त्रुटि है। यदि कोई त्रुटि नहीं है, तो 'कोई त्रुटि नहीं है' चुनें।

केवल यहाँ (1)/ दो पुस्तकें (2)/ रखी हैं। (3)/ कोई त्रुटि नहीं है (4)

- Ans
- 1. 3
 - 2. 1
 - 3. 2
 - 4. 4

Question ID : 65497830097
Status : Answered
Chosen Option : 3

Comprehension:

दिए गए गद्यांश में से कुछ शब्द हटा दिए गए हैं। संबंधित प्रश्नों में प्रत्येक संख्या के लिए सबसे उपयुक्त विकल्प का चयन करें।

चिकित्सा (1) _____ के क्षेत्र में काफी (2) _____ हुई है। अनेक (3) _____ बीमारियों से छुटकारा मिलने लगा है, उसने (4) _____ को सुन्दर और (5) _____ बना दिया है।

SubQuestion No : 21

Q.21 गद्यांश के रिक्त स्थान (1) के लिए सर्वाधिक उपयुक्त शब्द होगा-

- Ans** 1. संगीत
 2. कला
 3. विज्ञान
 4. साहित्य

Question ID : 65497830112
Status : Answered
Chosen Option : 3

Comprehension:

दिए गए गद्यांश में से कुछ शब्द हटा दिए गए हैं। संबंधित प्रश्नों में प्रत्येक संख्या के लिए सबसे उपयुक्त विकल्प का चयन करें।

चिकित्सा (1) _____ के क्षेत्र में काफी (2) _____ हुई है। अनेक (3) _____ बीमारियों से छुटकारा मिलने लगा है, उसने (4) _____ को सुन्दर और (5) _____ बना दिया है।

SubQuestion No : 22

Q.22 गद्यांश के रिक्त स्थान (2) के लिए सर्वाधिक उपयुक्त शब्द होगा-

- Ans** 1. विषमता
 2. प्रगति
 3. भ्रमणशील
 4. गिरावट

Question ID : 65497830113
Status : Answered
Chosen Option : 2

Comprehension:

दिए गए गद्यांश में से कुछ शब्द हटा दिए गए हैं। संबंधित प्रश्नों में प्रत्येक संख्या के लिए सबसे उपयुक्त विकल्प का चयन करें।

चिकित्सा (1) _____ के क्षेत्र में काफी (2) _____ हुई है। अनेक (3) _____ बीमारियों से छुटकारा मिलने लगा है, उसने (4) _____ को सुन्दर और (5) _____ बना दिया है।

SubQuestion No : 23

Q.23 गद्यांश के रिक्त स्थान (3) के लिए सर्वाधिक उपयुक्त शब्द होगा-

- Ans** 1. आसान
 2. सरल
 3. आकर्षक
 4. जानलेवा

Question ID : 65497830114
Status : Answered
Chosen Option : 4

Comprehension:

दिए गए गद्यांश में से कुछ शब्द हटा दिए गए हैं। संबंधित प्रश्नों में प्रत्येक संख्या के लिए सबसे उपयुक्त विकल्प का चयन करें।

चिकित्सा (1) _____ के क्षेत्र में काफी (2) _____ हुई है। अनेक (3) _____ बीमारियों से छुटकारा मिलने लगा है, उसने (4) _____ को सुन्दर और (5) _____ बना दिया है।

SubQuestion No : 24

Q.24 गद्यांश के रिक्त स्थान (4) के लिए सर्वाधिक उपयुक्त शब्द होगा-

- Ans**
- 1. डॉक्टर
 - 2. कर्मचारी
 - 3. अस्पताल
 - 4. जीवन

Question ID : 65497830115
Status : Answered
Chosen Option : 4

Comprehension:

दिए गए गद्यांश में से कुछ शब्द हटा दिए गए हैं। संबंधित प्रश्नों में प्रत्येक संख्या के लिए सबसे उपयुक्त विकल्प का चयन करें।

चिकित्सा (1) _____ के क्षेत्र में काफी (2) _____ हुई है। अनेक (3) _____ बीमारियों से छुटकारा मिलने लगा है, उसने (4) _____ को सुन्दर और (5) _____ बना दिया है।

SubQuestion No : 25

Q.25 गद्यांश के रिक्त स्थान (5) के लिए सर्वाधिक उपयुक्त शब्द होगा-

- Ans**
- 1. छोटा
 - 2. लघु
 - 3. कल्पनाशील
 - 4. दीर्घ

Question ID : 65497830116
Status : Answered
Chosen Option : 4